



# PREFEITURA DO MUNICÍPIO DE TELÊMACO BORBA – ESTADO DO PARANÁ



Fundação  
FAFIPA

Nome do Candidato _____		Nº Inscrição _____	Nº Prova <b>3696380</b>
Documento _____	Tipo _____	Local _____	

## LEIA ATENTAMENTE AS INSTRUÇÕES ABAIXO

- Este Caderno de Questões é composto por **50 (cinquenta)** questões objetivas e não deve ser folheado antes da autorização do Fiscal.
- Observe se o **Cargo** especificado no Caderno de Questões é o correspondente ao Cargo para o qual você fez a inscrição.
- Utilize Caneta Esferográfica Transparente com tinta **preta** na marcação da Folha de Respostas.
- Ao receber a Folha de Respostas, realize a conferência de seus dados e quaisquer divergências comunique o fiscal.
- Leia atentamente cada questão da prova objetiva e preencha na Folha de Respostas a única alternativa que a responda corretamente.
- A Folha de Respostas não pode ser dobrada, amassada, rasurada ou conter qualquer marcação fora dos campos destinados.
- Você dispõe de **04 (quatro)** horas para fazer a prova, incluindo a marcação da Folha de Respostas.
- Após devidamente identificado e acomodado na sala designada para a realização da prova, o candidato somente poderá ausentar-se da sala **90 (noventa)** minutos após o início da prova e, em caso de ausência temporária em que o candidato ainda não tiver terminado a sua prova, deverá fazê-lo acompanhado de um Fiscal. Exclusivamente, nos casos de alteração psicológica e/ou fisiológica temporária e necessidade extrema, em que o candidato necessite ausentar-se da sala **antes dos 90 (noventa)** minutos após o início da prova, poderá fazê-lo, desde que acompanhado de um Fiscal.
- O candidato poderá entregar sua Folha de respostas e deixar definitivamente o local de realização da prova objetiva somente depois de decorridos, no mínimo, **90 (noventa) minutos** do seu início, porém, não poderá levar consigo o Caderno de Questões.
- Após o término da prova, entregue ao Fiscal a **FOLHA DE RESPOSTAS** devidamente preenchida e assinada.
- Somente será permitido levar o **CADERNO DE QUESTÕES** se o candidato permanecer na sala, até os **últimos 60 (sessenta) minutos** que antecedem o encerramento da prova objetiva.
- A liberação dos candidatos após o término da prova será autorizada pelo fiscal de sala, após a realização dos procedimentos administrativos necessários. O candidato que terminou sua prova deverá permanecer aguardando em sua carteira e somente poderá levantar-se para a entrega do material se solicitado pelo fiscal.
- SERÁ ELIMINADO** do Concurso Público o candidato que:
  - Deixar o local de realização da prova objetiva sem a devida autorização.
  - Faltar com o devido respeito para com qualquer membro da equipe de aplicação das provas, com as autoridades presentes ou com os demais candidatos.
  - Proceder de forma a tumultuar a realização da prova objetiva.
  - Estabelecer comunicação com outros candidatos ou com pessoas estranhas, por quaisquer meios, e usar de meios ilícitos para obter vantagens para si ou para outros.
  - For surpreendido portando ou manuseando quaisquer dispositivos eletrônicos, tais como: máquinas calculadoras, wearable tech, agendas eletrônicas ou similares, telefones celulares, smartphones, tablets, iPods®, pen drives, mp3 player ou similar, gravadores, relógios, alarmes de qualquer espécie, chaves com dispositivo eletrônico, fones de ouvido ou qualquer transmissor, gravador ou receptor de dados, imagens, vídeos e mensagens, livros, anotações, régua de cálculo, dicionários, códigos e/ou legislação, impressos que não estejam expressamente permitidos ou qualquer outro material de consulta, canetas de material não transparente, Carteira de bolso, lapiseira, corretivos, óculos escuros, artigos de chapelaria, tais como: boné, chapéu, viseira, gorro ou similares. Os itens descritos, que devem ser obrigatoriamente acondicionado em envelope porta-objeto fornecido pela instituição organizadora.
  - Ausentar-se da sala, a qualquer tempo, portando a Folha de Respostas.
- Os **03 (três) últimos candidatos** só poderão sair da sala juntos, após o fechamento e assinatura do envelope de retorno.
- Está disponível abaixo um gabarito para ser preenchido e destacado. Este poderá ser levado pelo candidato.

.....**DESTAQUE AQUI**.....

### GABARITO

<http://www.fundacaofafipa.org.br>

1.	2.	3.	4.	5.	6.	7.	8.	9.	10.
11.	12.	13.	14.	15.	16.	17.	18.	19.	20.
21.	22.	23.	24.	25.	26.	27.	28.	29.	30.
31.	32.	33.	34.	35.	36.	37.	38.	39.	40.
41.	42.	43.	44.	45.	46.	47.	48.	49.	50.





## Língua Portuguesa

### TEXTO 01

O texto seguinte servirá de base para responder às questões de 01 a 15.

#### O JOVEM CASAL - Rubem Braga

Estavam esperando o bonde e fazia muito calor. Veio um bonde, mas tão cheio, com tanta gente pendurada nos estribos que ela apenas deu um passo à frente, ele esboçou com o braço o gesto de quem vai pegar um balaústre -- e desistiram.

O homem da carrocinha de pão obrigou-os a recuar para perto do meio-fio; depois o negrinho da lavanderia passou com a bicicleta tão junto que um vestido esvoaçante bateu na cara do rapaz.

Ela se queixou de dor de cabeça; ele sentia uma dor de dente enjoada e insistente -- preferiu não dizer nada. Ano e meio casados, tanta aventura sonhada, e estavam tão mal naquele quarto de pensão do Catete, muito barulhento: "Lutaremos contra tudo" -- havia dito -- e ele pensou com amargor que estavam lutando apenas contra as baratas, as horríveis baratas do velho sobradão. Ela com um gesto de susto e nojo se encolhia a um canto ou saía para o corredor -- ele, com repugnância, ia matar a barata; depois, com mais desgosto ainda, jogá-la fora.

E havia as pulgas; havia a falta d'água, e quando havia água, a fila dos hóspedes diante da porta do chuveiro. Havia as instalações que cheiravam mal, o papel da parede amarelado e feio. As duas velhas gordas, pintadas, na mesinha ao lado, lhe tiravam o apetite para a mesquinha comida da pensão. Toda a tristeza, toda a mediocridade, toda a feiura numa vida estreita, onde o mau gosto pretensioso da classe média se juntava à minuciosa ganância comercial -- um simples ovo era "extraordinário". Quando eles pediam dois ovos, a dona da pensão olhava com raiva; estavam atrasados no pagamento. (...) Então um grande carro conversível se deteve perto deles, diante do sinal fechado. Lá dentro havia um casal, um sujeito de ar importante na direção e sua mulherzinha meio gorducha, muito clara. A mulherzinha deu um rápido olhar ao rapaz e olhou com mais vagar a moça, correndo os olhos da cabeça até os sapatos, enquanto o homem dizia alguma coisa a respeito de um anel. No momento do carro partir, com um arranco macio ouviram

que a mulher dizia: "se ele deixar por quinze, eu fico."

Quinze contos -- isto entrou pelos ouvidos do rapaz, parece que foi bater, como um soco, em seu estômago mal alimentado -- quinze contos, meses e meses, anos de pensão? Então olhou sua mulher e achou-a tão linda e triste com sua blusinha branca, tão frágil, tão jovem e tão querida, que sentiu os olhos arderem de vontade de chorar. Disse: "Viu aquela vaca dizendo que vai comprar o anel de quinze contos?"

Vinha o bonde.

RUBEM BRAGA. Disponível em:  
<http://bondelectra.blogspot.com/2012/01/conto-o-jovem-casal-rubem-braga.html#ixzz7oXLhFc5G>

### Questão 01

No que diz respeito à frase "HAVIA AS INSTALAÇÕES QUE CHEIRAVAM MAL, O PAPEL DA PAREDE AMARELADO E FEIO", pode-se afirmar que as palavras "amarelado" e "feio" podem ser classificadas morfológicamente como:

- (A) Adjetivos, porque caracterizam um nome.
- (B) Artigos, em razão de especificarem nomes.
- (C) Verbos, pois expressam ações.
- (D) Advérbios, posto que indicam circunstâncias de modo.
- (E) Substantivos, dado que nomeiam seres.

### Questão 02

Analise os trechos a seguir:

"Lutaremos contra tudo" -- havia dito -- e ele pensou com amargor que estavam lutando apenas contra as baratas, as horríveis baratas do velho sobradão.

"A mulherzinha deu um rápido olhar ao rapaz e olhou com mais vagar a moça, correndo os olhos da cabeça até os sapatos, enquanto o homem dizia alguma coisa a respeito de um anel".

No que se refere ao processo de formação de palavras, pode-se afirmar que "sobradão" e "mulherzinha" são substantivos formados a partir de qual processo?

- (A) Derivação prefixal e sufixal, visto que há acréscimos simultâneos de prefixos e sufixos nas duas palavras.
- (B) Derivação sufixal, por meio do acréscimo do sufixo aumentativo -ão e o sufixo diminutivo -zinha.
- (C) Derivação prefixal, por meio do acréscimo do prefixo aumentativo -ão e o prefixo diminutivo -zinha.
- (D) Composição por aglutinação, posto que os vocábulos componentes unem-se com a combinação de dois ou mais radicais com alteração na forma fonológica.
- (E) Composição por justaposição, já que os vocábulos componentes mantêm sua autonomia fonética e gráfica, ou seja, não sofrem modificações.

### Questão 03

Analise o trecho abaixo:

"Toda a tristeza, toda a mediocridade, toda a feiura duma vida estreita, onde o mau gosto pretensioso da classe média se juntava à minuciosa ganância comercial -- um simples ovo era 'extraordinário'".

Considerando o processo de classificação das palavras, pode-se afirmar que "tristeza", "mediocridade" e "feiura" pertencem a mesma classe gramatical no trecho acima. Assinale a alternativa que apresenta o nome dessa classe de palavras.

- (A) Adjetivos, posto que caracterizam nomes.
- (B) Substantivos, pois são nomes.
- (C) Verbos, por serem conjugados em tempo, modo, pessoa e número.
- (D) Advérbios, visto que indicam circunstância de modo.
- (E) Artigos, dado que especificam nomes.

### Questão 04

Com base no trecho a seguir

"Então olhou sua mulher e achou-a tão linda e triste com sua blusinha branca, tão frágil, tão jovem e tão querida, que sentiu os olhos arderem de vontade de chorar", indique a qual classe a palavra "tão" pertence:

- (A) Substantivo, em razão de nomear um ser.
- (B) Advérbio, dado que exprime uma circunstância de intensidade.
- (C) Artigos, posto que aparecem antes de um substantivo.
- (D) Verbos, em virtude de estarem conjugados.
- (E) Adjetivo, já que qualifica/caracteriza os nomes que aparecem na sequência.

### Questão 05

Leia o trecho abaixo:

"As duas velhas gordas, pintadas, na mesinha ao lado, lhe tiravam o apetite para a mesquinha comida da pensão".

No que diz respeito à classificação sintática, analise as afirmações que se seguem:

I.O sujeito do verbo "tiravam" pode ser classificado como composto.

II."O apetite" funciona como objeto indireto do verbo "tiravam".

III.Em "as duas velhas gordas, pintadas, na mesinha ao lado", "na mesinha ao lado" funciona como adjunto adverbial.

IV.Em "as duas velhas gordas, pintadas, na mesinha ao lado", "as", "duas", "gordas", "pintadas" são adjuntos adnominais.

Está CORRETO o que se afirma em:

- (A) Apenas I e II.
- (B) I, II, III e IV.
- (C) Apenas III e IV.
- (D) Apenas I e III.
- (E) Apenas II e IV.

### Questão 06

Leia atentamente o trecho selecionado:

"Ano e meio casados, tanta aventura sonhada, e estavam tão mal naquele quarto de pensão do Catete, muito barulhento: "Lutaremos contra tudo" -- havia dito -- e ele pensou com amargor que estavam lutando apenas contra as baratas, as horríveis baratas do velho sobradão".

No que se refere aos tipos de sujeito, pode-se afirmar que o sujeito do verbo "lutaremos", é classificado como:

- (A) Sujeito composto.
- (B) Sujeito inexistente.
- (C) Sujeito oculto.
- (D) Sujeito simples.
- (E) Sujeito indeterminado.

#### Questão 07

Em "Estavam esperando o bonde e fazia muito calor", como é classificado o sujeito do verbo "fazia"?

- (A) Sujeito inexistente.
- (B) Sujeito simples.
- (C) Sujeito indeterminado.
- (D) Sujeito oculto.
- (E) Sujeito composto.

#### Questão 08

Leia o trecho abaixo:

"O homem da carrocinha de pão obrigou-os a recuar para perto do meio-fio; depois o negrinho da lavanderia passou com a bicicleta tão junto que um vestido esvoaçante bateu na cara do rapaz".

No que tange aos aspectos semânticos, isto é, ao significado das palavras mediante o contexto, assinale a alternativa em que se apresenta a definição da palavra "esvoaçante" no trecho acima.

- (A) Que é elegante.
- (B) Que é feio.
- (C) Que é bonito.
- (D) Que se encontra em lojas finas.
- (E) Que se agita ao vento.

#### Questão 09

Em "Toda a tristeza, toda a mediocridade, toda a feiura numa vida estreita, onde o mau gosto pretensioso da classe média se juntava à

minuciosa ganância comercial -- um simples ovo era 'extraordinário'", a repetição de "toda" se dá por meio de qual figura de linguagem?

- (A) Anáfora.
- (B) Comparação.
- (C) Onomatopeia.
- (D) Personificação.
- (E) Metáfora.

#### Questão 10

Observe o trecho a seguir:

"Ela com um gesto de susto e nojo se encolhia a um canto ou saía para o corredor -- ele, com repugnância, ia matar a barata; depois, com mais desgosto ainda, jogá-la fora".

No que tange aos aspectos morfossintáticos, assinale a afirmação CORRETA:

- (A) Em "jogá-la", o pronome "la" funciona como objeto direto do verbo "jogar" e se refere à barata.
- (B) "Gesto" exerce a função de verbo no trecho acima, pois indica uma ação.
- (C) "A barata" funciona como objeto indireto do verbo "matar".
- (D) "Desgosto" exerce a função de verbo no trecho acima e está conjugado na primeira pessoa do singular.
- (E) Em "ia matar", temos uma locução verbal que expressa o futuro do presente, pois é o mesmo que "matarei".

#### Questão 11

Leia o trecho abaixo:

"Toda a tristeza, toda a mediocridade, toda a feiura numa vida estreita, onde o mau gosto pretensioso da classe média se juntava à minuciosa ganância comercial -- um simples ovo era 'extraordinário'".

No que tange aos aspectos semânticos, assinale a alternativa em que se apresentam sinônimos (palavras com significado próximo) dos termos "pretensioso" e "minuciosa", retirados do trecho acima.

- (A) Desinteressado e simples, respectivamente.
- (B) Humilde e sutil, respectivamente.
- (C) Natural e superficial, respectivamente.
- (D) Presunçoso e rigorosa, respectivamente.
- (E) Singelo e genérica, respectivamente.

#### Questão 12

No que tange ao processo de divisão silábica, assinale a alternativa em que foi feita uma correta separação:

- (A) RA-I-VA, 3 sílabas.
- (B) FE-I-U-RA, 4 sílabas.
- (C) CHE-I-RA-VAM, 4 sílabas.
- (D) ES-TRE-I-TA, 4 sílabas
- (E) EN-JO-A-DA, 4 sílabas.

#### Questão 13

Em "Então um grande carro conversível se deteve perto deles, diante do sinal fechado", pode-se afirmar que o núcleo do sujeito do verbo "deteve" é:

- (A) Grande.
- (B) Se.
- (C) Carro.
- (D) Conversível.
- (E) Um.

#### Questão 14

Em "Então um grande carro conversível se deteve perto deles, diante do sinal fechado", pode-se afirmar que o verbo "deteve" tem o mesmo significado que:

- (A) Acelerou.
- (B) Parou.
- (C) Progrediu.
- (D) Surgiu.
- (E) Manobrou.

#### Questão 15

Analise as frases abaixo:

"Toda a tristeza, toda a mediocridade, toda a feiura numa vida estreita, onde o mau gosto

pretensioso da classe média se juntava à minuciosa ganância comercial -- um simples ovo era 'extraordinário'".

"Quinze contos -- isto entrou pelos ouvidos do rapaz, parece que foi bater, como um soco, em seu estômago mal alimentado -- quinze contos, meses e meses, anos de pensão?"

No que tange à ortografia, ao novo acordo ortográfico e ao processo de acentuação de palavras, pode-se afirmar que:

- (A) O uso de "mau" em "o mau gosto" está correto, posto que "mau" é oposto de "bom". Por extensão, o uso de "mal" em "seu estômago mal alimentado" também está adequado, já que "mal" é contrário de "bem".
- (B) A palavra "extraordinário", de acordo com o novo acordo ortográfico, deve receber o hífen, resultando em: "extra-ordinário".
- (C) A palavra "ouvidos" foi escrita de maneira incorreta, posto que a norma culta prevê o uso de "olvidos".
- (D) A palavra "mediocridade" está escrita de maneira inadequada, dado que o certo é "mediocridade".
- (E) A palavra "feiura", de acordo com o novo acordo ortográfico, deve receber o acento agudo no ú, resultando em: "feiúra".

### Matemática

#### Questão 16

Sendo  $0^\circ < \alpha < 90^\circ$  e  $\sin \alpha \cdot \cos \alpha = \frac{3}{5}$ ,

quanto vale  $\sin \alpha + \cos \alpha$ ?

- (A)  $\frac{11}{5}$
- (B)  $\frac{11}{10}$
- (C)  $\frac{\sqrt{55}}{5}$

(D)  $\sqrt{11}$

(E)  $\sqrt{7}$

**Questão 17**

Em uma progressão aritmética, o segundo termo é  $-6$ , o quinto termo é  $27$  e a soma dos  $n$  primeiros termos

dessa P.A. é dada por  $S_n = \frac{An^2+Bn}{2}$ .

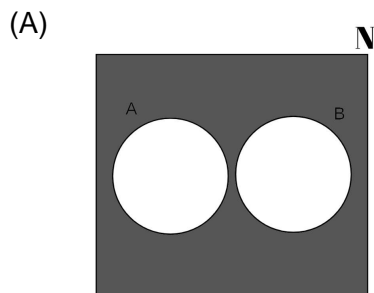
Qual é o resultado da expressão  $A + 2B$ ?

- (A) 11
- (B) -34
- (C) -45
- (D) -23
- (E) -79

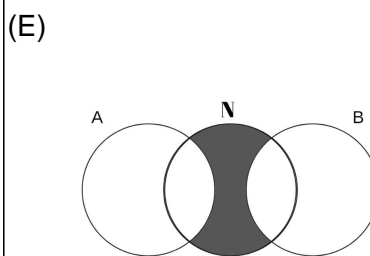
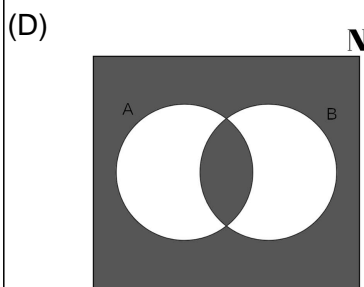
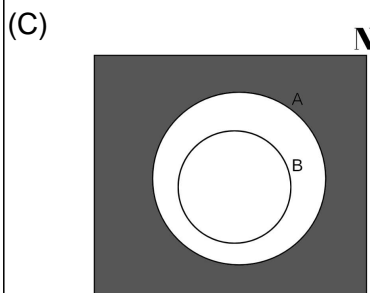
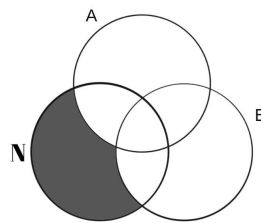
**Questão 18**

Dados dois subconjuntos de  $\mathbb{N}$ , não vazios,  $A$  e  $B$  tais que  $A \cap B \neq \emptyset$  e  $A - B \neq \emptyset$ .

Qual diagrama pode representar a parte destacada de  $\mathbb{N} - (A \cup B)$ ?



(B)

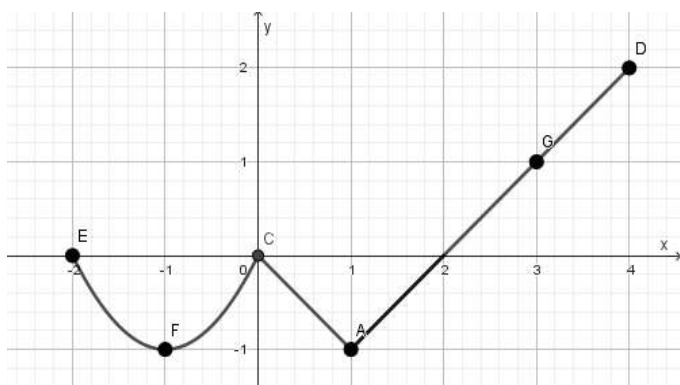


**Questão 19**

Seja a função

$$f: [-2, 4] \rightarrow [-1, 2]$$

representada pelo gráfico a seguir:



Considerando as coordenadas dos pontos pertencentes a  $f$ :

$A(1, -1)$ ,  $C(0, 0)$ ,  $D(4, 2)$ ,  $E(-2, 0)$ ,  $F(-1, -1)$ ,  $G(3, 1)$ , analise as afirmativas:

- I.  $f$  é uma função injetora.
- II.  $f$  é uma função sobrejetora.
- III.  $f$  é crescente em todo o seu domínio.
- IV.  $f(2) = f(-2)$ .

São verdadeiras:

- (A) As afirmativas I e II, apenas.
- (B) Todas as afirmativas.
- (C) As afirmativas II e IV, apenas.
- (D) As afirmativas I, II e IV, apenas.
- (E) As afirmativas I e IV, apenas.

### Questão 20

Seja  $f(x) = \frac{\log_2 x}{3}$ .

A razão entre  $f(32)$  e  $f(16)$  é igual a:

- (A) 5/4
- (B) 1/2
- (C) 2

(D) 5/3

(E) 1/3

### Questão 21

Base do prisma

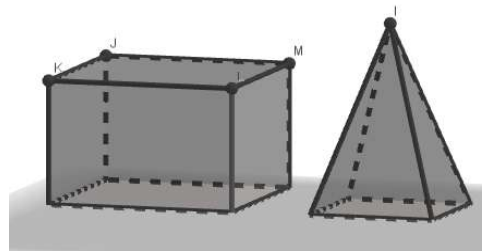


$$\frac{3a}{2}$$

Base da pirâmide



$$a$$



O sólido da esquerda é um prisma cuja base é um quadrado de lado  $3a/2$  e altura igual a 2.

O sólido da direita é uma pirâmide cuja base é um quadrado de lado  $a$  e altura igual a 3.

Qual é a razão entre o volume do prisma e o volume da pirâmide?

- (A) 9/2
- (B) 4
- (C) 9/4
- (D) 13/4
- (E) 3/2

### Questão 22

Seja a matriz  $A = \begin{pmatrix} -1 & 0 \\ 2 & 3 \end{pmatrix}$  e

$I_2$  a matriz identidade de ordem 2.

Qual é a matriz  $X$  tal que  $2A - X = I_2$ ?



(A)  $X = \begin{pmatrix} -3 & 0 \\ 4 & 5 \end{pmatrix}$

(B)  $X = \begin{pmatrix} 3 & 0 \\ -4 & -5 \end{pmatrix}$

(C)  $X = \begin{pmatrix} -2 & 0 \\ 4 & 7 \end{pmatrix}$

(D)  $X = \begin{pmatrix} -3 & -1 \\ 3 & 5 \end{pmatrix}$

(E)  $X = \begin{pmatrix} -2 & 0 \\ 2 & 2 \end{pmatrix}$

### Questão 23

O resultado da expressão

$$\sqrt{10^3 + 10^2 \cdot \sqrt{36} - 10^2 \cdot \sqrt{225}}$$

é um número:

- (A) racional não inteiro
- (B) real negativo
- (C) inteiro negativo
- (D) irracional
- (E) natural

### Questão 24

Qual é o valor da expressão

$$\frac{4x^2 - y^2}{4x^2 + 4xy + y^2}$$

para  $x = -2$  e  $y = 1$ ?

(A)  $\frac{17}{9}$

(B)  $\frac{17}{23}$

(C)  $\frac{5}{3}$

(D)  $\frac{3}{5}$

(E)  $\frac{1}{7}$

### Questão 25

Dois irmãos, Paulo e Sérgio, fizeram uma aposta. Reservaram o mesmo valor e começaram a fazer aplicações com o valor na mesma data. Em seis meses, aquele que conseguir fazer a quantia render mais, ganhará R\$ 10.000,00 do outro.

Paulo aplicou o valor da seguinte forma:

50% foi aplicado à taxa de 10% de juros simples ao mês por seis meses.

20% ele emprestou para um amigo, que em seis meses o pagou 140% desse valor.

30% ele comprou um carro, que teve uma desvalorização de 10% em seis meses.

Sérgio aplicou o valor da seguinte forma:

Usou 100% do valor para comprar um terreno e, seis meses depois, o vendeu com um lucro de 20%.

Após apurado o montante de cada um seis meses após a aposta:

- (A) Sérgio terá que pagar R\$ 10.000,00 da aposta para o seu irmão, pois lucrou 15% a menos com as aplicações.

- (B) Sérgio terá que pagar R\$ 10.000,00 da aposta para o seu irmão, pois lucrou 10% a menos com as aplicações.
- (C) Sérgio terá que pagar R\$ 10.000,00 da aposta para o seu irmão, pois lucrou 5% a menos com as aplicações.
- (D) Os dois tiveram o mesmo lucro com as aplicações, não devendo nenhum pagar a aposta ao outro.
- (E) Paulo terá que pagar R\$ 10.000,00 da aposta para o seu irmão, pois lucrou 8% a menos com as aplicações.

## Informática

### Questão 26

As extensões de arquivos indicam a codificação do seu conteúdo ou uso. Das alternativas abaixo, qual delas representa a extensão de arquivo de imagem?

- (A) PDF  
 (B) PNG  
 (C) DOC  
 (D) TXT  
 (E) ZIP

### Questão 27

Na CPU (*Central Processing Unit*), é possível:

- (A) Definir o limite de espaço livre no disco rígido.  
 (B) Criptografar informações temporárias.  
 (C) Proteger os dados armazenados no disco rígido.  
 (D) Executar operações matemáticas.  
 (E) Armazenar informações permanentemente.

### Questão 28

No sistema Operacional Windows 10 (PRO), qual é o serviço que obtém atualizações para melhoria de segurança e desempenho do sistema?

- (A) Windows Info.  
 (B) Windows System.  
 (C) Windows Live.  
 (D) Windows Defender.

- (E) Windows Update.

### Questão 29

Considere a planilha do Microsoft Excel 2016 (PT-BR) da figura 1.

Figura 1:

	A
1	12
2	16
3	45
4	56
5	

Qual fórmula poderia ser aplicada na célula A5 para calcular a soma de todos os valores informados?

- (A) =SOM(A1:A4)  
 (B) =SOMA(A1:A4)  
 (C) =SMR(A1:A4)  
 (D) =SOMAR(A1:A4)  
 (E) =SM(A1:A4)

### Questão 30

Das alternativas abaixo, qual apresenta o tipo válido de alinhamento de conteúdo entre as margens de um documento, presente no Microsoft Word 2016 (PT-BR)?

- (A) formatar  
 (B) justificar  
 (C) destacar  
 (D) hifenizar  
 (E) indexar

## Conhecimentos Gerais

### TEXTO 02

O texto seguinte servirá de base para responder à questão abaixo:

## Redemocratização: de 1985 até os dias atuais

A decadência do Regime Militar deu espaço para o ressurgimento da democracia no Brasil, cuja concretização ocorreu por meio da alteração da Constituição em vigor. Em 1986, o povo brasileiro elegeu os representantes para a Assembleia Nacional Constituinte que promulgou a Constituição Federal de 1988.

A volta das eleições diretas para a Presidência da República com atuação expressa da Justiça Eleitoral ocorreu em 1989. O pleito realizado naquele ano contou com 82.074.718 eleitoras e eleitores aptos a votar. Fernando Collor de Mello recebeu 35.089.998 votos e foi o primeiro presidente eleito democraticamente desde 1960.

A sexta eleição presidencial organizada pela JE após o hiato ocorrido durante o período da ditadura aconteceu em 1994, quando o eleitorado voltou às urnas para escolher Fernando Henrique Cardoso como chefe do Poder Executivo. Ele angariou 34.377.829 votos em 1994 e 35.936.916 em 1998, ano em que foi reeleito para o cargo.

90 ANOS DA JUSTIÇA ELEITORAL: 12 ELEIÇÕES PRESIDENCIAIS JÁ FORAM REALIZADAS NO BRASIL DESDE 1945. [www.tse.jus.br](http://www.tse.jus.br), 2022. Disponível em: <<https://www.tse.jus.br/comunicacao/noticias/2022/Fevereiro/90-anos-da-justica-eleitoral-12-eleicoes-presidenciais-ja-foram-realizadas-no-brasil-desde-1945>>.

Acesso em: 28/12/2022.

### Questão 31

Conforme o texto de apoio, as eleições de 1989 para a Presidência da República do Brasil foram as primeiras após o Regime Militar. Sendo assim, assinale a alternativa que traz o número exato de eleições diretas para a Presidência da República desde sua retomada em 1989, até o último pleito, em 2022.

- (A) 22.
- (B) 06.
- (C) 08.
- (D) 09.
- (E) 12.

### Questão 32

A Lei Federal nº 14.017/2020, conhecida como Lei Aldir Blanc (LAB), estabelece uma série de medidas emergências para o setor cultural e criativo, fortemente impactado pela pandemia do novo coronavírus (Covid-19). A lei tem como objetivos garantir o acesso:

I. À renda emergencial para os(as) profissionais dos setores cultural e criativo;

II. Ao subsídio para a manutenção dos espaços culturais que tiveram suas atividades interrompidas nesse período;

III. A todos os fundos financiadores de projetos artístico-culturais, sejam eles públicos ou privados, sem a necessidade de seleção e/ou curadoria de projetos proponentes, bastando ao interessado pleitear a verba por meio de inscrição quando da publicação de editais destes fundos.

IV. Às ações de fomento à cultura, por meio da realização de prêmios e editais para o setor cultural e criativo.

Assinale a alternativa CORRETA:

- (A) Todas estão corretas.
- (B) I, II e IV estão corretas.
- (C) Apenas I está correta.
- (D) I, II e III estão corretas.
- (E) II e III estão corretas.

### Questão 33

Sobre a Conferência do Clima da ONU (COP27), realizada em novembro de 2022, considere o que é verdadeiro ou falso, assinale a alternativa que traz a sequência CORRETA:

(\_\_ ) Devido à pressão de ativistas locais durante a realização do evento na China, houve forte apelo para que grandes poluidores do mundo em desenvolvimento, como o país sede e Índia, reduzissem suas emissões de gases de efeito estufa.

(\_\_ ) O evento resultou na criação de um fundo de perdas e danos para ajudar os países pobres que sofrem com os desastres causados pelas mudanças climáticas.

(\_\_ ) As questões de direitos humanos ganharam destaque na COP27 devido à história de

**repressão do país sede e ao caso de destaque do ativista preso Alaa Abdel-Fattah.**

- (A) V, V, F.
- (B) V, F, V.
- (C) F, F, V.
- (D) F, V, V.
- (E) V, V, V.

#### Questão 34

**Desde fevereiro de 2022, o mundo vem acompanhando o conflito entre Rússia e Ucrânia. A mídia internacional aponta uma série de motivos que levaram os russos a invadirem o território ucraniano. Assinale a alternativa que NÃO traz algum desses motivos.**

- (A) Pouco antes da invasão, de fato, que aconteceu em 24 de fevereiro de 2022, a Rússia reconheceu a independência das regiões separatistas da Ucrânia.
- (B) O assassinato do arquiduque Francisco Ferdinando e sua esposa, Sofia, em Sarajevo, na Bósnia.
- (C) A questão da Criméia.
- (D) Maior aproximação da Ucrânia com a Otan.
- (E) Maior aproximação da Ucrânia com a União Europeia.

#### Questão 35

**Em relação à cidade paranaense Telêmaco Borba, assinale a alternativa CORRETA:**

- (A) Localizada na região dos Campos Gerais do Paraná, Telêmaco Borba tem mais de 50 mil eleitores e é popularmente conhecida como "Cidade Canção".
- (B) As primeiras eleições do município de Telêmaco Borba foram realizadas em 1º de março de 1964, elegendo Péricles Pacheco da Silva como prefeito e mais 9 vereadores, entre eles, uma mulher eleita e outra suplente.
- (C) Foi por meio da Lei Estadual nº 4.738, de 1963, sancionada pelo governador Álvaro Dias, que o distrito foi elevado à categoria de município emancipado com território desmembrado do município de Tibagi, com a denominação definitiva Telêmaco Borba.

- (D) Telêmaco Borba possui dois tipos de bioma: pampa e cerrado.
- (E) Por estar localizada numa região considerada relativamente nova do Paraná, não há indícios ou registros de povos indígenas, como na maior parte do estado, mas apenas de antepassados europeus e negros escravizados.

### Conhecimentos Específicos

#### Questão 36

**A Lei nº 10.826/2003, conhecida como Estatuto do Desarmamento dispõe sobre registro, posse e comercialização de armas de fogo e munição, sobre o Sistema Nacional de Armas - Sinarm, define crimes e dá outras providências. Quanto ao porte de arma de fogo, nos termos do referido Estatuto, assinale a alternativa INCORRETA:**

- (A) É proibido o porte de arma de fogo em todo o território nacional, salvo os integrantes das guardas municipais dos Municípios com mais de 50.000 (cinquenta mil) e menos de 500.000 (quinhentos mil) habitantes, quando em serviço.
- (B) É proibido, sob qualquer hipótese, o porte de arma de fogo para as empresas de segurança privada e de transporte de valores.
- (C) É proibido o porte de arma de fogo em todo o território nacional, salvo os integrantes do quadro efetivo dos agentes e guardas prisionais, os integrantes das escoltas de presos e as guardas portuárias.
- (D) É proibido o porte de arma de fogo em todo o território nacional, salvo os integrantes das Forças Armadas.
- (E) É proibido o porte de arma de fogo em todo o território nacional, salvo integrantes das Carreiras de Auditoria da Receita Federal do Brasil e de Auditoria-Fiscal do Trabalho, cargos de Auditor-Fiscal e Analista Tributário.

#### Questão 37

**Proteção e defesa civil é um conjunto de ações preventivas e de socorro que visam evitar desastres e mitigar seus impactos. Tem atuação antes, durante e depois de desastres, por meio de ações como: prevenção, mitigação, resposta e recuperação. Sobre o assunto, assinale a alternativa CORRETA:**

- (A) Ações de mitigação são medidas e atividades prioritárias, anteriores à ocorrência do desastre, destinadas a evitar ou reduzir a instalação de novos riscos de desastres.
- (B) Ações de resposta são medidas e atividades, anteriores à ocorrência do desastre destinadas a otimizar as ações de prevenção e minimizar os danos e as perdas decorrentes do desastre.
- (C) Ações de resposta são medidas e atividades prioritárias, anteriores à ocorrência do desastre, destinadas a evitar ou reduzir a instalação de novos riscos de desastres.
- (D) Ações de prevenção são medidas desenvolvidas após o desastre para retornar à situação de normalidade, que abrangem a reconstrução de infraestrutura danificada ou destruída, e a reabilitação do meio ambiente e da economia, visando ao bem-estar social.
- (E) Ações de mitigação são ações que buscam diminuir ou a limitar os impactos dos desastres para a população. Como nem sempre é possível evitar um desastre, pode-se evitar a perda de vidas e diminuir os prejuízos econômicos e sociais com diversas ações.

### Questão 38

**Sobre o Sistema Nacional de Políticas Públicas sobre Drogas - Sisnad, especialmente quanto ao Plano Nacional de Políticas sobre Drogas, nos termos da Lei nº 11.343/2006, analise as assertivas a seguir e marque "V" para a(s) verdadeira(s) e "F" para a(s) falsa(s) e, na sequência, assinale a alternativa que apresenta a sequência CORRETA:**

**Compete à União formular e coordenar a execução da Política Nacional sobre Drogas.**

**Compete à União estabelecer diretrizes sobre a organização e funcionamento do Sisnad e suas normas de referência.**

**Compete aos Estados coordenar o Sisnad.**

**Compete aos Estados sistematizar e divulgar os dados estatísticos nacionais de prevenção, tratamento, acolhimento, reinserção social e econômica e repressão ao tráfico ilícito de drogas.**

(A) V-F-V-V.

(B) F-V-F-F.

(C) F-F-F-V.

(D) V-F-V-F.

(E) V-V-F-F.

### Questão 39

**Assinale a alternativa que não apresenta uma das medidas de segurança contra incêndio em edificações e áreas de risco:**

(A) Saída de emergência.

(B) Porta automática.

(C) Iluminação de emergência.

(D) Controle de fumaça.

(E) Elevador de emergência.

### Questão 40

**Todas as profissões possuem, em maior ou menor grau, ditames éticos e morais estabelecidos, sendo de grande importância para o desempenho da função. Desta forma, sobre deveres do guarda municipal, analise as assertivas a seguir:**

**I.É dever ético e moral o guarda municipal agir de forma disciplinada, com respeito mútuo aos seus pares e superiores.**

**II.Exercer suas atribuições com zelo, probidade, indiscrição e moderação.**

**III.Proteger pessoas e bens.**

**Está CORRETO o que se afirma em:**

(A) Todas as assertivas estão incorretas.

(B) Apenas as assertivas II e III estão corretas.

(C) Apenas a assertiva I está correta.

(D) Apenas as assertivas I e III estão corretas.

(E) Todas as assertivas estão corretas.

### Questão 41

**A pena privativa de liberdade constitui uma das espécies de penas previstas no Código Penal. Sobre o tema, analise as assertivas a seguir e marque "V" para a(s) verdadeira(s) e "F" para a(s) falsa(s) e, na sequência, assinale a alternativa que apresenta a sequência CORRETA:**

**I.Em regra, a pena de detenção deve ser cumprida em regime semiaberto ou fechado.**

**II.No regime aberto, a execução da pena deve ocorrer em colônia agrícola.**

**III.Em regra, o condenado à pena superior a 8 (oito) anos deverá começar a cumpri-la em regime fechado.**

**IV.O condenado por crime contra a administração pública terá a progressão de regime do cumprimento da pena condicionada à reparação do dano que causou, ou à devolução do produto do ilícito praticado, com os acréscimos legais.**

- (A) F-F-V-V.
- (B) V-V-F-F.
- (C) F-F-F-V.
- (D) V-V-V-F.
- (E) V-F-V-F.

#### Questão 42

**Em relação às disposições do Código Penal sobre legítima defesa, assinale a alternativa CORRETA:**

- (A) Entende-se em legítima defesa quem, usando moderadamente dos meios necessários, repele injusta agressão, atual ou iminente, a direito seu ou de outrem.
- (B) Entende-se em legítima defesa quem, usando moderadamente dos meios necessários, repele justa agressão, atual ou iminente, a direito seu ou de outrem.
- (C) Entende-se em legítima defesa quem, usando excessivamente dos meios necessários, repele injusta agressão, atual ou iminente, a direito seu ou de outrem.
- (D) Ainda que tenha sido por legítima defesa, a conduta delituosa prevista no Código Penal é considerada crime.
- (E) Legítima defesa não se aplica a agente de segurança pública.

#### Questão 43

**Sobre os crimes contra o patrimônio, conforme a redação do Código Penal, assinale a alternativa INCORRETA:**

- (A) O crime de usurpação de água trata-se de conduta daquele que desvia ou represa, em proveito próprio ou de outrem, águas alheias.

(B) Apropriação de coisa achada não constitui crime.

(C) A pena para o crime de roubo é aumentada se a violência ou grave ameaça é exercida com emprego de arma branca.

(D) A pena para o crime de roubo é aumentada se o agente mantém a vítima em seu poder, restringindo sua liberdade.

(E) Furto é subtrair coisa móvel alheia, para si ou para outrem, mediante grave ameaça ou violência a pessoa, ou depois de havê-la, por qualquer meio, reduzido à impossibilidade de resistência.

#### Questão 44

**Sobre as medidas protetivas descritas na Lei Maria da Penha (Lei nº 11.340/2006), analise as assertivas:**

**I.Constatada a prática de violência doméstica e familiar contra a mulher, nos termos desta Lei, o juiz poderá aplicar, de imediato, ao agressor afastamento do lar, domicílio ou local de convivência com a ofendida.**

**II.Das Medidas Protetivas de Urgência que obrigam o agressor, só podem ser aplicadas separadamente.**

**III.É proibida a restrição de bens do agressor.**

**Está CORRETO o que se afirma em:**

- (A) Todas as assertivas estão corretas.
- (B) Somente as assertivas I e II estão corretas.
- (C) Todas as assertivas estão incorretas.
- (D) Somente as assertivas II e III estão corretas.
- (E) Somente a assertiva I está correta.

#### Questão 45

**Assinale a alternativa que NÃO apresenta uma das formas de violência doméstica e familiar contra a mulher previstas na Lei Maria da Penha (Lei nº 11.340/2006).**

- (A) Violência moral.
- (B) Violência física.
- (C) Violência digital.
- (D) Violência patrimonial.
- (E) Violência psicológica.

#### Questão 46

**Sobre o Sistema Nacional de Políticas Públicas sobre Drogas - Sisnad, disciplinado pela Lei nº 11.343/2006, assinale a alternativa CORRETA quanto aos seus objetivos:**

- (A) Constitui um dos objetivos do Sisnad o respeito aos direitos fundamentais da pessoa humana, exceto quanto à sua autonomia e à sua liberdade.
- (B) Constitui um dos objetivos do Sisnad promover a construção e a socialização do conhecimento sobre drogas no país.
- (C) Constitui um dos objetivos do Sisnad a promoção da responsabilidade dissociada entre Estado e Sociedade, reconhecendo a importância da participação social nas atividades do Sisnad.
- (D) Constitui um dos objetivos do Sisnad a observância do equilíbrio entre as atividades de prevenção do uso indevido, atenção e distanciamento social de usuários e dependentes de drogas e de repressão à sua produção não autorizada e ao seu tráfico ilícito, visando a garantir a estabilidade e o bem-estar social.
- (E) Constitui um dos objetivos do Sisnad contribuir para a inclusão social do cidadão, visando a torná-lo mais vulnerável a assumir comportamentos de risco para o uso indevido de drogas, seu tráfico ilícito e outros comportamentos correlacionados.

#### Questão 47

**Sobre as disposições do Estatuto do Desarmamento, Lei nº 10.826/2003, analise as assertivas a seguir e marque "V" para a(s) verdadeira(s) e "F" para a(s) falsa(s) e, na sequência, assinale a alternativa que apresenta a sequência CORRETA:**

- É obrigatório o registro de arma de fogo no órgão competente.
- A empresa que comercializar arma de fogo em território nacional é obrigada a comunicar a venda à autoridade competente, como também manter banco de dados com todas as características da arma e cópia dos documentos previstos na Lei nº 10.826/2003.
- Disparo de arma de fogo não constitui crime previsto na Lei nº 10.826/2003.
- Aos integrantes das guardas municipais dos

**Municípios que integram regiões metropolitanas, será autorizado porte de arma de fogo, quando em serviço.**

- (A) F-F-V-V.
- (B) F-F-F-V.
- (C) V-V-V-V.
- (D) V-V-F-V.
- (E) V-F-V-F.

#### Questão 48

**Com base nas disposições constantes no Estatuto Geral das Guardas Municipais (Lei nº 13.022/2014), são princípios mínimos de atuação das guardas municipais, EXCETO:**

- (A) Preservação da vida, redução do sofrimento e diminuição das perdas.
- (B) Uso regressivo da força.
- (C) Compromisso com a evolução social da comunidade.
- (D) Patrulhamento preventivo.
- (E) Proteção dos direitos humanos fundamentais, do exercício da cidadania e das liberdades públicas.

#### Questão 49

**Relativamente às competências das guardas municipais (divididas em gerais e específicas), nos termos previstos no Estatuto Geral das Guardas Municipais (Lei nº 13.022/2014), assinale a alternativa CORRETA:**

- (A) É competência geral das guardas municipais prevenir e inibir, pela presença e vigilância, bem como coibir, infrações penais ou administrativas e atos infracionais que atentem contra os bens, serviços e instalações municipais.
- (B) É competência geral das guardas municipais colaborar, de forma integrada com os órgãos de segurança pública, em ações conjuntas que contribuam com a paz social.
- (C) É competência geral das guardas municipais interagir com a sociedade civil para discussão de soluções de problemas e projetos locais voltados à melhoria das condições de segurança das comunidades.
- (D) É competência geral das guardas municipais garantir o atendimento de ocorrências emergenciais, ou prestá-lo direta e imediatamente

quando deparar-se com elas.

- (E) É competência geral das guardas municipais a proteção de bens, serviços, logradouros públicos municipais e instalações do Município.

### Questão 50

**De acordo com as disposições do Estatuto Geral das Guardas Municipais (Lei nº 13.022/2014), analise as assertivas a seguir:**

**I.A guarda municipal é subordinada ao chefe do Poder Legislativo municipal.**

**II.A guarda municipal é formada por servidores públicos integrantes de carreira única e plano de cargos e salários, conforme disposto em lei municipal.**

**III.O funcionamento das guardas municipais será acompanhado por órgãos próprios, permanentes, autônomos e com atribuições de fiscalização, investigação e auditoria.**

**Está CORRETO o que se afirma em:**

- (A) Somente a assertiva I está correta.
- (B) Todas as assertivas estão incorretas.
- (C) Somente as assertivas I e II estão corretas.
- (D) Todas as assertivas estão corretas.
- (E) Somente as assertivas II e III estão corretas.