



Boletim Oficial

Instituído pela Lei Mun. 1339 de 14/05/2002 e Regulamentado pelo decreto Mun. 10060

Telêmaco Borba, 30 de maio de 2016



MUNICÍPIO DE TELÊMACO BORBA **ESTADO DO PARANÁ**

PODER EXECUTIVO

Edital Complementar 06 - EDITAL Nº 01-2016 – CONCURSO PÚBLICO

A PREFEITURA DE TELÊMACO BORBA - ESTADO DO PARANÁ, torna público o Gabarito Preliminar das Provas Objetivas de múltipla escolha e Cópias das Provas, nos termos do **EDITAL Nº 01-2016 – CONCURSO PÚBLICO**.

I. DO GABARITO PRELIMINAR

1. O Gabarito Preliminar das Provas Objetivas de múltipla escolha encontram-se disponíveis no site www.msconcursos.com.br, aba “GABARITOS”, no site www.telemacoborba.pr.gov.br e no Boletim Oficial da Prefeitura.

II. DAS CÓPIAS DAS PROVAS

2. As Cópias das Provas encontram-se disponíveis no site www.msconcursos.com.br, aba “PROVAS”, no site www.telemacoborba.pr.gov.br e no Boletim Oficial da Prefeitura.

III. DOS RECURSOS

3. Eventuais recursos contra o Gabarito Preliminar das Provas Objetivas poderão ser impetrados conforme item IX do EDITAL Nº 01-2016 – CONCURSO PÚBLICO.

Telêmaco Borba/PR, 30 de maio de 2016.

LUIZ CARLOS GIBSON
Prefeito



GABARITO PROVA OBJETIVA - PRELIMINAR
PREFEITURA MUNICIPAL DE TELÊMACO BORBA
CONCURSO PÚBLICO - EDITAL Nº 001-2016
CARGO: ARTIFICE DE OBRAS E SERVIÇOS PÚBLICOS - PEDREIRO
PROVA 1

QUESTÃO	RESPOSTA	VALOR DA QUESTÃO	ÁREA DE CONHECIMENTO
1	C	2,5	LÍNGUA PORTUGUESA
2	A	2,5	LÍNGUA PORTUGUESA
3	D	2,5	LÍNGUA PORTUGUESA
4	B	2,5	LÍNGUA PORTUGUESA
5	E	2,5	LÍNGUA PORTUGUESA
6	A	2,5	LÍNGUA PORTUGUESA
7	B	2,5	LÍNGUA PORTUGUESA
8	E	2,5	LÍNGUA PORTUGUESA
9	B	2,5	LÍNGUA PORTUGUESA
10	E	2,5	LÍNGUA PORTUGUESA
11	B	2,5	LÍNGUA PORTUGUESA
12	C	2,5	LÍNGUA PORTUGUESA
13	B	2,5	LÍNGUA PORTUGUESA
14	A	2,5	LÍNGUA PORTUGUESA
15	D	2,5	LÍNGUA PORTUGUESA
16	C	2,5	MATEMÁTICA
17	B	2,5	MATEMÁTICA
18	D	2,5	MATEMÁTICA
19	E	2,5	MATEMÁTICA
20	A	2,5	MATEMÁTICA
21	C	2,5	MATEMÁTICA
22	D	2,5	MATEMÁTICA
23	E	2,5	MATEMÁTICA
24	B	2,5	MATEMÁTICA
25	A	2,5	MATEMÁTICA
26	A	2,5	CONHECIMENTOS GERAIS
27	D	2,5	CONHECIMENTOS GERAIS
28	C	2,5	CONHECIMENTOS GERAIS
29	E	2,5	CONHECIMENTOS GERAIS
30	A	2,5	CONHECIMENTOS GERAIS
31	D	2,5	CONHECIMENTOS GERAIS
32	B	2,5	CONHECIMENTOS GERAIS
33	A	2,5	CONHECIMENTOS GERAIS
34	C	2,5	CONHECIMENTOS GERAIS
35	B	2,5	CONHECIMENTOS GERAIS
36	B	2,5	CONHECIMENTOS ESPECÍFICOS
37	A	2,5	CONHECIMENTOS ESPECÍFICOS
38	E	2,5	CONHECIMENTOS ESPECÍFICOS
39	C	2,5	CONHECIMENTOS ESPECÍFICOS
40	D	2,5	CONHECIMENTOS ESPECÍFICOS



GABARITO PROVA OBJETIVA - PRELIMINAR
PREFEITURA MUNICIPAL DE TELÊMACO BORBA
CONCURSO PÚBLICO - EDITAL Nº 001-2016
CARGO: ARTIFICE DE OBRAS E SERVIÇOS PÚBLICOS - PEDREIRO
PROVA 2

QUESTÃO	RESPOSTA	VALOR DA QUESTÃO	ÁREA DE CONHECIMENTO
1	C	2,5	MATEMÁTICA
2	B	2,5	MATEMÁTICA
3	D	2,5	MATEMÁTICA
4	E	2,5	MATEMÁTICA
5	A	2,5	MATEMÁTICA
6	C	2,5	MATEMÁTICA
7	D	2,5	MATEMÁTICA
8	E	2,5	MATEMÁTICA
9	B	2,5	MATEMÁTICA
10	A	2,5	MATEMÁTICA
11	A	2,5	CONHECIMENTOS GERAIS
12	D	2,5	CONHECIMENTOS GERAIS
13	C	2,5	CONHECIMENTOS GERAIS
14	E	2,5	CONHECIMENTOS GERAIS
15	A	2,5	CONHECIMENTOS GERAIS
16	D	2,5	CONHECIMENTOS GERAIS
17	B	2,5	CONHECIMENTOS GERAIS
18	A	2,5	CONHECIMENTOS GERAIS
19	C	2,5	CONHECIMENTOS GERAIS
20	B	2,5	CONHECIMENTOS GERAIS
21	B	2,5	CONHECIMENTOS ESPECÍFICOS
22	A	2,5	CONHECIMENTOS ESPECÍFICOS
23	E	2,5	CONHECIMENTOS ESPECÍFICOS
24	C	2,5	CONHECIMENTOS ESPECÍFICOS
25	D	2,5	CONHECIMENTOS ESPECÍFICOS
26	C	2,5	LÍNGUA PORTUGUESA
27	A	2,5	LÍNGUA PORTUGUESA
28	D	2,5	LÍNGUA PORTUGUESA
29	B	2,5	LÍNGUA PORTUGUESA
30	E	2,5	LÍNGUA PORTUGUESA
31	A	2,5	LÍNGUA PORTUGUESA
32	B	2,5	LÍNGUA PORTUGUESA
33	E	2,5	LÍNGUA PORTUGUESA
34	B	2,5	LÍNGUA PORTUGUESA
35	E	2,5	LÍNGUA PORTUGUESA
36	B	2,5	LÍNGUA PORTUGUESA
37	C	2,5	LÍNGUA PORTUGUESA
38	B	2,5	LÍNGUA PORTUGUESA
39	A	2,5	LÍNGUA PORTUGUESA
40	D	2,5	LÍNGUA PORTUGUESA



GABARITO PROVA OBJETIVA - PRELIMINAR
PREFEITURA MUNICIPAL DE TELÊMACO BORBA
CONCURSO PÚBLICO - EDITAL Nº 001-2016
CARGO: ARTIFICE DE OBRAS E SERVIÇOS PÚBLICOS - PEDREIRO
PROVA 3

QUESTÃO	RESPOSTA	VALOR DA QUESTÃO	ÁREA DE CONHECIMENTO
1	B	2,5	CONHECIMENTOS ESPECÍFICOS
2	A	2,5	CONHECIMENTOS ESPECÍFICOS
3	E	2,5	CONHECIMENTOS ESPECÍFICOS
4	C	2,5	CONHECIMENTOS ESPECÍFICOS
5	D	2,5	CONHECIMENTOS ESPECÍFICOS
6	C	2,5	LÍNGUA PORTUGUESA
7	A	2,5	LÍNGUA PORTUGUESA
8	D	2,5	LÍNGUA PORTUGUESA
9	B	2,5	LÍNGUA PORTUGUESA
10	E	2,5	LÍNGUA PORTUGUESA
11	A	2,5	LÍNGUA PORTUGUESA
12	B	2,5	LÍNGUA PORTUGUESA
13	E	2,5	LÍNGUA PORTUGUESA
14	B	2,5	LÍNGUA PORTUGUESA
15	E	2,5	LÍNGUA PORTUGUESA
16	B	2,5	LÍNGUA PORTUGUESA
17	C	2,5	LÍNGUA PORTUGUESA
18	B	2,5	LÍNGUA PORTUGUESA
19	A	2,5	LÍNGUA PORTUGUESA
20	D	2,5	LÍNGUA PORTUGUESA
21	C	2,5	MATEMÁTICA
22	B	2,5	MATEMÁTICA
23	D	2,5	MATEMÁTICA
24	E	2,5	MATEMÁTICA
25	A	2,5	MATEMÁTICA
26	C	2,5	MATEMÁTICA
27	D	2,5	MATEMÁTICA
28	E	2,5	MATEMÁTICA
29	B	2,5	MATEMÁTICA
30	A	2,5	MATEMÁTICA
31	A	2,5	CONHECIMENTOS GERAIS
32	D	2,5	CONHECIMENTOS GERAIS
33	C	2,5	CONHECIMENTOS GERAIS
34	E	2,5	CONHECIMENTOS GERAIS
35	A	2,5	CONHECIMENTOS GERAIS
36	D	2,5	CONHECIMENTOS GERAIS
37	B	2,5	CONHECIMENTOS GERAIS
38	A	2,5	CONHECIMENTOS GERAIS
39	C	2,5	CONHECIMENTOS GERAIS
40	B	2,5	CONHECIMENTOS GERAIS

**GABARITO PROVA OBJETIVA - PRELIMINAR**
PREFEITURA MUNICIPAL DE TELÊMACO BORBA
CONCURSO PÚBLICO - EDITAL Nº 001-2016**CARGO: ARTIFICE DE OBRAS E SERVIÇOS PÚBLICOS - PINTOR DE PAREDES****PROVA 1**

QUESTÃO	RESPOSTA	VALOR DA QUESTÃO	ÁREA DE CONHECIMENTO
1	C	2,5	LÍNGUA PORTUGUESA
2	A	2,5	LÍNGUA PORTUGUESA
3	D	2,5	LÍNGUA PORTUGUESA
4	B	2,5	LÍNGUA PORTUGUESA
5	E	2,5	LÍNGUA PORTUGUESA
6	A	2,5	LÍNGUA PORTUGUESA
7	B	2,5	LÍNGUA PORTUGUESA
8	E	2,5	LÍNGUA PORTUGUESA
9	B	2,5	LÍNGUA PORTUGUESA
10	E	2,5	LÍNGUA PORTUGUESA
11	B	2,5	LÍNGUA PORTUGUESA
12	C	2,5	LÍNGUA PORTUGUESA
13	B	2,5	LÍNGUA PORTUGUESA
14	A	2,5	LÍNGUA PORTUGUESA
15	D	2,5	LÍNGUA PORTUGUESA
16	C	2,5	MATEMÁTICA
17	B	2,5	MATEMÁTICA
18	D	2,5	MATEMÁTICA
19	E	2,5	MATEMÁTICA
20	A	2,5	MATEMÁTICA
21	C	2,5	MATEMÁTICA
22	D	2,5	MATEMÁTICA
23	E	2,5	MATEMÁTICA
24	B	2,5	MATEMÁTICA
25	A	2,5	MATEMÁTICA
26	A	2,5	CONHECIMENTOS GERAIS
27	D	2,5	CONHECIMENTOS GERAIS
28	C	2,5	CONHECIMENTOS GERAIS
29	E	2,5	CONHECIMENTOS GERAIS
30	A	2,5	CONHECIMENTOS GERAIS
31	D	2,5	CONHECIMENTOS GERAIS
32	B	2,5	CONHECIMENTOS GERAIS
33	A	2,5	CONHECIMENTOS GERAIS
34	C	2,5	CONHECIMENTOS GERAIS
35	B	2,5	CONHECIMENTOS GERAIS
36	B	2,5	CONHECIMENTOS ESPECÍFICOS
37	A	2,5	CONHECIMENTOS ESPECÍFICOS
38	E	2,5	CONHECIMENTOS ESPECÍFICOS
39	D	2,5	CONHECIMENTOS ESPECÍFICOS
40	C	2,5	CONHECIMENTOS ESPECÍFICOS



**GABARITO PROVA OBJETIVA - PRELIMINAR
PREFEITURA MUNICIPAL DE TELÊMACO BORBA
CONCURSO PÚBLICO - EDITAL Nº 001-2016**

CARGO: ARTIFICE DE OBRAS E SERVIÇOS PÚBLICOS - PINTOR DE PAREDES

PROVA 2

QUESTÃO	RESPOSTA	VALOR DA QUESTÃO	ÁREA DE CONHECIMENTO
1	C	2,5	MATEMÁTICA
2	B	2,5	MATEMÁTICA
3	D	2,5	MATEMÁTICA
4	E	2,5	MATEMÁTICA
5	A	2,5	MATEMÁTICA
6	C	2,5	MATEMÁTICA
7	D	2,5	MATEMÁTICA
8	E	2,5	MATEMÁTICA
9	B	2,5	MATEMÁTICA
10	A	2,5	MATEMÁTICA
11	A	2,5	CONHECIMENTOS GERAIS
12	D	2,5	CONHECIMENTOS GERAIS
13	C	2,5	CONHECIMENTOS GERAIS
14	E	2,5	CONHECIMENTOS GERAIS
15	A	2,5	CONHECIMENTOS GERAIS
16	D	2,5	CONHECIMENTOS GERAIS
17	B	2,5	CONHECIMENTOS GERAIS
18	A	2,5	CONHECIMENTOS GERAIS
19	C	2,5	CONHECIMENTOS GERAIS
20	B	2,5	CONHECIMENTOS GERAIS
21	B	2,5	CONHECIMENTOS ESPECÍFICOS
22	A	2,5	CONHECIMENTOS ESPECÍFICOS
23	E	2,5	CONHECIMENTOS ESPECÍFICOS
24	D	2,5	CONHECIMENTOS ESPECÍFICOS
25	C	2,5	CONHECIMENTOS ESPECÍFICOS
26	C	2,5	LÍNGUA PORTUGUESA
27	A	2,5	LÍNGUA PORTUGUESA
28	D	2,5	LÍNGUA PORTUGUESA
29	B	2,5	LÍNGUA PORTUGUESA
30	E	2,5	LÍNGUA PORTUGUESA
31	A	2,5	LÍNGUA PORTUGUESA
32	B	2,5	LÍNGUA PORTUGUESA
33	E	2,5	LÍNGUA PORTUGUESA
34	B	2,5	LÍNGUA PORTUGUESA
35	E	2,5	LÍNGUA PORTUGUESA
36	B	2,5	LÍNGUA PORTUGUESA
37	C	2,5	LÍNGUA PORTUGUESA
38	B	2,5	LÍNGUA PORTUGUESA
39	A	2,5	LÍNGUA PORTUGUESA
40	D	2,5	LÍNGUA PORTUGUESA



GABARITO PROVA OBJETIVA - PRELIMINAR
PREFEITURA MUNICIPAL DE TELÊMACO BORBA
CONCURSO PÚBLICO - EDITAL Nº 001-2016

CARGO: ARTIFICE DE OBRAS E SERVIÇOS PÚBLICOS - PINTOR DE PAREDES

PROVA 3

QUESTÃO	RESPOSTA	VALOR DA QUESTÃO	ÁREA DE CONHECIMENTO
1	B	2,5	CONHECIMENTOS ESPECÍFICOS
2	A	2,5	CONHECIMENTOS ESPECÍFICOS
3	E	2,5	CONHECIMENTOS ESPECÍFICOS
4	D	2,5	CONHECIMENTOS ESPECÍFICOS
5	C	2,5	CONHECIMENTOS ESPECÍFICOS
6	C	2,5	LÍNGUA PORTUGUESA
7	A	2,5	LÍNGUA PORTUGUESA
8	D	2,5	LÍNGUA PORTUGUESA
9	B	2,5	LÍNGUA PORTUGUESA
10	E	2,5	LÍNGUA PORTUGUESA
11	A	2,5	LÍNGUA PORTUGUESA
12	B	2,5	LÍNGUA PORTUGUESA
13	E	2,5	LÍNGUA PORTUGUESA
14	B	2,5	LÍNGUA PORTUGUESA
15	E	2,5	LÍNGUA PORTUGUESA
16	B	2,5	LÍNGUA PORTUGUESA
17	C	2,5	LÍNGUA PORTUGUESA
18	B	2,5	LÍNGUA PORTUGUESA
19	A	2,5	LÍNGUA PORTUGUESA
20	D	2,5	LÍNGUA PORTUGUESA
21	C	2,5	MATEMÁTICA
22	B	2,5	MATEMÁTICA
23	D	2,5	MATEMÁTICA
24	E	2,5	MATEMÁTICA
25	A	2,5	MATEMÁTICA
26	C	2,5	MATEMÁTICA
27	D	2,5	MATEMÁTICA
28	E	2,5	MATEMÁTICA
29	B	2,5	MATEMÁTICA
30	A	2,5	MATEMÁTICA
31	A	2,5	CONHECIMENTOS GERAIS
32	D	2,5	CONHECIMENTOS GERAIS
33	C	2,5	CONHECIMENTOS GERAIS
34	E	2,5	CONHECIMENTOS GERAIS
35	A	2,5	CONHECIMENTOS GERAIS
36	D	2,5	CONHECIMENTOS GERAIS
37	B	2,5	CONHECIMENTOS GERAIS
38	A	2,5	CONHECIMENTOS GERAIS
39	C	2,5	CONHECIMENTOS GERAIS
40	B	2,5	CONHECIMENTOS GERAIS



GABARITO PROVA OBJETIVA - PRELIMINAR
PREFEITURA MUNICIPAL DE TELÊMACO BORBA
CONCURSO PÚBLICO - EDITAL Nº 001-2016
CARGO: AUXILIAR OBRAS SERVIÇOS PÚBLICOS
PROVA 1

QUESTÃO	RESPOSTA	VALOR DA QUESTÃO	ÁREA DE CONHECIMENTO
1	C	2,5	LÍNGUA PORTUGUESA
2	A	2,5	LÍNGUA PORTUGUESA
3	D	2,5	LÍNGUA PORTUGUESA
4	B	2,5	LÍNGUA PORTUGUESA
5	E	2,5	LÍNGUA PORTUGUESA
6	A	2,5	LÍNGUA PORTUGUESA
7	B	2,5	LÍNGUA PORTUGUESA
8	E	2,5	LÍNGUA PORTUGUESA
9	B	2,5	LÍNGUA PORTUGUESA
10	E	2,5	LÍNGUA PORTUGUESA
11	B	2,5	LÍNGUA PORTUGUESA
12	C	2,5	LÍNGUA PORTUGUESA
13	B	2,5	LÍNGUA PORTUGUESA
14	A	2,5	LÍNGUA PORTUGUESA
15	D	2,5	LÍNGUA PORTUGUESA
16	C	2,5	MATEMÁTICA
17	B	2,5	MATEMÁTICA
18	D	2,5	MATEMÁTICA
19	E	2,5	MATEMÁTICA
20	A	2,5	MATEMÁTICA
21	C	2,5	MATEMÁTICA
22	D	2,5	MATEMÁTICA
23	E	2,5	MATEMÁTICA
24	B	2,5	MATEMÁTICA
25	A	2,5	MATEMÁTICA
26	A	2,5	CONHECIMENTOS GERAIS
27	D	2,5	CONHECIMENTOS GERAIS
28	C	2,5	CONHECIMENTOS GERAIS
29	E	2,5	CONHECIMENTOS GERAIS
30	A	2,5	CONHECIMENTOS GERAIS
31	D	2,5	CONHECIMENTOS GERAIS
32	B	2,5	CONHECIMENTOS GERAIS
33	A	2,5	CONHECIMENTOS GERAIS
34	C	2,5	CONHECIMENTOS GERAIS
35	B	2,5	CONHECIMENTOS GERAIS
36	D	2,5	CONHECIMENTOS ESPECÍFICOS
37	B	2,5	CONHECIMENTOS ESPECÍFICOS
38	A	2,5	CONHECIMENTOS ESPECÍFICOS
39	E	2,5	CONHECIMENTOS ESPECÍFICOS
40	C	2,5	CONHECIMENTOS ESPECÍFICOS



GABARITO PROVA OBJETIVA - PRELIMINAR
PREFEITURA MUNICIPAL DE TELÊMACO BORBA
CONCURSO PÚBLICO - EDITAL Nº 001-2016
CARGO: AUXILIAR OBRAS SERVIÇOS PÚBLICOS
PROVA 2

QUESTÃO	RESPOSTA	VALOR DA QUESTÃO	ÁREA DE CONHECIMENTO
2	C	2,5	MATEMÁTICA
2	B	2,5	MATEMÁTICA
3	D	2,5	MATEMÁTICA
4	E	2,5	MATEMÁTICA
5	A	2,5	MATEMÁTICA
6	C	2,5	MATEMÁTICA
7	D	2,5	MATEMÁTICA
8	E	2,5	MATEMÁTICA
9	B	2,5	MATEMÁTICA
10	A	2,5	MATEMÁTICA
11	A	2,5	CONHECIMENTOS GERAIS
12	D	2,5	CONHECIMENTOS GERAIS
13	C	2,5	CONHECIMENTOS GERAIS
14	E	2,5	CONHECIMENTOS GERAIS
15	A	2,5	CONHECIMENTOS GERAIS
16	D	2,5	CONHECIMENTOS GERAIS
17	B	2,5	CONHECIMENTOS GERAIS
18	A	2,5	CONHECIMENTOS GERAIS
19	C	2,5	CONHECIMENTOS GERAIS
20	B	2,5	CONHECIMENTOS GERAIS
21	D	2,5	CONHECIMENTOS ESPECÍFICOS
22	B	2,5	CONHECIMENTOS ESPECÍFICOS
23	A	2,5	CONHECIMENTOS ESPECÍFICOS
24	E	2,5	CONHECIMENTOS ESPECÍFICOS
25	C	2,5	CONHECIMENTOS ESPECÍFICOS
26	C	2,5	LÍNGUA PORTUGUESA
27	A	2,5	LÍNGUA PORTUGUESA
28	D	2,5	LÍNGUA PORTUGUESA
29	B	2,5	LÍNGUA PORTUGUESA
30	E	2,5	LÍNGUA PORTUGUESA
31	A	2,5	LÍNGUA PORTUGUESA
32	B	2,5	LÍNGUA PORTUGUESA
33	E	2,5	LÍNGUA PORTUGUESA
34	B	2,5	LÍNGUA PORTUGUESA
35	E	2,5	LÍNGUA PORTUGUESA
36	B	2,5	LÍNGUA PORTUGUESA
37	C	2,5	LÍNGUA PORTUGUESA
38	B	2,5	LÍNGUA PORTUGUESA
39	A	2,5	LÍNGUA PORTUGUESA
40	D	2,5	LÍNGUA PORTUGUESA



**GABARITO PROVA OBJETIVA - PRELIMINAR
PREFEITURA MUNICIPAL DE TELÊMACO BORBA
CONCURSO PÚBLICO - EDITAL Nº 001-2016
CARGO: AUXILIAR OBRAS SERVIÇOS PÚBLICOS
PROVA 3**

QUESTÃO	RESPOSTA	VALOR DA QUESTÃO	ÁREA DE CONHECIMENTO
1	D	2,5	CONHECIMENTOS ESPECÍFICOS
2	B	2,5	CONHECIMENTOS ESPECÍFICOS
3	A	2,5	CONHECIMENTOS ESPECÍFICOS
4	E	2,5	CONHECIMENTOS ESPECÍFICOS
5	C	2,5	CONHECIMENTOS ESPECÍFICOS
6	C	2,5	LÍNGUA PORTUGUESA
7	A	2,5	LÍNGUA PORTUGUESA
8	D	2,5	LÍNGUA PORTUGUESA
9	B	2,5	LÍNGUA PORTUGUESA
10	E	2,5	LÍNGUA PORTUGUESA
11	A	2,5	LÍNGUA PORTUGUESA
12	B	2,5	LÍNGUA PORTUGUESA
13	E	2,5	LÍNGUA PORTUGUESA
14	B	2,5	LÍNGUA PORTUGUESA
15	E	2,5	LÍNGUA PORTUGUESA
16	B	2,5	LÍNGUA PORTUGUESA
17	C	2,5	LÍNGUA PORTUGUESA
18	B	2,5	LÍNGUA PORTUGUESA
19	A	2,5	LÍNGUA PORTUGUESA
20	D	2,5	LÍNGUA PORTUGUESA
21	C	2,5	MATEMÁTICA
22	B	2,5	MATEMÁTICA
23	D	2,5	MATEMÁTICA
24	E	2,5	MATEMÁTICA
25	A	2,5	MATEMÁTICA
26	C	2,5	MATEMÁTICA
27	D	2,5	MATEMÁTICA
28	E	2,5	MATEMÁTICA
29	B	2,5	MATEMÁTICA
30	A	2,5	MATEMÁTICA
31	A	2,5	CONHECIMENTOS GERAIS
32	D	2,5	CONHECIMENTOS GERAIS
33	C	2,5	CONHECIMENTOS GERAIS
34	E	2,5	CONHECIMENTOS GERAIS
35	A	2,5	CONHECIMENTOS GERAIS
36	D	2,5	CONHECIMENTOS GERAIS
37	B	2,5	CONHECIMENTOS GERAIS
38	A	2,5	CONHECIMENTOS GERAIS
39	C	2,5	CONHECIMENTOS GERAIS
40	B	2,5	CONHECIMENTOS GERAIS



GABARITO PROVA OBJETIVA - PRELIMINAR
PREFEITURA MUNICIPAL DE TELÊMACO BORBA
CONCURSO PÚBLICO - EDITAL Nº 001-2016

CARGO: ARTIFICE DE OBRAS E SERVIÇOS PÚBLICOS - BORRACHEIRO

PROVA 1

QUESTÃO	RESPOSTA	VALOR DA QUESTÃO	ÁREA DE CONHECIMENTO
1	C	2,5	LÍNGUA PORTUGUESA
2	A	2,5	LÍNGUA PORTUGUESA
3	D	2,5	LÍNGUA PORTUGUESA
4	B	2,5	LÍNGUA PORTUGUESA
5	E	2,5	LÍNGUA PORTUGUESA
6	A	2,5	LÍNGUA PORTUGUESA
7	B	2,5	LÍNGUA PORTUGUESA
8	E	2,5	LÍNGUA PORTUGUESA
9	B	2,5	LÍNGUA PORTUGUESA
10	E	2,5	LÍNGUA PORTUGUESA
11	B	2,5	LÍNGUA PORTUGUESA
12	C	2,5	LÍNGUA PORTUGUESA
13	B	2,5	LÍNGUA PORTUGUESA
14	A	2,5	LÍNGUA PORTUGUESA
15	D	2,5	LÍNGUA PORTUGUESA
16	C	2,5	MATEMÁTICA
17	B	2,5	MATEMÁTICA
18	D	2,5	MATEMÁTICA
19	E	2,5	MATEMÁTICA
20	A	2,5	MATEMÁTICA
21	C	2,5	MATEMÁTICA
22	D	2,5	MATEMÁTICA
23	E	2,5	MATEMÁTICA
24	B	2,5	MATEMÁTICA
25	A	2,5	MATEMÁTICA
26	A	2,5	CONHECIMENTOS GERAIS
27	D	2,5	CONHECIMENTOS GERAIS
28	C	2,5	CONHECIMENTOS GERAIS
29	E	2,5	CONHECIMENTOS GERAIS
30	A	2,5	CONHECIMENTOS GERAIS
31	D	2,5	CONHECIMENTOS GERAIS
32	B	2,5	CONHECIMENTOS GERAIS
33	A	2,5	CONHECIMENTOS GERAIS
34	C	2,5	CONHECIMENTOS GERAIS
35	B	2,5	CONHECIMENTOS GERAIS
36	B	2,5	CONHECIMENTOS ESPECÍFICOS
37	E	2,5	CONHECIMENTOS ESPECÍFICOS
38	C	2,5	CONHECIMENTOS ESPECÍFICOS
39	B	2,5	CONHECIMENTOS ESPECÍFICOS
40	D	2,5	CONHECIMENTOS ESPECÍFICOS



**GABARITO PROVA OBJETIVA - PRELIMINAR
PREFEITURA MUNICIPAL DE TELÊMACO BORBA
CONCURSO PÚBLICO - EDITAL Nº 001-2016**

CARGO: ARTIFICE DE OBRAS E SERVIÇOS PÚBLICOS - BORRACHEIRO

PROVA 2

QUESTÃO	RESPOSTA	VALOR DA QUESTÃO	ÁREA DE CONHECIMENTO
1	C	2,5	MATEMÁTICA
2	B	2,5	MATEMÁTICA
3	D	2,5	MATEMÁTICA
4	E	2,5	MATEMÁTICA
5	A	2,5	MATEMÁTICA
6	C	2,5	MATEMÁTICA
7	D	2,5	MATEMÁTICA
8	E	2,5	MATEMÁTICA
9	B	2,5	MATEMÁTICA
10	A	2,5	MATEMÁTICA
11	A	2,5	CONHECIMENTOS GERAIS
12	D	2,5	CONHECIMENTOS GERAIS
13	C	2,5	CONHECIMENTOS GERAIS
14	E	2,5	CONHECIMENTOS GERAIS
15	A	2,5	CONHECIMENTOS GERAIS
16	D	2,5	CONHECIMENTOS GERAIS
17	B	2,5	CONHECIMENTOS GERAIS
18	A	2,5	CONHECIMENTOS GERAIS
19	C	2,5	CONHECIMENTOS GERAIS
20	B	2,5	CONHECIMENTOS GERAIS
21	B	2,5	CONHECIMENTOS ESPECÍFICOS
22	E	2,5	CONHECIMENTOS ESPECÍFICOS
23	C	2,5	CONHECIMENTOS ESPECÍFICOS
24	B	2,5	CONHECIMENTOS ESPECÍFICOS
25	D	2,5	CONHECIMENTOS ESPECÍFICOS
26	C	2,5	LÍNGUA PORTUGUESA
27	A	2,5	LÍNGUA PORTUGUESA
28	D	2,5	LÍNGUA PORTUGUESA
29	B	2,5	LÍNGUA PORTUGUESA
30	E	2,5	LÍNGUA PORTUGUESA
31	A	2,5	LÍNGUA PORTUGUESA
32	B	2,5	LÍNGUA PORTUGUESA
33	E	2,5	LÍNGUA PORTUGUESA
34	B	2,5	LÍNGUA PORTUGUESA
35	E	2,5	LÍNGUA PORTUGUESA
36	B	2,5	LÍNGUA PORTUGUESA
37	C	2,5	LÍNGUA PORTUGUESA
38	B	2,5	LÍNGUA PORTUGUESA
39	A	2,5	LÍNGUA PORTUGUESA
40	D	2,5	LÍNGUA PORTUGUESA



GABARITO PROVA OBJETIVA - PRELIMINAR
PREFEITURA MUNICIPAL DE TELÊMACO BORBA
CONCURSO PÚBLICO - EDITAL Nº 001-2016

CARGO: ARTIFICE DE OBRAS E SERVIÇOS PÚBLICOS - BORRACHEIRO

PROVA 3

QUESTÃO	RESPOSTA	VALOR DA QUESTÃO	ÁREA DE CONHECIMENTO
1	B	2,5	CONHECIMENTOS ESPECÍFICOS
2	E	2,5	CONHECIMENTOS ESPECÍFICOS
3	C	2,5	CONHECIMENTOS ESPECÍFICOS
4	B	2,5	CONHECIMENTOS ESPECÍFICOS
5	D	2,5	CONHECIMENTOS ESPECÍFICOS
6	C	2,5	LÍNGUA PORTUGUESA
7	A	2,5	LÍNGUA PORTUGUESA
8	D	2,5	LÍNGUA PORTUGUESA
9	B	2,5	LÍNGUA PORTUGUESA
10	E	2,5	LÍNGUA PORTUGUESA
11	A	2,5	LÍNGUA PORTUGUESA
12	B	2,5	LÍNGUA PORTUGUESA
13	E	2,5	LÍNGUA PORTUGUESA
14	B	2,5	LÍNGUA PORTUGUESA
15	E	2,5	LÍNGUA PORTUGUESA
16	B	2,5	LÍNGUA PORTUGUESA
17	C	2,5	LÍNGUA PORTUGUESA
18	B	2,5	LÍNGUA PORTUGUESA
19	A	2,5	LÍNGUA PORTUGUESA
20	D	2,5	LÍNGUA PORTUGUESA
21	C	2,5	MATEMÁTICA
22	B	2,5	MATEMÁTICA
23	D	2,5	MATEMÁTICA
24	E	2,5	MATEMÁTICA
25	A	2,5	MATEMÁTICA
26	C	2,5	MATEMÁTICA
27	D	2,5	MATEMÁTICA
28	E	2,5	MATEMÁTICA
29	B	2,5	MATEMÁTICA
30	A	2,5	MATEMÁTICA
31	A	2,5	CONHECIMENTOS GERAIS
32	D	2,5	CONHECIMENTOS GERAIS
33	C	2,5	CONHECIMENTOS GERAIS
34	E	2,5	CONHECIMENTOS GERAIS
35	A	2,5	CONHECIMENTOS GERAIS
36	D	2,5	CONHECIMENTOS GERAIS
37	B	2,5	CONHECIMENTOS GERAIS
38	A	2,5	CONHECIMENTOS GERAIS
39	C	2,5	CONHECIMENTOS GERAIS
40	B	2,5	CONHECIMENTOS GERAIS



GABARITO PROVA OBJETIVA - PRELIMINAR
PREFEITURA MUNICIPAL DE TELÊMACO BORBA
CONCURSO PÚBLICO - EDITAL Nº 001-2016
CARGO: COVEIRO
PROVA 1

QUESTÃO	RESPOSTA	VALOR DA QUESTÃO	ÁREA DE CONHECIMENTO
1	C	2,5	LÍNGUA PORTUGUESA
2	A	2,5	LÍNGUA PORTUGUESA
3	D	2,5	LÍNGUA PORTUGUESA
4	B	2,5	LÍNGUA PORTUGUESA
5	E	2,5	LÍNGUA PORTUGUESA
6	A	2,5	LÍNGUA PORTUGUESA
7	B	2,5	LÍNGUA PORTUGUESA
8	E	2,5	LÍNGUA PORTUGUESA
9	B	2,5	LÍNGUA PORTUGUESA
10	E	2,5	LÍNGUA PORTUGUESA
11	B	2,5	LÍNGUA PORTUGUESA
12	C	2,5	LÍNGUA PORTUGUESA
13	B	2,5	LÍNGUA PORTUGUESA
14	A	2,5	LÍNGUA PORTUGUESA
15	D	2,5	LÍNGUA PORTUGUESA
16	C	2,5	MATEMÁTICA
17	B	2,5	MATEMÁTICA
18	D	2,5	MATEMÁTICA
19	E	2,5	MATEMÁTICA
20	A	2,5	MATEMÁTICA
21	C	2,5	MATEMÁTICA
22	D	2,5	MATEMÁTICA
23	E	2,5	MATEMÁTICA
24	B	2,5	MATEMÁTICA
25	A	2,5	MATEMÁTICA
26	A	2,5	CONHECIMENTOS GERAIS
27	D	2,5	CONHECIMENTOS GERAIS
28	C	2,5	CONHECIMENTOS GERAIS
29	E	2,5	CONHECIMENTOS GERAIS
30	A	2,5	CONHECIMENTOS GERAIS
31	D	2,5	CONHECIMENTOS GERAIS
32	B	2,5	CONHECIMENTOS GERAIS
33	A	2,5	CONHECIMENTOS GERAIS
34	C	2,5	CONHECIMENTOS GERAIS
35	B	2,5	CONHECIMENTOS GERAIS
36	B	2,5	CONHECIMENTOS ESPECÍFICOS
37	A	2,5	CONHECIMENTOS ESPECÍFICOS
38	A	2,5	CONHECIMENTOS ESPECÍFICOS
39	E	2,5	CONHECIMENTOS ESPECÍFICOS
40	D	2,5	CONHECIMENTOS ESPECÍFICOS



GABARITO PROVA OBJETIVA - PRELIMINAR
PREFEITURA MUNICIPAL DE TELÊMACO BORBA
CONCURSO PÚBLICO - EDITAL Nº 001-2016
CARGO: COVEIRO
PROVA 2

QUESTÃO	RESPOSTA	VALOR DA QUESTÃO	ÁREA DE CONHECIMENTO
1	C	2,5	MATEMÁTICA
2	B	2,5	MATEMÁTICA
3	D	2,5	MATEMÁTICA
4	E	2,5	MATEMÁTICA
5	A	2,5	MATEMÁTICA
6	C	2,5	MATEMÁTICA
7	D	2,5	MATEMÁTICA
8	E	2,5	MATEMÁTICA
9	B	2,5	MATEMÁTICA
10	A	2,5	MATEMÁTICA
11	A	2,5	CONHECIMENTOS GERAIS
12	D	2,5	CONHECIMENTOS GERAIS
13	C	2,5	CONHECIMENTOS GERAIS
14	E	2,5	CONHECIMENTOS GERAIS
15	A	2,5	CONHECIMENTOS GERAIS
16	D	2,5	CONHECIMENTOS GERAIS
17	B	2,5	CONHECIMENTOS GERAIS
18	A	2,5	CONHECIMENTOS GERAIS
19	C	2,5	CONHECIMENTOS GERAIS
20	B	2,5	CONHECIMENTOS GERAIS
21	B	2,5	CONHECIMENTOS ESPECÍFICOS
22	A	2,5	CONHECIMENTOS ESPECÍFICOS
23	A	2,5	CONHECIMENTOS ESPECÍFICOS
24	E	2,5	CONHECIMENTOS ESPECÍFICOS
25	D	2,5	CONHECIMENTOS ESPECÍFICOS
26	C	2,5	LÍNGUA PORTUGUESA
27	A	2,5	LÍNGUA PORTUGUESA
28	D	2,5	LÍNGUA PORTUGUESA
29	B	2,5	LÍNGUA PORTUGUESA
30	E	2,5	LÍNGUA PORTUGUESA
31	A	2,5	LÍNGUA PORTUGUESA
32	B	2,5	LÍNGUA PORTUGUESA
33	E	2,5	LÍNGUA PORTUGUESA
34	B	2,5	LÍNGUA PORTUGUESA
35	E	2,5	LÍNGUA PORTUGUESA
36	B	2,5	LÍNGUA PORTUGUESA
37	C	2,5	LÍNGUA PORTUGUESA
38	B	2,5	LÍNGUA PORTUGUESA
39	A	2,5	LÍNGUA PORTUGUESA
40	D	2,5	LÍNGUA PORTUGUESA



GABARITO PROVA OBJETIVA - PRELIMINAR
PREFEITURA MUNICIPAL DE TELÊMACO BORBA
CONCURSO PÚBLICO - EDITAL Nº 001-2016
CARGO: COVEIRO
PROVA 3

QUESTÃO	RESPOSTA	VALOR DA QUESTÃO	ÁREA DE CONHECIMENTO
1	B	2,5	CONHECIMENTOS ESPECÍFICOS
2	A	2,5	CONHECIMENTOS ESPECÍFICOS
3	A	2,5	CONHECIMENTOS ESPECÍFICOS
4	E	2,5	CONHECIMENTOS ESPECÍFICOS
5	D	2,5	CONHECIMENTOS ESPECÍFICOS
6	C	2,5	LÍNGUA PORTUGUESA
7	A	2,5	LÍNGUA PORTUGUESA
8	D	2,5	LÍNGUA PORTUGUESA
9	B	2,5	LÍNGUA PORTUGUESA
10	E	2,5	LÍNGUA PORTUGUESA
11	A	2,5	LÍNGUA PORTUGUESA
12	B	2,5	LÍNGUA PORTUGUESA
13	E	2,5	LÍNGUA PORTUGUESA
14	B	2,5	LÍNGUA PORTUGUESA
15	E	2,5	LÍNGUA PORTUGUESA
16	B	2,5	LÍNGUA PORTUGUESA
17	C	2,5	LÍNGUA PORTUGUESA
18	B	2,5	LÍNGUA PORTUGUESA
19	A	2,5	LÍNGUA PORTUGUESA
20	D	2,5	LÍNGUA PORTUGUESA
21	C	2,5	MATEMÁTICA
22	B	2,5	MATEMÁTICA
23	D	2,5	MATEMÁTICA
24	E	2,5	MATEMÁTICA
25	A	2,5	MATEMÁTICA
26	C	2,5	MATEMÁTICA
27	D	2,5	MATEMÁTICA
28	E	2,5	MATEMÁTICA
29	B	2,5	MATEMÁTICA
30	A	2,5	MATEMÁTICA
31	A	2,5	CONHECIMENTOS GERAIS
32	D	2,5	CONHECIMENTOS GERAIS
33	C	2,5	CONHECIMENTOS GERAIS
34	E	2,5	CONHECIMENTOS GERAIS
35	A	2,5	CONHECIMENTOS GERAIS
36	D	2,5	CONHECIMENTOS GERAIS
37	B	2,5	CONHECIMENTOS GERAIS
38	A	2,5	CONHECIMENTOS GERAIS
39	C	2,5	CONHECIMENTOS GERAIS
40	B	2,5	CONHECIMENTOS GERAIS

**GABARITO PROVA OBJETIVA - PRELIMINAR**
PREFEITURA MUNICIPAL DE TELÊMACO BORBA
CONCURSO PÚBLICO - EDITAL Nº 001-2016**CARGO: MECANICO DE VEÍCULOS E MÁQUINAS - MECÂNICO DE MÁQUINAS PESADAS****PROVA 1**

QUESTÃO	RESPOSTA	VALOR DA QUESTÃO	ÁREA DE CONHECIMENTO
1	C	2,5	LÍNGUA PORTUGUESA
2	A	2,5	LÍNGUA PORTUGUESA
3	D	2,5	LÍNGUA PORTUGUESA
4	B	2,5	LÍNGUA PORTUGUESA
5	E	2,5	LÍNGUA PORTUGUESA
6	A	2,5	LÍNGUA PORTUGUESA
7	B	2,5	LÍNGUA PORTUGUESA
8	E	2,5	LÍNGUA PORTUGUESA
9	B	2,5	LÍNGUA PORTUGUESA
10	E	2,5	LÍNGUA PORTUGUESA
11	B	2,5	LÍNGUA PORTUGUESA
12	C	2,5	LÍNGUA PORTUGUESA
13	B	2,5	LÍNGUA PORTUGUESA
14	A	2,5	LÍNGUA PORTUGUESA
15	D	2,5	LÍNGUA PORTUGUESA
16	C	2,5	MATEMÁTICA
17	B	2,5	MATEMÁTICA
18	D	2,5	MATEMÁTICA
19	E	2,5	MATEMÁTICA
20	A	2,5	MATEMÁTICA
21	C	2,5	MATEMÁTICA
22	D	2,5	MATEMÁTICA
23	E	2,5	MATEMÁTICA
24	B	2,5	MATEMÁTICA
25	A	2,5	MATEMÁTICA
26	A	2,5	CONHECIMENTOS GERAIS
27	D	2,5	CONHECIMENTOS GERAIS
28	C	2,5	CONHECIMENTOS GERAIS
29	E	2,5	CONHECIMENTOS GERAIS
30	A	2,5	CONHECIMENTOS GERAIS
31	D	2,5	CONHECIMENTOS GERAIS
32	B	2,5	CONHECIMENTOS GERAIS
33	A	2,5	CONHECIMENTOS GERAIS
34	C	2,5	CONHECIMENTOS GERAIS
35	B	2,5	CONHECIMENTOS GERAIS
36	B	2,5	CONHECIMENTOS ESPECÍFICOS
37	C	2,5	CONHECIMENTOS ESPECÍFICOS
38	A	2,5	CONHECIMENTOS ESPECÍFICOS
39	D	2,5	CONHECIMENTOS ESPECÍFICOS
40	E	2,5	CONHECIMENTOS ESPECÍFICOS



**GABARITO PROVA OBJETIVA - PRELIMINAR
PREFEITURA MUNICIPAL DE TELÊMACO BORBA
CONCURSO PÚBLICO - EDITAL Nº 001-2016**

CARGO: MECANICO DE VEÍCULOS E MÁQUINAS - MECÂNICO DE MÁQUINAS PESADAS

PROVA 2

QUESTÃO	RESPOSTA	VALOR DA QUESTÃO	ÁREA DE CONHECIMENTO
1	C	2,5	MATEMÁTICA
2	B	2,5	MATEMÁTICA
3	D	2,5	MATEMÁTICA
4	E	2,5	MATEMÁTICA
5	A	2,5	MATEMÁTICA
6	C	2,5	MATEMÁTICA
7	D	2,5	MATEMÁTICA
8	E	2,5	MATEMÁTICA
9	B	2,5	MATEMÁTICA
10	A	2,5	MATEMÁTICA
11	A	2,5	CONHECIMENTOS GERAIS
12	D	2,5	CONHECIMENTOS GERAIS
13	C	2,5	CONHECIMENTOS GERAIS
14	E	2,5	CONHECIMENTOS GERAIS
15	A	2,5	CONHECIMENTOS GERAIS
16	D	2,5	CONHECIMENTOS GERAIS
17	B	2,5	CONHECIMENTOS GERAIS
18	A	2,5	CONHECIMENTOS GERAIS
19	C	2,5	CONHECIMENTOS GERAIS
20	B	2,5	CONHECIMENTOS GERAIS
21	B	2,5	CONHECIMENTOS ESPECÍFICOS
22	C	2,5	CONHECIMENTOS ESPECÍFICOS
23	A	2,5	CONHECIMENTOS ESPECÍFICOS
24	D	2,5	CONHECIMENTOS ESPECÍFICOS
25	E	2,5	CONHECIMENTOS ESPECÍFICOS
26	C	2,5	LÍNGUA PORTUGUESA
27	A	2,5	LÍNGUA PORTUGUESA
28	D	2,5	LÍNGUA PORTUGUESA
29	B	2,5	LÍNGUA PORTUGUESA
30	E	2,5	LÍNGUA PORTUGUESA
31	A	2,5	LÍNGUA PORTUGUESA
32	B	2,5	LÍNGUA PORTUGUESA
33	E	2,5	LÍNGUA PORTUGUESA
34	B	2,5	LÍNGUA PORTUGUESA
35	E	2,5	LÍNGUA PORTUGUESA
36	B	2,5	LÍNGUA PORTUGUESA
37	C	2,5	LÍNGUA PORTUGUESA
38	B	2,5	LÍNGUA PORTUGUESA
39	A	2,5	LÍNGUA PORTUGUESA
40	D	2,5	LÍNGUA PORTUGUESA



GABARITO PROVA OBJETIVA - PRELIMINAR
PREFEITURA MUNICIPAL DE TELÊMACO BORBA
CONCURSO PÚBLICO - EDITAL Nº 001-2016
CARGO: MECANICO DE VEÍCULOS E MÁQUINAS - MECÂNICO DE MÁQUINAS PESADAS
PROVA 3

QUESTÃO	RESPOSTA	VALOR DA QUESTÃO	ÁREA DE CONHECIMENTO
1	B	2,5	CONHECIMENTOS ESPECÍFICOS
2	C	2,5	CONHECIMENTOS ESPECÍFICOS
3	A	2,5	CONHECIMENTOS ESPECÍFICOS
4	D	2,5	CONHECIMENTOS ESPECÍFICOS
5	E	2,5	CONHECIMENTOS ESPECÍFICOS
6	C	2,5	LÍNGUA PORTUGUESA
7	A	2,5	LÍNGUA PORTUGUESA
8	D	2,5	LÍNGUA PORTUGUESA
9	B	2,5	LÍNGUA PORTUGUESA
10	E	2,5	LÍNGUA PORTUGUESA
11	A	2,5	LÍNGUA PORTUGUESA
12	B	2,5	LÍNGUA PORTUGUESA
13	E	2,5	LÍNGUA PORTUGUESA
14	B	2,5	LÍNGUA PORTUGUESA
15	E	2,5	LÍNGUA PORTUGUESA
16	B	2,5	LÍNGUA PORTUGUESA
17	C	2,5	LÍNGUA PORTUGUESA
18	B	2,5	LÍNGUA PORTUGUESA
19	A	2,5	LÍNGUA PORTUGUESA
20	D	2,5	LÍNGUA PORTUGUESA
21	C	2,5	MATEMÁTICA
22	B	2,5	MATEMÁTICA
23	D	2,5	MATEMÁTICA
24	E	2,5	MATEMÁTICA
25	A	2,5	MATEMÁTICA
26	C	2,5	MATEMÁTICA
27	D	2,5	MATEMÁTICA
28	E	2,5	MATEMÁTICA
29	B	2,5	MATEMÁTICA
30	A	2,5	MATEMÁTICA
31	A	2,5	CONHECIMENTOS GERAIS
32	D	2,5	CONHECIMENTOS GERAIS
33	C	2,5	CONHECIMENTOS GERAIS
34	E	2,5	CONHECIMENTOS GERAIS
35	A	2,5	CONHECIMENTOS GERAIS
36	D	2,5	CONHECIMENTOS GERAIS
37	B	2,5	CONHECIMENTOS GERAIS
38	A	2,5	CONHECIMENTOS GERAIS
39	C	2,5	CONHECIMENTOS GERAIS
40	B	2,5	CONHECIMENTOS GERAIS



GABARITO PROVA OBJETIVA - PRELIMINAR
PREFEITURA MUNICIPAL DE TELÊMACO BORBA
CONCURSO PÚBLICO - EDITAL Nº 001-2016
CARGO: OPERADOR DE MÁQUINAS
PROVA 1

QUESTÃO	RESPOSTA	VALOR DA QUESTÃO	ÁREA DE CONHECIMENTO
1	C	2,5	LÍNGUA PORTUGUESA
2	A	2,5	LÍNGUA PORTUGUESA
3	D	2,5	LÍNGUA PORTUGUESA
4	B	2,5	LÍNGUA PORTUGUESA
5	E	2,5	LÍNGUA PORTUGUESA
6	A	2,5	LÍNGUA PORTUGUESA
7	B	2,5	LÍNGUA PORTUGUESA
8	E	2,5	LÍNGUA PORTUGUESA
9	B	2,5	LÍNGUA PORTUGUESA
10	E	2,5	LÍNGUA PORTUGUESA
11	B	2,5	LÍNGUA PORTUGUESA
12	C	2,5	LÍNGUA PORTUGUESA
13	B	2,5	LÍNGUA PORTUGUESA
14	A	2,5	LÍNGUA PORTUGUESA
15	D	2,5	LÍNGUA PORTUGUESA
16	C	2,5	MATEMÁTICA
17	B	2,5	MATEMÁTICA
18	D	2,5	MATEMÁTICA
19	E	2,5	MATEMÁTICA
20	A	2,5	MATEMÁTICA
21	C	2,5	MATEMÁTICA
22	D	2,5	MATEMÁTICA
23	E	2,5	MATEMÁTICA
24	B	2,5	MATEMÁTICA
25	A	2,5	MATEMÁTICA
26	A	2,5	CONHECIMENTOS GERAIS
27	D	2,5	CONHECIMENTOS GERAIS
28	C	2,5	CONHECIMENTOS GERAIS
29	E	2,5	CONHECIMENTOS GERAIS
30	A	2,5	CONHECIMENTOS GERAIS
31	D	2,5	CONHECIMENTOS GERAIS
32	B	2,5	CONHECIMENTOS GERAIS
33	A	2,5	CONHECIMENTOS GERAIS
34	C	2,5	CONHECIMENTOS GERAIS
35	B	2,5	CONHECIMENTOS GERAIS
36	B	2,5	CONHECIMENTOS ESPECÍFICOS
37	C	2,5	CONHECIMENTOS ESPECÍFICOS
38	A	2,5	CONHECIMENTOS ESPECÍFICOS
39	D	2,5	CONHECIMENTOS ESPECÍFICOS
40	E	2,5	CONHECIMENTOS ESPECÍFICOS

**GABARITO PROVA OBJETIVA - PRELIMINAR**
PREFEITURA MUNICIPAL DE TELÊMACO BORBA
CONCURSO PÚBLICO - EDITAL Nº 001-2016
CARGO: OPERADOR DE MÁQUINAS
PROVA 2

QUESTÃO	RESPOSTA	VALOR DA QUESTÃO	ÁREA DE CONHECIMENTO
1	C	2,5	MATEMÁTICA
2	B	2,5	MATEMÁTICA
3	D	2,5	MATEMÁTICA
4	E	2,5	MATEMÁTICA
5	A	2,5	MATEMÁTICA
6	C	2,5	MATEMÁTICA
7	D	2,5	MATEMÁTICA
8	E	2,5	MATEMÁTICA
9	B	2,5	MATEMÁTICA
10	A	2,5	MATEMÁTICA
11	A	2,5	CONHECIMENTOS GERAIS
12	D	2,5	CONHECIMENTOS GERAIS
13	C	2,5	CONHECIMENTOS GERAIS
14	E	2,5	CONHECIMENTOS GERAIS
15	A	2,5	CONHECIMENTOS GERAIS
16	D	2,5	CONHECIMENTOS GERAIS
17	B	2,5	CONHECIMENTOS GERAIS
18	A	2,5	CONHECIMENTOS GERAIS
19	C	2,5	CONHECIMENTOS GERAIS
20	B	2,5	CONHECIMENTOS GERAIS
21	B	2,5	CONHECIMENTOS ESPECÍFICOS
22	C	2,5	CONHECIMENTOS ESPECÍFICOS
23	A	2,5	CONHECIMENTOS ESPECÍFICOS
24	D	2,5	CONHECIMENTOS ESPECÍFICOS
25	E	2,5	CONHECIMENTOS ESPECÍFICOS
26	C	2,5	LÍNGUA PORTUGUESA
27	A	2,5	LÍNGUA PORTUGUESA
28	D	2,5	LÍNGUA PORTUGUESA
29	B	2,5	LÍNGUA PORTUGUESA
30	E	2,5	LÍNGUA PORTUGUESA
31	A	2,5	LÍNGUA PORTUGUESA
32	B	2,5	LÍNGUA PORTUGUESA
33	E	2,5	LÍNGUA PORTUGUESA
34	B	2,5	LÍNGUA PORTUGUESA
35	E	2,5	LÍNGUA PORTUGUESA
36	B	2,5	LÍNGUA PORTUGUESA
37	C	2,5	LÍNGUA PORTUGUESA
38	B	2,5	LÍNGUA PORTUGUESA
39	A	2,5	LÍNGUA PORTUGUESA
40	D	2,5	LÍNGUA PORTUGUESA



GABARITO PROVA OBJETIVA - PRELIMINAR
PREFEITURA MUNICIPAL DE TELÊMACO BORBA
CONCURSO PÚBLICO - EDITAL Nº 001-2016
CARGO: OPERADOR DE MÁQUINAS
PROVA 3

QUESTÃO	RESPOSTA	VALOR DA QUESTÃO	ÁREA DE CONHECIMENTO
1	B	2,5	CONHECIMENTOS ESPECÍFICOS
2	C	2,5	CONHECIMENTOS ESPECÍFICOS
3	A	2,5	CONHECIMENTOS ESPECÍFICOS
4	D	2,5	CONHECIMENTOS ESPECÍFICOS
5	E	2,5	CONHECIMENTOS ESPECÍFICOS
6	C	2,5	LÍNGUA PORTUGUESA
7	A	2,5	LÍNGUA PORTUGUESA
8	D	2,5	LÍNGUA PORTUGUESA
9	B	2,5	LÍNGUA PORTUGUESA
10	E	2,5	LÍNGUA PORTUGUESA
11	A	2,5	LÍNGUA PORTUGUESA
12	B	2,5	LÍNGUA PORTUGUESA
13	E	2,5	LÍNGUA PORTUGUESA
14	B	2,5	LÍNGUA PORTUGUESA
15	E	2,5	LÍNGUA PORTUGUESA
16	B	2,5	LÍNGUA PORTUGUESA
17	C	2,5	LÍNGUA PORTUGUESA
18	B	2,5	LÍNGUA PORTUGUESA
19	A	2,5	LÍNGUA PORTUGUESA
20	D	2,5	LÍNGUA PORTUGUESA
21	C	2,5	MATEMÁTICA
22	B	2,5	MATEMÁTICA
23	D	2,5	MATEMÁTICA
24	E	2,5	MATEMÁTICA
25	A	2,5	MATEMÁTICA
26	C	2,5	MATEMÁTICA
27	D	2,5	MATEMÁTICA
28	E	2,5	MATEMÁTICA
29	B	2,5	MATEMÁTICA
30	A	2,5	MATEMÁTICA
31	A	2,5	CONHECIMENTOS GERAIS
32	D	2,5	CONHECIMENTOS GERAIS
33	C	2,5	CONHECIMENTOS GERAIS
34	E	2,5	CONHECIMENTOS GERAIS
35	A	2,5	CONHECIMENTOS GERAIS
36	D	2,5	CONHECIMENTOS GERAIS
37	B	2,5	CONHECIMENTOS GERAIS
38	A	2,5	CONHECIMENTOS GERAIS
39	C	2,5	CONHECIMENTOS GERAIS
40	B	2,5	CONHECIMENTOS GERAIS



GABARITO PROVA OBJETIVA - PRELIMINAR
PREFEITURA MUNICIPAL DE TELÊMACO BORBA
CONCURSO PÚBLICO - EDITAL Nº 001-2016
CARGO: AUXILIAR SOCIAL - FEMININO/MASCULINO
PROVA 1

QUESTÃO	RESPOSTA	VALOR DA QUESTÃO	ÁREA DE CONHECIMENTO
1	C	2,5	LÍNGUA PORTUGUESA
2	A	2,5	LÍNGUA PORTUGUESA
3	D	2,5	LÍNGUA PORTUGUESA
4	B	2,5	LÍNGUA PORTUGUESA
5	E	2,5	LÍNGUA PORTUGUESA
6	A	2,5	LÍNGUA PORTUGUESA
7	B	2,5	LÍNGUA PORTUGUESA
8	E	2,5	LÍNGUA PORTUGUESA
9	B	2,5	LÍNGUA PORTUGUESA
10	E	2,5	LÍNGUA PORTUGUESA
11	B	2,5	LÍNGUA PORTUGUESA
12	C	2,5	LÍNGUA PORTUGUESA
13	B	2,5	LÍNGUA PORTUGUESA
14	A	2,5	LÍNGUA PORTUGUESA
15	D	2,5	LÍNGUA PORTUGUESA
16	C	2,5	MATEMÁTICA
17	B	2,5	MATEMÁTICA
18	D	2,5	MATEMÁTICA
19	E	2,5	MATEMÁTICA
20	A	2,5	MATEMÁTICA
21	C	2,5	MATEMÁTICA
22	D	2,5	MATEMÁTICA
23	E	2,5	MATEMÁTICA
24	B	2,5	MATEMÁTICA
25	A	2,5	MATEMÁTICA
26	A	2,5	CONHECIMENTOS GERAIS
27	D	2,5	CONHECIMENTOS GERAIS
28	C	2,5	CONHECIMENTOS GERAIS
29	E	2,5	CONHECIMENTOS GERAIS
30	A	2,5	CONHECIMENTOS GERAIS
31	D	2,5	CONHECIMENTOS GERAIS
32	B	2,5	CONHECIMENTOS GERAIS
33	A	2,5	CONHECIMENTOS GERAIS
34	C	2,5	CONHECIMENTOS GERAIS
35	B	2,5	CONHECIMENTOS GERAIS
36	B	2,5	CONHECIMENTOS ESPECÍFICOS
37	D	2,5	CONHECIMENTOS ESPECÍFICOS
38	E	2,5	CONHECIMENTOS ESPECÍFICOS
39	C	2,5	CONHECIMENTOS ESPECÍFICOS
40	B	2,5	CONHECIMENTOS ESPECÍFICOS



GABARITO PROVA OBJETIVA - PRELIMINAR
PREFEITURA MUNICIPAL DE TELÊMACO BORBA
CONCURSO PÚBLICO - EDITAL Nº 001-2016
CARGO: AUXILIAR SOCIAL - FEMININO/MASCULINO
PROVA 2

QUESTÃO	RESPOSTA	VALOR DA QUESTÃO	ÁREA DE CONHECIMENTO
1	C	2,5	MATEMÁTICA
2	B	2,5	MATEMÁTICA
3	D	2,5	MATEMÁTICA
4	E	2,5	MATEMÁTICA
5	A	2,5	MATEMÁTICA
6	C	2,5	MATEMÁTICA
7	D	2,5	MATEMÁTICA
8	E	2,5	MATEMÁTICA
9	B	2,5	MATEMÁTICA
10	A	2,5	MATEMÁTICA
11	A	2,5	CONHECIMENTOS GERAIS
12	D	2,5	CONHECIMENTOS GERAIS
13	C	2,5	CONHECIMENTOS GERAIS
14	E	2,5	CONHECIMENTOS GERAIS
15	A	2,5	CONHECIMENTOS GERAIS
16	D	2,5	CONHECIMENTOS GERAIS
17	B	2,5	CONHECIMENTOS GERAIS
18	A	2,5	CONHECIMENTOS GERAIS
19	C	2,5	CONHECIMENTOS GERAIS
20	B	2,5	CONHECIMENTOS GERAIS
21	B	2,5	CONHECIMENTOS ESPECÍFICOS
22	D	2,5	CONHECIMENTOS ESPECÍFICOS
23	E	2,5	CONHECIMENTOS ESPECÍFICOS
24	C	2,5	CONHECIMENTOS ESPECÍFICOS
25	B	2,5	CONHECIMENTOS ESPECÍFICOS
26	C	2,5	LÍNGUA PORTUGUESA
27	A	2,5	LÍNGUA PORTUGUESA
28	D	2,5	LÍNGUA PORTUGUESA
29	B	2,5	LÍNGUA PORTUGUESA
30	E	2,5	LÍNGUA PORTUGUESA
31	A	2,5	LÍNGUA PORTUGUESA
32	B	2,5	LÍNGUA PORTUGUESA
33	E	2,5	LÍNGUA PORTUGUESA
34	B	2,5	LÍNGUA PORTUGUESA
35	E	2,5	LÍNGUA PORTUGUESA
36	B	2,5	LÍNGUA PORTUGUESA
37	C	2,5	LÍNGUA PORTUGUESA
38	B	2,5	LÍNGUA PORTUGUESA
39	A	2,5	LÍNGUA PORTUGUESA
40	D	2,5	LÍNGUA PORTUGUESA



GABARITO PROVA OBJETIVA - PRELIMINAR
PREFEITURA MUNICIPAL DE TELÊMACO BORBA
CONCURSO PÚBLICO - EDITAL Nº 001-2016
CARGO: AUXILIAR SOCIAL - FEMININO/MASCULINO
PROVA 3

QUESTÃO	RESPOSTA	VALOR DA QUESTÃO	ÁREA DE CONHECIMENTO
1	B	2,5	CONHECIMENTOS ESPECÍFICOS
2	D	2,5	CONHECIMENTOS ESPECÍFICOS
3	E	2,5	CONHECIMENTOS ESPECÍFICOS
4	C	2,5	CONHECIMENTOS ESPECÍFICOS
5	B	2,5	CONHECIMENTOS ESPECÍFICOS
6	C	2,5	LÍNGUA PORTUGUESA
7	A	2,5	LÍNGUA PORTUGUESA
8	D	2,5	LÍNGUA PORTUGUESA
9	B	2,5	LÍNGUA PORTUGUESA
10	E	2,5	LÍNGUA PORTUGUESA
11	A	2,5	LÍNGUA PORTUGUESA
12	B	2,5	LÍNGUA PORTUGUESA
13	E	2,5	LÍNGUA PORTUGUESA
14	B	2,5	LÍNGUA PORTUGUESA
15	E	2,5	LÍNGUA PORTUGUESA
16	B	2,5	LÍNGUA PORTUGUESA
17	C	2,5	LÍNGUA PORTUGUESA
18	B	2,5	LÍNGUA PORTUGUESA
19	A	2,5	LÍNGUA PORTUGUESA
20	D	2,5	LÍNGUA PORTUGUESA
21	C	2,5	MATEMÁTICA
22	B	2,5	MATEMÁTICA
23	D	2,5	MATEMÁTICA
24	E	2,5	MATEMÁTICA
25	A	2,5	MATEMÁTICA
26	C	2,5	MATEMÁTICA
27	D	2,5	MATEMÁTICA
28	E	2,5	MATEMÁTICA
29	B	2,5	MATEMÁTICA
30	A	2,5	MATEMÁTICA
31	A	2,5	CONHECIMENTOS GERAIS
32	D	2,5	CONHECIMENTOS GERAIS
33	C	2,5	CONHECIMENTOS GERAIS
34	E	2,5	CONHECIMENTOS GERAIS
35	A	2,5	CONHECIMENTOS GERAIS
36	D	2,5	CONHECIMENTOS GERAIS
37	B	2,5	CONHECIMENTOS GERAIS
38	A	2,5	CONHECIMENTOS GERAIS
39	C	2,5	CONHECIMENTOS GERAIS
40	B	2,5	CONHECIMENTOS GERAIS



GABARITO PROVA OBJETIVA - PRELIMINAR
PREFEITURA MUNICIPAL DE TELÊMACO BORBA
CONCURSO PÚBLICO - EDITAL Nº 001-2016
CARGO: INSTRUTOR DE ARTES E OFÍCIOS
PROVA 3

QUESTÃO	RESPOSTA	VALOR DA QUESTÃO	ÁREA DE CONHECIMENTO
1	B	2,5	CONHECIMENTOS ESPECÍFICOS
2	E	2,5	CONHECIMENTOS ESPECÍFICOS
3	D	2,5	CONHECIMENTOS ESPECÍFICOS
4	E	2,5	CONHECIMENTOS ESPECÍFICOS
5	D	2,5	CONHECIMENTOS ESPECÍFICOS
6	C	2,5	LÍNGUA PORTUGUESA
7	A	2,5	LÍNGUA PORTUGUESA
8	D	2,5	LÍNGUA PORTUGUESA
9	B	2,5	LÍNGUA PORTUGUESA
10	E	2,5	LÍNGUA PORTUGUESA
11	A	2,5	LÍNGUA PORTUGUESA
12	B	2,5	LÍNGUA PORTUGUESA
13	E	2,5	LÍNGUA PORTUGUESA
14	B	2,5	LÍNGUA PORTUGUESA
15	E	2,5	LÍNGUA PORTUGUESA
16	B	2,5	LÍNGUA PORTUGUESA
17	C	2,5	LÍNGUA PORTUGUESA
18	B	2,5	LÍNGUA PORTUGUESA
19	A	2,5	LÍNGUA PORTUGUESA
20	D	2,5	LÍNGUA PORTUGUESA
21	C	2,5	MATEMÁTICA
22	B	2,5	MATEMÁTICA
23	D	2,5	MATEMÁTICA
24	E	2,5	MATEMÁTICA
25	A	2,5	MATEMÁTICA
26	C	2,5	MATEMÁTICA
27	D	2,5	MATEMÁTICA
28	E	2,5	MATEMÁTICA
29	B	2,5	MATEMÁTICA
30	A	2,5	MATEMÁTICA
31	A	2,5	CONHECIMENTOS GERAIS
32	D	2,5	CONHECIMENTOS GERAIS
33	C	2,5	CONHECIMENTOS GERAIS
34	E	2,5	CONHECIMENTOS GERAIS
35	A	2,5	CONHECIMENTOS GERAIS
36	D	2,5	CONHECIMENTOS GERAIS
37	B	2,5	CONHECIMENTOS GERAIS
38	A	2,5	CONHECIMENTOS GERAIS
39	C	2,5	CONHECIMENTOS GERAIS
40	B	2,5	CONHECIMENTOS GERAIS



GABARITO PROVA OBJETIVA - PRELIMINAR
PREFEITURA MUNICIPAL DE TELÊMACO BORBA
CONCURSO PÚBLICO - EDITAL Nº 001-2016
CARGO: INSTRUTOR DE ARTES E OFÍCIOS
PROVA 2

QUESTÃO	RESPOSTA	VALOR DA QUESTÃO	ÁREA DE CONHECIMENTO
1	C	2,5	MATEMÁTICA
2	B	2,5	MATEMÁTICA
3	D	2,5	MATEMÁTICA
4	E	2,5	MATEMÁTICA
5	A	2,5	MATEMÁTICA
6	C	2,5	MATEMÁTICA
7	D	2,5	MATEMÁTICA
8	E	2,5	MATEMÁTICA
9	B	2,5	MATEMÁTICA
10	A	2,5	MATEMÁTICA
11	A	2,5	CONHECIMENTOS GERAIS
12	D	2,5	CONHECIMENTOS GERAIS
13	C	2,5	CONHECIMENTOS GERAIS
14	E	2,5	CONHECIMENTOS GERAIS
15	A	2,5	CONHECIMENTOS GERAIS
16	D	2,5	CONHECIMENTOS GERAIS
17	B	2,5	CONHECIMENTOS GERAIS
18	A	2,5	CONHECIMENTOS GERAIS
19	C	2,5	CONHECIMENTOS GERAIS
20	B	2,5	CONHECIMENTOS GERAIS
21	B	2,5	CONHECIMENTOS ESPECÍFICOS
22	E	2,5	CONHECIMENTOS ESPECÍFICOS
23	D	2,5	CONHECIMENTOS ESPECÍFICOS
24	E	2,5	CONHECIMENTOS ESPECÍFICOS
25	D	2,5	CONHECIMENTOS ESPECÍFICOS
26	C	2,5	LÍNGUA PORTUGUESA
27	A	2,5	LÍNGUA PORTUGUESA
28	D	2,5	LÍNGUA PORTUGUESA
29	B	2,5	LÍNGUA PORTUGUESA
30	E	2,5	LÍNGUA PORTUGUESA
31	A	2,5	LÍNGUA PORTUGUESA
32	B	2,5	LÍNGUA PORTUGUESA
33	E	2,5	LÍNGUA PORTUGUESA
34	B	2,5	LÍNGUA PORTUGUESA
35	E	2,5	LÍNGUA PORTUGUESA
36	B	2,5	LÍNGUA PORTUGUESA
37	C	2,5	LÍNGUA PORTUGUESA
38	B	2,5	LÍNGUA PORTUGUESA
39	A	2,5	LÍNGUA PORTUGUESA
40	D	2,5	LÍNGUA PORTUGUESA



GABARITO PROVA OBJETIVA - PRELIMINAR
PREFEITURA MUNICIPAL DE TELÊMACO BORBA
CONCURSO PÚBLICO - EDITAL Nº 001-2016
CARGO: INSTRUTOR DE ARTES E OFÍCIOS
PROVA 3

QUESTÃO	RESPOSTA	VALOR DA QUESTÃO	ÁREA DE CONHECIMENTO
1	B	2,5	CONHECIMENTOS ESPECÍFICOS
2	E	2,5	CONHECIMENTOS ESPECÍFICOS
3	D	2,5	CONHECIMENTOS ESPECÍFICOS
4	E	2,5	CONHECIMENTOS ESPECÍFICOS
5	D	2,5	CONHECIMENTOS ESPECÍFICOS
6	C	2,5	LÍNGUA PORTUGUESA
7	A	2,5	LÍNGUA PORTUGUESA
8	D	2,5	LÍNGUA PORTUGUESA
9	B	2,5	LÍNGUA PORTUGUESA
10	E	2,5	LÍNGUA PORTUGUESA
11	A	2,5	LÍNGUA PORTUGUESA
12	B	2,5	LÍNGUA PORTUGUESA
13	E	2,5	LÍNGUA PORTUGUESA
14	B	2,5	LÍNGUA PORTUGUESA
15	E	2,5	LÍNGUA PORTUGUESA
16	B	2,5	LÍNGUA PORTUGUESA
17	C	2,5	LÍNGUA PORTUGUESA
18	B	2,5	LÍNGUA PORTUGUESA
19	A	2,5	LÍNGUA PORTUGUESA
20	D	2,5	LÍNGUA PORTUGUESA
21	C	2,5	MATEMÁTICA
22	B	2,5	MATEMÁTICA
23	D	2,5	MATEMÁTICA
24	E	2,5	MATEMÁTICA
25	A	2,5	MATEMÁTICA
26	C	2,5	MATEMÁTICA
27	D	2,5	MATEMÁTICA
28	E	2,5	MATEMÁTICA
29	B	2,5	MATEMÁTICA
30	A	2,5	MATEMÁTICA
31	A	2,5	CONHECIMENTOS GERAIS
32	D	2,5	CONHECIMENTOS GERAIS
33	C	2,5	CONHECIMENTOS GERAIS
34	E	2,5	CONHECIMENTOS GERAIS
35	A	2,5	CONHECIMENTOS GERAIS
36	D	2,5	CONHECIMENTOS GERAIS
37	B	2,5	CONHECIMENTOS GERAIS
38	A	2,5	CONHECIMENTOS GERAIS
39	C	2,5	CONHECIMENTOS GERAIS
40	B	2,5	CONHECIMENTOS GERAIS



GABARITO PROVA OBJETIVA - PRELIMINAR
PREFEITURA MUNICIPAL DE TELÊMACO BORBA
CONCURSO PÚBLICO - EDITAL Nº 001-2016
CARGO: INSTRUTOR MUSICAL
PROVA 1

QUESTÃO	RESPOSTA	VALOR DA QUESTÃO	ÁREA DE CONHECIMENTO
1	C	2,5	LÍNGUA PORTUGUESA
2	A	2,5	LÍNGUA PORTUGUESA
3	D	2,5	LÍNGUA PORTUGUESA
4	B	2,5	LÍNGUA PORTUGUESA
5	E	2,5	LÍNGUA PORTUGUESA
6	A	2,5	LÍNGUA PORTUGUESA
7	B	2,5	LÍNGUA PORTUGUESA
8	E	2,5	LÍNGUA PORTUGUESA
9	B	2,5	LÍNGUA PORTUGUESA
10	E	2,5	LÍNGUA PORTUGUESA
11	B	2,5	LÍNGUA PORTUGUESA
12	C	2,5	LÍNGUA PORTUGUESA
13	B	2,5	LÍNGUA PORTUGUESA
14	A	2,5	LÍNGUA PORTUGUESA
15	D	2,5	LÍNGUA PORTUGUESA
16	C	2,5	MATEMÁTICA
17	B	2,5	MATEMÁTICA
18	D	2,5	MATEMÁTICA
19	E	2,5	MATEMÁTICA
20	A	2,5	MATEMÁTICA
21	C	2,5	MATEMÁTICA
22	D	2,5	MATEMÁTICA
23	E	2,5	MATEMÁTICA
24	B	2,5	MATEMÁTICA
25	A	2,5	MATEMÁTICA
26	A	2,5	CONHECIMENTOS GERAIS
27	D	2,5	CONHECIMENTOS GERAIS
28	C	2,5	CONHECIMENTOS GERAIS
29	E	2,5	CONHECIMENTOS GERAIS
30	A	2,5	CONHECIMENTOS GERAIS
31	D	2,5	CONHECIMENTOS GERAIS
32	B	2,5	CONHECIMENTOS GERAIS
33	A	2,5	CONHECIMENTOS GERAIS
34	C	2,5	CONHECIMENTOS GERAIS
35	B	2,5	CONHECIMENTOS GERAIS
36	B	2,5	CONHECIMENTOS ESPECÍFICOS
37	A	2,5	CONHECIMENTOS ESPECÍFICOS
38	C	2,5	CONHECIMENTOS ESPECÍFICOS
39	D	2,5	CONHECIMENTOS ESPECÍFICOS
40	E	2,5	CONHECIMENTOS ESPECÍFICOS



GABARITO PROVA OBJETIVA - PRELIMINAR
PREFEITURA MUNICIPAL DE TELÊMACO BORBA
CONCURSO PÚBLICO - EDITAL Nº 001-2016
CARGO: INSTRUTOR MUSICAL
PROVA 2

QUESTÃO	RESPOSTA	VALOR DA QUESTÃO	ÁREA DE CONHECIMENTO
1	C	2,5	MATEMÁTICA
2	B	2,5	MATEMÁTICA
3	D	2,5	MATEMÁTICA
4	E	2,5	MATEMÁTICA
5	A	2,5	MATEMÁTICA
6	C	2,5	MATEMÁTICA
7	D	2,5	MATEMÁTICA
8	E	2,5	MATEMÁTICA
9	B	2,5	MATEMÁTICA
10	A	2,5	MATEMÁTICA
11	A	2,5	CONHECIMENTOS GERAIS
12	D	2,5	CONHECIMENTOS GERAIS
13	C	2,5	CONHECIMENTOS GERAIS
14	E	2,5	CONHECIMENTOS GERAIS
15	A	2,5	CONHECIMENTOS GERAIS
16	D	2,5	CONHECIMENTOS GERAIS
17	B	2,5	CONHECIMENTOS GERAIS
18	A	2,5	CONHECIMENTOS GERAIS
19	C	2,5	CONHECIMENTOS GERAIS
20	B	2,5	CONHECIMENTOS GERAIS
21	B	2,5	CONHECIMENTOS ESPECÍFICOS
22	A	2,5	CONHECIMENTOS ESPECÍFICOS
23	C	2,5	CONHECIMENTOS ESPECÍFICOS
24	D	2,5	CONHECIMENTOS ESPECÍFICOS
25	E	2,5	CONHECIMENTOS ESPECÍFICOS
26	C	2,5	LÍNGUA PORTUGUESA
27	A	2,5	LÍNGUA PORTUGUESA
28	D	2,5	LÍNGUA PORTUGUESA
29	B	2,5	LÍNGUA PORTUGUESA
30	E	2,5	LÍNGUA PORTUGUESA
31	A	2,5	LÍNGUA PORTUGUESA
32	B	2,5	LÍNGUA PORTUGUESA
33	E	2,5	LÍNGUA PORTUGUESA
34	B	2,5	LÍNGUA PORTUGUESA
35	E	2,5	LÍNGUA PORTUGUESA
36	B	2,5	LÍNGUA PORTUGUESA
37	C	2,5	LÍNGUA PORTUGUESA
38	B	2,5	LÍNGUA PORTUGUESA
39	A	2,5	LÍNGUA PORTUGUESA
40	D	2,5	LÍNGUA PORTUGUESA

**GABARITO PROVA OBJETIVA - PRELIMINAR**
PREFEITURA MUNICIPAL DE TELÊMACO BORBA
CONCURSO PÚBLICO - EDITAL Nº 001-2016
CARGO: INSTRUTOR MUSICAL
PROVA 3

QUESTÃO	RESPOSTA	VALOR DA QUESTÃO	ÁREA DE CONHECIMENTO
1	B	2,5	CONHECIMENTOS ESPECÍFICOS
2	A	2,5	CONHECIMENTOS ESPECÍFICOS
3	C	2,5	CONHECIMENTOS ESPECÍFICOS
4	D	2,5	CONHECIMENTOS ESPECÍFICOS
5	E	2,5	CONHECIMENTOS ESPECÍFICOS
6	C	2,5	LÍNGUA PORTUGUESA
7	A	2,5	LÍNGUA PORTUGUESA
8	D	2,5	LÍNGUA PORTUGUESA
9	B	2,5	LÍNGUA PORTUGUESA
10	E	2,5	LÍNGUA PORTUGUESA
11	A	2,5	LÍNGUA PORTUGUESA
12	B	2,5	LÍNGUA PORTUGUESA
13	E	2,5	LÍNGUA PORTUGUESA
14	B	2,5	LÍNGUA PORTUGUESA
15	E	2,5	LÍNGUA PORTUGUESA
16	B	2,5	LÍNGUA PORTUGUESA
17	C	2,5	LÍNGUA PORTUGUESA
18	B	2,5	LÍNGUA PORTUGUESA
19	A	2,5	LÍNGUA PORTUGUESA
20	D	2,5	LÍNGUA PORTUGUESA
21	C	2,5	MATEMÁTICA
22	B	2,5	MATEMÁTICA
23	D	2,5	MATEMÁTICA
24	E	2,5	MATEMÁTICA
25	A	2,5	MATEMÁTICA
26	C	2,5	MATEMÁTICA
27	D	2,5	MATEMÁTICA
28	E	2,5	MATEMÁTICA
29	B	2,5	MATEMÁTICA
30	A	2,5	MATEMÁTICA
31	A	2,5	CONHECIMENTOS GERAIS
32	D	2,5	CONHECIMENTOS GERAIS
33	C	2,5	CONHECIMENTOS GERAIS
34	E	2,5	CONHECIMENTOS GERAIS
35	A	2,5	CONHECIMENTOS GERAIS
36	D	2,5	CONHECIMENTOS GERAIS
37	B	2,5	CONHECIMENTOS GERAIS
38	A	2,5	CONHECIMENTOS GERAIS
39	C	2,5	CONHECIMENTOS GERAIS
40	B	2,5	CONHECIMENTOS GERAIS



GABARITO PROVA OBJETIVA - PRELIMINAR
PREFEITURA MUNICIPAL DE TELÊMACO BORBA
CONCURSO PÚBLICO - EDITAL Nº 001-2016
CARGO: VIGIA
PROVA 1

QUESTÃO	RESPOSTA	VALOR DA QUESTÃO	ÁREA DE CONHECIMENTO
1	C	2,5	LÍNGUA PORTUGUESA
2	A	2,5	LÍNGUA PORTUGUESA
3	D	2,5	LÍNGUA PORTUGUESA
4	B	2,5	LÍNGUA PORTUGUESA
5	E	2,5	LÍNGUA PORTUGUESA
6	A	2,5	LÍNGUA PORTUGUESA
7	B	2,5	LÍNGUA PORTUGUESA
8	E	2,5	LÍNGUA PORTUGUESA
9	B	2,5	LÍNGUA PORTUGUESA
10	E	2,5	LÍNGUA PORTUGUESA
11	B	2,5	LÍNGUA PORTUGUESA
12	C	2,5	LÍNGUA PORTUGUESA
13	B	2,5	LÍNGUA PORTUGUESA
14	A	2,5	LÍNGUA PORTUGUESA
15	D	2,5	LÍNGUA PORTUGUESA
16	C	2,5	MATEMÁTICA
17	B	2,5	MATEMÁTICA
18	D	2,5	MATEMÁTICA
19	E	2,5	MATEMÁTICA
20	A	2,5	MATEMÁTICA
21	C	2,5	MATEMÁTICA
22	D	2,5	MATEMÁTICA
23	E	2,5	MATEMÁTICA
24	B	2,5	MATEMÁTICA
25	A	2,5	MATEMÁTICA
26	A	2,5	CONHECIMENTOS GERAIS
27	D	2,5	CONHECIMENTOS GERAIS
28	C	2,5	CONHECIMENTOS GERAIS
29	E	2,5	CONHECIMENTOS GERAIS
30	A	2,5	CONHECIMENTOS GERAIS
31	D	2,5	CONHECIMENTOS GERAIS
32	B	2,5	CONHECIMENTOS GERAIS
33	A	2,5	CONHECIMENTOS GERAIS
34	C	2,5	CONHECIMENTOS GERAIS
35	B	2,5	CONHECIMENTOS GERAIS
36	A	2,5	CONHECIMENTOS ESPECÍFICOS
37	B	2,5	CONHECIMENTOS ESPECÍFICOS
38	C	2,5	CONHECIMENTOS ESPECÍFICOS
39	D	2,5	CONHECIMENTOS ESPECÍFICOS
40	E	2,5	CONHECIMENTOS ESPECÍFICOS



GABARITO PROVA OBJETIVA - PRELIMINAR
PREFEITURA MUNICIPAL DE TELÊMACO BORBA
CONCURSO PÚBLICO - EDITAL Nº 001-2016
CARGO: VIGIA
PROVA 2

QUESTÃO	RESPOSTA	VALOR DA QUESTÃO	ÁREA DE CONHECIMENTO
1	C	2,5	MATEMÁTICA
2	B	2,5	MATEMÁTICA
3	D	2,5	MATEMÁTICA
4	E	2,5	MATEMÁTICA
5	A	2,5	MATEMÁTICA
6	C	2,5	MATEMÁTICA
7	D	2,5	MATEMÁTICA
8	E	2,5	MATEMÁTICA
9	B	2,5	MATEMÁTICA
10	A	2,5	MATEMÁTICA
11	A	2,5	CONHECIMENTOS GERAIS
12	D	2,5	CONHECIMENTOS GERAIS
13	C	2,5	CONHECIMENTOS GERAIS
14	E	2,5	CONHECIMENTOS GERAIS
15	A	2,5	CONHECIMENTOS GERAIS
16	D	2,5	CONHECIMENTOS GERAIS
17	B	2,5	CONHECIMENTOS GERAIS
18	A	2,5	CONHECIMENTOS GERAIS
19	C	2,5	CONHECIMENTOS GERAIS
20	B	2,5	CONHECIMENTOS GERAIS
21	A	2,5	CONHECIMENTOS ESPECÍFICOS
22	B	2,5	CONHECIMENTOS ESPECÍFICOS
23	C	2,5	CONHECIMENTOS ESPECÍFICOS
24	D	2,5	CONHECIMENTOS ESPECÍFICOS
25	E	2,5	CONHECIMENTOS ESPECÍFICOS
26	C	2,5	LÍNGUA PORTUGUESA
27	A	2,5	LÍNGUA PORTUGUESA
28	D	2,5	LÍNGUA PORTUGUESA
29	B	2,5	LÍNGUA PORTUGUESA
30	E	2,5	LÍNGUA PORTUGUESA
31	A	2,5	LÍNGUA PORTUGUESA
32	B	2,5	LÍNGUA PORTUGUESA
33	E	2,5	LÍNGUA PORTUGUESA
34	B	2,5	LÍNGUA PORTUGUESA
35	E	2,5	LÍNGUA PORTUGUESA
36	B	2,5	LÍNGUA PORTUGUESA
37	C	2,5	LÍNGUA PORTUGUESA
38	B	2,5	LÍNGUA PORTUGUESA
39	A	2,5	LÍNGUA PORTUGUESA
40	D	2,5	LÍNGUA PORTUGUESA



GABARITO PROVA OBJETIVA - PRELIMINAR
PREFEITURA MUNICIPAL DE TELÊMACO BORBA
CONCURSO PÚBLICO - EDITAL Nº 001-2016
CARGO: VIGIA
PROVA 3

QUESTÃO	RESPOSTA	VALOR DA QUESTÃO	ÁREA DE CONHECIMENTO
1	A	2,5	CONHECIMENTOS ESPECÍFICOS
2	B	2,5	CONHECIMENTOS ESPECÍFICOS
3	C	2,5	CONHECIMENTOS ESPECÍFICOS
4	D	2,5	CONHECIMENTOS ESPECÍFICOS
5	E	2,5	CONHECIMENTOS ESPECÍFICOS
6	C	2,5	LÍNGUA PORTUGUESA
7	A	2,5	LÍNGUA PORTUGUESA
8	D	2,5	LÍNGUA PORTUGUESA
9	B	2,5	LÍNGUA PORTUGUESA
10	E	2,5	LÍNGUA PORTUGUESA
11	A	2,5	LÍNGUA PORTUGUESA
12	B	2,5	LÍNGUA PORTUGUESA
13	E	2,5	LÍNGUA PORTUGUESA
14	B	2,5	LÍNGUA PORTUGUESA
15	E	2,5	LÍNGUA PORTUGUESA
16	B	2,5	LÍNGUA PORTUGUESA
17	C	2,5	LÍNGUA PORTUGUESA
18	B	2,5	LÍNGUA PORTUGUESA
19	A	2,5	LÍNGUA PORTUGUESA
20	D	2,5	LÍNGUA PORTUGUESA
21	C	2,5	MATEMÁTICA
22	B	2,5	MATEMÁTICA
23	D	2,5	MATEMÁTICA
24	E	2,5	MATEMÁTICA
25	A	2,5	MATEMÁTICA
26	C	2,5	MATEMÁTICA
27	D	2,5	MATEMÁTICA
28	E	2,5	MATEMÁTICA
29	B	2,5	MATEMÁTICA
30	A	2,5	MATEMÁTICA
31	A	2,5	CONHECIMENTOS GERAIS
32	D	2,5	CONHECIMENTOS GERAIS
33	C	2,5	CONHECIMENTOS GERAIS
34	E	2,5	CONHECIMENTOS GERAIS
35	A	2,5	CONHECIMENTOS GERAIS
36	D	2,5	CONHECIMENTOS GERAIS
37	B	2,5	CONHECIMENTOS GERAIS
38	A	2,5	CONHECIMENTOS GERAIS
39	C	2,5	CONHECIMENTOS GERAIS
40	B	2,5	CONHECIMENTOS GERAIS



GABARITO PROVA OBJETIVA - PRELIMINAR
PREFEITURA MUNICIPAL DE TELÊMACO BORBA
CONCURSO PÚBLICO - EDITAL Nº 001-2016
CARGO: AGENTE COMUNITÁRIO DE SAÚDE
PROVA 1

QUESTÃO	RESPOSTA	VALOR DA QUESTÃO	ÁREA DE CONHECIMENTO
1	B	2,5	LÍNGUA PORTUGUESA
2	C	2,5	LÍNGUA PORTUGUESA
3	E	2,5	LÍNGUA PORTUGUESA
4	E	2,5	LÍNGUA PORTUGUESA
5	A	2,5	LÍNGUA PORTUGUESA
6	B	2,5	LÍNGUA PORTUGUESA
7	D	2,5	LÍNGUA PORTUGUESA
8	D	2,5	LÍNGUA PORTUGUESA
9	D	2,5	LÍNGUA PORTUGUESA
10	D	2,5	LÍNGUA PORTUGUESA
11	E	2,5	LÍNGUA PORTUGUESA
12	C	2,5	LÍNGUA PORTUGUESA
13	B	2,5	LÍNGUA PORTUGUESA
14	E	2,5	LÍNGUA PORTUGUESA
15	C	2,5	LÍNGUA PORTUGUESA
16	A	2,5	MATEMÁTICA
17	D	2,5	MATEMÁTICA
18	E	2,5	MATEMÁTICA
19	B	2,5	MATEMÁTICA
20	C	2,5	MATEMÁTICA
21	A	2,5	MATEMÁTICA
22	E	2,5	MATEMÁTICA
23	C	2,5	MATEMÁTICA
24	B	2,5	MATEMÁTICA
25	A	2,5	MATEMÁTICA
26	B	2,5	CONHECIMENTOS GERAIS
27	B	2,5	CONHECIMENTOS GERAIS
28	E	2,5	CONHECIMENTOS GERAIS
29	B	2,5	CONHECIMENTOS GERAIS
30	C	2,5	CONHECIMENTOS GERAIS
31	E	2,5	CONHECIMENTOS GERAIS
32	E	2,5	CONHECIMENTOS GERAIS
33	A	2,5	CONHECIMENTOS GERAIS
34	C	2,5	CONHECIMENTOS GERAIS
35	B	2,5	CONHECIMENTOS GERAIS
36	E	2,5	CONHECIMENTOS ESPECÍFICOS
37	A	2,5	CONHECIMENTOS ESPECÍFICOS
38	B	2,5	CONHECIMENTOS ESPECÍFICOS
39	C	2,5	CONHECIMENTOS ESPECÍFICOS
40	D	2,5	CONHECIMENTOS ESPECÍFICOS



GABARITO PROVA OBJETIVA - PRELIMINAR
PREFEITURA MUNICIPAL DE TELÊMACO BORBA
CONCURSO PÚBLICO - EDITAL Nº 001-2016
CARGO: AGENTE COMUNITÁRIO DE SAÚDE
PROVA 2

QUESTÃO	RESPOSTA	VALOR DA QUESTÃO	ÁREA DE CONHECIMENTO
1	A	2,5	MATEMÁTICA
2	D	2,5	MATEMÁTICA
3	E	2,5	MATEMÁTICA
4	B	2,5	MATEMÁTICA
5	C	2,5	MATEMÁTICA
6	A	2,5	MATEMÁTICA
7	E	2,5	MATEMÁTICA
8	C	2,5	MATEMÁTICA
9	B	2,5	MATEMÁTICA
10	A	2,5	MATEMÁTICA
11	B	2,5	CONHECIMENTOS GERAIS
12	B	2,5	CONHECIMENTOS GERAIS
13	E	2,5	CONHECIMENTOS GERAIS
14	B	2,5	CONHECIMENTOS GERAIS
15	C	2,5	CONHECIMENTOS GERAIS
16	E	2,5	CONHECIMENTOS GERAIS
17	E	2,5	CONHECIMENTOS GERAIS
18	A	2,5	CONHECIMENTOS GERAIS
19	C	2,5	CONHECIMENTOS GERAIS
20	B	2,5	CONHECIMENTOS GERAIS
21	E	2,5	CONHECIMENTOS ESPECÍFICOS
22	A	2,5	CONHECIMENTOS ESPECÍFICOS
23	B	2,5	CONHECIMENTOS ESPECÍFICOS
24	C	2,5	CONHECIMENTOS ESPECÍFICOS
25	D	2,5	CONHECIMENTOS ESPECÍFICOS
26	B	2,5	LÍNGUA PORTUGUESA
27	C	2,5	LÍNGUA PORTUGUESA
28	E	2,5	LÍNGUA PORTUGUESA
29	E	2,5	LÍNGUA PORTUGUESA
30	A	2,5	LÍNGUA PORTUGUESA
31	B	2,5	LÍNGUA PORTUGUESA
32	D	2,5	LÍNGUA PORTUGUESA
33	D	2,5	LÍNGUA PORTUGUESA
34	D	2,5	LÍNGUA PORTUGUESA
35	D	2,5	LÍNGUA PORTUGUESA
36	E	2,5	LÍNGUA PORTUGUESA
37	C	2,5	LÍNGUA PORTUGUESA
38	B	2,5	LÍNGUA PORTUGUESA
39	E	2,5	LÍNGUA PORTUGUESA
40	C	2,5	LÍNGUA PORTUGUESA

**GABARITO PROVA OBJETIVA - PRELIMINAR**
PREFEITURA MUNICIPAL DE TELÊMACO BORBA
CONCURSO PÚBLICO - EDITAL Nº 001-2016
CARGO: AGENTE COMUNITÁRIO DE SAÚDE
PROVA 3

QUESTÃO	RESPOSTA	VALOR DA QUESTÃO	ÁREA DE CONHECIMENTO
1	E	2,5	CONHECIMENTOS ESPECÍFICOS
2	A	2,5	CONHECIMENTOS ESPECÍFICOS
3	B	2,5	CONHECIMENTOS ESPECÍFICOS
4	C	2,5	CONHECIMENTOS ESPECÍFICOS
5	D	2,5	CONHECIMENTOS ESPECÍFICOS
6	B	2,5	LÍNGUA PORTUGUESA
7	C	2,5	LÍNGUA PORTUGUESA
8	E	2,5	LÍNGUA PORTUGUESA
9	E	2,5	LÍNGUA PORTUGUESA
10	A	2,5	LÍNGUA PORTUGUESA
11	B	2,5	LÍNGUA PORTUGUESA
12	D	2,5	LÍNGUA PORTUGUESA
13	D	2,5	LÍNGUA PORTUGUESA
14	D	2,5	LÍNGUA PORTUGUESA
15	D	2,5	LÍNGUA PORTUGUESA
16	E	2,5	LÍNGUA PORTUGUESA
17	C	2,5	LÍNGUA PORTUGUESA
18	B	2,5	LÍNGUA PORTUGUESA
19	E	2,5	LÍNGUA PORTUGUESA
20	C	2,5	LÍNGUA PORTUGUESA
21	A	2,5	MATEMÁTICA
22	D	2,5	MATEMÁTICA
23	E	2,5	MATEMÁTICA
24	B	2,5	MATEMÁTICA
25	C	2,5	MATEMÁTICA
26	A	2,5	MATEMÁTICA
27	E	2,5	MATEMÁTICA
28	C	2,5	MATEMÁTICA
29	B	2,5	MATEMÁTICA
30	A	2,5	MATEMÁTICA
31	B	2,5	CONHECIMENTOS GERAIS
32	B	2,5	CONHECIMENTOS GERAIS
33	E	2,5	CONHECIMENTOS GERAIS
34	B	2,5	CONHECIMENTOS GERAIS
35	C	2,5	CONHECIMENTOS GERAIS
36	E	2,5	CONHECIMENTOS GERAIS
37	E	2,5	CONHECIMENTOS GERAIS
38	A	2,5	CONHECIMENTOS GERAIS
39	C	2,5	CONHECIMENTOS GERAIS
40	B	2,5	CONHECIMENTOS GERAIS



GABARITO PROVA OBJETIVA - PRELIMINAR
PREFEITURA MUNICIPAL DE TELÊMACO BORBA
CONCURSO PÚBLICO - EDITAL Nº 001-2016
CARGO: AGENTE DE COMBATE A ENDEMIAS
PROVA 1

QUESTÃO	RESPOSTA	VALOR DA QUESTÃO	ÁREA DE CONHECIMENTO
1	B	2,5	LÍNGUA PORTUGUESA
2	C	2,5	LÍNGUA PORTUGUESA
3	E	2,5	LÍNGUA PORTUGUESA
4	E	2,5	LÍNGUA PORTUGUESA
5	A	2,5	LÍNGUA PORTUGUESA
6	B	2,5	LÍNGUA PORTUGUESA
7	D	2,5	LÍNGUA PORTUGUESA
8	D	2,5	LÍNGUA PORTUGUESA
9	D	2,5	LÍNGUA PORTUGUESA
10	D	2,5	LÍNGUA PORTUGUESA
11	E	2,5	LÍNGUA PORTUGUESA
12	C	2,5	LÍNGUA PORTUGUESA
13	B	2,5	LÍNGUA PORTUGUESA
14	E	2,5	LÍNGUA PORTUGUESA
15	C	2,5	LÍNGUA PORTUGUESA
16	A	2,5	MATEMÁTICA
17	D	2,5	MATEMÁTICA
18	E	2,5	MATEMÁTICA
19	B	2,5	MATEMÁTICA
20	C	2,5	MATEMÁTICA
21	A	2,5	MATEMÁTICA
22	E	2,5	MATEMÁTICA
23	C	2,5	MATEMÁTICA
24	B	2,5	MATEMÁTICA
25	A	2,5	MATEMÁTICA
26	B	2,5	CONHECIMENTOS GERAIS
27	B	2,5	CONHECIMENTOS GERAIS
28	E	2,5	CONHECIMENTOS GERAIS
29	B	2,5	CONHECIMENTOS GERAIS
30	C	2,5	CONHECIMENTOS GERAIS
31	E	2,5	CONHECIMENTOS GERAIS
32	E	2,5	CONHECIMENTOS GERAIS
33	A	2,5	CONHECIMENTOS GERAIS
34	C	2,5	CONHECIMENTOS GERAIS
35	B	2,5	CONHECIMENTOS GERAIS
36	C	2,5	CONHECIMENTOS ESPECÍFICOS
37	E	2,5	CONHECIMENTOS ESPECÍFICOS
38	C	2,5	CONHECIMENTOS ESPECÍFICOS
39	D	2,5	CONHECIMENTOS ESPECÍFICOS
40	B	2,5	CONHECIMENTOS ESPECÍFICOS



GABARITO PROVA OBJETIVA - PRELIMINAR
PREFEITURA MUNICIPAL DE TELÊMACO BORBA
CONCURSO PÚBLICO - EDITAL Nº 001-2016
CARGO: AGENTE DE COMBATE A ENDEMIAS
PROVA 2

QUESTÃO	RESPOSTA	VALOR DA QUESTÃO	ÁREA DE CONHECIMENTO
1	A	2,5	MATEMÁTICA
2	D	2,5	MATEMÁTICA
3	E	2,5	MATEMÁTICA
4	B	2,5	MATEMÁTICA
5	C	2,5	MATEMÁTICA
6	A	2,5	MATEMÁTICA
7	E	2,5	MATEMÁTICA
8	C	2,5	MATEMÁTICA
9	B	2,5	MATEMÁTICA
10	A	2,5	MATEMÁTICA
11	B	2,5	CONHECIMENTOS GERAIS
12	B	2,5	CONHECIMENTOS GERAIS
13	E	2,5	CONHECIMENTOS GERAIS
14	B	2,5	CONHECIMENTOS GERAIS
15	C	2,5	CONHECIMENTOS GERAIS
16	E	2,5	CONHECIMENTOS GERAIS
17	E	2,5	CONHECIMENTOS GERAIS
18	A	2,5	CONHECIMENTOS GERAIS
19	C	2,5	CONHECIMENTOS GERAIS
20	B	2,5	CONHECIMENTOS GERAIS
21	C	2,5	CONHECIMENTOS ESPECÍFICOS
22	E	2,5	CONHECIMENTOS ESPECÍFICOS
23	C	2,5	CONHECIMENTOS ESPECÍFICOS
24	D	2,5	CONHECIMENTOS ESPECÍFICOS
25	B	2,5	CONHECIMENTOS ESPECÍFICOS
26	B	2,5	LÍNGUA PORTUGUESA
27	C	2,5	LÍNGUA PORTUGUESA
28	E	2,5	LÍNGUA PORTUGUESA
29	E	2,5	LÍNGUA PORTUGUESA
30	A	2,5	LÍNGUA PORTUGUESA
31	B	2,5	LÍNGUA PORTUGUESA
32	D	2,5	LÍNGUA PORTUGUESA
33	D	2,5	LÍNGUA PORTUGUESA
34	D	2,5	LÍNGUA PORTUGUESA
35	D	2,5	LÍNGUA PORTUGUESA
36	E	2,5	LÍNGUA PORTUGUESA
37	C	2,5	LÍNGUA PORTUGUESA
38	B	2,5	LÍNGUA PORTUGUESA
39	E	2,5	LÍNGUA PORTUGUESA
40	C	2,5	LÍNGUA PORTUGUESA



GABARITO PROVA OBJETIVA - PRELIMINAR
PREFEITURA MUNICIPAL DE TELÊMACO BORBA
CONCURSO PÚBLICO - EDITAL Nº 001-2016
CARGO: AGENTE DE COMBATE A ENDEMIAS
PROVA 3

QUESTÃO	RESPOSTA	VALOR DA QUESTÃO	ÁREA DE CONHECIMENTO
1	E	2,5	CONHECIMENTOS ESPECÍFICOS
2	A	2,5	CONHECIMENTOS ESPECÍFICOS
3	B	2,5	CONHECIMENTOS ESPECÍFICOS
4	C	2,5	CONHECIMENTOS ESPECÍFICOS
5	D	2,5	CONHECIMENTOS ESPECÍFICOS
6	B	2,5	LÍNGUA PORTUGUESA
7	C	2,5	LÍNGUA PORTUGUESA
8	E	2,5	LÍNGUA PORTUGUESA
9	E	2,5	LÍNGUA PORTUGUESA
10	A	2,5	LÍNGUA PORTUGUESA
11	B	2,5	LÍNGUA PORTUGUESA
12	D	2,5	LÍNGUA PORTUGUESA
13	D	2,5	LÍNGUA PORTUGUESA
14	D	2,5	LÍNGUA PORTUGUESA
15	D	2,5	LÍNGUA PORTUGUESA
16	E	2,5	LÍNGUA PORTUGUESA
17	C	2,5	LÍNGUA PORTUGUESA
18	B	2,5	LÍNGUA PORTUGUESA
19	E	2,5	LÍNGUA PORTUGUESA
20	C	2,5	LÍNGUA PORTUGUESA
21	A	2,5	MATEMÁTICA
22	D	2,5	MATEMÁTICA
23	E	2,5	MATEMÁTICA
24	B	2,5	MATEMÁTICA
25	C	2,5	MATEMÁTICA
26	A	2,5	MATEMÁTICA
27	E	2,5	MATEMÁTICA
28	C	2,5	MATEMÁTICA
29	B	2,5	MATEMÁTICA
30	A	2,5	MATEMÁTICA
31	B	2,5	CONHECIMENTOS GERAIS
32	B	2,5	CONHECIMENTOS GERAIS
33	E	2,5	CONHECIMENTOS GERAIS
34	B	2,5	CONHECIMENTOS GERAIS
35	C	2,5	CONHECIMENTOS GERAIS
36	E	2,5	CONHECIMENTOS GERAIS
37	E	2,5	CONHECIMENTOS GERAIS
38	A	2,5	CONHECIMENTOS GERAIS
39	C	2,5	CONHECIMENTOS GERAIS
40	B	2,5	CONHECIMENTOS GERAIS



GABARITO PROVA OBJETIVA - PRELIMINAR
PREFEITURA MUNICIPAL DE TELÊMACO BORBA
CONCURSO PÚBLICO - EDITAL Nº 001-2016
CARGO: TELEFONISTA
PROVA 1

QUESTÃO	RESPOSTA	VALOR DA QUESTÃO	ÁREA DE CONHECIMENTO
1	B	2,5	LÍNGUA PORTUGUESA
2	C	2,5	LÍNGUA PORTUGUESA
3	E	2,5	LÍNGUA PORTUGUESA
4	E	2,5	LÍNGUA PORTUGUESA
5	A	2,5	LÍNGUA PORTUGUESA
6	B	2,5	LÍNGUA PORTUGUESA
7	D	2,5	LÍNGUA PORTUGUESA
8	D	2,5	LÍNGUA PORTUGUESA
9	D	2,5	LÍNGUA PORTUGUESA
10	D	2,5	LÍNGUA PORTUGUESA
11	E	2,5	LÍNGUA PORTUGUESA
12	C	2,5	LÍNGUA PORTUGUESA
13	B	2,5	LÍNGUA PORTUGUESA
14	E	2,5	LÍNGUA PORTUGUESA
15	C	2,5	LÍNGUA PORTUGUESA
16	A	2,5	MATEMÁTICA
17	D	2,5	MATEMÁTICA
18	E	2,5	MATEMÁTICA
19	B	2,5	MATEMÁTICA
20	C	2,5	MATEMÁTICA
21	A	2,5	MATEMÁTICA
22	E	2,5	MATEMÁTICA
23	C	2,5	MATEMÁTICA
24	B	2,5	MATEMÁTICA
25	A	2,5	MATEMÁTICA
26	B	2,5	CONHECIMENTOS GERAIS
27	B	2,5	CONHECIMENTOS GERAIS
28	E	2,5	CONHECIMENTOS GERAIS
29	B	2,5	CONHECIMENTOS GERAIS
30	C	2,5	CONHECIMENTOS GERAIS
31	E	2,5	CONHECIMENTOS GERAIS
32	E	2,5	CONHECIMENTOS GERAIS
33	A	2,5	CONHECIMENTOS GERAIS
34	C	2,5	CONHECIMENTOS GERAIS
35	B	2,5	CONHECIMENTOS GERAIS
36	E	2,5	CONHECIMENTOS ESPECÍFICOS
37	D	2,5	CONHECIMENTOS ESPECÍFICOS
38	B	2,5	CONHECIMENTOS ESPECÍFICOS
39	A	2,5	CONHECIMENTOS ESPECÍFICOS
40	C	2,5	CONHECIMENTOS ESPECÍFICOS



GABARITO PROVA OBJETIVA - PRELIMINAR
PREFEITURA MUNICIPAL DE TELÊMACO BORBA
CONCURSO PÚBLICO - EDITAL Nº 001-2016
CARGO: TELEFONISTA
PROVA 2

QUESTÃO	RESPOSTA	VALOR DA QUESTÃO	ÁREA DE CONHECIMENTO
1	A	2,5	MATEMÁTICA
2	D	2,5	MATEMÁTICA
3	E	2,5	MATEMÁTICA
4	B	2,5	MATEMÁTICA
5	C	2,5	MATEMÁTICA
6	A	2,5	MATEMÁTICA
7	E	2,5	MATEMÁTICA
8	C	2,5	MATEMÁTICA
9	B	2,5	MATEMÁTICA
10	A	2,5	MATEMÁTICA
11	B	2,5	CONHECIMENTOS GERAIS
12	B	2,5	CONHECIMENTOS GERAIS
13	E	2,5	CONHECIMENTOS GERAIS
14	B	2,5	CONHECIMENTOS GERAIS
15	C	2,5	CONHECIMENTOS GERAIS
16	E	2,5	CONHECIMENTOS GERAIS
17	E	2,5	CONHECIMENTOS GERAIS
18	A	2,5	CONHECIMENTOS GERAIS
19	C	2,5	CONHECIMENTOS GERAIS
20	B	2,5	CONHECIMENTOS GERAIS
21	E	2,5	CONHECIMENTOS ESPECÍFICOS
22	D	2,5	CONHECIMENTOS ESPECÍFICOS
23	B	2,5	CONHECIMENTOS ESPECÍFICOS
24	A	2,5	CONHECIMENTOS ESPECÍFICOS
25	C	2,5	CONHECIMENTOS ESPECÍFICOS
26	B	2,5	LÍNGUA PORTUGUESA
27	C	2,5	LÍNGUA PORTUGUESA
28	E	2,5	LÍNGUA PORTUGUESA
29	E	2,5	LÍNGUA PORTUGUESA
30	A	2,5	LÍNGUA PORTUGUESA
31	B	2,5	LÍNGUA PORTUGUESA
32	D	2,5	LÍNGUA PORTUGUESA
33	D	2,5	LÍNGUA PORTUGUESA
34	D	2,5	LÍNGUA PORTUGUESA
35	D	2,5	LÍNGUA PORTUGUESA
36	E	2,5	LÍNGUA PORTUGUESA
37	C	2,5	LÍNGUA PORTUGUESA
38	B	2,5	LÍNGUA PORTUGUESA
39	E	2,5	LÍNGUA PORTUGUESA
40	C	2,5	LÍNGUA PORTUGUESA



GABARITO PROVA OBJETIVA - PRELIMINAR
PREFEITURA MUNICIPAL DE TELÊMACO BORBA
CONCURSO PÚBLICO - EDITAL Nº 001-2016
CARGO: TELEFONISTA
PROVA 3

QUESTÃO	RESPOSTA	VALOR DA QUESTÃO	ÁREA DE CONHECIMENTO
1	E	2,5	CONHECIMENTOS ESPECÍFICOS
2	D	2,5	CONHECIMENTOS ESPECÍFICOS
3	B	2,5	CONHECIMENTOS ESPECÍFICOS
4	A	2,5	CONHECIMENTOS ESPECÍFICOS
5	C	2,5	CONHECIMENTOS ESPECÍFICOS
6	B	2,5	LÍNGUA PORTUGUESA
7	C	2,5	LÍNGUA PORTUGUESA
8	E	2,5	LÍNGUA PORTUGUESA
9	E	2,5	LÍNGUA PORTUGUESA
10	A	2,5	LÍNGUA PORTUGUESA
11	B	2,5	LÍNGUA PORTUGUESA
12	D	2,5	LÍNGUA PORTUGUESA
13	D	2,5	LÍNGUA PORTUGUESA
14	D	2,5	LÍNGUA PORTUGUESA
15	D	2,5	LÍNGUA PORTUGUESA
16	E	2,5	LÍNGUA PORTUGUESA
17	C	2,5	LÍNGUA PORTUGUESA
18	B	2,5	LÍNGUA PORTUGUESA
19	E	2,5	LÍNGUA PORTUGUESA
20	C	2,5	LÍNGUA PORTUGUESA
21	A	2,5	MATEMÁTICA
22	D	2,5	MATEMÁTICA
23	E	2,5	MATEMÁTICA
24	B	2,5	MATEMÁTICA
25	C	2,5	MATEMÁTICA
26	A	2,5	MATEMÁTICA
27	E	2,5	MATEMÁTICA
28	C	2,5	MATEMÁTICA
29	B	2,5	MATEMÁTICA
30	A	2,5	MATEMÁTICA
31	B	2,5	CONHECIMENTOS GERAIS
32	B	2,5	CONHECIMENTOS GERAIS
33	E	2,5	CONHECIMENTOS GERAIS
34	B	2,5	CONHECIMENTOS GERAIS
35	C	2,5	CONHECIMENTOS GERAIS
36	E	2,5	CONHECIMENTOS GERAIS
37	E	2,5	CONHECIMENTOS GERAIS
38	A	2,5	CONHECIMENTOS GERAIS
39	C	2,5	CONHECIMENTOS GERAIS
40	B	2,5	CONHECIMENTOS GERAIS



GABARITO PROVA OBJETIVA - PRELIMINAR
PREFEITURA MUNICIPAL DE TELÊMACO BORBA
CONCURSO PÚBLICO - EDITAL Nº 001-2016
CARGO: AG ADM I - ADMINISTRATIVO, CONTÁBIL E FINANCEIRO
PROVA 1

QUESTÃO	RESPOSTA	VALOR DA QUESTÃO	ÁREA DE CONHECIMENTO
1	A	2,5	LÍNGUA PORTUGUESA
2	C	2,5	LÍNGUA PORTUGUESA
3	D	2,5	LÍNGUA PORTUGUESA
4	E	2,5	LÍNGUA PORTUGUESA
5	B	2,5	LÍNGUA PORTUGUESA
6	C	2,5	LÍNGUA PORTUGUESA
7	B	2,5	LÍNGUA PORTUGUESA
8	B	2,5	LÍNGUA PORTUGUESA
9	D	2,5	LÍNGUA PORTUGUESA
10	A	2,5	LÍNGUA PORTUGUESA
11	C	2,5	MATEMÁTICA
12	D	2,5	MATEMÁTICA
13	A	2,5	MATEMÁTICA
14	D	2,5	MATEMÁTICA
15	A	2,5	MATEMÁTICA
16	A	2,5	INFORMÁTICA
17	D	2,5	INFORMÁTICA
18	A	2,5	INFORMÁTICA
19	C	2,5	INFORMÁTICA
20	E	2,5	INFORMÁTICA
21	E	2,5	CONHECIMENTOS GERAIS
22	C	2,5	CONHECIMENTOS GERAIS
23	D	2,5	CONHECIMENTOS GERAIS
24	C	2,5	CONHECIMENTOS GERAIS
25	B	2,5	CONHECIMENTOS GERAIS
26	D	2,5	CONHECIMENTOS GERAIS
27	C	2,5	CONHECIMENTOS GERAIS
28	E	2,5	CONHECIMENTOS GERAIS
29	E	2,5	CONHECIMENTOS GERAIS
30	C	2,5	CONHECIMENTOS GERAIS
31	B	2,5	CONHECIMENTOS ESPECÍFICOS
32	A	2,5	CONHECIMENTOS ESPECÍFICOS
33	C	2,5	CONHECIMENTOS ESPECÍFICOS
34	A	2,5	CONHECIMENTOS ESPECÍFICOS
35	D	2,5	CONHECIMENTOS ESPECÍFICOS
36	E	2,5	CONHECIMENTOS ESPECÍFICOS
37	B	2,5	CONHECIMENTOS ESPECÍFICOS
38	C	2,5	CONHECIMENTOS ESPECÍFICOS
39	D	2,5	CONHECIMENTOS ESPECÍFICOS
40	E	2,5	CONHECIMENTOS ESPECÍFICOS



GABARITO PROVA OBJETIVA - PRELIMINAR
PREFEITURA MUNICIPAL DE TELÊMACO BORBA
CONCURSO PÚBLICO - EDITAL Nº 001-2016
CARGO: AG ADM I - ADMINISTRATIVO, CONTÁBIL E FINANCEIRO
PROVA 2

QUESTÃO	RESPOSTA	VALOR DA QUESTÃO	ÁREA DE CONHECIMENTO
1	C	2,5	MATEMÁTICA
2	D	2,5	MATEMÁTICA
3	A	2,5	MATEMÁTICA
4	D	2,5	MATEMÁTICA
5	A	2,5	MATEMÁTICA
6	A	2,5	INFORMÁTICA
7	D	2,5	INFORMÁTICA
8	A	2,5	INFORMÁTICA
9	C	2,5	INFORMÁTICA
10	E	2,5	INFORMÁTICA
11	E	2,5	CONHECIMENTOS GERAIS
12	C	2,5	CONHECIMENTOS GERAIS
13	D	2,5	CONHECIMENTOS GERAIS
14	C	2,5	CONHECIMENTOS GERAIS
15	B	2,5	CONHECIMENTOS GERAIS
16	D	2,5	CONHECIMENTOS GERAIS
17	C	2,5	CONHECIMENTOS GERAIS
18	E	2,5	CONHECIMENTOS GERAIS
19	E	2,5	CONHECIMENTOS GERAIS
20	C	2,5	CONHECIMENTOS GERAIS
21	B	2,5	CONHECIMENTOS ESPECÍFICOS
22	A	2,5	CONHECIMENTOS ESPECÍFICOS
23	C	2,5	CONHECIMENTOS ESPECÍFICOS
24	A	2,5	CONHECIMENTOS ESPECÍFICOS
25	D	2,5	CONHECIMENTOS ESPECÍFICOS
26	E	2,5	CONHECIMENTOS ESPECÍFICOS
27	B	2,5	CONHECIMENTOS ESPECÍFICOS
28	C	2,5	CONHECIMENTOS ESPECÍFICOS
29	D	2,5	CONHECIMENTOS ESPECÍFICOS
30	E	2,5	CONHECIMENTOS ESPECÍFICOS
31	A	2,5	LÍNGUA PORTUGUESA
32	C	2,5	LÍNGUA PORTUGUESA
33	D	2,5	LÍNGUA PORTUGUESA
34	E	2,5	LÍNGUA PORTUGUESA
35	B	2,5	LÍNGUA PORTUGUESA
36	C	2,5	LÍNGUA PORTUGUESA
37	B	2,5	LÍNGUA PORTUGUESA
38	B	2,5	LÍNGUA PORTUGUESA
39	D	2,5	LÍNGUA PORTUGUESA
40	A	2,5	LÍNGUA PORTUGUESA



GABARITO PROVA OBJETIVA - PRELIMINAR
PREFEITURA MUNICIPAL DE TELÊMACO BORBA
CONCURSO PÚBLICO - EDITAL Nº 001-2016
CARGO: AG ADM I - ADMINISTRATIVO, CONTÁBIL E FINANCEIRO
PROVA 3

QUESTÃO	RESPOSTA	VALOR DA QUESTÃO	ÁREA DE CONHECIMENTO
1	B	2,5	CONHECIMENTOS ESPECÍFICOS
2	A	2,5	CONHECIMENTOS ESPECÍFICOS
3	C	2,5	CONHECIMENTOS ESPECÍFICOS
4	A	2,5	CONHECIMENTOS ESPECÍFICOS
5	D	2,5	CONHECIMENTOS ESPECÍFICOS
6	E	2,5	CONHECIMENTOS ESPECÍFICOS
7	B	2,5	CONHECIMENTOS ESPECÍFICOS
8	C	2,5	CONHECIMENTOS ESPECÍFICOS
9	D	2,5	CONHECIMENTOS ESPECÍFICOS
10	E	2,5	CONHECIMENTOS ESPECÍFICOS
11	A	2,5	LÍNGUA PORTUGUESA
12	C	2,5	LÍNGUA PORTUGUESA
13	D	2,5	LÍNGUA PORTUGUESA
14	E	2,5	LÍNGUA PORTUGUESA
15	B	2,5	LÍNGUA PORTUGUESA
16	C	2,5	LÍNGUA PORTUGUESA
17	B	2,5	LÍNGUA PORTUGUESA
18	B	2,5	LÍNGUA PORTUGUESA
19	D	2,5	LÍNGUA PORTUGUESA
20	A	2,5	LÍNGUA PORTUGUESA
21	C	2,5	MATEMÁTICA
22	D	2,5	MATEMÁTICA
23	A	2,5	MATEMÁTICA
24	D	2,5	MATEMÁTICA
25	A	2,5	MATEMÁTICA
26	A	2,5	INFORMÁTICA
27	D	2,5	INFORMÁTICA
28	A	2,5	INFORMÁTICA
29	C	2,5	INFORMÁTICA
30	E	2,5	INFORMÁTICA
31	E	2,5	CONHECIMENTOS GERAIS
32	C	2,5	CONHECIMENTOS GERAIS
33	D	2,5	CONHECIMENTOS GERAIS
34	C	2,5	CONHECIMENTOS GERAIS
35	B	2,5	CONHECIMENTOS GERAIS
36	D	2,5	CONHECIMENTOS GERAIS
37	C	2,5	CONHECIMENTOS GERAIS
38	E	2,5	CONHECIMENTOS GERAIS
39	E	2,5	CONHECIMENTOS GERAIS
40	C	2,5	CONHECIMENTOS GERAIS



GABARITO PROVA OBJETIVA - PRELIMINAR
PREFEITURA MUNICIPAL DE TELÊMACO BORBA
CONCURSO PÚBLICO - EDITAL Nº 001-2016
CARGO: AGENTE CULTURAL
PROVA 1

QUESTÃO	RESPOSTA	VALOR DA QUESTÃO	ÁREA DE CONHECIMENTO
1	A	2,5	LÍNGUA PORTUGUESA
2	C	2,5	LÍNGUA PORTUGUESA
3	D	2,5	LÍNGUA PORTUGUESA
4	E	2,5	LÍNGUA PORTUGUESA
5	B	2,5	LÍNGUA PORTUGUESA
6	C	2,5	LÍNGUA PORTUGUESA
7	B	2,5	LÍNGUA PORTUGUESA
8	B	2,5	LÍNGUA PORTUGUESA
9	D	2,5	LÍNGUA PORTUGUESA
10	A	2,5	LÍNGUA PORTUGUESA
11	C	2,5	MATEMÁTICA
12	D	2,5	MATEMÁTICA
13	A	2,5	MATEMÁTICA
14	D	2,5	MATEMÁTICA
15	A	2,5	MATEMÁTICA
16	A	2,5	INFORMÁTICA
17	D	2,5	INFORMÁTICA
18	A	2,5	INFORMÁTICA
19	C	2,5	INFORMÁTICA
20	E	2,5	INFORMÁTICA
21	E	2,5	CONHECIMENTOS GERAIS
22	C	2,5	CONHECIMENTOS GERAIS
23	D	2,5	CONHECIMENTOS GERAIS
24	C	2,5	CONHECIMENTOS GERAIS
25	B	2,5	CONHECIMENTOS GERAIS
26	D	2,5	CONHECIMENTOS GERAIS
27	C	2,5	CONHECIMENTOS GERAIS
28	E	2,5	CONHECIMENTOS GERAIS
29	E	2,5	CONHECIMENTOS GERAIS
30	C	2,5	CONHECIMENTOS GERAIS
31	C	2,5	CONHECIMENTOS ESPECÍFICOS
32	A	2,5	CONHECIMENTOS ESPECÍFICOS
33	B	2,5	CONHECIMENTOS ESPECÍFICOS
34	C	2,5	CONHECIMENTOS ESPECÍFICOS
35	A	2,5	CONHECIMENTOS ESPECÍFICOS
36	D	2,5	CONHECIMENTOS ESPECÍFICOS
37	E	2,5	CONHECIMENTOS ESPECÍFICOS
38	D	2,5	CONHECIMENTOS ESPECÍFICOS
39	B	2,5	CONHECIMENTOS ESPECÍFICOS
40	E	2,5	CONHECIMENTOS ESPECÍFICOS



GABARITO PROVA OBJETIVA - PRELIMINAR
PREFEITURA MUNICIPAL DE TELÊMACO BORBA
CONCURSO PÚBLICO - EDITAL Nº 001-2016
CARGO: AGENTE CULTURAL
PROVA 2

QUESTÃO	RESPOSTA	VALOR DA QUESTÃO	ÁREA DE CONHECIMENTO
1	C	2,5	MATEMÁTICA
2	D	2,5	MATEMÁTICA
3	A	2,5	MATEMÁTICA
4	D	2,5	MATEMÁTICA
5	A	2,5	MATEMÁTICA
6	A	2,5	INFORMÁTICA
7	D	2,5	INFORMÁTICA
8	A	2,5	INFORMÁTICA
9	C	2,5	INFORMÁTICA
10	E	2,5	INFORMÁTICA
11	E	2,5	CONHECIMENTOS GERAIS
12	C	2,5	CONHECIMENTOS GERAIS
13	D	2,5	CONHECIMENTOS GERAIS
14	C	2,5	CONHECIMENTOS GERAIS
15	B	2,5	CONHECIMENTOS GERAIS
16	D	2,5	CONHECIMENTOS GERAIS
17	C	2,5	CONHECIMENTOS GERAIS
18	E	2,5	CONHECIMENTOS GERAIS
19	E	2,5	CONHECIMENTOS GERAIS
20	C	2,5	CONHECIMENTOS GERAIS
21	C	2,5	CONHECIMENTOS ESPECÍFICOS
22	A	2,5	CONHECIMENTOS ESPECÍFICOS
23	B	2,5	CONHECIMENTOS ESPECÍFICOS
24	C	2,5	CONHECIMENTOS ESPECÍFICOS
25	A	2,5	CONHECIMENTOS ESPECÍFICOS
26	D	2,5	CONHECIMENTOS ESPECÍFICOS
27	E	2,5	CONHECIMENTOS ESPECÍFICOS
28	D	2,5	CONHECIMENTOS ESPECÍFICOS
29	B	2,5	CONHECIMENTOS ESPECÍFICOS
30	E	2,5	CONHECIMENTOS ESPECÍFICOS
31	A	2,5	LÍNGUA PORTUGUESA
32	C	2,5	LÍNGUA PORTUGUESA
33	D	2,5	LÍNGUA PORTUGUESA
34	E	2,5	LÍNGUA PORTUGUESA
35	B	2,5	LÍNGUA PORTUGUESA
36	C	2,5	LÍNGUA PORTUGUESA
37	B	2,5	LÍNGUA PORTUGUESA
38	B	2,5	LÍNGUA PORTUGUESA
39	D	2,5	LÍNGUA PORTUGUESA
40	A	2,5	LÍNGUA PORTUGUESA



GABARITO PROVA OBJETIVA - PRELIMINAR
PREFEITURA MUNICIPAL DE TELÊMACO BORBA
CONCURSO PÚBLICO - EDITAL Nº 001-2016
CARGO: AGENTE CULTURAL
PROVA 3

QUESTÃO	RESPOSTA	VALOR DA QUESTÃO	ÁREA DE CONHECIMENTO
1	C	2,5	CONHECIMENTOS ESPECÍFICOS
2	A	2,5	CONHECIMENTOS ESPECÍFICOS
3	B	2,5	CONHECIMENTOS ESPECÍFICOS
4	C	2,5	CONHECIMENTOS ESPECÍFICOS
5	A	2,5	CONHECIMENTOS ESPECÍFICOS
6	D	2,5	CONHECIMENTOS ESPECÍFICOS
7	E	2,5	CONHECIMENTOS ESPECÍFICOS
8	D	2,5	CONHECIMENTOS ESPECÍFICOS
9	B	2,5	CONHECIMENTOS ESPECÍFICOS
10	E	2,5	CONHECIMENTOS ESPECÍFICOS
11	A	2,5	LÍNGUA PORTUGUESA
12	C	2,5	LÍNGUA PORTUGUESA
13	D	2,5	LÍNGUA PORTUGUESA
14	E	2,5	LÍNGUA PORTUGUESA
15	B	2,5	LÍNGUA PORTUGUESA
16	C	2,5	LÍNGUA PORTUGUESA
17	B	2,5	LÍNGUA PORTUGUESA
18	B	2,5	LÍNGUA PORTUGUESA
19	D	2,5	LÍNGUA PORTUGUESA
20	A	2,5	LÍNGUA PORTUGUESA
21	C	2,5	MATEMÁTICA
22	D	2,5	MATEMÁTICA
23	A	2,5	MATEMÁTICA
24	D	2,5	MATEMÁTICA
25	A	2,5	MATEMÁTICA
26	A	2,5	INFORMÁTICA
27	D	2,5	INFORMÁTICA
28	A	2,5	INFORMÁTICA
29	C	2,5	INFORMÁTICA
30	E	2,5	INFORMÁTICA
31	E	2,5	CONHECIMENTOS GERAIS
32	C	2,5	CONHECIMENTOS GERAIS
33	D	2,5	CONHECIMENTOS GERAIS
34	C	2,5	CONHECIMENTOS GERAIS
35	B	2,5	CONHECIMENTOS GERAIS
36	D	2,5	CONHECIMENTOS GERAIS
37	C	2,5	CONHECIMENTOS GERAIS
38	E	2,5	CONHECIMENTOS GERAIS
39	E	2,5	CONHECIMENTOS GERAIS
40	C	2,5	CONHECIMENTOS GERAIS



GABARITO PROVA OBJETIVA - PRELIMINAR
PREFEITURA MUNICIPAL DE TELÊMACO BORBA
CONCURSO PÚBLICO - EDITAL Nº 001-2016
CARGO: AGENTE DE TRÂNSITO
PROVA 1

QUESTÃO	RESPOSTA	VALOR DA QUESTÃO	ÁREA DE CONHECIMENTO
1	A	2,5	LÍNGUA PORTUGUESA
2	C	2,5	LÍNGUA PORTUGUESA
3	D	2,5	LÍNGUA PORTUGUESA
4	E	2,5	LÍNGUA PORTUGUESA
5	B	2,5	LÍNGUA PORTUGUESA
6	C	2,5	LÍNGUA PORTUGUESA
7	B	2,5	LÍNGUA PORTUGUESA
8	B	2,5	LÍNGUA PORTUGUESA
9	D	2,5	LÍNGUA PORTUGUESA
10	A	2,5	LÍNGUA PORTUGUESA
11	C	2,5	MATEMÁTICA
12	D	2,5	MATEMÁTICA
13	A	2,5	MATEMÁTICA
14	D	2,5	MATEMÁTICA
15	A	2,5	MATEMÁTICA
16	A	2,5	INFORMÁTICA
17	D	2,5	INFORMÁTICA
18	A	2,5	INFORMÁTICA
19	C	2,5	INFORMÁTICA
20	E	2,5	INFORMÁTICA
21	E	2,5	CONHECIMENTOS GERAIS
22	C	2,5	CONHECIMENTOS GERAIS
23	D	2,5	CONHECIMENTOS GERAIS
24	C	2,5	CONHECIMENTOS GERAIS
25	B	2,5	CONHECIMENTOS GERAIS
26	D	2,5	CONHECIMENTOS GERAIS
27	C	2,5	CONHECIMENTOS GERAIS
28	E	2,5	CONHECIMENTOS GERAIS
29	E	2,5	CONHECIMENTOS GERAIS
30	C	2,5	CONHECIMENTOS GERAIS
31	C	2,5	CONHECIMENTOS ESPECÍFICOS
32	D	2,5	CONHECIMENTOS ESPECÍFICOS
33	D	2,5	CONHECIMENTOS ESPECÍFICOS
34	B	2,5	CONHECIMENTOS ESPECÍFICOS
35	B	2,5	CONHECIMENTOS ESPECÍFICOS
36	E	2,5	CONHECIMENTOS ESPECÍFICOS
37	C	2,5	CONHECIMENTOS ESPECÍFICOS
38	E	2,5	CONHECIMENTOS ESPECÍFICOS
39	A	2,5	CONHECIMENTOS ESPECÍFICOS
40	C	2,5	CONHECIMENTOS ESPECÍFICOS

**GABARITO PROVA OBJETIVA - PRELIMINAR**
PREFEITURA MUNICIPAL DE TELÊMACO BORBA
CONCURSO PÚBLICO - EDITAL Nº 001-2016
CARGO: AGENTE DE TRÂNSITO
PROVA 2

QUESTÃO	RESPOSTA	VALOR DA QUESTÃO	ÁREA DE CONHECIMENTO
1	C	2,5	MATEMÁTICA
2	D	2,5	MATEMÁTICA
3	A	2,5	MATEMÁTICA
4	D	2,5	MATEMÁTICA
5	A	2,5	MATEMÁTICA
6	A	2,5	INFORMÁTICA
7	D	2,5	INFORMÁTICA
8	A	2,5	INFORMÁTICA
9	C	2,5	INFORMÁTICA
10	E	2,5	INFORMÁTICA
11	E	2,5	CONHECIMENTOS GERAIS
12	C	2,5	CONHECIMENTOS GERAIS
13	D	2,5	CONHECIMENTOS GERAIS
14	C	2,5	CONHECIMENTOS GERAIS
15	B	2,5	CONHECIMENTOS GERAIS
16	D	2,5	CONHECIMENTOS GERAIS
17	C	2,5	CONHECIMENTOS GERAIS
18	E	2,5	CONHECIMENTOS GERAIS
19	E	2,5	CONHECIMENTOS GERAIS
20	C	2,5	CONHECIMENTOS GERAIS
21	C	2,5	CONHECIMENTOS ESPECÍFICOS
22	D	2,5	CONHECIMENTOS ESPECÍFICOS
23	D	2,5	CONHECIMENTOS ESPECÍFICOS
24	B	2,5	CONHECIMENTOS ESPECÍFICOS
25	B	2,5	CONHECIMENTOS ESPECÍFICOS
26	E	2,5	CONHECIMENTOS ESPECÍFICOS
27	C	2,5	CONHECIMENTOS ESPECÍFICOS
28	E	2,5	CONHECIMENTOS ESPECÍFICOS
29	A	2,5	CONHECIMENTOS ESPECÍFICOS
30	C	2,5	CONHECIMENTOS ESPECÍFICOS
31	A	2,5	LÍNGUA PORTUGUESA
32	C	2,5	LÍNGUA PORTUGUESA
33	D	2,5	LÍNGUA PORTUGUESA
34	E	2,5	LÍNGUA PORTUGUESA
35	B	2,5	LÍNGUA PORTUGUESA
36	C	2,5	LÍNGUA PORTUGUESA
37	B	2,5	LÍNGUA PORTUGUESA
38	B	2,5	LÍNGUA PORTUGUESA
39	D	2,5	LÍNGUA PORTUGUESA
40	A	2,5	LÍNGUA PORTUGUESA



GABARITO PROVA OBJETIVA - PRELIMINAR
PREFEITURA MUNICIPAL DE TELÊMACO BORBA
CONCURSO PÚBLICO - EDITAL Nº 001-2016
CARGO: AGENTE DE TRÂNSITO
PROVA 3

QUESTÃO	RESPOSTA	VALOR DA QUESTÃO	ÁREA DE CONHECIMENTO
1	C	2,5	CONHECIMENTOS ESPECÍFICOS
2	D	2,5	CONHECIMENTOS ESPECÍFICOS
3	D	2,5	CONHECIMENTOS ESPECÍFICOS
4	B	2,5	CONHECIMENTOS ESPECÍFICOS
5	B	2,5	CONHECIMENTOS ESPECÍFICOS
6	E	2,5	CONHECIMENTOS ESPECÍFICOS
7	C	2,5	CONHECIMENTOS ESPECÍFICOS
8	E	2,5	CONHECIMENTOS ESPECÍFICOS
9	A	2,5	CONHECIMENTOS ESPECÍFICOS
10	C	2,5	CONHECIMENTOS ESPECÍFICOS
11	A	2,5	LÍNGUA PORTUGUESA
12	C	2,5	LÍNGUA PORTUGUESA
13	D	2,5	LÍNGUA PORTUGUESA
14	E	2,5	LÍNGUA PORTUGUESA
15	B	2,5	LÍNGUA PORTUGUESA
16	C	2,5	LÍNGUA PORTUGUESA
17	B	2,5	LÍNGUA PORTUGUESA
18	B	2,5	LÍNGUA PORTUGUESA
19	D	2,5	LÍNGUA PORTUGUESA
20	A	2,5	LÍNGUA PORTUGUESA
21	C	2,5	MATEMÁTICA
22	D	2,5	MATEMÁTICA
23	A	2,5	MATEMÁTICA
24	D	2,5	MATEMÁTICA
25	A	2,5	MATEMÁTICA
26	A	2,5	INFORMÁTICA
27	D	2,5	INFORMÁTICA
28	A	2,5	INFORMÁTICA
29	C	2,5	INFORMÁTICA
30	E	2,5	INFORMÁTICA
31	E	2,5	CONHECIMENTOS GERAIS
32	C	2,5	CONHECIMENTOS GERAIS
33	D	2,5	CONHECIMENTOS GERAIS
34	C	2,5	CONHECIMENTOS GERAIS
35	B	2,5	CONHECIMENTOS GERAIS
36	D	2,5	CONHECIMENTOS GERAIS
37	C	2,5	CONHECIMENTOS GERAIS
38	E	2,5	CONHECIMENTOS GERAIS
39	E	2,5	CONHECIMENTOS GERAIS
40	C	2,5	CONHECIMENTOS GERAIS



GABARITO PROVA OBJETIVA - PRELIMINAR
PREFEITURA MUNICIPAL DE TELÊMACO BORBA
CONCURSO PÚBLICO - EDITAL Nº 001-2016
CARGO: EDUCADOR SOCIAL - FEMININO E MASCULINO
PROVA 1

QUESTÃO	RESPOSTA	VALOR DA QUESTÃO	ÁREA DE CONHECIMENTO
1	A	2,5	LÍNGUA PORTUGUESA
2	C	2,5	LÍNGUA PORTUGUESA
3	D	2,5	LÍNGUA PORTUGUESA
4	E	2,5	LÍNGUA PORTUGUESA
5	B	2,5	LÍNGUA PORTUGUESA
6	C	2,5	LÍNGUA PORTUGUESA
7	B	2,5	LÍNGUA PORTUGUESA
8	B	2,5	LÍNGUA PORTUGUESA
9	D	2,5	LÍNGUA PORTUGUESA
10	A	2,5	LÍNGUA PORTUGUESA
11	C	2,5	MATEMÁTICA
12	D	2,5	MATEMÁTICA
13	A	2,5	MATEMÁTICA
14	D	2,5	MATEMÁTICA
15	A	2,5	MATEMÁTICA
16	A	2,5	INFORMÁTICA
17	D	2,5	INFORMÁTICA
18	A	2,5	INFORMÁTICA
19	C	2,5	INFORMÁTICA
20	E	2,5	INFORMÁTICA
21	E	2,5	CONHECIMENTOS GERAIS
22	C	2,5	CONHECIMENTOS GERAIS
23	D	2,5	CONHECIMENTOS GERAIS
24	C	2,5	CONHECIMENTOS GERAIS
25	B	2,5	CONHECIMENTOS GERAIS
26	D	2,5	CONHECIMENTOS GERAIS
27	C	2,5	CONHECIMENTOS GERAIS
28	E	2,5	CONHECIMENTOS GERAIS
29	E	2,5	CONHECIMENTOS GERAIS
30	C	2,5	CONHECIMENTOS GERAIS
31	A	2,5	CONHECIMENTOS ESPECÍFICOS
32	E	2,5	CONHECIMENTOS ESPECÍFICOS
33	C	2,5	CONHECIMENTOS ESPECÍFICOS
34	E	2,5	CONHECIMENTOS ESPECÍFICOS
35	C	2,5	CONHECIMENTOS ESPECÍFICOS
36	B	2,5	CONHECIMENTOS ESPECÍFICOS
37	A	2,5	CONHECIMENTOS ESPECÍFICOS
38	E	2,5	CONHECIMENTOS ESPECÍFICOS
39	E	2,5	CONHECIMENTOS ESPECÍFICOS
40	C	2,5	CONHECIMENTOS ESPECÍFICOS



**GABARITO PROVA OBJETIVA - PRELIMINAR
PREFEITURA MUNICIPAL DE TELÊMACO BORBA
CONCURSO PÚBLICO - EDITAL Nº 001-2016
CARGO: EDUCADOR SOCIAL - FEMININO E MASCULINO
PROVA 2**

QUESTÃO	RESPOSTA	VALOR DA QUESTÃO	ÁREA DE CONHECIMENTO
1	C	2,5	MATEMÁTICA
2	D	2,5	MATEMÁTICA
3	A	2,5	MATEMÁTICA
4	D	2,5	MATEMÁTICA
5	A	2,5	MATEMÁTICA
6	A	2,5	INFORMÁTICA
7	D	2,5	INFORMÁTICA
8	A	2,5	INFORMÁTICA
9	C	2,5	INFORMÁTICA
10	E	2,5	INFORMÁTICA
11	E	2,5	CONHECIMENTOS GERAIS
12	C	2,5	CONHECIMENTOS GERAIS
13	D	2,5	CONHECIMENTOS GERAIS
14	C	2,5	CONHECIMENTOS GERAIS
15	B	2,5	CONHECIMENTOS GERAIS
16	D	2,5	CONHECIMENTOS GERAIS
17	C	2,5	CONHECIMENTOS GERAIS
18	E	2,5	CONHECIMENTOS GERAIS
19	E	2,5	CONHECIMENTOS GERAIS
20	C	2,5	CONHECIMENTOS GERAIS
21	A	2,5	CONHECIMENTOS ESPECÍFICOS
22	E	2,5	CONHECIMENTOS ESPECÍFICOS
23	C	2,5	CONHECIMENTOS ESPECÍFICOS
24	E	2,5	CONHECIMENTOS ESPECÍFICOS
25	C	2,5	CONHECIMENTOS ESPECÍFICOS
26	B	2,5	CONHECIMENTOS ESPECÍFICOS
27	A	2,5	CONHECIMENTOS ESPECÍFICOS
28	E	2,5	CONHECIMENTOS ESPECÍFICOS
29	E	2,5	CONHECIMENTOS ESPECÍFICOS
30	C	2,5	CONHECIMENTOS ESPECÍFICOS
31	A	2,5	LÍNGUA PORTUGUESA
32	C	2,5	LÍNGUA PORTUGUESA
33	D	2,5	LÍNGUA PORTUGUESA
34	E	2,5	LÍNGUA PORTUGUESA
35	B	2,5	LÍNGUA PORTUGUESA
36	C	2,5	LÍNGUA PORTUGUESA
37	B	2,5	LÍNGUA PORTUGUESA
38	B	2,5	LÍNGUA PORTUGUESA
39	D	2,5	LÍNGUA PORTUGUESA
40	A	2,5	LÍNGUA PORTUGUESA



GABARITO PROVA OBJETIVA - PRELIMINAR
PREFEITURA MUNICIPAL DE TELÊMACO BORBA
CONCURSO PÚBLICO - EDITAL Nº 001-2016
CARGO: EDUCADOR SOCIAL - FEMININO E MASCULINO
PROVA 3

QUESTÃO	RESPOSTA	VALOR DA QUESTÃO	ÁREA DE CONHECIMENTO
1	A	2,5	CONHECIMENTOS ESPECÍFICOS
2	E	2,5	CONHECIMENTOS ESPECÍFICOS
3	C	2,5	CONHECIMENTOS ESPECÍFICOS
4	E	2,5	CONHECIMENTOS ESPECÍFICOS
5	C	2,5	CONHECIMENTOS ESPECÍFICOS
6	B	2,5	CONHECIMENTOS ESPECÍFICOS
7	A	2,5	CONHECIMENTOS ESPECÍFICOS
8	E	2,5	CONHECIMENTOS ESPECÍFICOS
9	E	2,5	CONHECIMENTOS ESPECÍFICOS
10	C	2,5	CONHECIMENTOS ESPECÍFICOS
11	A	2,5	LÍNGUA PORTUGUESA
12	C	2,5	LÍNGUA PORTUGUESA
13	D	2,5	LÍNGUA PORTUGUESA
14	E	2,5	LÍNGUA PORTUGUESA
15	B	2,5	LÍNGUA PORTUGUESA
16	C	2,5	LÍNGUA PORTUGUESA
17	B	2,5	LÍNGUA PORTUGUESA
18	B	2,5	LÍNGUA PORTUGUESA
19	D	2,5	LÍNGUA PORTUGUESA
20	A	2,5	LÍNGUA PORTUGUESA
21	C	2,5	MATEMÁTICA
22	D	2,5	MATEMÁTICA
23	A	2,5	MATEMÁTICA
24	D	2,5	MATEMÁTICA
25	A	2,5	MATEMÁTICA
26	A	2,5	INFORMÁTICA
27	D	2,5	INFORMÁTICA
28	A	2,5	INFORMÁTICA
29	C	2,5	INFORMÁTICA
30	E	2,5	INFORMÁTICA
31	E	2,5	CONHECIMENTOS GERAIS
32	C	2,5	CONHECIMENTOS GERAIS
33	D	2,5	CONHECIMENTOS GERAIS
34	C	2,5	CONHECIMENTOS GERAIS
35	B	2,5	CONHECIMENTOS GERAIS
36	D	2,5	CONHECIMENTOS GERAIS
37	C	2,5	CONHECIMENTOS GERAIS
38	E	2,5	CONHECIMENTOS GERAIS
39	E	2,5	CONHECIMENTOS GERAIS
40	C	2,5	CONHECIMENTOS GERAIS



**GABARITO PROVA OBJETIVA - PRELIMINAR
PREFEITURA MUNICIPAL DE TELÊMACO BORBA
CONCURSO PÚBLICO - EDITAL Nº 001-2016
CARGO: AG ADM I - INSPETOR DE ALUNOS
PROVA 1**

QUESTÃO	RESPOSTA	VALOR DA QUESTÃO	ÁREA DE CONHECIMENTO
1	A	2,5	LÍNGUA PORTUGUESA
2	C	2,5	LÍNGUA PORTUGUESA
3	D	2,5	LÍNGUA PORTUGUESA
4	E	2,5	LÍNGUA PORTUGUESA
5	B	2,5	LÍNGUA PORTUGUESA
6	C	2,5	LÍNGUA PORTUGUESA
7	B	2,5	LÍNGUA PORTUGUESA
8	B	2,5	LÍNGUA PORTUGUESA
9	D	2,5	LÍNGUA PORTUGUESA
10	A	2,5	LÍNGUA PORTUGUESA
11	C	2,5	MATEMÁTICA
12	D	2,5	MATEMÁTICA
13	A	2,5	MATEMÁTICA
14	D	2,5	MATEMÁTICA
15	A	2,5	MATEMÁTICA
16	A	2,5	INFORMÁTICA
17	D	2,5	INFORMÁTICA
18	A	2,5	INFORMÁTICA
19	C	2,5	INFORMÁTICA
20	E	2,5	INFORMÁTICA
21	E	2,5	CONHECIMENTOS GERAIS
22	C	2,5	CONHECIMENTOS GERAIS
23	D	2,5	CONHECIMENTOS GERAIS
24	C	2,5	CONHECIMENTOS GERAIS
25	B	2,5	CONHECIMENTOS GERAIS
26	D	2,5	CONHECIMENTOS GERAIS
27	C	2,5	CONHECIMENTOS GERAIS
28	E	2,5	CONHECIMENTOS GERAIS
29	E	2,5	CONHECIMENTOS GERAIS
30	C	2,5	CONHECIMENTOS GERAIS
31	A	2,5	CONHECIMENTOS ESPECÍFICOS
32	E	2,5	CONHECIMENTOS ESPECÍFICOS
33	C	2,5	CONHECIMENTOS ESPECÍFICOS
34	D	2,5	CONHECIMENTOS ESPECÍFICOS
35	B	2,5	CONHECIMENTOS ESPECÍFICOS
36	C	2,5	CONHECIMENTOS ESPECÍFICOS
37	E	2,5	CONHECIMENTOS ESPECÍFICOS
38	D	2,5	CONHECIMENTOS ESPECÍFICOS
39	A	2,5	CONHECIMENTOS ESPECÍFICOS
40	E	2,5	CONHECIMENTOS ESPECÍFICOS

**GABARITO PROVA OBJETIVA - PRELIMINAR**
PREFEITURA MUNICIPAL DE TELÊMACO BORBA
CONCURSO PÚBLICO - EDITAL Nº 001-2016
CARGO: AG ADM I - INSPETOR DE ALUNOS
PROVA 2

QUESTÃO	RESPOSTA	VALOR DA QUESTÃO	ÁREA DE CONHECIMENTO
1	C	2,5	MATEMÁTICA
2	D	2,5	MATEMÁTICA
3	A	2,5	MATEMÁTICA
4	D	2,5	MATEMÁTICA
5	A	2,5	MATEMÁTICA
6	A	2,5	INFORMÁTICA
7	D	2,5	INFORMÁTICA
8	A	2,5	INFORMÁTICA
9	C	2,5	INFORMÁTICA
10	E	2,5	INFORMÁTICA
11	E	2,5	CONHECIMENTOS GERAIS
12	C	2,5	CONHECIMENTOS GERAIS
13	D	2,5	CONHECIMENTOS GERAIS
14	C	2,5	CONHECIMENTOS GERAIS
15	B	2,5	CONHECIMENTOS GERAIS
16	D	2,5	CONHECIMENTOS GERAIS
17	C	2,5	CONHECIMENTOS GERAIS
18	E	2,5	CONHECIMENTOS GERAIS
19	E	2,5	CONHECIMENTOS GERAIS
20	C	2,5	CONHECIMENTOS GERAIS
21	A	2,5	CONHECIMENTOS ESPECÍFICOS
22	E	2,5	CONHECIMENTOS ESPECÍFICOS
23	C	2,5	CONHECIMENTOS ESPECÍFICOS
24	D	2,5	CONHECIMENTOS ESPECÍFICOS
25	B	2,5	CONHECIMENTOS ESPECÍFICOS
26	C	2,5	CONHECIMENTOS ESPECÍFICOS
27	E	2,5	CONHECIMENTOS ESPECÍFICOS
28	D	2,5	CONHECIMENTOS ESPECÍFICOS
29	A	2,5	CONHECIMENTOS ESPECÍFICOS
30	E	2,5	CONHECIMENTOS ESPECÍFICOS
31	A	2,5	LÍNGUA PORTUGUESA
32	C	2,5	LÍNGUA PORTUGUESA
33	D	2,5	LÍNGUA PORTUGUESA
34	E	2,5	LÍNGUA PORTUGUESA
35	B	2,5	LÍNGUA PORTUGUESA
36	C	2,5	LÍNGUA PORTUGUESA
37	B	2,5	LÍNGUA PORTUGUESA
38	B	2,5	LÍNGUA PORTUGUESA
39	D	2,5	LÍNGUA PORTUGUESA
40	A	2,5	LÍNGUA PORTUGUESA



GABARITO PROVA OBJETIVA - PRELIMINAR
PREFEITURA MUNICIPAL DE TELÊMACO BORBA
CONCURSO PÚBLICO - EDITAL Nº 001-2016
CARGO: AG ADM I - INSPETOR DE ALUNOS
PROVA 3

QUESTÃO	RESPOSTA	VALOR DA QUESTÃO	ÁREA DE CONHECIMENTO
1	A	2,5	CONHECIMENTOS ESPECÍFICOS
2	E	2,5	CONHECIMENTOS ESPECÍFICOS
3	C	2,5	CONHECIMENTOS ESPECÍFICOS
4	D	2,5	CONHECIMENTOS ESPECÍFICOS
5	B	2,5	CONHECIMENTOS ESPECÍFICOS
6	C	2,5	CONHECIMENTOS ESPECÍFICOS
7	E	2,5	CONHECIMENTOS ESPECÍFICOS
8	D	2,5	CONHECIMENTOS ESPECÍFICOS
9	A	2,5	CONHECIMENTOS ESPECÍFICOS
10	E	2,5	CONHECIMENTOS ESPECÍFICOS
11	A	2,5	LÍNGUA PORTUGUESA
12	C	2,5	LÍNGUA PORTUGUESA
13	D	2,5	LÍNGUA PORTUGUESA
14	E	2,5	LÍNGUA PORTUGUESA
15	B	2,5	LÍNGUA PORTUGUESA
16	C	2,5	LÍNGUA PORTUGUESA
17	B	2,5	LÍNGUA PORTUGUESA
18	B	2,5	LÍNGUA PORTUGUESA
19	D	2,5	LÍNGUA PORTUGUESA
20	A	2,5	LÍNGUA PORTUGUESA
21	C	2,5	MATEMÁTICA
22	D	2,5	MATEMÁTICA
23	A	2,5	MATEMÁTICA
24	D	2,5	MATEMÁTICA
25	A	2,5	MATEMÁTICA
26	A	2,5	INFORMÁTICA
27	D	2,5	INFORMÁTICA
28	A	2,5	INFORMÁTICA
29	C	2,5	INFORMÁTICA
30	E	2,5	INFORMÁTICA
31	E	2,5	CONHECIMENTOS GERAIS
32	C	2,5	CONHECIMENTOS GERAIS
33	D	2,5	CONHECIMENTOS GERAIS
34	C	2,5	CONHECIMENTOS GERAIS
35	B	2,5	CONHECIMENTOS GERAIS
36	D	2,5	CONHECIMENTOS GERAIS
37	C	2,5	CONHECIMENTOS GERAIS
38	E	2,5	CONHECIMENTOS GERAIS
39	E	2,5	CONHECIMENTOS GERAIS
40	C	2,5	CONHECIMENTOS GERAIS



GABARITO PROVA OBJETIVA - PRELIMINAR
PREFEITURA MUNICIPAL DE TELÊMACO BORBA
CONCURSO PÚBLICO - EDITAL Nº 001-2016
CARGO: FISCAL MUNICIPAL I - MEIO AMB., OBRAS, POSTURAS E TRANSPORTE
PROVA 1

QUESTÃO	RESPOSTA	VALOR DA QUESTÃO	ÁREA DE CONHECIMENTO
1	A	2,5	LÍNGUA PORTUGUESA
2	C	2,5	LÍNGUA PORTUGUESA
3	D	2,5	LÍNGUA PORTUGUESA
4	E	2,5	LÍNGUA PORTUGUESA
5	B	2,5	LÍNGUA PORTUGUESA
6	C	2,5	LÍNGUA PORTUGUESA
7	B	2,5	LÍNGUA PORTUGUESA
8	B	2,5	LÍNGUA PORTUGUESA
9	D	2,5	LÍNGUA PORTUGUESA
10	A	2,5	LÍNGUA PORTUGUESA
11	C	2,5	MATEMÁTICA
12	D	2,5	MATEMÁTICA
13	A	2,5	MATEMÁTICA
14	D	2,5	MATEMÁTICA
15	A	2,5	MATEMÁTICA
16	A	2,5	INFORMÁTICA
17	D	2,5	INFORMÁTICA
18	A	2,5	INFORMÁTICA
19	C	2,5	INFORMÁTICA
20	E	2,5	INFORMÁTICA
21	E	2,5	CONHECIMENTOS GERAIS
22	C	2,5	CONHECIMENTOS GERAIS
23	D	2,5	CONHECIMENTOS GERAIS
24	C	2,5	CONHECIMENTOS GERAIS
25	B	2,5	CONHECIMENTOS GERAIS
26	D	2,5	CONHECIMENTOS GERAIS
27	C	2,5	CONHECIMENTOS GERAIS
28	E	2,5	CONHECIMENTOS GERAIS
29	E	2,5	CONHECIMENTOS GERAIS
30	C	2,5	CONHECIMENTOS GERAIS
31	B	2,5	CONHECIMENTOS ESPECÍFICOS
32	A	2,5	CONHECIMENTOS ESPECÍFICOS
33	C	2,5	CONHECIMENTOS ESPECÍFICOS
34	E	2,5	CONHECIMENTOS ESPECÍFICOS
35	C	2,5	CONHECIMENTOS ESPECÍFICOS
36	A	2,5	CONHECIMENTOS ESPECÍFICOS
37	B	2,5	CONHECIMENTOS ESPECÍFICOS
38	C	2,5	CONHECIMENTOS ESPECÍFICOS
39	E	2,5	CONHECIMENTOS ESPECÍFICOS
40	D	2,5	CONHECIMENTOS ESPECÍFICOS



GABARITO PROVA OBJETIVA - PRELIMINAR
PREFEITURA MUNICIPAL DE TELÊMACO BORBA
CONCURSO PÚBLICO - EDITAL Nº 001-2016
CARGO: FISCAL MUNICIPAL I - MEIO AMB., OBRAS, POSTURAS E TRANSPORTE
PROVA 2

QUESTÃO	RESPOSTA	VALOR DA QUESTÃO	ÁREA DE CONHECIMENTO
1	C	2,5	MATEMÁTICA
2	D	2,5	MATEMÁTICA
3	A	2,5	MATEMÁTICA
4	D	2,5	MATEMÁTICA
5	A	2,5	MATEMÁTICA
6	A	2,5	INFORMÁTICA
7	D	2,5	INFORMÁTICA
8	A	2,5	INFORMÁTICA
9	C	2,5	INFORMÁTICA
10	E	2,5	INFORMÁTICA
11	E	2,5	CONHECIMENTOS GERAIS
12	C	2,5	CONHECIMENTOS GERAIS
13	D	2,5	CONHECIMENTOS GERAIS
14	C	2,5	CONHECIMENTOS GERAIS
15	B	2,5	CONHECIMENTOS GERAIS
16	D	2,5	CONHECIMENTOS GERAIS
17	C	2,5	CONHECIMENTOS GERAIS
18	E	2,5	CONHECIMENTOS GERAIS
19	E	2,5	CONHECIMENTOS GERAIS
20	C	2,5	CONHECIMENTOS GERAIS
21	B	2,5	CONHECIMENTOS ESPECÍFICOS
22	A	2,5	CONHECIMENTOS ESPECÍFICOS
23	C	2,5	CONHECIMENTOS ESPECÍFICOS
24	E	2,5	CONHECIMENTOS ESPECÍFICOS
25	C	2,5	CONHECIMENTOS ESPECÍFICOS
26	A	2,5	CONHECIMENTOS ESPECÍFICOS
27	B	2,5	CONHECIMENTOS ESPECÍFICOS
28	C	2,5	CONHECIMENTOS ESPECÍFICOS
29	E	2,5	CONHECIMENTOS ESPECÍFICOS
30	D	2,5	CONHECIMENTOS ESPECÍFICOS
31	A	2,5	LÍNGUA PORTUGUESA
32	C	2,5	LÍNGUA PORTUGUESA
33	D	2,5	LÍNGUA PORTUGUESA
34	E	2,5	LÍNGUA PORTUGUESA
35	B	2,5	LÍNGUA PORTUGUESA
36	C	2,5	LÍNGUA PORTUGUESA
37	B	2,5	LÍNGUA PORTUGUESA
38	B	2,5	LÍNGUA PORTUGUESA
39	D	2,5	LÍNGUA PORTUGUESA
40	A	2,5	LÍNGUA PORTUGUESA



GABARITO PROVA OBJETIVA - PRELIMINAR
PREFEITURA MUNICIPAL DE TELÊMACO BORBA
CONCURSO PÚBLICO - EDITAL Nº 001-2016
CARGO: FISCAL MUNICIPAL I - MEIO AMB., OBRAS, POSTURAS E TRANSPORTE
PROVA 3

QUESTÃO	RESPOSTA	VALOR DA QUESTÃO	ÁREA DE CONHECIMENTO
1	B	2,5	CONHECIMENTOS ESPECÍFICOS
2	A	2,5	CONHECIMENTOS ESPECÍFICOS
3	C	2,5	CONHECIMENTOS ESPECÍFICOS
4	E	2,5	CONHECIMENTOS ESPECÍFICOS
5	C	2,5	CONHECIMENTOS ESPECÍFICOS
6	A	2,5	CONHECIMENTOS ESPECÍFICOS
7	B	2,5	CONHECIMENTOS ESPECÍFICOS
8	C	2,5	CONHECIMENTOS ESPECÍFICOS
9	E	2,5	CONHECIMENTOS ESPECÍFICOS
10	D	2,5	CONHECIMENTOS ESPECÍFICOS
11	A	2,5	LÍNGUA PORTUGUESA
12	C	2,5	LÍNGUA PORTUGUESA
13	D	2,5	LÍNGUA PORTUGUESA
14	E	2,5	LÍNGUA PORTUGUESA
15	B	2,5	LÍNGUA PORTUGUESA
16	C	2,5	LÍNGUA PORTUGUESA
17	B	2,5	LÍNGUA PORTUGUESA
18	B	2,5	LÍNGUA PORTUGUESA
19	D	2,5	LÍNGUA PORTUGUESA
20	A	2,5	LÍNGUA PORTUGUESA
21	C	2,5	MATEMÁTICA
22	D	2,5	MATEMÁTICA
23	A	2,5	MATEMÁTICA
24	D	2,5	MATEMÁTICA
25	A	2,5	MATEMÁTICA
26	A	2,5	INFORMÁTICA
27	D	2,5	INFORMÁTICA
28	A	2,5	INFORMÁTICA
29	C	2,5	INFORMÁTICA
30	E	2,5	INFORMÁTICA
31	E	2,5	CONHECIMENTOS GERAIS
32	C	2,5	CONHECIMENTOS GERAIS
33	D	2,5	CONHECIMENTOS GERAIS
34	C	2,5	CONHECIMENTOS GERAIS
35	B	2,5	CONHECIMENTOS GERAIS
36	D	2,5	CONHECIMENTOS GERAIS
37	C	2,5	CONHECIMENTOS GERAIS
38	E	2,5	CONHECIMENTOS GERAIS
39	E	2,5	CONHECIMENTOS GERAIS
40	C	2,5	CONHECIMENTOS GERAIS



GABARITO PROVA OBJETIVA - PRELIMINAR
PREFEITURA MUNICIPAL DE TELÊMACO BORBA
CONCURSO PÚBLICO - EDITAL Nº 001-2016
CARGO: FISCAL MUNICIPAL I - SANITÁRIA
PROVA 1

QUESTÃO	RESPOSTA	VALOR DA QUESTÃO	ÁREA DE CONHECIMENTO
1	A	2,5	LÍNGUA PORTUGUESA
2	C	2,5	LÍNGUA PORTUGUESA
3	D	2,5	LÍNGUA PORTUGUESA
4	E	2,5	LÍNGUA PORTUGUESA
5	B	2,5	LÍNGUA PORTUGUESA
6	C	2,5	LÍNGUA PORTUGUESA
7	B	2,5	LÍNGUA PORTUGUESA
8	B	2,5	LÍNGUA PORTUGUESA
9	D	2,5	LÍNGUA PORTUGUESA
10	A	2,5	LÍNGUA PORTUGUESA
11	C	2,5	MATEMÁTICA
12	D	2,5	MATEMÁTICA
13	A	2,5	MATEMÁTICA
14	D	2,5	MATEMÁTICA
15	A	2,5	MATEMÁTICA
16	A	2,5	INFORMÁTICA
17	D	2,5	INFORMÁTICA
18	A	2,5	INFORMÁTICA
19	C	2,5	INFORMÁTICA
20	E	2,5	INFORMÁTICA
21	E	2,5	CONHECIMENTOS GERAIS
22	C	2,5	CONHECIMENTOS GERAIS
23	D	2,5	CONHECIMENTOS GERAIS
24	C	2,5	CONHECIMENTOS GERAIS
25	B	2,5	CONHECIMENTOS GERAIS
26	D	2,5	CONHECIMENTOS GERAIS
27	C	2,5	CONHECIMENTOS GERAIS
28	E	2,5	CONHECIMENTOS GERAIS
29	E	2,5	CONHECIMENTOS GERAIS
30	C	2,5	CONHECIMENTOS GERAIS
31	A	2,5	CONHECIMENTOS ESPECÍFICOS
32	D	2,5	CONHECIMENTOS ESPECÍFICOS
33	E	2,5	CONHECIMENTOS ESPECÍFICOS
34	D	2,5	CONHECIMENTOS ESPECÍFICOS
35	A	2,5	CONHECIMENTOS ESPECÍFICOS
36	E	2,5	CONHECIMENTOS ESPECÍFICOS
37	C	2,5	CONHECIMENTOS ESPECÍFICOS
38	B	2,5	CONHECIMENTOS ESPECÍFICOS
39	D	2,5	CONHECIMENTOS ESPECÍFICOS
40	E	2,5	CONHECIMENTOS ESPECÍFICOS

**GABARITO PROVA OBJETIVA - PRELIMINAR**
PREFEITURA MUNICIPAL DE TELÊMACO BORBA
CONCURSO PÚBLICO - EDITAL Nº 001-2016
CARGO: FISCAL MUNICIPAL I - SANITÁRIA
PROVA 2

QUESTÃO	RESPOSTA	VALOR DA QUESTÃO	ÁREA DE CONHECIMENTO
1	C	2,5	MATEMÁTICA
2	D	2,5	MATEMÁTICA
3	A	2,5	MATEMÁTICA
4	D	2,5	MATEMÁTICA
5	A	2,5	MATEMÁTICA
6	A	2,5	INFORMÁTICA
7	D	2,5	INFORMÁTICA
8	A	2,5	INFORMÁTICA
9	C	2,5	INFORMÁTICA
10	E	2,5	INFORMÁTICA
11	E	2,5	CONHECIMENTOS GERAIS
12	C	2,5	CONHECIMENTOS GERAIS
13	D	2,5	CONHECIMENTOS GERAIS
14	C	2,5	CONHECIMENTOS GERAIS
15	B	2,5	CONHECIMENTOS GERAIS
16	D	2,5	CONHECIMENTOS GERAIS
17	C	2,5	CONHECIMENTOS GERAIS
18	E	2,5	CONHECIMENTOS GERAIS
19	E	2,5	CONHECIMENTOS GERAIS
20	C	2,5	CONHECIMENTOS GERAIS
21	A	2,5	CONHECIMENTOS ESPECÍFICOS
22	D	2,5	CONHECIMENTOS ESPECÍFICOS
23	E	2,5	CONHECIMENTOS ESPECÍFICOS
24	D	2,5	CONHECIMENTOS ESPECÍFICOS
25	A	2,5	CONHECIMENTOS ESPECÍFICOS
26	E	2,5	CONHECIMENTOS ESPECÍFICOS
27	C	2,5	CONHECIMENTOS ESPECÍFICOS
28	B	2,5	CONHECIMENTOS ESPECÍFICOS
29	D	2,5	CONHECIMENTOS ESPECÍFICOS
30	E	2,5	CONHECIMENTOS ESPECÍFICOS
31	A	2,5	LÍNGUA PORTUGUESA
32	C	2,5	LÍNGUA PORTUGUESA
33	D	2,5	LÍNGUA PORTUGUESA
34	E	2,5	LÍNGUA PORTUGUESA
35	B	2,5	LÍNGUA PORTUGUESA
36	C	2,5	LÍNGUA PORTUGUESA
37	B	2,5	LÍNGUA PORTUGUESA
38	B	2,5	LÍNGUA PORTUGUESA
39	D	2,5	LÍNGUA PORTUGUESA
40	A	2,5	LÍNGUA PORTUGUESA



**GABARITO PROVA OBJETIVA - PRELIMINAR
PREFEITURA MUNICIPAL DE TELÊMACO BORBA
CONCURSO PÚBLICO - EDITAL Nº 001-2016
CARGO: FISCAL MUNICIPAL I - SANITÁRIA
PROVA 3**

QUESTÃO	RESPOSTA	VALOR DA QUESTÃO	ÁREA DE CONHECIMENTO
1	A	2,5	CONHECIMENTOS ESPECÍFICOS
2	D	2,5	CONHECIMENTOS ESPECÍFICOS
3	E	2,5	CONHECIMENTOS ESPECÍFICOS
4	D	2,5	CONHECIMENTOS ESPECÍFICOS
5	A	2,5	CONHECIMENTOS ESPECÍFICOS
6	E	2,5	CONHECIMENTOS ESPECÍFICOS
7	C	2,5	CONHECIMENTOS ESPECÍFICOS
8	B	2,5	CONHECIMENTOS ESPECÍFICOS
9	D	2,5	CONHECIMENTOS ESPECÍFICOS
10	E	2,5	CONHECIMENTOS ESPECÍFICOS
11	A	2,5	LÍNGUA PORTUGUESA
12	C	2,5	LÍNGUA PORTUGUESA
13	D	2,5	LÍNGUA PORTUGUESA
14	E	2,5	LÍNGUA PORTUGUESA
15	B	2,5	LÍNGUA PORTUGUESA
16	C	2,5	LÍNGUA PORTUGUESA
17	B	2,5	LÍNGUA PORTUGUESA
18	B	2,5	LÍNGUA PORTUGUESA
19	D	2,5	LÍNGUA PORTUGUESA
20	A	2,5	LÍNGUA PORTUGUESA
21	C	2,5	MATEMÁTICA
22	D	2,5	MATEMÁTICA
23	A	2,5	MATEMÁTICA
24	D	2,5	MATEMÁTICA
25	A	2,5	MATEMÁTICA
26	A	2,5	INFORMÁTICA
27	D	2,5	INFORMÁTICA
28	A	2,5	INFORMÁTICA
29	C	2,5	INFORMÁTICA
30	E	2,5	INFORMÁTICA
31	E	2,5	CONHECIMENTOS GERAIS
32	C	2,5	CONHECIMENTOS GERAIS
33	D	2,5	CONHECIMENTOS GERAIS
34	C	2,5	CONHECIMENTOS GERAIS
35	B	2,5	CONHECIMENTOS GERAIS
36	D	2,5	CONHECIMENTOS GERAIS
37	C	2,5	CONHECIMENTOS GERAIS
38	E	2,5	CONHECIMENTOS GERAIS
39	E	2,5	CONHECIMENTOS GERAIS
40	C	2,5	CONHECIMENTOS GERAIS

**GABARITO PROVA OBJETIVA - PRELIMINAR**
PREFEITURA MUNICIPAL DE TELÊMACO BORBA
CONCURSO PÚBLICO - EDITAL Nº 001-2016
CARGO: TMNM I - AMBIENTAL
PROVA 1

QUESTÃO	RESPOSTA	VALOR DA QUESTÃO	ÁREA DE CONHECIMENTO
1	A	2,5	LÍNGUA PORTUGUESA
2	C	2,5	LÍNGUA PORTUGUESA
3	D	2,5	LÍNGUA PORTUGUESA
4	E	2,5	LÍNGUA PORTUGUESA
5	B	2,5	LÍNGUA PORTUGUESA
6	C	2,5	LÍNGUA PORTUGUESA
7	B	2,5	LÍNGUA PORTUGUESA
8	B	2,5	LÍNGUA PORTUGUESA
9	D	2,5	LÍNGUA PORTUGUESA
10	A	2,5	LÍNGUA PORTUGUESA
11	C	2,5	MATEMÁTICA
12	D	2,5	MATEMÁTICA
13	A	2,5	MATEMÁTICA
14	D	2,5	MATEMÁTICA
15	A	2,5	MATEMÁTICA
16	A	2,5	INFORMÁTICA
17	D	2,5	INFORMÁTICA
18	A	2,5	INFORMÁTICA
19	C	2,5	INFORMÁTICA
20	E	2,5	INFORMÁTICA
21	E	2,5	CONHECIMENTOS GERAIS
22	C	2,5	CONHECIMENTOS GERAIS
23	D	2,5	CONHECIMENTOS GERAIS
24	C	2,5	CONHECIMENTOS GERAIS
25	B	2,5	CONHECIMENTOS GERAIS
26	D	2,5	CONHECIMENTOS GERAIS
27	C	2,5	CONHECIMENTOS GERAIS
28	E	2,5	CONHECIMENTOS GERAIS
29	E	2,5	CONHECIMENTOS GERAIS
30	C	2,5	CONHECIMENTOS GERAIS
31	A	2,5	CONHECIMENTOS ESPECÍFICOS
32	D	2,5	CONHECIMENTOS ESPECÍFICOS
33	E	2,5	CONHECIMENTOS ESPECÍFICOS
34	D	2,5	CONHECIMENTOS ESPECÍFICOS
35	A	2,5	CONHECIMENTOS ESPECÍFICOS
36	B	2,5	CONHECIMENTOS ESPECÍFICOS
37	E	2,5	CONHECIMENTOS ESPECÍFICOS
38	C	2,5	CONHECIMENTOS ESPECÍFICOS
39	C	2,5	CONHECIMENTOS ESPECÍFICOS
40	E	2,5	CONHECIMENTOS ESPECÍFICOS



GABARITO PROVA OBJETIVA - PRELIMINAR
PREFEITURA MUNICIPAL DE TELÊMACO BORBA
CONCURSO PÚBLICO - EDITAL Nº 001-2016
CARGO: TMNM I - AMBIENTAL
PROVA 2

QUESTÃO	RESPOSTA	VALOR DA QUESTÃO	ÁREA DE CONHECIMENTO
1	C	2,5	MATEMÁTICA
2	D	2,5	MATEMÁTICA
3	A	2,5	MATEMÁTICA
4	D	2,5	MATEMÁTICA
5	A	2,5	MATEMÁTICA
6	A	2,5	INFORMÁTICA
7	D	2,5	INFORMÁTICA
8	A	2,5	INFORMÁTICA
9	C	2,5	INFORMÁTICA
10	E	2,5	INFORMÁTICA
11	E	2,5	CONHECIMENTOS GERAIS
12	C	2,5	CONHECIMENTOS GERAIS
13	D	2,5	CONHECIMENTOS GERAIS
14	C	2,5	CONHECIMENTOS GERAIS
15	B	2,5	CONHECIMENTOS GERAIS
16	D	2,5	CONHECIMENTOS GERAIS
17	C	2,5	CONHECIMENTOS GERAIS
18	E	2,5	CONHECIMENTOS GERAIS
19	E	2,5	CONHECIMENTOS GERAIS
20	C	2,5	CONHECIMENTOS GERAIS
21	A	2,5	CONHECIMENTOS ESPECÍFICOS
22	D	2,5	CONHECIMENTOS ESPECÍFICOS
23	E	2,5	CONHECIMENTOS ESPECÍFICOS
24	D	2,5	CONHECIMENTOS ESPECÍFICOS
25	A	2,5	CONHECIMENTOS ESPECÍFICOS
26	B	2,5	CONHECIMENTOS ESPECÍFICOS
27	E	2,5	CONHECIMENTOS ESPECÍFICOS
28	C	2,5	CONHECIMENTOS ESPECÍFICOS
29	C	2,5	CONHECIMENTOS ESPECÍFICOS
30	E	2,5	CONHECIMENTOS ESPECÍFICOS
31	A	2,5	LÍNGUA PORTUGUESA
32	C	2,5	LÍNGUA PORTUGUESA
33	D	2,5	LÍNGUA PORTUGUESA
34	E	2,5	LÍNGUA PORTUGUESA
35	B	2,5	LÍNGUA PORTUGUESA
36	C	2,5	LÍNGUA PORTUGUESA
37	B	2,5	LÍNGUA PORTUGUESA
38	B	2,5	LÍNGUA PORTUGUESA
39	D	2,5	LÍNGUA PORTUGUESA
40	A	2,5	LÍNGUA PORTUGUESA



GABARITO PROVA OBJETIVA - PRELIMINAR
PREFEITURA MUNICIPAL DE TELÊMACO BORBA
CONCURSO PÚBLICO - EDITAL Nº 001-2016
CARGO: TMNM I - AMBIENTAL
PROVA 3

QUESTÃO	RESPOSTA	VALOR DA QUESTÃO	ÁREA DE CONHECIMENTO
1	A	2,5	CONHECIMENTOS ESPECÍFICOS
2	D	2,5	CONHECIMENTOS ESPECÍFICOS
3	E	2,5	CONHECIMENTOS ESPECÍFICOS
4	D	2,5	CONHECIMENTOS ESPECÍFICOS
5	A	2,5	CONHECIMENTOS ESPECÍFICOS
6	B	2,5	CONHECIMENTOS ESPECÍFICOS
7	E	2,5	CONHECIMENTOS ESPECÍFICOS
8	C	2,5	CONHECIMENTOS ESPECÍFICOS
9	C	2,5	CONHECIMENTOS ESPECÍFICOS
10	E	2,5	CONHECIMENTOS ESPECÍFICOS
11	A	2,5	LÍNGUA PORTUGUESA
12	C	2,5	LÍNGUA PORTUGUESA
13	D	2,5	LÍNGUA PORTUGUESA
14	E	2,5	LÍNGUA PORTUGUESA
15	B	2,5	LÍNGUA PORTUGUESA
16	C	2,5	LÍNGUA PORTUGUESA
17	B	2,5	LÍNGUA PORTUGUESA
18	B	2,5	LÍNGUA PORTUGUESA
19	D	2,5	LÍNGUA PORTUGUESA
20	A	2,5	LÍNGUA PORTUGUESA
21	C	2,5	MATEMÁTICA
22	D	2,5	MATEMÁTICA
23	A	2,5	MATEMÁTICA
24	D	2,5	MATEMÁTICA
25	A	2,5	MATEMÁTICA
26	A	2,5	INFORMÁTICA
27	D	2,5	INFORMÁTICA
28	A	2,5	INFORMÁTICA
29	C	2,5	INFORMÁTICA
30	E	2,5	INFORMÁTICA
31	E	2,5	CONHECIMENTOS GERAIS
32	C	2,5	CONHECIMENTOS GERAIS
33	D	2,5	CONHECIMENTOS GERAIS
34	C	2,5	CONHECIMENTOS GERAIS
35	B	2,5	CONHECIMENTOS GERAIS
36	D	2,5	CONHECIMENTOS GERAIS
37	C	2,5	CONHECIMENTOS GERAIS
38	E	2,5	CONHECIMENTOS GERAIS
39	E	2,5	CONHECIMENTOS GERAIS
40	C	2,5	CONHECIMENTOS GERAIS



GABARITO PROVA OBJETIVA - PRELIMINAR
PREFEITURA MUNICIPAL DE TELÊMACO BORBA
CONCURSO PÚBLICO - EDITAL Nº 001-2016
CARGO: TMNM I - CONTABILIDADE
PROVA 1

QUESTÃO	RESPOSTA	VALOR DA QUESTÃO	ÁREA DE CONHECIMENTO
1	A	2,5	LÍNGUA PORTUGUESA
2	C	2,5	LÍNGUA PORTUGUESA
3	D	2,5	LÍNGUA PORTUGUESA
4	E	2,5	LÍNGUA PORTUGUESA
5	B	2,5	LÍNGUA PORTUGUESA
6	C	2,5	LÍNGUA PORTUGUESA
7	B	2,5	LÍNGUA PORTUGUESA
8	B	2,5	LÍNGUA PORTUGUESA
9	D	2,5	LÍNGUA PORTUGUESA
10	A	2,5	LÍNGUA PORTUGUESA
11	C	2,5	MATEMÁTICA
12	D	2,5	MATEMÁTICA
13	A	2,5	MATEMÁTICA
14	D	2,5	MATEMÁTICA
15	A	2,5	MATEMÁTICA
16	A	2,5	INFORMÁTICA
17	D	2,5	INFORMÁTICA
18	A	2,5	INFORMÁTICA
19	C	2,5	INFORMÁTICA
20	E	2,5	INFORMÁTICA
21	E	2,5	CONHECIMENTOS GERAIS
22	C	2,5	CONHECIMENTOS GERAIS
23	D	2,5	CONHECIMENTOS GERAIS
24	C	2,5	CONHECIMENTOS GERAIS
25	B	2,5	CONHECIMENTOS GERAIS
26	D	2,5	CONHECIMENTOS GERAIS
27	C	2,5	CONHECIMENTOS GERAIS
28	E	2,5	CONHECIMENTOS GERAIS
29	E	2,5	CONHECIMENTOS GERAIS
30	C	2,5	CONHECIMENTOS GERAIS
31	C	2,5	CONHECIMENTOS ESPECÍFICOS
32	B	2,5	CONHECIMENTOS ESPECÍFICOS
33	A	2,5	CONHECIMENTOS ESPECÍFICOS
34	E	2,5	CONHECIMENTOS ESPECÍFICOS
35	D	2,5	CONHECIMENTOS ESPECÍFICOS
36	A	2,5	CONHECIMENTOS ESPECÍFICOS
37	E	2,5	CONHECIMENTOS ESPECÍFICOS
38	C	2,5	CONHECIMENTOS ESPECÍFICOS
39	D	2,5	CONHECIMENTOS ESPECÍFICOS
40	E	2,5	CONHECIMENTOS ESPECÍFICOS

**GABARITO PROVA OBJETIVA - PRELIMINAR**
PREFEITURA MUNICIPAL DE TELÊMACO BORBA
CONCURSO PÚBLICO - EDITAL Nº 001-2016
CARGO: TMNM I - CONTABILIDADE
PROVA 2

QUESTÃO	RESPOSTA	VALOR DA QUESTÃO	ÁREA DE CONHECIMENTO
1	C	2,5	MATEMÁTICA
2	D	2,5	MATEMÁTICA
3	A	2,5	MATEMÁTICA
4	D	2,5	MATEMÁTICA
5	A	2,5	MATEMÁTICA
6	A	2,5	INFORMÁTICA
7	D	2,5	INFORMÁTICA
8	A	2,5	INFORMÁTICA
9	C	2,5	INFORMÁTICA
10	E	2,5	INFORMÁTICA
11	E	2,5	CONHECIMENTOS GERAIS
12	C	2,5	CONHECIMENTOS GERAIS
13	D	2,5	CONHECIMENTOS GERAIS
14	C	2,5	CONHECIMENTOS GERAIS
15	B	2,5	CONHECIMENTOS GERAIS
16	D	2,5	CONHECIMENTOS GERAIS
17	C	2,5	CONHECIMENTOS GERAIS
18	E	2,5	CONHECIMENTOS GERAIS
19	E	2,5	CONHECIMENTOS GERAIS
20	C	2,5	CONHECIMENTOS GERAIS
21	C	2,5	CONHECIMENTOS ESPECÍFICOS
22	B	2,5	CONHECIMENTOS ESPECÍFICOS
23	A	2,5	CONHECIMENTOS ESPECÍFICOS
24	E	2,5	CONHECIMENTOS ESPECÍFICOS
25	D	2,5	CONHECIMENTOS ESPECÍFICOS
26	A	2,5	CONHECIMENTOS ESPECÍFICOS
27	E	2,5	CONHECIMENTOS ESPECÍFICOS
28	C	2,5	CONHECIMENTOS ESPECÍFICOS
29	D	2,5	CONHECIMENTOS ESPECÍFICOS
30	E	2,5	CONHECIMENTOS ESPECÍFICOS
31	A	2,5	LÍNGUA PORTUGUESA
32	C	2,5	LÍNGUA PORTUGUESA
33	D	2,5	LÍNGUA PORTUGUESA
34	E	2,5	LÍNGUA PORTUGUESA
35	B	2,5	LÍNGUA PORTUGUESA
36	C	2,5	LÍNGUA PORTUGUESA
37	B	2,5	LÍNGUA PORTUGUESA
38	B	2,5	LÍNGUA PORTUGUESA
39	D	2,5	LÍNGUA PORTUGUESA
40	A	2,5	LÍNGUA PORTUGUESA



GABARITO PROVA OBJETIVA - PRELIMINAR
PREFEITURA MUNICIPAL DE TELÊMACO BORBA
CONCURSO PÚBLICO - EDITAL Nº 001-2016
CARGO: TMNM I - CONTABILIDADE
PROVA 3

QUESTÃO	RESPOSTA	VALOR DA QUESTÃO	ÁREA DE CONHECIMENTO
1	C	2,5	CONHECIMENTOS ESPECÍFICOS
2	B	2,5	CONHECIMENTOS ESPECÍFICOS
3	A	2,5	CONHECIMENTOS ESPECÍFICOS
4	E	2,5	CONHECIMENTOS ESPECÍFICOS
5	D	2,5	CONHECIMENTOS ESPECÍFICOS
6	A	2,5	CONHECIMENTOS ESPECÍFICOS
7	E	2,5	CONHECIMENTOS ESPECÍFICOS
8	C	2,5	CONHECIMENTOS ESPECÍFICOS
9	D	2,5	CONHECIMENTOS ESPECÍFICOS
10	E	2,5	CONHECIMENTOS ESPECÍFICOS
11	A	2,5	LÍNGUA PORTUGUESA
12	C	2,5	LÍNGUA PORTUGUESA
13	D	2,5	LÍNGUA PORTUGUESA
14	E	2,5	LÍNGUA PORTUGUESA
15	B	2,5	LÍNGUA PORTUGUESA
16	C	2,5	LÍNGUA PORTUGUESA
17	B	2,5	LÍNGUA PORTUGUESA
18	B	2,5	LÍNGUA PORTUGUESA
19	D	2,5	LÍNGUA PORTUGUESA
20	A	2,5	LÍNGUA PORTUGUESA
21	C	2,5	MATEMÁTICA
22	D	2,5	MATEMÁTICA
23	A	2,5	MATEMÁTICA
24	D	2,5	MATEMÁTICA
25	A	2,5	MATEMÁTICA
26	A	2,5	INFORMÁTICA
27	D	2,5	INFORMÁTICA
28	A	2,5	INFORMÁTICA
29	C	2,5	INFORMÁTICA
30	E	2,5	INFORMÁTICA
31	E	2,5	CONHECIMENTOS GERAIS
32	C	2,5	CONHECIMENTOS GERAIS
33	D	2,5	CONHECIMENTOS GERAIS
34	C	2,5	CONHECIMENTOS GERAIS
35	B	2,5	CONHECIMENTOS GERAIS
36	D	2,5	CONHECIMENTOS GERAIS
37	C	2,5	CONHECIMENTOS GERAIS
38	E	2,5	CONHECIMENTOS GERAIS
39	E	2,5	CONHECIMENTOS GERAIS
40	C	2,5	CONHECIMENTOS GERAIS



GABARITO PROVA OBJETIVA - PRELIMINAR
PREFEITURA MUNICIPAL DE TELÊMACO BORBA
CONCURSO PÚBLICO - EDITAL Nº 001-2016
CARGO: TMNM I - DESENHO DE PROJETOS
PROVA 1

QUESTÃO	RESPOSTA	VALOR DA QUESTÃO	ÁREA DE CONHECIMENTO
1	A	2,5	LÍNGUA PORTUGUESA
2	C	2,5	LÍNGUA PORTUGUESA
3	D	2,5	LÍNGUA PORTUGUESA
4	E	2,5	LÍNGUA PORTUGUESA
5	B	2,5	LÍNGUA PORTUGUESA
6	C	2,5	LÍNGUA PORTUGUESA
7	B	2,5	LÍNGUA PORTUGUESA
8	B	2,5	LÍNGUA PORTUGUESA
9	D	2,5	LÍNGUA PORTUGUESA
10	A	2,5	LÍNGUA PORTUGUESA
11	C	2,5	MATEMÁTICA
12	D	2,5	MATEMÁTICA
13	A	2,5	MATEMÁTICA
14	D	2,5	MATEMÁTICA
15	A	2,5	MATEMÁTICA
16	A	2,5	INFORMÁTICA
17	D	2,5	INFORMÁTICA
18	A	2,5	INFORMÁTICA
19	C	2,5	INFORMÁTICA
20	E	2,5	INFORMÁTICA
21	E	2,5	CONHECIMENTOS GERAIS
22	C	2,5	CONHECIMENTOS GERAIS
23	D	2,5	CONHECIMENTOS GERAIS
24	C	2,5	CONHECIMENTOS GERAIS
25	B	2,5	CONHECIMENTOS GERAIS
26	D	2,5	CONHECIMENTOS GERAIS
27	C	2,5	CONHECIMENTOS GERAIS
28	E	2,5	CONHECIMENTOS GERAIS
29	E	2,5	CONHECIMENTOS GERAIS
30	C	2,5	CONHECIMENTOS GERAIS
31	D	2,5	CONHECIMENTOS ESPECÍFICOS
32	E	2,5	CONHECIMENTOS ESPECÍFICOS
33	B	2,5	CONHECIMENTOS ESPECÍFICOS
34	B	2,5	CONHECIMENTOS ESPECÍFICOS
35	A	2,5	CONHECIMENTOS ESPECÍFICOS
36	D	2,5	CONHECIMENTOS ESPECÍFICOS
37	A	2,5	CONHECIMENTOS ESPECÍFICOS
38	E	2,5	CONHECIMENTOS ESPECÍFICOS
39	C	2,5	CONHECIMENTOS ESPECÍFICOS
40	C	2,5	CONHECIMENTOS ESPECÍFICOS



GABARITO PROVA OBJETIVA - PRELIMINAR
PREFEITURA MUNICIPAL DE TELÊMACO BORBA
CONCURSO PÚBLICO - EDITAL Nº 001-2016
CARGO: TMNM I - DESENHO DE PROJETOS

PROVA 2

QUESTÃO	RESPOSTA	VALOR DA QUESTÃO	ÁREA DE CONHECIMENTO
1	C	2,5	MATEMÁTICA
2	D	2,5	MATEMÁTICA
3	A	2,5	MATEMÁTICA
4	D	2,5	MATEMÁTICA
5	A	2,5	MATEMÁTICA
6	A	2,5	INFORMÁTICA
7	D	2,5	INFORMÁTICA
8	A	2,5	INFORMÁTICA
9	C	2,5	INFORMÁTICA
10	E	2,5	INFORMÁTICA
11	E	2,5	CONHECIMENTOS GERAIS
12	C	2,5	CONHECIMENTOS GERAIS
13	D	2,5	CONHECIMENTOS GERAIS
14	C	2,5	CONHECIMENTOS GERAIS
15	B	2,5	CONHECIMENTOS GERAIS
16	D	2,5	CONHECIMENTOS GERAIS
17	C	2,5	CONHECIMENTOS GERAIS
18	E	2,5	CONHECIMENTOS GERAIS
19	E	2,5	CONHECIMENTOS GERAIS
20	C	2,5	CONHECIMENTOS GERAIS
21	D	2,5	CONHECIMENTOS ESPECÍFICOS
22	E	2,5	CONHECIMENTOS ESPECÍFICOS
23	B	2,5	CONHECIMENTOS ESPECÍFICOS
24	B	2,5	CONHECIMENTOS ESPECÍFICOS
25	A	2,5	CONHECIMENTOS ESPECÍFICOS
26	D	2,5	CONHECIMENTOS ESPECÍFICOS
27	A	2,5	CONHECIMENTOS ESPECÍFICOS
28	E	2,5	CONHECIMENTOS ESPECÍFICOS
29	C	2,5	CONHECIMENTOS ESPECÍFICOS
30	C	2,5	CONHECIMENTOS ESPECÍFICOS
31	A	2,5	LÍNGUA PORTUGUESA
32	C	2,5	LÍNGUA PORTUGUESA
33	D	2,5	LÍNGUA PORTUGUESA
34	E	2,5	LÍNGUA PORTUGUESA
35	B	2,5	LÍNGUA PORTUGUESA
36	C	2,5	LÍNGUA PORTUGUESA
37	B	2,5	LÍNGUA PORTUGUESA
38	B	2,5	LÍNGUA PORTUGUESA
39	D	2,5	LÍNGUA PORTUGUESA
40	A	2,5	LÍNGUA PORTUGUESA

**GABARITO PROVA OBJETIVA - PRELIMINAR**
PREFEITURA MUNICIPAL DE TELÊMACO BORBA
CONCURSO PÚBLICO - EDITAL Nº 001-2016
CARGO: TMNM I - DESENHO DE PROJETOS
PROVA 3

QUESTÃO	RESPOSTA	VALOR DA QUESTÃO	ÁREA DE CONHECIMENTO
1	D	2,5	CONHECIMENTOS ESPECÍFICOS
2	E	2,5	CONHECIMENTOS ESPECÍFICOS
3	B	2,5	CONHECIMENTOS ESPECÍFICOS
4	B	2,5	CONHECIMENTOS ESPECÍFICOS
5	A	2,5	CONHECIMENTOS ESPECÍFICOS
6	D	2,5	CONHECIMENTOS ESPECÍFICOS
7	A	2,5	CONHECIMENTOS ESPECÍFICOS
8	E	2,5	CONHECIMENTOS ESPECÍFICOS
9	C	2,5	CONHECIMENTOS ESPECÍFICOS
10	C	2,5	CONHECIMENTOS ESPECÍFICOS
11	A	2,5	LÍNGUA PORTUGUESA
12	C	2,5	LÍNGUA PORTUGUESA
13	D	2,5	LÍNGUA PORTUGUESA
14	E	2,5	LÍNGUA PORTUGUESA
15	B	2,5	LÍNGUA PORTUGUESA
16	C	2,5	LÍNGUA PORTUGUESA
17	B	2,5	LÍNGUA PORTUGUESA
18	B	2,5	LÍNGUA PORTUGUESA
19	D	2,5	LÍNGUA PORTUGUESA
20	A	2,5	LÍNGUA PORTUGUESA
21	C	2,5	MATEMÁTICA
22	D	2,5	MATEMÁTICA
23	A	2,5	MATEMÁTICA
24	D	2,5	MATEMÁTICA
25	A	2,5	MATEMÁTICA
26	A	2,5	INFORMÁTICA
27	D	2,5	INFORMÁTICA
28	A	2,5	INFORMÁTICA
29	C	2,5	INFORMÁTICA
30	E	2,5	INFORMÁTICA
31	E	2,5	CONHECIMENTOS GERAIS
32	C	2,5	CONHECIMENTOS GERAIS
33	D	2,5	CONHECIMENTOS GERAIS
34	C	2,5	CONHECIMENTOS GERAIS
35	B	2,5	CONHECIMENTOS GERAIS
36	D	2,5	CONHECIMENTOS GERAIS
37	C	2,5	CONHECIMENTOS GERAIS
38	E	2,5	CONHECIMENTOS GERAIS
39	E	2,5	CONHECIMENTOS GERAIS
40	C	2,5	CONHECIMENTOS GERAIS



GABARITO PROVA OBJETIVA - PRELIMINAR
PREFEITURA MUNICIPAL DE TELÊMACO BORBA
CONCURSO PÚBLICO - EDITAL Nº 001-2016
CARGO: TMNM I - EDIFICAÇÕES
PROVA 1

QUESTÃO	RESPOSTA	VALOR DA QUESTÃO	ÁREA DE CONHECIMENTO
1	A	2,5	LÍNGUA PORTUGUESA
2	C	2,5	LÍNGUA PORTUGUESA
3	D	2,5	LÍNGUA PORTUGUESA
4	E	2,5	LÍNGUA PORTUGUESA
5	B	2,5	LÍNGUA PORTUGUESA
6	C	2,5	LÍNGUA PORTUGUESA
7	B	2,5	LÍNGUA PORTUGUESA
8	B	2,5	LÍNGUA PORTUGUESA
9	D	2,5	LÍNGUA PORTUGUESA
10	A	2,5	LÍNGUA PORTUGUESA
11	C	2,5	MATEMÁTICA
12	D	2,5	MATEMÁTICA
13	A	2,5	MATEMÁTICA
14	D	2,5	MATEMÁTICA
15	A	2,5	MATEMÁTICA
16	A	2,5	INFORMÁTICA
17	D	2,5	INFORMÁTICA
18	A	2,5	INFORMÁTICA
19	C	2,5	INFORMÁTICA
20	E	2,5	INFORMÁTICA
21	E	2,5	CONHECIMENTOS GERAIS
22	C	2,5	CONHECIMENTOS GERAIS
23	D	2,5	CONHECIMENTOS GERAIS
24	C	2,5	CONHECIMENTOS GERAIS
25	B	2,5	CONHECIMENTOS GERAIS
26	D	2,5	CONHECIMENTOS GERAIS
27	C	2,5	CONHECIMENTOS GERAIS
28	E	2,5	CONHECIMENTOS GERAIS
29	E	2,5	CONHECIMENTOS GERAIS
30	C	2,5	CONHECIMENTOS GERAIS
31	A	2,5	CONHECIMENTOS ESPECÍFICOS
32	B	2,5	CONHECIMENTOS ESPECÍFICOS
33	C	2,5	CONHECIMENTOS ESPECÍFICOS
34	E	2,5	CONHECIMENTOS ESPECÍFICOS
35	C	2,5	CONHECIMENTOS ESPECÍFICOS
36	D	2,5	CONHECIMENTOS ESPECÍFICOS
37	D	2,5	CONHECIMENTOS ESPECÍFICOS
38	B	2,5	CONHECIMENTOS ESPECÍFICOS
39	A	2,5	CONHECIMENTOS ESPECÍFICOS
40	E	2,5	CONHECIMENTOS ESPECÍFICOS



GABARITO PROVA OBJETIVA - PRELIMINAR
PREFEITURA MUNICIPAL DE TELÊMACO BORBA
CONCURSO PÚBLICO - EDITAL Nº 001-2016
CARGO: TMNM I - EDIFICAÇÕES
PROVA 2

QUESTÃO	RESPOSTA	VALOR DA QUESTÃO	ÁREA DE CONHECIMENTO
1	C	2,5	MATEMÁTICA
2	D	2,5	MATEMÁTICA
3	A	2,5	MATEMÁTICA
4	D	2,5	MATEMÁTICA
5	A	2,5	MATEMÁTICA
6	A	2,5	INFORMÁTICA
7	D	2,5	INFORMÁTICA
8	A	2,5	INFORMÁTICA
9	C	2,5	INFORMÁTICA
10	E	2,5	INFORMÁTICA
11	E	2,5	CONHECIMENTOS GERAIS
12	C	2,5	CONHECIMENTOS GERAIS
13	D	2,5	CONHECIMENTOS GERAIS
14	C	2,5	CONHECIMENTOS GERAIS
15	B	2,5	CONHECIMENTOS GERAIS
16	D	2,5	CONHECIMENTOS GERAIS
17	C	2,5	CONHECIMENTOS GERAIS
18	E	2,5	CONHECIMENTOS GERAIS
19	E	2,5	CONHECIMENTOS GERAIS
20	C	2,5	CONHECIMENTOS GERAIS
21	A	2,5	CONHECIMENTOS ESPECÍFICOS
22	B	2,5	CONHECIMENTOS ESPECÍFICOS
23	C	2,5	CONHECIMENTOS ESPECÍFICOS
24	E	2,5	CONHECIMENTOS ESPECÍFICOS
25	C	2,5	CONHECIMENTOS ESPECÍFICOS
26	D	2,5	CONHECIMENTOS ESPECÍFICOS
27	D	2,5	CONHECIMENTOS ESPECÍFICOS
28	B	2,5	CONHECIMENTOS ESPECÍFICOS
29	A	2,5	CONHECIMENTOS ESPECÍFICOS
30	E	2,5	CONHECIMENTOS ESPECÍFICOS
31	A	2,5	LÍNGUA PORTUGUESA
32	C	2,5	LÍNGUA PORTUGUESA
33	D	2,5	LÍNGUA PORTUGUESA
34	E	2,5	LÍNGUA PORTUGUESA
35	B	2,5	LÍNGUA PORTUGUESA
36	C	2,5	LÍNGUA PORTUGUESA
37	B	2,5	LÍNGUA PORTUGUESA
38	B	2,5	LÍNGUA PORTUGUESA
39	D	2,5	LÍNGUA PORTUGUESA
40	A	2,5	LÍNGUA PORTUGUESA



GABARITO PROVA OBJETIVA - PRELIMINAR
PREFEITURA MUNICIPAL DE TELÊMACO BORBA
CONCURSO PÚBLICO - EDITAL Nº 001-2016
CARGO: TMNM I - EDIFICAÇÕES
PROVA 3

QUESTÃO	RESPOSTA	VALOR DA QUESTÃO	ÁREA DE CONHECIMENTO
1	A	2,5	CONHECIMENTOS ESPECÍFICOS
2	B	2,5	CONHECIMENTOS ESPECÍFICOS
3	C	2,5	CONHECIMENTOS ESPECÍFICOS
4	E	2,5	CONHECIMENTOS ESPECÍFICOS
5	C	2,5	CONHECIMENTOS ESPECÍFICOS
6	D	2,5	CONHECIMENTOS ESPECÍFICOS
7	D	2,5	CONHECIMENTOS ESPECÍFICOS
8	B	2,5	CONHECIMENTOS ESPECÍFICOS
9	A	2,5	CONHECIMENTOS ESPECÍFICOS
10	E	2,5	CONHECIMENTOS ESPECÍFICOS
11	A	2,5	LÍNGUA PORTUGUESA
12	C	2,5	LÍNGUA PORTUGUESA
13	D	2,5	LÍNGUA PORTUGUESA
14	E	2,5	LÍNGUA PORTUGUESA
15	B	2,5	LÍNGUA PORTUGUESA
16	C	2,5	LÍNGUA PORTUGUESA
17	B	2,5	LÍNGUA PORTUGUESA
18	B	2,5	LÍNGUA PORTUGUESA
19	D	2,5	LÍNGUA PORTUGUESA
20	A	2,5	LÍNGUA PORTUGUESA
21	C	2,5	MATEMÁTICA
22	D	2,5	MATEMÁTICA
23	A	2,5	MATEMÁTICA
24	D	2,5	MATEMÁTICA
25	A	2,5	MATEMÁTICA
26	A	2,5	INFORMÁTICA
27	D	2,5	INFORMÁTICA
28	A	2,5	INFORMÁTICA
29	C	2,5	INFORMÁTICA
30	E	2,5	INFORMÁTICA
31	E	2,5	CONHECIMENTOS GERAIS
32	C	2,5	CONHECIMENTOS GERAIS
33	D	2,5	CONHECIMENTOS GERAIS
34	C	2,5	CONHECIMENTOS GERAIS
35	B	2,5	CONHECIMENTOS GERAIS
36	D	2,5	CONHECIMENTOS GERAIS
37	C	2,5	CONHECIMENTOS GERAIS
38	E	2,5	CONHECIMENTOS GERAIS
39	E	2,5	CONHECIMENTOS GERAIS
40	C	2,5	CONHECIMENTOS GERAIS



GABARITO PROVA OBJETIVA - PRELIMINAR
PREFEITURA MUNICIPAL DE TELÊMACO BORBA
CONCURSO PÚBLICO - EDITAL Nº 001-2016
CARGO: TMNM I - ENFERMAGEM
PROVA 1

QUESTÃO	RESPOSTA	VALOR DA QUESTÃO	ÁREA DE CONHECIMENTO
1	A	2,5	LÍNGUA PORTUGUESA
2	C	2,5	LÍNGUA PORTUGUESA
3	D	2,5	LÍNGUA PORTUGUESA
4	E	2,5	LÍNGUA PORTUGUESA
5	B	2,5	LÍNGUA PORTUGUESA
6	C	2,5	LÍNGUA PORTUGUESA
7	B	2,5	LÍNGUA PORTUGUESA
8	B	2,5	LÍNGUA PORTUGUESA
9	D	2,5	LÍNGUA PORTUGUESA
10	A	2,5	LÍNGUA PORTUGUESA
11	C	2,5	MATEMÁTICA
12	D	2,5	MATEMÁTICA
13	A	2,5	MATEMÁTICA
14	D	2,5	MATEMÁTICA
15	A	2,5	MATEMÁTICA
16	A	2,5	INFORMÁTICA
17	D	2,5	INFORMÁTICA
18	A	2,5	INFORMÁTICA
19	C	2,5	INFORMÁTICA
20	E	2,5	INFORMÁTICA
21	E	2,5	CONHECIMENTOS GERAIS
22	C	2,5	CONHECIMENTOS GERAIS
23	D	2,5	CONHECIMENTOS GERAIS
24	C	2,5	CONHECIMENTOS GERAIS
25	B	2,5	CONHECIMENTOS GERAIS
26	D	2,5	CONHECIMENTOS GERAIS
27	C	2,5	CONHECIMENTOS GERAIS
28	E	2,5	CONHECIMENTOS GERAIS
29	E	2,5	CONHECIMENTOS GERAIS
30	C	2,5	CONHECIMENTOS GERAIS
31	D	2,5	CONHECIMENTOS ESPECÍFICOS
32	A	2,5	CONHECIMENTOS ESPECÍFICOS
33	D	2,5	CONHECIMENTOS ESPECÍFICOS
34	C	2,5	CONHECIMENTOS ESPECÍFICOS
35	E	2,5	CONHECIMENTOS ESPECÍFICOS
36	E	2,5	CONHECIMENTOS ESPECÍFICOS
37	B	2,5	CONHECIMENTOS ESPECÍFICOS
38	C	2,5	CONHECIMENTOS ESPECÍFICOS
39	D	2,5	CONHECIMENTOS ESPECÍFICOS
40	A	2,5	CONHECIMENTOS ESPECÍFICOS



GABARITO PROVA OBJETIVA - PRELIMINAR
PREFEITURA MUNICIPAL DE TELÊMACO BORBA
CONCURSO PÚBLICO - EDITAL Nº 001-2016
CARGO: TMNM I - ENFERMAGEM
PROVA 2

QUESTÃO	RESPOSTA	VALOR DA QUESTÃO	ÁREA DE CONHECIMENTO
1	C	2,5	MATEMÁTICA
2	D	2,5	MATEMÁTICA
3	A	2,5	MATEMÁTICA
4	D	2,5	MATEMÁTICA
5	A	2,5	MATEMÁTICA
6	A	2,5	INFORMÁTICA
7	D	2,5	INFORMÁTICA
8	A	2,5	INFORMÁTICA
9	C	2,5	INFORMÁTICA
10	E	2,5	INFORMÁTICA
11	E	2,5	CONHECIMENTOS GERAIS
12	C	2,5	CONHECIMENTOS GERAIS
13	D	2,5	CONHECIMENTOS GERAIS
14	C	2,5	CONHECIMENTOS GERAIS
15	B	2,5	CONHECIMENTOS GERAIS
16	D	2,5	CONHECIMENTOS GERAIS
17	C	2,5	CONHECIMENTOS GERAIS
18	E	2,5	CONHECIMENTOS GERAIS
19	E	2,5	CONHECIMENTOS GERAIS
20	C	2,5	CONHECIMENTOS GERAIS
21	D	2,5	CONHECIMENTOS ESPECÍFICOS
22	A	2,5	CONHECIMENTOS ESPECÍFICOS
23	D	2,5	CONHECIMENTOS ESPECÍFICOS
24	C	2,5	CONHECIMENTOS ESPECÍFICOS
25	E	2,5	CONHECIMENTOS ESPECÍFICOS
26	E	2,5	CONHECIMENTOS ESPECÍFICOS
27	B	2,5	CONHECIMENTOS ESPECÍFICOS
28	C	2,5	CONHECIMENTOS ESPECÍFICOS
29	D	2,5	CONHECIMENTOS ESPECÍFICOS
30	A	2,5	CONHECIMENTOS ESPECÍFICOS
31	A	2,5	LÍNGUA PORTUGUESA
32	C	2,5	LÍNGUA PORTUGUESA
33	D	2,5	LÍNGUA PORTUGUESA
34	E	2,5	LÍNGUA PORTUGUESA
35	B	2,5	LÍNGUA PORTUGUESA
36	C	2,5	LÍNGUA PORTUGUESA
37	B	2,5	LÍNGUA PORTUGUESA
38	B	2,5	LÍNGUA PORTUGUESA
39	D	2,5	LÍNGUA PORTUGUESA
40	A	2,5	LÍNGUA PORTUGUESA



GABARITO PROVA OBJETIVA - PRELIMINAR
PREFEITURA MUNICIPAL DE TELÊMACO BORBA
CONCURSO PÚBLICO - EDITAL Nº 001-2016
CARGO: TMNM I - ENFERMAGEM
PROVA 3

QUESTÃO	RESPOSTA	VALOR DA QUESTÃO	ÁREA DE CONHECIMENTO
1	D	2,5	CONHECIMENTOS ESPECÍFICOS
2	A	2,5	CONHECIMENTOS ESPECÍFICOS
3	D	2,5	CONHECIMENTOS ESPECÍFICOS
4	C	2,5	CONHECIMENTOS ESPECÍFICOS
5	E	2,5	CONHECIMENTOS ESPECÍFICOS
6	E	2,5	CONHECIMENTOS ESPECÍFICOS
7	B	2,5	CONHECIMENTOS ESPECÍFICOS
8	C	2,5	CONHECIMENTOS ESPECÍFICOS
9	D	2,5	CONHECIMENTOS ESPECÍFICOS
10	A	2,5	CONHECIMENTOS ESPECÍFICOS
11	A	2,5	LÍNGUA PORTUGUESA
12	C	2,5	LÍNGUA PORTUGUESA
13	D	2,5	LÍNGUA PORTUGUESA
14	E	2,5	LÍNGUA PORTUGUESA
15	B	2,5	LÍNGUA PORTUGUESA
16	C	2,5	LÍNGUA PORTUGUESA
17	B	2,5	LÍNGUA PORTUGUESA
18	B	2,5	LÍNGUA PORTUGUESA
19	D	2,5	LÍNGUA PORTUGUESA
20	A	2,5	LÍNGUA PORTUGUESA
21	C	2,5	MATEMÁTICA
22	D	2,5	MATEMÁTICA
23	A	2,5	MATEMÁTICA
24	D	2,5	MATEMÁTICA
25	A	2,5	MATEMÁTICA
26	A	2,5	INFORMÁTICA
27	D	2,5	INFORMÁTICA
28	A	2,5	INFORMÁTICA
29	C	2,5	INFORMÁTICA
30	E	2,5	INFORMÁTICA
31	E	2,5	CONHECIMENTOS GERAIS
32	C	2,5	CONHECIMENTOS GERAIS
33	D	2,5	CONHECIMENTOS GERAIS
34	C	2,5	CONHECIMENTOS GERAIS
35	B	2,5	CONHECIMENTOS GERAIS
36	D	2,5	CONHECIMENTOS GERAIS
37	C	2,5	CONHECIMENTOS GERAIS
38	E	2,5	CONHECIMENTOS GERAIS
39	E	2,5	CONHECIMENTOS GERAIS
40	C	2,5	CONHECIMENTOS GERAIS



GABARITO PROVA OBJETIVA - PRELIMINAR
PREFEITURA MUNICIPAL DE TELÊMACO BORBA
CONCURSO PÚBLICO - EDITAL Nº 001-2016
CARGO: TMNM I - INFORMÁTICA
PROVA 1

QUESTÃO	RESPOSTA	VALOR DA QUESTÃO	ÁREA DE CONHECIMENTO
1	A	2,5	LÍNGUA PORTUGUESA
2	C	2,5	LÍNGUA PORTUGUESA
3	D	2,5	LÍNGUA PORTUGUESA
4	E	2,5	LÍNGUA PORTUGUESA
5	B	2,5	LÍNGUA PORTUGUESA
6	C	2,5	LÍNGUA PORTUGUESA
7	B	2,5	LÍNGUA PORTUGUESA
8	B	2,5	LÍNGUA PORTUGUESA
9	D	2,5	LÍNGUA PORTUGUESA
10	A	2,5	LÍNGUA PORTUGUESA
11	C	2,5	MATEMÁTICA
12	D	2,5	MATEMÁTICA
13	A	2,5	MATEMÁTICA
14	D	2,5	MATEMÁTICA
15	A	2,5	MATEMÁTICA
16	A	2,5	INFORMÁTICA
17	D	2,5	INFORMÁTICA
18	A	2,5	INFORMÁTICA
19	C	2,5	INFORMÁTICA
20	E	2,5	INFORMÁTICA
21	E	2,5	CONHECIMENTOS GERAIS
22	C	2,5	CONHECIMENTOS GERAIS
23	D	2,5	CONHECIMENTOS GERAIS
24	C	2,5	CONHECIMENTOS GERAIS
25	B	2,5	CONHECIMENTOS GERAIS
26	D	2,5	CONHECIMENTOS GERAIS
27	C	2,5	CONHECIMENTOS GERAIS
28	E	2,5	CONHECIMENTOS GERAIS
29	E	2,5	CONHECIMENTOS GERAIS
30	C	2,5	CONHECIMENTOS GERAIS
31	C	2,5	CONHECIMENTOS ESPECÍFICOS
32	E	2,5	CONHECIMENTOS ESPECÍFICOS
33	B	2,5	CONHECIMENTOS ESPECÍFICOS
34	D	2,5	CONHECIMENTOS ESPECÍFICOS
35	B	2,5	CONHECIMENTOS ESPECÍFICOS
36	A	2,5	CONHECIMENTOS ESPECÍFICOS
37	E	2,5	CONHECIMENTOS ESPECÍFICOS
38	E	2,5	CONHECIMENTOS ESPECÍFICOS
39	C	2,5	CONHECIMENTOS ESPECÍFICOS
40	D	2,5	CONHECIMENTOS ESPECÍFICOS



GABARITO PROVA OBJETIVA - PRELIMINAR
PREFEITURA MUNICIPAL DE TELÊMACO BORBA
CONCURSO PÚBLICO - EDITAL Nº 001-2016
CARGO: TMNM I - INFORMÁTICA
PROVA 2

QUESTÃO	RESPOSTA	VALOR DA QUESTÃO	ÁREA DE CONHECIMENTO
1	C	2,5	MATEMÁTICA
2	D	2,5	MATEMÁTICA
3	A	2,5	MATEMÁTICA
4	D	2,5	MATEMÁTICA
5	A	2,5	MATEMÁTICA
6	A	2,5	INFORMÁTICA
7	D	2,5	INFORMÁTICA
8	A	2,5	INFORMÁTICA
9	C	2,5	INFORMÁTICA
10	E	2,5	INFORMÁTICA
11	E	2,5	CONHECIMENTOS GERAIS
12	C	2,5	CONHECIMENTOS GERAIS
13	D	2,5	CONHECIMENTOS GERAIS
14	C	2,5	CONHECIMENTOS GERAIS
15	B	2,5	CONHECIMENTOS GERAIS
16	D	2,5	CONHECIMENTOS GERAIS
17	C	2,5	CONHECIMENTOS GERAIS
18	E	2,5	CONHECIMENTOS GERAIS
19	E	2,5	CONHECIMENTOS GERAIS
20	C	2,5	CONHECIMENTOS GERAIS
21	C	2,5	CONHECIMENTOS ESPECÍFICOS
22	E	2,5	CONHECIMENTOS ESPECÍFICOS
23	B	2,5	CONHECIMENTOS ESPECÍFICOS
24	D	2,5	CONHECIMENTOS ESPECÍFICOS
25	B	2,5	CONHECIMENTOS ESPECÍFICOS
26	A	2,5	CONHECIMENTOS ESPECÍFICOS
27	E	2,5	CONHECIMENTOS ESPECÍFICOS
28	E	2,5	CONHECIMENTOS ESPECÍFICOS
29	C	2,5	CONHECIMENTOS ESPECÍFICOS
30	D	2,5	CONHECIMENTOS ESPECÍFICOS
31	A	2,5	LÍNGUA PORTUGUESA
32	C	2,5	LÍNGUA PORTUGUESA
33	D	2,5	LÍNGUA PORTUGUESA
34	E	2,5	LÍNGUA PORTUGUESA
35	B	2,5	LÍNGUA PORTUGUESA
36	C	2,5	LÍNGUA PORTUGUESA
37	B	2,5	LÍNGUA PORTUGUESA
38	B	2,5	LÍNGUA PORTUGUESA
39	D	2,5	LÍNGUA PORTUGUESA
40	A	2,5	LÍNGUA PORTUGUESA



GABARITO PROVA OBJETIVA - PRELIMINAR
PREFEITURA MUNICIPAL DE TELÊMACO BORBA
CONCURSO PÚBLICO - EDITAL Nº 001-2016
CARGO: TMNM I - INFORMÁTICA
PROVA 3

QUESTÃO	RESPOSTA	VALOR DA QUESTÃO	ÁREA DE CONHECIMENTO
1	C	2,5	CONHECIMENTOS ESPECÍFICOS
2	E	2,5	CONHECIMENTOS ESPECÍFICOS
3	B	2,5	CONHECIMENTOS ESPECÍFICOS
4	D	2,5	CONHECIMENTOS ESPECÍFICOS
5	B	2,5	CONHECIMENTOS ESPECÍFICOS
6	A	2,5	CONHECIMENTOS ESPECÍFICOS
7	E	2,5	CONHECIMENTOS ESPECÍFICOS
8	E	2,5	CONHECIMENTOS ESPECÍFICOS
9	C	2,5	CONHECIMENTOS ESPECÍFICOS
10	D	2,5	CONHECIMENTOS ESPECÍFICOS
11	A	2,5	LÍNGUA PORTUGUESA
12	C	2,5	LÍNGUA PORTUGUESA
13	D	2,5	LÍNGUA PORTUGUESA
14	E	2,5	LÍNGUA PORTUGUESA
15	B	2,5	LÍNGUA PORTUGUESA
16	C	2,5	LÍNGUA PORTUGUESA
17	B	2,5	LÍNGUA PORTUGUESA
18	B	2,5	LÍNGUA PORTUGUESA
19	D	2,5	LÍNGUA PORTUGUESA
20	A	2,5	LÍNGUA PORTUGUESA
21	C	2,5	MATEMÁTICA
22	D	2,5	MATEMÁTICA
23	A	2,5	MATEMÁTICA
24	D	2,5	MATEMÁTICA
25	A	2,5	MATEMÁTICA
26	A	2,5	INFORMÁTICA
27	D	2,5	INFORMÁTICA
28	A	2,5	INFORMÁTICA
29	C	2,5	INFORMÁTICA
30	E	2,5	INFORMÁTICA
31	E	2,5	CONHECIMENTOS GERAIS
32	C	2,5	CONHECIMENTOS GERAIS
33	D	2,5	CONHECIMENTOS GERAIS
34	C	2,5	CONHECIMENTOS GERAIS
35	B	2,5	CONHECIMENTOS GERAIS
36	D	2,5	CONHECIMENTOS GERAIS
37	C	2,5	CONHECIMENTOS GERAIS
38	E	2,5	CONHECIMENTOS GERAIS
39	E	2,5	CONHECIMENTOS GERAIS
40	C	2,5	CONHECIMENTOS GERAIS

**GABARITO PROVA OBJETIVA - PRELIMINAR**
PREFEITURA MUNICIPAL DE TELÊMACO BORBA
CONCURSO PÚBLICO - EDITAL Nº 001-2016
CARGO: TMNM I - SEGURANÇA DO TRABALHO
PROVA 1

QUESTÃO	RESPOSTA	VALOR DA QUESTÃO	ÁREA DE CONHECIMENTO
1	A	2,5	LÍNGUA PORTUGUESA
2	C	2,5	LÍNGUA PORTUGUESA
3	D	2,5	LÍNGUA PORTUGUESA
4	E	2,5	LÍNGUA PORTUGUESA
5	B	2,5	LÍNGUA PORTUGUESA
6	C	2,5	LÍNGUA PORTUGUESA
7	B	2,5	LÍNGUA PORTUGUESA
8	B	2,5	LÍNGUA PORTUGUESA
9	D	2,5	LÍNGUA PORTUGUESA
10	A	2,5	LÍNGUA PORTUGUESA
11	C	2,5	MATEMÁTICA
12	D	2,5	MATEMÁTICA
13	A	2,5	MATEMÁTICA
14	D	2,5	MATEMÁTICA
15	A	2,5	MATEMÁTICA
16	A	2,5	INFORMÁTICA
17	D	2,5	INFORMÁTICA
18	A	2,5	INFORMÁTICA
19	C	2,5	INFORMÁTICA
20	E	2,5	INFORMÁTICA
21	E	2,5	CONHECIMENTOS GERAIS
22	C	2,5	CONHECIMENTOS GERAIS
23	D	2,5	CONHECIMENTOS GERAIS
24	C	2,5	CONHECIMENTOS GERAIS
25	B	2,5	CONHECIMENTOS GERAIS
26	D	2,5	CONHECIMENTOS GERAIS
27	C	2,5	CONHECIMENTOS GERAIS
28	E	2,5	CONHECIMENTOS GERAIS
29	E	2,5	CONHECIMENTOS GERAIS
30	C	2,5	CONHECIMENTOS GERAIS
31	A	2,5	CONHECIMENTOS ESPECÍFICOS
32	C	2,5	CONHECIMENTOS ESPECÍFICOS
33	E	2,5	CONHECIMENTOS ESPECÍFICOS
34	B	2,5	CONHECIMENTOS ESPECÍFICOS
35	C	2,5	CONHECIMENTOS ESPECÍFICOS
36	B	2,5	CONHECIMENTOS ESPECÍFICOS
37	D	2,5	CONHECIMENTOS ESPECÍFICOS
38	E	2,5	CONHECIMENTOS ESPECÍFICOS
39	A	2,5	CONHECIMENTOS ESPECÍFICOS
40	C	2,5	CONHECIMENTOS ESPECÍFICOS



GABARITO PROVA OBJETIVA - PRELIMINAR
PREFEITURA MUNICIPAL DE TELÊMACO BORBA
CONCURSO PÚBLICO - EDITAL Nº 001-2016
CARGO: TMNM I - SEGURANÇA DO TRABALHO
PROVA 2

QUESTÃO	RESPOSTA	VALOR DA QUESTÃO	ÁREA DE CONHECIMENTO
1	C	2,5	MATEMÁTICA
2	D	2,5	MATEMÁTICA
3	A	2,5	MATEMÁTICA
4	D	2,5	MATEMÁTICA
5	A	2,5	MATEMÁTICA
6	A	2,5	INFORMÁTICA
7	D	2,5	INFORMÁTICA
8	A	2,5	INFORMÁTICA
9	C	2,5	INFORMÁTICA
10	E	2,5	INFORMÁTICA
11	E	2,5	CONHECIMENTOS GERAIS
12	C	2,5	CONHECIMENTOS GERAIS
13	D	2,5	CONHECIMENTOS GERAIS
14	C	2,5	CONHECIMENTOS GERAIS
15	B	2,5	CONHECIMENTOS GERAIS
16	D	2,5	CONHECIMENTOS GERAIS
17	C	2,5	CONHECIMENTOS GERAIS
18	E	2,5	CONHECIMENTOS GERAIS
19	E	2,5	CONHECIMENTOS GERAIS
20	C	2,5	CONHECIMENTOS GERAIS
21	A	2,5	CONHECIMENTOS ESPECÍFICOS
22	C	2,5	CONHECIMENTOS ESPECÍFICOS
23	E	2,5	CONHECIMENTOS ESPECÍFICOS
24	B	2,5	CONHECIMENTOS ESPECÍFICOS
25	C	2,5	CONHECIMENTOS ESPECÍFICOS
26	B	2,5	CONHECIMENTOS ESPECÍFICOS
27	D	2,5	CONHECIMENTOS ESPECÍFICOS
28	E	2,5	CONHECIMENTOS ESPECÍFICOS
29	A	2,5	CONHECIMENTOS ESPECÍFICOS
30	C	2,5	CONHECIMENTOS ESPECÍFICOS
31	A	2,5	LÍNGUA PORTUGUESA
32	C	2,5	LÍNGUA PORTUGUESA
33	D	2,5	LÍNGUA PORTUGUESA
34	E	2,5	LÍNGUA PORTUGUESA
35	B	2,5	LÍNGUA PORTUGUESA
36	C	2,5	LÍNGUA PORTUGUESA
37	B	2,5	LÍNGUA PORTUGUESA
38	B	2,5	LÍNGUA PORTUGUESA
39	D	2,5	LÍNGUA PORTUGUESA
40	A	2,5	LÍNGUA PORTUGUESA



GABARITO PROVA OBJETIVA - PRELIMINAR
PREFEITURA MUNICIPAL DE TELÊMACO BORBA
CONCURSO PÚBLICO - EDITAL Nº 001-2016
CARGO: TMNM I - SEGURANÇA DO TRABALHO
PROVA 3

QUESTÃO	RESPOSTA	VALOR DA QUESTÃO	ÁREA DE CONHECIMENTO
1	A	2,5	CONHECIMENTOS ESPECÍFICOS
2	C	2,5	CONHECIMENTOS ESPECÍFICOS
3	E	2,5	CONHECIMENTOS ESPECÍFICOS
4	B	2,5	CONHECIMENTOS ESPECÍFICOS
5	C	2,5	CONHECIMENTOS ESPECÍFICOS
6	B	2,5	CONHECIMENTOS ESPECÍFICOS
7	D	2,5	CONHECIMENTOS ESPECÍFICOS
8	E	2,5	CONHECIMENTOS ESPECÍFICOS
9	A	2,5	CONHECIMENTOS ESPECÍFICOS
10	C	2,5	CONHECIMENTOS ESPECÍFICOS
11	A	2,5	LÍNGUA PORTUGUESA
12	C	2,5	LÍNGUA PORTUGUESA
13	D	2,5	LÍNGUA PORTUGUESA
14	E	2,5	LÍNGUA PORTUGUESA
15	B	2,5	LÍNGUA PORTUGUESA
16	C	2,5	LÍNGUA PORTUGUESA
17	B	2,5	LÍNGUA PORTUGUESA
18	B	2,5	LÍNGUA PORTUGUESA
19	D	2,5	LÍNGUA PORTUGUESA
20	A	2,5	LÍNGUA PORTUGUESA
21	C	2,5	MATEMÁTICA
22	D	2,5	MATEMÁTICA
23	A	2,5	MATEMÁTICA
24	D	2,5	MATEMÁTICA
25	A	2,5	MATEMÁTICA
26	A	2,5	INFORMÁTICA
27	D	2,5	INFORMÁTICA
28	A	2,5	INFORMÁTICA
29	C	2,5	INFORMÁTICA
30	E	2,5	INFORMÁTICA
31	E	2,5	CONHECIMENTOS GERAIS
32	C	2,5	CONHECIMENTOS GERAIS
33	D	2,5	CONHECIMENTOS GERAIS
34	C	2,5	CONHECIMENTOS GERAIS
35	B	2,5	CONHECIMENTOS GERAIS
36	D	2,5	CONHECIMENTOS GERAIS
37	C	2,5	CONHECIMENTOS GERAIS
38	E	2,5	CONHECIMENTOS GERAIS
39	E	2,5	CONHECIMENTOS GERAIS
40	C	2,5	CONHECIMENTOS GERAIS



GABARITO PROVA OBJETIVA - PRELIMINAR
PREFEITURA MUNICIPAL DE TELÊMACO BORBA
CONCURSO PÚBLICO - EDITAL Nº 001-2016
CARGO: TMNM I - SAÚDE BUCAL
PROVA 1

QUESTÃO	RESPOSTA	VALOR DA QUESTÃO	ÁREA DE CONHECIMENTO
1	A	2,5	LÍNGUA PORTUGUESA
2	C	2,5	LÍNGUA PORTUGUESA
3	D	2,5	LÍNGUA PORTUGUESA
4	E	2,5	LÍNGUA PORTUGUESA
5	B	2,5	LÍNGUA PORTUGUESA
6	C	2,5	LÍNGUA PORTUGUESA
7	B	2,5	LÍNGUA PORTUGUESA
8	B	2,5	LÍNGUA PORTUGUESA
9	D	2,5	LÍNGUA PORTUGUESA
10	A	2,5	LÍNGUA PORTUGUESA
11	C	2,5	MATEMÁTICA
12	D	2,5	MATEMÁTICA
13	A	2,5	MATEMÁTICA
14	D	2,5	MATEMÁTICA
15	A	2,5	MATEMÁTICA
16	A	2,5	INFORMÁTICA
17	D	2,5	INFORMÁTICA
18	A	2,5	INFORMÁTICA
19	C	2,5	INFORMÁTICA
20	E	2,5	INFORMÁTICA
21	E	2,5	CONHECIMENTOS GERAIS
22	C	2,5	CONHECIMENTOS GERAIS
23	D	2,5	CONHECIMENTOS GERAIS
24	C	2,5	CONHECIMENTOS GERAIS
25	B	2,5	CONHECIMENTOS GERAIS
26	D	2,5	CONHECIMENTOS GERAIS
27	C	2,5	CONHECIMENTOS GERAIS
28	E	2,5	CONHECIMENTOS GERAIS
29	E	2,5	CONHECIMENTOS GERAIS
30	C	2,5	CONHECIMENTOS GERAIS
31	D	2,5	CONHECIMENTOS ESPECÍFICOS
32	A	2,5	CONHECIMENTOS ESPECÍFICOS
33	E	2,5	CONHECIMENTOS ESPECÍFICOS
34	C	2,5	CONHECIMENTOS ESPECÍFICOS
35	C	2,5	CONHECIMENTOS ESPECÍFICOS
36	D	2,5	CONHECIMENTOS ESPECÍFICOS
37	A	2,5	CONHECIMENTOS ESPECÍFICOS
38	D	2,5	CONHECIMENTOS ESPECÍFICOS
39	A	2,5	CONHECIMENTOS ESPECÍFICOS
40	E	2,5	CONHECIMENTOS ESPECÍFICOS

**GABARITO PROVA OBJETIVA - PRELIMINAR**
PREFEITURA MUNICIPAL DE TELÊMACO BORBA
CONCURSO PÚBLICO - EDITAL Nº 001-2016
CARGO: TMNM I - SAÚDE BUCAL
PROVA 2

QUESTÃO	RESPOSTA	VALOR DA QUESTÃO	ÁREA DE CONHECIMENTO
1	C	2,5	MATEMÁTICA
2	D	2,5	MATEMÁTICA
3	A	2,5	MATEMÁTICA
4	D	2,5	MATEMÁTICA
5	A	2,5	MATEMÁTICA
6	A	2,5	INFORMÁTICA
7	D	2,5	INFORMÁTICA
8	A	2,5	INFORMÁTICA
9	C	2,5	INFORMÁTICA
10	E	2,5	INFORMÁTICA
11	E	2,5	CONHECIMENTOS GERAIS
12	C	2,5	CONHECIMENTOS GERAIS
13	D	2,5	CONHECIMENTOS GERAIS
14	C	2,5	CONHECIMENTOS GERAIS
15	B	2,5	CONHECIMENTOS GERAIS
16	D	2,5	CONHECIMENTOS GERAIS
17	C	2,5	CONHECIMENTOS GERAIS
18	E	2,5	CONHECIMENTOS GERAIS
19	E	2,5	CONHECIMENTOS GERAIS
20	C	2,5	CONHECIMENTOS GERAIS
21	D	2,5	CONHECIMENTOS ESPECÍFICOS
22	A	2,5	CONHECIMENTOS ESPECÍFICOS
23	E	2,5	CONHECIMENTOS ESPECÍFICOS
24	C	2,5	CONHECIMENTOS ESPECÍFICOS
25	C	2,5	CONHECIMENTOS ESPECÍFICOS
26	D	2,5	CONHECIMENTOS ESPECÍFICOS
27	A	2,5	CONHECIMENTOS ESPECÍFICOS
28	D	2,5	CONHECIMENTOS ESPECÍFICOS
29	A	2,5	CONHECIMENTOS ESPECÍFICOS
30	E	2,5	CONHECIMENTOS ESPECÍFICOS
31	A	2,5	LÍNGUA PORTUGUESA
32	C	2,5	LÍNGUA PORTUGUESA
33	D	2,5	LÍNGUA PORTUGUESA
34	E	2,5	LÍNGUA PORTUGUESA
35	B	2,5	LÍNGUA PORTUGUESA
36	C	2,5	LÍNGUA PORTUGUESA
37	B	2,5	LÍNGUA PORTUGUESA
38	B	2,5	LÍNGUA PORTUGUESA
39	D	2,5	LÍNGUA PORTUGUESA
40	A	2,5	LÍNGUA PORTUGUESA



GABARITO PROVA OBJETIVA - PRELIMINAR
PREFEITURA MUNICIPAL DE TELÊMACO BORBA
CONCURSO PÚBLICO - EDITAL Nº 001-2016
CARGO: TMNM I - SAÚDE BUCAL
PROVA 3

QUESTÃO	RESPOSTA	VALOR DA QUESTÃO	ÁREA DE CONHECIMENTO
1	D	2,5	CONHECIMENTOS ESPECÍFICOS
2	A	2,5	CONHECIMENTOS ESPECÍFICOS
3	E	2,5	CONHECIMENTOS ESPECÍFICOS
4	C	2,5	CONHECIMENTOS ESPECÍFICOS
5	C	2,5	CONHECIMENTOS ESPECÍFICOS
6	D	2,5	CONHECIMENTOS ESPECÍFICOS
7	A	2,5	CONHECIMENTOS ESPECÍFICOS
8	D	2,5	CONHECIMENTOS ESPECÍFICOS
9	A	2,5	CONHECIMENTOS ESPECÍFICOS
10	E	2,5	CONHECIMENTOS ESPECÍFICOS
11	A	2,5	LÍNGUA PORTUGUESA
12	C	2,5	LÍNGUA PORTUGUESA
13	D	2,5	LÍNGUA PORTUGUESA
14	E	2,5	LÍNGUA PORTUGUESA
15	B	2,5	LÍNGUA PORTUGUESA
16	C	2,5	LÍNGUA PORTUGUESA
17	B	2,5	LÍNGUA PORTUGUESA
18	B	2,5	LÍNGUA PORTUGUESA
19	D	2,5	LÍNGUA PORTUGUESA
20	A	2,5	LÍNGUA PORTUGUESA
21	C	2,5	MATEMÁTICA
22	D	2,5	MATEMÁTICA
23	A	2,5	MATEMÁTICA
24	D	2,5	MATEMÁTICA
25	A	2,5	MATEMÁTICA
26	A	2,5	INFORMÁTICA
27	D	2,5	INFORMÁTICA
28	A	2,5	INFORMÁTICA
29	C	2,5	INFORMÁTICA
30	E	2,5	INFORMÁTICA
31	E	2,5	CONHECIMENTOS GERAIS
32	C	2,5	CONHECIMENTOS GERAIS
33	D	2,5	CONHECIMENTOS GERAIS
34	C	2,5	CONHECIMENTOS GERAIS
35	B	2,5	CONHECIMENTOS GERAIS
36	D	2,5	CONHECIMENTOS GERAIS
37	C	2,5	CONHECIMENTOS GERAIS
38	E	2,5	CONHECIMENTOS GERAIS
39	E	2,5	CONHECIMENTOS GERAIS
40	C	2,5	CONHECIMENTOS GERAIS



GABARITO PROVA OBJETIVA - PRELIMINAR
PREFEITURA MUNICIPAL DE TELÊMACO BORBA
CONCURSO PÚBLICO - EDITAL Nº 001-2016
CARGO: TMNM I - TOPOGRAFIA
PROVA 1

QUESTÃO	RESPOSTA	VALOR DA QUESTÃO	ÁREA DE CONHECIMENTO
1	A	2,5	LÍNGUA PORTUGUESA
2	C	2,5	LÍNGUA PORTUGUESA
3	D	2,5	LÍNGUA PORTUGUESA
4	E	2,5	LÍNGUA PORTUGUESA
5	B	2,5	LÍNGUA PORTUGUESA
6	C	2,5	LÍNGUA PORTUGUESA
7	B	2,5	LÍNGUA PORTUGUESA
8	B	2,5	LÍNGUA PORTUGUESA
9	D	2,5	LÍNGUA PORTUGUESA
10	A	2,5	LÍNGUA PORTUGUESA
11	C	2,5	MATEMÁTICA
12	D	2,5	MATEMÁTICA
13	A	2,5	MATEMÁTICA
14	D	2,5	MATEMÁTICA
15	A	2,5	MATEMÁTICA
16	A	2,5	INFORMÁTICA
17	D	2,5	INFORMÁTICA
18	A	2,5	INFORMÁTICA
19	C	2,5	INFORMÁTICA
20	E	2,5	INFORMÁTICA
21	E	2,5	CONHECIMENTOS GERAIS
22	C	2,5	CONHECIMENTOS GERAIS
23	D	2,5	CONHECIMENTOS GERAIS
24	C	2,5	CONHECIMENTOS GERAIS
25	B	2,5	CONHECIMENTOS GERAIS
26	D	2,5	CONHECIMENTOS GERAIS
27	C	2,5	CONHECIMENTOS GERAIS
28	E	2,5	CONHECIMENTOS GERAIS
29	E	2,5	CONHECIMENTOS GERAIS
30	C	2,5	CONHECIMENTOS GERAIS
31	C	2,5	CONHECIMENTOS ESPECÍFICOS
32	A	2,5	CONHECIMENTOS ESPECÍFICOS
33	D	2,5	CONHECIMENTOS ESPECÍFICOS
34	B	2,5	CONHECIMENTOS ESPECÍFICOS
35	D	2,5	CONHECIMENTOS ESPECÍFICOS
36	E	2,5	CONHECIMENTOS ESPECÍFICOS
37	D	2,5	CONHECIMENTOS ESPECÍFICOS
38	A	2,5	CONHECIMENTOS ESPECÍFICOS
39	C	2,5	CONHECIMENTOS ESPECÍFICOS
40	B	2,5	CONHECIMENTOS ESPECÍFICOS



GABARITO PROVA OBJETIVA - PRELIMINAR
PREFEITURA MUNICIPAL DE TELÊMACO BORBA
CONCURSO PÚBLICO - EDITAL Nº 001-2016
CARGO: TMNM I - TOPOGRAFIA
PROVA 2

QUESTÃO	RESPOSTA	VALOR DA QUESTÃO	ÁREA DE CONHECIMENTO
1	C	2,5	MATEMÁTICA
2	D	2,5	MATEMÁTICA
3	A	2,5	MATEMÁTICA
4	D	2,5	MATEMÁTICA
5	A	2,5	MATEMÁTICA
6	A	2,5	INFORMÁTICA
7	D	2,5	INFORMÁTICA
8	A	2,5	INFORMÁTICA
9	C	2,5	INFORMÁTICA
10	E	2,5	INFORMÁTICA
11	E	2,5	CONHECIMENTOS GERAIS
12	C	2,5	CONHECIMENTOS GERAIS
13	D	2,5	CONHECIMENTOS GERAIS
14	C	2,5	CONHECIMENTOS GERAIS
15	B	2,5	CONHECIMENTOS GERAIS
16	D	2,5	CONHECIMENTOS GERAIS
17	C	2,5	CONHECIMENTOS GERAIS
18	E	2,5	CONHECIMENTOS GERAIS
19	E	2,5	CONHECIMENTOS GERAIS
20	C	2,5	CONHECIMENTOS GERAIS
21	C	2,5	CONHECIMENTOS ESPECÍFICOS
22	A	2,5	CONHECIMENTOS ESPECÍFICOS
23	D	2,5	CONHECIMENTOS ESPECÍFICOS
24	B	2,5	CONHECIMENTOS ESPECÍFICOS
25	D	2,5	CONHECIMENTOS ESPECÍFICOS
26	E	2,5	CONHECIMENTOS ESPECÍFICOS
27	D	2,5	CONHECIMENTOS ESPECÍFICOS
28	A	2,5	CONHECIMENTOS ESPECÍFICOS
29	C	2,5	CONHECIMENTOS ESPECÍFICOS
30	B	2,5	CONHECIMENTOS ESPECÍFICOS
31	A	2,5	LÍNGUA PORTUGUESA
32	C	2,5	LÍNGUA PORTUGUESA
33	D	2,5	LÍNGUA PORTUGUESA
34	E	2,5	LÍNGUA PORTUGUESA
35	B	2,5	LÍNGUA PORTUGUESA
36	C	2,5	LÍNGUA PORTUGUESA
37	B	2,5	LÍNGUA PORTUGUESA
38	B	2,5	LÍNGUA PORTUGUESA
39	D	2,5	LÍNGUA PORTUGUESA
40	A	2,5	LÍNGUA PORTUGUESA

**GABARITO PROVA OBJETIVA - PRELIMINAR**
PREFEITURA MUNICIPAL DE TELÊMACO BORBA
CONCURSO PÚBLICO - EDITAL Nº 001-2016
CARGO: TMNM I - TOPOGRAFIA
PROVA 3

QUESTÃO	RESPOSTA	VALOR DA QUESTÃO	ÁREA DE CONHECIMENTO
1	C	2,5	CONHECIMENTOS ESPECÍFICOS
2	A	2,5	CONHECIMENTOS ESPECÍFICOS
3	D	2,5	CONHECIMENTOS ESPECÍFICOS
4	B	2,5	CONHECIMENTOS ESPECÍFICOS
5	D	2,5	CONHECIMENTOS ESPECÍFICOS
6	E	2,5	CONHECIMENTOS ESPECÍFICOS
7	D	2,5	CONHECIMENTOS ESPECÍFICOS
8	A	2,5	CONHECIMENTOS ESPECÍFICOS
9	C	2,5	CONHECIMENTOS ESPECÍFICOS
10	B	2,5	CONHECIMENTOS ESPECÍFICOS
11	A	2,5	LÍNGUA PORTUGUESA
12	C	2,5	LÍNGUA PORTUGUESA
13	D	2,5	LÍNGUA PORTUGUESA
14	E	2,5	LÍNGUA PORTUGUESA
15	B	2,5	LÍNGUA PORTUGUESA
16	C	2,5	LÍNGUA PORTUGUESA
17	B	2,5	LÍNGUA PORTUGUESA
18	B	2,5	LÍNGUA PORTUGUESA
19	D	2,5	LÍNGUA PORTUGUESA
20	A	2,5	LÍNGUA PORTUGUESA
21	C	2,5	MATEMÁTICA
22	D	2,5	MATEMÁTICA
23	A	2,5	MATEMÁTICA
24	D	2,5	MATEMÁTICA
25	A	2,5	MATEMÁTICA
26	A	2,5	INFORMÁTICA
27	D	2,5	INFORMÁTICA
28	A	2,5	INFORMÁTICA
29	C	2,5	INFORMÁTICA
30	E	2,5	INFORMÁTICA
31	E	2,5	CONHECIMENTOS GERAIS
32	C	2,5	CONHECIMENTOS GERAIS
33	D	2,5	CONHECIMENTOS GERAIS
34	C	2,5	CONHECIMENTOS GERAIS
35	B	2,5	CONHECIMENTOS GERAIS
36	D	2,5	CONHECIMENTOS GERAIS
37	C	2,5	CONHECIMENTOS GERAIS
38	E	2,5	CONHECIMENTOS GERAIS
39	E	2,5	CONHECIMENTOS GERAIS
40	C	2,5	CONHECIMENTOS GERAIS



GABARITO PROVA OBJETIVA - PRELIMINAR
PREFEITURA MUNICIPAL DE TELÊMACO BORBA
CONCURSO PÚBLICO - EDITAL Nº 001-2016
CARGO: TMNS I - ARQUITETURA URBANÍSTICA
PROVA 1

QUESTÃO	RESPOSTA	VALOR DA QUESTÃO	ÁREA DE CONHECIMENTO
1	E	2.0	LÍNGUA PORTUGUESA
2	C	2.0	LÍNGUA PORTUGUESA
3	E	2.0	LÍNGUA PORTUGUESA
4	D	2.0	LÍNGUA PORTUGUESA
5	A	2.0	LÍNGUA PORTUGUESA
6	B	2.0	RACIOCÍNIO LÓGICO
7	E	2.0	RACIOCÍNIO LÓGICO
8	A	2.0	RACIOCÍNIO LÓGICO
9	D	2.0	RACIOCÍNIO LÓGICO
10	B	2.0	RACIOCÍNIO LÓGICO
11	C	2.0	INFORMÁTICA
12	D	2.0	INFORMÁTICA
13	B	2.0	INFORMÁTICA
14	E	2.0	INFORMÁTICA
15	D	2.0	INFORMÁTICA
16	E	2.0	CONHECIMENTOS GERAIS
17	C	2.0	CONHECIMENTOS GERAIS
18	A	2.0	CONHECIMENTOS GERAIS
19	C	2.0	CONHECIMENTOS GERAIS
20	E	2.0	CONHECIMENTOS GERAIS
21	E	3.0	CONHECIMENTOS ESPECÍFICOS
22	D	3.0	CONHECIMENTOS ESPECÍFICOS
23	C	3.0	CONHECIMENTOS ESPECÍFICOS
24	B	3.0	CONHECIMENTOS ESPECÍFICOS
25	A	3.0	CONHECIMENTOS ESPECÍFICOS
26	B	3.0	CONHECIMENTOS ESPECÍFICOS
27	C	3.0	CONHECIMENTOS ESPECÍFICOS
28	E	3.0	CONHECIMENTOS ESPECÍFICOS
29	E	3.0	CONHECIMENTOS ESPECÍFICOS
30	C	3.0	CONHECIMENTOS ESPECÍFICOS
31	C	3.0	CONHECIMENTOS ESPECÍFICOS
32	A	3.0	CONHECIMENTOS ESPECÍFICOS
33	C	3.0	CONHECIMENTOS ESPECÍFICOS
34	D	3.0	CONHECIMENTOS ESPECÍFICOS
35	A	3.0	CONHECIMENTOS ESPECÍFICOS
36	B	3.0	CONHECIMENTOS ESPECÍFICOS
37	E	3.0	CONHECIMENTOS ESPECÍFICOS
38	A	3.0	CONHECIMENTOS ESPECÍFICOS
39	B	3.0	CONHECIMENTOS ESPECÍFICOS
40	D	3.0	CONHECIMENTOS ESPECÍFICOS



GABARITO PROVA OBJETIVA - PRELIMINAR
PREFEITURA MUNICIPAL DE TELÊMACO BORBA
CONCURSO PÚBLICO - EDITAL Nº 001-2016
CARGO: TMNS I - ARQUITETURA URBANÍSTICA
PROVA 2

QUESTÃO	RESPOSTA	VALOR DA QUESTÃO	ÁREA DE CONHECIMENTO
1	B	2.0	RACIOCÍNIO LÓGICO
2	E	2.0	RACIOCÍNIO LÓGICO
3	A	2.0	RACIOCÍNIO LÓGICO
4	D	2.0	RACIOCÍNIO LÓGICO
5	B	2.0	RACIOCÍNIO LÓGICO
6	C	2.0	INFORMÁTICA
7	D	2.0	INFORMÁTICA
8	B	2.0	INFORMÁTICA
9	E	2.0	INFORMÁTICA
10	D	2.0	INFORMÁTICA
11	E	2.0	CONHECIMENTOS GERAIS
12	C	2.0	CONHECIMENTOS GERAIS
13	A	2.0	CONHECIMENTOS GERAIS
14	C	2.0	CONHECIMENTOS GERAIS
15	E	2.0	CONHECIMENTOS GERAIS
16	E	3.0	CONHECIMENTOS ESPECÍFICOS
17	D	3.0	CONHECIMENTOS ESPECÍFICOS
18	C	3.0	CONHECIMENTOS ESPECÍFICOS
19	B	3.0	CONHECIMENTOS ESPECÍFICOS
20	A	3.0	CONHECIMENTOS ESPECÍFICOS
21	B	3.0	CONHECIMENTOS ESPECÍFICOS
22	C	3.0	CONHECIMENTOS ESPECÍFICOS
23	E	3.0	CONHECIMENTOS ESPECÍFICOS
24	E	3.0	CONHECIMENTOS ESPECÍFICOS
25	C	3.0	CONHECIMENTOS ESPECÍFICOS
26	C	3.0	CONHECIMENTOS ESPECÍFICOS
27	A	3.0	CONHECIMENTOS ESPECÍFICOS
28	C	3.0	CONHECIMENTOS ESPECÍFICOS
29	D	3.0	CONHECIMENTOS ESPECÍFICOS
30	A	3.0	CONHECIMENTOS ESPECÍFICOS
31	B	3.0	CONHECIMENTOS ESPECÍFICOS
32	E	3.0	CONHECIMENTOS ESPECÍFICOS
33	A	3.0	CONHECIMENTOS ESPECÍFICOS
34	B	3.0	CONHECIMENTOS ESPECÍFICOS
35	D	3.0	CONHECIMENTOS ESPECÍFICOS
36	E	2.0	LÍNGUA PORTUGUESA
37	C	2.0	LÍNGUA PORTUGUESA
38	E	2.0	LÍNGUA PORTUGUESA
39	D	2.0	LÍNGUA PORTUGUESA
40	A	2.0	LÍNGUA PORTUGUESA



GABARITO PROVA OBJETIVA - PRELIMINAR
PREFEITURA MUNICIPAL DE TELÊMACO BORBA
CONCURSO PÚBLICO - EDITAL Nº 001-2016
CARGO: TMNS I - ARQUITETURA URBANÍSTICA
PROVA 3

QUESTÃO	RESPOSTA	VALOR DA QUESTÃO	ÁREA DE CONHECIMENTO
1	E	3.0	CONHECIMENTOS ESPECÍFICOS
2	D	3.0	CONHECIMENTOS ESPECÍFICOS
3	C	3.0	CONHECIMENTOS ESPECÍFICOS
4	B	3.0	CONHECIMENTOS ESPECÍFICOS
5	A	3.0	CONHECIMENTOS ESPECÍFICOS
6	B	3.0	CONHECIMENTOS ESPECÍFICOS
7	C	3.0	CONHECIMENTOS ESPECÍFICOS
8	E	3.0	CONHECIMENTOS ESPECÍFICOS
9	E	3.0	CONHECIMENTOS ESPECÍFICOS
10	C	3.0	CONHECIMENTOS ESPECÍFICOS
11	C	3.0	CONHECIMENTOS ESPECÍFICOS
12	A	3.0	CONHECIMENTOS ESPECÍFICOS
13	C	3.0	CONHECIMENTOS ESPECÍFICOS
14	D	3.0	CONHECIMENTOS ESPECÍFICOS
15	A	3.0	CONHECIMENTOS ESPECÍFICOS
16	B	3.0	CONHECIMENTOS ESPECÍFICOS
17	E	3.0	CONHECIMENTOS ESPECÍFICOS
18	A	3.0	CONHECIMENTOS ESPECÍFICOS
19	B	3.0	CONHECIMENTOS ESPECÍFICOS
20	D	3.0	CONHECIMENTOS ESPECÍFICOS
21	E	2.0	LÍNGUA PORTUGUESA
22	C	2.0	LÍNGUA PORTUGUESA
23	E	2.0	LÍNGUA PORTUGUESA
24	D	2.0	LÍNGUA PORTUGUESA
25	A	2.0	LÍNGUA PORTUGUESA
26	B	2.0	RACIOCÍNIO LÓGICO
27	E	2.0	RACIOCÍNIO LÓGICO
28	A	2.0	RACIOCÍNIO LÓGICO
29	D	2.0	RACIOCÍNIO LÓGICO
30	B	2.0	RACIOCÍNIO LÓGICO
31	C	2.0	INFORMÁTICA
32	D	2.0	INFORMÁTICA
33	B	2.0	INFORMÁTICA
34	E	2.0	INFORMÁTICA
35	D	2.0	INFORMÁTICA
36	E	2.0	CONHECIMENTOS GERAIS
37	C	2.0	CONHECIMENTOS GERAIS
38	A	2.0	CONHECIMENTOS GERAIS
39	C	2.0	CONHECIMENTOS GERAIS
40	E	2.0	CONHECIMENTOS GERAIS

**GABARITO PROVA OBJETIVA - PRELIMINAR**
PREFEITURA MUNICIPAL DE TELÊMACO BORBA
CONCURSO PÚBLICO - EDITAL Nº 001-2016
CARGO: TMNS I - ARQUIVOLOGIA
PROVA 1

QUESTÃO	RESPOSTA	VALOR DA QUESTÃO	ÁREA DE CONHECIMENTO
1	E	2.0	LÍNGUA PORTUGUESA
2	C	2.0	LÍNGUA PORTUGUESA
3	E	2.0	LÍNGUA PORTUGUESA
4	D	2.0	LÍNGUA PORTUGUESA
5	A	2.0	LÍNGUA PORTUGUESA
6	B	2.0	RACIOCÍNIO LÓGICO
7	E	2.0	RACIOCÍNIO LÓGICO
8	A	2.0	RACIOCÍNIO LÓGICO
9	D	2.0	RACIOCÍNIO LÓGICO
10	B	2.0	RACIOCÍNIO LÓGICO
11	C	2.0	INFORMÁTICA
12	D	2.0	INFORMÁTICA
13	B	2.0	INFORMÁTICA
14	E	2.0	INFORMÁTICA
15	D	2.0	INFORMÁTICA
16	E	2.0	CONHECIMENTOS GERAIS
17	C	2.0	CONHECIMENTOS GERAIS
18	A	2.0	CONHECIMENTOS GERAIS
19	C	2.0	CONHECIMENTOS GERAIS
20	E	2.0	CONHECIMENTOS GERAIS
21	B	3.0	CONHECIMENTOS ESPECÍFICOS
22	C	3.0	CONHECIMENTOS ESPECÍFICOS
23	D	3.0	CONHECIMENTOS ESPECÍFICOS
24	A	3.0	CONHECIMENTOS ESPECÍFICOS
25	E	3.0	CONHECIMENTOS ESPECÍFICOS
26	D	3.0	CONHECIMENTOS ESPECÍFICOS
27	B	3.0	CONHECIMENTOS ESPECÍFICOS
28	D	3.0	CONHECIMENTOS ESPECÍFICOS
29	C	3.0	CONHECIMENTOS ESPECÍFICOS
30	A	3.0	CONHECIMENTOS ESPECÍFICOS
31	D	3.0	CONHECIMENTOS ESPECÍFICOS
32	A	3.0	CONHECIMENTOS ESPECÍFICOS
33	E	3.0	CONHECIMENTOS ESPECÍFICOS
34	C	3.0	CONHECIMENTOS ESPECÍFICOS
35	B	3.0	CONHECIMENTOS ESPECÍFICOS
36	E	3.0	CONHECIMENTOS ESPECÍFICOS
37	D	3.0	CONHECIMENTOS ESPECÍFICOS
38	A	3.0	CONHECIMENTOS ESPECÍFICOS
39	C	3.0	CONHECIMENTOS ESPECÍFICOS
40	B	3.0	CONHECIMENTOS ESPECÍFICOS



GABARITO PROVA OBJETIVA - PRELIMINAR
PREFEITURA MUNICIPAL DE TELÊMACO BORBA
CONCURSO PÚBLICO - EDITAL Nº 001-2016
CARGO: TMNS I - ARQUIVOLOGIA
PROVA 2

QUESTÃO	RESPOSTA	VALOR DA QUESTÃO	ÁREA DE CONHECIMENTO
1	B	2.0	RACIOCÍNIO LÓGICO
2	E	2.0	RACIOCÍNIO LÓGICO
3	A	2.0	RACIOCÍNIO LÓGICO
4	D	2.0	RACIOCÍNIO LÓGICO
5	B	2.0	RACIOCÍNIO LÓGICO
6	C	2.0	INFORMÁTICA
7	D	2.0	INFORMÁTICA
8	B	2.0	INFORMÁTICA
9	E	2.0	INFORMÁTICA
10	D	2.0	INFORMÁTICA
11	E	2.0	CONHECIMENTOS GERAIS
12	C	2.0	CONHECIMENTOS GERAIS
13	A	2.0	CONHECIMENTOS GERAIS
14	C	2.0	CONHECIMENTOS GERAIS
15	E	2.0	CONHECIMENTOS GERAIS
16	B	3.0	CONHECIMENTOS ESPECÍFICOS
17	C	3.0	CONHECIMENTOS ESPECÍFICOS
18	D	3.0	CONHECIMENTOS ESPECÍFICOS
19	A	3.0	CONHECIMENTOS ESPECÍFICOS
20	E	3.0	CONHECIMENTOS ESPECÍFICOS
21	D	3.0	CONHECIMENTOS ESPECÍFICOS
22	B	3.0	CONHECIMENTOS ESPECÍFICOS
23	D	3.0	CONHECIMENTOS ESPECÍFICOS
24	C	3.0	CONHECIMENTOS ESPECÍFICOS
25	A	3.0	CONHECIMENTOS ESPECÍFICOS
26	D	3.0	CONHECIMENTOS ESPECÍFICOS
27	A	3.0	CONHECIMENTOS ESPECÍFICOS
28	E	3.0	CONHECIMENTOS ESPECÍFICOS
29	C	3.0	CONHECIMENTOS ESPECÍFICOS
30	B	3.0	CONHECIMENTOS ESPECÍFICOS
31	E	3.0	CONHECIMENTOS ESPECÍFICOS
32	D	3.0	CONHECIMENTOS ESPECÍFICOS
33	A	3.0	CONHECIMENTOS ESPECÍFICOS
34	C	3.0	CONHECIMENTOS ESPECÍFICOS
35	B	3.0	CONHECIMENTOS ESPECÍFICOS
36	E	2.0	LÍNGUA PORTUGUESA
37	C	2.0	LÍNGUA PORTUGUESA
38	E	2.0	LÍNGUA PORTUGUESA
39	D	2.0	LÍNGUA PORTUGUESA
40	A	2.0	LÍNGUA PORTUGUESA

**GABARITO PROVA OBJETIVA - PRELIMINAR**
PREFEITURA MUNICIPAL DE TELÊMACO BORBA
CONCURSO PÚBLICO - EDITAL Nº 001-2016
CARGO: TMNS I - ARQUIVOLOGIA
PROVA 3

QUESTÃO	RESPOSTA	VALOR DA QUESTÃO	ÁREA DE CONHECIMENTO
1	B	3.0	CONHECIMENTOS ESPECÍFICOS
2	C	3.0	CONHECIMENTOS ESPECÍFICOS
3	D	3.0	CONHECIMENTOS ESPECÍFICOS
4	A	3.0	CONHECIMENTOS ESPECÍFICOS
5	E	3.0	CONHECIMENTOS ESPECÍFICOS
6	D	3.0	CONHECIMENTOS ESPECÍFICOS
7	B	3.0	CONHECIMENTOS ESPECÍFICOS
8	D	3.0	CONHECIMENTOS ESPECÍFICOS
9	C	3.0	CONHECIMENTOS ESPECÍFICOS
10	A	3.0	CONHECIMENTOS ESPECÍFICOS
11	D	3.0	CONHECIMENTOS ESPECÍFICOS
12	A	3.0	CONHECIMENTOS ESPECÍFICOS
13	E	3.0	CONHECIMENTOS ESPECÍFICOS
14	C	3.0	CONHECIMENTOS ESPECÍFICOS
15	B	3.0	CONHECIMENTOS ESPECÍFICOS
16	E	3.0	CONHECIMENTOS ESPECÍFICOS
17	D	3.0	CONHECIMENTOS ESPECÍFICOS
18	A	3.0	CONHECIMENTOS ESPECÍFICOS
19	C	3.0	CONHECIMENTOS ESPECÍFICOS
20	B	3.0	CONHECIMENTOS ESPECÍFICOS
21	E	2.0	LÍNGUA PORTUGUESA
22	C	2.0	LÍNGUA PORTUGUESA
23	E	2.0	LÍNGUA PORTUGUESA
24	D	2.0	LÍNGUA PORTUGUESA
25	A	2.0	LÍNGUA PORTUGUESA
26	B	2.0	RACIOCÍNIO LÓGICO
27	E	2.0	RACIOCÍNIO LÓGICO
28	A	2.0	RACIOCÍNIO LÓGICO
29	D	2.0	RACIOCÍNIO LÓGICO
30	B	2.0	RACIOCÍNIO LÓGICO
31	C	2.0	INFORMÁTICA
32	D	2.0	INFORMÁTICA
33	B	2.0	INFORMÁTICA
34	E	2.0	INFORMÁTICA
35	D	2.0	INFORMÁTICA
36	E	2.0	CONHECIMENTOS GERAIS
37	C	2.0	CONHECIMENTOS GERAIS
38	A	2.0	CONHECIMENTOS GERAIS
39	C	2.0	CONHECIMENTOS GERAIS
40	E	2.0	CONHECIMENTOS GERAIS



GABARITO PROVA OBJETIVA - PRELIMINAR
PREFEITURA MUNICIPAL DE TELÊMACO BORBA
CONCURSO PÚBLICO - EDITAL Nº 001-2016
CARGO: TMNS I - ARTES E CULTURA
PROVA 1

QUESTÃO	RESPOSTA	VALOR DA QUESTÃO	ÁREA DE CONHECIMENTO
1	E	2.0	LÍNGUA PORTUGUESA
2	C	2.0	LÍNGUA PORTUGUESA
3	E	2.0	LÍNGUA PORTUGUESA
4	D	2.0	LÍNGUA PORTUGUESA
5	A	2.0	LÍNGUA PORTUGUESA
6	B	2.0	RACIOCÍNIO LÓGICO
7	E	2.0	RACIOCÍNIO LÓGICO
8	A	2.0	RACIOCÍNIO LÓGICO
9	D	2.0	RACIOCÍNIO LÓGICO
10	B	2.0	RACIOCÍNIO LÓGICO
11	C	2.0	INFORMÁTICA
12	D	2.0	INFORMÁTICA
13	B	2.0	INFORMÁTICA
14	E	2.0	INFORMÁTICA
15	D	2.0	INFORMÁTICA
16	E	2.0	CONHECIMENTOS GERAIS
17	C	2.0	CONHECIMENTOS GERAIS
18	A	2.0	CONHECIMENTOS GERAIS
19	C	2.0	CONHECIMENTOS GERAIS
20	E	2.0	CONHECIMENTOS GERAIS
21	A	3.0	CONHECIMENTOS ESPECÍFICOS
22	E	3.0	CONHECIMENTOS ESPECÍFICOS
23	C	3.0	CONHECIMENTOS ESPECÍFICOS
24	D	3.0	CONHECIMENTOS ESPECÍFICOS
25	B	3.0	CONHECIMENTOS ESPECÍFICOS
26	A	3.0	CONHECIMENTOS ESPECÍFICOS
27	C	3.0	CONHECIMENTOS ESPECÍFICOS
28	B	3.0	CONHECIMENTOS ESPECÍFICOS
29	E	3.0	CONHECIMENTOS ESPECÍFICOS
30	D	3.0	CONHECIMENTOS ESPECÍFICOS
31	C	3.0	CONHECIMENTOS ESPECÍFICOS
32	E	3.0	CONHECIMENTOS ESPECÍFICOS
33	E	3.0	CONHECIMENTOS ESPECÍFICOS
34	E	3.0	CONHECIMENTOS ESPECÍFICOS
35	A	3.0	CONHECIMENTOS ESPECÍFICOS
36	B	3.0	CONHECIMENTOS ESPECÍFICOS
37	E	3.0	CONHECIMENTOS ESPECÍFICOS
38	A	3.0	CONHECIMENTOS ESPECÍFICOS
39	C	3.0	CONHECIMENTOS ESPECÍFICOS
40	B	3.0	CONHECIMENTOS ESPECÍFICOS

**GABARITO PROVA OBJETIVA - PRELIMINAR**
PREFEITURA MUNICIPAL DE TELÊMACO BORBA
CONCURSO PÚBLICO - EDITAL Nº 001-2016
CARGO: TMNS I - ARTES E CULTURA
PROVA 2

QUESTÃO	RESPOSTA	VALOR DA QUESTÃO	ÁREA DE CONHECIMENTO
1	B	2.0	RACIOCÍNIO LÓGICO
2	E	2.0	RACIOCÍNIO LÓGICO
3	A	2.0	RACIOCÍNIO LÓGICO
4	D	2.0	RACIOCÍNIO LÓGICO
5	B	2.0	RACIOCÍNIO LÓGICO
6	C	2.0	INFORMÁTICA
7	D	2.0	INFORMÁTICA
8	B	2.0	INFORMÁTICA
9	E	2.0	INFORMÁTICA
10	D	2.0	INFORMÁTICA
11	E	2.0	CONHECIMENTOS GERAIS
12	C	2.0	CONHECIMENTOS GERAIS
13	A	2.0	CONHECIMENTOS GERAIS
14	C	2.0	CONHECIMENTOS GERAIS
15	E	2.0	CONHECIMENTOS GERAIS
16	A	3.0	CONHECIMENTOS ESPECÍFICOS
17	E	3.0	CONHECIMENTOS ESPECÍFICOS
18	C	3.0	CONHECIMENTOS ESPECÍFICOS
19	D	3.0	CONHECIMENTOS ESPECÍFICOS
20	B	3.0	CONHECIMENTOS ESPECÍFICOS
21	A	3.0	CONHECIMENTOS ESPECÍFICOS
22	C	3.0	CONHECIMENTOS ESPECÍFICOS
23	B	3.0	CONHECIMENTOS ESPECÍFICOS
24	E	3.0	CONHECIMENTOS ESPECÍFICOS
25	D	3.0	CONHECIMENTOS ESPECÍFICOS
26	C	3.0	CONHECIMENTOS ESPECÍFICOS
27	E	3.0	CONHECIMENTOS ESPECÍFICOS
28	E	3.0	CONHECIMENTOS ESPECÍFICOS
29	E	3.0	CONHECIMENTOS ESPECÍFICOS
30	A	3.0	CONHECIMENTOS ESPECÍFICOS
31	B	3.0	CONHECIMENTOS ESPECÍFICOS
32	E	3.0	CONHECIMENTOS ESPECÍFICOS
33	A	3.0	CONHECIMENTOS ESPECÍFICOS
34	C	3.0	CONHECIMENTOS ESPECÍFICOS
35	B	3.0	CONHECIMENTOS ESPECÍFICOS
36	E	2.0	LÍNGUA PORTUGUESA
37	C	2.0	LÍNGUA PORTUGUESA
38	E	2.0	LÍNGUA PORTUGUESA
39	D	2.0	LÍNGUA PORTUGUESA
40	A	2.0	LÍNGUA PORTUGUESA



GABARITO PROVA OBJETIVA - PRELIMINAR
PREFEITURA MUNICIPAL DE TELÊMACO BORBA
CONCURSO PÚBLICO - EDITAL Nº 001-2016
CARGO: TMNS I - ARTES E CULTURA
PROVA 2

QUESTÃO	RESPOSTA	VALOR DA QUESTÃO	ÁREA DE CONHECIMENTO
1	B	2.0	RACIOCÍNIO LÓGICO
2	E	2.0	RACIOCÍNIO LÓGICO
3	A	2.0	RACIOCÍNIO LÓGICO
4	D	2.0	RACIOCÍNIO LÓGICO
5	B	2.0	RACIOCÍNIO LÓGICO
6	C	2.0	INFORMÁTICA
7	D	2.0	INFORMÁTICA
8	B	2.0	INFORMÁTICA
9	E	2.0	INFORMÁTICA
10	D	2.0	INFORMÁTICA
11	E	2.0	CONHECIMENTOS GERAIS
12	C	2.0	CONHECIMENTOS GERAIS
13	A	2.0	CONHECIMENTOS GERAIS
14	C	2.0	CONHECIMENTOS GERAIS
15	E	2.0	CONHECIMENTOS GERAIS
16	A	3.0	CONHECIMENTOS ESPECÍFICOS
17	E	3.0	CONHECIMENTOS ESPECÍFICOS
18	C	3.0	CONHECIMENTOS ESPECÍFICOS
19	D	3.0	CONHECIMENTOS ESPECÍFICOS
20	B	3.0	CONHECIMENTOS ESPECÍFICOS
21	A	3.0	CONHECIMENTOS ESPECÍFICOS
22	C	3.0	CONHECIMENTOS ESPECÍFICOS
23	B	3.0	CONHECIMENTOS ESPECÍFICOS
24	E	3.0	CONHECIMENTOS ESPECÍFICOS
25	D	3.0	CONHECIMENTOS ESPECÍFICOS
26	C	3.0	CONHECIMENTOS ESPECÍFICOS
27	E	3.0	CONHECIMENTOS ESPECÍFICOS
28	E	3.0	CONHECIMENTOS ESPECÍFICOS
29	E	3.0	CONHECIMENTOS ESPECÍFICOS
30	A	3.0	CONHECIMENTOS ESPECÍFICOS
31	B	3.0	CONHECIMENTOS ESPECÍFICOS
32	E	3.0	CONHECIMENTOS ESPECÍFICOS
33	A	3.0	CONHECIMENTOS ESPECÍFICOS
34	C	3.0	CONHECIMENTOS ESPECÍFICOS
35	B	3.0	CONHECIMENTOS ESPECÍFICOS
36	E	2.0	LÍNGUA PORTUGUESA
37	C	2.0	LÍNGUA PORTUGUESA
38	E	2.0	LÍNGUA PORTUGUESA
39	D	2.0	LÍNGUA PORTUGUESA
40	A	2.0	LÍNGUA PORTUGUESA

**GABARITO PROVA OBJETIVA - PRELIMINAR**
PREFEITURA MUNICIPAL DE TELÊMACO BORBA
CONCURSO PÚBLICO - EDITAL Nº 001-2016
CARGO: TMNS I - ARTES E CULTURA
PROVA 3

QUESTÃO	RESPOSTA	VALOR DA QUESTÃO	ÁREA DE CONHECIMENTO
1	A	3.0	CONHECIMENTOS ESPECÍFICOS
2	E	3.0	CONHECIMENTOS ESPECÍFICOS
3	C	3.0	CONHECIMENTOS ESPECÍFICOS
4	D	3.0	CONHECIMENTOS ESPECÍFICOS
5	B	3.0	CONHECIMENTOS ESPECÍFICOS
6	A	3.0	CONHECIMENTOS ESPECÍFICOS
7	C	3.0	CONHECIMENTOS ESPECÍFICOS
8	B	3.0	CONHECIMENTOS ESPECÍFICOS
9	E	3.0	CONHECIMENTOS ESPECÍFICOS
10	D	3.0	CONHECIMENTOS ESPECÍFICOS
11	C	3.0	CONHECIMENTOS ESPECÍFICOS
12	E	3.0	CONHECIMENTOS ESPECÍFICOS
13	E	3.0	CONHECIMENTOS ESPECÍFICOS
14	E	3.0	CONHECIMENTOS ESPECÍFICOS
15	A	3.0	CONHECIMENTOS ESPECÍFICOS
16	B	3.0	CONHECIMENTOS ESPECÍFICOS
17	E	3.0	CONHECIMENTOS ESPECÍFICOS
18	A	3.0	CONHECIMENTOS ESPECÍFICOS
19	C	3.0	CONHECIMENTOS ESPECÍFICOS
20	B	3.0	CONHECIMENTOS ESPECÍFICOS
21	E	2.0	LÍNGUA PORTUGUESA
22	C	2.0	LÍNGUA PORTUGUESA
23	E	2.0	LÍNGUA PORTUGUESA
24	D	2.0	LÍNGUA PORTUGUESA
25	A	2.0	LÍNGUA PORTUGUESA
26	B	2.0	RACIOCÍNIO LÓGICO
27	E	2.0	RACIOCÍNIO LÓGICO
28	A	2.0	RACIOCÍNIO LÓGICO
29	D	2.0	RACIOCÍNIO LÓGICO
30	B	2.0	RACIOCÍNIO LÓGICO
31	C	2.0	INFORMÁTICA
32	D	2.0	INFORMÁTICA
33	B	2.0	INFORMÁTICA
34	E	2.0	INFORMÁTICA
35	D	2.0	INFORMÁTICA
36	E	2.0	CONHECIMENTOS GERAIS
37	C	2.0	CONHECIMENTOS GERAIS
38	A	2.0	CONHECIMENTOS GERAIS
39	C	2.0	CONHECIMENTOS GERAIS
40	E	2.0	CONHECIMENTOS GERAIS



GABARITO PROVA OBJETIVA - PRELIMINAR
PREFEITURA MUNICIPAL DE TELÊMACO BORBA
CONCURSO PÚBLICO - EDITAL Nº 001-2016
CARGO: TMNS I - CIÊNCIAS CONTÁBEIS
PROVA 1

QUESTÃO	RESPOSTA	VALOR DA QUESTÃO	ÁREA DE CONHECIMENTO
1	E	2.0	LÍNGUA PORTUGUESA
2	C	2.0	LÍNGUA PORTUGUESA
3	E	2.0	LÍNGUA PORTUGUESA
4	D	2.0	LÍNGUA PORTUGUESA
5	A	2.0	LÍNGUA PORTUGUESA
6	B	2.0	RACIOCÍNIO LÓGICO
7	E	2.0	RACIOCÍNIO LÓGICO
8	A	2.0	RACIOCÍNIO LÓGICO
9	D	2.0	RACIOCÍNIO LÓGICO
10	B	2.0	RACIOCÍNIO LÓGICO
11	C	2.0	INFORMÁTICA
12	D	2.0	INFORMÁTICA
13	B	2.0	INFORMÁTICA
14	E	2.0	INFORMÁTICA
15	D	2.0	INFORMÁTICA
16	E	2.0	CONHECIMENTOS GERAIS
17	C	2.0	CONHECIMENTOS GERAIS
18	A	2.0	CONHECIMENTOS GERAIS
19	C	2.0	CONHECIMENTOS GERAIS
20	E	2.0	CONHECIMENTOS GERAIS
21	D	3.0	CONHECIMENTOS ESPECÍFICOS
22	B	3.0	CONHECIMENTOS ESPECÍFICOS
23	A	3.0	CONHECIMENTOS ESPECÍFICOS
24	C	3.0	CONHECIMENTOS ESPECÍFICOS
25	E	3.0	CONHECIMENTOS ESPECÍFICOS
26	E	3.0	CONHECIMENTOS ESPECÍFICOS
27	C	3.0	CONHECIMENTOS ESPECÍFICOS
28	A	3.0	CONHECIMENTOS ESPECÍFICOS
29	D	3.0	CONHECIMENTOS ESPECÍFICOS
30	D	3.0	CONHECIMENTOS ESPECÍFICOS
31	B	3.0	CONHECIMENTOS ESPECÍFICOS
32	E	3.0	CONHECIMENTOS ESPECÍFICOS
33	B	3.0	CONHECIMENTOS ESPECÍFICOS
34	C	3.0	CONHECIMENTOS ESPECÍFICOS
35	A	3.0	CONHECIMENTOS ESPECÍFICOS
36	E	3.0	CONHECIMENTOS ESPECÍFICOS
37	B	3.0	CONHECIMENTOS ESPECÍFICOS
38	C	3.0	CONHECIMENTOS ESPECÍFICOS
39	A	3.0	CONHECIMENTOS ESPECÍFICOS
40	D	3.0	CONHECIMENTOS ESPECÍFICOS



GABARITO PROVA OBJETIVA - PRELIMINAR
PREFEITURA MUNICIPAL DE TELÊMACO BORBA
CONCURSO PÚBLICO - EDITAL Nº 001-2016
CARGO: TMNS I - CIÊNCIAS CONTÁBEIS
PROVA 2

QUESTÃO	RESPOSTA	VALOR DA QUESTÃO	ÁREA DE CONHECIMENTO
1	B	2.0	RACIOCÍNIO LÓGICO
2	E	2.0	RACIOCÍNIO LÓGICO
3	A	2.0	RACIOCÍNIO LÓGICO
4	D	2.0	RACIOCÍNIO LÓGICO
5	B	2.0	RACIOCÍNIO LÓGICO
6	C	2.0	INFORMÁTICA
7	D	2.0	INFORMÁTICA
8	B	2.0	INFORMÁTICA
9	E	2.0	INFORMÁTICA
10	D	2.0	INFORMÁTICA
11	E	2.0	CONHECIMENTOS GERAIS
12	C	2.0	CONHECIMENTOS GERAIS
13	A	2.0	CONHECIMENTOS GERAIS
14	C	2.0	CONHECIMENTOS GERAIS
15	E	2.0	CONHECIMENTOS GERAIS
16	D	3.0	CONHECIMENTOS ESPECÍFICOS
17	B	3.0	CONHECIMENTOS ESPECÍFICOS
18	A	3.0	CONHECIMENTOS ESPECÍFICOS
19	C	3.0	CONHECIMENTOS ESPECÍFICOS
20	E	3.0	CONHECIMENTOS ESPECÍFICOS
21	E	3.0	CONHECIMENTOS ESPECÍFICOS
22	C	3.0	CONHECIMENTOS ESPECÍFICOS
23	A	3.0	CONHECIMENTOS ESPECÍFICOS
24	D	3.0	CONHECIMENTOS ESPECÍFICOS
25	D	3.0	CONHECIMENTOS ESPECÍFICOS
26	B	3.0	CONHECIMENTOS ESPECÍFICOS
27	E	3.0	CONHECIMENTOS ESPECÍFICOS
28	B	3.0	CONHECIMENTOS ESPECÍFICOS
29	C	3.0	CONHECIMENTOS ESPECÍFICOS
30	A	3.0	CONHECIMENTOS ESPECÍFICOS
31	E	3.0	CONHECIMENTOS ESPECÍFICOS
32	B	3.0	CONHECIMENTOS ESPECÍFICOS
33	C	3.0	CONHECIMENTOS ESPECÍFICOS
34	A	3.0	CONHECIMENTOS ESPECÍFICOS
35	D	3.0	CONHECIMENTOS ESPECÍFICOS
36	E	2.0	LÍNGUA PORTUGUESA
37	C	2.0	LÍNGUA PORTUGUESA
38	E	2.0	LÍNGUA PORTUGUESA
39	D	2.0	LÍNGUA PORTUGUESA
40	A	2.0	LÍNGUA PORTUGUESA



GABARITO PROVA OBJETIVA - PRELIMINAR
PREFEITURA MUNICIPAL DE TELÊMACO BORBA
CONCURSO PÚBLICO - EDITAL Nº 001-2016
CARGO: TMNS I - CIÊNCIAS CONTÁBEIS
PROVA 3

QUESTÃO	RESPOSTA	VALOR DA QUESTÃO	ÁREA DE CONHECIMENTO
1	D	3.0	CONHECIMENTOS ESPECÍFICOS
2	B	3.0	CONHECIMENTOS ESPECÍFICOS
3	A	3.0	CONHECIMENTOS ESPECÍFICOS
4	C	3.0	CONHECIMENTOS ESPECÍFICOS
5	E	3.0	CONHECIMENTOS ESPECÍFICOS
6	E	3.0	CONHECIMENTOS ESPECÍFICOS
7	C	3.0	CONHECIMENTOS ESPECÍFICOS
8	A	3.0	CONHECIMENTOS ESPECÍFICOS
9	D	3.0	CONHECIMENTOS ESPECÍFICOS
10	D	3.0	CONHECIMENTOS ESPECÍFICOS
11	B	3.0	CONHECIMENTOS ESPECÍFICOS
12	E	3.0	CONHECIMENTOS ESPECÍFICOS
13	B	3.0	CONHECIMENTOS ESPECÍFICOS
14	C	3.0	CONHECIMENTOS ESPECÍFICOS
15	A	3.0	CONHECIMENTOS ESPECÍFICOS
16	E	3.0	CONHECIMENTOS ESPECÍFICOS
17	B	3.0	CONHECIMENTOS ESPECÍFICOS
18	C	3.0	CONHECIMENTOS ESPECÍFICOS
19	A	3.0	CONHECIMENTOS ESPECÍFICOS
20	D	3.0	CONHECIMENTOS ESPECÍFICOS
21	E	2.0	LÍNGUA PORTUGUESA
22	C	2.0	LÍNGUA PORTUGUESA
23	E	2.0	LÍNGUA PORTUGUESA
24	D	2.0	LÍNGUA PORTUGUESA
25	A	2.0	LÍNGUA PORTUGUESA
26	B	2.0	RACIOCÍNIO LÓGICO
27	E	2.0	RACIOCÍNIO LÓGICO
28	A	2.0	RACIOCÍNIO LÓGICO
29	D	2.0	RACIOCÍNIO LÓGICO
30	B	2.0	RACIOCÍNIO LÓGICO
31	C	2.0	INFORMÁTICA
32	D	2.0	INFORMÁTICA
33	B	2.0	INFORMÁTICA
34	E	2.0	INFORMÁTICA
35	D	2.0	INFORMÁTICA
36	E	2.0	CONHECIMENTOS GERAIS
37	C	2.0	CONHECIMENTOS GERAIS
38	A	2.0	CONHECIMENTOS GERAIS
39	C	2.0	CONHECIMENTOS GERAIS
40	E	2.0	CONHECIMENTOS GERAIS

**GABARITO PROVA OBJETIVA - PRELIMINAR**
PREFEITURA MUNICIPAL DE TELÊMACO BORBA
CONCURSO PÚBLICO - EDITAL Nº 001-2016
CARGO: TMNS I - DESIGNER GRÁFICO
PROVA 1

QUESTÃO	RESPOSTA	VALOR DA QUESTÃO	ÁREA DE CONHECIMENTO
1	E	2.0	LÍNGUA PORTUGUESA
2	C	2.0	LÍNGUA PORTUGUESA
3	E	2.0	LÍNGUA PORTUGUESA
4	D	2.0	LÍNGUA PORTUGUESA
5	A	2.0	LÍNGUA PORTUGUESA
6	B	2.0	RACIOCÍNIO LÓGICO
7	E	2.0	RACIOCÍNIO LÓGICO
8	A	2.0	RACIOCÍNIO LÓGICO
9	D	2.0	RACIOCÍNIO LÓGICO
10	B	2.0	RACIOCÍNIO LÓGICO
11	C	2.0	INFORMÁTICA
12	D	2.0	INFORMÁTICA
13	B	2.0	INFORMÁTICA
14	E	2.0	INFORMÁTICA
15	D	2.0	INFORMÁTICA
16	E	2.0	CONHECIMENTOS GERAIS
17	C	2.0	CONHECIMENTOS GERAIS
18	A	2.0	CONHECIMENTOS GERAIS
19	C	2.0	CONHECIMENTOS GERAIS
20	E	2.0	CONHECIMENTOS GERAIS
21	C	3.0	CONHECIMENTOS ESPECÍFICOS
22	D	3.0	CONHECIMENTOS ESPECÍFICOS
23	B	3.0	CONHECIMENTOS ESPECÍFICOS
24	D	3.0	CONHECIMENTOS ESPECÍFICOS
25	A	3.0	CONHECIMENTOS ESPECÍFICOS
26	B	3.0	CONHECIMENTOS ESPECÍFICOS
27	B	3.0	CONHECIMENTOS ESPECÍFICOS
28	B	3.0	CONHECIMENTOS ESPECÍFICOS
29	D	3.0	CONHECIMENTOS ESPECÍFICOS
30	A	3.0	CONHECIMENTOS ESPECÍFICOS
31	C	3.0	CONHECIMENTOS ESPECÍFICOS
32	B	3.0	CONHECIMENTOS ESPECÍFICOS
33	A	3.0	CONHECIMENTOS ESPECÍFICOS
34	B	3.0	CONHECIMENTOS ESPECÍFICOS
35	D	3.0	CONHECIMENTOS ESPECÍFICOS
36	B	3.0	CONHECIMENTOS ESPECÍFICOS
37	A	3.0	CONHECIMENTOS ESPECÍFICOS
38	A	3.0	CONHECIMENTOS ESPECÍFICOS
39	C	3.0	CONHECIMENTOS ESPECÍFICOS
40	A	3.0	CONHECIMENTOS ESPECÍFICOS



GABARITO PROVA OBJETIVA - PRELIMINAR
PREFEITURA MUNICIPAL DE TELÊMACO BORBA
CONCURSO PÚBLICO - EDITAL Nº 001-2016
CARGO: TMNS I - DESIGNER GRÁFICO
PROVA 2

QUESTÃO	RESPOSTA	VALOR DA QUESTÃO	ÁREA DE CONHECIMENTO
1	B	2.0	RACIOCÍNIO LÓGICO
2	E	2.0	RACIOCÍNIO LÓGICO
3	A	2.0	RACIOCÍNIO LÓGICO
4	D	2.0	RACIOCÍNIO LÓGICO
5	B	2.0	RACIOCÍNIO LÓGICO
6	C	2.0	INFORMÁTICA
7	D	2.0	INFORMÁTICA
8	B	2.0	INFORMÁTICA
9	E	2.0	INFORMÁTICA
10	D	2.0	INFORMÁTICA
11	E	2.0	CONHECIMENTOS GERAIS
12	C	2.0	CONHECIMENTOS GERAIS
13	A	2.0	CONHECIMENTOS GERAIS
14	C	2.0	CONHECIMENTOS GERAIS
15	E	2.0	CONHECIMENTOS GERAIS
16	C	3.0	CONHECIMENTOS ESPECÍFICOS
17	D	3.0	CONHECIMENTOS ESPECÍFICOS
18	B	3.0	CONHECIMENTOS ESPECÍFICOS
19	D	3.0	CONHECIMENTOS ESPECÍFICOS
20	A	3.0	CONHECIMENTOS ESPECÍFICOS
21	B	3.0	CONHECIMENTOS ESPECÍFICOS
22	B	3.0	CONHECIMENTOS ESPECÍFICOS
23	B	3.0	CONHECIMENTOS ESPECÍFICOS
24	D	3.0	CONHECIMENTOS ESPECÍFICOS
25	A	3.0	CONHECIMENTOS ESPECÍFICOS
26	C	3.0	CONHECIMENTOS ESPECÍFICOS
27	B	3.0	CONHECIMENTOS ESPECÍFICOS
28	A	3.0	CONHECIMENTOS ESPECÍFICOS
29	B	3.0	CONHECIMENTOS ESPECÍFICOS
30	D	3.0	CONHECIMENTOS ESPECÍFICOS
31	B	3.0	CONHECIMENTOS ESPECÍFICOS
32	A	3.0	CONHECIMENTOS ESPECÍFICOS
33	A	3.0	CONHECIMENTOS ESPECÍFICOS
34	C	3.0	CONHECIMENTOS ESPECÍFICOS
35	A	3.0	CONHECIMENTOS ESPECÍFICOS
36	E	2.0	LÍNGUA PORTUGUESA
37	C	2.0	LÍNGUA PORTUGUESA
38	E	2.0	LÍNGUA PORTUGUESA
39	D	2.0	LÍNGUA PORTUGUESA
40	A	2.0	LÍNGUA PORTUGUESA

**GABARITO PROVA OBJETIVA - PRELIMINAR**
PREFEITURA MUNICIPAL DE TELÊMACO BORBA
CONCURSO PÚBLICO - EDITAL Nº 001-2016
CARGO: TMNS I - DESIGNER GRÁFICO
PROVA 3

QUESTÃO	RESPOSTA	VALOR DA QUESTÃO	ÁREA DE CONHECIMENTO
1	C	3.0	CONHECIMENTOS ESPECÍFICOS
2	D	3.0	CONHECIMENTOS ESPECÍFICOS
3	B	3.0	CONHECIMENTOS ESPECÍFICOS
4	D	3.0	CONHECIMENTOS ESPECÍFICOS
5	A	3.0	CONHECIMENTOS ESPECÍFICOS
6	B	3.0	CONHECIMENTOS ESPECÍFICOS
7	B	3.0	CONHECIMENTOS ESPECÍFICOS
8	B	3.0	CONHECIMENTOS ESPECÍFICOS
9	D	3.0	CONHECIMENTOS ESPECÍFICOS
10	A	3.0	CONHECIMENTOS ESPECÍFICOS
11	C	3.0	CONHECIMENTOS ESPECÍFICOS
12	B	3.0	CONHECIMENTOS ESPECÍFICOS
13	A	3.0	CONHECIMENTOS ESPECÍFICOS
14	B	3.0	CONHECIMENTOS ESPECÍFICOS
15	D	3.0	CONHECIMENTOS ESPECÍFICOS
16	B	3.0	CONHECIMENTOS ESPECÍFICOS
17	D	3.0	CONHECIMENTOS ESPECÍFICOS
18	A	3.0	CONHECIMENTOS ESPECÍFICOS
19	C	3.0	CONHECIMENTOS ESPECÍFICOS
20	A	3.0	CONHECIMENTOS ESPECÍFICOS
21	E	2.0	LÍNGUA PORTUGUESA
22	C	2.0	LÍNGUA PORTUGUESA
23	E	2.0	LÍNGUA PORTUGUESA
24	D	2.0	LÍNGUA PORTUGUESA
25	A	2.0	LÍNGUA PORTUGUESA
26	B	2.0	RACIOCÍNIO LÓGICO
27	E	2.0	RACIOCÍNIO LÓGICO
28	A	2.0	RACIOCÍNIO LÓGICO
29	D	2.0	RACIOCÍNIO LÓGICO
30	B	2.0	RACIOCÍNIO LÓGICO
31	C	2.0	INFORMÁTICA
32	D	2.0	INFORMÁTICA
33	B	2.0	INFORMÁTICA
34	E	2.0	INFORMÁTICA
35	D	2.0	INFORMÁTICA
36	E	2.0	CONHECIMENTOS GERAIS
37	C	2.0	CONHECIMENTOS GERAIS
38	A	2.0	CONHECIMENTOS GERAIS
39	C	2.0	CONHECIMENTOS GERAIS
40	E	2.0	CONHECIMENTOS GERAIS



GABARITO PROVA OBJETIVA - PRELIMINAR
PREFEITURA MUNICIPAL DE TELÊMACO BORBA
CONCURSO PÚBLICO - EDITAL Nº 001-2016
CARGO: TMNS I - ENF.INTERVENCIONISTA E ENFERMAGEM
PROVA 1

QUESTÃO	RESPOSTA	VALOR DA QUESTÃO	ÁREA DE CONHECIMENTO
1	E	2.0	LÍNGUA PORTUGUESA
2	C	2.0	LÍNGUA PORTUGUESA
3	E	2.0	LÍNGUA PORTUGUESA
4	D	2.0	LÍNGUA PORTUGUESA
5	A	2.0	LÍNGUA PORTUGUESA
6	B	2.0	RACIOCÍNIO LÓGICO
7	E	2.0	RACIOCÍNIO LÓGICO
8	A	2.0	RACIOCÍNIO LÓGICO
9	D	2.0	RACIOCÍNIO LÓGICO
10	B	2.0	RACIOCÍNIO LÓGICO
11	C	2.0	INFORMÁTICA
12	D	2.0	INFORMÁTICA
13	B	2.0	INFORMÁTICA
14	E	2.0	INFORMÁTICA
15	D	2.0	INFORMÁTICA
16	E	2.0	CONHECIMENTOS GERAIS
17	C	2.0	CONHECIMENTOS GERAIS
18	A	2.0	CONHECIMENTOS GERAIS
19	C	2.0	CONHECIMENTOS GERAIS
20	E	2.0	CONHECIMENTOS GERAIS
21	C	3.0	CONHECIMENTOS ESPECÍFICOS
22	A	3.0	CONHECIMENTOS ESPECÍFICOS
23	C	3.0	CONHECIMENTOS ESPECÍFICOS
24	C	3.0	CONHECIMENTOS ESPECÍFICOS
25	B	3.0	CONHECIMENTOS ESPECÍFICOS
26	A	3.0	CONHECIMENTOS ESPECÍFICOS
27	E	3.0	CONHECIMENTOS ESPECÍFICOS
28	A	3.0	CONHECIMENTOS ESPECÍFICOS
29	D	3.0	CONHECIMENTOS ESPECÍFICOS
30	B	3.0	CONHECIMENTOS ESPECÍFICOS
31	E	3.0	CONHECIMENTOS ESPECÍFICOS
32	C	3.0	CONHECIMENTOS ESPECÍFICOS
33	E	3.0	CONHECIMENTOS ESPECÍFICOS
34	E	3.0	CONHECIMENTOS ESPECÍFICOS
35	D	3.0	CONHECIMENTOS ESPECÍFICOS
36	A	3.0	CONHECIMENTOS ESPECÍFICOS
37	A	3.0	CONHECIMENTOS ESPECÍFICOS
38	B	3.0	CONHECIMENTOS ESPECÍFICOS
39	B	3.0	CONHECIMENTOS ESPECÍFICOS
40	A	3.0	CONHECIMENTOS ESPECÍFICOS



GABARITO PROVA OBJETIVA - PRELIMINAR
PREFEITURA MUNICIPAL DE TELÊMACO BORBA
CONCURSO PÚBLICO - EDITAL Nº 001-2016
CARGO: TMNS I - ENF.INTERVENCIONISTA E ENFERMAGEM
PROVA 2

QUESTÃO	RESPOSTA	VALOR DA QUESTÃO	ÁREA DE CONHECIMENTO
1	B	2.0	RACIOCÍNIO LÓGICO
2	E	2.0	RACIOCÍNIO LÓGICO
3	A	2.0	RACIOCÍNIO LÓGICO
4	D	2.0	RACIOCÍNIO LÓGICO
5	B	2.0	RACIOCÍNIO LÓGICO
6	C	2.0	INFORMÁTICA
7	D	2.0	INFORMÁTICA
8	B	2.0	INFORMÁTICA
9	E	2.0	INFORMÁTICA
10	D	2.0	INFORMÁTICA
11	E	2.0	CONHECIMENTOS GERAIS
12	C	2.0	CONHECIMENTOS GERAIS
13	A	2.0	CONHECIMENTOS GERAIS
14	C	2.0	CONHECIMENTOS GERAIS
15	E	2.0	CONHECIMENTOS GERAIS
16	C	3.0	CONHECIMENTOS ESPECÍFICOS
17	A	3.0	CONHECIMENTOS ESPECÍFICOS
18	C	3.0	CONHECIMENTOS ESPECÍFICOS
19	C	3.0	CONHECIMENTOS ESPECÍFICOS
20	B	3.0	CONHECIMENTOS ESPECÍFICOS
21	A	3.0	CONHECIMENTOS ESPECÍFICOS
22	E	3.0	CONHECIMENTOS ESPECÍFICOS
23	A	3.0	CONHECIMENTOS ESPECÍFICOS
24	D	3.0	CONHECIMENTOS ESPECÍFICOS
25	B	3.0	CONHECIMENTOS ESPECÍFICOS
26	E	3.0	CONHECIMENTOS ESPECÍFICOS
27	C	3.0	CONHECIMENTOS ESPECÍFICOS
28	E	3.0	CONHECIMENTOS ESPECÍFICOS
29	E	3.0	CONHECIMENTOS ESPECÍFICOS
30	D	3.0	CONHECIMENTOS ESPECÍFICOS
31	A	3.0	CONHECIMENTOS ESPECÍFICOS
32	A	3.0	CONHECIMENTOS ESPECÍFICOS
33	B	3.0	CONHECIMENTOS ESPECÍFICOS
34	B	3.0	CONHECIMENTOS ESPECÍFICOS
35	A	3.0	CONHECIMENTOS ESPECÍFICOS
36	E	2.0	LÍNGUA PORTUGUESA
37	C	2.0	LÍNGUA PORTUGUESA
38	E	2.0	LÍNGUA PORTUGUESA
39	D	2.0	LÍNGUA PORTUGUESA
40	A	2.0	LÍNGUA PORTUGUESA



GABARITO PROVA OBJETIVA - PRELIMINAR
PREFEITURA MUNICIPAL DE TELÊMACO BORBA
CONCURSO PÚBLICO - EDITAL Nº 001-2016
CARGO: TMNS I - ENF.INTERVENCIONISTA E ENFERMAGEM
PROVA 3

QUESTÃO	RESPOSTA	VALOR DA QUESTÃO	ÁREA DE CONHECIMENTO
1	C	3.0	CONHECIMENTOS ESPECÍFICOS
2	A	3.0	CONHECIMENTOS ESPECÍFICOS
3	C	3.0	CONHECIMENTOS ESPECÍFICOS
4	C	3.0	CONHECIMENTOS ESPECÍFICOS
5	B	3.0	CONHECIMENTOS ESPECÍFICOS
6	A	3.0	CONHECIMENTOS ESPECÍFICOS
7	E	3.0	CONHECIMENTOS ESPECÍFICOS
8	A	3.0	CONHECIMENTOS ESPECÍFICOS
9	D	3.0	CONHECIMENTOS ESPECÍFICOS
10	B	3.0	CONHECIMENTOS ESPECÍFICOS
11	E	3.0	CONHECIMENTOS ESPECÍFICOS
12	C	3.0	CONHECIMENTOS ESPECÍFICOS
13	E	3.0	CONHECIMENTOS ESPECÍFICOS
14	E	3.0	CONHECIMENTOS ESPECÍFICOS
15	D	3.0	CONHECIMENTOS ESPECÍFICOS
16	A	3.0	CONHECIMENTOS ESPECÍFICOS
17	A	3.0	CONHECIMENTOS ESPECÍFICOS
18	B	3.0	CONHECIMENTOS ESPECÍFICOS
19	B	3.0	CONHECIMENTOS ESPECÍFICOS
20	A	3.0	CONHECIMENTOS ESPECÍFICOS
21	E	2.0	LÍNGUA PORTUGUESA
22	C	2.0	LÍNGUA PORTUGUESA
23	E	2.0	LÍNGUA PORTUGUESA
24	D	2.0	LÍNGUA PORTUGUESA
25	A	2.0	LÍNGUA PORTUGUESA
26	B	2.0	RACIOCÍNIO LÓGICO
27	E	2.0	RACIOCÍNIO LÓGICO
28	A	2.0	RACIOCÍNIO LÓGICO
29	D	2.0	RACIOCÍNIO LÓGICO
30	B	2.0	RACIOCÍNIO LÓGICO
31	C	2.0	INFORMÁTICA
32	D	2.0	INFORMÁTICA
33	B	2.0	INFORMÁTICA
34	E	2.0	INFORMÁTICA
35	D	2.0	INFORMÁTICA
36	E	2.0	CONHECIMENTOS GERAIS
37	C	2.0	CONHECIMENTOS GERAIS
38	A	2.0	CONHECIMENTOS GERAIS
39	C	2.0	CONHECIMENTOS GERAIS
40	E	2.0	CONHECIMENTOS GERAIS



GABARITO PROVA OBJETIVA - PRELIMINAR
PREFEITURA MUNICIPAL DE TELÊMACO BORBA
CONCURSO PÚBLICO - EDITAL Nº 001-2016
CARGO: TMNS I - ENG. DE SEGURANÇA DO TRABALHO
PROVA 1

QUESTÃO	RESPOSTA	VALOR DA QUESTÃO	ÁREA DE CONHECIMENTO
1	E	2.0	LÍNGUA PORTUGUESA
2	C	2.0	LÍNGUA PORTUGUESA
3	E	2.0	LÍNGUA PORTUGUESA
4	D	2.0	LÍNGUA PORTUGUESA
5	A	2.0	LÍNGUA PORTUGUESA
6	B	2.0	RACIOCÍNIO LÓGICO
7	E	2.0	RACIOCÍNIO LÓGICO
8	A	2.0	RACIOCÍNIO LÓGICO
9	D	2.0	RACIOCÍNIO LÓGICO
10	B	2.0	RACIOCÍNIO LÓGICO
11	C	2.0	INFORMÁTICA
12	D	2.0	INFORMÁTICA
13	B	2.0	INFORMÁTICA
14	E	2.0	INFORMÁTICA
15	D	2.0	INFORMÁTICA
16	E	2.0	CONHECIMENTOS GERAIS
17	C	2.0	CONHECIMENTOS GERAIS
18	A	2.0	CONHECIMENTOS GERAIS
19	C	2.0	CONHECIMENTOS GERAIS
20	E	2.0	CONHECIMENTOS GERAIS
21	C	3.0	CONHECIMENTOS ESPECÍFICOS
22	E	3.0	CONHECIMENTOS ESPECÍFICOS
23	A	3.0	CONHECIMENTOS ESPECÍFICOS
24	D	3.0	CONHECIMENTOS ESPECÍFICOS
25	B	3.0	CONHECIMENTOS ESPECÍFICOS
26	D	3.0	CONHECIMENTOS ESPECÍFICOS
27	A	3.0	CONHECIMENTOS ESPECÍFICOS
28	C	3.0	CONHECIMENTOS ESPECÍFICOS
29	E	3.0	CONHECIMENTOS ESPECÍFICOS
30	B	3.0	CONHECIMENTOS ESPECÍFICOS
31	A	3.0	CONHECIMENTOS ESPECÍFICOS
32	D	3.0	CONHECIMENTOS ESPECÍFICOS
33	A	3.0	CONHECIMENTOS ESPECÍFICOS
34	E	3.0	CONHECIMENTOS ESPECÍFICOS
35	C	3.0	CONHECIMENTOS ESPECÍFICOS
36	B	3.0	CONHECIMENTOS ESPECÍFICOS
37	B	3.0	CONHECIMENTOS ESPECÍFICOS
38	D	3.0	CONHECIMENTOS ESPECÍFICOS
39	B	3.0	CONHECIMENTOS ESPECÍFICOS
40	C	3.0	CONHECIMENTOS ESPECÍFICOS



GABARITO PROVA OBJETIVA - PRELIMINAR
PREFEITURA MUNICIPAL DE TELÊMACO BORBA
CONCURSO PÚBLICO - EDITAL Nº 001-2016
CARGO: TMNS I - ENG. DE SEGURANÇA DO TRABALHO
PROVA 2

QUESTÃO	RESPOSTA	VALOR DA QUESTÃO	ÁREA DE CONHECIMENTO
1	B	2.0	RACIOCÍNIO LÓGICO
2	E	2.0	RACIOCÍNIO LÓGICO
3	A	2.0	RACIOCÍNIO LÓGICO
4	D	2.0	RACIOCÍNIO LÓGICO
5	B	2.0	RACIOCÍNIO LÓGICO
6	C	2.0	INFORMÁTICA
7	D	2.0	INFORMÁTICA
8	B	2.0	INFORMÁTICA
9	E	2.0	INFORMÁTICA
10	D	2.0	INFORMÁTICA
11	E	2.0	CONHECIMENTOS GERAIS
12	C	2.0	CONHECIMENTOS GERAIS
13	A	2.0	CONHECIMENTOS GERAIS
14	C	2.0	CONHECIMENTOS GERAIS
15	E	2.0	CONHECIMENTOS GERAIS
16	C	3.0	CONHECIMENTOS ESPECÍFICOS
17	E	3.0	CONHECIMENTOS ESPECÍFICOS
18	A	3.0	CONHECIMENTOS ESPECÍFICOS
19	D	3.0	CONHECIMENTOS ESPECÍFICOS
20	B	3.0	CONHECIMENTOS ESPECÍFICOS
21	D	3.0	CONHECIMENTOS ESPECÍFICOS
22	A	3.0	CONHECIMENTOS ESPECÍFICOS
23	C	3.0	CONHECIMENTOS ESPECÍFICOS
24	E	3.0	CONHECIMENTOS ESPECÍFICOS
25	B	3.0	CONHECIMENTOS ESPECÍFICOS
26	A	3.0	CONHECIMENTOS ESPECÍFICOS
27	D	3.0	CONHECIMENTOS ESPECÍFICOS
28	A	3.0	CONHECIMENTOS ESPECÍFICOS
29	E	3.0	CONHECIMENTOS ESPECÍFICOS
30	C	3.0	CONHECIMENTOS ESPECÍFICOS
31	B	3.0	CONHECIMENTOS ESPECÍFICOS
32	B	3.0	CONHECIMENTOS ESPECÍFICOS
33	D	3.0	CONHECIMENTOS ESPECÍFICOS
34	B	3.0	CONHECIMENTOS ESPECÍFICOS
35	C	3.0	CONHECIMENTOS ESPECÍFICOS
36	E	2.0	LÍNGUA PORTUGUESA
37	C	2.0	LÍNGUA PORTUGUESA
38	E	2.0	LÍNGUA PORTUGUESA
39	D	2.0	LÍNGUA PORTUGUESA
40	A	2.0	LÍNGUA PORTUGUESA



GABARITO PROVA OBJETIVA - PRELIMINAR
PREFEITURA MUNICIPAL DE TELÊMACO BORBA
CONCURSO PÚBLICO - EDITAL Nº 001-2016
CARGO: TMNS I - ENG. DE SEGURANÇA DO TRABALHO
PROVA 3

QUESTÃO	RESPOSTA	VALOR DA QUESTÃO	ÁREA DE CONHECIMENTO
1	C	3.0	CONHECIMENTOS ESPECÍFICOS
2	E	3.0	CONHECIMENTOS ESPECÍFICOS
3	A	3.0	CONHECIMENTOS ESPECÍFICOS
4	D	3.0	CONHECIMENTOS ESPECÍFICOS
5	B	3.0	CONHECIMENTOS ESPECÍFICOS
6	D	3.0	CONHECIMENTOS ESPECÍFICOS
7	A	3.0	CONHECIMENTOS ESPECÍFICOS
8	C	3.0	CONHECIMENTOS ESPECÍFICOS
9	E	3.0	CONHECIMENTOS ESPECÍFICOS
10	B	3.0	CONHECIMENTOS ESPECÍFICOS
11	A	3.0	CONHECIMENTOS ESPECÍFICOS
12	D	3.0	CONHECIMENTOS ESPECÍFICOS
13	A	3.0	CONHECIMENTOS ESPECÍFICOS
14	E	3.0	CONHECIMENTOS ESPECÍFICOS
15	C	3.0	CONHECIMENTOS ESPECÍFICOS
16	B	3.0	CONHECIMENTOS ESPECÍFICOS
17	B	3.0	CONHECIMENTOS ESPECÍFICOS
18	D	3.0	CONHECIMENTOS ESPECÍFICOS
19	B	3.0	CONHECIMENTOS ESPECÍFICOS
20	C	3.0	CONHECIMENTOS ESPECÍFICOS
21	E	2.0	LÍNGUA PORTUGUESA
22	C	2.0	LÍNGUA PORTUGUESA
23	E	2.0	LÍNGUA PORTUGUESA
24	D	2.0	LÍNGUA PORTUGUESA
25	A	2.0	LÍNGUA PORTUGUESA
26	B	2.0	RACIOCÍNIO LÓGICO
27	E	2.0	RACIOCÍNIO LÓGICO
28	A	2.0	RACIOCÍNIO LÓGICO
29	D	2.0	RACIOCÍNIO LÓGICO
30	B	2.0	RACIOCÍNIO LÓGICO
31	C	2.0	INFORMÁTICA
32	D	2.0	INFORMÁTICA
33	B	2.0	INFORMÁTICA
34	E	2.0	INFORMÁTICA
35	D	2.0	INFORMÁTICA
36	E	2.0	CONHECIMENTOS GERAIS
37	C	2.0	CONHECIMENTOS GERAIS
38	A	2.0	CONHECIMENTOS GERAIS
39	C	2.0	CONHECIMENTOS GERAIS
40	E	2.0	CONHECIMENTOS GERAIS



GABARITO PROVA OBJETIVA - PRELIMINAR
PREFEITURA MUNICIPAL DE TELÊMACO BORBA
CONCURSO PÚBLICO - EDITAL Nº 001-2016
CARGO: TMNS I - ENGENHARIA DE TRÂNSITO
PROVA 1

QUESTÃO	RESPOSTA	VALOR DA QUESTÃO	ÁREA DE CONHECIMENTO
1	E	2.0	LÍNGUA PORTUGUESA
2	C	2.0	LÍNGUA PORTUGUESA
3	E	2.0	LÍNGUA PORTUGUESA
4	D	2.0	LÍNGUA PORTUGUESA
5	A	2.0	LÍNGUA PORTUGUESA
6	B	2.0	RACIOCÍNIO LÓGICO
7	E	2.0	RACIOCÍNIO LÓGICO
8	A	2.0	RACIOCÍNIO LÓGICO
9	D	2.0	RACIOCÍNIO LÓGICO
10	B	2.0	RACIOCÍNIO LÓGICO
11	C	2.0	INFORMÁTICA
12	D	2.0	INFORMÁTICA
13	B	2.0	INFORMÁTICA
14	E	2.0	INFORMÁTICA
15	D	2.0	INFORMÁTICA
16	E	2.0	CONHECIMENTOS GERAIS
17	C	2.0	CONHECIMENTOS GERAIS
18	A	2.0	CONHECIMENTOS GERAIS
19	C	2.0	CONHECIMENTOS GERAIS
20	E	2.0	CONHECIMENTOS GERAIS
21	D	3.0	CONHECIMENTOS ESPECÍFICOS
22	A	3.0	CONHECIMENTOS ESPECÍFICOS
23	B	3.0	CONHECIMENTOS ESPECÍFICOS
24	D	3.0	CONHECIMENTOS ESPECÍFICOS
25	A	3.0	CONHECIMENTOS ESPECÍFICOS
26	B	3.0	CONHECIMENTOS ESPECÍFICOS
27	C	3.0	CONHECIMENTOS ESPECÍFICOS
28	A	3.0	CONHECIMENTOS ESPECÍFICOS
29	A	3.0	CONHECIMENTOS ESPECÍFICOS
30	C	3.0	CONHECIMENTOS ESPECÍFICOS
31	E	3.0	CONHECIMENTOS ESPECÍFICOS
32	B	3.0	CONHECIMENTOS ESPECÍFICOS
33	C	3.0	CONHECIMENTOS ESPECÍFICOS
34	D	3.0	CONHECIMENTOS ESPECÍFICOS
35	A	3.0	CONHECIMENTOS ESPECÍFICOS
36	E	3.0	CONHECIMENTOS ESPECÍFICOS
37	D	3.0	CONHECIMENTOS ESPECÍFICOS
38	D	3.0	CONHECIMENTOS ESPECÍFICOS
39	C	3.0	CONHECIMENTOS ESPECÍFICOS
40	B	3.0	CONHECIMENTOS ESPECÍFICOS



GABARITO PROVA OBJETIVA - PRELIMINAR
PREFEITURA MUNICIPAL DE TELÊMACO BORBA
CONCURSO PÚBLICO - EDITAL Nº 001-2016
CARGO: TMNS I - ENGENHARIA DE TRÂNSITO
PROVA 2

QUESTÃO	RESPOSTA	VALOR DA QUESTÃO	ÁREA DE CONHECIMENTO
1	B	2.0	RACIOCÍNIO LÓGICO
2	E	2.0	RACIOCÍNIO LÓGICO
3	A	2.0	RACIOCÍNIO LÓGICO
4	D	2.0	RACIOCÍNIO LÓGICO
5	B	2.0	RACIOCÍNIO LÓGICO
6	C	2.0	INFORMÁTICA
7	D	2.0	INFORMÁTICA
8	B	2.0	INFORMÁTICA
9	E	2.0	INFORMÁTICA
10	D	2.0	INFORMÁTICA
11	E	2.0	CONHECIMENTOS GERAIS
12	C	2.0	CONHECIMENTOS GERAIS
13	A	2.0	CONHECIMENTOS GERAIS
14	C	2.0	CONHECIMENTOS GERAIS
15	E	2.0	CONHECIMENTOS GERAIS
16	D	3.0	CONHECIMENTOS ESPECÍFICOS
17	A	3.0	CONHECIMENTOS ESPECÍFICOS
18	B	3.0	CONHECIMENTOS ESPECÍFICOS
19	D	3.0	CONHECIMENTOS ESPECÍFICOS
20	A	3.0	CONHECIMENTOS ESPECÍFICOS
21	B	3.0	CONHECIMENTOS ESPECÍFICOS
22	C	3.0	CONHECIMENTOS ESPECÍFICOS
23	A	3.0	CONHECIMENTOS ESPECÍFICOS
24	A	3.0	CONHECIMENTOS ESPECÍFICOS
25	C	3.0	CONHECIMENTOS ESPECÍFICOS
26	E	3.0	CONHECIMENTOS ESPECÍFICOS
27	B	3.0	CONHECIMENTOS ESPECÍFICOS
28	C	3.0	CONHECIMENTOS ESPECÍFICOS
29	D	3.0	CONHECIMENTOS ESPECÍFICOS
30	A	3.0	CONHECIMENTOS ESPECÍFICOS
31	E	3.0	CONHECIMENTOS ESPECÍFICOS
32	D	3.0	CONHECIMENTOS ESPECÍFICOS
33	D	3.0	CONHECIMENTOS ESPECÍFICOS
34	C	3.0	CONHECIMENTOS ESPECÍFICOS
35	B	3.0	CONHECIMENTOS ESPECÍFICOS
36	E	2.0	LÍNGUA PORTUGUESA
37	C	2.0	LÍNGUA PORTUGUESA
38	E	2.0	LÍNGUA PORTUGUESA
39	D	2.0	LÍNGUA PORTUGUESA
40	A	2.0	LÍNGUA PORTUGUESA



**GABARITO PROVA OBJETIVA - PRELIMINAR
PREFEITURA MUNICIPAL DE TELÊMACO BORBA
CONCURSO PÚBLICO - EDITAL Nº 001-2016
CARGO: TMNS I - ENGENHARIA DE TRÂNSITO
PROVA 3**

QUESTÃO	RESPOSTA	VALOR DA QUESTÃO	ÁREA DE CONHECIMENTO
1	D	3.0	CONHECIMENTOS ESPECÍFICOS
2	A	3.0	CONHECIMENTOS ESPECÍFICOS
3	B	3.0	CONHECIMENTOS ESPECÍFICOS
4	D	3.0	CONHECIMENTOS ESPECÍFICOS
5	A	3.0	CONHECIMENTOS ESPECÍFICOS
6	B	3.0	CONHECIMENTOS ESPECÍFICOS
7	C	3.0	CONHECIMENTOS ESPECÍFICOS
8	A	3.0	CONHECIMENTOS ESPECÍFICOS
9	A	3.0	CONHECIMENTOS ESPECÍFICOS
10	C	3.0	CONHECIMENTOS ESPECÍFICOS
11	E	3.0	CONHECIMENTOS ESPECÍFICOS
12	B	3.0	CONHECIMENTOS ESPECÍFICOS
13	C	3.0	CONHECIMENTOS ESPECÍFICOS
14	D	3.0	CONHECIMENTOS ESPECÍFICOS
15	A	3.0	CONHECIMENTOS ESPECÍFICOS
16	E	3.0	CONHECIMENTOS ESPECÍFICOS
17	D	3.0	CONHECIMENTOS ESPECÍFICOS
18	D	3.0	CONHECIMENTOS ESPECÍFICOS
19	C	3.0	CONHECIMENTOS ESPECÍFICOS
20	B	3.0	CONHECIMENTOS ESPECÍFICOS
21	E	2.0	LÍNGUA PORTUGUESA
22	C	2.0	LÍNGUA PORTUGUESA
23	E	2.0	LÍNGUA PORTUGUESA
24	D	2.0	LÍNGUA PORTUGUESA
25	A	2.0	LÍNGUA PORTUGUESA
26	B	2.0	RACIOCÍNIO LÓGICO
27	E	2.0	RACIOCÍNIO LÓGICO
28	A	2.0	RACIOCÍNIO LÓGICO
29	D	2.0	RACIOCÍNIO LÓGICO
30	B	2.0	RACIOCÍNIO LÓGICO
31	C	2.0	INFORMÁTICA
32	D	2.0	INFORMÁTICA
33	B	2.0	INFORMÁTICA
34	E	2.0	INFORMÁTICA
35	D	2.0	INFORMÁTICA
36	E	2.0	CONHECIMENTOS GERAIS
37	C	2.0	CONHECIMENTOS GERAIS
38	A	2.0	CONHECIMENTOS GERAIS
39	C	2.0	CONHECIMENTOS GERAIS
40	E	2.0	CONHECIMENTOS GERAIS



GABARITO PROVA OBJETIVA - PRELIMINAR
PREFEITURA MUNICIPAL DE TELÊMACO BORBA
CONCURSO PÚBLICO - EDITAL Nº 001-2016
CARGO: TMNS I - ENGENHARIA SANITARISTA
PROVA 1

QUESTÃO	RESPOSTA	VALOR DA QUESTÃO	ÁREA DE CONHECIMENTO
1	E	2.0	LÍNGUA PORTUGUESA
2	C	2.0	LÍNGUA PORTUGUESA
3	E	2.0	LÍNGUA PORTUGUESA
4	D	2.0	LÍNGUA PORTUGUESA
5	A	2.0	LÍNGUA PORTUGUESA
6	B	2.0	RACIOCÍNIO LÓGICO
7	E	2.0	RACIOCÍNIO LÓGICO
8	A	2.0	RACIOCÍNIO LÓGICO
9	D	2.0	RACIOCÍNIO LÓGICO
10	B	2.0	RACIOCÍNIO LÓGICO
11	C	2.0	INFORMÁTICA
12	D	2.0	INFORMÁTICA
13	B	2.0	INFORMÁTICA
14	E	2.0	INFORMÁTICA
15	D	2.0	INFORMÁTICA
16	E	2.0	CONHECIMENTOS GERAIS
17	C	2.0	CONHECIMENTOS GERAIS
18	A	2.0	CONHECIMENTOS GERAIS
19	C	2.0	CONHECIMENTOS GERAIS
20	E	2.0	CONHECIMENTOS GERAIS
21	E	3.0	CONHECIMENTOS ESPECÍFICOS
22	A	3.0	CONHECIMENTOS ESPECÍFICOS
23	D	3.0	CONHECIMENTOS ESPECÍFICOS
24	B	3.0	CONHECIMENTOS ESPECÍFICOS
25	E	3.0	CONHECIMENTOS ESPECÍFICOS
26	E	3.0	CONHECIMENTOS ESPECÍFICOS
27	D	3.0	CONHECIMENTOS ESPECÍFICOS
28	A	3.0	CONHECIMENTOS ESPECÍFICOS
29	A	3.0	CONHECIMENTOS ESPECÍFICOS
30	E	3.0	CONHECIMENTOS ESPECÍFICOS
31	C	3.0	CONHECIMENTOS ESPECÍFICOS
32	A	3.0	CONHECIMENTOS ESPECÍFICOS
33	C	3.0	CONHECIMENTOS ESPECÍFICOS
34	B	3.0	CONHECIMENTOS ESPECÍFICOS
35	D	3.0	CONHECIMENTOS ESPECÍFICOS
36	C	3.0	CONHECIMENTOS ESPECÍFICOS
37	B	3.0	CONHECIMENTOS ESPECÍFICOS
38	B	3.0	CONHECIMENTOS ESPECÍFICOS
39	D	3.0	CONHECIMENTOS ESPECÍFICOS
40	A	3.0	CONHECIMENTOS ESPECÍFICOS



GABARITO PROVA OBJETIVA - PRELIMINAR
PREFEITURA MUNICIPAL DE TELÊMACO BORBA
CONCURSO PÚBLICO - EDITAL Nº 001-2016
CARGO: TMNS I - ENGENHARIA SANITARISTA
PROVA 2

QUESTÃO	RESPOSTA	VALOR DA QUESTÃO	ÁREA DE CONHECIMENTO
1	B	2.0	RACIOCÍNIO LÓGICO
2	E	2.0	RACIOCÍNIO LÓGICO
3	A	2.0	RACIOCÍNIO LÓGICO
4	D	2.0	RACIOCÍNIO LÓGICO
5	B	2.0	RACIOCÍNIO LÓGICO
6	C	2.0	INFORMÁTICA
7	D	2.0	INFORMÁTICA
8	B	2.0	INFORMÁTICA
9	E	2.0	INFORMÁTICA
10	D	2.0	INFORMÁTICA
11	E	2.0	CONHECIMENTOS GERAIS
12	C	2.0	CONHECIMENTOS GERAIS
13	A	2.0	CONHECIMENTOS GERAIS
14	C	2.0	CONHECIMENTOS GERAIS
15	E	2.0	CONHECIMENTOS GERAIS
16	E	3.0	CONHECIMENTOS ESPECÍFICOS
17	A	3.0	CONHECIMENTOS ESPECÍFICOS
18	D	3.0	CONHECIMENTOS ESPECÍFICOS
19	B	3.0	CONHECIMENTOS ESPECÍFICOS
20	E	3.0	CONHECIMENTOS ESPECÍFICOS
21	E	3.0	CONHECIMENTOS ESPECÍFICOS
22	D	3.0	CONHECIMENTOS ESPECÍFICOS
23	A	3.0	CONHECIMENTOS ESPECÍFICOS
24	A	3.0	CONHECIMENTOS ESPECÍFICOS
25	E	3.0	CONHECIMENTOS ESPECÍFICOS
26	C	3.0	CONHECIMENTOS ESPECÍFICOS
27	A	3.0	CONHECIMENTOS ESPECÍFICOS
28	C	3.0	CONHECIMENTOS ESPECÍFICOS
29	B	3.0	CONHECIMENTOS ESPECÍFICOS
30	D	3.0	CONHECIMENTOS ESPECÍFICOS
31	C	3.0	CONHECIMENTOS ESPECÍFICOS
32	B	3.0	CONHECIMENTOS ESPECÍFICOS
33	B	3.0	CONHECIMENTOS ESPECÍFICOS
34	D	3.0	CONHECIMENTOS ESPECÍFICOS
35	A	3.0	CONHECIMENTOS ESPECÍFICOS
36	E	2.0	LÍNGUA PORTUGUESA
37	C	2.0	LÍNGUA PORTUGUESA
38	E	2.0	LÍNGUA PORTUGUESA
39	D	2.0	LÍNGUA PORTUGUESA
40	A	2.0	LÍNGUA PORTUGUESA



GABARITO PROVA OBJETIVA - PRELIMINAR
PREFEITURA MUNICIPAL DE TELÊMACO BORBA
CONCURSO PÚBLICO - EDITAL Nº 001-2016
CARGO: TMNS I - ENGENHARIA SANITARISTA
PROVA 3

QUESTÃO	RESPOSTA	VALOR DA QUESTÃO	ÁREA DE CONHECIMENTO
1	E	3.0	CONHECIMENTOS ESPECÍFICOS
2	A	3.0	CONHECIMENTOS ESPECÍFICOS
3	D	3.0	CONHECIMENTOS ESPECÍFICOS
4	B	3.0	CONHECIMENTOS ESPECÍFICOS
5	E	3.0	CONHECIMENTOS ESPECÍFICOS
6	E	3.0	CONHECIMENTOS ESPECÍFICOS
7	D	3.0	CONHECIMENTOS ESPECÍFICOS
8	A	3.0	CONHECIMENTOS ESPECÍFICOS
9	A	3.0	CONHECIMENTOS ESPECÍFICOS
10	E	3.0	CONHECIMENTOS ESPECÍFICOS
11	C	3.0	CONHECIMENTOS ESPECÍFICOS
12	A	3.0	CONHECIMENTOS ESPECÍFICOS
13	C	3.0	CONHECIMENTOS ESPECÍFICOS
14	B	3.0	CONHECIMENTOS ESPECÍFICOS
15	D	3.0	CONHECIMENTOS ESPECÍFICOS
16	C	3.0	CONHECIMENTOS ESPECÍFICOS
17	B	3.0	CONHECIMENTOS ESPECÍFICOS
18	B	3.0	CONHECIMENTOS ESPECÍFICOS
19	D	3.0	CONHECIMENTOS ESPECÍFICOS
20	A	3.0	CONHECIMENTOS ESPECÍFICOS
21	E	2.0	LÍNGUA PORTUGUESA
22	C	2.0	LÍNGUA PORTUGUESA
23	E	2.0	LÍNGUA PORTUGUESA
24	D	2.0	LÍNGUA PORTUGUESA
25	A	2.0	LÍNGUA PORTUGUESA
26	B	2.0	RACIOCÍNIO LÓGICO
27	E	2.0	RACIOCÍNIO LÓGICO
28	A	2.0	RACIOCÍNIO LÓGICO
29	D	2.0	RACIOCÍNIO LÓGICO
30	B	2.0	RACIOCÍNIO LÓGICO
31	C	2.0	INFORMÁTICA
32	D	2.0	INFORMÁTICA
33	B	2.0	INFORMÁTICA
34	E	2.0	INFORMÁTICA
35	D	2.0	INFORMÁTICA
36	E	2.0	CONHECIMENTOS GERAIS
37	C	2.0	CONHECIMENTOS GERAIS
38	A	2.0	CONHECIMENTOS GERAIS
39	C	2.0	CONHECIMENTOS GERAIS
40	E	2.0	CONHECIMENTOS GERAIS



GABARITO PROVA OBJETIVA - PRELIMINAR
PREFEITURA MUNICIPAL DE TELÊMACO BORBA
CONCURSO PÚBLICO - EDITAL Nº 001-2016
CARGO: TMNS I - FARMÁCIA
PROVA 1

QUESTÃO	RESPOSTA	VALOR DA QUESTÃO	ÁREA DE CONHECIMENTO
1	E	2.0	LÍNGUA PORTUGUESA
2	C	2.0	LÍNGUA PORTUGUESA
3	E	2.0	LÍNGUA PORTUGUESA
4	D	2.0	LÍNGUA PORTUGUESA
5	A	2.0	LÍNGUA PORTUGUESA
6	B	2.0	RACIOCÍNIO LÓGICO
7	E	2.0	RACIOCÍNIO LÓGICO
8	A	2.0	RACIOCÍNIO LÓGICO
9	D	2.0	RACIOCÍNIO LÓGICO
10	B	2.0	RACIOCÍNIO LÓGICO
11	C	2.0	INFORMÁTICA
12	D	2.0	INFORMÁTICA
13	B	2.0	INFORMÁTICA
14	E	2.0	INFORMÁTICA
15	D	2.0	INFORMÁTICA
16	E	2.0	CONHECIMENTOS GERAIS
17	C	2.0	CONHECIMENTOS GERAIS
18	A	2.0	CONHECIMENTOS GERAIS
19	C	2.0	CONHECIMENTOS GERAIS
20	E	2.0	CONHECIMENTOS GERAIS
21	B	3.0	CONHECIMENTOS ESPECÍFICOS
22	E	3.0	CONHECIMENTOS ESPECÍFICOS
23	A	3.0	CONHECIMENTOS ESPECÍFICOS
24	B	3.0	CONHECIMENTOS ESPECÍFICOS
25	C	3.0	CONHECIMENTOS ESPECÍFICOS
26	D	3.0	CONHECIMENTOS ESPECÍFICOS
27	A	3.0	CONHECIMENTOS ESPECÍFICOS
28	C	3.0	CONHECIMENTOS ESPECÍFICOS
29	A	3.0	CONHECIMENTOS ESPECÍFICOS
30	B	3.0	CONHECIMENTOS ESPECÍFICOS
31	C	3.0	CONHECIMENTOS ESPECÍFICOS
32	D	3.0	CONHECIMENTOS ESPECÍFICOS
33	E	3.0	CONHECIMENTOS ESPECÍFICOS
34	C	3.0	CONHECIMENTOS ESPECÍFICOS
35	A	3.0	CONHECIMENTOS ESPECÍFICOS
36	E	3.0	CONHECIMENTOS ESPECÍFICOS
37	A	3.0	CONHECIMENTOS ESPECÍFICOS
38	C	3.0	CONHECIMENTOS ESPECÍFICOS
39	D	3.0	CONHECIMENTOS ESPECÍFICOS
40	B	3.0	CONHECIMENTOS ESPECÍFICOS



GABARITO PROVA OBJETIVA - PRELIMINAR
PREFEITURA MUNICIPAL DE TELÊMACO BORBA
CONCURSO PÚBLICO - EDITAL Nº 001-2016
CARGO: TMNS I - FARMÁCIA
PROVA 2

QUESTÃO	RESPOSTA	VALOR DA QUESTÃO	ÁREA DE CONHECIMENTO
1	B	2.0	RACIOCÍNIO LÓGICO
2	E	2.0	RACIOCÍNIO LÓGICO
3	A	2.0	RACIOCÍNIO LÓGICO
4	D	2.0	RACIOCÍNIO LÓGICO
5	B	2.0	RACIOCÍNIO LÓGICO
6	C	2.0	INFORMÁTICA
7	D	2.0	INFORMÁTICA
8	B	2.0	INFORMÁTICA
9	E	2.0	INFORMÁTICA
10	D	2.0	INFORMÁTICA
11	E	2.0	CONHECIMENTOS GERAIS
12	C	2.0	CONHECIMENTOS GERAIS
13	A	2.0	CONHECIMENTOS GERAIS
14	C	2.0	CONHECIMENTOS GERAIS
15	E	2.0	CONHECIMENTOS GERAIS
16	B	3.0	CONHECIMENTOS ESPECÍFICOS
17	E	3.0	CONHECIMENTOS ESPECÍFICOS
18	A	3.0	CONHECIMENTOS ESPECÍFICOS
19	B	3.0	CONHECIMENTOS ESPECÍFICOS
20	C	3.0	CONHECIMENTOS ESPECÍFICOS
21	D	3.0	CONHECIMENTOS ESPECÍFICOS
22	A	3.0	CONHECIMENTOS ESPECÍFICOS
23	C	3.0	CONHECIMENTOS ESPECÍFICOS
24	A	3.0	CONHECIMENTOS ESPECÍFICOS
25	B	3.0	CONHECIMENTOS ESPECÍFICOS
26	C	3.0	CONHECIMENTOS ESPECÍFICOS
27	D	3.0	CONHECIMENTOS ESPECÍFICOS
28	E	3.0	CONHECIMENTOS ESPECÍFICOS
29	C	3.0	CONHECIMENTOS ESPECÍFICOS
30	A	3.0	CONHECIMENTOS ESPECÍFICOS
31	E	3.0	CONHECIMENTOS ESPECÍFICOS
32	A	3.0	CONHECIMENTOS ESPECÍFICOS
33	C	3.0	CONHECIMENTOS ESPECÍFICOS
34	D	3.0	CONHECIMENTOS ESPECÍFICOS
35	B	3.0	CONHECIMENTOS ESPECÍFICOS
36	E	2.0	LÍNGUA PORTUGUESA
37	C	2.0	LÍNGUA PORTUGUESA
38	E	2.0	LÍNGUA PORTUGUESA
39	D	2.0	LÍNGUA PORTUGUESA
40	A	2.0	LÍNGUA PORTUGUESA



GABARITO PROVA OBJETIVA - PRELIMINAR
PREFEITURA MUNICIPAL DE TELÊMACO BORBA
CONCURSO PÚBLICO - EDITAL Nº 001-2016
CARGO: TMNS I - FARMÁCIA
PROVA 3

QUESTÃO	RESPOSTA	VALOR DA QUESTÃO	ÁREA DE CONHECIMENTO
1	B	3.0	CONHECIMENTOS ESPECÍFICOS
2	E	3.0	CONHECIMENTOS ESPECÍFICOS
3	A	3.0	CONHECIMENTOS ESPECÍFICOS
4	B	3.0	CONHECIMENTOS ESPECÍFICOS
5	C	3.0	CONHECIMENTOS ESPECÍFICOS
6	D	3.0	CONHECIMENTOS ESPECÍFICOS
7	A	3.0	CONHECIMENTOS ESPECÍFICOS
8	C	3.0	CONHECIMENTOS ESPECÍFICOS
9	A	3.0	CONHECIMENTOS ESPECÍFICOS
10	B	3.0	CONHECIMENTOS ESPECÍFICOS
11	C	3.0	CONHECIMENTOS ESPECÍFICOS
12	D	3.0	CONHECIMENTOS ESPECÍFICOS
13	E	3.0	CONHECIMENTOS ESPECÍFICOS
14	C	3.0	CONHECIMENTOS ESPECÍFICOS
15	A	3.0	CONHECIMENTOS ESPECÍFICOS
16	E	3.0	CONHECIMENTOS ESPECÍFICOS
17	A	3.0	CONHECIMENTOS ESPECÍFICOS
18	C	3.0	CONHECIMENTOS ESPECÍFICOS
19	D	3.0	CONHECIMENTOS ESPECÍFICOS
20	B	3.0	CONHECIMENTOS ESPECÍFICOS
21	E	2.0	LÍNGUA PORTUGUESA
22	C	2.0	LÍNGUA PORTUGUESA
23	E	2.0	LÍNGUA PORTUGUESA
24	D	2.0	LÍNGUA PORTUGUESA
25	A	2.0	LÍNGUA PORTUGUESA
26	B	2.0	RACIOCÍNIO LÓGICO
27	E	2.0	RACIOCÍNIO LÓGICO
28	A	2.0	RACIOCÍNIO LÓGICO
29	D	2.0	RACIOCÍNIO LÓGICO
30	B	2.0	RACIOCÍNIO LÓGICO
31	C	2.0	INFORMÁTICA
32	D	2.0	INFORMÁTICA
33	B	2.0	INFORMÁTICA
34	E	2.0	INFORMÁTICA
35	D	2.0	INFORMÁTICA
36	E	2.0	CONHECIMENTOS GERAIS
37	C	2.0	CONHECIMENTOS GERAIS
38	A	2.0	CONHECIMENTOS GERAIS
39	C	2.0	CONHECIMENTOS GERAIS
40	E	2.0	CONHECIMENTOS GERAIS



GABARITO PROVA OBJETIVA - PRELIMINAR
PREFEITURA MUNICIPAL DE TELÊMACO BORBA
CONCURSO PÚBLICO - EDITAL Nº 001-2016
CARGO: TMNS I - FISIOTERAPIA
PROVA 1

QUESTÃO	RESPOSTA	VALOR DA QUESTÃO	ÁREA DE CONHECIMENTO
1	E	2.0	LÍNGUA PORTUGUESA
2	C	2.0	LÍNGUA PORTUGUESA
3	E	2.0	LÍNGUA PORTUGUESA
4	D	2.0	LÍNGUA PORTUGUESA
5	A	2.0	LÍNGUA PORTUGUESA
6	B	2.0	RACIOCÍNIO LÓGICO
7	E	2.0	RACIOCÍNIO LÓGICO
8	A	2.0	RACIOCÍNIO LÓGICO
9	D	2.0	RACIOCÍNIO LÓGICO
10	B	2.0	RACIOCÍNIO LÓGICO
11	C	2.0	INFORMÁTICA
12	D	2.0	INFORMÁTICA
13	B	2.0	INFORMÁTICA
14	E	2.0	INFORMÁTICA
15	D	2.0	INFORMÁTICA
16	E	2.0	CONHECIMENTOS GERAIS
17	C	2.0	CONHECIMENTOS GERAIS
18	A	2.0	CONHECIMENTOS GERAIS
19	C	2.0	CONHECIMENTOS GERAIS
20	E	2.0	CONHECIMENTOS GERAIS
21	E	3.0	CONHECIMENTOS ESPECÍFICOS
22	E	3.0	CONHECIMENTOS ESPECÍFICOS
23	A	3.0	CONHECIMENTOS ESPECÍFICOS
24	B	3.0	CONHECIMENTOS ESPECÍFICOS
25	A	3.0	CONHECIMENTOS ESPECÍFICOS
26	E	3.0	CONHECIMENTOS ESPECÍFICOS
27	C	3.0	CONHECIMENTOS ESPECÍFICOS
28	C	3.0	CONHECIMENTOS ESPECÍFICOS
29	D	3.0	CONHECIMENTOS ESPECÍFICOS
30	A	3.0	CONHECIMENTOS ESPECÍFICOS
31	A	3.0	CONHECIMENTOS ESPECÍFICOS
32	C	3.0	CONHECIMENTOS ESPECÍFICOS
33	D	3.0	CONHECIMENTOS ESPECÍFICOS
34	C	3.0	CONHECIMENTOS ESPECÍFICOS
35	D	3.0	CONHECIMENTOS ESPECÍFICOS
36	B	3.0	CONHECIMENTOS ESPECÍFICOS
37	E	3.0	CONHECIMENTOS ESPECÍFICOS
38	A	3.0	CONHECIMENTOS ESPECÍFICOS
39	B	3.0	CONHECIMENTOS ESPECÍFICOS
40	B	3.0	CONHECIMENTOS ESPECÍFICOS



GABARITO PROVA OBJETIVA - PRELIMINAR
PREFEITURA MUNICIPAL DE TELÊMACO BORBA
CONCURSO PÚBLICO - EDITAL Nº 001-2016
CARGO: TMNS I - FISIOTERAPIA
PROVA 2

QUESTÃO	RESPOSTA	VALOR DA QUESTÃO	ÁREA DE CONHECIMENTO
1	B	2.0	RACIOCÍNIO LÓGICO
2	E	2.0	RACIOCÍNIO LÓGICO
3	A	2.0	RACIOCÍNIO LÓGICO
4	D	2.0	RACIOCÍNIO LÓGICO
5	B	2.0	RACIOCÍNIO LÓGICO
6	C	2.0	INFORMÁTICA
7	D	2.0	INFORMÁTICA
8	B	2.0	INFORMÁTICA
9	E	2.0	INFORMÁTICA
10	D	2.0	INFORMÁTICA
11	E	2.0	CONHECIMENTOS GERAIS
12	C	2.0	CONHECIMENTOS GERAIS
13	A	2.0	CONHECIMENTOS GERAIS
14	C	2.0	CONHECIMENTOS GERAIS
15	E	2.0	CONHECIMENTOS GERAIS
16	E	3.0	CONHECIMENTOS ESPECÍFICOS
17	E	3.0	CONHECIMENTOS ESPECÍFICOS
18	A	3.0	CONHECIMENTOS ESPECÍFICOS
19	B	3.0	CONHECIMENTOS ESPECÍFICOS
20	A	3.0	CONHECIMENTOS ESPECÍFICOS
21	E	3.0	CONHECIMENTOS ESPECÍFICOS
22	C	3.0	CONHECIMENTOS ESPECÍFICOS
23	C	3.0	CONHECIMENTOS ESPECÍFICOS
24	D	3.0	CONHECIMENTOS ESPECÍFICOS
25	A	3.0	CONHECIMENTOS ESPECÍFICOS
26	A	3.0	CONHECIMENTOS ESPECÍFICOS
27	C	3.0	CONHECIMENTOS ESPECÍFICOS
28	D	3.0	CONHECIMENTOS ESPECÍFICOS
29	C	3.0	CONHECIMENTOS ESPECÍFICOS
30	D	3.0	CONHECIMENTOS ESPECÍFICOS
31	B	3.0	CONHECIMENTOS ESPECÍFICOS
32	E	3.0	CONHECIMENTOS ESPECÍFICOS
33	A	3.0	CONHECIMENTOS ESPECÍFICOS
34	B	3.0	CONHECIMENTOS ESPECÍFICOS
35	B	3.0	CONHECIMENTOS ESPECÍFICOS
36	E	2.0	LÍNGUA PORTUGUESA
37	C	2.0	LÍNGUA PORTUGUESA
38	E	2.0	LÍNGUA PORTUGUESA
39	D	2.0	LÍNGUA PORTUGUESA
40	A	2.0	LÍNGUA PORTUGUESA



GABARITO PROVA OBJETIVA - PRELIMINAR
PREFEITURA MUNICIPAL DE TELÊMACO BORBA
CONCURSO PÚBLICO - EDITAL Nº 001-2016
CARGO: TMNS I - FISIOTERAPIA
PROVA 3

QUESTÃO	RESPOSTA	VALOR DA QUESTÃO	ÁREA DE CONHECIMENTO
1	E	3.0	CONHECIMENTOS ESPECÍFICOS
2	E	3.0	CONHECIMENTOS ESPECÍFICOS
3	A	3.0	CONHECIMENTOS ESPECÍFICOS
4	B	3.0	CONHECIMENTOS ESPECÍFICOS
5	A	3.0	CONHECIMENTOS ESPECÍFICOS
6	E	3.0	CONHECIMENTOS ESPECÍFICOS
7	C	3.0	CONHECIMENTOS ESPECÍFICOS
8	C	3.0	CONHECIMENTOS ESPECÍFICOS
9	D	3.0	CONHECIMENTOS ESPECÍFICOS
10	A	3.0	CONHECIMENTOS ESPECÍFICOS
11	A	3.0	CONHECIMENTOS ESPECÍFICOS
12	C	3.0	CONHECIMENTOS ESPECÍFICOS
13	D	3.0	CONHECIMENTOS ESPECÍFICOS
14	C	3.0	CONHECIMENTOS ESPECÍFICOS
15	D	3.0	CONHECIMENTOS ESPECÍFICOS
16	B	3.0	CONHECIMENTOS ESPECÍFICOS
17	E	3.0	CONHECIMENTOS ESPECÍFICOS
18	A	3.0	CONHECIMENTOS ESPECÍFICOS
19	B	3.0	CONHECIMENTOS ESPECÍFICOS
20	B	3.0	CONHECIMENTOS ESPECÍFICOS
21	E	2.0	LÍNGUA PORTUGUESA
22	C	2.0	LÍNGUA PORTUGUESA
23	E	2.0	LÍNGUA PORTUGUESA
24	D	2.0	LÍNGUA PORTUGUESA
25	A	2.0	LÍNGUA PORTUGUESA
26	B	2.0	RACIOCÍNIO LÓGICO
27	E	2.0	RACIOCÍNIO LÓGICO
28	A	2.0	RACIOCÍNIO LÓGICO
29	D	2.0	RACIOCÍNIO LÓGICO
30	B	2.0	RACIOCÍNIO LÓGICO
31	C	2.0	INFORMÁTICA
32	D	2.0	INFORMÁTICA
33	B	2.0	INFORMÁTICA
34	E	2.0	INFORMÁTICA
35	D	2.0	INFORMÁTICA
36	E	2.0	CONHECIMENTOS GERAIS
37	C	2.0	CONHECIMENTOS GERAIS
38	A	2.0	CONHECIMENTOS GERAIS
39	C	2.0	CONHECIMENTOS GERAIS
40	E	2.0	CONHECIMENTOS GERAIS



**GABARITO PROVA OBJETIVA - PRELIMINAR
PREFEITURA MUNICIPAL DE TELÊMACO BORBA
CONCURSO PÚBLICO - EDITAL Nº 001-2016
CARGO: TMNS I - GEOLOGIA
PROVA 1**

QUESTÃO	RESPOSTA	VALOR DA QUESTÃO	ÁREA DE CONHECIMENTO
1	E	2.0	LÍNGUA PORTUGUESA
2	C	2.0	LÍNGUA PORTUGUESA
3	E	2.0	LÍNGUA PORTUGUESA
4	D	2.0	LÍNGUA PORTUGUESA
5	A	2.0	LÍNGUA PORTUGUESA
6	B	2.0	RACIOCÍNIO LÓGICO
7	E	2.0	RACIOCÍNIO LÓGICO
8	A	2.0	RACIOCÍNIO LÓGICO
9	D	2.0	RACIOCÍNIO LÓGICO
10	B	2.0	RACIOCÍNIO LÓGICO
11	C	2.0	INFORMÁTICA
12	D	2.0	INFORMÁTICA
13	B	2.0	INFORMÁTICA
14	E	2.0	INFORMÁTICA
15	D	2.0	INFORMÁTICA
16	E	2.0	CONHECIMENTOS GERAIS
17	C	2.0	CONHECIMENTOS GERAIS
18	A	2.0	CONHECIMENTOS GERAIS
19	C	2.0	CONHECIMENTOS GERAIS
20	E	2.0	CONHECIMENTOS GERAIS
21	D	3.0	CONHECIMENTOS ESPECÍFICOS
22	D	3.0	CONHECIMENTOS ESPECÍFICOS
23	B	3.0	CONHECIMENTOS ESPECÍFICOS
24	C	3.0	CONHECIMENTOS ESPECÍFICOS
25	A	3.0	CONHECIMENTOS ESPECÍFICOS
26	D	3.0	CONHECIMENTOS ESPECÍFICOS
27	E	3.0	CONHECIMENTOS ESPECÍFICOS
28	A	3.0	CONHECIMENTOS ESPECÍFICOS
29	A	3.0	CONHECIMENTOS ESPECÍFICOS
30	B	3.0	CONHECIMENTOS ESPECÍFICOS
31	D	3.0	CONHECIMENTOS ESPECÍFICOS
32	E	3.0	CONHECIMENTOS ESPECÍFICOS
33	C	3.0	CONHECIMENTOS ESPECÍFICOS
34	E	3.0	CONHECIMENTOS ESPECÍFICOS
35	A	3.0	CONHECIMENTOS ESPECÍFICOS
36	B	3.0	CONHECIMENTOS ESPECÍFICOS
37	D	3.0	CONHECIMENTOS ESPECÍFICOS
38	C	3.0	CONHECIMENTOS ESPECÍFICOS
39	E	3.0	CONHECIMENTOS ESPECÍFICOS
40	A	3.0	CONHECIMENTOS ESPECÍFICOS

**GABARITO PROVA OBJETIVA - PRELIMINAR**
PREFEITURA MUNICIPAL DE TELÊMACO BORBA
CONCURSO PÚBLICO - EDITAL Nº 001-2016
CARGO: TMNS I - GEOLOGIA
PROVA 2

QUESTÃO	RESPOSTA	VALOR DA QUESTÃO	ÁREA DE CONHECIMENTO
1	B	2.0	RACIOCÍNIO LÓGICO
2	E	2.0	RACIOCÍNIO LÓGICO
3	A	2.0	RACIOCÍNIO LÓGICO
4	D	2.0	RACIOCÍNIO LÓGICO
5	B	2.0	RACIOCÍNIO LÓGICO
6	C	2.0	INFORMÁTICA
7	D	2.0	INFORMÁTICA
8	B	2.0	INFORMÁTICA
9	E	2.0	INFORMÁTICA
10	D	2.0	INFORMÁTICA
11	E	2.0	CONHECIMENTOS GERAIS
12	C	2.0	CONHECIMENTOS GERAIS
13	A	2.0	CONHECIMENTOS GERAIS
14	C	2.0	CONHECIMENTOS GERAIS
15	E	2.0	CONHECIMENTOS GERAIS
16	D	3.0	CONHECIMENTOS ESPECÍFICOS
17	D	3.0	CONHECIMENTOS ESPECÍFICOS
18	B	3.0	CONHECIMENTOS ESPECÍFICOS
19	C	3.0	CONHECIMENTOS ESPECÍFICOS
20	A	3.0	CONHECIMENTOS ESPECÍFICOS
21	D	3.0	CONHECIMENTOS ESPECÍFICOS
22	E	3.0	CONHECIMENTOS ESPECÍFICOS
23	A	3.0	CONHECIMENTOS ESPECÍFICOS
24	A	3.0	CONHECIMENTOS ESPECÍFICOS
25	B	3.0	CONHECIMENTOS ESPECÍFICOS
26	D	3.0	CONHECIMENTOS ESPECÍFICOS
27	E	3.0	CONHECIMENTOS ESPECÍFICOS
28	C	3.0	CONHECIMENTOS ESPECÍFICOS
29	E	3.0	CONHECIMENTOS ESPECÍFICOS
30	A	3.0	CONHECIMENTOS ESPECÍFICOS
31	B	3.0	CONHECIMENTOS ESPECÍFICOS
32	D	3.0	CONHECIMENTOS ESPECÍFICOS
33	C	3.0	CONHECIMENTOS ESPECÍFICOS
34	E	3.0	CONHECIMENTOS ESPECÍFICOS
35	A	3.0	CONHECIMENTOS ESPECÍFICOS
36	E	2.0	LÍNGUA PORTUGUESA
37	C	2.0	LÍNGUA PORTUGUESA
38	E	2.0	LÍNGUA PORTUGUESA
39	D	2.0	LÍNGUA PORTUGUESA
40	A	2.0	LÍNGUA PORTUGUESA



GABARITO PROVA OBJETIVA - PRELIMINAR
PREFEITURA MUNICIPAL DE TELÊMACO BORBA
CONCURSO PÚBLICO - EDITAL Nº 001-2016
CARGO: TMNS I - GEOLOGIA
PROVA 3

QUESTÃO	RESPOSTA	VALOR DA QUESTÃO	ÁREA DE CONHECIMENTO
1	D	3.0	CONHECIMENTOS ESPECÍFICOS
2	D	3.0	CONHECIMENTOS ESPECÍFICOS
3	B	3.0	CONHECIMENTOS ESPECÍFICOS
4	C	3.0	CONHECIMENTOS ESPECÍFICOS
5	A	3.0	CONHECIMENTOS ESPECÍFICOS
6	D	3.0	CONHECIMENTOS ESPECÍFICOS
7	E	3.0	CONHECIMENTOS ESPECÍFICOS
8	A	3.0	CONHECIMENTOS ESPECÍFICOS
9	A	3.0	CONHECIMENTOS ESPECÍFICOS
10	B	3.0	CONHECIMENTOS ESPECÍFICOS
11	D	3.0	CONHECIMENTOS ESPECÍFICOS
12	E	3.0	CONHECIMENTOS ESPECÍFICOS
13	C	3.0	CONHECIMENTOS ESPECÍFICOS
14	E	3.0	CONHECIMENTOS ESPECÍFICOS
15	A	3.0	CONHECIMENTOS ESPECÍFICOS
16	B	3.0	CONHECIMENTOS ESPECÍFICOS
17	D	3.0	CONHECIMENTOS ESPECÍFICOS
18	C	3.0	CONHECIMENTOS ESPECÍFICOS
19	E	3.0	CONHECIMENTOS ESPECÍFICOS
20	A	3.0	CONHECIMENTOS ESPECÍFICOS
21	E	2.0	LÍNGUA PORTUGUESA
22	C	2.0	LÍNGUA PORTUGUESA
23	E	2.0	LÍNGUA PORTUGUESA
24	D	2.0	LÍNGUA PORTUGUESA
25	A	2.0	LÍNGUA PORTUGUESA
26	B	2.0	RACIOCÍNIO LÓGICO
27	E	2.0	RACIOCÍNIO LÓGICO
28	A	2.0	RACIOCÍNIO LÓGICO
29	D	2.0	RACIOCÍNIO LÓGICO
30	B	2.0	RACIOCÍNIO LÓGICO
31	C	2.0	INFORMÁTICA
32	D	2.0	INFORMÁTICA
33	B	2.0	INFORMÁTICA
34	E	2.0	INFORMÁTICA
35	D	2.0	INFORMÁTICA
36	E	2.0	CONHECIMENTOS GERAIS
37	C	2.0	CONHECIMENTOS GERAIS
38	A	2.0	CONHECIMENTOS GERAIS
39	C	2.0	CONHECIMENTOS GERAIS
40	E	2.0	CONHECIMENTOS GERAIS

**GABARITO PROVA OBJETIVA - PRELIMINAR**
PREFEITURA MUNICIPAL DE TELÊMACO BORBA
CONCURSO PÚBLICO - EDITAL Nº 001-2016
CARGO: TMNS I - JORNALISMO
PROVA 1

QUESTÃO	RESPOSTA	VALOR DA QUESTÃO	ÁREA DE CONHECIMENTO
1	E	2.0	LÍNGUA PORTUGUESA
2	C	2.0	LÍNGUA PORTUGUESA
3	E	2.0	LÍNGUA PORTUGUESA
4	D	2.0	LÍNGUA PORTUGUESA
5	A	2.0	LÍNGUA PORTUGUESA
6	B	2.0	RACIOCÍNIO LÓGICO
7	E	2.0	RACIOCÍNIO LÓGICO
8	A	2.0	RACIOCÍNIO LÓGICO
9	D	2.0	RACIOCÍNIO LÓGICO
10	B	2.0	RACIOCÍNIO LÓGICO
11	C	2.0	INFORMÁTICA
12	D	2.0	INFORMÁTICA
13	B	2.0	INFORMÁTICA
14	E	2.0	INFORMÁTICA
15	D	2.0	INFORMÁTICA
16	E	2.0	CONHECIMENTOS GERAIS
17	C	2.0	CONHECIMENTOS GERAIS
18	A	2.0	CONHECIMENTOS GERAIS
19	C	2.0	CONHECIMENTOS GERAIS
20	E	2.0	CONHECIMENTOS GERAIS
21	E	3.0	CONHECIMENTOS ESPECÍFICOS
22	B	3.0	CONHECIMENTOS ESPECÍFICOS
23	A	3.0	CONHECIMENTOS ESPECÍFICOS
24	D	3.0	CONHECIMENTOS ESPECÍFICOS
25	C	3.0	CONHECIMENTOS ESPECÍFICOS
26	E	3.0	CONHECIMENTOS ESPECÍFICOS
27	B	3.0	CONHECIMENTOS ESPECÍFICOS
28	D	3.0	CONHECIMENTOS ESPECÍFICOS
29	A	3.0	CONHECIMENTOS ESPECÍFICOS
30	C	3.0	CONHECIMENTOS ESPECÍFICOS
31	E	3.0	CONHECIMENTOS ESPECÍFICOS
32	B	3.0	CONHECIMENTOS ESPECÍFICOS
33	D	3.0	CONHECIMENTOS ESPECÍFICOS
34	A	3.0	CONHECIMENTOS ESPECÍFICOS
35	C	3.0	CONHECIMENTOS ESPECÍFICOS
36	A	3.0	CONHECIMENTOS ESPECÍFICOS
37	E	3.0	CONHECIMENTOS ESPECÍFICOS
38	B	3.0	CONHECIMENTOS ESPECÍFICOS
39	D	3.0	CONHECIMENTOS ESPECÍFICOS
40	C	3.0	CONHECIMENTOS ESPECÍFICOS



GABARITO PROVA OBJETIVA - PRELIMINAR
PREFEITURA MUNICIPAL DE TELÊMACO BORBA
CONCURSO PÚBLICO - EDITAL Nº 001-2016
CARGO: TMNS I - JORNALISMO
PROVA 2

QUESTÃO	RESPOSTA	VALOR DA QUESTÃO	ÁREA DE CONHECIMENTO
1	B	2.0	RACIOCÍNIO LÓGICO
2	E	2.0	RACIOCÍNIO LÓGICO
3	A	2.0	RACIOCÍNIO LÓGICO
4	D	2.0	RACIOCÍNIO LÓGICO
5	B	2.0	RACIOCÍNIO LÓGICO
6	C	2.0	INFORMÁTICA
7	D	2.0	INFORMÁTICA
8	B	2.0	INFORMÁTICA
9	E	2.0	INFORMÁTICA
10	D	2.0	INFORMÁTICA
11	E	2.0	CONHECIMENTOS GERAIS
12	C	2.0	CONHECIMENTOS GERAIS
13	A	2.0	CONHECIMENTOS GERAIS
14	C	2.0	CONHECIMENTOS GERAIS
15	E	2.0	CONHECIMENTOS GERAIS
16	E	3.0	CONHECIMENTOS ESPECÍFICOS
17	B	3.0	CONHECIMENTOS ESPECÍFICOS
18	A	3.0	CONHECIMENTOS ESPECÍFICOS
19	D	3.0	CONHECIMENTOS ESPECÍFICOS
20	C	3.0	CONHECIMENTOS ESPECÍFICOS
21	E	3.0	CONHECIMENTOS ESPECÍFICOS
22	B	3.0	CONHECIMENTOS ESPECÍFICOS
23	D	3.0	CONHECIMENTOS ESPECÍFICOS
24	A	3.0	CONHECIMENTOS ESPECÍFICOS
25	C	3.0	CONHECIMENTOS ESPECÍFICOS
26	E	3.0	CONHECIMENTOS ESPECÍFICOS
27	B	3.0	CONHECIMENTOS ESPECÍFICOS
28	D	3.0	CONHECIMENTOS ESPECÍFICOS
29	A	3.0	CONHECIMENTOS ESPECÍFICOS
30	C	3.0	CONHECIMENTOS ESPECÍFICOS
31	A	3.0	CONHECIMENTOS ESPECÍFICOS
32	E	3.0	CONHECIMENTOS ESPECÍFICOS
33	B	3.0	CONHECIMENTOS ESPECÍFICOS
34	D	3.0	CONHECIMENTOS ESPECÍFICOS
35	C	3.0	CONHECIMENTOS ESPECÍFICOS
36	E	2.0	LÍNGUA PORTUGUESA
37	C	2.0	LÍNGUA PORTUGUESA
38	E	2.0	LÍNGUA PORTUGUESA
39	D	2.0	LÍNGUA PORTUGUESA
40	A	2.0	LÍNGUA PORTUGUESA



GABARITO PROVA OBJETIVA - PRELIMINAR
PREFEITURA MUNICIPAL DE TELÊMACO BORBA
CONCURSO PÚBLICO - EDITAL Nº 001-2016
CARGO: TMNS I - JORNALISMO
PROVA 3

QUESTÃO	RESPOSTA	VALOR DA QUESTÃO	ÁREA DE CONHECIMENTO
1	E	3.0	CONHECIMENTOS ESPECÍFICOS
2	B	3.0	CONHECIMENTOS ESPECÍFICOS
3	A	3.0	CONHECIMENTOS ESPECÍFICOS
4	D	3.0	CONHECIMENTOS ESPECÍFICOS
5	C	3.0	CONHECIMENTOS ESPECÍFICOS
6	E	3.0	CONHECIMENTOS ESPECÍFICOS
7	B	3.0	CONHECIMENTOS ESPECÍFICOS
8	D	3.0	CONHECIMENTOS ESPECÍFICOS
9	A	3.0	CONHECIMENTOS ESPECÍFICOS
10	C	3.0	CONHECIMENTOS ESPECÍFICOS
11	E	3.0	CONHECIMENTOS ESPECÍFICOS
12	B	3.0	CONHECIMENTOS ESPECÍFICOS
13	D	3.0	CONHECIMENTOS ESPECÍFICOS
14	A	3.0	CONHECIMENTOS ESPECÍFICOS
15	C	3.0	CONHECIMENTOS ESPECÍFICOS
16	A	3.0	CONHECIMENTOS ESPECÍFICOS
17	E	3.0	CONHECIMENTOS ESPECÍFICOS
18	B	3.0	CONHECIMENTOS ESPECÍFICOS
19	D	3.0	CONHECIMENTOS ESPECÍFICOS
20	C	3.0	CONHECIMENTOS ESPECÍFICOS
21	E	2.0	LÍNGUA PORTUGUESA
22	C	2.0	LÍNGUA PORTUGUESA
23	E	2.0	LÍNGUA PORTUGUESA
24	D	2.0	LÍNGUA PORTUGUESA
25	A	2.0	LÍNGUA PORTUGUESA
26	B	2.0	RACIOCÍNIO LÓGICO
27	E	2.0	RACIOCÍNIO LÓGICO
28	A	2.0	RACIOCÍNIO LÓGICO
29	D	2.0	RACIOCÍNIO LÓGICO
30	B	2.0	RACIOCÍNIO LÓGICO
31	C	2.0	INFORMÁTICA
32	D	2.0	INFORMÁTICA
33	B	2.0	INFORMÁTICA
34	E	2.0	INFORMÁTICA
35	D	2.0	INFORMÁTICA
36	E	2.0	CONHECIMENTOS GERAIS
37	C	2.0	CONHECIMENTOS GERAIS
38	A	2.0	CONHECIMENTOS GERAIS
39	C	2.0	CONHECIMENTOS GERAIS
40	E	2.0	CONHECIMENTOS GERAIS



GABARITO PROVA OBJETIVA - PRELIMINAR
PREFEITURA MUNICIPAL DE TELÊMACO BORBA
CONCURSO PÚBLICO - EDITAL Nº 001-2016
CARGO: TMNS I - NUTRIÇÃO
PROVA 1

QUESTÃO	RESPOSTA	VALOR DA QUESTÃO	ÁREA DE CONHECIMENTO
1	E	2.0	LÍNGUA PORTUGUESA
2	C	2.0	LÍNGUA PORTUGUESA
3	E	2.0	LÍNGUA PORTUGUESA
4	D	2.0	LÍNGUA PORTUGUESA
5	A	2.0	LÍNGUA PORTUGUESA
6	B	2.0	RACIOCÍNIO LÓGICO
7	E	2.0	RACIOCÍNIO LÓGICO
8	A	2.0	RACIOCÍNIO LÓGICO
9	D	2.0	RACIOCÍNIO LÓGICO
10	B	2.0	RACIOCÍNIO LÓGICO
11	C	2.0	INFORMÁTICA
12	D	2.0	INFORMÁTICA
13	B	2.0	INFORMÁTICA
14	E	2.0	INFORMÁTICA
15	D	2.0	INFORMÁTICA
16	E	2.0	CONHECIMENTOS GERAIS
17	C	2.0	CONHECIMENTOS GERAIS
18	A	2.0	CONHECIMENTOS GERAIS
19	C	2.0	CONHECIMENTOS GERAIS
20	E	2.0	CONHECIMENTOS GERAIS
21	A	3.0	CONHECIMENTOS ESPECÍFICOS
22	E	3.0	CONHECIMENTOS ESPECÍFICOS
23	B	3.0	CONHECIMENTOS ESPECÍFICOS
24	D	3.0	CONHECIMENTOS ESPECÍFICOS
25	E	3.0	CONHECIMENTOS ESPECÍFICOS
26	D	3.0	CONHECIMENTOS ESPECÍFICOS
27	B	3.0	CONHECIMENTOS ESPECÍFICOS
28	A	3.0	CONHECIMENTOS ESPECÍFICOS
29	E	3.0	CONHECIMENTOS ESPECÍFICOS
30	B	3.0	CONHECIMENTOS ESPECÍFICOS
31	C	3.0	CONHECIMENTOS ESPECÍFICOS
32	E	3.0	CONHECIMENTOS ESPECÍFICOS
33	A	3.0	CONHECIMENTOS ESPECÍFICOS
34	A	3.0	CONHECIMENTOS ESPECÍFICOS
35	E	3.0	CONHECIMENTOS ESPECÍFICOS
36	D	3.0	CONHECIMENTOS ESPECÍFICOS
37	B	3.0	CONHECIMENTOS ESPECÍFICOS
38	E	3.0	CONHECIMENTOS ESPECÍFICOS
39	E	3.0	CONHECIMENTOS ESPECÍFICOS
40	B	3.0	CONHECIMENTOS ESPECÍFICOS

**GABARITO PROVA OBJETIVA - PRELIMINAR**
PREFEITURA MUNICIPAL DE TELÊMACO BORBA
CONCURSO PÚBLICO - EDITAL Nº 001-2016
CARGO: TMNS I - NUTRIÇÃO
PROVA 2

QUESTÃO	RESPOSTA	VALOR DA QUESTÃO	ÁREA DE CONHECIMENTO
1	B	2.0	RACIOCÍNIO LÓGICO
2	E	2.0	RACIOCÍNIO LÓGICO
3	A	2.0	RACIOCÍNIO LÓGICO
4	D	2.0	RACIOCÍNIO LÓGICO
5	B	2.0	RACIOCÍNIO LÓGICO
6	C	2.0	INFORMÁTICA
7	D	2.0	INFORMÁTICA
8	B	2.0	INFORMÁTICA
9	E	2.0	INFORMÁTICA
10	D	2.0	INFORMÁTICA
11	E	2.0	CONHECIMENTOS GERAIS
12	C	2.0	CONHECIMENTOS GERAIS
13	A	2.0	CONHECIMENTOS GERAIS
14	C	2.0	CONHECIMENTOS GERAIS
15	E	2.0	CONHECIMENTOS GERAIS
16	A	3.0	CONHECIMENTOS ESPECÍFICOS
17	E	3.0	CONHECIMENTOS ESPECÍFICOS
18	B	3.0	CONHECIMENTOS ESPECÍFICOS
19	D	3.0	CONHECIMENTOS ESPECÍFICOS
20	E	3.0	CONHECIMENTOS ESPECÍFICOS
21	D	3.0	CONHECIMENTOS ESPECÍFICOS
22	B	3.0	CONHECIMENTOS ESPECÍFICOS
23	A	3.0	CONHECIMENTOS ESPECÍFICOS
24	E	3.0	CONHECIMENTOS ESPECÍFICOS
25	B	3.0	CONHECIMENTOS ESPECÍFICOS
26	C	3.0	CONHECIMENTOS ESPECÍFICOS
27	E	3.0	CONHECIMENTOS ESPECÍFICOS
28	A	3.0	CONHECIMENTOS ESPECÍFICOS
29	A	3.0	CONHECIMENTOS ESPECÍFICOS
30	E	3.0	CONHECIMENTOS ESPECÍFICOS
31	D	3.0	CONHECIMENTOS ESPECÍFICOS
32	B	3.0	CONHECIMENTOS ESPECÍFICOS
33	E	3.0	CONHECIMENTOS ESPECÍFICOS
34	E	3.0	CONHECIMENTOS ESPECÍFICOS
35	B	3.0	CONHECIMENTOS ESPECÍFICOS
36	E	2.0	LÍNGUA PORTUGUESA
37	C	2.0	LÍNGUA PORTUGUESA
38	E	2.0	LÍNGUA PORTUGUESA
39	D	2.0	LÍNGUA PORTUGUESA
40	A	2.0	LÍNGUA PORTUGUESA



GABARITO PROVA OBJETIVA - PRELIMINAR
PREFEITURA MUNICIPAL DE TELÊMACO BORBA
CONCURSO PÚBLICO - EDITAL Nº 001-2016
CARGO: TMNS I - NUTRIÇÃO
PROVA 3

QUESTÃO	RESPOSTA	VALOR DA QUESTÃO	ÁREA DE CONHECIMENTO
1	A	3.0	CONHECIMENTOS ESPECÍFICOS
2	E	3.0	CONHECIMENTOS ESPECÍFICOS
3	B	3.0	CONHECIMENTOS ESPECÍFICOS
4	D	3.0	CONHECIMENTOS ESPECÍFICOS
5	E	3.0	CONHECIMENTOS ESPECÍFICOS
6	D	3.0	CONHECIMENTOS ESPECÍFICOS
7	B	3.0	CONHECIMENTOS ESPECÍFICOS
8	A	3.0	CONHECIMENTOS ESPECÍFICOS
9	E	3.0	CONHECIMENTOS ESPECÍFICOS
10	B	3.0	CONHECIMENTOS ESPECÍFICOS
11	C	3.0	CONHECIMENTOS ESPECÍFICOS
12	E	3.0	CONHECIMENTOS ESPECÍFICOS
13	A	3.0	CONHECIMENTOS ESPECÍFICOS
14	A	3.0	CONHECIMENTOS ESPECÍFICOS
15	E	3.0	CONHECIMENTOS ESPECÍFICOS
16	D	3.0	CONHECIMENTOS ESPECÍFICOS
17	B	3.0	CONHECIMENTOS ESPECÍFICOS
18	E	3.0	CONHECIMENTOS ESPECÍFICOS
19	E	3.0	CONHECIMENTOS ESPECÍFICOS
20	B	3.0	CONHECIMENTOS ESPECÍFICOS
21	E	2.0	LÍNGUA PORTUGUESA
22	C	2.0	LÍNGUA PORTUGUESA
23	E	2.0	LÍNGUA PORTUGUESA
24	D	2.0	LÍNGUA PORTUGUESA
25	A	2.0	LÍNGUA PORTUGUESA
26	B	2.0	RACIOCÍNIO LÓGICO
27	E	2.0	RACIOCÍNIO LÓGICO
28	A	2.0	RACIOCÍNIO LÓGICO
29	D	2.0	RACIOCÍNIO LÓGICO
30	B	2.0	RACIOCÍNIO LÓGICO
31	C	2.0	INFORMÁTICA
32	D	2.0	INFORMÁTICA
33	B	2.0	INFORMÁTICA
34	E	2.0	INFORMÁTICA
35	D	2.0	INFORMÁTICA
36	E	2.0	CONHECIMENTOS GERAIS
37	C	2.0	CONHECIMENTOS GERAIS
38	A	2.0	CONHECIMENTOS GERAIS
39	C	2.0	CONHECIMENTOS GERAIS
40	E	2.0	CONHECIMENTOS GERAIS

**GABARITO PROVA OBJETIVA - PRELIMINAR**
PREFEITURA MUNICIPAL DE TELÊMACO BORBA
CONCURSO PÚBLICO - EDITAL Nº 001-2016
CARGO: TMNS I - ODONTOLOGIA
PROVA 1

QUESTÃO	RESPOSTA	VALOR DA QUESTÃO	ÁREA DE CONHECIMENTO
1	E	2.0	LÍNGUA PORTUGUESA
2	C	2.0	LÍNGUA PORTUGUESA
3	E	2.0	LÍNGUA PORTUGUESA
4	D	2.0	LÍNGUA PORTUGUESA
5	A	2.0	LÍNGUA PORTUGUESA
6	B	2.0	RACIOCÍNIO LÓGICO
7	E	2.0	RACIOCÍNIO LÓGICO
8	A	2.0	RACIOCÍNIO LÓGICO
9	D	2.0	RACIOCÍNIO LÓGICO
10	B	2.0	RACIOCÍNIO LÓGICO
11	C	2.0	INFORMÁTICA
12	D	2.0	INFORMÁTICA
13	B	2.0	INFORMÁTICA
14	E	2.0	INFORMÁTICA
15	D	2.0	INFORMÁTICA
16	E	2.0	CONHECIMENTOS GERAIS
17	C	2.0	CONHECIMENTOS GERAIS
18	A	2.0	CONHECIMENTOS GERAIS
19	C	2.0	CONHECIMENTOS GERAIS
20	E	2.0	CONHECIMENTOS GERAIS
21	C	3.0	CONHECIMENTOS ESPECÍFICOS
22	D	3.0	CONHECIMENTOS ESPECÍFICOS
23	E	3.0	CONHECIMENTOS ESPECÍFICOS
24	B	3.0	CONHECIMENTOS ESPECÍFICOS
25	C	3.0	CONHECIMENTOS ESPECÍFICOS
26	E	3.0	CONHECIMENTOS ESPECÍFICOS
27	D	3.0	CONHECIMENTOS ESPECÍFICOS
28	C	3.0	CONHECIMENTOS ESPECÍFICOS
29	B	3.0	CONHECIMENTOS ESPECÍFICOS
30	E	3.0	CONHECIMENTOS ESPECÍFICOS
31	E	3.0	CONHECIMENTOS ESPECÍFICOS
32	A	3.0	CONHECIMENTOS ESPECÍFICOS
33	C	3.0	CONHECIMENTOS ESPECÍFICOS
34	A	3.0	CONHECIMENTOS ESPECÍFICOS
35	B	3.0	CONHECIMENTOS ESPECÍFICOS
36	D	3.0	CONHECIMENTOS ESPECÍFICOS
37	C	3.0	CONHECIMENTOS ESPECÍFICOS
38	E	3.0	CONHECIMENTOS ESPECÍFICOS
39	D	3.0	CONHECIMENTOS ESPECÍFICOS
40	E	3.0	CONHECIMENTOS ESPECÍFICOS



GABARITO PROVA OBJETIVA - PRELIMINAR
PREFEITURA MUNICIPAL DE TELÊMACO BORBA
CONCURSO PÚBLICO - EDITAL Nº 001-2016
CARGO: TMNS I - ODONTOLOGIA
PROVA 2

QUESTÃO	RESPOSTA	VALOR DA QUESTÃO	ÁREA DE CONHECIMENTO
1	B	2.0	RACIOCÍNIO LÓGICO
2	E	2.0	RACIOCÍNIO LÓGICO
3	A	2.0	RACIOCÍNIO LÓGICO
4	D	2.0	RACIOCÍNIO LÓGICO
5	B	2.0	RACIOCÍNIO LÓGICO
6	C	2.0	INFORMÁTICA
7	D	2.0	INFORMÁTICA
8	B	2.0	INFORMÁTICA
9	E	2.0	INFORMÁTICA
10	D	2.0	INFORMÁTICA
11	E	2.0	CONHECIMENTOS GERAIS
12	C	2.0	CONHECIMENTOS GERAIS
13	A	2.0	CONHECIMENTOS GERAIS
14	C	2.0	CONHECIMENTOS GERAIS
15	E	2.0	CONHECIMENTOS GERAIS
16	C	3.0	CONHECIMENTOS ESPECÍFICOS
17	D	3.0	CONHECIMENTOS ESPECÍFICOS
18	E	3.0	CONHECIMENTOS ESPECÍFICOS
19	B	3.0	CONHECIMENTOS ESPECÍFICOS
20	C	3.0	CONHECIMENTOS ESPECÍFICOS
21	E	3.0	CONHECIMENTOS ESPECÍFICOS
22	D	3.0	CONHECIMENTOS ESPECÍFICOS
23	C	3.0	CONHECIMENTOS ESPECÍFICOS
24	B	3.0	CONHECIMENTOS ESPECÍFICOS
25	E	3.0	CONHECIMENTOS ESPECÍFICOS
26	E	3.0	CONHECIMENTOS ESPECÍFICOS
27	A	3.0	CONHECIMENTOS ESPECÍFICOS
28	C	3.0	CONHECIMENTOS ESPECÍFICOS
29	A	3.0	CONHECIMENTOS ESPECÍFICOS
30	B	3.0	CONHECIMENTOS ESPECÍFICOS
31	D	3.0	CONHECIMENTOS ESPECÍFICOS
32	C	3.0	CONHECIMENTOS ESPECÍFICOS
33	E	3.0	CONHECIMENTOS ESPECÍFICOS
34	D	3.0	CONHECIMENTOS ESPECÍFICOS
35	E	3.0	CONHECIMENTOS ESPECÍFICOS
36	E	2.0	LÍNGUA PORTUGUESA
37	C	2.0	LÍNGUA PORTUGUESA
38	E	2.0	LÍNGUA PORTUGUESA
39	D	2.0	LÍNGUA PORTUGUESA
40	A	2.0	LÍNGUA PORTUGUESA

**GABARITO PROVA OBJETIVA - PRELIMINAR**
PREFEITURA MUNICIPAL DE TELÊMACO BORBA
CONCURSO PÚBLICO - EDITAL Nº 001-2016
CARGO: TMNS I - ODONTOLOGIA
PROVA 3

QUESTÃO	RESPOSTA	VALOR DA QUESTÃO	ÁREA DE CONHECIMENTO
1	C	3.0	CONHECIMENTOS ESPECÍFICOS
2	D	3.0	CONHECIMENTOS ESPECÍFICOS
3	E	3.0	CONHECIMENTOS ESPECÍFICOS
4	B	3.0	CONHECIMENTOS ESPECÍFICOS
5	C	3.0	CONHECIMENTOS ESPECÍFICOS
6	E	3.0	CONHECIMENTOS ESPECÍFICOS
7	D	3.0	CONHECIMENTOS ESPECÍFICOS
8	C	3.0	CONHECIMENTOS ESPECÍFICOS
9	B	3.0	CONHECIMENTOS ESPECÍFICOS
10	E	3.0	CONHECIMENTOS ESPECÍFICOS
11	E	3.0	CONHECIMENTOS ESPECÍFICOS
12	A	3.0	CONHECIMENTOS ESPECÍFICOS
13	C	3.0	CONHECIMENTOS ESPECÍFICOS
14	A	3.0	CONHECIMENTOS ESPECÍFICOS
15	B	3.0	CONHECIMENTOS ESPECÍFICOS
16	D	3.0	CONHECIMENTOS ESPECÍFICOS
17	C	3.0	CONHECIMENTOS ESPECÍFICOS
18	E	3.0	CONHECIMENTOS ESPECÍFICOS
19	D	3.0	CONHECIMENTOS ESPECÍFICOS
20	E	3.0	CONHECIMENTOS ESPECÍFICOS
21	E	2.0	LÍNGUA PORTUGUESA
22	C	2.0	LÍNGUA PORTUGUESA
23	E	2.0	LÍNGUA PORTUGUESA
24	D	2.0	LÍNGUA PORTUGUESA
25	A	2.0	LÍNGUA PORTUGUESA
26	B	2.0	RACIOCÍNIO LÓGICO
27	E	2.0	RACIOCÍNIO LÓGICO
28	A	2.0	RACIOCÍNIO LÓGICO
29	D	2.0	RACIOCÍNIO LÓGICO
30	B	2.0	RACIOCÍNIO LÓGICO
31	C	2.0	INFORMÁTICA
32	D	2.0	INFORMÁTICA
33	B	2.0	INFORMÁTICA
34	E	2.0	INFORMÁTICA
35	D	2.0	INFORMÁTICA
36	E	2.0	CONHECIMENTOS GERAIS
37	C	2.0	CONHECIMENTOS GERAIS
38	A	2.0	CONHECIMENTOS GERAIS
39	C	2.0	CONHECIMENTOS GERAIS
40	E	2.0	CONHECIMENTOS GERAIS



**GABARITO PROVA OBJETIVA - PRELIMINAR
PREFEITURA MUNICIPAL DE TELÊMACO BORBA
CONCURSO PÚBLICO - EDITAL Nº 001-2016
CARGO: TMNS I - PEDAGOGIA
PROVA 1**

QUESTÃO	RESPOSTA	VALOR DA QUESTÃO	ÁREA DE CONHECIMENTO
1	E	2.0	LÍNGUA PORTUGUESA
2	C	2.0	LÍNGUA PORTUGUESA
3	E	2.0	LÍNGUA PORTUGUESA
4	D	2.0	LÍNGUA PORTUGUESA
5	A	2.0	LÍNGUA PORTUGUESA
6	B	2.0	RACIOCÍNIO LÓGICO
7	E	2.0	RACIOCÍNIO LÓGICO
8	A	2.0	RACIOCÍNIO LÓGICO
9	D	2.0	RACIOCÍNIO LÓGICO
10	B	2.0	RACIOCÍNIO LÓGICO
11	C	2.0	INFORMÁTICA
12	D	2.0	INFORMÁTICA
13	B	2.0	INFORMÁTICA
14	E	2.0	INFORMÁTICA
15	D	2.0	INFORMÁTICA
16	E	2.0	CONHECIMENTOS GERAIS
17	C	2.0	CONHECIMENTOS GERAIS
18	A	2.0	CONHECIMENTOS GERAIS
19	C	2.0	CONHECIMENTOS GERAIS
20	E	2.0	CONHECIMENTOS GERAIS
21	D	3.0	CONHECIMENTOS ESPECÍFICOS
22	C	3.0	CONHECIMENTOS ESPECÍFICOS
23	E	3.0	CONHECIMENTOS ESPECÍFICOS
24	A	3.0	CONHECIMENTOS ESPECÍFICOS
25	E	3.0	CONHECIMENTOS ESPECÍFICOS
26	D	3.0	CONHECIMENTOS ESPECÍFICOS
27	A	3.0	CONHECIMENTOS ESPECÍFICOS
28	B	3.0	CONHECIMENTOS ESPECÍFICOS
29	A	3.0	CONHECIMENTOS ESPECÍFICOS
30	C	3.0	CONHECIMENTOS ESPECÍFICOS
31	A	3.0	CONHECIMENTOS ESPECÍFICOS
32	C	3.0	CONHECIMENTOS ESPECÍFICOS
33	D	3.0	CONHECIMENTOS ESPECÍFICOS
34	E	3.0	CONHECIMENTOS ESPECÍFICOS
35	B	3.0	CONHECIMENTOS ESPECÍFICOS
36	A	3.0	CONHECIMENTOS ESPECÍFICOS
37	E	3.0	CONHECIMENTOS ESPECÍFICOS
38	B	3.0	CONHECIMENTOS ESPECÍFICOS
39	E	3.0	CONHECIMENTOS ESPECÍFICOS
40	C	3.0	CONHECIMENTOS ESPECÍFICOS

**GABARITO PROVA OBJETIVA - PRELIMINAR**
PREFEITURA MUNICIPAL DE TELÊMACO BORBA
CONCURSO PÚBLICO - EDITAL Nº 001-2016
CARGO: TMNS I - PEDAGOGIA
PROVA 2

QUESTÃO	RESPOSTA	VALOR DA QUESTÃO	ÁREA DE CONHECIMENTO
1	B	2.0	RACIOCÍNIO LÓGICO
2	E	2.0	RACIOCÍNIO LÓGICO
3	A	2.0	RACIOCÍNIO LÓGICO
4	D	2.0	RACIOCÍNIO LÓGICO
5	B	2.0	RACIOCÍNIO LÓGICO
6	C	2.0	INFORMÁTICA
7	D	2.0	INFORMÁTICA
8	B	2.0	INFORMÁTICA
9	E	2.0	INFORMÁTICA
10	D	2.0	INFORMÁTICA
11	E	2.0	CONHECIMENTOS GERAIS
12	C	2.0	CONHECIMENTOS GERAIS
13	A	2.0	CONHECIMENTOS GERAIS
14	C	2.0	CONHECIMENTOS GERAIS
15	E	2.0	CONHECIMENTOS GERAIS
16	D	3.0	CONHECIMENTOS ESPECÍFICOS
17	C	3.0	CONHECIMENTOS ESPECÍFICOS
18	E	3.0	CONHECIMENTOS ESPECÍFICOS
19	A	3.0	CONHECIMENTOS ESPECÍFICOS
20	E	3.0	CONHECIMENTOS ESPECÍFICOS
21	D	3.0	CONHECIMENTOS ESPECÍFICOS
22	A	3.0	CONHECIMENTOS ESPECÍFICOS
23	B	3.0	CONHECIMENTOS ESPECÍFICOS
24	A	3.0	CONHECIMENTOS ESPECÍFICOS
25	C	3.0	CONHECIMENTOS ESPECÍFICOS
26	A	3.0	CONHECIMENTOS ESPECÍFICOS
27	C	3.0	CONHECIMENTOS ESPECÍFICOS
28	D	3.0	CONHECIMENTOS ESPECÍFICOS
29	E	3.0	CONHECIMENTOS ESPECÍFICOS
30	B	3.0	CONHECIMENTOS ESPECÍFICOS
31	A	3.0	CONHECIMENTOS ESPECÍFICOS
32	E	3.0	CONHECIMENTOS ESPECÍFICOS
33	B	3.0	CONHECIMENTOS ESPECÍFICOS
34	E	3.0	CONHECIMENTOS ESPECÍFICOS
35	C	3.0	CONHECIMENTOS ESPECÍFICOS
36	E	2.0	LÍNGUA PORTUGUESA
37	C	2.0	LÍNGUA PORTUGUESA
38	E	2.0	LÍNGUA PORTUGUESA
39	D	2.0	LÍNGUA PORTUGUESA
40	A	2.0	LÍNGUA PORTUGUESA



GABARITO PROVA OBJETIVA - PRELIMINAR
PREFEITURA MUNICIPAL DE TELÊMACO BORBA
CONCURSO PÚBLICO - EDITAL Nº 001-2016
CARGO: TMNS I - PEDAGOGIA
PROVA 3

QUESTÃO	RESPOSTA	VALOR DA QUESTÃO	ÁREA DE CONHECIMENTO
1	D	3.0	CONHECIMENTOS ESPECÍFICOS
2	C	3.0	CONHECIMENTOS ESPECÍFICOS
3	E	3.0	CONHECIMENTOS ESPECÍFICOS
4	A	3.0	CONHECIMENTOS ESPECÍFICOS
5	E	3.0	CONHECIMENTOS ESPECÍFICOS
6	D	3.0	CONHECIMENTOS ESPECÍFICOS
7	A	3.0	CONHECIMENTOS ESPECÍFICOS
8	B	3.0	CONHECIMENTOS ESPECÍFICOS
9	A	3.0	CONHECIMENTOS ESPECÍFICOS
10	C	3.0	CONHECIMENTOS ESPECÍFICOS
11	A	3.0	CONHECIMENTOS ESPECÍFICOS
12	C	3.0	CONHECIMENTOS ESPECÍFICOS
13	D	3.0	CONHECIMENTOS ESPECÍFICOS
14	E	3.0	CONHECIMENTOS ESPECÍFICOS
15	B	3.0	CONHECIMENTOS ESPECÍFICOS
16	A	3.0	CONHECIMENTOS ESPECÍFICOS
17	E	3.0	CONHECIMENTOS ESPECÍFICOS
18	B	3.0	CONHECIMENTOS ESPECÍFICOS
19	E	3.0	CONHECIMENTOS ESPECÍFICOS
20	C	3.0	CONHECIMENTOS ESPECÍFICOS
21	E	2.0	LÍNGUA PORTUGUESA
22	C	2.0	LÍNGUA PORTUGUESA
23	E	2.0	LÍNGUA PORTUGUESA
24	D	2.0	LÍNGUA PORTUGUESA
25	A	2.0	LÍNGUA PORTUGUESA
26	B	2.0	RACIOCÍNIO LÓGICO
27	E	2.0	RACIOCÍNIO LÓGICO
28	A	2.0	RACIOCÍNIO LÓGICO
29	D	2.0	RACIOCÍNIO LÓGICO
30	B	2.0	RACIOCÍNIO LÓGICO
31	C	2.0	INFORMÁTICA
32	D	2.0	INFORMÁTICA
33	B	2.0	INFORMÁTICA
34	E	2.0	INFORMÁTICA
35	D	2.0	INFORMÁTICA
36	E	2.0	CONHECIMENTOS GERAIS
37	C	2.0	CONHECIMENTOS GERAIS
38	A	2.0	CONHECIMENTOS GERAIS
39	C	2.0	CONHECIMENTOS GERAIS
40	E	2.0	CONHECIMENTOS GERAIS



GABARITO PROVA OBJETIVA - PRELIMINAR
PREFEITURA MUNICIPAL DE TELÊMACO BORBA
CONCURSO PÚBLICO - EDITAL Nº 001-2016
CARGO: TMNS I - PSICOPEDAGOGIA
PROVA 1

QUESTÃO	RESPOSTA	VALOR DA QUESTÃO	ÁREA DE CONHECIMENTO
1	E	2.0	LÍNGUA PORTUGUESA
2	C	2.0	LÍNGUA PORTUGUESA
3	E	2.0	LÍNGUA PORTUGUESA
4	D	2.0	LÍNGUA PORTUGUESA
5	A	2.0	LÍNGUA PORTUGUESA
6	B	2.0	RACIOCÍNIO LÓGICO
7	E	2.0	RACIOCÍNIO LÓGICO
8	A	2.0	RACIOCÍNIO LÓGICO
9	D	2.0	RACIOCÍNIO LÓGICO
10	B	2.0	RACIOCÍNIO LÓGICO
11	C	2.0	INFORMÁTICA
12	D	2.0	INFORMÁTICA
13	B	2.0	INFORMÁTICA
14	E	2.0	INFORMÁTICA
15	D	2.0	INFORMÁTICA
16	E	2.0	CONHECIMENTOS GERAIS
17	C	2.0	CONHECIMENTOS GERAIS
18	A	2.0	CONHECIMENTOS GERAIS
19	C	2.0	CONHECIMENTOS GERAIS
20	E	2.0	CONHECIMENTOS GERAIS
21	E	3.0	CONHECIMENTOS ESPECÍFICOS
22	B	3.0	CONHECIMENTOS ESPECÍFICOS
23	B	3.0	CONHECIMENTOS ESPECÍFICOS
24	A	3.0	CONHECIMENTOS ESPECÍFICOS
25	A	3.0	CONHECIMENTOS ESPECÍFICOS
26	C	3.0	CONHECIMENTOS ESPECÍFICOS
27	C	3.0	CONHECIMENTOS ESPECÍFICOS
28	D	3.0	CONHECIMENTOS ESPECÍFICOS
29	A	3.0	CONHECIMENTOS ESPECÍFICOS
30	D	3.0	CONHECIMENTOS ESPECÍFICOS
31	A	3.0	CONHECIMENTOS ESPECÍFICOS
32	C	3.0	CONHECIMENTOS ESPECÍFICOS
33	D	3.0	CONHECIMENTOS ESPECÍFICOS
34	E	3.0	CONHECIMENTOS ESPECÍFICOS
35	B	3.0	CONHECIMENTOS ESPECÍFICOS
36	A	3.0	CONHECIMENTOS ESPECÍFICOS
37	E	3.0	CONHECIMENTOS ESPECÍFICOS
38	B	3.0	CONHECIMENTOS ESPECÍFICOS
39	E	3.0	CONHECIMENTOS ESPECÍFICOS
40	C	3.0	CONHECIMENTOS ESPECÍFICOS



GABARITO PROVA OBJETIVA - PRELIMINAR
PREFEITURA MUNICIPAL DE TELÊMACO BORBA
CONCURSO PÚBLICO - EDITAL Nº 001-2016
CARGO: TMNS I - PSICOPEDAGOGIA
PROVA 2

QUESTÃO	RESPOSTA	VALOR DA QUESTÃO	ÁREA DE CONHECIMENTO
1	B	2.0	RACIOCÍNIO LÓGICO
2	E	2.0	RACIOCÍNIO LÓGICO
3	A	2.0	RACIOCÍNIO LÓGICO
4	D	2.0	RACIOCÍNIO LÓGICO
5	B	2.0	RACIOCÍNIO LÓGICO
6	C	2.0	INFORMÁTICA
7	D	2.0	INFORMÁTICA
8	B	2.0	INFORMÁTICA
9	E	2.0	INFORMÁTICA
10	D	2.0	INFORMÁTICA
11	E	2.0	CONHECIMENTOS GERAIS
12	C	2.0	CONHECIMENTOS GERAIS
13	A	2.0	CONHECIMENTOS GERAIS
14	C	2.0	CONHECIMENTOS GERAIS
15	E	2.0	CONHECIMENTOS GERAIS
16	E	3.0	CONHECIMENTOS ESPECÍFICOS
17	B	3.0	CONHECIMENTOS ESPECÍFICOS
18	B	3.0	CONHECIMENTOS ESPECÍFICOS
19	A	3.0	CONHECIMENTOS ESPECÍFICOS
20	A	3.0	CONHECIMENTOS ESPECÍFICOS
21	C	3.0	CONHECIMENTOS ESPECÍFICOS
22	C	3.0	CONHECIMENTOS ESPECÍFICOS
23	D	3.0	CONHECIMENTOS ESPECÍFICOS
24	A	3.0	CONHECIMENTOS ESPECÍFICOS
25	D	3.0	CONHECIMENTOS ESPECÍFICOS
26	A	3.0	CONHECIMENTOS ESPECÍFICOS
27	C	3.0	CONHECIMENTOS ESPECÍFICOS
28	D	3.0	CONHECIMENTOS ESPECÍFICOS
29	E	3.0	CONHECIMENTOS ESPECÍFICOS
30	B	3.0	CONHECIMENTOS ESPECÍFICOS
31	A	3.0	CONHECIMENTOS ESPECÍFICOS
32	E	3.0	CONHECIMENTOS ESPECÍFICOS
33	B	3.0	CONHECIMENTOS ESPECÍFICOS
34	E	3.0	CONHECIMENTOS ESPECÍFICOS
35	C	3.0	CONHECIMENTOS ESPECÍFICOS
36	E	2.0	LÍNGUA PORTUGUESA
37	C	2.0	LÍNGUA PORTUGUESA
38	E	2.0	LÍNGUA PORTUGUESA
39	D	2.0	LÍNGUA PORTUGUESA
40	A	2.0	LÍNGUA PORTUGUESA

**GABARITO PROVA OBJETIVA - PRELIMINAR**
PREFEITURA MUNICIPAL DE TELÊMACO BORBA
CONCURSO PÚBLICO - EDITAL Nº 001-2016
CARGO: TMNS I - PSICOPEDAGOGIA
PROVA 3

QUESTÃO	RESPOSTA	VALOR DA QUESTÃO	ÁREA DE CONHECIMENTO
1	E	3.0	CONHECIMENTOS ESPECÍFICOS
2	B	3.0	CONHECIMENTOS ESPECÍFICOS
3	B	3.0	CONHECIMENTOS ESPECÍFICOS
4	A	3.0	CONHECIMENTOS ESPECÍFICOS
5	A	3.0	CONHECIMENTOS ESPECÍFICOS
6	C	3.0	CONHECIMENTOS ESPECÍFICOS
7	C	3.0	CONHECIMENTOS ESPECÍFICOS
8	D	3.0	CONHECIMENTOS ESPECÍFICOS
9	A	3.0	CONHECIMENTOS ESPECÍFICOS
10	D	3.0	CONHECIMENTOS ESPECÍFICOS
11	A	3.0	CONHECIMENTOS ESPECÍFICOS
12	C	3.0	CONHECIMENTOS ESPECÍFICOS
13	D	3.0	CONHECIMENTOS ESPECÍFICOS
14	E	3.0	CONHECIMENTOS ESPECÍFICOS
15	B	3.0	CONHECIMENTOS ESPECÍFICOS
16	A	3.0	CONHECIMENTOS ESPECÍFICOS
17	E	3.0	CONHECIMENTOS ESPECÍFICOS
18	B	3.0	CONHECIMENTOS ESPECÍFICOS
19	E	3.0	CONHECIMENTOS ESPECÍFICOS
20	C	3.0	CONHECIMENTOS ESPECÍFICOS
21	E	2.0	LÍNGUA PORTUGUESA
22	C	2.0	LÍNGUA PORTUGUESA
23	E	2.0	LÍNGUA PORTUGUESA
24	D	2.0	LÍNGUA PORTUGUESA
25	A	2.0	LÍNGUA PORTUGUESA
26	B	2.0	RACIOCÍNIO LÓGICO
27	E	2.0	RACIOCÍNIO LÓGICO
28	A	2.0	RACIOCÍNIO LÓGICO
29	D	2.0	RACIOCÍNIO LÓGICO
30	B	2.0	RACIOCÍNIO LÓGICO
31	C	2.0	INFORMÁTICA
32	D	2.0	INFORMÁTICA
33	B	2.0	INFORMÁTICA
34	E	2.0	INFORMÁTICA
35	D	2.0	INFORMÁTICA
36	E	2.0	CONHECIMENTOS GERAIS
37	C	2.0	CONHECIMENTOS GERAIS
38	A	2.0	CONHECIMENTOS GERAIS
39	C	2.0	CONHECIMENTOS GERAIS
40	E	2.0	CONHECIMENTOS GERAIS



GABARITO PROVA OBJETIVA - PRELIMINAR
PREFEITURA MUNICIPAL DE TELÊMACO BORBA
CONCURSO PÚBLICO - EDITAL Nº 001-2016
CARGO: TMNS I - TERAPIA OCUPACIONAL
PROVA 1

QUESTÃO	RESPOSTA	VALOR DA QUESTÃO	ÁREA DE CONHECIMENTO
1	E	2.0	LÍNGUA PORTUGUESA
2	C	2.0	LÍNGUA PORTUGUESA
3	E	2.0	LÍNGUA PORTUGUESA
4	D	2.0	LÍNGUA PORTUGUESA
5	A	2.0	LÍNGUA PORTUGUESA
6	B	2.0	RACIOCÍNIO LÓGICO
7	E	2.0	RACIOCÍNIO LÓGICO
8	A	2.0	RACIOCÍNIO LÓGICO
9	D	2.0	RACIOCÍNIO LÓGICO
10	B	2.0	RACIOCÍNIO LÓGICO
11	C	2.0	INFORMÁTICA
12	D	2.0	INFORMÁTICA
13	B	2.0	INFORMÁTICA
14	E	2.0	INFORMÁTICA
15	D	2.0	INFORMÁTICA
16	E	2.0	CONHECIMENTOS GERAIS
17	C	2.0	CONHECIMENTOS GERAIS
18	A	2.0	CONHECIMENTOS GERAIS
19	C	2.0	CONHECIMENTOS GERAIS
20	E	2.0	CONHECIMENTOS GERAIS
21	A	3.0	CONHECIMENTOS ESPECÍFICOS
22	D	3.0	CONHECIMENTOS ESPECÍFICOS
23	A	3.0	CONHECIMENTOS ESPECÍFICOS
24	C	3.0	CONHECIMENTOS ESPECÍFICOS
25	B	3.0	CONHECIMENTOS ESPECÍFICOS
26	A	3.0	CONHECIMENTOS ESPECÍFICOS
27	E	3.0	CONHECIMENTOS ESPECÍFICOS
28	E	3.0	CONHECIMENTOS ESPECÍFICOS
29	C	3.0	CONHECIMENTOS ESPECÍFICOS
30	B	3.0	CONHECIMENTOS ESPECÍFICOS
31	E	3.0	CONHECIMENTOS ESPECÍFICOS
32	E	3.0	CONHECIMENTOS ESPECÍFICOS
33	A	3.0	CONHECIMENTOS ESPECÍFICOS
34	C	3.0	CONHECIMENTOS ESPECÍFICOS
35	D	3.0	CONHECIMENTOS ESPECÍFICOS
36	D	3.0	CONHECIMENTOS ESPECÍFICOS
37	D	3.0	CONHECIMENTOS ESPECÍFICOS
38	E	3.0	CONHECIMENTOS ESPECÍFICOS
39	A	3.0	CONHECIMENTOS ESPECÍFICOS
40	E	3.0	CONHECIMENTOS ESPECÍFICOS



GABARITO PROVA OBJETIVA - PRELIMINAR
PREFEITURA MUNICIPAL DE TELÊMACO BORBA
CONCURSO PÚBLICO - EDITAL Nº 001-2016
CARGO: TMNS I - TERAPIA OCUPACIONAL
PROVA 2

QUESTÃO	RESPOSTA	VALOR DA QUESTÃO	ÁREA DE CONHECIMENTO
1	B	2.0	RACIOCÍNIO LÓGICO
2	E	2.0	RACIOCÍNIO LÓGICO
3	A	2.0	RACIOCÍNIO LÓGICO
4	D	2.0	RACIOCÍNIO LÓGICO
5	B	2.0	RACIOCÍNIO LÓGICO
6	C	2.0	INFORMÁTICA
7	D	2.0	INFORMÁTICA
8	B	2.0	INFORMÁTICA
9	E	2.0	INFORMÁTICA
10	D	2.0	INFORMÁTICA
11	E	2.0	CONHECIMENTOS GERAIS
12	C	2.0	CONHECIMENTOS GERAIS
13	A	2.0	CONHECIMENTOS GERAIS
14	C	2.0	CONHECIMENTOS GERAIS
15	E	2.0	CONHECIMENTOS GERAIS
16	A	3.0	CONHECIMENTOS ESPECÍFICOS
17	D	3.0	CONHECIMENTOS ESPECÍFICOS
18	A	3.0	CONHECIMENTOS ESPECÍFICOS
19	C	3.0	CONHECIMENTOS ESPECÍFICOS
20	B	3.0	CONHECIMENTOS ESPECÍFICOS
21	A	3.0	CONHECIMENTOS ESPECÍFICOS
22	E	3.0	CONHECIMENTOS ESPECÍFICOS
23	E	3.0	CONHECIMENTOS ESPECÍFICOS
24	C	3.0	CONHECIMENTOS ESPECÍFICOS
25	B	3.0	CONHECIMENTOS ESPECÍFICOS
26	E	3.0	CONHECIMENTOS ESPECÍFICOS
27	E	3.0	CONHECIMENTOS ESPECÍFICOS
28	A	3.0	CONHECIMENTOS ESPECÍFICOS
29	C	3.0	CONHECIMENTOS ESPECÍFICOS
30	D	3.0	CONHECIMENTOS ESPECÍFICOS
31	D	3.0	CONHECIMENTOS ESPECÍFICOS
32	D	3.0	CONHECIMENTOS ESPECÍFICOS
33	E	3.0	CONHECIMENTOS ESPECÍFICOS
34	A	3.0	CONHECIMENTOS ESPECÍFICOS
35	E	3.0	CONHECIMENTOS ESPECÍFICOS
36	E	2.0	LÍNGUA PORTUGUESA
37	C	2.0	LÍNGUA PORTUGUESA
38	E	2.0	LÍNGUA PORTUGUESA
39	D	2.0	LÍNGUA PORTUGUESA
40	A	2.0	LÍNGUA PORTUGUESA



**GABARITO PROVA OBJETIVA - PRELIMINAR
PREFEITURA MUNICIPAL DE TELÊMACO BORBA
CONCURSO PÚBLICO - EDITAL Nº 001-2016
CARGO: TMNS I - TERAPIA OCUPACIONAL
PROVA 3**

QUESTÃO	RESPOSTA	VALOR DA QUESTÃO	ÁREA DE CONHECIMENTO
1	A	3.0	CONHECIMENTOS ESPECÍFICOS
2	D	3.0	CONHECIMENTOS ESPECÍFICOS
3	A	3.0	CONHECIMENTOS ESPECÍFICOS
4	C	3.0	CONHECIMENTOS ESPECÍFICOS
5	B	3.0	CONHECIMENTOS ESPECÍFICOS
6	A	3.0	CONHECIMENTOS ESPECÍFICOS
7	E	3.0	CONHECIMENTOS ESPECÍFICOS
8	E	3.0	CONHECIMENTOS ESPECÍFICOS
9	C	3.0	CONHECIMENTOS ESPECÍFICOS
10	B	3.0	CONHECIMENTOS ESPECÍFICOS
11	E	3.0	CONHECIMENTOS ESPECÍFICOS
12	E	3.0	CONHECIMENTOS ESPECÍFICOS
13	A	3.0	CONHECIMENTOS ESPECÍFICOS
14	C	3.0	CONHECIMENTOS ESPECÍFICOS
15	D	3.0	CONHECIMENTOS ESPECÍFICOS
16	D	3.0	CONHECIMENTOS ESPECÍFICOS
17	D	3.0	CONHECIMENTOS ESPECÍFICOS
18	E	3.0	CONHECIMENTOS ESPECÍFICOS
19	A	3.0	CONHECIMENTOS ESPECÍFICOS
20	E	3.0	CONHECIMENTOS ESPECÍFICOS
21	E	2.0	LÍNGUA PORTUGUESA
22	C	2.0	LÍNGUA PORTUGUESA
23	E	2.0	LÍNGUA PORTUGUESA
24	D	2.0	LÍNGUA PORTUGUESA
25	A	2.0	LÍNGUA PORTUGUESA
26	B	2.0	RACIOCÍNIO LÓGICO
27	E	2.0	RACIOCÍNIO LÓGICO
28	A	2.0	RACIOCÍNIO LÓGICO
29	D	2.0	RACIOCÍNIO LÓGICO
30	B	2.0	RACIOCÍNIO LÓGICO
31	C	2.0	INFORMÁTICA
32	D	2.0	INFORMÁTICA
33	B	2.0	INFORMÁTICA
34	E	2.0	INFORMÁTICA
35	D	2.0	INFORMÁTICA
36	E	2.0	CONHECIMENTOS GERAIS
37	C	2.0	CONHECIMENTOS GERAIS
38	A	2.0	CONHECIMENTOS GERAIS
39	C	2.0	CONHECIMENTOS GERAIS
40	E	2.0	CONHECIMENTOS GERAIS



GABARITO PROVA OBJETIVA - PRELIMINAR
PREFEITURA MUNICIPAL DE TELÊMACO BORBA
CONCURSO PÚBLICO - EDITAL Nº 001-2016

CARGO: TMNS I - MEDICINA - ATENÇÃO BÁSICA À SAÚDE E MED.INTERVENCIONISTA

PROVA 1

QUESTÃO	RESPOSTA	VALOR DA QUESTÃO	ÁREA DE CONHECIMENTO
1	E	2.0	LÍNGUA PORTUGUESA
2	C	2.0	LÍNGUA PORTUGUESA
3	E	2.0	LÍNGUA PORTUGUESA
4	D	2.0	LÍNGUA PORTUGUESA
5	A	2.0	LÍNGUA PORTUGUESA
6	B	2.0	RACIOCÍNIO LÓGICO
7	E	2.0	RACIOCÍNIO LÓGICO
8	A	2.0	RACIOCÍNIO LÓGICO
9	D	2.0	RACIOCÍNIO LÓGICO
10	B	2.0	RACIOCÍNIO LÓGICO
11	C	2.0	INFORMÁTICA
12	D	2.0	INFORMÁTICA
13	B	2.0	INFORMÁTICA
14	E	2.0	INFORMÁTICA
15	D	2.0	INFORMÁTICA
16	E	2.0	CONHECIMENTOS GERAIS
17	C	2.0	CONHECIMENTOS GERAIS
18	A	2.0	CONHECIMENTOS GERAIS
19	C	2.0	CONHECIMENTOS GERAIS
20	E	2.0	CONHECIMENTOS GERAIS
21	D	3.0	CONHECIMENTOS ESPECÍFICOS
22	E	3.0	CONHECIMENTOS ESPECÍFICOS
23	A	3.0	CONHECIMENTOS ESPECÍFICOS
24	B	3.0	CONHECIMENTOS ESPECÍFICOS
25	C	3.0	CONHECIMENTOS ESPECÍFICOS
26	E	3.0	CONHECIMENTOS ESPECÍFICOS
27	B	3.0	CONHECIMENTOS ESPECÍFICOS
28	D	3.0	CONHECIMENTOS ESPECÍFICOS
29	D	3.0	CONHECIMENTOS ESPECÍFICOS
30	B	3.0	CONHECIMENTOS ESPECÍFICOS
31	A	3.0	CONHECIMENTOS ESPECÍFICOS
32	B	3.0	CONHECIMENTOS ESPECÍFICOS
33	C	3.0	CONHECIMENTOS ESPECÍFICOS
34	A	3.0	CONHECIMENTOS ESPECÍFICOS
35	D	3.0	CONHECIMENTOS ESPECÍFICOS
36	E	3.0	CONHECIMENTOS ESPECÍFICOS
37	A	3.0	CONHECIMENTOS ESPECÍFICOS
38	D	3.0	CONHECIMENTOS ESPECÍFICOS
39	B	3.0	CONHECIMENTOS ESPECÍFICOS
40	A	3.0	CONHECIMENTOS ESPECÍFICOS



**GABARITO PROVA OBJETIVA - PRELIMINAR
PREFEITURA MUNICIPAL DE TELÊMACO BORBA
CONCURSO PÚBLICO - EDITAL Nº 001-2016**

CARGO: TMNS I - MEDICINA - ATENÇÃO BÁSICA À SAÚDE E MED.INTERVENCIONISTA

PROVA 2

QUESTÃO	RESPOSTA	VALOR DA QUESTÃO	ÁREA DE CONHECIMENTO
1	B	2.0	RACIOCÍNIO LÓGICO
2	E	2.0	RACIOCÍNIO LÓGICO
3	A	2.0	RACIOCÍNIO LÓGICO
4	D	2.0	RACIOCÍNIO LÓGICO
5	B	2.0	RACIOCÍNIO LÓGICO
6	C	2.0	INFORMÁTICA
7	D	2.0	INFORMÁTICA
8	B	2.0	INFORMÁTICA
9	E	2.0	INFORMÁTICA
10	D	2.0	INFORMÁTICA
11	E	2.0	CONHECIMENTOS GERAIS
12	C	2.0	CONHECIMENTOS GERAIS
13	A	2.0	CONHECIMENTOS GERAIS
14	C	2.0	CONHECIMENTOS GERAIS
15	E	2.0	CONHECIMENTOS GERAIS
16	D	3.0	CONHECIMENTOS ESPECÍFICOS
17	E	3.0	CONHECIMENTOS ESPECÍFICOS
18	A	3.0	CONHECIMENTOS ESPECÍFICOS
19	B	3.0	CONHECIMENTOS ESPECÍFICOS
20	C	3.0	CONHECIMENTOS ESPECÍFICOS
21	E	3.0	CONHECIMENTOS ESPECÍFICOS
22	B	3.0	CONHECIMENTOS ESPECÍFICOS
23	D	3.0	CONHECIMENTOS ESPECÍFICOS
24	D	3.0	CONHECIMENTOS ESPECÍFICOS
25	B	3.0	CONHECIMENTOS ESPECÍFICOS
26	A	3.0	CONHECIMENTOS ESPECÍFICOS
27	B	3.0	CONHECIMENTOS ESPECÍFICOS
28	C	3.0	CONHECIMENTOS ESPECÍFICOS
29	A	3.0	CONHECIMENTOS ESPECÍFICOS
30	D	3.0	CONHECIMENTOS ESPECÍFICOS
31	E	3.0	CONHECIMENTOS ESPECÍFICOS
32	A	3.0	CONHECIMENTOS ESPECÍFICOS
33	D	3.0	CONHECIMENTOS ESPECÍFICOS
34	B	3.0	CONHECIMENTOS ESPECÍFICOS
35	A	3.0	CONHECIMENTOS ESPECÍFICOS
36	E	2.0	LÍNGUA PORTUGUESA
37	C	2.0	LÍNGUA PORTUGUESA
38	E	2.0	LÍNGUA PORTUGUESA
39	D	2.0	LÍNGUA PORTUGUESA
40	A	2.0	LÍNGUA PORTUGUESA

**GABARITO PROVA OBJETIVA - PRELIMINAR**
PREFEITURA MUNICIPAL DE TELÊMACO BORBA
CONCURSO PÚBLICO - EDITAL Nº 001-2016**CARGO: TMNS I - MEDICINA - ATENÇÃO BÁSICA À SAÚDE E MED.INTERVENCIONISTA**
PROVA 3

QUESTÃO	RESPOSTA	VALOR DA QUESTÃO	ÁREA DE CONHECIMENTO
1	D	3.0	CONHECIMENTOS ESPECÍFICOS
2	E	3.0	CONHECIMENTOS ESPECÍFICOS
3	A	3.0	CONHECIMENTOS ESPECÍFICOS
4	B	3.0	CONHECIMENTOS ESPECÍFICOS
5	C	3.0	CONHECIMENTOS ESPECÍFICOS
6	E	3.0	CONHECIMENTOS ESPECÍFICOS
7	B	3.0	CONHECIMENTOS ESPECÍFICOS
8	D	3.0	CONHECIMENTOS ESPECÍFICOS
9	D	3.0	CONHECIMENTOS ESPECÍFICOS
10	B	3.0	CONHECIMENTOS ESPECÍFICOS
11	A	3.0	CONHECIMENTOS ESPECÍFICOS
12	B	3.0	CONHECIMENTOS ESPECÍFICOS
13	C	3.0	CONHECIMENTOS ESPECÍFICOS
14	A	3.0	CONHECIMENTOS ESPECÍFICOS
15	D	3.0	CONHECIMENTOS ESPECÍFICOS
16	E	3.0	CONHECIMENTOS ESPECÍFICOS
17	A	3.0	CONHECIMENTOS ESPECÍFICOS
18	D	3.0	CONHECIMENTOS ESPECÍFICOS
19	B	3.0	CONHECIMENTOS ESPECÍFICOS
20	A	3.0	CONHECIMENTOS ESPECÍFICOS
21	E	2.0	LÍNGUA PORTUGUESA
22	C	2.0	LÍNGUA PORTUGUESA
23	E	2.0	LÍNGUA PORTUGUESA
24	D	2.0	LÍNGUA PORTUGUESA
25	A	2.0	LÍNGUA PORTUGUESA
26	B	2.0	RACIOCÍNIO LÓGICO
27	E	2.0	RACIOCÍNIO LÓGICO
28	A	2.0	RACIOCÍNIO LÓGICO
29	D	2.0	RACIOCÍNIO LÓGICO
30	B	2.0	RACIOCÍNIO LÓGICO
31	C	2.0	INFORMÁTICA
32	D	2.0	INFORMÁTICA
33	B	2.0	INFORMÁTICA
34	E	2.0	INFORMÁTICA
35	D	2.0	INFORMÁTICA
36	E	2.0	CONHECIMENTOS GERAIS
37	C	2.0	CONHECIMENTOS GERAIS
38	A	2.0	CONHECIMENTOS GERAIS
39	C	2.0	CONHECIMENTOS GERAIS
40	E	2.0	CONHECIMENTOS GERAIS



GABARITO PROVA OBJETIVA - PRELIMINAR
PREFEITURA MUNICIPAL DE TELÊMACO BORBA
CONCURSO PÚBLICO - EDITAL Nº 001-2016
CARGO: TMNS I - MEDICINA - AUDITORIA
PROVA 1

QUESTÃO	RESPOSTA	VALOR DA QUESTÃO	ÁREA DE CONHECIMENTO
1	E	2.0	LÍNGUA PORTUGUESA
2	C	2.0	LÍNGUA PORTUGUESA
3	E	2.0	LÍNGUA PORTUGUESA
4	D	2.0	LÍNGUA PORTUGUESA
5	A	2.0	LÍNGUA PORTUGUESA
6	B	2.0	RACIOCÍNIO LÓGICO
7	E	2.0	RACIOCÍNIO LÓGICO
8	A	2.0	RACIOCÍNIO LÓGICO
9	D	2.0	RACIOCÍNIO LÓGICO
10	B	2.0	RACIOCÍNIO LÓGICO
11	C	2.0	INFORMÁTICA
12	D	2.0	INFORMÁTICA
13	B	2.0	INFORMÁTICA
14	E	2.0	INFORMÁTICA
15	D	2.0	INFORMÁTICA
16	E	2.0	CONHECIMENTOS GERAIS
17	C	2.0	CONHECIMENTOS GERAIS
18	A	2.0	CONHECIMENTOS GERAIS
19	C	2.0	CONHECIMENTOS GERAIS
20	E	2.0	CONHECIMENTOS GERAIS
21	D	3.0	CONHECIMENTOS ESPECÍFICOS
22	E	3.0	CONHECIMENTOS ESPECÍFICOS
23	A	3.0	CONHECIMENTOS ESPECÍFICOS
24	B	3.0	CONHECIMENTOS ESPECÍFICOS
25	C	3.0	CONHECIMENTOS ESPECÍFICOS
26	E	3.0	CONHECIMENTOS ESPECÍFICOS
27	B	3.0	CONHECIMENTOS ESPECÍFICOS
28	D	3.0	CONHECIMENTOS ESPECÍFICOS
29	D	3.0	CONHECIMENTOS ESPECÍFICOS
30	B	3.0	CONHECIMENTOS ESPECÍFICOS
31	A	3.0	CONHECIMENTOS ESPECÍFICOS
32	B	3.0	CONHECIMENTOS ESPECÍFICOS
33	C	3.0	CONHECIMENTOS ESPECÍFICOS
34	A	3.0	CONHECIMENTOS ESPECÍFICOS
35	D	3.0	CONHECIMENTOS ESPECÍFICOS
36	C	3.0	CONHECIMENTOS ESPECÍFICOS
37	A	3.0	CONHECIMENTOS ESPECÍFICOS
38	B	3.0	CONHECIMENTOS ESPECÍFICOS
39	D	3.0	CONHECIMENTOS ESPECÍFICOS
40	E	3.0	CONHECIMENTOS ESPECÍFICOS



GABARITO PROVA OBJETIVA - PRELIMINAR
PREFEITURA MUNICIPAL DE TELÊMACO BORBA
CONCURSO PÚBLICO - EDITAL Nº 001-2016
CARGO: TMNS I - MEDICINA - AUDITORIA
PROVA 2

QUESTÃO	RESPOSTA	VALOR DA QUESTÃO	ÁREA DE CONHECIMENTO
1	B	2.0	RACIOCÍNIO LÓGICO
2	E	2.0	RACIOCÍNIO LÓGICO
3	A	2.0	RACIOCÍNIO LÓGICO
4	D	2.0	RACIOCÍNIO LÓGICO
5	B	2.0	RACIOCÍNIO LÓGICO
6	C	2.0	INFORMÁTICA
7	D	2.0	INFORMÁTICA
8	B	2.0	INFORMÁTICA
9	E	2.0	INFORMÁTICA
10	D	2.0	INFORMÁTICA
11	E	2.0	CONHECIMENTOS GERAIS
12	C	2.0	CONHECIMENTOS GERAIS
13	A	2.0	CONHECIMENTOS GERAIS
14	C	2.0	CONHECIMENTOS GERAIS
15	E	2.0	CONHECIMENTOS GERAIS
16	D	3.0	CONHECIMENTOS ESPECÍFICOS
17	E	3.0	CONHECIMENTOS ESPECÍFICOS
18	A	3.0	CONHECIMENTOS ESPECÍFICOS
19	B	3.0	CONHECIMENTOS ESPECÍFICOS
20	C	3.0	CONHECIMENTOS ESPECÍFICOS
21	E	3.0	CONHECIMENTOS ESPECÍFICOS
22	B	3.0	CONHECIMENTOS ESPECÍFICOS
23	D	3.0	CONHECIMENTOS ESPECÍFICOS
24	D	3.0	CONHECIMENTOS ESPECÍFICOS
25	B	3.0	CONHECIMENTOS ESPECÍFICOS
26	A	3.0	CONHECIMENTOS ESPECÍFICOS
27	B	3.0	CONHECIMENTOS ESPECÍFICOS
28	C	3.0	CONHECIMENTOS ESPECÍFICOS
29	A	3.0	CONHECIMENTOS ESPECÍFICOS
30	D	3.0	CONHECIMENTOS ESPECÍFICOS
31	C	3.0	CONHECIMENTOS ESPECÍFICOS
32	A	3.0	CONHECIMENTOS ESPECÍFICOS
33	B	3.0	CONHECIMENTOS ESPECÍFICOS
34	D	3.0	CONHECIMENTOS ESPECÍFICOS
35	E	3.0	CONHECIMENTOS ESPECÍFICOS
36	E	2.0	LÍNGUA PORTUGUESA
37	C	2.0	LÍNGUA PORTUGUESA
38	E	2.0	LÍNGUA PORTUGUESA
39	D	2.0	LÍNGUA PORTUGUESA
40	A	2.0	LÍNGUA PORTUGUESA



GABARITO PROVA OBJETIVA - PRELIMINAR
PREFEITURA MUNICIPAL DE TELÊMACO BORBA
CONCURSO PÚBLICO - EDITAL Nº 001-2016
CARGO: TMNS I - MEDICINA - AUDITORIA
PROVA 3

QUESTÃO	RESPOSTA	VALOR DA QUESTÃO	ÁREA DE CONHECIMENTO
1	D	3.0	CONHECIMENTOS ESPECÍFICOS
2	E	3.0	CONHECIMENTOS ESPECÍFICOS
3	A	3.0	CONHECIMENTOS ESPECÍFICOS
4	B	3.0	CONHECIMENTOS ESPECÍFICOS
5	C	3.0	CONHECIMENTOS ESPECÍFICOS
6	E	3.0	CONHECIMENTOS ESPECÍFICOS
7	B	3.0	CONHECIMENTOS ESPECÍFICOS
8	D	3.0	CONHECIMENTOS ESPECÍFICOS
9	D	3.0	CONHECIMENTOS ESPECÍFICOS
10	B	3.0	CONHECIMENTOS ESPECÍFICOS
11	A	3.0	CONHECIMENTOS ESPECÍFICOS
12	B	3.0	CONHECIMENTOS ESPECÍFICOS
13	C	3.0	CONHECIMENTOS ESPECÍFICOS
14	A	3.0	CONHECIMENTOS ESPECÍFICOS
15	D	3.0	CONHECIMENTOS ESPECÍFICOS
16	C	3.0	CONHECIMENTOS ESPECÍFICOS
17	A	3.0	CONHECIMENTOS ESPECÍFICOS
18	B	3.0	CONHECIMENTOS ESPECÍFICOS
19	D	3.0	CONHECIMENTOS ESPECÍFICOS
20	E	3.0	CONHECIMENTOS ESPECÍFICOS
21	E	2.0	LÍNGUA PORTUGUESA
22	C	2.0	LÍNGUA PORTUGUESA
23	E	2.0	LÍNGUA PORTUGUESA
24	D	2.0	LÍNGUA PORTUGUESA
25	A	2.0	LÍNGUA PORTUGUESA
26	B	2.0	RACIOCÍNIO LÓGICO
27	E	2.0	RACIOCÍNIO LÓGICO
28	A	2.0	RACIOCÍNIO LÓGICO
29	D	2.0	RACIOCÍNIO LÓGICO
30	B	2.0	RACIOCÍNIO LÓGICO
31	C	2.0	INFORMÁTICA
32	D	2.0	INFORMÁTICA
33	B	2.0	INFORMÁTICA
34	E	2.0	INFORMÁTICA
35	D	2.0	INFORMÁTICA
36	E	2.0	CONHECIMENTOS GERAIS
37	C	2.0	CONHECIMENTOS GERAIS
38	A	2.0	CONHECIMENTOS GERAIS
39	C	2.0	CONHECIMENTOS GERAIS
40	E	2.0	CONHECIMENTOS GERAIS



**GABARITO PROVA OBJETIVA - PRELIMINAR
PREFEITURA MUNICIPAL DE TELÊMACO BORBA
CONCURSO PÚBLICO - EDITAL Nº 001-2016
CARGO: TMNS I - MEDICINA - CARDIOLOGIA
PROVA 1**

QUESTÃO	RESPOSTA	VALOR DA QUESTÃO	ÁREA DE CONHECIMENTO
1	E	2.0	LÍNGUA PORTUGUESA
2	C	2.0	LÍNGUA PORTUGUESA
3	E	2.0	LÍNGUA PORTUGUESA
4	D	2.0	LÍNGUA PORTUGUESA
5	A	2.0	LÍNGUA PORTUGUESA
6	B	2.0	RACIOCÍNIO LÓGICO
7	E	2.0	RACIOCÍNIO LÓGICO
8	A	2.0	RACIOCÍNIO LÓGICO
9	D	2.0	RACIOCÍNIO LÓGICO
10	B	2.0	RACIOCÍNIO LÓGICO
11	C	2.0	INFORMÁTICA
12	D	2.0	INFORMÁTICA
13	B	2.0	INFORMÁTICA
14	E	2.0	INFORMÁTICA
15	D	2.0	INFORMÁTICA
16	E	2.0	CONHECIMENTOS GERAIS
17	C	2.0	CONHECIMENTOS GERAIS
18	A	2.0	CONHECIMENTOS GERAIS
19	C	2.0	CONHECIMENTOS GERAIS
20	E	2.0	CONHECIMENTOS GERAIS
21	D	3.0	CONHECIMENTOS ESPECÍFICOS
22	E	3.0	CONHECIMENTOS ESPECÍFICOS
23	A	3.0	CONHECIMENTOS ESPECÍFICOS
24	B	3.0	CONHECIMENTOS ESPECÍFICOS
25	C	3.0	CONHECIMENTOS ESPECÍFICOS
26	E	3.0	CONHECIMENTOS ESPECÍFICOS
27	B	3.0	CONHECIMENTOS ESPECÍFICOS
28	D	3.0	CONHECIMENTOS ESPECÍFICOS
29	D	3.0	CONHECIMENTOS ESPECÍFICOS
30	B	3.0	CONHECIMENTOS ESPECÍFICOS
31	A	3.0	CONHECIMENTOS ESPECÍFICOS
32	B	3.0	CONHECIMENTOS ESPECÍFICOS
33	C	3.0	CONHECIMENTOS ESPECÍFICOS
34	A	3.0	CONHECIMENTOS ESPECÍFICOS
35	D	3.0	CONHECIMENTOS ESPECÍFICOS
36	E	3.0	CONHECIMENTOS ESPECÍFICOS
37	D	3.0	CONHECIMENTOS ESPECÍFICOS
38	B	3.0	CONHECIMENTOS ESPECÍFICOS
39	A	3.0	CONHECIMENTOS ESPECÍFICOS
40	B	3.0	CONHECIMENTOS ESPECÍFICOS



GABARITO PROVA OBJETIVA - PRELIMINAR
PREFEITURA MUNICIPAL DE TELÊMACO BORBA
CONCURSO PÚBLICO - EDITAL Nº 001-2016
CARGO: TMNS I - MEDICINA - CARDIOLOGIA
PROVA 2

QUESTÃO	RESPOSTA	VALOR DA QUESTÃO	ÁREA DE CONHECIMENTO
1	B	2.0	RACIOCÍNIO LÓGICO
2	E	2.0	RACIOCÍNIO LÓGICO
3	A	2.0	RACIOCÍNIO LÓGICO
4	D	2.0	RACIOCÍNIO LÓGICO
5	B	2.0	RACIOCÍNIO LÓGICO
6	C	2.0	INFORMÁTICA
7	D	2.0	INFORMÁTICA
8	B	2.0	INFORMÁTICA
9	E	2.0	INFORMÁTICA
10	D	2.0	INFORMÁTICA
11	E	2.0	CONHECIMENTOS GERAIS
12	C	2.0	CONHECIMENTOS GERAIS
13	A	2.0	CONHECIMENTOS GERAIS
14	C	2.0	CONHECIMENTOS GERAIS
15	E	2.0	CONHECIMENTOS GERAIS
16	D	3.0	CONHECIMENTOS ESPECÍFICOS
17	E	3.0	CONHECIMENTOS ESPECÍFICOS
18	A	3.0	CONHECIMENTOS ESPECÍFICOS
19	B	3.0	CONHECIMENTOS ESPECÍFICOS
20	C	3.0	CONHECIMENTOS ESPECÍFICOS
21	E	3.0	CONHECIMENTOS ESPECÍFICOS
22	B	3.0	CONHECIMENTOS ESPECÍFICOS
23	D	3.0	CONHECIMENTOS ESPECÍFICOS
24	D	3.0	CONHECIMENTOS ESPECÍFICOS
25	B	3.0	CONHECIMENTOS ESPECÍFICOS
26	A	3.0	CONHECIMENTOS ESPECÍFICOS
27	B	3.0	CONHECIMENTOS ESPECÍFICOS
28	C	3.0	CONHECIMENTOS ESPECÍFICOS
29	A	3.0	CONHECIMENTOS ESPECÍFICOS
30	D	3.0	CONHECIMENTOS ESPECÍFICOS
31	E	3.0	CONHECIMENTOS ESPECÍFICOS
32	D	3.0	CONHECIMENTOS ESPECÍFICOS
33	B	3.0	CONHECIMENTOS ESPECÍFICOS
34	A	3.0	CONHECIMENTOS ESPECÍFICOS
35	B	3.0	CONHECIMENTOS ESPECÍFICOS
36	E	2.0	LÍNGUA PORTUGUESA
37	C	2.0	LÍNGUA PORTUGUESA
38	E	2.0	LÍNGUA PORTUGUESA
39	D	2.0	LÍNGUA PORTUGUESA
40	A	2.0	LÍNGUA PORTUGUESA



GABARITO PROVA OBJETIVA - PRELIMINAR
PREFEITURA MUNICIPAL DE TELÊMACO BORBA
CONCURSO PÚBLICO - EDITAL Nº 001-2016
CARGO: TMNS I - MEDICINA - CARDIOLOGIA
PROVA 3

QUESTÃO	RESPOSTA	VALOR DA QUESTÃO	ÁREA DE CONHECIMENTO
1	D	3.0	CONHECIMENTOS ESPECÍFICOS
2	E	3.0	CONHECIMENTOS ESPECÍFICOS
3	A	3.0	CONHECIMENTOS ESPECÍFICOS
4	B	3.0	CONHECIMENTOS ESPECÍFICOS
5	C	3.0	CONHECIMENTOS ESPECÍFICOS
6	E	3.0	CONHECIMENTOS ESPECÍFICOS
7	B	3.0	CONHECIMENTOS ESPECÍFICOS
8	D	3.0	CONHECIMENTOS ESPECÍFICOS
9	D	3.0	CONHECIMENTOS ESPECÍFICOS
10	B	3.0	CONHECIMENTOS ESPECÍFICOS
11	A	3.0	CONHECIMENTOS ESPECÍFICOS
12	B	3.0	CONHECIMENTOS ESPECÍFICOS
13	C	3.0	CONHECIMENTOS ESPECÍFICOS
14	A	3.0	CONHECIMENTOS ESPECÍFICOS
15	D	3.0	CONHECIMENTOS ESPECÍFICOS
16	E	3.0	CONHECIMENTOS ESPECÍFICOS
17	D	3.0	CONHECIMENTOS ESPECÍFICOS
18	B	3.0	CONHECIMENTOS ESPECÍFICOS
19	A	3.0	CONHECIMENTOS ESPECÍFICOS
20	B	3.0	CONHECIMENTOS ESPECÍFICOS
21	E	2.0	LÍNGUA PORTUGUESA
22	C	2.0	LÍNGUA PORTUGUESA
23	E	2.0	LÍNGUA PORTUGUESA
24	D	2.0	LÍNGUA PORTUGUESA
25	A	2.0	LÍNGUA PORTUGUESA
26	B	2.0	RACIOCÍNIO LÓGICO
27	E	2.0	RACIOCÍNIO LÓGICO
28	A	2.0	RACIOCÍNIO LÓGICO
29	D	2.0	RACIOCÍNIO LÓGICO
30	B	2.0	RACIOCÍNIO LÓGICO
31	C	2.0	INFORMÁTICA
32	D	2.0	INFORMÁTICA
33	B	2.0	INFORMÁTICA
34	E	2.0	INFORMÁTICA
35	D	2.0	INFORMÁTICA
36	E	2.0	CONHECIMENTOS GERAIS
37	C	2.0	CONHECIMENTOS GERAIS
38	A	2.0	CONHECIMENTOS GERAIS
39	C	2.0	CONHECIMENTOS GERAIS
40	E	2.0	CONHECIMENTOS GERAIS



GABARITO PROVA OBJETIVA - PRELIMINAR
PREFEITURA MUNICIPAL DE TELÊMACO BORBA
CONCURSO PÚBLICO - EDITAL Nº 001-2016
CARGO: TMNS I - MEDICINA - GINECOLOGIA E MED. OBSTETRÍCIA
PROVA 1

QUESTÃO	RESPOSTA	VALOR DA QUESTÃO	ÁREA DE CONHECIMENTO
1	E	2.0	LÍNGUA PORTUGUESA
2	C	2.0	LÍNGUA PORTUGUESA
3	E	2.0	LÍNGUA PORTUGUESA
4	D	2.0	LÍNGUA PORTUGUESA
5	A	2.0	LÍNGUA PORTUGUESA
6	B	2.0	RACIOCÍNIO LÓGICO
7	E	2.0	RACIOCÍNIO LÓGICO
8	A	2.0	RACIOCÍNIO LÓGICO
9	D	2.0	RACIOCÍNIO LÓGICO
10	B	2.0	RACIOCÍNIO LÓGICO
11	C	2.0	INFORMÁTICA
12	D	2.0	INFORMÁTICA
13	B	2.0	INFORMÁTICA
14	E	2.0	INFORMÁTICA
15	D	2.0	INFORMÁTICA
16	E	2.0	CONHECIMENTOS GERAIS
17	C	2.0	CONHECIMENTOS GERAIS
18	A	2.0	CONHECIMENTOS GERAIS
19	C	2.0	CONHECIMENTOS GERAIS
20	E	2.0	CONHECIMENTOS GERAIS
21	D	3.0	CONHECIMENTOS ESPECÍFICOS
22	E	3.0	CONHECIMENTOS ESPECÍFICOS
23	A	3.0	CONHECIMENTOS ESPECÍFICOS
24	B	3.0	CONHECIMENTOS ESPECÍFICOS
25	C	3.0	CONHECIMENTOS ESPECÍFICOS
26	E	3.0	CONHECIMENTOS ESPECÍFICOS
27	B	3.0	CONHECIMENTOS ESPECÍFICOS
28	D	3.0	CONHECIMENTOS ESPECÍFICOS
29	D	3.0	CONHECIMENTOS ESPECÍFICOS
30	B	3.0	CONHECIMENTOS ESPECÍFICOS
31	A	3.0	CONHECIMENTOS ESPECÍFICOS
32	B	3.0	CONHECIMENTOS ESPECÍFICOS
33	C	3.0	CONHECIMENTOS ESPECÍFICOS
34	A	3.0	CONHECIMENTOS ESPECÍFICOS
35	D	3.0	CONHECIMENTOS ESPECÍFICOS
36	C	3.0	CONHECIMENTOS ESPECÍFICOS
37	B	3.0	CONHECIMENTOS ESPECÍFICOS
38	D	3.0	CONHECIMENTOS ESPECÍFICOS
39	D	3.0	CONHECIMENTOS ESPECÍFICOS
40	E	3.0	CONHECIMENTOS ESPECÍFICOS



GABARITO PROVA OBJETIVA - PRELIMINAR
PREFEITURA MUNICIPAL DE TELÊMACO BORBA
CONCURSO PÚBLICO - EDITAL Nº 001-2016
CARGO: TMNS I - MEDICINA - GINECOLOGIA E MED. OBSTETRÍCIA
PROVA 2

QUESTÃO	RESPOSTA	VALOR DA QUESTÃO	ÁREA DE CONHECIMENTO
1	B	2.0	RACIOCÍNIO LÓGICO
2	E	2.0	RACIOCÍNIO LÓGICO
3	A	2.0	RACIOCÍNIO LÓGICO
4	D	2.0	RACIOCÍNIO LÓGICO
5	B	2.0	RACIOCÍNIO LÓGICO
6	C	2.0	INFORMÁTICA
7	D	2.0	INFORMÁTICA
8	B	2.0	INFORMÁTICA
9	E	2.0	INFORMÁTICA
10	D	2.0	INFORMÁTICA
11	E	2.0	CONHECIMENTOS GERAIS
12	C	2.0	CONHECIMENTOS GERAIS
13	A	2.0	CONHECIMENTOS GERAIS
14	C	2.0	CONHECIMENTOS GERAIS
15	E	2.0	CONHECIMENTOS GERAIS
16	D	3.0	CONHECIMENTOS ESPECÍFICOS
17	E	3.0	CONHECIMENTOS ESPECÍFICOS
18	A	3.0	CONHECIMENTOS ESPECÍFICOS
19	B	3.0	CONHECIMENTOS ESPECÍFICOS
20	C	3.0	CONHECIMENTOS ESPECÍFICOS
21	E	3.0	CONHECIMENTOS ESPECÍFICOS
22	B	3.0	CONHECIMENTOS ESPECÍFICOS
23	D	3.0	CONHECIMENTOS ESPECÍFICOS
24	D	3.0	CONHECIMENTOS ESPECÍFICOS
25	B	3.0	CONHECIMENTOS ESPECÍFICOS
26	A	3.0	CONHECIMENTOS ESPECÍFICOS
27	B	3.0	CONHECIMENTOS ESPECÍFICOS
28	C	3.0	CONHECIMENTOS ESPECÍFICOS
29	A	3.0	CONHECIMENTOS ESPECÍFICOS
30	D	3.0	CONHECIMENTOS ESPECÍFICOS
31	C	3.0	CONHECIMENTOS ESPECÍFICOS
32	B	3.0	CONHECIMENTOS ESPECÍFICOS
33	D	3.0	CONHECIMENTOS ESPECÍFICOS
34	D	3.0	CONHECIMENTOS ESPECÍFICOS
35	E	3.0	CONHECIMENTOS ESPECÍFICOS
36	E	2.0	LÍNGUA PORTUGUESA
37	C	2.0	LÍNGUA PORTUGUESA
38	E	2.0	LÍNGUA PORTUGUESA
39	D	2.0	LÍNGUA PORTUGUESA
40	A	2.0	LÍNGUA PORTUGUESA



GABARITO PROVA OBJETIVA - PRELIMINAR
PREFEITURA MUNICIPAL DE TELÊMACO BORBA
CONCURSO PÚBLICO - EDITAL Nº 001-2016
CARGO: TMNS I - MEDICINA - GINECOLOGIA E MED. OBSTETRÍCIA
PROVA 3

QUESTÃO	RESPOSTA	VALOR DA QUESTÃO	ÁREA DE CONHECIMENTO
1	D	3.0	CONHECIMENTOS ESPECÍFICOS
2	E	3.0	CONHECIMENTOS ESPECÍFICOS
3	A	3.0	CONHECIMENTOS ESPECÍFICOS
4	B	3.0	CONHECIMENTOS ESPECÍFICOS
5	C	3.0	CONHECIMENTOS ESPECÍFICOS
6	E	3.0	CONHECIMENTOS ESPECÍFICOS
7	B	3.0	CONHECIMENTOS ESPECÍFICOS
8	D	3.0	CONHECIMENTOS ESPECÍFICOS
9	D	3.0	CONHECIMENTOS ESPECÍFICOS
10	B	3.0	CONHECIMENTOS ESPECÍFICOS
11	A	3.0	CONHECIMENTOS ESPECÍFICOS
12	B	3.0	CONHECIMENTOS ESPECÍFICOS
13	C	3.0	CONHECIMENTOS ESPECÍFICOS
14	A	3.0	CONHECIMENTOS ESPECÍFICOS
15	D	3.0	CONHECIMENTOS ESPECÍFICOS
16	C	3.0	CONHECIMENTOS ESPECÍFICOS
17	B	3.0	CONHECIMENTOS ESPECÍFICOS
18	D	3.0	CONHECIMENTOS ESPECÍFICOS
19	D	3.0	CONHECIMENTOS ESPECÍFICOS
20	E	3.0	CONHECIMENTOS ESPECÍFICOS
21	E	2.0	LÍNGUA PORTUGUESA
22	C	2.0	LÍNGUA PORTUGUESA
23	E	2.0	LÍNGUA PORTUGUESA
24	D	2.0	LÍNGUA PORTUGUESA
25	A	2.0	LÍNGUA PORTUGUESA
26	B	2.0	RACIOCÍNIO LÓGICO
27	E	2.0	RACIOCÍNIO LÓGICO
28	A	2.0	RACIOCÍNIO LÓGICO
29	D	2.0	RACIOCÍNIO LÓGICO
30	B	2.0	RACIOCÍNIO LÓGICO
31	C	2.0	INFORMÁTICA
32	D	2.0	INFORMÁTICA
33	B	2.0	INFORMÁTICA
34	E	2.0	INFORMÁTICA
35	D	2.0	INFORMÁTICA
36	E	2.0	CONHECIMENTOS GERAIS
37	C	2.0	CONHECIMENTOS GERAIS
38	A	2.0	CONHECIMENTOS GERAIS
39	C	2.0	CONHECIMENTOS GERAIS
40	E	2.0	CONHECIMENTOS GERAIS



GABARITO PROVA OBJETIVA - PRELIMINAR
PREFEITURA MUNICIPAL DE TELÊMACO BORBA
CONCURSO PÚBLICO - EDITAL Nº 001-2016
CARGO: TMNS I - MEDICINA - ORTOPEdia
PROVA 1

QUESTÃO	RESPOSTA	VALOR DA QUESTÃO	ÁREA DE CONHECIMENTO
1	E	2.0	LÍNGUA PORTUGUESA
2	C	2.0	LÍNGUA PORTUGUESA
3	E	2.0	LÍNGUA PORTUGUESA
4	D	2.0	LÍNGUA PORTUGUESA
5	A	2.0	LÍNGUA PORTUGUESA
6	B	2.0	RACIOCÍNIO LÓGICO
7	E	2.0	RACIOCÍNIO LÓGICO
8	A	2.0	RACIOCÍNIO LÓGICO
9	D	2.0	RACIOCÍNIO LÓGICO
10	B	2.0	RACIOCÍNIO LÓGICO
11	C	2.0	INFORMÁTICA
12	D	2.0	INFORMÁTICA
13	B	2.0	INFORMÁTICA
14	E	2.0	INFORMÁTICA
15	D	2.0	INFORMÁTICA
16	E	2.0	CONHECIMENTOS GERAIS
17	C	2.0	CONHECIMENTOS GERAIS
18	A	2.0	CONHECIMENTOS GERAIS
19	C	2.0	CONHECIMENTOS GERAIS
20	E	2.0	CONHECIMENTOS GERAIS
21	D	3.0	CONHECIMENTOS ESPECÍFICOS
22	E	3.0	CONHECIMENTOS ESPECÍFICOS
23	A	3.0	CONHECIMENTOS ESPECÍFICOS
24	B	3.0	CONHECIMENTOS ESPECÍFICOS
25	C	3.0	CONHECIMENTOS ESPECÍFICOS
26	E	3.0	CONHECIMENTOS ESPECÍFICOS
27	B	3.0	CONHECIMENTOS ESPECÍFICOS
28	D	3.0	CONHECIMENTOS ESPECÍFICOS
29	D	3.0	CONHECIMENTOS ESPECÍFICOS
30	B	3.0	CONHECIMENTOS ESPECÍFICOS
31	A	3.0	CONHECIMENTOS ESPECÍFICOS
32	B	3.0	CONHECIMENTOS ESPECÍFICOS
33	C	3.0	CONHECIMENTOS ESPECÍFICOS
34	A	3.0	CONHECIMENTOS ESPECÍFICOS
35	D	3.0	CONHECIMENTOS ESPECÍFICOS
36	B	3.0	CONHECIMENTOS ESPECÍFICOS
37	D	3.0	CONHECIMENTOS ESPECÍFICOS
38	A	3.0	CONHECIMENTOS ESPECÍFICOS
39	C	3.0	CONHECIMENTOS ESPECÍFICOS
40	E	3.0	CONHECIMENTOS ESPECÍFICOS



GABARITO PROVA OBJETIVA - PRELIMINAR
PREFEITURA MUNICIPAL DE TELÊMACO BORBA
CONCURSO PÚBLICO - EDITAL Nº 001-2016
CARGO: TMNS I - MEDICINA - ORTOPEDIA
PROVA 2

QUESTÃO	RESPOSTA	VALOR DA QUESTÃO	ÁREA DE CONHECIMENTO
1	B	2.0	RACIOCÍNIO LÓGICO
2	E	2.0	RACIOCÍNIO LÓGICO
3	A	2.0	RACIOCÍNIO LÓGICO
4	D	2.0	RACIOCÍNIO LÓGICO
5	B	2.0	RACIOCÍNIO LÓGICO
6	C	2.0	INFORMÁTICA
7	D	2.0	INFORMÁTICA
8	B	2.0	INFORMÁTICA
9	E	2.0	INFORMÁTICA
10	D	2.0	INFORMÁTICA
11	E	2.0	CONHECIMENTOS GERAIS
12	C	2.0	CONHECIMENTOS GERAIS
13	A	2.0	CONHECIMENTOS GERAIS
14	C	2.0	CONHECIMENTOS GERAIS
15	E	2.0	CONHECIMENTOS GERAIS
16	D	3.0	CONHECIMENTOS ESPECÍFICOS
17	E	3.0	CONHECIMENTOS ESPECÍFICOS
18	A	3.0	CONHECIMENTOS ESPECÍFICOS
19	B	3.0	CONHECIMENTOS ESPECÍFICOS
20	C	3.0	CONHECIMENTOS ESPECÍFICOS
21	E	3.0	CONHECIMENTOS ESPECÍFICOS
22	B	3.0	CONHECIMENTOS ESPECÍFICOS
23	D	3.0	CONHECIMENTOS ESPECÍFICOS
24	D	3.0	CONHECIMENTOS ESPECÍFICOS
25	B	3.0	CONHECIMENTOS ESPECÍFICOS
26	A	3.0	CONHECIMENTOS ESPECÍFICOS
27	B	3.0	CONHECIMENTOS ESPECÍFICOS
28	C	3.0	CONHECIMENTOS ESPECÍFICOS
29	A	3.0	CONHECIMENTOS ESPECÍFICOS
30	D	3.0	CONHECIMENTOS ESPECÍFICOS
31	B	3.0	CONHECIMENTOS ESPECÍFICOS
32	D	3.0	CONHECIMENTOS ESPECÍFICOS
33	A	3.0	CONHECIMENTOS ESPECÍFICOS
34	C	3.0	CONHECIMENTOS ESPECÍFICOS
35	E	3.0	CONHECIMENTOS ESPECÍFICOS
36	E	2.0	LÍNGUA PORTUGUESA
37	C	2.0	LÍNGUA PORTUGUESA
38	E	2.0	LÍNGUA PORTUGUESA
39	D	2.0	LÍNGUA PORTUGUESA
40	A	2.0	LÍNGUA PORTUGUESA



GABARITO PROVA OBJETIVA - PRELIMINAR
PREFEITURA MUNICIPAL DE TELÊMACO BORBA
CONCURSO PÚBLICO - EDITAL Nº 001-2016
CARGO: TMNS I - MEDICINA - ORTOPEDIA
PROVA 3

QUESTÃO	RESPOSTA	VALOR DA QUESTÃO	ÁREA DE CONHECIMENTO
1	D	3.0	CONHECIMENTOS ESPECÍFICOS
2	E	3.0	CONHECIMENTOS ESPECÍFICOS
3	A	3.0	CONHECIMENTOS ESPECÍFICOS
4	B	3.0	CONHECIMENTOS ESPECÍFICOS
5	C	3.0	CONHECIMENTOS ESPECÍFICOS
6	E	3.0	CONHECIMENTOS ESPECÍFICOS
7	B	3.0	CONHECIMENTOS ESPECÍFICOS
8	D	3.0	CONHECIMENTOS ESPECÍFICOS
9	D	3.0	CONHECIMENTOS ESPECÍFICOS
10	B	3.0	CONHECIMENTOS ESPECÍFICOS
11	A	3.0	CONHECIMENTOS ESPECÍFICOS
12	B	3.0	CONHECIMENTOS ESPECÍFICOS
13	C	3.0	CONHECIMENTOS ESPECÍFICOS
14	A	3.0	CONHECIMENTOS ESPECÍFICOS
15	D	3.0	CONHECIMENTOS ESPECÍFICOS
16	B	3.0	CONHECIMENTOS ESPECÍFICOS
17	D	3.0	CONHECIMENTOS ESPECÍFICOS
18	A	3.0	CONHECIMENTOS ESPECÍFICOS
19	C	3.0	CONHECIMENTOS ESPECÍFICOS
20	E	3.0	CONHECIMENTOS ESPECÍFICOS
21	E	2.0	LÍNGUA PORTUGUESA
22	C	2.0	LÍNGUA PORTUGUESA
23	E	2.0	LÍNGUA PORTUGUESA
24	D	2.0	LÍNGUA PORTUGUESA
25	A	2.0	LÍNGUA PORTUGUESA
26	B	2.0	RACIOCÍNIO LÓGICO
27	E	2.0	RACIOCÍNIO LÓGICO
28	A	2.0	RACIOCÍNIO LÓGICO
29	D	2.0	RACIOCÍNIO LÓGICO
30	B	2.0	RACIOCÍNIO LÓGICO
31	C	2.0	INFORMÁTICA
32	D	2.0	INFORMÁTICA
33	B	2.0	INFORMÁTICA
34	E	2.0	INFORMÁTICA
35	D	2.0	INFORMÁTICA
36	E	2.0	CONHECIMENTOS GERAIS
37	C	2.0	CONHECIMENTOS GERAIS
38	A	2.0	CONHECIMENTOS GERAIS
39	C	2.0	CONHECIMENTOS GERAIS
40	E	2.0	CONHECIMENTOS GERAIS



GABARITO PROVA OBJETIVA - PRELIMINAR
PREFEITURA MUNICIPAL DE TELÊMACO BORBA
CONCURSO PÚBLICO - EDITAL Nº 001-2016
CARGO: TMNS I - MEDICINA - OTORRINOLARINGOLOGIA
PROVA 1

QUESTÃO	RESPOSTA	VALOR DA QUESTÃO	ÁREA DE CONHECIMENTO
1	E	2.0	LÍNGUA PORTUGUESA
2	C	2.0	LÍNGUA PORTUGUESA
3	E	2.0	LÍNGUA PORTUGUESA
4	D	2.0	LÍNGUA PORTUGUESA
5	A	2.0	LÍNGUA PORTUGUESA
6	B	2.0	RACIOCÍNIO LÓGICO
7	E	2.0	RACIOCÍNIO LÓGICO
8	A	2.0	RACIOCÍNIO LÓGICO
9	D	2.0	RACIOCÍNIO LÓGICO
10	B	2.0	RACIOCÍNIO LÓGICO
11	C	2.0	INFORMÁTICA
12	D	2.0	INFORMÁTICA
13	B	2.0	INFORMÁTICA
14	E	2.0	INFORMÁTICA
15	D	2.0	INFORMÁTICA
16	E	2.0	CONHECIMENTOS GERAIS
17	C	2.0	CONHECIMENTOS GERAIS
18	A	2.0	CONHECIMENTOS GERAIS
19	C	2.0	CONHECIMENTOS GERAIS
20	E	2.0	CONHECIMENTOS GERAIS
21	D	3.0	CONHECIMENTOS ESPECÍFICOS
22	E	3.0	CONHECIMENTOS ESPECÍFICOS
23	A	3.0	CONHECIMENTOS ESPECÍFICOS
24	B	3.0	CONHECIMENTOS ESPECÍFICOS
25	C	3.0	CONHECIMENTOS ESPECÍFICOS
26	E	3.0	CONHECIMENTOS ESPECÍFICOS
27	B	3.0	CONHECIMENTOS ESPECÍFICOS
28	D	3.0	CONHECIMENTOS ESPECÍFICOS
29	D	3.0	CONHECIMENTOS ESPECÍFICOS
30	B	3.0	CONHECIMENTOS ESPECÍFICOS
31	A	3.0	CONHECIMENTOS ESPECÍFICOS
32	B	3.0	CONHECIMENTOS ESPECÍFICOS
33	C	3.0	CONHECIMENTOS ESPECÍFICOS
34	A	3.0	CONHECIMENTOS ESPECÍFICOS
35	D	3.0	CONHECIMENTOS ESPECÍFICOS
36	C	3.0	CONHECIMENTOS ESPECÍFICOS
37	E	3.0	CONHECIMENTOS ESPECÍFICOS
38	B	3.0	CONHECIMENTOS ESPECÍFICOS
39	E	3.0	CONHECIMENTOS ESPECÍFICOS
40	A	3.0	CONHECIMENTOS ESPECÍFICOS



GABARITO PROVA OBJETIVA - PRELIMINAR
PREFEITURA MUNICIPAL DE TELÊMACO BORBA
CONCURSO PÚBLICO - EDITAL Nº 001-2016
CARGO: TMNS I - MEDICINA - OTORRINOLARINGOLOGIA
PROVA 2

QUESTÃO	RESPOSTA	VALOR DA QUESTÃO	ÁREA DE CONHECIMENTO
1	B	2.0	RACIOCÍNIO LÓGICO
2	E	2.0	RACIOCÍNIO LÓGICO
3	A	2.0	RACIOCÍNIO LÓGICO
4	D	2.0	RACIOCÍNIO LÓGICO
5	B	2.0	RACIOCÍNIO LÓGICO
6	C	2.0	INFORMÁTICA
7	D	2.0	INFORMÁTICA
8	B	2.0	INFORMÁTICA
9	E	2.0	INFORMÁTICA
10	D	2.0	INFORMÁTICA
11	E	2.0	CONHECIMENTOS GERAIS
12	C	2.0	CONHECIMENTOS GERAIS
13	A	2.0	CONHECIMENTOS GERAIS
14	C	2.0	CONHECIMENTOS GERAIS
15	E	2.0	CONHECIMENTOS GERAIS
16	D	3.0	CONHECIMENTOS ESPECÍFICOS
17	E	3.0	CONHECIMENTOS ESPECÍFICOS
18	A	3.0	CONHECIMENTOS ESPECÍFICOS
19	B	3.0	CONHECIMENTOS ESPECÍFICOS
20	C	3.0	CONHECIMENTOS ESPECÍFICOS
21	E	3.0	CONHECIMENTOS ESPECÍFICOS
22	B	3.0	CONHECIMENTOS ESPECÍFICOS
23	D	3.0	CONHECIMENTOS ESPECÍFICOS
24	D	3.0	CONHECIMENTOS ESPECÍFICOS
25	B	3.0	CONHECIMENTOS ESPECÍFICOS
26	A	3.0	CONHECIMENTOS ESPECÍFICOS
27	B	3.0	CONHECIMENTOS ESPECÍFICOS
28	C	3.0	CONHECIMENTOS ESPECÍFICOS
29	A	3.0	CONHECIMENTOS ESPECÍFICOS
30	D	3.0	CONHECIMENTOS ESPECÍFICOS
31	C	3.0	CONHECIMENTOS ESPECÍFICOS
32	E	3.0	CONHECIMENTOS ESPECÍFICOS
33	B	3.0	CONHECIMENTOS ESPECÍFICOS
34	E	3.0	CONHECIMENTOS ESPECÍFICOS
35	A	3.0	CONHECIMENTOS ESPECÍFICOS
36	E	2.0	LÍNGUA PORTUGUESA
37	C	2.0	LÍNGUA PORTUGUESA
38	E	2.0	LÍNGUA PORTUGUESA
39	D	2.0	LÍNGUA PORTUGUESA
40	A	2.0	LÍNGUA PORTUGUESA



GABARITO PROVA OBJETIVA - PRELIMINAR
PREFEITURA MUNICIPAL DE TELÊMACO BORBA
CONCURSO PÚBLICO - EDITAL Nº 001-2016
CARGO: TMNS I - MEDICINA - OTORRINOLARINGOLOGIA
PROVA 3

QUESTÃO	RESPOSTA	VALOR DA QUESTÃO	ÁREA DE CONHECIMENTO
1	D	3.0	CONHECIMENTOS ESPECÍFICOS
2	E	3.0	CONHECIMENTOS ESPECÍFICOS
3	A	3.0	CONHECIMENTOS ESPECÍFICOS
4	B	3.0	CONHECIMENTOS ESPECÍFICOS
5	C	3.0	CONHECIMENTOS ESPECÍFICOS
6	E	3.0	CONHECIMENTOS ESPECÍFICOS
7	B	3.0	CONHECIMENTOS ESPECÍFICOS
8	D	3.0	CONHECIMENTOS ESPECÍFICOS
9	D	3.0	CONHECIMENTOS ESPECÍFICOS
10	B	3.0	CONHECIMENTOS ESPECÍFICOS
11	A	3.0	CONHECIMENTOS ESPECÍFICOS
12	B	3.0	CONHECIMENTOS ESPECÍFICOS
13	C	3.0	CONHECIMENTOS ESPECÍFICOS
14	A	3.0	CONHECIMENTOS ESPECÍFICOS
15	D	3.0	CONHECIMENTOS ESPECÍFICOS
16	C	3.0	CONHECIMENTOS ESPECÍFICOS
17	E	3.0	CONHECIMENTOS ESPECÍFICOS
18	B	3.0	CONHECIMENTOS ESPECÍFICOS
19	E	3.0	CONHECIMENTOS ESPECÍFICOS
20	A	3.0	CONHECIMENTOS ESPECÍFICOS
21	E	2.0	LÍNGUA PORTUGUESA
22	C	2.0	LÍNGUA PORTUGUESA
23	E	2.0	LÍNGUA PORTUGUESA
24	D	2.0	LÍNGUA PORTUGUESA
25	A	2.0	LÍNGUA PORTUGUESA
26	B	2.0	RACIOCÍNIO LÓGICO
27	E	2.0	RACIOCÍNIO LÓGICO
28	A	2.0	RACIOCÍNIO LÓGICO
29	D	2.0	RACIOCÍNIO LÓGICO
30	B	2.0	RACIOCÍNIO LÓGICO
31	C	2.0	INFORMÁTICA
32	D	2.0	INFORMÁTICA
33	B	2.0	INFORMÁTICA
34	E	2.0	INFORMÁTICA
35	D	2.0	INFORMÁTICA
36	E	2.0	CONHECIMENTOS GERAIS
37	C	2.0	CONHECIMENTOS GERAIS
38	A	2.0	CONHECIMENTOS GERAIS
39	C	2.0	CONHECIMENTOS GERAIS
40	E	2.0	CONHECIMENTOS GERAIS



**GABARITO PROVA OBJETIVA - PRELIMINAR
PREFEITURA MUNICIPAL DE TELÊMACO BORBA
CONCURSO PÚBLICO - EDITAL Nº 001-2016
CARGO: TMNS I - MEDICINA - PEDIATRIA
PROVA 1**

QUESTÃO	RESPOSTA	VALOR DA QUESTÃO	ÁREA DE CONHECIMENTO
1	E	2.0	LÍNGUA PORTUGUESA
2	C	2.0	LÍNGUA PORTUGUESA
3	E	2.0	LÍNGUA PORTUGUESA
4	D	2.0	LÍNGUA PORTUGUESA
5	A	2.0	LÍNGUA PORTUGUESA
6	B	2.0	RACIOCÍNIO LÓGICO
7	E	2.0	RACIOCÍNIO LÓGICO
8	A	2.0	RACIOCÍNIO LÓGICO
9	D	2.0	RACIOCÍNIO LÓGICO
10	B	2.0	RACIOCÍNIO LÓGICO
11	C	2.0	INFORMÁTICA
12	D	2.0	INFORMÁTICA
13	B	2.0	INFORMÁTICA
14	E	2.0	INFORMÁTICA
15	D	2.0	INFORMÁTICA
16	E	2.0	CONHECIMENTOS GERAIS
17	C	2.0	CONHECIMENTOS GERAIS
18	A	2.0	CONHECIMENTOS GERAIS
19	C	2.0	CONHECIMENTOS GERAIS
20	E	2.0	CONHECIMENTOS GERAIS
21	D	3.0	CONHECIMENTOS ESPECÍFICOS
22	E	3.0	CONHECIMENTOS ESPECÍFICOS
23	A	3.0	CONHECIMENTOS ESPECÍFICOS
24	B	3.0	CONHECIMENTOS ESPECÍFICOS
25	C	3.0	CONHECIMENTOS ESPECÍFICOS
26	E	3.0	CONHECIMENTOS ESPECÍFICOS
27	B	3.0	CONHECIMENTOS ESPECÍFICOS
28	D	3.0	CONHECIMENTOS ESPECÍFICOS
29	D	3.0	CONHECIMENTOS ESPECÍFICOS
30	B	3.0	CONHECIMENTOS ESPECÍFICOS
31	A	3.0	CONHECIMENTOS ESPECÍFICOS
32	B	3.0	CONHECIMENTOS ESPECÍFICOS
33	C	3.0	CONHECIMENTOS ESPECÍFICOS
34	A	3.0	CONHECIMENTOS ESPECÍFICOS
35	D	3.0	CONHECIMENTOS ESPECÍFICOS
36	A	3.0	CONHECIMENTOS ESPECÍFICOS
37	C	3.0	CONHECIMENTOS ESPECÍFICOS
38	D	3.0	CONHECIMENTOS ESPECÍFICOS
39	B	3.0	CONHECIMENTOS ESPECÍFICOS
40	E	3.0	CONHECIMENTOS ESPECÍFICOS



GABARITO PROVA OBJETIVA - PRELIMINAR
PREFEITURA MUNICIPAL DE TELÊMACO BORBA
CONCURSO PÚBLICO - EDITAL Nº 001-2016
CARGO: TMNS I - MEDICINA - PEDIATRIA
PROVA 2

QUESTÃO	RESPOSTA	VALOR DA QUESTÃO	ÁREA DE CONHECIMENTO
1	B	2.0	RACIOCÍNIO LÓGICO
2	E	2.0	RACIOCÍNIO LÓGICO
3	A	2.0	RACIOCÍNIO LÓGICO
4	D	2.0	RACIOCÍNIO LÓGICO
5	B	2.0	RACIOCÍNIO LÓGICO
6	C	2.0	INFORMÁTICA
7	D	2.0	INFORMÁTICA
8	B	2.0	INFORMÁTICA
9	E	2.0	INFORMÁTICA
10	D	2.0	INFORMÁTICA
11	E	2.0	CONHECIMENTOS GERAIS
12	C	2.0	CONHECIMENTOS GERAIS
13	A	2.0	CONHECIMENTOS GERAIS
14	C	2.0	CONHECIMENTOS GERAIS
15	E	2.0	CONHECIMENTOS GERAIS
16	D	3.0	CONHECIMENTOS ESPECÍFICOS
17	E	3.0	CONHECIMENTOS ESPECÍFICOS
18	A	3.0	CONHECIMENTOS ESPECÍFICOS
19	B	3.0	CONHECIMENTOS ESPECÍFICOS
20	C	3.0	CONHECIMENTOS ESPECÍFICOS
21	E	3.0	CONHECIMENTOS ESPECÍFICOS
22	B	3.0	CONHECIMENTOS ESPECÍFICOS
23	D	3.0	CONHECIMENTOS ESPECÍFICOS
24	D	3.0	CONHECIMENTOS ESPECÍFICOS
25	B	3.0	CONHECIMENTOS ESPECÍFICOS
26	A	3.0	CONHECIMENTOS ESPECÍFICOS
27	B	3.0	CONHECIMENTOS ESPECÍFICOS
28	C	3.0	CONHECIMENTOS ESPECÍFICOS
29	A	3.0	CONHECIMENTOS ESPECÍFICOS
30	D	3.0	CONHECIMENTOS ESPECÍFICOS
31	A	3.0	CONHECIMENTOS ESPECÍFICOS
32	C	3.0	CONHECIMENTOS ESPECÍFICOS
33	D	3.0	CONHECIMENTOS ESPECÍFICOS
34	B	3.0	CONHECIMENTOS ESPECÍFICOS
35	E	3.0	CONHECIMENTOS ESPECÍFICOS
36	E	2.0	LÍNGUA PORTUGUESA
37	C	2.0	LÍNGUA PORTUGUESA
38	E	2.0	LÍNGUA PORTUGUESA
39	D	2.0	LÍNGUA PORTUGUESA
40	A	2.0	LÍNGUA PORTUGUESA



GABARITO PROVA OBJETIVA - PRELIMINAR
PREFEITURA MUNICIPAL DE TELÊMACO BORBA
CONCURSO PÚBLICO - EDITAL Nº 001-2016
CARGO: TMNS I - MEDICINA - PEDIATRIA
PROVA 3

QUESTÃO	RESPOSTA	VALOR DA QUESTÃO	ÁREA DE CONHECIMENTO
1	D	3.0	CONHECIMENTOS ESPECÍFICOS
2	E	3.0	CONHECIMENTOS ESPECÍFICOS
3	A	3.0	CONHECIMENTOS ESPECÍFICOS
4	B	3.0	CONHECIMENTOS ESPECÍFICOS
5	C	3.0	CONHECIMENTOS ESPECÍFICOS
6	E	3.0	CONHECIMENTOS ESPECÍFICOS
7	B	3.0	CONHECIMENTOS ESPECÍFICOS
8	D	3.0	CONHECIMENTOS ESPECÍFICOS
9	D	3.0	CONHECIMENTOS ESPECÍFICOS
10	B	3.0	CONHECIMENTOS ESPECÍFICOS
11	A	3.0	CONHECIMENTOS ESPECÍFICOS
12	B	3.0	CONHECIMENTOS ESPECÍFICOS
13	C	3.0	CONHECIMENTOS ESPECÍFICOS
14	A	3.0	CONHECIMENTOS ESPECÍFICOS
15	D	3.0	CONHECIMENTOS ESPECÍFICOS
16	A	3.0	CONHECIMENTOS ESPECÍFICOS
17	C	3.0	CONHECIMENTOS ESPECÍFICOS
18	D	3.0	CONHECIMENTOS ESPECÍFICOS
19	B	3.0	CONHECIMENTOS ESPECÍFICOS
20	E	3.0	CONHECIMENTOS ESPECÍFICOS
21	E	2.0	LÍNGUA PORTUGUESA
22	C	2.0	LÍNGUA PORTUGUESA
23	E	2.0	LÍNGUA PORTUGUESA
24	D	2.0	LÍNGUA PORTUGUESA
25	A	2.0	LÍNGUA PORTUGUESA
26	B	2.0	RACIOCÍNIO LÓGICO
27	E	2.0	RACIOCÍNIO LÓGICO
28	A	2.0	RACIOCÍNIO LÓGICO
29	D	2.0	RACIOCÍNIO LÓGICO
30	B	2.0	RACIOCÍNIO LÓGICO
31	C	2.0	INFORMÁTICA
32	D	2.0	INFORMÁTICA
33	B	2.0	INFORMÁTICA
34	E	2.0	INFORMÁTICA
35	D	2.0	INFORMÁTICA
36	E	2.0	CONHECIMENTOS GERAIS
37	C	2.0	CONHECIMENTOS GERAIS
38	A	2.0	CONHECIMENTOS GERAIS
39	C	2.0	CONHECIMENTOS GERAIS
40	E	2.0	CONHECIMENTOS GERAIS



**GABARITO PROVA OBJETIVA - PRELIMINAR
PREFEITURA MUNICIPAL DE TELÊMACO BORBA
CONCURSO PÚBLICO - EDITAL Nº 001-2016**

CARGO: TMNS I - MEDICINA - ATENÇÃO BÁSICA À SAÚDE E MED.INTERVENCIONISTA

PROVA 1

QUESTÃO	RESPOSTA	VALOR DA QUESTÃO	ÁREA DE CONHECIMENTO
1	E	2.0	LÍNGUA PORTUGUESA
2	C	2.0	LÍNGUA PORTUGUESA
3	E	2.0	LÍNGUA PORTUGUESA
4	D	2.0	LÍNGUA PORTUGUESA
5	A	2.0	LÍNGUA PORTUGUESA
6	B	2.0	RACIOCÍNIO LÓGICO
7	E	2.0	RACIOCÍNIO LÓGICO
8	A	2.0	RACIOCÍNIO LÓGICO
9	D	2.0	RACIOCÍNIO LÓGICO
10	B	2.0	RACIOCÍNIO LÓGICO
11	C	2.0	INFORMÁTICA
12	D	2.0	INFORMÁTICA
13	B	2.0	INFORMÁTICA
14	E	2.0	INFORMÁTICA
15	D	2.0	INFORMÁTICA
16	E	2.0	CONHECIMENTOS GERAIS
17	C	2.0	CONHECIMENTOS GERAIS
18	A	2.0	CONHECIMENTOS GERAIS
19	C	2.0	CONHECIMENTOS GERAIS
20	E	2.0	CONHECIMENTOS GERAIS
21	D	3.0	CONHECIMENTOS ESPECÍFICOS
22	E	3.0	CONHECIMENTOS ESPECÍFICOS
23	A	3.0	CONHECIMENTOS ESPECÍFICOS
24	B	3.0	CONHECIMENTOS ESPECÍFICOS
25	C	3.0	CONHECIMENTOS ESPECÍFICOS
26	E	3.0	CONHECIMENTOS ESPECÍFICOS
27	B	3.0	CONHECIMENTOS ESPECÍFICOS
28	D	3.0	CONHECIMENTOS ESPECÍFICOS
29	D	3.0	CONHECIMENTOS ESPECÍFICOS
30	B	3.0	CONHECIMENTOS ESPECÍFICOS
31	A	3.0	CONHECIMENTOS ESPECÍFICOS
32	B	3.0	CONHECIMENTOS ESPECÍFICOS
33	C	3.0	CONHECIMENTOS ESPECÍFICOS
34	A	3.0	CONHECIMENTOS ESPECÍFICOS
35	D	3.0	CONHECIMENTOS ESPECÍFICOS
36	E	3.0	CONHECIMENTOS ESPECÍFICOS
37	A	3.0	CONHECIMENTOS ESPECÍFICOS
38	D	3.0	CONHECIMENTOS ESPECÍFICOS
39	B	3.0	CONHECIMENTOS ESPECÍFICOS
40	A	3.0	CONHECIMENTOS ESPECÍFICOS



**GABARITO PROVA OBJETIVA - PRELIMINAR
PREFEITURA MUNICIPAL DE TELÊMACO BORBA
CONCURSO PÚBLICO - EDITAL Nº 001-2016**

CARGO: TMNS I - MEDICINA - ATENÇÃO BÁSICA À SAÚDE E MED.INTERVENCIONISTA

PROVA 2

QUESTÃO	RESPOSTA	VALOR DA QUESTÃO	ÁREA DE CONHECIMENTO
1	B	2.0	RACIOCÍNIO LÓGICO
2	E	2.0	RACIOCÍNIO LÓGICO
3	A	2.0	RACIOCÍNIO LÓGICO
4	D	2.0	RACIOCÍNIO LÓGICO
5	B	2.0	RACIOCÍNIO LÓGICO
6	C	2.0	INFORMÁTICA
7	D	2.0	INFORMÁTICA
8	B	2.0	INFORMÁTICA
9	E	2.0	INFORMÁTICA
10	D	2.0	INFORMÁTICA
11	E	2.0	CONHECIMENTOS GERAIS
12	C	2.0	CONHECIMENTOS GERAIS
13	A	2.0	CONHECIMENTOS GERAIS
14	C	2.0	CONHECIMENTOS GERAIS
15	E	2.0	CONHECIMENTOS GERAIS
16	D	3.0	CONHECIMENTOS ESPECÍFICOS
17	E	3.0	CONHECIMENTOS ESPECÍFICOS
18	A	3.0	CONHECIMENTOS ESPECÍFICOS
19	B	3.0	CONHECIMENTOS ESPECÍFICOS
20	C	3.0	CONHECIMENTOS ESPECÍFICOS
21	E	3.0	CONHECIMENTOS ESPECÍFICOS
22	B	3.0	CONHECIMENTOS ESPECÍFICOS
23	D	3.0	CONHECIMENTOS ESPECÍFICOS
24	D	3.0	CONHECIMENTOS ESPECÍFICOS
25	B	3.0	CONHECIMENTOS ESPECÍFICOS
26	A	3.0	CONHECIMENTOS ESPECÍFICOS
27	B	3.0	CONHECIMENTOS ESPECÍFICOS
28	C	3.0	CONHECIMENTOS ESPECÍFICOS
29	A	3.0	CONHECIMENTOS ESPECÍFICOS
30	D	3.0	CONHECIMENTOS ESPECÍFICOS
31	E	3.0	CONHECIMENTOS ESPECÍFICOS
32	A	3.0	CONHECIMENTOS ESPECÍFICOS
33	D	3.0	CONHECIMENTOS ESPECÍFICOS
34	B	3.0	CONHECIMENTOS ESPECÍFICOS
35	A	3.0	CONHECIMENTOS ESPECÍFICOS
36	E	2.0	LÍNGUA PORTUGUESA
37	C	2.0	LÍNGUA PORTUGUESA
38	E	2.0	LÍNGUA PORTUGUESA
39	D	2.0	LÍNGUA PORTUGUESA
40	A	2.0	LÍNGUA PORTUGUESA



**GABARITO PROVA OBJETIVA - PRELIMINAR
PREFEITURA MUNICIPAL DE TELÊMACO BORBA
CONCURSO PÚBLICO - EDITAL Nº 001-2016**

CARGO: TMNS I - MEDICINA - ATENÇÃO BÁSICA À SAÚDE E MED.INTERVENCIONISTA

PROVA 3

QUESTÃO	RESPOSTA	VALOR DA QUESTÃO	ÁREA DE CONHECIMENTO
1	D	3.0	CONHECIMENTOS ESPECÍFICOS
2	E	3.0	CONHECIMENTOS ESPECÍFICOS
3	A	3.0	CONHECIMENTOS ESPECÍFICOS
4	B	3.0	CONHECIMENTOS ESPECÍFICOS
5	C	3.0	CONHECIMENTOS ESPECÍFICOS
6	E	3.0	CONHECIMENTOS ESPECÍFICOS
7	B	3.0	CONHECIMENTOS ESPECÍFICOS
8	D	3.0	CONHECIMENTOS ESPECÍFICOS
9	D	3.0	CONHECIMENTOS ESPECÍFICOS
10	B	3.0	CONHECIMENTOS ESPECÍFICOS
11	A	3.0	CONHECIMENTOS ESPECÍFICOS
12	B	3.0	CONHECIMENTOS ESPECÍFICOS
13	C	3.0	CONHECIMENTOS ESPECÍFICOS
14	A	3.0	CONHECIMENTOS ESPECÍFICOS
15	D	3.0	CONHECIMENTOS ESPECÍFICOS
16	E	3.0	CONHECIMENTOS ESPECÍFICOS
17	A	3.0	CONHECIMENTOS ESPECÍFICOS
18	D	3.0	CONHECIMENTOS ESPECÍFICOS
19	B	3.0	CONHECIMENTOS ESPECÍFICOS
20	A	3.0	CONHECIMENTOS ESPECÍFICOS
21	E	2.0	LÍNGUA PORTUGUESA
22	C	2.0	LÍNGUA PORTUGUESA
23	E	2.0	LÍNGUA PORTUGUESA
24	D	2.0	LÍNGUA PORTUGUESA
25	A	2.0	LÍNGUA PORTUGUESA
26	B	2.0	RACIOCÍNIO LÓGICO
27	E	2.0	RACIOCÍNIO LÓGICO
28	A	2.0	RACIOCÍNIO LÓGICO
29	D	2.0	RACIOCÍNIO LÓGICO
30	B	2.0	RACIOCÍNIO LÓGICO
31	C	2.0	INFORMÁTICA
32	D	2.0	INFORMÁTICA
33	B	2.0	INFORMÁTICA
34	E	2.0	INFORMÁTICA
35	D	2.0	INFORMÁTICA
36	E	2.0	CONHECIMENTOS GERAIS
37	C	2.0	CONHECIMENTOS GERAIS
38	A	2.0	CONHECIMENTOS GERAIS
39	C	2.0	CONHECIMENTOS GERAIS
40	E	2.0	CONHECIMENTOS GERAIS



GABARITO PROVA OBJETIVA - PRELIMINAR
PREFEITURA MUNICIPAL DE TELÊMACO BORBA
CONCURSO PÚBLICO - EDITAL Nº 001-2016
CARGO: TMNS I - PSICOLOGIA
PROVA 1

QUESTÃO	RESPOSTA	VALOR DA QUESTÃO	ÁREA DE CONHECIMENTO
1	E	2.0	LÍNGUA PORTUGUESA
2	C	2.0	LÍNGUA PORTUGUESA
3	E	2.0	LÍNGUA PORTUGUESA
4	D	2.0	LÍNGUA PORTUGUESA
5	A	2.0	LÍNGUA PORTUGUESA
6	B	2.0	RACIOCÍNIO LÓGICO
7	E	2.0	RACIOCÍNIO LÓGICO
8	A	2.0	RACIOCÍNIO LÓGICO
9	D	2.0	RACIOCÍNIO LÓGICO
10	B	2.0	RACIOCÍNIO LÓGICO
11	C	2.0	INFORMÁTICA
12	D	2.0	INFORMÁTICA
13	B	2.0	INFORMÁTICA
14	E	2.0	INFORMÁTICA
15	D	2.0	INFORMÁTICA
16	E	2.0	CONHECIMENTOS GERAIS
17	C	2.0	CONHECIMENTOS GERAIS
18	A	2.0	CONHECIMENTOS GERAIS
19	C	2.0	CONHECIMENTOS GERAIS
20	E	2.0	CONHECIMENTOS GERAIS
21	E	3.0	CONHECIMENTOS ESPECÍFICOS
22	C	3.0	CONHECIMENTOS ESPECÍFICOS
23	D	3.0	CONHECIMENTOS ESPECÍFICOS
24	B	3.0	CONHECIMENTOS ESPECÍFICOS
25	C	3.0	CONHECIMENTOS ESPECÍFICOS
26	D	3.0	CONHECIMENTOS ESPECÍFICOS
27	C	3.0	CONHECIMENTOS ESPECÍFICOS
28	A	3.0	CONHECIMENTOS ESPECÍFICOS
29	B	3.0	CONHECIMENTOS ESPECÍFICOS
30	C	3.0	CONHECIMENTOS ESPECÍFICOS
31	D	3.0	CONHECIMENTOS ESPECÍFICOS
32	B	3.0	CONHECIMENTOS ESPECÍFICOS
33	A	3.0	CONHECIMENTOS ESPECÍFICOS
34	B	3.0	CONHECIMENTOS ESPECÍFICOS
35	E	3.0	CONHECIMENTOS ESPECÍFICOS
36	C	3.0	CONHECIMENTOS ESPECÍFICOS
37	A	3.0	CONHECIMENTOS ESPECÍFICOS
38	A	3.0	CONHECIMENTOS ESPECÍFICOS
39	B	3.0	CONHECIMENTOS ESPECÍFICOS
40	E	3.0	CONHECIMENTOS ESPECÍFICOS



GABARITO PROVA OBJETIVA - PRELIMINAR
PREFEITURA MUNICIPAL DE TELÊMACO BORBA
CONCURSO PÚBLICO - EDITAL Nº 001-2016
CARGO: TMNS I - PSICOLOGIA
PROVA 2

QUESTÃO	RESPOSTA	VALOR DA QUESTÃO	ÁREA DE CONHECIMENTO
1	B	2.0	RACIOCÍNIO LÓGICO
2	E	2.0	RACIOCÍNIO LÓGICO
3	A	2.0	RACIOCÍNIO LÓGICO
4	D	2.0	RACIOCÍNIO LÓGICO
5	B	2.0	RACIOCÍNIO LÓGICO
6	C	2.0	INFORMÁTICA
7	D	2.0	INFORMÁTICA
8	B	2.0	INFORMÁTICA
9	E	2.0	INFORMÁTICA
10	D	2.0	INFORMÁTICA
11	E	2.0	CONHECIMENTOS GERAIS
12	C	2.0	CONHECIMENTOS GERAIS
13	A	2.0	CONHECIMENTOS GERAIS
14	C	2.0	CONHECIMENTOS GERAIS
15	E	2.0	CONHECIMENTOS GERAIS
16	E	3.0	CONHECIMENTOS ESPECÍFICOS
17	C	3.0	CONHECIMENTOS ESPECÍFICOS
18	D	3.0	CONHECIMENTOS ESPECÍFICOS
19	B	3.0	CONHECIMENTOS ESPECÍFICOS
20	C	3.0	CONHECIMENTOS ESPECÍFICOS
21	D	3.0	CONHECIMENTOS ESPECÍFICOS
22	C	3.0	CONHECIMENTOS ESPECÍFICOS
23	A	3.0	CONHECIMENTOS ESPECÍFICOS
24	B	3.0	CONHECIMENTOS ESPECÍFICOS
25	C	3.0	CONHECIMENTOS ESPECÍFICOS
26	D	3.0	CONHECIMENTOS ESPECÍFICOS
27	B	3.0	CONHECIMENTOS ESPECÍFICOS
28	A	3.0	CONHECIMENTOS ESPECÍFICOS
29	B	3.0	CONHECIMENTOS ESPECÍFICOS
30	E	3.0	CONHECIMENTOS ESPECÍFICOS
31	C	3.0	CONHECIMENTOS ESPECÍFICOS
32	A	3.0	CONHECIMENTOS ESPECÍFICOS
33	A	3.0	CONHECIMENTOS ESPECÍFICOS
34	B	3.0	CONHECIMENTOS ESPECÍFICOS
35	E	3.0	CONHECIMENTOS ESPECÍFICOS
36	E	2.0	LÍNGUA PORTUGUESA
37	C	2.0	LÍNGUA PORTUGUESA
38	E	2.0	LÍNGUA PORTUGUESA
39	D	2.0	LÍNGUA PORTUGUESA
40	A	2.0	LÍNGUA PORTUGUESA



GABARITO PROVA OBJETIVA - PRELIMINAR
PREFEITURA MUNICIPAL DE TELÊMACO BORBA
CONCURSO PÚBLICO - EDITAL Nº 001-2016
CARGO: TMNS I - PSICOLOGIA
PROVA 3

QUESTÃO	RESPOSTA	VALOR DA QUESTÃO	ÁREA DE CONHECIMENTO
1	E	3.0	CONHECIMENTOS ESPECÍFICOS
2	C	3.0	CONHECIMENTOS ESPECÍFICOS
3	D	3.0	CONHECIMENTOS ESPECÍFICOS
4	B	3.0	CONHECIMENTOS ESPECÍFICOS
5	C	3.0	CONHECIMENTOS ESPECÍFICOS
6	D	3.0	CONHECIMENTOS ESPECÍFICOS
7	C	3.0	CONHECIMENTOS ESPECÍFICOS
8	A	3.0	CONHECIMENTOS ESPECÍFICOS
9	B	3.0	CONHECIMENTOS ESPECÍFICOS
10	C	3.0	CONHECIMENTOS ESPECÍFICOS
11	D	3.0	CONHECIMENTOS ESPECÍFICOS
12	B	3.0	CONHECIMENTOS ESPECÍFICOS
13	A	3.0	CONHECIMENTOS ESPECÍFICOS
14	B	3.0	CONHECIMENTOS ESPECÍFICOS
15	E	3.0	CONHECIMENTOS ESPECÍFICOS
16	C	3.0	CONHECIMENTOS ESPECÍFICOS
17	A	3.0	CONHECIMENTOS ESPECÍFICOS
18	A	3.0	CONHECIMENTOS ESPECÍFICOS
19	B	3.0	CONHECIMENTOS ESPECÍFICOS
20	E	3.0	CONHECIMENTOS ESPECÍFICOS
21	E	2.0	LÍNGUA PORTUGUESA
22	C	2.0	LÍNGUA PORTUGUESA
23	E	2.0	LÍNGUA PORTUGUESA
24	D	2.0	LÍNGUA PORTUGUESA
25	A	2.0	LÍNGUA PORTUGUESA
26	B	2.0	RACIOCÍNIO LÓGICO
27	E	2.0	RACIOCÍNIO LÓGICO
28	A	2.0	RACIOCÍNIO LÓGICO
29	D	2.0	RACIOCÍNIO LÓGICO
30	B	2.0	RACIOCÍNIO LÓGICO
31	C	2.0	INFORMÁTICA
32	D	2.0	INFORMÁTICA
33	B	2.0	INFORMÁTICA
34	E	2.0	INFORMÁTICA
35	D	2.0	INFORMÁTICA
36	E	2.0	CONHECIMENTOS GERAIS
37	C	2.0	CONHECIMENTOS GERAIS
38	A	2.0	CONHECIMENTOS GERAIS
39	C	2.0	CONHECIMENTOS GERAIS
40	E	2.0	CONHECIMENTOS GERAIS



GABARITO PROVA OBJETIVA - PRELIMINAR
PREFEITURA MUNICIPAL DE TELÊMACO BORBA
CONCURSO PÚBLICO - EDITAL Nº 001-2016
CARGO: PROCURADOR DO MUNICÍPIO
PROVA 1

QUESTÃO	RESPOSTA	VALOR DA QUESTÃO	ÁREA DE CONHECIMENTO
1	E	1	LÍNGUA PORTUGUESA
2	C	1	LÍNGUA PORTUGUESA
3	E	1	LÍNGUA PORTUGUESA
4	D	1	LÍNGUA PORTUGUESA
5	A	1	LÍNGUA PORTUGUESA
6	E	1	LEGISLAÇÃO MUNICIPAL
7	E	1	LEGISLAÇÃO MUNICIPAL
8	D	1	LEGISLAÇÃO MUNICIPAL
9	E	1	LEGISLAÇÃO MUNICIPAL
10	C	1	LEGISLAÇÃO MUNICIPAL
11	D	3	CONHECIMENTOS ESPECÍFICOS
12	E	3	CONHECIMENTOS ESPECÍFICOS
13	A	3	CONHECIMENTOS ESPECÍFICOS
14	E	3	CONHECIMENTOS ESPECÍFICOS
15	A	3	CONHECIMENTOS ESPECÍFICOS
16	B	3	CONHECIMENTOS ESPECÍFICOS
17	C	3	CONHECIMENTOS ESPECÍFICOS
18	C	3	CONHECIMENTOS ESPECÍFICOS
19	D	3	CONHECIMENTOS ESPECÍFICOS
20	B	3	CONHECIMENTOS ESPECÍFICOS
21	A	3	CONHECIMENTOS ESPECÍFICOS
22	C	3	CONHECIMENTOS ESPECÍFICOS
23	B	3	CONHECIMENTOS ESPECÍFICOS
24	E	3	CONHECIMENTOS ESPECÍFICOS
25	B	3	CONHECIMENTOS ESPECÍFICOS
26	A	3	CONHECIMENTOS ESPECÍFICOS
27	B	3	CONHECIMENTOS ESPECÍFICOS
28	C	3	CONHECIMENTOS ESPECÍFICOS
29	C	3	CONHECIMENTOS ESPECÍFICOS
30	E	3	CONHECIMENTOS ESPECÍFICOS
31	E	3	CONHECIMENTOS ESPECÍFICOS
32	E	3	CONHECIMENTOS ESPECÍFICOS
33	C	3	CONHECIMENTOS ESPECÍFICOS
34	B	3	CONHECIMENTOS ESPECÍFICOS
35	D	3	CONHECIMENTOS ESPECÍFICOS
36	A	3	CONHECIMENTOS ESPECÍFICOS
37	A	3	CONHECIMENTOS ESPECÍFICOS
38	A	3	CONHECIMENTOS ESPECÍFICOS
39	C	3	CONHECIMENTOS ESPECÍFICOS
40	B	3	CONHECIMENTOS ESPECÍFICOS



**GABARITO PROVA OBJETIVA - PRELIMINAR
PREFEITURA MUNICIPAL DE TELÊMACO BORBA
CONCURSO PÚBLICO - EDITAL Nº 001-2016
CARGO: PROCURADOR DO MUNICÍPIO
PROVA 2**

QUESTÃO	RESPOSTA	VALOR DA QUESTÃO	ÁREA DE CONHECIMENTO
1	E	1	LEGISLAÇÃO MUNICIPAL
2	E	1	LEGISLAÇÃO MUNICIPAL
3	D	1	LEGISLAÇÃO MUNICIPAL
4	E	1	LEGISLAÇÃO MUNICIPAL
5	C	1	LEGISLAÇÃO MUNICIPAL
6	D	3	CONHECIMENTOS ESPECÍFICOS
7	E	3	CONHECIMENTOS ESPECÍFICOS
8	A	3	CONHECIMENTOS ESPECÍFICOS
9	E	3	CONHECIMENTOS ESPECÍFICOS
10	A	3	CONHECIMENTOS ESPECÍFICOS
11	B	3	CONHECIMENTOS ESPECÍFICOS
12	C	3	CONHECIMENTOS ESPECÍFICOS
13	C	3	CONHECIMENTOS ESPECÍFICOS
14	D	3	CONHECIMENTOS ESPECÍFICOS
15	B	3	CONHECIMENTOS ESPECÍFICOS
16	A	3	CONHECIMENTOS ESPECÍFICOS
17	C	3	CONHECIMENTOS ESPECÍFICOS
18	B	3	CONHECIMENTOS ESPECÍFICOS
19	E	3	CONHECIMENTOS ESPECÍFICOS
20	B	3	CONHECIMENTOS ESPECÍFICOS
21	A	3	CONHECIMENTOS ESPECÍFICOS
22	B	3	CONHECIMENTOS ESPECÍFICOS
23	C	3	CONHECIMENTOS ESPECÍFICOS
24	C	3	CONHECIMENTOS ESPECÍFICOS
25	E	3	CONHECIMENTOS ESPECÍFICOS
26	E	3	CONHECIMENTOS ESPECÍFICOS
27	E	3	CONHECIMENTOS ESPECÍFICOS
28	C	3	CONHECIMENTOS ESPECÍFICOS
29	B	3	CONHECIMENTOS ESPECÍFICOS
30	D	3	CONHECIMENTOS ESPECÍFICOS
31	A	3	CONHECIMENTOS ESPECÍFICOS
32	A	3	CONHECIMENTOS ESPECÍFICOS
33	A	3	CONHECIMENTOS ESPECÍFICOS
34	C	3	CONHECIMENTOS ESPECÍFICOS
35	B	3	CONHECIMENTOS ESPECÍFICOS
36	E	1	LÍNGUA PORTUGUESA
37	C	1	LÍNGUA PORTUGUESA
38	E	1	LÍNGUA PORTUGUESA
39	D	1	LÍNGUA PORTUGUESA
40	A	1	LÍNGUA PORTUGUESA



GABARITO PROVA OBJETIVA - PRELIMINAR
PREFEITURA MUNICIPAL DE TELÊMACO BORBA
CONCURSO PÚBLICO - EDITAL Nº 001-2016
CARGO: PROCURADOR DO MUNICÍPIO
PROVA 3

QUESTÃO	RESPOSTA	VALOR DA QUESTÃO	ÁREA DE CONHECIMENTO
1	D	3	CONHECIMENTOS ESPECÍFICOS
2	E	3	CONHECIMENTOS ESPECÍFICOS
3	A	3	CONHECIMENTOS ESPECÍFICOS
4	E	3	CONHECIMENTOS ESPECÍFICOS
5	A	3	CONHECIMENTOS ESPECÍFICOS
6	B	3	CONHECIMENTOS ESPECÍFICOS
7	C	3	CONHECIMENTOS ESPECÍFICOS
8	C	3	CONHECIMENTOS ESPECÍFICOS
9	D	3	CONHECIMENTOS ESPECÍFICOS
10	B	3	CONHECIMENTOS ESPECÍFICOS
11	A	3	CONHECIMENTOS ESPECÍFICOS
12	C	3	CONHECIMENTOS ESPECÍFICOS
13	B	3	CONHECIMENTOS ESPECÍFICOS
14	E	3	CONHECIMENTOS ESPECÍFICOS
15	B	3	CONHECIMENTOS ESPECÍFICOS
16	A	3	CONHECIMENTOS ESPECÍFICOS
17	B	3	CONHECIMENTOS ESPECÍFICOS
18	C	3	CONHECIMENTOS ESPECÍFICOS
19	C	3	CONHECIMENTOS ESPECÍFICOS
20	E	3	CONHECIMENTOS ESPECÍFICOS
21	E	3	CONHECIMENTOS ESPECÍFICOS
22	E	3	CONHECIMENTOS ESPECÍFICOS
23	C	3	CONHECIMENTOS ESPECÍFICOS
24	B	3	CONHECIMENTOS ESPECÍFICOS
25	D	3	CONHECIMENTOS ESPECÍFICOS
26	A	3	CONHECIMENTOS ESPECÍFICOS
27	A	3	CONHECIMENTOS ESPECÍFICOS
28	A	3	CONHECIMENTOS ESPECÍFICOS
29	C	3	CONHECIMENTOS ESPECÍFICOS
30	B	3	CONHECIMENTOS ESPECÍFICOS
31	E	1	LÍNGUA PORTUGUESA
32	C	1	LÍNGUA PORTUGUESA
33	E	1	LÍNGUA PORTUGUESA
34	D	1	LÍNGUA PORTUGUESA
35	A	1	LÍNGUA PORTUGUESA
36	E	1	LEGISLAÇÃO MUNICIPAL
37	E	1	LEGISLAÇÃO MUNICIPAL
38	D	1	LEGISLAÇÃO MUNICIPAL
39	E	1	LEGISLAÇÃO MUNICIPAL
40	C	1	LEGISLAÇÃO MUNICIPAL



PREFEITURA DE TELÊMACO BORBA - ESTADO DO PARANÁ- EDITAL Nº 001-2016 - CONCURSO PÚBLICO

VESPERTINO – 29/05/2016 – FUNDAMENTAL INCOMPLETO

PROVA OBJETIVA NÚMERO

1

CARGO: ARTÍFICE DE OBRAS E SERVIÇOS PÚBLICOS - PEDREIRO

Leia atentamente as INSTRUÇÕES:

1. Confira seus dados no cartão-resposta: nome, número de inscrição e o curso para o qual se inscreveu.
2. **MARQUE no seu cartão-resposta o número da sua prova** (não será corrigido o cartão-resposta que não tiver marcado o número da prova) e **Assine** seu cartão-resposta.
3. Aguarde a autorização do Fiscal para abrir o caderno de prova. Ao receber a ordem do fiscal, confira o caderno de prova com muita atenção. Nenhuma reclamação sobre o total de questões ou falha de impressão será aceita depois de iniciada a prova.
4. O cartão-resposta não será substituído, salvo se contiver erro de impressão.
5. Preencha toda a área do cartão-resposta correspondente à alternativa de sua escolha, com caneta esferográfica (tinta azul ou preta), sem ultrapassar as bordas. As marcações duplas, ou rasuradas, com corretivo, ou marcadas diferentemente do modelo estabelecido no cartão-resposta poderão ser anuladas.
6. Sua prova tem **40** questões, com **5** alternativas.
7. Cabe apenas ao candidato a interpretação das questões, **o fiscal** não poderá fazer nenhuma interferência.
8. A prova será realizada com duração máxima de **3 (três) horas**, incluído o tempo para a realização da Prova Objetiva de múltipla escolha e o preenchimento do cartão-resposta.
9. O candidato poderá retirar-se do local de realização das provas somente **1 (uma) hora** após o seu início, sem levar o caderno de prova.
10. O candidato poderá levar o caderno de provas, assim como anotação contendo transcrição do seu cartão-resposta, somente **1h30min** (uma hora e trinta minutos) após o início da realização da prova.
11. Ao terminar a prova, o candidato deverá entregar ao fiscal de sala o cartão-resposta preenchido e **ASSINADO**.
12. Os **3 (três)** candidatos, que terminarem a prova por último, deverão permanecer na sala, e só poderão sair juntos após o fechamento do envelope, contendo os cartões-resposta dos candidatos presentes e ausentes, e assinarem no lacre do referido envelope, atestando que este foi devidamente lacrado.
13. Durante todo o tempo em que permanecer no local onde está ocorrendo o concurso, o candidato deverá, manter o celular desligado e sem bateria, só sendo permitido ligar depois de ultrapassar o portão de saída do prédio.
14. Não será permitido ao candidato fumar na sala de provas, bem como nas dependências.
15. Depois de terminar a prova e entregar ao fiscal o cartão-resposta, preenchido e assinado, não será mais permitido ao candidato o uso do banheiro e bebedouro.

BOA PROVA!

**LÍNGUA PORTUGUESA**

Leia com atenção o texto abaixo e depois responda às próximas cinco questões.

Heroísmo

Ele usava um colete à prova de balas. Não importava que dia da semana, que dia do mês ou que dia do ano: ele sempre usava o seu colete à prova de balas. Era precavido, ele dizia. A cidade anda muito violenta; nunca se sabe o que pode acontecer. Isso é uma verdade!

Um belo dia, quando estava no banco, ocorreu um assalto. Três bandidos, armados de pistolas e metralhadoras, ameaçavam matar os reféns se o dinheiro não lhes fosse entregue com velocidade. Ele, muito seguro de si, sabendo da vantagem que levava sobre os assaltantes, afinal, seu colete estava bem escondido sob a camisa, disparou na direção de um deles para desarmá-lo. Um segundo depois, caiu morto.

Ataque cardíaco fulminante, disseram os legistas quando chegaram na cena do crime.

(Fonte: <http://www.napontadoslapis.com.br/2011/03/dois-pequenos-contos.html>. Acesso em 18/05/2016.)

01. Conforme o texto, a pessoa que usava um colete à prova de balas todos os dias era:

- a) Uma criança
- b) Uma mulher
- c) Um homem
- d) Um assaltante
- e) O gerente do banco

02. De acordo com o texto, como morreu a pessoa que usava diariamente um colete à prova de balas?

- a) De ataque cardíaco fulminante.
- b) Assassinado por um assaltante.
- c) Cometeu suicídio.
- d) Foi vítima de uma bala perdida durante o assalto.
- e) Foi morto por um policial.

03. Na segunda linha do texto diz: *Era precavido*.

O que isso significa precavido?

- a) Distraído
- b) Aventureiro
- c) Descuidado
- d) Prevenido
- e) Precipitado

04. Em qual alternativa temos uma palavra grifada que é um pronome pessoal?

- a) A cidade anda muito violenta.
- b) Ele usava um colete à prova de balas.
- c) Um segundo depois, caiu morto.
- d) disseram os legistas quando chegaram na cena do crime.
- e) ele sempre usava o seu colete à prova de balas.

05. As palavras são representadas por fonemas (sons) e letras. Sendo assim, na palavra VELOCIDADE contamos quantos fonemas e letras?

- a) 7 fonemas e 10 letras.
- b) 8 fonemas e 9 letras.
- c) 9 fonemas e 9 letras.
- d) 9 fonemas e 10 letras.
- e) 10 fonemas e 10 letras.

Leia atentamente o texto da figura da formiga e o texto abaixo dela. Depois, responda às próximas cinco questões.

Formigas dormem?



Sim. Especialistas concordam que, como a maioria dos animais, elas dividem seu tempo entre atividade e descanso – quando a ação metabólica diminui. Mas isso não seria bem o que chamamos de sono. “Há registros de formigas vistas ‘deitadas de lado’, que, quando instigadas, retomaram a posição normal. Eu hesitaria em dizer que elas ‘acordaram’, mas a analogia é possível”, explica o mirmecologista (especialista em formiga) Carlos Brandão. Uma pesquisa norte-americana de 2009 indicava que ao menos as formigas-de-fogo (*Solenopsis Invicta*) dormem sim – em pequenos cochilos.

- As operárias “dormem” em turnos, mantendo sempre 80% da força de trabalho acordada.

(Fonte <http://mundoestranho.abril.com.br/materia/formigas-dormem>. Acesso em 18/05/2016.)

06. Observe a parte da figura da formiga sobre TOTAL DE HORAS DORMIDAS. Nessa parte, entendemos que:

- A formiga rainha dorme 9,4 horas por dia e a formiga operária dorme 4,8 horas por dia.
- A formiga rainha dorme menos de 9 horas por dia e a formiga operária menos de 4 horas por dia.
- A formiga rainha dorme mais de 10 horas por dia e a formiga operária mais de 4 horas por dia.
- A formiga rainha dorme mais de 9 horas por dia e a formiga operária mais de 5 horas por dia.
- A formiga rainha dorme 4 horas por dia e a formiga operária 8 horas por dia.

07. No texto que se localiza abaixo da figura da formiga, lemos a palavra mirmecologista. Lá explica que isso significa:

- O nome de um tipo de formiga.
- Especialista em formiga.
- O nome que se dá ao cochilo das formigas.
- O nome dado a uma pesquisa sobre formigas.
- Um outro nome que recebem as formigas operárias.

08. Leia esta frase: *Formigas dormem?*

Ela é:

- Uma frase afirmativa porque tem ponto final e expressa uma pergunta.
- Uma frase negativa porque tem ponto de interrogação e nega alguma coisa.
- Uma frase exclamativa porque tem ponto de exclamação e expressa admiração.
- Uma frase interrogativa porque tem ponto de exclamação e expressa uma pergunta.
- Uma frase interrogativa porque tem ponto de interrogação e expressa uma pergunta.

09. Em qual alternativa a separação de sílabas das palavras não está correta?

- a-ni-mais; dei-ta-das.
- es-pe-cia-lis-ta; po-ssí-vel.
- des-can-so; com-cor-dam.
- a-ti-vi-da-de; for-mi-gas.
- tra-ba-lho; pe-que-nos.

10. O hiato é um encontro vocálico em que temos duas vogais juntas, mas que são pronunciadas em sílabas diferentes. Assim, a palavra que tem hiato é:

- Pequenos
- Deitadas
- Quando

- d) Acordados
- e) Especialista

Leia com atenção o texto abaixo e depois responda às cinco próximas questões.

Tomate é fruta?

por Sabrina Haick | Edição 177

Sim, ele é. Não só o tomate é fruta, como a berinjela, a abobrinha, o pepino, o pimentão e outros alimentos que nós chamamos de legumes também são. Fruta é o ovário amadurecido de uma planta, onde ficam as sementes. A confusão acontece porque nós somos acostumados a chamar as frutas salgadas de legumes. Se você acha que sua vida foi uma mentira até agora, saiba que também existem alimentos que nós chamamos de fruta, mas não são. Trata-se dos pseudofrutos – estruturas suculentas que têm cara e jeito de fruto, mas não se desenvolvem a partir do ovário da planta, como as frutas reais. É o caso do morango, do caju, da maçã, da pera e do abacaxi, entre outros.

(Fonte: <http://mundoestranho.abril.com.br/materia/tomate-e-fruta>. Acesso em 18/05/2016.)

11. Ao ler esse texto, descobrimos que o tomate é um fruto e não um legume. Também descobrimos que são frutas outros alimentos que pensávamos que eram legumes. Dois deles são:

- a) Berinjela e morango
- b) Abobrinha e pepino
- c) Abobrinha e caju
- d) Pimentão e pera
- e) Pepino e abacaxi

12. Conhecer os sinônimos e antônimos das palavras nos ajuda a aumentar nosso vocabulário.

Qual é um sinônimo para a palavra “suculentas”, conforme o sentido que ela tem no texto?

- a) Desinteressantes
- b) Gordurosas
- c) Carnudas
- d) Descarnadas
- e) Felpudas

13. A acentuação em uma palavra nos ajuda a pronunciá-la de maneira correta, como, por exemplo, as palavras “você” e “ovário”. Marque a alternativa em que as palavras não foram acentuadas corretamente.

- a) lâmpada - pálpebra
- b) obito - fenômeno
- c) mímica - código
- d) cálice - xícara
- e) cédula - específico

14. Escrevemos “abacaxi” com x, “berinjela” e “caju” com j.

Marque a alternativa em que todas as palavras grifadas estão escritas de forma correta.

- a) Fui à feira e comprei tangerina, laranja e melancia.
- b) Fui à feira e comprei tanjerina, laranja e melancia.
- c) Fui à feira e comprei tangerina, larãja e melancia.
- d) Fui à feira e comprei tangerina, laranja e melansia.
- e) Fui à feira e comprei tãgerina, laranja e melansia.

15. O que temos nas palavras “frutas”, “estruturas”, “salgadas” e “partir”?

- a) Ditongo
- b) Hiato
- c) Encontro consonantal e Encontro vocálico
- d) Encontro consonantal
- e) Encontro vocálico

MATEMÁTICA

16. Marcela tem uma dívida de R\$ 462,00 dividida em 4 parcela iguais. Qual é o valor que Marcela vai pagar em cada parcela?

- a) R\$ 189,00
- b) R\$ 145,50
- c) R\$ 115,50
- d) R\$ 125,00
- e) R\$ 132,50

17. No mês de fevereiro, Maria assistiu a filmes nos dias ímpares, e Carla nos dias pares. Quantas vezes Maria assistiu a filmes no mês de fevereiro?

- a) 28
b) 14
c) 15
d) 8
e) 4

DOM	SEG	TER	QUA	QUI	SEX	SAB
			1	2	3	4
5	6	7	8	9	10	11
12	13	14	15	16	17	18
19	20	21	22	23	24	25
26	27	28				

18. Um estudante pretende se inscrever para participar de um Congresso Nacional. (O valor das inscrições está apresentado na tabela abaixo). Sabendo que o estudante irá se inscrever na abertura do Congresso Nacional, qual é o valor que ele irá pagar?

- a) R\$ 120,00
b) R\$ 100,00
c) R\$ 180,00
d) R\$ 150,00
e) R\$ 170,00

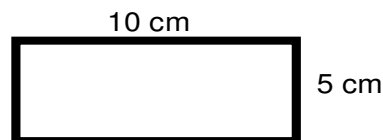
CATEGORIA	Inscrições até 15/05/16	Na abertura do Congresso
Profissional	R\$ 120,00	R\$ 180,00
Estudantes	R\$ 100,00	R\$ 150,00

19. A prestação de um terreno é de R\$ 787,00 e vence todo dia 10. Pagando fora do prazo, há uma multa de R\$ 8,70 por dia. Se a prestação foi paga só no dia 25 (vinte e cinco), qual foi o valor pago?

- a) R\$ 987,00
b) R\$ 937,00
c) R\$ 927,50
d) R\$ 967,00
e) R\$ 917,50

20. Marque a alternativa que apresenta o resultado do cálculo do perímetro de um terreno que tem as dimensões indicadas na figura abaixo.

- a) 30 cm
b) 50 cm
c) 40 cm
d) 20 cm
e) 70 cm



21. Um show de Munhoz e Mariano, na exposição de Campo Grande, em abril de 2016, teve início exatamente às 21h e 15min e terminou às 23h e 40 min. Qual foi a duração do show?

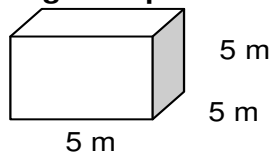
- a) 2h e 10m
b) 2h e 15m
c) 2h e 25m
d) 2h e 30m
e) 2h e 40m

22. Um pacote de açúcar pesa 2Kg. Foram retirados 450g para fazer um bolo. Quantos gramas restaram no pacote?

- a) 1.450 g
b) 1.250 g
c) 1.350 g
d) 1.550 g
e) 1.650 g

23. Determine o volume da figura representada a seguir e marque a alternativa correta.

- a) $137m^3$
b) $115m^3$
c) $127m^3$
d) $216m^3$
e) $125m^3$



24. Calcule o perímetro de um retângulo cuja base é três vezes a altura que mede 4m, e marque a alternativa correta.

- a) 16m
b) 32m
c) 48m
d) 20m
e) 28m



25. João mora no Bairro Tiradentes e Carlos no Bairro Novo Século, os dois trabalham no Supermercado Novo Horizonte. João chegou ao supermercado às 7 horas e 30 minutos da manhã e Carlos chegou meia hora depois.

A que horas Carlos chegou ao supermercado?

- a) 8 horas
- b) 9 horas
- c) 6 horas
- d) 5 horas
- e) 4 horas

CONHECIMENTOS GERAIS

26. Telêmaco Borba/PR foi desmembrado do município de

- a) Tibagi
- b) Londrina
- c) Ortigueira
- d) Imbaú
- e) Ventania

27. Quais são as cores da bandeira do município de Telêmaco Borba/PR?

- a) Vermelha, branca e verde
- b) Branca, azul e amarela
- c) Verde, azul e amarela
- d) Vermelha, branca e azul
- e) Branca, cinza e verde

28. Qual o nome do atual prefeito de Telêmaco Borba/PR?

- a) Renato Bahena
- b) José Reinaldo Antunes Carneiro
- c) Luiz Carlos Gibson
- d) Gilson Pereira dos Santos
- e) Ezequiel Ligoski Betim

29. Marque a alternativa que corresponde ao feriado municipal que comemora o dia da padroeira de Telêmaco Borba/PR (Nossa Senhora do Perpétuo Socorro).

- a) 21 de março
- b) 26 de maio
- c) 01 de novembro
- d) 28 de outubro
- e) 21 de junho

30. Quem nasce em Telêmaco Borba é

- a) Telemacoborbense
- b) Telemacoborbino
- c) Telemacoreense
- d) Telemaconense
- e) Telemacoborbiano

31. Em caso de vaga de vereador, não havendo suplente, o Presidente comunicará o fato, diretamente ao Tribunal Regional Eleitoral, dentro de

- a) 72 horas.
- b) 5 dias.
- c) 15 dias.
- d) 48 horas.
- e) 24 horas.

32. Qual alternativa não contempla uma forma de provimento no cargo público, conforme o art. 6º do Estatuto dos Servidores Públicos do município de Telêmaco Borba/PR?

- a) Nomeação
- b) Concurso
- c) Readaptação
- d) Reintegração
- e) Promoção

33. Qual dos municípios seguintes faz divisa com Telêmaco Borba/PR?

- a) Curiúva
- b) Londrina
- c) Arapot
- d) Sapopema
- e) Cambé

34. O município de Telêmaco Borba/PR foi criado inicialmente com o nome de

- a) Monte Alegre.
- b) Mauá.
- c) Cidade Nova.
- d) Harmonia.
- e) Tibagi.

35. Como é denominada a sede administrativa de Telêmaco Borba/PR?

- a) Paço Municipal
- b) Paço das Araucárias
- c) Governo Municipal
- d) Prefeitura
- e) Paço Administrativo

CONHECIMENTOS ESPECÍFICOS

36. Marque a alternativa correta sobre EPI, que está de acordo com a figura a seguir.



- a) Equipamento de proteção total
- b) Equipamento de proteção individual
- c) Equipamento de proteção coletiva
- d) Equipamento de proteção parcial
- e) Equipamento de proteção geral

37. Numa argamassa de assentamento com traço 1:2:9, terei de usar quais materiais?

- a) Uma porção de cimento, duas porções de cal e nove porções de areia.
- b) Uma porção de areia, duas porções de cal e nove porções de cimento.
- c) Uma porção de cal, duas porções de cimento e nove porções de areia.
- d) Uma porção de cimento, duas porções de cal e nove porções de água.
- e) Uma porção de cimento, duas porções de água e nove porções de areia.

38. O concreto é uma mistura dos vários componentes, em determinadas proporções, chamadas de dosagem ou traço, na linguagem da construção civil. Sabendo disso, marque a alternativa correta sobre os materiais usados na mistura do concreto.

- a) Pedra, argila, cimento e água.
- b) Pedra, água, cimento e ferro.
- c) Pedra, água, cimento e cal.
- d) Pedra, areia, cal e cimento.
- e) Pedra, areia cimento e água.

39. _____ tem a função de transportar níveis pela obra para a marcação de nível de pisos e revestimentos de paredes, peitoris de janelas, dentre outros.

Marque a alternativa que completa a lacuna corretamente.

- a) Mangueira PVC azul
- b) Mangueira de plástico preto
- c) Mangueira de nível
- d) Mangueira de alta pressão
- e) Mangueira de baixa pressão

40. Relacione a coluna X com a coluna Y e marque a alternativa correta.

Coluna X**Coluna Y**

- () Prumo de centro
- () Colher de pedreiro
- () Esquadro
- () Desempenadeira
- () Carrinho de mão

- a) 1, 2, 3, 4 e 5
- b) 5, 4, 3, 2 e 1
- c) 1, 3, 5, 2 e 4
- d) 5, 1, 3, 2 e 4
- e) 5, 3, 1, 2 e 4

RASCUNHO



PREFEITURA DE TELÊMACO BORBA - ESTADO DO PARANÁ- EDITAL Nº 001-2016 - CONCURSO PÚBLICO

VESPERTINO – 29/05/2016 – FUNDAMENTAL INCOMPLETO

2

PROVA OBJETIVA NÚMERO

CARGO: ARTÍFICE DE OBRAS E SERVIÇOS PÚBLICOS - PEDREIRO

Leia atentamente as INSTRUÇÕES:

1. Confira seus dados no cartão-resposta: nome, número de inscrição e o curso para o qual se inscreveu.
2. **MARQUE no seu cartão-resposta o número da sua prova** (não será corrigido o cartão-resposta que não tiver marcado o número da prova) e **Assine** seu cartão-resposta.
3. Aguarde a autorização do Fiscal para abrir o caderno de prova. Ao receber a ordem do fiscal, confira o caderno de prova com muita atenção. Nenhuma reclamação sobre o total de questões ou falha de impressão será aceita depois de iniciada a prova.
4. O cartão-resposta não será substituído, salvo se contiver erro de impressão.
5. Preencha toda a área do cartão-resposta correspondente à alternativa de sua escolha, com caneta esferográfica (tinta azul ou preta), sem ultrapassar as bordas. As marcações duplas, ou rasuradas, com corretivo, ou marcadas diferentemente do modelo estabelecido no cartão-resposta poderão ser anuladas.
6. Sua prova tem **40** questões, com **5** alternativas.
7. Cabe apenas ao candidato a interpretação das questões, **o fiscal** não poderá fazer nenhuma interferência.
8. A prova será realizada com duração máxima de **3 (três) horas**, incluído o tempo para a realização da Prova Objetiva de múltipla escolha e o preenchimento do cartão-resposta.
9. O candidato poderá retirar-se do local de realização das provas somente **1 (uma) hora** após o seu início, sem levar o caderno de prova.
10. O candidato poderá levar o caderno de provas, assim como anotação contendo transcrição do seu cartão-resposta, somente **1h30min** (uma hora e trinta minutos) após o início da realização da prova.
11. Ao terminar a prova, o candidato deverá entregar ao fiscal de sala o cartão-resposta preenchido e **ASSINADO**.
12. Os **3 (três)** candidatos, que terminarem a prova por último, deverão permanecer na sala, e só poderão sair juntos após o fechamento do envelope, contendo os cartões-resposta dos candidatos presentes e ausentes, e assinarem no lacre do referido envelope, atestando que este foi devidamente lacrado.
13. Durante todo o tempo em que permanecer no local onde está ocorrendo o concurso, o candidato deverá, manter o celular desligado e sem bateria, só sendo permitido ligar depois de ultrapassar o portão de saída do prédio.
14. Não será permitido ao candidato fumar na sala de provas, bem como nas dependências.
15. Depois de terminar a prova e entregar ao fiscal o cartão-resposta, preenchido e assinado, não será mais permitido ao candidato o uso do banheiro e bebedouro.

BOA PROVA!

MATEMÁTICA

1. Marcela tem uma dívida de R\$ 462,00 dividida em 4 parcela iguais. Qual é o valor que Marcela vai pagar em cada parcela?

- a) R\$ 189,00
- b) R\$ 145,50
- c) R\$ 115,50
- d) R\$ 125,00
- e) R\$ 132,50

2. No mês de fevereiro, Maria assistiu a filmes nos dias ímpares, e Carla nos dias pares. Quantas vezes Maria assistiu a filmes no mês de fevereiro?

- a) 28
- b) 14
- c) 15
- d) 8
- e) 4

DOM	SEG	TER	QUA	QUI	SEX	SAB
			1	2	3	4
5	6	7	8	9	10	11
12	13	14	15	16	17	18
19	20	21	22	23	24	25
26	27	28				

3. Um estudante pretende se inscrever para participar de um Congresso Nacional. (O valor das inscrições está apresentado na tabela abaixo). Sabendo que o estudante irá se inscrever na abertura do Congresso Nacional, qual é o valor que ele irá pagar?

- a) R\$ 120,00
- b) R\$ 100,00
- c) R\$ 180,00
- d) R\$ 150,00
- e) R\$ 170,00

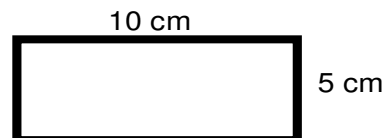
CATEGORIA	Inscrições até 15/05/16	Na abertura do Congresso
Profissional	R\$ 120,00	R\$ 180,00
Estudantes	R\$ 100,00	R\$ 150,00

4. A prestação de um terreno é de R\$ 787,00 e vence todo dia 10. Pagando fora do prazo, há uma multa de R\$ 8,70 por dia. Se a prestação foi paga só no dia 25 (vinte e cinco), qual foi o valor pago?

- a) R\$ 987,00
- b) R\$ 937,00
- c) R\$ 927,50
- d) R\$ 967,00
- e) R\$ 917,50

5. Marque a alternativa que apresenta o resultado do cálculo do perímetro de um terreno que tem as dimensões indicadas na figura abaixo.

- a) 30 cm
- b) 50 cm
- c) 40 cm
- d) 20 cm
- e) 70 cm



6. Um show de Munhoz e Mariano, na exposição de Campo Grande, em abril de 2016, teve início exatamente às 21h e 15min e terminou às 23h e 40 min. Qual foi a duração do show?

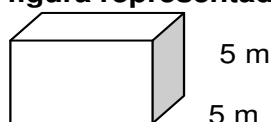
- a) 2h e 10m
- b) 2h e 15m
- c) 2h e 25m
- d) 2h e 30m
- e) 2h e 40m

7. Um pacote de açúcar pesa 2Kg. Foram retirados 450g para fazer um bolo. Quantos gramas restaram no pacote?

- a) 1.450 g
- b) 1.250 g
- c) 1.350 g
- d) 1.550 g
- e) 1.650 g

8. Determine o volume da figura representada a seguir e marque a alternativa correta.

- a) $137m^3$
- b) $115m^3$
- c) $127m^3$
- d) $216m^3$



e) 125m^3

5 m

9. Calcule o perímetro de um retângulo cuja base é três vezes a altura que mede 4m, e marque a alternativa correta.

- a) 16m
- b) 32m
- c) 48m
- d) 20m
- e) 28m



10. João mora no Bairro Tiradentes e Carlos no Bairro Novo Século, os dois trabalham no Supermercado Novo Horizonte. João chegou ao supermercado às 7horas e 30 minutos da manhã e Carlos chegou meia hora depois.

A que horas Carlos chegou ao supermercado?

- a) 8 horas
- b) 9 horas
- c) 6 horas
- d) 5 horas
- e) 4 horas

CONHECIMENTOS GERAIS

11. Telêmaco Borba/PR foi desmembrado do município de

- a) Tibagi
- b) Londrina
- c) Ortigueira
- d) Imbaú
- e) Ventania

12. Quais são as cores da bandeira do município de Telêmaco Borba/PR?

- a) Vermelha, branca e verde
- b) Branca, azul e amarela
- c) Verde, azul e amarela
- d) Vermelha, branca e azul
- e) Branca, cinza e verde

13. Qual o nome do atual prefeito de Telêmaco Borba/PR?

- a) Renato Bahena
- b) José Reinaldo Antunes Carneiro
- c) Luiz Carlos Gibson
- d) Gilson Pereira dos Santos
- e) Ezequiel Ligoski Betim

14. Marque a alternativa que corresponde ao feriado municipal que comemora o dia da padroeira de Telêmaco Borba/PR (Nossa Senhora do Perpétuo Socorro).

- a) 21 de março
- b) 26 de maio
- c) 01 de novembro
- d) 28 de outubro
- e) 21 de junho

15. Quem nasce em Telêmaco Borba é

- a) Telemacoborbense
- b) Telemacoborbino
- c) Telemacoreense
- d) Telemaconense
- e) Telemacoborbiano

16. Em caso de vaga de vereador, não havendo suplente, o Presidente comunicará o fato, diretamente ao Tribunal Regional Eleitoral, dentro de

- a) 72 horas.
- b) 5 dias.
- c) 15 dias.
- d) 48 horas.
- e) 24 horas.

17. Qual alternativa não contempla uma forma de provimento no cargo público, conforme o art. 6º do Estatuto dos Servidores Públicos do município de Telêmaco Borba/PR?

- a) Nomeação
- b) Concurso
- c) Readaptação
- d) Reintegração
- e) Promoção

18. Qual dos municípios seguintes faz divisa com Telêmaco Borba/PR?

- a) Curiúva
- b) Londrina
- c) Arapot
- d) Sapopema
- e) Cambé

19. O município de Telêmaco Borba/PR foi criado inicialmente com o nome de

- a) Monte Alegre.
- b) Mauá.
- c) Cidade Nova.
- d) Harmonia.
- e) Tibagi.

20. Como é denominada a sede administrativa de Telêmaco Borba/PR?

- a) Paço Municipal
- b) Paço das Araucárias
- c) Governo Municipal
- d) Prefeitura
- e) Paço Administrativo

CONHECIMENTOS ESPECÍFICOS

21. Marque a alternativa correta sobre EPI, que está de acordo com a figura a seguir.



- a) Equipamento de proteção total
- b) Equipamento de proteção individual
- c) Equipamento de proteção coletiva
- d) Equipamento de proteção parcial
- e) Equipamento de proteção geral

22. Numa argamassa de assentamento com traço 1:2:9, terei de usar quais materiais?

- a) Uma porção de cimento, duas porções de cal e nove porções de areia.
- b) Uma porção de areia, duas porções de cal e nove porções de cimento.
- c) Uma porção de cal, duas porções de cimento e nove porções de areia.
- d) Uma porção de cimento, duas porções de cal e nove porções de água.
- e) Uma porção de cimento, duas porções de água e nove porções de areia.

23. O concreto é uma mistura dos vários componentes, em determinadas proporções, chamadas de dosagem ou traço, na linguagem da construção civil. Sabendo disso, marque a alternativa correta sobre os materiais usados na mistura do concreto.

- a) Pedra, argila, cimento e água.
- b) Pedra, água, cimento e ferro.
- c) Pedra, água, cimento e cal.
- d) Pedra, areia, cal e cimento.
- e) Pedra, areia cimento e água.

24. _____ tem a função de transportar níveis pela obra para a marcação de nível de pisos e revestimentos de paredes, peitoris de janelas, dentre outros.
 Marque a alternativa que completa a lacuna corretamente.

- Mangueira PVC azul
- Mangueira de plástico preto
- Mangueira de nível
- Mangueira de alta pressão
- Mangueira de baixa pressão

25. Relacione a coluna X com a coluna Y e marque a alternativa correta.

Coluna X



Coluna Y

- Prumo de centro
- Colher de pedreiro
- Esquadro
- Desempenadeira
- Carrinho de mão

- 1, 2, 3, 4 e 5
- 5, 4, 3, 2 e 1
- 1, 3, 5, 2 e 4
- 5, 1, 3, 2 e 4
- 5, 3, 1, 2 e 4

LÍNGUA PORTUGUESA

Leia com atenção o texto abaixo e depois responda às próximas cinco questões.

Heroísmo

Ele usava um colete à prova de balas. Não importava que dia da semana, que dia do mês ou que dia do ano: ele sempre usava o seu colete à prova de balas. Era precavido, ele dizia. A cidade anda muito violenta; nunca se sabe o que pode acontecer. Isso é uma verdade!

Um belo dia, quando estava no banco, ocorreu um assalto. Três bandidos, armados de pistolas e metralhadoras, ameaçavam matar os reféns se o dinheiro não lhes fosse entregue com velocidade. Ele, muito seguro de si, sabendo da vantagem que levava sobre os assaltantes, afinal, seu colete estava bem escondido sob a camisa, disparou na direção de um deles para desarmá-lo. Um segundo depois, caiu morto.

Ataque cardíaco fulminante, disseram os legistas quando chegaram na cena do crime.

(Fonte: <http://www.napontadoslapis.com.br/2011/03/dois-pequenos-contos.html>. Acesso em 18/05/2016.)

26. Conforme o texto, a pessoa que usava um colete à prova de balas todos os dias era:

- Uma criança
- Uma mulher
- Um homem
- Um assaltante
- O gerente do banco

27. De acordo com o texto, como morreu a pessoa que usava diariamente um colete à prova de balas?

- De ataque cardíaco fulminante.
- Assassinado por um assaltante.
- Cometeu suicídio.
- Foi vítima de uma bala perdida durante o assalto.
- Foi morto por um policial.

28. Na segunda linha do texto diz: *Era precavido*. O que isso significa precavido?

- a) Distráido
- b) Aventureiro
- c) Descuidado
- d) Prevenido
- e) Precipitado

29. Em qual alternativa temos uma palavra grifada que é um pronome pessoal?

- a) A cidade anda muito violenta.
- b) Ele usava um colete à prova de balas.
- c) Um segundo depois, caiu morto.
- d) disseram os legistas quando chegaram na cena do crime.
- e) ele sempre usava o seu colete à prova de balas.

30. As palavras são representadas por fonemas (sons) e letras. Sendo assim, na palavra VELOCIDADE contamos quantos fonemas e letras?

- a) 7 fonemas e 10 letras.
- b) 8 fonemas e 9 letras.
- c) 9 fonemas e 9 letras.
- d) 9 fonemas e 10 letras.
- e) 10 fonemas e 10 letras.

Leia atentamente o texto da figura da formiga e o texto abaixo dela. Depois, responda às próximas cinco questões.

Formigas dormem?



Sim. Especialistas concordam que, como a maioria dos animais, elas dividem seu tempo entre atividade e descanso – quando a ação metabólica diminui. Mas isso não seria bem o que chamamos de sono. “Há registros de formigas vistas ‘deitadas de lado’, que, quando instigadas, retomaram a posição normal. Eu hesitaria em dizer que elas ‘acordaram’, mas a analogia é possível”, explica o mirmecologista (especialista em formiga) Carlos Brandão. Uma pesquisa norte-americana de 2009 indicava que ao menos as formigas-de-fogo (*Solenopsis Invicta*) dormem sim – em pequenos cochilos.

- As operárias “dormem” em turnos, mantendo sempre 80% da força de trabalho acordada.

(Fonte <http://mundoestranho.abril.com.br/materia/formigas-dormem>. Acesso em 18/05/2016.)

31. Observe a parte da figura da formiga sobre TOTAL DE HORAS DORMIDAS. Nessa parte, entendemos que:

- a) A formiga rainha dorme 9,4 horas por dia e a formiga operária dorme 4,8 horas por dia.
- b) A formiga rainha dorme menos de 9 horas por dia e a formiga operária menos de 4 horas por dia.
- c) A formiga rainha dorme mais de 10 horas por dia e a formiga operária mais de 4 horas por dia.
- d) A formiga rainha dorme mais de 9 horas por dia e a formiga operária mais de 5 horas por dia.
- e) A formiga rainha dorme 4 horas por dia e a formiga operária 8 horas por dia.

32. No texto que se localiza abaixo da figura da formiga, lemos a palavra mirmecologista. Lá explica que isso significa:

- a) O nome de um tipo de formiga.
- b) Especialista em formiga.

- c) O nome que se dá ao cochilo das formigas.
- d) O nome dado a uma pesquisa sobre formigas.
- e) Um outro nome que recebem as formigas operárias.

33. Leia esta frase: *Formigas dormem?*

Ela é:

- a) Uma frase afirmativa porque tem ponto final e expressa uma pergunta.
- b) Uma frase negativa porque tem ponto de interrogação e nega alguma coisa.
- c) Uma frase exclamativa porque tem ponto de exclamação e expressa admiração.
- d) Uma frase interrogativa porque tem ponto de exclamação e expressa uma pergunta.
- e) Uma frase interrogativa porque tem ponto de interrogação e expressa uma pergunta.

34. Em qual alternativa a separação de sílabas das palavras não está correta?

- a) a-ni-mais; dei-ta-das.
- b) es-pe-cia-lis-ta; po-ssí-vel.
- c) des-can-so; com-cor-dam.
- d) a-ti-vi-da-de; for-mi-gas.
- e) tra-ba-lho; pe-que-nos.

35. O hiato é um encontro vocálico em que temos duas vogais juntas, mas que são pronunciadas em sílabas diferentes. Assim, a palavra que tem hiato é:

- a) Pequenos
- b) Deitadas
- c) Quando
- d) Acordados
- e) Especialista

Leia com atenção o texto abaixo e depois responda às cinco próximas questões.

Tomate é fruta?

por Sabrina Haick | Edição 177

Sim, ele é. Não só o tomate é fruta, como a berinjela, a abobrinha, o pepino, o pimentão e outros alimentos que nós chamamos de legumes também são. Fruta é o ovário amadurecido de uma planta, onde ficam as sementes. A confusão acontece porque nós somos acostumados a chamar as frutas salgadas de legumes. Se você acha que sua vida foi uma mentira até agora, saiba que também existem alimentos que nós chamamos de fruta, mas não são. Trata-se dos pseudofrutos – estruturas suculentas que têm cara e jeito de fruto, mas não se desenvolvem a partir do ovário da planta, como as frutas reais. É o caso do morango, do caju, da maçã, da pera e do abacaxi, entre outros.

(Fonte: <http://mundoestranho.abril.com.br/materia/tomate-e-fruta>. Aceso em 18/05/2016.)

36. Ao ler esse texto, descobrimos que o tomate é um fruto e não um legume. Também descobrimos que são frutas outros alimentos que pensávamos que eram legumes. Dois deles são:

- a) Berinjela e morango
- b) Abobrinha e pepino
- c) Abobrinha e caju
- d) Pimentão e pera
- e) Pepino e abacaxi

37. Conhecer os sinônimos e antônimos das palavras nos ajuda a aumentar nosso vocabulário.

Qual é um sinônimo para a palavra “suculentas”, conforme o sentido que ela tem no texto?

- a) Desinteressantes
- b) Gordurosas
- c) Carnudas
- d) Descarnadas
- e) Felpudas

38. A acentuação em uma palavra nos ajuda a pronunciá-la de maneira correta, como, por exemplo, as palavras “você” e “ovário”. Marque a alternativa em que as palavras não foram acentuadas corretamente.

- a) lâmpada - pálpebra
- b) obíto - fenômeno
- c) mímica - código
- d) cálice - xícara
- e) cédula - específico



39. Escrevemos “abacaxi” com x, “berinjela” e “caju” com j.

Marque a alternativa em que todas as palavras grifadas estão escritas de forma correta.

- a) Fui à feira e comprei tangerina, laranja e melancia.
- b) Fui à feira e comprei tanjerina, laranja e melancia.
- c) Fui à feira e comprei tangerina, larãja e melancia.
- d) Fui à feira e comprei tangerina, laranja e melansia.
- e) Fui à feira e comprei tãgerina, laranja e melansia.

40. O que temos nas palavras “frutas”, “estruturas”, “salgadas” e “partir”?

- a) Ditongo
- b) Hiato
- c) Encontro consonantal e Encontro vocálico
- d) Encontro consonantal
- e) Encontro vocálico

RASCUNHO



PREFEITURA DE TELÊMACO BORBA - ESTADO DO PARANÁ- EDITAL Nº 001-2016 - CONCURSO PÚBLICO

VESPERTINO – 29/05/2016 – FUNDAMENTAL INCOMPLETO

3

PROVA OBJETIVA NÚMERO

CARGO: ARTÍFICE DE OBRAS E SERVIÇOS PÚBLICOS - PEDREIRO

Leia atentamente as INSTRUÇÕES:

1. Confira seus dados no cartão-resposta: nome, número de inscrição e o curso para o qual se inscreveu.
2. **MARQUE no seu cartão-resposta o número da sua prova** (não será corrigido o cartão-resposta que não tiver marcado o número da prova) e **Assine** seu cartão-resposta.
3. Aguarde a autorização do Fiscal para abrir o caderno de prova. Ao receber a ordem do fiscal, confira o caderno de prova com muita atenção. Nenhuma reclamação sobre o total de questões ou falha de impressão será aceita depois de iniciada a prova.
4. O cartão-resposta não será substituído, salvo se contiver erro de impressão.
5. Preencha toda a área do cartão-resposta correspondente à alternativa de sua escolha, com caneta esferográfica (tinta azul ou preta), sem ultrapassar as bordas. As marcações duplas, ou rasuradas, com corretivo, ou marcadas diferentemente do modelo estabelecido no cartão-resposta poderão ser anuladas.
6. Sua prova tem **40** questões, com **5** alternativas.
7. Cabe apenas ao candidato a interpretação das questões, **o fiscal** não poderá fazer nenhuma interferência.
8. A prova será realizada com duração máxima de **3 (três) horas**, incluído o tempo para a realização da Prova Objetiva de múltipla escolha e o preenchimento do cartão-resposta.
9. O candidato poderá retirar-se do local de realização das provas somente **1 (uma) hora** após o seu início, sem levar o caderno de prova.
10. O candidato poderá levar o caderno de provas, assim como anotação contendo transcrição do seu cartão-resposta, somente **1h30min** (uma hora e trinta minutos) após o início da realização da prova.
11. Ao terminar a prova, o candidato deverá entregar ao fiscal de sala o cartão-resposta preenchido e **ASSINADO**.
12. Os **3 (três)** candidatos, que terminarem a prova por último, deverão permanecer na sala, e só poderão sair juntos após o fechamento do envelope, contendo os cartões-resposta dos candidatos presentes e ausentes, e assinarem no lacre do referido envelope, atestando que este foi devidamente lacrado.
13. Durante todo o tempo em que permanecer no local onde está ocorrendo o concurso, o candidato deverá, manter o celular desligado e sem bateria, só sendo permitido ligar depois de ultrapassar o portão de saída do prédio.
14. Não será permitido ao candidato fumar na sala de provas, bem como nas dependências.
15. Depois de terminar a prova e entregar ao fiscal o cartão-resposta, preenchido e assinado, não será mais permitido ao candidato o uso do banheiro e bebedouro.

BOA PROVA!

CONHECIMENTOS ESPECÍFICOS

01. Marque a alternativa correta sobre EPI, que está de acordo com a figura a seguir.



- Equipamento de proteção total
- Equipamento de proteção individual
- Equipamento de proteção coletiva
- Equipamento de proteção parcial
- Equipamento de proteção geral

02. Numa argamassa de assentamento com traço 1:2:9, terei de usar quais materiais?

- Uma porção de cimento, duas porções de cal e nove porções de areia.
- Uma porção de areia, duas porções de cal e nove porções de cimento.
- Uma porção de cal, duas porções de cimento e nove porções de areia.
- Uma porção de cimento, duas porções de cal e nove porções de água.
- Uma porção de cimento, duas porções de água e nove porções de areia.

03. O concreto é uma mistura dos vários componentes, em determinadas proporções, chamadas de dosagem ou traço, na linguagem da construção civil. Sabendo disso, marque a alternativa correta sobre os materiais usados na mistura do concreto.

- Pedra, argila, cimento e água.
- Pedra, água, cimento e ferro.
- Pedra, água, cimento e cal.
- Pedra, areia, cal e cimento.
- Pedra, areia cimento e água.

04. _____ tem a função de transportar níveis pela obra para a marcação de nível de pisos e revestimentos de paredes, peitoris de janelas, dentre outros.

Marque a alternativa que completa a lacuna corretamente.

- Mangueira PVC azul
- Mangueira de plástico preto
- Mangueira de nível
- Mangueira de alta pressão
- Mangueira de baixa pressão

05. Relacione a coluna X com a coluna Y e marque a alternativa correta.

Coluna X



Coluna Y

- () Prumo de centro
- () Colher de pedreiro
- () Esquadro
- () Desempenadeira
- () Carrinho de mão

- 1, 2, 3, 4 e 5
- 5, 4, 3, 2 e 1
- 1, 3, 5, 2 e 4
- 5, 1, 3, 2 e 4



e) 5, 3, 1, 2 e 4

LÍNGUA PORTUGUESA

Leia com atenção o texto abaixo e depois responda às próximas cinco questões.

Heroísmo

Ele usava um colete à prova de balas. Não importava que dia da semana, que dia do mês ou que dia do ano: ele sempre usava o seu colete à prova de balas. Era precavido, ele dizia. A cidade anda muito violenta; nunca se sabe o que pode acontecer. Isso é uma verdade!

Um belo dia, quando estava no banco, ocorreu um assalto. Três bandidos, armados de pistolas e metralhadoras, ameaçavam matar os reféns se o dinheiro não lhes fosse entregue com velocidade. Ele, muito seguro de si, sabendo da vantagem que levava sobre os assaltantes, afinal, seu colete estava bem escondido sob a camisa, disparou na direção de um deles para desarmá-lo. Um segundo depois, caiu morto.

Ataque cardíaco fulminante, disseram os legistas quando chegaram na cena do crime.

(Fonte: <http://www.napontadoslapis.com.br/2011/03/dois-pequenos-contos.html>. Acesso em 18/05/2016.)

06. Conforme o texto, a pessoa que usava um colete à prova de balas todos os dias era:

- a) Uma criança
- b) Uma mulher
- c) Um homem
- d) Um assaltante
- e) O gerente do banco

07. De acordo com o texto, como morreu a pessoa que usava diariamente um colete à prova de balas?

- a) De ataque cardíaco fulminante.
- b) Assassinado por um assaltante.
- c) Cometeu suicídio.
- d) Foi vítima de uma bala perdida durante o assalto.
- e) Foi morto por um policial.

08. Na segunda linha do texto diz: *Era precavido*.

O que isso significa precavido?

- a) Distraído
- b) Aventureiro
- c) Descuidado
- d) Prevenido
- e) Precipitado

09. Em qual alternativa temos uma palavra grifada que é um pronome pessoal?

- a) A cidade anda muito violenta.
- b) Ele usava um colete à prova de balas.
- c) Um segundo depois, caiu morto.
- d) disseram os legistas quando chegaram na cena do crime.
- e) ele sempre usava o seu colete à prova de balas.

10. As palavras são representadas por fonemas (sons) e letras. Sendo assim, na palavra VELOCIDADE contamos quantos fonemas e letras?

- a) 7 fonemas e 10 letras.
- b) 8 fonemas e 9 letras.
- c) 9 fonemas e 9 letras.
- d) 9 fonemas e 10 letras.
- e) 10 fonemas e 10 letras.

Leia atentamente o texto da figura da formiga e o texto abaixo dela. Depois, responda às próximas cinco questões.

Formigas dormem?



Sim. Especialistas concordam que, como a maioria dos animais, elas dividem seu tempo entre atividade e descanso – quando a ação metabólica diminui. Mas isso não seria bem o que chamamos de sono. “Há registros de formigas vistas ‘deitadas de lado’, que, quando instigadas, retomaram a posição normal. Eu hesitaria em dizer que elas ‘acordaram’, mas a analogia é possível”, explica o mirmecologista (especialista em formiga) Carlos Brandão. Uma pesquisa norte-americana de 2009 indicava que ao menos as formigas-de-fogo (*Solenopsis Invicta*) dormem sim – em pequenos cochilos.

- As operárias “dormem” em turnos, mantendo sempre 80% da força de trabalho acordada.

(Fonte <http://mundoestranho.abril.com.br/materia/formigas-dormem>. Acesso em 18/05/2016.)

11. Observe a parte da figura da formiga sobre TOTAL DE HORAS DORMIDAS. Nessa parte, entendemos que:

- A formiga rainha dorme 9,4 horas por dia e a formiga operária dorme 4,8 horas por dia.
- A formiga rainha dorme menos de 9 horas por dia e a formiga operária menos de 4 horas por dia.
- A formiga rainha dorme mais de 10 horas por dia e a formiga operária mais de 4 horas por dia.
- A formiga rainha dorme mais de 9 horas por dia e a formiga operária mais de 5 horas por dia.
- A formiga rainha dorme 4 horas por dia e a formiga operária 8 horas por dia.

12. No texto que se localiza abaixo da figura da formiga, lemos a palavra mirmecologista. Lá explica que isso significa:

- O nome de um tipo de formiga.
- Especialista em formiga.
- O nome que se dá ao cochilo das formigas.
- O nome dado a uma pesquisa sobre formigas.
- Um outro nome que recebem as formigas operárias.

13. Leia esta frase: *Formigas dormem?*

Ela é:

- Uma frase afirmativa porque tem ponto final e expressa uma pergunta.
- Uma frase negativa porque tem ponto de interrogação e nega alguma coisa.
- Uma frase exclamativa porque tem ponto de exclamação e expressa admiração.
- Uma frase interrogativa porque tem ponto de exclamação e expressa uma pergunta.
- Uma frase interrogativa porque tem ponto de interrogação e expressa uma pergunta.

14. Em qual alternativa a separação de sílabas das palavras não está correta?

- a-ni-mais; dei-ta-das.
- es-pe-cia-lis-ta; po-ssí-vel.
- des-can-so; com-cor-dam.
- a-ti-vi-da-de; for-mi-gas.
- tra-ba-lho; pe-que-nos.

15. O hiato é um encontro vocálico em que temos duas vogais juntas, mas que são pronunciadas em sílabas diferentes. Assim, a palavra que tem hiato é:

- Pequenos
- Deitadas
- Quando



- d) Acordados
- e) Especialista

Leia com atenção o texto abaixo e depois responda às cinco próximas questões.

Tomate é fruta?

por Sabrina Haick | Edição 177

Sim, ele é. Não só o tomate é fruta, como a berinjela, a abobrinha, o pepino, o pimentão e outros alimentos que nós chamamos de legumes também são. Fruta é o ovário amadurecido de uma planta, onde ficam as sementes. A confusão acontece porque nós somos acostumados a chamar as frutas salgadas de legumes. Se você acha que sua vida foi uma mentira até agora, saiba que também existem alimentos que nós chamamos de fruta, mas não são. Trata-se dos pseudofrutos – estruturas suculentas que têm cara e jeito de fruto, mas não se desenvolvem a partir do ovário da planta, como as frutas reais. É o caso do morango, do caju, da maçã, da pera e do abacaxi, entre outros.

(Fonte: <http://mundoestranho.abril.com.br/materia/tomate-e-fruta>. Acesso em 18/05/2016.)

16. Ao ler esse texto, descobrimos que o tomate é um fruto e não um legume. Também descobrimos que são frutas outros alimentos que pensávamos que eram legumes. Dois deles são:

- a) Berinjela e morango
- b) Abobrinha e pepino
- c) Abobrinha e caju
- d) Pimentão e pera
- e) Pepino e abacaxi

17. Conhecer os sinônimos e antônimos das palavras nos ajuda a aumentar nosso vocabulário.

Qual é um sinônimo para a palavra “suculentas”, conforme o sentido que ela tem no texto?

- a) Desinteressantes
- b) Gordurosas
- c) Carnudas
- d) Descarnadas
- e) Felpudas

18. A acentuação em uma palavra nos ajuda a pronunciá-la de maneira correta, como, por exemplo, as palavras “você” e “ovário”. Marque a alternativa em que as palavras não foram acentuadas corretamente.

- a) lâmpada - pálpebra
- b) obíto - fenômeno
- c) mímica - código
- d) cálice - xícara
- e) cédula - específico

19. Escrevemos “abacaxi” com x, “berinjela” e “caju” com j.

Marque a alternativa em que todas as palavras grifadas estão escritas de forma correta.

- a) Fui à feira e comprei tangerina, laranja e melancia.
- b) Fui à feira e comprei tanjerina, laranja e melancia.
- c) Fui à feira e comprei tangerina, larãja e melancia.
- d) Fui à feira e comprei tangerina, laranja e melansia.
- e) Fui à feira e comprei tãgerina, laranja e melansia.

20. O que temos nas palavras “frutas”, “estruturas”, “salgadas” e “partir”?

- a) Ditongo
- b) Hiato
- c) Encontro consonantal e Encontro vocálico
- d) Encontro consonantal
- e) Encontro vocálico

MATEMÁTICA

21. Marcela tem uma dívida de R\$ 462,00 dividida em 4 parcela iguais. Qual é o valor que Marcela vai pagar em cada parcela?

- a) R\$ 189,00
- b) R\$ 145,50
- c) R\$ 115,50
- d) R\$ 125,00
- e) R\$ 132,50

22. No mês de fevereiro, Maria assistiu a filmes nos dias ímpares, e Carla nos dias pares. Quantas vezes Maria assistiu a filmes no mês de fevereiro?

- a) 28
b) 14
c) 15
d) 8
e) 4

DOM	SEG	TER	QUA	QUI	SEX	SAB
			1	2	3	4
5	6	7	8	9	10	11
12	13	14	15	16	17	18
19	20	21	22	23	24	25
26	27	28				

23. Um estudante pretende se inscrever para participar de um Congresso Nacional. (O valor das inscrições está apresentado na tabela abaixo). Sabendo que o estudante irá se inscrever na abertura do Congresso Nacional, qual é o valor que ele irá pagar?

- a) R\$ 120,00
b) R\$ 100,00
c) R\$ 180,00
d) R\$ 150,00
e) R\$ 170,00

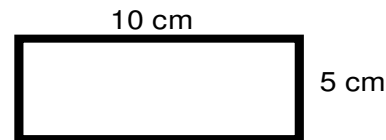
CATEGORIA	Inscrições até 15/05/16	Na abertura do Congresso
Profissional	R\$ 120,00	R\$ 180,00
Estudantes	R\$ 100,00	R\$ 150,00

24. A prestação de um terreno é de R\$ 787,00 e vence todo dia 10. Pagando fora do prazo, há uma multa de R\$ 8,70 por dia. Se a prestação foi paga só no dia 25 (vinte e cinco), qual foi o valor pago?

- a) R\$ 987,00
b) R\$ 937,00
c) R\$ 927,50
d) R\$ 967,00
e) R\$ 917,50

25. Marque a alternativa que apresenta o resultado do cálculo do perímetro de um terreno que tem as dimensões indicadas na figura abaixo.

- a) 30 cm
b) 50 cm
c) 40 cm
d) 20 cm
e) 70 cm



26. Um show de Munhoz e Mariano, na exposição de Campo Grande, em abril de 2016, teve início exatamente às 21h e 15min e terminou às 23h e 40 min. Qual foi a duração do show?

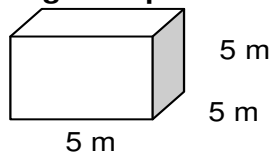
- a) 2h e 10m
b) 2h e 15m
c) 2h e 25m
d) 2h e 30m
e) 2h e 40m

27. Um pacote de açúcar pesa 2Kg. Foram retirados 450g para fazer um bolo. Quantos gramas restaram no pacote?

- a) 1.450 g
b) 1.250 g
c) 1.350 g
d) 1.550 g
e) 1.650 g

28. Determine o volume da figura representada a seguir e marque a alternativa correta.

- a) $137m^3$
b) $115m^3$
c) $127m^3$
d) $216m^3$
e) $125m^3$



29. Calcule o perímetro de um retângulo cuja base é três vezes a altura que mede 4m, e marque a alternativa correta.

- a) 16m
b) 32m
c) 48m
d) 20m
e) 28m



30. João mora no Bairro Tiradentes e Carlos no Bairro Novo Século, os dois trabalham no Supermercado Novo Horizonte. João chegou ao supermercado às 7horas e 30 minutos da manhã e Carlos chegou meia hora depois.

A que horas Carlos chegou ao supermercado?

- a) 8 horas
- b) 9 horas
- c) 6 horas
- d) 5 horas
- e) 4 horas

CONHECIMENTOS GERAIS

31. Telêmaco Borba/PR foi desmembrado do município de

- a) Tibagi
- b) Londrina
- c) Ortigueira
- d) Imbaú
- e) Ventania

32. Quais são as cores da bandeira do município de Telêmaco Borba/PR?

- a) Vermelha, branca e verde
- b) Branca, azul e amarela
- c) Verde, azul e amarela
- d) Vermelha, branca e azul
- e) Branca, cinza e verde

33. Qual o nome do atual prefeito de Telêmaco Borba/PR?

- a) Renato Bahena
- b) José Reinaldo Antunes Carneiro
- c) Luiz Carlos Gibson
- d) Gilson Pereira dos Santos
- e) Ezequiel Ligoski Betim

34. Marque a alternativa que corresponde ao feriado municipal que comemora o dia da padroeira de Telêmaco Borba/PR (Nossa Senhora do Perpétuo Socorro).

- a) 21 de março
- b) 26 de maio
- c) 01 de novembro
- d) 28 de outubro
- e) 21 de junho

35. Quem nasce em Telêmaco Borba é

- a) Telemacoborbense
- b) Telemacoborbino
- c) Telemacoreense
- d) Telemaconense
- e) Telemacoborbiano

36. Em caso de vaga de vereador, não havendo suplente, o Presidente comunicará o fato, diretamente ao Tribunal Regional Eleitoral, dentro de

- a) 72 horas.
- b) 5 dias.
- c) 15 dias.
- d) 48 horas.
- e) 24 horas.

37. Qual alternativa não contempla uma forma de provimento no cargo público, conforme o art. 6º do Estatuto dos Servidores Públicos do município de Telêmaco Borba/PR?

- a) Nomeação
- b) Concurso
- c) Readaptação
- d) Reintegração
- e) Promoção

38. Qual dos municípios seguintes faz divisa com Telêmaco Borba/PR?



- a) Curiúva
- b) Londrina
- c) Arapot
- d) Sapopema
- e) Cambé

39. O município de Telêmaco Borba/PR foi criado inicialmente com o nome de

- a) Monte Alegre.
- b) Mauá.
- c) Cidade Nova.
- d) Harmonia.
- e) Tibagi.

40. Como é denominada a sede administrativa de Telêmaco Borba/PR?

- a) Paço Municipal
- b) Paço das Araucárias
- c) Governo Municipal
- d) Prefeitura
- e) Paço Administrativo

RASCUNHO



PREFEITURA DE TELÊMACO BORBA - ESTADO DO PARANÁ- EDITAL Nº 001-2016 - CONCURSO PÚBLICO

VESPERTINO – 29/05/2016 – FUNDAMENTAL INCOMPLETO

1

PROVA OBJETIVA NÚMERO

CARGO: ARTÍFICE DE OBRAS E SERVIÇOS PÚBLICOS - PINTOR DE PAREDES

Leia atentamente as INSTRUÇÕES:

1. Confira seus dados no cartão-resposta: nome, número de inscrição e o curso para o qual se inscreveu.
2. **MARQUE no seu cartão-resposta o número da sua prova** (não será corrigido o cartão-resposta que não tiver marcado o número da prova) e **Assine** seu cartão-resposta.
3. Aguarde a autorização do Fiscal para abrir o caderno de prova. Ao receber a ordem do fiscal, confira o caderno de prova com muita atenção. Nenhuma reclamação sobre o total de questões ou falha de impressão será aceita depois de iniciada a prova.
4. O cartão-resposta não será substituído, salvo se contiver erro de impressão.
5. Preencha toda a área do cartão-resposta correspondente à alternativa de sua escolha, com caneta esferográfica (tinta azul ou preta), sem ultrapassar as bordas. As marcações duplas, ou rasuradas, com corretivo, ou marcadas diferentemente do modelo estabelecido no cartão-resposta poderão ser anuladas.
6. Sua prova tem **40** questões, com **5** alternativas.
7. Cabe apenas ao candidato a interpretação das questões, **o fiscal** não poderá fazer nenhuma interferência.
8. A prova será realizada com duração máxima de **3 (três) horas**, incluído o tempo para a realização da Prova Objetiva de múltipla escolha e o preenchimento do cartão-resposta.
9. O candidato poderá retirar-se do local de realização das provas somente **1 (uma) hora** após o seu início, sem levar o caderno de prova.
10. O candidato poderá levar o caderno de provas, assim como anotação contendo transcrição do seu cartão-resposta, somente **1h30min** (uma hora e trinta minutos) após o início da realização da prova.
11. Ao terminar a prova, o candidato deverá entregar ao fiscal de sala o cartão-resposta preenchido e **ASSINADO**.
12. Os **3 (três)** candidatos, que terminarem a prova por último, deverão permanecer na sala, e só poderão sair juntos após o fechamento do envelope, contendo os cartões-resposta dos candidatos presentes e ausentes, e assinarem no lacre do referido envelope, atestando que este foi devidamente lacrado.
13. Durante todo o tempo em que permanecer no local onde está ocorrendo o concurso, o candidato deverá, manter o celular desligado e sem bateria, só sendo permitido ligar depois de ultrapassar o portão de saída do prédio.
14. Não será permitido ao candidato fumar na sala de provas, bem como nas dependências.
15. Depois de terminar a prova e entregar ao fiscal o cartão-resposta, preenchido e assinado, não será mais permitido ao candidato o uso do banheiro e bebedouro.

BOA PROVA!**LÍNGUA PORTUGUESA**

Leia com atenção o texto abaixo e depois responda às próximas cinco questões.

Heroísmo

Ele usava um colete à prova de balas. Não importava que dia da semana, que dia do mês ou que dia do ano: ele sempre usava o seu colete à prova de balas. Era precavido, ele dizia. A cidade anda muito violenta; nunca se sabe o que pode acontecer. Isso é uma verdade!

Um belo dia, quando estava no banco, ocorreu um assalto. Três bandidos, armados de pistolas e metralhadoras, ameaçavam matar os reféns se o dinheiro não lhes fosse entregue com velocidade. Ele, muito seguro de si, sabendo da vantagem que levava sobre os assaltantes, afinal, seu colete estava bem escondido sob a camisa, disparou na direção de um deles para desarmá-lo. Um segundo depois, caiu morto.

Ataque cardíaco fulminante, disseram os legistas quando chegaram na cena do crime.

(Fonte: <http://www.napontadoslapis.com.br/2011/03/dois-pequenos-contos.html>. Acesso em 18/05/2016.)

01. Conforme o texto, a pessoa que usava um colete à prova de balas todos os dias era:

- a) Uma criança
- b) Uma mulher
- c) Um homem
- d) Um assaltante
- e) O gerente do banco

02. De acordo com o texto, como morreu a pessoa que usava diariamente um colete à prova de balas?

- a) De ataque cardíaco fulminante.
- b) Assassinado por um assaltante.
- c) Cometeu suicídio.
- d) Foi vítima de uma bala perdida durante o assalto.
- e) Foi morto por um policial.

03. Na segunda linha do texto diz: *Era precavido*.

O que isso significa precavido?

- a) Distraído
- b) Aventureiro
- c) Descuidado
- d) Prevenido
- e) Precipitado

04. Em qual alternativa temos uma palavra grifada que é um pronome pessoal?

- a) A cidade anda muito violenta.
- b) Ele usava um colete à prova de balas.
- c) Um segundo depois, caiu morto.
- d) disseram os legistas quando chegaram na cena do crime.
- e) ele sempre usava o seu colete à prova de balas.

05. As palavras são representadas por fonemas (sons) e letras. Sendo assim, na palavra VELOCIDADE contamos quantos fonemas e letras?

- a) 7 fonemas e 10 letras.
- b) 8 fonemas e 9 letras.
- c) 9 fonemas e 9 letras.
- d) 9 fonemas e 10 letras.
- e) 10 fonemas e 10 letras.

Leia atentamente o texto da figura da formiga e o texto abaixo dela. Depois, responda às próximas cinco questões.

Formigas dormem?



Sim. Especialistas concordam que, como a maioria dos animais, elas dividem seu tempo entre atividade e descanso – quando a ação metabólica diminui. Mas isso não seria bem o que chamamos de sono. “Há registros de formigas vistas ‘deitadas de lado’, que, quando instigadas, retomaram a posição normal. Eu hesitaria em dizer que elas ‘acordaram’, mas a analogia é possível”, explica o mirmecologista (especialista em formiga) Carlos Brandão. Uma pesquisa norte-americana de 2009 indicava que ao menos as formigas-de-fogo (*Solenopsis Invicta*) dormem sim – em pequenos cochilos.

- As operárias “dormem” em turnos, mantendo sempre 80% da força de trabalho acordada.

(Fonte <http://mundoestranho.abril.com.br/materia/formigas-dormem>. Acesso em 18/05/2016.)

06. Observe a parte da figura da formiga sobre TOTAL DE HORAS DORMIDAS. Nessa parte, entendemos que:

- A formiga rainha dorme 9,4 horas por dia e a formiga operária dorme 4,8 horas por dia.
- A formiga rainha dorme menos de 9 horas por dia e a formiga operária menos de 4 horas por dia.
- A formiga rainha dorme mais de 10 horas por dia e a formiga operária mais de 4 horas por dia.
- A formiga rainha dorme mais de 9 horas por dia e a formiga operária mais de 5 horas por dia.
- A formiga rainha dorme 4 horas por dia e a formiga operária 8 horas por dia.

07. No texto que se localiza abaixo da figura da formiga, lemos a palavra mirmecologista. Lá explica que isso significa:

- O nome de um tipo de formiga.
- Especialista em formiga.
- O nome que se dá ao cochilo das formigas.
- O nome dado a uma pesquisa sobre formigas.
- Um outro nome que recebem as formigas operárias.

08. Leia esta frase: *Formigas dormem?*

Ela é:

- Uma frase afirmativa porque tem ponto final e expressa uma pergunta.
- Uma frase negativa porque tem ponto de interrogação e nega alguma coisa.
- Uma frase exclamativa porque tem ponto de exclamação e expressa admiração.
- Uma frase interrogativa porque tem ponto de exclamação e expressa uma pergunta.
- Uma frase interrogativa porque tem ponto de interrogação e expressa uma pergunta.

09. Em qual alternativa a separação de sílabas das palavras não está correta?

- a-ni-mais; dei-ta-das.
- es-pe-cia-lis-ta; po-ssí-vel.
- des-can-so; com-cor-dam.
- a-ti-vi-da-de; for-mi-gas.
- tra-ba-lho; pe-que-nos.

10. O hiato é um encontro vocálico em que temos duas vogais juntas, mas que são pronunciadas em sílabas diferentes. Assim, a palavra que tem hiato é:

- Pequenos
- Deitadas
- Quando

- d) Acordados
- e) Especialista

Leia com atenção o texto abaixo e depois responda às cinco próximas questões.

Tomate é fruta?

por Sabrina Haick | Edição 177

Sim, ele é. Não só o tomate é fruta, como a berinjela, a abobrinha, o pepino, o pimentão e outros alimentos que nós chamamos de legumes também são. Fruta é o ovário amadurecido de uma planta, onde ficam as sementes. A confusão acontece porque nós somos acostumados a chamar as frutas salgadas de legumes. Se você acha que sua vida foi uma mentira até agora, saiba que também existem alimentos que nós chamamos de fruta, mas não são. Trata-se dos pseudofrutos – estruturas suculentas que têm cara e jeito de fruto, mas não se desenvolvem a partir do ovário da planta, como as frutas reais. É o caso do morango, do caju, da maçã, da pera e do abacaxi, entre outros.

(Fonte: <http://mundoestranho.abril.com.br/materia/tomate-e-fruta>. Aceso em 18/05/2016.)

11. Ao ler esse texto, descobrimos que o tomate é um fruto e não um legume. Também descobrimos que são frutas outros alimentos que pensávamos que eram legumes. Dois deles são:

- a) Berinjela e morango
- b) Abobrinha e pepino
- c) Abobrinha e caju
- d) Pimentão e pera
- e) Pepino e abacaxi

12. Conhecer os sinônimos e antônimos das palavras nos ajuda a aumentar nosso vocabulário. Qual é um sinônimo para a palavra “suculentas”, conforme o sentido que ela tem no texto?

- a) Desinteressantes
- b) Gordurosas
- c) Carnudas
- d) Descarnadas
- e) Felpudas

13. A acentuação em uma palavra nos ajuda a pronunciá-la de maneira correta, como, por exemplo, as palavras “você” e “ovário”. Marque a alternativa em que as palavras não foram acentuadas corretamente.

- a) lâmpada - pálpebra
- b) obíto - fenômeno
- c) mímica - código
- d) cálice - xícara
- e) cédula - específico

14. Escrevemos “abacaxi” com x, “berinjela” e “caju” com j.

Marque a alternativa em que todas as palavras grifadas estão escritas de forma correta.

- a) Fui à feira e comprei tangerina, laranja e melancia.
- b) Fui à feira e comprei tanjerina, laranja e melancia.
- c) Fui à feira e comprei tangerina, larãja e melancia.
- d) Fui à feira e comprei tangerina, laranja e melansia.
- e) Fui à feira e comprei tãgerina, laranja e melansia.

15. O que temos nas palavras “frutas”, “estruturas”, “salgadas” e “partir”?

- a) Ditongo
- b) Hiato
- c) Encontro consonantal e Encontro vocálico
- d) Encontro consonantal
- e) Encontro vocálico

MATEMÁTICA

16. Marcela tem uma dívida de R\$ 462,00 dividida em 4 parcela iguais. Qual é o valor que Marcela vai pagar em cada parcela?

- a) R\$ 189,00

- b) R\$ 145,50
c) R\$ 115,50
d) R\$ 125,00
e) R\$ 132,50

17. No mês de fevereiro, Maria assistiu a filmes nos dias ímpares, e Carla nos dias pares. Quantas vezes Maria assistiu a filmes no mês de fevereiro?

- a) 28
b) 14
c) 15
d) 8
e) 4

DOM	SEG	TER	QUA	QUI	SEX	SAB
			1	2	3	4
5	6	7	8	9	10	11
12	13	14	15	16	17	18
19	20	21	22	23	24	25
26	27	28				

18. Um estudante pretende se inscrever para participar de um Congresso Nacional. (O valor das inscrições está apresentado na tabela abaixo). Sabendo que o estudante irá se inscrever na abertura do Congresso Nacional, qual é o valor que ele irá pagar?

- a) R\$ 120,00
b) R\$ 100,00
c) R\$ 180,00
d) R\$ 150,00
e) R\$ 170,00

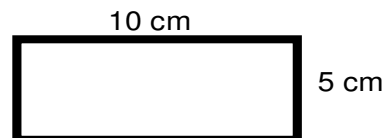
CATEGORIA	Inscrições até 15/05/16	Na abertura do Congresso
Profissional	R\$ 120,00	R\$ 180,00
Estudantes	R\$ 100,00	R\$ 150,00

19. A prestação de um terreno é de R\$ 787,00 e vence todo dia 10. Pagando fora do prazo, há uma multa de R\$ 8,70 por dia. Se a prestação foi paga só no dia 25 (vinte e cinco), qual foi o valor pago?

- a) R\$ 987,00
b) R\$ 937,00
c) R\$ 927,50
d) R\$ 967,00
e) R\$ 917,50

20. Marque a alternativa que apresenta o resultado do cálculo do perímetro de um terreno que tem as dimensões indicadas na figura abaixo.

- a) 30 cm
b) 50 cm
c) 40 cm
d) 20 cm
e) 70 cm



21. Um show de Munhoz e Mariano, na exposição de Campo Grande, em abril de 2016, teve início exatamente às 21h e 15min e terminou às 23h e 40 min. Qual foi a duração do show?

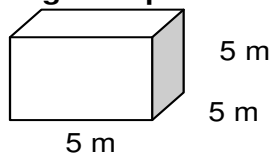
- a) 2h e 10m
b) 2h e 15m
c) 2h e 25m
d) 2h e 30m
e) 2h e 40m

22. Um pacote de açúcar pesa 2Kg. Foram retirados 450g para fazer um bolo. Quantos gramas restaram no pacote?

- a) 1.450 g
b) 1.250 g
c) 1.350 g
d) 1.550 g
e) 1.650 g

23. Determine o volume da figura representada a seguir e marque a alternativa correta.

- a) $137m^3$
b) $115m^3$
c) $127m^3$
d) $216m^3$
e) $125m^3$



24. Calcule o perímetro de um retângulo cuja base é três vezes a altura que mede 4m, e marque a alternativa correta.

- a) 16m
- b) 32m
- c) 48m
- d) 20m
- e) 28m



25. João mora no Bairro Tiradentes e Carlos no Bairro Novo Século, os dois trabalham no Supermercado Novo Horizonte. João chegou ao supermercado às 7 horas e 30 minutos da manhã e Carlos chegou meia hora depois.

A que horas Carlos chegou ao supermercado?

- a) 8 horas
- b) 9 horas
- c) 6 horas
- d) 5 horas
- e) 4 horas

CONHECIMENTOS GERAIS

26. Telêmaco Borba/PR foi desmembrado do município de

- a) Tibagi
- b) Londrina
- c) Ortigueira
- d) Imbaú
- e) Ventania

27. Quais são as cores da bandeira do município de Telêmaco Borba/PR?

- a) Vermelha, branca e verde
- b) Branca, azul e amarela
- c) Verde, azul e amarela
- d) Vermelha, branca e azul
- e) Branca, cinza e verde

28. Qual o nome do atual prefeito de Telêmaco Borba/PR?

- a) Renato Bahena
- b) José Reinaldo Antunes Carneiro
- c) Luiz Carlos Gibson
- d) Gilson Pereira dos Santos
- e) Ezequiel Ligoski Betim

29. Marque a alternativa que corresponde ao feriado municipal que comemora o dia da padroeira de Telêmaco Borba/PR (Nossa Senhora do Perpétuo Socorro).

- a) 21 de março
- b) 26 de maio
- c) 01 de novembro
- d) 28 de outubro
- e) 21 de junho

30. Quem nasce em Telêmaco Borba é

- a) Telemacoborbense
- b) Telemacoborbino
- c) Telemacoreense
- d) Telemaconense
- e) Telemacoborbiano

31. Em caso de vaga de vereador, não havendo suplente, o Presidente comunicará o fato, diretamente ao Tribunal Regional Eleitoral, dentro de

- a) 72 horas.
- b) 5 dias.
- c) 15 dias.
- d) 48 horas.
- e) 24 horas.

32. Qual alternativa não contempla uma forma de provimento no cargo público, conforme o art. 6º do Estatuto dos Servidores Públicos do município de Telêmaco Borba/PR?

- a) Nomeação
- b) Concurso

- c) Readaptação
- d) Reintegração
- e) Promoção

33. Qual dos municípios seguintes faz divisa com Telêmaco Borba/PR?

- a) Curiúva
- b) Londrina
- c) Arapot
- d) Sapopema
- e) Cambé

34. O município de Telêmaco Borba/PR foi criado inicialmente com o nome de

- a) Monte Alegre.
- b) Mauá.
- c) Cidade Nova.
- d) Harmonia.
- e) Tibagi.

35. Como é denominada a sede administrativa de Telêmaco Borba/PR?

- a) Paço Municipal
- b) Paço das Araucárias
- c) Governo Municipal
- d) Prefeitura
- e) Paço Administrativo

CONHECIMENTOS ESPECÍFICOS

36. Marque a alternativa correta sobre EPI, que está de acordo com a figura a seguir.



- a) Equipamento de proteção total
- b) Equipamento de proteção individual
- c) Equipamento de proteção coletiva
- d) Equipamento de proteção parcial
- e) Equipamento de proteção geral

37. Os rolos de lã, que podem ser de fibra natural, sintética ou de composição mista, devem ser usados na aplicação de tintas à base de _____.

Marque a alternativa que preenche a lacuna corretamente.

- a) água
- b) solvente
- c) tiner
- d) aguarrás
- e) querosene

38. Em uma trinca na parede, usamos _____ para correção, aplicando o uso da _____ para acabamento antes de receber a pintura.

Marque a alternativa que preencha as lacunas corretamente.

- a) argamassa de cimento; lixa
- b) lixa; massa plástica
- c) massa plástica; lixa
- d) massa de poliéster; massa plástica
- e) massa corrida; lixa

39. Para proteção de locais que não deverão receber tinta, ou para separarmos uma parede do teto com outra cor, usamos que tipo de produto?



- a) Fita de nylon
- b) Fita durex
- c) Fita Isolante
- d) Fita crepe
- e) Fita de cetim

40. Numa construção, temos o isolamento térmico para diminuir a temperatura interna do imóvel no verão e aumentar a temperatura no inverno. Já o isolamento acústico serve para diminuir o quê?

- a) O valor da conta de energia
- b) A temperatura do teto (frio/calor)
- c) O ruído externo
- d) A incidência de luz (claridade)
- e) A umidade interna

RASCUNHO



PREFEITURA DE TELÊMACO BORBA - ESTADO DO PARANÁ- EDITAL Nº 001-2016 - CONCURSO PÚBLICO

VESPERTINO – 29/05/2016 – FUNDAMENTAL INCOMPLETO

PROVA OBJETIVA NÚMERO

2**CARGO: ARTÍFICE DE OBRAS E SERVIÇOS PÚBLICOS - PINTOR DE PAREDES****Leia atentamente as INSTRUÇÕES:**

1. Confira seus dados no cartão-resposta: nome, número de inscrição e o curso para o qual se inscreveu.
2. **MARQUE no seu cartão-resposta o número da sua prova** (não será corrigido o cartão-resposta que não tiver marcado o número da prova) e **Assine** seu cartão-resposta.
3. Aguarde a autorização do Fiscal para abrir o caderno de prova. Ao receber a ordem do fiscal, confira o caderno de prova com muita atenção. Nenhuma reclamação sobre o total de questões ou falha de impressão será aceita depois de iniciada a prova.
4. O cartão-resposta não será substituído, salvo se contiver erro de impressão.
5. Preencha toda a área do cartão-resposta correspondente à alternativa de sua escolha, com caneta esferográfica (tinta azul ou preta), sem ultrapassar as bordas. As marcações duplas, ou rasuradas, com corretivo, ou marcadas diferentemente do modelo estabelecido no cartão-resposta poderão ser anuladas.
6. Sua prova tem **40** questões, com **5** alternativas.
7. Cabe apenas ao candidato a interpretação das questões, **o fiscal** não poderá fazer nenhuma interferência.
8. A prova será realizada com duração máxima de **3 (três) horas**, incluído o tempo para a realização da Prova Objetiva de múltipla escolha e o preenchimento do cartão-resposta.
9. O candidato poderá retirar-se do local de realização das provas somente **1 (uma) hora** após o seu início, sem levar o caderno de prova.
10. O candidato poderá levar o caderno de provas, assim como anotação contendo transcrição do seu cartão-resposta, somente **1h30min** (uma hora e trinta minutos) após o início da realização da prova.
11. Ao terminar a prova, o candidato deverá entregar ao fiscal de sala o cartão-resposta preenchido e **ASSINADO**.
12. Os **3 (três)** candidatos, que terminarem a prova por último, deverão permanecer na sala, e só poderão sair juntos após o fechamento do envelope, contendo os cartões-resposta dos candidatos presentes e ausentes, e assinarem no lacre do referido envelope, atestando que este foi devidamente lacrado.
13. Durante todo o tempo em que permanecer no local onde está ocorrendo o concurso, o candidato deverá, manter o celular desligado e sem bateria, só sendo permitido ligar depois de ultrapassar o portão de saída do prédio.
14. Não será permitido ao candidato fumar na sala de provas, bem como nas dependências.
15. Depois de terminar a prova e entregar ao fiscal o cartão-resposta, preenchido e assinado, não será mais permitido ao candidato o uso do banheiro e bebedouro.

BOA PROVA!

MATEMÁTICA

1. Marcela tem uma dívida de R\$ 462,00 dividida em 4 parcela iguais. Qual é o valor que Marcela vai pagar em cada parcela?

- a) R\$ 189,00
- b) R\$ 145,50
- c) R\$ 115,50
- d) R\$ 125,00
- e) R\$ 132,50

2. No mês de fevereiro, Maria assistiu a filmes nos dias ímpares, e Carla nos dias pares. Quantas vezes Maria assistiu a filmes no mês de fevereiro?

- a) 28
- b) 14
- c) 15
- d) 8
- e) 4

DOM	SEG	TER	QUA	QUI	SEX	SAB
			1	2	3	4
5	6	7	8	9	10	11
12	13	14	15	16	17	18
19	20	21	22	23	24	25
26	27	28				

3. Um estudante pretende se inscrever para participar de um Congresso Nacional. (O valor das inscrições está apresentado na tabela abaixo). Sabendo que o estudante irá se inscrever na abertura do Congresso Nacional, qual é o valor que ele irá pagar?

- a) R\$ 120,00
- b) R\$ 100,00
- c) R\$ 180,00
- d) R\$ 150,00
- e) R\$ 170,00

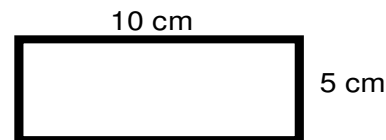
CATEGORIA	Inscrições até 15/05/16	Na abertura do Congresso
Profissional	R\$ 120,00	R\$ 180,00
Estudantes	R\$ 100,00	R\$ 150,00

4. A prestação de um terreno é de R\$ 787,00 e vence todo dia 10. Pagando fora do prazo, há uma multa de R\$ 8,70 por dia. Se a prestação foi paga só no dia 25 (vinte e cinco), qual foi o valor pago?

- a) R\$ 987,00
- b) R\$ 937,00
- c) R\$ 927,50
- d) R\$ 967,00
- e) R\$ 917,50

5. Marque a alternativa que apresenta o resultado do cálculo do perímetro de um terreno que tem as dimensões indicadas na figura abaixo.

- a) 30 cm
- b) 50 cm
- c) 40 cm
- d) 20 cm
- e) 70 cm



6. Um show de Munhoz e Mariano, na exposição de Campo Grande, em abril de 2016, teve início exatamente às 21h e 15min e terminou às 23h e 40 min. Qual foi a duração do show?

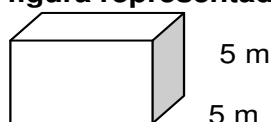
- a) 2h e 10m
- b) 2h e 15m
- c) 2h e 25m
- d) 2h e 30m
- e) 2h e 40m

7. Um pacote de açúcar pesa 2Kg. Foram retirados 450g para fazer um bolo. Quantos gramas restaram no pacote?

- a) 1.450 g
- b) 1.250 g
- c) 1.350 g
- d) 1.550 g
- e) 1.650 g

8. Determine o volume da figura representada a seguir e marque a alternativa correta.

- a) $137m^3$
- b) $115m^3$
- c) $127m^3$
- d) $216m^3$



e) 125m^3

5 m

9. Calcule o perímetro de um retângulo cuja base é três vezes a altura que mede 4m, e marque a alternativa correta.

- a) 16m
- b) 32m
- c) 48m
- d) 20m
- e) 28m



10. João mora no Bairro Tiradentes e Carlos no Bairro Novo Século, os dois trabalham no Supermercado Novo Horizonte. João chegou ao supermercado às 7horas e 30 minutos da manhã e Carlos chegou meia hora depois.

A que horas Carlos chegou ao supermercado?

- a) 8 horas
- b) 9 horas
- c) 6 horas
- d) 5 horas
- e) 4 horas

CONHECIMENTOS GERAIS

11. Telêmaco Borba/PR foi desmembrado do município de

- a) Tibagi
- b) Londrina
- c) Ortigueira
- d) Imbaú
- e) Ventania

12. Quais são as cores da bandeira do município de Telêmaco Borba/PR?

- a) Vermelha, branca e verde
- b) Branca, azul e amarela
- c) Verde, azul e amarela
- d) Vermelha, branca e azul
- e) Branca, cinza e verde

13. Qual o nome do atual prefeito de Telêmaco Borba/PR?

- a) Renato Bahena
- b) José Reinaldo Antunes Carneiro
- c) Luiz Carlos Gibson
- d) Gilson Pereira dos Santos
- e) Ezequiel Ligoski Betim

14. Marque a alternativa que corresponde ao feriado municipal que comemora o dia da padroeira de Telêmaco Borba/PR (Nossa Senhora do Perpétuo Socorro).

- a) 21 de março
- b) 26 de maio
- c) 01 de novembro
- d) 28 de outubro
- e) 21 de junho

15. Quem nasce em Telêmaco Borba é

- a) Telemacoborbense
- b) Telemacoborbino
- c) Telemacoreense
- d) Telemaconense
- e) Telemacoborbiano

16. Em caso de vaga de vereador, não havendo suplente, o Presidente comunicará o fato, diretamente ao Tribunal Regional Eleitoral, dentro de

- a) 72 horas.
- b) 5 dias.
- c) 15 dias.
- d) 48 horas.
- e) 24 horas.

17. Qual alternativa não contempla uma forma de provimento no cargo público, conforme o art. 6º do Estatuto dos Servidores Públicos do município de Telêmaco Borba/PR?

- a) Nomeação
- b) Concurso
- c) Readaptação
- d) Reintegração
- e) Promoção

18. Qual dos municípios seguintes faz divisa com Telêmaco Borba/PR?

- a) Curiúva
- b) Londrina
- c) Arapot
- d) Sapopema
- e) Cambé

19. O município de Telêmaco Borba/PR foi criado inicialmente com o nome de

- a) Monte Alegre.
- b) Mauá.
- c) Cidade Nova.
- d) Harmonia.
- e) Tibagi.

20. Como é denominada a sede administrativa de Telêmaco Borba/PR?

- a) Paço Municipal
- b) Paço das Araucárias
- c) Governo Municipal
- d) Prefeitura
- e) Paço Administrativo

CONHECIMENTOS ESPECÍFICOS

21. Marque a alternativa correta sobre EPI, que está de acordo com a figura a seguir.



- a) Equipamento de proteção total
- b) Equipamento de proteção individual
- c) Equipamento de proteção coletiva
- d) Equipamento de proteção parcial
- e) Equipamento de proteção geral

22. Os rolos de lã, que podem ser de fibra natural, sintética ou de composição mista, devem ser usados na aplicação de tintas à base de _____.

Marque a alternativa que preenche a lacuna corretamente.

- a) água
- b) solvente
- c) tiner
- d) águaarrás
- e) querosene

23. Em uma trinca na parede, usamos _____ para correção, aplicando o uso da _____ para acabamento antes de receber a pintura.

Marque a alternativa que preencha as lacunas corretamente.

- a) argamassa de cimento; lixa
- b) lixa; massa plástica
- c) massa plástica; lixa
- d) massa de poliéster; massa plástica

e) massa corrida; lixa

24. Para proteção de locais que não deverão receber tinta, ou para separarmos uma parede do teto com outra cor, usamos que tipo de produto?

- a) Fita de nylon
- b) Fita durex
- c) Fita Isolante
- d) Fita crepe
- e) Fita de cetim

25. Numa construção, temos o isolamento térmico para diminuir a temperatura interna do imóvel no verão e aumentar a temperatura no inverno. Já o isolamento acústico serve para diminuir o quê?

- a) O valor da conta de energia
- b) A temperatura do teto (frio/calor)
- c) O ruído externo
- d) A incidência de luz (claridade)
- e) A umidade interna

LÍNGUA PORTUGUESA

Leia com atenção o texto abaixo e depois responda às próximas cinco questões.

Heroísmo

Ele usava um colete à prova de balas. Não importava que dia da semana, que dia do mês ou que dia do ano: ele sempre usava o seu colete à prova de balas. Era precavido, ele dizia. A cidade anda muito violenta; nunca se sabe o que pode acontecer. Isso é uma verdade!

Um belo dia, quando estava no banco, ocorreu um assalto. Três bandidos, armados de pistolas e metralhadoras, ameaçavam matar os reféns se o dinheiro não lhes fosse entregue com velocidade. Ele, muito seguro de si, sabendo da vantagem que levava sobre os assaltantes, afinal, seu colete estava bem escondido sob a camisa, disparou na direção de um deles para desarmá-lo. Um segundo depois, caiu morto.

Ataque cardíaco fulminante, disseram os legistas quando chegaram na cena do crime.

(Fonte: <http://www.napontadoslapis.com.br/2011/03/dois-pequenos-contos.html>. Acesso em 18/05/2016.)

26. Conforme o texto, a pessoa que usava um colete à prova de balas todos os dias era:

- a) Uma criança
- b) Uma mulher
- c) Um homem
- d) Um assaltante
- e) O gerente do banco

27. De acordo com o texto, como morreu a pessoa que usava diariamente um colete à prova de balas?

- a) De ataque cardíaco fulminante.
- b) Assassinado por um assaltante.
- c) Cometeu suicídio.
- d) Foi vítima de uma bala perdida durante o assalto.
- e) Foi morto por um policial.

28. Na segunda linha do texto diz: *Era precavido*.

O que isso significa precavido?

- a) Distraído
- b) Aventureiro
- c) Descuidado
- d) Prevenido
- e) Precipitado

29. Em qual alternativa temos uma palavra grifada que é um pronome pessoal?

- a) A cidade anda muito violenta.
- b) Ele usava um colete à prova de balas.
- c) Um segundo depois, caiu morto.
- d) disseram os legistas quando chegaram na cena do crime.
- e) ele sempre usava o seu colete à prova de balas.

30. As palavras são representadas por fonemas (sons) e letras. Sendo assim, na palavra **VELOCIDADE** contamos quantos fonemas e letras?

- 7 fonemas e 10 letras.
- 8 fonemas e 9 letras.
- 9 fonemas e 9 letras.
- 9 fonemas e 10 letras.
- 10 fonemas e 10 letras.

Leia atentamente o texto da figura da formiga e o texto abaixo dela. Depois, responda às próximas cinco questões.

Formigas dormem?



Sim. Especialistas concordam que, como a maioria dos animais, elas dividem seu tempo entre atividade e descanso – quando a ação metabólica diminui. Mas isso não seria bem o que chamamos de sono. “Há registros de formigas vistas ‘deitadas de lado’, que, quando instigadas, retomaram a posição normal. Eu hesitaria em dizer que elas ‘acordaram’, mas a analogia é possível”, explica o mirmecologista (especialista em formiga) Carlos Brandão. Uma pesquisa norte-americana de 2009 indicava que ao menos as formigas-de-fogo (*Solenopsis Invicta*) dormem sim – em pequenos cochilos.

- As operárias “dormem” em turnos, mantendo sempre 80% da força de trabalho acordada.

(Fonte <http://mundoestranho.abril.com.br/materia/formigas-dormem>. Acesso em 18/05/2016.)

31. Observe a parte da figura da formiga sobre **TOTAL DE HORAS DORMIDAS**. Nessa parte, entendemos que:

- A formiga rainha dorme 9,4 horas por dia e a formiga operária dorme 4,8 horas por dia.
- A formiga rainha dorme menos de 9 horas por dia e a formiga operária menos de 4 horas por dia.
- A formiga rainha dorme mais de 10 horas por dia e a formiga operária mais de 4 horas por dia.
- A formiga rainha dorme mais de 9 horas por dia e a formiga operária mais de 5 horas por dia.
- A formiga rainha dorme 4 horas por dia e a formiga operária 8 horas por dia.

32. No texto que se localiza abaixo da figura da formiga, lemos a palavra **mirmecologista**. Lá explica que isso significa:

- O nome de um tipo de formiga.
- Especialista em formiga.
- O nome que se dá ao cochilo das formigas.
- O nome dado a uma pesquisa sobre formigas.
- Um outro nome que recebem as formigas operárias.

33. Leia esta frase: **Formigas dormem?**

Ela é:

- Uma frase afirmativa porque tem ponto final e expressa uma pergunta.
- Uma frase negativa porque tem ponto de interrogação e nega alguma coisa.
- Uma frase exclamativa porque tem ponto de exclamação e expressa admiração.
- Uma frase interrogativa porque tem ponto de exclamação e expressa uma pergunta.
- Uma frase interrogativa porque tem ponto de interrogação e expressa uma pergunta.

34. Em qual alternativa a separação de sílabas das palavras não está correta?



- a) a-ni-mais; dei-ta-das.
- b) es-pe-cia-lis-ta; po-ssí-vel.
- c) des-can-so; com-cor-dam.
- d) a-ti-vi-da-de; for-mi-gas.
- e) tra-ba-lho; pe-que-nos.

35. O hiato é um encontro vocálico em que temos duas vogais juntas, mas que são pronunciadas em sílabas diferentes. Assim, a palavra que tem hiato é:

- a) Pequenos
- b) Deitadas
- c) Quando
- d) Acordados
- e) Especialista

Leia com atenção o texto abaixo e depois responda às cinco próximas questões.

Tomate é fruta?

por Sabrina Haick | Edição 177

Sim, ele é. Não só o tomate é fruta, como a berinjela, a abobrinha, o pepino, o pimentão e outros alimentos que nós chamamos de legumes também são. Fruta é o ovário amadurecido de uma planta, onde ficam as sementes. A confusão acontece porque nós somos acostumados a chamar as frutas salgadas de legumes. Se você acha que sua vida foi uma mentira até agora, saiba que também existem alimentos que nós chamamos de fruta, mas não são. Trata-se dos pseudofrutos – estruturas suculentas que têm cara e jeito de fruto, mas não se desenvolvem a partir do ovário da planta, como as frutas reais. É o caso do morango, do caju, da maçã, da pera e do abacaxi, entre outros.

(Fonte: <http://mundoestranho.abril.com.br/materia/tomate-e-fruta>. Aceso em 18/05/2016.)

36. Ao ler esse texto, descobrimos que o tomate é um fruto e não um legume. Também descobrimos que são frutas outros alimentos que pensávamos que eram legumes. Dois deles são:

- a) Berinjela e morango
- b) Abobrinha e pepino
- c) Abobrinha e caju
- d) Pimentão e pera
- e) Pepino e abacaxi

37. Conhecer os sinônimos e antônimos das palavras nos ajuda a aumentar nosso vocabulário.

Qual é um sinônimo para a palavra “suculentas”, conforme o sentido que ela tem no texto?

- a) Desinteressantes
- b) Gordurosas
- c) Carnudas
- d) Descarnadas
- e) Felpudas

38. A acentuação em uma palavra nos ajuda a pronunciá-la de maneira correta, como, por exemplo, as palavras “você” e “ovário”. Marque a alternativa em que as palavras não foram acentuadas corretamente.

- a) lâmpada - pálpebra
- b) obíto - fenômeno
- c) mímica - código
- d) cálice - xícara
- e) cédula - específico

39. Escrevemos “abacaxi” com x, “berinjela” e “caju” com j.

Marque a alternativa em que todas as palavras grifadas estão escritas de forma correta.

- a) Fui à feira e comprei tangerina, laranja e melancia.
- b) Fui à feira e comprei tanjerina, laranja e melancia.
- c) Fui à feira e comprei tangerina, larãja e melancia.
- d) Fui à feira e comprei tangerina, laranja e melansia.
- e) Fui à feira e comprei tãgerina, laranja e melansia.

40. O que temos nas palavras “frutas”, “estruturas”, “salgadas” e “partir”?

- a) Ditongo
- b) Hiato
- c) Encontro consonantal e Encontro vocálico
- d) Encontro consonantal



e) Encontro vocálico

RASCUNHO



PREFEITURA DE TELÊMACO BORBA - ESTADO DO PARANÁ- EDITAL Nº 001-2016 - CONCURSO PÚBLICO

VESPERTINO – 29/05/2016 – FUNDAMENTAL INCOMPLETO

PROVA OBJETIVA NÚMERO

3**CARGO: ARTÍFICE DE OBRAS E SERVIÇOS PÚBLICOS - PINTOR DE PAREDES****Leia atentamente as INSTRUÇÕES:**

1. Confira seus dados no cartão-resposta: nome, número de inscrição e o curso para o qual se inscreveu.
2. **MARQUE no seu cartão-resposta o número da sua prova** (não será corrigido o cartão-resposta que não tiver marcado o número da prova) e **Assine** seu cartão-resposta.
3. Aguarde a autorização do Fiscal para abrir o caderno de prova. Ao receber a ordem do fiscal, confira o caderno de prova com muita atenção. Nenhuma reclamação sobre o total de questões ou falha de impressão será aceita depois de iniciada a prova.
4. O cartão-resposta não será substituído, salvo se contiver erro de impressão.
5. Preencha toda a área do cartão-resposta correspondente à alternativa de sua escolha, com caneta esferográfica (tinta azul ou preta), sem ultrapassar as bordas. As marcações duplas, ou rasuradas, com corretivo, ou marcadas diferentemente do modelo estabelecido no cartão-resposta poderão ser anuladas.
6. Sua prova tem **40** questões, com **5** alternativas.
7. Cabe apenas ao candidato a interpretação das questões, **o fiscal** não poderá fazer nenhuma interferência.
8. A prova será realizada com duração máxima de **3 (três) horas**, incluído o tempo para a realização da Prova Objetiva de múltipla escolha e o preenchimento do cartão-resposta.
9. O candidato poderá retirar-se do local de realização das provas somente **1 (uma) hora** após o seu início, sem levar o caderno de prova.
10. O candidato poderá levar o caderno de provas, assim como anotação contendo transcrição do seu cartão-resposta, somente **1h30min** (uma hora e trinta minutos) após o início da realização da prova.
11. Ao terminar a prova, o candidato deverá entregar ao fiscal de sala o cartão-resposta preenchido e **ASSINADO**.
12. Os **3 (três)** candidatos, que terminarem a prova por último, deverão permanecer na sala, e só poderão sair juntos após o fechamento do envelope, contendo os cartões-resposta dos candidatos presentes e ausentes, e assinarem no lacre do referido envelope, atestando que este foi devidamente lacrado.
13. Durante todo o tempo em que permanecer no local onde está ocorrendo o concurso, o candidato deverá, manter o celular desligado e sem bateria, só sendo permitido ligar depois de ultrapassar o portão de saída do prédio.
14. Não será permitido ao candidato fumar na sala de provas, bem como nas dependências.
15. Depois de terminar a prova e entregar ao fiscal o cartão-resposta, preenchido e assinado, não será mais permitido ao candidato o uso do banheiro e bebedouro.

BOA PROVA!

CONHECIMENTOS ESPECÍFICOS

01. Marque a alternativa correta sobre EPI, que está de acordo com a figura a seguir.



- a) Equipamento de proteção total
- b) Equipamento de proteção individual
- c) Equipamento de proteção coletiva
- d) Equipamento de proteção parcial
- e) Equipamento de proteção geral

02. Os rolos de lã, que podem ser de fibra natural, sintética ou de composição mista, devem ser usados na aplicação de tintas à base de _____.

Marque a alternativa que preenche a lacuna corretamente.

- a) água
- b) solvente
- c) tiner
- d) águarrás
- e) querosene

03. Em uma trinca na parede, usamos _____ para correção, aplicando o uso da _____ para acabamento antes de receber a pintura.

Marque a alternativa que preencha as lacunas corretamente.

- a) argamassa de cimento; lixa
- b) lixa; massa plástica
- c) massa plástica; lixa
- d) massa de poliéster; massa plástica
- e) massa corrida; lixa

04. Para proteção de locais que não deverão receber tinta, ou para separarmos uma parede do teto com outra cor, usamos que tipo de produto?

- a) Fita de nylon
- b) Fita durex
- c) Fita Isolante
- d) Fita crepe
- e) Fita de cetim

05. Numa construção, temos o isolamento térmico para diminuir a temperatura interna do imóvel no verão e aumentar a temperatura no inverno. Já o isolamento acústico serve para diminuir o quê?

- a) O valor da conta de energia
- b) A temperatura do teto (frio/calor)
- c) O ruído externo
- d) A incidência de luz (claridade)
- e) A umidade interna

LÍNGUA PORTUGUESA

Leia com atenção o texto abaixo e depois responda às próximas cinco questões.

Heroísmo

Ele usava um colete à prova de balas. Não importava que dia da semana, que dia do mês ou que dia do ano: ele sempre usava o seu colete à prova de balas. Era precavido, ele dizia. A cidade anda muito violenta; nunca se sabe o que pode acontecer. Isso é uma verdade!

Um belo dia, quando estava no banco, ocorreu um assalto. Três bandidos, armados de pistolas e metralhadoras, ameaçavam matar os reféns se o dinheiro não lhes fosse entregue com velocidade. Ele, muito seguro de si,

sabendo da vantagem que levava sobre os assaltantes, afinal, seu colete estava bem escondido sob a camisa, disparou na direção de um deles para desarmá-lo. Um segundo depois, caiu morto.

Ataque cardíaco fulminante, disseram os legistas quando chegaram na cena do crime.

(Fonte: <http://www.napontadoslapis.com.br/2011/03/dois-pequenos-contos.html>. Acesso em 18/05/2016.)

06. Conforme o texto, a pessoa que usava um colete à prova de balas todos os dias era:

- Uma criança
- Uma mulher
- Um homem
- Um assaltante
- O gerente do banco

07. De acordo com o texto, como morreu a pessoa que usava diariamente um colete à prova de balas?

- De ataque cardíaco fulminante.
- Assassinado por um assaltante.
- Cometeu suicídio.
- Foi vítima de uma bala perdida durante o assalto.
- Foi morto por um policial.

08. Na segunda linha do texto diz: *Era precavido*.

O que isso significa precavido?

- Distraído
- Aventureiro
- Descuidado
- Prevenido
- Precipitado

09. Em qual alternativa temos uma palavra grifada que é um pronome pessoal?

- A cidade anda muito violenta.
- Ele usava um colete à prova de balas.
- Um segundo depois, caiu morto.
- disseram os legistas quando chegaram na cena do crime.
- ele sempre usava o seu colete à prova de balas.

10. As palavras são representadas por fonemas (sons) e letras. Sendo assim, na palavra VELOCIDADE contamos quantos fonemas e letras?

- 7 fonemas e 10 letras.
- 8 fonemas e 9 letras.
- 9 fonemas e 9 letras.
- 9 fonemas e 10 letras.
- 10 fonemas e 10 letras.

Leia atentamente o texto da figura da formiga e o texto abaixo dela. Depois, responda às próximas cinco questões.

Formigas dormem?





Sim. Especialistas concordam que, como a maioria dos animais, elas dividem seu tempo entre atividade e descanso – quando a ação metabólica diminui. Mas isso não seria bem o que chamamos de sono. “Há registros de formigas vistas ‘deitadas de lado’, que, quando instigadas, retomaram a posição normal. Eu hesitaria em dizer que elas ‘acordaram’, mas a analogia é possível”, explica o mirmecologista (especialista em formiga) Carlos Brandão. Uma pesquisa norte-americana de 2009 indicava que ao menos as formigas-de-fogo (*Solenopsis Invicta*) dormem sim – em pequenos cochilos.

- As operárias “dormem” em turnos, mantendo sempre 80% da força de trabalho acordada.

(Fonte <http://mundoestranho.abril.com.br/materia/formigas-dormem>. Acesso em 18/05/2016.)

11. Observe a parte da figura da formiga sobre TOTAL DE HORAS DORMIDAS. Nessa parte, entendemos que:

- A formiga rainha dorme 9,4 horas por dia e a formiga operária dorme 4,8 horas por dia.
- A formiga rainha dorme menos de 9 horas por dia e a formiga operária menos de 4 horas por dia.
- A formiga rainha dorme mais de 10 horas por dia e a formiga operária mais de 4 horas por dia.
- A formiga rainha dorme mais de 9 horas por dia e a formiga operária mais de 5 horas por dia.
- A formiga rainha dorme 4 horas por dia e a formiga operária 8 horas por dia.

12. No texto que se localiza abaixo da figura da formiga, lemos a palavra mirmecologista. Lá explica que isso significa:

- O nome de um tipo de formiga.
- Especialista em formiga.
- O nome que se dá ao cochilo das formigas.
- O nome dado a uma pesquisa sobre formigas.
- Um outro nome que recebem as formigas operárias.

13. Leia esta frase: *Formigas dormem?*

Ela é:

- Uma frase afirmativa porque tem ponto final e expressa uma pergunta.
- Uma frase negativa porque tem ponto de interrogação e nega alguma coisa.
- Uma frase exclamativa porque tem ponto de exclamação e expressa admiração.
- Uma frase interrogativa porque tem ponto de exclamação e expressa uma pergunta.
- Uma frase interrogativa porque tem ponto de interrogação e expressa uma pergunta.

14. Em qual alternativa a separação de sílabas das palavras não está correta?

- a-ni-mais; dei-ta-das.
- es-pe-cia-lis-ta; po-ssí-vel.
- des-can-so; com-cor-dam.
- a-ti-vi-da-de; for-mi-gas.
- tra-ba-lho; pe-que-nos.

15. O hiato é um encontro vocálico em que temos duas vogais juntas, mas que são pronunciadas em sílabas diferentes. Assim, a palavra que tem hiato é:

- Pequenos
- Deitadas
- Quando
- Acordados
- Especialista

Leia com atenção o texto abaixo e depois responda às cinco próximas questões.

Tomate é fruta?

por Sabrina Haick | Edição 177

Sim, ele é. Não só o tomate é fruta, como a berinjela, a abobrinha, o pepino, o pimentão e outros alimentos que nós chamamos de legumes também são. Fruta é o ovário amadurecido de uma planta, onde ficam as sementes. A confusão acontece porque nós somos acostumados a chamar as frutas salgadas de legumes. Se você acha que sua vida foi uma mentira até agora, saiba que também existem alimentos que nós chamamos de fruta, mas não são. Trata-se dos pseudofrutos – estruturas suculentas que têm cara e jeito de fruto, mas não se desenvolvem a partir do ovário da planta, como as frutas reais. É o caso do morango, do caju, da maçã, da pera e do abacaxi, entre outros.

(Fonte: <http://mundoestranho.abril.com.br/materia/tomate-e-fruta>. Aceso em 18/05/2016.)

16. Ao ler esse texto, descobrimos que o tomate é um fruto e não um legume. Também descobrimos que são frutas outros alimentos que pensávamos que eram legumes. Dois deles são:



- a) Berinjela e morango
- b) Abobrinha e pepino
- c) Abobrinha e caju
- d) Pimentão e pera
- e) Pepino e abacaxi

17. Conhecer os sinônimos e antônimos das palavras nos ajuda a aumentar nosso vocabulário. Qual é um sinônimo para a palavra “suculentas”, conforme o sentido que ela tem no texto?

- a) Desinteressantes
- b) Gordurosas
- c) Carnudas
- d) Descarnadas
- e) Felpudas

18. A acentuação em uma palavra nos ajuda a pronunciá-la de maneira correta, como, por exemplo, as palavras “você” e “ovário”. Marque a alternativa em que as palavras não foram acentuadas corretamente.

- a) lâmpada - pálpebra
- b) obito - fenômeno
- c) mímica - código
- d) cálice - xícara
- e) cédula - específico

19. Escrevemos “abacaxi” com x, “berinjela” e “caju” com j.

Marque a alternativa em que todas as palavras grifadas estão escritas de forma correta.

- a) Fui à feira e comprei tangerina, laranja e melancia.
- b) Fui à feira e comprei tanjerina, laranja e melancia.
- c) Fui à feira e comprei tangerina, larãja e melancia.
- d) Fui à feira e comprei tangerina, laranja e melansia.
- e) Fui à feira e comprei tãgerina, laranja e melansia.

20. O que temos nas palavras “frutas”, “estruturas”, “salgadas” e “partir”?

- a) Ditongo
- b) Hiato
- c) Encontro consonantal e Encontro vocálico
- d) Encontro consonantal
- e) Encontro vocálico

MATEMÁTICA

21. Marcela tem uma dívida de R\$ 462,00 dividida em 4 parcela iguais. Qual é o valor que Marcela vai pagar em cada parcela?

- a) R\$ 189,00
- b) R\$ 145,50
- c) R\$ 115,50
- d) R\$ 125,00
- e) R\$ 132,50

22. No mês de fevereiro, Maria assistiu a filmes nos dias ímpares, e Carla nos dias pares. Quantas vezes Maria assistiu a filmes no mês de fevereiro?

- a) 28
- b) 14
- c) 15
- d) 8
- e) 4

DOM	SEG	TER	QUA	QUI	SEX	SAB
			1	2	3	4
5	6	7	8	9	10	11
12	13	14	15	16	17	18
19	20	21	22	23	24	25
26	27	28				

23. Um estudante pretende se inscrever para participar de um Congresso Nacional. (O valor das inscrições está apresentado na tabela abaixo). Sabendo que o estudante irá se inscrever na abertura do Congresso Nacional, qual é o valor que ele irá pagar?

- a) R\$ 120,00
- b) R\$ 100,00
- c) R\$ 180,00
- d) R\$ 150,00
- e) R\$ 170,00

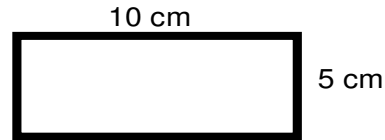
CATEGORIA	Inscrições até 15/05/16	Na abertura do Congresso
Profissional	R\$ 120,00	R\$ 180,00
Estudantes	R\$ 100,00	R\$ 150,00

24. A prestação de um terreno é de R\$ 787,00 e vence todo dia 10. Pagando fora do prazo, há uma multa de R\$ 8,70 por dia. Se a prestação foi paga só no dia 25 (vinte e cinco), qual foi o valor pago?

- a) R\$ 987,00
- b) R\$ 937,00
- c) R\$ 927,50
- d) R\$ 967,00
- e) R\$ 917,50

25. Marque a alternativa que apresenta o resultado do cálculo do perímetro de um terreno que tem as dimensões indicadas na figura abaixo.

- a) 30 cm
- b) 50 cm
- c) 40 cm
- d) 20 cm
- e) 70 cm



26. Um show de Munhoz e Mariano, na exposição de Campo Grande, em abril de 2016, teve início exatamente às 21h e 15min e terminou às 23h e 40 min. Qual foi a duração do show?

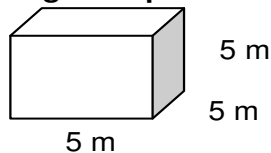
- a) 2h e 10m
- b) 2h e 15m
- c) 2h e 25m
- d) 2h e 30m
- e) 2h e 40m

27. Um pacote de açúcar pesa 2Kg. Foram retirados 450g para fazer um bolo. Quantos gramas restaram no pacote?

- a) 1.450 g
- b) 1.250 g
- c) 1.350 g
- d) 1.550 g
- e) 1.650 g

28. Determine o volume da figura representada a seguir e marque a alternativa correta.

- a) $137m^3$
- b) $115m^3$
- c) $127m^3$
- d) $216m^3$
- e) $125m^3$



29. Calcule o perímetro de um retângulo cuja base é três vezes a altura que mede 4m, e marque a alternativa correta.

- a) 16m
- b) 32m
- c) 48m
- d) 20m
- e) 28m



30. João mora no Bairro Tiradentes e Carlos no Bairro Novo Século, os dois trabalham no Supermercado Novo Horizonte. João chegou ao supermercado às 7horas e 30 minutos da manhã e Carlos chegou meia hora depois.

A que horas Carlos chegou ao supermercado?

- a) 8 horas
- b) 9 horas
- c) 6 horas
- d) 5 horas
- e) 4 horas

CONHECIMENTOS GERAIS

31. Telêmaco Borba/PR foi desmembrado do município de

- a) Tibagi
- b) Londrina
- c) Ortigueira
- d) Imbaú
- e) Ventania

**32. Quais são as cores da bandeira do município de Telêmaco Borba/PR?**

- a) Vermelha, branca e verde
- b) Branca, azul e amarela
- c) Verde, azul e amarela
- d) Vermelha, branca e azul
- e) Branca, cinza e verde

33. Qual o nome do atual prefeito de Telêmaco Borba/PR?

- a) Renato Bahena
- b) José Reinaldo Antunes Carneiro
- c) Luiz Carlos Gibson
- d) Gilson Pereira dos Santos
- e) Ezequiel Ligoski Betim

34. Marque a alternativa que corresponde ao feriado municipal que comemora o dia da padroeira de Telêmaco Borba/PR (Nossa Senhora do Perpétuo Socorro).

- a) 21 de março
- b) 26 de maio
- c) 01 de novembro
- d) 28 de outubro
- e) 21 de junho

35. Quem nasce em Telêmaco Borba é

- a) Telemacoborbense
- b) Telemacoborbino
- c) Telemacoreense
- d) Telemaconense
- e) Telemacoborbiano

36. Em caso de vaga de vereador, não havendo suplente, o Presidente comunicará o fato, diretamente ao Tribunal Regional Eleitoral, dentro de

- a) 72 horas.
- b) 5 dias.
- c) 15 dias.
- d) 48 horas.
- e) 24 horas.

37. Qual alternativa não contempla uma forma de provimento no cargo público, conforme o art. 6º do Estatuto dos Servidores Públicos do município de Telêmaco Borba/PR?

- a) Nomeação
- b) Concurso
- c) Readaptação
- d) Reintegração
- e) Promoção

38. Qual dos municípios seguintes faz divisa com Telêmaco Borba/PR?

- a) Curiúva
- b) Londrina
- c) Arapot
- d) Sapopema
- e) Cambé

39. O município de Telêmaco Borba/PR foi criado inicialmente com o nome de

- a) Monte Alegre.
- b) Mauá.
- c) Cidade Nova.
- d) Harmonia.
- e) Tibagi.

40. Como é denominada a sede administrativa de Telêmaco Borba/PR?

- a) Paço Municipal
- b) Paço das Araucárias
- c) Governo Municipal
- d) Prefeitura
- e) Paço Administrativo



PREFEITURA DE TELÊMACO BORBA - ESTADO DO PARANÁ- EDITAL Nº 001-2016 - CONCURSO PÚBLICO

VESPERTINO – 29/05/2016 – FUNDAMENTAL INCOMPLETO

PROVA OBJETIVA NÚMERO

1

CARGO: AUXILIAR OBRAS E SERVIÇOS PÚBLICOS

Leia atentamente as INSTRUÇÕES:

1. Confira seus dados no cartão-resposta: nome, número de inscrição e o curso para o qual se inscreveu.
2. **MARQUE no seu cartão-resposta o número da sua prova** (não será corrigido o cartão-resposta que não tiver marcado o número da prova) e **Assine** seu cartão-resposta.
3. Aguarde a autorização do Fiscal para abrir o caderno de prova. Ao receber a ordem do fiscal, confira o caderno de prova com muita atenção. Nenhuma reclamação sobre o total de questões ou falha de impressão será aceita depois de iniciada a prova.
4. O cartão-resposta não será substituído, salvo se contiver erro de impressão.
5. Preencha toda a área do cartão-resposta correspondente à alternativa de sua escolha, com caneta esferográfica (tinta azul ou preta), sem ultrapassar as bordas. As marcações duplas, ou rasuradas, com corretivo, ou marcadas diferentemente do modelo estabelecido no cartão-resposta poderão ser anuladas.
6. Sua prova tem **40** questões, com **5** alternativas.
7. Cabe apenas ao candidato a interpretação das questões, **o fiscal** não poderá fazer nenhuma interferência.
8. A prova será realizada com duração máxima de **3 (três) horas**, incluído o tempo para a realização da Prova Objetiva de múltipla escolha e o preenchimento do cartão-resposta.
9. O candidato poderá retirar-se do local de realização das provas somente **1 (uma) hora** após o seu início, sem levar o caderno de prova.
10. O candidato poderá levar o caderno de provas, assim como anotação contendo transcrição do seu cartão-resposta, somente **1h30min** (uma hora e trinta minutos) após o início da realização da prova.
11. Ao terminar a prova, o candidato deverá entregar ao fiscal de sala o cartão-resposta preenchido e **ASSINADO**.
12. Os **3 (três)** candidatos, que terminarem a prova por último, deverão permanecer na sala, e só poderão sair juntos após o fechamento do envelope, contendo os cartões-resposta dos candidatos presentes e ausentes, e assinarem no lacre do referido envelope, atestando que este foi devidamente lacrado.
13. Durante todo o tempo em que permanecer no local onde está ocorrendo o concurso, o candidato deverá, manter o celular desligado e sem bateria, só sendo permitido ligar depois de ultrapassar o portão de saída do prédio.
14. Não será permitido ao candidato fumar na sala de provas, bem como nas dependências.
15. Depois de terminar a prova e entregar ao fiscal o cartão-resposta, preenchido e assinado, não será mais permitido ao candidato o uso do banheiro e bebedouro.

BOA PROVA!

**LÍNGUA PORTUGUESA**

Leia com atenção o texto abaixo e depois responda às próximas cinco questões.

Heroísmo

Ele usava um colete à prova de balas. Não importava que dia da semana, que dia do mês ou que dia do ano: ele sempre usava o seu colete à prova de balas. Era precavido, ele dizia. A cidade anda muito violenta; nunca se sabe o que pode acontecer. Isso é uma verdade!

Um belo dia, quando estava no banco, ocorreu um assalto. Três bandidos, armados de pistolas e metralhadoras, ameaçavam matar os reféns se o dinheiro não lhes fosse entregue com velocidade. Ele, muito seguro de si, sabendo da vantagem que levava sobre os assaltantes, afinal, seu colete estava bem escondido sob a camisa, disparou na direção de um deles para desarmá-lo. Um segundo depois, caiu morto.

Ataque cardíaco fulminante, disseram os legistas quando chegaram na cena do crime.

(Fonte: <http://www.napontadoslapis.com.br/2011/03/dois-pequenos-contos.html>. Acesso em 18/05/2016.)

01. Conforme o texto, a pessoa que usava um colete à prova de balas todos os dias era:

- a) Uma criança
- b) Uma mulher
- c) Um homem
- d) Um assaltante
- e) O gerente do banco

02. De acordo com o texto, como morreu a pessoa que usava diariamente um colete à prova de balas?

- a) De ataque cardíaco fulminante.
- b) Assassinado por um assaltante.
- c) Cometeu suicídio.
- d) Foi vítima de uma bala perdida durante o assalto.
- e) Foi morto por um policial.

03. Na segunda linha do texto diz: *Era precavido*.

O que isso significa precavido?

- a) Distraído
- b) Aventureiro
- c) Descuidado
- d) Prevenido
- e) Precipitado

04. Em qual alternativa temos uma palavra grifada que é um pronome pessoal?

- a) A cidade anda muito violenta.
- b) Ele usava um colete à prova de balas.
- c) Um segundo depois, caiu morto.
- d) disseram os legistas quando chegaram na cena do crime.
- e) ele sempre usava o seu colete à prova de balas.

05. As palavras são representadas por fonemas (sons) e letras. Sendo assim, na palavra VELOCIDADE contamos quantos fonemas e letras?

- a) 7 fonemas e 10 letras.
- b) 8 fonemas e 9 letras.
- c) 9 fonemas e 9 letras.
- d) 9 fonemas e 10 letras.
- e) 10 fonemas e 10 letras.

Leia atentamente o texto da figura da formiga e o texto abaixo dela. Depois, responda às próximas cinco questões.

Formigas dormem?



Sim. Especialistas concordam que, como a maioria dos animais, elas dividem seu tempo entre atividade e descanso – quando a ação metabólica diminui. Mas isso não seria bem o que chamamos de sono. “Há registros de formigas vistas ‘deitadas de lado’, que, quando instigadas, retomaram a posição normal. Eu hesitaria em dizer que elas ‘acordaram’, mas a analogia é possível”, explica o mirmecologista (especialista em formiga) Carlos Brandão. Uma pesquisa norte-americana de 2009 indicava que ao menos as formigas-de-fogo (*Solenopsis invicta*) dormem sim – em pequenos cochilos.

- As operárias “dormem” em turnos, mantendo sempre 80% da força de trabalho acordada.

(Fonte <http://mundoestranho.abril.com.br/materia/formigas-dormem>. Acesso em 18/05/2016.)

06. Observe a parte da figura da formiga sobre TOTAL DE HORAS DORMIDAS. Nessa parte, entendemos que:

- A formiga rainha dorme 9,4 horas por dia e a formiga operária dorme 4,8 horas por dia.
- A formiga rainha dorme menos de 9 horas por dia e a formiga operária menos de 4 horas por dia.
- A formiga rainha dorme mais de 10 horas por dia e a formiga operária mais de 4 horas por dia.
- A formiga rainha dorme mais de 9 horas por dia e a formiga operária mais de 5 horas por dia.
- A formiga rainha dorme 4 horas por dia e a formiga operária 8 horas por dia.

07. No texto que se localiza abaixo da figura da formiga, lemos a palavra mirmecologista. Lá explica que isso significa:

- O nome de um tipo de formiga.
- Especialista em formiga.
- O nome que se dá ao cochilo das formigas.
- O nome dado a uma pesquisa sobre formigas.
- Um outro nome que recebem as formigas operárias.

08. Leia esta frase: *Formigas dormem?*

Ela é:

- Uma frase afirmativa porque tem ponto final e expressa uma pergunta.
- Uma frase negativa porque tem ponto de interrogação e nega alguma coisa.
- Uma frase exclamativa porque tem ponto de exclamação e expressa admiração.
- Uma frase interrogativa porque tem ponto de exclamação e expressa uma pergunta.
- Uma frase interrogativa porque tem ponto de interrogação e expressa uma pergunta.

09. Em qual alternativa a separação de sílabas das palavras não está correta?

- a-ni-mais; dei-ta-das.
- es-pe-cia-lis-ta; po-ssí-vel.
- des-can-so; com-cor-dam.
- a-ti-vi-da-de; for-mi-gas.
- tra-ba-lho; pe-que-nos.

10. O hiato é um encontro vocálico em que temos duas vogais juntas, mas que são pronunciadas em sílabas diferentes. Assim, a palavra que tem hiato é:

- Pequenos
- Deitadas
- Quando

- d) Acordados
 e) Especialista

Leia com atenção o texto abaixo e depois responda às cinco próximas questões.

Tomate é fruta?

por Sabrina Haick | Edição 177

Sim, ele é. Não só o tomate é fruta, como a berinjela, a abobrinha, o pepino, o pimentão e outros alimentos que nós chamamos de legumes também são. Fruta é o ovário amadurecido de uma planta, onde ficam as sementes. A confusão acontece porque nós somos acostumados a chamar as frutas salgadas de legumes. Se você acha que sua vida foi uma mentira até agora, saiba que também existem alimentos que nós chamamos de fruta, mas não são. Trata-se dos pseudofrutos – estruturas suculentas que têm cara e jeito de fruto, mas não se desenvolvem a partir do ovário da planta, como as frutas reais. É o caso do morango, do caju, da maçã, da pera e do abacaxi, entre outros.

(Fonte: <http://mundoestranho.abril.com.br/materia/tomate-e-fruta>. Acesso em 18/05/2016.)

11. Ao ler esse texto, descobrimos que o tomate é um fruto e não um legume. Também descobrimos que são frutas outros alimentos que pensávamos que eram legumes. Dois deles são:

- a) Berinjela e morango
 b) Abobrinha e pepino
 c) Abobrinha e caju
 d) Pimentão e pera
 e) Pepino e abacaxi

12. Conhecer os sinônimos e antônimos das palavras nos ajuda a aumentar nosso vocabulário.

Qual é um sinônimo para a palavra “suculentas”, conforme o sentido que ela tem no texto?

- a) Desinteressantes
 b) Gordurosas
 c) Carnudas
 d) Descarnadas
 e) Felpudas

13. A acentuação em uma palavra nos ajuda a pronunciá-la de maneira correta, como, por exemplo, as palavras “você” e “ovário”. Marque a alternativa em que as palavras não foram acentuadas corretamente.

- a) lâmpada - pálpebra
 b) obíto - fenômeno
 c) mímica - código
 d) cálice - xícara
 e) cédula - específico

14. Escrevemos “abacaxi” com x, “berinjela” e “caju” com j.

Marque a alternativa em que todas as palavras grifadas estão escritas de forma correta.

- a) Fui à feira e comprei tangerina, laranja e melancia.
 b) Fui à feira e comprei tanjerina, laranja e melancia.
 c) Fui à feira e comprei tangerina, larãja e melancia.
 d) Fui à feira e comprei tangerina, laranja e melansia.
 e) Fui à feira e comprei tãgerina, laranja e melansia.

15. O que temos nas palavras “frutas”, “estruturas”, “salgadas” e “partir”?

- a) Ditongo
 b) Hiato
 c) Encontro consonantal e Encontro vocálico
 d) Encontro consonantal
 e) Encontro vocálico

MATEMÁTICA

16. Marcela tem uma dívida de R\$ 462,00 dividida em 4 parcela iguais. Qual é o valor que Marcela vai pagar em cada parcela?

- a) R\$ 189,00
 b) R\$ 145,50
 c) R\$ 115,50
 d) R\$ 125,00
 e) R\$ 132,50

17. No mês de fevereiro, Maria assistiu a filmes nos dias ímpares, e Carla nos dias pares. Quantas vezes Maria assistiu a filmes no mês de fevereiro?

- a) 28
 b) 14
 c) 15
 d) 8
 e) 4

DOM	SEG	TER	QUA	QUI	SEX	SAB
			1	2	3	4
5	6	7	8	9	10	11
12	13	14	15	16	17	18
19	20	21	22	23	24	25
26	27	28				

18. Um estudante pretende se inscrever para participar de um Congresso Nacional. (O valor das inscrições está apresentado na tabela abaixo). Sabendo que o estudante irá se inscrever na abertura do Congresso Nacional, qual é o valor que ele irá pagar?

- a) R\$ 120,00
 b) R\$ 100,00
 c) R\$ 180,00
 d) R\$ 150,00
 e) R\$ 170,00

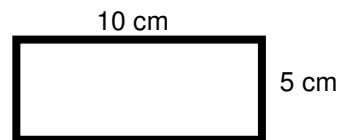
CATEGORIA	Inscrições até 15/05/16	Na abertura do Congresso
Profissional	R\$ 120,00	R\$ 180,00
Estudantes	R\$ 100,00	R\$ 150,00

19. A prestação de um terreno é de R\$ 787,00 e vence todo dia 10. Pagando fora do prazo, há uma multa de R\$ 8,70 por dia. Se a prestação foi paga só no dia 25 (vinte e cinco), qual foi o valor pago?

- a) R\$ 987,00
 b) R\$ 937,00
 c) R\$ 927,50
 d) R\$ 967,00
 e) R\$ 917,50

20. Marque a alternativa que apresenta o resultado do cálculo do perímetro de um terreno que tem as dimensões indicadas na figura abaixo.

- a) 30 cm
 b) 50 cm
 c) 40 cm
 d) 20 cm
 e) 70 cm



21. Um show de Munhoz e Mariano, na exposição de Campo Grande, em abril de 2016, teve início exatamente às 21h e 15min e terminou às 23h e 40 min. Qual foi a duração do show?

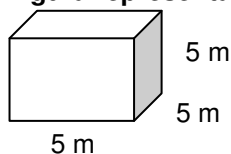
- a) 2h e 10m
 b) 2h e 15m
 c) 2h e 25m
 d) 2h e 30m
 e) 2h e 40m

22. Um pacote de açúcar pesa 2Kg. Foram retirados 450g para fazer um bolo. Quantos gramas restaram no pacote?

- a) 1.450 g
 b) 1.250 g
 c) 1.350 g
 d) 1.550 g
 e) 1.650 g

23. Determine o volume da figura representada a seguir e marque a alternativa correta.

- a) $137m^3$
 b) $115m^3$
 c) $127m^3$
 d) $216m^3$
 e) $125m^3$



24. Calcule o perímetro de um retângulo cuja base é três vezes a altura que mede 4m, e marque a alternativa correta.

- a) 16m
 b) 32m
 c) 48m
 d) 20m
 e) 28m





25. João mora no Bairro Tiradentes e Carlos no Bairro Novo Século, os dois trabalham no Supermercado Novo Horizonte. João chegou ao supermercado às 7horas e 30 minutos da manhã e Carlos chegou meia hora depois.

A que horas Carlos chegou ao supermercado?

- a) 8 horas
- b) 9 horas
- c) 6 horas
- d) 5 horas
- e) 4 horas

CONHECIMENTOS GERAIS

26. Telêmaco Borba/PR foi desmembrado do município de

- a) Tibagi
- b) Londrina
- c) Ortigueira
- d) Imbaú
- e) Ventania

27. Quais são as cores da bandeira do município de Telêmaco Borba/PR?

- a) Vermelha, branca e verde
- b) Branca, azul e amarela
- c) Verde, azul e amarela
- d) Vermelha, branca e azul
- e) Branca, cinza e verde

28. Qual o nome do atual prefeito de Telêmaco Borba/PR?

- a) Renato Bahena
- b) José Reinaldo Antunes Carneiro
- c) Luiz Carlos Gibson
- d) Gilson Pereira dos Santos
- e) Ezequiel Ligoski Betim

29. Marque a alternativa que corresponde ao feriado municipal que comemora o dia da padroeira de Telêmaco Borba/PR (Nossa Senhora do Perpétuo Socorro).

- a) 21 de março
- b) 26 de maio
- c) 01 de novembro
- d) 28 de outubro
- e) 21 de junho

30. Quem nasce em Telêmaco Borba é

- a) Telemacoborbense
- b) Telemacoborbino
- c) Telemacoreense
- d) Telemaconense
- e) Telemacoborbiano

31. Em caso de vaga de vereador, não havendo suplente, o Presidente comunicará o fato, diretamente ao Tribunal Regional Eleitoral, dentro de

- a) 72 horas.
- b) 5 dias.
- c) 15 dias.
- d) 48 horas.
- e) 24 horas.

32. Qual alternativa não contempla uma forma de provimento no cargo público, conforme o art. 6º do Estatuto dos Servidores Públicos do município de Telêmaco Borba/PR?

- a) Nomeação
- b) Concurso
- c) Readaptação
- d) Reintegração
- e) Promoção

33. Qual dos municípios seguintes faz divisa com Telêmaco Borba/PR?

- a) Curiúva
- b) Londrina
- c) Arapot
- d) Sapopema
- e) Cambé

34. O município de Telêmaco Borba/PR foi criado inicialmente com o nome de

- a) Monte Alegre.
- b) Mauá.
- c) Cidade Nova.
- d) Harmonia.
- e) Tibagi.

35. Como é denominada a sede administrativa de Telêmaco Borba/PR?

- a) Paço Municipal
- b) Paço das Araucárias
- c) Governo Municipal
- d) Prefeitura
- e) Paço Administrativo

CONHECIMENTOS ESPECÍFICOS

36. Analise as figuras a seguir e marque a alternativa que não contém um tipo de equipamento para varrição.



37. Marque a alternativa correta sobre EPI, que está de acordo com a figura a seguir.



- a) Equipamento de proteção total
- b) Equipamento de proteção individual
- c) Equipamento de proteção coletiva
- d) Equipamento de proteção parcial
- e) Equipamento de proteção geral

38. Analise a figura a seguir e marque a alternativa com os nomes dos equipamentos não identificados.



- a) 2-Faca, 5-Pá de mão, 7-Garfo e 9-Ancinho.
- b) 2-Faca, 5-Colher de mão, 7-Garfo e 9-Ancinho.
- c) 2-Faca, 5-Pá de mão, 7-Garfo e 9-Vassoura de aço.
- d) 2-Faca, 5-Colher de mão, 7-Pá de dentes e 9-Ancinho.
- e) 2-Faca estreita, 5-Faca larga, 7-Garfo e 9-Ancinho.

39. Para serviço de varrição de vias públicas, usamos quais produtos e equipamentos?

- a) Enxada, pá coração, luvas de raspa e saco plástico.
- b) Vassourão, luvas de raspa, máquina para cortar grama e pá de lixo.
- c) Vassoura, luvas de raspa, saco plástico e motosserra.
- d) Foice, luvas de raspa, pá de lixo e tesoura para poda.
- e) Saco plástico, vassourão, luvas de raspa e pá de lixo.

40. Para executar serviços de capina ou roçada, não usaremos qual equipamento?

- a) Enxada
- b) Foice
- c) Tesoura para poda
- d) Facão
- e) Máquina para cortar grama

RASCUNHO



PREFEITURA DE TELÊMACO BORBA - ESTADO DO PARANÁ- EDITAL Nº 001-2016 - CONCURSO PÚBLICO

VESPERTINO – 29/05/2016 – FUNDAMENTAL INCOMPLETO

2

PROVA OBJETIVA NÚMERO

CARGO: AUXILIAR OBRAS E SERVIÇOS PÚBLICOS**Leia atentamente as INSTRUÇÕES:**

1. Confira seus dados no cartão-resposta: nome, número de inscrição e o curso para o qual se inscreveu.
2. **MARQUE no seu cartão-resposta o número da sua prova** (não será corrigido o cartão-resposta que não tiver marcado o número da prova) e **Assine** seu cartão-resposta.
3. Aguarde a autorização do Fiscal para abrir o caderno de prova. Ao receber a ordem do fiscal, confira o caderno de prova com muita atenção. Nenhuma reclamação sobre o total de questões ou falha de impressão será aceita depois de iniciada a prova.
4. O cartão-resposta não será substituído, salvo se contiver erro de impressão.
5. Preencha toda a área do cartão-resposta correspondente à alternativa de sua escolha, com caneta esferográfica (tinta azul ou preta), sem ultrapassar as bordas. As marcações duplas, ou rasuradas, com corretivo, ou marcadas diferentemente do modelo estabelecido no cartão-resposta poderão ser anuladas.
6. Sua prova tem **40** questões, com **5** alternativas.
7. Cabe apenas ao candidato a interpretação das questões, **o fiscal** não poderá fazer nenhuma interferência.
8. A prova será realizada com duração máxima de **3 (três) horas**, incluído o tempo para a realização da Prova Objetiva de múltipla escolha e o preenchimento do cartão-resposta.
9. O candidato poderá retirar-se do local de realização das provas somente **1 (uma) hora** após o seu início, sem levar o caderno de prova.
10. O candidato poderá levar o caderno de provas, assim como anotação contendo transcrição do seu cartão-resposta, somente **1h30min** (uma hora e trinta minutos) após o início da realização da prova.
11. Ao terminar a prova, o candidato deverá entregar ao fiscal de sala o cartão-resposta preenchido e **ASSINADO**.
12. Os **3 (três)** candidatos, que terminarem a prova por último, deverão permanecer na sala, e só poderão sair juntos após o fechamento do envelope, contendo os cartões-resposta dos candidatos presentes e ausentes, e assinarem no lacre do referido envelope, atestando que este foi devidamente lacrado.
13. Durante todo o tempo em que permanecer no local onde está ocorrendo o concurso, o candidato deverá, manter o celular desligado e sem bateria, só sendo permitido ligar depois de ultrapassar o portão de saída do prédio.
14. Não será permitido ao candidato fumar na sala de provas, bem como nas dependências.
15. Depois de terminar a prova e entregar ao fiscal o cartão-resposta, preenchido e assinado, não será mais permitido ao candidato o uso do banheiro e bebedouro.

BOA PROVA!

MATEMÁTICA

1. Marcela tem uma dívida de R\$ 462,00 dividida em 4 parcelas iguais. Qual é o valor que Marcela vai pagar em cada parcela?

- a) R\$ 189,00
- b) R\$ 145,50
- c) R\$ 115,50
- d) R\$ 125,00
- e) R\$ 132,50

2. No mês de fevereiro, Maria assistiu a filmes nos dias ímpares, e Carla nos dias pares. Quantas vezes Maria assistiu a filmes no mês de fevereiro?

- a) 28
- b) 14
- c) 15
- d) 8
- e) 4

DOM	SEG	TER	QUA	QUI	SEX	SAB
			1	2	3	4
5	6	7	8	9	10	11
12	13	14	15	16	17	18
19	20	21	22	23	24	25
26	27	28				

3. Um estudante pretende se inscrever para participar de um Congresso Nacional. (O valor das inscrições está apresentado na tabela abaixo). Sabendo que o estudante irá se inscrever na abertura do Congresso Nacional, qual é o valor que ele irá pagar?

- a) R\$ 120,00
- b) R\$ 100,00
- c) R\$ 180,00
- d) R\$ 150,00
- e) R\$ 170,00

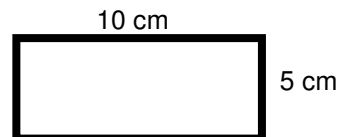
CATEGORIA	Inscrições até 15/05/16	Na abertura do Congresso
Profissional	R\$ 120,00	R\$ 180,00
Estudantes	R\$ 100,00	R\$ 150,00

4. A prestação de um terreno é de R\$ 787,00 e vence todo dia 10. Pagando fora do prazo, há uma multa de R\$ 8,70 por dia. Se a prestação foi paga só no dia 25 (vinte e cinco), qual foi o valor pago?

- a) R\$ 987,00
- b) R\$ 937,00
- c) R\$ 927,50
- d) R\$ 967,00
- e) R\$ 917,50

5. Marque a alternativa que apresenta o resultado do cálculo do perímetro de um terreno que tem as dimensões indicadas na figura abaixo.

- a) 30 cm
- b) 50 cm
- c) 40 cm
- d) 20 cm
- e) 70 cm



6. Um show de Munhoz e Mariano, na exposição de Campo Grande, em abril de 2016, teve início exatamente às 21h e 15min e terminou às 23h e 40 min. Qual foi a duração do show?

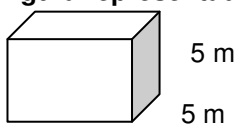
- a) 2h e 10m
- b) 2h e 15m
- c) 2h e 25m
- d) 2h e 30m
- e) 2h e 40m

7. Um pacote de açúcar pesa 2Kg. Foram retirados 450g para fazer um bolo. Quantos gramas restaram no pacote?

- a) 1.450 g
- b) 1.250 g
- c) 1.350 g
- d) 1.550 g
- e) 1.650 g

8. Determine o volume da figura representada a seguir e marque a alternativa correta.

- a) $137m^3$
- b) $115m^3$
- c) $127m^3$
- d) $216m^3$



e) 125m^3

5 m

9. Calcule o perímetro de um retângulo cuja base é três vezes a altura que mede 4m, e marque a alternativa correta.

- a) 16m
- b) 32m
- c) 48m
- d) 20m
- e) 28m



10. João mora no Bairro Tiradentes e Carlos no Bairro Novo Século, os dois trabalham no Supermercado Novo Horizonte. João chegou ao supermercado às 7horas e 30 minutos da manhã e Carlos chegou meia hora depois.

A que horas Carlos chegou ao supermercado?

- a) 8 horas
- b) 9 horas
- c) 6 horas
- d) 5 horas
- e) 4 horas

CONHECIMENTOS GERAIS

11. Telêmaco Borba/PR foi desmembrado do município de

- a) Tibagi
- b) Londrina
- c) Ortigueira
- d) Imbaú
- e) Ventania

12. Quais são as cores da bandeira do município de Telêmaco Borba/PR?

- a) Vermelha, branca e verde
- b) Branca, azul e amarela
- c) Verde, azul e amarela
- d) Vermelha, branca e azul
- e) Branca, cinza e verde

13. Qual o nome do atual prefeito de Telêmaco Borba/PR?

- a) Renato Bahena
- b) José Reinaldo Antunes Carneiro
- c) Luiz Carlos Gibson
- d) Gilson Pereira dos Santos
- e) Ezequiel Ligoski Betim

14. Marque a alternativa que corresponde ao feriado municipal que comemora o dia da padroeira de Telêmaco Borba/PR (Nossa Senhora do Perpétuo Socorro).

- a) 21 de março
- b) 26 de maio
- c) 01 de novembro
- d) 28 de outubro
- e) 21 de junho

15. Quem nasce em Telêmaco Borba é

- a) Telemacoborbense
- b) Telemacoborbino
- c) Telemacoreense
- d) Telemaconense
- e) Telemacoborbiano

16. Em caso de vaga de vereador, não havendo suplente, o Presidente comunicará o fato, diretamente ao Tribunal Regional Eleitoral, dentro de

- a) 72 horas.
- b) 5 dias.
- c) 15 dias.
- d) 48 horas.
- e) 24 horas.

17. Qual alternativa não contempla uma forma de provimento no cargo público, conforme o art. 6º do Estatuto dos Servidores Públicos do município de Telêmaco Borba/PR?

- a) Nomeação
- b) Concurso
- c) Readaptação
- d) Reintegração
- e) Promoção

18. Qual dos municípios seguintes faz divisa com Telêmaco Borba/PR?

- a) Curiúva
- b) Londrina
- c) Arapot
- d) Sapopema
- e) Cambé

19. O município de Telêmaco Borba/PR foi criado inicialmente com o nome de

- a) Monte Alegre.
- b) Mauá.
- c) Cidade Nova.
- d) Harmonia.
- e) Tibagi.

20. Como é denominada a sede administrativa de Telêmaco Borba/PR?

- a) Paço Municipal
- b) Paço das Araucárias
- c) Governo Municipal
- d) Prefeitura
- e) Paço Administrativo

CONHECIMENTOS ESPECÍFICOS

21. Analise as figuras a seguir e marque a alternativa que não contém um tipo de equipamento para varrição.



22. Marque a alternativa correta sobre EPI, que está de acordo com a figura a seguir.



- Equipamento de proteção total
- Equipamento de proteção individual
- Equipamento de proteção coletiva
- Equipamento de proteção parcial
- Equipamento de proteção geral

23. Analise a figura a seguir e marque a alternativa com os nomes dos equipamentos não identificados.



- 2-Faca, 5-Pá de mão, 7-Garfo e 9-Ancinho.
- 2-Faca, 5-Colher de mão, 7-Garfo e 9-Ancinho.
- 2-Faca, 5-Pá de mão, 7-Garfo e 9-Vassoura de aço.
- 2-Faca, 5-Colher de mão, 7-Pá de dentes e 9-Ancinho.
- 2-Faca estreita, 5-Faca larga, 7-Garfo e 9-Ancinho.

24. Para serviço de varrição de vias públicas, usamos quais produtos e equipamentos?

- Enxada, pá coração, luvas de raspa e saco plástico.
- Vassourão, luvas de raspa, máquina para cortar grama e pá de lixo.
- Vassoura, luvas de raspa, saco plástico e motosserra.
- Foice, luvas de raspa, pá de lixo e tesoura para poda.
- Saco plástico, vassourão, luvas de raspa e pá de lixo.

25. Para executar serviços de capina ou roçada, não usaremos qual equipamento?

- Enxada
- Foice
- Tesoura para poda
- Facão
- Máquina para cortar grama

LÍNGUA PORTUGUESA

Leia com atenção o texto abaixo e depois responda às próximas cinco questões.

Heroísmo

Ele usava um colete à prova de balas. Não importava que dia da semana, que dia do mês ou que dia do ano: ele sempre usava o seu colete à prova de balas. Era precavido, ele dizia. A cidade anda muito violenta; nunca se sabe o que pode acontecer. Isso é uma verdade!

Um belo dia, quando estava no banco, ocorreu um assalto. Três bandidos, armados de pistolas e metralhadoras, ameaçavam matar os reféns se o dinheiro não lhes fosse entregue com velocidade. Ele, muito seguro de si,

sabendo da vantagem que levava sobre os assaltantes, afinal, seu colete estava bem escondido sob a camisa, disparou na direção de um deles para desarmá-lo. Um segundo depois, caiu morto.

Ataque cardíaco fulminante, disseram os legistas quando chegaram na cena do crime.

(Fonte: <http://www.napontadoslapis.com.br/2011/03/dois-pequenos-contos.html>. Acesso em 18/05/2016.)

26. Conforme o texto, a pessoa que usava um colete à prova de balas todos os dias era:

- a) Uma criança
- b) Uma mulher
- c) Um homem
- d) Um assaltante
- e) O gerente do banco

27. De acordo com o texto, como morreu a pessoa que usava diariamente um colete à prova de balas?

- a) De ataque cardíaco fulminante.
- b) Assassinado por um assaltante.
- c) Cometeu suicídio.
- d) Foi vítima de uma bala perdida durante o assalto.
- e) Foi morto por um policial.

28. Na segunda linha do texto diz: *Era precavido*.

O que isso significa precavido?

- a) Distraído
- b) Aventureiro
- c) Descuidado
- d) Prevenido
- e) Precipitado

29. Em qual alternativa temos uma palavra grifada que é um pronome pessoal?

- a) A cidade anda muito violenta.
- b) Ele usava um colete à prova de balas.
- c) Um segundo depois, caiu morto.
- d) disseram os legistas quando chegaram na cena do crime.
- e) ele sempre usava o seu colete à prova de balas.

30. As palavras são representadas por fonemas (sons) e letras. Sendo assim, na palavra VELOCIDADE contamos quantos fonemas e letras?

- a) 7 fonemas e 10 letras.
- b) 8 fonemas e 9 letras.
- c) 9 fonemas e 9 letras.
- d) 9 fonemas e 10 letras.
- e) 10 fonemas e 10 letras.

Leia atentamente o texto da figura da formiga e o texto abaixo dela. Depois, responda às próximas cinco questões.

Formigas dormem?





Sim. Especialistas concordam que, como a maioria dos animais, elas dividem seu tempo entre atividade e descanso – quando a ação metabólica diminui. Mas isso não seria bem o que chamamos de sono. “Há registros de formigas vistas ‘deitadas de lado’, que, quando instigadas, retomaram a posição normal. Eu hesitaria em dizer que elas ‘acordaram’, mas a analogia é possível”, explica o mirmecologista (especialista em formiga) Carlos Brandão. Uma pesquisa norte-americana de 2009 indicava que ao menos as formigas-de-fogo (*Solenopsis invicta*) dormem sim – em pequenos cochilos.

- As operárias “dormem” em turnos, mantendo sempre 80% da força de trabalho acordada.

(Fonte <http://mundoestranho.abril.com.br/materia/formigas-dormem>. Acesso em 18/05/2016.)

31. Observe a parte da figura da formiga sobre TOTAL DE HORAS DORMIDAS. Nessa parte, entendemos que:

- A formiga rainha dorme 9,4 horas por dia e a formiga operária dorme 4,8 horas por dia.
- A formiga rainha dorme menos de 9 horas por dia e a formiga operária menos de 4 horas por dia.
- A formiga rainha dorme mais de 10 horas por dia e a formiga operária mais de 4 horas por dia.
- A formiga rainha dorme mais de 9 horas por dia e a formiga operária mais de 5 horas por dia.
- A formiga rainha dorme 4 horas por dia e a formiga operária 8 horas por dia.

32. No texto que se localiza abaixo da figura da formiga, lemos a palavra mirmecologista. Lá explica que isso significa:

- O nome de um tipo de formiga.
- Especialista em formiga.
- O nome que se dá ao cochilo das formigas.
- O nome dado a uma pesquisa sobre formigas.
- Um outro nome que recebem as formigas operárias.

33. Leia esta frase: *Formigas dormem?*

Ela é:

- Uma frase afirmativa porque tem ponto final e expressa uma pergunta.
- Uma frase negativa porque tem ponto de interrogação e nega alguma coisa.
- Uma frase exclamativa porque tem ponto de exclamação e expressa admiração.
- Uma frase interrogativa porque tem ponto de exclamação e expressa uma pergunta.
- Uma frase interrogativa porque tem ponto de interrogação e expressa uma pergunta.

34. Em qual alternativa a separação de sílabas das palavras não está correta?

- a-ni-mais; dei-ta-das.
- es-pe-cia-lis-ta; po-ssí-vel.
- des-can-so; com-cor-dam.
- a-ti-vi-da-de; for-mi-gas.
- tra-ba-lho; pe-que-nos.

35. O hiato é um encontro vocálico em que temos duas vogais juntas, mas que são pronunciadas em sílabas diferentes. Assim, a palavra que tem hiato é:

- Pequenos
- Deitadas
- Quando
- Acordados
- Especialista

Leia com atenção o texto abaixo e depois responda às cinco próximas questões.

Tomate é fruta?

por Sabrina Haick | Edição 177

Sim, ele é. Não só o tomate é fruta, como a berinjela, a abobrinha, o pepino, o pimentão e outros alimentos que nós chamamos de legumes também são. Fruta é o ovário amadurecido de uma planta, onde ficam as sementes. A confusão acontece porque nós somos acostumados a chamar as frutas salgadas de legumes. Se você acha que sua vida foi uma mentira até agora, saiba que também existem alimentos que nós chamamos de fruta, mas não são. Trata-se dos pseudofrutos – estruturas suculentas que têm cara e jeito de fruto, mas não se desenvolvem a partir do ovário da planta, como as frutas reais. É o caso do morango, do caju, da maçã, da pera e do abacaxi, entre outros.

(Fonte: <http://mundoestranho.abril.com.br/materia/tomate-e-fruta>. Acesso em 18/05/2016.)

36. Ao ler esse texto, descobrimos que o tomate é um fruto e não um legume. Também descobrimos que são frutas outros alimentos que pensávamos que eram legumes. Dois deles são:



- a) Berinjela e morango
- b) Abobrinha e pepino
- c) Abobrinha e caju
- d) Pimentão e pera
- e) Pepino e abacaxi

37. Conhecer os sinônimos e antônimos das palavras nos ajuda a aumentar nosso vocabulário. Qual é um sinônimo para a palavra “suculentas”, conforme o sentido que ela tem no texto?

- a) Desinteressantes
- b) Gordurosas
- c) Carnudas
- d) Descarnadas
- e) Felpudas

38. A acentuação em uma palavra nos ajuda a pronunciar-la de maneira correta, como, por exemplo, as palavras “você” e “ovário”. Marque a alternativa em que as palavras não foram acentuadas corretamente.

- a) lâmpada - pálpebra
- b) obíto - fenômeno
- c) mímica - código
- d) cálice - xícara
- e) cédula - específico

39. Escrevemos “abacaxi” com x, “berinjela” e “caju” com j.

Marque a alternativa em que todas as palavras grifadas estão escritas de forma correta.

- a) Fui à feira e comprei tangerina, laranja e melancia.
- b) Fui à feira e comprei tanjerina, laranja e melancia.
- c) Fui à feira e comprei tangerina, larãja e melancia.
- d) Fui à feira e comprei tangerina, laranja e melansia.
- e) Fui à feira e comprei tãgerina, laranja e melansia.

40. O que temos nas palavras “frutas”, “estruturas”, “salgadas” e “partir”?

- a) Ditongo
- b) Hiato
- c) Encontro consonantal e Encontro vocálico
- d) Encontro consonantal
- e) Encontro vocálico

RASCUNHO



PREFEITURA DE TELÊMACO BORBA - ESTADO DO PARANÁ- EDITAL Nº 001-2016 - CONCURSO PÚBLICO

VESPERTINO – 29/05/2016 – FUNDAMENTAL INCOMPLETO

3

PROVA OBJETIVA NÚMERO

CARGO: AUXILIAR OBRAS E SERVIÇOS PÚBLICOS**Leia atentamente as INSTRUÇÕES:**

1. Confira seus dados no cartão-resposta: nome, número de inscrição e o curso para o qual se inscreveu.
2. **MARQUE no seu cartão-resposta o número da sua prova** (não será corrigido o cartão-resposta que não tiver marcado o número da prova) e **Assine** seu cartão-resposta.
3. Aguarde a autorização do Fiscal para abrir o caderno de prova. Ao receber a ordem do fiscal, confira o caderno de prova com muita atenção. Nenhuma reclamação sobre o total de questões ou falha de impressão será aceita depois de iniciada a prova.
4. O cartão-resposta não será substituído, salvo se contiver erro de impressão.
5. Preencha toda a área do cartão-resposta correspondente à alternativa de sua escolha, com caneta esferográfica (tinta azul ou preta), sem ultrapassar as bordas. As marcações duplas, ou rasuradas, com corretivo, ou marcadas diferentemente do modelo estabelecido no cartão-resposta poderão ser anuladas.
6. Sua prova tem **40** questões, com **5** alternativas.
7. Cabe apenas ao candidato a interpretação das questões, **o fiscal** não poderá fazer nenhuma interferência.
8. A prova será realizada com duração máxima de **3 (três) horas**, incluído o tempo para a realização da Prova Objetiva de múltipla escolha e o preenchimento do cartão-resposta.
9. O candidato poderá retirar-se do local de realização das provas somente **1 (uma) hora** após o seu início, sem levar o caderno de prova.
10. O candidato poderá levar o caderno de provas, assim como anotação contendo transcrição do seu cartão-resposta, somente **1h30min** (uma hora e trinta minutos) após o início da realização da prova.
11. Ao terminar a prova, o candidato deverá entregar ao fiscal de sala o cartão-resposta preenchido e **ASSINADO**.
12. Os **3 (três)** candidatos, que terminarem a prova por último, deverão permanecer na sala, e só poderão sair juntos após o fechamento do envelope, contendo os cartões-resposta dos candidatos presentes e ausentes, e assinarem no lacre do referido envelope, atestando que este foi devidamente lacrado.
13. Durante todo o tempo em que permanecer no local onde está ocorrendo o concurso, o candidato deverá, manter o celular desligado e sem bateria, só sendo permitido ligar depois de ultrapassar o portão de saída do prédio.
14. Não será permitido ao candidato fumar na sala de provas, bem como nas dependências.
15. Depois de terminar a prova e entregar ao fiscal o cartão-resposta, preenchido e assinado, não será mais permitido ao candidato o uso do banheiro e bebedouro.

BOA PROVA!

CONHECIMENTOS ESPECÍFICOS

01 Analise as figuras a seguir e marque a alternativa que não contém um tipo de equipamento para varrição.

- a) 
- b) 
- c) 
- d) 
- e) 

02. Marque a alternativa correta sobre EPI, que está de acordo com a figura a seguir.



- a) Equipamento de proteção total
 b) Equipamento de proteção individual
 c) Equipamento de proteção coletiva
 d) Equipamento de proteção parcial
 e) Equipamento de proteção geral

03. Analise a figura a seguir e marque a alternativa com os nomes dos equipamentos não identificados.



- a) 2-Faca, 5-Pá de mão, 7-Garfo e 9-Ancinho.
 b) 2-Faca, 5-Colher de mão, 7-Garfo e 9-Ancinho.
 c) 2-Faca, 5-Pá de mão, 7-Garfo e 9-Vassoura de aço.
 d) 2-Faca, 5-Colher de mão, 7-Pá de dentes e 9-Ancinho.
 e) 2-Faca estreita, 5-Faca larga, 7-Garfo e 9-Ancinho.

04. Para serviço de varrição de vias públicas, usamos quais produtos e equipamentos?

- a) Enxada, pá coração, luvas de raspa e saco plástico.
 b) Vassourão, luvas de raspa, máquina para cortar grama e pá de lixo.
 c) Vassoura, luvas de raspa, saco plástico e motosserra.
 d) Foice, luvas de raspa, pá de lixo e tesoura para poda.
 e) Saco plástico, vassourão, luvas de raspa e pá de lixo.

05. Para executar serviços de capina ou roçada, não usaremos qual equipamento?

- a) Enxada
 b) Foice
 c) Tesoura para poda
 d) Facão
 e) Máquina para cortar grama

LÍNGUA PORTUGUESA

Leia com atenção o texto abaixo e depois responda às próximas cinco questões.

Heroísmo

Ele usava um colete à prova de balas. Não importava que dia da semana, que dia do mês ou que dia do ano: ele sempre usava o seu colete à prova de balas. Era precavido, ele dizia. A cidade anda muito violenta; nunca se sabe o que pode acontecer. Isso é uma verdade!

Um belo dia, quando estava no banco, ocorreu um assalto. Três bandidos, armados de pistolas e metralhadoras, ameaçavam matar os reféns se o dinheiro não lhes fosse entregue com velocidade. Ele, muito seguro de si, sabendo da vantagem que levava sobre os assaltantes, afinal, seu colete estava bem escondido sob a camisa, disparou na direção de um deles para desarmá-lo. Um segundo depois, caiu morto.

Ataque cardíaco fulminante, disseram os legistas quando chegaram na cena do crime.

(Fonte: <http://www.napontadoslapis.com.br/2011/03/dois-pequenos-contos.html>. Acesso em 18/05/2016.)

06. Conforme o texto, a pessoa que usava um colete à prova de balas todos os dias era:

- a) Uma criança
 b) Uma mulher
 c) Um homem
 d) Um assaltante
 e) O gerente do banco

07. De acordo com o texto, como morreu a pessoa que usava diariamente um colete à prova de balas?

- a) De ataque cardíaco fulminante.
 b) Assassinado por um assaltante.
 c) Cometeu suicídio.

- d) Foi vítima de uma bala perdida durante o assalto.
e) Foi morto por um policial.

08. Na segunda linha do texto diz: *Era precavido*. O que isso significa precavido?

- a) Distraído
b) Aventureiro
c) Descuidado
d) Prevenido
e) Precipitado

09. Em qual alternativa temos uma palavra grifada que é um pronome pessoal?

- a) A cidade anda muito violenta.
b) Ele usava um colete à prova de balas.
c) Um segundo depois, caiu morto.
d) disseram os legistas quando chegaram na cena do crime.
e) ele sempre usava o seu colete à prova de balas.

10. As palavras são representadas por fonemas (sons) e letras. Sendo assim, na palavra VELOCIDADE contamos quantos fonemas e letras?

- a) 7 fonemas e 10 letras.
b) 8 fonemas e 9 letras.
c) 9 fonemas e 9 letras.
d) 9 fonemas e 10 letras.
e) 10 fonemas e 10 letras.

Leia atentamente o texto da figura da formiga e o texto abaixo dela. Depois, responda às próximas cinco questões.

Formigas dormem?



Sim. Especialistas concordam que, como a maioria dos animais, elas dividem seu tempo entre atividade e descanso – quando a ação metabólica diminui. Mas isso não seria bem o que chamamos de sono. “Há registros de formigas vistas ‘deitadas de lado’, que, quando instigadas, retomaram a posição normal. Eu hesitaria em dizer que elas ‘acordaram’, mas a analogia é possível”, explica o mirmecologista (especialista em formiga) Carlos Brandão. Uma pesquisa norte-americana de 2009 indicava que ao menos as formigas-de-fogo (*Solenopsis invicta*) dormem sim – em pequenos cochilos.

- As operárias “dormem” em turnos, mantendo sempre 80% da força de trabalho acordada.

(Fonte <http://mundoestranho.abril.com.br/materia/formigas-dormem>. Acesso em 18/05/2016.)

11. Observe a parte da figura da formiga sobre TOTAL DE HORAS DORMIDAS. Nessa parte, entendemos que:

- a) A formiga rainha dorme 9,4 horas por dia e a formiga operária dorme 4,8 horas por dia.
b) A formiga rainha dorme menos de 9 horas por dia e a formiga operária menos de 4 horas por dia.
c) A formiga rainha dorme mais de 10 horas por dia e a formiga operária mais de 4 horas por dia.
d) A formiga rainha dorme mais de 9 horas por dia e a formiga operária mais de 5 horas por dia.
e) A formiga rainha dorme 4 horas por dia e a formiga operária 8 horas por dia.



12. No texto que se localiza abaixo da figura da formiga, lemos a palavra mirmecologista. Lá explica que isso significa:

- a) O nome de um tipo de formiga.
- b) Especialista em formiga.
- c) O nome que se dá ao cochilo das formigas.
- d) O nome dado a uma pesquisa sobre formigas.
- e) Um outro nome que recebem as formigas operárias.

13. Leia esta frase: *Formigas dormem?*

Ela é:

- a) Uma frase afirmativa porque tem ponto final e expressa uma pergunta.
- b) Uma frase negativa porque tem ponto de interrogação e nega alguma coisa.
- c) Uma frase exclamativa porque tem ponto de exclamação e expressa admiração.
- d) Uma frase interrogativa porque tem ponto de exclamação e expressa uma pergunta.
- e) Uma frase interrogativa porque tem ponto de interrogação e expressa uma pergunta.

14. Em qual alternativa a separação de sílabas das palavras não está correta?

- a) a-ni-mais; dei-ta-das.
- b) es-pe-cia-lis-ta; po-ssí-vel.
- c) des-can-so; com-cor-dam.
- d) a-ti-vi-da-de; for-mi-gas.
- e) tra-ba-lho; pe-que-nos.

15. O hiato é um encontro vocálico em que temos duas vogais juntas, mas que são pronunciadas em sílabas diferentes. Assim, a palavra que tem hiato é:

- a) Pequenos
- b) Deitadas
- c) Quando
- d) Acordados
- e) Especialista

Leia com atenção o texto abaixo e depois responda às cinco próximas questões.

Tomate é fruta?

por Sabrina Haick | Edição 177

Sim, ele é. Não só o tomate é fruta, como a berinjela, a abobrinha, o pepino, o pimentão e outros alimentos que nós chamamos de legumes também são. Fruta é o ovário amadurecido de uma planta, onde ficam as sementes. A confusão acontece porque nós somos acostumados a chamar as frutas salgadas de legumes. Se você acha que sua vida foi uma mentira até agora, saiba que também existem alimentos que nós chamamos de fruta, mas não são. Trata-se dos pseudofrutos – estruturas suculentas que têm cara e jeito de fruto, mas não se desenvolvem a partir do ovário da planta, como as frutas reais. É o caso do morango, do caju, da maçã, da pera e do abacaxi, entre outros.

(Fonte: <http://mundoestranho.abril.com.br/materia/tomate-e-fruta>. Acesso em 18/05/2016.)

16. Ao ler esse texto, descobrimos que o tomate é um fruto e não um legume. Também descobrimos que são frutas outros alimentos que pensávamos que eram legumes. Dois deles são:

- a) Berinjela e morango
- b) Abobrinha e pepino
- c) Abobrinha e caju
- d) Pimentão e pera
- e) Pepino e abacaxi

17. Conhecer os sinônimos e antônimos das palavras nos ajuda a aumentar nosso vocabulário.

Qual é um sinônimo para a palavra “suculentas”, conforme o sentido que ela tem no texto?

- a) Desinteressantes
- b) Gordurosas
- c) Carnudas
- d) Descarnadas
- e) Felpudas

18. A acentuação em uma palavra nos ajuda a pronunciá-la de maneira correta, como, por exemplo, as palavras “você” e “ovário”. Marque a alternativa em que as palavras não foram acentuadas corretamente.

- a) lâmpada - pálpebra



- b) obíto - fenômeno
c) mímica - código
d) cálice - xícara
e) cédula - específico

19. Escrevemos “abacaxi” com **x**, “berinjela” e “caju” com **j**.

Marque a alternativa em que todas as palavras grifadas estão escritas de forma correta.

- a) Fui à feira e comprei tangerina, laranja e melancia.
b) Fui à feira e comprei tanjerina, laranja e melancia.
c) Fui à feira e comprei tangerina, larãja e melancia.
d) Fui à feira e comprei tangerina, laranja e melansia.
e) Fui à feira e comprei tãgerina, laranja e melansia.

20. O que temos nas palavras “frutas”, “estruturas”, “salgadas” e “partir”?

- a) Ditongo
b) Hiato
c) Encontro consonantal e Encontro vocálico
d) Encontro consonantal
e) Encontro vocálico

MATEMÁTICA

21. Marcela tem uma dívida de R\$ 462,00 dividida em 4 parcela iguais. Qual é o valor que Marcela vai pagar em cada parcela?

- a) R\$ 189,00
b) R\$ 145,50
c) R\$ 115,50
d) R\$ 125,00
e) R\$ 132,50

22. No mês de fevereiro, Maria assistiu a filmes nos dias ímpares, e Carla nos dias pares. Quantas vezes Maria assistiu a filmes no mês de fevereiro?

- a) 28
b) 14
c) 15
d) 8
e) 4

DOM	SEG	TER	QUA	QUI	SEX	SAB
			1	2	3	4
5	6	7	8	9	10	11
12	13	14	15	16	17	18
19	20	21	22	23	24	25
26	27	28				

23. Um estudante pretende se inscrever para participar de um Congresso Nacional. (O valor das inscrições está apresentado na tabela abaixo). Sabendo que o estudante irá se inscrever na abertura do Congresso Nacional, qual é o valor que ele irá pagar?

- a) R\$ 120,00
b) R\$ 100,00
c) R\$ 180,00
d) R\$ 150,00
e) R\$ 170,00

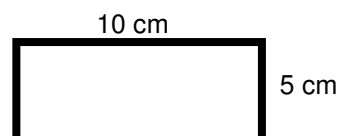
CATEGORIA	Inscrições até 15/05/16	Na abertura do Congresso
Profissional	R\$ 120,00	R\$ 180,00
Estudantes	R\$ 100,00	R\$ 150,00

24. A prestação de um terreno é de R\$ 787,00 e vence todo dia 10. Pagando fora do prazo, há uma multa de R\$ 8,70 por dia. Se a prestação foi paga só no dia 25 (vinte e cinco), qual foi o valor pago?

- a) R\$ 987,00
b) R\$ 937,00
c) R\$ 927,50
d) R\$ 967,00
e) R\$ 917,50

25. Marque a alternativa que apresenta o resultado do cálculo do perímetro de um terreno que tem as dimensões indicadas na figura abaixo.

- a) 30 cm
b) 50 cm
c) 40 cm
d) 20 cm
e) 70 cm



26. Um show de Munhoz e Mariano, na exposição de Campo Grande, em abril de 2016, teve início exatamente às 21h e 15min e terminou às 23h e 40 min. Qual foi a duração do show?

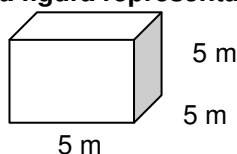
- a) 2h e 10m
- b) 2h e 15m
- c) 2h e 25m
- d) 2h e 30m
- e) 2h e 40m

27. Um pacote de açúcar pesa 2Kg. Foram retirados 450g para fazer um bolo. Quantos gramas restaram no pacote?

- a) 1.450 g
- b) 1.250 g
- c) 1.350 g
- d) 1.550 g
- e) 1.650 g

28. Determine o volume da figura representada a seguir e marque a alternativa correta.

- a) $137m^3$
- b) $115m^3$
- c) $127m^3$
- d) $216m^3$
- e) $125m^3$



29. Calcule o perímetro de um retângulo cuja base é três vezes a altura que mede 4m, e marque a alternativa correta.

- a) 16m
- b) 32m
- c) 48m
- d) 20m
- e) 28m



30. João mora no Bairro Tiradentes e Carlos no Bairro Novo Século, os dois trabalham no Supermercado Novo Horizonte. João chegou ao supermercado às 7horas e 30 minutos da manhã e Carlos chegou meia hora depois.

A que horas Carlos chegou ao supermercado?

- a) 8 horas
- b) 9 horas
- c) 6 horas
- d) 5 horas
- e) 4 horas

CONHECIMENTOS GERAIS

31. Telêmaco Borba/PR foi desmembrado do município de

- a) Tibagi
- b) Londrina
- c) Ortigueira
- d) Imbaú
- e) Ventania

32. Quais são as cores da bandeira do município de Telêmaco Borba/PR?

- a) Vermelha, branca e verde
- b) Branca, azul e amarela
- c) Verde, azul e amarela
- d) Vermelha, branca e azul
- e) Branca, cinza e verde

33. Qual o nome do atual prefeito de Telêmaco Borba/PR?

- a) Renato Bahena
- b) José Reinaldo Antunes Carneiro
- c) Luiz Carlos Gibson
- d) Gilson Pereira dos Santos
- e) Ezequiel Ligoski Betim

34. Marque a alternativa que corresponde ao feriado municipal que comemora o dia da padroeira de Telêmaco Borba/PR (Nossa Senhora do Perpétuo Socorro).



- a) 21 de março
- b) 26 de maio
- c) 01 de novembro
- d) 28 de outubro
- e) 21 de junho

35. Quem nasce em Telêmaco Borba é

- a) Telemacoborbense
- b) Telemacoborbino
- c) Telemacoreense
- d) Telemaconense
- e) Telemacoborbiano

36. Em caso de vaga de vereador, não havendo suplente, o Presidente comunicará o fato, diretamente ao Tribunal Regional Eleitoral, dentro de

- a) 72 horas.
- b) 5 dias.
- c) 15 dias.
- d) 48 horas.
- e) 24 horas.

37. Qual alternativa não contempla uma forma de provimento no cargo público, conforme o art. 6º do Estatuto dos Servidores Públicos do município de Telêmaco Borba/PR?

- a) Nomeação
- b) Concurso
- c) Readaptação
- d) Reintegração
- e) Promoção

38. Qual dos municípios seguintes faz divisa com Telêmaco Borba/PR?

- a) Curiúva
- b) Londrina
- c) Arapot
- d) Sapopema
- e) Cambé

39. O município de Telêmaco Borba/PR foi criado inicialmente com o nome de

- a) Monte Alegre.
- b) Mauá.
- c) Cidade Nova.
- d) Harmonia.
- e) Tibagi.

40. Como é denominada a sede administrativa de Telêmaco Borba/PR?

- a) Paço Municipal
- b) Paço das Araucárias
- c) Governo Municipal
- d) Prefeitura
- e) Paço Administrativo

RASCUNHO



PREFEITURA DE TELÊMACO BORBA - ESTADO DO PARANÁ- EDITAL Nº 001-2016 - CONCURSO PÚBLICO

VESPERTINO – 29/05/2016 – FUNDAMENTAL INCOMPLETO

1

PROVA OBJETIVA NÚMERO

CARGO: AUXILIAR OFICINA MECÂNICA BORRACHEIRO

Leia atentamente as INSTRUÇÕES:

1. Confira seus dados no cartão-resposta: nome, número de inscrição e o curso para o qual se inscreveu.
2. **MARQUE no seu cartão-resposta o número da sua prova** (não será corrigido o cartão-resposta que não tiver marcado o número da prova) e **Assine** seu cartão-resposta.
3. Aguarde a autorização do Fiscal para abrir o caderno de prova. Ao receber a ordem do fiscal, confira o caderno de prova com muita atenção. Nenhuma reclamação sobre o total de questões ou falha de impressão será aceita depois de iniciada a prova.
4. O cartão-resposta não será substituído, salvo se contiver erro de impressão.
5. Preencha toda a área do cartão-resposta correspondente à alternativa de sua escolha, com caneta esferográfica (tinta azul ou preta), sem ultrapassar as bordas. As marcações duplas, ou rasuradas, com corretivo, ou marcadas diferentemente do modelo estabelecido no cartão-resposta poderão ser anuladas.
6. Sua prova tem **40** questões, com **5** alternativas.
7. Cabe apenas ao candidato a interpretação das questões, **o fiscal** não poderá fazer nenhuma interferência.
8. A prova será realizada com duração máxima de **3 (três) horas**, incluído o tempo para a realização da Prova Objetiva de múltipla escolha e o preenchimento do cartão-resposta.
9. O candidato poderá retirar-se do local de realização das provas somente **1 (uma) hora** após o seu início, sem levar o caderno de prova.
10. O candidato poderá levar o caderno de provas, assim como anotação contendo transcrição do seu cartão-resposta, somente **1h30min** (uma hora e trinta minutos) após o início da realização da prova.
11. Ao terminar a prova, o candidato deverá entregar ao fiscal de sala o cartão-resposta preenchido e **ASSINADO**.
12. Os **3 (três)** candidatos, que terminarem a prova por último, deverão permanecer na sala, e só poderão sair juntos após o fechamento do envelope, contendo os cartões-resposta dos candidatos presentes e ausentes, e assinarem no lacre do referido envelope, atestando que este foi devidamente lacrado.
13. Durante todo o tempo em que permanecer no local onde está ocorrendo o concurso, o candidato deverá, manter o celular desligado e sem bateria, só sendo permitido ligar depois de ultrapassar o portão de saída do prédio.
14. Não será permitido ao candidato fumar na sala de provas, bem como nas dependências.
15. Depois de terminar a prova e entregar ao fiscal o cartão-resposta, preenchido e assinado, não será mais permitido ao candidato o uso do banheiro e bebedouro.

BOA PROVA!

**LÍNGUA PORTUGUESA**

Leia com atenção o texto abaixo e depois responda às próximas cinco questões.

Heroísmo

Ele usava um colete à prova de balas. Não importava que dia da semana, que dia do mês ou que dia do ano: ele sempre usava o seu colete à prova de balas. Era precavido, ele dizia. A cidade anda muito violenta; nunca se sabe o que pode acontecer. Isso é uma verdade!

Um belo dia, quando estava no banco, ocorreu um assalto. Três bandidos, armados de pistolas e metralhadoras, ameaçavam matar os reféns se o dinheiro não lhes fosse entregue com velocidade. Ele, muito seguro de si, sabendo da vantagem que levava sobre os assaltantes, afinal, seu colete estava bem escondido sob a camisa, disparou na direção de um deles para desarmá-lo. Um segundo depois, caiu morto.

Ataque cardíaco fulminante, disseram os legistas quando chegaram na cena do crime.

(Fonte: <http://www.napontadoslapis.com.br/2011/03/dois-pequenos-contos.html>. Acesso em 18/05/2016.)

01. Conforme o texto, a pessoa que usava um colete à prova de balas todos os dias era:

- a) Uma criança
- b) Uma mulher
- c) Um homem
- d) Um assaltante
- e) O gerente do banco

02. De acordo com o texto, como morreu a pessoa que usava diariamente um colete à prova de balas?

- a) De ataque cardíaco fulminante.
- b) Assassinado por um assaltante.
- c) Cometeu suicídio.
- d) Foi vítima de uma bala perdida durante o assalto.
- e) Foi morto por um policial.

03. Na segunda linha do texto diz: *Era precavido*.

O que isso significa precavido?

- a) Distraído
- b) Aventureiro
- c) Descuidado
- d) Prevenido
- e) Precipitado

04. Em qual alternativa temos uma palavra grifada que é um pronome pessoal?

- a) A cidade anda muito violenta.
- b) Ele usava um colete à prova de balas.
- c) Um segundo depois, caiu morto.
- d) disseram os legistas quando chegaram na cena do crime.
- e) ele sempre usava o seu colete à prova de balas.

05. As palavras são representadas por fonemas (sons) e letras. Sendo assim, na palavra VELOCIDADE contamos quantos fonemas e letras?

- a) 7 fonemas e 10 letras.
- b) 8 fonemas e 9 letras.
- c) 9 fonemas e 9 letras.
- d) 9 fonemas e 10 letras.
- e) 10 fonemas e 10 letras.

Leia atentamente o texto da figura da formiga e o texto abaixo dela. Depois, responda às próximas cinco questões.

Formigas dormem?



Sim. Especialistas concordam que, como a maioria dos animais, elas dividem seu tempo entre atividade e descanso – quando a ação metabólica diminui. Mas isso não seria bem o que chamamos de sono. “Há registros de formigas vistas ‘deitadas de lado’, que, quando instigadas, retomaram a posição normal. Eu hesitaria em dizer que elas ‘acordaram’, mas a analogia é possível”, explica o mirmecologista (especialista em formiga) Carlos Brandão. Uma pesquisa norte-americana de 2009 indicava que ao menos as formigas-de-fogo (*Solenopsis Invicta*) dormem sim – em pequenos cochilos.

- As operárias “dormem” em turnos, mantendo sempre 80% da força de trabalho acordada.

(Fonte <http://mundoestranho.abril.com.br/materia/formigas-dormem>. Acesso em 18/05/2016.)

06. Observe a parte da figura da formiga sobre TOTAL DE HORAS DORMIDAS. Nessa parte, entendemos que:

- A formiga rainha dorme 9,4 horas por dia e a formiga operária dorme 4,8 horas por dia.
- A formiga rainha dorme menos de 9 horas por dia e a formiga operária menos de 4 horas por dia.
- A formiga rainha dorme mais de 10 horas por dia e a formiga operária mais de 4 horas por dia.
- A formiga rainha dorme mais de 9 horas por dia e a formiga operária mais de 5 horas por dia.
- A formiga rainha dorme 4 horas por dia e a formiga operária 8 horas por dia.

07. No texto que se localiza abaixo da figura da formiga, lemos a palavra mirmecologista. Lá explica que isso significa:

- O nome de um tipo de formiga.
- Especialista em formiga.
- O nome que se dá ao cochilo das formigas.
- O nome dado a uma pesquisa sobre formigas.
- Um outro nome que recebem as formigas operárias.

08. Leia esta frase: *Formigas dormem?*

Ela é:

- Uma frase afirmativa porque tem ponto final e expressa uma pergunta.
- Uma frase negativa porque tem ponto de interrogação e nega alguma coisa.
- Uma frase exclamativa porque tem ponto de exclamação e expressa admiração.
- Uma frase interrogativa porque tem ponto de exclamação e expressa uma pergunta.
- Uma frase interrogativa porque tem ponto de interrogação e expressa uma pergunta.

09. Em qual alternativa a separação de sílabas das palavras não está correta?

- a-ni-mais; dei-ta-das.
- es-pe-cia-lis-ta; po-ssí-vel.
- des-can-so; com-cor-dam.
- a-ti-vi-da-de; for-mi-gas.
- tra-ba-lho; pe-que-nos.

10. O hiato é um encontro vocálico em que temos duas vogais juntas, mas que são pronunciadas em sílabas diferentes. Assim, a palavra que tem hiato é:

- Pequenos
- Deitadas
- Quando



- d) Acordados
- e) Especialista

Leia com atenção o texto abaixo e depois responda às cinco próximas questões.

Tomate é fruta?

por Sabrina Haick | Edição 177

Sim, ele é. Não só o tomate é fruta, como a berinjela, a abobrinha, o pepino, o pimentão e outros alimentos que nós chamamos de legumes também são. Fruta é o ovário amadurecido de uma planta, onde ficam as sementes. A confusão acontece porque nós somos acostumados a chamar as frutas salgadas de legumes. Se você acha que sua vida foi uma mentira até agora, saiba que também existem alimentos que nós chamamos de fruta, mas não são. Trata-se dos pseudofrutos – estruturas suculentas que têm cara e jeito de fruto, mas não se desenvolvem a partir do ovário da planta, como as frutas reais. É o caso do morango, do caju, da maçã, da pera e do abacaxi, entre outros.

(Fonte: <http://mundoestranho.abril.com.br/materia/tomate-e-fruta>. Acesso em 18/05/2016.)

11. Ao ler esse texto, descobrimos que o tomate é um fruto e não um legume. Também descobrimos que são frutas outros alimentos que pensávamos que eram legumes. Dois deles são:

- a) Berinjela e morango
- b) Abobrinha e pepino
- c) Abobrinha e caju
- d) Pimentão e pera
- e) Pepino e abacaxi

12. Conhecer os sinônimos e antônimos das palavras nos ajuda a aumentar nosso vocabulário.

Qual é um sinônimo para a palavra “suculentas”, conforme o sentido que ela tem no texto?

- a) Desinteressantes
- b) Gordurosas
- c) Carnudas
- d) Descarnadas
- e) Felpudas

13. A acentuação em uma palavra nos ajuda a pronunciá-la de maneira correta, como, por exemplo, as palavras “você” e “ovário”. Marque a alternativa em que as palavras não foram acentuadas corretamente.

- a) lâmpada - pálpebra
- b) obíto - fenômeno
- c) mímica - código
- d) cálice - xícara
- e) cédula - específico

14. Escrevemos “abacaxi” com x, “berinjela” e “caju” com j.

Marque a alternativa em que todas as palavras grifadas estão escritas de forma correta.

- a) Fui à feira e comprei tangerina, laranja e melancia.
- b) Fui à feira e comprei tanjerina, laranja e melancia.
- c) Fui à feira e comprei tangerina, larãja e melancia.
- d) Fui à feira e comprei tangerina, laranja e melansia.
- e) Fui à feira e comprei tãgerina, laranja e melansia.

15. O que temos nas palavras “frutas”, “estruturas”, “salgadas” e “partir”?

- a) Ditongo
- b) Hiato
- c) Encontro consonantal e Encontro vocálico
- d) Encontro consonantal
- e) Encontro vocálico

MATEMÁTICA

16. Marcela tem uma dívida de R\$ 462,00 dividida em 4 parcela iguais. Qual é o valor que Marcela vai pagar em cada parcela?

- a) R\$ 189,00
- b) R\$ 145,50
- c) R\$ 115,50
- d) R\$ 125,00
- e) R\$ 132,50

17. No mês de fevereiro, Maria assistiu a filmes nos dias ímpares, e Carla nos dias pares. Quantas vezes Maria assistiu a filmes no mês de fevereiro?

- a) 28
b) 14
c) 15
d) 8
e) 4

DOM	SEG	TER	QUA	QUI	SEX	SAB
			1	2	3	4
5	6	7	8	9	10	11
12	13	14	15	16	17	18
19	20	21	22	23	24	25
26	27	28				

18. Um estudante pretende se inscrever para participar de um Congresso Nacional. (O valor das inscrições está apresentado na tabela abaixo). Sabendo que o estudante irá se inscrever na abertura do Congresso Nacional, qual é o valor que ele irá pagar?

- a) R\$ 120,00
b) R\$ 100,00
c) R\$ 180,00
d) R\$ 150,00
e) R\$ 170,00

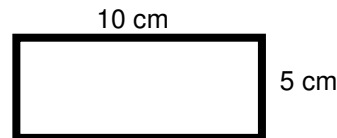
CATEGORIA	Inscrições até 15/05/16	Na abertura do Congresso
Profissional	R\$ 120,00	R\$ 180,00
Estudantes	R\$ 100,00	R\$ 150,00

19. A prestação de um terreno é de R\$ 787,00 e vence todo dia 10. Pagando fora do prazo, há uma multa de R\$ 8,70 por dia. Se a prestação foi paga só no dia 25 (vinte e cinco), qual foi o valor pago?

- a) R\$ 987,00
b) R\$ 937,00
c) R\$ 927,50
d) R\$ 967,00
e) R\$ 917,50

20. Marque a alternativa que apresenta o resultado do cálculo do perímetro de um terreno que tem as dimensões indicadas na figura abaixo.

- a) 30 cm
b) 50 cm
c) 40 cm
d) 20 cm
e) 70 cm



21. Um show de Munhoz e Mariano, na exposição de Campo Grande, em abril de 2016, teve início exatamente às 21h e 15min e terminou às 23h e 40 min. Qual foi a duração do show?

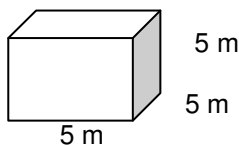
- a) 2h e 10m
b) 2h e 15m
c) 2h e 25m
d) 2h e 30m
e) 2h e 40m

22. Um pacote de açúcar pesa 2Kg. Foram retirados 450g para fazer um bolo. Quantos gramas restaram no pacote?

- a) 1.450 g
b) 1.250 g
c) 1.350 g
d) 1.550 g
e) 1.650 g

23. Determine o volume da figura representada a seguir e marque a alternativa correta.

- a) $137m^3$
b) $115m^3$
c) $127m^3$
d) $216m^3$
e) $125m^3$



24. Calcule o perímetro de um retângulo cuja base é três vezes a altura que mede 4m, e marque a alternativa correta.

- a) 16m
b) 32m
c) 48m
d) 20m
e) 28m



25. João mora no Bairro Tiradentes e Carlos no Bairro Novo Século, os dois trabalham no Supermercado Novo Horizonte. João chegou ao supermercado às 7horas e 30 minutos da manhã e Carlos chegou meia hora depois.

A que horas Carlos chegou ao supermercado?

- a) 8 horas
- b) 9 horas
- c) 6 horas
- d) 5 horas
- e) 4 horas

CONHECIMENTOS GERAIS

26. Telêmaco Borba/PR foi desmembrado do município de

- a) Tibagi
- b) Londrina
- c) Ortigueira
- d) Imbaú
- e) Ventania

27. Quais são as cores da bandeira do município de Telêmaco Borba/PR?

- a) Vermelha, branca e verde
- b) Branca, azul e amarela
- c) Verde, azul e amarela
- d) Vermelha, branca e azul
- e) Branca, cinza e verde

28. Qual o nome do atual prefeito de Telêmaco Borba/PR?

- a) Renato Bahena
- b) José Reinaldo Antunes Carneiro
- c) Luiz Carlos Gibson
- d) Gilson Pereira dos Santos
- e) Ezequiel Ligoski Betim

29. Marque a alternativa que corresponde ao feriado municipal que comemora o dia da padroeira de Telêmaco Borba/PR (Nossa Senhora do Perpétuo Socorro).

- a) 21 de março
- b) 26 de maio
- c) 01 de novembro
- d) 28 de outubro
- e) 21 de junho

30. Quem nasce em Telêmaco Borba é

- a) Telemacoborbense
- b) Telemacoborbino
- c) Telemacoreense
- d) Telemaconense
- e) Telemacoborbiano

31. Em caso de vaga de vereador, não havendo suplente, o Presidente comunicará o fato, diretamente ao Tribunal Regional Eleitoral, dentro de

- a) 72 horas.
- b) 5 dias.
- c) 15 dias.
- d) 48 horas.
- e) 24 horas.

32. Qual alternativa não contempla uma forma de provimento no cargo público, conforme o art. 6º do Estatuto dos Servidores Públicos do município de Telêmaco Borba/PR?

- a) Nomeação
- b) Concurso
- c) Readaptação
- d) Reintegração
- e) Promoção

33. Qual dos municípios seguintes faz divisa com Telêmaco Borba/PR?

- a) Curiúva
- b) Londrina
- c) Arapot
- d) Sapopema
- e) Cambé

34. O município de Telêmaco Borba/PR foi criado inicialmente com o nome de

- a) Monte Alegre.
- b) Mauá.
- c) Cidade Nova.
- d) Harmonia.
- e) Tibagi.

35. Como é denominada a sede administrativa de Telêmaco Borba/PR?

- a) Paço Municipal
- b) Paço das Araucárias
- c) Governo Municipal
- d) Prefeitura
- e) Paço Administrativo

CONHECIMENTOS ESPECÍFICOS

36. Marque a alternativa correta sobre EPI, que está de acordo com a figura a seguir.



- a) Equipamento de proteção total
- b) Equipamento de proteção individual
- c) Equipamento de proteção coletiva
- d) Equipamento de proteção parcial
- e) Equipamento de proteção geral

37. O índice de velocidade é um código alfabético que corresponde à velocidade máxima na qual um pneu pode rodar, com veículo carregado com carga máxima. Sabendo disso, marque a alternativa com a velocidade correta do pneu (175/70R13 82 T).

- a) 240 Km/h
- b) 110 Km/h
- c) 180 Km/h
- d) 90 Km/h
- e) 190 Km/h

38. Marque a alternativa errada sobre recapagem.

- a) É basicamente o processo de trocar a banda de rodagem (tread) usada por uma banda nova.
- b) Há duas maneiras de se realizar este processo, a frio ou a quente.
- c) Recapagem e recauchutagem são o mesmo processo.
- d) O processo a frio é feito utilizando um pneu pré-moldado que obtém uma banda de rodagem já com desenho e um tipo de cola do lado oposto que faz a banda grudar no pneu a uma temperatura de 110°C.
- e) Na recapagem a quente, utiliza-se borracha não-vulcanizada para reforma de pneus a quente (camelback), isto é, banda crua que gruda no pneu numa temperatura de 150°C.

39. Vida de pneu não é fácil. Enfrenta calor, frio, chuva, buracos, lombadas, irregularidades. Para ajudá-lo nessa tarefa, é preciso tomar alguns cuidados periódicos, começando por pressão de enchimento e alinhamento de direção.

Sabendo disso, podemos afirmar que:

- I) Utilizar a pressão de enchimento, ou calibragem, correta é indispensável para obter estabilidade, conforto e durabilidade dos pneus.
- II) Pressão insuficiente deteriora o pneu: ele se aquece em demasia, sofre fadiga prematura da carcaça e desgaste excessivo nas bordas, o que reduz sua vida útil.


III) O pneu muito cheio oferece menor aderência ao solo.

IV) O pneu muito cheio, por se apoiar mais no centro da banda de rodagem, sofre desgaste irregular.

Assinale a alternativa correta:

- a) Somente a afirmativa I está correta.
- b) As afirmativas I, II, III e IV estão corretas.
- c) Somente as afirmativas II e IV estão corretas.
- d) Somente a afirmativa III está correta.
- e) Somente as afirmativas I e III estão corretas.

40. Marque a alternativa com o equipamento que não é usado em uma borracharia.



RASCUNHO



PREFEITURA DE TELÊMACO BORBA - ESTADO DO PARANÁ- EDITAL Nº 001-2016 - CONCURSO PÚBLICO

VESPERTINO – 29/05/2016 – FUNDAMENTAL INCOMPLETO

2

PROVA OBJETIVA NÚMERO

CARGO: AUXILIAR OFICINA MECÂNICA BORRACHEIRO

Leia atentamente as INSTRUÇÕES:

1. Confira seus dados no cartão-resposta: nome, número de inscrição e o curso para o qual se inscreveu.
2. **MARQUE no seu cartão-resposta o número da sua prova** (não será corrigido o cartão-resposta que não tiver marcado o número da prova) e **Assine** seu cartão-resposta.
3. Aguarde a autorização do Fiscal para abrir o caderno de prova. Ao receber a ordem do fiscal, confira o caderno de prova com muita atenção. Nenhuma reclamação sobre o total de questões ou falha de impressão será aceita depois de iniciada a prova.
4. O cartão-resposta não será substituído, salvo se contiver erro de impressão.
5. Preencha toda a área do cartão-resposta correspondente à alternativa de sua escolha, com caneta esferográfica (tinta azul ou preta), sem ultrapassar as bordas. As marcações duplas, ou rasuradas, com corretivo, ou marcadas diferentemente do modelo estabelecido no cartão-resposta poderão ser anuladas.
6. Sua prova tem **40** questões, com **5** alternativas.
7. Cabe apenas ao candidato a interpretação das questões, **o fiscal** não poderá fazer nenhuma interferência.
8. A prova será realizada com duração máxima de **3 (três) horas**, incluído o tempo para a realização da Prova Objetiva de múltipla escolha e o preenchimento do cartão-resposta.
9. O candidato poderá retirar-se do local de realização das provas somente **1 (uma) hora** após o seu início, sem levar o caderno de prova.
10. O candidato poderá levar o caderno de provas, assim como anotação contendo transcrição do seu cartão-resposta, somente **1h30min** (uma hora e trinta minutos) após o início da realização da prova.
11. Ao terminar a prova, o candidato deverá entregar ao fiscal de sala o cartão-resposta preenchido e **ASSINADO**.
12. Os **3 (três)** candidatos, que terminarem a prova por último, deverão permanecer na sala, e só poderão sair juntos após o fechamento do envelope, contendo os cartões-resposta dos candidatos presentes e ausentes, e assinarem no lacre do referido envelope, atestando que este foi devidamente lacrado.
13. Durante todo o tempo em que permanecer no local onde está ocorrendo o concurso, o candidato deverá, manter o celular desligado e sem bateria, só sendo permitido ligar depois de ultrapassar o portão de saída do prédio.
14. Não será permitido ao candidato fumar na sala de provas, bem como nas dependências.
15. Depois de terminar a prova e entregar ao fiscal o cartão-resposta, preenchido e assinado, não será mais permitido ao candidato o uso do banheiro e bebedouro.

BOA PROVA!

MATEMÁTICA

1. Marcela tem uma dívida de R\$ 462,00 dividida em 4 parcelas iguais. Qual é o valor que Marcela vai pagar em cada parcela?

- a) R\$ 189,00
- b) R\$ 145,50
- c) R\$ 115,50
- d) R\$ 125,00
- e) R\$ 132,50

2. No mês de fevereiro, Maria assistiu a filmes nos dias ímpares, e Carla nos dias pares. Quantas vezes Maria assistiu a filmes no mês de fevereiro?

- a) 28
- b) 14
- c) 15
- d) 8
- e) 4

DOM	SEG	TER	QUA	QUI	SEX	SAB
			1	2	3	4
5	6	7	8	9	10	11
12	13	14	15	16	17	18
19	20	21	22	23	24	25
26	27	28				

3. Um estudante pretende se inscrever para participar de um Congresso Nacional. (O valor das inscrições está apresentado na tabela abaixo). Sabendo que o estudante irá se inscrever na abertura do Congresso Nacional, qual é o valor que ele irá pagar?

- a) R\$ 120,00
- b) R\$ 100,00
- c) R\$ 180,00
- d) R\$ 150,00
- e) R\$ 170,00

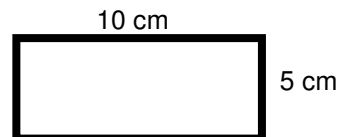
CATEGORIA	Inscrições até 15/05/16	Na abertura do Congresso
Profissional	R\$ 120,00	R\$ 180,00
Estudantes	R\$ 100,00	R\$ 150,00

4. A prestação de um terreno é de R\$ 787,00 e vence todo dia 10. Pagando fora do prazo, há uma multa de R\$ 8,70 por dia. Se a prestação foi paga só no dia 25 (vinte e cinco), qual foi o valor pago?

- a) R\$ 987,00
- b) R\$ 937,00
- c) R\$ 927,50
- d) R\$ 967,00
- e) R\$ 917,50

5. Marque a alternativa que apresenta o resultado do cálculo do perímetro de um terreno que tem as dimensões indicadas na figura abaixo.

- a) 30 cm
- b) 50 cm
- c) 40 cm
- d) 20 cm
- e) 70 cm



6. Um show de Munhoz e Mariano, na exposição de Campo Grande, em abril de 2016, teve início exatamente às 21h e 15min e terminou às 23h e 40 min. Qual foi a duração do show?

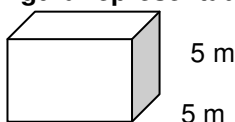
- a) 2h e 10m
- b) 2h e 15m
- c) 2h e 25m
- d) 2h e 30m
- e) 2h e 40m

7. Um pacote de açúcar pesa 2Kg. Foram retirados 450g para fazer um bolo. Quantos gramas restaram no pacote?

- a) 1.450 g
- b) 1.250 g
- c) 1.350 g
- d) 1.550 g
- e) 1.650 g

8. Determine o volume da figura representada a seguir e marque a alternativa correta.

- a) $137m^3$
- b) $115m^3$
- c) $127m^3$
- d) $216m^3$



e) 125m^3

5 m

9. Calcule o perímetro de um retângulo cuja base é três vezes a altura que mede 4m, e marque a alternativa correta.

- a) 16m
- b) 32m
- c) 48m
- d) 20m
- e) 28m



10. João mora no Bairro Tiradentes e Carlos no Bairro Novo Século, os dois trabalham no Supermercado Novo Horizonte. João chegou ao supermercado às 7horas e 30 minutos da manhã e Carlos chegou meia hora depois.

A que horas Carlos chegou ao supermercado?

- a) 8 horas
- b) 9 horas
- c) 6 horas
- d) 5 horas
- e) 4 horas

CONHECIMENTOS GERAIS

11. Telêmaco Borba/PR foi desmembrado do município de

- a) Tibagi
- b) Londrina
- c) Ortigueira
- d) Imbaú
- e) Ventania

12. Quais são as cores da bandeira do município de Telêmaco Borba/PR?

- a) Vermelha, branca e verde
- b) Branca, azul e amarela
- c) Verde, azul e amarela
- d) Vermelha, branca e azul
- e) Branca, cinza e verde

13. Qual o nome do atual prefeito de Telêmaco Borba/PR?

- a) Renato Bahena
- b) José Reinaldo Antunes Carneiro
- c) Luiz Carlos Gibson
- d) Gilson Pereira dos Santos
- e) Ezequiel Ligoski Betim

14. Marque a alternativa que corresponde ao feriado municipal que comemora o dia da padroeira de Telêmaco Borba/PR (Nossa Senhora do Perpétuo Socorro).

- a) 21 de março
- b) 26 de maio
- c) 01 de novembro
- d) 28 de outubro
- e) 21 de junho

15. Quem nasce em Telêmaco Borba é

- a) Telemacoborbense
- b) Telemacoborbino
- c) Telemacoreense
- d) Telemaconense
- e) Telemacoborbiano

16. Em caso de vaga de vereador, não havendo suplente, o Presidente comunicará o fato, diretamente ao Tribunal Regional Eleitoral, dentro de

- a) 72 horas.
- b) 5 dias.
- c) 15 dias.
- d) 48 horas.
- e) 24 horas.

17. Qual alternativa não contempla uma forma de provimento no cargo público, conforme o art. 6º do Estatuto dos Servidores Públicos do município de Telêmaco Borba/PR?

- a) Nomeação
- b) Concurso
- c) Readaptação
- d) Reintegração
- e) Promoção

18. Qual dos municípios seguintes faz divisa com Telêmaco Borba/PR?

- a) Curiúva
- b) Londrina
- c) Arapot
- d) Sapopema
- e) Cambé

19. O município de Telêmaco Borba/PR foi criado inicialmente com o nome de

- a) Monte Alegre.
- b) Mauá.
- c) Cidade Nova.
- d) Harmonia.
- e) Tibagi.

20. Como é denominada a sede administrativa de Telêmaco Borba/PR?

- a) Paço Municipal
- b) Paço das Araucárias
- c) Governo Municipal
- d) Prefeitura
- e) Paço Administrativo

CONHECIMENTOS ESPECÍFICOS

21. Marque a alternativa correta sobre EPI, que está de acordo com a figura a seguir.



- a) Equipamento de proteção total
- b) Equipamento de proteção individual
- c) Equipamento de proteção coletiva
- d) Equipamento de proteção parcial
- e) Equipamento de proteção geral

22. O índice de velocidade é um código alfabético que corresponde à velocidade máxima na qual um pneu pode rodar, com veículo carregado com carga máxima. Sabendo disso, marque a alternativa com a velocidade correta do pneu (175/70R13 82 T).

- a) 240 Km/h
- b) 110 Km/h
- c) 180 Km/h
- d) 90 Km/h
- e) 190 Km/h

23. Marque a alternativa errada sobre recapagem.

- a) É basicamente o processo de trocar a banda de rodagem (tread) usada por uma banda nova.
- b) Há duas maneiras de se realizar este processo, a frio ou a quente.
- c) Recapagem e recauchutagem são o mesmo processo.
- d) O processo a frio é feito utilizando um pneu pré-moldado que obtém uma banda de rodagem já com desenho e um tipo de cola do lado oposto que faz a banda grudar no pneu a uma temperatura de 110°C.
- e) Na recapagem a quente, utiliza-se borracha não-vulcanizada para reforma de pneus a quente (camelback), isto é, banda crua que gruda no pneu numa temperatura de 150°C.

24. Vida de pneu não é fácil. Enfrenta calor, frio, chuva, buracos, lombadas, irregularidades. Para ajudá-lo nessa tarefa, é preciso tomar alguns cuidados periódicos, começando por pressão de enchimento e alinhamento de direção.


Sabendo disso, podemos afirmar que:

- I) Utilizar a pressão de enchimento, ou calibragem, correta é indispensável para obter estabilidade, conforto e durabilidade dos pneus.
- II) Pressão insuficiente deteriora o pneu: ele se aquece em demasia, sofre fadiga prematura da carcaça e desgaste excessivo nas bordas, o que reduz sua vida útil.
- III) O pneu muito cheio oferece menor aderência ao solo.
- IV) O pneu muito cheio, por se apoiar mais no centro da banda de rodagem, sofre desgaste irregular.

Assinale a alternativa correta:

- a) Somente a afirmativa I está correta.
- b) As afirmativas I, II, III e IV estão corretas.
- c) Somente as afirmativas II e IV estão corretas.
- d) Somente a afirmativa III está correta.
- e) Somente as afirmativas I e III estão corretas.

25. Marque a alternativa com o equipamento que não é usado em uma borracharia.



LÍNGUA PORTUGUESA

Leia com atenção o texto abaixo e depois responda às próximas cinco questões.

Heroísmo



Ele usava um colete à prova de balas. Não importava que dia da semana, que dia do mês ou que dia do ano: ele sempre usava o seu colete à prova de balas. Era precavido, ele dizia. A cidade anda muito violenta; nunca se sabe o que pode acontecer. Isso é uma verdade!

Um belo dia, quando estava no banco, ocorreu um assalto. Três bandidos, armados de pistolas e metralhadoras, ameaçavam matar os reféns se o dinheiro não lhes fosse entregue com velocidade. Ele, muito seguro de si, sabendo da vantagem que levava sobre os assaltantes, afinal, seu colete estava bem escondido sob a camisa, disparou na direção de um deles para desarmá-lo. Um segundo depois, caiu morto.

Ataque cardíaco fulminante, disseram os legistas quando chegaram na cena do crime.

(Fonte: <http://www.napontadoslapis.com.br/2011/03/dois-pequenos-contos.html>. Acesso em 18/05/2016.)

26. Conforme o texto, a pessoa que usava um colete à prova de balas todos os dias era:

- a) Uma criança
- b) Uma mulher
- c) Um homem
- d) Um assaltante
- e) O gerente do banco

27. De acordo com o texto, como morreu a pessoa que usava diariamente um colete à prova de balas?

- a) De ataque cardíaco fulminante.
- b) Assassinado por um assaltante.
- c) Cometeu suicídio.
- d) Foi vítima de uma bala perdida durante o assalto.
- e) Foi morto por um policial.

28. Na segunda linha do texto diz: *Era precavido*.

O que isso significa precavido?

- a) Distraído
- b) Aventureiro
- c) Descuidado
- d) Prevenido
- e) Precipitado

29. Em qual alternativa temos uma palavra grifada que é um pronome pessoal?

- a) A cidade anda muito violenta.
- b) Ele usava um colete à prova de balas.
- c) Um segundo depois, caiu morto.
- d) disseram os legistas quando chegaram na cena do crime.
- e) ele sempre usava o seu colete à prova de balas.

30. As palavras são representadas por fonemas (sons) e letras. Sendo assim, na palavra VELOCIDADE contamos quantos fonemas e letras?

- a) 7 fonemas e 10 letras.
- b) 8 fonemas e 9 letras.
- c) 9 fonemas e 9 letras.
- d) 9 fonemas e 10 letras.
- e) 10 fonemas e 10 letras.

Leia atentamente o texto da figura da formiga e o texto abaixo dela. Depois, responda às próximas cinco questões.

Formigas dormem?



Sim. Especialistas concordam que, como a maioria dos animais, elas dividem seu tempo entre atividade e descanso – quando a ação metabólica diminui. Mas isso não seria bem o que chamamos de sono. “Há registros de formigas vistas ‘deitadas de lado’, que, quando instigadas, retomaram a posição normal. Eu hesitaria em dizer que elas ‘acordaram’, mas a analogia é possível”, explica o mirmecologista (especialista em formiga) Carlos Brandão. Uma pesquisa norte-americana de 2009 indicava que ao menos as formigas-de-fogo (*Solenopsis Invicta*) dormem sim – em pequenos cochilos.

- As operárias “dormem” em turnos, mantendo sempre 80% da força de trabalho acordada.

(Fonte <http://mundoestranho.abril.com.br/materia/formigas-dormem>. Acesso em 18/05/2016.)

31. Observe a parte da figura da formiga sobre TOTAL DE HORAS DORMIDAS. Nessa parte, entendemos que:

- A formiga rainha dorme 9,4 horas por dia e a formiga operária dorme 4,8 horas por dia.
- A formiga rainha dorme menos de 9 horas por dia e a formiga operária menos de 4 horas por dia.
- A formiga rainha dorme mais de 10 horas por dia e a formiga operária mais de 4 horas por dia.
- A formiga rainha dorme mais de 9 horas por dia e a formiga operária mais de 5 horas por dia.
- A formiga rainha dorme 4 horas por dia e a formiga operária 8 horas por dia.

32. No texto que se localiza abaixo da figura da formiga, lemos a palavra mirmecologista. Lá explica que isso significa:

- O nome de um tipo de formiga.
- Especialista em formiga.
- O nome que se dá ao cochilo das formigas.
- O nome dado a uma pesquisa sobre formigas.
- Um outro nome que recebem as formigas operárias.

33. Leia esta frase: *Formigas dormem?*

Ela é:

- Uma frase afirmativa porque tem ponto final e expressa uma pergunta.
- Uma frase negativa porque tem ponto de interrogação e nega alguma coisa.
- Uma frase exclamativa porque tem ponto de exclamação e expressa admiração.
- Uma frase interrogativa porque tem ponto de exclamação e expressa uma pergunta.
- Uma frase interrogativa porque tem ponto de interrogação e expressa uma pergunta.

34. Em qual alternativa a separação de sílabas das palavras não está correta?

- a-ni-mais; dei-ta-das.
- es-pe-cia-lis-ta; po-ssí-vel.
- des-can-so; com-cor-dam.
- a-ti-vi-da-de; for-mi-gas.
- tra-ba-lho; pe-que-nos.

35. O hiato é um encontro vocálico em que temos duas vogais juntas, mas que são pronunciadas em sílabas diferentes. Assim, a palavra que tem hiato é:

- Pequenos
- Deitadas
- Quando



- d) Acordados
- e) Especialista

Leia com atenção o texto abaixo e depois responda às cinco próximas questões.

Tomate é fruta?

por Sabrina Haick | Edição 177

Sim, ele é. Não só o tomate é fruta, como a berinjela, a abobrinha, o pepino, o pimentão e outros alimentos que nós chamamos de legumes também são. Fruta é o ovário amadurecido de uma planta, onde ficam as sementes. A confusão acontece porque nós somos acostumados a chamar as frutas salgadas de legumes. Se você acha que sua vida foi uma mentira até agora, saiba que também existem alimentos que nós chamamos de fruta, mas não são. Trata-se dos pseudofrutos – estruturas suculentas que têm cara e jeito de fruto, mas não se desenvolvem a partir do ovário da planta, como as frutas reais. É o caso do morango, do caju, da maçã, da pera e do abacaxi, entre outros.

(Fonte: <http://mundoestranho.abril.com.br/materia/tomate-e-fruta>. Acesso em 18/05/2016.)

36. Ao ler esse texto, descobrimos que o tomate é um fruto e não um legume. Também descobrimos que são frutas outros alimentos que pensávamos que eram legumes. Dois deles são:

- a) Berinjela e morango
- b) Abobrinha e pepino
- c) Abobrinha e caju
- d) Pimentão e pera
- e) Pepino e abacaxi

37. Conhecer os sinônimos e antônimos das palavras nos ajuda a aumentar nosso vocabulário.

Qual é um sinônimo para a palavra “suculentas”, conforme o sentido que ela tem no texto?

- a) Desinteressantes
- b) Gordurosas
- c) Carnudas
- d) Descarnadas
- e) Felpudas

38. A acentuação em uma palavra nos ajuda a pronunciá-la de maneira correta, como, por exemplo, as palavras “você” e “ovário”. Marque a alternativa em que as palavras não foram acentuadas corretamente.

- a) lâmpada - pálpebra
- b) obito - fenômeno
- c) mímica - código
- d) cálice - xícara
- e) cédula - específico

39. Escrevemos “abacaxi” com x, “berinjela” e “caju” com j.

Marque a alternativa em que todas as palavras grifadas estão escritas de forma correta.

- a) Fui à feira e comprei tangerina, laranja e melancia.
- b) Fui à feira e comprei tanjerina, laranja e melancia.
- c) Fui à feira e comprei tangerina, larãja e melancia.
- d) Fui à feira e comprei tangerina, laranja e melansia.
- e) Fui à feira e comprei tãgerina, laranja e melansia.

40. O que temos nas palavras “frutas”, “estruturas”, “salgadas” e “partir”?

- a) Ditongo
- b) Hiato
- c) Encontro consonantal e Encontro vocálico
- d) Encontro consonantal
- e) Encontro vocálico

RASCUNHO



PREFEITURA DE TELÊMACO BORBA - ESTADO DO PARANÁ- EDITAL Nº 001-2016 - CONCURSO PÚBLICO

VESPERTINO – 29/05/2016 – FUNDAMENTAL INCOMPLETO

3

PROVA OBJETIVA NÚMERO

CARGO: AUXILIAR OFICINA MECÂNICA BORRACHEIRO**Leia atentamente as INSTRUÇÕES:**

1. Confira seus dados no cartão-resposta: nome, número de inscrição e o curso para o qual se inscreveu.
2. **MARQUE no seu cartão-resposta o número da sua prova** (não será corrigido o cartão-resposta que não tiver marcado o número da prova) e **Assine** seu cartão-resposta.
3. Aguarde a autorização do Fiscal para abrir o caderno de prova. Ao receber a ordem do fiscal, confira o caderno de prova com muita atenção. Nenhuma reclamação sobre o total de questões ou falha de impressão será aceita depois de iniciada a prova.
4. O cartão-resposta não será substituído, salvo se contiver erro de impressão.
5. Preencha toda a área do cartão-resposta correspondente à alternativa de sua escolha, com caneta esferográfica (tinta azul ou preta), sem ultrapassar as bordas. As marcações duplas, ou rasuradas, com corretivo, ou marcadas diferentemente do modelo estabelecido no cartão-resposta poderão ser anuladas.
6. Sua prova tem **40** questões, com **5** alternativas.
7. Cabe apenas ao candidato a interpretação das questões, **o fiscal** não poderá fazer nenhuma interferência.
8. A prova será realizada com duração máxima de **3 (três) horas**, incluído o tempo para a realização da Prova Objetiva de múltipla escolha e o preenchimento do cartão-resposta.
9. O candidato poderá retirar-se do local de realização das provas somente **1 (uma) hora** após o seu início, sem levar o caderno de prova.
10. O candidato poderá levar o caderno de provas, assim como anotação contendo transcrição do seu cartão-resposta, somente **1h30min** (uma hora e trinta minutos) após o início da realização da prova.
11. Ao terminar a prova, o candidato deverá entregar ao fiscal de sala o cartão-resposta preenchido e **ASSINADO**.
12. Os **3 (três)** candidatos, que terminarem a prova por último, deverão permanecer na sala, e só poderão sair juntos após o fechamento do envelope, contendo os cartões-resposta dos candidatos presentes e ausentes, e assinarem no lacre do referido envelope, atestando que este foi devidamente lacrado.
13. Durante todo o tempo em que permanecer no local onde está ocorrendo o concurso, o candidato deverá, manter o celular desligado e sem bateria, só sendo permitido ligar depois de ultrapassar o portão de saída do prédio.
14. Não será permitido ao candidato fumar na sala de provas, bem como nas dependências.
15. Depois de terminar a prova e entregar ao fiscal o cartão-resposta, preenchido e assinado, não será mais permitido ao candidato o uso do banheiro e bebedouro.

BOA PROVA!

CONHECIMENTOS ESPECÍFICOS

01. Marque a alternativa correta sobre EPI, que está de acordo com a figura a seguir.



- a) Equipamento de proteção total
- b) Equipamento de proteção individual
- c) Equipamento de proteção coletiva
- d) Equipamento de proteção parcial
- e) Equipamento de proteção geral

02. O índice de velocidade é um código alfabético que corresponde à velocidade máxima na qual um pneu pode rodar, com veículo carregado com carga máxima. Sabendo disso, marque a alternativa com a velocidade correta do pneu (175/70R13 82 T).

- a) 240 Km/h
- b) 110 Km/h
- c) 180 Km/h
- d) 90 Km/h
- e) 190 Km/h

03. Marque a alternativa errada sobre recapagem.

- a) É basicamente o processo de trocar a banda de rodagem (tread) usada por uma banda nova.
- b) Há duas maneiras de se realizar este processo, a frio ou a quente.
- c) Recapagem e recauchutagem são o mesmo processo.
- d) O processo a frio é feito utilizando um pneu pré-moldado que obtém uma banda de rodagem já com desenho e um tipo de cola do lado oposto que faz a banda grudar no pneu a uma temperatura de 110°C.
- e) Na recapagem a quente, utiliza-se borracha não-vulcanizada para reforma de pneus a quente (camelback), isto é, banda crua que gruda no pneu numa temperatura de 150°C.

04. Vida de pneu não é fácil. Enfrenta calor, frio, chuva, buracos, lombadas, irregularidades. Para ajudá-lo nessa tarefa, é preciso tomar alguns cuidados periódicos, começando por pressão de enchimento e alinhamento de direção.

Sabendo disso, podemos afirmar que:

- I) Utilizar a pressão de enchimento, ou calibragem, correta é indispensável para obter estabilidade, conforto e durabilidade dos pneus.
- II) Pressão insuficiente deteriora o pneu: ele se aquece em demasia, sofre fadiga prematura da carcaça e desgaste excessivo nas bordas, o que reduz sua vida útil.
- III) O pneu muito cheio oferece menor aderência ao solo.
- IV) O pneu muito cheio, por se apoiar mais no centro da banda de rodagem, sofre desgaste irregular.

Assinale a alternativa correta:

- a) Somente a afirmativa I está correta.
- b) As afirmativas I, II, III e IV estão corretas.
- c) Somente as afirmativas II e IV estão corretas.
- d) Somente a afirmativa III está correta.
- e) Somente as afirmativas I e III estão corretas.

05. Marque a alternativa com o equipamento que não é usado em uma borracharia.



a)



b)



c)



d)



e)

LÍNGUA PORTUGUESA

Leia com atenção o texto abaixo e depois responda às próximas cinco questões.

Heroísmo

Ele usava um colete à prova de balas. Não importava que dia da semana, que dia do mês ou que dia do ano: ele sempre usava o seu colete à prova de balas. Era precavido, ele dizia. A cidade anda muito violenta; nunca se sabe o que pode acontecer. Isso é uma verdade!

Um belo dia, quando estava no banco, ocorreu um assalto. Três bandidos, armados de pistolas e metralhadoras, ameaçavam matar os reféns se o dinheiro não lhes fosse entregue com velocidade. Ele, muito seguro de si, sabendo da vantagem que levava sobre os assaltantes, afinal, seu colete estava bem escondido sob a camisa, disparou na direção de um deles para desarmá-lo. Um segundo depois, caiu morto.

Ataque cardíaco fulminante, disseram os legistas quando chegaram na cena do crime.

(Fonte: <http://www.napontadoslapis.com.br/2011/03/dois-pequenos-contos.html>. Acesso em 18/05/2016.)

06. Conforme o texto, a pessoa que usava um colete à prova de balas todos os dias era:

- a) Uma criança
- b) Uma mulher
- c) Um homem
- d) Um assaltante
- e) O gerente do banco

07. De acordo com o texto, como morreu a pessoa que usava diariamente um colete à prova de balas?

- a) De ataque cardíaco fulminante.
- b) Assassinado por um assaltante.
- c) Cometeu suicídio.
- d) Foi vítima de uma bala perdida durante o assalto.
- e) Foi morto por um policial.

08. Na segunda linha do texto diz: *Era precavido.*

O que isso significa precavido?

- a) Distraído
- b) Aventureiro
- c) Descuidado
- d) Prevenido
- e) Precipitado

09. Em qual alternativa temos uma palavra grifada que é um pronome pessoal?

- a) A cidade anda muito violenta.
- b) Ele usava um colete à prova de balas.
- c) Um segundo depois, caiu morto.
- d) disseram os legistas quando chegaram na cena do crime.
- e) ele sempre usava o seu colete à prova de balas.

10. As palavras são representadas por fonemas (sons) e letras. Sendo assim, na palavra VELOCIDADE contamos quantos fonemas e letras?

- a) 7 fonemas e 10 letras.
- b) 8 fonemas e 9 letras.
- c) 9 fonemas e 9 letras.
- d) 9 fonemas e 10 letras.
- e) 10 fonemas e 10 letras.

Leia atentamente o texto da figura da formiga e o texto abaixo dela. Depois, responda às próximas cinco questões.

Formigas dormem?

Sim. Especialistas concordam que, como a maioria dos animais, elas dividem seu tempo entre atividade e descanso – quando a ação metabólica diminui. Mas isso não seria bem o que chamamos de sono. “Há registros de formigas vistas ‘deitadas de lado’, que, quando instigadas, retomaram a posição normal. Eu hesitaria em dizer que elas ‘acordaram’, mas a analogia é possível”, explica o mirmecologista (especialista em formiga) Carlos Brandão. Uma pesquisa norte-americana de 2009 indicava que ao menos as formigas-de-fogo (*Solenopsis Invicta*) dormem sim – em pequenos cochilos.

- As operárias “dormem” em turnos, mantendo sempre 80% da força de trabalho acordada.

(Fonte <http://mundoestranho.abril.com.br/materia/formigas-dormem>. Acesso em 18/05/2016.)

11. Observe a parte da figura da formiga sobre TOTAL DE HORAS DORMIDAS. Nessa parte, entendemos que:

- a) A formiga rainha dorme 9,4 horas por dia e a formiga operária dorme 4,8 horas por dia.
- b) A formiga rainha dorme menos de 9 horas por dia e a formiga operária menos de 4 horas por dia.
- c) A formiga rainha dorme mais de 10 horas por dia e a formiga operária mais de 4 horas por dia.
- d) A formiga rainha dorme mais de 9 horas por dia e a formiga operária mais de 5 horas por dia.
- e) A formiga rainha dorme 4 horas por dia e a formiga operária 8 horas por dia.

12. No texto que se localiza abaixo da figura da formiga, lemos a palavra mirmecologista. Lá explica que isso significa:

- a) O nome de um tipo de formiga.



- b) Especialista em formiga.
- c) O nome que se dá ao cochilo das formigas.
- d) O nome dado a uma pesquisa sobre formigas.
- e) Um outro nome que recebem as formigas operárias.

13. Leia esta frase: *Formigas dormem?*

Ela é:

- a) Uma frase afirmativa porque tem ponto final e expressa uma pergunta.
- b) Uma frase negativa porque tem ponto de interrogação e nega alguma coisa.
- c) Uma frase exclamativa porque tem ponto de exclamação e expressa admiração.
- d) Uma frase interrogativa porque tem ponto de exclamação e expressa uma pergunta.
- e) Uma frase interrogativa porque tem ponto de interrogação e expressa uma pergunta.

14. Em qual alternativa a separação de sílabas das palavras não está correta?

- a) a-ni-mais; dei-ta-das.
- b) es-pe-cia-lis-ta; po-ssí-vel.
- c) des-can-so; com-cor-dam.
- d) a-ti-vi-da-de; for-mi-gas.
- e) tra-ba-lho; pe-que-nos.

15. O hiato é um encontro vocálico em que temos duas vogais juntas, mas que são pronunciadas em sílabas diferentes. Assim, a palavra que tem hiato é:

- a) Pequenos
- b) Deitadas
- c) Quando
- d) Acordados
- e) Especialista

Leia com atenção o texto abaixo e depois responda às cinco próximas questões.

Tomate é fruta?

por Sabrina Haick | Edição 177

Sim, ele é. Não só o tomate é fruta, como a berinjela, a abobrinha, o pepino, o pimentão e outros alimentos que nós chamamos de legumes também são. Fruta é o ovário amadurecido de uma planta, onde ficam as sementes. A confusão acontece porque nós somos acostumados a chamar as frutas salgadas de legumes. Se você acha que sua vida foi uma mentira até agora, saiba que também existem alimentos que nós chamamos de fruta, mas não são. Trata-se dos pseudofrutos – estruturas suculentas que têm cara e jeito de fruto, mas não se desenvolvem a partir do ovário da planta, como as frutas reais. É o caso do morango, do caju, da maçã, da pera e do abacaxi, entre outros.

(Fonte: <http://mundoestranho.abril.com.br/materia/tomate-e-fruta>. Aceso em 18/05/2016.)

16. Ao ler esse texto, descobrimos que o tomate é um fruto e não um legume. Também descobrimos que são frutas outros alimentos que pensávamos que eram legumes. Dois deles são:

- a) Berinjela e morango
- b) Abobrinha e pepino
- c) Abobrinha e caju
- d) Pimentão e pera
- e) Pepino e abacaxi

17. Conhecer os sinônimos e antônimos das palavras nos ajuda a aumentar nosso vocabulário.

Qual é um sinônimo para a palavra “suculentas”, conforme o sentido que ela tem no texto?

- a) Desinteressantes
- b) Gordurosas
- c) Carnudas
- d) Descarnadas
- e) Felpudas

18. A acentuação em uma palavra nos ajuda a pronunciá-la de maneira correta, como, por exemplo, as palavras “você” e “ovário”. Marque a alternativa em que as palavras não foram acentuadas corretamente.

- a) lâmpada - pálpebra
- b) obíto - fenômeno
- c) mímica - código
- d) cálice - xícara
- e) cédula - específico

19. Escrevemos “abacaxi” com x, “berinjela” e “caju” com j.

Marque a alternativa em que todas as palavras grifadas estão escritas de forma correta.

- a) Fui à feira e comprei tangerina, laranja e melancia.
- b) Fui à feira e comprei tanjerina, laranja e melancia.
- c) Fui à feira e comprei tangerina, larãja e melancia.
- d) Fui à feira e comprei tangerina, laranja e melansia.
- e) Fui à feira e comprei tãgerina, laranja e melansia.

20. O que temos nas palavras “frutas”, “estruturas”, “salgadas” e “partir”?

- a) Ditongo
- b) Hiato
- c) Encontro consonantal e Encontro vocálico
- d) Encontro consonantal
- e) Encontro vocálico

MATEMÁTICA

21. Marcela tem uma dívida de R\$ 462,00 dividida em 4 parcela iguais. Qual é o valor que Marcela vai pagar em cada parcela?

- a) R\$ 189,00
- b) R\$ 145,50
- c) R\$ 115,50
- d) R\$ 125,00
- e) R\$ 132,50

22. No mês de fevereiro, Maria assistiu a filmes nos dias ímpares, e Carla nos dias pares. Quantas vezes Maria assistiu a filmes no mês de fevereiro?

- a) 28
- b) 14
- c) 15
- d) 8
- e) 4

DOM	SEG	TER	QUA	QUI	SEX	SAB
			1	2	3	4
5	6	7	8	9	10	11
12	13	14	15	16	17	18
19	20	21	22	23	24	25
26	27	28				

23. Um estudante pretende se inscrever para participar de um Congresso Nacional. (O valor das inscrições está apresentado na tabela abaixo). Sabendo que o estudante irá se inscrever na abertura do Congresso Nacional, qual é o valor que ele irá pagar?

- a) R\$ 120,00
- b) R\$ 100,00
- c) R\$ 180,00
- d) R\$ 150,00
- e) R\$ 170,00

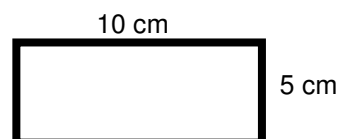
CATEGORIA	Inscrições até 15/05/16	Na abertura do Congresso
Profissional	R\$ 120,00	R\$ 180,00
Estudantes	R\$ 100,00	R\$ 150,00

24. A prestação de um terreno é de R\$ 787,00 e vence todo dia 10. Pagando fora do prazo, há uma multa de R\$ 8,70 por dia. Se a prestação foi paga só no dia 25 (vinte e cinco), qual foi o valor pago?

- a) R\$ 987,00
- b) R\$ 937,00
- c) R\$ 927,50
- d) R\$ 967,00
- e) R\$ 917,50

25. Marque a alternativa que apresenta o resultado do cálculo do perímetro de um terreno que tem as dimensões indicadas na figura abaixo.

- a) 30 cm
- b) 50 cm
- c) 40 cm
- d) 20 cm
- e) 70 cm



26. Um show de Munhoz e Mariano, na exposição de Campo Grande, em abril de 2016, teve início exatamente às 21h e 15min e terminou às 23h e 40 min. Qual foi a duração do show?

- a) 2h e 10m
- b) 2h e 15m
- c) 2h e 25m

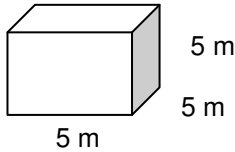
- d) 2h e 30m
 e) 2h e 40m

27. Um pacote de açúcar pesa 2Kg. Foram retirados 450g para fazer um bolo. Quantos gramas restaram no pacote?

- a) 1.450 g
 b) 1.250 g
 c) 1.350 g
 d) 1.550 g
 e) 1.650 g

28. Determine o volume da figura representada a seguir e marque a alternativa correta.

- a) $137m^3$
 b) $115m^3$
 c) $127m^3$
 d) $216m^3$
 e) $125m^3$



29. Calcule o perímetro de um retângulo cuja base é três vezes a altura que mede 4m, e marque a alternativa correta.

- a) 16m
 b) 32m
 c) 48m
 d) 20m
 e) 28m



30. João mora no Bairro Tiradentes e Carlos no Bairro Novo Século, os dois trabalham no Supermercado Novo Horizonte. João chegou ao supermercado às 7horas e 30 minutos da manhã e Carlos chegou meia hora depois.

A que horas Carlos chegou ao supermercado?

- a) 8 horas
 b) 9 horas
 c) 6 horas
 d) 5 horas
 e) 4 horas

CONHECIMENTOS GERAIS

31. Telêmaco Borba/PR foi desmembrado do município de

- a) Tibagi
 b) Londrina
 c) Ortigueira
 d) Imbaú
 e) Ventania

32. Quais são as cores da bandeira do município de Telêmaco Borba/PR?

- a) Vermelha, branca e verde
 b) Branca, azul e amarela
 c) Verde, azul e amarela
 d) Vermelha, branca e azul
 e) Branca, cinza e verde

33. Qual o nome do atual prefeito de Telêmaco Borba/PR?

- a) Renato Bahena
 b) José Reinaldo Antunes Carneiro
 c) Luiz Carlos Gibson
 d) Gilson Pereira dos Santos
 e) Ezequiel Ligoski Betim

34. Marque a alternativa que corresponde ao feriado municipal que comemora o dia da padroeira de Telêmaco Borba/PR (Nossa Senhora do Perpétuo Socorro).

- a) 21 de março
 b) 26 de maio
 c) 01 de novembro
 d) 28 de outubro
 e) 21 de junho

**35. Quem nasce em Telêmaco Borba é**

- a) Telemacoborbense
- b) Telemacoborbino
- c) Telemacoreense
- d) Telemaconense
- e) Telemacoborbiano

36. Em caso de vaga de vereador, não havendo suplente, o Presidente comunicará o fato, diretamente ao Tribunal Regional Eleitoral, dentro de

- a) 72 horas.
- b) 5 dias.
- c) 15 dias.
- d) 48 horas.
- e) 24 horas.

37. Qual alternativa não contempla uma forma de provimento no cargo público, conforme o art. 6º do Estatuto dos Servidores Públicos do município de Telêmaco Borba/PR?

- a) Nomeação
- b) Concurso
- c) Readaptação
- d) Reintegração
- e) Promoção

38. Qual dos municípios seguintes faz divisa com Telêmaco Borba/PR?

- a) Curiúva
- b) Londrina
- c) Arapot
- d) Sapopema
- e) Cambé

39. O município de Telêmaco Borba/PR foi criado inicialmente com o nome de

- a) Monte Alegre.
- b) Mauá.
- c) Cidade Nova.
- d) Harmonia.
- e) Tibagi.

40. Como é denominada a sede administrativa de Telêmaco Borba/PR?

- a) Paço Municipal
- b) Paço das Araucárias
- c) Governo Municipal
- d) Prefeitura
- e) Paço Administrativo

RASCUNHO



PREFEITURA DE TELÊMACO BORBA - ESTADO DO PARANÁ- EDITAL Nº 001-2016 - CONCURSO PÚBLICO

VESPERTINO – 29/05/2016 – FUNDAMENTAL INCOMPLETO

1

PROVA OBJETIVA NÚMERO

CARGO: COVEIRO

Leia atentamente as INSTRUÇÕES:

1. Confira seus dados no cartão-resposta: nome, número de inscrição e o curso para o qual se inscreveu.
2. **MARQUE no seu cartão-resposta o número da sua prova** (não será corrigido o cartão-resposta que não tiver marcado o número da prova) e **Assine** seu cartão-resposta.
3. Aguarde a autorização do Fiscal para abrir o caderno de prova. Ao receber a ordem do fiscal, confira o caderno de prova com muita atenção. Nenhuma reclamação sobre o total de questões ou falha de impressão será aceita depois de iniciada a prova.
4. O cartão-resposta não será substituído, salvo se contiver erro de impressão.
5. Preencha toda a área do cartão-resposta correspondente à alternativa de sua escolha, com caneta esferográfica (tinta azul ou preta), sem ultrapassar as bordas. As marcações duplas, ou rasuradas, com corretivo, ou marcadas diferentemente do modelo estabelecido no cartão-resposta poderão ser anuladas.
6. Sua prova tem **40** questões, com **5** alternativas.
7. Cabe apenas ao candidato a interpretação das questões, **o fiscal** não poderá fazer nenhuma interferência.
8. A prova será realizada com duração máxima de **3 (três) horas**, incluído o tempo para a realização da Prova Objetiva de múltipla escolha e o preenchimento do cartão-resposta.
9. O candidato poderá retirar-se do local de realização das provas somente **1 (uma) hora** após o seu início, sem levar o caderno de prova.
10. O candidato poderá levar o caderno de provas, assim como anotação contendo transcrição do seu cartão-resposta, somente **1h30min** (uma hora e trinta minutos) após o início da realização da prova.
11. Ao terminar a prova, o candidato deverá entregar ao fiscal de sala o cartão-resposta preenchido e **ASSINADO**.
12. Os **3 (três)** candidatos, que terminarem a prova por último, deverão permanecer na sala, e só poderão sair juntos após o fechamento do envelope, contendo os cartões-resposta dos candidatos presentes e ausentes, e assinarem no lacre do referido envelope, atestando que este foi devidamente lacrado.
13. Durante todo o tempo em que permanecer no local onde está ocorrendo o concurso, o candidato deverá, manter o celular desligado e sem bateria, só sendo permitido ligar depois de ultrapassar o portão de saída do prédio.
14. Não será permitido ao candidato fumar na sala de provas, bem como nas dependências.
15. Depois de terminar a prova e entregar ao fiscal o cartão-resposta, preenchido e assinado, não será mais permitido ao candidato o uso do banheiro e bebedouro.

BOA PROVA!

LÍNGUA PORTUGUESA

Leia com atenção o texto abaixo e depois responda às próximas cinco questões.

Heroísmo

Ele usava um colete à prova de balas. Não importava que dia da semana, que dia do mês ou que dia do ano: ele sempre usava o seu colete à prova de balas. Era precavido, ele dizia. A cidade anda muito violenta; nunca se sabe o que pode acontecer. Isso é uma verdade!

Um belo dia, quando estava no banco, ocorreu um assalto. Três bandidos, armados de pistolas e metralhadoras, ameaçavam matar os reféns se o dinheiro não lhes fosse entregue com velocidade. Ele, muito seguro de si, sabendo da vantagem que levava sobre os assaltantes, afinal, seu colete estava bem escondido sob a camisa, disparou na direção de um deles para desarmá-lo. Um segundo depois, caiu morto.

Ataque cardíaco fulminante, disseram os legistas quando chegaram na cena do crime.

(Fonte: <http://www.napontadoslapis.com.br/2011/03/dois-pequenos-contos.html>. Acesso em 18/05/2016.)

01. Conforme o texto, a pessoa que usava um colete à prova de balas todos os dias era:

- a) Uma criança
- b) Uma mulher
- c) Um homem
- d) Um assaltante
- e) O gerente do banco

02. De acordo com o texto, como morreu a pessoa que usava diariamente um colete à prova de balas?

- a) De ataque cardíaco fulminante.
- b) Assassinado por um assaltante.
- c) Cometeu suicídio.
- d) Foi vítima de uma bala perdida durante o assalto.
- e) Foi morto por um policial.

03. Na segunda linha do texto diz: *Era precavido*.

O que isso significa precavido?

- a) Distraído
- b) Aventureiro
- c) Descuidado
- d) Prevenido
- e) Precipitado

04. Em qual alternativa temos uma palavra grifada que é um pronome pessoal?

- a) A cidade anda muito violenta.
- b) Ele usava um colete à prova de balas.
- c) Um segundo depois, caiu morto.
- d) disseram os legistas quando chegaram na cena do crime.
- e) ele sempre usava o seu colete à prova de balas.

05. As palavras são representadas por fonemas (sons) e letras. Sendo assim, na palavra VELOCIDADE contamos quantos fonemas e letras?

- a) 7 fonemas e 10 letras.
- b) 8 fonemas e 9 letras.
- c) 9 fonemas e 9 letras.
- d) 9 fonemas e 10 letras.
- e) 10 fonemas e 10 letras.

Leia atentamente o texto da figura da formiga e o texto abaixo dela. Depois, responda às próximas cinco questões.

Formigas dormem?



Sim. Especialistas concordam que, como a maioria dos animais, elas dividem seu tempo entre atividade e descanso – quando a ação metabólica diminui. Mas isso não seria bem o que chamamos de sono. “Há registros de formigas vistas ‘deitadas de lado’, que, quando instigadas, retomaram a posição normal. Eu hesitaria em dizer que elas ‘acordaram’, mas a analogia é possível”, explica o mirmecologista (especialista em formiga) Carlos Brandão. Uma pesquisa norte-americana de 2009 indicava que ao menos as formigas-de-fogo (*Solenopsis Invicta*) dormem sim – em pequenos cochilos.

- As operárias “dormem” em turnos, mantendo sempre 80% da força de trabalho acordada.

(Fonte <http://mundoestranho.abril.com.br/materia/formigas-dormem>. Acesso em 18/05/2016.)

06. Observe a parte da figura da formiga sobre TOTAL DE HORAS DORMIDAS. Nessa parte, entendemos que:

- A formiga rainha dorme 9,4 horas por dia e a formiga operária dorme 4,8 horas por dia.
- A formiga rainha dorme menos de 9 horas por dia e a formiga operária menos de 4 horas por dia.
- A formiga rainha dorme mais de 10 horas por dia e a formiga operária mais de 4 horas por dia.
- A formiga rainha dorme mais de 9 horas por dia e a formiga operária mais de 5 horas por dia.
- A formiga rainha dorme 4 horas por dia e a formiga operária 8 horas por dia.

07. No texto que se localiza abaixo da figura da formiga, lemos a palavra mirmecologista. Lá explica que isso significa:

- O nome de um tipo de formiga.
- Especialista em formiga.
- O nome que se dá ao cochilo das formigas.
- O nome dado a uma pesquisa sobre formigas.
- Um outro nome que recebem as formigas operárias.

08. Leia esta frase: *Formigas dormem?*

Ela é:

- Uma frase afirmativa porque tem ponto final e expressa uma pergunta.
- Uma frase negativa porque tem ponto de interrogação e nega alguma coisa.
- Uma frase exclamativa porque tem ponto de exclamação e expressa admiração.
- Uma frase interrogativa porque tem ponto de exclamação e expressa uma pergunta.
- Uma frase interrogativa porque tem ponto de interrogação e expressa uma pergunta.

09. Em qual alternativa a separação de sílabas das palavras não está correta?

- a-ni-mais; dei-ta-das.
- es-pe-cia-lis-ta; po-ssí-vel.
- des-can-so; com-cor-dam.
- a-ti-vi-da-de; for-mi-gas.
- tra-ba-lho; pe-que-nos.

10. O hiato é um encontro vocálico em que temos duas vogais juntas, mas que são pronunciadas em sílabas diferentes. Assim, a palavra que tem hiato é:

- Pequenos
- Deitadas
- Quando

- d) Acordados
- e) Especialista

Leia com atenção o texto abaixo e depois responda às cinco próximas questões.

Tomate é fruta?

por Sabrina Haick | Edição 177

Sim, ele é. Não só o tomate é fruta, como a berinjela, a abobrinha, o pepino, o pimentão e outros alimentos que nós chamamos de legumes também são. Fruta é o ovário amadurecido de uma planta, onde ficam as sementes. A confusão acontece porque nós somos acostumados a chamar as frutas salgadas de legumes. Se você acha que sua vida foi uma mentira até agora, saiba que também existem alimentos que nós chamamos de fruta, mas não são. Trata-se dos pseudofrutos – estruturas suculentas que têm cara e jeito de fruto, mas não se desenvolvem a partir do ovário da planta, como as frutas reais. É o caso do morango, do caju, da maçã, da pera e do abacaxi, entre outros.

(Fonte: <http://mundoestranho.abril.com.br/materia/tomate-e-fruta>. Acesso em 18/05/2016.)

11. Ao ler esse texto, descobrimos que o tomate é um fruto e não um legume. Também descobrimos que são frutas outros alimentos que pensávamos que eram legumes. Dois deles são:

- a) Berinjela e morango
- b) Abobrinha e pepino
- c) Abobrinha e caju
- d) Pimentão e pera
- e) Pepino e abacaxi

12. Conhecer os sinônimos e antônimos das palavras nos ajuda a aumentar nosso vocabulário.

Qual é um sinônimo para a palavra “suculentas”, conforme o sentido que ela tem no texto?

- a) Desinteressantes
- b) Gordurosas
- c) Carnudas
- d) Descarnadas
- e) Felpudas

13. A acentuação em uma palavra nos ajuda a pronunciá-la de maneira correta, como, por exemplo, as palavras “você” e “ovário”. Marque a alternativa em que as palavras não foram acentuadas corretamente.

- a) lâmpada - pálpebra
- b) obíto - fenômeno
- c) mímica - código
- d) cálice - xícara
- e) cédula - específico

14. Escrevemos “abacaxi” com x, “berinjela” e “caju” com j.

Marque a alternativa em que todas as palavras grifadas estão escritas de forma correta.

- a) Fui à feira e comprei tangerina, laranja e melancia.
- b) Fui à feira e comprei tanjerina, laranja e melancia.
- c) Fui à feira e comprei tangerina, larãja e melancia.
- d) Fui à feira e comprei tangerina, laranja e melansia.
- e) Fui à feira e comprei tãgerina, laranja e melansia.

15. O que temos nas palavras “frutas”, “estruturas”, “salgadas” e “partir”?

- a) Ditongo
- b) Hiato
- c) Encontro consonantal e Encontro vocálico
- d) Encontro consonantal
- e) Encontro vocálico

MATEMÁTICA

16. Marcela tem uma dívida de R\$ 462,00 dividida em 4 parcela iguais. Qual é o valor que Marcela vai pagar em cada parcela?

- a) R\$ 189,00
- b) R\$ 145,50
- c) R\$ 115,50
- d) R\$ 125,00
- e) R\$ 132,50

17. No mês de fevereiro, Maria assistiu a filmes nos dias ímpares, e Carla nos dias pares. Quantas vezes Maria assistiu a filmes no mês de fevereiro?

- a) 28
b) 14
c) 15
d) 8
e) 4

DOM	SEG	TER	QUA	QUI	SEX	SAB
			1	2	3	4
5	6	7	8	9	10	11
12	13	14	15	16	17	18
19	20	21	22	23	24	25
26	27	28				

18. Um estudante pretende se inscrever para participar de um Congresso Nacional. (O valor das inscrições está apresentado na tabela abaixo). Sabendo que o estudante irá se inscrever na abertura do Congresso Nacional, qual é o valor que ele irá pagar?

- a) R\$ 120,00
b) R\$ 100,00
c) R\$ 180,00
d) R\$ 150,00
e) R\$ 170,00

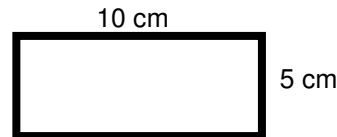
CATEGORIA	Inscrições até 15/05/16	Na abertura do Congresso
Profissional	R\$ 120,00	R\$ 180,00
Estudantes	R\$ 100,00	R\$ 150,00

19. A prestação de um terreno é de R\$ 787,00 e vence todo dia 10. Pagando fora do prazo, há uma multa de R\$ 8,70 por dia. Se a prestação foi paga só no dia 25 (vinte e cinco), qual foi o valor pago?

- a) R\$ 987,00
b) R\$ 937,00
c) R\$ 927,50
d) R\$ 967,00
e) R\$ 917,50

20. Marque a alternativa que apresenta o resultado do cálculo do perímetro de um terreno que tem as dimensões indicadas na figura abaixo.

- a) 30 cm
b) 50 cm
c) 40 cm
d) 20 cm
e) 70 cm



21. Um show de Munhoz e Mariano, na exposição de Campo Grande, em abril de 2016, teve início exatamente às 21h e 15min e terminou às 23h e 40 min. Qual foi a duração do show?

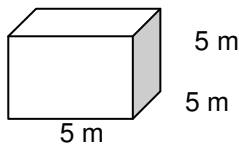
- a) 2h e 10m
b) 2h e 15m
c) 2h e 25m
d) 2h e 30m
e) 2h e 40m

22. Um pacote de açúcar pesa 2Kg. Foram retirados 450g para fazer um bolo. Quantos gramas restaram no pacote?

- a) 1.450 g
b) 1.250 g
c) 1.350 g
d) 1.550 g
e) 1.650 g

23. Determine o volume da figura representada a seguir e marque a alternativa correta.

- a) $137m^3$
b) $115m^3$
c) $127m^3$
d) $216m^3$
e) $125m^3$



24. Calcule o perímetro de um retângulo cuja base é três vezes a altura que mede 4m, e marque a alternativa correta.

- a) 16m
b) 32m
c) 48m
d) 20m
e) 28m





25. João mora no Bairro Tiradentes e Carlos no Bairro Novo Século, os dois trabalham no Supermercado Novo Horizonte. João chegou ao supermercado às 7 horas e 30 minutos da manhã e Carlos chegou meia hora depois.

A que horas Carlos chegou ao supermercado?

- a) 8 horas
- b) 9 horas
- c) 6 horas
- d) 5 horas
- e) 4 horas

CONHECIMENTOS GERAIS

26. Telêmaco Borba/PR foi desmembrado do município de

- a) Tibagi
- b) Londrina
- c) Ortigueira
- d) Imbaú
- e) Ventania

27. Quais são as cores da bandeira do município de Telêmaco Borba/PR?

- a) Vermelha, branca e verde
- b) Branca, azul e amarela
- c) Verde, azul e amarela
- d) Vermelha, branca e azul
- e) Branca, cinza e verde

28. Qual o nome do atual prefeito de Telêmaco Borba/PR?

- a) Renato Bahena
- b) José Reinaldo Antunes Carneiro
- c) Luiz Carlos Gibson
- d) Gilson Pereira dos Santos
- e) Ezequiel Ligoski Betim

29. Marque a alternativa que corresponde ao feriado municipal que comemora o dia da padroeira de Telêmaco Borba/PR (Nossa Senhora do Perpétuo Socorro).

- a) 21 de março
- b) 26 de maio
- c) 01 de novembro
- d) 28 de outubro
- e) 21 de junho

30. Quem nasce em Telêmaco Borba é

- a) Telemacoborbense
- b) Telemacoborbino
- c) Telemacoreense
- d) Telemaconense
- e) Telemacoborbiano

31. Em caso de vaga de vereador, não havendo suplente, o Presidente comunicará o fato, diretamente ao Tribunal Regional Eleitoral, dentro de

- a) 72 horas.
- b) 5 dias.
- c) 15 dias.
- d) 48 horas.
- e) 24 horas.

32. Qual alternativa não contempla uma forma de provimento no cargo público, conforme o art. 6º do Estatuto dos Servidores Públicos do município de Telêmaco Borba/PR?

- a) Nomeação
- b) Concurso
- c) Readaptação
- d) Reintegração
- e) Promoção

33. Qual dos municípios seguintes faz divisa com Telêmaco Borba/PR?

- a) Curiúva
- b) Londrina
- c) Arapot
- d) Sapopema
- e) Cambé

34. O município de Telêmaco Borba/PR foi criado inicialmente com o nome de

- a) Monte Alegre.
- b) Mauá.
- c) Cidade Nova.
- d) Harmonia.
- e) Tibagi.

35. Como é denominada a sede administrativa de Telêmaco Borba/PR?

- a) Paço Municipal
- b) Paço das Araucárias
- c) Governo Municipal
- d) Prefeitura
- e) Paço Administrativo

CONHECIMENTOS ESPECÍFICOS

36. Marque a alternativa correta sobre EPI, que está de acordo com a figura a seguir.



- a) Equipamento de proteção total
- b) Equipamento de proteção individual
- c) Equipamento de proteção coletiva
- d) Equipamento de proteção parcial
- e) Equipamento de proteção geral

37. Os rolos de lã, que podem ser de fibra natural, sintética ou de composição mista, devem ser usados na aplicação de tintas à base de _____.

Marque a alternativa que preenche a lacuna corretamente.

- a) água
- b) solvente
- c) tiner
- d) aguarrás
- e) querosene

38. Numa argamassa de assentamento com traço 1:2:9, terei de usar quais materiais?

- a) Uma porção de cimento, duas porções de cal e nove porções de areia.
- b) Uma porção de areia, duas porções de cal e nove porções de cimento.
- c) Uma porção de cal, duas porções de cimento e nove porções de areia.
- d) Uma porção de cimento, duas porções de cal e nove porções de água.
- e) Uma porção de cimento, duas porções de água e nove porções de areia.

39. O concreto é uma mistura dos vários componentes, em determinadas proporções, chamadas de dosagem ou traço, na linguagem da construção civil. Sabendo disso, marque a alternativa correta sobre os materiais usados na mistura do concreto.

- a) Pedra, argila, cimento e água.
- b) Pedra, água, cimento e ferro.
- c) Pedra, água, cimento e cal.
- d) Pedra, areia, cal e cimento.
- e) Pedra, areia, cimento e água.



40. Exumação de corpos: normalmente uma exumação é feita quando aconteceu a morte sob causas suspeitas, entre outras, por exemplo, investigação de uma possível causa da morte.

Quando o processo de exumação pode ser feito?

- I) Na presença de um agente da polícia.**
- II) Na presença de agente de saúde.**
- III) Quando dois anos ou mais se passaram após o enterro.**
- IV) Quando não há documentação regularizada.**

Marque a alternativa correta.

- a) Somente I e III estão corretos.
- b) Somente II e III estão corretos.
- c) Somente I e IV estão corretos.
- d) Somente I e II estão corretos.
- e) Somente III e IV estão corretos.

RASCUNHO



PREFEITURA DE TELÊMACO BORBA - ESTADO DO PARANÁ- EDITAL Nº 001-2016 - CONCURSO PÚBLICO

VESPERTINO – 29/05/2016 – FUNDAMENTAL INCOMPLETO

PROVA OBJETIVA NÚMERO **2**

CARGO: COVEIRO

Leia atentamente as INSTRUÇÕES:

1. Confira seus dados no cartão-resposta: nome, número de inscrição e o curso para o qual se inscreveu.
2. **MARQUE no seu cartão-resposta o número da sua prova** (não será corrigido o cartão-resposta que não tiver marcado o número da prova) e **Assine** seu cartão-resposta.
3. Aguarde a autorização do Fiscal para abrir o caderno de prova. Ao receber a ordem do fiscal, confira o caderno de prova com muita atenção. Nenhuma reclamação sobre o total de questões ou falha de impressão será aceita depois de iniciada a prova.
4. O cartão-resposta não será substituído, salvo se contiver erro de impressão.
5. Preencha toda a área do cartão-resposta correspondente à alternativa de sua escolha, com caneta esferográfica (tinta azul ou preta), sem ultrapassar as bordas. As marcações duplas, ou rasuradas, com corretivo, ou marcadas diferentemente do modelo estabelecido no cartão-resposta poderão ser anuladas.
6. Sua prova tem **40** questões, com **5** alternativas.
7. Cabe apenas ao candidato a interpretação das questões, **o fiscal** não poderá fazer nenhuma interferência.
8. A prova será realizada com duração máxima de **3 (três) horas**, incluído o tempo para a realização da Prova Objetiva de múltipla escolha e o preenchimento do cartão-resposta.
9. O candidato poderá retirar-se do local de realização das provas somente **1 (uma) hora** após o seu início, sem levar o caderno de prova.
10. O candidato poderá levar o caderno de provas, assim como anotação contendo transcrição do seu cartão-resposta, somente **1h30min** (uma hora e trinta minutos) após o início da realização da prova.
11. Ao terminar a prova, o candidato deverá entregar ao fiscal de sala o cartão-resposta preenchido e **ASSINADO**.
12. Os **3 (três)** candidatos, que terminarem a prova por último, deverão permanecer na sala, e só poderão sair juntos após o fechamento do envelope, contendo os cartões-resposta dos candidatos presentes e ausentes, e assinarem no lacre do referido envelope, atestando que este foi devidamente lacrado.
13. Durante todo o tempo em que permanecer no local onde está ocorrendo o concurso, o candidato deverá, manter o celular desligado e sem bateria, só sendo permitido ligar depois de ultrapassar o portão de saída do prédio.
14. Não será permitido ao candidato fumar na sala de provas, bem como nas dependências.
15. Depois de terminar a prova e entregar ao fiscal o cartão-resposta, preenchido e assinado, não será mais permitido ao candidato o uso do banheiro e bebedouro.

BOA PROVA!

MATEMÁTICA

1. Marcela tem uma dívida de R\$ 462,00 dividida em 4 parcela iguais. Qual é o valor que Marcela vai pagar em cada parcela?

- a) R\$ 189,00
- b) R\$ 145,50
- c) R\$ 115,50
- d) R\$ 125,00
- e) R\$ 132,50

2. No mês de fevereiro, Maria assistiu a filmes nos dias ímpares, e Carla nos dias pares. Quantas vezes Maria assistiu a filmes no mês de fevereiro?

- a) 28
- b) 14
- c) 15
- d) 8
- e) 4

DOM	SEG	TER	QUA	QUI	SEX	SAB
			1	2	3	4
5	6	7	8	9	10	11
12	13	14	15	16	17	18
19	20	21	22	23	24	25
26	27	28				

3. Um estudante pretende se inscrever para participar de um Congresso Nacional. (O valor das inscrições está apresentado na tabela abaixo). Sabendo que o estudante irá se inscrever na abertura do Congresso Nacional, qual é o valor que ele irá pagar?

- a) R\$ 120,00
- b) R\$ 100,00
- c) R\$ 180,00
- d) R\$ 150,00
- e) R\$ 170,00

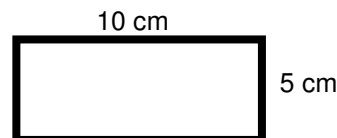
CATEGORIA	Inscrições até 15/05/16	Na abertura do Congresso
Profissional	R\$ 120,00	R\$ 180,00
Estudantes	R\$ 100,00	R\$ 150,00

4. A prestação de um terreno é de R\$ 787,00 e vence todo dia 10. Pagando fora do prazo, há uma multa de R\$ 8,70 por dia. Se a prestação foi paga só no dia 25 (vinte e cinco), qual foi o valor pago?

- a) R\$ 987,00
- b) R\$ 937,00
- c) R\$ 927,50
- d) R\$ 967,00
- e) R\$ 917,50

5. Marque a alternativa que apresenta o resultado do cálculo do perímetro de um terreno que tem as dimensões indicadas na figura abaixo.

- a) 30 cm
- b) 50 cm
- c) 40 cm
- d) 20 cm
- e) 70 cm



6. Um show de Munhoz e Mariano, na exposição de Campo Grande, em abril de 2016, teve início exatamente às 21h e 15min e terminou às 23h e 40 min. Qual foi a duração do show?

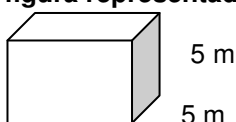
- a) 2h e 10m
- b) 2h e 15m
- c) 2h e 25m
- d) 2h e 30m
- e) 2h e 40m

7. Um pacote de açúcar pesa 2Kg. Foram retirados 450g para fazer um bolo. Quantos gramas restaram no pacote?

- a) 1.450 g
- b) 1.250 g
- c) 1.350 g
- d) 1.550 g
- e) 1.650 g

8. Determine o volume da figura representada a seguir e marque a alternativa correta.

- a) $137m^3$
- b) $115m^3$
- c) $127m^3$
- d) $216m^3$



e) 125m^3

5 m

9. Calcule o perímetro de um retângulo cuja base é três vezes a altura que mede 4m, e marque a alternativa correta.

- a) 16m
- b) 32m
- c) 48m
- d) 20m
- e) 28m



10. João mora no Bairro Tiradentes e Carlos no Bairro Novo Século, os dois trabalham no Supermercado Novo Horizonte. João chegou ao supermercado às 7horas e 30 minutos da manhã e Carlos chegou meia hora depois.

A que horas Carlos chegou ao supermercado?

- a) 8 horas
- b) 9 horas
- c) 6 horas
- d) 5 horas
- e) 4 horas

CONHECIMENTOS GERAIS

11. Telêmaco Borba/PR foi desmembrado do município de

- a) Tibagi
- b) Londrina
- c) Ortigueira
- d) Imbaú
- e) Ventania

12. Quais são as cores da bandeira do município de Telêmaco Borba/PR?

- a) Vermelha, branca e verde
- b) Branca, azul e amarela
- c) Verde, azul e amarela
- d) Vermelha, branca e azul
- e) Branca, cinza e verde

13. Qual o nome do atual prefeito de Telêmaco Borba/PR?

- a) Renato Bahena
- b) José Reinaldo Antunes Carneiro
- c) Luiz Carlos Gibson
- d) Gilson Pereira dos Santos
- e) Ezequiel Ligoski Betim

14. Marque a alternativa que corresponde ao feriado municipal que comemora o dia da padroeira de Telêmaco Borba/PR (Nossa Senhora do Perpétuo Socorro).

- a) 21 de março
- b) 26 de maio
- c) 01 de novembro
- d) 28 de outubro
- e) 21 de junho

15. Quem nasce em Telêmaco Borba é

- a) Telemacoborbense
- b) Telemacoborbino
- c) Telemacoreense
- d) Telemaconense
- e) Telemacoborbiano

16. Em caso de vaga de vereador, não havendo suplente, o Presidente comunicará o fato, diretamente ao Tribunal Regional Eleitoral, dentro de

- a) 72 horas.
- b) 5 dias.
- c) 15 dias.
- d) 48 horas.
- e) 24 horas.

17. Qual alternativa não contempla uma forma de provimento no cargo público, conforme o art. 6º do Estatuto dos Servidores Públicos do município de Telêmaco Borba/PR?

- a) Nomeação
- b) Concurso
- c) Readaptação
- d) Reintegração
- e) Promoção

18. Qual dos municípios seguintes faz divisa com Telêmaco Borba/PR?

- a) Curiúva
- b) Londrina
- c) Arapot
- d) Sapopema
- e) Cambé

19. O município de Telêmaco Borba/PR foi criado inicialmente com o nome de

- a) Monte Alegre.
- b) Mauá.
- c) Cidade Nova.
- d) Harmonia.
- e) Tibagi.

20. Como é denominada a sede administrativa de Telêmaco Borba/PR?

- a) Paço Municipal
- b) Paço das Araucárias
- c) Governo Municipal
- d) Prefeitura
- e) Paço Administrativo

CONHECIMENTOS ESPECÍFICOS

21. Marque a alternativa correta sobre EPI, que está de acordo com a figura a seguir.



- a) Equipamento de proteção total
- b) Equipamento de proteção individual
- c) Equipamento de proteção coletiva
- d) Equipamento de proteção parcial
- e) Equipamento de proteção geral

22. Os rolos de lã, que podem ser de fibra natural, sintética ou de composição mista, devem ser usados na aplicação de tintas à base de _____.

Marque a alternativa que preenche a lacuna corretamente.

- a) água
- b) solvente
- c) tiner
- d) aguarrás
- e) querosene

23. Numa argamassa de assentamento com traço 1:2:9, terei de usar quais materiais?

- a) Uma porção de cimento, duas porções de cal e nove porções de areia.
- b) Uma porção de areia, duas porções de cal e nove porções de cimento.
- c) Uma porção de cal, duas porções de cimento e nove porções de areia.
- d) Uma porção de cimento, duas porções de cal e nove porções de água.
- e) Uma porção de cimento, duas porções de água e nove porções de areia.

24. O concreto é uma mistura dos vários componentes, em determinadas proporções, chamadas de dosagem ou traço, na linguagem da construção civil. Sabendo disso, marque a alternativa correta sobre os materiais usados na mistura do concreto.

- a) Pedra, argila, cimento e água.
- b) Pedra, água, cimento e ferro.
- c) Pedra, água, cimento e cal.
- d) Pedra, areia, cal e cimento.
- e) Pedra, areia cimento e água.

25. Exumação de corpos: normalmente uma exumação é feita quando aconteceu a morte sob causas suspeitas, entre outras, por exemplo, investigação de uma possível causa da morte.

Quando o processo de exumação pode ser feito?

- I) Na presença de um agente da polícia.
- II) Na presença de agente de saúde.
- III) Quando dois anos ou mais se passaram após o enterro.
- IV) Quando não há documentação regularizada.

Marque a alternativa correta.

- a) Somente I e III estão corretos.
- b) Somente II e III estão corretos.
- c) Somente I e IV estão corretos.
- d) Somente I e II estão corretos.
- e) Somente III e IV estão corretos.

LÍNGUA PORTUGUESA

Leia com atenção o texto abaixo e depois responda às próximas cinco questões.

Heroísmo

Ele usava um colete à prova de balas. Não importava que dia da semana, que dia do mês ou que dia do ano: ele sempre usava o seu colete à prova de balas. Era precavido, ele dizia. A cidade anda muito violenta; nunca se sabe o que pode acontecer. Isso é uma verdade!

Um belo dia, quando estava no banco, ocorreu um assalto. Três bandidos, armados de pistolas e metralhadoras, ameaçavam matar os reféns se o dinheiro não lhes fosse entregue com velocidade. Ele, muito seguro de si, sabendo da vantagem que levava sobre os assaltantes, afinal, seu colete estava bem escondido sob a camisa, disparou na direção de um deles para desarmá-lo. Um segundo depois, caiu morto.

Ataque cardíaco fulminante, disseram os legistas quando chegaram na cena do crime.

(Fonte: <http://www.napontadoslapis.com.br/2011/03/dois-pequenos-contos.html>. Acesso em 18/05/2016.)

26. Conforme o texto, a pessoa que usava um colete à prova de balas todos os dias era:

- a) Uma criança
- b) Uma mulher
- c) Um homem
- d) Um assaltante
- e) O gerente do banco

27. De acordo com o texto, como morreu a pessoa que usava diariamente um colete à prova de balas?

- a) De ataque cardíaco fulminante.
- b) Assassinado por um assaltante.
- c) Cometeu suicídio.
- d) Foi vítima de uma bala perdida durante o assalto.
- e) Foi morto por um policial.

28. Na segunda linha do texto diz: *Era precavido*.

O que isso significa precavido?

- a) Distraído
- b) Aventureiro
- c) Descuidado
- d) Prevenido
- e) Precipitado

29. Em qual alternativa temos uma palavra grifada que é um pronome pessoal?

- a) A cidade anda muito violenta.
- b) Ele usava um colete à prova de balas.

- c) Um segundo depois, caiu morto.
d) disseram os legistas quando chegaram na cena do crime.
e) ele sempre usava o seu colete à prova de balas.

30. As palavras são representadas por fonemas (sons) e letras. Sendo assim, na palavra **VELOCIDADE** contamos quantos fonemas e letras?

- a) 7 fonemas e 10 letras.
b) 8 fonemas e 9 letras.
c) 9 fonemas e 9 letras.
d) 9 fonemas e 10 letras.
e) 10 fonemas e 10 letras.

Leia atentamente o texto da figura da formiga e o texto abaixo dela. Depois, responda às próximas cinco questões.

Formigas dormem?



Sim. Especialistas concordam que, como a maioria dos animais, elas dividem seu tempo entre atividade e descanso – quando a ação metabólica diminui. Mas isso não seria bem o que chamamos de sono. “Há registros de formigas vistas ‘deitadas de lado’, que, quando instigadas, retomaram a posição normal. Eu hesitaria em dizer que elas ‘acordaram’, mas a analogia é possível”, explica o mirmecologista (especialista em formiga) Carlos Brandão. Uma pesquisa norte-americana de 2009 indicava que ao menos as formigas-de-fogo (*Solenopsis invicta*) dormem sim – em pequenos cochilos.

- As operárias “dormem” em turnos, mantendo sempre 80% da força de trabalho acordada.

(Fonte <http://mundoestranho.abril.com.br/materia/formigas-dormem>. Acesso em 18/05/2016.)

31. Observe a parte da figura da formiga sobre **TOTAL DE HORAS DORMIDAS**. Nessa parte, entendemos que:

- a) A formiga rainha dorme 9,4 horas por dia e a formiga operária dorme 4,8 horas por dia.
b) A formiga rainha dorme menos de 9 horas por dia e a formiga operária menos de 4 horas por dia.
c) A formiga rainha dorme mais de 10 horas por dia e a formiga operária mais de 4 horas por dia.
d) A formiga rainha dorme mais de 9 horas por dia e a formiga operária mais de 5 horas por dia.
e) A formiga rainha dorme 4 horas por dia e a formiga operária 8 horas por dia.

32. No texto que se localiza abaixo da figura da formiga, lemos a palavra **mirmecologista**. Lá explica que isso significa:

- a) O nome de um tipo de formiga.
b) Especialista em formiga.
c) O nome que se dá ao cochilo das formigas.
d) O nome dado a uma pesquisa sobre formigas.
e) Um outro nome que recebem as formigas operárias.

33. Leia esta frase: **Formigas dormem?**

- Ela é:
a) Uma frase afirmativa porque tem ponto final e expressa uma pergunta.
b) Uma frase negativa porque tem ponto de interrogação e nega alguma coisa.
c) Uma frase exclamativa porque tem ponto de exclamação e expressa admiração.

- d) Uma frase interrogativa porque tem ponto de exclamação e expressa uma pergunta.
e) Uma frase interrogativa porque tem ponto de interrogação e expressa uma pergunta.

34. Em qual alternativa a separação de sílabas das palavras não está correta?

- a) a-ni-mais; dei-ta-das.
b) es-pe-cia-lis-ta; po-ssí-vel.
c) des-can-so; com-cor-dam.
d) a-ti-vi-da-de; for-mi-gas.
e) tra-ba-lho; pe-que-nos.

35. O hiato é um encontro vocálico em que temos duas vogais juntas, mas que são pronunciadas em sílabas diferentes. Assim, a palavra que tem hiato é:

- a) Pequenos
b) Deitadas
c) Quando
d) Acordados
e) Especialista

Leia com atenção o texto abaixo e depois responda às cinco próximas questões.

Tomate é fruta?

por Sabrina Haick | Edição 177

Sim, ele é. Não só o tomate é fruta, como a berinjela, a abobrinha, o pepino, o pimentão e outros alimentos que nós chamamos de legumes também são. Fruta é o ovário amadurecido de uma planta, onde ficam as sementes. A confusão acontece porque nós somos acostumados a chamar as frutas salgadas de legumes. Se você acha que sua vida foi uma mentira até agora, saiba que também existem alimentos que nós chamamos de fruta, mas não são. Trata-se dos pseudofrutos – estruturas suculentas que têm cara e jeito de fruto, mas não se desenvolvem a partir do ovário da planta, como as frutas reais. É o caso do morango, do caju, da maçã, da pera e do abacaxi, entre outros.

(Fonte: <http://mundoestranho.abril.com.br/materia/tomate-e-fruta>. Aceso em 18/05/2016.)

36. Ao ler esse texto, descobrimos que o tomate é um fruto e não um legume. Também descobrimos que são frutas outros alimentos que pensávamos que eram legumes. Dois deles são:

- a) Berinjela e morango
b) Abobrinha e pepino
c) Abobrinha e caju
d) Pimentão e pera
e) Pepino e abacaxi

37. Conhecer os sinônimos e antônimos das palavras nos ajuda a aumentar nosso vocabulário.

Qual é um sinônimo para a palavra “suculentas”, conforme o sentido que ela tem no texto?

- a) Desinteressantes
b) Gordurosas
c) Carnudas
d) Descarnadas
e) Felpudas

38. A acentuação em uma palavra nos ajuda a pronunciá-la de maneira correta, como, por exemplo, as palavras “você” e “ovário”. Marque a alternativa em que as palavras não foram acentuadas corretamente.

- a) lâmpada - pálpebra
b) obíto - fenômeno
c) mímica - código
d) cálice - xícara
e) cédula - específico

39. Escrevemos “abacaxi” com x, “berinjela” e “caju” com j.

Marque a alternativa em que todas as palavras grifadas estão escritas de forma correta.

- a) Fui à feira e comprei tangerina, laranja e melancia.
b) Fui à feira e comprei tanjerina, laranja e melancia.
c) Fui à feira e comprei tangerina, larãja e melancia.
d) Fui à feira e comprei tangerina, laranja e melansia.
e) Fui à feira e comprei tãgerina, laranja e melansia.

40. O que temos nas palavras “frutas”, “estruturas”, “salgadas” e “partir”?



- a) Ditongo
- b) Hiato
- c) Encontro consonantal e Encontro vocálico
- d) Encontro consonantal
- e) Encontro vocálico

RASCUNHO



Grupo Sarmento

PREFEITURA DE TELÊMACO BORBA - ESTADO DO PARANÁ- EDITAL Nº 001-2016 - CONCURSO PÚBLICO

VESPERTINO – 29/05/2016 – FUNDAMENTAL INCOMPLETO

3

PROVA OBJETIVA NÚMERO

CARGO: COVEIRO**Leia atentamente as INSTRUÇÕES:**

1. Confira seus dados no cartão-resposta: nome, número de inscrição e o curso para o qual se inscreveu.
2. **MARQUE no seu cartão-resposta o número da sua prova** (não será corrigido o cartão-resposta que não tiver marcado o número da prova) e **Assine** seu cartão-resposta.
3. Aguarde a autorização do Fiscal para abrir o caderno de prova. Ao receber a ordem do fiscal, confira o caderno de prova com muita atenção. Nenhuma reclamação sobre o total de questões ou falha de impressão será aceita depois de iniciada a prova.
4. O cartão-resposta não será substituído, salvo se contiver erro de impressão.
5. Preencha toda a área do cartão-resposta correspondente à alternativa de sua escolha, com caneta esferográfica (tinta azul ou preta), sem ultrapassar as bordas. As marcações duplas, ou rasuradas, com corretivo, ou marcadas diferentemente do modelo estabelecido no cartão-resposta poderão ser anuladas.
6. Sua prova tem **40** questões, com **5** alternativas.
7. Cabe apenas ao candidato a interpretação das questões, **o fiscal** não poderá fazer nenhuma interferência.
8. A prova será realizada com duração máxima de **3 (três) horas**, incluído o tempo para a realização da Prova Objetiva de múltipla escolha e o preenchimento do cartão-resposta.
9. O candidato poderá retirar-se do local de realização das provas somente **1 (uma) hora** após o seu início, sem levar o caderno de prova.
10. O candidato poderá levar o caderno de provas, assim como anotação contendo transcrição do seu cartão-resposta, somente **1h30min** (uma hora e trinta minutos) após o início da realização da prova.
11. Ao terminar a prova, o candidato deverá entregar ao fiscal de sala o cartão-resposta preenchido e **ASSINADO**.
12. Os **3 (três)** candidatos, que terminarem a prova por último, deverão permanecer na sala, e só poderão sair juntos após o fechamento do envelope, contendo os cartões-resposta dos candidatos presentes e ausentes, e assinarem no lacre do referido envelope, atestando que este foi devidamente lacrado.
13. Durante todo o tempo em que permanecer no local onde está ocorrendo o concurso, o candidato deverá, manter o celular desligado e sem bateria, só sendo permitido ligar depois de ultrapassar o portão de saída do prédio.
14. Não será permitido ao candidato fumar na sala de provas, bem como nas dependências.
15. Depois de terminar a prova e entregar ao fiscal o cartão-resposta, preenchido e assinado, não será mais permitido ao candidato o uso do banheiro e bebedouro.

BOA PROVA!

CONHECIMENTOS ESPECÍFICOS

01. Marque a alternativa correta sobre EPI, que está de acordo com a figura a seguir.



- a) Equipamento de proteção total
- b) Equipamento de proteção individual
- c) Equipamento de proteção coletiva
- d) Equipamento de proteção parcial
- e) Equipamento de proteção geral

02. Os rolos de lã, que podem ser de fibra natural, sintética ou de composição mista, devem ser usados na aplicação de tintas à base de _____.

Marque a alternativa que preenche a lacuna corretamente.

- a) água
- b) solvente
- c) tiner
- d) aguarrás
- e) querosene

03. Numa argamassa de assentamento com traço 1:2:9, terei de usar quais materiais?

- a) Uma porção de cimento, duas porções de cal e nove porções de areia.
- b) Uma porção de areia, duas porções de cal e nove porções de cimento.
- c) Uma porção de cal, duas porções de cimento e nove porções de areia.
- d) Uma porção de cimento, duas porções de cal e nove porções de água.
- e) Uma porção de cimento, duas porções de água e nove porções de areia.

04. O concreto é uma mistura dos vários componentes, em determinadas proporções, chamadas de dosagem ou traço, na linguagem da construção civil. Sabendo disso, marque a alternativa correta sobre os materiais usados na mistura do concreto.

- a) Pedra, argila, cimento e água.
- b) Pedra, água, cimento e ferro.
- c) Pedra, água, cimento e cal.
- d) Pedra, areia, cal e cimento.
- e) Pedra, areia cimento e água.

05. Exumação de corpos: normalmente uma exumação é feita quando aconteceu a morte sob causas suspeitas, entre outras, por exemplo, investigação de uma possível causa da morte.

Quando o processo de exumação pode ser feito?

- I) Na presença de um agente da polícia.
- II) Na presença de agente de saúde.
- III) Quando dois anos ou mais se passaram após o enterro.
- IV) Quando não há documentação regularizada.

Marque a alternativa correta.

- a) Somente I e III estão corretos.
- b) Somente II e III estão corretos.
- c) Somente I e IV estão corretos.
- d) Somente I e II estão corretos.
- e) Somente III e IV estão corretos.

LÍNGUA PORTUGUESA

Leia com atenção o texto abaixo e depois responda às próximas cinco questões.

Heroísmo



Ele usava um colete à prova de balas. Não importava que dia da semana, que dia do mês ou que dia do ano: ele sempre usava o seu colete à prova de balas. Era precavido, ele dizia. A cidade anda muito violenta; nunca se sabe o que pode acontecer. Isso é uma verdade!

Um belo dia, quando estava no banco, ocorreu um assalto. Três bandidos, armados de pistolas e metralhadoras, ameaçavam matar os reféns se o dinheiro não lhes fosse entregue com velocidade. Ele, muito seguro de si, sabendo da vantagem que levava sobre os assaltantes, afinal, seu colete estava bem escondido sob a camisa, disparou na direção de um deles para desarmá-lo. Um segundo depois, caiu morto.

Ataque cardíaco fulminante, disseram os legistas quando chegaram na cena do crime.

(Fonte: <http://www.napontadoslapis.com.br/2011/03/dois-pequenos-contos.html>. Acesso em 18/05/2016.)

06. Conforme o texto, a pessoa que usava um colete à prova de balas todos os dias era:

- a) Uma criança
- b) Uma mulher
- c) Um homem
- d) Um assaltante
- e) O gerente do banco

07. De acordo com o texto, como morreu a pessoa que usava diariamente um colete à prova de balas?

- a) De ataque cardíaco fulminante.
- b) Assassinado por um assaltante.
- c) Cometeu suicídio.
- d) Foi vítima de uma bala perdida durante o assalto.
- e) Foi morto por um policial.

08. Na segunda linha do texto diz: *Era precavido*.

O que isso significa precavido?

- a) Distraído
- b) Aventureiro
- c) Descuidado
- d) Prevenido
- e) Precipitado

09. Em qual alternativa temos uma palavra grifada que é um pronome pessoal?

- a) A cidade anda muito violenta.
- b) Ele usava um colete à prova de balas.
- c) Um segundo depois, caiu morto.
- d) disseram os legistas quando chegaram na cena do crime.
- e) ele sempre usava o seu colete à prova de balas.

10. As palavras são representadas por fonemas (sons) e letras. Sendo assim, na palavra VELOCIDADE contamos quantos fonemas e letras?

- a) 7 fonemas e 10 letras.
- b) 8 fonemas e 9 letras.
- c) 9 fonemas e 9 letras.
- d) 9 fonemas e 10 letras.
- e) 10 fonemas e 10 letras.

Leia atentamente o texto da figura da formiga e o texto abaixo dela. Depois, responda às próximas cinco questões.

Formigas dormem?



Sim. Especialistas concordam que, como a maioria dos animais, elas dividem seu tempo entre atividade e descanso – quando a ação metabólica diminui. Mas isso não seria bem o que chamamos de sono. “Há registros de formigas vistas ‘deitadas de lado’, que, quando instigadas, retomaram a posição normal. Eu hesitaria em dizer que elas ‘acordaram’, mas a analogia é possível”, explica o mirmecologista (especialista em formiga) Carlos Brandão. Uma pesquisa norte-americana de 2009 indicava que ao menos as formigas-de-fogo (*Solenopsis Invicta*) dormem sim – em pequenos cochilos.

- As operárias “dormem” em turnos, mantendo sempre 80% da força de trabalho acordada.

(Fonte <http://mundoestranho.abril.com.br/materia/formigas-dormem>. Acesso em 18/05/2016.)

11. Observe a parte da figura da formiga sobre TOTAL DE HORAS DORMIDAS. Nessa parte, entendemos que:

- A formiga rainha dorme 9,4 horas por dia e a formiga operária dorme 4,8 horas por dia.
- A formiga rainha dorme menos de 9 horas por dia e a formiga operária menos de 4 horas por dia.
- A formiga rainha dorme mais de 10 horas por dia e a formiga operária mais de 4 horas por dia.
- A formiga rainha dorme mais de 9 horas por dia e a formiga operária mais de 5 horas por dia.
- A formiga rainha dorme 4 horas por dia e a formiga operária 8 horas por dia.

12. No texto que se localiza abaixo da figura da formiga, lemos a palavra mirmecologista. Lá explica que isso significa:

- O nome de um tipo de formiga.
- Especialista em formiga.
- O nome que se dá ao cochilo das formigas.
- O nome dado a uma pesquisa sobre formigas.
- Um outro nome que recebem as formigas operárias.

13. Leia esta frase: *Formigas dormem?*

Ela é:

- Uma frase afirmativa porque tem ponto final e expressa uma pergunta.
- Uma frase negativa porque tem ponto de interrogação e nega alguma coisa.
- Uma frase exclamativa porque tem ponto de exclamação e expressa admiração.
- Uma frase interrogativa porque tem ponto de exclamação e expressa uma pergunta.
- Uma frase interrogativa porque tem ponto de interrogação e expressa uma pergunta.

14. Em qual alternativa a separação de sílabas das palavras não está correta?

- a-ni-mais; dei-ta-das.
- es-pe-cia-lis-ta; po-ssí-vel.
- des-can-so; com-cor-dam.
- a-ti-vi-da-de; for-mi-gas.
- tra-ba-lho; pe-que-nos.

15. O hiato é um encontro vocálico em que temos duas vogais juntas, mas que são pronunciadas em sílabas diferentes. Assim, a palavra que tem hiato é:

- Pequenos
- Deitadas
- Quando

- d) Acordados
- e) Especialista

Leia com atenção o texto abaixo e depois responda às cinco próximas questões.

Tomate é fruta?

por Sabrina Haick | Edição 177

Sim, ele é. Não só o tomate é fruta, como a berinjela, a abobrinha, o pepino, o pimentão e outros alimentos que nós chamamos de legumes também são. Fruta é o ovário amadurecido de uma planta, onde ficam as sementes. A confusão acontece porque nós somos acostumados a chamar as frutas salgadas de legumes. Se você acha que sua vida foi uma mentira até agora, saiba que também existem alimentos que nós chamamos de fruta, mas não são. Trata-se dos pseudofrutos – estruturas suculentas que têm cara e jeito de fruto, mas não se desenvolvem a partir do ovário da planta, como as frutas reais. É o caso do morango, do caju, da maçã, da pera e do abacaxi, entre outros.

(Fonte: <http://mundoestranho.abril.com.br/materia/tomate-e-fruta>. Acesso em 18/05/2016.)

16. Ao ler esse texto, descobrimos que o tomate é um fruto e não um legume. Também descobrimos que são frutas outros alimentos que pensávamos que eram legumes. Dois deles são:

- a) Berinjela e morango
- b) Abobrinha e pepino
- c) Abobrinha e caju
- d) Pimentão e pera
- e) Pepino e abacaxi

17. Conhecer os sinônimos e antônimos das palavras nos ajuda a aumentar nosso vocabulário.

Qual é um sinônimo para a palavra “suculentas”, conforme o sentido que ela tem no texto?

- a) Desinteressantes
- b) Gordurosas
- c) Carnudas
- d) Descarnadas
- e) Felpudas

18. A acentuação em uma palavra nos ajuda a pronunciá-la de maneira correta, como, por exemplo, as palavras “você” e “ovário”. Marque a alternativa em que as palavras não foram acentuadas corretamente.

- a) lâmpada - pálpebra
- b) obíto - fenômeno
- c) mímica - código
- d) cálice - xícara
- e) cédula - específico

19. Escrevemos “abacaxi” com x, “berinjela” e “caju” com j.

Marque a alternativa em que todas as palavras grifadas estão escritas de forma correta.

- a) Fui à feira e comprei tangerina, laranja e melancia.
- b) Fui à feira e comprei tanjerina, laranja e melancia.
- c) Fui à feira e comprei tangerina, larãja e melancia.
- d) Fui à feira e comprei tangerina, laranja e melansia.
- e) Fui à feira e comprei tãgerina, laranja e melansia.

20. O que temos nas palavras “frutas”, “estruturas”, “salgadas” e “partir”?

- a) Ditongo
- b) Hiato
- c) Encontro consonantal e Encontro vocálico
- d) Encontro consonantal
- e) Encontro vocálico

MATEMÁTICA

21. Marcela tem uma dívida de R\$ 462,00 dividida em 4 parcela iguais. Qual é o valor que Marcela vai pagar em cada parcela?

- a) R\$ 189,00
- b) R\$ 145,50
- c) R\$ 115,50
- d) R\$ 125,00
- e) R\$ 132,50

22. No mês de fevereiro, Maria assistiu a filmes nos dias ímpares, e Carla nos dias pares. Quantas vezes Maria assistiu a filmes no mês de fevereiro?

- a) 28
b) 14
c) 15
d) 8
e) 4

DOM	SEG	TER	QUA	QUI	SEX	SAB
			1	2	3	4
5	6	7	8	9	10	11
12	13	14	15	16	17	18
19	20	21	22	23	24	25
26	27	28				

23. Um estudante pretende se inscrever para participar de um Congresso Nacional. (O valor das inscrições está apresentado na tabela abaixo). Sabendo que o estudante irá se inscrever na abertura do Congresso Nacional, qual é o valor que ele irá pagar?

- a) R\$ 120,00
b) R\$ 100,00
c) R\$ 180,00
d) R\$ 150,00
e) R\$ 170,00

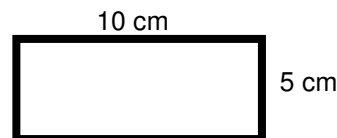
CATEGORIA	Inscrições até 15/05/16	Na abertura do Congresso
Profissional	R\$ 120,00	R\$ 180,00
Estudantes	R\$ 100,00	R\$ 150,00

24. A prestação de um terreno é de R\$ 787,00 e vence todo dia 10. Pagando fora do prazo, há uma multa de R\$ 8,70 por dia. Se a prestação foi paga só no dia 25 (vinte e cinco), qual foi o valor pago?

- a) R\$ 987,00
b) R\$ 937,00
c) R\$ 927,50
d) R\$ 967,00
e) R\$ 917,50

25. Marque a alternativa que apresenta o resultado do cálculo do perímetro de um terreno que tem as dimensões indicadas na figura abaixo.

- a) 30 cm
b) 50 cm
c) 40 cm
d) 20 cm
e) 70 cm



26. Um show de Munhoz e Mariano, na exposição de Campo Grande, em abril de 2016, teve início exatamente às 21h e 15min e terminou às 23h e 40 min. Qual foi a duração do show?

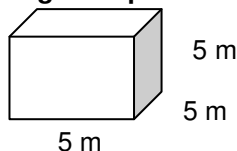
- a) 2h e 10m
b) 2h e 15m
c) 2h e 25m
d) 2h e 30m
e) 2h e 40m

27. Um pacote de açúcar pesa 2Kg. Foram retirados 450g para fazer um bolo. Quantos gramas restaram no pacote?

- a) 1.450 g
b) 1.250 g
c) 1.350 g
d) 1.550 g
e) 1.650 g

28. Determine o volume da figura representada a seguir e marque a alternativa correta.

- a) $137m^3$
b) $115m^3$
c) $127m^3$
d) $216m^3$
e) $125m^3$



29. Calcule o perímetro de um retângulo cuja base é três vezes a altura que mede 4m, e marque a alternativa correta.

- a) 16m
b) 32m
c) 48m
d) 20m
e) 28m



30. João mora no Bairro Tiradentes e Carlos no Bairro Novo Século, os dois trabalham no Supermercado Novo Horizonte. João chegou ao supermercado às 7horas e 30 minutos da manhã e Carlos chegou meia hora depois.

A que horas Carlos chegou ao supermercado?

- a) 8 horas
- b) 9 horas
- c) 6 horas
- d) 5 horas
- e) 4 horas

CONHECIMENTOS GERAIS

31. Telêmaco Borba/PR foi desmembrado do município de

- a) Tibagi
- b) Londrina
- c) Ortigueira
- d) Imbaú
- e) Ventania

32. Quais são as cores da bandeira do município de Telêmaco Borba/PR?

- a) Vermelha, branca e verde
- b) Branca, azul e amarela
- c) Verde, azul e amarela
- d) Vermelha, branca e azul
- e) Branca, cinza e verde

33. Qual o nome do atual prefeito de Telêmaco Borba/PR?

- a) Renato Bahena
- b) José Reinaldo Antunes Carneiro
- c) Luiz Carlos Gibson
- d) Gilson Pereira dos Santos
- e) Ezequiel Ligoski Betim

34. Marque a alternativa que corresponde ao feriado municipal que comemora o dia da padroeira de Telêmaco Borba/PR (Nossa Senhora do Perpétuo Socorro).

- a) 21 de março
- b) 26 de maio
- c) 01 de novembro
- d) 28 de outubro
- e) 21 de junho

35. Quem nasce em Telêmaco Borba é

- a) Telemacoborbense
- b) Telemacoborbino
- c) Telemacoreense
- d) Telemaconense
- e) Telemacoborbiano

36. Em caso de vaga de vereador, não havendo suplente, o Presidente comunicará o fato, diretamente ao Tribunal Regional Eleitoral, dentro de

- a) 72 horas.
- b) 5 dias.
- c) 15 dias.
- d) 48 horas.
- e) 24 horas.

37. Qual alternativa não contempla uma forma de provimento no cargo público, conforme o art. 6º do Estatuto dos Servidores Públicos do município de Telêmaco Borba/PR?

- a) Nomeação
- b) Concurso
- c) Readaptação
- d) Reintegração
- e) Promoção

38. Qual dos municípios seguintes faz divisa com Telêmaco Borba/PR?



- a) Curiúva
- b) Londrina
- c) Arapot
- d) Sapopema
- e) Cambé

39. O município de Telêmaco Borba/PR foi criado inicialmente com o nome de

- a) Monte Alegre.
- b) Mauá.
- c) Cidade Nova.
- d) Harmonia.
- e) Tibagi.

40. Como é denominada a sede administrativa de Telêmaco Borba/PR?

- a) Paço Municipal
- b) Paço das Araucárias
- c) Governo Municipal
- d) Prefeitura
- e) Paço Administrativo

RASCUNHO



PREFEITURA DE TELÊMACO BORBA - ESTADO DO PARANÁ- EDITAL Nº 001-2016 - CONCURSO PÚBLICO

VESPERTINO – 29/05/2016 – FUNDAMENTAL INCOMPLETO

1

PROVA OBJETIVA NÚMERO

CARGO: MECÂNICO DE VEÍCULOS E MÁQUINAS - MECÂNICO DE MÁQUINAS PESADAS

Leia atentamente as INSTRUÇÕES:

1. Confira seus dados no cartão-resposta: nome, número de inscrição e o curso para o qual se inscreveu.
2. **MARQUE no seu cartão-resposta o número da sua prova** (não será corrigido o cartão-resposta que não tiver marcado o número da prova) e **Assine** seu cartão-resposta.
3. Aguarde a autorização do Fiscal para abrir o caderno de prova. Ao receber a ordem do fiscal, confira o caderno de prova com muita atenção. Nenhuma reclamação sobre o total de questões ou falha de impressão será aceita depois de iniciada a prova.
4. O cartão-resposta não será substituído, salvo se contiver erro de impressão.
5. Preencha toda a área do cartão-resposta correspondente à alternativa de sua escolha, com caneta esferográfica (tinta azul ou preta), sem ultrapassar as bordas. As marcações duplas, ou rasuradas, com corretivo, ou marcadas diferentemente do modelo estabelecido no cartão-resposta poderão ser anuladas.
6. Sua prova tem **40** questões, com **5** alternativas.
7. Cabe apenas ao candidato a interpretação das questões, **o fiscal** não poderá fazer nenhuma interferência.
8. A prova será realizada com duração máxima de **3 (três) horas**, incluído o tempo para a realização da Prova Objetiva de múltipla escolha e o preenchimento do cartão-resposta.
9. O candidato poderá retirar-se do local de realização das provas somente **1 (uma) hora** após o seu início, sem levar o caderno de prova.
10. O candidato poderá levar o caderno de provas, assim como anotação contendo transcrição do seu cartão-resposta, somente **1h30min** (uma hora e trinta minutos) após o início da realização da prova.
11. Ao terminar a prova, o candidato deverá entregar ao fiscal de sala o cartão-resposta preenchido e **ASSINADO**.
12. Os **3 (três)** candidatos, que terminarem a prova por último, deverão permanecer na sala, e só poderão sair juntos após o fechamento do envelope, contendo os cartões-resposta dos candidatos presentes e ausentes, e assinarem no lacre do referido envelope, atestando que este foi devidamente lacrado.
13. Durante todo o tempo em que permanecer no local onde está ocorrendo o concurso, o candidato deverá, manter o celular desligado e sem bateria, só sendo permitido ligar depois de ultrapassar o portão de saída do prédio.
14. Não será permitido ao candidato fumar na sala de provas, bem como nas dependências.
15. Depois de terminar a prova e entregar ao fiscal o cartão-resposta, preenchido e assinado, não será mais permitido ao candidato o uso do banheiro e bebedouro.

BOA PROVA!

LÍNGUA PORTUGUESA

Leia com atenção o texto abaixo e depois responda às próximas cinco questões.

Heroísmo

Ele usava um colete à prova de balas. Não importava que dia da semana, que dia do mês ou que dia do ano: ele sempre usava o seu colete à prova de balas. Era precavido, ele dizia. A cidade anda muito violenta; nunca se sabe o que pode acontecer. Isso é uma verdade!

Um belo dia, quando estava no banco, ocorreu um assalto. Três bandidos, armados de pistolas e metralhadoras, ameaçavam matar os reféns se o dinheiro não lhes fosse entregue com velocidade. Ele, muito seguro de si, sabendo da vantagem que levava sobre os assaltantes, afinal, seu colete estava bem escondido sob a camisa, disparou na direção de um deles para desarmá-lo. Um segundo depois, caiu morto.

Ataque cardíaco fulminante, disseram os legistas quando chegaram na cena do crime.

(Fonte: <http://www.napontadoslapis.com.br/2011/03/dois-pequenos-contos.html>. Acesso em 18/05/2016.)

01. Conforme o texto, a pessoa que usava um colete à prova de balas todos os dias era:

- a) Uma criança
- b) Uma mulher
- c) Um homem
- d) Um assaltante
- e) O gerente do banco

02. De acordo com o texto, como morreu a pessoa que usava diariamente um colete à prova de balas?

- a) De ataque cardíaco fulminante.
- b) Assassinado por um assaltante.
- c) Cometeu suicídio.
- d) Foi vítima de uma bala perdida durante o assalto.
- e) Foi morto por um policial.

03. Na segunda linha do texto diz: *Era precavido*.

O que isso significa precavido?

- a) Distraído
- b) Aventureiro
- c) Descuidado
- d) Prevenido
- e) Precipitado

04. Em qual alternativa temos uma palavra grifada que é um pronome pessoal?

- a) A cidade anda muito violenta.
- b) Ele usava um colete à prova de balas.
- c) Um segundo depois, caiu morto.
- d) disseram os legistas quando chegaram na cena do crime.
- e) ele sempre usava o seu colete à prova de balas.

05. As palavras são representadas por fonemas (sons) e letras. Sendo assim, na palavra **VELOCIDADE contamos quantos fonemas e letras?**

- a) 7 fonemas e 10 letras.
- b) 8 fonemas e 9 letras.
- c) 9 fonemas e 9 letras.
- d) 9 fonemas e 10 letras.
- e) 10 fonemas e 10 letras.

Leia atentamente o texto da figura da formiga e o texto abaixo dela. Depois, responda às próximas cinco questões.

Formigas dormem?



Sim. Especialistas concordam que, como a maioria dos animais, elas dividem seu tempo entre atividade e descanso – quando a ação metabólica diminui. Mas isso não seria bem o que chamamos de sono. “Há registros de formigas vistas ‘deitadas de lado’, que, quando instigadas, retomaram a posição normal. Eu hesitaria em dizer que elas ‘acordaram’, mas a analogia é possível”, explica o mirmecologista (especialista em formiga) Carlos Brandão. Uma pesquisa norte-americana de 2009 indicava que ao menos as formigas-de-fogo (*Solenopsis invicta*) dormem sim – em pequenos cochilos.

- As operárias “dormem” em turnos, mantendo sempre 80% da força de trabalho acordada.

(Fonte <http://mundoestranho.abril.com.br/materia/formigas-dormem>. Acesso em 18/05/2016.)

06. Observe a parte da figura da formiga sobre TOTAL DE HORAS DORMIDAS. Nessa parte, entendemos que:

- A formiga rainha dorme 9,4 horas por dia e a formiga operária dorme 4,8 horas por dia.
- A formiga rainha dorme menos de 9 horas por dia e a formiga operária menos de 4 horas por dia.
- A formiga rainha dorme mais de 10 horas por dia e a formiga operária mais de 4 horas por dia.
- A formiga rainha dorme mais de 9 horas por dia e a formiga operária mais de 5 horas por dia.
- A formiga rainha dorme 4 horas por dia e a formiga operária 8 horas por dia.

07. No texto que se localiza abaixo da figura da formiga, lemos a palavra mirmecologista. Lá explica que isso significa:

- O nome de um tipo de formiga.
- Especialista em formiga.
- O nome que se dá ao cochilo das formigas.
- O nome dado a uma pesquisa sobre formigas.
- Um outro nome que recebem as formigas operárias.

08. Leia esta frase: *Formigas dormem?*

- Ela é:**
- Uma frase afirmativa porque tem ponto final e expressa uma pergunta.
 - Uma frase negativa porque tem ponto de interrogação e nega alguma coisa.
 - Uma frase exclamativa porque tem ponto de exclamação e expressa admiração.
 - Uma frase interrogativa porque tem ponto de exclamação e expressa uma pergunta.
 - Uma frase interrogativa porque tem ponto de interrogação e expressa uma pergunta.

09. Em qual alternativa a separação de sílabas das palavras não está correta?

- a-ni-mais; dei-ta-das.
- es-pe-cia-lis-ta; po-ssí-vel.
- des-can-so; com-cor-dam.
- a-ti-vi-da-de; for-mi-gas.
- tra-ba-lho; pe-que-nos.

10. O hiato é um encontro vocálico em que temos duas vogais juntas, mas que são pronunciadas em sílabas diferentes. Assim, a palavra que tem hiato é:

- Pequenos
- Deitadas
- Quando

- d) Acordados
- e) Especialista

Leia com atenção o texto abaixo e depois responda às cinco próximas questões.

Tomate é fruta?

por Sabrina Haick | Edição 177

Sim, ele é. Não só o tomate é fruta, como a berinjela, a abobrinha, o pepino, o pimentão e outros alimentos que nós chamamos de legumes também são. Fruta é o ovário amadurecido de uma planta, onde ficam as sementes. A confusão acontece porque nós somos acostumados a chamar as frutas salgadas de legumes. Se você acha que sua vida foi uma mentira até agora, saiba que também existem alimentos que nós chamamos de fruta, mas não são. Trata-se dos pseudofrutos – estruturas suculentas que têm cara e jeito de fruto, mas não se desenvolvem a partir do ovário da planta, como as frutas reais. É o caso do morango, do caju, da maçã, da pera e do abacaxi, entre outros.

(Fonte: <http://mundoestranho.abril.com.br/materia/tomate-e-fruta>. Acesso em 18/05/2016.)

11. Ao ler esse texto, descobrimos que o tomate é um fruto e não um legume. Também descobrimos que são frutas outros alimentos que pensávamos que eram legumes. Dois deles são:

- a) Berinjela e morango
- b) Abobrinha e pepino
- c) Abobrinha e caju
- d) Pimentão e pera
- e) Pepino e abacaxi

12. Conhecer os sinônimos e antônimos das palavras nos ajuda a aumentar nosso vocabulário.

Qual é um sinônimo para a palavra “suculentas”, conforme o sentido que ela tem no texto?

- a) Desinteressantes
- b) Gordurosas
- c) Carnudas
- d) Descarnadas
- e) Felpudas

13. A acentuação em uma palavra nos ajuda a pronunciá-la de maneira correta, como, por exemplo, as palavras “você” e “ovário”. Marque a alternativa em que as palavras não foram acentuadas corretamente.

- a) lâmpada - pálpebra
- b) obíto - fenômeno
- c) mímica - código
- d) cálice - xícara
- e) cédula - específico

14. Escrevemos “abacaxi” com x, “berinjela” e “caju” com j.

Marque a alternativa em que todas as palavras grifadas estão escritas de forma correta.

- a) Fui à feira e comprei tangerina, laranja e melancia.
- b) Fui à feira e comprei tanjerina, laranja e melancia.
- c) Fui à feira e comprei tangerina, larãja e melancia.
- d) Fui à feira e comprei tangerina, laranja e melansia.
- e) Fui à feira e comprei tãgerina, laranja e melansia.

15. O que temos nas palavras “frutas”, “estruturas”, “salgadas” e “partir”?

- a) Ditongo
- b) Hiato
- c) Encontro consonantal e Encontro vocálico
- d) Encontro consonantal
- e) Encontro vocálico

MATEMÁTICA

16. Marcela tem uma dívida de R\$ 462,00 dividida em 4 parcela iguais. Qual é o valor que Marcela vai pagar em cada parcela?

- a) R\$ 189,00
- b) R\$ 145,50
- c) R\$ 115,50
- d) R\$ 125,00
- e) R\$ 132,50

17. No mês de fevereiro, Maria assistiu a filmes nos dias ímpares, e Carla nos dias pares. Quantas vezes Maria assistiu a filmes no mês de fevereiro?

- a) 28
b) 14
c) 15
d) 8
e) 4

DOM	SEG	TER	QUA	QUI	SEX	SAB
			1	2	3	4
5	6	7	8	9	10	11
12	13	14	15	16	17	18
19	20	21	22	23	24	25
26	27	28				

18. Um estudante pretende se inscrever para participar de um Congresso Nacional. (O valor das inscrições está apresentado na tabela abaixo). Sabendo que o estudante irá se inscrever na abertura do Congresso Nacional, qual é o valor que ele irá pagar?

- a) R\$ 120,00
b) R\$ 100,00
c) R\$ 180,00
d) R\$ 150,00
e) R\$ 170,00

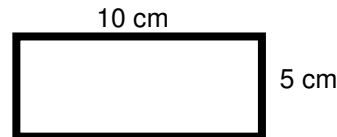
CATEGORIA	Inscrições até 15/05/16	Na abertura do Congresso
Profissional	R\$ 120,00	R\$ 180,00
Estudantes	R\$ 100,00	R\$ 150,00

19. A prestação de um terreno é de R\$ 787,00 e vence todo dia 10. Pagando fora do prazo, há uma multa de R\$ 8,70 por dia. Se a prestação foi paga só no dia 25 (vinte e cinco), qual foi o valor pago?

- a) R\$ 987,00
b) R\$ 937,00
c) R\$ 927,50
d) R\$ 967,00
e) R\$ 917,50

20. Marque a alternativa que apresenta o resultado do cálculo do perímetro de um terreno que tem as dimensões indicadas na figura abaixo.

- a) 30 cm
b) 50 cm
c) 40 cm
d) 20 cm
e) 70 cm



21. Um show de Munhoz e Mariano, na exposição de Campo Grande, em abril de 2016, teve início exatamente às 21h e 15min e terminou às 23h e 40 min. Qual foi a duração do show?

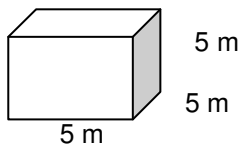
- a) 2h e 10m
b) 2h e 15m
c) 2h e 25m
d) 2h e 30m
e) 2h e 40m

22. Um pacote de açúcar pesa 2Kg. Foram retirados 450g para fazer um bolo. Quantos gramas restaram no pacote?

- a) 1.450 g
b) 1.250 g
c) 1.350 g
d) 1.550 g
e) 1.650 g

23. Determine o volume da figura representada a seguir e marque a alternativa correta.

- a) $137m^3$
b) $115m^3$
c) $127m^3$
d) $216m^3$
e) $125m^3$



24. Calcule o perímetro de um retângulo cuja base é três vezes a altura que mede 4m, e marque a alternativa correta.

- a) 16m
b) 32m
c) 48m
d) 20m
e) 28m





25. João mora no Bairro Tiradentes e Carlos no Bairro Novo Século, os dois trabalham no Supermercado Novo Horizonte. João chegou ao supermercado às 7horas e 30 minutos da manhã e Carlos chegou meia hora depois.

A que horas Carlos chegou ao supermercado?

- a) 8 horas
- b) 9 horas
- c) 6 horas
- d) 5 horas
- e) 4 horas

CONHECIMENTOS GERAIS

26. Telêmaco Borba/PR foi desmembrado do município de

- a) Tibagi
- b) Londrina
- c) Ortigueira
- d) Imbaú
- e) Ventania

27. Quais são as cores da bandeira do município de Telêmaco Borba/PR?

- a) Vermelha, branca e verde
- b) Branca, azul e amarela
- c) Verde, azul e amarela
- d) Vermelha, branca e azul
- e) Branca, cinza e verde

28. Qual o nome do atual prefeito de Telêmaco Borba/PR?

- a) Renato Bahena
- b) José Reinaldo Antunes Carneiro
- c) Luiz Carlos Gibson
- d) Gilson Pereira dos Santos
- e) Ezequiel Ligoski Betim

29. Marque a alternativa que corresponde ao feriado municipal que comemora o dia da padroeira de Telêmaco Borba/PR (Nossa Senhora do Perpétuo Socorro).

- a) 21 de março
- b) 26 de maio
- c) 01 de novembro
- d) 28 de outubro
- e) 21 de junho

30. Quem nasce em Telêmaco Borba é

- a) Telemacoborbense
- b) Telemacoborbino
- c) Telemacoreense
- d) Telemaconense
- e) Telemacoborbiano

31. Em caso de vaga de vereador, não havendo suplente, o Presidente comunicará o fato, diretamente ao Tribunal Regional Eleitoral, dentro de

- a) 72 horas.
- b) 5 dias.
- c) 15 dias.
- d) 48 horas.
- e) 24 horas.

32. Qual alternativa não contempla uma forma de provimento no cargo público, conforme o art. 6º do Estatuto dos Servidores Públicos do município de Telêmaco Borba/PR?

- a) Nomeação
- b) Concurso
- c) Readaptação
- d) Reintegração
- e) Promoção

33. Qual dos municípios seguintes faz divisa com Telêmaco Borba/PR?

- a) Curiúva
- b) Londrina
- c) Arapot
- d) Sapopema
- e) Cambé

34. O município de Telêmaco Borba/PR foi criado inicialmente com o nome de

- a) Monte Alegre.
- b) Mauá.
- c) Cidade Nova.
- d) Harmonia.
- e) Tibagi.

35. Como é denominada a sede administrativa de Telêmaco Borba/PR?

- a) Paço Municipal
- b) Paço das Araucárias
- c) Governo Municipal
- d) Prefeitura
- e) Paço Administrativo

CONHECIMENTOS ESPECÍFICOS

36. Marque a alternativa correta sobre EPI, que está de acordo com a figura a seguir.



- a) Equipamento de proteção total
- b) Equipamento de proteção individual
- c) Equipamento de proteção coletiva
- d) Equipamento de proteção parcial
- e) Equipamento de proteção geral

37. Marque a alternativa que identifica corretamente as máquinas das figuras, da esquerda para a direita.



- a) Trator de esteira, rolo compactador, motoniveladora (patrol) e plataforma elevatória.
- b) Motoniveladora (patrol), rolo compactador, plataforma elevatória, trator de esteira.
- c) Rolo compactador, plataforma elevatória, trator de esteira e motoniveladora (patrol).
- d) Trator de esteira, rolo compactador, plataforma elevatória e motoniveladora (patrol).
- e) Motoniveladora (patrol), trator de esteira, plataforma elevatória, rolo compactador.

38. Marque a alternativa que contém a figura de chave de grifo.



- a)



39. O Óleo Diesel e o GNV são:

- a) Lubrificantes líquidos
- b) Solventes
- c) Lubrificantes gasosos
- d) Combustíveis
- e) Óleos sintéticos

40. Analise a imagem e marque a alternativa que identifica corretamente o tipo de serviço que está sendo realizado.



- a) Manutenção na caixa de câmbio
- b) Manutenção no motor de arranque
- c) Manutenção no motor do trator
- d) Manutenção no hidráulico dianteiro
- e) Manutenção no eixo e diferencial

RASCUNHO



PREFEITURA DE TELÊMACO BORBA - ESTADO DO PARANÁ- EDITAL Nº 001-2016 - CONCURSO PÚBLICO

VESPERTINO – 29/05/2016 – FUNDAMENTAL INCOMPLETO

2

PROVA OBJETIVA NÚMERO

CARGO: MECÂNICO DE VEÍCULOS E MÁQUINAS - MECÂNICO DE MÁQUINAS PESADAS

Leia atentamente as INSTRUÇÕES:

1. Confira seus dados no cartão-resposta: nome, número de inscrição e o curso para o qual se inscreveu.
2. **MARQUE no seu cartão-resposta o número da sua prova** (não será corrigido o cartão-resposta que não tiver marcado o número da prova) e **Assine** seu cartão-resposta.
3. Aguarde a autorização do Fiscal para abrir o caderno de prova. Ao receber a ordem do fiscal, confira o caderno de prova com muita atenção. Nenhuma reclamação sobre o total de questões ou falha de impressão será aceita depois de iniciada a prova.
4. O cartão-resposta não será substituído, salvo se contiver erro de impressão.
5. Preencha toda a área do cartão-resposta correspondente à alternativa de sua escolha, com caneta esferográfica (tinta azul ou preta), sem ultrapassar as bordas. As marcações duplas, ou rasuradas, com corretivo, ou marcadas diferentemente do modelo estabelecido no cartão-resposta poderão ser anuladas.
6. Sua prova tem **40** questões, com **5** alternativas.
7. Cabe apenas ao candidato a interpretação das questões, **o fiscal** não poderá fazer nenhuma interferência.
8. A prova será realizada com duração máxima de **3 (três) horas**, incluído o tempo para a realização da Prova Objetiva de múltipla escolha e o preenchimento do cartão-resposta.
9. O candidato poderá retirar-se do local de realização das provas somente **1 (uma) hora** após o seu início, sem levar o caderno de prova.
10. O candidato poderá levar o caderno de provas, assim como anotação contendo transcrição do seu cartão-resposta, somente **1h30min** (uma hora e trinta minutos) após o início da realização da prova.
11. Ao terminar a prova, o candidato deverá entregar ao fiscal de sala o cartão-resposta preenchido e **ASSINADO**.
12. Os **3 (três)** candidatos, que terminarem a prova por último, deverão permanecer na sala, e só poderão sair juntos após o fechamento do envelope, contendo os cartões-resposta dos candidatos presentes e ausentes, e assinarem no lacre do referido envelope, atestando que este foi devidamente lacrado.
13. Durante todo o tempo em que permanecer no local onde está ocorrendo o concurso, o candidato deverá, manter o celular desligado e sem bateria, só sendo permitido ligar depois de ultrapassar o portão de saída do prédio.
14. Não será permitido ao candidato fumar na sala de provas, bem como nas dependências.
15. Depois de terminar a prova e entregar ao fiscal o cartão-resposta, preenchido e assinado, não será mais permitido ao candidato o uso do banheiro e bebedouro.

BOA PROVA!

MATEMÁTICA

1. Marcela tem uma dívida de R\$ 462,00 dividida em 4 parcela iguais. Qual é o valor que Marcela vai pagar em cada parcela?

- a) R\$ 189,00
- b) R\$ 145,50
- c) R\$ 115,50
- d) R\$ 125,00
- e) R\$ 132,50

2. No mês de fevereiro, Maria assistiu a filmes nos dias ímpares, e Carla nos dias pares. Quantas vezes Maria assistiu a filmes no mês de fevereiro?

- a) 28
- b) 14
- c) 15
- d) 8
- e) 4

DOM	SEG	TER	QUA	QUI	SEX	SAB
			1	2	3	4
5	6	7	8	9	10	11
12	13	14	15	16	17	18
19	20	21	22	23	24	25
26	27	28				

3. Um estudante pretende se inscrever para participar de um Congresso Nacional. (O valor das inscrições está apresentado na tabela abaixo). Sabendo que o estudante irá se inscrever na abertura do Congresso Nacional, qual é o valor que ele irá pagar?

- a) R\$ 120,00
- b) R\$ 100,00
- c) R\$ 180,00
- d) R\$ 150,00
- e) R\$ 170,00

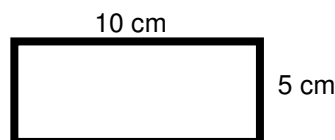
CATEGORIA	Inscrições até 15/05/16	Na abertura do Congresso
Profissional	R\$ 120,00	R\$ 180,00
Estudantes	R\$ 100,00	R\$ 150,00

4. A prestação de um terreno é de R\$ 787,00 e vence todo dia 10. Pagando fora do prazo, há uma multa de R\$ 8,70 por dia. Se a prestação foi paga só no dia 25 (vinte e cinco), qual foi o valor pago?

- a) R\$ 987,00
- b) R\$ 937,00
- c) R\$ 927,50
- d) R\$ 967,00
- e) R\$ 917,50

5. Marque a alternativa que apresenta o resultado do cálculo do perímetro de um terreno que tem as dimensões indicadas na figura abaixo.

- a) 30 cm
- b) 50 cm
- c) 40 cm
- d) 20 cm
- e) 70 cm



6. Um show de Munhoz e Mariano, na exposição de Campo Grande, em abril de 2016, teve início exatamente às 21h e 15min e terminou às 23h e 40 min. Qual foi a duração do show?

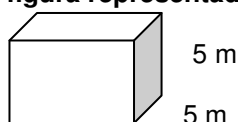
- a) 2h e 10m
- b) 2h e 15m
- c) 2h e 25m
- d) 2h e 30m
- e) 2h e 40m

7. Um pacote de açúcar pesa 2Kg. Foram retirados 450g para fazer um bolo. Quantos gramas restaram no pacote?

- a) 1.450 g
- b) 1.250 g
- c) 1.350 g
- d) 1.550 g
- e) 1.650 g

8. Determine o volume da figura representada a seguir e marque a alternativa correta.

- a) $137m^3$
- b) $115m^3$
- c) $127m^3$
- d) $216m^3$



e) 125m^3

5 m

9. Calcule o perímetro de um retângulo cuja base é três vezes a altura que mede 4m, e marque a alternativa correta.

- a) 16m
- b) 32m
- c) 48m
- d) 20m
- e) 28m



10. João mora no Bairro Tiradentes e Carlos no Bairro Novo Século, os dois trabalham no Supermercado Novo Horizonte. João chegou ao supermercado às 7horas e 30 minutos da manhã e Carlos chegou meia hora depois.

A que horas Carlos chegou ao supermercado?

- a) 8 horas
- b) 9 horas
- c) 6 horas
- d) 5 horas
- e) 4 horas

CONHECIMENTOS GERAIS

11. Telêmaco Borba/PR foi desmembrado do município de

- a) Tibagi
- b) Londrina
- c) Ortigueira
- d) Imbaú
- e) Ventania

12. Quais são as cores da bandeira do município de Telêmaco Borba/PR?

- a) Vermelha, branca e verde
- b) Branca, azul e amarela
- c) Verde, azul e amarela
- d) Vermelha, branca e azul
- e) Branca, cinza e verde

13. Qual o nome do atual prefeito de Telêmaco Borba/PR?

- a) Renato Bahena
- b) José Reinaldo Antunes Carneiro
- c) Luiz Carlos Gibson
- d) Gilson Pereira dos Santos
- e) Ezequiel Ligoski Betim

14. Marque a alternativa que corresponde ao feriado municipal que comemora o dia da padroeira de Telêmaco Borba/PR (Nossa Senhora do Perpétuo Socorro).

- a) 21 de março
- b) 26 de maio
- c) 01 de novembro
- d) 28 de outubro
- e) 21 de junho

15. Quem nasce em Telêmaco Borba é

- a) Telemacoborbense
- b) Telemacoborbino
- c) Telemacoreense
- d) Telemaconense
- e) Telemacoborbiano

16. Em caso de vaga de vereador, não havendo suplente, o Presidente comunicará o fato, diretamente ao Tribunal Regional Eleitoral, dentro de

- a) 72 horas.
- b) 5 dias.
- c) 15 dias.
- d) 48 horas.
- e) 24 horas.

17. Qual alternativa não contempla uma forma de provimento no cargo público, conforme o art. 6º do Estatuto dos Servidores Públicos do município de Telêmaco Borba/PR?

- a) Nomeação
- b) Concurso
- c) Readaptação
- d) Reintegração
- e) Promoção

18. Qual dos municípios seguintes faz divisa com Telêmaco Borba/PR?

- a) Curiúva
- b) Londrina
- c) Arapot
- d) Sapopema
- e) Cambé

19. O município de Telêmaco Borba/PR foi criado inicialmente com o nome de

- a) Monte Alegre.
- b) Mauá.
- c) Cidade Nova.
- d) Harmonia.
- e) Tibagi.

20. Como é denominada a sede administrativa de Telêmaco Borba/PR?

- a) Paço Municipal
- b) Paço das Araucárias
- c) Governo Municipal
- d) Prefeitura
- e) Paço Administrativo

CONHECIMENTOS ESPECÍFICOS

21. Marque a alternativa correta sobre EPI, que está de acordo com a figura a seguir.



- a) Equipamento de proteção total
- b) Equipamento de proteção individual
- c) Equipamento de proteção coletiva
- d) Equipamento de proteção parcial
- e) Equipamento de proteção geral

22. Marque a alternativa que identifica corretamente as máquinas das figuras, da esquerda para a direita.



- a) Trator de esteira, rolo compactador, motoniveladora (patrol) e plataforma elevatória.
- b) Motoniveladora (patrol), rolo compactador, plataforma elevatória, trator de esteira.
- c) Rolo compactador, plataforma elevatória, trator de esteira e motoniveladora (patrol).
- d) Trator de esteira, rolo compactador, plataforma elevatória e motoniveladora (patrol).
- e) Motoniveladora (patrol), trator de esteira, plataforma elevatória, rolo compactador.

23. Marque a alternativa que contém a figura de chave de grifo.



a)



b)



c)



d)



e)

24. O Óleo Diesel e o GNV são:

- a) Lubrificantes líquidos
- b) Solventes
- c) Lubrificantes gasosos
- d) Combustíveis
- e) Óleos sintéticos

25. Analise a imagem e marque a alternativa que identifica corretamente o tipo de serviço que está sendo realizado.


- a) Manutenção na caixa de câmbio
- b) Manutenção no motor de arranque
- c) Manutenção no motor do trator
- d) Manutenção no hidráulico dianteiro
- e) Manutenção no eixo e diferencial

LÍNGUA PORTUGUESA

Leia com atenção o texto abaixo e depois responda às próximas cinco questões.

Heroísmo

Ele usava um colete à prova de balas. Não importava que dia da semana, que dia do mês ou que dia do ano: ele sempre usava o seu colete à prova de balas. Era precavido, ele dizia. A cidade anda muito violenta; nunca se sabe o que pode acontecer. Isso é uma verdade!

Um belo dia, quando estava no banco, ocorreu um assalto. Três bandidos, armados de pistolas e metralhadoras, ameaçavam matar os reféns se o dinheiro não lhes fosse entregue com velocidade. Ele, muito seguro de si,

sabendo da vantagem que levava sobre os assaltantes, afinal, seu colete estava bem escondido sob a camisa, disparou na direção de um deles para desarmá-lo. Um segundo depois, caiu morto.

Ataque cardíaco fulminante, disseram os legistas quando chegaram na cena do crime.

(Fonte: <http://www.napontadoslapis.com.br/2011/03/dois-pequenos-contos.html>. Acesso em 18/05/2016.)

26. Conforme o texto, a pessoa que usava um colete à prova de balas todos os dias era:

- a) Uma criança
- b) Uma mulher
- c) Um homem
- d) Um assaltante
- e) O gerente do banco

27. De acordo com o texto, como morreu a pessoa que usava diariamente um colete à prova de balas?

- a) De ataque cardíaco fulminante.
- b) Assassinado por um assaltante.
- c) Cometeu suicídio.
- d) Foi vítima de uma bala perdida durante o assalto.
- e) Foi morto por um policial.

28. Na segunda linha do texto diz: *Era precavido*.

O que isso significa precavido?

- a) Distraído
- b) Aventureiro
- c) Descuidado
- d) Prevenido
- e) Precipitado

29. Em qual alternativa temos uma palavra grifada que é um pronome pessoal?

- a) A cidade anda muito violenta.
- b) Ele usava um colete à prova de balas.
- c) Um segundo depois, caiu morto.
- d) disseram os legistas quando chegaram na cena do crime.
- e) ele sempre usava o seu colete à prova de balas.

30. As palavras são representadas por fonemas (sons) e letras. Sendo assim, na palavra VELOCIDADE contamos quantos fonemas e letras?

- a) 7 fonemas e 10 letras.
- b) 8 fonemas e 9 letras.
- c) 9 fonemas e 9 letras.
- d) 9 fonemas e 10 letras.
- e) 10 fonemas e 10 letras.

Leia atentamente o texto da figura da formiga e o texto abaixo dela. Depois, responda às próximas cinco questões.

Formigas dormem?



Sim. Especialistas concordam que, como a maioria dos animais, elas dividem seu tempo entre atividade e descanso – quando a ação metabólica diminui. Mas isso não seria bem o que chamamos de sono. “Há registros de formigas vistas ‘deitadas de lado’, que, quando instigadas, retomaram a posição normal. Eu hesitaria em dizer que elas ‘acordaram’, mas a analogia é possível”, explica o mirmecologista (especialista em formiga) Carlos Brandão. Uma pesquisa norte-americana de 2009 indicava que ao menos as formigas-de-fogo (*Solenopsis Invicta*) dormem sim – em pequenos cochilos.

- As operárias “dormem” em turnos, mantendo sempre 80% da força de trabalho acordada.

(Fonte <http://mundoestranho.abril.com.br/materia/formigas-dormem>. Acesso em 18/05/2016.)

31. Observe a parte da figura da formiga sobre TOTAL DE HORAS DORMIDAS. Nessa parte, entendemos que:

- A formiga rainha dorme 9,4 horas por dia e a formiga operária dorme 4,8 horas por dia.
- A formiga rainha dorme menos de 9 horas por dia e a formiga operária menos de 4 horas por dia.
- A formiga rainha dorme mais de 10 horas por dia e a formiga operária mais de 4 horas por dia.
- A formiga rainha dorme mais de 9 horas por dia e a formiga operária mais de 5 horas por dia.
- A formiga rainha dorme 4 horas por dia e a formiga operária 8 horas por dia.

32. No texto que se localiza abaixo da figura da formiga, lemos a palavra mirmecologista. Lá explica que isso significa:

- O nome de um tipo de formiga.
- Especialista em formiga.
- O nome que se dá ao cochilo das formigas.
- O nome dado a uma pesquisa sobre formigas.
- Um outro nome que recebem as formigas operárias.

33. Leia esta frase: *Formigas dormem?*

Ela é:

- Uma frase afirmativa porque tem ponto final e expressa uma pergunta.
- Uma frase negativa porque tem ponto de interrogação e nega alguma coisa.
- Uma frase exclamativa porque tem ponto de exclamação e expressa admiração.
- Uma frase interrogativa porque tem ponto de exclamação e expressa uma pergunta.
- Uma frase interrogativa porque tem ponto de interrogação e expressa uma pergunta.

34. Em qual alternativa a separação de sílabas das palavras não está correta?

- a-ni-mais; dei-ta-das.
- es-pe-cia-lis-ta; po-ssí-vel.
- des-can-so; com-cor-dam.
- a-ti-vi-da-de; for-mi-gas.
- tra-ba-lho; pe-que-nos.

35. O hiato é um encontro vocálico em que temos duas vogais juntas, mas que são pronunciadas em sílabas diferentes. Assim, a palavra que tem hiato é:

- Pequenos
- Deitadas
- Quando
- Acordados
- Especialista

Leia com atenção o texto abaixo e depois responda às cinco próximas questões.

Tomate é fruta?

por Sabrina Haick | Edição 177

Sim, ele é. Não só o tomate é fruta, como a berinjela, a abobrinha, o pepino, o pimentão e outros alimentos que nós chamamos de legumes também são. Fruta é o ovário amadurecido de uma planta, onde ficam as sementes. A confusão acontece porque nós somos acostumados a chamar as frutas salgadas de legumes. Se você acha que sua vida foi uma mentira até agora, saiba que também existem alimentos que nós chamamos de fruta, mas não são. Trata-se dos pseudofrutos – estruturas suculentas que têm cara e jeito de fruto, mas não se desenvolvem a partir do ovário da planta, como as frutas reais. É o caso do morango, do caju, da maçã, da pera e do abacaxi, entre outros.

(Fonte: <http://mundoestranho.abril.com.br/materia/tomate-e-fruta>. Aceso em 18/05/2016.)

36. Ao ler esse texto, descobrimos que o tomate é um fruto e não um legume. Também descobrimos que são frutas outros alimentos que pensávamos que eram legumes. Dois deles são:



- a) Berinjela e morango
- b) Abobrinha e pepino
- c) Abobrinha e caju
- d) Pimentão e pera
- e) Pepino e abacaxi

37. Conhecer os sinônimos e antônimos das palavras nos ajuda a aumentar nosso vocabulário. Qual é um sinônimo para a palavra “suculentas”, conforme o sentido que ela tem no texto?

- a) Desinteressantes
- b) Gordurosas
- c) Carnudas
- d) Descarnadas
- e) Felpudas

38. A acentuação em uma palavra nos ajuda a pronunciar-la de maneira correta, como, por exemplo, as palavras “você” e “ovário”. Marque a alternativa em que as palavras não foram acentuadas corretamente.

- a) lâmpada - pálpebra
- b) obíto - fenômeno
- c) mímica - código
- d) cálice - xícara
- e) cédula - específico

39. Escrevemos “abacaxi” com x, “berinjela” e “caju” com j.

Marque a alternativa em que todas as palavras grifadas estão escritas de forma correta.

- a) Fui à feira e comprei tangerina, laranja e melancia.
- b) Fui à feira e comprei tanjerina, laranja e melancia.
- c) Fui à feira e comprei tangerina, larãja e melancia.
- d) Fui à feira e comprei tangerina, laranja e melansia.
- e) Fui à feira e comprei tãgerina, laranja e melansia.

40. O que temos nas palavras “frutas”, “estruturas”, “salgadas” e “partir”?

- a) Ditongo
- b) Hiato
- c) Encontro consonantal e Encontro vocálico
- d) Encontro consonantal
- e) Encontro vocálico

RASCUNHO



PREFEITURA DE TELÊMACO BORBA - ESTADO DO PARANÁ- EDITAL Nº 001-2016 - CONCURSO PÚBLICO

VESPERTINO – 29/05/2016 – FUNDAMENTAL INCOMPLETO

3

PROVA OBJETIVA NÚMERO

CARGO: MECÂNICO DE VEÍCULOS E MÁQUINAS - MECÂNICO DE MÁQUINAS PESADAS

Leia atentamente as INSTRUÇÕES:

1. Confira seus dados no cartão-resposta: nome, número de inscrição e o curso para o qual se inscreveu.
2. **MARQUE no seu cartão-resposta o número da sua prova** (não será corrigido o cartão-resposta que não tiver marcado o número da prova) e **Assine** seu cartão-resposta.
3. Aguarde a autorização do Fiscal para abrir o caderno de prova. Ao receber a ordem do fiscal, confira o caderno de prova com muita atenção. Nenhuma reclamação sobre o total de questões ou falha de impressão será aceita depois de iniciada a prova.
4. O cartão-resposta não será substituído, salvo se contiver erro de impressão.
5. Preencha toda a área do cartão-resposta correspondente à alternativa de sua escolha, com caneta esferográfica (tinta azul ou preta), sem ultrapassar as bordas. As marcações duplas, ou rasuradas, com corretivo, ou marcadas diferentemente do modelo estabelecido no cartão-resposta poderão ser anuladas.
6. Sua prova tem **40** questões, com **5** alternativas.
7. Cabe apenas ao candidato a interpretação das questões, **o fiscal** não poderá fazer nenhuma interferência.
8. A prova será realizada com duração máxima de **3 (três) horas**, incluído o tempo para a realização da Prova Objetiva de múltipla escolha e o preenchimento do cartão-resposta.
9. O candidato poderá retirar-se do local de realização das provas somente **1 (uma) hora** após o seu início, sem levar o caderno de prova.
10. O candidato poderá levar o caderno de provas, assim como anotação contendo transcrição do seu cartão-resposta, somente **1h30min** (uma hora e trinta minutos) após o início da realização da prova.
11. Ao terminar a prova, o candidato deverá entregar ao fiscal de sala o cartão-resposta preenchido e **ASSINADO**.
12. Os **3 (três)** candidatos, que terminarem a prova por último, deverão permanecer na sala, e só poderão sair juntos após o fechamento do envelope, contendo os cartões-resposta dos candidatos presentes e ausentes, e assinarem no lacre do referido envelope, atestando que este foi devidamente lacrado.
13. Durante todo o tempo em que permanecer no local onde está ocorrendo o concurso, o candidato deverá, manter o celular desligado e sem bateria, só sendo permitido ligar depois de ultrapassar o portão de saída do prédio.
14. Não será permitido ao candidato fumar na sala de provas, bem como nas dependências.
15. Depois de terminar a prova e entregar ao fiscal o cartão-resposta, preenchido e assinado, não será mais permitido ao candidato o uso do banheiro e bebedouro.

BOA PROVA!

CONHECIMENTOS ESPECÍFICOS

01. Marque a alternativa correta sobre EPI, que está de acordo com a figura a seguir.



- a) Equipamento de proteção total
- b) Equipamento de proteção individual
- c) Equipamento de proteção coletiva
- d) Equipamento de proteção parcial
- e) Equipamento de proteção geral

02. Marque a alternativa que identifica corretamente as máquinas das figuras, da esquerda para a direita.



- a) Trator de esteira, rolo compactador, motoniveladora (patrol) e plataforma elevatória.
- b) Motoniveladora (patrol), rolo compactador, plataforma elevatória, trator de esteira.
- c) Rolo compactador, plataforma elevatória, trator de esteira e motoniveladora (patrol).
- d) Trator de esteira, rolo compactador, plataforma elevatória e motoniveladora (patrol).
- e) Motoniveladora (patrol), trator de esteira, plataforma elevatória, rolo compactador.

03. Marque a alternativa que contém a figura de chave de grifo.



a)



b)



c)



d)



e)

04. O Óleo Diesel e o GNV são:

- a) Lubrificantes líquidos
- b) Solventes
- c) Lubrificantes gasosos
- d) Combustíveis
- e) Óleos sintéticos

05. Analise a imagem e marque a alternativa que identifica corretamente o tipo de serviço que está sendo realizado.



- a) Manutenção na caixa de câmbio
- b) Manutenção no motor de arranque
- c) Manutenção no motor do trator
- d) Manutenção no hidráulico dianteiro
- e) Manutenção no eixo e diferencial

LÍNGUA PORTUGUESA

Leia com atenção o texto abaixo e depois responda às próximas cinco questões.

Heroísmo

Ele usava um colete à prova de balas. Não importava que dia da semana, que dia do mês ou que dia do ano: ele sempre usava o seu colete à prova de balas. Era precavido, ele dizia. A cidade anda muito violenta; nunca se sabe o que pode acontecer. Isso é uma verdade!

Um belo dia, quando estava no banco, ocorreu um assalto. Três bandidos, armados de pistolas e metralhadoras, ameaçavam matar os reféns se o dinheiro não lhes fosse entregue com velocidade. Ele, muito seguro de si, sabendo da vantagem que levava sobre os assaltantes, afinal, seu colete estava bem escondido sob a camisa, disparou na direção de um deles para desarmá-lo. Um segundo depois, caiu morto.

Ataque cardíaco fulminante, disseram os legistas quando chegaram na cena do crime.

(Fonte: <http://www.napontadoslapis.com.br/2011/03/dois-pequenos-contos.html>. Acesso em 18/05/2016.)

06. Conforme o texto, a pessoa que usava um colete à prova de balas todos os dias era:

- a) Uma criança
- b) Uma mulher
- c) Um homem
- d) Um assaltante
- e) O gerente do banco

07. De acordo com o texto, como morreu a pessoa que usava diariamente um colete à prova de balas?

- a) De ataque cardíaco fulminante.
- b) Assassinado por um assaltante.
- c) Cometeu suicídio.
- d) Foi vítima de uma bala perdida durante o assalto.
- e) Foi morto por um policial.

08. Na segunda linha do texto diz: *Era precavido*.

O que isso significa precavido?

- a) Distraído
- b) Aventureiro
- c) Descuidado
- d) Prevenido
- e) Precipitado

09. Em qual alternativa temos uma palavra grifada que é um pronome pessoal?

- a) A cidade anda muito violenta.

- b) Ele usava um colete à prova de balas.
 c) Um segundo depois, caiu morto.
 d) disseram os legistas quando chegaram na cena do crime.
 e) ele sempre usava o seu colete à prova de balas.

10. As palavras são representadas por fonemas (sons) e letras. Sendo assim, na palavra VELOCIDADE contamos quantos fonemas e letras?

- a) 7 fonemas e 10 letras.
 b) 8 fonemas e 9 letras.
 c) 9 fonemas e 9 letras.
 d) 9 fonemas e 10 letras.
 e) 10 fonemas e 10 letras.

Leia atentamente o texto da figura da formiga e o texto abaixo dela. Depois, responda às próximas cinco questões.

Formigas dormem?



Sim. Especialistas concordam que, como a maioria dos animais, elas dividem seu tempo entre atividade e descanso – quando a ação metabólica diminui. Mas isso não seria bem o que chamamos de sono. “Há registros de formigas vistas ‘deitadas de lado’, que, quando instigadas, retomaram a posição normal. Eu hesitaria em dizer que elas ‘acordaram’, mas a analogia é possível”, explica o mirmecologista (especialista em formiga) Carlos Brandão. Uma pesquisa norte-americana de 2009 indicava que ao menos as formigas-de-fogo (*Solenopsis invicta*) dormem sim – em pequenos cochilos.

- As operárias “dormem” em turnos, mantendo sempre 80% da força de trabalho acordada.

(Fonte <http://mundoestranho.abril.com.br/materia/formigas-dormem>. Acesso em 18/05/2016.)

11. Observe a parte da figura da formiga sobre TOTAL DE HORAS DORMIDAS. Nessa parte, entendemos que:

- a) A formiga rainha dorme 9,4 horas por dia e a formiga operária dorme 4,8 horas por dia.
 b) A formiga rainha dorme menos de 9 horas por dia e a formiga operária menos de 4 horas por dia.
 c) A formiga rainha dorme mais de 10 horas por dia e a formiga operária mais de 4 horas por dia.
 d) A formiga rainha dorme mais de 9 horas por dia e a formiga operária mais de 5 horas por dia.
 e) A formiga rainha dorme 4 horas por dia e a formiga operária 8 horas por dia.

12. No texto que se localiza abaixo da figura da formiga, lemos a palavra mirmecologista. Lá explica que isso significa:

- a) O nome de um tipo de formiga.
 b) Especialista em formiga.
 c) O nome que se dá ao cochilo das formigas.
 d) O nome dado a uma pesquisa sobre formigas.
 e) Um outro nome que recebem as formigas operárias.

13. Leia esta frase: *Formigas dormem?*

Ela é:

- a) Uma frase afirmativa porque tem ponto final e expressa uma pergunta.
 b) Uma frase negativa porque tem ponto de interrogação e nega alguma coisa.



- c) Uma frase exclamativa porque tem ponto de exclamação e expressa admiração.
d) Uma frase interrogativa porque tem ponto de exclamação e expressa uma pergunta.
e) Uma frase interrogativa porque tem ponto de interrogação e expressa uma pergunta.

14. Em qual alternativa a separação de sílabas das palavras não está correta?

- a) a-ni-mais; dei-ta-das.
b) es-pe-cia-lis-ta; po-ssí-vel.
c) des-can-so; com-cor-dam.
d) a-ti-vi-da-de; for-mi-gas.
e) tra-ba-lho; pe-que-nos.

15. O hiato é um encontro vocálico em que temos duas vogais juntas, mas que são pronunciadas em sílabas diferentes. Assim, a palavra que tem hiato é:

- a) Pequenos
b) Deitadas
c) Quando
d) Acordados
e) Especialista

Leia com atenção o texto abaixo e depois responda às cinco próximas questões.

Tomate é fruta?

por Sabrina Haick | Edição 177

Sim, ele é. Não só o tomate é fruta, como a berinjela, a abobrinha, o pepino, o pimentão e outros alimentos que nós chamamos de legumes também são. Fruta é o ovário amadurecido de uma planta, onde ficam as sementes. A confusão acontece porque nós somos acostumados a chamar as frutas salgadas de legumes. Se você acha que sua vida foi uma mentira até agora, saiba que também existem alimentos que nós chamamos de fruta, mas não são. Trata-se dos pseudofrutos – estruturas suculentas que têm cara e jeito de fruto, mas não se desenvolvem a partir do ovário da planta, como as frutas reais. É o caso do morango, do caju, da maçã, da pera e do abacaxi, entre outros.

(Fonte: <http://mundoestranho.abril.com.br/materia/tomate-e-fruta>. Aceso em 18/05/2016.)

16. Ao ler esse texto, descobrimos que o tomate é um fruto e não um legume. Também descobrimos que são frutas outros alimentos que pensávamos que eram legumes. Dois deles são:

- a) Berinjela e morango
b) Abobrinha e pepino
c) Abobrinha e caju
d) Pimentão e pera
e) Pepino e abacaxi

17. Conhecer os sinônimos e antônimos das palavras nos ajuda a aumentar nosso vocabulário.

Qual é um sinônimo para a palavra “suculentas”, conforme o sentido que ela tem no texto?

- a) Desinteressantes
b) Gordurosas
c) Carnudas
d) Descarnadas
e) Felpudas

18. A acentuação em uma palavra nos ajuda a pronunciá-la de maneira correta, como, por exemplo, as palavras “você” e “ovário”. Marque a alternativa em que as palavras não foram acentuadas corretamente.

- a) lâmpada - pálpebra
b) obíto - fenômeno
c) mímica - código
d) cálice - xícara
e) cédula - específico

19. Escrevemos “abacaxi” com x, “berinjela” e “caju” com j.

Marque a alternativa em que todas as palavras grifadas estão escritas de forma correta.

- a) Fui à feira e comprei tangerina, laranja e melancia.
b) Fui à feira e comprei tanjerina, laranja e melancia.
c) Fui à feira e comprei tangerina, larãja e melancia.
d) Fui à feira e comprei tangerina, laranja e melansia.
e) Fui à feira e comprei tãgerina, laranja e melansia.

20. O que temos nas palavras “frutas”, “estruturas”, “salgadas” e “partir”?

- a) Ditongo
- b) Hiato
- c) Encontro consonantal e Encontro vocálico
- d) Encontro consonantal
- e) Encontro vocálico

MATEMÁTICA

21. Marcela tem uma dívida de R\$ 462,00 dividida em 4 parcela iguais. Qual é o valor que Marcela vai pagar em cada parcela?

- a) R\$ 189,00
- b) R\$ 145,50
- c) R\$ 115,50
- d) R\$ 125,00
- e) R\$ 132,50

22. No mês de fevereiro, Maria assistiu a filmes nos dias ímpares, e Carla nos dias pares. Quantas vezes Maria assistiu a filmes no mês de fevereiro?

- a) 28
- b) 14
- c) 15
- d) 8
- e) 4

DOM	SEG	TER	QUA	QUI	SEX	SAB
			1	2	3	4
5	6	7	8	9	10	11
12	13	14	15	16	17	18
19	20	21	22	23	24	25
26	27	28				

23. Um estudante pretende se inscrever para participar de um Congresso Nacional. (O valor das inscrições está apresentado na tabela abaixo). Sabendo que o estudante irá se inscrever na abertura do Congresso Nacional, qual é o valor que ele irá pagar?

- a) R\$ 120,00
- b) R\$ 100,00
- c) R\$ 180,00
- d) R\$ 150,00
- e) R\$ 170,00

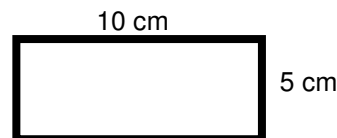
CATEGORIA	Inscrições até 15/05/16	Na abertura do Congresso
Profissional	R\$ 120,00	R\$ 180,00
Estudantes	R\$ 100,00	R\$ 150,00

24. A prestação de um terreno é de R\$ 787,00 e vence todo dia 10. Pagando fora do prazo, há uma multa de R\$ 8,70 por dia. Se a prestação foi paga só no dia 25 (vinte e cinco), qual foi o valor pago?

- a) R\$ 987,00
- b) R\$ 937,00
- c) R\$ 927,50
- d) R\$ 967,00
- e) R\$ 917,50

25. Marque a alternativa que apresenta o resultado do cálculo do perímetro de um terreno que tem as dimensões indicadas na figura abaixo.

- a) 30 cm
- b) 50 cm
- c) 40 cm
- d) 20 cm
- e) 70 cm



26. Um show de Munhoz e Mariano, na exposição de Campo Grande, em abril de 2016, teve início exatamente às 21h e 15min e terminou às 23h e 40 min. Qual foi a duração do show?

- a) 2h e 10m
- b) 2h e 15m
- c) 2h e 25m
- d) 2h e 30m
- e) 2h e 40m

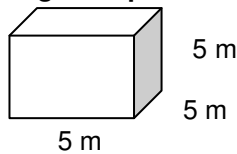
27. Um pacote de açúcar pesa 2Kg. Foram retirados 450g para fazer um bolo. Quantos gramas restaram no pacote?

- a) 1.450 g
- b) 1.250 g
- c) 1.350 g
- d) 1.550 g

e) 1.650 g

28. Determine o volume da figura representada a seguir e marque a alternativa correta.

- a) 137m^3
 b) 115m^3
 c) 127m^3
 d) 216m^3
 e) 125m^3



29. Calcule o perímetro de um retângulo cuja base é três vezes a altura que mede 4m, e marque a alternativa correta.

- a) 16m
 b) 32m
 c) 48m
 d) 20m
 e) 28m



30. João mora no Bairro Tiradentes e Carlos no Bairro Novo Século, os dois trabalham no Supermercado Novo Horizonte. João chegou ao supermercado às 7horas e 30 minutos da manhã e Carlos chegou meia hora depois.

A que horas Carlos chegou ao supermercado?

- a) 8 horas
 b) 9 horas
 c) 6 horas
 d) 5 horas
 e) 4 horas

CONHECIMENTOS GERAIS

31. Telêmaco Borba/PR foi desmembrado do município de

- a) Tibagi
 b) Londrina
 c) Ortigueira
 d) Imbaú
 e) Ventania

32. Quais são as cores da bandeira do município de Telêmaco Borba/PR?

- a) Vermelha, branca e verde
 b) Branca, azul e amarela
 c) Verde, azul e amarela
 d) Vermelha, branca e azul
 e) Branca, cinza e verde

33. Qual o nome do atual prefeito de Telêmaco Borba/PR?

- a) Renato Bahena
 b) José Reinaldo Antunes Carneiro
 c) Luiz Carlos Gibson
 d) Gilson Pereira dos Santos
 e) Ezequiel Ligoski Betim

34. Marque a alternativa que corresponde ao feriado municipal que comemora o dia da padroeira de Telêmaco Borba/PR (Nossa Senhora do Perpétuo Socorro).

- a) 21 de março
 b) 26 de maio
 c) 01 de novembro
 d) 28 de outubro
 e) 21 de junho

35. Quem nasce em Telêmaco Borba é

- a) Telemacoborbense
 b) Telemacoborbino
 c) Telemacoreense
 d) Telemaconense
 e) Telemacoborbiano



36. Em caso de vaga de vereador, não havendo suplente, o Presidente comunicará o fato, diretamente ao Tribunal Regional Eleitoral, dentro de

- a) 72 horas.
- b) 5 dias.
- c) 15 dias.
- d) 48 horas.
- e) 24 horas.

37. Qual alternativa não contempla uma forma de provimento no cargo público, conforme o art. 6º do Estatuto dos Servidores Públicos do município de Telêmaco Borba/PR?

- a) Nomeação
- b) Concurso
- c) Readaptação
- d) Reintegração
- e) Promoção

38. Qual dos municípios seguintes faz divisa com Telêmaco Borba/PR?

- a) Curiúva
- b) Londrina
- c) Arapot
- d) Sapopema
- e) Cambé

39. O município de Telêmaco Borba/PR foi criado inicialmente com o nome de

- a) Monte Alegre.
- b) Mauá.
- c) Cidade Nova.
- d) Harmonia.
- e) Tibagi.

40. Como é denominada a sede administrativa de Telêmaco Borba/PR?

- a) Paço Municipal
- b) Paço das Araucárias
- c) Governo Municipal
- d) Prefeitura
- e) Paço Administrativo

RASCUNHO



PREFEITURA DE TELÊMACO BORBA - ESTADO DO PARANÁ- EDITAL Nº 001-2016 - CONCURSO PÚBLICO

VESPERTINO – 29/05/2016 – FUNDAMENTAL INCOMPLETO

1

PROVA OBJETIVA NÚMERO

CARGO: OPERADOR DE MÁQUINAS

Leia atentamente as INSTRUÇÕES:

1. Confira seus dados no cartão-resposta: nome, número de inscrição e o curso para o qual se inscreveu.
2. **MARQUE no seu cartão-resposta o número da sua prova** (não será corrigido o cartão-resposta que não tiver marcado o número da prova) e **Assine** seu cartão-resposta.
3. Aguarde a autorização do Fiscal para abrir o caderno de prova. Ao receber a ordem do fiscal, confira o caderno de prova com muita atenção. Nenhuma reclamação sobre o total de questões ou falha de impressão será aceita depois de iniciada a prova.
4. O cartão-resposta não será substituído, salvo se contiver erro de impressão.
5. Preencha toda a área do cartão-resposta correspondente à alternativa de sua escolha, com caneta esferográfica (tinta azul ou preta), sem ultrapassar as bordas. As marcações duplas, ou rasuradas, com corretivo, ou marcadas diferentemente do modelo estabelecido no cartão-resposta poderão ser anuladas.
6. Sua prova tem **40** questões, com **5** alternativas.
7. Cabe apenas ao candidato a interpretação das questões, **o fiscal** não poderá fazer nenhuma interferência.
8. A prova será realizada com duração máxima de **3 (três) horas**, incluído o tempo para a realização da Prova Objetiva de múltipla escolha e o preenchimento do cartão-resposta.
9. O candidato poderá retirar-se do local de realização das provas somente **1 (uma) hora** após o seu início, sem levar o caderno de prova.
10. O candidato poderá levar o caderno de provas, assim como anotação contendo transcrição do seu cartão-resposta, somente **1h30min** (uma hora e trinta minutos) após o início da realização da prova.
11. Ao terminar a prova, o candidato deverá entregar ao fiscal de sala o cartão-resposta preenchido e **ASSINADO**.
12. Os **3 (três)** candidatos, que terminarem a prova por último, deverão permanecer na sala, e só poderão sair juntos após o fechamento do envelope, contendo os cartões-resposta dos candidatos presentes e ausentes, e assinarem no lacre do referido envelope, atestando que este foi devidamente lacrado.
13. Durante todo o tempo em que permanecer no local onde está ocorrendo o concurso, o candidato deverá, manter o celular desligado e sem bateria, só sendo permitido ligar depois de ultrapassar o portão de saída do prédio.
14. Não será permitido ao candidato fumar na sala de provas, bem como nas dependências.
15. Depois de terminar a prova e entregar ao fiscal o cartão-resposta, preenchido e assinado, não será mais permitido ao candidato o uso do banheiro e bebedouro.

BOA PROVA!

LÍNGUA PORTUGUESA

Leia com atenção o texto abaixo e depois responda às próximas cinco questões.

Heroísmo

Ele usava um colete à prova de balas. Não importava que dia da semana, que dia do mês ou que dia do ano: ele sempre usava o seu colete à prova de balas. Era precavido, ele dizia. A cidade anda muito violenta; nunca se sabe o que pode acontecer. Isso é uma verdade!

Um belo dia, quando estava no banco, ocorreu um assalto. Três bandidos, armados de pistolas e metralhadoras, ameaçavam matar os reféns se o dinheiro não lhes fosse entregue com velocidade. Ele, muito seguro de si, sabendo da vantagem que levava sobre os assaltantes, afinal, seu colete estava bem escondido sob a camisa, disparou na direção de um deles para desarmá-lo. Um segundo depois, caiu morto.

Ataque cardíaco fulminante, disseram os legistas quando chegaram na cena do crime.

(Fonte: <http://www.napontadoslapis.com.br/2011/03/dois-pequenos-contos.html>. Acesso em 18/05/2016.)

01. Conforme o texto, a pessoa que usava um colete à prova de balas todos os dias era:

- a) Uma criança
- b) Uma mulher
- c) Um homem
- d) Um assaltante
- e) O gerente do banco

02. De acordo com o texto, como morreu a pessoa que usava diariamente um colete à prova de balas?

- a) De ataque cardíaco fulminante.
- b) Assassinado por um assaltante.
- c) Cometeu suicídio.
- d) Foi vítima de uma bala perdida durante o assalto.
- e) Foi morto por um policial.

03. Na segunda linha do texto diz: *Era precavido*.

O que isso significa precavido?

- a) Distraído
- b) Aventureiro
- c) Descuidado
- d) Prevenido
- e) Precipitado

04. Em qual alternativa temos uma palavra grifada que é um pronome pessoal?

- a) A cidade anda muito violenta.
- b) Ele usava um colete à prova de balas.
- c) Um segundo depois, caiu morto.
- d) disseram os legistas quando chegaram na cena do crime.
- e) ele sempre usava o seu colete à prova de balas.

05. As palavras são representadas por fonemas (sons) e letras. Sendo assim, na palavra VELOCIDADE contamos quantos fonemas e letras?

- a) 7 fonemas e 10 letras.
- b) 8 fonemas e 9 letras.
- c) 9 fonemas e 9 letras.
- d) 9 fonemas e 10 letras.
- e) 10 fonemas e 10 letras.

Leia atentamente o texto da figura da formiga e o texto abaixo dela. Depois, responda às próximas cinco questões.

Formigas dormem?



Sim. Especialistas concordam que, como a maioria dos animais, elas dividem seu tempo entre atividade e descanso – quando a ação metabólica diminui. Mas isso não seria bem o que chamamos de sono. “Há registros de formigas vistas ‘deitadas de lado’, que, quando instigadas, retomaram a posição normal. Eu hesitaria em dizer que elas ‘acordaram’, mas a analogia é possível”, explica o mirmecologista (especialista em formiga) Carlos Brandão. Uma pesquisa norte-americana de 2009 indicava que ao menos as formigas-de-fogo (*Solenopsis Invicta*) dormem sim – em pequenos cochilos.

- As operárias “dormem” em turnos, mantendo sempre 80% da força de trabalho acordada.

(Fonte <http://mundoestranho.abril.com.br/materia/formigas-dormem>. Acesso em 18/05/2016.)

06. Observe a parte da figura da formiga sobre TOTAL DE HORAS DORMIDAS. Nessa parte, entendemos que:

- A formiga rainha dorme 9,4 horas por dia e a formiga operária dorme 4,8 horas por dia.
- A formiga rainha dorme menos de 9 horas por dia e a formiga operária menos de 4 horas por dia.
- A formiga rainha dorme mais de 10 horas por dia e a formiga operária mais de 4 horas por dia.
- A formiga rainha dorme mais de 9 horas por dia e a formiga operária mais de 5 horas por dia.
- A formiga rainha dorme 4 horas por dia e a formiga operária 8 horas por dia.

07. No texto que se localiza abaixo da figura da formiga, lemos a palavra mirmecologista. Lá explica que isso significa:

- O nome de um tipo de formiga.
- Especialista em formiga.
- O nome que se dá ao cochilo das formigas.
- O nome dado a uma pesquisa sobre formigas.
- Um outro nome que recebem as formigas operárias.

08. Leia esta frase: *Formigas dormem?*

Ela é:

- Uma frase afirmativa porque tem ponto final e expressa uma pergunta.
- Uma frase negativa porque tem ponto de interrogação e nega alguma coisa.
- Uma frase exclamativa porque tem ponto de exclamação e expressa admiração.
- Uma frase interrogativa porque tem ponto de exclamação e expressa uma pergunta.
- Uma frase interrogativa porque tem ponto de interrogação e expressa uma pergunta.

09. Em qual alternativa a separação de sílabas das palavras não está correta?

- a-ni-mais; dei-ta-das.
- es-pe-cia-lis-ta; po-ssí-vel.
- des-can-so; com-cor-dam.
- a-ti-vi-da-de; for-mi-gas.
- tra-ba-lho; pe-que-nos.

10. O hiato é um encontro vocálico em que temos duas vogais juntas, mas que são pronunciadas em sílabas diferentes. Assim, a palavra que tem hiato é:

- Pequenos
- Deitadas
- Quando

- d) Acordados
- e) Especialista

Leia com atenção o texto abaixo e depois responda às cinco próximas questões.

Tomate é fruta?

por Sabrina Haick | Edição 177

Sim, ele é. Não só o tomate é fruta, como a berinjela, a abobrinha, o pepino, o pimentão e outros alimentos que nós chamamos de legumes também são. Fruta é o ovário amadurecido de uma planta, onde ficam as sementes. A confusão acontece porque nós somos acostumados a chamar as frutas salgadas de legumes. Se você acha que sua vida foi uma mentira até agora, saiba que também existem alimentos que nós chamamos de fruta, mas não são. Trata-se dos pseudofrutos – estruturas suculentas que têm cara e jeito de fruto, mas não se desenvolvem a partir do ovário da planta, como as frutas reais. É o caso do morango, do caju, da maçã, da pera e do abacaxi, entre outros.

(Fonte: <http://mundoestranho.abril.com.br/materia/tomate-e-fruta>. Aceso em 18/05/2016.)

11. Ao ler esse texto, descobrimos que o tomate é um fruto e não um legume. Também descobrimos que são frutas outros alimentos que pensávamos que eram legumes. Dois deles são:

- a) Berinjela e morango
- b) Abobrinha e pepino
- c) Abobrinha e caju
- d) Pimentão e pera
- e) Pepino e abacaxi

12. Conhecer os sinônimos e antônimos das palavras nos ajuda a aumentar nosso vocabulário.

Qual é um sinônimo para a palavra “suculentas”, conforme o sentido que ela tem no texto?

- a) Desinteressantes
- b) Gordurosas
- c) Carnudas
- d) Descarnadas
- e) Felpudas

13. A acentuação em uma palavra nos ajuda a pronunciá-la de maneira correta, como, por exemplo, as palavras “você” e “ovário”. Marque a alternativa em que as palavras não foram acentuadas corretamente.

- a) lâmpada - pálpebra
- b) obíto - fenômeno
- c) mímica - código
- d) cálice - xícara
- e) cédula - específico

14. Escrevemos “abacaxi” com x, “berinjela” e “caju” com j.

Marque a alternativa em que todas as palavras grifadas estão escritas de forma correta.

- a) Fui à feira e comprei tangerina, laranja e melancia.
- b) Fui à feira e comprei tanjerina, laranja e melancia.
- c) Fui à feira e comprei tangerina, larãja e melancia.
- d) Fui à feira e comprei tangerina, laranja e melansia.
- e) Fui à feira e comprei tãgerina, laranja e melansia.

15. O que temos nas palavras “frutas”, “estruturas”, “salgadas” e “partir”?

- a) Ditongo
- b) Hiato
- c) Encontro consonantal e Encontro vocálico
- d) Encontro consonantal
- e) Encontro vocálico

MATEMÁTICA

16. Marcela tem uma dívida de R\$ 462,00 dividida em 4 parcela iguais. Qual é o valor que Marcela vai pagar em cada parcela?

- a) R\$ 189,00
- b) R\$ 145,50
- c) R\$ 115,50
- d) R\$ 125,00
- e) R\$ 132,50

17. No mês de fevereiro, Maria assistiu a filmes nos dias ímpares, e Carla nos dias pares. Quantas vezes Maria assistiu a filmes no mês de fevereiro?

- a) 28
b) 14
c) 15
d) 8
e) 4

DOM	SEG	TER	QUA	QUI	SEX	SAB
			1	2	3	4
5	6	7	8	9	10	11
12	13	14	15	16	17	18
19	20	21	22	23	24	25
26	27	28				

18. Um estudante pretende se inscrever para participar de um Congresso Nacional. (O valor das inscrições está apresentado na tabela abaixo). Sabendo que o estudante irá se inscrever na abertura do Congresso Nacional, qual é o valor que ele irá pagar?

- a) R\$ 120,00
b) R\$ 100,00
c) R\$ 180,00
d) R\$ 150,00
e) R\$ 170,00

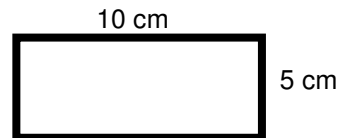
CATEGORIA	Inscrições até 15/05/16	Na abertura do Congresso
Profissional	R\$ 120,00	R\$ 180,00
Estudantes	R\$ 100,00	R\$ 150,00

19. A prestação de um terreno é de R\$ 787,00 e vence todo dia 10. Pagando fora do prazo, há uma multa de R\$ 8,70 por dia. Se a prestação foi paga só no dia 25 (vinte e cinco), qual foi o valor pago?

- a) R\$ 987,00
b) R\$ 937,00
c) R\$ 927,50
d) R\$ 967,00
e) R\$ 917,50

20. Marque a alternativa que apresenta o resultado do cálculo do perímetro de um terreno que tem as dimensões indicadas na figura abaixo.

- a) 30 cm
b) 50 cm
c) 40 cm
d) 20 cm
e) 70 cm



21. Um show de Munhoz e Mariano, na exposição de Campo Grande, em abril de 2016, teve início exatamente às 21h e 15min e terminou às 23h e 40 min. Qual foi a duração do show?

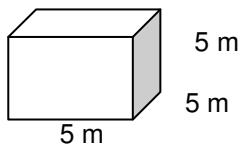
- a) 2h e 10m
b) 2h e 15m
c) 2h e 25m
d) 2h e 30m
e) 2h e 40m

22. Um pacote de açúcar pesa 2Kg. Foram retirados 450g para fazer um bolo. Quantos gramas restaram no pacote?

- a) 1.450 g
b) 1.250 g
c) 1.350 g
d) 1.550 g
e) 1.650 g

23. Determine o volume da figura representada a seguir e marque a alternativa correta.

- a) $137m^3$
b) $115m^3$
c) $127m^3$
d) $216m^3$
e) $125m^3$



24. Calcule o perímetro de um retângulo cuja base é três vezes a altura que mede 4m, e marque a alternativa correta.

- a) 16m
b) 32m
c) 48m
d) 20m
e) 28m



25. João mora no Bairro Tiradentes e Carlos no Bairro Novo Século, os dois trabalham no Supermercado Novo Horizonte. João chegou ao supermercado às 7 horas e 30 minutos da manhã e Carlos chegou meia hora depois.

A que horas Carlos chegou ao supermercado?

- a) 8 horas
- b) 9 horas
- c) 6 horas
- d) 5 horas
- e) 4 horas

CONHECIMENTOS GERAIS

26. Telêmaco Borba/PR foi desmembrado do município de

- a) Tibagi
- b) Londrina
- c) Ortigueira
- d) Imbaú
- e) Ventania

27. Quais são as cores da bandeira do município de Telêmaco Borba/PR?

- a) Vermelha, branca e verde
- b) Branca, azul e amarela
- c) Verde, azul e amarela
- d) Vermelha, branca e azul
- e) Branca, cinza e verde

28. Qual o nome do atual prefeito de Telêmaco Borba/PR?

- a) Renato Bahena
- b) José Reinaldo Antunes Carneiro
- c) Luiz Carlos Gibson
- d) Gilson Pereira dos Santos
- e) Ezequiel Ligoski Betim

29. Marque a alternativa que corresponde ao feriado municipal que comemora o dia da padroeira de Telêmaco Borba/PR (Nossa Senhora do Perpétuo Socorro).

- a) 21 de março
- b) 26 de maio
- c) 01 de novembro
- d) 28 de outubro
- e) 21 de junho

30. Quem nasce em Telêmaco Borba é

- a) Telemacoborbense
- b) Telemacoborbino
- c) Telemacoreense
- d) Telemaconense
- e) Telemacoborbiano

31. Em caso de vaga de vereador, não havendo suplente, o Presidente comunicará o fato, diretamente ao Tribunal Regional Eleitoral, dentro de

- a) 72 horas.
- b) 5 dias.
- c) 15 dias.
- d) 48 horas.
- e) 24 horas.

32. Qual alternativa não contempla uma forma de provimento no cargo público, conforme o art. 6º do Estatuto dos Servidores Públicos do município de Telêmaco Borba/PR?

- a) Nomeação
- b) Concurso
- c) Readaptação
- d) Reintegração
- e) Promoção

33. Qual dos municípios seguintes faz divisa com Telêmaco Borba/PR?

- a) Curiúva
- b) Londrina
- c) Arapot
- d) Sapopema
- e) Cambé

34. O município de Telêmaco Borba/PR foi criado inicialmente com o nome de

- a) Monte Alegre.
- b) Mauá.
- c) Cidade Nova.
- d) Harmonia.
- e) Tibagi.

35. Como é denominada a sede administrativa de Telêmaco Borba/PR?

- a) Paço Municipal
- b) Paço das Araucárias
- c) Governo Municipal
- d) Prefeitura
- e) Paço Administrativo

CONHECIMENTOS ESPECÍFICOS

36. Marque a alternativa correta sobre EPI, que está de acordo com a figura a seguir.



- a) Equipamento de proteção total
- b) Equipamento de proteção individual
- c) Equipamento de proteção coletiva
- d) Equipamento de proteção parcial
- e) Equipamento de proteção geral

37. Marque a alternativa que identifica corretamente as máquinas das figuras, da esquerda para a direita.



- a) Trator de esteira, rolo compactador, motoniveladora (patrol) e plataforma elevatória.
- b) Motoniveladora (patrol), rolo compactador, plataforma elevatória, trator de esteira.
- c) Rolo compactador, plataforma elevatória, trator de esteira e motoniveladora (patrol).
- d) Trator de esteira, rolo compactador, plataforma elevatória e motoniveladora (patrol).
- e) Motoniveladora (patrol), trator de esteira, plataforma elevatória, rolo compactador.

38. Marque a alternativa que representa a placa de trânsito R13 "Proibido trânsito de tratores e máquinas de obras".



- a)



b)



c)

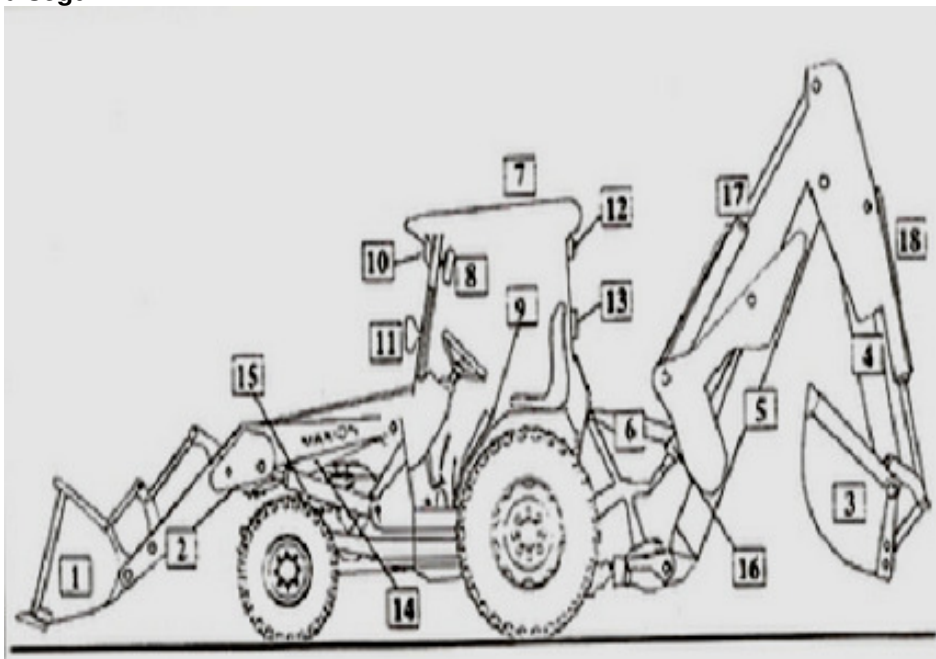


d)



e)

39. Analise a figura e marque a alternativa que preenche os nomes das partes da máquina que estão faltando na lista a seguir.



- 1 – Caçamba do carregador frontal
- 2 – Braços do carregador frontal
- 3 –
- 4 – Lança de profundidade
- 5 – Lança de levante ou coluna
- 6 – Estabilizadores laterais
- 7 – Toldo refletivo
- 8 – Espelhos retrovisores
- 9 – Plataforma de operação
- 10 – Faróis dianteiros de serviço
- 11 – Faróis dianteiros de tráfego (ou transporte)
- 12 – Faróis traseiros de serviço
- 13 – Sinalizadores, pisca-pisca e luz de freio
- 14 – Cilindro de basculamento da caçamba dianteira
- 15 – Cilindro de levante da caçamba dianteira
- 16 – Cilindro de levante da caçamba traseira
- 17 –
- 18 – Cilindro de basculamento da caçamba traseira.



- a) 3 – Lâmina traseira; 17 – Cilindro da lança de profundidade.
- b) 3 – Lâmina traseira; 17 – Braço do carregador traseiro.
- c) 3 – Caçamba da retroescavadeira; 17 – Braço do carregador traseiro.
- d) 3 – Caçamba da retroescavadeira; 17 – Cilindro da lança de profundidade.
- e) 3 – Caçamba do carregador traseiro; 17 – Plataforma traseira.

40. Em uma máquina do tipo pá carregadeira, usamos os seguintes produtos:

I) óleo diesel

II) graxa

III) querosene

IV) água

V) óleo para transmissão hidráulica

Quanto a essa afirmação:

- a) Somente o produto I é incorreto.
- b) Somente os produtos II e III são corretos.
- c) Somente os produtos III e IV são corretos.
- d) Somente o produto V é correto.
- e) Somente o produto III é incorreto.

RASCUNHO



PREFEITURA DE TELÊMACO BORBA - ESTADO DO PARANÁ- EDITAL Nº 001-2016 - CONCURSO PÚBLICO

VESPERTINO – 29/05/2016 – FUNDAMENTAL INCOMPLETO

2

PROVA OBJETIVA NÚMERO

CARGO: OPERADOR DE MÁQUINAS**Leia atentamente as INSTRUÇÕES:**

1. Confira seus dados no cartão-resposta: nome, número de inscrição e o curso para o qual se inscreveu.
2. **MARQUE no seu cartão-resposta o número da sua prova** (não será corrigido o cartão-resposta que não tiver marcado o número da prova) e **Assine** seu cartão-resposta.
3. Aguarde a autorização do Fiscal para abrir o caderno de prova. Ao receber a ordem do fiscal, confira o caderno de prova com muita atenção. Nenhuma reclamação sobre o total de questões ou falha de impressão será aceita depois de iniciada a prova.
4. O cartão-resposta não será substituído, salvo se contiver erro de impressão.
5. Preencha toda a área do cartão-resposta correspondente à alternativa de sua escolha, com caneta esferográfica (tinta azul ou preta), sem ultrapassar as bordas. As marcações duplas, ou rasuradas, com corretivo, ou marcadas diferentemente do modelo estabelecido no cartão-resposta poderão ser anuladas.
6. Sua prova tem **40** questões, com **5** alternativas.
7. Cabe apenas ao candidato a interpretação das questões, **o fiscal** não poderá fazer nenhuma interferência.
8. A prova será realizada com duração máxima de **3 (três) horas**, incluído o tempo para a realização da Prova Objetiva de múltipla escolha e o preenchimento do cartão-resposta.
9. O candidato poderá retirar-se do local de realização das provas somente **1 (uma) hora** após o seu início, sem levar o caderno de prova.
10. O candidato poderá levar o caderno de provas, assim como anotação contendo transcrição do seu cartão-resposta, somente **1h30min** (uma hora e trinta minutos) após o início da realização da prova.
11. Ao terminar a prova, o candidato deverá entregar ao fiscal de sala o cartão-resposta preenchido e **ASSINADO**.
12. Os **3 (três)** candidatos, que terminarem a prova por último, deverão permanecer na sala, e só poderão sair juntos após o fechamento do envelope, contendo os cartões-resposta dos candidatos presentes e ausentes, e assinarem no lacre do referido envelope, atestando que este foi devidamente lacrado.
13. Durante todo o tempo em que permanecer no local onde está ocorrendo o concurso, o candidato deverá, manter o celular desligado e sem bateria, só sendo permitido ligar depois de ultrapassar o portão de saída do prédio.
14. Não será permitido ao candidato fumar na sala de provas, bem como nas dependências.
15. Depois de terminar a prova e entregar ao fiscal o cartão-resposta, preenchido e assinado, não será mais permitido ao candidato o uso do banheiro e bebedouro.

BOA PROVA!

MATEMÁTICA

1. Marcela tem uma dívida de R\$ 462,00 dividida em 4 parcela iguais. Qual é o valor que Marcela vai pagar em cada parcela?

- a) R\$ 189,00
- b) R\$ 145,50
- c) R\$ 115,50
- d) R\$ 125,00
- e) R\$ 132,50

2. No mês de fevereiro, Maria assistiu a filmes nos dias ímpares, e Carla nos dias pares. Quantas vezes Maria assistiu a filmes no mês de fevereiro?

- a) 28
- b) 14
- c) 15
- d) 8
- e) 4

DOM	SEG	TER	QUA	QUI	SEX	SAB
			1	2	3	4
5	6	7	8	9	10	11
12	13	14	15	16	17	18
19	20	21	22	23	24	25
26	27	28				

3. Um estudante pretende se inscrever para participar de um Congresso Nacional. (O valor das inscrições está apresentado na tabela abaixo). Sabendo que o estudante irá se inscrever na abertura do Congresso Nacional, qual é o valor que ele irá pagar?

- a) R\$ 120,00
- b) R\$ 100,00
- c) R\$ 180,00
- d) R\$ 150,00
- e) R\$ 170,00

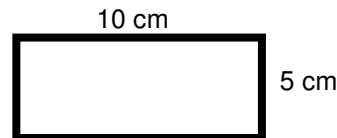
CATEGORIA	Inscrições até 15/05/16	Na abertura do Congresso
Profissional	R\$ 120,00	R\$ 180,00
Estudantes	R\$ 100,00	R\$ 150,00

4. A prestação de um terreno é de R\$ 787,00 e vence todo dia 10. Pagando fora do prazo, há uma multa de R\$ 8,70 por dia. Se a prestação foi paga só no dia 25 (vinte e cinco), qual foi o valor pago?

- a) R\$ 987,00
- b) R\$ 937,00
- c) R\$ 927,50
- d) R\$ 967,00
- e) R\$ 917,50

5. Marque a alternativa que apresenta o resultado do cálculo do perímetro de um terreno que tem as dimensões indicadas na figura abaixo.

- a) 30 cm
- b) 50 cm
- c) 40 cm
- d) 20 cm
- e) 70 cm



6. Um show de Munhoz e Mariano, na exposição de Campo Grande, em abril de 2016, teve início exatamente às 21h e 15min e terminou às 23h e 40 min. Qual foi a duração do show?

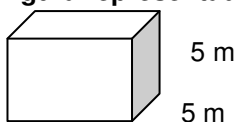
- a) 2h e 10m
- b) 2h e 15m
- c) 2h e 25m
- d) 2h e 30m
- e) 2h e 40m

7. Um pacote de açúcar pesa 2Kg. Foram retirados 450g para fazer um bolo. Quantos gramas restaram no pacote?

- a) 1.450 g
- b) 1.250 g
- c) 1.350 g
- d) 1.550 g
- e) 1.650 g

8. Determine o volume da figura representada a seguir e marque a alternativa correta.

- a) $137m^3$
- b) $115m^3$
- c) $127m^3$
- d) $216m^3$



e) 125m^3

5 m

9. Calcule o perímetro de um retângulo cuja base é três vezes a altura que mede 4m, e marque a alternativa correta.

- a) 16m
- b) 32m
- c) 48m
- d) 20m
- e) 28m



10. João mora no Bairro Tiradentes e Carlos no Bairro Novo Século, os dois trabalham no Supermercado Novo Horizonte. João chegou ao supermercado às 7horas e 30 minutos da manhã e Carlos chegou meia hora depois.

A que horas Carlos chegou ao supermercado?

- a) 8 horas
- b) 9 horas
- c) 6 horas
- d) 5 horas
- e) 4 horas

CONHECIMENTOS GERAIS

11. Telêmaco Borba/PR foi desmembrado do município de

- a) Tibagi
- b) Londrina
- c) Ortigueira
- d) Imbaú
- e) Ventania

12. Quais são as cores da bandeira do município de Telêmaco Borba/PR?

- a) Vermelha, branca e verde
- b) Branca, azul e amarela
- c) Verde, azul e amarela
- d) Vermelha, branca e azul
- e) Branca, cinza e verde

13. Qual o nome do atual prefeito de Telêmaco Borba/PR?

- a) Renato Bahena
- b) José Reinaldo Antunes Carneiro
- c) Luiz Carlos Gibson
- d) Gilson Pereira dos Santos
- e) Ezequiel Ligoski Betim

14. Marque a alternativa que corresponde ao feriado municipal que comemora o dia da padroeira de Telêmaco Borba/PR (Nossa Senhora do Perpétuo Socorro).

- a) 21 de março
- b) 26 de maio
- c) 01 de novembro
- d) 28 de outubro
- e) 21 de junho

15. Quem nasce em Telêmaco Borba é

- a) Telemacoborbense
- b) Telemacoborbino
- c) Telemacoreense
- d) Telemaconense
- e) Telemacoborbiano

16. Em caso de vaga de vereador, não havendo suplente, o Presidente comunicará o fato, diretamente ao Tribunal Regional Eleitoral, dentro de

- a) 72 horas.
- b) 5 dias.
- c) 15 dias.
- d) 48 horas.
- e) 24 horas.

17. Qual alternativa não contempla uma forma de provimento no cargo público, conforme o art. 6º do Estatuto dos Servidores Públicos do município de Telêmaco Borba/PR?

- a) Nomeação
- b) Concurso
- c) Readaptação
- d) Reintegração
- e) Promoção

18. Qual dos municípios seguintes faz divisa com Telêmaco Borba/PR?

- a) Curiúva
- b) Londrina
- c) Arapot
- d) Sapopema
- e) Cambé

19. O município de Telêmaco Borba/PR foi criado inicialmente com o nome de

- a) Monte Alegre.
- b) Mauá.
- c) Cidade Nova.
- d) Harmonia.
- e) Tibagi.

20. Como é denominada a sede administrativa de Telêmaco Borba/PR?

- a) Paço Municipal
- b) Paço das Araucárias
- c) Governo Municipal
- d) Prefeitura
- e) Paço Administrativo

CONHECIMENTOS ESPECÍFICOS

21. Marque a alternativa correta sobre EPI, que está de acordo com a figura a seguir.



- a) Equipamento de proteção total
- b) Equipamento de proteção individual
- c) Equipamento de proteção coletiva
- d) Equipamento de proteção parcial
- e) Equipamento de proteção geral

22. Marque a alternativa que identifica corretamente as máquinas das figuras, da esquerda para a direita.

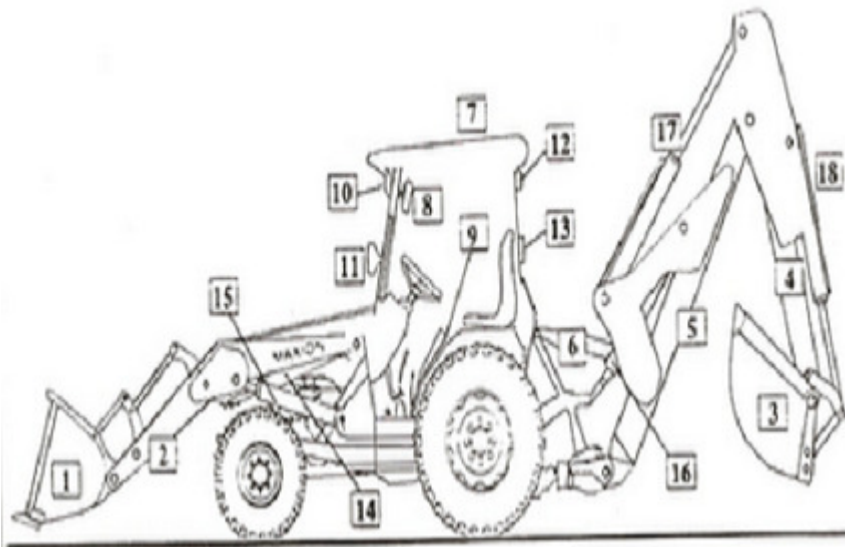


- a) Trator de esteira, rolo compactador, motoniveladora (patrol) e plataforma elevatória.
- b) Motoniveladora (patrol), rolo compactador, plataforma elevatória, trator de esteira.
- c) Rolo compactador, plataforma elevatória, trator de esteira e motoniveladora (patrol).
- d) Trator de esteira, rolo compactador, plataforma elevatória e motoniveladora (patrol).
- e) Motoniveladora (patrol), trator de esteira, plataforma elevatória, rolo compactador.

23. Marque a alternativa que representa a placa de trânsito R13 “Proibido trânsito de tratores e máquinas de obras”.



24. Analise a figura a seguir e marque a alternativa que preenche os nomes das partes da máquina que estão faltando na lista abaixo.



- 1 – Caçamba do carregador frontal
- 2 – Braços do carregador frontal
- 3 –
- 4 – Lança de profundidade
- 5 – Lança de levante ou coluna
- 6 – Estabilizadores laterais
- 7 – Toldo refletivo
- 8 – Espelhos retrovisores
- 9 – Plataforma de operação
- 10 – Faróis dianteiros de serviço
- 11 – Faróis dianteiros de tráfego (ou transporte)
- 12 – Faróis traseiros de serviço
- 13 – Sinaleiras, pisca-pisca e luz de freio
- 14 – Cilindro de basculamento da caçamba dianteira

- 15 – Cilindro de levante da caçamba dianteiro
 16 – Cilindro de levante da caçamba traseira
 17 –
 18 – Cilindro de basculamento da caçamba traseira.

- a) 3 – Lâmina traseira; 17 – Cilindro da lança de profundidade.
 b) 3 – Lâmina traseira; 17 – Braço do carregador traseiro.
 c) 3 – Caçamba da retroescavadeira; 17 – Braço do carregador traseiro.
 d) 3 – Caçamba da retroescavadeira; 17 – Cilindro da lança de profundidade.
 e) 3 – Caçamba do carregador traseiro; 17 – Plataforma traseira.

25. Em uma máquina do tipo pá carregadeira, usamos os seguintes produtos:

- I) óleo diesel
 II) graxa
 III) querosene
 IV) água
 V) óleo para transmissão hidráulica

Quanto a essa afirmação:

- a) Somente o produto I é incorreto.
 b) Somente os produtos II e III são corretos.
 c) Somente os produtos III e IV são corretos.
 d) Somente o produto V é correto.
 e) Somente o produto III é incorreto.

LÍNGUA PORTUGUESA

Leia com atenção o texto abaixo e depois responda às próximas cinco questões.

Heroísmo

Ele usava um colete à prova de balas. Não importava que dia da semana, que dia do mês ou que dia do ano: ele sempre usava o seu colete à prova de balas. Era precavido, ele dizia. A cidade anda muito violenta; nunca se sabe o que pode acontecer. Isso é uma verdade!

Um belo dia, quando estava no banco, ocorreu um assalto. Três bandidos, armados de pistolas e metralhadoras, ameaçavam matar os reféns se o dinheiro não lhes fosse entregue com velocidade. Ele, muito seguro de si, sabendo da vantagem que levava sobre os assaltantes, afinal, seu colete estava bem escondido sob a camisa, disparou na direção de um deles para desarmá-lo. Um segundo depois, caiu morto.

Ataque cardíaco fulminante, disseram os legistas quando chegaram na cena do crime.

(Fonte: <http://www.napontadoslapis.com.br/2011/03/dois-pequenos-contos.html>. Acesso em 18/05/2016.)

26. Conforme o texto, a pessoa que usava um colete à prova de balas todos os dias era:

- a) Uma criança
 b) Uma mulher
 c) Um homem
 d) Um assaltante
 e) O gerente do banco

27. De acordo com o texto, como morreu a pessoa que usava diariamente um colete à prova de balas?

- a) De ataque cardíaco fulminante.
 b) Assassinado por um assaltante.
 c) Cometeu suicídio.
 d) Foi vítima de uma bala perdida durante o assalto.
 e) Foi morto por um policial.

28. Na segunda linha do texto diz: *Era precavido*.

O que isso significa precavido?

- a) Distraído
 b) Aventureiro
 c) Descuidado
 d) Prevenido
 e) Precipitado

29. Em qual alternativa temos uma palavra grifada que é um pronome pessoal?

- a) A cidade anda muito violenta.

- b) Ele usava um colete à prova de balas.
 c) Um segundo depois, caiu morto.
 d) disseram os legistas quando chegaram na cena do crime.
 e) ele sempre usava o seu colete à prova de balas.

30. As palavras são representadas por fonemas (sons) e letras. Sendo assim, na palavra **VELOCIDADE** contamos quantos fonemas e letras?

- a) 7 fonemas e 10 letras.
 b) 8 fonemas e 9 letras.
 c) 9 fonemas e 9 letras.
 d) 9 fonemas e 10 letras.
 e) 10 fonemas e 10 letras.

Leia atentamente o texto da figura da formiga e o texto abaixo dela. Depois, responda às próximas cinco questões.

Formigas dormem?



Sim. Especialistas concordam que, como a maioria dos animais, elas dividem seu tempo entre atividade e descanso – quando a ação metabólica diminui. Mas isso não seria bem o que chamamos de sono. “Há registros de formigas vistas ‘deitadas de lado’, que, quando instigadas, retomaram a posição normal. Eu hesitaria em dizer que elas ‘acordaram’, mas a analogia é possível”, explica o mirmecologista (especialista em formiga) Carlos Brandão. Uma pesquisa norte-americana de 2009 indicava que ao menos as formigas-de-fogo (*Solenopsis invicta*) dormem sim – em pequenos cochilos.

- As operárias “dormem” em turnos, mantendo sempre 80% da força de trabalho acordada.

(Fonte <http://mundoestranho.abril.com.br/materia/formigas-dormem>. Acesso em 18/05/2016.)

31. Observe a parte da figura da formiga sobre **TOTAL DE HORAS DORMIDAS**. Nessa parte, entendemos que:

- a) A formiga rainha dorme 9,4 horas por dia e a formiga operária dorme 4,8 horas por dia.
 b) A formiga rainha dorme menos de 9 horas por dia e a formiga operária menos de 4 horas por dia.
 c) A formiga rainha dorme mais de 10 horas por dia e a formiga operária mais de 4 horas por dia.
 d) A formiga rainha dorme mais de 9 horas por dia e a formiga operária mais de 5 horas por dia.
 e) A formiga rainha dorme 4 horas por dia e a formiga operária 8 horas por dia.

32. No texto que se localiza abaixo da figura da formiga, lemos a palavra **mirmecologista**. Lá explica que isso significa:

- a) O nome de um tipo de formiga.
 b) Especialista em formiga.
 c) O nome que se dá ao cochilo das formigas.
 d) O nome dado a uma pesquisa sobre formigas.
 e) Um outro nome que recebem as formigas operárias.

33. Leia esta frase: **Formigas dormem?**

Ela é:

- a) Uma frase afirmativa porque tem ponto final e expressa uma pergunta.
 b) Uma frase negativa porque tem ponto de interrogação e nega alguma coisa.

- c) Uma frase exclamativa porque tem ponto de exclamação e expressa admiração.
 d) Uma frase interrogativa porque tem ponto de exclamação e expressa uma pergunta.
 e) Uma frase interrogativa porque tem ponto de interrogação e expressa uma pergunta.

34. Em qual alternativa a separação de sílabas das palavras não está correta?

- a) a-ni-mais; dei-ta-das.
 b) es-pe-cia-lis-ta; po-ssí-vel.
 c) des-can-so; com-cor-dam.
 d) a-ti-vi-da-de; for-mi-gas.
 e) tra-ba-lho; pe-que-nos.

35. O hiato é um encontro vocálico em que temos duas vogais juntas, mas que são pronunciadas em sílabas diferentes. Assim, a palavra que tem hiato é:

- a) Pequenos
 b) Deitadas
 c) Quando
 d) Acordados
 e) Especialista

Leia com atenção o texto abaixo e depois responda às cinco próximas questões.

Tomate é fruta?

por Sabrina Haick | Edição 177

Sim, ele é. Não só o tomate é fruta, como a berinjela, a abobrinha, o pepino, o pimentão e outros alimentos que nós chamamos de legumes também são. Fruta é o ovário amadurecido de uma planta, onde ficam as sementes. A confusão acontece porque nós somos acostumados a chamar as frutas salgadas de legumes. Se você acha que sua vida foi uma mentira até agora, saiba que também existem alimentos que nós chamamos de fruta, mas não são. Trata-se dos pseudofrutos – estruturas suculentas que têm cara e jeito de fruto, mas não se desenvolvem a partir do ovário da planta, como as frutas reais. É o caso do morango, do caju, da maçã, da pera e do abacaxi, entre outros.

(Fonte: <http://mundoestranho.abril.com.br/materia/tomate-e-fruta>. Aceso em 18/05/2016.)

36. Ao ler esse texto, descobrimos que o tomate é um fruto e não um legume. Também descobrimos que são frutas outros alimentos que pensávamos que eram legumes. Dois deles são:

- a) Berinjela e morango
 b) Abobrinha e pepino
 c) Abobrinha e caju
 d) Pimentão e pera
 e) Pepino e abacaxi

37. Conhecer os sinônimos e antônimos das palavras nos ajuda a aumentar nosso vocabulário.

Qual é um sinônimo para a palavra “suculentas”, conforme o sentido que ela tem no texto?

- a) Desinteressantes
 b) Gordurosas
 c) Carnudas
 d) Descarnadas
 e) Felpudas

38. A acentuação em uma palavra nos ajuda a pronunciá-la de maneira correta, como, por exemplo, as palavras “você” e “ovário”. Marque a alternativa em que as palavras não foram acentuadas corretamente.

- a) lâmpada - pálpebra
 b) obíto - fenômeno
 c) mímica - código
 d) cálice - xícara
 e) cédula - específico

39. Escrevemos “abacaxi” com x, “berinjela” e “caju” com j.

Marque a alternativa em que todas as palavras grifadas estão escritas de forma correta.

- a) Fui à feira e comprei tangerina, laranja e melancia.
 b) Fui à feira e comprei tanjerina, laranja e melancia.
 c) Fui à feira e comprei tangerina, larãja e melancia.
 d) Fui à feira e comprei tangerina, laranja e melansia.
 e) Fui à feira e comprei tãgerina, laranja e melansia.



40. O que temos nas palavras “frutas”, “estruturas”, “salgadas” e “partir”?

- a) Ditongo
- b) Hiato
- c) Encontro consonantal e Encontro vocálico
- d) Encontro consonantal
- e) Encontro vocálico

RASCUNHO



PREFEITURA DE TELÊMACO BORBA - ESTADO DO PARANÁ- EDITAL Nº 001-2016 - CONCURSO PÚBLICO

VESPERTINO – 29/05/2016 – FUNDAMENTAL INCOMPLETO

3

PROVA OBJETIVA NÚMERO

CARGO: OPERADOR DE MÁQUINAS

Leia atentamente as INSTRUÇÕES:

1. Confira seus dados no cartão-resposta: nome, número de inscrição e o curso para o qual se inscreveu.
2. **MARQUE no seu cartão-resposta o número da sua prova** (não será corrigido o cartão-resposta que não tiver marcado o número da prova) e **Assine** seu cartão-resposta.
3. Aguarde a autorização do Fiscal para abrir o caderno de prova. Ao receber a ordem do fiscal, confira o caderno de prova com muita atenção. Nenhuma reclamação sobre o total de questões ou falha de impressão será aceita depois de iniciada a prova.
4. O cartão-resposta não será substituído, salvo se contiver erro de impressão.
5. Preencha toda a área do cartão-resposta correspondente à alternativa de sua escolha, com caneta esferográfica (tinta azul ou preta), sem ultrapassar as bordas. As marcações duplas, ou rasuradas, com corretivo, ou marcadas diferentemente do modelo estabelecido no cartão-resposta poderão ser anuladas.
6. Sua prova tem **40** questões, com **5** alternativas.
7. Cabe apenas ao candidato a interpretação das questões, **o fiscal** não poderá fazer nenhuma interferência.
8. A prova será realizada com duração máxima de **3 (três) horas**, incluído o tempo para a realização da Prova Objetiva de múltipla escolha e o preenchimento do cartão-resposta.
9. O candidato poderá retirar-se do local de realização das provas somente **1 (uma) hora** após o seu início, sem levar o caderno de prova.
10. O candidato poderá levar o caderno de provas, assim como anotação contendo transcrição do seu cartão-resposta, somente **1h30min** (uma hora e trinta minutos) após o início da realização da prova.
11. Ao terminar a prova, o candidato deverá entregar ao fiscal de sala o cartão-resposta preenchido e **ASSINADO**.
12. Os **3 (três)** candidatos, que terminarem a prova por último, deverão permanecer na sala, e só poderão sair juntos após o fechamento do envelope, contendo os cartões-resposta dos candidatos presentes e ausentes, e assinarem no lacre do referido envelope, atestando que este foi devidamente lacrado.
13. Durante todo o tempo em que permanecer no local onde está ocorrendo o concurso, o candidato deverá, manter o celular desligado e sem bateria, só sendo permitido ligar depois de ultrapassar o portão de saída do prédio.
14. Não será permitido ao candidato fumar na sala de provas, bem como nas dependências.
15. Depois de terminar a prova e entregar ao fiscal o cartão-resposta, preenchido e assinado, não será mais permitido ao candidato o uso do banheiro e bebedouro.

BOA PROVA!

CONHECIMENTOS ESPECÍFICOS

01. Marque a alternativa correta sobre EPI, que está de acordo com a figura a seguir.



- a) Equipamento de proteção total
- b) Equipamento de proteção individual
- c) Equipamento de proteção coletiva
- d) Equipamento de proteção parcial
- e) Equipamento de proteção geral

02. Marque a alternativa que identifica corretamente as máquinas das figuras, da esquerda para a direita.

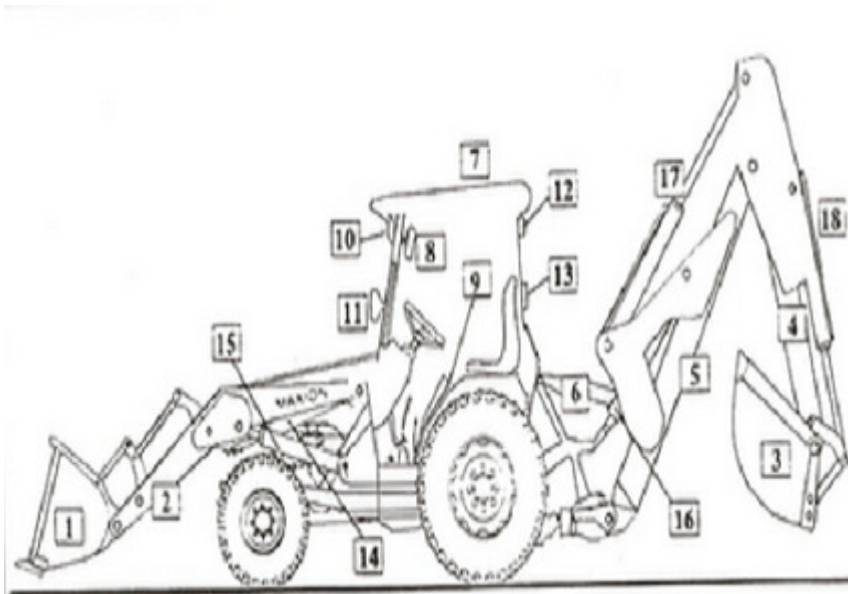


- a) Trator de esteira, rolo compactador, motoniveladora (patrol) e plataforma elevatória.
- b) Motoniveladora (patrol), rolo compactador, plataforma elevatória, trator de esteira.
- c) Rolo compactador, plataforma elevatória, trator de esteira e motoniveladora (patrol).
- d) Trator de esteira, rolo compactador, plataforma elevatória e motoniveladora (patrol).
- e) Motoniveladora (patrol), trator de esteira, plataforma elevatória, rolo compactador.

03. Marque a alternativa que representa a placa de trânsito R13 "Proibido trânsito de tratores e máquinas de obras".



04. Analise a figura a seguir e marque a alternativa que preenche os nomes das partes da máquina que estão faltando na lista abaixo.



- 1 – Caçamba do carregador frontal
- 2 – Braços do carregador frontal
- 3 –
- 4 – Lança de profundidade
- 5 – Lança de levante ou coluna
- 6 – Estabilizadores laterais
- 7 – Toldo refletivo
- 8 – Espelhos retrovisores
- 9 – Plataforma de operação
- 10 – Faróis dianteiros de serviço
- 11 – Faróis dianteiros de tráfego (ou transporte)
- 12 – Faróis traseiros de serviço
- 13 – Sinalizadores, pisca-pisca e luz de freio
- 14 – Cilindro de basculamento da caçamba dianteira
- 15 – Cilindro de levante da caçamba dianteira
- 16 – Cilindro de levante da caçamba traseira
- 17 –
- 18 – Cilindro de basculamento da caçamba traseira.

- a) 3 – Lâmina traseira; 17 – Cilindro da lança de profundidade.
- b) 3 – Lâmina traseira; 17 – Braço do carregador traseiro.
- c) 3 – Caçamba da retroescavadeira; 17 – Braço do carregador traseiro.
- d) 3 – Caçamba da retroescavadeira; 17 – Cilindro da lança de profundidade.
- e) 3 – Caçamba do carregador traseiro; 17 – Plataforma traseira.

05. Em uma máquina do tipo pá carregadeira, usamos os seguintes produtos:

- I) óleo diesel
- II) graxa
- III) querosene
- IV) água
- V) óleo para transmissão hidráulica

Quanto a essa afirmação:

- a) Somente o produto I é incorreto.
- b) Somente os produtos II e III são corretos.
- c) Somente os produtos III e IV são corretos.
- d) Somente o produto V é correto.
- e) Somente o produto III é incorreto.

LÍNGUA PORTUGUESA

Leia com atenção o texto abaixo e depois responda às próximas cinco questões.

Heroísmo



Ele usava um colete à prova de balas. Não importava que dia da semana, que dia do mês ou que dia do ano: ele sempre usava o seu colete à prova de balas. Era precavido, ele dizia. A cidade anda muito violenta; nunca se sabe o que pode acontecer. Isso é uma verdade!

Um belo dia, quando estava no banco, ocorreu um assalto. Três bandidos, armados de pistolas e metralhadoras, ameaçavam matar os reféns se o dinheiro não lhes fosse entregue com velocidade. Ele, muito seguro de si, sabendo da vantagem que levava sobre os assaltantes, afinal, seu colete estava bem escondido sob a camisa, disparou na direção de um deles para desarmá-lo. Um segundo depois, caiu morto.

Ataque cardíaco fulminante, disseram os legistas quando chegaram na cena do crime.

(Fonte: <http://www.napontadoslapis.com.br/2011/03/dois-pequenos-contos.html>. Acesso em 18/05/2016.)

06. Conforme o texto, a pessoa que usava um colete à prova de balas todos os dias era:

- a) Uma criança
- b) Uma mulher
- c) Um homem
- d) Um assaltante
- e) O gerente do banco

07. De acordo com o texto, como morreu a pessoa que usava diariamente um colete à prova de balas?

- a) De ataque cardíaco fulminante.
- b) Assassinado por um assaltante.
- c) Cometeu suicídio.
- d) Foi vítima de uma bala perdida durante o assalto.
- e) Foi morto por um policial.

08. Na segunda linha do texto diz: *Era precavido*.

O que isso significa precavido?

- a) Distraído
- b) Aventureiro
- c) Descuidado
- d) Prevenido
- e) Precipitado

09. Em qual alternativa temos uma palavra grifada que é um pronome pessoal?

- a) A cidade anda muito violenta.
- b) Ele usava um colete à prova de balas.
- c) Um segundo depois, caiu morto.
- d) disseram os legistas quando chegaram na cena do crime.
- e) ele sempre usava o seu colete à prova de balas.

10. As palavras são representadas por fonemas (sons) e letras. Sendo assim, na palavra VELOCIDADE contamos quantos fonemas e letras?

- a) 7 fonemas e 10 letras.
- b) 8 fonemas e 9 letras.
- c) 9 fonemas e 9 letras.
- d) 9 fonemas e 10 letras.
- e) 10 fonemas e 10 letras.

Leia atentamente o texto da figura da formiga e o texto abaixo dela. Depois, responda às próximas cinco questões.

Formigas dormem?



Sim. Especialistas concordam que, como a maioria dos animais, elas dividem seu tempo entre atividade e descanso – quando a ação metabólica diminui. Mas isso não seria bem o que chamamos de sono. “Há registros de formigas vistas ‘deitadas de lado’, que, quando instigadas, retomaram a posição normal. Eu hesitaria em dizer que elas ‘acordaram’, mas a analogia é possível”, explica o mirmecologista (especialista em formiga) Carlos Brandão. Uma pesquisa norte-americana de 2009 indicava que ao menos as formigas-de-fogo (*Solenopsis Invicta*) dormem sim – em pequenos cochilos.

- As operárias “dormem” em turnos, mantendo sempre 80% da força de trabalho acordada.

(Fonte <http://mundoestranho.abril.com.br/materia/formigas-dormem>. Acesso em 18/05/2016.)

11. Observe a parte da figura da formiga sobre TOTAL DE HORAS DORMIDAS. Nessa parte, entendemos que:

- A formiga rainha dorme 9,4 horas por dia e a formiga operária dorme 4,8 horas por dia.
- A formiga rainha dorme menos de 9 horas por dia e a formiga operária menos de 4 horas por dia.
- A formiga rainha dorme mais de 10 horas por dia e a formiga operária mais de 4 horas por dia.
- A formiga rainha dorme mais de 9 horas por dia e a formiga operária mais de 5 horas por dia.
- A formiga rainha dorme 4 horas por dia e a formiga operária 8 horas por dia.

12. No texto que se localiza abaixo da figura da formiga, lemos a palavra mirmecologista. Lá explica que isso significa:

- O nome de um tipo de formiga.
- Especialista em formiga.
- O nome que se dá ao cochilo das formigas.
- O nome dado a uma pesquisa sobre formigas.
- Um outro nome que recebem as formigas operárias.

13. Leia esta frase: *Formigas dormem?*

Ela é:

- Uma frase afirmativa porque tem ponto final e expressa uma pergunta.
- Uma frase negativa porque tem ponto de interrogação e nega alguma coisa.
- Uma frase exclamativa porque tem ponto de exclamação e expressa admiração.
- Uma frase interrogativa porque tem ponto de exclamação e expressa uma pergunta.
- Uma frase interrogativa porque tem ponto de interrogação e expressa uma pergunta.

14. Em qual alternativa a separação de sílabas das palavras não está correta?

- a-ni-mais; dei-ta-das.
- es-pe-cia-lis-ta; po-ssí-vel.
- des-can-so; com-cor-dam.
- a-ti-vi-da-de; for-mi-gas.
- tra-ba-lho; pe-que-nos.

15. O hiato é um encontro vocálico em que temos duas vogais juntas, mas que são pronunciadas em sílabas diferentes. Assim, a palavra que tem hiato é:

- Pequenos
- Deitadas
- Quando

- d) Acordados
- e) Especialista

Leia com atenção o texto abaixo e depois responda às cinco próximas questões.

Tomate é fruta?

por Sabrina Haick | Edição 177

Sim, ele é. Não só o tomate é fruta, como a berinjela, a abobrinha, o pepino, o pimentão e outros alimentos que nós chamamos de legumes também são. Fruta é o ovário amadurecido de uma planta, onde ficam as sementes. A confusão acontece porque nós somos acostumados a chamar as frutas salgadas de legumes. Se você acha que sua vida foi uma mentira até agora, saiba que também existem alimentos que nós chamamos de fruta, mas não são. Trata-se dos pseudofrutos – estruturas suculentas que têm cara e jeito de fruto, mas não se desenvolvem a partir do ovário da planta, como as frutas reais. É o caso do morango, do caju, da maçã, da pera e do abacaxi, entre outros.

(Fonte: <http://mundoestranho.abril.com.br/materia/tomate-e-fruta>. Acesso em 18/05/2016.)

16. Ao ler esse texto, descobrimos que o tomate é um fruto e não um legume. Também descobrimos que são frutas outros alimentos que pensávamos que eram legumes. Dois deles são:

- a) Berinjela e morango
- b) Abobrinha e pepino
- c) Abobrinha e caju
- d) Pimentão e pera
- e) Pepino e abacaxi

17. Conhecer os sinônimos e antônimos das palavras nos ajuda a aumentar nosso vocabulário.

Qual é um sinônimo para a palavra “suculentas”, conforme o sentido que ela tem no texto?

- a) Desinteressantes
- b) Gordurosas
- c) Carnudas
- d) Descarnadas
- e) Felpudas

18. A acentuação em uma palavra nos ajuda a pronunciá-la de maneira correta, como, por exemplo, as palavras “você” e “ovário”. Marque a alternativa em que as palavras não foram acentuadas corretamente.

- a) lâmpada - pálpebra
- b) obíto - fenômeno
- c) mímica - código
- d) cálice - xícara
- e) cédula - específico

19. Escrevemos “abacaxi” com x, “berinjela” e “caju” com j.

Marque a alternativa em que todas as palavras grifadas estão escritas de forma correta.

- a) Fui à feira e comprei tangerina, laranja e melancia.
- b) Fui à feira e comprei tanjerina, laranja e melancia.
- c) Fui à feira e comprei tangerina, larãja e melancia.
- d) Fui à feira e comprei tangerina, laranja e melansia.
- e) Fui à feira e comprei tãgerina, laranja e melansia.

20. O que temos nas palavras “frutas”, “estruturas”, “salgadas” e “partir”?

- a) Ditongo
- b) Hiato
- c) Encontro consonantal e Encontro vocálico
- d) Encontro consonantal
- e) Encontro vocálico

MATEMÁTICA

21. Marcela tem uma dívida de R\$ 462,00 dividida em 4 parcela iguais. Qual é o valor que Marcela vai pagar em cada parcela?

- a) R\$ 189,00
- b) R\$ 145,50
- c) R\$ 115,50
- d) R\$ 125,00
- e) R\$ 132,50

22. No mês de fevereiro, Maria assistiu a filmes nos dias ímpares, e Carla nos dias pares. Quantas vezes Maria assistiu a filmes no mês de fevereiro?

- a) 28
 b) 14
 c) 15
 d) 8
 e) 4

DOM	SEG	TER	QUA	QUI	SEX	SAB
			1	2	3	4
5	6	7	8	9	10	11
12	13	14	15	16	17	18
19	20	21	22	23	24	25
26	27	28				

23. Um estudante pretende se inscrever para participar de um Congresso Nacional. (O valor das inscrições está apresentado na tabela abaixo). Sabendo que o estudante irá se inscrever na abertura do Congresso Nacional, qual é o valor que ele irá pagar?

- a) R\$ 120,00
 b) R\$ 100,00
 c) R\$ 180,00
 d) R\$ 150,00
 e) R\$ 170,00

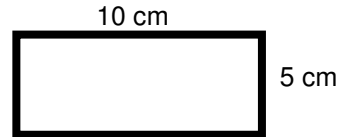
CATEGORIA	Inscrições até 15/05/16	Na abertura do Congresso
Profissional	R\$ 120,00	R\$ 180,00
Estudantes	R\$ 100,00	R\$ 150,00

24. A prestação de um terreno é de R\$ 787,00 e vence todo dia 10. Pagando fora do prazo, há uma multa de R\$ 8,70 por dia. Se a prestação foi paga só no dia 25 (vinte e cinco), qual foi o valor pago?

- a) R\$ 987,00
 b) R\$ 937,00
 c) R\$ 927,50
 d) R\$ 967,00
 e) R\$ 917,50

25. Marque a alternativa que apresenta o resultado do cálculo do perímetro de um terreno que tem as dimensões indicadas na figura abaixo.

- a) 30 cm
 b) 50 cm
 c) 40 cm
 d) 20 cm
 e) 70 cm



26. Um show de Munhoz e Mariano, na exposição de Campo Grande, em abril de 2016, teve início exatamente às 21h e 15min e terminou às 23h e 40 min. Qual foi a duração do show?

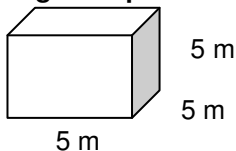
- a) 2h e 10m
 b) 2h e 15m
 c) 2h e 25m
 d) 2h e 30m
 e) 2h e 40m

27. Um pacote de açúcar pesa 2Kg. Foram retirados 450g para fazer um bolo. Quantos gramas restaram no pacote?

- a) 1.450 g
 b) 1.250 g
 c) 1.350 g
 d) 1.550 g
 e) 1.650 g

28. Determine o volume da figura representada a seguir e marque a alternativa correta.

- a) $137m^3$
 b) $115m^3$
 c) $127m^3$
 d) $216m^3$
 e) $125m^3$



29. Calcule o perímetro de um retângulo cuja base é três vezes a altura que mede 4m, e marque a alternativa correta.

- a) 16m
 b) 32m
 c) 48m
 d) 20m
 e) 28m





30. João mora no Bairro Tiradentes e Carlos no Bairro Novo Século, os dois trabalham no Supermercado Novo Horizonte. João chegou ao supermercado às 7horas e 30 minutos da manhã e Carlos chegou meia hora depois.

A que horas Carlos chegou ao supermercado?

- a) 8 horas
- b) 9 horas
- c) 6 horas
- d) 5 horas
- e) 4 horas

CONHECIMENTOS GERAIS

31. Telêmaco Borba/PR foi desmembrado do município de

- a) Tibagi
- b) Londrina
- c) Ortigueira
- d) Imbaú
- e) Ventania

32. Quais são as cores da bandeira do município de Telêmaco Borba/PR?

- a) Vermelha, branca e verde
- b) Branca, azul e amarela
- c) Verde, azul e amarela
- d) Vermelha, branca e azul
- e) Branca, cinza e verde

33. Qual o nome do atual prefeito de Telêmaco Borba/PR?

- a) Renato Bahena
- b) José Reinaldo Antunes Carneiro
- c) Luiz Carlos Gibson
- d) Gilson Pereira dos Santos
- e) Ezequiel Ligoski Betim

34. Marque a alternativa que corresponde ao feriado municipal que comemora o dia da padroeira de Telêmaco Borba/PR (Nossa Senhora do Perpétuo Socorro).

- a) 21 de março
- b) 26 de maio
- c) 01 de novembro
- d) 28 de outubro
- e) 21 de junho

35. Quem nasce em Telêmaco Borba é

- a) Telemacoborbense
- b) Telemacoborbino
- c) Telemacoreense
- d) Telemaconense
- e) Telemacoborbiano

36. Em caso de vaga de vereador, não havendo suplente, o Presidente comunicará o fato, diretamente ao Tribunal Regional Eleitoral, dentro de

- a) 72 horas.
- b) 5 dias.
- c) 15 dias.
- d) 48 horas.
- e) 24 horas.

37. Qual alternativa não contempla uma forma de provimento no cargo público, conforme o art. 6º do Estatuto dos Servidores Públicos do município de Telêmaco Borba/PR?

- a) Nomeação
- b) Concurso
- c) Readaptação
- d) Reintegração
- e) Promoção

38. Qual dos municípios seguintes faz divisa com Telêmaco Borba/PR?



- a) Curiúva
- b) Londrina
- c) Arapot
- d) Sapopema
- e) Cambé

39. O município de Telêmaco Borba/PR foi criado inicialmente com o nome de

- a) Monte Alegre.
- b) Mauá.
- c) Cidade Nova.
- d) Harmonia.
- e) Tibagi.

40. Como é denominada a sede administrativa de Telêmaco Borba/PR?

- a) Paço Municipal
- b) Paço das Araucárias
- c) Governo Municipal
- d) Prefeitura
- e) Paço Administrativo

RASCUNHO



PREFEITURA DE TELÊMACO BORBA - ESTADO DO PARANÁ- EDITAL Nº 001-2016 - CONCURSO PÚBLICO

VESPERTINO – 29/05/2016 – FUNDAMENTAL INCOMPLETO

PROVA OBJETIVA NÚMERO

1

CARGO: AUXILIAR SOCIAL - FEMININO / MASCULINO

Leia atentamente as INSTRUÇÕES:

1. Confira seus dados no cartão-resposta: nome, número de inscrição e o curso para o qual se inscreveu.
2. **MARQUE no seu cartão-resposta o número da sua prova** (não será corrigido o cartão-resposta que não tiver marcado o número da prova) e **Assine** seu cartão-resposta.
3. Aguarde a autorização do Fiscal para abrir o caderno de prova. Ao receber a ordem do fiscal, confira o caderno de prova com muita atenção. Nenhuma reclamação sobre o total de questões ou falha de impressão será aceita depois de iniciada a prova.
4. O cartão-resposta não será substituído, salvo se contiver erro de impressão.
5. Preencha toda a área do cartão-resposta correspondente à alternativa de sua escolha, com caneta esferográfica (tinta azul ou preta), sem ultrapassar as bordas. As marcações duplas, ou rasuradas, com corretivo, ou marcadas diferentemente do modelo estabelecido no cartão-resposta poderão ser anuladas.
6. Sua prova tem **40** questões, com **5** alternativas.
7. Cabe apenas ao candidato a interpretação das questões, **o fiscal** não poderá fazer nenhuma interferência.
8. A prova será realizada com duração máxima de **3 (três) horas**, incluído o tempo para a realização da Prova Objetiva de múltipla escolha e o preenchimento do cartão-resposta.
9. O candidato poderá retirar-se do local de realização das provas somente **1 (uma) hora** após o seu início, sem levar o caderno de prova.
10. O candidato poderá levar o caderno de provas, assim como anotação contendo transcrição do seu cartão-resposta, somente **1h30min** (uma hora e trinta minutos) após o início da realização da prova.
11. Ao terminar a prova, o candidato deverá entregar ao fiscal de sala o cartão-resposta preenchido e **ASSINADO**.
12. Os **3 (três)** candidatos, que terminarem a prova por último, deverão permanecer na sala, e só poderão sair juntos após o fechamento do envelope, contendo os cartões-resposta dos candidatos presentes e ausentes, e assinarem no lacre do referido envelope, atestando que este foi devidamente lacrado.
13. Durante todo o tempo em que permanecer no local onde está ocorrendo o concurso, o candidato deverá, manter o celular desligado e sem bateria, só sendo permitido ligar depois de ultrapassar o portão de saída do prédio.
14. Não será permitido ao candidato fumar na sala de provas, bem como nas dependências.
15. Depois de terminar a prova e entregar ao fiscal o cartão-resposta, preenchido e assinado, não será mais permitido ao candidato o uso do banheiro e bebedouro.

BOA PROVA!

LÍNGUA PORTUGUESA

Leia com atenção o texto abaixo e depois responda às próximas cinco questões.

Heroísmo

Ele usava um colete à prova de balas. Não importava que dia da semana, que dia do mês ou que dia do ano: ele sempre usava o seu colete à prova de balas. Era precavido, ele dizia. A cidade anda muito violenta; nunca se sabe o que pode acontecer. Isso é uma verdade!

Um belo dia, quando estava no banco, ocorreu um assalto. Três bandidos, armados de pistolas e metralhadoras, ameaçavam matar os reféns se o dinheiro não lhes fosse entregue com velocidade. Ele, muito seguro de si, sabendo da vantagem que levava sobre os assaltantes, afinal, seu colete estava bem escondido sob a camisa, disparou na direção de um deles para desarmá-lo. Um segundo depois, caiu morto.

Ataque cardíaco fulminante, disseram os legistas quando chegaram na cena do crime.

(Fonte: <http://www.napontadoslapis.com.br/2011/03/dois-pequenos-contos.html>. Acesso em 18/05/2016.)

01. Conforme o texto, a pessoa que usava um colete à prova de balas todos os dias era:

- a) Uma criança
- b) Uma mulher
- c) Um homem
- d) Um assaltante
- e) O gerente do banco

02. De acordo com o texto, como morreu a pessoa que usava diariamente um colete à prova de balas?

- a) De ataque cardíaco fulminante.
- b) Assassinado por um assaltante.
- c) Cometeu suicídio.
- d) Foi vítima de uma bala perdida durante o assalto.
- e) Foi morto por um policial.

03. Na segunda linha do texto diz: *Era precavido*.

O que isso significa precavido?

- a) Distraído
- b) Aventureiro
- c) Descuidado
- d) Prevenido
- e) Precipitado

04. Em qual alternativa temos uma palavra grifada que é um pronome pessoal?

- a) A cidade anda muito violenta.
- b) Ele usava um colete à prova de balas.
- c) Um segundo depois, caiu morto.
- d) disseram os legistas quando chegaram na cena do crime.
- e) ele sempre usava o seu colete à prova de balas.

05. As palavras são representadas por fonemas (sons) e letras. Sendo assim, na palavra **VELOCIDADE contamos quantos fonemas e letras?**

- a) 7 fonemas e 10 letras.
- b) 8 fonemas e 9 letras.
- c) 9 fonemas e 9 letras.
- d) 9 fonemas e 10 letras.
- e) 10 fonemas e 10 letras.

Leia atentamente o texto da figura da formiga e o texto abaixo dela. Depois, responda às próximas cinco questões.

Formigas dormem?



Sim. Especialistas concordam que, como a maioria dos animais, elas dividem seu tempo entre atividade e descanso – quando a ação metabólica diminui. Mas isso não seria bem o que chamamos de sono. “Há registros de formigas vistas ‘deitadas de lado’, que, quando instigadas, retomaram a posição normal. Eu hesitaria em dizer que elas ‘acordaram’, mas a analogia é possível”, explica o mirmecologista (especialista em formiga) Carlos Brandão. Uma pesquisa norte-americana de 2009 indicava que ao menos as formigas-de-fogo (*Solenopsis invicta*) dormem sim – em pequenos cochilos.

- As operárias “dormem” em turnos, mantendo sempre 80% da força de trabalho acordada.

(Fonte <http://mundoestranho.abril.com.br/materia/formigas-dormem>. Acesso em 18/05/2016.)

06. Observe a parte da figura da formiga sobre TOTAL DE HORAS DORMIDAS. Nessa parte, entendemos que:

- A formiga rainha dorme 9,4 horas por dia e a formiga operária dorme 4,8 horas por dia.
- A formiga rainha dorme menos de 9 horas por dia e a formiga operária menos de 4 horas por dia.
- A formiga rainha dorme mais de 10 horas por dia e a formiga operária mais de 4 horas por dia.
- A formiga rainha dorme mais de 9 horas por dia e a formiga operária mais de 5 horas por dia.
- A formiga rainha dorme 4 horas por dia e a formiga operária 8 horas por dia.

07. No texto que se localiza abaixo da figura da formiga, lemos a palavra mirmecologista. Lá explica que isso significa:

- O nome de um tipo de formiga.
- Especialista em formiga.
- O nome que se dá ao cochilo das formigas.
- O nome dado a uma pesquisa sobre formigas.
- Um outro nome que recebem as formigas operárias.

08. Leia esta frase: *Formigas dormem?*

Ela é:

- Uma frase afirmativa porque tem ponto final e expressa uma pergunta.
- Uma frase negativa porque tem ponto de interrogação e nega alguma coisa.
- Uma frase exclamativa porque tem ponto de exclamação e expressa admiração.
- Uma frase interrogativa porque tem ponto de exclamação e expressa uma pergunta.
- Uma frase interrogativa porque tem ponto de interrogação e expressa uma pergunta.

09. Em qual alternativa a separação de sílabas das palavras não está correta?

- a-ni-mais; dei-ta-das.
- es-pe-cia-lis-ta; po-ssí-vel.
- des-can-so; com-cor-dam.
- a-ti-vi-da-de; for-mi-gas.
- tra-ba-lho; pe-que-nos.

10. O hiato é um encontro vocálico em que temos duas vogais juntas, mas que são pronunciadas em sílabas diferentes. Assim, a palavra que tem hiato é:

- Pequenos
- Deitadas
- Quando

- d) Acordados
- e) Especialista

Leia com atenção o texto abaixo e depois responda às cinco próximas questões.

Tomate é fruta?

por Sabrina Haick | Edição 177

Sim, ele é. Não só o tomate é fruta, como a berinjela, a abobrinha, o pepino, o pimentão e outros alimentos que nós chamamos de legumes também são. Fruta é o ovário amadurecido de uma planta, onde ficam as sementes. A confusão acontece porque nós somos acostumados a chamar as frutas salgadas de legumes. Se você acha que sua vida foi uma mentira até agora, saiba que também existem alimentos que nós chamamos de fruta, mas não são. Trata-se dos pseudofrutos – estruturas suculentas que têm cara e jeito de fruto, mas não se desenvolvem a partir do ovário da planta, como as frutas reais. É o caso do morango, do caju, da maçã, da pera e do abacaxi, entre outros.

(Fonte: <http://mundoestranho.abril.com.br/materia/tomate-e-fruta>. Acesso em 18/05/2016.)

11. Ao ler esse texto, descobrimos que o tomate é um fruto e não um legume. Também descobrimos que são frutas outros alimentos que pensávamos que eram legumes. Dois deles são:

- a) Berinjela e morango
- b) Abobrinha e pepino
- c) Abobrinha e caju
- d) Pimentão e pera
- e) Pepino e abacaxi

12. Conhecer os sinônimos e antônimos das palavras nos ajuda a aumentar nosso vocabulário.

Qual é um sinônimo para a palavra “suculentas”, conforme o sentido que ela tem no texto?

- a) Desinteressantes
- b) Gordurosas
- c) Carnudas
- d) Descarnadas
- e) Felpudas

13. A acentuação em uma palavra nos ajuda a pronunciar-la de maneira correta, como, por exemplo, as palavras “você” e “ovário”. Marque a alternativa em que as palavras não foram acentuadas corretamente.

- a) lâmpada - pálpebra
- b) obíto - fenômeno
- c) mímica - código
- d) cálice - xícara
- e) cédula - específico

14. Escrevemos “abacaxi” com x, “berinjela” e “caju” com j.

Marque a alternativa em que todas as palavras grifadas estão escritas de forma correta.

- a) Fui à feira e comprei tangerina, laranja e melancia.
- b) Fui à feira e comprei tanjerina, laranja e melancia.
- c) Fui à feira e comprei tangerina, larãja e melancia.
- d) Fui à feira e comprei tangerina, laranja e melansia.
- e) Fui à feira e comprei tãgerina, laranja e melansia.

15. O que temos nas palavras “frutas”, “estruturas”, “salgadas” e “partir”?

- a) Ditongo
- b) Hiato
- c) Encontro consonantal e Encontro vocálico
- d) Encontro consonantal
- e) Encontro vocálico

MATEMÁTICA

16. Marcela tem uma dívida de R\$ 462,00 dividida em 4 parcela iguais. Qual é o valor que Marcela vai pagar em cada parcela?

- a) R\$ 189,00
- b) R\$ 145,50
- c) R\$ 115,50
- d) R\$ 125,00
- e) R\$ 132,50

17. No mês de fevereiro, Maria assistiu a filmes nos dias ímpares, e Carla nos dias pares. Quantas vezes Maria assistiu a filmes no mês de fevereiro?

- a) 28
 b) 14
 c) 15
 d) 8
 e) 4

DOM	SEG	TER	QUA	QUI	SEX	SAB
			1	2	3	4
5	6	7	8	9	10	11
12	13	14	15	16	17	18
19	20	21	22	23	24	25
26	27	28				

18. Um estudante pretende se inscrever para participar de um Congresso Nacional. (O valor das inscrições está apresentado na tabela abaixo). Sabendo que o estudante irá se inscrever na abertura do Congresso Nacional, qual é o valor que ele irá pagar?

- a) R\$ 120,00
 b) R\$ 100,00
 c) R\$ 180,00
 d) R\$ 150,00
 e) R\$ 170,00

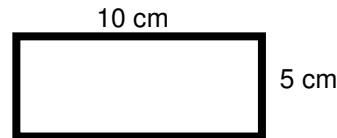
CATEGORIA	Inscrições até 15/05/16	Na abertura do Congresso
Profissional	R\$ 120,00	R\$ 180,00
Estudantes	R\$ 100,00	R\$ 150,00

19. A prestação de um terreno é de R\$ 787,00 e vence todo dia 10. Pagando fora do prazo, há uma multa de R\$ 8,70 por dia. Se a prestação foi paga só no dia 25 (vinte e cinco), qual foi o valor pago?

- a) R\$ 987,00
 b) R\$ 937,00
 c) R\$ 927,50
 d) R\$ 967,00
 e) R\$ 917,50

20. Marque a alternativa que apresenta o resultado do cálculo do perímetro de um terreno que tem as dimensões indicadas na figura abaixo.

- a) 30 cm
 b) 50 cm
 c) 40 cm
 d) 20 cm
 e) 70 cm



21. Um show de Munhoz e Mariano, na exposição de Campo Grande, em abril de 2016, teve início exatamente às 21h e 15min e terminou às 23h e 40 min. Qual foi a duração do show?

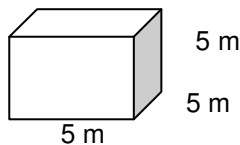
- a) 2h e 10m
 b) 2h e 15m
 c) 2h e 25m
 d) 2h e 30m
 e) 2h e 40m

22. Um pacote de açúcar pesa 2Kg. Foram retirados 450g para fazer um bolo. Quantos gramas restaram no pacote?

- a) 1.450 g
 b) 1.250 g
 c) 1.350 g
 d) 1.550 g
 e) 1.650 g

23. Determine o volume da figura representada a seguir e marque a alternativa correta.

- a) $137m^3$
 b) $115m^3$
 c) $127m^3$
 d) $216m^3$
 e) $125m^3$



24. Calcule o perímetro de um retângulo cuja base é três vezes a altura que mede 4m, e marque a alternativa correta.

- a) 16m
 b) 32m
 c) 48m
 d) 20m
 e) 28m



25. João mora no Bairro Tiradentes e Carlos no Bairro Novo Século, os dois trabalham no Supermercado Novo Horizonte. João chegou ao supermercado às 7 horas e 30 minutos da manhã e Carlos chegou meia hora depois.

A que horas Carlos chegou ao supermercado?

- a) 8 horas
- b) 9 horas
- c) 6 horas
- d) 5 horas
- e) 4 horas

CONHECIMENTOS GERAIS

26. Telêmaco Borba/PR foi desmembrado do município de

- a) Tibagi
- b) Londrina
- c) Ortigueira
- d) Imbaú
- e) Ventania

27. Quais são as cores da bandeira do município de Telêmaco Borba/PR?

- a) Vermelha, branca e verde
- b) Branca, azul e amarela
- c) Verde, azul e amarela
- d) Vermelha, branca e azul
- e) Branca, cinza e verde

28. Qual o nome do atual prefeito de Telêmaco Borba/PR?

- a) Renato Bahena
- b) José Reinaldo Antunes Carneiro
- c) Luiz Carlos Gibson
- d) Gilson Pereira dos Santos
- e) Ezequiel Ligoski Betim

29. Marque a alternativa que corresponde ao feriado municipal que comemora o dia da padroeira de Telêmaco Borba/PR (Nossa Senhora do Perpétuo Socorro).

- a) 21 de março
- b) 26 de maio
- c) 01 de novembro
- d) 28 de outubro
- e) 21 de junho

30. Quem nasce em Telêmaco Borba é

- a) Telemacoborbense
- b) Telemacoborbino
- c) Telemacoreense
- d) Telemaconense
- e) Telemacoborbiano

31. Em caso de vaga de vereador, não havendo suplente, o Presidente comunicará o fato, diretamente ao Tribunal Regional Eleitoral, dentro de

- a) 72 horas.
- b) 5 dias.
- c) 15 dias.
- d) 48 horas.
- e) 24 horas.

32. Qual alternativa não contempla uma forma de provimento no cargo público, conforme o art. 6º do Estatuto dos Servidores Públicos do município de Telêmaco Borba/PR?

- a) Nomeação
- b) Concurso
- c) Readaptação
- d) Reintegração
- e) Promoção

33. Qual dos municípios seguintes faz divisa com Telêmaco Borba/PR?

- a) Curiúva
- b) Londrina
- c) Arapot
- d) Sapopema
- e) Cambé

34. O município de Telêmaco Borba/PR foi criado inicialmente com o nome de

- a) Monte Alegre.
- b) Mauá.
- c) Cidade Nova.
- d) Harmonia.
- e) Tibagi.

35. Como é denominada a sede administrativa de Telêmaco Borba/PR?

- a) Paço Municipal
- b) Paço das Araucárias
- c) Governo Municipal
- d) Prefeitura
- e) Paço Administrativo

CONHECIMENTOS ESPECÍFICOS

36. A colocação em família substituta far-se-á mediante guarda, tutela ou adoção, independentemente da situação jurídica da criança ou adolescente, nos termos da Lei nº 8.069/1990. Será necessário seu consentimento, colhido em audiência, tratando-se de maior de

- a) 10 anos de idade.
- b) 12 anos de idade.
- c) 14 anos de idade.
- d) 16 anos de idade.
- e) 18 anos de idade.

37. Segundo o Estatuto da Criança e do Adolescente, a tutela será deferida, nos termos da lei civil, a pessoa

- a) de até 12 anos incompletos.
- b) de até 14 anos incompletos.
- c) de até 16 anos incompletos.
- d) de até 18 anos incompletos.
- e) de até 21 anos incompletos.

38. Conforme o Estatuto da Criança e do Adolescente, a garantia de prioridade não compreende:

- a) Primazia de receber proteção e socorro em quaisquer circunstâncias.
- b) Precedência de atendimento nos serviços públicos ou de relevância pública.
- c) Preferência na formulação e na execução das políticas sociais públicas.
- d) Destinação privilegiada de recursos públicos nas áreas relacionadas com a proteção à infância e à juventude.
- e) Direito de buscar refúgio, auxílio e orientação.

39. Marque a alternativa que completa a lacuna corretamente.

Quando se tratar de _____ em acolhimento institucional, dar-se-á especial atenção à atuação de educadores de referência estáveis e qualitativamente significativos, às rotinas específicas e ao atendimento das necessidades básicas, incluindo as de afeto como prioritárias.

- a) criança de 7 a 14 anos
- b) criança de 6 a 12 anos
- c) criança de 0 a 3 anos
- d) criança de 0 a 6 anos
- e) criança de 6 a 10 anos

40. Marque a alternativa que completa a lacuna corretamente.

Toda criança ou adolescente que estiver inserido em programa de acolhimento familiar ou institucional terá sua situação _____, no máximo, a cada 6 meses.

- a) modificada
- b) reavaliada
- c) alterada
- d) redimensionada
- e) avaliada



PREFEITURA DE TELÊMACO BORBA - ESTADO DO PARANÁ- EDITAL Nº 001-2016 - CONCURSO PÚBLICO

VESPERTINO – 29/05/2016 – FUNDAMENTAL INCOMPLETO

2

PROVA OBJETIVA NÚMERO

CARGO: AUXILIAR SOCIAL - FEMININO / MASCULINO

Leia atentamente as INSTRUÇÕES:

1. Confira seus dados no cartão-resposta: nome, número de inscrição e o curso para o qual se inscreveu.
2. **MARQUE no seu cartão-resposta o número da sua prova** (não será corrigido o cartão-resposta que não tiver marcado o número da prova) e **Assine** seu cartão-resposta.
3. Aguarde a autorização do Fiscal para abrir o caderno de prova. Ao receber a ordem do fiscal, confira o caderno de prova com muita atenção. Nenhuma reclamação sobre o total de questões ou falha de impressão será aceita depois de iniciada a prova.
4. O cartão-resposta não será substituído, salvo se contiver erro de impressão.
5. Preencha toda a área do cartão-resposta correspondente à alternativa de sua escolha, com caneta esferográfica (tinta azul ou preta), sem ultrapassar as bordas. As marcações duplas, ou rasuradas, com corretivo, ou marcadas diferentemente do modelo estabelecido no cartão-resposta poderão ser anuladas.
6. Sua prova tem **40** questões, com **5** alternativas.
7. Cabe apenas ao candidato a interpretação das questões, **o fiscal** não poderá fazer nenhuma interferência.
8. A prova será realizada com duração máxima de **3 (três) horas**, incluído o tempo para a realização da Prova Objetiva de múltipla escolha e o preenchimento do cartão-resposta.
9. O candidato poderá retirar-se do local de realização das provas somente **1 (uma) hora** após o seu início, sem levar o caderno de prova.
10. O candidato poderá levar o caderno de provas, assim como anotação contendo transcrição do seu cartão-resposta, somente **1h30min** (uma hora e trinta minutos) após o início da realização da prova.
11. Ao terminar a prova, o candidato deverá entregar ao fiscal de sala o cartão-resposta preenchido e **ASSINADO**.
12. Os **3 (três)** candidatos, que terminarem a prova por último, deverão permanecer na sala, e só poderão sair juntos após o fechamento do envelope, contendo os cartões-resposta dos candidatos presentes e ausentes, e assinarem no lacre do referido envelope, atestando que este foi devidamente lacrado.
13. Durante todo o tempo em que permanecer no local onde está ocorrendo o concurso, o candidato deverá, manter o celular desligado e sem bateria, só sendo permitido ligar depois de ultrapassar o portão de saída do prédio.
14. Não será permitido ao candidato fumar na sala de provas, bem como nas dependências.
15. Depois de terminar a prova e entregar ao fiscal o cartão-resposta, preenchido e assinado, não será mais permitido ao candidato o uso do banheiro e bebedouro.

BOA PROVA!

MATEMÁTICA

1. Marcela tem uma dívida de R\$ 462,00 dividida em 4 parcela iguais. Qual é o valor que Marcela vai pagar em cada parcela?

- a) R\$ 189,00
- b) R\$ 145,50
- c) R\$ 115,50
- d) R\$ 125,00
- e) R\$ 132,50

2. No mês de fevereiro, Maria assistiu a filmes nos dias ímpares, e Carla nos dias pares. Quantas vezes Maria assistiu a filmes no mês de fevereiro?

- a) 28
- b) 14
- c) 15
- d) 8
- e) 4

DOM	SEG	TER	QUA	QUI	SEX	SAB
			1	2	3	4
5	6	7	8	9	10	11
12	13	14	15	16	17	18
19	20	21	22	23	24	25
26	27	28				

3. Um estudante pretende se inscrever para participar de um Congresso Nacional. (O valor das inscrições está apresentado na tabela abaixo). Sabendo que o estudante irá se inscrever na abertura do Congresso Nacional, qual é o valor que ele irá pagar?

- a) R\$ 120,00
- b) R\$ 100,00
- c) R\$ 180,00
- d) R\$ 150,00
- e) R\$ 170,00

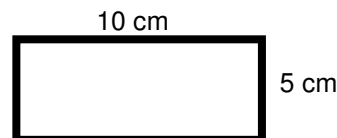
CATEGORIA	Inscrições até 15/05/16	Na abertura do Congresso
Profissional	R\$ 120,00	R\$ 180,00
Estudantes	R\$ 100,00	R\$ 150,00

4. A prestação de um terreno é de R\$ 787,00 e vence todo dia 10. Pagando fora do prazo, há uma multa de R\$ 8,70 por dia. Se a prestação foi paga só no dia 25 (vinte e cinco), qual foi o valor pago?

- a) R\$ 987,00
- b) R\$ 937,00
- c) R\$ 927,50
- d) R\$ 967,00
- e) R\$ 917,50

5. Marque a alternativa que apresenta o resultado do cálculo do perímetro de um terreno que tem as dimensões indicadas na figura abaixo.

- a) 30 cm
- b) 50 cm
- c) 40 cm
- d) 20 cm
- e) 70 cm



6. Um show de Munhoz e Mariano, na exposição de Campo Grande, em abril de 2016, teve início exatamente às 21h e 15min e terminou às 23h e 40 min. Qual foi a duração do show?

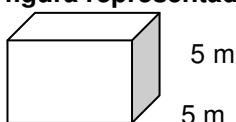
- a) 2h e 10m
- b) 2h e 15m
- c) 2h e 25m
- d) 2h e 30m
- e) 2h e 40m

7. Um pacote de açúcar pesa 2Kg. Foram retirados 450g para fazer um bolo. Quantos gramas restaram no pacote?

- a) 1.450 g
- b) 1.250 g
- c) 1.350 g
- d) 1.550 g
- e) 1.650 g

8. Determine o volume da figura representada a seguir e marque a alternativa correta.

- a) $137m^3$
- b) $115m^3$
- c) $127m^3$
- d) $216m^3$



e) 125m^3

5 m

9. Calcule o perímetro de um retângulo cuja base é três vezes a altura que mede 4m, e marque a alternativa correta.

- a) 16m
- b) 32m
- c) 48m
- d) 20m
- e) 28m



10. João mora no Bairro Tiradentes e Carlos no Bairro Novo Século, os dois trabalham no Supermercado Novo Horizonte. João chegou ao supermercado às 7 horas e 30 minutos da manhã e Carlos chegou meia hora depois.

A que horas Carlos chegou ao supermercado?

- a) 8 horas
- b) 9 horas
- c) 6 horas
- d) 5 horas
- e) 4 horas

CONHECIMENTOS GERAIS

11. Telêmaco Borba/PR foi desmembrado do município de

- a) Tibagi
- b) Londrina
- c) Ortigueira
- d) Imbaú
- e) Ventania

12. Quais são as cores da bandeira do município de Telêmaco Borba/PR?

- a) Vermelha, branca e verde
- b) Branca, azul e amarela
- c) Verde, azul e amarela
- d) Vermelha, branca e azul
- e) Branca, cinza e verde

13. Qual o nome do atual prefeito de Telêmaco Borba/PR?

- a) Renato Bahena
- b) José Reinaldo Antunes Carneiro
- c) Luiz Carlos Gibson
- d) Gilson Pereira dos Santos
- e) Ezequiel Ligoski Betim

14. Marque a alternativa que corresponde ao feriado municipal que comemora o dia da padroeira de Telêmaco Borba/PR (Nossa Senhora do Perpétuo Socorro).

- a) 21 de março
- b) 26 de maio
- c) 01 de novembro
- d) 28 de outubro
- e) 21 de junho

15. Quem nasce em Telêmaco Borba é

- a) Telemacoborbense
- b) Telemacoborbino
- c) Telemacoreense
- d) Telemaconense
- e) Telemacoborbiano

16. Em caso de vaga de vereador, não havendo suplente, o Presidente comunicará o fato, diretamente ao Tribunal Regional Eleitoral, dentro de

- a) 72 horas.
- b) 5 dias.
- c) 15 dias.
- d) 48 horas.
- e) 24 horas.



17. Qual alternativa não contempla uma forma de provimento no cargo público, conforme o art. 6º do Estatuto dos Servidores Públicos do município de Telêmaco Borba/PR?

- a) Nomeação
- b) Concurso
- c) Readaptação
- d) Reintegração
- e) Promoção

18. Qual dos municípios seguintes faz divisa com Telêmaco Borba/PR?

- a) Curiúva
- b) Londrina
- c) Arapot
- d) Sapopema
- e) Cambé

19. O município de Telêmaco Borba/PR foi criado inicialmente com o nome de

- a) Monte Alegre.
- b) Mauá.
- c) Cidade Nova.
- d) Harmonia.
- e) Tibagi.

20. Como é denominada a sede administrativa de Telêmaco Borba/PR?

- a) Paço Municipal
- b) Paço das Araucárias
- c) Governo Municipal
- d) Prefeitura
- e) Paço Administrativo

CONHECIMENTOS ESPECÍFICOS

21. A colocação em família substituta far-se-á mediante guarda, tutela ou adoção, independentemente da situação jurídica da criança ou adolescente, nos termos da Lei nº 8.069/1990. Será necessário seu consentimento, colhido em audiência, tratando-se de maior de

- a) 10 anos de idade.
- b) 12 anos de idade.
- c) 14 anos de idade.
- d) 16 anos de idade.
- e) 18 anos de idade.

22. Segundo o Estatuto da Criança e do Adolescente, a tutela será deferida, nos termos da lei civil, a pessoa

- a) de até 12 anos incompletos.
- b) de até 14 anos incompletos.
- c) de até 16 anos incompletos.
- d) de até 18 anos incompletos.
- e) de até 21 anos incompletos.

23. Conforme o Estatuto da Criança e do Adolescente, a garantia de prioridade não compreende:

- a) Primazia de receber proteção e socorro em quaisquer circunstâncias.
- b) Precedência de atendimento nos serviços públicos ou de relevância pública.
- c) Preferência na formulação e na execução das políticas sociais públicas.
- d) Destinação privilegiada de recursos públicos nas áreas relacionadas com a proteção à infância e à juventude.
- e) Direito de buscar refúgio, auxílio e orientação.

24. Marque a alternativa que completa a lacuna corretamente.

Quando se tratar de _____ em acolhimento institucional, dar-se-á especial atenção à atuação de educadores de referência estáveis e qualitativamente significativos, às rotinas específicas e ao atendimento das necessidades básicas, incluindo as de afeto como prioritárias.

- a) criança de 7 a 14 anos
- b) criança de 6 a 12 anos
- c) criança de 0 a 3 anos
- d) criança de 0 a 6 anos
- e) criança de 6 a 10 anos

25. Marque a alternativa que completa a lacuna corretamente.



Toda criança ou adolescente que estiver inserido em programa de acolhimento familiar ou institucional terá sua situação _____, no máximo, a cada 6 meses.

- a) modificada
- b) reavaliada
- c).alterada
- d) redimensionada
- e) avaliada

LÍNGUA PORTUGUESA

Leia com atenção o texto abaixo e depois responda às próximas cinco questões.

Heroísmo

Ele usava um colete à prova de balas. Não importava que dia da semana, que dia do mês ou que dia do ano: ele sempre usava o seu colete à prova de balas. Era precavido, ele dizia. A cidade anda muito violenta; nunca se sabe o que pode acontecer. Isso é uma verdade!

Um belo dia, quando estava no banco, ocorreu um assalto. Três bandidos, armados de pistolas e metralhadoras, ameaçavam matar os reféns se o dinheiro não lhes fosse entregue com velocidade. Ele, muito seguro de si, sabendo da vantagem que levava sobre os assaltantes, afinal, seu colete estava bem escondido sob a camisa, disparou na direção de um deles para desarmá-lo. Um segundo depois, caiu morto.

Ataque cardíaco fulminante, disseram os legistas quando chegaram na cena do crime.

(Fonte: <http://www.napontadoslapis.com.br/2011/03/dois-pequenos-contos.html>. Acesso em 18/05/2016.)

26. Conforme o texto, a pessoa que usava um colete à prova de balas todos os dias era:

- a) Uma criança
- b) Uma mulher
- c) Um homem
- d) Um assaltante
- e) O gerente do banco

27. De acordo com o texto, como morreu a pessoa que usava diariamente um colete à prova de balas?

- a) De ataque cardíaco fulminante.
- b) Assassinado por um assaltante.
- c) Cometeu suicídio.
- d) Foi vítima de uma bala perdida durante o assalto.
- e) Foi morto por um policial.

28. Na segunda linha do texto diz: *Era precavido*.

O que isso significa precavido?

- a) Distraído
- b) Aventureiro
- c) Descuidado
- d) Prevenido
- e) Precipitado

29. Em qual alternativa temos uma palavra grifada que é um pronome pessoal?

- a) A cidade anda muito violenta.
- b) Ele usava um colete à prova de balas.
- c) Um segundo depois, caiu morto.
- d) disseram os legistas quando chegaram na cena do crime.
- e) ele sempre usava o seu colete à prova de balas.

30. As palavras são representadas por fonemas (sons) e letras. Sendo assim, na palavra VELOCIDADE contamos quantos fonemas e letras?

- a) 7 fonemas e 10 letras.
- b) 8 fonemas e 9 letras.
- c) 9 fonemas e 9 letras.
- d) 9 fonemas e 10 letras.
- e) 10 fonemas e 10 letras.

Leia atentamente o texto da figura da formiga e o texto abaixo dela. Depois, responda às próximas cinco questões.

Formigas dormem?



Sim. Especialistas concordam que, como a maioria dos animais, elas dividem seu tempo entre atividade e descanso – quando a ação metabólica diminui. Mas isso não seria bem o que chamamos de sono. “Há registros de formigas vistas ‘deitadas de lado’, que, quando instigadas, retomaram a posição normal. Eu hesitaria em dizer que elas ‘acordaram’, mas a analogia é possível”, explica o mirmecologista (especialista em formiga) Carlos Brandão. Uma pesquisa norte-americana de 2009 indicava que ao menos as formigas-de-fogo (*Solenopsis invicta*) dormem sim – em pequenos cochilos.

- As operárias “dormem” em turnos, mantendo sempre 80% da força de trabalho acordada.

(Fonte <http://mundoestranho.abril.com.br/materia/formigas-dormem>. Acesso em 18/05/2016.)

31. Observe a parte da figura da formiga sobre TOTAL DE HORAS DORMIDAS. Nessa parte, entendemos que:

- A formiga rainha dorme 9,4 horas por dia e a formiga operária dorme 4,8 horas por dia.
- A formiga rainha dorme menos de 9 horas por dia e a formiga operária menos de 4 horas por dia.
- A formiga rainha dorme mais de 10 horas por dia e a formiga operária mais de 4 horas por dia.
- A formiga rainha dorme mais de 9 horas por dia e a formiga operária mais de 5 horas por dia.
- A formiga rainha dorme 4 horas por dia e a formiga operária 8 horas por dia.

32. No texto que se localiza abaixo da figura da formiga, lemos a palavra mirmecologista. Lá explica que isso significa:

- O nome de um tipo de formiga.
- Especialista em formiga.
- O nome que se dá ao cochilo das formigas.
- O nome dado a uma pesquisa sobre formigas.
- Um outro nome que recebem as formigas operárias.

33. Leia esta frase: *Formigas dormem?*

Ela é:

- Uma frase afirmativa porque tem ponto final e expressa uma pergunta.
- Uma frase negativa porque tem ponto de interrogação e nega alguma coisa.
- Uma frase exclamativa porque tem ponto de exclamação e expressa admiração.
- Uma frase interrogativa porque tem ponto de exclamação e expressa uma pergunta.
- Uma frase interrogativa porque tem ponto de interrogação e expressa uma pergunta.

34. Em qual alternativa a separação de sílabas das palavras não está correta?

- a-ni-mais; dei-ta-das.
- es-pe-cia-lis-ta; po-ssí-vel.
- des-can-so; com-cor-dam.
- a-ti-vi-da-de; for-mi-gas.
- tra-ba-lho; pe-que-nos.

35. O hiato é um encontro vocálico em que temos duas vogais juntas, mas que são pronunciadas em sílabas diferentes. Assim, a palavra que tem hiato é:

- Pequenos
- Deitadas
- Quando

- d) Acordados
- e) Especialista

Leia com atenção o texto abaixo e depois responda às cinco próximas questões.

Tomate é fruta?

por Sabrina Haick | Edição 177

Sim, ele é. Não só o tomate é fruta, como a berinjela, a abobrinha, o pepino, o pimentão e outros alimentos que nós chamamos de legumes também são. Fruta é o ovário amadurecido de uma planta, onde ficam as sementes. A confusão acontece porque nós somos acostumados a chamar as frutas salgadas de legumes. Se você acha que sua vida foi uma mentira até agora, saiba que também existem alimentos que nós chamamos de fruta, mas não são. Trata-se dos pseudofrutos – estruturas suculentas que têm cara e jeito de fruto, mas não se desenvolvem a partir do ovário da planta, como as frutas reais. É o caso do morango, do caju, da maçã, da pera e do abacaxi, entre outros.

(Fonte: <http://mundoestranho.abril.com.br/materia/tomate-e-fruta>. Aceso em 18/05/2016.)

36. Ao ler esse texto, descobrimos que o tomate é um fruto e não um legume. Também descobrimos que são frutas outros alimentos que pensávamos que eram legumes. Dois deles são:

- a) Berinjela e morango
- b) Abobrinha e pepino
- c) Abobrinha e caju
- d) Pimentão e pera
- e) Pepino e abacaxi

37. Conhecer os sinônimos e antônimos das palavras nos ajuda a aumentar nosso vocabulário.

Qual é um sinônimo para a palavra “suculentas”, conforme o sentido que ela tem no texto?

- a) Desinteressantes
- b) Gordurosas
- c) Carnudas
- d) Descarnadas
- e) Felpudas

38. A acentuação em uma palavra nos ajuda a pronunciá-la de maneira correta, como, por exemplo, as palavras “você” e “ovário”. Marque a alternativa em que as palavras não foram acentuadas corretamente.

- a) lâmpada - pálpebra
- b) obito - fenômeno
- c) mímica - código
- d) cálice - xícara
- e) cédula - específico

39. Escrevemos “abacaxi” com x, “berinjela” e “caju” com j.

Marque a alternativa em que todas as palavras grifadas estão escritas de forma correta.

- a) Fui à feira e comprei tangerina, laranja e melancia.
- b) Fui à feira e comprei tanjerina, laranja e melancia.
- c) Fui à feira e comprei tangerina, larãja e melancia.
- d) Fui à feira e comprei tangerina, laranja e melansia.
- e) Fui à feira e comprei tãgerina, laranja e melansia.

40. O que temos nas palavras “frutas”, “estruturas”, “salgadas” e “partir”?

- a) Ditongo
- b) Hiato
- c) Encontro consonantal e Encontro vocálico
- d) Encontro consonantal
- e) Encontro vocálico

RASCUNHO



PREFEITURA DE TELÊMACO BORBA - ESTADO DO PARANÁ- EDITAL Nº 001-2016 - CONCURSO PÚBLICO

VESPERTINO – 29/05/2016 – FUNDAMENTAL INCOMPLETO

3

PROVA OBJETIVA NÚMERO

CARGO: AUXILIAR SOCIAL - FEMININO - MASCULINO

Leia atentamente as INSTRUÇÕES:

1. Confira seus dados no cartão-resposta: nome, número de inscrição e o curso para o qual se inscreveu.
2. **MARQUE no seu cartão-resposta o número da sua prova** (não será corrigido o cartão-resposta que não tiver marcado o número da prova) e **Assine** seu cartão-resposta.
3. Aguarde a autorização do Fiscal para abrir o caderno de prova. Ao receber a ordem do fiscal, confira o caderno de prova com muita atenção. Nenhuma reclamação sobre o total de questões ou falha de impressão será aceita depois de iniciada a prova.
4. O cartão-resposta não será substituído, salvo se contiver erro de impressão.
5. Preencha toda a área do cartão-resposta correspondente à alternativa de sua escolha, com caneta esferográfica (tinta azul ou preta), sem ultrapassar as bordas. As marcações duplas, ou rasuradas, com corretivo, ou marcadas diferentemente do modelo estabelecido no cartão-resposta poderão ser anuladas.
6. Sua prova tem **40** questões, com **5** alternativas.
7. Cabe apenas ao candidato a interpretação das questões, **o fiscal** não poderá fazer nenhuma interferência.
8. A prova será realizada com duração máxima de **3 (três) horas**, incluído o tempo para a realização da Prova Objetiva de múltipla escolha e o preenchimento do cartão-resposta.
9. O candidato poderá retirar-se do local de realização das provas somente **1 (uma) hora** após o seu início, sem levar o caderno de prova.
10. O candidato poderá levar o caderno de provas, assim como anotação contendo transcrição do seu cartão-resposta, somente **1h30min** (uma hora e trinta minutos) após o início da realização da prova.
11. Ao terminar a prova, o candidato deverá entregar ao fiscal de sala o cartão-resposta preenchido e **ASSINADO**.
12. Os **3 (três)** candidatos, que terminarem a prova por último, deverão permanecer na sala, e só poderão sair juntos após o fechamento do envelope, contendo os cartões-resposta dos candidatos presentes e ausentes, e assinarem no lacre do referido envelope, atestando que este foi devidamente lacrado.
13. Durante todo o tempo em que permanecer no local onde está ocorrendo o concurso, o candidato deverá, manter o celular desligado e sem bateria, só sendo permitido ligar depois de ultrapassar o portão de saída do prédio.
14. Não será permitido ao candidato fumar na sala de provas, bem como nas dependências.
15. Depois de terminar a prova e entregar ao fiscal o cartão-resposta, preenchido e assinado, não será mais permitido ao candidato o uso do banheiro e bebedouro.

BOA PROVA!

CONHECIMENTOS ESPECÍFICOS

01. A colocação em família substituta far-se-á mediante guarda, tutela ou adoção, independentemente da situação jurídica da criança ou adolescente, nos termos da Lei nº 8.069/1990. Será necessário seu consentimento, colhido em audiência, tratando-se de maior de

- a) 10 anos de idade.
- b) 12 anos de idade.
- c) 14 anos de idade.
- d) 16 anos de idade.
- e) 18 anos de idade.

02. Segundo o Estatuto da Criança e do Adolescente, a tutela será deferida, nos termos da lei civil, a pessoa

- a) de até 12 anos incompletos.
- b) de até 14 anos incompletos.
- c) de até 16 anos incompletos.
- d) de até 18 anos incompletos.
- e) de até 21 anos incompletos.

03. Conforme o Estatuto da Criança e do Adolescente, a garantia de prioridade não compreende:

- a) Primazia de receber proteção e socorro em quaisquer circunstâncias.
- b) Precedência de atendimento nos serviços públicos ou de relevância pública.
- c) Preferência na formulação e na execução das políticas sociais públicas.
- d) Destinação privilegiada de recursos públicos nas áreas relacionadas com a proteção à infância e à juventude.
- e) Direito de buscar refúgio, auxílio e orientação.

04. Marque a alternativa que completa a lacuna corretamente.

Quando se tratar de _____ em acolhimento institucional, dar-se-á especial atenção à atuação de educadores de referência estáveis e qualitativamente significativos, às rotinas específicas e ao atendimento das necessidades básicas, incluindo as de afeto como prioritárias.

- a) criança de 7 a 14 anos
- b) criança de 6 a 12 anos
- c) criança de 0 a 3 anos
- d) criança de 0 a 6 anos
- e) criança de 6 a 10 anos

05. Marque a alternativa que completa a lacuna corretamente.

Toda criança ou adolescente que estiver inserido em programa de acolhimento familiar ou institucional terá sua situação _____, no máximo, a cada 6 meses.

- a) modificada
- b) reavaliada
- c) alterada
- d) redimensionada
- e) avaliada

LÍNGUA PORTUGUESA

Leia com atenção o texto abaixo e depois responda às próximas cinco questões.

Heroísmo

Ele usava um colete à prova de balas. Não importava que dia da semana, que dia do mês ou que dia do ano: ele sempre usava o seu colete à prova de balas. Era precavido, ele dizia. A cidade anda muito violenta; nunca se sabe o que pode acontecer. Isso é uma verdade!

Um belo dia, quando estava no banco, ocorreu um assalto. Três bandidos, armados de pistolas e metralhadoras, ameaçavam matar os reféns se o dinheiro não lhes fosse entregue com velocidade. Ele, muito seguro de si, sabendo da vantagem que levava sobre os assaltantes, afinal, seu colete estava bem escondido sob a camisa, disparou na direção de um deles para desarmá-lo. Um segundo depois, caiu morto.

Ataque cardíaco fulminante, disseram os legistas quando chegaram na cena do crime.

(Fonte: <http://www.napontadoslapis.com.br/2011/03/dois-pequenos-contos.html>. Acesso em 18/05/2016.)

06. Conforme o texto, a pessoa que usava um colete à prova de balas todos os dias era:

- a) Uma criança
- b) Uma mulher
- c) Um homem

- d) Um assaltante
e) O gerente do banco

07. De acordo com o texto, como morreu a pessoa que usava diariamente um colete à prova de balas?

- a) De ataque cardíaco fulminante.
b) Assassinado por um assaltante.
c) Cometeu suicídio.
d) Foi vítima de uma bala perdida durante o assalto.
e) Foi morto por um policial.

08. Na segunda linha do texto diz: *Era precavido*.

O que isso significa precavido?

- a) Distraído
b) Aventureiro
c) Descuidado
d) Prevenido
e) Precipitado

09. Em qual alternativa temos uma palavra grifada que é um pronome pessoal?

- a) A cidade anda muito violenta.
b) Ele usava um colete à prova de balas.
c) Um segundo depois, caiu morto.
d) disseram os legistas quando chegaram na cena do crime.
e) ele sempre usava o seu colete à prova de balas.

10. As palavras são representadas por fonemas (sons) e letras. Sendo assim, na palavra VELOCIDADE contamos quantos fonemas e letras?

- a) 7 fonemas e 10 letras.
b) 8 fonemas e 9 letras.
c) 9 fonemas e 9 letras.
d) 9 fonemas e 10 letras.
e) 10 fonemas e 10 letras.

Leia atentamente o texto da figura da formiga e o texto abaixo dela. Depois, responda às próximas cinco questões.

Formigas dormem?



Sim. Especialistas concordam que, como a maioria dos animais, elas dividem seu tempo entre atividade e descanso – quando a ação metabólica diminui. Mas isso não seria bem o que chamamos de sono. “Há registros de formigas vistas ‘deitadas de lado’, que, quando instigadas, retomaram a posição normal. Eu hesitaria em dizer que elas ‘acordaram’, mas a analogia é possível”, explica o mirmecologista (especialista em formiga) Carlos Brandão. Uma pesquisa norte-americana de 2009 indicava que ao menos as formigas-de-fogo (*Solenopsis invicta*) dormem sim – em pequenos cochilos.

- As operárias “dormem” em turnos, mantendo sempre 80% da força de trabalho acordada.

(Fonte <http://mundoestranho.abril.com.br/materia/formigas-dormem>. Acesso em 18/05/2016.)

11. Observe a parte da figura da formiga sobre TOTAL DE HORAS DORMIDAS. Nessa parte, entendemos que:

- a) A formiga rainha dorme 9,4 horas por dia e a formiga operária dorme 4,8 horas por dia.
- b) A formiga rainha dorme menos de 9 horas por dia e a formiga operária menos de 4 horas por dia.
- c) A formiga rainha dorme mais de 10 horas por dia e a formiga operária mais de 4 horas por dia.
- d) A formiga rainha dorme mais de 9 horas por dia e a formiga operária mais de 5 horas por dia.
- e) A formiga rainha dorme 4 horas por dia e a formiga operária 8 horas por dia.

12. No texto que se localiza abaixo da figura da formiga, lemos a palavra mirmecologista. Lá explica que isso significa:

- a) O nome de um tipo de formiga.
- b) Especialista em formiga.
- c) O nome que se dá ao cochilo das formigas.
- d) O nome dado a uma pesquisa sobre formigas.
- e) Um outro nome que recebem as formigas operárias.

13. Leia esta frase: *Formigas dormem?*

Ela é:

- a) Uma frase afirmativa porque tem ponto final e expressa uma pergunta.
- b) Uma frase negativa porque tem ponto de interrogação e nega alguma coisa.
- c) Uma frase exclamativa porque tem ponto de exclamação e expressa admiração.
- d) Uma frase interrogativa porque tem ponto de exclamação e expressa uma pergunta.
- e) Uma frase interrogativa porque tem ponto de interrogação e expressa uma pergunta.

14. Em qual alternativa a separação de sílabas das palavras não está correta?

- a) a-ni-mais; dei-ta-das.
- b) es-pe-cia-lis-ta; po-ssí-vel.
- c) des-can-so; com-cor-dam.
- d) a-ti-vi-da-de; for-mi-gas.
- e) tra-ba-lho; pe-que-nos.

15. O hiato é um encontro vocálico em que temos duas vogais juntas, mas que são pronunciadas em sílabas diferentes. Assim, a palavra que tem hiato é:

- a) Pequenos
- b) Deitadas
- c) Quando
- d) Acordados
- e) Especialista

Leia com atenção o texto abaixo e depois responda às cinco próximas questões.

Tomate é fruta?

por Sabrina Haick | Edição 177

Sim, ele é. Não só o tomate é fruta, como a berinjela, a abobrinha, o pepino, o pimentão e outros alimentos que nós chamamos de legumes também são. Fruta é o ovário amadurecido de uma planta, onde ficam as sementes. A confusão acontece porque nós somos acostumados a chamar as frutas salgadas de legumes. Se você acha que sua vida foi uma mentira até agora, saiba que também existem alimentos que nós chamamos de fruta, mas não são. Trata-se dos pseudofrutos – estruturas suculentas que têm cara e jeito de fruto, mas não se desenvolvem a partir do ovário da planta, como as frutas reais. É o caso do morango, do caju, da maçã, da pera e do abacaxi, entre outros.

(Fonte: <http://mundoestranho.abril.com.br/materia/tomate-e-fruta>. Acesso em 18/05/2016.)

16. Ao ler esse texto, descobrimos que o tomate é um fruto e não um legume. Também descobrimos que são frutas outros alimentos que pensávamos que eram legumes. Dois deles são:

- a) Berinjela e morango
- b) Abobrinha e pepino
- c) Abobrinha e caju
- d) Pimentão e pera
- e) Pepino e abacaxi

17. Conhecer os sinônimos e antônimos das palavras nos ajuda a aumentar nosso vocabulário.

Qual é um sinônimo para a palavra “suculentas”, conforme o sentido que ela tem no texto?

- a) Desinteressantes
- b) Gordurosas

- c) Carnudas
d) Descarnadas
e) Felpudas

18. A acentuação em uma palavra nos ajuda a pronunciar-la de maneira correta, como, por exemplo, as palavras “você” e “ovário”. Marque a alternativa em que as palavras não foram acentuadas corretamente.

- a) lâmpada - pálpebra
b) obito - fenômeno
c) mímica - código
d) cálice - xícara
e) cédula - específico

19. Escrevemos “abacaxi” com x, “berinjela” e “caju” com j.

Marque a alternativa em que todas as palavras grifadas estão escritas de forma correta.

- a) Fui à feira e comprei tangerina, laranja e melancia.
b) Fui à feira e comprei tanjerina, laranja e melancia.
c) Fui à feira e comprei tangerina, larãja e melancia.
d) Fui à feira e comprei tangerina, laranja e melansia.
e) Fui à feira e comprei tãgerina, laranja e melansia.

20. O que temos nas palavras “frutas”, “estruturas”, “salgadas” e “partir”?

- a) Ditongo
b) Hiato
c) Encontro consonantal e Encontro vocálico
d) Encontro consonantal
e) Encontro vocálico

MATEMÁTICA

21. Marcela tem uma dívida de R\$ 462,00 dividida em 4 parcelas iguais. Qual é o valor que Marcela vai pagar em cada parcela?

- a) R\$ 189,00
b) R\$ 145,50
c) R\$ 115,50
d) R\$ 125,00
e) R\$ 132,50

22. No mês de fevereiro, Maria assistiu a filmes nos dias ímpares, e Carla nos dias pares. Quantas vezes Maria assistiu a filmes no mês de fevereiro?

- a) 28
b) 14
c) 15
d) 8
e) 4

DOM	SEG	TER	QUA	QUI	SEX	SAB
			1	2	3	4
5	6	7	8	9	10	11
12	13	14	15	16	17	18
19	20	21	22	23	24	25
26	27	28				

23. Um estudante pretende se inscrever para participar de um Congresso Nacional. (O valor das inscrições está apresentado na tabela abaixo). Sabendo que o estudante irá se inscrever na abertura do Congresso Nacional, qual é o valor que ele irá pagar?

- a) R\$ 120,00
b) R\$ 100,00
c) R\$ 180,00
d) R\$ 150,00
e) R\$ 170,00

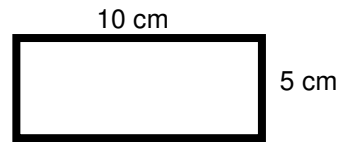
CATEGORIA	Inscrições até 15/05/16	Na abertura do Congresso
Profissional	R\$ 120,00	R\$ 180,00
Estudantes	R\$ 100,00	R\$ 150,00

24. A prestação de um terreno é de R\$ 787,00 e vence todo dia 10. Pagando fora do prazo, há uma multa de R\$ 8,70 por dia. Se a prestação foi paga só no dia 25 (vinte e cinco), qual foi o valor pago?

- a) R\$ 987,00
b) R\$ 937,00
c) R\$ 927,50
d) R\$ 967,00
e) R\$ 917,50

25. Marque a alternativa que apresenta o resultado do cálculo do perímetro de um terreno que tem as dimensões indicadas na figura abaixo.

- a) 30 cm
- b) 50 cm
- c) 40 cm
- d) 20 cm
- e) 70 cm



26. Um show de Munhoz e Mariano, na exposição de Campo Grande, em abril de 2016, teve início exatamente às 21h e 15min e terminou às 23h e 40 min. Qual foi a duração do show?

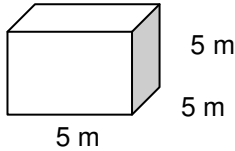
- a) 2h e 10m
- b) 2h e 15m
- c) 2h e 25m
- d) 2h e 30m
- e) 2h e 40m

27. Um pacote de açúcar pesa 2Kg. Foram retirados 450g para fazer um bolo. Quantos gramas restaram no pacote?

- a) 1.450 g
- b) 1.250 g
- c) 1.350 g
- d) 1.550 g
- e) 1.650 g

28. Determine o volume da figura representada a seguir e marque a alternativa correta.

- a) $137m^3$
- b) $115m^3$
- c) $127m^3$
- d) $216m^3$
- e) $125m^3$



29. Calcule o perímetro de um retângulo cuja base é três vezes a altura que mede 4m, e marque a alternativa correta.

- a) 16m
- b) 32m
- c) 48m
- d) 20m
- e) 28m



30. João mora no Bairro Tiradentes e Carlos no Bairro Novo Século, os dois trabalham no Supermercado Novo Horizonte. João chegou ao supermercado às 7horas e 30 minutos da manhã e Carlos chegou meia hora depois.

A que horas Carlos chegou ao supermercado?

- a) 8 horas
- b) 9 horas
- c) 6 horas
- d) 5 horas
- e) 4 horas

CONHECIMENTOS GERAIS

31. Telêmaco Borba/PR foi desmembrado do município de

- a) Tibagi
- b) Londrina
- c) Ortigueira
- d) Imbaú
- e) Ventania

32. Quais são as cores da bandeira do município de Telêmaco Borba/PR?

- a) Vermelha, branca e verde
- b) Branca, azul e amarela
- c) Verde, azul e amarela
- d) Vermelha, branca e azul
- e) Branca, cinza e verde

33. Qual o nome do atual prefeito de Telêmaco Borba/PR?

- a) Renato Bahena
- b) José Reinaldo Antunes Carneiro



- c) Luiz Carlos Gibson
- d) Gilson Pereira dos Santos
- e) Ezequiel Ligoski Betim

34. Marque a alternativa que corresponde ao feriado municipal que comemora o dia da padroeira de Telêmaco Borba/PR (Nossa Senhora do Perpétuo Socorro).

- a) 21 de março
- b) 26 de maio
- c) 01 de novembro
- d) 28 de outubro
- e) 21 de junho

35. Quem nasce em Telêmaco Borba é

- a) Telemacoborbense
- b) Telemacoborbino
- c) Telemacoreense
- d) Telemaconense
- e) Telemacoborbiano

36. Em caso de vaga de vereador, não havendo suplente, o Presidente comunicará o fato, diretamente ao Tribunal Regional Eleitoral, dentro de

- a) 72 horas.
- b) 5 dias.
- c) 15 dias.
- d) 48 horas.
- e) 24 horas.

37. Qual alternativa não contempla uma forma de provimento no cargo público, conforme o art. 6º do Estatuto dos Servidores Públicos do município de Telêmaco Borba/PR?

- a) Nomeação
- b) Concurso
- c) Readaptação
- d) Reintegração
- e) Promoção

38. Qual dos municípios seguintes faz divisa com Telêmaco Borba/PR?

- a) Curiúva
- b) Londrina
- c) Arapot
- d) Sapopema
- e) Cambé

39. O município de Telêmaco Borba/PR foi criado inicialmente com o nome de

- a) Monte Alegre.
- b) Mauá.
- c) Cidade Nova.
- d) Harmonia.
- e) Tibagi.

40. Como é denominada a sede administrativa de Telêmaco Borba/PR?

- a) Paço Municipal
- b) Paço das Araucárias
- c) Governo Municipal
- d) Prefeitura
- e) Paço Administrativo

RASCUNHO



PREFEITURA DE TELÊMACO BORBA - ESTADO DO PARANÁ- EDITAL Nº 001-2016 - CONCURSO PÚBLICO

VESPERTINO – 29/05/2016 – FUNDAMENTAL INCOMPLETO

1

PROVA OBJETIVA NÚMERO

CARGO: INSTRUTOR DE ARTES E OFÍCIOS

Leia atentamente as INSTRUÇÕES:

1. Confira seus dados no cartão-resposta: nome, número de inscrição e o curso para o qual se inscreveu.
2. **MARQUE no seu cartão-resposta o número da sua prova** (não será corrigido o cartão-resposta que não tiver marcado o número da prova) e **Assine** seu cartão-resposta.
3. Aguarde a autorização do Fiscal para abrir o caderno de prova. Ao receber a ordem do fiscal, confira o caderno de prova com muita atenção. Nenhuma reclamação sobre o total de questões ou falha de impressão será aceita depois de iniciada a prova.
4. O cartão-resposta não será substituído, salvo se contiver erro de impressão.
5. Preencha toda a área do cartão-resposta correspondente à alternativa de sua escolha, com caneta esferográfica (tinta azul ou preta), sem ultrapassar as bordas. As marcações duplas, ou rasuradas, com corretivo, ou marcadas diferentemente do modelo estabelecido no cartão-resposta poderão ser anuladas.
6. Sua prova tem **40** questões, com **5** alternativas.
7. Cabe apenas ao candidato a interpretação das questões, **o fiscal** não poderá fazer nenhuma interferência.
8. A prova será realizada com duração máxima de **3 (três) horas**, incluído o tempo para a realização da Prova Objetiva de múltipla escolha e o preenchimento do cartão-resposta.
9. O candidato poderá retirar-se do local de realização das provas somente **1 (uma) hora** após o seu início, sem levar o caderno de prova.
10. O candidato poderá levar o caderno de provas, assim como anotação contendo transcrição do seu cartão-resposta, somente **1h30min** (uma hora e trinta minutos) após o início da realização da prova.
11. Ao terminar a prova, o candidato deverá entregar ao fiscal de sala o cartão-resposta preenchido e **ASSINADO**.
12. Os **3 (três)** candidatos, que terminarem a prova por último, deverão permanecer na sala, e só poderão sair juntos após o fechamento do envelope, contendo os cartões-resposta dos candidatos presentes e ausentes, e assinarem no lacre do referido envelope, atestando que este foi devidamente lacrado.
13. Durante todo o tempo em que permanecer no local onde está ocorrendo o concurso, o candidato deverá, manter o celular desligado e sem bateria, só sendo permitido ligar depois de ultrapassar o portão de saída do prédio.
14. Não será permitido ao candidato fumar na sala de provas, bem como nas dependências.
15. Depois de terminar a prova e entregar ao fiscal o cartão-resposta, preenchido e assinado, não será mais permitido ao candidato o uso do banheiro e bebedouro.

BOA PROVA!

LÍNGUA PORTUGUESA

Leia com atenção o texto abaixo e depois responda às próximas cinco questões.

Heroísmo

Ele usava um colete à prova de balas. Não importava que dia da semana, que dia do mês ou que dia do ano: ele sempre usava o seu colete à prova de balas. Era precavido, ele dizia. A cidade anda muito violenta; nunca se sabe o que pode acontecer. Isso é uma verdade!

Um belo dia, quando estava no banco, ocorreu um assalto. Três bandidos, armados de pistolas e metralhadoras, ameaçavam matar os reféns se o dinheiro não lhes fosse entregue com velocidade. Ele, muito seguro de si, sabendo da vantagem que levava sobre os assaltantes, afinal, seu colete estava bem escondido sob a camisa, disparou na direção de um deles para desarmá-lo. Um segundo depois, caiu morto.

Ataque cardíaco fulminante, disseram os legistas quando chegaram na cena do crime.

(Fonte: <http://www.napontadoslapis.com.br/2011/03/dois-pequenos-contos.html>. Acesso em 18/05/2016.)

01. Conforme o texto, a pessoa que usava um colete à prova de balas todos os dias era:

- a) Uma criança
- b) Uma mulher
- c) Um homem
- d) Um assaltante
- e) O gerente do banco

02. De acordo com o texto, como morreu a pessoa que usava diariamente um colete à prova de balas?

- a) De ataque cardíaco fulminante.
- b) Assassinado por um assaltante.
- c) Cometeu suicídio.
- d) Foi vítima de uma bala perdida durante o assalto.
- e) Foi morto por um policial.

03. Na segunda linha do texto diz: *Era precavido*.

O que isso significa precavido?

- a) Distraído
- b) Aventureiro
- c) Descuidado
- d) Prevenido
- e) Precipitado

04. Em qual alternativa temos uma palavra grifada que é um pronome pessoal?

- a) A cidade anda muito violenta.
- b) Ele usava um colete à prova de balas.
- c) Um segundo depois, caiu morto.
- d) disseram os legistas quando chegaram na cena do crime.
- e) ele sempre usava o seu colete à prova de balas.

05. As palavras são representadas por fonemas (sons) e letras. Sendo assim, na palavra **VELOCIDADE contamos quantos fonemas e letras?**

- a) 7 fonemas e 10 letras.
- b) 8 fonemas e 9 letras.
- c) 9 fonemas e 9 letras.
- d) 9 fonemas e 10 letras.
- e) 10 fonemas e 10 letras.

Leia atentamente o texto da figura da formiga e o texto abaixo dela. Depois, responda às próximas cinco questões.

Formigas dormem?



Sim. Especialistas concordam que, como a maioria dos animais, elas dividem seu tempo entre atividade e descanso – quando a ação metabólica diminui. Mas isso não seria bem o que chamamos de sono. “Há registros de formigas vistas ‘deitadas de lado’, que, quando instigadas, retomaram a posição normal. Eu hesitaria em dizer que elas ‘acordaram’, mas a analogia é possível”, explica o mirmecologista (especialista em formiga) Carlos Brandão. Uma pesquisa norte-americana de 2009 indicava que ao menos as formigas-de-fogo (*Solenopsis invicta*) dormem sim – em pequenos cochilos.

- As operárias “dormem” em turnos, mantendo sempre 80% da força de trabalho acordada.

(Fonte <http://mundoestranho.abril.com.br/materia/formigas-dormem>. Acesso em 18/05/2016.)

06. Observe a parte da figura da formiga sobre TOTAL DE HORAS DORMIDAS. Nessa parte, entendemos que:

- A formiga rainha dorme 9,4 horas por dia e a formiga operária dorme 4,8 horas por dia.
- A formiga rainha dorme menos de 9 horas por dia e a formiga operária menos de 4 horas por dia.
- A formiga rainha dorme mais de 10 horas por dia e a formiga operária mais de 4 horas por dia.
- A formiga rainha dorme mais de 9 horas por dia e a formiga operária mais de 5 horas por dia.
- A formiga rainha dorme 4 horas por dia e a formiga operária 8 horas por dia.

07. No texto que se localiza abaixo da figura da formiga, lemos a palavra mirmecologista. Lá explica que isso significa:

- O nome de um tipo de formiga.
- Especialista em formiga.
- O nome que se dá ao cochilo das formigas.
- O nome dado a uma pesquisa sobre formigas.
- Um outro nome que recebem as formigas operárias.

08. Leia esta frase: *Formigas dormem?*

Ela é:

- Uma frase afirmativa porque tem ponto final e expressa uma pergunta.
- Uma frase negativa porque tem ponto de interrogação e nega alguma coisa.
- Uma frase exclamativa porque tem ponto de exclamação e expressa admiração.
- Uma frase interrogativa porque tem ponto de exclamação e expressa uma pergunta.
- Uma frase interrogativa porque tem ponto de interrogação e expressa uma pergunta.

09. Em qual alternativa a separação de sílabas das palavras não está correta?

- a-ni-mais; dei-ta-das.
- es-pe-cia-lis-ta; po-ssí-vel.
- des-can-so; com-cor-dam.
- a-ti-vi-da-de; for-mi-gas.
- tra-ba-lho; pe-que-nos.

10. O hiato é um encontro vocálico em que temos duas vogais juntas, mas que são pronunciadas em sílabas diferentes. Assim, a palavra que tem hiato é:

- Pequenos
- Deitadas
- Quando



- d) Acordados
- e) Especialista

Leia com atenção o texto abaixo e depois responda às cinco próximas questões.

Tomate é fruta?

por Sabrina Haick | Edição 177

Sim, ele é. Não só o tomate é fruta, como a berinjela, a abobrinha, o pepino, o pimentão e outros alimentos que nós chamamos de legumes também são. Fruta é o ovário amadurecido de uma planta, onde ficam as sementes. A confusão acontece porque nós somos acostumados a chamar as frutas salgadas de legumes. Se você acha que sua vida foi uma mentira até agora, saiba que também existem alimentos que nós chamamos de fruta, mas não são. Trata-se dos pseudofrutos – estruturas suculentas que têm cara e jeito de fruto, mas não se desenvolvem a partir do ovário da planta, como as frutas reais. É o caso do morango, do caju, da maçã, da pera e do abacaxi, entre outros.

(Fonte: <http://mundoestranho.abril.com.br/materia/tomate-e-fruta>. Acesso em 18/05/2016.)

11. Ao ler esse texto, descobrimos que o tomate é um fruto e não um legume. Também descobrimos que são frutas outros alimentos que pensávamos que eram legumes. Dois deles são:

- a) Berinjela e morango
- b) Abobrinha e pepino
- c) Abobrinha e caju
- d) Pimentão e pera
- e) Pepino e abacaxi

12. Conhecer os sinônimos e antônimos das palavras nos ajuda a aumentar nosso vocabulário.

Qual é um sinônimo para a palavra “suculentas”, conforme o sentido que ela tem no texto?

- a) Desinteressantes
- b) Gordurosas
- c) Carnudas
- d) Descarnadas
- e) Felpudas

13. A acentuação em uma palavra nos ajuda a pronunciá-la de maneira correta, como, por exemplo, as palavras “você” e “ovário”. Marque a alternativa em que as palavras não foram acentuadas corretamente.

- a) lâmpada - pálpebra
- b) obíto - fenômeno
- c) mímica - código
- d) cálice - xícara
- e) cédula - específico

14. Escrevemos “abacaxi” com x, “berinjela” e “caju” com j.

Marque a alternativa em que todas as palavras grifadas estão escritas de forma correta.

- a) Fui à feira e comprei tangerina, laranja e melancia.
- b) Fui à feira e comprei tanjerina, laranja e melancia.
- c) Fui à feira e comprei tangerina, larãja e melancia.
- d) Fui à feira e comprei tangerina, laranja e melansia.
- e) Fui à feira e comprei tãgerina, laranja e melansia.

15. O que temos nas palavras “frutas”, “estruturas”, “salgadas” e “partir”?

- a) Ditongo
- b) Hiato
- c) Encontro consonantal e Encontro vocálico
- d) Encontro consonantal
- e) Encontro vocálico

MATEMÁTICA

16. Marcela tem uma dívida de R\$ 462,00 dividida em 4 parcela iguais. Qual é o valor que Marcela vai pagar em cada parcela?

- a) R\$ 189,00
- b) R\$ 145,50
- c) R\$ 115,50
- d) R\$ 125,00
- e) R\$ 132,50

17. No mês de fevereiro, Maria assistiu a filmes nos dias ímpares, e Carla nos dias pares. Quantas vezes Maria assistiu a filmes no mês de fevereiro?

- a) 28
 b) 14
 c) 15
 d) 8
 e) 4

DOM	SEG	TER	QUA	QUI	SEX	SAB
			1	2	3	4
5	6	7	8	9	10	11
12	13	14	15	16	17	18
19	20	21	22	23	24	25
26	27	28				

18. Um estudante pretende se inscrever para participar de um Congresso Nacional. (O valor das inscrições está apresentado na tabela abaixo). Sabendo que o estudante irá se inscrever na abertura do Congresso Nacional, qual é o valor que ele irá pagar?

- a) R\$ 120,00
 b) R\$ 100,00
 c) R\$ 180,00
 d) R\$ 150,00
 e) R\$ 170,00

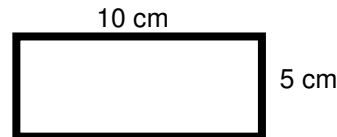
CATEGORIA	Inscrições até 15/05/16	Na abertura do Congresso
Profissional	R\$ 120,00	R\$ 180,00
Estudantes	R\$ 100,00	R\$ 150,00

19. A prestação de um terreno é de R\$ 787,00 e vence todo dia 10. Pagando fora do prazo, há uma multa de R\$ 8,70 por dia. Se a prestação foi paga só no dia 25 (vinte e cinco), qual foi o valor pago?

- a) R\$ 987,00
 b) R\$ 937,00
 c) R\$ 927,50
 d) R\$ 967,00
 e) R\$ 917,50

20. Marque a alternativa que apresenta o resultado do cálculo do perímetro de um terreno que tem as dimensões indicadas na figura abaixo.

- a) 30 cm
 b) 50 cm
 c) 40 cm
 d) 20 cm
 e) 70 cm



21. Um show de Munhoz e Mariano, na exposição de Campo Grande, em abril de 2016, teve início exatamente às 21h e 15min e terminou às 23h e 40 min. Qual foi a duração do show?

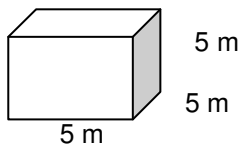
- a) 2h e 10m
 b) 2h e 15m
 c) 2h e 25m
 d) 2h e 30m
 e) 2h e 40m

22. Um pacote de açúcar pesa 2Kg. Foram retirados 450g para fazer um bolo. Quantos gramas restaram no pacote?

- a) 1.450 g
 b) 1.250 g
 c) 1.350 g
 d) 1.550 g
 e) 1.650 g

23. Determine o volume da figura representada a seguir e marque a alternativa correta.

- a) $137m^3$
 b) $115m^3$
 c) $127m^3$
 d) $216m^3$
 e) $125m^3$



24. Calcule o perímetro de um retângulo cuja base é três vezes a altura que mede 4m, e marque a alternativa correta.

- a) 16m
 b) 32m
 c) 48m
 d) 20m
 e) 28m



25. João mora no Bairro Tiradentes e Carlos no Bairro Novo Século, os dois trabalham no Supermercado Novo Horizonte. João chegou ao supermercado às 7horas e 30 minutos da manhã e Carlos chegou meia hora depois.

A que horas Carlos chegou ao supermercado?

- a) 8 horas
- b) 9 horas
- c) 6 horas
- d) 5 horas
- e) 4 horas

CONHECIMENTOS GERAIS

26. Telêmaco Borba/PR foi desmembrado do município de

- a) Tibagi
- b) Londrina
- c) Ortigueira
- d) Imbaú
- e) Ventania

27. Quais são as cores da bandeira do município de Telêmaco Borba/PR?

- a) Vermelha, branca e verde
- b) Branca, azul e amarela
- c) Verde, azul e amarela
- d) Vermelha, branca e azul
- e) Branca, cinza e verde

28. Qual o nome do atual prefeito de Telêmaco Borba/PR?

- a) Renato Bahena
- b) José Reinaldo Antunes Carneiro
- c) Luiz Carlos Gibson
- d) Gilson Pereira dos Santos
- e) Ezequiel Ligoski Betim

29. Marque a alternativa que corresponde ao feriado municipal que comemora o dia da padroeira de Telêmaco Borba/PR (Nossa Senhora do Perpétuo Socorro).

- a) 21 de março
- b) 26 de maio
- c) 01 de novembro
- d) 28 de outubro
- e) 21 de junho

30. Quem nasce em Telêmaco Borba é

- a) Telemacoborbense
- b) Telemacoborbino
- c) Telemacoreense
- d) Telemaconense
- e) Telemacoborbiano

31. Em caso de vaga de vereador, não havendo suplente, o Presidente comunicará o fato, diretamente ao Tribunal Regional Eleitoral, dentro de

- a) 72 horas.
- b) 5 dias.
- c) 15 dias.
- d) 48 horas.
- e) 24 horas.

32. Qual alternativa não contempla uma forma de provimento no cargo público, conforme o art. 6º do Estatuto dos Servidores Públicos do município de Telêmaco Borba/PR?

- a) Nomeação
- b) Concurso
- c) Readaptação
- d) Reintegração
- e) Promoção

33. Qual dos municípios seguintes faz divisa com Telêmaco Borba/PR?

- a) Curiúva
- b) Londrina
- c) Arapot
- d) Sapopema
- e) Cambé

34. O município de Telêmaco Borba/PR foi criado inicialmente com o nome de

- a) Monte Alegre.
- b) Mauá.
- c) Cidade Nova.
- d) Harmonia.
- e) Tibagi.

35. Como é denominada a sede administrativa de Telêmaco Borba/PR?


- a) Paço Municipal
- b) Paço das Araucárias
- c) Governo Municipal
- d) Prefeitura
- e) Paço Administrativo

CONHECIMENTOS ESPECÍFICOS

36. Leia as alternativas sobre o trabalho de cabeleireiro, manicura e pedicura e marque a incorreta.

- a) Os profissionais de estética estão em contato com clientes que podem ser portadores de doenças contagiosas, como a hepatite B.
- b) **Desinfecção é o** local destinado à guarda de material de limpeza.
- c) O armazenamento dos materiais deve ser feito em ambiente fechado, limpo e seco.
- d) Antes de atender ao cliente, o profissional deve realizar a higienização e antissepsia das mãos.
- e) O ambiente de trabalho deve ser adequado ao bem-estar do cliente.

37. Analise a figura a seguir e marque a alternativa que traz o nome correto desse profissional.



- a) Pedicura
- b) Esteticista
- c) Cabelereiro
- d) Maquiador
- e) Manicure

38. Analise as figuras a seguir.



Figura 1



Figura 2




Figura 3

Qual dos desses materiais é usado para fazer crochê?

- a) Apenas o da figura 1
- b) Apenas o da figura 2
- c) Apenas o da figura 3
- d) Apenas os das figuras 1 e 2

e) Apenas os das figuras 2 e 3

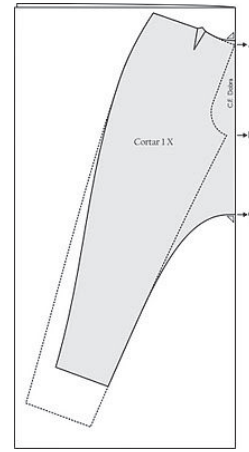
39. Qual dos itens a seguir é usado no trabalho de corte e costura?



Item 1



Item 2



Item 3

- a) Apenas o item 1.
- b) Apenas o item 2.
- c) Apenas o item 3.
- d) Apenas os itens 2 e 3.
- e) Os itens 1, 2 e 3.



40. O trabalho que aparece nessa imagem é realizado pelo

- a) tapeceiro.
- b) costureiro.
- c) marceneiro.
- d) artesão.
- e) confeitoiro.

RASCUNHO



PREFEITURA DE TELÊMACO BORBA - ESTADO DO PARANÁ- EDITAL Nº 001-2016 - CONCURSO PÚBLICO

VESPERTINO – 29/05/2016 – FUNDAMENTAL INCOMPLETO

2

PROVA OBJETIVA NÚMERO

CARGO: INSTRUTOR DE ARTES E OFÍCIOS

Leia atentamente as INSTRUÇÕES:

1. Confira seus dados no cartão-resposta: nome, número de inscrição e o curso para o qual se inscreveu.
2. **MARQUE no seu cartão-resposta o número da sua prova** (não será corrigido o cartão-resposta que não tiver marcado o número da prova) e **Assine** seu cartão-resposta.
3. Aguarde a autorização do Fiscal para abrir o caderno de prova. Ao receber a ordem do fiscal, confira o caderno de prova com muita atenção. Nenhuma reclamação sobre o total de questões ou falha de impressão será aceita depois de iniciada a prova.
4. O cartão-resposta não será substituído, salvo se contiver erro de impressão.
5. Preencha toda a área do cartão-resposta correspondente à alternativa de sua escolha, com caneta esferográfica (tinta azul ou preta), sem ultrapassar as bordas. As marcações duplas, ou rasuradas, com corretivo, ou marcadas diferentemente do modelo estabelecido no cartão-resposta poderão ser anuladas.
6. Sua prova tem **40** questões, com **5** alternativas.
7. Cabe apenas ao candidato a interpretação das questões, **o fiscal** não poderá fazer nenhuma interferência.
8. A prova será realizada com duração máxima de **3 (três) horas**, incluído o tempo para a realização da Prova Objetiva de múltipla escolha e o preenchimento do cartão-resposta.
9. O candidato poderá retirar-se do local de realização das provas somente **1 (uma) hora** após o seu início, sem levar o caderno de prova.
10. O candidato poderá levar o caderno de provas, assim como anotação contendo transcrição do seu cartão-resposta, somente **1h30min** (uma hora e trinta minutos) após o início da realização da prova.
11. Ao terminar a prova, o candidato deverá entregar ao fiscal de sala o cartão-resposta preenchido e **ASSINADO**.
12. Os **3 (três)** candidatos, que terminarem a prova por último, deverão permanecer na sala, e só poderão sair juntos após o fechamento do envelope, contendo os cartões-resposta dos candidatos presentes e ausentes, e assinarem no lacre do referido envelope, atestando que este foi devidamente lacrado.
13. Durante todo o tempo em que permanecer no local onde está ocorrendo o concurso, o candidato deverá, manter o celular desligado e sem bateria, só sendo permitido ligar depois de ultrapassar o portão de saída do prédio.
14. Não será permitido ao candidato fumar na sala de provas, bem como nas dependências.
15. Depois de terminar a prova e entregar ao fiscal o cartão-resposta, preenchido e assinado, não será mais permitido ao candidato o uso do banheiro e bebedouro.

BOA PROVA!

MATEMÁTICA

1. Marcela tem uma dívida de R\$ 462,00 dividida em 4 parcela iguais. Qual é o valor que Marcela vai pagar em cada parcela?

- a) R\$ 189,00
- b) R\$ 145,50
- c) R\$ 115,50
- d) R\$ 125,00
- e) R\$ 132,50

2. No mês de fevereiro, Maria assistiu a filmes nos dias ímpares, e Carla nos dias pares. Quantas vezes Maria assistiu a filmes no mês de fevereiro?

- a) 28
- b) 14
- c) 15
- d) 8
- e) 4

DOM	SEG	TER	QUA	QUI	SEX	SAB
			1	2	3	4
5	6	7	8	9	10	11
12	13	14	15	16	17	18
19	20	21	22	23	24	25
26	27	28				

3. Um estudante pretende se inscrever para participar de um Congresso Nacional. (O valor das inscrições está apresentado na tabela abaixo). Sabendo que o estudante irá se inscrever na abertura do Congresso Nacional, qual é o valor que ele irá pagar?

- a) R\$ 120,00
- b) R\$ 100,00
- c) R\$ 180,00
- d) R\$ 150,00
- e) R\$ 170,00

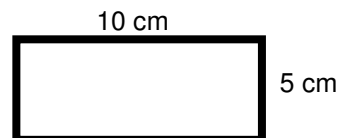
CATEGORIA	Inscrições até 15/05/16	Na abertura do Congresso
Profissional	R\$ 120,00	R\$ 180,00
Estudantes	R\$ 100,00	R\$ 150,00

4. A prestação de um terreno é de R\$ 787,00 e vence todo dia 10. Pagando fora do prazo, há uma multa de R\$ 8,70 por dia. Se a prestação foi paga só no dia 25 (vinte e cinco), qual foi o valor pago?

- a) R\$ 987,00
- b) R\$ 937,00
- c) R\$ 927,50
- d) R\$ 967,00
- e) R\$ 917,50

5. Marque a alternativa que apresenta o resultado do cálculo do perímetro de um terreno que tem as dimensões indicadas na figura abaixo.

- a) 30 cm
- b) 50 cm
- c) 40 cm
- d) 20 cm
- e) 70 cm



6. Um show de Munhoz e Mariano, na exposição de Campo Grande, em abril de 2016, teve início exatamente às 21h e 15min e terminou às 23h e 40 min. Qual foi a duração do show?

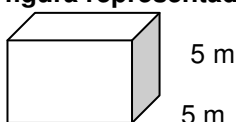
- a) 2h e 10m
- b) 2h e 15m
- c) 2h e 25m
- d) 2h e 30m
- e) 2h e 40m

7. Um pacote de açúcar pesa 2Kg. Foram retirados 450g para fazer um bolo. Quantos gramas restaram no pacote?

- a) 1.450 g
- b) 1.250 g
- c) 1.350 g
- d) 1.550 g
- e) 1.650 g

8. Determine o volume da figura representada a seguir e marque a alternativa correta.

- a) $137m^3$
- b) $115m^3$
- c) $127m^3$
- d) $216m^3$



e) 125m^3

5 m

9. Calcule o perímetro de um retângulo cuja base é três vezes a altura que mede 4m, e marque a alternativa correta.

- a) 16m
- b) 32m
- c) 48m
- d) 20m
- e) 28m



10. João mora no Bairro Tiradentes e Carlos no Bairro Novo Século, os dois trabalham no Supermercado Novo Horizonte. João chegou ao supermercado às 7horas e 30 minutos da manhã e Carlos chegou meia hora depois.

A que horas Carlos chegou ao supermercado?

- a) 8 horas
- b) 9 horas
- c) 6 horas
- d) 5 horas
- e) 4 horas

CONHECIMENTOS GERAIS

11. Telêmaco Borba/PR foi desmembrado do município de

- a) Tibagi
- b) Londrina
- c) Ortigueira
- d) Imbaú
- e) Ventania

12. Quais são as cores da bandeira do município de Telêmaco Borba/PR?

- a) Vermelha, branca e verde
- b) Branca, azul e amarela
- c) Verde, azul e amarela
- d) Vermelha, branca e azul
- e) Branca, cinza e verde

13. Qual o nome do atual prefeito de Telêmaco Borba/PR?

- a) Renato Bahena
- b) José Reinaldo Antunes Carneiro
- c) Luiz Carlos Gibson
- d) Gilson Pereira dos Santos
- e) Ezequiel Ligoski Betim

14. Marque a alternativa que corresponde ao feriado municipal que comemora o dia da padroeira de Telêmaco Borba/PR (Nossa Senhora do Perpétuo Socorro).

- a) 21 de março
- b) 26 de maio
- c) 01 de novembro
- d) 28 de outubro
- e) 21 de junho

15. Quem nasce em Telêmaco Borba é

- a) Telemacoborbense
- b) Telemacoborbino
- c) Telemacoreense
- d) Telemaconense
- e) Telemacoborbiano

16. Em caso de vaga de vereador, não havendo suplente, o Presidente comunicará o fato, diretamente ao Tribunal Regional Eleitoral, dentro de

- a) 72 horas.
- b) 5 dias.
- c) 15 dias.
- d) 48 horas.
- e) 24 horas.

17. Qual alternativa não contempla uma forma de provimento no cargo público, conforme o art. 6º do Estatuto dos Servidores Públicos do município de Telêmaco Borba/PR?

- a) Nomeação
- b) Concurso
- c) Readaptação
- d) Reintegração
- e) Promoção

18. Qual dos municípios seguintes faz divisa com Telêmaco Borba/PR?

- a) Curiúva
- b) Londrina
- c) Arapot
- d) Sapopema
- e) Cambé

19. O município de Telêmaco Borba/PR foi criado inicialmente com o nome de

- a) Monte Alegre.
- b) Mauá.
- c) Cidade Nova.
- d) Harmonia.
- e) Tibagi.

20. Como é denominada a sede administrativa de Telêmaco Borba/PR?


- a) Paço Municipal
- b) Paço das Araucárias
- c) Governo Municipal
- d) Prefeitura
- e) Paço Administrativo

CONHECIMENTOS ESPECÍFICOS

21. Leia as alternativas sobre o trabalho de cabeleireiro, manicura e pedicura e marque a incorreta.

- a) Os profissionais de estética estão em contato com clientes que podem ser portadores de doenças contagiosas, como a hepatite B.
- b) **Desinfecção é o** local destinado à guarda de material de limpeza.
- c) O armazenamento dos materiais deve ser feito em ambiente fechado, limpo e seco.
- d) Antes de atender ao cliente, o profissional deve realizar a higienização e antissepsia das mãos.
- e) O ambiente de trabalho deve ser adequado ao bem-estar do cliente.

22. Analise a figura a seguir e marque a alternativa que traz o nome correto desse profissional.



- a) Pedicura
- b) Esteticista
- c) Cabelereiro
- d) Maquiador
- e) Manicure

23. Analise as figuras a seguir.



Figura 1



Figura 2



Figura 3

Qual dos desses materiais é usado para fazer crochê?

- a) Apenas o da figura 1
- b) Apenas o da figura 2
- c) Apenas o da figura 3
- d) Apenas os das figuras 1 e 2
- e) Apenas os das figuras 2 e 3

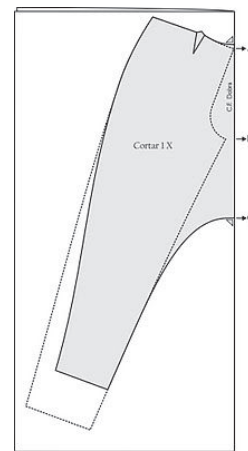
24. Qual dos itens a seguir é usado no trabalho de corte e costura?



Item 1



Item 2



Item 3

- a) Apenas o item 1.
- b) Apenas o item 2.
- c) Apenas o item 3.
- d) Apenas os itens 2 e 3.
- e) Os itens 1, 2 e 3.



25. O trabalho que aparece nessa imagem é realizado pelo

- a) tapeceiro.
- b) costureiro.
- c) marceneiro.
- d) artesão.
- e) confeitoiro.

LÍNGUA PORTUGUESA

Leia com atenção o texto abaixo e depois responda às próximas cinco questões.

Heroísmo



Ele usava um colete à prova de balas. Não importava que dia da semana, que dia do mês ou que dia do ano: ele sempre usava o seu colete à prova de balas. Era precavido, ele dizia. A cidade anda muito violenta; nunca se sabe o que pode acontecer. Isso é uma verdade!

Um belo dia, quando estava no banco, ocorreu um assalto. Três bandidos, armados de pistolas e metralhadoras, ameaçavam matar os reféns se o dinheiro não lhes fosse entregue com velocidade. Ele, muito seguro de si, sabendo da vantagem que levava sobre os assaltantes, afinal, seu colete estava bem escondido sob a camisa, disparou na direção de um deles para desarmá-lo. Um segundo depois, caiu morto.

Ataque cardíaco fulminante, disseram os legistas quando chegaram na cena do crime.

(Fonte: <http://www.napontadoslapis.com.br/2011/03/dois-pequenos-contos.html>. Acesso em 18/05/2016.)

26. Conforme o texto, a pessoa que usava um colete à prova de balas todos os dias era:

- a) Uma criança
- b) Uma mulher
- c) Um homem
- d) Um assaltante
- e) O gerente do banco

27. De acordo com o texto, como morreu a pessoa que usava diariamente um colete à prova de balas?

- a) De ataque cardíaco fulminante.
- b) Assassinado por um assaltante.
- c) Cometeu suicídio.
- d) Foi vítima de uma bala perdida durante o assalto.
- e) Foi morto por um policial.

28. Na segunda linha do texto diz: *Era precavido*.

O que isso significa precavido?

- a) Distraído
- b) Aventureiro
- c) Descuidado
- d) Prevenido
- e) Precipitado

29. Em qual alternativa temos uma palavra grifada que é um pronome pessoal?

- a) A cidade anda muito violenta.
- b) Ele usava um colete à prova de balas.
- c) Um segundo depois, caiu morto.
- d) disseram os legistas quando chegaram na cena do crime.
- e) ele sempre usava o seu colete à prova de balas.

30. As palavras são representadas por fonemas (sons) e letras. Sendo assim, na palavra VELOCIDADE contamos quantos fonemas e letras?

- a) 7 fonemas e 10 letras.
- b) 8 fonemas e 9 letras.
- c) 9 fonemas e 9 letras.
- d) 9 fonemas e 10 letras.
- e) 10 fonemas e 10 letras.

Leia atentamente o texto da figura da formiga e o texto abaixo dela. Depois, responda às próximas cinco questões.

Formigas dormem?



Sim. Especialistas concordam que, como a maioria dos animais, elas dividem seu tempo entre atividade e descanso – quando a ação metabólica diminui. Mas isso não seria bem o que chamamos de sono. “Há registros de formigas vistas ‘deitadas de lado’, que, quando instigadas, retomaram a posição normal. Eu hesitaria em dizer que elas ‘acordaram’, mas a analogia é possível”, explica o mirmecologista (especialista em formiga) Carlos Brandão. Uma pesquisa norte-americana de 2009 indicava que ao menos as formigas-de-fogo (*Solenopsis Invicta*) dormem sim – em pequenos cochilos.

- As operárias “dormem” em turnos, mantendo sempre 80% da força de trabalho acordada.

(Fonte <http://mundoestranho.abril.com.br/materia/formigas-dormem>. Acesso em 18/05/2016.)

31. Observe a parte da figura da formiga sobre TOTAL DE HORAS DORMIDAS. Nessa parte, entendemos que:

- A formiga rainha dorme 9,4 horas por dia e a formiga operária dorme 4,8 horas por dia.
- A formiga rainha dorme menos de 9 horas por dia e a formiga operária menos de 4 horas por dia.
- A formiga rainha dorme mais de 10 horas por dia e a formiga operária mais de 4 horas por dia.
- A formiga rainha dorme mais de 9 horas por dia e a formiga operária mais de 5 horas por dia.
- A formiga rainha dorme 4 horas por dia e a formiga operária 8 horas por dia.

32. No texto que se localiza abaixo da figura da formiga, lemos a palavra mirmecologista. Lá explica que isso significa:

- O nome de um tipo de formiga.
- Especialista em formiga.
- O nome que se dá ao cochilo das formigas.
- O nome dado a uma pesquisa sobre formigas.
- Um outro nome que recebem as formigas operárias.

33. Leia esta frase: *Formigas dormem?*

Ela é:

- Uma frase afirmativa porque tem ponto final e expressa uma pergunta.
- Uma frase negativa porque tem ponto de interrogação e nega alguma coisa.
- Uma frase exclamativa porque tem ponto de exclamação e expressa admiração.
- Uma frase interrogativa porque tem ponto de exclamação e expressa uma pergunta.
- Uma frase interrogativa porque tem ponto de interrogação e expressa uma pergunta.

34. Em qual alternativa a separação de sílabas das palavras não está correta?

- a-ni-mais; dei-ta-das.
- es-pe-cia-lis-ta; po-ssí-vel.
- des-can-so; com-cor-dam.
- a-ti-vi-da-de; for-mi-gas.
- tra-ba-lho; pe-que-nos.

35. O hiato é um encontro vocálico em que temos duas vogais juntas, mas que são pronunciadas em sílabas diferentes. Assim, a palavra que tem hiato é:

- Pequenos
- Deitadas
- Quando

- d) Acordados
- e) Especialista

Leia com atenção o texto abaixo e depois responda às cinco próximas questões.

Tomate é fruta?

por Sabrina Haick | Edição 177

Sim, ele é. Não só o tomate é fruta, como a berinjela, a abobrinha, o pepino, o pimentão e outros alimentos que nós chamamos de legumes também são. Fruta é o ovário amadurecido de uma planta, onde ficam as sementes. A confusão acontece porque nós somos acostumados a chamar as frutas salgadas de legumes. Se você acha que sua vida foi uma mentira até agora, saiba que também existem alimentos que nós chamamos de fruta, mas não são. Trata-se dos pseudofrutos – estruturas suculentas que têm cara e jeito de fruto, mas não se desenvolvem a partir do ovário da planta, como as frutas reais. É o caso do morango, do caju, da maçã, da pera e do abacaxi, entre outros.

(Fonte: <http://mundoestranho.abril.com.br/materia/tomate-e-fruta>. Acesso em 18/05/2016.)

36. Ao ler esse texto, descobrimos que o tomate é um fruto e não um legume. Também descobrimos que são frutas outros alimentos que pensávamos que eram legumes. Dois deles são:

- a) Berinjela e morango
- b) Abobrinha e pepino
- c) Abobrinha e caju
- d) Pimentão e pera
- e) Pepino e abacaxi

37. Conhecer os sinônimos e antônimos das palavras nos ajuda a aumentar nosso vocabulário.

Qual é um sinônimo para a palavra “suculentas”, conforme o sentido que ela tem no texto?

- a) Desinteressantes
- b) Gordurosas
- c) Carnudas
- d) Descarnadas
- e) Felpudas

38. A acentuação em uma palavra nos ajuda a pronunciá-la de maneira correta, como, por exemplo, as palavras “você” e “ovário”. Marque a alternativa em que as palavras não foram acentuadas corretamente.

- a) lâmpada - pálpebra
- b) obíto - fenômeno
- c) mímica - código
- d) cálice - xícara
- e) cédula - específico

39. Escrevemos “abacaxi” com x, “berinjela” e “caju” com j.

Marque a alternativa em que todas as palavras grifadas estão escritas de forma correta.

- a) Fui à feira e comprei tangerina, laranja e melancia.
- b) Fui à feira e comprei tanjerina, laranja e melancia.
- c) Fui à feira e comprei tangerina, larãja e melancia.
- d) Fui à feira e comprei tangerina, laranja e melansia.
- e) Fui à feira e comprei tãgerina, laranja e melansia.

40. O que temos nas palavras “frutas”, “estruturas”, “salgadas” e “partir”?

- a) Ditongo
- b) Hiato
- c) Encontro consonantal e Encontro vocálico
- d) Encontro consonantal
- e) Encontro vocálico

RASCUNHO



PREFEITURA DE TELÊMACO BORBA - ESTADO DO PARANÁ- EDITAL Nº 001-2016 - CONCURSO PÚBLICO

VESPERTINO – 29/05/2016 – FUNDAMENTAL INCOMPLETO

3

PROVA OBJETIVA NÚMERO

CARGO: INSTRUTOR DE ARTES E OFÍCIOS

Leia atentamente as **INSTRUÇÕES**:

1. Confira seus dados no cartão-resposta: nome, número de inscrição e o curso para o qual se inscreveu.
2. **MARQUE no seu cartão-resposta o número da sua prova** (não será corrigido o cartão-resposta que não tiver marcado o número da prova) e **Assine** seu cartão-resposta.
3. Aguarde a autorização do Fiscal para abrir o caderno de prova. Ao receber a ordem do fiscal, confira o caderno de prova com muita atenção. Nenhuma reclamação sobre o total de questões ou falha de impressão será aceita depois de iniciada a prova.
4. O cartão-resposta não será substituído, salvo se contiver erro de impressão.
5. Preencha toda a área do cartão-resposta correspondente à alternativa de sua escolha, com caneta esferográfica (tinta azul ou preta), sem ultrapassar as bordas. As marcações duplas, ou rasuradas, com corretivo, ou marcadas diferentemente do modelo estabelecido no cartão-resposta poderão ser anuladas.
6. Sua prova tem **40** questões, com **5** alternativas.
7. Cabe apenas ao candidato a interpretação das questões, **o fiscal** não poderá fazer nenhuma interferência.
8. A prova será realizada com duração máxima de **3 (três) horas**, incluído o tempo para a realização da Prova Objetiva de múltipla escolha e o preenchimento do cartão-resposta.
9. O candidato poderá retirar-se do local de realização das provas somente **1 (uma) hora** após o seu início, sem levar o caderno de prova.
10. O candidato poderá levar o caderno de provas, assim como anotação contendo transcrição do seu cartão-resposta, somente **1h30min** (uma hora e trinta minutos) após o início da realização da prova.
11. Ao terminar a prova, o candidato deverá entregar ao fiscal de sala o cartão-resposta preenchido e **ASSINADO**.
12. Os **3 (três)** candidatos, que terminarem a prova por último, deverão permanecer na sala, e só poderão sair juntos após o fechamento do envelope, contendo os cartões-resposta dos candidatos presentes e ausentes, e assinarem no lacre do referido envelope, atestando que este foi devidamente lacrado.
13. Durante todo o tempo em que permanecer no local onde está ocorrendo o concurso, o candidato deverá, manter o celular desligado e sem bateria, só sendo permitido ligar depois de ultrapassar o portão de saída do prédio.
14. Não será permitido ao candidato fumar na sala de provas, bem como nas dependências.
15. Depois de terminar a prova e entregar ao fiscal o cartão-resposta, preenchido e assinado, não será mais permitido ao candidato o uso do banheiro e bebedouro.

BOA PROVA!

CONHECIMENTOS ESPECÍFICOS
01. Leia as alternativas sobre o trabalho de cabeleireiro, manicura e pedicura e marque a incorreta.


- Os profissionais de estética estão em contato com clientes que podem ser portadores de doenças contagiosas, como a hepatite B.
- Desinfecção é o** local destinado à guarda de material de limpeza.
- O armazenamento dos materiais deve ser feito em ambiente fechado, limpo e seco.
- Antes de atender ao cliente, o profissional deve realizar a higienização e antissepsia das mãos.
- O ambiente de trabalho deve ser adequado ao bem-estar do cliente.

02. Analise a figura a seguir e marque a alternativa que traz o nome correto desse profissional.


- Pedicura
- Esteticista
- Cabeleireiro
- Maquiador
- Manicure

03. Analise as figuras a seguir.

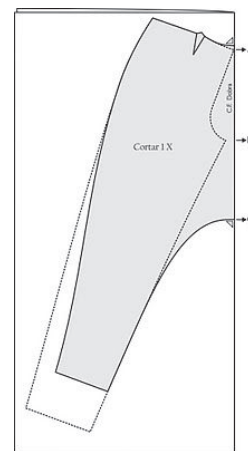
Figura 1

Figura 2

Figura 3
Qual dos desses materiais é usado para fazer crochê?

- Apenas o da figura 1
- Apenas o da figura 2
- Apenas o da figura 3
- Apenas os das figuras 1 e 2
- Apenas os das figuras 2 e 3

04. Qual dos itens a seguir é usado no trabalho de corte e costura?

Item 1

Item 2

Item 3

- Apenas o item 1.

- b) Apenas o item 2.
- c) Apenas o item 3.
- d) Apenas os itens 2 e 3.
- e) Os itens 1, 2 e 3.



05. O trabalho que aparece nessa imagem é realizado pelo

- a) tapeceiro.
- b) costureiro.
- c) marceneiro.
- d) artesão.
- e) confeiteiro.

LÍNGUA PORTUGUESA

Leia com atenção o texto abaixo e depois responda às próximas cinco questões.

Heroísmo

Ele usava um colete à prova de balas. Não importava que dia da semana, que dia do mês ou que dia do ano: ele sempre usava o seu colete à prova de balas. Era precavido, ele dizia. A cidade anda muito violenta; nunca se sabe o que pode acontecer. Isso é uma verdade!

Um belo dia, quando estava no banco, ocorreu um assalto. Três bandidos, armados de pistolas e metralhadoras, ameaçavam matar os reféns se o dinheiro não lhes fosse entregue com velocidade. Ele, muito seguro de si, sabendo da vantagem que levava sobre os assaltantes, afinal, seu colete estava bem escondido sob a camisa, disparou na direção de um deles para desarmá-lo. Um segundo depois, caiu morto.

Ataque cardíaco fulminante, disseram os legistas quando chegaram na cena do crime.

(Fonte: <http://www.napontadoslapis.com.br/2011/03/dois-pequenos-contos.html>. Acesso em 18/05/2016.)

06. Conforme o texto, a pessoa que usava um colete à prova de balas todos os dias era:

- a) Uma criança
- b) Uma mulher
- c) Um homem
- d) Um assaltante
- e) O gerente do banco

07. De acordo com o texto, como morreu a pessoa que usava diariamente um colete à prova de balas?

- a) De ataque cardíaco fulminante.
- b) Assassinado por um assaltante.
- c) Cometeu suicídio.
- d) Foi vítima de uma bala perdida durante o assalto.
- e) Foi morto por um policial.

08. Na segunda linha do texto diz: *Era precavido*.

O que isso significa precavido?

- a) Distraído
- b) Aventureiro
- c) Descuidado
- d) Prevenido
- e) Precipitado

09. Em qual alternativa temos uma palavra grifada que é um pronome pessoal?

- a) A cidade anda muito violenta.
- b) Ele usava um colete à prova de balas.
- c) Um segundo depois, caiu morto.

- d) disseram os legistas quando chegaram na cena do crime.
e) ele sempre usava o seu colete à prova de balas.

10. As palavras são representadas por fonemas (sons) e letras. Sendo assim, na palavra **VELOCIDADE** contamos quantos fonemas e letras?

- a) 7 fonemas e 10 letras.
b) 8 fonemas e 9 letras.
c) 9 fonemas e 9 letras.
d) 9 fonemas e 10 letras.
e) 10 fonemas e 10 letras.

Leia atentamente o texto da figura da formiga e o texto abaixo dela. Depois, responda às próximas cinco questões.

Formigas dormem?



Sim. Especialistas concordam que, como a maioria dos animais, elas dividem seu tempo entre atividade e descanso – quando a ação metabólica diminui. Mas isso não seria bem o que chamamos de sono. “Há registros de formigas vistas ‘deitadas de lado’, que, quando instigadas, retomaram a posição normal. Eu hesitaria em dizer que elas ‘acordaram’, mas a analogia é possível”, explica o mirmecologista (especialista em formiga) Carlos Brandão. Uma pesquisa norte-americana de 2009 indicava que ao menos as formigas-de-fogo (*Solenopsis invicta*) dormem sim – em pequenos cochilos.

- As operárias “dormem” em turnos, mantendo sempre 80% da força de trabalho acordada.

(Fonte <http://mundoestranho.abril.com.br/materia/formigas-dormem>. Acesso em 18/05/2016.)

11. Observe a parte da figura da formiga sobre **TOTAL DE HORAS DORMIDAS**. Nessa parte, entendemos que:

- a) A formiga rainha dorme 9,4 horas por dia e a formiga operária dorme 4,8 horas por dia.
b) A formiga rainha dorme menos de 9 horas por dia e a formiga operária menos de 4 horas por dia.
c) A formiga rainha dorme mais de 10 horas por dia e a formiga operária mais de 4 horas por dia.
d) A formiga rainha dorme mais de 9 horas por dia e a formiga operária mais de 5 horas por dia.
e) A formiga rainha dorme 4 horas por dia e a formiga operária 8 horas por dia.

12. No texto que se localiza abaixo da figura da formiga, lemos a palavra **mirmecologista**. Lá explica que isso significa:

- a) O nome de um tipo de formiga.
b) Especialista em formiga.
c) O nome que se dá ao cochilo das formigas.
d) O nome dado a uma pesquisa sobre formigas.
e) Um outro nome que recebem as formigas operárias.

13. Leia esta frase: **Formigas dormem?**

Ela é:

- a) Uma frase afirmativa porque tem ponto final e expressa uma pergunta.
b) Uma frase negativa porque tem ponto de interrogação e nega alguma coisa.
c) Uma frase exclamativa porque tem ponto de exclamação e expressa admiração.
d) Uma frase interrogativa porque tem ponto de exclamação e expressa uma pergunta.

e) Uma frase interrogativa porque tem ponto de interrogação e expressa uma pergunta.

14. Em qual alternativa a separação de sílabas das palavras não está correta?

- a) a-ni-mais; dei-ta-das.
- b) es-pe-cia-lis-ta; po-ssí-vel.
- c) des-can-so; com-cor-dam.
- d) a-ti-vi-da-de; for-mi-gas.
- e) tra-ba-lho; pe-que-nos.

15. O hiato é um encontro vocálico em que temos duas vogais juntas, mas que são pronunciadas em sílabas diferentes. Assim, a palavra que tem hiato é:

- a) Pequenos
- b) Deitadas
- c) Quando
- d) Acordados
- e) Especialista

Leia com atenção o texto abaixo e depois responda às cinco próximas questões.

Tomate é fruta?

por Sabrina Haick | Edição 177

Sim, ele é. Não só o tomate é fruta, como a berinjela, a abobrinha, o pepino, o pimentão e outros alimentos que nós chamamos de legumes também são. Fruta é o ovário amadurecido de uma planta, onde ficam as sementes. A confusão acontece porque nós somos acostumados a chamar as frutas salgadas de legumes. Se você acha que sua vida foi uma mentira até agora, saiba que também existem alimentos que nós chamamos de fruta, mas não são. Trata-se dos pseudofrutos – estruturas suculentas que têm cara e jeito de fruto, mas não se desenvolvem a partir do ovário da planta, como as frutas reais. É o caso do morango, do caju, da maçã, da pera e do abacaxi, entre outros.

(Fonte: <http://mundoestranho.abril.com.br/materia/tomate-e-fruta>. Aceso em 18/05/2016.)

16. Ao ler esse texto, descobrimos que o tomate é um fruto e não um legume. Também descobrimos que são frutas outros alimentos que pensávamos que eram legumes. Dois deles são:

- a) Berinjela e morango
- b) Abobrinha e pepino
- c) Abobrinha e caju
- d) Pimentão e pera
- e) Pepino e abacaxi

17. Conhecer os sinônimos e antônimos das palavras nos ajuda a aumentar nosso vocabulário.

Qual é um sinônimo para a palavra “suculentas”, conforme o sentido que ela tem no texto?

- a) Desinteressantes
- b) Gordurosas
- c) Carnudas
- d) Descarnadas
- e) Felpudas

18. A acentuação em uma palavra nos ajuda a pronunciá-la de maneira correta, como, por exemplo, as palavras “você” e “ovário”. Marque a alternativa em que as palavras não foram acentuadas corretamente.

- a) lâmpada - pálpebra
- b) obíto - fenômeno
- c) mímica - código
- d) cálice - xícara
- e) cédula - específico

19. Escrevemos “abacaxi” com x, “berinjela” e “caju” com j.

Marque a alternativa em que todas as palavras grifadas estão escritas de forma correta.

- a) Fui à feira e comprei tangerina, laranja e melancia.
- b) Fui à feira e comprei tanjerina, laranja e melancia.
- c) Fui à feira e comprei tangerina, larãja e melancia.
- d) Fui à feira e comprei tangerina, laranja e melansia.
- e) Fui à feira e comprei tãgerina, laranja e melansia.

20. O que temos nas palavras “frutas”, “estruturas”, “salgadas” e “partir”?

- a) Ditongo

- b) Hiato
c) Encontro consonantal e Encontro vocálico
d) Encontro consonantal
e) Encontro vocálico

MATEMÁTICA

21. Marcela tem uma dívida de R\$ 462,00 dividida em 4 parcela iguais. Qual é o valor que Marcela vai pagar em cada parcela?

- a) R\$ 189,00
b) R\$ 145,50
c) R\$ 115,50
d) R\$ 125,00
e) R\$ 132,50

22. No mês de fevereiro, Maria assistiu a filmes nos dias ímpares, e Carla nos dias pares. Quantas vezes Maria assistiu a filmes no mês de fevereiro?

- a) 28
b) 14
c) 15
d) 8
e) 4

DOM	SEG	TER	QUA	QUI	SEX	SAB
			1	2	3	4
5	6	7	8	9	10	11
12	13	14	15	16	17	18
19	20	21	22	23	24	25
26	27	28				

23. Um estudante pretende se inscrever para participar de um Congresso Nacional. (O valor das inscrições está apresentado na tabela abaixo). Sabendo que o estudante irá se inscrever na abertura do Congresso Nacional, qual é o valor que ele irá pagar?

- a) R\$ 120,00
b) R\$ 100,00
c) R\$ 180,00
d) R\$ 150,00
e) R\$ 170,00

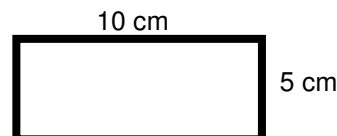
CATEGORIA	Inscrições até 15/05/16	Na abertura do Congresso
Profissional	R\$ 120,00	R\$ 180,00
Estudantes	R\$ 100,00	R\$ 150,00

24. A prestação de um terreno é de R\$ 787,00 e vence todo dia 10. Pagando fora do prazo, há uma multa de R\$ 8,70 por dia. Se a prestação foi paga só no dia 25 (vinte e cinco), qual foi o valor pago?

- a) R\$ 987,00
b) R\$ 937,00
c) R\$ 927,50
d) R\$ 967,00
e) R\$ 917,50

25. Marque a alternativa que apresenta o resultado do cálculo do perímetro de um terreno que tem as dimensões indicadas na figura abaixo.

- a) 30 cm
b) 50 cm
c) 40 cm
d) 20 cm
e) 70 cm



26. Um show de Munhoz e Mariano, na exposição de Campo Grande, em abril de 2016, teve início exatamente às 21h e 15min e terminou às 23h e 40 min. Qual foi a duração do show?

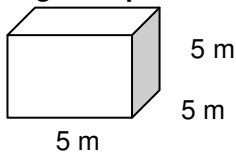
- a) 2h e 10m
b) 2h e 15m
c) 2h e 25m
d) 2h e 30m
e) 2h e 40m

27. Um pacote de açúcar pesa 2Kg. Foram retirados 450g para fazer um bolo. Quantos gramas restaram no pacote?

- a) 1.450 g
b) 1.250 g
c) 1.350 g
d) 1.550 g
e) 1.650 g

28. Determine o volume da figura representada a seguir e marque a alternativa correta.

- a) $137m^3$
- b) $115m^3$
- c) $127m^3$
- d) $216m^3$
- e) $125m^3$



29. Calcule o perímetro de um retângulo cuja base é três vezes a altura que mede 4m, e marque a alternativa correta.

- a) 16m
- b) 32m
- c) 48m
- d) 20m
- e) 28m



30. João mora no Bairro Tiradentes e Carlos no Bairro Novo Século, os dois trabalham no Supermercado Novo Horizonte. João chegou ao supermercado às 7horas e 30 minutos da manhã e Carlos chegou meia hora depois.

A que horas Carlos chegou ao supermercado?

- a) 8 horas
- b) 9 horas
- c) 6 horas
- d) 5 horas
- e) 4 horas

CONHECIMENTOS GERAIS

31. Telêmaco Borba/PR foi desmembrado do município de

- a) Tibagi
- b) Londrina
- c) Ortigueira
- d) Imbaú
- e) Ventania

32. Quais são as cores da bandeira do município de Telêmaco Borba/PR?

- a) Vermelha, branca e verde
- b) Branca, azul e amarela
- c) Verde, azul e amarela
- d) Vermelha, branca e azul
- e) Branca, cinza e verde

33. Qual o nome do atual prefeito de Telêmaco Borba/PR?

- a) Renato Bahena
- b) José Reinaldo Antunes Carneiro
- c) Luiz Carlos Gibson
- d) Gilson Pereira dos Santos
- e) Ezequiel Ligoski Betim

34. Marque a alternativa que corresponde ao feriado municipal que comemora o dia da padroeira de Telêmaco Borba/PR (Nossa Senhora do Perpétuo Socorro).

- a) 21 de março
- b) 26 de maio
- c) 01 de novembro
- d) 28 de outubro
- e) 21 de junho

35. Quem nasce em Telêmaco Borba é

- a) Telemacoborbense
- b) Telemacoborbino
- c) Telemacoreense
- d) Telemaconense
- e) Telemacoborbiano

36. Em caso de vaga de vereador, não havendo suplente, o Presidente comunicará o fato, diretamente ao Tribunal Regional Eleitoral, dentro de

- a) 72 horas.



- b) 5 dias.
- c) 15 dias.
- d) 48 horas.
- e) 24 horas.

37. Qual alternativa não contempla uma forma de provimento no cargo público, conforme o art. 6º do Estatuto dos Servidores Públicos do município de Telêmaco Borba/PR?

- a) Nomeação
- b) Concurso
- c) Readaptação
- d) Reintegração
- e) Promoção

38. Qual dos municípios seguintes faz divisa com Telêmaco Borba/PR?

- a) Curiúva
- b) Londrina
- c) Arapot
- d) Sapopema
- e) Cambé

39. O município de Telêmaco Borba/PR foi criado inicialmente com o nome de

- a) Monte Alegre.
- b) Mauá.
- c) Cidade Nova.
- d) Harmonia.
- e) Tibagi.

40. Como é denominada a sede administrativa de Telêmaco Borba/PR?

- a) Paço Municipal
- b) Paço das Araucárias
- c) Governo Municipal
- d) Prefeitura
- e) Paço Administrativo

RASCUNHO



PREFEITURA DE TELÊMACO BORBA - ESTADO DO PARANÁ- EDITAL Nº 001-2016 - CONCURSO PÚBLICO

VESPERTINO – 29/05/2016 – FUNDAMENTAL INCOMPLETO

1

PROVA OBJETIVA NÚMERO

CARGO: INSTRUTOR MUSICAL

Leia atentamente as INSTRUÇÕES:

1. Confira seus dados no cartão-resposta: nome, número de inscrição e o curso para o qual se inscreveu.
2. **MARQUE no seu cartão-resposta o número da sua prova** (não será corrigido o cartão-resposta que não tiver marcado o número da prova) e **Assine** seu cartão-resposta.
3. Aguarde a autorização do Fiscal para abrir o caderno de prova. Ao receber a ordem do fiscal, confira o caderno de prova com muita atenção. Nenhuma reclamação sobre o total de questões ou falha de impressão será aceita depois de iniciada a prova.
4. O cartão-resposta não será substituído, salvo se contiver erro de impressão.
5. Preencha toda a área do cartão-resposta correspondente à alternativa de sua escolha, com caneta esferográfica (tinta azul ou preta), sem ultrapassar as bordas. As marcações duplas, ou rasuradas, com corretivo, ou marcadas diferentemente do modelo estabelecido no cartão-resposta poderão ser anuladas.
6. Sua prova tem **40** questões, com **5** alternativas.
7. Cabe apenas ao candidato a interpretação das questões, **o fiscal** não poderá fazer nenhuma interferência.
8. A prova será realizada com duração máxima de **3 (três) horas**, incluído o tempo para a realização da Prova Objetiva de múltipla escolha e o preenchimento do cartão-resposta.
9. O candidato poderá retirar-se do local de realização das provas somente **1 (uma) hora** após o seu início, sem levar o caderno de prova.
10. O candidato poderá levar o caderno de provas, assim como anotação contendo transcrição do seu cartão-resposta, somente **1h30min** (uma hora e trinta minutos) após o início da realização da prova.
11. Ao terminar a prova, o candidato deverá entregar ao fiscal de sala o cartão-resposta preenchido e **ASSINADO**.
12. Os **3 (três)** candidatos, que terminarem a prova por último, deverão permanecer na sala, e só poderão sair juntos após o fechamento do envelope, contendo os cartões-resposta dos candidatos presentes e ausentes, e assinarem no lacre do referido envelope, atestando que este foi devidamente lacrado.
13. Durante todo o tempo em que permanecer no local onde está ocorrendo o concurso, o candidato deverá, manter o celular desligado e sem bateria, só sendo permitido ligar depois de ultrapassar o portão de saída do prédio.
14. Não será permitido ao candidato fumar na sala de provas, bem como nas dependências.
15. Depois de terminar a prova e entregar ao fiscal o cartão-resposta, preenchido e assinado, não será mais permitido ao candidato o uso do banheiro e bebedouro.

BOA PROVA!

LÍNGUA PORTUGUESA

Leia com atenção o texto abaixo e depois responda às próximas cinco questões.

Heroísmo

Ele usava um colete à prova de balas. Não importava que dia da semana, que dia do mês ou que dia do ano: ele sempre usava o seu colete à prova de balas. Era precavido, ele dizia. A cidade anda muito violenta; nunca se sabe o que pode acontecer. Isso é uma verdade!

Um belo dia, quando estava no banco, ocorreu um assalto. Três bandidos, armados de pistolas e metralhadoras, ameaçavam matar os reféns se o dinheiro não lhes fosse entregue com velocidade. Ele, muito seguro de si, sabendo da vantagem que levava sobre os assaltantes, afinal, seu colete estava bem escondido sob a camisa, disparou na direção de um deles para desarmá-lo. Um segundo depois, caiu morto.

Ataque cardíaco fulminante, disseram os legistas quando chegaram na cena do crime.

(Fonte: <http://www.napontadoslapis.com.br/2011/03/dois-pequenos-contos.html>. Acesso em 18/05/2016.)

01. Conforme o texto, a pessoa que usava um colete à prova de balas todos os dias era:

- a) Uma criança
- b) Uma mulher
- c) Um homem
- d) Um assaltante
- e) O gerente do banco

02. De acordo com o texto, como morreu a pessoa que usava diariamente um colete à prova de balas?

- a) De ataque cardíaco fulminante.
- b) Assassinado por um assaltante.
- c) Cometeu suicídio.
- d) Foi vítima de uma bala perdida durante o assalto.
- e) Foi morto por um policial.

03. Na segunda linha do texto diz: *Era precavido*.

O que isso significa precavido?

- a) Distraído
- b) Aventureiro
- c) Descuidado
- d) Prevenido
- e) Precipitado

04. Em qual alternativa temos uma palavra grifada que é um pronome pessoal?

- a) A cidade anda muito violenta.
- b) Ele usava um colete à prova de balas.
- c) Um segundo depois, caiu morto.
- d) disseram os legistas quando chegaram na cena do crime.
- e) ele sempre usava o seu colete à prova de balas.

05. As palavras são representadas por fonemas (sons) e letras. Sendo assim, na palavra VELOCIDADE contamos quantos fonemas e letras?

- a) 7 fonemas e 10 letras.
- b) 8 fonemas e 9 letras.
- c) 9 fonemas e 9 letras.
- d) 9 fonemas e 10 letras.
- e) 10 fonemas e 10 letras.

Leia atentamente o texto da figura da formiga e o texto abaixo dela. Depois, responda às próximas cinco questões.

Formigas dormem?



Sim. Especialistas concordam que, como a maioria dos animais, elas dividem seu tempo entre atividade e descanso – quando a ação metabólica diminui. Mas isso não seria bem o que chamamos de sono. “Há registros de formigas vistas ‘deitadas de lado’, que, quando instigadas, retomaram a posição normal. Eu hesitaria em dizer que elas ‘acordaram’, mas a analogia é possível”, explica o mirmecologista (especialista em formiga) Carlos Brandão. Uma pesquisa norte-americana de 2009 indicava que ao menos as formigas-de-fogo (*Solenopsis Invicta*) dormem sim – em pequenos cochilos.

- As operárias “dormem” em turnos, mantendo sempre 80% da força de trabalho acordada.

(Fonte <http://mundoestranho.abril.com.br/materia/formigas-dormem>. Acesso em 18/05/2016.)

06. Observe a parte da figura da formiga sobre TOTAL DE HORAS DORMIDAS. Nessa parte, entendemos que:

- A formiga rainha dorme 9,4 horas por dia e a formiga operária dorme 4,8 horas por dia.
- A formiga rainha dorme menos de 9 horas por dia e a formiga operária menos de 4 horas por dia.
- A formiga rainha dorme mais de 10 horas por dia e a formiga operária mais de 4 horas por dia.
- A formiga rainha dorme mais de 9 horas por dia e a formiga operária mais de 5 horas por dia.
- A formiga rainha dorme 4 horas por dia e a formiga operária 8 horas por dia.

07. No texto que se localiza abaixo da figura da formiga, lemos a palavra mirmecologista. Lá explica que isso significa:

- O nome de um tipo de formiga.
- Especialista em formiga.
- O nome que se dá ao cochilo das formigas.
- O nome dado a uma pesquisa sobre formigas.
- Um outro nome que recebem as formigas operárias.

08. Leia esta frase: *Formigas dormem?*

Ela é:

- Uma frase afirmativa porque tem ponto final e expressa uma pergunta.
- Uma frase negativa porque tem ponto de interrogação e nega alguma coisa.
- Uma frase exclamativa porque tem ponto de exclamação e expressa admiração.
- Uma frase interrogativa porque tem ponto de exclamação e expressa uma pergunta.
- Uma frase interrogativa porque tem ponto de interrogação e expressa uma pergunta.

09. Em qual alternativa a separação de sílabas das palavras não está correta?

- a-ni-mais; dei-ta-das.
- es-pe-cia-lis-ta; po-ssí-vel.
- des-can-so; com-cor-dam.
- a-ti-vi-da-de; for-mi-gas.
- tra-ba-lho; pe-que-nos.

10. O hiato é um encontro vocálico em que temos duas vogais juntas, mas que são pronunciadas em sílabas diferentes. Assim, a palavra que tem hiato é:

- Pequenos
- Deitadas
- Quando

- d) Acordados
- e) Especialista

Leia com atenção o texto abaixo e depois responda às cinco próximas questões.

Tomate é fruta?

por Sabrina Haick | Edição 177

Sim, ele é. Não só o tomate é fruta, como a berinjela, a abobrinha, o pepino, o pimentão e outros alimentos que nós chamamos de legumes também são. Fruta é o ovário amadurecido de uma planta, onde ficam as sementes. A confusão acontece porque nós somos acostumados a chamar as frutas salgadas de legumes. Se você acha que sua vida foi uma mentira até agora, saiba que também existem alimentos que nós chamamos de fruta, mas não são. Trata-se dos pseudofrutos – estruturas suculentas que têm cara e jeito de fruto, mas não se desenvolvem a partir do ovário da planta, como as frutas reais. É o caso do morango, do caju, da maçã, da pera e do abacaxi, entre outros.

(Fonte: <http://mundoestranho.abril.com.br/materia/tomate-e-fruta>. Acesso em 18/05/2016.)

11. Ao ler esse texto, descobrimos que o tomate é um fruto e não um legume. Também descobrimos que são frutas outros alimentos que pensávamos que eram legumes. Dois deles são:

- a) Berinjela e morango
- b) Abobrinha e pepino
- c) Abobrinha e caju
- d) Pimentão e pera
- e) Pepino e abacaxi

12. Conhecer os sinônimos e antônimos das palavras nos ajuda a aumentar nosso vocabulário.

Qual é um sinônimo para a palavra “suculentas”, conforme o sentido que ela tem no texto?

- a) Desinteressantes
- b) Gordurosas
- c) Carnudas
- d) Descarnadas
- e) Felpudas

13. A acentuação em uma palavra nos ajuda a pronunciá-la de maneira correta, como, por exemplo, as palavras “você” e “ovário”. Marque a alternativa em que as palavras não foram acentuadas corretamente.

- a) lâmpada - pálpebra
- b) obíto - fenômeno
- c) mímica - código
- d) cálice - xícara
- e) cédula - específico

14. Escrevemos “abacaxi” com x, “berinjela” e “caju” com j.

Marque a alternativa em que todas as palavras grifadas estão escritas de forma correta.

- a) Fui à feira e comprei tangerina, laranja e melancia.
- b) Fui à feira e comprei tanjerina, laranja e melancia.
- c) Fui à feira e comprei tangerina, larãja e melancia.
- d) Fui à feira e comprei tangerina, laranja e melansia.
- e) Fui à feira e comprei tãgerina, laranja e melansia.

15. O que temos nas palavras “frutas”, “estruturas”, “salgadas” e “partir”?

- a) Ditongo
- b) Hiato
- c) Encontro consonantal e Encontro vocálico
- d) Encontro consonantal
- e) Encontro vocálico

MATEMÁTICA

16. Marcela tem uma dívida de R\$ 462,00 dividida em 4 parcela iguais. Qual é o valor que Marcela vai pagar em cada parcela?

- a) R\$ 189,00
- b) R\$ 145,50
- c) R\$ 115,50
- d) R\$ 125,00
- e) R\$ 132,50

17. No mês de fevereiro, Maria assistiu a filmes nos dias ímpares, e Carla nos dias pares. Quantas vezes Maria assistiu a filmes no mês de fevereiro?

- a) 28
b) 14
c) 15
d) 8
e) 4

DOM	SEG	TER	QUA	QUI	SEX	SAB
			1	2	3	4
5	6	7	8	9	10	11
12	13	14	15	16	17	18
19	20	21	22	23	24	25
26	27	28				

18. Um estudante pretende se inscrever para participar de um Congresso Nacional. (O valor das inscrições está apresentado na tabela abaixo). Sabendo que o estudante irá se inscrever na abertura do Congresso Nacional, qual é o valor que ele irá pagar?

- a) R\$ 120,00
b) R\$ 100,00
c) R\$ 180,00
d) R\$ 150,00
e) R\$ 170,00

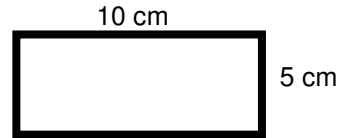
CATEGORIA	Inscrições até 15/05/16	Na abertura do Congresso
Profissional	R\$ 120,00	R\$ 180,00
Estudantes	R\$ 100,00	R\$ 150,00

19. A prestação de um terreno é de R\$ 787,00 e vence todo dia 10. Pagando fora do prazo, há uma multa de R\$ 8,70 por dia. Se a prestação foi paga só no dia 25 (vinte e cinco), qual foi o valor pago?

- a) R\$ 987,00
b) R\$ 937,00
c) R\$ 927,50
d) R\$ 967,00
e) R\$ 917,50

20. Marque a alternativa que apresenta o resultado do cálculo do perímetro de um terreno que tem as dimensões indicadas na figura abaixo.

- a) 30 cm
b) 50 cm
c) 40 cm
d) 20 cm
e) 70 cm



21. Um show de Munhoz e Mariano, na exposição de Campo Grande, em abril de 2016, teve início exatamente às 21h e 15min e terminou às 23h e 40 min. Qual foi a duração do show?

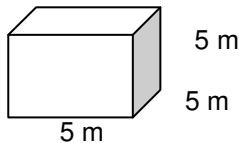
- a) 2h e 10m
b) 2h e 15m
c) 2h e 25m
d) 2h e 30m
e) 2h e 40m

22. Um pacote de açúcar pesa 2Kg. Foram retirados 450g para fazer um bolo. Quantos gramas restaram no pacote?

- a) 1.450 g
b) 1.250 g
c) 1.350 g
d) 1.550 g
e) 1.650 g

23. Determine o volume da figura representada a seguir e marque a alternativa correta.

- a) $137m^3$
b) $115m^3$
c) $127m^3$
d) $216m^3$
e) $125m^3$



24. Calcule o perímetro de um retângulo cuja base é três vezes a altura que mede 4m, e marque a alternativa correta.

- a) 16m
b) 32m
c) 48m
d) 20m
e) 28m



25. João mora no Bairro Tiradentes e Carlos no Bairro Novo Século, os dois trabalham no Supermercado Novo Horizonte. João chegou ao supermercado às 7horas e 30 minutos da manhã e Carlos chegou meia hora depois.

A que horas Carlos chegou ao supermercado?

- a) 8 horas
- b) 9 horas
- c) 6 horas
- d) 5 horas
- e) 4 horas

CONHECIMENTOS GERAIS

26. Telêmaco Borba/PR foi desmembrado do município de

- a) Tibagi
- b) Londrina
- c) Ortigueira
- d) Imbaú
- e) Ventania

27. Quais são as cores da bandeira do município de Telêmaco Borba/PR?

- a) Vermelha, branca e verde
- b) Branca, azul e amarela
- c) Verde, azul e amarela
- d) Vermelha, branca e azul
- e) Branca, cinza e verde

28. Qual o nome do atual prefeito de Telêmaco Borba/PR?

- a) Renato Bahena
- b) José Reinaldo Antunes Carneiro
- c) Luiz Carlos Gibson
- d) Gilson Pereira dos Santos
- e) Ezequiel Ligoski Betim

29. Marque a alternativa que corresponde ao feriado municipal que comemora o dia da padroeira de Telêmaco Borba/PR (Nossa Senhora do Perpétuo Socorro).

- a) 21 de março
- b) 26 de maio
- c) 01 de novembro
- d) 28 de outubro
- e) 21 de junho

30. Quem nasce em Telêmaco Borba é

- a) Telemacoborbense
- b) Telemacoborbino
- c) Telemacoreense
- d) Telemaconense
- e) Telemacoborbiano

31. Em caso de vaga de vereador, não havendo suplente, o Presidente comunicará o fato, diretamente ao Tribunal Regional Eleitoral, dentro de

- a) 72 horas.
- b) 5 dias.
- c) 15 dias.
- d) 48 horas.
- e) 24 horas.

32. Qual alternativa não contempla uma forma de provimento no cargo público, conforme o art. 6º do Estatuto dos Servidores Públicos do município de Telêmaco Borba/PR?

- a) Nomeação
- b) Concurso
- c) Readaptação
- d) Reintegração
- e) Promoção

33. Qual dos municípios seguintes faz divisa com Telêmaco Borba/PR?

- a) Curiúva
- b) Londrina
- c) Arapot
- d) Sapopema
- e) Cambé

34. O município de Telêmaco Borba/PR foi criado inicialmente com o nome de

- a) Monte Alegre.
- b) Mauá.
- c) Cidade Nova.
- d) Harmonia.
- e) Tibagi.

35. Como é denominada a sede administrativa de Telêmaco Borba/PR?

- a) Paço Municipal
- b) Paço das Araucárias
- c) Governo Municipal
- d) Prefeitura
- e) Paço Administrativo

CONHECIMENTOS ESPECÍFICOS

36. Na música, os agrupamentos de notas que acompanham uma melodia são chamados de acordes, estes por sua vez são representados por letras, comumente chamadas de cifras.

Assinale a alternativa que corresponde à cifra (letra) correta de cada acorde.

- a) A-si, C-dó, E-mi e D-ré.
- b) A-lá, B-si, C-dó e D-ré.
- c) E-fá, G-sol, F-ré e B-dó.
- d) C-ré, D-mi, E-sol e F-lá.
- e) D-mi, C-dó, A-si e F-lá.

37. Assinale a alternativa correta com relação à nomenclatura destes dois símbolos da notação musical, respectivamente: # e b.

- a) Sustenido e bemol
- b) Sustenido e menor
- c) Bemol e sustenido
- d) Bemol e sustenido
- e) Dobrado e diminuto



38. Assinale a alternativa correta quanto aos instrumentos que compõem uma banda de fanfarra.

- a) Violino, saxofone, tuba e oboé.
- b) Guitarra, violão, bateria e pandeiro.
- c) Clarinete, flauta, surdo e trompa.
- d) Flauta, violino, contrabaixo e violão.
- e) Viola caipira, viola clássica, violão e violino.

39. Instrumentos de sopro (como saxofone e flauta) requerem cuidados básicos devido à utilização da boca em sua técnica para a projeção do som. Nesse sentido, é correto afirmar que:

- a) Antes de tocar o instrumento não se deve limpá-lo, pois isto pode prejudicar a sua projeção sonora
- b) O maior cuidado com este tipo de instrumento está nas condições do estojo em que ele é guardado.
- c) Nunca se deve desmontar o instrumento para sua limpeza, pois isso prejudica a sua mecânica.
- d) Retirar a umidade ou qualquer resíduo devido à utilização bucal é imprescindível para a manutenção desses instrumentos.
- e) É importante guardá-los em locais de exposição solar, pois isso proporciona a preservação acústica desses instrumentos.

40. A partitura é um tipo de notação musical frequentemente utilizada pelos músicos de bandas de fanfarras. Assinale a alternativa que representa graficamente uma partitura:

- a) 
- b) 



c)

d)

e)

RASCUNHO



PREFEITURA DE TELÊMACO BORBA - ESTADO DO PARANÁ- EDITAL Nº 001-2016 - CONCURSO PÚBLICO

VESPERTINO – 29/05/2016 – FUNDAMENTAL INCOMPLETO

PROVA OBJETIVA NÚMERO

2**CARGO: INSTRUTOR MUSICAL****Leia atentamente as INSTRUÇÕES:**

1. Confira seus dados no cartão-resposta: nome, número de inscrição e o curso para o qual se inscreveu.
2. **MARQUE no seu cartão-resposta o número da sua prova** (não será corrigido o cartão-resposta que não tiver marcado o número da prova) e **Assine** seu cartão-resposta.
3. Aguarde a autorização do Fiscal para abrir o caderno de prova. Ao receber a ordem do fiscal, confira o caderno de prova com muita atenção. Nenhuma reclamação sobre o total de questões ou falha de impressão será aceita depois de iniciada a prova.
4. O cartão-resposta não será substituído, salvo se contiver erro de impressão.
5. Preencha toda a área do cartão-resposta correspondente à alternativa de sua escolha, com caneta esferográfica (tinta azul ou preta), sem ultrapassar as bordas. As marcações duplas, ou rasuradas, com corretivo, ou marcadas diferentemente do modelo estabelecido no cartão-resposta poderão ser anuladas.
6. Sua prova tem **40** questões, com **5** alternativas.
7. Cabe apenas ao candidato a interpretação das questões, **o fiscal** não poderá fazer nenhuma interferência.
8. A prova será realizada com duração máxima de **3 (três) horas**, incluído o tempo para a realização da Prova Objetiva de múltipla escolha e o preenchimento do cartão-resposta.
9. O candidato poderá retirar-se do local de realização das provas somente **1 (uma) hora** após o seu início, sem levar o caderno de prova.
10. O candidato poderá levar o caderno de provas, assim como anotação contendo transcrição do seu cartão-resposta, somente **1h30min** (uma hora e trinta minutos) após o início da realização da prova.
11. Ao terminar a prova, o candidato deverá entregar ao fiscal de sala o cartão-resposta preenchido e **ASSINADO**.
12. Os **3 (três)** candidatos, que terminarem a prova por último, deverão permanecer na sala, e só poderão sair juntos após o fechamento do envelope, contendo os cartões-resposta dos candidatos presentes e ausentes, e assinarem no lacre do referido envelope, atestando que este foi devidamente lacrado.
13. Durante todo o tempo em que permanecer no local onde está ocorrendo o concurso, o candidato deverá, manter o celular desligado e sem bateria, só sendo permitido ligar depois de ultrapassar o portão de saída do prédio.
14. Não será permitido ao candidato fumar na sala de provas, bem como nas dependências.
15. Depois de terminar a prova e entregar ao fiscal o cartão-resposta, preenchido e assinado, não será mais permitido ao candidato o uso do banheiro e bebedouro.

BOA PROVA!

MATEMÁTICA

1. Marcela tem uma dívida de R\$ 462,00 dividida em 4 parcela iguais. Qual é o valor que Marcela vai pagar em cada parcela?

- a) R\$ 189,00
- b) R\$ 145,50
- c) R\$ 115,50
- d) R\$ 125,00
- e) R\$ 132,50

2. No mês de fevereiro, Maria assistiu a filmes nos dias ímpares, e Carla nos dias pares. Quantas vezes Maria assistiu a filmes no mês de fevereiro?

- a) 28
- b) 14
- c) 15
- d) 8
- e) 4

DOM	SEG	TER	QUA	QUI	SEX	SAB
			1	2	3	4
5	6	7	8	9	10	11
12	13	14	15	16	17	18
19	20	21	22	23	24	25
26	27	28				

3. Um estudante pretende se inscrever para participar de um Congresso Nacional. (O valor das inscrições está apresentado na tabela abaixo). Sabendo que o estudante irá se inscrever na abertura do Congresso Nacional, qual é o valor que ele irá pagar?

- a) R\$ 120,00
- b) R\$ 100,00
- c) R\$ 180,00
- d) R\$ 150,00
- e) R\$ 170,00

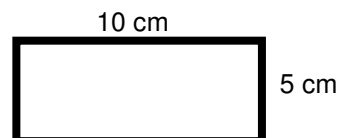
CATEGORIA	Inscrições até 15/05/16	Na abertura do Congresso
Profissional	R\$ 120,00	R\$ 180,00
Estudantes	R\$ 100,00	R\$ 150,00

4. A prestação de um terreno é de R\$ 787,00 e vence todo dia 10. Pagando fora do prazo, há uma multa de R\$ 8,70 por dia. Se a prestação foi paga só no dia 25 (vinte e cinco), qual foi o valor pago?

- a) R\$ 987,00
- b) R\$ 937,00
- c) R\$ 927,50
- d) R\$ 967,00
- e) R\$ 917,50

5. Marque a alternativa que apresenta o resultado do cálculo do perímetro de um terreno que tem as dimensões indicadas na figura abaixo.

- a) 30 cm
- b) 50 cm
- c) 40 cm
- d) 20 cm
- e) 70 cm



6. Um show de Munhoz e Mariano, na exposição de Campo Grande, em abril de 2016, teve início exatamente às 21h e 15min e terminou às 23h e 40 min. Qual foi a duração do show?

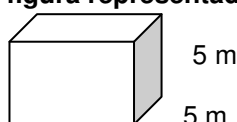
- a) 2h e 10m
- b) 2h e 15m
- c) 2h e 25m
- d) 2h e 30m
- e) 2h e 40m

7. Um pacote de açúcar pesa 2Kg. Foram retirados 450g para fazer um bolo. Quantos gramas restaram no pacote?

- a) 1.450 g
- b) 1.250 g
- c) 1.350 g
- d) 1.550 g
- e) 1.650 g

8. Determine o volume da figura representada a seguir e marque a alternativa correta.

- a) $137m^3$
- b) $115m^3$
- c) $127m^3$
- d) $216m^3$



- e) 125m^3 5 m

9. Calcule o perímetro de um retângulo cuja base é três vezes a altura que mede 4m, e marque a alternativa correta.

- a) 16m
b) 32m
c) 48m
d) 20m
e) 28m



10. João mora no Bairro Tiradentes e Carlos no Bairro Novo Século, os dois trabalham no Supermercado Novo Horizonte. João chegou ao supermercado às 7horas e 30 minutos da manhã e Carlos chegou meia hora depois.

A que horas Carlos chegou ao supermercado?

- a) 8 horas
b) 9 horas
c) 6 horas
d) 5 horas
e) 4 horas

CONHECIMENTOS GERAIS

11. Telêmaco Borba/PR foi desmembrado do município de

- a) Tibagi
b) Londrina
c) Ortigueira
d) Imbaú
e) Ventania

12. Quais são as cores da bandeira do município de Telêmaco Borba/PR?

- a) Vermelha, branca e verde
b) Branca, azul e amarela
c) Verde, azul e amarela
d) Vermelha, branca e azul
e) Branca, cinza e verde

13. Qual o nome do atual prefeito de Telêmaco Borba/PR?

- a) Renato Bahena
b) José Reinaldo Antunes Carneiro
c) Luiz Carlos Gibson
d) Gilson Pereira dos Santos
e) Ezequiel Ligoski Betim

14. Marque a alternativa que corresponde ao feriado municipal que comemora o dia da padroeira de Telêmaco Borba/PR (Nossa Senhora do Perpétuo Socorro).

- a) 21 de março
b) 26 de maio
c) 01 de novembro
d) 28 de outubro
e) 21 de junho

15. Quem nasce em Telêmaco Borba é

- a) Telemacoborbense
b) Telemacoborbino
c) Telemacoreense
d) Telemaconense
e) Telemacoborbiano

16. Em caso de vaga de vereador, não havendo suplente, o Presidente comunicará o fato, diretamente ao Tribunal Regional Eleitoral, dentro de

- a) 72 horas.
b) 5 dias.
c) 15 dias.
d) 48 horas.
e) 24 horas.



17. Qual alternativa não contempla uma forma de provimento no cargo público, conforme o art. 6º do Estatuto dos Servidores Públicos do município de Telêmaco Borba/PR?

- a) Nomeação
- b) Concurso
- c) Readaptação
- d) Reintegração
- e) Promoção

18. Qual dos municípios seguintes faz divisa com Telêmaco Borba/PR?

- a) Curiúva
- b) Londrina
- c) Arapot
- d) Sapopema
- e) Cambé

19. O município de Telêmaco Borba/PR foi criado inicialmente com o nome de

- a) Monte Alegre.
- b) Mauá.
- c) Cidade Nova.
- d) Harmonia.
- e) Tibagi.

20. Como é denominada a sede administrativa de Telêmaco Borba/PR?

- a) Paço Municipal
- b) Paço das Araucárias
- c) Governo Municipal
- d) Prefeitura
- e) Paço Administrativo

CONHECIMENTOS ESPECÍFICOS

21. Na música, os agrupamentos de notas que acompanham uma melodia são chamados de acordes, estes por sua vez são representados por letras, comumente chamadas de cifras.

Assinale a alternativa que corresponde à cifra (letra) correta de cada acorde.

- a) A-si, C-dó, E-mi e D-ré.
- b) A-lá, B-si, C-dó e D-ré.
- c) E-fá, G-sol, F-ré e B-dó.
- d) C-ré, D-mi, E-sol e F-lá.
- e) D-mi, C-dó, A-si e F-lá.

22. Assinale a alternativa correta com relação à nomenclatura destes dois símbolos da notação musical, respectivamente: # e b.

- a) Sustenido e bemol
- b) Sustenido e menor
- c) Bemol e sustenido
- d) Bemol e sustenido
- e) Dobrado e diminuto

23. Assinale a alternativa correta quanto aos instrumentos que compõem uma banda de fanfarra.

- a) Violino, saxofone, tuba e oboé.
- b) Guitarra, violão, bateria e pandeiro.
- c) Clarinete, flauta, surdo e trompa.
- d) Flauta, violino, contrabaixo e violão.
- e) Viola caipira, viola clássica, violão e violino.

24. Instrumentos de sopro (como saxofone e flauta) requerem cuidados básicos devido à utilização da boca em sua técnica para a projeção do som. Nesse sentido, é correto afirmar que:

- a) Antes de tocar o instrumento não se deve limpá-lo, pois isto pode prejudicar a sua projeção sonora
- b) O maior cuidado com este tipo de instrumento está nas condições do estojo em que ele é guardado.
- c) Nunca se deve desmontar o instrumento para sua limpeza, pois isso prejudica a sua mecânica.
- d) Retirar a umidade ou qualquer resíduo devido à utilização bucal é imprescindível para a manutenção desses instrumentos.
- e) É importante guardá-los em locais de exposição solar, pois isso proporciona a preservação acústica desses instrumentos.

25. A partitura é um tipo de notação musical frequentemente utilizada pelos músicos de bandas de fanfarras. Assinale a alternativa que representa graficamente uma partitura:

- a) 
- b) 
- c) 
- d) 
- e) 

LÍNGUA PORTUGUESA

Leia com atenção o texto abaixo e depois responda às próximas cinco questões.

Heroísmo

Ele usava um colete à prova de balas. Não importava que dia da semana, que dia do mês ou que dia do ano: ele sempre usava o seu colete à prova de balas. Era precavido, ele dizia. A cidade anda muito violenta; nunca se sabe o que pode acontecer. Isso é uma verdade!

Um belo dia, quando estava no banco, ocorreu um assalto. Três bandidos, armados de pistolas e metralhadoras, ameaçavam matar os reféns se o dinheiro não lhes fosse entregue com velocidade. Ele, muito seguro de si, sabendo da vantagem que levava sobre os assaltantes, afinal, seu colete estava bem escondido sob a camisa, disparou na direção de um deles para desarmá-lo. Um segundo depois, caiu morto.

Ataque cardíaco fulminante, disseram os legistas quando chegaram na cena do crime.

(Fonte: <http://www.napontadoslapis.com.br/2011/03/dois-pequenos-contos.html>. Acesso em 18/05/2016.)

26. Conforme o texto, a pessoa que usava um colete à prova de balas todos os dias era:

- a) Uma criança
 b) Uma mulher
 c) Um homem
 d) Um assaltante
 e) O gerente do banco

27. De acordo com o texto, como morreu a pessoa que usava diariamente um colete à prova de balas?

- a) De ataque cardíaco fulminante.
 b) Assassinado por um assaltante.
 c) Cometeu suicídio.
 d) Foi vítima de uma bala perdida durante o assalto.
 e) Foi morto por um policial.

28. Na segunda linha do texto diz: *Era precavido*.

O que isso significa precavido?

- a) Distraído
 b) Aventureiro
 c) Descuidado
 d) Prevenido
 e) Precipitado

29. Em qual alternativa temos uma palavra grifada que é um pronome pessoal?

- a) A cidade anda muito violenta.

- b) Ele usava um colete à prova de balas.
 c) Um segundo depois, caiu morto.
 d) disseram os legistas quando chegaram na cena do crime.
 e) ele sempre usava o seu colete à prova de balas.

30. As palavras são representadas por fonemas (sons) e letras. Sendo assim, na palavra VELOCIDADE contamos quantos fonemas e letras?

- a) 7 fonemas e 10 letras.
 b) 8 fonemas e 9 letras.
 c) 9 fonemas e 9 letras.
 d) 9 fonemas e 10 letras.
 e) 10 fonemas e 10 letras.

Leia atentamente o texto da figura da formiga e o texto abaixo dela. Depois, responda às próximas cinco questões.

Formigas dormem?



Sim. Especialistas concordam que, como a maioria dos animais, elas dividem seu tempo entre atividade e descanso – quando a ação metabólica diminui. Mas isso não seria bem o que chamamos de sono. “Há registros de formigas vistas ‘deitadas de lado’, que, quando instigadas, retomaram a posição normal. Eu hesitaria em dizer que elas ‘acordaram’, mas a analogia é possível”, explica o mirmecologista (especialista em formiga) Carlos Brandão. Uma pesquisa norte-americana de 2009 indicava que ao menos as formigas-de-fogo (*Solenopsis invicta*) dormem sim – em pequenos cochilos.

- As operárias “dormem” em turnos, mantendo sempre 80% da força de trabalho acordada.

(Fonte <http://mundoestranho.abril.com.br/materia/formigas-dormem>. Acesso em 18/05/2016.)

31. Observe a parte da figura da formiga sobre TOTAL DE HORAS DORMIDAS. Nessa parte, entendemos que:

- a) A formiga rainha dorme 9,4 horas por dia e a formiga operária dorme 4,8 horas por dia.
 b) A formiga rainha dorme menos de 9 horas por dia e a formiga operária menos de 4 horas por dia.
 c) A formiga rainha dorme mais de 10 horas por dia e a formiga operária mais de 4 horas por dia.
 d) A formiga rainha dorme mais de 9 horas por dia e a formiga operária mais de 5 horas por dia.
 e) A formiga rainha dorme 4 horas por dia e a formiga operária 8 horas por dia.

32. No texto que se localiza abaixo da figura da formiga, lemos a palavra mirmecologista. Lá explica que isso significa:

- a) O nome de um tipo de formiga.
 b) Especialista em formiga.
 c) O nome que se dá ao cochilo das formigas.
 d) O nome dado a uma pesquisa sobre formigas.
 e) Um outro nome que recebem as formigas operárias.

33. Leia esta frase: *Formigas dormem?*

Ela é:

- a) Uma frase afirmativa porque tem ponto final e expressa uma pergunta.
 b) Uma frase negativa porque tem ponto de interrogação e nega alguma coisa.



- c) Uma frase exclamativa porque tem ponto de exclamação e expressa admiração.
- d) Uma frase interrogativa porque tem ponto de exclamação e expressa uma pergunta.
- e) Uma frase interrogativa porque tem ponto de interrogação e expressa uma pergunta.

34. Em qual alternativa a separação de sílabas das palavras não está correta?

- a) a-ni-mais; dei-ta-das.
- b) es-pe-cia-lis-ta; po-ssí-vel.
- c) des-can-so; com-cor-dam.
- d) a-ti-vi-da-de; for-mi-gas.
- e) tra-ba-lho; pe-que-nos.

35. O hiato é um encontro vocálico em que temos duas vogais juntas, mas que são pronunciadas em sílabas diferentes. Assim, a palavra que tem hiato é:

- a) Pequenos
- b) Deitadas
- c) Quando
- d) Acordados
- e) Especialista

Leia com atenção o texto abaixo e depois responda às cinco próximas questões.

Tomate é fruta?

por Sabrina Haick | Edição 177

Sim, ele é. Não só o tomate é fruta, como a berinjela, a abobrinha, o pepino, o pimentão e outros alimentos que nós chamamos de legumes também são. Fruta é o ovário amadurecido de uma planta, onde ficam as sementes. A confusão acontece porque nós somos acostumados a chamar as frutas salgadas de legumes. Se você acha que sua vida foi uma mentira até agora, saiba que também existem alimentos que nós chamamos de fruta, mas não são. Trata-se dos pseudofrutos – estruturas suculentas que têm cara e jeito de fruto, mas não se desenvolvem a partir do ovário da planta, como as frutas reais. É o caso do morango, do caju, da maçã, da pera e do abacaxi, entre outros.

(Fonte: <http://mundoestranho.abril.com.br/materia/tomate-e-fruta>. Aceso em 18/05/2016.)

36. Ao ler esse texto, descobrimos que o tomate é um fruto e não um legume. Também descobrimos que são frutas outros alimentos que pensávamos que eram legumes. Dois deles são:

- a) Berinjela e morango
- b) Abobrinha e pepino
- c) Abobrinha e caju
- d) Pimentão e pera
- e) Pepino e abacaxi

37. Conhecer os sinônimos e antônimos das palavras nos ajuda a aumentar nosso vocabulário.

Qual é um sinônimo para a palavra “suculentas”, conforme o sentido que ela tem no texto?

- a) Desinteressantes
- b) Gordurosas
- c) Carnudas
- d) Descarnadas
- e) Felpudas

38. A acentuação em uma palavra nos ajuda a pronunciá-la de maneira correta, como, por exemplo, as palavras “você” e “ovário”. Marque a alternativa em que as palavras não foram acentuadas corretamente.

- a) lâmpada - pálpebra
- b) obíto - fenômeno
- c) mímica - código
- d) cálice - xícara
- e) cédula - específico

39. Escrevemos “abacaxi” com x, “berinjela” e “caju” com j.

Marque a alternativa em que todas as palavras grifadas estão escritas de forma correta.

- a) Fui à feira e comprei tangerina, laranja e melancia.
- b) Fui à feira e comprei tanjerina, laranja e melancia.
- c) Fui à feira e comprei tangerina, larãja e melancia.
- d) Fui à feira e comprei tangerina, laranja e melansia.
- e) Fui à feira e comprei tãgerina, laranja e melansia.



40. O que temos nas palavras “frutas”, “estruturas”, “salgadas” e “partir”?

- a) Ditongo
- b) Hiato
- c) Encontro consonantal e Encontro vocálico
- d) Encontro consonantal
- e) Encontro vocálico

RASCUNHO



PREFEITURA DE TELÊMACO BORBA - ESTADO DO PARANÁ- EDITAL Nº 001-2016 - CONCURSO PÚBLICO

VESPERTINO – 29/05/2016 – FUNDAMENTAL INCOMPLETO

PROVA OBJETIVA NÚMERO

3

CARGO: INSTRUTOR MUSICAL

Leia atentamente as **INSTRUÇÕES**:

1. Confira seus dados no cartão-resposta: nome, número de inscrição e o curso para o qual se inscreveu.
2. **MARQUE no seu cartão-resposta o número da sua prova** (não será corrigido o cartão-resposta que não tiver marcado o número da prova) e **Assine** seu cartão-resposta.
3. Aguarde a autorização do Fiscal para abrir o caderno de prova. Ao receber a ordem do fiscal, confira o caderno de prova com muita atenção. Nenhuma reclamação sobre o total de questões ou falha de impressão será aceita depois de iniciada a prova.
4. O cartão-resposta não será substituído, salvo se contiver erro de impressão.
5. Preencha toda a área do cartão-resposta correspondente à alternativa de sua escolha, com caneta esferográfica (tinta azul ou preta), sem ultrapassar as bordas. As marcações duplas, ou rasuradas, com corretivo, ou marcadas diferentemente do modelo estabelecido no cartão-resposta poderão ser anuladas.
6. Sua prova tem **40** questões, com **5** alternativas.
7. Cabe apenas ao candidato a interpretação das questões, **o fiscal** não poderá fazer nenhuma interferência.
8. A prova será realizada com duração máxima de **3 (três) horas**, incluído o tempo para a realização da Prova Objetiva de múltipla escolha e o preenchimento do cartão-resposta.
9. O candidato poderá retirar-se do local de realização das provas somente **1 (uma) hora** após o seu início, sem levar o caderno de prova.
10. O candidato poderá levar o caderno de provas, assim como anotação contendo transcrição do seu cartão-resposta, somente **1h30min** (uma hora e trinta minutos) após o início da realização da prova.
11. Ao terminar a prova, o candidato deverá entregar ao fiscal de sala o cartão-resposta preenchido e **ASSINADO**.
12. Os **3 (três)** candidatos, que terminarem a prova por último, deverão permanecer na sala, e só poderão sair juntos após o fechamento do envelope, contendo os cartões-resposta dos candidatos presentes e ausentes, e assinarem no lacre do referido envelope, atestando que este foi devidamente lacrado.
13. Durante todo o tempo em que permanecer no local onde está ocorrendo o concurso, o candidato deverá, manter o celular desligado e sem bateria, só sendo permitido ligar depois de ultrapassar o portão de saída do prédio.
14. Não será permitido ao candidato fumar na sala de provas, bem como nas dependências.
15. Depois de terminar a prova e entregar ao fiscal o cartão-resposta, preenchido e assinado, não será mais permitido ao candidato o uso do banheiro e bebedouro.

BOA PROVA!

CONHECIMENTOS ESPECÍFICOS

01. Na música, os agrupamentos de notas que acompanham uma melodia são chamados de acordes, estes por sua vez são representados por letras, comumente chamadas de cifras.

Assinale a alternativa que corresponde à cifra (letra) correta de cada acorde.

- a) A-si, C-dó, E-mi e D-ré.
- b) A-lá, B-si, C-dó e D-ré.
- c) E-fá, G-sol, F-ré e B-dó.
- d) C-ré, D-mi, E-sol e F-lá.
- e) D-mi, C-dó, A-si e F-lá.

02. Assinale a alternativa correta com relação à nomenclatura destes dois símbolos da notação musical, respectivamente: # e b.

- a) Sustenido e bemol
- b) Sustenido e menor
- c) Bemol e sustenido
- d) Bemol e sustenido
- e) Dobrado e diminuto

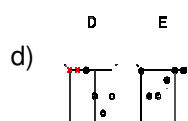

03. Assinale a alternativa correta quanto aos instrumentos que compõem uma banda de fanfarra.

- a) Violino, saxofone, tuba e oboé.
- b) Guitarra, violão, bateria e pandeiro.
- c) Clarinete, flauta, surdo e trompa.
- d) Flauta, violino, contrabaixo e violão.
- e) Viola caipira, viola clássica, violão e violino.

04. Instrumentos de sopro (como saxofone e flauta) requerem cuidados básicos devido à utilização da boca em sua técnica para a projeção do som. Nesse sentido, é correto afirmar que:

- a) Antes de tocar o instrumento não se deve limpá-lo, pois isto pode prejudicar a sua projeção sonora
- b) O maior cuidado com este tipo de instrumento está nas condições do estojo em que ele é guardado.
- c) Nunca se deve desmontar o instrumento para sua limpeza, pois isso prejudica a sua mecânica.
- d) Retirar a umidade ou qualquer resíduo devido à utilização bucal é imprescindível para a manutenção desses instrumentos.
- e) É importante guardá-los em locais de exposição solar, pois isso proporciona a preservação acústica desses instrumentos.

05. A partitura é um tipo de notação musical frequentemente utilizada pelos músicos de bandas de fanfarras. Assinale a alternativa que representa graficamente uma partitura:


LÍNGUA PORTUGUESA

Leia com atenção o texto abaixo e depois responda às próximas cinco questões.

Heroísmo

Ele usava um colete à prova de balas. Não importava que dia da semana, que dia do mês ou que dia do ano: ele sempre usava o seu colete à prova de balas. Era precavido, ele dizia. A cidade anda muito violenta; nunca se sabe o que pode acontecer. Isso é uma verdade!

Um belo dia, quando estava no banco, ocorreu um assalto. Três bandidos, armados de pistolas e metralhadoras, ameaçavam matar os reféns se o dinheiro não lhes fosse entregue com velocidade. Ele, muito seguro de si, sabendo da vantagem que levava sobre os assaltantes, afinal, seu colete estava bem escondido sob a camisa, disparou na direção de um deles para desarmá-lo. Um segundo depois, caiu morto.

Ataque cardíaco fulminante, disseram os legistas quando chegaram na cena do crime.

(Fonte: <http://www.napontadoslapis.com.br/2011/03/dois-pequenos-contos.html>. Acesso em 18/05/2016.)

06. Conforme o texto, a pessoa que usava um colete à prova de balas todos os dias era:

- a) Uma criança
- b) Uma mulher
- c) Um homem
- d) Um assaltante
- e) O gerente do banco

07. De acordo com o texto, como morreu a pessoa que usava diariamente um colete à prova de balas?

- a) De ataque cardíaco fulminante.
- b) Assassinado por um assaltante.
- c) Cometeu suicídio.
- d) Foi vítima de uma bala perdida durante o assalto.
- e) Foi morto por um policial.

08. Na segunda linha do texto diz: *Era precavido*.

O que isso significa precavido?

- a) Distraído
- b) Aventureiro
- c) Descuidado
- d) Prevenido
- e) Precipitado

09. Em qual alternativa temos uma palavra grifada que é um pronome pessoal?

- a) A cidade anda muito violenta.
- b) Ele usava um colete à prova de balas.
- c) Um segundo depois, caiu morto.
- d) disseram os legistas quando chegaram na cena do crime.
- e) ele sempre usava o seu colete à prova de balas.

10. As palavras são representadas por fonemas (sons) e letras. Sendo assim, na palavra VELOCIDADE contamos quantos fonemas e letras?

- a) 7 fonemas e 10 letras.
- b) 8 fonemas e 9 letras.
- c) 9 fonemas e 9 letras.
- d) 9 fonemas e 10 letras.
- e) 10 fonemas e 10 letras.

Leia atentamente o texto da figura da formiga e o texto abaixo dela. Depois, responda às próximas cinco questões.

Formigas dormem?



Sim. Especialistas concordam que, como a maioria dos animais, elas dividem seu tempo entre atividade e descanso – quando a ação metabólica diminui. Mas isso não seria bem o que chamamos de sono. “Há registros de formigas vistas ‘deitadas de lado’, que, quando instigadas, retomaram a posição normal. Eu hesitaria em dizer que elas ‘acordaram’, mas a analogia é possível”, explica o mirmecologista (especialista em formiga) Carlos Brandão. Uma pesquisa norte-americana de 2009 indicava que ao menos as formigas-de-fogo (*Solenopsis Invicta*) dormem sim – em pequenos cochilos.

- As operárias “dormem” em turnos, mantendo sempre 80% da força de trabalho acordada.

(Fonte <http://mundoestranho.abril.com.br/materia/formigas-dormem>. Acesso em 18/05/2016.)

11. Observe a parte da figura da formiga sobre TOTAL DE HORAS DORMIDAS. Nessa parte, entendemos que:

- A formiga rainha dorme 9,4 horas por dia e a formiga operária dorme 4,8 horas por dia.
- A formiga rainha dorme menos de 9 horas por dia e a formiga operária menos de 4 horas por dia.
- A formiga rainha dorme mais de 10 horas por dia e a formiga operária mais de 4 horas por dia.
- A formiga rainha dorme mais de 9 horas por dia e a formiga operária mais de 5 horas por dia.
- A formiga rainha dorme 4 horas por dia e a formiga operária 8 horas por dia.

12. No texto que se localiza abaixo da figura da formiga, lemos a palavra mirmecologista. Lá explica que isso significa:

- O nome de um tipo de formiga.
- Especialista em formiga.
- O nome que se dá ao cochilo das formigas.
- O nome dado a uma pesquisa sobre formigas.
- Um outro nome que recebem as formigas operárias.

13. Leia esta frase: *Formigas dormem?*

Ela é:

- Uma frase afirmativa porque tem ponto final e expressa uma pergunta.
- Uma frase negativa porque tem ponto de interrogação e nega alguma coisa.
- Uma frase exclamativa porque tem ponto de exclamação e expressa admiração.
- Uma frase interrogativa porque tem ponto de exclamação e expressa uma pergunta.
- Uma frase interrogativa porque tem ponto de interrogação e expressa uma pergunta.

14. Em qual alternativa a separação de sílabas das palavras não está correta?

- a-ni-mais; dei-ta-das.
- es-pe-cia-lis-ta; po-ssí-vel.
- des-can-so; com-cor-dam.
- a-ti-vi-da-de; for-mi-gas.
- tra-ba-lho; pe-que-nos.

15. O hiato é um encontro vocálico em que temos duas vogais juntas, mas que são pronunciadas em sílabas diferentes. Assim, a palavra que tem hiato é:

- Pequenos
- Deitadas
- Quando

- d) Acordados
 e) Especialista

Leia com atenção o texto abaixo e depois responda às cinco próximas questões.

Tomate é fruta?

por Sabrina Haick | Edição 177

Sim, ele é. Não só o tomate é fruta, como a berinjela, a abobrinha, o pepino, o pimentão e outros alimentos que nós chamamos de legumes também são. Fruta é o ovário amadurecido de uma planta, onde ficam as sementes. A confusão acontece porque nós somos acostumados a chamar as frutas salgadas de legumes. Se você acha que sua vida foi uma mentira até agora, saiba que também existem alimentos que nós chamamos de fruta, mas não são. Trata-se dos pseudofrutos – estruturas suculentas que têm cara e jeito de fruto, mas não se desenvolvem a partir do ovário da planta, como as frutas reais. É o caso do morango, do caju, da maçã, da pera e do abacaxi, entre outros.

(Fonte: <http://mundoestranho.abril.com.br/materia/tomate-e-fruta>. Acesso em 18/05/2016.)

16. Ao ler esse texto, descobrimos que o tomate é um fruto e não um legume. Também descobrimos que são frutas outros alimentos que pensávamos que eram legumes. Dois deles são:

- a) Berinjela e morango
 b) Abobrinha e pepino
 c) Abobrinha e caju
 d) Pimentão e pera
 e) Pepino e abacaxi

17. Conhecer os sinônimos e antônimos das palavras nos ajuda a aumentar nosso vocabulário.

Qual é um sinônimo para a palavra “suculentas”, conforme o sentido que ela tem no texto?

- a) Desinteressantes
 b) Gordurosas
 c) Carnudas
 d) Descarnadas
 e) Felpudas

18. A acentuação em uma palavra nos ajuda a pronunciá-la de maneira correta, como, por exemplo, as palavras “você” e “ovário”. Marque a alternativa em que as palavras não foram acentuadas corretamente.

- a) lâmpada - pálpebra
 b) obíto - fenômeno
 c) mímica - código
 d) cálice - xícara
 e) cédula - específico

19. Escrevemos “abacaxi” com x, “berinjela” e “caju” com j.

Marque a alternativa em que todas as palavras grifadas estão escritas de forma correta.

- a) Fui à feira e comprei tangerina, laranja e melancia.
 b) Fui à feira e comprei tanjerina, laranja e melancia.
 c) Fui à feira e comprei tangerina, larãja e melancia.
 d) Fui à feira e comprei tangerina, laranja e melansia.
 e) Fui à feira e comprei tãgerina, laranja e melansia.

20. O que temos nas palavras “frutas”, “estruturas”, “salgadas” e “partir”?

- a) Ditongo
 b) Hiato
 c) Encontro consonantal e Encontro vocálico
 d) Encontro consonantal
 e) Encontro vocálico

MATEMÁTICA

21. Marcela tem uma dívida de R\$ 462,00 dividida em 4 parcela iguais. Qual é o valor que Marcela vai pagar em cada parcela?

- a) R\$ 189,00
 b) R\$ 145,50
 c) R\$ 115,50
 d) R\$ 125,00
 e) R\$ 132,50

22. No mês de fevereiro, Maria assistiu a filmes nos dias ímpares, e Carla nos dias pares. Quantas vezes Maria assistiu a filmes no mês de fevereiro?

- a) 28
b) 14
c) 15
d) 8
e) 4

DOM	SEG	TER	QUA	QUI	SEX	SAB
			1	2	3	4
5	6	7	8	9	10	11
12	13	14	15	16	17	18
19	20	21	22	23	24	25
26	27	28				

23. Um estudante pretende se inscrever para participar de um Congresso Nacional. (O valor das inscrições está apresentado na tabela abaixo). Sabendo que o estudante irá se inscrever na abertura do Congresso Nacional, qual é o valor que ele irá pagar?

- a) R\$ 120,00
b) R\$ 100,00
c) R\$ 180,00
d) R\$ 150,00
e) R\$ 170,00

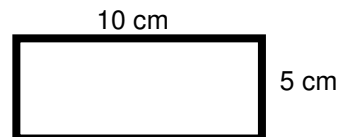
CATEGORIA	Inscrições até 15/05/16	Na abertura do Congresso
Profissional	R\$ 120,00	R\$ 180,00
Estudantes	R\$ 100,00	R\$ 150,00

24. A prestação de um terreno é de R\$ 787,00 e vence todo dia 10. Pagando fora do prazo, há uma multa de R\$ 8,70 por dia. Se a prestação foi paga só no dia 25 (vinte e cinco), qual foi o valor pago?

- a) R\$ 987,00
b) R\$ 937,00
c) R\$ 927,50
d) R\$ 967,00
e) R\$ 917,50

25. Marque a alternativa que apresenta o resultado do cálculo do perímetro de um terreno que tem as dimensões indicadas na figura abaixo.

- a) 30 cm
b) 50 cm
c) 40 cm
d) 20 cm
e) 70 cm



26. Um show de Munhoz e Mariano, na exposição de Campo Grande, em abril de 2016, teve início exatamente às 21h e 15min e terminou às 23h e 40 min. Qual foi a duração do show?

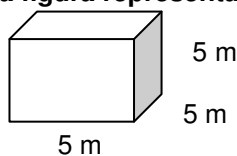
- a) 2h e 10m
b) 2h e 15m
c) 2h e 25m
d) 2h e 30m
e) 2h e 40m

27. Um pacote de açúcar pesa 2Kg. Foram retirados 450g para fazer um bolo. Quantos gramas restaram no pacote?

- a) 1.450 g
b) 1.250 g
c) 1.350 g
d) 1.550 g
e) 1.650 g

28. Determine o volume da figura representada a seguir e marque a alternativa correta.

- a) $137m^3$
b) $115m^3$
c) $127m^3$
d) $216m^3$
e) $125m^3$



29. Calcule o perímetro de um retângulo cuja base é três vezes a altura que mede 4m, e marque a alternativa correta.

- a) 16m
b) 32m
c) 48m
d) 20m
e) 28m





30. João mora no Bairro Tiradentes e Carlos no Bairro Novo Século, os dois trabalham no Supermercado Novo Horizonte. João chegou ao supermercado às 7horas e 30 minutos da manhã e Carlos chegou meia hora depois.

A que horas Carlos chegou ao supermercado?

- a) 8 horas
- b) 9 horas
- c) 6 horas
- d) 5 horas
- e) 4 horas

CONHECIMENTOS GERAIS

31. Telêmaco Borba/PR foi desmembrado do município de

- a) Tibagi
- b) Londrina
- c) Ortigueira
- d) Imbaú
- e) Ventania

32. Quais são as cores da bandeira do município de Telêmaco Borba/PR?

- a) Vermelha, branca e verde
- b) Branca, azul e amarela
- c) Verde, azul e amarela
- d) Vermelha, branca e azul
- e) Branca, cinza e verde

33. Qual o nome do atual prefeito de Telêmaco Borba/PR?

- a) Renato Bahena
- b) José Reinaldo Antunes Carneiro
- c) Luiz Carlos Gibson
- d) Gilson Pereira dos Santos
- e) Ezequiel Ligoski Betim

34. Marque a alternativa que corresponde ao feriado municipal que comemora o dia da padroeira de Telêmaco Borba/PR (Nossa Senhora do Perpétuo Socorro).

- a) 21 de março
- b) 26 de maio
- c) 01 de novembro
- d) 28 de outubro
- e) 21 de junho

35. Quem nasce em Telêmaco Borba é

- a) Telemacoborbense
- b) Telemacoborbino
- c) Telemacoreense
- d) Telemaconense
- e) Telemacoborbiano

36. Em caso de vaga de vereador, não havendo suplente, o Presidente comunicará o fato, diretamente ao Tribunal Regional Eleitoral, dentro de

- a) 72 horas.
- b) 5 dias.
- c) 15 dias.
- d) 48 horas.
- e) 24 horas.

37. Qual alternativa não contempla uma forma de provimento no cargo público, conforme o art. 6º do Estatuto dos Servidores Públicos do município de Telêmaco Borba/PR?

- a) Nomeação
- b) Concurso
- c) Readaptação
- d) Reintegração
- e) Promoção

38. Qual dos municípios seguintes faz divisa com Telêmaco Borba/PR?



- a) Curiúva
- b) Londrina
- c) Arapot
- d) Sapopema
- e) Cambé

39. O município de Telêmaco Borba/PR foi criado inicialmente com o nome de

- a) Monte Alegre.
- b) Mauá.
- c) Cidade Nova.
- d) Harmonia.
- e) Tibagi.

40. Como é denominada a sede administrativa de Telêmaco Borba/PR?

- a) Paço Municipal
- b) Paço das Araucárias
- c) Governo Municipal
- d) Prefeitura
- e) Paço Administrativo

RASCUNHO



PREFEITURA DE TELÊMACO BORBA - ESTADO DO PARANÁ- EDITAL Nº 001-2016 - CONCURSO PÚBLICO

VESPERTINO – 29/05/2016 – FUNDAMENTAL INCOMPLETO

1

PROVA OBJETIVA NÚMERO

CARGO: VIGIA

Leia atentamente as INSTRUÇÕES:

1. Confira seus dados no cartão-resposta: nome, número de inscrição e o curso para o qual se inscreveu.
2. **MARQUE no seu cartão-resposta o número da sua prova** (não será corrigido o cartão-resposta que não tiver marcado o número da prova) e **Assine** seu cartão-resposta.
3. Aguarde a autorização do Fiscal para abrir o caderno de prova. Ao receber a ordem do fiscal, confira o caderno de prova com muita atenção. Nenhuma reclamação sobre o total de questões ou falha de impressão será aceita depois de iniciada a prova.
4. O cartão-resposta não será substituído, salvo se contiver erro de impressão.
5. Preencha toda a área do cartão-resposta correspondente à alternativa de sua escolha, com caneta esferográfica (tinta azul ou preta), sem ultrapassar as bordas. As marcações duplas, ou rasuradas, com corretivo, ou marcadas diferentemente do modelo estabelecido no cartão-resposta poderão ser anuladas.
6. Sua prova tem **40** questões, com **5** alternativas.
7. Cabe apenas ao candidato a interpretação das questões, **o fiscal** não poderá fazer nenhuma interferência.
8. A prova será realizada com duração máxima de **3 (três) horas**, incluído o tempo para a realização da Prova Objetiva de múltipla escolha e o preenchimento do cartão-resposta.
9. O candidato poderá retirar-se do local de realização das provas somente **1 (uma) hora** após o seu início, sem levar o caderno de prova.
10. O candidato poderá levar o caderno de provas, assim como anotação contendo transcrição do seu cartão-resposta, somente **1h30min** (uma hora e trinta minutos) após o início da realização da prova.
11. Ao terminar a prova, o candidato deverá entregar ao fiscal de sala o cartão-resposta preenchido e **ASSINADO**.
12. Os **3 (três)** candidatos, que terminarem a prova por último, deverão permanecer na sala, e só poderão sair juntos após o fechamento do envelope, contendo os cartões-resposta dos candidatos presentes e ausentes, e assinarem no lacre do referido envelope, atestando que este foi devidamente lacrado.
13. Durante todo o tempo em que permanecer no local onde está ocorrendo o concurso, o candidato deverá, manter o celular desligado e sem bateria, só sendo permitido ligar depois de ultrapassar o portão de saída do prédio.
14. Não será permitido ao candidato fumar na sala de provas, bem como nas dependências.
15. Depois de terminar a prova e entregar ao fiscal o cartão-resposta, preenchido e assinado, não será mais permitido ao candidato o uso do banheiro e bebedouro.

BOA PROVA!

LÍNGUA PORTUGUESA

Leia com atenção o texto abaixo e depois responda às próximas cinco questões.

Heroísmo

Ele usava um colete à prova de balas. Não importava que dia da semana, que dia do mês ou que dia do ano: ele sempre usava o seu colete à prova de balas. Era precavido, ele dizia. A cidade anda muito violenta; nunca se sabe o que pode acontecer. Isso é uma verdade!

Um belo dia, quando estava no banco, ocorreu um assalto. Três bandidos, armados de pistolas e metralhadoras, ameaçavam matar os reféns se o dinheiro não lhes fosse entregue com velocidade. Ele, muito seguro de si, sabendo da vantagem que levava sobre os assaltantes, afinal, seu colete estava bem escondido sob a camisa, disparou na direção de um deles para desarmá-lo. Um segundo depois, caiu morto.

Ataque cardíaco fulminante, disseram os legistas quando chegaram na cena do crime.

(Fonte: <http://www.napontadoslapis.com.br/2011/03/dois-pequenos-contos.html>. Acesso em 18/05/2016.)

01. Conforme o texto, a pessoa que usava um colete à prova de balas todos os dias era:

- a) Uma criança
- b) Uma mulher
- c) Um homem
- d) Um assaltante
- e) O gerente do banco

02. De acordo com o texto, como morreu a pessoa que usava diariamente um colete à prova de balas?

- a) De ataque cardíaco fulminante.
- b) Assassinado por um assaltante.
- c) Cometeu suicídio.
- d) Foi vítima de uma bala perdida durante o assalto.
- e) Foi morto por um policial.

03. Na segunda linha do texto diz: *Era precavido*.

O que isso significa precavido?

- a) Distraído
- b) Aventureiro
- c) Descuidado
- d) Prevenido
- e) Precipitado

04. Em qual alternativa temos uma palavra grifada que é um pronome pessoal?

- a) A cidade anda muito violenta.
- b) Ele usava um colete à prova de balas.
- c) Um segundo depois, caiu morto.
- d) disseram os legistas quando chegaram na cena do crime.
- e) ele sempre usava o seu colete à prova de balas.

05. As palavras são representadas por fonemas (sons) e letras. Sendo assim, na palavra VELOCIDADE contamos quantos fonemas e letras?

- a) 7 fonemas e 10 letras.
- b) 8 fonemas e 9 letras.
- c) 9 fonemas e 9 letras.
- d) 9 fonemas e 10 letras.
- e) 10 fonemas e 10 letras.

Leia atentamente o texto da figura da formiga e o texto abaixo dela. Depois, responda às próximas cinco questões.

Formigas dormem?



Sim. Especialistas concordam que, como a maioria dos animais, elas dividem seu tempo entre atividade e descanso – quando a ação metabólica diminui. Mas isso não seria bem o que chamamos de sono. “Há registros de formigas vistas ‘deitadas de lado’, que, quando instigadas, retomaram a posição normal. Eu hesitaria em dizer que elas ‘acordaram’, mas a analogia é possível”, explica o mirmecologista (especialista em formiga) Carlos Brandão. Uma pesquisa norte-americana de 2009 indicava que ao menos as formigas-de-fogo (*Solenopsis Invicta*) dormem sim – em pequenos cochilos.

- As operárias “dormem” em turnos, mantendo sempre 80% da força de trabalho acordada.

(Fonte <http://mundoestranho.abril.com.br/materia/formigas-dormem>. Acesso em 18/05/2016.)

06. Observe a parte da figura da formiga sobre TOTAL DE HORAS DORMIDAS. Nessa parte, entendemos que:

- A formiga rainha dorme 9,4 horas por dia e a formiga operária dorme 4,8 horas por dia.
- A formiga rainha dorme menos de 9 horas por dia e a formiga operária menos de 4 horas por dia.
- A formiga rainha dorme mais de 10 horas por dia e a formiga operária mais de 4 horas por dia.
- A formiga rainha dorme mais de 9 horas por dia e a formiga operária mais de 5 horas por dia.
- A formiga rainha dorme 4 horas por dia e a formiga operária 8 horas por dia.

07. No texto que se localiza abaixo da figura da formiga, lemos a palavra mirmecologista. Lá explica que isso significa:

- O nome de um tipo de formiga.
- Especialista em formiga.
- O nome que se dá ao cochilo das formigas.
- O nome dado a uma pesquisa sobre formigas.
- Um outro nome que recebem as formigas operárias.

08. Leia esta frase: *Formigas dormem?*

Ela é:

- Uma frase afirmativa porque tem ponto final e expressa uma pergunta.
- Uma frase negativa porque tem ponto de interrogação e nega alguma coisa.
- Uma frase exclamativa porque tem ponto de exclamação e expressa admiração.
- Uma frase interrogativa porque tem ponto de exclamação e expressa uma pergunta.
- Uma frase interrogativa porque tem ponto de interrogação e expressa uma pergunta.

09. Em qual alternativa a separação de sílabas das palavras não está correta?

- a-ni-mais; dei-ta-das.
- es-pe-cia-lis-ta; po-ssí-vel.
- des-can-so; com-cor-dam.
- a-ti-vi-da-de; for-mi-gas.
- tra-ba-lho; pe-que-nos.

10. O hiato é um encontro vocálico em que temos duas vogais juntas, mas que são pronunciadas em sílabas diferentes. Assim, a palavra que tem hiato é:

- Pequenos
- Deitadas
- Quando

- d) Acordados
- e) Especialista

Leia com atenção o texto abaixo e depois responda às cinco próximas questões.

Tomate é fruta?

por Sabrina Haick | Edição 177

Sim, ele é. Não só o tomate é fruta, como a berinjela, a abobrinha, o pepino, o pimentão e outros alimentos que nós chamamos de legumes também são. Fruta é o ovário amadurecido de uma planta, onde ficam as sementes. A confusão acontece porque nós somos acostumados a chamar as frutas salgadas de legumes. Se você acha que sua vida foi uma mentira até agora, saiba que também existem alimentos que nós chamamos de fruta, mas não são. Trata-se dos pseudofrutos – estruturas suculentas que têm cara e jeito de fruto, mas não se desenvolvem a partir do ovário da planta, como as frutas reais. É o caso do morango, do caju, da maçã, da pera e do abacaxi, entre outros.

(Fonte: <http://mundoestranho.abril.com.br/materia/tomate-e-fruta>. Aceso em 18/05/2016.)

11. Ao ler esse texto, descobrimos que o tomate é um fruto e não um legume. Também descobrimos que são frutas outros alimentos que pensávamos que eram legumes. Dois deles são:

- a) Berinjela e morango
- b) Abobrinha e pepino
- c) Abobrinha e caju
- d) Pimentão e pera
- e) Pepino e abacaxi

12. Conhecer os sinônimos e antônimos das palavras nos ajuda a aumentar nosso vocabulário.

Qual é um sinônimo para a palavra “suculentas”, conforme o sentido que ela tem no texto?

- a) Desinteressantes
- b) Gordurosas
- c) Carnudas
- d) Descarnadas
- e) Felpudas

13. A acentuação em uma palavra nos ajuda a pronunciar-la de maneira correta, como, por exemplo, as palavras “você” e “ovário”. Marque a alternativa em que as palavras não foram acentuadas corretamente.

- a) lâmpada - pálpebra
- b) obito - fenômeno
- c) mímica - código
- d) cálice - xícara
- e) cédula - específico

14. Escrevemos “abacaxi” com x, “berinjela” e “caju” com j.

Marque a alternativa em que todas as palavras grifadas estão escritas de forma correta.

- a) Fui à feira e comprei tangerina, laranja e melancia.
- b) Fui à feira e comprei tanjerina, laranja e melancia.
- c) Fui à feira e comprei tangerina, larãja e melancia.
- d) Fui à feira e comprei tangerina, laranja e melansia.
- e) Fui à feira e comprei tãgerina, laranja e melansia.

15. O que temos nas palavras “frutas”, “estruturas”, “salgadas” e “partir”?

- a) Ditongo
- b) Hiato
- c) Encontro consonantal e Encontro vocálico
- d) Encontro consonantal
- e) Encontro vocálico

MATEMÁTICA

16. Marcela tem uma dívida de R\$ 462,00 dividida em 4 parcela iguais. Qual é o valor que Marcela vai pagar em cada parcela?

- a) R\$ 189,00
- b) R\$ 145,50
- c) R\$ 115,50
- d) R\$ 125,00
- e) R\$ 132,50

17. No mês de fevereiro, Maria assistiu a filmes nos dias ímpares, e Carla nos dias pares. Quantas vezes Maria assistiu a filmes no mês de fevereiro?

- a) 28
b) 14
c) 15
d) 8
e) 4

DOM	SEG	TER	QUA	QUI	SEX	SAB
			1	2	3	4
5	6	7	8	9	10	11
12	13	14	15	16	17	18
19	20	21	22	23	24	25
26	27	28				

18. Um estudante pretende se inscrever para participar de um Congresso Nacional. (O valor das inscrições está apresentado na tabela abaixo). Sabendo que o estudante irá se inscrever na abertura do Congresso Nacional, qual é o valor que ele irá pagar?

- a) R\$ 120,00
b) R\$ 100,00
c) R\$ 180,00
d) R\$ 150,00
e) R\$ 170,00

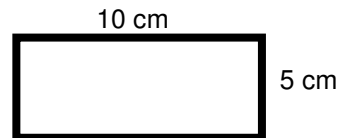
CATEGORIA	Inscrições até 15/05/16	Na abertura do Congresso
Profissional	R\$ 120,00	R\$ 180,00
Estudantes	R\$ 100,00	R\$ 150,00

19. A prestação de um terreno é de R\$ 787,00 e vence todo dia 10. Pagando fora do prazo, há uma multa de R\$ 8,70 por dia. Se a prestação foi paga só no dia 25 (vinte e cinco), qual foi o valor pago?

- a) R\$ 987,00
b) R\$ 937,00
c) R\$ 927,50
d) R\$ 967,00
e) R\$ 917,50

20. Marque a alternativa que apresenta o resultado do cálculo do perímetro de um terreno que tem as dimensões indicadas na figura abaixo.

- a) 30 cm
b) 50 cm
c) 40 cm
d) 20 cm
e) 70 cm



21. Um show de Munhoz e Mariano, na exposição de Campo Grande, em abril de 2016, teve início exatamente às 21h e 15min e terminou às 23h e 40 min. Qual foi a duração do show?

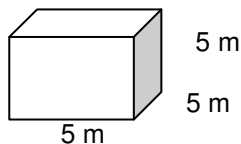
- a) 2h e 10m
b) 2h e 15m
c) 2h e 25m
d) 2h e 30m
e) 2h e 40m

22. Um pacote de açúcar pesa 2Kg. Foram retirados 450g para fazer um bolo. Quantos gramas restaram no pacote?

- a) 1.450 g
b) 1.250 g
c) 1.350 g
d) 1.550 g
e) 1.650 g

23. Determine o volume da figura representada a seguir e marque a alternativa correta.

- a) $137m^3$
b) $115m^3$
c) $127m^3$
d) $216m^3$
e) $125m^3$



24. Calcule o perímetro de um retângulo cuja base é três vezes a altura que mede 4m, e marque a alternativa correta.

- a) 16m
b) 32m
c) 48m
d) 20m
e) 28m





25. João mora no Bairro Tiradentes e Carlos no Bairro Novo Século, os dois trabalham no Supermercado Novo Horizonte. João chegou ao supermercado às 7 horas e 30 minutos da manhã e Carlos chegou meia hora depois.

A que horas Carlos chegou ao supermercado?

- a) 8 horas
- b) 9 horas
- c) 6 horas
- d) 5 horas
- e) 4 horas

CONHECIMENTOS GERAIS

26. Telêmaco Borba/PR foi desmembrado do município de

- a) Tibagi
- b) Londrina
- c) Ortigueira
- d) Imbaú
- e) Ventania

27. Quais são as cores da bandeira do município de Telêmaco Borba/PR?

- a) Vermelha, branca e verde
- b) Branca, azul e amarela
- c) Verde, azul e amarela
- d) Vermelha, branca e azul
- e) Branca, cinza e verde

28. Qual o nome do atual prefeito de Telêmaco Borba/PR?

- a) Renato Bahena
- b) José Reinaldo Antunes Carneiro
- c) Luiz Carlos Gibson
- d) Gilson Pereira dos Santos
- e) Ezequiel Ligoski Betim

29. Marque a alternativa que corresponde ao feriado municipal que comemora o dia da padroeira de Telêmaco Borba/PR (Nossa Senhora do Perpétuo Socorro).

- a) 21 de março
- b) 26 de maio
- c) 01 de novembro
- d) 28 de outubro
- e) 21 de junho

30. Quem nasce em Telêmaco Borba é

- a) Telemacoborbense
- b) Telemacoborbino
- c) Telemacoreense
- d) Telemaconense
- e) Telemacoborbiano

31. Em caso de vaga de vereador, não havendo suplente, o Presidente comunicará o fato, diretamente ao Tribunal Regional Eleitoral, dentro de

- a) 72 horas.
- b) 5 dias.
- c) 15 dias.
- d) 48 horas.
- e) 24 horas.

32. Qual alternativa não contempla uma forma de provimento no cargo público, conforme o art. 6º do Estatuto dos Servidores Públicos do município de Telêmaco Borba/PR?

- a) Nomeação
- b) Concurso
- c) Readaptação
- d) Reintegração
- e) Promoção

33. Qual dos municípios seguintes faz divisa com Telêmaco Borba/PR?

- a) Curiúva
- b) Londrina
- c) Arapot
- d) Sapopema
- e) Cambé

34. O município de Telêmaco Borba/PR foi criado inicialmente com o nome de

- a) Monte Alegre.
- b) Mauá.
- c) Cidade Nova.
- d) Harmonia.
- e) Tibagi.

35. Como é denominada a sede administrativa de Telêmaco Borba/PR?

- a) Paço Municipal
- b) Paço das Araucárias
- c) Governo Municipal
- d) Prefeitura
- e) Paço Administrativo

CONHECIMENTOS ESPECÍFICOS

36. Qual é o significado da sigla ABCFAV?

- a) Associação Brasileira de Cursos de Formação e Aperfeiçoamento de Vigilantes.
- b) Associação Brasileira de Cursos de Formação e Aperfeiçoamento de Viajantes.
- c) Associação Brasileira de Cursos de Formação e Aperfeiçoamento de Vistoriantes.
- d) Associação Brasileira de Cursos de Formação e Aperfeiçoamento de Valentes.
- e) Associação Brasileira de Cursos de Formação e Aperfeiçoamento de Variantes.

37. Entre os deveres do Vigia estão os serviços móveis de fiscalização e vigilância que têm por finalidade cobrir os espaços vazios existentes entre pontos fixos de segurança. São diligências que o vigilante realiza para verificar irregularidades.

Essa é a definição de qual função do vigia?

- a) Coleta
- b) Ronda
- c) Passeio
- d) Guarda
- e) Operações especiais

38. Os pontos no perímetro de segurança que permitem fácil acesso, sendo, por conseguinte, locais visados para o planejamento de ações criminosas, como por exemplo os acessos não controlados, ausência de medidas de segurança etc., são considerados:

- a) Pontos invulneráveis
- b) Pontos estratégicos de segurança
- c) Pontos vulneráveis ou de risco
- d) Pontos Cardeais
- e) Pontos invioláveis

39. Durante seu turno, um vigia da empresa Alta Soluções de Construção Civil verificou a existência de fogo em uma das salas da empresa. Ele, imediatamente, chamou o corpo de bombeiros, ligando de seu celular para o número:

- a) 190
- b) 191
- c) 192
- d) 193
- e) 194

40. Durante uma ronda interna, o vigia da empresa BRASIL TELECON percebeu a presença de pessoas não autorizadas e em atitudes suspeitas. Como ele foi orientado, imediatamente ligou para a Polícia Militar. Qual número ele discou?

- a) 194
- b) 193
- c) 192
- d) 191
- e) 190



RASCUNHO



PREFEITURA DE TELÊMACO BORBA - ESTADO DO PARANÁ- EDITAL Nº 001-2016 - CONCURSO PÚBLICO

VESPERTINO – 29/05/2016 – FUNDAMENTAL INCOMPLETO

2

PROVA OBJETIVA NÚMERO

CARGO: VIGIA

Leia atentamente as INSTRUÇÕES:

1. Confira seus dados no cartão-resposta: nome, número de inscrição e o curso para o qual se inscreveu.
2. **MARQUE no seu cartão-resposta o número da sua prova** (não será corrigido o cartão-resposta que não tiver marcado o número da prova) e **Assine** seu cartão-resposta.
3. Aguarde a autorização do Fiscal para abrir o caderno de prova. Ao receber a ordem do fiscal, confira o caderno de prova com muita atenção. Nenhuma reclamação sobre o total de questões ou falha de impressão será aceita depois de iniciada a prova.
4. O cartão-resposta não será substituído, salvo se contiver erro de impressão.
5. Preencha toda a área do cartão-resposta correspondente à alternativa de sua escolha, com caneta esferográfica (tinta azul ou preta), sem ultrapassar as bordas. As marcações duplas, ou rasuradas, com corretivo, ou marcadas diferentemente do modelo estabelecido no cartão-resposta poderão ser anuladas.
6. Sua prova tem **40** questões, com **5** alternativas.
7. Cabe apenas ao candidato a interpretação das questões, **o fiscal** não poderá fazer nenhuma interferência.
8. A prova será realizada com duração máxima de **3 (três) horas**, incluído o tempo para a realização da Prova Objetiva de múltipla escolha e o preenchimento do cartão-resposta.
9. O candidato poderá retirar-se do local de realização das provas somente **1 (uma) hora** após o seu início, sem levar o caderno de prova.
10. O candidato poderá levar o caderno de provas, assim como anotação contendo transcrição do seu cartão-resposta, somente **1h30min** (uma hora e trinta minutos) após o início da realização da prova.
11. Ao terminar a prova, o candidato deverá entregar ao fiscal de sala o cartão-resposta preenchido e **ASSINADO**.
12. Os **3 (três)** candidatos, que terminarem a prova por último, deverão permanecer na sala, e só poderão sair juntos após o fechamento do envelope, contendo os cartões-resposta dos candidatos presentes e ausentes, e assinarem no lacre do referido envelope, atestando que este foi devidamente lacrado.
13. Durante todo o tempo em que permanecer no local onde está ocorrendo o concurso, o candidato deverá, manter o celular desligado e sem bateria, só sendo permitido ligar depois de ultrapassar o portão de saída do prédio.
14. Não será permitido ao candidato fumar na sala de provas, bem como nas dependências.
15. Depois de terminar a prova e entregar ao fiscal o cartão-resposta, preenchido e assinado, não será mais permitido ao candidato o uso do banheiro e bebedouro.

BOA PROVA!

MATEMÁTICA

1. Marcela tem uma dívida de R\$ 462,00 dividida em 4 parcelas iguais. Qual é o valor que Marcela vai pagar em cada parcela?

- a) R\$ 189,00
- b) R\$ 145,50
- c) R\$ 115,50
- d) R\$ 125,00
- e) R\$ 132,50

2. No mês de fevereiro, Maria assistiu a filmes nos dias ímpares, e Carla nos dias pares. Quantas vezes Maria assistiu a filmes no mês de fevereiro?

- a) 28
- b) 14
- c) 15
- d) 8
- e) 4

DOM	SEG	TER	QUA	QUI	SEX	SAB
			1	2	3	4
5	6	7	8	9	10	11
12	13	14	15	16	17	18
19	20	21	22	23	24	25
26	27	28				

3. Um estudante pretende se inscrever para participar de um Congresso Nacional. (O valor das inscrições está apresentado na tabela abaixo). Sabendo que o estudante irá se inscrever na abertura do Congresso Nacional, qual é o valor que ele irá pagar?

- a) R\$ 120,00
- b) R\$ 100,00
- c) R\$ 180,00
- d) R\$ 150,00
- e) R\$ 170,00

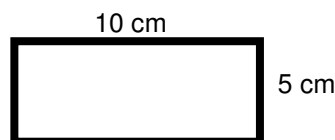
CATEGORIA	Inscrições até 15/05/16	Na abertura do Congresso
Profissional	R\$ 120,00	R\$ 180,00
Estudantes	R\$ 100,00	R\$ 150,00

4. A prestação de um terreno é de R\$ 787,00 e vence todo dia 10. Pagando fora do prazo, há uma multa de R\$ 8,70 por dia. Se a prestação foi paga só no dia 25 (vinte e cinco), qual foi o valor pago?

- a) R\$ 987,00
- b) R\$ 937,00
- c) R\$ 927,50
- d) R\$ 967,00
- e) R\$ 917,50

5. Marque a alternativa que apresenta o resultado do cálculo do perímetro de um terreno que tem as dimensões indicadas na figura abaixo.

- a) 30 cm
- b) 50 cm
- c) 40 cm
- d) 20 cm
- e) 70 cm



6. Um show de Munhoz e Mariano, na exposição de Campo Grande, em abril de 2016, teve início exatamente às 21h e 15min e terminou às 23h e 40 min. Qual foi a duração do show?

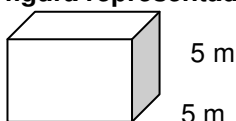
- a) 2h e 10m
- b) 2h e 15m
- c) 2h e 25m
- d) 2h e 30m
- e) 2h e 40m

7. Um pacote de açúcar pesa 2Kg. Foram retirados 450g para fazer um bolo. Quantos gramas restaram no pacote?

- a) 1.450 g
- b) 1.250 g
- c) 1.350 g
- d) 1.550 g
- e) 1.650 g

8. Determine o volume da figura representada a seguir e marque a alternativa correta.

- a) $137m^3$
- b) $115m^3$
- c) $127m^3$
- d) $216m^3$



e) 125m^3

5 m

9. Calcule o perímetro de um retângulo cuja base é três vezes a altura que mede 4m, e marque a alternativa correta.

- a) 16m
- b) 32m
- c) 48m
- d) 20m
- e) 28m



10. João mora no Bairro Tiradentes e Carlos no Bairro Novo Século, os dois trabalham no Supermercado Novo Horizonte. João chegou ao supermercado às 7horas e 30 minutos da manhã e Carlos chegou meia hora depois.

A que horas Carlos chegou ao supermercado?

- a) 8 horas
- b) 9 horas
- c) 6 horas
- d) 5 horas
- e) 4 horas

CONHECIMENTOS GERAIS

11. Telêmaco Borba/PR foi desmembrado do município de

- a) Tibagi
- b) Londrina
- c) Ortigueira
- d) Imbaú
- e) Ventania

12. Quais são as cores da bandeira do município de Telêmaco Borba/PR?

- a) Vermelha, branca e verde
- b) Branca, azul e amarela
- c) Verde, azul e amarela
- d) Vermelha, branca e azul
- e) Branca, cinza e verde

13. Qual o nome do atual prefeito de Telêmaco Borba/PR?

- a) Renato Bahena
- b) José Reinaldo Antunes Carneiro
- c) Luiz Carlos Gibson
- d) Gilson Pereira dos Santos
- e) Ezequiel Ligoski Betim

14. Marque a alternativa que corresponde ao feriado municipal que comemora o dia da padroeira de Telêmaco Borba/PR (Nossa Senhora do Perpétuo Socorro).

- a) 21 de março
- b) 26 de maio
- c) 01 de novembro
- d) 28 de outubro
- e) 21 de junho

15. Quem nasce em Telêmaco Borba é

- a) Telemacoborbense
- b) Telemacoborbino
- c) Telemacoreense
- d) Telemaconense
- e) Telemacoborbiano

16. Em caso de vaga de vereador, não havendo suplente, o Presidente comunicará o fato, diretamente ao Tribunal Regional Eleitoral, dentro de

- a) 72 horas.
- b) 5 dias.
- c) 15 dias.
- d) 48 horas.
- e) 24 horas.

17. Qual alternativa não contempla uma forma de provimento no cargo público, conforme o art. 6º do Estatuto dos Servidores Públicos do município de Telêmaco Borba/PR?

- a) Nomeação
- b) Concurso
- c) Readaptação
- d) Reintegração
- e) Promoção

18. Qual dos municípios seguintes faz divisa com Telêmaco Borba/PR?

- a) Curiúva
- b) Londrina
- c) Arapot
- d) Sapopema
- e) Cambé

19. O município de Telêmaco Borba/PR foi criado inicialmente com o nome de

- a) Monte Alegre.
- b) Mauá.
- c) Cidade Nova.
- d) Harmonia.
- e) Tibagi.

20. Como é denominada a sede administrativa de Telêmaco Borba/PR?

- a) Paço Municipal
- b) Paço das Araucárias
- c) Governo Municipal
- d) Prefeitura
- e) Paço Administrativo

CONHECIMENTOS ESPECÍFICOS

21. Qual é o significado da sigla ABCFAV?

- a) Associação Brasileira de Cursos de Formação e Aperfeiçoamento de Vigilantes.
- b) Associação Brasileira de Cursos de Formação e Aperfeiçoamento de Viajantes.
- c) Associação Brasileira de Cursos de Formação e Aperfeiçoamento de Vistoriantes.
- d) Associação Brasileira de Cursos de Formação e Aperfeiçoamento de Valentes.
- e) Associação Brasileira de Cursos de Formação e Aperfeiçoamento de Variantes.

22. Entre os deveres do Vigia estão os serviços móveis de fiscalização e vigilância que têm por finalidade cobrir os espaços vazios existentes entre pontos fixos de segurança. São diligências que o vigilante realiza para verificar irregularidades.

Essa é a definição de qual função do vigia?

- a) Coleta
- b) Ronda
- c) Passeio
- d) Guarda
- e) Operações especiais

23. Os pontos no perímetro de segurança que permitem fácil acesso, sendo, por conseguinte, locais visados para o planejamento de ações criminosas, como por exemplo os acessos não controlados, ausência de medidas de segurança etc., são considerados:

- a) Pontos invulneráveis
- b) Pontos estratégicos de segurança
- c) Pontos vulneráveis ou de risco
- d) Pontos Cardeais
- e) Pontos invioláveis

24. Durante seu turno, um vigia da empresa Alta Soluções de Construção Civil verificou a existência de fogo em uma das salas da empresa. Ele, imediatamente, chamou o corpo de bombeiros, ligando de seu celular para o número:

- a) 190
- b) 191
- c) 192
- d) 193
- e) 194



25. Durante uma ronda interna, o vigia da empresa BRASIL TELECON percebeu a presença de pessoas não autorizadas e em atitudes suspeitas. Como ele foi orientado, imediatamente ligou para a Polícia Militar. Qual número ele discou?

- a) 194
- b) 193
- c) 192
- d) 191
- e) 190

LÍNGUA PORTUGUESA

Leia com atenção o texto abaixo e depois responda às próximas cinco questões.

Heroísmo

Ele usava um colete à prova de balas. Não importava que dia da semana, que dia do mês ou que dia do ano: ele sempre usava o seu colete à prova de balas. Era precavido, ele dizia. A cidade anda muito violenta; nunca se sabe o que pode acontecer. Isso é uma verdade!

Um belo dia, quando estava no banco, ocorreu um assalto. Três bandidos, armados de pistolas e metralhadoras, ameaçavam matar os reféns se o dinheiro não lhes fosse entregue com velocidade. Ele, muito seguro de si, sabendo da vantagem que levava sobre os assaltantes, afinal, seu colete estava bem escondido sob a camisa, disparou na direção de um deles para desarmá-lo. Um segundo depois, caiu morto.

Ataque cardíaco fulminante, disseram os legistas quando chegaram na cena do crime.

(Fonte: <http://www.napontadoslapis.com.br/2011/03/dois-pequenos-contos.html>. Acesso em 18/05/2016.)

26. Conforme o texto, a pessoa que usava um colete à prova de balas todos os dias era:

- a) Uma criança
- b) Uma mulher
- c) Um homem
- d) Um assaltante
- e) O gerente do banco

27. De acordo com o texto, como morreu a pessoa que usava diariamente um colete à prova de balas?

- a) De ataque cardíaco fulminante.
- b) Assassinado por um assaltante.
- c) Cometeu suicídio.
- d) Foi vítima de uma bala perdida durante o assalto.
- e) Foi morto por um policial.

28. Na segunda linha do texto diz: *Era precavido*.

O que isso significa precavido?

- a) Distraído
- b) Aventureiro
- c) Descuidado
- d) Prevenido
- e) Precipitado

29. Em qual alternativa temos uma palavra grifada que é um pronome pessoal?

- a) A cidade anda muito violenta.
- b) Ele usava um colete à prova de balas.
- c) Um segundo depois, caiu morto.
- d) disseram os legistas quando chegaram na cena do crime.
- e) ele sempre usava o seu colete à prova de balas.

30. As palavras são representadas por fonemas (sons) e letras. Sendo assim, na palavra VELOCIDADE contamos quantos fonemas e letras?

- a) 7 fonemas e 10 letras.
- b) 8 fonemas e 9 letras.
- c) 9 fonemas e 9 letras.
- d) 9 fonemas e 10 letras.
- e) 10 fonemas e 10 letras.

Leia atentamente o texto da figura da formiga e o texto abaixo dela. Depois, responda às próximas cinco questões.

Formigas dormem?



Sim. Especialistas concordam que, como a maioria dos animais, elas dividem seu tempo entre atividade e descanso – quando a ação metabólica diminui. Mas isso não seria bem o que chamamos de sono. “Há registros de formigas vistas ‘deitadas de lado’, que, quando instigadas, retomaram a posição normal. Eu hesitaria em dizer que elas ‘acordaram’, mas a analogia é possível”, explica o mirmecologista (especialista em formiga) Carlos Brandão. Uma pesquisa norte-americana de 2009 indicava que ao menos as formigas-de-fogo (*Solenopsis invicta*) dormem sim – em pequenos cochilos.

- As operárias “dormem” em turnos, mantendo sempre 80% da força de trabalho acordada.

(Fonte <http://mundoestranho.abril.com.br/materia/formigas-dormem>. Acesso em 18/05/2016.)

31. Observe a parte da figura da formiga sobre TOTAL DE HORAS DORMIDAS. Nessa parte, entendemos que:

- A formiga rainha dorme 9,4 horas por dia e a formiga operária dorme 4,8 horas por dia.
- A formiga rainha dorme menos de 9 horas por dia e a formiga operária menos de 4 horas por dia.
- A formiga rainha dorme mais de 10 horas por dia e a formiga operária mais de 4 horas por dia.
- A formiga rainha dorme mais de 9 horas por dia e a formiga operária mais de 5 horas por dia.
- A formiga rainha dorme 4 horas por dia e a formiga operária 8 horas por dia.

32. No texto que se localiza abaixo da figura da formiga, lemos a palavra mirmecologista. Lá explica que isso significa:

- O nome de um tipo de formiga.
- Especialista em formiga.
- O nome que se dá ao cochilo das formigas.
- O nome dado a uma pesquisa sobre formigas.
- Um outro nome que recebem as formigas operárias.

33. Leia esta frase: *Formigas dormem?*

Ela é:

- Uma frase afirmativa porque tem ponto final e expressa uma pergunta.
- Uma frase negativa porque tem ponto de interrogação e nega alguma coisa.
- Uma frase exclamativa porque tem ponto de exclamação e expressa admiração.
- Uma frase interrogativa porque tem ponto de exclamação e expressa uma pergunta.
- Uma frase interrogativa porque tem ponto de interrogação e expressa uma pergunta.

34. Em qual alternativa a separação de sílabas das palavras não está correta?

- a-ni-mais; dei-ta-das.
- es-pe-cia-lis-ta; po-ssí-vel.
- des-can-so; com-cor-dam.
- a-ti-vi-da-de; for-mi-gas.
- tra-ba-lho; pe-que-nos.

35. O hiato é um encontro vocálico em que temos duas vogais juntas, mas que são pronunciadas em sílabas diferentes. Assim, a palavra que tem hiato é:

- Pequenos
- Deitadas

- c) Quando
- d) Acordados
- e) Especialista

Leia com atenção o texto abaixo e depois responda às cinco próximas questões.

Tomate é fruta?

por Sabrina Haick | Edição 177

Sim, ele é. Não só o tomate é fruta, como a berinjela, a abobrinha, o pepino, o pimentão e outros alimentos que nós chamamos de legumes também são. Fruta é o ovário amadurecido de uma planta, onde ficam as sementes. A confusão acontece porque nós somos acostumados a chamar as frutas salgadas de legumes. Se você acha que sua vida foi uma mentira até agora, saiba que também existem alimentos que nós chamamos de fruta, mas não são. Trata-se dos pseudofrutos – estruturas suculentas que têm cara e jeito de fruto, mas não se desenvolvem a partir do ovário da planta, como as frutas reais. É o caso do morango, do caju, da maçã, da pera e do abacaxi, entre outros.

(Fonte: <http://mundoestranho.abril.com.br/materia/tomate-e-fruta>. Aceso em 18/05/2016.)

36. Ao ler esse texto, descobrimos que o tomate é um fruto e não um legume. Também descobrimos que são frutas outros alimentos que pensávamos que eram legumes. Dois deles são:

- a) Berinjela e morango
- b) Abobrinha e pepino
- c) Abobrinha e caju
- d) Pimentão e pera
- e) Pepino e abacaxi

37. Conhecer os sinônimos e antônimos das palavras nos ajuda a aumentar nosso vocabulário.

Qual é um sinônimo para a palavra “suculentas”, conforme o sentido que ela tem no texto?

- a) Desinteressantes
- b) Gordurosas
- c) Carnudas
- d) Descarnadas
- e) Felpudas

38. A acentuação em uma palavra nos ajuda a pronunciá-la de maneira correta, como, por exemplo, as palavras “você” e “ovário”. Marque a alternativa em que as palavras não foram acentuadas corretamente.

- a) lâmpada - pálpebra
- b) obíto - fenômeno
- c) mímica - código
- d) cálice - xícara
- e) cédula - específico

39. Escrevemos “abacaxi” com x, “berinjela” e “caju” com j.

Marque a alternativa em que todas as palavras grifadas estão escritas de forma correta.

- a) Fui à feira e comprei tangerina, laranja e melancia.
- b) Fui à feira e comprei tanjerina, laranja e melancia.
- c) Fui à feira e comprei tangerina, larãja e melancia.
- d) Fui à feira e comprei tangerina, laranja e melansia.
- e) Fui à feira e comprei tãgerina, laranja e melansia.

40. O que temos nas palavras “frutas”, “estruturas”, “salgadas” e “partir”?

- a) Ditongo
- b) Hiato
- c) Encontro consonantal e Encontro vocálico
- d) Encontro consonantal
- e) Encontro vocálico

RASCUNHO



PREFEITURA DE TELÊMACO BORBA - ESTADO DO PARANÁ- EDITAL Nº 001-2016 - CONCURSO PÚBLICO

VESPERTINO – 29/05/2016 – FUNDAMENTAL INCOMPLETO

3

PROVA OBJETIVA NÚMERO

CARGO: VIGIA

Leia atentamente as INSTRUÇÕES:

1. Confira seus dados no cartão-resposta: nome, número de inscrição e o curso para o qual se inscreveu.
2. **MARQUE no seu cartão-resposta o número da sua prova** (não será corrigido o cartão-resposta que não tiver marcado o número da prova) e **Assine** seu cartão-resposta.
3. Aguarde a autorização do Fiscal para abrir o caderno de prova. Ao receber a ordem do fiscal, confira o caderno de prova com muita atenção. Nenhuma reclamação sobre o total de questões ou falha de impressão será aceita depois de iniciada a prova.
4. O cartão-resposta não será substituído, salvo se contiver erro de impressão.
5. Preencha toda a área do cartão-resposta correspondente à alternativa de sua escolha, com caneta esferográfica (tinta azul ou preta), sem ultrapassar as bordas. As marcações duplas, ou rasuradas, com corretivo, ou marcadas diferentemente do modelo estabelecido no cartão-resposta poderão ser anuladas.
6. Sua prova tem **40** questões, com **5** alternativas.
7. Cabe apenas ao candidato a interpretação das questões, **o fiscal** não poderá fazer nenhuma interferência.
8. A prova será realizada com duração máxima de **3 (três) horas**, incluído o tempo para a realização da Prova Objetiva de múltipla escolha e o preenchimento do cartão-resposta.
9. O candidato poderá retirar-se do local de realização das provas somente **1 (uma) hora** após o seu início, sem levar o caderno de prova.
10. O candidato poderá levar o caderno de provas, assim como anotação contendo transcrição do seu cartão-resposta, somente **1h30min** (uma hora e trinta minutos) após o início da realização da prova.
11. Ao terminar a prova, o candidato deverá entregar ao fiscal de sala o cartão-resposta preenchido e **ASSINADO**.
12. Os **3 (três)** candidatos, que terminarem a prova por último, deverão permanecer na sala, e só poderão sair juntos após o fechamento do envelope, contendo os cartões-resposta dos candidatos presentes e ausentes, e assinarem no lacre do referido envelope, atestando que este foi devidamente lacrado.
13. Durante todo o tempo em que permanecer no local onde está ocorrendo o concurso, o candidato deverá, manter o celular desligado e sem bateria, só sendo permitido ligar depois de ultrapassar o portão de saída do prédio.
14. Não será permitido ao candidato fumar na sala de provas, bem como nas dependências.
15. Depois de terminar a prova e entregar ao fiscal o cartão-resposta, preenchido e assinado, não será mais permitido ao candidato o uso do banheiro e bebedouro.

BOA PROVA!

CONHECIMENTOS ESPECÍFICOS**01. Qual é o significado da sigla ABCFAV?**

- a) Associação Brasileira de Cursos de Formação e Aperfeiçoamento de Vigilantes.
- b) Associação Brasileira de Cursos de Formação e Aperfeiçoamento de Viajantes.
- c) Associação Brasileira de Cursos de Formação e Aperfeiçoamento de Vistoriantes.
- d) Associação Brasileira de Cursos de Formação e Aperfeiçoamento de Valentos.
- e) Associação Brasileira de Cursos de Formação e Aperfeiçoamento de Variantes.

02. Entre os deveres do Vigia estão os serviços móveis de fiscalização e vigilância que têm por finalidade cobrir os espaços vazios existentes entre pontos fixos de segurança. São diligências que o vigilante realiza para verificar irregularidades.**Essa é a definição de qual função do vigia?**

- a) Coleta
- b) Ronda
- c) Passeio
- d) Guarda
- e) Operações especiais

03. Os pontos no perímetro de segurança que permitem fácil acesso, sendo, por conseguinte, locais visados para o planejamento de ações criminosas, como por exemplo os acessos não controlados, ausência de medidas de segurança etc., são considerados:

- a) Pontos invulneráveis
- b) Pontos estratégicos de segurança
- c) Pontos vulneráveis ou de risco
- d) Pontos Cardeais
- e) Pontos invioláveis

04. Durante seu turno, um vigia da empresa Alta Soluções de Construção Civil verificou a existência de fogo em uma das salas da empresa. Ele, imediatamente, chamou o corpo de bombeiros, ligando de seu celular para o número:

- a) 190
- b) 191
- c) 192
- d) 193
- e) 194

05. Durante uma ronda interna, o vigia da empresa BRASIL TELECON percebeu a presença de pessoas não autorizadas e em atitudes suspeitas. Como ele foi orientado, imediatamente ligou para a Polícia Militar. Qual número ele discou?

- a) 194
- b) 193
- c) 192
- d) 191
- e) 190

LÍNGUA PORTUGUESA

Leia com atenção o texto abaixo e depois responda às próximas cinco questões.

Heroísmo

Ele usava um colete à prova de balas. Não importava que dia da semana, que dia do mês ou que dia do ano: ele sempre usava o seu colete à prova de balas. Era precavido, ele dizia. A cidade anda muito violenta; nunca se sabe o que pode acontecer. Isso é uma verdade!

Um belo dia, quando estava no banco, ocorreu um assalto. Três bandidos, armados de pistolas e metralhadoras, ameaçavam matar os reféns se o dinheiro não lhes fosse entregue com velocidade. Ele, muito seguro de si, sabendo da vantagem que levava sobre os assaltantes, afinal, seu colete estava bem escondido sob a camisa, disparou na direção de um deles para desarmá-lo. Um segundo depois, caiu morto.

Ataque cardíaco fulminante, disseram os legistas quando chegaram na cena do crime.

(Fonte: <http://www.napontadoslapis.com.br/2011/03/dois-pequenos-contos.html>. Acesso em 18/05/2016.)

06. Conforme o texto, a pessoa que usava um colete à prova de balas todos os dias era:

- a) Uma criança
- b) Uma mulher

- c) Um homem
d) Um assaltante
e) O gerente do banco

07. De acordo com o texto, como morreu a pessoa que usava diariamente um colete à prova de balas?

- a) De ataque cardíaco fulminante.
b) Assassinado por um assaltante.
c) Cometeu suicídio.
d) Foi vítima de uma bala perdida durante o assalto.
e) Foi morto por um policial.

08. Na segunda linha do texto diz: *Era precavido*.

O que isso significa precavido?

- a) Distraído
b) Aventureiro
c) Descuidado
d) Prevenido
e) Precipitado

09. Em qual alternativa temos uma palavra grifada que é um pronome pessoal?

- a) A cidade anda muito violenta.
b) Ele usava um colete à prova de balas.
c) Um segundo depois, caiu morto.
d) disseram os legistas quando chegaram na cena do crime.
e) ele sempre usava o seu colete à prova de balas.

10. As palavras são representadas por fonemas (sons) e letras. Sendo assim, na palavra VELOCIDADE contamos quantos fonemas e letras?

- a) 7 fonemas e 10 letras.
b) 8 fonemas e 9 letras.
c) 9 fonemas e 9 letras.
d) 9 fonemas e 10 letras.
e) 10 fonemas e 10 letras.

Leia atentamente o texto da figura da formiga e o texto abaixo dela. Depois, responda às próximas cinco questões.

Formigas dormem?



Sim. Especialistas concordam que, como a maioria dos animais, elas dividem seu tempo entre atividade e descanso – quando a ação metabólica diminui. Mas isso não seria bem o que chamamos de sono. “Há registros de formigas vistas ‘deitadas de lado’, que, quando instigadas, retomaram a posição normal. Eu hesitaria em dizer que elas ‘acordaram’, mas a analogia é possível”, explica o mirmecologista (especialista em formiga) Carlos Brandão. Uma pesquisa norte-americana de 2009 indicava que ao menos as formigas-de-fogo (*Solenopsis invicta*) dormem sim – em pequenos cochilos.

- As operárias “dormem” em turnos, mantendo sempre 80% da força de trabalho acordada.

(Fonte <http://mundoestranho.abril.com.br/materia/formigas-dormem>. Acesso em 18/05/2016.)

11. Observe a parte da figura da formiga sobre TOTAL DE HORAS DORMIDAS. Nessa parte, entendemos que:

- a) A formiga rainha dorme 9,4 horas por dia e a formiga operária dorme 4,8 horas por dia.
- b) A formiga rainha dorme menos de 9 horas por dia e a formiga operária menos de 4 horas por dia.
- c) A formiga rainha dorme mais de 10 horas por dia e a formiga operária mais de 4 horas por dia.
- d) A formiga rainha dorme mais de 9 horas por dia e a formiga operária mais de 5 horas por dia.
- e) A formiga rainha dorme 4 horas por dia e a formiga operária 8 horas por dia.

12. No texto que se localiza abaixo da figura da formiga, lemos a palavra mirmecologista. Lá explica que isso significa:

- a) O nome de um tipo de formiga.
- b) Especialista em formiga.
- c) O nome que se dá ao cochilo das formigas.
- d) O nome dado a uma pesquisa sobre formigas.
- e) Um outro nome que recebem as formigas operárias.

13. Leia esta frase: *Formigas dormem?*

Ela é:

- a) Uma frase afirmativa porque tem ponto final e expressa uma pergunta.
- b) Uma frase negativa porque tem ponto de interrogação e nega alguma coisa.
- c) Uma frase exclamativa porque tem ponto de exclamação e expressa admiração.
- d) Uma frase interrogativa porque tem ponto de exclamação e expressa uma pergunta.
- e) Uma frase interrogativa porque tem ponto de interrogação e expressa uma pergunta.

14. Em qual alternativa a separação de sílabas das palavras não está correta?

- a) a-ni-mais; dei-ta-das.
- b) es-pe-cia-lis-ta; po-ssí-vel.
- c) des-can-so; com-cor-dam.
- d) a-ti-vi-da-de; for-mi-gas.
- e) tra-ba-lho; pe-que-nos.

15. O hiato é um encontro vocálico em que temos duas vogais juntas, mas que são pronunciadas em sílabas diferentes. Assim, a palavra que tem hiato é:

- a) Pequenos
- b) Deitadas
- c) Quando
- d) Acordados
- e) Especialista

Leia com atenção o texto abaixo e depois responda às cinco próximas questões.

Tomate é fruta?

por Sabrina Haick | Edição 177

Sim, ele é. Não só o tomate é fruta, como a berinjela, a abobrinha, o pepino, o pimentão e outros alimentos que nós chamamos de legumes também são. Fruta é o ovário amadurecido de uma planta, onde ficam as sementes. A confusão acontece porque nós somos acostumados a chamar as frutas salgadas de legumes. Se você acha que sua vida foi uma mentira até agora, saiba que também existem alimentos que nós chamamos de fruta, mas não são. Trata-se dos pseudofrutos – estruturas suculentas que têm cara e jeito de fruto, mas não se desenvolvem a partir do ovário da planta, como as frutas reais. É o caso do morango, do caju, da maçã, da pera e do abacaxi, entre outros.

(Fonte: <http://mundoestranho.abril.com.br/materia/tomate-e-fruta>. Acesso em 18/05/2016.)

16. Ao ler esse texto, descobrimos que o tomate é um fruto e não um legume. Também descobrimos que são frutas outros alimentos que pensávamos que eram legumes. Dois deles são:

- a) Berinjela e morango
- b) Abobrinha e pepino
- c) Abobrinha e caju
- d) Pimentão e pera
- e) Pepino e abacaxi

17. Conhecer os sinônimos e antônimos das palavras nos ajuda a aumentar nosso vocabulário.

Qual é um sinônimo para a palavra “suculentas”, conforme o sentido que ela tem no texto?

- a) Desinteressantes

- b) Gordurosas
- c) Carnudas
- d) Descarnadas
- e) Felpudas

18. A acentuação em uma palavra nos ajuda a pronunciar-la de maneira correta, como, por exemplo, as palavras “você” e “ovário”. Marque a alternativa em que as palavras não foram acentuadas corretamente.

- a) lâmpada - pálpebra
- b) obito - fenômeno
- c) mímica - código
- d) cálice - xícara
- e) cédula - específico

19. Escrevemos “abacaxi” com x, “berinjela” e “caju” com j.

Marque a alternativa em que todas as palavras grifadas estão escritas de forma correta.

- a) Fui à feira e comprei tangerina, laranja e melancia.
- b) Fui à feira e comprei tanjerina, laranja e melancia.
- c) Fui à feira e comprei tangerina, larãja e melancia.
- d) Fui à feira e comprei tangerina, laranja e melansia.
- e) Fui à feira e comprei tãgerina, laranja e melansia.

20. O que temos nas palavras “frutas”, “estruturas”, “salgadas” e “partir”?

- a) Ditongo
- b) Hiato
- c) Encontro consonantal e Encontro vocálico
- d) Encontro consonantal
- e) Encontro vocálico

MATEMÁTICA

21. Marcela tem uma dívida de R\$ 462,00 dividida em 4 parcela iguais. Qual é o valor que Marcela vai pagar em cada parcela?

- a) R\$ 189,00
- b) R\$ 145,50
- c) R\$ 115,50
- d) R\$ 125,00
- e) R\$ 132,50

22. No mês de fevereiro, Maria assistiu a filmes nos dias ímpares, e Carla nos dias pares. Quantas vezes Maria assistiu a filmes no mês de fevereiro?

- a) 28
- b) 14
- c) 15
- d) 8
- e) 4

DOM	SEG	TER	QUA	QUI	SEX	SAB
			1	2	3	4
5	6	7	8	9	10	11
12	13	14	15	16	17	18
19	20	21	22	23	24	25
26	27	28				

23. Um estudante pretende se inscrever para participar de um Congresso Nacional. (O valor das inscrições está apresentado na tabela abaixo). Sabendo que o estudante irá se inscrever na abertura do Congresso Nacional, qual é o valor que ele irá pagar?

- a) R\$ 120,00
- b) R\$ 100,00
- c) R\$ 180,00
- d) R\$ 150,00
- e) R\$ 170,00

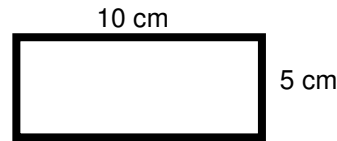
CATEGORIA	Inscrições até 15/05/16	Na abertura do Congresso
Profissional	R\$ 120,00	R\$ 180,00
Estudantes	R\$ 100,00	R\$ 150,00

24. A prestação de um terreno é de R\$ 787,00 e vence todo dia 10. Pagando fora do prazo, há uma multa de R\$ 8,70 por dia. Se a prestação foi paga só no dia 25 (vinte e cinco), qual foi o valor pago?

- a) R\$ 987,00
- b) R\$ 937,00
- c) R\$ 927,50
- d) R\$ 967,00
- e) R\$ 917,50

25. Marque a alternativa que apresenta o resultado do cálculo do perímetro de um terreno que tem as dimensões indicadas na figura abaixo.

- a) 30 cm
- b) 50 cm
- c) 40 cm
- d) 20 cm
- e) 70 cm



26. Um show de Munhoz e Mariano, na exposição de Campo Grande, em abril de 2016, teve início exatamente às 21h e 15min e terminou às 23h e 40 min. Qual foi a duração do show?

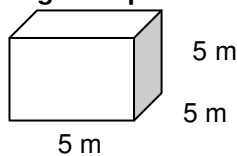
- a) 2h e 10m
- b) 2h e 15m
- c) 2h e 25m
- d) 2h e 30m
- e) 2h e 40m

27. Um pacote de açúcar pesa 2Kg. Foram retirados 450g para fazer um bolo. Quantos gramas restaram no pacote?

- a) 1.450 g
- b) 1.250 g
- c) 1.350 g
- d) 1.550 g
- e) 1.650 g

28. Determine o volume da figura representada a seguir e marque a alternativa correta.

- a) $137m^3$
- b) $115m^3$
- c) $127m^3$
- d) $216m^3$
- e) $125m^3$



29. Calcule o perímetro de um retângulo cuja base é três vezes a altura que mede 4m, e marque a alternativa correta.

- a) 16m
- b) 32m
- c) 48m
- d) 20m
- e) 28m



30. João mora no Bairro Tiradentes e Carlos no Bairro Novo Século, os dois trabalham no Supermercado Novo Horizonte. João chegou ao supermercado às 7horas e 30 minutos da manhã e Carlos chegou meia hora depois.

A que horas Carlos chegou ao supermercado?

- a) 8 horas
- b) 9 horas
- c) 6 horas
- d) 5 horas
- e) 4 horas

CONHECIMENTOS GERAIS

31. Telêmaco Borba/PR foi desmembrado do município de

- a) Tibagi
- b) Londrina
- c) Ortigueira
- d) Imbaú
- e) Ventania

32. Quais são as cores da bandeira do município de Telêmaco Borba/PR?

- a) Vermelha, branca e verde
- b) Branca, azul e amarela
- c) Verde, azul e amarela
- d) Vermelha, branca e azul
- e) Branca, cinza e verde

33. Qual o nome do atual prefeito de Telêmaco Borba/PR?



- a) Renato Bahena
- b) José Reinaldo Antunes Carneiro
- c) Luiz Carlos Gibson
- d) Gilson Pereira dos Santos
- e) Ezequiel Ligoski Betim

34. Marque a alternativa que corresponde ao feriado municipal que comemora o dia da padroeira de Telêmaco Borba/PR (Nossa Senhora do Perpétuo Socorro).

- a) 21 de março
- b) 26 de maio
- c) 01 de novembro
- d) 28 de outubro
- e) 21 de junho

35. Quem nasce em Telêmaco Borba é

- a) Telemacoborbense
- b) Telemacoborbino
- c) Telemacoreense
- d) Telemaconense
- e) Telemacoborbiano

36. Em caso de vaga de vereador, não havendo suplente, o Presidente comunicará o fato, diretamente ao Tribunal Regional Eleitoral, dentro de

- a) 72 horas.
- b) 5 dias.
- c) 15 dias.
- d) 48 horas.
- e) 24 horas.

37. Qual alternativa não contempla uma forma de provimento no cargo público, conforme o art. 6º do Estatuto dos Servidores Públicos do município de Telêmaco Borba/PR?

- a) Nomeação
- b) Concurso
- c) Readaptação
- d) Reintegração
- e) Promoção

38. Qual dos municípios seguintes faz divisa com Telêmaco Borba/PR?

- a) Curiúva
- b) Londrina
- c) Arapot
- d) Sapopema
- e) Cambé

39. O município de Telêmaco Borba/PR foi criado inicialmente com o nome de

- a) Monte Alegre.
- b) Mauá.
- c) Cidade Nova.
- d) Harmonia.
- e) Tibagi.

40. Como é denominada a sede administrativa de Telêmaco Borba/PR?

- a) Paço Municipal
- b) Paço das Araucárias
- c) Governo Municipal
- d) Prefeitura
- e) Paço Administrativo

RASCUNHO



PREFEITURA DE TELÊMACO BORBA - ESTADO DO PARANÁ - EDITAL Nº 001-2016 - CONCURSO PÚBLICO

VESPERTINO – 29/05/2016 – NÍVEL FUNDAMENTAL COMPLETO

1

PROVA OBJETIVA NÚMERO

CARGO: AGENTE COMUNITÁRIO DE SAÚDE

Leia atentamente as INSTRUÇÕES:

1. Confira seus dados no cartão-resposta: nome, número de inscrição e o curso para o qual se inscreveu.
2. **MARQUE no seu cartão-resposta o número da sua prova** (não será corrigido o cartão-resposta que não tiver marcado o número da prova) e **Assine** seu cartão-resposta.
3. Aguarde a autorização do Fiscal para abrir o caderno de prova. Ao receber a ordem do fiscal, confira o caderno de prova com muita atenção. Nenhuma reclamação sobre o total de questões ou falha de impressão será aceita depois de iniciada a prova.
4. O cartão-resposta não será substituído, salvo se contiver erro de impressão.
5. Preencha toda a área do cartão-resposta correspondente à alternativa de sua escolha, com caneta esferográfica (tinta azul ou preta), sem ultrapassar as bordas. As marcações duplas, ou rasuradas, com corretivo, ou marcadas diferentemente do modelo estabelecido no cartão-resposta poderão ser anuladas.
6. Sua prova tem **40** questões, com **5** alternativas.
7. Cabe apenas ao candidato a interpretação das questões, **o fiscal** não poderá fazer nenhuma interferência.
8. A prova será realizada com duração máxima de **3 (três) horas**, incluído o tempo para a realização da Prova Objetiva de múltipla escolha e o preenchimento do cartão-resposta.
9. O candidato poderá retirar-se do local de realização das provas somente **1 (uma) hora** após o seu início, sem levar o caderno de prova.
10. O candidato poderá levar o caderno de provas, assim como anotação contendo transcrição do seu cartão-resposta, somente **1h30min** (uma hora e trinta minutos) após o início da realização da prova.
11. Ao terminar a prova, o candidato deverá entregar ao fiscal de sala o cartão-resposta preenchido e **ASSINADO**.
12. Os **3 (três)** candidatos, que terminarem a prova por último, deverão permanecer na sala, e só poderão sair juntos após o fechamento do envelope, contendo os cartões-resposta dos candidatos presentes e ausentes, e assinarem no lacre do referido envelope, atestando que este foi devidamente lacrado.
13. Durante todo o tempo em que permanecer no local onde está ocorrendo o concurso, o candidato deverá, manter o celular desligado e sem bateria, só sendo permitido ligar depois de ultrapassar o portão de saída do prédio.
14. Não será permitido ao candidato fumar na sala de provas, bem como nas dependências.
15. Depois de terminar a prova e entregar ao fiscal o cartão-resposta, preenchido e assinado, não será mais permitido ao candidato o uso do banheiro e bebedouro.

BOA PROVA!

**LÍNGUA PORTUGUESA**

Leia o texto abaixo e responda às próximas cinco questões.

Os poderes da mandioca

Conta uma lenda indígena que, no princípio dos tempos, a filha de um cacique engravidou sem contato com homem. O cacique não acreditou na história da filha e ficou muito bravo. Até que, em sonho, ele recebeu a visita de um homem branco atestando a inocência da moça. Branca era também a linda indiazinha que nasceu meses depois e recebeu o nome de Mani. Ela foi a alegria da tribo por apenas um ano, quando morreu repentinamente, sem doença nem dor. Para surpresa de todos, do túmulo de Mani brotou um arbusto novo, que fez a terra fender. Os índios cavaram e retiraram grossas raízes, brancas como o corpo da indiazinha. E a planta ficou conhecida como *mandioca*, que significa “casa de Mani”.

Desde essa época, a abençoada planta nascida do corpo de Mani tem salvado seu povo da fome. Já era um dos principais alimentos dos indígenas na época do Descobrimento e ainda hoje marca presença no cardápio dos brasileiros de todo o país: como o nome da mandioca, macaxeira ou aipim; cozida, frita ou torrada na forma de farinha, não há quem resista a essa versátil e saborosíssima raiz. E, além de seus múltiplos usos culinários, ela é também matéria prima para a fabricação dos produtos mais inusitados: cerveja, tecidos, móveis e até plástico biodegradável.

(Adeodato, Sérgio. In: *Globo Ciência*. Jan/1988.p. 35.)

01. Com que objetivo o autor escreveu o primeiro parágrafo do texto?

- Narrar a lenda indígena sobre a origem dos índios.
- Informar sobre a origem da mandioca e de seu nome, de acordo com a tradição indígena.
- Descrever os vários usos da mandioca.
- Expor seu ponto de vista sobre os poderes da mandioca.
- Explicar a forma de cultivo da mandioca.

02. Escolha a alternativa em que estão transcritos o primeiro e segundo períodos do corpo do texto.

- “Conta uma lenda indígena que,” e “no princípio dos tempos,”.
- “Conta uma lenda indígena que, no princípio dos tempos,” e “a filha de um cacique engravidou sem contato com homem.”.
- “Conta uma lenda indígena que, no princípio dos tempos, a filha de um cacique engravidou sem contato com homem.” e “O cacique não acreditou na história da filha e ficou muito bravo.”.
- “Conta uma lenda indígena que, no princípio dos tempos, a filha de um cacique engravidou sem contato com homem. O cacique não acreditou na história da filha e ficou muito bravo.” e “Até que, em sonho, ele recebeu a visita de um homem branco atestando a inocência da moça. Branca era também a linda indiazinha que nasceu meses depois e recebeu o nome de Mani.”.
- “Conta uma lenda indígena que, no princípio dos tempos, a filha de um cacique engravidou sem contato com homem. O cacique não acreditou na história da filha e ficou muito bravo. Até que, em sonho, ele recebeu a visita de um homem branco atestando a inocência da moça. Branca era também a linda indiazinha que nasceu meses depois e recebeu o nome de Mani. Ela foi a alegria da tribo por apenas um ano, quando morreu repentinamente, sem doença nem dor. Para surpresa de todos, do túmulo de Mani brotou um arbusto novo, que fez a terra fender. Os índios cavaram e retiraram grossas raízes, brancas como o corpo da indiazinha. E a planta ficou conhecida como *mandioca*, que significa ‘casa de Mani’.” e “Desde essa época, a abençoada planta nascida do corpo de Mani tem salvado seu povo da fome. Já era um dos principais alimentos dos indígenas na época do Descobrimento e ainda hoje marca presença no cardápio dos brasileiros de todo o país: como o nome da mandioca, macaxeira ou aipim; cozida, frita ou torrada na forma de farinha, não há quem resista a essa versátil e saborosíssima raiz. E, além de seus múltiplos usos culinários, ela é também matéria prima para a fabricação dos produtos mais inusitados: cerveja, tecidos, móveis e até plástico biodegradável.”.

03. Quanto à análise morfológica, escolha a alternativa em que a palavra sublinhada não pertence à classe de palavras mencionada entre parênteses.

- “Conta uma lenda indígena que, no princípio dos tempos, a filha de um cacique engravidou sem contato com homem.” (substantivo).
- “Conta uma lenda indígena que, no princípio dos tempos, a filha de um cacique engravidou sem contato com homem.” (verbo).
- “Conta uma lenda indígena que, no princípio dos tempos, a filha de um cacique engravidou sem contato com homem.” (adjetivo).
- “Conta uma lenda indígena que, no princípio dos tempos, a filha de um cacique engravidou sem contato com homem.” (artigo).
- “Conta uma lenda indígena que, no princípio dos tempos, a filha de um cacique engravidou sem contato com homem.” (artigo).

04. Observe o texto e escolha a alternativa correta.

- No enunciado “O cacique não acreditou na história da filha e ficou muito bravo.”, há apenas uma oração.
- No trecho “Até que, em sonho, ele recebeu a visita de um homem branco atestando a inocência da moça.”, há três orações.



- c) O trecho “Branca era também a linda indiazinha que nasceu meses depois e recebeu o nome de Mani.” não é uma frase.
- d) No trecho “Ela foi a alegria da tribo por apenas um ano, quando morreu repentinamente, sem doença nem dor.”, há uma oração.
- e) O trecho “Para surpresa de todos, do túmulo de Mani brotou um arbusto novo, que fez a terra fender.”, é um período.

05. Analise alguns substantivos do texto e escolha a alternativa correta.

- a) O substantivo “índios” sofreu flexão de número.
- b) Tanto o substantivo “raízes” como o substantivo “corpo” são palavras derivadas.
- c) Todos os substantivos do trecho “Já era um dos principais alimentos dos indígenas na época do Descobrimento” estão no plural.
- d) A formação do plural em cada um dos substantivos a seguir é diferente: “brasileiros”, “múltiplos”, “culinários” e “produtos”.
- e) O radical do substantivo “cerveja” é *cer-*.

Leia o texto abaixo e responda às próximas dez questões.

O cinema engana os olhos da gente

Faz cem anos que inventaram o cinema. E nele tudo é mentirinha. As imagens se mexendo na tela não passam de uma ilusão. O homem demorou milhares de anos para realizar o desejo de dar movimento aos desenhos. Nos tempos das cavernas, as pessoas tentavam representar as coisas em movimento. Elas desenhavam, por exemplo, os animais com oito patas. Era o jeito de mostrar o animal correndo.

A história do cinema começou com a invenção da fotografia, os homens conseguiram reproduzir imagens usando luz e produtos químicos.

Foram os irmãos Louis e Auguste Lumière que tornaram o cinema possível. Eles inventaram uma máquina que podia projetar imagens impressas (gravadas) em um filme.

A primeira sessão de cinema aconteceu em Paris, em 1895. O filme era curtinho e mostrava um trem chegando à estação.

Contam que as pessoas ficaram muito surpresas com o trem se aproximando. Teve gente que caiu da cadeira e muitas mulheres gritaram de susto.

(Medeiros, Paula. **Folhinha**. In: Folha de S. Paulo, 19 maio 1995, adaptado.)

06. O primeiro parágrafo do texto traz esclarecimentos sobre o título. Qual trecho desse parágrafo explica de fato o título?

- a) “Faz cem anos que inventaram o cinema”.
- b) “As imagens se mexendo na tela não passam de uma ilusão”.
- c) “Nos tempos das cavernas, as pessoas tentavam representar as coisas em movimento”.
- d) “Era o jeito de mostrar o animal correndo”.
- e) “O homem demorou milhares de anos para realizar o desejo de dar movimento aos desenhos”.

07. Escolha a alternativa em que a palavra acentuada retirada do texto e sua justificativa, baseada nas regras de acentuação, estejam corretas.

- a) “é” – oxítona terminada em *e*.
- b) “história” – oxítona terminada em *a*.
- c) “químicos” – oxítona terminada em *o(s)*.
- d) “possível” – paroxítona terminada em *l*.
- e) “máquina” – paroxítona terminada em *a*.

08. Das orações abaixo, escolha aquela cujo trecho destacado é o seu sujeito.

- a) “Faz cem anos”.
- b) “que inventaram o cinema”.
- c) “E nele tudo é mentirinha”.
- d) “As imagens se mexendo na tela”.
- e) “não passam de uma ilusão”.

09. Agora, escolha a oração cujo trecho sublinhado é o seu predicado.

- a) “Faz cem anos”.
- b) “que inventaram o cinema”.
- c) “E nele tudo é mentirinha”.
- d) “As imagens se mexendo na tela”.
- e) “não passam de uma ilusão”.

10. Releia o último período do texto e, depois, escolha a alternativa correta.

- a) Nesse período, há apenas uma oração.
- b) É um período, porém não uma frase.



- c) Trata-se de um período simples.
- d) Esse período é composto.
- e) O sujeito da oração, nesse período, é classificado como desinencial.

11. Analise aspectos relacionados à ortografia de algumas palavras do texto e escolha a alternativa correta.

- a) A palavra “representar”, no texto, é um dos casos em que a letra s representa o fonema /s/.
- b) A palavra “história”, quanto à sílaba tônica, é uma oxítônica.
- c) Na expressão “produtos químicos”, ambas as palavras são paroxítonas.
- d) O til sobre a vogal a, em “irmãos” tem por objetivo indicar a sílaba tônica da palavra.
- e) O acento grave em “à” foi empregado para indicar a crase da preposição a com o artigo a.

12. Escolha a alternativa em que foi transcrito o primeiro período do corpo do texto.

- a) “Faz cem anos”.
- b) “que inventaram o cinema.”.
- c) “Faz cem anos que inventaram o cinema.”.
- d) “Faz cem anos que inventaram o cinema. E nele tudo é mentirinha. As imagens se mexendo na tela não passam de uma ilusão. O homem demorou milhares de anos para realizar o desejo de dar movimento aos desenhos. Nos tempos das cavernas, as pessoas tentavam representar as coisas em movimento. Elas desenhavam, por exemplo, os animais com oito patas. Era o jeito de mostrar o animal correndo.”.
- e) “Faz cem anos que inventaram o cinema. E nele tudo é mentirinha.”.

13. No texto, há uma informação entre parênteses, sinais de pontuação que são empregados para intercalar, num texto, qualquer indicação acessória. Com que objetivo esse recurso foi empregado nesse texto?

- a) Para fazer indicações bibliográficas.
- b) Para introduzir uma explicação.
- c) Para inserir uma nota emocional.
- d) Para apresentar a citação textual de uma palavra ou expressão traduzida.
- e) Para fazer indicações cênicas.

14. Quanto à análise morfológica, escolha a alternativa em que a palavra sublinhada pertence à classe de palavras entre parênteses.

- a) “A primeira sessão de cinema aconteceu em Paris, em 1895.” (substantivo).
- b) “A primeira sessão de cinema aconteceu em Paris, em 1895.” (pronome).
- c) “A primeira sessão de cinema aconteceu em Paris, em 1895.” (adjetivo).
- d) “A primeira sessão de cinema aconteceu em Paris, em 1895.” (conjunção).
- e) “A primeira sessão de cinema aconteceu em Paris, em 1895.” (verbo).

15. Observe o texto e escolha a alternativa correta.

- a) No enunciado “O filme era curtinho e mostrava um trem chegando à estação.” há apenas uma oração.
- b) No trecho “Contam que as pessoas ficaram muito surpresas”, há três orações.
- c) O trecho “Teve gente que caiu da cadeira e muitas mulheres gritaram de susto.” é uma frase.
- d) No trecho “Foram os irmãos Louis e Auguste Lumière”, há duas orações.
- e) O termo “cinema”, que aparece no título do texto, é um adjetivo.

MATEMÁTICA

16. Fernando, Vanderlei e Marcelo são irmãos. Somando a idade dos três irmãos, obtemos 63. Vanderlei é um ano mais velho que Fernando e Marcelo é dois anos mais velho que Fernando. Quais são as idades de Fernando, Vanderlei e Marcelo, respectivamente?

- a) 20 – 21 – 22
- b) 30 – 31 – 32
- c) 21 – 21 – 21
- d) 31 – 32 – 33
- e) 31 – 31 – 31

17. Numa festa, havia 3.000 pessoas, das quais 25% eram crianças. Quantos eram os adultos?

- a) 700 adultos
- b) 750 adultos
- c) 1500 adultos
- d) 2250 adultos
- e) 2700 adultos

18. João Carlos deseja comprar um imóvel avaliado em R\$ 150.000,00. Se ele pagar 1/4 do valor total à vista, quanto faltará para adquirir o imóvel?

- a) R\$ 172.500,00
- b) R\$ 120.500,00
- c) R\$ 127.500,00
- d) R\$ 137.500,00
- e) R\$ 112.500,00

19. Os salários da Empresa Alfa são distribuídos de acordo com a tabela; Qual é a média dos salários da empresa?

- a) R\$ 1.612,50
- b) R\$ 1.512,50
- c) R\$ 1.812,50
- d) R\$ 2.512,50
- e) R\$ 1.500,50

Salário (em R\$)	Número de Funcionários
R\$ 800,00	09
R\$ 1.200,00	05
R\$ 1.600,00	08
R\$ 2.000,00	04
R\$ 2.400,00	06
Total	32

20. Trinta por cento da quarta parte de 7.200 é igual a:

- a) 470
- b) 690
- c) 540
- d) 349
- e) 780

21. Com 4 latas de tinta pinte 360 m² de parede. Quantos metros quadrados poderiam ser pintados com 10 latas dessa mesma tinta?

- a) 900m²
- b) 780m²
- c) 720m²
- d) 640m²
- e) 800m²

22. Com 12 pedreiros podemos construir um muro em 5 dias. Quantos dias levarão 10 pedreiros para fazer o mesmo trabalho?

- a) 8 dias
- b) 4 dias
- c) 3 dias
- d) 2 dias
- e) 6 dias

23. Tirando 2 unidades da metade da idade de Francisco, obtemos a idade de Thays, que tem 13 anos. Qual é a idade de Francisco?

- b) 60
- c) 30
- d) 25
- e) 15

24. Dois vendedores de uma firma saem a serviço no mesmo dia. O primeiro faz viagens de 15 em 15 dias e o segundo, de 18 em 18 dias. Depois de quantos dias sairão juntos novamente?

- a) 120 dias
- b) 90 dias
- c) 110 dias
- d) 130 dias
- e) 140 dias

25. Uma TV custa R\$ 1.850,00. Pagando à vista, ganha-se um desconto de 12%. Qual será o preço pago à vista?

- a) R\$ 1.628,00
- b) R\$ 1.222,00
- c) R\$ 1.350,50
- d) R\$ 1.450,50
- e) R\$ 1.420,00

CONHECIMENTOS GERAIS

26. A Câmara Municipal de Telêmaco Borba/PR é presidida por

- a) José Reinaldo Antunes Carneiro.
- b) Aparecida de Fátima Ribeiro Frazza.
- c) Sérgio de Souza Bueno.
- d) Élio Cezar Alves do Santos.
- e) Renato Bahena.

27. O município de Telêmaco Borba/PR foi instalado em

- a) 21/03/1941.
- b) 21/03/1964.
- c) 21/03/1947.
- d) 21/03/1960.
- e) 21/03/1970.

28. Marque a alternativa que contém a imagem da bandeira do município de Telêmaco Borba/PR.



29. O Hino de Telêmaco Borba foi composto na primeira legislatura municipal, na década de:

- a) 50
- b) 60
- c) 70
- d) 80
- e) 90



30. No Word, o ícone  significa

- a) Centralizar.
- b) Bordas externas.
- c) Justificar.
- d) Aumentar recuo.
- e) Sombreamento

31. Marque a alternativa que completa o texto, segundo a Lei Orgânica do Município de Telêmaco Borba/PR.



Para as eleições da Mesa, após a primeira sessão legislativa, a data para a sua realização será o dia _____, ficando a posse dos eleitos, para o dia 1º de janeiro do exercício subsequente.

- a) 1º de janeiro
- b) 31 de dezembro
- c) 15 de dezembro
- d) 1º de fevereiro
- e) 05 de dezembro

Com base na Lei nº 1883/2012, que dispõe sobre o Estatuto dos Servidores Públicos da Administração Direta, Autárquica e Funcional do Município de Telêmaco Borba/PR, responda às próximas quatro questões.

32. O art. 1º da Lei nº 1883/2012 disciplina o Regime Jurídico Estatutário aplicável aos servidores públicos investidos em cargo público de provimento efetivo ou de provimento em comissão:

- (1) do Poder Executivo;
- (2) do Poder Legislativo;
- (3) das Autarquias;
- (4) das Fundações;
- (5) das Instituições sem fins lucrativos.

Qual item não faz parte do art. 1º da referida Lei?

- a) (1)
- b) (2)
- c) (3)
- d) (4)
- e) (5)

33. Leia os itens a seguir e marque a alternativa verdadeira.

I. Às pessoas portadoras de deficiência é assegurado o direito de se inscrever em concurso público para o provimento de cargo, cujas atribuições sejam compatíveis com a deficiência de que são portadoras.

II. Para as pessoas portadoras de deficiência serão reservadas 10% das vagas oferecidas, nas condições a serem definidas no edital do concurso público.

III. Quando a aplicação do percentual de vagas resultar em número fracionado, igual a 0,50, será garantida uma vaga do cargo objeto do concurso público para as pessoas portadoras de deficiência.

- a) É correto o item I, apenas.
- b) É correto o item II, apenas.
- c) É correto o item III, apenas.
- d) São corretos os itens I e II, apenas.
- e) São corretos os itens I, II e III.

34. Assinale a alternativa que está de acordo com o art. 7º da Lei nº 1883/2012.

- a) O concurso público para investidura em cargo público de provimento efetivo será de provas objetivas, de acordo com a natureza e a complexidade do cargo.
- b) O concurso público para investidura em cargo público de provimento efetivo será de provas objetivas e práticas, de acordo com a natureza e a complexidade do cargo.
- c) O concurso público para investidura em cargo público de provimento efetivo será de provas ou de provas e títulos, de acordo com a natureza e a complexidade do cargo.
- d) O concurso público para investidura em cargo público em comissão será de provas ou de provas e títulos, de acordo com a natureza e a complexidade do cargo.
- e) O concurso público para investidura em cargo público de provimento efetivo e em comissão será de provas ou de provas e títulos, de acordo com a natureza e a complexidade do cargo.

35. O concurso público terá validade de

- a) até 4 anos, a critério da Administração.
- b) até 2 anos, prorrogável uma vez por igual período, a critério da Administração.
- c) até 1 ano, prorrogável uma vez por igual período, a critério da Administração.
- d) 1 ano, a critério da Administração.
- e) até 2 anos, prorrogável por mais 1 ano, a critério da Administração.

CONHECIMENTOS ESPECÍFICOS

36. O Sistema Único de Saúde – SUS foi criado pela Constituição Federal de 1988 para que toda a população brasileira tenha acesso ao atendimento público de saúde. Em seu artigo 198, define que as ações e serviços públicos de saúde integram uma rede regionalizada e hierarquizada e devem constituir um sistema único, organizado de acordo com as seguintes diretrizes:

I. Descentralização, com direção única em cada esfera de governo;

II. Atendimento integral, com prioridade para as atividades preventivas, sem prejuízo dos serviços assistenciais;

III. Participação da comunidade.

Analisando o exposto, assinale a alternativa correta.

- a) Apenas o item I está correto.
- b) Apenas o item II está correto.
- c) Apenas o item III está correto.
- d) Apenas os itens II e III estão corretos.
- e) Todos os itens estão corretos.

37. Todas as famílias e pessoas do território do Agente Comunitário da Saúde devem ser acompanhadas por meio da visita domiciliar, na qual se desenvolvem ações de educação em saúde. Entretanto, sua atuação não está restrita ao domicílio, ocorrendo também nos diversos espaços comunitários. Todas essas ações que estão voltadas para a qualidade de vida das famílias necessitam de posturas empreendedoras por parte da população e, na maioria das vezes, é o Agente Comunitário de Saúde que exerce a função de estimular e organizar as reivindicações da comunidade. Uma das obrigações do Agente Comunitário de Saúde é:

- a) Identificar áreas e situações de risco individual e coletivo.
- b) Identificar áreas e situações de risco somente individual.
- c) Identificar áreas e situações de risco apenas coletivo.
- d) Identificar somente as situações de risco individual.
- e) Identificar somente as situações de risco coletivo

38. Situações de risco são aquelas em que uma pessoa ou grupo de pessoas “correm perigo”, isto é, tem maior possibilidade ou chance de adoecer ou até mesmo de morrer. É um exemplo de situação de risco:

- a) Bebês que nascem com menos de três quilos e meio.
- b) Crianças que estão desnutridas.
- c) Gestantes que não fumam.
- d) Pessoas que não sofrem violência.
- e) Pessoas que precisam de cuidadores, e têm alguém exercendo a função.

39. Uma das atribuições do Agente Comunitário de Saúde é a visita domiciliar. É por meio da visita domiciliar e da sua inserção na comunidade que o agente vai compreendendo a forma de viver, os códigos, as crenças, enfim, a dinâmica de vida das famílias por ele acompanhadas. A visita domiciliar requer, contudo, um saber-fazer que se aprende no cotidiano, mas pode e deve se basear em algumas condutas que demonstrem respeito, atenção, valorização, compromisso e ética. Por meio da visita domiciliar, é possível:

- a) Identificar os moradores pelo nome.
- b) Identificar os moradores pela cor do cabelo.
- c) Identificar os moradores, por faixa etária, sexo e raça, ressaltando situações como gravidez, desnutrição, pessoas com deficiência etc.
- d) Identificar os moradores, por faixa etária, sexo e raça, sem ressaltar situações como gravidez, desnutrição, pessoas com deficiência etc.
- e) Identificar os moradores apenas pela raça, sem ressaltar situações como gravidez, desnutrição, pessoas com deficiência etc.

40. Desenvolver atividades educativas faz parte do processo de trabalho de todos os membros da equipe do Agente Comunitário de Saúde. Para o desenvolvimento de atividades educativas, recomenda-se:

I. Divulgar – uma etapa que não deve ser esquecida. Espalhar a notícia para o maior número de pessoas, elaborar cartazes com letras grandes, de forma criativa, e divulgar a reunião nos lugares mais frequentados da comunidade fazem parte desse processo;

II. Realizar dinâmicas que possibilitem a apresentação dos participantes e integração do grupo, quebrando a formalidade inicial; Apresentar o tema que será discutido, permitindo a exposição das necessidades e expectativas de todos. A pauta da discussão deve ser flexível, podendo ser adaptada às necessidades do momento;

III. Estimular a participação de todos;

IV. Identificar os conhecimentos, crenças e valores do grupo, bem como os mitos, tabus e preconceitos, estimulando a reflexão sobre eles. A discussão deve ser influenciada por convicções culturais, religiosas ou pessoais.

Analisando o exposto, assinale a alternativa correta:

- a) Apenas o item I está correto.
- b) Apenas o item II está correto.
- c) Apenas o item III está correto.
- d) Apenas os itens I, II e III estão corretos.
- e) Todos os itens estão corretos.



PREFEITURA DE TELÊMACO BORBA - ESTADO DO PARANÁ - EDITAL Nº 001-2016 - CONCURSO PÚBLICO

VESPERTINO – 29/05/2016 – NÍVEL FUNDAMENTAL COMPLETO

2

PROVA OBJETIVA NÚMERO

CARGO: AGENTE COMUNITÁRIO DE SAÚDE

Leia atentamente as INSTRUÇÕES:

1. Confira seus dados no cartão-resposta: nome, número de inscrição e o curso para o qual se inscreveu.
2. **MARQUE no seu cartão-resposta o número da sua prova** (não será corrigido o cartão-resposta que não tiver marcado o número da prova) e **Assine** seu cartão-resposta.
3. Aguarde a autorização do Fiscal para abrir o caderno de prova. Ao receber a ordem do fiscal, confira o caderno de prova com muita atenção. Nenhuma reclamação sobre o total de questões ou falha de impressão será aceita depois de iniciada a prova.
4. O cartão-resposta não será substituído, salvo se contiver erro de impressão.
5. Preencha toda a área do cartão-resposta correspondente à alternativa de sua escolha, com caneta esferográfica (tinta azul ou preta), sem ultrapassar as bordas. As marcações duplas, ou rasuradas, com corretivo, ou marcadas diferentemente do modelo estabelecido no cartão-resposta poderão ser anuladas.
6. Sua prova tem **40** questões, com **5** alternativas.
7. Cabe apenas ao candidato a interpretação das questões, **o fiscal** não poderá fazer nenhuma interferência.
8. A prova será realizada com duração máxima de **3 (três) horas**, incluído o tempo para a realização da Prova Objetiva de múltipla escolha e o preenchimento do cartão-resposta.
9. O candidato poderá retirar-se do local de realização das provas somente **1 (uma) hora** após o seu início, sem levar o caderno de prova.
10. O candidato poderá levar o caderno de provas, assim como anotação contendo transcrição do seu cartão-resposta, somente **1h30min** (uma hora e trinta minutos) após o início da realização da prova.
11. Ao terminar a prova, o candidato deverá entregar ao fiscal de sala o cartão-resposta preenchido e **ASSINADO**.
12. Os **3 (três)** candidatos, que terminarem a prova por último, deverão permanecer na sala, e só poderão sair juntos após o fechamento do envelope, contendo os cartões-resposta dos candidatos presentes e ausentes, e assinarem no lacre do referido envelope, atestando que este foi devidamente lacrado.
13. Durante todo o tempo em que permanecer no local onde está ocorrendo o concurso, o candidato deverá, manter o celular desligado e sem bateria, só sendo permitido ligar depois de ultrapassar o portão de saída do prédio.
14. Não será permitido ao candidato fumar na sala de provas, bem como nas dependências.
15. Depois de terminar a prova e entregar ao fiscal o cartão-resposta, preenchido e assinado, não será mais permitido ao candidato o uso do banheiro e bebedouro.

BOA PROVA!

**MATEMÁTICA**

01. Fernando, Vanderlei e Marcelo são irmãos. Somando a idade dos três irmãos, obtemos 63. Vanderlei é um ano mais velho que Fernando e Marcelo é dois anos mais velho que Fernando. Quais são as idades de Fernando, Vanderlei e Marcelo, respectivamente?

- a) 20 – 21 – 22
- b) 30 – 31 – 32
- c) 21 – 21 – 21
- d) 31 – 32 – 33
- e) 31 – 31 – 31

02. Numa festa, havia 3.000 pessoas, das quais 25% eram crianças. Quantos eram os adultos?

- a) 700 adultos
- b) 750 adultos
- c) 1500 adultos
- d) 2250 adultos
- e) 2700 adultos

03. João Carlos deseja comprar um imóvel avaliado em R\$ 150.000,00. Se ele pagar 1/4 do valor total à vista, quanto faltará para adquirir o imóvel?

- a) R\$ 172.500,00
- b) R\$ 120.500,00
- c) R\$ 127.500,00
- d) R\$ 137.500,00
- e) R\$ 112.500,00

04. Os salários da Empresa Alfa são distribuídos de acordo com a tabela; Qual é a média dos salários da empresa?

- a) R\$ 1.612,50
- b) R\$ 1.512,50
- c) R\$ 1.812,50
- d) R\$ 2.512,50
- e) R\$ 1.500,50

Salário (em R\$)	Número de Funcionários
R\$ 800,00	09
R\$ 1.200,00	05
R\$ 1.600,00	08
R\$ 2.000,00	04
R\$ 2.400,00	06
Total	32

05. Trinta por cento da quarta parte de 7.200 é igual a:

- a) 470
- b) 690
- c) 540
- d) 349
- e) 780

06. Com 4 latas de tinta pinte 360 m² de parede. Quantos metros quadrados poderiam ser pintados com 10 latas dessa mesma tinta?

- a) 900m²
- b) 780m²
- c) 720m²
- d) 640m²
- e) 800m²

07. Com 12 pedreiros podemos construir um muro em 5 dias. Quantos dias levarão 10 pedreiros para fazer o mesmo trabalho?

- a) 8 dias
- b) 4 dias
- c) 3 dias
- d) 2 dias
- e) 6 dias

08. Tirando 2 unidades da metade da idade de Francisco, obtemos a idade de Thays, que tem 13 anos. Qual é a idade de Francisco?

- b) 60
- c) 30
- d) 25
- e) 15

09. Dois vendedores de uma firma saem a serviço no mesmo dia. O primeiro faz viagens de 15 em 15 dias e o segundo, de 18 em 18 dias. Depois de quantos dias sairão juntos novamente?

- a) 120 dias
- b) 90 dias
- c) 110 dias
- d) 130 dias
- e) 140 dias

10. Uma TV custa R\$ 1.850,00. Pagando à vista, ganha-se um desconto de 12%. Qual será o preço pago à vista?

- a) R\$ 1.628,00
- b) R\$ 1.222,00
- c) R\$ 1.350,50
- d) R\$ 1.450,50
- e) R\$ 1.420,00

CONHECIMENTOS GERAIS

11. A Câmara Municipal de Telêmaco Borba/PR é presidida por

- a) José Reinaldo Antunes Carneiro.
- b) Aparecida de Fátima Ribeiro Frazza.
- c) Sérgio de Souza Bueno.
- d) Élio Cezar Alves do Santos.
- e) Renato Bahena.

12. O município de Telêmaco Borba/PR foi instalado em

- a) 21/03/1941.
- b) 21/03/1964.
- c) 21/03/1947.
- d) 21/03/1960.
- e) 21/03/1970.

13. Marque a alternativa que contém a imagem da bandeira do município de Telêmaco Borba/PR.



14. O Hino de Telêmaco Borba foi composto na primeira legislatura municipal, na década de:

- a) 50
- b) 60
- c) 70
- d) 80
- e) 90



15 No Word, o ícone  significa

- a) Centralizar.
- b) Bordas externas.
- c) Justificar.
- d) Aumentar recuo.
- e) Sombreamento

16. Marque a alternativa que completa o texto, segundo a Lei Orgânica do Município de Telêmaco Borba/PR.

Para as eleições da Mesa, após a primeira sessão legislativa, a data para a sua realização será o dia _____, ficando a posse dos eleitos, para o dia 1º de janeiro do exercício subsequente.

- a) 1º de janeiro
- b) 31 de dezembro
- c) 15 de dezembro
- d) 1º de fevereiro
- e) 05 de dezembro

Com base na Lei nº 1883/2012, que dispõe sobre o Estatuto dos Servidores Públicos da Administração Direta, Autárquica e Funcional do Município de Telêmaco Borba/PR, responda às próximas quatro questões.

17. O art. 1º da Lei nº 1883/2012 disciplina o Regime Jurídico Estatutário aplicável aos servidores públicos investidos em cargo público de provimento efetivo ou de provimento em comissão:

- (1) do Poder Executivo;
- (2) do Poder Legislativo;
- (3) das Autarquias;
- (4) das Fundações;
- (5) das Instituições sem fins lucrativos.

Qual item não faz parte do art. 1º da referida Lei?

- a) (1)
- b) (2)
- c) (3)
- d) (4)
- e) (5)

18. Leia os itens a seguir e marque a alternativa verdadeira.

I. Às pessoas portadoras de deficiência é assegurado o direito de se inscrever em concurso público para o provimento de cargo, cujas atribuições sejam compatíveis com a deficiência de que são portadoras.

II. Para as pessoas portadoras de deficiência serão reservadas 10% das vagas oferecidas, nas condições a serem definidas no edital do concurso público.

III. Quando a aplicação do percentual de vagas resultar em número fracionado, igual a 0,50, será garantida uma vaga do cargo objeto do concurso público para as pessoas portadoras de deficiência.

- a) É correto o item I, apenas.
- b) É correto o item II, apenas.
- c) É correto o item III, apenas.
- d) São corretos os itens I e II, apenas.
- e) São corretos os itens I, II e III.

19. Assinale a alternativa que está de acordo com o art. 7º da Lei nº 1883/2012.

- a) O concurso público para investidura em cargo público de provimento efetivo será de provas objetivas, de acordo com a natureza e a complexidade do cargo.
- b) O concurso público para investidura em cargo público de provimento efetivo será de provas objetivas e práticas, de acordo com a natureza e a complexidade do cargo.
- c) O concurso público para investidura em cargo público de provimento efetivo será de provas ou de provas e títulos, de acordo com a natureza e a complexidade do cargo.

- d) O concurso público para investidura em cargo público em comissão será de provas ou de provas e títulos, de acordo com a natureza e a complexidade do cargo.
- e) O concurso público para investidura em cargo público de provimento efetivo e em comissão será de provas ou de provas e títulos, de acordo com a natureza e a complexidade do cargo.

20. O concurso público terá validade de

- a) até 4 anos, a critério da Administração.
- b) até 2 anos, prorrogável uma vez por igual período, a critério da Administração.
- c) até 1 ano, prorrogável uma vez por igual período, a critério da Administração.
- d) 1 ano, a critério da Administração.
- e) até 2 anos, prorrogável por mais 1 ano, a critério da Administração.

CONHECIMENTOS ESPECÍFICOS

21. O Sistema Único de Saúde – SUS foi criado pela Constituição Federal de 1988 para que toda a população brasileira tenha acesso ao atendimento público de saúde. Em seu artigo 198, define que as ações e serviços públicos de saúde integram uma rede regionalizada e hierarquizada e devem constituir um sistema único, organizado de acordo com as seguintes diretrizes:

I. Descentralização, com direção única em cada esfera de governo;

II. Atendimento integral, com prioridade para as atividades preventivas, sem prejuízo dos serviços assistenciais;

III. Participação da comunidade.

Analisando o exposto, assinale a alternativa correta.

- a) Apenas o item I está correto.
- b) Apenas o item II está correto.
- c) Apenas o item III está correto
- d) Apenas os itens II e III estão corretos.
- e) Todos os itens estão corretos.

22. Todas as famílias e pessoas do território do Agente Comunitário da Saúde devem ser acompanhadas por meio da visita domiciliar, na qual se desenvolvem ações de educação em saúde. Entretanto, sua atuação não está restrita ao domicílio, ocorrendo também nos diversos espaços comunitários. Todas essas ações que estão voltadas para a qualidade de vida das famílias necessitam de posturas empreendedoras por parte da população e, na maioria das vezes, é o Agente Comunitário de Saúde que exerce a função de estimular e organizar as reivindicações da comunidade. Uma das obrigações do Agente Comunitário de Saúde é:

- a) Identificar áreas e situações de risco individual e coletivo.
- b) Identificar áreas e situações de risco somente individual.
- c) Identificar áreas e situações de risco apenas coletivo.
- d) Identificar somente as situações de risco individual.
- e) Identificar somente as situações de risco coletivo

23. Situações de risco são aquelas em que uma pessoa ou grupo de pessoas “correm perigo”, isto é, tem maior possibilidade ou chance de adoecer ou até mesmo de morrer. É um exemplo de situação de risco:

- a) Bebês que nascem com menos de três quilos e meio.
- b) Crianças que estão desnutridas.
- c) Gestantes que não fumam.
- d) Pessoas que não sofrem violência.
- e) Pessoas que precisam de cuidadores, e têm alguém exercendo a função.

24. Uma das atribuições do Agente Comunitário de Saúde é a visita domiciliar. É por meio da visita domiciliar e da sua inserção na comunidade que o agente vai compreendendo a forma de viver, os códigos, as crenças, enfim, a dinâmica de vida das famílias por ele acompanhadas. A visita domiciliar requer, contudo, um saber-fazer que se aprende no cotidiano, mas pode e deve se basear em algumas condutas que demonstrem respeito, atenção, valorização, compromisso e ética. Por meio da visita domiciliar, é possível:

- a) Identificar os moradores pelo nome.
- b) Identificar os moradores pela cor do cabelo.
- c) Identificar os moradores, por faixa etária, sexo e raça, ressaltando situações como gravidez, desnutrição, pessoas com deficiência etc.
- d) Identificar os moradores, por faixa etária, sexo e raça, sem ressaltar situações como gravidez, desnutrição, pessoas com deficiência etc.
- e) Identificar os moradores apenas pela raça, sem ressaltar situações como gravidez, desnutrição, pessoas com deficiência etc.

25. Desenvolver atividades educativas faz parte do processo de trabalho de todos os membros da equipe do Agente Comunitário de Saúde. Para o desenvolvimento de atividades educativas, recomenda-se:

I. Divulgar – uma etapa que não deve ser esquecida. Espalhar a notícia para o maior número de pessoas, elaborar cartazes com letras grandes, de forma criativa, e divulgar a reunião nos lugares mais frequentados da comunidade fazem parte desse processo;

II. Realizar dinâmicas que possibilitem a apresentação dos participantes e integração do grupo, quebrando a formalidade inicial; Apresentar o tema que será discutido, permitindo a exposição das necessidades e expectativas de todos. A pauta da discussão deve ser flexível, podendo ser adaptada às necessidades do momento;

III. Estimular a participação de todos;

IV. Identificar os conhecimentos, crenças e valores do grupo, bem como os mitos, tabus e preconceitos, estimulando a reflexão sobre eles. A discussão deve ser influenciada por convicções culturais, religiosas ou pessoais.

Analisando o exposto, assinale a alternativa correta:

- a) Apenas o item I está correto.
- b) Apenas o item II está correto.
- c) Apenas o item III está correto.
- d) Apenas os itens I, II e III estão corretos.
- e) Todos os itens estão corretos.

LÍNGUA PORTUGUESA

Leia o texto abaixo e responda às próximas cinco questões.

Os poderes da mandioca

Conta uma lenda indígena que, no princípio dos tempos, a filha de um cacique engravidou sem contato com homem. O cacique não acreditou na história da filha e ficou muito bravo. Até que, em sonho, ele recebeu a visita de um homem branco atestando a inocência da moça. Branca era também a linda indiazinha que nasceu meses depois e recebeu o nome de Mani. Ela foi a alegria da tribo por apenas um ano, quando morreu repentinamente, sem doença nem dor. Para surpresa de todos, do túmulo de Mani brotou um arbusto novo, que fez a terra fender. Os índios cavaram e retiraram grossas raízes, brancas como o corpo da indiazinha. E a planta ficou conhecida como *mandioca*, que significa “casa de Mani”.

Desde essa época, a abençoada planta nascida do corpo de Mani tem salvado seu povo da fome. Já era um dos principais alimentos dos indígenas na época do Descobrimento e ainda hoje marca presença no cardápio dos brasileiros de todo o país: como o nome da mandioca, macaxeira ou aipim; cozida, frita ou torrada na forma de farinha, não há quem resista a essa versátil e saborosíssima raiz. E, além de seus múltiplos usos culinários, ela é também matéria prima para a fabricação dos produtos mais inusitados: cerveja, tecidos, móveis e até plástico biodegradável.

(Adeodato, Sérgio. In: *Globo Ciência*. Jan/1988.p. 35.)

26. Com que objetivo o autor escreveu o primeiro parágrafo do texto?

- a) Narrar a lenda indígena sobre a origem dos índios.
- b) Informar sobre a origem da mandioca e de seu nome, de acordo com a tradição indígena.
- c) Descrever os vários usos da mandioca.
- d) Expor seu ponto de vista sobre os poderes da mandioca.
- e) Explicar a forma de cultivo da mandioca.

27. Escolha a alternativa em que estão transcritos o primeiro e segundo períodos do corpo do texto.

- a) “Conta uma lenda indígena que,” e “no princípio dos tempos,”.
- b) “Conta uma lenda indígena que, no princípio dos tempos,” e “a filha de um cacique engravidou sem contato com homem.”.
- c) “Conta uma lenda indígena que, no princípio dos tempos, a filha de um cacique engravidou sem contato com homem.” e “O cacique não acreditou na história da filha e ficou muito bravo.”.
- d) “Conta uma lenda indígena que, no princípio dos tempos, a filha de um cacique engravidou sem contato com homem. O cacique não acreditou na história da filha e ficou muito bravo.” e “Até que, em sonho, ele recebeu a visita de um homem branco atestando a inocência da moça. Branca era também a linda indiazinha que nasceu meses depois e recebeu o nome de Mani.”.
- e) “Conta uma lenda indígena que, no princípio dos tempos, a filha de um cacique engravidou sem contato com homem. O cacique não acreditou na história da filha e ficou muito bravo. Até que, em sonho, ele recebeu a visita de um homem branco atestando a inocência da moça. Branca era também a linda indiazinha que nasceu meses depois e recebeu o nome de Mani. Ela foi a alegria da tribo por apenas um ano, quando morreu repentinamente, sem doença nem dor. Para surpresa de todos, do túmulo de Mani brotou um arbusto novo, que fez a terra fender. Os índios cavaram e retiraram grossas raízes, brancas como o corpo da indiazinha. E a planta ficou conhecida como *mandioca*, que significa ‘casa de Mani’.” e “ “Desde essa época, a abençoada planta nascida do corpo de Mani tem salvado seu povo da fome. Já era um dos principais alimentos dos indígenas na época do Descobrimento e ainda hoje marca presença no cardápio dos brasileiros de todo o país: como o nome da mandioca, macaxeira ou aipim; cozida, frita ou torrada na forma de farinha, não há quem resista a essa versátil e

saborosíssima raiz. E, além de seus múltiplos usos culinários, ela é também matéria prima para a fabricação dos produtos mais inusitados: cerveja, tecidos, móveis e até plástico biodegradável.”.

28. Quanto à análise morfológica, escolha a alternativa em que a palavra sublinhada não pertence à classe de palavras mencionada entre parênteses.

- “Conta uma lenda indígena que, no princípio dos tempos, a filha de um cacique engravidou sem contato com homem.” (substantivo).
- “Conta uma lenda indígena que, no princípio dos tempos, a filha de um cacique engravidou sem contato com homem.” (verbo).
- “Conta uma lenda indígena que, no princípio dos tempos, a filha de um cacique engravidou sem contato com homem.” (adjetivo).
- “Conta uma lenda indígena que, no princípio dos tempos, a filha de um cacique engravidou sem contato com homem.” (artigo).
- “Conta uma lenda indígena que, no princípio dos tempos, a filha de um cacique engravidou sem contato com homem.” (artigo).

29. Observe o texto e escolha a alternativa correta.

- No enunciado “O cacique não acreditou na história da filha e ficou muito bravo.”, há apenas uma oração.
- No trecho “Até que, em sonho, ele recebeu a visita de um homem branco atestando a inocência da moça.”, há três orações.
- O trecho “Branca era também a linda indiazinha que nasceu meses depois e recebeu o nome de Mani.” não é uma frase.
- No trecho “Ela foi a alegria da tribo por apenas um ano, quando morreu repentinamente, sem doença nem dor.”, há uma oração.
- O trecho “Para surpresa de todos, do túmulo de Mani brotou um arbusto novo, que fez a terra fender.”, é um período.

30. Analise alguns substantivos do texto e escolha a alternativa correta.

- O substantivo “índios” sofreu flexão de número.
- Tanto o substantivo “raízes” como o substantivo “corpo” são palavras derivadas.
- Todos os substantivos do trecho “Já era um dos principais alimentos dos indígenas na época do Descobrimento” estão no plural.
- A formação do plural em cada um dos substantivos a seguir é diferente: “brasileiros”, “múltiplos”, “culinários” e “produtos”.
- O radical do substantivo “cerveja” é *cer-*.

Leia o texto abaixo e responda às próximas dez questões.

O cinema engana os olhos da gente

Faz cem anos que inventaram o cinema. E nele tudo é mentirinha. As imagens se mexendo na tela não passam de uma ilusão. O homem demorou milhares de anos para realizar o desejo de dar movimento aos desenhos. Nos tempos das cavernas, as pessoas tentavam representar as coisas em movimento. Elas desenhavam, por exemplo, os animais com oito patas. Era o jeito de mostrar o animal correndo.

A história do cinema começou com a invenção da fotografia, os homens conseguiram reproduzir imagens usando luz e produtos químicos.

Foram os irmãos Louis e Auguste Lumière que tornaram o cinema possível. Eles inventaram uma máquina que podia projetar imagens impressas (gravadas) em um filme.

A primeira sessão de cinema aconteceu em Paris, em 1895. O filme era curtinho e mostrava um trem chegando à estação.

Contam que as pessoas ficaram muito surpresas com o trem se aproximando. Teve gente que caiu da cadeira e muitas mulheres gritaram de susto.

(Medeiros, Paula. **Folhinha**. In: Folha de S. Paulo, 19 maio 1995, adaptado.)

31. O primeiro parágrafo do texto traz esclarecimentos sobre o título. Qual trecho desse parágrafo explica de fato o título?

- “Faz cem anos que inventaram o cinema”.
- “As imagens se mexendo na tela não passam de uma ilusão”.
- “Nos tempos das cavernas, as pessoas tentavam representar as coisas em movimento”.
- “Era o jeito de mostrar o animal correndo”.
- “O homem demorou milhares de anos para realizar o desejo de dar movimento aos desenhos”.

32. Escolha a alternativa em que a palavra acentuada retirada do texto e sua justificativa, baseada nas regras de acentuação, estejam corretas.

- “é” – oxítona terminada em *e*.
- “história” – oxítona terminada em *a*.
- “químicos” – oxítona terminada em *o(s)*.

- d) “possível” – paroxítona terminada em *l*.
e) “máquina” – paroxítona terminada em *a*.

33. Das orações abaixo, escolha aquela cujo trecho destacado é o seu sujeito.

- a) “Faz cem anos”.
b) “que inventaram o cinema.”
c) “E nele tudo é mentirinha.”
d) “As imagens se mexendo na tela”.
e) “não passam de uma ilusão.”

34. Agora, escolha a oração cujo trecho sublinhado é o seu predicado.

- a) “Faz cem anos”.
b) “que inventaram o cinema.”
c) “E nele tudo é mentirinha.”
d) “As imagens se mexendo na tela”.
e) “não passam de uma ilusão.”

35. Releia o último período do texto e, depois, escolha a alternativa correta.

- a) Nesse período, há apenas uma oração.
b) É um período, porém não uma frase.
c) Trata-se de um período simples.
d) Esse período é composto.
e) O sujeito da oração, nesse período, é classificado como desinencial.

36. Analise aspectos relacionados à ortografia de algumas palavras do texto e escolha a alternativa correta.

- a) A palavra “representar”, no texto, é um dos casos em que a letra *s* representa o fonema /s/.
b) A palavra “história”, quanto à sílaba tônica, é uma oxítona.
c) Na expressão “produtos químicos”, ambas as palavras são paroxítonas.
d) O til sobre a vogal *a*, em “irmãos” tem por objetivo indicar a sílaba tônica da palavra.
e) O acento grave em “à” foi empregado para indicar a crase da preposição *a* com o artigo *a*.

37. Escolha a alternativa em que foi transcrito o primeiro período do corpo do texto.

- a) “Faz cem anos”.
b) “que inventaram o cinema.”
c) “Faz cem anos que inventaram o cinema.”
d) “Faz cem anos que inventaram o cinema. E nele tudo é mentirinha. As imagens se mexendo na tela não passam de uma ilusão. O homem demorou milhares de anos para realizar o desejo de dar movimento aos desenhos. Nos tempos das cavernas, as pessoas tentavam representar as coisas em movimento. Elas desenhavam, por exemplo, os animais com oito patas. Era o jeito de mostrar o animal correndo.”
e) “Faz cem anos que inventaram o cinema. E nele tudo é mentirinha.”

38. No texto, há uma informação entre parênteses, sinais de pontuação que são empregados para intercalar, num texto, qualquer indicação acessória. Com que objetivo esse recurso foi empregado nesse texto?

- a) Para fazer indicações bibliográficas.
b) Para introduzir uma explicação.
c) Para inserir uma nota emocional.
d) Para apresentar a citação textual de uma palavra ou expressão traduzida.
e) Para fazer indicações cênicas.

39. Quanto à análise morfológica, escolha a alternativa em que a palavra sublinhada pertence à classe de palavras entre parênteses.

- a) “A primeira sessão de cinema aconteceu em Paris, em 1895.” (substantivo).
b) “A primeira sessão de cinema aconteceu em Paris, em 1895.” (pronome).
c) “A primeira sessão de cinema aconteceu em Paris, em 1895.” (adjetivo).
d) “A primeira sessão de cinema aconteceu em Paris, em 1895.” (conjunção).
e) “A primeira sessão de cinema aconteceu em Paris, em 1895.” (verbo).

40. Observe o texto e escolha a alternativa correta.

- a) No enunciado “O filme era curtinho e mostrava um trem chegando à estação.” há apenas uma oração.
b) No trecho “Contam que as pessoas ficaram muito surpresas”, há três orações.
c) O trecho “Teve gente que caiu da cadeira e muitas mulheres gritaram de susto.” é uma frase.
d) No trecho “Foram os irmãos Louis e Auguste Lumière”, há duas orações.
e) O termo “cinema”, que aparece no título do texto, é um adjetivo.



PREFEITURA DE TELÊMACO BORBA - ESTADO DO PARANÁ - EDITAL Nº 001-2016 - CONCURSO PÚBLICO

VESPERTINO – 29/05/2016 – NÍVEL FUNDAMENTAL COMPLETO

3

PROVA OBJETIVA NÚMERO

CARGO: AGENTE COMUNITÁRIO DE SAÚDE

Leia atentamente as **INSTRUÇÕES**:

1. Confira seus dados no cartão-resposta: nome, número de inscrição e o curso para o qual se inscreveu.
2. **MARQUE no seu cartão-resposta o número da sua prova** (não será corrigido o cartão-resposta que não tiver marcado o número da prova) e **Assine** seu cartão-resposta.
3. Aguarde a autorização do Fiscal para abrir o caderno de prova. Ao receber a ordem do fiscal, confira o caderno de prova com muita atenção. Nenhuma reclamação sobre o total de questões ou falha de impressão será aceita depois de iniciada a prova.
4. O cartão-resposta não será substituído, salvo se contiver erro de impressão.
5. Preencha toda a área do cartão-resposta correspondente à alternativa de sua escolha, com caneta esferográfica (tinta azul ou preta), sem ultrapassar as bordas. As marcações duplas, ou rasuradas, com corretivo, ou marcadas diferentemente do modelo estabelecido no cartão-resposta poderão ser anuladas.
6. Sua prova tem **40** questões, com **5** alternativas.
7. Cabe apenas ao candidato a interpretação das questões, **o fiscal** não poderá fazer nenhuma interferência.
8. A prova será realizada com duração máxima de **3 (três) horas**, incluído o tempo para a realização da Prova Objetiva de múltipla escolha e o preenchimento do cartão-resposta.
9. O candidato poderá retirar-se do local de realização das provas somente **1 (uma) hora** após o seu início, sem levar o caderno de prova.
10. O candidato poderá levar o caderno de provas, assim como anotação contendo transcrição do seu cartão-resposta, somente **1h30min** (uma hora e trinta minutos) após o início da realização da prova.
11. Ao terminar a prova, o candidato deverá entregar ao fiscal de sala o cartão-resposta preenchido e **ASSINADO**.
12. Os **3 (três)** candidatos, que terminarem a prova por último, deverão permanecer na sala, e só poderão sair juntos após o fechamento do envelope, contendo os cartões-resposta dos candidatos presentes e ausentes, e assinarem no lacre do referido envelope, atestando que este foi devidamente lacrado.
13. Durante todo o tempo em que permanecer no local onde está ocorrendo o concurso, o candidato deverá, manter o celular desligado e sem bateria, só sendo permitido ligar depois de ultrapassar o portão de saída do prédio.
14. Não será permitido ao candidato fumar na sala de provas, bem como nas dependências.
15. Depois de terminar a prova e entregar ao fiscal o cartão-resposta, preenchido e assinado, não será mais permitido ao candidato o uso do banheiro e bebedouro.

BOA PROVA!

**CONHECIMENTOS ESPECÍFICOS**

01. O Sistema Único de Saúde – SUS foi criado pela Constituição Federal de 1988 para que toda a população brasileira tenha acesso ao atendimento público de saúde. Em seu artigo 198, define que as ações e serviços públicos de saúde integram uma rede regionalizada e hierarquizada e devem constituir um sistema único, organizado de acordo com as seguintes diretrizes:

- I. Descentralização, com direção única em cada esfera de governo;**
- II. Atendimento integral, com prioridade para as atividades preventivas, sem prejuízo dos serviços assistenciais;**
- III. Participação da comunidade.**

Analisando o exposto, assinale a alternativa correta.

- a) Apenas o item I está correto.
- b) Apenas o item II está correto.
- c) Apenas o item III está correto
- d) Apenas os itens II e III estão corretos.
- e) Todos os itens estão corretos.

02. Todas as famílias e pessoas do território do Agente Comunitário da Saúde devem ser acompanhadas por meio da visita domiciliar, na qual se desenvolvem ações de educação em saúde. Entretanto, sua atuação não está restrita ao domicílio, ocorrendo também nos diversos espaços comunitários. Todas essas ações que estão voltadas para a qualidade de vida das famílias necessitam de posturas empreendedoras por parte da população e, na maioria das vezes, é o Agente Comunitário de Saúde que exerce a função de estimular e organizar as reivindicações da comunidade. Uma das obrigações do Agente Comunitário de Saúde é:

- a) Identificar áreas e situações de risco individual e coletivo.
- b) Identificar áreas e situações de risco somente individual.
- c) Identificar áreas e situações de risco apenas coletivo.
- d) Identificar somente as situações de risco individual.
- e) Identificar somente as situações de risco coletivo

03. Situações de risco são aquelas em que uma pessoa ou grupo de pessoas “correm perigo”, isto é, tem maior possibilidade ou chance de adoecer ou até mesmo de morrer. É um exemplo de situação de risco:

- a) Bebês que nascem com menos de três quilos e meio.
- b) Crianças que estão desnutridas.
- c) Gestantes que não fumam.
- d) Pessoas que não sofrem violência.
- e) Pessoas que precisam de cuidadores, e têm alguém exercendo a função.

04. Uma das atribuições do Agente Comunitário de Saúde é a visita domiciliar. É por meio da visita domiciliar e da sua inserção na comunidade que o agente vai compreendendo a forma de viver, os códigos, as crenças, enfim, a dinâmica de vida das famílias por ele acompanhadas. A visita domiciliar requer, contudo, um saber-fazer que se aprende no cotidiano, mas pode e deve se basear em algumas condutas que demonstrem respeito, atenção, valorização, compromisso e ética. Por meio da visita domiciliar, é possível:

- a) Identificar os moradores pelo nome.
- b) Identificar os moradores pela cor do cabelo.
- c) Identificar os moradores, por faixa etária, sexo e raça, ressaltando situações como gravidez, desnutrição, pessoas com deficiência etc.
- d) Identificar os moradores, por faixa etária, sexo e raça, sem ressaltar situações como gravidez, desnutrição, pessoas com deficiência etc.
- e) Identificar os moradores apenas pela raça, sem ressaltar situações como gravidez, desnutrição, pessoas com deficiência etc.

05. Desenvolver atividades educativas faz parte do processo de trabalho de todos os membros da equipe do Agente Comunitário de Saúde. Para o desenvolvimento de atividades educativas, recomenda-se:

- I. Divulgar – uma etapa que não deve ser esquecida. Espalhar a notícia para o maior número de pessoas, elaborar cartazes com letras grandes, de forma criativa, e divulgar a reunião nos lugares mais frequentados da comunidade fazem parte desse processo;**
- II. Realizar dinâmicas que possibilitem a apresentação dos participantes e integração do grupo, quebrando a formalidade inicial; Apresentar o tema que será discutido, permitindo a exposição das necessidades e expectativas de todos. A pauta da discussão deve ser flexível, podendo ser adaptada às necessidades do momento;**
- III. Estimular a participação de todos;**
- IV. Identificar os conhecimentos, crenças e valores do grupo, bem como os mitos, tabus e preconceitos, estimulando a reflexão sobre eles. A discussão deve ser influenciada por convicções culturais, religiosas ou pessoais.**

**Analisando o exposto, assinale a alternativa correta:**

- a) Apenas o item I está correto.
- b) Apenas o item II está correto.
- c) Apenas o item III está correto.
- d) Apenas os itens I, II e III estão corretos.
- e) Todos os itens estão corretos.

LÍNGUA PORTUGUESA**Leia o texto abaixo e responda às próximas cinco questões.****Os poderes da mandioca**

Conta uma lenda indígena que, no princípio dos tempos, a filha de um cacique engravidou sem contato com homem. O cacique não acreditou na história da filha e ficou muito bravo. Até que, em sonho, ele recebeu a visita de um homem branco atestando a inocência da moça. Branca era também a linda indiazinha que nasceu meses depois e recebeu o nome de Mani. Ela foi a alegria da tribo por apenas um ano, quando morreu repentinamente, sem doença nem dor. Para surpresa de todos, do túmulo de Mani brotou um arbusto novo, que fez a terra fender. Os índios cavaram e retiraram grossas raízes, brancas como o corpo da indiazinha. E a planta ficou conhecida como *manioca*, que significa “casa de Mani”.

Desde essa época, a abençoada planta nascida do corpo de Mani tem salvado seu povo da fome. Já era um dos principais alimentos dos indígenas na época do Descobrimento e ainda hoje marca presença no cardápio dos brasileiros de todo o país: como o nome da mandioca, macaxeira ou aipim; cozida, frita ou torrada na forma de farinha, não há quem resista a essa versátil e saborosíssima raiz. E, além de seus múltiplos usos culinários, ela é também matéria prima para a fabricação dos produtos mais inusitados: cerveja, tecidos, móveis e até plástico biodegradável.

(Adeodato, Sérgio. In: *Globo Ciência*. Jan/1988.p. 35.)

06. Com que objetivo o autor escreveu o primeiro parágrafo do texto?

- a) Narrar a lenda indígena sobre a origem dos índios.
- b) Informar sobre a origem da mandioca e de seu nome, de acordo com a tradição indígena.
- c) Descrever os vários usos da mandioca.
- d) Expor seu ponto de vista sobre os poderes da mandioca.
- e) Explicar a forma de cultivo da mandioca.

07. Escolha a alternativa em que estão transcritos o primeiro e segundo períodos do corpo do texto.

- a) “Conta uma lenda indígena que,” e “no princípio dos tempos,”.
- b) “Conta uma lenda indígena que, no princípio dos tempos,” e “a filha de um cacique engravidou sem contato com homem.”.
- c) “Conta uma lenda indígena que, no princípio dos tempos, a filha de um cacique engravidou sem contato com homem.” e “O cacique não acreditou na história da filha e ficou muito bravo.”.
- d) “Conta uma lenda indígena que, no princípio dos tempos, a filha de um cacique engravidou sem contato com homem. O cacique não acreditou na história da filha e ficou muito bravo.” e “Até que, em sonho, ele recebeu a visita de um homem branco atestando a inocência da moça. Branca era também a linda indiazinha que nasceu meses depois e recebeu o nome de Mani.”.
- e) “Conta uma lenda indígena que, no princípio dos tempos, a filha de um cacique engravidou sem contato com homem. O cacique não acreditou na história da filha e ficou muito bravo. Até que, em sonho, ele recebeu a visita de um homem branco atestando a inocência da moça. Branca era também a linda indiazinha que nasceu meses depois e recebeu o nome de Mani. Ela foi a alegria da tribo por apenas um ano, quando morreu repentinamente, sem doença nem dor. Para surpresa de todos, do túmulo de Mani brotou um arbusto novo, que fez a terra fender. Os índios cavaram e retiraram grossas raízes, brancas como o corpo da indiazinha. E a planta ficou conhecida como *manioca*, que significa ‘casa de Mani’.” e “Desde essa época, a abençoada planta nascida do corpo de Mani tem salvado seu povo da fome. Já era um dos principais alimentos dos indígenas na época do Descobrimento e ainda hoje marca presença no cardápio dos brasileiros de todo o país: como o nome da mandioca, macaxeira ou aipim; cozida, frita ou torrada na forma de farinha, não há quem resista a essa versátil e saborosíssima raiz. E, além de seus múltiplos usos culinários, ela é também matéria prima para a fabricação dos produtos mais inusitados: cerveja, tecidos, móveis e até plástico biodegradável.”.

08. Quanto à análise morfológica, escolha a alternativa em que a palavra sublinhada não pertence à classe de palavras mencionada entre parênteses.

- a) “Conta uma lenda indígena que, no princípio dos tempos, a filha de um cacique engravidou sem contato com homem.” (substantivo).
- b) “Conta uma lenda indígena que, no princípio dos tempos, a filha de um cacique engravidou sem contato com homem.” (verbo).
- c) “Conta uma lenda indígena que, no princípio dos tempos, a filha de um cacique engravidou sem contato com homem.” (adjetivo).
- d) “Conta uma lenda indígena que, no princípio dos tempos, a filha de um cacique engravidou sem contato com homem.” (artigo).

e) “Conta uma lenda indígena que, no princípio dos tempos, a filha de um cacique engravidou sem contato com homem.” (artigo).

09. Observe o texto e escolha a alternativa correta.

- a) No enunciado “O cacique não acreditou na história da filha e ficou muito bravo.”, há apenas uma oração.
 b) No trecho “Até que, em sonho, ele recebeu a visita de um homem branco atestando a inocência da moça.”, há três orações.
 c) O trecho “Branca era também a linda indiazinha que nasceu meses depois e recebeu o nome de Mani.” não é uma frase.
 d) No trecho “Ela foi a alegria da tribo por apenas um ano, quando morreu repentinamente, sem doença nem dor.”, há uma oração.
 e) O trecho “Para surpresa de todos, do túmulo de Mani brotou um arbusto novo, que fez a terra fender.”, é um período.

10. Analise alguns substantivos do texto e escolha a alternativa correta.

- a) O substantivo “índios” sofreu flexão de número.
 b) Tanto o substantivo “raízes” como o substantivo “corpo” são palavras derivadas.
 c) Todos os substantivos do trecho “Já era um dos principais alimentos dos indígenas na época do Descobrimento” estão no plural.
 d) A formação do plural em cada um dos substantivos a seguir é diferente: “brasileiros”, “múltiplos”, “culinários” e “produtos”.
 e) O radical do substantivo “cerveja” é *cer-*.

Leia o texto abaixo e responda às próximas dez questões.

O cinema engana os olhos da gente

Faz cem anos que inventaram o cinema. E nele tudo é mentirinha. As imagens se mexendo na tela não passam de uma ilusão. O homem demorou milhares de anos para realizar o desejo de dar movimento aos desenhos. Nos tempos das cavernas, as pessoas tentavam representar as coisas em movimento. Elas desenhavam, por exemplo, os animais com oito patas. Era o jeito de mostrar o animal correndo.

A história do cinema começou com a invenção da fotografia, os homens conseguiram reproduzir imagens usando luz e produtos químicos.

Foram os irmãos Louis e Auguste Lumière que tornaram o cinema possível. Eles inventaram uma máquina que podia projetar imagens impressas (gravadas) em um filme.

A primeira sessão de cinema aconteceu em Paris, em 1895. O filme era curtinho e mostrava um trem chegando à estação.

Contam que as pessoas ficaram muito surpresas com o trem se aproximando. Teve gente que caiu da cadeira e muitas mulheres gritaram de susto.

(Medeiros, Paula. **Folhinha**. In: Folha de S. Paulo, 19 maio 1995, adaptado.)

11. O primeiro parágrafo do texto traz esclarecimentos sobre o título. Qual trecho desse parágrafo explica de fato o título?

- a) “Faz cem anos que inventaram o cinema”.
 b) “As imagens se mexendo na tela não passam de uma ilusão”.
 c) “Nos tempos das cavernas, as pessoas tentavam representar as coisas em movimento”.
 d) “Era o jeito de mostrar o animal correndo”.
 e) “O homem demorou milhares de anos para realizar o desejo de dar movimento aos desenhos”.

12. Escolha a alternativa em que a palavra acentuada retirada do texto e sua justificativa, baseada nas regras de acentuação, estejam corretas.

- a) “é” – oxítona terminada em *e*.
 b) “história” – oxítona terminada em *a*.
 c) “químicos” – oxítona terminada em *o(s)*.
 d) “possível” – paroxítona terminada em *l*.
 e) “máquina” – paroxítona terminada em *a*.

13. Das orações abaixo, escolha aquela cujo trecho destacado é o seu sujeito.

- a) “Faz cem anos”.
 b) “que inventaram o cinema.”.
 c) “E nele tudo é mentirinha.”.
 d) “As imagens se mexendo na tela”.
 e) “não passam de uma ilusão.”.

14. Agora, escolha a oração cujo trecho sublinhado é o seu predicado.

- a) “Faz cem anos”.
 b) “que inventaram o cinema.”.

- c) “E nele tudo é mentirinha.”
 d) “As imagens se mexendo na tela”
 e) “não passam de uma ilusão.”

15. Releia o último período do texto e, depois, escolha a alternativa correta.

- a) Nesse período, há apenas uma oração.
 b) É um período, porém não uma frase.
 c) Trata-se de um período simples.
 d) Esse período é composto.
 e) O sujeito da oração, nesse período, é classificado como desinencial.

16. Analise aspectos relacionados à ortografia de algumas palavras do texto e escolha a alternativa correta.

- a) A palavra “representar”, no texto, é um dos casos em que a letra *s* representa o fonema /s/.
 b) A palavra “história”, quanto à sílaba tônica, é uma oxítone.
 c) Na expressão “produtos químicos”, ambas as palavras são paroxítonas.
 d) O til sobre a vogal *a*, em “irmãos” tem por objetivo indicar a sílaba tônica da palavra.
 e) O acento grave em “à” foi empregado para indicar a crase da preposição *a* com o artigo *a*.

17. Escolha a alternativa em que foi transcrito o primeiro período do corpo do texto.

- a) “Faz cem anos”.
 b) “que inventaram o cinema.”
 c) “Faz cem anos que inventaram o cinema.”
 d) “Faz cem anos que inventaram o cinema. E nele tudo é mentirinha. As imagens se mexendo na tela não passam de uma ilusão. O homem demorou milhares de anos para realizar o desejo de dar movimento aos desenhos. Nos tempos das cavernas, as pessoas tentavam representar as coisas em movimento. Elas desenhavam, por exemplo, os animais com oito patas. Era o jeito de mostrar o animal correndo.”
 e) “Faz cem anos que inventaram o cinema. E nele tudo é mentirinha.”

18. No texto, há uma informação entre parênteses, sinais de pontuação que são empregados para intercalar, num texto, qualquer indicação acessória. Com que objetivo esse recurso foi empregado nesse texto?

- a) Para fazer indicações bibliográficas.
 b) Para introduzir uma explicação.
 c) Para inserir uma nota emocional.
 d) Para apresentar a citação textual de uma palavra ou expressão traduzida.
 e) Para fazer indicações cênicas.

19. Quanto à análise morfológica, escolha a alternativa em que a palavra sublinhada pertence à classe de palavras entre parênteses.

- a) A primeira sessão de cinema aconteceu em Paris, em 1895.” (substantivo).
 b) “A primeira sessão de cinema aconteceu em Paris, em 1895.” (pronome).
 c) “A primeira sessão de cinema aconteceu em Paris, em 1895.” (adjetivo).
 d) “A primeira sessão de cinema aconteceu em Paris, em 1895.” (conjunção).
 e) “A primeira sessão de cinema aconteceu em Paris, em 1895.” (verbo).

20. Observe o texto e escolha a alternativa correta.

- a) No enunciado “O filme era curtinho e mostrava um trem chegando à estação.” há apenas uma oração.
 b) No trecho “Contam que as pessoas ficaram muito surpresas”, há três orações.
 c) O trecho “Teve gente que caiu da cadeira e muitas mulheres gritaram de susto.” é uma frase.
 d) No trecho “Foram os irmãos Louis e Auguste Lumière”, há duas orações.
 e) O termo “cinema”, que aparece no título do texto, é um adjetivo.

MATEMÁTICA

21. Fernando, Vanderlei e Marcelo são irmãos. Somando a idade dos três irmãos, obtemos 63. Vanderlei é um ano mais velho que Fernando e Marcelo é dois anos mais velho que Fernando. Quais são as idades de Fernando, Vanderlei e Marcelo, respectivamente?

- a) 20 – 21 – 22
 b) 30 – 31 – 32
 c) 21 – 21 – 21
 d) 31 – 32 – 33
 e) 31 – 31 – 31

22. Numa festa, havia 3.000 pessoas, das quais 25% eram crianças. Quantos eram os adultos?

- a) 700 adultos



- b) 750 adultos
- c) 1500 adultos
- d) 2250 adultos
- e) 2700 adultos

23. João Carlos deseja comprar um imóvel avaliado em R\$ 150.000,00. Se ele pagar 1/4 do valor total à vista, quanto faltará para adquirir o imóvel?

- a) R\$ 172.500,00
- b) R\$ 120.500,00
- c) R\$ 127.500,00
- d) R\$ 137.500,00
- e) R\$ 112.500,00

24. Os salários da Empresa Alfa são distribuídos de acordo com a tabela; Qual é a média dos salários da empresa?

- a) R\$ 1.612,50
- b) R\$ 1.512,50
- c) R\$ 1.812,50
- d) R\$ 2.512,50
- e) R\$ 1.500,50

Salário (em R\$)	Número de Funcionários
R\$ 800,00	09
R\$ 1.200,00	05
R\$ 1.600,00	08
R\$ 2.000,00	04
R\$ 2.400,00	06
Total	32

25. Trinta por cento da quarta parte de 7.200 é igual a:

- a) 470
- b) 690
- c) 540
- d) 349
- e) 780

26. Com 4 latas de tinta pinte 360 m² de parede. Quantos metros quadrados poderiam ser pintados com 10 latas dessa mesma tinta?

- a) 900m²
- b) 780m²
- c) 720m²
- d) 640m²
- e) 800m²

27. Com 12 pedreiros podemos construir um muro em 5 dias. Quantos dias levarão 10 pedreiros para fazer o mesmo trabalho?

- a) 8 dias
- b) 4 dias
- c) 3 dias
- d) 2 dias
- e) 6 dias

28. Tirando 2 unidades da metade da idade de Francisco, obtemos a idade de Thays, que tem 13 anos. Qual é a idade de Francisco?

- b) 60
- c) 30
- d) 25
- e) 15

29. Dois vendedores de uma firma saem a serviço no mesmo dia. O primeiro faz viagens de 15 em 15 dias e o segundo, de 18 em 18 dias. Depois de quantos dias sairão juntos novamente?

- a) 120 dias
- b) 90 dias
- c) 110 dias
- d) 130 dias
- e) 140 dias

30. Uma TV custa R\$ 1.850,00. Pagando à vista, ganha-se um desconto de 12%. Qual será o preço pago à vista?

- a) R\$ 1.628,00

- b) R\$ 1.222,00
- c) R\$ 1.350,50
- d) R\$ 1.450,50
- e) R\$ 1.420,00

CONHECIMENTOS GERAIS

31. A Câmara Municipal de Telêmaco Borba/PR é presidida por

- a) José Reinaldo Antunes Carneiro.
- b) Aparecida de Fátima Ribeiro Frazza.
- c) Sérgio de Souza Bueno.
- d) Élio Cezar Alves do Santos.
- e) Renato Bahena.

32. O município de Telêmaco Borba/PR foi instalado em

- a) 21/03/1941.
- b) 21/03/1964.
- c) 21/03/1947.
- d) 21/03/1960.
- e) 21/03/1970.

33. Marque a alternativa que contém a imagem da bandeira do município de Telêmaco Borba/PR.



34. O Hino de Telêmaco Borba foi composto na primeira legislatura municipal, na década de:

- a) 50
- b) 60
- c) 70
- d) 80
- e) 90



35. No Word, o ícone

significa

- a) Centralizar.



- b) Bordas externas.
- c) Justificar.
- d) Aumentar recuo.
- e) Sombreamento

36. Marque a alternativa que completa o texto, segundo a Lei Orgânica do Município de Telêmaco Borba/PR.

Para as eleições da Mesa, após a primeira sessão legislativa, a data para a sua realização será o dia _____, ficando a posse dos eleitos, para o dia 1º de janeiro do exercício subsequente.

- a) 1º de janeiro
- b) 31 de dezembro
- c) 15 de dezembro
- d) 1º de fevereiro
- e) 05 de dezembro

Com base na Lei nº 1883/2012, que dispõe sobre o Estatuto dos Servidores Públicos da Administração Direta, Autárquica e Funcional do Município de Telêmaco Borba/PR, responda às próximas quatro questões.

37. O art. 1º da Lei nº 1883/2012 disciplina o Regime Jurídico Estatutário aplicável aos servidores públicos investidos em cargo público de provimento efetivo ou de provimento em comissão:

- (1) do Poder Executivo;
- (2) do Poder Legislativo;
- (3) das Autarquias;
- (4) das Fundações;
- (5) das Instituições sem fins lucrativos.

Qual item não faz parte do art. 1º da referida Lei?

- a) (1)
- b) (2)
- c) (3)
- d) (4)
- e) (5)

38. Leia os itens a seguir e marque a alternativa verdadeira.

I. As pessoas portadoras de deficiência é assegurado o direito de se inscrever em concurso público para o provimento de cargo, cujas atribuições sejam compatíveis com a deficiência de que são portadoras.

II. Para as pessoas portadoras de deficiência serão reservadas 10% das vagas oferecidas, nas condições a serem definidas no edital do concurso público.

III. Quando a aplicação do percentual de vagas resultar em número fracionado, igual a 0,50, será garantida uma vaga do cargo objeto do concurso público para as pessoas portadoras de deficiência.

- a) É correto o item I, apenas.
- b) É correto o item II, apenas.
- c) É correto o item III, apenas.
- d) São corretos os itens I e II, apenas.
- e) São corretos os itens I, II e III.

39. Assinale a alternativa que está de acordo com o art. 7º da Lei nº 1883/2012.

- a) O concurso público para investidura em cargo público de provimento efetivo será de provas objetivas, de acordo com a natureza e a complexidade do cargo.
- b) O concurso público para investidura em cargo público de provimento efetivo será de provas objetivas e práticas, de acordo com a natureza e a complexidade do cargo.
- c) O concurso público para investidura em cargo público de provimento efetivo será de provas ou de provas e títulos, de acordo com a natureza e a complexidade do cargo.
- d) O concurso público para investidura em cargo público em comissão será de provas ou de provas e títulos, de acordo com a natureza e a complexidade do cargo.
- e) O concurso público para investidura em cargo público de provimento efetivo e em comissão será de provas ou de provas e títulos, de acordo com a natureza e a complexidade do cargo.

40. O concurso público terá validade de

- a) até 4 anos, a critério da Administração.
- b) até 2 anos, prorrogável uma vez por igual período, a critério da Administração.
- c) até 1 ano, prorrogável uma vez por igual período, a critério da Administração.
- d) 1 ano, a critério da Administração.
- e) até 2 anos, prorrogável por mais 1 ano, a critério da Administração.



PREFEITURA DE TELÊMACO BORBA - ESTADO DO PARANÁ - EDITAL Nº 001-2016 - CONCURSO PÚBLICO

VESPERTINO – 29/05/2016 – NÍVEL FUNDAMENTAL COMPLETO

1

PROVA OBJETIVA NÚMERO

CARGO: AGENTE DE COMBATE A ENDEMIAS

Leia atentamente as INSTRUÇÕES:

1. Confira seus dados no cartão-resposta: nome, número de inscrição e o curso para o qual se inscreveu.
2. **MARQUE no seu cartão-resposta o número da sua prova** (não será corrigido o cartão-resposta que não tiver marcado o número da prova) e **Assine** seu cartão-resposta.
3. Aguarde a autorização do Fiscal para abrir o caderno de prova. Ao receber a ordem do fiscal, confira o caderno de prova com muita atenção. Nenhuma reclamação sobre o total de questões ou falha de impressão será aceita depois de iniciada a prova.
4. O cartão-resposta não será substituído, salvo se contiver erro de impressão.
5. Preencha toda a área do cartão-resposta correspondente à alternativa de sua escolha, com caneta esferográfica (tinta azul ou preta), sem ultrapassar as bordas. As marcações duplas, ou rasuradas, com corretivo, ou marcadas diferentemente do modelo estabelecido no cartão-resposta poderão ser anuladas.
6. Sua prova tem **40** questões, com **5** alternativas.
7. Cabe apenas ao candidato a interpretação das questões, **o fiscal** não poderá fazer nenhuma interferência.
8. A prova será realizada com duração máxima de **3 (três) horas**, incluído o tempo para a realização da Prova Objetiva de múltipla escolha e o preenchimento do cartão-resposta.
9. O candidato poderá retirar-se do local de realização das provas somente **1 (uma) hora** após o seu início, sem levar o caderno de prova.
10. O candidato poderá levar o caderno de provas, assim como anotação contendo transcrição do seu cartão-resposta, somente **1h30min** (uma hora e trinta minutos) após o início da realização da prova.
11. Ao terminar a prova, o candidato deverá entregar ao fiscal de sala o cartão-resposta preenchido e **ASSINADO**.
12. Os **3 (três)** candidatos, que terminarem a prova por último, deverão permanecer na sala, e só poderão sair juntos após o fechamento do envelope, contendo os cartões-resposta dos candidatos presentes e ausentes, e assinarem no lacre do referido envelope, atestando que este foi devidamente lacrado.
13. Durante todo o tempo em que permanecer no local onde está ocorrendo o concurso, o candidato deverá, manter o celular desligado e sem bateria, só sendo permitido ligar depois de ultrapassar o portão de saída do prédio.
14. Não será permitido ao candidato fumar na sala de provas, bem como nas dependências.
15. Depois de terminar a prova e entregar ao fiscal o cartão-resposta, preenchido e assinado, não será mais permitido ao candidato o uso do banheiro e bebedouro.

BOA PROVA!

LÍNGUA PORTUGUESA

Leia o texto abaixo e responda às próximas cinco questões.

Os poderes da mandioca

Conta uma lenda indígena que, no princípio dos tempos, a filha de um cacique engravidou sem contato com homem. O cacique não acreditou na história da filha e ficou muito bravo. Até que, em sonho, ele recebeu a visita de um homem branco atestando a inocência da moça. Branca era também a linda indiazinha que nasceu meses depois e recebeu o nome de Mani. Ela foi a alegria da tribo por apenas um ano, quando morreu repentinamente, sem doença nem dor. Para surpresa de todos, do túmulo de Mani brotou um arbusto novo, que fez a terra fender. Os índios cavaram e retiraram grossas raízes, brancas como o corpo da indiazinha. E a planta ficou conhecida como *mandioca*, que significa “casa de Mani”.

Desde essa época, a abençoada planta nascida do corpo de Mani tem salvado seu povo da fome. Já era um dos principais alimentos dos indígenas na época do Descobrimento e ainda hoje marca presença no cardápio dos brasileiros de todo o país: como o nome da mandioca, macaxeira ou aipim; cozida, frita ou torrada na forma de farinha, não há quem resista a essa versátil e saborosíssima raiz. E, além de seus múltiplos usos culinários, ela é também matéria prima para a fabricação dos produtos mais inusitados: cerveja, tecidos, móveis e até plástico biodegradável.

(Adeodato, Sérgio. In: *Globo Ciência*. Jan/1988.p. 35.)

01. Com que objetivo o autor escreveu o primeiro parágrafo do texto?

- Narrar a lenda indígena sobre a origem dos índios.
- Informar sobre a origem da mandioca e de seu nome, de acordo com a tradição indígena.
- Descrever os vários usos da mandioca.
- Expor seu ponto de vista sobre os poderes da mandioca.
- Explicar a forma de cultivo da mandioca.

02. Escolha a alternativa em que estão transcritos o primeiro e segundo períodos do corpo do texto.

- “Conta uma lenda indígena que,” e “no princípio dos tempos,”.
- “Conta uma lenda indígena que, no princípio dos tempos,” e “a filha de um cacique engravidou sem contato com homem.”.
- “Conta uma lenda indígena que, no princípio dos tempos, a filha de um cacique engravidou sem contato com homem.” e “O cacique não acreditou na história da filha e ficou muito bravo.”.
- “Conta uma lenda indígena que, no princípio dos tempos, a filha de um cacique engravidou sem contato com homem. O cacique não acreditou na história da filha e ficou muito bravo.” e “Até que, em sonho, ele recebeu a visita de um homem branco atestando a inocência da moça. Branca era também a linda indiazinha que nasceu meses depois e recebeu o nome de Mani.”.
- “Conta uma lenda indígena que, no princípio dos tempos, a filha de um cacique engravidou sem contato com homem. O cacique não acreditou na história da filha e ficou muito bravo. Até que, em sonho, ele recebeu a visita de um homem branco atestando a inocência da moça. Branca era também a linda indiazinha que nasceu meses depois e recebeu o nome de Mani. Ela foi a alegria da tribo por apenas um ano, quando morreu repentinamente, sem doença nem dor. Para surpresa de todos, do túmulo de Mani brotou um arbusto novo, que fez a terra fender. Os índios cavaram e retiraram grossas raízes, brancas como o corpo da indiazinha. E a planta ficou conhecida como *mandioca*, que significa ‘casa de Mani’.” e “Desde essa época, a abençoada planta nascida do corpo de Mani tem salvado seu povo da fome. Já era um dos principais alimentos dos indígenas na época do Descobrimento e ainda hoje marca presença no cardápio dos brasileiros de todo o país: como o nome da mandioca, macaxeira ou aipim; cozida, frita ou torrada na forma de farinha, não há quem resista a essa versátil e saborosíssima raiz. E, além de seus múltiplos usos culinários, ela é também matéria prima para a fabricação dos produtos mais inusitados: cerveja, tecidos, móveis e até plástico biodegradável.”.

03. Quanto à análise morfológica, escolha a alternativa em que a palavra sublinhada não pertence à classe de palavras mencionada entre parênteses.

- “Conta uma lenda indígena que, no princípio dos tempos, a filha de um cacique engravidou sem contato com homem.” (substantivo).
- “Conta uma lenda indígena que, no princípio dos tempos, a filha de um cacique engravidou sem contato com homem.” (verbo).
- “Conta uma lenda indígena que, no princípio dos tempos, a filha de um cacique engravidou sem contato com homem.” (adjetivo).
- “Conta uma lenda indígena que, no princípio dos tempos, a filha de um cacique engravidou sem contato com homem.” (artigo).
- “Conta uma lenda indígena que, no princípio dos tempos, a filha de um cacique engravidou sem contato com homem.” (artigo).

04. Observe o texto e escolha a alternativa correta.

- No enunciado “O cacique não acreditou na história da filha e ficou muito bravo.”, há apenas uma oração.
- No trecho “Até que, em sonho, ele recebeu a visita de um homem branco atestando a inocência da moça.”, há três orações.



- c) O trecho “Branca era também a linda indiazinha que nasceu meses depois e recebeu o nome de Mani.” não é uma frase.
- d) No trecho “Ela foi a alegria da tribo por apenas um ano, quando morreu repentinamente, sem doença nem dor.”, há uma oração.
- e) O trecho “Para surpresa de todos, do túmulo de Mani brotou um arbusto novo, que fez a terra fender.”, é um período.

05. Analise alguns substantivos do texto e escolha a alternativa correta.

- a) O substantivo “índios” sofreu flexão de número.
- b) Tanto o substantivo “raízes” como o substantivo “corpo” são palavras derivadas.
- c) Todos os substantivos do trecho “Já era um dos principais alimentos dos indígenas na época do Descobrimento” estão no plural.
- d) A formação do plural em cada um dos substantivos a seguir é diferente: “brasileiros”, “múltiplos”, “culinários” e “produtos”.
- e) O radical do substantivo “cerveja” é *cer-*.

Leia o texto abaixo e responda às próximas dez questões.

O cinema engana os olhos da gente

Faz cem anos que inventaram o cinema. E nele tudo é mentirinha. As imagens se mexendo na tela não passam de uma ilusão. O homem demorou milhares de anos para realizar o desejo de dar movimento aos desenhos. Nos tempos das cavernas, as pessoas tentavam representar as coisas em movimento. Elas desenhavam, por exemplo, os animais com oito patas. Era o jeito de mostrar o animal correndo.

A história do cinema começou com a invenção da fotografia, os homens conseguiram reproduzir imagens usando luz e produtos químicos.

Foram os irmãos Louis e Auguste Lumière que tornaram o cinema possível. Eles inventaram uma máquina que podia projetar imagens impressas (gravadas) em um filme.

A primeira sessão de cinema aconteceu em Paris, em 1895. O filme era curtinho e mostrava um trem chegando à estação.

Contam que as pessoas ficaram muito surpresas com o trem se aproximando. Teve gente que caiu da cadeira e muitas mulheres gritaram de susto.

(Medeiros, Paula. **Folhinha**. In: Folha de S. Paulo, 19 maio 1995, adaptado.)

06. O primeiro parágrafo do texto traz esclarecimentos sobre o título. Qual trecho desse parágrafo explica de fato o título?

- a) “Faz cem anos que inventaram o cinema”.
- b) “As imagens se mexendo na tela não passam de uma ilusão”.
- c) “Nos tempos das cavernas, as pessoas tentavam representar as coisas em movimento”.
- d) “Era o jeito de mostrar o animal correndo”.
- e) “O homem demorou milhares de anos para realizar o desejo de dar movimento aos desenhos”.

07. Escolha a alternativa em que a palavra acentuada retirada do texto e sua justificativa, baseada nas regras de acentuação, estejam corretas.

- a) “é” – oxítona terminada em *e*.
- b) “história” – oxítona terminada em *a*.
- c) “químicos” – oxítona terminada em *o(s)*.
- d) “possível” – paroxítona terminada em *l*.
- e) “máquina” – paroxítona terminada em *a*.

08. Das orações abaixo, escolha aquela cujo trecho destacado é o seu sujeito.

- a) “Faz cem anos”.
- b) “que inventaram o cinema”.
- c) “E nele tudo é mentirinha”.
- d) “As imagens se mexendo na tela”.
- e) “não passam de uma ilusão”.

09. Agora, escolha a oração cujo trecho sublinhado é o seu predicado.

- a) “Faz cem anos”.
- b) “que inventaram o cinema”.
- c) “E nele tudo é mentirinha”.
- d) “As imagens se mexendo na tela”.
- e) “não passam de uma ilusão”.

10. Releia o último período do texto e, depois, escolha a alternativa correta.

- a) Nesse período, há apenas uma oração.
- b) É um período, porém não uma frase.



- c) Trata-se de um período simples.
- d) Esse período é composto.
- e) O sujeito da oração, nesse período, é classificado como desinencial.

11. Analise aspectos relacionados à ortografia de algumas palavras do texto e escolha a alternativa correta.

- a) A palavra “representar”, no texto, é um dos casos em que a letra s representa o fonema /s/.
- b) A palavra “história”, quanto à sílaba tônica, é uma oxítônica.
- c) Na expressão “produtos químicos”, ambas as palavras são paroxítonas.
- d) O til sobre a vogal a, em “irmãos” tem por objetivo indicar a sílaba tônica da palavra.
- e) O acento grave em “à” foi empregado para indicar a crase da preposição a com o artigo a.

12. Escolha a alternativa em que foi transcrito o primeiro período do corpo do texto.

- a) “Faz cem anos”.
- b) “que inventaram o cinema.”.
- c) “Faz cem anos que inventaram o cinema.”.
- d) “Faz cem anos que inventaram o cinema. E nele tudo é mentirinha. As imagens se mexendo na tela não passam de uma ilusão. O homem demorou milhares de anos para realizar o desejo de dar movimento aos desenhos. Nos tempos das cavernas, as pessoas tentavam representar as coisas em movimento. Elas desenhavam, por exemplo, os animais com oito patas. Era o jeito de mostrar o animal correndo.”.
- e) “Faz cem anos que inventaram o cinema. E nele tudo é mentirinha.”.

13. No texto, há uma informação entre parênteses, sinais de pontuação que são empregados para intercalar, num texto, qualquer indicação acessória. Com que objetivo esse recurso foi empregado nesse texto?

- a) Para fazer indicações bibliográficas.
- b) Para introduzir uma explicação.
- c) Para inserir uma nota emocional.
- d) Para apresentar a citação textual de uma palavra ou expressão traduzida.
- e) Para fazer indicações cênicas.

14. Quanto à análise morfológica, escolha a alternativa em que a palavra sublinhada pertence à classe de palavras entre parênteses.

- a) “A primeira sessão de cinema aconteceu em Paris, em 1895.” (substantivo).
- b) “A primeira sessão de cinema aconteceu em Paris, em 1895.” (pronome).
- c) “A primeira sessão de cinema aconteceu em Paris, em 1895.” (adjetivo).
- d) “A primeira sessão de cinema aconteceu em Paris, em 1895.” (conjunção).
- e) “A primeira sessão de cinema aconteceu em Paris, em 1895.” (verbo).

15. Observe o texto e escolha a alternativa correta.

- a) No enunciado “O filme era curtinho e mostrava um trem chegando à estação.” há apenas uma oração.
- b) No trecho “Contam que as pessoas ficaram muito surpresas”, há três orações.
- c) O trecho “Teve gente que caiu da cadeira e muitas mulheres gritaram de susto.” é uma frase.
- d) No trecho “Foram os irmãos Louis e Auguste Lumière”, há duas orações.
- e) O termo “cinema”, que aparece no título do texto, é um adjetivo.

MATEMÁTICA

16. Fernando, Vanderlei e Marcelo são irmãos. Somando a idade dos três irmãos, obtemos 63. Vanderlei é um ano mais velho que Fernando e Marcelo é dois anos mais velho que Fernando. Quais são as idades de Fernando, Vanderlei e Marcelo, respectivamente?

- a) 20 – 21 – 22
- b) 30 – 31 – 32
- c) 21 – 21 – 21
- d) 31 – 32 – 33
- e) 31 – 31 – 31

17. Numa festa, havia 3.000 pessoas, das quais 25% eram crianças. Quantos eram os adultos?

- a) 700 adultos
- b) 750 adultos
- c) 1500 adultos
- d) 2250 adultos
- e) 2700 adultos

18. João Carlos deseja comprar um imóvel avaliado em R\$ 150.000,00. Se ele pagar 1/4 do valor total à vista, quanto faltará para adquirir o imóvel?

- a) R\$ 172.500,00
- b) R\$ 120.500,00
- c) R\$ 127.500,00
- d) R\$ 137.500,00
- e) R\$ 112.500,00

19. Os salários da Empresa Alfa são distribuídos de acordo com a tabela; Qual é a média dos salários da empresa?

- a) R\$ 1.612,50
- b) R\$ 1.512,50
- c) R\$ 1.812,50
- d) R\$ 2.512,50
- e) R\$ 1.500,50

Salário (em R\$)	Número de Funcionários
R\$ 800,00	09
R\$ 1.200,00	05
R\$ 1.600,00	08
R\$ 2.000,00	04
R\$ 2.400,00	06
Total	32

20. Trinta por cento da quarta parte de 7.200 é igual a:

- a) 470
- b) 690
- c) 540
- d) 349
- e) 780

21. Com 4 latas de tinta pinte 360 m² de parede. Quantos metros quadrados poderiam ser pintados com 10 latas dessa mesma tinta?

- a) 900m²
- b) 780m²
- c) 720m²
- d) 640m²
- e) 800m²

22. Com 12 pedreiros podemos construir um muro em 5 dias. Quantos dias levarão 10 pedreiros para fazer o mesmo trabalho?

- a) 8 dias
- b) 4 dias
- c) 3 dias
- d) 2 dias
- e) 6 dias

23. Tirando 2 unidades da metade da idade de Francisco, obtemos a idade de Thays, que tem 13 anos. Qual é a idade de Francisco?

- b) 60
- c) 30
- d) 25
- e) 15

24. Dois vendedores de uma firma saem a serviço no mesmo dia. O primeiro faz viagens de 15 em 15 dias e o segundo, de 18 em 18 dias. Depois de quantos dias sairão juntos novamente?

- a) 120 dias
- b) 90 dias
- c) 110 dias
- d) 130 dias
- e) 140 dias

25. Uma TV custa R\$ 1.850,00. Pagando à vista, ganha-se um desconto de 12%. Qual será o preço pago à vista?

- a) R\$ 1.628,00
- b) R\$ 1.222,00
- c) R\$ 1.350,50
- d) R\$ 1.450,50
- e) R\$ 1.420,00

CONHECIMENTOS GERAIS

26. A Câmara Municipal de Telêmaco Borba/PR é presidida por

- a) José Reinaldo Antunes Carneiro.
- b) Aparecida de Fátima Ribeiro Frazza.
- c) Sérgio de Souza Bueno.
- d) Élio Cezar Alves do Santos.
- e) Renato Bahena.

27. O município de Telêmaco Borba/PR foi instalado em

- a) 21/03/1941.
- b) 21/03/1964.
- c) 21/03/1947.
- d) 21/03/1960.
- e) 21/03/1970.

28. Marque a alternativa que contém a imagem da bandeira do município de Telêmaco Borba/PR.



29. O Hino de Telêmaco Borba foi composto na primeira legislatura municipal, na década de:

- a) 50
- b) 60
- c) 70
- d) 80
- e) 90



30. No Word, o ícone significa

- a) Centralizar.
- b) Bordas externas.
- c) Justificar.
- d) Aumentar recuo.
- e) Sombreamento

31. Marque a alternativa que completa o texto, segundo a Lei Orgânica do Município de Telêmaco Borba/PR.



Para as eleições da Mesa, após a primeira sessão legislativa, a data para a sua realização será o dia _____, ficando a posse dos eleitos, para o dia 1º de janeiro do exercício subsequente.

- a) 1º de janeiro
- b) 31 de dezembro
- c) 15 de dezembro
- d) 1º de fevereiro
- e) 05 de dezembro

Com base na Lei nº 1883/2012, que dispõe sobre o Estatuto dos Servidores Públicos da Administração Direta, Autárquica e Funcional do Município de Telêmaco Borba/PR, responda às próximas quatro questões.

32. O art. 1º da Lei nº 1883/2012 disciplina o Regime Jurídico Estatutário aplicável aos servidores públicos investidos em cargo público de provimento efetivo ou de provimento em comissão:

- (1) do Poder Executivo;
- (2) do Poder Legislativo;
- (3) das Autarquias;
- (4) das Fundações;
- (5) das Instituições sem fins lucrativos.

Qual item não faz parte do art. 1º da referida Lei?

- a) (1)
- b) (2)
- c) (3)
- d) (4)
- e) (5)

33. Leia os itens a seguir e marque a alternativa verdadeira.

I. Às pessoas portadoras de deficiência é assegurado o direito de se inscrever em concurso público para o provimento de cargo, cujas atribuições sejam compatíveis com a deficiência de que são portadoras.

II. Para as pessoas portadoras de deficiência serão reservadas 10% das vagas oferecidas, nas condições a serem definidas no edital do concurso público.

III. Quando a aplicação do percentual de vagas resultar em número fracionado, igual a 0,50, será garantida uma vaga do cargo objeto do concurso público para as pessoas portadoras de deficiência.

- a) É correto o item I, apenas.
- b) É correto o item II, apenas.
- c) É correto o item III, apenas.
- d) São corretos os itens I e II, apenas.
- e) São corretos os itens I, II e III.

34. Assinale a alternativa que está de acordo com o art. 7º da Lei nº 1883/2012.

- a) O concurso público para investidura em cargo público de provimento efetivo será de provas objetivas, de acordo com a natureza e a complexidade do cargo.
- b) O concurso público para investidura em cargo público de provimento efetivo será de provas objetivas e práticas, de acordo com a natureza e a complexidade do cargo.
- c) O concurso público para investidura em cargo público de provimento efetivo será de provas ou de provas e títulos, de acordo com a natureza e a complexidade do cargo.
- d) O concurso público para investidura em cargo público em comissão será de provas ou de provas e títulos, de acordo com a natureza e a complexidade do cargo.
- e) O concurso público para investidura em cargo público de provimento efetivo e em comissão será de provas ou de provas e títulos, de acordo com a natureza e a complexidade do cargo.

35. O concurso público terá validade de

- a) até 4 anos, a critério da Administração.
- b) até 2 anos, prorrogável uma vez por igual período, a critério da Administração.
- c) até 1 ano, prorrogável uma vez por igual período, a critério da Administração.
- d) 1 ano, a critério da Administração.
- e) até 2 anos, prorrogável por mais 1 ano, a critério da Administração.

CONHECIMENTOS ESPECÍFICOS

36. Vistoria de residências, depósitos, terrenos baldios e estabelecimentos comerciais para buscar focos endêmicos. Inspeção cuidadosa de caixas d'água, calhas e telhados. Aplicação de larvicidas e inseticidas. Orientações quanto à prevenção e tratamento de doenças infecciosas. Recenseamento de animais. Essas atividades são fundamentais para prevenir e controlar doenças como dengue, chagas, leishmaniose e malária e fazem parte das atribuições do:

- a) Agente Comunitário de Saúde



- b) Presidente do Bairro
- c) Agente de Combate a Endemias
- d) Enfermeiro
- e) Biólogo

37. Os quatro tipos de controle do vetor da dengue são:

I. MECÂNICO: Caracterizado por envolver ações de saneamento básico com resultados permanentes. Exemplo: a coleta e destinação adequada de lixo e a destruição de criadouros temporários.

II. BIOLÓGICO: Consiste na repressão de pragas utilizando inimigos naturais específicos, como predadores, parasitas ou patógenos.

III. LEGAL: Uso de instrumentos jurídicos (leis e portarias).

IV. QUÍMICO: Uso de produto químico para eliminar ou controlar as pragas. Esta é a primeira alternativa de controle.

Analisando o exposto, assinale a alternativa correta:

- a) Apenas o item I está correto.
- b) Apenas o item II está correto.
- c) Apenas o item III está correto.
- d) Apenas o item IV está correto.
- e) Estão corretos apenas os itens I, II e III.

38. Qual é o vetor da dengue?

- a) Mosquito TSE TSE
- b) Pernilongo
- c) Mosquito Aedes Aegypti
- d) Homem
- e) Mosquito Barbeiro

39. Uma das formas de prevenção da doença de Chagas é evitar que o inseto “barbeiro” forme colônias dentro das residências. Em áreas onde os insetos possam entrar nas casas voando pelas aberturas ou frestas, pode-se usar mosquiteiros ou telas metálicas. Existem também outras formas, como:

I. Recomenda-se usar medidas de proteção individual (repelentes, roupas de mangas longas, etc) durante a realização de atividades noturnas (caçadas, pesca ou pernoite) em áreas de mata.

II. Para a prevenção da transmissão oral é importante seguir todas as recomendações de boas práticas de higiene e manipulação de alimentos, em especial aqueles consumidos in natura.

III. Recomenda-se a vacinação como forma de prevenção.

Analisando o exposto, assinale a alternativa correta:

- a) Apenas o item I está correto.
- b) Apenas o item II está correto.
- c) Apenas o item III está correto.
- d) Apenas os itens I e II estão corretos.
- e) Apenas os itens I e III estão corretos.

40. Qual o nome do Protozoário que causa a doença de chagas?

- a) Trypanosoma blade
- b) Trypanosoma cruzi
- c) Trypanosoma craze
- d) Trypanosoma chagas
- e) Trypanosoma car

RASCUNHO



PREFEITURA DE TELÊMACO BORBA - ESTADO DO PARANÁ - EDITAL Nº 001-2016 - CONCURSO PÚBLICO

VESPERTINO – 29/05/2016 – NÍVEL FUNDAMENTAL COMPLETO

2

PROVA OBJETIVA NÚMERO

CARGO: AGENTE DE COMBATE A ENDEMIAS

Leia atentamente as **INSTRUÇÕES**:

1. Confira seus dados no cartão-resposta: nome, número de inscrição e o curso para o qual se inscreveu.
2. **MARQUE no seu cartão-resposta o número da sua prova** (não será corrigido o cartão-resposta que não tiver marcado o número da prova) e **Assine** seu cartão-resposta.
3. Aguarde a autorização do Fiscal para abrir o caderno de prova. Ao receber a ordem do fiscal, confira o caderno de prova com muita atenção. Nenhuma reclamação sobre o total de questões ou falha de impressão será aceita depois de iniciada a prova.
4. O cartão-resposta não será substituído, salvo se contiver erro de impressão.
5. Preencha toda a área do cartão-resposta correspondente à alternativa de sua escolha, com caneta esferográfica (tinta azul ou preta), sem ultrapassar as bordas. As marcações duplas, ou rasuradas, com corretivo, ou marcadas diferentemente do modelo estabelecido no cartão-resposta poderão ser anuladas.
6. Sua prova tem **40** questões, com **5** alternativas.
7. Cabe apenas ao candidato a interpretação das questões, **o fiscal** não poderá fazer nenhuma interferência.
8. A prova será realizada com duração máxima de **3 (três) horas**, incluído o tempo para a realização da Prova Objetiva de múltipla escolha e o preenchimento do cartão-resposta.
9. O candidato poderá retirar-se do local de realização das provas somente **1 (uma) hora** após o seu início, sem levar o caderno de prova.
10. O candidato poderá levar o caderno de provas, assim como anotação contendo transcrição do seu cartão-resposta, somente **1h30min** (uma hora e trinta minutos) após o início da realização da prova.
11. Ao terminar a prova, o candidato deverá entregar ao fiscal de sala o cartão-resposta preenchido e **ASSINADO**.
12. Os **3 (três)** candidatos, que terminarem a prova por último, deverão permanecer na sala, e só poderão sair juntos após o fechamento do envelope, contendo os cartões-resposta dos candidatos presentes e ausentes, e assinarem no lacre do referido envelope, atestando que este foi devidamente lacrado.
13. Durante todo o tempo em que permanecer no local onde está ocorrendo o concurso, o candidato deverá, manter o celular desligado e sem bateria, só sendo permitido ligar depois de ultrapassar o portão de saída do prédio.
14. Não será permitido ao candidato fumar na sala de provas, bem como nas dependências.
15. Depois de terminar a prova e entregar ao fiscal o cartão-resposta, preenchido e assinado, não será mais permitido ao candidato o uso do banheiro e bebedouro.

BOA PROVA!

MATEMÁTICA

01. Fernando, Vanderlei e Marcelo são irmãos. Somando a idade dos três irmãos, obtemos 63. Vanderlei é um ano mais velho que Fernando e Marcelo é dois anos mais velho que Fernando. Quais são as idades de Fernando, Vanderlei e Marcelo, respectivamente?

- a) 20 – 21 – 22
- b) 30 – 31 – 32
- c) 21 – 21 – 21
- d) 31 – 32 – 33
- e) 31 – 31 – 31

02. Numa festa, havia 3.000 pessoas, das quais 25% eram crianças. Quantos eram os adultos?

- a) 700 adultos
- b) 750 adultos
- c) 1500 adultos
- d) 2250 adultos
- e) 2700 adultos

03. João Carlos deseja comprar um imóvel avaliado em R\$ 150.000,00. Se ele pagar 1/4 do valor total à vista, quanto faltará para adquirir o imóvel?

- a) R\$ 172.500,00
- b) R\$ 120.500,00
- c) R\$ 127.500,00
- d) R\$ 137.500,00
- e) R\$ 112.500,00

04. Os salários da Empresa Alfa são distribuídos de acordo com a tabela; Qual é a média dos salários da empresa?

- a) R\$ 1.612,50
- b) R\$ 1.512,50
- c) R\$ 1.812,50
- d) R\$ 2.512,50
- e) R\$ 1.500,50

Salário (em R\$)	Número de Funcionários
R\$ 800,00	09
R\$ 1.200,00	05
R\$ 1.600,00	08
R\$ 2.000,00	04
R\$ 2.400,00	06
Total	32

05. Trinta por cento da quarta parte de 7.200 é igual a:

- a) 470
- b) 690
- c) 540
- d) 349
- e) 780

06. Com 4 latas de tinta pinte 360 m² de parede. Quantos metros quadrados poderiam ser pintados com 10 latas dessa mesma tinta?

- a) 900m²
- b) 780m²
- c) 720m²
- d) 640m²
- e) 800m²

07. Com 12 pedreiros podemos construir um muro em 5 dias. Quantos dias levarão 10 pedreiros para fazer o mesmo trabalho?

- a) 8 dias
- b) 4 dias
- c) 3 dias
- d) 2 dias
- e) 6 dias

08. Tirando 2 unidades da metade da idade de Francisco, obtemos a idade de Thays, que tem 13 anos. Qual é a idade de Francisco?

- b) 60
- c) 30
- d) 25
- e) 15

09. Dois vendedores de uma firma saem a serviço no mesmo dia. O primeiro faz viagens de 15 em 15 dias e o segundo, de 18 em 18 dias. Depois de quantos dias sairão juntos novamente?

- a) 120 dias
- b) 90 dias
- c) 110 dias
- d) 130 dias
- e) 140 dias

10. Uma TV custa R\$ 1.850,00. Pagando à vista, ganha-se um desconto de 12%. Qual será o preço pago à vista?

- a) R\$ 1.628,00
- b) R\$ 1.222,00
- c) R\$ 1.350,50
- d) R\$ 1.450,50
- e) R\$ 1.420,00

CONHECIMENTOS GERAIS

11. A Câmara Municipal de Telêmaco Borba/PR é presidida por

- a) José Reinaldo Antunes Carneiro.
- b) Aparecida de Fátima Ribeiro Frazza.
- c) Sérgio de Souza Bueno.
- d) Élio Cezar Alves do Santos.
- e) Renato Bahena.

12. O município de Telêmaco Borba/PR foi instalado em

- a) 21/03/1941.
- b) 21/03/1964.
- c) 21/03/1947.
- d) 21/03/1960.
- e) 21/03/1970.

13. Marque a alternativa que contém a imagem da bandeira do município de Telêmaco Borba/PR.



14. O Hino de Telêmaco Borba foi composto na primeira legislatura municipal, na década de:

- a) 50
- b) 60
- c) 70
- d) 80
- e) 90



15 No Word, o ícone  **significa**

- a) Centralizar.
- b) Bordas externas.
- c) Justificar.
- d) Aumentar recuo.
- e) Sombreamento

16. Marque a alternativa que completa o texto, segundo a Lei Orgânica do Município de Telêmaco Borba/PR.

Para as eleições da Mesa, após a primeira sessão legislativa, a data para a sua realização será o dia _____, ficando a posse dos eleitos, para o dia 1º de janeiro do exercício subsequente.

- a) 1º de janeiro
- b) 31 de dezembro
- c) 15 de dezembro
- d) 1º de fevereiro
- e) 05 de dezembro

Com base na Lei nº 1883/2012, que dispõe sobre o Estatuto dos Servidores Públicos da Administração Direta, Autárquica e Funcional do Município de Telêmaco Borba/PR, responda às próximas quatro questões.

17. O art. 1º da Lei nº 1883/2012 disciplina o Regime Jurídico Estatutário aplicável aos servidores públicos investidos em cargo público de provimento efetivo ou de provimento em comissão:

- (1) do Poder Executivo;
- (2) do Poder Legislativo;
- (3) das Autarquias;
- (4) das Fundações;
- (5) das Instituições sem fins lucrativos.

Qual item não faz parte do art. 1º da referida Lei?

- a) (1)
- b) (2)
- c) (3)
- d) (4)
- e) (5)

18. Leia os itens a seguir e marque a alternativa verdadeira.

I. Às pessoas portadoras de deficiência é assegurado o direito de se inscrever em concurso público para o provimento de cargo, cujas atribuições sejam compatíveis com a deficiência de que são portadoras.

II. Para as pessoas portadoras de deficiência serão reservadas 10% das vagas oferecidas, nas condições a serem definidas no edital do concurso público.

III. Quando a aplicação do percentual de vagas resultar em número fracionado, igual a 0,50, será garantida uma vaga do cargo objeto do concurso público para as pessoas portadoras de deficiência.

- a) É correto o item I, apenas.
- b) É correto o item II, apenas.
- c) É correto o item III, apenas.
- d) São corretos os itens I e II, apenas.
- e) São corretos os itens I, II e III.

19. Assinale a alternativa que está de acordo com o art. 7º da Lei nº 1883/2012.

- a) O concurso público para investidura em cargo público de provimento efetivo será de provas objetivas, de acordo com a natureza e a complexidade do cargo.
- b) O concurso público para investidura em cargo público de provimento efetivo será de provas objetivas e práticas, de acordo com a natureza e a complexidade do cargo.
- c) O concurso público para investidura em cargo público de provimento efetivo será de provas ou de provas e títulos, de acordo com a natureza e a complexidade do cargo.

- d) O concurso público para investidura em cargo público em comissão será de provas ou de provas e títulos, de acordo com a natureza e a complexidade do cargo.
- e) O concurso público para investidura em cargo público de provimento efetivo e em comissão será de provas ou de provas e títulos, de acordo com a natureza e a complexidade do cargo.

20. O concurso público terá validade de

- a) até 4 anos, a critério da Administração.
- b) até 2 anos, prorrogável uma vez por igual período, a critério da Administração.
- c) até 1 ano, prorrogável uma vez por igual período, a critério da Administração.
- d) 1 ano, a critério da Administração.
- e) até 2 anos, prorrogável por mais 1 ano, a critério da Administração.

CONHECIMENTOS ESPECÍFICOS

21. Vistoria de residências, depósitos, terrenos baldios e estabelecimentos comerciais para buscar focos endêmicos. Inspeção cuidadosa de caixas d'água, calhas e telhados. Aplicação de larvicidas e inseticidas. Orientações quanto à prevenção e tratamento de doenças infecciosas. Recenseamento de animais. Essas atividades são fundamentais para prevenir e controlar doenças como dengue, chagas, leishmaniose e malária e fazem parte das atribuições do:

- a) Agente Comunitário de Saúde
- b) Presidente do Bairro
- c) Agente de Combate a Endemias
- d) Enfermeiro
- e) Biólogo

22. Os quatro tipos de controle do vetor da dengue são:

I. MECÂNICO: Caracterizado por envolver ações de saneamento básico com resultados permanentes. Exemplo: a coleta e destinação adequada de lixo e a destruição de criadouros temporários.

II. BIOLÓGICO: Consiste na repressão de pragas utilizando inimigos naturais específicos, como predadores, parasitas ou patógenos.

III. LEGAL: Uso de instrumentos jurídicos (leis e portarias).

IV. QUÍMICO: Uso de produto químico para eliminar ou controlar as pragas. Esta é a primeira alternativa de controle.

Analisando o exposto, assinale a alternativa correta:

- a) Apenas o item I está correto.
- b) Apenas o item II está correto.
- c) Apenas o item III está correto.
- d) Apenas o item IV está correto.
- e) Estão corretos apenas os itens I, II e III.

23. Qual é o vetor da dengue?

- a) Mosquito TSE TSE
- b) Pernilongo
- c) Mosquito Aedes Aegypti
- d) Homem
- e) Mosquito Barbeiro

24. Uma das formas de prevenção da doença de Chagas é evitar que o inseto “barbeiro” forme colônias dentro das residências. Em áreas onde os insetos possam entrar nas casas voando pelas aberturas ou frestas, pode-se usar mosquiteiros ou telas metálicas. Existem também outras formas, como:

I. Recomenda-se usar medidas de proteção individual (repelentes, roupas de mangas longas, etc) durante a realização de atividades noturnas (caçadas, pesca ou pernoite) em áreas de mata.

II. Para a prevenção da transmissão oral é importante seguir todas as recomendações de boas práticas de higiene e manipulação de alimentos, em especial aqueles consumidos in natura.

III. Recomenda-se a vacinação como forma de prevenção.

Analisando o exposto, assinale a alternativa correta:

- a) Apenas o item I está correto.
- b) Apenas o item II está correto.
- c) Apenas o item III está correto.
- d) Apenas os itens I e II estão corretos.
- e) Apenas os itens I e III estão corretos.

25. Qual o nome do Protozoário que causa a doença de chagas?

- a) Trypanosoma blade
- b) Trypanosoma cruzi
- c) Trypanosoma craze



- d) Trypanosoma chagas
e) Trypanosoma car

LÍNGUA PORTUGUESA

Leia o texto abaixo e responda às próximas cinco questões.

Os poderes da mandioca

Conta uma lenda indígena que, no princípio dos tempos, a filha de um cacique engravidou sem contato com homem. O cacique não acreditou na história da filha e ficou muito bravo. Até que, em sonho, ele recebeu a visita de um homem branco atestando a inocência da moça. Branca era também a linda indiazinha que nasceu meses depois e recebeu o nome de Mani. Ela foi a alegria da tribo por apenas um ano, quando morreu repentinamente, sem doença nem dor. Para surpresa de todos, do túmulo de Mani brotou um arbusto novo, que fez a terra fender. Os índios cavaram e retiraram grossas raízes, brancas como o corpo da indiazinha. E a planta ficou conhecida como *mandioca*, que significa “casa de Mani”.

Desde essa época, a abençoada planta nascida do corpo de Mani tem salvado seu povo da fome. Já era um dos principais alimentos dos indígenas na época do Descobrimento e ainda hoje marca presença no cardápio dos brasileiros de todo o país: como o nome da mandioca, macaxeira ou aipim; cozida, frita ou torrada na forma de farinha, não há quem resista a essa versátil e saborosíssima raiz. E, além de seus múltiplos usos culinários, ela é também matéria prima para a fabricação dos produtos mais inusitados: cerveja, tecidos, móveis e até plástico biodegradável.

(Adeodato, Sérgio. In: Globo Ciência. Jan/1988.p. 35.)

26. Com que objetivo o autor escreveu o primeiro parágrafo do texto?

- a) Narrar a lenda indígena sobre a origem dos índios.
b) Informar sobre a origem da mandioca e de seu nome, de acordo com a tradição indígena.
c) Descrever os vários usos da mandioca.
d) Expor seu ponto de vista sobre os poderes da mandioca.
e) Explicar a forma de cultivo da mandioca.

27. Escolha a alternativa em que estão transcritos o primeiro e segundo períodos do corpo do texto.

- a) “Conta uma lenda indígena que,” e “no princípio dos tempos,”.
b) “Conta uma lenda indígena que, no princípio dos tempos,” e “a filha de um cacique engravidou sem contato com homem.”.
c) “Conta uma lenda indígena que, no princípio dos tempos, a filha de um cacique engravidou sem contato com homem.” e “O cacique não acreditou na história da filha e ficou muito bravo.”.
d) “Conta uma lenda indígena que, no princípio dos tempos, a filha de um cacique engravidou sem contato com homem. O cacique não acreditou na história da filha e ficou muito bravo.” e “Até que, em sonho, ele recebeu a visita de um homem branco atestando a inocência da moça. Branca era também a linda indiazinha que nasceu meses depois e recebeu o nome de Mani.”.
e) “Conta uma lenda indígena que, no princípio dos tempos, a filha de um cacique engravidou sem contato com homem. O cacique não acreditou na história da filha e ficou muito bravo. Até que, em sonho, ele recebeu a visita de um homem branco atestando a inocência da moça. Branca era também a linda indiazinha que nasceu meses depois e recebeu o nome de Mani. Ela foi a alegria da tribo por apenas um ano, quando morreu repentinamente, sem doença nem dor. Para surpresa de todos, do túmulo de Mani brotou um arbusto novo, que fez a terra fender. Os índios cavaram e retiraram grossas raízes, brancas como o corpo da indiazinha. E a planta ficou conhecida como *mandioca*, que significa ‘casa de Mani’.” e “Desde essa época, a abençoada planta nascida do corpo de Mani tem salvado seu povo da fome. Já era um dos principais alimentos dos indígenas na época do Descobrimento e ainda hoje marca presença no cardápio dos brasileiros de todo o país: como o nome da mandioca, macaxeira ou aipim; cozida, frita ou torrada na forma de farinha, não há quem resista a essa versátil e saborosíssima raiz. E, além de seus múltiplos usos culinários, ela é também matéria prima para a fabricação dos produtos mais inusitados: cerveja, tecidos, móveis e até plástico biodegradável.”.

28. Quanto à análise morfológica, escolha a alternativa em que a palavra sublinhada não pertence à classe de palavras mencionada entre parênteses.

- a) “Conta uma lenda indígena que, no princípio dos tempos, a filha de um cacique engravidou sem contato com homem.” (substantivo).
b) “Conta uma lenda indígena que, no princípio dos tempos, a filha de um cacique engravidou sem contato com homem.” (verbo).
c) “Conta uma lenda indígena que, no princípio dos tempos, a filha de um cacique engravidou sem contato com homem.” (adjetivo).
d) “Conta uma lenda indígena que, no princípio dos tempos, a filha de um cacique engravidou sem contato com homem.” (artigo).
e) “Conta uma lenda indígena que, no princípio dos tempos, a filha de um cacique engravidou sem contato com homem.” (artigo).

29. Observe o texto e escolha a alternativa correta.

- a) No enunciado “O cacique não acreditou na história da filha e ficou muito bravo.”, há apenas uma oração.



- b) No trecho “Até que, em sonho, ele recebeu a visita de um homem branco atestando a inocência da moça.”, há três orações.
- c) O trecho “Branca era também a linda indiazinha que nasceu meses depois e recebeu o nome de Mani.” não é uma frase.
- d) No trecho “Ela foi a alegria da tribo por apenas um ano, quando morreu repentinamente, sem doença nem dor.”, há uma oração.
- e) O trecho “Para surpresa de todos, do túmulo de Mani brotou um arbusto novo, que fez a terra fender.”, é um período.

30. Analise alguns substantivos do texto e escolha a alternativa correta.

- a) O substantivo “índios” sofreu flexão de número.
- b) Tanto o substantivo “raízes” como o substantivo “corpo” são palavras derivadas.
- c) Todos os substantivos do trecho “Já era um dos principais alimentos dos indígenas na época do Descobrimento” estão no plural.
- d) A formação do plural em cada um dos substantivos a seguir é diferente: “brasileiros”, “múltiplos”, “culinários” e “produtos”.
- e) O radical do substantivo “cerveja” é *cer-*.

Leia o texto abaixo e responda às próximas dez questões.

O cinema engana os olhos da gente

Faz cem anos que inventaram o cinema. E nele tudo é mentirinha. As imagens se mexendo na tela não passam de uma ilusão. O homem demorou milhares de anos para realizar o desejo de dar movimento aos desenhos. Nos tempos das cavernas, as pessoas tentavam representar as coisas em movimento. Elas desenhavam, por exemplo, os animais com oito patas. Era o jeito de mostrar o animal correndo.

A história do cinema começou com a invenção da fotografia, os homens conseguiram reproduzir imagens usando luz e produtos químicos.

Foram os irmãos Louis e Auguste Lumière que tornaram o cinema possível. Eles inventaram uma máquina que podia projetar imagens impressas (gravadas) em um filme.

A primeira sessão de cinema aconteceu em Paris, em 1895. O filme era curtinho e mostrava um trem chegando à estação.

Contam que as pessoas ficaram muito surpresas com o trem se aproximando. Teve gente que caiu da cadeira e muitas mulheres gritaram de susto.

(Medeiros, Paula. **Folhinha**. In: Folha de S. Paulo, 19 maio 1995, adaptado.)

31. O primeiro parágrafo do texto traz esclarecimentos sobre o título. Qual trecho desse parágrafo explica de fato o título?

- a) “Faz cem anos que inventaram o cinema”.
- b) “As imagens se mexendo na tela não passam de uma ilusão”.
- c) “Nos tempos das cavernas, as pessoas tentavam representar as coisas em movimento”.
- d) “Era o jeito de mostrar o animal correndo”.
- e) “O homem demorou milhares de anos para realizar o desejo de dar movimento aos desenhos”.

32. Escolha a alternativa em que a palavra acentuada retirada do texto e sua justificativa, baseada nas regras de acentuação, estejam corretas.

- a) “é” – oxítona terminada em *e*.
- b) “história” – oxítona terminada em *a*.
- c) “químicos” – oxítona terminada em *o(s)*.
- d) “possível” – paroxítona terminada em *l*.
- e) “máquina” – paroxítona terminada em *a*.

33. Das orações abaixo, escolha aquela cujo trecho destacado é o seu sujeito.

- a) “Faz cem anos”.
- b) “que inventaram o cinema”.
- c) “E nele tudo é mentirinha”.
- d) “As imagens se mexendo na tela”.
- e) “não passam de uma ilusão”.

34. Agora, escolha a oração cujo trecho sublinhado é o seu predicado.

- a) “Faz cem anos”.
- b) “que inventaram o cinema”.
- c) “E nele tudo é mentirinha”.
- d) “As imagens se mexendo na tela”.
- e) “não passam de uma ilusão”.

35. Releia o último período do texto e, depois, escolha a alternativa correta.



- a) Nesse período, há apenas uma oração.
- b) É um período, porém não uma frase.
- c) Trata-se de um período simples.
- d) Esse período é composto.
- e) O sujeito da oração, nesse período, é classificado como desinencial.

36. Analise aspectos relacionados à ortografia de algumas palavras do texto e escolha a alternativa correta.

- a) A palavra “representar”, no texto, é um dos casos em que a letra s representa o fonema /s/.
- b) A palavra “história”, quanto à sílaba tônica, é uma oxítona.
- c) Na expressão “produtos químicos”, ambas as palavras são paroxítonas.
- d) O til sobre a vogal a, em “irmãos” tem por objetivo indicar a sílaba tônica da palavra.
- e) O acento grave em “à” foi empregado para indicar a crase da preposição a com o artigo a.

37. Escolha a alternativa em que foi transcrito o primeiro período do corpo do texto.

- a) “Faz cem anos”.
- b) “que inventaram o cinema.”.
- c) “Faz cem anos que inventaram o cinema.”.
- d) “Faz cem anos que inventaram o cinema. E nele tudo é mentirinha. As imagens se mexendo na tela não passam de uma ilusão. O homem demorou milhares de anos para realizar o desejo de dar movimento aos desenhos. Nos tempos das cavernas, as pessoas tentavam representar as coisas em movimento. Elas desenhavam, por exemplo, os animais com oito patas. Era o jeito de mostrar o animal correndo.”.
- e) “Faz cem anos que inventaram o cinema. E nele tudo é mentirinha.”.

38. No texto, há uma informação entre parênteses, sinais de pontuação que são empregados para intercalar, num texto, qualquer indicação acessória. Com que objetivo esse recurso foi empregado nesse texto?

- a) Para fazer indicações bibliográficas.
- b) Para introduzir uma explicação.
- c) Para inserir uma nota emocional.
- d) Para apresentar a citação textual de uma palavra ou expressão traduzida.
- e) Para fazer indicações cênicas.

39. Quanto à análise morfológica, escolha a alternativa em que a palavra sublinhada pertence à classe de palavras entre parênteses.

- a) “A primeira sessão de cinema aconteceu em Paris, em 1895.” (substantivo).
- b) “A primeira sessão de cinema aconteceu em Paris, em 1895.” (pronome).
- c) “A primeira sessão de cinema aconteceu em Paris, em 1895.” (adjetivo).
- d) “A primeira sessão de cinema aconteceu em Paris, em 1895.” (conjunção).
- e) “A primeira sessão de cinema aconteceu em Paris, em 1895.” (verbo).

40. Observe o texto e escolha a alternativa correta.

- a) No enunciado “O filme era curtinho e mostrava um trem chegando à estação.” há apenas uma oração.
- b) No trecho “Contam que as pessoas ficaram muito surpresas”, há três orações.
- c) O trecho “Teve gente que caiu da cadeira e muitas mulheres gritaram de susto.” é uma frase.
- d) No trecho “Foram os irmãos Louis e Auguste Lumière”, há duas orações.
- e) O termo “cinema”, que aparece no título do texto, é um adjetivo.

RASCUNHO



PREFEITURA DE TELÊMACO BORBA - ESTADO DO PARANÁ - EDITAL Nº 001-2016 - CONCURSO PÚBLICO

VESPERTINO – 29/05/2016 – NÍVEL FUNDAMENTAL COMPLETO

3

PROVA OBJETIVA NÚMERO

CARGO: AGENTE DE COMBATE A ENDEMIAS

Leia atentamente as **INSTRUÇÕES**:

1. Confira seus dados no cartão-resposta: nome, número de inscrição e o curso para o qual se inscreveu.
2. **MARQUE no seu cartão-resposta o número da sua prova** (não será corrigido o cartão-resposta que não tiver marcado o número da prova) e **Assine** seu cartão-resposta.
3. Aguarde a autorização do Fiscal para abrir o caderno de prova. Ao receber a ordem do fiscal, confira o caderno de prova com muita atenção. Nenhuma reclamação sobre o total de questões ou falha de impressão será aceita depois de iniciada a prova.
4. O cartão-resposta não será substituído, salvo se contiver erro de impressão.
5. Preencha toda a área do cartão-resposta correspondente à alternativa de sua escolha, com caneta esferográfica (tinta azul ou preta), sem ultrapassar as bordas. As marcações duplas, ou rasuradas, com corretivo, ou marcadas diferentemente do modelo estabelecido no cartão-resposta poderão ser anuladas.
6. Sua prova tem **40** questões, com **5** alternativas.
7. Cabe apenas ao candidato a interpretação das questões, **o fiscal** não poderá fazer nenhuma interferência.
8. A prova será realizada com duração máxima de **3 (três) horas**, incluído o tempo para a realização da Prova Objetiva de múltipla escolha e o preenchimento do cartão-resposta.
9. O candidato poderá retirar-se do local de realização das provas somente **1 (uma) hora** após o seu início, sem levar o caderno de prova.
10. O candidato poderá levar o caderno de provas, assim como anotação contendo transcrição do seu cartão-resposta, somente **1h30min** (uma hora e trinta minutos) após o início da realização da prova.
11. Ao terminar a prova, o candidato deverá entregar ao fiscal de sala o cartão-resposta preenchido e **ASSINADO**.
12. Os **3 (três)** candidatos, que terminarem a prova por último, deverão permanecer na sala, e só poderão sair juntos após o fechamento do envelope, contendo os cartões-resposta dos candidatos presentes e ausentes, e assinarem no lacre do referido envelope, atestando que este foi devidamente lacrado.
13. Durante todo o tempo em que permanecer no local onde está ocorrendo o concurso, o candidato deverá, manter o celular desligado e sem bateria, só sendo permitido ligar depois de ultrapassar o portão de saída do prédio.
14. Não será permitido ao candidato fumar na sala de provas, bem como nas dependências.
15. Depois de terminar a prova e entregar ao fiscal o cartão-resposta, preenchido e assinado, não será mais permitido ao candidato o uso do banheiro e bebedouro.

BOA PROVA!

**CONHECIMENTOS ESPECÍFICOS**

01. Vistoria de residências, depósitos, terrenos baldios e estabelecimentos comerciais para buscar focos endêmicos. Inspeção cuidadosa de caixas d'água, calhas e telhados. Aplicação de larvicidas e inseticidas. Orientações quanto à prevenção e tratamento de doenças infecciosas. Recenseamento de animais. Essas atividades são fundamentais para prevenir e controlar doenças como dengue, chagas, leishmaniose e malária e fazem parte das atribuições do:

- a) Agente Comunitário de Saúde
- b) Presidente do Bairro
- c) Agente de Combate a Endemias
- d) Enfermeiro
- e) Biólogo

02. Os quatro tipos de controle do vetor da dengue são:

I. MECÂNICO: Caracterizado por envolver ações de saneamento básico com resultados permanentes. Exemplo: a coleta e destinação adequada de lixo e a destruição de criadouros temporários.

II. BIOLÓGICO: Consiste na repressão de pragas utilizando inimigos naturais específicos, como predadores, parasitas ou patógenos.

III. LEGAL: Uso de instrumentos jurídicos (leis e portarias).

IV. QUÍMICO: Uso de produto químico para eliminar ou controlar as pragas. Esta é a primeira alternativa de controle.

Analisando o exposto, assinale a alternativa correta:

- a) Apenas o item I está correto.
- b) Apenas o item II está correto.
- c) Apenas o item III está correto.
- d) Apenas o item IV está correto.
- e) Estão corretos apenas os itens I, II e III.

03. Qual é o vetor da dengue?

- a) Mosquito TSE TSE
- b) Pernilongo
- c) Mosquito Aedes Aegypti
- d) Homem
- e) Mosquito Barbeiro

04. Uma das formas de prevenção da doença de Chagas é evitar que o inseto “barbeiro” forme colônias dentro das residências. Em áreas onde os insetos possam entrar nas casas voando pelas aberturas ou frestas, pode-se usar mosquiteiros ou telas metálicas. Existem também outras formas, como:

I. Recomenda-se usar medidas de proteção individual (repelentes, roupas de mangas longas, etc) durante a realização de atividades noturnas (caçadas, pesca ou pernoite) em áreas de mata.

II. Para a prevenção da transmissão oral é importante seguir todas as recomendações de boas práticas de higiene e manipulação de alimentos, em especial aqueles consumidos in natura.

III. Recomenda-se a vacinação como forma de prevenção.

Analisando o exposto, assinale a alternativa correta:

- a) Apenas o item I está correto.
- b) Apenas o item II está correto.
- c) Apenas o item III está correto.
- d) Apenas os itens I e II estão corretos.
- e) Apenas os itens I e III estão corretos.

06. Qual o nome do Protozoário que causa a doença de chagas?

- a) Trypanosoma blade
- b) Trypanosoma cruzi
- c) Trypanosoma craze
- d) Trypanosoma chagas
- e) Trypanosoma car

LÍNGUA PORTUGUESA

Leia o texto abaixo e responda às próximas cinco questões.

Os poderes da mandioca

Conta uma lenda indígena que, no princípio dos tempos, a filha de um cacique engravidou sem contato com homem. O cacique não acreditou na história da filha e ficou muito bravo. Até que, em sonho, ele recebeu a visita de um homem branco atestando a inocência da moça. Branca era também a linda indiazinha que nasceu meses depois e recebeu o nome de Mani. Ela foi a alegria da tribo por apenas um ano, quando morreu repentinamente, sem doença nem dor. Para surpresa de todos, do túmulo de Mani brotou um arbusto novo, que



fez a terra fender. Os índios cavaram e retiraram grossas raízes, brancas como o corpo da indiazinha. E a planta ficou conhecida como *manioca*, que significa “casa de Mani”.

Desde essa época, a abençoada planta nascida do corpo de Mani tem salvado seu povo da fome. Já era um dos principais alimentos dos indígenas na época do Descobrimento e ainda hoje marca presença no cardápio dos brasileiros de todo o país: como o nome da mandioca, macaxeira ou aipim; cozida, frita ou torrada na forma de farinha, não há quem resista a essa versátil e saborosíssima raiz. E, além de seus múltiplos usos culinários, ela é também matéria prima para a fabricação dos produtos mais inusitados: cerveja, tecidos, móveis e até plástico biodegradável.

(Adeodato, Sérgio. In: *Globo Ciência*. Jan/1988.p. 35.)

06. Com que objetivo o autor escreveu o primeiro parágrafo do texto?

- Narrar a lenda indígena sobre a origem dos índios.
- Informar sobre a origem da mandioca e de seu nome, de acordo com a tradição indígena.
- Descrever os vários usos da mandioca.
- Expor seu ponto de vista sobre os poderes da mandioca.
- Explicar a forma de cultivo da mandioca.

07. Escolha a alternativa em que estão transcritos o primeiro e segundo períodos do corpo do texto.

- “Conta uma lenda indígena que,” e “no princípio dos tempos,”.
- “Conta uma lenda indígena que, no princípio dos tempos,” e “a filha de um cacique engravidou sem contato com homem.”.
- “Conta uma lenda indígena que, no princípio dos tempos, a filha de um cacique engravidou sem contato com homem.” e “O cacique não acreditou na história da filha e ficou muito bravo.”.
- “Conta uma lenda indígena que, no princípio dos tempos, a filha de um cacique engravidou sem contato com homem. O cacique não acreditou na história da filha e ficou muito bravo.” e “Até que, em sonho, ele recebeu a visita de um homem branco atestando a inocência da moça. Branca era também a linda indiazinha que nasceu meses depois e recebeu o nome de Mani.”.
- “Conta uma lenda indígena que, no princípio dos tempos, a filha de um cacique engravidou sem contato com homem. O cacique não acreditou na história da filha e ficou muito bravo. Até que, em sonho, ele recebeu a visita de um homem branco atestando a inocência da moça. Branca era também a linda indiazinha que nasceu meses depois e recebeu o nome de Mani. Ela foi a alegria da tribo por apenas um ano, quando morreu repentinamente, sem doença nem dor. Para surpresa de todos, do túmulo de Mani brotou um arbusto novo, que fez a terra fender. Os índios cavaram e retiraram grossas raízes, brancas como o corpo da indiazinha. E a planta ficou conhecida como *manioca*, que significa ‘casa de Mani.’” e “Desde essa época, a abençoada planta nascida do corpo de Mani tem salvado seu povo da fome. Já era um dos principais alimentos dos indígenas na época do Descobrimento e ainda hoje marca presença no cardápio dos brasileiros de todo o país: como o nome da mandioca, macaxeira ou aipim; cozida, frita ou torrada na forma de farinha, não há quem resista a essa versátil e saborosíssima raiz. E, além de seus múltiplos usos culinários, ela é também matéria prima para a fabricação dos produtos mais inusitados: cerveja, tecidos, móveis e até plástico biodegradável.”.

08. Quanto à análise morfológica, escolha a alternativa em que a palavra sublinhada não pertence à classe de palavras mencionada entre parênteses.

- “Conta uma lenda indígena que, no princípio dos tempos, a filha de um cacique engravidou sem contato com homem.” (substantivo).
- “Conta uma lenda indígena que, no princípio dos tempos, a filha de um cacique engravidou sem contato com homem.” (verbo).
- “Conta uma lenda indígena que, no princípio dos tempos, a filha de um cacique engravidou sem contato com homem.” (adjetivo).
- “Conta uma lenda indígena que, no princípio dos tempos, a filha de um cacique engravidou sem contato com homem.” (artigo).
- “Conta uma lenda indígena que, no princípio dos tempos, a filha de um cacique engravidou sem contato com homem.” (artigo).

09. Observe o texto e escolha a alternativa correta.

- No enunciado “O cacique não acreditou na história da filha e ficou muito bravo.”, há apenas uma oração.
- No trecho “Até que, em sonho, ele recebeu a visita de um homem branco atestando a inocência da moça.”, há três orações.
- O trecho “Branca era também a linda indiazinha que nasceu meses depois e recebeu o nome de Mani.” não é uma frase.
- No trecho “Ela foi a alegria da tribo por apenas um ano, quando morreu repentinamente, sem doença nem dor.”, há uma oração.
- O trecho “Para surpresa de todos, do túmulo de Mani brotou um arbusto novo, que fez a terra fender.”, é um período.

10. Analise alguns substantivos do texto e escolha a alternativa correta.

- O substantivo “índios” sofreu flexão de número.

- b) Tanto o substantivo “raízes” como o substantivo “corpo” são palavras derivadas.
 c) Todos os substantivos do trecho “Já era um dos principais alimentos dos indígenas na época do Descobrimento” estão no plural.
 d) A formação do plural em cada um dos substantivos a seguir é diferente: “brasileiros”, “múltiplos”, “culinários” e “produtos”.
 e) O radical do substantivo “cerveja” é *cer-*.

Leia o texto abaixo e responda às próximas dez questões.

O cinema engana os olhos da gente

Faz cem anos que inventaram o cinema. E nele tudo é mentirinha. As imagens se mexendo na tela não passam de uma ilusão. O homem demorou milhares de anos para realizar o desejo de dar movimento aos desenhos. Nos tempos das cavernas, as pessoas tentavam representar as coisas em movimento. Elas desenhavam, por exemplo, os animais com oito patas. Era o jeito de mostrar o animal correndo.

A história do cinema começou com a invenção da fotografia, os homens conseguiram reproduzir imagens usando luz e produtos químicos.

Foram os irmãos Louis e Auguste Lumière que tornaram o cinema possível. Eles inventaram uma máquina que podia projetar imagens impressas (gravadas) em um filme.

A primeira sessão de cinema aconteceu em Paris, em 1895. O filme era curtinho e mostrava um trem chegando à estação.

Contam que as pessoas ficaram muito surpresas com o trem se aproximando. Teve gente que caiu da cadeira e muitas mulheres gritaram de susto.

(Medeiros, Paula. **Folhinha**. In: Folha de S. Paulo, 19 maio 1995, adaptado.)

11. O primeiro parágrafo do texto traz esclarecimentos sobre o título. Qual trecho desse parágrafo explica de fato o título?

- a) “Faz cem anos que inventaram o cinema”.
 b) “As imagens se mexendo na tela não passam de uma ilusão”.
 c) “Nos tempos das cavernas, as pessoas tentavam representar as coisas em movimento”.
 d) “Era o jeito de mostrar o animal correndo”.
 e) “O homem demorou milhares de anos para realizar o desejo de dar movimento aos desenhos”.

12. Escolha a alternativa em que a palavra acentuada retirada do texto e sua justificativa, baseada nas regras de acentuação, estejam corretas.

- a) “é” – oxítona terminada em *e*.
 b) “história” – oxítona terminada em *a*.
 c) “químicos” – oxítona terminada em *o(s)*.
 d) “possível” – paroxítona terminada em *l*.
 e) “máquina” – paroxítona terminada em *a*.

13. Das orações abaixo, escolha aquela cujo trecho destacado é o seu sujeito.

- a) “Faz cem anos”.
 b) “que inventaram o cinema”.
 c) “E nele tudo é mentirinha”.
 d) “As imagens se mexendo na tela”.
 e) “não passam de uma ilusão”.

14. Agora, escolha a oração cujo trecho sublinhado é o seu predicado.

- a) “Faz cem anos”.
 b) “que inventaram o cinema”.
 c) “E nele tudo é mentirinha”.
 d) “As imagens se mexendo na tela”.
 e) “não passam de uma ilusão”.

15. Releia o último período do texto e, depois, escolha a alternativa correta.

- a) Nesse período, há apenas uma oração.
 b) É um período, porém não uma frase.
 c) Trata-se de um período simples.
 d) Esse período é composto.
 e) O sujeito da oração, nesse período, é classificado como desinencial.

16. Analise aspectos relacionados à ortografia de algumas palavras do texto e escolha a alternativa correta.

- a) A palavra “representar”, no texto, é um dos casos em que a letra *s* representa o fonema /s/.
 b) A palavra “história”, quanto à sílaba tônica, é uma oxítona.
 c) Na expressão “produtos químicos”, ambas as palavras são paroxítonas.



- d) O til sobre a vogal *a*, em “irmãos” tem por objetivo indicar a sílaba tônica da palavra.
e) O acento grave em “à” foi empregado para indicar a crase da preposição *a* com o artigo *a*.

17. Escolha a alternativa em que foi transcrito o primeiro período do corpo do texto.

- a) “Faz cem anos”.
b) “que inventaram o cinema.”.
c) “Faz cem anos que inventaram o cinema.”.
d) “Faz cem anos que inventaram o cinema. E nele tudo é mentirinha. As imagens se mexendo na tela não passam de uma ilusão. O homem demorou milhares de anos para realizar o desejo de dar movimento aos desenhos. Nos tempos das cavernas, as pessoas tentavam representar as coisas em movimento. Elas desenhavam, por exemplo, os animais com oito patas. Era o jeito de mostrar o animal correndo.”.
e) “Faz cem anos que inventaram o cinema. E nele tudo é mentirinha.”.

18. No texto, há uma informação entre parênteses, sinais de pontuação que são empregados para intercalar, num texto, qualquer indicação acessória. Com que objetivo esse recurso foi empregado nesse texto?

- a) Para fazer indicações bibliográficas.
b) Para introduzir uma explicação.
c) Para inserir uma nota emocional.
d) Para apresentar a citação textual de uma palavra ou expressão traduzida.
e) Para fazer indicações cênicas.

19. Quanto à análise morfológica, escolha a alternativa em que a palavra sublinhada pertence à classe de palavras entre parênteses.

- a) “A primeira sessão de cinema aconteceu em Paris, em 1895.” (substantivo).
b) “A primeira sessão de cinema aconteceu em Paris, em 1895.” (pronome).
c) “A primeira sessão de cinema aconteceu em Paris, em 1895.” (adjetivo).
d) “A primeira sessão de cinema aconteceu em Paris, em 1895.” (conjunção).
e) “A primeira sessão de cinema aconteceu em Paris, em 1895.” (verbo).

20. Observe o texto e escolha a alternativa correta.

- a) No enunciado “O filme era curtinho e mostrava um trem chegando à estação.” há apenas uma oração.
b) No trecho “Contam que as pessoas ficaram muito surpresas”, há três orações.
c) O trecho “Teve gente que caiu da cadeira e muitas mulheres gritaram de susto.” é uma frase.
d) No trecho “Foram os irmãos Louis e Auguste Lumière”, há duas orações.
e) O termo “cinema”, que aparece no título do texto, é um adjetivo.

MATEMÁTICA

21. Fernando, Vanderlei e Marcelo são irmãos. Somando a idade dos três irmãos, obtemos 63. Vanderlei é um ano mais velho que Fernando e Marcelo é dois anos mais velho que Fernando. Quais são as idades de Fernando, Vanderlei e Marcelo, respectivamente?

- a) 20 – 21 – 22
b) 30 – 31 – 32
c) 21 – 21 – 21
d) 31 – 32 – 33
e) 31 – 31 – 31

22. Numa festa, havia 3.000 pessoas, das quais 25% eram crianças. Quantos eram os adultos?

- a) 700 adultos
b) 750 adultos
c) 1500 adultos
d) 2250 adultos
e) 2700 adultos

23. João Carlos deseja comprar um imóvel avaliado em R\$ 150.000,00. Se ele pagar 1/4 do valor total à vista, quanto faltará para adquirir o imóvel?

- a) R\$ 172.500,00
b) R\$ 120.500,00
c) R\$ 127.500,00
d) R\$ 137.500,00
e) R\$ 112.500,00

24. Os salários da Empresa Alfa são distribuídos de acordo com a tabela; Qual é a média dos salários da empresa?

Salário (em R\$)	Número de Funcionários
------------------	------------------------



- a) R\$ 1.612,50
- b) R\$ 1.512,50
- c) R\$ 1.812,50
- d) R\$ 2.512,50
- e) R\$ 1.500,50

R\$ 800,00	09
R\$ 1.200,00	05
R\$ 1.600,00	08
R\$ 2.000,00	04
R\$ 2.400,00	06
Total	32

25. Trinta por cento da quarta parte de 7.200 é igual a:

- a) 470
- b) 690
- c) 540
- d) 349
- e) 780

26. Com 4 latas de tinta pinte 360 m² de parede. Quantos metros quadrados poderiam ser pintados com 10 latas dessa mesma tinta?

- a) 900m²
- b) 780m²
- c) 720m²
- d) 640m²
- e) 800m²

27. Com 12 pedreiros podemos construir um muro em 5 dias. Quantos dias levarão 10 pedreiros para fazer o mesmo trabalho?

- a) 8 dias
- b) 4 dias
- c) 3 dias
- d) 2 dias
- e) 6 dias

28. Tirando 2 unidades da metade da idade de Francisco, obtemos a idade de Thays, que tem 13 anos. Qual é a idade de Francisco?

- b) 60
- c) 30
- d) 25
- e) 15

29. Dois vendedores de uma firma saem a serviço no mesmo dia. O primeiro faz viagens de 15 em 15 dias e o segundo, de 18 em 18 dias. Depois de quantos dias sairão juntos novamente?

- a) 120 dias
- b) 90 dias
- c) 110 dias
- d) 130 dias
- e) 140 dias

30. Uma TV custa R\$ 1.850,00. Pagando à vista, ganha-se um desconto de 12%. Qual será o preço pago à vista?

- a) R\$ 1.628,00
- b) R\$ 1.222,00
- c) R\$ 1.350,50
- d) R\$ 1.450,50
- e) R\$ 1.420,00

CONHECIMENTOS GERAIS

31. A Câmara Municipal de Telêmaco Borba/PR é presidida por

- a) José Reinaldo Antunes Carneiro.
- b) Aparecida de Fátima Ribeiro Fraza.
- c) Sérgio de Souza Bueno.
- d) Élio Cezar Alves do Santos.
- e) Renato Bahena.

32. O município de Telêmaco Borba/PR foi instalado em

- a) 21/03/1941.

- b) 21/03/1964.
- c) 21/03/1947.
- d) 21/03/1960.
- e) 21/03/1970.

33. Marque a alternativa que contém a imagem da bandeira do município de Telêmaco Borba/PR.



34. O Hino de Telêmaco Borba foi composto na primeira legislatura municipal, na década de:

- a) 50
- b) 60
- c) 70
- d) 80
- e) 90



35. No Word, o ícone  **significa**

- a) Centralizar.
- b) Bordas externas.
- c) Justificar.
- d) Aumentar recuo.
- e) Sombreamento

36. Marque a alternativa que completa o texto, segundo a Lei Orgânica do Município de Telêmaco Borba/PR.

Para as eleições da Mesa, após a primeira sessão legislativa, a data para a sua realização será o dia _____, ficando a posse dos eleitos, para o dia 1º de janeiro do exercício subsequente.

- a) 1º de janeiro
- b) 31 de dezembro
- c) 15 de dezembro
- d) 1º de fevereiro
- e) 05 de dezembro



Com base na Lei nº 1883/2012, que dispõe sobre o Estatuto dos Servidores Públicos da Administração Direta, Autárquica e Funcional do Município de Telêmaco Borba/PR, responda às próximas quatro questões.

37. O art. 1º da Lei nº 1883/2012 disciplina o Regime Jurídico Estatutário aplicável aos servidores públicos investidos em cargo público de provimento efetivo ou de provimento em comissão:

- (1) do Poder Executivo;
- (2) do Poder Legislativo;
- (3) das Autarquias;
- (4) das Fundações;
- (5) das Instituições sem fins lucrativos.

Qual item não faz parte do art. 1º da referida Lei?

- a) (1)
- b) (2)
- c) (3)
- d) (4)
- e) (5)

38. Leia os itens a seguir e marque a alternativa verdadeira.

I. As pessoas portadoras de deficiência é assegurado o direito de se inscrever em concurso público para o provimento de cargo, cujas atribuições sejam compatíveis com a deficiência de que são portadoras.

II. Para as pessoas portadoras de deficiência serão reservadas 10% das vagas oferecidas, nas condições a serem definidas no edital do concurso público.

III. Quando a aplicação do percentual de vagas resultar em número fracionado, igual a 0,50, será garantida uma vaga do cargo objeto do concurso público para as pessoas portadoras de deficiência.

- a) É correto o item I, apenas.
- b) É correto o item II, apenas.
- c) É correto o item III, apenas.
- d) São corretos os itens I e II, apenas.
- e) São corretos os itens I, II e III.

39. Assinale a alternativa que está de acordo com o art. 7º da Lei nº 1883/2012.

- a) O concurso público para investidura em cargo público de provimento efetivo será de provas objetivas, de acordo com a natureza e a complexidade do cargo.
- b) O concurso público para investidura em cargo público de provimento efetivo será de provas objetivas e práticas, de acordo com a natureza e a complexidade do cargo.
- c) O concurso público para investidura em cargo público de provimento efetivo será de provas ou de provas e títulos, de acordo com a natureza e a complexidade do cargo.
- d) O concurso público para investidura em cargo público em comissão será de provas ou de provas e títulos, de acordo com a natureza e a complexidade do cargo.
- e) O concurso público para investidura em cargo público de provimento efetivo e em comissão será de provas ou de provas e títulos, de acordo com a natureza e a complexidade do cargo.

40. O concurso público terá validade de

- a) até 4 anos, a critério da Administração.
- b) até 2 anos, prorrogável uma vez por igual período, a critério da Administração.
- c) até 1 ano, prorrogável uma vez por igual período, a critério da Administração.
- d) 1 ano, a critério da Administração.
- e) até 2 anos, prorrogável por mais 1 ano, a critério da Administração.

RASCUNHO



PREFEITURA DE TELÊMACO BORBA - ESTADO DO PARANÁ - EDITAL Nº 001-2016 - CONCURSO PÚBLICO

VESPERTINO – 29/05/2016 – NÍVEL FUNDAMENTAL COMPLETO

PROVA OBJETIVA NÚMERO

1

CARGO: TELEFONISTA

Leia atentamente as **INSTRUÇÕES**:

1. Confira seus dados no cartão-resposta: nome, número de inscrição e o curso para o qual se inscreveu.
2. **MARQUE no seu cartão-resposta o número da sua prova** (não será corrigido o cartão-resposta que não tiver marcado o número da prova) e **Assine** seu cartão-resposta.
3. Aguarde a autorização do Fiscal para abrir o caderno de prova. Ao receber a ordem do fiscal, confira o caderno de prova com muita atenção. Nenhuma reclamação sobre o total de questões ou falha de impressão será aceita depois de iniciada a prova.
4. O cartão-resposta não será substituído, salvo se contiver erro de impressão.
5. Preencha toda a área do cartão-resposta correspondente à alternativa de sua escolha, com caneta esferográfica (tinta azul ou preta), sem ultrapassar as bordas. As marcações duplas, ou rasuradas, com corretivo, ou marcadas diferentemente do modelo estabelecido no cartão-resposta poderão ser anuladas.
6. Sua prova tem **40** questões, com **5** alternativas.
7. Cabe apenas ao candidato a interpretação das questões, **o fiscal** não poderá fazer nenhuma interferência.
8. A prova será realizada com duração máxima de **3 (três) horas**, incluído o tempo para a realização da Prova Objetiva de múltipla escolha e o preenchimento do cartão-resposta.
9. O candidato poderá retirar-se do local de realização das provas somente **1 (uma) hora** após o seu início, sem levar o caderno de prova.
10. O candidato poderá levar o caderno de provas, assim como anotação contendo transcrição do seu cartão-resposta, somente **1h30min** (uma hora e trinta minutos) após o início da realização da prova.
11. Ao terminar a prova, o candidato deverá entregar ao fiscal de sala o cartão-resposta preenchido e **ASSINADO**.
12. Os **3 (três)** candidatos, que terminarem a prova por último, deverão permanecer na sala, e só poderão sair juntos após o fechamento do envelope, contendo os cartões-resposta dos candidatos presentes e ausentes, e assinarem no lacre do referido envelope, atestando que este foi devidamente lacrado.
13. Durante todo o tempo em que permanecer no local onde está ocorrendo o concurso, o candidato deverá, manter o celular desligado e sem bateria, só sendo permitido ligar depois de ultrapassar o portão de saída do prédio.
14. Não será permitido ao candidato fumar na sala de provas, bem como nas dependências.
15. Depois de terminar a prova e entregar ao fiscal o cartão-resposta, preenchido e assinado, não será mais permitido ao candidato o uso do banheiro e bebedouro.

BOA PROVA!

LÍNGUA PORTUGUESA

Leia o texto abaixo e responda às próximas cinco questões.

Os poderes da mandioca

Conta uma lenda indígena que, no princípio dos tempos, a filha de um cacique engravidou sem contato com homem. O cacique não acreditou na história da filha e ficou muito bravo. Até que, em sonho, ele recebeu a visita de um homem branco atestando a inocência da moça. Branca era também a linda indiazinha que nasceu meses depois e recebeu o nome de Mani. Ela foi a alegria da tribo por apenas um ano, quando morreu repentinamente, sem doença nem dor. Para surpresa de todos, do túmulo de Mani brotou um arbusto novo, que fez a terra fender. Os índios cavaram e retiraram grossas raízes, brancas como o corpo da indiazinha. E a planta ficou conhecida como *manioca*, que significa “casa de Mani”.

Desde essa época, a abençoada planta nascida do corpo de Mani tem salvado seu povo da fome. Já era um dos principais alimentos dos indígenas na época do Descobrimento e ainda hoje marca presença no cardápio dos brasileiros de todo o país: como o nome da mandioca, macaxeira ou aipim; cozida, frita ou torrada na forma de farinha, não há quem resista a essa versátil e saborosíssima raiz. E, além de seus múltiplos usos culinários, ela é também matéria prima para a fabricação dos produtos mais inusitados: cerveja, tecidos, móveis e até plástico biodegradável.

(Adeodato, Sérgio. In: *Globo Ciência*. Jan/1988.p. 35.)

01. Com que objetivo o autor escreveu o primeiro parágrafo do texto?

- Narrar a lenda indígena sobre a origem dos índios.
- Informar sobre a origem da mandioca e de seu nome, de acordo com a tradição indígena.
- Descrever os vários usos da mandioca.
- Expor seu ponto de vista sobre os poderes da mandioca.
- Explicar a forma de cultivo da mandioca.

02. Escolha a alternativa em que estão transcritos o primeiro e segundo períodos do corpo do texto.

- “Conta uma lenda indígena que,” e “no princípio dos tempos,”.
- “Conta uma lenda indígena que, no princípio dos tempos,” e “a filha de um cacique engravidou sem contato com homem.”.
- “Conta uma lenda indígena que, no princípio dos tempos, a filha de um cacique engravidou sem contato com homem.” e “O cacique não acreditou na história da filha e ficou muito bravo.”.
- “Conta uma lenda indígena que, no princípio dos tempos, a filha de um cacique engravidou sem contato com homem. O cacique não acreditou na história da filha e ficou muito bravo.” e “Até que, em sonho, ele recebeu a visita de um homem branco atestando a inocência da moça. Branca era também a linda indiazinha que nasceu meses depois e recebeu o nome de Mani.”.
- “Conta uma lenda indígena que, no princípio dos tempos, a filha de um cacique engravidou sem contato com homem. O cacique não acreditou na história da filha e ficou muito bravo. Até que, em sonho, ele recebeu a visita de um homem branco atestando a inocência da moça. Branca era também a linda indiazinha que nasceu meses depois e recebeu o nome de Mani. Ela foi a alegria da tribo por apenas um ano, quando morreu repentinamente, sem doença nem dor. Para surpresa de todos, do túmulo de Mani brotou um arbusto novo, que fez a terra fender. Os índios cavaram e retiraram grossas raízes, brancas como o corpo da indiazinha. E a planta ficou conhecida como *manioca*, que significa ‘casa de Mani’.” e “Desde essa época, a abençoada planta nascida do corpo de Mani tem salvado seu povo da fome. Já era um dos principais alimentos dos indígenas na época do Descobrimento e ainda hoje marca presença no cardápio dos brasileiros de todo o país: como o nome da mandioca, macaxeira ou aipim; cozida, frita ou torrada na forma de farinha, não há quem resista a essa versátil e saborosíssima raiz. E, além de seus múltiplos usos culinários, ela é também matéria prima para a fabricação dos produtos mais inusitados: cerveja, tecidos, móveis e até plástico biodegradável.”.

03. Quanto à análise morfológica, escolha a alternativa em que a palavra sublinhada não pertence à classe de palavras mencionada entre parênteses.

- “Conta uma lenda indígena que, no princípio dos tempos, a filha de um cacique engravidou sem contato com homem.” (substantivo).
- “Conta uma lenda indígena que, no princípio dos tempos, a filha de um cacique engravidou sem contato com homem.” (verbo).
- “Conta uma lenda indígena que, no princípio dos tempos, a filha de um cacique engravidou sem contato com homem.” (adjetivo).
- “Conta uma lenda indígena que, no princípio dos tempos, a filha de um cacique engravidou sem contato com homem.” (artigo).
- “Conta uma lenda indígena que, no princípio dos tempos, a filha de um cacique engravidou sem contato com homem.” (artigo).

04. Observe o texto e escolha a alternativa correta.

- No enunciado “O cacique não acreditou na história da filha e ficou muito bravo.”, há apenas uma oração.
- No trecho “Até que, em sonho, ele recebeu a visita de um homem branco atestando a inocência da moça.”, há três orações.



- c) O trecho “Branca era também a linda indiazinha que nasceu meses depois e recebeu o nome de Mani.” não é uma frase.
- d) No trecho “Ela foi a alegria da tribo por apenas um ano, quando morreu repentinamente, sem doença nem dor.”, há uma oração.
- e) O trecho “Para surpresa de todos, do túmulo de Mani brotou um arbusto novo, que fez a terra fender.”, é um período.

05. Analise alguns substantivos do texto e escolha a alternativa correta.

- a) O substantivo “índios” sofreu flexão de número.
- b) Tanto o substantivo “raízes” como o substantivo “corpo” são palavras derivadas.
- c) Todos os substantivos do trecho “Já era um dos principais alimentos dos indígenas na época do Descobrimento” estão no plural.
- d) A formação do plural em cada um dos substantivos a seguir é diferente: “brasileiros”, “múltiplos”, “culinários” e “produtos”.
- e) O radical do substantivo “cerveja” é *cer-*.

Leia o texto abaixo e responda às próximas dez questões.

O cinema engana os olhos da gente

Faz cem anos que inventaram o cinema. E nele tudo é mentirinha. As imagens se mexendo na tela não passam de uma ilusão. O homem demorou milhares de anos para realizar o desejo de dar movimento aos desenhos. Nos tempos das cavernas, as pessoas tentavam representar as coisas em movimento. Elas desenhavam, por exemplo, os animais com oito patas. Era o jeito de mostrar o animal correndo.

A história do cinema começou com a invenção da fotografia, os homens conseguiram reproduzir imagens usando luz e produtos químicos.

Foram os irmãos Louis e Auguste Lumière que tornaram o cinema possível. Eles inventaram uma máquina que podia projetar imagens impressas (gravadas) em um filme.

A primeira sessão de cinema aconteceu em Paris, em 1895. O filme era curtinho e mostrava um trem chegando à estação.

Contam que as pessoas ficaram muito surpresas com o trem se aproximando. Teve gente que caiu da cadeira e muitas mulheres gritaram de susto.

(Medeiros, Paula. **Folhinha**. In: Folha de S. Paulo, 19 maio 1995, adaptado.)

06. O primeiro parágrafo do texto traz esclarecimentos sobre o título. Qual trecho desse parágrafo explica de fato o título?

- a) “Faz cem anos que inventaram o cinema”.
- b) “As imagens se mexendo na tela não passam de uma ilusão”.
- c) “Nos tempos das cavernas, as pessoas tentavam representar as coisas em movimento”.
- d) “Era o jeito de mostrar o animal correndo”.
- e) “O homem demorou milhares de anos para realizar o desejo de dar movimento aos desenhos”.

07. Escolha a alternativa em que a palavra acentuada retirada do texto e sua justificativa, baseada nas regras de acentuação, estejam corretas.

- a) “é” – oxítona terminada em *e*.
- b) “história” – oxítona terminada em *a*.
- c) “químicos” – oxítona terminada em *o(s)*.
- d) “possível” – paroxítona terminada em *l*.
- e) “máquina” – paroxítona terminada em *a*.

08. Das orações abaixo, escolha aquela cujo trecho destacado é o seu sujeito.

- a) “Faz cem anos”.
- b) “que inventaram o cinema”.
- c) “E nele tudo é mentirinha”.
- d) “As imagens se mexendo na tela”.
- e) “não passam de uma ilusão”.

09. Agora, escolha a oração cujo trecho sublinhado é o seu predicado.

- a) “Faz cem anos”.
- b) “que inventaram o cinema”.
- c) “E nele tudo é mentirinha”.
- d) “As imagens se mexendo na tela”.
- e) “não passam de uma ilusão”.

10. Releia o último período do texto e, depois, escolha a alternativa correta.

- a) Nesse período, há apenas uma oração.
- b) É um período, porém não uma frase.



- c) Trata-se de um período simples.
- d) Esse período é composto.
- e) O sujeito da oração, nesse período, é classificado como desinencial.

11. Analise aspectos relacionados à ortografia de algumas palavras do texto e escolha a alternativa correta.

- a) A palavra “representar”, no texto, é um dos casos em que a letra s representa o fonema /s/.
- b) A palavra “história”, quanto à sílaba tônica, é uma oxítônica.
- c) Na expressão “produtos químicos”, ambas as palavras são paroxítonas.
- d) O til sobre a vogal a, em “irmãos” tem por objetivo indicar a sílaba tônica da palavra.
- e) O acento grave em “à” foi empregado para indicar a crase da preposição a com o artigo a.

12. Escolha a alternativa em que foi transcrito o primeiro período do corpo do texto.

- a) “Faz cem anos”.
- b) “que inventaram o cinema.”.
- c) “Faz cem anos que inventaram o cinema.”.
- d) “Faz cem anos que inventaram o cinema. E nele tudo é mentirinha. As imagens se mexendo na tela não passam de uma ilusão. O homem demorou milhares de anos para realizar o desejo de dar movimento aos desenhos. Nos tempos das cavernas, as pessoas tentavam representar as coisas em movimento. Elas desenhavam, por exemplo, os animais com oito patas. Era o jeito de mostrar o animal correndo.”.
- e) “Faz cem anos que inventaram o cinema. E nele tudo é mentirinha.”.

13. No texto, há uma informação entre parênteses, sinais de pontuação que são empregados para intercalar, num texto, qualquer indicação acessória. Com que objetivo esse recurso foi empregado nesse texto?

- a) Para fazer indicações bibliográficas.
- b) Para introduzir uma explicação.
- c) Para inserir uma nota emocional.
- d) Para apresentar a citação textual de uma palavra ou expressão traduzida.
- e) Para fazer indicações cênicas.

14. Quanto à análise morfológica, escolha a alternativa em que a palavra sublinhada pertence à classe de palavras entre parênteses.

- a) “A primeira sessão de cinema aconteceu em Paris, em 1895.” (substantivo).
- b) “A primeira sessão de cinema aconteceu em Paris, em 1895.” (prônimo).
- c) “A primeira sessão de cinema aconteceu em Paris, em 1895.” (adjetivo).
- d) “A primeira sessão de cinema aconteceu em Paris, em 1895.” (conjunção).
- e) “A primeira sessão de cinema aconteceu em Paris, em 1895.” (verbo).

15. Observe o texto e escolha a alternativa correta.

- a) No enunciado “O filme era curtinho e mostrava um trem chegando à estação.” há apenas uma oração.
- b) No trecho “Contam que as pessoas ficaram muito surpresas”, há três orações.
- c) O trecho “Teve gente que caiu da cadeira e muitas mulheres gritaram de susto.” é uma frase.
- d) No trecho “Foram os irmãos Louis e Auguste Lumière”, há duas orações.
- e) O termo “cinema”, que aparece no título do texto, é um adjetivo.

MATEMÁTICA

16. Fernando, Vanderlei e Marcelo são irmãos. Somando a idade dos três irmãos, obtemos 63. Vanderlei é um ano mais velho que Fernando e Marcelo é dois anos mais velho que Fernando. Quais são as idades de Fernando, Vanderlei e Marcelo, respectivamente?

- a) 20 – 21 – 22
- b) 30 – 31 – 32
- c) 21 – 21 – 21
- d) 31 – 32 – 33
- e) 31 – 31 – 31

17. Numa festa, havia 3.000 pessoas, das quais 25% eram crianças. Quantos eram os adultos?

- a) 700 adultos
- b) 750 adultos
- c) 1500 adultos
- d) 2250 adultos
- e) 2700 adultos

18. João Carlos deseja comprar um imóvel avaliado em R\$ 150.000,00. Se ele pagar 1/4 do valor total à vista, quanto faltará para adquirir o imóvel?

- a) R\$ 172.500,00
- b) R\$ 120.500,00
- c) R\$ 127.500,00
- d) R\$ 137.500,00
- e) R\$ 112.500,00

19. Os salários da Empresa Alfa são distribuídos de acordo com a tabela; Qual é a média dos salários da empresa?

- a) R\$ 1.612,50
- b) R\$ 1.512,50
- c) R\$ 1.812,50
- d) R\$ 2.512,50
- e) R\$ 1.500,50

Salário (em R\$)	Número de Funcionários
R\$ 800,00	09
R\$ 1.200,00	05
R\$ 1.600,00	08
R\$ 2.000,00	04
R\$ 2.400,00	06
Total	32

20. Trinta por cento da quarta parte de 7.200 é igual a:

- a) 470
- b) 690
- c) 540
- d) 349
- e) 780

21. Com 4 latas de tinta pinte 360 m² de parede. Quantos metros quadrados poderiam ser pintados com 10 latas dessa mesma tinta?

- a) 900m²
- b) 780m²
- c) 720m²
- d) 640m²
- e) 800m²

22. Com 12 pedreiros podemos construir um muro em 5 dias. Quantos dias levarão 10 pedreiros para fazer o mesmo trabalho?

- a) 8 dias
- b) 4 dias
- c) 3 dias
- d) 2 dias
- e) 6 dias

23. Tirando 2 unidades da metade da idade de Francisco, obtemos a idade de Thays, que tem 13 anos. Qual é a idade de Francisco?

- b) 60
- c) 30
- d) 25
- e) 15

24. Dois vendedores de uma firma saem a serviço no mesmo dia. O primeiro faz viagens de 15 em 15 dias e o segundo, de 18 em 18 dias. Depois de quantos dias sairão juntos novamente?

- a) 120 dias
- b) 90 dias
- c) 110 dias
- d) 130 dias
- e) 140 dias

25. Uma TV custa R\$ 1.850,00. Pagando à vista, ganha-se um desconto de 12%. Qual será o preço pago à vista?

- a) R\$ 1.628,00
- b) R\$ 1.222,00
- c) R\$ 1.350,50
- d) R\$ 1.450,50
- e) R\$ 1.420,00

CONHECIMENTOS GERAIS

26. A Câmara Municipal de Telêmaco Borba/PR é presidida por

- a) José Reinaldo Antunes Carneiro.
- b) Aparecida de Fátima Ribeiro Frazza.
- c) Sérgio de Souza Bueno.
- d) Élio Cezar Alves do Santos.
- e) Renato Bahena.

27. O município de Telêmaco Borba/PR foi instalado em

- a) 21/03/1941.
- b) 21/03/1964.
- c) 21/03/1947.
- d) 21/03/1960.
- e) 21/03/1970.

28. Marque a alternativa que contém a imagem da bandeira do município de Telêmaco Borba/PR.



29. O Hino de Telêmaco Borba foi composto na primeira legislatura municipal, na década de:

- a) 50
- b) 60
- c) 70
- d) 80
- e) 90



30. No Word, o ícone  **significa**

- a) Centralizar.
- b) Bordas externas.
- c) Justificar.
- d) Aumentar recuo.
- e) Sombreamento

31. Marque a alternativa que completa o texto, segundo a Lei Orgânica do Município de Telêmaco Borba/PR.



Para as eleições da Mesa, após a primeira sessão legislativa, a data para a sua realização será o dia _____, ficando a posse dos eleitos, para o dia 1º de janeiro do exercício subsequente.

- a) 1º de janeiro
- b) 31 de dezembro
- c) 15 de dezembro
- d) 1º de fevereiro
- e) 05 de dezembro

Com base na Lei nº 1883/2012, que dispõe sobre o Estatuto dos Servidores Públicos da Administração Direta, Autárquica e Funcional do Município de Telêmaco Borba/PR, responda às próximas quatro questões.

32. O art. 1º da Lei nº 1883/2012 disciplina o Regime Jurídico Estatutário aplicável aos servidores públicos investidos em cargo público de provimento efetivo ou de provimento em comissão:

- (1) do Poder Executivo;
- (2) do Poder Legislativo;
- (3) das Autarquias;
- (4) das Fundações;
- (5) das Instituições sem fins lucrativos.

Qual item não faz parte do art. 1º da referida Lei?

- a) (1)
- b) (2)
- c) (3)
- d) (4)
- e) (5)

33. Leia os itens a seguir e marque a alternativa verdadeira.

I. Às pessoas portadoras de deficiência é assegurado o direito de se inscrever em concurso público para o provimento de cargo, cujas atribuições sejam compatíveis com a deficiência de que são portadoras.

II. Para as pessoas portadoras de deficiência serão reservadas 10% das vagas oferecidas, nas condições a serem definidas no edital do concurso público.

III. Quando a aplicação do percentual de vagas resultar em número fracionado, igual a 0,50, será garantida uma vaga do cargo objeto do concurso público para as pessoas portadoras de deficiência.

- a) É correto o item I, apenas.
- b) É correto o item II, apenas.
- c) É correto o item III, apenas.
- d) São corretos os itens I e II, apenas.
- e) São corretos os itens I, II e III.

34. Assinale a alternativa que está de acordo com o art. 7º da Lei nº 1883/2012.

- a) O concurso público para investidura em cargo público de provimento efetivo será de provas objetivas, de acordo com a natureza e a complexidade do cargo.
- b) O concurso público para investidura em cargo público de provimento efetivo será de provas objetivas e práticas, de acordo com a natureza e a complexidade do cargo.
- c) O concurso público para investidura em cargo público de provimento efetivo será de provas ou de provas e títulos, de acordo com a natureza e a complexidade do cargo.
- d) O concurso público para investidura em cargo público em comissão será de provas ou de provas e títulos, de acordo com a natureza e a complexidade do cargo.
- e) O concurso público para investidura em cargo público de provimento efetivo e em comissão será de provas ou de provas e títulos, de acordo com a natureza e a complexidade do cargo.

35. O concurso público terá validade de

- a) até 4 anos, a critério da Administração.
- b) até 2 anos, prorrogável uma vez por igual período, a critério da Administração.
- c) até 1 ano, prorrogável uma vez por igual período, a critério da Administração.
- d) 1 ano, a critério da Administração.
- e) até 2 anos, prorrogável por mais 1 ano, a critério da Administração.

CONHECIMENTOS ESPECÍFICOS

36. Numa situação de emergência, quando a pessoa pega o telefone e disca o número 193, ela está ligando para qual unidade de emergência?

- a) SAMU
- b) Polícia Militar
- c) Polícia Civil
- d) Polícia Rodoviária Federal

e) Corpo de Bombeiros

37. Para pedir ajuda do Serviço de Atendimento Móvel de Urgência – SAMU, devemos ligar para qual número?

- a) 193
- b) 190
- c) 194
- d) 192
- e) 191

38. Na saída da escola, uma criança de 5 anos resolveu brincar com um orelhão público. Ela apertou uma das teclas programadas para ligações de emergência, sem saber para onde. Do outro lado da linha ela ouviu: “- Polícia Militar, Cabo Arnaldo, boa tarde. Qual é sua emergência?”. Assustada, a criança desligou rapidamente o telefone. Qual foi a tecla que a criança apertou para que pudesse ligar sem querer para a Polícia Militar?

- a) 193
- b) 190
- c) 194
- d) 192
- e) 191

39. Você está falando ao telefone e precisa transferir a ligação para outro ramal. Para realizar essa operação você precisa:

- a) Teclar FLASH + o N° DO RAMAL DESEJADO.
- b) Teclar ASTERISCO + o N° DO RAMAL DESEJADO.
- c) Teclar ESTRELA + o N° DO RAMAL DESEJADO.
- d) Teclar BATMAN + o N° DO RAMAL DESEJADO.
- e) Teclar HASHTAG + o N° DO RAMAL DESEJADO.

40. Para transferir uma ligação para um destino externo, você precisar realizar qual operação?

- a) Teclar FLASH + o N° EXTERNO DESEJADO.
- b) Teclar ASTERISCO + o N° EXTERNO DESEJADO.
- c) Teclar FLASH + o N° ZERO + o N° EXTERNO DESEJADO.
- d) Teclar o N° ZERO + FLASH + o N° EXTERNO DESEJADO.
- e) Teclar FLASH + o N° EXTERNO DESEJADO + o N° ZERO.

RASCUNHO



PREFEITURA DE TELÊMACO BORBA - ESTADO DO PARANÁ - EDITAL Nº 001-2016 - CONCURSO PÚBLICO

VESPERTINO – 29/05/2016 – NÍVEL FUNDAMENTAL COMPLETO

2

PROVA OBJETIVA NÚMERO

CARGO: TELEFONISTA

Leia atentamente as **INSTRUÇÕES**:

1. Confira seus dados no cartão-resposta: nome, número de inscrição e o curso para o qual se inscreveu.
2. **MARQUE no seu cartão-resposta o número da sua prova** (não será corrigido o cartão-resposta que não tiver marcado o número da prova) e **Assine** seu cartão-resposta.
3. Aguarde a autorização do Fiscal para abrir o caderno de prova. Ao receber a ordem do fiscal, confira o caderno de prova com muita atenção. Nenhuma reclamação sobre o total de questões ou falha de impressão será aceita depois de iniciada a prova.
4. O cartão-resposta não será substituído, salvo se contiver erro de impressão.
5. Preencha toda a área do cartão-resposta correspondente à alternativa de sua escolha, com caneta esferográfica (tinta azul ou preta), sem ultrapassar as bordas. As marcações duplas, ou rasuradas, com corretivo, ou marcadas diferentemente do modelo estabelecido no cartão-resposta poderão ser anuladas.
6. Sua prova tem **40** questões, com **5** alternativas.
7. Cabe apenas ao candidato a interpretação das questões, **o fiscal** não poderá fazer nenhuma interferência.
8. A prova será realizada com duração máxima de **3 (três) horas**, incluído o tempo para a realização da Prova Objetiva de múltipla escolha e o preenchimento do cartão-resposta.
9. O candidato poderá retirar-se do local de realização das provas somente **1 (uma) hora** após o seu início, sem levar o caderno de prova.
10. O candidato poderá levar o caderno de provas, assim como anotação contendo transcrição do seu cartão-resposta, somente **1h30min** (uma hora e trinta minutos) após o início da realização da prova.
11. Ao terminar a prova, o candidato deverá entregar ao fiscal de sala o cartão-resposta preenchido e **ASSINADO**.
12. Os **3 (três)** candidatos, que terminarem a prova por último, deverão permanecer na sala, e só poderão sair juntos após o fechamento do envelope, contendo os cartões-resposta dos candidatos presentes e ausentes, e assinarem no lacre do referido envelope, atestando que este foi devidamente lacrado.
13. Durante todo o tempo em que permanecer no local onde está ocorrendo o concurso, o candidato deverá, manter o celular desligado e sem bateria, só sendo permitido ligar depois de ultrapassar o portão de saída do prédio.
14. Não será permitido ao candidato fumar na sala de provas, bem como nas dependências.
15. Depois de terminar a prova e entregar ao fiscal o cartão-resposta, preenchido e assinado, não será mais permitido ao candidato o uso do banheiro e bebedouro.

BOA PROVA!

MATEMÁTICA

01. Fernando, Vanderlei e Marcelo são irmãos. Somando a idade dos três irmãos, obtemos 63. Vanderlei é um ano mais velho que Fernando e Marcelo é dois anos mais velho que Fernando. Quais são as idades de Fernando, Vanderlei e Marcelo, respectivamente?

- a) 20 – 21 – 22
- b) 30 – 31 – 32
- c) 21 – 21 – 21
- d) 31 – 32 – 33
- e) 31 – 31 – 31

02. Numa festa, havia 3.000 pessoas, das quais 25% eram crianças. Quantos eram os adultos?

- a) 700 adultos
- b) 750 adultos
- c) 1500 adultos
- d) 2250 adultos
- e) 2700 adultos

03. João Carlos deseja comprar um imóvel avaliado em R\$ 150.000,00. Se ele pagar 1/4 do valor total à vista, quanto faltará para adquirir o imóvel?

- a) R\$ 172.500,00
- b) R\$ 120.500,00
- c) R\$ 127.500,00
- d) R\$ 137.500,00
- e) R\$ 112.500,00

04. Os salários da Empresa Alfa são distribuídos de acordo com a tabela; Qual é a média dos salários da empresa?

- a) R\$ 1.612,50
- b) R\$ 1.512,50
- c) R\$ 1.812,50
- d) R\$ 2.512,50
- e) R\$ 1.500,50

Salário (em R\$)	Número de Funcionários
R\$ 800,00	09
R\$ 1.200,00	05
R\$ 1.600,00	08
R\$ 2.000,00	04
R\$ 2.400,00	06
Total	32

05. Trinta por cento da quarta parte de 7.200 é igual a:

- a) 470
- b) 690
- c) 540
- d) 349
- e) 780

06. Com 4 latas de tinta pinte 360 m² de parede. Quantos metros quadrados poderiam ser pintados com 10 latas dessa mesma tinta?

- a) 900m²
- b) 780m²
- c) 720m²
- d) 640m²
- e) 800m²

07. Com 12 pedreiros podemos construir um muro em 5 dias. Quantos dias levarão 10 pedreiros para fazer o mesmo trabalho?

- a) 8 dias
- b) 4 dias
- c) 3 dias
- d) 2 dias
- e) 6 dias

08. Tirando 2 unidades da metade da idade de Francisco, obtemos a idade de Thays, que tem 13 anos. Qual é a idade de Francisco?

- b) 60
- c) 30
- d) 25
- e) 15

09. Dois vendedores de uma firma saem a serviço no mesmo dia. O primeiro faz viagens de 15 em 15 dias e o segundo, de 18 em 18 dias. Depois de quantos dias sairão juntos novamente?

- a) 120 dias
- b) 90 dias
- c) 110 dias
- d) 130 dias
- e) 140 dias

10. Uma TV custa R\$ 1.850,00. Pagando à vista, ganha-se um desconto de 12%. Qual será o preço pago à vista?

- a) R\$ 1.628,00
- b) R\$ 1.222,00
- c) R\$ 1.350,50
- d) R\$ 1.450,50
- e) R\$ 1.420,00

CONHECIMENTOS GERAIS

11. A Câmara Municipal de Telêmaco Borba/PR é presidida por

- a) José Reinaldo Antunes Carneiro.
- b) Aparecida de Fátima Ribeiro Frazza.
- c) Sérgio de Souza Bueno.
- d) Élio Cezar Alves do Santos.
- e) Renato Bahena.

12. O município de Telêmaco Borba/PR foi instalado em

- a) 21/03/1941.
- b) 21/03/1964.
- c) 21/03/1947.
- d) 21/03/1960.
- e) 21/03/1970.

13. Marque a alternativa que contém a imagem da bandeira do município de Telêmaco Borba/PR.



14. O Hino de Telêmaco Borba foi composto na primeira legislatura municipal, na década de:

- a) 50
- b) 60
- c) 70
- d) 80
- e) 90



15 No Word, o ícone  **significa**

- a) Centralizar.
- b) Bordas externas.
- c) Justificar.
- d) Aumentar recuo.
- e) Sombreamento

16. Marque a alternativa que completa o texto, segundo a Lei Orgânica do Município de Telêmaco Borba/PR.

Para as eleições da Mesa, após a primeira sessão legislativa, a data para a sua realização será o dia _____, ficando a posse dos eleitos, para o dia 1º de janeiro do exercício subsequente.

- a) 1º de janeiro
- b) 31 de dezembro
- c) 15 de dezembro
- d) 1º de fevereiro
- e) 05 de dezembro

Com base na Lei nº 1883/2012, que dispõe sobre o Estatuto dos Servidores Públicos da Administração Direta, Autárquica e Funcional do Município de Telêmaco Borba/PR, responda às próximas quatro questões.

17. O art. 1º da Lei nº 1883/2012 disciplina o Regime Jurídico Estatutário aplicável aos servidores públicos investidos em cargo público de provimento efetivo ou de provimento em comissão:

- (1) do Poder Executivo;
- (2) do Poder Legislativo;
- (3) das Autarquias;
- (4) das Fundações;
- (5) das Instituições sem fins lucrativos.

Qual item não faz parte do art. 1º da referida Lei?

- a) (1)
- b) (2)
- c) (3)
- d) (4)
- e) (5)

18. Leia os itens a seguir e marque a alternativa verdadeira.

I. Às pessoas portadoras de deficiência é assegurado o direito de se inscrever em concurso público para o provimento de cargo, cujas atribuições sejam compatíveis com a deficiência de que são portadoras.

II. Para as pessoas portadoras de deficiência serão reservadas 10% das vagas oferecidas, nas condições a serem definidas no edital do concurso público.

III. Quando a aplicação do percentual de vagas resultar em número fracionado, igual a 0,50, será garantida uma vaga do cargo objeto do concurso público para as pessoas portadoras de deficiência.

- a) É correto o item I, apenas.
- b) É correto o item II, apenas.
- c) É correto o item III, apenas.
- d) São corretos os itens I e II, apenas.
- e) São corretos os itens I, II e III.

19. Assinale a alternativa que está de acordo com o art. 7º da Lei nº 1883/2012.

- a) O concurso público para investidura em cargo público de provimento efetivo será de provas objetivas, de acordo com a natureza e a complexidade do cargo.
- b) O concurso público para investidura em cargo público de provimento efetivo será de provas objetivas e práticas, de acordo com a natureza e a complexidade do cargo.
- c) O concurso público para investidura em cargo público de provimento efetivo será de provas ou de provas e títulos, de acordo com a natureza e a complexidade do cargo.



- d) O concurso público para investidura em cargo público em comissão será de provas ou de provas e títulos, de acordo com a natureza e a complexidade do cargo.
- e) O concurso público para investidura em cargo público de provimento efetivo e em comissão será de provas ou de provas e títulos, de acordo com a natureza e a complexidade do cargo.

20. O concurso público terá validade de

- a) até 4 anos, a critério da Administração.
- b) até 2 anos, prorrogável uma vez por igual período, a critério da Administração.
- c) até 1 ano, prorrogável uma vez por igual período, a critério da Administração.
- d) 1 ano, a critério da Administração.
- e) até 2 anos, prorrogável por mais 1 ano, a critério da Administração.

CONHECIMENTOS ESPECÍFICOS**21. Numa situação de emergência, quando a pessoa pega o telefone e disca o número 193, ela está ligando para qual unidade de emergência?**

- a) SAMU
- b) Polícia Militar
- c) Polícia Civil
- d) Polícia Rodoviária Federal
- e) Corpo de Bombeiros

22. Para pedir ajuda do Serviço de Atendimento Móvel de Urgência – SAMU, devemos ligar para qual número?

- a) 193
- b) 190
- c) 194
- d) 192
- e) 191

23. Na saída da escola, uma criança de 5 anos resolveu brincar com um orelhão público. Ela apertou uma das teclas programadas para ligações de emergência, sem saber para onde. Do outro lado da linha ela ouviu: “- Polícia Militar, Cabo Arnaldo, boa tarde. Qual é sua emergência?”. Assustada, a criança desligou rapidamente o telefone. Qual foi a tecla que a criança apertou para que pudesse ligar sem querer para a Polícia Militar?

- a) 193
- b) 190
- c) 194
- d) 192
- e) 191

24. Você está falando ao telefone e precisa transferir a ligação para outro ramal. Para realizar essa operação você precisa:

- a) Teclar FLASH + o N° DO RAMAL DESEJADO.
- b) Teclar ASTERISCO + o N° DO RAMAL DESEJADO.
- c) Teclar ESTRELA + o N° DO RAMAL DESEJADO.
- d) Teclar BATMAN + o N° DO RAMAL DESEJADO.
- e) Teclar HASHTAG + o N° DO RAMAL DESEJADO.

25. Para transferir uma ligação para um destino externo, você precisar realizar qual operação?

- a) Teclar FLASH + o N° EXTERNO DESEJADO.
- b) Teclar ASTERISCO + o N° EXTERNO DESEJADO.
- c) Teclar FLASH + o N° ZERO + o N° EXTERNO DESEJADO.
- d) Teclar o N° ZERO + FLASH + o N° EXTERNO DESEJADO.
- e) Teclar FLASH + o N° EXTERNO DESEJADO + o N° ZERO.

LÍNGUA PORTUGUESA

Leia o texto abaixo e responda às próximas cinco questões.

Os poderes da mandioca

Conta uma lenda indígena que, no princípio dos tempos, a filha de um cacique engravidou sem contato com homem. O cacique não acreditou na história da filha e ficou muito bravo. Até que, em sonho, ele recebeu a visita de um homem branco atestando a inocência da moça. Branca era também a linda indiazinha que nasceu meses depois e recebeu o nome de Mani. Ela foi a alegria da tribo por apenas um ano, quando morreu repentinamente, sem doença nem dor. Para surpresa de todos, do túmulo de Mani brotou um arbusto novo, que fez a terra fender. Os índios cavaram e retiraram grossas raízes, brancas como o corpo da indiazinha. E a planta ficou conhecida como *mandioca*, que significa “casa de Mani”.



Desde essa época, a abençoada planta nascida do corpo de Mani tem salvado seu povo da fome. Já era um dos principais alimentos dos indígenas na época do Descobrimento e ainda hoje marca presença no cardápio dos brasileiros de todo o país: como o nome da mandioca, macaxeira ou aipim; cozida, frita ou torrada na forma de farinha, não há quem resista a essa versátil e saborosíssima raiz. E, além de seus múltiplos usos culinários, ela é também matéria prima para a fabricação dos produtos mais inusitados: cerveja, tecidos, móveis e até plástico biodegradável.

(Adeodato, Sérgio. In: Globo Ciência. Jan/1988.p. 35.)

26. Com que objetivo o autor escreveu o primeiro parágrafo do texto?

- Narrar a lenda indígena sobre a origem dos índios.
- Informar sobre a origem da mandioca e de seu nome, de acordo com a tradição indígena.
- Descrever os vários usos da mandioca.
- Expor seu ponto de vista sobre os poderes da mandioca.
- Explicar a forma de cultivo da mandioca.

27. Escolha a alternativa em que estão transcritos o primeiro e segundo períodos do corpo do texto.

- “Conta uma lenda indígena que,” e “no princípio dos tempos,”.
- “Conta uma lenda indígena que, no princípio dos tempos,” e “a filha de um cacique engravidou sem contato com homem.”.
- “Conta uma lenda indígena que, no princípio dos tempos, a filha de um cacique engravidou sem contato com homem.” e “O cacique não acreditou na história da filha e ficou muito bravo.”.
- “Conta uma lenda indígena que, no princípio dos tempos, a filha de um cacique engravidou sem contato com homem. O cacique não acreditou na história da filha e ficou muito bravo.” e “Até que, em sonho, ele recebeu a visita de um homem branco atestando a inocência da moça. Branca era também a linda indiazinha que nasceu meses depois e recebeu o nome de Mani.”.
- “Conta uma lenda indígena que, no princípio dos tempos, a filha de um cacique engravidou sem contato com homem. O cacique não acreditou na história da filha e ficou muito bravo. Até que, em sonho, ele recebeu a visita de um homem branco atestando a inocência da moça. Branca era também a linda indiazinha que nasceu meses depois e recebeu o nome de Mani. Ela foi a alegria da tribo por apenas um ano, quando morreu repentinamente, sem doença nem dor. Para surpresa de todos, do túmulo de Mani brotou um arbusto novo, que fez a terra fender. Os índios cavaram e retiraram grossas raízes, brancas como o corpo da indiazinha. E a planta ficou conhecida como *manioca*, que significa ‘casa de Mani’.” e “Desde essa época, a abençoada planta nascida do corpo de Mani tem salvado seu povo da fome. Já era um dos principais alimentos dos indígenas na época do Descobrimento e ainda hoje marca presença no cardápio dos brasileiros de todo o país: como o nome da mandioca, macaxeira ou aipim; cozida, frita ou torrada na forma de farinha, não há quem resista a essa versátil e saborosíssima raiz. E, além de seus múltiplos usos culinários, ela é também matéria prima para a fabricação dos produtos mais inusitados: cerveja, tecidos, móveis e até plástico biodegradável.”.

28. Quanto à análise morfológica, escolha a alternativa em que a palavra sublinhada não pertence à classe de palavras mencionada entre parênteses.

- “Conta uma lenda indígena que, no princípio dos tempos, a filha de um cacique engravidou sem contato com homem.” (substantivo).
- “Conta uma lenda indígena que, no princípio dos tempos, a filha de um cacique engravidou sem contato com homem.” (verbo).
- “Conta uma lenda indígena que, no princípio dos tempos, a filha de um cacique engravidou sem contato com homem.” (adjetivo).
- “Conta uma lenda indígena que, no princípio dos tempos, a filha de um cacique engravidou sem contato com homem.” (artigo).
- “Conta uma lenda indígena que, no princípio dos tempos, a filha de um cacique engravidou sem contato com homem.” (artigo).

29. Observe o texto e escolha a alternativa correta.

- No enunciado “O cacique não acreditou na história da filha e ficou muito bravo.”, há apenas uma oração.
- No trecho “Até que, em sonho, ele recebeu a visita de um homem branco atestando a inocência da moça.”, há três orações.
- O trecho “Branca era também a linda indiazinha que nasceu meses depois e recebeu o nome de Mani.” não é uma frase.
- No trecho “Ela foi a alegria da tribo por apenas um ano, quando morreu repentinamente, sem doença nem dor.”, há uma oração.
- O trecho “Para surpresa de todos, do túmulo de Mani brotou um arbusto novo, que fez a terra fender.”, é um período.

30. Analise alguns substantivos do texto e escolha a alternativa correta.

- O substantivo “índios” sofreu flexão de número.
- Tanto o substantivo “raízes” como o substantivo “corpo” são palavras derivadas.



- c) Todos os substantivos do trecho “Já era um dos principais alimentos dos indígenas na época do Descobrimento” estão no plural.
- d) A formação do plural em cada um dos substantivos a seguir é diferente: “brasileiros”, “múltiplos”, “culinários” e “produtos”.
- e) O radical do substantivo “cerveja” é *cer-*.

Leia o texto abaixo e responda às próximas dez questões.

O cinema engana os olhos da gente

Faz cem anos que inventaram o cinema. E nele tudo é mentirinha. As imagens se mexendo na tela não passam de uma ilusão. O homem demorou milhares de anos para realizar o desejo de dar movimento aos desenhos. Nos tempos das cavernas, as pessoas tentavam representar as coisas em movimento. Elas desenhavam, por exemplo, os animais com oito patas. Era o jeito de mostrar o animal correndo.

A história do cinema começou com a invenção da fotografia, os homens conseguiram reproduzir imagens usando luz e produtos químicos.

Foram os irmãos Louis e Auguste Lumière que tornaram o cinema possível. Eles inventaram uma máquina que podia projetar imagens impressas (gravadas) em um filme.

A primeira sessão de cinema aconteceu em Paris, em 1895. O filme era curtinho e mostrava um trem chegando à estação.

Contam que as pessoas ficaram muito surpresas com o trem se aproximando. Teve gente que caiu da cadeira e muitas mulheres gritaram de susto.

(Medeiros, Paula. **Folhinha**. In: Folha de S. Paulo, 19 maio 1995, adaptado.)

31. O primeiro parágrafo do texto traz esclarecimentos sobre o título. Qual trecho desse parágrafo explica de fato o título?

- a) “Faz cem anos que inventaram o cinema”.
- b) “As imagens se mexendo na tela não passam de uma ilusão”.
- c) “Nos tempos das cavernas, as pessoas tentavam representar as coisas em movimento”.
- d) “Era o jeito de mostrar o animal correndo”.
- e) “O homem demorou milhares de anos para realizar o desejo de dar movimento aos desenhos”.

32. Escolha a alternativa em que a palavra acentuada retirada do texto e sua justificativa, baseada nas regras de acentuação, estejam corretas.

- a) “é” – oxítone terminada em *e*.
- b) “história” – oxítone terminada em *a*.
- c) “químicos” – oxítone terminada em *o(s)*.
- d) “possível” – paroxítone terminada em *l*.
- e) “máquina” – paroxítone terminada em *a*.

33. Das orações abaixo, escolha aquela cujo trecho destacado é o seu sujeito.

- a) “Faz cem anos”.
- b) “que inventaram o cinema.”
- c) “E nele tudo é mentirinha.”
- d) “As imagens se mexendo na tela”.
- e) “não passam de uma ilusão.”

34. Agora, escolha a oração cujo trecho sublinhado é o seu predicado.

- a) “Faz cem anos”.
- b) “que inventaram o cinema.”
- c) “E nele tudo é mentirinha.”
- d) “As imagens se mexendo na tela”.
- e) “não passam de uma ilusão.”

35. Releia o último período do texto e, depois, escolha a alternativa correta.

- a) Nesse período, há apenas uma oração.
- b) É um período, porém não uma frase.
- c) Trata-se de um período simples.
- d) Esse período é composto.
- e) O sujeito da oração, nesse período, é classificado como desinencial.

36. Analise aspectos relacionados à ortografia de algumas palavras do texto e escolha a alternativa correta.

- a) A palavra “representar”, no texto, é um dos casos em que a letra *s* representa o fonema /s/.
- b) A palavra “história”, quanto à sílaba tônica, é uma oxítone.
- c) Na expressão “produtos químicos”, ambas as palavras são paroxítonas.
- d) O til sobre a vogal *a*, em “irmãos” tem por objetivo indicar a sílaba tônica da palavra.

e) O acento grave em “à” foi empregado para indicar a crase da preposição *a* com o artigo *a*.

37. Escolha a alternativa em que foi transcrito o primeiro período do corpo do texto.

- a) “Faz cem anos”.
- b) “que inventaram o cinema.”.
- c) “Faz cem anos que inventaram o cinema.”.
- d) “Faz cem anos que inventaram o cinema. E nele tudo é mentirinha. As imagens se mexendo na tela não passam de uma ilusão. O homem demorou milhares de anos para realizar o desejo de dar movimento aos desenhos. Nos tempos das cavernas, as pessoas tentavam representar as coisas em movimento. Elas desenhavam, por exemplo, os animais com oito patas. Era o jeito de mostrar o animal correndo.”.
- e) “Faz cem anos que inventaram o cinema. E nele tudo é mentirinha.”.

38. No texto, há uma informação entre parênteses, sinais de pontuação que são empregados para intercalar, num texto, qualquer indicação acessória. Com que objetivo esse recurso foi empregado nesse texto?

- a) Para fazer indicações bibliográficas.
- b) Para introduzir uma explicação.
- c) Para inserir uma nota emocional.
- d) Para apresentar a citação textual de uma palavra ou expressão traduzida.
- e) Para fazer indicações cênicas.

39. Quanto à análise morfológica, escolha a alternativa em que a palavra sublinhada pertence à classe de palavras entre parênteses.

- a) “A primeira sessão de cinema aconteceu em Paris, em 1895.” (substantivo).
- b) “A primeira sessão de cinema aconteceu em Paris, em 1895.” (pronome).
- c) “A primeira sessão de cinema aconteceu em Paris, em 1895.” (adjetivo).
- d) “A primeira sessão de cinema aconteceu em Paris, em 1895.” (conjunção).
- e) “A primeira sessão de cinema aconteceu em Paris, em 1895.” (verbo).

40. Observe o texto e escolha a alternativa correta.

- a) No enunciado “O filme era curtinho e mostrava um trem chegando à estação.” há apenas uma oração.
- b) No trecho “Contam que as pessoas ficaram muito surpresas”, há três orações.
- c) O trecho “Teve gente que caiu da cadeira e muitas mulheres gritaram de susto.” é uma frase.
- d) No trecho “Foram os irmãos Louis e Auguste Lumière”, há duas orações.
- e) O termo “cinema”, que aparece no título do texto, é um adjetivo.

RASCUNHO



PREFEITURA DE TELÊMACO BORBA - ESTADO DO PARANÁ - EDITAL Nº 001-2016 - CONCURSO PÚBLICO

VESPERTINO – 29/05/2016 – NÍVEL FUNDAMENTAL COMPLETO

3

PROVA OBJETIVA NÚMERO

CARGO: TELEFONISTA

Leia atentamente as INSTRUÇÕES:

1. Confira seus dados no cartão-resposta: nome, número de inscrição e o curso para o qual se inscreveu.
2. **MARQUE no seu cartão-resposta o número da sua prova** (não será corrigido o cartão-resposta que não tiver marcado o número da prova) e **Assine** seu cartão-resposta.
3. Aguarde a autorização do Fiscal para abrir o caderno de prova. Ao receber a ordem do fiscal, confira o caderno de prova com muita atenção. Nenhuma reclamação sobre o total de questões ou falha de impressão será aceita depois de iniciada a prova.
4. O cartão-resposta não será substituído, salvo se contiver erro de impressão.
5. Preencha toda a área do cartão-resposta correspondente à alternativa de sua escolha, com caneta esferográfica (tinta azul ou preta), sem ultrapassar as bordas. As marcações duplas, ou rasuradas, com corretivo, ou marcadas diferentemente do modelo estabelecido no cartão-resposta poderão ser anuladas.
6. Sua prova tem **40** questões, com **5** alternativas.
7. Cabe apenas ao candidato a interpretação das questões, **o fiscal** não poderá fazer nenhuma interferência.
8. A prova será realizada com duração máxima de **3 (três) horas**, incluído o tempo para a realização da Prova Objetiva de múltipla escolha e o preenchimento do cartão-resposta.
9. O candidato poderá retirar-se do local de realização das provas somente **1 (uma) hora** após o seu início, sem levar o caderno de prova.
10. O candidato poderá levar o caderno de provas, assim como anotação contendo transcrição do seu cartão-resposta, somente **1h30min** (uma hora e trinta minutos) após o início da realização da prova.
11. Ao terminar a prova, o candidato deverá entregar ao fiscal de sala o cartão-resposta preenchido e **ASSINADO**.
12. Os **3 (três)** candidatos, que terminarem a prova por último, deverão permanecer na sala, e só poderão sair juntos após o fechamento do envelope, contendo os cartões-resposta dos candidatos presentes e ausentes, e assinarem no lacre do referido envelope, atestando que este foi devidamente lacrado.
13. Durante todo o tempo em que permanecer no local onde está ocorrendo o concurso, o candidato deverá, manter o celular desligado e sem bateria, só sendo permitido ligar depois de ultrapassar o portão de saída do prédio.
14. Não será permitido ao candidato fumar na sala de provas, bem como nas dependências.
15. Depois de terminar a prova e entregar ao fiscal o cartão-resposta, preenchido e assinado, não será mais permitido ao candidato o uso do banheiro e bebedouro.

BOA PROVA!

CONHECIMENTOS ESPECÍFICOS

01. Numa situação de emergência, quando a pessoa pega o telefone e disca o número 193, ela está ligando para qual unidade de emergência?

- a) SAMU
- b) Polícia Militar
- c) Polícia Civil
- d) Polícia Rodoviária Federal
- e) Corpo de Bombeiros

02. Para pedir ajuda do Serviço de Atendimento Móvel de Urgência – SAMU, devemos ligar para qual número?

- a) 193
- b) 190
- c) 194
- d) 192
- e) 191

03. Na saída da escola, uma criança de 5 anos resolveu brincar com um orelhão público. Ela apertou uma das teclas programadas para ligações de emergência, sem saber para onde. Do outro lado da linha ela ouviu: “- Polícia Militar, Cabo Arnaldo, boa tarde. Qual é sua emergência?”. Assustada, a criança desligou rapidamente o telefone. Qual foi a tecla que a criança apertou para que pudesse ligar sem querer para a Polícia Militar?

- a) 193
- b) 190
- c) 194
- d) 192
- e) 191

04. Você está falando ao telefone e precisa transferir a ligação para outro ramal. Para realizar essa operação você precisa:

- a) Teclar FLASH + o N° DO RAMAL DESEJADO.
- b) Teclar ASTERISCO + o N° DO RAMAL DESEJADO.
- c) Teclar ESTRELA + o N° DO RAMAL DESEJADO.
- d) Teclar BATMAN + o N° DO RAMAL DESEJADO.
- e) Teclar HASHTAG + o N° DO RAMAL DESEJADO.

05. Para transferir uma ligação para um destino externo, você precisará realizar qual operação?

- a) Teclar FLASH + o N° EXTERNO DESEJADO.
- b) Teclar ASTERISCO + o N° EXTERNO DESEJADO.
- c) Teclar FLASH + o N° ZERO + o N° EXTERNO DESEJADO.
- d) Teclar o N° ZERO + FLASH + o N° EXTERNO DESEJADO.
- e) Teclar FLASH + o N° EXTERNO DESEJADO + o N° ZERO.

LÍNGUA PORTUGUESA

Leia o texto abaixo e responda às próximas cinco questões.

Os poderes da mandioca

Conta uma lenda indígena que, no princípio dos tempos, a filha de um cacique engravidou sem contato com homem. O cacique não acreditou na história da filha e ficou muito bravo. Até que, em sonho, ele recebeu a visita de um homem branco atestando a inocência da moça. Branca era também a linda indiazinha que nasceu meses depois e recebeu o nome de Mani. Ela foi a alegria da tribo por apenas um ano, quando morreu repentinamente, sem doença nem dor. Para surpresa de todos, do túmulo de Mani brotou um arbusto novo, que fez a terra fender. Os índios cavaram e retiraram grossas raízes, brancas como o corpo da indiazinha. E a planta ficou conhecida como *mandioca*, que significa “casa de Mani”.

Desde essa época, a abençoada planta nascida do corpo de Mani tem salvado seu povo da fome. Já era um dos principais alimentos dos indígenas na época do Descobrimento e ainda hoje marca presença no cardápio dos brasileiros de todo o país: como o nome da mandioca, macaxeira ou aipim; cozida, frita ou torrada na forma de farinha, não há quem resista a essa versátil e saborosíssima raiz. E, além de seus múltiplos usos culinários, ela é também matéria prima para a fabricação dos produtos mais inusitados: cerveja, tecidos, móveis e até plástico biodegradável.

(Adeodato, Sérgio. In: Globo Ciência. Jan/1988.p. 35.)

06. Com que objetivo o autor escreveu o primeiro parágrafo do texto?

- a) Narrar a lenda indígena sobre a origem dos índios.
- b) Informar sobre a origem da mandioca e de seu nome, de acordo com a tradição indígena.
- c) Descrever os vários usos da mandioca.
- d) Expor seu ponto de vista sobre os poderes da mandioca.

e) Explicar a forma de cultivo da mandioca.

07. Escolha a alternativa em que estão transcritos o primeiro e segundo períodos do corpo do texto.

- a) “Conta uma lenda indígena que,” e “no princípio dos tempos,”.
- b) “Conta uma lenda indígena que, no princípio dos tempos,” e “a filha de um cacique engravidou sem contato com homem.”.
- c) “Conta uma lenda indígena que, no princípio dos tempos, a filha de um cacique engravidou sem contato com homem.” e “O cacique não acreditou na história da filha e ficou muito bravo.”.
- d) “Conta uma lenda indígena que, no princípio dos tempos, a filha de um cacique engravidou sem contato com homem. O cacique não acreditou na história da filha e ficou muito bravo.” e “Até que, em sonho, ele recebeu a visita de um homem branco atestando a inocência da moça. Branca era também a linda indiazinha que nasceu meses depois e recebeu o nome de Mani.”.
- e) “Conta uma lenda indígena que, no princípio dos tempos, a filha de um cacique engravidou sem contato com homem. O cacique não acreditou na história da filha e ficou muito bravo. Até que, em sonho, ele recebeu a visita de um homem branco atestando a inocência da moça. Branca era também a linda indiazinha que nasceu meses depois e recebeu o nome de Mani. Ela foi a alegria da tribo por apenas um ano, quando morreu repentinamente, sem doença nem dor. Para surpresa de todos, do túmulo de Mani brotou um arbusto novo, que fez a terra fender. Os índios cavaram e retiraram grossas raízes, brancas como o corpo da indiazinha. E a planta ficou conhecida como *mandioca*, que significa ‘casa de Mani’.” e “Desde essa época, a abençoada planta nascida do corpo de Mani tem salvado seu povo da fome. Já era um dos principais alimentos dos indígenas na época do Descobrimento e ainda hoje marca presença no cardápio dos brasileiros de todo o país: como o nome da mandioca, macaxeira ou aipim; cozida, frita ou torrada na forma de farinha, não há quem resista a essa versátil e saborosíssima raiz. E, além de seus múltiplos usos culinários, ela é também matéria prima para a fabricação dos produtos mais inusitados: cerveja, tecidos, móveis e até plástico biodegradável.”.

08. Quanto à análise morfológica, escolha a alternativa em que a palavra sublinhada não pertence à classe de palavras mencionada entre parênteses.

- a) “Conta uma lenda indígena que, no princípio dos tempos, a filha de um cacique engravidou sem contato com homem.” (substantivo).
- b) “Conta uma lenda indígena que, no princípio dos tempos, a filha de um cacique engravidou sem contato com homem.” (verbo).
- c) “Conta uma lenda indígena que, no princípio dos tempos, a filha de um cacique engravidou sem contato com homem.” (adjetivo).
- d) “Conta uma lenda indígena que, no princípio dos tempos, a filha de um cacique engravidou sem contato com homem.” (artigo).
- e) “Conta uma lenda indígena que, no princípio dos tempos, a filha de um cacique engravidou sem contato com homem.” (artigo).

09. Observe o texto e escolha a alternativa correta.

- a) No enunciado “O cacique não acreditou na história da filha e ficou muito bravo.”, há apenas uma oração.
- b) No trecho “Até que, em sonho, ele recebeu a visita de um homem branco atestando a inocência da moça.”, há três orações.
- c) O trecho “Branca era também a linda indiazinha que nasceu meses depois e recebeu o nome de Mani.” não é uma frase.
- d) No trecho “Ela foi a alegria da tribo por apenas um ano, quando morreu repentinamente, sem doença nem dor.”, há uma oração.
- e) O trecho “Para surpresa de todos, do túmulo de Mani brotou um arbusto novo, que fez a terra fender.”, é um período.

10. Analise alguns substantivos do texto e escolha a alternativa correta.

- a) O substantivo “índios” sofreu flexão de número.
- b) Tanto o substantivo “raízes” como o substantivo “corpo” são palavras derivadas.
- c) Todos os substantivos do trecho “Já era um dos principais alimentos dos indígenas na época do Descobrimento” estão no plural.
- d) A formação do plural em cada um dos substantivos a seguir é diferente: “brasileiros”, “múltiplos”, “culinários” e “produtos”.
- e) O radical do substantivo “cerveja” é *cer-*.

Leia o texto abaixo e responda às próximas dez questões.

O cinema engana os olhos da gente

Faz cem anos que inventaram o cinema. E nele tudo é mentirinha. As imagens se mexendo na tela não passam de uma ilusão. O homem demorou milhares de anos para realizar o desejo de dar movimento aos desenhos. Nos tempos das cavernas, as pessoas tentavam representar as coisas em movimento. Elas desenhavam, por exemplo, os animais com oito patas. Era o jeito de mostrar o animal correndo.

A história do cinema começou com a invenção da fotografia, os homens conseguiram reproduzir imagens usando luz e produtos químicos.

Foram os irmãos Louis e Auguste Lumière que tornaram o cinema possível. Eles inventaram uma máquina que podia projetar imagens impressas (gravadas) em um filme.

A primeira sessão de cinema aconteceu em Paris, em 1895. O filme era curtinho e mostrava um trem chegando à estação.

Contam que as pessoas ficaram muito surpresas com o trem se aproximando. Teve gente que caiu da cadeira e muitas mulheres gritaram de susto.

(Medeiros, Paula. **Folhinha**. In: Folha de S. Paulo, 19 maio 1995, adaptado.)

11. O primeiro parágrafo do texto traz esclarecimentos sobre o título. Qual trecho desse parágrafo explica de fato o título?

- a) “Faz cem anos que inventaram o cinema”.
- b) “As imagens se mexendo na tela não passam de uma ilusão”.
- c) “Nos tempos das cavernas, as pessoas tentavam representar as coisas em movimento”.
- d) “Era o jeito de mostrar o animal correndo”.
- e) “O homem demorou milhares de anos para realizar o desejo de dar movimento aos desenhos”.

12. Escolha a alternativa em que a palavra acentuada retirada do texto e sua justificativa, baseada nas regras de acentuação, estejam corretas.

- a) “é” – oxítona terminada em *e*.
- b) “história” – oxítona terminada em *a*.
- c) “químicos” – oxítona terminada em *o(s)*.
- d) “possível” – paroxítona terminada em *l*.
- e) “máquina” – paroxítona terminada em *a*.

13. Das orações abaixo, escolha aquela cujo trecho destacado é o seu sujeito.

- a) “Faz cem anos”.
- b) “que inventaram o cinema”.
- c) “E nele tudo é mentirinha”.
- d) “As imagens se mexendo na tela”.
- e) “não passam de uma ilusão”.

14. Agora, escolha a oração cujo trecho sublinhado é o seu predicado.

- a) “Faz cem anos”.
- b) “que inventaram o cinema”.
- c) “E nele tudo é mentirinha”.
- d) “As imagens se mexendo na tela”.
- e) “não passam de uma ilusão”.

15. Releia o último período do texto e, depois, escolha a alternativa correta.

- a) Nesse período, há apenas uma oração.
- b) É um período, porém não uma frase.
- c) Trata-se de um período simples.
- d) Esse período é composto.
- e) O sujeito da oração, nesse período, é classificado como desinencial.

16. Analise aspectos relacionados à ortografia de algumas palavras do texto e escolha a alternativa correta.

- a) A palavra “representar”, no texto, é um dos casos em que a letra *s* representa o fonema /s/.
- b) A palavra “história”, quanto à sílaba tônica, é uma oxítona.
- c) Na expressão “produtos químicos”, ambas as palavras são paroxítonas.
- d) O til sobre a vogal *a*, em “irmãos” tem por objetivo indicar a sílaba tônica da palavra.
- e) O acento grave em “à” foi empregado para indicar a crase da preposição *a* com o artigo *a*.

17. Escolha a alternativa em que foi transcrito o primeiro período do corpo do texto.

- a) “Faz cem anos”.
- b) “que inventaram o cinema”.
- c) “Faz cem anos que inventaram o cinema”.
- d) “Faz cem anos que inventaram o cinema. E nele tudo é mentirinha. As imagens se mexendo na tela não passam de uma ilusão. O homem demorou milhares de anos para realizar o desejo de dar movimento aos desenhos. Nos tempos das cavernas, as pessoas tentavam representar as coisas em movimento. Elas desenhavam, por exemplo, os animais com oito patas. Era o jeito de mostrar o animal correndo”.
- e) “Faz cem anos que inventaram o cinema. E nele tudo é mentirinha”.

18. No texto, há uma informação entre parênteses, sinais de pontuação que são empregados para intercalar, num texto, qualquer indicação acessória. Com que objetivo esse recurso foi empregado nesse texto?

- Para fazer indicações bibliográficas.
- Para introduzir uma explicação.
- Para inserir uma nota emocional.
- Para apresentar a citação textual de uma palavra ou expressão traduzida.
- Para fazer indicações cênicas.

19. Quanto à análise morfológica, escolha a alternativa em que a palavra sublinhada pertence à classe de palavras entre parênteses.

- "A primeira sessão de cinema aconteceu em Paris, em 1895." (substantivo).
- "A primeira sessão de cinema aconteceu em Paris, em 1895." (pronome).
- "A primeira sessão de cinema aconteceu em Paris, em 1895." (adjetivo).
- "A primeira sessão de cinema aconteceu em Paris, em 1895." (conjunção).
- "A primeira sessão de cinema aconteceu em Paris, em 1895." (verbo).

20. Observe o texto e escolha a alternativa correta.

- No enunciado "O filme era curtinho e mostrava um trem chegando à estação." há apenas uma oração.
- No trecho "Contam que as pessoas ficaram muito surpresas", há três orações.
- O trecho "Teve gente que caiu da cadeira e muitas mulheres gritaram de susto." é uma frase.
- No trecho "Foram os irmãos Louis e Auguste Lumière", há duas orações.
- O termo "cinema", que aparece no título do texto, é um adjetivo.

MATEMÁTICA

21. Fernando, Vanderlei e Marcelo são irmãos. Somando a idade dos três irmãos, obtemos 63. Vanderlei é um ano mais velho que Fernando e Marcelo é dois anos mais velho que Fernando. Quais são as idades de Fernando, Vanderlei e Marcelo, respectivamente?

- 20 – 21 – 22
- 30 – 31 – 32
- 21 – 21 – 21
- 31 – 32 – 33
- 31 – 31 – 31

22. Numa festa, havia 3.000 pessoas, das quais 25% eram crianças. Quantos eram os adultos?

- 700 adultos
- 750 adultos
- 1500 adultos
- 2250 adultos
- 2700 adultos

23. João Carlos deseja comprar um imóvel avaliado em R\$ 150.000,00. Se ele pagar 1/4 do valor total à vista, quanto faltará para adquirir o imóvel?

- R\$ 172.500,00
- R\$ 120.500,00
- R\$ 127.500,00
- R\$ 137.500,00
- R\$ 112.500,00

24. Os salários da Empresa Alfa são distribuídos de acordo com a tabela; Qual é a média dos salários da empresa?

- R\$ 1.612,50
- R\$ 1.512,50
- R\$ 1.812,50
- R\$ 2.512,50
- R\$ 1.500,50

Salário (em R\$)	Número de Funcionários
R\$ 800,00	09
R\$ 1.200,00	05
R\$ 1.600,00	08
R\$ 2.000,00	04
R\$ 2.400,00	06
Total	32

25. Trinta por cento da quarta parte de 7.200 é igual a:

- 470
- 690
- 540
- 349

e) 780

26. Com 4 latas de tinta pinte 360 m² de parede. Quantos metros quadrados poderiam ser pintados com 10 latas dessa mesma tinta?

- a) 900m²
- b) 780m²
- c) 720m²
- d) 640m²
- e) 800m²

27. Com 12 pedreiros podemos construir um muro em 5 dias. Quantos dias levarão 10 pedreiros para fazer o mesmo trabalho?

- a) 8 dias
- b) 4 dias
- c) 3 dias
- d) 2 dias
- e) 6 dias

28. Tirando 2 unidades da metade da idade de Francisco, obtemos a idade de Thays, que tem 13 anos. Qual é a idade de Francisco?

- b) 60
- c) 30
- d) 25
- e) 15

29. Dois vendedores de uma firma saem a serviço no mesmo dia. O primeiro faz viagens de 15 em 15 dias e o segundo, de 18 em 18 dias. Depois de quantos dias sairão juntos novamente?

- a) 120 dias
- b) 90 dias
- c) 110 dias
- d) 130 dias
- e) 140 dias

30. Uma TV custa R\$ 1.850,00. Pagando à vista, ganha-se um desconto de 12%. Qual será o preço pago à vista?

- a) R\$ 1.628,00
- b) R\$ 1.222,00
- c) R\$ 1.350,50
- d) R\$ 1.450,50
- e) R\$ 1.420,00

CONHECIMENTOS GERAIS

31. A Câmara Municipal de Telêmaco Borba/PR é presidida por

- a) José Reinaldo Antunes Carneiro.
- b) Aparecida de Fátima Ribeiro Frazza.
- c) Sérgio de Souza Bueno.
- d) Élio Cezar Alves do Santos.
- e) Renato Bahena.

32. O município de Telêmaco Borba/PR foi instalado em

- a) 21/03/1941.
- b) 21/03/1964.
- c) 21/03/1947.
- d) 21/03/1960.
- e) 21/03/1970.

33. Marque a alternativa que contém a imagem da bandeira do município de Telêmaco Borba/PR.



a)



b)



c)



d)



e)

34. O Hino de Telêmaco Borba foi composto na primeira legislatura municipal, na década de:

- a) 50
- b) 60
- c) 70
- d) 80
- e) 90



35. No Word, o ícone  significa

- a) Centralizar.
- b) Bordas externas.
- c) Justificar.
- d) Aumentar recuo.
- e) Sombreamento

36. Marque a alternativa que completa o texto, segundo a Lei Orgânica do Município de Telêmaco Borba/PR.

Para as eleições da Mesa, após a primeira sessão legislativa, a data para a sua realização será o dia _____, ficando a posse dos eleitos, para o dia 1º de janeiro do exercício subsequente.

- a) 1º de janeiro
- b) 31 de dezembro
- c) 15 de dezembro
- d) 1º de fevereiro
- e) 05 de dezembro

Com base na Lei nº 1883/2012, que dispõe sobre o Estatuto dos Servidores Públicos da Administração Direta, Autárquica e Funcional do Município de Telêmaco Borba/PR, responda às próximas quatro questões.

37. O art. 1º da Lei nº 1883/2012 disciplina o Regime Jurídico Estatutário aplicável aos servidores públicos investidos em cargo público de provimento efetivo ou de provimento em comissão:

- (1) do Poder Executivo;
- (2) do Poder Legislativo;
- (3) das Autarquias;
- (4) das Fundações;
- (5) das Instituições sem fins lucrativos.

Qual item não faz parte do art. 1º da referida Lei?

- a) (1)



- b) (2)
- c) (3)
- d) (4)
- e) (5)

38. Leia os itens a seguir e marque a alternativa verdadeira.

I. As pessoas portadoras de deficiência é assegurado o direito de se inscrever em concurso público para o provimento de cargo, cujas atribuições sejam compatíveis com a deficiência de que são portadoras.

II. Para as pessoas portadoras de deficiência serão reservadas 10% das vagas oferecidas, nas condições a serem definidas no edital do concurso público.

III. Quando a aplicação do percentual de vagas resultar em número fracionado, igual a 0,50, será garantida uma vaga do cargo objeto do concurso público para as pessoas portadoras de deficiência.

- a) É correto o item I, apenas.
- b) É correto o item II, apenas.
- c) É correto o item III, apenas.
- d) São corretos os itens I e II, apenas.
- e) São corretos os itens I, II e III.

39. Assinale a alternativa que está de acordo com o art. 7º da Lei nº 1883/2012.

- a) O concurso público para investidura em cargo público de provimento efetivo será de provas objetivas, de acordo com a natureza e a complexidade do cargo.
- b) O concurso público para investidura em cargo público de provimento efetivo será de provas objetivas e práticas, de acordo com a natureza e a complexidade do cargo.
- c) O concurso público para investidura em cargo público de provimento efetivo será de provas ou de provas e títulos, de acordo com a natureza e a complexidade do cargo.
- d) O concurso público para investidura em cargo público em comissão será de provas ou de provas e títulos, de acordo com a natureza e a complexidade do cargo.
- e) O concurso público para investidura em cargo público de provimento efetivo e em comissão será de provas ou de provas e títulos, de acordo com a natureza e a complexidade do cargo.

40. O concurso público terá validade de

- a) até 4 anos, a critério da Administração.
- b) até 2 anos, prorrogável uma vez por igual período, a critério da Administração.
- c) até 1 ano, prorrogável uma vez por igual período, a critério da Administração.
- d) 1 ano, a critério da Administração.
- e) até 2 anos, prorrogável por mais 1 ano, a critério da Administração.

RASCUNHO



PREFEITURA DE TELÊMACO BORBA - ESTADO DO PARANÁ - EDITAL Nº 001-2016 - CONCURSO PÚBLICO

MATUTINO – 29/05/2016 – NÍVEL MÉDIO

1

PROVA OBJETIVA NÚMERO

CARGO: AGENTE ADMINISTRATIVO I - ADMINISTRATIVO, CONTÁBIL FINANCEIRO

Leia atentamente as INSTRUÇÕES:

1. Confira seus dados no cartão-resposta: nome, número de inscrição e o curso para o qual se inscreveu.
2. **MARQUE no seu cartão-resposta o número da sua prova** (não será corrigido o cartão-resposta que não tiver marcado o número da prova) e **Assine** seu cartão-resposta.
3. Aguarde a autorização do Fiscal para abrir o caderno de prova. Ao receber a ordem do fiscal, confira o caderno de prova com muita atenção. Nenhuma reclamação sobre o total de questões ou falha de impressão será aceita depois de iniciada a prova.
4. O cartão-resposta não será substituído, salvo se contiver erro de impressão.
5. Preencha toda a área do cartão-resposta correspondente à alternativa de sua escolha, com caneta esferográfica (tinta azul ou preta), sem ultrapassar as bordas. As marcações duplas, ou rasuradas, com corretivo, ou marcadas diferentemente do modelo estabelecido no cartão-resposta poderão ser anuladas.
6. Sua prova tem **40** questões, com **5** alternativas.
7. Cabe apenas ao candidato a interpretação das questões, **o fiscal** não poderá fazer nenhuma interferência.
8. A prova será realizada com duração máxima de **3 (três) horas**, incluído o tempo para a realização da Prova Objetiva de múltipla escolha e o preenchimento do cartão-resposta.
9. O candidato poderá retirar-se do local de realização das provas somente **1 (uma) hora** após o seu início, sem levar o caderno de prova.
10. O candidato poderá levar o caderno de provas, assim como anotação contendo transcrição do seu cartão-resposta, somente **1h30min** (uma hora e trinta minutos) após o início da realização da prova.
11. Ao terminar a prova, o candidato deverá entregar ao fiscal de sala o cartão-resposta preenchido e **ASSINADO**.
12. Os **3 (três)** candidatos, que terminarem a prova por último, deverão permanecer na sala, e só poderão sair juntos após o fechamento do envelope, contendo os cartões-resposta dos candidatos presentes e ausentes, e assinarem no lacre do referido envelope, atestando que este foi devidamente lacrado.
13. Durante todo o tempo em que permanecer no local onde está ocorrendo o concurso, o candidato deverá, manter o celular desligado e sem bateria, só sendo permitido ligar depois de ultrapassar o portão de saída do prédio.
14. Não será permitido ao candidato fumar na sala de provas, bem como nas dependências.
15. Depois de terminar a prova e entregar ao fiscal o cartão-resposta, preenchido e assinado, não será mais permitido ao candidato o uso do banheiro e bebedouro.

BOA PROVA!

LÍNGUA PORTUGUESA

Leia o texto e responda às próximas quatro questões.

Lêmures e baobás de Madagascar

Isolada do continente há 135 milhões de anos, a ilha do Oceano Índico é um laboratório natural da evolução das espécies e encanta os viajantes com uma flora e fauna única

Madagascar abriga 107 espécies de **lêmures**, dezenas de espécies de camaleões coloridos e outras tantas plantas que só existem lá. “Madagascar é um mundo a parte. Costumo dizer que, se Charles Darwin tivesse conhecido Madagascar, seu livro *A Origem das Espécies* seria dez vezes maior”, afirma o fotógrafo e jornalista **Haroldo Castro**, idealizador de Viajologia Expedições.

Uma das experiências mais emocionantes na quarta maior ilha do mundo é passear entre os gigantescos **baobás**, árvores que chegam a ter 30 metros de altura e mil anos de idade. Das nove espécies de baobás que existem no mundo, seis podem ser encontradas apenas em Madagascar. A majestosa árvore, considerada sagrada pelos malgaxes, é chamada localmente como “reniala”, mãe da floresta.

Na pequena cidade de Bekopaka está o Parque Nacional Tsingy de Bemaraha, considerado Patrimônio Mundial pela Unesco. Trilhas e passeios de canoa no rio Manambolo conduzem a formações rochosas calcárias inusitadas e plantas endêmicas desse ecossistema de florestas secas.

Outro momento inesquecível em Madagascar é o encontro com os lêmures nas florestas tropicais da reserva Anjozorobe-Angavo, a 90 quilômetros da capital Antananarivo. Especialistas apontam que o turismo de observação de animais é uma excelente alternativa para o desenvolvimento da economia local e pode ajudar a conter o desmatamento. “O projeto em Anjozorobe comprova que, nos últimos anos, os 9 mil visitantes contribuíram de forma concreta a reduzir a pobreza e a promover a conservação da biodiversidade”, afirma Haroldo. Como os primatas são curiosos e estão habituados aos seres humanos, eles costumam se aproximar dos visitantes. “Os bichinhos chegam a subir nas nossas cabeças e parecem adorar aparecer nas fotos.”

Madagascar possui hoje uma excelente estrutura para o turismo, com algumas estradas bem cuidadas e hotéis confortáveis localizados perto das reservas e parques ecológicos. A gastronomia malgaxe, com um toque francês, também surpreende pela diversidade de ingredientes, temperos e colorido dos pratos.

[...]

(Fonte: <http://viajeaquibril.com.br/materias/lemures-e-baobas-de-madagascar#2>. Acesso em 14/05/2016)

01. Lêmures e baobás de Madagascar é um texto:

- Em que prevalece a descrição, apresentando as belezas e peculiaridades do lugar, da fauna e da flora.
- Principalmente narrativo, de fatos colhidos durante uma viagem, que se sucedem em progressão temporal.
- Essencialmente argumentativo, o uso da descrição visa somente a convencer o leitor a visitar Madagascar.
- Dissertativo, impera o desenvolvimento de argumentos para comprovar a tese presente no primeiro parágrafo.
- Em que predomina a exposição de conceitos e definições com o intuito de informar o leitor.

02. O teor do texto *Lêmures e baobás de Madagascar* somente não poderia se encaixar em que tópico?

- Turismo
- Viagens
- Clima
- Natureza
- Ilhas

03. O aposto é um termo que *explica ou esclarece, desenvolve ou resume outro termo da oração*. Quanto a isso, analise a parte grifada em cada uma das orações retiradas do texto:

I - A majestosa árvore, considerada sagrada pelos malgaxes, é chamada localmente como “reniala”, mãe da floresta.

II - afirma o fotógrafo e jornalista Haroldo Castro, idealizador de Viajologia Expedições.

III - Outro momento inesquecível em Madagascar é o encontro com os lêmures nas florestas tropicais da reserva Anjozorobe-Angavo, a 90 quilômetros da capital Antananarivo.

IV - O projeto em Anjozorobe comprova que, nos últimos anos, os 9 mil visitantes contribuíram de forma concreta a reduzir a pobreza e a promover a conservação da biodiversidade”.

V - A gastronomia malgaxe, com um toque francês, também surpreende pela diversidade de ingredientes, temperos e colorido dos pratos.

Constitui aposto os grifos em:

- I, II, III, IV e V.
- I, III e V, apenas.
- III e V apenas.
- I, II, III, e V, apenas.
- III, IV e V apenas

04. Trilhas e passeios de canoa no rio Manambolo conduzem a formações rochosas calcárias inusitadas e plantas endêmicas desse ecossistema de florestas secas.



Ao observar a relação sintática entre os termos desse período, pode-se afirmar que:

- de canoa é complemento nominal de Trilhas e passeios.
- no rio Manambolo é adjunto adnominal de canoa.
- de florestas secas é complemento nominal de plantas endêmicas.
- de canoa é complemento verbal de passeios.
- a formações rochosas calcárias inusitadas e plantas endêmicas desse ecossistema de florestas secas é complemento verbal de conduzem.

Leia o poema e responda às próximas duas questões.

FOGO NA MATA, MATA!

Fogo na mata, mata! A mata, a vida...
Fogo na mata, abre,
no coração da mata,
Profundas feridas.

Fogo na mata corrói,
dentro de nós, os sonhos.
Fogo na mata, deixa, no seio da mata,
Tumores tamanhos!

[...]

(Fonte: <http://www.recantodasletras.com.br/letras/505252>. Acesso em 14/05/2016)

05. A respeito de alguns aspectos gramaticais pertinentes aos termos em destaque na frase título do poema *Fogo na mata, mata!*, está correto o que se afirma em:

- Morfologicamente, na sequência em que as duas palavras aparecem, temos um verbo e um substantivo.
- Semanticamente, as duas palavras constituem homônimas homófonas homógrafas.
- O processo de formação da palavra “mata” (primeira ocorrência na frase) é por derivação regressiva do verbo “matar” cuja flexão na terceira pessoa vem logo em seguida na frase.
- Semanticamente, as duas palavras “mata” são parônimas.
- Semanticamente, as duas palavras constituem homônimas homógrafas heterofônicas.

06. Com a Nova Reforma Ortográfica, foi mantido o acento nas oxítonas terminadas em -ei e -oi, como é o caso de corrói em *Fogo na mata corrói*. No entanto, de acordo ainda com a Nova Reforma, os acentos foram retirados de quais duas palavras?

- Bocaiuva - maiúscula
- Voo, aerodromo
- Releem - feiura
- Papeis - língua
- Preveem - herói

07. Leia atentamente as alternativas e assinale a incorreta no que diz respeito à Ortografia:

- Grafamos com j as palavras ultraje, jiboia e gorjeio; com g as palavras ferrugem, geringonça, e miragem.
- Grafamos com sc: miscelânea, obsceno e obscensão; com c: sucinto, facínio e nécio.
- Grafamos com x: xampu, mexerico e enxada; com ch: piche, tocha e mecha.
- Grafamos com z: xadrez, cicatriz e vizinho; com s: friso, pêsames e tesoura.
- Grafamos com ss: escassez, submissão e sossego; com c: acetinado, obcecado e acepção.

08. O advérbio sublinhado e a circunstância que ele expressa não estão corretamente apresentados em:

- Ele certamente virá para o encontro. (afirmação)
- Ali se ouvia falar de riquezas culturais. (tempo)
- O orador discursou muito bem, impressionou a plateia. (modo)
- Chegamos tarde, perdemos o ônibus. (tempo)
- Os candidatos estudaram bastante. (intensidade)

09. Os pronomes pessoais, representantes das pessoas do discurso, estão corretamente empregados em todas as alternativas, com exceção da:

- Sempre haverá discordância entre mim e ti.
- O juiz queria falar com nós dois.
- Minha festa de despedida, não vou esquecê-la jamais.
- Ninguém irá sem eu.
- Deram o livro para eu ler em dois dias!

10. Em uma oração, o contexto permite concluirmos se certos verbos são de ligação, para assim identificarmos o predicado nominal. Assim, não há predicação nominal em:

- a) O aluno não estava na escola hoje.
- b) À tarde, as crianças pareciam cansadas.
- c) Ultimamente os participantes do programa andam desanimados.
- e) A aurora boreal é um lindo espetáculo.
- d) As atletas parecem cansadas.

MATEMÁTICA

11. Numa prova de hipismo, há duas modalidades totalmente distintas: salto e rural. João vai competir nas duas modalidades. Sabendo que a vitória ou a derrota em uma nada influencia no resultado da outra, e sabendo que a probabilidade de ele ganhar a prova de salto é de 40% e a de ganhar a prova de rural é de 58%, qual a probabilidade de ele ganhar as duas provas?

- a) 98%
- b) 62%
- c) 23,2%
- d) 18%
- e) 2,32%

12. Numa escola há 12 professores. A tabela a seguir mostra a carga horária diária de trabalho desses professores.

4	8	5	10	6	5	8	6	8	9	4	8
---	---	---	----	---	---	---	---	---	---	---	---

É correto afirmar que as cargas horárias média, modal e mediana desses professores são respectivamente:

- a) 6,25; 6; 7
- b) 6,5; 7; 8
- c) 6,75; 8; 6
- d) 6,75; 8; 7
- e) 6,75; 7; 8

13. Encontre a equação da reta mediatriz do segmento AB, onde A(2, 3) e B(4, -1), e assinale a alternativa correta.

- a) $2y - x + 1 = 0$
- b) $y - 2x + 2 = 0$
- c) $2y - 2x + 1 = 0$
- d) $2y + x + 2 = 0$
- e) $2y + x - 1 = 0$

14. Uma loja acrescenta 15% no preço de seus produtos à vista se o cliente optar por pagar com um cheque para 60 dias. Comprei, nessa loja, um fogão com cheque para 60 dias e paguei R\$552,00 por ele. Qual era o preço à vista desse fogão?

- a) R\$460,00
- b) R\$469,20
- c) R\$474,50
- d) R\$480,00
- e) R\$500,00

15. Um pesquisador, ao analisar os processos que envolvem jovens com menos de 24 anos, descobriu que há 4 homens com nomes envolvidos em processos para cada mulher. Se no total ele contou 2400 pessoas, quantas eram as mulheres envolvidas nessa pesquisa?

- a) 480
- b) 600
- c) 800
- d) 1920
- e) 2000

INFORMÁTICA

16. Utilizando o Excel 2013, qual fórmula representa corretamente a auto soma?

- a) =SUM()
- b) =MEDIA()
- c) =MAX()
- d) =MIN()
- e) =SE()

**17. Acerca de confidencialidade está incorreto afirmar:**

- a) É um conceito em qual o acesso à informação deve ser concedido a quem de direito, ou seja, apenas para as entidades autorizadas pelo proprietário ou dono da informação.
- b) É uma propriedade que limita o acesso à informação tão somente às entidades legítimas, ou seja, àquelas autorizadas pelo proprietário da informação.
- c) É a propriedade da informação que não estará disponível ou será divulgada a indivíduos, entidades ou processos sem autorização.
- d) Significa garantir que a informação será conhecida por pessoas que não estejam autorizadas para tal.
- e) É a garantia do resguardo das informações dadas pessoalmente em confiança e proteção contra a sua revelação não autorizada.

18. Tratando-se de hardware de computadores, assinale a alternativa que corresponde a um tipo de memória externa.

- a) Pen Drive
- b) EPROM
- c) DIMM
- d) MRAM
- e) Cache

19. No Word 2013, é possível utilizar vários tipos de formatação de fontes, exceto:

- a) Tachado
- b) Negrito
- c) Centralizado
- d) Sublinhado
- e) Cor da fonte

20. Qual software nativo do Windows utilizamos para descobrir o endereço IP do computador?

- a) Windows Explorer
- b) Notepad
- c) Excel
- d) Word
- e) Prompt de Comando

CONHECIMENTOS GERAIS**21. Conforme fonte do IBGE, o bioma do município de Telêmaco Borba/PR é:**

- a) Mata de Pinhais e Cerrado
- b) Pantanal
- c) Caatinga e Mata Atlântica
- d) Floresta Tropical
- e) Cerrado e Mata Atlântica

22. A letra do hino do município de Telêmaco Borba/PR é de autoria de

- a) Bento Mossurunga.
- b) Moisés Lupion.
- c) Eloah Martins Quadrado.
- d) Graciliana Reis D´Albuquerque Mossurunga.
- e) Enéias Augusto Moracines Borba.

23. Leia o texto sobre o Brasão de Armas do município de Telêmaco Borba/PR e marque a alternativa correta.

O Brasão de Armas foi aprovado em definitivo em 1981, dentro dos padrões da heráldica, estabelecendo os regulamentos para seu uso, ficando assim oficializado.

No Brasão de Armas, é possível identificar:

1. Escudo português redondo banhado de ouro filetado de prata, carregado de cinco árvores de pinho estilizadas de sua cor, postas em banda.
2. Escudete de prata carregado de três Pinheiros do Paraná, araucária angustifolia ou brasiliense.
3. No timbre, coroa mural de ouro lavrado de negro.
4. À direita, haste de milho (zae mays) frutada.
5. À sinistra, ramos de soja (gelycine soya) granada.
6. Listel amarelo ostentando o topônimo "Cidade Nova" entre as inscrições de ouro "5 de Julho de 1963", em caracteres latino moderno.

- a) Não é verdadeiro o item 1.
- b) Não é verdadeiro o item 2.
- c) Não é verdadeiro o item 4.
- d) Não é verdadeiro o item 6.

e) Não são verdadeiros os itens 3 e 5.

24. Segundo o art. 11 da Lei Orgânica do Município de Telêmaco Borba/PR, os bens públicos podem ser:
I. De uso comum do Povo, tais como estradas municipais, ruas, parques, praças, logradouros públicos e outros da mesma espécie;
II. De uso especial, os de patrimônio administrativo, tais como edifícios das repartições públicas, os terrenos e equipamentos destinados ao serviço público, veículos, matadouros, mercados e outras serventias de outra espécie;
III. Bens municipais, aqueles sobre os quais o município exerce os direitos de proprietário e são considerados como bens patrimoniais disponíveis;
IV. Bens culturais, tais como música e obras de arte.
Podemos afirmar que são verdadeiros os itens

- a) I e II, apenas.
- b) II e III, apenas.
- c) I, II e III, apenas.
- d) I, III e IV, apenas.
- e) I, II, III e IV.

25. Qual alternativa completa corretamente o texto a seguir?

No primeiro ano de cada legislatura, no dia 1º de janeiro, em sessão de instalação, independente de número, sob a presidência do vereador mais idoso dentre os eleitos, os vereadores prestarão compromisso e tomarão posse. O Vereador que não tomar posse na sessão do dia 1º de janeiro poderá fazê-la _____ depois da primeira sessão ordinária da Legislatura.

- a) até dez dias
- b) até quinze dias
- c) até trinta dias
- d) até quarenta e cinco dias
- e) até sessenta dias

26. Conforme o art. 54 da Lei Orgânica do Município de Telêmaco Borba/PR, o Processo Legislativo compreende a elaboração de:

- I. Emendas à Lei Orgânica do Município;**
- II. Leis complementares;**
- III. Leis Ordinárias;**
- IV. Decretos Legislativos;**
- V. Resoluções;**
- VI. Pareceres.**

Assinale a alternativa que faz a afirmação correta.

- a) São verdadeiros apenas os itens I, III e VI.
- b) São verdadeiros apenas os itens I, III e IV.
- c) São verdadeiros apenas os itens III, IV e V.
- d) São verdadeiros apenas os itens I, II, III, IV e V.
- e) São verdadeiros os itens I, II, III, IV, V e VI.

Com base na Lei nº 1883/2012, que dispõe sobre o Estatuto dos Servidores Públicos da Administração Direta, Autárquica e Funcional do Município de Telêmaco Borba/PR, responda às próximas quatro questões.

27. À luz do § 2º do art. 9º da Lei nº 1883/2012, marque a alternativa que completa a lacuna do texto a seguir.

O concurso deverá ser homologado no prazo máximo de _____ contados da data de realização da última fase de provas, sob pena de responsabilidade da autoridade competente.

- a) um mês
- b) dois meses
- c) seis meses
- d) um ano
- e) dois anos

28. Marque a alternativa que completa a lacuna do texto a seguir.

O candidato terá o prazo _____, a contar da publicação oficial da convocação, para comparecer à entidade convocante e assinar termo de comparecimento.

- a) máximo de 5 dias úteis
- b) mínimo de 15 dias úteis
- c) de até 30 dias
- d) máximo de 15 dias úteis

e) mínimo de 5 dias úteis

29. Leia as assertivas e marque a correta.

- a) São reservados 10% dos cargos em comissão para a nomeação de servidores do quadro efetivo.
b) São reservados 15% dos cargos em comissão para a nomeação de servidores do quadro efetivo.
c) São reservados 20% dos cargos em comissão para a nomeação de servidores do quadro efetivo.
d) São reservados 25% dos cargos em comissão para a nomeação de servidores do quadro efetivo.
e) São reservados 30% dos cargos em comissão para a nomeação de servidores do quadro efetivo.

30. Marque a alternativa que completa a lacuna do texto a seguir.

O servidor municipal, quando nomeado para cargo em comissão, ficará afastado de seu cargo efetivo e fará jus à remuneração prevista em lei para o comissionado, podendo optar por receber seus vencimentos acrescidos de _____ do valor da remuneração prevista para o cargo em comissão.

- a) 10%
b) 20%
c) 30%
d) 40%
e) 50%

CONHECIMENTOS ESPECÍFICOS

À luz do Manual de Redação Oficial, responda às próximas três questões.

31. O quadro seguinte é exemplo de texto obscuro, a partir do qual podem ser feitas algumas frases, combinando-se as expressões das várias colunas em qualquer ordem, com uma característica comum: nenhuma delas tem sentido. Tal estilo de texto deve ser evitado em todas as comunicações oficiais.

COLUNA A	COLUNA B	COLUNA C	COLUNA D	COLUNA E	COLUNA F	COLUNA G
1. A necessidade emergente	se caracteriza por	uma correta relação entre estrutura e superestrutura	no interesse primário da população,	substanciando e vitalizando,	numa ótica preventiva e não mais curativa,	a transparência de cada ato decisional.
2. O quadro normativo	prefigura	a superação de cada obstáculo e/ou resistência passiva	sem prejudicar o atual nível das contribuições,	não assumindo nunca como implícito,	no contexto de um sistema integrado,	um indispensável salto de qualidade.

(FONTE: http://www.planalto.gov.br/ccivil_03/manual/manual.htm, acesso em 13 de março de 2016).

A clareza deve ser a qualidade básica de todo texto oficial. Pode-se definir como claro aquele texto que possibilita imediata compreensão pelo leitor. No entanto a clareza não é algo que se atinja por si só: ela depende estritamente das demais características da redação oficial.

As alternativas remetem a essas características. Qual está incorreta?

- a) A impessoalidade, que evita a duplicidade de interpretações que poderia decorrer de um tratamento personalista dado ao texto.
b) O uso de siglas e termos técnicos, não necessitando o esclarecimento dos mesmos, desde que o contexto seja feito na gramática correta.
c) O uso do padrão culto de linguagem, em princípio, de entendimento geral e por definição avesso a vocábulos de circulação restrita, como a gíria e o jargão.
d) A formalidade e a padronização, que possibilitam a imprescindível uniformidade dos textos.
e) A concisão, que faz desaparecer do texto os excessos linguísticos que nada lhe acrescentam.

32. Em uma frase, pode-se dizer que redação oficial é a maneira pela qual o Poder Público redige atos normativos e comunicações. Interessa-nos tratá-la do ponto de vista do Poder Executivo. A redação oficial deve caracterizar-se pela impessoalidade, uso do padrão culto de linguagem, clareza, concisão, formalidade e uniformidade. Fundamentalmente esses atributos decorrem da Constituição, que dispõe, no artigo 37: "A administração pública direta, indireta ou fundacional, de qualquer dos Poderes da União, dos Estados, do Distrito Federal e dos Municípios obedecerá aos princípios de legalidade, impessoalidade, moralidade, publicidade e eficiência (...)". Sendo a publicidade e a impessoalidade princípios fundamentais de toda administração pública, claro está que devem igualmente nortear a elaboração dos atos e comunicações oficiais.

Acerca disto, marque as afirmativas com C (certo) ou E (errado), e assinale a alternativa correta.

- () Não se concebe que um ato normativo de qualquer natureza seja redigido de forma obscura, que dificulte ou impossibilite sua compreensão.
() A transparência do sentido dos atos normativos, bem como sua inteligibilidade, são requisitos do próprio Estado de Direito: é inaceitável que um texto legal não seja entendido pelos cidadãos.
() Os atos normativos não devem obedecer à tradição, mesmo que algumas normas remontem ao período da História Imperial.

() Outros procedimentos rotineiros na redação de comunicações oficiais foram incorporados ao longo do tempo, como as formas de tratamento e de cortesia, certos clichês de redação, a estrutura dos expedientes, etc.

- a) C – C – E – C
- b) E – C – C – C
- c) E – E – E – C
- d) C – C – C – C
- e) C – E – C – C

33. O Manual de Redação Oficial nos informa como devem ser diagramados os documentos do padrão Ofício. No que diz respeito à diagramação desses documentos, assinale a alternativa correta.

- a) Deve ser utilizada fonte do tipo *Times New Roman* de corpo 10 no texto em geral, 11 nas citações, e 12 nas notas de rodapé.
- b) Para símbolos não existentes na fonte *Times New Roman* poder-se-á utilizar as fontes *Arial* e *Calibri*.
- c) É obrigatório constar a partir da segunda página o número da página.
- d) O início de cada parágrafo do texto deve ter 1,5 cm de distância da margem direita.
- e) O campo destinado à margem lateral direita terá, no mínimo, 2,5 cm de largura.

34. Conforme José Carlos Marion 2009, o objetivo principal da Contabilidade é o de “permitir a cada grupo principal de usuários a avaliação da situação econômica e financeira da entidade, num sentido estático, bem como fazer inferências sobre suas tendências futuras”. Sendo assim, o objeto da Contabilidade:

- a) É o Patrimônio das entidades.
- b) É o Ativo Circulante das entidades.
- c) É o Ativo Permanente das entidades.
- d) É o Passivo Circulante das entidades.
- e) São as Obrigações a pagar das entidades.

35. Os Princípios Contábeis definem as diretrizes essenciais sobre atos e fatos agraciados pela contabilidade. Os tópicos seguintes estão apresentados tendo esses princípios em mente. Nesse sentido, marque cada um deles com V se for verdadeiro ou F se for falso, e assinale a alternativa que faz a correta correspondência, de cima para baixo.

() **REGISTRO PELO VALOR ORIGINAL:** determina que os Componentes do Patrimônio devem ser inicialmente registrados pelos valores originais das transações, expressos em moeda nacional.

() **COMPETÊNCIA:** as Receitas e as Despesas devem ser incluídas na Apuração do Resultado do Período em que ocorreram, sempre simultaneamente, quando se relacionarem, independente de recebimento e pagamento.

() **ENTIDADE:** reconhece a autonomia patrimonial da entidade, diferenciando o Patrimônio particular do da entidade.

() **CONTINUIDADE:** pressupõe que a Entidade continuará em operação no futuro e, portanto, a mensuração e a apresentação dos Componentes do Patrimônio não levam em conta esta circunstância.

- a) V, V, V, V
- b) V, F, V, F
- c) F, F, V, V
- d) V, V, V, F
- e) F, V, V, V

36. O Ativo compreende os bens e os direitos controlados pela entidade, e é expresso em moeda, possuindo a característica de gerar benefícios de fluxos de Caixa futuros para a entidade. Qual conta não pertence ao Ativo?

- a) Caixa
- b) Estoque
- c) Veículos
- d) Bancos
- e) Obrigações a pagar

37. A empresa Beta emitiu seu Balanço Patrimonial em 2015, e consta nele um veículo de R\$ 50.000,00 mais R\$ 30.000 no banco. Ao mesmo tempo, um contas a pagar no valor de R\$ 30.000. Com base nessas informações, assinale a alternativa que apresenta o valor do Patrimônio Líquido.

- a) R\$ 30.000,00
- b) R\$ 50.000,00
- c) R\$ 60.000,00
- d) R\$ 80.000,00
- e) R\$ 110.000,00



38. O empregador tem a obrigação de recolher o FGTS, da importância calculada sobre a remuneração paga no mês anterior até o dia 07 de cada mês posterior ao pagamento. O percentual utilizado depende do tipo de contrato que o empregado mantém com a empresa: jovem aprendiz ou empregados. Dentre as opções, marque a alternativa correta sobre o percentual.

- a) 2% para empregados
- b) 8% para jovem aprendiz
- c) 8 % para empregados
- d) 2,5 % para jovem aprendiz
- e) 5% para empregados

39. Cada empregado assalariado (Consolidação das Leis Trabalhistas CLT) é obrigado a contribuir com a previdência social. A devida contribuição previdenciária é descontada diretamente da folha de pagamento do empregado e o percentual aplicado varia de acordo com a faixa salarial de cada empregado. Quais das verbas seguintes incidem INSS?

I - Abono pecuniário de férias

II - Adicionais (insalubridade, periculosidade, noturno, transferência e de função)

III - Aviso prévio trabalhado

IV - Salário-família

- a) Apenas as dos itens I, II e III.
- b) Apenas as dos itens I, III e IV.
- c) Apenas as dos itens II, e III e IV.
- d) Apenas as dos itens II e III.
- e) As dos itens I, II III e IV.

40. A ordenação de documentação é feita com base nos elementos informativos contidos nos documentos. De forma geral (e sempre dependendo do tipo documental em questão), os elementos informativos mais comumente tomados como referência para a ordenação são:

I - Número do documento (atribuído pelo emissor ou pelo receptor)

II - Data

III - Local de procedência

IV - Nome do emissor ou do destinatário

V - Objeto ou tema específico do documento

Estão corretos:

- a) Somente os itens I, II e III.
- b) Somente os itens III, IV e V.
- c) Somente os itens I, IV e V.
- d) Somente os itens I, II, III e IV.
- e) Os itens I, II, III, IV e V.

RASCUNHO



PREFEITURA DE TELÊMACO BORBA - ESTADO DO PARANÁ - EDITAL Nº 001-2016 - CONCURSO PÚBLICO

MATUTINO – 29/05/2016 – NÍVEL MÉDIO

2

PROVA OBJETIVA NÚMERO

CARGO: AGENTE ADMINISTRATIVO I - ADMINISTRATIVO, CONTÁBIL FINANCEIRO

Leia atentamente as INSTRUÇÕES:

1. Confira seus dados no cartão-resposta: nome, número de inscrição e o curso para o qual se inscreveu.
2. **MARQUE no seu cartão-resposta o número da sua prova** (não será corrigido o cartão-resposta que não tiver marcado o número da prova) e **Assine** seu cartão-resposta.
3. Aguarde a autorização do Fiscal para abrir o caderno de prova. Ao receber a ordem do fiscal, confira o caderno de prova com muita atenção. Nenhuma reclamação sobre o total de questões ou falha de impressão será aceita depois de iniciada a prova.
4. O cartão-resposta não será substituído, salvo se contiver erro de impressão.
5. Preencha toda a área do cartão-resposta correspondente à alternativa de sua escolha, com caneta esferográfica (tinta azul ou preta), sem ultrapassar as bordas. As marcações duplas, ou rasuradas, com corretivo, ou marcadas diferentemente do modelo estabelecido no cartão-resposta poderão ser anuladas.
6. Sua prova tem **40** questões, com **5** alternativas.
7. Cabe apenas ao candidato a interpretação das questões, **o fiscal** não poderá fazer nenhuma interferência.
8. A prova será realizada com duração máxima de **3 (três) horas**, incluído o tempo para a realização da Prova Objetiva de múltipla escolha e o preenchimento do cartão-resposta.
9. O candidato poderá retirar-se do local de realização das provas somente **1 (uma) hora** após o seu início, sem levar o caderno de prova.
10. O candidato poderá levar o caderno de provas, assim como anotação contendo transcrição do seu cartão-resposta, somente **1h30min** (uma hora e trinta minutos) após o início da realização da prova.
11. Ao terminar a prova, o candidato deverá entregar ao fiscal de sala o cartão-resposta preenchido e **ASSINADO**.
12. Os **3 (três)** candidatos, que terminarem a prova por último, deverão permanecer na sala, e só poderão sair juntos após o fechamento do envelope, contendo os cartões-resposta dos candidatos presentes e ausentes, e assinarem no lacre do referido envelope, atestando que este foi devidamente lacrado.
13. Durante todo o tempo em que permanecer no local onde está ocorrendo o concurso, o candidato deverá, manter o celular desligado e sem bateria, só sendo permitido ligar depois de ultrapassar o portão de saída do prédio.
14. Não será permitido ao candidato fumar na sala de provas, bem como nas dependências.
15. Depois de terminar a prova e entregar ao fiscal o cartão-resposta, preenchido e assinado, não será mais permitido ao candidato o uso do banheiro e bebedouro.

BOA PROVA!

MATEMÁTICA

01. Numa prova de hipismo, há duas modalidades totalmente distintas: salto e rural. João vai competir nas duas modalidades. Sabendo que a vitória ou a derrota em uma nada influencia no resultado da outra, e sabendo que a probabilidade de ele ganhar a prova de salto é de 40% e a de ganhar a prova de rural é de 58%, qual a probabilidade de ele ganhar as duas provas?

- a) 98%
- b) 62%
- c) 23,2%
- d) 18%
- e) 2,32%

02. Numa escola há 12 professores. A tabela a seguir mostra a carga horária diária de trabalho desses professores.

4	8	5	10	6	5	8	6	8	9	4	8
---	---	---	----	---	---	---	---	---	---	---	---

É correto afirmar que as cargas horárias média, modal e mediana desses professores são respectivamente:

- a) 6,25; 6; 7
- b) 6,5; 7; 8
- c) 6,75; 8; 6
- d) 6,75; 8; 7
- e) 6,75; 7; 8

03. Encontre a equação da reta mediatriz do segmento AB, onde A(2, 3) e B(4, -1), e assinale a alternativa correta.

- a) $2y - x + 1 = 0$
- b) $y - 2x + 2 = 0$
- c) $2y - 2x + 1 = 0$
- d) $2y + x + 2 = 0$
- e) $2y + x - 1 = 0$

04. Uma loja acrescenta 15% no preço de seus produtos à vista se o cliente optar por pagar com um cheque para 60 dias. Comprei, nessa loja, um fogão com cheque para 60 dias e paguei R\$552,00 por ele. Qual era o preço à vista desse fogão?

- a) R\$460,00
- b) R\$469,20
- c) R\$474,50
- d) R\$480,00
- e) R\$500,00

05. Um pesquisador, ao analisar os processos que envolvem jovens com menos de 24 anos, descobriu que há 4 homens com nomes envolvidos em processos para cada mulher. Se no total ele contou 2400 pessoas, quantas eram as mulheres envolvidas nessa pesquisa?

- a) 480
- b) 600
- c) 800
- d) 1920
- e) 2000

INFORMÁTICA

06. Utilizando o Excel 2013, qual fórmula representa corretamente a auto soma?

- a) =SUM()
- b) =MEDIA()
- c) =MAX()
- d) =MIN()
- e) =SE()

07. Acerca de confidencialidade está incorreto afirmar:

- a) É um conceito no qual o acesso à informação deve ser concedido a quem de direito, ou seja, apenas para as entidades autorizadas pelo proprietário ou dono da informação.
- b) É uma propriedade que limita o acesso à informação tão somente às entidades legítimas, ou seja, àquelas autorizadas pelo proprietário da informação.
- c) É a propriedade da informação que não estará disponível ou será divulgada a indivíduos, entidades ou processos sem autorização.
- d) Significa garantir que a informação será conhecida por pessoas que não estejam autorizadas para tal.



e) É a garantia do resguardo das informações dadas pessoalmente em confiança e proteção contra a sua revelação não autorizada.

08. Tratando-se de hardware de computadores, assinale a alternativa que corresponde a um tipo de memória externa.

- a) Pen Drive
- b) EPROM
- c) DIMM
- d) MRAM
- e) Cache

09. No Word 2013, é possível utilizar vários tipos de formatação de fontes, exceto:

- a) Tachado
- b) Negrito
- c) Centralizado
- d) Sublinhado
- e) Cor da fonte

10. Qual software nativo do Windows utilizamos para descobrir o endereço IP do computador?

- a) Windows Explorer
- b) Notepad
- c) Excel
- d) Word
- e) Prompt de Comando

CONHECIMENTOS GERAIS

11. Conforme fonte do IBGE, o bioma do município de Telêmaco Borba/PR é:

- a) Mata de Pinhais e Cerrado
- b) Pantanal
- c) Caatinga e Mata Atlântica
- d) Floresta Tropical
- e) Cerrado e Mata Atlântica

12. A letra do hino do município de Telêmaco Borba/PR é de autoria de

- a) Bento Mossurunga.
- b) Moisés Lupion.
- c) Eloah Martins Quadrado.
- d) Graciliana Reis D´Albuquerque Mossurunga.
- e) Enéias Augusto Moracines Borba.

13. Leia o texto sobre o Brasão de Armas do município de Telêmaco Borba/PR e marque a alternativa correta.

O Brasão de Armas foi aprovado em definitivo em 1981, dentro dos padrões da heráldica, estabelecendo os regulamentos para seu uso, ficando assim oficializado.

No Brasão de Armas, é possível identificar:

1. Escudo português redondo banhado de ouro filetado de prata, carregado de cinco árvores de pinho estilizadas de sua cor, postas em banda.
2. Escudete de prata carregado de três Pinheiros do Paraná, araucária angustifolia ou brasiliense.
3. No timbre, coroa mural de ouro lavrado de negro.
4. À destra, haste de milho (zae mays) frutada.
5. À sinistra, ramos de soja (gelycine soya) granada.
6. Listel amarelo ostentando o topônimo "Cidade Nova" entre as inscrições de ouro "5 de Julho de 1963", em caracteres latino moderno.

- a) Não é verdadeiro o item 1.
- b) Não é verdadeiro o item 2.
- c) Não é verdadeiro o item 4.
- d) Não é verdadeiro o item 6.
- e) Não são verdadeiros os itens 3 e 5.

14. Segundo o art. 11 da Lei Orgânica do Município de Telêmaco Borba/PR, os bens públicos podem ser:

I. De uso comum do Povo, tais como estradas municipais, ruas, parques, praças, logradouros públicos e outros da mesma espécie;

II. De uso especial, os de patrimônio administrativo, tais como edifícios das repartições públicas, os terrenos e equipamentos destinados ao serviço público, veículos, matadouros, mercados e outras serventias de outra espécie;

III. Bens municipais, aqueles sobre os quais o município exerce os direitos de proprietário e são considerados como bens patrimoniais disponíveis;

IV. Bens culturais, tais como música e obras de arte.

Podemos afirmar que são verdadeiros os itens

- a) I e II, apenas.
- b) II e III, apenas.
- c) I, II e III, apenas.
- d) I, III e IV, apenas.
- e) I, II, III e IV.

15. Qual alternativa completa corretamente o texto a seguir?

No primeiro ano de cada legislatura, no dia 1º de janeiro, em sessão de instalação, independente de número, sob a presidência do vereador mais idoso dentre os eleitos, os vereadores prestarão compromisso e tomarão posse. O Vereador que não tomar posse na sessão do dia 1º de janeiro poderá fazê-la _____ depois da primeira sessão ordinária da Legislatura.

- a) até dez dias
- b) até quinze dias
- c) até trinta dias
- d) até quarenta e cinco dias
- e) até sessenta dias

16. Conforme o art. 54 da Lei Orgânica do Município de Telêmaco Borba/PR, o Processo Legislativo compreende a elaboração de:

I. Emendas à Lei Orgânica do Município;

II. Leis complementares;

III. Leis Ordinárias;

IV. Decretos Legislativos;

V. Resoluções;

VI. Pareceres.

Assinale a alternativa que faz a afirmação correta.

- a) São verdadeiros apenas os itens I, III e VI.
- b) São verdadeiros apenas os itens I, III e IV.
- c) São verdadeiros apenas os itens III, IV e V.
- d) São verdadeiros apenas os itens I, II, III, IV e V.
- e) São verdadeiros os itens I, II, III, IV, V e VI.

Com base na Lei nº 1883/2012, que dispõe sobre o Estatuto dos Servidores Públicos da Administração Direta, Autárquica e Funcional do Município de Telêmaco Borba/PR, responda às próximas quatro questões.

17. À luz do § 2º do art. 9º da Lei nº 1883/2012, marque a alternativa que completa a lacuna do texto a seguir.

O concurso deverá ser homologado no prazo máximo de _____ contados da data de realização da última fase de provas, sob pena de responsabilidade da autoridade competente.

- a) um mês
- b) dois meses
- c) seis meses
- d) um ano
- e) dois anos

18. Marque a alternativa que completa a lacuna do texto a seguir.

O candidato terá o prazo _____, a contar da publicação oficial da convocação, para comparecer à entidade convocante e assinar termo de comparecimento.

- a) máximo de 5 dias úteis
- b) mínimo de 15 dias úteis
- c) de até 30 dias
- d) máximo de 15 dias úteis
- e) mínimo de 5 dias úteis

19. Leia as assertivas e marque a correta.

- a) São reservados 10% dos cargos em comissão para a nomeação de servidores do quadro efetivo.
- b) São reservados 15% dos cargos em comissão para a nomeação de servidores do quadro efetivo.
- c) São reservados 20% dos cargos em comissão para a nomeação de servidores do quadro efetivo.
- d) São reservados 25% dos cargos em comissão para a nomeação de servidores do quadro efetivo.
- e) São reservados 30% dos cargos em comissão para a nomeação de servidores do quadro efetivo.

20. Marque a alternativa que completa a lacuna do texto a seguir.

O servidor municipal, quando nomeado para cargo em comissão, ficará afastado de seu cargo efetivo e fará jus à remuneração prevista em lei para o comissionado, podendo optar por receber seus vencimentos acrescidos de _____ do valor da remuneração prevista para o cargo em comissão.

- a) 10%
- b) 20%
- c) 30%
- d) 40%
- e) 50%

CONHECIMENTOS ESPECÍFICOS

À luz do Manual de Redação Oficial, responda às próximas três questões.

21. O quadro seguinte é exemplo de texto obscuro, a partir do qual podem ser feitas algumas frases, combinando-se as expressões das várias colunas em qualquer ordem, com uma característica comum: nenhuma delas tem sentido. Tal estilo de texto deve ser evitado em todas as comunicações oficiais.

COLUNA A	COLUNA B	COLUNA C	COLUNA D	COLUNA E	COLUNA F	COLUNA G
1. A necessidade emergente	se caracteriza por	uma correta relação entre estrutura e superestrutura	no interesse primário da população,	substanciando e vitalizando,	numa ótica preventiva e não mais curativa,	a transparência de cada ato decisional.
2. O quadro normativo	prefigura	a superação de cada obstáculo e/ou resistência passiva	sem prejudicar o atual nível das contribuições,	não assumindo nunca como implícito,	no contexto de um sistema integrado,	um indispensável salto de qualidade.

(FONTE: http://www.planalto.gov.br/ccivil_03/manual/manual.htm, acesso em 13 de março de 2016).

A clareza deve ser a qualidade básica de todo texto oficial. Pode-se definir como claro aquele texto que possibilita imediata compreensão pelo leitor. No entanto a clareza não é algo que se atinja por si só: ela depende estritamente das demais características da redação oficial.

As alternativas remetem a essas características. Qual está incorreta?

- a) A impessoalidade, que evita a duplicidade de interpretações que poderia decorrer de um tratamento personalista dado ao texto.
- b) O uso de siglas e termos técnicos, não necessitando o esclarecimento dos mesmos, desde que o contexto seja feito na gramática correta.
- c) O uso do padrão culto de linguagem, em princípio, de entendimento geral e por definição avesso a vocábulos de circulação restrita, como a gíria e o jargão.
- d) A formalidade e a padronização, que possibilitam a imprescindível uniformidade dos textos.
- e) A concisão, que faz desaparecer do texto os excessos linguísticos que nada lhe acrescentam.

22. Em uma frase, pode-se dizer que redação oficial é a maneira pela qual o Poder Público redige atos normativos e comunicações. Interessa-nos tratá-la do ponto de vista do Poder Executivo. A redação oficial deve caracterizar-se pela impessoalidade, uso do padrão culto de linguagem, clareza, concisão, formalidade e uniformidade. Fundamentalmente esses atributos decorrem da Constituição, que dispõe, no artigo 37: "A administração pública direta, indireta ou fundacional, de qualquer dos Poderes da União, dos Estados, do Distrito Federal e dos Municípios obedecerá aos princípios de legalidade, impessoalidade, moralidade, publicidade e eficiência (...)". Sendo a publicidade e a impessoalidade princípios fundamentais de toda administração pública, claro está que devem igualmente nortear a elaboração dos atos e comunicações oficiais.

Acerca disto, marque as afirmativas com C (certo) ou E (errado), e assinale a alternativa correta.

- () Não se concebe que um ato normativo de qualquer natureza seja redigido de forma obscura, que dificulte ou impossibilite sua compreensão.
- () A transparência do sentido dos atos normativos, bem como sua inteligibilidade, são requisitos do próprio Estado de Direito: é inaceitável que um texto legal não seja entendido pelos cidadãos.
- () Os atos normativos não devem obedecer à tradição, mesmo que algumas normas remontem ao período da História Imperial.
- () Outros procedimentos rotineiros na redação de comunicações oficiais foram incorporados ao longo do tempo, como as formas de tratamento e de cortesia, certos clichês de redação, a estrutura dos expedientes, etc.

- a) C – C – E – C
- b) E – C – C – C
- c) E – E – E – C
- d) C – C – C – C
- e) C – E – C – C

23. O Manual de Redação Oficial nos informa como devem ser diagramados os documentos do padrão Ofício. No que diz respeito à diagramação desses documentos, assinale a alternativa correta.

- a) Deve ser utilizada fonte do tipo *Times New Roman* de corpo 10 no texto em geral, 11 nas citações, e 12 nas notas de rodapé.
- b) Para símbolos não existentes na fonte *Times New Roman* poder-se-á utilizar as fontes *Arial* e *Calibri*.
- c) É obrigatório constar a partir da segunda página o número da página.
- d) O início de cada parágrafo do texto deve ter 1,5 cm de distância da margem direita.
- e) O campo destinado à margem lateral direita terá, no mínimo, 2,5 cm de largura.

24. Conforme José Carlos Marion 2009, o objetivo principal da Contabilidade é o de “permitir a cada grupo principal de usuários a avaliação da situação econômica e financeira da entidade, num sentido estático, bem como fazer inferências sobre suas tendências futuras”. Sendo assim, o objeto da Contabilidade:

- a) É o Patrimônio das entidades.
- b) É o Ativo Circulante das entidades.
- c) É o Ativo Permanente das entidades.
- d) É o Passivo Circulante das entidades.
- e) São as Obrigações a pagar das entidades.

25. Os Princípios Contábeis definem as diretrizes essenciais sobre atos e fatos agraciados pela contabilidade. Os tópicos seguintes estão apresentados tendo esses princípios em mente. Nesse sentido, marque cada um deles com V se for verdadeiro ou F se for falso, e assinale a alternativa que faz a correta correspondência, de cima para baixo.

- REGISTRO PELO VALOR ORIGINAL: determina que os Componentes do Patrimônio devem ser inicialmente registrados pelos valores originais das transações, expressos em moeda nacional.
- COMPETÊNCIA: as Receitas e as Despesas devem ser incluídas na Apuração do Resultado do Período em que ocorreram, sempre simultaneamente, quando se relacionarem, independente de recebimento e pagamento.
- ENTIDADE: reconhece a autonomia patrimonial da entidade, diferenciando o Patrimônio particular da entidade.
- CONTINUIDADE: pressupõe que a Entidade continuará em operação no futuro e, portanto, a mensuração e a apresentação dos Componentes do Patrimônio não levam em conta esta circunstância.

- a) V, V, V, V
- b) V, F, V, F
- c) F, F, V, V
- d) V, V, V, F
- e) F, V, V, V

26. O Ativo compreende os bens e os direitos controlados pela entidade, e é expresso em moeda, possuindo a característica de gerar benefícios de fluxos de Caixa futuros para a entidade. Qual conta não pertence ao Ativo?

- a) Caixa
- b) Estoque
- c) Veículos
- d) Bancos
- e) Obrigações a pagar

27. A empresa Beta emitiu seu Balanço Patrimonial em 2015, e consta nele um veículo de R\$ 50.000,00 mais R\$ 30.000 no banco. Ao mesmo tempo, um contas a pagar no valor de R\$ 30.000. Com base nessas informações, assinale a alternativa que apresenta o valor do Patrimônio Líquido.

- a) R\$ 30.000,00
- b) R\$ 50.000,00
- c) R\$ 60.000,00
- d) R\$ 80.000,00
- e) R\$ 110.000,00

28. O empregador tem a obrigação de recolher o FGTS, da importância calculada sobre a remuneração paga no mês anterior até o dia 07 de cada mês posterior ao pagamento. O percentual utilizado depende do tipo de contrato que o empregado mantém com a empresa: jovem aprendiz ou empregados. Dentre as opções, marque a alternativa correta sobre o percentual.

- a) 2% para empregados
- b) 8% para jovem aprendiz
- c) 8 % para empregados
- d) 2,5 % para jovem aprendiz
- e) 5% para empregados

29. Cada empregado assalariado (Consolidação das Leis Trabalhistas CLT) é obrigado a contribuir com a previdência social. A devida contribuição previdenciária é descontada diretamente da folha de pagamento do empregado e o percentual aplicado varia de acordo com a faixa salarial de cada empregado. Quais das verbas seguintes incidem INSS?

I - Abono pecuniário de férias

II - Adicionais (insalubridade, periculosidade, noturno, transferência e de função)

III - Aviso prévio trabalhado

IV - Salário-família

- a) Apenas as dos itens I, II e III.
- b) Apenas as dos itens I, III e IV.
- c) Apenas as dos itens II, e III e IV.
- d) Apenas as dos itens II e III.
- e) As dos itens I, II III e IV.

30. A ordenação de documentação é feita com base nos elementos informativos contidos nos documentos. De forma geral (e sempre dependendo do tipo documental em questão), os elementos informativos mais comumente tomados como referência para a ordenação são:

I - Número do documento (atribuído pelo emissor ou pelo receptor)

II - Data

III - Local de procedência

IV - Nome do emissor ou do destinatário

V - Objeto ou tema específico do documento

Estão corretos:

- a) Somente os itens I, II e III.
- b) Somente os itens III, IV e V.
- c) Somente os itens I, IV e V.
- d) Somente os itens I, II, III e IV.
- e) Os itens I, II, III, IV e V.

LÍNGUA PORTUGUESA

Leia o texto e responda às próximas quatro questões.

Lêmures e baobás de Madagascar

Isolada do continente há 135 milhões de anos, a ilha do Oceano Índico é um laboratório natural da evolução das espécies e encanta os viajantes com uma flora e fauna única

Madagascar abriga 107 espécies de **lêmures**, dezenas de espécies de camaleões coloridos e outras tantas plantas que só existem lá. “Madagascar é um mundo a parte. Costumo dizer que, se Charles Darwin tivesse conhecido Madagascar, seu livro *A Origem das Espécies* seria dez vezes maior”, afirma o fotógrafo e jornalista **Haroldo Castro**, idealizador de Viajologia Expedições.

Uma das experiências mais emocionantes na quarta maior ilha do mundo é passear entre os gigantescos **baobás**, árvores que chegam a ter 30 metros de altura e mil anos de idade. Das nove espécies de baobás que existem no mundo, seis podem ser encontradas apenas em Madagascar. A majestosa árvore, considerada sagrada pelos malgaxes, é chamada localmente como “reniala”, mãe da floresta.

Na pequena cidade de Bekopaka está o Parque Nacional Tsingy de Bemaraha, considerado Patrimônio Mundial pela Unesco. Trilhas e passeios de canoa no rio Manambolo conduzem a formações rochosas calcárias inusitadas e plantas endêmicas desse ecossistema de florestas secas.

Outro momento inesquecível em Madagascar é o encontro com os lêmures nas florestas tropicais da reserva Anjozorobe-Angavo, a 90 quilômetros da capital Antananarivo. Especialistas apontam que o turismo de observação de animais é uma excelente alternativa para o desenvolvimento da economia local e pode ajudar a conter o desmatamento. “O projeto em Anjozorobe comprova que, nos últimos anos, os 9 mil visitantes contribuíram de forma concreta a reduzir a pobreza e a promover a conservação da biodiversidade”, afirma Haroldo. Como os primatas são curiosos e estão habituados aos seres humanos, eles costumam se aproximar dos visitantes. “Os bichinhos chegam a subir nas nossas cabeças e parecem adorar aparecer nas fotos.”

Madagascar possui hoje uma excelente estrutura para o turismo, com algumas estradas bem cuidadas e hotéis confortáveis localizados perto das reservas e parques ecológicos. A gastronomia malgaxe, com um toque francês, também surpreende pela diversidade de ingredientes, temperos e colorido dos pratos.

[...]

(Fonte: <http://viajeaqui.abril.com.br/materias/lemures-e-baobas-de-madagascar#2>. Acesso em 14/05/2016)

31. Lêmures e baobás de Madagascar é um texto:

- a) Em que prevalece a descrição, apresentando as belezas e peculiaridades do lugar, da fauna e da flora.
- b) Principalmente narrativo, de fatos colhidos durante uma viagem, que se sucedem em progressão temporal.
- c) Essencialmente argumentativo, o uso da descrição visa somente a convencer o leitor a visitar Madagascar.
- d) Dissertativo, impera o desenvolvimento de argumentos para comprovar a tese presente no primeiro parágrafo.



e) Em que predomina a exposição de conceitos e definições com o intuito de informar o leitor.

32. O teor do texto *Lêmures e baobás de Madagascar* somente não poderia se encaixar em que tópico?

- Turismo
- Viagens
- Clima
- Natureza
- Ilhas

33. O aposto é um termo que explica ou esclarece, desenvolve ou resume outro termo da oração. Quanto a isso, analise a parte grifada em cada uma das orações retiradas do texto:

I - A majestosa árvore, considerada sagrada pelos malgaxes, é chamada localmente como “reniala”, mãe da floresta.

II - afirma o fotógrafo e jornalista Haroldo Castro, idealizador de Viajologia Expedições.

III - Outro momento inesquecível em Madagascar é o encontro com os lêmures nas florestas tropicais da reserva Anjozorobe-Angavo, a 90 quilômetros da capital Antananarivo.

IV - O projeto em Anjozorobe comprova que, nos últimos anos, os 9 mil visitantes contribuíram de forma concreta a reduzir a pobreza e a promover a conservação da biodiversidade”.

V - A gastronomia malgaxe, com um toque francês, também surpreende pela diversidade de ingredientes, temperos e colorido dos pratos.

Constitui aposto os grifos em:

- I, II, III, IV e V.
- I, III e V, apenas.
- III e V apenas.
- I, II, III, e V, apenas.
- III, IV e V apenas

34. *Trilhas e passeios de canoa no rio Manambolo conduzem a formações rochosas calcárias inusitadas e plantas endêmicas desse ecossistema de florestas secas.*

Ao observar a relação sintática entre os termos desse período, pode-se afirmar que:

- de canoa é complemento nominal de Trilhas e passeios.
- no rio Manambolo é adjunto adnominal de canoas.
- de florestas secas é complemento nominal de plantas endêmicas.
- de canoa é complemento verbal de passeios.
- a formações rochosas calcárias inusitadas e plantas endêmicas desse ecossistema de florestas secas é complemento verbal de conduzem.

Leia o poema e responda às próximas duas questões.

FOGO NA MATA, MATA!

Fogo na mata, mata! A mata, a vida...
Fogo na mata, abre,
no coração da mata,
Profundas feridas.

Fogo na mata corrói,
dentro de nós, os sonhos.
Fogo na mata, deixa, no seio da mata,
Tumores tamanhos!

[...]

(Fonte: <http://www.recantodasletras.com.br/letras/505252>. Acesso em 14/05/2016)

35. A respeito de alguns aspectos gramaticais pertinentes aos termos em destaque na frase título do poema *Fogo na mata, mata!*, está correto o que se afirma em:

- Morfologicamente, na sequência em que as duas palavras aparecem, temos um verbo e um substantivo.
- Semanticamente, as duas palavras constituem homônimas homófonas homógrafas.
- O processo de formação da palavra “mata” (primeira ocorrência na frase) é por derivação regressiva do verbo “matar” cuja flexão na terceira pessoa vem logo em seguida na frase.
- Semanticamente, as duas palavras “mata” são parônimas.
- Semanticamente, as duas palavras constituem homônimas homógrafas heterofônicas.



36. Com a Nova Reforma Ortográfica, foi mantido o acento nas oxítonas terminadas em -ei e -oi, como é o caso de corrói em *Fogo na mata corrói*. No entanto, de acordo ainda com a Nova Reforma, os acentos foram retirados de quais duas palavras?

- a) Bocaiuva - maiúscula
- b) Voo, aerodromo
- c) Releem - feiura
- d) Papeis - linguíça
- e) Preveem - heroi

37. Leia atentamente as alternativas e assinale a incorreta no que diz respeito à Ortografia:

- a) Grafamos com j as palavras ultraje, jiboia e gorjeio; com g as palavras ferrugem, geringonça, e miragem.
- b) Grafamos com sc: miscelânea, obsceno e obscessão; com c: sucinto, facínio e nécio.
- c) Grafamos com x: xampu, mexerico e enxada; com ch: piche, tocha e mecha.
- d) Grafamos com z: xadrez, cicatriz e vizinho; com s: friso, pêames e tesoura.
- e) Grafamos com ss: escassez, submissão e sossego; com c: acetinado, obcecado e acepção.

38. O advérbio sublinhado e a circunstância que ele expressa não estão corretamente apresentados em:

- a) Ele certamente virá para o encontro. (afirmação)
- b) Ali se ouvia falar de riquezas culturais. (tempo)
- c) O orador discursou muito bem, impressionou a plateia. (modo)
- d) Chegamos tarde, perdemos o ônibus. (tempo)
- e) Os candidatos estudaram bastante. (intensidade)

39. Os pronomes pessoais, representantes das pessoas do discurso, estão corretamente empregados em todas as alternativas, com exceção da:

- a) Sempre haverá discordância entre mim e ti.
- b) O juiz queria falar com nós dois.
- c) Minha festa de despedida, não vou esquecê-la jamais.
- d) Ninguém irá sem eu.
- e) Deram o livro para eu ler em dois dias!

40. Em uma oração, o contexto permite concluirmos se certos verbos são de ligação, para assim identificarmos o predicado nominal. Assim, não há predicação nominal em:

- a) O aluno não estava na escola hoje.
- b) À tarde, as crianças pareciam cansadas.
- c) Ultimamente os participantes do programa andam desanimados.
- e) A aurora boreal é um lindo espetáculo.
- d) As atletas parecem cansadas.

RASCUNHO



PREFEITURA DE TELÊMACO BORBA - ESTADO DO PARANÁ - EDITAL Nº 001-2016 - CONCURSO PÚBLICO

MATUTINO – 29/05/2016 – NÍVEL MÉDIO

3

PROVA OBJETIVA NÚMERO

CARGO: AGENTE ADMINISTRATIVO I - ADMINISTRATIVO, CONTÁBIL FINANCEIRO

Leia atentamente as INSTRUÇÕES:

1. Confira seus dados no cartão-resposta: nome, número de inscrição e o curso para o qual se inscreveu.
2. **MARQUE no seu cartão-resposta o número da sua prova** (não será corrigido o cartão-resposta que não tiver marcado o número da prova) e **Assine** seu cartão-resposta.
3. Aguarde a autorização do Fiscal para abrir o caderno de prova. Ao receber a ordem do fiscal, confira o caderno de prova com muita atenção. Nenhuma reclamação sobre o total de questões ou falha de impressão será aceita depois de iniciada a prova.
4. O cartão-resposta não será substituído, salvo se contiver erro de impressão.
5. Preencha toda a área do cartão-resposta correspondente à alternativa de sua escolha, com caneta esferográfica (tinta azul ou preta), sem ultrapassar as bordas. As marcações duplas, ou rasuradas, com corretivo, ou marcadas diferentemente do modelo estabelecido no cartão-resposta poderão ser anuladas.
6. Sua prova tem **40** questões, com **5** alternativas.
7. Cabe apenas ao candidato a interpretação das questões, **o fiscal** não poderá fazer nenhuma interferência.
8. A prova será realizada com duração máxima de **3 (três) horas**, incluído o tempo para a realização da Prova Objetiva de múltipla escolha e o preenchimento do cartão-resposta.
9. O candidato poderá retirar-se do local de realização das provas somente **1 (uma) hora** após o seu início, sem levar o caderno de prova.
10. O candidato poderá levar o caderno de provas, assim como anotação contendo transcrição do seu cartão-resposta, somente **1h30min** (uma hora e trinta minutos) após o início da realização da prova.
11. Ao terminar a prova, o candidato deverá entregar ao fiscal de sala o cartão-resposta preenchido e **ASSINADO**.
12. Os **3 (três)** candidatos, que terminarem a prova por último, deverão permanecer na sala, e só poderão sair juntos após o fechamento do envelope, contendo os cartões-resposta dos candidatos presentes e ausentes, e assinarem no lacre do referido envelope, atestando que este foi devidamente lacrado.
13. Durante todo o tempo em que permanecer no local onde está ocorrendo o concurso, o candidato deverá, manter o celular desligado e sem bateria, só sendo permitido ligar depois de ultrapassar o portão de saída do prédio.
14. Não será permitido ao candidato fumar na sala de provas, bem como nas dependências.
15. Depois de terminar a prova e entregar ao fiscal o cartão-resposta, preenchido e assinado, não será mais permitido ao candidato o uso do banheiro e bebedouro.

BOA PROVA!

CONHECIMENTOS ESPECÍFICOS

À luz do Manual de Redação Oficial, responda às próximas três questões.

01. O quadro seguinte é exemplo de texto obscuro, a partir do qual podem ser feitas algumas frases, combinando-se as expressões das várias colunas em qualquer ordem, com uma característica comum: nenhuma delas tem sentido. Tal estilo de texto deve ser evitado em todas as comunicações oficiais.

COLUNA A	COLUNA B	COLUNA C	COLUNA D	COLUNA E	COLUNA F	COLUNA G
1. A necessidade emergente	se caracteriza por	uma correta relação entre estrutura e superestrutura	no interesse primário da população,	substanciando e vitalizando,	numa ótica preventiva e não mais curativa,	a transparência de cada ato decisional.
2. O quadro normativo	prefigura	a superação de cada obstáculo e/ou resistência passiva	sem prejudicar o atual nível das contribuições,	não assumindo nunca como implícito,	no contexto de um sistema integrado,	um indispensável salto de qualidade.

(FONTE: http://www.planalto.gov.br/ccivil_03/manual/manual.htm, acesso em 13 de março de 2016).

A clareza deve ser a qualidade básica de todo texto oficial. Pode-se definir como claro aquele texto que possibilita imediata compreensão pelo leitor. No entanto a clareza não é algo que se atinja por si só: ela depende estritamente das demais características da redação oficial.

As alternativas remetem a essas características. Qual está incorreta?

- A impessoalidade, que evita a duplicidade de interpretações que poderia decorrer de um tratamento personalista dado ao texto.
- O uso de siglas e termos técnicos, não necessitando o esclarecimento dos mesmos, desde que o contexto seja feito na gramática correta.
- O uso do padrão culto de linguagem, em princípio, de entendimento geral e por definição avesso a vocábulos de circulação restrita, como a gíria e o jargão.
- A formalidade e a padronização, que possibilitam a imprescindível uniformidade dos textos.
- A concisão, que faz desaparecer do texto os excessos linguísticos que nada lhe acrescentam.

02. Em uma frase, pode-se dizer que redação oficial é a maneira pela qual o Poder Público redige atos normativos e comunicações. Interessa-nos tratá-la do ponto de vista do Poder Executivo. A redação oficial deve caracterizar-se pela impessoalidade, uso do padrão culto de linguagem, clareza, concisão, formalidade e uniformidade. Fundamentalmente esses atributos decorrem da Constituição, que dispõe, no artigo 37: "A administração pública direta, indireta ou fundacional, de qualquer dos Poderes da União, dos Estados, do Distrito Federal e dos Municípios obedecerá aos princípios de legalidade, impessoalidade, moralidade, publicidade e eficiência (...)". Sendo a publicidade e a impessoalidade princípios fundamentais de toda administração pública, claro está que devem igualmente nortear a elaboração dos atos e comunicações oficiais.

Acerca disto, marque as afirmativas com C (certo) ou E (errado), e assinale a alternativa correta.

- () Não se concebe que um ato normativo de qualquer natureza seja redigido de forma obscura, que dificulte ou impossibilite sua compreensão.
- () A transparência do sentido dos atos normativos, bem como sua inteligibilidade, são requisitos do próprio Estado de Direito: é inaceitável que um texto legal não seja entendido pelos cidadãos.
- () Os atos normativos não devem obedecer à tradição, mesmo que algumas normas remontem ao período da História Imperial.
- () Outros procedimentos rotineiros na redação de comunicações oficiais foram incorporados ao longo do tempo, como as formas de tratamento e de cortesia, certos clichês de redação, a estrutura dos expedientes, etc.
- C – C – E – C
 - E – C – C – C
 - E – E – E – C
 - C – C – C – C
 - C – E – C – C

03. O Manual de Redação Oficial nos informa como devem ser diagramados os documentos do padrão Ofício. No que diz respeito à diagramação desses documentos, assinale a alternativa correta.

- Deve ser utilizada fonte do tipo *Times New Roman* de corpo 10 no texto em geral, 11 nas citações, e 12 nas notas de rodapé.
- Para símbolos não existentes na fonte *Times New Roman* poder-se-á utilizar as fontes *Arial* e *Calibri*.
- É obrigatório constar a partir da segunda página o número da página.
- O início de cada parágrafo do texto deve ter 1,5 cm de distância da margem direita.
- O campo destinado à margem lateral direita terá, no mínimo, 2,5 cm de largura.



04. Conforme José Carlos Marion 2009, o objetivo principal da Contabilidade é o de “permitir a cada grupo principal de usuários a avaliação da situação econômica e financeira da entidade, num sentido estático, bem como fazer inferências sobre suas tendências futuras”. Sendo assim, o objeto da Contabilidade:

- a) É o Patrimônio das entidades.
- b) É o Ativo Circulante das entidades.
- c) É o Ativo Permanente das entidades.
- d) É o Passivo Circulante das entidades.
- e) São as Obrigações a pagar das entidades.

05. Os Princípios Contábeis definem as diretrizes essenciais sobre atos e fatos agraciados pela contabilidade. Os tópicos seguintes estão apresentados tendo esses princípios em mente. Nesse sentido, marque cada um deles com V se for verdadeiro ou F se for falso, e assinale a alternativa que faz a correta correspondência, de cima para baixo.

() REGISTRO PELO VALOR ORIGINAL: determina que os Componentes do Patrimônio devem ser inicialmente registrados pelos valores originais das transações, expressos em moeda nacional.

() COMPETÊNCIA: as Receitas e as Despesas devem ser incluídas na Apuração do Resultado do Período em que ocorreram, sempre simultaneamente, quando se relacionarem, independente de recebimento e pagamento.

() ENTIDADE: reconhece a autonomia patrimonial da entidade, diferenciando o Patrimônio particular do da entidade.

() CONTINUIDADE: pressupõe que a Entidade continuará em operação no futuro e, portanto, a mensuração e a apresentação dos Componentes do Patrimônio não levam em conta esta circunstância.

- a) V, V, V, V
- b) V, F, V, F
- c) F, F, V, V
- d) V, V, V, F
- e) F, V, V, V

06. O Ativo compreende os bens e os direitos controlados pela entidade, e é expresso em moeda, possuindo a característica de gerar benefícios de fluxos de Caixa futuros para a entidade. Qual conta não pertence ao Ativo?

- a) Caixa
- b) Estoque
- c) Veículos
- d) Bancos
- e) Obrigações a pagar

07. A empresa Beta emitiu seu Balanço Patrimonial em 2015, e consta nele um veículo de R\$ 50.000,00 mais R\$ 30.000 no banco. Ao mesmo tempo, um contas a pagar no valor de R\$ 30.000. Com base nessas informações, assinale a alternativa que apresenta o valor do Patrimônio Líquido.

- a) R\$ 30.000,00
- b) R\$ 50.000,00
- c) R\$ 60.000,00
- d) R\$ 80.000,00
- e) R\$ 110.000,00

08. O empregador tem a obrigação de recolher o FGTS, da importância calculada sobre a remuneração paga no mês anterior até o dia 07 de cada mês posterior ao pagamento. O percentual utilizado depende do tipo de contrato que o empregado mantém com a empresa: jovem aprendiz ou empregados. Dentre as opções, marque a alternativa correta sobre o percentual.

- a) 2% para empregados
- b) 8% para jovem aprendiz
- c) 8 % para empregados
- d) 2,5 % para jovem aprendiz
- e) 5% para empregados

09. Cada empregado assalariado (Consolidação das Leis Trabalhistas CLT) é obrigado a contribuir com a previdência social. A devida contribuição previdenciária é descontada diretamente da folha de pagamento do empregado e o percentual aplicado varia de acordo com a faixa salarial de cada empregado. Quais das verbas seguintes incidem INSS?

I - Abono pecuniário de férias

II - Adicionais (insalubridade, periculosidade, noturno, transferência e de função)

III - Aviso prévio trabalhado

IV - Salário-família

- a) Apenas as dos itens I, II e III.



- b) Apenas as dos itens I, III e IV.
- c) Apenas as dos itens II, e III e IV.
- d) Apenas as dos itens II e III.
- e) As dos itens I, II III e IV.

10. A ordenação de documentação é feita com base nos elementos informativos contidos nos documentos. De forma geral (e sempre dependendo do tipo documental em questão), os elementos informativos mais comumente tomados como referência para a ordenação são:

I - Número do documento (atribuído pelo emissor ou pelo receptor)

II - Data

III - Local de procedência

IV - Nome do emissor ou do destinatário

V - Objeto ou tema específico do documento

Estão corretos:

- a) Somente os itens I, II e III.
- b) Somente os itens III, IV e V.
- c) Somente os itens I, IV e V.
- d) Somente os itens I, II, III e IV.
- e) Os itens I, II, III, IV e V.

LÍNGUA PORTUGUESA

Leia o texto e responda às próximas quatro questões.

Lêmures e baobás de Madagascar

Isolada do continente há 135 milhões de anos, a ilha do Oceano Índico é um laboratório natural da evolução das espécies e encanta os viajantes com uma flora e fauna única

Madagascar abriga 107 espécies de **lêmures**, dezenas de espécies de camaleões coloridos e outras tantas plantas que só existem lá. “Madagascar é um mundo a parte. Costumo dizer que, se Charles Darwin tivesse conhecido Madagascar, seu livro *A Origem das Espécies* seria dez vezes maior”, afirma o fotógrafo e jornalista **Haroldo Castro**, idealizador de Viajologia Expedições.

Uma das experiências mais emocionantes na quarta maior ilha do mundo é passear entre os gigantescos **baobás**, árvores que chegam a ter 30 metros de altura e mil anos de idade. Das nove espécies de baobás que existem no mundo, seis podem ser encontradas apenas em Madagascar. A majestosa árvore, considerada sagrada pelos malgaxes, é chamada localmente como “reniala”, mãe da floresta.

Na pequena cidade de Bekopaka está o Parque Nacional Tsingy de Bemaraha, considerado Patrimônio Mundial pela Unesco. Trilhas e passeios de canoa no rio Manambolo conduzem a formações rochosas calcárias inusitadas e plantas endêmicas desse ecossistema de florestas secas.

Outro momento inesquecível em Madagascar é o encontro com os lêmures nas florestas tropicais da reserva Anjozorobe-Angavo, a 90 quilômetros da capital Antananarivo. Especialistas apontam que o turismo de observação de animais é uma excelente alternativa para o desenvolvimento da economia local e pode ajudar a conter o desmatamento. “O projeto em Anjozorobe comprova que, nos últimos anos, os 9 mil visitantes contribuíram de forma concreta a reduzir a pobreza e a promover a conservação da biodiversidade”, afirma Haroldo. Como os primatas são curiosos e estão habituados aos seres humanos, eles costumam se aproximar dos visitantes. “Os bichinhos chegam a subir nas nossas cabeças e parecem adorar aparecer nas fotos.”

Madagascar possui hoje uma excelente estrutura para o turismo, com algumas estradas bem cuidadas e hotéis confortáveis localizados perto das reservas e parques ecológicos. A gastronomia malgaxe, com um toque francês, também surpreende pela diversidade de ingredientes, temperos e colorido dos pratos.

[...]

(Fonte: <http://viajeaqui.abril.com.br/materias/lemures-e-baobas-de-madagascar#2>. Acesso em 14/05/2016)

11. Lêmures e baobás de Madagascar é um texto:

- a) Em que prevalece a descrição, apresentando as belezas e peculiaridades do lugar, da fauna e da flora.
- b) Principalmente narrativo, de fatos colhidos durante uma viagem, que se sucedem em progressão temporal.
- c) Essencialmente argumentativo, o uso da descrição visa somente a convencer o leitor a visitar Madagascar.
- d) Dissertativo, impera o desenvolvimento de argumentos para comprovar a tese presente no primeiro parágrafo.
- e) Em que predomina a exposição de conceitos e definições com o intuito de informar o leitor.

12. O teor do texto Lêmures e baobás de Madagascar somente não poderia se encaixar em que tópico?

- a) Turismo
- b) Viagens
- c) Clima
- d) Natureza
- e) Ilhas

13. O aposto é um termo que *explica ou esclarece, desenvolve ou resume outro termo da oração*. Quanto a isso, analise a parte grifada em cada uma das orações retiradas do texto:

I - *A majestosa árvore, considerada sagrada pelos malgaxes, é chamada localmente como “reniala”, mãe da floresta*.

II - *afirma o fotógrafo e jornalista Haroldo Castro, idealizador de Viajologia Expedições*.

III - *Outro momento inesquecível em Madagascar é o encontro com os lêmures nas florestas tropicais da reserva Anjzorobe-Angavo, a 90 quilômetros da capital Antananarivo*.

IV - *O projeto em Anjzorobe comprova que, nos últimos anos, os 9 mil visitantes contribuíram de forma concreta a reduzir a pobreza e a promover a conservação da biodiversidade”*.

V - *A gastronomia malgaxe, com um toque francês, também surpreende pela diversidade de ingredientes, temperos e colorido dos pratos*.

Constitui aposto os grifos em:

- I, II, III, IV e V.
- I, III e V, apenas.
- III e V apenas.
- I, II, III, e V, apenas.
- III, IV e V apenas

14. *Trilhas e passeios de canoa no rio Manambolo conduzem a formações rochosas calcárias inusitadas e plantas endêmicas desse ecossistema de florestas secas*.

Ao observar a relação sintática entre os termos desse período, pode-se afirmar que:

- de canoa é complemento nominal de Trilhas e passeios.
- no rio Manambolo é adjunto adnominal de canoas.
- de florestas secas é complemento nominal de plantas endêmicas.
- de canoa é complemento verbal de passeios.
- a formações rochosas calcárias inusitadas e plantas endêmicas desse ecossistema de florestas secas é complemento verbal de conduzem.

Leia o poema e responda às próximas duas questões.

FOGO NA MATA, MATA!

Fogo na mata, mata! A mata, a vida...
Fogo na mata, abre,
no coração da mata,
Profundas feridas.

Fogo na mata corrói,
dentro de nós, os sonhos.
Fogo na mata, deixa, no seio da mata,
Tumores tamanhos!

[...]

(Fonte: <http://www.recantodasletras.com.br/letras/505252>. Acesso em 14/05/2016)

15. A respeito de alguns aspectos gramaticais pertinentes aos termos em destaque na frase título do poema *Fogo na mata, mata!*, está correto o que se afirma em:

- Morfologicamente, na sequência em que as duas palavras aparecem, temos um verbo e um substantivo.
- Semanticamente, as duas palavras constituem homônimas homófonas homógrafas.
- O processo de formação da palavra “mata” (primeira ocorrência na frase) é por derivação regressiva do verbo “matar” cuja flexão na terceira pessoa vem logo em seguida na frase.
- Semanticamente, as duas palavras “mata” são parônimas.
- Semanticamente, as duas palavras constituem homônimas homógrafas heterofônicas.

16. Com a Nova Reforma Ortográfica, foi mantido o acento nas oxítonas terminadas em -ei e -oi, como é o caso de corrói em *Fogo na mata corrói*. No entanto, de acordo ainda com a Nova Reforma, os acentos foram retirados de quais duas palavras?

- Bocaiuva - maiúscula
- Voo, aerodromo
- Releem - feiura
- Papeis - língua
- Preveem - herói

17. Leia atentamente as alternativas e assinale a incorreta no que diz respeito à Ortografia:

- Grafamos com j as palavras ultraje, jiboia e gorjeio; com g as palavras ferrugem, geringonça, e miragem.

- b) Grafamos com sc: miscelânea, obsceno e obsessão; com c: sucinto, facínio e nécio.
 c) Grafamos com x: xampu, mexerico e enxada; com ch: piche, tocha e mecha.
 d) Grafamos com z: xadrez, cicatriz e vizinho; com s: friso, pêsames e tesoura.
 e) Grafamos com ss: escassez, submissão e sossego; com c: acetinado, obcecado e acepção.

18. O advérbio sublinhado e a circunstância que ele expressa não estão corretamente apresentados em:

- a) Ele certamente virá para o encontro. (afirmação)
 b) Ali se ouvia falar de riquezas culturais. (tempo)
 c) O orador discursou muito bem, impressionou a plateia. (modo)
 d) Chegamos tarde, perdemos o ônibus. (tempo)
 e) Os candidatos estudaram bastante. (intensidade)

19. Os pronomes pessoais, representantes das pessoas do discurso, estão corretamente empregados em todas as alternativas, com exceção da:

- a) Sempre haverá discordância entre mim e ti.
 b) O juiz queria falar com nós dois.
 c) Minha festa de despedida, não vou esquecê-la jamais.
 d) Ninguém irá sem eu.
 e) Deram o livro para eu ler em dois dias!

20. Em uma oração, o contexto permite concluirmos se certos verbos são de ligação, para assim identificarmos o predicado nominal. Assim, não há predicação nominal em:

- a) O aluno não estava na escola hoje.
 b) À tarde, as crianças pareciam cansadas.
 c) Ultimamente os participantes do programa andam desanimados.
 e) A aurora boreal é um lindo espetáculo.
 d) As atletas parecem cansadas.

MATEMÁTICA

21. Numa prova de hipismo, há duas modalidades totalmente distintas: salto e rural. João vai competir nas duas modalidades. Sabendo que a vitória ou a derrota em uma nada influencia no resultado da outra, e sabendo que a probabilidade de ele ganhar a prova de salto é de 40% e a de ganhar a prova de rural é de 58%, qual a probabilidade de ele ganhar as duas provas?

- a) 98%
 b) 62%
 c) 23,2%
 d) 18%
 e) 2,32%

22. Numa escola há 12 professores. A tabela a seguir mostra a carga horária diária de trabalho desses professores.

4	8	5	10	6	5	8	6	8	9	4	8
---	---	---	----	---	---	---	---	---	---	---	---

É correto afirmar que as cargas horárias média, modal e mediana desses professores são respectivamente:

- a) 6,25; 6; 7
 b) 6,5; 7; 8
 c) 6,75; 8; 6
 d) 6,75; 8; 7
 e) 6,75; 7; 8

23. Encontre a equação da reta mediatriz do segmento AB, onde A(2, 3) e B(4, -1), e assinale a alternativa correta.

- a) $2y - x + 1 = 0$
 b) $y - 2x + 2 = 0$
 c) $2y - 2x + 1 = 0$
 d) $2y + x + 2 = 0$
 e) $2y + x - 1 = 0$

24. Uma loja acrescenta 15% no preço de seus produtos à vista se o cliente optar por pagar com um cheque para 60 dias. Comprei, nessa loja, um fogão com cheque para 60 dias e paguei R\$552,00 por ele. Qual era o preço à vista desse fogão?

- a) R\$460,00
 b) R\$469,20
 c) R\$474,50

- d) R\$480,00
- e) R\$500,00

25. Um pesquisador, ao analisar os processos que envolvem jovens com menos de 24 anos, descobriu que há 4 homens com nomes envolvidos em processos para cada mulher. Se no total ele contou 2400 pessoas, quantas eram as mulheres envolvidas nessa pesquisa?

- a) 480
- b) 600
- c) 800
- d) 1920
- e) 2000

INFORMÁTICA

26. Utilizando o Excel 2013, qual fórmula representa corretamente a auto soma?

- a) =SUM()
- b) =MEDIA()
- c) =MAX()
- d) =MIN()
- e) =SE()

27. Acerca de confidencialidade está incorreto afirmar:

- a) É um conceito no qual o acesso à informação deve ser concedido a quem de direito, ou seja, apenas para as entidades autorizadas pelo proprietário ou dono da informação.
- b) É uma propriedade que limita o acesso à informação tão somente às entidades legítimas, ou seja, àquelas autorizadas pelo proprietário da informação.
- c) É a propriedade da informação que não estará disponível ou será divulgada a indivíduos, entidades ou processos sem autorização.
- d) Significa garantir que a informação será conhecida por pessoas que não estejam autorizadas para tal.
- e) É a garantia do resguardo das informações dadas pessoalmente em confiança e proteção contra a sua revelação não autorizada.

28. Tratando-se de hardware de computadores, assinale a alternativa que corresponde a um tipo de memória externa.

- a) Pen Drive
- b) EPROM
- c) DIMM
- d) MRAM
- e) Cache

29. No Word 2013, é possível utilizar vários tipos de formatação de fontes, exceto:

- a) Tachado
- b) Negrito
- c) Centralizado
- d) Sublinhado
- e) Cor da fonte

30. Qual software nativo do Windows utilizamos para descobrir o endereço IP do computador?

- a) Windows Explorer
- b) Notepad
- c) Excel
- d) Word
- e) Prompt de Comando

CONHECIMENTOS GERAIS

31. Conforme fonte do IBGE, o bioma do município de Telêmaco Borba/PR é:

- a) Mata de Pinhais e Cerrado
- b) Pantanal
- c) Caatinga e Mata Atlântica
- d) Floresta Tropical
- e) Cerrado e Mata Atlântica

32. A letra do hino do município de Telêmaco Borba/PR é de autoria de

- a) Bento Mossurunga.
- b) Moisés Lupion.
- c) Eloah Martins Quadrado.



- d) Graciliana Reis D´Albuquerque Mossurunga.
e) Enéias Augusto Moracines Borba.

33. Leia o texto sobre o Brasão de Armas do município de Telêmaco Borba/PR e marque a alternativa correta.

O Brasão de Armas foi aprovado em definitivo em 1981, dentro dos padrões da heráldica, estabelecendo os regulamentos para seu uso, ficando assim oficializado.

No Brasão de Armas, é possível identificar:

1. Escudo português redondo banhado de ouro filetado de prata, carregado de cinco árvores de pinho estilizadas de sua cor, postas em banda.
2. Escudete de prata carregado de três Pinheiros do Paraná, araucária angustifólia ou brasiliense.
3. No timbre, coroa mural de ouro lavrado de negro.
4. À destra, haste de milho (zae mays) frutada.
5. À sinistra, ramos de soja (gelycine soya) granada.
6. Listel amarelo ostentando o topônimo "Cidade Nova" entre as inscrições de ouro "5 de Julho de 1963", em caracteres latino moderno.

- a) Não é verdadeiro o item 1.
- b) Não é verdadeiro o item 2.
- c) Não é verdadeiro o item 4.
- d) Não é verdadeiro o item 6.
- e) Não são verdadeiros os itens 3 e 5.

34. Segundo o art. 11 da Lei Orgânica do Município de Telêmaco Borba/PR, os bens públicos podem ser:

I. De uso comum do Povo, tais como estradas municipais, ruas, parques, praças, logradouros públicos e outros da mesma espécie;

II. De uso especial, os de patrimônio administrativo, tais como edifícios das repartições públicas, os terrenos e equipamentos destinados ao serviço público, veículos, matadouros, mercados e outras serventias de outra espécie;

III. Bens municipais, aqueles sobre os quais o município exerce os direitos de proprietário e são considerados como bens patrimoniais disponíveis;

IV. Bens culturais, tais como música e obras de arte.

Podemos afirmar que são verdadeiros os itens

- a) I e II, apenas.
- b) II e III, apenas.
- c) I, II e III, apenas.
- d) I, III e IV, apenas.
- e) I, II, III e IV.

35. Qual alternativa completa corretamente o texto a seguir?

No primeiro ano de cada legislatura, no dia 1º de janeiro, em sessão de instalação, independente de número, sob a presidência do vereador mais idoso dentre os eleitos, os vereadores prestarão compromisso e tomarão posse. O Vereador que não tomar posse na sessão do dia 1º de janeiro poderá fazê-la _____ depois da primeira sessão ordinária da Legislatura.

- a) até dez dias
- b) até quinze dias
- c) até trinta dias
- d) até quarenta e cinco dias
- e) até sessenta dias

36. Conforme o art. 54 da Lei Orgânica do Município de Telêmaco Borba/PR, o Processo Legislativo compreende a elaboração de:

I. Emendas à Lei Orgânica do Município;

II. Leis complementares;

III. Leis Ordinárias;

IV. Decretos Legislativos;

V. Resoluções;

VI. Pareceres.

Assinale a alternativa que faz a afirmação correta.

- a) São verdadeiros apenas os itens I, III e VI.
- b) São verdadeiros apenas os itens I, III e IV.
- c) São verdadeiros apenas os itens III, IV e V.
- d) São verdadeiros apenas os itens I, II, III, IV e V.
- e) São verdadeiros os itens I, II, III, IV, V e VI.



Com base na Lei nº 1883/2012, que dispõe sobre o Estatuto dos Servidores Públicos da Administração Direta, Autárquica e Funcional do Município de Telêmaco Borba/PR, responda às próximas quatro questões.

37. À luz do § 2º do art. 9º da Lei nº 1883/2012, marque a alternativa que completa a lacuna do texto a seguir.

O concurso deverá ser homologado no prazo máximo de _____ contados da data de realização da última fase de provas, sob pena de responsabilidade da autoridade competente.

- a) um mês
- b) dois meses
- c) seis meses
- d) um ano
- e) dois anos

38. Marque a alternativa que completa a lacuna do texto a seguir.

O candidato terá o prazo _____, a contar da publicação oficial da convocação, para comparecer à entidade convocante e assinar termo de comparecimento.

- a) máximo de 5 dias úteis
- b) mínimo de 15 dias úteis
- c) de até 30 dias
- d) máximo de 15 dias úteis
- e) mínimo de 5 dias úteis

39. Leia as assertivas e marque a correta.

- a) São reservados 10% dos cargos em comissão para a nomeação de servidores do quadro efetivo.
- b) São reservados 15% dos cargos em comissão para a nomeação de servidores do quadro efetivo.
- c) São reservados 20% dos cargos em comissão para a nomeação de servidores do quadro efetivo.
- d) São reservados 25% dos cargos em comissão para a nomeação de servidores do quadro efetivo.
- e) São reservados 30% dos cargos em comissão para a nomeação de servidores do quadro efetivo.

40. Marque a alternativa que completa a lacuna do texto a seguir.

O servidor municipal, quando nomeado para cargo em comissão, ficará afastado de seu cargo efetivo e fará jus à remuneração prevista em lei para o comissionado, podendo optar por receber seus vencimentos acrescidos de _____ do valor da remuneração prevista para o cargo em comissão.

- a) 10%
- b) 20%
- c) 30%
- d) 40%
- e) 50%

RASCUNHO



PREFEITURA DE TELÊMACO BORBA - ESTADO DO PARANÁ - EDITAL Nº 001-2016 - CONCURSO PÚBLICO

MATUTINO – 29/05/2016 – NÍVEL MÉDIO

1

PROVA OBJETIVA NÚMERO

CARGO: AGENTE CULTURAL

Leia atentamente as INSTRUÇÕES:

1. Confira seus dados no cartão-resposta: nome, número de inscrição e o curso para o qual se inscreveu.
2. **MARQUE no seu cartão-resposta o número da sua prova** (não será corrigido o cartão-resposta que não tiver marcado o número da prova) e **Assine** seu cartão-resposta.
3. Aguarde a autorização do Fiscal para abrir o caderno de prova. Ao receber a ordem do fiscal, confira o caderno de prova com muita atenção. Nenhuma reclamação sobre o total de questões ou falha de impressão será aceita depois de iniciada a prova.
4. O cartão-resposta não será substituído, salvo se contiver erro de impressão.
5. Preencha toda a área do cartão-resposta correspondente à alternativa de sua escolha, com caneta esferográfica (tinta azul ou preta), sem ultrapassar as bordas. As marcações duplas, ou rasuradas, com corretivo, ou marcadas diferentemente do modelo estabelecido no cartão-resposta poderão ser anuladas.
6. Sua prova tem **40** questões, com **5** alternativas.
7. Cabe apenas ao candidato a interpretação das questões, **o fiscal** não poderá fazer nenhuma interferência.
8. A prova será realizada com duração máxima de **3 (três) horas**, incluído o tempo para a realização da Prova Objetiva de múltipla escolha e o preenchimento do cartão-resposta.
9. O candidato poderá retirar-se do local de realização das provas somente **1 (uma) hora** após o seu início, sem levar o caderno de prova.
10. O candidato poderá levar o caderno de provas, assim como anotação contendo transcrição do seu cartão-resposta, somente **1h30min** (uma hora e trinta minutos) após o início da realização da prova.
11. Ao terminar a prova, o candidato deverá entregar ao fiscal de sala o cartão-resposta preenchido e **ASSINADO**.
12. Os **3 (três)** candidatos, que terminarem a prova por último, deverão permanecer na sala, e só poderão sair juntos após o fechamento do envelope, contendo os cartões-resposta dos candidatos presentes e ausentes, e assinarem no lacre do referido envelope, atestando que este foi devidamente lacrado.
13. Durante todo o tempo em que permanecer no local onde está ocorrendo o concurso, o candidato deverá, manter o celular desligado e sem bateria, só sendo permitido ligar depois de ultrapassar o portão de saída do prédio.
14. Não será permitido ao candidato fumar na sala de provas, bem como nas dependências.
15. Depois de terminar a prova e entregar ao fiscal o cartão-resposta, preenchido e assinado, não será mais permitido ao candidato o uso do banheiro e bebedouro.

BOA PROVA!

**LÍNGUA PORTUGUESA**

Leia o texto e responda às próximas quatro questões.

Lêmures e baobás de Madagascar

Isolada do continente há 135 milhões de anos, a ilha do Oceano Índico é um laboratório natural da evolução das espécies e encanta os viajantes com uma flora e fauna única

Madagascar abriga 107 espécies de **lêmures**, dezenas de espécies de camaleões coloridos e outras tantas plantas que só existem lá. “Madagascar é um mundo a parte. Costumo dizer que, se Charles Darwin tivesse conhecido Madagascar, seu livro *A Origem das Espécies* seria dez vezes maior”, afirma o fotógrafo e jornalista **Haroldo Castro**, idealizador de Viajologia Expedições.

Uma das experiências mais emocionantes na quarta maior ilha do mundo é passear entre os gigantescos **baobás**, árvores que chegam a ter 30 metros de altura e mil anos de idade. Das nove espécies de baobás que existem no mundo, seis podem ser encontradas apenas em Madagascar. A majestosa árvore, considerada sagrada pelos malgaxes, é chamada localmente como “reniala”, mãe da floresta.

Na pequena cidade de Bekopaka está o Parque Nacional Tsingy de Bemaraha, considerado Patrimônio Mundial pela Unesco. Trilhas e passeios de canoa no rio Manambolo conduzem a formações rochosas calcárias inusitadas e plantas endêmicas desse ecossistema de florestas secas.

Outro momento inesquecível em Madagascar é o encontro com os lêmures nas florestas tropicais da reserva Anjozorobe-Angavo, a 90 quilômetros da capital Antananarivo. Especialistas apontam que o turismo de observação de animais é uma excelente alternativa para o desenvolvimento da economia local e pode ajudar a conter o desmatamento. “O projeto em Anjozorobe comprova que, nos últimos anos, os 9 mil visitantes contribuíram de forma concreta a reduzir a pobreza e a promover a conservação da biodiversidade”, afirma Haroldo. Como os primatas são curiosos e estão habituados aos seres humanos, eles costumam se aproximar dos visitantes. “Os bichinhos chegam a subir nas nossas cabeças e parecem adorar aparecer nas fotos.”

Madagascar possui hoje uma excelente estrutura para o turismo, com algumas estradas bem cuidadas e hotéis confortáveis localizados perto das reservas e parques ecológicos. A gastronomia malgaxe, com um toque francês, também surpreende pela diversidade de ingredientes, temperos e colorido dos pratos.

[...]

(Fonte: <http://viajeaqui.abril.com.br/materias/lemures-e-baobas-de-madagascar#2>. Acesso em 14/05/2016)

01. Lêmures e baobás de Madagascar é um texto:

- Em que prevalece a descrição, apresentando as belezas e peculiaridades do lugar, da fauna e da flora.
- Principalmente narrativo, de fatos colhidos durante uma viagem, que se sucedem em progressão temporal.
- Essencialmente argumentativo, o uso da descrição visa somente a convencer o leitor a visitar Madagascar.
- Dissertativo, impera o desenvolvimento de argumentos para comprovar a tese presente no primeiro parágrafo.
- Em que predomina a exposição de conceitos e definições com o intuito de informar o leitor.

02. O teor do texto *Lêmures e baobás de Madagascar* somente não poderia se encaixar em que tópico?

- Turismo
- Viagens
- Clima
- Natureza
- Ilhas

03. O aposto é um termo que *explica ou esclarece, desenvolve ou resume outro termo da oração*. Quanto a isso, analise a parte grifada em cada uma das orações retiradas do texto:

I - A majestosa árvore, considerada sagrada pelos malgaxes, é chamada localmente como “reniala”, mãe da floresta.

II - afirma o fotógrafo e jornalista Haroldo Castro, idealizador de Viajologia Expedições.

III - *Outro momento inesquecível em Madagascar é o encontro com os lêmures nas florestas tropicais da reserva Anjozorobe-Angavo, a 90 quilômetros da capital Antananarivo.*

IV - *O projeto em Anjozorobe comprova que, nos últimos anos, os 9 mil visitantes contribuíram de forma concreta a reduzir a pobreza e a promover a conservação da biodiversidade”.*

V - *A gastronomia malgaxe, com um toque francês, também surpreende pela diversidade de ingredientes, temperos e colorido dos pratos.*

Constitui aposto os grifos em:

a) I, II, III, IV e V.

b) I, III e V, apenas.

c) III e V apenas.

d) I, II, III, e V, apenas.

e) III, IV e V apenas

04. Trilhas e passeios de canoa no rio Manambolo conduzem a formações rochosas calcárias inusitadas e plantas endêmicas desse ecossistema de florestas secas.

Ao observar a relação sintática entre os termos desse período, pode-se afirmar que:

a) de canoa é complemento nominal de Trilhas e passeios.

b) no rio Manambolo é adjunto adnominal de canoas.

c) de florestas secas é complemento nominal de plantas endêmicas.

d) de canoa é complemento verbal de passeios.

e) a formações rochosas calcárias inusitadas e plantas endêmicas desse ecossistema de florestas secas é complemento verbal de conduzem.

Leia o poema e responda às próximas duas questões.

FOGO NA MATA, MATA!

Fogo na mata, mata! A mata, a vida...

Fogo na mata, abre,
no coração da mata,
Profundas feridas.

Fogo na mata corrói,
dentro de nós, os sonhos.
Fogo na mata, deixa, no seio da mata,
Tumores tamanhos!

[...]

(Fonte: <http://www.recantodasletras.com.br/letras/505252>. Acesso em 14/05/2016)

05. A respeito de alguns aspectos gramaticais pertinentes aos termos em destaque na frase título do poema *Fogo na mata, mata!*, está correto o que se afirma em:

a) Morfologicamente, na sequência em que as duas palavras aparecem, temos um verbo e um substantivo.

b) Semanticamente, as duas palavras constituem homônimas homófonas homógrafas.

c) O processo de formação da palavra “mata” (primeira ocorrência na frase) é por derivação regressiva do verbo “matar” cuja flexão na terceira pessoa vem logo em seguida na frase.

d) Semanticamente, as duas palavras “mata” são parônimas.

e) Semanticamente, as duas palavras constituem homônimas homógrafas heterofônicas.

06. Com a Nova Reforma Ortográfica, foi mantido o acento nas oxítonas terminadas em -ei e -oi, como é o caso de corrói em *Fogo na mata corrói*. No entanto, de acordo ainda com a Nova Reforma, os acentos foram retirados de quais duas palavras?

a) Bocaiuva - maiúscula

b) Voo, aerodromo

c) Releem - feiura

d) Papeis - linguiça

e) Preveem - heroi

07. Leia atentamente as alternativas e assinale a incorreta no que diz respeito à Ortografia:

a) Grafamos com j as palavras ultraje, jiboia e gorjeio; com g as palavras ferrugem, geringonça, e miragem.

b) Grafamos com sc: miscelânea, obsceno e obsessão; com c: sucinto, facínio e nécio.

c) Grafamos com x: xampu, mexerico e enxada; com ch: piche, tocha e mecha.



- d) Grafamos com z: xadrez, cicatriz e vizinho; com s: friso, pêsames e tesoura.
e) Grafamos com ss: escassez, submissão e sossego; com c: acetinado, obcecado e acepção.

08. O advérbio sublinhado e a circunstância que ele expressa não estão corretamente apresentados em:

- a) Ele certamente virá para o encontro. (afirmação)
b) Ali se ouvia falar de riquezas culturais. (tempo)
c) O orador discursou muito bem, impressionou a plateia. (modo)
d) Chegamos tarde, perdemos o ônibus. (tempo)
e) Os candidatos estudaram bastante. (intensidade)

09. Os pronomes pessoais, representantes das pessoas do discurso, estão corretamente empregados em todas as alternativas, com exceção da:

- a) Sempre haverá discordância entre mim e ti.
b) O juiz queria falar com nós dois.
c) Minha festa de despedida, não vou esquecê-la jamais.
d) Ninguém irá sem eu.
e) Deram o livro para eu ler em dois dias!

10. Em uma oração, o contexto permite concluirmos se certos verbos são de ligação, para assim identificarmos o predicado nominal. Assim, não há predicação nominal em:

- a) O aluno não estava na escola hoje.
b) À tarde, as crianças pareciam cansadas.
c) Ultimamente os participantes do programa andam desanimados.
e) A aurora boreal é um lindo espetáculo.
d) As atletas parecem cansadas.

MATEMÁTICA

11. Numa prova de hipismo, há duas modalidades totalmente distintas: salto e rural. João vai competir nas duas modalidades. Sabendo que a vitória ou a derrota em uma nada influencia no resultado da outra, e sabendo que a probabilidade de ele ganhar a prova de salto é de 40% e a de ganhar a prova de rural é de 58%, qual a probabilidade de ele ganhar as duas provas?

- a) 98%
b) 62%
c) 23,2%
d) 18%
e) 2,32%

12. Numa escola há 12 professores. A tabela a seguir mostra a carga horária diária de trabalho desses professores.

4	8	5	10	6	5	8	6	8	9	4	8
---	---	---	----	---	---	---	---	---	---	---	---

É correto afirmar que as cargas horárias média, modal e mediana desses professores são respectivamente:

- a) 6,25; 6; 7
b) 6,5; 7; 8
c) 6,75; 8; 6
d) 6,75; 8; 7
e) 6,75; 7; 8

13. Encontre a equação da reta mediatriz do segmento AB, onde A(2, 3) e B(4, -1), e assinale a alternativa correta.

- a) $2y - x + 1 = 0$
b) $y - 2x + 2 = 0$
c) $2y - 2x + 1 = 0$
d) $2y + x + 2 = 0$
e) $2y + x - 1 = 0$

14. Uma loja acrescenta 15% no preço de seus produtos à vista se o cliente optar por pagar com um cheque para 60 dias. Comprei, nessa loja, um fogão com cheque para 60 dias e paguei R\$552,00 por ele. Qual era o preço à vista desse fogão?

- a) R\$460,00
b) R\$469,20
c) R\$474,50
d) R\$480,00
e) R\$500,00

15. Um pesquisador, ao analisar os processos que envolvem jovens com menos de 24 anos, descobriu que há 4 homens com nomes envolvidos em processos para cada mulher. Se no total ele contou 2400 pessoas, quantas eram as mulheres envolvidas nessa pesquisa?

- a) 480
- b) 600
- c) 800
- d) 1920
- e) 2000

INFORMÁTICA

16. Utilizando o Excel 2013, qual fórmula representa corretamente a auto soma?

- a) =SUM()
- b) =MEDIA()
- c) =MAX()
- d) =MIN()
- e) =SE()

17. Acerca de confidencialidade está incorreto afirmar:

- a) É um conceito no qual o acesso à informação deve ser concedido a quem de direito, ou seja, apenas para as entidades autorizadas pelo proprietário ou dono da informação.
- b) É uma propriedade que limita o acesso à informação tão somente às entidades legítimas, ou seja, àquelas autorizadas pelo proprietário da informação.
- c) É a propriedade da informação que não estará disponível ou será divulgada a indivíduos, entidades ou processos sem autorização.
- d) Significa garantir que a informação será conhecida por pessoas que não estejam autorizadas para tal.
- e) É a garantia do resguardo das informações dadas pessoalmente em confiança e proteção contra a sua revelação não autorizada.

18. Tratando-se de hardware de computadores, assinale a alternativa que corresponde a um tipo de memória externa.

- a) Pen Drive
- b) EPROM
- c) DIMM
- d) MRAM
- e) Cache

19. No Word 2013, é possível utilizar vários tipos de formatação de fontes, exceto:

- a) Tachado
- b) Negrito
- c) Centralizado
- d) Sublinhado
- e) Cor da fonte

20. Qual software nativo do Windows utilizamos para descobrir o endereço IP do computador?

- a) Windows Explorer
- b) Notepad
- c) Excel
- d) Word
- e) Prompt de Comando

CONHECIMENTOS GERAIS

21. Conforme fonte do IBGE, o bioma do município de Telêmaco Borba/PR é:

- a) Mata de Pinhais e Cerrado
- b) Pantanal
- c) Caatinga e Mata Atlântica
- d) Floresta Tropical
- e) Cerrado e Mata Atlântica

22. A letra do hino do município de Telêmaco Borba/PR é de autoria de

- a) Bento Mossurunga.
- b) Moisés Lupion.
- c) Eloah Martins Quadrado.
- d) Graciliana Reis D´Albuquerque Mossurunga.

e) Enéias Augusto Moracines Borba.

23. Leia o texto sobre o Brasão de Armas do município de Telêmaco Borba/PR e marque a alternativa correta.

O Brasão de Armas foi aprovado em definitivo em 1981, dentro dos padrões da heráldica, estabelecendo os regulamentos para seu uso, ficando assim oficializado.

No Brasão de Armas, é possível identificar:

1. Escudo português redondo banhado de ouro filetado de prata, carregado de cinco árvores de pinho estilizadas de sua cor, postas em banda.
2. Escudete de prata carregado de três Pinheiros do Paraná, araucária angustifólia ou brasiliense.
3. No timbre, coroa mural de ouro lavrado de negro.
4. À destra, haste de milho (zae mays) frutada.
5. À sinistra, ramos de soja (gelycine soya) granada.
6. Listel amarelo ostentando o topônimo "Cidade Nova" entre as inscrições de ouro "5 de Julho de 1963", em caracteres latino moderno.

- a) Não é verdadeiro o item 1.
- b) Não é verdadeiro o item 2.
- c) Não é verdadeiro o item 4.
- d) Não é verdadeiro o item 6.
- e) Não são verdadeiros os itens 3 e 5.

24. Segundo o art. 11 da Lei Orgânica do Município de Telêmaco Borba/PR, os bens públicos podem ser:

I. De uso comum do Povo, tais como estradas municipais, ruas, parques, praças, logradouros públicos e outros da mesma espécie;

II. De uso especial, os de patrimônio administrativo, tais como edifícios das repartições públicas, os terrenos e equipamentos destinados ao serviço público, veículos, matadouros, mercados e outras serventias de outra espécie;

III. Bens municipais, aqueles sobre os quais o município exerce os direitos de proprietário e são considerados como bens patrimoniais disponíveis;

IV. Bens culturais, tais como música e obras de arte.

Podemos afirmar que são verdadeiros os itens

- a) I e II, apenas.
- b) II e III, apenas.
- c) I, II e III, apenas.
- d) I, III e IV, apenas.
- e) I, II, III e IV.

25. Qual alternativa completa corretamente o texto a seguir?

No primeiro ano de cada legislatura, no dia 1º de janeiro, em sessão de instalação, independente de número, sob a presidência do vereador mais idoso dentre os eleitos, os vereadores prestarão compromisso e tomarão posse. O Vereador que não tomar posse na sessão do dia 1º de janeiro poderá fazê-la _____ depois da primeira sessão ordinária da Legislatura.

- a) até dez dias
- b) até quinze dias
- c) até trinta dias
- d) até quarenta e cinco dias
- e) até sessenta dias

26. Conforme o art. 54 da Lei Orgânica do Município de Telêmaco Borba/PR, o Processo Legislativo compreende a elaboração de:

I. Emendas à Lei Orgânica do Município;

II. Leis complementares;

III. Leis Ordinárias;

IV. Decretos Legislativos;

V. Resoluções;

VI. Pareceres.

Assinale a alternativa que faz a afirmação correta.

- a) São verdadeiros apenas os itens I, III e VI.
- b) São verdadeiros apenas os itens I, III e IV.
- c) São verdadeiros apenas os itens III, IV e V.
- d) São verdadeiros apenas os itens I, II, III, IV e V.
- e) São verdadeiros os itens I, II, III, IV, V e VI.



Com base na Lei nº 1883/2012, que dispõe sobre o Estatuto dos Servidores Públicos da Administração Direta, Autárquica e Funcional do Município de Telêmaco Borba/PR, responda às próximas quatro questões.

27. À luz do § 2º do art. 9º da Lei nº 1883/2012, marque a alternativa que completa a lacuna do texto a seguir.

O concurso deverá ser homologado no prazo máximo de _____ contados da data de realização da última fase de provas, sob pena de responsabilidade da autoridade competente.

- a) um mês
- b) dois meses
- c) seis meses
- d) um ano
- e) dois anos

28. Marque a alternativa que completa a lacuna do texto a seguir.

O candidato terá o prazo _____, a contar da publicação oficial da convocação, para comparecer à entidade convocante e assinar termo de comparecimento.

- a) máximo de 5 dias úteis
- b) mínimo de 15 dias úteis
- c) de até 30 dias
- d) máximo de 15 dias úteis
- e) mínimo de 5 dias úteis

29. Leia as assertivas e marque a correta.

- a) São reservados 10% dos cargos em comissão para a nomeação de servidores do quadro efetivo.
- b) São reservados 15% dos cargos em comissão para a nomeação de servidores do quadro efetivo.
- c) São reservados 20% dos cargos em comissão para a nomeação de servidores do quadro efetivo.
- d) São reservados 25% dos cargos em comissão para a nomeação de servidores do quadro efetivo.
- e) São reservados 30% dos cargos em comissão para a nomeação de servidores do quadro efetivo.

30. Marque a alternativa que completa a lacuna do texto a seguir.

O servidor municipal, quando nomeado para cargo em comissão, ficará afastado de seu cargo efetivo e fará jus à remuneração prevista em lei para o comissionado, podendo optar por receber seus vencimentos acrescidos de _____ do valor da remuneração prevista para o cargo em comissão.

- a) 10%
- b) 20%
- c) 30%
- d) 40%
- e) 50%

CONHECIMENTOS ESPECÍFICOS

31. O Agente Comunitário de Cultura é aquele que, de forma individual ou vinculado a um grupo/coletivo/rede, desenvolve alguma das ações descritas abaixo, exceto:

- a) Realiza processos de criação e produção culturais nas diversas linguagens artísticas e formas de expressão cultural.
- b) Atua na aproximação da população com os espaços públicos e/ou comunitários de cultura.
- c) Estabelece formas de fiscalização sobre a gestão administrativa e financeira dos recursos direcionados à educação esportiva e de lazer.
- d) Articula e promove processos, eventos, manifestações populares, grupos ou redes culturais.
- e) Promove práticas culturais relacionadas ao pensamento, formação, qualificação, criação, circulação, entre outras.

32. Quanto às normas de segurança individual, coletiva e de instalações, em concordância com a PPRA NR 9, Programa de Prevenção de Riscos Ambientais, deve-se levar em consideração os equipamentos preventivos e necessários para cinco tipos de risco inerentes ao trabalho dos profissionais na realização de eventos: físico, químico, biológico, econômico e de acidentes. Para a implantação desse PPRA, devem ser incluídas várias etapas, exceto:

- a) Busca antecipada de recursos financeiros para a realização do programa.
- b) Antecipação e reconhecimento dos riscos.
- c) Estabelecimento de prioridades e metas de avaliação e de controle.
- d) Avaliação dos riscos e da exposição dos trabalhadores.
- e) Implantação de medidas de controle e avaliação de sua eficácia.

33. O Manual Instrutivo da Rede de Atenção às Urgências e Emergências (RUE) no SUS tem como objetivo central apresentar, esclarecer e orientar os gestores, trabalhadores e usuários sobre os principais

normativos e diretrizes norteadores para a implantação da RUE. (Fonte: Texto adaptado de http://bvsmms.saude.gov.br/bvs/publicacoes/manual_instrutivo_rede_atencao_urgencias.pdf)

Segundo esse documento, as Unidades de Pronto Atendimento (UPA) são estruturas de complexidade intermediária entre as unidades básicas de saúde, unidades de saúde da família e a rede hospitalar, devendo funcionar:

- a) 18 horas por dia, todos os dias da semana, e opcionalmente 24 horas por dia, quando houver disponibilidade de recursos materiais e humanos.
- b) 24 horas por dia, todos os dias da semana.
- c) 18 horas por dia, de segunda a sexta-feira, e 24 horas por dia, aos finais de semana.
- d) 24 horas por dia, de segunda a sábado e 18 horas nos domingos.
- e) 18 horas por dia, de segunda a sábado, e 24 horas por dia, aos domingos.

34. “Para uma teoria da cidadania” é o título do primeiro capítulo do livro “Cidadão do mundo: para uma teoria da cidadania”. Nessa obra, a autora Adela Cortina, de maneira bastante relevante e consciente, afirma que “entende-se que a realidade da cidadania, o fato de se saber e de se sentir cidadão de uma comunidade pode motivar os indivíduos a trabalhar por ela”. (p. 27). Isso significa que a cidadania envolve um processo social denominado:

- a) Acomodação
- b) Adaptação
- c) Assimilação
- d) Adequação
- e) Competição

35. Hoje, o que se precisa é muito mais tratamento interpessoal, habilidades de relacionamento, tato, sensibilidade, paciência, foco. O senhor Dale Carnegie, especialista em relacionamentos humanos, escreveu um dia: "Ao lidar com pessoas, lembre-se de que você não está lidando com seres lógicos, e sim com seres emocionais". Carl Jung, pai da psicologia analítica, médico e pensador suíço, certa feita escreveu: "Conheça todas as teorias, domine todas as técnicas, mas, ao tocar uma alma humana, seja apenas outra alma humana". Qual é o nome do sentimento básico comum e implícito a essas duas considerações, a de Dale Carnegie e a de Carl Jung?

- a) Empatia
- b) Simpatia
- c) Antipatia
- d) Afetividade
- e) Identidade

36. Entre os significados sociais das ações dos agentes culturais, no contexto das relações sociais, deve se destacar preponderantemente:

- a) Sua capacidade de chefia
- b) Seu senso de organização
- c) Sua comunicação interpessoal
- d) Seu papel agregativo
- e) Sua criatividade artística

37. Inúmeros são os papéis dos agentes culturais no contexto das relações sociais. Certamente, nesse sentido, seu papel mais importante consiste em:

- a) Propiciar formas mais elaboradas e sofisticadas de lazer para a comunidade.
- b) Possibilitar lazer alternativo e específico para os segmentos sociais de menor condição financeira.
- c) Criar políticas sociais para diminuir a exclusão social por atividades culturais diferenciadas.
- d) Apresentar especificamente a herança cultural da comunidade para as gerações mais novas.
- e) Preservar, enriquecer e evidenciar características culturais da comunidade como mecanismo de identidade socioeducativa envolvente.

38. Entre os vários segmentos sociais da comunidade, o agente cultural indiretamente desempenha também o papel que compete ao assistente social, à medida que trabalha com encaminhamento e inclusão de representantes de setores sociais muitas vezes marginalizados e/ou ignorados por políticas públicas. Isso se faz por ações culturais que envolvem processos de inclusão direcionados a todos os distintos grupos que compõem a sociedade. Qual dos grupos abaixo sofre mais intensamente com a exclusão social e que pode ser objeto de uma ação inclusiva do agente cultural em nosso país?

- a) Pescadores.
- b) Religiosos.
- c) Lavradores.
- d) Negros.
- e) Estudantes.



39. Há muitas e distintas concepções referentes à vida social em conjunto. Quanto a isso, Max Weber, sociólogo alemão, dizia que “(...) só existe propriamente quando, sobre a base desse sentimento [da situação comum], a ação está reciprocamente referida – não bastando a ação de todos e de cada um deles frente à mesma circunstância – e na medida em que esta referência traduz o sentimento de formar um todo”. (Fonte: In FERNANDES, F. (Org.). Comunidade e sociedade: leituras sobre problemas conceituais, metodológicos e de aplicação. São Paulo: Editora Nacional e Editora da USP, 1973. p. 140-143).

A qual conceito, representado por “(...)”, Max Weber estava se referindo?

- a) Civilização
- b) Comunidade
- c) Grupo Social
- d) Sociabilidade
- e) Sociedade

40. Leia o texto:

“O Desenvolvimento Local (Comunitário) é um processo que tem que crescer gradativamente, envolvendo e sendo apreendido pelos atores locais numa perspectiva educadora, emancipadora, geradora de autoestima e autoconfiança, e que não pode ser resumida a um plano bonito, grande e ilustrado com dados estatísticos, tabelas e gráficos. Se ele não for vivido, entendido, assumido e aperfeiçoado pelos atores sujeitos desse processo, não será sustentável”. (Texto adaptado de CARVALHO FILHO, M. V. de; Assessoria ao processo de desenvolvimento local. (Versão Preliminar) Natal: Projeto de cooperação técnica - INCRA/IICA, abril de 1999, p.7).

A partir da leitura desse fragmento, as intervenções dos agentes, sejam eles culturais ou assistenciais, só podem ter êxito, quanto ao desenvolvimento local, ou seja, da comunidade, se houver essencialmente:

- a) Apoio dos gestores públicos
- b) A aprovação de educadores
- c) Um plano de acordo com as leis
- d) Incentivos fiscais adequados
- e) Participação social

RASCUNHO



PREFEITURA DE TELÊMACO BORBA - ESTADO DO PARANÁ - EDITAL Nº 001-2016 - CONCURSO PÚBLICO

MATUTINO – 29/05/2016 – NÍVEL MÉDIO

2

PROVA OBJETIVA NÚMERO

CARGO: AGENTE CULTURAL**Leia atentamente as INSTRUÇÕES:**

1. Confira seus dados no cartão-resposta: nome, número de inscrição e o curso para o qual se inscreveu.
2. **MARQUE no seu cartão-resposta o número da sua prova** (não será corrigido o cartão-resposta que não tiver marcado o número da prova) e **Assine** seu cartão-resposta.
3. Aguarde a autorização do Fiscal para abrir o caderno de prova. Ao receber a ordem do fiscal, confira o caderno de prova com muita atenção. Nenhuma reclamação sobre o total de questões ou falha de impressão será aceita depois de iniciada a prova.
4. O cartão-resposta não será substituído, salvo se contiver erro de impressão.
5. Preencha toda a área do cartão-resposta correspondente à alternativa de sua escolha, com caneta esferográfica (tinta azul ou preta), sem ultrapassar as bordas. As marcações duplas, ou rasuradas, com corretivo, ou marcadas diferentemente do modelo estabelecido no cartão-resposta poderão ser anuladas.
6. Sua prova tem **40** questões, com **5** alternativas.
7. Cabe apenas ao candidato a interpretação das questões, **o fiscal** não poderá fazer nenhuma interferência.
8. A prova será realizada com duração máxima de **3 (três) horas**, incluído o tempo para a realização da Prova Objetiva de múltipla escolha e o preenchimento do cartão-resposta.
9. O candidato poderá retirar-se do local de realização das provas somente **1 (uma) hora** após o seu início, sem levar o caderno de prova.
10. O candidato poderá levar o caderno de provas, assim como anotação contendo transcrição do seu cartão-resposta, somente **1h30min** (uma hora e trinta minutos) após o início da realização da prova.
11. Ao terminar a prova, o candidato deverá entregar ao fiscal de sala o cartão-resposta preenchido e **ASSINADO**.
12. Os **3 (três)** candidatos, que terminarem a prova por último, deverão permanecer na sala, e só poderão sair juntos após o fechamento do envelope, contendo os cartões-resposta dos candidatos presentes e ausentes, e assinarem no lacre do referido envelope, atestando que este foi devidamente lacrado.
13. Durante todo o tempo em que permanecer no local onde está ocorrendo o concurso, o candidato deverá, manter o celular desligado e sem bateria, só sendo permitido ligar depois de ultrapassar o portão de saída do prédio.
14. Não será permitido ao candidato fumar na sala de provas, bem como nas dependências.
15. Depois de terminar a prova e entregar ao fiscal o cartão-resposta, preenchido e assinado, não será mais permitido ao candidato o uso do banheiro e bebedouro.

BOA PROVA!

MATEMÁTICA

01. Numa prova de hipismo, há duas modalidades totalmente distintas: salto e rural. João vai competir nas duas modalidades. Sabendo que a vitória ou a derrota em uma nada influencia no resultado da outra, e sabendo que a probabilidade de ele ganhar a prova de salto é de 40% e a de ganhar a prova de rural é de 58%, qual a probabilidade de ele ganhar as duas provas?

- a) 98%
- b) 62%
- c) 23,2%
- d) 18%
- e) 2,32%

02. Numa escola há 12 professores. A tabela a seguir mostra a carga horária diária de trabalho desses professores.

4	8	5	10	6	5	8	6	8	9	4	8
---	---	---	----	---	---	---	---	---	---	---	---

É correto afirmar que as cargas horárias média, modal e mediana desses professores são respectivamente:

- a) 6,25; 6; 7
- b) 6,5; 7; 8
- c) 6,75; 8; 6
- d) 6,75; 8; 7
- e) 6,75; 7; 8

03. Encontre a equação da reta mediatriz do segmento AB, onde A(2, 3) e B(4, -1), e assinale a alternativa correta.

- a) $2y - x + 1 = 0$
- b) $y - 2x + 2 = 0$
- c) $2y - 2x + 1 = 0$
- d) $2y + x + 2 = 0$
- e) $2y + x - 1 = 0$

04. Uma loja acrescenta 15% no preço de seus produtos à vista se o cliente optar por pagar com um cheque para 60 dias. Comprei, nessa loja, um fogão com cheque para 60 dias e paguei R\$552,00 por ele. Qual era o preço à vista desse fogão?

- a) R\$460,00
- b) R\$469,20
- c) R\$474,50
- d) R\$480,00
- e) R\$500,00

05. Um pesquisador, ao analisar os processos que envolvem jovens com menos de 24 anos, descobriu que há 4 homens com nomes envolvidos em processos para cada mulher. Se no total ele contou 2400 pessoas, quantas eram as mulheres envolvidas nessa pesquisa?

- a) 480
- b) 600
- c) 800
- d) 1920
- e) 2000

INFORMÁTICA

06. Utilizando o Excel 2013, qual fórmula representa corretamente a auto soma?

- a) =SUM()
- b) =MEDIA()
- c) =MAX()
- d) =MIN()
- e) =SE()

07. Acerca de confidencialidade está incorreto afirmar:

- a) É um conceito no qual o acesso à informação deve ser concedido a quem de direito, ou seja, apenas para as entidades autorizadas pelo proprietário ou dono da informação.
- b) É uma propriedade que limita o acesso à informação tão somente às entidades legítimas, ou seja, àquelas autorizadas pelo proprietário da informação.
- c) É a propriedade da informação que não estará disponível ou será divulgada a indivíduos, entidades ou processos sem autorização.
- d) Significa garantir que a informação será conhecida por pessoas que não estejam autorizadas para tal.



e) É a garantia do resguardo das informações dadas pessoalmente em confiança e proteção contra a sua revelação não autorizada.

08. Tratando-se de hardware de computadores, assinale a alternativa que corresponde a um tipo de memória externa.

- a) Pen Drive
- b) EPROM
- c) DIMM
- d) MRAM
- e) Cache

09. No Word 2013, é possível utilizar vários tipos de formatação de fontes, exceto:

- a) Tachado
- b) Negrito
- c) Centralizado
- d) Sublinhado
- e) Cor da fonte

10. Qual software nativo do Windows utilizamos para descobrir o endereço IP do computador?

- a) Windows Explorer
- b) Notepad
- c) Excel
- d) Word
- e) Prompt de Comando

CONHECIMENTOS GERAIS

11. Conforme fonte do IBGE, o bioma do município de Telêmaco Borba/PR é:

- a) Mata de Pinhais e Cerrado
- b) Pantanal
- c) Caatinga e Mata Atlântica
- d) Floresta Tropical
- e) Cerrado e Mata Atlântica

12. A letra do hino do município de Telêmaco Borba/PR é de autoria de

- a) Bento Mossurunga.
- b) Moisés Lupion.
- c) Eloah Martins Quadrado.
- d) Graciliana Reis D´Albuquerque Mossurunga.
- e) Enéias Augusto Moracines Borba.

13. Leia o texto sobre o Brasão de Armas do município de Telêmaco Borba/PR e marque a alternativa correta.

O Brasão de Armas foi aprovado em definitivo em 1981, dentro dos padrões da heráldica, estabelecendo os regulamentos para seu uso, ficando assim oficializado.

No Brasão de Armas, é possível identificar:

1. Escudo português redondo banhado de ouro filetado de prata, carregado de cinco árvores de pinho estilizadas de sua cor, postas em banda.
2. Escudete de prata carregado de três Pinheiros do Paraná, araucária angustifolia ou brasiliense.
3. No timbre, coroa mural de ouro lavrado de negro.
4. À direita, haste de milho (zae mays) frutada.
5. À sinistra, ramos de soja (gelycine soya) granada.
6. Listel amarelo ostentando o topônimo "Cidade Nova" entre as inscrições de ouro "5 de Julho de 1963", em caracteres latino moderno.

- a) Não é verdadeiro o item 1.
- b) Não é verdadeiro o item 2.
- c) Não é verdadeiro o item 4.
- d) Não é verdadeiro o item 6.
- e) Não são verdadeiros os itens 3 e 5.

14. Segundo o art. 11 da Lei Orgânica do Município de Telêmaco Borba/PR, os bens públicos podem ser:

I. De uso comum do Povo, tais como estradas municipais, ruas, parques, praças, logradouros públicos e outros da mesma espécie;

II. De uso especial, os de patrimônio administrativo, tais como edifícios das repartições públicas, os terrenos e equipamentos destinados ao serviço público, veículos, matadouros, mercados e outras serventias de outra espécie;



III. Bens municipais, aqueles sobre os quais o município exerce os direitos de proprietário e são considerados como bens patrimoniais disponíveis;

IV. Bens culturais, tais como música e obras de arte.

Podemos afirmar que são verdadeiros os itens

- a) I e II, apenas.
- b) II e III, apenas.
- c) I, II e III, apenas.
- d) I, III e IV, apenas.
- e) I, II, III e IV.

15. Qual alternativa completa corretamente o texto a seguir?

No primeiro ano de cada legislatura, no dia 1º de janeiro, em sessão de instalação, independente de número, sob a presidência do vereador mais idoso dentre os eleitos, os vereadores prestarão compromisso e tomarão posse. O Vereador que não tomar posse na sessão do dia 1º de janeiro poderá fazê-la _____ depois da primeira sessão ordinária da Legislatura.

- a) até dez dias
- b) até quinze dias
- c) até trinta dias
- d) até quarenta e cinco dias
- e) até sessenta dias

16. Conforme o art. 54 da Lei Orgânica do Município de Telêmaco Borba/PR, o Processo Legislativo compreende a elaboração de:

I. Emendas à Lei Orgânica do Município;

II. Leis complementares;

III. Leis Ordinárias;

IV. Decretos Legislativos;

V. Resoluções;

VI. Pareceres.

Assinale a alternativa que faz a afirmação correta.

- a) São verdadeiros apenas os itens I, III e VI.
- b) São verdadeiros apenas os itens I, III e IV.
- c) São verdadeiros apenas os itens III, IV e V.
- d) São verdadeiros apenas os itens I, II, III, IV e V.
- e) São verdadeiros os itens I, II, III, IV, V e VI.

Com base na Lei nº 1883/2012, que dispõe sobre o Estatuto dos Servidores Públicos da Administração Direta, Autárquica e Funcional do Município de Telêmaco Borba/PR, responda às próximas quatro questões.

17. À luz do § 2º do art. 9º da Lei nº 1883/2012, marque a alternativa que completa a lacuna do texto a seguir.

O concurso deverá ser homologado no prazo máximo de _____ contados da data de realização da última fase de provas, sob pena de responsabilidade da autoridade competente.

- a) um mês
- b) dois meses
- c) seis meses
- d) um ano
- e) dois anos

18. Marque a alternativa que completa a lacuna do texto a seguir.

O candidato terá o prazo _____, a contar da publicação oficial da convocação, para comparecer à entidade convocante e assinar termo de comparecimento.

- a) máximo de 5 dias úteis
- b) mínimo de 15 dias úteis
- c) de até 30 dias
- d) máximo de 15 dias úteis
- e) mínimo de 5 dias úteis

19. Leia as assertivas e marque a correta.

- a) São reservados 10% dos cargos em comissão para a nomeação de servidores do quadro efetivo.
- b) São reservados 15% dos cargos em comissão para a nomeação de servidores do quadro efetivo.
- c) São reservados 20% dos cargos em comissão para a nomeação de servidores do quadro efetivo.
- d) São reservados 25% dos cargos em comissão para a nomeação de servidores do quadro efetivo.
- e) São reservados 30% dos cargos em comissão para a nomeação de servidores do quadro efetivo.



20. Marque a alternativa que completa a lacuna do texto a seguir.

O servidor municipal, quando nomeado para cargo em comissão, ficará afastado de seu cargo efetivo e fará jus à remuneração prevista em lei para o comissionado, podendo optar por receber seus vencimentos acrescidos de _____ do valor da remuneração prevista para o cargo em comissão.

- a) 10%
- b) 20%
- c) 30%
- d) 40%
- e) 50%

CONHECIMENTOS ESPECÍFICOS

21. O Agente Comunitário de Cultura é aquele que, de forma individual ou vinculado a um grupo/coletivo/rede, desenvolve alguma das ações descritas abaixo, exceto:

- a) Realiza processos de criação e produção culturais nas diversas linguagens artísticas e formas de expressão cultural.
- b) Atua na aproximação da população com os espaços públicos e/ou comunitários de cultura.
- c) Estabelece formas de fiscalização sobre a gestão administrativa e financeira dos recursos direcionados à educação esportiva e de lazer.
- d) Articula e promove processos, eventos, manifestações populares, grupos ou redes culturais.
- e) Promove práticas culturais relacionadas ao pensamento, formação, qualificação, criação, circulação, entre outras.

22. Quanto às normas de segurança individual, coletiva e de instalações, em concordância com a PPRA NR 9, Programa de Prevenção de Riscos Ambientais, deve-se levar em consideração os equipamentos preventivos e necessários para cinco tipos de risco inerentes ao trabalho dos profissionais na realização de eventos: físico, químico, biológico, econômico e de acidentes. Para a implantação desse PPRA, devem ser incluídas várias etapas, exceto:

- a) Busca antecipada de recursos financeiros para a realização do programa.
- b) Antecipação e reconhecimento dos riscos.
- c) Estabelecimento de prioridades e metas de avaliação e de controle.
- d) Avaliação dos riscos e da exposição dos trabalhadores.
- e) Implantação de medidas de controle e avaliação de sua eficácia.

23. O Manual Instrutivo da Rede de Atenção às Urgências e Emergências (RUE) no SUS tem como objetivo central apresentar, esclarecer e orientar os gestores, trabalhadores e usuários sobre os principais normativos e diretrizes norteadores para a implantação da RUE. (Fonte: Texto adaptado de http://bvsmms.saude.gov.br/bvs/publicacoes/manual_instrutivo_rede_atencao_urgencias.pdf)

Segundo esse documento, as Unidades de Pronto Atendimento (UPA) são estruturas de complexidade intermediária entre as unidades básicas de saúde, unidades de saúde da família e a rede hospitalar, devendo funcionar:

- a) 18 horas por dia, todos os dias da semana, e opcionalmente 24 horas por dia, quando houver disponibilidade de recursos materiais e humanos.
- b) 24 horas por dia, todos os dias da semana.
- c) 18 horas por dia, de segunda a sexta-feira, e 24 horas por dia, aos finais de semana.
- d) 24 horas por dia, de segunda a sábado e 18 horas nos domingos.
- e) 18 horas por dia, de segunda a sábado, e 24 horas por dia, aos domingos.

24. “Para uma teoria da cidadania” é o título do primeiro capítulo do livro “Cidadão do mundo: para uma teoria da cidadania”. Nessa obra, a autora Adela Cortina, de maneira bastante relevante e consciente, afirma que “entende-se que a realidade da cidadania, o fato de se saber e de se sentir cidadão de uma comunidade pode motivar os indivíduos a trabalhar por ela”. (p. 27). Isso significa que a cidadania envolve um processo social denominado:

- a) Acomodação
- b) Adaptação
- c) Assimilação
- d) Adequação
- e) Competição

25. Hoje, o que se precisa é muito mais tratamento interpessoal, habilidades de relacionamento, tato, sensibilidade, paciência, foco. O senhor Dale Carnegie, especialista em relacionamentos humanos, escreveu um dia: "Ao lidar com pessoas, lembre-se de que você não está lidando com seres lógicos, e sim com seres emocionais". Carl Jung, pai da psicologia analítica, médico e pensador suíço, certa feita escreveu: "Conheça todas as teorias, domine todas as técnicas, mas, ao tocar uma alma humana, seja

apenas outra alma humana". Qual é o nome do sentimento básico comum e implícito a essas duas considerações, a de Dale Carnegie e a de Carl Jung?

- a) Empatia
- b) Simpatia
- c) Antipatia
- d) Afetividade
- e) Identidade

26. Entre os significados sociais das ações dos agentes culturais, no contexto das relações sociais, deve se destacar preponderantemente:

- a) Sua capacidade de chefia
- b) Seu senso de organização
- c) Sua comunicação interpessoal
- d) Seu papel agregativo
- e) Sua criatividade artística

27. Inúmeros são os papéis dos agentes culturais no contexto das relações sociais. Certamente, nesse sentido, seu papel mais importante consiste em:

- a) Propiciar formas mais elaboradas e sofisticadas de lazer para a comunidade.
- b) Possibilitar lazer alternativo e específico para os segmentos sociais de menor condição financeira.
- c) Criar políticas sociais para diminuir a exclusão social por atividades culturais diferenciadas.
- d) Apresentar especificamente a herança cultural da comunidade para as gerações mais novas.
- e) Preservar, enriquecer e evidenciar características culturais da comunidade como mecanismo de identidade socioeducativa envolvente.

28. Entre os vários segmentos sociais da comunidade, o agente cultural indiretamente desempenha também o papel que compete ao assistente social, à medida que trabalha com encaminhamento e inclusão de representantes de setores sociais muitas vezes marginalizados e/ou ignorados por políticas públicas. Isso se faz por ações culturais que envolvem processos de inclusão direcionados a todos os distintos grupos que compõem a sociedade. Qual dos grupos abaixo sofre mais intensamente com a exclusão social e que pode ser objeto de uma ação inclusiva do agente cultural em nosso país?

- a) Pescadores.
- b) Religiosos.
- c) Lavradores.
- d) Negros.
- e) Estudantes.

29. Há muitas e distintas concepções referentes à vida social em conjunto. Quanto a isso, Max Weber, sociólogo alemão, dizia que "(...) só existe propriamente quando, sobre a base desse sentimento [da situação comum], a ação está reciprocamente referida – não bastando a ação de todos e de cada um deles frente à mesma circunstância – e na medida em que esta referência traduz o sentimento de formar um todo". (Fonte: In FERNANDES, F. (Org.). Comunidade e sociedade: leituras sobre problemas conceituais, metodológicos e de aplicação. São Paulo: Editora Nacional e Editora da USP, 1973. p. 140-143).

A qual conceito, representado por "(...)", Max Weber estava se referindo?

- a) Civilização
- b) Comunidade
- c) Grupo Social
- d) Sociabilidade
- e) Sociedade

30. Leia o texto:

"O Desenvolvimento Local (Comunitário) é um processo que tem que crescer gradativamente, envolvendo e sendo apreendido pelos atores locais numa perspectiva educadora, emancipadora, geradora de autoestima e autoconfiança, e que não pode ser resumida a um plano bonito, grande e ilustrado com dados estatísticos, tabelas e gráficos. Se ele não for vivido, entendido, assumido e aperfeiçoado pelos atores sujeitos desse processo, não será sustentável". (Texto adaptado de CARVALHO FILHO, M. V. de; Assessoria ao processo de desenvolvimento local. (Versão Preliminar) Natal: Projeto de cooperação técnica - INCRA/IICA, abril de 1999, p.7).

A partir da leitura desse fragmento, as intervenções dos agentes, sejam eles culturais ou assistenciais, só podem ter êxito, quanto ao desenvolvimento local, ou seja, da comunidade, se houver essencialmente:

- a) Apoio dos gestores públicos
- b) A aprovação de educadores
- c) Um plano de acordo com as leis
- d) Incentivos fiscais adequados
- e) Participação social

LÍNGUA PORTUGUESA

Leia o texto e responda às próximas quatro questões.

Lêmures e baobás de Madagascar

Isolada do continente há 135 milhões de anos, a ilha do Oceano Índico é um laboratório natural da evolução das espécies e encanta os viajantes com uma flora e fauna única

Madagascar abriga 107 espécies de **lêmures**, dezenas de espécies de camaleões coloridos e outras tantas plantas que só existem lá. “Madagascar é um mundo a parte. Costumo dizer que, se Charles Darwin tivesse conhecido Madagascar, seu livro *A Origem das Espécies* seria dez vezes maior”, afirma o fotógrafo e jornalista **Haroldo Castro**, idealizador de Viajologia Expedições.

Uma das experiências mais emocionantes na quarta maior ilha do mundo é passear entre os gigantescos **baobás**, árvores que chegam a ter 30 metros de altura e mil anos de idade. Das nove espécies de baobás que existem no mundo, seis podem ser encontradas apenas em Madagascar. A majestosa árvore, considerada sagrada pelos malgaxes, é chamada localmente como “reniala”, mãe da floresta.

Na pequena cidade de Bekopaka está o Parque Nacional Tsingy de Bemaraha, considerado Patrimônio Mundial pela Unesco. Trilhas e passeios de canoa no rio Manambolo conduzem a formações rochosas calcárias inusitadas e plantas endêmicas desse ecossistema de florestas secas.

Outro momento inesquecível em Madagascar é o encontro com os lêmures nas florestas tropicais da reserva Anjozorobe-Angavo, a 90 quilômetros da capital Antananarivo. Especialistas apontam que o turismo de observação de animais é uma excelente alternativa para o desenvolvimento da economia local e pode ajudar a conter o desmatamento. “O projeto em Anjozorobe comprova que, nos últimos anos, os 9 mil visitantes contribuíram de forma concreta a reduzir a pobreza e a promover a conservação da biodiversidade”, afirma Haroldo. Como os primatas são curiosos e estão habituados aos seres humanos, eles costumam se aproximar dos visitantes. “Os bichinhos chegam a subir nas nossas cabeças e parecem adorar aparecer nas fotos.”

Madagascar possui hoje uma excelente estrutura para o turismo, com algumas estradas bem cuidadas e hotéis confortáveis localizados perto das reservas e parques ecológicos. A gastronomia malgaxe, com um toque francês, também surpreende pela diversidade de ingredientes, temperos e colorido dos pratos.

[...]

(Fonte: <http://viajeaqui.abril.com.br/materias/lemures-e-baobas-de-madagascar#2>. Acesso em 14/05/2016)

31. Lêmures e baobás de Madagascar é um texto:

- Em que prevalece a descrição, apresentando as belezas e peculiaridades do lugar, da fauna e da flora.
- Principalmente narrativo, de fatos colhidos durante uma viagem, que se sucedem em progressão temporal.
- Essencialmente argumentativo, o uso da descrição visa somente a convencer o leitor a visitar Madagascar.
- Dissertativo, impera o desenvolvimento de argumentos para comprovar a tese presente no primeiro parágrafo.
- Em que predomina a exposição de conceitos e definições com o intuito de informar o leitor.

32. O teor do texto *Lêmures e baobás de Madagascar* somente não poderia se encaixar em que tópico?

- Turismo
- Viagens
- Clima
- Natureza
- Ilhas

33. O aposto é um termo que *explica ou esclarece, desenvolve ou resume outro termo da oração*. Quanto a isso, analise a parte grifada em cada uma das orações retiradas do texto:

I - A majestosa árvore, considerada sagrada pelos malgaxes, é chamada localmente como “reniala”, mãe da floresta.

II - afirma o fotógrafo e jornalista Haroldo Castro, idealizador de Viajologia Expedições.

III - Outro momento inesquecível em Madagascar é o encontro com os lêmures nas florestas tropicais da reserva Anjozorobe-Angavo, a 90 quilômetros da capital Antananarivo.

IV - O projeto em Anjozorobe comprova que, nos últimos anos, os 9 mil visitantes contribuíram de forma concreta a reduzir a pobreza e a promover a conservação da biodiversidade”.

V - A gastronomia malgaxe, com um toque francês, também surpreende pela diversidade de ingredientes, temperos e colorido dos pratos.

Constitui aposto os grifos em:

- I, II, III, IV e V.
- I, III e V, apenas.
- III e V apenas.
- I, II, III, e V, apenas.
- III, IV e V apenas

34. Trilhas e passeios de canoa no rio Manambolo conduzem a formações rochosas calcárias inusitadas e plantas endêmicas desse ecossistema de florestas secas.

Ao observar a relação sintática entre os termos desse período, pode-se afirmar que:

- de canoa é complemento nominal de Trilhas e passeios.
- no rio Manambolo é adjunto adnominal de canoas.
- de florestas secas é complemento nominal de plantas endêmicas.
- de canoa é complemento verbal de passeios.
- a formações rochosas calcárias inusitadas e plantas endêmicas desse ecossistema de florestas secas é complemento verbal de conduzem.

Leia o poema e responda às próximas duas questões.

FOGO NA MATA, MATA!

Fogo na mata, mata! A mata, a vida...
Fogo na mata, abre,
no coração da mata,
Profundas feridas.

Fogo na mata corrói,
dentro de nós, os sonhos.
Fogo na mata, deixa, no seio da mata,
Tumores tamanhos!

[...]

(Fonte: <http://www.recantodasletras.com.br/letras/505252>. Acesso em 14/05/2016)

35. A respeito de alguns aspectos gramaticais pertinentes aos termos em destaque na frase título do poema *Fogo na mata, mata!*, está correto o que se afirma em:

- Morfologicamente, na sequência em que as duas palavras aparecem, temos um verbo e um substantivo.
- Semanticamente, as duas palavras constituem homônimas homófonas homógrafas.
- O processo de formação da palavra “mata” (primeira ocorrência na frase) é por derivação regressiva do verbo “matar” cuja flexão na terceira pessoa vem logo em seguida na frase.
- Semanticamente, as duas palavras “mata” são parônimas.
- Semanticamente, as duas palavras constituem homônimas homógrafas heterofônicas.

36. Com a Nova Reforma Ortográfica, foi mantido o acento nas oxítonas terminadas em -ei e -oi, como é o caso de corrói em *Fogo na mata corrói*. No entanto, de acordo ainda com a Nova Reforma, os acentos foram retirados de quais duas palavras?

- Bocaiuva - maiúscula
- Voo, aerodromo
- Releem - feiura
- Papeis - língua
- Preveem - herói

37. Leia atentamente as alternativas e assinale a incorreta no que diz respeito à Ortografia:

- Grafamos com j as palavras ultraje, jiboia e gorjeio; com g as palavras ferrugem, geringonça, e miragem.
- Grafamos com sc: miscelânea, obsceno e obscensão; com c: sucinto, facínio e nécio.
- Grafamos com x: xampu, mexerico e enxada; com ch: piche, tocha e mecha.
- Grafamos com z: xadrez, cicatriz e vizinho; com s: friso, pêsames e tesoura.
- Grafamos com ss: escassez, submissão e sossego; com c: acetinado, obcecado e acepção.

38. O advérbio sublinhado e a circunstância que ele expressa não estão corretamente apresentados em:

- Ele certamente virá para o encontro. (afirmação)
- Ali se ouvia falar de riquezas culturais. (tempo)
- O orador discursou muito bem, impressionou a plateia. (modo)
- Chegamos tarde, perdemos o ônibus. (tempo)
- Os candidatos estudaram bastante. (intensidade)

39. Os pronomes pessoais, representantes das pessoas do discurso, estão corretamente empregados em todas as alternativas, com exceção da:

- Sempre haverá discordância entre mim e ti.
- O juiz queria falar com nós dois.
- Minha festa de despedida, não vou esquecê-la jamais.
- Ninguém irá sem eu.
- Deram o livro para eu ler em dois dias!



40. Em uma oração, o contexto permite concluirmos se certos verbos são de ligação, para assim identificarmos o predicado nominal. Assim, não há predicação nominal em:

- a) O aluno não estava na escola hoje.
- b) À tarde, as crianças pareciam cansadas.
- c) Ultimamente os participantes do programa andam desanimados.
- e) A aurora boreal é um lindo espetáculo.
- d) As atletas parecem cansadas.

RASCUNHO



PREFEITURA DE TELÊMACO BORBA - ESTADO DO PARANÁ - EDITAL Nº 001-2016 - CONCURSO PÚBLICO

MATUTINO – 29/05/2016 – NÍVEL MÉDIO

3

PROVA OBJETIVA NÚMERO

CARGO: AGENTE CULTURAL

Leia atentamente as **INSTRUÇÕES**:

1. Confira seus dados no cartão-resposta: nome, número de inscrição e o curso para o qual se inscreveu.
2. **MARQUE no seu cartão-resposta o número da sua prova** (não será corrigido o cartão-resposta que não tiver marcado o número da prova) e **Assine** seu cartão-resposta.
3. Aguarde a autorização do Fiscal para abrir o caderno de prova. Ao receber a ordem do fiscal, confira o caderno de prova com muita atenção. Nenhuma reclamação sobre o total de questões ou falha de impressão será aceita depois de iniciada a prova.
4. O cartão-resposta não será substituído, salvo se contiver erro de impressão.
5. Preencha toda a área do cartão-resposta correspondente à alternativa de sua escolha, com caneta esferográfica (tinta azul ou preta), sem ultrapassar as bordas. As marcações duplas, ou rasuradas, com corretivo, ou marcadas diferentemente do modelo estabelecido no cartão-resposta poderão ser anuladas.
6. Sua prova tem **40** questões, com **5** alternativas.
7. Cabe apenas ao candidato a interpretação das questões, **o fiscal** não poderá fazer nenhuma interferência.
8. A prova será realizada com duração máxima de **3 (três) horas**, incluído o tempo para a realização da Prova Objetiva de múltipla escolha e o preenchimento do cartão-resposta.
9. O candidato poderá retirar-se do local de realização das provas somente **1 (uma) hora** após o seu início, sem levar o caderno de prova.
10. O candidato poderá levar o caderno de provas, assim como anotação contendo transcrição do seu cartão-resposta, somente **1h30min** (uma hora e trinta minutos) após o início da realização da prova.
11. Ao terminar a prova, o candidato deverá entregar ao fiscal de sala o cartão-resposta preenchido e **ASSINADO**.
12. Os **3 (três)** candidatos, que terminarem a prova por último, deverão permanecer na sala, e só poderão sair juntos após o fechamento do envelope, contendo os cartões-resposta dos candidatos presentes e ausentes, e assinarem no lacre do referido envelope, atestando que este foi devidamente lacrado.
13. Durante todo o tempo em que permanecer no local onde está ocorrendo o concurso, o candidato deverá, manter o celular desligado e sem bateria, só sendo permitido ligar depois de ultrapassar o portão de saída do prédio.
14. Não será permitido ao candidato fumar na sala de provas, bem como nas dependências.
15. Depois de terminar a prova e entregar ao fiscal o cartão-resposta, preenchido e assinado, não será mais permitido ao candidato o uso do banheiro e bebedouro.

BOA PROVA!

CONHECIMENTOS ESPECÍFICOS

01. O Agente Comunitário de Cultura é aquele que, de forma individual ou vinculado a um grupo/coletivo/rede, desenvolve alguma das ações descritas abaixo, exceto:

- a) Realiza processos de criação e produção culturais nas diversas linguagens artísticas e formas de expressão cultural.
- b) Atua na aproximação da população com os espaços públicos e/ou comunitários de cultura.
- c) Estabelece formas de fiscalização sobre a gestão administrativa e financeira dos recursos direcionados à educação esportiva e de lazer.
- d) Articula e promove processos, eventos, manifestações populares, grupos ou redes culturais.
- e) Promove práticas culturais relacionadas ao pensamento, formação, qualificação, criação, circulação, entre outras.

02. Quanto às normas de segurança individual, coletiva e de instalações, em concordância com a PPRA NR 9, Programa de Prevenção de Riscos Ambientais, deve-se levar em consideração os equipamentos preventivos e necessários para cinco tipos de risco inerentes ao trabalho dos profissionais na realização de eventos: físico, químico, biológico, econômico e de acidentes. Para a implantação desse PPRA, devem ser incluídas várias etapas, exceto:

- a) Busca antecipada de recursos financeiros para a realização do programa.
- b) Antecipação e reconhecimento dos riscos.
- c) Estabelecimento de prioridades e metas de avaliação e de controle.
- d) Avaliação dos riscos e da exposição dos trabalhadores.
- e) Implantação de medidas de controle e avaliação de sua eficácia.

03. O Manual Instrutivo da Rede de Atenção às Urgências e Emergências (RUE) no SUS tem como objetivo central apresentar, esclarecer e orientar os gestores, trabalhadores e usuários sobre os principais normativos e diretrizes norteadores para a implantação da RUE. (Fonte: Texto adaptado de http://bvsm.sau.gov.br/bvs/publicacoes/manual_instrutivo_rede_atencao_urgencias.pdf)

Segundo esse documento, as Unidades de Pronto Atendimento (UPA) são estruturas de complexidade intermediária entre as unidades básicas de saúde, unidades de saúde da família e a rede hospitalar, devendo funcionar:

- a) 18 horas por dia, todos os dias da semana, e opcionalmente 24 horas por dia, quando houver disponibilidade de recursos materiais e humanos.
- b) 24 horas por dia, todos os dias da semana.
- c) 18 horas por dia, de segunda a sexta-feira, e 24 horas por dia, aos finais de semana.
- d) 24 horas por dia, de segunda a sábado e 18 horas nos domingos.
- e) 18 horas por dia, de segunda a sábado, e 24 horas por dia, aos domingos.

04. “Para uma teoria da cidadania” é o título do primeiro capítulo do livro “Cidadão do mundo: para uma teoria da cidadania”. Nessa obra, a autora Adela Cortina, de maneira bastante relevante e consciente, afirma que “entende-se que a realidade da cidadania, o fato de se saber e de se sentir cidadão de uma comunidade pode motivar os indivíduos a trabalhar por ela”. (p. 27). Isso significa que a cidadania envolve um processo social denominado:

- a) Acomodação
- b) Adaptação
- c) Assimilação
- d) Adequação
- e) Competição

05. Hoje, o que se precisa é muito mais tratamento interpessoal, habilidades de relacionamento, tato, sensibilidade, paciência, foco. O senhor Dale Carnegie, especialista em relacionamentos humanos, escreveu um dia: "Ao lidar com pessoas, lembre-se de que você não está lidando com seres lógicos, e sim com seres emocionais". Carl Jung, pai da psicologia analítica, médico e pensador suíço, certa feita escreveu: "Conheça todas as teorias, domine todas as técnicas, mas, ao tocar uma alma humana, seja apenas outra alma humana". Qual é o nome do sentimento básico comum e implícito a essas duas considerações, a de Dale Carnegie e a de Carl Jung?

- a) Empatia
- b) Simpatia
- c) Antipatia
- d) Afetividade
- e) Identidade

06. Entre os significados sociais das ações dos agentes culturais, no contexto das relações sociais, deve se destacar preponderantemente:

- a) Sua capacidade de chefia
- b) Seu senso de organização



- c) Sua comunicação interpessoal
- d) Seu papel agregativo
- e) Sua criatividade artística

07. Inúmeros são os papéis dos agentes culturais no contexto das relações sociais. Certamente, nesse sentido, seu papel mais importante consiste em:

- a) Propiciar formas mais elaboradas e sofisticadas de lazer para a comunidade.
- b) Possibilitar lazer alternativo e específico para os segmentos sociais de menor condição financeira.
- c) Criar políticas sociais para diminuir a exclusão social por atividades culturais diferenciadas.
- d) Apresentar especificamente a herança cultural da comunidade para as gerações mais novas.
- e) Preservar, enriquecer e evidenciar características culturais da comunidade como mecanismo de identidade socioeducativa envolvente.

08. Entre os vários segmentos sociais da comunidade, o agente cultural indiretamente desempenha também o papel que compete ao assistente social, à medida que trabalha com encaminhamento e inclusão de representantes de setores sociais muitas vezes marginalizados e/ou ignorados por políticas públicas. Isso se faz por ações culturais que envolvem processos de inclusão direcionados a todos os distintos grupos que compõem a sociedade. Qual dos grupos abaixo sofre mais intensamente com a exclusão social e que pode ser objeto de uma ação inclusiva do agente cultural em nosso país?

- a) Pescadores.
- b) Religiosos.
- c) Lavradores.
- d) Negros.
- e) Estudantes.

09. Há muitas e distintas concepções referentes à vida social em conjunto. Quanto a isso, Max Weber, sociólogo alemão, dizia que “(...) só existe propriamente quando, sobre a base desse sentimento [da situação comum], a ação está reciprocamente referida – não bastando a ação de todos e de cada um deles frente à mesma circunstância – e na medida em que esta referência traduz o sentimento de formar um todo”. (Fonte: In FERNANDES, F. (Org.). Comunidade e sociedade: leituras sobre problemas conceituais, metodológicos e de aplicação. São Paulo: Editora Nacional e Editora da USP, 1973. p. 140-143).

A qual conceito, representado por “(...)”, Max Weber estava se referindo?

- a) Civilização
- b) Comunidade
- c) Grupo Social
- d) Sociabilidade
- e) Sociedade

10. Leia o texto:

“O Desenvolvimento Local (Comunitário) é um processo que tem que crescer gradativamente, envolvendo e sendo apreendido pelos atores locais numa perspectiva educadora, emancipadora, geradora de autoestima e autoconfiança, e que não pode ser resumida a um plano bonito, grande e ilustrado com dados estatísticos, tabelas e gráficos. Se ele não for vivido, entendido, assumido e aperfeiçoado pelos atores sujeitos desse processo, não será sustentável”. (Texto adaptado de CARVALHO FILHO, M. V. de; Assessoria ao processo de desenvolvimento local. (Versão Preliminar) Natal: Projeto de cooperação técnica - INCRA/IICA, abril de 1999, p.7).

A partir da leitura desse fragmento, as intervenções dos agentes, sejam eles culturais ou assistenciais, só podem ter êxito, quanto ao desenvolvimento local, ou seja, da comunidade, se houver essencialmente:

- a) Apoio dos gestores públicos
- b) A aprovação de educadores
- c) Um plano de acordo com as leis
- d) Incentivos fiscais adequados
- e) Participação social

LÍNGUA PORTUGUESA

Leia o texto e responda às próximas quatro questões.

Lêmures e baobás de Madagascar

Isolada do continente há 135 milhões de anos, a ilha do Oceano Índico é um laboratório natural da evolução das espécies e encanta os viajantes com uma flora e fauna única

Madagascar abriga 107 espécies de **lêmures**, dezenas de espécies de camaleões coloridos e outras tantas plantas que só existem lá. “Madagascar é um mundo a parte. Costumo dizer que, se Charles Darwin tivesse conhecido Madagascar, seu livro *A Origem das Espécies* seria dez vezes maior”, afirma o fotógrafo e jornalista **Haroldo Castro**, idealizador de Viajologia Expedições.



Uma das experiências mais emocionantes na quarta maior ilha do mundo é passear entre os gigantescos **baobás**, árvores que chegam a ter 30 metros de altura e mil anos de idade. Das nove espécies de baobás que existem no mundo, seis podem ser encontradas apenas em Madagascar. A majestosa árvore, considerada sagrada pelos malgaxes, é chamada localmente como “reniala”, mãe da floresta.

Na pequena cidade de Bekopaka está o Parque Nacional Tsingy de Bemaraha, considerado Patrimônio Mundial pela Unesco. Trilhas e passeios de canoa no rio Manambolo conduzem a formações rochosas calcárias inusitadas e plantas endêmicas desse ecossistema de florestas secas.

Outro momento inesquecível em Madagascar é o encontro com os lêmures nas florestas tropicais da reserva Anjozorobe-Angavo, a 90 quilômetros da capital Antananarivo. Especialistas apontam que o turismo de observação de animais é uma excelente alternativa para o desenvolvimento da economia local e pode ajudar a conter o desmatamento. “O projeto em Anjozorobe comprova que, nos últimos anos, os 9 mil visitantes contribuíram de forma concreta a reduzir a pobreza e a promover a conservação da biodiversidade”, afirma Haroldo. Como os primatas são curiosos e estão habituados aos seres humanos, eles costumam se aproximar dos visitantes. “Os bichinhos chegam a subir nas nossas cabeças e parecem adorar aparecer nas fotos.”

Madagascar possui hoje uma excelente estrutura para o turismo, com algumas estradas bem cuidadas e hotéis confortáveis localizados perto das reservas e parques ecológicos. A gastronomia malgaxe, com um toque francês, também surpreende pela diversidade de ingredientes, temperos e colorido dos pratos.

[...]

(Fonte: <http://viajeaqui.abril.com.br/materias/lemures-e-baobas-de-madagascar#2>. Acesso em 14/05/2016)

11. *Lêmures e baobás de Madagascar* é um texto:

- Em que prevalece a descrição, apresentando as belezas e peculiaridades do lugar, da fauna e da flora.
- Principalmente narrativo, de fatos colhidos durante uma viagem, que se sucedem em progressão temporal.
- Essencialmente argumentativo, o uso da descrição visa somente a convencer o leitor a visitar Madagascar.
- Dissertativo, impera o desenvolvimento de argumentos para comprovar a tese presente no primeiro parágrafo.
- Em que predomina a exposição de conceitos e definições com o intuito de informar o leitor.

12. O teor do texto *Lêmures e baobás de Madagascar* somente não poderia se encaixar em que tópico?

- Turismo
- Viagens
- Clima
- Natureza
- Ilhas

13. O aposto é um termo que *explica ou esclarece, desenvolve ou resume outro termo da oração*. Quanto a isso, analise a parte grifada em cada uma das orações retiradas do texto:

I - A majestosa árvore, considerada sagrada pelos malgaxes, é chamada localmente como “reniala”, mãe da floresta.

II - afirma o fotógrafo e jornalista Haroldo Castro, idealizador de Viajologia Expedições.

III - Outro momento inesquecível em Madagascar é o encontro com os lêmures nas florestas tropicais da reserva Anjozorobe-Angavo, a 90 quilômetros da capital Antananarivo.

IV - O projeto em Anjozorobe comprova que, nos últimos anos, os 9 mil visitantes contribuíram de forma concreta a reduzir a pobreza e a promover a conservação da biodiversidade”.

V - A gastronomia malgaxe, com um toque francês, também surpreende pela diversidade de ingredientes, temperos e colorido dos pratos.

Constitui aposto os grifos em:

- I, II, III, IV e V.
- I, III e V, apenas.
- III e V apenas.
- I, II, III, e V, apenas.
- III, IV e V apenas

14. *Trilhas e passeios de canoa no rio Manambolo conduzem a formações rochosas calcárias inusitadas e plantas endêmicas desse ecossistema de florestas secas*.

Ao observar a relação sintática entre os termos desse período, pode-se afirmar que:

- de canoa é complemento nominal de Trilhas e passeios.
- no rio Manambolo é adjunto adnominal de canoas.
- de florestas secas é complemento nominal de plantas endêmicas.
- de canoa é complemento verbal de passeios.
- a formações rochosas calcárias inusitadas e plantas endêmicas desse ecossistema de florestas secas é complemento verbal de conduzem.

Leia o poema e responda às próximas duas questões.

FOGO NA MATA, MATA!

Fogo na mata, mata! A mata, a vida...
Fogo na mata, abre,
no coração da mata,
Profundas feridas.

Fogo na mata corrói,
dentro de nós, os sonhos.
Fogo na mata, deixa, no seio da mata,
Tumores tamanhos!

[...]

(Fonte: <http://www.recantodasletras.com.br/letras/505252>. Acesso em 14/05/2016)

15. A respeito de alguns aspectos gramaticais pertinentes aos termos em destaque na frase título do poema *Fogo na mata, mata!*, está correto o que se afirma em:

- Morfologicamente, na sequência em que as duas palavras aparecem, temos um verbo e um substantivo.
- Semanticamente, as duas palavras constituem homônimas homófonas homógrafas.
- O processo de formação da palavra “mata” (primeira ocorrência na frase) é por derivação regressiva do verbo “matar” cuja flexão na terceira pessoa vem logo em seguida na frase.
- Semanticamente, as duas palavras “mata” são parônimas.
- Semanticamente, as duas palavras constituem homônimas homógrafas heterofônicas.

16. Com a Nova Reforma Ortográfica, foi mantido o acento nas oxítonas terminadas em -ei e -oi, como é o caso de corrói em *Fogo na mata corrói*. No entanto, de acordo ainda com a Nova Reforma, os acentos foram retirados de quais duas palavras?

- Bocaiuva - maiúscula
- Voo, aerodromo
- Releem - feiura
- Papeis - língua
- Preveem - herói

17. Leia atentamente as alternativas e assinale a incorreta no que diz respeito à Ortografia:

- Grafamos com j as palavras ultraje, jiboia e gorjeio; com g as palavras ferrugem, geringonça, e miragem.
- Grafamos com sc: miscelânea, obsceno e obsessão; com c: sucinto, facínio e nécio.
- Grafamos com x: xampu, mexerico e enxada; com ch: piche, tocha e mecha.
- Grafamos com z: xadrez, cicatriz e vizinho; com s: friso, pêsames e tesoura.
- Grafamos com ss: escassez, submissão e sossego; com c: acetinado, obcecado e acepção.

18. O advérbio sublinhado e a circunstância que ele expressa não estão corretamente apresentados em:

- Ele certamente virá para o encontro. (afirmação)
- Ali se ouvia falar de riquezas culturais. (tempo)
- O orador discursou muito bem, impressionou a plateia. (modo)
- Chegamos tarde, perdemos o ônibus. (tempo)
- Os candidatos estudaram bastante. (intensidade)

19. Os pronomes pessoais, representantes das pessoas do discurso, estão corretamente empregados em todas as alternativas, com exceção da:

- Sempre haverá discordância entre mim e ti.
- O juiz queria falar com nós dois.
- Minha festa de despedida, não vou esquecer-la jamais.
- Ninguém irá sem eu.
- Deram o livro para eu ler em dois dias!

20. Em uma oração, o contexto permite concluirmos se certos verbos são de ligação, para assim identificarmos o predicado nominal. Assim, não há predicção nominal em:

- O aluno não estava na escola hoje.
- À tarde, as crianças pareciam cansadas.
- Ultimamente os participantes do programa andam desanimados.
- A aurora boreal é um lindo espetáculo.
- As atletas parecem cansadas.

MATEMÁTICA

21. Numa prova de hipismo, há duas modalidades totalmente distintas: salto e rural. João vai competir nas duas modalidades. Sabendo que a vitória ou a derrota em uma nada influencia no resultado da outra, e

sabendo que a probabilidade de ele ganhar a prova de salto é de 40% e a de ganhar a prova de rural é de 58%, qual a probabilidade de ele ganhar as duas provas?

- a) 98%
- b) 62%
- c) 23,2%
- d) 18%
- e) 2,32%

22. Numa escola há 12 professores. A tabela a seguir mostra a carga horária diária de trabalho desses professores.

4	8	5	10	6	5	8	6	8	9	4	8
---	---	---	----	---	---	---	---	---	---	---	---

É correto afirmar que as cargas horárias média, modal e mediana desses professores são respectivamente:

- a) 6,25; 6; 7
- b) 6,5; 7; 8
- c) 6,75; 8; 6
- d) 6,75; 8; 7
- e) 6,75; 7; 8

23. Encontre a equação da reta mediatriz do segmento AB, onde A(2, 3) e B(4, -1), e assinale a alternativa correta.

- a) $2y - x + 1 = 0$
- b) $y - 2x + 2 = 0$
- c) $2y - 2x + 1 = 0$
- d) $2y + x + 2 = 0$
- e) $2y + x - 1 = 0$

24. Uma loja acrescenta 15% no preço de seus produtos à vista se o cliente optar por pagar com um cheque para 60 dias. Comprei, nessa loja, um fogão com cheque para 60 dias e paguei R\$552,00 por ele. Qual era o preço à vista desse fogão?

- a) R\$460,00
- b) R\$469,20
- c) R\$474,50
- d) R\$480,00
- e) R\$500,00

25. Um pesquisador, ao analisar os processos que envolvem jovens com menos de 24 anos, descobriu que há 4 homens com nomes envolvidos em processos para cada mulher. Se no total ele contou 2400 pessoas, quantas eram as mulheres envolvidas nessa pesquisa?

- a) 480
- b) 600
- c) 800
- d) 1920
- e) 2000

INFORMÁTICA

26. Utilizando o Excel 2013, qual fórmula representa corretamente a auto soma?

- a) =SUM()
- b) =MEDIA()
- c) =MAX()
- d) =MIN()
- e) =SE()

27. Acerca de confidencialidade está incorreto afirmar:

- a) É um conceito no qual o acesso à informação deve ser concedido a quem de direito, ou seja, apenas para as entidades autorizadas pelo proprietário ou dono da informação.
- b) É uma propriedade que limita o acesso à informação tão somente às entidades legítimas, ou seja, àquelas autorizadas pelo proprietário da informação.
- c) É a propriedade da informação que não estará disponível ou será divulgada a indivíduos, entidades ou processos sem autorização.
- d) Significa garantir que a informação será conhecida por pessoas que não estejam autorizadas para tal.
- e) É a garantia do resguardo das informações dadas pessoalmente em confiança e proteção contra a sua revelação não autorizada.



28. Tratando-se de hardware de computadores, assinale a alternativa que corresponde a um tipo de memória externa.

- a) Pen Drive
- b) EPROM
- c) DIMM
- d) MRAM
- e) Cache

29. No Word 2013, é possível utilizar vários tipos de formatação de fontes, exceto:

- a) Tachado
- b) Negrito
- c) Centralizado
- d) Sublinhado
- e) Cor da fonte

30. Qual software nativo do Windows utilizamos para descobrir o endereço IP do computador?

- a) Windows Explorer
- b) Notepad
- c) Excel
- d) Word
- e) Prompt de Comando

CONHECIMENTOS GERAIS

31. Conforme fonte do IBGE, o bioma do município de Telêmaco Borba/PR é:

- a) Mata de Pinhais e Cerrado
- b) Pantanal
- c) Caatinga e Mata Atlântica
- d) Floresta Tropical
- e) Cerrado e Mata Atlântica

32. A letra do hino do município de Telêmaco Borba/PR é de autoria de

- a) Bento Mossurunga.
- b) Moisés Lupion.
- c) Eloah Martins Quadrado.
- d) Graciliana Reis D'Albuquerque Mossurunga.
- e) Enéias Augusto Moracines Borba.

33. Leia o texto sobre o Brasão de Armas do município de Telêmaco Borba/PR e marque a alternativa correta.

O Brasão de Armas foi aprovado em definitivo em 1981, dentro dos padrões da heráldica, estabelecendo os regulamentos para seu uso, ficando assim oficializado.

No Brasão de Armas, é possível identificar:

1. Escudo português redondo banhado de ouro filetado de prata, carregado de cinco árvores de pinho estilizadas de sua cor, postas em banda.
2. Escudete de prata carregado de três Pinheiros do Paraná, araucária angustifolia ou brasiliense.
3. No timbre, coroa mural de ouro lavrado de negro.
4. À direita, haste de milho (zae mays) frutada.
5. À sinistra, ramos de soja (gelycine soya) granada.
6. Listel amarelo ostentando o topônimo "Cidade Nova" entre as inscrições de ouro "5 de Julho de 1963", em caracteres latino moderno.

- a) Não é verdadeiro o item 1.
- b) Não é verdadeiro o item 2.
- c) Não é verdadeiro o item 4.
- d) Não é verdadeiro o item 6.
- e) Não são verdadeiros os itens 3 e 5.

34. Segundo o art. 11 da Lei Orgânica do Município de Telêmaco Borba/PR, os bens públicos podem ser:

I. De uso comum do Povo, tais como estradas municipais, ruas, parques, praças, logradouros públicos e outros da mesma espécie;

II. De uso especial, os de patrimônio administrativo, tais como edifícios das repartições públicas, os terrenos e equipamentos destinados ao serviço público, veículos, matadouros, mercados e outras serventias de outra espécie;

III. Bens municipais, aqueles sobre os quais o município exerce os direitos de proprietário e são considerados como bens patrimoniais disponíveis;

IV. Bens culturais, tais como música e obras de arte.

Podemos afirmar que são verdadeiros os itens

- a) I e II, apenas.
- b) II e III, apenas.
- c) I, II e III, apenas.
- d) I, III e IV, apenas.
- e) I, II, III e IV.

35. Qual alternativa completa corretamente o texto a seguir?

No primeiro ano de cada legislatura, no dia 1º de janeiro, em sessão de instalação, independente de número, sob a presidência do vereador mais idoso dentre os eleitos, os vereadores prestarão compromisso e tomarão posse. O Vereador que não tomar posse na sessão do dia 1º de janeiro poderá fazê-la _____ depois da primeira sessão ordinária da Legislatura.

- a) até dez dias
- b) até quinze dias
- c) até trinta dias
- d) até quarenta e cinco dias
- e) até sessenta dias

36. Conforme o art. 54 da Lei Orgânica do Município de Telêmaco Borba/PR, o Processo Legislativo compreende a elaboração de:

- I. Emendas à Lei Orgânica do Município;**
- II. Leis complementares;**
- III. Leis Ordinárias;**
- IV. Decretos Legislativos;**
- V. Resoluções;**
- VI. Pareceres.**

Assinale a alternativa que faz a afirmação correta.

- a) São verdadeiros apenas os itens I, III e VI.
- b) São verdadeiros apenas os itens I, III e IV.
- c) São verdadeiros apenas os itens III, IV e V.
- d) São verdadeiros apenas os itens I, II, III, IV e V.
- e) São verdadeiros os itens I, II, III, IV, V e VI.

Com base na Lei nº 1883/2012, que dispõe sobre o Estatuto dos Servidores Públicos da Administração Direta, Autárquica e Funcional do Município de Telêmaco Borba/PR, responda às próximas quatro questões.

37. À luz do § 2º do art. 9º da Lei nº 1883/2012, marque a alternativa que completa a lacuna do texto a seguir.

O concurso deverá ser homologado no prazo máximo de _____ contados da data de realização da última fase de provas, sob pena de responsabilidade da autoridade competente.

- a) um mês
- b) dois meses
- c) seis meses
- d) um ano
- e) dois anos

38. Marque a alternativa que completa a lacuna do texto a seguir.

O candidato terá o prazo _____, a contar da publicação oficial da convocação, para comparecer à entidade convocante e assinar termo de comparecimento.

- a) máximo de 5 dias úteis
- b) mínimo de 15 dias úteis
- c) de até 30 dias
- d) máximo de 15 dias úteis
- e) mínimo de 5 dias úteis

39. Leia as assertivas e marque a correta.

- a) São reservados 10% dos cargos em comissão para a nomeação de servidores do quadro efetivo.
- b) São reservados 15% dos cargos em comissão para a nomeação de servidores do quadro efetivo.
- c) São reservados 20% dos cargos em comissão para a nomeação de servidores do quadro efetivo.
- d) São reservados 25% dos cargos em comissão para a nomeação de servidores do quadro efetivo.
- e) São reservados 30% dos cargos em comissão para a nomeação de servidores do quadro efetivo.

40. Marque a alternativa que completa a lacuna do texto a seguir.



O servidor municipal, quando nomeado para cargo em comissão, ficará afastado de seu cargo efetivo e fará jus à remuneração prevista em lei para o comissionado, podendo optar por receber seus vencimentos acrescidos de _____ do valor da remuneração prevista para o cargo em comissão.

- a) 10%
- b) 20%
- c) 30%
- d) 40%
- e) 50%

RASCUNHO



PREFEITURA DE TELÊMACO BORBA - ESTADO DO PARANÁ - EDITAL Nº 001-2016 - CONCURSO PÚBLICO

MATUTINO – 29/05/2016 – NÍVEL MÉDIO

1

PROVA OBJETIVA NÚMERO

CARGO: AGENTE DE TRÂNSITO

Leia atentamente as INSTRUÇÕES:

1. Confira seus dados no cartão-resposta: nome, número de inscrição e o curso para o qual se inscreveu.
2. **MARQUE no seu cartão-resposta o número da sua prova** (não será corrigido o cartão-resposta que não tiver marcado o número da prova) e **Assine** seu cartão-resposta.
3. Aguarde a autorização do Fiscal para abrir o caderno de prova. Ao receber a ordem do fiscal, confira o caderno de prova com muita atenção. Nenhuma reclamação sobre o total de questões ou falha de impressão será aceita depois de iniciada a prova.
4. O cartão-resposta não será substituído, salvo se contiver erro de impressão.
5. Preencha toda a área do cartão-resposta correspondente à alternativa de sua escolha, com caneta esferográfica (tinta azul ou preta), sem ultrapassar as bordas. As marcações duplas, ou rasuradas, com corretivo, ou marcadas diferentemente do modelo estabelecido no cartão-resposta poderão ser anuladas.
6. Sua prova tem **40** questões, com **5** alternativas.
7. Cabe apenas ao candidato a interpretação das questões, **o fiscal** não poderá fazer nenhuma interferência.
8. A prova será realizada com duração máxima de **3 (três) horas**, incluído o tempo para a realização da Prova Objetiva de múltipla escolha e o preenchimento do cartão-resposta.
9. O candidato poderá retirar-se do local de realização das provas somente **1 (uma) hora** após o seu início, sem levar o caderno de prova.
10. O candidato poderá levar o caderno de provas, assim como anotação contendo transcrição do seu cartão-resposta, somente **1h30min** (uma hora e trinta minutos) após o início da realização da prova.
11. Ao terminar a prova, o candidato deverá entregar ao fiscal de sala o cartão-resposta preenchido e **ASSINADO**.
12. Os **3 (três)** candidatos, que terminarem a prova por último, deverão permanecer na sala, e só poderão sair juntos após o fechamento do envelope, contendo os cartões-resposta dos candidatos presentes e ausentes, e assinarem no lacre do referido envelope, atestando que este foi devidamente lacrado.
13. Durante todo o tempo em que permanecer no local onde está ocorrendo o concurso, o candidato deverá, manter o celular desligado e sem bateria, só sendo permitido ligar depois de ultrapassar o portão de saída do prédio.
14. Não será permitido ao candidato fumar na sala de provas, bem como nas dependências.
15. Depois de terminar a prova e entregar ao fiscal o cartão-resposta, preenchido e assinado, não será mais permitido ao candidato o uso do banheiro e bebedouro.

BOA PROVA!

LÍNGUA PORTUGUESA

Leia o texto e responda às próximas quatro questões.

Lêmures e baobás de Madagascar

Isolada do continente há 135 milhões de anos, a ilha do Oceano Índico é um laboratório natural da evolução das espécies e encanta os viajantes com uma flora e fauna única

Madagascar abriga 107 espécies de **lêmures**, dezenas de espécies de camaleões coloridos e outras tantas plantas que só existem lá. “Madagascar é um mundo a parte. Costumo dizer que, se Charles Darwin tivesse conhecido Madagascar, seu livro *A Origem das Espécies* seria dez vezes maior”, afirma o fotógrafo e jornalista **Haroldo Castro**, idealizador de Viajologia Expedições.

Uma das experiências mais emocionantes na quarta maior ilha do mundo é passear entre os gigantescos **baobás**, árvores que chegam a ter 30 metros de altura e mil anos de idade. Das nove espécies de baobás que existem no mundo, seis podem ser encontradas apenas em Madagascar. A majestosa árvore, considerada sagrada pelos malgaxes, é chamada localmente como “reniala”, mãe da floresta.

Na pequena cidade de Bekopaka está o Parque Nacional Tsingy de Bemaraha, considerado Patrimônio Mundial pela Unesco. Trilhas e passeios de canoa no rio Manambolo conduzem a formações rochosas calcárias inusitadas e plantas endêmicas desse ecossistema de florestas secas.

Outro momento inesquecível em Madagascar é o encontro com os lêmures nas florestas tropicais da reserva Anjozorobe-Angavo, a 90 quilômetros da capital Antananarivo. Especialistas apontam que o turismo de observação de animais é uma excelente alternativa para o desenvolvimento da economia local e pode ajudar a conter o desmatamento. “O projeto em Anjozorobe comprova que, nos últimos anos, os 9 mil visitantes contribuíram de forma concreta a reduzir a pobreza e a promover a conservação da biodiversidade”, afirma Haroldo. Como os primatas são curiosos e estão habituados aos seres humanos, eles costumam se aproximar dos visitantes. “Os bichinhos chegam a subir nas nossas cabeças e parecem adorar aparecer nas fotos.”

Madagascar possui hoje uma excelente estrutura para o turismo, com algumas estradas bem cuidadas e hotéis confortáveis localizados perto das reservas e parques ecológicos. A gastronomia malgaxe, com um toque francês, também surpreende pela diversidade de ingredientes, temperos e colorido dos pratos.

[...]

(Fonte: <http://viajeaquil.abril.com.br/materias/lemures-e-baobas-de-madagascar#2>. Acesso em 14/05/2016)

01. Lêmures e baobás de Madagascar é um texto:

- Em que prevalece a descrição, apresentando as belezas e peculiaridades do lugar, da fauna e da flora.
- Principalmente narrativo, de fatos colhidos durante uma viagem, que se sucedem em progressão temporal.
- Essencialmente argumentativo, o uso da descrição visa somente a convencer o leitor a visitar Madagascar.
- Dissertativo, impera o desenvolvimento de argumentos para comprovar a tese presente no primeiro parágrafo.
- Em que predomina a exposição de conceitos e definições com o intuito de informar o leitor.

02. O teor do texto *Lêmures e baobás de Madagascar* somente não poderia se encaixar em que tópico?

- Turismo
- Viagens
- Clima
- Natureza
- Ilhas

03. O aposto é um termo que *explica ou esclarece, desenvolve ou resume outro termo da oração*. Quanto a isso, analise a parte grifada em cada uma das orações retiradas do texto:

I - A majestosa árvore, considerada sagrada pelos malgaxes, é chamada localmente como “reniala”, mãe da floresta.

II - afirma o fotógrafo e jornalista Haroldo Castro, idealizador de Viajologia Expedições.

III - Outro momento inesquecível em Madagascar é o encontro com os lêmures nas florestas tropicais da reserva Anjozorobe-Angavo, a 90 quilômetros da capital Antananarivo.

IV - O projeto em Anjozorobe comprova que, nos últimos anos, os 9 mil visitantes contribuíram de forma concreta a reduzir a pobreza e a promover a conservação da biodiversidade”.

V - A gastronomia malgaxe, com um toque francês, também surpreende pela diversidade de ingredientes, temperos e colorido dos pratos.

Constitui aposto os grifos em:

- I, II, III, IV e V.
- I, III e V, apenas.
- III e V apenas.
- I, II, III, e V, apenas.
- III, IV e V apenas

04. Trilhas e passeios de canoa no rio Manambolo conduzem a formações rochosas calcárias inusitadas e plantas endêmicas desse ecossistema de florestas secas.

Ao observar a relação sintática entre os termos desse período, pode-se afirmar que:

- de canoa é complemento nominal de Trilhas e passeios.
- no rio Manambolo é adjunto adnominal de canoa.
- de florestas secas é complemento nominal de plantas endêmicas.
- de canoa é complemento verbal de passeios.
- a formações rochosas calcárias inusitadas e plantas endêmicas desse ecossistema de florestas secas é complemento verbal de conduzem.

Leia o poema e responda às próximas duas questões.

FOGO NA MATA, MATA!

Fogo na mata, mata! A mata, a vida...
Fogo na mata, abre,
no coração da mata,
Profundas feridas.

Fogo na mata corrói,
dentro de nós, os sonhos.
Fogo na mata, deixa, no seio da mata,
Tumores tamanhos!

[...]

(Fonte: <http://www.recantodasletras.com.br/letras/505252>. Acesso em 14/05/2016)

05. A respeito de alguns aspectos gramaticais pertinentes aos termos em destaque na frase título do poema *Fogo na mata, mata!*, está correto o que se afirma em:

- Morfologicamente, na sequência em que as duas palavras aparecem, temos um verbo e um substantivo.
- Semanticamente, as duas palavras constituem homônimas homófonas homográficas.
- O processo de formação da palavra “mata” (primeira ocorrência na frase) é por derivação regressiva do verbo “matar” cuja flexão na terceira pessoa vem logo em seguida na frase.
- Semanticamente, as duas palavras “mata” são parônimas.
- Semanticamente, as duas palavras constituem homônimas homógrafas heterofônicas.

06. Com a Nova Reforma Ortográfica, foi mantido o acento nas oxítonas terminadas em -ei e -oi, como é o caso de corrói em *Fogo na mata corrói*. No entanto, de acordo ainda com a Nova Reforma, os acentos foram retirados de quais duas palavras?

- Bocaiuva - maiúscula
- Voo, aerodromo
- Releem - feiura
- Papeis - linguíça
- Preveem - heroi

07. Leia atentamente as alternativas e assinale a incorreta no que diz respeito à Ortografia:

- Grafamos com j as palavras ultraje, jiboia e gorjeio; com g as palavras ferrugem, geringonça, e miragem.
- Grafamos com sc: miscelânea, obsceno e obscessão; com c: sucinto, facínio e nécio.
- Grafamos com x: xampu, mexerico e enxada; com ch: piche, tocha e mecha.
- Grafamos com z: xadrez, cicatriz e vizinho; com s: friso, pêsames e tesoura.
- Grafamos com ss: escassez, submissão e sossego; com c: acetinado, obcecado e acepção.

08. O advérbio sublinhado e a circunstância que ele expressa não estão corretamente apresentados em:

- Ele certamente virá para o encontro. (afirmação)
- Ali se ouvia falar de riquezas culturais. (tempo)
- O orador discursou muito bem, impressionou a plateia. (modo)
- Chegamos tarde, perdemos o ônibus. (tempo)
- Os candidatos estudaram bastante. (intensidade)

09. Os pronomes pessoais, representantes das pessoas do discurso, estão corretamente empregados em todas as alternativas, com exceção da:

- Sempre haverá discordância entre mim e ti.
- O juiz queria falar com nós dois.
- Minha festa de despedida, não vou esquecê-la jamais.
- Ninguém irá sem eu.
- Deram o livro para eu ler em dois dias!

10. Em uma oração, o contexto permite concluirmos se certos verbos são de ligação, para assim identificarmos o predicado nominal. Assim, não há predicação nominal em:

- a) O aluno não estava na escola hoje.
- b) À tarde, as crianças pareciam cansadas.
- c) Ultimamente os participantes do programa andam desanimados.
- e) A aurora boreal é um lindo espetáculo.
- d) As atletas parecem cansadas.

MATEMÁTICA

11. Numa prova de hipismo, há duas modalidades totalmente distintas: salto e rural. João vai competir nas duas modalidades. Sabendo que a vitória ou a derrota em uma nada influencia no resultado da outra, e sabendo que a probabilidade de ele ganhar a prova de salto é de 40% e a de ganhar a prova de rural é de 58%, qual a probabilidade de ele ganhar as duas provas?

- a) 98%
- b) 62%
- c) 23,2%
- d) 18%
- e) 2,32%

12. Numa escola há 12 professores. A tabela a seguir mostra a carga horária diária de trabalho desses professores.

4	8	5	10	6	5	8	6	8	9	4	8
---	---	---	----	---	---	---	---	---	---	---	---

É correto afirmar que as cargas horárias média, modal e mediana desses professores são respectivamente:

- a) 6,25; 6; 7
- b) 6,5; 7; 8
- c) 6,75; 8; 6
- d) 6,75; 8; 7
- e) 6,75; 7; 8

13. Encontre a equação da reta mediatriz do segmento AB, onde A(2, 3) e B(4, -1), e assinale a alternativa correta.

- a) $2y - x + 1 = 0$
- b) $y - 2x + 2 = 0$
- c) $2y - 2x + 1 = 0$
- d) $2y + x + 2 = 0$
- e) $2y + x - 1 = 0$

14. Uma loja acrescenta 15% no preço de seus produtos à vista se o cliente optar por pagar com um cheque para 60 dias. Comprei, nessa loja, um fogão com cheque para 60 dias e paguei R\$552,00 por ele. Qual era o preço à vista desse fogão?

- a) R\$460,00
- b) R\$469,20
- c) R\$474,50
- d) R\$480,00
- e) R\$500,00

15. Um pesquisador, ao analisar os processos que envolvem jovens com menos de 24 anos, descobriu que há 4 homens com nomes envolvidos em processos para cada mulher. Se no total ele contou 2400 pessoas, quantas eram as mulheres envolvidas nessa pesquisa?

- a) 480
- b) 600
- c) 800
- d) 1920
- e) 2000

INFORMÁTICA

16. Utilizando o Excel 2013, qual fórmula representa corretamente a auto soma?

- a) =SUM()
- b) =MEDIA()
- c) =MAX()
- d) =MIN()
- e) =SE()

17. Acerca de confidencialidade está incorreto afirmar:

- a) É um conceito em qual o acesso à informação deve ser concedido a quem de direito, ou seja, apenas para as entidades autorizadas pelo proprietário ou dono da informação.
- b) É uma propriedade que limita o acesso à informação tão somente às entidades legítimas, ou seja, àquelas autorizadas pelo proprietário da informação.
- c) É a propriedade da informação que não estará disponível ou será divulgada a indivíduos, entidades ou processos sem autorização.
- d) Significa garantir que a informação será conhecida por pessoas que não estejam autorizadas para tal.
- e) É a garantia do resguardo das informações dadas pessoalmente em confiança e proteção contra a sua revelação não autorizada.

18. Tratando-se de hardware de computadores, assinale a alternativa que corresponde a um tipo de memória externa.

- a) Pen Drive
- b) EPROM
- c) DIMM
- d) MRAM
- e) Cache

19. No Word 2013, é possível utilizar vários tipos de formatação de fontes, exceto:

- a) Tachado
- b) Negrito
- c) Centralizado
- d) Sublinhado
- e) Cor da fonte

20. Qual software nativo do Windows utilizamos para descobrir o endereço IP do computador?

- a) Windows Explorer
- b) Notepad
- c) Excel
- d) Word
- e) Prompt de Comando

CONHECIMENTOS GERAIS**21. Conforme fonte do IBGE, o bioma do município de Telêmaco Borba/PR é:**

- a) Mata de Pinhais e Cerrado
- b) Pantanal
- c) Caatinga e Mata Atlântica
- d) Floresta Tropical
- e) Cerrado e Mata Atlântica

22. A letra do hino do município de Telêmaco Borba/PR é de autoria de

- a) Bento Mossurunga.
- b) Moisés Lupion.
- c) Eloah Martins Quadrado.
- d) Graciliana Reis D´Albuquerque Mossurunga.
- e) Enéias Augusto Moracines Borba.

23. Leia o texto sobre o Brasão de Armas do município de Telêmaco Borba/PR e marque a alternativa correta.

O Brasão de Armas foi aprovado em definitivo em 1981, dentro dos padrões da heráldica, estabelecendo os regulamentos para seu uso, ficando assim oficializado.

No Brasão de Armas, é possível identificar:

1. Escudo português redondo banhado de ouro filetado de prata, carregado de cinco árvores de pinho estilizadas de sua cor, postas em banda.
2. Escudete de prata carregado de três Pinheiros do Paraná, araucária angustifolia ou brasiliense.
3. No timbre, coroa mural de ouro lavrado de negro.
4. À direita, haste de milho (zae mays) frutada.
5. À sinistra, ramos de soja (gelycine soya) granada.
6. Listel amarelo ostentando o topônimo "Cidade Nova" entre as inscrições de ouro "5 de Julho de 1963", em caracteres latino moderno.

- a) Não é verdadeiro o item 1.
- b) Não é verdadeiro o item 2.
- c) Não é verdadeiro o item 4.
- d) Não é verdadeiro o item 6.

e) Não são verdadeiros os itens 3 e 5.

24. Segundo o art. 11 da Lei Orgânica do Município de Telêmaco Borba/PR, os bens públicos podem ser:

I. De uso comum do Povo, tais como estradas municipais, ruas, parques, praças, logradouros públicos e outros da mesma espécie;

II. De uso especial, os de patrimônio administrativo, tais como edifícios das repartições públicas, os terrenos e equipamentos destinados ao serviço público, veículos, matadouros, mercados e outras serventias de outra espécie;

III. Bens municipais, aqueles sobre os quais o município exerce os direitos de proprietário e são considerados como bens patrimoniais disponíveis;

IV. Bens culturais, tais como música e obras de arte.

Podemos afirmar que são verdadeiros os itens

- a) I e II, apenas.
- b) II e III, apenas.
- c) I, II e III, apenas.
- d) I, III e IV, apenas.
- e) I, II, III e IV.

25. Qual alternativa completa corretamente o texto a seguir?

No primeiro ano de cada legislatura, no dia 1º de janeiro, em sessão de instalação, independente de número, sob a presidência do vereador mais idoso dentre os eleitos, os vereadores prestarão compromisso e tomarão posse. O Vereador que não tomar posse na sessão do dia 1º de janeiro poderá fazê-la _____ depois da primeira sessão ordinária da Legislatura.

- a) até dez dias
- b) até quinze dias
- c) até trinta dias
- d) até quarenta e cinco dias
- e) até sessenta dias

26. Conforme o art. 54 da Lei Orgânica do Município de Telêmaco Borba/PR, o Processo Legislativo compreende a elaboração de:

I. Emendas à Lei Orgânica do Município;

II. Leis complementares;

III. Leis Ordinárias;

IV. Decretos Legislativos;

V. Resoluções;

VI. Pareceres.

Assinale a alternativa que faz a afirmação correta.

- a) São verdadeiros apenas os itens I, III e VI.
- b) São verdadeiros apenas os itens I, III e IV.
- c) São verdadeiros apenas os itens III, IV e V.
- d) São verdadeiros apenas os itens I, II, III, IV e V.
- e) São verdadeiros os itens I, II, III, IV, V e VI.

Com base na Lei nº 1883/2012, que dispõe sobre o Estatuto dos Servidores Públicos da Administração Direta, Autárquica e Funcional do Município de Telêmaco Borba/PR, responda às próximas quatro questões.

27. À luz do § 2º do art. 9º da Lei nº 1883/2012, marque a alternativa que completa a lacuna do texto a seguir.

O concurso deverá ser homologado no prazo máximo de _____ contados da data de realização da última fase de provas, sob pena de responsabilidade da autoridade competente.

- a) um mês
- b) dois meses
- c) seis meses
- d) um ano
- e) dois anos

28. Marque a alternativa que completa a lacuna do texto a seguir.

O candidato terá o prazo _____, a contar da publicação oficial da convocação, para comparecer à entidade convocante e assinar termo de comparecimento.

- a) máximo de 5 dias úteis
- b) mínimo de 15 dias úteis
- c) de até 30 dias
- d) máximo de 15 dias úteis

e) mínimo de 5 dias úteis

29. Leia as assertivas e marque a correta.

- a) São reservados 10% dos cargos em comissão para a nomeação de servidores do quadro efetivo.
- b) São reservados 15% dos cargos em comissão para a nomeação de servidores do quadro efetivo.
- c) São reservados 20% dos cargos em comissão para a nomeação de servidores do quadro efetivo.
- d) São reservados 25% dos cargos em comissão para a nomeação de servidores do quadro efetivo.
- e) São reservados 30% dos cargos em comissão para a nomeação de servidores do quadro efetivo.

30. Marque a alternativa que completa a lacuna do texto a seguir.

O servidor municipal, quando nomeado para cargo em comissão, ficará afastado de seu cargo efetivo e fará jus à remuneração prevista em lei para o comissionado, podendo optar por receber seus vencimentos acrescidos de _____ do valor da remuneração prevista para o cargo em comissão.

- a) 10%
- b) 20%
- c) 30%
- d) 40%
- e) 50%

CONHECIMENTOS ESPECÍFICOS

31. O anexo I do Código Brasileiro de Trânsito estabelece:

A imobilização do veículo, pelo tempo estritamente necessário ao carregamento ou descarregamento de animais ou carga, na forma disciplinada pelo órgão ou entidade executivo de trânsito competente com circunscrição sobre a via, caracteriza um(a):

- a) Regulamentação da via
- b) Parada
- c) Operação de carga e descarga
- d) Patrulhamento
- e) Operação de Trânsito

32. O condutor envolvido em acidente com vítima que deixar de prestar ou providenciar socorro à mesma, de acordo com o art. 176 do CBT, podendo fazê-lo, estará cometendo uma:

- a) Infração grave, Penalidade - multa (duas vezes), suspensão do direito de dirigir.
- b) Infração gravíssima, Penalidade - multa (seis vezes), suspensão do direito de dirigir e apreensão do veículo.
- c) Infração grave, Penalidade - multa.
- d) Infração gravíssima, Penalidade - multa (cinco vezes), suspensão do direito de dirigir.
- e) Infração grave, multa (três vezes), suspensão do direito de dirigir e apreensão do veículo.

33. Conforme o art. 33 do CBT, os usuários das vias terrestres:

- a) Ao ouvir o alarme sonoro, deverão aguardar no passeio, só atravessando a via quando o veículo já tiver passado pelo local.
- b) Deverão dirigir com atenção redobrada ou parar o veículo com vistas à segurança dos pedestres.
- c) Antes de iniciar qualquer manobra que implique um deslocamento lateral, deverão indicar seu propósito de forma clara e com a devida antecedência, por meio da luz indicadora de direção de seu veículo, ou fazendo gesto convencional de braço.
- d) Devem abster-se de todo ato que possa constituir perigo ou obstáculo para o trânsito de veículos, de pessoas ou de animais, ou ainda causar danos a propriedades públicas ou privadas.
- e) Quando proibido o estacionamento na via, devem restringir a sua parada ao tempo indispensável para embarque ou desembarque de passageiros, desde que não interrompa ou perturbe o fluxo de veículos ou a locomoção de pedestres.

34. O CBT estabelece que o agente de trânsito pode utilizar-se de sinais e gestos sonoros para auxílio nas abordagens de veículos em trânsito nas vias públicas. Na ordem de parada obrigatória para todos os veículos, quando executada em interseção, os veículos que já se encontram nela não são obrigados a parar. Nesse caso, o agente de trânsito deve estar com o braço:

- a) Estendido horizontalmente com a palma da mão para frente.
- b) Levantado verticalmente, com a palma da mão para frente.
- c) Levantado com o movimento de antebraço da frente para a retaguarda e a palma da mão para trás.
- d) Estendido horizontalmente com a palma da mão para baixo fazendo movimentos verticais.
- e) Estendido horizontalmente com a palma da mão para frente do lado do trânsito a quem se destina.

35. Os veículos são classificados, segundo o CBT Art.96, em tração e espécie. A bicicleta, a carroça e o caminhão-trator são respectivamente das espécies:

- a) Misto, oficial e carga.
- b) Passageiros, carga e tração.

- c) De competição, especial e carga.
- d) Passageiros, misto e rural.
- e) Tração, passageiros e carga.

36. O art.68 do CBT estabelece: É assegurada ao pedestre a utilização dos passeios ou passagens apropriadas das vias urbanas e dos acostamentos das vias rurais para circulação, podendo a autoridade competente permitir a utilização de parte da calçada para outros fins, desde que não seja prejudicial ao fluxo de pedestres.

Qual das alternativas descreve uma situação verdadeira em relação a esse artigo?

- a) O ciclista desmontado empurrando a bicicleta, não se equipara ao pedestre em direitos e deveres.
- b) Onde houver obstrução da calçada ou da passagem para pedestres, o órgão ou entidade com circunscrição sobre a via não assegurará a devida sinalização e proteção para circulação de pedestres.
- c) A circulação de pedestres na pista de rolamento deverá ser feita pelos bordos da pista, em fila única, independente de locais proibidos pela sinalização, sendo prioridade dos veículos para que não haja situações em que a segurança pode ficar comprometida.
- d) Nos trechos urbanos de vias rurais e nas obras de arte a serem construídas, não deverá ser previsto passeio destinado à circulação dos pedestres, que poderão, nessas condições, usar o acostamento.
- e) Nas vias rurais, quando não houver acostamento ou quando não for possível a utilização dele, a circulação de pedestres, na pista de rolamento, será feita com prioridade sobre os veículos, pelos bordos da pista, em fila única, em sentido contrário ao deslocamento de veículos, exceto em locais proibidos pela sinalização e nas situações em que a segurança ficar comprometida.

37. A fiscalização de trânsito, aplicação de medidas administrativas e penalidades cabíveis de multa, são realizadas pelos órgãos competentes municipais e estaduais. Com respeito a isso, dentre as infrações apresentadas nas alternativas, qual é de competência somente dos órgãos municipais, segundo a resolução 66/98 do CONTRAN?

- a) Portar no veículo placas de identificação em desacordo com as especificações e modelos estabelecidos pelo CONTRAN.
- b) Transitar com o farol desregulado ou com o fecho de luz alta de forma a perturbar a visão de outro condutor.
- c) Estacionar o veículo em locais e horários proibidos especificamente pela sinalização (placa - Proibido Estacionar).
- d) Conduzir o veículo com o lacre, a inscrição do chassi, o selo, a placa ou qualquer outro elemento de identificação do veículo violado ou falsificado.
- e) Falsificar ou adulterar documento de habilitação e de identificação do veículo.

38. Qual o significado da placa a seguir, segundo a sinalização brasileira de trânsito?



- a) Pista Escorregadia
- b) Área com desmoronamento
- c) Pista Irregular
- d) Via sem asfalto
- e) Projeção de cascalho

39. Qual a função do cinto de segurança nos veículos automotores, segundo a Cartilha de Direção defensiva do DENATRAN?

- a) Para limitar a movimentação dos ocupantes de um veículo, em casos de acidentes ou numa freada brusca.
- b) Para que o condutor possa fazer manobras durante o tráfego no trânsito, segurando no cinto para criar estabilidade.
- c) Para que o condutor possa carregar crianças menores de dez anos no banco da frente.
- d) Somente para segurança de crianças menores de doze anos, evitando usar cadeiras específicas.
- e) Não há necessidade de cinto de segurança quando o veículo possuir air bag.

40. De acordo com a cartilha do DENATRAN de Primeiros Socorros, como se deve proceder com uma vítima de acidente de trânsito?

- a) Movimente a vítima e a retire do local do acidente.
- b) Dê líquido para a vítima ingerir.
- c) Impeça a movimentação da cabeça da vítima.
- d) Retire o capacete, no caso de motociclistas.



e) Caso ela tenha hemorragia, faça um torniquete.

RASCUNHO



PREFEITURA DE TELÊMACO BORBA - ESTADO DO PARANÁ - EDITAL Nº 001-2016 - CONCURSO PÚBLICO

MATUTINO – 29/05/2016 – NÍVEL MÉDIO

2

PROVA OBJETIVA NÚMERO

CARGO: AGENTE DE TRÂNSITO

Leia atentamente as INSTRUÇÕES:

1. Confira seus dados no cartão-resposta: nome, número de inscrição e o curso para o qual se inscreveu.
2. **MARQUE no seu cartão-resposta o número da sua prova** (não será corrigido o cartão-resposta que não tiver marcado o número da prova) e **Assine** seu cartão-resposta.
3. Aguarde a autorização do Fiscal para abrir o caderno de prova. Ao receber a ordem do fiscal, confira o caderno de prova com muita atenção. Nenhuma reclamação sobre o total de questões ou falha de impressão será aceita depois de iniciada a prova.
4. O cartão-resposta não será substituído, salvo se contiver erro de impressão.
5. Preencha toda a área do cartão-resposta correspondente à alternativa de sua escolha, com caneta esferográfica (tinta azul ou preta), sem ultrapassar as bordas. As marcações duplas, ou rasuradas, com corretivo, ou marcadas diferentemente do modelo estabelecido no cartão-resposta poderão ser anuladas.
6. Sua prova tem **40** questões, com **5** alternativas.
7. Cabe apenas ao candidato a interpretação das questões, **o fiscal** não poderá fazer nenhuma interferência.
8. A prova será realizada com duração máxima de **3 (três) horas**, incluído o tempo para a realização da Prova Objetiva de múltipla escolha e o preenchimento do cartão-resposta.
9. O candidato poderá retirar-se do local de realização das provas somente **1 (uma) hora** após o seu início, sem levar o caderno de prova.
10. O candidato poderá levar o caderno de provas, assim como anotação contendo transcrição do seu cartão-resposta, somente **1h30min** (uma hora e trinta minutos) após o início da realização da prova.
11. Ao terminar a prova, o candidato deverá entregar ao fiscal de sala o cartão-resposta preenchido e **ASSINADO**.
12. Os **3 (três)** candidatos, que terminarem a prova por último, deverão permanecer na sala, e só poderão sair juntos após o fechamento do envelope, contendo os cartões-resposta dos candidatos presentes e ausentes, e assinarem no lacre do referido envelope, atestando que este foi devidamente lacrado.
13. Durante todo o tempo em que permanecer no local onde está ocorrendo o concurso, o candidato deverá, manter o celular desligado e sem bateria, só sendo permitido ligar depois de ultrapassar o portão de saída do prédio.
14. Não será permitido ao candidato fumar na sala de provas, bem como nas dependências.
15. Depois de terminar a prova e entregar ao fiscal o cartão-resposta, preenchido e assinado, não será mais permitido ao candidato o uso do banheiro e bebedouro.

BOA PROVA!

MATEMÁTICA

01. Numa prova de hipismo, há duas modalidades totalmente distintas: salto e rural. João vai competir nas duas modalidades. Sabendo que a vitória ou a derrota em uma nada influencia no resultado da outra, e sabendo que a probabilidade de ele ganhar a prova de salto é de 40% e a de ganhar a prova de rural é de 58%, qual a probabilidade de ele ganhar as duas provas?

- a) 98%
- b) 62%
- c) 23,2%
- d) 18%
- e) 2,32%

02. Numa escola há 12 professores. A tabela a seguir mostra a carga horária diária de trabalho desses professores.

4	8	5	10	6	5	8	6	8	9	4	8
---	---	---	----	---	---	---	---	---	---	---	---

É correto afirmar que as cargas horárias média, modal e mediana desses professores são respectivamente:

- a) 6,25; 6; 7
- b) 6,5; 7; 8
- c) 6,75; 8; 6
- d) 6,75; 8; 7
- e) 6,75; 7; 8

03. Encontre a equação da reta mediatriz do segmento AB, onde A(2, 3) e B(4, -1), e assinale a alternativa correta.

- a) $2y - x + 1 = 0$
- b) $y - 2x + 2 = 0$
- c) $2y - 2x + 1 = 0$
- d) $2y + x + 2 = 0$
- e) $2y + x - 1 = 0$

04. Uma loja acrescenta 15% no preço de seus produtos à vista se o cliente optar por pagar com um cheque para 60 dias. Comprei, nessa loja, um fogão com cheque para 60 dias e paguei R\$552,00 por ele. Qual era o preço à vista desse fogão?

- a) R\$460,00
- b) R\$469,20
- c) R\$474,50
- d) R\$480,00
- e) R\$500,00

05. Um pesquisador, ao analisar os processos que envolvem jovens com menos de 24 anos, descobriu que há 4 homens com nomes envolvidos em processos para cada mulher. Se no total ele contou 2400 pessoas, quantas eram as mulheres envolvidas nessa pesquisa?

- a) 480
- b) 600
- c) 800
- d) 1920
- e) 2000

INFORMÁTICA

06. Utilizando o Excel 2013, qual fórmula representa corretamente a auto soma?

- a) =SUM()
- b) =MEDIA()
- c) =MAX()
- d) =MIN()
- e) =SE()

07. Acerca de confidencialidade está incorreto afirmar:

- a) É um conceito no qual o acesso à informação deve ser concedido a quem de direito, ou seja, apenas para as entidades autorizadas pelo proprietário ou dono da informação.
- b) É uma propriedade que limita o acesso à informação tão somente às entidades legítimas, ou seja, àquelas autorizadas pelo proprietário da informação.
- c) É a propriedade da informação que não estará disponível ou será divulgada a indivíduos, entidades ou processos sem autorização.
- d) Significa garantir que a informação será conhecida por pessoas que não estejam autorizadas para tal.



e) É a garantia do resguardo das informações dadas pessoalmente em confiança e proteção contra a sua revelação não autorizada.

08. Tratando-se de hardware de computadores, assinale a alternativa que corresponde a um tipo de memória externa.

- a) Pen Drive
- b) EPROM
- c) DIMM
- d) MRAM
- e) Cache

09. No Word 2013, é possível utilizar vários tipos de formatação de fontes, exceto:

- a) Tachado
- b) Negrito
- c) Centralizado
- d) Sublinhado
- e) Cor da fonte

10. Qual software nativo do Windows utilizamos para descobrir o endereço IP do computador?

- a) Windows Explorer
- b) Notepad
- c) Excel
- d) Word
- e) Prompt de Comando

CONHECIMENTOS GERAIS

11. Conforme fonte do IBGE, o bioma do município de Telêmaco Borba/PR é:

- a) Mata de Pinhais e Cerrado
- b) Pantanal
- c) Caatinga e Mata Atlântica
- d) Floresta Tropical
- e) Cerrado e Mata Atlântica

12. A letra do hino do município de Telêmaco Borba/PR é de autoria de

- a) Bento Mossurunga.
- b) Moíses Lupion.
- c) Eloah Martins Quadrado.
- d) Graciliana Reis D´Albuquerque Mossurunga.
- e) Enéias Augusto Moracines Borba.

13. Leia o texto sobre o Brasão de Armas do município de Telêmaco Borba/PR e marque a alternativa correta.

O Brasão de Armas foi aprovado em definitivo em 1981, dentro dos padrões da heráldica, estabelecendo os regulamentos para seu uso, ficando assim oficializado.

No Brasão de Armas, é possível identificar:

1. Escudo português redondo banhado de ouro filetado de prata, carregado de cinco árvores de pinho estilizadas de sua cor, postas em banda.
2. Escudete de prata carregado de três Pinheiros do Paraná, araucária angustifólia ou brasiliense.
3. No timbre, coroa mural de ouro lavrado de negro.
4. À destra, haste de milho (zae mays) frutada.
5. À sinistra, ramos de soja (gelycine soya) granada.
6. Listel amarelo ostentando o topônimo "Cidade Nova" entre as inscrições de ouro "5 de Julho de 1963", em caracteres latino moderno.

- a) Não é verdadeiro o item 1.
- b) Não é verdadeiro o item 2.
- c) Não é verdadeiro o item 4.
- d) Não é verdadeiro o item 6.
- e) Não são verdadeiros os itens 3 e 5.

14. Segundo o art. 11 da Lei Orgânica do Município de Telêmaco Borba/PR, os bens públicos podem ser:

I. De uso comum do Povo, tais como estradas municipais, ruas, parques, praças, logradouros públicos e outros da mesma espécie;

II. De uso especial, os de patrimônio administrativo, tais como edifícios das repartições públicas, os terrenos e equipamentos destinados ao serviço público, veículos, matadouros, mercados e outras serventias de outra espécie;

III. Bens municipais, aqueles sobre os quais o município exerce os direitos de proprietário e são considerados como bens patrimoniais disponíveis;

IV. Bens culturais, tais como música e obras de arte.

Podemos afirmar que são verdadeiros os itens

- a) I e II, apenas.
- b) II e III, apenas.
- c) I, II e III, apenas.
- d) I, III e IV, apenas.
- e) I, II, III e IV.

15. Qual alternativa completa corretamente o texto a seguir?

No primeiro ano de cada legislatura, no dia 1º de janeiro, em sessão de instalação, independente de número, sob a presidência do vereador mais idoso dentre os eleitos, os vereadores prestarão compromisso e tomarão posse. O Vereador que não tomar posse na sessão do dia 1º de janeiro poderá fazê-la _____ depois da primeira sessão ordinária da Legislatura.

- a) até dez dias
- b) até quinze dias
- c) até trinta dias
- d) até quarenta e cinco dias
- e) até sessenta dias

16. Conforme o art. 54 da Lei Orgânica do Município de Telêmaco Borba/PR, o Processo Legislativo compreende a elaboração de:

I. Emendas à Lei Orgânica do Município;

II. Leis complementares;

III. Leis Ordinárias;

IV. Decretos Legislativos;

V. Resoluções;

VI. Pareceres.

Assinale a alternativa que faz a afirmação correta.

- a) São verdadeiros apenas os itens I, III e VI.
- b) São verdadeiros apenas os itens I, III e IV.
- c) São verdadeiros apenas os itens III, IV e V.
- d) São verdadeiros apenas os itens I, II, III, IV e V.
- e) São verdadeiros os itens I, II, III, IV, V e VI.

Com base na Lei nº 1883/2012, que dispõe sobre o Estatuto dos Servidores Públicos da Administração Direta, Autárquica e Funcional do Município de Telêmaco Borba/PR, responda às próximas quatro questões.

17. À luz do § 2º do art. 9º da Lei nº 1883/2012, marque a alternativa que completa a lacuna do texto a seguir.

O concurso deverá ser homologado no prazo máximo de _____ contados da data de realização da última fase de provas, sob pena de responsabilidade da autoridade competente.

- a) um mês
- b) dois meses
- c) seis meses
- d) um ano
- e) dois anos

18. Marque a alternativa que completa a lacuna do texto a seguir.

O candidato terá o prazo _____, a contar da publicação oficial da convocação, para comparecer à entidade convocante e assinar termo de comparecimento.

- a) máximo de 5 dias úteis
- b) mínimo de 15 dias úteis
- c) de até 30 dias
- d) máximo de 15 dias úteis
- e) mínimo de 5 dias úteis

19. Leia as assertivas e marque a correta.

- a) São reservados 10% dos cargos em comissão para a nomeação de servidores do quadro efetivo.
- b) São reservados 15% dos cargos em comissão para a nomeação de servidores do quadro efetivo.
- c) São reservados 20% dos cargos em comissão para a nomeação de servidores do quadro efetivo.
- d) São reservados 25% dos cargos em comissão para a nomeação de servidores do quadro efetivo.
- e) São reservados 30% dos cargos em comissão para a nomeação de servidores do quadro efetivo.

20. Marque a alternativa que completa a lacuna do texto a seguir.

O servidor municipal, quando nomeado para cargo em comissão, ficará afastado de seu cargo efetivo e fará jus à remuneração prevista em lei para o comissionado, podendo optar por receber seus vencimentos acrescidos de _____ do valor da remuneração prevista para o cargo em comissão.

- a) 10%
- b) 20%
- c) 30%
- d) 40%
- e) 50%

CONHECIMENTOS ESPECÍFICOS

21. O anexo I do Código Brasileiro de Trânsito estabelece:

A imobilização do veículo, pelo tempo estritamente necessário ao carregamento ou descarregamento de animais ou carga, na forma disciplinada pelo órgão ou entidade executivo de trânsito competente com circunscrição sobre a via, caracteriza um(a):

- a) Regulamentação da via
- b) Parada
- c) Operação de carga e descarga
- d) Patrulhamento
- e) Operação de Trânsito

22. O condutor envolvido em acidente com vítima que deixar de prestar ou providenciar socorro à mesma, de acordo com o art. 176 do CBT, podendo fazê-lo, estará cometendo uma:

- a) Infração grave, Penalidade - multa (duas vezes), suspensão do direito de dirigir.
- b) Infração gravíssima, Penalidade - multa (seis vezes), suspensão do direito de dirigir e apreensão do veículo.
- c) Infração grave, Penalidade - multa.
- d) Infração gravíssima, Penalidade - multa (cinco vezes), suspensão do direito de dirigir.
- e) Infração grave, multa (três vezes), suspensão do direito de dirigir e apreensão do veículo.

23. Conforme o art. 33 do CBT, os usuários das vias terrestres:

- a) Ao ouvir o alarme sonoro, deverão aguardar no passeio, só atravessando a via quando o veículo já tiver passado pelo local.
- b) Deverão dirigir com atenção redobrada ou parar o veículo com vistas à segurança dos pedestres.
- c) Antes de iniciar qualquer manobra que implique um deslocamento lateral, deverão indicar seu propósito de forma clara e com a devida antecedência, por meio da luz indicadora de direção de seu veículo, ou fazendo gesto convencional de braço.
- d) Devem abster-se de todo ato que possa constituir perigo ou obstáculo para o trânsito de veículos, de pessoas ou de animais, ou ainda causar danos a propriedades públicas ou privadas.
- e) Quando proibido o estacionamento na via, devem restringir a sua parada ao tempo indispensável para embarque ou desembarque de passageiros, desde que não interrompa ou perturbe o fluxo de veículos ou a locomoção de pedestres.

24. O CBT estabelece que o agente de trânsito pode utilizar-se de sinais e gestos sonoros para auxílio nas abordagens de veículos em trânsito nas vias públicas. Na ordem de parada obrigatória para todos os veículos, quando executada em interseção, os veículos que já se encontram nela não são obrigados a parar. Nesse caso, o agente de trânsito deve estar com o braço:

- a) Estendido horizontalmente com a palma da mão para frente.
- b) Levantado verticalmente, com a palma da mão para frente.
- c) Levantado com o movimento de antebraço da frente para a retaguarda e a palma da mão para trás.
- d) Estendido horizontalmente com a palma da mão para baixo fazendo movimentos verticais.
- e) Estendido horizontalmente com a palma da mão para frente do lado do trânsito a quem se destina.

25. Os veículos são classificados, segundo o CBT Art.96, em tração e espécie. A bicicleta, a carroça e o caminhão-trator são respectivamente das espécies:

- a) Misto, oficial e carga.
- b) Passageiros, carga e tração.
- c) De competição, especial e carga.
- d) Passageiros, misto e rural.
- e) Tração, passageiros e carga.

26. O art.68 do CBT estabelece: É assegurada ao pedestre a utilização dos passeios ou passagens apropriadas das vias urbanas e dos acostamentos das vias rurais para circulação, podendo a autoridade competente permitir a utilização de parte da calçada para outros fins, desde que não seja prejudicial ao fluxo de pedestres.

Qual das alternativas descreve uma situação verdadeira em relação a esse artigo?

- a) O ciclista desmontado empurrando a bicicleta, não se equipara ao pedestre em direitos e deveres.
- b) Onde houver obstrução da calçada ou da passagem para pedestres, o órgão ou entidade com circunscrição sobre a via não assegurará a devida sinalização e proteção para circulação de pedestres.
- c) A circulação de pedestres na pista de rolamento deverá ser feita pelos bordos da pista, em fila única, independente de locais proibidos pela sinalização, sendo prioridade dos veículos para que não haja situações em que a segurança pode ficar comprometida.
- d) Nos trechos urbanos de vias rurais e nas obras de arte a serem construídas, não deverá ser previsto passeio destinado à circulação dos pedestres, que poderão, nessas condições, usar o acostamento.
- e) Nas vias rurais, quando não houver acostamento ou quando não for possível a utilização dele, a circulação de pedestres, na pista de rolamento, será feita com prioridade sobre os veículos, pelos bordos da pista, em fila única, em sentido contrário ao deslocamento de veículos, exceto em locais proibidos pela sinalização e nas situações em que a segurança ficar comprometida.

27. A fiscalização de trânsito, aplicação de medidas administrativas e penalidades cabíveis de multa, são realizadas pelos órgãos competentes municipais e estaduais. Com respeito a isso, dentre as infrações apresentadas nas alternativas, qual é de competência somente dos órgãos municipais, segundo a resolução 66/98 do CONTRAN?

- a) Portar no veículo placas de identificação em desacordo com as especificações e modelos estabelecidos pelo CONTRAN.
- b) Transitar com o farol desregulado ou com o fecho de luz alta de forma a perturbar a visão de outro condutor.
- c) Estacionar o veículo em locais e horários proibidos especificamente pela sinalização (placa - Proibido Estacionar).
- d) Conduzir o veículo com o lacre, a inscrição do chassi, o selo, a placa ou qualquer outro elemento de identificação do veículo violado ou falsificado.
- e) Falsificar ou adulterar documento de habilitação e de identificação do veículo.

28. Qual o significado da placa a seguir, segundo a sinalização brasileira de trânsito?


- a) Pista Escorregadia
- b) Área com desmoronamento
- c) Pista Irregular
- d) Via sem asfalto
- e) Projeção de cascalho

29. Qual a função do cinto de segurança nos veículos automotores, segundo a Cartilha de Direção defensiva do DENATRAN?

- a) Para limitar a movimentação dos ocupantes de um veículo, em casos de acidentes ou numa freada brusca.
- b) Para que o condutor possa fazer manobras durante o tráfego no trânsito, segurando no cinto para criar estabilidade.
- c) Para que o condutor possa carregar crianças menores de dez anos no banco da frente.
- d) Somente para segurança de crianças menores de doze anos, evitando usar cadeiras específicas.
- e) Não há necessidade de cinto de segurança quando o veículo possuir air bag.

30. De acordo com a cartilha do DENATRAN de Primeiros Socorros, como se deve proceder com uma vítima de acidente de trânsito?

- a) Movimente a vítima e a retire do local do acidente.
- b) Dê líquido para a vítima ingerir.
- c) Impeça a movimentação da cabeça da vítima.
- d) Retire o capacete, no caso de motociclistas.
- e) Caso ela tenha hemorragia, faça um torniquete.

LÍNGUA PORTUGUESA



Leia o texto e responda às próximas quatro questões.

Lêmures e baobás de Madagascar

Isolada do continente há 135 milhões de anos, a ilha do Oceano Índico é um laboratório natural da evolução das espécies e encanta os viajantes com uma flora e fauna única

Madagascar abriga 107 espécies de **lêmures**, dezenas de espécies de camaleões coloridos e outras tantas plantas que só existem lá. “Madagascar é um mundo a parte. Costumo dizer que, se Charles Darwin tivesse conhecido Madagascar, seu livro *A Origem das Espécies* seria dez vezes maior”, afirma o fotógrafo e jornalista **Haroldo Castro**, idealizador de Viajologia Expedições.

Uma das experiências mais emocionantes na quarta maior ilha do mundo é passear entre os gigantescos **baobás**, árvores que chegam a ter 30 metros de altura e mil anos de idade. Das nove espécies de baobás que existem no mundo, seis podem ser encontradas apenas em Madagascar. A majestosa árvore, considerada sagrada pelos malgaxes, é chamada localmente como “reniala”, mãe da floresta.

Na pequena cidade de Bekopaka está o Parque Nacional Tsingy de Bemaraha, considerado Patrimônio Mundial pela Unesco. Trilhas e passeios de canoa no rio Manambolo conduzem a formações rochosas calcárias inusitadas e plantas endêmicas desse ecossistema de florestas secas.

Outro momento inesquecível em Madagascar é o encontro com os lêmures nas florestas tropicais da reserva Anjozorobe-Angavo, a 90 quilômetros da capital Antananarivo. Especialistas apontam que o turismo de observação de animais é uma excelente alternativa para o desenvolvimento da economia local e pode ajudar a conter o desmatamento. “O projeto em Anjozorobe comprova que, nos últimos anos, os 9 mil visitantes contribuíram de forma concreta a reduzir a pobreza e a promover a conservação da biodiversidade”, afirma Haroldo. Como os primatas são curiosos e estão habituados aos seres humanos, eles costumam se aproximar dos visitantes. “Os bichinhos chegam a subir nas nossas cabeças e parecem adorar aparecer nas fotos.”

Madagascar possui hoje uma excelente estrutura para o turismo, com algumas estradas bem cuidadas e hotéis confortáveis localizados perto das reservas e parques ecológicos. A gastronomia malgaxe, com um toque francês, também surpreende pela diversidade de ingredientes, temperos e colorido dos pratos.

[...]

(Fonte: <http://viajeaquil.com.br/materias/lemures-e-baobas-de-madagascar#2>. Acesso em 14/05/2016)

31. Lêmures e baobás de Madagascar é um texto:

- Em que prevalece a descrição, apresentando as belezas e peculiaridades do lugar, da fauna e da flora.
- Principalmente narrativo, de fatos colhidos durante uma viagem, que se sucedem em progressão temporal.
- Essencialmente argumentativo, o uso da descrição visa somente a convencer o leitor a visitar Madagascar.
- Dissertativo, impera o desenvolvimento de argumentos para comprovar a tese presente no primeiro parágrafo.
- Em que predomina a exposição de conceitos e definições com o intuito de informar o leitor.

32. O teor do texto *Lêmures e baobás de Madagascar* somente não poderia se encaixar em que tópico?

- Turismo
- Viagens
- Clima
- Natureza
- Ilhas

33. O aposto é um termo que *explica ou esclarece, desenvolve ou resume outro termo da oração*. Quanto a isso, analise a parte grifada em cada uma das orações retiradas do texto:

I - *A majestosa árvore, considerada sagrada pelos malgaxes, é chamada localmente como “reniala”, mãe da floresta.*

II - *afirma o fotógrafo e jornalista Haroldo Castro, idealizador de Viajologia Expedições.*

III - *Outro momento inesquecível em Madagascar é o encontro com os lêmures nas florestas tropicais da reserva Anjozorobe-Angavo, a 90 quilômetros da capital Antananarivo.*

IV - *O projeto em Anjozorobe comprova que, nos últimos anos, os 9 mil visitantes contribuíram de forma concreta a reduzir a pobreza e a promover a conservação da biodiversidade”.*

V - *A gastronomia malgaxe, com um toque francês, também surpreende pela diversidade de ingredientes, temperos e colorido dos pratos.*

Constitui aposto os grifos em:

- I, II, III, IV e V.
- I, III e V, apenas.
- III e V apenas.
- I, II, III, e V, apenas.
- III, IV e V apenas

34. Trilhas e passeios de canoa no rio Manambolo conduzem a formações rochosas calcárias inusitadas e plantas endêmicas desse ecossistema de florestas secas.

Ao observar a relação sintática entre os termos desse período, pode-se afirmar que:



- a) de canoa é complemento nominal de Trilhas e passeios.
 b) no rio Manambolo é adjunto adnominal de canoa.
 c) de florestas secas é complemento nominal de plantas endêmicas.
 d) de canoa é complemento verbal de passeios.
 e) a formações rochosas calcárias inusitadas e plantas endêmicas desse ecossistema de florestas secas é complemento verbal de conduzem.

Leia o poema e responda às próximas duas questões.

FOGO NA MATA, MATA!

Fogo na mata, mata! A mata, a vida...
 Fogo na mata, abre,
 no coração da mata,
 Profundas feridas.

Fogo na mata corrói,
 dentro de nós, os sonhos.
 Fogo na mata, deixa, no seio da mata,
 Tumores tamanhos!

[...]

(Fonte: <http://www.recantodasletras.com.br/letras/505252>. Acesso em 14/05/2016)

35. A respeito de alguns aspectos gramaticais pertinentes aos termos em destaque na frase título do poema *Fogo na mata, mata!*, está correto o que se afirma em:

- a) Morfologicamente, na sequência em que as duas palavras aparecem, temos um verbo e um substantivo.
 b) Semanticamente, as duas palavras constituem homônimas homófonas homógrafas.
 c) O processo de formação da palavra “mata” (primeira ocorrência na frase) é por derivação regressiva do verbo “matar” cuja flexão na terceira pessoa vem logo em seguida na frase.
 d) Semanticamente, as duas palavras “mata” são parônimas.
 e) Semanticamente, as duas palavras constituem homônimas homógrafas heterofônicas.

36. Com a Nova Reforma Ortográfica, foi mantido o acento nas oxítonas terminadas em -ei e -oi, como é o caso de corrói em *Fogo na mata corrói*. No entanto, de acordo ainda com a Nova Reforma, os acentos foram retirados de quais duas palavras?

- a) Bocaiuva - maiúscula
 b) Voo, aerodromo
 c) Releem - feiura
 d) Papeis - língua
 e) Preveem - herói

37. Leia atentamente as alternativas e assinale a incorreta no que diz respeito à Ortografia:

- a) Grafamos com j as palavras ultraje, jiboia e gorjeio; com g as palavras ferrugem, geringonça, e miragem.
 b) Grafamos com sc: miscelânea, obsceno e obscensão; com c: sucinto, facínio e nécio.
 c) Grafamos com x: xampu, mexerico e enxada; com ch: piche, tocha e mecha.
 d) Grafamos com z: xadrez, cicatriz e vizinho; com s: friso, pêsames e tesoura.
 e) Grafamos com ss: escassez, submissão e sossego; com c: acetinado, obcecado e acepção.

38. O advérbio sublinhado e a circunstância que ele expressa não estão corretamente apresentados em:

- a) Ele certamente virá para o encontro. (afirmação)
 b) Ali se ouvia falar de riquezas culturais. (tempo)
 c) O orador discursou muito bem, impressionou a plateia. (modo)
 d) Chegamos tarde, perdemos o ônibus. (tempo)
 e) Os candidatos estudaram bastante. (intensidade)

39. Os pronomes pessoais, representantes das pessoas do discurso, estão corretamente empregados em todas as alternativas, com exceção da:

- a) Sempre haverá discordância entre mim e ti.
 b) O juiz queria falar com nós dois.
 c) Minha festa de despedida, não vou esquecê-la jamais.
 d) Ninguém irá sem eu.
 e) Deram o livro para eu ler em dois dias!



40. Em uma oração, o contexto permite concluirmos se certos verbos são de ligação, para assim identificarmos o predicado nominal. Assim, não há predicação nominal em:

- a) O aluno não estava na escola hoje.
- b) À tarde, as crianças pareciam cansadas.
- c) Ultimamente os participantes do programa andam desanimados.
- e) A aurora boreal é um lindo espetáculo.
- d) As atletas parecem cansadas.

RASCUNHO



PREFEITURA DE TELÊMACO BORBA - ESTADO DO PARANÁ - EDITAL Nº 001-2016 - CONCURSO PÚBLICO

MATUTINO – 29/05/2016 – NÍVEL MÉDIO

3

PROVA OBJETIVA NÚMERO

CARGO: AGENTE DE TRÂNSITO

Leia atentamente as **INSTRUÇÕES**:

1. Confira seus dados no cartão-resposta: nome, número de inscrição e o curso para o qual se inscreveu.
2. **MARQUE no seu cartão-resposta o número da sua prova** (não será corrigido o cartão-resposta que não tiver marcado o número da prova) e **Assine** seu cartão-resposta.
3. Aguarde a autorização do Fiscal para abrir o caderno de prova. Ao receber a ordem do fiscal, confira o caderno de prova com muita atenção. Nenhuma reclamação sobre o total de questões ou falha de impressão será aceita depois de iniciada a prova.
4. O cartão-resposta não será substituído, salvo se contiver erro de impressão.
5. Preencha toda a área do cartão-resposta correspondente à alternativa de sua escolha, com caneta esferográfica (tinta azul ou preta), sem ultrapassar as bordas. As marcações duplas, ou rasuradas, com corretivo, ou marcadas diferentemente do modelo estabelecido no cartão-resposta poderão ser anuladas.
6. Sua prova tem **40** questões, com **5** alternativas.
7. Cabe apenas ao candidato a interpretação das questões, **o fiscal** não poderá fazer nenhuma interferência.
8. A prova será realizada com duração máxima de **3 (três) horas**, incluído o tempo para a realização da Prova Objetiva de múltipla escolha e o preenchimento do cartão-resposta.
9. O candidato poderá retirar-se do local de realização das provas somente **1 (uma) hora** após o seu início, sem levar o caderno de prova.
10. O candidato poderá levar o caderno de provas, assim como anotação contendo transcrição do seu cartão-resposta, somente **1h30min** (uma hora e trinta minutos) após o início da realização da prova.
11. Ao terminar a prova, o candidato deverá entregar ao fiscal de sala o cartão-resposta preenchido e **ASSINADO**.
12. Os **3 (três)** candidatos, que terminarem a prova por último, deverão permanecer na sala, e só poderão sair juntos após o fechamento do envelope, contendo os cartões-resposta dos candidatos presentes e ausentes, e assinarem no lacre do referido envelope, atestando que este foi devidamente lacrado.
13. Durante todo o tempo em que permanecer no local onde está ocorrendo o concurso, o candidato deverá, manter o celular desligado e sem bateria, só sendo permitido ligar depois de ultrapassar o portão de saída do prédio.
14. Não será permitido ao candidato fumar na sala de provas, bem como nas dependências.
15. Depois de terminar a prova e entregar ao fiscal o cartão-resposta, preenchido e assinado, não será mais permitido ao candidato o uso do banheiro e bebedouro.

BOA PROVA!

CONHECIMENTOS ESPECÍFICOS**01. O anexo I do Código Brasileiro de Trânsito estabelece:**

A imobilização do veículo, pelo tempo estritamente necessário ao carregamento ou descarregamento de animais ou carga, na forma disciplinada pelo órgão ou entidade executivo de trânsito competente com circunscrição sobre a via, caracteriza um(a):

- a) Regulamentação da via
- b) Parada
- c) Operação de carga e descarga
- d) Patrulhamento
- e) Operação de Trânsito

02. O condutor envolvido em acidente com vítima que deixar de prestar ou providenciar socorro à mesma, de acordo com o art. 176 do CBT, podendo fazê-lo, estará cometendo uma:

- a) Infração grave, Penalidade - multa (duas vezes), suspensão do direito de dirigir.
- b) Infração gravíssima, Penalidade - multa (seis vezes), suspensão do direito de dirigir e apreensão do veículo.
- c) Infração grave, Penalidade - multa.
- d) Infração gravíssima, Penalidade - multa (cinco vezes), suspensão do direito de dirigir.
- e) Infração grave, multa (três vezes), suspensão do direito de dirigir e apreensão do veículo.

03. Conforme o art. 33 do CBT, os usuários das vias terrestres:

- a) Ao ouvir o alarme sonoro, deverão aguardar no passeio, só atravessando a via quando o veículo já tiver passado pelo local.
- b) Deverão dirigir com atenção redobrada ou parar o veículo com vistas à segurança dos pedestres.
- c) Antes de iniciar qualquer manobra que implique um deslocamento lateral, deverão indicar seu propósito de forma clara e com a devida antecedência, por meio da luz indicadora de direção de seu veículo, ou fazendo gesto convencional de braço.
- d) Devem abster-se de todo ato que possa constituir perigo ou obstáculo para o trânsito de veículos, de pessoas ou de animais, ou ainda causar danos a propriedades públicas ou privadas.
- e) Quando proibido o estacionamento na via, devem restringir a sua parada ao tempo indispensável para embarque ou desembarque de passageiros, desde que não interrompa ou perturbe o fluxo de veículos ou a locomoção de pedestres.

04. O CBT estabelece que o agente de trânsito pode utilizar-se de sinais e gestos sonoros para auxílio nas abordagens de veículos em trânsito nas vias públicas. Na ordem de parada obrigatória para todos os veículos, quando executada em interseção, os veículos que já se encontram nela não são obrigados a parar. Nesse caso, o agente de trânsito deve estar com o braço:

- a) Estendido horizontalmente com a palma da mão para frente.
- b) Levantado verticalmente, com a palma da mão para frente.
- c) Levantado com o movimento de antebraço da frente para a retaguarda e a palma da mão para trás.
- d) Estendido horizontalmente com a palma da mão para baixo fazendo movimentos verticais.
- e) Estendido horizontalmente com a palma da mão para frente do lado do trânsito a quem se destina.

05. Os veículos são classificados, segundo o CBT Art.96, em tração e espécie. A bicicleta, a carroça e o caminhão-trator são respectivamente das espécies:

- a) Misto, oficial e carga.
- b) Passageiros, carga e tração.
- c) De competição, especial e carga.
- d) Passageiros, misto e rural.
- e) Tração, passageiros e carga.

06. O art.68 do CBT estabelece: É assegurada ao pedestre a utilização dos passeios ou passagens apropriadas das vias urbanas e dos acostamentos das vias rurais para circulação, podendo a autoridade competente permitir a utilização de parte da calçada para outros fins, desde que não seja prejudicial ao fluxo de pedestres.**Qual das alternativas descreve uma situação verdadeira em relação a esse artigo?**

- a) O ciclista desmontado empurrando a bicicleta, não se equipara ao pedestre em direitos e deveres.
- b) Onde houver obstrução da calçada ou da passagem para pedestres, o órgão ou entidade com circunscrição sobre a via não assegurará a devida sinalização e proteção para circulação de pedestres.
- c) A circulação de pedestres na pista de rolamento deverá ser feita pelos bordos da pista, em fila única, independente de locais proibidos pela sinalização, sendo prioridade dos veículos para que não haja situações em que a segurança pode ficar comprometida.
- d) Nos trechos urbanos de vias rurais e nas obras de arte a serem construídas, não deverá ser previsto passeio destinado à circulação dos pedestres, que poderão, nessas condições, usar o acostamento.
- e) Nas vias rurais, quando não houver acostamento ou quando não for possível a utilização dele, a circulação de pedestres, na pista de rolamento, será feita com prioridade sobre os veículos, pelos bordos da pista, em fila única,

em sentido contrário ao deslocamento de veículos, exceto em locais proibidos pela sinalização e nas situações em que a segurança ficar comprometida.

07. A fiscalização de trânsito, aplicação de medidas administrativas e penalidades cabíveis de multa, são realizadas pelos órgãos competentes municipais e estaduais. Com respeito a isso, dentre as infrações apresentadas nas alternativas, qual é de competência somente dos órgãos municipais, segundo a resolução 66/98 do CONTRAN?

- Portar no veículo placas de identificação em desacordo com as especificações e modelos estabelecidos pelo CONTRAN.
- Transitar com o farol desregulado ou com o fecho de luz alta de forma a perturbar a visão de outro condutor.
- Estacionar o veículo em locais e horários proibidos especificamente pela sinalização (placa - Proibido Estacionar).
- Conduzir o veículo com o lacre, a inscrição do chassi, o selo, a placa ou qualquer outro elemento de identificação do veículo violado ou falsificado.
- Falsificar ou adulterar documento de habilitação e de identificação do veículo.

08. Qual o significado da placa a seguir, segundo a sinalização brasileira de trânsito?



- Pista Escorregadia
- Área com desmoronamento
- Pista Irregular
- Via sem asfalto
- Projeção de cascalho

09. Qual a função do cinto de segurança nos veículos automotores, segundo a Cartilha de Direção defensiva do DENATRAN?

- Para limitar a movimentação dos ocupantes de um veículo, em casos de acidentes ou numa freada brusca.
- Para que o condutor possa fazer manobras durante o tráfego no trânsito, segurando no cinto para criar estabilidade.
- Para que o condutor possa carregar crianças menores de dez anos no banco da frente.
- Somente para segurança de crianças menores de doze anos, evitando usar cadeiras específicas.
- Não há necessidade de cinto de segurança quando o veículo possuir air bag.

10. De acordo com a cartilha do DENATRAN de Primeiros Socorros, como se deve proceder com uma vítima de acidente de trânsito?

- Movimente a vítima e a retire do local do acidente.
- Dê líquido para a vítima ingerir.
- Impeça a movimentação da cabeça da vítima.
- Retire o capacete, no caso de motociclistas.
- Caso ela tenha hemorragia, faça um torniquete.

LÍNGUA PORTUGUESA

Leia o texto e responda às próximas quatro questões.

Lêmures e baobás de Madagascar

Isolada do continente há 135 milhões de anos, a ilha do Oceano Índico é um laboratório natural da evolução das espécies e encanta os viajantes com uma flora e fauna única

Madagascar abriga 107 espécies de **lêmures**, dezenas de espécies de camaleões coloridos e outras tantas plantas que só existem lá. “Madagascar é um mundo a parte. Costumo dizer que, se Charles Darwin tivesse conhecido Madagascar, seu livro *A Origem das Espécies* seria dez vezes maior”, afirma o fotógrafo e jornalista **Haroldo Castro**, idealizador de Viajologia Expedições.

Uma das experiências mais emocionantes na quarta maior ilha do mundo é passear entre os gigantescos **baobás**, árvores que chegam a ter 30 metros de altura e mil anos de idade. Das nove espécies de baobás que existem no mundo, seis podem ser encontradas apenas em Madagascar. A majestosa árvore, considerada sagrada pelos malgaxes, é chamada localmente como “reniala”, mãe da floresta.

Na pequena cidade de Bekopaka está o Parque Nacional Tsingy de Bemaraha, considerado Patrimônio Mundial pela Unesco. Trilhas e passeios de canoa no rio Manambolo conduzem a formações rochosas calcárias inusitadas e plantas endêmicas desse ecossistema de florestas secas.

Outro momento inesquecível em Madagascar é o encontro com os lêmures nas florestas tropicais da reserva Anjozorobe-Angavo, a 90 quilômetros da capital Antananarivo. Especialistas apontam que o turismo de observação de animais é uma excelente alternativa para o desenvolvimento da economia local e pode ajudar a conter o desmatamento. “O projeto em Anjozorobe comprova que, nos últimos anos, os 9 mil visitantes contribuíram de forma concreta a reduzir a pobreza e a promover a conservação da biodiversidade”, afirma Haroldo. Como os primatas são curiosos e estão habituados aos seres humanos, eles costumam se aproximar dos visitantes. “Os bichinhos chegam a subir nas nossas cabeças e parecem adorar aparecer nas fotos.”

Madagascar possui hoje uma excelente estrutura para o turismo, com algumas estradas bem cuidadas e hotéis confortáveis localizados perto das reservas e parques ecológicos. A gastronomia malgaxe, com um toque francês, também surpreende pela diversidade de ingredientes, temperos e colorido dos pratos.

[...]

(Fonte: <http://viajeaqu.abril.com.br/materias/lemures-e-baobas-de-madagascar#2>. Acesso em 14/05/2016)

11. *Lêmures e baobás de Madagascar* é um texto:

- Em que prevalece a descrição, apresentando as belezas e peculiaridades do lugar, da fauna e da flora.
- Principalmente narrativo, de fatos colhidos durante uma viagem, que se sucedem em progressão temporal.
- Essencialmente argumentativo, o uso da descrição visa somente a convencer o leitor a visitar Madagascar.
- Dissertativo, impera o desenvolvimento de argumentos para comprovar a tese presente no primeiro parágrafo.
- Em que predomina a exposição de conceitos e definições com o intuito de informar o leitor.

12. O teor do texto *Lêmures e baobás de Madagascar* somente não poderia se encaixar em que tópico?

- Turismo
- Viagens
- Clima
- Natureza
- Ilhas

13. O aposto é um termo que *explica ou esclarece, desenvolve ou resume outro termo da oração*. Quanto a isso, analise a parte grifada em cada uma das orações retiradas do texto:

I - A majestosa árvore, considerada sagrada pelos malgaxes, é chamada localmente como “reniala”, mãe da floresta.

II - afirma o fotógrafo e jornalista Haroldo Castro, idealizador de Viajologia Expedições.

III - Outro momento inesquecível em Madagascar é o encontro com os lêmures nas florestas tropicais da reserva Anjozorobe-Angavo, a 90 quilômetros da capital Antananarivo.

IV - O projeto em Anjozorobe comprova que, nos últimos anos, os 9 mil visitantes contribuíram de forma concreta a reduzir a pobreza e a promover a conservação da biodiversidade”.

V - A gastronomia malgaxe, com um toque francês, também surpreende pela diversidade de ingredientes, temperos e colorido dos pratos.

Constitui aposto os grifos em:

- I, II, III, IV e V.
- I, III e V, apenas.
- III e V apenas.
- I, II, III, e V, apenas.
- III, IV e V apenas

14. *Trilhas e passeios de canoa no rio Manambolo conduzem a formações rochosas calcárias inusitadas e plantas endêmicas desse ecossistema de florestas secas*.

Ao observar a relação sintática entre os termos desse período, pode-se afirmar que:

- de canoa é complemento nominal de Trilhas e passeios.
- no rio Manambolo é adjunto adnominal de canoas.
- de florestas secas é complemento nominal de plantas endêmicas.
- de canoa é complemento verbal de passeios.
- a formações rochosas calcárias inusitadas e plantas endêmicas desse ecossistema de florestas secas é complemento verbal de conduzem.

Leia o poema e responda às próximas duas questões.

FOGO NA MATA, MATA!

Fogo na mata, mata! A mata, a vida...
Fogo na mata, abre,
no coração da mata,

Profundas feridas.

Fogo na mata corrói,
dentro de nós, os sonhos.
Fogo na mata, deixa, no seio da mata,
Tumores tamanhos!

[...]

(Fonte: <http://www.recantodasletras.com.br/letras/505252>. Acesso em 14/05/2016)

15. A respeito de alguns aspectos gramaticais pertinentes aos termos em destaque na frase título do poema *Fogo na mata, mata!*, está correto o que se afirma em:

- Morfologicamente, na sequência em que as duas palavras aparecem, temos um verbo e um substantivo.
- Semanticamente, as duas palavras constituem homônimas homófonas homógrafas.
- O processo de formação da palavra “mata” (primeira ocorrência na frase) é por derivação regressiva do verbo “matar” cuja flexão na terceira pessoa vem logo em seguida na frase.
- Semanticamente, as duas palavras “mata” são parônimas.
- Semanticamente, as duas palavras constituem homônimas homógrafas heterofônicas.

16. Com a Nova Reforma Ortográfica, foi mantido o acento nas oxítonas terminadas em -ei e -oi, como é o caso de corrói em *Fogo na mata corrói*. No entanto, de acordo ainda com a Nova Reforma, os acentos foram retirados de quais duas palavras?

- Bocaiuva - maiúscula
- Voo, aerodromo
- Releem - feiura
- Papeis - língua
- Preveem - herói

17. Leia atentamente as alternativas e assinale a incorreta no que diz respeito à Ortografia:

- Grafamos com j as palavras ultraje, jiboia e gorjeio; com g as palavras ferrugem, geringonça, e miragem.
- Grafamos com sc: miscelânea, obsceno e obsessão; com c: sucinto, facínio e nécio.
- Grafamos com x: xampu, mexerico e enxada; com ch: piche, tocha e mecha.
- Grafamos com z: xadrez, cicatriz e vizinho; com s: friso, pêsames e tesoura.
- Grafamos com ss: escassez, submissão e sossego; com c: acetinado, obcecado e acepção.

18. O advérbio sublinhado e a circunstância que ele expressa não estão corretamente apresentados em:

- Ele certamente virá para o encontro. (afirmação)
- Ali se ouvia falar de riquezas culturais. (tempo)
- O orador discursou muito bem, impressionou a plateia. (modo)
- Chegamos tarde, perdemos o ônibus. (tempo)
- Os candidatos estudaram bastante. (intensidade)

19. Os pronomes pessoais, representantes das pessoas do discurso, estão corretamente empregados em todas as alternativas, com exceção da:

- Sempre haverá discordância entre mim e ti.
- O juiz queria falar com nós dois.
- Minha festa de despedida, não vou esquecê-la jamais.
- Ninguém irá sem eu.
- Deram o livro para eu ler em dois dias!

20. Em uma oração, o contexto permite concluirmos se certos verbos são de ligação, para assim identificarmos o predicado nominal. Assim, não há predicção nominal em:

- O aluno não estava na escola hoje.
- À tarde, as crianças pareciam cansadas.
- Ultimamente os participantes do programa andam desanimados.
- A aurora boreal é um lindo espetáculo.
- As atletas parecem cansadas.

MATEMÁTICA

21. Numa prova de hipismo, há duas modalidades totalmente distintas: salto e rural. João vai competir nas duas modalidades. Sabendo que a vitória ou a derrota em uma nada influencia no resultado da outra, e sabendo que a probabilidade de ele ganhar a prova de salto é de 40% e a de ganhar a prova de rural é de 58%, qual a probabilidade de ele ganhar as duas provas?

- 98%
- 62%

- c) 23,2%
 d) 18%
 e) 2,32%

22. Numa escola há 12 professores. A tabela a seguir mostra a carga horária diária de trabalho desses professores.

4	8	5	10	6	5	8	6	8	9	4	8
---	---	---	----	---	---	---	---	---	---	---	---

É correto afirmar que as cargas horárias média, modal e mediana desses professores são respectivamente:

- a) 6,25; 6; 7
 b) 6,5; 7; 8
 c) 6,75; 8; 6
 d) 6,75; 8; 7
 e) 6,75; 7; 8

23. Encontre a equação da reta mediatriz do segmento AB, onde A(2, 3) e B(4, -1), e assinale a alternativa correta.

- a) $2y - x + 1 = 0$
 b) $y - 2x + 2 = 0$
 c) $2y - 2x + 1 = 0$
 d) $2y + x + 2 = 0$
 e) $2y + x - 1 = 0$

24. Uma loja acrescenta 15% no preço de seus produtos à vista se o cliente optar por pagar com um cheque para 60 dias. Comprei, nessa loja, um fogão com cheque para 60 dias e paguei R\$552,00 por ele. Qual era o preço à vista desse fogão?

- a) R\$460,00
 b) R\$469,20
 c) R\$474,50
 d) R\$480,00
 e) R\$500,00

25. Um pesquisador, ao analisar os processos que envolvem jovens com menos de 24 anos, descobriu que há 4 homens com nomes envolvidos em processos para cada mulher. Se no total ele contou 2400 pessoas, quantas eram as mulheres envolvidas nessa pesquisa?

- a) 480
 b) 600
 c) 800
 d) 1920
 e) 2000

INFORMÁTICA

26. Utilizando o Excel 2013, qual fórmula representa corretamente a auto soma?

- a) =SUM()
 b) =MEDIA()
 c) =MAX()
 d) =MIN()
 e) =SE()

27. Acerca de confidencialidade está incorreto afirmar:

- a) É um conceito no qual o acesso à informação deve ser concedido a quem de direito, ou seja, apenas para as entidades autorizadas pelo proprietário ou dono da informação.
 b) É uma propriedade que limita o acesso à informação tão somente às entidades legítimas, ou seja, àquelas autorizadas pelo proprietário da informação.
 c) É a propriedade da informação que não estará disponível ou será divulgada a indivíduos, entidades ou processos sem autorização.
 d) Significa garantir que a informação será conhecida por pessoas que não estejam autorizadas para tal.
 e) É a garantia do resguardo das informações dadas pessoalmente em confiança e proteção contra a sua revelação não autorizada.

28. Tratando-se de hardware de computadores, assinale a alternativa que corresponde a um tipo de memória externa.

- a) Pen Drive
 b) EPROM

- c) DIMM
- d) MRAM
- e) Cache

29. No Word 2013, é possível utilizar vários tipos de formatação de fontes, exceto:

- a) Tachado
- b) Negrito
- c) Centralizado
- d) Sublinhado
- e) Cor da fonte

30. Qual software nativo do Windows utilizamos para descobrir o endereço IP do computador?

- a) Windows Explorer
- b) Notepad
- c) Excel
- d) Word
- e) Prompt de Comando

CONHECIMENTOS GERAIS

31. Conforme fonte do IBGE, o bioma do município de Telêmaco Borba/PR é:

- a) Mata de Pinhais e Cerrado
- b) Pantanal
- c) Caatinga e Mata Atlântica
- d) Floresta Tropical
- e) Cerrado e Mata Atlântica

32. A letra do hino do município de Telêmaco Borba/PR é de autoria de

- a) Bento Mossurunga.
- b) Moisés Lupion.
- c) Eloah Martins Quadrado.
- d) Graciliana Reis D'Albuquerque Mossurunga.
- e) Enéias Augusto Moracines Borba.

33. Leia o texto sobre o Brasão de Armas do município de Telêmaco Borba/PR e marque a alternativa correta.

O Brasão de Armas foi aprovado em definitivo em 1981, dentro dos padrões da heráldica, estabelecendo os regulamentos para seu uso, ficando assim oficializado.

No Brasão de Armas, é possível identificar:

- 1. Escudo português redondo banhado de ouro filetado de prata, carregado de cinco árvores de pinho estilizadas de sua cor, postas em banda.**
- 2. Escudete de prata carregado de três Pinheiros do Paraná, araucária angustifolia ou brasiliense.**
- 3. No timbre, coroa mural de ouro lavrado de negro.**
- 4. À direita, haste de milho (zae mays) frutada.**
- 5. À sinistra, ramos de soja (gelycine soya) granada.**
- 6. Listel amarelo ostentando o topônimo "Cidade Nova" entre as inscrições de ouro "5 de Julho de 1963", em caracteres latino moderno.**

- a) Não é verdadeiro o item 1.
- b) Não é verdadeiro o item 2.
- c) Não é verdadeiro o item 4.
- d) Não é verdadeiro o item 6.
- e) Não são verdadeiros os itens 3 e 5.

34. Segundo o art. 11 da Lei Orgânica do Município de Telêmaco Borba/PR, os bens públicos podem ser:

I. De uso comum do Povo, tais como estradas municipais, ruas, parques, praças, logradouros públicos e outros da mesma espécie;

II. De uso especial, os de patrimônio administrativo, tais como edifícios das repartições públicas, os terrenos e equipamentos destinados ao serviço público, veículos, matadouros, mercados e outras serventias de outra espécie;

III. Bens municipais, aqueles sobre os quais o município exerce os direitos de proprietário e são considerados como bens patrimoniais disponíveis;

IV. Bens culturais, tais como música e obras de arte.

Podemos afirmar que são verdadeiros os itens

- a) I e II, apenas.
- b) II e III, apenas.
- c) I, II e III, apenas.



- d) I, III e IV, apenas.
e) I, II, III e IV.

35. Qual alternativa completa corretamente o texto a seguir?

No primeiro ano de cada legislatura, no dia 1º de janeiro, em sessão de instalação, independente de número, sob a presidência do vereador mais idoso dentre os eleitos, os vereadores prestarão compromisso e tomarão posse. O Vereador que não tomar posse na sessão do dia 1º de janeiro poderá fazê-la _____ depois da primeira sessão ordinária da Legislatura.

- a) até dez dias
b) até quinze dias
c) até trinta dias
d) até quarenta e cinco dias
e) até sessenta dias

36. Conforme o art. 54 da Lei Orgânica do Município de Telêmaco Borba/PR, o Processo Legislativo compreende a elaboração de:

- I. Emendas à Lei Orgânica do Município;**
II. Leis complementares;
III. Leis Ordinárias;
IV. Decretos Legislativos;
V. Resoluções;
VI. Pareceres.

Assinale a alternativa que faz a afirmação correta.

- a) São verdadeiros apenas os itens I, III e VI.
b) São verdadeiros apenas os itens I, III e IV.
c) São verdadeiros apenas os itens III, IV e V.
d) São verdadeiros apenas os itens I, II, III, IV e V.
e) São verdadeiros os itens I, II, III, IV, V e VI.

Com base na Lei nº 1883/2012, que dispõe sobre o Estatuto dos Servidores Públicos da Administração Direta, Autárquica e Funcional do Município de Telêmaco Borba/PR, responda às próximas quatro questões.

37. À luz do § 2º do art. 9º da Lei nº 1883/2012, marque a alternativa que completa a lacuna do texto a seguir.

O concurso deverá ser homologado no prazo máximo de _____ contados da data de realização da última fase de provas, sob pena de responsabilidade da autoridade competente.

- a) um mês
b) dois meses
c) seis meses
d) um ano
e) dois anos

38. Marque a alternativa que completa a lacuna do texto a seguir.

O candidato terá o prazo _____, a contar da publicação oficial da convocação, para comparecer à entidade convocante e assinar termo de comparecimento.

- a) máximo de 5 dias úteis
b) mínimo de 15 dias úteis
c) de até 30 dias
d) máximo de 15 dias úteis
e) mínimo de 5 dias úteis

39. Leia as assertivas e marque a correta.

- a) São reservados 10% dos cargos em comissão para a nomeação de servidores do quadro efetivo.
b) São reservados 15% dos cargos em comissão para a nomeação de servidores do quadro efetivo.
c) São reservados 20% dos cargos em comissão para a nomeação de servidores do quadro efetivo.
d) São reservados 25% dos cargos em comissão para a nomeação de servidores do quadro efetivo.
e) São reservados 30% dos cargos em comissão para a nomeação de servidores do quadro efetivo.

40. Marque a alternativa que completa a lacuna do texto a seguir.

O servidor municipal, quando nomeado para cargo em comissão, ficará afastado de seu cargo efetivo e fará jus à remuneração prevista em lei para o comissionado, podendo optar por receber seus vencimentos acrescidos de _____ do valor da remuneração prevista para o cargo em comissão.

- a) 10%
b) 20%



- c) 30%
- d) 40%
- e) 50%

RASCUNHO



PREFEITURA DE TELÊMACO BORBA - ESTADO DO PARANÁ - EDITAL Nº 001-2016 - CONCURSO PÚBLICO

MATUTINO – 29/05/2016 – NÍVEL MÉDIO

1

PROVA OBJETIVA NÚMERO

CARGO: EDUCADOR SOCIAL – FEMININO / MASCULINO

Leia atentamente as INSTRUÇÕES:

1. Confira seus dados no cartão-resposta: nome, número de inscrição e o curso para o qual se inscreveu.
2. **MARQUE no seu cartão-resposta o número da sua prova** (não será corrigido o cartão-resposta que não tiver marcado o número da prova) e **Assine** seu cartão-resposta.
3. Aguarde a autorização do Fiscal para abrir o caderno de prova. Ao receber a ordem do fiscal, confira o caderno de prova com muita atenção. Nenhuma reclamação sobre o total de questões ou falha de impressão será aceita depois de iniciada a prova.
4. O cartão-resposta não será substituído, salvo se contiver erro de impressão.
5. Preencha toda a área do cartão-resposta correspondente à alternativa de sua escolha, com caneta esferográfica (tinta azul ou preta), sem ultrapassar as bordas. As marcações duplas, ou rasuradas, com corretivo, ou marcadas diferentemente do modelo estabelecido no cartão-resposta poderão ser anuladas.
6. Sua prova tem **40** questões, com **5** alternativas.
7. Cabe apenas ao candidato a interpretação das questões, **o fiscal** não poderá fazer nenhuma interferência.
8. A prova será realizada com duração máxima de **3 (três) horas**, incluído o tempo para a realização da Prova Objetiva de múltipla escolha e o preenchimento do cartão-resposta.
9. O candidato poderá retirar-se do local de realização das provas somente **1 (uma) hora** após o seu início, sem levar o caderno de prova.
10. O candidato poderá levar o caderno de provas, assim como anotação contendo transcrição do seu cartão-resposta, somente **1h30min** (uma hora e trinta minutos) após o início da realização da prova.
11. Ao terminar a prova, o candidato deverá entregar ao fiscal de sala o cartão-resposta preenchido e **ASSINADO**.
12. Os **3 (três)** candidatos, que terminarem a prova por último, deverão permanecer na sala, e só poderão sair juntos após o fechamento do envelope, contendo os cartões-resposta dos candidatos presentes e ausentes, e assinarem no lacre do referido envelope, atestando que este foi devidamente lacrado.
13. Durante todo o tempo em que permanecer no local onde está ocorrendo o concurso, o candidato deverá, manter o celular desligado e sem bateria, só sendo permitido ligar depois de ultrapassar o portão de saída do prédio.
14. Não será permitido ao candidato fumar na sala de provas, bem como nas dependências.
15. Depois de terminar a prova e entregar ao fiscal o cartão-resposta, preenchido e assinado, não será mais permitido ao candidato o uso do banheiro e bebedouro.

BOA PROVA!

LÍNGUA PORTUGUESA

Leia o texto e responda às próximas quatro questões.

Lêmures e baobás de Madagascar

Isolada do continente há 135 milhões de anos, a ilha do Oceano Índico é um laboratório natural da evolução das espécies e encanta os viajantes com uma flora e fauna única

Madagascar abriga 107 espécies de **lêmures**, dezenas de espécies de camaleões coloridos e outras tantas plantas que só existem lá. “Madagascar é um mundo a parte. Costumo dizer que, se Charles Darwin tivesse conhecido Madagascar, seu livro *A Origem das Espécies* seria dez vezes maior”, afirma o fotógrafo e jornalista **Haroldo Castro**, idealizador de Viajologia Expedições.

Uma das experiências mais emocionantes na quarta maior ilha do mundo é passear entre os gigantescos **baobás**, árvores que chegam a ter 30 metros de altura e mil anos de idade. Das nove espécies de baobás que existem no mundo, seis podem ser encontradas apenas em Madagascar. A majestosa árvore, considerada sagrada pelos malgaxes, é chamada localmente como “reniala”, mãe da floresta.

Na pequena cidade de Bekopaka está o Parque Nacional Tsingy de Bemaraha, considerado Patrimônio Mundial pela Unesco. Trilhas e passeios de canoa no rio Manambolo conduzem a formações rochosas calcárias inusitadas e plantas endêmicas desse ecossistema de florestas secas.

Outro momento inesquecível em Madagascar é o encontro com os lêmures nas florestas tropicais da reserva Anjozorobe-Angavo, a 90 quilômetros da capital Antananarivo. Especialistas apontam que o turismo de observação de animais é uma excelente alternativa para o desenvolvimento da economia local e pode ajudar a conter o desmatamento. “O projeto em Anjozorobe comprova que, nos últimos anos, os 9 mil visitantes contribuíram de forma concreta a reduzir a pobreza e a promover a conservação da biodiversidade”, afirma Haroldo. Como os primatas são curiosos e estão habituados aos seres humanos, eles costumam se aproximar dos visitantes. “Os bichinhos chegam a subir nas nossas cabeças e parecem adorar aparecer nas fotos.”

Madagascar possui hoje uma excelente estrutura para o turismo, com algumas estradas bem cuidadas e hotéis confortáveis localizados perto das reservas e parques ecológicos. A gastronomia malgaxe, com um toque francês, também surpreende pela diversidade de ingredientes, temperos e colorido dos pratos.

[...]

(Fonte: <http://viajeaqu.abril.com.br/materias/lemures-e-baobas-de-madagascar#2>. Acesso em 14/05/2016)

01. Lêmures e baobás de Madagascar é um texto:

- Em que prevalece a descrição, apresentando as belezas e peculiaridades do lugar, da fauna e da flora.
- Principalmente narrativo, de fatos colhidos durante uma viagem, que se sucedem em progressão temporal.
- Essencialmente argumentativo, o uso da descrição visa somente a convencer o leitor a visitar Madagascar.
- Dissertativo, impera o desenvolvimento de argumentos para comprovar a tese presente no primeiro parágrafo.
- Em que predomina a exposição de conceitos e definições com o intuito de informar o leitor.

02. O teor do texto *Lêmures e baobás de Madagascar* somente não poderia se encaixar em que tópico?

- Turismo
- Viagens
- Clima
- Natureza
- Ilhas

03. O aposto é um termo que *explica ou esclarece, desenvolve ou resume outro termo da oração*. Quanto a isso, analise a parte grifada em cada uma das orações retiradas do texto:

I - A majestosa árvore, considerada sagrada pelos malgaxes, é chamada localmente como “reniala”, mãe da floresta.

II - afirma o fotógrafo e jornalista Haroldo Castro, idealizador de Viajologia Expedições.

III - *Outro momento inesquecível em Madagascar é o encontro com os lêmures nas florestas tropicais da reserva Anjozorobe-Angavo, a 90 quilômetros da capital Antananarivo.*

IV - *O projeto em Anjozorobe comprova que, nos últimos anos, os 9 mil visitantes contribuíram de forma concreta a reduzir a pobreza e a promover a conservação da biodiversidade”.*

V - *A gastronomia malgaxe, com um toque francês, também surpreende pela diversidade de ingredientes, temperos e colorido dos pratos.*

Constitui aposto os grifos em:

a) I, II, III, IV e V.

b) I, III e V, apenas.

c) III e V apenas.

d) I, II, III, e V, apenas.

e) III, IV e V apenas

04. Trilhas e passeios de canoa no rio Manambolo conduzem a formações rochosas calcárias inusitadas e plantas endêmicas desse ecossistema de florestas secas.

Ao observar a relação sintática entre os termos desse período, pode-se afirmar que:

a) de canoa é complemento nominal de Trilhas e passeios.

b) no rio Manambolo é adjunto adnominal de canoas.

c) de florestas secas é complemento nominal de plantas endêmicas.

d) de canoa é complemento verbal de passeios.

e) a formações rochosas calcárias inusitadas e plantas endêmicas desse ecossistema de florestas secas é complemento verbal de conduzem.

Leia o poema e responda às próximas duas questões.

FOGO NA MATA, MATA!

Fogo na mata, mata! A mata, a vida...

Fogo na mata, abre,
no coração da mata,
Profundas feridas.

Fogo na mata corrói,
dentro de nós, os sonhos.

Fogo na mata, deixa, no seio da mata,
Tumores tamanhos!

[...]

(Fonte: <http://www.recantodasletras.com.br/letras/505252>. Acesso em 14/05/2016)

05. A respeito de alguns aspectos gramaticais pertinentes aos termos em destaque na frase título do poema *Fogo na mata, mata!*, está correto o que se afirma em:

a) Morfologicamente, na sequência em que as duas palavras aparecem, temos um verbo e um substantivo.

b) Semanticamente, as duas palavras constituem homônimas homófonas homógrafas.

c) O processo de formação da palavra “mata” (primeira ocorrência na frase) é por derivação regressiva do verbo “matar” cuja flexão na terceira pessoa vem logo em seguida na frase.

d) Semanticamente, as duas palavras “mata” são parônimas.

e) Semanticamente, as duas palavras constituem homônimas homógrafas heterofônicas.

06. Com a Nova Reforma Ortográfica, foi mantido o acento nas oxítonas terminadas em -ei e -oi, como é o caso de corrói em *Fogo na mata corrói*. No entanto, de acordo ainda com a Nova Reforma, os acentos foram retirados de quais duas palavras?

a) Bocaiuva - maiúscula

b) Voo, aerodromo

c) Releem - feiura

d) Papeis - linguíça

e) Preveem - heroi

07. Leia atentamente as alternativas e assinale a incorreta no que diz respeito à Ortografia:

a) Grafamos com j as palavras ultraje, jiboia e gorjeio; com g as palavras ferrugem, geringonça, e miragem.

b) Grafamos com sc: miscelânea, obsceno e obscessão; com c: sucinto, facínio e nécio.

c) Grafamos com x: xampu, mexerico e enxada; com ch: piche, tocha e mecha.

- d) Grafamos com z: xadrez, cicatriz e vizinho; com s: friso, pêsames e tesoura.
e) Grafamos com ss: escassez, submissão e sossego; com c: acetinado, obcecado e acepção.

08. O advérbio sublinhado e a circunstância que ele expressa não estão corretamente apresentados em:

- a) Ele certamente virá para o encontro. (afirmação)
b) Ali se ouvia falar de riquezas culturais. (tempo)
c) O orador discursou muito bem, impressionou a plateia. (modo)
d) Chegamos tarde, perdemos o ônibus. (tempo)
e) Os candidatos estudaram bastante. (intensidade)

09. Os pronomes pessoais, representantes das pessoas do discurso, estão corretamente empregados em todas as alternativas, com exceção da:

- a) Sempre haverá discordância entre mim e ti.
b) O juiz queria falar com nós dois.
c) Minha festa de despedida, não vou esquecê-la jamais.
d) Ninguém irá sem eu.
e) Deram o livro para eu ler em dois dias!

10. Em uma oração, o contexto permite concluirmos se certos verbos são de ligação, para assim identificarmos o predicado nominal. Assim, não há predicação nominal em:

- a) O aluno não estava na escola hoje.
b) À tarde, as crianças pareciam cansadas.
c) Ultimamente os participantes do programa andam desanimados.
e) A aurora boreal é um lindo espetáculo.
d) As atletas parecem cansadas.

MATEMÁTICA

11. Numa prova de hipismo, há duas modalidades totalmente distintas: salto e rural. João vai competir nas duas modalidades. Sabendo que a vitória ou a derrota em uma nada influencia no resultado da outra, e sabendo que a probabilidade de ele ganhar a prova de salto é de 40% e a de ganhar a prova de rural é de 58%, qual a probabilidade de ele ganhar as duas provas?

- a) 98%
b) 62%
c) 23,2%
d) 18%
e) 2,32%

12. Numa escola há 12 professores. A tabela a seguir mostra a carga horária diária de trabalho desses professores.

4	8	5	10	6	5	8	6	8	9	4	8
---	---	---	----	---	---	---	---	---	---	---	---

É correto afirmar que as cargas horárias média, modal e mediana desses professores são respectivamente:

- a) 6,25; 6; 7
b) 6,5; 7; 8
c) 6,75; 8; 6
d) 6,75; 8; 7
e) 6,75; 7; 8

13. Encontre a equação da reta mediatriz do segmento AB, onde A(2, 3) e B(4, -1), e assinale a alternativa correta.

- a) $2y - x + 1 = 0$
b) $y - 2x + 2 = 0$
c) $2y - 2x + 1 = 0$
d) $2y + x + 2 = 0$
e) $2y + x - 1 = 0$

14. Uma loja acrescenta 15% no preço de seus produtos à vista se o cliente optar por pagar com um cheque para 60 dias. Comprei, nessa loja, um fogão com cheque para 60 dias e paguei R\$552,00 por ele. Qual era o preço à vista desse fogão?

- a) R\$460,00
b) R\$469,20
c) R\$474,50
d) R\$480,00
e) R\$500,00

15. Um pesquisador, ao analisar os processos que envolvem jovens com menos de 24 anos, descobriu que há 4 homens com nomes envolvidos em processos para cada mulher. Se no total ele contou 2400 pessoas, quantas eram as mulheres envolvidas nessa pesquisa?

- a) 480
- b) 600
- c) 800
- d) 1920
- e) 2000

INFORMÁTICA

16. Utilizando o Excel 2013, qual fórmula representa corretamente a auto soma?

- a) =SUM()
- b) =MEDIA()
- c) =MAX()
- d) =MIN()
- e) =SE()

17. Acerca de confidencialidade está incorreto afirmar:

- a) É um conceito no qual o acesso à informação deve ser concedido a quem de direito, ou seja, apenas para as entidades autorizadas pelo proprietário ou dono da informação.
- b) É uma propriedade que limita o acesso à informação tão somente às entidades legítimas, ou seja, àquelas autorizadas pelo proprietário da informação.
- c) É a propriedade da informação que não estará disponível ou será divulgada a indivíduos, entidades ou processos sem autorização.
- d) Significa garantir que a informação será conhecida por pessoas que não estejam autorizadas para tal.
- e) É a garantia do resguardo das informações dadas pessoalmente em confiança e proteção contra a sua revelação não autorizada.

18. Tratando-se de hardware de computadores, assinale a alternativa que corresponde a um tipo de memória externa.

- a) Pen Drive
- b) EPROM
- c) DIMM
- d) MRAM
- e) Cache

19. No Word 2013, é possível utilizar vários tipos de formatação de fontes, exceto:

- a) Tachado
- b) Negrito
- c) Centralizado
- d) Sublinhado
- e) Cor da fonte

20. Qual software nativo do Windows utilizamos para descobrir o endereço IP do computador?

- a) Windows Explorer
- b) Notepad
- c) Excel
- d) Word
- e) Prompt de Comando

CONHECIMENTOS GERAIS

21. Conforme fonte do IBGE, o bioma do município de Telêmaco Borba/PR é:

- a) Mata de Pinhais e Cerrado
- b) Pantanal
- c) Caatinga e Mata Atlântica
- d) Floresta Tropical
- e) Cerrado e Mata Atlântica

22. A letra do hino do município de Telêmaco Borba/PR é de autoria de

- a) Bento Mossurunga.
- b) Moisés Lupion.
- c) Eloah Martins Quadrado.
- d) Graciliana Reis D´Albuquerque Mossurunga.



e) Enéias Augusto Moracines Borba.

23. Leia o texto sobre o Brasão de Armas do município de Telêmaco Borba/PR e marque a alternativa correta.

O Brasão de Armas foi aprovado em definitivo em 1981, dentro dos padrões da heráldica, estabelecendo os regulamentos para seu uso, ficando assim oficializado.

No Brasão de Armas, é possível identificar:

1. Escudo português redondo banhado de ouro filetado de prata, carregado de cinco árvores de pinho estilizadas de sua cor, postas em banda.
2. Escudete de prata carregado de três Pinheiros do Paraná, araucária angustifolia ou brasiliense.
3. No timbre, coroa mural de ouro lavrado de negro.
4. À direita, haste de milho (zae mays) frutada.
5. À sinistra, ramos de soja (gelycine soya) granada.
6. Listel amarelo ostentando o topônimo "Cidade Nova" entre as inscrições de ouro "5 de Julho de 1963", em caracteres latino moderno.

- a) Não é verdadeiro o item 1.
- b) Não é verdadeiro o item 2.
- c) Não é verdadeiro o item 4.
- d) Não é verdadeiro o item 6.
- e) Não são verdadeiros os itens 3 e 5.

24. Segundo o art. 11 da Lei Orgânica do Município de Telêmaco Borba/PR, os bens públicos podem ser:

I. De uso comum do Povo, tais como estradas municipais, ruas, parques, praças, logradouros públicos e outros da mesma espécie;

II. De uso especial, os de patrimônio administrativo, tais como edifícios das repartições públicas, os terrenos e equipamentos destinados ao serviço público, veículos, matadouros, mercados e outras serventias de outra espécie;

III. Bens municipais, aqueles sobre os quais o município exerce os direitos de proprietário e são considerados como bens patrimoniais disponíveis;

IV. Bens culturais, tais como música e obras de arte.

Podemos afirmar que são verdadeiros os itens

- a) I e II, apenas.
- b) II e III, apenas.
- c) I, II e III, apenas.
- d) I, III e IV, apenas.
- e) I, II, III e IV.

25. Qual alternativa completa corretamente o texto a seguir?

No primeiro ano de cada legislatura, no dia 1º de janeiro, em sessão de instalação, independente de número, sob a presidência do vereador mais idoso dentre os eleitos, os vereadores prestarão compromisso e tomarão posse. O Vereador que não tomar posse na sessão do dia 1º de janeiro poderá fazê-la _____ depois da primeira sessão ordinária da Legislatura.

- a) até dez dias
- b) até quinze dias
- c) até trinta dias
- d) até quarenta e cinco dias
- e) até sessenta dias

26. Conforme o art. 54 da Lei Orgânica do Município de Telêmaco Borba/PR, o Processo Legislativo compreende a elaboração de:

I. Emendas à Lei Orgânica do Município;

II. Leis complementares;

III. Leis Ordinárias;

IV. Decretos Legislativos;

V. Resoluções;

VI. Pareceres.

Assinale a alternativa que faz a afirmação correta.

- a) São verdadeiros apenas os itens I, III e VI.
- b) São verdadeiros apenas os itens I, III e IV.
- c) São verdadeiros apenas os itens III, IV e V.
- d) São verdadeiros apenas os itens I, II, III, IV e V.
- e) São verdadeiros os itens I, II, III, IV, V e VI.



Com base na Lei nº 1883/2012, que dispõe sobre o Estatuto dos Servidores Públicos da Administração Direta, Autárquica e Funcional do Município de Telêmaco Borba/PR, responda às próximas quatro questões.

27. À luz do § 2º do art. 9º da Lei nº 1883/2012, marque a alternativa que completa a lacuna do texto a seguir.

O concurso deverá ser homologado no prazo máximo de _____ contados da data de realização da última fase de provas, sob pena de responsabilidade da autoridade competente.

- a) um mês
- b) dois meses
- c) seis meses
- d) um ano
- e) dois anos

28. Marque a alternativa que completa a lacuna do texto a seguir.

O candidato terá o prazo _____, a contar da publicação oficial da convocação, para comparecer à entidade convocante e assinar termo de comparecimento.

- a) máximo de 5 dias úteis
- b) mínimo de 15 dias úteis
- c) de até 30 dias
- d) máximo de 15 dias úteis
- e) mínimo de 5 dias úteis

29. Leia as assertivas e marque a correta.

- a) São reservados 10% dos cargos em comissão para a nomeação de servidores do quadro efetivo.
- b) São reservados 15% dos cargos em comissão para a nomeação de servidores do quadro efetivo.
- c) São reservados 20% dos cargos em comissão para a nomeação de servidores do quadro efetivo.
- d) São reservados 25% dos cargos em comissão para a nomeação de servidores do quadro efetivo.
- e) São reservados 30% dos cargos em comissão para a nomeação de servidores do quadro efetivo.

30. Marque a alternativa que completa a lacuna do texto a seguir.

O servidor municipal, quando nomeado para cargo em comissão, ficará afastado de seu cargo efetivo e fará jus à remuneração prevista em lei para o comissionado, podendo optar por receber seus vencimentos acrescidos de _____ do valor da remuneração prevista para o cargo em comissão.

- a) 10%
- b) 20%
- c) 30%
- d) 40%
- e) 50%

CONHECIMENTOS ESPECÍFICOS

31. À luz do Estatuto da Criança e do Adolescente, atribua V (verdadeiro) ou F (falso) às assertivas e assinale a alternativa correta.

() A criança e o adolescente gozam de todos os direitos fundamentais inerentes à pessoa humana, sem prejuízo da proteção integral de que trata a Lei nº 8.069/1990, assegurando-se-lhes, por lei ou por outros meios, todas as oportunidades e facilidades, a fim de lhes facultar o desenvolvimento físico, mental, moral, espiritual e social, em condições de liberdade e de dignidade.

() Segundo o parágrafo único do art. 4º da Lei nº 8.069/1990, a garantia de prioridade compreende: primazia de receber proteção e socorro em quaisquer circunstâncias; precedência de atendimento nos serviços públicos ou de relevância pública; preferência na formulação e na execução das políticas sociais públicas; destinação privilegiada de recursos públicos nas áreas relacionadas com a proteção à infância e à juventude.

() Na interpretação da Lei nº 8.069/1990 levar-se-ão em conta os fins sociais a que ela se dirige, as exigências do bem comum, os direitos e deveres individuais e coletivos, e a condição peculiar da criança e do adolescente como pessoas em desenvolvimento.

() É assegurado a todas as mulheres o acesso aos programas e às políticas de saúde da mulher e de planejamento reprodutivo e, às gestantes, nutrição adequada, atenção humanizada à gravidez, ao parto e ao puerpério e atendimento pré-natal, perinatal e pós-natal integral no âmbito do Sistema Único de Saúde.

- a) V, V, V, V.
- b) V, V, V, F.
- c) V, F, V, V.
- d) V, V, F, V.
- e) F, F, V, V.

32. Considerando o que estabelece o Estatuto da Criança e do Adolescente, marque a alternativa incorreta.



- a) O atendimento pré-natal será realizado por profissionais da atenção primária.
- b) Os profissionais de saúde de referência da gestante garantirão sua vinculação, no último trimestre da gestação, ao estabelecimento em que será realizado o parto, garantido o direito de opção da mulher.
- c) Os serviços de saúde onde o parto for realizado assegurarão às mulheres e aos seus filhos recém-nascidos alta hospitalar responsável e contrarreferência na atenção primária, bem como o acesso a outros serviços e a grupos de apoio à amamentação.
- d) Incumbe ao poder público proporcionar assistência psicológica à gestante e à mãe, no período pré e pós-natal, inclusive como forma de prevenir ou minorar as consequências do estado puerperal.
- e) A gestante e a parturiente têm direito a um acompanhante de sua preferência durante o período do pré-natal, do trabalho de parto e do pós-parto imediato, ressalvado se for parto de risco, situação em que poderão ter até dois acompanhantes.

33. Art. 16. O direito à liberdade, segundo o Estatuto da Criança e do Adolescente, compreende, dentre outros, os seguintes aspectos, exceto:

- a) Opinião e expressão.
- b) Participar da vida política, na forma da lei.
- c) Participar da vida comunitária, com discriminação.
- d) Buscar refúgio, auxílio e orientação.
- e) Brincar, praticar esportes e divertir-se.

34. Leia as assertivas sobre Proteção Social Especial e marque a alternativa correta.

1. Na Proteção Social Especial estão previstos níveis de complexidade diferenciados: média e alta complexidade.

2. Os serviços de Proteção Social Especial destinam-se a famílias e indivíduos cujos direitos tenham sido violados e/ou ameaçados.

3. Os serviços de Proteção Social Especial requerem o acompanhamento familiar e individual e maior flexibilidade nas soluções protetivas.

- a) É verdadeira somente a assertiva 1.
- b) São verdadeiras somente as assertivas 1 e 2.
- c) São verdadeiras somente as assertivas 1 e 3.
- d) São verdadeiras somente as assertivas 2 e 3.
- e) São verdadeiras as assertivas 1, 2 e 3.

35. Sobre a Proteção Social Básica, podemos afirmar que não é correta a alternativa:

- a) Os benefícios, tanto de prestação continuada como os eventuais, compõem a proteção social básica, dada a natureza de sua realização.
- b) A proteção social básica tem como objetivos prevenir situações de risco por meio do desenvolvimento de potencialidades e aquisições, e o fortalecimento de vínculos familiares e comunitários.
- c) A proteção social básica não se destina à população que vive em situação de vulnerabilidade social, dada a sua especificidade.
- d) A proteção social básica prevê o desenvolvimento de serviços, programas e projetos locais de acolhimento, convivência e socialização de famílias e de indivíduos, conforme identificação da situação de vulnerabilidade apresentada.
- e) O PAIF é o principal serviço de Proteção Social Básica.

36. Atribua C (certo) ou E (errado) aos itens a seguir e aponte a alternativa correta.

() O Projovem Adolescente, como serviço socioeducativo, apoia-se em dois importantes pilares do SUAS: matricialidade sociofamiliar e territorialização.

() O Projovem Adolescente visa contribuir para fortalecer as condições de autonomia das famílias e dos jovens, para que possam gerir seu processo de segurança social.

() O Serviço Socioeducativo do Projovem Adolescente integra-se a outras estratégias de ação voltadas para as famílias.

- a) C, C, C.
- b) E, C, E.
- c) C, E, C.
- d) C, C, E.
- e) C, E, E.

À luz das Diretrizes Curriculares Nacionais para a Educação Infantil, responda às próximas quatro questões.

37. Marque a alternativa correta.

- a) As vagas em creches e pré-escolas devem ser oferecidas próximas às residências das crianças.
- b) A frequência na Educação Infantil é pré-requisito para a matrícula no Ensino Fundamental.

- c) A jornada com duração superior a sete horas diárias, compreendendo o tempo total que a criança permanece na sala de aula.
- d) As crianças que completam seis anos após o dia 31 de março devem ser matriculadas no Ensino Fundamental.
- e) O atendimento em creches e pré-escolas como direito social das crianças se afirma na Constituição de 1988, com o reconhecimento da Educação Infantil como dever dos municípios.

38. A proposta pedagógica das instituições de Educação Infantil deve ter como objetivo de garantir à criança:

- (i) **acesso a processos de apropriação;**
- (ii) **renovação e articulação de conhecimentos e aprendizagens de diferentes linguagens;**
- (iii) **o direito à proteção, à saúde, à liberdade, à confiança;**
- (iv) **o direito ao respeito, à dignidade, à brincadeira;**
- (v) **a convivência e à interação com adultos.**

Qual dos itens não é correto?

- a) (i)
- b) (ii)
- c) (iii)
- d) (iv)
- e) (v)

39. Leia o seguinte texto e assinale a alternativa correta.

Para efetivação de seus objetivos, as propostas pedagógicas das instituições de Educação Infantil deverão prever condições para o trabalho coletivo e para a organização de materiais, espaços e tempos que assegurem:

- 1. A educação em sua integralidade, entendendo o cuidado como algo indissociável ao processo educativo;**
- 2. A indivisibilidade das dimensões expressivo-motora, afetiva, cognitiva, linguística, ética, estética e sociocultural da criança;**
- 3. A participação, o diálogo e a escuta cotidiana das famílias, o respeito e a valorização de suas formas de organização;**
- 4. A acessibilidade de espaços, materiais, objetos, brinquedos e instruções para as crianças com deficiência, transtornos globais de desenvolvimento e altas habilidades/superdotação;**
- 5. A apropriação pelas crianças das contribuições histórico-culturais dos povos indígenas, afrodescendentes, asiáticos, europeus e de outros países da Europa.**

- a) O item 1 não é verdadeiro.
- b) O item 2 não é verdadeiro.
- c) O item 3 não é verdadeiro.
- d) O item 4 não é verdadeiro.
- e) O item 5 não é verdadeiro.

40. Leia o texto, atribua V (verdadeiro) ou F (falso) aos itens e aponte a alternativa correta.

As instituições de Educação Infantil devem criar procedimentos para acompanhamento do trabalho pedagógico e para avaliação do desenvolvimento das crianças, sem objetivo de seleção, promoção ou classificação, garantindo, entre outros:

- () **A observação crítica e criativa das atividades, das brincadeiras e interações das crianças no cotidiano;**
- () **Utilização de múltiplos registros realizados por adultos e crianças (relatórios, fotografias, desenhos, álbuns etc.);**
- () **A continuidade dos processos de aprendizagens por meio da criação de estratégias adequadas aos diferentes momentos de transição vividos pela criança (transição casa/instituição de Educação Infantil, transições no interior da instituição, transição creche/pré-escola e transição pré-escola/Ensino Fundamental);**
- () **Documentação específica que permita às famílias conhecer o trabalho da instituição junto às crianças e os processos de desenvolvimento e aprendizagem da criança na Educação Infantil.**

- a) V, V, V, F.
- b) V, V, F, V.
- c) V, V, V, V.
- d) F, V, V, V.
- e) V, F, V, V.

RASCUNHO



PREFEITURA DE TELÊMACO BORBA - ESTADO DO PARANÁ - EDITAL Nº 001-2016 - CONCURSO PÚBLICO

MATUTINO – 29/05/2016 – NÍVEL MÉDIO

2

PROVA OBJETIVA NÚMERO

CARGO: EDUCADOR SOCIAL – FEMININO / MASCULINO

Leia atentamente as INSTRUÇÕES:

1. Confira seus dados no cartão-resposta: nome, número de inscrição e o curso para o qual se inscreveu.
2. **MARQUE no seu cartão-resposta o número da sua prova** (não será corrigido o cartão-resposta que não tiver marcado o número da prova) e **Assine** seu cartão-resposta.
3. Aguarde a autorização do Fiscal para abrir o caderno de prova. Ao receber a ordem do fiscal, confira o caderno de prova com muita atenção. Nenhuma reclamação sobre o total de questões ou falha de impressão será aceita depois de iniciada a prova.
4. O cartão-resposta não será substituído, salvo se contiver erro de impressão.
5. Preencha toda a área do cartão-resposta correspondente à alternativa de sua escolha, com caneta esferográfica (tinta azul ou preta), sem ultrapassar as bordas. As marcações duplas, ou rasuradas, com corretivo, ou marcadas diferentemente do modelo estabelecido no cartão-resposta poderão ser anuladas.
6. Sua prova tem **40** questões, com **5** alternativas.
7. Cabe apenas ao candidato a interpretação das questões, **o fiscal** não poderá fazer nenhuma interferência.
8. A prova será realizada com duração máxima de **3 (três) horas**, incluído o tempo para a realização da Prova Objetiva de múltipla escolha e o preenchimento do cartão-resposta.
9. O candidato poderá retirar-se do local de realização das provas somente **1 (uma) hora** após o seu início, sem levar o caderno de prova.
10. O candidato poderá levar o caderno de provas, assim como anotação contendo transcrição do seu cartão-resposta, somente **1h30min** (uma hora e trinta minutos) após o início da realização da prova.
11. Ao terminar a prova, o candidato deverá entregar ao fiscal de sala o cartão-resposta preenchido e **ASSINADO**.
12. Os **3 (três)** candidatos, que terminarem a prova por último, deverão permanecer na sala, e só poderão sair juntos após o fechamento do envelope, contendo os cartões-resposta dos candidatos presentes e ausentes, e assinarem no lacre do referido envelope, atestando que este foi devidamente lacrado.
13. Durante todo o tempo em que permanecer no local onde está ocorrendo o concurso, o candidato deverá, manter o celular desligado e sem bateria, só sendo permitido ligar depois de ultrapassar o portão de saída do prédio.
14. Não será permitido ao candidato fumar na sala de provas, bem como nas dependências.
15. Depois de terminar a prova e entregar ao fiscal o cartão-resposta, preenchido e assinado, não será mais permitido ao candidato o uso do banheiro e bebedouro.

BOA PROVA!