



# Boletim Oficial

Instituído pela Lei Mun. 1339 de 14/05/2002 e Regulamentado pelo decreto Mun. 10060

Telêmaco Borba, 30 de maio de 2016



## **MUNICÍPIO DE TELÊMACO BORBA** **ESTADO DO PARANÁ**

### **PODER EXECUTIVO**

#### **Edital Complementar 06 - EDITAL Nº 01-2016 – CONCURSO PÚBLICO**

A PREFEITURA DE TELÊMACO BORBA - ESTADO DO PARANÁ, torna público o Gabarito Preliminar das Provas Objetivas de múltipla escolha e Cópias das Provas, nos termos do **EDITAL Nº 01-2016 – CONCURSO PÚBLICO**.

#### **I. DO GABARITO PRELIMINAR**

1. O Gabarito Preliminar das Provas Objetivas de múltipla escolha encontram-se disponíveis no site [www.msconcursos.com.br](http://www.msconcursos.com.br), aba “GABARITOS”, no site [www.telemacoborba.pr.gov.br](http://www.telemacoborba.pr.gov.br) e no Boletim Oficial da Prefeitura.

#### **II. DAS CÓPIAS DAS PROVAS**

2. As Cópias das Provas encontram-se disponíveis no site [www.msconcursos.com.br](http://www.msconcursos.com.br), aba “PROVAS”, no site [www.telemacoborba.pr.gov.br](http://www.telemacoborba.pr.gov.br) e no Boletim Oficial da Prefeitura.

#### **III. DOS RECURSOS**

3. Eventuais recursos contra o Gabarito Preliminar das Provas Objetivas poderão ser impetrados conforme item IX do EDITAL Nº 01-2016 – CONCURSO PÚBLICO.

Telêmaco Borba/PR, 30 de maio de 2016.

LUIZ CARLOS GIBSON  
Prefeito

**MATEMÁTICA**

**01.** Numa prova de hipismo, há duas modalidades totalmente distintas: salto e rural. João vai competir nas duas modalidades. Sabendo que a vitória ou a derrota em uma nada influencia no resultado da outra, e sabendo que a probabilidade de ele ganhar a prova de salto é de 40% e a de ganhar a prova de rural é de 58%, qual a probabilidade de ele ganhar as duas provas?

- a) 98%
- b) 62%
- c) 23,2%
- d) 18%
- e) 2,32%

**02.** Numa escola há 12 professores. A tabela a seguir mostra a carga horária diária de trabalho desses professores.

4	8	5	10	6	5	8	6	8	9	4	8
---	---	---	----	---	---	---	---	---	---	---	---

É correto afirmar que as cargas horárias média, modal e mediana desses professores são respectivamente:

- a) 6,25; 6; 7
- b) 6,5; 7; 8
- c) 6,75; 8; 6
- d) 6,75; 8; 7
- e) 6,75; 7; 8

**03.** Encontre a equação da reta mediatriz do segmento AB, onde A(2, 3) e B(4, -1), e assinale a alternativa correta.

- a)  $2y - x + 1 = 0$
- b)  $y - 2x + 2 = 0$
- c)  $2y - 2x + 1 = 0$
- d)  $2y + x + 2 = 0$
- e)  $2y + x - 1 = 0$

**04.** Uma loja acrescenta 15% no preço de seus produtos à vista se o cliente optar por pagar com um cheque para 60 dias. Comprei, nessa loja, um fogão com cheque para 60 dias e paguei R\$552,00 por ele. Qual era o preço à vista desse fogão?

- a) R\$460,00
- b) R\$469,20
- c) R\$474,50
- d) R\$480,00
- e) R\$500,00

**05.** Um pesquisador, ao analisar os processos que envolvem jovens com menos de 24 anos, descobriu que há 4 homens com nomes envolvidos em processos para cada mulher. Se no total ele contou 2400 pessoas, quantas eram as mulheres envolvidas nessa pesquisa?

- a) 480
- b) 600
- c) 800
- d) 1920
- e) 2000

**INFORMÁTICA**

**06.** Utilizando o Excel 2013, qual fórmula representa corretamente a auto soma?

- a) =SUM()
- b) =MEDIA()
- c) =MAX()
- d) =MIN()
- e) =SE()

**07.** Acerca de confidencialidade está incorreto afirmar:

- a) É um conceito no qual o acesso à informação deve ser concedido a quem de direito, ou seja, apenas para as entidades autorizadas pelo proprietário ou dono da informação.
- b) É uma propriedade que limita o acesso à informação tão somente às entidades legítimas, ou seja, àquelas autorizadas pelo proprietário da informação.
- c) É a propriedade da informação que não estará disponível ou será divulgada a indivíduos, entidades ou processos sem autorização.
- d) Significa garantir que a informação será conhecida por pessoas que não estejam autorizadas para tal.



e) É a garantia do resguardo das informações dadas pessoalmente em confiança e proteção contra a sua revelação não autorizada.

**08. Tratando-se de hardware de computadores, assinale a alternativa que corresponde a um tipo de memória externa.**

- a) Pen Drive
- b) EPROM
- c) DIMM
- d) MRAM
- e) Cache

**09. No Word 2013, é possível utilizar vários tipos de formatação de fontes, exceto:**

- a) Tachado
- b) Negrito
- c) Centralizado
- d) Sublinhado
- e) Cor da fonte

**10. Qual software nativo do Windows utilizamos para descobrir o endereço IP do computador?**

- a) Windows Explorer
- b) Notepad
- c) Excel
- d) Word
- e) Prompt de Comando

#### **CONHECIMENTOS GERAIS**

**11. Conforme fonte do IBGE, o bioma do município de Telêmaco Borba/PR é:**

- a) Mata de Pinhais e Cerrado
- b) Pantanal
- c) Caatinga e Mata Atlântica
- d) Floresta Tropical
- e) Cerrado e Mata Atlântica

**12. A letra do hino do município de Telêmaco Borba/PR é de autoria de**

- a) Bento Mossurunga.
- b) Moíses Lupion.
- c) Eloah Martins Quadrado.
- d) Graciliana Reis D´Albuquerque Mossurunga.
- e) Enéias Augusto Moracines Borba.

**13. Leia o texto sobre o Brasão de Armas do município de Telêmaco Borba/PR e marque a alternativa correta.**

O Brasão de Armas foi aprovado em definitivo em 1981, dentro dos padrões da heráldica, estabelecendo os regulamentos para seu uso, ficando assim oficializado.

No Brasão de Armas, é possível identificar:

1. Escudo português redondo banhado de ouro filetado de prata, carregado de cinco árvores de pinho estilizadas de sua cor, postas em banda.
2. Escudete de prata carregado de três Pinheiros do Paraná, araucária angustifólia ou brasiliense.
3. No timbre, coroa mural de ouro lavrado de negro.
4. À direita, haste de milho (zae mays) frutada.
5. À sinistra, ramos de soja (gelycine soya) granada.
6. Listel amarelo ostentando o topônimo "Cidade Nova" entre as inscrições de ouro "5 de Julho de 1963", em caracteres latino moderno.

- a) Não é verdadeiro o item 1.
- b) Não é verdadeiro o item 2.
- c) Não é verdadeiro o item 4.
- d) Não é verdadeiro o item 6.
- e) Não são verdadeiros os itens 3 e 5.

**14. Segundo o art. 11 da Lei Orgânica do Município de Telêmaco Borba/PR, os bens públicos podem ser:**

**I. De uso comum do Povo, tais como estradas municipais, ruas, parques, praças, logradouros públicos e outros da mesma espécie;**

**II. De uso especial, os de patrimônio administrativo, tais como edifícios das repartições públicas, os terrenos e equipamentos destinados ao serviço público, veículos, matadouros, mercados e outras serventias de outra espécie;**



**III. Bens municipais, aqueles sobre os quais o município exerce os direitos de proprietário e são considerados como bens patrimoniais disponíveis;**

**IV. Bens culturais, tais como música e obras de arte.**

**Podemos afirmar que são verdadeiros os itens**

- a) I e II, apenas.
- b) II e III, apenas.
- c) I, II e III, apenas.
- d) I, III e IV, apenas.
- e) I, II, III e IV.

**15. Qual alternativa completa corretamente o texto a seguir?**

**No primeiro ano de cada legislatura, no dia 1º de janeiro, em sessão de instalação, independente de número, sob a presidência do vereador mais idoso dentre os eleitos, os vereadores prestarão compromisso e tomarão posse. O Vereador que não tomar posse na sessão do dia 1º de janeiro poderá fazê-la \_\_\_\_\_ depois da primeira sessão ordinária da Legislatura.**

- a) até dez dias
- b) até quinze dias
- c) até trinta dias
- d) até quarenta e cinco dias
- e) até sessenta dias

**16. Conforme o art. 54 da Lei Orgânica do Município de Telêmaco Borba/PR, o Processo Legislativo compreende a elaboração de:**

**I. Emendas à Lei Orgânica do Município;**

**II. Leis complementares;**

**III. Leis Ordinárias;**

**IV. Decretos Legislativos;**

**V. Resoluções;**

**VI. Pareceres.**

**Assinale a alternativa que faz a afirmação correta.**

- a) São verdadeiros apenas os itens I, III e VI.
- b) São verdadeiros apenas os itens I, III e IV.
- c) São verdadeiros apenas os itens III, IV e V.
- d) São verdadeiros apenas os itens I, II, III, IV e V.
- e) São verdadeiros os itens I, II, III, IV, V e VI.

**Com base na Lei nº 1883/2012, que dispõe sobre o Estatuto dos Servidores Públicos da Administração Direta, Autárquica e Funcional do Município de Telêmaco Borba/PR, responda às próximas quatro questões.**

**17. À luz do § 2º do art. 9º da Lei nº 1883/2012, marque a alternativa que completa a lacuna do texto a seguir.**

**O concurso deverá ser homologado no prazo máximo de \_\_\_\_\_ contados da data de realização da última fase de provas, sob pena de responsabilidade da autoridade competente.**

- a) um mês
- b) dois meses
- c) seis meses
- d) um ano
- e) dois anos

**18. Marque a alternativa que completa a lacuna do texto a seguir.**

**O candidato terá o prazo \_\_\_\_\_, a contar da publicação oficial da convocação, para comparecer à entidade convocante e assinar termo de comparecimento.**

- a) máximo de 5 dias úteis
- b) mínimo de 15 dias úteis
- c) de até 30 dias
- d) máximo de 15 dias úteis
- e) mínimo de 5 dias úteis

**19. Leia as assertivas e marque a correta.**

- a) São reservados 10% dos cargos em comissão para a nomeação de servidores do quadro efetivo.
- b) São reservados 15% dos cargos em comissão para a nomeação de servidores do quadro efetivo.
- c) São reservados 20% dos cargos em comissão para a nomeação de servidores do quadro efetivo.
- d) São reservados 25% dos cargos em comissão para a nomeação de servidores do quadro efetivo.
- e) São reservados 30% dos cargos em comissão para a nomeação de servidores do quadro efetivo.



**20. Marque a alternativa que completa a lacuna do texto a seguir.**

O servidor municipal, quando nomeado para cargo em comissão, ficará afastado de seu cargo efetivo e fará jus à remuneração prevista em lei para o comissionado, podendo optar por receber seus vencimentos acrescidos de \_\_\_\_\_ do valor da remuneração prevista para o cargo em comissão.

- a) 10%
- b) 20%
- c) 30%
- d) 40%
- e) 50%

#### CONHECIMENTOS ESPECÍFICOS

**21. À luz do Estatuto da Criança e do Adolescente, atribua V (verdadeiro) ou F (falso) às assertivas e assinale a alternativa correta.**

( ) A criança e o adolescente gozam de todos os direitos fundamentais inerentes à pessoa humana, sem prejuízo da proteção integral de que trata a Lei nº 8.069/1990, assegurando-se-lhes, por lei ou por outros meios, todas as oportunidades e facilidades, a fim de lhes facultar o desenvolvimento físico, mental, moral, espiritual e social, em condições de liberdade e de dignidade.

( ) Segundo o parágrafo único do art. 4º da Lei nº 8.069/1990, a garantia de prioridade compreende: primazia de receber proteção e socorro em quaisquer circunstâncias; precedência de atendimento nos serviços públicos ou de relevância pública; preferência na formulação e na execução das políticas sociais públicas; destinação privilegiada de recursos públicos nas áreas relacionadas com a proteção à infância e à juventude.

( ) Na interpretação da Lei nº 8.069/1990 levar-se-ão em conta os fins sociais a que ela se dirige, as exigências do bem comum, os direitos e deveres individuais e coletivos, e a condição peculiar da criança e do adolescente como pessoas em desenvolvimento.

( ) É assegurado a todas as mulheres o acesso aos programas e às políticas de saúde da mulher e de planejamento reprodutivo e, às gestantes, nutrição adequada, atenção humanizada à gravidez, ao parto e ao puerpério e atendimento pré-natal, perinatal e pós-natal integral no âmbito do Sistema Único de Saúde.

- a) V, V, V, V.
- b) V, V, V, F.
- c) V, F, V, V.
- d) V, V, F, V.
- e) F, F, V, V.

**22. Considerando o que estabelece o Estatuto da Criança e do Adolescente, marque a alternativa incorreta.**

- a) O atendimento pré-natal será realizado por profissionais da atenção primária.
- b) Os profissionais de saúde de referência da gestante garantirão sua vinculação, no último trimestre da gestação, ao estabelecimento em que será realizado o parto, garantido o direito de opção da mulher.
- c) Os serviços de saúde onde o parto for realizado assegurarão às mulheres e aos seus filhos recém-nascidos alta hospitalar responsável e contrarreferência na atenção primária, bem como o acesso a outros serviços e a grupos de apoio à amamentação.
- d) Incumbe ao poder público proporcionar assistência psicológica à gestante e à mãe, no período pré e pós-natal, inclusive como forma de prevenir ou minorar as consequências do estado puerperal.
- e) A gestante e a parturiente têm direito a um acompanhante de sua preferência durante o período do pré-natal, do trabalho de parto e do pós-parto imediato, ressalvado se for parto de risco, situação em que poderão ter até dois acompanhantes.

**23. Art. 16. O direito à liberdade, segundo o Estatuto da Criança e do Adolescente, compreende, dentre outros, os seguintes aspectos, exceto:**

- a) Opinião e expressão.
- b) Participar da vida política, na forma da lei.
- c) Participar da vida comunitária, com discriminação.
- d) Buscar refúgio, auxílio e orientação.
- e) Brincar, praticar esportes e divertir-se.

**24. Leia as assertivas sobre Proteção Social Especial e marque a alternativa correta.**

**1. Na Proteção Social Especial estão previstos níveis de complexidade diferenciados: média e alta complexidade.**

**2. Os serviços de Proteção Social Especial destinam-se a famílias e indivíduos cujos direitos tenham sido violados e/ou ameaçados.**

**3. Os serviços de Proteção Social Especial requerem o acompanhamento familiar e individual e maior flexibilidade nas soluções protetivas.**

- a) É verdadeira somente a assertiva 1.
- b) São verdadeiras somente as assertivas 1 e 2.

- c) São verdadeiras somente as assertivas 1 e 3.  
 d) São verdadeiras somente as assertivas 2 e 3.  
 e) São verdadeiras as assertivas 1, 2 e 3.

**25. Sobre a Proteção Social Básica, podemos afirmar que não é correta a alternativa:**

- a) Os benefícios, tanto de prestação continuada como os eventuais, compõem a proteção social básica, dada a natureza de sua realização.  
 b) A proteção social básica tem como objetivos prevenir situações de risco por meio do desenvolvimento de potencialidades e aquisições, e o fortalecimento de vínculos familiares e comunitários.  
 c) A proteção social básica não se destina à população que vive em situação de vulnerabilidade social, dada a sua especificidade.  
 d) A proteção social básica prevê o desenvolvimento de serviços, programas e projetos locais de acolhimento, convivência e socialização de famílias e de indivíduos, conforme identificação da situação de vulnerabilidade apresentada.  
 e) O PAIF é o principal serviço de Proteção Social Básica.

**26. Atribua C (certo) ou E (errado) aos itens a seguir e aponte a alternativa correta.**

- ( ) O Projovem Adolescente, como serviço socioeducativo, apoia-se em dois importantes pilares do SUAS: matricialidade sociofamiliar e territorialização.  
 ( ) O Projovem Adolescente visa contribuir para fortalecer as condições de autonomia das famílias e dos jovens, para que possam gerir seu processo de segurança social.  
 ( ) O Serviço Socioeducativo do Projovem Adolescente integra-se a outras estratégias de ação voltadas para as famílias.  
 a) C, C, C.  
 b) E, C, E.  
 c) C, E, C.  
 d) C, C, E.  
 e) C, E, E.

**À luz das Diretrizes Curriculares Nacionais para a Educação Infantil, responda às próximas quatro questões.**

**27. Marque a alternativa correta.**

- a) As vagas em creches e pré-escolas devem ser oferecidas próximas às residências das crianças.  
 b) A frequência na Educação Infantil é pré-requisito para a matrícula no Ensino Fundamental.  
 c) A jornada com duração superior a sete horas diárias, compreendendo o tempo total que a criança permanece na sala de aula.  
 d) As crianças que completam seis anos após o dia 31 de março devem ser matriculadas no Ensino Fundamental.  
 e) O atendimento em creches e pré-escolas como direito social das crianças se afirma na Constituição de 1988, com o reconhecimento da Educação Infantil como dever dos municípios.

**28. A proposta pedagógica das instituições de Educação Infantil deve ter como objetivo de garantir à criança:**

- (i) acesso a processos de apropriação;  
 (ii) renovação e articulação de conhecimentos e aprendizagens de diferentes linguagens;  
 (iii) o direito à proteção, à saúde, à liberdade, à confiança;  
 (iv) o direito ao respeito, à dignidade, à brincadeira;  
 (v) a convivência e à interação com adultos.

**Qual dos itens não é correto?**

- a) (i)  
 b) (ii)  
 c) (iii)  
 d) (iv)  
 e) (v)

**29. Leia o seguinte texto e assinale a alternativa correta.**

**Para efetivação de seus objetivos, as propostas pedagógicas das instituições de Educação Infantil deverão prever condições para o trabalho coletivo e para a organização de materiais, espaços e tempos que assegurem:**

1. A educação em sua integralidade, entendendo o cuidado como algo indissociável ao processo educativo;
2. A indivisibilidade das dimensões expressivo-motora, afetiva, cognitiva, linguística, ética, estética e sociocultural da criança;
3. A participação, o diálogo e a escuta cotidiana das famílias, o respeito e a valorização de suas formas de organização;

4. A acessibilidade de espaços, materiais, objetos, brinquedos e instruções para as crianças com deficiência, transtornos globais de desenvolvimento e altas habilidades/superdotação;
5. A apropriação pelas crianças das contribuições histórico-culturais dos povos indígenas, afrodescendentes, asiáticos, europeus e de outros países da Europa.
- a) O item 1 não é verdadeiro.  
 b) O item 2 não é verdadeiro.  
 c) O item 3 não é verdadeiro.  
 d) O item 4 não é verdadeiro.  
 e) O item 5 não é verdadeiro.

30. Leia o texto, atribua V (verdadeiro) ou F (falso) aos itens e aponte a alternativa correta.

As instituições de Educação Infantil devem criar procedimentos para acompanhamento do trabalho pedagógico e para avaliação do desenvolvimento das crianças, sem objetivo de seleção, promoção ou classificação, garantindo, entre outros:

- ( ) A observação crítica e criativa das atividades, das brincadeiras e interações das crianças no cotidiano;  
 ( ) Utilização de múltiplos registros realizados por adultos e crianças (relatórios, fotografias, desenhos, álbuns etc.);  
 ( ) A continuidade dos processos de aprendizagens por meio da criação de estratégias adequadas aos diferentes momentos de transição vividos pela criança (transição casa/instituição de Educação Infantil, transições no interior da instituição, transição creche/pré-escola e transição pré-escola/Ensino Fundamental);  
 ( ) Documentação específica que permita às famílias conhecer o trabalho da instituição junto às crianças e os processos de desenvolvimento e aprendizagem da criança na Educação Infantil.
- a) V, V, V, F.  
 b) V, V, F, V.  
 c) V, V, V, V.  
 d) F, V, V, V.  
 e) V, F, V, V.

## LÍNGUA PORTUGUESA

Leia o texto e responda às próximas quatro questões.

### Lêmures e baobás de Madagascar

Isolada do continente há 135 milhões de anos, a ilha do Oceano Índico é um laboratório natural da evolução das espécies e encanta os viajantes com uma flora e fauna única

**Madagascar** abriga 107 espécies de **lêmures**, dezenas de espécies de camaleões coloridos e outras tantas plantas que só existem lá. “Madagascar é um mundo a parte. Costumo dizer que, se Charles Darwin tivesse conhecido Madagascar, seu livro *A Origem das Espécies* seria dez vezes maior”, afirma o fotógrafo e jornalista **Haroldo Castro**, idealizador de Viajologia Expedições.

Uma das experiências mais emocionantes na quarta maior ilha do mundo é passear entre os gigantescos **baobás**, árvores que chegam a ter 30 metros de altura e mil anos de idade. Das nove espécies de baobás que existem no mundo, seis podem ser encontradas apenas em Madagascar. A majestosa árvore, considerada sagrada pelos malgaxes, é chamada localmente como “reniala”, mãe da floresta.

Na pequena cidade de Bekopaka está o Parque Nacional Tsingy de Bemaraha, considerado Patrimônio Mundial pela Unesco. Trilhas e passeios de canoa no rio Manambolo conduzem a formações rochosas calcárias inusitadas e plantas endêmicas desse ecossistema de florestas secas.

Outro momento inesquecível em Madagascar é o encontro com os lêmures nas florestas tropicais da reserva Anjozorobe-Angavo, a 90 quilômetros da capital Antananarivo. Especialistas apontam que o turismo de observação de animais é uma excelente alternativa para o desenvolvimento da economia local e pode ajudar a conter o desmatamento. “O projeto em Anjozorobe comprova que, nos últimos anos, os 9 mil visitantes contribuíram de forma concreta a reduzir a pobreza e a promover a conservação da biodiversidade”, afirma Haroldo. Como os primatas são curiosos e estão habituados aos seres humanos, eles costumam se aproximar dos visitantes. “Os bichinhos chegam a subir nas nossas cabeças e parecem adorar aparecer nas fotos.”

Madagascar possui hoje uma excelente estrutura para o turismo, com algumas estradas bem cuidadas e hotéis confortáveis localizados perto das reservas e parques ecológicos. A gastronomia malgaxe, com um toque francês, também surpreende pela diversidade de ingredientes, temperos e colorido dos pratos.

[...]

(Fonte: <http://viajeaquibril.com.br/materias/lemures-e-baobas-de-madagascar#2>. Acesso em 14/05/2016)

### 31. Lêmures e baobás de Madagascar é um texto:

- a) Em que prevalece a descrição, apresentando as belezas e peculiaridades do lugar, da fauna e da flora.  
 b) Principalmente narrativo, de fatos colhidos durante uma viagem, que se sucedem em progressão temporal.  
 c) Essencialmente argumentativo, o uso da descrição visa somente a convencer o leitor a visitar Madagascar.  
 d) Dissertativo, impera o desenvolvimento de argumentos para comprovar a tese presente no primeiro parágrafo.

e) Em que predomina a exposição de conceitos e definições com o intuito de informar o leitor.

**32. O teor do texto *Lêmures e baobás de Madagascar* somente não poderia se encaixar em que tópico?**

- a) Turismo
- b) Viagens
- c) Clima
- d) Natureza
- e) Ilhas

**33. O aposto é um termo que *explica ou esclarece, desenvolve ou resume outro termo da oração*. Quanto a isso, analise a parte grifada em cada uma das orações retiradas do texto:**

**I - *A majestosa árvore, considerada sagrada pelos malgaxes, é chamada localmente como “reniala”, mãe da floresta*.**

**II - *afirma o fotógrafo e jornalista Haroldo Castro, idealizador de Viajologia Expedições*.**

**III - *Outro momento inesquecível em Madagascar é o encontro com os lêmures nas florestas tropicais da reserva Anjozorobe-Angavo, a 90 quilômetros da capital Antananarivo*.**

**IV - *O projeto em Anjozorobe comprova que, nos últimos anos, os 9 mil visitantes contribuíram de forma concreta a reduzir a pobreza e a promover a conservação da biodiversidade”*.**

**V - *A gastronomia malgaxe, com um toque francês, também surpreende pela diversidade de ingredientes, temperos e colorido dos pratos*.**

**Constitui aposto os grifos em:**

- a) I, II, III, IV e V.
- b) I, III e V, apenas.
- c) III e V apenas.
- d) I, II, III, e V, apenas.
- e) III, IV e V apenas

**34. *Trilhas e passeios de canoa no rio Manambolo conduzem a formações rochosas calcárias inusitadas e plantas endêmicas desse ecossistema de florestas secas*.**

**Ao observar a relação sintática entre os termos desse período, pode-se afirmar que:**

- a) de canoa é complemento nominal de Trilhas e passeios.
- b) no rio Manambolo é adjunto adnominal de canoas.
- c) de florestas secas é complemento nominal de plantas endêmicas.
- d) de canoa é complemento verbal de passeios.
- e) a formações rochosas calcárias inusitadas e plantas endêmicas desse ecossistema de florestas secas é complemento verbal de conduzem.

**Leia o poema e responda às próximas duas questões.**

### **FOGO NA MATA, MATA!**

Fogo na mata, mata! A mata, a vida...  
 Fogo na mata, abre,  
 no coração da mata,  
 Profundas feridas.

Fogo na mata corrói,  
 dentro de nós, os sonhos.  
 Fogo na mata, deixa, no seio da mata,  
 Tumores tamanhos!

[...]

(Fonte: <http://www.recantodasletras.com.br/letras/505252>. Acesso em 14/05/2016)

**35. A respeito de alguns aspectos gramaticais pertinentes aos termos em destaque na frase título do poema *Fogo na mata, mata!*, está correto o que se afirma em:**

- a) Morfologicamente, na sequência em que as duas palavras aparecem, temos um verbo e um substantivo.
- b) Semanticamente, as duas palavras constituem homônimas homófonas homográficas.
- c) O processo de formação da palavra “mata” (primeira ocorrência na frase) é por derivação regressiva do verbo “matar” cuja flexão na terceira pessoa vem logo em seguida na frase.
- d) Semanticamente, as duas palavras “mata” são parônimas.
- e) Semanticamente, as duas palavras constituem homônimas homógrafas heterofônicas.



**36. Com a Nova Reforma Ortográfica, foi mantido o acento nas oxítonas terminadas em -ei e -oi, como é o caso de corrói em *Fogo na mata corrói*. No entanto, de acordo ainda com a Nova Reforma, os acentos foram retirados de quais duas palavras?**

- a) Bocaiuva - maiúscula
- b) Voo, aerodromo
- c) Releem - feiura
- d) Papeis - língua
- e) Preveem - herói

**37. Leia atentamente as alternativas e assinale a incorreta no que diz respeito à Ortografia:**

- a) Grafamos com j as palavras ultraje, jiboia e gorjeio; com g as palavras ferrugem, geringonça, e miragem.
- b) Grafamos com sc: miscelânea, obsceno e obscessão; com c: sucinto, facínio e nécio.
- c) Grafamos com x: xampu, mexerico e enxada; com ch: piche, tocha e mecha.
- d) Grafamos com z: xadrez, cicatriz e vizinho; com s: friso, pêsames e tesoura.
- e) Grafamos com ss: escassez, submissão e sossego; com c: acetinado, obcecado e acepção.

**38. O advérbio sublinhado e a circunstância que ele expressa não estão corretamente apresentados em:**

- a) Ele certamente virá para o encontro. (afirmação)
- b) Ali se ouvia falar de riquezas culturais. (tempo)
- c) O orador discursou muito bem, impressionou a plateia. (modo)
- d) Chegamos tarde, perdemos o ônibus. (tempo)
- e) Os candidatos estudaram bastante. (intensidade)

**39. Os pronomes pessoais, representantes das pessoas do discurso, estão corretamente empregados em todas as alternativas, com exceção da:**

- a) Sempre haverá discordância entre mim e ti.
- b) O juiz queria falar com nós dois.
- c) Minha festa de despedida, não vou esquecê-la jamais.
- d) Ninguém irá sem eu.
- e) Deram o livro para eu ler em dois dias!

**40. Em uma oração, o contexto permite concluirmos se certos verbos são de ligação, para assim identificarmos o predicado nominal. Assim, não há predicação nominal em:**

- a) O aluno não estava na escola hoje.
- b) À tarde, as crianças pareciam cansadas.
- c) Ultimamente os participantes do programa andam desanimados.
- e) A aurora boreal é um lindo espetáculo.
- d) As atletas parecem cansadas.

**RASCUNHO**



PREFEITURA DE TELÊMACO BORBA - ESTADO DO PARANÁ - EDITAL Nº 001-2016 - CONCURSO PÚBLICO

**MATUTINO – 29/05/2016 – NÍVEL MÉDIO**

**3**

**PROVA OBJETIVA NÚMERO**

**CARGO: EDUCADOR SOCIAL – FEMININO / MASCULINO**

**Leia atentamente as INSTRUÇÕES:**

1. Confira seus dados no cartão-resposta: nome, número de inscrição e o curso para o qual se inscreveu.
2. **MARQUE no seu cartão-resposta o número da sua prova** (não será corrigido o cartão-resposta que não tiver marcado o número da prova) e **Assine** seu cartão-resposta.
3. Aguarde a autorização do Fiscal para abrir o caderno de prova. Ao receber a ordem do fiscal, confira o caderno de prova com muita atenção. Nenhuma reclamação sobre o total de questões ou falha de impressão será aceita depois de iniciada a prova.
4. O cartão-resposta não será substituído, salvo se contiver erro de impressão.
5. Preencha toda a área do cartão-resposta correspondente à alternativa de sua escolha, com caneta esferográfica (tinta azul ou preta), sem ultrapassar as bordas. As marcações duplas, ou rasuradas, com corretivo, ou marcadas diferentemente do modelo estabelecido no cartão-resposta poderão ser anuladas.
6. Sua prova tem **40** questões, com **5** alternativas.
7. Cabe apenas ao candidato a interpretação das questões, **o fiscal** não poderá fazer nenhuma interferência.
8. A prova será realizada com duração máxima de **3 (três) horas**, incluído o tempo para a realização da Prova Objetiva de múltipla escolha e o preenchimento do cartão-resposta.
9. O candidato poderá retirar-se do local de realização das provas somente **1 (uma) hora** após o seu início, sem levar o caderno de prova.
10. O candidato poderá levar o caderno de provas, assim como anotação contendo transcrição do seu cartão-resposta, somente **1h30min** (uma hora e trinta minutos) após o início da realização da prova.
11. Ao terminar a prova, o candidato deverá entregar ao fiscal de sala o cartão-resposta preenchido e **ASSINADO**.
12. Os **3 (três)** candidatos, que terminarem a prova por último, deverão permanecer na sala, e só poderão sair juntos após o fechamento do envelope, contendo os cartões-resposta dos candidatos presentes e ausentes, e assinarem no lacre do referido envelope, atestando que este foi devidamente lacrado.
13. Durante todo o tempo em que permanecer no local onde está ocorrendo o concurso, o candidato deverá, manter o celular desligado e sem bateria, só sendo permitido ligar depois de ultrapassar o portão de saída do prédio.
14. Não será permitido ao candidato fumar na sala de provas, bem como nas dependências.
15. Depois de terminar a prova e entregar ao fiscal o cartão-resposta, preenchido e assinado, não será mais permitido ao candidato o uso do banheiro e bebedouro.

**BOA PROVA!**



**CONHECIMENTOS ESPECÍFICOS**

**01. À luz do Estatuto da Criança e do Adolescente, atribua V (verdadeiro) ou F (falso) às assertivas e assinale a alternativa correta.**

( ) A criança e o adolescente gozam de todos os direitos fundamentais inerentes à pessoa humana, sem prejuízo da proteção integral de que trata a Lei nº 8.069/1990, assegurando-se-lhes, por lei ou por outros meios, todas as oportunidades e facilidades, a fim de lhes facultar o desenvolvimento físico, mental, moral, espiritual e social, em condições de liberdade e de dignidade.

( ) Segundo o parágrafo único do art. 4º da Lei nº 8.069/1990, a garantia de prioridade compreende: primazia de receber proteção e socorro em quaisquer circunstâncias; precedência de atendimento nos serviços públicos ou de relevância pública; preferência na formulação e na execução das políticas sociais públicas; destinação privilegiada de recursos públicos nas áreas relacionadas com a proteção à infância e à juventude.

( ) Na interpretação da Lei nº 8.069/1990 levar-se-ão em conta os fins sociais a que ela se dirige, as exigências do bem comum, os direitos e deveres individuais e coletivos, e a condição peculiar da criança e do adolescente como pessoas em desenvolvimento.

( ) É assegurado a todas as mulheres o acesso aos programas e às políticas de saúde da mulher e de planejamento reprodutivo e, às gestantes, nutrição adequada, atenção humanizada à gravidez, ao parto e ao puerpério e atendimento pré-natal, perinatal e pós-natal integral no âmbito do Sistema Único de Saúde.

a) V, V, V, V.

b) V, V, V, F.

c) V, F, V, V.

d) V, V, F, V.

e) F, F, V, V.

**02. Considerando o que estabelece o Estatuto da Criança e do Adolescente, marque a alternativa incorreta.**

a) O atendimento pré-natal será realizado por profissionais da atenção primária.

b) Os profissionais de saúde de referência da gestante garantirão sua vinculação, no último trimestre da gestação, ao estabelecimento em que será realizado o parto, garantido o direito de opção da mulher.

c) Os serviços de saúde onde o parto for realizado assegurarão às mulheres e aos seus filhos recém-nascidos alta hospitalar responsável e contrarreferência na atenção primária, bem como o acesso a outros serviços e a grupos de apoio à amamentação.

d) Incumbe ao poder público proporcionar assistência psicológica à gestante e à mãe, no período pré e pós-natal, inclusive como forma de prevenir ou minorar as consequências do estado puerperal.

e) A gestante e a parturiente têm direito a um acompanhante de sua preferência durante o período do pré-natal, do trabalho de parto e do pós-parto imediato, ressalvado se for parto de risco, situação em que poderão ter até dois acompanhantes.

**03. Art. 16. O direito à liberdade, segundo o Estatuto da Criança e do Adolescente, compreende, dentre outros, os seguintes aspectos, exceto:**

a) Opinião e expressão.

b) Participar da vida política, na forma da lei.

c) Participar da vida comunitária, com discriminação.

d) Buscar refúgio, auxílio e orientação.

e) Brincar, praticar esportes e divertir-se.

**04. Leia as assertivas sobre Proteção Social Especial e marque a alternativa correta.**

**1. Na Proteção Social Especial estão previstos níveis de complexidade diferenciados: média e alta complexidade.**

**2. Os serviços de Proteção Social Especial destinam-se a famílias e indivíduos cujos direitos tenham sido violados e/ou ameaçados.**

**3. Os serviços de Proteção Social Especial requerem o acompanhamento familiar e individual e maior flexibilidade nas soluções protetivas.**

a) É verdadeira somente a assertiva 1.

b) São verdadeiras somente as assertivas 1 e 2.

c) São verdadeiras somente as assertivas 1 e 3.

d) São verdadeiras somente as assertivas 2 e 3.

e) São verdadeiras as assertivas 1, 2 e 3.

**05. Sobre a Proteção Social Básica, podemos afirmar que não é correta a alternativa:**

a) Os benefícios, tanto de prestação continuada como os eventuais, compõem a proteção social básica, dada a natureza de sua realização.

b) A proteção social básica tem como objetivos prevenir situações de risco por meio do desenvolvimento de potencialidades e aquisições, e o fortalecimento de vínculos familiares e comunitários.

c) A proteção social básica não se destina à população que vive em situação de vulnerabilidade social, dada a sua especificidade.



d) A proteção social básica prevê o desenvolvimento de serviços, programas e projetos locais de acolhimento, convivência e socialização de famílias e de indivíduos, conforme identificação da situação de vulnerabilidade apresentada.

e) O PAIF é o principal serviço de Proteção Social Básica.

**06. Atribua C (certo) ou E (errado) aos itens a seguir e aponte a alternativa correta.**

( ) O Projovem Adolescente, como serviço socioeducativo, apoia-se em dois importantes pilares do SUAS: matricialidade sociofamiliar e territorialização.

( ) O Projovem Adolescente visa contribuir para fortalecer as condições de autonomia das famílias e dos jovens, para que possam gerir seu processo de segurança social.

( ) O Serviço Socioeducativo do Projovem Adolescente integra-se a outras estratégias de ação voltadas para as famílias.

a) C, C, C.

b) E, C, E.

c) C, E, C.

d) C, C, E.

e) C, E, E.

**À luz das Diretrizes Curriculares Nacionais para a Educação Infantil, responda às próximas quatro questões.**

**07. Marque a alternativa correta.**

a) As vagas em creches e pré-escolas devem ser oferecidas próximas às residências das crianças.

b) A frequência na Educação Infantil é pré-requisito para a matrícula no Ensino Fundamental.

c) A jornada com duração superior a sete horas diárias, compreendendo o tempo total que a criança permanece na sala de aula.

d) As crianças que completam seis anos após o dia 31 de março devem ser matriculadas no Ensino Fundamental.

e) O atendimento em creches e pré-escolas como direito social das crianças se afirma na Constituição de 1988, com o reconhecimento da Educação Infantil como dever dos municípios.

**08. A proposta pedagógica das instituições de Educação Infantil deve ter como objetivo de garantir à criança:**

**(i) acesso a processos de apropriação;**

**(ii) renovação e articulação de conhecimentos e aprendizagens de diferentes linguagens;**

**(iii) o direito à proteção, à saúde, à liberdade, à confiança;**

**(iv) o direito ao respeito, à dignidade, à brincadeira;**

**(v) a convivência e à interação com adultos.**

**Qual dos itens não é correto?**

a) (i)

b) (ii)

c) (iii)

d) (iv)

e) (v)

**09. Leia o seguinte texto e assinale a alternativa correta.**

**Para efetivação de seus objetivos, as propostas pedagógicas das instituições de Educação Infantil deverão prever condições para o trabalho coletivo e para a organização de materiais, espaços e tempos que assegurem:**

**1. A educação em sua integralidade, entendendo o cuidado como algo indissociável ao processo educativo;**

**2. A indivisibilidade das dimensões expressivo-motora, afetiva, cognitiva, linguística, ética, estética e sociocultural da criança;**

**3. A participação, o diálogo e a escuta cotidiana das famílias, o respeito e a valorização de suas formas de organização;**

**4. A acessibilidade de espaços, materiais, objetos, brinquedos e instruções para as crianças com deficiência, transtornos globais de desenvolvimento e altas habilidades/superdotação;**

**5. A apropriação pelas crianças das contribuições histórico-culturais dos povos indígenas, afrodescendentes, asiáticos, europeus e de outros países da Europa.**

a) O item 1 não é verdadeiro.

b) O item 2 não é verdadeiro.

c) O item 3 não é verdadeiro.

d) O item 4 não é verdadeiro.

e) O item 5 não é verdadeiro.

**10. Leia o texto, atribua V (verdadeiro) ou F (falso) aos itens e aponte a alternativa correta.**

As instituições de Educação Infantil devem criar procedimentos para acompanhamento do trabalho pedagógico e para avaliação do desenvolvimento das crianças, sem objetivo de seleção, promoção ou classificação, garantindo, entre outros:

- ( ) A observação crítica e criativa das atividades, das brincadeiras e interações das crianças no cotidiano;
- ( ) Utilização de múltiplos registros realizados por adultos e crianças (relatórios, fotografias, desenhos, álbuns etc.);
- ( ) A continuidade dos processos de aprendizagens por meio da criação de estratégias adequadas aos diferentes momentos de transição vividos pela criança (transição casa/instituição de Educação Infantil, transições no interior da instituição, transição creche/pré-escola e transição pré-escola/Ensino Fundamental);
- ( ) Documentação específica que permita às famílias conhecer o trabalho da instituição junto às crianças e os processos de desenvolvimento e aprendizagem da criança na Educação Infantil.

- a) V, V, V, F.
- b) V, V, F, V.
- c) V, V, V, V.
- d) F, V, V, V.
- e) V, F, V, V.

## LÍNGUA PORTUGUESA

Leia o texto e responda às próximas quatro questões.

### Lêmures e baobás de Madagascar

Isolada do continente há 135 milhões de anos, a ilha do Oceano Índico é um laboratório natural da evolução das espécies e encanta os viajantes com uma flora e fauna única

**Madagascar** abriga 107 espécies de **lêmures**, dezenas de espécies de camaleões coloridos e outras tantas plantas que só existem lá. “Madagascar é um mundo a parte. Costumo dizer que, se Charles Darwin tivesse conhecido Madagascar, seu livro *A Origem das Espécies* seria dez vezes maior”, afirma o fotógrafo e jornalista **Haroldo Castro**, idealizador de Viajologia Expedições.

Uma das experiências mais emocionantes na quarta maior ilha do mundo é passear entre os gigantescos **baobás**, árvores que chegam a ter 30 metros de altura e mil anos de idade. Das nove espécies de baobás que existem no mundo, seis podem ser encontradas apenas em Madagascar. A majestosa árvore, considerada sagrada pelos malgaxes, é chamada localmente como “reniala”, mãe da floresta.

Na pequena cidade de Bekopaka está o Parque Nacional Tsingy de Bemaraha, considerado Patrimônio Mundial pela Unesco. Trilhas e passeios de canoa no rio Manambolo conduzem a formações rochosas calcárias inusitadas e plantas endêmicas desse ecossistema de florestas secas.

Outro momento inesquecível em Madagascar é o encontro com os lêmures nas florestas tropicais da reserva Anjozorobe-Angavo, a 90 quilômetros da capital Antananarivo. Especialistas apontam que o turismo de observação de animais é uma excelente alternativa para o desenvolvimento da economia local e pode ajudar a conter o desmatamento. “O projeto em Anjozorobe comprova que, nos últimos anos, os 9 mil visitantes contribuíram de forma concreta a reduzir a pobreza e a promover a conservação da biodiversidade”, afirma Haroldo. Como os primatas são curiosos e estão habituados aos seres humanos, eles costumam se aproximar dos visitantes. “Os bichinhos chegam a subir nas nossas cabeças e parecem adorar aparecer nas fotos.”

Madagascar possui hoje uma excelente estrutura para o turismo, com algumas estradas bem cuidadas e hotéis confortáveis localizados perto das reservas e parques ecológicos. A gastronomia malgaxe, com um toque francês, também surpreende pela diversidade de ingredientes, temperos e colorido dos pratos.

[...]

(Fonte: <http://viajeaqui.abril.com.br/materias/lemures-e-baobas-de-madagascar#2>. Acesso em 14/05/2016)

### 11. Lêmures e baobás de Madagascar é um texto:

- a) Em que prevalece a descrição, apresentando as belezas e peculiaridades do lugar, da fauna e da flora.
- b) Principalmente narrativo, de fatos colhidos durante uma viagem, que se sucedem em progressão temporal.
- c) Essencialmente argumentativo, o uso da descrição visa somente a convencer o leitor a visitar Madagascar.
- d) Dissertativo, impera o desenvolvimento de argumentos para comprovar a tese presente no primeiro parágrafo.
- e) Em que predomina a exposição de conceitos e definições com o intuito de informar o leitor.

### 12. O teor do texto *Lêmures e baobás de Madagascar* somente não poderia se encaixar em que tópico?

- a) Turismo
- b) Viagens
- c) Clima
- d) Natureza
- e) Ilhas

13. O aposto é um termo que *explica ou esclarece, desenvolve ou resume outro termo da oração*. Quanto a isso, analise a parte grifada em cada uma das orações retiradas do texto:

I - *A majestosa árvore, considerada sagrada pelos malgaxes, é chamada localmente como “reniala”, mãe da floresta.*

II - *afirma o fotógrafo e jornalista Haroldo Castro, idealizador de Viajologia Expedições.*

III - *Outro momento inesquecível em Madagascar é o encontro com os lêmures nas florestas tropicais da reserva Anjozorobe-Angavo, a 90 quilômetros da capital Antananarivo.*

IV - *O projeto em Anjozorobe comprova que, nos últimos anos, os 9 mil visitantes contribuíram de forma concreta a reduzir a pobreza e a promover a conservação da biodiversidade”.*

V - *A gastronomia malgaxe, com um toque francês, também surpreende pela diversidade de ingredientes, temperos e colorido dos pratos.*

Constitui aposto os grifos em:

- I, II, III, IV e V.
- I, III e V, apenas.
- III e V apenas.
- I, II, III, e V, apenas.
- III, IV e V apenas

14. *Trilhas e passeios de canoa no rio Manambolo conduzem a formações rochosas calcárias inusitadas e plantas endêmicas desse ecossistema de florestas secas.*

Ao observar a relação sintática entre os termos desse período, pode-se afirmar que:

- de canoa é complemento nominal de Trilhas e passeios.
- no rio Manambolo é adjunto adnominal de canoas.
- de florestas secas é complemento nominal de plantas endêmicas.
- de canoa é complemento verbal de passeios.
- a formações rochosas calcárias inusitadas e plantas endêmicas desse ecossistema de florestas secas é complemento verbal de conduzem.

Leia o poema e responda às próximas duas questões.

#### FOGO NA MATA, MATA!

Fogo na mata, mata! A mata, a vida...  
Fogo na mata, abre,  
no coração da mata,  
Profundas feridas.

Fogo na mata corrói,  
dentro de nós, os sonhos.  
Fogo na mata, deixa, no seio da mata,  
Tumores tamanhos!

[...]

(Fonte: <http://www.recantodasletras.com.br/letras/505252>. Acesso em 14/05/2016)

15. *A respeito de alguns aspectos gramaticais pertinentes aos termos em destaque na frase título do poema Fogo na mata, mata!, está correto o que se afirma em:*

- Morfologicamente, na sequência em que as duas palavras aparecem, temos um verbo e um substantivo.
- Semanticamente, as duas palavras constituem homônimas homófonas homógrafas.
- O processo de formação da palavra “mata” (primeira ocorrência na frase) é por derivação regressiva do verbo “matar” cuja flexão na terceira pessoa vem logo em seguida na frase.
- Semanticamente, as duas palavras “mata” são parônimas.
- Semanticamente, as duas palavras constituem homônimas homógrafas heterofônicas.

16. *Com a Nova Reforma Ortográfica, foi mantido o acento nas oxítonas terminadas em -ei e -oi, como é o caso de corrói em Fogo na mata corrói. No entanto, de acordo ainda com a Nova Reforma, os acentos foram retirados de quais duas palavras?*

- Bocaiuva - maiúscula
- Voo, aerodromo
- Releem - feiura
- Papeis - linguíça
- Preveem - heroi

17. *Leia atentamente as alternativas e assinale a incorreta no que diz respeito à Ortografia:*

- Grafamos com j as palavras ultraje, jiboia e gorjeio; com g as palavras ferrugem, geringonça, e miragem.
- Grafamos com sc: miscelânea, obsceno e obsessão; com c: sucinto, facínio e nécio.
- Grafamos com x: xampu, mexerico e enxada; com ch: piche, tocha e mecha.



- d) Grafamos com z: xadrez, cicatriz e vizinho; com s: friso, pêsames e tesoura.  
e) Grafamos com ss: escassez, submissão e sossego; com c: acetinado, obcecado e acepção.

**18. O advérbio sublinhado e a circunstância que ele expressa não estão corretamente apresentados em:**

- a) Ele certamente virá para o encontro. (afirmação)  
b) Ali se ouvia falar de riquezas culturais. (tempo)  
c) O orador discursou muito bem, impressionou a plateia. (modo)  
d) Chegamos tarde, perdemos o ônibus. (tempo)  
e) Os candidatos estudaram bastante. (intensidade)

**19. Os pronomes pessoais, representantes das pessoas do discurso, estão corretamente empregados em todas as alternativas, com exceção da:**

- a) Sempre haverá discordância entre mim e ti.  
b) O juiz queria falar com nós dois.  
c) Minha festa de despedida, não vou esquecê-la jamais.  
d) Ninguém irá sem eu.  
e) Deram o livro para eu ler em dois dias!

**20. Em uma oração, o contexto permite concluirmos se certos verbos são de ligação, para assim identificarmos o predicado nominal. Assim, não há predicação nominal em:**

- a) O aluno não estava na escola hoje.  
b) À tarde, as crianças pareciam cansadas.  
c) Ultimamente os participantes do programa andam desanimados.  
e) A aurora boreal é um lindo espetáculo.  
d) As atletas parecem cansadas.

## MATEMÁTICA

**21. Numa prova de hipismo, há duas modalidades totalmente distintas: salto e rural. João vai competir nas duas modalidades. Sabendo que a vitória ou a derrota em uma nada influencia no resultado da outra, e sabendo que a probabilidade de ele ganhar a prova de salto é de 40% e a de ganhar a prova de rural é de 58%, qual a probabilidade de ele ganhar as duas provas?**

- a) 98%  
b) 62%  
c) 23,2%  
d) 18%  
e) 2,32%

**22. Numa escola há 12 professores. A tabela a seguir mostra a carga horária diária de trabalho desses professores.**

4	8	5	10	6	5	8	6	8	9	4	8
---	---	---	----	---	---	---	---	---	---	---	---

**É correto afirmar que as cargas horárias média, modal e mediana desses professores são respectivamente:**

- a) 6,25; 6; 7  
b) 6,5; 7; 8  
c) 6,75; 8; 6  
d) 6,75; 8; 7  
e) 6,75; 7; 8

**23. Encontre a equação da reta mediatriz do segmento AB, onde A(2, 3) e B(4, -1), e assinale a alternativa correta.**

- a)  $2y - x + 1 = 0$   
b)  $y - 2x + 2 = 0$   
c)  $2y - 2x + 1 = 0$   
d)  $2y + x + 2 = 0$   
e)  $2y + x - 1 = 0$

**24. Uma loja acrescenta 15% no preço de seus produtos à vista se o cliente optar por pagar com um cheque para 60 dias. Comprei, nessa loja, um fogão com cheque para 60 dias e paguei R\$552,00 por ele. Qual era o preço à vista desse fogão?**

- a) R\$460,00  
b) R\$469,20  
c) R\$474,50  
d) R\$480,00  
e) R\$500,00

**25. Um pesquisador, ao analisar os processos que envolvem jovens com menos de 24 anos, descobriu que há 4 homens com nomes envolvidos em processos para cada mulher. Se no total ele contou 2400 pessoas, quantas eram as mulheres envolvidas nessa pesquisa?**

- a) 480
- b) 600
- c) 800
- d) 1920
- e) 2000

#### **INFORMÁTICA**

**26. Utilizando o Excel 2013, qual fórmula representa corretamente a auto soma?**

- a) =SUM()
- b) =MEDIA()
- c) =MAX()
- d) =MIN()
- e) =SE()

**27. Acerca de confidencialidade está incorreto afirmar:**

- a) É um conceito no qual o acesso à informação deve ser concedido a quem de direito, ou seja, apenas para as entidades autorizadas pelo proprietário ou dono da informação.
- b) É uma propriedade que limita o acesso à informação tão somente às entidades legítimas, ou seja, àquelas autorizadas pelo proprietário da informação.
- c) É a propriedade da informação que não estará disponível ou será divulgada a indivíduos, entidades ou processos sem autorização.
- d) Significa garantir que a informação será conhecida por pessoas que não estejam autorizadas para tal.
- e) É a garantia do resguardo das informações dadas pessoalmente em confiança e proteção contra a sua revelação não autorizada.

**28. Tratando-se de hardware de computadores, assinale a alternativa que corresponde a um tipo de memória externa.**

- a) Pen Drive
- b) EPROM
- c) DIMM
- d) MRAM
- e) Cache

**29. No Word 2013, é possível utilizar vários tipos de formatação de fontes, exceto:**

- a) Tachado
- b) Negrito
- c) Centralizado
- d) Sublinhado
- e) Cor da fonte

**30. Qual software nativo do Windows utilizamos para descobrir o endereço IP do computador?**

- a) Windows Explorer
- b) Notepad
- c) Excel
- d) Word
- e) Prompt de Comando

#### **CONHECIMENTOS GERAIS**

**31. Conforme fonte do IBGE, o bioma do município de Telêmaco Borba/PR é:**

- a) Mata de Pinhais e Cerrado
- b) Pantanal
- c) Caatinga e Mata Atlântica
- d) Floresta Tropical
- e) Cerrado e Mata Atlântica

**32. A letra do hino do município de Telêmaco Borba/PR é de autoria de**

- a) Bento Mossurunga.
- b) Moisés Lupion.
- c) Eloah Martins Quadrado.
- d) Graciliana Reis D'Albuquerque Mossurunga.
- e) Enéias Augusto Moracines Borba.



**33. Leia o texto sobre o Brasão de Armas do município de Telêmaco Borba/PR e marque a alternativa correta.**

O Brasão de Armas foi aprovado em definitivo em 1981, dentro dos padrões da heráldica, estabelecendo os regulamentos para seu uso, ficando assim oficializado.

No Brasão de Armas, é possível identificar:

1. Escudo português redondo banhado de ouro filetado de prata, carregado de cinco árvores de pinho estilizadas de sua cor, postas em banda.
2. Escudete de prata carregado de três Pinheiros do Paraná, araucária angustifolia ou brasiliense.
3. No timbre, coroa mural de ouro lavrado de negro.
4. À direita, haste de milho (zae mays) frutada.
5. À sinistra, ramos de soja (gelycine soya) granada.
6. Listel amarelo ostentando o topônimo "Cidade Nova" entre as inscrições de ouro "5 de Julho de 1963", em caracteres latino moderno.

- a) Não é verdadeiro o item 1.
- b) Não é verdadeiro o item 2.
- c) Não é verdadeiro o item 4.
- d) Não é verdadeiro o item 6.
- e) Não são verdadeiros os itens 3 e 5.

**34. Segundo o art. 11 da Lei Orgânica do Município de Telêmaco Borba/PR, os bens públicos podem ser:**

**I. De uso comum do Povo, tais como estradas municipais, ruas, parques, praças, logradouros públicos e outros da mesma espécie;**

**II. De uso especial, os de patrimônio administrativo, tais como edifícios das repartições públicas, os terrenos e equipamentos destinados ao serviço público, veículos, matadouros, mercados e outras serventias de outra espécie;**

**III. Bens municipais, aqueles sobre os quais o município exerce os direitos de proprietário e são considerados como bens patrimoniais disponíveis;**

**IV. Bens culturais, tais como música e obras de arte.**

**Podemos afirmar que são verdadeiros os itens**

- a) I e II, apenas.
- b) II e III, apenas.
- c) I, II e III, apenas.
- d) I, III e IV, apenas.
- e) I, II, III e IV.

**35. Qual alternativa completa corretamente o texto a seguir?**

No primeiro ano de cada legislatura, no dia 1º de janeiro, em sessão de instalação, independente de número, sob a presidência do vereador mais idoso dentre os eleitos, os vereadores prestarão compromisso e tomarão posse. O Vereador que não tomar posse na sessão do dia 1º de janeiro poderá fazê-la \_\_\_\_\_ depois da primeira sessão ordinária da Legislatura.

- a) até dez dias
- b) até quinze dias
- c) até trinta dias
- d) até quarenta e cinco dias
- e) até sessenta dias

**36. Conforme o art. 54 da Lei Orgânica do Município de Telêmaco Borba/PR, o Processo Legislativo compreende a elaboração de:**

**I. Emendas à Lei Orgânica do Município;**

**II. Leis complementares;**

**III. Leis Ordinárias;**

**IV. Decretos Legislativos;**

**V. Resoluções;**

**VI. Pareceres.**

**Assinale a alternativa que faz a afirmação correta.**

- a) São verdadeiros apenas os itens I, III e VI.
- b) São verdadeiros apenas os itens I, III e IV.
- c) São verdadeiros apenas os itens III, IV e V.
- d) São verdadeiros apenas os itens I, II, III, IV e V.
- e) São verdadeiros os itens I, II, III, IV, V e VI.

**Com base na Lei nº 1883/2012, que dispõe sobre o Estatuto dos Servidores Públicos da Administração Direta, Autárquica e Funcional do Município de Telêmaco Borba/PR, responda às próximas quatro questões.**



**37. À luz do § 2º do art. 9º da Lei nº 1883/2012, marque a alternativa que completa a lacuna do texto a seguir.**

**O concurso deverá ser homologado no prazo máximo de \_\_\_\_\_ contados da data de realização da última fase de provas, sob pena de responsabilidade da autoridade competente.**

- a) um mês
- b) dois meses
- c) seis meses
- d) um ano
- e) dois anos

**38. Marque a alternativa que completa a lacuna do texto a seguir.**

**O candidato terá o prazo \_\_\_\_\_, a contar da publicação oficial da convocação, para comparecer à entidade convocante e assinar termo de comparecimento.**

- a) máximo de 5 dias úteis
- b) mínimo de 15 dias úteis
- c) de até 30 dias
- d) máximo de 15 dias úteis
- e) mínimo de 5 dias úteis

**39. Leia as assertivas e marque a correta.**

- a) São reservados 10% dos cargos em comissão para a nomeação de servidores do quadro efetivo.
- b) São reservados 15% dos cargos em comissão para a nomeação de servidores do quadro efetivo.
- c) São reservados 20% dos cargos em comissão para a nomeação de servidores do quadro efetivo.
- d) São reservados 25% dos cargos em comissão para a nomeação de servidores do quadro efetivo.
- e) São reservados 30% dos cargos em comissão para a nomeação de servidores do quadro efetivo.

**40. Marque a alternativa que completa a lacuna do texto a seguir.**

**O servidor municipal, quando nomeado para cargo em comissão, ficará afastado de seu cargo efetivo e fará jus à remuneração prevista em lei para o comissionado, podendo optar por receber seus vencimentos acrescidos de \_\_\_\_\_ do valor da remuneração prevista para o cargo em comissão.**

- a) 10%
- b) 20%
- c) 30%
- d) 40%
- e) 50%

**RASCUNHO**





PREFEITURA DE TELÊMACO BORBA - ESTADO DO PARANÁ - EDITAL Nº 001-2016 - CONCURSO PÚBLICO

MATUTINO – 29/05/2016 – NÍVEL MÉDIO

**1**

PROVA OBJETIVA NÚMERO

CARGO: INSPETOR DE ALUNOS

Leia atentamente as INSTRUÇÕES:

1. Confira seus dados no cartão-resposta: nome, número de inscrição e o curso para o qual se inscreveu.
2. **MARQUE no seu cartão-resposta o número da sua prova** (não será corrigido o cartão-resposta que não tiver marcado o número da prova) e **Assine** seu cartão-resposta.
3. Aguarde a autorização do Fiscal para abrir o caderno de prova. Ao receber a ordem do fiscal, confira o caderno de prova com muita atenção. Nenhuma reclamação sobre o total de questões ou falha de impressão será aceita depois de iniciada a prova.
4. O cartão-resposta não será substituído, salvo se contiver erro de impressão.
5. Preencha toda a área do cartão-resposta correspondente à alternativa de sua escolha, com caneta esferográfica (tinta azul ou preta), sem ultrapassar as bordas. As marcações duplas, ou rasuradas, com corretivo, ou marcadas diferentemente do modelo estabelecido no cartão-resposta poderão ser anuladas.
6. Sua prova tem **40** questões, com **5** alternativas.
7. Cabe apenas ao candidato a interpretação das questões, **o fiscal** não poderá fazer nenhuma interferência.
8. A prova será realizada com duração máxima de **3 (três) horas**, incluído o tempo para a realização da Prova Objetiva de múltipla escolha e o preenchimento do cartão-resposta.
9. O candidato poderá retirar-se do local de realização das provas somente **1 (uma) hora** após o seu início, sem levar o caderno de prova.
10. O candidato poderá levar o caderno de provas, assim como anotação contendo transcrição do seu cartão-resposta, somente **1h30min** (uma hora e trinta minutos) após o início da realização da prova.
11. Ao terminar a prova, o candidato deverá entregar ao fiscal de sala o cartão-resposta preenchido e **ASSINADO**.
12. Os **3 (três)** candidatos, que terminarem a prova por último, deverão permanecer na sala, e só poderão sair juntos após o fechamento do envelope, contendo os cartões-resposta dos candidatos presentes e ausentes, e assinarem no lacre do referido envelope, atestando que este foi devidamente lacrado.
13. Durante todo o tempo em que permanecer no local onde está ocorrendo o concurso, o candidato deverá, manter o celular desligado e sem bateria, só sendo permitido ligar depois de ultrapassar o portão de saída do prédio.
14. Não será permitido ao candidato fumar na sala de provas, bem como nas dependências.
15. Depois de terminar a prova e entregar ao fiscal o cartão-resposta, preenchido e assinado, não será mais permitido ao candidato o uso do banheiro e bebedouro.

**BOA PROVA!**

**LÍNGUA PORTUGUESA**

Leia o texto e responda às próximas quatro questões.

**Lêmures e baobás de Madagascar**

Isolada do continente há 135 milhões de anos, a ilha do Oceano Índico é um laboratório natural da evolução das espécies e encanta os viajantes com uma flora e fauna única

**Madagascar** abriga 107 espécies de **lêmures**, dezenas de espécies de camaleões coloridos e outras tantas plantas que só existem lá. “Madagascar é um mundo a parte. Costumo dizer que, se Charles Darwin tivesse conhecido Madagascar, seu livro *A Origem das Espécies* seria dez vezes maior”, afirma o fotógrafo e jornalista **Haroldo Castro**, idealizador de Viajologia Expedições.

Uma das experiências mais emocionantes na quarta maior ilha do mundo é passear entre os gigantescos **baobás**, árvores que chegam a ter 30 metros de altura e mil anos de idade. Das nove espécies de baobás que existem no mundo, seis podem ser encontradas apenas em Madagascar. A majestosa árvore, considerada sagrada pelos malgaxes, é chamada localmente como “reniala”, mãe da floresta.

Na pequena cidade de Bekopaka está o Parque Nacional Tsingy de Bemaraha, considerado Patrimônio Mundial pela Unesco. Trilhas e passeios de canoa no rio Manambolo conduzem a formações rochosas calcárias inusitadas e plantas endêmicas desse ecossistema de florestas secas.

Outro momento inesquecível em Madagascar é o encontro com os lêmures nas florestas tropicais da reserva Anjozorobe-Angavo, a 90 quilômetros da capital Antananarivo. Especialistas apontam que o turismo de observação de animais é uma excelente alternativa para o desenvolvimento da economia local e pode ajudar a conter o desmatamento. “O projeto em Anjozorobe comprova que, nos últimos anos, os 9 mil visitantes contribuíram de forma concreta a reduzir a pobreza e a promover a conservação da biodiversidade”, afirma Haroldo. Como os primatas são curiosos e estão habituados aos seres humanos, eles costumam se aproximar dos visitantes. “Os bichinhos chegam a subir nas nossas cabeças e parecem adorar aparecer nas fotos.”

Madagascar possui hoje uma excelente estrutura para o turismo, com algumas estradas bem cuidadas e hotéis confortáveis localizados perto das reservas e parques ecológicos. A gastronomia malgaxe, com um toque francês, também surpreende pela diversidade de ingredientes, temperos e colorido dos pratos.

[...]

(Fonte: <http://viajeaqui.abril.com.br/materias/lemures-e-baobas-de-madagascar#2>. Acesso em 14/05/2016)

**01. Lêmures e baobás de Madagascar é um texto:**

- a) Em que prevalece a descrição, apresentando as belezas e peculiaridades do lugar, da fauna e da flora.
- b) Principalmente narrativo, de fatos colhidos durante uma viagem, que se sucedem em progressão temporal.
- c) Essencialmente argumentativo, o uso da descrição visa somente a convencer o leitor a visitar Madagascar.
- d) Dissertativo, impera o desenvolvimento de argumentos para comprovar a tese presente no primeiro parágrafo.
- e) Em que predomina a exposição de conceitos e definições com o intuito de informar o leitor.

**02. O teor do texto *Lêmures e baobás de Madagascar* somente não poderia se encaixar em que tópico?**

- a) Turismo
- b) Viagens
- c) Clima
- d) Natureza
- e) Ilhas

**03. O aposto é um termo que *explica ou esclarece, desenvolve ou resume outro termo da oração*. Quanto a isso, analise a parte grifada em cada uma das orações retiradas do texto:**

**I - A majestosa árvore, considerada sagrada pelos malgaxes, é chamada localmente como “reniala”, mãe da floresta.**

**II - afirma o fotógrafo e jornalista Haroldo Castro, idealizador de Viajologia Expedições.**



III - *Outro momento inesquecível em Madagascar é o encontro com os lêmures nas florestas tropicais da reserva Anjozorobe-Angavo, a 90 quilômetros da capital Antananarivo.*

IV - *O projeto em Anjozorobe comprova que, nos últimos anos, os 9 mil visitantes contribuíram de forma concreta a reduzir a pobreza e a promover a conservação da biodiversidade”.*

V - *A gastronomia malgaxe, com um toque francês, também surpreende pela diversidade de ingredientes, temperos e colorido dos pratos.*

Constitui aposto os grifos em:

a) I, II, III, IV e V.

b) I, III e V, apenas.

c) III e V apenas.

d) I, II, III, e V, apenas.

e) III, IV e V apenas

**04. Trilhas e passeios de canoa no rio Manambolo conduzem a formações rochosas calcárias inusitadas e plantas endêmicas desse ecossistema de florestas secas.**

**Ao observar a relação sintática entre os termos desse período, pode-se afirmar que:**

a) de canoa é complemento nominal de Trilhas e passeios.

b) no rio Manambolo é adjunto adnominal de canoa.

c) de florestas secas é complemento nominal de plantas endêmicas.

d) de canoa é complemento verbal de passeios.

e) a formações rochosas calcárias inusitadas e plantas endêmicas desse ecossistema de florestas secas é complemento verbal de conduzem.

**Leia o poema e responda às próximas duas questões.**

#### **FOGO NA MATA, MATA!**

Fogo na mata, mata! A mata, a vida...

Fogo na mata, abre,  
no coração da mata,  
Profundas feridas.

Fogo na mata corrói,  
dentro de nós, os sonhos.

Fogo na mata, deixa, no seio da mata,  
Tumores tamanhos!

[...]

(Fonte: <http://www.recantodasletras.com.br/letras/505252>. Acesso em 14/05/2016)

**05. A respeito de alguns aspectos gramaticais pertinentes aos termos em destaque na frase título do poema *Fogo na mata, mata!*, está correto o que se afirma em:**

a) Morfologicamente, na sequência em que as duas palavras aparecem, temos um verbo e um substantivo.

b) Semanticamente, as duas palavras constituem homônimas homófonas homógrafas.

c) O processo de formação da palavra “mata” (primeira ocorrência na frase) é por derivação regressiva do verbo “matar” cuja flexão na terceira pessoa vem logo em seguida na frase.

d) Semanticamente, as duas palavras “mata” são parônimas.

e) Semanticamente, as duas palavras constituem homônimas homógrafas heterofônicas.

**06. Com a Nova Reforma Ortográfica, foi mantido o acento nas oxítonas terminadas em -ei e -oi, como é o caso de corrói em *Fogo na mata corrói*. No entanto, de acordo ainda com a Nova Reforma, os acentos foram retirados de quais duas palavras?**

a) Bocaiuva - maiúscula

b) Voo, aerodromo

c) Releem - feiura

d) Papeis - linguíça

e) Preveem - heroi

**07. Leia atentamente as alternativas e assinale a incorreta no que diz respeito à Ortografia:**

a) Grafamos com j as palavras ultraje, jiboia e gorjeio; com g as palavras ferrugem, geringonça, e miragem.

b) Grafamos com sc: miscelânea, obsceno e obscensão; com c: sucinto, facínio e nécio.

c) Grafamos com x: xampu, mexerico e enxada; com ch: piche, tocha e mecha.



- d) Grafamos com z: xadrez, cicatriz e vizinho; com s: friso, pêsames e tesoura.  
e) Grafamos com ss: escassez, submissão e sossego; com c: acetinado, obcecado e acepção.

**08. O advérbio sublinhado e a circunstância que ele expressa não estão corretamente apresentados em:**

- a) Ele certamente virá para o encontro. (afirmação)  
b) Ali se ouvia falar de riquezas culturais. (tempo)  
c) O orador discursou muito bem, impressionou a plateia. (modo)  
d) Chegamos tarde, perdemos o ônibus. (tempo)  
e) Os candidatos estudaram bastante. (intensidade)

**09. Os pronomes pessoais, representantes das pessoas do discurso, estão corretamente empregados em todas as alternativas, com exceção da:**

- a) Sempre haverá discordância entre mim e ti.  
b) O juiz queria falar com nós dois.  
c) Minha festa de despedida, não vou esquecê-la jamais.  
d) Ninguém irá sem eu.  
e) Deram o livro para eu ler em dois dias!

**10. Em uma oração, o contexto permite concluirmos se certos verbos são de ligação, para assim identificarmos o predicado nominal. Assim, não há predicação nominal em:**

- a) O aluno não estava na escola hoje.  
b) À tarde, as crianças pareciam cansadas.  
c) Ultimamente os participantes do programa andam desanimados.  
e) A aurora boreal é um lindo espetáculo.  
d) As atletas parecem cansadas.

## MATEMÁTICA

**11. Numa prova de hipismo, há duas modalidades totalmente distintas: salto e rural. João vai competir nas duas modalidades. Sabendo que a vitória ou a derrota em uma nada influencia no resultado da outra, e sabendo que a probabilidade de ele ganhar a prova de salto é de 40% e a de ganhar a prova de rural é de 58%, qual a probabilidade de ele ganhar as duas provas?**

- a) 98%  
b) 62%  
c) 23,2%  
d) 18%  
e) 2,32%

**12. Numa escola há 12 professores. A tabela a seguir mostra a carga horária diária de trabalho desses professores.**

4	8	5	10	6	5	8	6	8	9	4	8
---	---	---	----	---	---	---	---	---	---	---	---

**É correto afirmar que as cargas horárias média, modal e mediana desses professores são respectivamente:**

- a) 6,25; 6; 7  
b) 6,5; 7; 8  
c) 6,75; 8; 6  
d) 6,75; 8; 7  
e) 6,75; 7; 8

**13. Encontre a equação da reta mediatriz do segmento AB, onde A(2, 3) e B(4, -1), e assinale a alternativa correta.**

- a)  $2y - x + 1 = 0$   
b)  $y - 2x + 2 = 0$   
c)  $2y - 2x + 1 = 0$   
d)  $2y + x + 2 = 0$   
e)  $2y + x - 1 = 0$

**14. Uma loja acrescenta 15% no preço de seus produtos à vista se o cliente optar por pagar com um cheque para 60 dias. Comprei, nessa loja, um fogão com cheque para 60 dias e paguei R\$552,00 por ele. Qual era o preço à vista desse fogão?**

- a) R\$460,00  
b) R\$469,20  
c) R\$474,50  
d) R\$480,00  
e) R\$500,00

**15. Um pesquisador, ao analisar os processos que envolvem jovens com menos de 24 anos, descobriu que há 4 homens com nomes envolvidos em processos para cada mulher. Se no total ele contou 2400 pessoas, quantas eram as mulheres envolvidas nessa pesquisa?**

- a) 480
- b) 600
- c) 800
- d) 1920
- e) 2000

#### **INFORMÁTICA**

**16. Utilizando o Excel 2013, qual fórmula representa corretamente a auto soma?**

- a) =SUM()
- b) =MEDIA()
- c) =MAX()
- d) =MIN()
- e) =SE()

**17. Acerca de confidencialidade está incorreto afirmar:**

- a) É um conceito no qual o acesso à informação deve ser concedido a quem de direito, ou seja, apenas para as entidades autorizadas pelo proprietário ou dono da informação.
- b) É uma propriedade que limita o acesso à informação tão somente às entidades legítimas, ou seja, àquelas autorizadas pelo proprietário da informação.
- c) É a propriedade da informação que não estará disponível ou será divulgada a indivíduos, entidades ou processos sem autorização.
- d) Significa garantir que a informação será conhecida por pessoas que não estejam autorizadas para tal.
- e) É a garantia do resguardo das informações dadas pessoalmente em confiança e proteção contra a sua revelação não autorizada.

**18. Tratando-se de hardware de computadores, assinale a alternativa que corresponde a um tipo de memória externa.**

- a) Pen Drive
- b) EPROM
- c) DIMM
- d) MRAM
- e) Cache

**19. No Word 2013, é possível utilizar vários tipos de formatação de fontes, exceto:**

- a) Tachado
- b) Negrito
- c) Centralizado
- d) Sublinhado
- e) Cor da fonte

**20. Qual software nativo do Windows utilizamos para descobrir o endereço IP do computador?**

- a) Windows Explorer
- b) Notepad
- c) Excel
- d) Word
- e) Prompt de Comando

#### **CONHECIMENTOS GERAIS**

**21. Conforme fonte do IBGE, o bioma do município de Telêmaco Borba/PR é:**

- a) Mata de Pinhais e Cerrado
- b) Pantanal
- c) Caatinga e Mata Atlântica
- d) Floresta Tropical
- e) Cerrado e Mata Atlântica

**22. A letra do hino do município de Telêmaco Borba/PR é de autoria de**

- a) Bento Mossurunga.
- b) Moisés Lupion.
- c) Eloah Martins Quadrado.
- d) Graciliana Reis D´Albuquerque Mossurunga.

e) Enéias Augusto Moracines Borba.

**23. Leia o texto sobre o Brasão de Armas do município de Telêmaco Borba/PR e marque a alternativa correta.**

O Brasão de Armas foi aprovado em definitivo em 1981, dentro dos padrões da heráldica, estabelecendo os regulamentos para seu uso, ficando assim oficializado.

No Brasão de Armas, é possível identificar:

1. Escudo português redondo banhado de ouro filetado de prata, carregado de cinco árvores de pinho estilizadas de sua cor, postas em banda.
2. Escudete de prata carregado de três Pinheiros do Paraná, araucária angustifolia ou brasiliense.
3. No timbre, coroa mural de ouro lavrado de negro.
4. À destra, haste de milho (zae mays) frutada.
5. À sinistra, ramos de soja (gelycine soya) granada.
6. Listel amarelo ostentando o topônimo "Cidade Nova" entre as inscrições de ouro "5 de Julho de 1963", em caracteres latino moderno.

- a) Não é verdadeiro o item 1.
- b) Não é verdadeiro o item 2.
- c) Não é verdadeiro o item 4.
- d) Não é verdadeiro o item 6.
- e) Não são verdadeiros os itens 3 e 5.

**24. Segundo o art. 11 da Lei Orgânica do Município de Telêmaco Borba/PR, os bens públicos podem ser:**

**I. De uso comum do Povo, tais como estradas municipais, ruas, parques, praças, logradouros públicos e outros da mesma espécie;**

**II. De uso especial, os de patrimônio administrativo, tais como edifícios das repartições públicas, os terrenos e equipamentos destinados ao serviço público, veículos, matadouros, mercados e outras serventias de outra espécie;**

**III. Bens municipais, aqueles sobre os quais o município exerce os direitos de proprietário e são considerados como bens patrimoniais disponíveis;**

**IV. Bens culturais, tais como música e obras de arte.**

**Podemos afirmar que são verdadeiros os itens**

- a) I e II, apenas.
- b) II e III, apenas.
- c) I, II e III, apenas.
- d) I, III e IV, apenas.
- e) I, II, III e IV.

**25. Qual alternativa completa corretamente o texto a seguir?**

No primeiro ano de cada legislatura, no dia 1º de janeiro, em sessão de instalação, independente de número, sob a presidência do vereador mais idoso dentre os eleitos, os vereadores prestarão compromisso e tomarão posse. O Vereador que não tomar posse na sessão do dia 1º de janeiro poderá fazê-la \_\_\_\_\_ depois da primeira sessão ordinária da Legislatura.

- a) até dez dias
- b) até quinze dias
- c) até trinta dias
- d) até quarenta e cinco dias
- e) até sessenta dias

**26. Conforme o art. 54 da Lei Orgânica do Município de Telêmaco Borba/PR, o Processo Legislativo compreende a elaboração de:**

**I. Emendas à Lei Orgânica do Município;**

**II. Leis complementares;**

**III. Leis Ordinárias;**

**IV. Decretos Legislativos;**

**V. Resoluções;**

**VI. Pareceres.**

**Assinale a alternativa que faz a afirmação correta.**

- a) São verdadeiros apenas os itens I, III e VI.
- b) São verdadeiros apenas os itens I, III e IV.
- c) São verdadeiros apenas os itens III, IV e V.
- d) São verdadeiros apenas os itens I, II, III, IV e V.
- e) São verdadeiros os itens I, II, III, IV, V e VI.



Com base na Lei nº 1883/2012, que dispõe sobre o Estatuto dos Servidores Públicos da Administração Direta, Autárquica e Funcional do Município de Telêmaco Borba/PR, responda às próximas quatro questões.

27. À luz do § 2º do art. 9º da Lei nº 1883/2012, marque a alternativa que completa a lacuna do texto a seguir.

O concurso deverá ser homologado no prazo máximo de \_\_\_\_\_ contados da data de realização da última fase de provas, sob pena de responsabilidade da autoridade competente.

- a) um mês
- b) dois meses
- c) seis meses
- d) um ano
- e) dois anos

28. Marque a alternativa que completa a lacuna do texto a seguir.

O candidato terá o prazo \_\_\_\_\_, a contar da publicação oficial da convocação, para comparecer à entidade convocante e assinar termo de comparecimento.

- a) máximo de 5 dias úteis
- b) mínimo de 15 dias úteis
- c) de até 30 dias
- d) máximo de 15 dias úteis
- e) mínimo de 5 dias úteis

29. Leia as assertivas e marque a correta.

- a) São reservados 10% dos cargos em comissão para a nomeação de servidores do quadro efetivo.
- b) São reservados 15% dos cargos em comissão para a nomeação de servidores do quadro efetivo.
- c) São reservados 20% dos cargos em comissão para a nomeação de servidores do quadro efetivo.
- d) São reservados 25% dos cargos em comissão para a nomeação de servidores do quadro efetivo.
- e) São reservados 30% dos cargos em comissão para a nomeação de servidores do quadro efetivo.

30. Marque a alternativa que completa a lacuna do texto a seguir.

O servidor municipal, quando nomeado para cargo em comissão, ficará afastado de seu cargo efetivo e fará jus à remuneração prevista em lei para o comissionado, podendo optar por receber seus vencimentos acrescidos de \_\_\_\_\_ do valor da remuneração prevista para o cargo em comissão.

- a) 10%
- b) 20%
- c) 30%
- d) 40%
- e) 50%

#### CONHECIMENTOS ESPECÍFICOS

31. À luz do Estatuto da Criança e do Adolescente, atribua V (verdadeiro) ou F (falso) às assertivas e assinale a alternativa correta.

( ) A criança e o adolescente gozam de todos os direitos fundamentais inerentes à pessoa humana, sem prejuízo da proteção integral de que trata a Lei nº 8.069/1990, assegurando-se-lhes, por lei ou por outros meios, todas as oportunidades e facilidades, a fim de lhes facultar o desenvolvimento físico, mental, moral, espiritual e social, em condições de liberdade e de dignidade.

( ) Segundo o parágrafo único do art. 4º da Lei nº 8.069/1990, a garantia de prioridade compreende: primazia de receber proteção e socorro em quaisquer circunstâncias; precedência de atendimento nos serviços públicos ou de relevância pública; preferência na formulação e na execução das políticas sociais públicas; destinação privilegiada de recursos públicos nas áreas relacionadas com a proteção à infância e à juventude.

( ) Na interpretação da Lei nº 8.069/1990 levar-se-ão em conta os fins sociais a que ela se dirige, as exigências do bem comum, os direitos e deveres individuais e coletivos, e a condição peculiar da criança e do adolescente como pessoas em desenvolvimento.

( ) É assegurado a todas as mulheres o acesso aos programas e às políticas de saúde da mulher e de planejamento reprodutivo e, às gestantes, nutrição adequada, atenção humanizada à gravidez, ao parto e ao puerpério e atendimento pré-natal, perinatal e pós-natal integral no âmbito do Sistema Único de Saúde.

- a) V, V, V, V.
- b) V, V, V, F.
- c) V, F, V, V.
- d) V, V, F, V.
- e) F, F, V, V.

32. Considerando o que estabelece o Estatuto da Criança e do Adolescente, marque a alternativa incorreta.



- a) O atendimento pré-natal será realizado por profissionais da atenção primária.
- b) Os profissionais de saúde de referência da gestante garantirão sua vinculação, no último trimestre da gestação, ao estabelecimento em que será realizado o parto, garantido o direito de opção da mulher.
- c) Os serviços de saúde onde o parto for realizado assegurarão às mulheres e aos seus filhos recém-nascidos alta hospitalar responsável e contrarreferência na atenção primária, bem como o acesso a outros serviços e a grupos de apoio à amamentação.
- d) Incumbe ao poder público proporcionar assistência psicológica à gestante e à mãe, no período pré e pós-natal, inclusive como forma de prevenir ou minorar as consequências do estado puerperal.
- e) A gestante e a parturiente têm direito a um acompanhante de sua preferência durante o período do pré-natal, do trabalho de parto e do pós-parto imediato, ressalvado se for parto de risco, situação em que poderão ter até dois acompanhantes.

**33. Art. 16. O direito à liberdade, segundo o Estatuto da Criança e do Adolescente, compreende, dentre outros, os seguintes aspectos, exceto:**

- a) Opinião e expressão.
- b) Participar da vida política, na forma da lei.
- c) Participar da vida comunitária, com discriminação.
- d) Buscar refúgio, auxílio e orientação.
- e) Brincar, praticar esportes e divertir-se.

**À luz do Regimento das Escolas Municipais de Telêmaco Borba/PR, responda às próximas sete questões.**

**34. O Conselho Escolar é regido por Estatuto próprio, aprovado**

- a) pela APM.
- b) pela direção da escola.
- c) pela Secretaria Municipal de Educação.
- d) por 2/3 de seus integrantes.
- e) pelo Colegiado Escolar.

**35. Das seguintes alternativas, qual apresenta uma competência que não é do(a) diretor(a)?**

- a) Cumprir e fazer cumprir a legislação em vigor.
- b) Aprovar o Plano de Ação da instituição de ensino.
- c) Responsabilizar-se pelo patrimônio público escolar recebido no ato da posse.
- d) Coordenar e incentivar a qualificação permanente dos profissionais da educação.
- e) Deferir os requerimentos de matrícula.

**36. Marque a alternativa que completa corretamente a lacuna do texto a seguir.**

\_\_\_\_\_ é órgão colegiado de natureza consultiva e deliberativa em assuntos didático-pedagógicos.

- a) A Coordenação Pedagógica
- b) A Associação de Pais e Mestres
- c) O Conselho de Classe
- d) O Grêmio Estudantil
- e) O Conselho Escolar

**37. É atribuição do Conselho de Classe analisar pedidos de revisão de resultados finais recebidos pela secretaria da instituição de ensino, no prazo de \_\_\_\_\_ após sua divulgação em edital.**

- a) até 24 horas úteis
- b) até 5 dias úteis
- c) até 48 horas úteis
- d) até 15 dias úteis
- e) até 72 horas úteis

**38. Compete à equipe pedagógica, exceto:**

- a) Coordenar a elaboração coletiva do Projeto Político Pedagógico.
- b) Orientar a comunidade escolar na construção de um processo pedagógico, em uma perspectiva democrática.
- c) Participar e intervir, junto à direção, na organização do trabalho pedagógico escolar.
- d) Elaborar os Planos de Trabalho Docente dos professores da instituição de ensino.
- e) Promover e coordenar reuniões pedagógicas e grupos de estudo para reflexão e aprofundamento de temas relativos ao trabalho pedagógico.

**39. A equipe docente é constituída**

- a) de professores regentes, devidamente habilitados.
- b) de alunos, devidamente matriculados.
- c) de professores e pais.



- d) de direção e secretário escolar.
- e) de professores e coordenadores pedagógicos.

**40. Compete ao(a) secretário(a) escolar, exceto:**

- a) Distribuir as tarefas decorrentes dos encargos da secretaria aos demais funcionários.
- b) Receber, redigir e assinar as correspondências da instituição de ensino.
- c) Efetivar e coordenar as atividades administrativas referentes à matrícula, transferência e conclusão de curso.
- d) Zelar pelo uso adequado e conservação dos materiais e equipamentos da secretaria.
- e) Comunicar imediatamente à direção toda irregularidade que venha ocorrer na secretaria da instituição de ensino.

**RASCUNHO**



PREFEITURA DE TELÊMACO BORBA - ESTADO DO PARANÁ - EDITAL Nº 001-2016 - CONCURSO PÚBLICO

**MATUTINO – 29/05/2016 – NÍVEL MÉDIO**

**2**

**PROVA OBJETIVA NÚMERO**

**CARGO: INSPETOR DE ALUNOS**

**Leia atentamente as INSTRUÇÕES:**

1. Confira seus dados no cartão-resposta: nome, número de inscrição e o curso para o qual se inscreveu.
2. **MARQUE no seu cartão-resposta o número da sua prova** (não será corrigido o cartão-resposta que não tiver marcado o número da prova) e **Assine** seu cartão-resposta.
3. Aguarde a autorização do Fiscal para abrir o caderno de prova. Ao receber a ordem do fiscal, confira o caderno de prova com muita atenção. Nenhuma reclamação sobre o total de questões ou falha de impressão será aceita depois de iniciada a prova.
4. O cartão-resposta não será substituído, salvo se contiver erro de impressão.
5. Preencha toda a área do cartão-resposta correspondente à alternativa de sua escolha, com caneta esferográfica (tinta azul ou preta), sem ultrapassar as bordas. As marcações duplas, ou rasuradas, com corretivo, ou marcadas diferentemente do modelo estabelecido no cartão-resposta poderão ser anuladas.
6. Sua prova tem **40** questões, com **5** alternativas.
7. Cabe apenas ao candidato a interpretação das questões, **o fiscal** não poderá fazer nenhuma interferência.
8. A prova será realizada com duração máxima de **3 (três) horas**, incluído o tempo para a realização da Prova Objetiva de múltipla escolha e o preenchimento do cartão-resposta.
9. O candidato poderá retirar-se do local de realização das provas somente **1 (uma) hora** após o seu início, sem levar o caderno de prova.
10. O candidato poderá levar o caderno de provas, assim como anotação contendo transcrição do seu cartão-resposta, somente **1h30min** (uma hora e trinta minutos) após o início da realização da prova.
11. Ao terminar a prova, o candidato deverá entregar ao fiscal de sala o cartão-resposta preenchido e **ASSINADO**.
12. Os **3 (três)** candidatos, que terminarem a prova por último, deverão permanecer na sala, e só poderão sair juntos após o fechamento do envelope, contendo os cartões-resposta dos candidatos presentes e ausentes, e assinarem no lacre do referido envelope, atestando que este foi devidamente lacrado.
13. Durante todo o tempo em que permanecer no local onde está ocorrendo o concurso, o candidato deverá, manter o celular desligado e sem bateria, só sendo permitido ligar depois de ultrapassar o portão de saída do prédio.
14. Não será permitido ao candidato fumar na sala de provas, bem como nas dependências.
15. Depois de terminar a prova e entregar ao fiscal o cartão-resposta, preenchido e assinado, não será mais permitido ao candidato o uso do banheiro e bebedouro.

**BOA PROVA!**

**MATEMÁTICA**

**01. Numa prova de hipismo, há duas modalidades totalmente distintas: salto e rural. João vai competir nas duas modalidades. Sabendo que a vitória ou a derrota em uma nada influencia no resultado da outra, e sabendo que a probabilidade de ele ganhar a prova de salto é de 40% e a de ganhar a prova de rural é de 58%, qual a probabilidade de ele ganhar as duas provas?**

- a) 98%
- b) 62%
- c) 23,2%
- d) 18%
- e) 2,32%

**02. Numa escola há 12 professores. A tabela a seguir mostra a carga horária diária de trabalho desses professores.**

4	8	5	10	6	5	8	6	8	9	4	8
---	---	---	----	---	---	---	---	---	---	---	---

**É correto afirmar que as cargas horárias média, modal e mediana desses professores são respectivamente:**

- a) 6,25; 6; 7
- b) 6,5; 7; 8
- c) 6,75; 8; 6
- d) 6,75; 8; 7
- e) 6,75; 7; 8

**03. Encontre a equação da reta mediatriz do segmento AB, onde A(2, 3) e B(4, -1), e assinale a alternativa correta.**

- a)  $2y - x + 1 = 0$
- b)  $y - 2x + 2 = 0$
- c)  $2y - 2x + 1 = 0$
- d)  $2y + x + 2 = 0$
- e)  $2y + x - 1 = 0$

**04. Uma loja acrescenta 15% no preço de seus produtos à vista se o cliente optar por pagar com um cheque para 60 dias. Comprei, nessa loja, um fogão com cheque para 60 dias e paguei R\$552,00 por ele. Qual era o preço à vista desse fogão?**

- a) R\$460,00
- b) R\$469,20
- c) R\$474,50
- d) R\$480,00
- e) R\$500,00

**05. Um pesquisador, ao analisar os processos que envolvem jovens com menos de 24 anos, descobriu que há 4 homens com nomes envolvidos em processos para cada mulher. Se no total ele contou 2400 pessoas, quantas eram as mulheres envolvidas nessa pesquisa?**

- a) 480
- b) 600
- c) 800
- d) 1920
- e) 2000

**INFORMÁTICA**

**06. Utilizando o Excel 2013, qual fórmula representa corretamente a auto soma?**

- a) =SUM()
- b) =MEDIA()
- c) =MAX()
- d) =MIN()
- e) =SE()

**07. Acerca de confidencialidade está incorreto afirmar:**

- a) É um conceito no qual o acesso à informação deve ser concedido a quem de direito, ou seja, apenas para as entidades autorizadas pelo proprietário ou dono da informação.
- b) É uma propriedade que limita o acesso à informação tão somente às entidades legítimas, ou seja, àquelas autorizadas pelo proprietário da informação.
- c) É a propriedade da informação que não estará disponível ou será divulgada a indivíduos, entidades ou processos sem autorização.
- d) Significa garantir que a informação será conhecida por pessoas que não estejam autorizadas para tal.



e) É a garantia do resguardo das informações dadas pessoalmente em confiança e proteção contra a sua revelação não autorizada.

**08. Tratando-se de hardware de computadores, assinale a alternativa que corresponde a um tipo de memória externa.**

- a) Pen Drive
- b) EPROM
- c) DIMM
- d) MRAM
- e) Cache

**09. No Word 2013, é possível utilizar vários tipos de formatação de fontes, exceto:**

- a) Tachado
- b) Negrito
- c) Centralizado
- d) Sublinhado
- e) Cor da fonte

**10. Qual software nativo do Windows utilizamos para descobrir o endereço IP do computador?**

- a) Windows Explorer
- b) Notepad
- c) Excel
- d) Word
- e) Prompt de Comando

#### **CONHECIMENTOS GERAIS**

**11. Conforme fonte do IBGE, o bioma do município de Telêmaco Borba/PR é:**

- a) Mata de Pinhais e Cerrado
- b) Pantanal
- c) Caatinga e Mata Atlântica
- d) Floresta Tropical
- e) Cerrado e Mata Atlântica

**12. A letra do hino do município de Telêmaco Borba/PR é de autoria de**

- a) Bento Mossurunga.
- b) Moisés Lupion.
- c) Eloah Martins Quadrado.
- d) Graciliana Reis D'Albuquerque Mossurunga.
- e) Enéias Augusto Moracines Borba.

**13. Leia o texto sobre o Brasão de Armas do município de Telêmaco Borba/PR e marque a alternativa correta.**

**O Brasão de Armas foi aprovado em definitivo em 1981, dentro dos padrões da heráldica, estabelecendo os regulamentos para seu uso, ficando assim oficializado.**

**No Brasão de Armas, é possível identificar:**

- 1. Escudo português redondo banhado de ouro filetado de prata, carregado de cinco árvores de pinho estilizadas de sua cor, postas em banda.**
- 2. Escudete de prata carregado de três Pinheiros do Paraná, araucária angustifolia ou brasiliense.**
- 3. No timbre, coroa mural de ouro lavrado de negro.**
- 4. À direita, haste de milho (zae mays) frutada.**
- 5. À sinistra, ramos de soja (gelycine soya) granada.**
- 6. Listel amarelo ostentando o topônimo "Cidade Nova" entre as inscrições de ouro "5 de Julho de 1963", em caracteres latino moderno.**

- a) Não é verdadeiro o item 1.
- b) Não é verdadeiro o item 2.
- c) Não é verdadeiro o item 4.
- d) Não é verdadeiro o item 6.
- e) Não são verdadeiros os itens 3 e 5.

**14. Segundo o art. 11 da Lei Orgânica do Município de Telêmaco Borba/PR, os bens públicos podem ser:**

**I. De uso comum do Povo, tais como estradas municipais, ruas, parques, praças, logradouros públicos e outros da mesma espécie;**

**II. De uso especial, os de patrimônio administrativo, tais como edifícios das repartições públicas, os terrenos e equipamentos destinados ao serviço público, veículos, matadouros, mercados e outras serventias de outra espécie;**



**III. Bens municipais, aqueles sobre os quais o município exerce os direitos de proprietário e são considerados como bens patrimoniais disponíveis;**

**IV. Bens culturais, tais como música e obras de arte.**

**Podemos afirmar que são verdadeiros os itens**

- a) I e II, apenas.
- b) II e III, apenas.
- c) I, II e III, apenas.
- d) I, III e IV, apenas.
- e) I, II, III e IV.

**15. Qual alternativa completa corretamente o texto a seguir?**

**No primeiro ano de cada legislatura, no dia 1º de janeiro, em sessão de instalação, independente de número, sob a presidência do vereador mais idoso dentre os eleitos, os vereadores prestarão compromisso e tomarão posse. O Vereador que não tomar posse na sessão do dia 1º de janeiro poderá fazê-la \_\_\_\_\_ depois da primeira sessão ordinária da Legislatura.**

- a) até dez dias
- b) até quinze dias
- c) até trinta dias
- d) até quarenta e cinco dias
- e) até sessenta dias

**16. Conforme o art. 54 da Lei Orgânica do Município de Telêmaco Borba/PR, o Processo Legislativo compreende a elaboração de:**

**I. Emendas à Lei Orgânica do Município;**

**II. Leis complementares;**

**III. Leis Ordinárias;**

**IV. Decretos Legislativos;**

**V. Resoluções;**

**VI. Pareceres.**

**Assinale a alternativa que faz a afirmação correta.**

- a) São verdadeiros apenas os itens I, III e VI.
- b) São verdadeiros apenas os itens I, III e IV.
- c) São verdadeiros apenas os itens III, IV e V.
- d) São verdadeiros apenas os itens I, II, III, IV e V.
- e) São verdadeiros os itens I, II, III, IV, V e VI.

**Com base na Lei nº 1883/2012, que dispõe sobre o Estatuto dos Servidores Públicos da Administração Direta, Autárquica e Funcional do Município de Telêmaco Borba/PR, responda às próximas quatro questões.**

**17. À luz do § 2º do art. 9º da Lei nº 1883/2012, marque a alternativa que completa a lacuna do texto a seguir.**

**O concurso deverá ser homologado no prazo máximo de \_\_\_\_\_ contados da data de realização da última fase de provas, sob pena de responsabilidade da autoridade competente.**

- a) um mês
- b) dois meses
- c) seis meses
- d) um ano
- e) dois anos

**18. Marque a alternativa que completa a lacuna do texto a seguir.**

**O candidato terá o prazo \_\_\_\_\_, a contar da publicação oficial da convocação, para comparecer à entidade convocante e assinar termo de comparecimento.**

- a) máximo de 5 dias úteis
- b) mínimo de 15 dias úteis
- c) de até 30 dias
- d) máximo de 15 dias úteis
- e) mínimo de 5 dias úteis

**19. Leia as assertivas e marque a correta.**

- a) São reservados 10% dos cargos em comissão para a nomeação de servidores do quadro efetivo.
- b) São reservados 15% dos cargos em comissão para a nomeação de servidores do quadro efetivo.
- c) São reservados 20% dos cargos em comissão para a nomeação de servidores do quadro efetivo.
- d) São reservados 25% dos cargos em comissão para a nomeação de servidores do quadro efetivo.
- e) São reservados 30% dos cargos em comissão para a nomeação de servidores do quadro efetivo.

**20. Marque a alternativa que completa a lacuna do texto a seguir.**

O servidor municipal, quando nomeado para cargo em comissão, ficará afastado de seu cargo efetivo e fará jus à remuneração prevista em lei para o comissionado, podendo optar por receber seus vencimentos acrescidos de \_\_\_\_\_ do valor da remuneração prevista para o cargo em comissão.

- a) 10%
- b) 20%
- c) 30%
- d) 40%
- e) 50%

### CONHECIMENTOS ESPECÍFICOS

**21. À luz do Estatuto da Criança e do Adolescente, atribua V (verdadeiro) ou F (falso) às assertivas e assinale a alternativa correta.**

( ) A criança e o adolescente gozam de todos os direitos fundamentais inerentes à pessoa humana, sem prejuízo da proteção integral de que trata a Lei nº 8.069/1990, assegurando-se-lhes, por lei ou por outros meios, todas as oportunidades e facilidades, a fim de lhes facultar o desenvolvimento físico, mental, moral, espiritual e social, em condições de liberdade e de dignidade.

( ) Segundo o parágrafo único do art. 4º da Lei nº 8.069/1990, a garantia de prioridade compreende: primazia de receber proteção e socorro em quaisquer circunstâncias; precedência de atendimento nos serviços públicos ou de relevância pública; preferência na formulação e na execução das políticas sociais públicas; destinação privilegiada de recursos públicos nas áreas relacionadas com a proteção à infância e à juventude.

( ) Na interpretação da Lei nº 8.069/1990 levar-se-ão em conta os fins sociais a que ela se dirige, as exigências do bem comum, os direitos e deveres individuais e coletivos, e a condição peculiar da criança e do adolescente como pessoas em desenvolvimento.

( ) É assegurado a todas as mulheres o acesso aos programas e às políticas de saúde da mulher e de planejamento reprodutivo e, às gestantes, nutrição adequada, atenção humanizada à gravidez, ao parto e ao puerpério e atendimento pré-natal, perinatal e pós-natal integral no âmbito do Sistema Único de Saúde.

- a) V, V, V, V.
- b) V, V, V, F.
- c) V, F, V, V.
- d) V, V, F, V.
- e) F, F, V, V.

**22. Considerando o que estabelece o Estatuto da Criança e do Adolescente, marque a alternativa incorreta.**

- a) O atendimento pré-natal será realizado por profissionais da atenção primária.
- b) Os profissionais de saúde de referência da gestante garantirão sua vinculação, no último trimestre da gestação, ao estabelecimento em que será realizado o parto, garantido o direito de opção da mulher.
- c) Os serviços de saúde onde o parto for realizado assegurarão às mulheres e aos seus filhos recém-nascidos alta hospitalar responsável e contrarreferência na atenção primária, bem como o acesso a outros serviços e a grupos de apoio à amamentação.
- d) Incumbe ao poder público proporcionar assistência psicológica à gestante e à mãe, no período pré e pós-natal, inclusive como forma de prevenir ou minorar as consequências do estado puerperal.
- e) A gestante e a parturiente têm direito a um acompanhante de sua preferência durante o período do pré-natal, do trabalho de parto e do pós-parto imediato, ressalvado se for parto de risco, situação em que poderão ter até dois acompanhantes.

**23. Art. 16. O direito à liberdade, segundo o Estatuto da Criança e do Adolescente, compreende, dentre outros, os seguintes aspectos, exceto:**

- a) Opinião e expressão.
- b) Participar da vida política, na forma da lei.
- c) Participar da vida comunitária, com discriminação.
- d) Buscar refúgio, auxílio e orientação.
- e) Brincar, praticar esportes e divertir-se.

**À luz do Regimento das Escolas Municipais de Telêmaco Borba/PR, responda às próximas sete questões.**

**24. O Conselho Escolar é regido por Estatuto próprio, aprovado**

- a) pela APM.
- b) pela direção da escola.
- c) pela Secretaria Municipal de Educação.
- d) por 2/3 de seus integrantes.
- e) pelo Colegiado Escolar.





**25. Das seguintes alternativas, qual apresenta uma competência que não é do(a) diretor(a)?**

- a) Cumprir e fazer cumprir a legislação em vigor.
- b) Aprovar o Plano de Ação da instituição de ensino.
- c) Responsabilizar-se pelo patrimônio público escolar recebido no ato da posse.
- d) Coordenar e incentivar a qualificação permanente dos profissionais da educação.
- e) Deferir os requerimentos de matrícula.

**26. Marque a alternativa que completa corretamente a lacuna do texto a seguir.**

\_\_\_\_\_ é órgão colegiado de natureza consultiva e deliberativa em assuntos didático-pedagógicos.

- a) A Coordenação Pedagógica
- b) A Associação de Pais e Mestres
- c) O Conselho de Classe
- d) O Grêmio Estudantil
- e) O Conselho Escolar

**27. É atribuição do Conselho de Classe analisar pedidos de revisão de resultados finais recebidos pela secretaria da instituição de ensino, no prazo de \_\_\_\_\_ após sua divulgação em edital.**

- a) até 24 horas úteis
- b) até 5 dias úteis
- c) até 48 horas úteis
- d) até 15 dias úteis
- e) até 72 horas úteis

**28. Compete à equipe pedagógica, exceto:**

- a) Coordenar a elaboração coletiva do Projeto Político Pedagógico.
- b) Orientar a comunidade escolar na construção de um processo pedagógico, em uma perspectiva democrática.
- c) Participar e intervir, junto à direção, na organização do trabalho pedagógico escolar.
- d) Elaborar os Planos de Trabalho Docente dos professores da instituição de ensino.
- e) Promover e coordenar reuniões pedagógicas e grupos de estudo para reflexão e aprofundamento de temas relativos ao trabalho pedagógico.

**29. A equipe docente é constituída**

- a) de professores regentes, devidamente habilitados.
- b) de alunos, devidamente matriculados.
- c) de professores e pais.
- d) de direção e secretário escolar.
- e) de professores e coordenadores pedagógicos.

**30. Compete ao(a) secretário(a) escolar, exceto:**

- a) Distribuir as tarefas decorrentes dos encargos da secretaria aos demais funcionários.
- b) Receber, redigir e assinar as correspondências da instituição de ensino.
- c) Efetivar e coordenar as atividades administrativas referentes à matrícula, transferência e conclusão de curso.
- d) Zelar pelo uso adequado e conservação dos materiais e equipamentos da secretaria.
- e) Comunicar imediatamente à direção toda irregularidade que venha ocorrer na secretaria da instituição de ensino.

**LÍNGUA PORTUGUESA**

**Leia o texto e responda às próximas quatro questões.**

**Lêmures e baobás de Madagascar**

Isolada do continente há 135 milhões de anos, a ilha do Oceano Índico é um laboratório natural da evolução das espécies e encanta os viajantes com uma flora e fauna única

**Madagascar** abriga 107 espécies de **lêmures**, dezenas de espécies de camaleões coloridos e outras tantas plantas que só existem lá. “Madagascar é um mundo a parte. Costumo dizer que, se Charles Darwin tivesse conhecido Madagascar, seu livro *A Origem das Espécies* seria dez vezes maior”, afirma o fotógrafo e jornalista **Haroldo Castro**, idealizador de Viajologia Expedições.

Uma das experiências mais emocionantes na quarta maior ilha do mundo é passear entre os gigantescos **baobás**, árvores que chegam a ter 30 metros de altura e mil anos de idade. Das nove espécies de baobás que existem no mundo, seis podem ser encontradas apenas em Madagascar. A majestosa árvore, considerada sagrada pelos malgaxes, é chamada localmente como “reniala”, mãe da floresta.

Na pequena cidade de Bekopaka está o Parque Nacional Tsingy de Bemaraha, considerado Patrimônio Mundial pela Unesco. Trilhas e passeios de canoa no rio Manambolo conduzem a formações rochosas calcárias inusitadas e plantas endêmicas desse ecossistema de florestas secas.

Outro momento inesquecível em Madagascar é o encontro com os lêmures nas florestas tropicais da reserva Anjozorobe-Angavo, a 90 quilômetros da capital Antananarivo. Especialistas apontam que o turismo de observação de animais é uma excelente alternativa para o desenvolvimento da economia local e pode ajudar a conter o desmatamento. “O projeto em Anjozorobe comprova que, nos últimos anos, os 9 mil visitantes contribuíram de forma concreta a reduzir a pobreza e a promover a conservação da biodiversidade”, afirma Haroldo. Como os primatas são curiosos e estão habituados aos seres humanos, eles costumam se aproximar dos visitantes. “Os bichinhos chegam a subir nas nossas cabeças e parecem adorar aparecer nas fotos.”

Madagascar possui hoje uma excelente estrutura para o turismo, com algumas estradas bem cuidadas e hotéis confortáveis localizados perto das reservas e parques ecológicos. A gastronomia malgaxe, com um toque francês, também surpreende pela diversidade de ingredientes, temperos e colorido dos pratos.

[...]

(Fonte: <http://viajeaqui.abril.com.br/materias/lemures-e-baobas-de-madagascar#2>. Acesso em 14/05/2016)

**31. Lêmures e baobás de Madagascar é um texto:**

- Em que prevalece a descrição, apresentando as belezas e peculiaridades do lugar, da fauna e da flora.
- Principalmente narrativo, de fatos colhidos durante uma viagem, que se sucedem em progressão temporal.
- Essencialmente argumentativo, o uso da descrição visa somente a convencer o leitor a visitar Madagascar.
- Dissertativo, impera o desenvolvimento de argumentos para comprovar a tese presente no primeiro parágrafo.
- Em que predomina a exposição de conceitos e definições com o intuito de informar o leitor.

**32. O teor do texto *Lêmures e baobás de Madagascar* somente não poderia se encaixar em que tópico?**

- Turismo
- Viagens
- Clima
- Natureza
- Ilhas

**33. O aposto é um termo que *explica ou esclarece, desenvolve ou resume outro termo da oração*. Quanto a isso, analise a parte grifada em cada uma das orações retiradas do texto:**

**I - *A majestosa árvore, considerada sagrada pelos malgaxes, é chamada localmente como “reniala”, mãe da floresta.***

**II - *afirma o fotógrafo e jornalista Haroldo Castro, idealizador de Viajologia Expedições.***

**III - *Outro momento inesquecível em Madagascar é o encontro com os lêmures nas florestas tropicais da reserva Anjozorobe-Angavo, a 90 quilômetros da capital Antananarivo.***

**IV - *O projeto em Anjozorobe comprova que, nos últimos anos, os 9 mil visitantes contribuíram de forma concreta a reduzir a pobreza e a promover a conservação da biodiversidade”.***

**V - *A gastronomia malgaxe, com um toque francês, também surpreende pela diversidade de ingredientes, temperos e colorido dos pratos.***

**Constitui aposto os grifos em:**

- I, II, III, IV e V.
- I, III e V, apenas.
- III e V apenas.
- I, II, III, e V, apenas.
- III, IV e V apenas

**34. *Trilhas e passeios de canoa no rio Manambolo conduzem a formações rochosas calcárias inusitadas e plantas endêmicas desse ecossistema de florestas secas.***

**Ao observar a relação sintática entre os termos desse período, pode-se afirmar que:**

- de canoa é complemento nominal de Trilhas e passeios.
- no rio Manambolo é adjunto adnominal de canoas.
- de florestas secas é complemento nominal de plantas endêmicas.
- de canoa é complemento verbal de passeios.
- a formações rochosas calcárias inusitadas e plantas endêmicas desse ecossistema de florestas secas é complemento verbal de conduzem.

**Leia o poema e responda às próximas duas questões.**

**FOGO NA MATA, MATA!**

Fogo na mata, mata! A mata, a vida...  
Fogo na mata, abre,  
no coração da mata,  
Profundas feridas.

Fogo na mata corrói,

dentro de nós, os sonhos.  
Fogo na mata, deixa, no seio da mata,  
Tumores tamanhos!

[...]

(Fonte: <http://www.recantodasletras.com.br/letras/505252>. Acesso em 14/05/2016)

**35. A respeito de alguns aspectos gramaticais pertinentes aos termos em destaque na frase título do poema *Fogo na mata, mata!*, está correto o que se afirma em:**

- a) Morfologicamente, na sequência em que as duas palavras aparecem, temos um verbo e um substantivo.
- b) Semanticamente, as duas palavras constituem homônimas homófonas homógrafas.
- c) O processo de formação da palavra “mata” (primeira ocorrência na frase) é por derivação regressiva do verbo “matar” cuja flexão na terceira pessoa vem logo em seguida na frase.
- d) Semanticamente, as duas palavras “mata” são parônimas.
- e) Semanticamente, as duas palavras constituem homônimas homógrafas heterofônicas.

**36. Com a Nova Reforma Ortográfica, foi mantido o acento nas oxítonas terminadas em -ei e -oi, como é o caso de corrói em *Fogo na mata corrói*. No entanto, de acordo ainda com a Nova Reforma, os acentos foram retirados de quais duas palavras?**

- a) Bocaiuva - maiúscula
- b) Voo, aeródromo
- c) Releem - feiura
- d) Papeis - língua
- e) Preveem - herói

**37. Leia atentamente as alternativas e assinale a incorreta no que diz respeito à Ortografia:**

- a) Grafamos com j as palavras ultraje, jiboia e gorjeio; com g as palavras ferrugem, geringonça, e miragem.
- b) Grafamos com sc: miscelânea, obsceno e obsessão; com c: sucinto, facínio e nécio.
- c) Grafamos com x: xampu, mexerico e enxada; com ch: piche, tocha e mecha.
- d) Grafamos com z: xadrez, cicatriz e vizinho; com s: friso, pêsames e tesoura.
- e) Grafamos com ss: escassez, submissão e sossego; com c: acetinado, obcecado e acepção.

**38. O advérbio sublinhado e a circunstância que ele expressa não estão corretamente apresentados em:**

- a) Ele certamente virá para o encontro. (afirmação)
- b) Ali se ouvia falar de riquezas culturais. (tempo)
- c) O orador discursou muito bem, impressionou a plateia. (modo)
- d) Chegamos tarde, perdemos o ônibus. (tempo)
- e) Os candidatos estudaram bastante. (intensidade)

**39. Os pronomes pessoais, representantes das pessoas do discurso, estão corretamente empregados em todas as alternativas, com exceção da:**

- a) Sempre haverá discordância entre mim e ti.
- b) O juiz queria falar com nós dois.
- c) Minha festa de despedida, não vou esquecê-la jamais.
- d) Ninguém irá sem eu.
- e) Deram o livro para eu ler em dois dias!

**40. Em uma oração, o contexto permite concluirmos se certos verbos são de ligação, para assim identificarmos o predicado nominal. Assim, não há predicção nominal em:**

- a) O aluno não estava na escola hoje.
- b) À tarde, as crianças pareciam cansadas.
- c) Ultimamente os participantes do programa andam desanimados.
- e) A aurora boreal é um lindo espetáculo.
- d) As atletas parecem cansadas.

**RASCUNHO**



PREFEITURA DE TELÊMACO BORBA - ESTADO DO PARANÁ - EDITAL Nº 001-2016 - CONCURSO PÚBLICO

**MATUTINO – 29/05/2016 – NÍVEL MÉDIO**

**3**

PROVA OBJETIVA NÚMERO

**CARGO: INSPETOR DE ALUNOS**

**Leia atentamente as INSTRUÇÕES:**

1. Confira seus dados no cartão-resposta: nome, número de inscrição e o curso para o qual se inscreveu.
2. **MARQUE no seu cartão-resposta o número da sua prova** (não será corrigido o cartão-resposta que não tiver marcado o número da prova) e **Assine** seu cartão-resposta.
3. Aguarde a autorização do Fiscal para abrir o caderno de prova. Ao receber a ordem do fiscal, confira o caderno de prova com muita atenção. Nenhuma reclamação sobre o total de questões ou falha de impressão será aceita depois de iniciada a prova.
4. O cartão-resposta não será substituído, salvo se contiver erro de impressão.
5. Preencha toda a área do cartão-resposta correspondente à alternativa de sua escolha, com caneta esferográfica (tinta azul ou preta), sem ultrapassar as bordas. As marcações duplas, ou rasuradas, com corretivo, ou marcadas diferentemente do modelo estabelecido no cartão-resposta poderão ser anuladas.
6. Sua prova tem **40** questões, com **5** alternativas.
7. Cabe apenas ao candidato a interpretação das questões, **o fiscal** não poderá fazer nenhuma interferência.
8. A prova será realizada com duração máxima de **3 (três) horas**, incluído o tempo para a realização da Prova Objetiva de múltipla escolha e o preenchimento do cartão-resposta.
9. O candidato poderá retirar-se do local de realização das provas somente **1 (uma) hora** após o seu início, sem levar o caderno de prova.
10. O candidato poderá levar o caderno de provas, assim como anotação contendo transcrição do seu cartão-resposta, somente **1h30min** (uma hora e trinta minutos) após o início da realização da prova.
11. Ao terminar a prova, o candidato deverá entregar ao fiscal de sala o cartão-resposta preenchido e **ASSINADO**.
12. Os **3 (três)** candidatos, que terminarem a prova por último, deverão permanecer na sala, e só poderão sair juntos após o fechamento do envelope, contendo os cartões-resposta dos candidatos presentes e ausentes, e assinarem no lacre do referido envelope, atestando que este foi devidamente lacrado.
13. Durante todo o tempo em que permanecer no local onde está ocorrendo o concurso, o candidato deverá, manter o celular desligado e sem bateria, só sendo permitido ligar depois de ultrapassar o portão de saída do prédio.
14. Não será permitido ao candidato fumar na sala de provas, bem como nas dependências.
15. Depois de terminar a prova e entregar ao fiscal o cartão-resposta, preenchido e assinado, não será mais permitido ao candidato o uso do banheiro e bebedouro.

**BOA PROVA!**

**CONHECIMENTOS ESPECÍFICOS**

**01. À luz do Estatuto da Criança e do Adolescente, atribua V (verdadeiro) ou F (falso) às assertivas e assinale a alternativa correta.**

( ) A criança e o adolescente gozam de todos os direitos fundamentais inerentes à pessoa humana, sem prejuízo da proteção integral de que trata a Lei nº 8.069/1990, assegurando-se-lhes, por lei ou por outros meios, todas as oportunidades e facilidades, a fim de lhes facultar o desenvolvimento físico, mental, moral, espiritual e social, em condições de liberdade e de dignidade.

( ) Segundo o parágrafo único do art. 4º da Lei nº 8.069/1990, a garantia de prioridade compreende: primazia de receber proteção e socorro em quaisquer circunstâncias; precedência de atendimento nos serviços públicos ou de relevância pública; preferência na formulação e na execução das políticas sociais públicas; destinação privilegiada de recursos públicos nas áreas relacionadas com a proteção à infância e à juventude.

( ) Na interpretação da Lei nº 8.069/1990 levar-se-ão em conta os fins sociais a que ela se dirige, as exigências do bem comum, os direitos e deveres individuais e coletivos, e a condição peculiar da criança e do adolescente como pessoas em desenvolvimento.

( ) É assegurado a todas as mulheres o acesso aos programas e às políticas de saúde da mulher e de planejamento reprodutivo e, às gestantes, nutrição adequada, atenção humanizada à gravidez, ao parto e ao puerpério e atendimento pré-natal, perinatal e pós-natal integral no âmbito do Sistema Único de Saúde.

- a) V, V, V, V.
- b) V, V, V, F.
- c) V, F, V, V.
- d) V, V, F, V.
- e) F, F, V, V.

**02. Considerando o que estabelece o Estatuto da Criança e do Adolescente, marque a alternativa incorreta.**

- a) O atendimento pré-natal será realizado por profissionais da atenção primária.
- b) Os profissionais de saúde de referência da gestante garantirão sua vinculação, no último trimestre da gestação, ao estabelecimento em que será realizado o parto, garantido o direito de opção da mulher.
- c) Os serviços de saúde onde o parto for realizado assegurarão às mulheres e aos seus filhos recém-nascidos alta hospitalar responsável e contrarreferência na atenção primária, bem como o acesso a outros serviços e a grupos de apoio à amamentação.
- d) Incumbe ao poder público proporcionar assistência psicológica à gestante e à mãe, no período pré e pós-natal, inclusive como forma de prevenir ou minorar as consequências do estado puerperal.
- e) A gestante e a parturiente têm direito a um acompanhante de sua preferência durante o período do pré-natal, do trabalho de parto e do pós-parto imediato, ressalvado se for parto de risco, situação em que poderão ter até dois acompanhantes.

**03. Art. 16. O direito à liberdade, segundo o Estatuto da Criança e do Adolescente, compreende, dentre outros, os seguintes aspectos, exceto:**

- a) Opinião e expressão.
- b) Participar da vida política, na forma da lei.
- c) Participar da vida comunitária, com discriminação.
- d) Buscar refúgio, auxílio e orientação.
- e) Brincar, praticar esportes e divertir-se.

**À luz do Regimento das Escolas Municipais de Telêmaco Borba/PR, responda às próximas sete questões.**

**04. O Conselho Escolar é regido por Estatuto próprio, aprovado**

- a) pela APM.
- b) pela direção da escola.
- c) pela Secretaria Municipal de Educação.
- d) por 2/3 de seus integrantes.
- e) pelo Colegiado Escolar.

**05. Das seguintes alternativas, qual apresenta uma competência que não é do(a) diretor(a)?**

- a) Cumprir e fazer cumprir a legislação em vigor.
- b) Aprovar o Plano de Ação da instituição de ensino.
- c) Responsabilizar-se pelo patrimônio público escolar recebido no ato da posse.
- d) Coordenar e incentivar a qualificação permanente dos profissionais da educação.
- e) Deferir os requerimentos de matrícula.

**06. Marque a alternativa que completa corretamente a lacuna do texto a seguir.**

\_\_\_\_\_ é órgão colegiado de natureza consultiva e deliberativa em assuntos didático-pedagógicos.

- a) A Coordenação Pedagógica



- b) A Associação de Pais e Mestres
- c) O Conselho de Classe
- d) O Grêmio Estudantil
- e) O Conselho Escolar

**07. É atribuição do Conselho de Classe analisar pedidos de revisão de resultados finais recebidos pela secretaria da instituição de ensino, no prazo de \_\_\_\_\_ após sua divulgação em edital.**

- a) até 24 horas úteis
- b) até 5 dias úteis
- c) até 48 horas úteis
- d) até 15 dias úteis
- e) até 72 horas úteis

**08. Compete à equipe pedagógica, exceto:**

- a) Coordenar a elaboração coletiva do Projeto Político Pedagógico.
- b) Orientar a comunidade escolar na construção de um processo pedagógico, em uma perspectiva democrática.
- c) Participar e intervir, junto à direção, na organização do trabalho pedagógico escolar.
- d) Elaborar os Planos de Trabalho Docente dos professores da instituição de ensino.
- e) Promover e coordenar reuniões pedagógicas e grupos de estudo para reflexão e aprofundamento de temas relativos ao trabalho pedagógico.

**09. A equipe docente é constituída**

- a) de professores regentes, devidamente habilitados.
- b) de alunos, devidamente matriculados.
- c) de professores e pais.
- d) de direção e secretário escolar.
- e) de professores e coordenadores pedagógicos.

**10. Compete ao(a) secretário(a) escolar, exceto:**

- a) Distribuir as tarefas decorrentes dos encargos da secretaria aos demais funcionários.
- b) Receber, redigir e assinar as correspondências da instituição de ensino.
- c) Efetivar e coordenar as atividades administrativas referentes à matrícula, transferência e conclusão de curso.
- d) Zelar pelo uso adequado e conservação dos materiais e equipamentos da secretaria.
- e) Comunicar imediatamente à direção toda irregularidade que venha ocorrer na secretaria da instituição de ensino.

## LÍNGUA PORTUGUESA

**Leia o texto e responda às próximas quatro questões.**

### Lêmures e baobás de Madagascar

Isolada do continente há 135 milhões de anos, a ilha do Oceano Índico é um laboratório natural da evolução das espécies e encanta os viajantes com uma flora e fauna única

**Madagascar** abriga 107 espécies de **lêmures**, dezenas de espécies de camaleões coloridos e outras tantas plantas que só existem lá. “Madagascar é um mundo a parte. Costumo dizer que, se Charles Darwin tivesse conhecido Madagascar, seu livro *A Origem das Espécies* seria dez vezes maior”, afirma o fotógrafo e jornalista **Haroldo Castro**, idealizador de Viajologia Expedições.

Uma das experiências mais emocionantes na quarta maior ilha do mundo é passear entre os gigantescos **baobás**, árvores que chegam a ter 30 metros de altura e mil anos de idade. Das nove espécies de baobás que existem no mundo, seis podem ser encontradas apenas em Madagascar. A majestosa árvore, considerada sagrada pelos malgaxes, é chamada localmente como “reniala”, mãe da floresta.

Na pequena cidade de Bekopaka está o Parque Nacional Tsingy de Bemaraha, considerado Patrimônio Mundial pela Unesco. Trilhas e passeios de canoa no rio Manambolo conduzem a formações rochosas calcárias inusitadas e plantas endêmicas desse ecossistema de florestas secas.

Outro momento inesquecível em Madagascar é o encontro com os lêmures nas florestas tropicais da reserva Anjozorobe-Angavo, a 90 quilômetros da capital Antananarivo. Especialistas apontam que o turismo de observação de animais é uma excelente alternativa para o desenvolvimento da economia local e pode ajudar a conter o desmatamento. “O projeto em Anjozorobe comprova que, nos últimos anos, os 9 mil visitantes contribuíram de forma concreta a reduzir a pobreza e a promover a conservação da biodiversidade”, afirma Haroldo. Como os primatas são curiosos e estão habituados aos seres humanos, eles costumam se aproximar dos visitantes. “Os bichinhos chegam a subir nas nossas cabeças e parecem adorar aparecer nas fotos.”

Madagascar possui hoje uma excelente estrutura para o turismo, com algumas estradas bem cuidadas e hotéis confortáveis localizados perto das reservas e parques ecológicos. A gastronomia malgaxe, com um toque francês, também surpreende pela diversidade de ingredientes, temperos e colorido dos pratos.

[...]



(Fonte: <http://viajeaquibril.com.br/materias/lemures-e-baobas-de-madagascar#2>. Acesso em 14/05/2016)

**11. Lêmures e baobás de Madagascar é um texto:**

- Em que prevalece a descrição, apresentando as belezas e peculiaridades do lugar, da fauna e da flora.
- Principalmente narrativo, de fatos colhidos durante uma viagem, que se sucedem em progressão temporal.
- Essencialmente argumentativo, o uso da descrição visa somente a convencer o leitor a visitar Madagascar.
- Dissertativo, impera o desenvolvimento de argumentos para comprovar a tese presente no primeiro parágrafo.
- Em que predomina a exposição de conceitos e definições com o intuito de informar o leitor.

**12. O teor do texto *Lêmures e baobás de Madagascar* somente não poderia se encaixar em que tópico?**

- Turismo
- Viagens
- Clima
- Natureza
- Ilhas

**13. O aposto é um termo que *explica ou esclarece, desenvolve ou resume outro termo da oração*. Quanto a isso, analise a parte grifada em cada uma das orações retiradas do texto:**

**I - A majestosa árvore, considerada sagrada pelos malgaxes, é chamada localmente como “reniala”, mãe da floresta.**

**II - afirma o fotógrafo e jornalista Haroldo Castro, idealizador de Viajologia Expedições.**

**III - Outro momento inesquecível em Madagascar é o encontro com os lêmures nas florestas tropicais da reserva Anjozorobe-Angavo, a 90 quilômetros da capital Antananarivo.**

**IV - O projeto em Anjozorobe comprova que, nos últimos anos, os 9 mil visitantes contribuíram de forma concreta a reduzir a pobreza e a promover a conservação da biodiversidade**”.

**V - A gastronomia malgaxe, com um toque francês, também surpreende pela diversidade de ingredientes, temperos e colorido dos pratos.**

**Constitui aposto os grifos em:**

- I, II, III, IV e V.
- I, III e V, apenas.
- III e V apenas.
- I, II, III, e V, apenas.
- III, IV e V apenas

**14. *Trilhas e passeios de canoa no rio Manambolo conduzem a formações rochosas calcárias inusitadas e plantas endêmicas desse ecossistema de florestas secas*.**

**Ao observar a relação sintática entre os termos desse período, pode-se afirmar que:**

- de canoa é complemento nominal de Trilhas e passeios.
- no rio Manambolo é adjunto adnominal de canoas.
- de florestas secas é complemento nominal de plantas endêmicas.
- de canoa é complemento verbal de passeios.
- a formações rochosas calcárias inusitadas e plantas endêmicas desse ecossistema de florestas secas é complemento verbal de conduzem.

**Leia o poema e responda às próximas duas questões.**

**FOGO NA MATA, MATA!**

Fogo na mata, mata! A mata, a vida...  
Fogo na mata, abre,  
no coração da mata,  
Profundas feridas.

Fogo na mata corrói,  
dentro de nós, os sonhos.  
Fogo na mata, deixa, no seio da mata,  
Tumores tamanhos!

[...]

(Fonte: <http://www.recantodasletras.com.br/letras/505252>. Acesso em 14/05/2016)

**15. A respeito de alguns aspectos gramaticais pertinentes aos termos em destaque na frase título do poema *Fogo na mata, mata!*, está correto o que se afirma em:**

- Morfologicamente, na sequência em que as duas palavras aparecem, temos um verbo e um substantivo.
- Semanticamente, as duas palavras constituem homônimas homófonas homográficas.



- c) O processo de formação da palavra “mata” (primeira ocorrência na frase) é por derivação regressiva do verbo “matar” cuja flexão na terceira pessoa vem logo em seguida na frase.
- d) Semanticamente, as duas palavras “mata” são parônimas.
- e) Semanticamente, as duas palavras constituem homônimas homógrafas heterofônicas.

**16. Com a Nova Reforma Ortográfica, foi mantido o acento nas oxítonas terminadas em -ei e -oi, como é o caso de corrói em *Fogo na mata corrói*. No entanto, de acordo ainda com a Nova Reforma, os acentos foram retirados de quais duas palavras?**

- a) Bocaiuva - maiuscula
- b) Voo, aerodromo
- c) Releem - feiura
- d) Papeis - linguixa
- e) Preveem - heroi

**17. Leia atentamente as alternativas e assinale a incorreta no que diz respeito à Ortografia:**

- a) Grafamos com j as palavras ultraje, jiboia e gorjeio; com g as palavras ferrugem, geringonça, e miragem.
- b) Grafamos com sc: miscelânea, obsceno e obscensão; com c: sucinto, facínio e nécio.
- c) Grafamos com x: xampu, mexerico e enxada; com ch: piche, tocha e mecha.
- d) Grafamos com z: xadrez, cicatriz e vizinho; com s: friso, pêsames e tesoura.
- e) Grafamos com ss: escassez, submissão e sossego; com c: acetinado, obcecado e acepção.

**18. O advérbio sublinhado e a circunstância que ele expressa não estão corretamente apresentados em:**

- a) Ele certamente virá para o encontro. (afirmação)
- b) Ali se ouvia falar de riquezas culturais. (tempo)
- c) O orador discursou muito bem, impressionou a plateia. (modo)
- d) Chegamos tarde, perdemos o ônibus. (tempo)
- e) Os candidatos estudaram bastante. (intensidade)

**19. Os pronomes pessoais, representantes das pessoas do discurso, estão corretamente empregados em todas as alternativas, com exceção da:**

- a) Sempre haverá discordância entre mim e ti.
- b) O juiz queria falar com nós dois.
- c) Minha festa de despedida, não vou esquecê-la jamais.
- d) Ninguém irá sem eu.
- e) Deram o livro para eu ler em dois dias!

**20. Em uma oração, o contexto permite concluirmos se certos verbos são de ligação, para assim identificarmos o predicado nominal. Assim, não há predicação nominal em:**

- a) O aluno não estava na escola hoje.
- b) À tarde, as crianças pareciam cansadas.
- c) Ultimamente os participantes do programa andam desanimados.
- e) A aurora boreal é um lindo espetáculo.
- d) As atletas parecem cansadas.

## MATEMÁTICA

**21. Numa prova de hipismo, há duas modalidades totalmente distintas: salto e rural. João vai competir nas duas modalidades. Sabendo que a vitória ou a derrota em uma nada influencia no resultado da outra, e sabendo que a probabilidade de ele ganhar a prova de salto é de 40% e a de ganhar a prova de rural é de 58%, qual a probabilidade de ele ganhar as duas provas?**

- a) 98%
- b) 62%
- c) 23,2%
- d) 18%
- e) 2,32%

**22. Numa escola há 12 professores. A tabela a seguir mostra a carga horária diária de trabalho desses professores.**

4	8	5	10	6	5	8	6	8	9	4	8
---	---	---	----	---	---	---	---	---	---	---	---

**É correto afirmar que as cargas horárias média, modal e mediana desses professores são respectivamente:**

- a) 6,25; 6; 7
- b) 6,5; 7; 8
- c) 6,75; 8; 6
- d) 6,75; 8; 7

e) 6,75; 7; 8

**23. Encontre a equação da reta mediatriz do segmento AB, onde A(2, 3) e B(4, -1), e assinale a alternativa correta.**

- a)  $2y - x + 1 = 0$
- b)  $y - 2x + 2 = 0$
- c)  $2y - 2x + 1 = 0$
- d)  $2y + x + 2 = 0$
- e)  $2y + x - 1 = 0$

**24. Uma loja acrescenta 15% no preço de seus produtos à vista se o cliente optar por pagar com um cheque para 60 dias. Comprei, nessa loja, um fogão com cheque para 60 dias e paguei R\$552,00 por ele. Qual era o preço à vista desse fogão?**

- a) R\$460,00
- b) R\$469,20
- c) R\$474,50
- d) R\$480,00
- e) R\$500,00

**25. Um pesquisador, ao analisar os processos que envolvem jovens com menos de 24 anos, descobriu que há 4 homens com nomes envolvidos em processos para cada mulher. Se no total ele contou 2400 pessoas, quantas eram as mulheres envolvidas nessa pesquisa?**

- a) 480
- b) 600
- c) 800
- d) 1920
- e) 2000

#### INFORMÁTICA

**26. Utilizando o Excel 2013, qual fórmula representa corretamente a auto soma?**

- a) =SUM()
- b) =MÉDIA()
- c) =MAX()
- d) =MIN()
- e) =SE()

**27. Acerca de confidencialidade está incorreto afirmar:**

- a) É um conceito no qual o acesso à informação deve ser concedido a quem de direito, ou seja, apenas para as entidades autorizadas pelo proprietário ou dono da informação.
- b) É uma propriedade que limita o acesso à informação tão somente às entidades legítimas, ou seja, àquelas autorizadas pelo proprietário da informação.
- c) É a propriedade da informação que não estará disponível ou será divulgada a indivíduos, entidades ou processos sem autorização.
- d) Significa garantir que a informação será conhecida por pessoas que não estejam autorizadas para tal.
- e) É a garantia do resguardo das informações dadas pessoalmente em confiança e proteção contra a sua revelação não autorizada.

**28. Tratando-se de hardware de computadores, assinale a alternativa que corresponde a um tipo de memória externa.**

- a) Pen Drive
- b) EPROM
- c) DIMM
- d) MRAM
- e) Cache

**29. No Word 2013, é possível utilizar vários tipos de formatação de fontes, exceto:**

- a) Tachado
- b) Negrito
- c) Centralizado
- d) Sublinhado
- e) Cor da fonte

**30. Qual software nativo do Windows utilizamos para descobrir o endereço IP do computador?**

- a) Windows Explorer
- b) Notepad

- c) Excel
- d) Word
- e) Prompt de Comando

**CONHECIMENTOS GERAIS**

**31. Conforme fonte do IBGE, o bioma do município de Telêmaco Borba/PR é:**

- a) Mata de Pinhais e Cerrado
- b) Pantanal
- c) Caatinga e Mata Atlântica
- d) Floresta Tropical
- e) Cerrado e Mata Atlântica

**32. A letra do hino do município de Telêmaco Borba/PR é de autoria de**

- a) Bento Mossurunga.
- b) Moíses Lupion.
- c) Eloah Martins Quadrado.
- d) Graciliana Reis D´Albuquerque Mossurunga.
- e) Enéias Augusto Moracines Borba.

**33. Leia o texto sobre o Brasão de Armas do município de Telêmaco Borba/PR e marque a alternativa correta.**

**O Brasão de Armas foi aprovado em definitivo em 1981, dentro dos padrões da heráldica, estabelecendo os regulamentos para seu uso, ficando assim oficializado.**

**No Brasão de Armas, é possível identificar:**

- 1. Escudo português redondo banhado de ouro filetado de prata, carregado de cinco árvores de pinho estilizadas de sua cor, postas em banda.**
  - 2. Escudete de prata carregado de três Pinheiros do Paraná, araucária angustifolia ou brasiliense.**
  - 3. No timbre, coroa mural de ouro lavrado de negro.**
  - 4. À direita, haste de milho (zae mays) frutada.**
  - 5. À sinistra, ramos de soja (gelycine soya) granada.**
  - 6. Listel amarelo ostentando o topônimo “Cidade Nova” entre as inscrições de ouro “5 de Julho de 1963”, em caracteres latino moderno.**
- a) Não é verdadeiro o item 1.
  - b) Não é verdadeiro o item 2.
  - c) Não é verdadeiro o item 4.
  - d) Não é verdadeiro o item 6.
  - e) Não são verdadeiros os itens 3 e 5.

**34. Segundo o art. 11 da Lei Orgânica do Município de Telêmaco Borba/PR, os bens públicos podem ser:**

**I. De uso comum do Povo, tais como estradas municipais, ruas, parques, praças, logradouros públicos e outros da mesma espécie;**

**II. De uso especial, os de patrimônio administrativo, tais como edifícios das repartições públicas, os terrenos e equipamentos destinados ao serviço público, veículos, matadouros, mercados e outras serventias de outra espécie;**

**III. Bens municipais, aqueles sobre os quais o município exerce os direitos de proprietário e são considerados como bens patrimoniais disponíveis;**

**IV. Bens culturais, tais como música e obras de arte.**

**Podemos afirmar que são verdadeiros os itens**

- a) I e II, apenas.
- b) II e III, apenas.
- c) I, II e III, apenas.
- d) I, III e IV, apenas.
- e) I, II, III e IV.

**35. Qual alternativa completa corretamente o texto a seguir?**

**No primeiro ano de cada legislatura, no dia 1º de janeiro, em sessão de instalação, independente de número, sob a presidência do vereador mais idoso dentre os eleitos, os vereadores prestarão compromisso e tomarão posse. O Vereador que não tomar posse na sessão do dia 1º de janeiro poderá fazê-la \_\_\_\_\_ depois da primeira sessão ordinária da Legislatura.**

- a) até dez dias
- b) até quinze dias
- c) até trinta dias
- d) até quarenta e cinco dias
- e) até sessenta dias

**36. Conforme o art. 54 da Lei Orgânica do Município de Telêmaco Borba/PR, o Processo Legislativo compreende a elaboração de:**

- I. Emendas à Lei Orgânica do Município;**
- II. Leis complementares;**
- III. Leis Ordinárias;**
- IV. Decretos Legislativos;**
- V. Resoluções;**
- VI. Pareceres.**

**Assinale a alternativa que faz a afirmação correta.**

- a) São verdadeiros apenas os itens I, III e VI.
- b) São verdadeiros apenas os itens I, III e IV.
- c) São verdadeiros apenas os itens III, IV e V.
- d) São verdadeiros apenas os itens I, II, III, IV e V.
- e) São verdadeiros os itens I, II, III, IV, V e VI.

**Com base na Lei nº 1883/2012, que dispõe sobre o Estatuto dos Servidores Públicos da Administração Direta, Autárquica e Funcional do Município de Telêmaco Borba/PR, responda às próximas quatro questões.**

**37. À luz do § 2º do art. 9º da Lei nº 1883/2012, marque a alternativa que completa a lacuna do texto a seguir.**

**O concurso deverá ser homologado no prazo máximo de \_\_\_\_\_ contados da data de realização da última fase de provas, sob pena de responsabilidade da autoridade competente.**

- a) um mês
- b) dois meses
- c) seis meses
- d) um ano
- e) dois anos

**38. Marque a alternativa que completa a lacuna do texto a seguir.**

**O candidato terá o prazo \_\_\_\_\_, a contar da publicação oficial da convocação, para comparecer à entidade convocante e assinar termo de comparecimento.**

- a) máximo de 5 dias úteis
- b) mínimo de 15 dias úteis
- c) de até 30 dias
- d) máximo de 15 dias úteis
- e) mínimo de 5 dias úteis

**39. Leia as assertivas e marque a correta.**

- a) São reservados 10% dos cargos em comissão para a nomeação de servidores do quadro efetivo.
- b) São reservados 15% dos cargos em comissão para a nomeação de servidores do quadro efetivo.
- c) São reservados 20% dos cargos em comissão para a nomeação de servidores do quadro efetivo.
- d) São reservados 25% dos cargos em comissão para a nomeação de servidores do quadro efetivo.
- e) São reservados 30% dos cargos em comissão para a nomeação de servidores do quadro efetivo.

**40. Marque a alternativa que completa a lacuna do texto a seguir.**

**O servidor municipal, quando nomeado para cargo em comissão, ficará afastado de seu cargo efetivo e fará jus à remuneração prevista em lei para o comissionado, podendo optar por receber seus vencimentos acrescidos de \_\_\_\_\_ do valor da remuneração prevista para o cargo em comissão.**

- a) 10%
- b) 20%
- c) 30%
- d) 40%
- e) 50%

**RASCUNHO**



**PREFEITURA DE TELÊMACO BORBA - ESTADO DO PARANÁ - EDITAL Nº 001-2016 - CONCURSO PÚBLICO**

**MATUTINO – 29/05/2016 – NÍVEL MÉDIO**

**1**

**PROVA OBJETIVA NÚMERO**

**CARGO: FISCAL MUNICIPAL I - MEIO AMBIENTE, OBRAS, POSTURAS E TRANSPORTE**

**Leia atentamente as INSTRUÇÕES:**

1. Confira seus dados no cartão-resposta: nome, número de inscrição e o curso para o qual se inscreveu.
2. MARQUE no seu cartão-resposta o número da sua prova (não será corrigido o cartão-resposta que não tiver marcado o número da prova) e Assine seu cartão-resposta.
3. Aguarde a autorização do Fiscal para abrir o caderno de prova. Ao receber a ordem do fiscal, confira o caderno de prova com muita atenção. Nenhuma reclamação sobre o total de questões ou falta de impressão será aceita depois de iniciada a prova.
4. O cartão-resposta não será substituído, salvo se contiver erro de impressão.
5. Preencha toda a área do cartão-resposta correspondente à alternativa de sua escolha, com caneta esferográfica (tinta azul ou preta), sem ultrapassar as bordas. As marcações duplas, ou rasuradas, com corretivo, ou marcadas diferentemente do modelo estabelecido no cartão-resposta poderão ser anuladas.
6. Sua prova tem 40 questões, com 5 alternativas.
7. Cabe apenas ao candidato a interpretação das questões, o fiscal não poderá fazer nenhuma interferência.
8. A prova será realizada com duração máxima de 3 (três) horas, incluído o tempo para a realização de Prova Objetiva de múltipla escolha e o preenchimento do cartão-resposta.
9. O candidato poderá retirar-se do local de realização das provas somente 1 (uma) hora após o seu início, sem levar o caderno de prova.
10. O candidato poderá levar o caderno de provas, assim como anotação contendo transcrição do seu cartão-resposta, somente 1h30min (uma hora e trinta minutos) após o início da realização da prova.
11. Ao terminar a prova, o candidato deverá entregar ao fiscal da sala o cartão-resposta preenchido e ASSINADO.
12. Os 3 (três) candidatos, que terminarem a prova por último, deverão permanecer na sala, e só poderão sair juntos após o fechamento do envelope, contendo os cartões-resposta dos candidatos presentes e ausentes, e assinarem no verso do referido envelope, atestando que este foi devidamente lacrado.
13. Durante todo o tempo em que permanecer no local onde está ocorrendo o concurso, o candidato deverá manter o celular desligado e sem bateria, só sendo permitido ligar depois de ultrapassar o portão de saída do prédio.
14. Não será permitido ao candidato fumar na sala de provas, bem como nas dependências.
15. Depois de terminar a prova e entregar ao fiscal o cartão-resposta, preenchido e assinado, não será mais permitido ao candidato o uso do banheiro e bebedouro.

**BOA PROVA!**



**LÍNGUA PORTUGUESA**

Leia o texto e responda às próximas quatro questões.

**Lêmures e baobás de Madagascar**

Isolada do continente há 135 milhões de anos, a ilha do Oceano Índico é um laboratório natural da evolução das espécies e encanta os viajantes com uma flora e fauna única.

Madagascar abriga 107 espécies de lêmures, dezenas de espécies de camaleões coloridos e outras tantas plantas que só existem lá. "Madagascar é um mundo a parte. Costumo dizer que, se Charles Darwin tivesse conhecido Madagascar, seu livro *A Origem das Espécies* seria dez vezes maior", afirma o fotógrafo e jornalista **Haroldo Castro**, idealizador de *Viajologia Expedições*.

Uma das experiências mais emocionantes na quarta maior ilha do mundo é passear entre os gigantescos baobás, árvores que chegam a ter 30 metros de altura e mil anos de idade. Das nove espécies de baobás que existem no mundo, seis podem ser encontradas apenas em Madagascar. A majestosa árvore, considerada sagrada pelos malgaxes, é chamada localmente como "reniala", mãe da floresta.

Na pequena cidade de Bekopaka está o Parque Nacional Tsingy de Bemaraha, considerado Patrimônio Mundial pela Unesco. Trilhas e passeios de canoa no rio Manambolo conduzem a formações rochosas calcárias inusitadas e plantas endêmicas desse ecossistema de florestas secas.

Outro momento inesquecível em Madagascar é o encontro com os lêmures nas florestas tropicais da reserva Anjozorobe-Angavo, a 90 quilômetros da capital Antananarivo. Especialistas apontam que o turismo de observação de animais é uma excelente alternativa para o desenvolvimento da economia local e pode ajudar a conter o desmatamento. "O projeto em Anjozorobe comprova que, nos últimos anos, os 9 mil visitantes contribuíram de forma concreta a reduzir a pobreza e a promover a conservação da biodiversidade", afirma Haroldo. Como os primatas são curiosos e estão habituados aos seres humanos, eles costumam se aproximar dos visitantes. "Os bichinhos chegam a subir nas nossas cabeças e parecem adorar aparecer nas fotos."

Madagascar possui hoje uma excelente estrutura para o turismo, com algumas estradas bem cuidadas e hotéis confortáveis localizados perto das reservas e parques ecológicos. A gastronomia malgaxe, com um toque francês, também surpreende pela diversidade de ingredientes, temperos e colorido dos pratos.

[...]

(Fonte: <http://viajeaquil.abril.com.br/materias/lemures-e-baobas-de-madagascar#2>. Acesso em 14/05/2016)

01. *Lêmures e baobás de Madagascar* é um texto:

- a) Em que prevalece a descrição, apresentando as belezas e peculiaridades do lugar, da fauna e da flora.
- b) Principalmente narrativo, de fatos ocorridos durante uma viagem, que se sucedem em progresso temporal.
- c) Essencialmente argumentativo, o uso da descrição visa somente a convencer o leitor a visitar Madagascar.
- d) Dissertativo, impõe o desenvolvimento de argumentos para comprovar a tese presente no primeiro parágrafo.
- e) Em que predomina a exposição de conceitos e definições com o intuito de informar o leitor.

02. O teor do texto *Lêmures e baobás de Madagascar* somente não poderia se encaixar em que tópico?

- a) Turismo
- b) Viagens
- c) Clima
- d) Natureza
- e) Ilhas

03. O aposto é um termo que explica ou esclarece, descreve ou resume outro termo da oração. Marque a base, análise e parte grifada em cada uma das orações retiradas do texto:

I - A majestosa árvore, considerada sagrada pelos malgaxes, é chamada localmente como "reniala", mãe da floresta.

II - afirma o fotógrafo e jornalista Haroldo Castro, idealizador de *Viajologia Expedições*.

III - Outro momento inesquecível em Madagascar é o encontro com os lêmures nas florestas tropicais da reserva Anjozorobe-Angavo, a 90 quilômetros da capital Antananarivo.

IV - O projeto em Anjozorobe comprova que, nos últimos anos, os 9 mil visitantes contribuíram de forma concreta a reduzir a pobreza e a promover a conservação da biodiversidade.

V - A gastronomia malgaxe, com um toque francês, também surpreende pela diversidade de ingredientes, temperos e colorido dos pratos.

Considere o aposto as grifes em:

- a) I, II, III, IV e V.
- b) I, III e V, apenas.
- c) III e V apenas.
- d) I, II, III, e V, apenas.
- e) III, IV e V apenas.

04. Trilhas e passeios de canoa no rio Manambolo conduzem a formações rochosas calcárias inusitadas e plantas endêmicas desse ecossistema de florestas secas.

Ao observar a relação sintática entre os termos desse período, pode-se afirmar que:

- o de banco é complemento nominal de Triluzes e Passaio.
- o no rio Manambato é adjunto adnominal de banco.
- o de florestas secas é complemento nominal de plantas endêmicas.
- o de banco é complemento verbal de passaio.
- o a formações rochosas calcárias insuladas e plantas endêmicas desse ecossistema de florestas secas é complemento verbal de conduzem.

Leia o poema e responda às próximas duas questões.

#### FOGO NA MATA, MATA!

Fogo na mata, mata! A mata, a vida...

Fogo na mata, mata,  
no coração da mata,  
Profundas feridas.

Fogo na mata ocorri,  
dentro de nós, os serões.

Fogo na mata, deixa, no seio da mata,  
Tumores tamarhos!

[...]

(Fonte: <http://www.mauacodestras.com.br/letras/000232>. Acesso em 14/05/2016)

06. A respeito de alguns aspectos gramaticais pertinentes aos termos em destaque na frase título do poema *Fogo na mata, mata!*, está correto o que se afirma em:

- Morfologicamente, na sequência em que as duas palavras aparecem, temos um verbo e um substantivo.
- Semânticamente, as duas palavras constituem homônimas homófonas homógrafas.
- O processo de formação da palavra "mata" (primeira ocorrência na frase) é por derivação regressiva do verbo "matar" cuja flexão na terceira pessoa vem logo em seguida na frase.
- Semânticamente, as duas palavras "mata" são parônimas.
- Semânticamente, as duas palavras constituem homônimas homógrafas heterófonas.

06. Com a Nova Reforma Ortográfica, foi mantida a acentuação nas sílabas terminadas em -ei e -ai, como é o caso de ocorri em *Fogo na mata ocorri*. No entanto, de acordo ainda com a Nova Reforma, os acentos foram retirados de quais duas palavras?

- Bocaiuva - maiuscula
- Vou, sândromo
- Raleam - falava
- Papeis - língua
- Preveem - herói

07. Leia atentamente as alternativas e assinale a incorreta no que diz respeito à Ortografia:

- Grafamos com j as palavras ultraje, jibói e gorjeio; com g as palavras terruagem, garingança, e miragem.
- Grafamos com oc: misocêntrica, oboceno e obocessão; com oc: suécico, facínio e nécio.
- Grafamos com x: xampu, maxerico e axocada; com uh: pióha, toóha e maóha.
- Grafamos com z: xadrez, oázdriz e vizinho; com s: friso, pésames e tesoura.
- Grafamos com ss: essasesz, submissão e sosego; com u: acúfinedo, obocuedo e soappão.

08. O acento sublinhado e a circunstância que ele expressa não estão corretamente apresentados em:

- Ela ardamente virá para o encontro. (afirmação)
- Aí se ouvia falar de riquezas culturais. (tempo)
- O orador discursou muito bem, impressionou a plateia. (modo)
- Chegamos tarde, perdemos o ônibus. (tempo)
- Os unidadeiros estudaram paralisa. (intensidade)

09. Os pronomes pessoais, representantes das pessoas do discurso, estão corretamente empregados em todas as alternativas, com exceção de:

- Sempre haverá discordância entre mim e ti.
- O juiz queria falar com nós dois.
- Minha festa de despedida, não vou esquecer-la jamais.
- Ninguém irá sem eu.
- Daram o livro para eu ler em dois dias!





10. Em uma reunião, o contexto permite concluímos as certas verbas são de ligação, para assim identificarmos o predicado nominal. Assim, não há predicação nominal em:

- a) O aluno não estava na escola hoje.
- b) À tarde, as crianças pareciam cansadas.
- c) Ultimamente os participantes do programa andam desanimados.
- d) A escola formal é um lindo espaço.
- e) As crianças pareciam cansadas.

#### MATEMÁTICA

11. Numa prova de hipismo, há duas modalidades totalmente distintas: salto e rural. João vai competir nas duas modalidades. Sabendo que a vitória ou a derrota em uma não influencia no resultado da outra, e sabendo que a probabilidade de ele ganhar a prova de salto é de 40% e a de ganhar a prova de rural é de 60%, qual a probabilidade de ele ganhar as duas provas?

- a) 96%
- b) 62%
- c) 23,2%
- d) 18%
- e) 2,32%

12. Numa escola há 12 professores. A tabela a seguir mostra a carga horária diária de trabalho desses professores.

4	9	5	10	5	5	8	5	8	9	4	8
---	---	---	----	---	---	---	---	---	---	---	---

É correto afirmar que as cargas horárias média, modal e mediana desses professores são respectivamente:

- a) 5,25; 5; 7
- b) 5,8; 7; 8
- c) 8,75; 8; 8
- d) 5,75; 5; 7
- e) 5,75; 7; 8

13. Encontre a equação da reta mediatriz do segmento AB, onde  $A(2, 5)$  e  $B(4, -1)$ , e assinale a alternativa correta.

- a)  $2y - x + 1 = 0$
- b)  $y - 2x + 2 = 0$
- c)  $2y - 2x + 1 = 0$
- d)  $2y + x + 2 = 0$
- e)  $2y + x - 1 = 0$

14. Uma loja acrescenta 15% no preço de seus produtos à vista se o cliente optar por pagar com um cheque para 60 dias. Comprando, nessa loja, um fogão com cheque para 60 dias e pagando R\$552,00 por ele. Qual era o preço à vista desse fogão?

- a) R\$488,00
- b) R\$488,20
- c) R\$474,00
- d) R\$488,00
- e) R\$508,00

15. Um pesquisador, ao analisar os processos que envolvem jovens com menos de 24 anos, descobriu que há 4 homens com nome envolvidos em processos para cada mulher. Se no total ele contou 2400 pessoas, quantas eram as mulheres envolvidas nessa pesquisa?

- a) 480
- b) 600
- c) 800
- d) 1020
- e) 2000

#### INFORMÁTICA

16. Utilizando o Excel 2013, qual fórmula representa corretamente a soma soma?

- a) =SUM()
- b) =MEDIA()
- c) =MAX()
- d) =MIN()
- e) =SE()

17. Acerca de confidencialidade está incorreto afirmar:

- a) É um conceito no qual o acesso à informação deve ser concedido a quem de direito, ou seja, apenas para as entidades autorizadas pelo proprietário ou dono da informação.
- b) É uma propriedade que limita o acesso à informação tão somente às entidades legítimas, ou seja, àquelas autorizadas pelo proprietário da informação.
- c) É a propriedade da informação que não estará disponível ou será divulgada a indivíduos, entidades ou processos sem autorização.
- d) Significa garantir que a informação será conhecida por pessoas que não estejam autorizadas para tal.
- e) É a garantia do resguardo das informações dadas pessoalmente em confiança e proteção contra a sua revelação não autorizada.

18. Tratando-se de hardware de computadores, assinale a alternativa que corresponde a um tipo de memória externa.

- a) Pen Drive
- b) EPROM
- c) DIMM
- d) NRAM
- e) Cache

19. No Word 2013, é possível utilizar várias tipos de formatação de fontes, exceto:

- a) Tachado
- b) Negrito
- c) Centralizado
- d) Sublinhado
- e) Cor da fonte

20. Qual software nativo do Windows utilizamos para descobrir e endereço IP do computador?

- a) Windows Explorer
- b) Notepad
- c) Excel
- d) Word
- e) Prompt de Comando

#### CONHECIMENTOS GERAIS

21. Conforme fonte do IBGE, o bioma do município de Telêmaco Borba/PR é:

- a) Mata de Pinhais e Cerrado
- b) Pantanal
- c) Catinga e Mata Atlântica
- d) Floresta Tropical
- e) Cerrado e Mata Atlântica

22. A letra do hino do município de Telêmaco Borba/PR é de autoria de

- a) Bento Messurunga.
- b) Moisés Lupion.
- c) Elton Martins Quadros.
- d) Grazianna Reis D'Albuquerque Messurunga.
- e) Enéas Augusto Marcolino Borba.

23. Leia o texto sobre o Brasão de Armas do município de Telêmaco Borba/PR e marque a alternativa correta.

O Brasão de Armas foi aprovado em definitivo em 1981, dentre dez padrões de heráldica, estabelecendo os regulamentos para seu uso, ficando assim oficializado.

No Brasão de Armas, é possível identificar:

1. Escudo português redondo banhado de ouro filetado de prata, carregado de cinco árvores de pinhe estilizadas de sua cor, postas em banda.
2. Escudete de prata carregado de três Pinheiros do Paraná, araucária angustifolia ou brasiliense.
3. No timão, coroa mural de ouro lornada de negro.
4. À direita, haste de milho (zea mays) frutosa.
5. À sinistra, ramos de soja (glycine soja) granada.
6. Lata amarela estendendo a topônimo "Cidade Nova" entre as inscrições de ouro "6 de Julho de 1969", em caracteres latim moderno.

- a) Não é verdadeiro o item 1.
- b) Não é verdadeiro o item 2.
- c) Não é verdadeiro o item 4.
- d) Não é verdadeiro o item 6.

a) Não são verdadeiros os itens 3 e 5.

24. Segundo o art. 11 da Lei Orgânica do Município de Telêmaco Borba/PR, os bens públicos podem ser:

I. De uso comum do povo, tais como estradas municipais, ruas, parques, praças, lagoas e outros de natureza pública;

II. De uso especial, os do patrimônio administrativo, tais como edifícios das repartições públicas, os terrenos e equipamentos destinados ao serviço público, veículos, máquinas, mercedes e outros serventias de outra espécie;

III. Bens municipais, aqueles sobre os quais o município exerce os direitos de propriedade e são considerados como bens patrimoniais disponíveis;

IV. Bens culturais, tais como músicas e obras de arte.

Podemos afirmar que são verdadeiros os itens

- a) I e II, apenas.
- b) II e III, apenas.
- c) I, II e III, apenas.
- d) I, III e IV, apenas.
- e) I, II, III e IV.

25. Qual alternativa completa corretamente o texto a seguir?

No primeiro ano de cada legislatura, no dia 1º de janeiro, em sessão de instalação, independente de número, sob a presidência de vereador mais velho dentre os eleitos, os vereadores prestarão compromisso e tomarão posse. O Vereador que não tomar posse na sessão do dia 1º de janeiro poderá fazê-lo \_\_\_\_\_ depois da primeira sessão ordinária da Legislatura.

- a) até dez dias
- b) até quinze dias
- c) até vinte dias
- d) até quarenta e cinco dias
- e) até sessenta dias

26. Conforme o art. 54 da Lei Orgânica do Município de Telêmaco Borba/PR, o Processo Legislativo compreende a elaboração de:

I. Emendas à Lei Orgânica do Município;

II. Leis complementares;

III. Leis Ordinárias;

IV. Decretos Legislativos;

V. Resoluções;

VI. Pareceres.

Assinale a alternativa que faz a afirmação correta.

- a) São verdadeiros apenas os itens I, III e VI.
- b) São verdadeiros apenas os itens I, III e IV.
- c) São verdadeiros apenas os itens III, IV e V.
- d) São verdadeiros apenas os itens I, II, III, IV e V.
- e) São verdadeiros os itens I, II, III, IV, V e VI.

Com base na Lei nº 1663/2012, que dispõe sobre o Estatuto dos Servidores Públicos da Administração Direta, Autárquica e Funcional do Município de Telêmaco Borba/PR, responda às próximas quatro questões.

27. À luz do § 2º de art. 9º da Lei nº 1663/2012, marque a alternativa que completa a lacuna do texto a seguir.

O concurso deverá ser homologado no prazo máximo de \_\_\_\_\_ contados da data de realização da última fase de prova, sob pena de responsabilidade da autoridade competente.

- a) um mês
- b) dois meses
- c) seis meses
- d) um ano
- e) dois anos

28. Marque a alternativa que completa a lacuna do texto a seguir.

O candidato terá o prazo \_\_\_\_\_, a contar da publicação oficial da convocação, para comparecer à realização ocorrente e assinar termo de comparecimento.

- a) máximo de 5 dias úteis
- b) mínimo de 15 dias úteis
- c) de até 30 dias
- d) máximo de 15 dias úteis

a) mínimo de 5 dias úteis.

29. Leia as alternativas e marque a correta.

- a) São reservados 10% dos cargos em comissão para a nomeação de servidores do quadro efetivo.  
 b) São reservados 15% dos cargos em comissão para a nomeação de servidores do quadro efetivo.  
 c) São reservados 20% dos cargos em comissão para a nomeação de servidores do quadro efetivo.  
 d) São reservados 25% dos cargos em comissão para a nomeação de servidores do quadro efetivo.  
 e) São reservados 30% dos cargos em comissão para a nomeação de servidores do quadro efetivo.

30. Marque a alternativa que completa a lacuna de texto a seguir.

O servidor municipal, quando nomeado para cargo em comissão, ficará afastado de seu cargo efetivo e terá jus à remuneração prevista em lei para o comissionado, pedindo optar por receber seus vencimentos acumulados de \_\_\_\_\_ do valor da remuneração prevista para o cargo em comissão.

- a) 10%  
 b) 20%  
 c) 30%  
 d) 40%  
 e) 50%

### CONHECIMENTOS ESPECÍFICOS

À luz do Manual de Redação Oficial, responda às próximas três questões.

31. O quadro seguinte é exemplo de texto obscuro, a partir do qual podem ser feitas algumas frases, combinando-se as expressões das várias colunas em qualquer ordem, com uma característica comum: nenhuma delas tem sentido. Tal estilo de texto deve ser evitado em todas as comunicações oficiais.

COLUNA A	COLUNA B	COLUNA C	COLUNA D	COLUNA E	COLUNA F	COLUNA G
1. A necessidade emergente	se caracteriza por	uma correta relação entre estrutura e superestrutura	no interesse primário da população,	substanciando e vitalizando,	numa ótica preventiva e não mais curativa,	a transparência de cada ato decisoral.
2. O quadro normativo	prefigura	a superação de cada obstáculo e/ou resistência passiva	sem prejudicar o atual nível das contribuições,	não assumindo nunca como implícito,	no contexto de um sistema integrado,	um indispensável salto de qualidade.

(FONTE: <http://www.planalto.gov.br/revista/09/manual/manual.htm>, acessado em 19 de março de 2016).

A clareza deve ser a qualidade básica de todo texto oficial. Pode-se definir como claro aquele texto que possibilita imediata compreensão pelo leitor. No entanto a clareza não é algo que se atinja por si só: ela depende estritamente das demais características da redação oficial.

As alternativas remetem a essas características. Qual está incorreta?

- a) A impessoalidade, que evita a duplicidade de interpretações que poderia decorrer de um tratamento personalista dado ao texto.  
 b) O uso de siglas e termos técnicos, não necessitando o esclarecimento dos mesmos, desde que o contexto seja feito na gramática correta.  
 c) O uso do padrão culto de linguagem, em princípio, de entendimento geral e por definição avesso a vocábulos de circulação restrita, como a gíria e o jargão.  
 d) A formalidade e a padronização, que possibilitam a imprescindível uniformidade dos textos.  
 e) A concisão, que faz desaparecer do texto os excessos linguísticos que nada lhe acrescentam.

32. Em uma frase, pode-se dizer que redação oficial é a maneira pela qual o Poder Público redige atos normativos e comunicações. Intenções nos tratá-la de ponto de vista do Poder Executivo. A redação oficial deve caracterizar-se pela impessoalidade, uso do padrão culto de linguagem, clareza, concisão, formalidade e uniformidade. Fundamentamente essas atribuições decorrem da Constituição, que dispõe, no artigo 37: "A administração pública direta, indireta ou funcional, de qualquer dos Poderes da União, dos Estados, do Distrito Federal e dos Municípios obedecerá aos princípios de legalidade, impessoalidade, moralidade, publicidade e eficiência (...)". Sendo a publicidade e a impessoalidade princípios fundamentais de toda administração pública, claro será que devem igualmente nortear a elaboração dos atos e comunicações oficiais.

Acresce disto, marque as afirmativas com C (certo) ou E (errado), e assinale a alternativa correta.

- ( ) Não se concebe que um ato normativo de qualquer natureza seja redigido de forma obscura, que dificulte ou impossibilite sua compreensão.  
 ( ) A transparência do sentido dos atos normativos, bem como sua inteligibilidade, são requisitos do próprio Estado de Direito: é inaceitável que um texto legal não seja entendido pelos cidadãos.  
 ( ) Os atos normativos não devem obedecer à tradição, mesmo que algumas normas remontem ao período da História Imperial.



( ) Outros procedimentos rotineiros na redação de comunicações oficiais foram incorporados ao longo do tempo, como as formas de tratamento e de cortesia, certos clichês de redação, a estrutura dos expedientes, etc.

- a) C – C – E – C
- b) E – C – C – C
- c) E – E – E – C
- d) C – C – C – C
- e) C – E – C – C

**33. O Manual de Redação Oficial nos informa como devem ser diagramados os documentos de padrão Oficial. No que diz respeito à diagramação desses documentos, assinale a alternativa correta.**

- a) Deve ser utilizada fonte do tipo *Times New Roman* de corpo 10 no texto em geral, 11 nas citações, e 12 nas notas de rodapé.
- b) Para símbolos não existentes na fonte *Times New Roman* poder-se-á utilizar as fontes *Arial* e *Calibri*.
- c) É obrigatório constar a partir da segunda página o número da página.
- d) O início de cada parágrafo do texto deve ter 1,5 cm de distância da margem direita.
- e) O campo destinado à margem lateral direita terá, no mínimo, 2,5 cm de largura.

**À luz do Código Tributário do Município de Telêmaco Borba/PR, responda às quatro questões seguintes.**

**34. O Código Tributário do Município de Telêmaco Borba dispõe sobre fatos geradores, a incidência das alíquotas, o lançamento, a cobrança e a fiscalização dos tributos municipais, e estabelece normas de direito fiscal a eles pertinentes. De acordo com este Código, integram o Sistema Tributário do Município, exceto:**

- a) Imposto predial e territorial urbano
- b) Imposto sobre serviços de qualquer natureza
- c) Imposto sobre a transmissão de bens imóveis-ITBI
- d) Taxa decorrentes de atos relativos à utilização efetiva ou potencial de serviços e bens públicos municipais, específicos e divisíveis.
- e) Taxa sobre o uso de dados de internet-TUSI

**35. De acordo com o art. 5º, todas as funções referentes ao cadastramento, lançamento, cobrança, recolhimento e fiscalização de tributos municipais, aplicação de sanções por infração de disposições deste Código e demais dispositivos da legislação tributária do Município, bem como as medidas de prevenção e repressão às sonegações e fraudes, serão exercidas:**

- a) Pelo funcionário da Receita Fiscal, de acordo com a demanda recebida.
- b) Pelo Prefeito de Telêmaco Borba.
- c) Pelo órgão fazendário e repartições à ela subordinadas, segundo o respectivo regimento.
- d) Pela Secretaria Municipal de Tributos.
- e) Pelo Diretor Executivo da Agência Municipal de Tributos.

**36. Preencha as lacunas de maneira correta, e assinale a alternativa correspondente.**

“As medidas \_\_\_\_\_ só serão tomadas contra os \_\_\_\_\_ que, dolosamente ou por descuido lesarem ou tentarem lesar o fisco.”

- a) repressivas / contribuintes infratores
- b) prolativas / cidadãos devedores
- c) arrecadatórias / funcionários omissos
- d) fiscais / contribuintes
- e) provisórias / infratores

**37. Ao contribuinte ou responsável é facultado escolher e indicar ao Fisco o seu domicílio tributário, assim entendido o lugar onde desenvolve sua atividade, responde por suas obrigações e pratica os demais atos que constituam ou possam vir a constituir obrigação tributária.**

A respeito do Domicílio Tributário e de acordo com os artigos 9º e 10, marque as afirmativas com C (certo) ou E (errado) e assinale a alternativa correta.

( ) Na falta de eleição, pelo contribuinte ou responsável, de domicílio tributário, na forma da legislação aplicável considera-se como tal, quanto às pessoas naturais, qualquer de suas repartições no território do Município.

( ) A autoridade administrativa pode recusar o domicílio eleito, sua localização, acesso ou quaisquer outras características que impossibilitem ou dificultem a arrecadação ou a fiscalização do tributo, aplicando-se, então, a regra do parágrafo anterior.

( ) No caso de alteração do domicílio tributário eleito pelo contribuinte ou responsável, este ou aquele deverão, obrigatoriamente, comunicar à repartição competente o novo endereço, dentro do prazo de 30 (trinta) dias, contados da ocorrência da referida alteração.



( ) O domicílio tributário será obrigatoriamente consignado nas petições, requerimentos, reclamações, recursos, declarações, guias, consultas e qualquer outro documento dirigido ou apresentado à autoridade administrativa.

- a) C – C – E – C
- b) E – C – C – C
- c) E – E – C – C
- d) E – C – C – E
- e) C – E – C – C

38. Toda construção, reconstrução, reforma, ampliação ou demolição efetuada por particulares ou entidades públicas, no Município de Telêmaco Borba, é regulada pelo Código de Obras, observadas as normas Federais e Estaduais relativas à matéria. Para liberação do projeto de construção, o interessado apresentará ao órgão competente da administração pública municipal requerimento assinado pelo responsável técnico da obra, proprietário de imóvel ou superficiária, acompanhado de alguns documentos, dentre eles:

- I - Cartão de Viabilidade Técnica assinada pelo Poder Público Municipal.
- II - Requerimento contendo 3 (três) cópias do projeto arquitetônico, segundo o padrão determinado pela ABNT, contendo a planta baixa de todos os pavimentos, inclusive cobertura, cortes, fachadas, localização, perfil do terreno, detalhes e situação.
- III - Versão digital do projeto segundo softwares indicada pelo Poder Público.
- IV - Termo de ciência de obrigação de executar a obra tal qual o projeto a ser aprovado, sob as penas determinadas neste lei, assinado pelo responsável técnico proprietário de imóvel e superficiária, ao far o caso.
- V - Título de propriedade do imóvel ou de superficiária.

Diante de exposta, assinale a alternativa correta:

- a) Este correto apenas os itens I, II e III.
- b) Este correto apenas os itens III e IV.
- c) Este correto os itens I, II, III, IV e V.
- d) O único item correto é o III.
- e) O único item é o II.

39. Segundo art. 50 de Código de Obras do Município de Telêmaco Borba, concluída a construção, o prédio só poderá ser utilizado para fins residenciais depois de concedido, mediante requerimento de interessado, \_\_\_\_\_, pelo órgão competente que só o deferirá comprovada a execução da obra de acordo com o projeto arquitetônico e demais projetos obrigatórios exigidos pelo C.R.E.A.

Assinale a alternativa que preencha corretamente a lacuna.

- a) o Alvará de funcionamento
- b) o Termo de posse
- c) a Habite-se
- d) a Licença Ambiental
- e) o Certificado de Conclusão de Obras

40. O Código de Posturas do Município de Telêmaco Borba/PR contém as medidas de polícia administrativa, a cargo do Município, em matéria de higiene, segurança, ordem pública, bem estar público, localização e funcionamento dos estabelecimentos comerciais, industriais e prestadores de serviços, estabelecendo as necessárias relações entre o poder público local e os cidadãos, bem como entre os cidadãos e a cidade. A exploração das mesas de publicidade, quer em estabelecimentos, comerciais, ruas e logradouros públicos, bem como nos lugares de acesso comum, depende de licença do Município, sujeitando-se o contribuinte ao pagamento de taxa de licença. Os pedidos de licença, para publicidade ou propaganda, por meio de cartazes ou anúncios, deverão mencionar:

- I - Tipo de publicidade a ser usada.
- II - A localização dos locais em que serão colocados ou distribuídos os cartazes ou anúncios.
- III - A natureza do material de construção.
- IV - As dimensões.
- V - As inscrições, textos e desenhos.

Diante de exposta, assinale a alternativa correta.

- a) Este correto apenas os itens I, II e V.
- b) Este correto apenas os itens II e IV.
- c) Este correto apenas os itens IV e V.
- d) Este correto I, II, III, IV e V.
- e) O único item correto é o III.

RASCUNHO



**PREFEITURA DE TELÊMACO BORBA - ESTADO DO PARANÁ - EDITAL Nº 001-2016 - CONCURSO PÚBLICO**

**MATUTINO – 29/05/2016 – NÍVEL MÉDIO**

**2**

**PROVA OBJETIVA NÚMERO**

**CARGO: FISCAL MUNICIPAL I - MEIO AMBIENTE, OBRAS, POSTURAS E TRANSPORTE**

**Leia atentamente as INSTRUÇÕES:**

1. Confira seus dados no cartão-resposta: nome, número de inscrição e o curso para o qual se inscreveu.
2. **MARQUE** no seu cartão-resposta o número da sua prova (não será corrigido o cartão-resposta que não tiver marcado o número da prova) e **Assine** seu cartão-resposta.
3. Aguarde a autorização do Fiscal para abrir o caderno de prova. Ao receber a ordem do fiscal, confira o conteúdo da prova com muita atenção. Nenhuma reclamação sobre o total de questões ou falta de impressão será aceita depois de iniciada a prova.
4. O cartão-resposta não será substituído, salvo se contiver erro de impressão.
5. Preencha toda a área do cartão-resposta correspondente à alternativa de sua escolha, com caneta esferográfica (tinta azul ou preta), sem ultrapassar as bordas. As marcações duplas, ou rasuradas, com corretivo, ou marcadas diferentemente do modelo estabelecido no cartão-resposta poderão ser anuladas.
6. Sua prova tem 40 questões, com 5 alternativas.
7. Cabe apenas ao candidato a interpretação das questões, o fiscal não poderá fazer nenhuma interferência.
8. A prova será realizada com duração máxima de 3 (três) horas, incluído o tempo para a realização da Prova Objetiva de múltipla escolha e o preenchimento do cartão-resposta.
9. O candidato poderá retirar-se do local de realização das provas somente 1 (uma) hora após o seu início, sem levar o caderno de prova.
10. O candidato poderá levar o caderno de provas, assim como a cópia contendo transcrição do seu cartão-resposta, somente 1h30min (uma hora e trinta minutos) após o início da realização da prova.
11. Ao terminar a prova, o candidato deverá entregar ao fiscal de sala o cartão-resposta preenchido e **ASSINADO**.
12. Os 3 (três) candidatos, que terminarem a prova por último, deverão permanecer na sala, e só poderão sair juntos após o fechamento do envelope, contendo os cartões-resposta dos candidatos presentes e ausentes, e assinarem no livro de relação envelope, atestando que este foi devidamente lacrado.
13. Durante todo o tempo em que permanecer no local onde está ocorrendo o concurso, o candidato deverá, manter o celular desligado e sem bateria, só sendo permitido ligar depois de ultrapassar o portão de saída do prédio.
14. Não será permitido ao candidato fumar na sala de provas, bem como nas dependências.
15. Depois de terminar a prova e entregar ao fiscal o cartão-resposta, preenchido e assinado, não será mais permitido ao candidato o uso do banheiro e bebedouro.

**BOA PROVA!**



**MATEMÁTICA**

01. Numa prova de hipismo, há duas modalidades totalmente distintas: salto e rural. João vai competir nas duas modalidades. Sabendo que a vitória ou a derrota em uma nada influencia no resultado da outra, e sabendo que a probabilidade de ele ganhar a prova de salto é de 40% e a de ganhar a prova de rural é de 60%, qual a probabilidade de ele ganhar as duas provas?

- a) 80%
- b) 62%
- c) 23,2%
- d) 18%
- e) 2,32%

02. Numa escola há 12 professores. A tabela a seguir mostra a carga horária diária de trabalho desses professores.

4	9	5	10	6	5	8	6	8	9	4	6
---	---	---	----	---	---	---	---	---	---	---	---

É correto afirmar que as cargas horárias médias, modal e mediana desses professores são respectivamente:

- a) 6,25; 6; 7
- b) 6,8; 7; 8
- c) 8,75; 8; 8
- d) 6,75; 8; 7
- e) 6,75; 7; 8

03. Encontre a equação da reta mediatriz do segmento AB, onde  $A(2, 3)$  e  $B(4, -1)$ , e assinale a alternativa correta.

- a)  $2y - x + 1 = 0$
- b)  $y - 2x + 2 = 0$
- c)  $3y - 2x + 1 = 0$
- d)  $2y + x + 2 = 0$
- e)  $2y + x - 1 = 0$

04. Uma loja acrescenta 15% no preço de seus produtos à vista se o cliente optar por pagar com um cheque para 60 dias. Comprei, nessa loja, um fogão com cheque para 60 dias e paguei R\$552,00 por ele. Qual era o preço à vista desse fogão?

- a) R\$460,00
- b) R\$462,20
- c) R\$474,00
- d) R\$480,00
- e) R\$200,00

05. Um pesquisador, ao analisar os processos que envolvem jovens com menos de 24 anos, descobriu que há 4 homens com nomes envolvidos em processos para cada mulher. Se no total ele contou 2400 pessoas, quantas eram as mulheres envolvidas nessa pesquisa?

- a) 480
- b) 600
- c) 800
- d) 1820
- e) 2000

**INFORMÁTICA**

06. Utilizando o Excel 2013, qual fórmula representa corretamente a auto soma?

- a) =SUM()
- b) =MEDIA()
- c) =MAX()
- d) =MIN()
- e) =SE()

07. Acerca de confidencialidade está incorreto afirmar:

- a) É um conceito no qual o acesso à informação deve ser concedido a quem de direito, ou seja, apenas para as entidades autorizadas pelo proprietário ou dono da informação.
- b) É uma propriedade que limita o acesso à informação tão somente às entidades legítimas, ou seja, àquelas autorizadas pelo proprietário da informação.
- c) É a propriedade da informação que não estará disponível ou será divulgada a indivíduos, entidades ou processos sem autorização.
- d) Significa garantir que a informação será conhecida por pessoas que não estejam autorizadas para tal.

e) É a garantia do resguardo das informações dadas pessoalmente em confiança e proteção contra a sua revelação não autorizada.

08. Tratando-se de hardware de computadores, assinale a alternativa que corresponde a um tipo de memória externa.

- a) Pen Drive
- b) EPROM
- c) DIMM
- d) MRAM
- e) Cache

09. No Word 2013, é possível utilizar várias tipos de formatação de fontes, exceto:

- a) Tachado
- b) Negrito
- c) Centralizado
- d) Sublinhado
- e) Cor da fonte

10. Qual software nativo do Windows utilizamos para descobrir o endereço IP do computador?

- a) Windows Explorer
- b) Notepad
- c) Excel
- d) Word
- e) Prompt de Comando

#### CONHECIMENTOS GERAIS

11. Conforme fonte do IBGE, a bioma do município de Telêmaco Borba/PR é:

- a) Mata de Pinhais e Cerrado
- b) Pantanal
- c) Catinga e Mata Atlântica
- d) Floresta Tropical
- e) Cerrado e Mata Atlântica

12. A letra da hino do município de Telêmaco Borba/PR é de autoria de

- a) Bento Messurunga.
- b) Moisés Lupion.
- c) Elton Martins Quadradin.
- d) Grazianna Reis D'Albuquerque Messurunga.
- e) Enéas Augusto Moraes Borba.

13. Leia o texto sobre o Brasão de Armas do município de Telêmaco Borba/PR e marque a alternativa correta.

O Brasão de Armas foi aprovado em definitivo em 1981, dentre dez padrões de heráldica, estabelecendo os regulamentos para seu uso, ficando assim oficializado.

No Brasão de Armas, é possível identificar:

1. Escudo português redonde banhado de ouro filetado de prata, carregado de cinco árvores de pinhe estilizadas de sua cor, postas em banda.
2. Escudo de prata carregado de três Pinheiros do Paraná, araucária angustifolia ou brasiliense.
3. No timão, coroa mural de ouro lavrada de negro.
4. À direita, haste de milho (com mays) frutada.
5. À sinistra, ramos de soja (gelyoia soja) granada.
6. Listel amarelo estendendo o topônimo "Cidade Nova" entre as inscrições de ouro "5 de Julho de 1981", em caracteres latim moderno.

- a) Não é verdadeiro o item 1.
- b) Não é verdadeiro o item 2.
- c) Não é verdadeiro o item 4.
- d) Não é verdadeiro o item 6.
- e) Não são verdadeiros os itens 3 e 5.

14. Segundo o art. 11 da Lei Orgânica do Município de Telêmaco Borba/PR, os bens públicos podem ser:

I. De uso comum do Povo, tais como estradas municipais, ruas, parques, praças, lagoas públicas e outras de mesma espécie;

II. De uso especial, os de patrimônio administrativo, tais como edifícios das repartições públicas, os terrenos e equipamentos destinados ao serviço público, veículos, máquinas, mercados e outras serventias de outra espécie;

III. Bens municipais, aqueles sobre os quais o município possui os direitos de propriedade e são consideradas como bens patrimoniais disponíveis;

IV. Bens culturais, tais como músicas e obras de arte.

Podemos afirmar que são verdadeiras as itens

- a) I e II, apenas.
- b) II e III, apenas.
- c) I, II e III, apenas.
- d) I, II e IV, apenas.
- e) I, II, III e IV.

15. Qual alternativa completa corretamente o texto a seguir?

No primeiro ano de cada legislatura, no dia 1º de Janeiro, em sessão de Instalação, independente de número, sob a presidência de vereador mais velho dentre os eleitos, os vereadores prestarão compromisso e tomarão posse. O Vereador que não tomar posse na sessão do dia 1º de Janeiro poderá fazê-lo \_\_\_\_\_ depois da primeira sessão ordinária da Legislatura.

- a) até dez dias
- b) até quinze dias
- c) até trinta dias
- d) até quarenta e cinco dias
- e) até sessenta dias

16. Conforme o art. 54 da Lei Orgânica de Município de Telêmaco Borba/PR, e Precama Legislativa compõem a elaboração de:

I. Emendas à Lei Orgânica de Município;

II. Leis complementares;

III. Leis Ordinárias;

IV. Decretos Legislativos;

V. Resoluções;

VI. Pareceres.

Assinale a alternativa que faz a afirmação correta.

- a) São verdadeiras apenas os itens I, III e VI.
- b) São verdadeiras apenas os itens I, III e IV.
- c) São verdadeiras apenas os itens III, IV e V.
- d) São verdadeiras apenas os itens I, II, III, IV e V.
- e) São verdadeiras os itens I, II, III, IV, V e VI.

Com base na Lei nº 1663/2012, que dispõe sobre o Estatuto dos Servidores Públicos da Administração Direta, Autárquica e Funcional do Município de Telêmaco Borba/PR, responda às próximas quatro questões.

17. À luz do § 2º de art. 9º da Lei nº 1663/2012, marque a alternativa que completa a lacuna do texto a seguir.

O concurso deverá ser homologado no prazo máximo de \_\_\_\_\_ contados da data de realização da última fase de provas, sob pena de responsabilidades da autoridade competente.

- a) um mês
- b) dois meses
- c) seis meses
- d) um ano
- e) dois anos

18. Marque a alternativa que completa a lacuna do texto a seguir.

O candidato terá o prazo \_\_\_\_\_, a contar da publicação oficial da convocação, para comparecer à entrevista convocante e assinar termo de comparecimento.

- a) máximo de 5 dias úteis
- b) mínimo de 15 dias úteis
- c) de até 30 dias
- d) máximo de 15 dias úteis
- e) mínimo de 5 dias úteis

19. Leia as assertivas e marque a correta.

- a) São reservadas 10% das vagas em comissão para a nomeação de servidores do quadro efetivo.
- b) São reservadas 10% das vagas em comissão para a nomeação de servidores do quadro efetivo.
- c) São reservadas 20% das vagas em comissão para a nomeação de servidores do quadro efetivo.
- d) São reservadas 20% das vagas em comissão para a nomeação de servidores do quadro efetivo.
- e) São reservadas 30% das vagas em comissão para a nomeação de servidores do quadro efetivo.

20. Marque a alternativa que completa a lacuna de texto a seguir.

O servidor municipal, quando nomeado para cargo em comissão, ficará afastado de seu cargo efetivo e terá jus à remuneração prevista em lei para o comissionado, pedindo optar por receber seus vencimentos mensais de \_\_\_\_\_ do valor da remuneração prevista para o cargo em comissão.

- a) 10%  
 b) 20%  
 c) 30%  
 d) 40%  
 e) 50%

### CONHECIMENTOS ESPECÍFICOS

À luz do Manual de Redação Oficial, responda às próximas três questões.

21. O quadro seguinte é exemplo de texto obscuro, a partir do qual podem ser feitas algumas frases, combinando-se as expressões das várias colunas em qualquer ordem, com uma característica comum: nenhuma delas tem sentido. Tal estilo de texto deve ser evitado em todas as comunicações oficiais.

COLUNA A	COLUNA B	COLUNA C	COLUNA D	COLUNA E	COLUNA F	COLUNA G
1. A necessidade emergente	se caracteriza por	uma correta relação entre estrutura e superestrutura	no interesse primário da população,	substanciando e vitalizando,	numa ótica preventiva e não mais curativa,	a transparência de cada ato decisional.
2. O quadro normativo	prefigura	a superação de cada obstáculo e/ou resistência passiva	sem prejudicar o atual nível das contribuições,	não assumindo nunca como implícito,	no contexto de um sistema integrado,	um indispensável salto de qualidade.

(FONTE: [http://www.planalto.gov.br/ocivil\\_03/manual/manual.htm](http://www.planalto.gov.br/ocivil_03/manual/manual.htm), acessado em 13 de março de 2016).

A clareza deve ser a qualidade básica de todo texto oficial. Pode-se definir como claro aquele texto que possibilita imediata compreensão pelo leitor. No entanto a clareza não é algo que se atinja por si só: ela depende estritamente das demais características da redação oficial.

As alternativas remetem a essas características. Qual está incorreta?

- a) A impessoalidade, que evita a duplicidade de interpretações que poderia decorrer de um tratamento personalista dado ao texto.  
 b) O uso de siglas e termos técnicos, não necessitando o esclarecimento dos mesmos, desde que o contexto seja feito na gramática correta.  
 c) O uso do padrão culto de linguagem, em princípio, de entendimento geral e por definição avesso a vocábulos de circulação restrita, como a gíria e o jargão.  
 d) A formalidade e a padronização, que possibilitam a imprescindível uniformidade dos textos.  
 e) A concisão, que faz desaparecer do texto os excessos linguísticos que nada lhe acrescentam.

22. Em uma frase, pode-se dizer que redação oficial é a maneira pela qual o Poder Público redige atos normativos e comunicações. Intensas nos trechos de ponto de vista do Poder Executivo. A redação oficial deve caracterizar-se pela impessoalidade, uso do padrão culto de linguagem, clareza, concisão, formalidade e uniformidade. Fundamentalmente essas atribuições decorrem da Constituição, que dispõe, no artigo 37: "A administração pública direta, indireta ou fundacional, de qualquer dos Poderes da União, dos Estados, do Distrito Federal e dos Municípios obedecerá aos princípios de legalidade, impessoalidade, moralidade, publicidade e eficiência (...)". Sendo a publicidade e a impessoalidade princípios fundamentais de toda administração pública, claro está que devem igualmente nortear a elaboração dos atos e comunicações oficiais.

Acerca disso, marque as afirmativas com C (certo) ou E (errado), e assinale a alternativa correta.

- ( ) Não se concebe que um ato normativo de qualquer natureza seja redigido de forma obscura, que dificulte ou impossibilite sua compreensão.  
 ( ) A transparência do sentido dos atos normativos, bem como sua inteligibilidade, são requisitos do próprio Estado de Direito: é inaceitável que um texto legal não seja entendido pelos cidadãos.  
 ( ) Os atos normativos não devem obedecer à tradição, mesmo que algumas normas remontem ao período da História Imperial.  
 ( ) Outros procedimentos rotineiros na redação de comunicações oficiais foram incorporados ao longo do tempo, como as formas de tratamento e de cortesia, certos clichês de redação, a estrutura dos expedientes, etc.  
 a) C – C – E – C  
 b) E – C – C – C  
 c) E – E – E – C  
 d) C – C – C – C  
 e) C – E – C – C



**23. O Manual de Redação Oficial nos informa como devem ser diagramados os documentos do padrão Oficial. No que diz respeito à diagramação desses documentos, assinale a alternativa correta.**

- a) Deve ser utilizada fonte do tipo *Times New Roman* de corpo 10 no texto em geral, 11 nas citações, e 12 nas notas de rodapé.
- b) Para símbolos não existentes na fonte *Times New Roman* poder-se-á utilizar as fontes *Arial* e *Calibri*.
- c) É obrigatório constar a partir da segunda página o número da página.
- d) O início de cada parágrafo do texto deve ter 1,5 cm de distância da margem direita.
- e) O campo destinado à margem lateral direita terá, no mínimo, 2,5 cm de largura.

**À luz do Código Tributário do Município de Telêmaco Borba/PR, responda às quatro questões seguintes.**

**24. O Código Tributário do Município de Telêmaco Borba dispõe sobre fatos geradores, a incidência das alíquotas, o lançamento, a cobrança e a fiscalização dos tributos municipais, e estabelece normas de direito fiscal a eles pertinentes. De acordo com este Código, integram o Sistema Tributário do Município, exceto:**

- a) Imposto predial e territorial urbano
- b) Imposto sobre serviços de qualquer natureza
- c) Imposto sobre a transmissão de bens imóveis-ITBI
- d) Taxa decorrentes de atos relativos à utilização efetiva ou potencial de serviços e bens públicos municipais, específicos e divisíveis.
- e) Taxa sobre o uso de dados de internet-TUSI

**25. De acordo com o art. 5º, todas as funções referentes ao cadastramento, lançamento, cobrança, recolhimento e fiscalização de tributos municipais, aplicação de sanções por infração de disposições deste Código e demais dispositivos da legislação tributária do Município, bem como as medidas de prevenção e repressão às sonegações e fraudes, serão exercidas:**

- a) Pelo funcionário da Receita Fiscal, de acordo com a demanda recebida.
- b) Pelo Prefeito de Telêmaco Borba.
- c) Pelo órgão fazendário e repartições à ela subordinadas, segundo o respectivo regimento.
- d) Pela Secretária Municipal de Tributos.
- e) Pelo Diretor Executivo da Agência Municipal de Tributos.

**26. Preencha as lacunas da seguinte forma, e assinale a alternativa correspondente.**

“As medidas \_\_\_\_\_ só serão tomadas contra os \_\_\_\_\_ que, dolosamente ou por descaso lesarem ou tentarem lesar o fisco.”

- a) repressivas / contribuintes infratores
- b) proativas / cidadãos devedores
- c) sancionatórias / funcionários omissos
- d) fiscais / contribuintes
- e) provisórias / infratores

**27. Ao contribuinte ou responsável é facultado escolher e indicar ao Fisco o seu domicílio tributário, assim entendido o lugar onde desenvolve sua atividade, responde por suas obrigações e pratica os demais atos que constituam ou possam vir a constituir obrigação tributária.**

A respeito do Domicílio Tributário e de acordo com os artigos 9º e 10, marque as afirmativas com C (certo) ou E (errado) e assinale a alternativa correta.

( ) Na falta de eleição, pelo contribuinte ou responsável, de domicílio tributário, na forma da legislação aplicável considera-se como tal, quanto às pessoas naturais, qualquer de suas repartições no território do Município.

( ) A autoridade administrativa pode recusar o domicílio eleito, sua localização, acesso ou quaisquer outras características que impossibilitem ou dificultem a arrecadação ou a fiscalização do tributo, aplicando-se, então, a regra do parágrafo anterior.

( ) No caso de alteração do domicílio tributário eleito pelo contribuinte ou responsável, este ou aquele deverão, obrigatoriamente, comunicar à repartição competente o novo endereço, dentro do prazo de 30 (trinta) dias, contados da ocorrência da referida alteração.

( ) O domicílio tributário será obrigatoriamente consignado nas petições, requerimentos, reclamações, recursos, declarações, guias, consultas e qualquer outro documento dirigido ou apresentado à autoridade administrativa.

- a) C – C – E – C
- b) E – C – C – C
- c) E – E – C – C
- d) E – C – C – E
- e) C – E – C – C



28. Toda construção, reconstrução, reforma, ampliação ou demolição efetuada por particulares ou entidades públicas, no Município de Telêmaco Borba, é regulada pelo Código de Obras, observadas as normas Federais e Estaduais relativas à matéria. Para liberação do projeto de construção, o interessado apresentará ao órgão competente de administração pública municipal requerimento assinado pelo responsável técnico da obra, proprietário de imóvel ou superficiária, acompanhado de alguns documentos, dentre eles:

- I - Cartão de Viabilidade Técnica expedida pelo Poder Público Municipal.
- II - Requerimento contendo 3 (três) cópias do projeto arquitetônico, segundo o padrão determinado pela ABNT, contendo a planta baixa de todos os pavimentos, inclusive cobertura, cortes, fachadas, localização, perfil do terreno, detalhes e situação.
- III - Versão digital do projeto segundo softwares indicada pelo Poder Público.
- IV - Termo de ciência da obrigação de executar a obra tal qual o projeto a ser aprovado, sob as penas determinadas nesta lei, assinado pelo responsável técnico proprietário de imóvel e superficiária, no ato da obra.
- V - Título de propriedade do imóvel ou de superficiária.

Diante de exposta, assinale a alternativa correta:

- a) Estão corretas apenas as itens I, II e III.
- b) Estão corretas apenas os itens III e IV.
- c) Estão corretas os itens I, II, III, IV e V.
- d) O único item correto é o III.
- e) O único item é o II.

29. Segundo art. 30 de Código de Obras do Município de Telêmaco Borba, concluída a construção, o prédio só poderá ser utilizado para fins residenciais depois de concedida, mediante requerimento do interessado, \_\_\_\_\_, pelo órgão competente que só o deferirá comprovada a execução da obra de acordo com o projeto arquitetônico e demais projetos obrigatórios exigidos pelo C.R.E.A.

Assinale a alternativa que preencha corretamente a lacuna.

- a) o Alvará de funcionamento
- b) o Termo de posse
- c) a Habite-se
- d) a Licença Ambiental
- e) o Certificado de Conclusão de Obras

30. O Código de Posturas do Município de Telêmaco Borba/PR contém as medidas de polícia administrativa, a cargo do Município, em matéria de higiene, segurança, ordem pública, bem estar público, localização e funcionamento dos estabelecimentos comerciais, industriais e prestadores de serviços, estipulando as necessárias regras entre o poder público local e os cidadãos, bem como entre os cidadãos e a cidade. A exploração das mesas de publicidade, quer em estabelecimentos, comerciais, ruas e logradouros públicos, bem como nos lugares de acesso comum, depende de licença do Município, sujeitando-as a contribuinte ao pagamento de taxa de licença. Os pedidos de licença, para publicidade ou propaganda, por meio de cartazes ou anúncios, deverão mencionar:

- I - Tipo de publicidade a ser usada.
- II - A indicação dos locais em que serão colocados ou distribuídos os cartazes ou anúncios.
- III - A natureza do material de construção.
- IV - As dimensões.
- V - As inscrições, textos e desenhos.

Diante de exposta, assinale a alternativa correta.

- a) Estão corretas apenas os itens I, II e V.
- b) Estão corretas apenas os itens II e IV.
- c) Estão corretas apenas os itens IV e V.
- d) Estão corretas I, II, III, IV e V.
- e) O único item correto é o III.

## LÍNGUA PORTUGUESA

Leia o texto e responda às próximas quatro questões.

### Lêmures e baobás de Madagascar

Isolada do continente há 135 milhões de anos, a ilha do Oceano Índico é um laboratório natural da evolução das espécies e encanta os viajantes com uma flora e fauna única.

Madagascar abriga 107 espécies de lêmures, dezenas de espécies de camaleões coloridos e outras tantas plantas que só existem lá. "Madagascar é um mundo a parte. Costumo dizer que, se Charles Darwin tivesse conhecido Madagascar, seu livro *A Origem das Espécies* seria dez vezes maior", afirma o fotógrafo e jornalista Haroldo Castro, idealizador de Viajologia Expedições.

Uma das experiências mais emocionantes na quarta maior ilha do mundo é passear entre os gigantes baobás, árvores que chegam a ter 30 metros de altura e mil anos de idade. Das nove espécies de baobás que existem no mundo, seis podem ser encontradas apenas em Madagascar. A majestosa árvore, considerada sagrada pelos malgaxes, é chamada localmente como "reniala", mãe da floresta.

Na pequena cidade de Bekopaka está o Parque Nacional Tsingy de Bemaraha, considerado Patrimônio Mundial pela Unesco. Trilhas e passeios de canoa no rio Manambolo conduzem a formações rochosas calcárias inusitadas e plantas endêmicas desse ecossistema de florestas secas.

Outro momento inesquecível em Madagascar é o encontro com os lêmures nas florestas tropicais da reserva Anjozorobe-Angavo, a 90 quilômetros da capital Antananarivo. Especialistas apontam que o turismo de observação de animais é uma excelente alternativa para o desenvolvimento da economia local e pode ajudar a conter o desmatamento. "O projeto em Anjozorobe comprova que, nos últimos anos, os 9 mil visitantes contribuíram de forma concreta a reduzir a pobreza e a promover a conservação da biodiversidade", afirma Haroldo. Como os primatas são curiosos e estão habituados aos seres humanos, eles costumam se aproximar dos visitantes. "Os bichinhos chegam a subir nas nossas cabeças e parecem adorar aparecer nas fotos."

Madagascar possui hoje uma excelente estrutura para o turismo, com algumas estradas bem cuidadas e hotéis confortáveis localizados perto das reservas e parques ecológicos. A gastronomia malgaxe, com um toque francês, também surpreende pela diversidade de ingredientes, temperos e colorido dos pratos.

[...]

(Fonte: <http://viajeaqui.abril.com.br/materias/lemures-e-baobas-de-madagascar#2>. Acesso em 14/05/2016)

31. *Lêmures e baobás de Madagascar* é um texto:

- a) Em que prevalece a descrição, apresentando as belezas e peculiaridades do lugar, da fauna e da flora.
- b) Principalmente narrativo, de fatos colhidos durante uma viagem, que se sucedem em progresso temporal.
- c) Essencialmente argumentativo, o uso da descrição visa somente a convencer o leitor a visitar Madagascar.
- d) Dissertativo, impõe o desenvolvimento de argumentos para comprovar a tese presente no primeiro parágrafo.
- e) Em que predomina a exposição de conceitos e definições com o intuito de informar o leitor.

32. O teor do texto *Lêmures e baobás de Madagascar* somente não poderia se encaixar em que tópico?

- a) Turismo
- b) Viagens
- c) Clima
- d) Natureza
- e) Ilhas

33. O aposto é um termo que explica ou esclarece, desativa ou neutra outro termo da oração. Quanto a isso, analise a parte grifada em cada uma das opções retiradas do texto:

I - A majestosa árvore, considerada sagrada pelos malgaxes, é chamada localmente como "reniala", mãe da floresta.

II - afirma o fotógrafo e jornalista Haroldo Castro, idealizador de Viajologia Expedições.

III - Outro momento inesquecível em Madagascar é o encontro com os lêmures nas florestas tropicais da reserva Anjozorobe-Angavo, a 90 quilômetros da capital Antananarivo.

IV - O projeto em Anjozorobe comprova que, nos últimos anos, os 9 mil visitantes contribuíram de forma concreta a reduzir a pobreza e a promover a conservação da biodiversidade.

V - A gastronomia malgaxe, com um toque francês, também surpreende pela diversidade de ingredientes, temperos e colorido dos pratos.

Considere aposto as grifes em:

- a) I, II, III, IV e V.
- b) I, III e V, apenas.
- c) III e V apenas.
- d) I, II, III, e V, apenas.
- e) III, IV e V apenas

34. Trilhas e passeios de canoa no rio Manambolo conduzem a formações rochosas calcárias inusitadas e plantas endêmicas desse ecossistema de florestas secas.

Ao observar a relação sintática entre os termos desse período, pode-se afirmar que:

- a) de canoa é complemento nominal de Trilhas e passeios.
- b) no rio Manambolo é adjunto adnominal de canoas.
- c) de florestas secas é complemento nominal de plantas endêmicas.
- d) de canoa é complemento verbal de passeios.
- e) a formações rochosas calcárias inusitadas e plantas endêmicas desse ecossistema de florestas secas é complemento verbal de conduzem.

Leia o poema e responda às próximas duas questões.

FOGO NA MATA, MATA!



Fogo na mata, mata! A mata, a vida...  
Fogo na mata, mata,  
no coração da mata,  
Profundas feridas.

Fogo na mata corói,  
dentro de nós, os sonhos.  
Fogo na mata, deixa, no seio da mata,  
Tumores tamaritóis!

[..]

(Fonte: <http://www.muanilodasletras.com.br/letras/363232>. Acesso em 14/05/2016)

35. A respeito de alguns aspectos gramaticais pertinentes aos termos em destaque na frase título do poema *Fogo na mata, mata!*, está correto o que se afirma em:

- Morfologicamente, na sequência em que as duas palavras aparecem, temos um verbo e um substantivo.
- Semanticamente, as duas palavras constituem homônimas homófonas homógrafas.
- O processo de formação da palavra "mata" (primeira ocorrência na frase) é por derivação regressiva do verbo "matar" cuja flexão na terceira pessoa vem logo em seguida na frase.
- Semanticamente, as duas palavras "mata" são parônimas.
- Semanticamente, as duas palavras constituem homônimas homógrafas heterófonas.

36. Com a Nova Reforma Ortográfica, foi mantida a escrita nas extensões terminais em -is e -al, como é o caso de partido em *Fogo na mata corói*. No entanto, de acordo ainda com a Nova Reforma, as extensões foram retiradas de quais duas palavras?

- Excessiva - maiúscula
- Vou, sanduíche
- Falesem - falava
- Papeis - linguagem
- Preveem - havia

37. Leia atentamente as alternativas e assinale a incorreta no que diz respeito à Ortografia:

- Grafamos com j as palavras ultraje, jibóia e gorjeio; com g as palavras terugem, garinguça, e miragem.
- Grafamos com oc: misocôntica, obscuro e obscureção; com oc: suicídio, facínio e nócio.
- Grafamos com x: xampu, maxerico e broxada; com ch: picha, focha e maíha.
- Grafamos com z: xadrez, ósculiz e vizinho; com s: friso, pássaros e tsaura.
- Grafamos com sc: escassez, submissão e sosego; com u: acofinado, obscuro e sopeão.

38. O advérbio sublinhado e a circunstância que ele expressa não estão corretamente apresentados em:

- Ela certamente virá para o encontro. (afirmação)
- Ali se ouvia falar de riquezas culturais. (tempo)
- O orador discursou muito bem, impressionou a plateia. (modo)
- Chegamos tarde, perdemos o ônibus. (tempo)
- Os candidatos estudaram bastante. (intensidade)

39. Os pronomes pessoais, representantes das pessoas da discurso, estão corretamente empregados em todas as alternativas, com exceção de:

- Sempre haverá discordância entre mim e ti.
- O juiz queria falar com nós dois.
- Minha festa de despedida, não vou esquecer-la jamais.
- Ninguém irá sem eu.
- Daram o livro para eu ler em dois dias!

40. Em uma oração, a conjunção permite estabelecer as certas relações de ligação, para assim identificarmos o predicado nominal. Assim, não há predicado nominal em:

- O aluno não estava na escola hoje.
- À tarde, as crianças pareciam cansadas.
- Ultimamente os participantes do programa andam desanimados.
- A bolsa bursar é um lindo espetáculo.
- As crianças pareciam cansadas.

RASCUNHO



**PREFEITURA DE TELÊMACO BORBA - ESTADO DO PARANÁ - EDITAL Nº 001-2016 - CONCURSO PÚBLICO**

**MATUTINO – 29/05/2016 – NÍVEL MÉDIO**

**3**

**PROVA OBJETIVA NÚMERO**

**CARGO: FISCAL MUNICIPAL I - MEIO AMBIENTE, OBRAS, POSTURAS E TRANSPORTE**

**Leia atentamente as INSTRUÇÕES:**

1. Confira seus dados no cartão-resposta: nome, número de inscrição e o curso para o qual se inscreveu.
2. MARQUE no seu cartão-resposta o número da sua prova (não será corrigido o cartão-resposta que não tiver marcado o número da prova) e Assine seu cartão-resposta.
3. Aguarde a autorização do Fiscal para abrir o caderno de prova. Ao receber a ordem do fiscal, confira o conteúdo da prova com muita atenção. Nenhuma reclamação sobre o total de questões ou falta de impressão será aceita depois de iniciada a prova.
4. O cartão-resposta não será substituído, salvo se contiver erro de impressão.
5. Preencha toda a área do cartão-resposta correspondente à alternativa de sua escolha, com caneta esferográfica (tinta azul ou preta), sem ultrapassar as bordas. As marcações duplas, ou rasuradas, com corretivo, ou realizadas diferentemente do modelo estabelecido no cartão-resposta poderão ser anuladas.
6. Sua prova tem 40 questões, com 5 alternativas.
7. Cabe apenas ao candidato a interpretação das questões, o fiscal não poderá fazer nenhuma interferência.
8. A prova será realizada com duração máxima de 3 (três) horas, incluído o tempo para a realização da Prova Objetiva de múltipla escolha e o preenchimento do cartão-resposta.
9. O candidato poderá retirar-se do local de realização das provas somente 1 (uma) hora após o seu início, sem levar o caderno de prova.
10. O candidato poderá levar o caderno de provas, assim como envelope contendo transcrição do seu cartão-resposta, somente 1h30min (uma hora e trinta minutos) após o início da realização da prova.
11. Ao terminar a prova, o candidato deverá entregar ao fiscal de sala o cartão-resposta preenchido e ASSINADO.
12. Os 3 (três) candidatos, que terminarem a prova por último, deverão permanecer na sala, e só poderão sair juntos após o fechamento do envelope, contendo os cartões-resposta dos candidatos presentes e ausentes, e assinarem no livro de referido envelope, atestando que este foi devidamente lacrado.
13. Durante todo o tempo em que permanecer no local onde está ocorrendo o concurso, o candidato deverá, manter o celular desligado e sem bateria, só sendo permitido ligar depois de ultrapassar o portão de saída do prédio.
14. Não será permitido ao candidato fumar na sala de provas, bem como nas dependências.
15. Depois de terminar a prova e entregar ao fiscal o cartão-resposta, preenchido e assinado, não será mais permitido ao candidato o uso do banheiro e bebedouro.

**BOM DIA!**

**CONHECIMENTOS ESPECÍFICOS**

À luz do Manual de Redação Oficial, responda às próximas três questões.

01. O quadro seguinte é exemplo de texto obscuro, a partir do qual podem ser feitas algumas frases, combinando-se as expressões das várias colunas em qualquer ordem, com uma característica comum: nenhuma delas tem sentido. Tal estilo de texto deve ser evitado em todas as comunicações oficiais.

COLUNA A	COLUNA B	COLUNA C	COLUNA D	COLUNA E	COLUNA F	COLUNA G
1. A necessidade emergente	se caracteriza por	uma correta relação entre estrutura e superestrutura	no interesse primário da população,	substanciando e vitalizando,	numa ótica preventiva e não mais curativa,	a transparência de cada ato decisório.
2. O quadro normativo	prefigura	a superação de cada obstáculo e/ou resistência passiva	sem prejudicar o atual nível das contribuições,	não assumindo nunca como implícito,	no contexto de um sistema integrado,	um indispensável salto de qualidade.

(FONTE: <http://www.planalto.gov.br/ocivil/03/manual/manual.htm>, acessado em 13 de março de 2016).

A clareza deve ser a qualidade básica de todo texto oficial. Pode-se definir como claro aquele texto que possibilita imediata compreensão pelo leitor. No entanto a clareza não é algo que se atinja por si só: ela depende estritamente das demais características da redação oficial.

As alternativas remetem a essas características. Qual está incorreta?

- a) A impessoalidade, que evita a duplicidade de interpretações que poderia decorrer de um tratamento personalista dado ao texto.
- b) O uso de siglas e termos técnicos, não necessitando o esclarecimento dos mesmos, desde que o contexto seja feito na gramática correta.
- c) O uso do padrão culto de linguagem, em princípio, de entendimento geral e por definição avesso a vocábulos de circulação restrita, como a gíria e o jargão.
- d) A formalidade e a padronização, que possibilitam a imprescindível uniformidade dos textos.
- e) A concisão, que faz desaparecer do texto os excessos linguísticos que nada lhe acrescentam.

02. Em uma frase, pode-se dizer que redação oficial é a maneira pela qual o Poder Público redige atos normativos e comunicações. Intenções nos tratá-la de ponto de vista do Poder Executivo. A redação oficial deve caracterizar-se pela impessoalidade, uso do padrão culto de linguagem, clareza, concisão, formalidade e uniformidade. Fundamentamente essas atribuições decorrem da Constituição, que dispõe, no artigo 37: "A administração pública direta, indireta ou funcional, de qualquer dos Poderes da União, dos Estados, do Distrito Federal e dos Municípios obedecerá aos princípios de legalidade, impessoalidade, moralidade, publicidade e eficiência (...)". Sendo a publicidade e a impessoalidade princípios fundamentais de toda administração pública, claro será que devem igualmente nortear a elaboração dos atos e comunicações oficiais.

Acresce disso, marque as afirmativas com C (certo) ou E (errado), e assinale a alternativa correta.

- ( ) Não se concebe que um ato normativo de qualquer natureza seja redigido de forma obscura, que dificulte ou impossibilite sua compreensão.
- ( ) A transparência do sentido dos atos normativos, bem como sua inteligibilidade, são requisitos do próprio Estado de Direito: é inaceitável que um texto legal não seja entendido pelos cidadãos.
- ( ) Os atos normativos não devem obedecer à tradição, mesmo que algumas normas remontem ao período da História Imperial.
- ( ) Outros procedimentos rotineiros na redação de comunicações oficiais foram incorporados ao longo do tempo, como as formas de tratamento e de cortesia, certos clichês de redação, a estrutura dos expedientes, etc.
- a) C – C – E – C
- b) E – C – C – C
- c) E – E – E – C
- d) C – C – C – C
- e) C – E – C – C

03. O Manual de Redação Oficial nos informa como devem ser diagramados os documentos do padrão Oficial. Ne que diz respeito à diagramação desses documentos, assinale a alternativa correta.

- a) Deve ser utilizada fonte do tipo Times New Roman de corpo 10 no texto em geral, 11 nas citações, e 12 nas notas de rodapé.
- b) Para símbolos não existentes na fonte Times New Roman poder-se-á utilizar as fontes Arial e Calibri.
- c) É obrigatório constar a partir da segunda página o número da página.
- d) O início de cada parágrafo do texto deve ter 1,5 cm de distância da margem direita.
- e) O campo destinado à margem lateral direita terá, no mínimo, 2,5 cm de largura.

À luz do Código Tributário do Município de Telêmaco Borba/PR, responda às quatro questões seguintes.



**04. O Código Tributário do Município de Telêmaco Borba dispõe sobre fatos geradores, a incidência das alíquotas, o lançamento, a cobrança e a fiscalização dos tributos municipais, e estabelece normas de direito fiscal a eles pertinentes. De acordo com este Código, integram o Sistema Tributário do Município, exceto:**

- a) Imposto predial e territorial urbano
- b) Imposto sobre serviços de qualquer natureza
- c) Imposto sobre a transmissão de bens imóveis-ITBI
- d) Taxa decorrentes de atos relativos à utilização efetiva ou potencial de serviços e bens públicos municipais, específicos e divisíveis.
- e) Taxa sobre o uso de dados de internet-TUSH

**05. De acordo com o art. 5º, todas as funções referentes ao cadastramento, lançamento, cobrança, recolhimento e fiscalização de tributos municipais, aplicação de sanções por infração de disposições deste Código e demais dispositivos da legislação tributária do Município, bem como as medidas de prevenção e repressão às sonegações e fraudes, serão exercidas:**

- a) Pelo funcionário da Receita Fiscal, de acordo com a demanda recebida.
- b) Pelo Prefeito de Telêmaco Borba.
- c) Pelo órgão fazendário e repartições à ela subordinadas, segundo o respectivo regimento.
- d) Pela Secretária Municipal de Tributos.
- e) Pelo Diretor Executivo da Agência Municipal de Tributos.

**06. Preencha as lacunas de maneira correta, e assinale a alternativa correspondente.**

“As medidas \_\_\_\_\_ só serão tomadas contra os \_\_\_\_\_ que, dolosamente ou por descaso lesarem ou tentarem lesar o fisco.”

- a) repressivas / contribuintes infratores
- b) protetivas / créditos devedores
- c) arrecadatórias / funcionários omissos
- d) fiscais / contribuintes
- e) provisórias / infratores

**07. Ao contribuinte ou responsável é facultado escolher e indicar ao Fisco o seu domicílio tributário, assim entendido o lugar onde desenvolve sua atividade, responde por suas obrigações e pratica os demais atos que constituam ou possam vir a constituir obrigação tributária.**

A respeito do Domicílio Tributário e de acordo com os artigos 9º e 10, marque as afirmativas com C (certo) ou E (errado) e assinale a alternativa correta.

( ) Na falta de eleição, pelo contribuinte ou responsável, de domicílio tributário, na forma da legislação aplicável considera-se como tal, quanto às pessoas naturais, qualquer de suas repartições no território do Município.

( ) A autoridade administrativa pode recusar o domicílio eleito, sua localização, acesso ou quaisquer outras características que impossibilitem ou dificultem a arrecadação ou a fiscalização do tributo, aplicando-se, então, a regra do parágrafo anterior.

( ) No caso de alteração do domicílio tributário eleito pelo contribuinte ou responsável, este ou aquele deverão, obrigatoriamente, comunicar à repartição competente o novo endereço, dentro do prazo de 30 (trinta) dias, contados da ocorrência da referida alteração.

( ) O domicílio tributário será obrigatoriamente consignado nas petições, requerimentos, reclamações, recursos, declarações, guias, consultas e qualquer outro documento dirigido ou apresentado à autoridade administrativa.

- a) C – C – E – C
- b) E – C – C – C
- c) E – E – C – C
- d) E – C – C – E
- e) C – E – C – C

**08. Toda construção, reconstrução, reforma, ampliação ou demolição efetuada por particulares ou entidades públicas, no Município de Telêmaco Borba, é regulada pela Código de Obras, observadas as normas Federais e Estaduais relativas à matéria. Para liberação da projeto de construção, o interessado apresentará ao órgão competente da administração pública municipal requerimento assinado pelo responsável técnico da obra, proprietária de imóvel ou superfície, acompanhado de alguns documentos, dentre eles:**

I - Certidão de Viabilidade Técnica expedida pelo Poder Público Municipal.

II - Requerimento contendo 3 (três) cópias do projeto arquitetônico, segundo o padrão determinado pela ABNT, contendo a planta baixa de todas as parvaletas, inclusive cobertura, corrimão, fachadas, localização, perfil do terreno, detalhes e situação.

III - Versão digital do projeto segundo softwares indicada pelo Poder Público.



**IV - Termo de ciência de obrigação de executar a obra tal qual o projeto a ser aprovado, sob as penas determinadas neste lei, assinada pelo responsável técnico proprietário do imóvel e superficialista, se for o caso.**

**V - Título de propriedade do imóvel ou de superficialista.**

**Diante de exposta, assinale a alternativa correta:**

- a) Estas corretas apenas os itens I, II e III.
- b) Estas corretas apenas os itens III e IV.
- c) Estas corretas os itens I, II, III, IV e V.
- d) O único item correto é o III.
- e) O único item é o II.

**09. Segundo art. 30 do Código de Obras do Município de Telêmaco Borba, concluída a construção, o prédio só poderá ser utilizado para fins residenciais depois de concedido, mediante requerimento do interessado, \_\_\_\_\_, pelo órgão competente que só o deferirá comprovada a execução da obra de acordo com o projeto arquitetônico e demais projetos obrigatórios exigidos pelo C.R.E.A.**

**Assinale a alternativa que preencha corretamente a lacuna.**

- a) o Alvará de funcionamento
- b) o Termo de posse
- c) o Habite-se
- d) a Licença Ambiental
- e) o Certificado de Conclusão de Obras

**10. O Código de Posturas do Município de Telêmaco Borba/PR contém as medidas de polícia administrativa, a cargo do Município, em matéria de higiene, segurança, ordem pública, bem estar público, localização e funcionamento dos estabelecimentos comerciais, industriais e prestadores de serviços, estabelecendo as necessárias relações entre o poder público local e os cidadãos, bem como entre os cidadãos e a cidade. A exploração das mesas de publicidade, quer em estabelecimentos, comerciais, vias e logradouros públicos, bem como nos lugares de acesso comum, depende de licença do Município, sujeitando-se o contribuinte ao pagamento de taxa de licença. Os pedidos de licença, para publicidade ou propaganda, por meio de cartazes ou anúncios, deverão mencionar:**

**I - Tipo de publicidade a ser usada.**

**II - A indicação dos locais em que serão colocados ou distribuídos os cartazes ou anúncios.**

**III - A natureza do material de construção.**

**IV - As dimensões.**

**V - As inscrições, textos e desenhos.**

**Diante de exposta, assinale a alternativa correta.**

- a) Estas corretas apenas os itens I, II e V.
- b) Estas corretas apenas os itens II e IV.
- c) Estas corretas apenas os itens IV e V.
- d) Estas corretas I, II, III, IV e V.
- e) O único item correto é o III.

## LÍNGUA PORTUGUESA

Leia o texto e responda às próximas quatro questões.

### Lêmures e baobás de Madagascar

Isolada do continente há 135 milhões de anos, a ilha do Oceano Índico é um laboratório natural da evolução das espécies e encanta os viajantes com uma flora e fauna única.

Madagascar abriga 107 espécies de lêmures, dezenas de espécies de camaleões coloridos e outras tantas plantas que só existem lá. "Madagascar é um mundo a parte. Costumo dizer que, se Charles Darwin tivesse conhecido Madagascar, seu livro *A Origem das Espécies* seria dez vezes maior", afirma o fotógrafo e jornalista Haroldo Castro, idealizador de Viajologia Expedições.

Uma das experiências mais emocionantes na quarta maior ilha do mundo é passear entre os gigantescos baobás, árvores que chegam a ter 30 metros de altura e mil anos de idade. Das nove espécies de baobás que existem no mundo, seis podem ser encontradas apenas em Madagascar. A majestosa árvore, considerada sagrada pelos malgaxes, é chamada localmente como "reniala", mãe da floresta.

Na pequena cidade de Bekopaka está o Parque Nacional Tsingy de Bemaraha, considerado Patrimônio Mundial pela Unesco. Trilhas e passeios de canoa no rio Manambolo conduzem a formações rochosas calcárias inusitadas e plantas endêmicas desse ecossistema de florestas secas.

Outro momento inesquecível em Madagascar é o encontro com os lêmures nas florestas tropicais da reserva Anjozorobe-Angavo, a 90 quilômetros da capital Antananarivo. Especialistas apontam que o turismo de observação de animais é uma excelente alternativa para o desenvolvimento da economia local e pode ajudar a conter o desmatamento. "O projeto em Anjozorobe comprova que, nos últimos anos, os 9 mil visitantes

contribuíram de forma concreta a reduzir a pobreza e a promover a conservação da biodiversidade", afirma Haroldo. Como os primatas são curiosos e estão habituados aos seres humanos, eles costumam se aproximar dos visitantes. "Os bichinhos chegam a subir nas nossas cabeças e parecem adorar aparecer nas fotos."

Madagascar possui hoje uma excelente estrutura para o turismo, com algumas estradas bem cuidadas e hotéis confortáveis localizados perto das reservas e parques ecológicos. A gastronomia malgaxe, com um toque francês, também surpreende pela diversidade de ingredientes, temperos e colorido dos pratos.

[...]

(Fonte: <http://viajaqui.abril.com.br/materias/lemures-e-baobas-de-madagascar#2>. Acesso em 14/05/2016)

11. *Lêmures e baobás de Madagascar* é um texto:

- a) Em que prevalece a descrição, apresentando as belezas e peculiaridades do lugar, da fauna e da flora.
- b) Principalmente narrativo, de fatos colhidos durante uma viagem, que se sucedem em progresso temporal.
- c) Essencialmente argumentativo, o uso da descrição visa somente a convencer o leitor a visitar Madagascar.
- d) Dissertativo, impõe o desenvolvimento de argumentos para comprovar a tese presente no primeiro parágrafo.
- e) Em que predomina a exposição de conceitos e definições com o intuito de informar o leitor.

12. O teor do texto *Lêmures e baobás de Madagascar* somente não poderia se encaixar em que tópico?

- a) Turismo
- b) Viagens
- c) Clima
- d) Natureza
- e) Ilhas

13. O aposto é um termo que explica ou esclarece, descreve ou resume outra parte da oração. Marque a base, analise a parte grifada em cada uma das orações retiradas do texto:

I - A manutenção árdua, considerada sagrada pelos malgaxes, é observada localmente como "rentada", na da floresta.

II - afirma o fotógrafo e jornalista Haroldo Castro, idealizador de Viajologia Expedições.

III - Outro momento inesquecível em Madagascar é o encontro com os lêmures nas florestas tropicais da reserva Anjaoroabe-Angava, a 90 quilômetros da capital Antananarivo.

IV - O projeto em Anjaoroabe compreende que, nos últimos anos, os 9 mil visitantes contribuíram de forma concreta a reduzir a pobreza e a promover a conservação da biodiversidade.

V - A gastronomia malgaxe, com um toque francês, também surpreende pela diversidade de ingredientes, temperos e colorido dos pratos.

Considere o aposto as grifes em:

- a) I, II, III, IV e V.
- b) I, III e V, apenas.
- c) III e V apenas.
- d) I, II, III, e V, apenas.
- e) III, IV e V apenas

14. Tritões e passifloras de canoa no rio Marambaca conduzem a formações rochosas calcárias inusitadas e plantas endêmicas desse ecossistema de florestas secas.

Ao observar a relação sintática entre os termos desse período, pode-se afirmar que:

- a) de canoa é complemento nominal de Tritões e passifloras.
- b) no rio Marambaca é adjunto adnominal de canoas.
- c) de florestas secas é complemento nominal de plantas endêmicas.
- d) de canoa é complemento verbal de passifloras.
- e) a formações rochosas calcárias inusitadas e plantas endêmicas desse ecossistema de florestas secas é complemento verbal de conduzem.

Leia o poema e responda às próximas duas questões.

#### FOGO NA MATA, MATA!

Fogo na mata, mata! A mata, a vida...  
Fogo na mata, mata,  
na oração da mata,  
Profundas feridas.

Fogo na mata morta,  
dentro de nós, os sonhos.  
Fogo na mata, mata, no seio da mata,  
Tumores tamanhos!



[...]

(Fonte: <http://www.nauatodasletras.com.br/letras/000202>. Acesso em 14/05/2016)

15. A respeito de alguns aspectos gramaticais pertinentes aos termos em destaque na frase título de poema *Fogo na mata, mata!*, está correto o que se afirma em:

- a) Morfologicamente, na sequência em que as duas palavras aparecem, temos um verbo e um substantivo.
- b) Semanticamente, as duas palavras constituem homônimas homófonas homógrafas.
- c) O processo de formação da palavra "mata" (primeira ocorrência na frase) é por derivação regressiva do verbo "matar" cuja flexão na terceira pessoa vem logo em seguida na frase.
- d) Semanticamente, as duas palavras "mata" são parônimas.
- e) Semanticamente, as duas palavras constituem homônimas homógrafas heterófonas.

16. Com a Nova Reforma Ortográfica, foi mantido o acento nas palavras terminadas em -is e -al, como é o caso de perói em *Fogo na mata corrói*. No entanto, de acordo ainda com a Nova Reforma, os acentos foram retirados de quais duas palavras?

- a) Bocaíva - maiuscula
- b) Voa, sandrama
- c) Raísem - feitura
- d) Papais - linguíça
- e) Preveem - herói

17. Leia atentamente as alternativas e assinale a incorreta no que diz respeito à Ortografia:

- a) Grafamos com j as palavras ultraje, jibói e gorjeio; com g as palavras ferrugem, geringonça, e miragem.
- b) Grafamos com sc: misaeliana, obsceno e obscenista; com sc: suicídio, festivo e nécio.
- c) Grafamos com x: xampu, mexicano e xocoda; com uh: piúha, locha e mecha.
- d) Grafamos com z: xadrez, ocaztriz e vizinho; com s: friso, pêsames e tesoura.
- e) Grafamos com ss: amossez, submissão e sossego; com u: acurinado, obusado e suspião.

18. O advérbio sublinhado e a circunstância que ele expressa não estão corretamente apresentados em:

- a) Ela ardamente virá para o encontro. (afirmação)
- b) Aí as ovnis taler de riquezas culturais. (tempo)
- c) O orador discursou muito bem, impressionou a plateia. (modo)
- d) Chegamos tarde, perdemos o ônibus. (tempo)
- e) Os candidatos estudaram bastante. (intensidade)

19. Os pronomes pessoais, representantes das pessoas da discurso, estão corretamente empregados em todas as alternativas, com exceção de:

- a) Sempre haverá discordância entre mim e ti.
- b) O juiz queria falar com nós dois.
- c) Minha festa de despedida, não vou esquecer-la jamais.
- d) Ninguém irá sem eu.
- e) Daram o livro para eu ler em dois dias!

20. Em uma oração, o contexto permite concluirmos as certas verbos são de ligação, para assim identificarmos o predicado nominal. Assim, não há predicado nominal em:

- a) O aluno não estava na escola hoje.
- b) À tarde, as crianças pareciam cansadas.
- c) Ultimamente os participantes do programa andam desanimados.
- a) A aurora boreal é um lindo espetáculo.
- d) As crianças pareciam cansadas.

## MATEMÁTICA

21. Num teste de hipotese, há duas modalidades totalmente distintas: selto e rural. João vai competir nas duas modalidades. Sabendo que a vitória ou a derrota em uma nada influencia no resultado da outra, e sabendo que a probabilidade de ele ganhar a prova de selto é de 40% e a de ganhar a prova de rural é de 60%, qual a probabilidade de ele ganhar as duas provas?

- a) 96%
- b) 62%
- c) 23,2%
- d) 18%
- e) 2,32%

22. Num escola há 12 professores. A tabela a seguir mostra a carga horária diária de trabalho desses professores.

4	6	10	8	8	8	8	4	8
---	---	----	---	---	---	---	---	---

É correto afirmar que as cargas horárias médias, modal e mediana dessas profissões são respectivamente:

- a) 6,23; 6; 7
- b) 6,8; 7; 8
- c) 8,73; 8; 8
- d) 6,73; 8; 7
- e) 6,73; 7; 8

23. Encontre a equação da reta mediatriz do segmento AB, onde  $A(2, 3)$  e  $B(4, -1)$ , e assinale a alternativa correta.

- a)  $2y - x + 1 = 0$
- b)  $y - 2x + 2 = 0$
- c)  $2y - 2x + 1 = 0$
- d)  $2y + x + 2 = 0$
- e)  $2y + x - 1 = 0$

24. Uma loja acrescenta 15% no preço de seus produtos à vista se o cliente optar por pagar com um cheque para 60 dias. Comprei, nessa loja, um fogão com cheque para 60 dias e paguei R\$552,00 por ele. Qual era o preço à vista desse fogão?

- a) R\$480,00
- b) R\$488,20
- c) R\$474,00
- d) R\$485,00
- e) R\$205,00

25. Um pesquisador, ao analisar os processos que envolvem jovens com menos de 24 anos, descobriu que há 4 homens com nome envolvidos em processos para cada mulher. Se no total ele contou 2400 pessoas, quantas eram as mulheres envolvidas nessa pesquisa?

- a) 480
- b) 600
- c) 800
- d) 1920
- e) 2000

#### INFORMÁTICA

26. Utilizando o Excel 2013, qual fórmula representa corretamente a soma?

- a) =SUM()
- b) =MEDIA()
- c) =MAX()
- d) =MIN()
- e) =SE()

27. Acerca de confidencialidade está incorreto afirmar:

- a) É um conceito no qual o acesso à informação deve ser concedido a quem de direito, ou seja, apenas para as entidades autorizadas pelo proprietário ou dono da informação.
- b) É uma propriedade que limita o acesso à informação tão somente às entidades legítimas, ou seja, àquelas autorizadas pelo proprietário da informação.
- c) É a propriedade da informação que não estará disponível ou será divulgada a indivíduos, entidades ou processos sem autorização.
- d) Significa garantir que a informação será conhecida por pessoas que não estejam autorizadas para tal.
- e) É a garantia do resguardo das informações dadas pessoalmente em confiança e proteção contra a sua revelação não autorizada.

28. Tratando-se de hardware de computadores, assinale a alternativa que corresponde a um tipo de memória externa.

- a) Pen Drive
- b) EPROM
- c) DIMM
- d) MRAM
- e) Cache

29. No Word 2013, é possível utilizar várias tipos de formatação de fontes, exceto:

- a) Tachado
- b) Negrito



- c) Centralizado
- d) Sublinhado
- e) Cor da fonte

30. Qual software nativo do Windows utilizamos para descobrir e endereço IP do computador?

- a) Windows Explorer
- b) Notepad
- c) Excel
- d) Word
- e) Prompt de Comando

#### CONHECIMENTOS GERAIS

31. Conforme fonte do IBGE, a bioma do município de Telêmaco Borba/PR é:

- a) Mata de Pinhais e Cerrado
- b) Pantanal
- c) Catinga e Mata Atlântica
- d) Floresta Tropical
- e) Cerrado e Mata Atlântica

32. A letra da hino do município de Telêmaco Borba/PR é de autoria de

- a) Bento Messurunga.
- b) Moisés Lupion.
- c) Eliah Martins Quadradin.
- d) Graçiliana Reis D'Albuquerque Messurunga.
- e) Enéas Augusto Marcolino Borba.

33. Leia o texto sobre o Brasão de Armas do município de Telêmaco Borba/PR e marque a alternativa correta.

O Brasão de Armas foi aprovado em definitivo em 1981, dentre dez padrões de heráldica, estabelecendo os regulamentos para seu uso, ficando assim oficializado.

No Brasão de Armas, é possível identificar:

1. Escudo português redondo banhado de ouro filetado de prata, carregado de cinco árvores de pinhe estilizadas de sua cor, postas em banda.
  2. Escudo de prata carregado de três Pinheiros do Paraná, araucária angustifolia ou brasiliense.
  3. No timão, coroa mural de ouro lavrada de negro.
  4. À direita, haste de milho (com mays) frutada.
  5. À sinistra, ramos de soja (glycine soja) granada.
  6. Lata amarela estendendo o topônimo "Cidade Nova" entre as inscrições de ouro "5 de Julho de 1963", em caracteres latim moderno.
- a) Não é verdadeiro o item 1.
  - b) Não é verdadeiro o item 2.
  - c) Não é verdadeiro o item 4.
  - d) Não é verdadeiro o item 6.
  - e) Não são verdadeiros os itens 3 e 5.

34. Segundo o art. 11 da Lei Orgânica do Município de Telêmaco Borba/PR, os bens públicos podem ser:

- I. De uso comum do Povo, tais como estradas municipais, ruas, parques, praças, lagoas e outras de mesma espécie;
- II. De uso especial, os de patrimônio administrativo, tais como edifícios das repartições públicas, os terrenos e equipamentos destinados ao serviço público, veículos, máquinas, mercados e outras serventias de outra espécie;
- III. Bens municipais, aqueles sobre os quais o município exerce os direitos de proprietário e são consideradas como bens patrimoniais disponíveis;
- IV. Bens culturais, tais como músicas e obras de arte.

Podemos afirmar que são verdadeiras as itens

- a) I e II, apenas.
- b) II e III, apenas.
- c) I, II e III, apenas.
- d) I, III e IV, apenas.
- e) I, II, III e IV.

35. Qual alternativa completa corretamente o texto a seguir?

No primeiro ano de cada legislatura, no dia 1º de janeiro, em sessão de instalação, independente de número, sob a presidência de vereador mais velho dentre os eleitos, os vereadores prestarão



compromissos e tomarão posse. O Vereador que não tomar posse na sessão do dia 1º de Janeiro poderá fazê-lo \_\_\_\_\_ depois da primeira sessão ordinária da Legislatura.

- a) até dez dias
- b) até quinze dias
- c) até trinta dias
- d) até quarenta e cinco dias
- e) até sessenta dias

36. Conforme o art. 54 da Lei Orgânica de Município de Telêmaco Borba/PR, e Precama Legislativa compõem-se a elaboração de:

- I. Emendas à Lei Orgânica de Município;
- II. Leis complementares;
- III. Leis Ordinárias;
- IV. Decretos Legislativos;
- V. Resoluções;
- VI. Parâmetros.

Assinale a alternativa que faz a afirmação correta.

- a) São verdadeiras apenas as itens I, III e VI.
- b) São verdadeiras apenas os itens I, III e IV.
- c) São verdadeiras apenas os itens III, IV e V.
- d) São verdadeiras apenas os itens I, II, III, IV e V.
- e) São verdadeiras os itens I, II, III, IV, V e VI.

Com base na Lei nº 1683/2012, que dispõe sobre o Estatuto dos Servidores Públicos da Administração Direta, Autárquica e Funcional do Município de Telêmaco Borba/PR, responda às próximas quatro questões.

37. À luz do § 2º de art. 9º da Lei nº 1683/2012, marque a alternativa que completa a lacuna do texto a seguir.

O concurso deverá ser homologado no prazo máximo de \_\_\_\_\_ contados da data de realização da última fase de provas, sob pena de responsabilidades da autoridade competente.

- a) um mês
- b) dois meses
- c) seis meses
- d) um ano
- e) dois anos

38. Marque a alternativa que completa a lacuna do texto a seguir.

O candidato terá o prazo \_\_\_\_\_, a contar da publicação oficial da convocação, para comparecer à entidade convocante e assinar termo de comparecimento.

- a) máximo de 5 dias úteis
- b) mínimo de 15 dias úteis
- c) de até 30 dias
- d) máximo de 15 dias úteis
- e) mínimo de 5 dias úteis

39. Leia as assertivas e marque a correta.

- a) São reservados 10% dos cargos em comissão para a nomeação de servidores do quadro efetivo.
- b) São reservados 10% dos cargos em comissão para a nomeação de servidores do quadro efetivo.
- c) São reservados 20% dos cargos em comissão para a nomeação de servidores do quadro efetivo.
- d) São reservados 20% dos cargos em comissão para a nomeação de servidores do quadro efetivo.
- e) São reservados 30% dos cargos em comissão para a nomeação de servidores do quadro efetivo.

40. Marque a alternativa que completa a lacuna do texto a seguir.

O servidor municipal, quando nomeado para cargo em comissão, ficará afastado de seu cargo efetivo e fará jus à remuneração prevista em lei para o combatedor, podendo optar por receber seus vencimentos correspondentes de \_\_\_\_\_ de valor da remuneração prevista para o cargo em comissão.

- a) 10%
- b) 20%
- c) 30%
- d) 40%
- e) 50%

RASCUNHO



PREFEITURA DE TELÊMACO BORBA - ESTADO DO PARANÁ - EDITAL Nº 001-2016 - CONCURSO PÚBLICO

**MATUTINO – 29/05/2016 – NÍVEL MÉDIO**

**1**

**PROVA OBJETIVA NÚMERO**

**CARGO: FISCAL MUNICIPAL I - SANITÁRIA**

**Leia atentamente as INSTRUÇÕES:**

1. Confira seus dados no cartão-resposta: nome, número de inscrição e o curso para o qual se inscreveu.
2. **MARQUE no seu cartão-resposta o número da sua prova** (não será corrigido o cartão-resposta que não tiver marcado o número da prova) e **Assine** seu cartão-resposta.
3. Aguarde a autorização do Fiscal para abrir o caderno de prova. Ao receber a ordem do fiscal, confira o caderno de prova com muita atenção. Nenhuma reclamação sobre o total de questões ou falha de impressão será aceita depois de iniciada a prova.
4. O cartão-resposta não será substituído, salvo se contiver erro de impressão.
5. Preencha toda a área do cartão-resposta correspondente à alternativa de sua escolha, com caneta esferográfica (tinta azul ou preta), sem ultrapassar as bordas. As marcações duplas, ou rasuradas, com corretivo, ou marcadas diferentemente do modelo estabelecido no cartão-resposta poderão ser anuladas.
6. Sua prova tem **40** questões, com **5** alternativas.
7. Cabe apenas ao candidato a interpretação das questões, **o fiscal** não poderá fazer nenhuma interferência.
8. A prova será realizada com duração máxima de **3 (três) horas**, incluído o tempo para a realização da Prova Objetiva de múltipla escolha e o preenchimento do cartão-resposta.
9. O candidato poderá retirar-se do local de realização das provas somente **1 (uma) hora** após o seu início, sem levar o caderno de prova.
10. O candidato poderá levar o caderno de provas, assim como anotação contendo transcrição do seu cartão-resposta, somente **1h30min** (uma hora e trinta minutos) após o início da realização da prova.
11. Ao terminar a prova, o candidato deverá entregar ao fiscal de sala o cartão-resposta preenchido e **ASSINADO**.
12. Os **3 (três)** candidatos, que terminarem a prova por último, deverão permanecer na sala, e só poderão sair juntos após o fechamento do envelope, contendo os cartões-resposta dos candidatos presentes e ausentes, e assinarem no lacre do referido envelope, atestando que este foi devidamente lacrado.
13. Durante todo o tempo em que permanecer no local onde está ocorrendo o concurso, o candidato deverá, manter o celular desligado e sem bateria, só sendo permitido ligar depois de ultrapassar o portão de saída do prédio.
14. Não será permitido ao candidato fumar na sala de provas, bem como nas dependências.
15. Depois de terminar a prova e entregar ao fiscal o cartão-resposta, preenchido e assinado, não será mais permitido ao candidato o uso do banheiro e bebedouro.

**BOA PROVA!**

**LÍNGUA PORTUGUESA**

Leia o texto e responda às próximas quatro questões.

**Lêmures e baobás de Madagascar**

Isolada do continente há 135 milhões de anos, a ilha do Oceano Índico é um laboratório natural da evolução das espécies e encanta os viajantes com uma flora e fauna única

**Madagascar** abriga 107 espécies de **lêmures**, dezenas de espécies de camaleões coloridos e outras tantas plantas que só existem lá. “Madagascar é um mundo a parte. Costumo dizer que, se Charles Darwin tivesse conhecido Madagascar, seu livro *A Origem das Espécies* seria dez vezes maior”, afirma o fotógrafo e jornalista **Haroldo Castro**, idealizador de Viajologia Expedições.

Uma das experiências mais emocionantes na quarta maior ilha do mundo é passear entre os gigantes **baobás**, árvores que chegam a ter 30 metros de altura e mil anos de idade. Das nove espécies de baobás que existem no mundo, seis podem ser encontradas apenas em Madagascar. A majestosa árvore, considerada sagrada pelos malgaxes, é chamada localmente como “reniala”, mãe da floresta.

Na pequena cidade de Bekopaka está o Parque Nacional Tsingy de Bemaraha, considerado Patrimônio Mundial pela Unesco. Trilhas e passeios de canoa no rio Manambolo conduzem a formações rochosas calcárias inusitadas e plantas endêmicas desse ecossistema de florestas secas.

Outro momento inesquecível em Madagascar é o encontro com os lêmures nas florestas tropicais da reserva Anjozorobe-Angavo, a 90 quilômetros da capital Antananarivo. Especialistas apontam que o turismo de observação de animais é uma excelente alternativa para o desenvolvimento da economia local e pode ajudar a conter o desmatamento. “O projeto em Anjozorobe comprova que, nos últimos anos, os 9 mil visitantes contribuíram de forma concreta a reduzir a pobreza e a promover a conservação da biodiversidade”, afirma Haroldo. Como os primatas são curiosos e estão habituados aos seres humanos, eles costumam se aproximar dos visitantes. “Os bichinhos chegam a subir nas nossas cabeças e parecem adorar aparecer nas fotos.”

Madagascar possui hoje uma excelente estrutura para o turismo, com algumas estradas bem cuidadas e hotéis confortáveis localizados perto das reservas e parques ecológicos. A gastronomia malgaxe, com um toque francês, também surpreende pela diversidade de ingredientes, temperos e colorido dos pratos.

[...]

(Fonte: <http://viajeaqu.abril.com.br/materias/lemures-e-baobas-de-madagascar#2>. Acesso em 14/05/2016)

**01. Lêmures e baobás de Madagascar é um texto:**

- Em que prevalece a descrição, apresentando as belezas e peculiaridades do lugar, da fauna e da flora.
- Principalmente narrativo, de fatos colhidos durante uma viagem, que se sucedem em progressão temporal.
- Essencialmente argumentativo, o uso da descrição visa somente a convencer o leitor a visitar Madagascar.
- Dissertativo, impera o desenvolvimento de argumentos para comprovar a tese presente no primeiro parágrafo.
- Em que predomina a exposição de conceitos e definições com o intuito de informar o leitor.

**02. O teor do texto *Lêmures e baobás de Madagascar* somente não poderia se encaixar em que tópico?**

- Turismo
- Viagens
- Clima
- Natureza
- Ilhas

**03. O aposto é um termo que *explica ou esclarece, desenvolve ou resume outro termo da oração*. Quanto a isso, analise a parte grifada em cada uma das orações retiradas do texto:**

**I - A majestosa árvore, considerada sagrada pelos malgaxes, é chamada localmente como “reniala”, mãe da floresta.**

**II - afirma o fotógrafo e jornalista Haroldo Castro, idealizador de Viajologia Expedições.**

**III - Outro momento inesquecível em Madagascar é o encontro com os lêmures nas florestas tropicais da reserva Anjozorobe-Angavo, a 90 quilômetros da capital Antananarivo.**





**IV - O projeto em Anjozorobe comprova que, nos últimos anos, os 9 mil visitantes contribuíram de forma concreta a reduzir a pobreza e a promover a conservação da biodiversidade”.**

**V - A gastronomia malgaxe, com um toque francês, também surpreende pela diversidade de ingredientes, temperos e colorido dos pratos.**

**Constitui aposto os grifos em:**

a) I, II, III, IV e V.

b) I, III e V, apenas.

c) III e V apenas.

d) I, II, III, e V, apenas.

e) III, IV e V apenas

**04. Trilhas e passeios de canoa no rio Manambolo conduzem a formações rochosas calcárias inusitadas e plantas endêmicas desse ecossistema de florestas secas.**

**Ao observar a relação sintática entre os termos desse período, pode-se afirmar que:**

a) de canoa é complemento nominal de Trilhas e passeios.

b) no rio Manambolo é adjunto adnominal de canoas.

c) de florestas secas é complemento nominal de plantas endêmicas.

d) de canoa é complemento verbal de passeios.

e) a formações rochosas calcárias inusitadas e plantas endêmicas desse ecossistema de florestas secas é complemento verbal de conduzem.

**Leia o poema e responda às próximas duas questões.**

### **FOGO NA MATA, MATA!**

Fogo na mata, mata! A mata, a vida...

Fogo na mata, abre,  
no coração da mata,  
Profundas feridas.

Fogo na mata corrói,  
dentro de nós, os sonhos.  
Fogo na mata, deixa, no seio da mata,  
Tumores tamanhos!

[...]

(Fonte: <http://www.recantodasletras.com.br/letras/505252>. Acesso em 14/05/2016)

**05. A respeito de alguns aspectos gramaticais pertinentes aos termos em destaque na frase título do poema *Fogo na mata, mata!*, está correto o que se afirma em:**

a) Morfologicamente, na sequência em que as duas palavras aparecem, temos um verbo e um substantivo.

b) Semanticamente, as duas palavras constituem homônimas homófonas homógrafas.

c) O processo de formação da palavra “mata” (primeira ocorrência na frase) é por derivação regressiva do verbo “matar” cuja flexão na terceira pessoa vem logo em seguida na frase.

d) Semanticamente, as duas palavras “mata” são parônimas.

e) Semanticamente, as duas palavras constituem homônimas homógrafas heterofônicas.

**06. Com a Nova Reforma Ortográfica, foi mantido o acento nas oxítonas terminadas em -ei e -oi, como é o caso de corrói em *Fogo na mata corrói*. No entanto, de acordo ainda com a Nova Reforma, os acentos foram retirados de quais duas palavras?**

a) Bocaiuva - maiúscula

b) Voo, aerodromo

c) Releem - feiura

d) Papeis - língua

e) Preveem - herói

**07. Leia atentamente as alternativas e assinale a incorreta no que diz respeito à Ortografia:**

a) Grafamos com j as palavras ultraje, jiboia e gorjeio; com g as palavras ferrugem, geringonça, e miragem.

b) Grafamos com sc: miscelânea, obsceno e obscensão; com c: sucinto, facínio e nécio.

c) Grafamos com x: xampu, mexerico e enxada; com ch: piche, tocha e mecha.

d) Grafamos com z: xadrez, cicatriz e vizinho; com s: friso, pêsames e tesoura.

e) Grafamos com ss: escassez, submissão e sossego; com c: acetinado, obcecado e acepção.

**08. O advérbio sublinhado e a circunstância que ele expressa não estão corretamente apresentados em:**

- a) Ele certamente virá para o encontro. (afirmação)
- b) Ali se ouvia falar de riquezas culturais. (tempo)
- c) O orador discursou muito bem, impressionou a plateia. (modo)
- d) Chegamos tarde, perdemos o ônibus. (tempo)
- e) Os candidatos estudaram bastante. (intensidade)

**09. Os pronomes pessoais, representantes das pessoas do discurso, estão corretamente empregados em todas as alternativas, com exceção da:**

- a) Sempre haverá discordância entre mim e ti.
- b) O juiz queria falar com nós dois.
- c) Minha festa de despedida, não vou esquecê-la jamais.
- d) Ninguém irá sem eu.
- e) Deram o livro para eu ler em dois dias!

**10. Em uma oração, o contexto permite concluirmos se certos verbos são de ligação, para assim identificarmos o predicado nominal. Assim, não há predicação nominal em:**

- a) O aluno não estava na escola hoje.
- b) À tarde, as crianças pareciam cansadas.
- c) Ultimamente os participantes do programa andam desanimados.
- e) A aurora boreal é um lindo espetáculo.
- d) As atletas parecem cansadas.

### MATEMÁTICA

**11. Numa prova de hipismo, há duas modalidades totalmente distintas: salto e rural. João vai competir nas duas modalidades. Sabendo que a vitória ou a derrota em uma nada influencia no resultado da outra, e sabendo que a probabilidade de ele ganhar a prova de salto é de 40% e a de ganhar a prova de rural é de 58%, qual a probabilidade de ele ganhar as duas provas?**

- a) 98%
- b) 62%
- c) 23,2%
- d) 18%
- e) 2,32%

**12. Numa escola há 12 professores. A tabela a seguir mostra a carga horária diária de trabalho desses professores.**

4	8	5	10	6	5	8	6	8	9	4	8
---	---	---	----	---	---	---	---	---	---	---	---

**É correto afirmar que as cargas horárias média, modal e mediana desses professores são respectivamente:**

- a) 6,25; 6; 7
- b) 6,5; 7; 8
- c) 6,75; 8; 6
- d) 6,75; 8; 7
- e) 6,75; 7; 8

**13. Encontre a equação da reta mediatriz do segmento AB, onde A(2, 3) e B(4, -1), e assinale a alternativa correta.**

- a)  $2y - x + 1 = 0$
- b)  $y - 2x + 2 = 0$
- c)  $2y - 2x + 1 = 0$
- d)  $2y + x + 2 = 0$
- e)  $2y + x - 1 = 0$

**14. Uma loja acrescenta 15% no preço de seus produtos à vista se o cliente optar por pagar com um cheque para 60 dias. Comprei, nessa loja, um fogão com cheque para 60 dias e paguei R\$552,00 por ele. Qual era o preço à vista desse fogão?**

- a) R\$460,00
- b) R\$469,20
- c) R\$474,50
- d) R\$480,00
- e) R\$500,00

**15. Um pesquisador, ao analisar os processos que envolvem jovens com menos de 24 anos, descobriu que há 4 homens com nomes envolvidos em processos para cada mulher. Se no total ele contou 2400 pessoas, quantas eram as mulheres envolvidas nessa pesquisa?**

- a) 480
- b) 600
- c) 800
- d) 1920
- e) 2000

#### **INFORMÁTICA**

**16. Utilizando o Excel 2013, qual fórmula representa corretamente a auto soma?**

- a) =SUM()
- b) =MEDIA()
- c) =MAX()
- d) =MIN()
- e) =SE()

**17. Acerca de confidencialidade está incorreto afirmar:**

- a) É um conceito no qual o acesso à informação deve ser concedido a quem de direito, ou seja, apenas para as entidades autorizadas pelo proprietário ou dono da informação.
- b) É uma propriedade que limita o acesso à informação tão somente às entidades legítimas, ou seja, àquelas autorizadas pelo proprietário da informação.
- c) É a propriedade da informação que não estará disponível ou será divulgada a indivíduos, entidades ou processos sem autorização.
- d) Significa garantir que a informação será conhecida por pessoas que não estejam autorizadas para tal.
- e) É a garantia do resguardo das informações dadas pessoalmente em confiança e proteção contra a sua revelação não autorizada.

**18. Tratando-se de hardware de computadores, assinale a alternativa que corresponde a um tipo de memória externa.**

- a) Pen Drive
- b) EPROM
- c) DIMM
- d) MRAM
- e) Cache

**19. No Word 2013, é possível utilizar vários tipos de formatação de fontes, exceto:**

- a) Tachado
- b) Negrito
- c) Centralizado
- d) Sublinhado
- e) Cor da fonte

**20. Qual software nativo do Windows utilizamos para descobrir o endereço IP do computador?**

- a) Windows Explorer
- b) Notepad
- c) Excel
- d) Word
- e) Prompt de Comando

#### **CONHECIMENTOS GERAIS**

**21. Conforme fonte do IBGE, o bioma do município de Telêmaco Borba/PR é:**

- a) Mata de Pinhais e Cerrado
- b) Pantanal
- c) Caatinga e Mata Atlântica
- d) Floresta Tropical
- e) Cerrado e Mata Atlântica

**22. A letra do hino do município de Telêmaco Borba/PR é de autoria de**

- a) Bento Mossurunga.
- b) Moises Lupion.
- c) Eloah Martins Quadrado.
- d) Graciliana Reis D´Albuquerque Mossurunga.
- e) Enéias Augusto Moracines Borba.



**23. Leia o texto sobre o Brasão de Armas do município de Telêmaco Borba/PR e marque a alternativa correta.**

O Brasão de Armas foi aprovado em definitivo em 1981, dentro dos padrões da heráldica, estabelecendo os regulamentos para seu uso, ficando assim oficializado.

No Brasão de Armas, é possível identificar:

1. Escudo português redondo banhado de ouro filetado de prata, carregado de cinco árvores de pinho estilizadas de sua cor, postas em banda.
  2. Escudete de prata carregado de três Pinheiros do Paraná, araucária angustifolia ou brasiliense.
  3. No timbre, coroa mural de ouro lavrado de negro.
  4. À direita, haste de milho (zae mays) frutada.
  5. À sinistra, ramos de soja (gelycine soya) granada.
  6. Listel amarelo ostentando o topônimo "Cidade Nova" entre as inscrições de ouro "5 de Julho de 1963", em caracteres latino moderno.
- a) Não é verdadeiro o item 1.
  - b) Não é verdadeiro o item 2.
  - c) Não é verdadeiro o item 4.
  - d) Não é verdadeiro o item 6.
  - e) Não são verdadeiros os itens 3 e 5.

**24. Segundo o art. 11 da Lei Orgânica do Município de Telêmaco Borba/PR, os bens públicos podem ser:**

- I. De uso comum do Povo, tais como estradas municipais, ruas, parques, praças, logradouros públicos e outros da mesma espécie;
  - II. De uso especial, os de patrimônio administrativo, tais como edifícios das repartições públicas, os terrenos e equipamentos destinados ao serviço público, veículos, matadouros, mercados e outras serventias de outra espécie;
  - III. Bens municipais, aqueles sobre os quais o município exerce os direitos de proprietário e são considerados como bens patrimoniais disponíveis;
  - IV. Bens culturais, tais como música e obras de arte.
- Podemos afirmar que são verdadeiros os itens

- a) I e II, apenas.
- b) II e III, apenas.
- c) I, II e III, apenas.
- d) I, III e IV, apenas.
- e) I, II, III e IV.

**25. Qual alternativa completa corretamente o texto a seguir?**

No primeiro ano de cada legislatura, no dia 1º de janeiro, em sessão de instalação, independente de número, sob a presidência do vereador mais idoso dentre os eleitos, os vereadores prestarão compromisso e tomarão posse. O Vereador que não tomar posse na sessão do dia 1º de janeiro poderá fazê-la \_\_\_\_\_ depois da primeira sessão ordinária da Legislatura.

- a) até dez dias
- b) até quinze dias
- c) até trinta dias
- d) até quarenta e cinco dias
- e) até sessenta dias

**26. Conforme o art. 54 da Lei Orgânica do Município de Telêmaco Borba/PR, o Processo Legislativo compreende a elaboração de:**

- I. Emendas à Lei Orgânica do Município;
- II. Leis complementares;
- III. Leis Ordinárias;
- IV. Decretos Legislativos;
- V. Resoluções;
- VI. Pareceres.

Assinale a alternativa que faz a afirmação correta.

- a) São verdadeiros apenas os itens I, III e VI.
- b) São verdadeiros apenas os itens I, III e IV.
- c) São verdadeiros apenas os itens III, IV e V.
- d) São verdadeiros apenas os itens I, II, III, IV e V.
- e) São verdadeiros os itens I, II, III, IV, V e VI.

Com base na Lei nº 1883/2012, que dispõe sobre o Estatuto dos Servidores Públicos da Administração Direta, Autárquica e Funcional do Município de Telêmaco Borba/PR, responda às próximas quatro questões.



27. À luz do § 2º do art. 9º da Lei nº 1883/2012, marque a alternativa que completa a lacuna do texto a seguir.

O concurso deverá ser homologado no prazo máximo de \_\_\_\_\_ contados da data de realização da última fase de provas, sob pena de responsabilidade da autoridade competente.

- a) um mês
- b) dois meses
- c) seis meses
- d) um ano
- e) dois anos

28. Marque a alternativa que completa a lacuna do texto a seguir.

O candidato terá o prazo \_\_\_\_\_, a contar da publicação oficial da convocação, para comparecer à entidade convocante e assinar termo de comparecimento.

- a) máximo de 5 dias úteis
- b) mínimo de 15 dias úteis
- c) de até 30 dias
- d) máximo de 15 dias úteis
- e) mínimo de 5 dias úteis

29. Leia as assertivas e marque a correta.

- a) São reservados 10% dos cargos em comissão para a nomeação de servidores do quadro efetivo.
- b) São reservados 15% dos cargos em comissão para a nomeação de servidores do quadro efetivo.
- c) São reservados 20% dos cargos em comissão para a nomeação de servidores do quadro efetivo.
- d) São reservados 25% dos cargos em comissão para a nomeação de servidores do quadro efetivo.
- e) São reservados 30% dos cargos em comissão para a nomeação de servidores do quadro efetivo.

30. Marque a alternativa que completa a lacuna do texto a seguir.

O servidor municipal, quando nomeado para cargo em comissão, ficará afastado de seu cargo efetivo e fará jus à remuneração prevista em lei para o comissionado, podendo optar por receber seus vencimentos acrescidos de \_\_\_\_\_ do valor da remuneração prevista para o cargo em comissão.

- a) 10%
- b) 20%
- c) 30%
- d) 40%
- e) 50%

### CONHECIMENTOS ESPECÍFICOS

À luz do Código Florestal Brasileiro, atualmente regulamentado pela Lei 12.651, de 25 de maio de 2012, responda às próximas seis questões.

31. O Brasil tem compromisso soberano com a preservação das suas florestas e demais formas de vegetação nativa, bem como da biodiversidade, do solo, dos recursos hídricos e da integridade do sistema climático, para o bem estar das gerações presentes e futuras. Encontramos no Código Florestal Brasileiro algumas definições:

I - Amazônia Legal: os Estados do Acre, Pará, Amazonas, Roraima, Rondônia, Amapá e Mato Grosso e as regiões situadas ao norte do paralelo 13° S, dos Estados de Tocantins e Goiás, e ao oeste do meridiano de 44° W, do Estado do Maranhão;

II - Área de Preservação Permanente - APP: área protegida, coberta ou não por vegetação nativa, com a função ambiental de preservar os recursos hídricos, a paisagem, a estabilidade geológica e a biodiversidade, facilitar o fluxo gênico de fauna e flora, proteger o solo e assegurar o bem-estar das populações humanas;

III - Reserva Legal: área localizada no interior de uma propriedade ou posse rural, delimitada nos termos do art. 12, com a função de assegurar o uso econômico de modo sustentável dos recursos naturais do imóvel rural, auxiliar a conservação e a reabilitação dos processos ecológicos e promover a conservação da biodiversidade, bem como o abrigo e a proteção de fauna silvestre e da flora nativa;

IV - Área rural consolidada: área de imóvel rural com ocupação antrópica preexistente a 22 de julho de 2008, com edificações, benfeitorias ou atividades agrossilvipastoris, admitida, neste último caso, a adoção do regime de pouso.

Após a análise do exposto, podemos afirmar que:

- a) Os itens I, II, III e IV estão corretos.
- b) Apenas os itens II, III e IV estão corretos.
- c) Apenas os itens I e IV estão corretos.
- d) Apenas os itens I e II estão corretos.
- e) O único item correto é o I.

**32. São sujeitos à apresentação de Estudo Prévio de Impacto Ambiental - EPIA e Relatório de Impacto Ambiental - RIMA os novos empreendimentos:**

- ( ) Com área superior a 50 (cinquenta) hectares, vedada a fragmentação do projeto para ocultar ou camuflar seu porte.
- ( ) Com área de até 50 (cinquenta) hectares, se potencialmente causadores de significativa degradação do meio ambiente.
- ( ) Localizados em região com adensamento de empreendimentos de carcinicultura ou salinas cujo impacto afete áreas comuns.

**Considerando cada item com (C) para Certo ou (E) para errado, a alternativa correta é:**

- a) E – C – C
- b) C – E – E
- c) E – E – C
- d) C – C – C
- e) C – C – E

**33. A Zona Costeira é patrimônio nacional, nos termos do § 4º do art. 225 da Constituição Federal, devendo sua ocupação e exploração dar-se de modo ecologicamente sustentável. Os apicuns e salgados podem ser utilizados em atividades de carcinicultura e salinas, desde que observados alguns requisitos, de acordo com o artigo 11 do Código Florestal:**

**I - Área total ocupada em cada Estado não superior a 10% (dez por cento) dessa modalidade de fitofisionomia no bioma amazônico e a 35% (trinta e cinco por cento) no restante do País, excluídas as ocupações consolidadas que atendam ao disposto no § 6º do artigo 11 do Código Florestal.**

**II - Salvaguarda da absoluta integridade dos manguezais arbustivos e dos processos ecológicos essenciais a eles associados, bem como da sua produtividade biológica e condição de berçário de recursos pesqueiros.**

**III - Licenciamento da atividade e das instalações pelo órgão ambiental estadual, cientificado o Instituto Brasileiro do Meio Ambiente e dos Recursos Naturais Renováveis - IBAMA e, no caso de uso de terrenos de marinha ou outros bens da União, realizada regularização prévia da titulação perante a União.**

**IV - Recolhimento, tratamento e disposição adequados dos efluentes e resíduos.**

**V - Garantia da manutenção da qualidade da água e do solo, respeitadas as Áreas de Preservação Permanente.**

**VI - Respeito às atividades tradicionais de sobrevivência das comunidades locais.**

**Diante ao exposto, assinale a alternativa correta:**

- a) Está correto apenas o item V.
- b) Está correto apenas o item I.
- c) Estão corretos apenas os itens I, II e IV.
- d) Estão corretos apenas os itens III, V e VI.
- e) Estão corretos os itens I, II, III, IV, V e VI.

**34. Preencha a lacuna e assinale a alternativa correta, de acordo com o artigo 11 (que diz respeito à Zona Costeira, apicuns e salgados, bem como o uso ecologicamente sustentável), § 2º:**

**“A licença ambiental, na hipótese deste artigo, será de \_\_\_\_\_, renovável apenas se o empreendedor cumprir as exigências da legislação ambiental e do próprio licenciamento, mediante comprovação anual, inclusive por mídia fotográfica.”**

- a) 2 (dois) anos
- b) 3 (três) anos
- c) 4 (quatro) anos
- d) 5 (cinco) anos
- e) 6 (seis) anos

**35. Todo imóvel rural deve manter área com cobertura de vegetação nativa, a título de Reserva Legal, sem prejuízo da aplicação das normas, sobre as Áreas de Preservação Permanente, observados os seguintes percentuais mínimos em relação à área do imóvel: Se localizado na Amazônia Legal: a) 80% (oitenta por cento), no imóvel situado em área de florestas; b) 35% (trinta e cinco por cento), no imóvel situado em área de cerrado; c) 20% (vinte por cento), no imóvel situado em área de campos gerais.**

**Se localizado nas demais regiões do País:**

- a) 20% (vinte por cento)
- b) 30% (trinta por cento)
- c) 35 (trinta e cinco por cento)
- d) 40 (quarenta por cento)
- e) 45 (quarenta e cinco por cento)

**36. A localização da área de Reserva Legal no imóvel rural deverá levar em consideração os seguintes estudos e critérios: o plano de bacia hidrográfica; o Zoneamento Ecológico-Econômico; a formação de**



corredores ecológicos com outra Reserva Legal, com Área de Preservação Permanente, com Unidade de Conservação ou com outra área legalmente protegida; as áreas de maior importância para a conservação da biodiversidade; e as áreas de maior fragilidade ambiental. O órgão estadual ou instituição por ele habilitada deverá aprovar a localização da Reserva Legal após a inclusão do imóvel no CAR (Cadastro Ambiental Rural), conforme o art. 29 desta Lei. Esse órgão é integrante do:

- WWF
- GREENPEACE
- IBAMA
- CONAMA
- SISNAMA

À luz da Lei nº 9.985, de 18 de julho de 2000, que institui o Sistema Nacional de Unidades de Conservação da Natureza – SNUC, responda às próximas quatro questões.

37. Relacione os itens da primeira coluna com as definições da segunda coluna, e assinale a alternativa que contempla a ordem correta.

I - Unidade de conservação	( ) O manejo do uso humano da natureza, compreendendo a preservação, a manutenção, a utilização sustentável, a restauração e a recuperação do ambiente natural, para que possa produzir o maior benefício, em bases sustentáveis, às atuais gerações, mantendo seu potencial de satisfazer as necessidades e aspirações das gerações futuras, e garantindo a sobrevivência dos seres vivos em geral.
II - Conservação da natureza	( ) Manutenção dos ecossistemas livres de alterações causadas por interferência humana, admitido apenas o uso indireto dos seus atributos naturais.
III - Diversidade biológica	( ) Espaço territorial e seus recursos ambientais, incluindo as águas jurisdicionais, com características naturais relevantes, legalmente instituído pelo Poder Público, com objetivos de conservação e limites definidos, sob regime especial de administração, ao qual se aplicam garantias adequadas de proteção.
IV - Recurso ambiental	( ) A atmosfera, as águas interiores, superficiais e subterrâneas, os estuários, o mar territorial, o solo, o subsolo, os elementos da biosfera, a fauna e a flora.
V – Preservação	( ) A variabilidade de organismos vivos de todas as origens, compreendendo, dentre outros, os ecossistemas terrestres, marinhos e outros ecossistemas aquáticos e os complexos ecológicos de que fazem parte; compreendendo ainda a diversidade dentro de espécies, entre espécies e de ecossistemas.
VI - Proteção integral	( ) Conjunto de métodos, procedimentos e políticas que visem a proteção a longo prazo das espécies, habitats e ecossistemas, além da manutenção dos processos ecológicos, prevenindo a simplificação dos sistemas naturais.

- V, IV, V, I, III e II.
- III, V, II, VI, I e IV.
- II, VI, I, IV, III e V.
- VI, I, IV, III, II e V.
- II, VI, III, V, IV e I.

38. O Sistema Nacional de Unidades de Conservação da Natureza - SNUC é constituído pelo conjunto das unidades de conservação federais, estaduais e municipais, de acordo com o disposto nesta Lei.

No que diz respeito aos objetivos do SNUC, assinale a alternativa incorreta.

- Contribuir para a manutenção da diversidade biológica e dos recursos genéticos no território nacional e nas águas jurisdicionais.
- Proteger algumas espécies ameaçadas de extinção no âmbito regional.
- Contribuir para a preservação e a restauração da diversidade de ecossistemas naturais.
- Promover o desenvolvimento sustentável a partir dos recursos naturais.
- Favorecer condições e promover a educação e interpretação ambiental, a recreação em contato com a natureza e o turismo ecológico.

39. O grupo das Unidades de Proteção Integral é composto pelas seguintes categorias de unidade de conservação, exceto:

- Estação Ecológica
- Reserva Biológica
- Parque Nacional



- d) Monumento Cultural
- e) Refúgio de Vida Silvestre

**40. Constituem o Grupo das Unidades de Uso Sustentável as seguintes categorias de unidade de conservação:**

**I - Área de Proteção Ambiental;**

**II - Área de Relevante Interesse Ecológico;**

**III - Floresta Nacional;**

**IV - Reserva Extrativista;**

**V - Reserva de Fauna;**

**VI – Reserva de Desenvolvimento Sustentável;**

**VII - Reserva Particular do Patrimônio Natural.**

**Após a análise do exposto, podemos afirmar que estão corretos os itens:**

- a) I, III, V, VI e VII, apenas.
- b) II, IV e V, apenas.
- c) IV, V, VI e VII, apenas.
- d) III e VII, apenas.
- e) I, II, III, IV, V, VI e VII.

**RASCUNHO**



PREFEITURA DE TELÊMACO BORBA - ESTADO DO PARANÁ - EDITAL Nº 001-2016 - CONCURSO PÚBLICO

**MATUTINO – 29/05/2016 – NÍVEL MÉDIO**

**2**

PROVA OBJETIVA NÚMERO

**CARGO FISCAL MUNICIPAL I - SANITÁRIA**

Leia atentamente as **INSTRUÇÕES**:

1. Confira seus dados no cartão-resposta: nome, número de inscrição e o curso para o qual se inscreveu.
2. **MARQUE no seu cartão-resposta o número da sua prova** (não será corrigido o cartão-resposta que não tiver marcado o número da prova) e **Assine** seu cartão-resposta.
3. Aguarde a autorização do Fiscal para abrir o caderno de prova. Ao receber a ordem do fiscal, confira o caderno de prova com muita atenção. Nenhuma reclamação sobre o total de questões ou falha de impressão será aceita depois de iniciada a prova.
4. O cartão-resposta não será substituído, salvo se contiver erro de impressão.
5. Preencha toda a área do cartão-resposta correspondente à alternativa de sua escolha, com caneta esferográfica (tinta azul ou preta), sem ultrapassar as bordas. As marcações duplas, ou rasuradas, com corretivo, ou marcadas diferentemente do modelo estabelecido no cartão-resposta poderão ser anuladas.
6. Sua prova tem **40** questões, com **5** alternativas.
7. Cabe apenas ao candidato a interpretação das questões, **o fiscal** não poderá fazer nenhuma interferência.
8. A prova será realizada com duração máxima de **3 (três) horas**, incluído o tempo para a realização da Prova Objetiva de múltipla escolha e o preenchimento do cartão-resposta.
9. O candidato poderá retirar-se do local de realização das provas somente **1 (uma) hora** após o seu início, sem levar o caderno de prova.
10. O candidato poderá levar o caderno de provas, assim como anotação contendo transcrição do seu cartão-resposta, somente **1h30min** (uma hora e trinta minutos) após o início da realização da prova.
11. Ao terminar a prova, o candidato deverá entregar ao fiscal de sala o cartão-resposta preenchido e **ASSINADO**.
12. Os **3 (três)** candidatos, que terminarem a prova por último, deverão permanecer na sala, e só poderão sair juntos após o fechamento do envelope, contendo os cartões-resposta dos candidatos presentes e ausentes, e assinarem no lacre do referido envelope, atestando que este foi devidamente lacrado.
13. Durante todo o tempo em que permanecer no local onde está ocorrendo o concurso, o candidato deverá, manter o celular desligado e sem bateria, só sendo permitido ligar depois de ultrapassar o portão de saída do prédio.
14. Não será permitido ao candidato fumar na sala de provas, bem como nas dependências.
15. Depois de terminar a prova e entregar ao fiscal o cartão-resposta, preenchido e assinado, não será mais permitido ao candidato o uso do banheiro e bebedouro.

**BOA PROVA!**

**MATEMÁTICA**

**01.** Numa prova de hipismo, há duas modalidades totalmente distintas: salto e rural. João vai competir nas duas modalidades. Sabendo que a vitória ou a derrota em uma nada influencia no resultado da outra, e sabendo que a probabilidade de ele ganhar a prova de salto é de 40% e a de ganhar a prova de rural é de 58%, qual a probabilidade de ele ganhar as duas provas?

- a) 98%
- b) 62%
- c) 23,2%
- d) 18%
- e) 2,32%

**02.** Numa escola há 12 professores. A tabela a seguir mostra a carga horária diária de trabalho desses professores.

4	8	5	10	6	5	8	6	8	9	4	8
---	---	---	----	---	---	---	---	---	---	---	---

É correto afirmar que as cargas horárias média, modal e mediana desses professores são respectivamente:

- a) 6,25; 6; 7
- b) 6,5; 7; 8
- c) 6,75; 8; 6
- d) 6,75; 8; 7
- e) 6,75; 7; 8

**03.** Encontre a equação da reta mediatriz do segmento AB, onde A(2, 3) e B(4, -1), e assinale a alternativa correta.

- a)  $2y - x + 1 = 0$
- b)  $y - 2x + 2 = 0$
- c)  $2y - 2x + 1 = 0$
- d)  $2y + x + 2 = 0$
- e)  $2y + x - 1 = 0$

**04.** Uma loja acrescenta 15% no preço de seus produtos à vista se o cliente optar por pagar com um cheque para 60 dias. Comprei, nessa loja, um fogão com cheque para 60 dias e paguei R\$552,00 por ele. Qual era o preço à vista desse fogão?

- a) R\$460,00
- b) R\$469,20
- c) R\$474,50
- d) R\$480,00
- e) R\$500,00

**05.** Um pesquisador, ao analisar os processos que envolvem jovens com menos de 24 anos, descobriu que há 4 homens com nomes envolvidos em processos para cada mulher. Se no total ele contou 2400 pessoas, quantas eram as mulheres envolvidas nessa pesquisa?

- a) 480
- b) 600
- c) 800
- d) 1920
- e) 2000

**INFORMÁTICA**

**06.** Utilizando o Excel 2013, qual fórmula representa corretamente a auto soma?

- a) =SUM()
- b) =MEDIA()
- c) =MAX()
- d) =MIN()
- e) =SE()

**07.** Acerca de confidencialidade está incorreto afirmar:

- a) É um conceito no qual o acesso à informação deve ser concedido a quem de direito, ou seja, apenas para as entidades autorizadas pelo proprietário ou dono da informação.
- b) É uma propriedade que limita o acesso à informação tão somente às entidades legítimas, ou seja, àquelas autorizadas pelo proprietário da informação.
- c) É a propriedade da informação que não estará disponível ou será divulgada a indivíduos, entidades ou processos sem autorização.
- d) Significa garantir que a informação será conhecida por pessoas que não estejam autorizadas para tal.



e) É a garantia do resguardo das informações dadas pessoalmente em confiança e proteção contra a sua revelação não autorizada.

**08. Tratando-se de hardware de computadores, assinale a alternativa que corresponde a um tipo de memória externa.**

- a) Pen Drive
- b) EPROM
- c) DIMM
- d) MRAM
- e) Cache

**09. No Word 2013, é possível utilizar vários tipos de formatação de fontes, exceto:**

- a) Tachado
- b) Negrito
- c) Centralizado
- d) Sublinhado
- e) Cor da fonte

**10. Qual software nativo do Windows utilizamos para descobrir o endereço IP do computador?**

- a) Windows Explorer
- b) Notepad
- c) Excel
- d) Word
- e) Prompt de Comando

#### **CONHECIMENTOS GERAIS**

**11. Conforme fonte do IBGE, o bioma do município de Telêmaco Borba/PR é:**

- a) Mata de Pinhais e Cerrado
- b) Pantanal
- c) Caatinga e Mata Atlântica
- d) Floresta Tropical
- e) Cerrado e Mata Atlântica

**12. A letra do hino do município de Telêmaco Borba/PR é de autoria de**

- a) Bento Mossurunga.
- b) Moíses Lupion.
- c) Eloah Martins Quadrado.
- d) Graciliana Reis D´Albuquerque Mossurunga.
- e) Enéias Augusto Moracines Borba.

**13. Leia o texto sobre o Brasão de Armas do município de Telêmaco Borba/PR e marque a alternativa correta.**

O Brasão de Armas foi aprovado em definitivo em 1981, dentro dos padrões da heráldica, estabelecendo os regulamentos para seu uso, ficando assim oficializado.

No Brasão de Armas, é possível identificar:

1. Escudo português redondo banhado de ouro filetado de prata, carregado de cinco árvores de pinho estilizadas de sua cor, postas em banda.
2. Escudete de prata carregado de três Pinheiros do Paraná, araucária angustifólia ou brasiliense.
3. No timbre, coroa mural de ouro lavrado de negro.
4. À destra, haste de milho (zae mays) frutada.
5. À sinistra, ramos de soja (gelycine soya) granada.
6. Listel amarelo ostentando o topônimo "Cidade Nova" entre as inscrições de ouro "5 de Julho de 1963", em caracteres latino moderno.

- a) Não é verdadeiro o item 1.
- b) Não é verdadeiro o item 2.
- c) Não é verdadeiro o item 4.
- d) Não é verdadeiro o item 6.
- e) Não são verdadeiros os itens 3 e 5.

**14. Segundo o art. 11 da Lei Orgânica do Município de Telêmaco Borba/PR, os bens públicos podem ser:**

**I. De uso comum do Povo, tais como estradas municipais, ruas, parques, praças, logradouros públicos e outros da mesma espécie;**

**II. De uso especial, os de patrimônio administrativo, tais como edifícios das repartições públicas, os terrenos e equipamentos destinados ao serviço público, veículos, matadouros, mercados e outras serventias de outra espécie;**



**III. Bens municipais, aqueles sobre os quais o município exerce os direitos de proprietário e são considerados como bens patrimoniais disponíveis;**

**IV. Bens culturais, tais como música e obras de arte.**

**Podemos afirmar que são verdadeiros os itens**

- a) I e II, apenas.
- b) II e III, apenas.
- c) I, II e III, apenas.
- d) I, III e IV, apenas.
- e) I, II, III e IV.

**15. Qual alternativa completa corretamente o texto a seguir?**

**No primeiro ano de cada legislatura, no dia 1º de janeiro, em sessão de instalação, independente de número, sob a presidência do vereador mais idoso dentre os eleitos, os vereadores prestarão compromisso e tomarão posse. O Vereador que não tomar posse na sessão do dia 1º de janeiro poderá fazê-la \_\_\_\_\_ depois da primeira sessão ordinária da Legislatura.**

- a) até dez dias
- b) até quinze dias
- c) até trinta dias
- d) até quarenta e cinco dias
- e) até sessenta dias

**16. Conforme o art. 54 da Lei Orgânica do Município de Telêmaco Borba/PR, o Processo Legislativo compreende a elaboração de:**

**I. Emendas à Lei Orgânica do Município;**

**II. Leis complementares;**

**III. Leis Ordinárias;**

**IV. Decretos Legislativos;**

**V. Resoluções;**

**VI. Pareceres.**

**Assinale a alternativa que faz a afirmação correta.**

- a) São verdadeiros apenas os itens I, III e VI.
- b) São verdadeiros apenas os itens I, III e IV.
- c) São verdadeiros apenas os itens III, IV e V.
- d) São verdadeiros apenas os itens I, II, III, IV e V.
- e) São verdadeiros os itens I, II, III, IV, V e VI.

**Com base na Lei nº 1883/2012, que dispõe sobre o Estatuto dos Servidores Públicos da Administração Direta, Autárquica e Funcional do Município de Telêmaco Borba/PR, responda às próximas quatro questões.**

**17. À luz do § 2º do art. 9º da Lei nº 1883/2012, marque a alternativa que completa a lacuna do texto a seguir.**

**O concurso deverá ser homologado no prazo máximo de \_\_\_\_\_ contados da data de realização da última fase de provas, sob pena de responsabilidade da autoridade competente.**

- a) um mês
- b) dois meses
- c) seis meses
- d) um ano
- e) dois anos

**18. Marque a alternativa que completa a lacuna do texto a seguir.**

**O candidato terá o prazo \_\_\_\_\_, a contar da publicação oficial da convocação, para comparecer à entidade convocante e assinar termo de comparecimento.**

- a) máximo de 5 dias úteis
- b) mínimo de 15 dias úteis
- c) de até 30 dias
- d) máximo de 15 dias úteis
- e) mínimo de 5 dias úteis

**19. Leia as assertivas e marque a correta.**

- a) São reservados 10% dos cargos em comissão para a nomeação de servidores do quadro efetivo.
- b) São reservados 15% dos cargos em comissão para a nomeação de servidores do quadro efetivo.
- c) São reservados 20% dos cargos em comissão para a nomeação de servidores do quadro efetivo.
- d) São reservados 25% dos cargos em comissão para a nomeação de servidores do quadro efetivo.
- e) São reservados 30% dos cargos em comissão para a nomeação de servidores do quadro efetivo.



20. Marque a alternativa que completa a lacuna do texto a seguir.

O servidor municipal, quando nomeado para cargo em comissão, ficará afastado de seu cargo efetivo e fará jus à remuneração prevista em lei para o comissionado, podendo optar por receber seus vencimentos acrescidos de \_\_\_\_\_ do valor da remuneração prevista para o cargo em comissão.

- a) 10%
- b) 20%
- c) 30%
- d) 40%
- e) 50%

### CONHECIMENTOS ESPECÍFICOS

À luz do Código Florestal Brasileiro, atualmente regulamentado pela Lei 12.651, de 25 de maio de 2012, responda às próximas seis questões.

21. O Brasil tem compromisso soberano com a preservação das suas florestas e demais formas de vegetação nativa, bem como da biodiversidade, do solo, dos recursos hídricos e da integridade do sistema climático, para o bem estar das gerações presentes e futuras. Encontramos no Código Florestal Brasileiro algumas definições:

I - Amazônia Legal: os Estados do Acre, Pará, Amazonas, Roraima, Rondônia, Amapá e Mato Grosso e as regiões situadas ao norte do paralelo 13° S, dos Estados de Tocantins e Goiás, e ao oeste do meridiano de 44° W, do Estado do Maranhão;

II - Área de Preservação Permanente - APP: área protegida, coberta ou não por vegetação nativa, com a função ambiental de preservar os recursos hídricos, a paisagem, a estabilidade geológica e a biodiversidade, facilitar o fluxo gênico de fauna e flora, proteger o solo e assegurar o bem-estar das populações humanas;

III - Reserva Legal: área localizada no interior de uma propriedade ou posse rural, delimitada nos termos do art. 12, com a função de assegurar o uso econômico de modo sustentável dos recursos naturais do imóvel rural, auxiliar a conservação e a reabilitação dos processos ecológicos e promover a conservação da biodiversidade, bem como o abrigo e a proteção de fauna silvestre e da flora nativa;

IV – Área rural consolidada: área de imóvel rural com ocupação antrópica preexistente a 22 de julho de 2008, com edificações, benfeitorias ou atividades agrossilvipastoris, admitida, neste último caso, a adoção do regime de pouso.

Após a análise do exposto, podemos afirmar que:

- a) Os itens I, II, III e IV estão corretos.
- b) Apenas os itens II, III e IV estão corretos.
- c) Apenas os itens I e IV estão corretos.
- d) Apenas os itens I e II estão corretos.
- e) O único item correto é o I.

22. São sujeitos à apresentação de Estudo Prévio de Impacto Ambiental - EPIA e Relatório de Impacto Ambiental - RIMA os novos empreendimentos:

( ) Com área superior a 50 (cinquenta) hectares, vedada a fragmentação do projeto para ocultar ou camuflar seu porte.

( ) Com área de até 50 (cinquenta) hectares, se potencialmente causadores de significativa degradação do meio ambiente.

( ) Localizados em região com adensamento de empreendimentos de carcinicultura ou salinas cujo impacto afete áreas comuns.

Considerando cada item com (C) para Certo ou (E) para errado, a alternativa correta é:

- a) E – C – C
- b) C – E – E
- c) E – E – C
- d) C – C – C
- e) C – C – E

23. A Zona Costeira é patrimônio nacional, nos termos do § 4º do art. 225 da Constituição Federal, devendo sua ocupação e exploração dar-se de modo ecologicamente sustentável. Os apicuns e salgados podem ser utilizados em atividades de carcinicultura e salinas, desde que observados alguns requisitos, de acordo com o artigo 11 do Código Florestal:

I - Área total ocupada em cada Estado não superior a 10% (dez por cento) dessa modalidade de fitofisionomia no bioma amazônico e a 35% (trinta e cinco por cento) no restante do País, excluídas as ocupações consolidadas que atendam ao disposto no § 6º do artigo 11 do Código Florestal.

II - Salvaguarda da absoluta integridade dos manguezais arbustivos e dos processos ecológicos essenciais a eles associados, bem como da sua produtividade biológica e condição de berçário de recursos pesqueiros.

**III - Licenciamento da atividade e das instalações pelo órgão ambiental estadual, cientificado o Instituto Brasileiro do Meio Ambiente e dos Recursos Naturais Renováveis - IBAMA e, no caso de uso de terrenos de marinha ou outros bens da União, realizada regularização prévia da titulação perante a União.**

**IV - Recolhimento, tratamento e disposição adequados dos efluentes e resíduos.**

**V - Garantia da manutenção da qualidade da água e do solo, respeitadas as Áreas de Preservação Permanente.**

**VI - Respeito às atividades tradicionais de sobrevivência das comunidades locais.**

**Diante ao exposto, assinale a alternativa correta:**

- a) Está correto apenas o item V.
- b) Está correto apenas o item I.
- c) Estão corretos apenas os itens I, II e IV.
- d) Estão corretos apenas os itens III, V e VI.
- e) Estão corretos os itens I, II, III, IV, V e VI.

**24. Preencha a lacuna e assinale a alternativa correta, de acordo com o artigo 11 (que diz respeito à Zona Costeira, apincuns e salgados, bem como o uso ecologicamente sustentável), § 2º:**

**“A licença ambiental, na hipótese deste artigo, será de \_\_\_\_\_, renovável apenas se o empreendedor cumprir as exigências da legislação ambiental e do próprio licenciamento, mediante comprovação anual, inclusive por mídia fotográfica.”**

- a) 2 (dois) anos
- b) 3 (três) anos
- c) 4 (quatro) anos
- d) 5 (cinco) anos
- e) 6 (seis) anos

**25. Todo imóvel rural deve manter área com cobertura de vegetação nativa, a título de Reserva Legal, sem prejuízo da aplicação das normas, sobre as Áreas de Preservação Permanente, observados os seguintes percentuais mínimos em relação à área do imóvel: Se localizado na Amazônia Legal: a) 80% (oitenta por cento), no imóvel situado em área de florestas; b) 35% (trinta e cinco por cento), no imóvel situado em área de cerrado; c) 20% (vinte por cento), no imóvel situado em área de campos gerais.**

**Se localizado nas demais regiões do País:**

- a) 20% (vinte por cento)
- b) 30% (trinta por cento)
- c) 35 (trinta e cinco por cento)
- d) 40 (quarenta por cento)
- e) 45 (quarenta e cinco por cento)

**26. A localização da área de Reserva Legal no imóvel rural deverá levar em consideração os seguintes estudos e critérios: o plano de bacia hidrográfica; o Zoneamento Ecológico-Econômico; a formação de corredores ecológicos com outra Reserva Legal, com Área de Preservação Permanente, com Unidade de Conservação ou com outra área legalmente protegida; as áreas de maior importância para a conservação da biodiversidade; e as áreas de maior fragilidade ambiental. O órgão estadual ou instituição por ele habilitada deverá aprovar a localização da Reserva Legal após a inclusão do imóvel no CAR (Cadastro Ambiental Rural), conforme o art. 29 desta Lei. Esse órgão é integrante do:**

- a) WWF
- b) GREENPEACE
- c) IBAMA
- d) CONAMA
- e) SISNAMA

**À luz da Lei nº 9.985, de 18 de julho de 2000, que institui o Sistema Nacional de Unidades de Conservação da Natureza – SNUC, responda às próximas quatro questões.**

**27. Relacione os itens da primeira coluna com as definições da segunda coluna, e assinale a alternativa que contempla a ordem correta.**

<b>I - Unidade de conservação</b>	<b>( ) O manejo do uso humano da natureza, compreendendo a preservação, a manutenção, a utilização sustentável, a restauração e a recuperação do ambiente natural, para que possa produzir o maior benefício, em bases sustentáveis, às atuais gerações, mantendo seu potencial de satisfazer as necessidades e aspirações das gerações futuras, e garantindo a sobrevivência dos seres vivos em geral.</b>
<b>II - Conservação da natureza</b>	<b>( ) Manutenção dos ecossistemas livres de alterações causadas por interferência humana, admitido apenas o uso indireto dos seus atributos naturais.</b>
<b>III - Diversidade biológica</b>	<b>( ) Espaço territorial e seus recursos ambientais, incluindo as águas</b>



	<b>jurisdicionais, com características naturais relevantes, legalmente instituído pelo Poder Público, com objetivos de conservação e limites definidos, sob regime especial de administração, ao qual se aplicam garantias adequadas de proteção.</b>
<b>IV - Recurso ambiental</b>	<b>( ) A atmosfera, as águas interiores, superficiais e subterrâneas, os estuários, o mar territorial, o solo, o subsolo, os elementos da biosfera, a fauna e a flora.</b>
<b>V – Preservação</b>	<b>( ) A variabilidade de organismos vivos de todas as origens, compreendendo, dentre outros, os ecossistemas terrestres, marinhos e outros ecossistemas aquáticos e os complexos ecológicos de que fazem parte; compreendendo ainda a diversidade dentro de espécies, entre espécies e de ecossistemas.</b>
<b>VI - Proteção integral</b>	<b>( ) Conjunto de métodos, procedimentos e políticas que visem a proteção a longo prazo das espécies, habitats e ecossistemas, além da manutenção dos processos ecológicos, prevenindo a simplificação dos sistemas naturais.</b>

- a) V, IV, V, I, III e II.  
b) III, V, II, VI, I e IV.  
c) II, VI, I, IV, III e V.  
d) VI, I, IV, III, II e V.  
e) II, VI, III, V, IV e I.

**28. O Sistema Nacional de Unidades de Conservação da Natureza - SNUC é constituído pelo conjunto das unidades de conservação federais, estaduais e municipais, de acordo com o disposto nesta Lei.**

**No que diz respeito aos objetivos do SNUC, assinale a alternativa incorreta.**

- a) Contribuir para a manutenção da diversidade biológica e dos recursos genéticos no território nacional e nas águas jurisdicionais.  
b) Proteger algumas espécies ameaçadas de extinção no âmbito regional.  
c) Contribuir para a preservação e a restauração da diversidade de ecossistemas naturais.  
d) Promover o desenvolvimento sustentável a partir dos recursos naturais.  
e) Favorecer condições e promover a educação e interpretação ambiental, a recreação em contato com a natureza e o turismo ecológico.

**29. O grupo das Unidades de Proteção Integral é composto pelas seguintes categorias de unidade de conservação, exceto:**

- a) Estação Ecológica  
b) Reserva Biológica  
c) Parque Nacional  
d) Monumento Cultural  
e) Refúgio de Vida Silvestre

**30. Constituem o Grupo das Unidades de Uso Sustentável as seguintes categorias de unidade de conservação:**

- I - Área de Proteção Ambiental;**  
**II - Área de Relevante Interesse Ecológico;**  
**III - Floresta Nacional;**  
**IV - Reserva Extrativista;**  
**V - Reserva de Fauna;**  
**VI – Reserva de Desenvolvimento Sustentável;**  
**VII - Reserva Particular do Patrimônio Natural.**

**Após a análise do exposto, podemos afirmar que estão corretos os itens:**

- a) I, III, V, VI e VII, apenas.  
b) II, IV e V, apenas.  
c) IV, V, VI e VII, apenas.  
d) III e VII, apenas.  
e) I, II, III, IV, V, VI e VII.

## LÍNGUA PORTUGUESA

**Leia o texto e responda às próximas quatro questões.**

### Lêmures e baobás de Madagascar

Isolada do continente há 135 milhões de anos, a ilha do Oceano Índico é um laboratório natural da evolução das espécies e encanta os viajantes com uma flora e fauna única

**Madagascar** abriga 107 espécies de **lêmures**, dezenas de espécies de camaleões coloridos e outras tantas plantas que só existem lá. “Madagascar é um mundo a parte. Costumo dizer que, se Charles Darwin tivesse conhecido Madagascar, seu livro *A Origem das Espécies* seria dez vezes maior”, afirma o fotógrafo e jornalista **Haroldo Castro**, idealizador de Viajologia Expedições.

Uma das experiências mais emocionantes na quarta maior ilha do mundo é passear entre os gigantes **baobás**, árvores que chegam a ter 30 metros de altura e mil anos de idade. Das nove espécies de baobás que existem no mundo, seis podem ser encontradas apenas em Madagascar. A majestosa árvore, considerada sagrada pelos malgaxes, é chamada localmente como “reniala”, mãe da floresta.

Na pequena cidade de Bekopaka está o Parque Nacional Tsingy de Bemaraha, considerado Patrimônio Mundial pela Unesco. Trilhas e passeios de canoa no rio Manambolo conduzem a formações rochosas calcárias inusitadas e plantas endêmicas desse ecossistema de florestas secas.

Outro momento inesquecível em Madagascar é o encontro com os lêmures nas florestas tropicais da reserva Anjozorobe-Angavo, a 90 quilômetros da capital Antananarivo. Especialistas apontam que o turismo de observação de animais é uma excelente alternativa para o desenvolvimento da economia local e pode ajudar a conter o desmatamento. “O projeto em Anjozorobe comprova que, nos últimos anos, os 9 mil visitantes contribuíram de forma concreta a reduzir a pobreza e a promover a conservação da biodiversidade”, afirma Haroldo. Como os primatas são curiosos e estão habituados aos seres humanos, eles costumam se aproximar dos visitantes. “Os bichinhos chegam a subir nas nossas cabeças e parecem adorar aparecer nas fotos.”

Madagascar possui hoje uma excelente estrutura para o turismo, com algumas estradas bem cuidadas e hotéis confortáveis localizados perto das reservas e parques ecológicos. A gastronomia malgaxe, com um toque francês, também surpreende pela diversidade de ingredientes, temperos e colorido dos pratos.

[...]

(Fonte: <http://viajaqui.abril.com.br/materias/lemures-e-baobas-de-madagascar#2>. Acesso em 14/05/2016)

### 31. *Lêmures e baobás de Madagascar* é um texto:

- Em que prevalece a descrição, apresentando as belezas e peculiaridades do lugar, da fauna e da flora.
- Principalmente narrativo, de fatos colhidos durante uma viagem, que se sucedem em progressão temporal.
- Essencialmente argumentativo, o uso da descrição visa somente a convencer o leitor a visitar Madagascar.
- Dissertativo, impera o desenvolvimento de argumentos para comprovar a tese presente no primeiro parágrafo.
- Em que predomina a exposição de conceitos e definições com o intuito de informar o leitor.

### 32. O teor do texto *Lêmures e baobás de Madagascar* somente não poderia se encaixar em que tópico?

- Turismo
- Viagens
- Clima
- Natureza
- Ilhas

### 33. O aposto é um termo que *explica ou esclarece, desenvolve ou resume outro termo da oração*. Quanto a isso, analise a parte grifada em cada uma das orações retiradas do texto:

**I - A majestosa árvore, considerada sagrada pelos malgaxes, é chamada localmente como “reniala”, mãe da floresta.**

**II - afirma o fotógrafo e jornalista Haroldo Castro, idealizador de Viajologia Expedições.**

**III - Outro momento inesquecível em Madagascar é o encontro com os lêmures nas florestas tropicais da reserva Anjozorobe-Angavo, a 90 quilômetros da capital Antananarivo.**

**IV - O projeto em Anjozorobe comprova que, nos últimos anos, os 9 mil visitantes contribuíram de forma concreta a reduzir a pobreza e a promover a conservação da biodiversidade”.**

**V - A gastronomia malgaxe, com um toque francês, também surpreende pela diversidade de ingredientes, temperos e colorido dos pratos.**

Constitui aposto os grifos em:

- I, II, III, IV e V.
- I, III e V, apenas.
- III e V apenas.
- I, II, III, e V, apenas.
- III, IV e V apenas

### 34. *Trilhas e passeios de canoa no rio Manambolo conduzem a formações rochosas calcárias inusitadas e plantas endêmicas desse ecossistema de florestas secas.*

Ao observar a relação sintática entre os termos desse período, pode-se afirmar que:

- de canoa é complemento nominal de Trilhas e passeios.
- no rio Manambolo é adjunto adnominal de canoas.
- de florestas secas é complemento nominal de plantas endêmicas.
- de canoa é complemento verbal de passeios.
- a formações rochosas calcárias inusitadas e plantas endêmicas desse ecossistema de florestas secas é complemento verbal de conduzem.

Leia o poema e responda às próximas duas questões.

### FOGO NA MATA, MATA!

Fogo na mata, mata! A mata, a vida...  
 Fogo na mata, abre,  
 no coração da mata,  
 Profundas feridas.

Fogo na mata corrói,  
 dentro de nós, os sonhos.  
 Fogo na mata, deixa, no seio da mata,  
 Tumores tamanhos!

[...]

(Fonte: <http://www.recantodasletras.com.br/letras/505252>. Acesso em 14/05/2016)

**35. A respeito de alguns aspectos gramaticais pertinentes aos termos em destaque na frase título do poema *Fogo na mata, mata!*, está correto o que se afirma em:**

- Morfologicamente, na sequência em que as duas palavras aparecem, temos um verbo e um substantivo.
- Semanticamente, as duas palavras constituem homônimas homófonas homógrafas.
- O processo de formação da palavra “mata” (primeira ocorrência na frase) é por derivação regressiva do verbo “matar” cuja flexão na terceira pessoa vem logo em seguida na frase.
- Semanticamente, as duas palavras “mata” são parônimas.
- Semanticamente, as duas palavras constituem homônimas homógrafas heterofônicas.

**36. Com a Nova Reforma Ortográfica, foi mantido o acento nas oxítonas terminadas em -ei e -oi, como é o caso de *corrói* em *Fogo na mata corrói*. No entanto, de acordo ainda com a Nova Reforma, os acentos foram retirados de quais duas palavras?**

- Bocaiuva - maiúscula
- Voo, aerodromo
- Releem - feiura
- Papeis - linguíça
- Preveem - heroi

**37. Leia atentamente as alternativas e assinale a incorreta no que diz respeito à Ortografia:**

- Grafamos com j as palavras ultraje, jiboia e gorjeio; com g as palavras ferrugem, geringonça, e miragem.
- Grafamos com sc: miscelânea, obsceno e obscensão; com c: sucinto, facínio e nécio.
- Grafamos com x: xampu, mexerico e enxada; com ch: piche, tocha e mecha.
- Grafamos com z: xadrez, cicatriz e vizinho; com s: friso, pêsames e tesoura.
- Grafamos com ss: escassez, submissão e sossego; com c: acetinado, obcecado e acepção.

**38. O advérbio sublinhado e a circunstância que ele expressa não estão corretamente apresentados em:**

- Ele certamente virá para o encontro. (afirmação)
- Ali se ouvia falar de riquezas culturais. (tempo)
- O orador discursou muito bem, impressionou a plateia. (modo)
- Chegamos tarde, perdemos o ônibus. (tempo)
- Os candidatos estudaram bastante. (intensidade)

**39. Os pronomes pessoais, representantes das pessoas do discurso, estão corretamente empregados em todas as alternativas, com exceção da:**

- Sempre haverá discordância entre mim e ti.
- O juiz queria falar com nós dois.
- Minha festa de despedida, não vou esquecê-la jamais.
- Ninguém irá sem eu.
- Deram o livro para eu ler em dois dias!

**40. Em uma oração, o contexto permite concluirmos se certos verbos são de ligação, para assim identificarmos o predicado nominal. Assim, não há predicado nominal em:**

- O aluno não estava na escola hoje.
- À tarde, as crianças pareciam cansadas.
- Ultimamente os participantes do programa andam desanimados.
- A aurora boreal é um lindo espetáculo.
- As atletas parecem cansadas.



PREFEITURA DE TELÊMACO BORBA - ESTADO DO PARANÁ - EDITAL Nº 001-2016 - CONCURSO PÚBLICO

**MATUTINO – 29/05/2016 – NÍVEL MÉDIO**

**3**

PROVA OBJETIVA NÚMERO

**CARGO: FISCAL MUNICIPAL I - SANITÁRIA**

**Leia atentamente as INSTRUÇÕES:**

1. Confira seus dados no cartão-resposta: nome, número de inscrição e o curso para o qual se inscreveu.
2. **MARQUE no seu cartão-resposta o número da sua prova** (não será corrigido o cartão-resposta que não tiver marcado o número da prova) e **Assine** seu cartão-resposta.
3. Aguarde a autorização do Fiscal para abrir o caderno de prova. Ao receber a ordem do fiscal, confira o caderno de prova com muita atenção. Nenhuma reclamação sobre o total de questões ou falha de impressão será aceita depois de iniciada a prova.
4. O cartão-resposta não será substituído, salvo se contiver erro de impressão.
5. Preencha toda a área do cartão-resposta correspondente à alternativa de sua escolha, com caneta esferográfica (tinta azul ou preta), sem ultrapassar as bordas. As marcações duplas, ou rasuradas, com corretivo, ou marcadas diferentemente do modelo estabelecido no cartão-resposta poderão ser anuladas.
6. Sua prova tem **40** questões, com **5** alternativas.
7. Cabe apenas ao candidato a interpretação das questões, **o fiscal** não poderá fazer nenhuma interferência.
8. A prova será realizada com duração máxima de **3 (três) horas**, incluído o tempo para a realização da Prova Objetiva de múltipla escolha e o preenchimento do cartão-resposta.
9. O candidato poderá retirar-se do local de realização das provas somente **1 (uma) hora** após o seu início, sem levar o caderno de prova.
10. O candidato poderá levar o caderno de provas, assim como anotação contendo transcrição do seu cartão-resposta, somente **1h30min** (uma hora e trinta minutos) após o início da realização da prova.
11. Ao terminar a prova, o candidato deverá entregar ao fiscal de sala o cartão-resposta preenchido e **ASSINADO**.
12. Os **3 (três)** candidatos, que terminarem a prova por último, deverão permanecer na sala, e só poderão sair juntos após o fechamento do envelope, contendo os cartões-resposta dos candidatos presentes e ausentes, e assinarem no lacre do referido envelope, atestando que este foi devidamente lacrado.
13. Durante todo o tempo em que permanecer no local onde está ocorrendo o concurso, o candidato deverá, manter o celular desligado e sem bateria, só sendo permitido ligar depois de ultrapassar o portão de saída do prédio.
14. Não será permitido ao candidato fumar na sala de provas, bem como nas dependências.
15. Depois de terminar a prova e entregar ao fiscal o cartão-resposta, preenchido e assinado, não será mais permitido ao candidato o uso do banheiro e bebedouro.

**BOA PROVA!**



## CONHECIMENTOS ESPECÍFICOS

À luz do Código Florestal Brasileiro, atualmente regulamentado pela Lei 12.651, de 25 de maio de 2012, responda às próximas seis questões.

**01. O Brasil tem compromisso soberano com a preservação das suas florestas e demais formas de vegetação nativa, bem como da biodiversidade, do solo, dos recursos hídricos e da integridade do sistema climático, para o bem estar das gerações presentes e futuras. Encontramos no Código Florestal Brasileiro algumas definições:**

**I - Amazônia Legal:** os Estados do Acre, Pará, Amazonas, Roraima, Rondônia, Amapá e Mato Grosso e as regiões situadas ao norte do paralelo 13° S, dos Estados de Tocantins e Goiás, e ao oeste do meridiano de 44° W, do Estado do Maranhão;

**II - Área de Preservação Permanente - APP:** área protegida, coberta ou não por vegetação nativa, com a função ambiental de preservar os recursos hídricos, a paisagem, a estabilidade geológica e a biodiversidade, facilitar o fluxo gênico de fauna e flora, proteger o solo e assegurar o bem-estar das populações humanas;

**III - Reserva Legal:** área localizada no interior de uma propriedade ou posse rural, delimitada nos termos do art. 12, com a função de assegurar o uso econômico de modo sustentável dos recursos naturais do imóvel rural, auxiliar a conservação e a reabilitação dos processos ecológicos e promover a conservação da biodiversidade, bem como o abrigo e a proteção de fauna silvestre e da flora nativa;

**IV - Área rural consolidada:** área de imóvel rural com ocupação antrópica preexistente a 22 de julho de 2008, com edificações, benfeitorias ou atividades agrossilvipastoris, admitida, neste último caso, a adoção do regime de posuio.

**Após a análise do exposto, podemos afirmar que:**

- a) Os itens I, II, III e IV estão corretos.
- b) Apenas os itens II, III e IV estão corretos.
- c) Apenas os itens I e IV estão corretos.
- d) Apenas os itens I e II estão corretos.
- e) O único item correto é o I.

**02. São sujeitos à apresentação de Estudo Prévio de Impacto Ambiental - EPIA e Relatório de Impacto Ambiental - RIMA os novos empreendimentos:**

Com área superior a 50 (cinquenta) hectares, vedada a fragmentação do projeto para ocultar ou camuflar seu porte.

Com área de até 50 (cinquenta) hectares, se potencialmente causadores de significativa degradação do meio ambiente.

Localizados em região com adensamento de empreendimentos de carcinicultura ou salinas cujo impacto afete áreas comuns.

**Considerando cada item com (C) para Certo ou (E) para errado, a alternativa correta é:**

- a) E – C – C
- b) C – E – E
- c) E – E – C
- d) C – C – C
- e) C – C – E

**03. A Zona Costeira é patrimônio nacional, nos termos do § 4º do art. 225 da Constituição Federal, devendo sua ocupação e exploração dar-se de modo ecologicamente sustentável. Os apicuns e salgados podem ser utilizados em atividades de carcinicultura e salinas, desde que observados alguns requisitos, de acordo com o artigo 11 do Código Florestal:**

**I - Área total ocupada em cada Estado não superior a 10% (dez por cento) dessa modalidade de fitofisionomia no bioma amazônico e a 35% (trinta e cinco por cento) no restante do País, excluídas as ocupações consolidadas que atendam ao disposto no § 6º do artigo 11 do Código Florestal.**

**II - Salvaguarda da absoluta integridade dos manguezais arbustivos e dos processos ecológicos essenciais a eles associados, bem como da sua produtividade biológica e condição de berçário de recursos pesqueiros.**

**III - Licenciamento da atividade e das instalações pelo órgão ambiental estadual, cientificado o Instituto Brasileiro do Meio Ambiente e dos Recursos Naturais Renováveis - IBAMA e, no caso de uso de terrenos de marinha ou outros bens da União, realizada regularização prévia da titulação perante a União.**

**IV - Recolhimento, tratamento e disposição adequados dos efluentes e resíduos.**

**V - Garantia da manutenção da qualidade da água e do solo, respeitadas as Áreas de Preservação Permanente.**

**VI - Respeito às atividades tradicionais de sobrevivência das comunidades locais.**

**Diante ao exposto, assinale a alternativa correta:**

- a) Está correto apenas o item V.
- b) Está correto apenas o item I.
- c) Estão corretos apenas os itens I, II e IV.

- d) Estão corretos apenas os itens III, V e VI.  
 e) Estão corretos os itens I, II, III, IV, V e VI.

**04. Preencha a lacuna e assinale a alternativa correta, de acordo com o artigo 11 (que diz respeito à Zona Costeira, apincuns e salgados, bem como o uso ecologicamente sustentável), § 2º:**

“A licença ambiental, na hipótese deste artigo, será de \_\_\_\_\_, renovável apenas se o empreendedor cumprir as exigências da legislação ambiental e do próprio licenciamento, mediante comprovação anual, inclusive por mídia fotográfica.”

- a) 2 (dois) anos  
 b) 3 (três) anos  
 c) 4 (quatro) anos  
 d) 5 (cinco) anos  
 e) 6 (seis) anos

**05. Todo imóvel rural deve manter área com cobertura de vegetação nativa, a título de Reserva Legal, sem prejuízo da aplicação das normas, sobre as Áreas de Preservação Permanente, observados os seguintes percentuais mínimos em relação à área do imóvel: Se localizado na Amazônia Legal: a) 80% (oitenta por cento), no imóvel situado em área de florestas; b) 35% (trinta e cinco por cento), no imóvel situado em área de cerrado; c) 20% (vinte por cento), no imóvel situado em área de campos gerais.**

**Se localizado nas demais regiões do País:**

- a) 20% (vinte por cento)  
 b) 30% (trinta por cento)  
 c) 35 (trinta e cinco por cento)  
 d) 40 (quarenta por cento)  
 e) 45 (quarenta e cinco por cento)

**06. A localização da área de Reserva Legal no imóvel rural deverá levar em consideração os seguintes estudos e critérios: o plano de bacia hidrográfica; o Zoneamento Ecológico-Econômico; a formação de corredores ecológicos com outra Reserva Legal, com Área de Preservação Permanente, com Unidade de Conservação ou com outra área legalmente protegida; as áreas de maior importância para a conservação da biodiversidade; e as áreas de maior fragilidade ambiental. O órgão estadual ou instituição por ele habilitada deverá aprovar a localização da Reserva Legal após a inclusão do imóvel no CAR (Cadastro Ambiental Rural), conforme o art. 29 desta Lei. Esse órgão é integrante do:**

- a) WWF  
 b) GREENPEACE  
 c) IBAMA  
 d) CONAMA  
 e) SISNAMA

**À luz da Lei nº 9.985, de 18 de julho de 2000, que institui o Sistema Nacional de Unidades de Conservação da Natureza – SNUC, responda às próximas quatro questões.**

**07. Relacione os itens da primeira coluna com as definições da segunda coluna, e assinale a alternativa que contempla a ordem correta.**

I - Unidade de conservação	( ) O manejo do uso humano da natureza, compreendendo a preservação, a manutenção, a utilização sustentável, a restauração e a recuperação do ambiente natural, para que possa produzir o maior benefício, em bases sustentáveis, às atuais gerações, mantendo seu potencial de satisfazer as necessidades e aspirações das gerações futuras, e garantindo a sobrevivência dos seres vivos em geral.
II - Conservação da natureza	( ) Manutenção dos ecossistemas livres de alterações causadas por interferência humana, admitido apenas o uso indireto dos seus atributos naturais.
III - Diversidade biológica	( ) Espaço territorial e seus recursos ambientais, incluindo as águas jurisdicionais, com características naturais relevantes, legalmente instituído pelo Poder Público, com objetivos de conservação e limites definidos, sob regime especial de administração, ao qual se aplicam garantias adequadas de proteção.
IV - Recurso ambiental	( ) A atmosfera, as águas interiores, superficiais e subterrâneas, os estuários, o mar territorial, o solo, o subsolo, os elementos da biosfera, a fauna e a flora.
V - Preservação	( ) A variabilidade de organismos vivos de todas as origens, compreendendo, dentre outros, os ecossistemas terrestres, marinhos e outros ecossistemas aquáticos e os complexos ecológicos de que fazem

	parte; compreendendo ainda a diversidade dentro de espécies, entre espécies e de ecossistemas.
VI - Proteção integral	( ) Conjunto de métodos, procedimentos e políticas que visem a proteção a longo prazo das espécies, habitats e ecossistemas, além da manutenção dos processos ecológicos, prevenindo a simplificação dos sistemas naturais.

- a) V, IV, V, I, III e II.  
b) III, V, II, VI, I e IV.  
c) II, VI, I, IV, III e V.  
d) VI, I, IV, III, II e V.  
e) II, VI, III, V, IV e I.

**08. O Sistema Nacional de Unidades de Conservação da Natureza - SNUC é constituído pelo conjunto das unidades de conservação federais, estaduais e municipais, de acordo com o disposto nesta Lei.**

**No que diz respeito aos objetivos do SNUC, assinale a alternativa incorreta.**

- a) Contribuir para a manutenção da diversidade biológica e dos recursos genéticos no território nacional e nas águas jurisdicionais.  
b) Proteger algumas espécies ameaçadas de extinção no âmbito regional.  
c) Contribuir para a preservação e a restauração da diversidade de ecossistemas naturais.  
d) Promover o desenvolvimento sustentável a partir dos recursos naturais.  
e) Favorecer condições e promover a educação e interpretação ambiental, a recreação em contato com a natureza e o turismo ecológico.

**09. O grupo das Unidades de Proteção Integral é composto pelas seguintes categorias de unidade de conservação, exceto:**

- a) Estação Ecológica  
b) Reserva Biológica  
c) Parque Nacional  
d) Monumento Cultural  
e) Refúgio de Vida Silvestre

**10. Constituem o Grupo das Unidades de Uso Sustentável as seguintes categorias de unidade de conservação:**

- I - Área de Proteção Ambiental;**  
**II - Área de Relevante Interesse Ecológico;**  
**III - Floresta Nacional;**  
**IV - Reserva Extrativista;**  
**V - Reserva de Fauna;**  
**VI - Reserva de Desenvolvimento Sustentável;**  
**VII - Reserva Particular do Patrimônio Natural.**

**Após a análise do exposto, podemos afirmar que estão corretos os itens:**

- a) I, III, V, VI e VII, apenas.  
b) II, IV e V, apenas.  
c) IV, V, VI e VII, apenas.  
d) III e VII, apenas.  
e) I, II, III, IV, V, VI e VII.

## LÍNGUA PORTUGUESA

**Leia o texto e responda às próximas quatro questões.**

### Lêmures e baobás de Madagascar

Isolada do continente há 135 milhões de anos, a ilha do Oceano Índico é um laboratório natural da evolução das espécies e encanta os viajantes com uma flora e fauna única

**Madagascar** abriga 107 espécies de **lêmures**, dezenas de espécies de camaleões coloridos e outras tantas plantas que só existem lá. “Madagascar é um mundo a parte. Costumo dizer que, se Charles Darwin tivesse conhecido Madagascar, seu livro *A Origem das Espécies* seria dez vezes maior”, afirma o fotógrafo e jornalista **Haroldo Castro**, idealizador de Viajologia Expedições.

Uma das experiências mais emocionantes na quarta maior ilha do mundo é passear entre os gigantescos **baobás**, árvores que chegam a ter 30 metros de altura e mil anos de idade. Das nove espécies de baobás que existem no mundo, seis podem ser encontradas apenas em Madagascar. A majestosa árvore, considerada sagrada pelos malgaxes, é chamada localmente como “reniala”, mãe da floresta.

Na pequena cidade de Bekopaka está o Parque Nacional Tsingy de Bemaraha, considerado Patrimônio Mundial pela Unesco. Trilhas e passeios de canoa no rio Manambolo conduzem a formações rochosas calcárias inusitadas e plantas endêmicas desse ecossistema de florestas secas.



Outro momento inesquecível em Madagascar é o encontro com os lêmures nas florestas tropicais da reserva Anjozorobe-Angavo, a 90 quilômetros da capital Antananarivo. Especialistas apontam que o turismo de observação de animais é uma excelente alternativa para o desenvolvimento da economia local e pode ajudar a conter o desmatamento. “O projeto em Anjozorobe comprova que, nos últimos anos, os 9 mil visitantes contribuíram de forma concreta a reduzir a pobreza e a promover a conservação da biodiversidade”, afirma Haroldo. Como os primatas são curiosos e estão habituados aos seres humanos, eles costumam se aproximar dos visitantes. “Os bichinhos chegam a subir nas nossas cabeças e parecem adorar aparecer nas fotos.”

Madagascar possui hoje uma excelente estrutura para o turismo, com algumas estradas bem cuidadas e hotéis confortáveis localizados perto das reservas e parques ecológicos. A gastronomia malgaxe, com um toque francês, também surpreende pela diversidade de ingredientes, temperos e colorido dos pratos.

[...]

(Fonte: <http://viajeaqui.abril.com.br/materias/lemures-e-baobas-de-madagascar#2>. Acesso em 14/05/2016)

**11. Lêmures e baobás de Madagascar é um texto:**

- Em que prevalece a descrição, apresentando as belezas e peculiaridades do lugar, da fauna e da flora.
- Principalmente narrativo, de fatos colhidos durante uma viagem, que se sucedem em progressão temporal.
- Essencialmente argumentativo, o uso da descrição visa somente a convencer o leitor a visitar Madagascar.
- Dissertativo, impera o desenvolvimento de argumentos para comprovar a tese presente no primeiro parágrafo.
- Em que predomina a exposição de conceitos e definições com o intuito de informar o leitor.

**12. O teor do texto *Lêmures e baobás de Madagascar* somente não poderia se encaixar em que tópico?**

- Turismo
- Viagens
- Clima
- Natureza
- Ilhas

**13. O aposto é um termo que *explica ou esclarece, desenvolve ou resume outro termo da oração*. Quanto a isso, analise a parte grifada em cada uma das orações retiradas do texto:**

**I - A majestosa árvore, considerada sagrada pelos malgaxes, é chamada localmente como “reniala”, mãe da floresta.**

**II - afirma o fotógrafo e jornalista Haroldo Castro, idealizador de Viajologia Expedições.**

**III - Outro momento inesquecível em Madagascar é o encontro com os lêmures nas florestas tropicais da reserva Anjozorobe-Angavo, a 90 quilômetros da capital Antananarivo.**

**IV - O projeto em Anjozorobe comprova que, nos últimos anos, os 9 mil visitantes contribuíram de forma concreta a reduzir a pobreza e a promover a conservação da biodiversidade”.**

**V - A gastronomia malgaxe, com um toque francês, também surpreende pela diversidade de ingredientes, temperos e colorido dos pratos.**

Constitui aposto os grifos em:

- I, II, III, IV e V.
- I, III e V, apenas.
- III e V apenas.
- I, II, III, e V, apenas.
- III, IV e V apenas

**14. Trilhas e passeios de canoa no rio Manambolo conduzem a formações rochosas calcárias inusitadas e plantas endêmicas desse ecossistema de florestas secas.**

**Ao observar a relação sintática entre os termos desse período, pode-se afirmar que:**

- de canoa é complemento nominal de Trilhas e passeios.
- no rio Manambolo é adjunto adnominal de canoas.
- de florestas secas é complemento nominal de plantas endêmicas.
- de canoa é complemento verbal de passeios.
- a formações rochosas calcárias inusitadas e plantas endêmicas desse ecossistema de florestas secas é complemento verbal de conduzem.

**Leia o poema e responda às próximas duas questões.**

**FOGO NA MATA, MATA!**

Fogo na mata, mata! A mata, a vida...  
Fogo na mata, abre,  
no coração da mata,  
Profundas feridas.

Fogo na mata corrói,

dentro de nós, os sonhos.  
 Fogo na mata, deixa, no seio da mata,  
 Tumores tamanhos!

[...]

(Fonte: <http://www.recantodasletras.com.br/letras/505252>. Acesso em 14/05/2016)

**15. A respeito de alguns aspectos gramaticais pertinentes aos termos em destaque na frase título do poema *Fogo na mata, mata!*, está correto o que se afirma em:**

- Morfologicamente, na sequência em que as duas palavras aparecem, temos um verbo e um substantivo.
- Semanticamente, as duas palavras constituem homônimas homófonas homógrafas.
- O processo de formação da palavra “mata” (primeira ocorrência na frase) é por derivação regressiva do verbo “matar” cuja flexão na terceira pessoa vem logo em seguida na frase.
- Semanticamente, as duas palavras “mata” são parônimas.
- Semanticamente, as duas palavras constituem homônimas homógrafas heterofônicas.

**16. Com a Nova Reforma Ortográfica, foi mantido o acento nas oxítonas terminadas em -ei e -oi, como é o caso de corrói em *Fogo na mata corrói*. No entanto, de acordo ainda com a Nova Reforma, os acentos foram retirados de quais duas palavras?**

- Bocaiuva - maiúscula
- Voo, aerodromo
- Releem - feiura
- Papeis - linguíça
- Preveem - heroi

**17. Leia atentamente as alternativas e assinale a incorreta no que diz respeito à Ortografia:**

- Grafamos com j as palavras ultraje, jiboia e gorjeio; com g as palavras ferrugem, geringonça, e miragem.
- Grafamos com sc: miscelânea, obsceno e obsessão; com c: sucinto, facínio e nécio.
- Grafamos com x: xampu, mexerico e enxada; com ch: piche, tocha e mecha.
- Grafamos com z: xadrez, cicatriz e vizinho; com s: friso, pêsames e tesoura.
- Grafamos com ss: escassez, submissão e sossego; com c: acetinado, obcecado e acepção.

**18. O advérbio sublinhado e a circunstância que ele expressa não estão corretamente apresentados em:**

- Ele certamente virá para o encontro. (afirmação)
- Ali se ouvia falar de riquezas culturais. (tempo)
- O orador discursou muito bem, impressionou a plateia. (modo)
- Chegamos tarde, perdemos o ônibus. (tempo)
- Os candidatos estudaram bastante. (intensidade)

**19. Os pronomes pessoais, representantes das pessoas do discurso, estão corretamente empregados em todas as alternativas, com exceção da:**

- Sempre haverá discordância entre mim e ti.
- O juiz queria falar com nós dois.
- Minha festa de despedida, não vou esquecê-la jamais.
- Ninguém irá sem eu.
- Deram o livro para eu ler em dois dias!

**20. Em uma oração, o contexto permite concluirmos se certos verbos são de ligação, para assim identificarmos o predicado nominal. Assim, não há predicção nominal em:**

- O aluno não estava na escola hoje.
- À tarde, as crianças pareciam cansadas.
- Ultimamente os participantes do programa andam desanimados.
- A aurora boreal é um lindo espetáculo.
- As atletas parecem cansadas.

## MATEMÁTICA

**21. Numa prova de hipismo, há duas modalidades totalmente distintas: salto e rural. João vai competir nas duas modalidades. Sabendo que a vitória ou a derrota em uma nada influencia no resultado da outra, e sabendo que a probabilidade de ele ganhar a prova de salto é de 40% e a de ganhar a prova de rural é de 58%, qual a probabilidade de ele ganhar as duas provas?**

- 98%
- 62%
- 23,2%
- 18%
- 2,32%

22. Numa escola há 12 professores. A tabela a seguir mostra a carga horária diária de trabalho desses professores.

4	8	5	10	6	5	8	6	8	9	4	8
---	---	---	----	---	---	---	---	---	---	---	---

É correto afirmar que as cargas horárias média, modal e mediana desses professores são respectivamente:

- a) 6,25; 6; 7
- b) 6,5; 7; 8
- c) 6,75; 8; 6
- d) 6,75; 8; 7
- e) 6,75; 7; 8

23. Encontre a equação da reta mediatriz do segmento AB, onde A(2, 3) e B(4, -1), e assinale a alternativa correta.

- a)  $2y - x + 1 = 0$
- b)  $y - 2x + 2 = 0$
- c)  $2y - 2x + 1 = 0$
- d)  $2y + x + 2 = 0$
- e)  $2y + x - 1 = 0$

24. Uma loja acrescenta 15% no preço de seus produtos à vista se o cliente optar por pagar com um cheque para 60 dias. Comprei, nessa loja, um fogão com cheque para 60 dias e paguei R\$552,00 por ele. Qual era o preço à vista desse fogão?

- a) R\$460,00
- b) R\$469,20
- c) R\$474,50
- d) R\$480,00
- e) R\$500,00

25. Um pesquisador, ao analisar os processos que envolvem jovens com menos de 24 anos, descobriu que há 4 homens com nomes envolvidos em processos para cada mulher. Se no total ele contou 2400 pessoas, quantas eram as mulheres envolvidas nessa pesquisa?

- a) 480
- b) 600
- c) 800
- d) 1920
- e) 2000

#### INFORMÁTICA

26. Utilizando o Excel 2013, qual fórmula representa corretamente a auto soma?

- a) =SUM()
- b) =MEDIA()
- c) =MAX()
- d) =MIN()
- e) =SE()

27. Acerca de confidencialidade está incorreto afirmar:

- a) É um conceito no qual o acesso à informação deve ser concedido a quem de direito, ou seja, apenas para as entidades autorizadas pelo proprietário ou dono da informação.
- b) É uma propriedade que limita o acesso à informação tão somente às entidades legítimas, ou seja, àquelas autorizadas pelo proprietário da informação.
- c) É a propriedade da informação que não estará disponível ou será divulgada a indivíduos, entidades ou processos sem autorização.
- d) Significa garantir que a informação será conhecida por pessoas que não estejam autorizadas para tal.
- e) É a garantia do resguardo das informações dadas pessoalmente em confiança e proteção contra a sua revelação não autorizada.

28. Tratando-se de hardware de computadores, assinale a alternativa que corresponde a um tipo de memória externa.

- a) Pen Drive
- b) EPROM
- c) DIMM
- d) MRAM
- e) Cache



**29. No Word 2013, é possível utilizar vários tipos de formatação de fontes, exceto:**

- a) Tachado
- b) Negrito
- c) Centralizado
- d) Sublinhado
- e) Cor da fonte

**30. Qual software nativo do Windows utilizamos para descobrir o endereço IP do computador?**

- a) Windows Explorer
- b) Notepad
- c) Excel
- d) Word
- e) Prompt de Comando

### **CONHECIMENTOS GERAIS**

**31. Conforme fonte do IBGE, o bioma do município de Telêmaco Borba/PR é:**

- a) Mata de Pinhais e Cerrado
- b) Pantanal
- c) Caatinga e Mata Atlântica
- d) Floresta Tropical
- e) Cerrado e Mata Atlântica

**32. A letra do hino do município de Telêmaco Borba/PR é de autoria de**

- a) Bento Mossurunga.
- b) Moisés Lupion.
- c) Eloah Martins Quadrado.
- d) Graciliana Reis D´Albuquerque Mossurunga.
- e) Enéias Augusto Moracines Borba.

**33. Leia o texto sobre o Brasão de Armas do município de Telêmaco Borba/PR e marque a alternativa correta.**

**O Brasão de Armas foi aprovado em definitivo em 1981, dentro dos padrões da heráldica, estabelecendo os regulamentos para seu uso, ficando assim oficializado.**

**No Brasão de Armas, é possível identificar:**

- 1. Escudo português redondo banhado de ouro filetado de prata, carregado de cinco árvores de pinho estilizadas de sua cor, postas em banda.**
- 2. Escudete de prata carregado de três Pinheiros do Paraná, araucária angustifolia ou brasiliense.**
- 3. No timbre, coroa mural de ouro lavrado de negro.**
- 4. À direita, haste de milho (zae mays) frutada.**
- 5. À sinistra, ramos de soja (gelycine soya) granada.**
- 6. Listel amarelo ostentando o topônimo “Cidade Nova” entre as inscrições de ouro “5 de Julho de 1963”, em caracteres latino moderno.**

- a) Não é verdadeiro o item 1.
- b) Não é verdadeiro o item 2.
- c) Não é verdadeiro o item 4.
- d) Não é verdadeiro o item 6.
- e) Não são verdadeiros os itens 3 e 5.

**34. Segundo o art. 11 da Lei Orgânica do Município de Telêmaco Borba/PR, os bens públicos podem ser:**

**I. De uso comum do Povo, tais como estradas municipais, ruas, parques, praças, logradouros públicos e outros da mesma espécie;**

**II. De uso especial, os de patrimônio administrativo, tais como edifícios das repartições públicas, os terrenos e equipamentos destinados ao serviço público, veículos, matadouros, mercados e outras serventias de outra espécie;**

**III. Bens municipais, aqueles sobre os quais o município exerce os direitos de proprietário e são considerados como bens patrimoniais disponíveis;**

**IV. Bens culturais, tais como música e obras de arte.**

**Podemos afirmar que são verdadeiros os itens**

- a) I e II, apenas.
- b) II e III, apenas.
- c) I, II e III, apenas.
- d) I, III e IV, apenas.
- e) I, II, III e IV.

**35. Qual alternativa completa corretamente o texto a seguir?**

No primeiro ano de cada legislatura, no dia 1º de janeiro, em sessão de instalação, independente de número, sob a presidência do vereador mais idoso dentre os eleitos, os vereadores prestarão compromisso e tomarão posse. O Vereador que não tomar posse na sessão do dia 1º de janeiro poderá fazê-la \_\_\_\_\_ depois da primeira sessão ordinária da Legislatura.

- a) até dez dias
- b) até quinze dias
- c) até trinta dias
- d) até quarenta e cinco dias
- e) até sessenta dias

**36. Conforme o art. 54 da Lei Orgânica do Município de Telêmaco Borba/PR, o Processo Legislativo compreende a elaboração de:**

- I. Emendas à Lei Orgânica do Município;
- II. Leis complementares;
- III. Leis Ordinárias;
- IV. Decretos Legislativos;
- V. Resoluções;
- VI. Pareceres.

**Assinale a alternativa que faz a afirmação correta.**

- a) São verdadeiros apenas os itens I, III e VI.
- b) São verdadeiros apenas os itens I, III e IV.
- c) São verdadeiros apenas os itens III, IV e V.
- d) São verdadeiros apenas os itens I, II, III, IV e V.
- e) São verdadeiros os itens I, II, III, IV, V e VI.

**Com base na Lei nº 1883/2012, que dispõe sobre o Estatuto dos Servidores Públicos da Administração Direta, Autárquica e Funcional do Município de Telêmaco Borba/PR, responda às próximas quatro questões.**

**37. À luz do § 2º do art. 9º da Lei nº 1883/2012, marque a alternativa que completa a lacuna do texto a seguir.**

O concurso deverá ser homologado no prazo máximo de \_\_\_\_\_ contados da data de realização da última fase de provas, sob pena de responsabilidade da autoridade competente.

- a) um mês
- b) dois meses
- c) seis meses
- d) um ano
- e) dois anos

**38. Marque a alternativa que completa a lacuna do texto a seguir.**

O candidato terá o prazo \_\_\_\_\_, a contar da publicação oficial da convocação, para comparecer à entidade convocante e assinar termo de comparecimento.

- a) máximo de 5 dias úteis
- b) mínimo de 15 dias úteis
- c) de até 30 dias
- d) máximo de 15 dias úteis
- e) mínimo de 5 dias úteis

**39. Leia as assertivas e marque a correta.**

- a) São reservados 10% dos cargos em comissão para a nomeação de servidores do quadro efetivo.
- b) São reservados 15% dos cargos em comissão para a nomeação de servidores do quadro efetivo.
- c) São reservados 20% dos cargos em comissão para a nomeação de servidores do quadro efetivo.
- d) São reservados 25% dos cargos em comissão para a nomeação de servidores do quadro efetivo.
- e) São reservados 30% dos cargos em comissão para a nomeação de servidores do quadro efetivo.

**40. Marque a alternativa que completa a lacuna do texto a seguir.**

O servidor municipal, quando nomeado para cargo em comissão, ficará afastado de seu cargo efetivo e fará jus à remuneração prevista em lei para o comissionado, podendo optar por receber seus vencimentos acrescidos de \_\_\_\_\_ do valor da remuneração prevista para o cargo em comissão.

- a) 10%
- b) 20%
- c) 30%
- d) 40%
- e) 50%



PREFEITURA DE TELÊMACO BORBA - ESTADO DO PARANÁ - EDITAL Nº 001-2016 - CONCURSO PÚBLICO

**MATUTINO – 29/05/2016 – NÍVEL MÉDIO**

**1**

**PROVA OBJETIVA NÚMERO**

**CARGO: TMNM I - AMBIENTAL**

**Leia atentamente as INSTRUÇÕES:**

1. Confira seus dados no cartão-resposta: nome, número de inscrição e o curso para o qual se inscreveu.
2. **MARQUE no seu cartão-resposta o número da sua prova** (não será corrigido o cartão-resposta que não tiver marcado o número da prova) e **Assine** seu cartão-resposta.
3. Aguarde a autorização do Fiscal para abrir o caderno de prova. Ao receber a ordem do fiscal, confira o caderno de prova com muita atenção. Nenhuma reclamação sobre o total de questões ou falha de impressão será aceita depois de iniciada a prova.
4. O cartão-resposta não será substituído, salvo se contiver erro de impressão.
5. Preencha toda a área do cartão-resposta correspondente à alternativa de sua escolha, com caneta esferográfica (tinta azul ou preta), sem ultrapassar as bordas. As marcações duplas, ou rasuradas, com corretivo, ou marcadas diferentemente do modelo estabelecido no cartão-resposta poderão ser anuladas.
6. Sua prova tem **40** questões, com **5** alternativas.
7. Cabe apenas ao candidato a interpretação das questões, **o fiscal** não poderá fazer nenhuma interferência.
8. A prova será realizada com duração máxima de **3 (três) horas**, incluído o tempo para a realização da Prova Objetiva de múltipla escolha e o preenchimento do cartão-resposta.
9. O candidato poderá retirar-se do local de realização das provas somente **1 (uma) hora** após o seu início, sem levar o caderno de prova.
10. O candidato poderá levar o caderno de provas, assim como anotação contendo transcrição do seu cartão-resposta, somente **1h30min** (uma hora e trinta minutos) após o início da realização da prova.
11. Ao terminar a prova, o candidato deverá entregar ao fiscal de sala o cartão-resposta preenchido e **ASSINADO**.
12. Os **3 (três)** candidatos, que terminarem a prova por último, deverão permanecer na sala, e só poderão sair juntos após o fechamento do envelope, contendo os cartões-resposta dos candidatos presentes e ausentes, e assinarem no lacre do referido envelope, atestando que este foi devidamente lacrado.
13. Durante todo o tempo em que permanecer no local onde está ocorrendo o concurso, o candidato deverá, manter o celular desligado e sem bateria, só sendo permitido ligar depois de ultrapassar o portão de saída do prédio.
14. Não será permitido ao candidato fumar na sala de provas, bem como nas dependências.
15. Depois de terminar a prova e entregar ao fiscal o cartão-resposta, preenchido e assinado, não será mais permitido ao candidato o uso do banheiro e bebedouro.

**BOA PROVA!**

**LÍNGUA PORTUGUESA**

Leia o texto e responda às próximas quatro questões.

**Lêmures e baobás de Madagascar**

Isolada do continente há 135 milhões de anos, a ilha do Oceano Índico é um laboratório natural da evolução das espécies e encanta os viajantes com uma flora e fauna única

**Madagascar** abriga 107 espécies de **lêmures**, dezenas de espécies de camaleões coloridos e outras tantas plantas que só existem lá. “Madagascar é um mundo a parte. Costumo dizer que, se Charles Darwin tivesse conhecido Madagascar, seu livro *A Origem das Espécies* seria dez vezes maior”, afirma o fotógrafo e jornalista **Haroldo Castro**, idealizador de Viajologia Expedições.

Uma das experiências mais emocionantes na quarta maior ilha do mundo é passear entre os gigantes **baobás**, árvores que chegam a ter 30 metros de altura e mil anos de idade. Das nove espécies de baobás que existem no mundo, seis podem ser encontradas apenas em Madagascar. A majestosa árvore, considerada sagrada pelos malgaxes, é chamada localmente como “reniala”, mãe da floresta.

Na pequena cidade de Bekopaka está o Parque Nacional Tsingy de Bemaraha, considerado Patrimônio Mundial pela Unesco. Trilhas e passeios de canoa no rio Manambolo conduzem a formações rochosas calcárias inusitadas e plantas endêmicas desse ecossistema de florestas secas.

Outro momento inesquecível em Madagascar é o encontro com os lêmures nas florestas tropicais da reserva Anjozorobe-Angavo, a 90 quilômetros da capital Antananarivo. Especialistas apontam que o turismo de observação de animais é uma excelente alternativa para o desenvolvimento da economia local e pode ajudar a conter o desmatamento. “O projeto em Anjozorobe comprova que, nos últimos anos, os 9 mil visitantes contribuíram de forma concreta a reduzir a pobreza e a promover a conservação da biodiversidade”, afirma Haroldo. Como os primatas são curiosos e estão habituados aos seres humanos, eles costumam se aproximar dos visitantes. “Os bichinhos chegam a subir nas nossas cabeças e parecem adorar aparecer nas fotos.”

Madagascar possui hoje uma excelente estrutura para o turismo, com algumas estradas bem cuidadas e hotéis confortáveis localizados perto das reservas e parques ecológicos. A gastronomia malgaxe, com um toque francês, também surpreende pela diversidade de ingredientes, temperos e colorido dos pratos.

[...]

(Fonte: <http://viajeaqui.abril.com.br/materias/lemures-e-baobas-de-madagascar#2>. Acesso em 14/05/2016)

**01. Lêmures e baobás de Madagascar é um texto:**

- Em que prevalece a descrição, apresentando as belezas e peculiaridades do lugar, da fauna e da flora.
- Principalmente narrativo, de fatos colhidos durante uma viagem, que se sucedem em progressão temporal.
- Essencialmente argumentativo, o uso da descrição visa somente a convencer o leitor a visitar Madagascar.
- Dissertativo, impera o desenvolvimento de argumentos para comprovar a tese presente no primeiro parágrafo.
- Em que predomina a exposição de conceitos e definições com o intuito de informar o leitor.

**02. O teor do texto *Lêmures e baobás de Madagascar* somente não poderia se encaixar em que tópico?**

- Turismo
- Viagens
- Clima
- Natureza
- Ilhas

**03. O aposto é um termo que *explica ou esclarece, desenvolve ou resume outro termo da oração*. Quanto a isso, analise a parte grifada em cada uma das orações retiradas do texto:**

**I - A majestosa árvore, considerada sagrada pelos malgaxes, é chamada localmente como “reniala”, mãe da floresta.**

**II - afirma o fotógrafo e jornalista Haroldo Castro, idealizador de Viajologia Expedições.**

**III - Outro momento inesquecível em Madagascar é o encontro com os lêmures nas florestas tropicais da reserva Anjozorobe-Angavo, a 90 quilômetros da capital Antananarivo.**

**IV - O projeto em Anjozorobe comprova que, nos últimos anos, os 9 mil visitantes contribuíram de forma concreta a reduzir a pobreza e a promover a conservação da biodiversidade”.**

**V - A gastronomia malgaxe, com um toque francês, também surpreende pela diversidade de ingredientes, temperos e colorido dos pratos.**

**Constitui aposto os grifos em:**

a) I, II, III, IV e V.

b) I, III e V, apenas.

c) III e V apenas.

d) I, II, III, e V, apenas.

e) III, IV e V apenas

**04. Trilhas e passeios de canoa no rio Manambolo conduzem a formações rochosas calcárias inusitadas e plantas endêmicas desse ecossistema de florestas secas.**

**Ao observar a relação sintática entre os termos desse período, pode-se afirmar que:**

a) de canoa é complemento nominal de Trilhas e passeios.

b) no rio Manambolo é adjunto adnominal de canoas.

c) de florestas secas é complemento nominal de plantas endêmicas.

d) de canoa é complemento verbal de passeios.

e) a formações rochosas calcárias inusitadas e plantas endêmicas desse ecossistema de florestas secas é complemento verbal de conduzem.

**Leia o poema e responda às próximas duas questões.**

### **FOGO NA MATA, MATA!**

Fogo na mata, mata! A mata, a vida...

Fogo na mata, abre,  
no coração da mata,  
Profundas feridas.

Fogo na mata corrói,  
dentro de nós, os sonhos.

Fogo na mata, deixa, no seio da mata,  
Tumores tamanhos!

[...]

(Fonte: <http://www.recantodasletras.com.br/letras/505252>. Acesso em 14/05/2016)

**05. A respeito de alguns aspectos gramaticais pertinentes aos termos em destaque na frase título do poema Fogo na mata, mata!, está correto o que se afirma em:**

a) Morfologicamente, na sequência em que as duas palavras aparecem, temos um verbo e um substantivo.

b) Semanticamente, as duas palavras constituem homônimas homófonas homógrafas.

c) O processo de formação da palavra “mata” (primeira ocorrência na frase) é por derivação regressiva do verbo “matar” cuja flexão na terceira pessoa vem logo em seguida na frase.

d) Semanticamente, as duas palavras “mata” são parônimas.

e) Semanticamente, as duas palavras constituem homônimas homógrafas heterofônicas.

**06. Com a Nova Reforma Ortográfica, foi mantido o acento nas oxítonas terminadas em -ei e -oi, como é o caso de corrói em Fogo na mata corrói. No entanto, de acordo ainda com a Nova Reforma, os acentos foram retirados de quais duas palavras?**

a) Bocaiuva - maiúscula

b) Voo, aerodromo

c) Releem - feiura

d) Papeis - linguíça

e) Preveem - heroi

**07. Leia atentamente as alternativas e assinale a incorreta no que diz respeito à Ortografia:**

a) Grafamos com j as palavras ultraje, jiboia e gorjeio; com g as palavras ferrugem, geringonça, e miragem.

b) Grafamos com sc: miscelânea, obsceno e obscensão; com c: sucinto, facínio e nécio.

c) Grafamos com x: xampu, mexerico e enxada; com ch: piche, tocha e mecha.

d) Grafamos com z: xadrez, cicatriz e vizinho; com s: friso, pêsames e tesoura.

e) Grafamos com ss: escassez, submissão e sossego; com c: acetinado, obcecado e acepção.



**08. O advérbio sublinhado e a circunstância que ele expressa não estão corretamente apresentados em:**

- a) Ele certamente virá para o encontro. (afirmação)
- b) Ali se ouvia falar de riquezas culturais. (tempo)
- c) O orador discursou muito bem, impressionou a plateia. (modo)
- d) Chegamos tarde, perdemos o ônibus. (tempo)
- e) Os candidatos estudaram bastante. (intensidade)

**09. Os pronomes pessoais, representantes das pessoas do discurso, estão corretamente empregados em todas as alternativas, com exceção da:**

- a) Sempre haverá discordância entre mim e ti.
- b) O juiz queria falar com nós dois.
- c) Minha festa de despedida, não vou esquecê-la jamais.
- d) Ninguém irá sem eu.
- e) Deram o livro para eu ler em dois dias!

**10. Em uma oração, o contexto permite concluirmos se certos verbos são de ligação, para assim identificarmos o predicado nominal. Assim, não há predicção nominal em:**

- a) O aluno não estava na escola hoje.
- b) À tarde, as crianças pareciam cansadas.
- c) Ultimamente os participantes do programa andam desanimados.
- e) A aurora boreal é um lindo espetáculo.
- d) As atletas parecem cansadas.

### MATEMÁTICA

**11. Numa prova de hipismo, há duas modalidades totalmente distintas: salto e rural. João vai competir nas duas modalidades. Sabendo que a vitória ou a derrota em uma nada influencia no resultado da outra, e sabendo que a probabilidade de ele ganhar a prova de salto é de 40% e a de ganhar a prova de rural é de 58%, qual a probabilidade de ele ganhar as duas provas?**

- a) 98%
- b) 62%
- c) 23,2%
- d) 18%
- e) 2,32%

**12. Numa escola há 12 professores. A tabela a seguir mostra a carga horária diária de trabalho desses professores.**

4	8	5	10	6	5	8	6	8	9	4	8
---	---	---	----	---	---	---	---	---	---	---	---

**É correto afirmar que as cargas horárias média, modal e mediana desses professores são respectivamente:**

- a) 6,25; 6; 7
- b) 6,5; 7; 8
- c) 6,75; 8; 6
- d) 6,75; 8; 7
- e) 6,75; 7; 8

**13. Encontre a equação da reta mediatriz do segmento AB, onde A(2, 3) e B(4, -1), e assinale a alternativa correta.**

- a)  $2y - x + 1 = 0$
- b)  $y - 2x + 2 = 0$
- c)  $2y - 2x + 1 = 0$
- d)  $2y + x + 2 = 0$
- e)  $2y + x - 1 = 0$

**14. Uma loja acrescenta 15% no preço de seus produtos à vista se o cliente optar por pagar com um cheque para 60 dias. Comprei, nessa loja, um fogão com cheque para 60 dias e paguei R\$552,00 por ele. Qual era o preço à vista desse fogão?**

- a) R\$460,00
- b) R\$469,20
- c) R\$474,50
- d) R\$480,00
- e) R\$500,00



**15. Um pesquisador, ao analisar os processos que envolvem jovens com menos de 24 anos, descobriu que há 4 homens com nomes envolvidos em processos para cada mulher. Se no total ele contou 2400 pessoas, quantas eram as mulheres envolvidas nessa pesquisa?**

- a) 480
- b) 600
- c) 800
- d) 1920
- e) 2000

#### **INFORMÁTICA**

**16. Utilizando o Excel 2013, qual fórmula representa corretamente a auto soma?**

- a) =SUM()
- b) =MEDIA()
- c) =MAX()
- d) =MIN()
- e) =SE()

**17. Acerca de confidencialidade está incorreto afirmar:**

- a) É um conceito no qual o acesso à informação deve ser concedido a quem de direito, ou seja, apenas para as entidades autorizadas pelo proprietário ou dono da informação.
- b) É uma propriedade que limita o acesso à informação tão somente às entidades legítimas, ou seja, àquelas autorizadas pelo proprietário da informação.
- c) É a propriedade da informação que não estará disponível ou será divulgada a indivíduos, entidades ou processos sem autorização.
- d) Significa garantir que a informação será conhecida por pessoas que não estejam autorizadas para tal.
- e) É a garantia do resguardo das informações dadas pessoalmente em confiança e proteção contra a sua revelação não autorizada.

**18. Tratando-se de hardware de computadores, assinale a alternativa que corresponde a um tipo de memória externa.**

- a) Pen Drive
- b) EPROM
- c) DIMM
- d) MRAM
- e) Cache

**19. No Word 2013, é possível utilizar vários tipos de formatação de fontes, exceto:**

- a) Tachado
- b) Negrito
- c) Centralizado
- d) Sublinhado
- e) Cor da fonte

**20. Qual software nativo do Windows utilizamos para descobrir o endereço IP do computador?**

- a) Windows Explorer
- b) Notepad
- c) Excel
- d) Word
- e) Prompt de Comando

#### **CONHECIMENTOS GERAIS**

**21. Conforme fonte do IBGE, o bioma do município de Telêmaco Borba/PR é:**

- a) Mata de Pinhais e Cerrado
- b) Pantanal
- c) Caatinga e Mata Atlântica
- d) Floresta Tropical
- e) Cerrado e Mata Atlântica

**22. A letra do hino do município de Telêmaco Borba/PR é de autoria de**

- a) Bento Mossurunga.
- b) Moisés Lupion.
- c) Eloah Martins Quadrado.
- d) Graciliana Reis D'Albuquerque Mossurunga.
- e) Enéias Augusto Moracines Borba.



**23. Leia o texto sobre o Brasão de Armas do município de Telêmaco Borba/PR e marque a alternativa correta.**

O Brasão de Armas foi aprovado em definitivo em 1981, dentro dos padrões da heráldica, estabelecendo os regulamentos para seu uso, ficando assim oficializado.

No Brasão de Armas, é possível identificar:

1. Escudo português redondo banhado de ouro filetado de prata, carregado de cinco árvores de pinho estilizadas de sua cor, postas em banda.
2. Escudete de prata carregado de três Pinheiros do Paraná, araucária angustifolia ou brasiliense.
3. No timbre, coroa mural de ouro lavrado de negro.
4. À destra, haste de milho (zae mays) frutada.
5. À sinistra, ramos de soja (gelycine soya) granada.
6. Listel amarelo ostentando o topônimo "Cidade Nova" entre as inscrições de ouro "5 de Julho de 1963", em caracteres latino moderno.

- a) Não é verdadeiro o item 1.
- b) Não é verdadeiro o item 2.
- c) Não é verdadeiro o item 4.
- d) Não é verdadeiro o item 6.
- e) Não são verdadeiros os itens 3 e 5.

**24. Segundo o art. 11 da Lei Orgânica do Município de Telêmaco Borba/PR, os bens públicos podem ser:**

**I. De uso comum do Povo, tais como estradas municipais, ruas, parques, praças, logradouros públicos e outros da mesma espécie;**

**II. De uso especial, os de patrimônio administrativo, tais como edifícios das repartições públicas, os terrenos e equipamentos destinados ao serviço público, veículos, matadouros, mercados e outras serventias de outra espécie;**

**III. Bens municipais, aqueles sobre os quais o município exerce os direitos de proprietário e são considerados como bens patrimoniais disponíveis;**

**IV. Bens culturais, tais como música e obras de arte.**

**Podemos afirmar que são verdadeiros os itens**

- a) I e II, apenas.
- b) II e III, apenas.
- c) I, II e III, apenas.
- d) I, III e IV, apenas.
- e) I, II, III e IV.

**25. Qual alternativa completa corretamente o texto a seguir?**

No primeiro ano de cada legislatura, no dia 1º de janeiro, em sessão de instalação, independente de número, sob a presidência do vereador mais idoso dentre os eleitos, os vereadores prestarão compromisso e tomarão posse. O Vereador que não tomar posse na sessão do dia 1º de janeiro poderá fazê-la \_\_\_\_\_ depois da primeira sessão ordinária da Legislatura.

- a) até dez dias
- b) até quinze dias
- c) até trinta dias
- d) até quarenta e cinco dias
- e) até sessenta dias

**26. Conforme o art. 54 da Lei Orgânica do Município de Telêmaco Borba/PR, o Processo Legislativo compreende a elaboração de:**

**I. Emendas à Lei Orgânica do Município;**

**II. Leis complementares;**

**III. Leis Ordinárias;**

**IV. Decretos Legislativos;**

**V. Resoluções;**

**VI. Pareceres.**

**Assinale a alternativa que faz a afirmação correta.**

- a) São verdadeiros apenas os itens I, III e VI.
- b) São verdadeiros apenas os itens I, III e IV.
- c) São verdadeiros apenas os itens III, IV e V.
- d) São verdadeiros apenas os itens I, II, III, IV e V.
- e) São verdadeiros os itens I, II, III, IV, V e VI.

**Com base na Lei nº 1883/2012, que dispõe sobre o Estatuto dos Servidores Públicos da Administração Direta, Autárquica e Funcional do Município de Telêmaco Borba/PR, responda às próximas quatro questões.**

27. À luz do § 2º do art. 9º da Lei nº 1883/2012, marque a alternativa que completa a lacuna do texto a seguir.

O concurso deverá ser homologado no prazo máximo de \_\_\_\_\_ contados da data de realização da última fase de provas, sob pena de responsabilidade da autoridade competente.

- a) um mês
- b) dois meses
- c) seis meses
- d) um ano
- e) dois anos

28. Marque a alternativa que completa a lacuna do texto a seguir.

O candidato terá o prazo \_\_\_\_\_, a contar da publicação oficial da convocação, para comparecer à entidade convocante e assinar termo de comparecimento.

- a) máximo de 5 dias úteis
- b) mínimo de 15 dias úteis
- c) de até 30 dias
- d) máximo de 15 dias úteis
- e) mínimo de 5 dias úteis

29. Leia as assertivas e marque a correta.

- a) São reservados 10% dos cargos em comissão para a nomeação de servidores do quadro efetivo.
- b) São reservados 15% dos cargos em comissão para a nomeação de servidores do quadro efetivo.
- c) São reservados 20% dos cargos em comissão para a nomeação de servidores do quadro efetivo.
- d) São reservados 25% dos cargos em comissão para a nomeação de servidores do quadro efetivo.
- e) São reservados 30% dos cargos em comissão para a nomeação de servidores do quadro efetivo.

30. Marque a alternativa que completa a lacuna do texto a seguir.

O servidor municipal, quando nomeado para cargo em comissão, ficará afastado de seu cargo efetivo e fará jus à remuneração prevista em lei para o comissionado, podendo optar por receber seus vencimentos acrescidos de \_\_\_\_\_ do valor da remuneração prevista para o cargo em comissão.

- a) 10%
- b) 20%
- c) 30%
- d) 40%
- e) 50%

### CONHECIMENTOS ESPECÍFICOS

À luz do Código Florestal Brasileiro, atualmente regulamentado pela Lei 12.651, de 25 de maio de 2012, responda às próximas cinco questões.

31. O Brasil tem compromisso soberano com a preservação das suas florestas e demais formas de vegetação nativa, bem como da biodiversidade, do solo, dos recursos hídricos e da integridade do sistema climático, para o bem estar das gerações presentes e futuras. Encontramos no Código Florestal Brasileiro algumas definições:

**I - Amazônia Legal:** os Estados do Acre, Pará, Amazonas, Roraima, Rondônia, Amapá e Mato Grosso e as regiões situadas ao norte do paralelo 13° S, dos Estados de Tocantins e Goiás, e ao oeste do meridiano de 44° W, do Estado do Maranhão;

**II - Área de Preservação Permanente - APP:** área protegida, coberta ou não por vegetação nativa, com a função ambiental de preservar os recursos hídricos, a paisagem, a estabilidade geológica e a biodiversidade, facilitar o fluxo gênico de fauna e flora, proteger o solo e assegurar o bem-estar das populações humanas;

**III - Reserva Legal:** área localizada no interior de uma propriedade ou posse rural, delimitada nos termos do art. 12, com a função de assegurar o uso econômico de modo sustentável dos recursos naturais do imóvel rural, auxiliar a conservação e a reabilitação dos processos ecológicos e promover a conservação da biodiversidade, bem como o abrigo e a proteção de fauna silvestre e da flora nativa;

**IV – Área rural consolidada:** área de imóvel rural com ocupação antrópica preexistente a 22 de julho de 2008, com edificações, benfeitorias ou atividades agrossilvipastoris, admitida, neste último caso, a adoção do regime de pousio.

Após a análise do exposto, podemos afirmar que:

- a) Os itens I, II, III e IV estão corretos.
- b) Apenas os itens II, III e IV estão corretos.
- c) Apenas os itens I e IV estão corretos.
- d) Apenas os itens I e II estão corretos.
- e) O único item correto é o I.

**32. São sujeitos à apresentação de Estudo Prévio de Impacto Ambiental - EPIA e Relatório de Impacto Ambiental - RIMA os novos empreendimentos:**

( ) Com área superior a 50 (cinquenta) hectares, vedada a fragmentação do projeto para ocultar ou camuflar seu porte.

( ) Com área de até 50 (cinquenta) hectares, se potencialmente causadores de significativa degradação do meio ambiente.

( ) Localizados em região com adensamento de empreendimentos de carcinicultura ou salinas cujo impacto afete áreas comuns.

Considerando cada item com (C) para Certo ou (E) para errado, a alternativa correta é:

- a) E – C – C
- b) C – E – E
- c) E – E – C
- d) C – C – C
- e) C – C – E

**33. A Zona Costeira é patrimônio nacional, nos termos do § 4º do art. 225 da Constituição Federal, devendo sua ocupação e exploração dar-se de modo ecologicamente sustentável. Os apicuns e salgados podem ser utilizados em atividades de carcinicultura e salinas, desde que observados alguns requisitos, de acordo com o artigo 11 do Código Florestal:**

**I - Área total ocupada em cada Estado não superior a 10% (dez por cento) dessa modalidade de fitofisionomia no bioma amazônico e a 35% (trinta e cinco por cento) no restante do País, excluídas as ocupações consolidadas que atendam ao disposto no § 6º do artigo 11 do Código Florestal.**

**II - Salvaguarda da absoluta integridade dos manguezais arbustivos e dos processos ecológicos essenciais a eles associados, bem como da sua produtividade biológica e condição de berçário de recursos pesqueiros.**

**III - Licenciamento da atividade e das instalações pelo órgão ambiental estadual, cientificado o Instituto Brasileiro do Meio Ambiente e dos Recursos Naturais Renováveis - IBAMA e, no caso de uso de terrenos de marinha ou outros bens da União, realizada regularização prévia da titulação perante a União.**

**IV - Recolhimento, tratamento e disposição adequados dos efluentes e resíduos.**

**V - Garantia da manutenção da qualidade da água e do solo, respeitadas as Áreas de Preservação Permanente.**

**VI - Respeito às atividades tradicionais de sobrevivência das comunidades locais.**

Diante ao exposto, assinale a alternativa correta:

- a) Está correto apenas o item V.
- b) Está correto apenas o item I.
- c) Estão corretos apenas os itens I, II e IV.
- d) Estão corretos apenas os itens III, V e VI.
- e) Estão corretos os itens I, II, III, IV, V e VI.

**34. Preencha a lacuna e assinale a alternativa correta, de acordo com o artigo 11 (que diz respeito à Zona Costeira, apicuns e salgados, bem como o uso ecologicamente sustentável), § 2º:**

“A licença ambiental, na hipótese deste artigo, será de \_\_\_\_\_, renovável apenas se o empreendedor cumprir as exigências da legislação ambiental e do próprio licenciamento, mediante comprovação anual, inclusive por mídia fotográfica.”

- a) 2 (dois) anos
- b) 3 (três) anos
- c) 4 (quatro) anos
- d) 5 (cinco) anos
- e) 6 (seis) anos

**35. Todo imóvel rural deve manter área com cobertura de vegetação nativa, a título de Reserva Legal, sem prejuízo da aplicação das normas, sobre as Áreas de Preservação Permanente, observados os seguintes percentuais mínimos em relação à área do imóvel: Se localizado na Amazônia Legal: a) 80% (oitenta por cento), no imóvel situado em área de florestas; b) 35% (trinta e cinco por cento), no imóvel situado em área de cerrado; c) 20% (vinte por cento), no imóvel situado em área de campos gerais.**

**Se localizado nas demais regiões do País:**

- a) 20% (vinte por cento)
- b) 30% (trinta por cento)
- c) 35 (trinta e cinco por cento)
- d) 40 (quarenta por cento)
- e) 45 (quarenta e cinco por cento)

**36. A logística reversa é um instrumento da Política Nacional de Resíduos Sólidos (Lei nº 12.305/2010) que corresponde a um:**

- a) Processo de transformação dos resíduos sólidos que envolve a alteração de suas propriedades físicas, físico-químicas ou biológicas, com vistas à transformação em insumos ou novos produtos.
- b) Conjunto de ações para viabilizar a coleta e a restituição dos resíduos sólidos ao setor empresarial, para reaproveitamento, em seu ciclo ou em outros ciclos produtivos, ou outra destinação final ambientalmente adequada.
- c) Conjunto de ações voltadas para a busca de soluções para os resíduos sólidos, de forma a considerar as dimensões política, econômica, ambiental, cultural e social, com controle social e sob a premissa do desenvolvimento sustentável.
- d) Conjunto de atribuições individualizadas e encadeadas dos fabricantes, importadores, distribuidores e comerciantes, dos consumidores e dos titulares dos serviços públicos de limpeza urbana e de manejo dos resíduos sólidos, para minimizar o volume de resíduos sólidos e rejeitos gerados, bem como para reduzir os impactos causados à saúde humana e à qualidade ambiental decorrentes do ciclo de vida dos produtos.
- e) Processo de aproveitamento dos resíduos sólidos sem sua transformação biológica, física ou físico-química.

**37. Dentre as formas de tratamento e destinação final ambientalmente adequada dos Resíduos Sólidos, podemos citar, exceto:**

- a) Compostagem  
 b) Incineração  
 c) Aterro sanitário  
 d) Reciclagem  
 e) Coleta seletiva

**38. A grande diversidade de atividades industriais ocasiona, durante o processo produtivo, a geração de efluentes, os quais podem poluir/contaminar o solo e a água, sendo necessário realizar o seu adequado tratamento antes da disposição final no meio ambiente. As Estações de Tratamento de Efluentes são indicadas para o tratamento desses poluentes, que pode ser realizado por processos físicos, químicos e biológicos.**

**Diante disso, analise as afirmativas seguintes com relação à Figura 1:**

**I – A letra “b” representa o processo do tipo químico, pois utiliza produtos químicos em seu processo e consegue remover os poluentes por meio de reações.**

**II – O processo representado pela letra “a” é do tipo biológico e remove a matéria orgânica dissolvida e em suspensão e transforma em sólidos sedimentáveis e gases.**

**III – Letra “a” - podem ser usados processos anaeróbios para o tratamento, como por exemplo, lodos ativados, aeração prolongada, lagoas aeradas facultativas, entre outros.**

**IV - A letra “c” representa o processo do tipo físico e é aplicado para remover os sólidos em suspensão sedimentáveis e flutuantes através de separações físicas.**

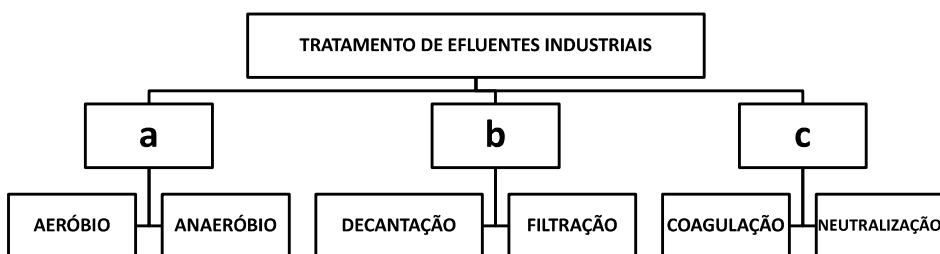


Figura 1. Organograma das classes de tratamento de efluentes industriais.

**Quais afirmativas estão corretas?**

- a) Apenas a I.  
 b) Apenas a II.  
 c) Apenas a III.  
 d) Apenas I e IV.  
 e) Apenas II e III.

**39. A recuperação de áreas degradadas está intimamente ligada à ciência da restauração ecológica. Diante disso, assinale a alternativa incorreta:**

- a) A regeneração natural, o plantio direto e a implantação de espécies arbustivo-arbóreas nativas regionais são algumas das técnicas que podem ser utilizadas para a recuperação de áreas degradadas.
- b) A restauração tem por objetivo conduzir o ecossistema à sua condição original.
- c) Área degradada é aquela que sofreu distúrbio e pode manter, ainda, a possibilidade de regenerar-se naturalmente ou estabilizar-se em outra condição, também dinamicamente estável.



- d) Resiliência é a capacidade de um ecossistema em se recuperar de flutuações internas provocadas por distúrbios naturais ou antrópicos.
- e) A recuperação da área visa a “restituição de um ecossistema ou de uma população silvestre degradada a uma condição não degradada, que pode ser diferente de sua condição original”.

**40. A área que abrange a mata ciliar é considerada pelo Código Florestal Federal como APP – “área de preservação permanente”, e possui diversas funções ambientais, devendo possuir uma extensão específica a ser preservada de acordo com a largura do rio, lago, represa ou nascente. São funções da mata ciliar, exceto:**

- a) Funciona como proteção, auxiliando para reduzir o aparecimento de pragas e doenças nas lavouras e outros prejuízos econômicos às propriedades rurais.
- b) A mata ciliar possui grande importância na manutenção de boa qualidade da água, pois atuam na proteção física das margens dos rios, córregos e lagos e funcionam como filtros biológicos.
- c) A conservação dessas áreas naturais possibilita que as espécies, tanto da flora, quanto da fauna, possam se deslocar, reproduzir e garantir a biodiversidade da região.
- d) A mata ciliar é uma proteção natural contra o assoreamento dos rios.
- e) A mata ciliar faz com que a água da chuva escoe sobre a superfície, ou seja, aumenta o escoamento superficial e a infiltração, diminuindo assim o armazenamento no lençol freático.

**RASCUNHO**





PREFEITURA DE TELÊMACO BORBA - ESTADO DO PARANÁ - EDITAL Nº 001-2016 - CONCURSO PÚBLICO

**MATUTINO – 29/05/2016 – NÍVEL MÉDIO**

**2**

**PROVA OBJETIVA NÚMERO**

**CARGO: TMNM I - AMBIENTAL**

**Leia atentamente as INSTRUÇÕES:**

1. Confira seus dados no cartão-resposta: nome, número de inscrição e o curso para o qual se inscreveu.
2. **MARQUE no seu cartão-resposta o número da sua prova** (não será corrigido o cartão-resposta que não tiver marcado o número da prova) e **Assine** seu cartão-resposta.
3. Aguarde a autorização do Fiscal para abrir o caderno de prova. Ao receber a ordem do fiscal, confira o caderno de prova com muita atenção. Nenhuma reclamação sobre o total de questões ou falha de impressão será aceita depois de iniciada a prova.
4. O cartão-resposta não será substituído, salvo se contiver erro de impressão.
5. Preencha toda a área do cartão-resposta correspondente à alternativa de sua escolha, com caneta esferográfica (tinta azul ou preta), sem ultrapassar as bordas. As marcações duplas, ou rasuradas, com corretivo, ou marcadas diferentemente do modelo estabelecido no cartão-resposta poderão ser anuladas.
6. Sua prova tem **40** questões, com **5** alternativas.
7. Cabe apenas ao candidato a interpretação das questões, **o fiscal** não poderá fazer nenhuma interferência.
8. A prova será realizada com duração máxima de **3 (três) horas**, incluído o tempo para a realização da Prova Objetiva de múltipla escolha e o preenchimento do cartão-resposta.
9. O candidato poderá retirar-se do local de realização das provas somente **1 (uma) hora** após o seu início, sem levar o caderno de prova.
10. O candidato poderá levar o caderno de provas, assim como anotação contendo transcrição do seu cartão-resposta, somente **1h30min** (uma hora e trinta minutos) após o início da realização da prova.
11. Ao terminar a prova, o candidato deverá entregar ao fiscal de sala o cartão-resposta preenchido e **ASSINADO**.
12. Os **3 (três)** candidatos, que terminarem a prova por último, deverão permanecer na sala, e só poderão sair juntos após o fechamento do envelope, contendo os cartões-resposta dos candidatos presentes e ausentes, e assinarem no lacre do referido envelope, atestando que este foi devidamente lacrado.
13. Durante todo o tempo em que permanecer no local onde está ocorrendo o concurso, o candidato deverá, manter o celular desligado e sem bateria, só sendo permitido ligar depois de ultrapassar o portão de saída do prédio.
14. Não será permitido ao candidato fumar na sala de provas, bem como nas dependências.
15. Depois de terminar a prova e entregar ao fiscal o cartão-resposta, preenchido e assinado, não será mais permitido ao candidato o uso do banheiro e bebedouro.

**BOA PROVA!**

**MATEMÁTICA**

**01.** Numa prova de hipismo, há duas modalidades totalmente distintas: salto e rural. João vai competir nas duas modalidades. Sabendo que a vitória ou a derrota em uma nada influencia no resultado da outra, e sabendo que a probabilidade de ele ganhar a prova de salto é de 40% e a de ganhar a prova de rural é de 58%, qual a probabilidade de ele ganhar as duas provas?

- a) 98%
- b) 62%
- c) 23,2%
- d) 18%
- e) 2,32%

**02.** Numa escola há 12 professores. A tabela a seguir mostra a carga horária diária de trabalho desses professores.

4	8	5	10	6	5	8	6	8	9	4	8
---	---	---	----	---	---	---	---	---	---	---	---

É correto afirmar que as cargas horárias média, modal e mediana desses professores são respectivamente:

- a) 6,25; 6; 7
- b) 6,5; 7; 8
- c) 6,75; 8; 6
- d) 6,75; 8; 7
- e) 6,75; 7; 8

**03.** Encontre a equação da reta mediatriz do segmento AB, onde A(2, 3) e B(4, -1), e assinale a alternativa correta.

- a)  $2y - x + 1 = 0$
- b)  $y - 2x + 2 = 0$
- c)  $2y - 2x + 1 = 0$
- d)  $2y + x + 2 = 0$
- e)  $2y + x - 1 = 0$

**04.** Uma loja acrescenta 15% no preço de seus produtos à vista se o cliente optar por pagar com um cheque para 60 dias. Comprei, nessa loja, um fogão com cheque para 60 dias e paguei R\$552,00 por ele. Qual era o preço à vista desse fogão?

- a) R\$460,00
- b) R\$469,20
- c) R\$474,50
- d) R\$480,00
- e) R\$500,00

**05.** Um pesquisador, ao analisar os processos que envolvem jovens com menos de 24 anos, descobriu que há 4 homens com nomes envolvidos em processos para cada mulher. Se no total ele contou 2400 pessoas, quantas eram as mulheres envolvidas nessa pesquisa?

- a) 480
- b) 600
- c) 800
- d) 1920
- e) 2000

**INFORMÁTICA**

**06.** Utilizando o Excel 2013, qual fórmula representa corretamente a auto soma?

- a) =SUM()
- b) =MEDIA()
- c) =MAX()
- d) =MIN()
- e) =SE()

**07.** Acerca de confidencialidade está incorreto afirmar:

- a) É um conceito no qual o acesso à informação deve ser concedido a quem de direito, ou seja, apenas para as entidades autorizadas pelo proprietário ou dono da informação.
- b) É uma propriedade que limita o acesso à informação tão somente às entidades legítimas, ou seja, àquelas autorizadas pelo proprietário da informação.
- c) É a propriedade da informação que não estará disponível ou será divulgada a indivíduos, entidades ou processos sem autorização.
- d) Significa garantir que a informação será conhecida por pessoas que não estejam autorizadas para tal.



e) É a garantia do resguardo das informações dadas pessoalmente em confiança e proteção contra a sua revelação não autorizada.

**08. Tratando-se de hardware de computadores, assinale a alternativa que corresponde a um tipo de memória externa.**

- a) Pen Drive
- b) EPROM
- c) DIMM
- d) MRAM
- e) Cache

**09. No Word 2013, é possível utilizar vários tipos de formatação de fontes, exceto:**

- a) Tachado
- b) Negrito
- c) Centralizado
- d) Sublinhado
- e) Cor da fonte

**10. Qual software nativo do Windows utilizamos para descobrir o endereço IP do computador?**

- a) Windows Explorer
- b) Notepad
- c) Excel
- d) Word
- e) Prompt de Comando

#### **CONHECIMENTOS GERAIS**

**11. Conforme fonte do IBGE, o bioma do município de Telêmaco Borba/PR é:**

- a) Mata de Pinhais e Cerrado
- b) Pantanal
- c) Caatinga e Mata Atlântica
- d) Floresta Tropical
- e) Cerrado e Mata Atlântica

**12. A letra do hino do município de Telêmaco Borba/PR é de autoria de**

- a) Bento Mossurunga.
- b) Moisés Lupion.
- c) Eloah Martins Quadrado.
- d) Graciliana Reis D'Albuquerque Mossurunga.
- e) Enéias Augusto Moracines Borba.

**13. Leia o texto sobre o Brasão de Armas do município de Telêmaco Borba/PR e marque a alternativa correta.**

**O Brasão de Armas foi aprovado em definitivo em 1981, dentro dos padrões da heráldica, estabelecendo os regulamentos para seu uso, ficando assim oficializado.**

**No Brasão de Armas, é possível identificar:**

- 1. Escudo português redondo banhado de ouro filetado de prata, carregado de cinco árvores de pinho estilizadas de sua cor, postas em banda.**
- 2. Escudete de prata carregado de três Pinheiros do Paraná, araucária angustifolia ou brasiliense.**
- 3. No timbre, coroa mural de ouro lavrado de negro.**
- 4. À direita, haste de milho (zae mays) frutada.**
- 5. À sinistra, ramos de soja (gelycine soya) granada.**
- 6. Listel amarelo ostentando o topônimo "Cidade Nova" entre as inscrições de ouro "5 de Julho de 1963", em caracteres latino moderno.**

- a) Não é verdadeiro o item 1.
- b) Não é verdadeiro o item 2.
- c) Não é verdadeiro o item 4.
- d) Não é verdadeiro o item 6.
- e) Não são verdadeiros os itens 3 e 5.

**14. Segundo o art. 11 da Lei Orgânica do Município de Telêmaco Borba/PR, os bens públicos podem ser:**

**I. De uso comum do Povo, tais como estradas municipais, ruas, parques, praças, logradouros públicos e outros da mesma espécie;**

**II. De uso especial, os de patrimônio administrativo, tais como edifícios das repartições públicas, os terrenos e equipamentos destinados ao serviço público, veículos, matadouros, mercados e outras serventias de outra espécie;**



**III. Bens municipais, aqueles sobre os quais o município exerce os direitos de proprietário e são considerados como bens patrimoniais disponíveis;**

**IV. Bens culturais, tais como música e obras de arte.**

**Podemos afirmar que são verdadeiros os itens**

- a) I e II, apenas.
- b) II e III, apenas.
- c) I, II e III, apenas.
- d) I, III e IV, apenas.
- e) I, II, III e IV.

**15. Qual alternativa completa corretamente o texto a seguir?**

**No primeiro ano de cada legislatura, no dia 1º de janeiro, em sessão de instalação, independente de número, sob a presidência do vereador mais idoso dentre os eleitos, os vereadores prestarão compromisso e tomarão posse. O Vereador que não tomar posse na sessão do dia 1º de janeiro poderá fazê-la \_\_\_\_\_ depois da primeira sessão ordinária da Legislatura.**

- a) até dez dias
- b) até quinze dias
- c) até trinta dias
- d) até quarenta e cinco dias
- e) até sessenta dias

**16. Conforme o art. 54 da Lei Orgânica do Município de Telêmaco Borba/PR, o Processo Legislativo compreende a elaboração de:**

**I. Emendas à Lei Orgânica do Município;**

**II. Leis complementares;**

**III. Leis Ordinárias;**

**IV. Decretos Legislativos;**

**V. Resoluções;**

**VI. Pareceres.**

**Assinale a alternativa que faz a afirmação correta.**

- a) São verdadeiros apenas os itens I, III e VI.
- b) São verdadeiros apenas os itens I, III e IV.
- c) São verdadeiros apenas os itens III, IV e V.
- d) São verdadeiros apenas os itens I, II, III, IV e V.
- e) São verdadeiros os itens I, II, III, IV, V e VI.

**Com base na Lei nº 1883/2012, que dispõe sobre o Estatuto dos Servidores Públicos da Administração Direta, Autárquica e Funcional do Município de Telêmaco Borba/PR, responda às próximas quatro questões.**

**17. À luz do § 2º do art. 9º da Lei nº 1883/2012, marque a alternativa que completa a lacuna do texto a seguir.**

**O concurso deverá ser homologado no prazo máximo de \_\_\_\_\_ contados da data de realização da última fase de provas, sob pena de responsabilidade da autoridade competente.**

- a) um mês
- b) dois meses
- c) seis meses
- d) um ano
- e) dois anos

**18. Marque a alternativa que completa a lacuna do texto a seguir.**

**O candidato terá o prazo \_\_\_\_\_, a contar da publicação oficial da convocação, para comparecer à entidade convocante e assinar termo de comparecimento.**

- a) máximo de 5 dias úteis
- b) mínimo de 15 dias úteis
- c) de até 30 dias
- d) máximo de 15 dias úteis
- e) mínimo de 5 dias úteis

**19. Leia as assertivas e marque a correta.**

- a) São reservados 10% dos cargos em comissão para a nomeação de servidores do quadro efetivo.
- b) São reservados 15% dos cargos em comissão para a nomeação de servidores do quadro efetivo.
- c) São reservados 20% dos cargos em comissão para a nomeação de servidores do quadro efetivo.
- d) São reservados 25% dos cargos em comissão para a nomeação de servidores do quadro efetivo.
- e) São reservados 30% dos cargos em comissão para a nomeação de servidores do quadro efetivo.

20. Marque a alternativa que completa a lacuna do texto a seguir.

O servidor municipal, quando nomeado para cargo em comissão, ficará afastado de seu cargo efetivo e fará jus à remuneração prevista em lei para o comissionado, podendo optar por receber seus vencimentos acrescidos de \_\_\_\_\_ do valor da remuneração prevista para o cargo em comissão.

- a) 10%
- b) 20%
- c) 30%
- d) 40%
- e) 50%

#### CONHECIMENTOS ESPECÍFICOS

À luz do Código Florestal Brasileiro, atualmente regulamentado pela Lei 12.651, de 25 de maio de 2012, responda às próximas cinco questões.

21. O Brasil tem compromisso soberano com a preservação das suas florestas e demais formas de vegetação nativa, bem como da biodiversidade, do solo, dos recursos hídricos e da integridade do sistema climático, para o bem estar das gerações presentes e futuras. Encontramos no Código Florestal Brasileiro algumas definições:

**I - Amazônia Legal:** os Estados do Acre, Pará, Amazonas, Roraima, Rondônia, Amapá e Mato Grosso e as regiões situadas ao norte do paralelo 13° S, dos Estados de Tocantins e Goiás, e ao oeste do meridiano de 44° W, do Estado do Maranhão;

**II - Área de Preservação Permanente - APP:** área protegida, coberta ou não por vegetação nativa, com a função ambiental de preservar os recursos hídricos, a paisagem, a estabilidade geológica e a biodiversidade, facilitar o fluxo gênico de fauna e flora, proteger o solo e assegurar o bem-estar das populações humanas;

**III - Reserva Legal:** área localizada no interior de uma propriedade ou posse rural, delimitada nos termos do art. 12, com a função de assegurar o uso econômico de modo sustentável dos recursos naturais do imóvel rural, auxiliar a conservação e a reabilitação dos processos ecológicos e promover a conservação da biodiversidade, bem como o abrigo e a proteção de fauna silvestre e da flora nativa;

**IV - Área rural consolidada:** área de imóvel rural com ocupação antrópica preexistente a 22 de julho de 2008, com edificações, benfeitorias ou atividades agrossilvipastoris, admitida, neste último caso, a adoção do regime de posuio.

Após a análise do exposto, podemos afirmar que:

- a) Os itens I, II, III e IV estão corretos.
- b) Apenas os itens II, III e IV estão corretos.
- c) Apenas os itens I e IV estão corretos.
- d) Apenas os itens I e II estão corretos.
- e) O único item correto é o I.

22. São sujeitos à apresentação de Estudo Prévio de Impacto Ambiental - EPIA e Relatório de Impacto Ambiental - RIMA os novos empreendimentos:

( ) Com área superior a 50 (cinquenta) hectares, vedada a fragmentação do projeto para ocultar ou camuflar seu porte.

( ) Com área de até 50 (cinquenta) hectares, se potencialmente causadores de significativa degradação do meio ambiente.

( ) Localizados em região com adensamento de empreendimentos de carcinicultura ou salinas cujo impacto afete áreas comuns.

Considerando cada item com (C) para Certo ou (E) para errado, a alternativa correta é:

- a) E - C - C
- b) C - E - E
- c) E - E - C
- d) C - C - C
- e) C - C - E

23. A Zona Costeira é patrimônio nacional, nos termos do § 4º do art. 225 da Constituição Federal, devendo sua ocupação e exploração dar-se de modo ecologicamente sustentável. Os apicuns e salgados podem ser utilizados em atividades de carcinicultura e salinas, desde que observados alguns requisitos, de acordo com o artigo 11 do Código Florestal:

**I - Área total ocupada em cada Estado não superior a 10% (dez por cento) dessa modalidade de fitofisionomia no bioma amazônico e a 35% (trinta e cinco por cento) no restante do País, excluídas as ocupações consolidadas que atendam ao disposto no § 6º do artigo 11 do Código Florestal.**

**II - Salvaguarda da absoluta integridade dos manguezais arbustivos e dos processos ecológicos essenciais a eles associados, bem como da sua produtividade biológica e condição de berçário de recursos pesqueiros.**

**III - Licenciamento da atividade e das instalações pelo órgão ambiental estadual, cientificado o Instituto Brasileiro do Meio Ambiente e dos Recursos Naturais Renováveis - IBAMA e, no caso de uso de terrenos de marinha ou outros bens da União, realizada regularização prévia da titulação perante a União.**

**IV - Recolhimento, tratamento e disposição adequados dos efluentes e resíduos.**

**V - Garantia da manutenção da qualidade da água e do solo, respeitadas as Áreas de Preservação Permanente.**

**VI - Respeito às atividades tradicionais de sobrevivência das comunidades locais.**

**Diante ao exposto, assinale a alternativa correta:**

- a) Está correto apenas o item V.
- b) Está correto apenas o item I.
- c) Estão corretos apenas os itens I, II e IV.
- d) Estão corretos apenas os itens III, V e VI.
- e) Estão corretos os itens I, II, III, IV, V e VI.

**24. Preencha a lacuna e assinale a alternativa correta, de acordo com o artigo 11 (que diz respeito à Zona Costeira, apincuns e salgados, bem como o uso ecologicamente sustentável), § 2º:**

**“A licença ambiental, na hipótese deste artigo, será de \_\_\_\_\_, renovável apenas se o empreendedor cumprir as exigências da legislação ambiental e do próprio licenciamento, mediante comprovação anual, inclusive por mídia fotográfica.”**

- a) 2 (dois) anos
- b) 3 (três) anos
- c) 4 (quatro) anos
- d) 5 (cinco) anos
- e) 6 (seis) anos

**25. Todo imóvel rural deve manter área com cobertura de vegetação nativa, a título de Reserva Legal, sem prejuízo da aplicação das normas, sobre as Áreas de Preservação Permanente, observados os seguintes percentuais mínimos em relação à área do imóvel: Se localizado na Amazônia Legal: a) 80% (oitenta por cento), no imóvel situado em área de florestas; b) 35% (trinta e cinco por cento), no imóvel situado em área de cerrado; c) 20% (vinte por cento), no imóvel situado em área de campos gerais.**

**Se localizado nas demais regiões do País:**

- a) 20% (vinte por cento)
- b) 30% (trinta por cento)
- c) 35 (trinta e cinco por cento)
- d) 40 (quarenta por cento)
- e) 45 (quarenta e cinco por cento)

**26. A logística reversa é um instrumento da Política Nacional de Resíduos Sólidos (Lei nº 12.305/2010) que corresponde a um:**

- a) Processo de transformação dos resíduos sólidos que envolve a alteração de suas propriedades físicas, físico-químicas ou biológicas, com vistas à transformação em insumos ou novos produtos.
- b) Conjunto de ações para viabilizar a coleta e a restituição dos resíduos sólidos ao setor empresarial, para reaproveitamento, em seu ciclo ou em outros ciclos produtivos, ou outra destinação final ambientalmente adequada.
- c) Conjunto de ações voltadas para a busca de soluções para os resíduos sólidos, de forma a considerar as dimensões política, econômica, ambiental, cultural e social, com controle social e sob a premissa do desenvolvimento sustentável.
- d) Conjunto de atribuições individualizadas e encadeadas dos fabricantes, importadores, distribuidores e comerciantes, dos consumidores e dos titulares dos serviços públicos de limpeza urbana e de manejo dos resíduos sólidos, para minimizar o volume de resíduos sólidos e rejeitos gerados, bem como para reduzir os impactos causados à saúde humana e à qualidade ambiental decorrentes do ciclo de vida dos produtos.
- e) Processo de aproveitamento dos resíduos sólidos sem sua transformação biológica, física ou físico-química.

**27. Dentre as formas de tratamento e destinação final ambientalmente adequada dos Resíduos Sólidos, podemos citar, exceto:**

- a) Compostagem
- b) Incineração
- c) Aterro sanitário
- d) Reciclagem
- e) Coleta seletiva

**28. A grande diversidade de atividades industriais ocasiona, durante o processo produtivo, a geração de efluentes, os quais podem poluir/contaminar o solo e a água, sendo necessário realizar o seu adequado tratamento antes da disposição final no meio ambiente. As Estações de Tratamento de Efluentes são**



indicadas para o tratamento desses poluentes, que pode ser realizado por processos físicos, químicos e biológicos.

Diante disso, analise as afirmativas seguintes com relação à Figura 1:

**I – A letra “b” representa o processo do tipo químico, pois utiliza produtos químicos em seu processo e consegue remover os poluentes por meio de reações.**

**II – O processo representado pela letra “a” é do tipo biológico e remove a matéria orgânica dissolvida e em suspensão e transforma em sólidos sedimentáveis e gases.**

**III – Letra “a” - podem ser usados processos anaeróbios para o tratamento, como por exemplo, lodos ativados, aeração prolongada, lagoas aeradas facultativas, entre outros.**

**IV - A letra “c” representa o processo do tipo físico e é aplicado para remover os sólidos em suspensão sedimentáveis e flutuantes através de separações físicas.**

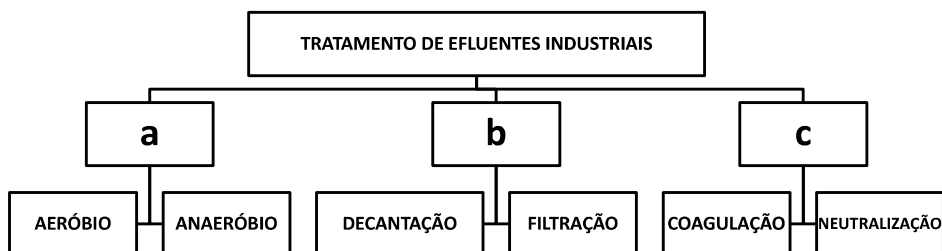


Figura 1. Organograma das classes de tratamento de efluentes industriais.

**Quais afirmativas estão corretas?**

- Apenas a I.
- Apenas a II.
- Apenas a III.
- Apenas I e IV.
- Apenas II e III.

**29. A recuperação de áreas degradadas está intimamente ligada à ciência da restauração ecológica. Diante disso, assinale a alternativa incorreta:**

- A regeneração natural, o plantio direto e a implantação de espécies arbustivo-arbóreas nativas regionais são algumas das técnicas que podem ser utilizadas para a recuperação de áreas degradadas.
- A restauração tem por objetivo conduzir o ecossistema à sua condição original.
- Área degradada é aquela que sofreu distúrbio e pode manter, ainda, a possibilidade de regenerar-se naturalmente ou estabilizar-se em outra condição, também dinamicamente estável.
- Resiliência é a capacidade de um ecossistema em se recuperar de flutuações internas provocadas por distúrbios naturais ou antrópicos.
- A recuperação da área visa a “restituição de um ecossistema ou de uma população silvestre degradada a uma condição não degradada, que pode ser diferente de sua condição original”.

**30. A área que abrange a mata ciliar é considerada pelo Código Florestal Federal como APP – “área de preservação permanente”, e possui diversas funções ambientais, devendo possuir uma extensão específica a ser preservada de acordo com a largura do rio, lago, represa ou nascente. São funções da mata ciliar, exceto:**

- Funciona como proteção, auxiliando para reduzir o aparecimento de pragas e doenças nas lavouras e outros prejuízos econômicos às propriedades rurais.
- A mata ciliar possui grande importância na manutenção de boa qualidade da água, pois atuam na proteção física das margens dos rios, córregos e lagos e funcionam como filtros biológicos.
- A conservação dessas áreas naturais possibilita que as espécies, tanto da flora, quanto da fauna, possam se deslocar, reproduzir e garantir a biodiversidade da região.
- A mata ciliar é uma proteção natural contra o assoreamento dos rios.
- A mata ciliar faz com que a água da chuva escoe sobre a superfície, ou seja, aumenta o escoamento superficial e a infiltração, diminuindo assim o armazenamento no lençol freático.

## LÍNGUA PORTUGUESA

Leia o texto e responda às próximas quatro questões.

### Lêmures e baobás de Madagascar

Isolada do continente há 135 milhões de anos, a ilha do Oceano Índico é um laboratório natural da evolução das espécies e encanta os viajantes com uma flora e fauna única

**Madagascar** abriga 107 espécies de **lêmures**, dezenas de espécies de camaleões coloridos e outras tantas plantas que só existem lá. “Madagascar é um mundo a parte. Costumo dizer que, se Charles Darwin tivesse conhecido Madagascar, seu livro *A Origem das Espécies* seria dez vezes maior”, afirma o fotógrafo e jornalista **Haroldo Castro**, idealizador de Viajologia Expedições.

Uma das experiências mais emocionantes na quarta maior ilha do mundo é passear entre os gigantes **baobás**, árvores que chegam a ter 30 metros de altura e mil anos de idade. Das nove espécies de baobás que existem no mundo, seis podem ser encontradas apenas em Madagascar. A majestosa árvore, considerada sagrada pelos malgaxes, é chamada localmente como “reniala”, mãe da floresta.

Na pequena cidade de Bekopaka está o Parque Nacional Tsingy de Bemaraha, considerado Patrimônio Mundial pela Unesco. Trilhas e passeios de canoa no rio Manambolo conduzem a formações rochosas calcárias inusitadas e plantas endêmicas desse ecossistema de florestas secas.

Outro momento inesquecível em Madagascar é o encontro com os lêmures nas florestas tropicais da reserva Anjozorobe-Angavo, a 90 quilômetros da capital Antananarivo. Especialistas apontam que o turismo de observação de animais é uma excelente alternativa para o desenvolvimento da economia local e pode ajudar a conter o desmatamento. “O projeto em Anjozorobe comprova que, nos últimos anos, os 9 mil visitantes contribuíram de forma concreta a reduzir a pobreza e a promover a conservação da biodiversidade”, afirma Haroldo. Como os primatas são curiosos e estão habituados aos seres humanos, eles costumam se aproximar dos visitantes. “Os bichinhos chegam a subir nas nossas cabeças e parecem adorar aparecer nas fotos.”

Madagascar possui hoje uma excelente estrutura para o turismo, com algumas estradas bem cuidadas e hotéis confortáveis localizados perto das reservas e parques ecológicos. A gastronomia malgaxe, com um toque francês, também surpreende pela diversidade de ingredientes, temperos e colorido dos pratos.

[...]

(Fonte: <http://viajeaqui.abril.com.br/materias/lemures-e-baobas-de-madagascar#2>. Acesso em 14/05/2016)

#### 31. *Lêmures e baobás de Madagascar* é um texto:

- Em que prevalece a descrição, apresentando as belezas e peculiaridades do lugar, da fauna e da flora.
- Principalmente narrativo, de fatos colhidos durante uma viagem, que se sucedem em progressão temporal.
- Essencialmente argumentativo, o uso da descrição visa somente a convencer o leitor a visitar Madagascar.
- Dissertativo, impera o desenvolvimento de argumentos para comprovar a tese presente no primeiro parágrafo.
- Em que predomina a exposição de conceitos e definições com o intuito de informar o leitor.

#### 32. O teor do texto *Lêmures e baobás de Madagascar* somente não poderia se encaixar em que tópico?

- Turismo
- Viagens
- Clima
- Natureza
- Ilhas

#### 33. O aposto é um termo que *explica ou esclarece, desenvolve ou resume outro termo da oração*. Quanto a isso, analise a parte grifada em cada uma das orações retiradas do texto:

**I - A majestosa árvore, considerada sagrada pelos malgaxes, é chamada localmente como “reniala”, mãe da floresta.**

**II - afirma o fotógrafo e jornalista Haroldo Castro, idealizador de Viajologia Expedições.**

**III - Outro momento inesquecível em Madagascar é o encontro com os lêmures nas florestas tropicais da reserva Anjozorobe-Angavo, a 90 quilômetros da capital Antananarivo.**

**IV - O projeto em Anjozorobe comprova que, nos últimos anos, os 9 mil visitantes contribuíram de forma concreta a reduzir a pobreza e a promover a conservação da biodiversidade”.**

**V - A gastronomia malgaxe, com um toque francês, também surpreende pela diversidade de ingredientes, temperos e colorido dos pratos.**

Constitui aposto os grifos em:

- I, II, III, IV e V.
- I, III e V, apenas.
- III e V apenas.
- I, II, III, e V, apenas.
- III, IV e V apenas

#### 34. *Trilhas e passeios de canoa no rio Manambolo conduzem a formações rochosas calcárias inusitadas e plantas endêmicas desse ecossistema de florestas secas.*

Ao observar a relação sintática entre os termos desse período, pode-se afirmar que:

- de canoa é complemento nominal de Trilhas e passeios.



- b) no rio Manambolo é adjunto adnominal de canoa.  
 c) de florestas secas é complemento nominal de plantas endêmicas.  
 d) de canoa é complemento verbal de passeios.  
 e) a formações rochosas calcárias inusitadas e plantas endêmicas desse ecossistema de florestas secas é complemento verbal de conduzem.

Leia o poema e responda às próximas duas questões.

### FOGO NA MATA, MATA!

Fogo na mata, mata! A mata, a vida...  
 Fogo na mata, abre,  
 no coração da mata,  
 Profundas feridas.

Fogo na mata corrói,  
 dentro de nós, os sonhos.  
 Fogo na mata, deixa, no seio da mata,  
 Tumores tamanhos!

[...]

(Fonte: <http://www.recantodasletras.com.br/letras/505252>. Acesso em 14/05/2016)

**35. A respeito de alguns aspectos gramaticais pertinentes aos termos em destaque na frase título do poema *Fogo na mata, mata!*, está correto o que se afirma em:**

- Morfologicamente, na sequência em que as duas palavras aparecem, temos um verbo e um substantivo.
- Semanticamente, as duas palavras constituem homônimas homófonas homógrafas.
- O processo de formação da palavra “mata” (primeira ocorrência na frase) é por derivação regressiva do verbo “matar” cuja flexão na terceira pessoa vem logo em seguida na frase.
- Semanticamente, as duas palavras “mata” são parônimas.
- Semanticamente, as duas palavras constituem homônimas homógrafas heterofônicas.

**36. Com a Nova Reforma Ortográfica, foi mantido o acento nas oxítonas terminadas em -ei e -oi, como é o caso de corrói em *Fogo na mata corrói*. No entanto, de acordo ainda com a Nova Reforma, os acentos foram retirados de quais duas palavras?**

- Bocaiuva - maiúscula
- Voo, aerodromo
- Releem - feiura
- Papeis - linguíça
- Preveem - herói

**37. Leia atentamente as alternativas e assinale a incorreta no que diz respeito à Ortografia:**

- Grafamos com j as palavras ultraje, jiboia e gorjeio; com g as palavras ferrugem, geringonça, e miragem.
- Grafamos com sc: miscelânea, obsceno e obsessão; com c: sucinto, facínio e nécio.
- Grafamos com x: xampu, mexerico e enxada; com ch: piche, tocha e mecha.
- Grafamos com z: xadrez, cicatriz e vizinho; com s: friso, pêsames e tesoura.
- Grafamos com ss: escassez, submissão e sossego; com c: acetinado, obcecado e acepção.

**38. O advérbio sublinhado e a circunstância que ele expressa não estão corretamente apresentados em:**

- Ele certamente virá para o encontro. (afirmação)
- Ali se ouvia falar de riquezas culturais. (tempo)
- O orador discursou muito bem, impressionou a plateia. (modo)
- Chegamos tarde, perdemos o ônibus. (tempo)
- Os candidatos estudaram bastante. (intensidade)

**39. Os pronomes pessoais, representantes das pessoas do discurso, estão corretamente empregados em todas as alternativas, com exceção da:**

- Sempre haverá discordância entre mim e ti.
- O juiz queria falar com nós dois.
- Minha festa de despedida, não vou esquecê-la jamais.
- Ninguém irá sem eu.
- Deram o livro para eu ler em dois dias!

**40. Em uma oração, o contexto permite concluirmos se certos verbos são de ligação, para assim identificarmos o predicado nominal. Assim, não há predicado nominal em:**



- a) O aluno não estava na escola hoje.
- b) À tarde, as crianças pareciam cansadas.
- c) Ultimamente os participantes do programa andam desanimados.
- e) A aurora boreal é um lindo espetáculo.
- d) As atletas parecem cansadas.

**RASCUNHO**



PREFEITURA DE TELÊMACO BORBA - ESTADO DO PARANÁ - EDITAL Nº 001-2016 - CONCURSO PÚBLICO

**MATUTINO – 29/05/2016 – NÍVEL MÉDIO**

**3**

PROVA OBJETIVA NÚMERO

**CARGO: TMNM I - AMBIENTAL**

**Leia atentamente as INSTRUÇÕES:**

1. Confira seus dados no cartão-resposta: nome, número de inscrição e o curso para o qual se inscreveu.
2. **MARQUE no seu cartão-resposta o número da sua prova** (não será corrigido o cartão-resposta que não tiver marcado o número da prova) e **Assine** seu cartão-resposta.
3. Aguarde a autorização do Fiscal para abrir o caderno de prova. Ao receber a ordem do fiscal, confira o caderno de prova com muita atenção. Nenhuma reclamação sobre o total de questões ou falha de impressão será aceita depois de iniciada a prova.
4. O cartão-resposta não será substituído, salvo se contiver erro de impressão.
5. Preencha toda a área do cartão-resposta correspondente à alternativa de sua escolha, com caneta esferográfica (tinta azul ou preta), sem ultrapassar as bordas. As marcações duplas, ou rasuradas, com corretivo, ou marcadas diferentemente do modelo estabelecido no cartão-resposta poderão ser anuladas.
6. Sua prova tem **40** questões, com **5** alternativas.
7. Cabe apenas ao candidato a interpretação das questões, **o fiscal** não poderá fazer nenhuma interferência.
8. A prova será realizada com duração máxima de **3 (três) horas**, incluído o tempo para a realização da Prova Objetiva de múltipla escolha e o preenchimento do cartão-resposta.
9. O candidato poderá retirar-se do local de realização das provas somente **1 (uma) hora** após o seu início, sem levar o caderno de prova.
10. O candidato poderá levar o caderno de provas, assim como anotação contendo transcrição do seu cartão-resposta, somente **1h30min** (uma hora e trinta minutos) após o início da realização da prova.
11. Ao terminar a prova, o candidato deverá entregar ao fiscal de sala o cartão-resposta preenchido e **ASSINADO**.
12. Os **3 (três)** candidatos, que terminarem a prova por último, deverão permanecer na sala, e só poderão sair juntos após o fechamento do envelope, contendo os cartões-resposta dos candidatos presentes e ausentes, e assinarem no lacre do referido envelope, atestando que este foi devidamente lacrado.
13. Durante todo o tempo em que permanecer no local onde está ocorrendo o concurso, o candidato deverá, manter o celular desligado e sem bateria, só sendo permitido ligar depois de ultrapassar o portão de saída do prédio.
14. Não será permitido ao candidato fumar na sala de provas, bem como nas dependências.
15. Depois de terminar a prova e entregar ao fiscal o cartão-resposta, preenchido e assinado, não será mais permitido ao candidato o uso do banheiro e bebedouro.

**BOA PROVA!**

**CONHECIMENTOS ESPECÍFICOS**

À luz do Código Florestal Brasileiro, atualmente regulamentado pela Lei 12.651, de 25 de maio de 2012, responda às próximas cinco questões.

**01. O Brasil tem compromisso soberano com a preservação das suas florestas e demais formas de vegetação nativa, bem como da biodiversidade, do solo, dos recursos hídricos e da integridade do sistema climático, para o bem estar das gerações presentes e futuras. Encontramos no Código Florestal Brasileiro algumas definições:**

**I - Amazônia Legal:** os Estados do Acre, Pará, Amazonas, Roraima, Rondônia, Amapá e Mato Grosso e as regiões situadas ao norte do paralelo 13° S, dos Estados de Tocantins e Goiás, e ao oeste do meridiano de 44° W, do Estado do Maranhão;

**II - Área de Preservação Permanente - APP:** área protegida, coberta ou não por vegetação nativa, com a função ambiental de preservar os recursos hídricos, a paisagem, a estabilidade geológica e a biodiversidade, facilitar o fluxo gênico de fauna e flora, proteger o solo e assegurar o bem-estar das populações humanas;

**III - Reserva Legal:** área localizada no interior de uma propriedade ou posse rural, delimitada nos termos do art. 12, com a função de assegurar o uso econômico de modo sustentável dos recursos naturais do imóvel rural, auxiliar a conservação e a reabilitação dos processos ecológicos e promover a conservação da biodiversidade, bem como o abrigo e a proteção de fauna silvestre e da flora nativa;

**IV – Área rural consolidada:** área de imóvel rural com ocupação antrópica preexistente a 22 de julho de 2008, com edificações, benfeitorias ou atividades agrossilvipastoris, admitida, neste último caso, a adoção do regime de posuio.

**Após a análise do exposto, podemos afirmar que:**

- a) Os itens I, II, III e IV estão corretos.
- b) Apenas os itens II, III e IV estão corretos.
- c) Apenas os itens I e IV estão corretos.
- d) Apenas os itens I e II estão corretos.
- e) O único item correto é o I.

**02. São sujeitos à apresentação de Estudo Prévio de Impacto Ambiental - EPIA e Relatório de Impacto Ambiental - RIMA os novos empreendimentos:**

Com área superior a 50 (cinquenta) hectares, vedada a fragmentação do projeto para ocultar ou camuflar seu porte.

Com área de até 50 (cinquenta) hectares, se potencialmente causadores de significativa degradação do meio ambiente.

Localizados em região com adensamento de empreendimentos de carcinicultura ou salinas cujo impacto afete áreas comuns.

**Considerando cada item com (C) para Certo ou (E) para errado, a alternativa correta é:**

- a) E – C – C
- b) C – E – E
- c) E – E – C
- d) C – C – C
- e) C – C – E

**03. A Zona Costeira é patrimônio nacional, nos termos do § 4º do art. 225 da Constituição Federal, devendo sua ocupação e exploração dar-se de modo ecologicamente sustentável. Os apicuns e salgados podem ser utilizados em atividades de carcinicultura e salinas, desde que observados alguns requisitos, de acordo com o artigo 11 do Código Florestal:**

**I - Área total ocupada em cada Estado não superior a 10% (dez por cento) dessa modalidade de fitofisionomia no bioma amazônico e a 35% (trinta e cinco por cento) no restante do País, excluídas as ocupações consolidadas que atendam ao disposto no § 6º do artigo 11 do Código Florestal.**

**II - Salvaguarda da absoluta integridade dos manguezais arbustivos e dos processos ecológicos essenciais a eles associados, bem como da sua produtividade biológica e condição de berçário de recursos pesqueiros.**

**III - Licenciamento da atividade e das instalações pelo órgão ambiental estadual, cientificado o Instituto Brasileiro do Meio Ambiente e dos Recursos Naturais Renováveis - IBAMA e, no caso de uso de terrenos de marinha ou outros bens da União, realizada regularização prévia da titulação perante a União.**

**IV - Recolhimento, tratamento e disposição adequados dos efluentes e resíduos.**

**V - Garantia da manutenção da qualidade da água e do solo, respeitadas as Áreas de Preservação Permanente.**

**VI - Respeito às atividades tradicionais de sobrevivência das comunidades locais.**

**Diante ao exposto, assinale a alternativa correta:**

- a) Está correto apenas o item V.
- b) Está correto apenas o item I.
- c) Estão corretos apenas os itens I, II e IV.



- d) Estão corretos apenas os itens III, V e VI.  
e) Estão corretos os itens I, II, III, IV, V e VI.

**04. Preencha a lacuna e assinale a alternativa correta, de acordo com o artigo 11 (que diz respeito à Zona Costeira, apincuns e salgados, bem como o uso ecologicamente sustentável), § 2º:**

“A licença ambiental, na hipótese deste artigo, será de \_\_\_\_\_, renovável apenas se o empreendedor cumprir as exigências da legislação ambiental e do próprio licenciamento, mediante comprovação anual, inclusive por mídia fotográfica.”

- a) 2 (dois) anos  
b) 3 (três) anos  
c) 4 (quatro) anos  
d) 5 (cinco) anos  
e) 6 (seis) anos

**05. Todo imóvel rural deve manter área com cobertura de vegetação nativa, a título de Reserva Legal, sem prejuízo da aplicação das normas, sobre as Áreas de Preservação Permanente, observados os seguintes percentuais mínimos em relação à área do imóvel: Se localizado na Amazônia Legal: a) 80% (oitenta por cento), no imóvel situado em área de florestas; b) 35% (trinta e cinco por cento), no imóvel situado em área de cerrado; c) 20% (vinte por cento), no imóvel situado em área de campos gerais.**

**Se localizado nas demais regiões do País:**

- a) 20% (vinte por cento)  
b) 30% (trinta por cento)  
c) 35 (trinta e cinco por cento)  
d) 40 (quarenta por cento)  
e) 45 (quarenta e cinco por cento)

**06. A logística reversa é um instrumento da Política Nacional de Resíduos Sólidos (Lei nº 12.305/2010) que corresponde a um:**

- a) Processo de transformação dos resíduos sólidos que envolve a alteração de suas propriedades físicas, físico-químicas ou biológicas, com vistas à transformação em insumos ou novos produtos.  
b) Conjunto de ações para viabilizar a coleta e a restituição dos resíduos sólidos ao setor empresarial, para reaproveitamento, em seu ciclo ou em outros ciclos produtivos, ou outra destinação final ambientalmente adequada.  
c) Conjunto de ações voltadas para a busca de soluções para os resíduos sólidos, de forma a considerar as dimensões política, econômica, ambiental, cultural e social, com controle social e sob a premissa do desenvolvimento sustentável.  
d) Conjunto de atribuições individualizadas e encadeadas dos fabricantes, importadores, distribuidores e comerciantes, dos consumidores e dos titulares dos serviços públicos de limpeza urbana e de manejo dos resíduos sólidos, para minimizar o volume de resíduos sólidos e rejeitos gerados, bem como para reduzir os impactos causados à saúde humana e à qualidade ambiental decorrentes do ciclo de vida dos produtos.  
e) Processo de aproveitamento dos resíduos sólidos sem sua transformação biológica, física ou físico-química.

**07. Dentre as formas de tratamento e destinação final ambientalmente adequada dos Resíduos Sólidos, podemos citar, exceto:**

- a) Compostagem  
b) Incineração  
c) Aterro sanitário  
d) Reciclagem  
e) Coleta seletiva

**08. A grande diversidade de atividades industriais ocasiona, durante o processo produtivo, a geração de efluentes, os quais podem poluir/contaminar o solo e a água, sendo necessário realizar o seu adequado tratamento antes da disposição final no meio ambiente. As Estações de Tratamento de Efluentes são indicadas para o tratamento desses poluentes, que pode ser realizado por processos físicos, químicos e biológicos.**

**Diante disso, analise as afirmativas seguintes com relação à Figura 1:**

**I – A letra “b” representa o processo do tipo químico, pois utiliza produtos químicos em seu processo e consegue remover os poluentes por meio de reações.**

**II – O processo representado pela letra “a” é do tipo biológico e remove a matéria orgânica dissolvida e em suspensão e transforma em sólidos sedimentáveis e gases.**

**III – Letra “a” - podem ser usados processos anaeróbios para o tratamento, como por exemplo, lodos ativados, aeração prolongada, lagoas aeradas facultativas, entre outros.**

**IV - A letra “c” representa o processo do tipo físico e é aplicado para remover os sólidos em suspensão sedimentáveis e flutuantes através de separações físicas.**

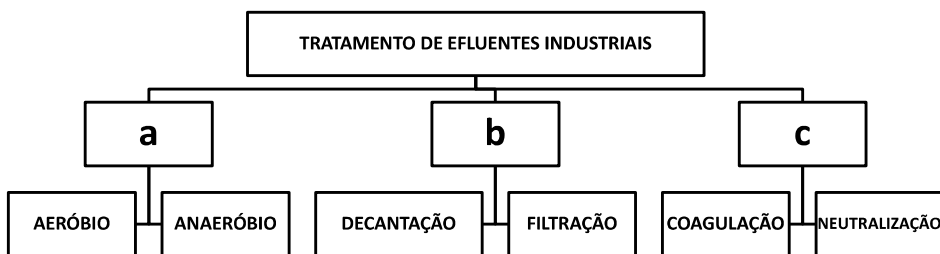


Figura 1. Organograma das classes de tratamento de efluentes industriais.

### Quais afirmativas estão corretas?

- Apenas a I.
- Apenas a II.
- Apenas a III.
- Apenas I e IV.
- Apenas II e III.

### 09. A recuperação de áreas degradadas está intimamente ligada à ciência da restauração ecológica. Diante disso, assinale a alternativa incorreta:

- A regeneração natural, o plantio direto e a implantação de espécies arbustivo-arbóreas nativas regionais são algumas das técnicas que podem ser utilizadas para a recuperação de áreas degradadas.
- A restauração tem por objetivo conduzir o ecossistema à sua condição original.
- Área degradada é aquela que sofreu distúrbio e pode manter, ainda, a possibilidade de regenerar-se naturalmente ou estabilizar-se em outra condição, também dinamicamente estável.
- Resiliência é a capacidade de um ecossistema em se recuperar de flutuações internas provocadas por distúrbios naturais ou antrópicos.
- A recuperação da área visa a “restituição de um ecossistema ou de uma população silvestre degradada a uma condição não degradada, que pode ser diferente de sua condição original”.

### 10. A área que abrange a mata ciliar é considerada pelo Código Florestal Federal como APP – “área de preservação permanente”, e possui diversas funções ambientais, devendo possuir uma extensão específica a ser preservada de acordo com a largura do rio, lago, represa ou nascente. São funções da mata ciliar, exceto:

- Funciona como proteção, auxiliando para reduzir o aparecimento de pragas e doenças nas lavouras e outros prejuízos econômicos às propriedades rurais.
- A mata ciliar possui grande importância na manutenção de boa qualidade da água, pois atuam na proteção física das margens dos rios, córregos e lagos e funcionam como filtros biológicos.
- A conservação dessas áreas naturais possibilita que as espécies, tanto da flora, quanto da fauna, possam se deslocar, reproduzir e garantir a biodiversidade da região.
- A mata ciliar é uma proteção natural contra o assoreamento dos rios.
- A mata ciliar faz com que a água da chuva escoe sobre a superfície, ou seja, aumenta o escoamento superficial e a infiltração, diminuindo assim o armazenamento no lençol freático.

## LÍNGUA PORTUGUESA

Leia o texto e responda às próximas quatro questões.

### Lêmures e baobás de Madagascar

Isolada do continente há 135 milhões de anos, a ilha do Oceano Índico é um laboratório natural da evolução das espécies e encanta os viajantes com uma flora e fauna única

**Madagascar** abriga 107 espécies de **lêmures**, dezenas de espécies de camaleões coloridos e outras tantas plantas que só existem lá. “Madagascar é um mundo a parte. Costumo dizer que, se Charles Darwin tivesse conhecido Madagascar, seu livro *A Origem das Espécies* seria dez vezes maior”, afirma o fotógrafo e jornalista **Haroldo Castro**, idealizador de Viajologia Expedições.

Uma das experiências mais emocionantes na quarta maior ilha do mundo é passear entre os gigantescos **baobás**, árvores que chegam a ter 30 metros de altura e mil anos de idade. Das nove espécies de baobás que existem no mundo, seis podem ser encontradas apenas em Madagascar. A majestosa árvore, considerada sagrada pelos malgaxes, é chamada localmente como “reniala”, mãe da floresta.



Na pequena cidade de Bekopaka está o Parque Nacional Tsingy de Bemaraha, considerado Patrimônio Mundial pela Unesco. Trilhas e passeios de canoa no rio Manambolo conduzem a formações rochosas calcárias inusitadas e plantas endêmicas desse ecossistema de florestas secas.

Outro momento inesquecível em Madagascar é o encontro com os lêmures nas florestas tropicais da reserva Anjozorobe-Angavo, a 90 quilômetros da capital Antananarivo. Especialistas apontam que o turismo de observação de animais é uma excelente alternativa para o desenvolvimento da economia local e pode ajudar a conter o desmatamento. “O projeto em Anjozorobe comprova que, nos últimos anos, os 9 mil visitantes contribuíram de forma concreta a reduzir a pobreza e a promover a conservação da biodiversidade”, afirma Haroldo. Como os primatas são curiosos e estão habituados aos seres humanos, eles costumam se aproximar dos visitantes. “Os bichinhos chegam a subir nas nossas cabeças e parecem adorar aparecer nas fotos.”

Madagascar possui hoje uma excelente estrutura para o turismo, com algumas estradas bem cuidadas e hotéis confortáveis localizados perto das reservas e parques ecológicos. A gastronomia malgaxe, com um toque francês, também surpreende pela diversidade de ingredientes, temperos e colorido dos pratos.

[...]

(Fonte: <http://viajeaqui.abril.com.br/materias/lemures-e-baobas-de-madagascar#2>. Acesso em 14/05/2016)

**11. Lêmures e baobás de Madagascar é um texto:**

- Em que prevalece a descrição, apresentando as belezas e peculiaridades do lugar, da fauna e da flora.
- Principalmente narrativo, de fatos colhidos durante uma viagem, que se sucedem em progressão temporal.
- Essencialmente argumentativo, o uso da descrição visa somente a convencer o leitor a visitar Madagascar.
- Dissertativo, impera o desenvolvimento de argumentos para comprovar a tese presente no primeiro parágrafo.
- Em que predomina a exposição de conceitos e definições com o intuito de informar o leitor.

**12. O teor do texto *Lêmures e baobás de Madagascar* somente não poderia se encaixar em que tópico?**

- Turismo
- Viagens
- Clima
- Natureza
- Ilhas

**13. O aposto é um termo que explica ou esclarece, desenvolve ou resume outro termo da oração. Quanto a isso, analise a parte grifada em cada uma das orações retiradas do texto:**

**I - A majestosa árvore, considerada sagrada pelos malgaxes, é chamada localmente como “reniala”, mãe da floresta.**

**II - afirma o fotógrafo e jornalista Haroldo Castro, idealizador de Viajologia Expedições.**

**III - Outro momento inesquecível em Madagascar é o encontro com os lêmures nas florestas tropicais da reserva Anjozorobe-Angavo, a 90 quilômetros da capital Antananarivo.**

**IV - O projeto em Anjozorobe comprova que, nos últimos anos, os 9 mil visitantes contribuíram de forma concreta a reduzir a pobreza e a promover a conservação da biodiversidade”.**

**V - A gastronomia malgaxe, com um toque francês, também surpreende pela diversidade de ingredientes, temperos e colorido dos pratos.**

Constitui aposto os grifos em:

- I, II, III, IV e V.
- I, III e V, apenas.
- III e V apenas.
- I, II, III, e V, apenas.
- III, IV e V apenas

**14. *Trilhas e passeios de canoa no rio Manambolo conduzem a formações rochosas calcárias inusitadas e plantas endêmicas desse ecossistema de florestas secas.***

**Ao observar a relação sintática entre os termos desse período, pode-se afirmar que:**

- de canoa é complemento nominal de Trilhas e passeios.
- no rio Manambolo é adjunto adnominal de canoas.
- de florestas secas é complemento nominal de plantas endêmicas.
- de canoa é complemento verbal de passeios.
- a formações rochosas calcárias inusitadas e plantas endêmicas desse ecossistema de florestas secas é complemento verbal de conduzem.

**Leia o poema e responda às próximas duas questões.**

**FOGO NA MATA, MATA!**

Fogo na mata, mata! A mata, a vida...  
Fogo na mata, abre,  
no coração da mata,

Profundas feridas.

Fogo na mata corrói,  
dentro de nós, os sonhos.  
Fogo na mata, deixa, no seio da mata,  
Tumores tamanhos!

[...]

(Fonte: <http://www.recantodasletras.com.br/letras/505252>, Acesso em 14/05/2016)

**15. A respeito de alguns aspectos gramaticais pertinentes aos termos em destaque na frase título do poema *Fogo na mata, mata!*, está correto o que se afirma em:**

- Morfologicamente, na sequência em que as duas palavras aparecem, temos um verbo e um substantivo.
- Semanticamente, as duas palavras constituem homônimas homófonas homográficas.
- O processo de formação da palavra “mata” (primeira ocorrência na frase) é por derivação regressiva do verbo “matar” cuja flexão na terceira pessoa vem logo em seguida na frase.
- Semanticamente, as duas palavras “mata” são parônimas.
- Semanticamente, as duas palavras constituem homônimas homógrafas heterofônicas.

**16. Com a Nova Reforma Ortográfica, foi mantido o acento nas oxítonas terminadas em -ei e -oi, como é o caso de corrói em *Fogo na mata corrói*. No entanto, de acordo ainda com a Nova Reforma, os acentos foram retirados de quais duas palavras?**

- Bocaiuva - maiúscula
- Voo, aerodromo
- Releem - feiura
- Papeis - língua
- Preveem - herói

**17. Leia atentamente as alternativas e assinale a incorreta no que diz respeito à Ortografia:**

- Grafamos com j as palavras ultraje, jilboia e gorjeio; com g as palavras ferrugem, geringonça, e miragem.
- Grafamos com sc: miscelânea, obsceno e obscensão; com c: sucinto, facínio e nécio.
- Grafamos com x: xampu, mexerico e enxada; com ch: piche, tocha e mecha.
- Grafamos com z: xadrez, cicatriz e vizinho; com s: friso, pêsames e tesoura.
- Grafamos com ss: escassez, submissão e sossego; com c: acetinado, obcecado e acepção.

**18. O advérbio sublinhado e a circunstância que ele expressa não estão corretamente apresentados em:**

- Ele certamente virá para o encontro. (afirmação)
- Ali se ouvia falar de riquezas culturais. (tempo)
- O orador discursou muito bem, impressionou a plateia. (modo)
- Chegamos tarde, perdemos o ônibus. (tempo)
- Os candidatos estudaram bastante. (intensidade)

**19. Os pronomes pessoais, representantes das pessoas do discurso, estão corretamente empregados em todas as alternativas, com exceção da:**

- Sempre haverá discordância entre mim e ti.
- O juiz queria falar com nós dois.
- Minha festa de despedida, não vou esquecê-la jamais.
- Ninguém irá sem eu.
- Deram o livro para eu ler em dois dias!

**20. Em uma oração, o contexto permite concluirmos se certos verbos são de ligação, para assim identificarmos o predicado nominal. Assim, não há predicção nominal em:**

- O aluno não estava na escola hoje.
- À tarde, as crianças pareciam cansadas.
- Ultimamente os participantes do programa andam desanimados.
- A aurora boreal é um lindo espetáculo.
- As atletas parecem cansadas.

## MATEMÁTICA

**21. Numa prova de hipismo, há duas modalidades totalmente distintas: salto e rural. João vai competir nas duas modalidades. Sabendo que a vitória ou a derrota em uma nada influencia no resultado da outra, e sabendo que a probabilidade de ele ganhar a prova de salto é de 40% e a de ganhar a prova de rural é de 58%, qual a probabilidade de ele ganhar as duas provas?**

- 98%
- 62%

- c) 23,2%  
 d) 18%  
 e) 2,32%

**22. Numa escola há 12 professores. A tabela a seguir mostra a carga horária diária de trabalho desses professores.**

4	8	5	10	6	5	8	6	8	9	4	8
---	---	---	----	---	---	---	---	---	---	---	---

**É correto afirmar que as cargas horárias média, modal e mediana desses professores são respectivamente:**

- a) 6,25; 6; 7  
 b) 6,5; 7; 8  
 c) 6,75; 8; 6  
 d) 6,75; 8; 7  
 e) 6,75; 7; 8

**23. Encontre a equação da reta mediatriz do segmento AB, onde A(2, 3) e B(4, -1), e assinale a alternativa correta.**

- a)  $2y - x + 1 = 0$   
 b)  $y - 2x + 2 = 0$   
 c)  $2y - 2x + 1 = 0$   
 d)  $2y + x + 2 = 0$   
 e)  $2y + x - 1 = 0$

**24. Uma loja acrescenta 15% no preço de seus produtos à vista se o cliente optar por pagar com um cheque para 60 dias. Comprei, nessa loja, um fogão com cheque para 60 dias e paguei R\$552,00 por ele. Qual era o preço à vista desse fogão?**

- a) R\$460,00  
 b) R\$469,20  
 c) R\$474,50  
 d) R\$480,00  
 e) R\$500,00

**25. Um pesquisador, ao analisar os processos que envolvem jovens com menos de 24 anos, descobriu que há 4 homens com nomes envolvidos em processos para cada mulher. Se no total ele contou 2400 pessoas, quantas eram as mulheres envolvidas nessa pesquisa?**

- a) 480  
 b) 600  
 c) 800  
 d) 1920  
 e) 2000

### INFORMÁTICA

**26. Utilizando o Excel 2013, qual fórmula representa corretamente a auto soma?**

- a) =SUM()  
 b) =MÉDIA()  
 c) =MAX()  
 d) =MIN()  
 e) =SE()

**27. Acerca de confidencialidade está incorreto afirmar:**

- a) É um conceito no qual o acesso à informação deve ser concedido a quem de direito, ou seja, apenas para as entidades autorizadas pelo proprietário ou dono da informação.  
 b) É uma propriedade que limita o acesso à informação tão somente às entidades legítimas, ou seja, àquelas autorizadas pelo proprietário da informação.  
 c) É a propriedade da informação que não estará disponível ou será divulgada a indivíduos, entidades ou processos sem autorização.  
 d) Significa garantir que a informação será conhecida por pessoas que não estejam autorizadas para tal.  
 e) É a garantia do resguardo das informações dadas pessoalmente em confiança e proteção contra a sua revelação não autorizada.

**28. Tratando-se de hardware de computadores, assinale a alternativa que corresponde a um tipo de memória externa.**

- a) Pen Drive  
 b) EPROM





- c) DIMM
- d) MRAM
- e) Cache

**29. No Word 2013, é possível utilizar vários tipos de formatação de fontes, exceto:**

- a) Tachado
- b) Negrito
- c) Centralizado
- d) Sublinhado
- e) Cor da fonte

**30. Qual software nativo do Windows utilizamos para descobrir o endereço IP do computador?**

- a) Windows Explorer
- b) Notepad
- c) Excel
- d) Word
- e) Prompt de Comando

### CONHECIMENTOS GERAIS

**31. Conforme fonte do IBGE, o bioma do município de Telêmaco Borba/PR é:**

- a) Mata de Pinhais e Cerrado
- b) Pantanal
- c) Caatinga e Mata Atlântica
- d) Floresta Tropical
- e) Cerrado e Mata Atlântica

**32. A letra do hino do município de Telêmaco Borba/PR é de autoria de**

- a) Bento Mossurunga.
- b) Moíses Lupion.
- c) Eloah Martins Quadrado.
- d) Graciliana Reis D´Albuquerque Mossurunga.
- e) Enéias Augusto Moracines Borba.

**33. Leia o texto sobre o Brasão de Armas do município de Telêmaco Borba/PR e marque a alternativa correta.**

**O Brasão de Armas foi aprovado em definitivo em 1981, dentro dos padrões da heráldica, estabelecendo os regulamentos para seu uso, ficando assim oficializado.**

**No Brasão de Armas, é possível identificar:**

- 1. Escudo português redondo banhado de ouro filetado de prata, carregado de cinco árvores de pinho estilizadas de sua cor, postas em banda.**
- 2. Escudete de prata carregado de três Pinheiros do Paraná, araucária angustifólia ou brasiliense.**
- 3. No timbre, coroa mural de ouro lavrado de negro.**
- 4. À direita, haste de milho (zae mays) frutada.**
- 5. À sinistra, ramos de soja (gelycine soya) granada.**
- 6. Listel amarelo ostentando o topônimo "Cidade Nova" entre as inscrições de ouro "5 de Julho de 1963", em caracteres latino moderno.**

- a) Não é verdadeiro o item 1.
- b) Não é verdadeiro o item 2.
- c) Não é verdadeiro o item 4.
- d) Não é verdadeiro o item 6.
- e) Não são verdadeiros os itens 3 e 5.

**34. Segundo o art. 11 da Lei Orgânica do Município de Telêmaco Borba/PR, os bens públicos podem ser:**

**I. De uso comum do Povo, tais como estradas municipais, ruas, parques, praças, logradouros públicos e outros da mesma espécie;**

**II. De uso especial, os de patrimônio administrativo, tais como edifícios das repartições públicas, os terrenos e equipamentos destinados ao serviço público, veículos, matadouros, mercados e outras serventias de outra espécie;**

**III. Bens municipais, aqueles sobre os quais o município exerce os direitos de proprietário e são considerados como bens patrimoniais disponíveis;**

**IV. Bens culturais, tais como música e obras de arte.**

**Podemos afirmar que são verdadeiros os itens**

- a) I e II, apenas.
- b) II e III, apenas.
- c) I, II e III, apenas.





- d) I, III e IV, apenas.
- e) I, II, III e IV.

**35. Qual alternativa completa corretamente o texto a seguir?**

No primeiro ano de cada legislatura, no dia 1º de janeiro, em sessão de instalação, independente de número, sob a presidência do vereador mais idoso dentre os eleitos, os vereadores prestarão compromisso e tomarão posse. O Vereador que não tomar posse na sessão do dia 1º de janeiro poderá fazê-la \_\_\_\_\_ depois da primeira sessão ordinária da Legislatura.

- a) até dez dias
- b) até quinze dias
- c) até trinta dias
- d) até quarenta e cinco dias
- e) até sessenta dias

**36. Conforme o art. 54 da Lei Orgânica do Município de Telêmaco Borba/PR, o Processo Legislativo compreende a elaboração de:**

- I. Emendas à Lei Orgânica do Município;**
- II. Leis complementares;**
- III. Leis Ordinárias;**
- IV. Decretos Legislativos;**
- V. Resoluções;**
- VI. Pareceres.**

**Assinale a alternativa que faz a afirmação correta.**

- a) São verdadeiros apenas os itens I, III e VI.
- b) São verdadeiros apenas os itens I, III e IV.
- c) São verdadeiros apenas os itens III, IV e V.
- d) São verdadeiros apenas os itens I, II, III, IV e V.
- e) São verdadeiros os itens I, II, III, IV, V e VI.

Com base na Lei nº 1883/2012, que dispõe sobre o Estatuto dos Servidores Públicos da Administração Direta, Autárquica e Funcional do Município de Telêmaco Borba/PR, responda às próximas quatro questões.

**37. À luz do § 2º do art. 9º da Lei nº 1883/2012, marque a alternativa que completa a lacuna do texto a seguir.**

O concurso deverá ser homologado no prazo máximo de \_\_\_\_\_ contados da data de realização da última fase de provas, sob pena de responsabilidade da autoridade competente.

- a) um mês
- b) dois meses
- c) seis meses
- d) um ano
- e) dois anos

**38. Marque a alternativa que completa a lacuna do texto a seguir.**

O candidato terá o prazo \_\_\_\_\_, a contar da publicação oficial da convocação, para comparecer à entidade convocante e assinar termo de comparecimento.

- a) máximo de 5 dias úteis
- b) mínimo de 15 dias úteis
- c) de até 30 dias
- d) máximo de 15 dias úteis
- e) mínimo de 5 dias úteis

**39. Leia as assertivas e marque a correta.**

- a) São reservados 10% dos cargos em comissão para a nomeação de servidores do quadro efetivo.
- b) São reservados 15% dos cargos em comissão para a nomeação de servidores do quadro efetivo.
- c) São reservados 20% dos cargos em comissão para a nomeação de servidores do quadro efetivo.
- d) São reservados 25% dos cargos em comissão para a nomeação de servidores do quadro efetivo.
- e) São reservados 30% dos cargos em comissão para a nomeação de servidores do quadro efetivo.

**40. Marque a alternativa que completa a lacuna do texto a seguir.**

O servidor municipal, quando nomeado para cargo em comissão, ficará afastado de seu cargo efetivo e fará jus à remuneração prevista em lei para o comissionado, podendo optar por receber seus vencimentos acrescidos de \_\_\_\_\_ do valor da remuneração prevista para o cargo em comissão.

- a) 10%
- b) 20%



- c) 30%
- d) 40%
- e) 50%

**RASCUNHO**



PREFEITURA DE TELÊMACO BORBA - ESTADO DO PARANÁ - **EDITAL Nº 001-2016 - CONCURSO PÚBLICO**

**MATUTINO – 29/05/2016 – NÍVEL MÉDIO**

**1**

**PROVA OBJETIVA NÚMERO**

**CARGO: TMNM I - CONTABILIDADE**

**Leia atentamente as INSTRUÇÕES:**

1. Confira seus dados no cartão-resposta: nome, número de inscrição e o curso para o qual se inscreveu.
2. **MARQUE no seu cartão-resposta o número da sua prova** (não será corrigido o cartão-resposta que não tiver marcado o número da prova) e **Assine** seu cartão-resposta.
3. Aguarde a autorização do Fiscal para abrir o caderno de prova. Ao receber a ordem do fiscal, confira o caderno de prova com muita atenção. Nenhuma reclamação sobre o total de questões ou falha de impressão será aceita depois de iniciada a prova.
4. O cartão-resposta não será substituído, salvo se contiver erro de impressão.
5. Preencha toda a área do cartão-resposta correspondente à alternativa de sua escolha, com caneta esferográfica (tinta azul ou preta), sem ultrapassar as bordas. As marcações duplas, ou rasuradas, com corretivo, ou marcadas diferentemente do modelo estabelecido no cartão-resposta poderão ser anuladas.
6. Sua prova tem **40** questões, com **5** alternativas.
7. Cabe apenas ao candidato a interpretação das questões, **o fiscal** não poderá fazer nenhuma interferência.
8. A prova será realizada com duração máxima de **3 (três) horas**, incluído o tempo para a realização da Prova Objetiva de múltipla escolha e o preenchimento do cartão-resposta.
9. O candidato poderá retirar-se do local de realização das provas somente **1 (uma) hora** após o seu início, sem levar o caderno de prova.
10. O candidato poderá levar o caderno de provas, assim como anotação contendo transcrição do seu cartão-resposta, somente **1h30min** (uma hora e trinta minutos) após o início da realização da prova.
11. Ao terminar a prova, o candidato deverá entregar ao fiscal de sala o cartão-resposta preenchido e **ASSINADO**.
12. Os **3 (três)** candidatos, que terminarem a prova por último, deverão permanecer na sala, e só poderão sair juntos após o fechamento do envelope, contendo os cartões-resposta dos candidatos presentes e ausentes, e assinarem no lacre do referido envelope, atestando que este foi devidamente lacrado.
13. Durante todo o tempo em que permanecer no local onde está ocorrendo o concurso, o candidato deverá, manter o celular desligado e sem bateria, só sendo permitido ligar depois de ultrapassar o portão de saída do prédio.
14. Não será permitido ao candidato fumar na sala de provas, bem como nas dependências.
15. Depois de terminar a prova e entregar ao fiscal o cartão-resposta, preenchido e assinado, não será mais permitido ao candidato o uso do banheiro e bebedouro.

**BOA PROVA!**

**LÍNGUA PORTUGUESA**

Leia o texto e responda às próximas quatro questões.

**Lêmures e baobás de Madagascar**

Isolada do continente há 135 milhões de anos, a ilha do Oceano Índico é um laboratório natural da evolução das espécies e encanta os viajantes com uma flora e fauna única

**Madagascar** abriga 107 espécies de **lêmures**, dezenas de espécies de camaleões coloridos e outras tantas plantas que só existem lá. “Madagascar é um mundo a parte. Costumo dizer que, se Charles Darwin tivesse conhecido Madagascar, seu livro *A Origem das Espécies* seria dez vezes maior”, afirma o fotógrafo e jornalista **Haroldo Castro**, idealizador de Viajologia Expedições.

Uma das experiências mais emocionantes na quarta maior ilha do mundo é passear entre os gigantes **baobás**, árvores que chegam a ter 30 metros de altura e mil anos de idade. Das nove espécies de baobás que existem no mundo, seis podem ser encontradas apenas em Madagascar. A majestosa árvore, considerada sagrada pelos malgaxes, é chamada localmente como “reniala”, mãe da floresta.

Na pequena cidade de Bekopaka está o Parque Nacional Tsingy de Bemaraha, considerado Patrimônio Mundial pela Unesco. Trilhas e passeios de canoa no rio Manambolo conduzem a formações rochosas calcárias inusitadas e plantas endêmicas desse ecossistema de florestas secas.

Outro momento inesquecível em Madagascar é o encontro com os lêmures nas florestas tropicais da reserva Anjozorobe-Angavo, a 90 quilômetros da capital Antananarivo. Especialistas apontam que o turismo de observação de animais é uma excelente alternativa para o desenvolvimento da economia local e pode ajudar a conter o desmatamento. “O projeto em Anjozorobe comprova que, nos últimos anos, os 9 mil visitantes contribuíram de forma concreta a reduzir a pobreza e a promover a conservação da biodiversidade”, afirma Haroldo. Como os primatas são curiosos e estão habituados aos seres humanos, eles costumam se aproximar dos visitantes. “Os bichinhos chegam a subir nas nossas cabeças e parecem adorar aparecer nas fotos.”

Madagascar possui hoje uma excelente estrutura para o turismo, com algumas estradas bem cuidadas e hotéis confortáveis localizados perto das reservas e parques ecológicos. A gastronomia malgaxe, com um toque francês, também surpreende pela diversidade de ingredientes, temperos e colorido dos pratos.

[...]

(Fonte: <http://viajeaqui.abril.com.br/materias/lemures-e-baobas-de-madagascar#2>. Acesso em 14/05/2016)

**01. Lêmures e baobás de Madagascar é um texto:**

- a) Em que prevalece a descrição, apresentando as belezas e peculiaridades do lugar, da fauna e da flora.
- b) Principalmente narrativo, de fatos colhidos durante uma viagem, que se sucedem em progressão temporal.
- c) Essencialmente argumentativo, o uso da descrição visa somente a convencer o leitor a visitar Madagascar.
- d) Dissertativo, impera o desenvolvimento de argumentos para comprovar a tese presente no primeiro parágrafo.
- e) Em que predomina a exposição de conceitos e definições com o intuito de informar o leitor.

**02. O teor do texto *Lêmures e baobás de Madagascar* somente não poderia se encaixar em que tópico?**

- a) Turismo
- b) Viagens
- c) Clima
- d) Natureza
- e) Ilhas

**03. O aposto é um termo que explica ou esclarece, desenvolve ou resume outro termo da oração. Quanto a isso, analise a parte grifada em cada uma das orações retiradas do texto:**

**I - A majestosa árvore, considerada sagrada pelos malgaxes, é chamada localmente como “reniala”, mãe da floresta.**

**II - afirma o fotógrafo e jornalista Haroldo Castro, idealizador de Viajologia Expedições.**

**III - Outro momento inesquecível em Madagascar é o encontro com os lêmures nas florestas tropicais da reserva Anjozorobe-Angavo, a 90 quilômetros da capital Antananarivo.**

**IV - O projeto em Anjozorobe comprova que, nos últimos anos, os 9 mil visitantes contribuíram de forma concreta a reduzir a pobreza e a promover a conservação da biodiversidade”.**

**V - A gastronomia malgaxe, com um toque francês, também surpreende pela diversidade de ingredientes, temperos e colorido dos pratos.**

**Constitui aposto os grifos em:**

a) I, II, III, IV e V.

b) I, III e V, apenas.

c) III e V apenas.

d) I, II, III, e V, apenas.

e) III, IV e V apenas

**04. Trilhas e passeios de canoa no rio Manambolo conduzem a formações rochosas calcárias inusitadas e plantas endêmicas desse ecossistema de florestas secas.**

**Ao observar a relação sintática entre os termos desse período, pode-se afirmar que:**

a) de canoa é complemento nominal de Trilhas e passeios.

b) no rio Manambolo é adjunto adnominal de canoas.

c) de florestas secas é complemento nominal de plantas endêmicas.

d) de canoa é complemento verbal de passeios.

e) a formações rochosas calcárias inusitadas e plantas endêmicas desse ecossistema de florestas secas é complemento verbal de conduzem.

**Leia o poema e responda às próximas duas questões.**

### FOGO NA MATA, MATA!

Fogo na mata, mata! A mata, a vida...

Fogo na mata, abre,  
no coração da mata,  
Profundas feridas.

Fogo na mata corrói,  
dentro de nós, os sonhos.  
Fogo na mata, deixa, no seio da mata,  
Tumores tamanhos!

[...]

(Fonte: <http://www.recantodasletras.com.br/letras/505252>. Acesso em 14/05/2016)

**05. A respeito de alguns aspectos gramaticais pertinentes aos termos em destaque na frase título do poema Fogo na mata, mata!, está correto o que se afirma em:**

a) Morfologicamente, na sequência em que as duas palavras aparecem, temos um verbo e um substantivo.

b) Semanticamente, as duas palavras constituem homônimas homófonas homógrafas.

c) O processo de formação da palavra “mata” (primeira ocorrência na frase) é por derivação regressiva do verbo “matar” cuja flexão na terceira pessoa vem logo em seguida na frase.

d) Semanticamente, as duas palavras “mata” são parônimas.

e) Semanticamente, as duas palavras constituem homônimas homógrafas heterofônicas.

**06. Com a Nova Reforma Ortográfica, foi mantido o acento nas oxítonas terminadas em -ei e -oi, como é o caso de corrói em Fogo na mata corrói. No entanto, de acordo ainda com a Nova Reforma, os acentos foram retirados de quais duas palavras?**

a) Bocaiuva - maiúscula

b) Voo, aerodromo

c) Releem - feiura

d) Papeis - linguíça

e) Preveem - heroi

**07. Leia atentamente as alternativas e assinale a incorreta no que diz respeito à Ortografia:**

a) Grafamos com j as palavras ultraje, jiboia e gorjeio; com g as palavras ferrugem, geringonça, e miragem.

b) Grafamos com sc: miscelânea, obsceno e obscensão; com c: sucinto, facínio e nécio.

c) Grafamos com x: xampu, mexerico e enxada; com ch: piche, tocha e mecha.



- d) Grafamos com z: xadrez, cicatriz e vizinho; com s: friso, pêsames e tesoura.  
e) Grafamos com ss: escassez, submissão e sossego; com c: acetinado, obcecado e acepção.

**08. O advérbio sublinhado e a circunstância que ele expressa não estão corretamente apresentados em:**

- a) Ele certamente virá para o encontro. (afirmação)  
b) Ali se ouvia falar de riquezas culturais. (tempo)  
c) O orador discursou muito bem, impressionou a plateia. (modo)  
d) Chegamos tarde, perdemos o ônibus. (tempo)  
e) Os candidatos estudaram bastante. (intensidade)

**09. Os pronomes pessoais, representantes das pessoas do discurso, estão corretamente empregados em todas as alternativas, com exceção da:**

- a) Sempre haverá discordância entre mim e ti.  
b) O juiz queria falar com nós dois.  
c) Minha festa de despedida, não vou esquecê-la jamais.  
d) Ninguém irá sem eu.  
e) Deram o livro para eu ler em dois dias!

**10. Em uma oração, o contexto permite concluirmos se certos verbos são de ligação, para assim identificarmos o predicado nominal. Assim, não há predicção nominal em:**

- a) O aluno não estava na escola hoje.  
b) À tarde, as crianças pareciam cansadas.  
c) Ultimamente os participantes do programa andam desanimados.  
e) A aurora boreal é um lindo espetáculo.  
d) As atletas parecem cansadas.

## MATEMÁTICA

**11. Numa prova de hipismo, há duas modalidades totalmente distintas: salto e rural. João vai competir nas duas modalidades. Sabendo que a vitória ou a derrota em uma nada influencia no resultado da outra, e sabendo que a probabilidade de ele ganhar a prova de salto é de 40% e a de ganhar a prova de rural é de 58%, qual a probabilidade de ele ganhar as duas provas?**

- a) 98%  
b) 62%  
c) 23,2%  
d) 18%  
e) 2,32%

**12. Numa escola há 12 professores. A tabela a seguir mostra a carga horária diária de trabalho desses professores.**

4	8	5	10	6	5	8	6	8	9	4	8
---	---	---	----	---	---	---	---	---	---	---	---

**É correto afirmar que as cargas horárias média, modal e mediana desses professores são respectivamente:**

- a) 6,25; 6; 7  
b) 6,5; 7; 8  
c) 6,75; 8; 6  
d) 6,75; 8; 7  
e) 6,75; 7; 8

**13. Encontre a equação da reta mediatriz do segmento AB, onde A(2, 3) e B(4, -1), e assinale a alternativa correta.**

- a)  $2y - x + 1 = 0$   
b)  $y - 2x + 2 = 0$   
c)  $2y - 2x + 1 = 0$   
d)  $2y + x + 2 = 0$   
e)  $2y + x - 1 = 0$

**14. Uma loja acrescenta 15% no preço de seus produtos à vista se o cliente optar por pagar com um cheque para 60 dias. Comprei, nessa loja, um fogão com cheque para 60 dias e paguei R\$552,00 por ele. Qual era o preço à vista desse fogão?**

- a) R\$460,00  
b) R\$469,20  
c) R\$474,50  
d) R\$480,00  
e) R\$500,00





**15. Um pesquisador, ao analisar os processos que envolvem jovens com menos de 24 anos, descobriu que há 4 homens com nomes envolvidos em processos para cada mulher. Se no total ele contou 2400 pessoas, quantas eram as mulheres envolvidas nessa pesquisa?**

- a) 480
- b) 600
- c) 800
- d) 1920
- e) 2000

#### **INFORMÁTICA**

**16. Utilizando o Excel 2013, qual fórmula representa corretamente a auto soma?**

- a) =SUM()
- b) =MEDIA()
- c) =MAX()
- d) =MIN()
- e) =SE()

**17. Acerca de confidencialidade está incorreto afirmar:**

- a) É um conceito no qual o acesso à informação deve ser concedido a quem de direito, ou seja, apenas para as entidades autorizadas pelo proprietário ou dono da informação.
- b) É uma propriedade que limita o acesso à informação tão somente às entidades legítimas, ou seja, àquelas autorizadas pelo proprietário da informação.
- c) É a propriedade da informação que não estará disponível ou será divulgada a indivíduos, entidades ou processos sem autorização.
- d) Significa garantir que a informação será conhecida por pessoas que não estejam autorizadas para tal.
- e) É a garantia do resguardo das informações dadas pessoalmente em confiança e proteção contra a sua revelação não autorizada.

**18. Tratando-se de hardware de computadores, assinale a alternativa que corresponde a um tipo de memória externa.**

- a) Pen Drive
- b) EPROM
- c) DIMM
- d) MRAM
- e) Cache

**19. No Word 2013, é possível utilizar vários tipos de formatação de fontes, exceto:**

- a) Tachado
- b) Negrito
- c) Centralizado
- d) Sublinhado
- e) Cor da fonte

**20. Qual software nativo do Windows utilizamos para descobrir o endereço IP do computador?**

- a) Windows Explorer
- b) Notepad
- c) Excel
- d) Word
- e) Prompt de Comando

#### **CONHECIMENTOS GERAIS**

**21. Conforme fonte do IBGE, o bioma do município de Telêmaco Borba/PR é:**

- a) Mata de Pinhais e Cerrado
- b) Pantanal
- c) Caatinga e Mata Atlântica
- d) Floresta Tropical
- e) Cerrado e Mata Atlântica

**22. A letra do hino do município de Telêmaco Borba/PR é de autoria de**

- a) Bento Mossurunga.
- b) Moises Lupion.
- c) Eloah Martins Quadrado.
- d) Graciliana Reis D´Albuquerque Mossurunga.



e) Enéias Augusto Moracines Borba.

**23. Leia o texto sobre o Brasão de Armas do município de Telêmaco Borba/PR e marque a alternativa correta.**

O Brasão de Armas foi aprovado em definitivo em 1981, dentro dos padrões da heráldica, estabelecendo os regulamentos para seu uso, ficando assim oficializado.

No Brasão de Armas, é possível identificar:

1. Escudo português redondo banhado de ouro filetado de prata, carregado de cinco árvores de pinho estilizadas de sua cor, postas em banda.
2. Escudete de prata carregado de três Pinheiros do Paraná, araucária angustifólia ou brasiliense.
3. No timbre, coroa mural de ouro lavrado de negro.
4. À destra, haste de milho (zae mays) frutada.
5. À sinistra, ramos de soja (gelycine soya) granada.
6. Listel amarelo ostentando o topônimo "Cidade Nova" entre as inscrições de ouro "5 de Julho de 1963", em caracteres latino moderno.

- a) Não é verdadeiro o item 1.
- b) Não é verdadeiro o item 2.
- c) Não é verdadeiro o item 4.
- d) Não é verdadeiro o item 6.
- e) Não são verdadeiros os itens 3 e 5.

**24. Segundo o art. 11 da Lei Orgânica do Município de Telêmaco Borba/PR, os bens públicos podem ser:**

**I. De uso comum do Povo, tais como estradas municipais, ruas, parques, praças, logradouros públicos e outros da mesma espécie;**

**II. De uso especial, os de patrimônio administrativo, tais como edifícios das repartições públicas, os terrenos e equipamentos destinados ao serviço público, veículos, matadouros, mercados e outras serventias de outra espécie;**

**III. Bens municipais, aqueles sobre os quais o município exerce os direitos de proprietário e são considerados como bens patrimoniais disponíveis;**

**IV. Bens culturais, tais como música e obras de arte.**

Podemos afirmar que são verdadeiros os itens

- a) I e II, apenas.
- b) II e III, apenas.
- c) I, II e III, apenas.
- d) I, III e IV, apenas.
- e) I, II, III e IV.

**25. Qual alternativa completa corretamente o texto a seguir?**

No primeiro ano de cada legislatura, no dia 1º de janeiro, em sessão de instalação, independente de número, sob a presidência do vereador mais idoso dentre os eleitos, os vereadores prestarão compromisso e tomarão posse. O Vereador que não tomar posse na sessão do dia 1º de janeiro poderá fazê-la \_\_\_\_\_ depois da primeira sessão ordinária da Legislatura.

- a) até dez dias
- b) até quinze dias
- c) até trinta dias
- d) até quarenta e cinco dias
- e) até sessenta dias

**26. Conforme o art. 54 da Lei Orgânica do Município de Telêmaco Borba/PR, o Processo Legislativo compreende a elaboração de:**

**I. Emendas à Lei Orgânica do Município;**

**II. Leis complementares;**

**III. Leis Ordinárias;**

**IV. Decretos Legislativos;**

**V. Resoluções;**

**VI. Pareceres.**

Assinale a alternativa que faz a afirmação correta.

- a) São verdadeiros apenas os itens I, III e VI.
- b) São verdadeiros apenas os itens I, III e IV.
- c) São verdadeiros apenas os itens III, IV e V.
- d) São verdadeiros apenas os itens I, II, III, IV e V.
- e) São verdadeiros os itens I, II, III, IV, V e VI.



Com base na Lei nº 1883/2012, que dispõe sobre o Estatuto dos Servidores Públicos da Administração Direta, Autárquica e Funcional do Município de Telêmaco Borba/PR, responda às próximas quatro questões.

27. À luz do § 2º do art. 9º da Lei nº 1883/2012, marque a alternativa que completa a lacuna do texto a seguir.

O concurso deverá ser homologado no prazo máximo de \_\_\_\_\_ contados da data de realização da última fase de provas, sob pena de responsabilidade da autoridade competente.

- a) um mês
- b) dois meses
- c) seis meses
- d) um ano
- e) dois anos

28. Marque a alternativa que completa a lacuna do texto a seguir.

O candidato terá o prazo \_\_\_\_\_, a contar da publicação oficial da convocação, para comparecer à entidade convocante e assinar termo de comparecimento.

- a) máximo de 5 dias úteis
- b) mínimo de 15 dias úteis
- c) de até 30 dias
- d) máximo de 15 dias úteis
- e) mínimo de 5 dias úteis

29. Leia as assertivas e marque a correta.

- a) São reservados 10% dos cargos em comissão para a nomeação de servidores do quadro efetivo.
- b) São reservados 15% dos cargos em comissão para a nomeação de servidores do quadro efetivo.
- c) São reservados 20% dos cargos em comissão para a nomeação de servidores do quadro efetivo.
- d) São reservados 25% dos cargos em comissão para a nomeação de servidores do quadro efetivo.
- e) São reservados 30% dos cargos em comissão para a nomeação de servidores do quadro efetivo.

30. Marque a alternativa que completa a lacuna do texto a seguir.

O servidor municipal, quando nomeado para cargo em comissão, ficará afastado de seu cargo efetivo e fará jus à remuneração prevista em lei para o comissionado, podendo optar por receber seus vencimentos acrescidos de \_\_\_\_\_ do valor da remuneração prevista para o cargo em comissão.

- a) 10%
- b) 20%
- c) 30%
- d) 40%
- e) 50%

### CONHECIMENTOS ESPECÍFICOS

31. A Administração Pública em sentido amplo, ou seja, a estrutura organizacional do Estado, está dividida em poderes que organizam a sociedade civil no Brasil:

**I - Poder Legislativo**

**II - Poder Organizacional**

**III - Poder Judiciário**

**IV - Poder Executivo**

**V - Poder Federativo**

Diante dessa afirmação, marque a alternativa correta:

- a) Somente os itens I, II e III estão corretos.
- b) Somente os itens II e III estão corretos.
- c) Somente os itens I, III e IV estão corretos.
- d) Somente os itens III, IV e V estão corretos.
- e) Os itens I, II, III, IV e V estão corretos.

32. A Administração apresenta algumas funções:

**I - Controle de qualidade, planejamento e comando.**

**II - Organização, controle, planejamento e direção.**

**III - Coordenação, planejamento, organização e direção.**

**IV - Inovação, organização, planejamento e precisão.**

**V - Liderança, motivação e empreendedorismo.**

Diante do exposto, assinale a alternativa correta:

- a) Somente o item I é correto.
- b) Somente o item II é correto.
- c) Somente o item III está correto.

- d) Somente o item IV é correto.  
e) Somente o item V está correto.

**33. Conforme o art. 70 da CF/88, a fiscalização contábil, financeira, orçamentária, operacional e patrimonial da União e das entidades da administração direta e indireta, quanto à legalidade, legitimidade, economicidade, aplicação das subvenções e renúncia de receitas será exercida pelo:**

- a) Congresso Nacional, mediante controle externo e pelo sistema de controle interno de cada Poder  
b) Superior Tribunal de Justiça  
c) Superior Tribunal Federal  
d) Senado Federal  
e) Ministério Público Federal

**34. Conforme o art. 165 da CF/88, § 5º, a lei orçamentária anual compreende o orçamento fiscal e o orçamento da seguridade social. Nesse respeito, o que não está incluído nesse artigo?**

- a) O orçamento fiscal referente aos Poderes da União, seus fundos, órgãos e entidades da administração direta e indireta.  
b) O orçamento fiscal das fundações instituídas e mantidas pelo Poder Público.  
c) O orçamento de investimento das empresas em que a União, direta ou indiretamente, detenha a maioria do capital social com direito a voto.  
d) O orçamento da seguridade social, abrangendo todas as entidades e órgãos a ela vinculados, da administração direta ou indireta.  
e) O orçamento da seguridade social dos fundos e fundações instituídos e mantidos pelo Poder Privado.

**35. A licitação destina-se a garantir a observância do princípio constitucional da isonomia e a selecionar a proposta mais vantajosa para a administração e será processada e julgada em estrita conformidade com os princípios básicos da legalidade, da impessoalidade, da moralidade, da igualdade, da publicidade, da probidade administrativa, da vinculação ao instrumento convocatório, do julgamento objetivo e dos que lhes são correlatos. Dentre os órgãos seguintes, qual é aquele que não é obrigado a realizar licitação?**

- a) Órgãos da Administração Pública Direta  
b) Ministério Público  
c) Tribunal de Contas  
d) Empresas de Sociedade Anônimas  
e) Entes da Administração Pública Indireta

**36. Conforme o art. 19 da Lei Complementar 101/00, a despesa total com pessoal, em cada período de apuração e em cada ente da Federação, não poderá exceder os percentuais da receita corrente líquida a seguir discriminados:**

- ( ) União: 50% (cinquenta por cento);  
( ) Estados: 60% (sessenta por cento);  
( ) Distrito Federal: 40% (quarenta por cento);  
( ) Municípios: 50% (cinquenta por cento).

**Marcando esses itens, de cima para baixo, com V para verdadeiro e F para falso, a alternativa com a sequência correta é:**

- a) V, V, F, F  
b) V, V, V, F  
c) F, F, V, V  
d) F, V, V, F  
e) F, V, F, F

**37. O art. 92 da LRF 101/2000 trata sobre a dívida flutuante e o que compõe esta dívida.**

**A respeito desse assunto, qual dos itens seguintes compõem essa dívida e estão contemplados no artigo informado?**

**I - os restos a pagar, excluídos os serviços da dívida;**

**II - os serviços da dívida a pagar;**

**III - os depósitos;**

**IV - os débitos de tesouraria.**

- a) Somente I e II e IV.  
b) Somente I, II e III.  
c) Somente III e IV.  
d) Somente III, IV e V.  
e) Os itens I, II, III e IV.

**38. Conforme o art. 106 da Lei 101/2000, a avaliação dos elementos patrimoniais deverá obedecer a critérios contábeis. Dentre as alternativas abaixo, UMA não está prevista neste artigo e não pode ser registrada pela Contabilidade Pública. Qual?**

- a) Os débitos e créditos, bem como os títulos de renda, pelo seu valor nominal, feita a conversão, quando em moeda estrangeira, à taxa de câmbio vigente na data do balanço.
- b) Os bens móveis e imóveis, pelo valor de aquisição ou pelo custo de produção ou de construção.
- c) Não poderão ser feitas reavaliações dos bens móveis e imóveis.
- d) Os bens de almoxarifado, pelo preço médio ponderado das compras.
- e) As variações resultantes da conversão dos débitos, créditos e valores em espécie serão levadas à conta patrimonial.

**39. Patrimônio Público é o conjunto de direitos e bens, tangíveis ou intangíveis, onerados ou não, adquiridos, formados, produzidos, recebidos, mantidos ou utilizados pelas entidades do setor público. Os direitos e bens fazem parte do Ativo e estão presentes nas variações patrimoniais.**

**Dentre as alternativas, marque aquela que esteja com a definição contábil correta.**

- a) O Ativo compreende as obrigações controladas pela entidade como resultado de eventos passados e do qual se espera que resultem para a entidade benefícios econômicos futuros ou potencial de serviços.
- b) O Ativo compreende os recursos presentes da entidade, derivadas de eventos passados, cujos pagamentos se espera que resultem para a entidade saídas de recursos capazes de gerar benefícios econômicos ou potencial de serviços.
- c) As variações patrimoniais qualitativas alteram a composição dos elementos patrimoniais e afetam o patrimônio líquido, determinando modificações apenas na composição específica dos elementos patrimoniais.
- d) Patrimônio Líquido, Saldo Patrimonial ou Situação Líquida Patrimonial é o valor residual dos ativos da entidade depois de deduzidos todos seus passivos.
- e) Os ativos devem ser classificados como circulante quando satisfizerem a disponibilidade para realização imediata e tiverem a expectativa de realização após o término do exercício seguinte.

**40. Na Administração Pública, a aquisição de um veículo deve ocorrer pelo processo de empenho, recebimento de nota fiscal e liquidação. A contabilização obedece às normas de Contabilidade. Em relação a essa contabilização, analise os seguintes itens:**

**I - Empenho -**

a débito na conta de Crédito disponível e crédito na conta Crédito empenhado a liquidar  
 a débito na conta de Disponibilidade por destinação de recursos e a crédito na conta de Disponibilidade por destinação de recursos comprometida por empenho

**II - Recebimento de veículo (e nota fiscal) -**

a débito na conta de Bens móveis e a crédito na conta de Financiamentos a curto prazo  
 a débito na conta de Crédito empenhado a liquidar e a crédito na conta de Crédito empenhado em liquidação

**III - Liquidação -**

a débito na conta de Crédito empenhado em liquidação e a crédito na conta de Créditos empenhado liquidado a pagar  
 a débito na conta de Disponibilidade por destinação de recursos comprometida por empenho e a crédito na conta de Disponibilidade por destinação de recursos comprometida por liquidação e entradas compensatórias

**IV - Contratação da operação de crédito -**

a débito na conta de Caixa e equivalentes de caixa em moeda nacional e a crédito na conta de Financiamentos a curto prazo  
 a débito na conta de Controle da disponibilidade de recursos e a crédito na conta de Disponibilidade por destinação de recursos

**Estão corretos:**

- a) Somente os itens I, II e III.
- b) Somente os itens II e III.
- c) Somente os itens I, III, e IV.
- d) Somente os itens II e IV.
- e) Os itens I, II, III e IV.

**RASCUNHO**



PREFEITURA DE TELÊMACO BORBA - ESTADO DO PARANÁ - EDITAL Nº 001-2016 - CONCURSO PÚBLICO

**MATUTINO – 29/05/2016 – NÍVEL MÉDIO**

**2**

**PROVA OBJETIVA NÚMERO**

**CARGO: TMNM I - CONTABILIDADE**

**Leia atentamente as INSTRUÇÕES:**

1. Confira seus dados no cartão-resposta: nome, número de inscrição e o curso para o qual se inscreveu.
2. **MARQUE no seu cartão-resposta o número da sua prova** (não será corrigido o cartão-resposta que não tiver marcado o número da prova) e **Assine** seu cartão-resposta.
3. Aguarde a autorização do Fiscal para abrir o caderno de prova. Ao receber a ordem do fiscal, confira o caderno de prova com muita atenção. Nenhuma reclamação sobre o total de questões ou falha de impressão será aceita depois de iniciada a prova.
4. O cartão-resposta não será substituído, salvo se contiver erro de impressão.
5. Preencha toda a área do cartão-resposta correspondente à alternativa de sua escolha, com caneta esferográfica (tinta azul ou preta), sem ultrapassar as bordas. As marcações duplas, ou rasuradas, com corretivo, ou marcadas diferentemente do modelo estabelecido no cartão-resposta poderão ser anuladas.
6. Sua prova tem **40** questões, com **5** alternativas.
7. Cabe apenas ao candidato a interpretação das questões, **o fiscal** não poderá fazer nenhuma interferência.
8. A prova será realizada com duração máxima de **3 (três) horas**, incluído o tempo para a realização da Prova Objetiva de múltipla escolha e o preenchimento do cartão-resposta.
9. O candidato poderá retirar-se do local de realização das provas somente **1 (uma) hora** após o seu início, sem levar o caderno de prova.
10. O candidato poderá levar o caderno de provas, assim como anotação contendo transcrição do seu cartão-resposta, somente **1h30min** (uma hora e trinta minutos) após o início da realização da prova.
11. Ao terminar a prova, o candidato deverá entregar ao fiscal de sala o cartão-resposta preenchido e **ASSINADO**.
12. Os **3 (três)** candidatos, que terminarem a prova por último, deverão permanecer na sala, e só poderão sair juntos após o fechamento do envelope, contendo os cartões-resposta dos candidatos presentes e ausentes, e assinarem no lacre do referido envelope, atestando que este foi devidamente lacrado.
13. Durante todo o tempo em que permanecer no local onde está ocorrendo o concurso, o candidato deverá, manter o celular desligado e sem bateria, só sendo permitido ligar depois de ultrapassar o portão de saída do prédio.
14. Não será permitido ao candidato fumar na sala de provas, bem como nas dependências.
15. Depois de terminar a prova e entregar ao fiscal o cartão-resposta, preenchido e assinado, não será mais permitido ao candidato o uso do banheiro e bebedouro.

**BOA PROVA!**



**MATEMÁTICA**

**01.** Numa prova de hipismo, há duas modalidades totalmente distintas: salto e rural. João vai competir nas duas modalidades. Sabendo que a vitória ou a derrota em uma nada influencia no resultado da outra, e sabendo que a probabilidade de ele ganhar a prova de salto é de 40% e a de ganhar a prova de rural é de 58%, qual a probabilidade de ele ganhar as duas provas?

- a) 98%
- b) 62%
- c) 23,2%
- d) 18%
- e) 2,32%

**02.** Numa escola há 12 professores. A tabela a seguir mostra a carga horária diária de trabalho desses professores.

4	8	5	10	6	5	8	6	8	9	4	8
---	---	---	----	---	---	---	---	---	---	---	---

É correto afirmar que as cargas horárias média, modal e mediana desses professores são respectivamente:

- a) 6,25; 6; 7
- b) 6,5; 7; 8
- c) 6,75; 8; 6
- d) 6,75; 8; 7
- e) 6,75; 7; 8

**03.** Encontre a equação da reta mediatriz do segmento AB, onde A(2, 3) e B(4, -1), e assinale a alternativa correta.

- a)  $2y - x + 1 = 0$
- b)  $y - 2x + 2 = 0$
- c)  $2y - 2x + 1 = 0$
- d)  $2y + x + 2 = 0$
- e)  $2y + x - 1 = 0$

**04.** Uma loja acrescenta 15% no preço de seus produtos à vista se o cliente optar por pagar com um cheque para 60 dias. Comprei, nessa loja, um fogão com cheque para 60 dias e paguei R\$552,00 por ele. Qual era o preço à vista desse fogão?

- a) R\$460,00
- b) R\$469,20
- c) R\$474,50
- d) R\$480,00
- e) R\$500,00

**05.** Um pesquisador, ao analisar os processos que envolvem jovens com menos de 24 anos, descobriu que há 4 homens com nomes envolvidos em processos para cada mulher. Se no total ele contou 2400 pessoas, quantas eram as mulheres envolvidas nessa pesquisa?

- a) 480
- b) 600
- c) 800
- d) 1920
- e) 2000

**INFORMÁTICA**

**06.** Utilizando o Excel 2013, qual fórmula representa corretamente a auto soma?

- a) =SUM()
- b) =MEDIA()
- c) =MAX()
- d) =MIN()
- e) =SE()

**07.** Acerca de confidencialidade está incorreto afirmar:

- a) É um conceito no qual o acesso à informação deve ser concedido a quem de direito, ou seja, apenas para as entidades autorizadas pelo proprietário ou dono da informação.
- b) É uma propriedade que limita o acesso à informação tão somente às entidades legítimas, ou seja, àquelas autorizadas pelo proprietário da informação.
- c) É a propriedade da informação que não estará disponível ou será divulgada a indivíduos, entidades ou processos sem autorização.
- d) Significa garantir que a informação será conhecida por pessoas que não estejam autorizadas para tal.



e) É a garantia do resguardo das informações dadas pessoalmente em confiança e proteção contra a sua revelação não autorizada.

**08. Tratando-se de hardware de computadores, assinale a alternativa que corresponde a um tipo de memória externa.**

- a) Pen Drive
- b) EPROM
- c) DIMM
- d) MRAM
- e) Cache

**09. No Word 2013, é possível utilizar vários tipos de formatação de fontes, exceto:**

- a) Tachado
- b) Negrito
- c) Centralizado
- d) Sublinhado
- e) Cor da fonte

**10. Qual software nativo do Windows utilizamos para descobrir o endereço IP do computador?**

- a) Windows Explorer
- b) Notepad
- c) Excel
- d) Word
- e) Prompt de Comando

#### **CONHECIMENTOS GERAIS**

**11. Conforme fonte do IBGE, o bioma do município de Telêmaco Borba/PR é:**

- a) Mata de Pinhais e Cerrado
- b) Pantanal
- c) Caatinga e Mata Atlântica
- d) Floresta Tropical
- e) Cerrado e Mata Atlântica

**12. A letra do hino do município de Telêmaco Borba/PR é de autoria de**

- a) Bento Mossurunga.
- b) Moisés Lupion.
- c) Eloah Martins Quadrado.
- d) Graciliana Reis D'Albuquerque Mossurunga.
- e) Enéias Augusto Moracines Borba.

**13. Leia o texto sobre o Brasão de Armas do município de Telêmaco Borba/PR e marque a alternativa correta.**

**O Brasão de Armas foi aprovado em definitivo em 1981, dentro dos padrões da heráldica, estabelecendo os regulamentos para seu uso, ficando assim oficializado.**

**No Brasão de Armas, é possível identificar:**

- 1. Escudo português redondo banhado de ouro filetado de prata, carregado de cinco árvores de pinho estilizadas de sua cor, postas em banda.**
- 2. Escudete de prata carregado de três Pinheiros do Paraná, araucária angustifolia ou brasiliense.**
- 3. No timbre, coroa mural de ouro lavrado de negro.**
- 4. À destra, haste de milho (zae mays) frutada.**
- 5. À sinistra, ramos de soja (gelycine soya) granada.**
- 6. Listel amarelo ostentando o topônimo "Cidade Nova" entre as inscrições de ouro "5 de Julho de 1963", em caracteres latino moderno.**

- a) Não é verdadeiro o item 1.
- b) Não é verdadeiro o item 2.
- c) Não é verdadeiro o item 4.
- d) Não é verdadeiro o item 6.
- e) Não são verdadeiros os itens 3 e 5.

**14. Segundo o art. 11 da Lei Orgânica do Município de Telêmaco Borba/PR, os bens públicos podem ser:**

**I. De uso comum do Povo, tais como estradas municipais, ruas, parques, praças, logradouros públicos e outros da mesma espécie;**

**II. De uso especial, os de patrimônio administrativo, tais como edifícios das repartições públicas, os terrenos e equipamentos destinados ao serviço público, veículos, matadouros, mercados e outras serventias de outra espécie;**



**III. Bens municipais, aqueles sobre os quais o município exerce os direitos de proprietário e são considerados como bens patrimoniais disponíveis;**

**IV. Bens culturais, tais como música e obras de arte.**

**Podemos afirmar que são verdadeiros os itens**

- a) I e II, apenas.
- b) II e III, apenas.
- c) I, II e III, apenas.
- d) I, III e IV, apenas.
- e) I, II, III e IV.

**15. Qual alternativa completa corretamente o texto a seguir?**

**No primeiro ano de cada legislatura, no dia 1º de janeiro, em sessão de instalação, independente de número, sob a presidência do vereador mais idoso dentre os eleitos, os vereadores prestarão compromisso e tomarão posse. O Vereador que não tomar posse na sessão do dia 1º de janeiro poderá fazê-la \_\_\_\_\_ depois da primeira sessão ordinária da Legislatura.**

- a) até dez dias
- b) até quinze dias
- c) até trinta dias
- d) até quarenta e cinco dias
- e) até sessenta dias

**16. Conforme o art. 54 da Lei Orgânica do Município de Telêmaco Borba/PR, o Processo Legislativo compreende a elaboração de:**

**I. Emendas à Lei Orgânica do Município;**

**II. Leis complementares;**

**III. Leis Ordinárias;**

**IV. Decretos Legislativos;**

**V. Resoluções;**

**VI. Pareceres.**

**Assinale a alternativa que faz a afirmação correta.**

- a) São verdadeiros apenas os itens I, III e VI.
- b) São verdadeiros apenas os itens I, III e IV.
- c) São verdadeiros apenas os itens III, IV e V.
- d) São verdadeiros apenas os itens I, II, III, IV e V.
- e) São verdadeiros os itens I, II, III, IV, V e VI.

**Com base na Lei nº 1883/2012, que dispõe sobre o Estatuto dos Servidores Públicos da Administração Direta, Autárquica e Funcional do Município de Telêmaco Borba/PR, responda às próximas quatro questões.**

**17. À luz do § 2º do art. 9º da Lei nº 1883/2012, marque a alternativa que completa a lacuna do texto a seguir.**

**O concurso deverá ser homologado no prazo máximo de \_\_\_\_\_ contados da data de realização da última fase de provas, sob pena de responsabilidade da autoridade competente.**

- a) um mês
- b) dois meses
- c) seis meses
- d) um ano
- e) dois anos

**18. Marque a alternativa que completa a lacuna do texto a seguir.**

**O candidato terá o prazo \_\_\_\_\_, a contar da publicação oficial da convocação, para comparecer à entidade convocante e assinar termo de comparecimento.**

- a) máximo de 5 dias úteis
- b) mínimo de 15 dias úteis
- c) de até 30 dias
- d) máximo de 15 dias úteis
- e) mínimo de 5 dias úteis

**19. Leia as assertivas e marque a correta.**

- a) São reservados 10% dos cargos em comissão para a nomeação de servidores do quadro efetivo.
- b) São reservados 15% dos cargos em comissão para a nomeação de servidores do quadro efetivo.
- c) São reservados 20% dos cargos em comissão para a nomeação de servidores do quadro efetivo.
- d) São reservados 25% dos cargos em comissão para a nomeação de servidores do quadro efetivo.
- e) São reservados 30% dos cargos em comissão para a nomeação de servidores do quadro efetivo.



**20. Marque a alternativa que completa a lacuna do texto a seguir.**

**O servidor municipal, quando nomeado para cargo em comissão, ficará afastado de seu cargo efetivo e fará jus à remuneração prevista em lei para o comissionado, podendo optar por receber seus vencimentos acrescidos de \_\_\_\_\_ do valor da remuneração prevista para o cargo em comissão.**

- a) 10%
- b) 20%
- c) 30%
- d) 40%
- e) 50%

### **CONHECIMENTOS ESPECÍFICOS**

**21. A Administração Pública em sentido amplo, ou seja, a estrutura organizacional do Estado, está dividida em poderes que organizam a sociedade civil no Brasil:**

**I - Poder Legislativo**

**II - Poder Organizacional**

**III - Poder Judiciário**

**IV - Poder Executivo**

**V - Poder Federativo**

**Diante dessa afirmação, marque a alternativa correta:**

- a) Somente os itens I, II e III estão corretos.
- b) Somente os itens II e III estão corretos.
- c) Somente os itens I, III e IV estão corretos.
- d) Somente os itens III, IV e V estão corretos.
- e) Os itens I, II, III, IV e V estão corretos.

**22. A Administração apresenta algumas funções:**

**I - Controle de qualidade, planejamento e comando.**

**II - Organização, controle, planejamento e direção.**

**III - Coordenação, planejamento, organização e direção.**

**IV - Inovação, organização, planejamento e precisão.**

**V - Liderança, motivação e empreendedorismo.**

**Diante do exposto, assinale a alternativa correta:**

- a) Somente o item I é correto.
- b) Somente o item II é correto.
- c) Somente o item III está correto.
- d) Somente o item IV é correto.
- e) Somente o item V está correto.

**23. Conforme o art. 70 da CF/88, a fiscalização contábil, financeira, orçamentária, operacional e patrimonial da União e das entidades da administração direta e indireta, quanto à legalidade, legitimidade, economicidade, aplicação das subvenções e renúncia de receitas será exercida pelo:**

- a) Congresso Nacional, mediante controle externo e pelo sistema de controle interno de cada Poder
- b) Superior Tribunal de Justiça
- c) Superior Tribunal Federal
- d) Senado Federal
- e) Ministério Público Federal

**24. Conforme o art. 165 da CF/88, § 5º, a lei orçamentária anual compreende o orçamento fiscal e o orçamento da seguridade social. Nesse respeito, o que não está incluído nesse artigo?**

- a) O orçamento fiscal referente aos Poderes da União, seus fundos, órgãos e entidades da administração direta e indireta.
- b) O orçamento fiscal das fundações instituídas e mantidas pelo Poder Público.
- c) O orçamento de investimento das empresas em que a União, direta ou indiretamente, detenha a maioria do capital social com direito a voto.
- d) O orçamento da seguridade social, abrangendo todas as entidades e órgãos a ela vinculados, da administração direta ou indireta.
- e) O orçamento da seguridade social dos fundos e fundações instituídos e mantidos pelo Poder Privado.

**25. A licitação destina-se a garantir a observância do princípio constitucional da isonomia e a selecionar a proposta mais vantajosa para a administração e será processada e julgada em estrita conformidade com os princípios básicos da legalidade, da impessoalidade, da moralidade, da igualdade, da publicidade, da probidade administrativa, da vinculação ao instrumento convocatório, do julgamento objetivo e dos que lhes são correlatos. Dentre os órgãos seguintes, qual é aquele que não é obrigado a realizar licitação?**

- a) Órgãos da Administração Pública Direta

- b) Ministério Público
- c) Tribunal de Contas
- d) Empresas de Sociedade Anônimas
- e) Entes da Administração Pública Indireta

**26. Conforme o art. 19 da Lei Complementar 101/00, a despesa total com pessoal, em cada período de apuração e em cada ente da Federação, não poderá exceder os percentuais da receita corrente líquida a seguir discriminados:**

- ( ) União: 50% (cinquenta por cento);
- ( ) Estados: 60% (sessenta por cento);
- ( ) Distrito Federal: 40% (quarenta por cento);
- ( ) Municípios: 50% (cinquenta por cento).

**Marcando esses itens, de cima para baixo, com V para verdadeiro e F para falso, a alternativa com a sequência correta é:**

- a) V, V, F, F
- b) V, V, V, F
- c) F, F, V, V
- d) F, V, V, F
- e) F, V, F, F

**27. O art. 92 da LRF 101/2000 trata sobre a dívida flutuante e o que compõe esta dívida.**

**A respeito desse assunto, qual dos itens seguintes compõem essa dívida e estão contemplados no artigo informado?**

**I - os restos a pagar, excluídos os serviços da dívida;**

**II - os serviços da dívida a pagar;**

**III - os depósitos;**

**IV - os débitos de tesouraria.**

- a) Somente I e II e IV.
- b) Somente I, II e III.
- c) Somente III e IV.
- d) Somente III, IV e V.
- e) Os itens I, II, III e IV.

**28. Conforme o art. 106 da Lei 101/2000, a avaliação dos elementos patrimoniais deverá obedecer a critérios contábeis. Dentre as alternativas abaixo, UMA não está prevista neste artigo e não pode ser registrada pela Contabilidade Pública. Qual?**

- a) Os débitos e créditos, bem como os títulos de renda, pelo seu valor nominal, feita a conversão, quando em moeda estrangeira, à taxa de câmbio vigente na data do balanço.
- b) Os bens móveis e imóveis, pelo valor de aquisição ou pelo custo de produção ou de construção.
- c) Não poderão ser feitas reavaliações dos bens móveis e imóveis.
- d) Os bens de almoxarifado, pelo preço médio ponderado das compras.
- e) As variações resultantes da conversão dos débitos, créditos e valores em espécie serão levadas à conta patrimonial.

**29. Patrimônio Público é o conjunto de direitos e bens, tangíveis ou intangíveis, onerados ou não, adquiridos, formados, produzidos, recebidos, mantidos ou utilizados pelas entidades do setor público. Os direitos e bens fazem parte do Ativo e estão presentes nas variações patrimoniais.**

**Dentre as alternativas, marque aquela que esteja com a definição contábil correta.**

- a) O Ativo compreende as obrigações controladas pela entidade como resultado de eventos passados e do qual se espera que resultem para a entidade benefícios econômicos futuros ou potencial de serviços.
- b) O Ativo compreende os recursos presentes da entidade, derivadas de eventos passados, cujos pagamentos se espera que resultem para a entidade saídas de recursos capazes de gerar benefícios econômicos ou potencial de serviços.
- c) As variações patrimoniais qualitativas alteram a composição dos elementos patrimoniais e afetam o patrimônio líquido, determinando modificações apenas na composição específica dos elementos patrimoniais.
- d) Patrimônio Líquido, Saldo Patrimonial ou Situação Líquida Patrimonial é o valor residual dos ativos da entidade depois de deduzidos todos seus passivos.
- e) Os ativos devem ser classificados como circulante quando satisfizerem a disponibilidade para realização imediata e tiverem a expectativa de realização após o término do exercício seguinte.

**30. Na Administração Pública, a aquisição de um veículo deve ocorrer pelo processo de empenho, recebimento de nota fiscal e liquidação. A contabilização obedece às normas de Contabilidade. Em relação a essa contabilização, analise os seguintes itens:**

**I - Empenho -**

**a débito na conta de Crédito disponível e crédito na conta Crédito empenhado a liquidar**



a débito na conta de Disponibilidade por destinação de recursos e a crédito na conta de Disponibilidade por destinação de recursos comprometida por empenho

**II - Recebimento de veículo (e nota fiscal) -**

a débito na conta de Bens móveis e a crédito na conta de Financiamentos a curto prazo

a débito na conta de Crédito empenhado a liquidar e a crédito na conta de Crédito empenhado em liquidação

**III - Liquidação -**

a débito na conta de Crédito empenhado em liquidação e a crédito na conta de Créditos empenhado liquidado a pagar

a débito na conta de Disponibilidade por destinação de recursos comprometida por empenho e a crédito na conta de Disponibilidade por destinação de recursos comprometida por liquidação e entradas compensatórias

**IV - Contratação da operação de crédito -**

a débito na conta de Caixa e equivalentes de caixa em moeda nacional e a crédito na conta de Financiamentos a curto prazo

a débito na conta de Controle da disponibilidade de recursos e a crédito na conta de Disponibilidade por destinação de recursos

**Estão corretos:**

- Somente os itens I, II e III.
- Somente os itens II e III.
- Somente os itens I, III, e IV.
- Somente os itens II e IV.
- Os itens I, II, III e IV.

**LÍNGUA PORTUGUESA**

Leia o texto e responda às próximas quatro questões.

**Lêmures e baobás de Madagascar**

Isolada do continente há 135 milhões de anos, a ilha do Oceano Índico é um laboratório natural da evolução das espécies e encanta os viajantes com uma flora e fauna única

**Madagascar** abriga 107 espécies de **lêmures**, dezenas de espécies de camaleões coloridos e outras tantas plantas que só existem lá. “Madagascar é um mundo a parte. Costumo dizer que, se Charles Darwin tivesse conhecido Madagascar, seu livro *A Origem das Espécies* seria dez vezes maior”, afirma o fotógrafo e jornalista **Haroldo Castro**, idealizador de Viajologia Expedições.

Uma das experiências mais emocionantes na quarta maior ilha do mundo é passear entre os gigantescos **baobás**, árvores que chegam a ter 30 metros de altura e mil anos de idade. Das nove espécies de baobás que existem no mundo, seis podem ser encontradas apenas em Madagascar. A majestosa árvore, considerada sagrada pelos malgaxes, é chamada localmente como “reniala”, mãe da floresta.

Na pequena cidade de Bekopaka está o Parque Nacional Tsingy de Bemaraha, considerado Patrimônio Mundial pela Unesco. Trilhas e passeios de canoa no rio Manambolo conduzem a formações rochosas calcárias inusitadas e plantas endêmicas desse ecossistema de florestas secas.

Outro momento inesquecível em Madagascar é o encontro com os lêmures nas florestas tropicais da reserva Anjozorobe-Angavo, a 90 quilômetros da capital Antananarivo. Especialistas apontam que o turismo de observação de animais é uma excelente alternativa para o desenvolvimento da economia local e pode ajudar a conter o desmatamento. “O projeto em Anjozorobe comprova que, nos últimos anos, os 9 mil visitantes contribuíram de forma concreta a reduzir a pobreza e a promover a conservação da biodiversidade”, afirma Haroldo. Como os primatas são curiosos e estão habituados aos seres humanos, eles costumam se aproximar dos visitantes. “Os bichinhos chegam a subir nas nossas cabeças e parecem adorar aparecer nas fotos.”

Madagascar possui hoje uma excelente estrutura para o turismo, com algumas estradas bem cuidadas e hotéis confortáveis localizados perto das reservas e parques ecológicos. A gastronomia malgaxe, com um toque francês, também surpreende pela diversidade de ingredientes, temperos e colorido dos pratos.

[...]

(Fonte: <http://viajeaqu.abril.com.br/materias/lemures-e-baobas-de-madagascar#2>. Acesso em 14/05/2016)

**31. Lêmures e baobás de Madagascar é um texto:**

- Em que prevalece a descrição, apresentando as belezas e peculiaridades do lugar, da fauna e da flora.
- Principalmente narrativo, de fatos colhidos durante uma viagem, que se sucedem em progressão temporal.
- Essencialmente argumentativo, o uso da descrição visa somente a convencer o leitor a visitar Madagascar.
- Dissertativo, impera o desenvolvimento de argumentos para comprovar a tese presente no primeiro parágrafo.
- Em que predomina a exposição de conceitos e definições com o intuito de informar o leitor.



**32. O teor do texto *Lêmures e baobás de Madagascar* somente não poderia se encaixar em que tópico?**

- a) Turismo
- b) Viagens
- c) Clima
- d) Natureza
- e) Ilhas

**33. O aposto é um termo que *explica ou esclarece, desenvolve ou resume outro termo da oração*. Quanto a isso, analise a parte grifada em cada uma das orações retiradas do texto:**

**I - *A majestosa árvore, considerada sagrada pelos malgaxes, é chamada localmente como “reniala”, mãe da floresta.***

**II - *afirma o fotógrafo e jornalista Haroldo Castro, idealizador de Viajologia Expedições.***

**III - *Outro momento inesquecível em Madagascar é o encontro com os lêmures nas florestas tropicais da reserva Anjozorobe-Angavo, a 90 quilômetros da capital Antananarivo.***

**IV - *O projeto em Anjozorobe comprova que, nos últimos anos, os 9 mil visitantes contribuíram de forma concreta a reduzir a pobreza e a promover a conservação da biodiversidade”.***

**V - *A gastronomia malgaxe, com um toque francês, também surpreende pela diversidade de ingredientes, temperos e colorido dos pratos.***

**Constitui aposto os grifos em:**

- a) I, II, III, IV e V.
- b) I, III e V, apenas.
- c) III e V apenas.
- d) I, II, III, e V, apenas.
- e) III, IV e V apenas

**34. *Trilhas e passeios de canoa no rio Manambolo conduzem a formações rochosas calcárias inusitadas e plantas endêmicas desse ecossistema de florestas secas.***

**Ao observar a relação sintática entre os termos desse período, pode-se afirmar que:**

- a) de canoa é complemento nominal de Trilhas e passeios.
- b) no rio Manambolo é adjunto adnominal de canoas.
- c) de florestas secas é complemento nominal de plantas endêmicas.
- d) de canoa é complemento verbal de passeios.
- e) a formações rochosas calcárias inusitadas e plantas endêmicas desse ecossistema de florestas secas é complemento verbal de conduzem.

**Leia o poema e responda às próximas duas questões.**

### **FOGO NA MATA, MATA!**

Fogo na mata, mata! A mata, a vida...  
Fogo na mata, abre,  
no coração da mata,  
Profundas feridas.

Fogo na mata corrói,  
dentro de nós, os sonhos.  
Fogo na mata, deixa, no seio da mata,  
Tumores tamanhos!

[...]

(Fonte: <http://www.recantodasletras.com.br/letras/505252>. Acesso em 14/05/2016)

**35. A respeito de alguns aspectos gramaticais pertinentes aos termos em destaque na frase título do poema *Fogo na mata, mata!*, está correto o que se afirma em:**

- a) Morfologicamente, na sequência em que as duas palavras aparecem, temos um verbo e um substantivo.
- b) Semanticamente, as duas palavras constituem homônimas homófonas homógrafas.
- c) O processo de formação da palavra “mata” (primeira ocorrência na frase) é por derivação regressiva do verbo “matar” cuja flexão na terceira pessoa vem logo em seguida na frase.
- d) Semanticamente, as duas palavras “mata” são parônimas.
- e) Semanticamente, as duas palavras constituem homônimas homógrafas heterofônicas.

**36. Com a Nova Reforma Ortográfica, foi mantido o acento nas oxítonas terminadas em -ei e -oi, como é o caso de corrói em *Fogo na mata corrói*. No entanto, de acordo ainda com a Nova Reforma, os acentos foram retirados de quais duas palavras?**



- a) Bocaiuva - maiuscula
- b) Voo, aerodromo
- c) Releem - feiura
- d) Papeis - linguíça
- e) Preveem - heroi

**37. Leia atentamente as alternativas e assinale a incorreta no que diz respeito à Ortografia:**

- a) Grafamos com j as palavras ultraje, jiboia e gorjeio; com g as palavras ferrugem, geringonça, e miragem.
- b) Grafamos com sc: miscelânea, obsceno e obsessão; com c: sucinto, facínio e nécio.
- c) Grafamos com x: xampu, mexerico e enxada; com ch: piche, tocha e mecha.
- d) Grafamos com z: xadrez, cicatriz e vizinho; com s: friso, pêsames e tesoura.
- e) Grafamos com ss: escassez, submissão e sossego; com c: acetinado, obcecado e acepção.

**38. O advérbio sublinhado e a circunstância que ele expressa não estão corretamente apresentados em:**

- a) Ele certamente virá para o encontro. (afirmação)
- b) Ali se ouvia falar de riquezas culturais. (tempo)
- c) O orador discursou muito bem, impressionou a plateia. (modo)
- d) Chegamos tarde, perdemos o ônibus. (tempo)
- e) Os candidatos estudaram bastante. (intensidade)

**39. Os pronomes pessoais, representantes das pessoas do discurso, estão corretamente empregados em todas as alternativas, com exceção da:**

- a) Sempre haverá discordância entre mim e ti.
- b) O juiz queria falar com nós dois.
- c) Minha festa de despedida, não vou esquecê-la jamais.
- d) Ninguém irá sem eu.
- e) Deram o livro para eu ler em dois dias!

**40. Em uma oração, o contexto permite concluirmos se certos verbos são de ligação, para assim identificarmos o predicado nominal. Assim, não há predicação nominal em:**

- a) O aluno não estava na escola hoje.
- b) À tarde, as crianças pareciam cansadas.
- c) Ultimamente os participantes do programa andam desanimados.
- e) A aurora boreal é um lindo espetáculo.
- d) As atletas parecem cansadas.

**RASCUNHO**



PREFEITURA DE TELÊMACO BORBA - ESTADO DO PARANÁ - EDITAL Nº 001-2016 - CONCURSO PÚBLICO

**MATUTINO – 29/05/2016 – NÍVEL MÉDIO**

**3**

**PROVA OBJETIVA NÚMERO**

**CARGO: TMNM I - CONTABILIDADE**

**Leia atentamente as INSTRUÇÕES:**

1. Confira seus dados no cartão-resposta: nome, número de inscrição e o curso para o qual se inscreveu.
2. **MARQUE no seu cartão-resposta o número da sua prova** (não será corrigido o cartão-resposta que não tiver marcado o número da prova) e **Assine** seu cartão-resposta.
3. Aguarde a autorização do Fiscal para abrir o caderno de prova. Ao receber a ordem do fiscal, confira o caderno de prova com muita atenção. Nenhuma reclamação sobre o total de questões ou falha de impressão será aceita depois de iniciada a prova.
4. O cartão-resposta não será substituído, salvo se contiver erro de impressão.
5. Preencha toda a área do cartão-resposta correspondente à alternativa de sua escolha, com caneta esferográfica (tinta azul ou preta), sem ultrapassar as bordas. As marcações duplas, ou rasuradas, com corretivo, ou marcadas diferentemente do modelo estabelecido no cartão-resposta poderão ser anuladas.
6. Sua prova tem **40** questões, com **5** alternativas.
7. Cabe apenas ao candidato a interpretação das questões, **o fiscal** não poderá fazer nenhuma interferência.
8. A prova será realizada com duração máxima de **3 (três) horas**, incluído o tempo para a realização da Prova Objetiva de múltipla escolha e o preenchimento do cartão-resposta.
9. O candidato poderá retirar-se do local de realização das provas somente **1 (uma) hora** após o seu início, sem levar o caderno de prova.
10. O candidato poderá levar o caderno de provas, assim como anotação contendo transcrição do seu cartão-resposta, somente **1h30min** (uma hora e trinta minutos) após o início da realização da prova.
11. Ao terminar a prova, o candidato deverá entregar ao fiscal de sala o cartão-resposta preenchido e **ASSINADO**.
12. Os **3 (três)** candidatos, que terminarem a prova por último, deverão permanecer na sala, e só poderão sair juntos após o fechamento do envelope, contendo os cartões-resposta dos candidatos presentes e ausentes, e assinarem no lacre do referido envelope, atestando que este foi devidamente lacrado.
13. Durante todo o tempo em que permanecer no local onde está ocorrendo o concurso, o candidato deverá, manter o celular desligado e sem bateria, só sendo permitido ligar depois de ultrapassar o portão de saída do prédio.
14. Não será permitido ao candidato fumar na sala de provas, bem como nas dependências.
15. Depois de terminar a prova e entregar ao fiscal o cartão-resposta, preenchido e assinado, não será mais permitido ao candidato o uso do banheiro e bebedouro.

**BOA PROVA!**

**CONHECIMENTOS ESPECÍFICOS**

**01. A Administração Pública em sentido amplo, ou seja, a estrutura organizacional do Estado, está dividida em poderes que organizam a sociedade civil no Brasil:**

**I - Poder Legislativo**

**II - Poder Organizacional**

**III - Poder Judiciário**

**IV - Poder Executivo**

**V - Poder Federativo**

**Diante dessa afirmação, marque a alternativa correta:**

- a) Somente os itens I, II e III estão corretos.
- b) Somente os itens II e III estão corretos.
- c) Somente os itens I, III e IV estão corretos.
- d) Somente os itens III, IV e V estão corretos.
- e) Os itens I, II, III, IV e V estão corretos.

**02. A Administração apresenta algumas funções:**

**I - Controle de qualidade, planejamento e comando.**

**II - Organização, controle, planejamento e direção.**

**III - Coordenação, planejamento, organização e direção.**

**IV - Inovação, organização, planejamento e precisão.**

**V - Liderança, motivação e empreendedorismo.**

**Diante do exposto, assinale a alternativa correta:**

- a) Somente o item I é correto.
- b) Somente o item II é correto.
- c) Somente o item III está correto.
- d) Somente o item IV é correto.
- e) Somente o item V está correto.

**03. Conforme o art. 70 da CF/88, a fiscalização contábil, financeira, orçamentária, operacional e patrimonial da União e das entidades da administração direta e indireta, quanto à legalidade, legitimidade, economicidade, aplicação das subvenções e renúncia de receitas será exercida pelo:**

- a) Congresso Nacional, mediante controle externo e pelo sistema de controle interno de cada Poder
- b) Superior Tribunal de Justiça
- c) Superior Tribunal Federal
- d) Senado Federal
- e) Ministério Público Federal

**04. Conforme o art. 165 da CF/88, § 5º, a lei orçamentária anual compreende o orçamento fiscal e o orçamento da seguridade social. Nesse respeito, o que não está incluído nesse artigo?**

- a) O orçamento fiscal referente aos Poderes da União, seus fundos, órgãos e entidades da administração direta e indireta.
- b) O orçamento fiscal das fundações instituídas e mantidas pelo Poder Público.
- c) O orçamento de investimento das empresas em que a União, direta ou indiretamente, detenha a maioria do capital social com direito a voto.
- d) O orçamento da seguridade social, abrangendo todas as entidades e órgãos a ela vinculados, da administração direta ou indireta.
- e) O orçamento da seguridade social dos fundos e fundações instituídos e mantidos pelo Poder Privado.

**05. A licitação destina-se a garantir a observância do princípio constitucional da isonomia e a selecionar a proposta mais vantajosa para a administração e será processada e julgada em estrita conformidade com os princípios básicos da legalidade, da impessoalidade, da moralidade, da igualdade, da publicidade, da probidade administrativa, da vinculação ao instrumento convocatório, do julgamento objetivo e dos que lhes são correlatos. Dentre os órgãos seguintes, qual é aquele que não é obrigado a realizar licitação?**

- a) Órgãos da Administração Pública Direta
- b) Ministério Público
- c) Tribunal de Contas
- d) Empresas de Sociedade Anônimas
- e) Entes da Administração Pública Indireta

**06. Conforme o art. 19 da Lei Complementar 101/00, a despesa total com pessoal, em cada período de apuração e em cada ente da Federação, não poderá exceder os percentuais da receita corrente líquida a seguir discriminados:**

- ( ) União: 50% (cinquenta por cento);
- ( ) Estados: 60% (sessenta por cento);
- ( ) Distrito Federal: 40% (quarenta por cento);



( ) Municípios: 50% (cinquenta por cento).

Marcando esses itens, de cima para baixo, com V para verdadeiro e F para falso, a alternativa com a sequência correta é:

- a) V, V, F, F
- b) V, V, V, F
- c) F, F, V, V
- d) F, V, V, F
- e) F, V, F, F

**07. O art. 92 da LRF 101/2000 trata sobre a dívida flutuante e o que compõe esta dívida.**

**A respeito desse assunto, qual dos itens seguintes compõem essa dívida e estão contemplados no artigo informado?**

**I - os restos a pagar, excluídos os serviços da dívida;**

**II - os serviços da dívida a pagar;**

**III - os depósitos;**

**IV - os débitos de tesouraria.**

- a) Somente I e II e IV.
- b) Somente I, II e III.
- c) Somente III e IV.
- d) Somente III, IV e V.
- e) Os itens I, II, III e IV.

**08. Conforme o art. 106 da Lei 101/2000, a avaliação dos elementos patrimoniais deverá obedecer a critérios contábeis. Dentre as alternativas abaixo, UMA não está prevista neste artigo e não pode ser registrada pela Contabilidade Pública. Qual?**

- a) Os débitos e créditos, bem como os títulos de renda, pelo seu valor nominal, feita a conversão, quando em moeda estrangeira, à taxa de câmbio vigente na data do balanço.
- b) Os bens móveis e imóveis, pelo valor de aquisição ou pelo custo de produção ou de construção.
- c) Não poderão ser feitas reavaliações dos bens móveis e imóveis.
- d) Os bens de almoxarifado, pelo preço médio ponderado das compras.
- e) As variações resultantes da conversão dos débitos, créditos e valores em espécie serão levadas à conta patrimonial.

**09. Patrimônio Público é o conjunto de direitos e bens, tangíveis ou intangíveis, onerados ou não, adquiridos, formados, produzidos, recebidos, mantidos ou utilizados pelas entidades do setor público. Os direitos e bens fazem parte do Ativo e estão presentes nas variações patrimoniais.**

**Dentre as alternativas, marque aquela que esteja com a definição contábil correta.**

- a) O Ativo compreende as obrigações controladas pela entidade como resultado de eventos passados e do qual se espera que resultem para a entidade benefícios econômicos futuros ou potencial de serviços.
- b) O Ativo compreende os recursos presentes da entidade, derivadas de eventos passados, cujos pagamentos se espera que resultem para a entidade saídas de recursos capazes de gerar benefícios econômicos ou potencial de serviços.
- c) As variações patrimoniais qualitativas alteram a composição dos elementos patrimoniais e afetam o patrimônio líquido, determinando modificações apenas na composição específica dos elementos patrimoniais.
- d) Patrimônio Líquido, Saldo Patrimonial ou Situação Líquida Patrimonial é o valor residual dos ativos da entidade depois de deduzidos todos seus passivos.
- e) Os ativos devem ser classificados como circulante quando satisfizerem a disponibilidade para realização imediata e tiverem a expectativa de realização após o término do exercício seguinte.

**10. Na Administração Pública, a aquisição de um veículo deve ocorrer pelo processo de empenho, recebimento de nota fiscal e liquidação. A contabilização obedece às normas de Contabilidade. Em relação a essa contabilização, analise os seguintes itens:**

**I - Empenho -**

**a débito na conta de Crédito disponível e crédito na conta Crédito empenhado a liquidar**

**a débito na conta de Disponibilidade por destinação de recursos e a crédito na conta de Disponibilidade por destinação de recursos comprometida por empenho**

**II - Recebimento de veículo (e nota fiscal) -**

**a débito na conta de Bens móveis e a crédito na conta de Financiamentos a curto prazo**

**a débito na conta de Crédito empenhado a liquidar e a crédito na conta de Crédito empenhado em liquidação**

**III - Liquidação -**

**a débito na conta de Crédito empenhado em liquidação e a crédito na conta de Créditos empenhado liquidado a pagar**



a débito na conta de Disponibilidade por destinação de recursos comprometida por empenho e a crédito na conta de Disponibilidade por destinação de recursos comprometida por liquidação e entradas compensatórias

**IV - Contratação da operação de crédito -**

a débito na conta de Caixa e equivalentes de caixa em moeda nacional e a crédito na conta de Financiamentos a curto prazo a débito na conta de Controle da disponibilidade de recursos e a crédito na conta de Disponibilidade por destinação de recursos

**Estão corretos:**

- Somente os itens I, II e III.
- Somente os itens II e III.
- Somente os itens I, III, e IV.
- Somente os itens II e IV.
- Os itens I, II, III e IV.

**LÍNGUA PORTUGUESA**

Leia o texto e responda às próximas quatro questões.

**Lêmures e baobás de Madagascar**

Isolada do continente há 135 milhões de anos, a ilha do Oceano Índico é um laboratório natural da evolução das espécies e encanta os viajantes com uma flora e fauna única

**Madagascar** abriga 107 espécies de **lêmures**, dezenas de espécies de camaleões coloridos e outras tantas plantas que só existem lá. “Madagascar é um mundo a parte. Costumo dizer que, se Charles Darwin tivesse conhecido Madagascar, seu livro *A Origem das Espécies* seria dez vezes maior”, afirma o fotógrafo e jornalista **Haroldo Castro**, idealizador de Viajologia Expedições.

Uma das experiências mais emocionantes na quarta maior ilha do mundo é passear entre os gigantescos **baobás**, árvores que chegam a ter 30 metros de altura e mil anos de idade. Das nove espécies de baobás que existem no mundo, seis podem ser encontradas apenas em Madagascar. A majestosa árvore, considerada sagrada pelos malgaxes, é chamada localmente como “reniala”, mãe da floresta.

Na pequena cidade de Bekopaka está o Parque Nacional Tsingy de Bemaraha, considerado Patrimônio Mundial pela Unesco. Trilhas e passeios de canoa no rio Manambolo conduzem a formações rochosas calcárias inusitadas e plantas endêmicas desse ecossistema de florestas secas.

Outro momento inesquecível em Madagascar é o encontro com os lêmures nas florestas tropicais da reserva Anjzorobe-Angavo, a 90 quilômetros da capital Antananarivo. Especialistas apontam que o turismo de observação de animais é uma excelente alternativa para o desenvolvimento da economia local e pode ajudar a conter o desmatamento. “O projeto em Anjzorobe comprova que, nos últimos anos, os 9 mil visitantes contribuíram de forma concreta a reduzir a pobreza e a promover a conservação da biodiversidade”, afirma Haroldo. Como os primatas são curiosos e estão habituados aos seres humanos, eles costumam se aproximar dos visitantes. “Os bichinhos chegam a subir nas nossas cabeças e parecem adorar aparecer nas fotos.”

Madagascar possui hoje uma excelente estrutura para o turismo, com algumas estradas bem cuidadas e hotéis confortáveis localizados perto das reservas e parques ecológicos. A gastronomia malgaxe, com um toque francês, também surpreende pela diversidade de ingredientes, temperos e colorido dos pratos.

[...]

(Fonte: <http://viajeaqui.abril.com.br/materias/lemures-e-baobas-de-madagascar#2>. Acesso em 14/05/2016)

**11. Lêmures e baobás de Madagascar é um texto:**

- Em que prevalece a descrição, apresentando as belezas e peculiaridades do lugar, da fauna e da flora.
- Principalmente narrativo, de fatos colhidos durante uma viagem, que se sucedem em progressão temporal.
- Essencialmente argumentativo, o uso da descrição visa somente a convencer o leitor a visitar Madagascar.
- Dissertativo, impera o desenvolvimento de argumentos para comprovar a tese presente no primeiro parágrafo.
- Em que predomina a exposição de conceitos e definições com o intuito de informar o leitor.

**12. O teor do texto Lêmures e baobás de Madagascar somente não poderia se encaixar em que tópico?**

- Turismo
- Viagens
- Clima
- Natureza
- Ilhas

**13. O aposto é um termo que explica ou esclarece, desenvolve ou resume outro termo da oração. Quanto a isso, analise a parte grifada em cada uma das orações retiradas do texto:**





**I - A majestosa árvore, considerada sagrada pelos malgaxes, é chamada localmente como “reniala”, mãe da floresta.**

**II - afirma o fotógrafo e jornalista Haroldo Castro, idealizador de Viajologia Expedições.**

**III - Outro momento inesquecível em Madagascar é o encontro com os lêmures nas florestas tropicais da reserva Anjozorobe-Angavo, a 90 quilômetros da capital Antananarivo.**

**IV - O projeto em Anjozorobe comprova que, nos últimos anos, os 9 mil visitantes contribuíram de forma concreta a reduzir a pobreza e a promover a conservação da biodiversidade”.**

**V - A gastronomia malgaxe, com um toque francês, também surpreende pela diversidade de ingredientes, temperos e colorido dos pratos.**

**Constitui aposto os grifos em:**

- I, II, III, IV e V.
- I, III e V, apenas.
- III e V apenas.
- I, II, III, e V, apenas.
- III, IV e V apenas

**14. Trilhas e passeios de canoa no rio Manambolo conduzem a formações rochosas calcárias inusitadas e plantas endêmicas desse ecossistema de florestas secas.**

**Ao observar a relação sintática entre os termos desse período, pode-se afirmar que:**

- de canoa é complemento nominal de Trilhas e passeios.
- no rio Manambolo é adjunto adnominal de canoas.
- de florestas secas é complemento nominal de plantas endêmicas.
- de canoa é complemento verbal de passeios.
- a formações rochosas calcárias inusitadas e plantas endêmicas desse ecossistema de florestas secas é complemento verbal de conduzem.

**Leia o poema e responda às próximas duas questões.**

### **FOGO NA MATA, MATA!**

Fogo na mata, mata! A mata, a vida...  
Fogo na mata, abre,  
no coração da mata,  
Profundas feridas.

Fogo na mata corrói,  
dentro de nós, os sonhos.  
Fogo na mata, deixa, no seio da mata,  
Tumores tamanhos!

[...]

(Fonte: <http://www.recantodasletras.com.br/letras/505252>. Acesso em 14/05/2016)

**15. A respeito de alguns aspectos gramaticais pertinentes aos termos em destaque na frase título do poema Fogo na mata, mata!, está correto o que se afirma em:**

- Morfologicamente, na sequência em que as duas palavras aparecem, temos um verbo e um substantivo.
- Semanticamente, as duas palavras constituem homônimas homófonas homógrafas.
- O processo de formação da palavra “mata” (primeira ocorrência na frase) é por derivação regressiva do verbo “matar” cuja flexão na terceira pessoa vem logo em seguida na frase.
- Semanticamente, as duas palavras “mata” são parônimas.
- Semanticamente, as duas palavras constituem homônimas homógrafas heterofônicas.

**16. Com a Nova Reforma Ortográfica, foi mantido o acento nas oxítonas terminadas em -ei e -oi, como é o caso de corrói em Fogo na mata corrói. No entanto, de acordo ainda com a Nova Reforma, os acentos foram retirados de quais duas palavras?**

- Bocaiuva - maiúscula
- Voo, aerodromo
- Releem - feiura
- Papeis - linguíça
- Preveem - heroi

**17. Leia atentamente as alternativas e assinale a incorreta no que diz respeito à Ortografia:**

- Grafamos com j as palavras ultraje, jiboia e gorjeio; com g as palavras ferrugem, geringonça, e miragem.
- Grafamos com sc: miscelânea, obsceno e obsessão; com c: sucinto, facínio e nécio.
- Grafamos com x: xampu, mexerico e enxada; com ch: piche, tocha e mecha.



- d) Grafamos com z: xadrez, cicatriz e vizinho; com s: friso, pêsames e tesoura.  
e) Grafamos com ss: escassez, submissão e sossego; com c: acetinado, obcecado e acepção.

**18. O advérbio sublinhado e a circunstância que ele expressa não estão corretamente apresentados em:**

- a) Ele certamente virá para o encontro. (afirmação)  
b) Ali se ouvia falar de riquezas culturais. (tempo)  
c) O orador discursou muito bem, impressionou a plateia. (modo)  
d) Chegamos tarde, perdemos o ônibus. (tempo)  
e) Os candidatos estudaram bastante. (intensidade)

**19. Os pronomes pessoais, representantes das pessoas do discurso, estão corretamente empregados em todas as alternativas, com exceção da:**

- a) Sempre haverá discordância entre mim e ti.  
b) O juiz queria falar com nós dois.  
c) Minha festa de despedida, não vou esquecê-la jamais.  
d) Ninguém irá sem eu.  
e) Deram o livro para eu ler em dois dias!

**20. Em uma oração, o contexto permite concluirmos se certos verbos são de ligação, para assim identificarmos o predicado nominal. Assim, não há predicção nominal em:**

- a) O aluno não estava na escola hoje.  
b) À tarde, as crianças pareciam cansadas.  
c) Ultimamente os participantes do programa andam desanimados.  
e) A aurora boreal é um lindo espetáculo.  
d) As atletas parecem cansadas.

## MATEMÁTICA

**21. Numa prova de hipismo, há duas modalidades totalmente distintas: salto e rural. João vai competir nas duas modalidades. Sabendo que a vitória ou a derrota em uma nada influencia no resultado da outra, e sabendo que a probabilidade de ele ganhar a prova de salto é de 40% e a de ganhar a prova de rural é de 58%, qual a probabilidade de ele ganhar as duas provas?**

- a) 98%  
b) 62%  
c) 23,2%  
d) 18%  
e) 2,32%

**22. Numa escola há 12 professores. A tabela a seguir mostra a carga horária diária de trabalho desses professores.**

4	8	5	10	6	5	8	6	8	9	4	8
---	---	---	----	---	---	---	---	---	---	---	---

**É correto afirmar que as cargas horárias média, modal e mediana desses professores são respectivamente:**

- a) 6,25; 6; 7  
b) 6,5; 7; 8  
c) 6,75; 8; 6  
d) 6,75; 8; 7  
e) 6,75; 7; 8

**23. Encontre a equação da reta mediatriz do segmento AB, onde A(2, 3) e B(4, -1), e assinale a alternativa correta.**

- a)  $2y - x + 1 = 0$   
b)  $y - 2x + 2 = 0$   
c)  $2y - 2x + 1 = 0$   
d)  $2y + x + 2 = 0$   
e)  $2y + x - 1 = 0$

**24. Uma loja acrescenta 15% no preço de seus produtos à vista se o cliente optar por pagar com um cheque para 60 dias. Comprei, nessa loja, um fogão com cheque para 60 dias e paguei R\$552,00 por ele. Qual era o preço à vista desse fogão?**

- a) R\$460,00  
b) R\$469,20  
c) R\$474,50  
d) R\$480,00  
e) R\$500,00

**25. Um pesquisador, ao analisar os processos que envolvem jovens com menos de 24 anos, descobriu que há 4 homens com nomes envolvidos em processos para cada mulher. Se no total ele contou 2400 pessoas, quantas eram as mulheres envolvidas nessa pesquisa?**

- a) 480
- b) 600
- c) 800
- d) 1920
- e) 2000

#### **INFORMÁTICA**

**26. Utilizando o Excel 2013, qual fórmula representa corretamente a auto soma?**

- a) =SUM()
- b) =MÉDIA()
- c) =MAX()
- d) =MIN()
- e) =SE()

**27. Acerca de confidencialidade está incorreto afirmar:**

- a) É um conceito no qual o acesso à informação deve ser concedido a quem de direito, ou seja, apenas para as entidades autorizadas pelo proprietário ou dono da informação.
- b) É uma propriedade que limita o acesso à informação tão somente às entidades legítimas, ou seja, àquelas autorizadas pelo proprietário da informação.
- c) É a propriedade da informação que não estará disponível ou será divulgada a indivíduos, entidades ou processos sem autorização.
- d) Significa garantir que a informação será conhecida por pessoas que não estejam autorizadas para tal.
- e) É a garantia do resguardo das informações dadas pessoalmente em confiança e proteção contra a sua revelação não autorizada.

**28. Tratando-se de hardware de computadores, assinale a alternativa que corresponde a um tipo de memória externa.**

- a) Pen Drive
- b) EPROM
- c) DIMM
- d) MRAM
- e) Cache

**29. No Word 2013, é possível utilizar vários tipos de formatação de fontes, exceto:**

- a) Tachado
- b) Negrito
- c) Centralizado
- d) Sublinhado
- e) Cor da fonte

**30. Qual software nativo do Windows utilizamos para descobrir o endereço IP do computador?**

- a) Windows Explorer
- b) Notepad
- c) Excel
- d) Word
- e) Prompt de Comando

#### **CONHECIMENTOS GERAIS**

**31. Conforme fonte do IBGE, o bioma do município de Telêmaco Borba/PR é:**

- a) Mata de Pinhais e Cerrado
- b) Pantanal
- c) Caatinga e Mata Atlântica
- d) Floresta Tropical
- e) Cerrado e Mata Atlântica

**32. A letra do hino do município de Telêmaco Borba/PR é de autoria de**

- a) Bento Mossurunga.
- b) Moisés Lupion.
- c) Eloah Martins Quadrado.
- d) Graciliana Reis D'Albuquerque Mossurunga.
- e) Enéias Augusto Moracines Borba.



**33. Leia o texto sobre o Brasão de Armas do município de Telêmaco Borba/PR e marque a alternativa correta.**

O Brasão de Armas foi aprovado em definitivo em 1981, dentro dos padrões da heráldica, estabelecendo os regulamentos para seu uso, ficando assim oficializado.

No Brasão de Armas, é possível identificar:

1. Escudo português redondo banhado de ouro filetado de prata, carregado de cinco árvores de pinho estilizadas de sua cor, postas em banda.
2. Escudete de prata carregado de três Pinheiros do Paraná, araucária angustifolia ou brasiliense.
3. No timbre, coroa mural de ouro lavrado de negro.
4. À direita, haste de milho (zae mays) frutada.
5. À sinistra, ramos de soja (gelycine soya) granada.
6. Listel amarelo ostentando o topônimo "Cidade Nova" entre as inscrições de ouro "5 de Julho de 1963", em caracteres latino moderno.

- a) Não é verdadeiro o item 1.
- b) Não é verdadeiro o item 2.
- c) Não é verdadeiro o item 4.
- d) Não é verdadeiro o item 6.
- e) Não são verdadeiros os itens 3 e 5.

**34. Segundo o art. 11 da Lei Orgânica do Município de Telêmaco Borba/PR, os bens públicos podem ser:**

**I. De uso comum do Povo, tais como estradas municipais, ruas, parques, praças, logradouros públicos e outros da mesma espécie;**

**II. De uso especial, os de patrimônio administrativo, tais como edifícios das repartições públicas, os terrenos e equipamentos destinados ao serviço público, veículos, matadouros, mercados e outras serventias de outra espécie;**

**III. Bens municipais, aqueles sobre os quais o município exerce os direitos de proprietário e são considerados como bens patrimoniais disponíveis;**

**IV. Bens culturais, tais como música e obras de arte.**

**Podemos afirmar que são verdadeiros os itens**

- a) I e II, apenas.
- b) II e III, apenas.
- c) I, II e III, apenas.
- d) I, III e IV, apenas.
- e) I, II, III e IV.

**35. Qual alternativa completa corretamente o texto a seguir?**

No primeiro ano de cada legislatura, no dia 1º de janeiro, em sessão de instalação, independente de número, sob a presidência do vereador mais idoso dentre os eleitos, os vereadores prestarão compromisso e tomarão posse. O Vereador que não tomar posse na sessão do dia 1º de janeiro poderá fazê-la \_\_\_\_\_ depois da primeira sessão ordinária da Legislatura.

- a) até dez dias
- b) até quinze dias
- c) até trinta dias
- d) até quarenta e cinco dias
- e) até sessenta dias

**36. Conforme o art. 54 da Lei Orgânica do Município de Telêmaco Borba/PR, o Processo Legislativo compreende a elaboração de:**

**I. Emendas à Lei Orgânica do Município;**

**II. Leis complementares;**

**III. Leis Ordinárias;**

**IV. Decretos Legislativos;**

**V. Resoluções;**

**VI. Pareceres.**

**Assinale a alternativa que faz a afirmação correta.**

- a) São verdadeiros apenas os itens I, III e VI.
- b) São verdadeiros apenas os itens I, III e IV.
- c) São verdadeiros apenas os itens III, IV e V.
- d) São verdadeiros apenas os itens I, II, III, IV e V.
- e) São verdadeiros os itens I, II, III, IV, V e VI.

**Com base na Lei nº 1883/2012, que dispõe sobre o Estatuto dos Servidores Públicos da Administração Direta, Autárquica e Funcional do Município de Telêmaco Borba/PR, responda às próximas quatro questões.**



**37. À luz do § 2º do art. 9º da Lei nº 1883/2012, marque a alternativa que completa a lacuna do texto a seguir.**

**O concurso deverá ser homologado no prazo máximo de \_\_\_\_\_ contados da data de realização da última fase de provas, sob pena de responsabilidade da autoridade competente.**

- a) um mês
- b) dois meses
- c) seis meses
- d) um ano
- e) dois anos

**38. Marque a alternativa que completa a lacuna do texto a seguir.**

**O candidato terá o prazo \_\_\_\_\_, a contar da publicação oficial da convocação, para comparecer à entidade convocante e assinar termo de comparecimento.**

- a) máximo de 5 dias úteis
- b) mínimo de 15 dias úteis
- c) de até 30 dias
- d) máximo de 15 dias úteis
- e) mínimo de 5 dias úteis

**39. Leia as assertivas e marque a correta.**

- a) São reservados 10% dos cargos em comissão para a nomeação de servidores do quadro efetivo.
- b) São reservados 15% dos cargos em comissão para a nomeação de servidores do quadro efetivo.
- c) São reservados 20% dos cargos em comissão para a nomeação de servidores do quadro efetivo.
- d) São reservados 25% dos cargos em comissão para a nomeação de servidores do quadro efetivo.
- e) São reservados 30% dos cargos em comissão para a nomeação de servidores do quadro efetivo.

**40. Marque a alternativa que completa a lacuna do texto a seguir.**

**O servidor municipal, quando nomeado para cargo em comissão, ficará afastado de seu cargo efetivo e fará jus à remuneração prevista em lei para o comissionado, podendo optar por receber seus vencimentos acrescidos de \_\_\_\_\_ do valor da remuneração prevista para o cargo em comissão.**

- a) 10%
- b) 20%
- c) 30%
- d) 40%
- e) 50%

**RASCUNHO**



PREFEITURA DE TELÊMACO BORBA - ESTADO DO PARANÁ - EDITAL Nº 001-2016 - CONCURSO PÚBLICO

MATUTINO – 29/05/2016 – NÍVEL MÉDIO

**1**

PROVA OBJETIVA NÚMERO

**CARGO: TMNM I - DESENHO DE PROJETOS****Leia atentamente as INSTRUÇÕES:**

1. Confira seus dados no cartão-resposta: nome, número de inscrição e o curso para o qual se inscreveu.
2. **MARQUE no seu cartão-resposta o número da sua prova** (não será corrigido o cartão-resposta que não tiver marcado o número da prova) e **Assine** seu cartão-resposta.
3. Aguarde a autorização do Fiscal para abrir o caderno de prova. Ao receber a ordem do fiscal, confira o caderno de prova com muita atenção. Nenhuma reclamação sobre o total de questões ou falha de impressão será aceita depois de iniciada a prova.
4. O cartão-resposta não será substituído, salvo se contiver erro de impressão.
5. Preencha toda a área do cartão-resposta correspondente à alternativa de sua escolha, com caneta esferográfica (tinta azul ou preta), sem ultrapassar as bordas. As marcações duplas, ou rasuradas, com corretivo, ou marcadas diferentemente do modelo estabelecido no cartão-resposta poderão ser anuladas.
6. Sua prova tem **40** questões, com **5** alternativas.
7. Cabe apenas ao candidato a interpretação das questões, **o fiscal** não poderá fazer nenhuma interferência.
8. A prova será realizada com duração máxima de **3 (três) horas**, incluído o tempo para a realização da Prova Objetiva de múltipla escolha e o preenchimento do cartão-resposta.
9. O candidato poderá retirar-se do local de realização das provas somente **1 (uma) hora** após o seu início, sem levar o caderno de prova.
10. O candidato poderá levar o caderno de provas, assim como anotação contendo transcrição do seu cartão-resposta, somente **1h30min** (uma hora e trinta minutos) após o início da realização da prova.
11. Ao terminar a prova, o candidato deverá entregar ao fiscal de sala o cartão-resposta preenchido e **ASSINADO**.
12. Os **3 (três)** candidatos, que terminarem a prova por último, deverão permanecer na sala, e só poderão sair juntos após o fechamento do envelope, contendo os cartões-resposta dos candidatos presentes e ausentes, e assinarem no lacre do referido envelope, atestando que este foi devidamente lacrado.
13. Durante todo o tempo em que permanecer no local onde está ocorrendo o concurso, o candidato deverá, manter o celular desligado e sem bateria, só sendo permitido ligar depois de ultrapassar o portão de saída do prédio.
14. Não será permitido ao candidato fumar na sala de provas, bem como nas dependências.
15. Depois de terminar a prova e entregar ao fiscal o cartão-resposta, preenchido e assinado, não será mais permitido ao candidato o uso do banheiro e bebedouro.

**BOA PROVA!**



**LÍNGUA PORTUGUESA**

Leia o texto e responda às próximas quatro questões.

**Lêmures e baobás de Madagascar**

Isolada do continente há 135 milhões de anos, a ilha do Oceano Índico é um laboratório natural da evolução das espécies e encanta os viajantes com uma flora e fauna única

**Madagascar** abriga 107 espécies de **lêmures**, dezenas de espécies de camaleões coloridos e outras tantas plantas que só existem lá. “Madagascar é um mundo a parte. Costumo dizer que, se Charles Darwin tivesse conhecido Madagascar, seu livro *A Origem das Espécies* seria dez vezes maior”, afirma o fotógrafo e jornalista **Haroldo Castro**, idealizador de Viajologia Expedições.

Uma das experiências mais emocionantes na quarta maior ilha do mundo é passear entre os gigantescos **baobás**, árvores que chegam a ter 30 metros de altura e mil anos de idade. Das nove espécies de baobás que existem no mundo, seis podem ser encontradas apenas em Madagascar. A majestosa árvore, considerada sagrada pelos malgaxes, é chamada localmente como “reniala”, mãe da floresta.

Na pequena cidade de Bekopaka está o Parque Nacional Tsingy de Bemaraha, considerado Patrimônio Mundial pela Unesco. Trilhas e passeios de canoa no rio Manambolo conduzem a formações rochosas calcárias inusitadas e plantas endêmicas desse ecossistema de florestas secas.

Outro momento inesquecível em Madagascar é o encontro com os lêmures nas florestas tropicais da reserva Anjozorobe-Angavo, a 90 quilômetros da capital Antananarivo. Especialistas apontam que o turismo de observação de animais é uma excelente alternativa para o desenvolvimento da economia local e pode ajudar a conter o desmatamento. “O projeto em Anjozorobe comprova que, nos últimos anos, os 9 mil visitantes contribuíram de forma concreta a reduzir a pobreza e a promover a conservação da biodiversidade”, afirma Haroldo. Como os primatas são curiosos e estão habituados aos seres humanos, eles costumam se aproximar dos visitantes. “Os bichinhos chegam a subir nas nossas cabeças e parecem adorar aparecer nas fotos.”

Madagascar possui hoje uma excelente estrutura para o turismo, com algumas estradas bem cuidadas e hotéis confortáveis localizados perto das reservas e parques ecológicos. A gastronomia malgaxe, com um toque francês, também surpreende pela diversidade de ingredientes, temperos e colorido dos pratos.

[...]

(Fonte: <http://viajeaqui.abril.com.br/materias/lemures-e-baobas-de-madagascar#2>. Acesso em 14/05/2016)

**01. Lêmures e baobás de Madagascar é um texto:**

- Em que prevalece a descrição, apresentando as belezas e peculiaridades do lugar, da fauna e da flora.
- Principalmente narrativo, de fatos colhidos durante uma viagem, que se sucedem em progressão temporal.
- Essencialmente argumentativo, o uso da descrição visa somente a convencer o leitor a visitar Madagascar.
- Dissertativo, impera o desenvolvimento de argumentos para comprovar a tese presente no primeiro parágrafo.
- Em que predomina a exposição de conceitos e definições com o intuito de informar o leitor.

**02. O teor do texto *Lêmures e baobás de Madagascar* somente não poderia se encaixar em que tópico?**

- Turismo
- Viagens
- Clima
- Natureza
- Ilhas

**03. O aposto é um termo que *explica ou esclarece, desenvolve ou resume outro termo da oração*. Quanto a isso, analise a parte grifada em cada uma das orações retiradas do texto:**

**I - A majestosa árvore, considerada sagrada pelos malgaxes, é chamada localmente como “reniala”, mãe da floresta.**

**II - afirma o fotógrafo e jornalista Haroldo Castro, idealizador de Viajologia Expedições.**

III - *Outro momento inesquecível em Madagascar é o encontro com os lêmures nas florestas tropicais da reserva Anjozorobe-Angavo, a 90 quilômetros da capital Antananarivo.*

IV - *O projeto em Anjozorobe comprova que, nos últimos anos, os 9 mil visitantes contribuíram de forma concreta a reduzir a pobreza e a promover a conservação da biodiversidade”.*

V - *A gastronomia malgaxe, com um toque francês, também surpreende pela diversidade de ingredientes, temperos e colorido dos pratos.*

Constitui aposto os grifos em:

a) I, II, III, IV e V.

b) I, III e V, apenas.

c) III e V apenas.

d) I, II, III, e V, apenas.

e) III, IV e V apenas

**04. Trilhas e passeios de canoa no rio Manambolo conduzem a formações rochosas calcárias inusitadas e plantas endêmicas desse ecossistema de florestas secas.**

**Ao observar a relação sintática entre os termos desse período, pode-se afirmar que:**

a) de canoa é complemento nominal de Trilhas e passeios.

b) no rio Manambolo é adjunto adnominal de canoas.

c) de florestas secas é complemento nominal de plantas endêmicas.

d) de canoa é complemento verbal de passeios.

e) a formações rochosas calcárias inusitadas e plantas endêmicas desse ecossistema de florestas secas é complemento verbal de conduzem.

**Leia o poema e responda às próximas duas questões.**

### FOGO NA MATA, MATA!

Fogo na mata, mata! A mata, a vida...

Fogo na mata, abre,  
no coração da mata,  
Profundas feridas.

Fogo na mata corrói,  
dentro de nós, os sonhos.

Fogo na mata, deixa, no seio da mata,  
Tumores tamanhos!

[...]

(Fonte: <http://www.recantodasletras.com.br/letras/505252>. Acesso em 14/05/2016)

**05. A respeito de alguns aspectos gramaticais pertinentes aos termos em destaque na frase título do poema *Fogo na mata, mata!*, está correto o que se afirma em:**

a) Morfologicamente, na sequência em que as duas palavras aparecem, temos um verbo e um substantivo.

b) Semanticamente, as duas palavras constituem homônimas homófonas homógrafas.

c) O processo de formação da palavra “mata” (primeira ocorrência na frase) é por derivação regressiva do verbo “matar” cuja flexão na terceira pessoa vem logo em seguida na frase.

d) Semanticamente, as duas palavras “mata” são parônimas.

e) Semanticamente, as duas palavras constituem homônimas homógrafas heterofônicas.

**06. Com a Nova Reforma Ortográfica, foi mantido o acento nas oxítonas terminadas em -ei e -oi, como é o caso de corrói em *Fogo na mata corrói*. No entanto, de acordo ainda com a Nova Reforma, os acentos foram retirados de quais duas palavras?**

a) Bocaiuva - maiúscula

b) Voo, aerodromo

c) Releem - feiura

d) Papeis - linguíça

e) Preveem - heroi

**07. Leia atentamente as alternativas e assinale a incorreta no que diz respeito à Ortografia:**

a) Grafamos com j as palavras ultraje, jiboia e gorjeio; com g as palavras ferrugem, geringonça, e miragem.

b) Grafamos com sc: miscelânea, obsceno e obscensão; com c: sucinto, facínio e nécio.

c) Grafamos com x: xampu, mexerico e enxada; com ch: piche, tocha e mecha.



- d) Grafamos com z: xadrez, cicatriz e vizinho; com s: friso, pêsames e tesoura.  
e) Grafamos com ss: escassez, submissão e sossego; com c: acetinado, obcecado e acepção.

**08. O advérbio sublinhado e a circunstância que ele expressa não estão corretamente apresentados em:**

- a) Ele certamente virá para o encontro. (afirmação)  
b) Ali se ouvia falar de riquezas culturais. (tempo)  
c) O orador discursou muito bem, impressionou a plateia. (modo)  
d) Chegamos tarde, perdemos o ônibus. (tempo)  
e) Os candidatos estudaram bastante. (intensidade)

**09. Os pronomes pessoais, representantes das pessoas do discurso, estão corretamente empregados em todas as alternativas, com exceção da:**

- a) Sempre haverá discordância entre mim e ti.  
b) O juiz queria falar com nós dois.  
c) Minha festa de despedida, não vou esquecê-la jamais.  
d) Ninguém irá sem eu.  
e) Deram o livro para eu ler em dois dias!

**10. Em uma oração, o contexto permite concluirmos se certos verbos são de ligação, para assim identificarmos o predicado nominal. Assim, não há predicação nominal em:**

- a) O aluno não estava na escola hoje.  
b) À tarde, as crianças pareciam cansadas.  
c) Ultimamente os participantes do programa andam desanimados.  
e) A aurora boreal é um lindo espetáculo.  
d) As atletas parecem cansadas.

## MATEMÁTICA

**11. Numa prova de hipismo, há duas modalidades totalmente distintas: salto e rural. João vai competir nas duas modalidades. Sabendo que a vitória ou a derrota em uma nada influencia no resultado da outra, e sabendo que a probabilidade de ele ganhar a prova de salto é de 40% e a de ganhar a prova de rural é de 58%, qual a probabilidade de ele ganhar as duas provas?**

- a) 98%  
b) 62%  
c) 23,2%  
d) 18%  
e) 2,32%

**12. Numa escola há 12 professores. A tabela a seguir mostra a carga horária diária de trabalho desses professores.**

4	8	5	10	6	5	8	6	8	9	4	8
---	---	---	----	---	---	---	---	---	---	---	---

**É correto afirmar que as cargas horárias média, modal e mediana desses professores são respectivamente:**

- a) 6,25; 6; 7  
b) 6,5; 7; 8  
c) 6,75; 8; 6  
d) 6,75; 8; 7  
e) 6,75; 7; 8

**13. Encontre a equação da reta mediatriz do segmento AB, onde A(2, 3) e B(4, -1), e assinale a alternativa correta.**

- a)  $2y - x + 1 = 0$   
b)  $y - 2x + 2 = 0$   
c)  $2y - 2x + 1 = 0$   
d)  $2y + x + 2 = 0$   
e)  $2y + x - 1 = 0$

**14. Uma loja acrescenta 15% no preço de seus produtos à vista se o cliente optar por pagar com um cheque para 60 dias. Comprei, nessa loja, um fogão com cheque para 60 dias e paguei R\$552,00 por ele. Qual era o preço à vista desse fogão?**

- a) R\$460,00  
b) R\$469,20  
c) R\$474,50  
d) R\$480,00  
e) R\$500,00

**15. Um pesquisador, ao analisar os processos que envolvem jovens com menos de 24 anos, descobriu que há 4 homens com nomes envolvidos em processos para cada mulher. Se no total ele contou 2400 pessoas, quantas eram as mulheres envolvidas nessa pesquisa?**

- a) 480
- b) 600
- c) 800
- d) 1920
- e) 2000

#### **INFORMÁTICA**

**16. Utilizando o Excel 2013, qual fórmula representa corretamente a auto soma?**

- a) =SUM()
- b) =MEDIA()
- c) =MAX()
- d) =MIN()
- e) =SE()

**17. Acerca de confidencialidade está incorreto afirmar:**

- a) É um conceito no qual o acesso à informação deve ser concedido a quem de direito, ou seja, apenas para as entidades autorizadas pelo proprietário ou dono da informação.
- b) É uma propriedade que limita o acesso à informação tão somente às entidades legítimas, ou seja, àquelas autorizadas pelo proprietário da informação.
- c) É a propriedade da informação que não estará disponível ou será divulgada a indivíduos, entidades ou processos sem autorização.
- d) Significa garantir que a informação será conhecida por pessoas que não estejam autorizadas para tal.
- e) É a garantia do resguardo das informações dadas pessoalmente em confiança e proteção contra a sua revelação não autorizada.

**18. Tratando-se de hardware de computadores, assinale a alternativa que corresponde a um tipo de memória externa.**

- a) Pen Drive
- b) EPROM
- c) DIMM
- d) MRAM
- e) Cache

**19. No Word 2013, é possível utilizar vários tipos de formatação de fontes, exceto:**

- a) Tachado
- b) Negrito
- c) Centralizado
- d) Sublinhado
- e) Cor da fonte

**20. Qual software nativo do Windows utilizamos para descobrir o endereço IP do computador?**

- a) Windows Explorer
- b) Notepad
- c) Excel
- d) Word
- e) Prompt de Comando

#### **CONHECIMENTOS GERAIS**

**21. Conforme fonte do IBGE, o bioma do município de Telêmaco Borba/PR é:**

- a) Mata de Pinhais e Cerrado
- b) Pantanal
- c) Caatinga e Mata Atlântica
- d) Floresta Tropical
- e) Cerrado e Mata Atlântica

**22. A letra do hino do município de Telêmaco Borba/PR é de autoria de**

- a) Bento Mossurunga.
- b) Moisés Lupion.
- c) Eloah Martins Quadrado.
- d) Graciliana Reis D´Albuquerque Mossurunga.



e) Enéias Augusto Moracines Borba.

**23. Leia o texto sobre o Brasão de Armas do município de Telêmaco Borba/PR e marque a alternativa correta.**

O Brasão de Armas foi aprovado em definitivo em 1981, dentro dos padrões da heráldica, estabelecendo os regulamentos para seu uso, ficando assim oficializado.

No Brasão de Armas, é possível identificar:

1. Escudo português redondo banhado de ouro filetado de prata, carregado de cinco árvores de pinho estilizadas de sua cor, postas em banda.
2. Escudete de prata carregado de três Pinheiros do Paraná, araucária angustifólia ou brasiliense.
3. No timbre, coroa mural de ouro lavrado de negro.
4. À direita, haste de milho (zae mays) frutada.
5. À sinistra, ramos de soja (gelycine soya) granada.
6. Listel amarelo ostentando o topônimo "Cidade Nova" entre as inscrições de ouro "5 de Julho de 1963", em caracteres latino moderno.

- a) Não é verdadeiro o item 1.
- b) Não é verdadeiro o item 2.
- c) Não é verdadeiro o item 4.
- d) Não é verdadeiro o item 6.
- e) Não são verdadeiros os itens 3 e 5.

**24. Segundo o art. 11 da Lei Orgânica do Município de Telêmaco Borba/PR, os bens públicos podem ser:**

**I. De uso comum do Povo, tais como estradas municipais, ruas, parques, praças, logradouros públicos e outros da mesma espécie;**

**II. De uso especial, os de patrimônio administrativo, tais como edifícios das repartições públicas, os terrenos e equipamentos destinados ao serviço público, veículos, matadouros, mercados e outras serventias de outra espécie;**

**III. Bens municipais, aqueles sobre os quais o município exerce os direitos de proprietário e são considerados como bens patrimoniais disponíveis;**

**IV. Bens culturais, tais como música e obras de arte.**

Podemos afirmar que são verdadeiros os itens

- a) I e II, apenas.
- b) II e III, apenas.
- c) I, II e III, apenas.
- d) I, III e IV, apenas.
- e) I, II, III e IV.

**25. Qual alternativa completa corretamente o texto a seguir?**

No primeiro ano de cada legislatura, no dia 1º de janeiro, em sessão de instalação, independente de número, sob a presidência do vereador mais idoso dentre os eleitos, os vereadores prestarão compromisso e tomarão posse. O Vereador que não tomar posse na sessão do dia 1º de janeiro poderá fazê-la \_\_\_\_\_ depois da primeira sessão ordinária da Legislatura.

- a) até dez dias
- b) até quinze dias
- c) até trinta dias
- d) até quarenta e cinco dias
- e) até sessenta dias

**26. Conforme o art. 54 da Lei Orgânica do Município de Telêmaco Borba/PR, o Processo Legislativo compreende a elaboração de:**

**I. Emendas à Lei Orgânica do Município;**

**II. Leis complementares;**

**III. Leis Ordinárias;**

**IV. Decretos Legislativos;**

**V. Resoluções;**

**VI. Pareceres.**

Assinale a alternativa que faz a afirmação correta.

- a) São verdadeiros apenas os itens I, III e VI.
- b) São verdadeiros apenas os itens I, III e IV.
- c) São verdadeiros apenas os itens III, IV e V.
- d) São verdadeiros apenas os itens I, II, III, IV e V.
- e) São verdadeiros os itens I, II, III, IV, V e VI.

Com base na Lei nº 1883/2012, que dispõe sobre o Estatuto dos Servidores Públicos da Administração Direta, Autárquica e Funcional do Município de Telêmaco Borba/PR, responda às próximas quatro questões.

27. À luz do § 2º do art. 9º da Lei nº 1883/2012, marque a alternativa que completa a lacuna do texto a seguir.

O concurso deverá ser homologado no prazo máximo de \_\_\_\_\_ contados da data de realização da última fase de provas, sob pena de responsabilidade da autoridade competente.

- a) um mês
- b) dois meses
- c) seis meses
- d) um ano
- e) dois anos

28. Marque a alternativa que completa a lacuna do texto a seguir.

O candidato terá o prazo \_\_\_\_\_, a contar da publicação oficial da convocação, para comparecer à entidade convocante e assinar termo de comparecimento.

- a) máximo de 5 dias úteis
- b) mínimo de 15 dias úteis
- c) de até 30 dias
- d) máximo de 15 dias úteis
- e) mínimo de 5 dias úteis

29. Leia as assertivas e marque a correta.

- a) São reservados 10% dos cargos em comissão para a nomeação de servidores do quadro efetivo.
- b) São reservados 15% dos cargos em comissão para a nomeação de servidores do quadro efetivo.
- c) São reservados 20% dos cargos em comissão para a nomeação de servidores do quadro efetivo.
- d) São reservados 25% dos cargos em comissão para a nomeação de servidores do quadro efetivo.
- e) São reservados 30% dos cargos em comissão para a nomeação de servidores do quadro efetivo.

30. Marque a alternativa que completa a lacuna do texto a seguir.

O servidor municipal, quando nomeado para cargo em comissão, ficará afastado de seu cargo efetivo e fará jus à remuneração prevista em lei para o comissionado, podendo optar por receber seus vencimentos acrescidos de \_\_\_\_\_ do valor da remuneração prevista para o cargo em comissão.

- a) 10%
- b) 20%
- c) 30%
- d) 40%
- e) 50%

#### CONHECIMENTOS ESPECÍFICOS

31. No que diz respeito aos conhecimentos de informática básica, marque a alternativa que apresenta o nome dado ao *software* desenvolvido pela empresa *Microsoft*, amplamente usado por empresas e particulares para a realização de operações financeiras e contabilísticas usando planilhas eletrônicas:

- a) *AutoCad*
- b) *Power point*
- c) *Corel draw*
- d) *Excel*
- e) *Word*

32. A figura a seguir exemplifica um tipo de desenho técnico empregado na área de projetos. Neste contexto, marque a alternativa que apresenta o tipo de desenho representado pela imagem ilustrada:





- a) Planta baixa
- b) Planta de situação
- c) Corte
- d) Pendural
- e) Esboço

**33. Dentre os diversos tipos de desenhos empregados na área de projetos, marque a alternativa que apresenta o nome dado ao desenho responsável por reproduzir a locação de um terreno urbano ou área rural dentro de uma área delimitada, cuja finalidade básica é de representar o formato do lote e os elementos que identifiquem a conformação da gleba:**

- a) Planta de cobertura
- b) Planta de situação
- c) Planta baixa
- d) Perspectiva cavaleira
- e) Perspectiva isométrica

**34. Sabendo-se que a parede de um quarto de uma casa foi representada num desenho técnico na escala de 1:50, e que a espessura real da parede é de 60 centímetros, marque a alternativa que apresenta o valor da espessura da parede no desenho:**

- a) 0,80 centímetros
- b) 1,20 centímetros
- c) 1,60 centímetros
- d) 2,00 centímetros
- e) 2,40 centímetros

**35. A porta de um banheiro de uma residência com 70 centímetros de largura foi representada num desenho com o valor de 3,5 centímetros. Baseando-se neste contexto, marque a alternativa que apresenta a escala do desenho:**

- a) 1:20
- b) 1:25
- c) 1:50
- d) 1:75
- e) 1:100

**36. No que concerne aos instrumentos empregados para a realização de desenhos técnicos, marque a alternativa que apresenta o instrumento de desenho utilizado para fazer arcos de circunferência:**

- a) Régua T
- b) Escalímetro
- c) Esquadro
- d) Compasso
- e) Percevejo

**37. O processo de representação tridimensional em que um objeto se situa num sistema de três eixos coordenados (axonometria), fazendo entre si ângulos de  $120^\circ$ , é representado por qual perspectiva?**

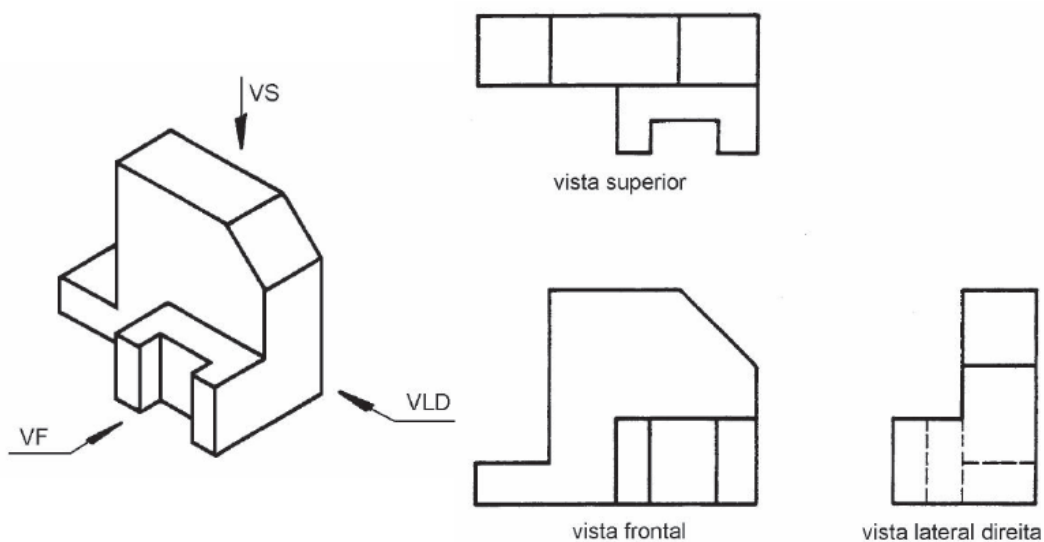
- a) Perspectiva isométrica
- b) Perspectiva cavaleira
- c) Perspectiva cônica
- d) Perspectiva dinâmica
- e) Perspectiva radial

**38. Dada a peça a seguir, marque a alternativa que apresenta o detalhe da vista frontal:**



- c)
- d)
- e)

39. Marque a alternativa que apresenta o diedro em que a peça foi desenhada:



- a) 1º diedro
- b) 2º diedro
- c) 3º diedro
- d) 4º diedro
- e) 5º diedro

40. No que diz respeito aos desenhos técnicos, marque a alternativa que apresenta a representação gráfica das medidas de um objeto, imprescindível para o projetista indicar a sua verdadeira grandeza:

- a) Perspectiva
- b) Layout
- c) Cotagem
- d) Croqui
- e) Fachada

**RASCUNHO**



PREFEITURA DE TELÊMACO BORBA - ESTADO DO PARANÁ - EDITAL Nº 001-2016 - CONCURSO PÚBLICO

MATUTINO – 29/05/2016 – NÍVEL MÉDIO

**2**

PROVA OBJETIVA NÚMERO

**CARGO: TMNM I - DESENHO DE PROJETOS****Leia atentamente as INSTRUÇÕES:**

1. Confira seus dados no cartão-resposta: nome, número de inscrição e o curso para o qual se inscreveu.
2. **MARQUE no seu cartão-resposta o número da sua prova** (não será corrigido o cartão-resposta que não tiver marcado o número da prova) e **Assine** seu cartão-resposta.
3. Aguarde a autorização do Fiscal para abrir o caderno de prova. Ao receber a ordem do fiscal, confira o caderno de prova com muita atenção. Nenhuma reclamação sobre o total de questões ou falha de impressão será aceita depois de iniciada a prova.
4. O cartão-resposta não será substituído, salvo se contiver erro de impressão.
5. Preencha toda a área do cartão-resposta correspondente à alternativa de sua escolha, com caneta esferográfica (tinta azul ou preta), sem ultrapassar as bordas. As marcações duplas, ou rasuradas, com corretivo, ou marcadas diferentemente do modelo estabelecido no cartão-resposta poderão ser anuladas.
6. Sua prova tem **40** questões, com **5** alternativas.
7. Cabe apenas ao candidato a interpretação das questões, **o fiscal** não poderá fazer nenhuma interferência.
8. A prova será realizada com duração máxima de **3 (três) horas**, incluído o tempo para a realização da Prova Objetiva de múltipla escolha e o preenchimento do cartão-resposta.
9. O candidato poderá retirar-se do local de realização das provas somente **1 (uma) hora** após o seu início, sem levar o caderno de prova.
10. O candidato poderá levar o caderno de provas, assim como anotação contendo transcrição do seu cartão-resposta, somente **1h30min** (uma hora e trinta minutos) após o início da realização da prova.
11. Ao terminar a prova, o candidato deverá entregar ao fiscal de sala o cartão-resposta preenchido e **ASSINADO**.
12. Os **3 (três)** candidatos, que terminarem a prova por último, deverão permanecer na sala, e só poderão sair juntos após o fechamento do envelope, contendo os cartões-resposta dos candidatos presentes e ausentes, e assinarem no lacre do referido envelope, atestando que este foi devidamente lacrado.
13. Durante todo o tempo em que permanecer no local onde está ocorrendo o concurso, o candidato deverá, manter o celular desligado e sem bateria, só sendo permitido ligar depois de ultrapassar o portão de saída do prédio.
14. Não será permitido ao candidato fumar na sala de provas, bem como nas dependências.
15. Depois de terminar a prova e entregar ao fiscal o cartão-resposta, preenchido e assinado, não será mais permitido ao candidato o uso do banheiro e bebedouro.

**BOA PROVA!**

**MATEMÁTICA**

**01. Numa prova de hipismo, há duas modalidades totalmente distintas: salto e rural. João vai competir nas duas modalidades. Sabendo que a vitória ou a derrota em uma nada influencia no resultado da outra, e sabendo que a probabilidade de ele ganhar a prova de salto é de 40% e a de ganhar a prova de rural é de 58%, qual a probabilidade de ele ganhar as duas provas?**

- a) 98%
- b) 62%
- c) 23,2%
- d) 18%
- e) 2,32%

**02. Numa escola há 12 professores. A tabela a seguir mostra a carga horária diária de trabalho desses professores.**

4	8	5	10	6	5	8	6	8	9	4	8
---	---	---	----	---	---	---	---	---	---	---	---

**É correto afirmar que as cargas horárias média, modal e mediana desses professores são respectivamente:**

- a) 6,25; 6; 7
- b) 6,5; 7; 8
- c) 6,75; 8; 6
- d) 6,75; 8; 7
- e) 6,75; 7; 8

**03. Encontre a equação da reta mediatriz do segmento AB, onde A(2, 3) e B(4, -1), e assinale a alternativa correta.**

- a)  $2y - x + 1 = 0$
- b)  $y - 2x + 2 = 0$
- c)  $2y - 2x + 1 = 0$
- d)  $2y + x + 2 = 0$
- e)  $2y + x - 1 = 0$

**04. Uma loja acrescenta 15% no preço de seus produtos à vista se o cliente optar por pagar com um cheque para 60 dias. Comprei, nessa loja, um fogão com cheque para 60 dias e paguei R\$552,00 por ele. Qual era o preço à vista desse fogão?**

- a) R\$460,00
- b) R\$469,20
- c) R\$474,50
- d) R\$480,00
- e) R\$500,00

**05. Um pesquisador, ao analisar os processos que envolvem jovens com menos de 24 anos, descobriu que há 4 homens com nomes envolvidos em processos para cada mulher. Se no total ele contou 2400 pessoas, quantas eram as mulheres envolvidas nessa pesquisa?**

- a) 480
- b) 600
- c) 800
- d) 1920
- e) 2000

**INFORMÁTICA**

**06. Utilizando o Excel 2013, qual fórmula representa corretamente a auto soma?**

- a) =SUM()
- b) =MEDIA()
- c) =MAX()
- d) =MIN()
- e) =SE()

**07. Acerca de confidencialidade está incorreto afirmar:**

- a) É um conceito no qual o acesso à informação deve ser concedido a quem de direito, ou seja, apenas para as entidades autorizadas pelo proprietário ou dono da informação.
- b) É uma propriedade que limita o acesso à informação tão somente às entidades legítimas, ou seja, àquelas autorizadas pelo proprietário da informação.
- c) É a propriedade da informação que não estará disponível ou será divulgada a indivíduos, entidades ou processos sem autorização.
- d) Significa garantir que a informação será conhecida por pessoas que não estejam autorizadas para tal.



e) É a garantia do resguardo das informações dadas pessoalmente em confiança e proteção contra a sua revelação não autorizada.

**08. Tratando-se de hardware de computadores, assinale a alternativa que corresponde a um tipo de memória externa.**

- a) Pen Drive
- b) EPROM
- c) DIMM
- d) MRAM
- e) Cache

**09. No Word 2013, é possível utilizar vários tipos de formatação de fontes, exceto:**

- a) Tachado
- b) Negrito
- c) Centralizado
- d) Sublinhado
- e) Cor da fonte

**10. Qual software nativo do Windows utilizamos para descobrir o endereço IP do computador?**

- a) Windows Explorer
- b) Notepad
- c) Excel
- d) Word
- e) Prompt de Comando

#### **CONHECIMENTOS GERAIS**

**11. Conforme fonte do IBGE, o bioma do município de Telêmaco Borba/PR é:**

- a) Mata de Pinhais e Cerrado
- b) Pantanal
- c) Caatinga e Mata Atlântica
- d) Floresta Tropical
- e) Cerrado e Mata Atlântica

**12. A letra do hino do município de Telêmaco Borba/PR é de autoria de**

- a) Bento Mossurunga.
- b) Moisés Lupion.
- c) Eloah Martins Quadrado.
- d) Graciliana Reis D´Albuquerque Mossurunga.
- e) Enéias Augusto Moracines Borba.

**13. Leia o texto sobre o Brasão de Armas do município de Telêmaco Borba/PR e marque a alternativa correta.**

O Brasão de Armas foi aprovado em definitivo em 1981, dentro dos padrões da heráldica, estabelecendo os regulamentos para seu uso, ficando assim oficializado.

No Brasão de Armas, é possível identificar:

1. Escudo português redondo banhado de ouro filetado de prata, carregado de cinco árvores de pinho estilizadas de sua cor, postas em banda.
2. Escudete de prata carregado de três Pinheiros do Paraná, araucária angustifólia ou brasiliense.
3. No timbre, coroa mural de ouro lavrado de negro.
4. À destra, haste de milho (zae mays) frutada.
5. À sinistra, ramos de soja (gelycine soya) granada.
6. Listel amarelo ostentando o topônimo "Cidade Nova" entre as inscrições de ouro "5 de Julho de 1963", em caracteres latino moderno.

- a) Não é verdadeiro o item 1.
- b) Não é verdadeiro o item 2.
- c) Não é verdadeiro o item 4.
- d) Não é verdadeiro o item 6.
- e) Não são verdadeiros os itens 3 e 5.

**14. Segundo o art. 11 da Lei Orgânica do Município de Telêmaco Borba/PR, os bens públicos podem ser:**

**I. De uso comum do Povo, tais como estradas municipais, ruas, parques, praças, logradouros públicos e outros da mesma espécie;**

**II. De uso especial, os de patrimônio administrativo, tais como edifícios das repartições públicas, os terrenos e equipamentos destinados ao serviço público, veículos, matadouros, mercados e outras serventias de outra espécie;**



**III. Bens municipais, aqueles sobre os quais o município exerce os direitos de proprietário e são considerados como bens patrimoniais disponíveis;**

**IV. Bens culturais, tais como música e obras de arte.**

**Podemos afirmar que são verdadeiros os itens**

- a) I e II, apenas.
- b) II e III, apenas.
- c) I, II e III, apenas.
- d) I, III e IV, apenas.
- e) I, II, III e IV.

**15. Qual alternativa completa corretamente o texto a seguir?**

**No primeiro ano de cada legislatura, no dia 1º de janeiro, em sessão de instalação, independente de número, sob a presidência do vereador mais idoso dentre os eleitos, os vereadores prestarão compromisso e tomarão posse. O Vereador que não tomar posse na sessão do dia 1º de janeiro poderá fazê-la \_\_\_\_\_ depois da primeira sessão ordinária da Legislatura.**

- a) até dez dias
- b) até quinze dias
- c) até trinta dias
- d) até quarenta e cinco dias
- e) até sessenta dias

**16. Conforme o art. 54 da Lei Orgânica do Município de Telêmaco Borba/PR, o Processo Legislativo compreende a elaboração de:**

**I. Emendas à Lei Orgânica do Município;**

**II. Leis complementares;**

**III. Leis Ordinárias;**

**IV. Decretos Legislativos;**

**V. Resoluções;**

**VI. Pareceres.**

**Assinale a alternativa que faz a afirmação correta.**

- a) São verdadeiros apenas os itens I, III e VI.
- b) São verdadeiros apenas os itens I, III e IV.
- c) São verdadeiros apenas os itens III, IV e V.
- d) São verdadeiros apenas os itens I, II, III, IV e V.
- e) São verdadeiros os itens I, II, III, IV, V e VI.

**Com base na Lei nº 1883/2012, que dispõe sobre o Estatuto dos Servidores Públicos da Administração Direta, Autárquica e Funcional do Município de Telêmaco Borba/PR, responda às próximas quatro questões.**

**17. À luz do § 2º do art. 9º da Lei nº 1883/2012, marque a alternativa que completa a lacuna do texto a seguir.**

**O concurso deverá ser homologado no prazo máximo de \_\_\_\_\_ contados da data de realização da última fase de provas, sob pena de responsabilidade da autoridade competente.**

- a) um mês
- b) dois meses
- c) seis meses
- d) um ano
- e) dois anos

**18. Marque a alternativa que completa a lacuna do texto a seguir.**

**O candidato terá o prazo \_\_\_\_\_, a contar da publicação oficial da convocação, para comparecer à entidade convocante e assinar termo de comparecimento.**

- a) máximo de 5 dias úteis
- b) mínimo de 15 dias úteis
- c) de até 30 dias
- d) máximo de 15 dias úteis
- e) mínimo de 5 dias úteis

**19. Leia as assertivas e marque a correta.**

- a) São reservados 10% dos cargos em comissão para a nomeação de servidores do quadro efetivo.
- b) São reservados 15% dos cargos em comissão para a nomeação de servidores do quadro efetivo.
- c) São reservados 20% dos cargos em comissão para a nomeação de servidores do quadro efetivo.
- d) São reservados 25% dos cargos em comissão para a nomeação de servidores do quadro efetivo.
- e) São reservados 30% dos cargos em comissão para a nomeação de servidores do quadro efetivo.



20. Marque a alternativa que completa a lacuna do texto a seguir.

O servidor municipal, quando nomeado para cargo em comissão, ficará afastado de seu cargo efetivo e fará jus à remuneração prevista em lei para o comissionado, podendo optar por receber seus vencimentos acrescidos de \_\_\_\_\_ do valor da remuneração prevista para o cargo em comissão.

- a) 10%
- b) 20%
- c) 30%
- d) 40%
- e) 50%

#### CONHECIMENTOS ESPECÍFICOS

21. No que diz respeito aos conhecimentos de informática básica, marque a alternativa que apresenta o nome dado ao *software* desenvolvido pela empresa *Microsoft*, amplamente usado por empresas e particulares para a realização de operações financeiras e contabilísticas usando planilhas eletrônicas:

- a) *AutoCad*
- b) *Power point*
- c) *Corel draw*
- d) *Excel*
- e) *Word*

22. A figura a seguir exemplifica um tipo de desenho técnico empregado na área de projetos. Neste contexto, marque a alternativa que apresenta o tipo de desenho representado pela imagem ilustrada:



- a) Planta baixa
- b) Planta de situação
- c) Corte
- d) Pendural
- e) Esboço

23. Dentre os diversos tipos de desenhos empregados na área de projetos, marque a alternativa que apresenta o nome dado ao desenho responsável por reproduzir a locação de um terreno urbano ou área rural dentro de uma área delimitada, cuja finalidade básica é de representar o formato do lote e os elementos que identifiquem a conformação da gleba:

- a) Planta de cobertura
- b) Planta de situação
- c) Planta baixa
- d) Perspectiva cavaleira
- e) Perspectiva isométrica

24. Sabendo-se que a parede de um quarto de uma casa foi representada num desenho técnico na escala de 1:50, e que a espessura real da parede é de 60 centímetros, marque a alternativa que apresenta o valor da espessura da parede no desenho:

- a) 0,80 centímetros
- b) 1,20 centímetros
- c) 1,60 centímetros
- d) 2,00 centímetros
- e) 2,40 centímetros

25. A porta de um banheiro de uma residência com 70 centímetros de largura foi representada num desenho com o valor de 3,5 centímetros. Baseando-se neste contexto, marque a alternativa que apresenta a escala do desenho:

- a) 1:20

- b) 1:25
- c) 1:50
- d) 1:75
- e) 1:100

26. No que concerne aos instrumentos empregados para a realização de desenhos técnicos, marque a alternativa que apresenta o instrumento de desenho utilizado para fazer arcos de circunferência:

- a) Régua T
- b) Escalímetro
- c) Esquadro
- d) Compasso
- e) Percevejo

27. O processo de representação tridimensional em que um objeto se situa num sistema de três eixos coordenados (axonometria), fazendo entre si ângulos de  $120^\circ$ , é representado por qual perspectiva?

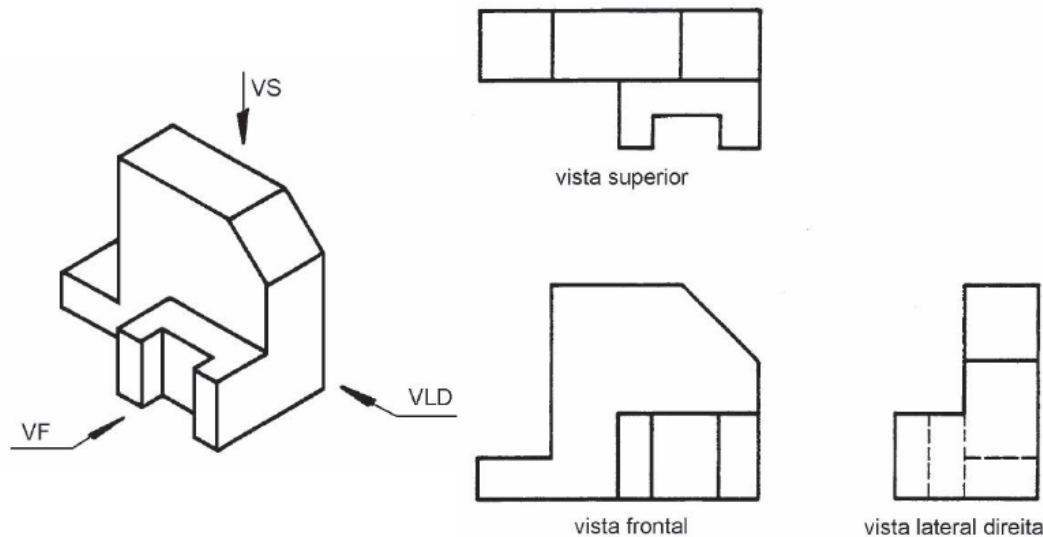
- a) Perspectiva isométrica
- b) Perspectiva cavaleira
- c) Perspectiva cônica
- d) Perspectiva dinâmica
- e) Perspectiva radial

28. Dada a peça a seguir, marque a alternativa que apresenta o detalhe da vista frontal:



- a)
- b)
- c)
- d)
- e)

29. Marque a alternativa que apresenta o diedro em que a peça foi desenhada:



- a) 1º diedro
- b) 2º diedro
- c) 3º diedro
- d) 4º diedro
- e) 5º diedro

30. No que diz respeito aos desenhos técnicos, marque a alternativa que apresenta a representação gráfica das medidas de um objeto, imprescindível para o projetista indicar a sua verdadeira grandeza:

- a) Perspectiva
- b) Layout
- c) Cotagem
- d) Croqui
- e) Fachada

## LÍNGUA PORTUGUESA

Leia o texto e responda às próximas quatro questões.

### Lêmures e baobás de Madagascar

Isolada do continente há 135 milhões de anos, a ilha do Oceano Índico é um laboratório natural da evolução das espécies e encanta os viajantes com uma flora e fauna única

**Madagascar** abriga 107 espécies de **lêmures**, dezenas de espécies de camaleões coloridos e outras tantas plantas que só existem lá. “Madagascar é um mundo a parte. Costumo dizer que, se Charles Darwin tivesse conhecido Madagascar, seu livro *A Origem das Espécies* seria dez vezes maior”, afirma o fotógrafo e jornalista **Haroldo Castro**, idealizador de Viajologia Expedições.

Uma das experiências mais emocionantes na quarta maior ilha do mundo é passear entre os gigantes **baobás**, árvores que chegam a ter 30 metros de altura e mil anos de idade. Das nove espécies de baobás que existem no mundo, seis podem ser encontradas apenas em Madagascar. A majestosa árvore, considerada sagrada pelos malgaxes, é chamada localmente como “reniala”, mãe da floresta.

Na pequena cidade de Bekopaka está o Parque Nacional Tsingy de Bemaraha, considerado Patrimônio Mundial pela Unesco. Trilhas e passeios de canoa no rio Manambolo conduzem a formações rochosas calcárias inusitadas e plantas endêmicas desse ecossistema de florestas secas.

Outro momento inesquecível em Madagascar é o encontro com os lêmures nas florestas tropicais da reserva Anjozorobe-Angavo, a 90 quilômetros da capital Antananarivo. Especialistas apontam que o turismo de observação de animais é uma excelente alternativa para o desenvolvimento da economia local e pode ajudar a conter o desmatamento. “O projeto em Anjozorobe comprova que, nos últimos anos, os 9 mil visitantes contribuíram de forma concreta a reduzir a pobreza e a promover a conservação da biodiversidade”, afirma Haroldo. Como os primatas são curiosos e estão habituados aos seres humanos, eles costumam se aproximar dos visitantes. “Os bichinhos chegam a subir nas nossas cabeças e parecem adorar aparecer nas fotos.”

Madagascar possui hoje uma excelente estrutura para o turismo, com algumas estradas bem cuidadas e hotéis confortáveis localizados perto das reservas e parques ecológicos. A gastronomia malgaxe, com um toque francês, também surpreende pela diversidade de ingredientes, temperos e colorido dos pratos.

[...]

(Fonte: <http://viajeaqu.abril.com.br/materias/lemures-e-baobas-de-madagascar#2>. Acesso em 14/05/2016)



**31. Lêmures e baobás de Madagascar é um texto:**

- Em que prevalece a descrição, apresentando as belezas e peculiaridades do lugar, da fauna e da flora.
- Principalmente narrativo, de fatos colhidos durante uma viagem, que se sucedem em progressão temporal.
- Essencialmente argumentativo, o uso da descrição visa somente a convencer o leitor a visitar Madagascar.
- Dissertativo, impera o desenvolvimento de argumentos para comprovar a tese presente no primeiro parágrafo.
- Em que predomina a exposição de conceitos e definições com o intuito de informar o leitor.

**32. O teor do texto *Lêmures e baobás de Madagascar* somente não poderia se encaixar em que tópico?**

- Turismo
- Viagens
- Clima
- Natureza
- Ilhas

**33. O aposto é um termo que *explica ou esclarece, desenvolve ou resume outro termo da oração*. Quanto a isso, analise a parte grifada em cada uma das orações retiradas do texto:**

**I - *A majestosa árvore, considerada sagrada pelos malgaxes, é chamada localmente como “reniala”, mãe da floresta.***

**II - *afirma o fotógrafo e jornalista Haroldo Castro, idealizador de Viajologia Expedições.***

**III - *Outro momento inesquecível em Madagascar é o encontro com os lêmures nas florestas tropicais da reserva Anjozorobe-Angavo, a 90 quilômetros da capital Antananarivo.***

**IV - *O projeto em Anjozorobe comprova que, nos últimos anos, os 9 mil visitantes contribuíram de forma concreta a reduzir a pobreza e a promover a conservação da biodiversidade”.***

**V - *A gastronomia malgaxe, com um toque francês, também surpreende pela diversidade de ingredientes, temperos e colorido dos pratos.***

**Constitui aposto os grifos em:**

- I, II, III, IV e V.
- I, III e V, apenas.
- III e V apenas.
- I, II, III, e V, apenas.
- III, IV e V apenas

**34. *Trilhas e passeios de canoa no rio Manambolo conduzem a formações rochosas calcárias inusitadas e plantas endêmicas desse ecossistema de florestas secas.***

**Ao observar a relação sintática entre os termos desse período, pode-se afirmar que:**

- de canoa é complemento nominal de Trilhas e passeios.
- no rio Manambolo é adjunto adnominal de canoas.
- de florestas secas é complemento nominal de plantas endêmicas.
- de canoa é complemento verbal de passeios.
- a formações rochosas calcárias inusitadas e plantas endêmicas desse ecossistema de florestas secas é complemento verbal de conduzem.

**Leia o poema e responda às próximas duas questões.**

**FOGO NA MATA, MATA!**

Fogo na mata, mata! A mata, a vida...  
Fogo na mata, abre,  
no coração da mata,  
Profundas feridas.

Fogo na mata corrói,  
dentro de nós, os sonhos.  
Fogo na mata, deixa, no seio da mata,  
Tumores tamanhos!

[...]

(Fonte: <http://www.recantodasletras.com.br/letras/505252>. Acesso em 14/05/2016)

**35. A respeito de alguns aspectos gramaticais pertinentes aos termos em destaque na frase título do poema *Fogo na mata, mata!*, está correto o que se afirma em:**

- Morfologicamente, na sequência em que as duas palavras aparecem, temos um verbo e um substantivo.
- Semanticamente, as duas palavras constituem homônimas homófonas homógrafas.
- O processo de formação da palavra “mata” (primeira ocorrência na frase) é por derivação regressiva do verbo “matar” cuja flexão na terceira pessoa vem logo em seguida na frase.



- d) Semanticamente, as duas palavras “mata” são parônimas.  
e) Semanticamente, as duas palavras constituem homônimas homógrafas heterofônicas.

**36. Com a Nova Reforma Ortográfica, foi mantido o acento nas oxítonas terminadas em -ei e -oi, como é o caso de corrói em *Fogo na mata corrói*. No entanto, de acordo ainda com a Nova Reforma, os acentos foram retirados de quais duas palavras?**

- a) Bocaiuva - maiúscula  
b) Voo, aerodromo  
c) Releem - feiura  
d) Papeis - linguíça  
e) Preveem - heroi

**37. Leia atentamente as alternativas e assinale a incorreta no que diz respeito à Ortografia:**

- a) Grafamos com j as palavras ultraje, jiboia e gorjeio; com g as palavras ferrugem, geringonça, e miragem.  
b) Grafamos com sc: miscelânea, obsceno e obscessão; com c: sucinto, facínio e nécio.  
c) Grafamos com x: xampu, mexerico e enxada; com ch: piche, tocha e mecha.  
d) Grafamos com z: xadrez, cicatriz e vizinho; com s: friso, pêsames e tesoura.  
e) Grafamos com ss: escassez, submissão e sossego; com c: acetinado, obcecado e acepção.

**38. O advérbio sublinhado e a circunstância que ele expressa não estão corretamente apresentados em:**

- a) Ele certamente virá para o encontro. (afirmação)  
b) Ali se ouvia falar de riquezas culturais. (tempo)  
c) O orador discursou muito bem, impressionou a plateia. (modo)  
d) Chegamos tarde, perdemos o ônibus. (tempo)  
e) Os candidatos estudaram bastante. (intensidade)

**39. Os pronomes pessoais, representantes das pessoas do discurso, estão corretamente empregados em todas as alternativas, com exceção da:**

- a) Sempre haverá discordância entre mim e ti.  
b) O juiz queria falar com nós dois.  
c) Minha festa de despedida, não vou esquecer-la jamais.  
d) Ninguém irá sem eu.  
e) Deram o livro para eu ler em dois dias!

**40. Em uma oração, o contexto permite concluirmos se certos verbos são de ligação, para assim identificarmos o predicado nominal. Assim, não há predicação nominal em:**

- a) O aluno não estava na escola hoje.  
b) À tarde, as crianças pareciam cansadas.  
c) Ultimamente os participantes do programa andam desanimados.  
e) A aurora boreal é um lindo espetáculo.  
d) As atletas parecem cansadas.

**RASCUNHO**



PREFEITURA DE TELÊMACO BORBA - ESTADO DO PARANÁ - EDITAL Nº 001-2016 - CONCURSO PÚBLICO

**MATUTINO – 29/05/2016 – NÍVEL MÉDIO**

**3**

**PROVA OBJETIVA NÚMERO**

**CARGO: TMNM I - DESENHO DE PROJETOS**

**Leia atentamente as INSTRUÇÕES:**

1. Confira seus dados no cartão-resposta: nome, número de inscrição e o curso para o qual se inscreveu.
2. **MARQUE no seu cartão-resposta o número da sua prova** (não será corrigido o cartão-resposta que não tiver marcado o número da prova) e **Assine** seu cartão-resposta.
3. Aguarde a autorização do Fiscal para abrir o caderno de prova. Ao receber a ordem do fiscal, confira o caderno de prova com muita atenção. Nenhuma reclamação sobre o total de questões ou falha de impressão será aceita depois de iniciada a prova.
4. O cartão-resposta não será substituído, salvo se contiver erro de impressão.
5. Preencha toda a área do cartão-resposta correspondente à alternativa de sua escolha, com caneta esferográfica (tinta azul ou preta), sem ultrapassar as bordas. As marcações duplas, ou rasuradas, com corretivo, ou marcadas diferentemente do modelo estabelecido no cartão-resposta poderão ser anuladas.
6. Sua prova tem **40** questões, com **5** alternativas.
7. Cabe apenas ao candidato a interpretação das questões, **o fiscal** não poderá fazer nenhuma interferência.
8. A prova será realizada com duração máxima de **3 (três) horas**, incluído o tempo para a realização da Prova Objetiva de múltipla escolha e o preenchimento do cartão-resposta.
9. O candidato poderá retirar-se do local de realização das provas somente **1 (uma) hora** após o seu início, sem levar o caderno de prova.
10. O candidato poderá levar o caderno de provas, assim como anotação contendo transcrição do seu cartão-resposta, somente **1h30min** (uma hora e trinta minutos) após o início da realização da prova.
11. Ao terminar a prova, o candidato deverá entregar ao fiscal de sala o cartão-resposta preenchido e **ASSINADO**.
12. Os **3 (três)** candidatos, que terminarem a prova por último, deverão permanecer na sala, e só poderão sair juntos após o fechamento do envelope, contendo os cartões-resposta dos candidatos presentes e ausentes, e assinarem no lacre do referido envelope, atestando que este foi devidamente lacrado.
13. Durante todo o tempo em que permanecer no local onde está ocorrendo o concurso, o candidato deverá, manter o celular desligado e sem bateria, só sendo permitido ligar depois de ultrapassar o portão de saída do prédio.
14. Não será permitido ao candidato fumar na sala de provas, bem como nas dependências.
15. Depois de terminar a prova e entregar ao fiscal o cartão-resposta, preenchido e assinado, não será mais permitido ao candidato o uso do banheiro e bebedouro.

**BOA PROVA!**



**CONHECIMENTOS ESPECÍFICOS**

01. No que diz respeito aos conhecimentos de informática básica, marque a alternativa que apresenta o nome dado ao *software* desenvolvido pela empresa *Microsoft*, amplamente usado por empresas e particulares para a realização de operações financeiras e contábilísticas usando planilhas eletrônicas:

- a) *AutoCad*
- b) *Power point*
- c) *Corel draw*
- d) *Excel*
- e) *Word*

02. A figura a seguir exemplifica um tipo de desenho técnico empregado na área de projetos. Neste contexto, marque a alternativa que apresenta o tipo de desenho representado pela imagem ilustrada:



- a) Planta baixa
- b) Planta de situação
- c) Corte
- d) Pendural
- e) Esboço

03. Dentre os diversos tipos de desenhos empregados na área de projetos, marque a alternativa que apresenta o nome dado ao desenho responsável por reproduzir a locação de um terreno urbano ou área rural dentro de uma área delimitada, cuja finalidade básica é de representar o formato do lote e os elementos que identifiquem a conformação da gleba:

- a) Planta de cobertura
- b) Planta de situação
- c) Planta baixa
- d) Perspectiva cavaleira
- e) Perspectiva isométrica

04. Sabendo-se que a parede de um quarto de uma casa foi representada num desenho técnico na escala de 1:50, e que a espessura real da parede é de 60 centímetros, marque a alternativa que apresenta o valor da espessura da parede no desenho:

- a) 0,80 centímetros
- b) 1,20 centímetros
- c) 1,60 centímetros
- d) 2,00 centímetros
- e) 2,40 centímetros

05. A porta de um banheiro de uma residência com 70 centímetros de largura foi representada num desenho com o valor de 3,5 centímetros. Baseando-se neste contexto, marque a alternativa que apresenta a escala do desenho:

- a) 1:20
- b) 1:25
- c) 1:50
- d) 1:75
- e) 1:100

06. No que concerne aos instrumentos empregados para a realização de desenhos técnicos, marque a alternativa que apresenta o instrumento de desenho utilizado para fazer arcos de circunferência:

- a) Régua T
- b) Escalímetro
- c) Esquadro
- d) Compasso

e) Percevejo

07. O processo de representação tridimensional em que um objeto se situa num sistema de três eixos coordenados (axonometria), fazendo entre si ângulos de 120°, é representado por qual perspectiva?

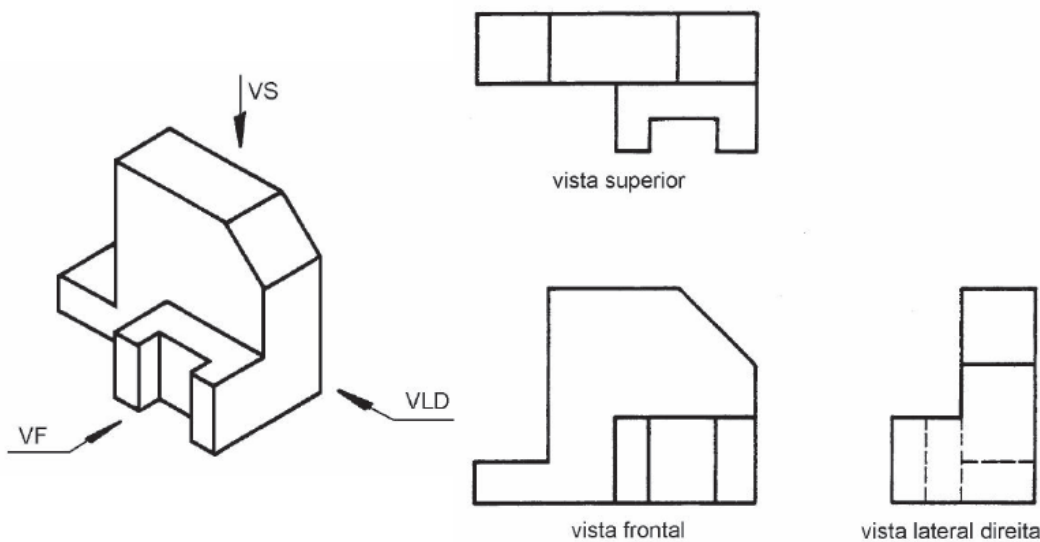
- a) Perspectiva isométrica
- b) Perspectiva cavaleira
- c) Perspectiva cônica
- d) Perspectiva dinâmica
- e) Perspectiva radial

08. Dada a peça a seguir, marque a alternativa que apresenta o detalhe da vista frontal:



- a)
- b)
- c)
- d)
- e)

09. Marque a alternativa que apresenta o diedro em que a peça foi desenhada:



- a) 1º diedro
- b) 2º diedro
- c) 3º diedro
- d) 4º diedro
- e) 5º diedro



10. No que diz respeito aos desenhos técnicos, marque a alternativa que apresenta a representação gráfica das medidas de um objeto, imprescindível para o projetista indicar a sua verdadeira grandeza:

- Perspectiva
- Layout
- Cotagem
- Croqui
- Fachada

### LÍNGUA PORTUGUESA

Leia o texto e responda às próximas quatro questões.

#### Lêmures e baobás de Madagascar

Isolada do continente há 135 milhões de anos, a ilha do Oceano Índico é um laboratório natural da evolução das espécies e encanta os viajantes com uma flora e fauna única

**Madagascar** abriga 107 espécies de **lêmures**, dezenas de espécies de camaleões coloridos e outras tantas plantas que só existem lá. “Madagascar é um mundo a parte. Costumo dizer que, se Charles Darwin tivesse conhecido Madagascar, seu livro *A Origem das Espécies* seria dez vezes maior”, afirma o fotógrafo e jornalista **Haroldo Castro**, idealizador de Viajologia Expedições.

Uma das experiências mais emocionantes na quarta maior ilha do mundo é passear entre os gigantescos **baobás**, árvores que chegam a ter 30 metros de altura e mil anos de idade. Das nove espécies de baobás que existem no mundo, seis podem ser encontradas apenas em Madagascar. A majestosa árvore, considerada sagrada pelos malgaxes, é chamada localmente como “reniala”, mãe da floresta.

Na pequena cidade de Bekopaka está o Parque Nacional Tsingy de Bemaraha, considerado Patrimônio Mundial pela Unesco. Trilhas e passeios de canoa no rio Manambolo conduzem a formações rochosas calcárias inusitadas e plantas endêmicas desse ecossistema de florestas secas.

Outro momento inesquecível em Madagascar é o encontro com os lêmures nas florestas tropicais da reserva Anjozorobe-Angavo, a 90 quilômetros da capital Antananarivo. Especialistas apontam que o turismo de observação de animais é uma excelente alternativa para o desenvolvimento da economia local e pode ajudar a conter o desmatamento. “O projeto em Anjozorobe comprova que, nos últimos anos, os 9 mil visitantes contribuíram de forma concreta a reduzir a pobreza e a promover a conservação da biodiversidade”, afirma Haroldo. Como os primatas são curiosos e estão habituados aos seres humanos, eles costumam se aproximar dos visitantes. “Os bichinhos chegam a subir nas nossas cabeças e parecem adorar aparecer nas fotos.”

Madagascar possui hoje uma excelente estrutura para o turismo, com algumas estradas bem cuidadas e hotéis confortáveis localizados perto das reservas e parques ecológicos. A gastronomia malgaxe, com um toque francês, também surpreende pela diversidade de ingredientes, temperos e colorido dos pratos.

[...]

(Fonte: <http://viajeaqui.abril.com.br/materias/lemures-e-baobas-de-madagascar#2>. Acesso em 14/05/2016)

11. *Lêmures e baobás de Madagascar* é um texto:

- Em que prevalece a descrição, apresentando as belezas e peculiaridades do lugar, da fauna e da flora.
- Principalmente narrativo, de fatos colhidos durante uma viagem, que se sucedem em progressão temporal.
- Essencialmente argumentativo, o uso da descrição visa somente a convencer o leitor a visitar Madagascar.
- Dissertativo, impera o desenvolvimento de argumentos para comprovar a tese presente no primeiro parágrafo.
- Em que predomina a exposição de conceitos e definições com o intuito de informar o leitor.

12. O teor do texto *Lêmures e baobás de Madagascar* somente não poderia se encaixar em que tópico?

- Turismo
- Viagens
- Clima
- Natureza
- Ilhas

13. O aposto é um termo que *explica ou esclarece, desenvolve ou resume outro termo da oração*. Quanto a isso, analise a parte grifada em cada uma das orações retiradas do texto:

I - *A majestosa árvore, considerada sagrada pelos malgaxes, é chamada localmente como “reniala”, mãe da floresta.*

II - *afirma o fotógrafo e jornalista Haroldo Castro, idealizador de Viajologia Expedições.*

III - *Outro momento inesquecível em Madagascar é o encontro com os lêmures nas florestas tropicais da reserva Anjozorobe-Angavo, a 90 quilômetros da capital Antananarivo.*

IV - *O projeto em Anjozorobe comprova que, nos últimos anos, os 9 mil visitantes contribuíram de forma concreta a reduzir a pobreza e a promover a conservação da biodiversidade”.*

V - *A gastronomia malgaxe, com um toque francês, também surpreende pela diversidade de ingredientes, temperos e colorido dos pratos.*

**Constitui aposto os grifos em:**

- a) I, II, III, IV e V.
- b) I, III e V, apenas.
- c) III e V apenas.
- d) I, II, III, e V, apenas.
- e) III, IV e V apenas

**14. Trilhas e passeios de canoa no rio Manambolo conduzem a formações rochosas calcárias inusitadas e plantas endêmicas desse ecossistema de florestas secas.****Ao observar a relação sintática entre os termos desse período, pode-se afirmar que:**

- a) de canoa é complemento nominal de Trilhas e passeios.
- b) no rio Manambolo é adjunto adnominal de canoas.
- c) de florestas secas é complemento nominal de plantas endêmicas.
- d) de canoa é complemento verbal de passeios.
- e) a formações rochosas calcárias inusitadas e plantas endêmicas desse ecossistema de florestas secas é complemento verbal de conduzem.

**Leia o poema e responda às próximas duas questões.****FOGO NA MATA, MATA!**

Fogo na mata, mata! A mata, a vida...  
Fogo na mata, abre,  
no coração da mata,  
Profundas feridas.

Fogo na mata corrói,  
dentro de nós, os sonhos.  
Fogo na mata, deixa, no seio da mata,  
Tumores tamanhos!

[...]

(Fonte: <http://www.recantodasletras.com.br/letras/505252>. Acesso em 14/05/2016)**15. A respeito de alguns aspectos gramaticais pertinentes aos termos em destaque na frase título do poema *Fogo na mata, mata!*, está correto o que se afirma em:**

- a) Morfologicamente, na sequência em que as duas palavras aparecem, temos um verbo e um substantivo.
- b) Semanticamente, as duas palavras constituem homônimas homófonas homógrafas.
- c) O processo de formação da palavra “mata” (primeira ocorrência na frase) é por derivação regressiva do verbo “matar” cuja flexão na terceira pessoa vem logo em seguida na frase.
- d) Semanticamente, as duas palavras “mata” são parônimas.
- e) Semanticamente, as duas palavras constituem homônimas homógrafas heterofônicas.

**16. Com a Nova Reforma Ortográfica, foi mantido o acento nas oxítonas terminadas em -ei e -oi, como é o caso de corrói em *Fogo na mata corrói*. No entanto, de acordo ainda com a Nova Reforma, os acentos foram retirados de quais duas palavras?**

- a) Bocaiuva - maiúscula
- b) Voo, aeródromo
- c) Releem - feiúra
- d) Papeis - linguíça
- e) Preveem - herói

**17. Leia atentamente as alternativas e assinale a incorreta no que diz respeito à Ortografia:**

- a) Grafamos com j as palavras ultraje, jiboia e gorjeio; com g as palavras ferrugem, geringonça, e miragem.
- b) Grafamos com sc: miscelânea, obsceno e obsessão; com c: sucinto, facínio e nécio.
- c) Grafamos com x: xampu, mexerico e enxada; com ch: piche, tocha e mecha.
- d) Grafamos com z: xadrez, cicatriz e vizinho; com s: friso, pêsames e tesoura.
- e) Grafamos com ss: escassez, submissão e sossego; com c: acetinado, obcecado e acepção.

**18. O advérbio sublinhado e a circunstância que ele expressa não estão corretamente apresentados em:**

- a) Ele certamente virá para o encontro. (afirmação)
- b) Ali se ouvia falar de riquezas culturais. (tempo)
- c) O orador discursou muito bem, impressionou a plateia. (modo)
- d) Chegamos tarde, perdemos o ônibus. (tempo)
- e) Os candidatos estudaram bastante. (intensidade)

**19. Os pronomes pessoais, representantes das pessoas do discurso, estão corretamente empregados em todas as alternativas, com exceção da:**

- a) Sempre haverá discordância entre mim e ti.
- b) O juiz queria falar com nós dois.
- c) Minha festa de despedida, não vou esquecê-la jamais.
- d) Ninguém irá sem eu.
- e) Deram o livro para eu ler em dois dias!

**20. Em uma oração, o contexto permite concluirmos se certos verbos são de ligação, para assim identificarmos o predicado nominal. Assim, não há predicação nominal em:**

- a) O aluno não estava na escola hoje.
- b) À tarde, as crianças pareciam cansadas.
- c) Ultimamente os participantes do programa andam desanimados.
- e) A aurora boreal é um lindo espetáculo.
- d) As atletas parecem cansadas.

### MATEMÁTICA

**21. Numa prova de hipismo, há duas modalidades totalmente distintas: salto e rural. João vai competir nas duas modalidades. Sabendo que a vitória ou a derrota em uma nada influencia no resultado da outra, e sabendo que a probabilidade de ele ganhar a prova de salto é de 40% e a de ganhar a prova de rural é de 58%, qual a probabilidade de ele ganhar as duas provas?**

- a) 98%
- b) 62%
- c) 23,2%
- d) 18%
- e) 2,32%

**22. Numa escola há 12 professores. A tabela a seguir mostra a carga horária diária de trabalho desses professores.**

4	8	5	10	6	5	8	6	8	9	4	8
---	---	---	----	---	---	---	---	---	---	---	---

**É correto afirmar que as cargas horárias média, modal e mediana desses professores são respectivamente:**

- a) 6,25; 6; 7
- b) 6,5; 7; 8
- c) 6,75; 8; 6
- d) 6,75; 8; 7
- e) 6,75; 7; 8

**23. Encontre a equação da reta mediatriz do segmento AB, onde A(2, 3) e B(4, -1), e assinale a alternativa correta.**

- a)  $2y - x + 1 = 0$
- b)  $y - 2x + 2 = 0$
- c)  $2y - 2x + 1 = 0$
- d)  $2y + x + 2 = 0$
- e)  $2y + x - 1 = 0$

**24. Uma loja acrescenta 15% no preço de seus produtos à vista se o cliente optar por pagar com um cheque para 60 dias. Comprei, nessa loja, um fogão com cheque para 60 dias e paguei R\$552,00 por ele. Qual era o preço à vista desse fogão?**

- a) R\$460,00
- b) R\$469,20
- c) R\$474,50
- d) R\$480,00
- e) R\$500,00

**25. Um pesquisador, ao analisar os processos que envolvem jovens com menos de 24 anos, descobriu que há 4 homens com nomes envolvidos em processos para cada mulher. Se no total ele contou 2400 pessoas, quantas eram as mulheres envolvidas nessa pesquisa?**

- a) 480
- b) 600
- c) 800
- d) 1920
- e) 2000

**INFORMÁTICA**

**26. Utilizando o Excel 2013, qual fórmula representa corretamente a auto soma?**

- a) =SUM()
- b) =MEDIA()
- c) =MAX()
- d) =MIN()
- e) =SE()

**27. Acerca de confidencialidade está incorreto afirmar:**

- a) É um conceito no qual o acesso à informação deve ser concedido a quem de direito, ou seja, apenas para as entidades autorizadas pelo proprietário ou dono da informação.
- b) É uma propriedade que limita o acesso à informação tão somente às entidades legítimas, ou seja, àquelas autorizadas pelo proprietário da informação.
- c) É a propriedade da informação que não estará disponível ou será divulgada a indivíduos, entidades ou processos sem autorização.
- d) Significa garantir que a informação será conhecida por pessoas que não estejam autorizadas para tal.
- e) É a garantia do resguardo das informações dadas pessoalmente em confiança e proteção contra a sua revelação não autorizada.

**28. Tratando-se de hardware de computadores, assinale a alternativa que corresponde a um tipo de memória externa.**

- a) Pen Drive
- b) EPROM
- c) DIMM
- d) MRAM
- e) Cache

**29. No Word 2013, é possível utilizar vários tipos de formatação de fontes, exceto:**

- a) Tachado
- b) Negrito
- c) Centralizado
- d) Sublinhado
- e) Cor da fonte

**30. Qual software nativo do Windows utilizamos para descobrir o endereço IP do computador?**

- a) Windows Explorer
- b) Notepad
- c) Excel
- d) Word
- e) Prompt de Comando

**CONHECIMENTOS GERAIS**

**31. Conforme fonte do IBGE, o bioma do município de Telêmaco Borba/PR é:**

- a) Mata de Pinhais e Cerrado
- b) Pantanal
- c) Caatinga e Mata Atlântica
- d) Floresta Tropical
- e) Cerrado e Mata Atlântica

**32. A letra do hino do município de Telêmaco Borba/PR é de autoria de**

- a) Bento Mossurunga.
- b) Moisés Lupion.
- c) Eloah Martins Quadrado.
- d) Graciliana Reis D´Albuquerque Mossurunga.
- e) Enéias Augusto Moracines Borba.

**33. Leia o texto sobre o Brasão de Armas do município de Telêmaco Borba/PR e marque a alternativa correta.**

**O Brasão de Armas foi aprovado em definitivo em 1981, dentro dos padrões da heráldica, estabelecendo os regulamentos para seu uso, ficando assim oficializado.**

**No Brasão de Armas, é possível identificar:**

1. Escudo português redondo banhado de ouro filetado de prata, carregado de cinco árvores de pinho estilizadas de sua cor, postas em banda.
2. Escudete de prata carregado de três Pinheiros do Paraná, araucária angustifolia ou brasiliense.





3. No timbre, coroa mural de ouro lavrado de negro.  
4. À direita, haste de milho (zae mays) frutada.  
5. À sinistra, ramos de soja (gelycine soya) granada.  
6. Listel amarelo ostentando o topônimo “Cidade Nova” entre as inscrições de ouro “5 de Julho de 1963”, em caracteres latino moderno.
- a) Não é verdadeiro o item 1.  
b) Não é verdadeiro o item 2.  
c) Não é verdadeiro o item 4.  
d) Não é verdadeiro o item 6.  
e) Não são verdadeiros os itens 3 e 5.

34. Segundo o art. 11 da Lei Orgânica do Município de Telêmaco Borba/PR, os bens públicos podem ser:
- I. De uso comum do Povo, tais como estradas municipais, ruas, parques, praças, logradouros públicos e outros da mesma espécie;  
II. De uso especial, os de patrimônio administrativo, tais como edifícios das repartições públicas, os terrenos e equipamentos destinados ao serviço público, veículos, matadouros, mercados e outras serventias de outra espécie;  
III. Bens municipais, aqueles sobre os quais o município exerce os direitos de proprietário e são considerados como bens patrimoniais disponíveis;  
IV. Bens culturais, tais como música e obras de arte.
- Podemos afirmar que são verdadeiros os itens
- a) I e II, apenas.  
b) II e III, apenas.  
c) I, II e III, apenas.  
d) I, III e IV, apenas.  
e) I, II, III e IV.

35. Qual alternativa completa corretamente o texto a seguir?
- No primeiro ano de cada legislatura, no dia 1º de janeiro, em sessão de instalação, independente de número, sob a presidência do vereador mais idoso dentre os eleitos, os vereadores prestarão compromisso e tomarão posse. O Vereador que não tomar posse na sessão do dia 1º de janeiro poderá fazê-la \_\_\_\_\_ depois da primeira sessão ordinária da Legislatura.
- a) até dez dias  
b) até quinze dias  
c) até trinta dias  
d) até quarenta e cinco dias  
e) até sessenta dias

36. Conforme o art. 54 da Lei Orgânica do Município de Telêmaco Borba/PR, o Processo Legislativo compreende a elaboração de:
- I. Emendas à Lei Orgânica do Município;  
II. Leis complementares;  
III. Leis Ordinárias;  
IV. Decretos Legislativos;  
V. Resoluções;  
VI. Pareceres.
- Assinale a alternativa que faz a afirmação correta.
- a) São verdadeiros apenas os itens I, III e VI.  
b) São verdadeiros apenas os itens I, III e IV.  
c) São verdadeiros apenas os itens III, IV e V.  
d) São verdadeiros apenas os itens I, II, III, IV e V.  
e) São verdadeiros os itens I, II, III, IV, V e VI.

Com base na Lei nº 1883/2012, que dispõe sobre o Estatuto dos Servidores Públicos da Administração Direta, Autárquica e Funcional do Município de Telêmaco Borba/PR, responda às próximas quatro questões.

37. À luz do § 2º do art. 9º da Lei nº 1883/2012, marque a alternativa que completa a lacuna do texto a seguir.
- O concurso deverá ser homologado no prazo máximo de \_\_\_\_\_ contados da data de realização da última fase de provas, sob pena de responsabilidade da autoridade competente.
- a) um mês  
b) dois meses  
c) seis meses  
d) um ano



e) dois anos

**38. Marque a alternativa que completa a lacuna do texto a seguir.**

**O candidato terá o prazo \_\_\_\_\_, a contar da publicação oficial da convocação, para comparecer à entidade convocante e assinar termo de comparecimento.**

- a) máximo de 5 dias úteis
- b) mínimo de 15 dias úteis
- c) de até 30 dias
- d) máximo de 15 dias úteis
- e) mínimo de 5 dias úteis

**39. Leia as assertivas e marque a correta.**

- a) São reservados 10% dos cargos em comissão para a nomeação de servidores do quadro efetivo.
- b) São reservados 15% dos cargos em comissão para a nomeação de servidores do quadro efetivo.
- c) São reservados 20% dos cargos em comissão para a nomeação de servidores do quadro efetivo.
- d) São reservados 25% dos cargos em comissão para a nomeação de servidores do quadro efetivo.
- e) São reservados 30% dos cargos em comissão para a nomeação de servidores do quadro efetivo.

**40. Marque a alternativa que completa a lacuna do texto a seguir.**

**O servidor municipal, quando nomeado para cargo em comissão, ficará afastado de seu cargo efetivo e fará jus à remuneração prevista em lei para o comissionado, podendo optar por receber seus vencimentos acrescidos de \_\_\_\_\_ do valor da remuneração prevista para o cargo em comissão.**

- a) 10%
- b) 20%
- c) 30%
- d) 40%
- e) 50%

**RASCUNHO**



PREFEITURA DE TELÊMACO BORBA - ESTADO DO PARANÁ - EDITAL Nº 001-2016 - CONCURSO PÚBLICO

**MATUTINO – 29/05/2016 – NÍVEL MÉDIO**

**1**

**PROVA OBJETIVA NÚMERO**

**CARGO: TMNM I - EDIFICAÇÕES**

**Leia atentamente as INSTRUÇÕES:**

1. Confira seus dados no cartão-resposta: nome, número de inscrição e o curso para o qual se inscreveu.
2. **MARQUE no seu cartão-resposta o número da sua prova** (não será corrigido o cartão-resposta que não tiver marcado o número da prova) e **Assine** seu cartão-resposta.
3. Aguarde a autorização do Fiscal para abrir o caderno de prova. Ao receber a ordem do fiscal, confira o caderno de prova com muita atenção. Nenhuma reclamação sobre o total de questões ou falha de impressão será aceita depois de iniciada a prova.
4. O cartão-resposta não será substituído, salvo se contiver erro de impressão.
5. Preencha toda a área do cartão-resposta correspondente à alternativa de sua escolha, com caneta esferográfica (tinta azul ou preta), sem ultrapassar as bordas. As marcações duplas, ou rasuradas, com corretivo, ou marcadas diferentemente do modelo estabelecido no cartão-resposta poderão ser anuladas.
6. Sua prova tem **40** questões, com **5** alternativas.
7. Cabe apenas ao candidato a interpretação das questões, **o fiscal** não poderá fazer nenhuma interferência.
8. A prova será realizada com duração máxima de **3 (três) horas**, incluído o tempo para a realização da Prova Objetiva de múltipla escolha e o preenchimento do cartão-resposta.
9. O candidato poderá retirar-se do local de realização das provas somente **1 (uma) hora** após o seu início, sem levar o caderno de prova.
10. O candidato poderá levar o caderno de provas, assim como anotação contendo transcrição do seu cartão-resposta, somente **1h30min** (uma hora e trinta minutos) após o início da realização da prova.
11. Ao terminar a prova, o candidato deverá entregar ao fiscal de sala o cartão-resposta preenchido e **ASSINADO**.
12. Os **3 (três)** candidatos, que terminarem a prova por último, deverão permanecer na sala, e só poderão sair juntos após o fechamento do envelope, contendo os cartões-resposta dos candidatos presentes e ausentes, e assinarem no lacre do referido envelope, atestando que este foi devidamente lacrado.
13. Durante todo o tempo em que permanecer no local onde está ocorrendo o concurso, o candidato deverá, manter o celular desligado e sem bateria, só sendo permitido ligar depois de ultrapassar o portão de saída do prédio.
14. Não será permitido ao candidato fumar na sala de provas, bem como nas dependências.
15. Depois de terminar a prova e entregar ao fiscal o cartão-resposta, preenchido e assinado, não será mais permitido ao candidato o uso do banheiro e bebedouro.

**BOA PROVA!**

**LÍNGUA PORTUGUESA**

Leia o texto e responda às próximas quatro questões.

**Lêmures e baobás de Madagascar**

Isolada do continente há 135 milhões de anos, a ilha do Oceano Índico é um laboratório natural da evolução das espécies e encanta os viajantes com uma flora e fauna única

**Madagascar** abriga 107 espécies de **lêmures**, dezenas de espécies de camaleões coloridos e outras tantas plantas que só existem lá. “Madagascar é um mundo a parte. Costumo dizer que, se Charles Darwin tivesse conhecido Madagascar, seu livro *A Origem das Espécies* seria dez vezes maior”, afirma o fotógrafo e jornalista **Haroldo Castro**, idealizador de Viajologia Expedições.

Uma das experiências mais emocionantes na quarta maior ilha do mundo é passear entre os gigantes **baobás**, árvores que chegam a ter 30 metros de altura e mil anos de idade. Das nove espécies de baobás que existem no mundo, seis podem ser encontradas apenas em Madagascar. A majestosa árvore, considerada sagrada pelos malgaxes, é chamada localmente como “reniala”, mãe da floresta.

Na pequena cidade de Bekopaka está o Parque Nacional Tsingy de Bemaraha, considerado Patrimônio Mundial pela Unesco. Trilhas e passeios de canoa no rio Manambolo conduzem a formações rochosas calcárias inusitadas e plantas endêmicas desse ecossistema de florestas secas.

Outro momento inesquecível em Madagascar é o encontro com os lêmures nas florestas tropicais da reserva Anjozorobe-Angavo, a 90 quilômetros da capital Antananarivo. Especialistas apontam que o turismo de observação de animais é uma excelente alternativa para o desenvolvimento da economia local e pode ajudar a conter o desmatamento. “O projeto em Anjozorobe comprova que, nos últimos anos, os 9 mil visitantes contribuíram de forma concreta a reduzir a pobreza e a promover a conservação da biodiversidade”, afirma Haroldo. Como os primatas são curiosos e estão habituados aos seres humanos, eles costumam se aproximar dos visitantes. “Os bichinhos chegam a subir nas nossas cabeças e parecem adorar aparecer nas fotos.”

Madagascar possui hoje uma excelente estrutura para o turismo, com algumas estradas bem cuidadas e hotéis confortáveis localizados perto das reservas e parques ecológicos. A gastronomia malgaxe, com um toque francês, também surpreende pela diversidade de ingredientes, temperos e colorido dos pratos.

[...]

(Fonte: <http://viajeaqu.abril.com.br/materias/lemures-e-baobas-de-madagascar#2>. Acesso em 14/05/2016)

**01. Lêmures e baobás de Madagascar é um texto:**

- Em que prevalece a descrição, apresentando as belezas e peculiaridades do lugar, da fauna e da flora.
- Principalmente narrativo, de fatos colhidos durante uma viagem, que se sucedem em progressão temporal.
- Essencialmente argumentativo, o uso da descrição visa somente a convencer o leitor a visitar Madagascar.
- Dissertativo, impera o desenvolvimento de argumentos para comprovar a tese presente no primeiro parágrafo.
- Em que predomina a exposição de conceitos e definições com o intuito de informar o leitor.

**02. O teor do texto *Lêmures e baobás de Madagascar* somente não poderia se encaixar em que tópico?**

- Turismo
- Viagens
- Clima
- Natureza
- Ilhas

**03. O aposto é um termo que *explica ou esclarece, desenvolve ou resume outro termo da oração*. Quanto a isso, analise a parte grifada em cada uma das orações retiradas do texto:**

**I - A majestosa árvore, considerada sagrada pelos malgaxes, é chamada localmente como “reniala”, mãe da floresta.**

**II - afirma o fotógrafo e jornalista Haroldo Castro, idealizador de Viajologia Expedições.**

**III - Outro momento inesquecível em Madagascar é o encontro com os lêmures nas florestas tropicais da reserva Anjozorobe-Angavo, a 90 quilômetros da capital Antananarivo.**

**IV - O projeto em Anjorobe comprova que, nos últimos anos, os 9 mil visitantes contribuíram de forma concreta a reduzir a pobreza e a promover a conservação da biodiversidade”.**

**V - A gastronomia malgaxe, com um toque francês, também surpreende pela diversidade de ingredientes, temperos e colorido dos pratos.**

**Constitui aposto os grifos em:**

a) I, II, III, IV e V.

b) I, III e V, apenas.

c) III e V apenas.

d) I, II, III, e V, apenas.

e) III, IV e V apenas

**04. Trilhas e passeios de canoa no rio Manambolo conduzem a formações rochosas calcárias inusitadas e plantas endêmicas desse ecossistema de florestas secas.**

**Ao observar a relação sintática entre os termos desse período, pode-se afirmar que:**

a) de canoa é complemento nominal de Trilhas e passeios.

b) no rio Manambolo é adjunto adnominal de canoas.

c) de florestas secas é complemento nominal de plantas endêmicas.

d) de canoa é complemento verbal de passeios.

e) a formações rochosas calcárias inusitadas e plantas endêmicas desse ecossistema de florestas secas é complemento verbal de conduzem.

**Leia o poema e responda às próximas duas questões.**

### **FOGO NA MATA, MATA!**

Fogo na mata, mata! A mata, a vida...

Fogo na mata, abre,  
no coração da mata,  
Profundas feridas.

Fogo na mata corrói,  
dentro de nós, os sonhos.

Fogo na mata, deixa, no seio da mata,  
Tumores tamanhos!

[...]

(Fonte: <http://www.recantodasletras.com.br/letras/505252>. Acesso em 14/05/2016)

**05. A respeito de alguns aspectos gramaticais pertinentes aos termos em destaque na frase título do poema Fogo na mata, mata!, está correto o que se afirma em:**

a) Morfologicamente, na sequência em que as duas palavras aparecem, temos um verbo e um substantivo.

b) Semanticamente, as duas palavras constituem homônimas homófonas homógrafas.

c) O processo de formação da palavra “mata” (primeira ocorrência na frase) é por derivação regressiva do verbo “matar” cuja flexão na terceira pessoa vem logo em seguida na frase.

d) Semanticamente, as duas palavras “mata” são parônimas.

e) Semanticamente, as duas palavras constituem homônimas homógrafas heterofônicas.

**06. Com a Nova Reforma Ortográfica, foi mantido o acento nas oxítonas terminadas em -ei e -oi, como é o caso de corrói em Fogo na mata corrói. No entanto, de acordo ainda com a Nova Reforma, os acentos foram retirados de quais duas palavras?**

a) Bocaiuva - maiúscula

b) Voo, aerodromo

c) Releem - feiura

d) Papeis - linguíça

e) Preveem - heroi

**07. Leia atentamente as alternativas e assinale a incorreta no que diz respeito à Ortografia:**

a) Grafamos com j as palavras ultraje, jiboia e gorjeio; com g as palavras ferrugem, geringonça, e miragem.

b) Grafamos com sc: miscelânea, obsceno e obscensão; com c: sucinto, facínio e nécio.

c) Grafamos com x: xampu, mexerico e enxada; com ch: piche, tocha e mecha.

d) Grafamos com z: xadrez, cicatriz e vizinho; com s: friso, pêsames e tesoura.

e) Grafamos com ss: escassez, submissão e sossego; com c: acetinado, obcecado e acepção.

**08. O advérbio sublinhado e a circunstância que ele expressa não estão corretamente apresentados em:**

- a) Ele certamente virá para o encontro. (afirmação)
- b) Ali se ouvia falar de riquezas culturais. (tempo)
- c) O orador discursou muito bem, impressionou a plateia. (modo)
- d) Chegamos tarde, perdemos o ônibus. (tempo)
- e) Os candidatos estudaram bastante. (intensidade)

**09. Os pronomes pessoais, representantes das pessoas do discurso, estão corretamente empregados em todas as alternativas, com exceção da:**

- a) Sempre haverá discordância entre mim e ti.
- b) O juiz queria falar com nós dois.
- c) Minha festa de despedida, não vou esquecê-la jamais.
- d) Ninguém irá sem eu.
- e) Deram o livro para eu ler em dois dias!

**10. Em uma oração, o contexto permite concluirmos se certos verbos são de ligação, para assim identificarmos o predicado nominal. Assim, não há predicção nominal em:**

- a) O aluno não estava na escola hoje.
- b) À tarde, as crianças pareciam cansadas.
- c) Ultimamente os participantes do programa andam desanimados.
- e) A aurora boreal é um lindo espetáculo.
- d) As atletas parecem cansadas.

### MATEMÁTICA

**11. Numa prova de hipismo, há duas modalidades totalmente distintas: salto e rural. João vai competir nas duas modalidades. Sabendo que a vitória ou a derrota em uma nada influencia no resultado da outra, e sabendo que a probabilidade de ele ganhar a prova de salto é de 40% e a de ganhar a prova de rural é de 58%, qual a probabilidade de ele ganhar as duas provas?**

- a) 98%
- b) 62%
- c) 23,2%
- d) 18%
- e) 2,32%

**12. Numa escola há 12 professores. A tabela a seguir mostra a carga horária diária de trabalho desses professores.**

4	8	5	10	6	5	8	6	8	9	4	8
---	---	---	----	---	---	---	---	---	---	---	---

**É correto afirmar que as cargas horárias média, modal e mediana desses professores são respectivamente:**

- a) 6,25; 6; 7
- b) 6,5; 7; 8
- c) 6,75; 8; 6
- d) 6,75; 8; 7
- e) 6,75; 7; 8

**13. Encontre a equação da reta mediatriz do segmento AB, onde A(2, 3) e B(4, -1), e assinale a alternativa correta.**

- a)  $2y - x + 1 = 0$
- b)  $y - 2x + 2 = 0$
- c)  $2y - 2x + 1 = 0$
- d)  $2y + x + 2 = 0$
- e)  $2y + x - 1 = 0$

**14. Uma loja acrescenta 15% no preço de seus produtos à vista se o cliente optar por pagar com um cheque para 60 dias. Comprei, nessa loja, um fogão com cheque para 60 dias e paguei R\$552,00 por ele. Qual era o preço à vista desse fogão?**

- a) R\$460,00
- b) R\$469,20
- c) R\$474,50
- d) R\$480,00
- e) R\$500,00



**15. Um pesquisador, ao analisar os processos que envolvem jovens com menos de 24 anos, descobriu que há 4 homens com nomes envolvidos em processos para cada mulher. Se no total ele contou 2400 pessoas, quantas eram as mulheres envolvidas nessa pesquisa?**

- a) 480
- b) 600
- c) 800
- d) 1920
- e) 2000

#### **INFORMÁTICA**

**16. Utilizando o Excel 2013, qual fórmula representa corretamente a auto soma?**

- a) =SUM()
- b) =MEDIA()
- c) =MAX()
- d) =MIN()
- e) =SE()

**17. Acerca de confidencialidade está incorreto afirmar:**

- a) É um conceito no qual o acesso à informação deve ser concedido a quem de direito, ou seja, apenas para as entidades autorizadas pelo proprietário ou dono da informação.
- b) É uma propriedade que limita o acesso à informação tão somente às entidades legítimas, ou seja, àquelas autorizadas pelo proprietário da informação.
- c) É a propriedade da informação que não estará disponível ou será divulgada a indivíduos, entidades ou processos sem autorização.
- d) Significa garantir que a informação será conhecida por pessoas que não estejam autorizadas para tal.
- e) É a garantia do resguardo das informações dadas pessoalmente em confiança e proteção contra a sua revelação não autorizada.

**18. Tratando-se de hardware de computadores, assinale a alternativa que corresponde a um tipo de memória externa.**

- a) Pen Drive
- b) EPROM
- c) DIMM
- d) MRAM
- e) Cache

**19. No Word 2013, é possível utilizar vários tipos de formatação de fontes, exceto:**

- a) Tachado
- b) Negrito
- c) Centralizado
- d) Sublinhado
- e) Cor da fonte

**20. Qual software nativo do Windows utilizamos para descobrir o endereço IP do computador?**

- a) Windows Explorer
- b) Notepad
- c) Excel
- d) Word
- e) Prompt de Comando

#### **CONHECIMENTOS GERAIS**

**21. Conforme fonte do IBGE, o bioma do município de Telêmaco Borba/PR é:**

- a) Mata de Pinhais e Cerrado
- b) Pantanal
- c) Caatinga e Mata Atlântica
- d) Floresta Tropical
- e) Cerrado e Mata Atlântica

**22. A letra do hino do município de Telêmaco Borba/PR é de autoria de**

- a) Bento Mossurunga.
- b) Moises Lupion.
- c) Eloah Martins Quadrado.
- d) Graciliana Reis D'Albuquerque Mossurunga.
- e) Enéias Augusto Moracines Borba.



**23. Leia o texto sobre o Brasão de Armas do município de Telêmaco Borba/PR e marque a alternativa correta.**

O Brasão de Armas foi aprovado em definitivo em 1981, dentro dos padrões da heráldica, estabelecendo os regulamentos para seu uso, ficando assim oficializado.

No Brasão de Armas, é possível identificar:

1. Escudo português redondo banhado de ouro filetado de prata, carregado de cinco árvores de pinho estilizadas de sua cor, postas em banda.
  2. Escudete de prata carregado de três Pinheiros do Paraná, araucária angustifolia ou brasiliense.
  3. No timbre, coroa mural de ouro lavrado de negro.
  4. À direita, haste de milho (zae mays) frutada.
  5. À sinistra, ramos de soja (gelycine soya) granada.
  6. Listel amarelo ostentando o topônimo "Cidade Nova" entre as inscrições de ouro "5 de Julho de 1963", em caracteres latino moderno.
- a) Não é verdadeiro o item 1.
  - b) Não é verdadeiro o item 2.
  - c) Não é verdadeiro o item 4.
  - d) Não é verdadeiro o item 6.
  - e) Não são verdadeiros os itens 3 e 5.

**24. Segundo o art. 11 da Lei Orgânica do Município de Telêmaco Borba/PR, os bens públicos podem ser:**

- I. De uso comum do Povo, tais como estradas municipais, ruas, parques, praças, logradouros públicos e outros da mesma espécie;
  - II. De uso especial, os de patrimônio administrativo, tais como edifícios das repartições públicas, os terrenos e equipamentos destinados ao serviço público, veículos, matadouros, mercados e outras serventias de outra espécie;
  - III. Bens municipais, aqueles sobre os quais o município exerce os direitos de proprietário e são considerados como bens patrimoniais disponíveis;
  - IV. Bens culturais, tais como música e obras de arte.
- Podemos afirmar que são verdadeiros os itens

- a) I e II, apenas.
- b) II e III, apenas.
- c) I, II e III, apenas.
- d) I, III e IV, apenas.
- e) I, II, III e IV.

**25. Qual alternativa completa corretamente o texto a seguir?**

No primeiro ano de cada legislatura, no dia 1º de janeiro, em sessão de instalação, independente de número, sob a presidência do vereador mais idoso dentre os eleitos, os vereadores prestarão compromisso e tomarão posse. O Vereador que não tomar posse na sessão do dia 1º de janeiro poderá fazê-la \_\_\_\_\_ depois da primeira sessão ordinária da Legislatura.

- a) até dez dias
- b) até quinze dias
- c) até trinta dias
- d) até quarenta e cinco dias
- e) até sessenta dias

**26. Conforme o art. 54 da Lei Orgânica do Município de Telêmaco Borba/PR, o Processo Legislativo compreende a elaboração de:**

- I. Emendas à Lei Orgânica do Município;
- II. Leis complementares;
- III. Leis Ordinárias;
- IV. Decretos Legislativos;
- V. Resoluções;
- VI. Pareceres.

Assinale a alternativa que faz a afirmação correta.

- a) São verdadeiros apenas os itens I, III e VI.
- b) São verdadeiros apenas os itens I, III e IV.
- c) São verdadeiros apenas os itens III, IV e V.
- d) São verdadeiros apenas os itens I, II, III, IV e V.
- e) São verdadeiros os itens I, II, III, IV, V e VI.

Com base na Lei nº 1883/2012, que dispõe sobre o Estatuto dos Servidores Públicos da Administração Direta, Autárquica e Funcional do Município de Telêmaco Borba/PR, responda às próximas quatro questões.

27. À luz do § 2º do art. 9º da Lei nº 1883/2012, marque a alternativa que completa a lacuna do texto a seguir.

O concurso deverá ser homologado no prazo máximo de \_\_\_\_\_ contados da data de realização da última fase de provas, sob pena de responsabilidade da autoridade competente.

- a) um mês
- b) dois meses
- c) seis meses
- d) um ano
- e) dois anos

28. Marque a alternativa que completa a lacuna do texto a seguir.

O candidato terá o prazo \_\_\_\_\_, a contar da publicação oficial da convocação, para comparecer à entidade convocante e assinar termo de comparecimento.

- a) máximo de 5 dias úteis
- b) mínimo de 15 dias úteis
- c) de até 30 dias
- d) máximo de 15 dias úteis
- e) mínimo de 5 dias úteis

29. Leia as assertivas e marque a correta.

- a) São reservados 10% dos cargos em comissão para a nomeação de servidores do quadro efetivo.
- b) São reservados 15% dos cargos em comissão para a nomeação de servidores do quadro efetivo.
- c) São reservados 20% dos cargos em comissão para a nomeação de servidores do quadro efetivo.
- d) São reservados 25% dos cargos em comissão para a nomeação de servidores do quadro efetivo.
- e) São reservados 30% dos cargos em comissão para a nomeação de servidores do quadro efetivo.

30. Marque a alternativa que completa a lacuna do texto a seguir.

O servidor municipal, quando nomeado para cargo em comissão, ficará afastado de seu cargo efetivo e fará jus à remuneração prevista em lei para o comissionado, podendo optar por receber seus vencimentos acrescidos de \_\_\_\_\_ do valor da remuneração prevista para o cargo em comissão.

- a) 10%
- b) 20%
- c) 30%
- d) 40%
- e) 50%

### CONHECIMENTOS ESPECÍFICOS

31. No que concerne aos princípios básicos de construção, marque a alternativa que apresenta o nome dado à ferramenta usada para auxiliar a elevação das alvenarias, garantindo o controle do prumo e do nível:

- a) Escantilhão
- b) Terça
- c) Pendural
- d) Chapuz
- e) Rincão

32. Consubstanciado na interpretação de projetos de instalações elétricas, marque a alternativa que apresenta o significado da simbologia ilustrada a seguir:



- a) Tomada de corrente no piso
- b) Antena para rádio ou televisão
- c) Saída de som na parede
- d) Ponto de luz fluorescente
- e) Lâmpada obstáculo

33. No detalhamento e desenvolvimento de projetos de instalações de esgotos domésticos, a figura a seguir é usualmente empregada para representar qual tipo de peça?



- a) Ralo seco
- b) Caixa sifonada
- c) Caixa de inspeção
- d) Caixa retentora
- e) Tanque séptico

**34. Com relação à composição do cimento Portland, marque a alternativa que apresenta o tipo de adição empregado para controlar o tempo de pega:**

- a) Argila
- b) Cal
- c) Betume
- d) Clínquer
- e) Gesso

**35. O material de construção que possui em sua composição uma grande quantidade de betume é chamado de:**

- a) Cimento Portland
- b) Porcelanato
- c) Asfalto
- d) Cal
- e) Gesso

**36. Sabendo-se que o comprimento da parede de uma cozinha é de 2,25 metros e que sua representação foi feita numa planta baixa na escala de 1:75, marque a alternativa que apresenta a dimensão equivalente ao comprimento dessa parede no papel:**

- a) 1,5 centímetros
- b) 2,0 centímetros
- c) 2,5 centímetros
- d) 3,0 centímetros
- e) 3,5 centímetros

**37. Uma parede com espessura de 20 centímetros foi representada numa planta baixa com a dimensão no papel igual a 4 mm. Nesse contexto, marque a alternativa que apresenta a escala da planta baixa:**

- a) 1:10
- b) 1:20
- c) 1:25
- d) 1:50
- e) 1:75

**38. No que diz respeito aos formatos de papéis empregados nos desenhos técnicos, marque a alternativa que apresenta o tipo de papel que possui uma área de 0,5 m<sup>2</sup>:**

- a) A0
- b) A1
- c) A2
- d) A3
- e) A4

**39. Na interpretação de desenhos de arquitetura, a planta ilustrada a seguir é usualmente denominada de:**



- a) Planta de situação
- b) Planta de locação
- c) Planta baixa
- d) Esboço
- e) Corte

40. No programa AutoCad, o comando que mostra uma grade de auxílio na tela é chamado de:

- a) *Snap mode*
- b) *Ortho mode*
- c) *Polar tracking*
- d) *Object snap*
- e) *Grid display*

RASCUNHO



PREFEITURA DE TELÊMACO BORBA - ESTADO DO PARANÁ - EDITAL Nº 001-2016 - CONCURSO PÚBLICO

**MATUTINO – 29/05/2016 – NÍVEL MÉDIO**

**2**

PROVA OBJETIVA NÚMERO

**CARGO: TMNM I - EDIFICAÇÕES**

**Leia atentamente as INSTRUÇÕES:**

1. Confira seus dados no cartão-resposta: nome, número de inscrição e o curso para o qual se inscreveu.
2. **MARQUE no seu cartão-resposta o número da sua prova** (não será corrigido o cartão-resposta que não tiver marcado o número da prova) e **Assine** seu cartão-resposta.
3. Aguarde a autorização do Fiscal para abrir o caderno de prova. Ao receber a ordem do fiscal, confira o caderno de prova com muita atenção. Nenhuma reclamação sobre o total de questões ou falha de impressão será aceita depois de iniciada a prova.
4. O cartão-resposta não será substituído, salvo se contiver erro de impressão.
5. Preencha toda a área do cartão-resposta correspondente à alternativa de sua escolha, com caneta esferográfica (tinta azul ou preta), sem ultrapassar as bordas. As marcações duplas, ou rasuradas, com corretivo, ou marcadas diferentemente do modelo estabelecido no cartão-resposta poderão ser anuladas.
6. Sua prova tem **40** questões, com **5** alternativas.
7. Cabe apenas ao candidato a interpretação das questões, **o fiscal** não poderá fazer nenhuma interferência.
8. A prova será realizada com duração máxima de **3 (três) horas**, incluído o tempo para a realização da Prova Objetiva de múltipla escolha e o preenchimento do cartão-resposta.
9. O candidato poderá retirar-se do local de realização das provas somente **1 (uma) hora** após o seu início, sem levar o caderno de prova.
10. O candidato poderá levar o caderno de provas, assim como anotação contendo transcrição do seu cartão-resposta, somente **1h30min** (uma hora e trinta minutos) após o início da realização da prova.
11. Ao terminar a prova, o candidato deverá entregar ao fiscal de sala o cartão-resposta preenchido e **ASSINADO**.
12. Os **3 (três)** candidatos, que terminarem a prova por último, deverão permanecer na sala, e só poderão sair juntos após o fechamento do envelope, contendo os cartões-resposta dos candidatos presentes e ausentes, e assinarem no lacre do referido envelope, atestando que este foi devidamente lacrado.
13. Durante todo o tempo em que permanecer no local onde está ocorrendo o concurso, o candidato deverá, manter o celular desligado e sem bateria, só sendo permitido ligar depois de ultrapassar o portão de saída do prédio.
14. Não será permitido ao candidato fumar na sala de provas, bem como nas dependências.
15. Depois de terminar a prova e entregar ao fiscal o cartão-resposta, preenchido e assinado, não será mais permitido ao candidato o uso do banheiro e bebedouro.

**BOA PROVA!**



**MATEMÁTICA**

**01. Numa prova de hipismo, há duas modalidades totalmente distintas: salto e rural. João vai competir nas duas modalidades. Sabendo que a vitória ou a derrota em uma nada influencia no resultado da outra, e sabendo que a probabilidade de ele ganhar a prova de salto é de 40% e a de ganhar a prova de rural é de 58%, qual a probabilidade de ele ganhar as duas provas?**

- a) 98%
- b) 62%
- c) 23,2%
- d) 18%
- e) 2,32%

**02. Numa escola há 12 professores. A tabela a seguir mostra a carga horária diária de trabalho desses professores.**

4	8	5	10	6	5	8	6	8	9	4	8
---	---	---	----	---	---	---	---	---	---	---	---

**É correto afirmar que as cargas horárias média, modal e mediana desses professores são respectivamente:**

- a) 6,25; 6; 7
- b) 6,5; 7; 8
- c) 6,75; 8; 6
- d) 6,75; 8; 7
- e) 6,75; 7; 8

**03. Encontre a equação da reta mediatriz do segmento AB, onde A(2, 3) e B(4, -1), e assinale a alternativa correta.**

- a)  $2y - x + 1 = 0$
- b)  $y - 2x + 2 = 0$
- c)  $2y - 2x + 1 = 0$
- d)  $2y + x + 2 = 0$
- e)  $2y + x - 1 = 0$

**04. Uma loja acrescenta 15% no preço de seus produtos à vista se o cliente optar por pagar com um cheque para 60 dias. Comprei, nessa loja, um fogão com cheque para 60 dias e paguei R\$552,00 por ele. Qual era o preço à vista desse fogão?**

- a) R\$460,00
- b) R\$469,20
- c) R\$474,50
- d) R\$480,00
- e) R\$500,00

**05. Um pesquisador, ao analisar os processos que envolvem jovens com menos de 24 anos, descobriu que há 4 homens com nomes envolvidos em processos para cada mulher. Se no total ele contou 2400 pessoas, quantas eram as mulheres envolvidas nessa pesquisa?**

- a) 480
- b) 600
- c) 800
- d) 1920
- e) 2000

**INFORMÁTICA**

**06. Utilizando o Excel 2013, qual fórmula representa corretamente a auto soma?**

- a) =SUM()
- b) =MEDIA()
- c) =MAX()
- d) =MIN()
- e) =SE()

**07. Acerca de confidencialidade está incorreto afirmar:**

- a) É um conceito no qual o acesso à informação deve ser concedido a quem de direito, ou seja, apenas para as entidades autorizadas pelo proprietário ou dono da informação.
- b) É uma propriedade que limita o acesso à informação tão somente às entidades legítimas, ou seja, àquelas autorizadas pelo proprietário da informação.
- c) É a propriedade da informação que não estará disponível ou será divulgada a indivíduos, entidades ou processos sem autorização.
- d) Significa garantir que a informação será conhecida por pessoas que não estejam autorizadas para tal.



e) É a garantia do resguardo das informações dadas pessoalmente em confiança e proteção contra a sua revelação não autorizada.

**08. Tratando-se de hardware de computadores, assinale a alternativa que corresponde a um tipo de memória externa.**

- a) Pen Drive
- b) EPROM
- c) DIMM
- d) MRAM
- e) Cache

**09. No Word 2013, é possível utilizar vários tipos de formatação de fontes, exceto:**

- a) Tachado
- b) Negrito
- c) Centralizado
- d) Sublinhado
- e) Cor da fonte

**10. Qual software nativo do Windows utilizamos para descobrir o endereço IP do computador?**

- a) Windows Explorer
- b) Notepad
- c) Excel
- d) Word
- e) Prompt de Comando

#### **CONHECIMENTOS GERAIS**

**11. Conforme fonte do IBGE, o bioma do município de Telêmaco Borba/PR é:**

- a) Mata de Pinhais e Cerrado
- b) Pantanal
- c) Caatinga e Mata Atlântica
- d) Floresta Tropical
- e) Cerrado e Mata Atlântica

**12. A letra do hino do município de Telêmaco Borba/PR é de autoria de**

- a) Bento Mossurunga.
- b) Moisés Lupion.
- c) Eloah Martins Quadrado.
- d) Graciliana Reis D´Albuquerque Mossurunga.
- e) Enéias Augusto Moracines Borba.

**13. Leia o texto sobre o Brasão de Armas do município de Telêmaco Borba/PR e marque a alternativa correta.**

O Brasão de Armas foi aprovado em definitivo em 1981, dentro dos padrões da heráldica, estabelecendo os regulamentos para seu uso, ficando assim oficializado.

No Brasão de Armas, é possível identificar:

1. Escudo português redondo banhado de ouro filetado de prata, carregado de cinco árvores de pinho estilizadas de sua cor, postas em banda.
2. Escudete de prata carregado de três Pinheiros do Paraná, araucária angustifolia ou brasiliense.
3. No timbre, coroa mural de ouro lavrado de negro.
4. À destra, haste de milho (zae mays) frutada.
5. À sinistra, ramos de soja (gelycine soya) granada.
6. Listel amarelo ostentando o topônimo "Cidade Nova" entre as inscrições de ouro "5 de Julho de 1963", em caracteres latino moderno.

- a) Não é verdadeiro o item 1.
- b) Não é verdadeiro o item 2.
- c) Não é verdadeiro o item 4.
- d) Não é verdadeiro o item 6.
- e) Não são verdadeiros os itens 3 e 5.

**14. Segundo o art. 11 da Lei Orgânica do Município de Telêmaco Borba/PR, os bens públicos podem ser:**

**I. De uso comum do Povo, tais como estradas municipais, ruas, parques, praças, logradouros públicos e outros da mesma espécie;**

**II. De uso especial, os de patrimônio administrativo, tais como edifícios das repartições públicas, os terrenos e equipamentos destinados ao serviço público, veículos, matadouros, mercados e outras serventias de outra espécie;**

**III. Bens municipais, aqueles sobre os quais o município exerce os direitos de proprietário e são considerados como bens patrimoniais disponíveis;**

**IV. Bens culturais, tais como música e obras de arte.**

**Podemos afirmar que são verdadeiros os itens**

- a) I e II, apenas.
- b) II e III, apenas.
- c) I, II e III, apenas.
- d) I, III e IV, apenas.
- e) I, II, III e IV.

**15. Qual alternativa completa corretamente o texto a seguir?**

**No primeiro ano de cada legislatura, no dia 1º de janeiro, em sessão de instalação, independente de número, sob a presidência do vereador mais idoso dentre os eleitos, os vereadores prestarão compromisso e tomarão posse. O Vereador que não tomar posse na sessão do dia 1º de janeiro poderá fazê-la \_\_\_\_\_ depois da primeira sessão ordinária da Legislatura.**

- a) até dez dias
- b) até quinze dias
- c) até trinta dias
- d) até quarenta e cinco dias
- e) até sessenta dias

**16. Conforme o art. 54 da Lei Orgânica do Município de Telêmaco Borba/PR, o Processo Legislativo compreende a elaboração de:**

**I. Emendas à Lei Orgânica do Município;**

**II. Leis complementares;**

**III. Leis Ordinárias;**

**IV. Decretos Legislativos;**

**V. Resoluções;**

**VI. Pareceres.**

**Assinale a alternativa que faz a afirmação correta.**

- a) São verdadeiros apenas os itens I, III e VI.
- b) São verdadeiros apenas os itens I, III e IV.
- c) São verdadeiros apenas os itens III, IV e V.
- d) São verdadeiros apenas os itens I, II, III, IV e V.
- e) São verdadeiros os itens I, II, III, IV, V e VI.

**Com base na Lei nº 1883/2012, que dispõe sobre o Estatuto dos Servidores Públicos da Administração Direta, Autárquica e Funcional do Município de Telêmaco Borba/PR, responda às próximas quatro questões.**

**17. À luz do § 2º do art. 9º da Lei nº 1883/2012, marque a alternativa que completa a lacuna do texto a seguir.**

**O concurso deverá ser homologado no prazo máximo de \_\_\_\_\_ contados da data de realização da última fase de provas, sob pena de responsabilidade da autoridade competente.**

- a) um mês
- b) dois meses
- c) seis meses
- d) um ano
- e) dois anos

**18. Marque a alternativa que completa a lacuna do texto a seguir.**

**O candidato terá o prazo \_\_\_\_\_, a contar da publicação oficial da convocação, para comparecer à entidade convocante e assinar termo de comparecimento.**

- a) máximo de 5 dias úteis
- b) mínimo de 15 dias úteis
- c) de até 30 dias
- d) máximo de 15 dias úteis
- e) mínimo de 5 dias úteis

**19. Leia as assertivas e marque a correta.**

- a) São reservados 10% dos cargos em comissão para a nomeação de servidores do quadro efetivo.
- b) São reservados 15% dos cargos em comissão para a nomeação de servidores do quadro efetivo.
- c) São reservados 20% dos cargos em comissão para a nomeação de servidores do quadro efetivo.
- d) São reservados 25% dos cargos em comissão para a nomeação de servidores do quadro efetivo.
- e) São reservados 30% dos cargos em comissão para a nomeação de servidores do quadro efetivo.

20. Marque a alternativa que completa a lacuna do texto a seguir.

O servidor municipal, quando nomeado para cargo em comissão, ficará afastado de seu cargo efetivo e fará jus à remuneração prevista em lei para o comissionado, podendo optar por receber seus vencimentos acrescidos de \_\_\_\_\_ do valor da remuneração prevista para o cargo em comissão.

- a) 10%
- b) 20%
- c) 30%
- d) 40%
- e) 50%

### CONHECIMENTOS ESPECÍFICOS

21. No que concerne aos princípios básicos de construção, marque a alternativa que apresenta o nome dado à ferramenta usada para auxiliar a elevação das alvenarias, garantindo o controle do prumo e do nível:

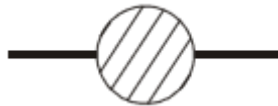
- a) Escantilhão
- b) Terça
- c) Pendural
- d) Chapuz
- e) Rincão

22. Consubstanciado na interpretação de projetos de instalações elétricas, marque a alternativa que apresenta o significado da simbologia ilustrada a seguir:



- a) Tomada de corrente no piso
- b) Antena para rádio ou televisão
- c) Saída de som na parede
- d) Ponto de luz fluorescente
- e) Lâmpada obstáculo

23. No detalhamento e desenvolvimento de projetos de instalações de esgotos domésticos, a figura a seguir é usualmente empregada para representar qual tipo de peça?



- a) Ralo seco
- b) Caixa sifonada
- c) Caixa de inspeção
- d) Caixa retentora
- e) Tanque séptico

24. Com relação à composição do cimento Portland, marque a alternativa que apresenta o tipo de adição empregado para controlar o tempo de pega:

- a) Argila
- b) Cal
- c) Betume
- d) Clínquer
- e) Gesso

25. O material de construção que possui em sua composição uma grande quantidade de betume é chamado de:

- a) Cimento Portland
- b) Porcelanato
- c) Asfalto
- d) Cal
- e) Gesso

26. Sabendo-se que o comprimento da parede de uma cozinha é de 2,25 metros e que sua representação foi feita numa planta baixa na escala de 1:75, marque a alternativa que apresenta a dimensão equivalente ao comprimento dessa parede no papel:

- a) 1,5 centímetros

- b) 2,0 centímetros
- c) 2,5 centímetros
- d) 3,0 centímetros
- e) 3,5 centímetros

27. Uma parede com espessura de 20 centímetros foi representada numa planta baixa com a dimensão no papel igual a 4 mm. Nesse contexto, marque a alternativa que apresenta a escala da planta baixa:

- a) 1:10
- b) 1:20
- c) 1:25
- d) 1:50
- e) 1:75

28. No que diz respeito aos formatos de papéis empregados nos desenhos técnicos, marque a alternativa que apresenta o tipo de papel que possui uma área de  $0,5 \text{ m}^2$ :

- a) A0
- b) A1
- c) A2
- d) A3
- e) A4

29. Na interpretação de desenhos de arquitetura, a planta ilustrada a seguir é usualmente denominada de:



- a) Planta de situação
- b) Planta de locação
- c) Planta baixa
- d) Esboço
- e) Corte

30. No programa AutoCad, o comando que mostra uma grade de auxílio na tela é chamado de:

- a) *Snap mode*
- b) *Ortho mode*
- c) *Polar tracking*
- d) *Object snap*
- e) *Grid display*

## LÍNGUA PORTUGUESA

Leia o texto e responda às próximas quatro questões.

### Lêmures e baobás de Madagascar

Isolada do continente há 135 milhões de anos, a ilha do Oceano Índico é um laboratório natural da evolução das espécies e encanta os viajantes com uma flora e fauna única

**Madagascar** abriga 107 espécies de **lêmures**, dezenas de espécies de camaleões coloridos e outras tantas plantas que só existem lá. “Madagascar é um mundo a parte. Costumo dizer que, se Charles Darwin tivesse conhecido Madagascar, seu livro *A Origem das Espécies* seria dez vezes maior”, afirma o fotógrafo e jornalista **Haroldo Castro**, idealizador de Viajologia Expedições.

Uma das experiências mais emocionantes na quarta maior ilha do mundo é passear entre os gigantescos **baobás**, árvores que chegam a ter 30 metros de altura e mil anos de idade. Das nove espécies de baobás que existem no mundo, seis podem ser encontradas apenas em Madagascar. A majestosa árvore, considerada sagrada pelos malgaxes, é chamada localmente como “reniala”, mãe da floresta.

Na pequena cidade de Bekopaka está o Parque Nacional Tsingy de Bemaraha, considerado Patrimônio Mundial pela Unesco. Trilhas e passeios de canoa no rio Manambolo conduzem a formações rochosas calcárias inusitadas e plantas endêmicas desse ecossistema de florestas secas.

Outro momento inesquecível em Madagascar é o encontro com os lêmures nas florestas tropicais da reserva Anjozorobe-Angavo, a 90 quilômetros da capital Antananarivo. Especialistas apontam que o turismo de observação de animais é uma excelente alternativa para o desenvolvimento da economia local e pode ajudar a conter o desmatamento. “O projeto em Anjozorobe comprova que, nos últimos anos, os 9 mil visitantes contribuíram de forma concreta a reduzir a pobreza e a promover a conservação da biodiversidade”, afirma Haroldo. Como os primatas são curiosos e estão habituados aos seres humanos, eles costumam se aproximar dos visitantes. “Os bichinhos chegam a subir nas nossas cabeças e parecem adorar aparecer nas fotos.”

Madagascar possui hoje uma excelente estrutura para o turismo, com algumas estradas bem cuidadas e hotéis confortáveis localizados perto das reservas e parques ecológicos. A gastronomia malgaxe, com um toque francês, também surpreende pela diversidade de ingredientes, temperos e colorido dos pratos.

[...]

(Fonte: <http://viajeaquil.abril.com.br/materias/lemures-e-baobas-de-madagascar#2>. Acesso em 14/05/2016)

**31. Lêmures e baobás de Madagascar é um texto:**

- Em que prevalece a descrição, apresentando as belezas e peculiaridades do lugar, da fauna e da flora.
- Principalmente narrativo, de fatos colhidos durante uma viagem, que se sucedem em progressão temporal.
- Essencialmente argumentativo, o uso da descrição visa somente a convencer o leitor a visitar Madagascar.
- Dissertativo, impera o desenvolvimento de argumentos para comprovar a tese presente no primeiro parágrafo.
- Em que predomina a exposição de conceitos e definições com o intuito de informar o leitor.

**32. O teor do texto *Lêmures e baobás de Madagascar* somente não poderia se encaixar em que tópico?**

- Turismo
- Viagens
- Clima
- Natureza
- Ilhas

**33. O aposto é um termo que *explica ou esclarece, desenvolve ou resume outro termo da oração*. Quanto a isso, analise a parte grifada em cada uma das orações retiradas do texto:**

**I - A majestosa árvore, considerada sagrada pelos malgaxes, é chamada localmente como “reniala”, mãe da floresta.**

**II - afirma o fotógrafo e jornalista Haroldo Castro, idealizador de Viajologia Expedições.**

**III - Outro momento inesquecível em Madagascar é o encontro com os lêmures nas florestas tropicais da reserva Anjozorobe-Angavo, a 90 quilômetros da capital Antananarivo.**

**IV - O projeto em Anjozorobe comprova que, nos últimos anos, os 9 mil visitantes contribuíram de forma concreta a reduzir a pobreza e a promover a conservação da biodiversidade”.**

**V - A gastronomia malgaxe, com um toque francês, também surpreende pela diversidade de ingredientes, temperos e colorido dos pratos.**

Constitui aposto os grifos em:

- I, II, III, IV e V.
- I, III e V, apenas.
- III e V apenas.
- I, II, III, e V, apenas.
- III, IV e V apenas

**34. *Trilhas e passeios de canoa no rio Manambolo conduzem a formações rochosas calcárias inusitadas e plantas endêmicas desse ecossistema de florestas secas.***

**Ao observar a relação sintática entre os termos desse período, pode-se afirmar que:**

- de canoa é complemento nominal de Trilhas e passeios.
- no rio Manambolo é adjunto adnominal de canoas.
- de florestas secas é complemento nominal de plantas endêmicas.
- de canoa é complemento verbal de passeios.
- a formações rochosas calcárias inusitadas e plantas endêmicas desse ecossistema de florestas secas é complemento verbal de conduzem.





Leia o poema e responda às próximas duas questões.

### FOGO NA MATA, MATA!

Fogo na mata, mata! A mata, a vida...  
Fogo na mata, abre,  
no coração da mata,  
Profundas feridas.

Fogo na mata corrói,  
dentro de nós, os sonhos.  
Fogo na mata, deixa, no seio da mata,  
Tumores tamanhos!

[...]

(Fonte: <http://www.recantodasletras.com.br/letras/505252>. Acesso em 14/05/2016)

**35. A respeito de alguns aspectos gramaticais pertinentes aos termos em destaque na frase título do poema *Fogo na mata, mata!*, está correto o que se afirma em:**

- Morfologicamente, na sequência em que as duas palavras aparecem, temos um verbo e um substantivo.
- Semanticamente, as duas palavras constituem homônimas homófonas homógrafas.
- O processo de formação da palavra “mata” (primeira ocorrência na frase) é por derivação regressiva do verbo “matar” cuja flexão na terceira pessoa vem logo em seguida na frase.
- Semanticamente, as duas palavras “mata” são parônimas.
- Semanticamente, as duas palavras constituem homônimas homógrafas heterofônicas.

**36. Com a Nova Reforma Ortográfica, foi mantido o acento nas oxítonas terminadas em -ei e -oi, como é o caso de *corrói* em *Fogo na mata corrói*. No entanto, de acordo ainda com a Nova Reforma, os acentos foram retirados de quais duas palavras?**

- Bocaiuva - maiúscula
- Voo, aerodromo
- Releem - feiura
- Papeis - linguíça
- Preveem - heroi

**37. Leia atentamente as alternativas e assinale a incorreta no que diz respeito à Ortografia:**

- Grafamos com j as palavras ultraje, jiboia e gorjeio; com g as palavras ferrugem, geringonça, e miragem.
- Grafamos com sc: miscelânea, obsceno e obscensão; com c: sucinto, facínio e nécio.
- Grafamos com x: xampu, mexerico e enxada; com ch: piche, tocha e mecha.
- Grafamos com z: xadrez, cicatriz e vizinho; com s: friso, pêsames e tesoura.
- Grafamos com ss: escassez, submissão e sossego; com c: acetinado, obcecado e acepção.

**38. O advérbio sublinhado e a circunstância que ele expressa não estão corretamente apresentados em:**

- Ele certamente virá para o encontro. (afirmação)
- Ali se ouvia falar de riquezas culturais. (tempo)
- O orador discursou muito bem, impressionou a plateia. (modo)
- Chegamos tarde, perdemos o ônibus. (tempo)
- Os candidatos estudaram bastante. (intensidade)

**39. Os pronomes pessoais, representantes das pessoas do discurso, estão corretamente empregados em todas as alternativas, com exceção da:**

- Sempre haverá discordância entre mim e ti.
- O juiz queria falar com nós dois.
- Minha festa de despedida, não vou esquecê-la jamais.
- Ninguém irá sem eu.
- Deram o livro para eu ler em dois dias!

**40. Em uma oração, o contexto permite concluirmos se certos verbos são de ligação, para assim identificarmos o predicado nominal. Assim, não há predicção nominal em:**

- O aluno não estava na escola hoje.
- À tarde, as crianças pareciam cansadas.
- Ultimamente os participantes do programa andam desanimados.
- A aurora boreal é um lindo espetáculo.
- As atletas parecem cansadas.



PREFEITURA DE TELÊMACO BORBA - ESTADO DO PARANÁ - EDITAL Nº 001-2016 - CONCURSO PÚBLICO

**MATUTINO – 29/05/2016 – NÍVEL MÉDIO**

**3**

**PROVA OBJETIVA NÚMERO**

**CARGO: TMNM I - EDIFICAÇÕES**

**Leia atentamente as INSTRUÇÕES:**

1. Confira seus dados no cartão-resposta: nome, número de inscrição e o curso para o qual se inscreveu.
2. **MARQUE no seu cartão-resposta o número da sua prova** (não será corrigido o cartão-resposta que não tiver marcado o número da prova) e **Assine** seu cartão-resposta.
3. Aguarde a autorização do Fiscal para abrir o caderno de prova. Ao receber a ordem do fiscal, confira o caderno de prova com muita atenção. Nenhuma reclamação sobre o total de questões ou falha de impressão será aceita depois de iniciada a prova.
4. O cartão-resposta não será substituído, salvo se contiver erro de impressão.
5. Preencha toda a área do cartão-resposta correspondente à alternativa de sua escolha, com caneta esferográfica (tinta azul ou preta), sem ultrapassar as bordas. As marcações duplas, ou rasuradas, com corretivo, ou marcadas diferentemente do modelo estabelecido no cartão-resposta poderão ser anuladas.
6. Sua prova tem **40** questões, com **5** alternativas.
7. Cabe apenas ao candidato a interpretação das questões, **o fiscal** não poderá fazer nenhuma interferência.
8. A prova será realizada com duração máxima de **3 (três) horas**, incluído o tempo para a realização da Prova Objetiva de múltipla escolha e o preenchimento do cartão-resposta.
9. O candidato poderá retirar-se do local de realização das provas somente **1 (uma) hora** após o seu início, sem levar o caderno de prova.
10. O candidato poderá levar o caderno de provas, assim como anotação contendo transcrição do seu cartão-resposta, somente **1h30min** (uma hora e trinta minutos) após o início da realização da prova.
11. Ao terminar a prova, o candidato deverá entregar ao fiscal de sala o cartão-resposta preenchido e **ASSINADO**.
12. Os **3 (três)** candidatos, que terminarem a prova por último, deverão permanecer na sala, e só poderão sair juntos após o fechamento do envelope, contendo os cartões-resposta dos candidatos presentes e ausentes, e assinarem no lacre do referido envelope, atestando que este foi devidamente lacrado.
13. Durante todo o tempo em que permanecer no local onde está ocorrendo o concurso, o candidato deverá, manter o celular desligado e sem bateria, só sendo permitido ligar depois de ultrapassar o portão de saída do prédio.
14. Não será permitido ao candidato fumar na sala de provas, bem como nas dependências.
15. Depois de terminar a prova e entregar ao fiscal o cartão-resposta, preenchido e assinado, não será mais permitido ao candidato o uso do banheiro e bebedouro.

**BOA PROVA!**

**CONHECIMENTOS ESPECÍFICOS**

**01. No que concerne aos princípios básicos de construção, marque a alternativa que apresenta o nome dado à ferramenta usada para auxiliar a elevação das alvenarias, garantindo o controle do prumo e do nível:**

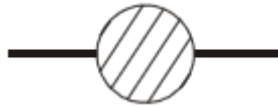
- a) Escantilhão
- b) Terça
- c) Pendural
- d) Chapuz
- e) Rincão

**02. Consubstanciado na interpretação de projetos de instalações elétricas, marque a alternativa que apresenta o significado da simbologia ilustrada a seguir:**



- a) Tomada de corrente no piso
- b) Antena para rádio ou televisão
- c) Saída de som na parede
- d) Ponto de luz fluorescente
- e) Lâmpada obstáculo

**03. No detalhamento e desenvolvimento de projetos de instalações de esgotos domésticos, a figura a seguir é usualmente empregada para representar qual tipo de peça?**



- a) Ralo seco
- b) Caixa sifonada
- c) Caixa de inspeção
- d) Caixa retentora
- e) Tanque séptico

**04. Com relação à composição do cimento Portland, marque a alternativa que apresenta o tipo de adição empregado para controlar o tempo de pega:**

- a) Argila
- b) Cal
- c) Betume
- d) Clínquer
- e) Gesso

**05. O material de construção que possui em sua composição uma grande quantidade de betume é chamado de:**

- a) Cimento Portland
- b) Porcelanato
- c) Asfalto
- d) Cal
- e) Gesso

**06. Sabendo-se que o comprimento da parede de uma cozinha é de 2,25 metros e que sua representação foi feita numa planta baixa na escala de 1:75, marque a alternativa que apresenta a dimensão equivalente ao comprimento dessa parede no papel:**

- a) 1,5 centímetros
- b) 2,0 centímetros
- c) 2,5 centímetros
- d) 3,0 centímetros
- e) 3,5 centímetros

**07. Uma parede com espessura de 20 centímetros foi representada numa planta baixa com a dimensão no papel igual a 4 mm. Nesse contexto, marque a alternativa que apresenta a escala da planta baixa:**

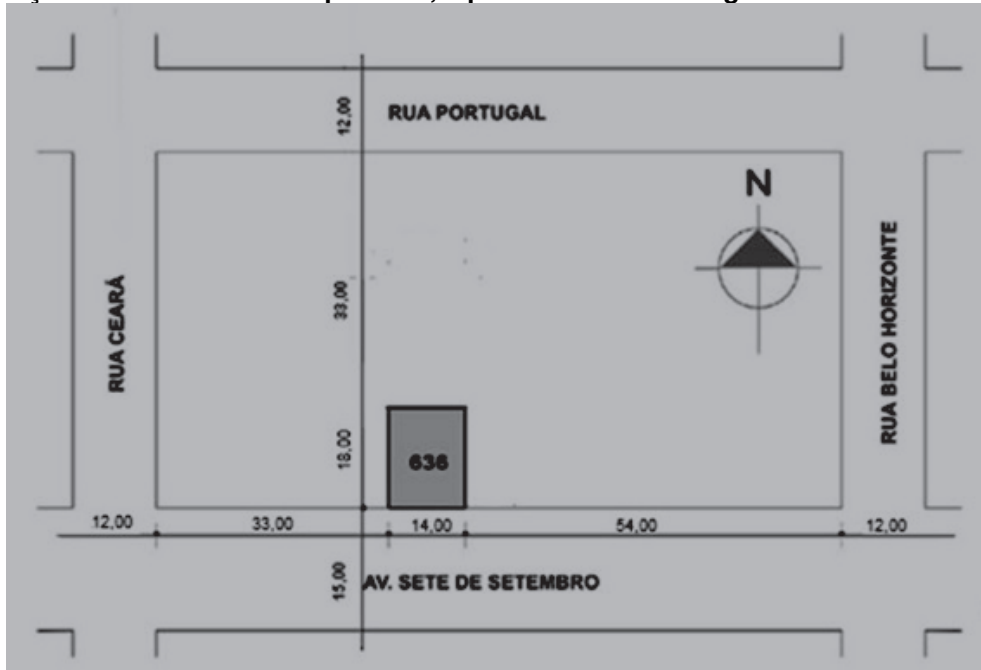
- a) 1:10
- b) 1:20
- c) 1:25
- d) 1:50

e) 1:75

08. No que diz respeito aos formatos de papéis empregados nos desenhos técnicos, marque a alternativa que apresenta o tipo de papel que possui uma área de  $0,5 \text{ m}^2$ :

- a) A0
- b) A1
- c) A2
- d) A3
- e) A4

09. Na interpretação de desenhos de arquitetura, a planta ilustrada a seguir é usualmente denominada de:



- a) Planta de situação
- b) Planta de locação
- c) Planta baixa
- d) Esboço
- e) Corte

10. No programa AutoCad, o comando que mostra uma grade de auxílio na tela é chamado de:

- a) *Snap mode*
- b) *Ortho mode*
- c) *Polar tracking*
- d) *Object snap*
- e) *Grid display*

## LÍNGUA PORTUGUESA

Leia o texto e responda às próximas quatro questões.

### Lêmures e baobás de Madagascar

Isolada do continente há 135 milhões de anos, a ilha do Oceano Índico é um laboratório natural da evolução das espécies e encanta os viajantes com uma flora e fauna única

**Madagascar** abriga 107 espécies de **lêmures**, dezenas de espécies de camaleões coloridos e outras tantas plantas que só existem lá. “Madagascar é um mundo a parte. Costumo dizer que, se Charles Darwin tivesse conhecido Madagascar, seu livro *A Origem das Espécies* seria dez vezes maior”, afirma o fotógrafo e jornalista **Haroldo Castro**, idealizador de Viajologia Expedições.

Uma das experiências mais emocionantes na quarta maior ilha do mundo é passear entre os gigantescos **baobás**, árvores que chegam a ter 30 metros de altura e mil anos de idade. Das nove espécies de baobás que existem no mundo, seis podem ser encontradas apenas em Madagascar. A majestosa árvore, considerada sagrada pelos malgaxes, é chamada localmente como “reniala”, mãe da floresta.

Na pequena cidade de Bekopaka está o Parque Nacional Tsingy de Bemaraha, considerado Patrimônio Mundial pela Unesco. Trilhas e passeios de canoa no rio Manambolo conduzem a formações rochosas calcárias inusitadas e plantas endêmicas desse ecossistema de florestas secas.

Outro momento inesquecível em Madagascar é o encontro com os lêmures nas florestas tropicais da reserva Anjozorobe-Angavo, a 90 quilômetros da capital Antananarivo. Especialistas apontam que o turismo de observação de animais é uma excelente alternativa para o desenvolvimento da economia local e pode ajudar a conter o desmatamento. “O projeto em Anjozorobe comprova que, nos últimos anos, os 9 mil visitantes contribuíram de forma concreta a reduzir a pobreza e a promover a conservação da biodiversidade”, afirma Haroldo. Como os primatas são curiosos e estão habituados aos seres humanos, eles costumam se aproximar dos visitantes. “Os bichinhos chegam a subir nas nossas cabeças e parecem adorar aparecer nas fotos.”

Madagascar possui hoje uma excelente estrutura para o turismo, com algumas estradas bem cuidadas e hotéis confortáveis localizados perto das reservas e parques ecológicos. A gastronomia malgaxe, com um toque francês, também surpreende pela diversidade de ingredientes, temperos e colorido dos pratos.

[...]

(Fonte: <http://viajeaqui.abril.com.br/materias/lemures-e-baobas-de-madagascar#2>. Acesso em 14/05/2016)

**11. Lêmures e baobás de Madagascar é um texto:**

- Em que prevalece a descrição, apresentando as belezas e peculiaridades do lugar, da fauna e da flora.
- Principalmente narrativo, de fatos colhidos durante uma viagem, que se sucedem em progressão temporal.
- Essencialmente argumentativo, o uso da descrição visa somente a convencer o leitor a visitar Madagascar.
- Dissertativo, impera o desenvolvimento de argumentos para comprovar a tese presente no primeiro parágrafo.
- Em que predomina a exposição de conceitos e definições com o intuito de informar o leitor.

**12. O teor do texto *Lêmures e baobás de Madagascar* somente não poderia se encaixar em que tópico?**

- Turismo
- Viagens
- Clima
- Natureza
- Ilhas

**13. O aposto é um termo que *explica ou esclarece, desenvolve ou resume outro termo da oração*. Quanto a isso, analise a parte grifada em cada uma das orações retiradas do texto:**

**I - A majestosa árvore, considerada sagrada pelos malgaxes, é chamada localmente como “reniala”, mãe da floresta.**

**II - afirma o fotógrafo e jornalista Haroldo Castro, idealizador de Viajologia Expedições.**

**III - Outro momento inesquecível em Madagascar é o encontro com os lêmures nas florestas tropicais da reserva Anjozorobe-Angavo, a 90 quilômetros da capital Antananarivo.**

**IV - O projeto em Anjozorobe comprova que, nos últimos anos, os 9 mil visitantes contribuíram de forma concreta a reduzir a pobreza e a promover a conservação da biodiversidade”.**

**V - A gastronomia malgaxe, com um toque francês, também surpreende pela diversidade de ingredientes, temperos e colorido dos pratos.**

**Constitui aposto os grifos em:**

- I, II, III, IV e V.
- I, III e V, apenas.
- III e V apenas.
- I, II, III, e V, apenas.
- III, IV e V apenas

**14. *Trilhas e passeios de canoa no rio Manambolo conduzem a formações rochosas calcárias inusitadas e plantas endêmicas desse ecossistema de florestas secas.***

**Ao observar a relação sintática entre os termos desse período, pode-se afirmar que:**

- de canoa é complemento nominal de Trilhas e passeios.
- no rio Manambolo é adjunto adnominal de canoas.
- de florestas secas é complemento nominal de plantas endêmicas.
- de canoa é complemento verbal de passeios.
- a formações rochosas calcárias inusitadas e plantas endêmicas desse ecossistema de florestas secas é complemento verbal de conduzem.

**Leia o poema e responda às próximas duas questões.**

**FOGO NA MATA, MATA!**

Fogo na mata, mata! A mata, a vida...  
Fogo na mata, abre,  
no coração da mata,  
Profundas feridas.

Fogo na mata corrói,

dentro de nós, os sonhos.  
Fogo na mata, deixa, no seio da mata,  
Tumores tamanhos!

[...]

(Fonte: <http://www.recantodasletras.com.br/letras/505252>. Acesso em 14/05/2016)

**15. A respeito de alguns aspectos gramaticais pertinentes aos termos em destaque na frase título do poema *Fogo na mata, mata!*, está correto o que se afirma em:**

- Morfologicamente, na sequência em que as duas palavras aparecem, temos um verbo e um substantivo.
- Semanticamente, as duas palavras constituem homônimas homófonas homógrafas.
- O processo de formação da palavra “mata” (primeira ocorrência na frase) é por derivação regressiva do verbo “matar” cuja flexão na terceira pessoa vem logo em seguida na frase.
- Semanticamente, as duas palavras “mata” são parônimas.
- Semanticamente, as duas palavras constituem homônimas homógrafas heterofônicas.

**16. Com a Nova Reforma Ortográfica, foi mantido o acento nas oxítonas terminadas em -ei e -oi, como é o caso de *corrói* em *Fogo na mata corrói*. No entanto, de acordo ainda com a Nova Reforma, os acentos foram retirados de quais duas palavras?**

- Bocaiuva - maiuscula
- Voo, aerodromo
- Releem - feiura
- Papeis - linguiça
- Preveem - heroi

**17. Leia atentamente as alternativas e assinale a incorreta no que diz respeito à Ortografia:**

- Grafamos com j as palavras ultraje, jiboia e gorjeio; com g as palavras ferrugem, geringonça, e miragem.
- Grafamos com sc: miscelânea, obsceno e obsessão; com c: sucinto, facínio e nécio.
- Grafamos com x: xampu, mexerico e enxada; com ch: piche, tocha e mecha.
- Grafamos com z: xadrez, cicatriz e vizinho; com s: friso, pêsames e tesoura.
- Grafamos com ss: escassez, submissão e sossego; com c: acetinado, obcecado e acepção.

**18. O advérbio sublinhado e a circunstância que ele expressa não estão corretamente apresentados em:**

- Ele certamente virá para o encontro. (afirmação)
- Ali se ouvia falar de riquezas culturais. (tempo)
- O orador discursou muito bem, impressionou a plateia. (modo)
- Chegamos tarde, perdemos o ônibus. (tempo)
- Os candidatos estudaram bastante. (intensidade)

**19. Os pronomes pessoais, representantes das pessoas do discurso, estão corretamente empregados em todas as alternativas, com exceção da:**

- Sempre haverá discordância entre mim e ti.
- O juiz queria falar com nós dois.
- Minha festa de despedida, não vou esquecer-la jamais.
- Ninguém irá sem eu.
- Deram o livro para eu ler em dois dias!

**20. Em uma oração, o contexto permite concluirmos se certos verbos são de ligação, para assim identificarmos o predicado nominal. Assim, não há predicação nominal em:**

- O aluno não estava na escola hoje.
- À tarde, as crianças pareciam cansadas.
- Ultimamente os participantes do programa andam desanimados.
- A aurora boreal é um lindo espetáculo.
- As atletas parecem cansadas.

## MATEMÁTICA

**21. Numa prova de hipismo, há duas modalidades totalmente distintas: salto e rural. João vai competir nas duas modalidades. Sabendo que a vitória ou a derrota em uma nada influencia no resultado da outra, e sabendo que a probabilidade de ele ganhar a prova de salto é de 40% e a de ganhar a prova de rural é de 58%, qual a probabilidade de ele ganhar as duas provas?**

- 98%
- 62%
- 23,2%
- 18%
- 2,32%





22. Numa escola há 12 professores. A tabela a seguir mostra a carga horária diária de trabalho desses professores.

4	8	5	10	6	5	8	6	8	9	4	8
---	---	---	----	---	---	---	---	---	---	---	---

É correto afirmar que as cargas horárias média, modal e mediana desses professores são respectivamente:

- a) 6,25; 6; 7
- b) 6,5; 7; 8
- c) 6,75; 8; 6
- d) 6,75; 8; 7
- e) 6,75; 7; 8

23. Encontre a equação da reta mediatriz do segmento AB, onde A(2, 3) e B(4, -1), e assinale a alternativa correta.

- a)  $2y - x + 1 = 0$
- b)  $y - 2x + 2 = 0$
- c)  $2y - 2x + 1 = 0$
- d)  $2y + x + 2 = 0$
- e)  $2y + x - 1 = 0$

24. Uma loja acrescenta 15% no preço de seus produtos à vista se o cliente optar por pagar com um cheque para 60 dias. Comprei, nessa loja, um fogão com cheque para 60 dias e paguei R\$552,00 por ele. Qual era o preço à vista desse fogão?

- a) R\$460,00
- b) R\$469,20
- c) R\$474,50
- d) R\$480,00
- e) R\$500,00

25. Um pesquisador, ao analisar os processos que envolvem jovens com menos de 24 anos, descobriu que há 4 homens com nomes envolvidos em processos para cada mulher. Se no total ele contou 2400 pessoas, quantas eram as mulheres envolvidas nessa pesquisa?

- a) 480
- b) 600
- c) 800
- d) 1920
- e) 2000

#### INFORMÁTICA

26. Utilizando o Excel 2013, qual fórmula representa corretamente a auto soma?

- a) =SUM()
- b) =MEDIA()
- c) =MAX()
- d) =MIN()
- e) =SE()

27. Acerca de confidencialidade está incorreto afirmar:

- a) É um conceito no qual o acesso à informação deve ser concedido a quem de direito, ou seja, apenas para as entidades autorizadas pelo proprietário ou dono da informação.
- b) É uma propriedade que limita o acesso à informação tão somente às entidades legítimas, ou seja, àquelas autorizadas pelo proprietário da informação.
- c) É a propriedade da informação que não estará disponível ou será divulgada a indivíduos, entidades ou processos sem autorização.
- d) Significa garantir que a informação será conhecida por pessoas que não estejam autorizadas para tal.
- e) É a garantia do resguardo das informações dadas pessoalmente em confiança e proteção contra a sua revelação não autorizada.

28. Tratando-se de hardware de computadores, assinale a alternativa que corresponde a um tipo de memória externa.

- a) Pen Drive
- b) EPROM
- c) DIMM
- d) MRAM
- e) Cache



**29. No Word 2013, é possível utilizar vários tipos de formatação de fontes, exceto:**

- a) Tachado
- b) Negrito
- c) Centralizado
- d) Sublinhado
- e) Cor da fonte

**30. Qual software nativo do Windows utilizamos para descobrir o endereço IP do computador?**

- a) Windows Explorer
- b) Notepad
- c) Excel
- d) Word
- e) Prompt de Comando

### **CONHECIMENTOS GERAIS**

**31. Conforme fonte do IBGE, o bioma do município de Telêmaco Borba/PR é:**

- a) Mata de Pinhais e Cerrado
- b) Pantanal
- c) Caatinga e Mata Atlântica
- d) Floresta Tropical
- e) Cerrado e Mata Atlântica

**32. A letra do hino do município de Telêmaco Borba/PR é de autoria de**

- a) Bento Mossurunga.
- b) Moisés Lupion.
- c) Eloah Martins Quadrado.
- d) Graciliana Reis D'Albuquerque Mossurunga.
- e) Enéias Augusto Moracines Borba.

**33. Leia o texto sobre o Brasão de Armas do município de Telêmaco Borba/PR e marque a alternativa correta.**

**O Brasão de Armas foi aprovado em definitivo em 1981, dentro dos padrões da heráldica, estabelecendo os regulamentos para seu uso, ficando assim oficializado.**

**No Brasão de Armas, é possível identificar:**

- 1. Escudo português redondo banhado de ouro filetado de prata, carregado de cinco árvores de pinho estilizadas de sua cor, postas em banda.**
  - 2. Escudete de prata carregado de três Pinheiros do Paraná, araucária angustifolia ou brasiliense.**
  - 3. No timbre, coroa mural de ouro lavrado de negro.**
  - 4. À direita, haste de milho (zae mays) frutada.**
  - 5. À sinistra, ramos de soja (gelycine soya) granada.**
  - 6. Listel amarelo ostentando o topônimo "Cidade Nova" entre as inscrições de ouro "5 de Julho de 1963", em caracteres latino moderno.**
- a) Não é verdadeiro o item 1.
  - b) Não é verdadeiro o item 2.
  - c) Não é verdadeiro o item 4.
  - d) Não é verdadeiro o item 6.
  - e) Não são verdadeiros os itens 3 e 5.

**34. Segundo o art. 11 da Lei Orgânica do Município de Telêmaco Borba/PR, os bens públicos podem ser:**

**I. De uso comum do Povo, tais como estradas municipais, ruas, parques, praças, logradouros públicos e outros da mesma espécie;**

**II. De uso especial, os de patrimônio administrativo, tais como edifícios das repartições públicas, os terrenos e equipamentos destinados ao serviço público, veículos, matadouros, mercados e outras serventias de outra espécie;**

**III. Bens municipais, aqueles sobre os quais o município exerce os direitos de proprietário e são considerados como bens patrimoniais disponíveis;**

**IV. Bens culturais, tais como música e obras de arte.**

**Podemos afirmar que são verdadeiros os itens**

- a) I e II, apenas.
- b) II e III, apenas.
- c) I, II e III, apenas.
- d) I, III e IV, apenas.
- e) I, II, III e IV.

**35. Qual alternativa completa corretamente o texto a seguir?**

No primeiro ano de cada legislatura, no dia 1º de janeiro, em sessão de instalação, independente de número, sob a presidência do vereador mais idoso dentre os eleitos, os vereadores prestarão compromisso e tomarão posse. O Vereador que não tomar posse na sessão do dia 1º de janeiro poderá fazê-la \_\_\_\_\_ depois da primeira sessão ordinária da Legislatura.

- a) até dez dias
- b) até quinze dias
- c) até trinta dias
- d) até quarenta e cinco dias
- e) até sessenta dias

**36. Conforme o art. 54 da Lei Orgânica do Município de Telêmaco Borba/PR, o Processo Legislativo compreende a elaboração de:**

- I. Emendas à Lei Orgânica do Município;
- II. Leis complementares;
- III. Leis Ordinárias;
- IV. Decretos Legislativos;
- V. Resoluções;
- VI. Pareceres.

**Assinale a alternativa que faz a afirmação correta.**

- a) São verdadeiros apenas os itens I, III e VI.
- b) São verdadeiros apenas os itens I, III e IV.
- c) São verdadeiros apenas os itens III, IV e V.
- d) São verdadeiros apenas os itens I, II, III, IV e V.
- e) São verdadeiros os itens I, II, III, IV, V e VI.

**Com base na Lei nº 1883/2012, que dispõe sobre o Estatuto dos Servidores Públicos da Administração Direta, Autárquica e Funcional do Município de Telêmaco Borba/PR, responda às próximas quatro questões.**

**37. À luz do § 2º do art. 9º da Lei nº 1883/2012, marque a alternativa que completa a lacuna do texto a seguir.**

O concurso deverá ser homologado no prazo máximo de \_\_\_\_\_ contados da data de realização da última fase de provas, sob pena de responsabilidade da autoridade competente.

- a) um mês
- b) dois meses
- c) seis meses
- d) um ano
- e) dois anos

**38. Marque a alternativa que completa a lacuna do texto a seguir.**

O candidato terá o prazo \_\_\_\_\_, a contar da publicação oficial da convocação, para comparecer à entidade convocante e assinar termo de comparecimento.

- a) máximo de 5 dias úteis
- b) mínimo de 15 dias úteis
- c) de até 30 dias
- d) máximo de 15 dias úteis
- e) mínimo de 5 dias úteis

**39. Leia as assertivas e marque a correta.**

- a) São reservados 10% dos cargos em comissão para a nomeação de servidores do quadro efetivo.
- b) São reservados 15% dos cargos em comissão para a nomeação de servidores do quadro efetivo.
- c) São reservados 20% dos cargos em comissão para a nomeação de servidores do quadro efetivo.
- d) São reservados 25% dos cargos em comissão para a nomeação de servidores do quadro efetivo.
- e) São reservados 30% dos cargos em comissão para a nomeação de servidores do quadro efetivo.

**40. Marque a alternativa que completa a lacuna do texto a seguir.**

O servidor municipal, quando nomeado para cargo em comissão, ficará afastado de seu cargo efetivo e fará jus à remuneração prevista em lei para o comissionado, podendo optar por receber seus vencimentos acrescidos de \_\_\_\_\_ do valor da remuneração prevista para o cargo em comissão.

- a) 10%
- b) 20%
- c) 30%
- d) 40%
- e) 50%



PREFEITURA DE TELÊMACO BORBA - ESTADO DO PARANÁ - EDITAL Nº 001-2016 - CONCURSO PÚBLICO

**MATUTINO – 29/05/2016 – NÍVEL MÉDIO**

PROVA OBJETIVA NÚMERO

**1**

**CARGO: TMNM I - ENFERMAGEM**

**Leia atentamente as INSTRUÇÕES:**

1. Confira seus dados no cartão-resposta: nome, número de inscrição e o curso para o qual se inscreveu.
2. **MARQUE no seu cartão-resposta o número da sua prova** (não será corrigido o cartão-resposta que não tiver marcado o número da prova) e **Assine** seu cartão-resposta.
3. Aguarde a autorização do Fiscal para abrir o caderno de prova. Ao receber a ordem do fiscal, confira o caderno de prova com muita atenção. Nenhuma reclamação sobre o total de questões ou falha de impressão será aceita depois de iniciada a prova.
4. O cartão-resposta não será substituído, salvo se contiver erro de impressão.
5. Preencha toda a área do cartão-resposta correspondente à alternativa de sua escolha, com caneta esferográfica (tinta azul ou preta), sem ultrapassar as bordas. As marcações duplas, ou rasuradas, com corretivo, ou marcadas diferentemente do modelo estabelecido no cartão-resposta poderão ser anuladas.
6. Sua prova tem **40** questões, com **5** alternativas.
7. Cabe apenas ao candidato a interpretação das questões, **o fiscal** não poderá fazer nenhuma interferência.
8. A prova será realizada com duração máxima de **3 (três) horas**, incluído o tempo para a realização da Prova Objetiva de múltipla escolha e o preenchimento do cartão-resposta.
9. O candidato poderá retirar-se do local de realização das provas somente **1 (uma) hora** após o seu início, sem levar o caderno de prova.
10. O candidato poderá levar o caderno de provas, assim como anotação contendo transcrição do seu cartão-resposta, somente **1h30min** (uma hora e trinta minutos) após o início da realização da prova.
11. Ao terminar a prova, o candidato deverá entregar ao fiscal de sala o cartão-resposta preenchido e **ASSINADO**.
12. Os **3 (três)** candidatos, que terminarem a prova por último, deverão permanecer na sala, e só poderão sair juntos após o fechamento do envelope, contendo os cartões-resposta dos candidatos presentes e ausentes, e assinarem no lacre do referido envelope, atestando que este foi devidamente lacrado.
13. Durante todo o tempo em que permanecer no local onde está ocorrendo o concurso, o candidato deverá, manter o celular desligado e sem bateria, só sendo permitido ligar depois de ultrapassar o portão de saída do prédio.
14. Não será permitido ao candidato fumar na sala de provas, bem como nas dependências.
15. Depois de terminar a prova e entregar ao fiscal o cartão-resposta, preenchido e assinado, não será mais permitido ao candidato o uso do banheiro e bebedouro.

**BOA PROVA!**

**LÍNGUA PORTUGUESA**

Leia o texto e responda às próximas quatro questões.

**Lêmures e baobás de Madagascar**

Isolada do continente há 135 milhões de anos, a ilha do Oceano Índico é um laboratório natural da evolução das espécies e encanta os viajantes com uma flora e fauna única

**Madagascar** abriga 107 espécies de **lêmures**, dezenas de espécies de camaleões coloridos e outras tantas plantas que só existem lá. “Madagascar é um mundo a parte. Costumo dizer que, se Charles Darwin tivesse conhecido Madagascar, seu livro *A Origem das Espécies* seria dez vezes maior”, afirma o fotógrafo e jornalista **Haroldo Castro**, idealizador de Viajologia Expedições.

Uma das experiências mais emocionantes na quarta maior ilha do mundo é passear entre os gigantes **baobás**, árvores que chegam a ter 30 metros de altura e mil anos de idade. Das nove espécies de baobás que existem no mundo, seis podem ser encontradas apenas em Madagascar. A majestosa árvore, considerada sagrada pelos malgaxes, é chamada localmente como “reniala”, mãe da floresta.

Na pequena cidade de Bekopaka está o Parque Nacional Tsingy de Bemaraha, considerado Patrimônio Mundial pela Unesco. Trilhas e passeios de canoa no rio Manambolo conduzem a formações rochosas calcárias inusitadas e plantas endêmicas desse ecossistema de florestas secas.

Outro momento inesquecível em Madagascar é o encontro com os lêmures nas florestas tropicais da reserva Anjozorobe-Angavo, a 90 quilômetros da capital Antananarivo. Especialistas apontam que o turismo de observação de animais é uma excelente alternativa para o desenvolvimento da economia local e pode ajudar a conter o desmatamento. “O projeto em Anjozorobe comprova que, nos últimos anos, os 9 mil visitantes contribuíram de forma concreta a reduzir a pobreza e a promover a conservação da biodiversidade”, afirma Haroldo. Como os primatas são curiosos e estão habituados aos seres humanos, eles costumam se aproximar dos visitantes. “Os bichinhos chegam a subir nas nossas cabeças e parecem adorar aparecer nas fotos.”

Madagascar possui hoje uma excelente estrutura para o turismo, com algumas estradas bem cuidadas e hotéis confortáveis localizados perto das reservas e parques ecológicos. A gastronomia malgaxe, com um toque francês, também surpreende pela diversidade de ingredientes, temperos e colorido dos pratos.

[...]

(Fonte: <http://viajeaqu.abril.com.br/materias/lemures-e-baobas-de-madagascar#2>. Acesso em 14/05/2016)

**01. Lêmures e baobás de Madagascar é um texto:**

- a) Em que prevalece a descrição, apresentando as belezas e peculiaridades do lugar, da fauna e da flora.
- b) Principalmente narrativo, de fatos colhidos durante uma viagem, que se sucedem em progressão temporal.
- c) Essencialmente argumentativo, o uso da descrição visa somente a convencer o leitor a visitar Madagascar.
- d) Dissertativo, impera o desenvolvimento de argumentos para comprovar a tese presente no primeiro parágrafo.
- e) Em que predomina a exposição de conceitos e definições com o intuito de informar o leitor.

**02. O teor do texto *Lêmures e baobás de Madagascar* somente não poderia se encaixar em que tópico?**

- a) Turismo
- b) Viagens
- c) Clima
- d) Natureza
- e) Ilhas

**03. O aposto é um termo que *explica ou esclarece, desenvolve ou resume outro termo da oração*. Quanto a isso, analise a parte grifada em cada uma das orações retiradas do texto:**

**I - A majestosa árvore, considerada sagrada pelos malgaxes, é chamada localmente como “reniala”, mãe da floresta.**

**II - afirma o fotógrafo e jornalista Haroldo Castro, idealizador de Viajologia Expedições.**

**III - Outro momento inesquecível em Madagascar é o encontro com os lêmures nas florestas tropicais da reserva Anjozorobe-Angavo, a 90 quilômetros da capital Antananarivo.**

**IV - O projeto em Anjozorobe comprova que, nos últimos anos, os 9 mil visitantes contribuíram de forma concreta a reduzir a pobreza e a promover a conservação da biodiversidade”.**

**V - A gastronomia malgaxe, com um toque francês, também surpreende pela diversidade de ingredientes, temperos e colorido dos pratos.**

**Constitui aposto os grifos em:**

a) I, II, III, IV e V.

b) I, III e V, apenas.

c) III e V apenas.

d) I, II, III, e V, apenas.

e) III, IV e V apenas

**04. Trilhas e passeios de canoa no rio Manambolo conduzem a formações rochosas calcárias inusitadas e plantas endêmicas desse ecossistema de florestas secas.**

**Ao observar a relação sintática entre os termos desse período, pode-se afirmar que:**

a) de canoa é complemento nominal de Trilhas e passeios.

b) no rio Manambolo é adjunto adnominal de canoas.

c) de florestas secas é complemento nominal de plantas endêmicas.

d) de canoa é complemento verbal de passeios.

e) a formações rochosas calcárias inusitadas e plantas endêmicas desse ecossistema de florestas secas é complemento verbal de conduzem.

**Leia o poema e responda às próximas duas questões.**

### **FOGO NA MATA, MATA!**

Fogo na mata, mata! A mata, a vida...

Fogo na mata, abre,  
no coração da mata,  
Profundas feridas.

Fogo na mata corrói,  
dentro de nós, os sonhos.

Fogo na mata, deixa, no seio da mata,  
Tumores tamanhos!

[...]

(Fonte: <http://www.recantodasletras.com.br/letras/505252>. Acesso em 14/05/2016)

**05. A respeito de alguns aspectos gramaticais pertinentes aos termos em destaque na frase título do poema Fogo na mata, mata!, está correto o que se afirma em:**

a) Morfologicamente, na sequência em que as duas palavras aparecem, temos um verbo e um substantivo.

b) Semanticamente, as duas palavras constituem homônimas homófonas homógrafas.

c) O processo de formação da palavra “mata” (primeira ocorrência na frase) é por derivação regressiva do verbo “matar” cuja flexão na terceira pessoa vem logo em seguida na frase.

d) Semanticamente, as duas palavras “mata” são parônimas.

e) Semanticamente, as duas palavras constituem homônimas homógrafas heterofônicas.

**06. Com a Nova Reforma Ortográfica, foi mantido o acento nas oxítonas terminadas em -ei e -oi, como é o caso de corrói em Fogo na mata corrói. No entanto, de acordo ainda com a Nova Reforma, os acentos foram retirados de quais duas palavras?**

a) Bocaiuva - maiúscula

b) Voo, aeródromo

c) Releem - feiura

d) Papeis - linguíça

e) Preveem - herói

**07. Leia atentamente as alternativas e assinale a incorreta no que diz respeito à Ortografia:**

a) Grafamos com j as palavras ultraje, jiboia e gorjeio; com g as palavras ferrugem, geringonça, e miragem.

b) Grafamos com sc: miscelânea, obsceno e obscensão; com c: sucinto, facínio e nécio.

c) Grafamos com x: xampu, mexerico e enxada; com ch: piche, tocha e mecha.

d) Grafamos com z: xadrez, cicatriz e vizinho; com s: friso, pêsames e tesoura.

e) Grafamos com ss: escassez, submissão e sossego; com c: acetinado, obcecado e acepção.





**08. O advérbio sublinhado e a circunstância que ele expressa não estão corretamente apresentados em:**

- a) Ele certamente virá para o encontro. (afirmação)
- b) Ali se ouvia falar de riquezas culturais. (tempo)
- c) O orador discursou muito bem, impressionou a plateia. (modo)
- d) Chegamos tarde, perdemos o ônibus. (tempo)
- e) Os candidatos estudaram bastante. (intensidade)

**09. Os pronomes pessoais, representantes das pessoas do discurso, estão corretamente empregados em todas as alternativas, com exceção da:**

- a) Sempre haverá discordância entre mim e ti.
- b) O juiz queria falar com nós dois.
- c) Minha festa de despedida, não vou esquecê-la jamais.
- d) Ninguém irá sem eu.
- e) Deram o livro para eu ler em dois dias!

**10. Em uma oração, o contexto permite concluirmos se certos verbos são de ligação, para assim identificarmos o predicado nominal. Assim, não há predicção nominal em:**

- a) O aluno não estava na escola hoje.
- b) À tarde, as crianças pareciam cansadas.
- c) Ultimamente os participantes do programa andam desanimados.
- e) A aurora boreal é um lindo espetáculo.
- d) As atletas parecem cansadas.

### MATEMÁTICA

**11. Numa prova de hipismo, há duas modalidades totalmente distintas: salto e rural. João vai competir nas duas modalidades. Sabendo que a vitória ou a derrota em uma nada influencia no resultado da outra, e sabendo que a probabilidade de ele ganhar a prova de salto é de 40% e a de ganhar a prova de rural é de 58%, qual a probabilidade de ele ganhar as duas provas?**

- a) 98%
- b) 62%
- c) 23,2%
- d) 18%
- e) 2,32%

**12. Numa escola há 12 professores. A tabela a seguir mostra a carga horária diária de trabalho desses professores.**

4	8	5	10	6	5	8	6	8	9	4	8
---	---	---	----	---	---	---	---	---	---	---	---

**É correto afirmar que as cargas horárias média, modal e mediana desses professores são respectivamente:**

- a) 6,25; 6; 7
- b) 6,5; 7; 8
- c) 6,75; 8; 6
- d) 6,75; 8; 7
- e) 6,75; 7; 8

**13. Encontre a equação da reta mediatriz do segmento AB, onde A(2, 3) e B(4, -1), e assinale a alternativa correta.**

- a)  $2y - x + 1 = 0$
- b)  $y - 2x + 2 = 0$
- c)  $2y - 2x + 1 = 0$
- d)  $2y + x + 2 = 0$
- e)  $2y + x - 1 = 0$

**14. Uma loja acrescenta 15% no preço de seus produtos à vista se o cliente optar por pagar com um cheque para 60 dias. Comprei, nessa loja, um fogão com cheque para 60 dias e paguei R\$552,00 por ele. Qual era o preço à vista desse fogão?**

- a) R\$460,00
- b) R\$469,20
- c) R\$474,50
- d) R\$480,00
- e) R\$500,00



**15. Um pesquisador, ao analisar os processos que envolvem jovens com menos de 24 anos, descobriu que há 4 homens com nomes envolvidos em processos para cada mulher. Se no total ele contou 2400 pessoas, quantas eram as mulheres envolvidas nessa pesquisa?**

- a) 480
- b) 600
- c) 800
- d) 1920
- e) 2000

#### **INFORMÁTICA**

**16. Utilizando o Excel 2013, qual fórmula representa corretamente a auto soma?**

- a) =SUM()
- b) =MEDIA()
- c) =MAX()
- d) =MIN()
- e) =SE()

**17. Acerca de confidencialidade está incorreto afirmar:**

- a) É um conceito no qual o acesso à informação deve ser concedido a quem de direito, ou seja, apenas para as entidades autorizadas pelo proprietário ou dono da informação.
- b) É uma propriedade que limita o acesso à informação tão somente às entidades legítimas, ou seja, àquelas autorizadas pelo proprietário da informação.
- c) É a propriedade da informação que não estará disponível ou será divulgada a indivíduos, entidades ou processos sem autorização.
- d) Significa garantir que a informação será conhecida por pessoas que não estejam autorizadas para tal.
- e) É a garantia do resguardo das informações dadas pessoalmente em confiança e proteção contra a sua revelação não autorizada.

**18. Tratando-se de hardware de computadores, assinale a alternativa que corresponde a um tipo de memória externa.**

- a) Pen Drive
- b) EPROM
- c) DIMM
- d) MRAM
- e) Cache

**19. No Word 2013, é possível utilizar vários tipos de formatação de fontes, exceto:**

- a) Tachado
- b) Negrito
- c) Centralizado
- d) Sublinhado
- e) Cor da fonte

**20. Qual software nativo do Windows utilizamos para descobrir o endereço IP do computador?**

- a) Windows Explorer
- b) Notepad
- c) Excel
- d) Word
- e) Prompt de Comando

#### **CONHECIMENTOS GERAIS**

**21. Conforme fonte do IBGE, o bioma do município de Telêmaco Borba/PR é:**

- a) Mata de Pinhais e Cerrado
- b) Pantanal
- c) Caatinga e Mata Atlântica
- d) Floresta Tropical
- e) Cerrado e Mata Atlântica

**22. A letra do hino do município de Telêmaco Borba/PR é de autoria de**

- a) Bento Mossurunga.
- b) Moises Lupion.
- c) Eloah Martins Quadrado.
- d) Graciliana Reis D´Albuquerque Mossurunga.
- e) Enéias Augusto Moracines Borba.



**23. Leia o texto sobre o Brasão de Armas do município de Telêmaco Borba/PR e marque a alternativa correta.**

O Brasão de Armas foi aprovado em definitivo em 1981, dentro dos padrões da heráldica, estabelecendo os regulamentos para seu uso, ficando assim oficializado.

No Brasão de Armas, é possível identificar:

1. Escudo português redondo banhado de ouro filetado de prata, carregado de cinco árvores de pinho estilizadas de sua cor, postas em banda.
  2. Escudete de prata carregado de três Pinheiros do Paraná, araucária angustifolia ou brasiliense.
  3. No timbre, coroa mural de ouro lavrado de negro.
  4. À direita, haste de milho (zae mays) frutada.
  5. À sinistra, ramos de soja (gelycine soya) granada.
  6. Listel amarelo ostentando o topônimo "Cidade Nova" entre as inscrições de ouro "5 de Julho de 1963", em caracteres latino moderno.
- a) Não é verdadeiro o item 1.
  - b) Não é verdadeiro o item 2.
  - c) Não é verdadeiro o item 4.
  - d) Não é verdadeiro o item 6.
  - e) Não são verdadeiros os itens 3 e 5.

**24. Segundo o art. 11 da Lei Orgânica do Município de Telêmaco Borba/PR, os bens públicos podem ser:**

**I. De uso comum do Povo, tais como estradas municipais, ruas, parques, praças, logradouros públicos e outros da mesma espécie;**

**II. De uso especial, os de patrimônio administrativo, tais como edifícios das repartições públicas, os terrenos e equipamentos destinados ao serviço público, veículos, matadouros, mercados e outras serventias de outra espécie;**

**III. Bens municipais, aqueles sobre os quais o município exerce os direitos de proprietário e são considerados como bens patrimoniais disponíveis;**

**IV. Bens culturais, tais como música e obras de arte.**

Podemos afirmar que são verdadeiros os itens

- a) I e II, apenas.
- b) II e III, apenas.
- c) I, II e III, apenas.
- d) I, III e IV, apenas.
- e) I, II, III e IV.

**25. Qual alternativa completa corretamente o texto a seguir?**

No primeiro ano de cada legislatura, no dia 1º de janeiro, em sessão de instalação, independente de número, sob a presidência do vereador mais idoso dentre os eleitos, os vereadores prestarão compromisso e tomarão posse. O Vereador que não tomar posse na sessão do dia 1º de janeiro poderá fazê-la \_\_\_\_\_ depois da primeira sessão ordinária da Legislatura.

- a) até dez dias
- b) até quinze dias
- c) até trinta dias
- d) até quarenta e cinco dias
- e) até sessenta dias

**26. Conforme o art. 54 da Lei Orgânica do Município de Telêmaco Borba/PR, o Processo Legislativo compreende a elaboração de:**

**I. Emendas à Lei Orgânica do Município;**

**II. Leis complementares;**

**III. Leis Ordinárias;**

**IV. Decretos Legislativos;**

**V. Resoluções;**

**VI. Pareceres.**

Assinale a alternativa que faz a afirmação correta.

- a) São verdadeiros apenas os itens I, III e VI.
- b) São verdadeiros apenas os itens I, III e IV.
- c) São verdadeiros apenas os itens III, IV e V.
- d) São verdadeiros apenas os itens I, II, III, IV e V.
- e) São verdadeiros os itens I, II, III, IV, V e VI.

Com base na Lei nº 1883/2012, que dispõe sobre o Estatuto dos Servidores Públicos da Administração Direta, Autárquica e Funcional do Município de Telêmaco Borba/PR, responda às próximas quatro questões.

**27. À luz do § 2º do art. 9º da Lei nº 1883/2012, marque a alternativa que completa a lacuna do texto a seguir.**

**O concurso deverá ser homologado no prazo máximo de \_\_\_\_\_ contados da data de realização da última fase de provas, sob pena de responsabilidade da autoridade competente.**

- a) um mês
- b) dois meses
- c) seis meses
- d) um ano
- e) dois anos

**28. Marque a alternativa que completa a lacuna do texto a seguir.**

**O candidato terá o prazo \_\_\_\_\_, a contar da publicação oficial da convocação, para comparecer à entidade convocante e assinar termo de comparecimento.**

- a) máximo de 5 dias úteis
- b) mínimo de 15 dias úteis
- c) de até 30 dias
- d) máximo de 15 dias úteis
- e) mínimo de 5 dias úteis

**29. Leia as assertivas e marque a correta.**

- a) São reservados 10% dos cargos em comissão para a nomeação de servidores do quadro efetivo.
- b) São reservados 15% dos cargos em comissão para a nomeação de servidores do quadro efetivo.
- c) São reservados 20% dos cargos em comissão para a nomeação de servidores do quadro efetivo.
- d) São reservados 25% dos cargos em comissão para a nomeação de servidores do quadro efetivo.
- e) São reservados 30% dos cargos em comissão para a nomeação de servidores do quadro efetivo.

**30. Marque a alternativa que completa a lacuna do texto a seguir.**

**O servidor municipal, quando nomeado para cargo em comissão, ficará afastado de seu cargo efetivo e fará jus à remuneração prevista em lei para o comissionado, podendo optar por receber seus vencimentos acrescidos de \_\_\_\_\_ do valor da remuneração prevista para o cargo em comissão.**

- a) 10%
- b) 20%
- c) 30%
- d) 40%
- e) 50%

### **CONHECIMENTOS ESPECÍFICOS**

**31. Analise os itens, considerando os principais sinais e sintomas da hanseníase:**

- I - Manchas esbranquiçadas, acastanhadas ou avermelhadas, com alterações de sensibilidade;**
- II - Pápulas, infiltrações, tubérculos e nódulos, normalmente sem sintomas;**
- III - Aumento ou crescimento de pelos, localizado ou difuso, especialmente sobrancelhas;**
- IV – Presença de sudorese no local - pele úmida.**

**Estão corretos:**

- a) Os itens I, II, III e IV.
- b) Apenas os itens II, III e IV.
- c) Apenas os itens I, II e III.
- d) Apenas os itens I e II.
- e) Apenas os itens II e IV.

**32. Analise as alternativas e assinale a que melhor conceitua desinfecção:**

- a) Processo de eliminação de micro-organismos na forma vegetativa, presentes nos artigos e objetos inanimados mediante a aplicação de agentes físicos ou químicos.
- b) Processo pelo qual os micro-organismos são mortos, para que não se possa detectá-los no meio padrão de culturas em que previamente os agentes tenham proliferado.
- c) Remoção mecânica de sujidade.
- d) Processo utilizado por meio de equipamento denominado autoclave, para tornar o material isento de toda forma viável de micro-organismos.
- e) Processo físico-químico que utiliza o gás óxido de etileno.

**33. Em relação à Política Nacional de Humanização (PNH), assinale a alternativa incorreta:**

- a) Os princípios da PNH são: transversalidade, indissociabilidade entre a atenção e a gestão dos processos de produção e saúde, autonomia e protagonismo dos sujeitos.
- b) A PNH busca pôr em prática os princípios do SUS no cotidiano dos serviços de saúde, produzindo mudanças nos modos de gerir e cuidar.



- c) O HumanizaSUS, como também é conhecida a PNH, aposta na inclusão de trabalhadores, usuários e gestores na produção e gestão do cuidado e dos processos de trabalho.
- d) Os princípios da PNH são: resolubilidade, dissociabilidade entre a atenção e a gestão dos processos de produção e saúde, autonomia e protagonismo dos sujeitos.
- e) A PNH deve se fazer presente e estar inserida em todas as políticas e programas do SUS.

**34. A vacinação de mulheres grávidas concede imunidade para futura mãe e seu feto. Sobre a vacinação de rotina para gestantes, numere a 2ª coluna de acordo com a 1ª e, após isso, assinale a alternativa que apresenta a sequência correta, de cima para baixo:**

**1ª Coluna**

- (1) Vacina contra hepatite B  
(2) Vacina dupla do adulto – dT  
(3) Vacina tríplice bacteriana do adulto – dTpa

**2ª Coluna**

- ( ) Uma dose a partir da 27ª semana de gestação.  
( ) Três doses, a depender da situação vacinal.  
( ) Duas doses, a depender da situação vacinal.

- a) 1-2-3.  
b) 3-2-1.  
c) 3-1-2.  
d) 2-1-3.  
e) 2-3-1.

**35. Sobre o calendário nacional de vacinação para o ano de 2016, assinale a alternativa incorreta:**

- a) Ao nascer, aplica-se as vacinas BCG e Hepatite B.
- b) O esquema básico da vacina contra o HPV são duas doses com 6 meses de intervalo em meninas de 9 a 13 anos.
- c) A oferta da vacina contra a Hepatite B foi ampliada para toda a população, independentemente da idade e/ou condições de vulnerabilidade.
- d) A vacina contra a Febre Amarela deve ser aplicada aos 9 meses.
- e) A vacina contra a Hepatite A passa a ser aplicada aos 6 meses, podendo ser aplicada até os 15 meses.

**36. Em 2008, foram criados pelo Ministério da Saúde os Núcleos de Apoio à Saúde da Família (NASF). Sobre esses Núcleos, marque C para as afirmativas Certas, E para as Erradas e, após isso, assinale a alternativa que apresenta a sequência correta:**

- ( ) Recebem a demanda por negociação, discussão compartilhada com as equipes que apoia, e por meio de encaminhamentos impessoais.
- ( ) Constituem-se como apoio especializado na própria Atenção Básica, ou seja, um ambulatório de especialidades.
- ( ) O NASF ajuda a aumentar a capacidade de cuidado das equipes de Atenção Básica, agrega novas ofertas de cuidado nas UBS e auxilia a articulação com outros pontos de atenção da rede.

- a) E – C – E.  
b) E – C – C.  
c) C – E – C.  
d) C – C – E.  
e) E – E – C.

**37. A amamentação deve ser estimulada até mesmo após o retorno da mãe ao trabalho.**

**I - Durante as horas de trabalho, esvaziar as mamas por meio de ordenha e guardar o leite em congelador. O leite cru (não pasteurizado) pode ser conservado em geladeira por 12 horas e, no freezer ou congelador, por 15 dias;**

**II - Uma vez descongelado, o leite deve ser aquecido em banho-maria fora do fogo. Antes de oferecê-lo à criança, ele deve ser agitado suavemente para homogeneizar a gordura;**

**III - Oferecer mamadeiras; evitar a alimentação por meio de copo e colher.**

**Está(ão) incorreto(s):**

- a) Apenas o item I.  
b) Apenas o item III.  
c) Apenas os itens I e II.  
d) Apenas os itens I e III.  
e) Os itens I, II e III.



**38. Um dos problemas enfrentados pelas nutrizes durante o aleitamento materno é o ingurgitamento mamário patológico. Nesse sentido, recomenda-se tomar as seguintes medidas, exceto a apresentada na alternativa:**

- a) Ordenhar manualmente a aréola, se ela estiver tensa, antes da mamada, para que ela fique macia, facilitando, assim, a pega adequada do bebê.
- b) Usar ininterruptamente sutiã com alças largas e firmes, para aliviar a dor e manter os ductos em posição anatômica.
- c) Aplicar compressas mornas em intervalos regulares após ou nos intervalos das mamadas.
- d) Usar analgésicos sistêmicos/ anti-inflamatórios.
- e) Realizar massagens delicadas das mamas, com movimentos circulares, particularmente nas regiões mais afetadas pelo ingurgitamento.

**39. Dentre as complicações relacionadas ao cateter venoso central (intra-cath), assinale a incorreta:**

- a) Pneumotórax
- b) Hidrotórax
- c) Embolia aérea
- d) Empiema
- e) Lesão do plexo cervical

**40. Analise os itens seguintes sobre o câncer de mama:**

**I – O câncer de mama é o tipo de câncer que mais acomete as mulheres em todo o mundo;**

**II – Os homens também podem desenvolver câncer de mama;**

**III – Os principais exames utilizados para o diagnóstico ou reestadiamento do câncer de mama são: raios X, mamografia, cintilografia óssea, tomografia computadorizada, ressonância magnética, ultrassom, tomografia por emissão de pósitrons.**

**Está(ao) correto(s):**

- a) Todos os itens.
- b) Apenas o item II.
- c) Apenas o item III.
- d) Apenas os itens II e III.
- e) Apenas os itens I e III.

**RASCUNHO**





PREFEITURA DE TELÊMACO BORBA - ESTADO DO PARANÁ - EDITAL Nº 001-2016 - CONCURSO PÚBLICO

**MATUTINO – 29/05/2016 – NÍVEL MÉDIO**

PROVA OBJETIVA NÚMERO

**2**

**CARGO: TMNM I - ENFERMAGEM**

**Leia atentamente as INSTRUÇÕES:**

1. Confira seus dados no cartão-resposta: nome, número de inscrição e o curso para o qual se inscreveu.
2. **MARQUE no seu cartão-resposta o número da sua prova** (não será corrigido o cartão-resposta que não tiver marcado o número da prova) e **Assine** seu cartão-resposta.
3. Aguarde a autorização do Fiscal para abrir o caderno de prova. Ao receber a ordem do fiscal, confira o caderno de prova com muita atenção. Nenhuma reclamação sobre o total de questões ou falha de impressão será aceita depois de iniciada a prova.
4. O cartão-resposta não será substituído, salvo se contiver erro de impressão.
5. Preencha toda a área do cartão-resposta correspondente à alternativa de sua escolha, com caneta esferográfica (tinta azul ou preta), sem ultrapassar as bordas. As marcações duplas, ou rasuradas, com corretivo, ou marcadas diferentemente do modelo estabelecido no cartão-resposta poderão ser anuladas.
6. Sua prova tem **40** questões, com **5** alternativas.
7. Cabe apenas ao candidato a interpretação das questões, **o fiscal** não poderá fazer nenhuma interferência.
8. A prova será realizada com duração máxima de **3 (três) horas**, incluído o tempo para a realização da Prova Objetiva de múltipla escolha e o preenchimento do cartão-resposta.
9. O candidato poderá retirar-se do local de realização das provas somente **1 (uma) hora** após o seu início, sem levar o caderno de prova.
10. O candidato poderá levar o caderno de provas, assim como anotação contendo transcrição do seu cartão-resposta, somente **1h30min** (uma hora e trinta minutos) após o início da realização da prova.
11. Ao terminar a prova, o candidato deverá entregar ao fiscal de sala o cartão-resposta preenchido e **ASSINADO**.
12. Os **3 (três)** candidatos, que terminarem a prova por último, deverão permanecer na sala, e só poderão sair juntos após o fechamento do envelope, contendo os cartões-resposta dos candidatos presentes e ausentes, e assinarem no lacre do referido envelope, atestando que este foi devidamente lacrado.
13. Durante todo o tempo em que permanecer no local onde está ocorrendo o concurso, o candidato deverá, manter o celular desligado e sem bateria, só sendo permitido ligar depois de ultrapassar o portão de saída do prédio.
14. Não será permitido ao candidato fumar na sala de provas, bem como nas dependências.
15. Depois de terminar a prova e entregar ao fiscal o cartão-resposta, preenchido e assinado, não será mais permitido ao candidato o uso do banheiro e bebedouro.

**BOA PROVA!**

**MATEMÁTICA**

**01. Numa prova de hipismo, há duas modalidades totalmente distintas: salto e rural. João vai competir nas duas modalidades. Sabendo que a vitória ou a derrota em uma nada influencia no resultado da outra, e sabendo que a probabilidade de ele ganhar a prova de salto é de 40% e a de ganhar a prova de rural é de 58%, qual a probabilidade de ele ganhar as duas provas?**

- a) 98%
- b) 62%
- c) 23,2%
- d) 18%
- e) 2,32%

**02. Numa escola há 12 professores. A tabela a seguir mostra a carga horária diária de trabalho desses professores.**

4	8	5	10	6	5	8	6	8	9	4	8
---	---	---	----	---	---	---	---	---	---	---	---

**É correto afirmar que as cargas horárias média, modal e mediana desses professores são respectivamente:**

- a) 6,25; 6; 7
- b) 6,5; 7; 8
- c) 6,75; 8; 6
- d) 6,75; 8; 7
- e) 6,75; 7; 8

**03. Encontre a equação da reta mediatriz do segmento AB, onde A(2, 3) e B(4, -1), e assinale a alternativa correta.**

- a)  $2y - x + 1 = 0$
- b)  $y - 2x + 2 = 0$
- c)  $2y - 2x + 1 = 0$
- d)  $2y + x + 2 = 0$
- e)  $2y + x - 1 = 0$

**04. Uma loja acrescenta 15% no preço de seus produtos à vista se o cliente optar por pagar com um cheque para 60 dias. Comprei, nessa loja, um fogão com cheque para 60 dias e paguei R\$552,00 por ele. Qual era o preço à vista desse fogão?**

- a) R\$460,00
- b) R\$469,20
- c) R\$474,50
- d) R\$480,00
- e) R\$500,00

**05. Um pesquisador, ao analisar os processos que envolvem jovens com menos de 24 anos, descobriu que há 4 homens com nomes envolvidos em processos para cada mulher. Se no total ele contou 2400 pessoas, quantas eram as mulheres envolvidas nessa pesquisa?**

- a) 480
- b) 600
- c) 800
- d) 1920
- e) 2000

**INFORMÁTICA**

**06. Utilizando o Excel 2013, qual fórmula representa corretamente a auto soma?**

- a) =SUM()
- b) =MEDIA()
- c) =MAX()
- d) =MIN()
- e) =SE()

**07. Acerca de confidencialidade está incorreto afirmar:**

- a) É um conceito no qual o acesso à informação deve ser concedido a quem de direito, ou seja, apenas para as entidades autorizadas pelo proprietário ou dono da informação.
- b) É uma propriedade que limita o acesso à informação tão somente às entidades legítimas, ou seja, àquelas autorizadas pelo proprietário da informação.
- c) É a propriedade da informação que não estará disponível ou será divulgada a indivíduos, entidades ou processos sem autorização.
- d) Significa garantir que a informação será conhecida por pessoas que não estejam autorizadas para tal.



e) É a garantia do resguardo das informações dadas pessoalmente em confiança e proteção contra a sua revelação não autorizada.

**08. Tratando-se de hardware de computadores, assinale a alternativa que corresponde a um tipo de memória externa.**

- a) Pen Drive
- b) EPROM
- c) DIMM
- d) MRAM
- e) Cache

**09. No Word 2013, é possível utilizar vários tipos de formatação de fontes, exceto:**

- a) Tachado
- b) Negrito
- c) Centralizado
- d) Sublinhado
- e) Cor da fonte

**10. Qual software nativo do Windows utilizamos para descobrir o endereço IP do computador?**

- a) Windows Explorer
- b) Notepad
- c) Excel
- d) Word
- e) Prompt de Comando

#### **CONHECIMENTOS GERAIS**

**11. Conforme fonte do IBGE, o bioma do município de Telêmaco Borba/PR é:**

- a) Mata de Pinhais e Cerrado
- b) Pantanal
- c) Caatinga e Mata Atlântica
- d) Floresta Tropical
- e) Cerrado e Mata Atlântica

**12. A letra do hino do município de Telêmaco Borba/PR é de autoria de**

- a) Bento Mossurunga.
- b) Moisés Lupion.
- c) Eloah Martins Quadrado.
- d) Graciliana Reis D´Albuquerque Mossurunga.
- e) Enéias Augusto Moracines Borba.

**13. Leia o texto sobre o Brasão de Armas do município de Telêmaco Borba/PR e marque a alternativa correta.**

O Brasão de Armas foi aprovado em definitivo em 1981, dentro dos padrões da heráldica, estabelecendo os regulamentos para seu uso, ficando assim oficializado.

No Brasão de Armas, é possível identificar:

1. Escudo português redondo banhado de ouro filetado de prata, carregado de cinco árvores de pinho estilizadas de sua cor, postas em banda.
2. Escudete de prata carregado de três Pinheiros do Paraná, araucária angustifolia ou brasiliense.
3. No timbre, coroa mural de ouro lavrado de negro.
4. À destra, haste de milho (zae mays) frutada.
5. À sinistra, ramos de soja (gelycine soya) granada.
6. Listel amarelo ostentando o topônimo "Cidade Nova" entre as inscrições de ouro "5 de Julho de 1963", em caracteres latino moderno.

- a) Não é verdadeiro o item 1.
- b) Não é verdadeiro o item 2.
- c) Não é verdadeiro o item 4.
- d) Não é verdadeiro o item 6.
- e) Não são verdadeiros os itens 3 e 5.

**14. Segundo o art. 11 da Lei Orgânica do Município de Telêmaco Borba/PR, os bens públicos podem ser:**

**I. De uso comum do Povo, tais como estradas municipais, ruas, parques, praças, logradouros públicos e outros da mesma espécie;**

**II. De uso especial, os de patrimônio administrativo, tais como edifícios das repartições públicas, os terrenos e equipamentos destinados ao serviço público, veículos, matadouros, mercados e outras serventias de outra espécie;**



**III. Bens municipais, aqueles sobre os quais o município exerce os direitos de proprietário e são considerados como bens patrimoniais disponíveis;**

**IV. Bens culturais, tais como música e obras de arte.**

**Podemos afirmar que são verdadeiros os itens**

- a) I e II, apenas.
- b) II e III, apenas.
- c) I, II e III, apenas.
- d) I, III e IV, apenas.
- e) I, II, III e IV.

**15. Qual alternativa completa corretamente o texto a seguir?**

**No primeiro ano de cada legislatura, no dia 1º de janeiro, em sessão de instalação, independente de número, sob a presidência do vereador mais idoso dentre os eleitos, os vereadores prestarão compromisso e tomarão posse. O Vereador que não tomar posse na sessão do dia 1º de janeiro poderá fazê-la \_\_\_\_\_ depois da primeira sessão ordinária da Legislatura.**

- a) até dez dias
- b) até quinze dias
- c) até trinta dias
- d) até quarenta e cinco dias
- e) até sessenta dias

**16. Conforme o art. 54 da Lei Orgânica do Município de Telêmaco Borba/PR, o Processo Legislativo compreende a elaboração de:**

**I. Emendas à Lei Orgânica do Município;**

**II. Leis complementares;**

**III. Leis Ordinárias;**

**IV. Decretos Legislativos;**

**V. Resoluções;**

**VI. Pareceres.**

**Assinale a alternativa que faz a afirmação correta.**

- a) São verdadeiros apenas os itens I, III e VI.
- b) São verdadeiros apenas os itens I, III e IV.
- c) São verdadeiros apenas os itens III, IV e V.
- d) São verdadeiros apenas os itens I, II, III, IV e V.
- e) São verdadeiros os itens I, II, III, IV, V e VI.

**Com base na Lei nº 1883/2012, que dispõe sobre o Estatuto dos Servidores Públicos da Administração Direta, Autárquica e Funcional do Município de Telêmaco Borba/PR, responda às próximas quatro questões.**

**17. À luz do § 2º do art. 9º da Lei nº 1883/2012, marque a alternativa que completa a lacuna do texto a seguir.**

**O concurso deverá ser homologado no prazo máximo de \_\_\_\_\_ contados da data de realização da última fase de provas, sob pena de responsabilidade da autoridade competente.**

- a) um mês
- b) dois meses
- c) seis meses
- d) um ano
- e) dois anos

**18. Marque a alternativa que completa a lacuna do texto a seguir.**

**O candidato terá o prazo \_\_\_\_\_, a contar da publicação oficial da convocação, para comparecer à entidade convocante e assinar termo de comparecimento.**

- a) máximo de 5 dias úteis
- b) mínimo de 15 dias úteis
- c) de até 30 dias
- d) máximo de 15 dias úteis
- e) mínimo de 5 dias úteis

**19. Leia as assertivas e marque a correta.**

- a) São reservados 10% dos cargos em comissão para a nomeação de servidores do quadro efetivo.
- b) São reservados 15% dos cargos em comissão para a nomeação de servidores do quadro efetivo.
- c) São reservados 20% dos cargos em comissão para a nomeação de servidores do quadro efetivo.
- d) São reservados 25% dos cargos em comissão para a nomeação de servidores do quadro efetivo.
- e) São reservados 30% dos cargos em comissão para a nomeação de servidores do quadro efetivo.



20. Marque a alternativa que completa a lacuna do texto a seguir.

O servidor municipal, quando nomeado para cargo em comissão, ficará afastado de seu cargo efetivo e fará jus à remuneração prevista em lei para o comissionado, podendo optar por receber seus vencimentos acrescidos de \_\_\_\_\_ do valor da remuneração prevista para o cargo em comissão.

- a) 10%
- b) 20%
- c) 30%
- d) 40%
- e) 50%

#### CONHECIMENTOS ESPECÍFICOS

21. Analise os itens, considerando os principais sinais e sintomas da hanseníase:

**I - Manchas esbranquiçadas, acastanhadas ou avermelhadas, com alterações de sensibilidade;**

**II - Pápulas, infiltrações, tubérculos e nódulos, normalmente sem sintomas;**

**III - Aumento ou crescimento de pelos, localizado ou difuso, especialmente sobrancelhas;**

**IV – Presença de sudorese no local - pele úmida.**

**Estão corretos:**

- a) Os itens I, II, III e IV.
- b) Apenas os itens II, III e IV.
- c) Apenas os itens I, II e III.
- d) Apenas os itens I e II.
- e) Apenas os itens II e IV.

22. Analise as alternativas e assinale a que melhor conceitua desinfecção:

- a) Processo de eliminação de micro-organismos na forma vegetativa, presentes nos artigos e objetos inanimados mediante a aplicação de agentes físicos ou químicos.
- b) Processo pelo qual os micro-organismos são mortos, para que não se possa detectá-los no meio padrão de culturas em que previamente os agentes tenham proliferado.
- c) Remoção mecânica de sujidade.
- d) Processo utilizado por meio de equipamento denominado autoclave, para tornar o material isento de toda forma viável de micro-organismos.
- e) Processo físico-químico que utiliza o gás óxido de etileno.

23. Em relação à Política Nacional de Humanização (PNH), assinale a alternativa incorreta:

- a) Os princípios da PNH são: transversalidade, indissociabilidade entre a atenção e a gestão dos processos de produção e saúde, autonomia e protagonismo dos sujeitos.
- b) A PNH busca pôr em prática os princípios do SUS no cotidiano dos serviços de saúde, produzindo mudanças nos modos de gerir e cuidar.
- c) O HumanizaSUS, como também é conhecida a PNH, aposta na inclusão de trabalhadores, usuários e gestores na produção e gestão do cuidado e dos processos de trabalho.
- d) Os princípios da PNH são: resolubilidade, dissociabilidade entre a atenção e a gestão dos processos de produção e saúde, autonomia e protagonismo dos sujeitos.
- e) A PNH deve se fazer presente e estar inserida em todas as políticas e programas do SUS.

24. A vacinação de mulheres grávidas concede imunidade para futura mamãe e seu feto. Sobre a vacinação de rotina para gestantes, numere a 2ª coluna de acordo com a 1ª e, após isso, assinale a alternativa que apresenta a sequência correta, de cima para baixo:

1ª Coluna

- (1) Vacina contra hepatite B
- (2) Vacina dupla do adulto – dT
- (3) Vacina tríplice bacteriana do adulto – dTpa

2ª Coluna

- ( ) Uma dose a partir da 27ª semana de gestação.
- ( ) Três doses, a depender da situação vacinal.
- ( ) Duas doses, a depender da situação vacinal.

- a) 1-2-3.
- b) 3-2-1.
- c) 3-1-2.
- d) 2-1-3.
- e) 2-3-1.

**25. Sobre o calendário nacional de vacinação para o ano de 2016, assinale a alternativa incorreta:**

- a) Ao nascer, aplica-se as vacinas BCG e Hepatite B.
- b) O esquema básico da vacina contra o HPV são duas doses com 6 meses de intervalo em meninas de 9 a 13 anos.
- c) A oferta da vacina contra a Hepatite B foi ampliada para toda a população, independentemente da idade e/ou condições de vulnerabilidade.
- d) A vacina contra a Febre Amarela deve ser aplicada aos 9 meses.
- e) A vacina contra a Hepatite A passa a ser aplicada aos 6 meses, podendo ser aplicada até os 15 meses.

**26. Em 2008, foram criados pelo Ministério da Saúde os Núcleos de Apoio à Saúde da Família (NASF). Sobre esses Núcleos, marque C para as afirmativas Certas, E para as Erradas e, após isso, assinale a alternativa que apresenta a sequência correta:**

- ( ) **Recebem a demanda por negociação, discussão compartilhada com as equipes que apoia, e por meio de encaminhamentos pessoais.**
  - ( ) **Constituem-se como apoio especializado na própria Atenção Básica, ou seja, um ambulatório de especialidades.**
  - ( ) **O NASF ajuda a aumentar a capacidade de cuidado das equipes de Atenção Básica, agrega novas ofertas de cuidado nas UBS e auxilia a articulação com outros pontos de atenção da rede.**
- a) E – C – E.
  - b) E – C – C.
  - c) C – E – C.
  - d) C – C – E.
  - e) E – E – C.

**27. A amamentação deve ser estimulada até mesmo após o retorno da mãe ao trabalho.**

**I - Durante as horas de trabalho, esvaziar as mamas por meio de ordenha e guardar o leite em congelador. O leite cru (não pasteurizado) pode ser conservado em geladeira por 12 horas e, no freezer ou congelador, por 15 dias;**

**II - Uma vez descongelado, o leite deve ser aquecido em banho-maria fora do fogo. Antes de oferecê-lo à criança, ele deve ser agitado suavemente para homogeneizar a gordura;**

**III - Oferecer mamadeiras; evitar a alimentação por meio de copo e colher.**

**Está(ão) incorreto(s):**

- a) Apenas o item I.
- b) Apenas o item III.
- c) Apenas os itens I e II.
- d) Apenas os itens I e III.
- e) Os itens I, II e III.

**28. Um dos problemas enfrentados pelas nutrizes durante o aleitamento materno é o ingurgitamento mamário patológico. Nesse sentido, recomenda-se tomar as seguintes medidas, exceto a apresentada na alternativa:**

- a) Ordenhar manualmente a aréola, se ela estiver tensa, antes da mamada, para que ela fique macia, facilitando, assim, a pega adequada do bebê.
- b) Usar ininterruptamente sutiã com alças largas e firmes, para aliviar a dor e manter os ductos em posição anatômica.
- c) Aplicar compressas mornas em intervalos regulares após ou nos intervalos das mamadas.
- d) Usar analgésicos sistêmicos/ anti-inflamatórios.
- e) Realizar massagens delicadas das mamas, com movimentos circulares, particularmente nas regiões mais afetadas pelo ingurgitamento.

**29. Dentre as complicações relacionadas ao cateter venoso central (intra-cath), assinale a incorreta:**

- a) Pneumotórax
- b) Hidrotórax
- c) Embolia aérea
- d) Empiema
- e) Lesão do plexo cervical

**30. Analise os itens seguintes sobre o câncer de mama:**

**I – O câncer de mama é o tipo de câncer que mais acomete as mulheres em todo o mundo;**

**II – Os homens também podem desenvolver câncer de mama;**

**III – Os principais exames utilizados para o diagnóstico ou reestadiamento do câncer de mama são: raios X, mamografia, cintilografia óssea, tomografia computadorizada, ressonância magnética, ultrassom, tomografia por emissão de pósitrons.**

**Está(ao) correto(s):**

- a) Todos os itens.



- b) Apenas o item II.
- c) Apenas o item III.
- d) Apenas os itens II e III.
- e) Apenas os itens I e III.

## LÍNGUA PORTUGUESA

Leia o texto e responda às próximas quatro questões.

### Lêmures e baobás de Madagascar

Isolada do continente há 135 milhões de anos, a ilha do Oceano Índico é um laboratório natural da evolução das espécies e encanta os viajantes com uma flora e fauna única

**Madagascar** abriga 107 espécies de **lêmures**, dezenas de espécies de camaleões coloridos e outras tantas plantas que só existem lá. “Madagascar é um mundo a parte. Costumo dizer que, se Charles Darwin tivesse conhecido Madagascar, seu livro *A Origem das Espécies* seria dez vezes maior”, afirma o fotógrafo e jornalista **Haroldo Castro**, idealizador de Viajologia Expedições.

Uma das experiências mais emocionantes na quarta maior ilha do mundo é passear entre os gigantescos **baobás**, árvores que chegam a ter 30 metros de altura e mil anos de idade. Das nove espécies de baobás que existem no mundo, seis podem ser encontradas apenas em Madagascar. A majestosa árvore, considerada sagrada pelos malgaxes, é chamada localmente como “reniala”, mãe da floresta.

Na pequena cidade de Bekopaka está o Parque Nacional Tsingy de Bemaraha, considerado Patrimônio Mundial pela Unesco. Trilhas e passeios de canoa no rio Manambolo conduzem a formações rochosas calcárias inusitadas e plantas endêmicas desse ecossistema de florestas secas.

Outro momento inesquecível em Madagascar é o encontro com os lêmures nas florestas tropicais da reserva Anjozorobe-Angavo, a 90 quilômetros da capital Antananarivo. Especialistas apontam que o turismo de observação de animais é uma excelente alternativa para o desenvolvimento da economia local e pode ajudar a conter o desmatamento. “O projeto em Anjozorobe comprova que, nos últimos anos, os 9 mil visitantes contribuíram de forma concreta a reduzir a pobreza e a promover a conservação da biodiversidade”, afirma Haroldo. Como os primatas são curiosos e estão habituados aos seres humanos, eles costumam se aproximar dos visitantes. “Os bichinhos chegam a subir nas nossas cabeças e parecem adorar aparecer nas fotos.”

Madagascar possui hoje uma excelente estrutura para o turismo, com algumas estradas bem cuidadas e hotéis confortáveis localizados perto das reservas e parques ecológicos. A gastronomia malgaxe, com um toque francês, também surpreende pela diversidade de ingredientes, temperos e colorido dos pratos.

[...]

(Fonte: <http://viajeaqui.abril.com.br/materias/lemures-e-baobas-de-madagascar#2>. Acesso em 14/05/2016)

### 31. *Lêmures e baobás de Madagascar* é um texto:

- a) Em que prevalece a descrição, apresentando as belezas e peculiaridades do lugar, da fauna e da flora.
- b) Principalmente narrativo, de fatos colhidos durante uma viagem, que se sucedem em progressão temporal.
- c) Essencialmente argumentativo, o uso da descrição visa somente a convencer o leitor a visitar Madagascar.
- d) Dissertativo, impera o desenvolvimento de argumentos para comprovar a tese presente no primeiro parágrafo.
- e) Em que predomina a exposição de conceitos e definições com o intuito de informar o leitor.

### 32. O teor do texto *Lêmures e baobás de Madagascar* somente não poderia se encaixar em que tópico?

- a) Turismo
- b) Viagens
- c) Clima
- d) Natureza
- e) Ilhas

### 33. O aposto é um termo que *explica ou esclarece, desenvolve ou resume outro termo da oração*. Quanto a isso, analise a parte grifada em cada uma das orações retiradas do texto:

**I - A majestosa árvore, considerada sagrada pelos malgaxes, é chamada localmente como “reniala”, mãe da floresta.**

**II - afirma o fotógrafo e jornalista Haroldo Castro, idealizador de Viajologia Expedições.**

**III - Outro momento inesquecível em Madagascar é o encontro com os lêmures nas florestas tropicais da reserva Anjozorobe-Angavo, a 90 quilômetros da capital Antananarivo.**

**IV - O projeto em Anjozorobe comprova que, nos últimos anos, os 9 mil visitantes contribuíram de forma concreta a reduzir a pobreza e a promover a conservação da biodiversidade”.**

**V - A gastronomia malgaxe, com um toque francês, também surpreende pela diversidade de ingredientes, temperos e colorido dos pratos.**

Constitui aposto os grifos em:

- a) I, II, III, IV e V.
- b) I, III e V, apenas.
- c) III e V apenas.

- d) I, II, III, e V, apenas.  
e) III, IV e V apenas

**34. Trilhas e passeios de canoa no rio Manambolo conduzem a formações rochosas calcárias inusitadas e plantas endêmicas desse ecossistema de florestas secas.**

**Ao observar a relação sintática entre os termos desse período, pode-se afirmar que:**

- a) de canoa é complemento nominal de Trilhas e passeios.  
b) no rio Manambolo é adjunto adnominal de canoas.  
c) de florestas secas é complemento nominal de plantas endêmicas.  
d) de canoa é complemento verbal de passeios.  
e) a formações rochosas calcárias inusitadas e plantas endêmicas desse ecossistema de florestas secas é complemento verbal de conduzem.

**Leia o poema e responda às próximas duas questões.**

**FOGO NA MATA, MATA!**

Fogo na mata, mata! A mata, a vida...  
Fogo na mata, abre,  
no coração da mata,  
Profundas feridas.

Fogo na mata corrói,  
dentro de nós, os sonhos.  
Fogo na mata, deixa, no seio da mata,  
Tumores tamanhos!

[...]

(Fonte: <http://www.recantodasletras.com.br/letras/505252>. Acesso em 14/05/2016)

**35. A respeito de alguns aspectos gramaticais pertinentes aos termos em destaque na frase título do poema *Fogo na mata, mata!*, está correto o que se afirma em:**

- a) Morfologicamente, na sequência em que as duas palavras aparecem, temos um verbo e um substantivo.  
b) Semanticamente, as duas palavras constituem homônimas homófonas homógrafas.  
c) O processo de formação da palavra “mata” (primeira ocorrência na frase) é por derivação regressiva do verbo “matar” cuja flexão na terceira pessoa vem logo em seguida na frase.  
d) Semanticamente, as duas palavras “mata” são parônimas.  
e) Semanticamente, as duas palavras constituem homônimas homógrafas heterofônicas.

**36. Com a Nova Reforma Ortográfica, foi mantido o acento nas oxítonas terminadas em -ei e -oi, como é o caso de corrói em *Fogo na mata corrói*. No entanto, de acordo ainda com a Nova Reforma, os acentos foram retirados de quais duas palavras?**

- a) Bocaiuva - maiúscula  
b) Voo, aerodromo  
c) Releem - feiura  
d) Papeis - linguiça  
e) Preveem - heroi

**37. Leia atentamente as alternativas e assinale a incorreta no que diz respeito à Ortografia:**

- a) Grafamos com j as palavras ultraje, jiboia e gorjeio; com g as palavras ferrugem, geringonça, e miragem.  
b) Grafamos com sc: miscelânea, obsceno e obsessão; com c: sucinto, facínio e nécio.  
c) Grafamos com x: xampu, mexerico e enxada; com ch: piche, tocha e mecha.  
d) Grafamos com z: xadrez, cicatriz e vizinho; com s: friso, pêsames e tesoura.  
e) Grafamos com ss: escassez, submissão e sossego; com c: acetinado, obcecado e acepção.

**38. O advérbio sublinhado e a circunstância que ele expressa não estão corretamente apresentados em:**

- a) Ele certamente virá para o encontro. (afirmação)  
b) Ali se ouvia falar de riquezas culturais. (tempo)  
c) O orador discursou muito bem, impressionou a plateia. (modo)  
d) Chegamos tarde, perdemos o ônibus. (tempo)  
e) Os candidatos estudaram bastante. (intensidade)

**39. Os pronomes pessoais, representantes das pessoas do discurso, estão corretamente empregados em todas as alternativas, com exceção da:**

- a) Sempre haverá discordância entre mim e ti.



- b) O juiz queria falar com nós dois.
- c) Minha festa de despedida, não vou esquecer-la jamais.
- d) Ninguém irá sem eu.
- e) Deram o livro para eu ler em dois dias!

**40. Em uma oração, o contexto permite concluirmos se certos verbos são de ligação, para assim identificarmos o predicado nominal. Assim, não há predicação nominal em:**

- a) O aluno não estava na escola hoje.
- b) À tarde, as crianças pareciam cansadas.
- c) Ultimamente os participantes do programa andam desanimados.
- e) A aurora boreal é um lindo espetáculo.
- d) As atletas parecem cansadas.

**RASCUNHO**



PREFEITURA DE TELÊMACO BORBA - ESTADO DO PARANÁ - EDITAL Nº 001-2016 - CONCURSO PÚBLICO

MATUTINO – 29/05/2016 – NÍVEL MÉDIO

**3**

PROVA OBJETIVA NÚMERO

CARGO: TMNM I - ENFERMAGEM

Leia atentamente as INSTRUÇÕES:

1. Confira seus dados no cartão-resposta: nome, número de inscrição e o curso para o qual se inscreveu.
2. **MARQUE no seu cartão-resposta o número da sua prova** (não será corrigido o cartão-resposta que não tiver marcado o número da prova) e **Assine** seu cartão-resposta.
3. Aguarde a autorização do Fiscal para abrir o caderno de prova. Ao receber a ordem do fiscal, confira o caderno de prova com muita atenção. Nenhuma reclamação sobre o total de questões ou falha de impressão será aceita depois de iniciada a prova.
4. O cartão-resposta não será substituído, salvo se contiver erro de impressão.
5. Preencha toda a área do cartão-resposta correspondente à alternativa de sua escolha, com caneta esferográfica (tinta azul ou preta), sem ultrapassar as bordas. As marcações duplas, ou rasuradas, com corretivo, ou marcadas diferentemente do modelo estabelecido no cartão-resposta poderão ser anuladas.
6. Sua prova tem **40** questões, com **5** alternativas.
7. Cabe apenas ao candidato a interpretação das questões, **o fiscal** não poderá fazer nenhuma interferência.
8. A prova será realizada com duração máxima de **3 (três) horas**, incluído o tempo para a realização da Prova Objetiva de múltipla escolha e o preenchimento do cartão-resposta.
9. O candidato poderá retirar-se do local de realização das provas somente **1 (uma) hora** após o seu início, sem levar o caderno de prova.
10. O candidato poderá levar o caderno de provas, assim como anotação contendo transcrição do seu cartão-resposta, somente **1h30min** (uma hora e trinta minutos) após o início da realização da prova.
11. Ao terminar a prova, o candidato deverá entregar ao fiscal de sala o cartão-resposta preenchido e **ASSINADO**.
12. Os **3 (três)** candidatos, que terminarem a prova por último, deverão permanecer na sala, e só poderão sair juntos após o fechamento do envelope, contendo os cartões-resposta dos candidatos presentes e ausentes, e assinarem no lacre do referido envelope, atestando que este foi devidamente lacrado.
13. Durante todo o tempo em que permanecer no local onde está ocorrendo o concurso, o candidato deverá, manter o celular desligado e sem bateria, só sendo permitido ligar depois de ultrapassar o portão de saída do prédio.
14. Não será permitido ao candidato fumar na sala de provas, bem como nas dependências.
15. Depois de terminar a prova e entregar ao fiscal o cartão-resposta, preenchido e assinado, não será mais permitido ao candidato o uso do banheiro e bebedouro.

**BOA PROVA!**

**CONHECIMENTOS ESPECÍFICOS**

**01. Analise os itens, considerando os principais sinais e sintomas da hanseníase:**

**I - Manchas esbranquiçadas, acastanhadas ou avermelhadas, com alterações de sensibilidade;**

**II - Pápulas, infiltrações, tubérculos e nódulos, normalmente sem sintomas;**

**III - Aumento ou crescimento de pelos, localizado ou difuso, especialmente sobrancelhas;**

**IV – Presença de sudorese no local - pele úmida.**

**Estão corretos:**

- a) Os itens I, II, III e IV.
- b) Apenas os itens II, III e IV.
- c) Apenas os itens I, II e III.
- d) Apenas os itens I e II.
- e) Apenas os itens II e IV.

**02. Analise as alternativas e assinale a que melhor conceitua desinfecção:**

- a) Processo de eliminação de micro-organismos na forma vegetativa, presentes nos artigos e objetos inanimados mediante a aplicação de agentes físicos ou químicos.
- b) Processo pelo qual os micro-organismos são mortos, para que não se possa detectá-los no meio padrão de culturas em que previamente os agentes tenham proliferado.
- c) Remoção mecânica de sujidade.
- d) Processo utilizado por meio de equipamento denominado autoclave, para tornar o material isento de toda forma viável de micro-organismos.
- e) Processo físico-químico que utiliza o gás óxido de etileno.

**03. Em relação à Política Nacional de Humanização (PNH), assinale a alternativa incorreta:**

- a) Os princípios da PNH são: transversalidade, indissociabilidade entre a atenção e a gestão dos processos de produção e saúde, autonomia e protagonismo dos sujeitos.
- b) A PNH busca pôr em prática os princípios do SUS no cotidiano dos serviços de saúde, produzindo mudanças nos modos de gerir e cuidar.
- c) O HumanizaSUS, como também é conhecida a PNH, aposta na inclusão de trabalhadores, usuários e gestores na produção e gestão do cuidado e dos processos de trabalho.
- d) Os princípios da PNH são: resolubilidade, dissociabilidade entre a atenção e a gestão dos processos de produção e saúde, autonomia e protagonismo dos sujeitos.
- e) A PNH deve se fazer presente e estar inserida em todas as políticas e programas do SUS.

**04. A vacinação de mulheres grávidas concede imunidade para futura mamãe e seu feto. Sobre a vacinação de rotina para gestantes, numere a 2ª coluna de acordo com a 1ª e, após isso, assinale a alternativa que apresenta a sequência correta, de cima para baixo:**

**1ª Coluna**

- (1) Vacina contra hepatite B
- (2) Vacina dupla do adulto – dT
- (3) Vacina triplíce bacteriana do adulto – dTpa

**2ª Coluna**

- ( ) Uma dose a partir da 27ª semana de gestação.
- ( ) Três doses, a depender da situação vacinal.
- ( ) Duas doses, a depender da situação vacinal.

- a) 1-2-3.
- b) 3-2-1.
- c) 3-1-2.
- d) 2-1-3.
- e) 2-3-1.

**05. Sobre o calendário nacional de vacinação para o ano de 2016, assinale a alternativa incorreta:**

- a) Ao nascer, aplica-se as vacinas BCG e Hepatite B.
- b) O esquema básico da vacina contra o HPV são duas doses com 6 meses de intervalo em meninas de 9 a 13 anos.
- c) A oferta da vacina contra a Hepatite B foi ampliada para toda a população, independentemente da idade e/ou condições de vulnerabilidade.
- d) A vacina contra a Febre Amarela deve ser aplicada aos 9 meses.
- e) A vacina contra a Hepatite A passa a ser aplicada aos 6 meses, podendo ser aplicada até os 15 meses.

**06. Em 2008, foram criados pelo Ministério da Saúde os Núcleos de Apoio à Saúde da Família (NASF). Sobre esses Núcleos, marque C para as afirmativas Certas, E para as Erradas e, após isso, assinale a alternativa que apresenta a sequência correta:**

Recebem a demanda por negociação, discussão compartilhada com as equipes que apoia, e por meio de encaminhamentos pessoais.

Constituem-se como apoio especializado na própria Atenção Básica, ou seja, um ambulatório de especialidades.

O NASF ajuda a aumentar a capacidade de cuidado das equipes de Atenção Básica, agrega novas ofertas de cuidado nas UBS e auxilia a articulação com outros pontos de atenção da rede.

- a) E – C – E.
- b) E – C – C.
- c) C – E – C.
- d) C – C – E.
- e) E – E – C.

**07. A amamentação deve ser estimulada até mesmo após o retorno da mãe ao trabalho.**

**I - Durante as horas de trabalho, esvaziar as mamas por meio de ordenha e guardar o leite em congelador. O leite cru (não pasteurizado) pode ser conservado em geladeira por 12 horas e, no freezer ou congelador, por 15 dias;**

**II - Uma vez descongelado, o leite deve ser aquecido em banho-maria fora do fogo. Antes de oferecê-lo à criança, ele deve ser agitado suavemente para homogeneizar a gordura;**

**III - Oferecer mamadeiras; evitar a alimentação por meio de copo e colher.**

**Está(ão) incorreto(s):**

- a) Apenas o item I.
- b) Apenas o item III.
- c) Apenas os itens I e II.
- d) Apenas os itens I e III.
- e) Os itens I, II e III.

**08. Um dos problemas enfrentados pelas nutrizes durante o aleitamento materno é o ingurgitamento mamário patológico. Nesse sentido, recomenda-se tomar as seguintes medidas, exceto a apresentada na alternativa:**

a) Ordenhar manualmente a aréola, se ela estiver tensa, antes da mamada, para que ela fique macia, facilitando, assim, a pega adequada do bebê.

b) Usar ininterruptamente sutiã com alças largas e firmes, para aliviar a dor e manter os ductos em posição anatômica.

c) Aplicar compressas mornas em intervalos regulares após ou nos intervalos das mamadas.

d) Usar analgésicos sistêmicos/ anti-inflamatórios.

e) Realizar massagens delicadas das mamas, com movimentos circulares, particularmente nas regiões mais afetadas pelo ingurgitamento.

**09. Dentre as complicações relacionadas ao cateter venoso central (intra-cath), assinale a incorreta:**

- a) Pneumotórax
- b) Hidrotórax
- c) Embolia aérea
- d) Empiema
- e) Lesão do plexo cervical

**10. Analise os itens seguintes sobre o câncer de mama:**

**I – O câncer de mama é o tipo de câncer que mais acomete as mulheres em todo o mundo;**

**II – Os homens também podem desenvolver câncer de mama;**

**III – Os principais exames utilizados para o diagnóstico ou reestadiamento do câncer de mama são: raios X, mamografia, cintilografia óssea, tomografia computadorizada, ressonância magnética, ultrassom, tomografia por emissão de pósitrons.**

**Está(ao) correto(s):**

- a) Todos os itens.
- b) Apenas o item II.
- c) Apenas o item III.
- d) Apenas os itens II e III.
- e) Apenas os itens I e III.

**LÍNGUA PORTUGUESA**



Leia o texto e responda às próximas quatro questões.

### Lêmures e baobás de Madagascar

Isolada do continente há 135 milhões de anos, a ilha do Oceano Índico é um laboratório natural da evolução das espécies e encanta os viajantes com uma flora e fauna única

**Madagascar** abriga 107 espécies de **lêmures**, dezenas de espécies de camaleões coloridos e outras tantas plantas que só existem lá. “Madagascar é um mundo a parte. Costumo dizer que, se Charles Darwin tivesse conhecido Madagascar, seu livro *A Origem das Espécies* seria dez vezes maior”, afirma o fotógrafo e jornalista **Haroldo Castro**, idealizador de Viajologia Expedições.

Uma das experiências mais emocionantes na quarta maior ilha do mundo é passear entre os gigantescos **baobás**, árvores que chegam a ter 30 metros de altura e mil anos de idade. Das nove espécies de baobás que existem no mundo, seis podem ser encontradas apenas em Madagascar. A majestosa árvore, considerada sagrada pelos malgaxes, é chamada localmente como “reniala”, mãe da floresta.

Na pequena cidade de Bekopaka está o Parque Nacional Tsingy de Bemaraha, considerado Patrimônio Mundial pela Unesco. Trilhas e passeios de canoa no rio Manambolo conduzem a formações rochosas calcárias inusitadas e plantas endêmicas desse ecossistema de florestas secas.

Outro momento inesquecível em Madagascar é o encontro com os lêmures nas florestas tropicais da reserva Anjozorobe-Angavo, a 90 quilômetros da capital Antananarivo. Especialistas apontam que o turismo de observação de animais é uma excelente alternativa para o desenvolvimento da economia local e pode ajudar a conter o desmatamento. “O projeto em Anjozorobe comprova que, nos últimos anos, os 9 mil visitantes contribuíram de forma concreta a reduzir a pobreza e a promover a conservação da biodiversidade”, afirma Haroldo. Como os primatas são curiosos e estão habituados aos seres humanos, eles costumam se aproximar dos visitantes. “Os bichinhos chegam a subir nas nossas cabeças e parecem adorar aparecer nas fotos.”

Madagascar possui hoje uma excelente estrutura para o turismo, com algumas estradas bem cuidadas e hotéis confortáveis localizados perto das reservas e parques ecológicos. A gastronomia malgaxe, com um toque francês, também surpreende pela diversidade de ingredientes, temperos e colorido dos pratos.

[...]

(Fonte: <http://viajeaquil.com.br/materias/lemures-e-baobas-de-madagascar#2>. Acesso em 14/05/2016)

### 11. Lêmures e baobás de Madagascar é um texto:

- Em que prevalece a descrição, apresentando as belezas e peculiaridades do lugar, da fauna e da flora.
- Principalmente narrativo, de fatos colhidos durante uma viagem, que se sucedem em progressão temporal.
- Essencialmente argumentativo, o uso da descrição visa somente a convencer o leitor a visitar Madagascar.
- Dissertativo, impera o desenvolvimento de argumentos para comprovar a tese presente no primeiro parágrafo.
- Em que predomina a exposição de conceitos e definições com o intuito de informar o leitor.

### 12. O teor do texto *Lêmures e baobás de Madagascar* somente não poderia se encaixar em que tópico?

- Turismo
- Viagens
- Clima
- Natureza
- Ilhas

### 13. O aposto é um termo que *explica ou esclarece, desenvolve ou resume outro termo da oração*. Quanto a isso, analise a parte grifada em cada uma das orações retiradas do texto:

**I - A majestosa árvore, considerada sagrada pelos malgaxes, é chamada localmente como “reniala”, mãe da floresta.**

**II - afirma o fotógrafo e jornalista Haroldo Castro, idealizador de Viajologia Expedições.**

**III - Outro momento inesquecível em Madagascar é o encontro com os lêmures nas florestas tropicais da reserva Anjozorobe-Angavo, a 90 quilômetros da capital Antananarivo.**

**IV - O projeto em Anjozorobe comprova que, nos últimos anos, os 9 mil visitantes contribuíram de forma concreta a reduzir a pobreza e a promover a conservação da biodiversidade”.**

**V - A gastronomia malgaxe, com um toque francês, também surpreende pela diversidade de ingredientes, temperos e colorido dos pratos.**

Constitui aposto os grifos em:

- I, II, III, IV e V.
- I, III e V, apenas.
- III e V apenas.
- I, II, III, e V, apenas.
- III, IV e V apenas

### 14. Trilhas e passeios de canoa no rio Manambolo conduzem a formações rochosas calcárias inusitadas e plantas endêmicas desse ecossistema de florestas secas.

Ao observar a relação sintática entre os termos desse período, pode-se afirmar que:



- a) de canoa é complemento nominal de Trilhas e passeios.  
 b) no rio Manambolo é adjunto adnominal de canoa.  
 c) de florestas secas é complemento nominal de plantas endêmicas.  
 d) de canoa é complemento verbal de passeios.  
 e) a formações rochosas calcárias inusitadas e plantas endêmicas desse ecossistema de florestas secas é complemento verbal de conduzem.

Leia o poema e responda às próximas duas questões.

### FOGO NA MATA, MATA!

Fogo na mata, mata! A mata, a vida...  
 Fogo na mata, abre,  
 no coração da mata,  
 Profundas feridas.

Fogo na mata corrói,  
 dentro de nós, os sonhos.  
 Fogo na mata, deixa, no seio da mata,  
 Tumores tamanhos!

[...]

(Fonte: <http://www.recantodasletras.com.br/letras/505252>. Acesso em 14/05/2016)

**15. A respeito de alguns aspectos gramaticais pertinentes aos termos em destaque na frase título do poema *Fogo na mata, mata!*, está correto o que se afirma em:**

- a) Morfologicamente, na sequência em que as duas palavras aparecem, temos um verbo e um substantivo.  
 b) Semanticamente, as duas palavras constituem homônimas homófonas homógrafas.  
 c) O processo de formação da palavra “mata” (primeira ocorrência na frase) é por derivação regressiva do verbo “matar” cuja flexão na terceira pessoa vem logo em seguida na frase.  
 d) Semanticamente, as duas palavras “mata” são parônimas.  
 e) Semanticamente, as duas palavras constituem homônimas homógrafas heterofônicas.

**16. Com a Nova Reforma Ortográfica, foi mantido o acento nas oxítonas terminadas em -ei e -oi, como é o caso de corrói em *Fogo na mata corrói*. No entanto, de acordo ainda com a Nova Reforma, os acentos foram retirados de quais duas palavras?**

- a) Bocaiuva - maiúscula  
 b) Voo, aerodromo  
 c) Releem - feiura  
 d) Papeis - linguíça  
 e) Preveem - heroi

**17. Leia atentamente as alternativas e assinale a incorreta no que diz respeito à Ortografia:**

- a) Grafamos com j as palavras ultraje, jiboia e gorjeio; com g as palavras ferrugem, geringonça, e miragem.  
 b) Grafamos com sc: miscelânea, obsceno e obsessão; com c: sucinto, facínio e nécio.  
 c) Grafamos com x: xampu, mexerico e enxada; com ch: piche, tocha e mecha.  
 d) Grafamos com z: xadrez, cicatriz e vizinho; com s: friso, pêsames e tesoura.  
 e) Grafamos com ss: escassez, submissão e sossego; com c: acetinado, obcecado e acepção.

**18. O advérbio sublinhado e a circunstância que ele expressa não estão corretamente apresentados em:**

- a) Ele certamente virá para o encontro. (afirmação)  
 b) Ali se ouvia falar de riquezas culturais. (tempo)  
 c) O orador discursou muito bem, impressionou a plateia. (modo)  
 d) Chegamos tarde, perdemos o ônibus. (tempo)  
 e) Os candidatos estudaram bastante. (intensidade)

**19. Os pronomes pessoais, representantes das pessoas do discurso, estão corretamente empregados em todas as alternativas, com exceção da:**

- a) Sempre haverá discordância entre mim e ti.  
 b) O juiz queria falar com nós dois.  
 c) Minha festa de despedida, não vou esquecê-la jamais.  
 d) Ninguém irá sem eu.  
 e) Deram o livro para eu ler em dois dias!



20. Em uma oração, o contexto permite concluirmos se certos verbos são de ligação, para assim identificarmos o predicado nominal. Assim, não há predicação nominal em:

- a) O aluno não estava na escola hoje.
- b) À tarde, as crianças pareciam cansadas.
- c) Ultimamente os participantes do programa andam desanimados.
- e) A aurora boreal é um lindo espetáculo.
- d) As atletas parecem cansadas.

#### MATEMÁTICA

21. Numa prova de hipismo, há duas modalidades totalmente distintas: salto e rural. João vai competir nas duas modalidades. Sabendo que a vitória ou a derrota em uma nada influencia no resultado da outra, e sabendo que a probabilidade de ele ganhar a prova de salto é de 40% e a de ganhar a prova de rural é de 58%, qual a probabilidade de ele ganhar as duas provas?

- a) 98%
- b) 62%
- c) 23,2%
- d) 18%
- e) 2,32%

22. Numa escola há 12 professores. A tabela a seguir mostra a carga horária diária de trabalho desses professores.

4	8	5	10	6	5	8	6	8	9	4	8
---	---	---	----	---	---	---	---	---	---	---	---

É correto afirmar que as cargas horárias média, modal e mediana desses professores são respectivamente:

- a) 6,25; 6; 7
- b) 6,5; 7; 8
- c) 6,75; 8; 6
- d) 6,75; 8; 7
- e) 6,75; 7; 8

23. Encontre a equação da reta mediatriz do segmento AB, onde A(2, 3) e B(4, -1), e assinale a alternativa correta.

- a)  $2y - x + 1 = 0$
- b)  $y - 2x + 2 = 0$
- c)  $2y - 2x + 1 = 0$
- d)  $2y + x + 2 = 0$
- e)  $2y + x - 1 = 0$

24. Uma loja acrescenta 15% no preço de seus produtos à vista se o cliente optar por pagar com um cheque para 60 dias. Comprei, nessa loja, um fogão com cheque para 60 dias e paguei R\$552,00 por ele. Qual era o preço à vista desse fogão?

- a) R\$460,00
- b) R\$469,20
- c) R\$474,50
- d) R\$480,00
- e) R\$500,00

25. Um pesquisador, ao analisar os processos que envolvem jovens com menos de 24 anos, descobriu que há 4 homens com nomes envolvidos em processos para cada mulher. Se no total ele contou 2400 pessoas, quantas eram as mulheres envolvidas nessa pesquisa?

- a) 480
- b) 600
- c) 800
- d) 1920
- e) 2000

#### INFORMÁTICA

26. Utilizando o Excel 2013, qual fórmula representa corretamente a auto soma?

- a) =SUM()
- b) =MEDIA()
- c) =MAX()
- d) =MIN()
- e) =SE()

**27. Acerca de confidencialidade está incorreto afirmar:**

- a) É um conceito em qual o acesso à informação deve ser concedido a quem de direito, ou seja, apenas para as entidades autorizadas pelo proprietário ou dono da informação.
- b) É uma propriedade que limita o acesso à informação tão somente às entidades legítimas, ou seja, àquelas autorizadas pelo proprietário da informação.
- c) É a propriedade da informação que não estará disponível ou será divulgada a indivíduos, entidades ou processos sem autorização.
- d) Significa garantir que a informação será conhecida por pessoas que não estejam autorizadas para tal.
- e) É a garantia do resguardo das informações dadas pessoalmente em confiança e proteção contra a sua revelação não autorizada.

**28. Tratando-se de hardware de computadores, assinale a alternativa que corresponde a um tipo de memória externa.**

- a) Pen Drive
- b) EPROM
- c) DIMM
- d) MRAM
- e) Cache

**29. No Word 2013, é possível utilizar vários tipos de formatação de fontes, exceto:**

- a) Tachado
- b) Negrito
- c) Centralizado
- d) Sublinhado
- e) Cor da fonte

**30. Qual software nativo do Windows utilizamos para descobrir o endereço IP do computador?**

- a) Windows Explorer
- b) Notepad
- c) Excel
- d) Word
- e) Prompt de Comando

**CONHECIMENTOS GERAIS****31. Conforme fonte do IBGE, o bioma do município de Telêmaco Borba/PR é:**

- a) Mata de Pinhais e Cerrado
- b) Pantanal
- c) Caatinga e Mata Atlântica
- d) Floresta Tropical
- e) Cerrado e Mata Atlântica

**32. A letra do hino do município de Telêmaco Borba/PR é de autoria de**

- a) Bento Mossurunga.
- b) Moíses Lupion.
- c) Eloah Martins Quadrado.
- d) Graciliana Reis D´Albuquerque Mossurunga.
- e) Enéias Augusto Moracines Borba.

**33. Leia o texto sobre o Brasão de Armas do município de Telêmaco Borba/PR e marque a alternativa correta.**

O Brasão de Armas foi aprovado em definitivo em 1981, dentro dos padrões da heráldica, estabelecendo os regulamentos para seu uso, ficando assim oficializado.

No Brasão de Armas, é possível identificar:

1. Escudo português redondo banhado de ouro filetado de prata, carregado de cinco árvores de pinho estilizadas de sua cor, postas em banda.
2. Escudete de prata carregado de três Pinheiros do Paraná, araucária angustifolia ou brasiliense.
3. No timbre, coroa mural de ouro lavrado de negro.
4. À direita, haste de milho (zae mays) frutada.
5. À sinistra, ramos de soja (gelycine soya) granada.
6. Listel amarelo ostentando o topônimo "Cidade Nova" entre as inscrições de ouro "5 de Julho de 1963", em caracteres latino moderno.

- a) Não é verdadeiro o item 1.
- b) Não é verdadeiro o item 2.
- c) Não é verdadeiro o item 4.
- d) Não é verdadeiro o item 6.



e) Não são verdadeiros os itens 3 e 5.

**34. Segundo o art. 11 da Lei Orgânica do Município de Telêmaco Borba/PR, os bens públicos podem ser:**  
**I. De uso comum do Povo, tais como estradas municipais, ruas, parques, praças, logradouros públicos e outros da mesma espécie;**  
**II. De uso especial, os de patrimônio administrativo, tais como edifícios das repartições públicas, os terrenos e equipamentos destinados ao serviço público, veículos, matadouros, mercados e outras serventias de outra espécie;**  
**III. Bens municipais, aqueles sobre os quais o município exerce os direitos de proprietário e são considerados como bens patrimoniais disponíveis;**  
**IV. Bens culturais, tais como música e obras de arte.**  
**Podemos afirmar que são verdadeiros os itens**

- a) I e II, apenas.
- b) II e III, apenas.
- c) I, II e III, apenas.
- d) I, III e IV, apenas.
- e) I, II, III e IV.

**35. Qual alternativa completa corretamente o texto a seguir?**

**No primeiro ano de cada legislatura, no dia 1º de janeiro, em sessão de instalação, independente de número, sob a presidência do vereador mais idoso dentre os eleitos, os vereadores prestarão compromisso e tomarão posse. O Vereador que não tomar posse na sessão do dia 1º de janeiro poderá fazê-la \_\_\_\_\_ depois da primeira sessão ordinária da Legislatura.**

- a) até dez dias
- b) até quinze dias
- c) até trinta dias
- d) até quarenta e cinco dias
- e) até sessenta dias

**36. Conforme o art. 54 da Lei Orgânica do Município de Telêmaco Borba/PR, o Processo Legislativo compreende a elaboração de:**

- I. Emendas à Lei Orgânica do Município;**
- II. Leis complementares;**
- III. Leis Ordinárias;**
- IV. Decretos Legislativos;**
- V. Resoluções;**
- VI. Pareceres.**

**Assinale a alternativa que faz a afirmação correta.**

- a) São verdadeiros apenas os itens I, III e VI.
- b) São verdadeiros apenas os itens I, III e IV.
- c) São verdadeiros apenas os itens III, IV e V.
- d) São verdadeiros apenas os itens I, II, III, IV e V.
- e) São verdadeiros os itens I, II, III, IV, V e VI.

**Com base na Lei nº 1883/2012, que dispõe sobre o Estatuto dos Servidores Públicos da Administração Direta, Autárquica e Funcional do Município de Telêmaco Borba/PR, responda às próximas quatro questões.**

**37. À luz do § 2º do art. 9º da Lei nº 1883/2012, marque a alternativa que completa a lacuna do texto a seguir.**

**O concurso deverá ser homologado no prazo máximo de \_\_\_\_\_ contados da data de realização da última fase de provas, sob pena de responsabilidade da autoridade competente.**

- a) um mês
- b) dois meses
- c) seis meses
- d) um ano
- e) dois anos

**38. Marque a alternativa que completa a lacuna do texto a seguir.**

**O candidato terá o prazo \_\_\_\_\_, a contar da publicação oficial da convocação, para comparecer à entidade convocante e assinar termo de comparecimento.**

- a) máximo de 5 dias úteis
- b) mínimo de 15 dias úteis
- c) de até 30 dias
- d) máximo de 15 dias úteis



e) mínimo de 5 dias úteis

**39. Leia as assertivas e marque a correta.**

- a) São reservados 10% dos cargos em comissão para a nomeação de servidores do quadro efetivo.
- b) São reservados 15% dos cargos em comissão para a nomeação de servidores do quadro efetivo.
- c) São reservados 20% dos cargos em comissão para a nomeação de servidores do quadro efetivo.
- d) São reservados 25% dos cargos em comissão para a nomeação de servidores do quadro efetivo.
- e) São reservados 30% dos cargos em comissão para a nomeação de servidores do quadro efetivo.

**40. Marque a alternativa que completa a lacuna do texto a seguir.**

**O servidor municipal, quando nomeado para cargo em comissão, ficará afastado de seu cargo efetivo e fará jus à remuneração prevista em lei para o comissionado, podendo optar por receber seus vencimentos acrescidos de \_\_\_\_\_ do valor da remuneração prevista para o cargo em comissão.**

- a) 10%
- b) 20%
- c) 30%
- d) 40%
- e) 50%

**RASCUNHO**





PREFEITURA DE TELÊMACO BORBA - ESTADO DO PARANÁ - EDITAL Nº 001-2016 - CONCURSO PÚBLICO

**MATUTINO – 29/05/2016 – NÍVEL MÉDIO**

PROVA OBJETIVA NÚMERO

**1**

**CARGO: TMNM I - INFORMÁTICA**

**Leia atentamente as INSTRUÇÕES:**

1. Confira seus dados no cartão-resposta: nome, número de inscrição e o curso para o qual se inscreveu.
2. **MARQUE no seu cartão-resposta o número da sua prova** (não será corrigido o cartão-resposta que não tiver marcado o número da prova) e **Assine** seu cartão-resposta.
3. Aguarde a autorização do Fiscal para abrir o caderno de prova. Ao receber a ordem do fiscal, confira o caderno de prova com muita atenção. Nenhuma reclamação sobre o total de questões ou falha de impressão será aceita depois de iniciada a prova.
4. O cartão-resposta não será substituído, salvo se contiver erro de impressão.
5. Preencha toda a área do cartão-resposta correspondente à alternativa de sua escolha, com caneta esferográfica (tinta azul ou preta), sem ultrapassar as bordas. As marcações duplas, ou rasuradas, com corretivo, ou marcadas diferentemente do modelo estabelecido no cartão-resposta poderão ser anuladas.
6. Sua prova tem **40** questões, com **5** alternativas.
7. Cabe apenas ao candidato a interpretação das questões, **o fiscal** não poderá fazer nenhuma interferência.
8. A prova será realizada com duração máxima de **3 (três) horas**, incluído o tempo para a realização da Prova Objetiva de múltipla escolha e o preenchimento do cartão-resposta.
9. O candidato poderá retirar-se do local de realização das provas somente **1 (uma) hora** após o seu início, sem levar o caderno de prova.
10. O candidato poderá levar o caderno de provas, assim como anotação contendo transcrição do seu cartão-resposta, somente **1h30min** (uma hora e trinta minutos) após o início da realização da prova.
11. Ao terminar a prova, o candidato deverá entregar ao fiscal de sala o cartão-resposta preenchido e **ASSINADO**.
12. Os **3 (três)** candidatos, que terminarem a prova por último, deverão permanecer na sala, e só poderão sair juntos após o fechamento do envelope, contendo os cartões-resposta dos candidatos presentes e ausentes, e assinarem no lacre do referido envelope, atestando que este foi devidamente lacrado.
13. Durante todo o tempo em que permanecer no local onde está ocorrendo o concurso, o candidato deverá, manter o celular desligado e sem bateria, só sendo permitido ligar depois de ultrapassar o portão de saída do prédio.
14. Não será permitido ao candidato fumar na sala de provas, bem como nas dependências.
15. Depois de terminar a prova e entregar ao fiscal o cartão-resposta, preenchido e assinado, não será mais permitido ao candidato o uso do banheiro e bebedouro.

**BOA PROVA!**



## LÍNGUA PORTUGUESA

Leia o texto e responda às próximas quatro questões.

### Lêmures e baobás de Madagascar

Isolada do continente há 135 milhões de anos, a ilha do Oceano Índico é um laboratório natural da evolução das espécies e encanta os viajantes com uma flora e fauna única

**Madagascar** abriga 107 espécies de **lêmures**, dezenas de espécies de camaleões coloridos e outras tantas plantas que só existem lá. “Madagascar é um mundo a parte. Costumo dizer que, se Charles Darwin tivesse conhecido Madagascar, seu livro *A Origem das Espécies* seria dez vezes maior”, afirma o fotógrafo e jornalista **Haroldo Castro**, idealizador de Viajologia Expedições.

Uma das experiências mais emocionantes na quarta maior ilha do mundo é passear entre os gigantescos **baobás**, árvores que chegam a ter 30 metros de altura e mil anos de idade. Das nove espécies de baobás que existem no mundo, seis podem ser encontradas apenas em Madagascar. A majestosa árvore, considerada sagrada pelos malgaxes, é chamada localmente como “reniala”, mãe da floresta.

Na pequena cidade de Bekopaka está o Parque Nacional Tsingy de Bemaraha, considerado Patrimônio Mundial pela Unesco. Trilhas e passeios de canoa no rio Manambolo conduzem a formações rochosas calcárias inusitadas e plantas endêmicas desse ecossistema de florestas secas.

Outro momento inesquecível em Madagascar é o encontro com os lêmures nas florestas tropicais da reserva Anjozorobe-Angavo, a 90 quilômetros da capital Antananarivo. Especialistas apontam que o turismo de observação de animais é uma excelente alternativa para o desenvolvimento da economia local e pode ajudar a conter o desmatamento. “O projeto em Anjozorobe comprova que, nos últimos anos, os 9 mil visitantes contribuíram de forma concreta a reduzir a pobreza e a promover a conservação da biodiversidade”, afirma Haroldo. Como os primatas são curiosos e estão habituados aos seres humanos, eles costumam se aproximar dos visitantes. “Os bichinhos chegam a subir nas nossas cabeças e parecem adorar aparecer nas fotos.”

Madagascar possui hoje uma excelente estrutura para o turismo, com algumas estradas bem cuidadas e hotéis confortáveis localizados perto das reservas e parques ecológicos. A gastronomia malgaxe, com um toque francês, também surpreende pela diversidade de ingredientes, temperos e colorido dos pratos.

[...]

(Fonte: <http://viajeaqu.abril.com.br/materias/lemures-e-baobas-de-madagascar#2>. Acesso em 14/05/2016)

#### 01. *Lêmures e baobás de Madagascar* é um texto:

- Em que prevalece a descrição, apresentando as belezas e peculiaridades do lugar, da fauna e da flora.
- Principalmente narrativo, de fatos colhidos durante uma viagem, que se sucedem em progressão temporal.
- Essencialmente argumentativo, o uso da descrição visa somente a convencer o leitor a visitar Madagascar.
- Dissertativo, impera o desenvolvimento de argumentos para comprovar a tese presente no primeiro parágrafo.
- Em que predomina a exposição de conceitos e definições com o intuito de informar o leitor.

#### 02. O teor do texto *Lêmures e baobás de Madagascar* somente não poderia se encaixar em que tópico?

- Turismo
- Viagens
- Clima
- Natureza
- Ilhas

#### 03. O aposto é um termo que *explica ou esclarece, desenvolve ou resume outro termo da oração*. Quanto a isso, analise a parte grifada em cada uma das orações retiradas do texto:

I - *A majestosa árvore, considerada sagrada pelos malgaxes, é chamada localmente como “reniala”, mãe da floresta.*

II - *afirma o fotógrafo e jornalista Haroldo Castro, idealizador de Viajologia Expedições.*

III - *Outro momento inesquecível em Madagascar é o encontro com os lêmures nas florestas tropicais da reserva Anjozorobe-Angavo, a 90 quilômetros da capital Antananarivo.*

**IV - O projeto em Anjzorobe comprova que, nos últimos anos, os 9 mil visitantes contribuíram de forma concreta a reduzir a pobreza e a promover a conservação da biodiversidade”.**

**V - A gastronomia malgaxe, com um toque francês, também surpreende pela diversidade de ingredientes, temperos e colorido dos pratos.**

**Constitui aposto os grifos em:**

- a) I, II, III, IV e V.
- b) I, III e V, apenas.
- c) III e V apenas.
- d) I, II, III, e V, apenas.
- e) III, IV e V apenas

**04. Trilhas e passeios de canoa no rio Manambolo conduzem a formações rochosas calcárias inusitadas e plantas endêmicas desse ecossistema de florestas secas.**

**Ao observar a relação sintática entre os termos desse período, pode-se afirmar que:**

- a) de canoa é complemento nominal de Trilhas e passeios.
- b) no rio Manambolo é adjunto adnominal de canoas.
- c) de florestas secas é complemento nominal de plantas endêmicas.
- d) de canoa é complemento verbal de passeios.
- e) a formações rochosas calcárias inusitadas e plantas endêmicas desse ecossistema de florestas secas é complemento verbal de conduzem.

**Leia o poema e responda às próximas duas questões.**

#### **FOGO NA MATA, MATA!**

Fogo na mata, mata! A mata, a vida...  
Fogo na mata, abre,  
no coração da mata,  
Profundas feridas.

Fogo na mata corrói,  
dentro de nós, os sonhos.  
Fogo na mata, deixa, no seio da mata,  
Tumores tamanhos!

[...]

(Fonte: <http://www.recantodasletras.com.br/letras/505252>. Acesso em 14/05/2016)

**05. A respeito de alguns aspectos gramaticais pertinentes aos termos em destaque na frase título do poema Fogo na mata, mata!, está correto o que se afirma em:**

- a) Morfologicamente, na sequência em que as duas palavras aparecem, temos um verbo e um substantivo.
- b) Semanticamente, as duas palavras constituem homônimas homófonas homográficas.
- c) O processo de formação da palavra “mata” (primeira ocorrência na frase) é por derivação regressiva do verbo “matar” cuja flexão na terceira pessoa vem logo em seguida na frase.
- d) Semanticamente, as duas palavras “mata” são parônimas.
- e) Semanticamente, as duas palavras constituem homônimas homógrafas heterofônicas.

**06. Com a Nova Reforma Ortográfica, foi mantido o acento nas oxítonas terminadas em -ei e -oi, como é o caso de corrói em Fogo na mata corrói. No entanto, de acordo ainda com a Nova Reforma, os acentos foram retirados de quais duas palavras?**

- a) Bocaiuva - maiúscula
- b) Voo, aerodromo
- c) Releem - feiura
- d) Papeis - linguíça
- e) Preveem - heroi

**07. Leia atentamente as alternativas e assinale a incorreta no que diz respeito à Ortografia:**

- a) Grafamos com j as palavras ultraje, jiboia e gorjeio; com g as palavras ferrugem, geringonça, e miragem.
- b) Grafamos com sc: miscelânea, obsceno e obscessão; com c: sucinto, facínio e nécio.
- c) Grafamos com x: xampu, mexerico e enxada; com ch: piche, tocha e mecha.
- d) Grafamos com z: xadrez, cicatriz e vizinho; com s: friso, pêsames e tesoura.
- e) Grafamos com ss: escassez, submissão e sossego; com c: acetinado, obcecado e acepção.



**08. O advérbio sublinhado e a circunstância que ele expressa não estão corretamente apresentados em:**

- a) Ele certamente virá para o encontro. (afirmação)
- b) Ali se ouvia falar de riquezas culturais. (tempo)
- c) O orador discursou muito bem, impressionou a plateia. (modo)
- d) Chegamos tarde, perdemos o ônibus. (tempo)
- e) Os candidatos estudaram bastante. (intensidade)

**09. Os pronomes pessoais, representantes das pessoas do discurso, estão corretamente empregados em todas as alternativas, com exceção da:**

- a) Sempre haverá discordância entre mim e ti.
- b) O juiz queria falar com nós dois.
- c) Minha festa de despedida, não vou esquecê-la jamais.
- d) Ninguém irá sem eu.
- e) Deram o livro para eu ler em dois dias!

**10. Em uma oração, o contexto permite concluirmos se certos verbos são de ligação, para assim identificarmos o predicado nominal. Assim, não há predicção nominal em:**

- a) O aluno não estava na escola hoje.
- b) À tarde, as crianças pareciam cansadas.
- c) Ultimamente os participantes do programa andam desanimados.
- e) A aurora boreal é um lindo espetáculo.
- d) As atletas parecem cansadas.

### MATEMÁTICA

**11. Numa prova de hipismo, há duas modalidades totalmente distintas: salto e rural. João vai competir nas duas modalidades. Sabendo que a vitória ou a derrota em uma nada influencia no resultado da outra, e sabendo que a probabilidade de ele ganhar a prova de salto é de 40% e a de ganhar a prova de rural é de 58%, qual a probabilidade de ele ganhar as duas provas?**

- a) 98%
- b) 62%
- c) 23,2%
- d) 18%
- e) 2,32%

**12. Numa escola há 12 professores. A tabela a seguir mostra a carga horária diária de trabalho desses professores.**

4	8	5	10	6	5	8	6	8	9	4	8
---	---	---	----	---	---	---	---	---	---	---	---

**É correto afirmar que as cargas horárias média, modal e mediana desses professores são respectivamente:**

- a) 6,25; 6; 7
- b) 6,5; 7; 8
- c) 6,75; 8; 6
- d) 6,75; 8; 7
- e) 6,75; 7; 8

**13. Encontre a equação da reta mediatriz do segmento AB, onde A(2, 3) e B(4, -1), e assinale a alternativa correta.**

- a)  $2y - x + 1 = 0$
- b)  $y - 2x + 2 = 0$
- c)  $2y - 2x + 1 = 0$
- d)  $2y + x + 2 = 0$
- e)  $2y + x - 1 = 0$

**14. Uma loja acrescenta 15% no preço de seus produtos à vista se o cliente optar por pagar com um cheque para 60 dias. Comprei, nessa loja, um fogão com cheque para 60 dias e paguei R\$552,00 por ele. Qual era o preço à vista desse fogão?**

- a) R\$460,00
- b) R\$469,20
- c) R\$474,50
- d) R\$480,00
- e) R\$500,00

**15. Um pesquisador, ao analisar os processos que envolvem jovens com menos de 24 anos, descobriu que há 4 homens com nomes envolvidos em processos para cada mulher. Se no total ele contou 2400 pessoas, quantas eram as mulheres envolvidas nessa pesquisa?**

- a) 480
- b) 600
- c) 800
- d) 1920
- e) 2000

#### **INFORMÁTICA**

**16. Utilizando o Excel 2013, qual fórmula representa corretamente a auto soma?**

- a) =SUM()
- b) =MEDIA()
- c) =MAX()
- d) =MIN()
- e) =SE()

**17. Acerca de confidencialidade está incorreto afirmar:**

- a) É um conceito no qual o acesso à informação deve ser concedido a quem de direito, ou seja, apenas para as entidades autorizadas pelo proprietário ou dono da informação.
- b) É uma propriedade que limita o acesso à informação tão somente às entidades legítimas, ou seja, àquelas autorizadas pelo proprietário da informação.
- c) É a propriedade da informação que não estará disponível ou será divulgada a indivíduos, entidades ou processos sem autorização.
- d) Significa garantir que a informação será conhecida por pessoas que não estejam autorizadas para tal.
- e) É a garantia do resguardo das informações dadas pessoalmente em confiança e proteção contra a sua revelação não autorizada.

**18. Tratando-se de hardware de computadores, assinale a alternativa que corresponde a um tipo de memória externa.**

- a) Pen Drive
- b) EPROM
- c) DIMM
- d) MRAM
- e) Cache

**19. No Word 2013, é possível utilizar vários tipos de formatação de fontes, exceto:**

- a) Tachado
- b) Negrito
- c) Centralizado
- d) Sublinhado
- e) Cor da fonte

**20. Qual software nativo do Windows utilizamos para descobrir o endereço IP do computador?**

- a) Windows Explorer
- b) Notepad
- c) Excel
- d) Word
- e) Prompt de Comando

#### **CONHECIMENTOS GERAIS**

**21. Conforme fonte do IBGE, o bioma do município de Telêmaco Borba/PR é:**

- a) Mata de Pinhais e Cerrado
- b) Pantanal
- c) Caatinga e Mata Atlântica
- d) Floresta Tropical
- e) Cerrado e Mata Atlântica

**22. A letra do hino do município de Telêmaco Borba/PR é de autoria de**

- a) Bento Mossurunga.
- b) Moíses Lupion.
- c) Eloah Martins Quadrado.
- d) Graciliana Reis D´Albuquerque Mossurunga.
- e) Enéias Augusto Moracines Borba.



**23. Leia o texto sobre o Brasão de Armas do município de Telêmaco Borba/PR e marque a alternativa correta.**

O Brasão de Armas foi aprovado em definitivo em 1981, dentro dos padrões da heráldica, estabelecendo os regulamentos para seu uso, ficando assim oficializado.

No Brasão de Armas, é possível identificar:

1. Escudo português redondo banhado de ouro filetado de prata, carregado de cinco árvores de pinho estilizadas de sua cor, postas em banda.
  2. Escudete de prata carregado de três Pinheiros do Paraná, araucária angustifolia ou brasiliense.
  3. No timbre, coroa mural de ouro lavrado de negro.
  4. À direita, haste de milho (zae mays) frutada.
  5. À sinistra, ramos de soja (gelycine soya) granada.
  6. Listel amarelo ostentando o topônimo "Cidade Nova" entre as inscrições de ouro "5 de Julho de 1963", em caracteres latino moderno.
- a) Não é verdadeiro o item 1.
  - b) Não é verdadeiro o item 2.
  - c) Não é verdadeiro o item 4.
  - d) Não é verdadeiro o item 6.
  - e) Não são verdadeiros os itens 3 e 5.

**24. Segundo o art. 11 da Lei Orgânica do Município de Telêmaco Borba/PR, os bens públicos podem ser:**

**I. De uso comum do Povo, tais como estradas municipais, ruas, parques, praças, logradouros públicos e outros da mesma espécie;**

**II. De uso especial, os de patrimônio administrativo, tais como edifícios das repartições públicas, os terrenos e equipamentos destinados ao serviço público, veículos, matadouros, mercados e outras serventias de outra espécie;**

**III. Bens municipais, aqueles sobre os quais o município exerce os direitos de proprietário e são considerados como bens patrimoniais disponíveis;**

**IV. Bens culturais, tais como música e obras de arte.**

Podemos afirmar que são verdadeiros os itens

- a) I e II, apenas.
- b) II e III, apenas.
- c) I, II e III, apenas.
- d) I, III e IV, apenas.
- e) I, II, III e IV.

**25. Qual alternativa completa corretamente o texto a seguir?**

No primeiro ano de cada legislatura, no dia 1º de janeiro, em sessão de instalação, independente de número, sob a presidência do vereador mais idoso dentre os eleitos, os vereadores prestarão compromisso e tomarão posse. O Vereador que não tomar posse na sessão do dia 1º de janeiro poderá fazê-la \_\_\_\_\_ depois da primeira sessão ordinária da Legislatura.

- a) até dez dias
- b) até quinze dias
- c) até trinta dias
- d) até quarenta e cinco dias
- e) até sessenta dias

**26. Conforme o art. 54 da Lei Orgânica do Município de Telêmaco Borba/PR, o Processo Legislativo compreende a elaboração de:**

**I. Emendas à Lei Orgânica do Município;**

**II. Leis complementares;**

**III. Leis Ordinárias;**

**IV. Decretos Legislativos;**

**V. Resoluções;**

**VI. Pareceres.**

Assinale a alternativa que faz a afirmação correta.

- a) São verdadeiros apenas os itens I, III e VI.
- b) São verdadeiros apenas os itens I, III e IV.
- c) São verdadeiros apenas os itens III, IV e V.
- d) São verdadeiros apenas os itens I, II, III, IV e V.
- e) São verdadeiros os itens I, II, III, IV, V e VI.

Com base na Lei nº 1883/2012, que dispõe sobre o Estatuto dos Servidores Públicos da Administração Direta, Autárquica e Funcional do Município de Telêmaco Borba/PR, responda às próximas quatro questões.





27. À luz do § 2º do art. 9º da Lei nº 1883/2012, marque a alternativa que completa a lacuna do texto a seguir.

O concurso deverá ser homologado no prazo máximo de \_\_\_\_\_ contados da data de realização da última fase de provas, sob pena de responsabilidade da autoridade competente.

- a) um mês
- b) dois meses
- c) seis meses
- d) um ano
- e) dois anos

28. Marque a alternativa que completa a lacuna do texto a seguir.

O candidato terá o prazo \_\_\_\_\_, a contar da publicação oficial da convocação, para comparecer à entidade convocante e assinar termo de comparecimento.

- a) máximo de 5 dias úteis
- b) mínimo de 15 dias úteis
- c) de até 30 dias
- d) máximo de 15 dias úteis
- e) mínimo de 5 dias úteis

29. Leia as assertivas e marque a correta.

- a) São reservados 10% dos cargos em comissão para a nomeação de servidores do quadro efetivo.
- b) São reservados 15% dos cargos em comissão para a nomeação de servidores do quadro efetivo.
- c) São reservados 20% dos cargos em comissão para a nomeação de servidores do quadro efetivo.
- d) São reservados 25% dos cargos em comissão para a nomeação de servidores do quadro efetivo.
- e) São reservados 30% dos cargos em comissão para a nomeação de servidores do quadro efetivo.

30. Marque a alternativa que completa a lacuna do texto a seguir.

O servidor municipal, quando nomeado para cargo em comissão, ficará afastado de seu cargo efetivo e fará jus à remuneração prevista em lei para o comissionado, podendo optar por receber seus vencimentos acrescidos de \_\_\_\_\_ do valor da remuneração prevista para o cargo em comissão.

- a) 10%
- b) 20%
- c) 30%
- d) 40%
- e) 50%

### CONHECIMENTOS ESPECÍFICOS

31. No Microsoft Word 2007 e/ou versões superiores, o recurso Tachado duplo está disponível em:

- a) Ferramentas de Formatação de Parágrafo
- b) Ferramentas de Formatação de Tabela
- c) Ferramentas de Formatação de Fonte
- d) Ferramentas de Formatação de Correspondência
- e) Ferramentas de Formatação de Estilo

32. No Microsoft Word 2007 e/ou versões superiores, a combinação de teclas CTRL + ALT + V tem a finalidade de abrir a janela:

- a) Colar texto ou objeto
- b) Colar somente objeto
- c) Colar palavras
- d) Colar somente formatação
- e) Colar especial

33. Cabeçalhos e rodapés são áreas que normalmente recebem numerações ou informações que serão repetidas em TODAS as páginas de um documento do Microsoft Word, exceto se for aplicada e configurada uma:

- a) Quebra de cabeçalho e rodapé.
- b) Quebra de seção.
- c) Quebra de formatação.
- d) Quebra de numeração.
- e) Quebra de página.

34. Ao editar um documento no Microsoft Word 2010, pode ser que tenha uma imagem ou gráfico grande que não se encaixe muito bem na folha em pé, na vertical ou em retrato. Então, o ideal seria virar a folha



**para que a imagem ou gráfico se encaixe bem. É possível executar tal ação através da sequência apresentada na alternativa:**

- a) Guia Layout – Margens - Configurar orientação do papel
- b) Guia Configuração de página – Papel - Orientação do papel
- c) Guia Configuração de página – Papel - Layout da página
- d) Guia Layout da página – Configurar página – Margens - Orientação
- e) Guia Configuração de página – Layout – Papel - Orientação

**35. No Microsoft Word 2010, a fórmula  $\text{=SUM(ABOVE)}$  é um recurso que permite:**

- a) Realizar a soma de dois ou mais valores digitados em um documento Word.
- b) Realizar a soma de dois ou mais valores digitados especificamente em uma tabela inserida no documento Word.
- c) Realizar a soma de todas as palavras digitadas em um documento Word, para contar palavras.
- d) Realizar a soma de todas as palavras digitadas e selecionadas em um documento Word, para contar palavras.
- e) Realizar a soma de todos os caracteres digitados em um documento Word, para contar caracteres.

**36. Para garantir que a escrita de um documento oficial esteja gramaticalmente correta, é necessário fazer uma revisão no documento antes de publicá-lo. A ferramenta para correção ortográfica e gramática do Microsoft Word 2013 está disponível:**

- a) Na guia Revisão, no grupo Revisão de texto.
- b) Na guia Inicial, no grupo Painel de Revisão.
- c) Na guia Exibição, no grupo Ortografia e Gramática.
- d) Na guia Inicial, no grupo Ortografia e Gramática.
- e) Na guia Revisão, no grupo Controle.

**37. O Microsoft Excel 2007 e/ou versões superiores possui uma função que é capaz de localizar coisas em linhas de uma tabela ou de um intervalo. Por exemplo, procurar pelo sobrenome de uma funcionária por seu número de identificação ou encontrar seu telefone pesquisando seu sobrenome (como um catálogo de telefone). Assinale a alternativa que apresente o nome dessa função:**

- a) Função VERIF
- b) Função CORRESP
- c) Função ESCOLHER
- d) Função PROC
- e) Função PROCV

**38. No Microsoft Excel 2010, é possível a filtragem de informações em uma planilha, que possibilita encontrar valores rapidamente. Analise as opções seguintes e, na sequência, assinale a alternativa correta:**

**I - Você pode filtrar uma ou mais colunas de dados.**

**II - Com a filtragem, é possível controlar não apenas o que ver, mas também o que excluir.**

**III - Você pode filtrar com base nas opções escolhidas em uma lista, ou criar filtros específicos focados exatamente nos dados desejados.**

- a) Apenas as opções I e II estão corretas.
- b) Apenas as opções I e III estão corretas.
- c) Apenas as opções II e III estão corretas.
- d) Apenas a opção II está correta.
- e) As opções I, II e III estão corretas.

**39. No Microsoft Excel 2007 e/ou versões superiores, além de aplicar um estilo predefinido de gráfico, você pode facilmente aplicar formatação a elementos individuais do gráfico, como marcadores de dados, área do gráfico, área de plotagem, números e texto nos títulos e rótulos para dar ao gráfico uma aparência atraente. As alternativas abaixo apresentam opções de formatação, exceto:**

- a) Preencher elementos do gráfico: você pode utilizar preenchimentos com cores, texturas, imagens e gradientes para chamar a atenção para elementos específicos do gráfico.
- b) Alterar a estrutura dos elementos do gráfico: você pode utilizar cores, estilos de linha e espessuras de linha para enfatizar os elementos do gráfico.
- c) Adicionar um layout: você pode aplicar efeitos especiais, inserir e aplicar estilos de SmartArt.
- d) Adicionar efeitos especiais aos elementos do gráfico: você pode aplicar efeitos especiais, como sombra, reflexo, brilho, bordas suaves, bisel e rotação 3D, às formas do gráfico, proporcionando uma aparência completa.
- e) Formatar texto e números: você pode formatar texto e números em títulos, rótulos e caixas de texto em um gráfico como faria com textos e números em uma planilha. Para destacar textos e números, é possível até mesmo aplicar estilos de WordArt.

**40. O Windows 7 possui uma área de armazenamento temporário de informações que você copiou ou moveu de um lugar e planeja usar em algum outro lugar. Você pode selecionar texto ou elementos gráficos**



**e, em seguida, usar os comandos Recortar ou Copiar para mover sua seleção para este local, onde ela será armazenada até que você use o comando Colar para inseri-la em algum outro lugar. Este local é denominado:**

- a) Área de Hiperlink
- b) Área de SmartArt
- c) Área de trabalho
- d) Área de transferência
- e) Área de arquivo

**RASCUNHO**



PREFEITURA DE TELÊMACO BORBA - ESTADO DO PARANÁ - EDITAL Nº 001-2016 - CONCURSO PÚBLICO

MATUTINO – 29/05/2016 – NÍVEL MÉDIO

**2**

PROVA OBJETIVA NÚMERO

CARGO: TMNM I - INFORMÁTICA

Leia atentamente as INSTRUÇÕES:

1. Confira seus dados no cartão-resposta: nome, número de inscrição e o curso para o qual se inscreveu.
2. **MARQUE no seu cartão-resposta o número da sua prova** (não será corrigido o cartão-resposta que não tiver marcado o número da prova) e **Assine** seu cartão-resposta.
3. Aguarde a autorização do Fiscal para abrir o caderno de prova. Ao receber a ordem do fiscal, confira o caderno de prova com muita atenção. Nenhuma reclamação sobre o total de questões ou falha de impressão será aceita depois de iniciada a prova.
4. O cartão-resposta não será substituído, salvo se contiver erro de impressão.
5. Preencha toda a área do cartão-resposta correspondente à alternativa de sua escolha, com caneta esferográfica (tinta azul ou preta), sem ultrapassar as bordas. As marcações duplas, ou rasuradas, com corretivo, ou marcadas diferentemente do modelo estabelecido no cartão-resposta poderão ser anuladas.
6. Sua prova tem **40** questões, com **5** alternativas.
7. Cabe apenas ao candidato a interpretação das questões, **o fiscal** não poderá fazer nenhuma interferência.
8. A prova será realizada com duração máxima de **3 (três) horas**, incluído o tempo para a realização da Prova Objetiva de múltipla escolha e o preenchimento do cartão-resposta.
9. O candidato poderá retirar-se do local de realização das provas somente **1 (uma) hora** após o seu início, sem levar o caderno de prova.
10. O candidato poderá levar o caderno de provas, assim como anotação contendo transcrição do seu cartão-resposta, somente **1h30min** (uma hora e trinta minutos) após o início da realização da prova.
11. Ao terminar a prova, o candidato deverá entregar ao fiscal de sala o cartão-resposta preenchido e **ASSINADO**.
12. Os **3 (três)** candidatos, que terminarem a prova por último, deverão permanecer na sala, e só poderão sair juntos após o fechamento do envelope, contendo os cartões-resposta dos candidatos presentes e ausentes, e assinarem no lacre do referido envelope, atestando que este foi devidamente lacrado.
13. Durante todo o tempo em que permanecer no local onde está ocorrendo o concurso, o candidato deverá, manter o celular desligado e sem bateria, só sendo permitido ligar depois de ultrapassar o portão de saída do prédio.
14. Não será permitido ao candidato fumar na sala de provas, bem como nas dependências.
15. Depois de terminar a prova e entregar ao fiscal o cartão-resposta, preenchido e assinado, não será mais permitido ao candidato o uso do banheiro e bebedouro.

**BOA PROVA!**

**MATEMÁTICA**

**01.** Numa prova de hipismo, há duas modalidades totalmente distintas: salto e rural. João vai competir nas duas modalidades. Sabendo que a vitória ou a derrota em uma nada influencia no resultado da outra, e sabendo que a probabilidade de ele ganhar a prova de salto é de 40% e a de ganhar a prova de rural é de 58%, qual a probabilidade de ele ganhar as duas provas?

- a) 98%
- b) 62%
- c) 23,2%
- d) 18%
- e) 2,32%

**02.** Numa escola há 12 professores. A tabela a seguir mostra a carga horária diária de trabalho desses professores.

4	8	5	10	6	5	8	6	8	9	4	8
---	---	---	----	---	---	---	---	---	---	---	---

É correto afirmar que as cargas horárias média, modal e mediana desses professores são respectivamente:

- a) 6,25; 6; 7
- b) 6,5; 7; 8
- c) 6,75; 8; 6
- d) 6,75; 8; 7
- e) 6,75; 7; 8

**03.** Encontre a equação da reta mediatriz do segmento AB, onde A(2, 3) e B(4, -1), e assinale a alternativa correta.

- a)  $2y - x + 1 = 0$
- b)  $y - 2x + 2 = 0$
- c)  $2y - 2x + 1 = 0$
- d)  $2y + x + 2 = 0$
- e)  $2y + x - 1 = 0$

**04.** Uma loja acrescenta 15% no preço de seus produtos à vista se o cliente optar por pagar com um cheque para 60 dias. Comprei, nessa loja, um fogão com cheque para 60 dias e paguei R\$552,00 por ele. Qual era o preço à vista desse fogão?

- a) R\$460,00
- b) R\$469,20
- c) R\$474,50
- d) R\$480,00
- e) R\$500,00

**05.** Um pesquisador, ao analisar os processos que envolvem jovens com menos de 24 anos, descobriu que há 4 homens com nomes envolvidos em processos para cada mulher. Se no total ele contou 2400 pessoas, quantas eram as mulheres envolvidas nessa pesquisa?

- a) 480
- b) 600
- c) 800
- d) 1920
- e) 2000

**INFORMÁTICA**

**06.** Utilizando o Excel 2013, qual fórmula representa corretamente a auto soma?

- a) =SUM()
- b) =MEDIA()
- c) =MAX()
- d) =MIN()
- e) =SE()

**07.** Acerca de confidencialidade está incorreto afirmar:

- a) É um conceito no qual o acesso à informação deve ser concedido a quem de direito, ou seja, apenas para as entidades autorizadas pelo proprietário ou dono da informação.
- b) É uma propriedade que limita o acesso à informação tão somente às entidades legítimas, ou seja, àquelas autorizadas pelo proprietário da informação.
- c) É a propriedade da informação que não estará disponível ou será divulgada a indivíduos, entidades ou processos sem autorização.
- d) Significa garantir que a informação será conhecida por pessoas que não estejam autorizadas para tal.



e) É a garantia do resguardo das informações dadas pessoalmente em confiança e proteção contra a sua revelação não autorizada.

**08. Tratando-se de hardware de computadores, assinale a alternativa que corresponde a um tipo de memória externa.**

- a) Pen Drive
- b) EPROM
- c) DIMM
- d) MRAM
- e) Cache

**09. No Word 2013, é possível utilizar vários tipos de formatação de fontes, exceto:**

- a) Tachado
- b) Negrito
- c) Centralizado
- d) Sublinhado
- e) Cor da fonte

**10. Qual software nativo do Windows utilizamos para descobrir o endereço IP do computador?**

- a) Windows Explorer
- b) Notepad
- c) Excel
- d) Word
- e) Prompt de Comando

#### **CONHECIMENTOS GERAIS**

**11. Conforme fonte do IBGE, o bioma do município de Telêmaco Borba/PR é:**

- a) Mata de Pinhais e Cerrado
- b) Pantanal
- c) Caatinga e Mata Atlântica
- d) Floresta Tropical
- e) Cerrado e Mata Atlântica

**12. A letra do hino do município de Telêmaco Borba/PR é de autoria de**

- a) Bento Mossurunga.
- b) Moisés Lupion.
- c) Eloah Martins Quadrado.
- d) Graciliana Reis D´Albuquerque Mossurunga.
- e) Enéias Augusto Moracines Borba.

**13. Leia o texto sobre o Brasão de Armas do município de Telêmaco Borba/PR e marque a alternativa correta.**

O Brasão de Armas foi aprovado em definitivo em 1981, dentro dos padrões da heráldica, estabelecendo os regulamentos para seu uso, ficando assim oficializado.

No Brasão de Armas, é possível identificar:

1. Escudo português redondo banhado de ouro filetado de prata, carregado de cinco árvores de pinho estilizadas de sua cor, postas em banda.
  2. Escudete de prata carregado de três Pinheiros do Paraná, araucária angustifolia ou brasiliense.
  3. No timbre, coroa mural de ouro lavrado de negro.
  4. À destra, haste de milho (zae mays) frutada.
  5. À sinistra, ramos de soja (gelycine soya) granada.
  6. Listel amarelo ostentando o topônimo "Cidade Nova" entre as inscrições de ouro "5 de Julho de 1963", em caracteres latino moderno.
- a) Não é verdadeiro o item 1.
  - b) Não é verdadeiro o item 2.
  - c) Não é verdadeiro o item 4.
  - d) Não é verdadeiro o item 6.
  - e) Não são verdadeiros os itens 3 e 5.

**14. Segundo o art. 11 da Lei Orgânica do Município de Telêmaco Borba/PR, os bens públicos podem ser:**

- I. De uso comum do Povo, tais como estradas municipais, ruas, parques, praças, logradouros públicos e outros da mesma espécie;
- II. De uso especial, os de patrimônio administrativo, tais como edifícios das repartições públicas, os terrenos e equipamentos destinados ao serviço público, veículos, matadouros, mercados e outras serventias de outra espécie;





**III. Bens municipais, aqueles sobre os quais o município exerce os direitos de proprietário e são considerados como bens patrimoniais disponíveis;**

**IV. Bens culturais, tais como música e obras de arte.**

**Podemos afirmar que são verdadeiros os itens**

- a) I e II, apenas.
- b) II e III, apenas.
- c) I, II e III, apenas.
- d) I, III e IV, apenas.
- e) I, II, III e IV.

**15. Qual alternativa completa corretamente o texto a seguir?**

**No primeiro ano de cada legislatura, no dia 1º de janeiro, em sessão de instalação, independente de número, sob a presidência do vereador mais idoso dentre os eleitos, os vereadores prestarão compromisso e tomarão posse. O Vereador que não tomar posse na sessão do dia 1º de janeiro poderá fazê-la \_\_\_\_\_ depois da primeira sessão ordinária da Legislatura.**

- a) até dez dias
- b) até quinze dias
- c) até trinta dias
- d) até quarenta e cinco dias
- e) até sessenta dias

**16. Conforme o art. 54 da Lei Orgânica do Município de Telêmaco Borba/PR, o Processo Legislativo compreende a elaboração de:**

**I. Emendas à Lei Orgânica do Município;**

**II. Leis complementares;**

**III. Leis Ordinárias;**

**IV. Decretos Legislativos;**

**V. Resoluções;**

**VI. Pareceres.**

**Assinale a alternativa que faz a afirmação correta.**

- a) São verdadeiros apenas os itens I, III e VI.
- b) São verdadeiros apenas os itens I, III e IV.
- c) São verdadeiros apenas os itens III, IV e V.
- d) São verdadeiros apenas os itens I, II, III, IV e V.
- e) São verdadeiros os itens I, II, III, IV, V e VI.

**Com base na Lei nº 1883/2012, que dispõe sobre o Estatuto dos Servidores Públicos da Administração Direta, Autárquica e Funcional do Município de Telêmaco Borba/PR, responda às próximas quatro questões.**

**17. À luz do § 2º do art. 9º da Lei nº 1883/2012, marque a alternativa que completa a lacuna do texto a seguir.**

**O concurso deverá ser homologado no prazo máximo de \_\_\_\_\_ contados da data de realização da última fase de provas, sob pena de responsabilidade da autoridade competente.**

- a) um mês
- b) dois meses
- c) seis meses
- d) um ano
- e) dois anos

**18. Marque a alternativa que completa a lacuna do texto a seguir.**

**O candidato terá o prazo \_\_\_\_\_, a contar da publicação oficial da convocação, para comparecer à entidade convocante e assinar termo de comparecimento.**

- a) máximo de 5 dias úteis
- b) mínimo de 15 dias úteis
- c) de até 30 dias
- d) máximo de 15 dias úteis
- e) mínimo de 5 dias úteis

**19. Leia as assertivas e marque a correta.**

- a) São reservados 10% dos cargos em comissão para a nomeação de servidores do quadro efetivo.
- b) São reservados 15% dos cargos em comissão para a nomeação de servidores do quadro efetivo.
- c) São reservados 20% dos cargos em comissão para a nomeação de servidores do quadro efetivo.
- d) São reservados 25% dos cargos em comissão para a nomeação de servidores do quadro efetivo.
- e) São reservados 30% dos cargos em comissão para a nomeação de servidores do quadro efetivo.



20. Marque a alternativa que completa a lacuna do texto a seguir.

O servidor municipal, quando nomeado para cargo em comissão, ficará afastado de seu cargo efetivo e fará jus à remuneração prevista em lei para o comissionado, podendo optar por receber seus vencimentos acrescidos de \_\_\_\_\_ do valor da remuneração prevista para o cargo em comissão.

- a) 10%
- b) 20%
- c) 30%
- d) 40%
- e) 50%

#### CONHECIMENTOS ESPECÍFICOS

21. No Microsoft Word 2007 e/ou versões superiores, o recurso Tachado duplo está disponível em:

- a) Ferramentas de Formatação de Parágrafo
- b) Ferramentas de Formatação de Tabela
- c) Ferramentas de Formatação de Fonte
- d) Ferramentas de Formatação de Correspondência
- e) Ferramentas de Formatação de Estilo

22. No Microsoft Word 2007 e/ou versões superiores, a combinação de teclas CTRL + ALT + V tem a finalidade de abrir a janela:

- a) Colar texto ou objeto
- b) Colar somente objeto
- c) Colar palavras
- d) Colar somente formatação
- e) Colar especial

23. Cabeçalhos e rodapés são áreas que normalmente recebem numerações ou informações que serão repetidas em TODAS as páginas de um documento do Microsoft Word, exceto se for aplicada e configurada uma:

- a) Quebra de cabeçalho e rodapé.
- b) Quebra de seção.
- c) Quebra de formatação.
- d) Quebra de numeração.
- e) Quebra de página.

24. Ao editar um documento no Microsoft Word 2010, pode ser que tenha uma imagem ou gráfico grande que não se encaixe muito bem na folha em pé, na vertical ou em retrato. Então, o ideal seria virar a folha para que a imagem ou gráfico se encaixe bem. É possível executar tal ação através da sequência apresentada na alternativa:

- a) Guia Layout – Margens - Configurar orientação do papel
- b) Guia Configuração de página – Papel - Orientação do papel
- c) Guia Configuração de página – Papel - Layout da página
- d) Guia Layout da página – Configurar página – Margens - Orientação
- e) Guia Configuração de página – Layout – Papel - Orientação

25. No Microsoft Word 2010, a fórmula  $\text{=SUM(ABOVE)}$  é um recurso que permite:

- a) Realizar a soma de dois ou mais valores digitados em um documento Word.
- b) Realizar a soma de dois ou mais valores digitados especificamente em uma tabela inserida no documento Word.
- c) Realizar a soma de todas as palavras digitadas em um documento Word, para contar palavras.
- d) Realizar a soma de todas as palavras digitadas e selecionadas em um documento Word, para contar palavras.
- e) Realizar a soma de todos os caracteres digitados em um documento Word, para contar caracteres.

26. Para garantir que a escrita de um documento oficial esteja gramaticalmente correta, é necessário fazer uma revisão no documento antes de publicá-lo. A ferramenta para correção ortográfica e gramática do Microsoft Word 2013 está disponível:

- a) Na guia Revisão, no grupo Revisão de texto.
- b) Na guia Inicial, no grupo Painel de Revisão.
- c) Na guia Exibição, no grupo Ortografia e Gramática.
- d) Na guia Inicial, no grupo Ortografia e Gramática.
- e) Na guia Revisão, no grupo Controle.

27. O Microsoft Excel 2007 e/ou versões superiores possui uma função que é capaz de localizar coisas em linhas de uma tabela ou de um intervalo. Por exemplo, procurar pelo sobrenome de uma funcionária por

seu número de identificação ou encontrar seu telefone pesquisando seu sobrenome (como um catálogo de telefone). Assinale a alternativa que apresente o nome dessa função:

- a) Função VERIF
- b) Função CORRESP
- c) Função ESCOLHER
- d) Função PROC
- e) Função PROCV

28. No Microsoft Excel 2010, é possível a filtragem de informações em uma planilha, que possibilita encontrar valores rapidamente. Analise as opções seguintes e, na sequência, assinale a alternativa correta:

I - Você pode filtrar uma ou mais colunas de dados.

II - Com a filtragem, é possível controlar não apenas o que ver, mas também o que excluir.

III - Você pode filtrar com base nas opções escolhidas em uma lista, ou criar filtros específicos focados exatamente nos dados desejados.

- a) Apenas as opções I e II estão corretas.
- b) Apenas as opções I e III estão corretas.
- c) Apenas as opções II e III estão corretas.
- d) Apenas a opção II está correta.
- e) As opções I, II e III estão corretas.

29. No Microsoft Excel 2007 e/ou versões superiores, além de aplicar um estilo predefinido de gráfico, você pode facilmente aplicar formatação a elementos individuais do gráfico, como marcadores de dados, área do gráfico, área de plotagem, números e texto nos títulos e rótulos para dar ao gráfico uma aparência atraente. As alternativas abaixo apresentam opções de formatação, exceto:

- a) Preencher elementos do gráfico: você pode utilizar preenchimentos com cores, texturas, imagens e gradientes para chamar a atenção para elementos específicos do gráfico.
- b) Alterar a estrutura dos elementos do gráfico: você pode utilizar cores, estilos de linha e espessuras de linha para enfatizar os elementos do gráfico.
- c) Adicionar um layout: você pode aplicar efeitos especiais, inserir e aplicar estilos de SmartArt.
- d) Adicionar efeitos especiais aos elementos do gráfico: você pode aplicar efeitos especiais, como sombra, reflexo, brilho, bordas suaves, bisel e rotação 3D, às formas do gráfico, proporcionando uma aparência completa.
- e) Formatar texto e números: você pode formatar texto e números em títulos, rótulos e caixas de texto em um gráfico como faria com textos e números em uma planilha. Para destacar textos e números, é possível até mesmo aplicar estilos de WordArt.

30. O Windows 7 possui uma área de armazenamento temporário de informações que você copiou ou moveu de um lugar e planeja usar em algum outro lugar. Você pode selecionar texto ou elementos gráficos e, em seguida, usar os comandos Recortar ou Copiar para mover sua seleção para este local, onde ela será armazenada até que você use o comando Colar para inseri-la em algum outro lugar. Este local é denominado:

- a) Área de Hiperlink
- b) Área de SmartArt
- c) Área de trabalho
- d) Área de transferência
- e) Área de arquivo

## LÍNGUA PORTUGUESA

Leia o texto e responda às próximas quatro questões.

### Lêmures e baobás de Madagascar

Isolada do continente há 135 milhões de anos, a ilha do Oceano Índico é um laboratório natural da evolução das espécies e encanta os viajantes com uma flora e fauna única

**Madagascar** abriga 107 espécies de **lêmures**, dezenas de espécies de camaleões coloridos e outras tantas plantas que só existem lá. "Madagascar é um mundo a parte. Costumo dizer que, se Charles Darwin tivesse conhecido Madagascar, seu livro *A Origem das Espécies* seria dez vezes maior", afirma o fotógrafo e jornalista **Haroldo Castro**, idealizador de Viajologia Expedições.

Uma das experiências mais emocionantes na quarta maior ilha do mundo é passear entre os gigantescos **baobás**, árvores que chegam a ter 30 metros de altura e mil anos de idade. Das nove espécies de baobás que existem no mundo, seis podem ser encontradas apenas em Madagascar. A majestosa árvore, considerada sagrada pelos malgaxes, é chamada localmente como "reniala", mãe da floresta.

Na pequena cidade de Bekopaka está o Parque Nacional Tsingy de Bemaraha, considerado Patrimônio Mundial pela Unesco. Trilhas e passeios de canoa no rio Manambolo conduzem a formações rochosas calcárias inusitadas e plantas endêmicas desse ecossistema de florestas secas.

Outro momento inesquecível em Madagascar é o encontro com os lêmures nas florestas tropicais da reserva Anjozorobe-Angavo, a 90 quilômetros da capital Antananarivo. Especialistas apontam que o turismo de observação de animais é uma excelente alternativa para o desenvolvimento da economia local e pode ajudar a conter o desmatamento. “O projeto em Anjozorobe comprova que, nos últimos anos, os 9 mil visitantes contribuíram de forma concreta a reduzir a pobreza e a promover a conservação da biodiversidade”, afirma Haroldo. Como os primatas são curiosos e estão habituados aos seres humanos, eles costumam se aproximar dos visitantes. “Os bichinhos chegam a subir nas nossas cabeças e parecem adorar aparecer nas fotos.”

Madagascar possui hoje uma excelente estrutura para o turismo, com algumas estradas bem cuidadas e hotéis confortáveis localizados perto das reservas e parques ecológicos. A gastronomia malgaxe, com um toque francês, também surpreende pela diversidade de ingredientes, temperos e colorido dos pratos.

[...]

(Fonte: <http://viajeaqui.abril.com.br/materias/lemures-e-baobas-de-madagascar#2>. Acesso em 14/05/2016)

**31. Lêmures e baobás de Madagascar é um texto:**

- Em que prevalece a descrição, apresentando as belezas e peculiaridades do lugar, da fauna e da flora.
- Principalmente narrativo, de fatos colhidos durante uma viagem, que se sucedem em progressão temporal.
- Essencialmente argumentativo, o uso da descrição visa somente a convencer o leitor a visitar Madagascar.
- Dissertativo, impera o desenvolvimento de argumentos para comprovar a tese presente no primeiro parágrafo.
- Em que predomina a exposição de conceitos e definições com o intuito de informar o leitor.

**32. O teor do texto *Lêmures e baobás de Madagascar* somente não poderia se encaixar em que tópico?**

- Turismo
- Viagens
- Clima
- Natureza
- Ilhas

**33. O aposto é um termo que *explica ou esclarece, desenvolve ou resume outro termo da oração*. Quanto a isso, analise a parte grifada em cada uma das orações retiradas do texto:**

**I - *A majestosa árvore, considerada sagrada pelos malgaxes, é chamada localmente como “reniala”, mãe da floresta.***

**II - *afirma o fotógrafo e jornalista Haroldo Castro, idealizador de Viajologia Expedições.***

**III - *Outro momento inesquecível em Madagascar é o encontro com os lêmures nas florestas tropicais da reserva Anjozorobe-Angavo, a 90 quilômetros da capital Antananarivo.***

**IV - *O projeto em Anjozorobe comprova que, nos últimos anos, os 9 mil visitantes contribuíram de forma concreta a reduzir a pobreza e a promover a conservação da biodiversidade”.***

**V - *A gastronomia malgaxe, com um toque francês, também surpreende pela diversidade de ingredientes, temperos e colorido dos pratos.***

**Constitui aposto os grifos em:**

- I, II, III, IV e V.
- I, III e V, apenas.
- III e V apenas.
- I, II, III, e V, apenas.
- III, IV e V apenas

**34. *Trilhas e passeios de canoa no rio Manambolo conduzem a formações rochosas calcárias inusitadas e plantas endêmicas desse ecossistema de florestas secas.***

**Ao observar a relação sintática entre os termos desse período, pode-se afirmar que:**

- de canoa é complemento nominal de Trilhas e passeios.
- no rio Manambolo é adjunto adnominal de canoas.
- de florestas secas é complemento nominal de plantas endêmicas.
- de canoa é complemento verbal de passeios.
- a formações rochosas calcárias inusitadas e plantas endêmicas desse ecossistema de florestas secas é complemento verbal de conduzem.

**Leia o poema e responda às próximas duas questões.**

**FOGO NA MATA, MATA!**

Fogo na mata, mata! A mata, a vida...  
Fogo na mata, abre,  
no coração da mata,  
Profundas feridas.

Fogo na mata corrói,



dentro de nós, os sonhos.  
Fogo na mata, deixa, no seio da mata,  
Tumores tamanhos!

[...]

(Fonte: <http://www.recantodasletras.com.br/letras/505252>. Acesso em 14/05/2016)

**35. A respeito de alguns aspectos gramaticais pertinentes aos termos em destaque na frase título do poema *Fogo na mata, mata!*, está correto o que se afirma em:**

- Morfologicamente, na sequência em que as duas palavras aparecem, temos um verbo e um substantivo.
- Semanticamente, as duas palavras constituem homônimas homófonas homógrafas.
- O processo de formação da palavra “mata” (primeira ocorrência na frase) é por derivação regressiva do verbo “matar” cuja flexão na terceira pessoa vem logo em seguida na frase.
- Semanticamente, as duas palavras “mata” são parônimas.
- Semanticamente, as duas palavras constituem homônimas homógrafas heterofônicas.

**36. Com a Nova Reforma Ortográfica, foi mantido o acento nas oxítonas terminadas em -ei e -oi, como é o caso de corrói em *Fogo na mata corrói*. No entanto, de acordo ainda com a Nova Reforma, os acentos foram retirados de quais duas palavras?**

- Bocaiuva - maiúscula
- Voo, aerodromo
- Releem - feiura
- Papeis - linguíça
- Preveem - heroi

**37. Leia atentamente as alternativas e assinale a incorreta no que diz respeito à Ortografia:**

- Grafamos com j as palavras ultraje, jiboia e gorjeio; com g as palavras ferrugem, geringonça, e miragem.
- Grafamos com sc: miscelânea, obsceno e obsessão; com c: sucinto, facínio e nécio.
- Grafamos com x: xampu, mexerico e enxada; com ch: piche, tocha e mecha.
- Grafamos com z: xadrez, cicatriz e vizinho; com s: friso, pêsames e tesoura.
- Grafamos com ss: escassez, submissão e sossego; com c: acetinado, obcecado e acepção.

**38. O advérbio sublinhado e a circunstância que ele expressa não estão corretamente apresentados em:**

- Ele certamente virá para o encontro. (afirmação)
- Ali se ouvia falar de riquezas culturais. (tempo)
- O orador discursou muito bem, impressionou a plateia. (modo)
- Chegamos tarde, perdemos o ônibus. (tempo)
- Os candidatos estudaram bastante. (intensidade)

**39. Os pronomes pessoais, representantes das pessoas do discurso, estão corretamente empregados em todas as alternativas, com exceção da:**

- Sempre haverá discordância entre mim e ti.
- O juiz queria falar com nós dois.
- Minha festa de despedida, não vou esquecê-la jamais.
- Ninguém irá sem eu.
- Deram o livro para eu ler em dois dias!

**40. Em uma oração, o contexto permite concluirmos se certos verbos são de ligação, para assim identificarmos o predicado nominal. Assim, não há predicação nominal em:**

- O aluno não estava na escola hoje.
- À tarde, as crianças pareciam cansadas.
- Ultimamente os participantes do programa andam desanimados.
- A aurora boreal é um lindo espetáculo.
- As atletas parecem cansadas.

**RASCUNHO**



PREFEITURA DE TELÊMACO BORBA - ESTADO DO PARANÁ - EDITAL Nº 001-2016 - CONCURSO PÚBLICO

**MATUTINO – 29/05/2016 – NÍVEL MÉDIO**

**3**

**PROVA OBJETIVA NÚMERO**

**CARGO: TMNM I - INFORMÁTICA**

**Leia atentamente as INSTRUÇÕES:**

1. Confira seus dados no cartão-resposta: nome, número de inscrição e o curso para o qual se inscreveu.
2. **MARQUE no seu cartão-resposta o número da sua prova** (não será corrigido o cartão-resposta que não tiver marcado o número da prova) e **Assine** seu cartão-resposta.
3. Aguarde a autorização do Fiscal para abrir o caderno de prova. Ao receber a ordem do fiscal, confira o caderno de prova com muita atenção. Nenhuma reclamação sobre o total de questões ou falha de impressão será aceita depois de iniciada a prova.
4. O cartão-resposta não será substituído, salvo se contiver erro de impressão.
5. Preencha toda a área do cartão-resposta correspondente à alternativa de sua escolha, com caneta esferográfica (tinta azul ou preta), sem ultrapassar as bordas. As marcações duplas, ou rasuradas, com corretivo, ou marcadas diferentemente do modelo estabelecido no cartão-resposta poderão ser anuladas.
6. Sua prova tem **40** questões, com **5** alternativas.
7. Cabe apenas ao candidato a interpretação das questões, **o fiscal** não poderá fazer nenhuma interferência.
8. A prova será realizada com duração máxima de **3 (três) horas**, incluído o tempo para a realização da Prova Objetiva de múltipla escolha e o preenchimento do cartão-resposta.
9. O candidato poderá retirar-se do local de realização das provas somente **1 (uma) hora** após o seu início, sem levar o caderno de prova.
10. O candidato poderá levar o caderno de provas, assim como anotação contendo transcrição do seu cartão-resposta, somente **1h30min** (uma hora e trinta minutos) após o início da realização da prova.
11. Ao terminar a prova, o candidato deverá entregar ao fiscal de sala o cartão-resposta preenchido e **ASSINADO**.
12. Os **3 (três)** candidatos, que terminarem a prova por último, deverão permanecer na sala, e só poderão sair juntos após o fechamento do envelope, contendo os cartões-resposta dos candidatos presentes e ausentes, e assinarem no lacre do referido envelope, atestando que este foi devidamente lacrado.
13. Durante todo o tempo em que permanecer no local onde está ocorrendo o concurso, o candidato deverá, manter o celular desligado e sem bateria, só sendo permitido ligar depois de ultrapassar o portão de saída do prédio.
14. Não será permitido ao candidato fumar na sala de provas, bem como nas dependências.
15. Depois de terminar a prova e entregar ao fiscal o cartão-resposta, preenchido e assinado, não será mais permitido ao candidato o uso do banheiro e bebedouro.

**BOA PROVA!**



**CONHECIMENTOS ESPECÍFICOS**

**01. No Microsoft Word 2007 e/ou versões superiores, o recurso Tachado duplo está disponível em:**

- a) Ferramentas de Formatação de Parágrafo
- b) Ferramentas de Formatação de Tabela
- c) Ferramentas de Formatação de Fonte
- d) Ferramentas de Formatação de Correspondência
- e) Ferramentas de Formatação de Estilo

**02. No Microsoft Word 2007 e/ou versões superiores, a combinação de teclas CTRL + ALT + V tem a finalidade de abrir a janela:**

- a) Colar texto ou objeto
- b) Colar somente objeto
- c) Colar palavras
- d) Colar somente formatação
- e) Colar especial

**03. Cabeçalhos e rodapés são áreas que normalmente recebem numerações ou informações que serão repetidas em TODAS as páginas de um documento do Microsoft Word, exceto se for aplicada e configurada uma:**

- a) Quebra de cabeçalho e rodapé.
- b) Quebra de seção.
- c) Quebra de formatação.
- d) Quebra de numeração.
- e) Quebra de página.

**04. Ao editar um documento no Microsoft Word 2010, pode ser que tenha uma imagem ou gráfico grande que não se encaixe muito bem na folha em pé, na vertical ou em retrato. Então, o ideal seria virar a folha para que a imagem ou gráfico se encaixe bem. É possível executar tal ação através da sequência apresentada na alternativa:**

- a) Guia Layout – Margens - Configurar orientação do papel
- b) Guia Configuração de página – Papel - Orientação do papel
- c) Guia Configuração de página – Papel - Layout da página
- d) Guia Layout da página – Configurar página – Margens - Orientação
- e) Guia Configuração de página – Layout – Papel - Orientação

**05. No Microsoft Word 2010, a fórmula =SUM(ABOVE) é um recurso que permite:**

- a) Realizar a soma de dois ou mais valores digitados em um documento Word.
- b) Realizar a soma de dois ou mais valores digitados especificamente em uma tabela inserida no documento Word.
- c) Realizar a soma de todas as palavras digitadas em um documento Word, para contar palavras.
- d) Realizar a soma de todas as palavras digitadas e selecionadas em um documento Word, para contar palavras.
- e) Realizar a soma de todos os caracteres digitados em um documento Word, para contar caracteres.

**06. Para garantir que a escrita de um documento oficial esteja gramaticalmente correta, é necessário fazer uma revisão no documento antes de publicá-lo. A ferramenta para correção ortográfica e gramática do Microsoft Word 2013 está disponível:**

- a) Na guia Revisão, no grupo Revisão de texto.
- b) Na guia Inicial, no grupo Painel de Revisão.
- c) Na guia Exibição, no grupo Ortografia e Gramática.
- d) Na guia Inicial, no grupo Ortografia e Gramática.
- e) Na guia Revisão, no grupo Controle.

**07. O Microsoft Excel 2007 e/ou versões superiores possui uma função que é capaz de localizar coisas em linhas de uma tabela ou de um intervalo. Por exemplo, procurar pelo sobrenome de uma funcionária por seu número de identificação ou encontrar seu telefone pesquisando seu sobrenome (como um catálogo de telefone). Assinale a alternativa que apresente o nome dessa função:**

- a) Função VERIF
- b) Função CORRESP
- c) Função ESCOLHER
- d) Função PROC
- e) Função PROCV

**08. No Microsoft Excel 2010, é possível a filtragem de informações em uma planilha, que possibilita encontrar valores rapidamente. Analise as opções seguintes e, na sequência, assinale a alternativa correta:**

**I - Você pode filtrar uma ou mais colunas de dados.**

**II - Com a filtragem, é possível controlar não apenas o que ver, mas também o que excluir.**

**III - Você pode filtrar com base nas opções escolhidas em uma lista, ou criar filtros específicos focados exatamente nos dados desejados.**

- a) Apenas as opções I e II estão corretas.
- b) Apenas as opções I e III estão corretas.
- c) Apenas as opções II e III estão corretas.
- d) Apenas a opção II está correta.
- e) As opções I, II e III estão corretas.

**09. No Microsoft Excel 2007 e/ou versões superiores, além de aplicar um estilo predefinido de gráfico, você pode facilmente aplicar formatação a elementos individuais do gráfico, como marcadores de dados, área do gráfico, área de plotagem, números e texto nos títulos e rótulos para dar ao gráfico uma aparência atraente. As alternativas abaixo apresentam opções de formatação, exceto:**

- a) Preencher elementos do gráfico: você pode utilizar preenchimentos com cores, texturas, imagens e gradientes para chamar a atenção para elementos específicos do gráfico.
- b) Alterar a estrutura dos elementos do gráfico: você pode utilizar cores, estilos de linha e espessuras de linha para enfatizar os elementos do gráfico.
- c) Adicionar um layout: você pode aplicar efeitos especiais, inserir e aplicar estilos de SmartArt.
- d) Adicionar efeitos especiais aos elementos do gráfico: você pode aplicar efeitos especiais, como sombra, reflexo, brilho, bordas suaves, bisel e rotação 3D, às formas do gráfico, proporcionando uma aparência completa.
- e) Formatar texto e números: você pode formatar texto e números em títulos, rótulos e caixas de texto em um gráfico como faria com textos e números em uma planilha. Para destacar textos e números, é possível até mesmo aplicar estilos de WordArt.

**10. O Windows 7 possui uma área de armazenamento temporário de informações que você copiou ou moveu de um lugar e planeja usar em algum outro lugar. Você pode selecionar texto ou elementos gráficos e, em seguida, usar os comandos Recortar ou Copiar para mover sua seleção para este local, onde ela será armazenada até que você use o comando Colar para inseri-la em algum outro lugar. Este local é denominado:**

- a) Área de Hiperlink
- b) Área de SmartArt
- c) Área de trabalho
- d) Área de transferência
- e) Área de arquivo

## LÍNGUA PORTUGUESA

**Leia o texto e responda às próximas quatro questões.**

### Lêmures e baobás de Madagascar

Isolada do continente há 135 milhões de anos, a ilha do Oceano Índico é um laboratório natural da evolução das espécies e encanta os viajantes com uma flora e fauna única

**Madagascar** abriga 107 espécies de **lêmures**, dezenas de espécies de camaleões coloridos e outras tantas plantas que só existem lá. “Madagascar é um mundo a parte. Costumo dizer que, se Charles Darwin tivesse conhecido Madagascar, seu livro *A Origem das Espécies* seria dez vezes maior”, afirma o fotógrafo e jornalista **Haroldo Castro**, idealizador de Viajologia Expedições.

Uma das experiências mais emocionantes na quarta maior ilha do mundo é passear entre os gigantescos **baobás**, árvores que chegam a ter 30 metros de altura e mil anos de idade. Das nove espécies de baobás que existem no mundo, seis podem ser encontradas apenas em Madagascar. A majestosa árvore, considerada sagrada pelos malgaxes, é chamada localmente como “reniala”, mãe da floresta.

Na pequena cidade de Bekopaka está o Parque Nacional Tsingy de Bemaraha, considerado Patrimônio Mundial pela Unesco. Trilhas e passeios de canoa no rio Manambolo conduzem a formações rochosas calcárias inusitadas e plantas endêmicas desse ecossistema de florestas secas.

Outro momento inesquecível em Madagascar é o encontro com os lêmures nas florestas tropicais da reserva Anjozorobe-Angavo, a 90 quilômetros da capital Antananarivo. Especialistas apontam que o turismo de observação de animais é uma excelente alternativa para o desenvolvimento da economia local e pode ajudar a conter o desmatamento. “O projeto em Anjozorobe comprova que, nos últimos anos, os 9 mil visitantes contribuíram de forma concreta a reduzir a pobreza e a promover a conservação da biodiversidade”, afirma Haroldo. Como os primatas são curiosos e estão habituados aos seres humanos, eles costumam se aproximar dos visitantes. “Os bichinhos chegam a subir nas nossas cabeças e parecem adorar aparecer nas fotos.”

Madagascar possui hoje uma excelente estrutura para o turismo, com algumas estradas bem cuidadas e hotéis confortáveis localizados perto das reservas e parques ecológicos. A gastronomia malgaxe, com um toque francês, também surpreende pela diversidade de ingredientes, temperos e colorido dos pratos.

[...]



(Fonte: <http://viajeaquibril.com.br/materias/lemures-e-baobas-de-madagascar#2>. Acesso em 14/05/2016)

**11. Lêmures e baobás de Madagascar é um texto:**

- Em que prevalece a descrição, apresentando as belezas e peculiaridades do lugar, da fauna e da flora.
- Principalmente narrativo, de fatos colhidos durante uma viagem, que se sucedem em progressão temporal.
- Essencialmente argumentativo, o uso da descrição visa somente a convencer o leitor a visitar Madagascar.
- Dissertativo, impera o desenvolvimento de argumentos para comprovar a tese presente no primeiro parágrafo.
- Em que predomina a exposição de conceitos e definições com o intuito de informar o leitor.

**12. O teor do texto *Lêmures e baobás de Madagascar* somente não poderia se encaixar em que tópico?**

- Turismo
- Viagens
- Clima
- Natureza
- Ilhas

**13. O aposto é um termo que *explica ou esclarece, desenvolve ou resume outro termo da oração*. Quanto a isso, analise a parte grifada em cada uma das orações retiradas do texto:**

**I - *A majestosa árvore, considerada sagrada pelos malgaxes, é chamada localmente como “reniala”, mãe da floresta.***

**II - *afirma o fotógrafo e jornalista Haroldo Castro, idealizador de Viajologia Expedições.***

**III - *Outro momento inesquecível em Madagascar é o encontro com os lêmures nas florestas tropicais da reserva Anjozorobe-Angavo, a 90 quilômetros da capital Antananarivo.***

**IV - *O projeto em Anjozorobe comprova que, nos últimos anos, os 9 mil visitantes contribuíram de forma concreta a reduzir a pobreza e a promover a conservação da biodiversidade”.***

**V - *A gastronomia malgaxe, com um toque francês, também surpreende pela diversidade de ingredientes, temperos e colorido dos pratos.***

**Constitui aposto os grifos em:**

- I, II, III, IV e V.
- I, III e V, apenas.
- III e V apenas.
- I, II, III, e V, apenas.
- III, IV e V apenas

**14. *Trilhas e passeios de canoa no rio Manambolo conduzem a formações rochosas calcárias inusitadas e plantas endêmicas desse ecossistema de florestas secas.***

**Ao observar a relação sintática entre os termos desse período, pode-se afirmar que:**

- de canoa é complemento nominal de Trilhas e passeios.
- no rio Manambolo é adjunto adnominal de canoas.
- de florestas secas é complemento nominal de plantas endêmicas.
- de canoa é complemento verbal de passeios.
- a formações rochosas calcárias inusitadas e plantas endêmicas desse ecossistema de florestas secas é complemento verbal de conduzem.

**Leia o poema e responda às próximas duas questões.**

**FOGO NA MATA, MATA!**

Fogo na mata, mata! A mata, a vida...  
Fogo na mata, abre,  
no coração da mata,  
Profundas feridas.

Fogo na mata corrói,  
dentro de nós, os sonhos.  
Fogo na mata, deixa, no seio da mata,  
Tumores tamanhos!

[...]

(Fonte: <http://www.recantodasletras.com.br/letras/505252>. Acesso em 14/05/2016)

**15. A respeito de alguns aspectos gramaticais pertinentes aos termos em destaque na frase título do poema *Fogo na mata, mata!*, está correto o que se afirma em:**

- Morfologicamente, na sequência em que as duas palavras aparecem, temos um verbo e um substantivo.
- Semanticamente, as duas palavras constituem homônimas homófonas homográficas.



- c) O processo de formação da palavra “mata” (primeira ocorrência na frase) é por derivação regressiva do verbo “matar” cuja flexão na terceira pessoa vem logo em seguida na frase.  
 d) Semanticamente, as duas palavras “mata” são parônimas.  
 e) Semanticamente, as duas palavras constituem homônimas homógrafas heterofônicas.

**16. Com a Nova Reforma Ortográfica, foi mantido o acento nas oxítonas terminadas em -ei e -oi, como é o caso de corrói em *Fogo na mata corrói*. No entanto, de acordo ainda com a Nova Reforma, os acentos foram retirados de quais duas palavras?**

- a) Bocaiuva - maiúscula  
 b) Voo, aerodromo  
 c) Releem - feiura  
 d) Papeis - linguíça  
 e) Preveem - heroi

**17. Leia atentamente as alternativas e assinale a incorreta no que diz respeito à Ortografia:**

- a) Grafamos com j as palavras ultraje, jiboia e gorjeio; com g as palavras ferrugem, geringonça, e miragem.  
 b) Grafamos com sc: miscelânea, obsceno e obsessão; com c: sucinto, facínio e nécio.  
 c) Grafamos com x: xampu, mexerico e enxada; com ch: piche, tocha e mecha.  
 d) Grafamos com z: xadrez, cicatriz e vizinho; com s: friso, pêsames e tesoura.  
 e) Grafamos com ss: escassez, submissão e sossego; com c: acetinado, obcecado e acepção.

**18. O advérbio sublinhado e a circunstância que ele expressa não estão corretamente apresentados em:**

- a) Ele certamente virá para o encontro. (afirmação)  
 b) Ali se ouvia falar de riquezas culturais. (tempo)  
 c) O orador discursou muito bem, impressionou a plateia. (modo)  
 d) Chegamos tarde, perdemos o ônibus. (tempo)  
 e) Os candidatos estudaram bastante. (intensidade)

**19. Os pronomes pessoais, representantes das pessoas do discurso, estão corretamente empregados em todas as alternativas, com exceção da:**

- a) Sempre haverá discordância entre mim e ti.  
 b) O juiz queria falar com nós dois.  
 c) Minha festa de despedida, não vou esquecê-la jamais.  
 d) Ninguém irá sem eu.  
 e) Deram o livro para eu ler em dois dias!

**20. Em uma oração, o contexto permite concluirmos se certos verbos são de ligação, para assim identificarmos o predicado nominal. Assim, não há predicação nominal em:**

- a) O aluno não estava na escola hoje.  
 b) À tarde, as crianças pareciam cansadas.  
 c) Ultimamente os participantes do programa andam desanimados.  
 e) A aurora boreal é um lindo espetáculo.  
 d) As atletas parecem cansadas.

## MATEMÁTICA

**21. Numa prova de hipismo, há duas modalidades totalmente distintas: salto e rural. João vai competir nas duas modalidades. Sabendo que a vitória ou a derrota em uma nada influencia no resultado da outra, e sabendo que a probabilidade de ele ganhar a prova de salto é de 40% e a de ganhar a prova de rural é de 58%, qual a probabilidade de ele ganhar as duas provas?**

- a) 98%  
 b) 62%  
 c) 23,2%  
 d) 18%  
 e) 2,32%

**22. Numa escola há 12 professores. A tabela a seguir mostra a carga horária diária de trabalho desses professores.**

4	8	5	10	6	5	8	6	8	9	4	8
---	---	---	----	---	---	---	---	---	---	---	---

**É correto afirmar que as cargas horárias média, modal e mediana desses professores são respectivamente:**

- a) 6,25; 6; 7  
 b) 6,5; 7; 8  
 c) 6,75; 8; 6  
 d) 6,75; 8; 7

e) 6,75; 7; 8

**23. Encontre a equação da reta mediatriz do segmento AB, onde A(2, 3) e B(4, -1), e assinale a alternativa correta.**

- a)  $2y - x + 1 = 0$
- b)  $y - 2x + 2 = 0$
- c)  $2y - 2x + 1 = 0$
- d)  $2y + x + 2 = 0$
- e)  $2y + x - 1 = 0$

**24. Uma loja acrescenta 15% no preço de seus produtos à vista se o cliente optar por pagar com um cheque para 60 dias. Comprei, nessa loja, um fogão com cheque para 60 dias e paguei R\$552,00 por ele. Qual era o preço à vista desse fogão?**

- a) R\$460,00
- b) R\$469,20
- c) R\$474,50
- d) R\$480,00
- e) R\$500,00

**25. Um pesquisador, ao analisar os processos que envolvem jovens com menos de 24 anos, descobriu que há 4 homens com nomes envolvidos em processos para cada mulher. Se no total ele contou 2400 pessoas, quantas eram as mulheres envolvidas nessa pesquisa?**

- a) 480
- b) 600
- c) 800
- d) 1920
- e) 2000

#### INFORMÁTICA

**26. Utilizando o Excel 2013, qual fórmula representa corretamente a auto soma?**

- a) =SUM()
- b) =MEDIA()
- c) =MAX()
- d) =MIN()
- e) =SE()

**27. Acerca de confidencialidade está incorreto afirmar:**

- a) É um conceito no qual o acesso à informação deve ser concedido a quem de direito, ou seja, apenas para as entidades autorizadas pelo proprietário ou dono da informação.
- b) É uma propriedade que limita o acesso à informação tão somente às entidades legítimas, ou seja, àquelas autorizadas pelo proprietário da informação.
- c) É a propriedade da informação que não estará disponível ou será divulgada a indivíduos, entidades ou processos sem autorização.
- d) Significa garantir que a informação será conhecida por pessoas que não estejam autorizadas para tal.
- e) É a garantia do resguardo das informações dadas pessoalmente em confiança e proteção contra a sua revelação não autorizada.

**28. Tratando-se de hardware de computadores, assinale a alternativa que corresponde a um tipo de memória externa.**

- a) Pen Drive
- b) EPROM
- c) DIMM
- d) MRAM
- e) Cache

**29. No Word 2013, é possível utilizar vários tipos de formatação de fontes, exceto:**

- a) Tachado
- b) Negrito
- c) Centralizado
- d) Sublinhado
- e) Cor da fonte

**30. Qual software nativo do Windows utilizamos para descobrir o endereço IP do computador?**

- a) Windows Explorer
- b) Notepad



- c) Excel
- d) Word
- e) Prompt de Comando

**CONHECIMENTOS GERAIS**

**31. Conforme fonte do IBGE, o bioma do município de Telêmaco Borba/PR é:**

- a) Mata de Pinhais e Cerrado
- b) Pantanal
- c) Caatinga e Mata Atlântica
- d) Floresta Tropical
- e) Cerrado e Mata Atlântica

**32. A letra do hino do município de Telêmaco Borba/PR é de autoria de**

- a) Bento Mossurunga.
- b) Moíses Lupion.
- c) Eloah Martins Quadrado.
- d) Graciliana Reis D'Albuquerque Mossurunga.
- e) Enéias Augusto Moracines Borba.

**33. Leia o texto sobre o Brasão de Armas do município de Telêmaco Borba/PR e marque a alternativa correta.**

**O Brasão de Armas foi aprovado em definitivo em 1981, dentro dos padrões da heráldica, estabelecendo os regulamentos para seu uso, ficando assim oficializado.**

**No Brasão de Armas, é possível identificar:**

- 1. Escudo português redondo banhado de ouro filetado de prata, carregado de cinco árvores de pinho estilizadas de sua cor, postas em banda.**
  - 2. Escudete de prata carregado de três Pinheiros do Paraná, araucária angustifolia ou brasiliense.**
  - 3. No timbre, coroa mural de ouro lavrado de negro.**
  - 4. À direita, haste de milho (zae mays) frutada.**
  - 5. À sinistra, ramos de soja (gelycine soya) granada.**
  - 6. Listel amarelo ostentando o topônimo "Cidade Nova" entre as inscrições de ouro "5 de Julho de 1963", em caracteres latino moderno.**
- a) Não é verdadeiro o item 1.
  - b) Não é verdadeiro o item 2.
  - c) Não é verdadeiro o item 4.
  - d) Não é verdadeiro o item 6.
  - e) Não são verdadeiros os itens 3 e 5.

**34. Segundo o art. 11 da Lei Orgânica do Município de Telêmaco Borba/PR, os bens públicos podem ser:**

**I. De uso comum do Povo, tais como estradas municipais, ruas, parques, praças, logradouros públicos e outros da mesma espécie;**

**II. De uso especial, os de patrimônio administrativo, tais como edifícios das repartições públicas, os terrenos e equipamentos destinados ao serviço público, veículos, matadouros, mercados e outras serventias de outra espécie;**

**III. Bens municipais, aqueles sobre os quais o município exerce os direitos de proprietário e são considerados como bens patrimoniais disponíveis;**

**IV. Bens culturais, tais como música e obras de arte.**

**Podemos afirmar que são verdadeiros os itens**

- a) I e II, apenas.
- b) II e III, apenas.
- c) I, II e III, apenas.
- d) I, III e IV, apenas.
- e) I, II, III e IV.

**35. Qual alternativa completa corretamente o texto a seguir?**

**No primeiro ano de cada legislatura, no dia 1º de janeiro, em sessão de instalação, independente de número, sob a presidência do vereador mais idoso dentre os eleitos, os vereadores prestarão compromisso e tomarão posse. O Vereador que não tomar posse na sessão do dia 1º de janeiro poderá fazê-la \_\_\_\_\_ depois da primeira sessão ordinária da Legislatura.**

- a) até dez dias
- b) até quinze dias
- c) até trinta dias
- d) até quarenta e cinco dias
- e) até sessenta dias





**36. Conforme o art. 54 da Lei Orgânica do Município de Telêmaco Borba/PR, o Processo Legislativo compreende a elaboração de:**

- I. Emendas à Lei Orgânica do Município;**
- II. Leis complementares;**
- III. Leis Ordinárias;**
- IV. Decretos Legislativos;**
- V. Resoluções;**
- VI. Pareceres.**

**Assinale a alternativa que faz a afirmação correta.**

- a) São verdadeiros apenas os itens I, III e VI.
- b) São verdadeiros apenas os itens I, III e IV.
- c) São verdadeiros apenas os itens III, IV e V.
- d) São verdadeiros apenas os itens I, II, III, IV e V.
- e) São verdadeiros os itens I, II, III, IV, V e VI.

**Com base na Lei nº 1883/2012, que dispõe sobre o Estatuto dos Servidores Públicos da Administração Direta, Autárquica e Funcional do Município de Telêmaco Borba/PR, responda às próximas quatro questões.**

**37. À luz do § 2º do art. 9º da Lei nº 1883/2012, marque a alternativa que completa a lacuna do texto a seguir.**

**O concurso deverá ser homologado no prazo máximo de \_\_\_\_\_ contados da data de realização da última fase de provas, sob pena de responsabilidade da autoridade competente.**

- a) um mês
- b) dois meses
- c) seis meses
- d) um ano
- e) dois anos

**38. Marque a alternativa que completa a lacuna do texto a seguir.**

**O candidato terá o prazo \_\_\_\_\_, a contar da publicação oficial da convocação, para comparecer à entidade convocante e assinar termo de comparecimento.**

- a) máximo de 5 dias úteis
- b) mínimo de 15 dias úteis
- c) de até 30 dias
- d) máximo de 15 dias úteis
- e) mínimo de 5 dias úteis

**39. Leia as assertivas e marque a correta.**

- a) São reservados 10% dos cargos em comissão para a nomeação de servidores do quadro efetivo.
- b) São reservados 15% dos cargos em comissão para a nomeação de servidores do quadro efetivo.
- c) São reservados 20% dos cargos em comissão para a nomeação de servidores do quadro efetivo.
- d) São reservados 25% dos cargos em comissão para a nomeação de servidores do quadro efetivo.
- e) São reservados 30% dos cargos em comissão para a nomeação de servidores do quadro efetivo.

**40. Marque a alternativa que completa a lacuna do texto a seguir.**

**O servidor municipal, quando nomeado para cargo em comissão, ficará afastado de seu cargo efetivo e fará jus à remuneração prevista em lei para o comissionado, podendo optar por receber seus vencimentos acrescidos de \_\_\_\_\_ do valor da remuneração prevista para o cargo em comissão.**

- a) 10%
- b) 20%
- c) 30%
- d) 40%
- e) 50%

**RASCUNHO**



PREFEITURA DE TELÊMACO BORBA - ESTADO DO PARANÁ - EDITAL Nº 001-2016 - CONCURSO PÚBLICO

**MATUTINO – 29/05/2016 – NÍVEL MÉDIO**

**1**

**PROVA OBJETIVA NÚMERO**

**CARGO: TMNM I - SEGURANÇA DO TRABALHO**

**Leia atentamente as INSTRUÇÕES:**

1. Confira seus dados no cartão-resposta: nome, número de inscrição e o curso para o qual se inscreveu.
2. **MARQUE no seu cartão-resposta o número da sua prova** (não será corrigido o cartão-resposta que não tiver marcado o número da prova) e **Assine** seu cartão-resposta.
3. Aguarde a autorização do Fiscal para abrir o caderno de prova. Ao receber a ordem do fiscal, confira o caderno de prova com muita atenção. Nenhuma reclamação sobre o total de questões ou falha de impressão será aceita depois de iniciada a prova.
4. O cartão-resposta não será substituído, salvo se contiver erro de impressão.
5. Preencha toda a área do cartão-resposta correspondente à alternativa de sua escolha, com caneta esferográfica (tinta azul ou preta), sem ultrapassar as bordas. As marcações duplas, ou rasuradas, com corretivo, ou marcadas diferentemente do modelo estabelecido no cartão-resposta poderão ser anuladas.
6. Sua prova tem **40** questões, com **5** alternativas.
7. Cabe apenas ao candidato a interpretação das questões, **o fiscal** não poderá fazer nenhuma interferência.
8. A prova será realizada com duração máxima de **3 (três) horas**, incluído o tempo para a realização da Prova Objetiva de múltipla escolha e o preenchimento do cartão-resposta.
9. O candidato poderá retirar-se do local de realização das provas somente **1 (uma) hora** após o seu início, sem levar o caderno de prova.
10. O candidato poderá levar o caderno de provas, assim como anotação contendo transcrição do seu cartão-resposta, somente **1h30min** (uma hora e trinta minutos) após o início da realização da prova.
11. Ao terminar a prova, o candidato deverá entregar ao fiscal de sala o cartão-resposta preenchido e **ASSINADO**.
12. Os **3 (três)** candidatos, que terminarem a prova por último, deverão permanecer na sala, e só poderão sair juntos após o fechamento do envelope, contendo os cartões-resposta dos candidatos presentes e ausentes, e assinarem no lacre do referido envelope, atestando que este foi devidamente lacrado.
13. Durante todo o tempo em que permanecer no local onde está ocorrendo o concurso, o candidato deverá, manter o celular desligado e sem bateria, só sendo permitido ligar depois de ultrapassar o portão de saída do prédio.
14. Não será permitido ao candidato fumar na sala de provas, bem como nas dependências.
15. Depois de terminar a prova e entregar ao fiscal o cartão-resposta, preenchido e assinado, não será mais permitido ao candidato o uso do banheiro e bebedouro.

**BOA PROVA!**



## LÍNGUA PORTUGUESA

Leia o texto e responda às próximas quatro questões.

### Lêmures e baobás de Madagascar

Isolada do continente há 135 milhões de anos, a ilha do Oceano Índico é um laboratório natural da evolução das espécies e encanta os viajantes com uma flora e fauna única

**Madagascar** abriga 107 espécies de **lêmures**, dezenas de espécies de camaleões coloridos e outras tantas plantas que só existem lá. “Madagascar é um mundo a parte. Costumo dizer que, se Charles Darwin tivesse conhecido Madagascar, seu livro *A Origem das Espécies* seria dez vezes maior”, afirma o fotógrafo e jornalista **Haroldo Castro**, idealizador de Viajologia Expedições.

Uma das experiências mais emocionantes na quarta maior ilha do mundo é passear entre os gigantes **baobás**, árvores que chegam a ter 30 metros de altura e mil anos de idade. Das nove espécies de baobás que existem no mundo, seis podem ser encontradas apenas em Madagascar. A majestosa árvore, considerada sagrada pelos malgaxes, é chamada localmente como “reniala”, mãe da floresta.

Na pequena cidade de Bekopaka está o Parque Nacional Tsingy de Bemaraha, considerado Patrimônio Mundial pela Unesco. Trilhas e passeios de canoa no rio Manambolo conduzem a formações rochosas calcárias inusitadas e plantas endêmicas desse ecossistema de florestas secas.

Outro momento inesquecível em Madagascar é o encontro com os lêmures nas florestas tropicais da reserva Anjozorobe-Angavo, a 90 quilômetros da capital Antananarivo. Especialistas apontam que o turismo de observação de animais é uma excelente alternativa para o desenvolvimento da economia local e pode ajudar a conter o desmatamento. “O projeto em Anjozorobe comprova que, nos últimos anos, os 9 mil visitantes contribuíram de forma concreta a reduzir a pobreza e a promover a conservação da biodiversidade”, afirma Haroldo. Como os primatas são curiosos e estão habituados aos seres humanos, eles costumam se aproximar dos visitantes. “Os bichinhos chegam a subir nas nossas cabeças e parecem adorar aparecer nas fotos.”

Madagascar possui hoje uma excelente estrutura para o turismo, com algumas estradas bem cuidadas e hotéis confortáveis localizados perto das reservas e parques ecológicos. A gastronomia malgaxe, com um toque francês, também surpreende pela diversidade de ingredientes, temperos e colorido dos pratos.

[...]

(Fonte: <http://viajeaqu.abril.com.br/materias/lemures-e-baobas-de-madagascar#2>. Acesso em 14/05/2016)

#### 01. *Lêmures e baobás de Madagascar* é um texto:

- Em que prevalece a descrição, apresentando as belezas e peculiaridades do lugar, da fauna e da flora.
- Principalmente narrativo, de fatos colhidos durante uma viagem, que se sucedem em progressão temporal.
- Essencialmente argumentativo, o uso da descrição visa somente a convencer o leitor a visitar Madagascar.
- Dissertativo, impera o desenvolvimento de argumentos para comprovar a tese presente no primeiro parágrafo.
- Em que predomina a exposição de conceitos e definições com o intuito de informar o leitor.

#### 02. O teor do texto *Lêmures e baobás de Madagascar* somente não poderia se encaixar em que tópico?

- Turismo
- Viagens
- Clima
- Natureza
- Ilhas

#### 03. O aposto é um termo que *explica ou esclarece, desenvolve ou resume outro termo da oração*. Quanto a isso, analise a parte grifada em cada uma das orações retiradas do texto:

I - *A majestosa árvore, considerada sagrada pelos malgaxes, é chamada localmente como “reniala”, mãe da floresta.*

II - *afirma o fotógrafo e jornalista Haroldo Castro, idealizador de Viajologia Expedições.*

III - *Outro momento inesquecível em Madagascar é o encontro com os lêmures nas florestas tropicais da reserva Anjozorobe-Angavo, a 90 quilômetros da capital Antananarivo.*

**IV - O projeto em Anjorobe comprova que, nos últimos anos, os 9 mil visitantes contribuíram de forma concreta a reduzir a pobreza e a promover a conservação da biodiversidade”.**

**V - A gastronomia malgaxe, com um toque francês, também surpreende pela diversidade de ingredientes, temperos e colorido dos pratos.**

**Constitui aposto os grifos em:**

- a) I, II, III, IV e V.
- b) I, III e V, apenas.
- c) III e V apenas.
- d) I, II, III, e V, apenas.
- e) III, IV e V apenas

**04. Trilhas e passeios de canoa no rio Manambolo conduzem a formações rochosas calcárias inusitadas e plantas endêmicas desse ecossistema de florestas secas.**

**Ao observar a relação sintática entre os termos desse período, pode-se afirmar que:**

- a) de canoa é complemento nominal de Trilhas e passeios.
- b) no rio Manambolo é adjunto adnominal de canoas.
- c) de florestas secas é complemento nominal de plantas endêmicas.
- d) de canoa é complemento verbal de passeios.
- e) a formações rochosas calcárias inusitadas e plantas endêmicas desse ecossistema de florestas secas é complemento verbal de conduzem.

**Leia o poema e responda às próximas duas questões.**

#### **FOGO NA MATA, MATA!**

Fogo na mata, mata! A mata, a vida...  
Fogo na mata, abre,  
no coração da mata,  
Profundas feridas.

Fogo na mata corrói,  
dentro de nós, os sonhos.  
Fogo na mata, deixa, no seio da mata,  
Tumores tamanhos!

[...]

(Fonte: <http://www.recantodasletras.com.br/letras/505252>. Acesso em 14/05/2016)

**05. A respeito de alguns aspectos gramaticais pertinentes aos termos em destaque na frase título do poema Fogo na mata, mata!, está correto o que se afirma em:**

- a) Morfologicamente, na sequência em que as duas palavras aparecem, temos um verbo e um substantivo.
- b) Semanticamente, as duas palavras constituem homônimas homófonas homógrafas.
- c) O processo de formação da palavra “mata” (primeira ocorrência na frase) é por derivação regressiva do verbo “matar” cuja flexão na terceira pessoa vem logo em seguida na frase.
- d) Semanticamente, as duas palavras “mata” são parônimas.
- e) Semanticamente, as duas palavras constituem homônimas homógrafas heterofônicas.

**06. Com a Nova Reforma Ortográfica, foi mantido o acento nas oxítonas terminadas em -ei e -oi, como é o caso de corrói em Fogo na mata corrói. No entanto, de acordo ainda com a Nova Reforma, os acentos foram retirados de quais duas palavras?**

- a) Bocaiuva - maiúscula
- b) Voo, aerodromo
- c) Releem - feiura
- d) Papeis - linguíça
- e) Preveem - heroi

**07. Leia atentamente as alternativas e assinale a incorreta no que diz respeito à Ortografia:**

- a) Grafamos com j as palavras ultraje, jiboia e gorjeio; com g as palavras ferrugem, geringonça, e miragem.
- b) Grafamos com sc: miscelânea, obsceno e obscessão; com c: sucinto, facínio e nécio.
- c) Grafamos com x: xampu, mexerico e enxada; com ch: piche, tocha e mecha.
- d) Grafamos com z: xadrez, cicatriz e vizinho; com s: friso, pêsames e tesoura.
- e) Grafamos com ss: escassez, submissão e sossego; com c: acetinado, obcecado e acepção.

**08. O advérbio sublinhado e a circunstância que ele expressa não estão corretamente apresentados em:**

- a) Ele certamente virá para o encontro. (afirmação)
- b) Ali se ouvia falar de riquezas culturais. (tempo)
- c) O orador discursou muito bem, impressionou a plateia. (modo)
- d) Chegamos tarde, perdemos o ônibus. (tempo)
- e) Os candidatos estudaram bastante. (intensidade)

**09. Os pronomes pessoais, representantes das pessoas do discurso, estão corretamente empregados em todas as alternativas, com exceção da:**

- a) Sempre haverá discordância entre mim e ti.
- b) O juiz queria falar com nós dois.
- c) Minha festa de despedida, não vou esquecê-la jamais.
- d) Ninguém irá sem eu.
- e) Deram o livro para eu ler em dois dias!

**10. Em uma oração, o contexto permite concluirmos se certos verbos são de ligação, para assim identificarmos o predicado nominal. Assim, não há predicção nominal em:**

- a) O aluno não estava na escola hoje.
- b) À tarde, as crianças pareciam cansadas.
- c) Ultimamente os participantes do programa andam desanimados.
- e) A aurora boreal é um lindo espetáculo.
- d) As atletas parecem cansadas.

### MATEMÁTICA

**11. Numa prova de hipismo, há duas modalidades totalmente distintas: salto e rural. João vai competir nas duas modalidades. Sabendo que a vitória ou a derrota em uma nada influencia no resultado da outra, e sabendo que a probabilidade de ele ganhar a prova de salto é de 40% e a de ganhar a prova de rural é de 58%, qual a probabilidade de ele ganhar as duas provas?**

- a) 98%
- b) 62%
- c) 23,2%
- d) 18%
- e) 2,32%

**12. Numa escola há 12 professores. A tabela a seguir mostra a carga horária diária de trabalho desses professores.**

4	8	5	10	6	5	8	6	8	9	4	8
---	---	---	----	---	---	---	---	---	---	---	---

**É correto afirmar que as cargas horárias média, modal e mediana desses professores são respectivamente:**

- a) 6,25; 6; 7
- b) 6,5; 7; 8
- c) 6,75; 8; 6
- d) 6,75; 8; 7
- e) 6,75; 7; 8

**13. Encontre a equação da reta mediatriz do segmento AB, onde A(2, 3) e B(4, -1), e assinale a alternativa correta.**

- a)  $2y - x + 1 = 0$
- b)  $y - 2x + 2 = 0$
- c)  $2y - 2x + 1 = 0$
- d)  $2y + x + 2 = 0$
- e)  $2y + x - 1 = 0$

**14. Uma loja acrescenta 15% no preço de seus produtos à vista se o cliente optar por pagar com um cheque para 60 dias. Comprei, nessa loja, um fogão com cheque para 60 dias e paguei R\$552,00 por ele. Qual era o preço à vista desse fogão?**

- a) R\$460,00
- b) R\$469,20
- c) R\$474,50
- d) R\$480,00
- e) R\$500,00

**15. Um pesquisador, ao analisar os processos que envolvem jovens com menos de 24 anos, descobriu que há 4 homens com nomes envolvidos em processos para cada mulher. Se no total ele contou 2400 pessoas, quantas eram as mulheres envolvidas nessa pesquisa?**

- a) 480
- b) 600
- c) 800
- d) 1920
- e) 2000

#### **INFORMÁTICA**

**16. Utilizando o Excel 2013, qual fórmula representa corretamente a auto soma?**

- a) =SUM()
- b) =MEDIA()
- c) =MAX()
- d) =MIN()
- e) =SE()

**17. Acerca de confidencialidade está incorreto afirmar:**

- a) É um conceito no qual o acesso à informação deve ser concedido a quem de direito, ou seja, apenas para as entidades autorizadas pelo proprietário ou dono da informação.
- b) É uma propriedade que limita o acesso à informação tão somente às entidades legítimas, ou seja, àquelas autorizadas pelo proprietário da informação.
- c) É a propriedade da informação que não estará disponível ou será divulgada a indivíduos, entidades ou processos sem autorização.
- d) Significa garantir que a informação será conhecida por pessoas que não estejam autorizadas para tal.
- e) É a garantia do resguardo das informações dadas pessoalmente em confiança e proteção contra a sua revelação não autorizada.

**18. Tratando-se de hardware de computadores, assinale a alternativa que corresponde a um tipo de memória externa.**

- a) Pen Drive
- b) EPROM
- c) DIMM
- d) MRAM
- e) Cache

**19. No Word 2013, é possível utilizar vários tipos de formatação de fontes, exceto:**

- a) Tachado
- b) Negrito
- c) Centralizado
- d) Sublinhado
- e) Cor da fonte

**20. Qual software nativo do Windows utilizamos para descobrir o endereço IP do computador?**

- a) Windows Explorer
- b) Notepad
- c) Excel
- d) Word
- e) Prompt de Comando

#### **CONHECIMENTOS GERAIS**

**21. Conforme fonte do IBGE, o bioma do município de Telêmaco Borba/PR é:**

- a) Mata de Pinhais e Cerrado
- b) Pantanal
- c) Caatinga e Mata Atlântica
- d) Floresta Tropical
- e) Cerrado e Mata Atlântica

**22. A letra do hino do município de Telêmaco Borba/PR é de autoria de**

- a) Bento Mossurunga.
- b) Moises Lupion.
- c) Eloah Martins Quadrado.
- d) Graciliana Reis D´Albuquerque Mossurunga.
- e) Enéias Augusto Moracines Borba.





**23. Leia o texto sobre o Brasão de Armas do município de Telêmaco Borba/PR e marque a alternativa correta.**

O Brasão de Armas foi aprovado em definitivo em 1981, dentro dos padrões da heráldica, estabelecendo os regulamentos para seu uso, ficando assim oficializado.

No Brasão de Armas, é possível identificar:

1. Escudo português redondo banhado de ouro filetado de prata, carregado de cinco árvores de pinho estilizadas de sua cor, postas em banda.
2. Escudete de prata carregado de três Pinheiros do Paraná, araucária angustifolia ou brasiliense.
3. No timbre, coroa mural de ouro lavrado de negro.
4. À direita, haste de milho (zae mays) frutada.
5. À sinistra, ramos de soja (gelycine soya) granada.
6. Listel amarelo ostentando o topônimo "Cidade Nova" entre as inscrições de ouro "5 de Julho de 1963", em caracteres latino moderno.

- a) Não é verdadeiro o item 1.
- b) Não é verdadeiro o item 2.
- c) Não é verdadeiro o item 4.
- d) Não é verdadeiro o item 6.
- e) Não são verdadeiros os itens 3 e 5.

**24. Segundo o art. 11 da Lei Orgânica do Município de Telêmaco Borba/PR, os bens públicos podem ser:**

**I. De uso comum do Povo, tais como estradas municipais, ruas, parques, praças, logradouros públicos e outros da mesma espécie;**

**II. De uso especial, os de patrimônio administrativo, tais como edifícios das repartições públicas, os terrenos e equipamentos destinados ao serviço público, veículos, matadouros, mercados e outras serventias de outra espécie;**

**III. Bens municipais, aqueles sobre os quais o município exerce os direitos de proprietário e são considerados como bens patrimoniais disponíveis;**

**IV. Bens culturais, tais como música e obras de arte.**

**Podemos afirmar que são verdadeiros os itens**

- a) I e II, apenas.
- b) II e III, apenas.
- c) I, II e III, apenas.
- d) I, III e IV, apenas.
- e) I, II, III e IV.

**25. Qual alternativa completa corretamente o texto a seguir?**

No primeiro ano de cada legislatura, no dia 1º de janeiro, em sessão de instalação, independente de número, sob a presidência do vereador mais idoso dentre os eleitos, os vereadores prestarão compromisso e tomarão posse. O Vereador que não tomar posse na sessão do dia 1º de janeiro poderá fazê-la \_\_\_\_\_ depois da primeira sessão ordinária da Legislatura.

- a) até dez dias
- b) até quinze dias
- c) até trinta dias
- d) até quarenta e cinco dias
- e) até sessenta dias

**26. Conforme o art. 54 da Lei Orgânica do Município de Telêmaco Borba/PR, o Processo Legislativo compreende a elaboração de:**

**I. Emendas à Lei Orgânica do Município;**

**II. Leis complementares;**

**III. Leis Ordinárias;**

**IV. Decretos Legislativos;**

**V. Resoluções;**

**VI. Pareceres.**

**Assinale a alternativa que faz a afirmação correta.**

- a) São verdadeiros apenas os itens I, III e VI.
- b) São verdadeiros apenas os itens I, III e IV.
- c) São verdadeiros apenas os itens III, IV e V.
- d) São verdadeiros apenas os itens I, II, III, IV e V.
- e) São verdadeiros os itens I, II, III, IV, V e VI.

**Com base na Lei nº 1883/2012, que dispõe sobre o Estatuto dos Servidores Públicos da Administração Direta, Autárquica e Funcional do Município de Telêmaco Borba/PR, responda às próximas quatro questões.**



27. À luz do § 2º do art. 9º da Lei nº 1883/2012, marque a alternativa que completa a lacuna do texto a seguir.

O concurso deverá ser homologado no prazo máximo de \_\_\_\_\_ contados da data de realização da última fase de provas, sob pena de responsabilidade da autoridade competente.

- a) um mês
- b) dois meses
- c) seis meses
- d) um ano
- e) dois anos

28. Marque a alternativa que completa a lacuna do texto a seguir.

O candidato terá o prazo \_\_\_\_\_, a contar da publicação oficial da convocação, para comparecer à entidade convocante e assinar termo de comparecimento.

- a) máximo de 5 dias úteis
- b) mínimo de 15 dias úteis
- c) de até 30 dias
- d) máximo de 15 dias úteis
- e) mínimo de 5 dias úteis

29. Leia as assertivas e marque a correta.

- a) São reservados 10% dos cargos em comissão para a nomeação de servidores do quadro efetivo.
- b) São reservados 15% dos cargos em comissão para a nomeação de servidores do quadro efetivo.
- c) São reservados 20% dos cargos em comissão para a nomeação de servidores do quadro efetivo.
- d) São reservados 25% dos cargos em comissão para a nomeação de servidores do quadro efetivo.
- e) São reservados 30% dos cargos em comissão para a nomeação de servidores do quadro efetivo.

30. Marque a alternativa que completa a lacuna do texto a seguir.

O servidor municipal, quando nomeado para cargo em comissão, ficará afastado de seu cargo efetivo e fará jus à remuneração prevista em lei para o comissionado, podendo optar por receber seus vencimentos acrescidos de \_\_\_\_\_ do valor da remuneração prevista para o cargo em comissão.

- a) 10%
- b) 20%
- c) 30%
- d) 40%
- e) 50%

### CONHECIMENTOS ESPECÍFICOS

31. Assinale a alternativa que indique apenas os EPIs para proteção dos olhos e faces:

- a) Máscara de Solda, Óculos e Protetor facial.
- b) Óculos, Capacete e Capuz.
- c) Máscara de Solda, Protetor Facial e Protetor auditivo.
- d) Respirador purificador, Óculos e Capacete.
- e) Protetor facial, Óculos e Capuz.

32. Em relação à elaboração do Programa de Controle Médico de Saúde Ocupacional - PCMSO, assinale a alternativa correta.

- a) O PCMSO deverá ter caráter de prevenção, rastreamento e diagnóstico precoce dos agravos à saúde relacionados ao trabalho, exceto de natureza subclínica.
- b) O PCMSO deverá ser planejado e implantado com base nos riscos à saúde dos trabalhadores, exceto os já identificados nas avaliações previstas nas Normas Regulamentadoras do MTE.
- c) O PCMSO deverá ser planejado e implantado com base nos riscos à saúde dos trabalhadores, especialmente os identificados nas avaliações previstas nas Normas Regulamentadoras do MTE.
- d) O PCMSO não deverá considerar as questões incidentes sobre o indivíduo e a coletividade de trabalhadores.
- e) O PCMSO é parte integrante do conjunto mais amplo de iniciativas da empresa no campo da saúde dos trabalhadores, não devendo estar articulado com o disposto nas demais Normas Regulamentadoras do MTE.

33. Assinale a alternativa que indica a correta recomendação de conforto térmico nos locais de trabalho onde são executadas atividades que exijam solicitação intelectual e atenção constantes (salas de controle, laboratórios, escritórios, salas de desenvolvimento ou análise de projetos), segundo a Norma Regulamentadora 17.

- a) Temperatura entre 20°C e 24°C, velocidade do ar superior a 0,75 m/s e umidade relativa do ar não inferior a 40%.
- b) Temperatura entre 20°C e 23°C, velocidade do ar superior a 0,45 m/s e umidade relativa do ar não inferior a 20%.

- c) Temperatura entre 20°C e 23°C, velocidade do ar não superior a 0,75 m/s e umidade relativa do ar inferior a 40%.
- d) Temperatura entre 20°C e 24°C, velocidade do ar não superior a 0,45 m/s e umidade relativa do ar não inferior a 20%.
- e) Temperatura entre 20°C e 23°C, velocidade do ar não superior a 0,75 m/s e umidade relativa do ar não inferior a 40%.

**34. Para desenhos técnicos, a apresentação completa de uma escala de ampliação deve consistir, segundo a ABNT, da:**

- a) palavra “AMPLIAÇÃO”, seguida da relação 1:X, onde  $X > 1$ .
- b) palavra “ESCALA”, seguida da relação X:1, onde  $X > 1$ .
- c) palavra “AMPLIAÇÃO”, seguida da relação X:1, onde  $X > 1$ .
- d) palavra “ESCALA”, seguida da relação X:1, onde  $X < 1$ .
- e) palavra “AMPLIAÇÃO”, seguida da relação X:1, onde  $X < 1$ .

**35. Assinale a alternativa que indica a correta Norma Regulamentadora - NR que regulamenta os serviços especializados em engenharia de segurança e em medicina do trabalho:**

- a) NR 2
- b) NR 3
- c) NR 4
- d) NR 5
- e) NR 10

**36. Assinale a alternativa que indica a correta duração do mandato dos membros eleitos da Comissão Interna de Prevenção de acidentes – CIPA.**

- a) 2 anos, permitida a reeleição.
- b) 1 ano, permitida a reeleição.
- c) 2 anos, não permitida a reeleição.
- d) 1 ano, não permitida a reeleição.
- e) 4 anos, não permitida a reeleição.

**37. O exercício de trabalho em condições de insalubridade de grau médio assegura ao trabalhador a percepção de adicional, incidente sobre o salário mínimo da região, equivalente a:**

- a) 5%
- b) 10%
- c) 15%
- d) 20%
- e) 30%

**38. Em relação às saídas de emergência nos locais de trabalho, assinale a alternativa correta.**

- a) Devem ser fechadas à chave ou presas durante a jornada de trabalho.
- b) Devem ser fechadas à chave e abertas pelo empregador apenas em casos de emergência.
- c) Podem ser fechadas à chave desde que cada empregado tenha uma cópia, permitindo a fácil abertura do interior do estabelecimento.
- d) Não podem ser equipadas com dispositivos de travamento que permitam fácil abertura do interior do estabelecimento.
- e) Podem ser equipadas com dispositivos de travamento que permitam fácil abertura do interior do estabelecimento.

**39. Assinale a alternativa que indica as corretas pressões das caldeiras classificadas na categoria “A” pela Norma Regulamentadora 13.**

- a) Igual ou superior a 1960 kPa.
- b) Igual ou inferior a 1960 kPa.
- c) Igual ou inferior a 588 kPa.
- d) Igual ou superior a 588 kPa.
- e) Igual ou inferior a 588 kPa, e o volume interno é igual ou superior a 100 litros.

**40. Em relação ao uso da cor na segurança do trabalho, assinale a opção correta.**

- a) Seu uso deve ser excessivo, a fim de dispensar o emprego de outras formas de prevenção de acidentes.
- b) Deve ser aplicado apenas em embalagens de produtos químicos inflamáveis.
- c) Seu uso deve ser o mais reduzido possível, a fim de não ocasionar distração, confusão e fadiga ao trabalhador.
- d) Deve ser aplicado apenas em locais onde as cores não atrapalhem a estética do ambiente de trabalho.
- e) Deve ser adotada para segurança em estabelecimentos ou locais de trabalho, a fim de dispensar o emprego de outras formas de prevenção de acidentes.



**RASCUNHO**



PREFEITURA DE TELÊMACO BORBA - ESTADO DO PARANÁ - EDITAL Nº 001-2016 - CONCURSO PÚBLICO

**MATUTINO – 29/05/2016 – NÍVEL MÉDIO**

**2**

PROVA OBJETIVA NÚMERO

**CARGO: TMNM I - SEGURANÇA DO TRABALHO**

**Leia atentamente as INSTRUÇÕES:**

1. Confira seus dados no cartão-resposta: nome, número de inscrição e o curso para o qual se inscreveu.
2. **MARQUE no seu cartão-resposta o número da sua prova** (não será corrigido o cartão-resposta que não tiver marcado o número da prova) e **Assine** seu cartão-resposta.
3. Aguarde a autorização do Fiscal para abrir o caderno de prova. Ao receber a ordem do fiscal, confira o caderno de prova com muita atenção. Nenhuma reclamação sobre o total de questões ou falha de impressão será aceita depois de iniciada a prova.
4. O cartão-resposta não será substituído, salvo se contiver erro de impressão.
5. Preencha toda a área do cartão-resposta correspondente à alternativa de sua escolha, com caneta esferográfica (tinta azul ou preta), sem ultrapassar as bordas. As marcações duplas, ou rasuradas, com corretivo, ou marcadas diferentemente do modelo estabelecido no cartão-resposta poderão ser anuladas.
6. Sua prova tem **40** questões, com **5** alternativas.
7. Cabe apenas ao candidato a interpretação das questões, **o fiscal** não poderá fazer nenhuma interferência.
8. A prova será realizada com duração máxima de **3 (três) horas**, incluído o tempo para a realização da Prova Objetiva de múltipla escolha e o preenchimento do cartão-resposta.
9. O candidato poderá retirar-se do local de realização das provas somente **1 (uma) hora** após o seu início, sem levar o caderno de prova.
10. O candidato poderá levar o caderno de provas, assim como anotação contendo transcrição do seu cartão-resposta, somente **1h30min** (uma hora e trinta minutos) após o início da realização da prova.
11. Ao terminar a prova, o candidato deverá entregar ao fiscal de sala o cartão-resposta preenchido e **ASSINADO**.
12. Os **3 (três)** candidatos, que terminarem a prova por último, deverão permanecer na sala, e só poderão sair juntos após o fechamento do envelope, contendo os cartões-resposta dos candidatos presentes e ausentes, e assinarem no lacre do referido envelope, atestando que este foi devidamente lacrado.
13. Durante todo o tempo em que permanecer no local onde está ocorrendo o concurso, o candidato deverá, manter o celular desligado e sem bateria, só sendo permitido ligar depois de ultrapassar o portão de saída do prédio.
14. Não será permitido ao candidato fumar na sala de provas, bem como nas dependências.
15. Depois de terminar a prova e entregar ao fiscal o cartão-resposta, preenchido e assinado, não será mais permitido ao candidato o uso do banheiro e bebedouro.

**BOA PROVA!**

**MATEMÁTICA**

**01. Numa prova de hipismo, há duas modalidades totalmente distintas: salto e rural. João vai competir nas duas modalidades. Sabendo que a vitória ou a derrota em uma nada influencia no resultado da outra, e sabendo que a probabilidade de ele ganhar a prova de salto é de 40% e a de ganhar a prova de rural é de 58%, qual a probabilidade de ele ganhar as duas provas?**

- a) 98%
- b) 62%
- c) 23,2%
- d) 18%
- e) 2,32%

**02. Numa escola há 12 professores. A tabela a seguir mostra a carga horária diária de trabalho desses professores.**

4	8	5	10	6	5	8	6	8	9	4	8
---	---	---	----	---	---	---	---	---	---	---	---

**É correto afirmar que as cargas horárias média, modal e mediana desses professores são respectivamente:**

- a) 6,25; 6; 7
- b) 6,5; 7; 8
- c) 6,75; 8; 6
- d) 6,75; 8; 7
- e) 6,75; 7; 8

**03. Encontre a equação da reta mediatriz do segmento AB, onde A(2, 3) e B(4, -1), e assinale a alternativa correta.**

- a)  $2y - x + 1 = 0$
- b)  $y - 2x + 2 = 0$
- c)  $2y - 2x + 1 = 0$
- d)  $2y + x + 2 = 0$
- e)  $2y + x - 1 = 0$

**04. Uma loja acrescenta 15% no preço de seus produtos à vista se o cliente optar por pagar com um cheque para 60 dias. Comprei, nessa loja, um fogão com cheque para 60 dias e paguei R\$552,00 por ele. Qual era o preço à vista desse fogão?**

- a) R\$460,00
- b) R\$469,20
- c) R\$474,50
- d) R\$480,00
- e) R\$500,00

**05. Um pesquisador, ao analisar os processos que envolvem jovens com menos de 24 anos, descobriu que há 4 homens com nomes envolvidos em processos para cada mulher. Se no total ele contou 2400 pessoas, quantas eram as mulheres envolvidas nessa pesquisa?**

- a) 480
- b) 600
- c) 800
- d) 1920
- e) 2000

**INFORMÁTICA**

**06. Utilizando o Excel 2013, qual fórmula representa corretamente a auto soma?**

- a) =SUM()
- b) =MEDIA()
- c) =MAX()
- d) =MIN()
- e) =SE()

**07. Acerca de confidencialidade está incorreto afirmar:**

- a) É um conceito no qual o acesso à informação deve ser concedido a quem de direito, ou seja, apenas para as entidades autorizadas pelo proprietário ou dono da informação.
- b) É uma propriedade que limita o acesso à informação tão somente às entidades legítimas, ou seja, àquelas autorizadas pelo proprietário da informação.
- c) É a propriedade da informação que não estará disponível ou será divulgada a indivíduos, entidades ou processos sem autorização.
- d) Significa garantir que a informação será conhecida por pessoas que não estejam autorizadas para tal.





e) É a garantia do resguardo das informações dadas pessoalmente em confiança e proteção contra a sua revelação não autorizada.

**08. Tratando-se de hardware de computadores, assinale a alternativa que corresponde a um tipo de memória externa.**

- a) Pen Drive
- b) EPROM
- c) DIMM
- d) MRAM
- e) Cache

**09. No Word 2013, é possível utilizar vários tipos de formatação de fontes, exceto:**

- a) Tachado
- b) Negrito
- c) Centralizado
- d) Sublinhado
- e) Cor da fonte

**10. Qual software nativo do Windows utilizamos para descobrir o endereço IP do computador?**

- a) Windows Explorer
- b) Notepad
- c) Excel
- d) Word
- e) Prompt de Comando

#### **CONHECIMENTOS GERAIS**

**11. Conforme fonte do IBGE, o bioma do município de Telêmaco Borba/PR é:**

- a) Mata de Pinhais e Cerrado
- b) Pantanal
- c) Caatinga e Mata Atlântica
- d) Floresta Tropical
- e) Cerrado e Mata Atlântica

**12. A letra do hino do município de Telêmaco Borba/PR é de autoria de**

- a) Bento Mossurunga.
- b) Moisés Lupion.
- c) Eloah Martins Quadrado.
- d) Graciliana Reis D´Albuquerque Mossurunga.
- e) Enéias Augusto Moracines Borba.

**13. Leia o texto sobre o Brasão de Armas do município de Telêmaco Borba/PR e marque a alternativa correta.**

**O Brasão de Armas foi aprovado em definitivo em 1981, dentro dos padrões da heráldica, estabelecendo os regulamentos para seu uso, ficando assim oficializado.**

**No Brasão de Armas, é possível identificar:**

- 1. Escudo português redondo banhado de ouro filetado de prata, carregado de cinco árvores de pinho estilizadas de sua cor, postas em banda.
  - 2. Escudete de prata carregado de três Pinheiros do Paraná, araucária angustifolia ou brasiliense.
  - 3. No timbre, coroa mural de ouro lavrado de negro.
  - 4. À destra, haste de milho (zae mays) frutada.
  - 5. À sinistra, ramos de soja (gelycine soya) granada.
  - 6. Listel amarelo ostentando o topônimo "Cidade Nova" entre as inscrições de ouro "5 de Julho de 1963", em caracteres latino moderno.
- a) Não é verdadeiro o item 1.
  - b) Não é verdadeiro o item 2.
  - c) Não é verdadeiro o item 4.
  - d) Não é verdadeiro o item 6.
  - e) Não são verdadeiros os itens 3 e 5.

**14. Segundo o art. 11 da Lei Orgânica do Município de Telêmaco Borba/PR, os bens públicos podem ser:**

- I. De uso comum do Povo, tais como estradas municipais, ruas, parques, praças, logradouros públicos e outros da mesma espécie;
- II. De uso especial, os de patrimônio administrativo, tais como edifícios das repartições públicas, os terrenos e equipamentos destinados ao serviço público, veículos, matadouros, mercados e outras serventias de outra espécie;

**III. Bens municipais, aqueles sobre os quais o município exerce os direitos de proprietário e são considerados como bens patrimoniais disponíveis;**

**IV. Bens culturais, tais como música e obras de arte.**

**Podemos afirmar que são verdadeiros os itens**

- a) I e II, apenas.
- b) II e III, apenas.
- c) I, II e III, apenas.
- d) I, III e IV, apenas.
- e) I, II, III e IV.

**15. Qual alternativa completa corretamente o texto a seguir?**

**No primeiro ano de cada legislatura, no dia 1º de janeiro, em sessão de instalação, independente de número, sob a presidência do vereador mais idoso dentre os eleitos, os vereadores prestarão compromisso e tomarão posse. O Vereador que não tomar posse na sessão do dia 1º de janeiro poderá fazê-la \_\_\_\_\_ depois da primeira sessão ordinária da Legislatura.**

- a) até dez dias
- b) até quinze dias
- c) até trinta dias
- d) até quarenta e cinco dias
- e) até sessenta dias

**16. Conforme o art. 54 da Lei Orgânica do Município de Telêmaco Borba/PR, o Processo Legislativo compreende a elaboração de:**

**I. Emendas à Lei Orgânica do Município;**

**II. Leis complementares;**

**III. Leis Ordinárias;**

**IV. Decretos Legislativos;**

**V. Resoluções;**

**VI. Pareceres.**

**Assinale a alternativa que faz a afirmação correta.**

- a) São verdadeiros apenas os itens I, III e VI.
- b) São verdadeiros apenas os itens I, III e IV.
- c) São verdadeiros apenas os itens III, IV e V.
- d) São verdadeiros apenas os itens I, II, III, IV e V.
- e) São verdadeiros os itens I, II, III, IV, V e VI.

**Com base na Lei nº 1883/2012, que dispõe sobre o Estatuto dos Servidores Públicos da Administração Direta, Autárquica e Funcional do Município de Telêmaco Borba/PR, responda às próximas quatro questões.**

**17. À luz do § 2º do art. 9º da Lei nº 1883/2012, marque a alternativa que completa a lacuna do texto a seguir.**

**O concurso deverá ser homologado no prazo máximo de \_\_\_\_\_ contados da data de realização da última fase de provas, sob pena de responsabilidade da autoridade competente.**

- a) um mês
- b) dois meses
- c) seis meses
- d) um ano
- e) dois anos

**18. Marque a alternativa que completa a lacuna do texto a seguir.**

**O candidato terá o prazo \_\_\_\_\_, a contar da publicação oficial da convocação, para comparecer à entidade convocante e assinar termo de comparecimento.**

- a) máximo de 5 dias úteis
- b) mínimo de 15 dias úteis
- c) de até 30 dias
- d) máximo de 15 dias úteis
- e) mínimo de 5 dias úteis

**19. Leia as assertivas e marque a correta.**

- a) São reservados 10% dos cargos em comissão para a nomeação de servidores do quadro efetivo.
- b) São reservados 15% dos cargos em comissão para a nomeação de servidores do quadro efetivo.
- c) São reservados 20% dos cargos em comissão para a nomeação de servidores do quadro efetivo.
- d) São reservados 25% dos cargos em comissão para a nomeação de servidores do quadro efetivo.
- e) São reservados 30% dos cargos em comissão para a nomeação de servidores do quadro efetivo.

**20. Marque a alternativa que completa a lacuna do texto a seguir.**

**O servidor municipal, quando nomeado para cargo em comissão, ficará afastado de seu cargo efetivo e fará jus à remuneração prevista em lei para o comissionado, podendo optar por receber seus vencimentos acrescidos de \_\_\_\_\_ do valor da remuneração prevista para o cargo em comissão.**

- a) 10%
- b) 20%
- c) 30%
- d) 40%
- e) 50%

### **CONHECIMENTOS ESPECÍFICOS**

**21. Assinale a alternativa que indique apenas os EPIs para proteção dos olhos e faces:**

- a) Máscara de Solda, Óculos e Protetor facial.
- b) Óculos, Capacete e Capuz.
- c) Máscara de Solda, Protetor Facial e Protetor auditivo.
- d) Respirador purificador, Óculos e Capacete.
- e) Protetor facial, Óculos e Capuz.

**22. Em relação à elaboração do Programa de Controle Médico de Saúde Ocupacional - PCMSO, assinale a alternativa correta.**

- a) O PCMSO deverá ter caráter de prevenção, rastreamento e diagnóstico precoce dos agravos à saúde relacionados ao trabalho, exceto de natureza subclínica.
- b) O PCMSO deverá ser planejado e implantado com base nos riscos à saúde dos trabalhadores, exceto os já identificados nas avaliações previstas nas Normas Regulamentadoras do MTE.
- c) O PCMSO deverá ser planejado e implantado com base nos riscos à saúde dos trabalhadores, especialmente os identificados nas avaliações previstas nas Normas Regulamentadoras do MTE.
- d) O PCMSO não deverá considerar as questões incidentes sobre o indivíduo e a coletividade de trabalhadores.
- e) O PCMSO é parte integrante do conjunto mais amplo de iniciativas da empresa no campo da saúde dos trabalhadores, não devendo estar articulado com o disposto nas demais Normas Regulamentadoras do MTE.

**23. Assinale a alternativa que indica a correta recomendação de conforto térmico nos locais de trabalho onde são executadas atividades que exijam solicitação intelectual e atenção constantes (salas de controle, laboratórios, escritórios, salas de desenvolvimento ou análise de projetos), segundo a Norma Regulamentadora 17.**

- a) Temperatura entre 20°C e 24°C, velocidade do ar superior a 0,75 m/s e umidade relativa do ar não inferior a 40%.
- b) Temperatura entre 20°C e 23°C, velocidade do ar superior a 0,45 m/s e umidade relativa do ar não inferior a 20%.
- c) Temperatura entre 20°C e 23°C, velocidade do ar não superior a 0,75 m/s e umidade relativa do ar inferior a 40%.
- d) Temperatura entre 20°C e 24°C, velocidade do ar não superior a 0,45 m/s e umidade relativa do ar não inferior a 20%.
- e) Temperatura entre 20°C e 23°C, velocidade do ar não superior a 0,75 m/s e umidade relativa do ar não inferior a 40%.

**24. Para desenhos técnicos, a apresentação completa de uma escala de ampliação deve consistir, segundo a ABNT, da:**

- a) palavra "AMPLIAÇÃO", seguida da relação 1:X, onde  $X > 1$ .
- b) palavra "ESCALA", seguida da relação X:1, onde  $X > 1$ .
- c) palavra "AMPLIAÇÃO", seguida da relação X:1, onde  $X > 1$ .
- d) palavra "ESCALA", seguida da relação X:1, onde  $X < 1$ .
- e) palavra "AMPLIAÇÃO", seguida da relação X:1, onde  $X < 1$ .

**25. Assinale a alternativa que indica a correta Norma Regulamentadora - NR que regulamenta os serviços especializados em engenharia de segurança e em medicina do trabalho:**

- a) NR 2
- b) NR 3
- c) NR 4
- d) NR 5
- e) NR 10

**26. Assinale a alternativa que indica a correta duração do mandato dos membros eleitos da Comissão Interna de Prevenção de acidentes – CIPA.**

- a) 2 anos, permitida a reeleição.



- b) 1 ano, permitida a reeleição.
- c) 2 anos, não permitida a reeleição.
- d) 1 ano, não permitida a reeleição.
- e) 4 anos, não permitida a reeleição.

**27. O exercício de trabalho em condições de insalubridade de grau médio assegura ao trabalhador a percepção de adicional, incidente sobre o salário mínimo da região, equivalente a:**

- a) 5%
- b) 10%
- c) 15%
- d) 20%
- e) 30%

**28. Em relação às saídas de emergência nos locais de trabalho, assinale a alternativa correta.**

- a) Devem ser fechadas à chave ou presas durante a jornada de trabalho.
- b) Devem ser fechadas à chave e abertas pelo empregador apenas em casos de emergência.
- c) Podem ser fechadas à chave desde que cada empregado tenha uma cópia, permitindo a fácil abertura do interior do estabelecimento.
- d) Não podem ser equipadas com dispositivos de travamento que permitam fácil abertura do interior do estabelecimento.
- e) Podem ser equipadas com dispositivos de travamento que permitam fácil abertura do interior do estabelecimento.

**29. Assinale a alternativa que indica as corretas pressões das caldeiras classificadas na categoria "A" pela Norma Regulamentadora 13.**

- a) Igual ou superior a 1960 kPa.
- b) Igual ou inferior a 1960 kPa.
- c) Igual ou inferior a 588 kPa.
- d) Igual ou superior a 588 kPa.
- e) Igual ou inferior a 588 kPa, e o volume interno é igual ou superior a 100 litros.

**30. Em relação ao uso da cor na segurança do trabalho, assinale a opção correta.**

- a) Seu uso deve ser excessivo, a fim de dispensar o emprego de outras formas de prevenção de acidentes.
- b) Deve ser aplicado apenas em embalagens de produtos químicos inflamáveis.
- c) Seu uso deve ser o mais reduzido possível, a fim de não ocasionar distração, confusão e fadiga ao trabalhador.
- d) Deve ser aplicado apenas em locais onde as cores não atrapalhem a estética do ambiente de trabalho.
- e) Deve ser adotada para segurança em estabelecimentos ou locais de trabalho, a fim de dispensar o emprego de outras formas de prevenção de acidentes.

## LÍNGUA PORTUGUESA

**Leia o texto e responda às próximas quatro questões.**

### Lêmures e baobás de Madagascar

Isolada do continente há 135 milhões de anos, a ilha do Oceano Índico é um laboratório natural da evolução das espécies e encanta os viajantes com uma flora e fauna única

**Madagascar** abriga 107 espécies de **lêmures**, dezenas de espécies de camaleões coloridos e outras tantas plantas que só existem lá. "Madagascar é um mundo a parte. Costumo dizer que, se Charles Darwin tivesse conhecido Madagascar, seu livro *A Origem das Espécies* seria dez vezes maior", afirma o fotógrafo e jornalista **Haroldo Castro**, idealizador de Viajologia Expedições.

Uma das experiências mais emocionantes na quarta maior ilha do mundo é passear entre os gigantescos **baobás**, árvores que chegam a ter 30 metros de altura e mil anos de idade. Das nove espécies de baobás que existem no mundo, seis podem ser encontradas apenas em Madagascar. A majestosa árvore, considerada sagrada pelos malgaxes, é chamada localmente como "reniala", mãe da floresta.

Na pequena cidade de Bekopaka está o Parque Nacional Tsingy de Bemaraha, considerado Patrimônio Mundial pela Unesco. Trilhas e passeios de canoa no rio Manambolo conduzem a formações rochosas calcárias inusitadas e plantas endêmicas desse ecossistema de florestas secas.

Outro momento inesquecível em Madagascar é o encontro com os lêmures nas florestas tropicais da reserva Anjozorobe-Angavo, a 90 quilômetros da capital Antananarivo. Especialistas apontam que o turismo de observação de animais é uma excelente alternativa para o desenvolvimento da economia local e pode ajudar a conter o desmatamento. "O projeto em Anjozorobe comprova que, nos últimos anos, os 9 mil visitantes contribuíram de forma concreta a reduzir a pobreza e a promover a conservação da biodiversidade", afirma Haroldo. Como os primatas são curiosos e estão habituados aos seres humanos, eles costumam se aproximar dos visitantes. "Os bichinhos chegam a subir nas nossas cabeças e parecem adorar aparecer nas fotos."



Madagascar possui hoje uma excelente estrutura para o turismo, com algumas estradas bem cuidadas e hotéis confortáveis localizados perto das reservas e parques ecológicos. A gastronomia malgaxe, com um toque francês, também surpreende pela diversidade de ingredientes, temperos e colorido dos pratos.

[...]

(Fonte: <http://viajeaquil.com.br/materias/lemures-e-baobas-de-madagascar#2>. Acesso em 14/05/2016)

**31. Lêmures e baobás de Madagascar é um texto:**

- Em que prevalece a descrição, apresentando as belezas e peculiaridades do lugar, da fauna e da flora.
- Principalmente narrativo, de fatos colhidos durante uma viagem, que se sucedem em progressão temporal.
- Essencialmente argumentativo, o uso da descrição visa somente a convencer o leitor a visitar Madagascar.
- Dissertativo, impera o desenvolvimento de argumentos para comprovar a tese presente no primeiro parágrafo.
- Em que predomina a exposição de conceitos e definições com o intuito de informar o leitor.

**32. O teor do texto *Lêmures e baobás de Madagascar* somente não poderia se encaixar em que tópico?**

- Turismo
- Viagens
- Clima
- Natureza
- Ilhas

**33. O aposto é um termo que *explica ou esclarece, desenvolve ou resume outro termo da oração*. Quanto a isso, analise a parte grifada em cada uma das orações retiradas do texto:**

**I - *A majestosa árvore, considerada sagrada pelos malgaxes, é chamada localmente como “reniala”, mãe da floresta.***

**II - *afirma o fotógrafo e jornalista Haroldo Castro, idealizador de Viajologia Expedições.***

**III - *Outro momento inesquecível em Madagascar é o encontro com os lêmures nas florestas tropicais da reserva Anjozorobe-Angavo, a 90 quilômetros da capital Antananarivo.***

**IV - *O projeto em Anjozorobe comprova que, nos últimos anos, os 9 mil visitantes contribuíram de forma concreta a reduzir a pobreza e a promover a conservação da biodiversidade”.***

**V - *A gastronomia malgaxe, com um toque francês, também surpreende pela diversidade de ingredientes, temperos e colorido dos pratos.***

**Constitui aposto os grifos em:**

- I, II, III, IV e V.
- I, III e V, apenas.
- III e V apenas.
- I, II, III, e V, apenas.
- III, IV e V apenas

**34. *Trilhas e passeios de canoa no rio Manambolo conduzem a formações rochosas calcárias inusitadas e plantas endêmicas desse ecossistema de florestas secas.***

**Ao observar a relação sintática entre os termos desse período, pode-se afirmar que:**

- de canoa é complemento nominal de Trilhas e passeios.
- no rio Manambolo é adjunto adnominal de canoas.
- de florestas secas é complemento nominal de plantas endêmicas.
- de canoa é complemento verbal de passeios.
- a formações rochosas calcárias inusitadas e plantas endêmicas desse ecossistema de florestas secas é complemento verbal de conduzem.

**Leia o poema e responda às próximas duas questões.**

**FOGO NA MATA, MATA!**

Fogo na mata, mata! A mata, a vida...  
Fogo na mata, abre,  
no coração da mata,  
Profundas feridas.

Fogo na mata corrói,  
dentro de nós, os sonhos.  
Fogo na mata, deixa, no seio da mata,  
Tumores tamanhos!

[...]

(Fonte: <http://www.recantodasletras.com.br/letras/505252>. Acesso em 14/05/2016)

**35. A respeito de alguns aspectos gramaticais pertinentes aos termos em destaque na frase título do poema *Fogo na mata, mata!*, está correto o que se afirma em:**

- a) Morfologicamente, na sequência em que as duas palavras aparecem, temos um verbo e um substantivo.
- b) Semanticamente, as duas palavras constituem homônimas homófonas homógrafas.
- c) O processo de formação da palavra “mata” (primeira ocorrência na frase) é por derivação regressiva do verbo “matar” cuja flexão na terceira pessoa vem logo em seguida na frase.
- d) Semanticamente, as duas palavras “mata” são parônimas.
- e) Semanticamente, as duas palavras constituem homônimas homógrafas heterofônicas.

**36. Com a Nova Reforma Ortográfica, foi mantido o acento nas oxítonas terminadas em -ei e -oi, como é o caso de *corrói* em *Fogo na mata corrói*. No entanto, de acordo ainda com a Nova Reforma, os acentos foram retirados de quais duas palavras?**

- a) Bocaiuva - maiuscula
- b) Voo, aerodromo
- c) Releem - feiura
- d) Papeis - linguiça
- e) Preveem - heroi

**37. Leia atentamente as alternativas e assinale a incorreta no que diz respeito à Ortografia:**

- a) Grafamos com j as palavras ultraje, jiboia e gorjeio; com g as palavras ferrugem, geringonça, e miragem.
- b) Grafamos com sc: miscelânea, obsceno e obscessão; com c: sucinto, facínio e nécio.
- c) Grafamos com x: xampu, mexerico e enxada; com ch: piche, tocha e mecha.
- d) Grafamos com z: xadrez, cicatriz e vizinho; com s: friso, pêsames e tesoura.
- e) Grafamos com ss: escassez, submissão e sossego; com c: acetinado, obcecado e acepção.

**38. O advérbio sublinhado e a circunstância que ele expressa não estão corretamente apresentados em:**

- a) Ele certamente virá para o encontro. (afirmação)
- b) Ali se ouvia falar de riquezas culturais. (tempo)
- c) O orador discursou muito bem, impressionou a plateia. (modo)
- d) Chegamos tarde, perdemos o ônibus. (tempo)
- e) Os candidatos estudaram bastante. (intensidade)

**39. Os pronomes pessoais, representantes das pessoas do discurso, estão corretamente empregados em todas as alternativas, com exceção da:**

- a) Sempre haverá discordância entre mim e ti.
- b) O juiz queria falar com nós dois.
- c) Minha festa de despedida, não vou esquecê-la jamais.
- d) Ninguém irá sem eu.
- e) Deram o livro para eu ler em dois dias!

**40. Em uma oração, o contexto permite concluirmos se certos verbos são de ligação, para assim identificarmos o predicado nominal. Assim, não há predicação nominal em:**

- a) O aluno não estava na escola hoje.
- b) À tarde, as crianças pareciam cansadas.
- c) Ultimamente os participantes do programa andam desanimados.
- e) A aurora boreal é um lindo espetáculo.
- d) As atletas parecem cansadas.

**RASCUNHO**





PREFEITURA DE TELÊMACO BORBA - ESTADO DO PARANÁ - EDITAL Nº 001-2016 - CONCURSO PÚBLICO

**MATUTINO – 29/05/2016 – NÍVEL MÉDIO**

**3**

PROVA OBJETIVA NÚMERO

**CARGO: TMNM I - SEGURANÇA DO TRABALHO**

**Leia atentamente as INSTRUÇÕES:**

1. Confira seus dados no cartão-resposta: nome, número de inscrição e o curso para o qual se inscreveu.
2. **MARQUE no seu cartão-resposta o número da sua prova** (não será corrigido o cartão-resposta que não tiver marcado o número da prova) e **Assine** seu cartão-resposta.
3. Aguarde a autorização do Fiscal para abrir o caderno de prova. Ao receber a ordem do fiscal, confira o caderno de prova com muita atenção. Nenhuma reclamação sobre o total de questões ou falha de impressão será aceita depois de iniciada a prova.
4. O cartão-resposta não será substituído, salvo se contiver erro de impressão.
5. Preencha toda a área do cartão-resposta correspondente à alternativa de sua escolha, com caneta esferográfica (tinta azul ou preta), sem ultrapassar as bordas. As marcações duplas, ou rasuradas, com corretivo, ou marcadas diferentemente do modelo estabelecido no cartão-resposta poderão ser anuladas.
6. Sua prova tem **40** questões, com **5** alternativas.
7. Cabe apenas ao candidato a interpretação das questões, **o fiscal** não poderá fazer nenhuma interferência.
8. A prova será realizada com duração máxima de **3 (três) horas**, incluído o tempo para a realização da Prova Objetiva de múltipla escolha e o preenchimento do cartão-resposta.
9. O candidato poderá retirar-se do local de realização das provas somente **1 (uma) hora** após o seu início, sem levar o caderno de prova.
10. O candidato poderá levar o caderno de provas, assim como anotação contendo transcrição do seu cartão-resposta, somente **1h30min** (uma hora e trinta minutos) após o início da realização da prova.
11. Ao terminar a prova, o candidato deverá entregar ao fiscal de sala o cartão-resposta preenchido e **ASSINADO**.
12. Os **3 (três)** candidatos, que terminarem a prova por último, deverão permanecer na sala, e só poderão sair juntos após o fechamento do envelope, contendo os cartões-resposta dos candidatos presentes e ausentes, e assinarem no lacre do referido envelope, atestando que este foi devidamente lacrado.
13. Durante todo o tempo em que permanecer no local onde está ocorrendo o concurso, o candidato deverá, manter o celular desligado e sem bateria, só sendo permitido ligar depois de ultrapassar o portão de saída do prédio.
14. Não será permitido ao candidato fumar na sala de provas, bem como nas dependências.
15. Depois de terminar a prova e entregar ao fiscal o cartão-resposta, preenchido e assinado, não será mais permitido ao candidato o uso do banheiro e bebedouro.

**BOA PROVA!**

**CONHECIMENTOS ESPECÍFICOS****01. Assinale a alternativa que indique apenas os EPIs para proteção dos olhos e faces:**

- a) Máscara de Solda, Óculos e Protetor facial.
- b) Óculos, Capacete e Capuz.
- c) Máscara de Solda, Protetor Facial e Protetor auditivo.
- d) Respirador purificador, Óculos e Capacete.
- e) Protetor facial, Óculos e Capuz.

**02. Em relação à elaboração do Programa de Controle Médico de Saúde Ocupacional - PCMSO, assinale a alternativa correta.**

- a) O PCMSO deverá ter caráter de prevenção, rastreamento e diagnóstico precoce dos agravos à saúde relacionados ao trabalho, exceto de natureza subclínica.
- b) O PCMSO deverá ser planejado e implantado com base nos riscos à saúde dos trabalhadores, exceto os já identificados nas avaliações previstas nas Normas Regulamentadoras do MTE.
- c) O PCMSO deverá ser planejado e implantado com base nos riscos à saúde dos trabalhadores, especialmente os identificados nas avaliações previstas nas Normas Regulamentadoras do MTE.
- d) O PCMSO não deverá considerar as questões incidentes sobre o indivíduo e a coletividade de trabalhadores.
- e) O PCMSO é parte integrante do conjunto mais amplo de iniciativas da empresa no campo da saúde dos trabalhadores, não devendo estar articulado com o disposto nas demais Normas Regulamentadoras do MTE.

**03. Assinale a alternativa que indica a correta recomendação de conforto térmico nos locais de trabalho onde são executadas atividades que exijam solicitação intelectual e atenção constantes (salas de controle, laboratórios, escritórios, salas de desenvolvimento ou análise de projetos), segundo a Norma Regulamentadora 17.**

- a) Temperatura entre 20°C e 24°C, velocidade do ar superior a 0,75 m/s e umidade relativa do ar não inferior a 40%.
- b) Temperatura entre 20°C e 23°C, velocidade do ar superior a 0,45 m/s e umidade relativa do ar não inferior a 20%.
- c) Temperatura entre 20°C e 23°C, velocidade do ar não superior a 0,75 m/s e umidade relativa do ar inferior a 40%.
- d) Temperatura entre 20°C e 24°C, velocidade do ar não superior a 0,45 m/s e umidade relativa do ar não inferior a 20%.
- e) Temperatura entre 20°C e 23°C, velocidade do ar não superior a 0,75 m/s e umidade relativa do ar não inferior a 40%.

**04. Para desenhos técnicos, a apresentação completa de uma escala de ampliação deve consistir, segundo a ABNT, da:**

- a) palavra "AMPLIAÇÃO", seguida da relação 1:X, onde  $X > 1$ .
- b) palavra "ESCALA", seguida da relação X:1, onde  $X > 1$ .
- c) palavra "AMPLIAÇÃO", seguida da relação X:1, onde  $X > 1$ .
- d) palavra "ESCALA", seguida da relação X:1, onde  $X < 1$ .
- e) palavra "AMPLIAÇÃO", seguida da relação X:1, onde  $X < 1$ .

**05. Assinale a alternativa que indica a correta Norma Regulamentadora - NR que regulamenta os serviços especializados em engenharia de segurança e em medicina do trabalho:**

- a) NR 2
- b) NR 3
- c) NR 4
- d) NR 5
- e) NR 10

**06. Assinale a alternativa que indica a correta duração do mandato dos membros eleitos da Comissão Interna de Prevenção de acidentes – CIPA.**

- a) 2 anos, permitida a reeleição.
- b) 1 ano, permitida a reeleição.
- c) 2 anos, não permitida a reeleição.
- d) 1 ano, não permitida a reeleição.
- e) 4 anos, não permitida a reeleição.

**07. O exercício de trabalho em condições de insalubridade de grau médio assegura ao trabalhador a percepção de adicional, incidente sobre o salário mínimo da região, equivalente a:**

- a) 5%
- b) 10%
- c) 15%
- d) 20%

e) 30%

**08. Em relação às saídas de emergência nos locais de trabalho, assinale a alternativa correta.**

- Devem ser fechadas à chave ou presas durante a jornada de trabalho.
- Devem ser fechadas à chave e abertas pelo empregador apenas em casos de emergência.
- Podem ser fechadas à chave desde que cada empregado tenha uma cópia, permitindo a fácil abertura do interior do estabelecimento.
- Não podem ser equipadas com dispositivos de travamento que permitam fácil abertura do interior do estabelecimento.
- Podem ser equipadas com dispositivos de travamento que permitam fácil abertura do interior do estabelecimento.

**09. Assinale a alternativa que indica as corretas pressões das caldeiras classificadas na categoria “A” pela Norma Regulamentadora 13.**

- Igual ou superior a 1960 kPa.
- Igual ou inferior a 1960 kPa.
- Igual ou inferior a 588 kPa.
- Igual ou superior a 588 kPa.
- Igual ou inferior a 588 kPa, e o volume interno é igual ou superior a 100 litros.

**10. Em relação ao uso da cor na segurança do trabalho, assinale a opção correta.**

- Seu uso deve ser excessivo, a fim de dispensar o emprego de outras formas de prevenção de acidentes.
- Deve ser aplicado apenas em embalagens de produtos químicos inflamáveis.
- Seu uso deve ser o mais reduzido possível, a fim de não ocasionar distração, confusão e fadiga ao trabalhador.
- Deve ser aplicado apenas em locais onde as cores não atrapalhem a estética do ambiente de trabalho.
- Deve ser adotada para segurança em estabelecimentos ou locais de trabalho, a fim de dispensar o emprego de outras formas de prevenção de acidentes.

**LÍNGUA PORTUGUESA**

Leia o texto e responda às próximas quatro questões.

**Lêmures e baobás de Madagascar**

Isolada do continente há 135 milhões de anos, a ilha do Oceano Índico é um laboratório natural da evolução das espécies e encanta os viajantes com uma flora e fauna única

**Madagascar** abriga 107 espécies de **lêmures**, dezenas de espécies de camaleões coloridos e outras tantas plantas que só existem lá. “Madagascar é um mundo a parte. Costumo dizer que, se Charles Darwin tivesse conhecido Madagascar, seu livro *A Origem das Espécies* seria dez vezes maior”, afirma o fotógrafo e jornalista **Haroldo Castro**, idealizador de Viajologia Expedições.

Uma das experiências mais emocionantes na quarta maior ilha do mundo é passear entre os gigantescos **baobás**, árvores que chegam a ter 30 metros de altura e mil anos de idade. Das nove espécies de baobás que existem no mundo, seis podem ser encontradas apenas em Madagascar. A majestosa árvore, considerada sagrada pelos malgaxes, é chamada localmente como “reniala”, mãe da floresta.

Na pequena cidade de Bekopaka está o Parque Nacional Tsingy de Bemaraha, considerado Patrimônio Mundial pela Unesco. Trilhas e passeios de canoa no rio Manambolo conduzem a formações rochosas calcárias inusitadas e plantas endêmicas desse ecossistema de florestas secas.

Outro momento inesquecível em Madagascar é o encontro com os lêmures nas florestas tropicais da reserva Anjozorobe-Angavo, a 90 quilômetros da capital Antananarivo. Especialistas apontam que o turismo de observação de animais é uma excelente alternativa para o desenvolvimento da economia local e pode ajudar a conter o desmatamento. “O projeto em Anjozorobe comprova que, nos últimos anos, os 9 mil visitantes contribuíram de forma concreta a reduzir a pobreza e a promover a conservação da biodiversidade”, afirma Haroldo. Como os primatas são curiosos e estão habituados aos seres humanos, eles costumam se aproximar dos visitantes. “Os bichinhos chegam a subir nas nossas cabeças e parecem adorar aparecer nas fotos.”

Madagascar possui hoje uma excelente estrutura para o turismo, com algumas estradas bem cuidadas e hotéis confortáveis localizados perto das reservas e parques ecológicos. A gastronomia malgaxe, com um toque francês, também surpreende pela diversidade de ingredientes, temperos e colorido dos pratos.

[...]

(Fonte: <http://viajeaqui.abril.com.br/materias/lemures-e-baobas-de-madagascar#2>. Acesso em 14/05/2016)

**11. Lêmures e baobás de Madagascar é um texto:**

- Em que prevalece a descrição, apresentando as belezas e peculiaridades do lugar, da fauna e da flora.
- Principalmente narrativo, de fatos colhidos durante uma viagem, que se sucedem em progressão temporal.
- Essencialmente argumentativo, o uso da descrição visa somente a convencer o leitor a visitar Madagascar.
- Dissertativo, impera o desenvolvimento de argumentos para comprovar a tese presente no primeiro parágrafo.
- Em que predomina a exposição de conceitos e definições com o intuito de informar o leitor.

12. O teor do texto *Lêmures e baobás de Madagascar* somente não poderia se encaixar em que tópico?

- a) Turismo
- b) Viagens
- c) Clima
- d) Natureza
- e) Ilhas

13. O aposto é um termo que *explica ou esclarece, desenvolve ou resume outro termo da oração*. Quanto a isso, analise a parte grifada em cada uma das orações retiradas do texto:

I - *A majestosa árvore, considerada sagrada pelos malgaxes, é chamada localmente como “reniala”, mãe da floresta.*

II - *afirma o fotógrafo e jornalista Haroldo Castro, idealizador de Viajologia Expedições.*

III - *Outro momento inesquecível em Madagascar é o encontro com os lêmures nas florestas tropicais da reserva Anjozorobe-Angavo, a 90 quilômetros da capital Antananarivo.*

IV - *O projeto em Anjozorobe comprova que, nos últimos anos, os 9 mil visitantes contribuíram de forma concreta a reduzir a pobreza e a promover a conservação da biodiversidade”.*

V - *A gastronomia malgaxe, com um toque francês, também surpreende pela diversidade de ingredientes, temperos e colorido dos pratos.*

Constitui aposto os grifos em:

- a) I, II, III, IV e V.
- b) I, III e V, apenas.
- c) III e V apenas.
- d) I, II, III, e V, apenas.
- e) III, IV e V apenas

14. *Trilhas e passeios de canoa no rio Manambolo conduzem a formações rochosas calcárias inusitadas e plantas endêmicas desse ecossistema de florestas secas.*

Ao observar a relação sintática entre os termos desse período, pode-se afirmar que:

- a) de canoa é complemento nominal de Trilhas e passeios.
- b) no rio Manambolo é adjunto adnominal de canoas.
- c) de florestas secas é complemento nominal de plantas endêmicas.
- d) de canoa é complemento verbal de passeios.
- e) a formações rochosas calcárias inusitadas e plantas endêmicas desse ecossistema de florestas secas é complemento verbal de conduzem.

Leia o poema e responda às próximas duas questões.

### FOGO NA MATA, MATA!

Fogo na mata, mata! A mata, a vida...  
Fogo na mata, abre,  
no coração da mata,  
Profundas feridas.

Fogo na mata corrói,  
dentro de nós, os sonhos.  
Fogo na mata, deixa, no seio da mata,  
Tumores tamanhos!

[...]

(Fonte: <http://www.recantodasletras.com.br/letras/505252>. Acesso em 14/05/2016)

15. A respeito de alguns aspectos gramaticais pertinentes aos termos em destaque na frase título do poema *Fogo na mata, mata!*, está correto o que se afirma em:

- a) Morfologicamente, na sequência em que as duas palavras aparecem, temos um verbo e um substantivo.
- b) Semanticamente, as duas palavras constituem homônimas homófonas homógrafas.
- c) O processo de formação da palavra “mata” (primeira ocorrência na frase) é por derivação regressiva do verbo “matar” cuja flexão na terceira pessoa vem logo em seguida na frase.
- d) Semanticamente, as duas palavras “mata” são parônimas.
- e) Semanticamente, as duas palavras constituem homônimas homógrafas heterofônicas.

16. Com a Nova Reforma Ortográfica, foi mantido o acento nas oxítonas terminadas em -ei e -oi, como é o caso de corrói em *Fogo na mata corrói*. No entanto, de acordo ainda com a Nova Reforma, os acentos foram retirados de quais duas palavras?

- a) Bocaiuva - maiuscula
- b) Voo, aerodromo
- c) Releem - feiura
- d) Papeis - linguixa
- e) Preveem - heroi

**17. Leia atentamente as alternativas e assinale a incorreta no que diz respeito à Ortografia:**

- a) Grafamos com j as palavras ultraje, jiboia e gorjeio; com g as palavras ferrugem, geringonça, e miragem.
- b) Grafamos com sc: miscelânea, obsceno e obscessão; com c: sucinto, facínio e nécio.
- c) Grafamos com x: xampu, mexerico e enxada; com ch: piche, tocha e mecha.
- d) Grafamos com z: xadrez, cicatriz e vizinho; com s: friso, pêsames e tesoura.
- e) Grafamos com ss: escassez, submissão e sossego; com c: acetinado, obcecado e acepção.

**18. O advérbio sublinhado e a circunstância que ele expressa não estão corretamente apresentados em:**

- a) Ele certamente virá para o encontro. (afirmação)
- b) Ali se ouvia falar de riquezas culturais. (tempo)
- c) O orador discursou muito bem, impressionou a plateia. (modo)
- d) Chegamos tarde, perdemos o ônibus. (tempo)
- e) Os candidatos estudaram bastante. (intensidade)

**19. Os pronomes pessoais, representantes das pessoas do discurso, estão corretamente empregados em todas as alternativas, com exceção da:**

- a) Sempre haverá discordância entre mim e ti.
- b) O juiz queria falar com nós dois.
- c) Minha festa de despedida, não vou esquecê-la jamais.
- d) Ninguém irá sem eu.
- e) Deram o livro para eu ler em dois dias!

**20. Em uma oração, o contexto permite concluirmos se certos verbos são de ligação, para assim identificarmos o predicado nominal. Assim, não há predicação nominal em:**

- a) O aluno não estava na escola hoje.
- b) À tarde, as crianças pareciam cansadas.
- c) Ultimamente os participantes do programa andam desanimados.
- e) A aurora boreal é um lindo espetáculo.
- d) As atletas parecem cansadas.

**MATEMÁTICA**

**21. Numa prova de hipismo, há duas modalidades totalmente distintas: salto e rural. João vai competir nas duas modalidades. Sabendo que a vitória ou a derrota em uma nada influencia no resultado da outra, e sabendo que a probabilidade de ele ganhar a prova de salto é de 40% e a de ganhar a prova de rural é de 58%, qual a probabilidade de ele ganhar as duas provas?**

- a) 98%
- b) 62%
- c) 23,2%
- d) 18%
- e) 2,32%

**22. Numa escola há 12 professores. A tabela a seguir mostra a carga horária diária de trabalho desses professores.**

4	8	5	10	6	5	8	6	8	9	4	8
---	---	---	----	---	---	---	---	---	---	---	---

**É correto afirmar que as cargas horárias média, modal e mediana desses professores são respectivamente:**

- a) 6,25; 6; 7
- b) 6,5; 7; 8
- c) 6,75; 8; 6
- d) 6,75; 8; 7
- e) 6,75; 7; 8

**23. Encontre a equação da reta mediatriz do segmento AB, onde A(2, 3) e B(4, -1), e assinale a alternativa correta.**

- a)  $2y - x + 1 = 0$
- b)  $y - 2x + 2 = 0$
- c)  $2y - 2x + 1 = 0$
- d)  $2y + x + 2 = 0$

e)  $2y + x - 1 = 0$

**24. Uma loja acrescenta 15% no preço de seus produtos à vista se o cliente optar por pagar com um cheque para 60 dias. Comprei, nessa loja, um fogão com cheque para 60 dias e paguei R\$552,00 por ele. Qual era o preço à vista desse fogão?**

- a) R\$460,00
- b) R\$469,20
- c) R\$474,50
- d) R\$480,00
- e) R\$500,00

**25. Um pesquisador, ao analisar os processos que envolvem jovens com menos de 24 anos, descobriu que há 4 homens com nomes envolvidos em processos para cada mulher. Se no total ele contou 2400 pessoas, quantas eram as mulheres envolvidas nessa pesquisa?**

- a) 480
- b) 600
- c) 800
- d) 1920
- e) 2000

### INFORMÁTICA

**26. Utilizando o Excel 2013, qual fórmula representa corretamente a auto soma?**

- a) =SUM()
- b) =MEDIA()
- c) =MAX()
- d) =MIN()
- e) =SE()

**27. Acerca de confidencialidade está incorreto afirmar:**

- a) É um conceito no qual o acesso à informação deve ser concedido a quem de direito, ou seja, apenas para as entidades autorizadas pelo proprietário ou dono da informação.
- b) É uma propriedade que limita o acesso à informação tão somente às entidades legítimas, ou seja, àquelas autorizadas pelo proprietário da informação.
- c) É a propriedade da informação que não estará disponível ou será divulgada a indivíduos, entidades ou processos sem autorização.
- d) Significa garantir que a informação será conhecida por pessoas que não estejam autorizadas para tal.
- e) É a garantia do resguardo das informações dadas pessoalmente em confiança e proteção contra a sua revelação não autorizada.

**28. Tratando-se de hardware de computadores, assinale a alternativa que corresponde a um tipo de memória externa.**

- a) Pen Drive
- b) EPROM
- c) DIMM
- d) MRAM
- e) Cache

**29. No Word 2013, é possível utilizar vários tipos de formatação de fontes, exceto:**

- a) Tachado
- b) Negrito
- c) Centralizado
- d) Sublinhado
- e) Cor da fonte

**30. Qual software nativo do Windows utilizamos para descobrir o endereço IP do computador?**

- a) Windows Explorer
- b) Notepad
- c) Excel
- d) Word
- e) Prompt de Comando

### CONHECIMENTOS GERAIS

**31. Conforme fonte do IBGE, o bioma do município de Telêmaco Borba/PR é:**

- a) Mata de Pinhais e Cerrado
- b) Pantanal





- c) Caatinga e Mata Atlântica
- d) Floresta Tropical
- e) Cerrado e Mata Atlântica

**32. A letra do hino do município de Telêmaco Borba/PR é de autoria de**

- a) Bento Mossurunga.
- b) Moisés Lupion.
- c) Eloah Martins Quadrado.
- d) Graciliana Reis D'Albuquerque Mossurunga.
- e) Enéias Augusto Moracines Borba.

**33. Leia o texto sobre o Brasão de Armas do município de Telêmaco Borba/PR e marque a alternativa correta.**

O Brasão de Armas foi aprovado em definitivo em 1981, dentro dos padrões da heráldica, estabelecendo os regulamentos para seu uso, ficando assim oficializado.

No Brasão de Armas, é possível identificar:

1. Escudo português redondo banhado de ouro filetado de prata, carregado de cinco árvores de pinho estilizadas de sua cor, postas em banda.
2. Escudete de prata carregado de três Pinheiros do Paraná, araucária angustifolia ou brasiliense.
3. No timbre, coroa mural de ouro lavrado de negro.
4. À direita, haste de milho (zae mays) frutada.
5. À sinistra, ramos de soja (gelycine soya) granada.
6. Listel amarelo ostentando o topônimo "Cidade Nova" entre as inscrições de ouro "5 de Julho de 1963", em caracteres latino moderno.

- a) Não é verdadeiro o item 1.
- b) Não é verdadeiro o item 2.
- c) Não é verdadeiro o item 4.
- d) Não é verdadeiro o item 6.
- e) Não são verdadeiros os itens 3 e 5.

**34. Segundo o art. 11 da Lei Orgânica do Município de Telêmaco Borba/PR, os bens públicos podem ser:**

**I. De uso comum do Povo, tais como estradas municipais, ruas, parques, praças, logradouros públicos e outros da mesma espécie;**

**II. De uso especial, os de patrimônio administrativo, tais como edifícios das repartições públicas, os terrenos e equipamentos destinados ao serviço público, veículos, matadouros, mercados e outras serventias de outra espécie;**

**III. Bens municipais, aqueles sobre os quais o município exerce os direitos de proprietário e são considerados como bens patrimoniais disponíveis;**

**IV. Bens culturais, tais como música e obras de arte.**

Podemos afirmar que são verdadeiros os itens

- a) I e II, apenas.
- b) II e III, apenas.
- c) I, II e III, apenas.
- d) I, III e IV, apenas.
- e) I, II, III e IV.

**35. Qual alternativa completa corretamente o texto a seguir?**

No primeiro ano de cada legislatura, no dia 1º de janeiro, em sessão de instalação, independente de número, sob a presidência do vereador mais idoso dentre os eleitos, os vereadores prestarão compromisso e tomarão posse. O Vereador que não tomar posse na sessão do dia 1º de janeiro poderá fazê-la \_\_\_\_\_ depois da primeira sessão ordinária da Legislatura.

- a) até dez dias
- b) até quinze dias
- c) até trinta dias
- d) até quarenta e cinco dias
- e) até sessenta dias

**36. Conforme o art. 54 da Lei Orgânica do Município de Telêmaco Borba/PR, o Processo Legislativo compreende a elaboração de:**

**I. Emendas à Lei Orgânica do Município;**

**II. Leis complementares;**

**III. Leis Ordinárias;**

**IV. Decretos Legislativos;**

**V. Resoluções;**

**VI. Pareceres.**

**Assinale a alternativa que faz a afirmação correta.**

- a) São verdadeiros apenas os itens I, III e VI.
- b) São verdadeiros apenas os itens I, III e IV.
- c) São verdadeiros apenas os itens III, IV e V.
- d) São verdadeiros apenas os itens I, II, III, IV e V.
- e) São verdadeiros os itens I, II, III, IV, V e VI.

**Com base na Lei nº 1883/2012, que dispõe sobre o Estatuto dos Servidores Públicos da Administração Direta, Autárquica e Funcional do Município de Telêmaco Borba/PR, responda às próximas quatro questões.**

**37. À luz do § 2º do art. 9º da Lei nº 1883/2012, marque a alternativa que completa a lacuna do texto a seguir.**

**O concurso deverá ser homologado no prazo máximo de \_\_\_\_\_ contados da data de realização da última fase de provas, sob pena de responsabilidade da autoridade competente.**

- a) um mês
- b) dois meses
- c) seis meses
- d) um ano
- e) dois anos

**38. Marque a alternativa que completa a lacuna do texto a seguir.**

**O candidato terá o prazo \_\_\_\_\_, a contar da publicação oficial da convocação, para comparecer à entidade convocante e assinar termo de comparecimento.**

- a) máximo de 5 dias úteis
- b) mínimo de 15 dias úteis
- c) de até 30 dias
- d) máximo de 15 dias úteis
- e) mínimo de 5 dias úteis

**39. Leia as assertivas e marque a correta.**

- a) São reservados 10% dos cargos em comissão para a nomeação de servidores do quadro efetivo.
- b) São reservados 15% dos cargos em comissão para a nomeação de servidores do quadro efetivo.
- c) São reservados 20% dos cargos em comissão para a nomeação de servidores do quadro efetivo.
- d) São reservados 25% dos cargos em comissão para a nomeação de servidores do quadro efetivo.
- e) São reservados 30% dos cargos em comissão para a nomeação de servidores do quadro efetivo.

**40. Marque a alternativa que completa a lacuna do texto a seguir.**

**O servidor municipal, quando nomeado para cargo em comissão, ficará afastado de seu cargo efetivo e fará jus à remuneração prevista em lei para o comissionado, podendo optar por receber seus vencimentos acrescidos de \_\_\_\_\_ do valor da remuneração prevista para o cargo em comissão.**

- a) 10%
- b) 20%
- c) 30%
- d) 40%
- e) 50%

**RASCUNHO**



PREFEITURA DE TELÊMACO BORBA - ESTADO DO PARANÁ - EDITAL Nº 001-2016 - CONCURSO PÚBLICO

**MATUTINO – 29/05/2016 – NÍVEL MÉDIO**

**1**

**PROVA OBJETIVA NÚMERO**

**CARGO: TMNM I - SAÚDE BUCAL**

**Leia atentamente as INSTRUÇÕES:**

1. Confira seus dados no cartão-resposta: nome, número de inscrição e o curso para o qual se inscreveu.
2. **MARQUE no seu cartão-resposta o número da sua prova** (não será corrigido o cartão-resposta que não tiver marcado o número da prova) e **Assine** seu cartão-resposta.
3. Aguarde a autorização do Fiscal para abrir o caderno de prova. Ao receber a ordem do fiscal, confira o caderno de prova com muita atenção. Nenhuma reclamação sobre o total de questões ou falha de impressão será aceita depois de iniciada a prova.
4. O cartão-resposta não será substituído, salvo se contiver erro de impressão.
5. Preencha toda a área do cartão-resposta correspondente à alternativa de sua escolha, com caneta esferográfica (tinta azul ou preta), sem ultrapassar as bordas. As marcações duplas, ou rasuradas, com corretivo, ou marcadas diferentemente do modelo estabelecido no cartão-resposta poderão ser anuladas.
6. Sua prova tem **40** questões, com **5** alternativas.
7. Cabe apenas ao candidato a interpretação das questões, **o fiscal** não poderá fazer nenhuma interferência.
8. A prova será realizada com duração máxima de **3 (três) horas**, incluído o tempo para a realização da Prova Objetiva de múltipla escolha e o preenchimento do cartão-resposta.
9. O candidato poderá retirar-se do local de realização das provas somente **1 (uma) hora** após o seu início, sem levar o caderno de prova.
10. O candidato poderá levar o caderno de provas, assim como anotação contendo transcrição do seu cartão-resposta, somente **1h30min** (uma hora e trinta minutos) após o início da realização da prova.
11. Ao terminar a prova, o candidato deverá entregar ao fiscal de sala o cartão-resposta preenchido e **ASSINADO**.
12. Os **3 (três)** candidatos, que terminarem a prova por último, deverão permanecer na sala, e só poderão sair juntos após o fechamento do envelope, contendo os cartões-resposta dos candidatos presentes e ausentes, e assinarem no lacre do referido envelope, atestando que este foi devidamente lacrado.
13. Durante todo o tempo em que permanecer no local onde está ocorrendo o concurso, o candidato deverá, manter o celular desligado e sem bateria, só sendo permitido ligar depois de ultrapassar o portão de saída do prédio.
14. Não será permitido ao candidato fumar na sala de provas, bem como nas dependências.
15. Depois de terminar a prova e entregar ao fiscal o cartão-resposta, preenchido e assinado, não será mais permitido ao candidato o uso do banheiro e bebedouro.

**BOA PROVA!**

**LÍNGUA PORTUGUESA**

Leia o texto e responda às próximas quatro questões.

**Lêmures e baobás de Madagascar**

Isolada do continente há 135 milhões de anos, a ilha do Oceano Índico é um laboratório natural da evolução das espécies e encanta os viajantes com uma flora e fauna única

**Madagascar** abriga 107 espécies de **lêmures**, dezenas de espécies de camaleões coloridos e outras tantas plantas que só existem lá. “Madagascar é um mundo a parte. Costumo dizer que, se Charles Darwin tivesse conhecido Madagascar, seu livro *A Origem das Espécies* seria dez vezes maior”, afirma o fotógrafo e jornalista **Haroldo Castro**, idealizador de Viajologia Expedições.

Uma das experiências mais emocionantes na quarta maior ilha do mundo é passear entre os gigantescos **baobás**, árvores que chegam a ter 30 metros de altura e mil anos de idade. Das nove espécies de baobás que existem no mundo, seis podem ser encontradas apenas em Madagascar. A majestosa árvore, considerada sagrada pelos malgaxes, é chamada localmente como “reniala”, mãe da floresta.

Na pequena cidade de Bekopaka está o Parque Nacional Tsingy de Bemaraha, considerado Patrimônio Mundial pela Unesco. Trilhas e passeios de canoa no rio Manambolo conduzem a formações rochosas calcárias inusitadas e plantas endêmicas desse ecossistema de florestas secas.

Outro momento inesquecível em Madagascar é o encontro com os lêmures nas florestas tropicais da reserva Anjozorobe-Angavo, a 90 quilômetros da capital Antananarivo. Especialistas apontam que o turismo de observação de animais é uma excelente alternativa para o desenvolvimento da economia local e pode ajudar a conter o desmatamento. “O projeto em Anjozorobe comprova que, nos últimos anos, os 9 mil visitantes contribuíram de forma concreta a reduzir a pobreza e a promover a conservação da biodiversidade”, afirma Haroldo. Como os primatas são curiosos e estão habituados aos seres humanos, eles costumam se aproximar dos visitantes. “Os bichinhos chegam a subir nas nossas cabeças e parecem adorar aparecer nas fotos.”

Madagascar possui hoje uma excelente estrutura para o turismo, com algumas estradas bem cuidadas e hotéis confortáveis localizados perto das reservas e parques ecológicos. A gastronomia malgaxe, com um toque francês, também surpreende pela diversidade de ingredientes, temperos e colorido dos pratos.

[...]

(Fonte: <http://viajeaqu.abril.com.br/materias/lemures-e-baobas-de-madagascar#2>. Acesso em 14/05/2016)

**01. Lêmures e baobás de Madagascar é um texto:**

- Em que prevalece a descrição, apresentando as belezas e peculiaridades do lugar, da fauna e da flora.
- Principalmente narrativo, de fatos colhidos durante uma viagem, que se sucedem em progressão temporal.
- Essencialmente argumentativo, o uso da descrição visa somente a convencer o leitor a visitar Madagascar.
- Dissertativo, impera o desenvolvimento de argumentos para comprovar a tese presente no primeiro parágrafo.
- Em que predomina a exposição de conceitos e definições com o intuito de informar o leitor.

**02. O teor do texto *Lêmures e baobás de Madagascar* somente não poderia se encaixar em que tópico?**

- Turismo
- Viagens
- Clima
- Natureza
- Ilhas

**03. O aposto é um termo que *explica ou esclarece, desenvolve ou resume outro termo da oração*. Quanto a isso, analise a parte grifada em cada uma das orações retiradas do texto:**

**I - A majestosa árvore, considerada sagrada pelos malgaxes, é chamada localmente como “reniala”, mãe da floresta.**

**II - afirma o fotógrafo e jornalista Haroldo Castro, idealizador de Viajologia Expedições.**

**III - Outro momento inesquecível em Madagascar é o encontro com os lêmures nas florestas tropicais da reserva Anjozorobe-Angavo, a 90 quilômetros da capital Antananarivo.**

**IV - O projeto em Anjozorobe comprova que, nos últimos anos, os 9 mil visitantes contribuíram de forma concreta a reduzir a pobreza e a promover a conservação da biodiversidade”.**

**V - A gastronomia malgaxe, com um toque francês, também surpreende pela diversidade de ingredientes, temperos e colorido dos pratos.**

**Constitui aposto os grifos em:**

- a) I, II, III, IV e V.
- b) I, III e V, apenas.
- c) III e V apenas.
- d) I, II, III, e V, apenas.
- e) III, IV e V apenas

**04. Trilhas e passeios de canoa no rio Manambolo conduzem a formações rochosas calcárias inusitadas e plantas endêmicas desse ecossistema de florestas secas.**

**Ao observar a relação sintática entre os termos desse período, pode-se afirmar que:**

- a) de canoa é complemento nominal de Trilhas e passeios.
- b) no rio Manambolo é adjunto adnominal de canoas.
- c) de florestas secas é complemento nominal de plantas endêmicas.
- d) de canoa é complemento verbal de passeios.
- e) a formações rochosas calcárias inusitadas e plantas endêmicas desse ecossistema de florestas secas é complemento verbal de conduzem.

**Leia o poema e responda às próximas duas questões.**

### **FOGO NA MATA, MATA!**

Fogo na mata, mata! A mata, a vida...  
Fogo na mata, abre,  
no coração da mata,  
Profundas feridas.

Fogo na mata corrói,  
dentro de nós, os sonhos.  
Fogo na mata, deixa, no seio da mata,  
Tumores tamanhos!

[...]

(Fonte: <http://www.recantodasletras.com.br/letras/505252>. Acesso em 14/05/2016)

**05. A respeito de alguns aspectos gramaticais pertinentes aos termos em destaque na frase título do poema *Fogo na mata, mata!*, está correto o que se afirma em:**

- a) Morfologicamente, na sequência em que as duas palavras aparecem, temos um verbo e um substantivo.
- b) Semanticamente, as duas palavras constituem homônimas homófonas homógrafas.
- c) O processo de formação da palavra “mata” (primeira ocorrência na frase) é por derivação regressiva do verbo “matar” cuja flexão na terceira pessoa vem logo em seguida na frase.
- d) Semanticamente, as duas palavras “mata” são parônimas.
- e) Semanticamente, as duas palavras constituem homônimas homógrafas heterofônicas.

**06. Com a Nova Reforma Ortográfica, foi mantido o acento nas oxítonas terminadas em -ei e -oi, como é o caso de corrói em *Fogo na mata corrói*. No entanto, de acordo ainda com a Nova Reforma, os acentos foram retirados de quais duas palavras?**

- a) Bocaiuva - maiúscula
- b) Voo, aerodromo
- c) Releem - feiura
- d) Papeis - língua
- e) Preveem - heroi

**07. Leia atentamente as alternativas e assinale a incorreta no que diz respeito à Ortografia:**

- a) Grafamos com j as palavras ultraje, jiboia e gorjeio; com g as palavras ferrugem, geringonça, e miragem.
- b) Grafamos com sc: miscelânea, obsceno e obscensão; com c: sucinto, facínio e nécio.
- c) Grafamos com x: xampu, mexerico e enxada; com ch: piche, tocha e mecha.
- d) Grafamos com z: xadrez, cicatriz e vizinho; com s: friso, pêsames e tesoura.
- e) Grafamos com ss: escassez, submissão e sossego; com c: acetinado, obcecado e acepção.

**08. O advérbio sublinhado e a circunstância que ele expressa não estão corretamente apresentados em:**

- a) Ele certamente virá para o encontro. (afirmação)
- b) Ali se ouvia falar de riquezas culturais. (tempo)
- c) O orador discursou muito bem, impressionou a plateia. (modo)
- d) Chegamos tarde, perdemos o ônibus. (tempo)
- e) Os candidatos estudaram bastante. (intensidade)

**09. Os pronomes pessoais, representantes das pessoas do discurso, estão corretamente empregados em todas as alternativas, com exceção da:**

- a) Sempre haverá discordância entre mim e ti.
- b) O juiz queria falar com nós dois.
- c) Minha festa de despedida, não vou esquecê-la jamais.
- d) Ninguém irá sem eu.
- e) Deram o livro para eu ler em dois dias!

**10. Em uma oração, o contexto permite concluirmos se certos verbos são de ligação, para assim identificarmos o predicado nominal. Assim, não há predicação nominal em:**

- a) O aluno não estava na escola hoje.
- b) À tarde, as crianças pareciam cansadas.
- c) Ultimamente os participantes do programa andam desanimados.
- e) A aurora boreal é um lindo espetáculo.
- d) As atletas parecem cansadas.

### MATEMÁTICA

**11. Numa prova de hipismo, há duas modalidades totalmente distintas: salto e rural. João vai competir nas duas modalidades. Sabendo que a vitória ou a derrota em uma nada influencia no resultado da outra, e sabendo que a probabilidade de ele ganhar a prova de salto é de 40% e a de ganhar a prova de rural é de 58%, qual a probabilidade de ele ganhar as duas provas?**

- a) 98%
- b) 62%
- c) 23,2%
- d) 18%
- e) 2,32%

**12. Numa escola há 12 professores. A tabela a seguir mostra a carga horária diária de trabalho desses professores.**

4	8	5	10	6	5	8	6	8	9	4	8
---	---	---	----	---	---	---	---	---	---	---	---

**É correto afirmar que as cargas horárias média, modal e mediana desses professores são respectivamente:**

- a) 6,25; 6; 7
- b) 6,5; 7; 8
- c) 6,75; 8; 6
- d) 6,75; 8; 7
- e) 6,75; 7; 8

**13. Encontre a equação da reta mediatriz do segmento AB, onde A(2, 3) e B(4, -1), e assinale a alternativa correta.**

- a)  $2y - x + 1 = 0$
- b)  $y - 2x + 2 = 0$
- c)  $2y - 2x + 1 = 0$
- d)  $2y + x + 2 = 0$
- e)  $2y + x - 1 = 0$

**14. Uma loja acrescenta 15% no preço de seus produtos à vista se o cliente optar por pagar com um cheque para 60 dias. Comprei, nessa loja, um fogão com cheque para 60 dias e paguei R\$552,00 por ele. Qual era o preço à vista desse fogão?**

- a) R\$460,00
- b) R\$469,20
- c) R\$474,50
- d) R\$480,00
- e) R\$500,00



**15. Um pesquisador, ao analisar os processos que envolvem jovens com menos de 24 anos, descobriu que há 4 homens com nomes envolvidos em processos para cada mulher. Se no total ele contou 2400 pessoas, quantas eram as mulheres envolvidas nessa pesquisa?**

- a) 480
- b) 600
- c) 800
- d) 1920
- e) 2000

#### **INFORMÁTICA**

**16. Utilizando o Excel 2013, qual fórmula representa corretamente a auto soma?**

- a) =SUM()
- b) =MEDIA()
- c) =MAX()
- d) =MIN()
- e) =SE()

**17. Acerca de confidencialidade está incorreto afirmar:**

- a) É um conceito no qual o acesso à informação deve ser concedido a quem de direito, ou seja, apenas para as entidades autorizadas pelo proprietário ou dono da informação.
- b) É uma propriedade que limita o acesso à informação tão somente às entidades legítimas, ou seja, àquelas autorizadas pelo proprietário da informação.
- c) É a propriedade da informação que não estará disponível ou será divulgada a indivíduos, entidades ou processos sem autorização.
- d) Significa garantir que a informação será conhecida por pessoas que não estejam autorizadas para tal.
- e) É a garantia do resguardo das informações dadas pessoalmente em confiança e proteção contra a sua revelação não autorizada.

**18. Tratando-se de hardware de computadores, assinale a alternativa que corresponde a um tipo de memória externa.**

- a) Pen Drive
- b) EPROM
- c) DIMM
- d) MRAM
- e) Cache

**19. No Word 2013, é possível utilizar vários tipos de formatação de fontes, exceto:**

- a) Tachado
- b) Negrito
- c) Centralizado
- d) Sublinhado
- e) Cor da fonte

**20. Qual software nativo do Windows utilizamos para descobrir o endereço IP do computador?**

- a) Windows Explorer
- b) Notepad
- c) Excel
- d) Word
- e) Prompt de Comando

#### **CONHECIMENTOS GERAIS**

**21. Conforme fonte do IBGE, o bioma do município de Telêmaco Borba/PR é:**

- a) Mata de Pinhais e Cerrado
- b) Pantanal
- c) Caatinga e Mata Atlântica
- d) Floresta Tropical
- e) Cerrado e Mata Atlântica

**22. A letra do hino do município de Telêmaco Borba/PR é de autoria de**

- a) Bento Mossurunga.
- b) Moises Lupion.
- c) Eloah Martins Quadrado.
- d) Graciliana Reis D´Albuquerque Mossurunga.
- e) Enéias Augusto Moracines Borba.



23. Leia o texto sobre o Brasão de Armas do município de Telêmaco Borba/PR e marque a alternativa correta.

O Brasão de Armas foi aprovado em definitivo em 1981, dentro dos padrões da heráldica, estabelecendo os regulamentos para seu uso, ficando assim oficializado.

No Brasão de Armas, é possível identificar:

1. Escudo português redondo banhado de ouro filetado de prata, carregado de cinco árvores de pinho estilizadas de sua cor, postas em banda.
2. Escudete de prata carregado de três Pinheiros do Paraná, araucária angustifolia ou brasiliense.
3. No timbre, coroa mural de ouro lavrado de negro.
4. À direita, haste de milho (zae mays) frutada.
5. À sinistra, ramos de soja (gelycine soya) granada.
6. Listel amarelo ostentando o topônimo "Cidade Nova" entre as inscrições de ouro "5 de Julho de 1963", em caracteres latino moderno.

- a) Não é verdadeiro o item 1.
- b) Não é verdadeiro o item 2.
- c) Não é verdadeiro o item 4.
- d) Não é verdadeiro o item 6.
- e) Não são verdadeiros os itens 3 e 5.

24. Segundo o art. 11 da Lei Orgânica do Município de Telêmaco Borba/PR, os bens públicos podem ser:

I. De uso comum do Povo, tais como estradas municipais, ruas, parques, praças, logradouros públicos e outros da mesma espécie;

II. De uso especial, os de patrimônio administrativo, tais como edifícios das repartições públicas, os terrenos e equipamentos destinados ao serviço público, veículos, matadouros, mercados e outras serventias de outra espécie;

III. Bens municipais, aqueles sobre os quais o município exerce os direitos de proprietário e são considerados como bens patrimoniais disponíveis;

IV. Bens culturais, tais como música e obras de arte.

Podemos afirmar que são verdadeiros os itens

- a) I e II, apenas.
- b) II e III, apenas.
- c) I, II e III, apenas.
- d) I, III e IV, apenas.
- e) I, II, III e IV.

25. Qual alternativa completa corretamente o texto a seguir?

No primeiro ano de cada legislatura, no dia 1º de janeiro, em sessão de instalação, independente de número, sob a presidência do vereador mais idoso dentre os eleitos, os vereadores prestarão compromisso e tomarão posse. O Vereador que não tomar posse na sessão do dia 1º de janeiro poderá fazê-la \_\_\_\_\_ depois da primeira sessão ordinária da Legislatura.

- a) até dez dias
- b) até quinze dias
- c) até trinta dias
- d) até quarenta e cinco dias
- e) até sessenta dias

26. Conforme o art. 54 da Lei Orgânica do Município de Telêmaco Borba/PR, o Processo Legislativo compreende a elaboração de:

I. Emendas à Lei Orgânica do Município;

II. Leis complementares;

III. Leis Ordinárias;

IV. Decretos Legislativos;

V. Resoluções;

VI. Pareceres.

Assinale a alternativa que faz a afirmação correta.

- a) São verdadeiros apenas os itens I, III e VI.
- b) São verdadeiros apenas os itens I, III e IV.
- c) São verdadeiros apenas os itens III, IV e V.
- d) São verdadeiros apenas os itens I, II, III, IV e V.
- e) São verdadeiros os itens I, II, III, IV, V e VI.

Com base na Lei nº 1883/2012, que dispõe sobre o Estatuto dos Servidores Públicos da Administração Direta, Autárquica e Funcional do Município de Telêmaco Borba/PR, responda às próximas quatro questões.

**27. À luz do § 2º do art. 9º da Lei nº 1883/2012, marque a alternativa que completa a lacuna do texto a seguir.**

**O concurso deverá ser homologado no prazo máximo de \_\_\_\_\_ contados da data de realização da última fase de provas, sob pena de responsabilidade da autoridade competente.**

- a) um mês
- b) dois meses
- c) seis meses
- d) um ano
- e) dois anos

**28. Marque a alternativa que completa a lacuna do texto a seguir.**

**O candidato terá o prazo \_\_\_\_\_, a contar da publicação oficial da convocação, para comparecer à entidade convocante e assinar termo de comparecimento.**

- a) máximo de 5 dias úteis
- b) mínimo de 15 dias úteis
- c) de até 30 dias
- d) máximo de 15 dias úteis
- e) mínimo de 5 dias úteis

**29. Leia as assertivas e marque a correta.**

- a) São reservados 10% dos cargos em comissão para a nomeação de servidores do quadro efetivo.
- b) São reservados 15% dos cargos em comissão para a nomeação de servidores do quadro efetivo.
- c) São reservados 20% dos cargos em comissão para a nomeação de servidores do quadro efetivo.
- d) São reservados 25% dos cargos em comissão para a nomeação de servidores do quadro efetivo.
- e) São reservados 30% dos cargos em comissão para a nomeação de servidores do quadro efetivo.

**30. Marque a alternativa que completa a lacuna do texto a seguir.**

**O servidor municipal, quando nomeado para cargo em comissão, ficará afastado de seu cargo efetivo e fará jus à remuneração prevista em lei para o comissionado, podendo optar por receber seus vencimentos acrescidos de \_\_\_\_\_ do valor da remuneração prevista para o cargo em comissão.**

- a) 10%
- b) 20%
- c) 30%
- d) 40%
- e) 50%

### **CONHECIMENTOS ESPECÍFICOS**

**31. O isolamento do campo operatório é uma rotina que precede grande parte dos procedimentos para colocação de materiais odontológicos restauradores em preparos cavitários. O isolamento absoluto, quando possível, é o melhor indicado para obtenção de um campo limpo, seco e com adequado acesso, dentre outros benefícios; para isso, os materiais e instrumentais usualmente preparados e dispostos na bancada para esse trabalho são:**

- a) Pinça clínica, espelho clínico, sonda exploratória, bandeja, pasta profilática e sugador de saliva.
- b) Pinça clínica, espelho clínico, roletes de algodão hidrofílico, afastador labial e sugador de saliva.
- c) Pinça clínica, espelho clínico, roletes de algodão hidrofílico, autômato de Egger e sugador de saliva.
- d) Arco de Young, lençol de borracha, perfurador de borracha, grampo, pinça porta-grampos e fio dental.
- e) Arco de Young, pinça clínica, roletes de algodão hidrofílico, grampo, pinça porta-grampos e fio dental.

**32. No exercício das atividades clínicas diárias, o profissional da saúde constantemente atua em situação de exposição a riscos de acidentes biológicos, sendo impreterível sua devida imunização para evitar ou minimizar a contração de doenças infecciosas. Sendo assim, assinale a conduta correta do esquema vacinal pré-exposição para Hepatite B:**

- a) Zero/1/6 meses, dose habitual.
- b) Zero/6/12 meses, dose habitual.
- c) Zero/12 meses, dose habitual.
- d) Zero/6 meses, dose habitual.
- e) Anual, dose habitual.

**33. Sobre as definições e exemplos a seguir, assinale a alternativa correta:**

**I. Assepsia são medidas para evitar a penetração de microrganismos.**

**II. Antissepsia são medidas para remoção ou evitar o crescimento de microrganismos.**

**III. A higienização das mãos é recomendada previamente à manipulação de invólucro de material estéril.**

**IV. O PVPI 10% degermante é rotineiramente usado na antissepsia das mãos previamente a procedimentos cirúrgicos.**

- a) Apenas II, III e IV são corretas.
- b) Apenas III e IV são corretas.
- c) Apenas I, III e IV são corretas.
- d) Apenas I e II são corretas.
- e) I, II, III e IV são corretas.

**34. Paciente masculino, 19 anos, caucasiano, sem relato de complicações sistêmicas importantes, procura o Sistema Único de Saúde, com objetivo de cuidar da saúde bucal; em avaliação inicial, constata-se perfil de alto risco de cárie dentária. Assinale abaixo o material restaurador mais indicado e sua justificativa de escolha.**

- a) Cimento de hidróxido de cálcio, pelas suas propriedades anti-inflamatórias.
- b) Cimento de hidróxido de cálcio, por suas propriedades obturadoras.
- c) Cimento de ionômero de vidro, por sua propriedade de liberação de flúor.
- d) Cimento de ionômero de vidro, devido à facilidade de inserção com isolamento relativo.
- e) Cimento de óxido de zinco e eugenol, por suas propriedades de reparação dentinária.

**35. Os riscos causados por agentes mecânicos ou acidentes podem afligir os profissionais da área odontológica quando não observados determinados procedimentos e condutas. Assinale a alternativa que não se relaciona com a prevenção e cuidado desses riscos.**

- a) Extintores de incêndio instalados de acordo com a NR-23, assim como capacitação da equipe para manuseio.
- b) Instalação dos equipamentos de acordo com a RDC50/2002 da Anvisa.
- c) Utilização das caixas coletoras de perfurocortantes acima da linha sinalizada.
- d) Uso correto de EPIs.
- e) Realização de manutenção preventiva e corretiva da estrutura física.

**36. De acordo com a Lei nº 11.889/2008, que regulamenta o exercício da profissão de Técnico em Saúde Bucal no Brasil, e atualmente com a Portaria 2.488/2011, que aprova a Política Nacional de Atenção Básica, compete ao TSB sob a supervisão direta ou indireta do cirurgião dentista “realizar o acolhimento do paciente nos serviços de saúde bucal”. Sobre essa atividade, pode-se incluir, exceto:**

- a) Escuta qualificada, com avaliação das necessidades de saúde.
- b) Análise da vulnerabilidade do paciente.
- c) Realizar ação educativa que possa interferir no processo saúde-doença.
- d) Manter o atendimento centrado nos exames odontológicos.
- e) Dialogar com a equipe multidisciplinar sobre a demanda.

**37. Durante a manipulação de materiais odontológicos elastoméricos para moldagem, o respeito ao Tempo de Trabalho é de suma importância para garantir a qualidade do procedimento. Sobre esse conceito, é correto afirmar:**

- a) O tempo de trabalho inicia com a mistura do material e termina imediatamente antes do desenvolvimento das propriedades elásticas dele.
- b) O tempo de trabalho inicia com a mistura do material e termina após o desenvolvimento das propriedades elásticas dele.
- c) O tempo de trabalho inicia com a mistura do material e termina imediatamente com o assentamento da moldeira na boca do paciente.
- d) O tempo de trabalho inicia com a mistura do material e termina imediatamente com a inserção do material na moldeira.
- e) O tempo de trabalho inicia com a mistura do material e termina juntamente com o tempo de presa dele.

**38. O Técnico em Saúde Bucal, ao recolher da bancada o material usado após uma exodontia, sofre uma perfuração com a lâmina de bisturi em sua mão direita, que estava sob a proteção de luva de procedimento. Assinale a alternativa que relata corretamente a conduta imediata a ser seguida.**

- a) Manter as luvas na mão perfurada, cobrir a mão com uma compressa de gaze estéril e procurar imediatamente o serviço hospitalar.
- b) Manter as luvas na mão perfurada, não realizar nenhuma conduta no local e procurar imediatamente o serviço hospitalar.
- c) Remover as luvas cuidadosamente, lavagem abundante com água e sabão, realizando esfregaço vigoroso com uma escova limpa no local perfurado.
- d) Remover as luvas cuidadosamente, lavagem abundante com água e sabão, podendo-se aplicar solução anti-séptica detergente.
- e) Remover as luvas cuidadosamente, lavagem abundante com água e sabão, podendo-se aplicar solução de hipoclorito de sódio 2,5%.

**39. No consultório odontológico, realiza-se vários procedimentos que oferecem risco de infecção cruzada. Sobre esse assunto, é correto afirmar:**

- a) São veículos de transmissão: sangue, saliva, secreções e instrumentos contaminados.



- b) A transmissão por via aérea no consultório é quase nula, pois em geral trabalha-se em ambiente fechado.
- c) A tuberculose é doença transmitida exclusivamente por contato com o sangue contaminado.
- d) O paciente contaminado pode transmitir agente infeccioso para o profissional, mas o contrário não é possível.
- e) A utilização de EPIs não beneficia o controle da infecção cruzada.

**40. “...Não creio/ que fosse maior/ a dor de dante/ que a dor/ que este dente/ de agora em diante/ sente...”**  
**(trecho do livro Caprichos & Relaxos de Paulo Leminski, poeta paranaense).**

**Para prevenir injúrias ao elemento dental, à língua e às gengivas, e garantir a saúde bucal do adulto, os itens que devem ser principalmente recomendados para uso diário são:**

- a) Anti-séptico bucal de gluconato de clorexidina e bochecho fluoretado.
- b) Escova dental, dentífrico fluoretado e raspador de língua.
- c) Anti-séptico bucal de gluconato de clorexidina e fio dental.
- d) Escova dental, dentífrico fluoretado e anti-séptico bucal.
- e) Escova dental, dentífrico fluoretado e fio dental.

**RASCUNHO**



PREFEITURA DE TELÊMACO BORBA - ESTADO DO PARANÁ - EDITAL Nº 001-2016 - CONCURSO PÚBLICO

MATUTINO – 29/05/2016 – NÍVEL MÉDIO

**2**

PROVA OBJETIVA NÚMERO

CARGO: TMNM I - SAÚDE BUCAL

Leia atentamente as INSTRUÇÕES:

1. Confira seus dados no cartão-resposta: nome, número de inscrição e o curso para o qual se inscreveu.
2. **MARQUE no seu cartão-resposta o número da sua prova** (não será corrigido o cartão-resposta que não tiver marcado o número da prova) e **Assine** seu cartão-resposta.
3. Aguarde a autorização do Fiscal para abrir o caderno de prova. Ao receber a ordem do fiscal, confira o caderno de prova com muita atenção. Nenhuma reclamação sobre o total de questões ou falha de impressão será aceita depois de iniciada a prova.
4. O cartão-resposta não será substituído, salvo se contiver erro de impressão.
5. Preencha toda a área do cartão-resposta correspondente à alternativa de sua escolha, com caneta esferográfica (tinta azul ou preta), sem ultrapassar as bordas. As marcações duplas, ou rasuradas, com corretivo, ou marcadas diferentemente do modelo estabelecido no cartão-resposta poderão ser anuladas.
6. Sua prova tem **40** questões, com **5** alternativas.
7. Cabe apenas ao candidato a interpretação das questões, **o fiscal** não poderá fazer nenhuma interferência.
8. A prova será realizada com duração máxima de **3 (três) horas**, incluído o tempo para a realização da Prova Objetiva de múltipla escolha e o preenchimento do cartão-resposta.
9. O candidato poderá retirar-se do local de realização das provas somente **1 (uma) hora** após o seu início, sem levar o caderno de prova.
10. O candidato poderá levar o caderno de provas, assim como anotação contendo transcrição do seu cartão-resposta, somente **1h30min** (uma hora e trinta minutos) após o início da realização da prova.
11. Ao terminar a prova, o candidato deverá entregar ao fiscal de sala o cartão-resposta preenchido e **ASSINADO**.
12. Os **3 (três)** candidatos, que terminarem a prova por último, deverão permanecer na sala, e só poderão sair juntos após o fechamento do envelope, contendo os cartões-resposta dos candidatos presentes e ausentes, e assinarem no lacre do referido envelope, atestando que este foi devidamente lacrado.
13. Durante todo o tempo em que permanecer no local onde está ocorrendo o concurso, o candidato deverá, manter o celular desligado e sem bateria, só sendo permitido ligar depois de ultrapassar o portão de saída do prédio.
14. Não será permitido ao candidato fumar na sala de provas, bem como nas dependências.
15. Depois de terminar a prova e entregar ao fiscal o cartão-resposta, preenchido e assinado, não será mais permitido ao candidato o uso do banheiro e bebedouro.

**BOA PROVA!**



**MATEMÁTICA**

**01. Numa prova de hipismo, há duas modalidades totalmente distintas: salto e rural. João vai competir nas duas modalidades. Sabendo que a vitória ou a derrota em uma nada influencia no resultado da outra, e sabendo que a probabilidade de ele ganhar a prova de salto é de 40% e a de ganhar a prova de rural é de 58%, qual a probabilidade de ele ganhar as duas provas?**

- a) 98%
- b) 62%
- c) 23,2%
- d) 18%
- e) 2,32%

**02. Numa escola há 12 professores. A tabela a seguir mostra a carga horária diária de trabalho desses professores.**

4	8	5	10	6	5	8	6	8	9	4	8
---	---	---	----	---	---	---	---	---	---	---	---

**É correto afirmar que as cargas horárias média, modal e mediana desses professores são respectivamente:**

- a) 6,25; 6; 7
- b) 6,5; 7; 8
- c) 6,75; 8; 6
- d) 6,75; 8; 7
- e) 6,75; 7; 8

**03. Encontre a equação da reta mediatriz do segmento AB, onde A(2, 3) e B(4, -1), e assinale a alternativa correta.**

- a)  $2y - x + 1 = 0$
- b)  $y - 2x + 2 = 0$
- c)  $2y - 2x + 1 = 0$
- d)  $2y + x + 2 = 0$
- e)  $2y + x - 1 = 0$

**04. Uma loja acrescenta 15% no preço de seus produtos à vista se o cliente optar por pagar com um cheque para 60 dias. Comprei, nessa loja, um fogão com cheque para 60 dias e paguei R\$552,00 por ele. Qual era o preço à vista desse fogão?**

- a) R\$460,00
- b) R\$469,20
- c) R\$474,50
- d) R\$480,00
- e) R\$500,00

**05. Um pesquisador, ao analisar os processos que envolvem jovens com menos de 24 anos, descobriu que há 4 homens com nomes envolvidos em processos para cada mulher. Se no total ele contou 2400 pessoas, quantas eram as mulheres envolvidas nessa pesquisa?**

- a) 480
- b) 600
- c) 800
- d) 1920
- e) 2000

**INFORMÁTICA**

**06. Utilizando o Excel 2013, qual fórmula representa corretamente a auto soma?**

- a) =SUM()
- b) =MEDIA()
- c) =MAX()
- d) =MIN()
- e) =SE()

**07. Acerca de confidencialidade está incorreto afirmar:**

- a) É um conceito no qual o acesso à informação deve ser concedido a quem de direito, ou seja, apenas para as entidades autorizadas pelo proprietário ou dono da informação.
- b) É uma propriedade que limita o acesso à informação tão somente às entidades legítimas, ou seja, àquelas autorizadas pelo proprietário da informação.
- c) É a propriedade da informação que não estará disponível ou será divulgada a indivíduos, entidades ou processos sem autorização.
- d) Significa garantir que a informação será conhecida por pessoas que não estejam autorizadas para tal.



e) É a garantia do resguardo das informações dadas pessoalmente em confiança e proteção contra a sua revelação não autorizada.

**08. Tratando-se de hardware de computadores, assinale a alternativa que corresponde a um tipo de memória externa.**

- a) Pen Drive
- b) EPROM
- c) DIMM
- d) MRAM
- e) Cache

**09. No Word 2013, é possível utilizar vários tipos de formatação de fontes, exceto:**

- a) Tachado
- b) Negrito
- c) Centralizado
- d) Sublinhado
- e) Cor da fonte

**10. Qual software nativo do Windows utilizamos para descobrir o endereço IP do computador?**

- a) Windows Explorer
- b) Notepad
- c) Excel
- d) Word
- e) Prompt de Comando

#### **CONHECIMENTOS GERAIS**

**11. Conforme fonte do IBGE, o bioma do município de Telêmaco Borba/PR é:**

- a) Mata de Pinhais e Cerrado
- b) Pantanal
- c) Caatinga e Mata Atlântica
- d) Floresta Tropical
- e) Cerrado e Mata Atlântica

**12. A letra do hino do município de Telêmaco Borba/PR é de autoria de**

- a) Bento Mossurunga.
- b) Moisés Lupion.
- c) Eloah Martins Quadrado.
- d) Graciliana Reis D´Albuquerque Mossurunga.
- e) Enéias Augusto Moracines Borba.

**13. Leia o texto sobre o Brasão de Armas do município de Telêmaco Borba/PR e marque a alternativa correta.**

O Brasão de Armas foi aprovado em definitivo em 1981, dentro dos padrões da heráldica, estabelecendo os regulamentos para seu uso, ficando assim oficializado.

No Brasão de Armas, é possível identificar:

1. Escudo português redondo banhado de ouro filetado de prata, carregado de cinco árvores de pinho estilizadas de sua cor, postas em banda.
2. Escudete de prata carregado de três Pinheiros do Paraná, araucária angustifolia ou brasiliense.
3. No timbre, coroa mural de ouro lavrado de negro.
4. À destra, haste de milho (zae mays) frutada.
5. À sinistra, ramos de soja (gelycine soya) granada.
6. Listel amarelo ostentando o topônimo "Cidade Nova" entre as inscrições de ouro "5 de Julho de 1963", em caracteres latino moderno.

- a) Não é verdadeiro o item 1.
- b) Não é verdadeiro o item 2.
- c) Não é verdadeiro o item 4.
- d) Não é verdadeiro o item 6.
- e) Não são verdadeiros os itens 3 e 5.

**14. Segundo o art. 11 da Lei Orgânica do Município de Telêmaco Borba/PR, os bens públicos podem ser:**

**I. De uso comum do Povo, tais como estradas municipais, ruas, parques, praças, logradouros públicos e outros da mesma espécie;**

**II. De uso especial, os de patrimônio administrativo, tais como edifícios das repartições públicas, os terrenos e equipamentos destinados ao serviço público, veículos, matadouros, mercados e outras serventias de outra espécie;**



**III. Bens municipais, aqueles sobre os quais o município exerce os direitos de proprietário e são considerados como bens patrimoniais disponíveis;**

**IV. Bens culturais, tais como música e obras de arte.**

**Podemos afirmar que são verdadeiros os itens**

- a) I e II, apenas.
- b) II e III, apenas.
- c) I, II e III, apenas.
- d) I, III e IV, apenas.
- e) I, II, III e IV.

**15. Qual alternativa completa corretamente o texto a seguir?**

**No primeiro ano de cada legislatura, no dia 1º de janeiro, em sessão de instalação, independente de número, sob a presidência do vereador mais idoso dentre os eleitos, os vereadores prestarão compromisso e tomarão posse. O Vereador que não tomar posse na sessão do dia 1º de janeiro poderá fazê-la \_\_\_\_\_ depois da primeira sessão ordinária da Legislatura.**

- a) até dez dias
- b) até quinze dias
- c) até trinta dias
- d) até quarenta e cinco dias
- e) até sessenta dias

**16. Conforme o art. 54 da Lei Orgânica do Município de Telêmaco Borba/PR, o Processo Legislativo compreende a elaboração de:**

**I. Emendas à Lei Orgânica do Município;**

**II. Leis complementares;**

**III. Leis Ordinárias;**

**IV. Decretos Legislativos;**

**V. Resoluções;**

**VI. Pareceres.**

**Assinale a alternativa que faz a afirmação correta.**

- a) São verdadeiros apenas os itens I, III e VI.
- b) São verdadeiros apenas os itens I, III e IV.
- c) São verdadeiros apenas os itens III, IV e V.
- d) São verdadeiros apenas os itens I, II, III, IV e V.
- e) São verdadeiros os itens I, II, III, IV, V e VI.

**Com base na Lei nº 1883/2012, que dispõe sobre o Estatuto dos Servidores Públicos da Administração Direta, Autárquica e Funcional do Município de Telêmaco Borba/PR, responda às próximas quatro questões.**

**17. À luz do § 2º do art. 9º da Lei nº 1883/2012, marque a alternativa que completa a lacuna do texto a seguir.**

**O concurso deverá ser homologado no prazo máximo de \_\_\_\_\_ contados da data de realização da última fase de provas, sob pena de responsabilidade da autoridade competente.**

- a) um mês
- b) dois meses
- c) seis meses
- d) um ano
- e) dois anos

**18. Marque a alternativa que completa a lacuna do texto a seguir.**

**O candidato terá o prazo \_\_\_\_\_, a contar da publicação oficial da convocação, para comparecer à entidade convocante e assinar termo de comparecimento.**

- a) máximo de 5 dias úteis
- b) mínimo de 15 dias úteis
- c) de até 30 dias
- d) máximo de 15 dias úteis
- e) mínimo de 5 dias úteis

**19. Leia as assertivas e marque a correta.**

- a) São reservados 10% dos cargos em comissão para a nomeação de servidores do quadro efetivo.
- b) São reservados 15% dos cargos em comissão para a nomeação de servidores do quadro efetivo.
- c) São reservados 20% dos cargos em comissão para a nomeação de servidores do quadro efetivo.
- d) São reservados 25% dos cargos em comissão para a nomeação de servidores do quadro efetivo.
- e) São reservados 30% dos cargos em comissão para a nomeação de servidores do quadro efetivo.

20. Marque a alternativa que completa a lacuna do texto a seguir.

O servidor municipal, quando nomeado para cargo em comissão, ficará afastado de seu cargo efetivo e fará jus à remuneração prevista em lei para o comissionado, podendo optar por receber seus vencimentos acrescidos de \_\_\_\_\_ do valor da remuneração prevista para o cargo em comissão.

- a) 10%
- b) 20%
- c) 30%
- d) 40%
- e) 50%

#### CONHECIMENTOS ESPECÍFICOS

21. O isolamento do campo operatório é uma rotina que precede grande parte dos procedimentos para colocação de materiais odontológicos restauradores em preparos cavitários. O isolamento absoluto, quando possível, é o melhor indicado para obtenção de um campo limpo, seco e com adequado acesso, dentre outros benefícios; para isso, os materiais e instrumentais usualmente preparados e dispostos na bancada para esse trabalho são:

- a) Pinça clínica, espelho clínico, sonda exploratória, bandeja, pasta profilática e sugador de saliva.
- b) Pinça clínica, espelho clínico, roletes de algodão hidrofílico, afastador labial e sugador de saliva.
- c) Pinça clínica, espelho clínico, roletes de algodão hidrofílico, autômato de Egger e sugador de saliva.
- d) Arco de Young, lençol de borracha, perfurador de borracha, grampo, pinça porta-gramos e fio dental.
- e) Arco de Young, pinça clínica, roletes de algodão hidrofílico, grampo, pinça porta-gramos e fio dental.

22. No exercício das atividades clínicas diárias, o profissional da saúde constantemente atua em situação de exposição a riscos de acidentes biológicos, sendo impreterível sua devida imunização para evitar ou minimizar a contração de doenças infecciosas. Sendo assim, assinale a conduta correta do esquema vacinal pré-exposição para Hepatite B:

- a) Zero/1/6 meses, dose habitual.
- b) Zero/6/12 meses, dose habitual.
- c) Zero/12 meses, dose habitual.
- d) Zero/6 meses, dose habitual.
- e) Anual, dose habitual.

23. Sobre as definições e exemplos a seguir, assinale a alternativa correta:

I. Assepsia são medidas para evitar a penetração de microrganismos.

II. Antissepsia são medidas para remoção ou evitar o crescimento de microrganismos.

III. A higienização das mãos é recomendada previamente à manipulação de invólucro de material estéril.

IV. O PVPI 10% degermante é rotineiramente usado na antissepsia das mãos previamente a procedimentos cirúrgicos.

- a) Apenas II, III e IV são corretas.
- b) Apenas III e IV são corretas.
- c) Apenas I, III e IV são corretas.
- d) Apenas I e II são corretas.
- e) I, II, III e IV são corretas.

24. Paciente masculino, 19 anos, caucasiano, sem relato de complicações sistêmicas importantes, procura o Sistema Único de Saúde, com objetivo de cuidar da saúde bucal; em avaliação inicial, constata-se perfil de alto risco de cárie dentária. Assinale abaixo o material restaurador mais indicado e sua justificativa de escolha.

- a) Cimento de hidróxido de cálcio, pelas suas propriedades anti-inflamatórias.
- b) Cimento de hidróxido de cálcio, por suas propriedades obturadoras.
- c) Cimento de ionômero de vidro, por sua propriedade de liberação de flúor.
- d) Cimento de ionômero de vidro, devido à facilidade de inserção com isolamento relativo.
- e) Cimento de óxido de zinco e eugenol, por suas propriedades de reparação dentinária.

25. Os riscos causados por agentes mecânicos ou acidentes podem afligir os profissionais da área odontológica quando não observados determinados procedimentos e condutas. Assinale a alternativa que não se relaciona com a prevenção e cuidado desses riscos.

- a) Extintores de incêndio instalados de acordo com a NR-23, assim como capacitação da equipe para manuseio.
- b) Instalação dos equipamentos de acordo com a RDC50/2002 da Anvisa.
- c) Utilização das caixas coletoras de perfurocortantes acima da linha sinalizada.
- d) Uso correto de EPIs.
- e) Realização de manutenção preventiva e corretiva da estrutura física.



**26. De acordo com a Lei nº 11.889/2008, que regulamenta o exercício da profissão de Técnico em Saúde Bucal no Brasil, e atualmente com a Portaria 2.488/2011, que aprova a Política Nacional de Atenção Básica, compete ao TSB sob a supervisão direta ou indireta do cirurgião dentista “realizar o acolhimento do paciente nos serviços de saúde bucal”. Sobre essa atividade, pode-se incluir, exceto:**

- a) Escuta qualificada, com avaliação das necessidades de saúde.
- b) Análise da vulnerabilidade do paciente.
- c) Realizar ação educativa que possa interferir no processo saúde-doença.
- d) Manter o atendimento centrado nos exames odontológicos.
- e) Dialogar com a equipe multidisciplinar sobre a demanda.

**27. Durante a manipulação de materiais odontológicos elastoméricos para moldagem, o respeito ao Tempo de Trabalho é de suma importância para garantir a qualidade do procedimento. Sobre esse conceito, é correto afirmar:**

- a) O tempo de trabalho inicia com a mistura do material e termina imediatamente antes do desenvolvimento das propriedades elásticas dele.
- b) O tempo de trabalho inicia com a mistura do material e termina após o desenvolvimento das propriedades elásticas dele.
- c) O tempo de trabalho inicia com a mistura do material e termina imediatamente com o assentamento da moldeira na boca do paciente.
- d) O tempo de trabalho inicia com a mistura do material e termina imediatamente com a inserção do material na moldeira.
- e) O tempo de trabalho inicia com a mistura do material e termina juntamente com o tempo de presa dele.

**28. O Técnico em Saúde Bucal, ao recolher da bancada o material usado após uma exodontia, sofre uma perfuração com a lâmina de bisturi em sua mão direita, que estava sob a proteção de luva de procedimento. Assinale a alternativa que relata corretamente a conduta imediata a ser seguida.**

- a) Manter as luvas na mão perfurada, cobrir a mão com uma compressa de gaze estéril e procurar imediatamente o serviço hospitalar.
- b) Manter as luvas na mão perfurada, não realizar nenhuma conduta no local e procurar imediatamente o serviço hospitalar.
- c) Remover as luvas cuidadosamente, lavagem abundante com água e sabão, realizando esfregão vigoroso com uma escova limpa no local perfurado.
- d) Remover as luvas cuidadosamente, lavagem abundante com água e sabão, podendo-se aplicar solução anti-séptica detergente.
- e) Remover as luvas cuidadosamente, lavagem abundante com água e sabão, podendo-se aplicar solução de hipoclorito de sódio 2,5%.

**29. No consultório odontológico, realiza-se vários procedimentos que oferecem risco de infecção cruzada. Sobre esse assunto, é correto afirmar:**

- a) São veículos de transmissão: sangue, saliva, secreções e instrumentos contaminados.
- b) A transmissão por via aérea no consultório é quase nula, pois em geral trabalha-se em ambiente fechado.
- c) A tuberculose é doença transmitida exclusivamente por contato com o sangue contaminado.
- d) O paciente contaminado pode transmitir agente infeccioso para o profissional, mas o contrário não é possível.
- e) A utilização de EPIs não beneficia o controle da infecção cruzada.

**30. “...Não creio/ que fosse maior/ a dor de dante/ que a dor/ que este dente/ de agora em diante/ sente...” (trecho do livro Caprichos & Relaxos de Paulo Leminski, poeta paranaense).**

**Para prevenir injúrias ao elemento dental, à língua e às gengivas, e garantir a saúde bucal do adulto, os itens que devem ser principalmente recomendados para uso diário são:**

- a) Anti-séptico bucal de gluconato de clorexidina e bochecho fluoretado.
- b) Escova dental, dentífrico fluoretado e raspador de língua.
- c) Anti-séptico bucal de gluconato de clorexidina e fio dental.
- d) Escova dental, dentífrico fluoretado e anti-séptico bucal.
- e) Escova dental, dentífrico fluoretado e fio dental.

## LÍNGUA PORTUGUESA

**Leia o texto e responda às próximas quatro questões.**

### Lêmures e baobás de Madagascar

Isolada do continente há 135 milhões de anos, a ilha do Oceano Índico é um laboratório natural da evolução das espécies e encanta os viajantes com uma flora e fauna única

**Madagascar** abriga 107 espécies de **lêmures**, dezenas de espécies de camaleões coloridos e outras tantas plantas que só existem lá. “Madagascar é um mundo a parte. Costumo dizer que, se Charles Darwin tivesse

conhecido Madagascar, seu livro *A Origem das Espécies* seria dez vezes maior”, afirma o fotógrafo e jornalista **Haroldo Castro**, idealizador de Viajologia Expedições.

Uma das experiências mais emocionantes na quarta maior ilha do mundo é passear entre os gigantes **baobás**, árvores que chegam a ter 30 metros de altura e mil anos de idade. Das nove espécies de baobás que existem no mundo, seis podem ser encontradas apenas em Madagascar. A majestosa árvore, considerada sagrada pelos malgaxes, é chamada localmente como “reniala”, mãe da floresta.

Na pequena cidade de Bekopaka está o Parque Nacional Tsingy de Bemaraha, considerado Patrimônio Mundial pela Unesco. Trilhas e passeios de canoa no rio Manambolo conduzem a formações rochosas calcárias inusitadas e plantas endêmicas desse ecossistema de florestas secas.

Outro momento inesquecível em Madagascar é o encontro com os lêmures nas florestas tropicais da reserva Anjozorobe-Angavo, a 90 quilômetros da capital Antananarivo. Especialistas apontam que o turismo de observação de animais é uma excelente alternativa para o desenvolvimento da economia local e pode ajudar a conter o desmatamento. “O projeto em Anjozorobe comprova que, nos últimos anos, os 9 mil visitantes contribuíram de forma concreta a reduzir a pobreza e a promover a conservação da biodiversidade”, afirma Haroldo. Como os primatas são curiosos e estão habituados aos seres humanos, eles costumam se aproximar dos visitantes. “Os bichinhos chegam a subir nas nossas cabeças e parecem adorar aparecer nas fotos.”

Madagascar possui hoje uma excelente estrutura para o turismo, com algumas estradas bem cuidadas e hotéis confortáveis localizados perto das reservas e parques ecológicos. A gastronomia malgaxe, com um toque francês, também surpreende pela diversidade de ingredientes, temperos e colorido dos pratos.

[...]

(Fonte: <http://viajeaqui.abril.com.br/materias/lemures-e-baobas-de-madagascar#2>. Acesso em 14/05/2016)

### 31. *Lêmures e baobás de Madagascar* é um texto:

- Em que prevalece a descrição, apresentando as belezas e peculiaridades do lugar, da fauna e da flora.
- Principalmente narrativo, de fatos colhidos durante uma viagem, que se sucedem em progressão temporal.
- Essencialmente argumentativo, o uso da descrição visa somente a convencer o leitor a visitar Madagascar.
- Dissertativo, impera o desenvolvimento de argumentos para comprovar a tese presente no primeiro parágrafo.
- Em que predomina a exposição de conceitos e definições com o intuito de informar o leitor.

### 32. O teor do texto *Lêmures e baobás de Madagascar* somente não poderia se encaixar em que tópico?

- Turismo
- Viagens
- Clima
- Natureza
- Ilhas

### 33. O aposto é um termo que *explica ou esclarece, desenvolve ou resume outro termo da oração*. Quanto a isso, analise a parte grifada em cada uma das orações retiradas do texto:

**I - A majestosa árvore, considerada sagrada pelos malgaxes, é chamada localmente como “reniala”, mãe da floresta.**

**II - afirma o fotógrafo e jornalista Haroldo Castro, idealizador de Viajologia Expedições.**

**III - Outro momento inesquecível em Madagascar é o encontro com os lêmures nas florestas tropicais da reserva Anjozorobe-Angavo, a 90 quilômetros da capital Antananarivo.**

**IV - O projeto em Anjozorobe comprova que, nos últimos anos, os 9 mil visitantes contribuíram de forma concreta a reduzir a pobreza e a promover a conservação da biodiversidade”.**

**V - A gastronomia malgaxe, com um toque francês, também surpreende pela diversidade de ingredientes, temperos e colorido dos pratos.**

Constitui aposto os grifos em:

- I, II, III, IV e V.
- I, III e V, apenas.
- III e V apenas.
- I, II, III, e V, apenas.
- III, IV e V apenas

### 34. *Trilhas e passeios de canoa no rio Manambolo conduzem a formações rochosas calcárias inusitadas e plantas endêmicas desse ecossistema de florestas secas*.

Ao observar a relação sintática entre os termos desse período, pode-se afirmar que:

- de canoa é complemento nominal de Trilhas e passeios.
- no rio Manambolo é adjunto adnominal de canoas.
- de florestas secas é complemento nominal de plantas endêmicas.
- de canoa é complemento verbal de passeios.
- a formações rochosas calcárias inusitadas e plantas endêmicas desse ecossistema de florestas secas é complemento verbal de conduzem.

Leia o poema e responda às próximas duas questões.



**FOGO NA MATA, MATA!**

Fogo na mata, mata! A mata, a vida...  
Fogo na mata, abre,  
no coração da mata,  
Profundas feridas.

Fogo na mata corrói,  
dentro de nós, os sonhos.  
Fogo na mata, deixa, no seio da mata,  
Tumores tamanhos!

[...]

(Fonte: <http://www.recantodasletras.com.br/letras/505252>. Acesso em 14/05/2016)

**35. A respeito de alguns aspectos gramaticais pertinentes aos termos em destaque na frase título do poema *Fogo na mata, mata!*, está correto o que se afirma em:**

- Morfologicamente, na sequência em que as duas palavras aparecem, temos um verbo e um substantivo.
- Semanticamente, as duas palavras constituem homônimas homófonas homográficas.
- O processo de formação da palavra “mata” (primeira ocorrência na frase) é por derivação regressiva do verbo “matar” cuja flexão na terceira pessoa vem logo em seguida na frase.
- Semanticamente, as duas palavras “mata” são parônimas.
- Semanticamente, as duas palavras constituem homônimas homógrafas heterofônicas.

**36. Com a Nova Reforma Ortográfica, foi mantido o acento nas oxítonas terminadas em -ei e -oi, como é o caso de *corrói* em *Fogo na mata corrói*. No entanto, de acordo ainda com a Nova Reforma, os acentos foram retirados de quais duas palavras?**

- Bocaiuva - maiuscula
- Voo, aerodromo
- Releem - feiura
- Papeis - linguiça
- Preveem - heroi

**37. Leia atentamente as alternativas e assinale a incorreta no que diz respeito à Ortografia:**

- Grafamos com j as palavras ultraje, jiboia e gorjeio; com g as palavras ferrugem, geringonça, e miragem.
- Grafamos com sc: miscelânea, obsceno e obscensão; com c: sucinto, facínio e nécio.
- Grafamos com x: xampu, mexerico e enxada; com ch: piche, tocha e mecha.
- Grafamos com z: xadrez, cicatriz e vizinho; com s: friso, pêsames e tesoura.
- Grafamos com ss: escassez, submissão e sossego; com c: acetinado, obcecado e acepção.

**38. O advérbio sublinhado e a circunstância que ele expressa não estão corretamente apresentados em:**

- Ele certamente virá para o encontro. (afirmação)
- Ali se ouvia falar de riquezas culturais. (tempo)
- O orador discursou muito bem, impressionou a plateia. (modo)
- Chegamos tarde, perdemos o ônibus. (tempo)
- Os candidatos estudaram bastante. (intensidade)

**39. Os pronomes pessoais, representantes das pessoas do discurso, estão corretamente empregados em todas as alternativas, com exceção da:**

- Sempre haverá discordância entre mim e ti.
- O juiz queria falar com nós dois.
- Minha festa de despedida, não vou esquecer-la jamais.
- Ninguém irá sem eu.
- Deram o livro para eu ler em dois dias!

**40. Em uma oração, o contexto permite concluirmos se certos verbos são de ligação, para assim identificarmos o predicado nominal. Assim, não há predicação nominal em:**

- O aluno não estava na escola hoje.
- À tarde, as crianças pareciam cansadas.
- Ultimamente os participantes do programa andam desanimados.
- A aurora boreal é um lindo espetáculo.
- As atletas parecem cansadas.



PREFEITURA DE TELÊMACO BORBA - ESTADO DO PARANÁ - EDITAL Nº 001-2016 - CONCURSO PÚBLICO

**MATUTINO – 29/05/2016 – NÍVEL MÉDIO**

PROVA OBJETIVA NÚMERO

**3**

**CARGO: TMNM I - SAÚDE BUCAL**

Leia atentamente as **INSTRUÇÕES**:

1. Confira seus dados no cartão-resposta: nome, número de inscrição e o curso para o qual se inscreveu.
2. **MARQUE no seu cartão-resposta o número da sua prova** (não será corrigido o cartão-resposta que não tiver marcado o número da prova) e **Assine** seu cartão-resposta.
3. Aguarde a autorização do Fiscal para abrir o caderno de prova. Ao receber a ordem do fiscal, confira o caderno de prova com muita atenção. Nenhuma reclamação sobre o total de questões ou falha de impressão será aceita depois de iniciada a prova.
4. O cartão-resposta não será substituído, salvo se contiver erro de impressão.
5. Preencha toda a área do cartão-resposta correspondente à alternativa de sua escolha, com caneta esferográfica (tinta azul ou preta), sem ultrapassar as bordas. As marcações duplas, ou rasuradas, com corretivo, ou marcadas diferentemente do modelo estabelecido no cartão-resposta poderão ser anuladas.
6. Sua prova tem **40** questões, com **5** alternativas.
7. Cabe apenas ao candidato a interpretação das questões, **o fiscal** não poderá fazer nenhuma interferência.
8. A prova será realizada com duração máxima de **3 (três) horas**, incluído o tempo para a realização da Prova Objetiva de múltipla escolha e o preenchimento do cartão-resposta.
9. O candidato poderá retirar-se do local de realização das provas somente **1 (uma) hora** após o seu início, sem levar o caderno de prova.
10. O candidato poderá levar o caderno de provas, assim como anotação contendo transcrição do seu cartão-resposta, somente **1h30min** (uma hora e trinta minutos) após o início da realização da prova.
11. Ao terminar a prova, o candidato deverá entregar ao fiscal de sala o cartão-resposta preenchido e **ASSINADO**.
12. Os **3 (três)** candidatos, que terminarem a prova por último, deverão permanecer na sala, e só poderão sair juntos após o fechamento do envelope, contendo os cartões-resposta dos candidatos presentes e ausentes, e assinarem no lacre do referido envelope, atestando que este foi devidamente lacrado.
13. Durante todo o tempo em que permanecer no local onde está ocorrendo o concurso, o candidato deverá, manter o celular desligado e sem bateria, só sendo permitido ligar depois de ultrapassar o portão de saída do prédio.
14. Não será permitido ao candidato fumar na sala de provas, bem como nas dependências.
15. Depois de terminar a prova e entregar ao fiscal o cartão-resposta, preenchido e assinado, não será mais permitido ao candidato o uso do banheiro e bebedouro.

**BOA PROVA!**

**CONHECIMENTOS ESPECÍFICOS**

**01. O isolamento do campo operatório é uma rotina que precede grande parte dos procedimentos para colocação de materiais odontológicos restauradores em preparos cavitários. O isolamento absoluto, quando possível, é o melhor indicado para obtenção de um campo limpo, seco e com adequado acesso, dentre outros benefícios; para isso, os materiais e instrumentais usualmente preparados e dispostos na bancada para esse trabalho são:**

- a) Pinça clínica, espelho clínico, sonda exploratória, bandeja, pasta profilática e sugador de saliva.
- b) Pinça clínica, espelho clínico, roletes de algodão hidrofílico, afastador labial e sugador de saliva.
- c) Pinça clínica, espelho clínico, roletes de algodão hidrofílico, autômato de Egger e sugador de saliva.
- d) Arco de Young, lençol de borracha, perfurador de borracha, grampo, pinça porta-gramos e fio dental.
- e) Arco de Young, pinça clínica, roletes de algodão hidrofílico, grampo, pinça porta-gramos e fio dental.

**02. No exercício das atividades clínicas diárias, o profissional da saúde constantemente atua em situação de exposição a riscos de acidentes biológicos, sendo impreterível sua devida imunização para evitar ou minimizar a contração de doenças infecciosas. Sendo assim, assinale a conduta correta do esquema vacinal pré-exposição para Hepatite B:**

- a) Zero/1/6 meses, dose habitual.
- b) Zero/6/12 meses, dose habitual.
- c) Zero/12 meses, dose habitual.
- d) Zero/6 meses, dose habitual.
- e) Anual, dose habitual.

**03. Sobre as definições e exemplos a seguir, assinale a alternativa correta:**

**I. Assepsia são medidas para evitar a penetração de microrganismos.**

**II. Antissepsia são medidas para remoção ou evitar o crescimento de microrganismos.**

**III. A higienização das mãos é recomendada previamente à manipulação de invólucro de material estéril.**

**IV. O PVPI 10% degermante é rotineiramente usado na antissepsia das mãos previamente a procedimentos cirúrgicos.**

- a) Apenas II, III e IV são corretas.
- b) Apenas III e IV são corretas.
- c) Apenas I, III e IV são corretas.
- d) Apenas I e II são corretas.
- e) I, II, III e IV são corretas.

**04. Paciente masculino, 19 anos, caucasiano, sem relato de complicações sistêmicas importantes, procura o Sistema Único de Saúde, com objetivo de cuidar da saúde bucal; em avaliação inicial, constata-se perfil de alto risco de cárie dentária. Assinale abaixo o material restaurador mais indicado e sua justificativa de escolha.**

- a) Cimento de hidróxido de cálcio, pelas suas propriedades anti-inflamatórias.
- b) Cimento de hidróxido de cálcio, por suas propriedades obturadoras.
- c) Cimento de ionômero de vidro, por sua propriedade de liberação de flúor.
- d) Cimento de ionômero de vidro, devido à facilidade de inserção com isolamento relativo.
- e) Cimento de óxido de zinco e eugenol, por suas propriedades de reparação dentinária.

**05. Os riscos causados por agentes mecânicos ou acidentes podem afligir os profissionais da área odontológica quando não observados determinados procedimentos e condutas. Assinale a alternativa que não se relaciona com a prevenção e cuidado desses riscos.**

- a) Extintores de incêndio instalados de acordo com a NR-23, assim como capacitação da equipe para manuseio.
- b) Instalação dos equipamentos de acordo com a RDC50/2002 da Anvisa.
- c) Utilização das caixas coletoras de perfurocortantes acima da linha sinalizada.
- d) Uso correto de EPIs.
- e) Realização de manutenção preventiva e corretiva da estrutura física.

**06. De acordo com a Lei nº 11.889/2008, que regulamenta o exercício da profissão de Técnico em Saúde Bucal no Brasil, e atualmente com a Portaria 2.488/2011, que aprova a Política Nacional de Atenção Básica, compete ao TSB sob a supervisão direta ou indireta do cirurgião dentista “realizar o acolhimento do paciente nos serviços de saúde bucal”. Sobre essa atividade, pode-se incluir, exceto:**

- a) Escuta qualificada, com avaliação das necessidades de saúde.
- b) Análise da vulnerabilidade do paciente.
- c) Realizar ação educativa que possa interferir no processo saúde-doença.
- d) Manter o atendimento centrado nos exames odontológicos.
- e) Dialogar com a equipe multidisciplinar sobre a demanda.

**07. Durante a manipulação de materiais odontológicos elastoméricos para moldagem, o respeito ao Tempo de Trabalho é de suma importância para garantir a qualidade do procedimento. Sobre esse conceito, é correto afirmar:**

- O tempo de trabalho inicia com a mistura do material e termina imediatamente antes do desenvolvimento das propriedades elásticas dele.
- O tempo de trabalho inicia com a mistura do material e termina após o desenvolvimento das propriedades elásticas dele.
- O tempo de trabalho inicia com a mistura do material e termina imediatamente com o assentamento da moldeira na boca do paciente.
- O tempo de trabalho inicia com a mistura do material e termina imediatamente com a inserção do material na moldeira.
- O tempo de trabalho inicia com a mistura do material e termina juntamente com o tempo de presa dele.

**08. O Técnico em Saúde Bucal, ao recolher da bancada o material usado após uma exodontia, sofre uma perfuração com a lâmina de bisturi em sua mão direita, que estava sob a proteção de luva de procedimento. Assinale a alternativa que relata corretamente a conduta imediata a ser seguida.**

- Manter as luvas na mão perfurada, cobrir a mão com uma compressa de gaze estéril e procurar imediatamente o serviço hospitalar.
- Manter as luvas na mão perfurada, não realizar nenhuma conduta no local e procurar imediatamente o serviço hospitalar.
- Remover as luvas cuidadosamente, lavagem abundante com água e sabão, realizando esfregaço vigoroso com uma escova limpa no local perfurado.
- Remover as luvas cuidadosamente, lavagem abundante com água e sabão, podendo-se aplicar solução anti-séptica detergente.
- Remover as luvas cuidadosamente, lavagem abundante com água e sabão, podendo-se aplicar solução de hipoclorito de sódio 2,5%.

**09. No consultório odontológico, realiza-se vários procedimentos que oferecem risco de infecção cruzada. Sobre esse assunto, é correto afirmar:**

- São veículos de transmissão: sangue, saliva, secreções e instrumentos contaminados.
- A transmissão por via aérea no consultório é quase nula, pois em geral trabalha-se em ambiente fechado.
- A tuberculose é doença transmitida exclusivamente por contato com o sangue contaminado.
- O paciente contaminado pode transmitir agente infeccioso para o profissional, mas o contrário não é possível.
- A utilização de EPIs não beneficia o controle da infecção cruzada.

**10. “...Não creio/ que fosse maior/ a dor de dante/ que a dor/ que este dente/ de agora em diante/ sente...” (trecho do livro Caprichos & Relaxos de Paulo Leminski, poeta paranaense).**

**Para prevenir injúrias ao elemento dental, à língua e às gengivas, e garantir a saúde bucal do adulto, os itens que devem ser principalmente recomendados para uso diário são:**

- Anti-séptico bucal de gluconato de clorexidina e bochecho fluoretado.
- Escova dental, dentífrico fluoretado e raspador de língua.
- Anti-séptico bucal de gluconato de clorexidina e fio dental.
- Escova dental, dentífrico fluoretado e anti-séptico bucal.
- Escova dental, dentífrico fluoretado e fio dental.

## LÍNGUA PORTUGUESA

**Leia o texto e responda às próximas quatro questões.**

### Lêmures e baobás de Madagascar

Isolada do continente há 135 milhões de anos, a ilha do Oceano Índico é um laboratório natural da evolução das espécies e encanta os viajantes com uma flora e fauna única

**Madagascar** abriga 107 espécies de **lêmures**, dezenas de espécies de camaleões coloridos e outras tantas plantas que só existem lá. “Madagascar é um mundo a parte. Costumo dizer que, se Charles Darwin tivesse conhecido Madagascar, seu livro *A Origem das Espécies* seria dez vezes maior”, afirma o fotógrafo e jornalista **Haroldo Castro**, idealizador de Viajologia Expedições.

Uma das experiências mais emocionantes na quarta maior ilha do mundo é passear entre os gigantescos **baobás**, árvores que chegam a ter 30 metros de altura e mil anos de idade. Das nove espécies de baobás que existem no mundo, seis podem ser encontradas apenas em Madagascar. A majestosa árvore, considerada sagrada pelos malgaxes, é chamada localmente como “reniala”, mãe da floresta.

Na pequena cidade de Bekopaka está o Parque Nacional Tsingy de Bemaraha, considerado Patrimônio Mundial pela Unesco. Trilhas e passeios de canoa no rio Manambolo conduzem a formações rochosas calcárias inusitadas e plantas endêmicas desse ecossistema de florestas secas.

Outro momento inesquecível em Madagascar é o encontro com os lêmures nas florestas tropicais da reserva Anjozorobe-Angavo, a 90 quilômetros da capital Antananarivo. Especialistas apontam que o turismo de

observação de animais é uma excelente alternativa para o desenvolvimento da economia local e pode ajudar a conter o desmatamento. “O projeto em Anjozorobe comprova que, nos últimos anos, os 9 mil visitantes contribuíram de forma concreta a reduzir a pobreza e a promover a conservação da biodiversidade”, afirma Haroldo. Como os primatas são curiosos e estão habituados aos seres humanos, eles costumam se aproximar dos visitantes. “Os bichinhos chegam a subir nas nossas cabeças e parecem adorar aparecer nas fotos.”

Madagascar possui hoje uma excelente estrutura para o turismo, com algumas estradas bem cuidadas e hotéis confortáveis localizados perto das reservas e parques ecológicos. A gastronomia malgaxe, com um toque francês, também surpreende pela diversidade de ingredientes, temperos e colorido dos pratos.

[...]

(Fonte: <http://viajeaqui.abril.com.br/materias/lemures-e-baobas-de-madagascar#2>. Acesso em 14/05/2016)

**11. Lêmures e baobás de Madagascar é um texto:**

- Em que prevalece a descrição, apresentando as belezas e peculiaridades do lugar, da fauna e da flora.
- Principalmente narrativo, de fatos colhidos durante uma viagem, que se sucedem em progressão temporal.
- Essencialmente argumentativo, o uso da descrição visa somente a convencer o leitor a visitar Madagascar.
- Dissertativo, impera o desenvolvimento de argumentos para comprovar a tese presente no primeiro parágrafo.
- Em que predomina a exposição de conceitos e definições com o intuito de informar o leitor.

**12. O teor do texto *Lêmures e baobás de Madagascar* somente não poderia se encaixar em que tópico?**

- Turismo
- Viagens
- Clima
- Natureza
- Ilhas

**13. O aposto é um termo que explica ou esclarece, desenvolve ou resume outro termo da oração. Quanto a isso, analise a parte grifada em cada uma das orações retiradas do texto:**

**I - A majestosa árvore, considerada sagrada pelos malgaxes, é chamada localmente como “reniala”, mãe da floresta.**

**II - afirma o fotógrafo e jornalista Haroldo Castro, idealizador de Viajologia Expedições.**

**III - Outro momento inesquecível em Madagascar é o encontro com os lêmures nas florestas tropicais da reserva Anjozorobe-Angavo, a 90 quilômetros da capital Antananarivo.**

**IV - O projeto em Anjozorobe comprova que, nos últimos anos, os 9 mil visitantes contribuíram de forma concreta a reduzir a pobreza e a promover a conservação da biodiversidade”.**

**V - A gastronomia malgaxe, com um toque francês, também surpreende pela diversidade de ingredientes, temperos e colorido dos pratos.**

Constitui aposto os grifos em:

- I, II, III, IV e V.
- I, III e V, apenas.
- III e V apenas.
- I, II, III, e V, apenas.
- III, IV e V apenas

**14. Trilhas e passeios de canoa no rio Manambolo conduzem a formações rochosas calcárias inusitadas e plantas endêmicas desse ecossistema de florestas secas.**

**Ao observar a relação sintática entre os termos desse período, pode-se afirmar que:**

- de canoa é complemento nominal de Trilhas e passeios.
- no rio Manambolo é adjunto adnominal de canoas.
- de florestas secas é complemento nominal de plantas endêmicas.
- de canoa é complemento verbal de passeios.
- a formações rochosas calcárias inusitadas e plantas endêmicas desse ecossistema de florestas secas é complemento verbal de conduzem.

**Leia o poema e responda às próximas duas questões.**

**FOGO NA MATA, MATA!**

Fogo na mata, mata! A mata, a vida...  
Fogo na mata, abre,  
no coração da mata,  
Profundas feridas.

Fogo na mata corrói,  
dentro de nós, os sonhos.  
Fogo na mata, deixa, no seio da mata,



Tumores tamanhos!

[...]

(Fonte: <http://www.recantodasletras.com.br/letras/505252>. Acesso em 14/05/2016)

**15. A respeito de alguns aspectos gramaticais pertinentes aos termos em destaque na frase título do poema *Fogo na mata, mata!*, está correto o que se afirma em:**

- Morfologicamente, na sequência em que as duas palavras aparecem, temos um verbo e um substantivo.
- Semanticamente, as duas palavras constituem homônimas homófonas homógrafas.
- O processo de formação da palavra “mata” (primeira ocorrência na frase) é por derivação regressiva do verbo “matar” cuja flexão na terceira pessoa vem logo em seguida na frase.
- Semanticamente, as duas palavras “mata” são parônimas.
- Semanticamente, as duas palavras constituem homônimas homógrafas heterofônicas.

**16. Com a Nova Reforma Ortográfica, foi mantido o acento nas oxítonas terminadas em -ei e -oi, como é o caso de corrói em *Fogo na mata corrói*. No entanto, de acordo ainda com a Nova Reforma, os acentos foram retirados de quais duas palavras?**

- Bocaiuva - maiúscula
- Voo, aerodromo
- Releem - feiura
- Papeis - linguíça
- Preveem - heroi

**17. Leia atentamente as alternativas e assinale a incorreta no que diz respeito à Ortografia:**

- Grafamos com j as palavras ultraje, jiboia e gorjeio; com g as palavras ferrugem, geringonça, e miragem.
- Grafamos com sc: miscelânea, obsceno e obsessão; com c: sucinto, facínio e nécio.
- Grafamos com x: xampu, mexerico e enxada; com ch: piche, tocha e mecha.
- Grafamos com z: xadrez, cicatriz e vizinho; com s: friso, pêsames e tesoura.
- Grafamos com ss: escassez, submissão e sossego; com c: acetinado, obcecado e acepção.

**18. O advérbio sublinhado e a circunstância que ele expressa não estão corretamente apresentados em:**

- Ele certamente virá para o encontro. (afirmação)
- Ali se ouvia falar de riquezas culturais. (tempo)
- O orador discursou muito bem, impressionou a plateia. (modo)
- Chegamos tarde, perdemos o ônibus. (tempo)
- Os candidatos estudaram bastante. (intensidade)

**19. Os pronomes pessoais, representantes das pessoas do discurso, estão corretamente empregados em todas as alternativas, com exceção da:**

- Sempre haverá discordância entre mim e ti.
- O juiz queria falar com nós dois.
- Minha festa de despedida, não vou esquecê-la jamais.
- Ninguém irá sem eu.
- Deram o livro para eu ler em dois dias!

**20. Em uma oração, o contexto permite concluirmos se certos verbos são de ligação, para assim identificarmos o predicado nominal. Assim, não há predicção nominal em:**

- O aluno não estava na escola hoje.
- À tarde, as crianças pareciam cansadas.
- Ultimamente os participantes do programa andam desanimados.
- A aurora boreal é um lindo espetáculo.
- As atletas parecem cansadas.

## MATEMÁTICA

**21. Numa prova de hipismo, há duas modalidades totalmente distintas: salto e rural. João vai competir nas duas modalidades. Sabendo que a vitória ou a derrota em uma nada influencia no resultado da outra, e sabendo que a probabilidade de ele ganhar a prova de salto é de 40% e a de ganhar a prova de rural é de 58%, qual a probabilidade de ele ganhar as duas provas?**

- 98%
- 62%
- 23,2%
- 18%
- 2,32%



22. Numa escola há 12 professores. A tabela a seguir mostra a carga horária diária de trabalho desses professores.

4	8	5	10	6	5	8	6	8	9	4	8
---	---	---	----	---	---	---	---	---	---	---	---

É correto afirmar que as cargas horárias média, modal e mediana desses professores são respectivamente:

- a) 6,25; 6; 7
- b) 6,5; 7; 8
- c) 6,75; 8; 6
- d) 6,75; 8; 7
- e) 6,75; 7; 8

23. Encontre a equação da reta mediatriz do segmento AB, onde A(2, 3) e B(4, -1), e assinale a alternativa correta.

- a)  $2y - x + 1 = 0$
- b)  $y - 2x + 2 = 0$
- c)  $2y - 2x + 1 = 0$
- d)  $2y + x + 2 = 0$
- e)  $2y + x - 1 = 0$

24. Uma loja acrescenta 15% no preço de seus produtos à vista se o cliente optar por pagar com um cheque para 60 dias. Comprei, nessa loja, um fogão com cheque para 60 dias e paguei R\$552,00 por ele. Qual era o preço à vista desse fogão?

- a) R\$460,00
- b) R\$469,20
- c) R\$474,50
- d) R\$480,00
- e) R\$500,00

25. Um pesquisador, ao analisar os processos que envolvem jovens com menos de 24 anos, descobriu que há 4 homens com nomes envolvidos em processos para cada mulher. Se no total ele contou 2400 pessoas, quantas eram as mulheres envolvidas nessa pesquisa?

- a) 480
- b) 600
- c) 800
- d) 1920
- e) 2000

#### INFORMÁTICA

26. Utilizando o Excel 2013, qual fórmula representa corretamente a auto soma?

- a) =SUM()
- b) =MEDIA()
- c) =MAX()
- d) =MIN()
- e) =SE()

27. Acerca de confidencialidade está incorreto afirmar:

- a) É um conceito no qual o acesso à informação deve ser concedido a quem de direito, ou seja, apenas para as entidades autorizadas pelo proprietário ou dono da informação.
- b) É uma propriedade que limita o acesso à informação tão somente às entidades legítimas, ou seja, àquelas autorizadas pelo proprietário da informação.
- c) É a propriedade da informação que não estará disponível ou será divulgada a indivíduos, entidades ou processos sem autorização.
- d) Significa garantir que a informação será conhecida por pessoas que não estejam autorizadas para tal.
- e) É a garantia do resguardo das informações dadas pessoalmente em confiança e proteção contra a sua revelação não autorizada.

28. Tratando-se de hardware de computadores, assinale a alternativa que corresponde a um tipo de memória externa.

- a) Pen Drive
- b) EPROM
- c) DIMM
- d) MRAM
- e) Cache

**29. No Word 2013, é possível utilizar vários tipos de formatação de fontes, exceto:**

- a) Tachado
- b) Negrito
- c) Centralizado
- d) Sublinhado
- e) Cor da fonte

**30. Qual software nativo do Windows utilizamos para descobrir o endereço IP do computador?**

- a) Windows Explorer
- b) Notepad
- c) Excel
- d) Word
- e) Prompt de Comando

#### **CONHECIMENTOS GERAIS**

**31. Conforme fonte do IBGE, o bioma do município de Telêmaco Borba/PR é:**

- a) Mata de Pinhais e Cerrado
- b) Pantanal
- c) Caatinga e Mata Atlântica
- d) Floresta Tropical
- e) Cerrado e Mata Atlântica

**32. A letra do hino do município de Telêmaco Borba/PR é de autoria de**

- a) Bento Mossurunga.
- b) Moisés Lupion.
- c) Eloah Martins Quadrado.
- d) Graciliana Reis D´Albuquerque Mossurunga.
- e) Enéias Augusto Moracines Borba.

**33. Leia o texto sobre o Brasão de Armas do município de Telêmaco Borba/PR e marque a alternativa correta.**

**O Brasão de Armas foi aprovado em definitivo em 1981, dentro dos padrões da heráldica, estabelecendo os regulamentos para seu uso, ficando assim oficializado.**

**No Brasão de Armas, é possível identificar:**

- 1. Escudo português redondo banhado de ouro filetado de prata, carregado de cinco árvores de pinho estilizadas de sua cor, postas em banda.**
- 2. Escudete de prata carregado de três Pinheiros do Paraná, araucária angustifolia ou brasiliense.**
- 3. No timbre, coroa mural de ouro lavrado de negro.**
- 4. À destra, haste de milho (zae mays) frutada.**
- 5. À sinistra, ramos de soja (gelycine soya) granada.**
- 6. Listel amarelo ostentando o topônimo “Cidade Nova” entre as inscrições de ouro “5 de Julho de 1963”, em caracteres latino moderno.**

- a) Não é verdadeiro o item 1.
- b) Não é verdadeiro o item 2.
- c) Não é verdadeiro o item 4.
- d) Não é verdadeiro o item 6.
- e) Não são verdadeiros os itens 3 e 5.

**34. Segundo o art. 11 da Lei Orgânica do Município de Telêmaco Borba/PR, os bens públicos podem ser:**

**I. De uso comum do Povo, tais como estradas municipais, ruas, parques, praças, logradouros públicos e outros da mesma espécie;**

**II. De uso especial, os de patrimônio administrativo, tais como edifícios das repartições públicas, os terrenos e equipamentos destinados ao serviço público, veículos, matadouros, mercados e outras serventias de outra espécie;**

**III. Bens municipais, aqueles sobre os quais o município exerce os direitos de proprietário e são considerados como bens patrimoniais disponíveis;**

**IV. Bens culturais, tais como música e obras de arte.**

**Podemos afirmar que são verdadeiros os itens**

- a) I e II, apenas.
- b) II e III, apenas.
- c) I, II e III, apenas.
- d) I, III e IV, apenas.
- e) I, II, III e IV.

**35. Qual alternativa completa corretamente o texto a seguir?**



No primeiro ano de cada legislatura, no dia 1º de janeiro, em sessão de instalação, independente de número, sob a presidência do vereador mais idoso dentre os eleitos, os vereadores prestarão compromisso e tomarão posse. O Vereador que não tomar posse na sessão do dia 1º de janeiro poderá fazê-la \_\_\_\_\_ depois da primeira sessão ordinária da Legislatura.

- a) até dez dias
- b) até quinze dias
- c) até trinta dias
- d) até quarenta e cinco dias
- e) até sessenta dias

36. Conforme o art. 54 da Lei Orgânica do Município de Telêmaco Borba/PR, o Processo Legislativo compreende a elaboração de:

- I. Emendas à Lei Orgânica do Município;
- II. Leis complementares;
- III. Leis Ordinárias;
- IV. Decretos Legislativos;
- V. Resoluções;
- VI. Pareceres.

Assinale a alternativa que faz a afirmação correta.

- a) São verdadeiros apenas os itens I, III e VI.
- b) São verdadeiros apenas os itens I, III e IV.
- c) São verdadeiros apenas os itens III, IV e V.
- d) São verdadeiros apenas os itens I, II, III, IV e V.
- e) São verdadeiros os itens I, II, III, IV, V e VI.

Com base na Lei nº 1883/2012, que dispõe sobre o Estatuto dos Servidores Públicos da Administração Direta, Autárquica e Funcional do Município de Telêmaco Borba/PR, responda às próximas quatro questões.

37. À luz do § 2º do art. 9º da Lei nº 1883/2012, marque a alternativa que completa a lacuna do texto a seguir.

O concurso deverá ser homologado no prazo máximo de \_\_\_\_\_ contados da data de realização da última fase de provas, sob pena de responsabilidade da autoridade competente.

- a) um mês
- b) dois meses
- c) seis meses
- d) um ano
- e) dois anos

38. Marque a alternativa que completa a lacuna do texto a seguir.

O candidato terá o prazo \_\_\_\_\_, a contar da publicação oficial da convocação, para comparecer à entidade convocante e assinar termo de comparecimento.

- a) máximo de 5 dias úteis
- b) mínimo de 15 dias úteis
- c) de até 30 dias
- d) máximo de 15 dias úteis
- e) mínimo de 5 dias úteis

39. Leia as assertivas e marque a correta.

- a) São reservados 10% dos cargos em comissão para a nomeação de servidores do quadro efetivo.
- b) São reservados 15% dos cargos em comissão para a nomeação de servidores do quadro efetivo.
- c) São reservados 20% dos cargos em comissão para a nomeação de servidores do quadro efetivo.
- d) São reservados 25% dos cargos em comissão para a nomeação de servidores do quadro efetivo.
- e) São reservados 30% dos cargos em comissão para a nomeação de servidores do quadro efetivo.

40. Marque a alternativa que completa a lacuna do texto a seguir.

O servidor municipal, quando nomeado para cargo em comissão, ficará afastado de seu cargo efetivo e fará jus à remuneração prevista em lei para o comissionado, podendo optar por receber seus vencimentos acrescidos de \_\_\_\_\_ do valor da remuneração prevista para o cargo em comissão.

- a) 10%
- b) 20%
- c) 30%
- d) 40%
- e) 50%



PREFEITURA DE TELÊMACO BORBA - ESTADO DO PARANÁ - EDITAL Nº 001-2016 - CONCURSO PÚBLICO

**MATUTINO – 29/05/2016 – NÍVEL MÉDIO**

PROVA OBJETIVA NÚMERO

**1**

**CARGO: TMNM I - TOPOGRAFIA**

**Leia atentamente as INSTRUÇÕES:**

1. Confira seus dados no cartão-resposta: nome, número de inscrição e o curso para o qual se inscreveu.
2. **MARQUE no seu cartão-resposta o número da sua prova** (não será corrigido o cartão-resposta que não tiver marcado o número da prova) e **Assine** seu cartão-resposta.
3. Aguarde a autorização do Fiscal para abrir o caderno de prova. Ao receber a ordem do fiscal, confira o caderno de prova com muita atenção. Nenhuma reclamação sobre o total de questões ou falha de impressão será aceita depois de iniciada a prova.
4. O cartão-resposta não será substituído, salvo se contiver erro de impressão.
5. Preencha toda a área do cartão-resposta correspondente à alternativa de sua escolha, com caneta esferográfica (tinta azul ou preta), sem ultrapassar as bordas. As marcações duplas, ou rasuradas, com corretivo, ou marcadas diferentemente do modelo estabelecido no cartão-resposta poderão ser anuladas.
6. Sua prova tem **40** questões, com **5** alternativas.
7. Cabe apenas ao candidato a interpretação das questões, **o fiscal** não poderá fazer nenhuma interferência.
8. A prova será realizada com duração máxima de **3 (três) horas**, incluído o tempo para a realização da Prova Objetiva de múltipla escolha e o preenchimento do cartão-resposta.
9. O candidato poderá retirar-se do local de realização das provas somente **1 (uma) hora** após o seu início, sem levar o caderno de prova.
10. O candidato poderá levar o caderno de provas, assim como anotação contendo transcrição do seu cartão-resposta, somente **1h30min** (uma hora e trinta minutos) após o início da realização da prova.
11. Ao terminar a prova, o candidato deverá entregar ao fiscal de sala o cartão-resposta preenchido e **ASSINADO**.
12. Os **3 (três)** candidatos, que terminarem a prova por último, deverão permanecer na sala, e só poderão sair juntos após o fechamento do envelope, contendo os cartões-resposta dos candidatos presentes e ausentes, e assinarem no lacre do referido envelope, atestando que este foi devidamente lacrado.
13. Durante todo o tempo em que permanecer no local onde está ocorrendo o concurso, o candidato deverá, manter o celular desligado e sem bateria, só sendo permitido ligar depois de ultrapassar o portão de saída do prédio.
14. Não será permitido ao candidato fumar na sala de provas, bem como nas dependências.
15. Depois de terminar a prova e entregar ao fiscal o cartão-resposta, preenchido e assinado, não será mais permitido ao candidato o uso do banheiro e bebedouro.

**BOA PROVA!**

**LÍNGUA PORTUGUESA**

Leia o texto e responda às próximas quatro questões.

**Lêmures e baobás de Madagascar**

Isolada do continente há 135 milhões de anos, a ilha do Oceano Índico é um laboratório natural da evolução das espécies e encanta os viajantes com uma flora e fauna única

**Madagascar** abriga 107 espécies de **lêmures**, dezenas de espécies de camaleões coloridos e outras tantas plantas que só existem lá. “Madagascar é um mundo a parte. Costumo dizer que, se Charles Darwin tivesse conhecido Madagascar, seu livro *A Origem das Espécies* seria dez vezes maior”, afirma o fotógrafo e jornalista **Haroldo Castro**, idealizador de Viajologia Expedições.

Uma das experiências mais emocionantes na quarta maior ilha do mundo é passear entre os gigantes **baobás**, árvores que chegam a ter 30 metros de altura e mil anos de idade. Das nove espécies de baobás que existem no mundo, seis podem ser encontradas apenas em Madagascar. A majestosa árvore, considerada sagrada pelos malgaxes, é chamada localmente como “reniala”, mãe da floresta.

Na pequena cidade de Bekopaka está o Parque Nacional Tsingy de Bemaraha, considerado Patrimônio Mundial pela Unesco. Trilhas e passeios de canoa no rio Manambolo conduzem a formações rochosas calcárias inusitadas e plantas endêmicas desse ecossistema de florestas secas.

Outro momento inesquecível em Madagascar é o encontro com os lêmures nas florestas tropicais da reserva Anjozorobe-Angavo, a 90 quilômetros da capital Antananarivo. Especialistas apontam que o turismo de observação de animais é uma excelente alternativa para o desenvolvimento da economia local e pode ajudar a conter o desmatamento. “O projeto em Anjozorobe comprova que, nos últimos anos, os 9 mil visitantes contribuíram de forma concreta a reduzir a pobreza e a promover a conservação da biodiversidade”, afirma Haroldo. Como os primatas são curiosos e estão habituados aos seres humanos, eles costumam se aproximar dos visitantes. “Os bichinhos chegam a subir nas nossas cabeças e parecem adorar aparecer nas fotos.”

Madagascar possui hoje uma excelente estrutura para o turismo, com algumas estradas bem cuidadas e hotéis confortáveis localizados perto das reservas e parques ecológicos. A gastronomia malgaxe, com um toque francês, também surpreende pela diversidade de ingredientes, temperos e colorido dos pratos.

[...]

(Fonte: <http://viajeaqu.abril.com.br/materias/lemures-e-baobas-de-madagascar#2>. Acesso em 14/05/2016)

**01. Lêmures e baobás de Madagascar é um texto:**

- a) Em que prevalece a descrição, apresentando as belezas e peculiaridades do lugar, da fauna e da flora.
- b) Principalmente narrativo, de fatos colhidos durante uma viagem, que se sucedem em progressão temporal.
- c) Essencialmente argumentativo, o uso da descrição visa somente a convencer o leitor a visitar Madagascar.
- d) Dissertativo, impera o desenvolvimento de argumentos para comprovar a tese presente no primeiro parágrafo.
- e) Em que predomina a exposição de conceitos e definições com o intuito de informar o leitor.

**02. O teor do texto *Lêmures e baobás de Madagascar* somente não poderia se encaixar em que tópico?**

- a) Turismo
- b) Viagens
- c) Clima
- d) Natureza
- e) Ilhas

**03. O aposto é um termo que *explica ou esclarece, desenvolve ou resume outro termo da oração*. Quanto a isso, analise a parte grifada em cada uma das orações retiradas do texto:**

**I - A majestosa árvore, considerada sagrada pelos malgaxes, é chamada localmente como “reniala”, mãe da floresta.**

**II - afirma o fotógrafo e jornalista Haroldo Castro, idealizador de Viajologia Expedições.**

**III - Outro momento inesquecível em Madagascar é o encontro com os lêmures nas florestas tropicais da reserva Anjozorobe-Angavo, a 90 quilômetros da capital Antananarivo.**

**IV - O projeto em Anjorobe comprova que, nos últimos anos, os 9 mil visitantes contribuíram de forma concreta a reduzir a pobreza e a promover a conservação da biodiversidade”.**

**V - A gastronomia malgaxe, com um toque francês, também surpreende pela diversidade de ingredientes, temperos e colorido dos pratos.**

**Constitui aposto os grifos em:**

- a) I, II, III, IV e V.
- b) I, III e V, apenas.
- c) III e V apenas.
- d) I, II, III, e V, apenas.
- e) III, IV e V apenas

**04. Trilhas e passeios de canoa no rio Manambolo conduzem a formações rochosas calcárias inusitadas e plantas endêmicas desse ecossistema de florestas secas.**

**Ao observar a relação sintática entre os termos desse período, pode-se afirmar que:**

- a) de canoa é complemento nominal de Trilhas e passeios.
- b) no rio Manambolo é adjunto adnominal de canoas.
- c) de florestas secas é complemento nominal de plantas endêmicas.
- d) de canoa é complemento verbal de passeios.
- e) a formações rochosas calcárias inusitadas e plantas endêmicas desse ecossistema de florestas secas é complemento verbal de conduzem.

**Leia o poema e responda às próximas duas questões.**

#### **FOGO NA MATA, MATA!**

Fogo na mata, mata! A mata, a vida...  
Fogo na mata, abre,  
no coração da mata,  
Profundas feridas.

Fogo na mata corrói,  
dentro de nós, os sonhos.  
Fogo na mata, deixa, no seio da mata,  
Tumores tamanhos!

[...]

(Fonte: <http://www.recantodasletras.com.br/letras/505252>. Acesso em 14/05/2016)

**05. A respeito de alguns aspectos gramaticais pertinentes aos termos em destaque na frase título do poema Fogo na mata, mata!, está correto o que se afirma em:**

- a) Morfologicamente, na sequência em que as duas palavras aparecem, temos um verbo e um substantivo.
- b) Semanticamente, as duas palavras constituem homônimas homófonas homógrafas.
- c) O processo de formação da palavra “mata” (primeira ocorrência na frase) é por derivação regressiva do verbo “matar” cuja flexão na terceira pessoa vem logo em seguida na frase.
- d) Semanticamente, as duas palavras “mata” são parônimas.
- e) Semanticamente, as duas palavras constituem homônimas homógrafas heterofônicas.

**06. Com a Nova Reforma Ortográfica, foi mantido o acento nas oxítonas terminadas em -ei e -oi, como é o caso de corrói em Fogo na mata corrói. No entanto, de acordo ainda com a Nova Reforma, os acentos foram retirados de quais duas palavras?**

- a) Bocaiuva - maiúscula
- b) Voo, aerodromo
- c) Releem - feiura
- d) Papeis - língua
- e) Preveem - herói

**07. Leia atentamente as alternativas e assinale a incorreta no que diz respeito à Ortografia:**

- a) Grafamos com j as palavras ultraje, jiboia e gorjeio; com g as palavras ferrugem, geringonça, e miragem.
- b) Grafamos com sc: miscelânea, obsceno e obscensão; com c: sucinto, facínio e nécio.
- c) Grafamos com x: xampu, mexerico e enxada; com ch: piche, tocha e mecha.
- d) Grafamos com z: xadrez, cicatriz e vizinho; com s: friso, pêsames e tesoura.
- e) Grafamos com ss: escassez, submissão e sossego; com c: acetinado, obcecado e acepção.



**08. O advérbio sublinhado e a circunstância que ele expressa não estão corretamente apresentados em:**

- a) Ele certamente virá para o encontro. (afirmação)
- b) Ali se ouvia falar de riquezas culturais. (tempo)
- c) O orador discursou muito bem, impressionou a plateia. (modo)
- d) Chegamos tarde, perdemos o ônibus. (tempo)
- e) Os candidatos estudaram bastante. (intensidade)

**09. Os pronomes pessoais, representantes das pessoas do discurso, estão corretamente empregados em todas as alternativas, com exceção da:**

- a) Sempre haverá discordância entre mim e ti.
- b) O juiz queria falar com nós dois.
- c) Minha festa de despedida, não vou esquecê-la jamais.
- d) Ninguém irá sem eu.
- e) Deram o livro para eu ler em dois dias!

**10. Em uma oração, o contexto permite concluirmos se certos verbos são de ligação, para assim identificarmos o predicado nominal. Assim, não há predicação nominal em:**

- a) O aluno não estava na escola hoje.
- b) À tarde, as crianças pareciam cansadas.
- c) Ultimamente os participantes do programa andam desanimados.
- e) A aurora boreal é um lindo espetáculo.
- d) As atletas parecem cansadas.

### MATEMÁTICA

**11. Numa prova de hipismo, há duas modalidades totalmente distintas: salto e rural. João vai competir nas duas modalidades. Sabendo que a vitória ou a derrota em uma nada influencia no resultado da outra, e sabendo que a probabilidade de ele ganhar a prova de salto é de 40% e a de ganhar a prova de rural é de 58%, qual a probabilidade de ele ganhar as duas provas?**

- a) 98%
- b) 62%
- c) 23,2%
- d) 18%
- e) 2,32%

**12. Numa escola há 12 professores. A tabela a seguir mostra a carga horária diária de trabalho desses professores.**

4	8	5	10	6	5	8	6	8	9	4	8
---	---	---	----	---	---	---	---	---	---	---	---

**É correto afirmar que as cargas horárias média, modal e mediana desses professores são respectivamente:**

- a) 6,25; 6; 7
- b) 6,5; 7; 8
- c) 6,75; 8; 6
- d) 6,75; 8; 7
- e) 6,75; 7; 8

**13. Encontre a equação da reta mediatriz do segmento AB, onde A(2, 3) e B(4, -1), e assinale a alternativa correta.**

- a)  $2y - x + 1 = 0$
- b)  $y - 2x + 2 = 0$
- c)  $2y - 2x + 1 = 0$
- d)  $2y + x + 2 = 0$
- e)  $2y + x - 1 = 0$

**14. Uma loja acrescenta 15% no preço de seus produtos à vista se o cliente optar por pagar com um cheque para 60 dias. Comprei, nessa loja, um fogão com cheque para 60 dias e paguei R\$552,00 por ele. Qual era o preço à vista desse fogão?**

- a) R\$460,00
- b) R\$469,20
- c) R\$474,50
- d) R\$480,00
- e) R\$500,00

**15. Um pesquisador, ao analisar os processos que envolvem jovens com menos de 24 anos, descobriu que há 4 homens com nomes envolvidos em processos para cada mulher. Se no total ele contou 2400 pessoas, quantas eram as mulheres envolvidas nessa pesquisa?**

- a) 480
- b) 600
- c) 800
- d) 1920
- e) 2000

#### **INFORMÁTICA**

**16. Utilizando o Excel 2013, qual fórmula representa corretamente a auto soma?**

- a) =SUM()
- b) =MEDIA()
- c) =MAX()
- d) =MIN()
- e) =SE()

**17. Acerca de confidencialidade está incorreto afirmar:**

- a) É um conceito no qual o acesso à informação deve ser concedido a quem de direito, ou seja, apenas para as entidades autorizadas pelo proprietário ou dono da informação.
- b) É uma propriedade que limita o acesso à informação tão somente às entidades legítimas, ou seja, àquelas autorizadas pelo proprietário da informação.
- c) É a propriedade da informação que não estará disponível ou será divulgada a indivíduos, entidades ou processos sem autorização.
- d) Significa garantir que a informação será conhecida por pessoas que não estejam autorizadas para tal.
- e) É a garantia do resguardo das informações dadas pessoalmente em confiança e proteção contra a sua revelação não autorizada.

**18. Tratando-se de hardware de computadores, assinale a alternativa que corresponde a um tipo de memória externa.**

- a) Pen Drive
- b) EPROM
- c) DIMM
- d) MRAM
- e) Cache

**19. No Word 2013, é possível utilizar vários tipos de formatação de fontes, exceto:**

- a) Tachado
- b) Negrito
- c) Centralizado
- d) Sublinhado
- e) Cor da fonte

**20. Qual software nativo do Windows utilizamos para descobrir o endereço IP do computador?**

- a) Windows Explorer
- b) Notepad
- c) Excel
- d) Word
- e) Prompt de Comando

#### **CONHECIMENTOS GERAIS**

**21. Conforme fonte do IBGE, o bioma do município de Telêmaco Borba/PR é:**

- a) Mata de Pinhais e Cerrado
- b) Pantanal
- c) Caatinga e Mata Atlântica
- d) Floresta Tropical
- e) Cerrado e Mata Atlântica

**22. A letra do hino do município de Telêmaco Borba/PR é de autoria de**

- a) Bento Mossurunga.
- b) Moises Lupion.
- c) Eloah Martins Quadrado.
- d) Graciliana Reis D´Albuquerque Mossurunga.
- e) Enéias Augusto Moracines Borba.



**23. Leia o texto sobre o Brasão de Armas do município de Telêmaco Borba/PR e marque a alternativa correta.**

O Brasão de Armas foi aprovado em definitivo em 1981, dentro dos padrões da heráldica, estabelecendo os regulamentos para seu uso, ficando assim oficializado.

No Brasão de Armas, é possível identificar:

1. Escudo português redondo banhado de ouro filetado de prata, carregado de cinco árvores de pinho estilizadas de sua cor, postas em banda.
2. Escudete de prata carregado de três Pinheiros do Paraná, araucária angustifolia ou brasiliense.
3. No timbre, coroa mural de ouro lavrado de negro.
4. À direita, haste de milho (zae mays) frutada.
5. À sinistra, ramos de soja (gelycine soya) granada.
6. Listel amarelo ostentando o topônimo "Cidade Nova" entre as inscrições de ouro "5 de Julho de 1963", em caracteres latino moderno.

- a) Não é verdadeiro o item 1.
- b) Não é verdadeiro o item 2.
- c) Não é verdadeiro o item 4.
- d) Não é verdadeiro o item 6.
- e) Não são verdadeiros os itens 3 e 5.

**24. Segundo o art. 11 da Lei Orgânica do Município de Telêmaco Borba/PR, os bens públicos podem ser:**

**I. De uso comum do Povo, tais como estradas municipais, ruas, parques, praças, logradouros públicos e outros da mesma espécie;**

**II. De uso especial, os de patrimônio administrativo, tais como edifícios das repartições públicas, os terrenos e equipamentos destinados ao serviço público, veículos, matadouros, mercados e outras serventias de outra espécie;**

**III. Bens municipais, aqueles sobre os quais o município exerce os direitos de proprietário e são considerados como bens patrimoniais disponíveis;**

**IV. Bens culturais, tais como música e obras de arte.**

Podemos afirmar que são verdadeiros os itens

- a) I e II, apenas.
- b) II e III, apenas.
- c) I, II e III, apenas.
- d) I, III e IV, apenas.
- e) I, II, III e IV.

**25. Qual alternativa completa corretamente o texto a seguir?**

No primeiro ano de cada legislatura, no dia 1º de janeiro, em sessão de instalação, independente de número, sob a presidência do vereador mais idoso dentre os eleitos, os vereadores prestarão compromisso e tomarão posse. O Vereador que não tomar posse na sessão do dia 1º de janeiro poderá fazê-la \_\_\_\_\_ depois da primeira sessão ordinária da Legislatura.

- a) até dez dias
- b) até quinze dias
- c) até trinta dias
- d) até quarenta e cinco dias
- e) até sessenta dias

**26. Conforme o art. 54 da Lei Orgânica do Município de Telêmaco Borba/PR, o Processo Legislativo compreende a elaboração de:**

**I. Emendas à Lei Orgânica do Município;**

**II. Leis complementares;**

**III. Leis Ordinárias;**

**IV. Decretos Legislativos;**

**V. Resoluções;**

**VI. Pareceres.**

Assinale a alternativa que faz a afirmação correta.

- a) São verdadeiros apenas os itens I, III e VI.
- b) São verdadeiros apenas os itens I, III e IV.
- c) São verdadeiros apenas os itens III, IV e V.
- d) São verdadeiros apenas os itens I, II, III, IV e V.
- e) São verdadeiros os itens I, II, III, IV, V e VI.

Com base na Lei nº 1883/2012, que dispõe sobre o Estatuto dos Servidores Públicos da Administração Direta, Autárquica e Funcional do Município de Telêmaco Borba/PR, responda às próximas quatro questões.

27. À luz do § 2º do art. 9º da Lei nº 1883/2012, marque a alternativa que completa a lacuna do texto a seguir.

O concurso deverá ser homologado no prazo máximo de \_\_\_\_\_ contados da data de realização da última fase de provas, sob pena de responsabilidade da autoridade competente.

- a) um mês
- b) dois meses
- c) seis meses
- d) um ano
- e) dois anos

28. Marque a alternativa que completa a lacuna do texto a seguir.

O candidato terá o prazo \_\_\_\_\_, a contar da publicação oficial da convocação, para comparecer à entidade convocante e assinar termo de comparecimento.

- a) máximo de 5 dias úteis
- b) mínimo de 15 dias úteis
- c) de até 30 dias
- d) máximo de 15 dias úteis
- e) mínimo de 5 dias úteis

29. Leia as assertivas e marque a correta.

- a) São reservados 10% dos cargos em comissão para a nomeação de servidores do quadro efetivo.
- b) São reservados 15% dos cargos em comissão para a nomeação de servidores do quadro efetivo.
- c) São reservados 20% dos cargos em comissão para a nomeação de servidores do quadro efetivo.
- d) São reservados 25% dos cargos em comissão para a nomeação de servidores do quadro efetivo.
- e) São reservados 30% dos cargos em comissão para a nomeação de servidores do quadro efetivo.

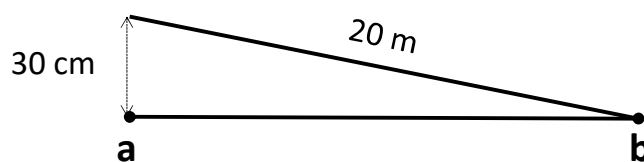
30. Marque a alternativa que completa a lacuna do texto a seguir.

O servidor municipal, quando nomeado para cargo em comissão, ficará afastado de seu cargo efetivo e fará jus à remuneração prevista em lei para o comissionado, podendo optar por receber seus vencimentos acrescidos de \_\_\_\_\_ do valor da remuneração prevista para o cargo em comissão.

- a) 10%
- b) 20%
- c) 30%
- d) 40%
- e) 50%

#### CONHECIMENTOS ESPECÍFICOS

31. Suponha que houve um erro de alinhamento de 30cm da trena no sentido AB quando se fez a medida entre os pontos, obtendo-se uma distância equivocadamente igual a 20m. Qual seria o valor correto da distância entre os pontos A e B?



- a) 19,993m
- b) 19,995m
- c) 19,997m
- d) 20,003m
- e) 20,005m

32. O erro resultante da curva ou "barriga" do instrumento de medir entre 2 balizas, geralmente mais pronunciado nos instrumentos mais pesados como a cadeia do agrimensor ou em longas fitas de aço, é denominado de:

- a) Erro de catenária
- b) Erro de falta de horizontalidade
- c) Erro de alinhamento
- d) Erro de falta de verticalidade
- e) Erro angular

33. Assinale a alternativa que corresponde a um instrumento capaz de medir ângulos e distâncias.

- a) Nível digital

- b) Nível a laser
- c) Distanciômetro eletrônico
- d) Estação total
- e) Trena eletrônica

**34. O segmento espacial do atual Sistema de Posicionamento Global NAVSTAR-GPS é composto por 24 satélites ativos descrevendo órbitas elípticas em volta da Terra. Os satélites estão distribuídos em planos orbitais intervalados longitudinalmente de  $60^\circ$ . Portanto, conclui-se que cada órbita suporta:**

- a) 2 satélites, defasados entre si de  $90^\circ$ .
- b) 4 satélites, defasados entre si de  $90^\circ$ .
- c) 6 satélites, defasados entre si de  $90^\circ$ .
- d) 2 satélites, defasados entre si de  $60^\circ$ .
- e) 4 satélites, defasados entre si de  $60^\circ$ .

**35. O ângulo formado pela direção do Norte Verdadeiro com a do Norte Magnético num determinado ponto da superfície da Terra é denominado:**

- a) Rumo verdadeiro
- b) Rumo magnético
- c) Azimute
- d) Declinação magnética
- e) Meridiano magnético

**36. O Universal Transversa de Mercator (UTM) é um sistema de coordenadas cartesianas bidimensional utilizado para dar localizações na superfície da Terra. Esse sistema apresenta como características:**

**I. O sistema UTM divide a Terra em sessenta zonas, cada uma com seis graus de longitude.**

**II. O sistema UTM é usado entre as latitudes  $84^\circ$  N e  $80^\circ$  S, onde as deformações ainda não são significativas.**

**III. O sistema UTM utiliza o sistema métrico internacional e sua base é o metro (m).**

**Está(ão) correto(s):**

- a) Somente o item I.
- b) Somente os itens I e II.
- c) Somente os itens I e III.
- d) Somente os itens II e III.
- e) Os itens I, II e III.

**37. Em um determinado mapa, a distância retilínea entre dois pontos é igual a 12cm. Sabendo que a distância real entre esses pontos é de 4,2km, pode-se afirmar que a escala do referido mapa é igual a:**

- a) 1:3500
- b) 1:4200
- c) 1:12000
- d) 1:35000
- e) 1:42000

**38. Atualmente, de acordo com o Instituto Brasileiro de Geografia e Estatística, qual o sistema geodésico de referência em uso hoje no Brasil?**

- a) SIRGAS2000
- b) Córrego Alegre
- c) SAD 69
- d) WGS 84
- e) Imbituba

**39. De acordo com a NBR 13133 da ABNT, os medidores eletrônicos de distâncias (MED) devem ser calibrados, no máximo, a cada:**

- a) 6 meses
- b) 1 ano
- c) 2 anos
- d) 3 anos
- e) 4 anos

**40. O conjunto de pontos geodésicos implantados na porção da superfície terrestre delimitada pelas fronteiras do Brasil, implantados e materializados, com vistas ao controle de trabalhos geodésicos e cartográficos e ao apoio aos levantamentos no horizonte topográfico, onde prevalecem os critérios de exatidão sobre as simplificações para a figura da Terra, constitui:**

- a) A Série Geodésica Nacional
- b) O Sistema Geodésico Brasileiro



- c) O Sistema de Projeção Topográfica d) A Rede de Referência Cadastral  
e) O Sistema de Projeção Geodésica

**RASCUNHO**





PREFEITURA DE TELÊMACO BORBA - ESTADO DO PARANÁ - EDITAL Nº 001-2016 - CONCURSO PÚBLICO

MATUTINO – 29/05/2016 – NÍVEL MÉDIO

**2**

PROVA OBJETIVA NÚMERO

CARGO: TMNM I - TOPOGRAFIA

Leia atentamente as INSTRUÇÕES:

1. Confira seus dados no cartão-resposta: nome, número de inscrição e o curso para o qual se inscreveu.
2. **MARQUE no seu cartão-resposta o número da sua prova** (não será corrigido o cartão-resposta que não tiver marcado o número da prova) e **Assine** seu cartão-resposta.
3. Aguarde a autorização do Fiscal para abrir o caderno de prova. Ao receber a ordem do fiscal, confira o caderno de prova com muita atenção. Nenhuma reclamação sobre o total de questões ou falha de impressão será aceita depois de iniciada a prova.
4. O cartão-resposta não será substituído, salvo se contiver erro de impressão.
5. Preencha toda a área do cartão-resposta correspondente à alternativa de sua escolha, com caneta esferográfica (tinta azul ou preta), sem ultrapassar as bordas. As marcações duplas, ou rasuradas, com corretivo, ou marcadas diferentemente do modelo estabelecido no cartão-resposta poderão ser anuladas.
6. Sua prova tem **40** questões, com **5** alternativas.
7. Cabe apenas ao candidato a interpretação das questões, **o fiscal** não poderá fazer nenhuma interferência.
8. A prova será realizada com duração máxima de **3 (três) horas**, incluído o tempo para a realização da Prova Objetiva de múltipla escolha e o preenchimento do cartão-resposta.
9. O candidato poderá retirar-se do local de realização das provas somente **1 (uma) hora** após o seu início, sem levar o caderno de prova.
10. O candidato poderá levar o caderno de provas, assim como anotação contendo transcrição do seu cartão-resposta, somente **1h30min** (uma hora e trinta minutos) após o início da realização da prova.
11. Ao terminar a prova, o candidato deverá entregar ao fiscal de sala o cartão-resposta preenchido e **ASSINADO**.
12. Os **3 (três)** candidatos, que terminarem a prova por último, deverão permanecer na sala, e só poderão sair juntos após o fechamento do envelope, contendo os cartões-resposta dos candidatos presentes e ausentes, e assinarem no lacre do referido envelope, atestando que este foi devidamente lacrado.
13. Durante todo o tempo em que permanecer no local onde está ocorrendo o concurso, o candidato deverá, manter o celular desligado e sem bateria, só sendo permitido ligar depois de ultrapassar o portão de saída do prédio.
14. Não será permitido ao candidato fumar na sala de provas, bem como nas dependências.
15. Depois de terminar a prova e entregar ao fiscal o cartão-resposta, preenchido e assinado, não será mais permitido ao candidato o uso do banheiro e bebedouro.

**BOA PROVA!**

**MATEMÁTICA**

**01.** Numa prova de hipismo, há duas modalidades totalmente distintas: salto e rural. João vai competir nas duas modalidades. Sabendo que a vitória ou a derrota em uma nada influencia no resultado da outra, e sabendo que a probabilidade de ele ganhar a prova de salto é de 40% e a de ganhar a prova de rural é de 58%, qual a probabilidade de ele ganhar as duas provas?

- a) 98%
- b) 62%
- c) 23,2%
- d) 18%
- e) 2,32%

**02.** Numa escola há 12 professores. A tabela a seguir mostra a carga horária diária de trabalho desses professores.

4	8	5	10	6	5	8	6	8	9	4	8
---	---	---	----	---	---	---	---	---	---	---	---

É correto afirmar que as cargas horárias média, modal e mediana desses professores são respectivamente:

- a) 6,25; 6; 7
- b) 6,5; 7; 8
- c) 6,75; 8; 6
- d) 6,75; 8; 7
- e) 6,75; 7; 8

**03.** Encontre a equação da reta mediatriz do segmento AB, onde A(2, 3) e B(4, -1), e assinale a alternativa correta.

- a)  $2y - x + 1 = 0$
- b)  $y - 2x + 2 = 0$
- c)  $2y - 2x + 1 = 0$
- d)  $2y + x + 2 = 0$
- e)  $2y + x - 1 = 0$

**04.** Uma loja acrescenta 15% no preço de seus produtos à vista se o cliente optar por pagar com um cheque para 60 dias. Comprei, nessa loja, um fogão com cheque para 60 dias e paguei R\$552,00 por ele. Qual era o preço à vista desse fogão?

- a) R\$460,00
- b) R\$469,20
- c) R\$474,50
- d) R\$480,00
- e) R\$500,00

**05.** Um pesquisador, ao analisar os processos que envolvem jovens com menos de 24 anos, descobriu que há 4 homens com nomes envolvidos em processos para cada mulher. Se no total ele contou 2400 pessoas, quantas eram as mulheres envolvidas nessa pesquisa?

- a) 480
- b) 600
- c) 800
- d) 1920
- e) 2000

**INFORMÁTICA**

**06.** Utilizando o Excel 2013, qual fórmula representa corretamente a auto soma?

- a) =SUM()
- b) =MEDIA()
- c) =MAX()
- d) =MIN()
- e) =SE()

**07.** Acerca de confidencialidade está incorreto afirmar:

- a) É um conceito no qual o acesso à informação deve ser concedido a quem de direito, ou seja, apenas para as entidades autorizadas pelo proprietário ou dono da informação.
- b) É uma propriedade que limita o acesso à informação tão somente às entidades legítimas, ou seja, àquelas autorizadas pelo proprietário da informação.
- c) É a propriedade da informação que não estará disponível ou será divulgada a indivíduos, entidades ou processos sem autorização.
- d) Significa garantir que a informação será conhecida por pessoas que não estejam autorizadas para tal.

e) É a garantia do resguardo das informações dadas pessoalmente em confiança e proteção contra a sua revelação não autorizada.

**08. Tratando-se de hardware de computadores, assinale a alternativa que corresponde a um tipo de memória externa.**

- a) Pen Drive
- b) EPROM
- c) DIMM
- d) MRAM
- e) Cache

**09. No Word 2013, é possível utilizar vários tipos de formatação de fontes, exceto:**

- a) Tachado
- b) Negrito
- c) Centralizado
- d) Sublinhado
- e) Cor da fonte

**10. Qual software nativo do Windows utilizamos para descobrir o endereço IP do computador?**

- a) Windows Explorer
- b) Notepad
- c) Excel
- d) Word
- e) Prompt de Comando

#### **CONHECIMENTOS GERAIS**

**11. Conforme fonte do IBGE, o bioma do município de Telêmaco Borba/PR é:**

- a) Mata de Pinhais e Cerrado
- b) Pantanal
- c) Caatinga e Mata Atlântica
- d) Floresta Tropical
- e) Cerrado e Mata Atlântica

**12. A letra do hino do município de Telêmaco Borba/PR é de autoria de**

- a) Bento Mossurunga.
- b) Moisés Lupion.
- c) Eloah Martins Quadrado.
- d) Graciliana Reis D´Albuquerque Mossurunga.
- e) Enéias Augusto Moracines Borba.

**13. Leia o texto sobre o Brasão de Armas do município de Telêmaco Borba/PR e marque a alternativa correta.**

**O Brasão de Armas foi aprovado em definitivo em 1981, dentro dos padrões da heráldica, estabelecendo os regulamentos para seu uso, ficando assim oficializado.**

**No Brasão de Armas, é possível identificar:**

- 1. Escudo português redondo banhado de ouro filetado de prata, carregado de cinco árvores de pinho estilizadas de sua cor, postas em banda.
  - 2. Escudete de prata carregado de três Pinheiros do Paraná, araucária angustifolia ou brasiliense.
  - 3. No timbre, coroa mural de ouro lavrado de negro.
  - 4. À destra, haste de milho (zae mays) frutada.
  - 5. À sinistra, ramos de soja (gelycine soya) granada.
  - 6. Listel amarelo ostentando o topônimo "Cidade Nova" entre as inscrições de ouro "5 de Julho de 1963", em caracteres latino moderno.
- a) Não é verdadeiro o item 1.
  - b) Não é verdadeiro o item 2.
  - c) Não é verdadeiro o item 4.
  - d) Não é verdadeiro o item 6.
  - e) Não são verdadeiros os itens 3 e 5.

**14. Segundo o art. 11 da Lei Orgânica do Município de Telêmaco Borba/PR, os bens públicos podem ser:**

- I. De uso comum do Povo, tais como estradas municipais, ruas, parques, praças, logradouros públicos e outros da mesma espécie;
- II. De uso especial, os de patrimônio administrativo, tais como edifícios das repartições públicas, os terrenos e equipamentos destinados ao serviço público, veículos, matadouros, mercados e outras serventias de outra espécie;

**III. Bens municipais, aqueles sobre os quais o município exerce os direitos de proprietário e são considerados como bens patrimoniais disponíveis;**

**IV. Bens culturais, tais como música e obras de arte.**

**Podemos afirmar que são verdadeiros os itens**

- a) I e II, apenas.
- b) II e III, apenas.
- c) I, II e III, apenas.
- d) I, III e IV, apenas.
- e) I, II, III e IV.

**15. Qual alternativa completa corretamente o texto a seguir?**

**No primeiro ano de cada legislatura, no dia 1º de janeiro, em sessão de instalação, independente de número, sob a presidência do vereador mais idoso dentre os eleitos, os vereadores prestarão compromisso e tomarão posse. O Vereador que não tomar posse na sessão do dia 1º de janeiro poderá fazê-la \_\_\_\_\_ depois da primeira sessão ordinária da Legislatura.**

- a) até dez dias
- b) até quinze dias
- c) até trinta dias
- d) até quarenta e cinco dias
- e) até sessenta dias

**16. Conforme o art. 54 da Lei Orgânica do Município de Telêmaco Borba/PR, o Processo Legislativo compreende a elaboração de:**

**I. Emendas à Lei Orgânica do Município;**

**II. Leis complementares;**

**III. Leis Ordinárias;**

**IV. Decretos Legislativos;**

**V. Resoluções;**

**VI. Pareceres.**

**Assinale a alternativa que faz a afirmação correta.**

- a) São verdadeiros apenas os itens I, III e VI.
- b) São verdadeiros apenas os itens I, III e IV.
- c) São verdadeiros apenas os itens III, IV e V.
- d) São verdadeiros apenas os itens I, II, III, IV e V.
- e) São verdadeiros os itens I, II, III, IV, V e VI.

**Com base na Lei nº 1883/2012, que dispõe sobre o Estatuto dos Servidores Públicos da Administração Direta, Autárquica e Funcional do Município de Telêmaco Borba/PR, responda às próximas quatro questões.**

**17. À luz do § 2º do art. 9º da Lei nº 1883/2012, marque a alternativa que completa a lacuna do texto a seguir.**

**O concurso deverá ser homologado no prazo máximo de \_\_\_\_\_ contados da data de realização da última fase de provas, sob pena de responsabilidade da autoridade competente.**

- a) um mês
- b) dois meses
- c) seis meses
- d) um ano
- e) dois anos

**18. Marque a alternativa que completa a lacuna do texto a seguir.**

**O candidato terá o prazo \_\_\_\_\_, a contar da publicação oficial da convocação, para comparecer à entidade convocante e assinar termo de comparecimento.**

- a) máximo de 5 dias úteis
- b) mínimo de 15 dias úteis
- c) de até 30 dias
- d) máximo de 15 dias úteis
- e) mínimo de 5 dias úteis

**19. Leia as assertivas e marque a correta.**

- a) São reservados 10% dos cargos em comissão para a nomeação de servidores do quadro efetivo.
- b) São reservados 15% dos cargos em comissão para a nomeação de servidores do quadro efetivo.
- c) São reservados 20% dos cargos em comissão para a nomeação de servidores do quadro efetivo.
- d) São reservados 25% dos cargos em comissão para a nomeação de servidores do quadro efetivo.
- e) São reservados 30% dos cargos em comissão para a nomeação de servidores do quadro efetivo.

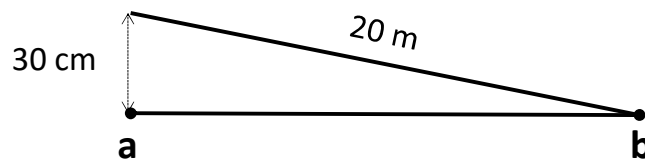
20. Marque a alternativa que completa a lacuna do texto a seguir.

O servidor municipal, quando nomeado para cargo em comissão, ficará afastado de seu cargo efetivo e fará jus à remuneração prevista em lei para o comissionado, podendo optar por receber seus vencimentos acrescidos de \_\_\_\_\_ do valor da remuneração prevista para o cargo em comissão.

- a) 10%
- b) 20%
- c) 30%
- d) 40%
- e) 50%

#### CONHECIMENTOS ESPECÍFICOS

21. Suponha que houve um erro de alinhamento de 30cm da trena no sentido AB quando se fez a medida entre os pontos, obtendo-se uma distância equivocadamente igual a 20m. Qual seria o valor correto da distância entre os pontos A e B?



- a) 19,993m
- b) 19,995m
- c) 19,997m
- d) 20,003m
- e) 20,005m

22. O erro resultante da curva ou "barriga" do instrumento de medir entre 2 balizas, geralmente mais pronunciado nos instrumentos mais pesados como a cadeia do agrimensor ou em longas fitas de aço, é denominado de:

- a) Erro de catenária
- b) Erro de falta de horizontalidade
- c) Erro de alinhamento
- d) Erro de falta de verticalidade
- e) Erro angular

23. Assinale a alternativa que corresponde a um instrumento capaz de medir ângulos e distâncias.

- a) Nível digital
- b) Nível a laser
- c) Distanciômetro eletrônico
- d) Estação total
- e) Trena eletrônica

24. O segmento espacial do atual Sistema de Posicionamento Global NAVSTAR-GPS é composto por 24 satélites ativos descrevendo órbitas elípticas em volta da Terra. Os satélites estão distribuídos em planos orbitais intervalados longitudinalmente de  $60^\circ$ . Portanto, conclui-se que cada órbita suporta:

- a) 2 satélites, defasados entre si de  $90^\circ$ .
- b) 4 satélites, defasados entre si de  $90^\circ$ .
- c) 6 satélites, defasados entre si de  $90^\circ$ .
- d) 2 satélites, defasados entre si de  $60^\circ$ .
- e) 4 satélites, defasados entre si de  $60^\circ$ .

25. O ângulo formado pela direção do Norte Verdadeiro com a do Norte Magnético num determinado ponto da superfície da Terra é denominado:

- a) Rumo verdadeiro
- b) Rumo magnético
- c) Azimute
- d) Declinação magnética
- e) Meridiano magnético

26. O Universal Transversa de Mercator (UTM) é um sistema de coordenadas cartesianas bidimensional utilizado para dar localizações na superfície da Terra. Esse sistema apresenta como características:

I. O sistema UTM divide a Terra em sessenta zonas, cada uma com seis graus de longitude.

II. O sistema UTM é usado entre as latitudes  $84^{\circ}$  N e  $80^{\circ}$  S, onde as deformações ainda não são significativas.

III. O sistema UTM utiliza o sistema métrico internacional e sua base é o metro (m).

Está(ão) correto(s):

- a) Somente o item I.
- b) Somente os itens I e II.
- c) Somente os itens I e III.
- d) Somente os itens II e III.
- e) Os itens I, II e III.

27. Em um determinado mapa, a distância retilínea entre dois pontos é igual a 12cm. Sabendo que a distância real entre esses pontos é de 4,2km, pode-se afirmar que a escala do referido mapa é igual a:

- a) 1:3500
- b) 1:4200
- c) 1:12000
- d) 1:35000
- e) 1:42000

28. Atualmente, de acordo com o Instituto Brasileiro de Geografia e Estatística, qual o sistema geodésico de referência em uso hoje no Brasil?

- a) SIRGAS2000
- b) Córrego Alegre
- c) SAD 69
- d) WGS 84
- e) Imbituba

29. De acordo com a NBR 13133 da ABNT, os medidores eletrônicos de distâncias (MED) devem ser calibrados, no máximo, a cada:

- a) 6 meses
- b) 1 ano
- c) 2 anos
- d) 3 anos
- e) 4 anos

30. O conjunto de pontos geodésicos implantados na porção da superfície terrestre delimitada pelas fronteiras do Brasil, implantados e materializados, com vistas ao controle de trabalhos geodésicos e cartográficos e ao apoio aos levantamentos no horizonte topográfico, onde prevalecem os critérios de exatidão sobre as simplificações para a figura da Terra, constitui:

- a) A Série Geodésica Nacional
- b) O Sistema Geodésico Brasileiro
- c) O Sistema de Projeção Topográfica
- d) A Rede de Referência Cadastral
- e) O Sistema de Projeção Geodésica

## LÍNGUA PORTUGUESA

Leia o texto e responda às próximas quatro questões.

### Lêmures e baobás de Madagascar

Isolada do continente há 135 milhões de anos, a ilha do Oceano Índico é um laboratório natural da evolução das espécies e encanta os viajantes com uma flora e fauna única

**Madagascar** abriga 107 espécies de **lêmures**, dezenas de espécies de camaleões coloridos e outras tantas plantas que só existem lá. "Madagascar é um mundo a parte. Costumo dizer que, se Charles Darwin tivesse conhecido Madagascar, seu livro *A Origem das Espécies* seria dez vezes maior", afirma o fotógrafo e jornalista **Haroldo Castro**, idealizador de Viajologia Expedições.

Uma das experiências mais emocionantes na quarta maior ilha do mundo é passear entre os gigantescos **baobás**, árvores que chegam a ter 30 metros de altura e mil anos de idade. Das nove espécies de baobás que existem no mundo, seis podem ser encontradas apenas em Madagascar. A majestosa árvore, considerada sagrada pelos malgaxes, é chamada localmente como "reniala", mãe da floresta.

Na pequena cidade de Bekopaka está o Parque Nacional Tsingy de Bemaraha, considerado Patrimônio Mundial pela Unesco. Trilhas e passeios de canoa no rio Manambolo conduzem a formações rochosas calcárias inusitadas e plantas endêmicas desse ecossistema de florestas secas.

Outro momento inesquecível em Madagascar é o encontro com os lêmures nas florestas tropicais da reserva Anjozorobe-Angavo, a 90 quilômetros da capital Antananarivo. Especialistas apontam que o turismo de observação de animais é uma excelente alternativa para o desenvolvimento da economia local e pode ajudar a



conter o desmatamento. “O projeto em Anjozorobe comprova que, nos últimos anos, os 9 mil visitantes contribuíram de forma concreta a reduzir a pobreza e a promover a conservação da biodiversidade”, afirma Haroldo. Como os primatas são curiosos e estão habituados aos seres humanos, eles costumam se aproximar dos visitantes. “Os bichinhos chegam a subir nas nossas cabeças e parecem adorar aparecer nas fotos.”

Madagascar possui hoje uma excelente estrutura para o turismo, com algumas estradas bem cuidadas e hotéis confortáveis localizados perto das reservas e parques ecológicos. A gastronomia malgaxe, com um toque francês, também surpreende pela diversidade de ingredientes, temperos e colorido dos pratos.

[...]

(Fonte: <http://viajeaquibril.com.br/materias/lemures-e-baobas-de-madagascar#2>. Acesso em 14/05/2016)

**31. Lêmures e baobás de Madagascar é um texto:**

- Em que prevalece a descrição, apresentando as belezas e peculiaridades do lugar, da fauna e da flora.
- Principalmente narrativo, de fatos colhidos durante uma viagem, que se sucedem em progressão temporal.
- Essencialmente argumentativo, o uso da descrição visa somente a convencer o leitor a visitar Madagascar.
- Dissertativo, impera o desenvolvimento de argumentos para comprovar a tese presente no primeiro parágrafo.
- Em que predomina a exposição de conceitos e definições com o intuito de informar o leitor.

**32. O teor do texto *Lêmures e baobás de Madagascar* somente não poderia se encaixar em que tópico?**

- Turismo
- Viagens
- Clima
- Natureza
- Ilhas

**33. O aposto é um termo que *explica ou esclarece, desenvolve ou resume outro termo da oração*. Quanto a isso, analise a parte grifada em cada uma das orações retiradas do texto:**

**I - A majestosa árvore, considerada sagrada pelos malgaxes, é chamada localmente como “reniala”, mãe da floresta.**

**II - afirma o fotógrafo e jornalista Haroldo Castro, idealizador de Viajologia Expedições.**

**III - Outro momento inesquecível em Madagascar é o encontro com os lêmures nas florestas tropicais da reserva Anjozorobe-Angavo, a 90 quilômetros da capital Antananarivo.**

**IV - O projeto em Anjozorobe comprova que, nos últimos anos, os 9 mil visitantes contribuíram de forma concreta a reduzir a pobreza e a promover a conservação da biodiversidade.**

**V - A gastronomia malgaxe, com um toque francês, também surpreende pela diversidade de ingredientes, temperos e colorido dos pratos.**

Constitui aposto os grifos em:

- I, II, III, IV e V.
- I, III e V, apenas.
- III e V apenas.
- I, II, III, e V, apenas.
- III, IV e V apenas

**34. *Trilhas e passeios de canoa no rio Manambolo conduzem a formações rochosas calcárias inusitadas e plantas endêmicas desse ecossistema de florestas secas.***

**Ao observar a relação sintática entre os termos desse período, pode-se afirmar que:**

- de canoa é complemento nominal de Trilhas e passeios.
- no rio Manambolo é adjunto adnominal de canoas.
- de florestas secas é complemento nominal de plantas endêmicas.
- de canoa é complemento verbal de passeios.
- a formações rochosas calcárias inusitadas e plantas endêmicas desse ecossistema de florestas secas é complemento verbal de conduzem.

**Leia o poema e responda às próximas duas questões.**

**FOGO NA MATA, MATA!**

Fogo na mata, mata! A mata, a vida...  
Fogo na mata, abre,  
no coração da mata,  
Profundas feridas.

Fogo na mata corrói,  
dentro de nós, os sonhos.  
Fogo na mata, deixa, no seio da mata,  
Tumores tamanhos!



[...]

(Fonte: <http://www.recantodasletras.com.br/letras/505252>. Acesso em 14/05/2016)

**35. A respeito de alguns aspectos gramaticais pertinentes aos termos em destaque na frase título do poema *Fogo na mata, mata!*, está correto o que se afirma em:**

- a) Morfologicamente, na sequência em que as duas palavras aparecem, temos um verbo e um substantivo.
- b) Semanticamente, as duas palavras constituem homônimas homófonas homógrafas.
- c) O processo de formação da palavra “mata” (primeira ocorrência na frase) é por derivação regressiva do verbo “matar” cuja flexão na terceira pessoa vem logo em seguida na frase.
- d) Semanticamente, as duas palavras “mata” são parônimas.
- e) Semanticamente, as duas palavras constituem homônimas homógrafas heterofônicas.

**36. Com a Nova Reforma Ortográfica, foi mantido o acento nas oxítonas terminadas em -ei e -oi, como é o caso de corrói em *Fogo na mata corrói*. No entanto, de acordo ainda com a Nova Reforma, os acentos foram retirados de quais duas palavras?**

- a) Bocaiuva - maiúscula
- b) Voo, aerodromo
- c) Releem - feiura
- d) Papeis - linguíça
- e) Preveem - heroi

**37. Leia atentamente as alternativas e assinale a incorreta no que diz respeito à Ortografia:**

- a) Grafamos com j as palavras ultraje, jiboia e gorjeio; com g as palavras ferrugem, geringonça, e miragem.
- b) Grafamos com sc: miscelânea, obsceno e obsessão; com c: sucinto, facínio e nécio.
- c) Grafamos com x: xampu, mexerico e enxada; com ch: piche, tocha e mecha.
- d) Grafamos com z: xadrez, cicatriz e vizinho; com s: friso, pêsames e tesoura.
- e) Grafamos com ss: escassez, submissão e sossego; com c: acetinado, obcecado e acepção.

**38. O advérbio sublinhado e a circunstância que ele expressa não estão corretamente apresentados em:**

- a) Ele certamente virá para o encontro. (afirmação)
- b) Ali se ouvia falar de riquezas culturais. (tempo)
- c) O orador discursou muito bem, impressionou a plateia. (modo)
- d) Chegamos tarde, perdemos o ônibus. (tempo)
- e) Os candidatos estudaram bastante. (intensidade)

**39. Os pronomes pessoais, representantes das pessoas do discurso, estão corretamente empregados em todas as alternativas, com exceção da:**

- a) Sempre haverá discordância entre mim e ti.
- b) O juiz queria falar com nós dois.
- c) Minha festa de despedida, não vou esquecê-la jamais.
- d) Ninguém irá sem eu.
- e) Deram o livro para eu ler em dois dias!

**40. Em uma oração, o contexto permite concluirmos se certos verbos são de ligação, para assim identificarmos o predicado nominal. Assim, não há predicção nominal em:**

- a) O aluno não estava na escola hoje.
- b) À tarde, as crianças pareciam cansadas.
- c) Ultimamente os participantes do programa andam desanimados.
- e) A aurora boreal é um lindo espetáculo.
- d) As atletas parecem cansadas.

**RASCUNHO**



PREFEITURA DE TELÊMACO BORBA - ESTADO DO PARANÁ - EDITAL Nº 001-2016 - CONCURSO PÚBLICO

MATUTINO – 29/05/2016 – NÍVEL MÉDIO

**3**

PROVA OBJETIVA NÚMERO

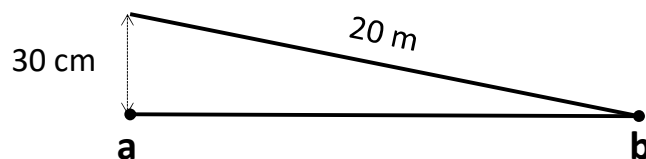
**CARGO: TMNM I - TOPOGRAFIA****Leia atentamente as INSTRUÇÕES:**

1. Confira seus dados no cartão-resposta: nome, número de inscrição e o curso para o qual se inscreveu.
2. **MARQUE no seu cartão-resposta o número da sua prova** (não será corrigido o cartão-resposta que não tiver marcado o número da prova) e **Assine** seu cartão-resposta.
3. Aguarde a autorização do Fiscal para abrir o caderno de prova. Ao receber a ordem do fiscal, confira o caderno de prova com muita atenção. Nenhuma reclamação sobre o total de questões ou falha de impressão será aceita depois de iniciada a prova.
4. O cartão-resposta não será substituído, salvo se contiver erro de impressão.
5. Preencha toda a área do cartão-resposta correspondente à alternativa de sua escolha, com caneta esferográfica (tinta azul ou preta), sem ultrapassar as bordas. As marcações duplas, ou rasuradas, com corretivo, ou marcadas diferentemente do modelo estabelecido no cartão-resposta poderão ser anuladas.
6. Sua prova tem **40** questões, com **5** alternativas.
7. Cabe apenas ao candidato a interpretação das questões, **o fiscal** não poderá fazer nenhuma interferência.
8. A prova será realizada com duração máxima de **3 (três) horas**, incluído o tempo para a realização da Prova Objetiva de múltipla escolha e o preenchimento do cartão-resposta.
9. O candidato poderá retirar-se do local de realização das provas somente **1 (uma) hora** após o seu início, sem levar o caderno de prova.
10. O candidato poderá levar o caderno de provas, assim como anotação contendo transcrição do seu cartão-resposta, somente **1h30min** (uma hora e trinta minutos) após o início da realização da prova.
11. Ao terminar a prova, o candidato deverá entregar ao fiscal de sala o cartão-resposta preenchido e **ASSINADO**.
12. Os **3 (três)** candidatos, que terminarem a prova por último, deverão permanecer na sala, e só poderão sair juntos após o fechamento do envelope, contendo os cartões-resposta dos candidatos presentes e ausentes, e assinarem no lacre do referido envelope, atestando que este foi devidamente lacrado.
13. Durante todo o tempo em que permanecer no local onde está ocorrendo o concurso, o candidato deverá, manter o celular desligado e sem bateria, só sendo permitido ligar depois de ultrapassar o portão de saída do prédio.
14. Não será permitido ao candidato fumar na sala de provas, bem como nas dependências.
15. Depois de terminar a prova e entregar ao fiscal o cartão-resposta, preenchido e assinado, não será mais permitido ao candidato o uso do banheiro e bebedouro.

**BOA PROVA!**

**CONHECIMENTOS ESPECÍFICOS**

01. Suponha que houve um erro de alinhamento de 30cm da trena no sentido AB quando se fez a medida entre os pontos, obtendo-se uma distância equivocadamente igual a 20m. Qual seria o valor correto da distância entre os pontos A e B?



- a) 19,993m
- b) 19,995m
- c) 19,997m
- d) 20,003m
- e) 20,005m

02. O erro resultante da curva ou "barriga" do instrumento de medir entre 2 balizas, geralmente mais pronunciado nos instrumentos mais pesados como a cadeia do agrimensor ou em longas fitas de aço, é denominado de:

- a) Erro de catenária
- b) Erro de falta de horizontalidade
- c) Erro de alinhamento
- d) Erro de falta de verticalidade
- e) Erro angular

03. Assinale a alternativa que corresponde a um instrumento capaz de medir ângulos e distâncias.

- a) Nível digital
- b) Nível a laser
- c) Distanciômetro eletrônico
- d) Estação total
- e) Trena eletrônica

04. O segmento espacial do atual Sistema de Posicionamento Global NAVSTAR-GPS é composto por 24 satélites ativos descrevendo órbitas elípticas em volta da Terra. Os satélites estão distribuídos em planos orbitais intervalados longitudinalmente de  $60^\circ$ . Portanto, conclui-se que cada órbita suporta:

- a) 2 satélites, defasados entre si de  $90^\circ$ .
- b) 4 satélites, defasados entre si de  $90^\circ$ .
- c) 6 satélites, defasados entre si de  $90^\circ$ .
- d) 2 satélites, defasados entre si de  $60^\circ$ .
- e) 4 satélites, defasados entre si de  $60^\circ$ .

05. O ângulo formado pela direção do Norte Verdadeiro com a do Norte Magnético num determinado ponto da superfície da Terra é denominado:

- a) Rumo verdadeiro
- b) Rumo magnético
- c) Azimute
- d) Declinação magnética
- e) Meridiano magnético

06. O Universal Transversa de Mercator (UTM) é um sistema de coordenadas cartesianas bidimensional utilizado para dar localizações na superfície da Terra. Esse sistema apresenta como características:

- I. O sistema UTM divide a Terra em sessenta zonas, cada uma com seis graus de longitude.
- II. O sistema UTM é usado entre as latitudes  $84^\circ$  N e  $80^\circ$  S, onde as deformações ainda não são significativas.
- III. O sistema UTM utiliza o sistema métrico internacional e sua base é o metro (m).

Está(ão) correto(s):

- a) Somente o item I.
- b) Somente os itens I e II.
- c) Somente os itens I e III.
- d) Somente os itens II e III.
- e) Os itens I, II e III.

**07. Em um determinado mapa, a distância retilínea entre dois pontos é igual a 12cm. Sabendo que a distância real entre esses pontos é de 4,2km, pode-se afirmar que a escala do referido mapa é igual a:**

- a) 1:3500
- b) 1:4200
- c) 1:12000
- d) 1:35000
- e) 1:42000

**08. Atualmente, de acordo com o Instituto Brasileiro de Geografia e Estatística, qual o sistema geodésico de referência em uso hoje no Brasil?**

- a) SIRGAS2000
- b) Córrego Alegre
- c) SAD 69
- d) WGS 84
- e) Imbituba

**09. De acordo com a NBR 13133 da ABNT, os medidores eletrônicos de distâncias (MED) devem ser calibrados, no máximo, a cada:**

- a) 6 meses
- b) 1 ano
- c) 2 anos
- d) 3 anos
- e) 4 anos

**10. O conjunto de pontos geodésicos implantados na porção da superfície terrestre delimitada pelas fronteiras do Brasil, implantados e materializados, com vistas ao controle de trabalhos geodésicos e cartográficos e ao apoio aos levantamentos no horizonte topográfico, onde prevalecem os critérios de exatidão sobre as simplificações para a figura da Terra, constitui:**

- a) A Série Geodésica Nacional
- b) O Sistema Geodésico Brasileiro
- c) O Sistema de Projeção Topográfica
- d) A Rede de Referência Cadastral
- e) O Sistema de Projeção Geodésica

## LÍNGUA PORTUGUESA

**Leia o texto e responda às próximas quatro questões.**

### **Lêmures e baobás de Madagascar**

Isolada do continente há 135 milhões de anos, a ilha do Oceano Índico é um laboratório natural da evolução das espécies e encanta os viajantes com uma flora e fauna única

**Madagascar** abriga 107 espécies de **lêmures**, dezenas de espécies de camaleões coloridos e outras tantas plantas que só existem lá. “Madagascar é um mundo a parte. Costumo dizer que, se Charles Darwin tivesse conhecido Madagascar, seu livro *A Origem das Espécies* seria dez vezes maior”, afirma o fotógrafo e jornalista **Haroldo Castro**, idealizador de Viajologia Expedições.

Uma das experiências mais emocionantes na quarta maior ilha do mundo é passear entre os gigantescos **baobás**, árvores que chegam a ter 30 metros de altura e mil anos de idade. Das nove espécies de baobás que existem no mundo, seis podem ser encontradas apenas em Madagascar. A majestosa árvore, considerada sagrada pelos malgaxes, é chamada localmente como “reniala”, mãe da floresta.

Na pequena cidade de Bekopaka está o Parque Nacional Tsingy de Bemaraha, considerado Patrimônio Mundial pela Unesco. Trilhas e passeios de canoa no rio Manambolo conduzem a formações rochosas calcárias inusitadas e plantas endêmicas desse ecossistema de florestas secas.

Outro momento inesquecível em Madagascar é o encontro com os lêmures nas florestas tropicais da reserva Anjozorobe-Angavo, a 90 quilômetros da capital Antananarivo. Especialistas apontam que o turismo de

observação de animais é uma excelente alternativa para o desenvolvimento da economia local e pode ajudar a conter o desmatamento. “O projeto em Anjozorobe comprova que, nos últimos anos, os 9 mil visitantes contribuíram de forma concreta a reduzir a pobreza e a promover a conservação da biodiversidade”, afirma Haroldo. Como os primatas são curiosos e estão habituados aos seres humanos, eles costumam se aproximar dos visitantes. “Os bichinhos chegam a subir nas nossas cabeças e parecem adorar aparecer nas fotos.”

Madagascar possui hoje uma excelente estrutura para o turismo, com algumas estradas bem cuidadas e hotéis confortáveis localizados perto das reservas e parques ecológicos. A gastronomia malgaxe, com um toque francês, também surpreende pela diversidade de ingredientes, temperos e colorido dos pratos.

[...]

(Fonte: <http://viajeaqui.abril.com.br/materias/lemures-e-baobas-de-madagascar#2>. Acesso em 14/05/2016)

**11. Lêmures e baobás de Madagascar é um texto:**

- Em que prevalece a descrição, apresentando as belezas e peculiaridades do lugar, da fauna e da flora.
- Principalmente narrativo, de fatos colhidos durante uma viagem, que se sucedem em progressão temporal.
- Essencialmente argumentativo, o uso da descrição visa somente a convencer o leitor a visitar Madagascar.
- Dissertativo, impera o desenvolvimento de argumentos para comprovar a tese presente no primeiro parágrafo.
- Em que predomina a exposição de conceitos e definições com o intuito de informar o leitor.

**12. O teor do texto *Lêmures e baobás de Madagascar* somente não poderia se encaixar em que tópico?**

- Turismo
- Viagens
- Clima
- Natureza
- Ilhas

**13. O aposto é um termo que explica ou esclarece, desenvolve ou resume outro termo da oração. Quanto a isso, analise a parte grifada em cada uma das orações retiradas do texto:**

**I - A majestosa árvore, considerada sagrada pelos malgaxes, é chamada localmente como “reniala”, mãe da floresta.**

**II - afirma o fotógrafo e jornalista Haroldo Castro, idealizador de Viajologia Expedições.**

**III - Outro momento inesquecível em Madagascar é o encontro com os lêmures nas florestas tropicais da reserva Anjozorobe-Angavo, a 90 quilômetros da capital Antananarivo.**

**IV - O projeto em Anjozorobe comprova que, nos últimos anos, os 9 mil visitantes contribuíram de forma concreta a reduzir a pobreza e a promover a conservação da biodiversidade”.**

**V - A gastronomia malgaxe, com um toque francês, também surpreende pela diversidade de ingredientes, temperos e colorido dos pratos.**

Constitui aposto os grifos em:

- I, II, III, IV e V.
- I, III e V, apenas.
- III e V apenas.
- I, II, III, e V, apenas.
- III, IV e V apenas

**14. Trilhas e passeios de canoa no rio Manambolo conduzem a formações rochosas calcárias inusitadas e plantas endêmicas desse ecossistema de florestas secas.**

**Ao observar a relação sintática entre os termos desse período, pode-se afirmar que:**

- de canoa é complemento nominal de Trilhas e passeios.
- no rio Manambolo é adjunto adnominal de canoas.
- de florestas secas é complemento nominal de plantas endêmicas.
- de canoa é complemento verbal de passeios.
- a formações rochosas calcárias inusitadas e plantas endêmicas desse ecossistema de florestas secas é complemento verbal de conduzem.

**Leia o poema e responda às próximas duas questões.**

**FOGO NA MATA, MATA!**

Fogo na mata, mata! A mata, a vida...  
Fogo na mata, abre,  
no coração da mata,  
Profundas feridas.

Fogo na mata corrói,  
dentro de nós, os sonhos.  
Fogo na mata, deixa, no seio da mata,



Tumores tamanhos!

[...]

(Fonte: <http://www.recantodasletras.com.br/letras/505252>. Acesso em 14/05/2016)

**15. A respeito de alguns aspectos gramaticais pertinentes aos termos em destaque na frase título do poema *Fogo na mata, mata!*, está correto o que se afirma em:**

- Morfologicamente, na sequência em que as duas palavras aparecem, temos um verbo e um substantivo.
- Semanticamente, as duas palavras constituem homônimas homófonas homógrafas.
- O processo de formação da palavra “mata” (primeira ocorrência na frase) é por derivação regressiva do verbo “matar” cuja flexão na terceira pessoa vem logo em seguida na frase.
- Semanticamente, as duas palavras “mata” são parônimas.
- Semanticamente, as duas palavras constituem homônimas homógrafas heterofônicas.

**16. Com a Nova Reforma Ortográfica, foi mantido o acento nas oxítonas terminadas em -ei e -oi, como é o caso de corrói em *Fogo na mata corrói*. No entanto, de acordo ainda com a Nova Reforma, os acentos foram retirados de quais duas palavras?**

- Bocaiuva - maiúscula
- Voo, aerodromo
- Releem - feiura
- Papeis - linguíça
- Preveem - herói

**17. Leia atentamente as alternativas e assinale a incorreta no que diz respeito à Ortografia:**

- Grafamos com j as palavras ultraje, jiboia e gorjeio; com g as palavras ferrugem, geringonça, e miragem.
- Grafamos com sc: miscelânea, obsceno e obsessão; com c: sucinto, facínio e nécio.
- Grafamos com x: xampu, mexerico e enxada; com ch: piche, tocha e mecha.
- Grafamos com z: xadrez, cicatriz e vizinho; com s: friso, pêsames e tesoura.
- Grafamos com ss: escassez, submissão e sossego; com c: acetinado, obcecado e acepção.

**18. O advérbio sublinhado e a circunstância que ele expressa não estão corretamente apresentados em:**

- Ele certamente virá para o encontro. (afirmação)
- Ali se ouvia falar de riquezas culturais. (tempo)
- O orador discursou muito bem, impressionou a plateia. (modo)
- Chegamos tarde, perdemos o ônibus. (tempo)
- Os candidatos estudaram bastante. (intensidade)

**19. Os pronomes pessoais, representantes das pessoas do discurso, estão corretamente empregados em todas as alternativas, com exceção da:**

- Sempre haverá discordância entre mim e ti.
- O juiz queria falar com nós dois.
- Minha festa de despedida, não vou esquecê-la jamais.
- Ninguém irá sem eu.
- Deram o livro para eu ler em dois dias!

**20. Em uma oração, o contexto permite concluirmos se certos verbos são de ligação, para assim identificarmos o predicado nominal. Assim, não há predicção nominal em:**

- O aluno não estava na escola hoje.
- À tarde, as crianças pareciam cansadas.
- Ultimamente os participantes do programa andam desanimados.
- A aurora boreal é um lindo espetáculo.
- As atletas parecem cansadas.

## MATEMÁTICA

**21. Numa prova de hipismo, há duas modalidades totalmente distintas: salto e rural. João vai competir nas duas modalidades. Sabendo que a vitória ou a derrota em uma nada influencia no resultado da outra, e sabendo que a probabilidade de ele ganhar a prova de salto é de 40% e a de ganhar a prova de rural é de 58%, qual a probabilidade de ele ganhar as duas provas?**

- 98%
- 62%
- 23,2%
- 18%
- 2,32%

22. Numa escola há 12 professores. A tabela a seguir mostra a carga horária diária de trabalho desses professores.

4	8	5	10	6	5	8	6	8	9	4	8
---	---	---	----	---	---	---	---	---	---	---	---

É correto afirmar que as cargas horárias média, modal e mediana desses professores são respectivamente:

- a) 6,25; 6; 7
- b) 6,5; 7; 8
- c) 6,75; 8; 6
- d) 6,75; 8; 7
- e) 6,75; 7; 8

23. Encontre a equação da reta mediatriz do segmento AB, onde A(2, 3) e B(4, -1), e assinale a alternativa correta.

- a)  $2y - x + 1 = 0$
- b)  $y - 2x + 2 = 0$
- c)  $2y - 2x + 1 = 0$
- d)  $2y + x + 2 = 0$
- e)  $2y + x - 1 = 0$

24. Uma loja acrescenta 15% no preço de seus produtos à vista se o cliente optar por pagar com um cheque para 60 dias. Comprei, nessa loja, um fogão com cheque para 60 dias e paguei R\$552,00 por ele. Qual era o preço à vista desse fogão?

- a) R\$460,00
- b) R\$469,20
- c) R\$474,50
- d) R\$480,00
- e) R\$500,00

25. Um pesquisador, ao analisar os processos que envolvem jovens com menos de 24 anos, descobriu que há 4 homens com nomes envolvidos em processos para cada mulher. Se no total ele contou 2400 pessoas, quantas eram as mulheres envolvidas nessa pesquisa?

- a) 480
- b) 600
- c) 800
- d) 1920
- e) 2000

#### INFORMÁTICA

26. Utilizando o Excel 2013, qual fórmula representa corretamente a auto soma?

- a) =SUM()
- b) =MEDIA()
- c) =MAX()
- d) =MIN()
- e) =SE()

27. Acerca de confidencialidade está incorreto afirmar:

- a) É um conceito no qual o acesso à informação deve ser concedido a quem de direito, ou seja, apenas para as entidades autorizadas pelo proprietário ou dono da informação.
- b) É uma propriedade que limita o acesso à informação tão somente às entidades legítimas, ou seja, àquelas autorizadas pelo proprietário da informação.
- c) É a propriedade da informação que não estará disponível ou será divulgada a indivíduos, entidades ou processos sem autorização.
- d) Significa garantir que a informação será conhecida por pessoas que não estejam autorizadas para tal.
- e) É a garantia do resguardo das informações dadas pessoalmente em confiança e proteção contra a sua revelação não autorizada.

28. Tratando-se de hardware de computadores, assinale a alternativa que corresponde a um tipo de memória externa.

- a) Pen Drive
- b) EPROM
- c) DIMM
- d) MRAM
- e) Cache

**29. No Word 2013, é possível utilizar vários tipos de formatação de fontes, exceto:**

- a) Tachado
- b) Negrito
- c) Centralizado
- d) Sublinhado
- e) Cor da fonte

**30. Qual software nativo do Windows utilizamos para descobrir o endereço IP do computador?**

- a) Windows Explorer
- b) Notepad
- c) Excel
- d) Word
- e) Prompt de Comando

#### **CONHECIMENTOS GERAIS**

**31. Conforme fonte do IBGE, o bioma do município de Telêmaco Borba/PR é:**

- a) Mata de Pinhais e Cerrado
- b) Pantanal
- c) Caatinga e Mata Atlântica
- d) Floresta Tropical
- e) Cerrado e Mata Atlântica

**32. A letra do hino do município de Telêmaco Borba/PR é de autoria de**

- a) Bento Mossurunga.
- b) Moisés Lupion.
- c) Eloah Martins Quadrado.
- d) Graciliana Reis D'Albuquerque Mossurunga.
- e) Enéias Augusto Moracines Borba.

**33. Leia o texto sobre o Brasão de Armas do município de Telêmaco Borba/PR e marque a alternativa correta.**

**O Brasão de Armas foi aprovado em definitivo em 1981, dentro dos padrões da heráldica, estabelecendo os regulamentos para seu uso, ficando assim oficializado.**

**No Brasão de Armas, é possível identificar:**

- 1. Escudo português redondo banhado de ouro filetado de prata, carregado de cinco árvores de pinho estilizadas de sua cor, postas em banda.**
- 2. Escudete de prata carregado de três Pinheiros do Paraná, araucária angustifolia ou brasiliense.**
- 3. No timbre, coroa mural de ouro lavrado de negro.**
- 4. À destra, haste de milho (zae mays) frutada.**
- 5. À sinistra, ramos de soja (gelycine soya) granada.**
- 6. Listel amarelo ostentando o topônimo "Cidade Nova" entre as inscrições de ouro "5 de Julho de 1963", em caracteres latino moderno.**

- a) Não é verdadeiro o item 1.
- b) Não é verdadeiro o item 2.
- c) Não é verdadeiro o item 4.
- d) Não é verdadeiro o item 6.
- e) Não são verdadeiros os itens 3 e 5.

**34. Segundo o art. 11 da Lei Orgânica do Município de Telêmaco Borba/PR, os bens públicos podem ser:**

**I. De uso comum do Povo, tais como estradas municipais, ruas, parques, praças, logradouros públicos e outros da mesma espécie;**

**II. De uso especial, os de patrimônio administrativo, tais como edifícios das repartições públicas, os terrenos e equipamentos destinados ao serviço público, veículos, matadouros, mercados e outras serventias de outra espécie;**

**III. Bens municipais, aqueles sobre os quais o município exerce os direitos de proprietário e são considerados como bens patrimoniais disponíveis;**

**IV. Bens culturais, tais como música e obras de arte.**

**Podemos afirmar que são verdadeiros os itens**

- a) I e II, apenas.
- b) II e III, apenas.
- c) I, II e III, apenas.
- d) I, III e IV, apenas.
- e) I, II, III e IV.

**35. Qual alternativa completa corretamente o texto a seguir?**

No primeiro ano de cada legislatura, no dia 1º de janeiro, em sessão de instalação, independente de número, sob a presidência do vereador mais idoso dentre os eleitos, os vereadores prestarão compromisso e tomarão posse. O Vereador que não tomar posse na sessão do dia 1º de janeiro poderá fazê-la \_\_\_\_\_ depois da primeira sessão ordinária da Legislatura.

- a) até dez dias
- b) até quinze dias
- c) até trinta dias
- d) até quarenta e cinco dias
- e) até sessenta dias

**36. Conforme o art. 54 da Lei Orgânica do Município de Telêmaco Borba/PR, o Processo Legislativo compreende a elaboração de:**

- I. Emendas à Lei Orgânica do Município;**
- II. Leis complementares;**
- III. Leis Ordinárias;**
- IV. Decretos Legislativos;**
- V. Resoluções;**
- VI. Pareceres.**

**Assinale a alternativa que faz a afirmação correta.**

- a) São verdadeiros apenas os itens I, III e VI.
- b) São verdadeiros apenas os itens I, III e IV.
- c) São verdadeiros apenas os itens III, IV e V.
- d) São verdadeiros apenas os itens I, II, III, IV e V.
- e) São verdadeiros os itens I, II, III, IV, V e VI.

**Com base na Lei nº 1883/2012, que dispõe sobre o Estatuto dos Servidores Públicos da Administração Direta, Autárquica e Funcional do Município de Telêmaco Borba/PR, responda às próximas quatro questões.**

**37. À luz do § 2º do art. 9º da Lei nº 1883/2012, marque a alternativa que completa a lacuna do texto a seguir.**

**O concurso deverá ser homologado no prazo máximo de \_\_\_\_\_ contados da data de realização da última fase de provas, sob pena de responsabilidade da autoridade competente.**

- a) um mês
- b) dois meses
- c) seis meses
- d) um ano
- e) dois anos

**38. Marque a alternativa que completa a lacuna do texto a seguir.**

**O candidato terá o prazo \_\_\_\_\_, a contar da publicação oficial da convocação, para comparecer à entidade convocante e assinar termo de comparecimento.**

- a) máximo de 5 dias úteis
- b) mínimo de 15 dias úteis
- c) de até 30 dias
- d) máximo de 15 dias úteis
- e) mínimo de 5 dias úteis

**39. Leia as assertivas e marque a correta.**

- a) São reservados 10% dos cargos em comissão para a nomeação de servidores do quadro efetivo.
- b) São reservados 15% dos cargos em comissão para a nomeação de servidores do quadro efetivo.
- c) São reservados 20% dos cargos em comissão para a nomeação de servidores do quadro efetivo.
- d) São reservados 25% dos cargos em comissão para a nomeação de servidores do quadro efetivo.
- e) São reservados 30% dos cargos em comissão para a nomeação de servidores do quadro efetivo.

**40. Marque a alternativa que completa a lacuna do texto a seguir.**

**O servidor municipal, quando nomeado para cargo em comissão, ficará afastado de seu cargo efetivo e fará jus à remuneração prevista em lei para o comissionado, podendo optar por receber seus vencimentos acrescidos de \_\_\_\_\_ do valor da remuneração prevista para o cargo em comissão.**

- a) 10%
- b) 20%
- c) 30%
- d) 40%
- e) 50%



PREFEITURA DE TELÊMACO BORBA - ESTADO DO PARANÁ- **EDITAL Nº 001-2016 - CONCURSO PÚBLICO VESPERTINO – 29/05/2016 – NÍVEL SUPERIOR**

**1**

**PROVA OBJETIVA NÚMERO**

**CARGO: TMNS I - ARQUITETURA URBANÍSTICA**

**Leia atentamente as INSTRUÇÕES:**

1. Confira seus dados no cartão-resposta: nome, número de inscrição e o curso para o qual se inscreveu.
2. **MARQUE no seu cartão-resposta o número da sua prova** (não será corrigido o cartão-resposta que não tiver marcado o número da prova) e **Assine** seu cartão-resposta.
3. Aguarde a autorização do Fiscal para abrir o caderno de prova. Ao receber a ordem do fiscal, confira o caderno de prova com muita atenção. Nenhuma reclamação sobre o total de questões ou falha de impressão será aceita depois de iniciada a prova.
4. O cartão-resposta não será substituído, salvo se contiver erro de impressão.
5. Preencha toda a área do cartão-resposta correspondente à alternativa de sua escolha, com caneta esferográfica (tinta azul ou preta), sem ultrapassar as bordas. As marcações duplas, ou rasuradas, com corretivo, ou marcadas diferentemente do modelo estabelecido no cartão-resposta poderão ser anuladas.
6. Sua prova tem **40** questões, com **5** alternativas.
7. Cabe apenas ao candidato a interpretação das questões, **o fiscal** não poderá fazer nenhuma interferência.
8. A prova será realizada com duração máxima de **3 (três) horas**, incluído o tempo para a realização da Prova Objetiva de múltipla escolha e o preenchimento do cartão-resposta.
9. O candidato poderá retirar-se do local de realização das provas somente **1 (uma) hora** após o seu início, sem levar o caderno de prova.
10. O candidato poderá levar o caderno de provas, assim como anotação contendo transcrição do seu cartão-resposta, somente **1h30min** (uma hora e trinta minutos) após o início da realização da prova.
11. Ao terminar a prova, o candidato deverá entregar ao fiscal de sala o cartão-resposta preenchido e **ASSINADO**.
12. Os **3 (três)** candidatos, que terminarem a prova por último, deverão permanecer na sala, e só poderão sair juntos após o fechamento do envelope, contendo os cartões-resposta dos candidatos presentes e ausentes, e assinarem no lacre do referido envelope, atestando que este foi devidamente lacrado.
13. Durante todo o tempo em que permanecer no local onde está ocorrendo o concurso, o candidato deverá, manter o celular desligado e sem bateria, só sendo permitido ligar depois de ultrapassar o portão de saída do prédio.
14. Não será permitido ao candidato fumar na sala de provas, bem como nas dependências.
15. Depois de terminar a prova e entregar ao fiscal o cartão-resposta, preenchido e assinado, não será mais permitido ao candidato o uso do banheiro e bebedouro.

**BOA PROVA!**

**LÍNGUA PORTUGUESA**

Texto para as próximas cinco questões:

**“O cego Estrelinho”  
Mia Couto**

O cego Estrelinho era pessoa de nenhuma vez: sua história poderia ser contada e descontada não fosse seu guia, Gigito Efraim. A mão de Gigito conduziu o desvistado por tempos e idades. Aquela mão era repartidamente comum, extensão de um no outro, siamensal. E assim era quase de nascença. Memória de Estrelinho tinha cinco dedos e eram os de Gigito postos, em aperto, na sua própria mão.

O cego, curioso, queria saber de tudo. Ele não fazia cerimônia no viver. O sempre lhe era pouco e o tudo insuficiente. Dizia, deste modo:

— Tenho que viver já, senão esqueço-me.

Gigitinho, porém, o que descrevia era o que não havia. O mundo que ele minuciava eram fantasias e rendilhados. A imaginação do guia era mais profícua que papaeira. O cego enchia a boca de águas:

— Que maravilhação esse mundo. Me conte tudo, Gigito!

A mão do guia era, afinal, o manuscrito da mentira. Gigito Efraim estava como nunca esteve S. Tomé: via para não crer. O condutor falava pela ponta dos dedos. Desfolhava o universo, aberto em folhas. A ideiação dele era tal que mesmo o cego, por vezes, acreditava ver. O outro lhe encorajava esses breves enganos:

— Desbengale-se, você está escolhendo a boa procedência!

Mentira: Estrelinho continuava sem ver uma palmeira à frente do nariz. Contudo, o cego não se conformava em suas escurezas. Ele cumpria o ditado: não tinha perna e queria dar o pontapé. Só à noite, ele desalentava, sofrendo medos mais antigos que a humanidade. Entendia aquilo que, na raça humana, é menos primitivo: o animal.

— Na noite aflige não haver luz?

— Aflição é ter um pássaro branco esvoando dentro do sono.

Pássaro branco? No sono? Lugar de ave é nas alturas. Dizem até que Deus fez o céu para justificar os pássaros. Estrelinho disfarçava o medo dos vaticínios, subterfugindo:

— E agora, Gigitinho? Agora, olhando assim para cima, estou face ao céu?

Que podia o outro responder? O céu do cego fica em toda a parte. Estrelinho perdia o pé era quando a noite chegava e seu mestre adormecia. Era como se um novo escuro nele se estreasse em nó cego. Devagaroso e sorrateiro ele aninhava sua mão na mão do guia. Só assim adormecia. A razão da concha é a timidez da amêijoia? Na manhã seguinte, o cego lhe confessava: se você morrer, tenho que morrer logo no imediato. Senão-me: como acerto o caminho para o céu?

Foi no mês de dezembro que levaram Gigitinho. Lhe tiraram do mundo para pôr na guerra: obrigavam os serviços militares. O cego reclamou: que o moço inatingia a idade. E que o serviço que ele a si prestava era vital e vitalício. O guia chamou Estrelinho à parte e lhe tranquilizou:

— Não vai ficar sozinando por aí. Minha mana já mandei para ficar no meu lugar.

O cego estendeu o braço a querer tocar uma despedida. Mas o outro já não estava lá. Ou estava e se desviara, propositado? E sem água ida nem vinda, Estrelinho escutou o amigo se afastar, engolido, esponginquo, invisível. Pela pimeira vez, Estrelinho se sentiu invalidado.

— Agora, só agora, sou cego que não vê.

(...)

**COUTO, Mia. Estórias abensonhadas. Rio de Janeiro: Nova Fronteira, 1996. (Pág 23 e 24).**

**01. Quanto à interpretação do fragmento do conto, podemos afirmar que:**

- Gigito Efraim era o guia de Estrelinho há pouquíssimo tempo.
- Estrelinho era cego de nascença.
- Gigito descrevia o mundo para Estrelinho de forma denotativa.
- Gigito foi convocado pelo exército para ser guia de cegos na guerra.
- Gigito descrevia o mundo para Estrelinho de forma conotativa.

**02. No período “O sempre lhe era pouco e o tudo insuficiente”, o pronome “LHE” exerce a função sintática de:**

- Objeto Direto
- Objeto Indireto
- Complemento Nominal
- Adjunto Adnominal
- Objeto Direto Preposicionado

**03. Na oração “A mão de Gigito conduziu o desvistado por tempos e idades”, o autor faz uso de um neologismo, assim como no decorrer de toda a obra em questão. Contudo, o neologismo só se torna possível pela utilização dos elementos mórficos naquilo que a gramática normativa pontua como Processo de Formação das Palavras. Levando em consideração apenas o recurso morfológico, qual Processo de Formação foi utilizado?**

- Derivação Sufixal



- b) Derivação Prefixal
- c) Derivação Regressiva
- d) Derivação Imprópria
- e) Derivação Parassintética

**04. No terceiro período do décimo terceiro parágrafo, temos:**

- a) Uma oração
- b) Duas orações
- c) Três orações
- d) Quatro orações
- e) Cinco orações

**05. No último parágrafo do fragmento do conto “— Agora, só agora, sou cego que não vê”, a oração subordinada presente classifica-se corretamente como:**

- a) Oração Subordinada Adjetiva Restritiva
- b) Oração Subordinada Adverbial Causal
- c) Oração Subordinada Substantiva Subjetiva
- d) Oração Subordinada Adverbial Explicativa
- e) Oração Subordinada Adjetiva Explicativa

#### **RACIOCÍNIO LÓGICO**

**06. Os cinco filhos de Ana estavam discutindo a respeito da data de nascimento da mãe:**

- Almir disse que foi em janeiro, dia 14, sexta-feira.
- Vanderlei disse que foi em janeiro, dia 14, sábado.
- Tiago disse que foi em fevereiro, dia 15, sábado.
- Sandro disse que foi em janeiro, dia 15, sexta-feira.
- Renato disse que foi em fevereiro, dia 15, sexta-feira.

**Sabe-se que somente um dos filhos de Ana acertou corretamente sua data de nascimento e que os outros acertaram pelo menos um dos itens (dia, dia da semana e mês). Dessa forma, é correto afirmar que o filho de Ana que acertou a data de nascimento dela foi:**

- a) Renato
- b) Sandro
- c) Tiago
- d) Vanderlei
- e) Almir

**07. Considere a seguinte afirmativa: “Todo churrasqueiro gosta de picanha”. Em relação a essa proposição, é correto afirmar que:**

- a) Algum churrasqueiro não gosta de picanha.
- b) Toda pessoa que gosta de picanha é churrasqueira.
- c) Alguma pessoa que não gosta de picanha é churrasqueira.
- d) Toda pessoa que não é churrasqueira, não gosta de picanha.
- e) Toda pessoa que não gosta de picanha, não é churrasqueira.

**08. Em um grupo formado por 67 pessoas, verificou-se que 41 pessoas gostam de arroz, 29 gostam de feijão, 33 gostam de carne, 19 gostam de arroz e de feijão, 9 gostam apenas de arroz e de carne, 12 gostam de feijão e de carne e que 6 gostam de arroz, de feijão e de carne. O número de pessoas desse grupo, que não gosta de nenhum desses três tipos de alimentos é igual a:**

- a) 4
- b) 5
- c) 6
- d) 8
- e) 10

**09. Bruno escreveu, em seu caderno, várias sequências formadas por números múltiplos de 4, onde os valores que ocupavam as posições pares eram multiplicados por -1. Cada sequência foi somada e o resultado da soma anotado. A soma das três primeiras sequências escritas por Bruno foram as seguintes:**

$$4 - 8 = -4$$

$$4 - 8 + 12 = 8$$

$$4 - 8 + 12 - 16 = -8$$

**Considere que Bruno escreveu e somou tais sequências, em seu caderno, de modo a obter determinada sequência cuja soma foi 600. O número de termos dessa sequência é igual a:**

- a) 149
- b) 150
- c) 298

- d) 299  
e) 300

10. Quatro torcedores, um do São Paulo, um do Cruzeiro, um do Vasco e um do Bahia, estão sentados ao redor de uma mesa quadrada, de modo que, dois a dois, fiquem frente a frente. Sabe-se que Alan é torcedor do Cruzeiro e que Bruno está sentado à direita de Alan. Sabe-se também que Caio está sentado à direita do torcedor do São Paulo. Sabe-se ainda que Daniel não é torcedor do Vasco e que está sentado à frente de Bruno. Dessa forma, é correto afirmar que:

- a) Bruno é torcedor do Bahia e Daniel é torcedor do São Paulo.  
b) Bruno é torcedor do São Paulo e Daniel é torcedor do Bahia.  
c) Caio é torcedor do Vasco e Daniel é torcedor do São Paulo.  
d) Caio é torcedor do Bahia e Daniel é torcedor do São Paulo.  
e) Bruno é torcedor do Vasco e Daniel é torcedor do Bahia.

### INFORMÁTICA

11. Considerando o MS-Excel versão 2010, observando a figura abaixo, é correto afirmar que:

	A	B	C
1			
2			
3			
4			

- a) Somente 03 três linhas estão selecionadas.  
b) Somente uma célula está selecionada.  
c) 12 (doze) células estão selecionadas.  
d) Somente a coluna A até a linha 4 (quatro) está selecionada.  
e) Somente as colunas 1 (um), 2 (dois), 3 (três) e 4 (quatro) estão selecionadas.

12. Considerando o MS-Excel versão 2010, observando a figura abaixo, é incorreto afirmar que:

	A	B	C
1	12	6	=A1*B1
2	8	2	=A2/B2
3	5	14	=A3-B3
4	6	11	=A4+B4

- a) O resultado da fórmula =A1\*B1 é 72.  
b) O resultado da fórmula =A2/B2 é 4.  
c) O resultado da fórmula =A3-B3 é -9.  
d) O resultado da fórmula =A3-B3 é 9.  
e) O resultado da fórmula =A4+B4 é 17.

13. Digitando um texto no MS-Word versão 2010, necessito adicionar número nas páginas. Quanto a isso, é correto afirmar que:

- a) No menu Layout da Página, clico em número de página e seleciono onde desejo adicionar os números.  
b) No menu Inserir, clico em número de página e seleciono onde desejo adicionar os números.  
c) No menu Revisão, clico em número de página e seleciono onde desejo adicionar os números.  
d) No menu Referências, clico em número de página e seleciono onde desejo adicionar os números.  
e) No menu Exibição, clico em número de página e seleciono onde desejo adicionar os números.

14. A segurança da informação está diretamente relacionada com proteção de um conjunto de informações, no sentido de preservar o valor que possuem para um indivíduo ou uma organização. Atualmente, um dos aplicativos mais utilizados no mundo, o Whats app, teve uma alteração de confidencialidade muito importante na segurança das informações transmitidas e recebidas. Dentre as alternativas, assinale a que corretamente informa a alteração inserida no aplicativo Whats app.

- a) Antispam  
b) Antivirus  
c) Firewall  
d) Antispyware  
e) Criptografia

**15. São todos os dispositivos que trabalham acoplados ao microcomputador para receber, transmitir, visualizar, ler, gravar ou armazenarem dados. São eles que permitem a comunicação do computador com o meio exterior, isto é, com os usuários e outras máquinas.**

**Esse texto descreve corretamente:**

- a) Memória ram
- b) Memória virtual
- c) Software
- d) Periféricos
- e) Hardware

#### CONHECIMENTOS GERAIS

##### 16. Hino do município de Telêmaco Borba/PR

Das virgens matas e campos verdejantes  
 Servindo-se também o rio Tibagi,  
 Homens de ideais, espíritos vibrantes.  
 Constituíram as indústrias aqui.  
 Estribilho:  
 Salve! Salve! Telêmaco Borba  
 Terra querida e de grandes primores,  
 A nossa homenagem rendamos  
 À cidade dos trabalhadores.  
 Pois a cadência de enorme e real progresso  
 Um município mui grandioso fez nascer,  
 Marcando assim, verdadeiro sucesso  
 Faz, então o Paraná engrandecer.

**No que tange ao Hino do município, atribua V (verdadeiro) ou F (falso) às afirmativas e marque a alternativa correta.**

- ( ) Eloah Martins Quadrado é autora da letra do hino.
- ( ) Bento Mossurunga compôs a música do hino.
- ( ) Eloah Martins Quadrado foi nomeada primeira professora da Cidade Nova, atual Telêmaco Borba.
- ( ) Bento Mossurunga fundou a orquestra Estudantil e Concertos – Orquestra Sinfônica da Universidade, a Sociedade de Cultura Artístico Basílio Itiberê.
- a) F, V, V, V.
- b) V, F, V, V.
- c) V, V, F, V.
- d) V, V, F, F.
- e) V, V, V, V.

##### 17. À luz da Lei nº 1883/2012, que dispões sobre o Estatuto dos Servidores Públicos da Administração Direta, Autárquica e Funcional do Município de Telêmaco Borba/PR, leia as alternativas e marque a correta.

- a) A apresentação para a posse ocorrerá no prazo de até trinta dias, contados do ato de nomeação.
- b) A destituição do servidor da função gratificada dar-se-á por solicitação exclusiva dele mesmo.
- c) O servidor ocupante exclusivamente de cargo em comissão será contribuinte do regime geral de previdência social.
- d) A aprovação em concurso público gera o direito à nomeação, e será feita obedecida à ordem de classificação dos candidatos.
- e) O exercício de função gratificada poderá ser de dedicação integral ou parcial, conforme necessidade da administração.

**Conforme a Lei nº 1.881, de 05 de abril de 2012, que dispõe sobre o Plano de Cargos, Carreiras e Vencimentos do quadro geral de servidores da Prefeitura Municipal de Telêmaco Borba/PR, regulamentada pelo Decreto nº 2269/2015, responda às próximas três questões.**

##### 18. Leia as assertivas e assinala a incorreta.

- a) Do resultado da avaliação de desempenho poderá ser interposto recurso à Comissão de Desenvolvimento Funcional no prazo de quinze dias a contar da publicação no Boletim Oficial do Município.
- b) Não será concedida a progressão ou promoção ao servidor que estiver em licença para tratamento de saúde por um período superior a quarenta e cinco dias, no período de avaliação.
- c) A alternância dos membros constituintes da Comissão de Desenvolvimento Funcional eleitos pelos servidores verificar-se-á a cada três anos de participação, observados, para substituição de seus participantes, o critério fixado no artigo anterior, não cabendo eleição sucessiva.

- d) Caberá à Comissão de Desenvolvimento Funcional, no caso de divergência de vinte por cento entre a nota do avaliador e a do avaliado, solicitar nova avaliação à chefia.
- e) Nos termos do disposto no art. 17 da Lei n° 1.881, de 05 de abril de 2012, para progredir, é necessário que o servidor satisfaça, dentre outros, o seguinte requisito: estar no efetivo exercício de seu cargo ou em função comissionada na sua área de atuação durante o interstício de dois anos.

**19. Assinale a alternativa que completa respectivamente as lacunas do texto a seguir:**

**A Comissão de Desenvolvimento Funcional será constituída por \_\_\_\_\_ membros, sendo \_\_\_\_\_ designados pelo Prefeito Municipal de Telêmaco Borba e os demais eleitos pelos servidores municipais dentre os estáveis, com a atribuição de coordenar os procedimentos relativos à avaliação periódica de desempenho e outras atribuições.**

- a) três / sete  
 b) um / três  
 c) sete / três  
 d) três / cinco  
 e) dois / cinco

**20. A Avaliação de Desempenho será norteadada, dentre outros, pelo seguinte princípio: Amplitude - a avaliação deve incidir sobre todas as áreas de atuação do servidor, que compreendem:**

- 1. a formulação de políticas administrativas e sua aplicação para todos os setores da administração municipal;**
- 2. o desempenho do profissional dentro de suas funções pertinentes;**
- 3. a estrutura do órgão em que exerce a função;**
- 4. os resultados de eficiência dos serviços de cada setor ou órgão da administração municipal;**
- 5. a participação direta do avaliado, durante todo o processo avaliativo.**

**Diante dessa afirmação, somente não está correto o item:**

- a) 1  
 b) 2  
 c) 3  
 d) 4  
 e) 5

#### **CONHECIMENTOS ESPECÍFICOS**

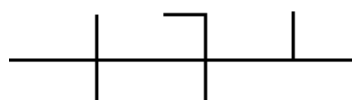
**21. No que concerne aos termos técnicos empregados para a área de construção civil, marque a alternativa que apresenta o nome dado ao conjunto de elementos necessários e suficientes à execução completa de uma obra, de acordo com as normas pertinentes da Associação Brasileira de Normas Técnicas - ABNT:**

- a) Esboço complementar  
 b) Estudo preliminar  
 c) Anteprojeto  
 d) Projeto básico  
 e) Projeto executivo

**22. No que diz respeito ao controle ambiental das edificações (térmico, acústico e luminoso), marque a alternativa que apresenta o tipo de janela formada por uma ou várias folhas que podem ser movimentadas por deslizamento horizontal em seu plano de apoio, tendo como principais vantagens o fato de proporcionarem uma ventilação de fácil regulagem, onde as folhas não se mexem sob a ação do vento; não ocuparem áreas externas ou internas, favorecendo o uso de telas, grades ou persianas; além de possuírem simplicidade de manobra:**

- a) Janela pivotante  
 b) Janela guilhotina  
 c) Janela basculante  
 d) Janela de correr  
 e) Janela maxim-ar

**23. Nos projetos de instalações elétricas residenciais, a simbologia ilustrada pela figura a seguir representa os diversos condutores utilizados nos circuitos de um determinado ambiente. Neste contexto, a partir da análise da figura no sentido da esquerda para a direita, marque a alternativa que apresenta a sequência correta para os condutores ilustrados:**



- a) Terra, retorno, fase

- b) Neutro, retorno, fase
- c) Fase, neutro e retorno
- d) Neutro, fase e retorno
- e) Fase, retorno e neutro

**24. Analise os itens a seguir, relacionados aos projetos complementares de instalações hidrossanitárias:**  
**(I) a tubulação que liga entre si duas seções de um reservatório superior, ou dois reservatórios superiores, e do qual partem as ramificações para as colunas de distribuição é chamada de ramal predial;**  
**(II) os ramais são tubulações derivadas da coluna de alimentação e que servem a conjuntos de aparelhos;**  
**(III) as tubulações que ligam os ramais às peças de utilização ou aos aparelhos sanitários são chamadas de tubos operculados.**

**Com base nos itens descritos, é correto afirmar que:**

- a) Somente o I está correto.
- b) Somente o II está correto.
- c) Somente o III está correto.
- d) Somente I e II estão corretos.
- e) Somente II e III estão corretos.

**25. Quanto à organização de um canteiro de obras, marque a alternativa que não apresenta um exemplo de espaço enquadrado como área de vivência:**

- a) Escritório
- b) Alojamento
- c) Vestiário
- d) Refeitório
- e) Cozinha

**26. Nos projetos de combate a incêndio, o dispositivo instalado na canalização preventiva de incêndio, destinado à ligação da mangueira da bomba do carro do corpo de bombeiros, que permitirá o recalque da água da canalização pública para dentro do prédio, de modo que os soldados do corpo de bombeiros possam ligar suas mangueiras nos hidrantes das caixas de incêndio, é denominado de:**

- a) Tomada de incêndio
- b) Hidrante de passeio
- c) Hidrante de coluna
- d) Sprinkler
- e) Esguicho

**27. No planejamento e controle físico-financeiro de obras civis, uma das ferramentas utilizadas para o gerenciamento trata-se da rede PERT-CPM. Neste contexto, marque a alternativa que apresenta o tipo de método que define a sequência de atividades na qual, caso uma delas atrase, todo um projeto estará atrasado, ou seja, o método que apresenta a sequência das atividades que não tem folga:**

- a) Método da atividade fictícia
- b) Método da atividade paralela
- c) Método do caminho crítico
- d) Método da data mais cedo
- e) Método da folga paralela

**28. Nos serviços de coberturas de uma edificação, o calço de madeira, geralmente em forma triangular que serve de apoio lateral para uma terça ou qualquer outra peça de madeira, é usualmente chamado de:**

- a) Claraboia
- b) Empena
- c) Cavalete
- d) Rincão
- e) Chapuz

**29. Quanto à infraestrutura básica dos parcelamentos urbanos, marque a alternativa que não constitui um elemento obrigatório para os parcelamentos situados nas zonas habitacionais declaradas por lei como de interesse social:**

- a) Vias de circulação
- b) Soluções para o esgotamento sanitário
- c) Rede para o abastecimento de água potável
- d) Escoamento das águas pluviais
- e) Sistemas de combate a incêndio

**30. O documento lançado na Conferência das Nações Unidas sobre o Meio Ambiente e o Desenvolvimento - ECO-92 - que estabeleceu a importância de cada país envolvido a se comprometer a refletir, global e**

localmente, sobre a forma pela qual governos, empresas, organizações não-governamentais e todos os setores da sociedade poderiam cooperar no estudo de soluções para os problemas socioambientais é usualmente conhecido pelo nome de:

- a) Agenda Habitat
- b) Agenda Kyoto
- c) Agenda 21
- d) ISO 9000
- e) PBQP-H

**31. Com relação ao programa AutoCad, marque a alternativa que apresenta o comando que constrói linhas que parecem ser feitas à mão:**

- a) *Snap*
- b) *Otrack*
- c) *Sketch*
- d) *Spline*
- e) *Ray*

**32. Analise os itens a seguir, relacionados às diretrizes gerais da política urbana:**

**(I) o plano diretor, aprovado por lei municipal, é o instrumento básico da política de desenvolvimento e expansão urbana;**

**(II) a lei que instituir o plano diretor deverá ser revista, pelo menos, a cada vinte anos;**

**(III) o plano diretor é obrigatório para cidades com mais de quinze mil habitantes.**

**Com base nos itens descritos, é correto afirmar que:**

- a) Somente o I está correto.
- b) Somente o II está correto.
- c) Somente o III está correto.
- d) Somente I e II estão corretos.
- e) Somente I e III estão corretos.

**33. Com relação aos aspectos voltados para a acessibilidade de pessoas portadoras de deficiências a edificações, espaços, mobiliários e equipamento urbanos, marque a alternativa que apresenta o nome dado a área com acesso direto para uma saída, destinada a manter em segurança pessoas com deficiência ou com mobilidade reduzida, enquanto aguardam socorro em situação de sinistro:**

- a) Área de aproximação
- b) Área de circulação
- c) Área de refúgio
- d) Área de descanso
- e) Área de transbordo

**34. No que diz respeito à lei de parcelamento do solo urbano, analise os itens a seguir:**

**(I) não será permitido o parcelamento do solo em terrenos alagadiços e sujeitos a inundações, antes de tomadas as providências para assegurar o escoamento das águas;**

**(II) considera-se desmembramento a subdivisão de gleba em lotes destinados à edificação, com aproveitamento do sistema viário existente, desde que não implique na abertura de novas vias e logradouros públicos, nem no prolongamento, modificação ou ampliação dos já existentes;**

**(III) considera-se arruamento a subdivisão de gleba em lotes destinados à edificação, com abertura de novas vias de circulação, de logradouros públicos ou prolongamento, modificação ou ampliação das vias existentes.**

**Com base nos itens descritos, é correto afirmar que:**

- a) Somente o I está correto.
- b) Somente o II está correto.
- c) Somente o III está correto.
- d) Somente I e II estão corretos.
- e) Somente I e III estão corretos.

**35. Sabendo-se que uma porta com 2,10 metros de altura foi detalhada num projeto arquitetônico com o valor equivalente da altura igual a 10,50 centímetros, marque a alternativa que apresenta a escala utilizada no projeto:**

- a) 1:20
- b) 1:25
- c) 1:40
- d) 1:50
- e) 1:75

**36. Analise os itens a seguir, relacionados à lei de licitação e contratos da administração pública:**



- (I) a execução indireta é feita pelos órgãos e entidades da administração, através de meios próprios;  
(II) serviço é toda atividade destinada a obter determinada utilidade de interesse para a administração, tais como: demolição, conserto, instalação, montagem, operação, conservação, reparação, adaptação, manutenção, transporte, locação de bens, publicidade, seguro ou trabalhos técnico-profissionais;  
(III) a empreitada por preço unitário é quando se contrata a execução de uma obra ou de um serviço por preço certo e total.

Com base nos itens descritos, é correto afirmar que:

- a) Somente o I está correto.
- b) Somente o II está correto.
- c) Somente o III está correto.
- d) Somente I e II estão corretos.
- e) Somente II e III estão corretos.

**37. No que concerne à composição das tintas empregadas na área de construção civil, marque a alternativa que apresenta o elemento constituído por sólidos granulares que numa tinta contribuem para a sua cor, tenacidade e textura:**

- a) Resina
- b) Aditivo
- c) Solvente
- d) Verniz
- e) Pigmento

**38. Quanto aos aspectos relacionados à tecnologia do concreto, marque a alternativa que apresenta o aglomerante empregado na composição dos concretos hidráulicos:**

- a) Cimento Portland
- b) Emulsão asfáltica
- c) Argila coloidal
- d) Cal Virgem
- e) Cal Hidratada

**39. De acordo com os domínios de especialização da ergonomia, marque a alternativa que apresenta o tipo de ergonomia que se refere aos processos mentais, tais como percepção, memória, raciocínio e a forma de como afetam as interações entre seres humanos e diferentes elementos de um sistema:**

- a) Ergonomia física
- b) Ergonomia cognitiva
- c) Ergonomia organizacional
- d) Ergonomia receptiva
- e) Ergonomia deficiente

**40. Analise os itens a seguir, relacionados às regras básicas ligadas às obrigações para com a profissão de arquiteto e urbanista de forma ética:**

(I) o arquiteto e urbanista, ao exercer a docência profissional, deve contribuir para a formação acadêmica, tendo em vista a aquisição de competências e habilidades plenas para o exercício da arquitetura e urbanismo;

(II) o arquiteto e urbanista deve evitar assumir simultaneamente diferentes responsabilidades técnicas, que sejam incompatíveis quanto a sua extensão, conteúdos, distâncias e jornadas de trabalho sobrepostas;

(III) O arquiteto e urbanista deve receber honorários, pagamentos, ou vantagens de duas partes de um mesmo contrato vigente.

Com base nos itens descritos, é correto afirmar que:

- a) Somente o I está correto.
- b) Somente o II está correto.
- c) Somente o III está correto.
- d) Somente I e II estão corretos.
- e) Somente I e III estão corretos.

**RASCUNHO**



PREFEITURA DE TELÊMACO BORBA - ESTADO DO PARANÁ- **EDITAL Nº 001-2016 - CONCURSO PÚBLICO VESPERTINO – 29/05/2016 – NÍVEL SUPERIOR**

**2**

**PROVA OBJETIVA NÚMERO**

**CARGO: TMNS I - ARQUITETURA URBANÍSTICA**

**Leia atentamente as INSTRUÇÕES:**

1. Confira seus dados no cartão-resposta: nome, número de inscrição e o curso para o qual se inscreveu.
2. **MARQUE no seu cartão-resposta o número da sua prova** (não será corrigido o cartão-resposta que não tiver marcado o número da prova) e **Assine** seu cartão-resposta.
3. Aguarde a autorização do Fiscal para abrir o caderno de prova. Ao receber a ordem do fiscal, confira o caderno de prova com muita atenção. Nenhuma reclamação sobre o total de questões ou falha de impressão será aceita depois de iniciada a prova.
4. O cartão-resposta não será substituído, salvo se contiver erro de impressão.
5. Preencha toda a área do cartão-resposta correspondente à alternativa de sua escolha, com caneta esferográfica (tinta azul ou preta), sem ultrapassar as bordas. As marcações duplas, ou rasuradas, com corretivo, ou marcadas diferentemente do modelo estabelecido no cartão-resposta poderão ser anuladas.
6. Sua prova tem **40** questões, com **5** alternativas.
7. Cabe apenas ao candidato a interpretação das questões, **o fiscal** não poderá fazer nenhuma interferência.
8. A prova será realizada com duração máxima de **3 (três) horas**, incluído o tempo para a realização da Prova Objetiva de múltipla escolha e o preenchimento do cartão-resposta.
9. O candidato poderá retirar-se do local de realização das provas somente **1 (uma) hora** após o seu início, sem levar o caderno de prova.
10. O candidato poderá levar o caderno de provas, assim como anotação contendo transcrição do seu cartão-resposta, somente **1h30min** (uma hora e trinta minutos) após o início da realização da prova.
11. Ao terminar a prova, o candidato deverá entregar ao fiscal de sala o cartão-resposta preenchido e **ASSINADO**.
12. Os **3 (três)** candidatos, que terminarem a prova por último, deverão permanecer na sala, e só poderão sair juntos após o fechamento do envelope, contendo os cartões-resposta dos candidatos presentes e ausentes, e assinarem no lacre do referido envelope, atestando que este foi devidamente lacrado.
13. Durante todo o tempo em que permanecer no local onde está ocorrendo o concurso, o candidato deverá, manter o celular desligado e sem bateria, só sendo permitido ligar depois de ultrapassar o portão de saída do prédio.
14. Não será permitido ao candidato fumar na sala de provas, bem como nas dependências.
15. Depois de terminar a prova e entregar ao fiscal o cartão-resposta, preenchido e assinado, não será mais permitido ao candidato o uso do banheiro e bebedouro.

**BOA PROVA!**

**RACIOCÍNIO LÓGICO**

**01. Os cinco filhos de Ana estavam discutindo a respeito da data de nascimento da mãe:**

- Almir disse que foi em janeiro, dia 14, sexta-feira.
- Vanderlei disse que foi em janeiro, dia 14, sábado.
- Tiago disse que foi em fevereiro, dia 15, sábado.
- Sandro disse que foi em janeiro, dia 15, sexta-feira.
- Renato disse que foi em fevereiro, dia 15, sexta-feira.

**Sabe-se que somente um dos filhos de Ana acertou corretamente sua data de nascimento e que os outros acertaram pelo menos um dos itens (dia, dia da semana e mês). Dessa forma, é correto afirmar que o filho de Ana que acertou a data de nascimento dela foi:**

- a) Renato
- b) Sandro
- c) Tiago
- d) Vanderlei
- e) Almir

**02. Considere a seguinte afirmativa: “Todo churrasqueiro gosta de picanha”. Em relação a essa proposição, é correto afirmar que:**

- a) Algum churrasqueiro não gosta de picanha.
- b) Toda pessoa que gosta de picanha é churrasqueira.
- c) Alguma pessoa que não gosta de picanha é churrasqueira.
- d) Toda pessoa que não é churrasqueira, não gosta de picanha.
- e) Toda pessoa que não gosta de picanha, não é churrasqueira.

**03. Em um grupo formado por 67 pessoas, verificou-se que 41 pessoas gostam de arroz, 29 gostam de feijão, 33 gostam de carne, 19 gostam de arroz e de feijão, 9 gostam apenas de arroz e de carne, 12 gostam de feijão e de carne e que 6 gostam de arroz, de feijão e de carne. O número de pessoas desse grupo, que não gosta de nenhum desses três tipos de alimentos é igual a:**

- a) 4
- b) 5
- c) 6
- d) 8
- e) 10

**04. Bruno escreveu, em seu caderno, várias sequências formadas por números múltiplos de 4, onde os valores que ocupavam as posições pares eram multiplicados por  $-1$ . Cada sequência foi somada e o resultado da soma anotado. A soma das três primeiras sequências escritas por Bruno foram as seguintes:**

$$4 - 8 = -4$$
$$4 - 8 + 12 = 8$$
$$4 - 8 + 12 - 16 = -8$$

**Considere que Bruno escreveu e somou tais sequências, em seu caderno, de modo a obter determinada sequência cuja soma foi 600. O número de termos dessa sequência é igual a:**

- a) 149
- b) 150
- c) 298
- d) 299
- e) 300

**05. Quatro torcedores, um do São Paulo, um do Cruzeiro, um do Vasco e um do Bahia, estão sentados ao redor de uma mesa quadrada, de modo que, dois a dois, fiquem frente a frente. Sabe-se que Alan é torcedor do Cruzeiro e que Bruno está sentado à direita de Alan. Sabe-se também que Caio está sentado à direita do torcedor do São Paulo. Sabe-se ainda que Daniel não é torcedor do Vasco e que está sentado à frente de Bruno. Dessa forma, é correto afirmar que:**

- a) Bruno é torcedor do Bahia e Daniel é torcedor do São Paulo.
- b) Bruno é torcedor do São Paulo e Daniel é torcedor do Bahia.
- c) Caio é torcedor do Vasco e Daniel é torcedor do São Paulo.
- d) Caio é torcedor do Bahia e Daniel é torcedor do São Paulo.
- e) Bruno é torcedor do Vasco e Daniel é torcedor do Bahia.

**INFORMÁTICA**

**06. Considerando o MS-Excel versão 2010, observando a figura abaixo, é correto afirmar que:**

	A	B	C
1			
2			
3			
4			

- Somente 03 três linhas estão selecionadas.
- Somente uma célula está selecionada.
- 12 (doze) células estão selecionadas.
- Somente a coluna A até a linha 4 (quatro) está selecionada.
- Somente as colunas 1 (um), 2 (dois), 3 (três) e 4 (quatro) estão selecionadas.

**07. Considerando o MS-Excel versão 2010, observando a figura abaixo, é incorreto afirmar que:**

	A	B	C
1	12	6	=A1*B1
2	8	2	=A2/B2
3	5	14	=A3-B3
4	6	11	=A4+B4

- O resultado da fórmula =A1\*B1 é 72.
- O resultado da fórmula =A2/B2 é 4.
- O resultado da fórmula =A3-B3 é -9.
- O resultado da fórmula =A3-B3 é 9.
- O resultado da fórmula =A4+B4 é 17.

**08. Digitando um texto no MS-Word versão 2010, necessito adicionar número nas páginas. Quanto a isso, é correto afirmar que:**

- No menu Layout da Página, clico em número de página e seleciono onde desejo adicionar os números.
- No menu Inserir, clico em número de página e seleciono onde desejo adicionar os números.
- No menu Revisão, clico em número de página e seleciono onde desejo adicionar os números.
- No menu Referências, clico em número de página e seleciono onde desejo adicionar os números.
- No menu Exibição, clico em número de página e seleciono onde desejo adicionar os números.

**09. A segurança da informação está diretamente relacionada com proteção de um conjunto de informações, no sentido de preservar o valor que possuem para um indivíduo ou uma organização. Atualmente, um dos aplicativos mais utilizados no mundo, o Whats app, teve uma alteração de confidencialidade muito importante na segurança das informações transmitidas e recebidas. Dentre as alternativas, assinale a que corretamente informa a alteração inserida no aplicativo Whats app.**

- Antispam
- Antivirus
- Firewall
- Antispyware
- Criptografia

**10. São todos os dispositivos que trabalham acoplados ao microcomputador para receber, transmitir, visualizar, ler, gravar ou armazenarem dados. São eles que permitem a comunicação do computador com o meio exterior, isto é, com os usuários e outras máquinas.**

**Esse texto descreve corretamente:**

- Memória ram
- Memória virtual
- Software
- Periféricos
- Hardware

## CONHECIMENTOS GERAIS

**11. Hino do município de Telêmaco Borba/PR**

Das virgens matas e campos verdejantes  
 Servindo-se também o rio Tibagi,  
 Homens de ideais, espíritos vibrantes.  
 Constituíram as indústrias aqui.



Estrilho:

Salve! Salve! Telêmaco Borba  
 Terra querida e de grandes primores,  
 A nossa homenagem rendamos  
 À cidade dos trabalhadores.  
 Pois a cadência de enorme e real progresso  
 Um município mui grandioso fez nascer,  
 Marcando assim, verdadeiro sucesso  
 Faz, então o Paraná engrandecer.

**No que tange ao Hino do município, atribua V (verdadeiro) ou F (falso) às afirmativas e marque a alternativa correta.**

- ( ) Eloah Martins Quadrado é autora da letra do hino.  
 ( ) Bento Mossurunga compôs a música do hino.  
 ( ) Eloah Martins Quadrado foi nomeada primeira professora da Cidade Nova, atual Telêmaco Borba.  
 ( ) Bento Mossurunga fundou a orquestra Estudantil e Concertos – Orquestra Sinfônica da Universidade, a Sociedade de Cultura Artístico Basilio Itiberê.
- a) F, V, V, V.  
 b) V, F, V, V.  
 c) V, V, F, V.  
 d) V, V, F, F.  
 e) V, V, V, V.

**12. À luz da Lei nº 1883/2012, que dispõe sobre o Estatuto dos Servidores Públicos da Administração Direta, Autárquica e Funcional do Município de Telêmaco Borba/PR, leia as alternativas e marque a correta.**

- a) A apresentação para a posse ocorrerá no prazo de até trinta dias, contados do ato de nomeação.  
 b) A destituição do servidor da função gratificada dar-se-á por solicitação exclusiva dele mesmo.  
 c) O servidor ocupante exclusivamente de cargo em comissão será contribuinte do regime geral de previdência social.  
 d) A aprovação em concurso público gera o direito à nomeação, e será feita obedecida à ordem de classificação dos candidatos.  
 e) O exercício de função gratificada poderá ser de dedicação integral ou parcial, conforme necessidade da administração.

**Conforme a Lei nº 1.881, de 05 de abril de 2012, que dispõe sobre o Plano de Cargos, Carreiras e Vencimentos do quadro geral de servidores da Prefeitura Municipal de Telêmaco Borba/PR, regulamentada pelo Decreto nº 2269/2015, responda às próximas três questões.**

**13. Leia as assertivas e assinala a incorreta.**

- a) Do resultado da avaliação de desempenho poderá ser interposto recurso à Comissão de Desenvolvimento Funcional no prazo de quinze dias a contar da publicação no Boletim Oficial do Município.  
 b) Não será concedida a progressão ou promoção ao servidor que estiver em licença para tratamento de saúde por um período superior a quarenta e cinco dias, no período de avaliação.  
 c) A alternância dos membros constituintes da Comissão de Desenvolvimento Funcional eleitos pelos servidores verificar-se-á a cada três anos de participação, observados, para substituição de seus participantes, o critério fixado no artigo anterior, não cabendo eleição sucessiva.  
 d) Caberá à Comissão de Desenvolvimento Funcional, no caso de divergência de vinte por cento entre a nota do avaliador e a do avaliado, solicitar nova avaliação à chefia.  
 e) Nos termos do disposto no art. 17 da Lei nº 1.881, de 05 de abril de 2012, para progredir, é necessário que o servidor satisfaça, dentre outros, o seguinte requisito: estar no efetivo exercício de seu cargo ou em função comissionada na sua área de atuação durante o interstício de dois anos.

**14. Assinale a alternativa que completa respectivamente as lacunas do texto a seguir:**

**A Comissão de Desenvolvimento Funcional será constituída por \_\_\_\_\_ membros, sendo \_\_\_\_\_ designados pelo Prefeito Municipal de Telêmaco Borba e os demais eleitos pelos servidores municipais dentre os estáveis, com a atribuição de coordenar os procedimentos relativos à avaliação periódica de desempenho e outras atribuições.**

- a) três / sete  
 b) um / três  
 c) sete / três  
 d) três / cinco  
 e) dois / cinco

**15. A Avaliação de Desempenho será norteadada, dentre outros, pelo seguinte princípio: Amplitude - a avaliação deve incidir sobre todas as áreas de atuação do servidor, que compreendem:**

1. a formulação de políticas administrativas e sua aplicação para todos os setores da administração municipal;
2. o desempenho do profissional dentro de suas funções pertinentes;
3. a estrutura do órgão em que exerce a função;
4. os resultados de eficiência dos serviços de cada setor ou órgão da administração municipal;
5. a participação direta do avaliado, durante todo o processo avaliativo.

Diante dessa afirmação, somente não está correto o item:

- a) 1
- b) 2
- c) 3
- d) 4
- e) 5

### CONHECIMENTOS ESPECÍFICOS

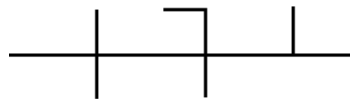
16. No que concerne aos termos técnicos empregados para a área de construção civil, marque a alternativa que apresenta o nome dado ao conjunto de elementos necessários e suficientes à execução completa de uma obra, de acordo com as normas pertinentes da Associação Brasileira de Normas Técnicas - ABNT:

- a) Esboço complementar
- b) Estudo preliminar
- c) Anteprojeto
- d) Projeto básico
- e) Projeto executivo

17. No que diz respeito ao controle ambiental das edificações (térmico, acústico e luminoso), marque a alternativa que apresenta o tipo de janela formada por uma ou várias folhas que podem ser movimentadas por deslizamento horizontal em seu plano de apoio, tendo como principais vantagens o fato de proporcionarem uma ventilação de fácil regulagem, onde as folhas não se mexem sob a ação do vento; não ocuparem áreas externas ou internas, favorecendo o uso de telas, grades ou persianas; além de possuírem simplicidade de manobra:

- a) Janela pivotante
- b) Janela guilhotina
- c) Janela basculante
- d) Janela de correr
- e) Janela maxim-ar

18. Nos projetos de instalações elétricas residenciais, a simbologia ilustrada pela figura a seguir representa os diversos condutores utilizados nos circuitos de um determinado ambiente. Neste contexto, a partir da análise da figura no sentido da esquerda para a direita, marque a alternativa que apresenta a sequência correta para os condutores ilustrados:



- a) Terra, retorno, fase
- b) Neutro, retorno, fase
- c) Fase, neutro e retorno
- d) Neutro, fase e retorno
- e) Fase, retorno e neutro

19. Analise os itens a seguir, relacionados aos projetos complementares de instalações hidrossanitárias: (I) a tubulação que liga entre si duas seções de um reservatório superior, ou dois reservatórios superiores, e do qual partem as ramificações para as colunas de distribuição é chamada de ramal predial; (II) os ramais são tubulações derivadas da coluna de alimentação e que servem a conjuntos de aparelhos; (III) as tubulações que ligam os ramais às peças de utilização ou aos aparelhos sanitários são chamadas de tubos operculados.

Com base nos itens descritos, é correto afirmar que:

- a) Somente o I está correto.
- b) Somente o II está correto.
- c) Somente o III está correto.
- d) Somente I e II estão corretos.
- e) Somente II e III estão corretos.



**20. Quanto à organização de um canteiro de obras, marque a alternativa que não apresenta um exemplo de espaço enquadrado como área de vivência:**

- a) Escritório
- b) Alojamento
- c) Vestiário
- d) Refeitório
- e) Cozinha

**21. Nos projetos de combate a incêndio, o dispositivo instalado na canalização preventiva de incêndio, destinado à ligação da mangueira da bomba do carro do corpo de bombeiros, que permitirá o recalque da água da canalização pública para dentro do prédio, de modo que os soldados do corpo de bombeiros possam ligar suas mangueiras nos hidrantes das caixas de incêndio, é denominado de:**

- a) Tomada de incêndio
- b) Hidrante de passeio
- c) Hidrante de coluna
- d) Sprinkler
- e) Esguicho

**22. No planejamento e controle físico-financeiro de obras civis, uma das ferramentas utilizadas para o gerenciamento trata-se da rede PERT-CPM. Neste contexto, marque a alternativa que apresenta o tipo de método que define a sequência de atividades na qual, caso uma delas atrase, todo um projeto estará atrasado, ou seja, o método que apresenta a sequência das atividades que não tem folga:**

- a) Método da atividade fictícia
- b) Método da atividade paralela
- c) Método do caminho crítico
- d) Método da data mais cedo
- e) Método da folga paralela

**23. Nos serviços de coberturas de uma edificação, o calço de madeira, geralmente em forma triangular que serve de apoio lateral para uma terça ou qualquer outra peça de madeira, é usualmente chamado de:**

- a) Claraboia
- b) Empena
- c) Cavalete
- d) Rincão
- e) Chapuz

**24. Quanto à infraestrutura básica dos parcelamentos urbanos, marque a alternativa que não constitui um elemento obrigatório para os parcelamentos situados nas zonas habitacionais declaradas por lei como de interesse social:**

- a) Vias de circulação
- b) Soluções para o esgotamento sanitário
- c) Rede para o abastecimento de água potável
- d) Escoamento das águas pluviais
- e) Sistemas de combate a incêndio

**25. O documento lançado na Conferência das Nações Unidas sobre o Meio Ambiente e o Desenvolvimento - ECO-92 - que estabeleceu a importância de cada país envolvido a se comprometer a refletir, global e localmente, sobre a forma pela qual governos, empresas, organizações não-governamentais e todos os setores da sociedade poderiam cooperar no estudo de soluções para os problemas socioambientais é usualmente conhecido pelo nome de:**

- a) Agenda Habitat
- b) Agenda Kyoto
- c) Agenda 21
- d) ISO 9000
- e) PBQP-H

**26. Com relação ao programa AutoCad, marque a alternativa que apresenta o comando que constrói linhas que parecem ser feitas à mão:**

- a) *Snap*
- b) *Otrack*
- c) *Sketch*
- d) *Spline*
- e) *Ray*

**27. Analise os itens a seguir, relacionados às diretrizes gerais da política urbana:**

**(I) o plano diretor, aprovado por lei municipal, é o instrumento básico da política de desenvolvimento e expansão urbana;**

**(II) a lei que instituir o plano diretor deverá ser revista, pelo menos, a cada vinte anos;**

**(III) o plano diretor é obrigatório para cidades com mais de quinze mil habitantes.**

**Com base nos itens descritos, é correto afirmar que:**

- a) Somente o I está correto.
- b) Somente o II está correto.
- c) Somente o III está correto.
- d) Somente I e II estão corretos.
- e) Somente I e III estão corretos.

**28. Com relação aos aspectos voltados para a acessibilidade de pessoas portadoras de deficiências a edificações, espaços, mobiliários e equipamento urbanos, marque a alternativa que apresenta o nome dado a área com acesso direto para uma saída, destinada a manter em segurança pessoas com deficiência ou com mobilidade reduzida, enquanto aguardam socorro em situação de sinistro:**

- a) Área de aproximação
- b) Área de circulação
- c) Área de refúgio
- d) Área de descanso
- e) Área de transbordo

**29. No que diz respeito à lei de parcelamento do solo urbano, analise os itens a seguir:**

**(I) não será permitido o parcelamento do solo em terrenos alagadiços e sujeitos a inundações, antes de tomadas as providências para assegurar o escoamento das águas;**

**(II) considera-se desmembramento a subdivisão de gleba em lotes destinados à edificação, com aproveitamento do sistema viário existente, desde que não implique na abertura de novas vias e logradouros públicos, nem no prolongamento, modificação ou ampliação dos já existentes;**

**(III) considera-se arruamento a subdivisão de gleba em lotes destinados à edificação, com abertura de novas vias de circulação, de logradouros públicos ou prolongamento, modificação ou ampliação das vias existentes.**

**Com base nos itens descritos, é correto afirmar que:**

- a) Somente o I está correto.
- b) Somente o II está correto.
- c) Somente o III está correto.
- d) Somente I e II estão corretos.
- e) Somente I e III estão corretos.

**30. Sabendo-se que uma porta com 2,10 metros de altura foi detalhada num projeto arquitetônico com o valor equivalente da altura igual a 10,50 centímetros, marque a alternativa que apresenta a escala utilizada no projeto:**

- a) 1:20
- b) 1:25
- c) 1:40
- d) 1:50
- e) 1:75

**31. Analise os itens a seguir, relacionados à lei de licitação e contratos da administração pública:**

**(I) a execução indireta é feita pelos órgãos e entidades da administração, através de meios próprios;**

**(II) serviço é toda atividade destinada a obter determinada utilidade de interesse para a administração, tais como: demolição, conserto, instalação, montagem, operação, conservação, reparação, adaptação, manutenção, transporte, locação de bens, publicidade, seguro ou trabalhos técnico-profissionais;**

**(III) a empreitada por preço unitário é quando se contrata a execução de uma obra ou de um serviço por preço certo e total.**

**Com base nos itens descritos, é correto afirmar que:**

- a) Somente o I está correto.
- b) Somente o II está correto.
- c) Somente o III está correto.
- d) Somente I e II estão corretos.
- e) Somente II e III estão corretos.

**32. No que concerne à composição das tintas empregadas na área de construção civil, marque a alternativa que apresenta o elemento constituído por sólidos granulares que numa tinta contribuem para a sua cor, tenacidade e textura:**

- a) Resina
- b) Aditivo



- c) Solvente
- d) Verniz
- e) Pigmento

**33. Quanto aos aspectos relacionados à tecnologia do concreto, marque a alternativa que apresenta o aglomerante empregado na composição dos concretos hidráulicos:**

- a) Cimento Portland
- b) Emulsão asfáltica
- c) Argila coloidal
- d) Cal Virgem
- e) Cal Hidratada

**34. De acordo com os domínios de especialização da ergonomia, marque a alternativa que apresenta o tipo de ergonomia que se refere aos processos mentais, tais como percepção, memória, raciocínio e a forma de como afetam as interações entre seres humanos e diferentes elementos de um sistema:**

- a) Ergonomia física
- b) Ergonomia cognitiva
- c) Ergonomia organizacional
- d) Ergonomia receptiva
- e) Ergonomia deficiente

**35. Analise os itens a seguir, relacionados às regras básicas ligadas às obrigações para com a profissão de arquiteto e urbanista de forma ética:**

**(I) o arquiteto e urbanista, ao exercer a docência profissional, deve contribuir para a formação acadêmica, tendo em vista a aquisição de competências e habilidades plenas para o exercício da arquitetura e urbanismo;**

**(II) o arquiteto e urbanista deve evitar assumir simultaneamente diferentes responsabilidades técnicas, que sejam incompatíveis quanto a sua extensão, conteúdos, distâncias e jornadas de trabalho sobrepostas;**

**(III) O arquiteto e urbanista deve receber honorários, pagamentos, ou vantagens de duas partes de um mesmo contrato vigente.**

**Com base nos itens descritos, é correto afirmar que:**

- a) Somente o I está correto.
- b) Somente o II está correto.
- c) Somente o III está correto.
- d) Somente I e II estão corretos.
- e) Somente I e III estão corretos.

## LÍNGUA PORTUGUESA

**Texto para as próximas cinco questões:**

### “O cego Estrelinho” Mia Couto

O cego Estrelinho era pessoa de nenhuma vez: sua história poderia ser contada e descontada não fosse seu guia, Gigito Efraim. A mão de Gigito conduziu o desvistado por tempos e idades. Aquela mão era repartidamente comum, extensão de um no outro, siamensal. E assim era quase de nascença. Memória de Estrelinho tinha cinco dedos e eram os de Gigito postos, em aperto, na sua própria mão.

O cego, curioso, queria saber de tudo. Ele não fazia cerimônia no viver. O sempre lhe era pouco e o tudo insuficiente. Dizia, deste modo:

— Tenho que viver já, senão esqueço-me.

Gigitinho, porém, o que descrevia era o que não havia. O mundo que ele minuciava eram fantasias e rendilhados. A imaginação do guia era mais profícua que papaeira. O cego enchia a boca de águas:

— Que maravilhação esse mundo. Me conte tudo, Gigito!

A mão do guia era, afinal, o manuscrito da mentira. Gigito Efraim estava como nunca esteve S. Tomé: via para não crer. O condutor falava pela ponta dos dedos. Desfolhava o universo, aberto em folhas. A ideiação dele era tal que mesmo o cego, por vezes, acreditava ver. O outro lhe encorajava esses breves enganos:

— Desbengale-se, você está escolhendo a boa procedência!

Mentira: Estrelinho continuava sem ver uma palmeira à frente do nariz. Contudo, o cego não se conformava em suas escurezas. Ele cumpria o ditado: não tinha perna e queria dar o pontapé. Só à noite, ele desalentava, sofrendo medos mais antigos que a humanidade. Entendia aquilo que, na raça humana, é menos primitivo: o animal.

— Na noite aflige não haver luz?

— Aflição é ter um pássaro branco esvoando dentro do sono.

Pássaro branco? No sono? Lugar de ave é nas alturas. Dizem até que Deus fez o céu para justificar os pássaros. Estrelinho disfarçava o medo dos vaticínios, subterfugindo:

— E agora, Gigitinho? Agora, olhando assim para cima, estou face ao céu?

Que podia o outro responder? O céu do cego fica em toda a parte. Estrelinho perdia o pé era quando a noite chegava e seu mestre adormecia. Era como se um novo escuro nele se estreasse em nó cego. Devagaroso e sorrateiro ele aninhava sua mão na mão do guia. Só assim adormecia. A razão da concha é a timidez da amêijoia? Na manhã seguinte, o cego lhe confessava: se você morrer, tenho que morrer logo no imediato. Senão-me: como acerto o caminho para o céu?

Foi no mês de dezembro que levaram Gigitinho. Lhe tiraram do mundo para pôr na guerra: obrigavam os serviços militares. O cego reclamou: que o moço inatingia a idade. E que o serviço que ele a si prestava era vital e vitalício. O guia chamou Estrelinho à parte e lhe tranquilizou:

— Não vai ficar sozinhandando por aí. Minha mana já mandei para ficar no meu lugar.

O cego estendeu o braço a querer tocar uma despedida. Mas o outro já não estava lá. Ou estava e se desviara, propositado? E sem água ida nem vinda, Estrelinho escutou o amigo se afastar, engolido, esponginguquo, inevisível. Pela pimeira vez, Estrelinho se sentiu invalidado.

— Agora, só agora, sou cego que não vê.

(...)

**COUTO, Mia. Estórias abensonhadas. Rio de Janeiro: Nova Fronteira, 1996. (Pág 23 e 24).**

**36. Quanto à interpretação do fragmento do conto, podemos afirmar que:**

- Gigito Efraim era o guia de Estrelinho há pouquíssimo tempo.
- Estrelinho era cego de nascença.
- Gigito descrevia o mundo para Estrelinho de forma denotativa.
- Gigito foi convocado pelo exército para ser guia de cegos na guerra.
- Gigito descrevia o mundo para Estrelinho de forma conotativa.

**37. No período “O sempre lhe era pouco e o tudo insuficiente”, o pronome “LHE” exerce a função sintática de:**

- Objeto Direto
- Objeto Indireto
- Complemento Nominal
- Adjunto Adnominal
- Objeto Direto Preposicionado

**38. Na oração “A mão de Gigito conduziu o desvistado por tempos e idades”, o autor faz uso de um neologismo, assim como no decorrer de toda a obra em questão. Contudo, o neologismo só se torna possível pela utilização dos elementos mórficos naquilo que a gramática normativa pontua como Processo de Formação das Palavras. Levando em consideração apenas o recurso morfológico, qual Processo de Formação foi utilizado?**

- Derivação Sufixal
- Derivação Prefixal
- Derivação Regressiva
- Derivação Imprópria
- Derivação Parassintética

**39. No terceiro período do décimo terceiro parágrafo, temos:**

- Uma oração
- Duas orações
- Três orações
- Quatro orações
- Cinco orações

**40. No último parágrafo do fragmento do conto “— Agora, só agora, sou cego que não vê”, a oração subordinada presente classifica-se corretamente como:**

- Oração Subordinada Adjetiva Restritiva
- Oração Subordinada Adverbial Causal
- Oração Subordinada Substantiva Subjetiva
- Oração Subordinada Adverbial Explicativa
- Oração Subordinada Adjetiva Explicativa

**RASCUNHO**



PREFEITURA DE TELÊMACO BORBA - ESTADO DO PARANÁ- **EDITAL Nº 001-2016 - CONCURSO PÚBLICO VESPERTINO – 29/05/2016 – NÍVEL SUPERIOR**

**3**

**PROVA OBJETIVA NÚMERO**

**CARGO: TMNS I - ARQUITETURA URBANÍSTICA**

**Leia atentamente as INSTRUÇÕES:**

1. Confira seus dados no cartão-resposta: nome, número de inscrição e o curso para o qual se inscreveu.
2. **MARQUE no seu cartão-resposta o número da sua prova** (não será corrigido o cartão-resposta que não tiver marcado o número da prova) e **Assine** seu cartão-resposta.
3. Aguarde a autorização do Fiscal para abrir o caderno de prova. Ao receber a ordem do fiscal, confira o caderno de prova com muita atenção. Nenhuma reclamação sobre o total de questões ou falha de impressão será aceita depois de iniciada a prova.
4. O cartão-resposta não será substituído, salvo se contiver erro de impressão.
5. Preencha toda a área do cartão-resposta correspondente à alternativa de sua escolha, com caneta esferográfica (tinta azul ou preta), sem ultrapassar as bordas. As marcações duplas, ou rasuradas, com corretivo, ou marcadas diferentemente do modelo estabelecido no cartão-resposta poderão ser anuladas.
6. Sua prova tem **40** questões, com **5** alternativas.
7. Cabe apenas ao candidato a interpretação das questões, **o fiscal** não poderá fazer nenhuma interferência.
8. A prova será realizada com duração máxima de **3 (três) horas**, incluído o tempo para a realização da Prova Objetiva de múltipla escolha e o preenchimento do cartão-resposta.
9. O candidato poderá retirar-se do local de realização das provas somente **1 (uma) hora** após o seu início, sem levar o caderno de prova.
10. O candidato poderá levar o caderno de provas, assim como anotação contendo transcrição do seu cartão-resposta, somente **1h30min** (uma hora e trinta minutos) após o início da realização da prova.
11. Ao terminar a prova, o candidato deverá entregar ao fiscal de sala o cartão-resposta preenchido e **ASSINADO**.
12. Os **3 (três)** candidatos, que terminarem a prova por último, deverão permanecer na sala, e só poderão sair juntos após o fechamento do envelope, contendo os cartões-resposta dos candidatos presentes e ausentes, e assinarem no lacre do referido envelope, atestando que este foi devidamente lacrado.
13. Durante todo o tempo em que permanecer no local onde está ocorrendo o concurso, o candidato deverá, manter o celular desligado e sem bateria, só sendo permitido ligar depois de ultrapassar o portão de saída do prédio.
14. Não será permitido ao candidato fumar na sala de provas, bem como nas dependências.
15. Depois de terminar a prova e entregar ao fiscal o cartão-resposta, preenchido e assinado, não será mais permitido ao candidato o uso do banheiro e bebedouro.

**BOA PROVA!**

**CONHECIMENTOS ESPECÍFICOS**

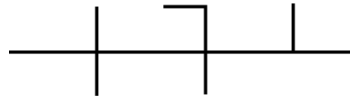
**01. No que concerne aos termos técnicos empregados para a área de construção civil, marque a alternativa que apresenta o nome dado ao conjunto de elementos necessários e suficientes à execução completa de uma obra, de acordo com as normas pertinentes da Associação Brasileira de Normas Técnicas - ABNT:**

- a) Esboço complementar
- b) Estudo preliminar
- c) Anteprojeto
- d) Projeto básico
- e) Projeto executivo

**02. No que diz respeito ao controle ambiental das edificações (térmico, acústico e luminoso), marque a alternativa que apresenta o tipo de janela formada por uma ou várias folhas que podem ser movimentadas por deslizamento horizontal em seu plano de apoio, tendo como principais vantagens o fato de proporcionarem uma ventilação de fácil regulagem, onde as folhas não se mexem sob a ação do vento; não ocuparem áreas externas ou internas, favorecendo o uso de telas, grades ou persianas; além de possuírem simplicidade de manobra:**

- a) Janela pivotante
- b) Janela guilhotina
- c) Janela basculante
- d) Janela de correr
- e) Janela maxim-ar

**03. Nos projetos de instalações elétricas residenciais, a simbologia ilustrada pela figura a seguir representa os diversos condutores utilizados nos circuitos de um determinado ambiente. Neste contexto, a partir da análise da figura no sentido da esquerda para a direita, marque a alternativa que apresenta a sequência correta para os condutores ilustrados:**



- a) Terra, retorno, fase
- b) Neutro, retorno, fase
- c) Fase, neutro e retorno
- d) Neutro, fase e retorno
- e) Fase, retorno e neutro

**04. Analise os itens a seguir, relacionados aos projetos complementares de instalações hidrossanitárias:**  
**(I) a tubulação que liga entre si duas seções de um reservatório superior, ou dois reservatórios superiores, e do qual partem as ramificações para as colunas de distribuição é chamada de ramal predial;**  
**(II) os ramais são tubulações derivadas da coluna de alimentação e que servem a conjuntos de aparelhos;**  
**(III) as tubulações que ligam os ramais às peças de utilização ou aos aparelhos sanitários são chamadas de tubos operculados.**

**Com base nos itens descritos, é correto afirmar que:**

- a) Somente o I está correto.
- b) Somente o II está correto.
- c) Somente o III está correto.
- d) Somente I e II estão corretos.
- e) Somente II e III estão corretos.

**05. Quanto à organização de um canteiro de obras, marque a alternativa que não apresenta um exemplo de espaço enquadrado como área de vivência:**

- a) Escritório
- b) Alojamento
- c) Vestiário
- d) Refeitório
- e) Cozinha

**06. Nos projetos de combate a incêndio, o dispositivo instalado na canalização preventiva de incêndio, destinado à ligação da mangueira da bomba do carro do corpo de bombeiros, que permitirá o recalque da água da canalização pública para dentro do prédio, de modo que os soldados do corpo de bombeiros possam ligar suas mangueiras nos hidrantes das caixas de incêndio, é denominado de:**

- a) Tomada de incêndio
- b) Hidrante de passeio





- c) Hidrante de coluna
- d) Sprinkler
- e) Esguicho

**07. No planejamento e controle físico-financeiro de obras civis, uma das ferramentas utilizadas para o gerenciamento trata-se da rede PERT-CPM. Neste contexto, marque a alternativa que apresenta o tipo de método que define a sequência de atividades na qual, caso uma delas atrase, todo um projeto estará atrasado, ou seja, o método que apresenta a sequência das atividades que não tem folga:**

- a) Método da atividade fictícia
- b) Método da atividade paralela
- c) Método do caminho crítico
- d) Método da data mais cedo
- e) Método da folga paralela

**08. Nos serviços de coberturas de uma edificação, o calço de madeira, geralmente em forma triangular que serve de apoio lateral para uma terça ou qualquer outra peça de madeira, é usualmente chamado de:**

- a) Claraboia
- b) Empena
- c) Cavalete
- d) Rincão
- e) Chapuz

**09. Quanto à infraestrutura básica dos parcelamentos urbanos, marque a alternativa que não constitui um elemento obrigatório para os parcelamentos situados nas zonas habitacionais declaradas por lei como de interesse social:**

- a) Vias de circulação
- b) Soluções para o esgotamento sanitário
- c) Rede para o abastecimento de água potável
- d) Escoamento das águas pluviais
- e) Sistemas de combate a incêndio

**10. O documento lançado na Conferência das Nações Unidas sobre o Meio Ambiente e o Desenvolvimento - ECO-92 - que estabeleceu a importância de cada país envolvido a se comprometer a refletir, global e localmente, sobre a forma pela qual governos, empresas, organizações não-governamentais e todos os setores da sociedade poderiam cooperar no estudo de soluções para os problemas socioambientais é usualmente conhecido pelo nome de:**

- a) Agenda Habitat
- b) Agenda Kyoto
- c) Agenda 21
- d) ISO 9000
- e) PBQP-H

**11. Com relação ao programa AutoCad, marque a alternativa que apresenta o comando que constrói linhas que parecem ser feitas à mão:**

- a) *Snap*
- b) *Otrack*
- c) *Sketch*
- d) *Spline*
- e) *Ray*

**12. Analise os itens a seguir, relacionados às diretrizes gerais da política urbana:**

**(I) o plano diretor, aprovado por lei municipal, é o instrumento básico da política de desenvolvimento e expansão urbana;**

**(II) a lei que instituir o plano diretor deverá ser revista, pelo menos, a cada vinte anos;**

**(III) o plano diretor é obrigatório para cidades com mais de quinze mil habitantes.**

**Com base nos itens descritos, é correto afirmar que:**

- a) Somente o I está correto.
- b) Somente o II está correto.
- c) Somente o III está correto.
- d) Somente I e II estão corretos.
- e) Somente I e III estão corretos.

**13. Com relação aos aspectos voltados para a acessibilidade de pessoas portadoras de deficiências a edificações, espaços, mobiliários e equipamento urbanos, marque a alternativa que apresenta o nome**

**dado a área com acesso direto para uma saída, destinada a manter em segurança pessoas com deficiência ou com mobilidade reduzida, enquanto aguardam socorro em situação de sinistro:**

- a) Área de aproximação
- b) Área de circulação
- c) Área de refúgio
- d) Área de descanso
- e) Área de transbordo

**14. No que diz respeito à lei de parcelamento do solo urbano, analise os itens a seguir:**

**(I) não será permitido o parcelamento do solo em terrenos alagadiços e sujeitos a inundações, antes de tomadas as providências para assegurar o escoamento das águas;**

**(II) considera-se desmembramento a subdivisão de gleba em lotes destinados à edificação, com aproveitamento do sistema viário existente, desde que não implique na abertura de novas vias e logradouros públicos, nem no prolongamento, modificação ou ampliação dos já existentes;**

**(III) considera-se arruamento a subdivisão de gleba em lotes destinados à edificação, com abertura de novas vias de circulação, de logradouros públicos ou prolongamento, modificação ou ampliação das vias existentes.**

**Com base nos itens descritos, é correto afirmar que:**

- a) Somente o I está correto.
- b) Somente o II está correto.
- c) Somente o III está correto.
- d) Somente I e II estão corretos.
- e) Somente I e III estão corretos.

**15. Sabendo-se que uma porta com 2,10 metros de altura foi detalhada num projeto arquitetônico com o valor equivalente da altura igual a 10,50 centímetros, marque a alternativa que apresenta a escala utilizada no projeto:**

- a) 1:20
- b) 1:25
- c) 1:40
- d) 1:50
- e) 1:75

**16. Analise os itens a seguir, relacionados à lei de licitação e contratos da administração pública:**

**(I) a execução indireta é feita pelos órgãos e entidades da administração, através de meios próprios;**

**(II) serviço é toda atividade destinada a obter determinada utilidade de interesse para a administração, tais como: demolição, conserto, instalação, montagem, operação, conservação, reparação, adaptação, manutenção, transporte, locação de bens, publicidade, seguro ou trabalhos técnico-profissionais;**

**(III) a empreitada por preço unitário é quando se contrata a execução de uma obra ou de um serviço por preço certo e total.**

**Com base nos itens descritos, é correto afirmar que:**

- a) Somente o I está correto.
- b) Somente o II está correto.
- c) Somente o III está correto.
- d) Somente I e II estão corretos.
- e) Somente II e III estão corretos.

**17. No que concerne à composição das tintas empregadas na área de construção civil, marque a alternativa que apresenta o elemento constituído por sólidos granulares que numa tinta contribuem para a sua cor, tenacidade e textura:**

- a) Resina
- b) Aditivo
- c) Solvente
- d) Verniz
- e) Pigmento

**18. Quanto aos aspectos relacionados à tecnologia do concreto, marque a alternativa que apresenta o aglomerante empregado na composição dos concretos hidráulicos:**

- a) Cimento Portland
- b) Emulsão asfáltica
- c) Argila coloidal
- d) Cal Virgem
- e) Cal Hidratada

**19. De acordo com os domínios de especialização da ergonomia, marque a alternativa que apresenta o tipo de ergonomia que se refere aos processos mentais, tais como percepção, memória, raciocínio e a forma de como afetam as interações entre seres humanos e diferentes elementos de um sistema:**

- a) Ergonomia física
- b) Ergonomia cognitiva
- c) Ergonomia organizacional
- d) Ergonomia receptiva
- e) Ergonomia deficiente

**20. Analise os itens a seguir, relacionados às regras básicas ligadas às obrigações para com a profissão de arquiteto e urbanista de forma ética:**

**(I) o arquiteto e urbanista, ao exercer a docência profissional, deve contribuir para a formação acadêmica, tendo em vista a aquisição de competências e habilidades plenas para o exercício da arquitetura e urbanismo;**

**(II) o arquiteto e urbanista deve evitar assumir simultaneamente diferentes responsabilidades técnicas, que sejam incompatíveis quanto a sua extensão, conteúdos, distâncias e jornadas de trabalho sobrepostas;**

**(III) O arquiteto e urbanista deve receber honorários, pagamentos, ou vantagens de duas partes de um mesmo contrato vigente.**

**Com base nos itens descritos, é correto afirmar que:**

- a) Somente o I está correto.
- b) Somente o II está correto.
- c) Somente o III está correto.
- d) Somente I e II estão corretos.
- e) Somente I e III estão corretos.

## LÍNGUA PORTUGUESA

**Texto para as próximas cinco questões:**

### “O cego Estrelinho” Mia Couto

O cego Estrelinho era pessoa de nenhuma vez: sua história poderia ser contada e descontada não fosse seu guia, Gigitto Efraim. A mão de Gigitto conduziu o desvistado por tempos e idades. Aquela mão era repartidamente comum, extensão de um no outro, siamensal. E assim era quase de nascença. Memória de Estrelinho tinha cinco dedos e eram os de Gigitto postos, em aperto, na sua própria mão.

O cego, curioso, queria saber de tudo. Ele não fazia cerimônia no viver. O sempre lhe era pouco e o tudo insuficiente. Dizia, deste modo:

— Tenho que viver já, senão esqueço-me.

Gigitinho, porém, o que descrevia era o que não havia. O mundo que ele minuciava eram fantasias e rendilhados. A imaginação do guia era mais profícua que papaeira. O cego enchia a boca de águas:

— Que maravilhação esse mundo. Me conte tudo, Gigitto!

A mão do guia era, afinal, o manuscrito da mentira. Gigitto Efraim estava como nunca esteve S. Tomé: via para não crer. O condutor falava pela ponta dos dedos. Desfolhava o universo, aberto em folhas. A ideiação dele era tal que mesmo o cego, por vezes, acreditava ver. O outro lhe encorajava esses breves enganar:

— Desbengale-se, você está escolhendo a boa procedência!

Mentira: Estrelinho continuava sem ver uma palmeira à frente do nariz. Contudo, o cego não se conformava em suas escurezas. Ele cumpria o ditado: não tinha perna e queria dar o pontapé. Só à noite, ele desalentava, sofrendo medos mais antigos que a humanidade. Entendia aquilo que, na raça humana, é menos primitivo: o animal.

— Na noite aflige não haver luz?

— Aflição é ter um pássaro branco esvoando dentro do sono.

Pássaro branco? No sono? Lugar de ave é nas alturas. Dizem até que Deus fez o céu para justificar os pássaros. Estrelinho disfarçava o medo dos vaticínios, subterfugindo:

— E agora, Gigitinho? Agora, olhando assim para cima, estou face ao céu?

Que podia o outro responder? O céu do cego fica em toda a parte. Estrelinho perdia o pé era quando a noite chegava e seu mestre adormecia. Era como se um novo escuro nele se estreasse em nó cego. Devagaroso e sorrateiro ele aninhava sua mão na mão do guia. Só assim adormecia. A razão da concha é a timidez da amêijoia? Na manhã seguinte, o cego lhe confessava: se você morrer, tenho que morrer logo no imediato. Senão-me: como acerto o caminho para o céu?

Foi no mês de dezembro que levaram Gigitinho. Lhe tiraram do mundo para pôr na guerra: obrigavam os serviços militares. O cego reclamou: que o moço inatingia a idade. E que o serviço que ele a si prestava era vital e vitalício. O guia chamou Estrelinho à parte e lhe tranquilizou:

— Não vai ficar sozinando por aí. Minha mana já mandei para ficar no meu lugar.

O cego estendeu o braço a querer tocar uma despedida. Mas o outro já não estava lá. Ou estava e se desviara, propositado? E sem água ida nem vinda, Estrelinho escutou o amigo se afastar, engolido, esponjínquo, inevisível. Pela pimeira vez, Estrelinho se sentiu invalidado.

— Agora, só agora, sou cego que não vê.

(...)

**COUTO, Mia. Estórias abensonhadas. Rio de Janeiro: Nova Fronteira, 1996. (Pág 23 e 24).**

**21. Quanto à interpretação do fragmento do conto, podemos afirmar que:**

- Gigito Efraim era o guia de Estrelinho há pouquíssimo tempo.
- Estrelinho era cego de nascença.
- Gigito descrevia o mundo para Estrelinho de forma denotativa.
- Gigito foi convocado pelo exército para ser guia de cegos na guerra.
- Gigito descrevia o mundo para Estrelinho de forma conotativa.

**22. No período “O sempre lhe era pouco e o tudo insuficiente”, o pronome “LHE” exerce a função sintática de:**

- Objeto Direto
- Objeto Indireto
- Complemento Nominal
- Adjunto Adnominal
- Objeto Direto Preposicionado

**23. Na oração “A mão de Gigito conduziu o desvistado por tempos e idades”, o autor faz uso de um neologismo, assim como no decorrer de toda a obra em questão. Contudo, o neologismo só se torna possível pela utilização dos elementos mórficos naquilo que a gramática normativa pontua como Processo de Formação das Palavras. Levando em consideração apenas o recurso morfológico, qual Processo de Formação foi utilizado?**

- Derivação Sufixal
- Derivação Prefixal
- Derivação Regressiva
- Derivação Imprópria
- Derivação Parassintética

**24. No terceiro período do décimo terceiro parágrafo, temos:**

- Uma oração
- Duas orações
- Três orações
- Quatro orações
- Cinco orações

**25. No último parágrafo do fragmento do conto “— Agora, só agora, sou cego que não vê”, a oração subordinada presente classifica-se corretamente como:**

- Oração Subordinada Adjetiva Restritiva
- Oração Subordinada Adverbial Causal
- Oração Subordinada Substantiva Subjetiva
- Oração Subordinada Adverbial Explicativa
- Oração Subordinada Adjetiva Explicativa

### **RACIOCÍNIO LÓGICO**

**26. Os cinco filhos de Ana estavam discutindo a respeito da data de nascimento da mãe:**

- Almir disse que foi em janeiro, dia 14, sexta-feira.
- Vanderlei disse que foi em janeiro, dia 14, sábado.
- Tiago disse que foi em fevereiro, dia 15, sábado.
- Sandro disse que foi em janeiro, dia 15, sexta-feira.
- Renato disse que foi em fevereiro, dia 15, sexta-feira.

**Sabe-se que somente um dos filhos de Ana acertou corretamente sua data de nascimento e que os outros acertaram pelo menos um dos itens (dia, dia da semana e mês). Dessa forma, é correto afirmar que o filho de Ana que acertou a data de nascimento dela foi:**

- Renato
- Sandro
- Tiago
- Vanderlei
- Almir

27. Considere a seguinte afirmativa: “Todo churrasqueiro gosta de picanha”. Em relação a essa proposição, é correto afirmar que:

- Algum churrasqueiro não gosta de picanha.
- Toda pessoa que gosta de picanha é churrasqueira.
- Alguma pessoa que não gosta de picanha é churrasqueira.
- Toda pessoa que não é churrasqueira, não gosta de picanha.
- Toda pessoa que não gosta de picanha, não é churrasqueira.

28. Em um grupo formado por 67 pessoas, verificou-se que 41 pessoas gostam de arroz, 29 gostam de feijão, 33 gostam de carne, 19 gostam de arroz e de feijão, 9 gostam apenas de arroz e de carne, 12 gostam de feijão e de carne e que 6 gostam de arroz, de feijão e de carne. O número de pessoas desse grupo, que não gosta de nenhum desses três tipos de alimentos é igual a:

- 4
- 5
- 6
- 8
- 10

29. Bruno escreveu, em seu caderno, várias sequências formadas por números múltiplos de 4, onde os valores que ocupavam as posições pares eram multiplicados por  $-1$ . Cada sequência foi somada e o resultado da soma anotado. A soma das três primeiras sequências escritas por Bruno foram as seguintes:

$$4 - 8 = -4$$

$$4 - 8 + 12 = 8$$

$$4 - 8 + 12 - 16 = -8$$

Considere que Bruno escreveu e somou tais sequências, em seu caderno, de modo a obter determinada sequência cuja soma foi 600. O número de termos dessa sequência é igual a:

- 149
- 150
- 298
- 299
- 300

30. Quatro torcedores, um do São Paulo, um do Cruzeiro, um do Vasco e um do Bahia, estão sentados ao redor de uma mesa quadrada, de modo que, dois a dois, fiquem frente a frente. Sabe-se que Alan é torcedor do Cruzeiro e que Bruno está sentado à direita de Alan. Sabe-se também que Caio está sentado à direita do torcedor do São Paulo. Sabe-se ainda que Daniel não é torcedor do Vasco e que está sentado à frente de Bruno. Dessa forma, é correto afirmar que:

- Bruno é torcedor do Bahia e Daniel é torcedor do São Paulo.
- Bruno é torcedor do São Paulo e Daniel é torcedor do Bahia.
- Caio é torcedor do Vasco e Daniel é torcedor do São Paulo.
- Caio é torcedor do Bahia e Daniel é torcedor do São Paulo.
- Bruno é torcedor do Vasco e Daniel é torcedor do Bahia.

## INFORMÁTICA

31. Considerando o MS-Excel versão 2010, observando a figura abaixo, é correto afirmar que:

	A	B	C
1			
2			
3			
4			

- Somente 03 três linhas estão selecionadas.
- Somente uma célula está selecionada.
- 12 (doze) células estão selecionadas.
- Somente a coluna A até a linha 4 (quatro) está selecionada.
- Somente as colunas 1 (um), 2 (dois), 3 (três) e 4 (quatro) estão selecionadas.

32. Considerando o MS-Excel versão 2010, observando a figura abaixo, é incorreto afirmar que:

	A	B	C
1	12	6	=A1*B1
2	8	2	=A2/B2
3	5	14	=A3-B3
4	6	11	=A4+B4

- a) O resultado da fórmula =A1\*B1 é 72.  
 b) O resultado da fórmula =A2/B2 é 4.  
 c) O resultado da fórmula =A3-B3 é -9.  
 d) O resultado da fórmula =A3-B3 é 9.  
 e) O resultado da fórmula =A4+B4 é 17.

**33. Digitando um texto no MS-Word versão 2010, necessito adicionar número nas páginas. Quanto a isso, é correto afirmar que:**

- a) No menu Layout da Página, clico em número de página e seleciono onde desejo adicionar os números.  
 b) No menu Inserir, clico em número de página e seleciono onde desejo adicionar os números.  
 c) No menu Revisão, clico em número de página e seleciono onde desejo adicionar os números.  
 d) No menu Referências, clico em número de página e seleciono onde desejo adicionar os números.  
 e) No menu Exibição, clico em número de página e seleciono onde desejo adicionar os números.

**34. A segurança da informação está diretamente relacionada com proteção de um conjunto de informações, no sentido de preservar o valor que possuem para um indivíduo ou uma organização. Atualmente, um dos aplicativos mais utilizados no mundo, o Whats app, teve uma alteração de confidencialidade muito importante na segurança das informações transmitidas e recebidas. Dentre as alternativas, assinale a que corretamente informa a alteração inserida no aplicativo Whats app.**

- a) Antispam  
 b) Antivirus  
 c) Firewall  
 d) Antispyware  
 e) Criptografia

**35. São todos os dispositivos que trabalham acoplados ao microcomputador para receber, transmitir, visualizar, ler, gravar ou armazenarem dados. São eles que permitem a comunicação do computador com o meio exterior, isto é, com os usuários e outras máquinas.**

**Esse texto descreve corretamente:**

- a) Memória ram  
 b) Memória virtual  
 c) Software  
 d) Periféricos  
 e) Hardware

## CONHECIMENTOS GERAIS

**36. Hino do município de Telêmaco Borba/PR**

Das virgens matas e campos verdejantes  
 Servindo-se também o rio Tibagi,  
 Homens de ideais, espíritos vibrantes.  
 Constituíram as indústrias aqui.

Estribilho:

Salve! Salve! Telêmaco Borba

Terra querida e de grandes primores,

A nossa homenagem rendamos

À cidade dos trabalhadores.

Pois a cadência de enorme e real progresso

Um município mui grandioso fez nascer,

Marcando assim, verdadeiro sucesso

Faz, então o Paraná engrandecer.

**No que tange ao Hino do município, atribua V (verdadeiro) ou F (falso) às afirmativas e marque a alternativa correta.**

( ) Eloah Martins Quadrado é autora da letra do hino.

( ) Bento Mossurunga compôs a música do hino.

( ) Eloah Martins Quadrado foi nomeada primeira professora da Cidade Nova, atual Telêmaco Borba.

( ) Bento Mossurunga fundou a orquestra Estudantil e Concertos – Orquestra Sinfônica da Universidade, a Sociedade de Cultura Artístico Basílio Itiberê.

- a) F, V, V, V.  
 b) V, F, V, V.  
 c) V, V, F, V.





- d) V, V, F, F.
- e) V, V, V, V.

**37. À luz da Lei nº 1883/2012, que dispões sobre o Estatuto dos Servidores Públicos da Administração Direta, Autárquica e Funcional do Município de Telêmaco Borba/PR, leia as alternativas e marque a correta.**

- a) A apresentação para a posse ocorrerá no prazo de até trinta dias, contados do ato de nomeação.
- b) A destituição do servidor da função gratificada dar-se-á por solicitação exclusiva dele mesmo.
- c) O servidor ocupante exclusivamente de cargo em comissão será contribuinte do regime geral de previdência social.
- d) A aprovação em concurso público gera o direito à nomeação, e será feita obedecida à ordem de classificação dos candidatos.
- e) O exercício de função gratificada poderá ser de dedicação integral ou parcial, conforme necessidade da administração.

**Conforme a Lei nº 1.881, de 05 de abril de 2012, que dispõe sobre o Plano de Cargos, Carreiras e Vencimentos do quadro geral de servidores da Prefeitura Municipal de Telêmaco Borba/PR, regulamentada pelo Decreto nº 2269/2015, responda às próximas três questões.**

**38. Leia as assertivas e assinala a incorreta.**

- a) Do resultado da avaliação de desempenho poderá ser interposto recurso à Comissão de Desenvolvimento Funcional no prazo de quinze dias a contar da publicação no Boletim Oficial do Município.
- b) Não será concedida a progressão ou promoção ao servidor que estiver em licença para tratamento de saúde por um período superior a quarenta e cinco dias, no período de avaliação.
- c) A alternância dos membros constituintes da Comissão de Desenvolvimento Funcional eleitos pelos servidores verificar-se-á a cada três anos de participação, observados, para substituição de seus participantes, o critério fixado no artigo anterior, não cabendo eleição sucessiva.
- d) Caberá à Comissão de Desenvolvimento Funcional, no caso de divergência de vinte por cento entre a nota do avaliador e a do avaliado, solicitar nova avaliação à chefia.
- e) Nos termos do disposto no art. 17 da Lei nº 1.881, de 05 de abril de 2012, para progredir, é necessário que o servidor satisfaça, dentre outros, o seguinte requisito: estar no efetivo exercício de seu cargo ou em função comissionada na sua área de atuação durante o interstício de dois anos.

**39. Assinale a alternativa que completa respectivamente as lacunas do texto a seguir:**

**A Comissão de Desenvolvimento Funcional será constituída por \_\_\_\_\_ membros, sendo \_\_\_\_\_ designados pelo Prefeito Municipal de Telêmaco Borba e os demais eleitos pelos servidores municipais dentre os estáveis, com a atribuição de coordenar os procedimentos relativos à avaliação periódica de desempenho e outras atribuições.**

- a) três / sete
- b) um / três
- c) sete / três
- d) três / cinco
- e) dois / cinco

**40. A Avaliação de Desempenho será norteadada, dentre outros, pelo seguinte princípio: Amplitude - a avaliação deve incidir sobre todas as áreas de atuação do servidor, que compreendem:**

- 1. a formulação de políticas administrativas e sua aplicação para todos os setores da administração municipal;**
- 2. o desempenho do profissional dentro de suas funções pertinentes;**
- 3. a estrutura do órgão em que exerce a função;**
- 4. os resultados de eficiência dos serviços de cada setor ou órgão da administração municipal;**
- 5. a participação direta do avaliado, durante todo o processo avaliativo.**

**Diante dessa afirmação, somente não está correto o item:**

- a) 1
- b) 2
- c) 3
- d) 4
- e) 5

**RASCUNHO**



PREFEITURA DE TELÊMACO BORBA - ESTADO DO PARANÁ- EDITAL Nº 001-2016 - CONCURSO PÚBLICO

VESPERTINO – 29/05/2016 – NÍVEL SUPERIOR

1

PROVA OBJETIVA NÚMERO

CARGO: ARQUIVOLOGIA

Leia atentamente as INSTRUÇÕES:

1. Confira seus dados no cartão-resposta: nome, número de inscrição e o curso para o qual se inscreveu.
2. **MARQUE no seu cartão-resposta o número da sua prova** (não será corrigido o cartão-resposta que não tiver marcado o número da prova) e **Assine** seu cartão-resposta.
3. Aguarde a autorização do Fiscal para abrir o caderno de prova. Ao receber a ordem do fiscal, confira o caderno de prova com muita atenção. Nenhuma reclamação sobre o total de questões ou falha de impressão será aceita depois de iniciada a prova.
4. O cartão-resposta não será substituído, salvo se contiver erro de impressão.
5. Preencha toda a área do cartão-resposta correspondente à alternativa de sua escolha, com caneta esferográfica (tinta azul ou preta), sem ultrapassar as bordas. As marcações duplas, ou rasuradas, com corretivo, ou marcadas diferentemente do modelo estabelecido no cartão-resposta poderão ser anuladas.
6. Sua prova tem **40** questões, com **5** alternativas.
7. Cabe apenas ao candidato a interpretação das questões, **o fiscal** não poderá fazer nenhuma interferência.
8. A prova será realizada com duração máxima de **3 (três) horas**, incluído o tempo para a realização da Prova Objetiva de múltipla escolha e o preenchimento do cartão-resposta.
9. O candidato poderá retirar-se do local de realização das provas somente **1 (uma) hora** após o seu início, sem levar o caderno de prova.
10. O candidato poderá levar o caderno de provas, assim como anotação contendo transcrição do seu cartão-resposta, somente **1h30min** (uma hora e trinta minutos) após o início da realização da prova.
11. Ao terminar a prova, o candidato deverá entregar ao fiscal de sala o cartão-resposta preenchido e **ASSINADO**.
12. Os **3 (três)** candidatos, que terminarem a prova por último, deverão permanecer na sala, e só poderão sair juntos após o fechamento do envelope, contendo os cartões-resposta dos candidatos presentes e ausentes, e assinarem no lacre do referido envelope, atestando que este foi devidamente lacrado.
13. Durante todo o tempo em que permanecer no local onde está ocorrendo o concurso, o candidato deverá, manter o celular desligado e sem bateria, só sendo permitido ligar depois de ultrapassar o portão de saída do prédio.
14. Não será permitido ao candidato fumar na sala de provas, bem como nas dependências.
15. Depois de terminar a prova e entregar ao fiscal o cartão-resposta, preenchido e assinado, não será mais permitido ao candidato o uso do banheiro e bebedouro.

**BOA PROVA!**

**LÍNGUA PORTUGUESA****Texto para as próximas cinco questões:****“O cego Estrelinho”  
Mia Couto**

O cego Estrelinho era pessoa de nenhuma vez: sua história poderia ser contada e descontada não fosse seu guia, Gigitto Efraim. A mão de Gigitto conduziu o desvistado por tempos e idades. Aquela mão era repartidamente comum, extensão de um no outro, siamensal. E assim era quase de nascença. Memória de Estrelinho tinha cinco dedos e eram os de Gigitto postos, em aperto, na sua própria mão.

O cego, curioso, queria saber de tudo. Ele não fazia cerimônia no viver. O sempre lhe era pouco e o tudo insuficiente. Dizia, deste modo:

— Tenho que viver já, senão esqueço-me.

Gigitto, porém, o que descrevia era o que não havia. O mundo que ele minuciava eram fantasias e rendilhados. A imaginação do guia era mais profícua que papadeira. O cego enchia a boca de águas:

— Que maravilhação esse mundo. Me conte tudo, Gigitto!

A mão do guia era, afinal, o manuscrito da mentira. Gigitto Efraim estava como nunca esteve S. Tomé: via para não crer. O condutor falava pela ponta dos dedos. Desfolhava o universo, aberto em folhas. A ideação dele era tal que mesmo o cego, por vezes, acreditava ver. O outro lhe encorajava esses breves enganar:

— Desbengale-se, você está escolhendo a boa procedência!

Mentira: Estrelinho continuava sem ver uma palmeira à frente do nariz. Contudo, o cego não se conformava em suas escurezas. Ele cumpria o ditado: não tinha perna e queria dar o pontapé. Só à noite, ele desalentava, sofrendo medos mais antigos que a humanidade. Entendia aquilo que, na raça humana, é menos primitivo: o animal.

— Na noite aflige não haver luz?

— Aflição é ter um pássaro branco esvoando dentro do sono.

Pássaro branco? No sono? Lugar de ave é nas alturas. Dizem até que Deus fez o céu para justificar os pássaros. Estrelinho disfarçava o medo dos vaticínios, subterfugindo:

— E agora, Gigitto? Agora, olhando assim para cima, estou face ao céu?

Que podia o outro responder? O céu do cego fica em toda a parte. Estrelinho perdia o pé era quando a noite chegava e seu mestre adormecia. Era como se um novo escuro nele se estreasse em nó cego. Devagaroso e sorrateiro ele aninhava sua mão na mão do guia. Só assim adormecia. A razão da concha é a timidez da amêijoia? Na manhã seguinte, o cego lhe confessava: se você morrer, tenho que morrer logo no imediato. Senão-me: como acerto o caminho para o céu?

Foi no mês de dezembro que levaram Gigitto. Lhe tiraram do mundo para pôr na guerra: obrigavam os serviços militares. O cego reclamou: que o moço inatingia a idade. E que o serviço que ele a si prestava era vital e vitalício. O guia chamou Estrelinho à parte e lhe tranquilizou:

— Não vai ficar sozinando por aí. Minha mana já mandei para ficar no meu lugar.

O cego estendeu o braço a querer tocar uma despedida. Mas o outro já não estava lá. Ou estava e se desviara, propositado? E sem água ida nem vinda, Estrelinho escutou o amigo se afastar, engolido, esponginquo, inevisível. Pela primeira vez, Estrelinho se sentiu invalidado.

— Agora, só agora, sou cego que não vê.

(...)

**COUTO, Mia. Estórias abensonhadas. Rio de Janeiro: Nova Fronteira, 1996. (Pág 23 e 24).**

**01. Quanto à interpretação do fragmento do conto, podemos afirmar que:**

- Gigitto Efraim era o guia de Estrelinho há pouquíssimo tempo.
- Estrelinho era cego de nascença.
- Gigitto descrevia o mundo para Estrelinho de forma denotativa.
- Gigitto foi convocado pelo exército para ser guia de cegos na guerra.
- Gigitto descrevia o mundo para Estrelinho de forma conotativa.

**02. No período “O sempre lhe era pouco e o tudo insuficiente”, o pronome “LHE” exerce a função sintática de:**

- Objeto Direto
- Objeto Indireto
- Complemento Nominal
- Adjunto Adnominal
- Objeto Direto Preposicionado

**03. Na oração “A mão de Gigitto conduziu o desvistado por tempos e idades”, o autor faz uso de um neologismo, assim como no decorrer de toda a obra em questão. Contudo, o neologismo só se torna possível pela utilização dos elementos mórficos naquilo que a gramática normativa pontua como Processo de Formação das Palavras. Levando em consideração apenas o recurso morfológico, qual Processo de Formação foi utilizado?**

- Derivação Sufixal

- b) Derivação Prefixal
- c) Derivação Regressiva
- d) Derivação Imprópria
- e) Derivação Parassintética

**04. No terceiro período do décimo terceiro parágrafo, temos:**

- a) Uma oração
- b) Duas orações
- c) Três orações
- d) Quatro orações
- e) Cinco orações

**05. No último parágrafo do fragmento do conto “— Agora, só agora, sou cego que não vê”, a oração subordinada presente classifica-se corretamente como:**

- a) Oração Subordinada Adjetiva Restritiva
- b) Oração Subordinada Adverbial Causal
- c) Oração Subordinada Substantiva Subjetiva
- d) Oração Subordinada Adverbial Explicativa
- e) Oração Subordinada Adjetiva Explicativa

#### **RACIOCÍNIO LÓGICO**

**06. Os cinco filhos de Ana estavam discutindo a respeito da data de nascimento da mãe:**

- Almir disse que foi em janeiro, dia 14, sexta-feira.
- Vanderlei disse que foi em janeiro, dia 14, sábado.
- Tiago disse que foi em fevereiro, dia 15, sábado.
- Sandro disse que foi em janeiro, dia 15, sexta-feira.
- Renato disse que foi em fevereiro, dia 15, sexta-feira.

**Sabe-se que somente um dos filhos de Ana acertou corretamente sua data de nascimento e que os outros acertaram pelo menos um dos itens (dia, dia da semana e mês). Dessa forma, é correto afirmar que o filho de Ana que acertou a data de nascimento dela foi:**

- a) Renato
- b) Sandro
- c) Tiago
- d) Vanderlei
- e) Almir

**07. Considere a seguinte afirmativa: “Todo churrasqueiro gosta de picanha”. Em relação a essa proposição, é correto afirmar que:**

- a) Algum churrasqueiro não gosta de picanha.
- b) Toda pessoa que gosta de picanha é churrasqueira.
- c) Alguma pessoa que não gosta de picanha é churrasqueira.
- d) Toda pessoa que não é churrasqueira, não gosta de picanha.
- e) Toda pessoa que não gosta de picanha, não é churrasqueira.

**08. Em um grupo formado por 67 pessoas, verificou-se que 41 pessoas gostam de arroz, 29 gostam de feijão, 33 gostam de carne, 19 gostam de arroz e de feijão, 9 gostam apenas de arroz e de carne, 12 gostam de feijão e de carne e que 6 gostam de arroz, de feijão e de carne. O número de pessoas desse grupo, que não gosta de nenhum desses três tipos de alimentos é igual a:**

- a) 4
- b) 5
- c) 6
- d) 8
- e) 10

**09. Bruno escreveu, em seu caderno, várias sequências formadas por números múltiplos de 4, onde os valores que ocupavam as posições pares eram multiplicados por  $-1$ . Cada sequência foi somada e o resultado da soma anotado. A soma das três primeiras sequências escritas por Bruno foram as seguintes:**

$$4 - 8 = -4$$
$$4 - 8 + 12 = 8$$
$$4 - 8 + 12 - 16 = -8$$

**Considere que Bruno escreveu e somou tais sequências, em seu caderno, de modo a obter determinada sequência cuja soma foi 600. O número de termos dessa sequência é igual a:**

- a) 149
- b) 150
- c) 298

- d) 299  
e) 300

10. Quatro torcedores, um do São Paulo, um do Cruzeiro, um do Vasco e um do Bahia, estão sentados ao redor de uma mesa quadrada, de modo que, dois a dois, fiquem frente a frente. Sabe-se que Alan é torcedor do Cruzeiro e que Bruno está sentado à direita de Alan. Sabe-se também que Caio está sentado à direita do torcedor do São Paulo. Sabe-se ainda que Daniel não é torcedor do Vasco e que está sentado à frente de Bruno. Dessa forma, é correto afirmar que:

- a) Bruno é torcedor do Bahia e Daniel é torcedor do São Paulo.  
b) Bruno é torcedor do São Paulo e Daniel é torcedor do Bahia.  
c) Caio é torcedor do Vasco e Daniel é torcedor do São Paulo.  
d) Caio é torcedor do Bahia e Daniel é torcedor do São Paulo.  
e) Bruno é torcedor do Vasco e Daniel é torcedor do Bahia.

### INFORMÁTICA

11. Considerando o MS-Excel versão 2010, observando a figura abaixo, é correto afirmar que:

	A	B	C
1			
2			
3			
4			

- a) Somente 03 três linhas estão selecionadas.  
b) Somente uma célula está selecionada.  
c) 12 (doze) células estão selecionadas.  
d) Somente a coluna A até a linha 4 (quatro) está selecionada.  
e) Somente as colunas 1 (um), 2 (dois), 3 (três) e 4 (quatro) estão selecionadas.

12. Considerando o MS-Excel versão 2010, observando a figura abaixo, é incorreto afirmar que:

	A	B	C
1	12	6	=A1*B1
2	8	2	=A2/B2
3	5	14	=A3-B3
4	6	11	=A4+B4

- a) O resultado da fórmula =A1\*B1 é 72.  
b) O resultado da fórmula =A2/B2 é 4.  
c) O resultado da fórmula =A3-B3 é -9.  
d) O resultado da fórmula =A3-B3 é 9.  
e) O resultado da fórmula =A4+B4 é 17.

13. Digitando um texto no MS-Word versão 2010, necessito adicionar número nas páginas. Quanto a isso, é correto afirmar que:

- a) No menu Layout da Página, clico em número de página e seleciono onde desejo adicionar os números.  
b) No menu Inserir, clico em número de página e seleciono onde desejo adicionar os números.  
c) No menu Revisão, clico em número de página e seleciono onde desejo adicionar os números.  
d) No menu Referências, clico em número de página e seleciono onde desejo adicionar os números.  
e) No menu Exibição, clico em número de página e seleciono onde desejo adicionar os números.

14. A segurança da informação está diretamente relacionada com proteção de um conjunto de informações, no sentido de preservar o valor que possuem para um indivíduo ou uma organização. Atualmente, um dos aplicativos mais utilizados no mundo, o Whats app, teve uma alteração de confidencialidade muito importante na segurança das informações transmitidas e recebidas. Dentre as alternativas, assinale a que corretamente informa a alteração inserida no aplicativo Whats app.

- a) Antispam  
b) Antivirus  
c) Firewall  
d) Antispyware  
e) Criptografia



**15. São todos os dispositivos que trabalham acoplados ao microcomputador para receber, transmitir, visualizar, ler, gravar ou armazenarem dados. São eles que permitem a comunicação do computador com o meio exterior, isto é, com os usuários e outras máquinas.**

**Esse texto descreve corretamente:**

- a) Memória ram
- b) Memória virtual
- c) Software
- d) Periféricos
- e) Hardware

#### **CONHECIMENTOS GERAIS**

##### **16. Hino do município de Telêmaco Borba/PR**

Das virgens matas e campos verdejantes

Servindo-se também o rio Tibagi,

Homens de ideais, espíritos vibrantes.

Constituíram as indústrias aqui.

Estribilho:

Salve! Salve! Telêmaco Borba

Terra querida e de grandes primores,

A nossa homenagem rendamos

À cidade dos trabalhadores.

Pois a cadência de enorme e real progresso

Um município mui grandioso fez nascer,

Marcando assim, verdadeiro sucesso

Faz, então o Paraná engrandecer.

**No que tange ao Hino do município, atribua V (verdadeiro) ou F (falso) às afirmativas e marque a alternativa correta.**

( ) Eloah Martins Quadrado é autora da letra do hino.

( ) Bento Mossurunga compôs a música do hino.

( ) Eloah Martins Quadrado foi nomeada primeira professora da Cidade Nova, atual Telêmaco Borba.

( ) Bento Mossurunga fundou a orquestra Estudantil e Concertos – Orquestra Sinfônica da Universidade, a Sociedade de Cultura Artístico Basilio Itiberê.

a) F, V, V, V.

b) V, F, V, V.

c) V, V, F, V.

d) V, V, F, F.

e) V, V, V, V.

**17. À luz da Lei nº 1883/2012, que dispõe sobre o Estatuto dos Servidores Públicos da Administração Direta, Autárquica e Funcional do Município de Telêmaco Borba/PR, leia as alternativas e marque a correta.**

a) A apresentação para a posse ocorrerá no prazo de até trinta dias, contados do ato de nomeação.

b) A destituição do servidor da função gratificada dar-se-á por solicitação exclusiva dele mesmo.

c) O servidor ocupante exclusivamente de cargo em comissão será contribuinte do regime geral de previdência social.

d) A aprovação em concurso público gera o direito à nomeação, e será feita obedecida à ordem de classificação dos candidatos.

e) O exercício de função gratificada poderá ser de dedicação integral ou parcial, conforme necessidade da administração.

**Conforme a Lei nº 1.881, de 05 de abril de 2012, que dispõe sobre o Plano de Cargos, Carreiras e Vencimentos do quadro geral de servidores da Prefeitura Municipal de Telêmaco Borba/PR, regulamentada pelo Decreto nº 2269/2015, responda às próximas três questões.**

**18. Leia as assertivas e assinala a incorreta.**

a) Do resultado da avaliação de desempenho poderá ser interposto recurso à Comissão de Desenvolvimento Funcional no prazo de quinze dias a contar da publicação no Boletim Oficial do Município.

b) Não será concedida a progressão ou promoção ao servidor que estiver em licença para tratamento de saúde por um período superior a quarenta e cinco dias, no período de avaliação.

c) A alternância dos membros constituintes da Comissão de Desenvolvimento Funcional eleitos pelos servidores verificar-se-á a cada três anos de participação, observados, para substituição de seus participantes, o critério fixado no artigo anterior, não cabendo eleição sucessiva.

d) Caberá à Comissão de Desenvolvimento Funcional, no caso de divergência de vinte por cento entre a nota do avaliador e a do avaliado, solicitar nova avaliação à chefia.





e) Nos termos do disposto no art. 17 da Lei n° 1.881, de 05 de abril de 2012, para progredir, é necessário que o servidor satisfaça, dentre outros, o seguinte requisito: estar no efetivo exercício de seu cargo ou em função comissionada na sua área de atuação durante o interstício de dois anos.

**19. Assinale a alternativa que completa respectivamente as lacunas do texto a seguir:**

**A Comissão de Desenvolvimento Funcional será constituída por \_\_\_\_\_ membros, sendo \_\_\_\_\_ designados pelo Prefeito Municipal de Telêmaco Borba e os demais eleitos pelos servidores municipais dentre os estáveis, com a atribuição de coordenar os procedimentos relativos à avaliação periódica de desempenho e outras atribuições.**

- a) três / sete
- b) um / três
- c) sete / três
- d) três / cinco
- e) dois / cinco

**20. A Avaliação de Desempenho será norteadada, dentre outros, pelo seguinte princípio: Amplitude - a avaliação deve incidir sobre todas as áreas de atuação do servidor, que compreendem:**

- 1. a formulação de políticas administrativas e sua aplicação para todos os setores da administração municipal;**
- 2. o desempenho do profissional dentro de suas funções pertinentes;**
- 3. a estrutura do órgão em que exerce a função;**
- 4. os resultados de eficiência dos serviços de cada setor ou órgão da administração municipal;**
- 5. a participação direta do avaliado, durante todo o processo avaliativo.**

**Diante dessa afirmação, somente não está correto o item:**

- a) 1
- b) 2
- c) 3
- d) 4
- e) 5

#### **CONHECIMENTOS ESPECÍFICOS**

**21. Marque a opção que não está incluída como uma das características de documento de arquivo apresentadas por Luciana Duranti.**

- a) Imparcialidade
- b) Unicidade
- c) Autenticidade
- d) Naturalidade
- e) Organicidade

**22. Dentre as propriedades formalizadas como uma axiomática geral, apresentadas por Armando B. Malheiro da Silva e Fernanda Ribeiro, não se inclui a**

- a) estruturação pela ação humana.
- b) integração humana.
- c) guarda.
- d) pregnância.
- e) transmissibilidade.

**23. Marque a alternativa que não inclui um dos aspectos de uma política de informação governamental consistente, socialmente aprovada e compatível com interesses arquivísticos apresentada por José Maria Jardim.**

- a) Legislação adequada dispendo sobre a função do Estado na produção e uso de informações resultantes das novas tecnologias e resguardando o direito do cidadão à informação e à sua privacidade.
- b) Elaboração de diretrizes sobre destinação, processamento técnico e padrões técnicos sobre os novos tipos de documentos eletrônicos.
- c) Pesquisa na área de gestão de recursos informativos e da informação.
- d) Microfilmagem de documentos.
- e) Cooperação entre agências governamentais responsáveis pelo tratamento e acesso à informação, desenvolvimento administrativo e assuntos jurídicos, além de organismos privados.

**24. A composição do Conselho Nacional de Arquivos – CONARQ reflete a convergência de interesses do Estado e da Sociedade, de modo a compatibilizar as questões inerentes à responsabilidade funcional e social do Poder Público perante a gestão e preservação do patrimônio arquivístico público e privado brasileiro e o direito dos cidadãos de acesso às informações. O CONARQ é composto de quantos membros?**

- a) 17



- b) 15
- c) 19
- d) 14
- e) 20

**25. Das opções abaixo, marque a que contém uma autoridade que não integra a Comissão Interministerial cuja finalidade é obter informações que levem à localização dos restos mortais de participantes da Guerrilha do Araguaia, de acordo com o disposto no Decreto nº 4.850/2003.**

- a) Secretário Especial dos Direitos Humanos da Presidência da República
- b) Advogado-Geral da União
- c) Chefe da Casa Civil da Presidência da República
- d) Ministro da Justiça
- e) Controlador-Geral da União

**26. Qual a definição clássica de fundo de arquivo, internacionalmente aceita, é emanada pelo Manual holandês da Associação de Arquivistas?**

- a) “Grupo de arquivo (fundo) são todos os documentos resultantes do trabalho de determinada administração, que constitui um todo orgânico, completo em si mesmo, capaz de tratar, independentemente, e sem autoridade alguma interna ou externa, de todos os aspectos de qualquer negócio que lhe pudesse ser apresentado de modo normal”.
- b) “Os primeiros agrupamentos, reunidos em razão de sua origem, são as seções (fundos), integradas por papéis procedentes de uma instituição ou divisão administrativa importante, que tenha organização, funções e fins conhecidos”.
- c) “Fundo de arquivo é o conjunto de documentos de toda natureza que qualquer corpo administrativo, qualquer pessoa física ou jurídica tenha reunido, automática e organicamente, em razão de suas funções ou de sua atividade. Isto é, dele fazem parte os rascunhos e/ou as duplicatas dos documentos expedidos e os originais e/ou cópias de peças recebidas, assim como os documentos elaborados em consequência das atividades internas dos organismos considerados e os documentos reunidos por sua própria documentação, bem como os conjuntos eventualmente herdados de outros organismos aos quais sucede totalmente ou em parte”.
- d) “Arquivo (fundo) é o conjunto de documentos escritos, desenhos e material impresso, recebidos ou produzidos oficialmente por determinado órgão administrativo ou por um de seus funcionários, na medida em que tais documentos se destinem a permanecer na custódia desse órgão ou funcionário”.
- e) “Fundo de arquivo é um conjunto de documentos cujo crescimento se efetua no exercício das atividades de uma pessoa física ou jurídica”.

**27. A organização dos arquivos correntes incluem várias etapas. Indique a definição que corresponda ao conceito de “ordenação”.**

- a) Proceder à leitura do último despacho verificando se, de fato, o documento destina-se ao arquivamento ou se deverá obedecer a uma rotina de trâmite preestabelecida.
- b) Dispor os documentos de acordo com a codificação, separando-os por guias de ordenação, em escaninhos ou em classificadores.
- c) Determinar sob que codificação deverá ser arquivado o documento e que referências cruzadas serão necessárias. Caso não se trate de um documento já classificado pelo serviço de protocolo, a classificação ocorrerá nesta etapa.
- d) Inserir o documento na unidade de arquivamento preestabelecida.
- e) Retirada do documento do arquivo para empréstimo, fornecimento de informações ou para realização de uma juntada.

**28. “A preservação é uma atividade de administração e gerenciamento de recursos, compreendendo políticas, procedimentos e processos, que, aplicados de forma adequada, serão capazes de retardar a deterioração dos materiais e promover o acesso à informação, intensificando sua importância funcional”. A definição apresentada, sobre a preservação, é de autoria de um importante profissional da área que possui reconhecimento internacional, chamado:**

- a) Clark Morrow
- b) Gael de Güichen
- c) Paul Banks
- d) Paul Conway
- e) Salvador Muñoz Viñas

**29. Heloísa Bellotto apresenta algumas considerações acerca dos dez itens que compõem o “Código de Deontologia” elaborado pelo Conselho Internacional de Arquivos. Marque a opção que contém o item sobre o qual ela faz o seguinte comentário: “No cumprimento da sua missão e das suas funções, adaptam-se aos princípios arquivísticos que regem a criação, a gestão e a escolha do destino dos arquivos correntes e intermediários, a avaliação e o recolhimento dos documentos com vistas aos seu**



**arquivamento definitivo, a salvaguarda, a preservação e a conservação dos arquivos de que se incumbem, e a classificação, a análise, a publicação e os meios de tornar os documentos acessíveis”.**

- a) Os arquivistas mantêm a integridade dos arquivos e garantem, desse modo, que eles constituam um testemunho do passado, duradouro e fidedigno. O primeiro dever dos arquivistas é manter a integridade dos documentos que estão a seu cargo e sob sua vigilância.
- b) Os arquivistas preservam a autenticidade dos documentos durante as operações de tratamento, de conservação e de exploração. Os arquivistas atuam de maneira a que o valor arquivístico dos documentos, incluindo os documentos eletrônicos ou informáticos, não seja afetado pelos trabalhos arquivísticos de avaliação, de classificação e de inventário, de conservação e análise.
- c) Os arquivistas tratam, selecionam e mantêm os arquivos em seu contexto histórico, jurídico e administrativo, respeitando, desse modo, a sua proveniência, preservando e tornando assim explícitas as suas inter-relações originais. Os arquivistas agem em conformidade com os princípios e as práticas geralmente reconhecidos.
- d) Os arquivistas asseguram sempre a comunicabilidade e a compreensão dos documentos.
- e) Os arquivistas são responsáveis pelo tratamento dos documentos e justificam as suas modalidades. Os arquivistas não se preocupam apenas com o recolhimento dos documentos existentes, mas também cooperam com os gestores de documentos de modo a que, nos sistemas de informação e de arquivamento eletrônico, sejam tomados em consideração, desde a origem, os procedimentos destinados à salvaguarda dos documentos de valor permanente.

**30. De acordo com a Lei nº 12.527/2011, no caso de indeferimento de acesso a informações ou às razões da negativa do acesso, poderá o interessado interpor recurso contra a decisão no prazo de quantos dias a contar da sua ciência?**

- a) 10
- b) 15
- c) 20
- d) 25
- e) 30

**31. O Sistema Nacional de Arquivos – SINAR possui como órgão central o Conselho Nacional de Arquivos – CONARQ e foi instituído pelo Art. 26 da Lei nº 8.159/91. Não integra o SINAR:**

- a) O Arquivo Nacional
- b) Os arquivos do Distrito Federal dos Poderes Executivo, Legislativo e Judiciário
- c) Os arquivos municipais dos Poderes Executivo e Legislativo
- d) A Controladoria Geral da União
- e) Os arquivos estaduais dos Poderes Executivo, Legislativo e Judiciário

**32. “Área da paleografia que estuda a origem, tipos e evolução das abreviaturas”. Essa é a definição do seguinte termo:**

- a) Braquigrafia
- b) Criptografia
- c) Crisografia
- d) Sigilografia
- e) Termografia

**33. A classificação de informações no âmbito da administração pública federal, segundo o art. 27 da Lei de Acesso à Informação, é de competência de autoridades exclusivas. Indique a opção que apresenta autoridade(s) que não possui/possuem tal prerrogativa.**

- a) Ministros de Estado e autoridades com as mesmas prerrogativas
- b) Comandantes da Marinha, do Exército, da Aeronáutica
- c) Chefes de Missões Diplomáticas e Consulares permanentes no exterior
- d) Presidente da República
- e) Autoridades que exerçam funções de direção, comando ou chefia do Grupo-Direção e Assessoramento Superiores - DAS, nível DAS 101.5 ou superior, e seus equivalentes.

**34. Das opções seguintes, marque a que não corresponde a um documento do gênero iconográfico.**

- a) Fotografia
- b) Negativo
- c) Certidão
- d) Diapositivo
- e) Gravura

**35. De acordo com o cumprimento às normas estabelecidas pelo Ministério do Planejamento, Orçamento e Gestão, os sítios na Internet dos órgãos e entidades deverão, conforme consta no Decreto nº 7.724/2012, atender a alguns requisitos específicos, que não inclui:**

- a) A possibilidade de gravação de relatórios em diversos formatos eletrônicos, inclusive abertos e não proprietários, tais como planilhas e texto, de modo a facilitar a análise das informações.
- b) Justificativa para a solicitação de informações.
- c) A garantia de autenticidade e integridade das informações disponíveis para acesso.
- d) A indicação de instruções que permitam ao requerente comunicar-se, por via eletrônica ou telefônica, com o órgão ou entidade.
- e) O formulário para pedido de acesso à informação.

**36. De acordo com a Norma Internacional ISAD(G), não é um dos elementos considerados essenciais para o intercâmbio internacional de informação descritiva:**

- a) Código de referência
- b) Dimensão da unidade de descrição
- c) Data(s)
- d) Produtor
- e) Área de identificação

**37. De acordo com a terminologia arquivística, o “conjunto de procedimentos e operações técnicas cuja interação permite a eficiência e a eficácia na produção, tramitação, uso, avaliação, arquivamento e destinação de documentos” é a definição de:**

- a) Sistema de recuperação da informação
- b) Sistema de arranjo
- c) Sistema de arquivo
- d) Sistema de gestão de documentos
- e) Sistema de arquivamento

**38. O princípio teórico-metodológico fundamental da Arquivologia, segundo o qual “os documentos não podem se misturar a outros fundos, devendo ser organizados pela origem dos arquivos”, é o do(da):**

- a) Respeito aos fundos
- b) Organicidade
- c) Indivisibilidade
- d) Unicidade
- e) Cumulatividade

**39. Dentre as opções abaixo relacionadas, marque a que não se configura como um dos traços essenciais do paradigma científico e pós-custodial relacionado ao processo informacional.**

- a) Valorização da informação, residindo nela, e não no suporte, a sua própria historicidade e a sua riqueza patrimonial/cultural.
- b) Afirmação do incessante e natural dinamismo informacional oposto ao imobilismo documental.
- c) Possibilidade de se manter a compartimentação documentalista da informação pelo espaço institucional e tecnológico onde se conserva.
- d) Necessidade de conhecer a informação social através de modelos teórico-científicos cada vez mais exigentes e eficazes em vez do universo rudimentar e fechado da prática informacional empírica.
- e) Substituição da lógica instrumental patente nas expressões “gestão de documentos” e “gestão da informação” pela lógica científico-compreensiva da informação na gestão.

**40. De acordo com o Decreto nº 7.845, de 14 de novembro de 2012, a correta definição para “algoritmo de estado” é:**

- a) Ato de cifrar mediante uso de algoritmo simétrico ou assimétrico, com recurso criptográfico, para substituir sinais de Linguagem clara por outros ininteligíveis por pessoas não autorizadas a conhecê-la.
- b) Função matemática utilizada na cifração e na decifração, desenvolvido pelo Estado, para uso exclusivo em interesse do serviço de órgãos ou entidades do Poder Executivo federal.
- c) Código alfanumérico que indexa documento com informação classificada em qualquer grau de sigilo.
- d) Certificado que autoriza pessoa para o tratamento de informação classificada.
- e) Ato de decifrar mediante uso de algoritmo simétrico ou assimétrico, com recurso criptográfico, para reverter processo de cifração original.

**RASCUNHO**



PREFEITURA DE TELÊMACO BORBA - ESTADO DO PARANÁ- **EDITAL Nº 001-2016 - CONCURSO PÚBLICO VESPERTINO – 29/05/2016 – NÍVEL SUPERIOR**

PROVA OBJETIVA NÚMERO

**2**

**CARGO: TMNS I - ARQUIVOLOGIA**

**Leia atentamente as INSTRUÇÕES:**

1. Confira seus dados no cartão-resposta: nome, número de inscrição e o curso para o qual se inscreveu.
2. **MARQUE no seu cartão-resposta o número da sua prova** (não será corrigido o cartão-resposta que não tiver marcado o número da prova) e **Assine** seu cartão-resposta.
3. Aguarde a autorização do Fiscal para abrir o caderno de prova. Ao receber a ordem do fiscal, confira o caderno de prova com muita atenção. Nenhuma reclamação sobre o total de questões ou falha de impressão será aceita depois de iniciada a prova.
4. O cartão-resposta não será substituído, salvo se contiver erro de impressão.
5. Preencha toda a área do cartão-resposta correspondente à alternativa de sua escolha, com caneta esferográfica (tinta azul ou preta), sem ultrapassar as bordas. As marcações duplas, ou rasuradas, com corretivo, ou marcadas diferentemente do modelo estabelecido no cartão-resposta poderão ser anuladas.
6. Sua prova tem **40** questões, com **5** alternativas.
7. Cabe apenas ao candidato a interpretação das questões, **o fiscal** não poderá fazer nenhuma interferência.
8. A prova será realizada com duração máxima de **3 (três) horas**, incluído o tempo para a realização da Prova Objetiva de múltipla escolha e o preenchimento do cartão-resposta.
9. O candidato poderá retirar-se do local de realização das provas somente **1 (uma) hora** após o seu início, sem levar o caderno de prova.
10. O candidato poderá levar o caderno de provas, assim como anotação contendo transcrição do seu cartão-resposta, somente **1h30min** (uma hora e trinta minutos) após o início da realização da prova.
11. Ao terminar a prova, o candidato deverá entregar ao fiscal de sala o cartão-resposta preenchido e **ASSINADO**.
12. Os **3 (três)** candidatos, que terminarem a prova por último, deverão permanecer na sala, e só poderão sair juntos após o fechamento do envelope, contendo os cartões-resposta dos candidatos presentes e ausentes, e assinarem no lacre do referido envelope, atestando que este foi devidamente lacrado.
13. Durante todo o tempo em que permanecer no local onde está ocorrendo o concurso, o candidato deverá, manter o celular desligado e sem bateria, só sendo permitido ligar depois de ultrapassar o portão de saída do prédio.
14. Não será permitido ao candidato fumar na sala de provas, bem como nas dependências.
15. Depois de terminar a prova e entregar ao fiscal o cartão-resposta, preenchido e assinado, não será mais permitido ao candidato o uso do banheiro e bebedouro.

**BOA PROVA!**

**RACIOCÍNIO LÓGICO**

**01. Os cinco filhos de Ana estavam discutindo a respeito da data de nascimento da mãe:**

- Almir disse que foi em janeiro, dia 14, sexta-feira.
- Vanderlei disse que foi em janeiro, dia 14, sábado.
- Tiago disse que foi em fevereiro, dia 15, sábado.
- Sandro disse que foi em janeiro, dia 15, sexta-feira.
- Renato disse que foi em fevereiro, dia 15, sexta-feira.

**Sabe-se que somente um dos filhos de Ana acertou corretamente sua data de nascimento e que os outros acertaram pelo menos um dos itens (dia, dia da semana e mês). Dessa forma, é correto afirmar que o filho de Ana que acertou a data de nascimento dela foi:**

- a) Renato
- b) Sandro
- c) Tiago
- d) Vanderlei
- e) Almir

**02. Considere a seguinte afirmativa: “Todo churrasqueiro gosta de picanha”. Em relação a essa proposição, é correto afirmar que:**

- a) Algum churrasqueiro não gosta de picanha.
- b) Toda pessoa que gosta de picanha é churrasqueira.
- c) Alguma pessoa que não gosta de picanha é churrasqueira.
- d) Toda pessoa que não é churrasqueira, não gosta de picanha.
- e) Toda pessoa que não gosta de picanha, não é churrasqueira.

**03. Em um grupo formado por 67 pessoas, verificou-se que 41 pessoas gostam de arroz, 29 gostam de feijão, 33 gostam de carne, 19 gostam de arroz e de feijão, 9 gostam apenas de arroz e de carne, 12 gostam de feijão e de carne e que 6 gostam de arroz, de feijão e de carne. O número de pessoas desse grupo, que não gosta de nenhum desses três tipos de alimentos é igual a:**

- a) 4
- b) 5
- c) 6
- d) 8
- e) 10

**04. Bruno escreveu, em seu caderno, várias sequências formadas por números múltiplos de 4, onde os valores que ocupavam as posições pares eram multiplicados por  $-1$ . Cada sequência foi somada e o resultado da soma anotado. A soma das três primeiras sequências escritas por Bruno foram as seguintes:**

$$4 - 8 = -4$$

$$4 - 8 + 12 = 8$$

$$4 - 8 + 12 - 16 = -8$$

**Considere que Bruno escreveu e somou tais sequências, em seu caderno, de modo a obter determinada sequência cuja soma foi 600. O número de termos dessa sequência é igual a:**

- a) 149
- b) 150
- c) 298
- d) 299
- e) 300

**05. Quatro torcedores, um do São Paulo, um do Cruzeiro, um do Vasco e um do Bahia, estão sentados ao redor de uma mesa quadrada, de modo que, dois a dois, fiquem frente a frente. Sabe-se que Alan é torcedor do Cruzeiro e que Bruno está sentado à direita de Alan. Sabe-se também que Caio está sentado à direita do torcedor do São Paulo. Sabe-se ainda que Daniel não é torcedor do Vasco e que está sentado à frente de Bruno. Dessa forma, é correto afirmar que:**

- a) Bruno é torcedor do Bahia e Daniel é torcedor do São Paulo.
- b) Bruno é torcedor do São Paulo e Daniel é torcedor do Bahia.
- c) Caio é torcedor do Vasco e Daniel é torcedor do São Paulo.
- d) Caio é torcedor do Bahia e Daniel é torcedor do São Paulo.
- e) Bruno é torcedor do Vasco e Daniel é torcedor do Bahia.

**INFORMÁTICA**

**06. Considerando o MS-Excel versão 2010, observando a figura abaixo, é correto afirmar que:**



	A	B	C
1			
2			
3			
4			

- a) Somente 03 três linhas estão selecionadas.  
 b) Somente uma célula está selecionada.  
 c) 12 (doze) células estão selecionadas.  
 d) Somente a coluna A até a linha 4 (quatro) está selecionada.  
 e) Somente as colunas 1 (um), 2 (dois), 3 (três) e 4 (quatro) estão selecionadas.

**07. Considerando o MS-Excel versão 2010, observando a figura abaixo, é incorreto afirmar que:**

	A	B	C
1	12	6	=A1*B1
2	8	2	=A2/B2
3	5	14	=A3-B3
4	6	11	=A4+B4

- a) O resultado da fórmula =A1\*B1 é 72.  
 b) O resultado da fórmula =A2/B2 é 4.  
 c) O resultado da fórmula =A3-B3 é -9.  
 d) O resultado da fórmula =A3-B3 é 9.  
 e) O resultado da fórmula =A4+B4 é 17.

**08. Digitando um texto no MS-Word versão 2010, necessito adicionar número nas páginas. Quanto a isso, é correto afirmar que:**

- a) No menu Layout da Página, clico em número de página e seleciono onde desejo adicionar os números.  
 b) No menu Inserir, clico em número de página e seleciono onde desejo adicionar os números.  
 c) No menu Revisão, clico em número de página e seleciono onde desejo adicionar os números.  
 d) No menu Referências, clico em número de página e seleciono onde desejo adicionar os números.  
 e) No menu Exibição, clico em número de página e seleciono onde desejo adicionar os números.

**09. A segurança da informação está diretamente relacionada com proteção de um conjunto de informações, no sentido de preservar o valor que possuem para um indivíduo ou uma organização. Atualmente, um dos aplicativos mais utilizados no mundo, o Whats app, teve uma alteração de confidencialidade muito importante na segurança das informações transmitidas e recebidas. Dentre as alternativas, assinale a que corretamente informa a alteração inserida no aplicativo Whats app.**

- a) Antispam  
 b) Antivirus  
 c) Firewall  
 d) Antispyware  
 e) Criptografia

**10. São todos os dispositivos que trabalham acoplados ao microcomputador para receber, transmitir, visualizar, ler, gravar ou armazenarem dados. São eles que permitem a comunicação do computador com o meio exterior, isto é, com os usuários e outras máquinas.**

**Esse texto descreve corretamente:**

- a) Memória ram  
 b) Memória virtual  
 c) Software  
 d) Periféricos  
 e) Hardware

## CONHECIMENTOS GERAIS

**11. Hino do município de Telêmaco Borba/PR**

Das virgens matas e campos verdejantes  
 Servindo-se também o rio Tibagi,  
 Homens de ideais, espíritos vibrantes.  
 Constituíram as indústrias aqui.



Estrilho:

Salve! Salve! Telêmaco Borba  
Terra querida e de grandes primores,  
A nossa homenagem rendamos  
À cidade dos trabalhadores.  
Pois a cadência de enorme e real progresso  
Um município mui grandioso fez nascer,  
Marcando assim, verdadeiro sucesso  
Faz, então o Paraná engrandecer.

**No que tange ao Hino do município, atribua V (verdadeiro) ou F (falso) às afirmativas e marque a alternativa correta.**

- ( ) Eloah Martins Quadrado é autora da letra do hino.  
( ) Bento Mossurunga compôs a música do hino.  
( ) Eloah Martins Quadrado foi nomeada primeira professora da Cidade Nova, atual Telêmaco Borba.  
( ) Bento Mossurunga fundou a orquestra Estudantil e Concertos – Orquestra Sinfônica da Universidade, a Sociedade de Cultura Artístico Basilio Itiberê.  
a) F, V, V, V.  
b) V, F, V, V.  
c) V, V, F, V.  
d) V, V, F, F.  
e) V, V, V, V.

**12. À luz da Lei nº 1883/2012, que dispõe sobre o Estatuto dos Servidores Públicos da Administração Direta, Autárquica e Funcional do Município de Telêmaco Borba/PR, leia as alternativas e marque a correta.**

- a) A apresentação para a posse ocorrerá no prazo de até trinta dias, contados do ato de nomeação.  
b) A destituição do servidor da função gratificada dar-se-á por solicitação exclusiva dele mesmo.  
c) O servidor ocupante exclusivamente de cargo em comissão será contribuinte do regime geral de previdência social.  
d) A aprovação em concurso público gera o direito à nomeação, e será feita obedecida à ordem de classificação dos candidatos.  
e) O exercício de função gratificada poderá ser de dedicação integral ou parcial, conforme necessidade da administração.

**Conforme a Lei nº 1.881, de 05 de abril de 2012, que dispõe sobre o Plano de Cargos, Carreiras e Vencimentos do quadro geral de servidores da Prefeitura Municipal de Telêmaco Borba/PR, regulamentada pelo Decreto nº 2269/2015, responda às próximas três questões.**

**13. Leia as assertivas e assinala a incorreta.**

- a) Do resultado da avaliação de desempenho poderá ser interposto recurso à Comissão de Desenvolvimento Funcional no prazo de quinze dias a contar da publicação no Boletim Oficial do Município.  
b) Não será concedida a progressão ou promoção ao servidor que estiver em licença para tratamento de saúde por um período superior a quarenta e cinco dias, no período de avaliação.  
c) A alternância dos membros constituintes da Comissão de Desenvolvimento Funcional eleitos pelos servidores verificar-se-á a cada três anos de participação, observados, para substituição de seus participantes, o critério fixado no artigo anterior, não cabendo eleição sucessiva.  
d) Caberá à Comissão de Desenvolvimento Funcional, no caso de divergência de vinte por cento entre a nota do avaliador e a do avaliado, solicitar nova avaliação à chefia.  
e) Nos termos do disposto no art. 17 da Lei nº 1.881, de 05 de abril de 2012, para progredir, é necessário que o servidor satisfaça, dentre outros, o seguinte requisito: estar no efetivo exercício de seu cargo ou em função comissionada na sua área de atuação durante o interstício de dois anos.

**14. Assinale a alternativa que completa respectivamente as lacunas do texto a seguir:**

**A Comissão de Desenvolvimento Funcional será constituída por \_\_\_\_\_ membros, sendo \_\_\_\_\_ designados pelo Prefeito Municipal de Telêmaco Borba e os demais eleitos pelos servidores municipais dentre os estáveis, com a atribuição de coordenar os procedimentos relativos à avaliação periódica de desempenho e outras atribuições.**

- a) três / sete  
b) um / três  
c) sete / três  
d) três / cinco  
e) dois / cinco

**15. A Avaliação de Desempenho será norteadada, dentre outros, pelo seguinte princípio: Amplitude - a avaliação deve incidir sobre todas as áreas de atuação do servidor, que compreendem:**

1. a formulação de políticas administrativas e sua aplicação para todos os setores da administração municipal;
2. o desempenho do profissional dentro de suas funções pertinentes;
3. a estrutura do órgão em que exerce a função;
4. os resultados de eficiência dos serviços de cada setor ou órgão da administração municipal;
5. a participação direta do avaliado, durante todo o processo avaliativo.

Diante dessa afirmação, somente não está correto o item:

- a) 1
- b) 2
- c) 3
- d) 4
- e) 5

#### CONHECIMENTOS ESPECÍFICOS

16. Marque a opção que não está incluída como uma das características de documento de arquivo apresentadas por Luciana Duranti.

- a) Imparcialidade
- b) Unicidade
- c) Autenticidade
- d) Naturalidade
- e) Organicidade

17. Dentre as propriedades formalizadas como uma axiomática geral, apresentadas por Armando B. Malheiro da Silva e Fernanda Ribeiro, não se inclui a

- a) estruturação pela ação humana.
- b) integração humana.
- c) guarda.
- d) pregnância.
- e) transmissibilidade.

18. Marque a alternativa que não inclui um dos aspectos de uma política de informação governamental consistente, socialmente aprovada e compatível com interesses arquivísticos apresentada por José Maria Jardim.

- a) Legislação adequada dispendo sobre a função do Estado na produção e uso de informações resultantes das novas tecnologias e resguardando o direito do cidadão à informação e à sua privacidade.
- b) Elaboração de diretrizes sobre destinação, processamento técnico e padrões técnicos sobre os novos tipos de documentos eletrônicos.
- c) Pesquisa na área de gestão de recursos informativos e da informação.
- d) Microfilmagem de documentos.
- e) Cooperação entre agências governamentais responsáveis pelo tratamento e acesso à informação, desenvolvimento administrativo e assuntos jurídicos, além de organismos privados.

19. A composição do Conselho Nacional de Arquivos – CONARQ reflete a convergência de interesses do Estado e da Sociedade, de modo a compatibilizar as questões inerentes à responsabilidade funcional e social do Poder Público perante a gestão e preservação do patrimônio arquivístico público e privado brasileiro e o direito dos cidadãos de acesso às informações. O CONARQ é composto de quantos membros?

- a) 17
- b) 15
- c) 19
- d) 14
- e) 20

20. Das opções abaixo, marque a que contém uma autoridade que não integra a Comissão Interministerial cuja finalidade é obter informações que levem à localização dos restos mortais de participantes da Guerrilha do Araguaia, de acordo com o disposto no Decreto nº 4.850/2003.

- a) Secretário Especial dos Direitos Humanos da Presidência da República
- b) Advogado-Geral da União
- c) Chefe da Casa Civil da Presidência da República
- d) Ministro da Justiça
- e) Controlador-Geral da União

21. Qual a definição clássica de fundo de arquivo, internacionalmente aceita, é emanada pelo Manual holandês da Associação de Arquivistas?

- a) “Grupo de arquivo (fundo) são todos os documentos resultantes do trabalho de determinada administração, que constituiu um todo orgânico, completo em si mesmo, capaz de tratar, independentemente, e sem autoridade alguma interna ou externa, de todos os aspectos de qualquer negócio que lhe pudesse ser apresentado de modo normal”.
- b) “Os primeiros agrupamentos, reunidos em razão de sua origem, são as seções (fundos), integradas por papéis procedentes de uma instituição ou divisão administrativa importante, que tenha organização, funções e fins conhecidos”.
- c) “Fundo de arquivo é o conjunto de documentos de toda natureza que qualquer corpo administrativo, qualquer pessoa física ou jurídica tenha reunido, automática e organicamente, em razão de suas funções ou de sua atividade. Isto é, dele fazem parte os rascunhos e/ou as duplicatas dos documentos expedidos e os originais e/ou cópias de peças recebidas, assim como os documentos elaborados em consequência das atividades internas dos organismos considerados e os documentos reunidos por sua própria documentação, bem como os conjuntos eventualmente herdados de outros organismos aos quais sucede totalmente ou em parte”.
- d) “Arquivo (fundo) é o conjunto de documentos escritos, desenhos e material impresso, recebidos ou produzidos oficialmente por determinado órgão administrativo ou por um de seus funcionários, na medida em que tais documentos se destinem a permanecer na custódia desse órgão ou funcionário”.
- e) “Fundo de arquivo é um conjunto de documentos cujo crescimento se efetua no exercício das atividades de uma pessoa física ou jurídica”.

**22. A organização dos arquivos correntes incluem várias etapas. Indique a definição que corresponda ao conceito de “ordenação”.**

- a) Proceder à leitura do último despacho verificando se, de fato, o documento destina-se ao arquivamento ou se deverá obedecer a uma rotina de trâmite preestabelecida.
- b) Dispor os documentos de acordo com a codificação, separando-os por guias de ordenação, em escaninhos ou em classificadores.
- c) Determinar sob que codificação deverá ser arquivado o documento e que referências cruzadas serão necessárias. Caso não se trate de um documento já classificado pelo serviço de protocolo, a classificação ocorrerá nesta etapa.
- d) Inserir o documento na unidade de arquivamento preestabelecida.
- e) Retirada do documento do arquivo para empréstimo, fornecimento de informações ou para realização de uma juntada.

**23. “A preservação é uma atividade de administração e gerenciamento de recursos, compreendendo políticas, procedimentos e processos, que, aplicados de forma adequada, serão capazes de retardar a deterioração dos materiais e promover o acesso à informação, intensificando sua importância funcional”. A definição apresentada, sobre a preservação, é de autoria de um importante profissional da área que possui reconhecimento internacional, chamado:**

- a) Clark Morrow
- b) Gael de Gūichen
- c) Paul Banks
- d) Paul Conway
- e) Salvador Muñoz Viñas

**24. Heloísa Bellotto apresenta algumas considerações acerca dos dez itens que compõem o “Código de Deontologia” elaborado pelo Conselho Internacional de Arquivos. Marque a opção que contém o item sobre o qual ela faz o seguinte comentário: “No cumprimento da sua missão e das suas funções, adaptam-se aos princípios arquivísticos que regem a criação, a gestão e a escolha do destino dos arquivos correntes e intermediários, a avaliação e o recolhimento dos documentos com vistas aos seu arquivamento definitivo, a salvaguarda, a preservação e a conservação dos arquivos de que se incubem, e a classificação, a análise, a publicação e os meios de tornar os documentos acessíveis”.**

- a) Os arquivistas mantêm a integridade dos arquivos e garantem, desse modo, que eles constituam um testemunho do passado, duradouro e fidedigno. O primeiro dever dos arquivistas é manter a integridade dos documentos que estão a seu cargo e sob sua vigilância.
- b) Os arquivistas preservam a autenticidade dos documentos durante as operações de tratamento, de conservação e de exploração. Os arquivistas atuam de maneira a que o valor arquivístico dos documentos, incluindo os documentos eletrônicos ou informáticos, não seja afetado pelos trabalhos arquivísticos de avaliação, de classificação e de inventário, de conservação e análise.
- c) Os arquivistas tratam, selecionam e mantêm os arquivos em seu contexto histórico, jurídico e administrativo, respeitando, desse modo, a sua proveniência, preservando e tornando assim explícitas as suas inter-relações originais. Os arquivistas agem em conformidade com os princípios e as práticas geralmente reconhecidos.
- d) Os arquivistas asseguram sempre a comunicabilidade e a compreensão dos documentos.
- e) Os arquivistas são responsáveis pelo tratamento dos documentos e justificam as suas modalidades. Os arquivistas não se preocupam apenas com o recolhimento dos documentos existentes, mas também cooperam com os gestores de documentos de modo a que, nos sistemas de informação e de arquivamento eletrônico, sejam

tomados em consideração, desde a origem, os procedimentos destinados à salvaguarda dos documentos de valor permanente.

**25. De acordo com a Lei nº 12.527/2011, no caso de indeferimento de acesso a informações ou às razões da negativa do acesso, poderá o interessado interpor recurso contra a decisão no prazo de quantos dias a contar da sua ciência?**

- a) 10
- b) 15
- c) 20
- d) 25
- e) 30

**26. O Sistema Nacional de Arquivos – SINAR possui como órgão central o Conselho Nacional de Arquivos – CONARQ e foi instituído pelo Art. 26 da Lei nº 8.159/91. Não integra o SINAR:**

- a) O Arquivo Nacional
- b) Os arquivos do Distrito Federal dos Poderes Executivo, Legislativo e Judiciário
- c) Os arquivos municipais dos Poderes Executivo e Legislativo
- d) A Controladoria Geral da União
- e) Os arquivos estaduais dos Poderes Executivo, Legislativo e Judiciário

**27. “Área da paleografia que estuda a origem, tipos e evolução das abreviaturas”. Essa é a definição do seguinte termo:**

- a) Braquigrafia
- b) Criptografia
- c) Crisografia
- d) Sigilografia
- e) Termografia

**28. A classificação de informações no âmbito da administração pública federal, segundo o art. 27 da Lei de Acesso à Informação, é de competência de autoridades exclusivas. Indique a opção que apresenta autoridade(s) que não possui/possuem tal prerrogativa.**

- a) Ministros de Estado e autoridades com as mesmas prerrogativas
- b) Comandantes da Marinha, do Exército, da Aeronáutica
- c) Chefes de Missões Diplomáticas e Consulares permanentes no exterior
- d) Presidente da República
- e) Autoridades que exerçam funções de direção, comando ou chefia do Grupo-Direção e Assessoramento Superiores - DAS, nível DAS 101.5 ou superior, e seus equivalentes.

**29. Das opções seguintes, marque a que não corresponde a um documento do gênero iconográfico.**

- a) Fotografia
- b) Negativo
- c) Certidão
- d) Diapositivo
- e) Gravura

**30. De acordo com o cumprimento às normas estabelecidas pelo Ministério do Planejamento, Orçamento e Gestão, os sítios na Internet dos órgãos e entidades deverão, conforme consta no Decreto nº 7.724/2012, atender a alguns requisitos específicos, que não inclui:**

- a) A possibilidade de gravação de relatórios em diversos formatos eletrônicos, inclusive abertos e não proprietários, tais como planilhas e texto, de modo a facilitar a análise das informações.
- b) Justificativa para a solicitação de informações.
- c) A garantia de autenticidade e integridade das informações disponíveis para acesso.
- d) A indicação de instruções que permitam ao requerente comunicar-se, por via eletrônica ou telefônica, com o órgão ou entidade.
- e) O formulário para pedido de acesso à informação.

**31. De acordo com a Norma Internacional ISAD(G), não é um dos elementos considerados essenciais para o intercâmbio internacional de informação descritiva:**

- a) Código de referência
- b) Dimensão da unidade de descrição
- c) Data(s)
- d) Produtor
- e) Área de identificação

**32. De acordo com a terminologia arquivística, o “conjunto de procedimentos e operações técnicas cuja interação permite a eficiência e a eficácia na produção, tramitação, uso, avaliação, arquivamento e destinação de documentos” é a definição de:**

- a) Sistema de recuperação da informação
- b) Sistema de arranjo
- c) Sistema de arquivo
- d) Sistema de gestão de documentos
- e) Sistema de arquivamento

**33. O princípio teórico-metodológico fundamental da Arquivologia, segundo o qual “os documentos não podem se misturar a outros fundos, devendo ser organizados pela origem dos arquivos”, é o do(da):**

- a) Respeito aos fundos
- b) Organicidade
- c) Indivisibilidade
- d) Unicidade
- e) Cumulatividade

**34. Dentre as opções abaixo relacionadas, marque a que não se configura como um dos traços essenciais do paradigma científico e pós-custodial relacionado ao processo informacional.**

- a) Valorização da informação, residindo nela, e não no suporte, a sua própria historicidade e a sua riqueza patrimonial/cultural.
- b) Afirmação do incessante e natural dinamismo informacional oposto ao imobilismo documental.
- c) Possibilidade de se manter a compartimentação documentalista da informação pelo espaço institucional e tecnológico onde se conserva.
- d) Necessidade de conhecer a informação social através de modelos teórico-científicos cada vez mais exigentes e eficazes em vez do universo rudimentar e fechado da prática informacional empírica.
- e) Substituição da lógica instrumental patente nas expressões “gestão de documentos” e “gestão da informação” pela lógica científico-compreensiva da informação na gestão.

**35. De acordo com o Decreto nº 7.845, de 14 de novembro de 2012, a correta definição para “algoritmo de estado” é:**

- a) Ato de cifrar mediante uso de algoritmo simétrico ou assimétrico, com recurso criptográfico, para substituir sinais de Linguagem clara por outros ininteligíveis por pessoas não autorizadas a conhecê-la.
- b) Função matemática utilizada na cifração e na decifração, desenvolvido pelo Estado, para uso exclusivo em interesse do serviço de órgãos ou entidades do Poder Executivo federal.
- c) Código alfanumérico que indexa documento com informação classificada em qualquer grau de sigilo.
- d) Certificado que autoriza pessoa para o tratamento de informação classificada.
- e) Ato de decifrar mediante uso de algoritmo simétrico ou assimétrico, com recurso criptográfico, para reverter processo de cifração original.

## LÍNGUA PORTUGUESA

**Texto para as próximas cinco questões:**

### “O cego Estrelinho” Mia Couto

O cego Estrelinho era pessoa de nenhuma vez: sua história poderia ser contada e descontada não fosse seu guia, Gigito Efraim. A mão de Gigito conduziu o desvistado por tempos e idades. Aquela mão era repartidamente comum, extensão de um no outro, siamensal. E assim era quase de nascença. Memória de Estrelinho tinha cinco dedos e eram os de Gigito postos, em aperto, na sua própria mão.

O cego, curioso, queria saber de tudo. Ele não fazia cerimônia no viver. O sempre lhe era pouco e o tudo insuficiente. Dizia, deste modo:

— Tenho que viver já, senão esqueço-me.

Gigitinho, porém, o que descrevia era o que não havia. O mundo que ele minuciava eram fantasias e rendilhados. A imaginação do guia era mais profícua que papaeira. O cego enchia a boca de águas:

— Que maravilhação esse mundo. Me conte tudo, Gigito!

A mão do guia era, afinal, o manuscrito da mentira. Gigito Efraim estava como nunca esteve S. Tomé: via para não crer. O condutor falava pela ponta dos dedos. Desfolhava o universo, aberto em folhas. A ideiação dele era tal que mesmo o cego, por vezes, acreditava ver. O outro lhe encorajava esses breves enganos:

— Desbengale-se, você está escolhendo a boa procedência!

Mentira: Estrelinho continuava sem ver uma palmeira à frente do nariz. Contudo, o cego não se conformava em suas escurezas. Ele cumpria o ditado: não tinha perna e queria dar o pontapé. Só à noite, ele desalentava, sofrendo medos mais antigos que a humanidade. Entendia aquilo que, na raça humana, é menos primitivo: o animal.

— Na noite aflige não haver luz?

— Aflição é ter um pássaro branco esvoando dentro do sono.



Pássaro branco? No sono? Lugar de ave é nas alturas. Dizem até que Deus fez o céu para justificar os pássaros. Estrelinho disfarçava o medo dos vaticínios, subterfugindo:

— E agora, Gigitinho? Agora, olhando assim para cima, estou face ao céu?

Que podia o outro responder? O céu do cego fica em toda a parte. Estrelinho perdia o pé era quando a noite chegava e seu mestre adormecia. Era como se um novo escuro nele se estreasse em nó cego. Devagaroso e sorrateiro ele aninhava sua mão na mão do guia. Só assim adormecia. A razão da concha é a timidez da amêijoia? Na manhã seguinte, o cego lhe confessava: se você morrer, tenho que morrer logo no imediato. Senão-me: como acerto o caminho para o céu?

Foi no mês de dezembro que levaram Gigitinho. Lhe tiraram do mundo para pôr na guerra: obrigavam os serviços militares. O cego reclamou: que o moço inatingia a idade. E que o serviço que ele a si prestava era vital e vitalício. O guia chamou Estrelinho à parte e lhe tranquilizou:

— Não vai ficar sozinando por aí. Minha mana já mandei para ficar no meu lugar.

O cego estendeu o braço a querer tocar uma despedida. Mas o outro já não estava lá. Ou estava e se desviara, propositado? E sem água ida nem vinda, Estrelinho escutou o amigo se afastar, engolido, esponginquo, invisível. Pela primeira vez, Estrelinho se sentiu invalidado.

— Agora, só agora, sou cego que não vê.

(...)

**COUTO, Mia. Estórias abensonhadas. Rio de Janeiro: Nova Fronteira, 1996. (Pág 23 e 24).**

**36. Quanto à interpretação do fragmento do conto, podemos afirmar que:**

- Gigito Efraim era o guia de Estrelinho há pouquíssimo tempo.
- Estrelinho era cego de nascença.
- Gigito descrevia o mundo para Estrelinho de forma denotativa.
- Gigito foi convocado pelo exército para ser guia de cegos na guerra.
- Gigito descrevia o mundo para Estrelinho de forma conotativa.

**37. No período “O sempre lhe era pouco e o tudo insuficiente”, o pronome “LHE” exerce a função sintática de:**

- Objeto Direto
- Objeto Indireto
- Complemento Nominal
- Adjunto Adnominal
- Objeto Direto Preposicionado

**38. Na oração “A mão de Gigito conduziu o desvistado por tempos e idades”, o autor faz uso de um neologismo, assim como no decorrer de toda a obra em questão. Contudo, o neologismo só se torna possível pela utilização dos elementos mórficos naquilo que a gramática normativa pontua como Processo de Formação das Palavras. Levando em consideração apenas o recurso morfológico, qual Processo de Formação foi utilizado?**

- Derivação Sufixal
- Derivação Prefixal
- Derivação Regressiva
- Derivação Imprópria
- Derivação Parassintética

**39. No terceiro período do décimo terceiro parágrafo, temos:**

- Uma oração
- Dois orações
- Três orações
- Quatro orações
- Cinco orações

**40. No último parágrafo do fragmento do conto “— Agora, só agora, sou cego que não vê”, a oração subordinada presente classifica-se corretamente como:**

- Oração Subordinada Adjetiva Restritiva
- Oração Subordinada Adverbial Causal
- Oração Subordinada Substantiva Subjetiva
- Oração Subordinada Adverbial Explicativa
- Oração Subordinada Adjetiva Explicativa

**RASCUNHO**



PREFEITURA DE TELÊMACO BORBA - ESTADO DO PARANÁ- **EDITAL Nº 001-2016 - CONCURSO PÚBLICO VESPERTINO – 29/05/2016 – NÍVEL SUPERIOR**

PROVA OBJETIVA NÚMERO

**3**

**CARGO: TMNS I - ARQUIVOLOGIA**

Leia atentamente as **INSTRUÇÕES**:

1. Confira seus dados no cartão-resposta: nome, número de inscrição e o curso para o qual se inscreveu.
2. **MARQUE no seu cartão-resposta o número da sua prova** (não será corrigido o cartão-resposta que não tiver marcado o número da prova) e **Assine** seu cartão-resposta.
3. Aguarde a autorização do Fiscal para abrir o caderno de prova. Ao receber a ordem do fiscal, confira o caderno de prova com muita atenção. Nenhuma reclamação sobre o total de questões ou falha de impressão será aceita depois de iniciada a prova.
4. O cartão-resposta não será substituído, salvo se contiver erro de impressão.
5. Preencha toda a área do cartão-resposta correspondente à alternativa de sua escolha, com caneta esferográfica (tinta azul ou preta), sem ultrapassar as bordas. As marcações duplas, ou rasuradas, com corretivo, ou marcadas diferentemente do modelo estabelecido no cartão-resposta poderão ser anuladas.
6. Sua prova tem **40** questões, com **5** alternativas.
7. Cabe apenas ao candidato a interpretação das questões, **o fiscal** não poderá fazer nenhuma interferência.
8. A prova será realizada com duração máxima de **3 (três) horas**, incluído o tempo para a realização da Prova Objetiva de múltipla escolha e o preenchimento do cartão-resposta.
9. O candidato poderá retirar-se do local de realização das provas somente **1 (uma) hora** após o seu início, sem levar o caderno de prova.
10. O candidato poderá levar o caderno de provas, assim como anotação contendo transcrição do seu cartão-resposta, somente **1h30min** (uma hora e trinta minutos) após o início da realização da prova.
11. Ao terminar a prova, o candidato deverá entregar ao fiscal de sala o cartão-resposta preenchido e **ASSINADO**.
12. Os **3 (três)** candidatos, que terminarem a prova por último, deverão permanecer na sala, e só poderão sair juntos após o fechamento do envelope, contendo os cartões-resposta dos candidatos presentes e ausentes, e assinarem no lacre do referido envelope, atestando que este foi devidamente lacrado.
13. Durante todo o tempo em que permanecer no local onde está ocorrendo o concurso, o candidato deverá, manter o celular desligado e sem bateria, só sendo permitido ligar depois de ultrapassar o portão de saída do prédio.
14. Não será permitido ao candidato fumar na sala de provas, bem como nas dependências.
15. Depois de terminar a prova e entregar ao fiscal o cartão-resposta, preenchido e assinado, não será mais permitido ao candidato o uso do banheiro e bebedouro.

**BOA PROVA!**

**CONHECIMENTOS ESPECÍFICOS**

**01. Marque a opção que não está incluída como uma das características de documento de arquivo apresentadas por Luciana Duranti.**

- a) Imparcialidade
- b) Unicidade
- c) Autenticidade
- d) Naturalidade
- e) Organicidade

**02. Dentre as propriedades formalizadas como uma axiomática geral, apresentadas por Armando B. Malheiro da Silva e Fernanda Ribeiro, não se inclui a**

- a) estruturação pela ação humana.
- b) integração humana.
- c) guarda.
- d) pregnância.
- e) transmissibilidade.

**03. Marque a alternativa que não inclui um dos aspectos de uma política de informação governamental consistente, socialmente aprovada e compatível com interesses arquivísticos apresentada por José Maria Jardim.**

- a) Legislação adequada dispendo sobre a função do Estado na produção e uso de informações resultantes das novas tecnologias e resguardando o direito do cidadão à informação e à sua privacidade.
- b) Elaboração de diretrizes sobre destinação, processamento técnico e padrões técnicos sobre os novos tipos de documentos eletrônicos.
- c) Pesquisa na área de gestão de recursos informativos e da informação.
- d) Microfilmagem de documentos.
- e) Cooperação entre agências governamentais responsáveis pelo tratamento e acesso à informação, desenvolvimento administrativo e assuntos jurídicos, além de organismos privados.

**04. A composição do Conselho Nacional de Arquivos – CONARQ reflete a convergência de interesses do Estado e da Sociedade, de modo a compatibilizar as questões inerentes à responsabilidade funcional e social do Poder Público perante a gestão e preservação do patrimônio arquivístico público e privado brasileiro e o direito dos cidadãos de acesso às informações. O CONARQ é composto de quantos membros?**

- a) 17
- b) 15
- c) 19
- d) 14
- e) 20

**05. Das opções abaixo, marque a que contém uma autoridade que não integra a Comissão Interministerial cuja finalidade é obter informações que levem à localização dos restos mortais de participantes da Guerrilha do Araguaia, de acordo com o disposto no Decreto nº 4.850/2003.**

- a) Secretário Especial dos Direitos Humanos da Presidência da República
- b) Advogado-Geral da União
- c) Chefe da Casa Civil da Presidência da República
- d) Ministro da Justiça
- e) Controlador-Geral da União

**06. Qual a definição clássica de fundo de arquivo, internacionalmente aceita, é emanada pelo Manual holandês da Associação de Arquivistas?**

- a) “Grupo de arquivo (fundo) são todos os documentos resultantes do trabalho de determinada administração, que constitui um todo orgânico, completo em si mesmo, capaz de tratar, independentemente, e sem autoridade alguma interna ou externa, de todos os aspectos de qualquer negócio que lhe pudesse ser apresentado de modo normal”.
- b) “Os primeiros agrupamentos, reunidos em razão de sua origem, são as seções (fundos), integradas por papéis procedentes de uma instituição ou divisão administrativa importante, que tenha organização, funções e fins conhecidos”.
- c) “Fundo de arquivo é o conjunto de documentos de toda natureza que qualquer corpo administrativo, qualquer pessoa física ou jurídica tenha reunido, automática e organicamente, em razão de suas funções ou se sua atividade. Isto é, dele fazem parte os rascunhos e/ou as duplicatas dos documentos expedidos e os originais e/ou cópias de peças recebidas, assim como os documentos elaborados em consequência das atividades internas dos organismos considerados e os documentos reunidos por sua própria documentação, bem como os conjuntos eventualmente herdados de outros organismos aos quais sucede totalmente ou em parte”.

d) “Arquivo (fundo) é o conjunto de documentos escritos, desenhos e material impresso, recebidos ou produzidos oficialmente por determinado órgão administrativo ou por um de seus funcionários, na medida em que tais documentos se destinem a permanecer na custódia desse órgão ou funcionário”.

e) “Fundo de arquivo é um conjunto de documentos cujo crescimento se efetua no exercício das atividades de uma pessoa física ou jurídica”.

**07. A organização dos arquivos correntes incluem várias etapas. Indique a definição que corresponda ao conceito de “ordenação”.**

a) Proceder à leitura do último despacho verificando se, de fato, o documento destina-se ao arquivamento ou se deverá obedecer a uma rotina de trâmite preestabelecida.

b) Dispor os documentos de acordo com a codificação, separando-os por guias de ordenação, em escaninhos ou em classificadores.

c) Determinar sob que codificação deverá ser arquivado o documento e que referências cruzadas serão necessárias. Caso não se trate de um documento já classificado pelo serviço de protocolo, a classificação ocorrerá nesta etapa.

d) Inserir o documento na unidade de arquivamento preestabelecida.

e) Retirada do documento do arquivo para empréstimo, fornecimento de informações ou para realização de uma juntada.

**08. “A preservação é uma atividade de administração e gerenciamento de recursos, compreendendo políticas, procedimentos e processos, que, aplicados de forma adequada, serão capazes de retardar a deterioração dos materiais e promover o acesso à informação, intensificando sua importância funcional”.**

**A definição apresentada, sobre a preservação, é de autoria de um importante profissional da área que possui reconhecimento internacional, chamado:**

a) Clark Morrow

b) Gael de Güichen

c) Paul Banks

d) Paul Conway

e) Salvador Muñoz Viñas

**09. Heloísa Bellotto apresenta algumas considerações acerca dos dez itens que compõem o “Código de Deontologia” elaborado pelo Conselho Internacional de Arquivos. Marque a opção que contém o item sobre o qual ela faz o seguinte comentário: “No cumprimento da sua missão e das suas funções, adaptam-se aos princípios arquivísticos que regem a criação, a gestão e a escolha do destino dos arquivos correntes e intermediários, a avaliação e o recolhimento dos documentos com vistas aos seu arquivamento definitivo, a salvaguarda, a preservação e a conservação dos arquivos de que se incubem, e a classificação, a análise, a publicação e os meios de tornar os documentos acessíveis”.**

a) Os arquivistas mantêm a integridade dos arquivos e garantem, desse modo, que eles constituam um testemunho do passado, duradouro e fidedigno. O primeiro dever dos arquivistas é manter a integridade dos documentos que estão a seu cargo e sob sua vigilância.

b) Os arquivistas preservam a autenticidade dos documentos durante as operações de tratamento, de conservação e de exploração. Os arquivistas atuam de maneira a que o valor arquivístico dos documentos, incluindo os documentos eletrônicos ou informáticos, não seja afetado pelos trabalhos arquivísticos de avaliação, de classificação e de inventário, de conservação e análise.

c) Os arquivistas tratam, selecionam e mantêm os arquivos em seu contexto histórico, jurídico e administrativo, respeitando, desse modo, a sua proveniência, preservando e tornando assim explícitas as suas inter-relações originais. Os arquivistas agem em conformidade com os princípios e as práticas geralmente reconhecidos.

d) Os arquivistas asseguram sempre a comunicabilidade e a compreensão dos documentos.

e) Os arquivistas são responsáveis pelo tratamento dos documentos e justificam as suas modalidades. Os arquivistas não se preocupam apenas com o recolhimento dos documentos existentes, mas também cooperam com os gestores de documentos de modo a que, nos sistemas de informação e de arquivamento eletrônico, sejam tomados em consideração, desde a origem, os procedimentos destinados à salvaguarda dos documentos de valor permanente.

**10. De acordo com a Lei nº 12.527/2011, no caso de indeferimento de acesso a informações ou às razões da negativa do acesso, poderá o interessado interpor recurso contra a decisão no prazo de quantos dias a contar da sua ciência?**

a) 10

b) 15

c) 20

d) 25

e) 30

**11. O Sistema Nacional de Arquivos – SINAR possui como órgão central o Conselho Nacional de Arquivos – CONARQ e foi instituído pelo Art. 26 da Lei nº 8.159/91. Não integra o SINAR:**

- a) O Arquivo Nacional
- b) Os arquivos do Distrito Federal dos Poderes Executivo, Legislativo e Judiciário
- c) Os arquivos municipais dos Poderes Executivo e Legislativo
- d) A Controladoria Geral da União
- e) Os arquivos estaduais dos Poderes Executivo, Legislativo e Judiciário

**12. “Área da paleografia que estuda a origem, tipos e evolução das abreviaturas”. Essa é a definição do seguinte termo:**

- a) Braquigrafia
- b) Criptografia
- c) Crisografia
- d) Sigilografia
- e) Termografia

**13. A classificação de informações no âmbito da administração pública federal, segundo o art. 27 da Lei de Acesso à Informação, é de competência de autoridades exclusivas. Indique a opção que apresenta autoridade(s) que não possui/possuem tal prerrogativa.**

- a) Ministros de Estado e autoridades com as mesmas prerrogativas
- b) Comandantes da Marinha, do Exército, da Aeronáutica
- c) Chefes de Missões Diplomáticas e Consulares permanentes no exterior
- d) Presidente da República
- e) Autoridades que exerçam funções de direção, comando ou chefia do Grupo-Direção e Assessoramento Superiores - DAS, nível DAS 101.5 ou superior, e seus equivalentes.

**14. Das opções seguintes, marque a que não corresponde a um documento do gênero iconográfico.**

- a) Fotografia
- b) Negativo
- c) Certidão
- d) Diapositivo
- e) Gravura

**15. De acordo com o cumprimento às normas estabelecidas pelo Ministério do Planejamento, Orçamento e Gestão, os sítios na Internet dos órgãos e entidades deverão, conforme consta no Decreto nº 7.724/2012, atender a alguns requisitos específicos, que não inclui:**

- a) A possibilidade de gravação de relatórios em diversos formatos eletrônicos, inclusive abertos e não proprietários, tais como planilhas e texto, de modo a facilitar a análise das informações.
- b) Justificativa para a solicitação de informações.
- c) A garantia de autenticidade e integridade das informações disponíveis para acesso.
- d) A indicação de instruções que permitam ao requerente comunicar-se, por via eletrônica ou telefônica, com o órgão ou entidade.
- e) O formulário para pedido de acesso à informação.

**16. De acordo com a Norma Internacional ISAD(G), não é um dos elementos considerados essenciais para o intercâmbio internacional de informação descritiva:**

- a) Código de referência
- b) Dimensão da unidade de descrição
- c) Data(s)
- d) Produtor
- e) Área de identificação

**17. De acordo com a terminologia arquivística, o “conjunto de procedimentos e operações técnicas cuja interação permite a eficiência e a eficácia na produção, tramitação, uso, avaliação, arquivamento e destinação de documentos” é a definição de:**

- a) Sistema de recuperação da informação
- b) Sistema de arranjo
- c) Sistema de arquivo
- d) Sistema de gestão de documentos
- e) Sistema de arquivamento

**18. O princípio teórico-metodológico fundamental da Arquivologia, segundo o qual “os documentos não podem se misturar a outros fundos, devendo ser organizados pela origem dos arquivos”, é o do(da):**

- a) Respeito aos fundos
- b) Organicidade
- c) Indivisibilidade

- d) Unicidade
- e) Cumulatividade

**19. Dentre as opções abaixo relacionadas, marque a que não se configura como um dos traços essenciais do paradigma científico e pós-custodial relacionado ao processo informacional.**

- a) Valorização da informação, residindo nela, e não no suporte, a sua própria historicidade e a sua riqueza patrimonial/cultural.
- b) Afirmação do incessante e natural dinamismo informacional oposto ao imobilismo documental.
- c) Possibilidade de se manter a compartimentação documentalista da informação pelo espaço institucional e tecnológico onde se conserva.
- d) Necessidade de conhecer a informação social através de modelos teórico-científicos cada vez mais exigentes e eficazes em vez do universo rudimentar e fechado da prática informacional empírica.
- e) Substituição da lógica instrumental patente nas expressões “gestão de documentos” e “gestão da informação” pela lógica científico-compreensiva da informação na gestão.

**20. De acordo com o Decreto nº 7.845, de 14 de novembro de 2012, a correta definição para “algoritmo de estado” é:**

- a) Ato de cifrar mediante uso de algoritmo simétrico ou assimétrico, com recurso criptográfico, para substituir sinais de Linguagem clara por outros ininteligíveis por pessoas não autorizadas a conhecê-la.
- b) Função matemática utilizada na cifração e na decifração, desenvolvido pelo Estado, para uso exclusivo em interesse do serviço de órgãos ou entidades do Poder Executivo federal.
- c) Código alfanumérico que indexa documento com informação classificada em qualquer grau de sigilo.
- d) Certificado que autoriza pessoa para o tratamento de informação classificada.
- e) Ato de decifrar mediante uso de algoritmo simétrico ou assimétrico, com recurso criptográfico, para reverter processo de cifração original.

## LÍNGUA PORTUGUESA

### Texto para as próximas cinco questões:

#### “O cego Estrelinho” Mia Couto

O cego Estrelinho era pessoa de nenhuma vez: sua história poderia ser contada e descontada não fosse seu guia, Gigitto Efraim. A mão de Gigitto conduziu o desvistado por tempos e idades. Aquela mão era repartidamente comum, extensão de um no outro, siamense. E assim era quase de nascença. Memória de Estrelinho tinha cinco dedos e eram os de Gigitto postos, em aperto, na sua própria mão.

O cego, curioso, queria saber de tudo. Ele não fazia cerimônia no viver. O sempre lhe era pouco e o tudo insuficiente. Dizia, deste modo:

— Tenho que viver já, senão esqueço-me.

Gigitto, porém, o que descrevia era o que não havia. O mundo que ele minuciava eram fantasias e rendilhados. A imaginação do guia era mais profícua que papadeira. O cego enchia a boca de águas:

— Que maravilhação esse mundo. Me conte tudo, Gigitto!

A mão do guia era, afinal, o manuscrito da mentira. Gigitto Efraim estava como nunca esteve S. Tomé: via para não crer. O condutor falava pela ponta dos dedos. Desfolhava o universo, aberto em folhas. A ideiação dele era tal que mesmo o cego, por vezes, acreditava ver. O outro lhe encorajava esses breves enganar:

— Desbengale-se, você está escolhendo a boa procedência!

Mentira: Estrelinho continuava sem ver uma palmeira à frente do nariz. Contudo, o cego não se conformava em suas escurezas. Ele cumpria o ditado: não tinha perna e queria dar o pontapé. Só à noite, ele desalentava, sofrendo medos mais antigos que a humanidade. Entendia aquilo que, na raça humana, é menos primitivo: o animal.

— Na noite aflige não haver luz?

— Aflição é ter um pássaro branco esvoando dentro do sono.

Pássaro branco? No sono? Lugar de ave é nas alturas. Dizem até que Deus fez o céu para justificar os pássaros. Estrelinho disfarçava o medo dos vaticínios, subterfugindo:

— E agora, Gigitto? Agora, olhando assim para cima, estou face ao céu?

Que podia o outro responder? O céu do cego fica em toda a parte. Estrelinho perdia o pé era quando a noite chegava e seu mestre adormecia. Era como se um novo escuro nele se estreasse em nó cego. Devagaroso e sorrateiro ele aninhava sua mão na mão do guia. Só assim adormecia. A razão da concha é a timidez da amêijoia? Na manhã seguinte, o cego lhe confessava: se você morrer, tenho que morrer logo no imediato. Senão-me: como acerto o caminho para o céu?

Foi no mês de dezembro que levaram Gigitto. Lhe tiraram do mundo para pôr na guerra: obrigavam os serviços militares. O cego reclamou: que o moço inatingia a idade. E que o serviço que ele a si prestava era vital e vitalício. O guia chamou Estrelinho à parte e lhe tranquilizou:

— Não vai ficar sozinando por aí. Minha mana já mandei para ficar no meu lugar.



O cego estendeu o braço a querer tocar uma despedida. Mas o outro já não estava lá. Ou estava e se desviara, propositado? E sem água ida nem vinda, Estrelinho escutou o amigo se afastar, engolido, esponginquo, invisível. Pela pimeira vez, Estrelinho se sentiu invalidado.

— Agora, só agora, sou cego que não vê.

(...)

**COUTO, Mia. Estórias abensonhadas. Rio de Janeiro: Nova Fronteira, 1996. (Pág 23 e 24).**

**21. Quanto à interpretação do fragmento do conto, podemos afirmar que:**

- Gigito Efraim era o guia de Estrelinho há pouquíssimo tempo.
- Estrelinho era cego de nascença.
- Gigito descrevia o mundo para Estrelinho de forma denotativa.
- Gigito foi convocado pelo exército para ser guia de cegos na guerra.
- Gigito descrevia o mundo para Estrelinho de forma conotativa.

**22. No período “O sempre lhe era pouco e o tudo insuficiente”, o pronome “LHE” exerce a função sintática de:**

- Objeto Direto
- Objeto Indireto
- Complemento Nominal
- Adjunto Adnominal
- Objeto Direto Preposicionado

**23. Na oração “A mão de Gigito conduziu o desvistado por tempos e idades”, o autor faz uso de um neologismo, assim como no decorrer de toda a obra em questão. Contudo, o neologismo só se torna possível pela utilização dos elementos mórficos naquilo que a gramática normativa pontua como Processo de Formação das Palavras. Levando em consideração apenas o recurso morfológico, qual Processo de Formação foi utilizado?**

- Derivação Sufixal
- Derivação Prefixal
- Derivação Regressiva
- Derivação Imprópria
- Derivação Parassintética

**24. No terceiro período do décimo terceiro parágrafo, temos:**

- Uma oração
- Duas orações
- Três orações
- Quatro orações
- Cinco orações

**25. No último parágrafo do fragmento do conto “— Agora, só agora, sou cego que não vê”, a oração subordinada presente classifica-se corretamente como:**

- Oração Subordinada Adjetiva Restritiva
- Oração Subordinada Adverbial Causal
- Oração Subordinada Substantiva Subjetiva
- Oração Subordinada Adverbial Explicativa
- Oração Subordinada Adjetiva Explicativa

#### **RACIOCÍNIO LÓGICO**

**26. Os cinco filhos de Ana estavam discutindo a respeito da data de nascimento da mãe:**

- Almir disse que foi em janeiro, dia 14, sexta-feira.
- Vanderlei disse que foi em janeiro, dia 14, sábado.
- Tiago disse que foi em fevereiro, dia 15, sábado.
- Sandro disse que foi em janeiro, dia 15, sexta-feira.
- Renato disse que foi em fevereiro, dia 15, sexta-feira.

**Sabe-se que somente um dos filhos de Ana acertou corretamente sua data de nascimento e que os outros acertaram pelo menos um dos itens (dia, dia da semana e mês). Dessa forma, é correto afirmar que o filho de Ana que acertou a data de nascimento dela foi:**

- Renato
- Sandro
- Tiago
- Vanderlei
- Almir

27. Considere a seguinte afirmativa: “Todo churrasqueiro gosta de picanha”. Em relação a essa proposição, é correto afirmar que:

- Algum churrasqueiro não gosta de picanha.
- Toda pessoa que gosta de picanha é churrasqueira.
- Alguma pessoa que não gosta de picanha é churrasqueira.
- Toda pessoa que não é churrasqueira, não gosta de picanha.
- Toda pessoa que não gosta de picanha, não é churrasqueira.

28. Em um grupo formado por 67 pessoas, verificou-se que 41 pessoas gostam de arroz, 29 gostam de feijão, 33 gostam de carne, 19 gostam de arroz e de feijão, 9 gostam apenas de arroz e de carne, 12 gostam de feijão e de carne e que 6 gostam de arroz, de feijão e de carne. O número de pessoas desse grupo, que não gosta de nenhum desses três tipos de alimentos é igual a:

- 4
- 5
- 6
- 8
- 10

29. Bruno escreveu, em seu caderno, várias sequências formadas por números múltiplos de 4, onde os valores que ocupavam as posições pares eram multiplicados por  $-1$ . Cada sequência foi somada e o resultado da soma anotado. A soma das três primeiras sequências escritas por Bruno foram as seguintes:

$$4 - 8 = -4$$

$$4 - 8 + 12 = 8$$

$$4 - 8 + 12 - 16 = -8$$

Considere que Bruno escreveu e somou tais sequências, em seu caderno, de modo a obter determinada sequência cuja soma foi 600. O número de termos dessa sequência é igual a:

- 149
- 150
- 298
- 299
- 300

30. Quatro torcedores, um do São Paulo, um do Cruzeiro, um do Vasco e um do Bahia, estão sentados ao redor de uma mesa quadrada, de modo que, dois a dois, fiquem frente a frente. Sabe-se que Alan é torcedor do Cruzeiro e que Bruno está sentado à direita de Alan. Sabe-se também que Caio está sentado à direita do torcedor do São Paulo. Sabe-se ainda que Daniel não é torcedor do Vasco e que está sentado à frente de Bruno. Dessa forma, é correto afirmar que:

- Bruno é torcedor do Bahia e Daniel é torcedor do São Paulo.
- Bruno é torcedor do São Paulo e Daniel é torcedor do Bahia.
- Caio é torcedor do Vasco e Daniel é torcedor do São Paulo.
- Caio é torcedor do Bahia e Daniel é torcedor do São Paulo.
- Bruno é torcedor do Vasco e Daniel é torcedor do Bahia.

## INFORMÁTICA

31. Considerando o MS-Excel versão 2010, observando a figura abaixo, é correto afirmar que:

	A	B	C
1			
2			
3			
4			

- Somente 03 três linhas estão selecionadas.
- Somente uma célula está selecionada.
- 12 (doze) células estão selecionadas.
- Somente a coluna A até a linha 4 (quatro) está selecionada.
- Somente as colunas 1 (um), 2 (dois), 3 (três) e 4 (quatro) estão selecionadas.

32. Considerando o MS-Excel versão 2010, observando a figura abaixo, é incorreto afirmar que:

	A	B	C
1	12	6	=A1*B1
2	8	2	=A2/B2
3	5	14	=A3-B3
4	6	11	=A4+B4

- a) O resultado da fórmula =A1\*B1 é 72.  
 b) O resultado da fórmula =A2/B2 é 4.  
 c) O resultado da fórmula =A3-B3 é -9.  
 d) O resultado da fórmula =A3-B3 é 9.  
 e) O resultado da fórmula =A4+B4 é 17.

**33. Digitando um texto no MS-Word versão 2010, necessito adicionar número nas páginas. Quanto a isso, é correto afirmar que:**

- a) No menu Layout da Página, clico em número de página e seleciono onde desejo adicionar os números.  
 b) No menu Inserir, clico em número de página e seleciono onde desejo adicionar os números.  
 c) No menu Revisão, clico em número de página e seleciono onde desejo adicionar os números.  
 d) No menu Referências, clico em número de página e seleciono onde desejo adicionar os números.  
 e) No menu Exibição, clico em número de página e seleciono onde desejo adicionar os números.

**34. A segurança da informação está diretamente relacionada com proteção de um conjunto de informações, no sentido de preservar o valor que possuem para um indivíduo ou uma organização. Atualmente, um dos aplicativos mais utilizados no mundo, o Whats app, teve uma alteração de confidencialidade muito importante na segurança das informações transmitidas e recebidas. Dentre as alternativas, assinale a que corretamente informa a alteração inserida no aplicativo Whats app.**

- a) Antispam  
 b) Antivirus  
 c) Firewall  
 d) Antispyware  
 e) Criptografia

**35. São todos os dispositivos que trabalham acoplados ao microcomputador para receber, transmitir, visualizar, ler, gravar ou armazenarem dados. São eles que permitem a comunicação do computador com o meio exterior, isto é, com os usuários e outras máquinas.**

**Esse texto descreve corretamente:**

- a) Memória ram  
 b) Memória virtual  
 c) Software  
 d) Periféricos  
 e) Hardware

#### CONHECIMENTOS GERAIS

**36. Hino do município de Telêmaco Borba/PR**

Das virgens matas e campos verdejantes  
 Servindo-se também o rio Tibagi,  
 Homens de ideais, espíritos vibrantes.  
 Constituíram as indústrias aqui.

Estribilho:

Salve! Salve! Telêmaco Borba

Terra querida e de grandes primores,

A nossa homenagem rendamos

À cidade dos trabalhadores.

Pois a cadência de enorme e real progresso

Um município mui grandioso fez nascer,

Marcando assim, verdadeiro sucesso

Faz, então o Paraná engrandecer.

**No que tange ao Hino do município, atribua V (verdadeiro) ou F (falso) às afirmativas e marque a alternativa correta.**

( ) Eloah Martins Quadrado é autora da letra do hino.

( ) Bento Mossurunga compôs a música do hino.

( ) Eloah Martins Quadrado foi nomeada primeira professora da Cidade Nova, atual Telêmaco Borba.

( ) Bento Mossurunga fundou a orquestra Estudantil e Concertos – Orquestra Sinfônica da Universidade, a Sociedade de Cultura Artístico Basilio Itiberê.

- a) F, V, V, V.  
 b) V, F, V, V.  
 c) V, V, F, V.



- d) V, V, F, F.
- e) V, V, V, V.

**37. À luz da Lei nº 1883/2012, que dispõe sobre o Estatuto dos Servidores Públicos da Administração Direta, Autárquica e Funcional do Município de Telêmaco Borba/PR, leia as alternativas e marque a correta.**

- a) A apresentação para a posse ocorrerá no prazo de até trinta dias, contados do ato de nomeação.
- b) A destituição do servidor da função gratificada dar-se-á por solicitação exclusiva dele mesmo.
- c) O servidor ocupante exclusivamente de cargo em comissão será contribuinte do regime geral de previdência social.
- d) A aprovação em concurso público gera o direito à nomeação, e será feita obedecida à ordem de classificação dos candidatos.
- e) O exercício de função gratificada poderá ser de dedicação integral ou parcial, conforme necessidade da administração.

**Conforme a Lei nº 1.881, de 05 de abril de 2012, que dispõe sobre o Plano de Cargos, Carreiras e Vencimentos do quadro geral de servidores da Prefeitura Municipal de Telêmaco Borba/PR, regulamentada pelo Decreto nº 2269/2015, responda às próximas três questões.**

**38. Leia as assertivas e assinala a incorreta.**

- a) Do resultado da avaliação de desempenho poderá ser interposto recurso à Comissão de Desenvolvimento Funcional no prazo de quinze dias a contar da publicação no Boletim Oficial do Município.
- b) Não será concedida a progressão ou promoção ao servidor que estiver em licença para tratamento de saúde por um período superior a quarenta e cinco dias, no período de avaliação.
- c) A alternância dos membros constituintes da Comissão de Desenvolvimento Funcional eleitos pelos servidores verificar-se-á a cada três anos de participação, observados, para substituição de seus participantes, o critério fixado no artigo anterior, não cabendo eleição sucessiva.
- d) Caberá à Comissão de Desenvolvimento Funcional, no caso de divergência de vinte por cento entre a nota do avaliador e a do avaliado, solicitar nova avaliação à chefia.
- e) Nos termos do disposto no art. 17 da Lei nº 1.881, de 05 de abril de 2012, para progredir, é necessário que o servidor satisfaça, dentre outros, o seguinte requisito: estar no efetivo exercício de seu cargo ou em função comissionada na sua área de atuação durante o interstício de dois anos.

**39. Assinale a alternativa que completa respectivamente as lacunas do texto a seguir:**

**A Comissão de Desenvolvimento Funcional será constituída por \_\_\_\_\_ membros, sendo \_\_\_\_\_ designados pelo Prefeito Municipal de Telêmaco Borba e os demais eleitos pelos servidores municipais dentre os estáveis, com a atribuição de coordenar os procedimentos relativos à avaliação periódica de desempenho e outras atribuições.**

- a) três / sete
- b) um / três
- c) sete / três
- d) três / cinco
- e) dois / cinco

**40. A Avaliação de Desempenho será norteadada, dentre outros, pelo seguinte princípio: Amplitude - a avaliação deve incidir sobre todas as áreas de atuação do servidor, que compreendem:**

1. a formulação de políticas administrativas e sua aplicação para todos os setores da administração municipal;
2. o desempenho do profissional dentro de suas funções pertinentes;
3. a estrutura do órgão em que exerce a função;
4. os resultados de eficiência dos serviços de cada setor ou órgão da administração municipal;
5. a participação direta do avaliado, durante todo o processo avaliativo.

**Diante dessa afirmação, somente não está correto o item:**

- a) 1
- b) 2
- c) 3
- d) 4
- e) 5

**RASCUNHO**



PREFEITURA DE TELÊMACO BORBA - ESTADO DO PARANÁ- EDITAL Nº 001-2016 - CONCURSO PÚBLICO

VESPERTINO – 29/05/2016 – NÍVEL SUPERIOR

**1**

PROVA OBJETIVA NÚMERO

**CARGO: TMNS I - ARTES E CULTURA**

Leia atentamente as **INSTRUÇÕES**:

1. Confira seus dados no cartão-resposta: nome, número de inscrição e o curso para o qual se inscreveu.
2. **MARQUE no seu cartão-resposta o número da sua prova** (não será corrigido o cartão-resposta que não tiver marcado o número da prova) e **Assine** seu cartão-resposta.
3. Aguarde a autorização do Fiscal para abrir o caderno de prova. Ao receber a ordem do fiscal, confira o caderno de prova com muita atenção. Nenhuma reclamação sobre o total de questões ou falha de impressão será aceita depois de iniciada a prova.
4. O cartão-resposta não será substituído, salvo se contiver erro de impressão.
5. Preencha toda a área do cartão-resposta correspondente à alternativa de sua escolha, com caneta esferográfica (tinta azul ou preta), sem ultrapassar as bordas. As marcações duplas, ou rasuradas, com corretivo, ou marcadas diferentemente do modelo estabelecido no cartão-resposta poderão ser anuladas.
6. Sua prova tem **40** questões, com **5** alternativas.
7. Cabe apenas ao candidato a interpretação das questões, **o fiscal** não poderá fazer nenhuma interferência.
8. A prova será realizada com duração máxima de **3 (três) horas**, incluído o tempo para a realização da Prova Objetiva de múltipla escolha e o preenchimento do cartão-resposta.
9. O candidato poderá retirar-se do local de realização das provas somente **1 (uma) hora** após o seu início, sem levar o caderno de prova.
10. O candidato poderá levar o caderno de provas, assim como anotação contendo transcrição do seu cartão-resposta, somente **1h30min** (uma hora e trinta minutos) após o início da realização da prova.
11. Ao terminar a prova, o candidato deverá entregar ao fiscal de sala o cartão-resposta preenchido e **ASSINADO**.
12. Os **3 (três)** candidatos, que terminarem a prova por último, deverão permanecer na sala, e só poderão sair juntos após o fechamento do envelope, contendo os cartões-resposta dos candidatos presentes e ausentes, e assinarem no lacre do referido envelope, atestando que este foi devidamente lacrado.
13. Durante todo o tempo em que permanecer no local onde está ocorrendo o concurso, o candidato deverá, manter o celular desligado e sem bateria, só sendo permitido ligar depois de ultrapassar o portão de saída do prédio.
14. Não será permitido ao candidato fumar na sala de provas, bem como nas dependências.
15. Depois de terminar a prova e entregar ao fiscal o cartão-resposta, preenchido e assinado, não será mais permitido ao candidato o uso do banheiro e bebedouro.

**BOA PROVA!**

**LÍNGUA PORTUGUESA****Texto para as próximas cinco questões:****“O cego Estrelinho”  
Mia Couto**

O cego Estrelinho era pessoa de nenhuma vez: sua história poderia ser contada e descontada não fosse seu guia, Gigitto Efraim. A mão de Gigitto conduziu o desvistado por tempos e idades. Aquela mão era repartidamente comum, extensão de um no outro, siamensal. E assim era quase de nascença. Memória de Estrelinho tinha cinco dedos e eram os de Gigitto postos, em aperto, na sua própria mão.

O cego, curioso, queria saber de tudo. Ele não fazia cerimônia no viver. O sempre lhe era pouco e o tudo insuficiente. Dizia, deste modo:

— Tenho que viver já, senão esqueço-me.

Gigitinho, porém, o que descrevia era o que não havia. O mundo que ele minuciava eram fantasias e rendilhados. A imaginação do guia era mais profícua que papadeira. O cego enchia a boca de águas:

— Que maravilhação esse mundo. Me conte tudo, Gigitto!

A mão do guia era, afinal, o manuscrito da mentira. Gigitto Efraim estava como nunca esteve S. Tomé: via para não crer. O condutor falava pela ponta dos dedos. Desfolhava o universo, aberto em folhas. A ideação dele era tal que mesmo o cego, por vezes, acreditava ver. O outro lhe encorajava esses breves enganar:

— Desbengale-se, você está escolhendo a boa procedência!

Mentira: Estrelinho continuava sem ver uma palmeira à frente do nariz. Contudo, o cego não se conformava em suas escurezas. Ele cumpria o ditado: não tinha perna e queria dar o pontapé. Só à noite, ele desalentava, sofrendo medos mais antigos que a humanidade. Entendia aquilo que, na raça humana, é menos primitivo: o animal.

— Na noite aflige não haver luz?

— Aflição é ter um pássaro branco esvoando dentro do sono.

Pássaro branco? No sono? Lugar de ave é nas alturas. Dizem até que Deus fez o céu para justificar os pássaros. Estrelinho disfarçava o medo dos vaticínios, subterfugindo:

— E agora, Gigitinho? Agora, olhando assim para cima, estou face ao céu?

Que podia o outro responder? O céu do cego fica em toda a parte. Estrelinho perdia o pé era quando a noite chegava e seu mestre adormecia. Era como se um novo escuro nele se estreasse em nó cego. Devagaroso e sorrateiro ele aninhava sua mão na mão do guia. Só assim adormecia. A razão da concha é a timidez da amêijoia? Na manhã seguinte, o cego lhe confessava: se você morrer, tenho que morrer logo no imediato. Senão-me: como acerto o caminho para o céu?

Foi no mês de dezembro que levaram Gigitinho. Lhe tiraram do mundo para pôr na guerra: obrigavam os serviços militares. O cego reclamou: que o moço inatingia a idade. E que o serviço que ele a si prestava era vital e vitalício. O guia chamou Estrelinho à parte e lhe tranquilizou:

— Não vai ficar sozinando por aí. Minha mana já mandei para ficar no meu lugar.

O cego estendeu o braço a querer tocar uma despedida. Mas o outro já não estava lá. Ou estava e se desviara, propositado? E sem água ida nem vinda, Estrelinho escutou o amigo se afastar, engolido, esponginquo, inevisível. Pela primeira vez, Estrelinho se sentiu invalidado.

— Agora, só agora, sou cego que não vê.

(...)

**COUTO, Mia. Estórias abensonhadas. Rio de Janeiro: Nova Fronteira, 1996. (Pág 23 e 24).**

**01. Quanto à interpretação do fragmento do conto, podemos afirmar que:**

- Gigitto Efraim era o guia de Estrelinho há pouquíssimo tempo.
- Estrelinho era cego de nascença.
- Gigitto descrevia o mundo para Estrelinho de forma denotativa.
- Gigitto foi convocado pelo exército para ser guia de cegos na guerra.
- Gigitto descrevia o mundo para Estrelinho de forma conotativa.

**02. No período “O sempre lhe era pouco e o tudo insuficiente”, o pronome “LHE” exerce a função sintática de:**

- Objeto Direto
- Objeto Indireto
- Complemento Nominal
- Adjunto Adnominal
- Objeto Direto Preposicionado

**03. Na oração “A mão de Gigitto conduziu o desvistado por tempos e idades”, o autor faz uso de um neologismo, assim como no decorrer de toda a obra em questão. Contudo, o neologismo só se torna possível pela utilização dos elementos mórficos naquilo que a gramática normativa pontua como Processo de Formação das Palavras. Levando em consideração apenas o recurso morfológico, qual Processo de Formação foi utilizado?**

- Derivação Sufixal



- b) Derivação Prefixal
- c) Derivação Regressiva
- d) Derivação Imprópria
- e) Derivação Parassintética

**04. No terceiro período do décimo terceiro parágrafo, temos:**

- a) Uma oração
- b) Duas orações
- c) Três orações
- d) Quatro orações
- e) Cinco orações

**05. No último parágrafo do fragmento do conto “— Agora, só agora, sou cego que não vê”, a oração subordinada presente classifica-se corretamente como:**

- a) Oração Subordinada Adjetiva Restritiva
- b) Oração Subordinada Adverbial Causal
- c) Oração Subordinada Substantiva Subjetiva
- d) Oração Subordinada Adverbial Explicativa
- e) Oração Subordinada Adjetiva Explicativa

#### **RACIOCÍNIO LÓGICO**

**06. Os cinco filhos de Ana estavam discutindo a respeito da data de nascimento da mãe:**

- Almir disse que foi em janeiro, dia 14, sexta-feira.
- Vanderlei disse que foi em janeiro, dia 14, sábado.
- Tiago disse que foi em fevereiro, dia 15, sábado.
- Sandro disse que foi em janeiro, dia 15, sexta-feira.
- Renato disse que foi em fevereiro, dia 15, sexta-feira.

**Sabe-se que somente um dos filhos de Ana acertou corretamente sua data de nascimento e que os outros acertaram pelo menos um dos itens (dia, dia da semana e mês). Dessa forma, é correto afirmar que o filho de Ana que acertou a data de nascimento dela foi:**

- a) Renato
- b) Sandro
- c) Tiago
- d) Vanderlei
- e) Almir

**07. Considere a seguinte afirmativa: “Todo churrasqueiro gosta de picanha”. Em relação a essa proposição, é correto afirmar que:**

- a) Algum churrasqueiro não gosta de picanha.
- b) Toda pessoa que gosta de picanha é churrasqueira.
- c) Alguma pessoa que não gosta de picanha é churrasqueira.
- d) Toda pessoa que não é churrasqueira, não gosta de picanha.
- e) Toda pessoa que não gosta de picanha, não é churrasqueira.

**08. Em um grupo formado por 67 pessoas, verificou-se que 41 pessoas gostam de arroz, 29 gostam de feijão, 33 gostam de carne, 19 gostam de arroz e de feijão, 9 gostam apenas de arroz e de carne, 12 gostam de feijão e de carne e que 6 gostam de arroz, de feijão e de carne. O número de pessoas desse grupo, que não gosta de nenhum desses três tipos de alimentos é igual a:**

- a) 4
- b) 5
- c) 6
- d) 8
- e) 10

**09. Bruno escreveu, em seu caderno, várias sequências formadas por números múltiplos de 4, onde os valores que ocupavam as posições pares eram multiplicados por  $-1$ . Cada sequência foi somada e o resultado da soma anotado. A soma das três primeiras sequências escritas por Bruno foram as seguintes:**

$$4 - 8 = -4$$
$$4 - 8 + 12 = 8$$
$$4 - 8 + 12 - 16 = -8$$

**Considere que Bruno escreveu e somou tais sequências, em seu caderno, de modo a obter determinada sequência cuja soma foi 600. O número de termos dessa sequência é igual a:**

- a) 149
- b) 150
- c) 298

- d) 299  
e) 300

**10. Quatro torcedores, um do São Paulo, um do Cruzeiro, um do Vasco e um do Bahia, estão sentados ao redor de uma mesa quadrada, de modo que, dois a dois, fiquem frente a frente. Sabe-se que Alan é torcedor do Cruzeiro e que Bruno está sentado à direita de Alan. Sabe-se também que Caio está sentado à direita do torcedor do São Paulo. Sabe-se ainda que Daniel não é torcedor do Vasco e que está sentado à frente de Bruno. Dessa forma, é correto afirmar que:**

- a) Bruno é torcedor do Bahia e Daniel é torcedor do São Paulo.  
b) Bruno é torcedor do São Paulo e Daniel é torcedor do Bahia.  
c) Caio é torcedor do Vasco e Daniel é torcedor do São Paulo.  
d) Caio é torcedor do Bahia e Daniel é torcedor do São Paulo.  
e) Bruno é torcedor do Vasco e Daniel é torcedor do Bahia.

### INFORMÁTICA

**11. Considerando o MS-Excel versão 2010, observando a figura abaixo, é correto afirmar que:**

	A	B	C
1			
2			
3			
4			

- a) Somente 03 três linhas estão selecionadas.  
b) Somente uma célula está selecionada.  
c) 12 (doze) células estão selecionadas.  
d) Somente a coluna A até a linha 4 (quatro) está selecionada.  
e) Somente as colunas 1 (um), 2 (dois), 3 (três) e 4 (quatro) estão selecionadas.

**12. Considerando o MS-Excel versão 2010, observando a figura abaixo, é incorreto afirmar que:**

	A	B	C
1	12	6	=A1*B1
2	8	2	=A2/B2
3	5	14	=A3-B3
4	6	11	=A4+B4

- a) O resultado da fórmula =A1\*B1 é 72.  
b) O resultado da fórmula =A2/B2 é 4.  
c) O resultado da fórmula =A3-B3 é -9.  
d) O resultado da fórmula =A3-B3 é 9.  
e) O resultado da fórmula =A4+B4 é 17.

**13. Digitando um texto no MS-Word versão 2010, necessito adicionar número nas páginas. Quanto a isso, é correto afirmar que:**

- a) No menu Layout da Página, clico em número de página e seleciono onde desejo adicionar os números.  
b) No menu Inserir, clico em número de página e seleciono onde desejo adicionar os números.  
c) No menu Revisão, clico em número de página e seleciono onde desejo adicionar os números.  
d) No menu Referências, clico em número de página e seleciono onde desejo adicionar os números.  
e) No menu Exibição, clico em número de página e seleciono onde desejo adicionar os números.

**14. A segurança da informação está diretamente relacionada com proteção de um conjunto de informações, no sentido de preservar o valor que possuem para um indivíduo ou uma organização. Atualmente, um dos aplicativos mais utilizados no mundo, o Whats app, teve uma alteração de confidencialidade muito importante na segurança das informações transmitidas e recebidas. Dentre as alternativas, assinale a que corretamente informa a alteração inserida no aplicativo Whats app.**

- a) Antispam  
b) Antivirus  
c) Firewall  
d) Antispyware  
e) Criptografia



**15. São todos os dispositivos que trabalham acoplados ao microcomputador para receber, transmitir, visualizar, ler, gravar ou armazenarem dados. São eles que permitem a comunicação do computador com o meio exterior, isto é, com os usuários e outras máquinas.**

**Esse texto descreve corretamente:**

- a) Memória ram
- b) Memória virtual
- c) Software
- d) Periféricos
- e) Hardware

### CONHECIMENTOS GERAIS

#### 16. Hino do município de Telêmaco Borba/PR

Das virgens matas e campos verdejantes  
 Servindo-se também o rio Tibagi,  
 Homens de ideais, espíritos vibrantes.  
 Constituíram as indústrias aqui.

Estrilho:

Salve! Salve! Telêmaco Borba  
 Terra querida e de grandes primores,  
 A nossa homenagem rendamos  
 À cidade dos trabalhadores.  
 Pois a cadência de enorme e real progresso  
 Um município mui grandioso fez nascer,  
 Marcando assim, verdadeiro sucesso  
 Faz, então o Paraná engrandecer.

**No que tange ao Hino do município, atribua V (verdadeiro) ou F (falso) às afirmativas e marque a alternativa correta.**

- Eloah Martins Quadrado é autora da letra do hino.
- Bento Mossurunga compôs a música do hino.
- Eloah Martins Quadrado foi nomeada primeira professora da Cidade Nova, atual Telêmaco Borba.
- Bento Mossurunga fundou a orquestra Estudantil e Concertos – Orquestra Sinfônica da Universidade, a Sociedade de Cultura Artístico Basílio Itiberê.
- a) F, V, V, V.
- b) V, F, V, V.
- c) V, V, F, V.
- d) V, V, F, F.
- e) V, V, V, V.

**17. À luz da Lei nº 1883/2012, que dispões sobre o Estatuto dos Servidores Públicos da Administração Direta, Autárquica e Funcional do Município de Telêmaco Borba/PR, leia as alternativas e marque a correta.**

- a) A apresentação para a posse ocorrerá no prazo de até trinta dias, contados do ato de nomeação.
- b) A destituição do servidor da função gratificada dar-se-á por solicitação exclusiva dele mesmo.
- c) O servidor ocupante exclusivamente de cargo em comissão será contribuinte do regime geral de previdência social.
- d) A aprovação em concurso público gera o direito à nomeação, e será feita obedecida à ordem de classificação dos candidatos.
- e) O exercício de função gratificada poderá ser de dedicação integral ou parcial, conforme necessidade da administração.

**Conforme a Lei nº 1.881, de 05 de abril de 2012, que dispõe sobre o Plano de Cargos, Carreiras e Vencimentos do quadro geral de servidores da Prefeitura Municipal de Telêmaco Borba/PR, regulamentada pelo Decreto nº 2269/2015, responda às próximas três questões.**

**18. Leia as assertivas e assinala a incorreta.**

- a) Do resultado da avaliação de desempenho poderá ser interposto recurso à Comissão de Desenvolvimento Funcional no prazo de quinze dias a contar da publicação no Boletim Oficial do Município.
- b) Não será concedida a progressão ou promoção ao servidor que estiver em licença para tratamento de saúde por um período superior a quarenta e cinco dias, no período de avaliação.
- c) A alternância dos membros constituintes da Comissão de Desenvolvimento Funcional eleitos pelos servidores verificar-se-á a cada três anos de participação, observados, para substituição de seus participantes, o critério fixado no artigo anterior, não cabendo eleição sucessiva.
- d) Caberá à Comissão de Desenvolvimento Funcional, no caso de divergência de vinte por cento entre a nota do avaliador e a do avaliado, solicitar nova avaliação à chefia.



e) Nos termos do disposto no art. 17 da Lei nº 1.881, de 05 de abril de 2012, para progredir, é necessário que o servidor satisfaça, dentre outros, o seguinte requisito: estar no efetivo exercício de seu cargo ou em função comissionada na sua área de atuação durante o interstício de dois anos.

**19. Assinale a alternativa que completa respectivamente as lacunas do texto a seguir:**

**A Comissão de Desenvolvimento Funcional será constituída por \_\_\_\_\_ membros, sendo \_\_\_\_\_ designados pelo Prefeito Municipal de Telêmaco Borba e os demais eleitos pelos servidores municipais dentre os estáveis, com a atribuição de coordenar os procedimentos relativos à avaliação periódica de desempenho e outras atribuições.**

- a) três / sete
- b) um / três
- c) sete / três
- d) três / cinco
- e) dois / cinco

**20. A Avaliação de Desempenho será norteadada, dentre outros, pelo seguinte princípio: Amplitude - a avaliação deve incidir sobre todas as áreas de atuação do servidor, que compreendem:**

- 1. a formulação de políticas administrativas e sua aplicação para todos os setores da administração municipal;**
- 2. o desempenho do profissional dentro de suas funções pertinentes;**
- 3. a estrutura do órgão em que exerce a função;**
- 4. os resultados de eficiência dos serviços de cada setor ou órgão da administração municipal;**
- 5. a participação direta do avaliado, durante todo o processo avaliativo.**

**Diante dessa afirmação, somente não está correto o item:**

- a) 1
- b) 2
- c) 3
- d) 4
- e) 5

#### **CONHECIMENTOS ESPECÍFICOS**

**21. Na Semana de Arte Moderna, foi divulgado um manifesto deste artista, baseado no manifesto escrito em 1912, conhecido como manifesto futurista de Marinetti, que propunha o compromisso da literatura com a nova civilização técnica e defendia nesta obra uma atividade crítica dessa arte, juntamente com Menotti del Picchia e Mário de Andrade.**

**Essas informações referem-se a:**

- a) Oswald de Andrade
- b) Martins Ribeiro
- c) Lúcio Costa
- d) Oscar Niemayer
- e) Machado de Assis

**O texto a seguir refere-se às próximas três questões.**

**Com a ascensão da burguesia, o artista deixa de ser um artifice pronto a executar encomendas de sapatos, armários, ou pinturas, conforme fosse solicitado. Dotava-se agora de autonomia e podia explorar possibilidades de criação inúmeras, contando ainda com a matemática e outras ciências. As grandes obras dos mestres italianos do Quatrocento, que seguiram o caminho apontado por Masaccio, têm uma coisa em comum: as suas figuras parecem um tanto duras, quase de madeira em seu aspecto. Os artistas haviam tentado vários métodos para superar essa dificuldade, procurando deixar as figuras menos rígidas. Porém, só um artista conseguiu a solução do problema, fazendo um lineamento esbatido e cores adoçadas que permitem a uma forma fundir-se com outras e deixar sempre algo para alimentar a imaginação do espectador.**

**22. Os artistas desse período destacaram-se por suas maravilhosas obras. Podemos citar, dentre eles, os quatro artistas seguintes, exceto:**

- a) Leonardo da Vinci
- b) Michelângelo
- c) Mantegna
- d) Botticelli
- e) Paul Gauguin

**23. A técnica que resolveu o problema na pintura dos artistas dessa época é conhecida por:**

- a) Sintética
- b) Analítica

- c) Sfumato
- d) Mosaico
- e) Geometria

24. O artista que criou o método a que se refere o texto é:

- a) Michelângelo
- b) Mantegna
- c) Rafael Sanzio
- d) Leonardo da Vinci
- e) Masaccio

O texto a seguir refere-se às duas próximas questões.

Em algumas obras surrealistas podemos encontrar alguns aspectos representados que existem na natureza, até com excesso de realismo. No entanto, aparecem sempre associados a elementos inexistentes ou absurdos, criando o conjunto irreal, característica deste movimento. Dos pintores surrealistas, Salvador Dali (1904-1989) é, sem dúvida, o mais conhecido. Ele criou o conceito de “Paranoia Crítica” para referir-se à atitude de quem recusa a lógica que rege a vida comum das pessoas. A pintura surrealista desenvolveu duas tendências: a figurativa e a abstrata.

25. São obras de Salvador Dali, exceto:

- a) A persistência da memória
- b) A noitada esnobe da princesa
- c) Mae West
- d) A ceia
- e) Metamorfose de Narciso

26. A obra o Violinista Verde (1923) representa a tendência figurativa do Surrealismo:



(Fonte: <https://www.google.com.br/search?q=obra+>)

O seu autor é:

- a) Marc Chagall
- b) Salvador Dali
- c) Joan Miró
- d) Max Ernest
- e) Vasarely

27. Os artistas considerados precursores da Arte moderna no Brasil são:

- a) Anita Malfatti e Di Cavalcante
- b) Alfredo Volpe e Tarsila do Amaral
- c) Lasar Segall e Anita Malfatti
- d) Candido Portinari e Lasar Segall
- e) Alfredo Volpe e Di Cavalcanti

O texto e a obra a seguir referem-se às próximas duas questões:

Este artista, que teve suas obras reconhecidas internacionalmente, tinha como um dos símbolos as mulatas, e foi influenciado por diversos pintores, como Pablo Picasso, Gauguin, Matisse e Braque, sendo capaz de transformar essas influências numa produção personalizada e associada a temas nacionais.



(Fonte: <https://www.google.com.br/search?q=obra+>)

**28. O título dessa obra, criada por este mestre da pintura modernista brasileira, é:**

- a) Pescadores
- b) O nascimento de Vênus
- c) Pietá
- d) Nascimento de Mani
- e) Abaporu.

**29. O texto refere-se ao artista cujo nome é:**

- a) Candido Portinari
- b) Lasar Segall
- c) Vicente Rego Monteiro
- d) Brecheret
- e) Di Cavalcanti

**30. A principal característica deste movimento artístico é o novo conceito de sombras coloridas, que tinha como uma de suas características considerar que a natureza das cores muda de acordo com a luz que ilumina o ambiente. Esta corrente artística surgiu na França em 1867, século XIX. Alguns pintores, como Claude Monet, Pierre Auguste Renoir e Paul Cézane, fizeram parte deste movimento.**

**Essas afirmações dizem respeito a que movimento artístico?**

- a) Expressionismo
- b) Cubismo
- c) Realismo
- d) Impressionismo
- e) Abstracionismo

**Leia o texto a seguir para responder às próximas duas questões:**

**Ao tratar sobre questões culturais, o significado de Patrimônio estaria relacionado com tudo aquilo que seria transmitido ou deixado de pai para filho. O termo abrange também bens de natureza material e imaterial. Tratar destes temas no ensino das Arte nas escolas é considerado de suma importância para a construção da identidade cultural do cidadão e de seu sentimento de pertencer à sociedade em que vive.**

**31. Alguns exemplos de Patrimônio Imaterial são os apresentados nas alternativas, com exceção de:**

- a) Capoeira
- b) Candomblé
- c) Cidades históricas
- d) Acarajé
- e) Frevo

**32. Considerar tais temas, na formação do aluno, foi possível a partir da reforma no ensino de arte, embasada na abordagem Triangular, de Ana Mae Barbosa, nos anos:**

- a) 70
- b) 69
- c) 40
- d) 30



e) 90

**33. Como é conhecida a lei que instituiu o Programa Nacional de Apoio à Cultura (PRONAC), cuja finalidade é a captação e canalização de recursos para os diversos setores culturais?**

- a) Trabalhista
- b) Fiscal
- c) Da educação inclusiva
- d) De diretrizes e bases
- e) Rouanet

**34. As danças típicas do Paraná fazem parte da história cultural desse Estado e constituem-se em importantes fontes de pesquisas metodológicas para o ensino da arte regional. Qual dança não faz parte delas?**

- a) Nhô-Chico
- b) Dança de São Gonçalo
- c) Pau-de-fita
- d) Congada da Lapa
- e) Engenho de Maromba

**35. Pintor e escultor paranaense, João Turin (1878-1949) é autor de várias obras em locais públicos de Curitiba e em outros municípios do Paraná. Nasceu em Porto de Cima, no município de Morretes, em 21 de setembro de 1878. Foi aluno e professor da Escola de Artes e Ofícios, em Curitiba, e estudou escultura na Real Academia de Belas Artes de Bruxelas. João Turin recebeu vários prêmios por suas obras. Dentre suas obras mais conhecidas, estão as apresentadas nas alternativas, exceto:**

- a) Painel pictográfico Teatro do mundo (teatro Guaíra)
- b) Tigre esmagando a cobra
- c) Monumento a Rui Barbosa
- d) Àguia de Haia
- e) Tiradentes

**36. Ele foi o primeiro cientista a associar o fato de que a luz do Sol tinha forte relação com a existência das cores, quando dissociou a luz solar nas cores do arco-íris através de um prisma. Surgia ali o primeiro esboço do que posteriormente viria a ser chamada de Teoria das Cores. Estamos nos referindo a:**

- a) Otto Runge
- b) Isaac Newton
- c) Chevreul
- d) Galileu
- e) Auguste Comte

**37. A decomposição da luz solar em várias cores, quando atravessa um prisma, denomina-se conjunto de cores (como espectro). O espectro é formado pela união das cores: vermelho, laranja, amarelo, verde, azul, anil e violeta, que são as sete cores que compõem a luz do sol e que também formam o arco-íris. Esse fenômeno na teoria das cores é conhecido por:**

- a) Diagramação
- b) Enigma
- c) Difração
- d) Natural
- e) Pigmentação

**38. A técnica que um certo professor escolheu para ensinar seus alunos utiliza madeira como matriz para fazer o desenho e possibilita a reprodução da imagem em outras superfícies. Trata-se da técnica de:**

- a) Xilogravura
- b) Litogravura
- c) Frottage
- d) Serigrafia
- e) Linóleo

**39. É um processo de impressão no qual a tinta é vazada – pela pressão de um rodo ou puxador – através de uma tela preparada. A tela, normalmente de poliéster ou nylon, é esticada em um bastidor de madeira, alumínio ou aço. Isso se refere ao processo de:**

- a) Litogravura
- b) Xilogravura
- c) Serigrafia
- d) Linóleo
- e) Frottage



40. Passou a produzir objetos com diversos tipos de materiais oriundos do lixo e da sucata que, após a sua descoberta, seriam classificados como arte vanguardista e comparados à obra de Marcel Duchamp. A sua obra mais conhecida é o *Manto da Apresentação*, que ele acreditava ter de vestir no dia do Juízo Final. Com os objetos que produzia, pretendia marcar a passagem de Deus na Terra. Os objetos recolhidos dos restos da sociedade de consumo foram reutilizados como forma de registrar o cotidiano dos indivíduos. Esse artista foi excluído da sociedade em que vivia por ser portador de doença mental, é hoje consagrado como referência na Arte Contemporânea brasileira.

Esse texto refere-se a:

- a) Jorapimo
- b) Romero Britto
- c) Bispo do Rosário
- d) Scliar
- e) Cildo Meireles

**RASCUNHO**



PREFEITURA DE TELÊMACO BORBA - ESTADO DO PARANÁ- EDITAL Nº 001-2016 - CONCURSO PÚBLICO

VESPERTINO – 29/05/2016 – NÍVEL SUPERIOR

PROVA OBJETIVA NÚMERO

**2**

**CARGO: TMNS I - ARTES E CULTURA**

Leia atentamente as **INSTRUÇÕES**:

1. Confira seus dados no cartão-resposta: nome, número de inscrição e o curso para o qual se inscreveu.
2. **MARQUE no seu cartão-resposta o número da sua prova** (não será corrigido o cartão-resposta que não tiver marcado o número da prova) e **Assine** seu cartão-resposta.
3. Aguarde a autorização do Fiscal para abrir o caderno de prova. Ao receber a ordem do fiscal, confira o caderno de prova com muita atenção. Nenhuma reclamação sobre o total de questões ou falha de impressão será aceita depois de iniciada a prova.
4. O cartão-resposta não será substituído, salvo se contiver erro de impressão.
5. Preencha toda a área do cartão-resposta correspondente à alternativa de sua escolha, com caneta esferográfica (tinta azul ou preta), sem ultrapassar as bordas. As marcações duplas, ou rasuradas, com corretivo, ou marcadas diferentemente do modelo estabelecido no cartão-resposta poderão ser anuladas.
6. Sua prova tem **40** questões, com **5** alternativas.
7. Cabe apenas ao candidato a interpretação das questões, **o fiscal** não poderá fazer nenhuma interferência.
8. A prova será realizada com duração máxima de **3 (três) horas**, incluído o tempo para a realização da Prova Objetiva de múltipla escolha e o preenchimento do cartão-resposta.
9. O candidato poderá retirar-se do local de realização das provas somente **1 (uma) hora** após o seu início, sem levar o caderno de prova.
10. O candidato poderá levar o caderno de provas, assim como anotação contendo transcrição do seu cartão-resposta, somente **1h30min** (uma hora e trinta minutos) após o início da realização da prova.
11. Ao terminar a prova, o candidato deverá entregar ao fiscal de sala o cartão-resposta preenchido e **ASSINADO**.
12. Os **3 (três)** candidatos, que terminarem a prova por último, deverão permanecer na sala, e só poderão sair juntos após o fechamento do envelope, contendo os cartões-resposta dos candidatos presentes e ausentes, e assinarem no lacre do referido envelope, atestando que este foi devidamente lacrado.
13. Durante todo o tempo em que permanecer no local onde está ocorrendo o concurso, o candidato deverá, manter o celular desligado e sem bateria, só sendo permitido ligar depois de ultrapassar o portão de saída do prédio.
14. Não será permitido ao candidato fumar na sala de provas, bem como nas dependências.
15. Depois de terminar a prova e entregar ao fiscal o cartão-resposta, preenchido e assinado, não será mais permitido ao candidato o uso do banheiro e bebedouro.

**BOA PROVA!**

**RACIOCÍNIO LÓGICO**

**01. Os cinco filhos de Ana estavam discutindo a respeito da data de nascimento da mãe:**

- Almir disse que foi em janeiro, dia 14, sexta-feira.
- Vanderlei disse que foi em janeiro, dia 14, sábado.
- Tiago disse que foi em fevereiro, dia 15, sábado.
- Sandro disse que foi em janeiro, dia 15, sexta-feira.
- Renato disse que foi em fevereiro, dia 15, sexta-feira.

Sabe-se que somente um dos filhos de Ana acertou corretamente sua data de nascimento e que os outros acertaram pelo menos um dos itens (dia, dia da semana e mês). Dessa forma, é correto afirmar que o filho de Ana que acertou a data de nascimento dela foi:

- a) Renato
- b) Sandro
- c) Tiago
- d) Vanderlei
- e) Almir

**02. Considere a seguinte afirmativa: “Todo churrasqueiro gosta de picanha”. Em relação a essa proposição, é correto afirmar que:**

- a) Algum churrasqueiro não gosta de picanha.
- b) Toda pessoa que gosta de picanha é churrasqueira.
- c) Alguma pessoa que não gosta de picanha é churrasqueira.
- d) Toda pessoa que não é churrasqueira, não gosta de picanha.
- e) Toda pessoa que não gosta de picanha, não é churrasqueira.

**03. Em um grupo formado por 67 pessoas, verificou-se que 41 pessoas gostam de arroz, 29 gostam de feijão, 33 gostam de carne, 19 gostam de arroz e de feijão, 9 gostam apenas de arroz e de carne, 12 gostam de feijão e de carne e que 6 gostam de arroz, de feijão e de carne. O número de pessoas desse grupo, que não gosta de nenhum desses três tipos de alimentos é igual a:**

- a) 4
- b) 5
- c) 6
- d) 8
- e) 10

**04. Bruno escreveu, em seu caderno, várias sequências formadas por números múltiplos de 4, onde os valores que ocupavam as posições pares eram multiplicados por  $-1$ . Cada sequência foi somada e o resultado da soma anotado. A soma das três primeiras sequências escritas por Bruno foram as seguintes:**

$$4 - 8 = -4$$

$$4 - 8 + 12 = 8$$

$$4 - 8 + 12 - 16 = -8$$

Considere que Bruno escreveu e somou tais sequências, em seu caderno, de modo a obter determinada sequência cuja soma foi 600. O número de termos dessa sequência é igual a:

- a) 149
- b) 150
- c) 298
- d) 299
- e) 300

**05. Quatro torcedores, um do São Paulo, um do Cruzeiro, um do Vasco e um do Bahia, estão sentados ao redor de uma mesa quadrada, de modo que, dois a dois, fiquem frente a frente. Sabe-se que Alan é torcedor do Cruzeiro e que Bruno está sentado à direita de Alan. Sabe-se também que Caio está sentado à direita do torcedor do São Paulo. Sabe-se ainda que Daniel não é torcedor do Vasco e que está sentado à frente de Bruno. Dessa forma, é correto afirmar que:**

- a) Bruno é torcedor do Bahia e Daniel é torcedor do São Paulo.
- b) Bruno é torcedor do São Paulo e Daniel é torcedor do Bahia.
- c) Caio é torcedor do Vasco e Daniel é torcedor do São Paulo.
- d) Caio é torcedor do Bahia e Daniel é torcedor do São Paulo.
- e) Bruno é torcedor do Vasco e Daniel é torcedor do Bahia.

**INFORMÁTICA**

06. Considerando o MS-Excel versão 2010, observando a figura abaixo, é correto afirmar que:

	A	B	C
1			
2			
3			
4			

- Somente 03 três linhas estão selecionadas.
- Somente uma célula está selecionada.
- 12 (doze) células estão selecionadas.
- Somente a coluna A até a linha 4 (quatro) está selecionada.
- Somente as colunas 1 (um), 2 (dois), 3 (três) e 4 (quatro) estão selecionadas.

07. Considerando o MS-Excel versão 2010, observando a figura abaixo, é incorreto afirmar que:

	A	B	C
1	12	6	=A1*B1
2	8	2	=A2/B2
3	5	14	=A3-B3
4	6	11	=A4+B4

- O resultado da fórmula =A1\*B1 é 72.
- O resultado da fórmula =A2/B2 é 4.
- O resultado da fórmula =A3-B3 é -9.
- O resultado da fórmula =A3-B3 é 9.
- O resultado da fórmula =A4+B4 é 17.

08. Digitando um texto no MS-Word versão 2010, necessito adicionar número nas páginas. Quanto a isso, é correto afirmar que:

- No menu Layout da Página, cliço em número de página e seleciono onde desejo adicionar os números.
- No menu Inserir, cliço em número de página e seleciono onde desejo adicionar os números.
- No menu Revisão, cliço em número de página e seleciono onde desejo adicionar os números.
- No menu Referências, cliço em número de página e seleciono onde desejo adicionar os números.
- No menu Exibição, cliço em número de página e seleciono onde desejo adicionar os números.

09. A segurança da informação está diretamente relacionada com proteção de um conjunto de informações, no sentido de preservar o valor que possuem para um indivíduo ou uma organização. Atualmente, um dos aplicativos mais utilizados no mundo, o Whats app, teve uma alteração de confidencialidade muito importante na segurança das informações transmitidas e recebidas. Dentre as alternativas, assinale a que corretamente informa a alteração inserida no aplicativo Whats app.

- Antispam
- Antivirus
- Firewall
- Antispyware
- Criptografia

10. São todos os dispositivos que trabalham acoplados ao microcomputador para receber, transmitir, visualizar, ler, gravar ou armazenarem dados. São eles que permitem a comunicação do computador com o meio exterior, isto é, com os usuários e outras máquinas.

Esse texto descreve corretamente:

- Memória ram
- Memória virtual
- Software
- Periféricos
- Hardware

**CONHECIMENTOS GERAIS**

11. Hino do município de Telêmaco Borba/PR

Das virgens matas e campos verdejantes  
 Servindo-se também o rio Tibagi,

Homens de ideais, espíritos vibrantes.  
 Constituíram as indústrias aqui.

Estrilho:

Salve! Salve! Telêmaco Borba

Terra querida e de grandes primores,

A nossa homenagem rendamos

À cidade dos trabalhadores.

Pois a cadência de enorme e real progresso

Um município mui grandioso fez nascer,

Marcando assim, verdadeiro sucesso

Faz, então o Paraná engrandecer.

**No que tange ao Hino do município, atribua V (verdadeiro) ou F (falso) às afirmativas e marque a alternativa correta.**

( ) Eloah Martins Quadrado é autora da letra do hino.

( ) Bento Mossurunga compôs a música do hino.

( ) Eloah Martins Quadrado foi nomeada primeira professora da Cidade Nova, atual Telêmaco Borba.

( ) Bento Mossurunga fundou a orquestra Estudantil e Concertos – Orquestra Sinfônica da Universidade, a Sociedade de Cultura Artístico Basílio Itiberê.

a) F, V, V, V.

b) V, F, V, V.

c) V, V, F, V.

d) V, V, F, F.

e) V, V, V, V.

**12. À luz da Lei nº 1883/2012, que dispões sobre o Estatuto dos Servidores Públicos da Administração Direta, Autárquica e Funcional do Município de Telêmaco Borba/PR, leia as alternativas e marque a correta.**

a) A apresentação para a posse ocorrerá no prazo de até trinta dias, contados do ato de nomeação.

b) A destituição do servidor da função gratificada dar-se-á por solicitação exclusiva dele mesmo.

c) O servidor ocupante exclusivamente de cargo em comissão será contribuinte do regime geral de previdência social.

d) A aprovação em concurso público gera o direito à nomeação, e será feita obedecida à ordem de classificação dos candidatos.

e) O exercício de função gratificada poderá ser de dedicação integral ou parcial, conforme necessidade da administração.

**Conforme a Lei nº 1.881, de 05 de abril de 2012, que dispõe sobre o Plano de Cargos, Carreiras e Vencimentos do quadro geral de servidores da Prefeitura Municipal de Telêmaco Borba/PR, regulamentada pelo Decreto nº 2269/2015, responda às próximas três questões.**

**13. Leia as assertivas e assinala a incorreta.**

a) Do resultado da avaliação de desempenho poderá ser interposto recurso à Comissão de Desenvolvimento Funcional no prazo de quinze dias a contar da publicação no Boletim Oficial do Município.

b) Não será concedida a progressão ou promoção ao servidor que estiver em licença para tratamento de saúde por um período superior a quarenta e cinco dias, no período de avaliação.

c) A alternância dos membros constituintes da Comissão de Desenvolvimento Funcional eleitos pelos servidores verificar-se-á a cada três anos de participação, observados, para substituição de seus participantes, o critério fixado no artigo anterior, não cabendo eleição sucessiva.

d) Caberá à Comissão de Desenvolvimento Funcional, no caso de divergência de vinte por cento entre a nota do avaliador e a do avaliado, solicitar nova avaliação à chefia.

e) Nos termos do disposto no art. 17 da Lei nº 1.881, de 05 de abril de 2012, para progredir, é necessário que o servidor satisfaça, dentre outros, o seguinte requisito: estar no efetivo exercício de seu cargo ou em função comissionada na sua área de atuação durante o interstício de dois anos.

**14. Assinale a alternativa que completa respectivamente as lacunas do texto a seguir:**

**A Comissão de Desenvolvimento Funcional será constituída por \_\_\_\_\_ membros, sendo \_\_\_\_\_ designados pelo Prefeito Municipal de Telêmaco Borba e os demais eleitos pelos servidores municipais dentre os estáveis, com a atribuição de coordenar os procedimentos relativos à avaliação periódica de desempenho e outras atribuições.**

a) três / sete

b) um / três

c) sete / três

d) três / cinco

e) dois / cinco



**15. A Avaliação de Desempenho será norteadada, dentre outros, pelo seguinte princípio: Amplitude - a avaliação deve incidir sobre todas as áreas de atuação do servidor, que compreendem:**

- 1. a formulação de políticas administrativas e sua aplicação para todos os setores da administração municipal;**
- 2. o desempenho do profissional dentro de suas funções pertinentes;**
- 3. a estrutura do órgão em que exerce a função;**
- 4. os resultados de eficiência dos serviços de cada setor ou órgão da administração municipal;**
- 5. a participação direta do avaliado, durante todo o processo avaliativo.**

**Diante dessa afirmação, somente não está correto o item:**

- a) 1
- b) 2
- c) 3
- d) 4
- e) 5

### **CONHECIMENTOS ESPECÍFICOS**

**16. Na Semana de Arte Moderna, foi divulgado um manifesto deste artista, baseado no manifesto escrito em 1912, conhecido como manifesto futurista de Marinetti, que propunha o compromisso da literatura com a nova civilização técnica e defendia nesta obra uma atividade crítica dessa arte, juntamente com Menotti del Picchia e Mário de Andrade.**

**Essas informações referem-se a:**

- a) Oswald de Andrade
- b) Martins Ribeiro
- c) Lúcio Costa
- d) Oscar Niemayer
- e) Machado de Assis

**O texto a seguir refere-se às próximas três questões.**

**Com a ascensão da burguesia, o artista deixa de ser um artífice pronto a executar encomendas de sapatos, armários, ou pinturas, conforme fosse solicitado. Dotava-se agora de autonomia e podia explorar possibilidades de criação inúmeras, contando ainda com a matemática e outras ciências. As grandes obras dos mestres italianos do Quatrocento, que seguiram o caminho apontado por Masaccio, têm uma coisa em comum: as suas figuras parecem um tanto duras, quase de madeira em seu aspecto. Os artistas haviam tentado vários métodos para superar essa dificuldade, procurando deixar as figuras menos rígidas. Porém, só um artista conseguiu a solução do problema, fazendo um lineamento esbatido e cores adoçadas que permitem a uma forma fundir-se com outras e deixar sempre algo para alimentar a imaginação do espectador.**

**17. Os artistas desse período destacaram-se por suas maravilhosas obras. Podemos citar, dentre eles, os quatro artistas seguintes, exceto:**

- a) Leonardo da Vinci
- b) Michelângelo
- c) Mantegna
- d) Botticelli
- e) Paul Gauguin

**18. A técnica que resolveu o problema na pintura dos artistas dessa época é conhecida por:**

- a) Sintética
- b) Analítica
- c) Sfumato
- d) Mosaico
- e) Geometria

**19. O artista que criou o método a que se refere o texto é:**

- a) Michelângelo
- b) Mantegna
- c) Rafael Sanzio
- d) Leonardo da Vinci
- e) Masaccio

**O texto a seguir refere-se às duas próximas questões.**

**Em algumas obras surrealistas podemos encontrar alguns aspectos representados que existem na natureza, até com excesso de realismo. No entanto, aparecem sempre associados a elementos**

inexistentes ou absurdos, criando o **conjunto irreal**, característica deste movimento. Dos pintores surrealistas, Salvador Dali (1904-1989) é, sem dúvida, o mais conhecido. Ele criou o conceito de “Paranoia Crítica” para referir-se à atitude de quem recusa a lógica que rege a vida comum das pessoas. A pintura surrealista desenvolveu duas tendências: a figurativa e a abstrata.

**20. São obras de Salvador Dali, exceto:**

- A persistência da memória
- A noitada esnobe da princesa
- Mae West
- A ceia
- Metamorfose de Narciso

**21. A obra o Violinista Verde (1923) representa a tendência figurativa do Surrealismo:**



(Fonte: <https://www.google.com.br/search?q=obra+>)

**O seu autor é:**

- Marc Chagall
- Salvador Dali
- Joan Miró
- Max Ernest
- Vasarely

**22. Os artistas considerados precursores da Arte moderna no Brasil são:**

- Anita Malfatti e Di Cavalcante
- Alfredo Volpe e Tarsila do Amaral
- Lasar Segall e Anita Malfatti
- Candido Portinari e Lasar Segall
- Alfredo Volpe e Di Cavalcanti

**O texto e a obra a seguir referem-se às próximas duas questões:**

**Este artista, que teve suas obras reconhecidas internacionalmente, tinha como um dos símbolos as mulatas, e foi influenciado por diversos pintores, como Pablo Picasso, Gauguin, Matisse e Braque, sendo capaz de transformar essas influências numa produção personalizada e associada a temas nacionais.**



(Fonte: <https://www.google.com.br/search?q=obra+>)

**23. O título dessa obra, criada por este mestre da pintura modernista brasileira, é:**

- a) Pescadores
- b) O nascimento de Vênus
- c) Pietá
- d) Nascimento de Mani
- e) Abaporu.

**24. O texto refere-se ao artista cujo nome é:**

- a) Candido Portinari
- b) Lasar Segall
- c) Vicente Rego Monteiro
- d) Brecheret
- e) Di Cavalcanti

**25. A principal característica deste movimento artístico é o novo conceito de sombras coloridas, que tinha como uma de suas características considerar que a natureza das cores muda de acordo com a luz que ilumina o ambiente. Esta corrente artística surgiu na França em 1867, século XIX. Alguns pintores, como Claude Monet, Pierre Auguste Renoir e Paul Cézane, fizeram parte deste movimento.**

**Essas afirmações dizem respeito a que movimento artístico?**

- a) Expressionismo
- b) Cubismo
- c) Realismo
- d) Impressionismo
- e) Abstracionismo

**Leia o texto a seguir para responder às próximas duas questões:**

**Ao tratar sobre questões culturais, o significado de Patrimônio estaria relacionado com tudo aquilo que seria transmitido ou deixado de pai para filho. O termo abrange também bens de natureza material e imaterial. Tratar destes temas no ensino das Arte nas escolas é considerado de suma importância para a construção da identidade cultural do cidadão e de seu sentimento de pertencer à sociedade em que vive.**

**26. Alguns exemplos de Patrimônio Imaterial são os apresentados nas alternativas, com exceção de:**

- a) Capoeira
- b) Candomblé
- c) Cidades históricas
- d) Acarajé
- e) Frevo

**27. Considerar tais temas, na formação do aluno, foi possível a partir da reforma no ensino de arte, embasada na abordagem Triangular, de Ana Mae Barbosa, nos anos:**

- a) 70
- b) 69
- c) 40
- d) 30
- e) 90

**28. Como é conhecida a lei que instituiu o Programa Nacional de Apoio à Cultura (PRONAC), cuja finalidade é a captação e canalização de recursos para os diversos setores culturais?**

- a) Trabalhista
- b) Fiscal
- c) Da educação inclusiva
- d) De diretrizes e bases
- e) Rouanet

**29. As danças típicas do Paraná fazem parte da história cultural desse Estado e constituem-se em importantes fontes de pesquisas metodológicas para o ensino da arte regional. Qual dança não faz parte delas?**

- a) Nhô-Chico
- b) Dança de São Gonçalo
- c) Pau-de-fita
- d) Congada da Lapa
- e) Engenho de Maromba

**30. Pintor e escultor paranaense, João Turin (1878-1949) é autor de várias obras em locais públicos de Curitiba e em outros municípios do Paraná. Nasceu em Porto de Cima, no município de Morretes, em 21 de setembro de 1878. Foi aluno e professor da Escola de Artes e Ofícios, em Curitiba, e estudou escultura na Real Academia de Belas Artes de Bruxelas. João Turin recebeu vários prêmios por suas obras. Dentre suas obras mais conhecidas, estão as apresentadas nas alternativas, exceto:**

- a) Painel pictográfico Teatro do mundo (teatro Guaíra)
- b) Tigre esmagando a cobra
- c) Monumento a Rui Barbosa
- d) Águia de Haia
- e) Tiradentes

**31. Ele foi o primeiro cientista a associar o fato de que a luz do Sol tinha forte relação com a existência das cores, quando dissociou a luz solar nas cores do arco-íris através de um prisma. Surgia ali o primeiro esboço do que posteriormente viria a ser chamada de Teoria das Cores. Estamos nos referindo a:**

- a) Otto Runge
- b) Isaac Newton
- c) Chevreul
- d) Galileu
- e) Auguste Comte

**32. A decomposição da luz solar em várias cores, quando atravessa um prisma, denomina-se conjunto de cores (como espectro). O espectro é formado pela união das cores: vermelho, laranja, amarelo, verde, azul, anil e violeta, que são as sete cores que compõem a luz do sol e que também formam o arco-íris. Esse fenômeno na teoria das cores é conhecido por:**

- a) Diagramação
- b) Enigma
- c) Difração
- d) Natural
- e) Pigmentação

**33. A técnica que um certo professor escolheu para ensinar seus alunos utiliza madeira como matriz para fazer o desenho e possibilita a reprodução da imagem em outras superfícies. Trata-se da técnica de:**

- a) Xilogravura
- b) Litogravura
- c) Frottage
- d) Serigrafia
- e) Linóleo

**34. É um processo de impressão no qual a tinta é vazada – pela pressão de um rodo ou puxador – através de uma tela preparada. A tela, normalmente de poliéster ou nylon, é esticada em um bastidor de madeira, alumínio ou aço. Isso se refere ao processo de:**

- a) Litogravura
- b) Xilogravura
- c) Serigrafia
- d) Linóleo
- e) Frottage

**35. Passou a produzir objetos com diversos tipos de materiais oriundos do lixo e da sucata que, após a sua descoberta, seriam classificados como arte vanguardista e comparados à obra de Marcel Duchamp. A sua obra mais conhecida é o *Manto da Apresentação*, que ele acreditava ter de vestir no dia do Juízo Final. Com os objetos que produzia, pretendia marcar a passagem de Deus na Terra. Os objetos recolhidos dos restos da sociedade de consumo foram reutilizados como forma de registrar o cotidiano dos indivíduos. Esse artista foi excluído da sociedade em que vivia por ser portador de doença mental, é hoje consagrado como referência na Arte Contemporânea brasileira.**

**Esse texto refere-se a:**

- a) Jorapimo
- b) Romero Britto
- c) Bispo do Rosário
- d) Scliar
- e) Cildo Meireles

## LÍNGUA PORTUGUESA

**Texto para as próximas cinco questões:**

“O cego Estrelinho”

## Mia Couto

O cego Estrelinho era pessoa de nenhuma vez: sua história poderia ser contada e descontada não fosse seu guia, Gigitto Efraim. A mão de Gigitto conduziu o desvistado por tempos e idades. Aquela mão era repartidamente comum, extensão de um no outro, siamense. E assim era quase de nascença. Memória de Estrelinho tinha cinco dedos e eram os de Gigitto postos, em aperto, na sua própria mão.

O cego, curioso, queria saber de tudo. Ele não fazia cerimônia no viver. O sempre lhe era pouco e o tudo insuficiente. Dizia, deste modo:

— Tenho que viver já, senão esqueço-me.

Gigitto, porém, o que descrevia era o que não havia. O mundo que ele minuciava eram fantasias e rendilhados. A imaginação do guia era mais profícua que papadeira. O cego enchia a boca de águas:

— Que maravilhação esse mundo. Me conte tudo, Gigitto!

A mão do guia era, afinal, o manuscrito da mentira. Gigitto Efraim estava como nunca esteve S. Tomé: via para não crer. O condutor falava pela ponta dos dedos. Desfolhava o universo, aberto em folhas. A ideiação dele era tal que mesmo o cego, por vezes, acreditava ver. O outro lhe encorajava esses breves enganar:

— Desbengale-se, você está escolhendo a boa procedência!

Mentira: Estrelinho continuava sem ver uma palmeira à frente do nariz. Contudo, o cego não se conformava em suas escuras. Ele cumpria o ditado: não tinha perna e queria dar o pontapé. Só à noite, ele desalentava, sofrendo medos mais antigos que a humanidade. Entendia aquilo que, na raça humana, é menos primitivo: o animal.

— Na noite aflige não haver luz?

— Aflição é ter um pássaro branco esvoando dentro do sono.

Pássaro branco? No sono? Lugar de ave é nas alturas. Dizem até que Deus fez o céu para justificar os pássaros. Estrelinho disfarçava o medo dos vaticínios, subterfugindo:

— E agora, Gigitto? Agora, olhando assim para cima, estou face ao céu?

Que podia o outro responder? O céu do cego fica em toda a parte. Estrelinho perdia o pé era quando a noite chegava e seu mestre adormecia. Era como se um novo escuro nele se estreasse em nó cego. Devagaroso e sorrateiro ele aninhava sua mão na mão do guia. Só assim adormecia. A razão da concha é a timidez da amêijoia? Na manhã seguinte, o cego lhe confessava: se você morrer, tenho que morrer logo no imediato. Senão-me: como acerto o caminho para o céu?

Foi no mês de dezembro que levaram Gigitto. Lhe tiraram do mundo para pôr na guerra: obrigavam os serviços militares. O cego reclamou: que o moço inatingia a idade. E que o serviço que ele a si prestava era vital e vitalício. O guia chamou Estrelinho à parte e lhe tranquilizou:

— Não vai ficar sozinando por aí. Minha mana já mandei para ficar no meu lugar.

O cego estendeu o braço a querer tocar uma despedida. Mas o outro já não estava lá. Ou estava e se desviara, propositado? E sem água ida nem vinda, Estrelinho escutou o amigo se afastar, engolido, esponjoso, invisível. Pela primeira vez, Estrelinho se sentiu invalidado.

— Agora, só agora, sou cego que não vê.

(...)

**COUTO, Mia. Estórias abensonhadas. Rio de Janeiro: Nova Fronteira, 1996. (Pág 23 e 24).**

**36. Quanto à interpretação do fragmento do conto, podemos afirmar que:**

- Gigitto Efraim era o guia de Estrelinho há pouquíssimo tempo.
- Estrelinho era cego de nascença.
- Gigitto descrevia o mundo para Estrelinho de forma denotativa.
- Gigitto foi convocado pelo exército para ser guia de cegos na guerra.
- Gigitto descrevia o mundo para Estrelinho de forma conotativa.

**37. No período “O sempre lhe era pouco e o tudo insuficiente”, o pronome “LHE” exerce a função sintática de:**

- Objeto Direto
- Objeto Indireto
- Complemento Nominal
- Adjunto Adnominal
- Objeto Direto Preposicionado

**38. Na oração “A mão de Gigitto conduziu o desvistado por tempos e idades”, o autor faz uso de um neologismo, assim como no decorrer de toda a obra em questão. Contudo, o neologismo só se torna possível pela utilização dos elementos mórficos naquilo que a gramática normativa pontua como Processo de Formação das Palavras. Levando em consideração apenas o recurso morfológico, qual Processo de Formação foi utilizado?**

- Derivação Sufixal
- Derivação Prefixal
- Derivação Regressiva
- Derivação Imprópria



e) Derivação Parassintética

**39. No terceiro período do décimo terceiro parágrafo, temos:**

- a) Uma oração
- b) Duas orações
- c) Três orações
- d) Quatro orações
- e) Cinco orações

**40. No último parágrafo do fragmento do conto “— Agora, só agora, sou cego que não vê”, a oração subordinada presente classifica-se corretamente como:**

- a) Oração Subordinada Adjetiva Restritiva
- b) Oração Subordinada Adverbial Causal
- c) Oração Subordinada Substantiva Subjetiva
- d) Oração Subordinada Adverbial Explicativa
- e) Oração Subordinada Adjetiva Explicativa

**RASCUNHO**





PREFEITURA DE TELÊMACO BORBA - ESTADO DO PARANÁ- EDITAL Nº 001-2016 - CONCURSO PÚBLICO

VESPERTINO – 29/05/2016 – NÍVEL SUPERIOR

PROVA OBJETIVA NÚMERO

**3**

**CARGO: TMNS I - ARTES E CULTURA**

Leia atentamente as **INSTRUÇÕES**:

1. Confira seus dados no cartão-resposta: nome, número de inscrição e o curso para o qual se inscreveu.
2. **MARQUE no seu cartão-resposta o número da sua prova** (não será corrigido o cartão-resposta que não tiver marcado o número da prova) e **Assine** seu cartão-resposta.
3. Aguarde a autorização do Fiscal para abrir o caderno de prova. Ao receber a ordem do fiscal, confira o caderno de prova com muita atenção. Nenhuma reclamação sobre o total de questões ou falha de impressão será aceita depois de iniciada a prova.
4. O cartão-resposta não será substituído, salvo se contiver erro de impressão.
5. Preencha toda a área do cartão-resposta correspondente à alternativa de sua escolha, com caneta esferográfica (tinta azul ou preta), sem ultrapassar as bordas. As marcações duplas, ou rasuradas, com corretivo, ou marcadas diferentemente do modelo estabelecido no cartão-resposta poderão ser anuladas.
6. Sua prova tem **40** questões, com **5** alternativas.
7. Cabe apenas ao candidato a interpretação das questões, **o fiscal** não poderá fazer nenhuma interferência.
8. A prova será realizada com duração máxima de **3 (três) horas**, incluído o tempo para a realização da Prova Objetiva de múltipla escolha e o preenchimento do cartão-resposta.
9. O candidato poderá retirar-se do local de realização das provas somente **1 (uma) hora** após o seu início, sem levar o caderno de prova.
10. O candidato poderá levar o caderno de provas, assim como anotação contendo transcrição do seu cartão-resposta, somente **1h30min** (uma hora e trinta minutos) após o início da realização da prova.
11. Ao terminar a prova, o candidato deverá entregar ao fiscal de sala o cartão-resposta preenchido e **ASSINADO**.
12. Os **3 (três)** candidatos, que terminarem a prova por último, deverão permanecer na sala, e só poderão sair juntos após o fechamento do envelope, contendo os cartões-resposta dos candidatos presentes e ausentes, e assinarem no lacre do referido envelope, atestando que este foi devidamente lacrado.
13. Durante todo o tempo em que permanecer no local onde está ocorrendo o concurso, o candidato deverá, manter o celular desligado e sem bateria, só sendo permitido ligar depois de ultrapassar o portão de saída do prédio.
14. Não será permitido ao candidato fumar na sala de provas, bem como nas dependências.
15. Depois de terminar a prova e entregar ao fiscal o cartão-resposta, preenchido e assinado, não será mais permitido ao candidato o uso do banheiro e bebedouro.

**BOA PROVA!**

**CONHECIMENTOS ESPECÍFICOS**

**01. Na Semana de Arte Moderna, foi divulgado um manifesto deste artista, baseado no manifesto escrito em 1912, conhecido como manifesto futurista de Marinetti, que propunha o compromisso da literatura com a nova civilização técnica e defendia nesta obra uma atividade crítica dessa arte, juntamente com Menotti del Picchia e Mário de Andrade.**

**Essas informações referem-se a:**

- a) Oswald de Andrade
- b) Martins Ribeiro
- c) Lúcio Costa
- d) Oscar Niemayer
- e) Machado de Assis

**O texto a seguir refere-se às próximas três questões.**

**Com a ascensão da burguesia, o artista deixa de ser um artífice pronto a executar encomendas de sapatos, armários, ou pinturas, conforme fosse solicitado. Dotava-se agora de autonomia e podia explorar possibilidades de criação inúmeras, contando ainda com a matemática e outras ciências. As grandes obras dos mestres italianos do Quatrocento, que seguiram o caminho apontado por Masaccio, têm uma coisa em comum: as suas figuras parecem um tanto duras, quase de madeira em seu aspecto. Os artistas haviam tentado vários métodos para superar essa dificuldade, procurando deixar as figuras menos rígidas. Porém, só um artista conseguiu a solução do problema, fazendo um lineamento esbatido e cores adoçadas que permitem a uma forma fundir-se com outras e deixar sempre algo para alimentar a imaginação do espectador.**

**02. Os artistas desse período destacaram-se por suas maravilhosas obras. Podemos citar, dentre eles, os quatro artistas seguintes, exceto:**

- a) Leonardo da Vinci
- b) Michelângelo
- c) Mantegna
- d) Botticelli
- e) Paul Gauguin

**03. A técnica que resolveu o problema na pintura dos artistas dessa época é conhecida por:**

- a) Sintética
- b) Analítica
- c) Sfumato
- d) Mosaico
- e) Geometria

**04. O artista que criou o método a que se refere o texto é:**

- a) Michelângelo
- b) Mantegna
- c) Rafael Sanzio
- d) Leonardo da Vinci
- e) Masaccio

**O texto a seguir refere-se às duas próximas questões.**

**Em algumas obras surrealistas podemos encontrar alguns aspectos representados que existem na natureza, até com excesso de realismo. No entanto, aparecem sempre associados a elementos inexistentes ou absurdos, criando o conjunto irreal, característica deste movimento. Dos pintores surrealistas, Salvador Dali (1904-1989) é, sem dúvida, o mais conhecido. Ele criou o conceito de “Paranoia Crítica” para referir-se à atitude de quem recusa a lógica que rege a vida comum das pessoas. A pintura surrealista desenvolveu duas tendências: a figurativa e a abstrata.**

**05. São obras de Salvador Dali, exceto:**

- a) A persistência da memória
- b) A noitada esnobe da princesa
- c) Mae West
- d) A ceia
- e) Metamorfose de Narciso

**06. A obra o Violinista Verde (1923) representa a tendência figurativa do Surrealismo:**



(Fonte: <https://www.google.com.br/search?q=obra+>)

**O seu autor é:**

- a) Marc Chagall
- b) Salvador Dali
- c) Joan Miró
- d) Max Ernest
- e) Vasarely

**07. Os artistas considerados precursores da Arte moderna no Brasil são:**

- a) Anita Malfatti e Di Cavalcante
- b) Alfredo Volpe e Tarsila do Amaral
- c) Lasar Segall e Anita Malfatti
- d) Candido Portinari e Lasar Segall
- e) Alfredo Volpe e Di Cavalcanti

**O texto e a obra a seguir referem-se às próximas duas questões:**

**Este artista, que teve suas obras reconhecidas internacionalmente, tinha como um dos símbolos as mulatas, e foi influenciado por diversos pintores, como Pablo Picasso, Gauguin, Matisse e Braque, sendo capaz de transformar essas influências numa produção personalizada e associada a temas nacionais.**



(Fonte: <https://www.google.com.br/search?q=obra+>)

**08. O título dessa obra, criada por este mestre da pintura modernista brasileira, é:**

- a) Pescadores
- b) O nascimento de Vênus
- c) Pietá
- d) Nascimento de Mani
- e) Abaporu.

**09. O texto refere-se ao artista cujo nome é:**

- a) Candido Portinari
- b) Lasar Segall
- c) Vicente Rego Monteiro



- d) Brecheret
- e) Di Cavalcanti

**10. A principal característica deste movimento artístico é o novo conceito de sombras coloridas, que tinha como uma de suas características considerar que a natureza das cores muda de acordo com a luz que ilumina o ambiente. Esta corrente artística surgiu na França em 1867, século XIX. Alguns pintores, como Claude Monet, Pierre Auguste Renoir e Paul Cézane, fizeram parte deste movimento. Essas afirmações dizem respeito a que movimento artístico?**

- a) Expressionismo
- b) Cubismo
- c) Realismo
- d) Impressionismo
- e) Abstracionismo

**Leia o texto a seguir para responder às próximas duas questões:**

**Ao tratar sobre questões culturais, o significado de Patrimônio estaria relacionado com tudo aquilo que seria transmitido ou deixado de pai para filho. O termo abrange também bens de natureza material e imaterial. Tratar destes temas no ensino das Arte nas escolas é considerado de suma importância para a construção da identidade cultural do cidadão e de seu sentimento de pertencer à sociedade em que vive.**

**11. Alguns exemplos de Patrimônio Imaterial são os apresentados nas alternativas, com exceção de:**

- a) Capoeira
- b) Candomblé
- c) Cidades históricas
- d) Acarajé
- e) Frevo

**12. Considerar tais temas, na formação do aluno, foi possível a partir da reforma no ensino de arte, embasada na abordagem Triangular, de Ana Mae Barbosa, nos anos:**

- a) 70
- b) 69
- c) 40
- d) 30
- e) 90

**13. Como é conhecida a lei que instituiu o Programa Nacional de Apoio à Cultura (PRONAC), cuja finalidade é a captação e canalização de recursos para os diversos setores culturais?**

- a) Trabalhista
- b) Fiscal
- c) Da educação inclusiva
- d) De diretrizes e bases
- e) Rouanet

**14. As danças típicas do Paraná fazem parte da história cultural desse Estado e constituem-se em importantes fontes de pesquisas metodológicas para o ensino da arte regional. Qual dança não faz parte delas?**

- a) Nhô-Chico
- b) Dança de São Gonçalo
- c) Pau-de-fita
- d) Congada da Lapa
- e) Engenho de Maromba

**15. Pintor e escultor paranaense, João Turin (1878-1949) é autor de várias obras em locais públicos de Curitiba e em outros municípios do Paraná. Nasceu em Porto de Cima, no município de Morretes, em 21 de setembro de 1878. Foi aluno e professor da Escola de Artes e Ofícios, em Curitiba, e estudou escultura na Real Academia de Belas Artes de Bruxelas. João Turin recebeu vários prêmios por suas obras. Dentre suas obras mais conhecidas, estão as apresentadas nas alternativas, exceto:**

- a) Painel pictográfico Teatro do mundo (teatro Guaíra)
- b) Tigre esmagando a cobra
- c) Monumento a Rui Barbosa
- d) Águia de Haia
- e) Tiradentes

**16. Ele foi o primeiro cientista a associar o fato de que a luz do Sol tinha forte relação com a existência das cores, quando dissociou a luz solar nas cores do arco-íris através de um prisma. Surgia ali o primeiro esboço do que posteriormente viria a ser chamada de Teoria das Cores. Estamos nos referindo a:**

- a) Otto Runge
- b) Isaac Newton
- c) Chevreul
- d) Galileu
- e) Auguste Comte

**17. A decomposição da luz solar em várias cores, quando atravessa um prisma, denomina-se conjunto de cores (como espectro). O espectro é formado pela união das cores: vermelho, laranja, amarelo, verde, azul, anil e violeta, que são as sete cores que compõem a luz do sol e que também formam o arco-íris. Esse fenômeno na teoria das cores é conhecido por:**

- a) Diagramação
- b) Enigma
- c) Difração
- d) Natural
- e) Pigmentação

**18. A técnica que um certo professor escolheu para ensinar seus alunos utiliza madeira como matriz para fazer o desenho e possibilita a reprodução da imagem em outras superfícies. Trata-se da técnica de:**

- a) Xilogravura
- b) Litogravura
- c) Frottage
- d) Serigrafia
- e) Linóleo

**19. É um processo de impressão no qual a tinta é vazada – pela pressão de um rodo ou puxador – através de uma tela preparada. A tela, normalmente de poliéster ou nylon, é esticada em um bastidor de madeira, alumínio ou aço. Isso se refere ao processo de:**

- a) Litogravura
- b) Xilogravura
- c) Serigrafia
- d) Linóleo
- e) Frottage

**20. Passou a produzir objetos com diversos tipos de materiais oriundos do lixo e da sucata que, após a sua descoberta, seriam classificados como arte vanguardista e comparados à obra de Marcel Duchamp. A sua obra mais conhecida é o *Manto da Apresentação*, que ele acreditava ter de vestir no dia do Juízo Final. Com os objetos que produzia, pretendia marcar a passagem de Deus na Terra. Os objetos recolhidos dos restos da sociedade de consumo foram reutilizados como forma de registrar o cotidiano dos indivíduos. Esse artista foi excluído da sociedade em que vivia por ser portador de doença mental, é hoje consagrado como referência na Arte Contemporânea brasileira.**

**Esse texto refere-se a:**

- a) Jorapimo
- b) Romero Britto
- c) Bispo do Rosário
- d) Scliar
- e) Cildo Meireles

## LÍNGUA PORTUGUESA

**Texto para as próximas cinco questões:**

### “O cego Estrelinho” Mia Couto

O cego Estrelinho era pessoa de nenhuma vez: sua história poderia ser contada e descontada não fosse seu guia, Gigito Efraim. A mão de Gigito conduziu o desvistado por tempos e idades. Aquela mão era repartidamente comum, extensão de um no outro, siamensal. E assim era quase de nascença. Memória de Estrelinho tinha cinco dedos e eram os de Gigito postos, em aperto, na sua própria mão.

O cego, curioso, queria saber de tudo. Ele não fazia cerimônia no viver. O sempre lhe era pouco e o tudo insuficiente. Dizia, deste modo:

— Tenho que viver já, senão esqueço-me.

Gigitinho, porém, o que descrevia era o que não havia. O mundo que ele minuciava eram fantasias e rendilhados. A imaginação do guia era mais profícua que papaeira. O cego enchia a boca de águas:

— Que maravilha esse mundo. Me conte tudo, Gigito!

A mão do guia era, afinal, o manuscrito da mentira. Gigito Efraim estava como nunca esteve S. Tomé: via para não crer. O condutor falava pela ponta dos dedos. Desfolhava o universo, aberto em folhas. A ideia dele era tal que mesmo o cego, por vezes, acreditava ver. O outro lhe encorajava esses breves enganos:

— Desbengale-se, você está escolhendo a boa procedência!

Mentira: Estrelinho continuava sem ver uma palmeira à frente do nariz. Contudo, o cego não se conformava em suas escurezas. Ele cumpria o ditado: não tinha perna e queria dar o pontapé. Só à noite, ele desalentava, sofrendo medos mais antigos que a humanidade. Entendia aquilo que, na raça humana, é menos primitivo: o animal.

— Na noite aflige não haver luz?

— Aflição é ter um pássaro branco esvoando dentro do sono.

Pássaro branco? No sono? Lugar de ave é nas alturas. Dizem até que Deus fez o céu para justificar os pássaros. Estrelinho disfarçava o medo dos vaticínios, subterfugindo:

— E agora, Gigitinho? Agora, olhando assim para cima, estou face ao céu?

Que podia o outro responder? O céu do cego fica em toda a parte. Estrelinho perdia o pé era quando a noite chegava e seu mestre adormecia. Era como se um novo escuro nele se estreasse em nó cego. Devagaroso e sorrateiro ele aninhava sua mão na mão do guia. Só assim adormecia. A razão da concha é a timidez da amêijoia? Na manhã seguinte, o cego lhe confessava: se você morrer, tenho que morrer logo no imediato. Senão-me: como acerto o caminho para o céu?

Foi no mês de dezembro que levaram Gigitinho. Lhe tiraram do mundo para pôr na guerra: obrigavam os serviços militares. O cego reclamou: que o moço inatingia a idade. E que o serviço que ele a si prestava era vital e vitalício. O guia chamou Estrelinho à parte e lhe tranquilizou:

— Não vai ficar sozinho por aí. Minha mana já mandei para ficar no meu lugar.

O cego estendeu o braço a querer tocar uma despedida. Mas o outro já não estava lá. Ou estava e se desviara, propositado? E sem água ida nem vinda, Estrelinho escutou o amigo se afastar, engolido, esponjinho, invisível. Pela primeira vez, Estrelinho se sentiu invalidado.

— Agora, só agora, sou cego que não vê.

(...)

**COUTO, Mia. Estórias abensonhadas. Rio de Janeiro: Nova Fronteira, 1996. (Pág 23 e 24).**

**21. Quanto à interpretação do fragmento do conto, podemos afirmar que:**

- Gigito Efraim era o guia de Estrelinho há pouquíssimo tempo.
- Estrelinho era cego de nascença.
- Gigito descrevia o mundo para Estrelinho de forma denotativa.
- Gigito foi convocado pelo exército para ser guia de cegos na guerra.
- Gigito descrevia o mundo para Estrelinho de forma conotativa.

**22. No período “O sempre lhe era pouco e o tudo insuficiente”, o pronome “LHE” exerce a função sintática de:**

- Objeto Direto
- Objeto Indireto
- Complemento Nominal
- Adjunto Adnominal
- Objeto Direto Preposicionado

**23. Na oração “A mão de Gigito conduziu o desvistado por tempos e idades”, o autor faz uso de um neologismo, assim como no decorrer de toda a obra em questão. Contudo, o neologismo só se torna possível pela utilização dos elementos mórficos naquilo que a gramática normativa pontua como Processo de Formação das Palavras. Levando em consideração apenas o recurso morfológico, qual Processo de Formação foi utilizado?**

- Derivação Sufixal
- Derivação Prefixal
- Derivação Regressiva
- Derivação Imprópria
- Derivação Parassintética

**24. No terceiro período do décimo terceiro parágrafo, temos:**

- Uma oração
- Duas orações
- Três orações
- Quatro orações
- Cinco orações

**25. No último parágrafo do fragmento do conto “— Agora, só agora, sou cego que não vê”, a oração subordinada presente classifica-se corretamente como:**

- Oração Subordinada Adjetiva Restritiva





- b) Oração Subordinada Adverbial Causal
- c) Oração Subordinada Substantiva Subjetiva
- d) Oração Subordinada Adverbial Explicativa
- e) Oração Subordinada Adjetiva Explicativa

### RACIOCÍNIO LÓGICO

26. Os cinco filhos de Ana estavam discutindo a respeito da data de nascimento da mãe:

- Almir disse que foi em janeiro, dia 14, sexta-feira.
- Vanderlei disse que foi em janeiro, dia 14, sábado.
- Tiago disse que foi em fevereiro, dia 15, sábado.
- Sandro disse que foi em janeiro, dia 15, sexta-feira.
- Renato disse que foi em fevereiro, dia 15, sexta-feira.

Sabe-se que somente um dos filhos de Ana acertou corretamente sua data de nascimento e que os outros acertaram pelo menos um dos itens (dia, dia da semana e mês). Dessa forma, é correto afirmar que o filho de Ana que acertou a data de nascimento dela foi:

- a) Renato
- b) Sandro
- c) Tiago
- d) Vanderlei
- e) Almir

27. Considere a seguinte afirmativa: “Todo churrasqueiro gosta de picanha”. Em relação a essa proposição, é correto afirmar que:

- a) Algum churrasqueiro não gosta de picanha.
- b) Toda pessoa que gosta de picanha é churrasqueira.
- c) Alguma pessoa que não gosta de picanha é churrasqueira.
- d) Toda pessoa que não é churrasqueira, não gosta de picanha.
- e) Toda pessoa que não gosta de picanha, não é churrasqueira.

28. Em um grupo formado por 67 pessoas, verificou-se que 41 pessoas gostam de arroz, 29 gostam de feijão, 33 gostam de carne, 19 gostam de arroz e de feijão, 9 gostam apenas de arroz e de carne, 12 gostam de feijão e de carne e que 6 gostam de arroz, de feijão e de carne. O número de pessoas desse grupo, que não gosta de nenhum desses três tipos de alimentos é igual a:

- a) 4
- b) 5
- c) 6
- d) 8
- e) 10

29. Bruno escreveu, em seu caderno, várias sequências formadas por números múltiplos de 4, onde os valores que ocupavam as posições pares eram multiplicados por  $-1$ . Cada sequência foi somada e o resultado da soma anotado. A soma das três primeiras sequências escritas por Bruno foram as seguintes:

$$4 - 8 = -4$$
$$4 - 8 + 12 = 8$$
$$4 - 8 + 12 - 16 = -8$$

Considere que Bruno escreveu e somou tais sequências, em seu caderno, de modo a obter determinada sequência cuja soma foi 600. O número de termos dessa sequência é igual a:

- a) 149
- b) 150
- c) 298
- d) 299
- e) 300

30. Quatro torcedores, um do São Paulo, um do Cruzeiro, um do Vasco e um do Bahia, estão sentados ao redor de uma mesa quadrada, de modo que, dois a dois, fiquem frente a frente. Sabe-se que Alan é torcedor do Cruzeiro e que Bruno está sentado à direita de Alan. Sabe-se também que Caio está sentado à direita do torcedor do São Paulo. Sabe-se ainda que Daniel não é torcedor do Vasco e que está sentado à frente de Bruno. Dessa forma, é correto afirmar que:

- a) Bruno é torcedor do Bahia e Daniel é torcedor do São Paulo.
- b) Bruno é torcedor do São Paulo e Daniel é torcedor do Bahia.
- c) Caio é torcedor do Vasco e Daniel é torcedor do São Paulo.
- d) Caio é torcedor do Bahia e Daniel é torcedor do São Paulo.
- e) Bruno é torcedor do Vasco e Daniel é torcedor do Bahia.

**INFORMÁTICA**

31. Considerando o MS-Excel versão 2010, observando a figura abaixo, é correto afirmar que:

	A	B	C
1			
2			
3			
4			

- Somente 03 três linhas estão selecionadas.
- Somente uma célula está selecionada.
- 12 (doze) células estão selecionadas.
- Somente a coluna A até a linha 4 (quatro) está selecionada.
- Somente as colunas 1 (um), 2 (dois), 3 (três) e 4 (quatro) estão selecionadas.

32. Considerando o MS-Excel versão 2010, observando a figura abaixo, é incorreto afirmar que:

	A	B	C
1	12	6	=A1*B1
2	8	2	=A2/B2
3	5	14	=A3-B3
4	6	11	=A4+B4

- O resultado da fórmula =A1\*B1 é 72.
- O resultado da fórmula =A2/B2 é 4.
- O resultado da fórmula =A3-B3 é -9.
- O resultado da fórmula =A3-B3 é 9.
- O resultado da fórmula =A4+B4 é 17.

33. Digitando um texto no MS-Word versão 2010, necessito adicionar número nas páginas. Quanto a isso, é correto afirmar que:

- No menu Layout da Página, clico em número de página e seleciono onde desejo adicionar os números.
- No menu Inserir, clico em número de página e seleciono onde desejo adicionar os números.
- No menu Revisão, clico em número de página e seleciono onde desejo adicionar os números.
- No menu Referências, clico em número de página e seleciono onde desejo adicionar os números.
- No menu Exibição, clico em número de página e seleciono onde desejo adicionar os números.

34. A segurança da informação está diretamente relacionada com proteção de um conjunto de informações, no sentido de preservar o valor que possuem para um indivíduo ou uma organização. Atualmente, um dos aplicativos mais utilizados no mundo, o Whats app, teve uma alteração de confidencialidade muito importante na segurança das informações transmitidas e recebidas. Dentre as alternativas, assinale a que corretamente informa a alteração inserida no aplicativo Whats app.

- Antispam
- Antivirus
- Firewall
- Antispyware
- Criptografia

35. São todos os dispositivos que trabalham acoplados ao microcomputador para receber, transmitir, visualizar, ler, gravar ou armazenarem dados. São eles que permitem a comunicação do computador com o meio exterior, isto é, com os usuários e outras máquinas.

Esse texto descreve corretamente:

- Memória ram
- Memória virtual
- Software
- Periféricos
- Hardware

**CONHECIMENTOS GERAIS**

36. Hino do município de Telêmaco Borba/PR

Das virgens matas e campos verdejantes  
 Servindo-se também o rio Tibagi,



Homens de ideais, espíritos vibrantes.  
 Constituíram as indústrias aqui.

Estrilho:

Salve! Salve! Telêmaco Borba  
 Terra querida e de grandes primores,  
 A nossa homenagem rendamos  
 À cidade dos trabalhadores.  
 Pois a cadência de enorme e real progresso  
 Um município mui grandioso fez nascer,  
 Marcando assim, verdadeiro sucesso  
 Faz, então o Paraná engrandecer.

**No que tange ao Hino do município, atribua V (verdadeiro) ou F (falso) às afirmativas e marque a alternativa correta.**

- ( ) Eloah Martins Quadrado é autora da letra do hino.  
 ( ) Bento Mossurunga compôs a música do hino.  
 ( ) Eloah Martins Quadrado foi nomeada primeira professora da Cidade Nova, atual Telêmaco Borba.  
 ( ) Bento Mossurunga fundou a orquestra Estudantil e Concertos – Orquestra Sinfônica da Universidade, a Sociedade de Cultura Artístico Basílio Itiberê.
- a) F, V, V, V.  
 b) V, F, V, V.  
 c) V, V, F, V.  
 d) V, V, F, F.  
 e) V, V, V, V.

**37. À luz da Lei nº 1883/2012, que dispões sobre o Estatuto dos Servidores Públicos da Administração Direta, Autárquica e Funcional do Município de Telêmaco Borba/PR, leia as alternativas e marque a correta.**

- a) A apresentação para a posse ocorrerá no prazo de até trinta dias, contados do ato de nomeação.  
 b) A destituição do servidor da função gratificada dar-se-á por solicitação exclusiva dele mesmo.  
 c) O servidor ocupante exclusivamente de cargo em comissão será contribuinte do regime geral de previdência social.  
 d) A aprovação em concurso público gera o direito à nomeação, e será feita obedecida à ordem de classificação dos candidatos.  
 e) O exercício de função gratificada poderá ser de dedicação integral ou parcial, conforme necessidade da administração.

**Conforme a Lei nº 1.881, de 05 de abril de 2012, que dispõe sobre o Plano de Cargos, Carreiras e Vencimentos do quadro geral de servidores da Prefeitura Municipal de Telêmaco Borba/PR, regulamentada pelo Decreto nº 2269/2015, responda às próximas três questões.**

**38. Leia as assertivas e assinala a incorreta.**

- a) Do resultado da avaliação de desempenho poderá ser interposto recurso à Comissão de Desenvolvimento Funcional no prazo de quinze dias a contar da publicação no Boletim Oficial do Município.  
 b) Não será concedida a progressão ou promoção ao servidor que estiver em licença para tratamento de saúde por um período superior a quarenta e cinco dias, no período de avaliação.  
 c) A alternância dos membros constituintes da Comissão de Desenvolvimento Funcional eleitos pelos servidores verificar-se-á a cada três anos de participação, observados, para substituição de seus participantes, o critério fixado no artigo anterior, não cabendo eleição sucessiva.  
 d) Caberá à Comissão de Desenvolvimento Funcional, no caso de divergência de vinte por cento entre a nota do avaliador e a do avaliado, solicitar nova avaliação à chefia.  
 e) Nos termos do disposto no art. 17 da Lei nº 1.881, de 05 de abril de 2012, para progredir, é necessário que o servidor satisfaça, dentre outros, o seguinte requisito: estar no efetivo exercício de seu cargo ou em função comissionada na sua área de atuação durante o interstício de dois anos.

**39. Assinale a alternativa que completa respectivamente as lacunas do texto a seguir:**

**A Comissão de Desenvolvimento Funcional será constituída por \_\_\_\_\_ membros, sendo \_\_\_\_\_ designados pelo Prefeito Municipal de Telêmaco Borba e os demais eleitos pelos servidores municipais dentre os estáveis, com a atribuição de coordenar os procedimentos relativos à avaliação periódica de desempenho e outras atribuições.**

- a) três / sete  
 b) um / três  
 c) sete / três  
 d) três / cinco  
 e) dois / cinco



**40. A Avaliação de Desempenho será norteadada, dentre outros, pelo seguinte princípio: Amplitude - a avaliação deve incidir sobre todas as áreas de atuação do servidor, que compreendem:**

- 1. a formulação de políticas administrativas e sua aplicação para todos os setores da administração municipal;**
- 2. o desempenho do profissional dentro de suas funções pertinentes;**
- 3. a estrutura do órgão em que exerce a função;**
- 4. os resultados de eficiência dos serviços de cada setor ou órgão da administração municipal;**
- 5. a participação direta do avaliado, durante todo o processo avaliativo.**

**Diante dessa afirmação, somente não está correto o item:**

- a) 1
- b) 2
- c) 3
- d) 4
- e) 5

**RASCUNHO**



PREFEITURA DE TELÊMACO BORBA - ESTADO DO PARANÁ- EDITAL Nº 001-2016 - CONCURSO PÚBLICO

VESPERTINO – 29/05/2016 – NÍVEL SUPERIOR

1

PROVA OBJETIVA NÚMERO

CARGO: TMNS I - CIÊNCIAS CONTÁBEIS

Leia atentamente as INSTRUÇÕES:

1. Confira seus dados no cartão-resposta: nome, número de inscrição e o curso para o qual se inscreveu.
2. **MARQUE no seu cartão-resposta o número da sua prova** (não será corrigido o cartão-resposta que não tiver marcado o número da prova) e **Assine** seu cartão-resposta.
3. Aguarde a autorização do Fiscal para abrir o caderno de prova. Ao receber a ordem do fiscal, confira o caderno de prova com muita atenção. Nenhuma reclamação sobre o total de questões ou falha de impressão será aceita depois de iniciada a prova.
4. O cartão-resposta não será substituído, salvo se contiver erro de impressão.
5. Preencha toda a área do cartão-resposta correspondente à alternativa de sua escolha, com caneta esferográfica (tinta azul ou preta), sem ultrapassar as bordas. As marcações duplas, ou rasuradas, com corretivo, ou marcadas diferentemente do modelo estabelecido no cartão-resposta poderão ser anuladas.
6. Sua prova tem **40** questões, com **5** alternativas.
7. Cabe apenas ao candidato a interpretação das questões, **o fiscal** não poderá fazer nenhuma interferência.
8. A prova será realizada com duração máxima de **3 (três) horas**, incluído o tempo para a realização da Prova Objetiva de múltipla escolha e o preenchimento do cartão-resposta.
9. O candidato poderá retirar-se do local de realização das provas somente **1 (uma) hora** após o seu início, sem levar o caderno de prova.
10. O candidato poderá levar o caderno de provas, assim como anotação contendo transcrição do seu cartão-resposta, somente **1h30min** (uma hora e trinta minutos) após o início da realização da prova.
11. Ao terminar a prova, o candidato deverá entregar ao fiscal de sala o cartão-resposta preenchido e **ASSINADO**.
12. Os **3 (três)** candidatos, que terminarem a prova por último, deverão permanecer na sala, e só poderão sair juntos após o fechamento do envelope, contendo os cartões-resposta dos candidatos presentes e ausentes, e assinarem no lacre do referido envelope, atestando que este foi devidamente lacrado.
13. Durante todo o tempo em que permanecer no local onde está ocorrendo o concurso, o candidato deverá, manter o celular desligado e sem bateria, só sendo permitido ligar depois de ultrapassar o portão de saída do prédio.
14. Não será permitido ao candidato fumar na sala de provas, bem como nas dependências.
15. Depois de terminar a prova e entregar ao fiscal o cartão-resposta, preenchido e assinado, não será mais permitido ao candidato o uso do banheiro e bebedouro.

**BOA PROVA!**

**LÍNGUA PORTUGUESA****Texto para as próximas cinco questões:****“O cego Estrelinho”  
Mia Couto**

O cego Estrelinho era pessoa de nenhuma vez: sua história poderia ser contada e descontada não fosse seu guia, Gigitto Efraim. A mão de Gigitto conduziu o desvistado por tempos e idades. Aquela mão era repartidamente comum, extensão de um no outro, siamense. E assim era quase de nascença. Memória de Estrelinho tinha cinco dedos e eram os de Gigitto postos, em aperto, na sua própria mão.

O cego, curioso, queria saber de tudo. Ele não fazia cerimônia no viver. O sempre lhe era pouco e o tudo insuficiente. Dizia, deste modo:

— Tenho que viver já, senão esqueço-me.

Gigitto, porém, o que descrevia era o que não havia. O mundo que ele minuciava eram fantasias e rendilhados. A imaginação do guia era mais profícua que papadeira. O cego enchia a boca de águas:

— Que maravilha esse mundo. Me conte tudo, Gigitto!

A mão do guia era, afinal, o manuscrito da mentira. Gigitto Efraim estava como nunca esteve S. Tomé: via para não crer. O condutor falava pela ponta dos dedos. Desfolhava o universo, aberto em folhas. A ideia dele era tal que mesmo o cego, por vezes, acreditava ver. O outro lhe encorajava esses breves enganar:

— Desbengale-se, você está escolhendo a boa procedência!

Mentira: Estrelinho continuava sem ver uma palmeira à frente do nariz. Contudo, o cego não se conformava em suas escuras. Ele cumpria o ditado: não tinha perna e queria dar o pontapé. Só à noite, ele desalentava, sofrendo medos mais antigos que a humanidade. Entendia aquilo que, na raça humana, é menos primitivo: o animal.

— Na noite aflige não haver luz?

— Aflição é ter um pássaro branco esvoando dentro do sono.

Pássaro branco? No sono? Lugar de ave é nas alturas. Dizem até que Deus fez o céu para justificar os pássaros. Estrelinho disfarçava o medo dos vaticínios, subterfugindo:

— E agora, Gigitto? Agora, olhando assim para cima, estou face ao céu?

Que podia o outro responder? O céu do cego fica em toda a parte. Estrelinho perdia o pé era quando a noite chegava e seu mestre adormecia. Era como se um novo escuro nele se estreasse em nó cego. Devagaroso e sorrateiro ele aninhava sua mão na mão do guia. Só assim adormecia. A razão da concha é a timidez da amêijoia? Na manhã seguinte, o cego lhe confessava: se você morrer, tenho que morrer logo no imediato. Senão-me: como acerto o caminho para o céu?

Foi no mês de dezembro que levaram Gigitto. Lhe tiraram do mundo para pôr na guerra: obrigavam os serviços militares. O cego reclamou: que o moço inatingia a idade. E que o serviço que ele a si prestava era vital e vitalício. O guia chamou Estrelinho à parte e lhe tranquilizou:

— Não vai ficar sozinheiro por aí. Minha mana já mandei para ficar no meu lugar.

O cego estendeu o braço a querer tocar uma despedida. Mas o outro já não estava lá. Ou estava e se desviara, propositado? E sem água ida nem vinda, Estrelinho escutou o amigo se afastar, engolido, esponjoso, invisível. Pela primeira vez, Estrelinho se sentiu invalidado.

— Agora, só agora, sou cego que não vê.

(...)

**COUTO, Mia. Estórias abensonhadas. Rio de Janeiro: Nova Fronteira, 1996. (Pág 23 e 24).**

**01. Quanto à interpretação do fragmento do conto, podemos afirmar que:**

- Gigitto Efraim era o guia de Estrelinho há pouquíssimo tempo.
- Estrelinho era cego de nascença.
- Gigitto descrevia o mundo para Estrelinho de forma denotativa.
- Gigitto foi convocado pelo exército para ser guia de cegos na guerra.
- Gigitto descrevia o mundo para Estrelinho de forma conotativa.

**02. No período “O sempre lhe era pouco e o tudo insuficiente”, o pronome “LHE” exerce a função sintática de:**

- Objeto Direto
- Objeto Indireto
- Complemento Nominal
- Adjunto Adnominal
- Objeto Direto Preposicionado

**03. Na oração “A mão de Gigitto conduziu o desvistado por tempos e idades”, o autor faz uso de um neologismo, assim como no decorrer de toda a obra em questão. Contudo, o neologismo só se torna possível pela utilização dos elementos mórficos naquilo que a gramática normativa pontua como Processo de Formação das Palavras. Levando em consideração apenas o recurso morfológico, qual Processo de Formação foi utilizado?**

- Derivação Sufixal



- b) Derivação Prefixal
- c) Derivação Regressiva
- d) Derivação Imprópria
- e) Derivação Parassintética

**04. No terceiro período do décimo terceiro parágrafo, temos:**

- a) Uma oração
- b) Duas orações
- c) Três orações
- d) Quatro orações
- e) Cinco orações

**05. No último parágrafo do fragmento do conto “— Agora, só agora, sou cego que não vê”, a oração subordinada presente classifica-se corretamente como:**

- a) Oração Subordinada Adjetiva Restritiva
- b) Oração Subordinada Adverbial Causal
- c) Oração Subordinada Substantiva Subjetiva
- d) Oração Subordinada Adverbial Explicativa
- e) Oração Subordinada Adjetiva Explicativa

#### **RACIOCÍNIO LÓGICO**

**06. Os cinco filhos de Ana estavam discutindo a respeito da data de nascimento da mãe:**

- Almir disse que foi em janeiro, dia 14, sexta-feira.
- Vanderlei disse que foi em janeiro, dia 14, sábado.
- Tiago disse que foi em fevereiro, dia 15, sábado.
- Sandro disse que foi em janeiro, dia 15, sexta-feira.
- Renato disse que foi em fevereiro, dia 15, sexta-feira.

**Sabe-se que somente um dos filhos de Ana acertou corretamente sua data de nascimento e que os outros acertaram pelo menos um dos itens (dia, dia da semana e mês). Dessa forma, é correto afirmar que o filho de Ana que acertou a data de nascimento dela foi:**

- a) Renato
- b) Sandro
- c) Tiago
- d) Vanderlei
- e) Almir

**07. Considere a seguinte afirmativa: “Todo churrasqueiro gosta de picanha”. Em relação a essa proposição, é correto afirmar que:**

- a) Algum churrasqueiro não gosta de picanha.
- b) Toda pessoa que gosta de picanha é churrasqueira.
- c) Alguma pessoa que não gosta de picanha é churrasqueira.
- d) Toda pessoa que não é churrasqueira, não gosta de picanha.
- e) Toda pessoa que não gosta de picanha, não é churrasqueira.

**08. Em um grupo formado por 67 pessoas, verificou-se que 41 pessoas gostam de arroz, 29 gostam de feijão, 33 gostam de carne, 19 gostam de arroz e de feijão, 9 gostam apenas de arroz e de carne, 12 gostam de feijão e de carne e que 6 gostam de arroz, de feijão e de carne. O número de pessoas desse grupo, que não gosta de nenhum desses três tipos de alimentos é igual a:**

- a) 4
- b) 5
- c) 6
- d) 8
- e) 10

**09. Bruno escreveu, em seu caderno, várias sequências formadas por números múltiplos de 4, onde os valores que ocupavam as posições pares eram multiplicados por  $-1$ . Cada sequência foi somada e o resultado da soma anotado. A soma das três primeiras sequências escritas por Bruno foram as seguintes:**

$$4 - 8 = -4$$
$$4 - 8 + 12 = 8$$
$$4 - 8 + 12 - 16 = -8$$

**Considere que Bruno escreveu e somou tais sequências, em seu caderno, de modo a obter determinada sequência cuja soma foi 600. O número de termos dessa sequência é igual a:**

- a) 149
- b) 150
- c) 298

- d) 299  
e) 300

**10. Quatro torcedores, um do São Paulo, um do Cruzeiro, um do Vasco e um do Bahia, estão sentados ao redor de uma mesa quadrada, de modo que, dois a dois, fiquem frente a frente. Sabe-se que Alan é torcedor do Cruzeiro e que Bruno está sentado à direita de Alan. Sabe-se também que Caio está sentado à direita do torcedor do São Paulo. Sabe-se ainda que Daniel não é torcedor do Vasco e que está sentado à frente de Bruno. Dessa forma, é correto afirmar que:**

- a) Bruno é torcedor do Bahia e Daniel é torcedor do São Paulo.  
b) Bruno é torcedor do São Paulo e Daniel é torcedor do Bahia.  
c) Caio é torcedor do Vasco e Daniel é torcedor do São Paulo.  
d) Caio é torcedor do Bahia e Daniel é torcedor do São Paulo.  
e) Bruno é torcedor do Vasco e Daniel é torcedor do Bahia.

### INFORMÁTICA

**11. Considerando o MS-Excel versão 2010, observando a figura abaixo, é correto afirmar que:**

	A	B	C
1			
2			
3			
4			

- a) Somente 03 três linhas estão selecionadas.  
b) Somente uma célula está selecionada.  
c) 12 (doze) células estão selecionadas.  
d) Somente a coluna A até a linha 4 (quatro) está selecionada.  
e) Somente as colunas 1 (um), 2 (dois), 3 (três) e 4 (quatro) estão selecionadas.

**12. Considerando o MS-Excel versão 2010, observando a figura abaixo, é incorreto afirmar que:**

	A	B	C
1	12	6	=A1*B1
2	8	2	=A2/B2
3	5	14	=A3-B3
4	6	11	=A4+B4

- a) O resultado da fórmula =A1\*B1 é 72.  
b) O resultado da fórmula =A2/B2 é 4.  
c) O resultado da fórmula =A3-B3 é -9.  
d) O resultado da fórmula =A3-B3 é 9.  
e) O resultado da fórmula =A4+B4 é 17.

**13. Digitando um texto no MS-Word versão 2010, necessito adicionar número nas páginas. Quanto a isso, é correto afirmar que:**

- a) No menu Layout da Página, clico em número de página e seleciono onde desejo adicionar os números.  
b) No menu Inserir, clico em número de página e seleciono onde desejo adicionar os números.  
c) No menu Revisão, clico em número de página e seleciono onde desejo adicionar os números.  
d) No menu Referências, clico em número de página e seleciono onde desejo adicionar os números.  
e) No menu Exibição, clico em número de página e seleciono onde desejo adicionar os números.

**14. A segurança da informação está diretamente relacionada com proteção de um conjunto de informações, no sentido de preservar o valor que possuem para um indivíduo ou uma organização. Atualmente, um dos aplicativos mais utilizados no mundo, o Whats app, teve uma alteração de confidencialidade muito importante na segurança das informações transmitidas e recebidas. Dentre as alternativas, assinale a que corretamente informa a alteração inserida no aplicativo Whats app.**

- a) Antispam  
b) Antivirus  
c) Firewall  
d) Antispyware  
e) Criptografia



**15. São todos os dispositivos que trabalham acoplados ao microcomputador para receber, transmitir, visualizar, ler, gravar ou armazenarem dados. São eles que permitem a comunicação do computador com o meio exterior, isto é, com os usuários e outras máquinas.**

**Esse texto descreve corretamente:**

- a) Memória ram
- b) Memória virtual
- c) Software
- d) Periféricos
- e) Hardware

#### **CONHECIMENTOS GERAIS**

##### **16. Hino do município de Telêmaco Borba/PR**

Das virgens matas e campos verdejantes

Servindo-se também o rio Tibagi,

Homens de ideais, espíritos vibrantes.

Constituíram as indústrias aqui.

Estrilho:

Salve! Salve! Telêmaco Borba

Terra querida e de grandes primores,

A nossa homenagem rendamos

À cidade dos trabalhadores.

Pois a cadência de enorme e real progresso

Um município mui grandioso fez nascer,

Marcando assim, verdadeiro sucesso

Faz, então o Paraná engrandecer.

**No que tange ao Hino do município, atribua V (verdadeiro) ou F (falso) às afirmativas e marque a alternativa correta.**

( ) Eloah Martins Quadrado é autora da letra do hino.

( ) Bento Mossurunga compôs a música do hino.

( ) Eloah Martins Quadrado foi nomeada primeira professora da Cidade Nova, atual Telêmaco Borba.

( ) Bento Mossurunga fundou a orquestra Estudantil e Concertos – Orquestra Sinfônica da Universidade, a Sociedade de Cultura Artístico Basilio Itiberê.

a) F, V, V, V.

b) V, F, V, V.

c) V, V, F, V.

d) V, V, F, F.

e) V, V, V, V.

**17. À luz da Lei nº 1883/2012, que dispõe sobre o Estatuto dos Servidores Públicos da Administração Direta, Autárquica e Funcional do Município de Telêmaco Borba/PR, leia as alternativas e marque a correta.**

a) A apresentação para a posse ocorrerá no prazo de até trinta dias, contados do ato de nomeação.

b) A destituição do servidor da função gratificada dar-se-á por solicitação exclusiva dele mesmo.

c) O servidor ocupante exclusivamente de cargo em comissão será contribuinte do regime geral de previdência social.

d) A aprovação em concurso público gera o direito à nomeação, e será feita obedecida à ordem de classificação dos candidatos.

e) O exercício de função gratificada poderá ser de dedicação integral ou parcial, conforme necessidade da administração.

**Conforme a Lei nº 1.881, de 05 de abril de 2012, que dispõe sobre o Plano de Cargos, Carreiras e Vencimentos do quadro geral de servidores da Prefeitura Municipal de Telêmaco Borba/PR, regulamentada pelo Decreto nº 2269/2015, responda às próximas três questões.**

**18. Leia as assertivas e assinala a incorreta.**

a) Do resultado da avaliação de desempenho poderá ser interposto recurso à Comissão de Desenvolvimento Funcional no prazo de quinze dias a contar da publicação no Boletim Oficial do Município.

b) Não será concedida a progressão ou promoção ao servidor que estiver em licença para tratamento de saúde por um período superior a quarenta e cinco dias, no período de avaliação.

c) A alternância dos membros constituintes da Comissão de Desenvolvimento Funcional eleitos pelos servidores verificar-se-á a cada três anos de participação, observados, para substituição de seus participantes, o critério fixado no artigo anterior, não cabendo eleição sucessiva.

d) Caberá à Comissão de Desenvolvimento Funcional, no caso de divergência de vinte por cento entre a nota do avaliador e a do avaliado, solicitar nova avaliação à chefia.

e) Nos termos do disposto no art. 17 da Lei nº 1.881, de 05 de abril de 2012, para progredir, é necessário que o servidor satisfaça, dentre outros, o seguinte requisito: estar no efetivo exercício de seu cargo ou em função comissionada na sua área de atuação durante o interstício de dois anos.

**19. Assinale a alternativa que completa respectivamente as lacunas do texto a seguir:**

**A Comissão de Desenvolvimento Funcional será constituída por \_\_\_\_\_ membros, sendo \_\_\_\_\_ designados pelo Prefeito Municipal de Telêmaco Borba e os demais eleitos pelos servidores municipais dentre os estáveis, com a atribuição de coordenar os procedimentos relativos à avaliação periódica de desempenho e outras atribuições.**

- a) três / sete
- b) um / três
- c) sete / três
- d) três / cinco
- e) dois / cinco

**20. A Avaliação de Desempenho será norteadada, dentre outros, pelo seguinte princípio: Amplitude - a avaliação deve incidir sobre todas as áreas de atuação do servidor, que compreendem:**

- 1. a formulação de políticas administrativas e sua aplicação para todos os setores da administração municipal;**
- 2. o desempenho do profissional dentro de suas funções pertinentes;**
- 3. a estrutura do órgão em que exerce a função;**
- 4. os resultados de eficiência dos serviços de cada setor ou órgão da administração municipal;**
- 5. a participação direta do avaliado, durante todo o processo avaliativo.**

**Diante dessa afirmação, somente não está correto o item:**

- a) 1
- b) 2
- c) 3
- d) 4
- e) 5

#### **CONHECIMENTOS ESPECÍFICOS**

**As próximas cinco questões deverão ser respondidas com base nos dados a seguir, que foram usados para elaboração do Demonstrativo da Despesa com Pessoal, integrante do Relatório de Gestão Fiscal do Município Alfa, referente ao segundo quadrimestre do exercício 20X1. Considere, ainda, as seguintes informações complementares: a) o valor de inativos e pensionistas com recursos vinculados foi de R\$ 1.400. b) houve a inscrição de restos a pagar não processados de despesa com pessoal, no valor de R\$ 500. c) o montante de retenção do imposto de renda na fonte resultou em R\$ 3.600.**

<b>DESPESA LIQUIDADADA</b>	
<b>Elemento de Despesa</b>	<b>20X1 (R\$)</b>
Aposentadorias do RPPS	3.500
Auxílio Alimentação	760
Contratação Por Tempo Determinado	1.000
Despesa com Pessoal de Exercícios Anteriores	1.200
Diárias - Pessoal Civil	570
Equipamentos e Material Permanente	1.600
Indenizações e Restituições Trabalhistas	400
Locação de Mão de Obra	850
Material de Consumo	1.700

Obras e Instalações	5.000
Obrigações Patronais	2.000
Outras Despesas de Pessoal - Contratos de Terceirização	500
Outras Despesas Variáveis – Pessoal Civil	200
Outros Benefícios Assistenciais	390
Serviços de Consultoria	330
Vencimentos e Vantagens Fixas – Pessoal Civil	9.500

**21. Considerando que o índice apurado em cumprimento à Lei de Responsabilidade Fiscal foi de 49,38%, é possível inferir que a Receita Corrente Líquida do período foi de R\$:**

- a) 29.000
- b) 30.000
- c) 31.000
- d) 32.000
- e) 33.000

**22. O valor da despesa líquida com pessoal resultou em R\$:**

- a) 12.200
- b) 15.800
- c) 16.200
- d) 16.800
- e) 17.200

**23. Assinale a alternativa que corresponde ao montante da despesa liquidada que não se trata de despesa bruta com pessoal.**

- a) 11.200
- b) 10.810
- c) 10.440
- d) 10.050
- e) 9.650

**24. O limite prudencial, de acordo com a Lei de Responsabilidade Fiscal, é de:**

- a) 60%.
- b) 54%.
- c) 51,30%.
- d) 48,60%.
- e) 45,90%.

**25. Na apuração da despesa bruta com pessoal, não deve ser computado(a):**

- a) A retenção do imposto de renda retido na fonte.
- b) O valor inscrito em restos a pagar não processados.
- c) A despesa de exercícios anteriores.
- d) O valor de inativos e pensionistas com recursos vinculados.
- e) A despesa com a locação de mão de obra.

**O orçamento de Determinado Município foi aprovado com a seguinte composição:**

**Despesa corrente: R\$ 1.350.**

**Despesa de capital: R\$ 900.**

**Seguridade social: R\$ 600.**

**Investimento de empresas: 450.**

**Ao final do exercício financeiro, a despesa empenhada resultou em R\$ 4.000.**

**Sabe-se que foram abertos créditos suplementares no limite máximo autorizado pela lei de diretrizes orçamentárias no percentual máximo de 15%.**



**Durante o exercício, verificou-se que a arrecadação da receita não comportou conforme o esperado, havendo assim, necessidade de abertura de créditos suplementares por superávit financeiro e por anulação da despesa.**

**26. Com base nessas informações, assinale a alternativa correta.**

- a) A previsão da receita foi de R\$ 4.000.
- b) Não houve abertura de créditos suplementares sem autorização legislativa, pois foi observado o limite de R\$ 500, decorrente do superávit financeiro apurado no exercício anterior.
- c) O orçamento autorizado no período foi de R\$ 3.800.
- d) É possível inferir que a despesa liquidada foi inferior ao montante da arrecadação da receita.
- e) O resultado orçamentário do período foi deficitário em R\$ 205.

**27. A Lei Complementar nº 101/2000, na parte que trata da lei de diretrizes orçamentárias, afirma que atenderá ao disposto no § 2º do art. 165 da Constituição. Assim, com base nesse dispositivo, assinale a alternativa incorreta.**

- a) O Anexo de Metas Fiscais é parte integrante da lei em que serão estabelecidas metas anuais, em valores correntes e constantes, relativas a receitas, despesas, resultados nominal e primário e montante da dívida pública, para o exercício a que se referirem e para os dois seguintes.
- b) Contém demonstrativo das metas anuais, instruído com memória e metodologia de cálculo que justifiquem os resultados pretendidos, comparando-as com as fixadas nos três exercícios anteriores, e evidenciando a consistência delas com as premissas e os objetivos da política econômica nacional.
- c) A lei de diretrizes orçamentárias compreenderá as metas e prioridades da administração pública federal, incluindo as despesas de capital para os exercícios financeiros subsequentes, orientará a elaboração da lei orçamentária anual, disporá sobre as alterações na legislação tributária e estabelecerá a política de aplicação das agências financeiras oficiais de fomento.
- d) A mensagem que encaminhar o projeto da União apresentará, em anexo específico, os objetivos das políticas monetária, creditícia e cambial, bem como os parâmetros e as projeções para seus principais agregados e variáveis, e ainda as metas de inflação, para o exercício subsequente.
- e) Por meio do Anexo de Riscos Fiscais serão avaliados os passivos contingentes e outros riscos capazes de afetar as contas públicas, informando as providências a serem tomadas, caso se concretizem.

**28. No que se refere à escrituração e à consolidação das contas previstas na Lei Complementar nº 101/2000, assinale a alternativa correta.**

- a) A demonstração das variações patrimoniais dará destaque à origem e ao destino dos recursos provenientes da alienação de ativos.
- b) As operações de crédito, as inscrições em Restos a Pagar e as demais formas de financiamento ou assunção de compromissos junto a terceiros, deverão ser escrituradas de modo a evidenciar o montante e a variação da dívida pública no período, detalhando, pelo menos, o tipo de credor.
- c) As demonstrações contábeis compreenderão, isolada e conjuntamente, as transações e operações de cada órgão, fundo ou entidade da administração direta, autárquica e fundacional, exclusive empresa estatal dependente.
- d) As receitas e despesas de capital serão apresentadas em demonstrativos financeiros e orçamentários específicos.
- e) A disponibilidade de caixa constará de registro geral, de modo que os recursos vinculados a órgão, fundo ou despesa obrigatória fiquem identificados e escriturados de forma individualizada.

**29. A prestação de contas evidenciará o desempenho da \_\_\_\_\_ em relação à \_\_\_\_\_, destacando as providências adotadas no âmbito da fiscalização das \_\_\_\_\_ e combate à sonegação, as ações de recuperação de créditos nas instâncias administrativa e judicial, bem como as demais medidas para incremento das \_\_\_\_\_ e de contribuições.**

**A alternativa que preenche adequadamente as lacunas é a:**

- a) receita / execução / despesas / despesas correntes
- b) renúncia da receita / previsão / renúncias / operações de crédito
- c) receita tributária / arrecadação / renúncias da receita / receitas correntes
- d) arrecadação / previsão / receitas / receitas tributárias
- e) arrecadação / fixação / receitas públicas / receitas tributárias

**30. Considerando a Emenda Constitucional nº 86, de 2015, que incluiu novas regras na seção que trata dos orçamentos, assinale a alternativa incorreta.**

- a) É obrigatória a execução orçamentária e financeira das programações a que se refere o § 9º do art. 166 da Constituição Federal, em montante correspondente a 1,2% (um inteiro e dois décimos por cento) da receita corrente líquida realizada no exercício anterior, conforme os critérios para a execução equitativa da programação definidos na lei complementar prevista no § 9º do art. 165 da Constituição Federal.



- b) Os restos a pagar poderão ser considerados para fins de cumprimento da execução financeira prevista no § 11 do art. 166 da Constituição Federal, até o limite de 0,6% (seis décimos por cento) da receita corrente líquida realizada no exercício anterior.
- c) Considera-se equitativa a execução das programações de caráter obrigatório que atenda de forma igualitária e impessoal às emendas apresentadas, independentemente da autoria.
- d) As emendas individuais ao projeto de lei orçamentária serão aprovadas no limite de 1,2% (um inteiro e dois décimos por cento) da receita corrente líquida prevista no projeto encaminhado pelo Poder Executivo, sendo que a metade deste percentual será destinada a ações e serviços públicos de educação.
- e) As programações orçamentárias previstas no § 9º do art. 166 da Constituição Federal não serão de execução obrigatória nos casos dos impedimentos de ordem técnica.

**31. Quanto às medidas de cumprimento dos limites da despesa pessoal previstas na Constituição Federal, assinale a alternativa correta.**

- a) A concessão de qualquer vantagem ou aumento de remuneração, a criação de cargos, empregos e funções ou alteração de estrutura de carreiras, bem como a admissão ou contratação de pessoal, a qualquer título, pelos órgãos e entidades da administração direta ou indireta, inclusive fundações instituídas e mantidas pelo poder público, só poderá ser feita se houver prévia dotação orçamentária suficiente para atender às projeções de despesa de pessoal e aos acréscimos dela decorrentes.
- b) Para o cumprimento dos limites estabelecidos, durante o prazo fixado em lei complementar, a União, os Estados, o Distrito Federal e os Municípios adotarão providências, como por exemplo: a exoneração dos servidores não estáveis.
- c) A redução em pelo menos cinquenta por cento das despesas com cargos em comissão e funções de confiança é uma medida que deverá ser adotada prioritariamente.
- d) O servidor estável que perder o cargo não fará jus a indenização correspondente a um mês de remuneração por ano de serviço.
- e) O cargo objeto da redução provido tanto por servidor estável ou não será considerado extinto, vedada a criação de cargo, emprego ou função com atribuições iguais ou semelhantes pelo prazo de oito anos.

**32. Com base na Lei nº 4.320/64, analise as seguintes assertivas:**

**I - A Lei de Orçamento poderá conter autorização ao Executivo para realizar em qualquer mês do exercício financeiro, operações de crédito por antecipação da receita, para atender a insuficiências de caixa.**

**II - Em casos de déficit, a Lei de Orçamento indicará as fontes de recursos que o Poder Executivo fica autorizado a utilizar para atender a sua cobertura.**

**III - Acompanharão a Lei de Orçamento quadros demonstrativos da receita e planos de aplicação dos fundos especiais.**

**IV - A Lei de Orçamento não consignará dotações globais destinadas a atender indiferentemente a despesas de pessoal, material, serviços de terceiros, transferências ou quaisquer outras, não admitida qualquer ressalva.**

**Está incorreto o que se afirma em:**

- a) I, II, III e IV.
- b) II, III e IV, apenas.
- c) I, II e III, apenas.
- d) I e IV, apenas.
- e) IV, apenas.

**33. Em relação ao empenho, não é correto afirmar:**

- a) É o ato emanado de autoridade competente que cria para o Estado obrigação de pagamento pendente ou não de implemento de condição.
- b) O empenho da despesa poderá exceder o limite dos créditos concedidos.
- c) É vedada a realização de despesa sem prévio empenho.
- d) Em casos especiais previstos na legislação específica será dispensada a emissão da nota de empenho.
- e) É permitido o empenho global de despesas contratuais e outras, sujeitas a parcelamento.

**34. São dispositivos que regulamentam os fundos especiais de acordo com a Lei nº 4.320/64, exceto:**

- a) Salvo determinação em contrário da lei que o instituiu, o saldo positivo do fundo especial apurado em balanço será transferido para o exercício seguinte, a crédito do mesmo fundo.
- b) A lei que instituir fundo especial poderá determinar normas peculiares de controle, prestação e tomada de contas, sem de qualquer modo, elidir a competência específica do Tribunal de Contas ou órgão equivalente.
- c) A verificação da legalidade dos atos de execução orçamentária será prévia, concomitante e subsequente.
- d) Constitui fundo especial o produto de receitas especificadas que por lei se vinculam à realização de determinados objetivos ou serviços, facultada a adoção de normas peculiares de aplicação.
- e) A aplicação das receitas orçamentárias vinculadas a fundos especiais far-se-á através de dotação consignada na Lei de Orçamento ou em créditos adicionais.

**35. De acordo com a Lei nº 4.320/64, assinale a alternativa correta em relação à Contabilidade Patrimonial e Industrial.**

- a) Os serviços públicos industriais, ainda que não organizados como empresa pública ou autárquica, manterão contabilidade especial para determinação dos custos, ingressos e resultados, sem prejuízo da escrituração patrimonial e financeira comum.
- b) O levantamento geral dos bens móveis e imóveis terá por base o inventário sintético de cada unidade administrativa e os elementos da escrituração analítica na contabilidade.
- c) A contabilidade manterá registros analíticos dos bens móveis e imóveis.
- d) A dívida fluante será escriturada com individualização e especificações que permitam verificar, a qualquer momento, a posição dos empréstimos, bem como os respectivos serviços de amortização e juros.
- e) As alterações da situação líquida patrimonial, que abrangem os resultados da execução orçamentária, bem como as variações independentes dessa execução e as superveniências e insubsistência ativas e passivas, constituirão elementos da conta de resultado.

**Para responder às próximas cinco questões, tenha por base as normas do Manual de Contabilidade Aplicada ao Setor Público, editado pela Secretaria do Tesouro Nacional e Secretaria de Orçamento Federal.**

**36. Os Ingressos extraorçamentários são recursos financeiros de caráter:**

- a) Permanente, do qual o Estado é o principal agente depositário. Sua devolução se sujeita a autorização legislativa, portanto, integram a Lei Orçamentária Anual (LOA). Por serem constituídos por ativos e passivos exigíveis, os ingressos extraorçamentários em geral têm reflexos no Patrimônio Líquido da Entidade.
- b) Permanente, do qual o Estado é o principal agente depositário. Sua devolução se sujeita a autorização legislativa, portanto, integram a Lei Orçamentária Anual (LOA). Por serem constituídos por ativos e passivos exigíveis, os ingressos extraorçamentários em geral não têm reflexos no Patrimônio Líquido da Entidade.
- c) Temporário, do qual o Estado é o principal agente depositário. Sua devolução não se sujeita a autorização legislativa, portanto, não integram a Lei Orçamentária Anual (LOA). Por serem constituídos por ativos e passivos exigíveis, os ingressos extraorçamentários em geral têm reflexos no Patrimônio Líquido da Entidade.
- d) Temporário, do qual o Estado é mero agente depositário. Sua devolução se sujeita a autorização legislativa, portanto, integram a Lei Orçamentária Anual (LOA). Por serem constituídos por ativos e passivos exigíveis, os ingressos extraorçamentários em geral não têm reflexos no Patrimônio Líquido da Entidade.
- e) Temporário, do qual o Estado é mero agente depositário. Sua devolução não se sujeita a autorização legislativa, portanto, não integram a Lei Orçamentária Anual (LOA). Por serem constituídos por ativos e passivos exigíveis, os ingressos extraorçamentários em geral não têm reflexos no Patrimônio Líquido da Entidade.

**37. Não se considera realizada a variação patrimonial aumentativa:**

- a) No recebimento efetivo de doações e subvenções.
- b) Pelo surgimento de um passivo, sem o correspondente ativo.
- c) Nas transações com contribuintes e terceiros, quando estes efetuarem o pagamento ou assumirem compromisso firme de efetivá-lo, quer pela ocorrência de um fato gerador de natureza tributária, investidora na propriedade de bens anteriormente pertencentes à entidade, ou fruição de serviços por esta prestados.
- d) Pela geração natural de novos ativos independentemente da intervenção de terceiros.
- e) Quando da extinção, parcial ou total, de um passivo, qualquer que seja o motivo, sem o desaparecimento concomitante de um ativo de valor igual ou maior.

**38. O Balanço Orçamentário deverá ser acompanhado de notas explicativas que divulguem, ao menos:**

- a) O procedimento adotado em relação aos restos a pagar não processados liquidados, ou seja, se o ente transfere o saldo ao final do exercício para restos a pagar processados ou se mantém o controle dos restos a pagar não processados liquidados separadamente.
- b) As atualizações monetárias autorizadas por lei, efetuadas antes e após a data da publicação da lei orçamentária anual, que compõem a coluna Previsão Inicial da receita orçamentária.
- c) A utilização do superávit financeiro e da reabertura de créditos suplementares e extraordinários, bem como suas influências no resultado orçamentário.
- d) O detalhamento das receitas e despesas intraorçamentárias, quando relevante.
- e) O detalhamento dos "recursos de exercícios anteriores" utilizados para financiar as despesas orçamentárias do exercício corrente, destacando-se os recursos vinculados ao RPPS e outros com destinação vinculada.

**39. O Balanço Financeiro é composto por um único quadro que evidencia a movimentação financeira das entidades do setor público. Nesse sentido, assinale a alternativa que não contempla o tipo de informação produzido pelo referido Balanço.**

- a) A receita orçamentária realizada e a despesa orçamentária executada, por fonte / destinação de recurso, discriminando as ordinárias e as vinculadas.
- b) Os recebimentos e os pagamentos extraorçamentários.
- c) As transferências financeiras recebidas e concedidas, decorrentes ou independentes da execução orçamentária, destacando os aportes de recursos para o RPPS.



- d) O saldo em espécie do exercício anterior e para o exercício seguinte.
- e) O detalhamento das despesas executadas por tipos de créditos (inicial, suplementar, especial e extraordinário).

**40. Quanto às definições sobre o Balanço Patrimonial, assinale a alternativa incorreta.**

- a) Os saldos das contas dos ativos e passivos são apresentados no quadro principal por seus valores líquidos das respectivas deduções, como, por exemplo, as contas de ativo imobilizado líquidas das depreciações.
- b) Os ativos e passivos financeiros e permanentes e o saldo patrimonial serão apresentados pelos seus valores totais.
- c) Poderão ser apresentadas algumas fontes com déficit e outras com superávit financeiro, de modo que o total seja igual ao superávit / déficit financeiro apurado pela diferença entre o Ativo Circulante e o Passivo Não Circulante conforme o quadro dos ativos e passivos financeiros e permanentes.
- d) O PCASP não padroniza o desdobramento dos atos potenciais ativos e passivos em nível que permita segregar os atos executados daqueles a executar. Tal desdobramento deverá ser feito por cada ente, em nível de item e subitem (6º nível e 7º nível).
- e) É recomendado que as políticas contábeis relevantes que tenham reflexos no patrimônio sejam evidenciadas, como as políticas de depreciação, amortização e exaustão.

**RASCUNHO**



PREFEITURA DE TELÊMACO BORBA - ESTADO DO PARANÁ- **EDITAL Nº 001-2016 - CONCURSO PÚBLICO VESPERTINO – 29/05/2016 – NÍVEL SUPERIOR**

**2**

**PROVA OBJETIVA NÚMERO**

**CARGO: TMNS I - CIÊNCIAS CONTÁBEIS**

**Leia atentamente as INSTRUÇÕES:**

1. Confira seus dados no cartão-resposta: nome, número de inscrição e o curso para o qual se inscreveu.
2. **MARQUE no seu cartão-resposta o número da sua prova** (não será corrigido o cartão-resposta que não tiver marcado o número da prova) e **Assine** seu cartão-resposta.
3. Aguarde a autorização do Fiscal para abrir o caderno de prova. Ao receber a ordem do fiscal, confira o caderno de prova com muita atenção. Nenhuma reclamação sobre o total de questões ou falha de impressão será aceita depois de iniciada a prova.
4. O cartão-resposta não será substituído, salvo se contiver erro de impressão.
5. Preencha toda a área do cartão-resposta correspondente à alternativa de sua escolha, com caneta esferográfica (tinta azul ou preta), sem ultrapassar as bordas. As marcações duplas, ou rasuradas, com corretivo, ou marcadas diferentemente do modelo estabelecido no cartão-resposta poderão ser anuladas.
6. Sua prova tem **40** questões, com **5** alternativas.
7. Cabe apenas ao candidato a interpretação das questões, **o fiscal** não poderá fazer nenhuma interferência.
8. A prova será realizada com duração máxima de **3 (três) horas**, incluído o tempo para a realização da Prova Objetiva de múltipla escolha e o preenchimento do cartão-resposta.
9. O candidato poderá retirar-se do local de realização das provas somente **1 (uma) hora** após o seu início, sem levar o caderno de prova.
10. O candidato poderá levar o caderno de provas, assim como anotação contendo transcrição do seu cartão-resposta, somente **1h30min** (uma hora e trinta minutos) após o início da realização da prova.
11. Ao terminar a prova, o candidato deverá entregar ao fiscal de sala o cartão-resposta preenchido e **ASSINADO**.
12. Os **3 (três)** candidatos, que terminarem a prova por último, deverão permanecer na sala, e só poderão sair juntos após o fechamento do envelope, contendo os cartões-resposta dos candidatos presentes e ausentes, e assinarem no lacre do referido envelope, atestando que este foi devidamente lacrado.
13. Durante todo o tempo em que permanecer no local onde está ocorrendo o concurso, o candidato deverá, manter o celular desligado e sem bateria, só sendo permitido ligar depois de ultrapassar o portão de saída do prédio.
14. Não será permitido ao candidato fumar na sala de provas, bem como nas dependências.
15. Depois de terminar a prova e entregar ao fiscal o cartão-resposta, preenchido e assinado, não será mais permitido ao candidato o uso do banheiro e bebedouro.

**BOA PROVA!**

**RACIOCÍNIO LÓGICO**

01. Os cinco filhos de Ana estavam discutindo a respeito da data de nascimento da mãe:

- Almir disse que foi em janeiro, dia 14, sexta-feira.
- Vanderlei disse que foi em janeiro, dia 14, sábado.
- Tiago disse que foi em fevereiro, dia 15, sábado.
- Sandro disse que foi em janeiro, dia 15, sexta-feira.
- Renato disse que foi em fevereiro, dia 15, sexta-feira.

Sabe-se que somente um dos filhos de Ana acertou corretamente sua data de nascimento e que os outros acertaram pelo menos um dos itens (dia, dia da semana e mês). Dessa forma, é correto afirmar que o filho de Ana que acertou a data de nascimento dela foi:

- a) Renato
- b) Sandro
- c) Tiago
- d) Vanderlei
- e) Almir

02. Considere a seguinte afirmativa: “Todo churrasqueiro gosta de picanha”. Em relação a essa proposição, é correto afirmar que:

- a) Algum churrasqueiro não gosta de picanha.
- b) Toda pessoa que gosta de picanha é churrasqueira.
- c) Alguma pessoa que não gosta de picanha é churrasqueira.
- d) Toda pessoa que não é churrasqueira, não gosta de picanha.
- e) Toda pessoa que não gosta de picanha, não é churrasqueira.

03. Em um grupo formado por 67 pessoas, verificou-se que 41 pessoas gostam de arroz, 29 gostam de feijão, 33 gostam de carne, 19 gostam de arroz e de feijão, 9 gostam apenas de arroz e de carne, 12 gostam de feijão e de carne e que 6 gostam de arroz, de feijão e de carne. O número de pessoas desse grupo, que não gosta de nenhum desses três tipos de alimentos é igual a:

- a) 4
- b) 5
- c) 6
- d) 8
- e) 10

04. Bruno escreveu, em seu caderno, várias sequências formadas por números múltiplos de 4, onde os valores que ocupavam as posições pares eram multiplicados por  $-1$ . Cada sequência foi somada e o resultado da soma anotado. A soma das três primeiras sequências escritas por Bruno foram as seguintes:

$$4 - 8 = -4$$

$$4 - 8 + 12 = 8$$

$$4 - 8 + 12 - 16 = -8$$

Considere que Bruno escreveu e somou tais sequências, em seu caderno, de modo a obter determinada sequência cuja soma foi 600. O número de termos dessa sequência é igual a:

- a) 149
- b) 150
- c) 298
- d) 299
- e) 300

05. Quatro torcedores, um do São Paulo, um do Cruzeiro, um do Vasco e um do Bahia, estão sentados ao redor de uma mesa quadrada, de modo que, dois a dois, fiquem frente a frente. Sabe-se que Alan é torcedor do Cruzeiro e que Bruno está sentado à direita de Alan. Sabe-se também que Caio está sentado à direita do torcedor do São Paulo. Sabe-se ainda que Daniel não é torcedor do Vasco e que está sentado à frente de Bruno. Dessa forma, é correto afirmar que:

- a) Bruno é torcedor do Bahia e Daniel é torcedor do São Paulo.
- b) Bruno é torcedor do São Paulo e Daniel é torcedor do Bahia.
- c) Caio é torcedor do Vasco e Daniel é torcedor do São Paulo.
- d) Caio é torcedor do Bahia e Daniel é torcedor do São Paulo.
- e) Bruno é torcedor do Vasco e Daniel é torcedor do Bahia.

**INFORMÁTICA**

06. Considerando o MS-Excel versão 2010, observando a figura abaixo, é correto afirmar que:

	A	B	C
1			
2			
3			
4			

- a) Somente 03 três linhas estão selecionadas.  
 b) Somente uma célula está selecionada.  
 c) 12 (doze) células estão selecionadas.  
 d) Somente a coluna A até a linha 4 (quatro) está selecionada.  
 e) Somente as colunas 1 (um), 2 (dois), 3 (três) e 4 (quatro) estão selecionadas.

**07. Considerando o MS-Excel versão 2010, observando a figura abaixo, é incorreto afirmar que:**

	A	B	C
1	12	6	=A1*B1
2	8	2	=A2/B2
3	5	14	=A3-B3
4	6	11	=A4+B4

- a) O resultado da fórmula =A1\*B1 é 72.  
 b) O resultado da fórmula =A2/B2 é 4.  
 c) O resultado da fórmula =A3-B3 é -9.  
 d) O resultado da fórmula =A3-B3 é 9.  
 e) O resultado da fórmula =A4+B4 é 17.

**08. Digitando um texto no MS-Word versão 2010, necessito adicionar número nas páginas. Quanto a isso, é correto afirmar que:**

- a) No menu Layout da Página, clico em número de página e seleciono onde desejo adicionar os números.  
 b) No menu Inserir, clico em número de página e seleciono onde desejo adicionar os números.  
 c) No menu Revisão, clico em número de página e seleciono onde desejo adicionar os números.  
 d) No menu Referências, clico em número de página e seleciono onde desejo adicionar os números.  
 e) No menu Exibição, clico em número de página e seleciono onde desejo adicionar os números.

**09. A segurança da informação está diretamente relacionada com proteção de um conjunto de informações, no sentido de preservar o valor que possuem para um indivíduo ou uma organização. Atualmente, um dos aplicativos mais utilizados no mundo, o Whats app, teve uma alteração de confidencialidade muito importante na segurança das informações transmitidas e recebidas. Dentre as alternativas, assinale a que corretamente informa a alteração inserida no aplicativo Whats app.**

- a) Antispam  
 b) Antivirus  
 c) Firewall  
 d) Antispyware  
 e) Criptografia

**10. São todos os dispositivos que trabalham acoplados ao microcomputador para receber, transmitir, visualizar, ler, gravar ou armazenarem dados. São eles que permitem a comunicação do computador com o meio exterior, isto é, com os usuários e outras máquinas.**

**Esse texto descreve corretamente:**

- a) Memória ram  
 b) Memória virtual  
 c) Software  
 d) Periféricos  
 e) Hardware

## CONHECIMENTOS GERAIS

**11. Hino do município de Telêmaco Borba/PR**

Das virgens matas e campos verdejantes  
 Servindo-se também o rio Tibagi,  
 Homens de ideais, espíritos vibrantes.  
 Constituíram as indústrias aqui.





Estrilho:

Salve! Salve! Telêmaco Borba  
Terra querida e de grandes primores,  
A nossa homenagem rendamos  
À cidade dos trabalhadores.  
Pois a cadência de enorme e real progresso  
Um município mui grandioso fez nascer,  
Marcando assim, verdadeiro sucesso  
Faz, então o Paraná engrandecer.

**No que tange ao Hino do município, atribua V (verdadeiro) ou F (falso) às afirmativas e marque a alternativa correta.**

- ( ) Eloah Martins Quadrado é autora da letra do hino.  
( ) Bento Mossurunga compôs a música do hino.  
( ) Eloah Martins Quadrado foi nomeada primeira professora da Cidade Nova, atual Telêmaco Borba.  
( ) Bento Mossurunga fundou a orquestra Estudantil e Concertos – Orquestra Sinfônica da Universidade, a Sociedade de Cultura Artístico Basilio Itiberê.  
a) F, V, V, V.  
b) V, F, V, V.  
c) V, V, F, V.  
d) V, V, F, F.  
e) V, V, V, V.

**12. À luz da Lei nº 1883/2012, que dispões sobre o Estatuto dos Servidores Públicos da Administração Direta, Autárquica e Funcional do Município de Telêmaco Borba/PR, leia as alternativas e marque a correta.**

- a) A apresentação para a posse ocorrerá no prazo de até trinta dias, contados do ato de nomeação.  
b) A destituição do servidor da função gratificada dar-se-á por solicitação exclusiva dele mesmo.  
c) O servidor ocupante exclusivamente de cargo em comissão será contribuinte do regime geral de previdência social.  
d) A aprovação em concurso público gera o direito à nomeação, e será feita obedecida à ordem de classificação dos candidatos.  
e) O exercício de função gratificada poderá ser de dedicação integral ou parcial, conforme necessidade da administração.

**Conforme a Lei nº 1.881, de 05 de abril de 2012, que dispõe sobre o Plano de Cargos, Carreiras e Vencimentos do quadro geral de servidores da Prefeitura Municipal de Telêmaco Borba/PR, regulamentada pelo Decreto nº 2269/2015, responda às próximas três questões.**

**13. Leia as assertivas e assinala a incorreta.**

- a) Do resultado da avaliação de desempenho poderá ser interposto recurso à Comissão de Desenvolvimento Funcional no prazo de quinze dias a contar da publicação no Boletim Oficial do Município.  
b) Não será concedida a progressão ou promoção ao servidor que estiver em licença para tratamento de saúde por um período superior a quarenta e cinco dias, no período de avaliação.  
c) A alternância dos membros constituintes da Comissão de Desenvolvimento Funcional eleitos pelos servidores verificar-se-á a cada três anos de participação, observados, para substituição de seus participantes, o critério fixado no artigo anterior, não cabendo eleição sucessiva.  
d) Caberá à Comissão de Desenvolvimento Funcional, no caso de divergência de vinte por cento entre a nota do avaliador e a do avaliado, solicitar nova avaliação à chefia.  
e) Nos termos do disposto no art. 17 da Lei nº 1.881, de 05 de abril de 2012, para progredir, é necessário que o servidor satisfaça, dentre outros, o seguinte requisito: estar no efetivo exercício de seu cargo ou em função comissionada na sua área de atuação durante o interstício de dois anos.

**14. Assinale a alternativa que completa respectivamente as lacunas do texto a seguir:**

**A Comissão de Desenvolvimento Funcional será constituída por \_\_\_\_\_ membros, sendo \_\_\_\_\_ designados pelo Prefeito Municipal de Telêmaco Borba e os demais eleitos pelos servidores municipais dentre os estáveis, com a atribuição de coordenar os procedimentos relativos à avaliação periódica de desempenho e outras atribuições.**

- a) três / sete  
b) um / três  
c) sete / três  
d) três / cinco  
e) dois / cinco

**15. A Avaliação de Desempenho será norteadada, dentre outros, pelo seguinte princípio: Amplitude - a avaliação deve incidir sobre todas as áreas de atuação do servidor, que compreendem:**

1. a formulação de políticas administrativas e sua aplicação para todos os setores da administração municipal;
2. o desempenho do profissional dentro de suas funções pertinentes;
3. a estrutura do órgão em que exerce a função;
4. os resultados de eficiência dos serviços de cada setor ou órgão da administração municipal;
5. a participação direta do avaliado, durante todo o processo avaliativo.

Diante dessa afirmação, somente não está correto o item:

- a) 1
- b) 2
- c) 3
- d) 4
- e) 5

#### CONHECIMENTOS ESPECÍFICOS

As próximas cinco questões deverão ser respondidas com base nos dados a seguir, que foram usados para elaboração do Demonstrativo da Despesa com Pessoal, integrante do Relatório de Gestão Fiscal do Município Alfa, referente ao segundo quadrimestre do exercício 20X1. Considere, ainda, as seguintes informações complementares: a) o valor de inativos e pensionistas com recursos vinculados foi de R\$ 1.400. b) houve a inscrição de restos a pagar não processados de despesa com pessoal, no valor de R\$ 500. c) o montante de retenção do imposto de renda na fonte resultou em R\$ 3.600.

DESPESA LIQUIDADADA	
Elemento de Despesa	20X1 (R\$)
Aposentadorias do RPPS	3.500
Auxílio Alimentação	760
Contratação Por Tempo Determinado	1.000
Despesa com Pessoal de Exercícios Anteriores	1.200
Diárias - Pessoal Civil	570
Equipamentos e Material Permanente	1.600
Indenizações e Restituições Trabalhistas	400
Locação de Mão de Obra	850
Material de Consumo	1.700
Obras e Instalações	5.000
Obrigações Patronais	2.000
Outras Despesas de Pessoal - Contratos de Terceirização	500
Outras Despesas Variáveis – Pessoal Civil	200
Outros Benefícios Assistenciais	390
Serviços de Consultoria	330
Vencimentos e Vantagens Fixas – Pessoal Civil	9.500



**16. Considerando que o índice apurado em cumprimento à Lei de Responsabilidade Fiscal foi de 49,38%, é possível inferir que a Receita Corrente Líquida do período foi de R\$:**

- a) 29.000
- b) 30.000
- c) 31.000
- d) 32.000
- e) 33.000

**17. O valor da despesa líquida com pessoal resultou em R\$:**

- a) 12.200
- b) 15.800
- c) 16.200
- d) 16.800
- e) 17.200

**18. Assinale a alternativa que corresponde ao montante da despesa liquidada que não se trata de despesa bruta com pessoal.**

- a) 11.200
- b) 10.810
- c) 10.440
- d) 10.050
- e) 9.650

**19. O limite prudencial, de acordo com a Lei de Responsabilidade Fiscal, é de:**

- a) 60%.
- b) 54%.
- c) 51,30%.
- d) 48,60%.
- e) 45,90%.

**20. Na apuração da despesa bruta com pessoal, não deve ser computado(a):**

- a) A retenção do imposto de renda retido na fonte.
- b) O valor inscrito em restos a pagar não processados.
- c) A despesa de exercícios anteriores.
- d) O valor de inativos e pensionistas com recursos vinculados.
- e) A despesa com a locação de mão de obra.

**O orçamento de Determinado Município foi aprovado com a seguinte composição:**

**Despesa corrente: R\$ 1.350.**

**Despesa de capital: R\$ 900.**

**Seguridade social: R\$ 600.**

**Investimento de empresas: 450.**

**Ao final do exercício financeiro, a despesa empenhada resultou em R\$ 4.000.**

**Sabe-se que foram abertos créditos suplementares no limite máximo autorizado pela lei de diretrizes orçamentárias no percentual máximo de 15%.**

**Durante o exercício, verificou-se que a arrecadação da receita não comportou conforme o esperado, havendo assim, necessidade de abertura de créditos suplementares por superávit financeiro e por anulação da despesa.**

**21. Com base nessas informações, assinale a alternativa correta.**

- a) A previsão da receita foi de R\$ 4.000.
- b) Não houve abertura de créditos suplementares sem autorização legislativa, pois foi observado o limite de R\$ 500, decorrente do superávit financeiro apurado no exercício anterior.
- c) O orçamento autorizado no período foi de R\$ 3.800.
- d) É possível inferir que a despesa liquidada foi inferior ao montante da arrecadação da receita.
- e) O resultado orçamentário do período foi deficitário em R\$ 205.

**22. A Lei Complementar nº 101/2000, na parte que trata da lei de diretrizes orçamentárias, afirma que atenderá ao disposto no § 2º do art. 165 da Constituição. Assim, com base nesse dispositivo, assinale a alternativa incorreta.**

- a) O Anexo de Metas Fiscais é parte integrante da lei em que serão estabelecidas metas anuais, em valores correntes e constantes, relativas a receitas, despesas, resultados nominal e primário e montante da dívida pública, para o exercício a que se referirem e para os dois seguintes.

- b) Contém demonstrativo das metas anuais, instruído com memória e metodologia de cálculo que justifiquem os resultados pretendidos, comparando-as com as fixadas nos três exercícios anteriores, e evidenciando a consistência delas com as premissas e os objetivos da política econômica nacional.
- c) A lei de diretrizes orçamentárias compreenderá as metas e prioridades da administração pública federal, incluindo as despesas de capital para os exercícios financeiros subsequentes, orientará a elaboração da lei orçamentária anual, disporá sobre as alterações na legislação tributária e estabelecerá a política de aplicação das agências financeiras oficiais de fomento.
- d) A mensagem que encaminhar o projeto da União apresentará, em anexo específico, os objetivos das políticas monetária, creditícia e cambial, bem como os parâmetros e as projeções para seus principais agregados e variáveis, e ainda as metas de inflação, para o exercício subsequente.
- e) Por meio do Anexo de Riscos Fiscais serão avaliados os passivos contingentes e outros riscos capazes de afetar as contas públicas, informando as providências a serem tomadas, caso se concretizem.

**23. No que se refere à escrituração e à consolidação das contas previstas na Lei Complementar nº 101/2000, assinale a alternativa correta.**

- a) A demonstração das variações patrimoniais dará destaque à origem e ao destino dos recursos provenientes da alienação de ativos.
- b) As operações de crédito, as inscrições em Restos a Pagar e as demais formas de financiamento ou assunção de compromissos junto a terceiros, deverão ser escrituradas de modo a evidenciar o montante e a variação da dívida pública no período, detalhando, pelo menos, o tipo de credor.
- c) As demonstrações contábeis compreenderão, isolada e conjuntamente, as transações e operações de cada órgão, fundo ou entidade da administração direta, autárquica e fundacional, exclusive empresa estatal dependente.
- d) As receitas e despesas de capital serão apresentadas em demonstrativos financeiros e orçamentários específicos.
- e) A disponibilidade de caixa constará de registro geral, de modo que os recursos vinculados a órgão, fundo ou despesa obrigatória fiquem identificados e escriturados de forma individualizada.

**24. A prestação de contas evidenciará o desempenho da \_\_\_\_\_ em relação à \_\_\_\_\_, destacando as providências adotadas no âmbito da fiscalização das \_\_\_\_\_ e combate à sonegação, as ações de recuperação de créditos nas instâncias administrativa e judicial, bem como as demais medidas para incremento das \_\_\_\_\_ e de contribuições.**

**A alternativa que preenche adequadamente as lacunas é a:**

- a) receita / execução / despesas / despesas correntes
- b) renúncia da receita / previsão / renúncias / operações de crédito
- c) receita tributária / arrecadação / renúncias da receita / receitas correntes
- d) arrecadação / previsão / receitas / receitas tributárias
- e) arrecadação / fixação / receitas públicas / receitas tributárias

**25. Considerando a Emenda Constitucional nº 86, de 2015, que incluiu novas regras na seção que trata dos orçamentos, assinale a alternativa incorreta.**

- a) É obrigatória a execução orçamentária e financeira das programações a que se refere o § 9º do art. 166 da Constituição Federal, em montante correspondente a 1,2% (um inteiro e dois décimos por cento) da receita corrente líquida realizada no exercício anterior, conforme os critérios para a execução equitativa da programação definidos na lei complementar prevista no § 9º do art. 165 da Constituição Federal.
- b) Os restos a pagar poderão ser considerados para fins de cumprimento da execução financeira prevista no § 11 do art. 166 da Constituição Federal, até o limite de 0,6% (seis décimos por cento) da receita corrente líquida realizada no exercício anterior.
- c) Considera-se equitativa a execução das programações de caráter obrigatório que atenda de forma igualitária e impessoal às emendas apresentadas, independentemente da autoria.
- d) As emendas individuais ao projeto de lei orçamentária serão aprovadas no limite de 1,2% (um inteiro e dois décimos por cento) da receita corrente líquida prevista no projeto encaminhado pelo Poder Executivo, sendo que a metade deste percentual será destinada a ações e serviços públicos de educação.
- e) As programações orçamentárias previstas no § 9º do art. 166 da Constituição Federal não serão de execução obrigatória nos casos dos impedimentos de ordem técnica.

**26. Quanto às medidas de cumprimento dos limites da despesa pessoal previstas na Constituição Federal, assinale a alternativa correta.**

- a) A concessão de qualquer vantagem ou aumento de remuneração, a criação de cargos, empregos e funções ou alteração de estrutura de carreiras, bem como a admissão ou contratação de pessoal, a qualquer título, pelos órgãos e entidades da administração direta ou indireta, inclusive fundações instituídas e mantidas pelo poder público, só poderá ser feita se houver prévia dotação orçamentária suficiente para atender às projeções de despesa de pessoal e aos acréscimos dela decorrentes.



- b) Para o cumprimento dos limites estabelecidos, durante o prazo fixado em lei complementar, a União, os Estados, o Distrito Federal e os Municípios adotarão providências, como por exemplo: a exoneração dos servidores não estáveis.
- c) A redução em pelo menos cinquenta por cento das despesas com cargos em comissão e funções de confiança é uma medida que deverá ser adotada prioritariamente.
- d) O servidor estável que perder o cargo não fará jus a indenização correspondente a um mês de remuneração por ano de serviço.
- e) O cargo objeto da redução provido tanto por servidor estável ou não será considerado extinto, vedada a criação de cargo, emprego ou função com atribuições iguais ou semelhantes pelo prazo de oito anos.

**27. Com base na Lei nº 4.320/64, analise as seguintes assertivas:**

**I - A Lei de Orçamento poderá conter autorização ao Executivo para realizar em qualquer mês do exercício financeiro, operações de crédito por antecipação da receita, para atender a insuficiências de caixa.**

**II - Em casos de déficit, a Lei de Orçamento indicará as fontes de recursos que o Poder Executivo fica autorizado a utilizar para atender a sua cobertura.**

**III - Acompanharão a Lei de Orçamento quadros demonstrativos da receita e planos de aplicação dos fundos especiais.**

**IV - A Lei de Orçamento não consignará dotações globais destinadas a atender indiferentemente a despesas de pessoal, material, serviços de terceiros, transferências ou quaisquer outras, não admitida qualquer ressalva.**

**Está incorreto o que se afirma em:**

- a) I, II, III e IV.
- b) II, III e IV, apenas.
- c) I, II e III, apenas.
- d) I e IV, apenas.
- e) IV, apenas.

**28. Em relação ao empenho, não é correto afirmar:**

- a) É o ato emanado de autoridade competente que cria para o Estado obrigação de pagamento pendente ou não de implemento de condição.
- b) O empenho da despesa poderá exceder o limite dos créditos concedidos.
- c) É vedada a realização de despesa sem prévio empenho.
- d) Em casos especiais previstos na legislação específica será dispensada a emissão da nota de empenho.
- e) É permitido o empenho global de despesas contratuais e outras, sujeitas a parcelamento.

**29. São dispositivos que regulamentam os fundos especiais de acordo com a Lei nº 4.320/64, exceto:**

- a) Salvo determinação em contrário da lei que o instituiu, o saldo positivo do fundo especial apurado em balanço será transferido para o exercício seguinte, a crédito do mesmo fundo.
- b) A lei que instituir fundo especial poderá determinar normas peculiares de controle, prestação e tomada de contas, sem de qualquer modo, elidir a competência específica do Tribunal de Contas ou órgão equivalente.
- c) A verificação da legalidade dos atos de execução orçamentária será prévia, concomitante e subsequente.
- d) Constitui fundo especial o produto de receitas especificadas que por lei se vinculam à realização de determinados objetivos ou serviços, facultada a adoção de normas peculiares de aplicação.
- e) A aplicação das receitas orçamentárias vinculadas a fundos especiais far-se-á através de dotação consignada na Lei de Orçamento ou em créditos adicionais.

**30. De acordo com a Lei nº 4.320/64, assinale a alternativa correta em relação à Contabilidade Patrimonial e Industrial.**

- a) Os serviços públicos industriais, ainda que não organizados como empresa pública ou autárquica, manterão contabilidade especial para determinação dos custos, ingressos e resultados, sem prejuízo da escrituração patrimonial e financeira comum.
- b) O levantamento geral dos bens móveis e imóveis terá por base o inventário sintético de cada unidade administrativa e os elementos da escrituração analítica na contabilidade.
- c) A contabilidade manterá registros analíticos dos bens móveis e imóveis.
- d) A dívida flutuante será escriturada com individualização e especificações que permitam verificar, a qualquer momento, a posição dos empréstimos, bem como os respectivos serviços de amortização e juros.
- e) As alterações da situação líquida patrimonial, que abrangem os resultados da execução orçamentária, bem como as variações independentes dessa execução e as superveniências e insubsistências ativas e passivas, constituirão elementos da conta de resultado.

**Para responder às próximas cinco questões, tenha por base as normas do Manual de Contabilidade Aplicada ao Setor Público, editado pela Secretaria do Tesouro Nacional e Secretaria de Orçamento Federal.**

**31. Os Ingressos extraorçamentários são recursos financeiros de caráter:**





- a) Permanente, do qual o Estado é o principal agente depositário. Sua devolução se sujeita a autorização legislativa, portanto, integram a Lei Orçamentária Anual (LOA). Por serem constituídos por ativos e passivos exigíveis, os ingressos extraorçamentários em geral têm reflexos no Patrimônio Líquido da Entidade.
- b) Permanente, do qual o Estado é o principal agente depositário. Sua devolução se sujeita a autorização legislativa, portanto, integram a Lei Orçamentária Anual (LOA). Por serem constituídos por ativos e passivos exigíveis, os ingressos extraorçamentários em geral não têm reflexos no Patrimônio Líquido da Entidade.
- c) Temporário, do qual o Estado é o principal agente depositário. Sua devolução não se sujeita a autorização legislativa, portanto, não integram a Lei Orçamentária Anual (LOA). Por serem constituídos por ativos e passivos exigíveis, os ingressos extraorçamentários em geral têm reflexos no Patrimônio Líquido da Entidade.
- d) Temporário, do qual o Estado é mero agente depositário. Sua devolução se sujeita a autorização legislativa, portanto, integram a Lei Orçamentária Anual (LOA). Por serem constituídos por ativos e passivos exigíveis, os ingressos extraorçamentários em geral não têm reflexos no Patrimônio Líquido da Entidade.
- e) Temporário, do qual o Estado é mero agente depositário. Sua devolução não se sujeita a autorização legislativa, portanto, não integram a Lei Orçamentária Anual (LOA). Por serem constituídos por ativos e passivos exigíveis, os ingressos extraorçamentários em geral não têm reflexos no Patrimônio Líquido da Entidade.

**32. Não se considera realizada a variação patrimonial aumentativa:**

- a) No recebimento efetivo de doações e subvenções.
- b) Pelo surgimento de um passivo, sem o correspondente ativo.
- c) Nas transações com contribuintes e terceiros, quando estes efetuarem o pagamento ou assumirem compromisso firme de efetivá-lo, quer pela ocorrência de um fato gerador de natureza tributária, investidura na propriedade de bens anteriormente pertencentes à entidade, ou fruição de serviços por esta prestados.
- d) Pela geração natural de novos ativos independentemente da intervenção de terceiros.
- e) Quando da extinção, parcial ou total, de um passivo, qualquer que seja o motivo, sem o desaparecimento concomitante de um ativo de valor igual ou maior.

**33. O Balanço Orçamentário deverá ser acompanhado de notas explicativas que divulguem, ao menos:**

- a) O procedimento adotado em relação aos restos a pagar não processados liquidados, ou seja, se o ente transfere o saldo ao final do exercício para restos a pagar processados ou se mantém o controle dos restos a pagar não processados liquidados separadamente.
- b) As atualizações monetárias autorizadas por lei, efetuadas antes e após a data da publicação da lei orçamentária anual, que compõem a coluna Previsão Inicial da receita orçamentária.
- c) A utilização do superávit financeiro e da reabertura de créditos suplementares e extraordinários, bem como suas influências no resultado orçamentário.
- d) O detalhamento das receitas e despesas intraorçamentárias, quando relevante.
- e) O detalhamento dos "recursos de exercícios anteriores" utilizados para financiar as despesas orçamentárias do exercício corrente, destacando-se os recursos vinculados ao RPPS e outros com destinação vinculada.

**34. O Balanço Financeiro é composto por um único quadro que evidencia a movimentação financeira das entidades do setor público. Nesse sentido, assinale a alternativa que não contempla o tipo de informação produzido pelo referido Balanço.**

- a) A receita orçamentária realizada e a despesa orçamentária executada, por fonte / destinação de recurso, discriminando as ordinárias e as vinculadas.
- b) Os recebimentos e os pagamentos extraorçamentários.
- c) As transferências financeiras recebidas e concedidas, decorrentes ou independentes da execução orçamentária, destacando os aportes de recursos para o RPPS.
- d) O saldo em espécie do exercício anterior e para o exercício seguinte.
- e) O detalhamento das despesas executadas por tipos de créditos (inicial, suplementar, especial e extraordinário).

**35. Quanto às definições sobre o Balanço Patrimonial, assinale a alternativa incorreta.**

- a) Os saldos das contas dos ativos e passivos são apresentados no quadro principal por seus valores líquidos das respectivas deduções, como, por exemplo, as contas de ativo imobilizado líquidas das depreciações.
- b) Os ativos e passivos financeiros e permanentes e o saldo patrimonial serão apresentados pelos seus valores totais.
- c) Poderão ser apresentadas algumas fontes com déficit e outras com superávit financeiro, de modo que o total seja igual ao superávit / déficit financeiro apurado pela diferença entre o Ativo Circulante e o Passivo Não Circulante conforme o quadro dos ativos e passivos financeiros e permanentes.
- d) O PCASP não padroniza o desdobramento dos atos potenciais ativos e passivos em nível que permita segregar os atos executados daqueles a executar. Tal desdobramento deverá ser feito por cada ente, em nível de item e subitem (6º nível e 7º nível).
- e) É recomendado que as políticas contábeis relevantes que tenham reflexos no patrimônio sejam evidenciadas, como as políticas de depreciação, amortização e exaustão.

**LÍNGUA PORTUGUESA**

**Texto para as próximas cinco questões:**





**“O cego Estrelinho”  
Mia Couto**

O cego Estrelinho era pessoa de nenhuma vez: sua história poderia ser contada e descontada não fosse seu guia, Gigito Efraim. A mão de Gigito conduziu o desvistado por tempos e idades. Aquela mão era repartidamente comum, extensão de um no outro, siamensal. E assim era quase de nascença. Memória de Estrelinho tinha cinco dedos e eram os de Gigito postos, em aperto, na sua própria mão.

O cego, curioso, queria saber de tudo. Ele não fazia cerimônia no viver. O sempre lhe era pouco e o tudo insuficiente. Dizia, deste modo:

— Tenho que viver já, senão esqueço-me.

Gigitinho, porém, o que descrevia era o que não havia. O mundo que ele minuciava eram fantasias e rendilhados. A imaginação do guia era mais profícua que papadeira. O cego enchia a boca de águas:

— Que maravilhação esse mundo. Me conte tudo, Gigito!

A mão do guia era, afinal, o manuscrito da mentira. Gigito Efraim estava como nunca esteve S. Tomé: via para não crer. O condutor falava pela ponta dos dedos. Desfolhava o universo, aberto em folhas. A ideiação dele era tal que mesmo o cego, por vezes, acreditava ver. O outro lhe encorajava esses breves enganar:

— Desbengale-se, você está escolhendo a boa procedência!

Mentira: Estrelinho continuava sem ver uma palmeira à frente do nariz. Contudo, o cego não se conformava em suas escurezas. Ele cumpria o ditado: não tinha perna e queria dar o pontapé. Só à noite, ele desalentava, sofrendo medos mais antigos que a humanidade. Entendia aquilo que, na raça humana, é menos primitivo: o animal.

— Na noite aflige não haver luz?

— Aflição é ter um pássaro branco esvoando dentro do sono.

Pássaro branco? No sono? Lugar de ave é nas alturas. Dizem até que Deus fez o céu para justificar os pássaros. Estrelinho disfarçava o medo dos vaticínios, subterfugindo:

— E agora, Gigitinho? Agora, olhando assim para cima, estou face ao céu?

Que podia o outro responder? O céu do cego fica em toda a parte. Estrelinho perdia o pé era quando a noite chegava e seu mestre adormecia. Era como se um novo escuro nele se estreasse em nó cego. Devagaroso e sorrateiro ele aninhava sua mão na mão do guia. Só assim adormecia. A razão da concha é a timidez da amêijoia? Na manhã seguinte, o cego lhe confessava: se você morrer, tenho que morrer logo no imediato. Senão-me: como acerto o caminho para o céu?

Foi no mês de dezembro que levaram Gigitinho. Lhe tiraram do mundo para pôr na guerra: obrigavam os serviços militares. O cego reclamou: que o moço inatingia a idade. E que o serviço que ele a si prestava era vital e vitalício. O guia chamou Estrelinho à parte e lhe tranquilizou:

— Não vai ficar sozinando por aí. Minha mana já mandei para ficar no meu lugar.

O cego estendeu o braço a querer tocar uma despedida. Mas o outro já não estava lá. Ou estava e se desviara, propositado? E sem água ida nem vinda, Estrelinho escutou o amigo se afastar, engolido, esponginquo, invisível. Pela primeira vez, Estrelinho se sentiu invalidado.

— Agora, só agora, sou cego que não vê.

(...)

**COUTO, Mia. Estórias abensonhadas. Rio de Janeiro: Nova Fronteira, 1996. (Pág 23 e 24).**

**36. Quanto à interpretação do fragmento do conto, podemos afirmar que:**

- Gigito Efraim era o guia de Estrelinho há pouquíssimo tempo.
- Estrelinho era cego de nascença.
- Gigito descrevia o mundo para Estrelinho de forma denotativa.
- Gigito foi convocado pelo exército para ser guia de cegos na guerra.
- Gigito descrevia o mundo para Estrelinho de forma conotativa.

**37. No período “O sempre lhe era pouco e o tudo insuficiente”, o pronome “LHE” exerce a função sintática de:**

- Objeto Direto
- Objeto Indireto
- Complemento Nominal
- Adjunto Adnominal
- Objeto Direto Preposicionado

**38. Na oração “A mão de Gigito conduziu o desvistado por tempos e idades”, o autor faz uso de um neologismo, assim como no decorrer de toda a obra em questão. Contudo, o neologismo só se torna possível pela utilização dos elementos mórficos naquilo que a gramática normativa pontua como Processo de Formação das Palavras. Levando em consideração apenas o recurso morfológico, qual Processo de Formação foi utilizado?**

- Derivação Sufixal
- Derivação Prefixal
- Derivação Regressiva



- d) Derivação Imprópria
- e) Derivação Parassintética

**39. No terceiro período do décimo terceiro parágrafo, temos:**

- a) Uma oração
- b) Duas orações
- c) Três orações
- d) Quatro orações
- e) Cinco orações

**40. No último parágrafo do fragmento do conto “— Agora, só agora, sou cego que não vê”, a oração subordinada presente classifica-se corretamente como:**

- a) Oração Subordinada Adjetiva Restritiva
- b) Oração Subordinada Adverbial Causal
- c) Oração Subordinada Substantiva Subjetiva
- d) Oração Subordinada Adverbial Explicativa
- e) Oração Subordinada Adjetiva Explicativa

**RASCUNHO**



PREFEITURA DE TELÊMACO BORBA - ESTADO DO PARANÁ- **EDITAL Nº 001-2016 - CONCURSO PÚBLICO VESPERTINO – 29/05/2016 – NÍVEL SUPERIOR**

PROVA OBJETIVA NÚMERO

**3**

**CARGO: TMNS I - TMNS I - CIÊNCIAS CONTÁBEIS**

Leia atentamente as **INSTRUÇÕES**:

1. Confira seus dados no cartão-resposta: nome, número de inscrição e o curso para o qual se inscreveu.
2. **MARQUE no seu cartão-resposta o número da sua prova** (não será corrigido o cartão-resposta que não tiver marcado o número da prova) e **Assine** seu cartão-resposta.
3. Aguarde a autorização do Fiscal para abrir o caderno de prova. Ao receber a ordem do fiscal, confira o caderno de prova com muita atenção. Nenhuma reclamação sobre o total de questões ou falha de impressão será aceita depois de iniciada a prova.
4. O cartão-resposta não será substituído, salvo se contiver erro de impressão.
5. Preencha toda a área do cartão-resposta correspondente à alternativa de sua escolha, com caneta esferográfica (tinta azul ou preta), sem ultrapassar as bordas. As marcações duplas, ou rasuradas, com corretivo, ou marcadas diferentemente do modelo estabelecido no cartão-resposta poderão ser anuladas.
6. Sua prova tem **40** questões, com **5** alternativas.
7. Cabe apenas ao candidato a interpretação das questões, **o fiscal** não poderá fazer nenhuma interferência.
8. A prova será realizada com duração máxima de **3 (três) horas**, incluído o tempo para a realização da Prova Objetiva de múltipla escolha e o preenchimento do cartão-resposta.
9. O candidato poderá retirar-se do local de realização das provas somente **1 (uma) hora** após o seu início, sem levar o caderno de prova.
10. O candidato poderá levar o caderno de provas, assim como anotação contendo transcrição do seu cartão-resposta, somente **1h30min** (uma hora e trinta minutos) após o início da realização da prova.
11. Ao terminar a prova, o candidato deverá entregar ao fiscal de sala o cartão-resposta preenchido e **ASSINADO**.
12. Os **3 (três)** candidatos, que terminarem a prova por último, deverão permanecer na sala, e só poderão sair juntos após o fechamento do envelope, contendo os cartões-resposta dos candidatos presentes e ausentes, e assinarem no lacre do referido envelope, atestando que este foi devidamente lacrado.
13. Durante todo o tempo em que permanecer no local onde está ocorrendo o concurso, o candidato deverá, manter o celular desligado e sem bateria, só sendo permitido ligar depois de ultrapassar o portão de saída do prédio.
14. Não será permitido ao candidato fumar na sala de provas, bem como nas dependências.
15. Depois de terminar a prova e entregar ao fiscal o cartão-resposta, preenchido e assinado, não será mais permitido ao candidato o uso do banheiro e bebedouro.

**BOA PROVA!**

**CONHECIMENTOS ESPECÍFICOS**

As próximas cinco questões deverão ser respondidas com base nos dados a seguir, que foram usados para elaboração do Demonstrativo da Despesa com Pessoal, integrante do Relatório de Gestão Fiscal do Município Alfa, referente ao segundo quadrimestre do exercício 20X1. Considere, ainda, as seguintes informações complementares: a) o valor de inativos e pensionistas com recursos vinculados foi de R\$ 1.400. b) houve a inscrição de restos a pagar não processados de despesa com pessoal, no valor de R\$ 500. c) o montante de retenção do imposto de renda na fonte resultou em R\$ 3.600.

DESPESA LIQUIDADADA	
Elemento de Despesa	20X1 (R\$)
Aposentadorias do RPPS	3.500
Auxílio Alimentação	760
Contratação Por Tempo Determinado	1.000
Despesa com Pessoal de Exercícios Anteriores	1.200
Diárias - Pessoal Civil	570
Equipamentos e Material Permanente	1.600
Indenizações e Restituições Trabalhistas	400
Locação de Mão de Obra	850
Material de Consumo	1.700
Obras e Instalações	5.000
Obrigações Patronais	2.000
Outras Despesas de Pessoal - Contratos de Terceirização	500
Outras Despesas Variáveis – Pessoal Civil	200
Outros Benefícios Assistenciais	390
Serviços de Consultoria	330
Vencimentos e Vantagens Fixas – Pessoal Civil	9.500

**01. Considerando que o índice apurado em cumprimento à Lei de Responsabilidade Fiscal foi de 49,38%, é possível inferir que a Receita Corrente Líquida do período foi de R\$:**

- a) 29.000
- b) 30.000
- c) 31.000
- d) 32.000
- e) 33.000

**02. O valor da despesa líquida com pessoal resultou em R\$:**

- a) 12.200
- b) 15.800
- c) 16.200
- d) 16.800



e) 17.200

**03. Assinale a alternativa que corresponde ao montante da despesa liquidada que não se trata de despesa bruta com pessoal.**

- a) 11.200
- b) 10.810
- c) 10.440
- d) 10.050
- e) 9.650

**04. O limite prudencial, de acordo com a Lei de Responsabilidade Fiscal, é de:**

- a) 60%.
- b) 54%.
- c) 51,30%.
- d) 48,60%.
- e) 45,90%.

**05. Na apuração da despesa bruta com pessoal, não deve ser computado(a):**

- a) A retenção do imposto de renda retido na fonte.
- b) O valor inscrito em restos a pagar não processados.
- c) A despesa de exercícios anteriores.
- d) O valor de inativos e pensionistas com recursos vinculados.
- e) A despesa com a locação de mão de obra.

**O orçamento de Determinado Município foi aprovado com a seguinte composição:**

**Despesa corrente: R\$ 1.350.**

**Despesa de capital: R\$ 900.**

**Seguridade social: R\$ 600.**

**Investimento de empresas: 450.**

**Ao final do exercício financeiro, a despesa empenhada resultou em R\$ 4.000.**

**Sabe-se que foram abertos créditos suplementares no limite máximo autorizado pela lei de diretrizes orçamentárias no percentual máximo de 15%.**

**Durante o exercício, verificou-se que a arrecadação da receita não comportou conforme o esperado, havendo assim, necessidade de abertura de créditos suplementares por superávit financeiro e por anulação da despesa.**

**06. Com base nessas informações, assinale a alternativa correta.**

- a) A previsão da receita foi de R\$ 4.000.
- b) Não houve abertura de créditos suplementares sem autorização legislativa, pois foi observado o limite de R\$ 500, decorrente do superávit financeiro apurado no exercício anterior.
- c) O orçamento autorizado no período foi de R\$ 3.800.
- d) É possível inferir que a despesa liquidada foi inferior ao montante da arrecadação da receita.
- e) O resultado orçamentário do período foi deficitário em R\$ 205.

**07. A Lei Complementar nº 101/2000, na parte que trata da lei de diretrizes orçamentárias, afirma que atenderá ao disposto no § 2º do art. 165 da Constituição. Assim, com base nesse dispositivo, assinale a alternativa incorreta.**

- a) O Anexo de Metas Fiscais é parte integrante da lei em que serão estabelecidas metas anuais, em valores correntes e constantes, relativas a receitas, despesas, resultados nominal e primário e montante da dívida pública, para o exercício a que se referirem e para os dois seguintes.
- b) Contém demonstrativo das metas anuais, instruído com memória e metodologia de cálculo que justifiquem os resultados pretendidos, comparando-as com as fixadas nos três exercícios anteriores, e evidenciando a consistência delas com as premissas e os objetivos da política econômica nacional.
- c) A lei de diretrizes orçamentárias compreenderá as metas e prioridades da administração pública federal, incluindo as despesas de capital para os exercícios financeiros subsequentes, orientará a elaboração da lei orçamentária anual, disporá sobre as alterações na legislação tributária e estabelecerá a política de aplicação das agências financeiras oficiais de fomento.
- d) A mensagem que encaminhar o projeto da União apresentará, em anexo específico, os objetivos das políticas monetária, creditícia e cambial, bem como os parâmetros e as projeções para seus principais agregados e variáveis, e ainda as metas de inflação, para o exercício subsequente.
- e) Por meio do Anexo de Riscos Fiscais serão avaliados os passivos contingentes e outros riscos capazes de afetar as contas públicas, informando as providências a serem tomadas, caso se concretizem.

**08. No que se refere à escrituração e à consolidação das contas previstas na Lei Complementar nº 101/2000, assinale a alternativa correta.**



- a) A demonstração das variações patrimoniais dará destaque à origem e ao destino dos recursos provenientes da alienação de ativos.
- b) As operações de crédito, as inscrições em Restos a Pagar e as demais formas de financiamento ou assunção de compromissos junto a terceiros, deverão ser escrituradas de modo a evidenciar o montante e a variação da dívida pública no período, detalhando, pelo menos, o tipo de credor.
- c) As demonstrações contábeis compreenderão, isolada e conjuntamente, as transações e operações de cada órgão, fundo ou entidade da administração direta, autárquica e fundacional, exclusive empresa estatal dependente.
- d) As receitas e despesas de capital serão apresentadas em demonstrativos financeiros e orçamentários específicos.
- e) A disponibilidade de caixa constará de registro geral, de modo que os recursos vinculados a órgão, fundo ou despesa obrigatória fiquem identificados e escriturados de forma individualizada.

**09. A prestação de contas evidenciará o desempenho da \_\_\_\_\_ em relação à \_\_\_\_\_, destacando as providências adotadas no âmbito da fiscalização das \_\_\_\_\_ e combate à sonegação, as ações de recuperação de créditos nas instâncias administrativa e judicial, bem como as demais medidas para incremento das \_\_\_\_\_ e de contribuições.**

**A alternativa que preenche adequadamente as lacunas é a:**

- a) receita / execução / despesas / despesas correntes
- b) renúncia da receita / previsão / renúncias / operações de crédito
- c) receita tributária / arrecadação / renúncias da receita / receitas correntes
- d) arrecadação / previsão / receitas / receitas tributárias
- e) arrecadação / fixação / receitas públicas / receitas tributárias

**10. Considerando a Emenda Constitucional nº 86, de 2015, que incluiu novas regras na seção que trata dos orçamentos, assinale a alternativa incorreta.**

- a) É obrigatória a execução orçamentária e financeira das programações a que se refere o § 9º do art. 166 da Constituição Federal, em montante correspondente a 1,2% (um inteiro e dois décimos por cento) da receita corrente líquida realizada no exercício anterior, conforme os critérios para a execução equitativa da programação definidos na lei complementar prevista no § 9º do art. 165 da Constituição Federal.
- b) Os restos a pagar poderão ser considerados para fins de cumprimento da execução financeira prevista no § 11 do art. 166 da Constituição Federal, até o limite de 0,6% (seis décimos por cento) da receita corrente líquida realizada no exercício anterior.
- c) Considera-se equitativa a execução das programações de caráter obrigatório que atenda de forma igualitária e impessoal às emendas apresentadas, independentemente da autoria.
- d) As emendas individuais ao projeto de lei orçamentária serão aprovadas no limite de 1,2% (um inteiro e dois décimos por cento) da receita corrente líquida prevista no projeto encaminhado pelo Poder Executivo, sendo que a metade deste percentual será destinada a ações e serviços públicos de educação.
- e) As programações orçamentárias previstas no § 9º do art. 166 da Constituição Federal não serão de execução obrigatória nos casos dos impedimentos de ordem técnica.

**11. Quanto às medidas de cumprimento dos limites da despesa pessoal previstas na Constituição Federal, assinale a alternativa correta.**

- a) A concessão de qualquer vantagem ou aumento de remuneração, a criação de cargos, empregos e funções ou alteração de estrutura de carreiras, bem como a admissão ou contratação de pessoal, a qualquer título, pelos órgãos e entidades da administração direta ou indireta, inclusive fundações instituídas e mantidas pelo poder público, só poderá ser feita se houver prévia dotação orçamentária suficiente para atender às projeções de despesa de pessoal e aos acréscimos dela decorrentes.
- b) Para o cumprimento dos limites estabelecidos, durante o prazo fixado em lei complementar, a União, os Estados, o Distrito Federal e os Municípios adotarão providências, como por exemplo: a exoneração dos servidores não estáveis.
- c) A redução em pelo menos cinquenta por cento das despesas com cargos em comissão e funções de confiança é uma medida que deverá ser adotada prioritariamente.
- d) O servidor estável que perder o cargo não fará jus a indenização correspondente a um mês de remuneração por ano de serviço.
- e) O cargo objeto da redução provido tanto por servidor estável ou não será considerado extinto, vedada a criação de cargo, emprego ou função com atribuições iguais ou semelhantes pelo prazo de oito anos.

**12. Com base na Lei nº 4.320/64, analise as seguintes assertivas:**

**I - A Lei de Orçamento poderá conter autorização ao Executivo para realizar em qualquer mês do exercício financeiro, operações de crédito por antecipação da receita, para atender a insuficiências de caixa.**

**II - Em casos de déficit, a Lei de Orçamento indicará as fontes de recursos que o Poder Executivo fica autorizado a utilizar para atender a sua cobertura.**

**III - Acompanharão a Lei de Orçamento quadros demonstrativos da receita e planos de aplicação dos fundos especiais.**





**IV - A Lei de Orçamento não consignará dotações globais destinadas a atender indiferentemente a despesas de pessoal, material, serviços de terceiros, transferências ou quaisquer outras, não admitida qualquer ressalva.**

**Está incorreto o que se afirma em:**

- a) I, II, III e IV.
- b) II, III e IV, apenas.
- c) I, II e III, apenas.
- d) I e IV, apenas.
- e) IV, apenas.

**13. Em relação ao empenho, não é correto afirmar:**

- a) É o ato emanado de autoridade competente que cria para o Estado obrigação de pagamento pendente ou não de implemento de condição.
- b) O empenho da despesa poderá exceder o limite dos créditos concedidos.
- c) É vedada a realização de despesa sem prévio empenho.
- d) Em casos especiais previstos na legislação específica será dispensada a emissão da nota de empenho.
- e) É permitido o empenho global de despesas contratuais e outras, sujeitas a parcelamento.

**14. São dispositivos que regulamentam os fundos especiais de acordo com a Lei nº 4.320/64, exceto:**

- a) Salvo determinação em contrário da lei que o instituiu, o saldo positivo do fundo especial apurado em balanço será transferido para o exercício seguinte, a crédito do mesmo fundo.
- b) A lei que instituir fundo especial poderá determinar normas peculiares de controle, prestação e tomada de contas, sem de qualquer modo, elidir a competência específica do Tribunal de Contas ou órgão equivalente.
- c) A verificação da legalidade dos atos de execução orçamentária será prévia, concomitante e subsequente.
- d) Constitui fundo especial o produto de receitas especificadas que por lei se vinculam à realização de determinados objetivos ou serviços, facultada a adoção de normas peculiares de aplicação.
- e) A aplicação das receitas orçamentárias vinculadas a fundos especiais far-se-á através de dotação consignada na Lei de Orçamento ou em créditos adicionais.

**15. De acordo com a Lei nº 4.320/64, assinale a alternativa correta em relação à Contabilidade Patrimonial e Industrial.**

- a) Os serviços públicos industriais, ainda que não organizados como empresa pública ou autárquica, manterão contabilidade especial para determinação dos custos, ingressos e resultados, sem prejuízo da escrituração patrimonial e financeira comum.
- b) O levantamento geral dos bens móveis e imóveis terá por base o inventário sintético de cada unidade administrativa e os elementos da escrituração analítica na contabilidade.
- c) A contabilidade manterá registros analíticos dos bens móveis e imóveis.
- d) A dívida flutuante será escriturada com individualização e especificações que permitam verificar, a qualquer momento, a posição dos empréstimos, bem como os respectivos serviços de amortização e juros.
- e) As alterações da situação líquida patrimonial, que abrangem os resultados da execução orçamentária, bem como as variações independentes dessa execução e as superveniências e insubsistência ativas e passivas, constituirão elementos da conta de resultado.

**Para responder às próximas cinco questões, tenha por base as normas do Manual de Contabilidade Aplicada ao Setor Público, editado pela Secretaria do Tesouro Nacional e Secretaria de Orçamento Federal.**

**16. Os Ingressos extraorçamentários são recursos financeiros de caráter:**

- a) Permanente, do qual o Estado é o principal agente depositário. Sua devolução se sujeita a autorização legislativa, portanto, integram a Lei Orçamentária Anual (LOA). Por serem constituídos por ativos e passivos exigíveis, os ingressos extraorçamentários em geral têm reflexos no Patrimônio Líquido da Entidade.
- b) Permanente, do qual o Estado é o principal agente depositário. Sua devolução se sujeita a autorização legislativa, portanto, integram a Lei Orçamentária Anual (LOA). Por serem constituídos por ativos e passivos exigíveis, os ingressos extraorçamentários em geral não têm reflexos no Patrimônio Líquido da Entidade.
- c) Temporário, do qual o Estado é o principal agente depositário. Sua devolução não se sujeita a autorização legislativa, portanto, não integram a Lei Orçamentária Anual (LOA). Por serem constituídos por ativos e passivos exigíveis, os ingressos extraorçamentários em geral têm reflexos no Patrimônio Líquido da Entidade.
- d) Temporário, do qual o Estado é mero agente depositário. Sua devolução se sujeita a autorização legislativa, portanto, integram a Lei Orçamentária Anual (LOA). Por serem constituídos por ativos e passivos exigíveis, os ingressos extraorçamentários em geral não têm reflexos no Patrimônio Líquido da Entidade.
- e) Temporário, do qual o Estado é mero agente depositário. Sua devolução não se sujeita a autorização legislativa, portanto, não integram a Lei Orçamentária Anual (LOA). Por serem constituídos por ativos e passivos exigíveis, os ingressos extraorçamentários em geral não têm reflexos no Patrimônio Líquido da Entidade.

**17. Não se considera realizada a variação patrimonial aumentativa:**



- a) No recebimento efetivo de doações e subvenções.
- b) Pelo surgimento de um passivo, sem o correspondente ativo.
- c) Nas transações com contribuintes e terceiros, quando estes efetuarem o pagamento ou assumirem compromisso firme de efetivá-lo, quer pela ocorrência de um fato gerador de natureza tributária, investidura na propriedade de bens anteriormente pertencentes à entidade, ou fruição de serviços por esta prestados.
- d) Pela geração natural de novos ativos independentemente da intervenção de terceiros.
- e) Quando da extinção, parcial ou total, de um passivo, qualquer que seja o motivo, sem o desaparecimento concomitante de um ativo de valor igual ou maior.

**18. O Balanço Orçamentário deverá ser acompanhado de notas explicativas que divulguem, ao menos:**

- a) O procedimento adotado em relação aos restos a pagar não processados liquidados, ou seja, se o ente transfere o saldo ao final do exercício para restos a pagar processados ou se mantém o controle dos restos a pagar não processados liquidados separadamente.
- b) As atualizações monetárias autorizadas por lei, efetuadas antes e após a data da publicação da lei orçamentária anual, que compõem a coluna Previsão Inicial da receita orçamentária.
- c) A utilização do superávit financeiro e da reabertura de créditos suplementares e extraordinários, bem como suas influências no resultado orçamentário.
- d) O detalhamento das receitas e despesas intraorçamentárias, quando relevante.
- e) O detalhamento dos “recursos de exercícios anteriores” utilizados para financiar as despesas orçamentárias do exercício corrente, destacando-se os recursos vinculados ao RPPS e outros com destinação vinculada.

**19. O Balanço Financeiro é composto por um único quadro que evidencia a movimentação financeira das entidades do setor público. Nesse sentido, assinale a alternativa que não contempla o tipo de informação produzido pelo referido Balanço.**

- a) A receita orçamentária realizada e a despesa orçamentária executada, por fonte / destinação de recurso, discriminando as ordinárias e as vinculadas.
- b) Os recebimentos e os pagamentos extraorçamentários.
- c) As transferências financeiras recebidas e concedidas, decorrentes ou independentes da execução orçamentária, destacando os aportes de recursos para o RPPS.
- d) O saldo em espécie do exercício anterior e para o exercício seguinte.
- e) O detalhamento das despesas executadas por tipos de créditos (inicial, suplementar, especial e extraordinário).

**20. Quanto às definições sobre o Balanço Patrimonial, assinale a alternativa incorreta.**

- a) Os saldos das contas dos ativos e passivos são apresentados no quadro principal por seus valores líquidos das respectivas deduções, como, por exemplo, as contas de ativo imobilizado líquidas das depreciações.
- b) Os ativos e passivos financeiros e permanentes e o saldo patrimonial serão apresentados pelos seus valores totais.
- c) Poderão ser apresentadas algumas fontes com déficit e outras com superávit financeiro, de modo que o total seja igual ao superávit / déficit financeiro apurado pela diferença entre o Ativo Circulante e o Passivo Não Circulante conforme o quadro dos ativos e passivos financeiros e permanentes.
- d) O PCASP não padroniza o desdobramento dos atos potenciais ativos e passivos em nível que permita segregar os atos executados daqueles a executar. Tal desdobramento deverá ser feito por cada ente, em nível de item e subitem (6º nível e 7º nível).
- e) É recomendado que as políticas contábeis relevantes que tenham reflexos no patrimônio sejam evidenciadas, como as políticas de depreciação, amortização e exaustão.

**LÍNGUA PORTUGUESA**

**Texto para as próximas cinco questões:**

**“O cego Estrelinho”  
Mia Couto**

O cego Estrelinho era pessoa de nenhuma vez: sua história poderia ser contada e descontada não fosse seu guia, Gigito Efraim. A mão de Gigito conduziu o desvistado por tempos e idades. Aquela mão era repartidamente comum, extensão de um no outro, siamensal. E assim era quase de nascença. Memória de Estrelinho tinha cinco dedos e eram os de Gigito postos, em aperto, na sua própria mão.

O cego, curioso, queria saber de tudo. Ele não fazia cerimônia no viver. O sempre lhe era pouco e o tudo insuficiente. Dizia, deste modo:

— Tenho que viver já, senão esqueço-me.

Gigitinho, porém, o que descrevia era o que não havia. O mundo que ele minuciava eram fantasias e rendilhados. A imaginação do guia era mais profícua que papaeira. O cego enchia a boca de águas:

— Que maravilhação esse mundo. Me conte tudo, Gigito!

A mão do guia era, afinal, o manuscrito da mentira. Gigito Efraim estava como nunca esteve S. Tomé: via para não crer. O condutor falava pela ponta dos dedos. Desfolhava o universo, aberto em folhas. A ideiação dele era tal que mesmo o cego, por vezes, acreditava ver. O outro lhe encorajava esses breves enganos:

— Desbengale-se, você está escolhendo a boa procedência!

Mentira: Estrelinho continuava sem ver uma palmeira à frente do nariz. Contudo, o cego não se conformava em suas escurezas. Ele cumpria o ditado: não tinha perna e queria dar o pontapé. Só à noite, ele desalentava, sofrendo medos mais antigos que a humanidade. Entendia aquilo que, na raça humana, é menos primitivo: o animal.

— Na noite aflige não haver luz?

— Aflição é ter um pássaro branco esvoando dentro do sono.

Pássaro branco? No sono? Lugar de ave é nas alturas. Dizem até que Deus fez o céu para justificar os pássaros. Estrelinho disfarçava o medo dos vaticínios, subterfugindo:

— E agora, Gigitinho? Agora, olhando assim para cima, estou face ao céu?

Que podia o outro responder? O céu do cego fica em toda a parte. Estrelinho perdia o pé era quando a noite chegava e seu mestre adormecia. Era como se um novo escuro nele se estreasse em nó cego. Devagaroso e sorrateiro ele aninhava sua mão na mão do guia. Só assim adormecia. A razão da concha é a timidez da amêijoia? Na manhã seguinte, o cego lhe confessava: se você morrer, tenho que morrer logo no imediato. Senão-me: como acerto o caminho para o céu?

Foi no mês de dezembro que levaram Gigitinho. Lhe tiraram do mundo para pôr na guerra: obrigavam os serviços militares. O cego reclamou: que o moço inatingia a idade. E que o serviço que ele a si prestava era vital e vitalício. O guia chamou Estrelinho à parte e lhe tranquilizou:

— Não vai ficar sozinando por aí. Minha mana já mandei para ficar no meu lugar.

O cego estendeu o braço a querer tocar uma despedida. Mas o outro já não estava lá. Ou estava e se desviara, propositado? E sem água ida nem vinda, Estrelinho escutou o amigo se afastar, engolido, esponjínquo, invisível. Pela pimeira vez, Estrelinho se sentiu invalidado.

— Agora, só agora, sou cego que não vê.

(...)

**COUTO, Mia. Estórias abensonhadas. Rio de Janeiro: Nova Fronteira, 1996. (Pág 23 e 24).**

**21. Quanto à interpretação do fragmento do conto, podemos afirmar que:**

- Gigito Efraim era o guia de Estrelinho há pouquíssimo tempo.
- Estrelinho era cego de nascença.
- Gigito descrevia o mundo para Estrelinho de forma denotativa.
- Gigito foi convocado pelo exército para ser guia de cegos na guerra.
- Gigito descrevia o mundo para Estrelinho de forma conotativa.

**22. No período “O sempre lhe era pouco e o tudo insuficiente”, o pronome “LHE” exerce a função sintática de:**

- Objeto Direto
- Objeto Indireto
- Complemento Nominal
- Adjunto Adnominal
- Objeto Direto Preposicionado

**23. Na oração “A mão de Gigito conduziu o desvestido por tempos e idades”, o autor faz uso de um neologismo, assim como no decorrer de toda a obra em questão. Contudo, o neologismo só se torna possível pela utilização dos elementos mórficos naquilo que a gramática normativa pontua como Processo de Formação das Palavras. Levando em consideração apenas o recurso morfológico, qual Processo de Formação foi utilizado?**

- Derivação Sufixal
- Derivação Prefixal
- Derivação Regressiva
- Derivação Imprópria
- Derivação Parassintética

**24. No terceiro período do décimo terceiro parágrafo, temos:**

- Uma oração
- Duas orações
- Três orações
- Quatro orações
- Cinco orações

**25. No último parágrafo do fragmento do conto “— Agora, só agora, sou cego que não vê”, a oração subordinada presente classifica-se corretamente como:**

- Oração Subordinada Adjetiva Restritiva
- Oração Subordinada Adverbial Causal
- Oração Subordinada Substantiva Subjetiva
- Oração Subordinada Adverbial Explicativa
- Oração Subordinada Adjetiva Explicativa

**RACIOCÍNIO LÓGICO**

26. Os cinco filhos de Ana estavam discutindo a respeito da data de nascimento da mãe:

- Almir disse que foi em janeiro, dia 14, sexta-feira.
- Vanderlei disse que foi em janeiro, dia 14, sábado.
- Tiago disse que foi em fevereiro, dia 15, sábado.
- Sandro disse que foi em janeiro, dia 15, sexta-feira.
- Renato disse que foi em fevereiro, dia 15, sexta-feira.

Sabe-se que somente um dos filhos de Ana acertou corretamente sua data de nascimento e que os outros acertaram pelo menos um dos itens (dia, dia da semana e mês). Dessa forma, é correto afirmar que o filho de Ana que acertou a data de nascimento dela foi:

- a) Renato
- b) Sandro
- c) Tiago
- d) Vanderlei
- e) Almir

27. Considere a seguinte afirmativa: “Todo churrasqueiro gosta de picanha”. Em relação a essa proposição, é correto afirmar que:

- a) Algum churrasqueiro não gosta de picanha.
- b) Toda pessoa que gosta de picanha é churrasqueira.
- c) Alguma pessoa que não gosta de picanha é churrasqueira.
- d) Toda pessoa que não é churrasqueira, não gosta de picanha.
- e) Toda pessoa que não gosta de picanha, não é churrasqueira.

28. Em um grupo formado por 67 pessoas, verificou-se que 41 pessoas gostam de arroz, 29 gostam de feijão, 33 gostam de carne, 19 gostam de arroz e de feijão, 9 gostam apenas de arroz e de carne, 12 gostam de feijão e de carne e que 6 gostam de arroz, de feijão e de carne. O número de pessoas desse grupo, que não gosta de nenhum desses três tipos de alimentos é igual a:

- a) 4
- b) 5
- c) 6
- d) 8
- e) 10

29. Bruno escreveu, em seu caderno, várias sequências formadas por números múltiplos de 4, onde os valores que ocupavam as posições pares eram multiplicados por  $-1$ . Cada sequência foi somada e o resultado da soma anotado. A soma das três primeiras sequências escritas por Bruno foram as seguintes:

$$4 - 8 = -4$$

$$4 - 8 + 12 = 8$$

$$4 - 8 + 12 - 16 = -8$$

Considere que Bruno escreveu e somou tais sequências, em seu caderno, de modo a obter determinada sequência cuja soma foi 600. O número de termos dessa sequência é igual a:

- a) 149
- b) 150
- c) 298
- d) 299
- e) 300

30. Quatro torcedores, um do São Paulo, um do Cruzeiro, um do Vasco e um do Bahia, estão sentados ao redor de uma mesa quadrada, de modo que, dois a dois, fiquem frente a frente. Sabe-se que Alan é torcedor do Cruzeiro e que Bruno está sentado à direita de Alan. Sabe-se também que Caio está sentado à direita do torcedor do São Paulo. Sabe-se ainda que Daniel não é torcedor do Vasco e que está sentado à frente de Bruno. Dessa forma, é correto afirmar que:

- a) Bruno é torcedor do Bahia e Daniel é torcedor do São Paulo.
- b) Bruno é torcedor do São Paulo e Daniel é torcedor do Bahia.
- c) Caio é torcedor do Vasco e Daniel é torcedor do São Paulo.
- d) Caio é torcedor do Bahia e Daniel é torcedor do São Paulo.
- e) Bruno é torcedor do Vasco e Daniel é torcedor do Bahia.

**INFORMÁTICA**

31. Considerando o MS-Excel versão 2010, observando a figura abaixo, é correto afirmar que:

	A	B	C
1			
2			
3			
4			

- a) Somente 03 três linhas estão selecionadas.  
 b) Somente uma célula está selecionada.  
 c) 12 (doze) células estão selecionadas.  
 d) Somente a coluna A até a linha 4 (quatro) está selecionada.  
 e) Somente as colunas 1 (um), 2 (dois), 3 (três) e 4 (quatro) estão selecionadas.

**32. Considerando o MS-Excel versão 2010, observando a figura abaixo, é incorreto afirmar que:**

	A	B	C
1	12	6	=A1*B1
2	8	2	=A2/B2
3	5	14	=A3-B3
4	6	11	=A4+B4

- a) O resultado da fórmula =A1\*B1 é 72.  
 b) O resultado da fórmula =A2/B2 é 4.  
 c) O resultado da fórmula =A3-B3 é -9.  
 d) O resultado da fórmula =A3-B3 é 9.  
 e) O resultado da fórmula =A4+B4 é 17.

**33. Digitando um texto no MS-Word versão 2010, necessito adicionar número nas páginas. Quanto a isso, é correto afirmar que:**

- a) No menu Layout da Página, clico em número de página e seleciono onde desejo adicionar os números.  
 b) No menu Inserir, clico em número de página e seleciono onde desejo adicionar os números.  
 c) No menu Revisão, clico em número de página e seleciono onde desejo adicionar os números.  
 d) No menu Referências, clico em número de página e seleciono onde desejo adicionar os números.  
 e) No menu Exibição, clico em número de página e seleciono onde desejo adicionar os números.

**34. A segurança da informação está diretamente relacionada com proteção de um conjunto de informações, no sentido de preservar o valor que possuem para um indivíduo ou uma organização. Atualmente, um dos aplicativos mais utilizados no mundo, o Whats app, teve uma alteração de confidencialidade muito importante na segurança das informações transmitidas e recebidas. Dentre as alternativas, assinale a que corretamente informa a alteração inserida no aplicativo Whats app.**

- a) Antispam  
 b) Antivirus  
 c) Firewall  
 d) Antispyware  
 e) Criptografia

**35. São todos os dispositivos que trabalham acoplados ao microcomputador para receber, transmitir, visualizar, ler, gravar ou armazenarem dados. São eles que permitem a comunicação do computador com o meio exterior, isto é, com os usuários e outras máquinas.**

**Esse texto descreve corretamente:**

- a) Memória ram  
 b) Memória virtual  
 c) Software  
 d) Periféricos  
 e) Hardware

## CONHECIMENTOS GERAIS

**36. Hino do município de Telêmaco Borba/PR**

Das virgens matas e campos verdejantes  
 Servindo-se também o rio Tibagi,  
 Homens de ideais, espíritos vibrantes.  
 Constituíram as indústrias aqui.





Estrilho:  
 Salve! Salve! Telêmaco Borba  
 Terra querida e de grandes primores,  
 A nossa homenagem rendamos  
 À cidade dos trabalhadores.  
 Pois a cadência de enorme e real progresso  
 Um município mui grandioso fez nascer,  
 Marcando assim, verdadeiro sucesso  
 Faz, então o Paraná engrandecer.

**No que tange ao Hino do município, atribua V (verdadeiro) ou F (falso) às afirmativas e marque a alternativa correta.**

- ( ) Eloah Martins Quadrado é autora da letra do hino.  
 ( ) Bento Mossurunga compôs a música do hino.  
 ( ) Eloah Martins Quadrado foi nomeada primeira professora da Cidade Nova, atual Telêmaco Borba.  
 ( ) Bento Mossurunga fundou a orquestra Estudantil e Concertos – Orquestra Sinfônica da Universidade, a Sociedade de Cultura Artístico Basílio Itiberê.  
 a) F, V, V, V.  
 b) V, F, V, V.  
 c) V, V, F, V.  
 d) V, V, F, F.  
 e) V, V, V, V.

**37. À luz da Lei nº 1883/2012, que dispões sobre o Estatuto dos Servidores Públicos da Administração Direta, Autárquica e Funcional do Município de Telêmaco Borba/PR, leia as alternativas e marque a correta.**

- a) A apresentação para a posse ocorrerá no prazo de até trinta dias, contados do ato de nomeação.  
 b) A destituição do servidor da função gratificada dar-se-á por solicitação exclusiva dele mesmo.  
 c) O servidor ocupante exclusivamente de cargo em comissão será contribuinte do regime geral de previdência social.  
 d) A aprovação em concurso público gera o direito à nomeação, e será feita obedecida à ordem de classificação dos candidatos.  
 e) O exercício de função gratificada poderá ser de dedicação integral ou parcial, conforme necessidade da administração.

**Conforme a Lei nº 1.881, de 05 de abril de 2012, que dispõe sobre o Plano de Cargos, Carreiras e Vencimentos do quadro geral de servidores da Prefeitura Municipal de Telêmaco Borba/PR, regulamentada pelo Decreto nº 2269/2015, responda às próximas três questões.**

**38. Leia as assertivas e assinala a incorreta.**

- a) Do resultado da avaliação de desempenho poderá ser interposto recurso à Comissão de Desenvolvimento Funcional no prazo de quinze dias a contar da publicação no Boletim Oficial do Município.  
 b) Não será concedida a progressão ou promoção ao servidor que estiver em licença para tratamento de saúde por um período superior a quarenta e cinco dias, no período de avaliação.  
 c) A alternância dos membros constituintes da Comissão de Desenvolvimento Funcional eleitos pelos servidores verificar-se-á a cada três anos de participação, observados, para substituição de seus participantes, o critério fixado no artigo anterior, não cabendo eleição sucessiva.  
 d) Caberá à Comissão de Desenvolvimento Funcional, no caso de divergência de vinte por cento entre a nota do avaliador e a do avaliado, solicitar nova avaliação à chefia.  
 e) Nos termos do disposto no art. 17 da Lei nº 1.881, de 05 de abril de 2012, para progredir, é necessário que o servidor satisfaça, dentre outros, o seguinte requisito: estar no efetivo exercício de seu cargo ou em função comissionada na sua área de atuação durante o interstício de dois anos.

**39. Assinale a alternativa que completa respectivamente as lacunas do texto a seguir:**

**A Comissão de Desenvolvimento Funcional será constituída por \_\_\_\_\_ membros, sendo \_\_\_\_\_ designados pelo Prefeito Municipal de Telêmaco Borba e os demais eleitos pelos servidores municipais dentre os estáveis, com a atribuição de coordenar os procedimentos relativos à avaliação periódica de desempenho e outras atribuições.**

- a) três / sete  
 b) um / três  
 c) sete / três  
 d) três / cinco  
 e) dois / cinco

**40. A Avaliação de Desempenho será norteadada, dentre outros, pelo seguinte princípio: Amplitude - a avaliação deve incidir sobre todas as áreas de atuação do servidor, que compreendem:**





- 1. a formulação de políticas administrativas e sua aplicação para todos os setores da administração municipal;**
- 2. o desempenho do profissional dentro de suas funções pertinentes;**
- 3. a estrutura do órgão em que exerce a função;**
- 4. os resultados de eficiência dos serviços de cada setor ou órgão da administração municipal;**
- 5. a participação direta do avaliado, durante todo o processo avaliativo.**

**Diante dessa afirmação, somente não está correto o item:**

- a) 1
- b) 2
- c) 3
- d) 4
- e) 5

**RASCUNHO**



PREFEITURA DE TELÊMACO BORBA - ESTADO DO PARANÁ- EDITAL Nº 001-2016 - CONCURSO PÚBLICO

VESPERTINO – 29/05/2016 – NÍVEL SUPERIOR

1

PROVA OBJETIVA NÚMERO

**CARGO: TMNS I - DESIGNER GRÁFICO**

Leia atentamente as **INSTRUÇÕES**:

1. Confira seus dados no cartão-resposta: nome, número de inscrição e o curso para o qual se inscreveu.
2. **MARQUE no seu cartão-resposta o número da sua prova** (não será corrigido o cartão-resposta que não tiver marcado o número da prova) e **Assine** seu cartão-resposta.
3. Aguarde a autorização do Fiscal para abrir o caderno de prova. Ao receber a ordem do fiscal, confira o caderno de prova com muita atenção. Nenhuma reclamação sobre o total de questões ou falha de impressão será aceita depois de iniciada a prova.
4. O cartão-resposta não será substituído, salvo se contiver erro de impressão.
5. Preencha toda a área do cartão-resposta correspondente à alternativa de sua escolha, com caneta esferográfica (tinta azul ou preta), sem ultrapassar as bordas. As marcações duplas, ou rasuradas, com corretivo, ou marcadas diferentemente do modelo estabelecido no cartão-resposta poderão ser anuladas.
6. Sua prova tem **40** questões, com **5** alternativas.
7. Cabe apenas ao candidato a interpretação das questões, **o fiscal** não poderá fazer nenhuma interferência.
8. A prova será realizada com duração máxima de **3 (três) horas**, incluído o tempo para a realização da Prova Objetiva de múltipla escolha e o preenchimento do cartão-resposta.
9. O candidato poderá retirar-se do local de realização das provas somente **1 (uma) hora** após o seu início, sem levar o caderno de prova.
10. O candidato poderá levar o caderno de provas, assim como anotação contendo transcrição do seu cartão-resposta, somente **1h30min** (uma hora e trinta minutos) após o início da realização da prova.
11. Ao terminar a prova, o candidato deverá entregar ao fiscal de sala o cartão-resposta preenchido e **ASSINADO**.
12. Os **3 (três)** candidatos, que terminarem a prova por último, deverão permanecer na sala, e só poderão sair juntos após o fechamento do envelope, contendo os cartões-resposta dos candidatos presentes e ausentes, e assinarem no lacre do referido envelope, atestando que este foi devidamente lacrado.
13. Durante todo o tempo em que permanecer no local onde está ocorrendo o concurso, o candidato deverá, manter o celular desligado e sem bateria, só sendo permitido ligar depois de ultrapassar o portão de saída do prédio.
14. Não será permitido ao candidato fumar na sala de provas, bem como nas dependências.
15. Depois de terminar a prova e entregar ao fiscal o cartão-resposta, preenchido e assinado, não será mais permitido ao candidato o uso do banheiro e bebedouro.

**BOA PROVA!**

**LÍNGUA PORTUGUESA****Texto para as próximas cinco questões:****“O cego Estrelinho”  
Mia Couto**

O cego Estrelinho era pessoa de nenhuma vez: sua história poderia ser contada e descontada não fosse seu guia, Gigitto Efraim. A mão de Gigitto conduziu o desvistado por tempos e idades. Aquela mão era repartidamente comum, extensão de um no outro, siamensal. E assim era quase de nascença. Memória de Estrelinho tinha cinco dedos e eram os de Gigitto postos, em aperto, na sua própria mão.

O cego, curioso, queria saber de tudo. Ele não fazia cerimônia no viver. O sempre lhe era pouco e o tudo insuficiente. Dizia, deste modo:

— Tenho que viver já, senão esqueço-me.

Gigitinho, porém, o que descrevia era o que não havia. O mundo que ele minuciava eram fantasias e rendilhados. A imaginação do guia era mais profícua que papadeira. O cego enchia a boca de águas:

— Que maravilhação esse mundo. Me conte tudo, Gigitto!

A mão do guia era, afinal, o manuscrito da mentira. Gigitto Efraim estava como nunca esteve S. Tomé: via para não crer. O condutor falava pela ponta dos dedos. Desfolhava o universo, aberto em folhas. A ideiação dele era tal que mesmo o cego, por vezes, acreditava ver. O outro lhe encorajava esses breves enganar:

— Desbengale-se, você está escolhendo a boa procedência!

Mentira: Estrelinho continuava sem ver uma palmeira à frente do nariz. Contudo, o cego não se conformava em suas escurezas. Ele cumpria o ditado: não tinha perna e queria dar o pontapé. Só à noite, ele desalentava, sofrendo medos mais antigos que a humanidade. Entendia aquilo que, na raça humana, é menos primitivo: o animal.

— Na noite aflige não haver luz?

— Aflição é ter um pássaro branco esvoando dentro do sono.

Pássaro branco? No sono? Lugar de ave é nas alturas. Dizem até que Deus fez o céu para justificar os pássaros. Estrelinho disfarçava o medo dos vaticínios, subterfugindo:

— E agora, Gigitinho? Agora, olhando assim para cima, estou face ao céu?

Que podia o outro responder? O céu do cego fica em toda a parte. Estrelinho perdia o pé era quando a noite chegava e seu mestre adormecia. Era como se um novo escuro nele se estreasse em nó cego. Devagaroso e sorrateiro ele aninhava sua mão na mão do guia. Só assim adormecia. A razão da concha é a timidez da amêijoia? Na manhã seguinte, o cego lhe confessava: se você morrer, tenho que morrer logo no imediato. Senão-me: como acerto o caminho para o céu?

Foi no mês de dezembro que levaram Gigitinho. Lhe tiraram do mundo para pôr na guerra: obrigavam os serviços militares. O cego reclamou: que o moço inatingia a idade. E que o serviço que ele a si prestava era vital e vitalício. O guia chamou Estrelinho à parte e lhe tranquilizou:

— Não vai ficar sozinando por aí. Minha mana já mandei para ficar no meu lugar.

O cego estendeu o braço a querer tocar uma despedida. Mas o outro já não estava lá. Ou estava e se desviara, propositado? E sem água ida nem vinda, Estrelinho escutou o amigo se afastar, engolido, esponginquo, inevisível. Pela primeira vez, Estrelinho se sentiu invalidado.

— Agora, só agora, sou cego que não vê.

(...)

**COUTO, Mia. Estórias abensonhadas. Rio de Janeiro: Nova Fronteira, 1996. (Pág 23 e 24).**

**01. Quanto à interpretação do fragmento do conto, podemos afirmar que:**

- Gigitto Efraim era o guia de Estrelinho há pouquíssimo tempo.
- Estrelinho era cego de nascença.
- Gigitto descrevia o mundo para Estrelinho de forma denotativa.
- Gigitto foi convocado pelo exército para ser guia de cegos na guerra.
- Gigitto descrevia o mundo para Estrelinho de forma conotativa.

**02. No período “O sempre lhe era pouco e o tudo insuficiente”, o pronome “LHE” exerce a função sintática de:**

- Objeto Direto
- Objeto Indireto
- Complemento Nominal
- Adjunto Adnominal
- Objeto Direto Preposicionado

**03. Na oração “A mão de Gigitto conduziu o desvistado por tempos e idades”, o autor faz uso de um neologismo, assim como no decorrer de toda a obra em questão. Contudo, o neologismo só se torna possível pela utilização dos elementos mórficos naquilo que a gramática normativa pontua como Processo de Formação das Palavras. Levando em consideração apenas o recurso morfológico, qual Processo de Formação foi utilizado?**

- Derivação Sufixal

- b) Derivação Prefixal
- c) Derivação Regressiva
- d) Derivação Imprópria
- e) Derivação Parassintética

**04. No terceiro período do décimo terceiro parágrafo, temos:**

- a) Uma oração
- b) Duas orações
- c) Três orações
- d) Quatro orações
- e) Cinco orações

**05. No último parágrafo do fragmento do conto “— Agora, só agora, sou cego que não vê”, a oração subordinada presente classifica-se corretamente como:**

- a) Oração Subordinada Adjetiva Restritiva
- b) Oração Subordinada Adverbial Causal
- c) Oração Subordinada Substantiva Subjetiva
- d) Oração Subordinada Adverbial Explicativa
- e) Oração Subordinada Adjetiva Explicativa

#### **RACIOCÍNIO LÓGICO**

**06. Os cinco filhos de Ana estavam discutindo a respeito da data de nascimento da mãe:**

- Almir disse que foi em janeiro, dia 14, sexta-feira.
- Vanderlei disse que foi em janeiro, dia 14, sábado.
- Tiago disse que foi em fevereiro, dia 15, sábado.
- Sandro disse que foi em janeiro, dia 15, sexta-feira.
- Renato disse que foi em fevereiro, dia 15, sexta-feira.

**Sabe-se que somente um dos filhos de Ana acertou corretamente sua data de nascimento e que os outros acertaram pelo menos um dos itens (dia, dia da semana e mês). Dessa forma, é correto afirmar que o filho de Ana que acertou a data de nascimento dela foi:**

- a) Renato
- b) Sandro
- c) Tiago
- d) Vanderlei
- e) Almir

**07. Considere a seguinte afirmativa: “Todo churrasqueiro gosta de picanha”. Em relação a essa proposição, é correto afirmar que:**

- a) Algum churrasqueiro não gosta de picanha.
- b) Toda pessoa que gosta de picanha é churrasqueira.
- c) Alguma pessoa que não gosta de picanha é churrasqueira.
- d) Toda pessoa que não é churrasqueira, não gosta de picanha.
- e) Toda pessoa que não gosta de picanha, não é churrasqueira.

**08. Em um grupo formado por 67 pessoas, verificou-se que 41 pessoas gostam de arroz, 29 gostam de feijão, 33 gostam de carne, 19 gostam de arroz e de feijão, 9 gostam apenas de arroz e de carne, 12 gostam de feijão e de carne e que 6 gostam de arroz, de feijão e de carne. O número de pessoas desse grupo, que não gosta de nenhum desses três tipos de alimentos é igual a:**

- a) 4
- b) 5
- c) 6
- d) 8
- e) 10

**09. Bruno escreveu, em seu caderno, várias sequências formadas por números múltiplos de 4, onde os valores que ocupavam as posições pares eram multiplicados por  $-1$ . Cada sequência foi somada e o resultado da soma anotado. A soma das três primeiras sequências escritas por Bruno foram as seguintes:**

$$4 - 8 = -4$$
$$4 - 8 + 12 = 8$$
$$4 - 8 + 12 - 16 = -8$$

**Considere que Bruno escreveu e somou tais sequências, em seu caderno, de modo a obter determinada sequência cuja soma foi 600. O número de termos dessa sequência é igual a:**

- a) 149
- b) 150
- c) 298

- d) 299  
e) 300

10. Quatro torcedores, um do São Paulo, um do Cruzeiro, um do Vasco e um do Bahia, estão sentados ao redor de uma mesa quadrada, de modo que, dois a dois, fiquem frente a frente. Sabe-se que Alan é torcedor do Cruzeiro e que Bruno está sentado à direita de Alan. Sabe-se também que Caio está sentado à direita do torcedor do São Paulo. Sabe-se ainda que Daniel não é torcedor do Vasco e que está sentado à frente de Bruno. Dessa forma, é correto afirmar que:

- a) Bruno é torcedor do Bahia e Daniel é torcedor do São Paulo.  
b) Bruno é torcedor do São Paulo e Daniel é torcedor do Bahia.  
c) Caio é torcedor do Vasco e Daniel é torcedor do São Paulo.  
d) Caio é torcedor do Bahia e Daniel é torcedor do São Paulo.  
e) Bruno é torcedor do Vasco e Daniel é torcedor do Bahia.

### INFORMÁTICA

11. Considerando o MS-Excel versão 2010, observando a figura abaixo, é correto afirmar que:

	A	B	C
1			
2			
3			
4			

- a) Somente 03 três linhas estão selecionadas.  
b) Somente uma célula está selecionada.  
c) 12 (doze) células estão selecionadas.  
d) Somente a coluna A até a linha 4 (quatro) está selecionada.  
e) Somente as colunas 1 (um), 2 (dois), 3 (três) e 4 (quatro) estão selecionadas.

12. Considerando o MS-Excel versão 2010, observando a figura abaixo, é incorreto afirmar que:

	A	B	C
1	12	6	=A1*B1
2	8	2	=A2/B2
3	5	14	=A3-B3
4	6	11	=A4+B4

- a) O resultado da fórmula =A1\*B1 é 72.  
b) O resultado da fórmula =A2/B2 é 4.  
c) O resultado da fórmula =A3-B3 é -9.  
d) O resultado da fórmula =A3-B3 é 9.  
e) O resultado da fórmula =A4+B4 é 17.

13. Digitando um texto no MS-Word versão 2010, necessito adicionar número nas páginas. Quanto a isso, é correto afirmar que:

- a) No menu Layout da Página, cliço em número de página e seleciono onde desejo adicionar os números.  
b) No menu Inserir, cliço em número de página e seleciono onde desejo adicionar os números.  
c) No menu Revisão, cliço em número de página e seleciono onde desejo adicionar os números.  
d) No menu Referências, cliço em número de página e seleciono onde desejo adicionar os números.  
e) No menu Exibição, cliço em número de página e seleciono onde desejo adicionar os números.

14. A segurança da informação está diretamente relacionada com proteção de um conjunto de informações, no sentido de preservar o valor que possuem para um indivíduo ou uma organização. Atualmente, um dos aplicativos mais utilizados no mundo, o Whats app, teve uma alteração de confidencialidade muito importante na segurança das informações transmitidas e recebidas. Dentre as alternativas, assinale a que corretamente informa a alteração inserida no aplicativo Whats app.

- a) Antispam  
b) Antivirus  
c) Firewall  
d) Antispyware  
e) Criptografia



**15. São todos os dispositivos que trabalham acoplados ao microcomputador para receber, transmitir, visualizar, ler, gravar ou armazenarem dados. São eles que permitem a comunicação do computador com o meio exterior, isto é, com os usuários e outras máquinas.**

**Esse texto descreve corretamente:**

- a) Memória ram
- b) Memória virtual
- c) Software
- d) Periféricos
- e) Hardware

#### **CONHECIMENTOS GERAIS**

##### **16. Hino do município de Telêmaco Borba/PR**

Das virgens matas e campos verdejantes

Servindo-se também o rio Tibagi,

Homens de ideais, espíritos vibrantes.

Constituíram as indústrias aqui.

Estrilho:

Salve! Salve! Telêmaco Borba

Terra querida e de grandes primores,

A nossa homenagem rendamos

À cidade dos trabalhadores.

Pois a cadência de enorme e real progresso

Um município mui grandioso fez nascer,

Marcando assim, verdadeiro sucesso

Faz, então o Paraná engrandecer.

**No que tange ao Hino do município, atribua V (verdadeiro) ou F (falso) às afirmativas e marque a alternativa correta.**

Eloah Martins Quadrado é autora da letra do hino.

Bento Mossurunga compôs a música do hino.

Eloah Martins Quadrado foi nomeada primeira professora da Cidade Nova, atual Telêmaco Borba.

Bento Mossurunga fundou a orquestra Estudantil e Concertos – Orquestra Sinfônica da Universidade, a Sociedade de Cultura Artístico Basilio Itiberê.

a) F, V, V, V.

b) V, F, V, V.

c) V, V, F, V.

d) V, V, F, F.

e) V, V, V, V.

**17. À luz da Lei nº 1883/2012, que dispões sobre o Estatuto dos Servidores Públicos da Administração Direta, Autárquica e Funcional do Município de Telêmaco Borba/PR, leia as alternativas e marque a correta.**

a) A apresentação para a posse ocorrerá no prazo de até trinta dias, contados do ato de nomeação.

b) A destituição do servidor da função gratificada dar-se-á por solicitação exclusiva dele mesmo.

c) O servidor ocupante exclusivamente de cargo em comissão será contribuinte do regime geral de previdência social.

d) A aprovação em concurso público gera o direito à nomeação, e será feita obedecida à ordem de classificação dos candidatos.

e) O exercício de função gratificada poderá ser de dedicação integral ou parcial, conforme necessidade da administração.

**Conforme a Lei nº 1.881, de 05 de abril de 2012, que dispõe sobre o Plano de Cargos, Carreiras e Vencimentos do quadro geral de servidores da Prefeitura Municipal de Telêmaco Borba/PR, regulamentada pelo Decreto nº 2269/2015, responda às próximas três questões.**

**18. Leia as assertivas e assinala a incorreta.**

a) Do resultado da avaliação de desempenho poderá ser interposto recurso à Comissão de Desenvolvimento Funcional no prazo de quinze dias a contar da publicação no Boletim Oficial do Município.

b) Não será concedida a progressão ou promoção ao servidor que estiver em licença para tratamento de saúde por um período superior a quarenta e cinco dias, no período de avaliação.

c) A alternância dos membros constituintes da Comissão de Desenvolvimento Funcional eleitos pelos servidores verificar-se-á a cada três anos de participação, observados, para substituição de seus participantes, o critério fixado no artigo anterior, não cabendo eleição sucessiva.





- d) Caberá à Comissão de Desenvolvimento Funcional, no caso de divergência de vinte por cento entre a nota do avaliador e a do avaliado, solicitar nova avaliação à chefia.
- e) Nos termos do disposto no art. 17 da Lei n° 1.881, de 05 de abril de 2012, para progredir, é necessário que o servidor satisfaça, dentre outros, o seguinte requisito: estar no efetivo exercício de seu cargo ou em função comissionada na sua área de atuação durante o interstício de dois anos.

**19. Assinale a alternativa que completa respectivamente as lacunas do texto a seguir:**

**A Comissão de Desenvolvimento Funcional será constituída por \_\_\_\_\_ membros, sendo \_\_\_\_\_ designados pelo Prefeito Municipal de Telêmaco Borba e os demais eleitos pelos servidores municipais dentre os estáveis, com a atribuição de coordenar os procedimentos relativos à avaliação periódica de desempenho e outras atribuições.**

- a) três / sete
- b) um / três
- c) sete / três
- d) três / cinco
- e) dois / cinco

**20. A Avaliação de Desempenho será norteadada, dentre outros, pelo seguinte princípio: Amplitude - a avaliação deve incidir sobre todas as áreas de atuação do servidor, que compreendem:**

- 1. a formulação de políticas administrativas e sua aplicação para todos os setores da administração municipal;**
- 2. o desempenho do profissional dentro de suas funções pertinentes;**
- 3. a estrutura do órgão em que exerce a função;**
- 4. os resultados de eficiência dos serviços de cada setor ou órgão da administração municipal;**
- 5. a participação direta do avaliado, durante todo o processo avaliativo.**

**Diante dessa afirmação, somente não está correto o item:**

- a) 1
- b) 2
- c) 3
- d) 4
- e) 5

## CONHECIMENTOS ESPECÍFICOS

**21. Preencha a lacuna de forma correta e assinale a alternativa correspondente:**

**Conhecendo os padrões de cores para diferentes fins, entendemos que o padrão \_\_\_\_\_ é para web, o padrão \_\_\_\_\_ para materiais impressos e \_\_\_\_\_ é o padrão de cores puras, sem mistura alguma.**

- a) RGB/PANTONE/CMYK
- b) CMYK/PANTONE/RGB
- c) RGB/CMYK/PANTONE
- d) CMYK/RGB/PANTONE
- e) RGB/CMY/PANTONE

**22. O EPS (Encapsulated PostScript) é um formato de arquivo popular para:**

- a) Postar como imagem nas redes sociais, sites corporativos e blogs.
- b) Proteger o computador de possíveis vírus e ameaças da internet.
- c) Editar imagens JPEG de câmeras e dispositivos móveis com mais praticidade.
- d) Transferência de trabalho artístico de vetor entre softwares de Design Gráfico.
- e) Leitura em tablets, smartphones e televisores.

**23. Que software é designado especificamente para edição de imagens de bitmap e vetores onde suas funcionalidades focam a veiculação gráfica na web?**

- a) Power Point
- b) Adobe Fireworks
- c) Corel Photopaint
- d) Microsoft Word
- e) After Effects

**24. Sobre a inserção de bitmaps e vetores dentro de recipientes, analise os itens seguintes e assinale a alternativa correta.**

**I – No Corel Draw, é conhecido como Power Clip.**

**II – O Adobe In Design denomina essa configuração como Container.**

**III – Máscara de Origem é como se denomina no Adobe Photoshop.**

- a) Apenas I e III estão corretos.
- b) Apenas o III está correto.

- c) Apenas II e III estão corretos.
- d) Apenas I e II estão corretos.
- e) Apenas o II está correto.

**25. Analisando as diferenças entre os softwares, percebemos que o Corel Draw organiza sua área de trabalho em \_\_\_\_\_ enquanto o Adobe Illustrator organiza em \_\_\_\_\_.**

**Preenche corretamente as lacunas o que se apresenta na alternativa:**

- a) Páginas/Pranchetas
- b) Camadas/Lâminas
- c) Folhas/Camadas
- d) Pages/Documentos
- e) Lâminas/Páginas

**26. Conhecendo a ampla gama de softwares da Adobe, podemos afirmar que o programa para desenvolvimento de sites é o:**

- a) Photoscape
- b) Dreamweaver
- c) Acrobat
- d) Navigator
- e) Premiere

**27. O que significa a sigla CMYK que corresponde ao padrão de cores para materiais impressos?**

- a) C: Carmim, M: Magenta, Y: Yellow, K: Key
- b) C: Ciano, M: Magenta, Y: Yellow, K: Black
- c) C: Caramelo, M: Mostarda, Y: Yellow, K: Black
- d) C: Caqui, M: Magenta, Y: Yaren, K: Key
- e) C: Ciano, M: Mostarda, Y: Yellow, K: Black

**28. Qual software da Corel Corporation é voltado para a criação de logos e desenhos vetoriais?**

- a) Macromedia
- b) Corel Draw
- c) Corel Capture
- d) Corel Photopaint
- e) Corel Connect

**29. Como se chama a ferramenta que permite inserir objetos e imagens sem deformá-los dentro de um recipiente no Adobe In Design?**

- a) Power Clip
- b) Chanfradura
- c) Camada
- d) Container
- e) Prancheta

**30. Qual software da Adobe é destinado à criação de animações interativas que funcionam em navegadores web, tablets e smartphones e televisores?**

- a) Flash
- b) Bridge
- c) Word
- d) Lightroom
- e) Excel

**31. Como se denomina a ferramenta para converter vetores em bitmaps no Adobe Illustrator?**

- a) Pathfinder
- b) Extrusão
- c) Rasterizar
- d) Curvas
- e) Estilização

**32. Qual das siglas abaixo identifica um arquivo do Adobe Flash?**

- a) .flv
- b) .swf
- c) .psd
- d) .pdf
- e) .proj



- 33. Tratando-se de bitmap, qual a melhor resolução para impressos como Folheto, Cartaz ou Folder?**
- 300dpi
  - 800dpi
  - 500dpi
  - 23dpi
  - 50dpi
- 34. No Adobe Illustrator quais as duas ferramentas mais utilizadas para converter texto em objeto?**
- Seta e Ponto
  - Expandir e Criar Contornos
  - Vetorizar e Rasterizar
  - Gradiente e Conversão
  - Pathfinder e Criar Malha
- 35. Visando aprimorar as ferramentas de criação, organização e diagramação de livros, revistas e catálogos, a Adobe substituiu o PageMaker pelo:**
- After Effects
  - Paint.Net
  - Lightroom
  - InDesign
  - Fireworks
- 36. Preencha a lacuna de forma correta e assinale a alternativa correspondente:**  
**O \_\_\_\_\_ é o software da Corel Corporation destinado à edição e manipulação de imagens.**
- Photo-Grid
  - Photo-Paint
  - Photo-Scape
  - Image-Editor
  - Framework
- 37. No Adobe Illustrator, qual atalho se destina à finalidade “Salvar como...”?**
- Shift+Ctrl+S
  - Shift+Alt+B
  - Alt+Ctrl+S
  - Tab+Ctrl+S
  - Alt+Enter+B
- 38. No ano de 2016, a Corel Corporation atualizou seu pacote de programas para a Versão:**
- X8
  - C7
  - W6
  - L7
  - X9
- 39. A Adobe atualizou a sua versão CS (Creative Suite) para:**
- CC (Creative Connect)
  - CW (Creative Wake)
  - CC (Creative Cloud)
  - MC (Master Collection)
  - C8 (Creative 8)
- 40. Que formato de papel corresponde ao tamanho 420x297mm?**
- A3
  - A6
  - B2
  - A4
  - B1



PREFEITURA DE TELÊMACO BORBA - ESTADO DO PARANÁ- EDITAL Nº 001-2016 - CONCURSO PÚBLICO

VESPERTINO – 29/05/2016 – NÍVEL SUPERIOR

PROVA OBJETIVA NÚMERO

**2**

**CARGO: TMNS I - DESIGNER GRÁFICO**

Leia atentamente as **INSTRUÇÕES**:

1. Confira seus dados no cartão-resposta: nome, número de inscrição e o curso para o qual se inscreveu.
2. **MARQUE no seu cartão-resposta o número da sua prova** (não será corrigido o cartão-resposta que não tiver marcado o número da prova) e **Assine** seu cartão-resposta.
3. Aguarde a autorização do Fiscal para abrir o caderno de prova. Ao receber a ordem do fiscal, confira o caderno de prova com muita atenção. Nenhuma reclamação sobre o total de questões ou falha de impressão será aceita depois de iniciada a prova.
4. O cartão-resposta não será substituído, salvo se contiver erro de impressão.
5. Preencha toda a área do cartão-resposta correspondente à alternativa de sua escolha, com caneta esferográfica (tinta azul ou preta), sem ultrapassar as bordas. As marcações duplas, ou rasuradas, com corretivo, ou marcadas diferentemente do modelo estabelecido no cartão-resposta poderão ser anuladas.
6. Sua prova tem **40** questões, com **5** alternativas.
7. Cabe apenas ao candidato a interpretação das questões, **o fiscal** não poderá fazer nenhuma interferência.
8. A prova será realizada com duração máxima de **3 (três) horas**, incluído o tempo para a realização da Prova Objetiva de múltipla escolha e o preenchimento do cartão-resposta.
9. O candidato poderá retirar-se do local de realização das provas somente **1 (uma) hora** após o seu início, sem levar o caderno de prova.
10. O candidato poderá levar o caderno de provas, assim como anotação contendo transcrição do seu cartão-resposta, somente **1h30min** (uma hora e trinta minutos) após o início da realização da prova.
11. Ao terminar a prova, o candidato deverá entregar ao fiscal de sala o cartão-resposta preenchido e **ASSINADO**.
12. Os **3 (três)** candidatos, que terminarem a prova por último, deverão permanecer na sala, e só poderão sair juntos após o fechamento do envelope, contendo os cartões-resposta dos candidatos presentes e ausentes, e assinarem no lacre do referido envelope, atestando que este foi devidamente lacrado.
13. Durante todo o tempo em que permanecer no local onde está ocorrendo o concurso, o candidato deverá, manter o celular desligado e sem bateria, só sendo permitido ligar depois de ultrapassar o portão de saída do prédio.
14. Não será permitido ao candidato fumar na sala de provas, bem como nas dependências.
15. Depois de terminar a prova e entregar ao fiscal o cartão-resposta, preenchido e assinado, não será mais permitido ao candidato o uso do banheiro e bebedouro.

**BOA PROVA!**

**RACIOCÍNIO LÓGICO**

**01. Os cinco filhos de Ana estavam discutindo a respeito da data de nascimento da mãe:**

- Almir disse que foi em janeiro, dia 14, sexta-feira.
- Vanderlei disse que foi em janeiro, dia 14, sábado.
- Tiago disse que foi em fevereiro, dia 15, sábado.
- Sandro disse que foi em janeiro, dia 15, sexta-feira.
- Renato disse que foi em fevereiro, dia 15, sexta-feira.

**Sabe-se que somente um dos filhos de Ana acertou corretamente sua data de nascimento e que os outros acertaram pelo menos um dos itens (dia, dia da semana e mês). Dessa forma, é correto afirmar que o filho de Ana que acertou a data de nascimento dela foi:**

- a) Renato
- b) Sandro
- c) Tiago
- d) Vanderlei
- e) Almir

**02. Considere a seguinte afirmativa: “Todo churrasqueiro gosta de picanha”. Em relação a essa proposição, é correto afirmar que:**

- a) Algum churrasqueiro não gosta de picanha.
- b) Toda pessoa que gosta de picanha é churrasqueira.
- c) Alguma pessoa que não gosta de picanha é churrasqueira.
- d) Toda pessoa que não é churrasqueira, não gosta de picanha.
- e) Toda pessoa que não gosta de picanha, não é churrasqueira.

**03. Em um grupo formado por 67 pessoas, verificou-se que 41 pessoas gostam de arroz, 29 gostam de feijão, 33 gostam de carne, 19 gostam de arroz e de feijão, 9 gostam apenas de arroz e de carne, 12 gostam de feijão e de carne e que 6 gostam de arroz, de feijão e de carne. O número de pessoas desse grupo, que não gosta de nenhum desses três tipos de alimentos é igual a:**

- a) 4
- b) 5
- c) 6
- d) 8
- e) 10

**04. Bruno escreveu, em seu caderno, várias sequências formadas por números múltiplos de 4, onde os valores que ocupavam as posições pares eram multiplicados por  $-1$ . Cada sequência foi somada e o resultado da soma anotado. A soma das três primeiras sequências escritas por Bruno foram as seguintes:**

$$4 - 8 = -4$$
$$4 - 8 + 12 = 8$$
$$4 - 8 + 12 - 16 = -8$$

**Considere que Bruno escreveu e somou tais sequências, em seu caderno, de modo a obter determinada sequência cuja soma foi 600. O número de termos dessa sequência é igual a:**

- a) 149
- b) 150
- c) 298
- d) 299
- e) 300

**05. Quatro torcedores, um do São Paulo, um do Cruzeiro, um do Vasco e um do Bahia, estão sentados ao redor de uma mesa quadrada, de modo que, dois a dois, fiquem frente a frente. Sabe-se que Alan é torcedor do Cruzeiro e que Bruno está sentado à direita de Alan. Sabe-se também que Caio está sentado à direita do torcedor do São Paulo. Sabe-se ainda que Daniel não é torcedor do Vasco e que está sentado à frente de Bruno. Dessa forma, é correto afirmar que:**

- a) Bruno é torcedor do Bahia e Daniel é torcedor do São Paulo.
- b) Bruno é torcedor do São Paulo e Daniel é torcedor do Bahia.
- c) Caio é torcedor do Vasco e Daniel é torcedor do São Paulo.
- d) Caio é torcedor do Bahia e Daniel é torcedor do São Paulo.
- e) Bruno é torcedor do Vasco e Daniel é torcedor do Bahia.

**INFORMÁTICA**

**06. Considerando o MS-Excel versão 2010, observando a figura abaixo, é correto afirmar que:**

	A	B	C
1			
2			
3			
4			

- Somente 03 três linhas estão selecionadas.
- Somente uma célula está selecionada.
- 12 (doze) células estão selecionadas.
- Somente a coluna A até a linha 4 (quatro) está selecionada.
- Somente as colunas 1 (um), 2 (dois), 3 (três) e 4 (quatro) estão selecionadas.

**07. Considerando o MS-Excel versão 2010, observando a figura abaixo, é incorreto afirmar que:**

	A	B	C
1	12	6	=A1*B1
2	8	2	=A2/B2
3	5	14	=A3-B3
4	6	11	=A4+B4

- O resultado da fórmula =A1\*B1 é 72.
- O resultado da fórmula =A2/B2 é 4.
- O resultado da fórmula =A3-B3 é -9.
- O resultado da fórmula =A3-B3 é 9.
- O resultado da fórmula =A4+B4 é 17.

**08. Digitando um texto no MS-Word versão 2010, necessito adicionar número nas páginas. Quanto a isso, é correto afirmar que:**

- No menu Layout da Página, cliço em número de página e seleciono onde desejo adicionar os números.
- No menu Inserir, cliço em número de página e seleciono onde desejo adicionar os números.
- No menu Revisão, cliço em número de página e seleciono onde desejo adicionar os números.
- No menu Referências, cliço em número de página e seleciono onde desejo adicionar os números.
- No menu Exibição, cliço em número de página e seleciono onde desejo adicionar os números.

**09. A segurança da informação está diretamente relacionada com proteção de um conjunto de informações, no sentido de preservar o valor que possuem para um indivíduo ou uma organização. Atualmente, um dos aplicativos mais utilizados no mundo, o Whats app, teve uma alteração de confidencialidade muito importante na segurança das informações transmitidas e recebidas. Dentre as alternativas, assinale a que corretamente informa a alteração inserida no aplicativo Whats app.**

- Antispam
- Antivirus
- Firewall
- Antispyware
- Criptografia

**10. São todos os dispositivos que trabalham acoplados ao microcomputador para receber, transmitir, visualizar, ler, gravar ou armazenarem dados. São eles que permitem a comunicação do computador com o meio exterior, isto é, com os usuários e outras máquinas.**

**Esse texto descreve corretamente:**

- Memória ram
- Memória virtual
- Software
- Periféricos
- Hardware

## CONHECIMENTOS GERAIS

**11. Hino do município de Telêmaco Borba/PR**

Das virgens matas e campos verdejantes  
 Servindo-se também o rio Tibagi,





Homens de ideais, espíritos vibrantes.

Constituíram as indústrias aqui.

Estrilho:

Salve! Salve! Telêmaco Borba

Terra querida e de grandes primores,

A nossa homenagem rendamos

À cidade dos trabalhadores.

Pois a cadência de enorme e real progresso

Um município mui grandioso fez nascer,

Marcando assim, verdadeiro sucesso

Faz, então o Paraná engrandecer.

**No que tange ao Hino do município, atribua V (verdadeiro) ou F (falso) às afirmativas e marque a alternativa correta.**

( ) Eloah Martins Quadrado é autora da letra do hino.

( ) Bento Mossurunga compôs a música do hino.

( ) Eloah Martins Quadrado foi nomeada primeira professora da Cidade Nova, atual Telêmaco Borba.

( ) Bento Mossurunga fundou a orquestra Estudantil e Concertos – Orquestra Sinfônica da Universidade, a Sociedade de Cultura Artístico Basílio Itiberê.

a) F, V, V, V.

b) V, F, V, V.

c) V, V, F, V.

d) V, V, F, F.

e) V, V, V, V.

**12. À luz da Lei nº 1883/2012, que dispões sobre o Estatuto dos Servidores Públicos da Administração Direta, Autárquica e Funcional do Município de Telêmaco Borba/PR, leia as alternativas e marque a correta.**

a) A apresentação para a posse ocorrerá no prazo de até trinta dias, contados do ato de nomeação.

b) A destituição do servidor da função gratificada dar-se-á por solicitação exclusiva dele mesmo.

c) O servidor ocupante exclusivamente de cargo em comissão será contribuinte do regime geral de previdência social.

d) A aprovação em concurso público gera o direito à nomeação, e será feita obedecida à ordem de classificação dos candidatos.

e) O exercício de função gratificada poderá ser de dedicação integral ou parcial, conforme necessidade da administração.

**Conforme a Lei nº 1.881, de 05 de abril de 2012, que dispõe sobre o Plano de Cargos, Carreiras e Vencimentos do quadro geral de servidores da Prefeitura Municipal de Telêmaco Borba/PR, regulamentada pelo Decreto nº 2269/2015, responda às próximas três questões.**

**13. Leia as assertivas e assinala a incorreta.**

a) Do resultado da avaliação de desempenho poderá ser interposto recurso à Comissão de Desenvolvimento Funcional no prazo de quinze dias a contar da publicação no Boletim Oficial do Município.

b) Não será concedida a progressão ou promoção ao servidor que estiver em licença para tratamento de saúde por um período superior a quarenta e cinco dias, no período de avaliação.

c) A alternância dos membros constituintes da Comissão de Desenvolvimento Funcional eleitos pelos servidores verificar-se-á a cada três anos de participação, observados, para substituição de seus participantes, o critério fixado no artigo anterior, não cabendo eleição sucessiva.

d) Caberá à Comissão de Desenvolvimento Funcional, no caso de divergência de vinte por cento entre a nota do avaliador e a do avaliado, solicitar nova avaliação à chefia.

e) Nos termos do disposto no art. 17 da Lei nº 1.881, de 05 de abril de 2012, para progredir, é necessário que o servidor satisfaça, dentre outros, o seguinte requisito: estar no efetivo exercício de seu cargo ou em função comissionada na sua área de atuação durante o interstício de dois anos.

**14. Assinale a alternativa que completa respectivamente as lacunas do texto a seguir:**

**A Comissão de Desenvolvimento Funcional será constituída por \_\_\_\_\_ membros, sendo \_\_\_\_\_ designados pelo Prefeito Municipal de Telêmaco Borba e os demais eleitos pelos servidores municipais dentre os estáveis, com a atribuição de coordenar os procedimentos relativos à avaliação periódica de desempenho e outras atribuições.**

a) três / sete

b) um / três

c) sete / três

d) três / cinco

e) dois / cinco



**15. A Avaliação de Desempenho será norteadada, dentre outros, pelo seguinte princípio: Amplitude - a avaliação deve incidir sobre todas as áreas de atuação do servidor, que compreendem:**

- 1. a formulação de políticas administrativas e sua aplicação para todos os setores da administração municipal;**
- 2. o desempenho do profissional dentro de suas funções pertinentes;**
- 3. a estrutura do órgão em que exerce a função;**
- 4. os resultados de eficiência dos serviços de cada setor ou órgão da administração municipal;**
- 5. a participação direta do avaliado, durante todo o processo avaliativo.**

**Diante dessa afirmação, somente não está correto o item:**

- a) 1
- b) 2
- c) 3
- d) 4
- e) 5

### CONHECIMENTOS ESPECÍFICOS

**16. Preencha a lacuna de forma correta e assinale a alternativa correspondente:**

**Conhecendo os padrões de cores para diferentes fins, entendemos que o padrão \_\_\_\_\_ é para web, o padrão \_\_\_\_\_ para materiais impressos e \_\_\_\_\_ é o padrão de cores puras, sem mistura alguma.**

- a) RGB/PANTONE/CMYK
- b) CMYK/PANTONE/RGB
- c) RGB/CMYK/PANTONE
- d) CMYK/RGB/PANTONE
- e) RGB/CMY/PANTONE

**17. O EPS (Encapsulated PostScript) é um formato de arquivo popular para:**

- a) Postar como imagem nas redes sociais, sites corporativos e blogs.
- b) Proteger o computador de possíveis vírus e ameaças da internet.
- c) Editar imagens JPEG de câmeras e dispositivos móveis com mais praticidade.
- d) Transferência de trabalho artístico de vetor entre softwares de Design Gráfico.
- e) Leitura em tablets, smartphones e televisores.

**18. Que software é designado especificamente para edição de imagens de bitmap e vetores onde suas funcionalidades focam a veiculação gráfica na web?**

- a) Power Point
- b) Adobe Fireworks
- c) Corel Photopaint
- d) Microsoft Word
- e) After Effects

**19. Sobre a inserção de bitmaps e vetores dentro de recipientes, analise os itens seguintes e assinale a alternativa correta.**

**I – No Corel Draw, é conhecido como Power Clip.**

**II – O Adobe In Design denomina essa configuração como Container.**

**III – Máscara de Origem é como se denomina no Adobe Photoshop.**

- a) Apenas I e III estão corretos.
- b) Apenas o III está correto.
- c) Apenas II e III estão corretos.
- d) Apenas I e II estão corretos.
- e) Apenas o II está correto.

**20. Analisando as diferenças entre os softwares, percebemos que o Corel Draw organiza sua área de trabalho em \_\_\_\_\_ enquanto o Adobe Illustrator organiza em \_\_\_\_\_.**

**Preenche corretamente as lacunas o que se apresenta na alternativa:**

- a) Páginas/Pranchetas
- b) Camadas/Lâminas
- c) Folhas/Camadas
- d) Pages/Documentos
- e) Lâminas/Páginas

**21. Conhecendo a ampla gama de softwares da Adobe, podemos afirmar que o programa para desenvolvimento de sites é o:**

- a) Photoscape
- b) Dreamweaver
- c) Acrobat



- d) Navigator
- e) Premiere

**22. O que significa a sigla CMYK que corresponde ao padrão de cores para materiais impressos?**

- a) C: Carmim, M: Magenta, Y: Yellow, K: Key
- b) C: Ciano, M: Magenta, Y: Yellow, K: Black
- c) C: Caramelo, M: Mostarda, Y: Yellow, K: Black
- d) C: Caqui, M: Magenta, Y: Yaren, K: Key
- e) C: Ciano, M: Mostarda, Y: Yellow, K: Black

**23. Qual software da Corel Corporation é voltado para a criação de logos e desenhos vetoriais?**

- a) Macromedia
- b) Corel Draw
- c) Corel Capture
- d) Corel Photopaint
- e) Corel Connect

**24. Como se chama a ferramenta que permite inserir objetos e imagens sem deformá-los dentro de um recipiente no Adobe In Design?**

- a) Power Clip
- b) Chanfradura
- c) Camada
- d) Container
- e) Prancheta

**25. Qual software da Adobe é destinado à criação de animações interativas que funcionam em navegadores web, tablets e smartphones e televisores?**

- a) Flash
- b) Bridge
- c) Word
- d) Lightroom
- e) Excel

**26. Como se denomina a ferramenta para converter vetores em bitmaps no Adobe Illustrator?**

- a) Pathfinder
- b) Extrusão
- c) Rasterizar
- d) Curvas
- e) Estilização

**27. Qual das siglas abaixo identifica um arquivo do Adobe Flash?**

- a) .flv
- b) .swf
- c) .psd
- d) .pdf
- e) .proj

**28. Tratando-se de bitmap, qual a melhor resolução para impressos como Folheto, Cartaz ou Folder?**

- a) 300dpi
- b) 800dpi
- c) 500dpi
- d) 23dpi
- e) 50dpi

**29. No Adobe Illustrator quais as duas ferramentas mais utilizadas para converter texto em objeto?**

- a) Seta e Ponto
- b) Expandir e Criar Contornos
- c) Vetorizar e Rasterizar
- d) Gradiente e Conversão
- e) Pathfinder e Criar Malha

**30. Visando aprimorar as ferramentas de criação, organização e diagramação de livros, revistas e catálogos, a Adobe substituiu o PageMaker pelo:**

- a) After Effects
- b) Paint.Net

- c) Lightroom
- d) InDesign
- e) Fireworks

**31. Preencha a lacuna de forma correta e assinale a alternativa correspondente:**

**O \_\_\_\_\_ é o software da Corel Corporation destinado à edição e manipulação de imagens.**

- a) Photo-Grid
- b) Photo-Paint
- c) Photo-Scape
- d) Image-Editor
- e) Framework

**32. No Adobe Illustrator, qual atalho se destina à finalidade “Salvar como...”?**

- a) Shift+Ctrl+S
- b) Shift+Alt+B
- c) Alt+Ctrl+S
- d) Tabs+Ctrl+S
- e) Alt+Enter+B

**33. No ano de 2016, a Corel Corporation atualizou seu pacote de programas para a Versão:**

- a) X8
- b) C7
- c) W6
- d) L7
- e) X9

**34. A Adobe atualizou a sua versão CS (Creative Suite) para:**

- a) CC (Creative Connect)
- b) CW (Creative Wake)
- c) CC (Creative Cloud)
- d) MC (Master Collection)
- e) C8 (Creative 8)

**35. Que formato de papel corresponde ao tamanho 420x297mm?**

- a) A3
- b) A6
- c) B2
- d) A4
- e) B1

## LÍNGUA PORTUGUESA

**Texto para as próximas cinco questões:**

### “O cego Estrelinho” Mia Couto

O cego Estrelinho era pessoa de nenhuma vez: sua história poderia ser contada e descontada não fosse seu guia, Gigito Efraim. A mão de Gigito conduziu o desvistado por tempos e idades. Aquela mão era repartidamente comum, extensão de um no outro, siamensal. E assim era quase de nascença. Memória de Estrelinho tinha cinco dedos e eram os de Gigito postos, em aperto, na sua própria mão.

O cego, curioso, queria saber de tudo. Ele não fazia cerimônia no viver. O sempre lhe era pouco e o tudo insuficiente. Dizia, deste modo:

— Tenho que viver já, senão esqueço-me.

Gigitinho, porém, o que descrevia era o que não havia. O mundo que ele minuciava eram fantasias e rendilhados. A imaginação do guia era mais profícua que papaeira. O cego enchia a boca de águas:

— Que maravilhação esse mundo. Me conte tudo, Gigito!

A mão do guia era, afinal, o manuscrito da mentira. Gigito Efraim estava como nunca esteve S. Tomé: via para não crer. O condutor falava pela ponta dos dedos. Desfolhava o universo, aberto em folhas. A ideiação dele era tal que mesmo o cego, por vezes, acreditava ver. O outro lhe encorajava esses breves enganos:

— Desbengale-se, você está escolhendo a boa procedência!

Mentira: Estrelinho continuava sem ver uma palmeira à frente do nariz. Contudo, o cego não se conformava em suas escurezas. Ele cumpria o ditado: não tinha perna e queria dar o pontapé. Só à noite, ele desalentava, sofrendo medos mais antigos que a humanidade. Entendia aquilo que, na raça humana, é menos primitivo: o animal.

— Na noite aflige não haver luz?

— Aflição é ter um pássaro branco esvoando dentro do sono.

Pássaro branco? No sono? Lugar de ave é nas alturas. Dizem até que Deus fez o céu para justificar os pássaros. Estrelinho disfarçava o medo dos vaticínios, subterfugindo:

— E agora, Gigitinho? Agora, olhando assim para cima, estou face ao céu?

Que podia o outro responder? O céu do cego fica em toda a parte. Estrelinho perdia o pé era quando a noite chegava e seu mestre adormecia. Era como se um novo escuro nele se estreasse em nó cego. Devagaroso e sorrateiro ele aninhava sua mão na mão do guia. Só assim adormecia. A razão da concha é a timidez da amêijoia? Na manhã seguinte, o cego lhe confessava: se você morrer, tenho que morrer logo no imediato. Senão-me: como acerto o caminho para o céu?

Foi no mês de dezembro que levaram Gigitinho. Lhe tiraram do mundo para pôr na guerra: obrigavam os serviços militares. O cego reclamou: que o moço inatingia a idade. E que o serviço que ele a si prestava era vital e vitalício. O guia chamou Estrelinho à parte e lhe tranquilizou:

— Não vai ficar sozinando por aí. Minha mana já mandei para ficar no meu lugar.

O cego estendeu o braço a querer tocar uma despedida. Mas o outro já não estava lá. Ou estava e se desviara, propositado? E sem água ida nem vinda, Estrelinho escutou o amigo se afastar, engolido, esponjínquo, invisível. Pela primeira vez, Estrelinho se sentiu invalidado.

— Agora, só agora, sou cego que não vê.

(...)

**COUTO, Mia. Estórias abensonhadas. Rio de Janeiro: Nova Fronteira, 1996. (Pág 23 e 24).**

**36. Quanto à interpretação do fragmento do conto, podemos afirmar que:**

- Gigito Efraim era o guia de Estrelinho há pouquíssimo tempo.
- Estrelinho era cego de nascença.
- Gigito descrevia o mundo para Estrelinho de forma denotativa.
- Gigito foi convocado pelo exército para ser guia de cegos na guerra.
- Gigito descrevia o mundo para Estrelinho de forma conotativa.

**37. No período “O sempre lhe era pouco e o tudo insuficiente”, o pronome “LHE” exerce a função sintática de:**

- Objeto Direto
- Objeto Indireto
- Complemento Nominal
- Adjunto Adnominal
- Objeto Direto Preposicionado

**38. Na oração “A mão de Gigito conduziu o desvistado por tempos e idades”, o autor faz uso de um neologismo, assim como no decorrer de toda a obra em questão. Contudo, o neologismo só se torna possível pela utilização dos elementos mórficos naquilo que a gramática normativa pontua como Processo de Formação das Palavras. Levando em consideração apenas o recurso morfológico, qual Processo de Formação foi utilizado?**

- Derivação Sufixal
- Derivação Prefixal
- Derivação Regressiva
- Derivação Imprópria
- Derivação Parassintética

**39. No terceiro período do décimo terceiro parágrafo, temos:**

- Uma oração
- Duas orações
- Três orações
- Quatro orações
- Cinco orações

**40. No último parágrafo do fragmento do conto “— Agora, só agora, sou cego que não vê”, a oração subordinada presente classifica-se corretamente como:**

- Oração Subordinada Adjetiva Restritiva
- Oração Subordinada Adverbial Causal
- Oração Subordinada Substantiva Subjetiva
- Oração Subordinada Adverbial Explicativa
- Oração Subordinada Adjetiva Explicativa



PREFEITURA DE TELÊMACO BORBA - ESTADO DO PARANÁ- **EDITAL Nº 001-2016 - CONCURSO PÚBLICO**

**VESPERTINO – 29/05/2016 – NÍVEL SUPERIOR**

**3**

**PROVA OBJETIVA NÚMERO**

**CARGO: TMNS I - DESIGNER GRÁFICO**

**Leia atentamente as INSTRUÇÕES:**

1. Confira seus dados no cartão-resposta: nome, número de inscrição e o curso para o qual se inscreveu.
2. **MARQUE no seu cartão-resposta o número da sua prova** (não será corrigido o cartão-resposta que não tiver marcado o número da prova) e **Assine** seu cartão-resposta.
3. Aguarde a autorização do Fiscal para abrir o caderno de prova. Ao receber a ordem do fiscal, confira o caderno de prova com muita atenção. Nenhuma reclamação sobre o total de questões ou falha de impressão será aceita depois de iniciada a prova.
4. O cartão-resposta não será substituído, salvo se contiver erro de impressão.
5. Preencha toda a área do cartão-resposta correspondente à alternativa de sua escolha, com caneta esferográfica (tinta azul ou preta), sem ultrapassar as bordas. As marcações duplas, ou rasuradas, com corretivo, ou marcadas diferentemente do modelo estabelecido no cartão-resposta poderão ser anuladas.
6. Sua prova tem **40** questões, com **5** alternativas.
7. Cabe apenas ao candidato a interpretação das questões, **o fiscal** não poderá fazer nenhuma interferência.
8. A prova será realizada com duração máxima de **3 (três) horas**, incluído o tempo para a realização da Prova Objetiva de múltipla escolha e o preenchimento do cartão-resposta.
9. O candidato poderá retirar-se do local de realização das provas somente **1 (uma) hora** após o seu início, sem levar o caderno de prova.
10. O candidato poderá levar o caderno de provas, assim como anotação contendo transcrição do seu cartão-resposta, somente **1h30min** (uma hora e trinta minutos) após o início da realização da prova.
11. Ao terminar a prova, o candidato deverá entregar ao fiscal de sala o cartão-resposta preenchido e **ASSINADO**.
12. Os **3 (três)** candidatos, que terminarem a prova por último, deverão permanecer na sala, e só poderão sair juntos após o fechamento do envelope, contendo os cartões-resposta dos candidatos presentes e ausentes, e assinarem no lacre do referido envelope, atestando que este foi devidamente lacrado.
13. Durante todo o tempo em que permanecer no local onde está ocorrendo o concurso, o candidato deverá, manter o celular desligado e sem bateria, só sendo permitido ligar depois de ultrapassar o portão de saída do prédio.
14. Não será permitido ao candidato fumar na sala de provas, bem como nas dependências.
15. Depois de terminar a prova e entregar ao fiscal o cartão-resposta, preenchido e assinado, não será mais permitido ao candidato o uso do banheiro e bebedouro.

**BOA PROVA!**



**CONHECIMENTOS ESPECÍFICOS**

**01. Preencha a lacuna de forma correta e assinale a alternativa correspondente:**

**Conhecendo os padrões de cores para diferentes fins, entendemos que o padrão \_\_\_\_\_ é para web, o padrão \_\_\_\_\_ para materiais impressos e \_\_\_\_\_ é o padrão de cores puras, sem mistura alguma.**

- a) RGB/PANTONE/CMYK
- b) CMYK/PANTONE/RGB
- c) RGB/CMYK/PANTONE
- d) CMYK/RGB/PANTONE
- e) RGB/CMY/PANTONE

**02. O EPS (Encapsulated PostScript) é um formato de arquivo popular para:**

- a) Postar como imagem nas redes sociais, sites corporativos e blogs.
- b) Proteger o computador de possíveis vírus e ameaças da internet.
- c) Editar imagens JPEG de câmeras e dispositivos móveis com mais praticidade.
- d) Transferência de trabalho artístico de vetor entre softwares de Design Gráfico.
- e) Leitura em tablets, smartphones e televisores.

**03. Que software é designado especificamente para edição de imagens de bitmap e vetores onde suas funcionalidades focam a veiculação gráfica na web?**

- a) Power Point
- b) Adobe Fireworks
- c) Corel Photopaint
- d) Microsoft Word
- e) After Effects

**04. Sobre a inserção de bitmaps e vetores dentro de recipientes, analise os itens seguintes e assinale a alternativa correta.**

**I – No Corel Draw, é conhecido como Power Clip.**

**II – O Adobe In Design denomina essa configuração como Container.**

**III – Máscara de Origem é como se denomina no Adobe Photoshop.**

- a) Apenas I e III estão corretos.
- b) Apenas o III está correto.
- c) Apenas II e III estão corretos.
- d) Apenas I e II estão corretos.
- e) Apenas o II está correto.

**05. Analisando as diferenças entre os softwares, percebemos que o Corel Draw organiza sua área de trabalho em \_\_\_\_\_ enquanto o Adobe Illustrator organiza em \_\_\_\_\_.**

**Preenche corretamente as lacunas o que se apresenta na alternativa:**

- a) Páginas/Pranchetas
- b) Camadas/Lâminas
- c) Folhas/Camadas
- d) Pages/Documentos
- e) Lâminas/Páginas

**06. Conhecendo a ampla gama de softwares da Adobe, podemos afirmar que o programa para desenvolvimento de sites é o:**

- a) Photoscape
- b) Dreamweaver
- c) Acrobat
- d) Navigator
- e) Premiere

**07. O que significa a sigla CMYK que corresponde ao padrão de cores para materiais impressos?**

- a) C: Carmim, M: Magenta, Y: Yellow, K: Key
- b) C: Ciano, M: Magenta, Y: Yellow, K: Black
- c) C: Caramelo, M: Mostarda, Y: Yellow, K: Black
- d) C: Caqui, M: Magenta, Y: Yaren, K: Key
- e) C: Ciano, M: Mostarda, Y: Yellow, K: Black

**08. Qual software da Corel Corporation é voltado para a criação de logos e desenhos vetoriais?**

- a) Macromedia
- b) Corel Draw
- c) Corel Capture

- d) Corel Photopaint
- e) Corel Connect

**09. Como se chama a ferramenta que permite inserir objetos e imagens sem deformá-los dentro de um recipiente no Adobe In Design?**

- a) Power Clip
- b) Chanfradura
- c) Camada
- d) Container
- e) Prancheta

**10. Qual software da Adobe é destinado à criação de animações interativas que funcionam em navegadores web, tablets e smartphones e televisores?**

- a) Flash
- b) Bridge
- c) Word
- d) Lightroom
- e) Excel

**11. Como se denomina a ferramenta para converter vetores em bitmaps no Adobe Illustrator?**

- a) Pathfinder
- b) Extrusão
- c) Rasterizar
- d) Curvas
- e) Estilização

**12. Qual das siglas abaixo identifica um arquivo do Adobe Flash?**

- a) .flv
- b) .swf
- c) .psd
- d) .pdf
- e) .proj

**13. Tratando-se de bitmap, qual a melhor resolução para impressos como Folheto, Cartaz ou Folder?**

- a) 300dpi
- b) 800dpi
- c) 500dpi
- d) 23dpi
- e) 50dpi

**14. No Adobe Illustrator quais as duas ferramentas mais utilizadas para converter texto em objeto?**

- a) Seta e Ponto
- b) Expandir e Criar Contornos
- c) Vetorizar e Rasterizar
- d) Gradiente e Conversão
- e) Pathfinder e Criar Malha

**15. Visando aprimorar as ferramentas de criação, organização e diagramação de livros, revistas e catálogos, a Adobe substituiu o PageMaker pelo:**

- a) After Effects
- b) Paint.Net
- c) Lightroom
- d) InDesign
- e) Fireworks

**16. Preencha a lacuna de forma correta e assinale a alternativa correspondente:**

**O \_\_\_\_\_ é o software da Corel Corporation destinado à edição e manipulação de imagens.**

- a) Photo-Grid
- b) Photo-Paint
- c) Photo-Scape
- d) Image-Editor
- e) Framework

**17. No Adobe Illustrator, qual atalho se destina à finalidade “Salvar como...”?**

- a) Shift+Ctrl+S

- b) Shift+Alt+B
- c) Alt+Ctrl+S
- d) Tabs+Ctrl+S
- e) Alt+Enter+B

**18. No ano de 2016, a Corel Corporation atualizou seu pacote de programas para a Versão:**

- a) X8
- b) C7
- c) W6
- d) L7
- e) X9

**19. A Adobe atualizou a sua versão CS (Creative Suite) para:**

- a) CC (Creative Connect)
- b) CW (Creative Wake)
- c) CC (Creative Cloud)
- d) MC (Master Collection)
- e) C8 (Creative 8)

**20. Que formato de papel corresponde ao tamanho 420x297mm?**

- a) A3
- b) A6
- c) B2
- d) A4
- e) B1

## LÍNGUA PORTUGUESA

**Texto para as próximas cinco questões:**

### “O cego Estrelinho” Mia Couto

O cego Estrelinho era pessoa de nenhuma vez: sua história poderia ser contada e descontada não fosse seu guia, Gigitto Efraim. A mão de Gigitto conduziu o desvistado por tempos e idades. Aquela mão era repartidamente comum, extensão de um no outro, siamensal. E assim era quase de nascença. Memória de Estrelinho tinha cinco dedos e eram os de Gigitto postos, em aperto, na sua própria mão.

O cego, curioso, queria saber de tudo. Ele não fazia cerimônia no viver. O sempre lhe era pouco e o tudo insuficiente. Dizia, deste modo:

— Tenho que viver já, senão esqueço-me.

Gigitinho, porém, o que descrevia era o que não havia. O mundo que ele minuciava eram fantasias e rendilhados. A imaginação do guia era mais profícua que papaeira. O cego enchia a boca de águas:

— Que maravilhação esse mundo. Me conte tudo, Gigitto!

A mão do guia era, afinal, o manuscrito da mentira. Gigitto Efraim estava como nunca esteve S. Tomé: via para não crer. O condutor falava pela ponta dos dedos. Desfolhava o universo, aberto em folhas. A ideação dele era tal que mesmo o cego, por vezes, acreditava ver. O outro lhe encorajava esses breves enganar:

— Desbengale-se, você está escolhendo a boa procedência!

Mentira: Estrelinho continuava sem ver uma palmeira à frente do nariz. Contudo, o cego não se conformava em suas escurezas. Ele cumpria o ditado: não tinha perna e queria dar o pontapé. Só à noite, ele desalentava, sofrendo medos mais antigos que a humanidade. Entendia aquilo que, na raça humana, é menos primitivo: o animal.

— Na noite aflige não haver luz?

— Aflição é ter um pássaro branco esvoando dentro do sono.

Pássaro branco? No sono? Lugar de ave é nas alturas. Dizem até que Deus fez o céu para justificar os pássaros. Estrelinho disfarçava o medo dos vaticínios, subterfugindo:

— E agora, Gigitinho? Agora, olhando assim para cima, estou face ao céu?

Que podia o outro responder? O céu do cego fica em toda a parte. Estrelinho perdia o pé era quando a noite chegava e seu mestre adormecia. Era como se um novo escuro nele se estreasse em nó cego. Devagaroso e sorrateiro ele aninhava sua mão na mão do guia. Só assim adormecia. A razão da concha é a timidez da amêijoia? Na manhã seguinte, o cego lhe confessava: se você morrer, tenho que morrer logo no imediato. Senão-me: como acerto o caminho para o céu?

Foi no mês de dezembro que levaram Gigitinho. Lhe tiraram do mundo para pôr na guerra: obrigavam os serviços militares. O cego reclamou: que o moço inatingia a idade. E que o serviço que ele a si prestava era vital e vitalício. O guia chamou Estrelinho à parte e lhe tranquilizou:

— Não vai ficar sozinhandando por aí. Minha mana já mandei para ficar no meu lugar.



O cego estendeu o braço a querer tocar uma despedida. Mas o outro já não estava lá. Ou estava e se desviara, propositado? E sem água ida nem vinda, Estrelinho escutou o amigo se afastar, engolido, esponginquo, invisível. Pela pimeira vez, Estrelinho se sentiu invalidado.

— Agora, só agora, sou cego que não vê.

(...)

**COUTO, Mia. Estórias abensonhadas. Rio de Janeiro: Nova Fronteira, 1996. (Pág 23 e 24).**

**21. Quanto à interpretação do fragmento do conto, podemos afirmar que:**

- Gigito Efraim era o guia de Estrelinho há pouquíssimo tempo.
- Estrelinho era cego de nascença.
- Gigito descrevia o mundo para Estrelinho de forma denotativa.
- Gigito foi convocado pelo exército para ser guia de cegos na guerra.
- Gigito descrevia o mundo para Estrelinho de forma conotativa.

**22. No período “O sempre lhe era pouco e o tudo insuficiente”, o pronome “LHE” exerce a função sintática de:**

- Objeto Direto
- Objeto Indireto
- Complemento Nominal
- Adjunto Adnominal
- Objeto Direto Preposicionado

**23. Na oração “A mão de Gigito conduziu o desvistado por tempos e idades”, o autor faz uso de um neologismo, assim como no decorrer de toda a obra em questão. Contudo, o neologismo só se torna possível pela utilização dos elementos mórficos naquilo que a gramática normativa pontua como Processo de Formação das Palavras. Levando em consideração apenas o recurso morfológico, qual Processo de Formação foi utilizado?**

- Derivação Sufixal
- Derivação Prefixal
- Derivação Regressiva
- Derivação Imprópria
- Derivação Parassintética

**24. No terceiro período do décimo terceiro parágrafo, temos:**

- Uma oração
- Duas orações
- Três orações
- Quatro orações
- Cinco orações

**25. No último parágrafo do fragmento do conto “— Agora, só agora, sou cego que não vê”, a oração subordinada presente classifica-se corretamente como:**

- Oração Subordinada Adjetiva Restritiva
- Oração Subordinada Adverbial Causal
- Oração Subordinada Substantiva Subjetiva
- Oração Subordinada Adverbial Explicativa
- Oração Subordinada Adjetiva Explicativa

#### **RACIOCÍNIO LÓGICO**

**26. Os cinco filhos de Ana estavam discutindo a respeito da data de nascimento da mãe:**

- Almir disse que foi em janeiro, dia 14, sexta-feira.
- Vanderlei disse que foi em janeiro, dia 14, sábado.
- Tiago disse que foi em fevereiro, dia 15, sábado.
- Sandro disse que foi em janeiro, dia 15, sexta-feira.
- Renato disse que foi em fevereiro, dia 15, sexta-feira.

**Sabe-se que somente um dos filhos de Ana acertou corretamente sua data de nascimento e que os outros acertaram pelo menos um dos itens (dia, dia da semana e mês). Dessa forma, é correto afirmar que o filho de Ana que acertou a data de nascimento dela foi:**

- Renato
- Sandro
- Tiago
- Vanderlei
- Almir

27. Considere a seguinte afirmativa: “Todo churrasqueiro gosta de picanha”. Em relação a essa proposição, é correto afirmar que:

- a) Algum churrasqueiro não gosta de picanha.
- b) Toda pessoa que gosta de picanha é churrasqueira.
- c) Alguma pessoa que não gosta de picanha é churrasqueira.
- d) Toda pessoa que não é churrasqueira, não gosta de picanha.
- e) Toda pessoa que não gosta de picanha, não é churrasqueira.

28. Em um grupo formado por 67 pessoas, verificou-se que 41 pessoas gostam de arroz, 29 gostam de feijão, 33 gostam de carne, 19 gostam de arroz e de feijão, 9 gostam apenas de arroz e de carne, 12 gostam de feijão e de carne e que 6 gostam de arroz, de feijão e de carne. O número de pessoas desse grupo, que não gosta de nenhum desses três tipos de alimentos é igual a:

- a) 4
- b) 5
- c) 6
- d) 8
- e) 10

29. Bruno escreveu, em seu caderno, várias sequências formadas por números múltiplos de 4, onde os valores que ocupavam as posições pares eram multiplicados por  $-1$ . Cada sequência foi somada e o resultado da soma anotado. A soma das três primeiras sequências escritas por Bruno foram as seguintes:

$$4 - 8 = -4$$

$$4 - 8 + 12 = 8$$

$$4 - 8 + 12 - 16 = -8$$

Considere que Bruno escreveu e somou tais sequências, em seu caderno, de modo a obter determinada sequência cuja soma foi 600. O número de termos dessa sequência é igual a:

- a) 149
- b) 150
- c) 298
- d) 299
- e) 300

30. Quatro torcedores, um do São Paulo, um do Cruzeiro, um do Vasco e um do Bahia, estão sentados ao redor de uma mesa quadrada, de modo que, dois a dois, fiquem frente a frente. Sabe-se que Alan é torcedor do Cruzeiro e que Bruno está sentado à direita de Alan. Sabe-se também que Caio está sentado à direita do torcedor do São Paulo. Sabe-se ainda que Daniel não é torcedor do Vasco e que está sentado à frente de Bruno. Dessa forma, é correto afirmar que:

- a) Bruno é torcedor do Bahia e Daniel é torcedor do São Paulo.
- b) Bruno é torcedor do São Paulo e Daniel é torcedor do Bahia.
- c) Caio é torcedor do Vasco e Daniel é torcedor do São Paulo.
- d) Caio é torcedor do Bahia e Daniel é torcedor do São Paulo.
- e) Bruno é torcedor do Vasco e Daniel é torcedor do Bahia.

#### INFORMÁTICA

31. Considerando o MS-Excel versão 2010, observando a figura abaixo, é correto afirmar que:

	A	B	C
1			
2			
3			
4			

- a) Somente 03 três linhas estão selecionadas.
- b) Somente uma célula está selecionada.
- c) 12 (doze) células estão selecionadas.
- d) Somente a coluna A até a linha 4 (quatro) está selecionada.
- e) Somente as colunas 1 (um), 2 (dois), 3 (três) e 4 (quatro) estão selecionadas.

32. Considerando o MS-Excel versão 2010, observando a figura abaixo, é incorreto afirmar que:

	A	B	C
1	12	6	=A1*B1
2	8	2	=A2/B2
3	5	14	=A3-B3
4	6	11	=A4+B4

- O resultado da fórmula =A1\*B1 é 72.
- O resultado da fórmula =A2/B2 é 4.
- O resultado da fórmula =A3-B3 é -9.
- O resultado da fórmula =A3-B3 é 9.
- O resultado da fórmula =A4+B4 é 17.

33. Digitando um texto no MS-Word versão 2010, necessito adicionar número nas páginas. Quanto a isso, é correto afirmar que:

- No menu Layout da Página, clico em número de página e seleciono onde desejo adicionar os números.
- No menu Inserir, clico em número de página e seleciono onde desejo adicionar os números.
- No menu Revisão, clico em número de página e seleciono onde desejo adicionar os números.
- No menu Referências, clico em número de página e seleciono onde desejo adicionar os números.
- No menu Exibição, clico em número de página e seleciono onde desejo adicionar os números.

34. A segurança da informação está diretamente relacionada com proteção de um conjunto de informações, no sentido de preservar o valor que possuem para um indivíduo ou uma organização. Atualmente, um dos aplicativos mais utilizados no mundo, o Whats app, teve uma alteração de confidencialidade muito importante na segurança das informações transmitidas e recebidas. Dentre as alternativas, assinale a que corretamente informa a alteração inserida no aplicativo Whats app.

- Antispam
- Antivirus
- Firewall
- Antispyware
- Criptografia

35. São todos os dispositivos que trabalham acoplados ao microcomputador para receber, transmitir, visualizar, ler, gravar ou armazenarem dados. São eles que permitem a comunicação do computador com o meio exterior, isto é, com os usuários e outras máquinas.

Esse texto descreve corretamente:

- Memória ram
- Memória virtual
- Software
- Periféricos
- Hardware

## CONHECIMENTOS GERAIS

36. Hino do município de Telêmaco Borba/PR

Das virgens matas e campos verdejantes  
 Servindo-se também o rio Tibagi,  
 Homens de ideais, espíritos vibrantes.  
 Constituíram as indústrias aqui.

Estrilho:

Salve! Salve! Telêmaco Borba  
 Terra querida e de grandes primores,  
 A nossa homenagem rendamos  
 À cidade dos trabalhadores.  
 Pois a cadência de enorme e real progresso  
 Um município mui grandioso fez nascer,  
 Marcando assim, verdadeiro sucesso  
 Faz, então o Paraná engrandecer.

No que tange ao Hino do município, atribua V (verdadeiro) ou F (falso) às afirmativas e marque a alternativa correta.

- Eloah Martins Quadrado é autora da letra do hino.
- Bento Mossurunga compôs a música do hino.





( ) Eloah Martins Quadrado foi nomeada primeira professora da Cidade Nova, atual Telêmaco Borba.  
 ( ) Bento Mossurunga fundou a orquestra Estudantil e Concertos – Orquestra Sinfônica da Universidade, a Sociedade de Cultura Artístico Basílio Itiberê.

- a) F, V, V, V.
- b) V, F, V, V.
- c) V, V, F, V.
- d) V, V, F, F.
- e) V, V, V, V.

**37. À luz da Lei nº 1883/2012, que dispões sobre o Estatuto dos Servidores Públicos da Administração Direta, Autárquica e Funcional do Município de Telêmaco Borba/PR, leia as alternativas e marque a correta.**

- a) A apresentação para a posse ocorrerá no prazo de até trinta dias, contados do ato de nomeação.
- b) A destituição do servidor da função gratificada dar-se-á por solicitação exclusiva dele mesmo.
- c) O servidor ocupante exclusivamente de cargo em comissão será contribuinte do regime geral de previdência social.
- d) A aprovação em concurso público gera o direito à nomeação, e será feita obedecida à ordem de classificação dos candidatos.
- e) O exercício de função gratificada poderá ser de dedicação integral ou parcial, conforme necessidade da administração.

**Conforme a Lei nº 1.881, de 05 de abril de 2012, que dispõe sobre o Plano de Cargos, Carreiras e Vencimentos do quadro geral de servidores da Prefeitura Municipal de Telêmaco Borba/PR, regulamentada pelo Decreto nº 2269/2015, responda às próximas três questões.**

**38. Leia as assertivas e assinala a incorreta.**

- a) Do resultado da avaliação de desempenho poderá ser interposto recurso à Comissão de Desenvolvimento Funcional no prazo de quinze dias a contar da publicação no Boletim Oficial do Município.
- b) Não será concedida a progressão ou promoção ao servidor que estiver em licença para tratamento de saúde por um período superior a quarenta e cinco dias, no período de avaliação.
- c) A alternância dos membros constituintes da Comissão de Desenvolvimento Funcional eleitos pelos servidores verificar-se-á a cada três anos de participação, observados, para substituição de seus participantes, o critério fixado no artigo anterior, não cabendo eleição sucessiva.
- d) Caberá à Comissão de Desenvolvimento Funcional, no caso de divergência de vinte por cento entre a nota do avaliador e a do avaliado, solicitar nova avaliação à chefia.
- e) Nos termos do disposto no art. 17 da Lei nº 1.881, de 05 de abril de 2012, para progredir, é necessário que o servidor satisfaça, dentre outros, o seguinte requisito: estar no efetivo exercício de seu cargo ou em função comissionada na sua área de atuação durante o interstício de dois anos.

**39. Assinale a alternativa que completa respectivamente as lacunas do texto a seguir:**

**A Comissão de Desenvolvimento Funcional será constituída por \_\_\_\_\_ membros, sendo \_\_\_\_\_ designados pelo Prefeito Municipal de Telêmaco Borba e os demais eleitos pelos servidores municipais dentre os estáveis, com a atribuição de coordenar os procedimentos relativos à avaliação periódica de desempenho e outras atribuições.**

- a) três / sete
- b) um / três
- c) sete / três
- d) três / cinco
- e) dois / cinco

**40. A Avaliação de Desempenho será norteadada, dentre outros, pelo seguinte princípio: Amplitude - a avaliação deve incidir sobre todas as áreas de atuação do servidor, que compreendem:**

1. a formulação de políticas administrativas e sua aplicação para todos os setores da administração municipal;
2. o desempenho do profissional dentro de suas funções pertinentes;
3. a estrutura do órgão em que exerce a função;
4. os resultados de eficiência dos serviços de cada setor ou órgão da administração municipal;
5. a participação direta do avaliado, durante todo o processo avaliativo.

**Diante dessa afirmação, somente não está correto o item:**

- a) 1
- b) 2
- c) 3
- d) 4
- e) 5



PREFEITURA DE TELÊMACO BORBA - ESTADO DO PARANÁ- EDITAL Nº 001-2016 - CONCURSO PÚBLICO

VESPERTINO – 29/05/2016 – NÍVEL SUPERIOR

PROVA OBJETIVA NÚMERO

1

**CARGOS: TMNS I - ENFERMAGEM INTERVENCIONISTA**  
**TMNS I - ENFERMAGEM**

Leia atentamente as **INSTRUÇÕES**:

1. Confira seus dados no cartão-resposta: nome, número de inscrição e o curso para o qual se inscreveu.
2. **MARQUE no seu cartão-resposta o número da sua prova** (não será corrigido o cartão-resposta que não tiver marcado o número da prova) e **Assine** seu cartão-resposta.
3. Aguarde a autorização do Fiscal para abrir o caderno de prova. Ao receber a ordem do fiscal, confira o caderno de prova com muita atenção. Nenhuma reclamação sobre o total de questões ou falha de impressão será aceita depois de iniciada a prova.
4. O cartão-resposta não será substituído, salvo se contiver erro de impressão.
5. Preencha toda a área do cartão-resposta correspondente à alternativa de sua escolha, com caneta esferográfica (tinta azul ou preta), sem ultrapassar as bordas. As marcações duplas, ou rasuradas, com corretivo, ou marcadas diferentemente do modelo estabelecido no cartão-resposta poderão ser anuladas.
6. Sua prova tem **40** questões, com **5** alternativas.
7. Cabe apenas ao candidato a interpretação das questões, **o fiscal** não poderá fazer nenhuma interferência.
8. A prova será realizada com duração máxima de **3 (três) horas**, incluído o tempo para a realização da Prova Objetiva de múltipla escolha e o preenchimento do cartão-resposta.
9. O candidato poderá retirar-se do local de realização das provas somente **1 (uma) hora** após o seu início, sem levar o caderno de prova.
10. O candidato poderá levar o caderno de provas, assim como anotação contendo transcrição do seu cartão-resposta, somente **1h30min** (uma hora e trinta minutos) após o início da realização da prova.
11. Ao terminar a prova, o candidato deverá entregar ao fiscal de sala o cartão-resposta preenchido e **ASSINADO**.
12. Os **3 (três)** candidatos, que terminarem a prova por último, deverão permanecer na sala, e só poderão sair juntos após o fechamento do envelope, contendo os cartões-resposta dos candidatos presentes e ausentes, e assinarem no lacre do referido envelope, atestando que este foi devidamente lacrado.
13. Durante todo o tempo em que permanecer no local onde está ocorrendo o concurso, o candidato deverá, manter o celular desligado e sem bateria, só sendo permitido ligar depois de ultrapassar o portão de saída do prédio.
14. Não será permitido ao candidato fumar na sala de provas, bem como nas dependências.
15. Depois de terminar a prova e entregar ao fiscal o cartão-resposta, preenchido e assinado, não será mais permitido ao candidato o uso do banheiro e bebedouro.

**BOA PROVA!****LÍNGUA PORTUGUESA****Texto para as próximas cinco questões:****“O cego Estrelinho”  
Mia Couto**

O cego Estrelinho era pessoa de nenhuma vez: sua história poderia ser contada e descontada não fosse seu guia, Gigitto Efraim. A mão de Gigitto conduziu o desvistado por tempos e idades. Aquela mão era repartidamente comum, extensão de um no outro, siamensal. E assim era quase de nascença. Memória de Estrelinho tinha cinco dedos e eram os de Gigitto postos, em aperto, na sua própria mão.

O cego, curioso, queria saber de tudo. Ele não fazia cerimônia no viver. O sempre lhe era pouco e o tudo insuficiente. Dizia, deste modo:

— Tenho que viver já, senão esqueço-me.

Gigitto, porém, o que descrevia era o que não havia. O mundo que ele minuciava eram fantasias e rendilhados. A imaginação do guia era mais profícua que papaeira. O cego enchia a boca de águas:

— Que maravilhação esse mundo. Me conte tudo, Gigitto!

A mão do guia era, afinal, o manuscrito da mentira. Gigitto Efraim estava como nunca esteve S. Tomé: via para não crer. O condutor falava pela ponta dos dedos. Desfolhava o universo, aberto em folhas. A ideiação dele era tal que mesmo o cego, por vezes, acreditava ver. O outro lhe encorajava esses breves enganar:

— Desbengale-se, você está escolhendo a boa procedência!

Mentira: Estrelinho continuava sem ver uma palmeira à frente do nariz. Contudo, o cego não se conformava em suas escurezas. Ele cumpria o ditado: não tinha perna e queria dar o pontapé. Só à noite, ele desalentava, sofrendo medos mais antigos que a humanidade. Entendia aquilo que, na raça humana, é menos primitivo: o animal.

— Na noite aflige não haver luz?

— Aflição é ter um pássaro branco esvoando dentro do sono.

Pássaro branco? No sono? Lugar de ave é nas alturas. Dizem até que Deus fez o céu para justificar os pássaros. Estrelinho disfarçava o medo dos vaticínios, subterfugindo:

— E agora, Gigitto? Agora, olhando assim para cima, estou face ao céu?

Que podia o outro responder? O céu do cego fica em toda a parte. Estrelinho perdia o pé era quando a noite chegava e seu mestre adormecia. Era como se um novo escuro nele se estreasse em nó cego. Devagaroso e sorrateiro ele aninhava sua mão na mão do guia. Só assim adormecia. A razão da concha é a timidez da amêijoa? Na manhã seguinte, o cego lhe confessava: se você morrer, tenho que morrer logo no imediato. Senão-me: como acerto o caminho para o céu?

Foi no mês de dezembro que levaram Gigitto. Lhe tiraram do mundo para pôr na guerra: obrigavam os serviços militares. O cego reclamou: que o moço inatingia a idade. E que o serviço que ele a si prestava era vital e vitalício. O guia chamou Estrelinho à parte e lhe tranquilizou:

— Não vai ficar sozinhandando por aí. Minha mana já mandei para ficar no meu lugar.

O cego estendeu o braço a querer tocar uma despedida. Mas o outro já não estava lá. Ou estava e se desviara, propositado? E sem água ida nem vinda, Estrelinho escutou o amigo se afastar, engolido, esponjínquo, invisível. Pela primeira vez, Estrelinho se sentiu invalidado.

— Agora, só agora, sou cego que não vê.

(...)

**COUTO, Mia. Estórias abensonhadas. Rio de Janeiro: Nova Fronteira, 1996. (Pág 23 e 24).**

**01. Quanto à interpretação do fragmento do conto, podemos afirmar que:**

- Gigitto Efraim era o guia de Estrelinho há pouquíssimo tempo.
- Estrelinho era cego de nascença.
- Gigitto descrevia o mundo para Estrelinho de forma denotativa.
- Gigitto foi convocado pelo exército para ser guia de cegos na guerra.
- Gigitto descrevia o mundo para Estrelinho de forma conotativa.

**02. No período “O sempre lhe era pouco e o tudo insuficiente”, o pronome “LHE” exerce a função sintática de:**

- Objeto Direto
- Objeto Indireto
- Complemento Nominal
- Adjunto Adnominal
- Objeto Direto Preposicionado

**03. Na oração “A mão de Gigitto conduziu o desvistado por tempos e idades”, o autor faz uso de um neologismo, assim como no decorrer de toda a obra em questão. Contudo, o neologismo só se torna possível pela utilização dos elementos mórficos naquilo que a gramática normativa pontua como Processo**

**de Formação das Palavras. Levando em consideração apenas o recurso morfológico, qual Processo de Formação foi utilizado?**

- a) Derivação Sufixal
- b) Derivação Prefixal
- c) Derivação Regressiva
- d) Derivação Imprópria
- e) Derivação Parassintética

**04. No terceiro período do décimo terceiro parágrafo, temos:**

- a) Uma oração
- b) Duas orações
- c) Três orações
- d) Quatro orações
- e) Cinco orações

**05. No último parágrafo do fragmento do conto “— Agora, só agora, sou cego que não vê”, a oração subordinada presente classifica-se corretamente como:**

- a) Oração Subordinada Adjetiva Restritiva
- b) Oração Subordinada Adverbial Causal
- c) Oração Subordinada Substantiva Subjetiva
- d) Oração Subordinada Adverbial Explicativa
- e) Oração Subordinada Adjetiva Explicativa

#### **RACIOCÍNIO LÓGICO**

**06. Os cinco filhos de Ana estavam discutindo a respeito da data de nascimento da mãe:**

- Almir disse que foi em janeiro, dia 14, sexta-feira.
- Vanderlei disse que foi em janeiro, dia 14, sábado.
- Tiago disse que foi em fevereiro, dia 15, sábado.
- Sandro disse que foi em janeiro, dia 15, sexta-feira.
- Renato disse que foi em fevereiro, dia 15, sexta-feira.

**Sabe-se que somente um dos filhos de Ana acertou corretamente sua data de nascimento e que os outros acertaram pelo menos um dos itens (dia, dia da semana e mês). Dessa forma, é correto afirmar que o filho de Ana que acertou a data de nascimento dela foi:**

- a) Renato
- b) Sandro
- c) Tiago
- d) Vanderlei
- e) Almir

**07. Considere a seguinte afirmativa: “Todo churrasqueiro gosta de picanha”. Em relação a essa proposição, é correto afirmar que:**

- a) Algum churrasqueiro não gosta de picanha.
- b) Toda pessoa que gosta de picanha é churrasqueira.
- c) Alguma pessoa que não gosta de picanha é churrasqueira.
- d) Toda pessoa que não é churrasqueira, não gosta de picanha.
- e) Toda pessoa que não gosta de picanha, não é churrasqueira.

**08. Em um grupo formado por 67 pessoas, verificou-se que 41 pessoas gostam de arroz, 29 gostam de feijão, 33 gostam de carne, 19 gostam de arroz e de feijão, 9 gostam apenas de arroz e de carne, 12 gostam de feijão e de carne e que 6 gostam de arroz, de feijão e de carne. O número de pessoas desse grupo, que não gosta de nenhum desses três tipos de alimentos é igual a:**

- a) 4
- b) 5
- c) 6
- d) 8
- e) 10

**09. Bruno escreveu, em seu caderno, várias sequências formadas por números múltiplos de 4, onde os valores que ocupavam as posições pares eram multiplicados por  $-1$ . Cada sequência foi somada e o resultado da soma anotado. A soma das três primeiras sequências escritas por Bruno foram as seguintes:**

$$4 - 8 = -4$$
$$4 - 8 + 12 = 8$$
$$4 - 8 + 12 - 16 = -8$$

**Considere que Bruno escreveu e somou tais sequências, em seu caderno, de modo a obter determinada sequência cuja soma foi 600. O número de termos dessa sequência é igual a:**

- a) 149
- b) 150
- c) 298
- d) 299
- e) 300

**10. Quatro torcedores, um do São Paulo, um do Cruzeiro, um do Vasco e um do Bahia, estão sentados ao redor de uma mesa quadrada, de modo que, dois a dois, fiquem frente a frente. Sabe-se que Alan é torcedor do Cruzeiro e que Bruno está sentado à direita de Alan. Sabe-se também que Caio está sentado à direita do torcedor do São Paulo. Sabe-se ainda que Daniel não é torcedor do Vasco e que está sentado à frente de Bruno. Dessa forma, é correto afirmar que:**

- a) Bruno é torcedor do Bahia e Daniel é torcedor do São Paulo.
- b) Bruno é torcedor do São Paulo e Daniel é torcedor do Bahia.
- c) Caio é torcedor do Vasco e Daniel é torcedor do São Paulo.
- d) Caio é torcedor do Bahia e Daniel é torcedor do São Paulo.
- e) Bruno é torcedor do Vasco e Daniel é torcedor do Bahia.

### INFORMÁTICA

**11. Considerando o MS-Excel versão 2010, observando a figura abaixo, é correto afirmar que:**

	A	B	C
1			
2			
3			
4			

- a) Somente 03 três linhas estão selecionadas.
- b) Somente uma célula está selecionada.
- c) 12 (doze) células estão selecionadas.
- d) Somente a coluna A até a linha 4 (quatro) está selecionada.
- e) Somente as colunas 1 (um), 2 (dois), 3 (três) e 4 (quatro) estão selecionadas.

**12. Considerando o MS-Excel versão 2010, observando a figura abaixo, é incorreto afirmar que:**

	A	B	C
1	12	6	=A1*B1
2	8	2	=A2/B2
3	5	14	=A3-B3
4	6	11	=A4+B4

- a) O resultado da fórmula =A1\*B1 é 72.
- b) O resultado da fórmula =A2/B2 é 4.
- c) O resultado da fórmula =A3-B3 é -9.
- d) O resultado da fórmula =A3-B3 é 9.
- e) O resultado da fórmula =A4+B4 é 17.

**13. Digitando um texto no MS-Word versão 2010, necessito adicionar número nas páginas. Quanto a isso, é correto afirmar que:**

- a) No menu Layout da Página, clico em número de página e seleciono onde desejo adicionar os números.
- b) No menu Inserir, clico em número de página e seleciono onde desejo adicionar os números.
- c) No menu Revisão, clico em número de página e seleciono onde desejo adicionar os números.
- d) No menu Referências, clico em número de página e seleciono onde desejo adicionar os números.
- e) No menu Exibição, clico em número de página e seleciono onde desejo adicionar os números.

**14. A segurança da informação está diretamente relacionada com proteção de um conjunto de informações, no sentido de preservar o valor que possuem para um indivíduo ou uma organização. Atualmente, um dos aplicativos mais utilizados no mundo, o Whats app, teve uma alteração de confidencialidade muito importante na segurança das informações transmitidas e recebidas. Dentre as alternativas, assinale a que corretamente informa a alteração inserida no aplicativo Whats app.**

- a) Antispam
- b) Antivirus
- c) Firewall
- d) Antispyware

e) Criptografia

**15. São todos os dispositivos que trabalham acoplados ao microcomputador para receber, transmitir, visualizar, ler, gravar ou armazenar dados. São eles que permitem a comunicação do computador com o meio exterior, isto é, com os usuários e outras máquinas.**

**Esse texto descreve corretamente:**

- a) Memória ram
- b) Memória virtual
- c) Software

d) Periféricos

e) Hardware

## CONHECIMENTOS GERAIS

### 16. Hino do município de Telêmaco Borba/PR

Das virgens matas e campos verdejantes  
 Servindo-se também o rio Tibagi,  
 Homens de ideais, espíritos vibrantes.  
 Constituíram as indústrias aqui.

Estrilho:

Salve! Salve! Telêmaco Borba  
 Terra querida e de grandes primores,  
 A nossa homenagem rendamos  
 À cidade dos trabalhadores.  
 Pois a cadência de enorme e real progresso  
 Um município mui grandioso fez nascer,  
 Marcando assim, verdadeiro sucesso  
 Faz, então o Paraná engrandecer.

**No que tange ao Hino do município, atribua V (verdadeiro) ou F (falso) às afirmativas e marque a alternativa correta.**

- Eloah Martins Quadrado é autora da letra do hino.
  - Bento Mossurunga compôs a música do hino.
  - Eloah Martins Quadrado foi nomeada primeira professora da Cidade Nova, atual Telêmaco Borba.
  - Bento Mossurunga fundou a orquestra Estudantil e Concertos – Orquestra Sinfônica da Universidade, a Sociedade de Cultura Artístico Basilio Itiberê.
- a) F, V, V, V.
  - b) V, F, V, V.
  - c) V, V, F, V.
  - d) V, V, F, F.
  - e) V, V, V, V.

**17. À luz da Lei nº 1883/2012, que dispões sobre o Estatuto dos Servidores Públicos da Administração Direta, Autárquica e Funcional do Município de Telêmaco Borba/PR, leia as alternativas e marque a correta.**

- a) A apresentação para a posse ocorrerá no prazo de até trinta dias, contados do ato de nomeação.
- b) A destituição do servidor da função gratificada dar-se-á por solicitação exclusiva dele mesmo.
- c) O servidor ocupante exclusivamente de cargo em comissão será contribuinte do regime geral de previdência social.
- d) A aprovação em concurso público gera o direito à nomeação, e será feita obedecida à ordem de classificação dos candidatos.
- e) O exercício de função gratificada poderá ser de dedicação integral ou parcial, conforme necessidade da administração.

**Conforme a Lei nº 1.881, de 05 de abril de 2012, que dispõe sobre o Plano de Cargos, Carreiras e Vencimentos do quadro geral de servidores da Prefeitura Municipal de Telêmaco Borba/PR, regulamentada pelo Decreto nº 2269/2015, responda às próximas três questões.**

**18. Leia as assertivas e assinala a incorreta.**

- a) Do resultado da avaliação de desempenho poderá ser interposto recurso à Comissão de Desenvolvimento Funcional no prazo de quinze dias a contar da publicação no Boletim Oficial do Município.



- b) Não será concedida a progressão ou promoção ao servidor que estiver em licença para tratamento de saúde por um período superior a quarenta e cinco dias, no período de avaliação.
- c) A alternância dos membros constituintes da Comissão de Desenvolvimento Funcional eleitos pelos servidores verificar-se-á a cada três anos de participação, observados, para substituição de seus participantes, o critério fixado no artigo anterior, não cabendo eleição sucessiva.
- d) Caberá à Comissão de Desenvolvimento Funcional, no caso de divergência de vinte por cento entre a nota do avaliador e a do avaliado, solicitar nova avaliação à chefia.
- e) Nos termos do disposto no art. 17 da Lei n° 1.881, de 05 de abril de 2012, para progredir, é necessário que o servidor satisfaça, dentre outros, o seguinte requisito: estar no efetivo exercício de seu cargo ou em função comissionada na sua área de atuação durante o interstício de dois anos.

**19. Assinale a alternativa que completa respectivamente as lacunas do texto a seguir:**

**A Comissão de Desenvolvimento Funcional será constituída por \_\_\_\_\_ membros, sendo \_\_\_\_\_ designados pelo Prefeito Municipal de Telêmaco Borba e os demais eleitos pelos servidores municipais dentre os estáveis, com a atribuição de coordenar os procedimentos relativos à avaliação periódica de desempenho e outras atribuições.**

- a) três / sete  
b) um / três  
c) sete / três  
d) três / cinco  
e) dois / cinco

**20. A Avaliação de Desempenho será norteadada, dentre outros, pelo seguinte princípio: Amplitude - a avaliação deve incidir sobre todas as áreas de atuação do servidor, que compreendem:**

- 1. a formulação de políticas administrativas e sua aplicação para todos os setores da administração municipal;**
- 2. o desempenho do profissional dentro de suas funções pertinentes;**
- 3. a estrutura do órgão em que exerce a função;**
- 4. os resultados de eficiência dos serviços de cada setor ou órgão da administração municipal;**
- 5. a participação direta do avaliado, durante todo o processo avaliativo.**

**Diante dessa afirmação, somente não está correto o item:**

- a) 1  
b) 2  
c) 3  
d) 4  
e) 5

### **CONHECIMENTOS ESPECÍFICOS**

O exame físico dos sistemas cardiorrespiratório é de suma importância, pois esses sistemas vitais realizam a manutenção do organismo humano através da oxigenação e nutrição dos tecidos, além dos hormônios, e remoção do sangue com CO<sub>2</sub> e metabólitos. Essa oferta de O<sub>2</sub> aos tecidos acontece através da extração de O<sub>2</sub> do ambiente e transporte deste para os pulmões, além da troca por dióxido de carbono nos alvéolos e a devolução do mesmo para meio ambiente.

**Correlacionando esse texto, responda às próximas cinco questões.**

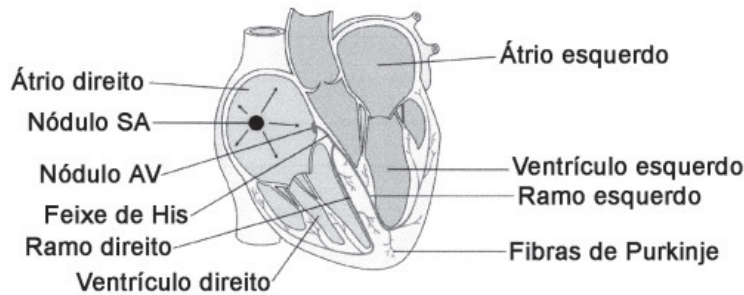
**21. As vias aéreas superiores têm função básica de condução do ar para as vias aéreas inferiores, proteção destas vias contra corpos estranhos, além do aquecimento, filtração e umidificação do ar inspirado. Sendo assim, elas são formadas por quais estruturas?**

- a) Nariz e boca.  
b) Nariz, boca e faringe.  
c) Nariz boca, faringe e laringe.  
d) Nariz, boca, faringe, laringe e traqueia.  
e) Nariz, boca, faringe, laringe, traquéia e brônquios.

**22. A composição do sistema cardiovascular é basicamente por vasos sanguíneos e coração, formando assim:**

- a) Pequena e grande circulação.  
b) Pequena e média circulação.  
c) Mínima e máxima circulação.  
d) Mínima e intermediária circulação.  
e) Circulação sistólica e diastólica.

**23. Com base no texto, e na figura seguinte, analise as afirmativas:**



I. O ciclo cardíaco é uma sequência completa de sístoles e diástoles das câmaras do coração. O início do ciclo é marcado pela diástole dos átrios, que bombeiam sangue para o interior dos ventrículos, que estão em sístole.

II. A circulação é organizada de tal modo que o lado direito do coração bombeia sangue para os pulmões, e o lado esquerdo bombeia sangue para o resto do corpo.

III. O coração propriamente dito consiste em quatro câmaras: dois átrios e dois ventrículos. Os átrios estão separados dos ventrículos pelas valvas mitral e tricúspide, que impedem o refluxo do sangue para os átrios quando os ventrículos se contraem. O refluxo de sangue da artéria pulmonar e da aorta para os ventrículos é impedido pelas valvas pulmonar e aórtica.

IV. Através da artéria aorta, o sangue chega ao ventrículo esquerdo, de onde é distribuído para todo o corpo.

Está(ão) correta(s):

- Apenas a II.
- Apenas I e II.
- Apenas II e III.
- Apenas III e IV.
- Apenas II, III e IV.

24. Sobre o ciclo cardíaco, analise a figura abaixo e marque a alternativa que a interpreta corretamente:



- O esquema exemplifica uma alteração fisiológica de B1.
- O esquema exemplifica uma alteração patológica de B1.
- O esquema exemplifica uma alteração fisiológica de B2.
- O esquema exemplifica uma alteração patológica de B2.
- O esquema exemplifica uma alteração patológica de B3.

25. São alterações de ritmo e frequência respiratória, exceto:

- Hiperpneia
- Eupneia
- Respiração de Chyne-Stokes
- Respiração atáxica
- Respiração de Kusmaul

26. A higienização das mãos, na assistência à saúde, é importante para a segurança do profissional de saúde, para a qualidade da atenção prestada a todo cliente que precisa de cuidados e para a prevenção e controle das infecções hospitalares. Sendo assim, analise os itens e marque a opção correta:

I – Realizar higienização das mãos após realização de procedimentos que envolvem presença de sangue, fluidos corpóreos, secreções, excreções e itens contaminados.

II – O uso das luvas dispensa a prática da higienização das mãos após a realização de procedimentos invasivos.

III – Os profissionais de saúde podem utilizar, para higienizar as mãos, água e sabão, preparação alcoólica e antisséptico.

IV – O álcool gel pode substituir a higienização com água e sabão quando as mãos não estiverem visivelmente sujas.



- a) Somente os itens I, III e IV estão corretos.
- b) Somente os itens II, III e IV estão corretos.
- c) Somente os itens I e III estão corretos.
- d) Somente o item III está correto.
- e) Somente o item II está correto.

**27. As diretrizes gerais para o Controle das Infecções em Serviços de Saúde são delineadas pela Agência Nacional de Vigilância Sanitária (ANVISA) e trazem um novo impulso no sentido de enfrentar a problemática das infecções relacionadas à assistência. Sendo assim, correlacione as colunas:**

- |                            |   |
|----------------------------|---|
| (I) Infecção critogênica   | (        ) infecção adquirida através da água, dos alimentos ou por outro agente infectante, e não de indivíduo para indivíduo.     |
| (II) Infecção indireta     | (        ) infecção que surge por diminuição das defesas orgânicas.   |
| (III) Infecção oportunista | (        ) infecção muito grave em que se verifica uma disseminação generalizada por todo o sistema humano dos agentes infecciosos. |
| (IV) Infecção séptica      | (        ) infecção de porta de entrada desconhecida.   |

**A sequência correta, de cima para baixo, é:**

- a) II; I; IV e III.
- b) III; II; IV e I.
- c) II; IV; I e III.
- d) III; I; IV e II.
- e) II; III; IV e I.

**28. As anotações de enfermagem são os registros realizados pelos integrantes da equipe de enfermagem sobre todas as ocorrências e todos os cuidados prestados ao paciente.**

**Com base no texto, assinale a afirmativa correta:**

- a) Cada registro deve vir acompanhado da assinatura da pessoa que o realizou.
- b) As anotações ou registros de enfermagem devem ser escritos no prontuário do paciente de maneira completa, clara e precisa, abordando os aspectos biológicos, psicológicos, sociais e espirituais.
- c) Um fator fundamental e obrigatório que ajuda os profissionais de enfermagem a fazer anotações corretas e completas é o fato de saber ouvir o paciente e lhe dar liberdade e oportunidade de expressar suas necessidades.
- d) Os profissionais de enfermagem são, na maioria das vezes, os primeiros a observarem sinais e sintomas que podem ajudar no diagnóstico, ou colaborar no tratamento ou no planejamento de ações curativas em favor do paciente. Assim, o mais importante não é “notar”, e sim anotar as observações.
- e) Ao realizar qualquer procedimento no paciente, o mesmo deve ser imediatamente comunicado, e se ainda esse paciente apresentar intercorrências durante o procedimento a conduta é comunicar o médico somente.

**O atendimento em saúde é realizado por uma equipe multiprofissional, onde cada profissional tem uma maneira de descrever o que a profissão conhece e como age em relação ao que conhece. O enfermeiro lida com respostas e condições de saúde ou processos de vida entre indivíduos, famílias, grupos e comunidades, essas respostas são a preocupação central dos cuidados de enfermagem.**

**Correlacionando o texto, responda às próximas cinco questões.**

**29. Todas as etapas do processo de enfermagem exigem conhecimento de conceitos subjacentes à ciência da enfermagem antes da identificação de padrões nos dados clínicos ou na elaboração de diagnósticos exatos. Sendo assim, o processo de enfermagem integra:**

- a) Planejamento, estabelecimento de resultados, intervenção e avaliação.
- b) Planejamento, intervenção e avaliação dos resultados.
- c) Anamnese, planejamento, estabelecimento de resultados, intervenção e avaliação.
- d) Diagnóstico de enfermagem, planejamento, estabelecimento de resultados, intervenção e avaliação.
- e) Diagnóstico de enfermagem, histórico, estabelecimento de resultados, intervenção e avaliação.

**30. Cada diagnóstico de enfermagem tem um título e uma definição clara, é fundamental que o enfermeiro conheça as definições dos diagnósticos normalmente utilizados, além de conhecer os indicadores diagnósticos, para diagnosticar e distinguir um diagnóstico do outro. Sendo assim, esses indicadores incluem:**

- a) Características relacionadas e fatores de definição.
- b) Características definidoras e fatores relacionados.
- c) Características de base e fatores de risco.
- d) Características relacionadas e fatores de base.
- e) Características definidoras e fatores evidenciados.

**31. O diagnóstico: Risco de desequilíbrio eletrolítico, pode ter como fatores de risco, exceto:**

- a) Diarreia
- b) Disfunção renal
- c) Vômito de líquido excessivo
- d) Vômito de líquido insuficiente
- e) Diminuição do turgor da língua

**32. O diagnóstico: Autonegligência caracterizado por higiene pessoal insuficiente relacionado à alteração na função cognitiva e prejuízo funcional, é pertencente ao domínio:**

- a) Percepção/Cognição
- b) Enfrentamento/Tolerância ao estresse
- c) Atividade/Repouso
- d) Segurança/Proteção
- e) Conforto

**33. A característica definidora para o diagnóstico de amamentação interrompida é:**

- a) Doença da mãe
- b) Doença do lactente
- c) Prematuridade
- d) Separação mãe-lactente
- e) Amamentação não exclusiva

A terapia medicamentosa tornou-se uma das formas mais comuns de intervenção no cuidado ao paciente, utilizada ao longo dos anos na cura de doenças. Cerca de 88% dos pacientes que procuram atendimento à saúde recebem prescrições de medicamentos. A correta administração requer conhecimento pleno dos integrantes da equipe de enfermagem envolvidos no cuidado ao paciente. Tendo em vista o grande número de intervenções às quais o paciente é submetido durante a internação hospitalar, a incidência de uma alta taxa de erros é uma possibilidade, caso não existam medidas que visem sua prevenção, detecção e intervenção. Conhecer e aplicar adequadamente os fundamentos da aritmética e da matemática auxilia o profissional de saúde na prevenção de erros relacionados ao preparo, à dosagem e ou à administração de medicamentos.

Com base nesse texto, responda às próximas cinco questões.

**34. O seguinte plano de soro deve ser infundido a quantas macrogotas/minutos?**

Plano de soro:

SF 0,9% ----- 1000mL

NaCl 20% ----- 10 mL                      de 12/12 horas

KCl 19,1% ----- 15 mL

- a) 341
- b) 333
- c) 85
- d) 83
- e) 28

**35. A quantas microgotas/minutos deve ser infundido um soro glicosado 5% de 125 mL, prescrito para ser administrado em 30 minutos?**

- a) 500
- b) 333
- c) 283
- d) 250
- e) 83

**36. Para atender uma prescrição de soro glicosado 10% de 500mL foi necessário transformar um soro glicosado 5% de 500mL com ampolas de glicose 50% de 10mL. Sendo assim, quantos mL serão necessários para atender corretamente a essa prescrição?**

- a) 51
- b) 50
- c) 45
- d) 43
- e) 25

**37. Na transformação de soro fisiológico 0,9% de 500m a 0,45% de 500 mL, serão necessários quantos mL de NaCl 20% apresentado em ampola de 10mL?**

- a) 0
- b) 0,45
- c) 2
- d) 4,5
- e) 45

**38. Foi prescrito amicacina 780mg, E.V., agora, porém, só tem na farmácia amicacina 1g para diluir em 15mL. Sendo assim, quantos mL devem ser administrados para atender corretamente a prescrição?**

- a) 15
- b) 11,7
- c) 7,8
- d) 7,2
- e) 2

**39. Infecção do trato urinário (ITU) é mais frequente no sexo feminino. Pode ser complicada, quando se associa a condição subjacente, que eleva o risco de falha terapêutica e, conseqüentemente, o tempo de tratamento necessário. A respeito da patogênese, é correto afirmar:**

- a) A infecção que ocorre no momento da inserção do cateter; pelo fluido que ocupa o espaço entre o cateter e o epitélio uretral, é denominada intralumial.
- b) A infecção que ocorre durante a quebra do sistema fechado, pela contaminação da bolsa de drenagem, é denominada intralumial.
- c) A infecção que ocorre durante a manipulação do material, contaminando-o, denomina-se infecção iatrogênica.
- d) A infecção que ocorre por longa permanência da sonda vesical de demora no paciente, proporcionando colonização da bexiga, é denominada infecção descendente.
- e) A infecção ocorre no momento do preparo do profissional e dos materiais, ao não higienizar as mãos corretamente e nem realizar assepsia adequada, sendo denominada infecção extralumial.

**40. A bactéria causadora de 80 a 90% da ITU não complicada é:**

- a) Escherichia coli
- b) Staphylococcus saprophyticus
- c) Proteus
- d) Enterobacter
- e) Klebsiela

**RASCUNHO**



PREFEITURA DE TELÊMACO BORBA - ESTADO DO PARANÁ- EDITAL Nº 001-2016 - CONCURSO PÚBLICO

VESPERTINO – 29/05/2016 – NÍVEL SUPERIOR

**2**

PROVA OBJETIVA NÚMERO

**CARGOS: TMNS I - ENFERMAGEM INTERVENCIONISTA**  
**TMNS I - ENFERMAGEM**

Leia atentamente as **INSTRUÇÕES**:

1. Confira seus dados no cartão-resposta: nome, número de inscrição e o curso para o qual se inscreveu.
2. **MARQUE no seu cartão-resposta o número da sua prova** (não será corrigido o cartão-resposta que não tiver marcado o número da prova) e **Assine** seu cartão-resposta.
3. Aguarde a autorização do Fiscal para abrir o caderno de prova. Ao receber a ordem do fiscal, confira o caderno de prova com muita atenção. Nenhuma reclamação sobre o total de questões ou falha de impressão será aceita depois de iniciada a prova.
4. O cartão-resposta não será substituído, salvo se contiver erro de impressão.
5. Preencha toda a área do cartão-resposta correspondente à alternativa de sua escolha, com caneta esferográfica (tinta azul ou preta), sem ultrapassar as bordas. As marcações duplas, ou rasuradas, com corretivo, ou marcadas diferentemente do modelo estabelecido no cartão-resposta poderão ser anuladas.
6. Sua prova tem **40** questões, com **5** alternativas.
7. Cabe apenas ao candidato a interpretação das questões, **o fiscal** não poderá fazer nenhuma interferência.
8. A prova será realizada com duração máxima de **3 (três) horas**, incluído o tempo para a realização da Prova Objetiva de múltipla escolha e o preenchimento do cartão-resposta.
9. O candidato poderá retirar-se do local de realização das provas somente **1 (uma) hora** após o seu início, sem levar o caderno de prova.
10. O candidato poderá levar o caderno de provas, assim como anotação contendo transcrição do seu cartão-resposta, somente **1h30min** (uma hora e trinta minutos) após o início da realização da prova.
11. Ao terminar a prova, o candidato deverá entregar ao fiscal de sala o cartão-resposta preenchido e **ASSINADO**.
12. Os **3 (três)** candidatos, que terminarem a prova por último, deverão permanecer na sala, e só poderão sair juntos após o fechamento do envelope, contendo os cartões-resposta dos candidatos presentes e ausentes, e assinarem no lacre do referido envelope, atestando que este foi devidamente lacrado.
13. Durante todo o tempo em que permanecer no local onde está ocorrendo o concurso, o candidato deverá, manter o celular desligado e sem bateria, só sendo permitido ligar depois de ultrapassar o portão de saída do prédio.
14. Não será permitido ao candidato fumar na sala de provas, bem como nas dependências.
15. Depois de terminar a prova e entregar ao fiscal o cartão-resposta, preenchido e assinado, não será mais permitido ao candidato o uso do banheiro e bebedouro.

**BOA PROVA!**



**RACIOCÍNIO LÓGICO**

01. Os cinco filhos de Ana estavam discutindo a respeito da data de nascimento da mãe:

- Almir disse que foi em janeiro, dia 14, sexta-feira.
- Vanderlei disse que foi em janeiro, dia 14, sábado.
- Tiago disse que foi em fevereiro, dia 15, sábado.
- Sandro disse que foi em janeiro, dia 15, sexta-feira.
- Renato disse que foi em fevereiro, dia 15, sexta-feira.

Sabe-se que somente um dos filhos de Ana acertou corretamente sua data de nascimento e que os outros acertaram pelo menos um dos itens (dia, dia da semana e mês). Dessa forma, é correto afirmar que o filho de Ana que acertou a data de nascimento dela foi:

- a) Renato
- b) Sandro
- c) Tiago
- d) Vanderlei
- e) Almir

02. Considere a seguinte afirmativa: “Todo churrasqueiro gosta de picanha”. Em relação a essa proposição, é correto afirmar que:

- a) Algum churrasqueiro não gosta de picanha.
- b) Toda pessoa que gosta de picanha é churrasqueira.
- c) Alguma pessoa que não gosta de picanha é churrasqueira.
- d) Toda pessoa que não é churrasqueira, não gosta de picanha.
- e) Toda pessoa que não gosta de picanha, não é churrasqueira.

03. Em um grupo formado por 67 pessoas, verificou-se que 41 pessoas gostam de arroz, 29 gostam de feijão, 33 gostam de carne, 19 gostam de arroz e de feijão, 9 gostam apenas de arroz e de carne, 12 gostam de feijão e de carne e que 6 gostam de arroz, de feijão e de carne. O número de pessoas desse grupo, que não gosta de nenhum desses três tipos de alimentos é igual a:

- a) 4
- b) 5
- c) 6
- d) 8
- e) 10

04. Bruno escreveu, em seu caderno, várias sequências formadas por números múltiplos de 4, onde os valores que ocupavam as posições pares eram multiplicados por  $-1$ . Cada sequência foi somada e o resultado da soma anotado. A soma das três primeiras sequências escritas por Bruno foram as seguintes:

$$4 - 8 = -4$$

$$4 - 8 + 12 = 8$$

$$4 - 8 + 12 - 16 = -8$$

Considere que Bruno escreveu e somou tais sequências, em seu caderno, de modo a obter determinada sequência cuja soma foi 600. O número de termos dessa sequência é igual a:

- a) 149
- b) 150
- c) 298
- d) 299
- e) 300

05. Quatro torcedores, um do São Paulo, um do Cruzeiro, um do Vasco e um do Bahia, estão sentados ao redor de uma mesa quadrada, de modo que, dois a dois, fiquem frente a frente. Sabe-se que Alan é torcedor do Cruzeiro e que Bruno está sentado à direita de Alan. Sabe-se também que Caio está sentado à direita do torcedor do São Paulo. Sabe-se ainda que Daniel não é torcedor do Vasco e que está sentado à frente de Bruno. Dessa forma, é correto afirmar que:

- a) Bruno é torcedor do Bahia e Daniel é torcedor do São Paulo.
- b) Bruno é torcedor do São Paulo e Daniel é torcedor do Bahia.
- c) Caio é torcedor do Vasco e Daniel é torcedor do São Paulo.
- d) Caio é torcedor do Bahia e Daniel é torcedor do São Paulo.
- e) Bruno é torcedor do Vasco e Daniel é torcedor do Bahia.

**INFORMÁTICA**

06. Considerando o MS-Excel versão 2010, observando a figura abaixo, é correto afirmar que:

	A	B	C
1			
2			
3			
4			

- Somente 03 três linhas estão selecionadas.
- Somente uma célula está selecionada.
- 12 (doze) células estão selecionadas.
- Somente a coluna A até a linha 4 (quatro) está selecionada.
- Somente as colunas 1 (um), 2 (dois), 3 (três) e 4 (quatro) estão selecionadas.

07. Considerando o MS-Excel versão 2010, observando a figura abaixo, é incorreto afirmar que:

	A	B	C
1	12	6	=A1*B1
2	8	2	=A2/B2
3	5	14	=A3-B3
4	6	11	=A4+B4

- O resultado da fórmula =A1\*B1 é 72.
- O resultado da fórmula =A2/B2 é 4.
- O resultado da fórmula =A3-B3 é -9.
- O resultado da fórmula =A3-B3 é 9.
- O resultado da fórmula =A4+B4 é 17.

08. Digitando um texto no MS-Word versão 2010, necessito adicionar número nas páginas. Quanto a isso, é correto afirmar que:

- No menu Layout da Página, clico em número de página e seleciono onde desejo adicionar os números.
- No menu Inserir, clico em número de página e seleciono onde desejo adicionar os números.
- No menu Revisão, clico em número de página e seleciono onde desejo adicionar os números.
- No menu Referências, clico em número de página e seleciono onde desejo adicionar os números.
- No menu Exibição, clico em número de página e seleciono onde desejo adicionar os números.

09. A segurança da informação está diretamente relacionada com proteção de um conjunto de informações, no sentido de preservar o valor que possuem para um indivíduo ou uma organização. Atualmente, um dos aplicativos mais utilizados no mundo, o Whats app, teve uma alteração de confidencialidade muito importante na segurança das informações transmitidas e recebidas. Dentre as alternativas, assinale a que corretamente informa a alteração inserida no aplicativo Whats app.

- Antispam
- Antivirus
- Firewall
- Antispyware
- Criptografia

10. São todos os dispositivos que trabalham acoplados ao microcomputador para receber, transmitir, visualizar, ler, gravar ou armazenarem dados. São eles que permitem a comunicação do computador com o meio exterior, isto é, com os usuários e outras máquinas.

Esse texto descreve corretamente:

- Memória ram
- Memória virtual
- Software
- Periféricos
- Hardware

**CONHECIMENTOS GERAIS**

11. Hino do município de Telêmaco Borba/PR

Das virgens matas e campos verdejantes  
 Servindo-se também o rio Tibagi,



Homens de ideais, espíritos vibrantes.

Constituíram as indústrias aqui.

Estrilho:

Salve! Salve! Telêmaco Borba

Terra querida e de grandes primores,

A nossa homenagem rendamos

À cidade dos trabalhadores.

Pois a cadência de enorme e real progresso

Um município mui grandioso fez nascer,

Marcando assim, verdadeiro sucesso

Faz, então o Paraná engrandecer.

**No que tange ao Hino do município, atribua V (verdadeiro) ou F (falso) às afirmativas e marque a alternativa correta.**

( ) Eloah Martins Quadrado é autora da letra do hino.

( ) Bento Mossurunga compôs a música do hino.

( ) Eloah Martins Quadrado foi nomeada primeira professora da Cidade Nova, atual Telêmaco Borba.

( ) Bento Mossurunga fundou a orquestra Estudantil e Concertos – Orquestra Sinfônica da Universidade, a Sociedade de Cultura Artístico Basílio Itiberê.

a) F, V, V, V.

b) V, F, V, V.

c) V, V, F, V.

d) V, V, F, F.

e) V, V, V, V.

**12. À luz da Lei nº 1883/2012, que dispõe sobre o Estatuto dos Servidores Públicos da Administração Direta, Autárquica e Funcional do Município de Telêmaco Borba/PR, leia as alternativas e marque a correta.**

a) A apresentação para a posse ocorrerá no prazo de até trinta dias, contados do ato de nomeação.

b) A destituição do servidor da função gratificada dar-se-á por solicitação exclusiva dele mesmo.

c) O servidor ocupante exclusivamente de cargo em comissão será contribuinte do regime geral de previdência social.

d) A aprovação em concurso público gera o direito à nomeação, e será feita obedecida à ordem de classificação dos candidatos.

e) O exercício de função gratificada poderá ser de dedicação integral ou parcial, conforme necessidade da administração.

**Conforme a Lei nº 1.881, de 05 de abril de 2012, que dispõe sobre o Plano de Cargos, Carreiras e Vencimentos do quadro geral de servidores da Prefeitura Municipal de Telêmaco Borba/PR, regulamentada pelo Decreto nº 2269/2015, responda às próximas três questões.**

**13. Leia as assertivas e assinala a incorreta.**

a) Do resultado da avaliação de desempenho poderá ser interposto recurso à Comissão de Desenvolvimento Funcional no prazo de quinze dias a contar da publicação no Boletim Oficial do Município.

b) Não será concedida a progressão ou promoção ao servidor que estiver em licença para tratamento de saúde por um período superior a quarenta e cinco dias, no período de avaliação.

c) A alternância dos membros constituintes da Comissão de Desenvolvimento Funcional eleitos pelos servidores verificar-se-á a cada três anos de participação, observados, para substituição de seus participantes, o critério fixado no artigo anterior, não cabendo eleição sucessiva.

d) Caberá à Comissão de Desenvolvimento Funcional, no caso de divergência de vinte por cento entre a nota do avaliador e a do avaliado, solicitar nova avaliação à chefia.

e) Nos termos do disposto no art. 17 da Lei nº 1.881, de 05 de abril de 2012, para progredir, é necessário que o servidor satisfaça, dentre outros, o seguinte requisito: estar no efetivo exercício de seu cargo ou em função comissionada na sua área de atuação durante o interstício de dois anos.

**14. Assinale a alternativa que completa respectivamente as lacunas do texto a seguir:**

**A Comissão de Desenvolvimento Funcional será constituída por \_\_\_\_\_ membros, sendo \_\_\_\_\_ designados pelo Prefeito Municipal de Telêmaco Borba e os demais eleitos pelos servidores municipais dentre os estáveis, com a atribuição de coordenar os procedimentos relativos à avaliação periódica de desempenho e outras atribuições.**

a) três / sete

b) um / três

c) sete / três

d) três / cinco

e) dois / cinco

15. A Avaliação de Desempenho será norteadada, dentre outros, pelo seguinte princípio: Amplitude - a avaliação deve incidir sobre todas as áreas de atuação do servidor, que compreendem:

1. a formulação de políticas administrativas e sua aplicação para todos os setores da administração municipal;
2. o desempenho do profissional dentro de suas funções pertinentes;
3. a estrutura do órgão em que exerce a função;
4. os resultados de eficiência dos serviços de cada setor ou órgão da administração municipal;
5. a participação direta do avaliado, durante todo o processo avaliativo.

Diante dessa afirmação, somente não está correto o item:

- a) 1
- b) 2
- c) 3
- d) 4
- e) 5

### CONHECIMENTOS ESPECÍFICOS

O exame físico dos sistemas cardiorrespiratório é de suma importância, pois esses sistemas vitais realizam a manutenção do organismo humano através da oxigenação e nutrição dos tecidos, além dos hormônios, e remoção do sangue com CO<sub>2</sub> e metabólitos. Essa oferta de O<sub>2</sub> aos tecidos acontece através da extração de O<sub>2</sub> do ambiente e transporte deste para os pulmões, além da troca por dióxido de carbono nos alvéolos e a devolução do mesmo para meio ambiente.

Correlacionando esse texto, responda às próximas cinco questões.

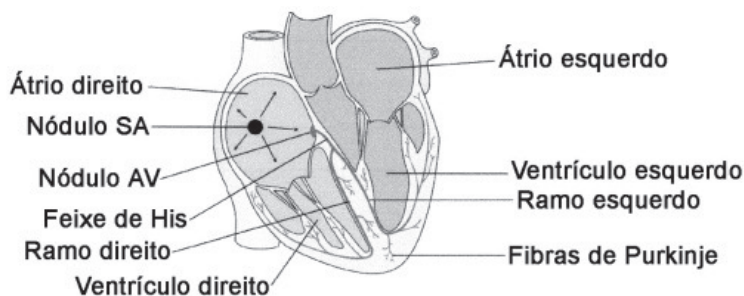
16. As vias aéreas superiores têm função básica de condução do ar para as vias aéreas inferiores, proteção destas vias contra corpos estranhos, além do aquecimento, filtração e umidificação do ar inspirado. Sendo assim, elas são formadas por quais estruturas?

- a) Nariz e boca.
- b) Nariz, boca e faringe.
- c) Nariz boca, faringe e laringe.
- d) Nariz, boca, faringe, laringe e traqueia.
- e) Nariz, boca, faringe, laringe, traquéia e brônquios.

17. A composição do sistema cardiovascular é basicamente por vasos sanguíneos e coração, formando assim:

- a) Pequena e grande circulação.
- b) Pequena e média circulação.
- c) Mínima e máxima circulação.
- d) Mínima e intermediária circulação.
- e) Circulação sistólica e diastólica.

18. Com base no texto, e na figura seguinte, analise as afirmativas:



I. O ciclo cardíaco é uma sequência completa de sístoles e diástoles das câmaras do coração. O início do ciclo é marcado pela diástole dos átrios, que bombeiam sangue para o interior dos ventrículos, que estão em sístole.

II. A circulação é organizada de tal modo que o lado direito do coração bombeia sangue para os pulmões, e o lado esquerdo bombeia sangue para o resto do corpo.

III. O coração propriamente dito consiste em quatro câmaras: dois átrios e dois ventrículos. Os átrios estão separados dos ventrículos pelas valvas mitral e tricúspide, que impedem o refluxo do sangue para os átrios quando os ventrículos se contraem. O refluxo de sangue da artéria pulmonar e da aorta para os ventrículos é impedido pelas valvas pulmonar e aórtica.

IV. Através da artéria aorta, o sangue chega ao ventrículo esquerdo, de onde é distribuído para todo o corpo.

Está(ão) correta(s):

- Apenas a II.
- Apenas I e II.
- Apenas II e III.
- Apenas III e IV.
- Apenas II, III e IV.

19. Sobre o ciclo cardíaco, analise a figura abaixo e marque a alternativa que a interpreta corretamente:



- O esquema exemplifica uma alteração fisiológica de B<sub>1</sub>.
- O esquema exemplifica uma alteração patológica de B<sub>1</sub>.
- O esquema exemplifica uma alteração fisiológica de B<sub>2</sub>.
- O esquema exemplifica uma alteração patológica de B<sub>2</sub>.
- O esquema exemplifica uma alteração patológica de B<sub>3</sub>.

20. São alterações de ritmo e frequência respiratória, exceto:

- Hiperpneia
- Eupneia
- Respiração de Chyne-Stokes
- Respiração atáxica
- Respiração de Kusmaul

21. A higienização das mãos, na assistência à saúde, é importante para a segurança do profissional de saúde, para a qualidade da atenção prestada a todo cliente que precisa de cuidados e para a prevenção e controle das infecções hospitalares. Sendo assim, analise os itens e marque a opção correta:

I – Realizar higienização das mãos após realização de procedimentos que envolvem presença de sangue, fluidos corpóreos, secreções, excreções e itens contaminados.

II – O uso das luvas dispensa a prática da higienização das mãos após a realização de procedimentos invasivos.

III – Os profissionais de saúde podem utilizar, para higienizar as mãos, água e sabão, preparação alcoólica e antisséptico.

IV – O álcool gel pode substituir a higienização com água e sabão quando as mãos não estiverem visivelmente sujas.

- Somente os itens I, III e IV estão corretos.
- Somente os itens II, III e IV estão corretos.
- Somente os itens I e III estão corretos.
- Somente o item III está correto.
- Somente o item II está correto.

22. As diretrizes gerais para o Controle das Infecções em Serviços de Saúde são delineadas pela Agência Nacional de Vigilância Sanitária (ANVISA) e trazem um novo impulso no sentido de enfrentar a problemática das infecções relacionadas à assistência. Sendo assim, correlacione as colunas:

- |                            |  |
|----------------------------|--|
| (I) Infecção critogênica   | ( ) infecção adquirida através da água, dos alimentos ou por outro agente infectante, e não de indivíduo para indivíduo.     |
| (II) Infecção indireta     | ( ) infecção que surge por diminuição das defesas orgânicas.   |
| (III) Infecção oportunista | ( ) infecção muito grave em que se verifica uma disseminação generalizada por todo o sistema humano dos agentes infecciosos. |
| (IV) Infecção séptica      | ( ) infecção de porta de entrada desconhecida.   |

A sequência correta, de cima para baixo, é:

- II; I; IV e III.

- b) III; II; IV e I.
- c) II; IV; I e III.
- d) III; I; IV e II.
- e) II; III; IV e I.

**23. As anotações de enfermagem são os registros realizados pelos integrantes da equipe de enfermagem sobre todas as ocorrências e todos os cuidados prestados ao paciente.**

**Com base no texto, assinale a afirmativa correta:**

- a) Cada registro deve vir acompanhado da assinatura da pessoa que o realizou.
- b) As anotações ou registros de enfermagem devem ser escritos no prontuário do paciente de maneira completa, clara e precisa, abordando os aspectos biológicos, psicológicos, sociais e espirituais.
- c) Um fator fundamental e obrigatório que ajuda os profissionais de enfermagem a fazer anotações corretas e completas é o fato de saber ouvir o paciente e lhe dar liberdade e oportunidade de expressar suas necessidades.
- d) Os profissionais de enfermagem são, na maioria das vezes, os primeiros a observarem sinais e sintomas que podem ajudar no diagnóstico, ou colaborar no tratamento ou no planejamento de ações curativas em favor do paciente. Assim, o mais importante não é “notar”, e sim anotar as observações.
- e) Ao realizar qualquer procedimento no paciente, o mesmo deve ser imediatamente comunicado, e se ainda esse paciente apresentar intercorrências durante o procedimento a conduta é comunicar o médico somente.

**O atendimento em saúde é realizado por uma equipe multiprofissional, onde cada profissional tem uma maneira de descrever o que a profissão conhece e como age em relação ao que conhece. O enfermeiro lida com respostas e condições de saúde ou processos de vida entre indivíduos, famílias, grupos e comunidades, essas respostas são a preocupação central dos cuidados de enfermagem.**

**Correlacionando o texto, responda às próximas cinco questões.**

**24. Todas as etapas do processo de enfermagem exigem conhecimento de conceitos subjacentes à ciência da enfermagem antes da identificação de padrões nos dados clínicos ou na elaboração de diagnósticos exatos. Sendo assim, o processo de enfermagem integra:**

- a) Planejamento, estabelecimento de resultados, intervenção e avaliação.
- b) Planejamento, intervenção e avaliação dos resultados.
- c) Anamnese, planejamento, estabelecimento de resultados, intervenção e avaliação.
- d) Diagnóstico de enfermagem, planejamento, estabelecimento de resultados, intervenção e avaliação.
- e) Diagnóstico de enfermagem, histórico, estabelecimento de resultados, intervenção e avaliação.

**25. Cada diagnóstico de enfermagem tem um título e uma definição clara, é fundamental que o enfermeiro conheça as definições dos diagnósticos normalmente utilizados, além de conhecer os indicadores diagnósticos, para diagnosticar e distinguir um diagnóstico do outro. Sendo assim, esses indicadores incluem:**

- a) Características relacionadas e fatores de definição.
- b) Características definidoras e fatores relacionados.
- c) Características de base e fatores de risco.
- d) Características relacionadas e fatores de base.
- e) Características definidoras e fatores evidenciados.

**26. O diagnóstico: Risco de desequilíbrio eletrolítico, pode ter como fatores de risco, exceto:**

- a) Diarreia
- b) Disfunção renal
- c) Vômito de líquido excessivo
- d) Vômito de líquido insuficiente
- e) Diminuição do turgor da língua

**27. O diagnóstico: Autonegligência caracterizado por higiene pessoal insuficiente relacionado à alteração na função cognitiva e prejuízo funcional, é pertencente ao domínio:**

- a) Percepção/Cognição
- b) Enfrentamento/Tolerância ao estresse
- c) Atividade/Repouso
- d) Segurança/Proteção
- e) Conforto

**28. A característica definidora para o diagnóstico de amamentação interrompida é:**

- a) Doença da mãe
- b) Doença do lactente
- c) Prematuridade
- d) Separação mãe-lactente



e) Amamentação não exclusiva

A terapia medicamentosa tornou-se uma das formas mais comuns de intervenção no cuidado ao paciente, utilizada ao longo dos anos na cura de doenças. Cerca de 88% dos pacientes que procuram atendimento à saúde recebem prescrições de medicamentos. A correta administração requer conhecimento pleno dos integrantes da equipe de enfermagem envolvidos no cuidado ao paciente. Tendo em vista o grande número de intervenções às quais o paciente é submetido durante a internação hospitalar, a incidência de uma alta taxa de erros é uma possibilidade, caso não existam medidas que visem sua prevenção, detecção e intervenção. Conhecer e aplicar adequadamente os fundamentos da aritmética e da matemática auxilia o profissional de saúde na prevenção de erros relacionados ao preparo, à dosagem e ou à administração de medicamentos.

Com base nesse texto, responda às próximas cinco questões.

29. O seguinte plano de soro deve ser infundido a quantas macrogotas/minutos?

Plano de soro:

SF 0,9% ----- 1000mL

NaCl 20% ----- 10 mL                      de 12/12 horas

KCl 19,1% ----- 15 mL

- a) 341
- b) 333
- c) 85
- d) 83
- e) 28

30. A quantas microgotas/minutos deve ser infundido um soro glicosado 5% de 125 mL, prescrito para ser administrado em 30 minutos?

- a) 500
- b) 333
- c) 283
- d) 250
- e) 83

31. Para atender uma prescrição de soro glicosado 10% de 500mL foi necessário transformar um soro glicosado 5% de 500mL com ampolas de glicose 50% de 10mL. Sendo assim, quantos mL serão necessários para atender corretamente a essa prescrição?

- a) 51
- b) 50
- c) 45
- d) 43
- e) 25

32. Na transformação de soro fisiológico 0,9% de 500mL a 0,45% de 500 mL, serão necessários quantos mL de NaCl 20% apresentado em ampola de 10mL?

- a) 0
- b) 0,45
- c) 2
- d) 4,5
- e) 45

33. Foi prescrito amicacina 780mg, E.V., agora, porém, só tem na farmácia amicacina 1g para diluir em 15mL. Sendo assim, quantos mL devem ser administrados para atender corretamente a prescrição?

- a) 15
- b) 11,7
- c) 7,8
- d) 7,2
- e) 2

34. Infecção do trato urinário (ITU) é mais frequente no sexo feminino. Pode ser complicada, quando se associa a condição subjacente, que eleva o risco de falha terapêutica e, conseqüentemente, o tempo de tratamento necessário. A respeito da patogênese, é correto afirmar:

- a) A infecção que ocorre no momento da inserção do cateter; pelo fluido que ocupa o espaço entre o cateter e o epitélio uretral, é denominada intraluminal.



- b) A infecção que ocorre durante a quebra do sistema fechado, pela contaminação da bolsa de drenagem, é denominada intralumial.
- c) A infecção que ocorre durante a manipulação do material, contaminando-o, denomina-se infecção iatrogênica.
- d) A infecção que ocorre por longa permanência da sonda vesical de demora no paciente, proporcionando colonização da bexiga, é denominada infecção descendente.
- e) A infecção ocorre no momento do preparo do profissional e dos materiais, ao não higienizar as mãos corretamente e nem realizar assepsia adequada, sendo denominada infecção extralumial.

**35. A bactéria causadora de 80 a 90% da ITU não complicada é:**

- a) Escherichia coli  
b) Staphylococcus saprophyticus  
c) Proteus  
d) Enterobacter  
e) Klebsiella

**LÍNGUA PORTUGUESA**

**Texto para as próximas cinco questões:**

**“O cego Estrelinho”  
Mia Couto**

O cego Estrelinho era pessoa de nenhuma vez: sua história poderia ser contada e descontada não fosse seu guia, Gigitto Efraim. A mão de Gigitto conduziu o desvistado por tempos e idades. Aquela mão era repartidamente comum, extensão de um no outro, siamensal. E assim era quase de nascença. Memória de Estrelinho tinha cinco dedos e eram os de Gigitto postos, em aperto, na sua própria mão.

O cego, curioso, queria saber de tudo. Ele não fazia cerimônia no viver. O sempre lhe era pouco e o tudo insuficiente. Dizia, deste modo:

— Tenho que viver já, senão esqueço-me.

Gigitto, porém, o que descrevia era o que não havia. O mundo que ele minuciava eram fantasias e rendilhados. A imaginação do guia era mais profícua que papadeira. O cego enchia a boca de águas:

— Que maravilhação esse mundo. Me conte tudo, Gigitto!

A mão do guia era, afinal, o manuscrito da mentira. Gigitto Efraim estava como nunca esteve S. Tomé: via para não crer. O condutor falava pela ponta dos dedos. Desfolhava o universo, aberto em folhas. A ideiação dele era tal que mesmo o cego, por vezes, acreditava ver. O outro lhe encorajava esses breves enganos:

— Desbengale-se, você está escolhendo a boa procedência!

Mentira: Estrelinho continuava sem ver uma palmeira à frente do nariz. Contudo, o cego não se conformava em suas escurezas. Ele cumpria o ditado: não tinha perna e queria dar o pontapé. Só à noite, ele desalentava, sofrendo medos mais antigos que a humanidade. Entendia aquilo que, na raça humana, é menos primitivo: o animal.

— Na noite aflige não haver luz?

— Aflição é ter um pássaro branco esvoando dentro do sono.

Pássaro branco? No sono? Lugar de ave é nas alturas. Dizem até que Deus fez o céu para justificar os pássaros. Estrelinho disfarçava o medo dos vaticínios, subterfugindo:

— E agora, Gigitto? Agora, olhando assim para cima, estou face ao céu?

Que podia o outro responder? O céu do cego fica em toda a parte. Estrelinho perdia o pé era quando a noite chegava e seu mestre adormecia. Era como se um novo escuro nele se estreasse em nó cego. Devagaroso e sorrateiro ele aninhava sua mão na mão do guia. Só assim adormecia. A razão da concha é a timidez da amêijoia? Na manhã seguinte, o cego lhe confessava: se você morrer, tenho que morrer logo no imediato. Senão-me: como acerto o caminho para o céu?

Foi no mês de dezembro que levaram Gigitto. Lhe tiraram do mundo para pôr na guerra: obrigavam os serviços militares. O cego reclamou: que o moço inatingia a idade. E que o serviço que ele a si prestava era vital e vitalício. O guia chamou Estrelinho à parte e lhe tranquilizou:

— Não vai ficar sozinando por aí. Minha mana já mandei para ficar no meu lugar.

O cego estendeu o braço a querer tocar uma despedida. Mas o outro já não estava lá. Ou estava e se desviara, propositado? E sem água ida nem vinda, Estrelinho escutou o amigo se afastar, engolido, esponjínquo, invisível. Pela primeira vez, Estrelinho se sentiu invalidado.

— Agora, só agora, sou cego que não vê.

(...)

**COUTO, Mia. Estórias abensonhadas. Rio de Janeiro: Nova Fronteira, 1996. (Pág 23 e 24).**

**36. Quanto à interpretação do fragmento do conto, podemos afirmar que:**

- a) Gigitto Efraim era o guia de Estrelinho há pouquíssimo tempo.  
b) Estrelinho era cego de nascença.  
c) Gigitto descrevia o mundo para Estrelinho de forma denotativa.  
d) Gigitto foi convocado pelo exército para ser guia de cegos na guerra.  
e) Gigitto descrevia o mundo para Estrelinho de forma conotativa.



**37. No período “O sempre lhe era pouco e o tudo insuficiente”, o pronome “LHE” exerce a função sintática de:**

- a) Objeto Direto
- b) Objeto Indireto
- c) Complemento Nominal
- d) Adjunto Adnominal
- e) Objeto Direto Preposicionado

**38. Na oração “A mão de Gigito conduziu o desvistado por tempos e idades”, o autor faz uso de um neologismo, assim como no decorrer de toda a obra em questão. Contudo, o neologismo só se torna possível pela utilização dos elementos mórficos naquilo que a gramática normativa pontua como Processo de Formação das Palavras. Levando em consideração apenas o recurso morfológico, qual Processo de Formação foi utilizado?**

- a) Derivação Sufixal
- b) Derivação Prefixal
- c) Derivação Regressiva
- d) Derivação Imprópria
- e) Derivação Parassintética

**39. No terceiro período do décimo terceiro parágrafo, temos:**

- a) Uma oração
- b) Duas orações
- c) Três orações
- d) Quatro orações
- e) Cinco orações

**40. No último parágrafo do fragmento do conto “— Agora, só agora, sou cego que não vê”, a oração subordinada presente classifica-se corretamente como:**

- a) Oração Subordinada Adjetiva Restritiva
- b) Oração Subordinada Adverbial Causal
- c) Oração Subordinada Substantiva Subjetiva
- d) Oração Subordinada Adverbial Explicativa
- e) Oração Subordinada Adjetiva Explicativa

**RASCUNHO**



PREFEITURA DE TELÊMACO BORBA - ESTADO DO PARANÁ- EDITAL Nº 001-2016 - CONCURSO PÚBLICO

VESPERTINO – 29/05/2016 – NÍVEL SUPERIOR

PROVA OBJETIVA NÚMERO

**3**

**CARGOS: TMNS I - ENFERMAGEM INTERVENCIONISTA**  
**TMNS I - ENFERMAGEM**

**Leia atentamente as INSTRUÇÕES:**

1. Confira seus dados no cartão-resposta: nome, número de inscrição e o curso para o qual se inscreveu.
2. **MARQUE no seu cartão-resposta o número da sua prova** (não será corrigido o cartão-resposta que não tiver marcado o número da prova) e **Assine** seu cartão-resposta.
3. Aguarde a autorização do Fiscal para abrir o caderno de prova. Ao receber a ordem do fiscal, confira o caderno de prova com muita atenção. Nenhuma reclamação sobre o total de questões ou falha de impressão será aceita depois de iniciada a prova.
4. O cartão-resposta não será substituído, salvo se contiver erro de impressão.
5. Preencha toda a área do cartão-resposta correspondente à alternativa de sua escolha, com caneta esferográfica (tinta azul ou preta), sem ultrapassar as bordas. As marcações duplas, ou rasuradas, com corretivo, ou marcadas diferentemente do modelo estabelecido no cartão-resposta poderão ser anuladas.
6. Sua prova tem **40** questões, com **5** alternativas.
7. Cabe apenas ao candidato a interpretação das questões, **o fiscal** não poderá fazer nenhuma interferência.
8. A prova será realizada com duração máxima de **3 (três) horas**, incluído o tempo para a realização da Prova Objetiva de múltipla escolha e o preenchimento do cartão-resposta.
9. O candidato poderá retirar-se do local de realização das provas somente **1 (uma) hora** após o seu início, sem levar o caderno de prova.
10. O candidato poderá levar o caderno de provas, assim como anotação contendo transcrição do seu cartão-resposta, somente **1h30min** (uma hora e trinta minutos) após o início da realização da prova.
11. Ao terminar a prova, o candidato deverá entregar ao fiscal de sala o cartão-resposta preenchido e **ASSINADO**.
12. Os **3 (três)** candidatos, que terminarem a prova por último, deverão permanecer na sala, e só poderão sair juntos após o fechamento do envelope, contendo os cartões-resposta dos candidatos presentes e ausentes, e assinarem no lacre do referido envelope, atestando que este foi devidamente lacrado.
13. Durante todo o tempo em que permanecer no local onde está ocorrendo o concurso, o candidato deverá, manter o celular desligado e sem bateria, só sendo permitido ligar depois de ultrapassar o portão de saída do prédio.
14. Não será permitido ao candidato fumar na sala de provas, bem como nas dependências.
15. Depois de terminar a prova e entregar ao fiscal o cartão-resposta, preenchido e assinado, não será mais permitido ao candidato o uso do banheiro e bebedouro.

**BOA PROVA!**

**CONHECIMENTOS ESPECÍFICOS**

O exame físico dos sistemas cardiorrespiratório é de suma importância, pois esses sistemas vitais realizam a manutenção do organismo humano através da oxigenação e nutrição dos tecidos, além dos hormônios, e remoção do sangue com CO<sub>2</sub> e metabólitos. Essa oferta de O<sub>2</sub> aos tecidos acontece através da extração de O<sub>2</sub> do ambiente e transporte deste para os pulmões, além da troca por dióxido de carbono nos alvéolos e a devolução do mesmo para meio ambiente.

Correlacionando esse texto, responda às próximas cinco questões.

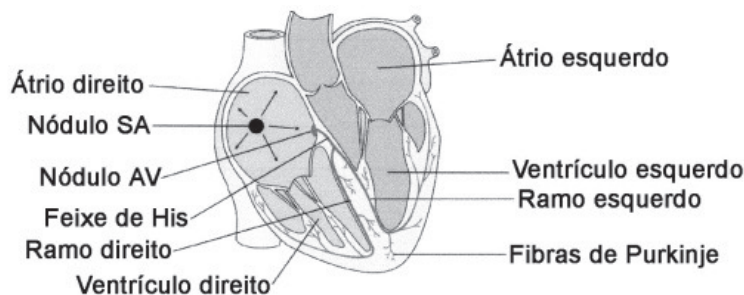
**01. As vias aéreas superiores têm função básica de condução do ar para as vias aéreas inferiores, proteção destas vias contra corpos estranhos, além do aquecimento, filtração e umidificação do ar inspirado. Sendo assim, elas são formadas por quais estruturas?**

- Nariz e boca.
- Nariz, boca e faringe.
- Nariz boca, faringe e laringe.
- Nariz, boca, faringe, laringe e traqueia.
- Nariz, boca, faringe, laringe, traquéia e brônquios.

**02. A composição do sistema cardiovascular é basicamente por vasos sanguíneos e coração, formando assim:**

- Pequena e grande circulação.
- Pequena e média circulação.
- Mínima e máxima circulação.
- Mínima e intermediária circulação.
- Circulação sistólica e diastólica.

**03. Com base no texto, e na figura seguinte, analise as afirmativas:**



**I. O ciclo cardíaco é uma sequência completa de sístoles e diástoles das câmaras do coração. O início do ciclo é marcado pela diástole dos átrios, que bombeiam sangue para o interior dos ventrículos, que estão em sístole.**

**II. A circulação é organizada de tal modo que o lado direito do coração bombeia sangue para os pulmões, e o lado esquerdo bombeia sangue para o resto do corpo.**

**III. O coração propriamente dito consiste em quatro câmaras: dois átrios e dois ventrículos. Os átrios estão separados dos ventrículos pelas valvas mitral e tricúspide, que impedem o refluxo do sangue para os átrios quando os ventrículos se contraem. O refluxo de sangue da artéria pulmonar e da aorta para os ventrículos é impedido pelas valvas pulmonar e aórtica.**

**IV. Através da artéria aorta, o sangue chega ao ventrículo esquerdo, de onde é distribuído para todo o corpo.**

**Está(ão) correta(s):**

- Apenas a II.
- Apenas I e II.
- Apenas II e III.
- Apenas III e IV.
- Apenas II, III e IV.

04. Sobre o ciclo cardíaco, analise a figura abaixo e marque a alternativa que a interpreta corretamente:



- O esquema exemplifica uma alteração fisiológica de B1.
- O esquema exemplifica uma alteração patológica de B1.
- O esquema exemplifica uma alteração fisiológica de B2.
- O esquema exemplifica uma alteração patológica de B2.
- O esquema exemplifica uma alteração patológica de B3.

05. São alterações de ritmo e frequência respiratória, exceto:

- Hiperpneia
- Eupneia
- Respiração de Chyne-Stokes
- Respiração atáxica
- Respiração de Kusmaul

06. A higienização das mãos, na assistência à saúde, é importante para a segurança do profissional de saúde, para a qualidade da atenção prestada a todo cliente que precisa de cuidados e para a prevenção e controle das infecções hospitalares. Sendo assim, analise os itens e marque a opção correta:

I – Realizar higienização das mãos após realização de procedimentos que envolvem presença de sangue, fluidos corpóreos, secreções, excreções e itens contaminados.

II – O uso das luvas dispensa a prática da higienização das mãos após a realização de procedimentos invasivos.

III – Os profissionais de saúde podem utilizar, para higienizar as mãos, água e sabão, preparação alcoólica e antisséptico.

IV – O álcool gel pode substituir a higienização com água e sabão quando as mãos não estiverem visivelmente sujas.

- Somente os itens I, III e IV estão corretos.
- Somente os itens II, III e IV estão corretos.
- Somente os itens I e III estão corretos.
- Somente o item III está correto.
- Somente o item II está correto.

07. As diretrizes gerais para o Controle das Infecções em Serviços de Saúde são delineadas pela Agência Nacional de Vigilância Sanitária (ANVISA) e trazem um novo impulso no sentido de enfrentar a problemática das infecções relacionadas à assistência. Sendo assim, correlacione as colunas:

- |                            |   |
|----------------------------|---|
| (I) Infecção critogênica   | (        ) infecção adquirida através da água, dos alimentos ou por outro agente infectante, e não de indivíduo para indivíduo.     |
| (II) Infecção indireta     | (        ) infecção que surge por diminuição das defesas orgânicas.   |
| (III) Infecção oportunista | (        ) infecção muito grave em que se verifica uma disseminação generalizada por todo o sistema humano dos agentes infecciosos. |
| (IV) Infecção séptica      | (        ) infecção de porta de entrada desconhecida.   |

A sequência correta, de cima para baixo, é:

- II; I; IV e III.
- III; II; IV e I.
- II; IV; I e III.
- III; I; IV e II.
- II; III; IV e I.

08. As anotações de enfermagem são os registros realizados pelos integrantes da equipe de enfermagem sobre todas as ocorrências e todos os cuidados prestados ao paciente.

Com base no texto, assinale a afirmativa correta:

- Cada registro deve vir acompanhado da assinatura da pessoa que o realizou.
- As anotações ou registros de enfermagem devem ser escritos no prontuário do paciente de maneira completa, clara e precisa, abordando os aspectos biológicos, psicológicos, sociais e espirituais.
- Um fator fundamental e obrigatório que ajuda os profissionais de enfermagem a fazer anotações corretas e completas é o fato de saber ouvir o paciente e lhe dar liberdade e oportunidade de expressar suas necessidades.



- d) Os profissionais de enfermagem são, na maioria das vezes, os primeiros a observarem sinais e sintomas que podem ajudar no diagnóstico, ou colaborar no tratamento ou no planejamento de ações curativas em favor do paciente. Assim, o mais importante não é “notar”, e sim anotar as observações.
- e) Ao realizar qualquer procedimento no paciente, o mesmo deve ser imediatamente comunicado, e se ainda esse paciente apresentar intercorrências durante o procedimento a conduta é comunicar o médico somente.

**O atendimento em saúde é realizado por uma equipe multiprofissional, onde cada profissional tem uma maneira de descrever o que a profissão conhece e como age em relação ao que conhece. O enfermeiro lida com respostas e condições de saúde ou processos de vida entre indivíduos, famílias, grupos e comunidades, essas respostas são a preocupação central dos cuidados de enfermagem.**

**Correlacionando o texto, responda às próximas cinco questões.**

**09. Todas as etapas do processo de enfermagem exigem conhecimento de conceitos subjacentes à ciência da enfermagem antes da identificação de padrões nos dados clínicos ou na elaboração de diagnósticos exatos. Sendo assim, o processo de enfermagem integra:**

- a) Planejamento, estabelecimento de resultados, intervenção e avaliação.
- b) Planejamento, intervenção e avaliação dos resultados.
- c) Anamnese, planejamento, estabelecimento de resultados, intervenção e avaliação.
- d) Diagnóstico de enfermagem, planejamento, estabelecimento de resultados, intervenção e avaliação.
- e) Diagnóstico de enfermagem, histórico, estabelecimento de resultados, intervenção e avaliação.

**10. Cada diagnóstico de enfermagem tem um título e uma definição clara, é fundamental que o enfermeiro conheça as definições dos diagnósticos normalmente utilizados, além de conhecer os indicadores diagnósticos, para diagnosticar e distinguir um diagnóstico do outro. Sendo assim, esses indicadores incluem:**

- a) Características relacionadas e fatores de definição.
- b) Características definidoras e fatores relacionados.
- c) Características de base e fatores de risco.
- d) Características relacionadas e fatores de base.
- e) Características definidoras e fatores evidenciados.

**11. O diagnóstico: Risco de desequilíbrio eletrolítico, pode ter como fatores de risco, exceto:**

- a) Diarreia
- b) Disfunção renal
- c) Vômito de líquido excessivo
- d) Vômito de líquido insuficiente
- e) Diminuição do turgor da língua

**12. O diagnóstico: Autonegligência caracterizado por higiene pessoal insuficiente relacionado à alteração na função cognitiva e prejuízo funcional, é pertencente ao domínio:**

- a) Percepção/Cognição
- b) Enfrentamento/Tolerância ao estresse
- c) Atividade/Repouso
- d) Segurança/Proteção
- e) Conforto

**13. A característica definidora para o diagnóstico de amamentação interrompida é:**

- a) Doença da mãe
- b) Doença do lactente
- c) Prematuridade
- d) Separação mãe-lactente
- e) Amamentação não exclusiva

**A terapia medicamentosa tornou-se uma das formas mais comuns de intervenção no cuidado ao paciente, utilizada ao longo dos anos na cura de doenças. Cerca de 88% dos pacientes que procuram atendimento à saúde recebem prescrições de medicamentos. A correta administração requer conhecimento pleno dos integrantes da equipe de enfermagem envolvidos no cuidado ao paciente. Tendo em vista o grande número de intervenções às quais o paciente é submetido durante a internação hospitalar, a incidência de uma alta taxa de erros é uma possibilidade, caso não existam medidas que visem sua prevenção, detecção e intervenção. Conhecer e aplicar adequadamente os fundamentos da aritmética e da matemática auxilia o profissional de saúde na prevenção de erros relacionados ao preparo, à dosagem e ou à administração de medicamentos.**

**Com base nesse texto, responda às próximas cinco questões.**

**14. O seguinte plano de soro deve ser infundido a quantas macrogotas/minutos?**

**Plano de soro:**

**SF 0,9% ----- 1000mL**

**NaCl 20% ----- 10 mL                    de 12/12 horas**

**KCl 19,1% ----- 15 mL**

- a) 341
- b) 333
- c) 85
- d) 83
- e) 28

**15. A quantas microgotas/minutos deve ser infundido um soro glicosado 5% de 125 mL, prescrito para ser administrado em 30 minutos?**

- a) 500
- b) 333
- c) 283
- d) 250
- e) 83

**16. Para atender uma prescrição de soro glicosado 10% de 500mL foi necessário transformar um soro glicosado 5% de 500mL com ampolas de glicose 50% de 10mL. Sendo assim, quantos mL serão necessários para atender corretamente a essa prescrição?**

- a) 51
- b) 50
- c) 45
- d) 43
- e) 25

**17. Na transformação de soro fisiológico 0,9% de 500m a 0,45% de 500 mL, serão necessários quantos mL de NaCl 20% apresentado em ampola de 10mL?**

- a) 0
- b) 0,45
- c) 2
- d) 4,5
- e) 45

**18. Foi prescrito amicacina 780mg, E.V., agora, porém, só tem na farmácia amicacina 1g para diluir em 15mL. Sendo assim, quantos mL devem ser administrados para atender corretamente a prescrição?**

- a) 15
- b) 11,7
- c) 7,8
- d) 7,2
- e) 2

**19. Infecção do trato urinário (ITU) é mais frequente no sexo feminino. Pode ser complicada, quando se associa a condição subjacente, que eleva o risco de falha terapêutica e, conseqüentemente, o tempo de tratamento necessário. A respeito da patogênese, é correto afirmar:**

- a) A infecção que ocorre no momento da inserção do cateter; pelo fluido que ocupa o espaço entre o cateter e o epitélio uretral, é denominada intralumial.
- b) A infecção que ocorre durante a quebra do sistema fechado, pela contaminação da bolsa de drenagem, é denominada intralumial.
- c) A infecção que ocorre durante a manipulação do material, contaminando-o, denomina-se infecção iatrogênica.
- d) A infecção que ocorre por longa permanência da sonda vesical de demora no paciente, proporcionando colonização da bexiga, é denominada infecção descendente.
- e) A infecção ocorre no momento do preparo do profissional e dos materiais, ao não higienizar as mãos corretamente e nem realizar assepsia adequada, sendo denominada infecção extralumial.

**20. A bactéria causadora de 80 a 90% da ITU não complicada é:**

- a) Escherichia coli
- b) Staphylococcus saprophyticus
- c) Proteus
- d) Enterobacter

e) Klebsiela

## LÍNGUA PORTUGUESA

Texto para as próximas cinco questões:

### “O cego Estrelinho” Mia Couto

O cego Estrelinho era pessoa de nenhuma vez: sua história poderia ser contada e descontada não fosse seu guia, Gigitto Efraim. A mão de Gigitto conduziu o desvistado por tempos e idades. Aquela mão era repartidamente comum, extensão de um no outro, siamense. E assim era quase de nascença. Memória de Estrelinho tinha cinco dedos e eram os de Gigitto postos, em aperto, na sua própria mão.

O cego, curioso, queria saber de tudo. Ele não fazia cerimônia no viver. O sempre lhe era pouco e o tudo insuficiente. Dizia, deste modo:

— Tenho que viver já, senão esqueço-me.

Gigitto, porém, o que descrevia era o que não havia. O mundo que ele minuciava eram fantasias e rendilhados. A imaginação do guia era mais profícua que papaeira. O cego enchia a boca de águas:

— Que maravilha esse mundo. Me conte tudo, Gigitto!

A mão do guia era, afinal, o manuscrito da mentira. Gigitto Efraim estava como nunca esteve S. Tomé: via para não crer. O condutor falava pela ponta dos dedos. Desfolhava o universo, aberto em folhas. A ideiação dele era tal que mesmo o cego, por vezes, acreditava ver. O outro lhe encorajava esses breves enganar:

— Desbengale-se, você está escolhendo a boa procedência!

Mentira: Estrelinho continuava sem ver uma palmeira à frente do nariz. Contudo, o cego não se conformava em suas escuras. Ele cumpria o ditado: não tinha perna e queria dar o pontapé. Só à noite, ele desalentava, sofrendo medos mais antigos que a humanidade. Entendia aquilo que, na raça humana, é menos primitivo: o animal.

— Na noite aflige não haver luz?

— Aflição é ter um pássaro branco esvoando dentro do sono.

Pássaro branco? No sono? Lugar de ave é nas alturas. Dizem até que Deus fez o céu para justificar os pássaros. Estrelinho disfarçava o medo dos vaticínios, subterfugindo:

— E agora, Gigitto? Agora, olhando assim para cima, estou face ao céu?

Que podia o outro responder? O céu do cego fica em toda a parte. Estrelinho perdia o pé era quando a noite chegava e seu mestre adormecia. Era como se um novo escuro nele se estreasse em nó cego. Devagaroso e sorrateiro ele aninhava sua mão na mão do guia. Só assim adormecia. A razão da concha é a timidez da amêijoia? Na manhã seguinte, o cego lhe confessava: se você morrer, tenho que morrer logo no imediato. Senão-me: como acerto o caminho para o céu?

Foi no mês de dezembro que levaram Gigitto. Lhe tiraram do mundo para pôr na guerra: obrigavam os serviços militares. O cego reclamou: que o moço inatingia a idade. E que o serviço que ele a si prestava era vital e vitalício. O guia chamou Estrelinho à parte e lhe tranquilizou:

— Não vai ficar sozinhandando por aí. Minha mana já mandei para ficar no meu lugar.

O cego estendeu o braço a querer tocar uma despedida. Mas o outro já não estava lá. Ou estava e se desviara, propositado? E sem água ida nem vinda, Estrelinho escutou o amigo se afastar, engolido, esponjoso, invisível. Pela primeira vez, Estrelinho se sentiu invalidado.

— Agora, só agora, sou cego que não vê.

(...)

**COUTO, Mia. Estórias abensonhadas. Rio de Janeiro: Nova Fronteira, 1996. (Pág 23 e 24).**

**21. Quanto à interpretação do fragmento do conto, podemos afirmar que:**

- Gigitto Efraim era o guia de Estrelinho há pouquíssimo tempo.
- Estrelinho era cego de nascença.
- Gigitto descrevia o mundo para Estrelinho de forma denotativa.
- Gigitto foi convocado pelo exército para ser guia de cegos na guerra.
- Gigitto descrevia o mundo para Estrelinho de forma conotativa.

**22. No período “O sempre lhe era pouco e o tudo insuficiente”, o pronome “LHE” exerce a função sintática de:**

- Objeto Direto
- Objeto Indireto
- Complemento Nominal
- Adjunto Adnominal
- Objeto Direto Preposicionado

**23. Na oração “A mão de Gigitto conduziu o desvistado por tempos e idades”, o autor faz uso de um neologismo, assim como no decorrer de toda a obra em questão. Contudo, o neologismo só se torna possível pela utilização dos elementos mórficos naquilo que a gramática normativa pontua como Processo**

**de Formação das Palavras. Levando em consideração apenas o recurso morfológico, qual Processo de Formação foi utilizado?**

- a) Derivação Sufixal
- b) Derivação Prefixal
- c) Derivação Regressiva
- d) Derivação Imprópria
- e) Derivação Parassintética

**24. No terceiro período do décimo terceiro parágrafo, temos:**

- a) Uma oração
- b) Duas orações
- c) Três orações
- d) Quatro orações
- e) Cinco orações

**25. No último parágrafo do fragmento do conto “— Agora, só agora, sou cego que não vê”, a oração subordinada presente classifica-se corretamente como:**

- a) Oração Subordinada Adjetiva Restritiva
- b) Oração Subordinada Adverbial Causal
- c) Oração Subordinada Substantiva Subjetiva
- d) Oração Subordinada Adverbial Explicativa
- e) Oração Subordinada Adjetiva Explicativa

### **RACIOCÍNIO LÓGICO**

**26. Os cinco filhos de Ana estavam discutindo a respeito da data de nascimento da mãe:**

- Almir disse que foi em janeiro, dia 14, sexta-feira.
- Vanderlei disse que foi em janeiro, dia 14, sábado.
- Tiago disse que foi em fevereiro, dia 15, sábado.
- Sandro disse que foi em janeiro, dia 15, sexta-feira.
- Renato disse que foi em fevereiro, dia 15, sexta-feira.

**Sabe-se que somente um dos filhos de Ana acertou corretamente sua data de nascimento e que os outros acertaram pelo menos um dos itens (dia, dia da semana e mês). Dessa forma, é correto afirmar que o filho de Ana que acertou a data de nascimento dela foi:**

- a) Renato
- b) Sandro
- c) Tiago
- d) Vanderlei
- e) Almir

**27. Considere a seguinte afirmativa: “Todo churrasqueiro gosta de picanha”. Em relação a essa proposição, é correto afirmar que:**

- a) Algum churrasqueiro não gosta de picanha.
- b) Toda pessoa que gosta de picanha é churrasqueira.
- c) Alguma pessoa que não gosta de picanha é churrasqueira.
- d) Toda pessoa que não é churrasqueira, não gosta de picanha.
- e) Toda pessoa que não gosta de picanha, não é churrasqueira.

**28. Em um grupo formado por 67 pessoas, verificou-se que 41 pessoas gostam de arroz, 29 gostam de feijão, 33 gostam de carne, 19 gostam de arroz e de feijão, 9 gostam apenas de arroz e de carne, 12 gostam de feijão e de carne e que 6 gostam de arroz, de feijão e de carne. O número de pessoas desse grupo, que não gosta de nenhum desses três tipos de alimentos é igual a:**

- a) 4
- b) 5
- c) 6
- d) 8
- e) 10

**29. Bruno escreveu, em seu caderno, várias sequências formadas por números múltiplos de 4, onde os valores que ocupavam as posições pares eram multiplicados por  $-1$ . Cada sequência foi somada e o resultado da soma anotado. A soma das três primeiras sequências escritas por Bruno foram as seguintes:**

$$4 - 8 = -4$$
$$4 - 8 + 12 = 8$$
$$4 - 8 + 12 - 16 = -8$$

**Considere que Bruno escreveu e somou tais sequências, em seu caderno, de modo a obter determinada sequência cuja soma foi 600. O número de termos dessa sequência é igual a:**

- a) 149
- b) 150
- c) 298
- d) 299
- e) 300

**30. Quatro torcedores, um do São Paulo, um do Cruzeiro, um do Vasco e um do Bahia, estão sentados ao redor de uma mesa quadrada, de modo que, dois a dois, fiquem frente a frente. Sabe-se que Alan é torcedor do Cruzeiro e que Bruno está sentado à direita de Alan. Sabe-se também que Caio está sentado à direita do torcedor do São Paulo. Sabe-se ainda que Daniel não é torcedor do Vasco e que está sentado à frente de Bruno. Dessa forma, é correto afirmar que:**

- a) Bruno é torcedor do Bahia e Daniel é torcedor do São Paulo.
- b) Bruno é torcedor do São Paulo e Daniel é torcedor do Bahia.
- c) Caio é torcedor do Vasco e Daniel é torcedor do São Paulo.
- d) Caio é torcedor do Bahia e Daniel é torcedor do São Paulo.
- e) Bruno é torcedor do Vasco e Daniel é torcedor do Bahia.

### INFORMÁTICA

**31. Considerando o MS-Excel versão 2010, observando a figura abaixo, é correto afirmar que:**

	A	B	C
1			
2			
3			
4			

- a) Somente 03 três linhas estão selecionadas.
- b) Somente uma célula está selecionada.
- c) 12 (doze) células estão selecionadas.
- d) Somente a coluna A até a linha 4 (quatro) está selecionada.
- e) Somente as colunas 1 (um), 2 (dois), 3 (três) e 4 (quatro) estão selecionadas.

**32. Considerando o MS-Excel versão 2010, observando a figura abaixo, é incorreto afirmar que:**

	A	B	C
1	12	6	=A1*B1
2	8	2	=A2/B2
3	5	14	=A3-B3
4	6	11	=A4+B4

- a) O resultado da fórmula =A1\*B1 é 72.
- b) O resultado da fórmula =A2/B2 é 4.
- c) O resultado da fórmula =A3-B3 é -9.
- d) O resultado da fórmula =A3-B3 é 9.
- e) O resultado da fórmula =A4+B4 é 17.

**33. Digitando um texto no MS-Word versão 2010, necessito adicionar número nas páginas. Quanto a isso, é correto afirmar que:**

- a) No menu Layout da Página, clico em número de página e seleciono onde desejo adicionar os números.
- b) No menu Inserir, clico em número de página e seleciono onde desejo adicionar os números.
- c) No menu Revisão, clico em número de página e seleciono onde desejo adicionar os números.
- d) No menu Referências, clico em número de página e seleciono onde desejo adicionar os números.
- e) No menu Exibição, clico em número de página e seleciono onde desejo adicionar os números.

**34. A segurança da informação está diretamente relacionada com proteção de um conjunto de informações, no sentido de preservar o valor que possuem para um indivíduo ou uma organização. Atualmente, um dos aplicativos mais utilizados no mundo, o Whats app, teve uma alteração de confidencialidade muito importante na segurança das informações transmitidas e recebidas. Dentre as alternativas, assinale a que corretamente informa a alteração inserida no aplicativo Whats app.**

- a) Antispam
- b) Antivirus
- c) Firewall
- d) Antispyware

e) Criptografia

**35. São todos os dispositivos que trabalham acoplados ao microcomputador para receber, transmitir, visualizar, ler, gravar ou armazenar dados. São eles que permitem a comunicação do computador com o meio exterior, isto é, com os usuários e outras máquinas.**

**Esse texto descreve corretamente:**

- a) Memória ram
- b) Memória virtual
- c) Software
- d) Periféricos
- e) Hardware

#### CONHECIMENTOS GERAIS

#### 36. Hino do município de Telêmaco Borba/PR

Das virgens matas e campos verdejantes

Servindo-se também o rio Tibagi,

Homens de ideais, espíritos vibrantes.

Constituíram as indústrias aqui.

Estrilho:

Salve! Salve! Telêmaco Borba

Terra querida e de grandes primores,

A nossa homenagem rendamos

À cidade dos trabalhadores.

Pois a cadência de enorme e real progresso

Um município mui grandioso fez nascer,

Marcando assim, verdadeiro sucesso

Faz, então o Paraná engrandecer.

**No que tange ao Hino do município, atribua V (verdadeiro) ou F (falso) às afirmativas e marque a alternativa correta.**

Eloah Martins Quadrado é autora da letra do hino.

Bento Mossurunga compôs a música do hino.

Eloah Martins Quadrado foi nomeada primeira professora da Cidade Nova, atual Telêmaco Borba.

Bento Mossurunga fundou a orquestra Estudantil e Concertos – Orquestra Sinfônica da Universidade, a Sociedade de Cultura Artístico Basílio Itiberê.

a) F, V, V, V.

b) V, F, V, V.

c) V, V, F, V.

d) V, V, F, F.

e) V, V, V, V.

**37. À luz da Lei nº 1883/2012, que dispõe sobre o Estatuto dos Servidores Públicos da Administração Direta, Autárquica e Funcional do Município de Telêmaco Borba/PR, leia as alternativas e marque a correta.**

a) A apresentação para a posse ocorrerá no prazo de até trinta dias, contados do ato de nomeação.

b) A destituição do servidor da função gratificada dar-se-á por solicitação exclusiva dele mesmo.

c) O servidor ocupante exclusivamente de cargo em comissão será contribuinte do regime geral de previdência social.

d) A aprovação em concurso público gera o direito à nomeação, e será feita obedecida à ordem de classificação dos candidatos.

e) O exercício de função gratificada poderá ser de dedicação integral ou parcial, conforme necessidade da administração.

**Conforme a Lei nº 1.881, de 05 de abril de 2012, que dispõe sobre o Plano de Cargos, Carreiras e Vencimentos do quadro geral de servidores da Prefeitura Municipal de Telêmaco Borba/PR, regulamentada pelo Decreto nº 2269/2015, responda às próximas três questões.**

**38. Leia as assertivas e assinala a incorreta.**

a) Do resultado da avaliação de desempenho poderá ser interposto recurso à Comissão de Desenvolvimento Funcional no prazo de quinze dias a contar da publicação no Boletim Oficial do Município.

b) Não será concedida a progressão ou promoção ao servidor que estiver em licença para tratamento de saúde por um período superior a quarenta e cinco dias, no período de avaliação.

c) A alternância dos membros constituintes da Comissão de Desenvolvimento Funcional eleitos pelos servidores verificar-se-á a cada três anos de participação, observados, para substituição de seus participantes, o critério fixado no artigo anterior, não cabendo eleição sucessiva.





- d) Caberá à Comissão de Desenvolvimento Funcional, no caso de divergência de vinte por cento entre a nota do avaliador e a do avaliado, solicitar nova avaliação à chefia.
- e) Nos termos do disposto no art. 17 da Lei n° 1.881, de 05 de abril de 2012, para progredir, é necessário que o servidor satisfaça, dentre outros, o seguinte requisito: estar no efetivo exercício de seu cargo ou em função comissionada na sua área de atuação durante o interstício de dois anos.

**39. Assinale a alternativa que completa respectivamente as lacunas do texto a seguir:**

**A Comissão de Desenvolvimento Funcional será constituída por \_\_\_\_\_ membros, sendo \_\_\_\_\_ designados pelo Prefeito Municipal de Telêmaco Borba e os demais eleitos pelos servidores municipais dentre os estáveis, com a atribuição de coordenar os procedimentos relativos à avaliação periódica de desempenho e outras atribuições.**

- a) três / sete
- b) um / três
- c) sete / três
- d) três / cinco
- e) dois / cinco

**40. A Avaliação de Desempenho será norteadada, dentre outros, pelo seguinte princípio: Amplitude - a avaliação deve incidir sobre todas as áreas de atuação do servidor, que compreendem:**

- 1. a formulação de políticas administrativas e sua aplicação para todos os setores da administração municipal;**
- 2. o desempenho do profissional dentro de suas funções pertinentes;**
- 3. a estrutura do órgão em que exerce a função;**
- 4. os resultados de eficiência dos serviços de cada setor ou órgão da administração municipal;**
- 5. a participação direta do avaliado, durante todo o processo avaliativo.**

**Diante dessa afirmação, somente não está correto o item:**

- a) 1
- b) 2
- c) 3
- d) 4
- e) 5

**RASCUNHO**



PREFEITURA DE TELÊMACO BORBA - ESTADO DO PARANÁ- **EDITAL Nº 001-2016 - CONCURSO PÚBLICO**

**VESPERTINO – 29/05/2016 – NÍVEL SUPERIOR**

**1**

**PROVA OBJETIVA NÚMERO**

**CARGO: TMNS I ENGENHARIA DE SEGURANÇA DO TRABALHO**

**Leia atentamente as INSTRUÇÕES:**

1. Confira seus dados no cartão-resposta: nome, número de inscrição e o curso para o qual se inscreveu.
2. **MARQUE no seu cartão-resposta o número da sua prova** (não será corrigido o cartão-resposta que não tiver marcado o número da prova) e **Assine** seu cartão-resposta.
3. Aguarde a autorização do Fiscal para abrir o caderno de prova. Ao receber a ordem do fiscal, confira o caderno de prova com muita atenção. Nenhuma reclamação sobre o total de questões ou falha de impressão será aceita depois de iniciada a prova.
4. O cartão-resposta não será substituído, salvo se contiver erro de impressão.
5. Preencha toda a área do cartão-resposta correspondente à alternativa de sua escolha, com caneta esferográfica (tinta azul ou preta), sem ultrapassar as bordas. As marcações duplas, ou rasuradas, com corretivo, ou marcadas diferentemente do modelo estabelecido no cartão-resposta poderão ser anuladas.
6. Sua prova tem **40** questões, com **5** alternativas.
7. Cabe apenas ao candidato a interpretação das questões, **o fiscal** não poderá fazer nenhuma interferência.
8. A prova será realizada com duração máxima de **3 (três) horas**, incluído o tempo para a realização da Prova Objetiva de múltipla escolha e o preenchimento do cartão-resposta.
9. O candidato poderá retirar-se do local de realização das provas somente **1 (uma) hora** após o seu início, sem levar o caderno de prova.
10. O candidato poderá levar o caderno de provas, assim como anotação contendo transcrição do seu cartão-resposta, somente **1h30min** (uma hora e trinta minutos) após o início da realização da prova.
11. Ao terminar a prova, o candidato deverá entregar ao fiscal de sala o cartão-resposta preenchido e **ASSINADO**.
12. Os **3 (três)** candidatos, que terminarem a prova por último, deverão permanecer na sala, e só poderão sair juntos após o fechamento do envelope, contendo os cartões-resposta dos candidatos presentes e ausentes, e assinarem no lacre do referido envelope, atestando que este foi devidamente lacrado.
13. Durante todo o tempo em que permanecer no local onde está ocorrendo o concurso, o candidato deverá, manter o celular desligado e sem bateria, só sendo permitido ligar depois de ultrapassar o portão de saída do prédio.
14. Não será permitido ao candidato fumar na sala de provas, bem como nas dependências.
15. Depois de terminar a prova e entregar ao fiscal o cartão-resposta, preenchido e assinado, não será mais permitido ao candidato o uso do banheiro e bebedouro.

**BOA PROVA!**



## LÍNGUA PORTUGUESA

Texto para as próximas cinco questões:

**“O cego Estrelinho”  
Mia Couto**

O cego Estrelinho era pessoa de nenhuma vez: sua história poderia ser contada e descontada não fosse seu guia, Gigito Efraim. A mão de Gigito conduziu o desvistado por tempos e idades. Aquela mão era repartidamente comum, extensão de um no outro, siamensal. E assim era quase de nascença. Memória de Estrelinho tinha cinco dedos e eram os de Gigito postos, em aperto, na sua própria mão.

O cego, curioso, queria saber de tudo. Ele não fazia cerimônia no viver. O sempre lhe era pouco e o tudo insuficiente. Dizia, deste modo:

— Tenho que viver já, senão esqueço-me.

Gigitinho, porém, o que descrevia era o que não havia. O mundo que ele minuciava eram fantasias e rendilhados. A imaginação do guia era mais profícua que papaeira. O cego enchia a boca de águas:

— Que maravilhação esse mundo. Me conte tudo, Gigito!

A mão do guia era, afinal, o manuscrito da mentira. Gigito Efraim estava como nunca esteve S. Tomé: via para não crer. O condutor falava pela ponta dos dedos. Desfolhava o universo, aberto em folhas. A ideação dele era tal que mesmo o cego, por vezes, acreditava ver. O outro lhe encorajava esses breves enganar:

— Desbengale-se, você está escolhendo a boa procedência!

Mentira: Estrelinho continuava sem ver uma palmeira à frente do nariz. Contudo, o cego não se conformava em suas escurezas. Ele cumpria o ditado: não tinha perna e queria dar o pontapé. Só à noite, ele desalentava, sofrendo medos mais antigos que a humanidade. Entendia aquilo que, na raça humana, é menos primitivo: o animal.

— Na noite aflige não haver luz?

— Aflição é ter um pássaro branco esvoando dentro do sono.

Pássaro branco? No sono? Lugar de ave é nas alturas. Dizem até que Deus fez o céu para justificar os pássaros. Estrelinho disfarçava o medo dos vaticínios, subterfugindo:

— E agora, Gigitinho? Agora, olhando assim para cima, estou face ao céu?

Que podia o outro responder? O céu do cego fica em toda a parte. Estrelinho perdia o pé era quando a noite chegava e seu mestre adormecia. Era como se um novo escuro nele se estreasse em nó cego. Devagaroso e sorrateiro ele aninhava sua mão na mão do guia. Só assim adormecia. A razão da concha é a timidez da amêijoia? Na manhã seguinte, o cego lhe confessava: se você morrer, tenho que morrer logo no imediato. Senão-me: como acerto o caminho para o céu?

Foi no mês de dezembro que levaram Gigitinho. Lhe tiraram do mundo para pôr na guerra: obrigavam os serviços militares. O cego reclamou: que o moço inatingia a idade. E que o serviço que ele a si prestava era vital e vitalício. O guia chamou Estrelinho à parte e lhe tranquilizou:

— Não vai ficar sozinhandando por aí. Minha mana já mandei para ficar no meu lugar.

O cego estendeu o braço a querer tocar uma despedida. Mas o outro já não estava lá. Ou estava e se desviara, propositado? E sem água ida nem vinda, Estrelinho escutou o amigo se afastar, engolido, esponginquo, invisível. Pela primeira vez, Estrelinho se sentiu invalidado.

— Agora, só agora, sou cego que não vê.

(...)

**COUTO, Mia. Estórias abensonhadas. Rio de Janeiro: Nova Fronteira, 1996. (Pág 23 e 24).**

**01. Quanto à interpretação do fragmento do conto, podemos afirmar que:**

- Gigito Efraim era o guia de Estrelinho há pouquíssimo tempo.
- Estrelinho era cego de nascença.
- Gigito descrevia o mundo para Estrelinho de forma denotativa.
- Gigito foi convocado pelo exército para ser guia de cegos na guerra.
- Gigito descrevia o mundo para Estrelinho de forma conotativa.

**02. No período “O sempre lhe era pouco e o tudo insuficiente”, o pronome “LHE” exerce a função sintática de:**

- Objeto Direto
- Objeto Indireto
- Complemento Nominal
- Adjunto Adnominal
- Objeto Direto Preposicionado

**03. Na oração “A mão de Gigito conduziu o desvistado por tempos e idades”, o autor faz uso de um neologismo, assim como no decorrer de toda a obra em questão. Contudo, o neologismo só se torna possível pela utilização dos elementos mórficos naquilo que a gramática normativa pontua como Processo de Formação das Palavras. Levando em consideração apenas o recurso morfológico, qual Processo de Formação foi utilizado?**

- Derivação Sufixal

- b) Derivação Prefixal
- c) Derivação Regressiva
- d) Derivação Imprópria
- e) Derivação Parassintética

**04. No terceiro período do décimo terceiro parágrafo, temos:**

- a) Uma oração
- b) Duas orações
- c) Três orações
- d) Quatro orações
- e) Cinco orações

**05. No último parágrafo do fragmento do conto “— Agora, só agora, sou cego que não vê”, a oração subordinada presente classifica-se corretamente como:**

- a) Oração Subordinada Adjetiva Restritiva
- b) Oração Subordinada Adverbial Causal
- c) Oração Subordinada Substantiva Subjetiva
- d) Oração Subordinada Adverbial Explicativa
- e) Oração Subordinada Adjetiva Explicativa

#### **RACIOCÍNIO LÓGICO**

**06. Os cinco filhos de Ana estavam discutindo a respeito da data de nascimento da mãe:**

- Almir disse que foi em janeiro, dia 14, sexta-feira.
- Vanderlei disse que foi em janeiro, dia 14, sábado.
- Tiago disse que foi em fevereiro, dia 15, sábado.
- Sandro disse que foi em janeiro, dia 15, sexta-feira.
- Renato disse que foi em fevereiro, dia 15, sexta-feira.

**Sabe-se que somente um dos filhos de Ana acertou corretamente sua data de nascimento e que os outros acertaram pelo menos um dos itens (dia, dia da semana e mês). Dessa forma, é correto afirmar que o filho de Ana que acertou a data de nascimento dela foi:**

- a) Renato
- b) Sandro
- c) Tiago
- d) Vanderlei
- e) Almir

**07. Considere a seguinte afirmativa: “Todo churrasqueiro gosta de picanha”. Em relação a essa proposição, é correto afirmar que:**

- a) Algum churrasqueiro não gosta de picanha.
- b) Toda pessoa que gosta de picanha é churrasqueira.
- c) Alguma pessoa que não gosta de picanha é churrasqueira.
- d) Toda pessoa que não é churrasqueira, não gosta de picanha.
- e) Toda pessoa que não gosta de picanha, não é churrasqueira.

**08. Em um grupo formado por 67 pessoas, verificou-se que 41 pessoas gostam de arroz, 29 gostam de feijão, 33 gostam de carne, 19 gostam de arroz e de feijão, 9 gostam apenas de arroz e de carne, 12 gostam de feijão e de carne e que 6 gostam de arroz, de feijão e de carne. O número de pessoas desse grupo, que não gosta de nenhum desses três tipos de alimentos é igual a:**

- a) 4
- b) 5
- c) 6
- d) 8
- e) 10

**09. Bruno escreveu, em seu caderno, várias sequências formadas por números múltiplos de 4, onde os valores que ocupavam as posições pares eram multiplicados por  $-1$ . Cada sequência foi somada e o resultado da soma anotado. A soma das três primeiras sequências escritas por Bruno foram as seguintes:**

$$4 - 8 = -4$$

$$4 - 8 + 12 = 8$$

$$4 - 8 + 12 - 16 = -8$$

**Considere que Bruno escreveu e somou tais sequências, em seu caderno, de modo a obter determinada sequência cuja soma foi 600. O número de termos dessa sequência é igual a:**

- a) 149
- b) 150
- c) 298

- d) 299  
e) 300

10. Quatro torcedores, um do São Paulo, um do Cruzeiro, um do Vasco e um do Bahia, estão sentados ao redor de uma mesa quadrada, de modo que, dois a dois, fiquem frente a frente. Sabe-se que Alan é torcedor do Cruzeiro e que Bruno está sentado à direita de Alan. Sabe-se também que Caio está sentado à direita do torcedor do São Paulo. Sabe-se ainda que Daniel não é torcedor do Vasco e que está sentado à frente de Bruno. Dessa forma, é correto afirmar que:

- a) Bruno é torcedor do Bahia e Daniel é torcedor do São Paulo.  
b) Bruno é torcedor do São Paulo e Daniel é torcedor do Bahia.  
c) Caio é torcedor do Vasco e Daniel é torcedor do São Paulo.  
d) Caio é torcedor do Bahia e Daniel é torcedor do São Paulo.  
e) Bruno é torcedor do Vasco e Daniel é torcedor do Bahia.

### INFORMÁTICA

11. Considerando o MS-Excel versão 2010, observando a figura abaixo, é correto afirmar que:

	A	B	C
1			
2			
3			
4			

- a) Somente 03 três linhas estão selecionadas.  
b) Somente uma célula está selecionada.  
c) 12 (doze) células estão selecionadas.  
d) Somente a coluna A até a linha 4 (quatro) está selecionada.  
e) Somente as colunas 1 (um), 2 (dois), 3 (três) e 4 (quatro) estão selecionadas.

12. Considerando o MS-Excel versão 2010, observando a figura abaixo, é incorreto afirmar que:

	A	B	C
1	12	6	=A1*B1
2	8	2	=A2/B2
3	5	14	=A3-B3
4	6	11	=A4+B4

- a) O resultado da fórmula =A1\*B1 é 72.  
b) O resultado da fórmula =A2/B2 é 4.  
c) O resultado da fórmula =A3-B3 é -9.  
d) O resultado da fórmula =A3-B3 é 9.  
e) O resultado da fórmula =A4+B4 é 17.

13. Digitando um texto no MS-Word versão 2010, necessito adicionar número nas páginas. Quanto a isso, é correto afirmar que:

- a) No menu Layout da Página, clico em número de página e seleciono onde desejo adicionar os números.  
b) No menu Inserir, clico em número de página e seleciono onde desejo adicionar os números.  
c) No menu Revisão, clico em número de página e seleciono onde desejo adicionar os números.  
d) No menu Referências, clico em número de página e seleciono onde desejo adicionar os números.  
e) No menu Exibição, clico em número de página e seleciono onde desejo adicionar os números.

14. A segurança da informação está diretamente relacionada com proteção de um conjunto de informações, no sentido de preservar o valor que possuem para um indivíduo ou uma organização. Atualmente, um dos aplicativos mais utilizados no mundo, o Whats app, teve uma alteração de confidencialidade muito importante na segurança das informações transmitidas e recebidas. Dentre as alternativas, assinale a que corretamente informa a alteração inserida no aplicativo Whats app.

- a) Antispam  
b) Antivirus  
c) Firewall  
d) Antispyware  
e) Criptografia



**15. São todos os dispositivos que trabalham acoplados ao microcomputador para receber, transmitir, visualizar, ler, gravar ou armazenarem dados. São eles que permitem a comunicação do computador com o meio exterior, isto é, com os usuários e outras máquinas.**

**Esse texto descreve corretamente:**

- a) Memória ram
- b) Memória virtual
- c) Software
- d) Periféricos
- e) Hardware

#### **CONHECIMENTOS GERAIS**

##### **16. Hino do município de Telêmaco Borba/PR**

Das virgens matas e campos verdejantes

Servindo-se também o rio Tibagi,

Homens de ideais, espíritos vibrantes.

Constituíram as indústrias aqui.

Estrilho:

Salve! Salve! Telêmaco Borba

Terra querida e de grandes primores,

A nossa homenagem rendamos

À cidade dos trabalhadores.

Pois a cadência de enorme e real progresso

Um município mui grandioso fez nascer,

Marcando assim, verdadeiro sucesso

Faz, então o Paraná engrandecer.

**No que tange ao Hino do município, atribua V (verdadeiro) ou F (falso) às afirmativas e marque a alternativa correta.**

Eloah Martins Quadrado é autora da letra do hino.

Bento Mossurunga compôs a música do hino.

Eloah Martins Quadrado foi nomeada primeira professora da Cidade Nova, atual Telêmaco Borba.

Bento Mossurunga fundou a orquestra Estudantil e Concertos – Orquestra Sinfônica da Universidade, a Sociedade de Cultura Artístico Basilio Itiberê.

a) F, V, V, V.

b) V, F, V, V.

c) V, V, F, V.

d) V, V, F, F.

e) V, V, V, V.

##### **17. À luz da Lei nº 1883/2012, que dispões sobre o Estatuto dos Servidores Públicos da Administração Direta, Autárquica e Funcional do Município de Telêmaco Borba/PR, leia as alternativas e marque a correta.**

a) A apresentação para a posse ocorrerá no prazo de até trinta dias, contados do ato de nomeação.

b) A destituição do servidor da função gratificada dar-se-á por solicitação exclusiva dele mesmo.

c) O servidor ocupante exclusivamente de cargo em comissão será contribuinte do regime geral de previdência social.

d) A aprovação em concurso público gera o direito à nomeação, e será feita obedecida à ordem de classificação dos candidatos.

e) O exercício de função gratificada poderá ser de dedicação integral ou parcial, conforme necessidade da administração.

##### **Conforme a Lei nº 1.881, de 05 de abril de 2012, que dispõe sobre o Plano de Cargos, Carreiras e Vencimentos do quadro geral de servidores da Prefeitura Municipal de Telêmaco Borba/PR, regulamentada pelo Decreto nº 2269/2015, responda às próximas três questões.**

##### **18. Leia as assertivas e assinala a incorreta.**

a) Do resultado da avaliação de desempenho poderá ser interposto recurso à Comissão de Desenvolvimento Funcional no prazo de quinze dias a contar da publicação no Boletim Oficial do Município.

b) Não será concedida a progressão ou promoção ao servidor que estiver em licença para tratamento de saúde por um período superior a quarenta e cinco dias, no período de avaliação.

c) A alternância dos membros constituintes da Comissão de Desenvolvimento Funcional eleitos pelos servidores verificar-se-á a cada três anos de participação, observados, para substituição de seus participantes, o critério fixado no artigo anterior, não cabendo eleição sucessiva.

d) Caberá à Comissão de Desenvolvimento Funcional, no caso de divergência de vinte por cento entre a nota do avaliador e a do avaliado, solicitar nova avaliação à chefia.



e) Nos termos do disposto no art. 17 da Lei n° 1.881, de 05 de abril de 2012, para progredir, é necessário que o servidor satisfaça, dentre outros, o seguinte requisito: estar no efetivo exercício de seu cargo ou em função comissionada na sua área de atuação durante o interstício de dois anos.

**19. Assinale a alternativa que completa respectivamente as lacunas do texto a seguir:**

**A Comissão de Desenvolvimento Funcional será constituída por \_\_\_\_\_ membros, sendo \_\_\_\_\_ designados pelo Prefeito Municipal de Telêmaco Borba e os demais eleitos pelos servidores municipais dentre os estáveis, com a atribuição de coordenar os procedimentos relativos à avaliação periódica de desempenho e outras atribuições.**

- a) três / sete
- b) um / três
- c) sete / três
- d) três / cinco
- e) dois / cinco

**20. A Avaliação de Desempenho será norteadada, dentre outros, pelo seguinte princípio: Amplitude - a avaliação deve incidir sobre todas as áreas de atuação do servidor, que compreendem:**

- 1. a formulação de políticas administrativas e sua aplicação para todos os setores da administração municipal;**
- 2. o desempenho do profissional dentro de suas funções pertinentes;**
- 3. a estrutura do órgão em que exerce a função;**
- 4. os resultados de eficiência dos serviços de cada setor ou órgão da administração municipal;**
- 5. a participação direta do avaliado, durante todo o processo avaliativo.**

**Diante dessa afirmação, somente não está correto o item:**

- a) 1
- b) 2
- c) 3
- d) 4
- e) 5

### **CONHECIMENTOS ESPECÍFICOS**

**21. A respeito do uso do EPI, assinale a alternativa correta.**

- a) O uso é obrigatório, sendo de responsabilidade do empregado a compra e conservação do EPI.
- b) O empregador é obrigado a fornecer ao empregado, gratuitamente, EPI adequado ao risco, em perfeito estado de conservação e funcionamento, sem certificado de aprovação.
- c) O empregador é obrigado a fornecer ao empregado, gratuitamente, EPI adequado ao risco, em perfeito estado de conservação e funcionamento, com certificado de aprovação.
- d) A empresa não é obrigada a fornecer ao empregado, gratuitamente, EPI adequado ao risco, em perfeito estado de conservação e funcionamento, com certificado de aprovação.
- e) O uso não é obrigatório, sendo de responsabilidade do empregador a compra e conservação do EPI.

**22. Quanto ao funcionamento da Comissão Interna de Prevenção de Acidentes - CIPA, assinale a alternativa correta.**

- a) As reuniões ordinárias são realizadas fora do expediente normal da empresa.
- b) As atas das reuniões são assinadas pelos presentes sem encaminhamento de cópias para todos os membros.
- c) Reuniões extraordinárias devem ser realizadas apenas quando ocorrer acidente do trabalho grave ou fatal.
- d) A CIPA tem reuniões ordinárias semanais.
- e) A CIPA tem reuniões ordinárias mensais.

**23. Assinale a alternativa que indica o responsável por garantir a elaboração e efetiva implementação do Programa de Controle Médico de Saúde Ocupacional - PCMSO, bem como zelar pela sua eficácia.**

- a) O empregador
- b) O empregado
- c) O médico coordenador
- d) A CIPA
- e) O engenheiro de segurança

**24. Assinale a alternativa que indica a distância máxima para o transporte manual de sacos, de acordo com a Norma Regulamentadora 11.**

- a) 30 metros
- b) 40 metros
- c) 50 metros
- d) 60 metros
- e) 70 metros

**25. Assinale a alternativa que indica um requisito mínimo de conforto para os assentos utilizados nos postos de trabalho.**

- a) Altura ajustável apenas à natureza da função exercida, independente da estatura do trabalhador.
- b) Borda frontal arredondada.
- c) Base do assento com característica altamente conformável.
- d) Encosto inclinado a 60°.
- e) Encosto com inclinação ajustável entre 45° e 60°.

**26. O Certificado de Aprovação de Instalações - CAI deve ser**

- a) emitido pelo órgão regional do MTE, após a emissão do alvará de funcionamento.
- b) solicitado para o órgão regional do MEC, após a realização da inspeção prévia.
- c) emitido pela prefeitura, após a emissão do alvará de funcionamento.
- d) emitido pelo órgão regional do MTE, após a realização da inspeção prévia.
- e) solicitado para o CREA, após a realização da inspeção prévia.

**27. Assinale a alternativa que indica os EPIs para proteção de membros inferiores.**

- a) Calçado, Meia, Perneira e Calça.
- b) Calçado, Meia, Dedeira e Calça.
- c) Calça, Macacão, Perneira e Luvas.
- d) Calçado, Macacão, Calça e Dedeira.
- e) Calça, Meia, Perneira e Cinturão.

**28. Quanto aos tipos de intoxicação pelo tempo de exposição, assinale a alternativa correta.**

- a) Agudo e Local
- b) Local e Sistêmico
- c) Aguda e Crônica
- d) Curta e Crônica
- e) Oral e Sistêmico

**29. Assinale a alternativa que indica a carga perigosa em transporte com a placa abaixo:**

- a) Gases inflamáveis
- b) Gases não venenosos
- c) Substâncias infectantes
- d) Materiais radioativos
- e) Gases venenosos (tóxicos)

**30. A respeito do dimensionamento dos Serviços Especializados em Engenharia e Segurança e em Medicina do Trabalho – SESMT, assinale a alternativa que indica a quantidade máxima de empregados que os canteiros de obras e as frentes de trabalho possam ter para que não sejam considerados como estabelecimentos, mas como integrantes da empresa de engenharia principal responsável, a quem caberá organizar os SESMT.**

- a) Menos de 10 mil empregados, desde que estejam situados no mesmo estado, território ou Distrito Federal.
- b) Menos de 1 mil empregados, desde que estejam situados no mesmo estado, território ou Distrito Federal.
- c) Até 5 mil empregados, desde que estejam situados dentro de um raio de 10 quilômetros da empresa principal.
- d) Menos de 1 mil empregados, desde que estejam situados dentro de um raio de 10 quilômetros da empresa principal.
- e) Menos de 5 mil empregados, desde que estejam situados dentro de um raio de 1 quilômetros da empresa principal.

**31. Assinale a alternativa que indica os corretos agentes físicos capazes de causar danos à saúde do trabalhador, para a elaboração de um Programa de Prevenção de Riscos Ambientais - PPRA.**

- a) Ruído, vibrações, pressões anormais, temperaturas extremas, radiações ionizantes e não ionizantes, infrassom e ultrassom.
- b) Poeiras, vibrações, pressões anormais, fungos, gases, infrassom e ultrassom.
- c) Ruído, vibrações, pressões anormais, temperaturas extremas, radiações ionizantes e não ionizantes, fumos.



- d) Ruído, vibrações, gases, temperaturas extremas, vírus, infrassom e ultrassom.
- e) Poeiras, gases, pressões anormais, temperaturas extremas, vírus, fumos.

**32. A respeito da organização da CIPA, assinale a alternativa correta.**

- a) Os representantes dos empregados, titulares e suplentes, devem ser eleitos em votação aberta.
- b) Estabelecimentos com no máximo 19 empregados ficam livres de organizar uma CIPA, sendo dispensada dos cumprimentos da Norma Regulamentadora 5.
- c) A CIPA será composta de representantes apenas dos empregados.
- d) Quando o estabelecimento possuir no máximo 19 empregados, a empresa designará um responsável pelo cumprimento dos objetivos da Norma Regulamentadora 5, sendo dispensada a organização de uma CIPA.
- e) O mandato dos membros eleitos da CIPA terá a duração de dois anos, permitida uma reeleição.

**33. Com respeito à proteção ambiental, óleos lubrificantes usados ou contaminados, segundo o CONAMA, devem ser**

- a) destinados à reciclagem por meio do processo de rerrefino.
- b) utilizados para a fabricação de subprodutos, tendo como fim a sua comercialização.
- c) queimados em caldeiras, para geração de vapor.
- d) descartados no sistema de esgoto ou evacuação de águas residuais.
- e) destinados à coleta coletiva.

**34. Assinale a alternativa que indica a quantidade mínima de trabalhadores para que os canteiros de obras, obrigatoriamente, disponham de um ambulatório.**

- a) 10 trabalhadores
- b) 25 trabalhadores
- c) 30 trabalhadores
- d) 45 trabalhadores
- e) 50 ou mais trabalhadores

**35. São medidas de proteção contra incêndio em lugares confinados, exceto:**

- a) Colocar nos locais de acesso placas com a inscrição "Risco de Incêndio" ou "Risco de Explosão".
- b) Utilizar obrigatoriamente lâmpadas e luminárias à prova de explosão.
- c) Instalar sistema de ar-condicionado para resfriar a mistura de gases, vapores inflamáveis ou explosivos do ambiente.
- d) Proibir fumar ou portar cigarros ou semelhantes acesos, ou qualquer outro material que possa produzir faísca ou chama.
- e) Manter colas e solventes em recipientes fechados e seguros.

**36. Para impedir o acesso de pessoas estranhas e curiosos em obras nas indústrias da construção, é obrigatório(a):**

- a) A instalação de câmeras de vigilância.
- b) A colocação de tapumes ou barreiras.
- c) A contratação de guardas armados.
- d) A colocação de placas de sinalização.
- e) O uso de uniformes.

**37. Nas atividades que envolvam leitura de documentos para digitalização, segundo a Norma Regulamentadora 17, deve:**

- a) ser utilizado documento com papel reciclado para ajudar na sustentabilidade ambiental.
- b) ser fornecido suporte adequado para documentos que possa ser ajustado proporcionando boa postura, visualização e operação, evitando movimentação frequente do pescoço e fadiga visual.
- c) ser fornecido fones de ouvido para facilitar a concentração.
- d) ser fornecido óculos de leitura para descanso da vista.
- e) ser utilizado documento de fácil legibilidade sempre que possível, de preferência a utilização de papel brilhante.

**38. A respeito do transporte de materiais perigosos, assinale a alternativa correta.**

- a) Os materiais explosivos pertencem à Classe 9.
- b) Os materiais radioativos pertencem à Classe 6.
- c) Os líquidos inflamáveis pertencem à Classe 2.
- d) Os materiais explosivos pertencem à Classe 1.
- e) Os gases comprimidos, liquefeitos, dissolvidos sob pressão pertencem à Classe 4.

**39. Quanto ao material necessário à prestação dos primeiros socorros no estabelecimento de trabalho, assinale a alternativa correta.**

- a) Deve estar aos cuidados somente de enfermeiros ou médicos contratados.
- b) Deve estar aos cuidados de pessoas treinadas para prestação dos primeiros socorros.



- c) Pode ser usado por qualquer empregado, desde que alguém tenha sofrido um acidente de trabalho.
- d) Deve estar aos cuidados dos membros da CIPA.
- e) É um item obrigatório segundo a Norma Regulamentadora 2.

**40. A respeito da validade do Laudo Técnico das Condições Ambientais de Trabalho – LTCAT, assinale a alternativa correta.**

- a) Deve ser renovado anualmente em conjunto com o PPRA.
- b) Deve ser renovado anualmente ou antes, caso modificações sejam realizadas no ambiente de trabalho.
- c) Não possui tempo de validade, e deve ser renovado somente se modificações forem realizadas no ambiente de trabalho.
- d) Deve ser renovado a cada 6 meses em conjunto com o PPRA.
- e) Deve ser renovado anualmente em conjunto com o PCMSO.

**RASCUNHO**



PREFEITURA DE TELÊMACO BORBA - ESTADO DO PARANÁ- EDITAL Nº 001-2016 - CONCURSO PÚBLICO

VESPERTINO – 29/05/2016 – NÍVEL SUPERIOR

**2**

PROVA OBJETIVA NÚMERO

**CARGO: TMNS I ENGENHARIA DE SEGURANÇA DO TRABALHO**

Leia atentamente as INSTRUÇÕES:

1. Confira seus dados no cartão-resposta: nome, número de inscrição e o curso para o qual se inscreveu.
2. **MARQUE no seu cartão-resposta o número da sua prova** (não será corrigido o cartão-resposta que não tiver marcado o número da prova) e **Assine** seu cartão-resposta.
3. Aguarde a autorização do Fiscal para abrir o caderno de prova. Ao receber a ordem do fiscal, confira o caderno de prova com muita atenção. Nenhuma reclamação sobre o total de questões ou falha de impressão será aceita depois de iniciada a prova.
4. O cartão-resposta não será substituído, salvo se contiver erro de impressão.
5. Preencha toda a área do cartão-resposta correspondente à alternativa de sua escolha, com caneta esferográfica (tinta azul ou preta), sem ultrapassar as bordas. As marcações duplas, ou rasuradas, com corretivo, ou marcadas diferentemente do modelo estabelecido no cartão-resposta poderão ser anuladas.
6. Sua prova tem **40** questões, com **5** alternativas.
7. Cabe apenas ao candidato a interpretação das questões, **o fiscal** não poderá fazer nenhuma interferência.
8. A prova será realizada com duração máxima de **3 (três) horas**, incluído o tempo para a realização da Prova Objetiva de múltipla escolha e o preenchimento do cartão-resposta.
9. O candidato poderá retirar-se do local de realização das provas somente **1 (uma) hora** após o seu início, sem levar o caderno de prova.
10. O candidato poderá levar o caderno de provas, assim como anotação contendo transcrição do seu cartão-resposta, somente **1h30min** (uma hora e trinta minutos) após o início da realização da prova.
11. Ao terminar a prova, o candidato deverá entregar ao fiscal de sala o cartão-resposta preenchido e **ASSINADO**.
12. Os **3 (três)** candidatos, que terminarem a prova por último, deverão permanecer na sala, e só poderão sair juntos após o fechamento do envelope, contendo os cartões-resposta dos candidatos presentes e ausentes, e assinarem no lacre do referido envelope, atestando que este foi devidamente lacrado.
13. Durante todo o tempo em que permanecer no local onde está ocorrendo o concurso, o candidato deverá, manter o celular desligado e sem bateria, só sendo permitido ligar depois de ultrapassar o portão de saída do prédio.
14. Não será permitido ao candidato fumar na sala de provas, bem como nas dependências.
15. Depois de terminar a prova e entregar ao fiscal o cartão-resposta, preenchido e assinado, não será mais permitido ao candidato o uso do banheiro e bebedouro.

**BOA PROVA!**

**RACIOCÍNIO LÓGICO**

**01. Os cinco filhos de Ana estavam discutindo a respeito da data de nascimento da mãe:**

- Almir disse que foi em janeiro, dia 14, sexta-feira.
- Vanderlei disse que foi em janeiro, dia 14, sábado.
- Tiago disse que foi em fevereiro, dia 15, sábado.
- Sandro disse que foi em janeiro, dia 15, sexta-feira.
- Renato disse que foi em fevereiro, dia 15, sexta-feira.

**Sabe-se que somente um dos filhos de Ana acertou corretamente sua data de nascimento e que os outros acertaram pelo menos um dos itens (dia, dia da semana e mês). Dessa forma, é correto afirmar que o filho de Ana que acertou a data de nascimento dela foi:**

- a) Renato
- b) Sandro
- c) Tiago
- d) Vanderlei
- e) Almir

**02. Considere a seguinte afirmativa: “Todo churrasqueiro gosta de picanha”. Em relação a essa proposição, é correto afirmar que:**

- a) Algum churrasqueiro não gosta de picanha.
- b) Toda pessoa que gosta de picanha é churrasqueira.
- c) Alguma pessoa que não gosta de picanha é churrasqueira.
- d) Toda pessoa que não é churrasqueira, não gosta de picanha.
- e) Toda pessoa que não gosta de picanha, não é churrasqueira.

**03. Em um grupo formado por 67 pessoas, verificou-se que 41 pessoas gostam de arroz, 29 gostam de feijão, 33 gostam de carne, 19 gostam de arroz e de feijão, 9 gostam apenas de arroz e de carne, 12 gostam de feijão e de carne e que 6 gostam de arroz, de feijão e de carne. O número de pessoas desse grupo, que não gosta de nenhum desses três tipos de alimentos é igual a:**

- a) 4
- b) 5
- c) 6
- d) 8
- e) 10

**04. Bruno escreveu, em seu caderno, várias sequências formadas por números múltiplos de 4, onde os valores que ocupavam as posições pares eram multiplicados por  $-1$ . Cada sequência foi somada e o resultado da soma anotado. A soma das três primeiras sequências escritas por Bruno foram as seguintes:**

$$4 - 8 = -4$$

$$4 - 8 + 12 = 8$$

$$4 - 8 + 12 - 16 = -8$$

**Considere que Bruno escreveu e somou tais sequências, em seu caderno, de modo a obter determinada sequência cuja soma foi 600. O número de termos dessa sequência é igual a:**

- a) 149
- b) 150
- c) 298
- d) 299
- e) 300

**05. Quatro torcedores, um do São Paulo, um do Cruzeiro, um do Vasco e um do Bahia, estão sentados ao redor de uma mesa quadrada, de modo que, dois a dois, fiquem frente a frente. Sabe-se que Alan é torcedor do Cruzeiro e que Bruno está sentado à direita de Alan. Sabe-se também que Caio está sentado à direita do torcedor do São Paulo. Sabe-se ainda que Daniel não é torcedor do Vasco e que está sentado à frente de Bruno. Dessa forma, é correto afirmar que:**

- a) Bruno é torcedor do Bahia e Daniel é torcedor do São Paulo.
- b) Bruno é torcedor do São Paulo e Daniel é torcedor do Bahia.
- c) Caio é torcedor do Vasco e Daniel é torcedor do São Paulo.
- d) Caio é torcedor do Bahia e Daniel é torcedor do São Paulo.
- e) Bruno é torcedor do Vasco e Daniel é torcedor do Bahia.



**INFORMÁTICA**

06. Considerando o MS-Excel versão 2010, observando a figura abaixo, é correto afirmar que:

	A	B	C
1			
2			
3			
4			

- Somente 03 três linhas estão selecionadas.
- Somente uma célula está selecionada.
- 12 (doze) células estão selecionadas.
- Somente a coluna A até a linha 4 (quatro) está selecionada.
- Somente as colunas 1 (um), 2 (dois), 3 (três) e 4 (quatro) estão selecionadas.

07. Considerando o MS-Excel versão 2010, observando a figura abaixo, é incorreto afirmar que:

	A	B	C
1	12	6	=A1*B1
2	8	2	=A2/B2
3	5	14	=A3-B3
4	6	11	=A4+B4

- O resultado da fórmula =A1\*B1 é 72.
- O resultado da fórmula =A2/B2 é 4.
- O resultado da fórmula =A3-B3 é -9.
- O resultado da fórmula =A3-B3 é 9.
- O resultado da fórmula =A4+B4 é 17.

08. Digitando um texto no MS-Word versão 2010, necessito adicionar número nas páginas. Quanto a isso, é correto afirmar que:

- No menu Layout da Página, clico em número de página e seleciono onde desejo adicionar os números.
- No menu Inserir, clico em número de página e seleciono onde desejo adicionar os números.
- No menu Revisão, clico em número de página e seleciono onde desejo adicionar os números.
- No menu Referências, clico em número de página e seleciono onde desejo adicionar os números.
- No menu Exibição, clico em número de página e seleciono onde desejo adicionar os números.

09. A segurança da informação está diretamente relacionada com proteção de um conjunto de informações, no sentido de preservar o valor que possuem para um indivíduo ou uma organização. Atualmente, um dos aplicativos mais utilizados no mundo, o Whats app, teve uma alteração de confidencialidade muito importante na segurança das informações transmitidas e recebidas. Dentre as alternativas, assinale a que corretamente informa a alteração inserida no aplicativo Whats app.

- Antispam
- Antivirus
- Firewall
- Antispyware
- Criptografia

10. São todos os dispositivos que trabalham acoplados ao microcomputador para receber, transmitir, visualizar, ler, gravar ou armazenarem dados. São eles que permitem a comunicação do computador com o meio exterior, isto é, com os usuários e outras máquinas.

Esse texto descreve corretamente:

- Memória ram
- Memória virtual
- Software
- Periféricos
- Hardware

**CONHECIMENTOS GERAIS**

11. Hino do município de Telêmaco Borba/PR

Das virgens matas e campos verdejantes  
 Servindo-se também o rio Tibagi,



Homens de ideais, espíritos vibrantes.  
Constituíram as indústrias aqui.

Estrilho:

Salve! Salve! Telêmaco Borba

Terra querida e de grandes primores,

A nossa homenagem rendamos

À cidade dos trabalhadores.

Pois a cadência de enorme e real progresso

Um município mui grandioso fez nascer,

Marcando assim, verdadeiro sucesso

Faz, então o Paraná engrandecer.

**No que tange ao Hino do município, atribua V (verdadeiro) ou F (falso) às afirmativas e marque a alternativa correta.**

( ) Eloah Martins Quadrado é autora da letra do hino.

( ) Bento Mossurunga compôs a música do hino.

( ) Eloah Martins Quadrado foi nomeada primeira professora da Cidade Nova, atual Telêmaco Borba.

( ) Bento Mossurunga fundou a orquestra Estudantil e Concertos – Orquestra Sinfônica da Universidade, a Sociedade de Cultura Artístico Basílio Itiberê.

a) F, V, V, V.

b) V, F, V, V.

c) V, V, F, V.

d) V, V, F, F.

e) V, V, V, V.

**12. À luz da Lei nº 1883/2012, que dispões sobre o Estatuto dos Servidores Públicos da Administração Direta, Autárquica e Funcional do Município de Telêmaco Borba/PR, leia as alternativas e marque a correta.**

a) A apresentação para a posse ocorrerá no prazo de até trinta dias, contados do ato de nomeação.

b) A destituição do servidor da função gratificada dar-se-á por solicitação exclusiva dele mesmo.

c) O servidor ocupante exclusivamente de cargo em comissão será contribuinte do regime geral de previdência social.

d) A aprovação em concurso público gera o direito à nomeação, e será feita obedecida à ordem de classificação dos candidatos.

e) O exercício de função gratificada poderá ser de dedicação integral ou parcial, conforme necessidade da administração.

**Conforme a Lei nº 1.881, de 05 de abril de 2012, que dispõe sobre o Plano de Cargos, Carreiras e Vencimentos do quadro geral de servidores da Prefeitura Municipal de Telêmaco Borba/PR, regulamentada pelo Decreto nº 2269/2015, responda às próximas três questões.**

**13. Leia as assertivas e assinala a incorreta.**

a) Do resultado da avaliação de desempenho poderá ser interposto recurso à Comissão de Desenvolvimento Funcional no prazo de quinze dias a contar da publicação no Boletim Oficial do Município.

b) Não será concedida a progressão ou promoção ao servidor que estiver em licença para tratamento de saúde por um período superior a quarenta e cinco dias, no período de avaliação.

c) A alternância dos membros constituintes da Comissão de Desenvolvimento Funcional eleitos pelos servidores verificar-se-á a cada três anos de participação, observados, para substituição de seus participantes, o critério fixado no artigo anterior, não cabendo eleição sucessiva.

d) Caberá à Comissão de Desenvolvimento Funcional, no caso de divergência de vinte por cento entre a nota do avaliador e a do avaliado, solicitar nova avaliação à chefia.

e) Nos termos do disposto no art. 17 da Lei nº 1.881, de 05 de abril de 2012, para progredir, é necessário que o servidor satisfaça, dentre outros, o seguinte requisito: estar no efetivo exercício de seu cargo ou em função comissionada na sua área de atuação durante o interstício de dois anos.

**14. Assinale a alternativa que completa respectivamente as lacunas do texto a seguir:**

**A Comissão de Desenvolvimento Funcional será constituída por \_\_\_\_\_ membros, sendo \_\_\_\_\_ designados pelo Prefeito Municipal de Telêmaco Borba e os demais eleitos pelos servidores municipais dentre os estáveis, com a atribuição de coordenar os procedimentos relativos à avaliação periódica de desempenho e outras atribuições.**

a) três / sete

b) um / três

c) sete / três

d) três / cinco

e) dois / cinco



**15. A Avaliação de Desempenho será norteadada, dentre outros, pelo seguinte princípio: Amplitude - a avaliação deve incidir sobre todas as áreas de atuação do servidor, que compreendem:**

- 1. a formulação de políticas administrativas e sua aplicação para todos os setores da administração municipal;**
- 2. o desempenho do profissional dentro de suas funções pertinentes;**
- 3. a estrutura do órgão em que exerce a função;**
- 4. os resultados de eficiência dos serviços de cada setor ou órgão da administração municipal;**
- 5. a participação direta do avaliado, durante todo o processo avaliativo.**

**Diante dessa afirmação, somente não está correto o item:**

- a) 1
- b) 2
- c) 3
- d) 4
- e) 5

## CONHECIMENTOS ESPECÍFICOS

**16. A respeito do uso do EPI, assinale a alternativa correta.**

- a) O uso é obrigatório, sendo de responsabilidade do empregado a compra e conservação do EPI.
- b) O empregador é obrigado a fornecer ao empregado, gratuitamente, EPI adequado ao risco, em perfeito estado de conservação e funcionamento, sem certificado de aprovação.
- c) O empregador é obrigado a fornecer ao empregado, gratuitamente, EPI adequado ao risco, em perfeito estado de conservação e funcionamento, com certificado de aprovação.
- d) A empresa não é obrigada a fornecer ao empregado, gratuitamente, EPI adequado ao risco, em perfeito estado de conservação e funcionamento, com certificado de aprovação.
- e) O uso não é obrigatório, sendo de responsabilidade do empregador a compra e conservação do EPI.

**17. Quanto ao funcionamento da Comissão Interna de Prevenção de Acidentes - CIPA, assinale a alternativa correta.**

- a) As reuniões ordinárias são realizadas fora do expediente normal da empresa.
- b) As atas das reuniões são assinadas pelos presentes sem encaminhamento de cópias para todos os membros.
- c) Reuniões extraordinárias devem ser realizadas apenas quando ocorrer acidente do trabalho grave ou fatal.
- d) A CIPA tem reuniões ordinárias semanais.
- e) A CIPA tem reuniões ordinárias mensais.

**18. Assinale a alternativa que indica o responsável por garantir a elaboração e efetiva implementação do Programa de Controle Médico de Saúde Ocupacional - PCMSO, bem como zelar pela sua eficácia.**

- a) O empregador
- b) O empregado
- c) O médico coordenador
- d) A CIPA
- e) O engenheiro de segurança

**19. Assinale a alternativa que indica a distância máxima para o transporte manual de sacos, de acordo com a Norma Regulamentadora 11.**

- a) 30 metros
- b) 40 metros
- c) 50 metros
- d) 60 metros
- e) 70 metros

**20. Assinale a alternativa que indica um requisito mínimo de conforto para os assentos utilizados nos postos de trabalho.**

- a) Altura ajustável apenas à natureza da função exercida, independente da estatura do trabalhador.
- b) Borda frontal arredondada.
- c) Base do assento com característica altamente conformável.
- d) Encosto inclinado a 60°.
- e) Encosto com inclinação ajustável entre 45° e 60°.

**21. O Certificado de Aprovação de Instalações - CAI deve ser**

- a) emitido pelo órgão regional do MTE, após a emissão do alvará de funcionamento.
- b) solicitado para o órgão regional do MEC, após a realização da inspeção prévia.
- c) emitido pela prefeitura, após a emissão do alvará de funcionamento.
- d) emitido pelo órgão regional do MTE, após a realização da inspeção prévia.
- e) solicitado para o CREA, após a realização da inspeção prévia.

**22. Assinale a alternativa que indica os EPIs para proteção de membros inferiores.**

- a) Calçado, Meia, Perneira e Calça.
- b) Calçado, Meia, Dedeira e Calça.
- c) Calça, Macacão, Perneira e Luvas.
- d) Calçado, Macacão, Calça e Dedeira.
- e) Calça, Meia, Perneira e Cinturão.

**23. Quanto aos tipos de intoxicação pelo tempo de exposição, assinale a alternativa correta.**

- a) Agudo e Local
- b) Local e Sistêmico
- c) Aguda e Crônica
- d) Curta e Crônica
- e) Oral e Sistêmico

**24. Assinale a alternativa que indica a carga perigosa em transporte com a placa abaixo:**

- a) Gases inflamáveis
- b) Gases não venenosos
- c) Substâncias infectantes
- d) Materiais radioativos
- e) Gases venenosos (tóxicos)

**25. A respeito do dimensionamento dos Serviços Especializados em Engenharia e Segurança e em Medicina do Trabalho – SESMT, assinale a alternativa que indica a quantidade máxima de empregados que os canteiros de obras e as frentes de trabalho possam ter para que não sejam considerados como estabelecimentos, mas como integrantes da empresa de engenharia principal responsável, a quem caberá organizar os SESMT.**

- a) Menos de 10 mil empregados, desde que estejam situados no mesmo estado, território ou Distrito Federal.
- b) Menos de 1 mil empregados, desde que estejam situados no mesmo estado, território ou Distrito Federal.
- c) Até 5 mil empregados, desde que estejam situados dentro de um raio de 10 quilômetros da empresa principal.
- d) Menos de 1 mil empregados, desde que estejam situados dentro de um raio de 10 quilômetros da empresa principal.
- e) Menos de 5 mil empregados, desde que estejam situados dentro de um raio de 1 quilômetro da empresa principal.

**26. Assinale a alternativa que indica os corretos agentes físicos capazes de causar danos à saúde do trabalhador, para a elaboração de um Programa de Prevenção de Riscos Ambientais - PPRA.**

- a) Ruído, vibrações, pressões anormais, temperaturas extremas, radiações ionizantes e não ionizantes, infrassom e ultrassom.
- b) Poeiras, vibrações, pressões anormais, fungos, gases, infrassom e ultrassom.
- c) Ruído, vibrações, pressões anormais, temperaturas extremas, radiações ionizantes e não ionizantes, fumos.
- d) Ruído, vibrações, gases, temperaturas extremas, vírus, infrassom e ultrassom.
- e) Poeiras, gases, pressões anormais, temperaturas extremas, vírus, fumos.

**27. A respeito da organização da CIPA, assinale a alternativa correta.**

- a) Os representantes dos empregados, titulares e suplentes, devem ser eleitos em votação aberta.
- b) Estabelecimentos com no máximo 19 empregados ficam livres de organizar uma CIPA, sendo dispensada dos cumprimentos da Norma Regulamentadora 5.
- c) A CIPA será composta de representantes apenas dos empregados.
- d) Quando o estabelecimento possuir no máximo 19 empregados, a empresa designará um responsável pelo cumprimento dos objetivos da Norma Regulamentadora 5, sendo dispensada a organização de uma CIPA.
- e) O mandato dos membros eleitos da CIPA terá a duração de dois anos, permitida uma reeleição.

**28. Com respeito à proteção ambiental, óleos lubrificantes usados ou contaminados, segundo o CONAMA, devem ser**

- a) destinados à reciclagem por meio do processo de rerrefino.
- b) utilizados para a fabricação de subprodutos, tendo como fim a sua comercialização.
- c) queimados em caldeiras, para geração de vapor.
- d) descartados no sistema de esgoto ou evacuação de águas residuais.
- e) destinados à coleta coletiva.

**29. Assinale a alternativa que indica a quantidade mínima de trabalhadores para que os canteiros de obras, obrigatoriamente, disponham de um ambulatório.**

- a) 10 trabalhadores
- b) 25 trabalhadores
- c) 30 trabalhadores
- d) 45 trabalhadores
- e) 50 ou mais trabalhadores

**30. São medidas de proteção contra incêndio em lugares confinados, exceto:**

- a) Colocar nos locais de acesso placas com a inscrição "Risco de Incêndio" ou "Risco de Explosão".
- b) Utilizar obrigatoriamente lâmpadas e luminárias à prova de explosão.
- c) Instalar sistema de ar-condicionado para resfriar a mistura de gases, vapores inflamáveis ou explosivos do ambiente.
- d) Proibir fumar ou portar cigarros ou semelhantes acesos, ou qualquer outro material que possa produzir faísca ou chama.
- e) Manter colas e solventes em recipientes fechados e seguros.

**31. Para impedir o acesso de pessoas estranhas e curiosos em obras nas indústrias da construção, é obrigatório(a):**

- a) A instalação de câmeras de vigilância.
- b) A colocação de tapumes ou barreiras.
- c) A contratação de guardas armados.
- d) A colocação de placas de sinalização.
- e) O uso de uniformes.

**32. Nas atividades que envolvam leitura de documentos para digitalização, segundo a Norma Regulamentadora 17, deve:**

- a) ser utilizado documento com papel reciclado para ajudar na sustentabilidade ambiental.
- b) ser fornecido suporte adequado para documentos que possa ser ajustado proporcionando boa postura, visualização e operação, evitando movimentação frequente do pescoço e fadiga visual.
- c) ser fornecido fones de ouvido para facilitar a concentração.
- d) ser fornecido óculos de leitura para descanso da vista.
- e) ser utilizado documento de fácil legibilidade sempre que possível, de preferência a utilização de papel brilhante.

**33. A respeito do transporte de materiais perigosos, assinale a alternativa correta.**

- a) Os materiais explosivos pertencem à Classe 9.
- b) Os materiais radioativos pertencem à Classe 6.
- c) Os líquidos inflamáveis pertencem à Classe 2.
- d) Os materiais explosivos pertencem à Classe 1.
- e) Os gases comprimidos, liquefeitos, dissolvidos sob pressão pertencem à Classe 4.

**34. Quanto ao material necessário à prestação dos primeiros socorros no estabelecimento de trabalho, assinale a alternativa correta.**

- a) Deve estar aos cuidados somente de enfermeiros ou médicos contratados.
- b) Deve estar aos cuidados de pessoas treinadas para prestação dos primeiros socorros.
- c) Pode ser usado por qualquer empregado, desde que alguém tenha sofrido um acidente de trabalho.
- d) Deve estar aos cuidados dos membros da CIPA.
- e) É um item obrigatório segundo a Norma Regulamentadora 2.

**35. A respeito da validade do Laudo Técnico das Condições Ambientais de Trabalho – LTCAT, assinale a alternativa correta.**

- a) Deve ser renovado anualmente em conjunto com o PPRA.
- b) Deve ser renovado anualmente ou antes, caso modificações sejam realizadas no ambiente de trabalho.
- c) Não possui tempo de validade, e deve ser renovado somente se modificações forem realizadas no ambiente de trabalho.
- d) Deve ser renovado a cada 6 meses em conjunto com o PPRA.
- e) Deve ser renovado anualmente em conjunto com o PCMSO.

**Texto para as próximas cinco questões:****“O cego Estrelinho”  
Mia Couto**

O cego Estrelinho era pessoa de nenhuma vez: sua história poderia ser contada e descontada não fosse seu guia, Gigito Efraim. A mão de Gigito conduziu o desvistado por tempos e idades. Aquela mão era repartidamente comum, extensão de um no outro, siamensal. E assim era quase de nascença. Memória de Estrelinho tinha cinco dedos e eram os de Gigito postos, em aperto, na sua própria mão.

O cego, curioso, queria saber de tudo. Ele não fazia cerimônia no viver. O sempre lhe era pouco e o tudo insuficiente. Dizia, deste modo:

— Tenho que viver já, senão esqueço-me.

Gigitinho, porém, o que descrevia era o que não havia. O mundo que ele minuciava eram fantasias e rendilhados. A imaginação do guia era mais profícua que papaeira. O cego enchia a boca de águas:

— Que maravilhação esse mundo. Me conte tudo, Gigito!

A mão do guia era, afinal, o manuscrito da mentira. Gigito Efraim estava como nunca esteve S. Tomé: via para não crer. O condutor falava pela ponta dos dedos. Desfolhava o universo, aberto em folhas. A ideiação dele era tal que mesmo o cego, por vezes, acreditava ver. O outro lhe encorajava esses breves enganar:

— Desbengale-se, você está escolhendo a boa procedência!

Mentira: Estrelinho continuava sem ver uma palmeira à frente do nariz. Contudo, o cego não se conformava em suas escurezas. Ele cumpria o ditado: não tinha perna e queria dar o pontapé. Só à noite, ele desalentava, sofrendo medos mais antigos que a humanidade. Entendia aquilo que, na raça humana, é menos primitivo: o animal.

— Na noite aflige não haver luz?

— Aflição é ter um pássaro branco esvoando dentro do sono.

Pássaro branco? No sono? Lugar de ave é nas alturas. Dizem até que Deus fez o céu para justificar os pássaros. Estrelinho disfarçava o medo dos vaticínios, subterfugindo:

— E agora, Gigitinho? Agora, olhando assim para cima, estou face ao céu?

Que podia o outro responder? O céu do cego fica em toda a parte. Estrelinho perdia o pé era quando a noite chegava e seu mestre adormecia. Era como se um novo escuro nele se estreasse em nó cego. Devagaroso e sorrateiro ele aninhava sua mão na mão do guia. Só assim adormecia. A razão da concha é a timidez da amêijoa? Na manhã seguinte, o cego lhe confessava: se você morrer, tenho que morrer logo no imediato. Senão-me: como acerto o caminho para o céu?

Foi no mês de dezembro que levaram Gigitinho. Lhe tiraram do mundo para pôr na guerra: obrigavam os serviços militares. O cego reclamou: que o moço inatingia a idade. E que o serviço que ele a si prestava era vital e vitalício. O guia chamou Estrelinho à parte e lhe tranquilizou:

— Não vai ficar sozinhandando por aí. Minha mana já mandei para ficar no meu lugar.

O cego estendeu o braço a querer tocar uma despedida. Mas o outro já não estava lá. Ou estava e se desviara, propositado? E sem água ida nem vinda, Estrelinho escutou o amigo se afastar, engolido, esponginquo, invisível. Pela primeira vez, Estrelinho se sentiu invalidado.

— Agora, só agora, sou cego que não vê.

(...)

**COUTO, Mia. Estórias abensonhadas. Rio de Janeiro: Nova Fronteira, 1996. (Pág 23 e 24).**

**36. Quanto à interpretação do fragmento do conto, podemos afirmar que:**

- Gigito Efraim era o guia de Estrelinho há pouquíssimo tempo.
- Estrelinho era cego de nascença.
- Gigito descrevia o mundo para Estrelinho de forma denotativa.
- Gigito foi convocado pelo exército para ser guia de cegos na guerra.
- Gigito descrevia o mundo para Estrelinho de forma conotativa.

**37. No período “O sempre lhe era pouco e o tudo insuficiente”, o pronome “LHE” exerce a função sintática de:**

- Objeto Direto
- Objeto Indireto
- Complemento Nominal
- Adjunto Adnominal
- Objeto Direto Preposicionado

**38. Na oração “A mão de Gigito conduziu o desvistado por tempos e idades”, o autor faz uso de um neologismo, assim como no decorrer de toda a obra em questão. Contudo, o neologismo só se torna possível pela utilização dos elementos mórficos naquilo que a gramática normativa pontua como Processo de Formação das Palavras. Levando em consideração apenas o recurso morfológico, qual Processo de Formação foi utilizado?**

- Derivação Sufixal
- Derivação Prefixal





- c) Derivação Regressiva
- d) Derivação Imprópria
- e) Derivação Parassintética

**39. No terceiro período do décimo terceiro parágrafo, temos:**

- a) Uma oração
- b) Duas orações
- c) Três orações
- d) Quatro orações
- e) Cinco orações

**40. No último parágrafo do fragmento do conto “— Agora, só agora, sou cego que não vê”, a oração subordinada presente classifica-se corretamente como:**

- a) Oração Subordinada Adjetiva Restritiva
- b) Oração Subordinada Adverbial Causal
- c) Oração Subordinada Substantiva Subjetiva
- d) Oração Subordinada Adverbial Explicativa
- e) Oração Subordinada Adjetiva Explicativa

**RASCUNHO**



PREFEITURA DE TELÊMACO BORBA - ESTADO DO PARANÁ- EDITAL Nº 001-2016 - CONCURSO PÚBLICO

VESPERTINO – 29/05/2016 – NÍVEL SUPERIOR

PROVA OBJETIVA NÚMERO

**3**

**CARGO: TMNS I ENGENHARIA DE SEGURANÇA DO TRABALHO**

Leia atentamente as INSTRUÇÕES:

1. Confira seus dados no cartão-resposta: nome, número de inscrição e o curso para o qual se inscreveu.
2. **MARQUE no seu cartão-resposta o número da sua prova** (não será corrigido o cartão-resposta que não tiver marcado o número da prova) e **Assine** seu cartão-resposta.
3. Aguarde a autorização do Fiscal para abrir o caderno de prova. Ao receber a ordem do fiscal, confira o caderno de prova com muita atenção. Nenhuma reclamação sobre o total de questões ou falha de impressão será aceita depois de iniciada a prova.
4. O cartão-resposta não será substituído, salvo se contiver erro de impressão.
5. Preencha toda a área do cartão-resposta correspondente à alternativa de sua escolha, com caneta esferográfica (tinta azul ou preta), sem ultrapassar as bordas. As marcações duplas, ou rasuradas, com corretivo, ou marcadas diferentemente do modelo estabelecido no cartão-resposta poderão ser anuladas.
6. Sua prova tem **40** questões, com **5** alternativas.
7. Cabe apenas ao candidato a interpretação das questões, **o fiscal** não poderá fazer nenhuma interferência.
8. A prova será realizada com duração máxima de **3 (três) horas**, incluído o tempo para a realização da Prova Objetiva de múltipla escolha e o preenchimento do cartão-resposta.
9. O candidato poderá retirar-se do local de realização das provas somente **1 (uma) hora** após o seu início, sem levar o caderno de prova.
10. O candidato poderá levar o caderno de provas, assim como anotação contendo transcrição do seu cartão-resposta, somente **1h30min** (uma hora e trinta minutos) após o início da realização da prova.
11. Ao terminar a prova, o candidato deverá entregar ao fiscal de sala o cartão-resposta preenchido e **ASSINADO**.
12. Os **3 (três)** candidatos, que terminarem a prova por último, deverão permanecer na sala, e só poderão sair juntos após o fechamento do envelope, contendo os cartões-resposta dos candidatos presentes e ausentes, e assinarem no lacre do referido envelope, atestando que este foi devidamente lacrado.
13. Durante todo o tempo em que permanecer no local onde está ocorrendo o concurso, o candidato deverá, manter o celular desligado e sem bateria, só sendo permitido ligar depois de ultrapassar o portão de saída do prédio.
14. Não será permitido ao candidato fumar na sala de provas, bem como nas dependências.
15. Depois de terminar a prova e entregar ao fiscal o cartão-resposta, preenchido e assinado, não será mais permitido ao candidato o uso do banheiro e bebedouro.

**BOA PROVA!**

**CONHECIMENTOS ESPECÍFICOS****01. A respeito do uso do EPI, assinale a alternativa correta.**

- a) O uso é obrigatório, sendo de responsabilidade do empregado a compra e conservação do EPI.
- b) O empregador é obrigado a fornecer ao empregado, gratuitamente, EPI adequado ao risco, em perfeito estado de conservação e funcionamento, sem certificado de aprovação.
- c) O empregador é obrigado a fornecer ao empregado, gratuitamente, EPI adequado ao risco, em perfeito estado de conservação e funcionamento, com certificado de aprovação.
- d) A empresa não é obrigada a fornecer ao empregado, gratuitamente, EPI adequado ao risco, em perfeito estado de conservação e funcionamento, com certificado de aprovação.
- e) O uso não é obrigatório, sendo de responsabilidade do empregador a compra e conservação do EPI.

**02. Quanto ao funcionamento da Comissão Interna de Prevenção de Acidentes - CIPA, assinale a alternativa correta.**

- a) As reuniões ordinárias são realizadas fora do expediente normal da empresa.
- b) As atas das reuniões são assinadas pelos presentes sem encaminhamento de cópias para todos os membros.
- c) Reuniões extraordinárias devem ser realizadas apenas quando ocorrer acidente do trabalho grave ou fatal.
- d) A CIPA tem reuniões ordinárias semanais.
- e) A CIPA tem reuniões ordinárias mensais.

**03. Assinale a alternativa que indica o responsável por garantir a elaboração e efetiva implementação do Programa de Controle Médico de Saúde Ocupacional - PCMSO, bem como zelar pela sua eficácia.**

- a) O empregador
- b) O empregado
- c) O médico coordenador
- d) A CIPA
- e) O engenheiro de segurança

**04. Assinale a alternativa que indica a distância máxima para o transporte manual de sacos, de acordo com a Norma Regulamentadora 11.**

- a) 30 metros
- b) 40 metros
- c) 50 metros
- d) 60 metros
- e) 70 metros

**05. Assinale a alternativa que indica um requisito mínimo de conforto para os assentos utilizados nos postos de trabalho.**

- a) Altura ajustável apenas à natureza da função exercida, independente da estatura do trabalhador.
- b) Borda frontal arredondada.
- c) Base do assento com característica altamente conformável.
- d) Encosto inclinado a 60°.
- e) Encosto com inclinação ajustável entre 45° e 60°.

**06. O Certificado de Aprovação de Instalações - CAI deve ser**

- a) emitido pelo órgão regional do MTE, após a emissão do alvará de funcionamento.
- b) solicitado para o órgão regional do MEC, após a realização da inspeção prévia.
- c) emitido pela prefeitura, após a emissão do alvará de funcionamento.
- d) emitido pelo órgão regional do MTE, após a realização da inspeção prévia.
- e) solicitado para o CREA, após a realização da inspeção prévia.

**07. Assinale a alternativa que indica os EPIs para proteção de membros inferiores.**

- a) Calçado, Meia, Perneira e Calça.
- b) Calçado, Meia, Dedeira e Calça.
- c) Calça, Macacão, Perneira e Luvas.
- d) Calçado, Macacão, Calça e Dedeira.
- e) Calça, Meia, Perneira e Cinturão.

**08. Quanto aos tipos de intoxicação pelo tempo de exposição, assinale a alternativa correta.**

- a) Agudo e Local
- b) Local e Sistêmico
- c) Aguda e Crônica
- d) Curta e Crônica
- e) Oral e Sistêmico

09. Assinale a alternativa que indica a carga perigosa em transporte com a placa abaixo:



- a) Gases inflamáveis
- b) Gases não venenosos
- c) Substâncias infectantes
- d) Materiais radioativos
- e) Gases venenosos (tóxicos)

10. A respeito do dimensionamento dos Serviços Especializados em Engenharia e Segurança e em Medicina do Trabalho – SESMT, assinale a alternativa que indica a quantidade máxima de empregados que os canteiros de obras e as frentes de trabalho possam ter para que não sejam considerados como estabelecimentos, mas como integrantes da empresa de engenharia principal responsável, a quem caberá organizar os SESMT.

- a) Menos de 10 mil empregados, desde que estejam situados no mesmo estado, território ou Distrito Federal.
- b) Menos de 1 mil empregados, desde que estejam situados no mesmo estado, território ou Distrito Federal.
- c) Até 5 mil empregados, desde que estejam situados dentro de um raio de 10 quilômetros da empresa principal.
- d) Menos de 1 mil empregados, desde que estejam situados dentro de um raio de 10 quilômetros da empresa principal.
- e) Menos de 5 mil empregados, desde que estejam situados dentro de um raio de 1 quilômetro da empresa principal.

11. Assinale a alternativa que indica os corretos agentes físicos capazes de causar danos à saúde do trabalhador, para a elaboração de um Programa de Prevenção de Riscos Ambientais - PPRA.

- a) Ruído, vibrações, pressões anormais, temperaturas extremas, radiações ionizantes e não ionizantes, infrassom e ultrassom.
- b) Poeiras, vibrações, pressões anormais, fungos, gases, infrassom e ultrassom.
- c) Ruído, vibrações, pressões anormais, temperaturas extremas, radiações ionizantes e não ionizantes, fumos.
- d) Ruído, vibrações, gases, temperaturas extremas, vírus, infrassom e ultrassom.
- e) Poeiras, gases, pressões anormais, temperaturas extremas, vírus, fumos.

12. A respeito da organização da CIPA, assinale a alternativa correta.

- a) Os representantes dos empregados, titulares e suplentes, devem ser eleitos em votação aberta.
- b) Estabelecimentos com no máximo 19 empregados ficam livres de organizar uma CIPA, sendo dispensada dos cumprimentos da Norma Regulamentadora 5.
- c) A CIPA será composta de representantes apenas dos empregados.
- d) Quando o estabelecimento possuir no máximo 19 empregados, a empresa designará um responsável pelo cumprimento dos objetivos da Norma Regulamentadora 5, sendo dispensada a organização de uma CIPA.
- e) O mandato dos membros eleitos da CIPA terá a duração de dois anos, permitida uma reeleição.

13. Com respeito à proteção ambiental, óleos lubrificantes usados ou contaminados, segundo o CONAMA, devem ser

- a) destinados à reciclagem por meio do processo de rerrefino.
- b) utilizados para a fabricação de subprodutos, tendo como fim a sua comercialização.
- c) queimados em caldeiras, para geração de vapor.
- d) descartados no sistema de esgoto ou evacuação de águas residuais.
- e) destinados à coleta coletiva.

14. Assinale a alternativa que indica a quantidade mínima de trabalhadores para que os canteiros de obras, obrigatoriamente, disponham de um ambulatório.

- a) 10 trabalhadores
- b) 25 trabalhadores
- c) 30 trabalhadores
- d) 45 trabalhadores
- e) 50 ou mais trabalhadores

15. São medidas de proteção contra incêndio em lugares confinados, exceto:

- a) Colocar nos locais de acesso placas com a inscrição "Risco de Incêndio" ou "Risco de Explosão".
- b) Utilizar obrigatoriamente lâmpadas e luminárias à prova de explosão.
- c) Instalar sistema de ar-condicionado para resfriar a mistura de gases, vapores inflamáveis ou explosivos do ambiente.
- d) Proibir fumar ou portar cigarros ou semelhantes acesos, ou qualquer outro material que possa produzir faísca ou chama.
- e) Manter colas e solventes em recipientes fechados e seguros.

**16. Para impedir o acesso de pessoas estranhas e curiosos em obras nas indústrias da construção, é obrigatório(a):**

- a) A instalação de câmeras de vigilância.
- b) A colocação de tapumes ou barreiras.
- c) A contratação de guardas armados.
- d) A colocação de placas de sinalização.
- e) O uso de uniformes.

**17. Nas atividades que envolvam leitura de documentos para digitalização, segundo a Norma Regulamentadora 17, deve:**

- a) ser utilizado documento com papel reciclado para ajudar na sustentabilidade ambiental.
- b) ser fornecido suporte adequado para documentos que possa ser ajustado proporcionando boa postura, visualização e operação, evitando movimentação frequente do pescoço e fadiga visual.
- c) ser fornecido fones de ouvido para facilitar a concentração.
- d) ser fornecido óculos de leitura para descanso da vista.
- e) ser utilizado documento de fácil legibilidade sempre que possível, de preferência a utilização de papel brilhante.

**18. A respeito do transporte de materiais perigosos, assinale a alternativa correta.**

- a) Os materiais explosivos pertencem à Classe 9.
- b) Os materiais radioativos pertencem à Classe 6.
- c) Os líquidos inflamáveis pertencem à Classe 2.
- d) Os materiais explosivos pertencem à Classe 1.
- e) Os gases comprimidos, liquefeitos, dissolvidos sob pressão pertencem à Classe 4.

**19. Quanto ao material necessário à prestação dos primeiros socorros no estabelecimento de trabalho, assinale a alternativa correta.**

- a) Deve estar aos cuidados somente de enfermeiros ou médicos contratados.
- b) Deve estar aos cuidados de pessoas treinadas para prestação dos primeiros socorros.
- c) Pode ser usado por qualquer empregado, desde que alguém tenha sofrido um acidente de trabalho.
- d) Deve estar aos cuidados dos membros da CIPA.
- e) É um item obrigatório segundo a Norma Regulamentadora 2.

**20. A respeito da validade do Laudo Técnico das Condições Ambientais de Trabalho – LTCAT, assinale a alternativa correta.**

- a) Deve ser renovado anualmente em conjunto com o PPRA.
- b) Deve ser renovado anualmente ou antes, caso modificações sejam realizadas no ambiente de trabalho.
- c) Não possui tempo de validade, e deve ser renovado somente se modificações forem realizadas no ambiente de trabalho.
- d) Deve ser renovado a cada 6 meses em conjunto com o PPRA.
- e) Deve ser renovado anualmente em conjunto com o PCMSO.

## LÍNGUA PORTUGUESA

### Texto para as próximas cinco questões:

#### “O cego Estrelinho” Mia Couto

O cego Estrelinho era pessoa de nenhuma vez: sua história poderia ser contada e descontada não fosse seu guia, Gigito Efraim. A mão de Gigito conduziu o desvistado por tempos e idades. Aquela mão era repartidamente comum, extensão de um no outro, siamensal. E assim era quase de nascença. Memória de Estrelinho tinha cinco dedos e eram os de Gigito postos, em aperto, na sua própria mão.

O cego, curioso, queria saber de tudo. Ele não fazia cerimónia no viver. O sempre lhe era pouco e o tudo insuficiente. Dizia, deste modo:

— Tenho que viver já, senão esqueço-me.

Gigitinho, porém, o que descrevia era o que não havia. O mundo que ele minuciava eram fantasias e rendilhados. A imaginação do guia era mais profícua que papaeira. O cego enchia a boca de águas:

— Que maravilhação esse mundo. Me conte tudo, Gigito!

A mão do guia era, afinal, o manuscrito da mentira. Gigito Efraim estava como nunca esteve S. Tomé: via para não crer. O condutor falava pela ponta dos dedos. Desfolhava o universo, aberto em folhas. A ideia dele era tal que mesmo o cego, por vezes, acreditava ver. O outro lhe encorajava esses breves enganos:

— Desbengale-se, você está escolhendo a boa procedência!

Mentira: Estrelinho continuava sem ver uma palmeira à frente do nariz. Contudo, o cego não se conformava em suas escurezas. Ele cumpria o ditado: não tinha perna e queria dar o pontapé. Só à noite, ele desalentava, sofrendo medos mais antigos que a humanidade. Entendia aquilo que, na raça humana, é menos primitivo: o animal.

— Na noite aflige não haver luz?

— Aflição é ter um pássaro branco esvoando dentro do sono.

Pássaro branco? No sono? Lugar de ave é nas alturas. Dizem até que Deus fez o céu para justificar os pássaros. Estrelinho disfarçava o medo dos vaticínios, subterfugindo:

— E agora, Gigitinho? Agora, olhando assim para cima, estou face ao céu?

Que podia o outro responder? O céu do cego fica em toda a parte. Estrelinho perdia o pé era quando a noite chegava e seu mestre adormecia. Era como se um novo escuro nele se estresse em nó cego. Devagaroso e sorrateiro ele aninhava sua mão na mão do guia. Só assim adormecia. A razão da concha é a timidez da amêijoia? Na manhã seguinte, o cego lhe confessava: se você morrer, tenho que morrer logo no imediato. Senão-me: como acerto o caminho para o céu?

Foi no mês de dezembro que levaram Gigitinho. Lhe tiraram do mundo para pôr na guerra: obrigavam os serviços militares. O cego reclamou: que o moço inatingia a idade. E que o serviço que ele a si prestava era vital e vitalício. O guia chamou Estrelinho à parte e lhe tranquilizou:

— Não vai ficar sozinando por aí. Minha mana já mandei para ficar no meu lugar.

O cego estendeu o braço a querer tocar uma despedida. Mas o outro já não estava lá. Ou estava e se desviara, propositado? E sem água ida nem vinda, Estrelinho escutou o amigo se afastar, engolido, esponjínquo, invisível. Pela primeira vez, Estrelinho se sentiu invalidado.

— Agora, só agora, sou cego que não vê.

(...)

**COUTO, Mia. Estórias abensonhadas. Rio de Janeiro: Nova Fronteira, 1996. (Pág 23 e 24).**

**21. Quanto à interpretação do fragmento do conto, podemos afirmar que:**

- Gigito Efraim era o guia de Estrelinho há pouquíssimo tempo.
- Estrelinho era cego de nascença.
- Gigito descrevia o mundo para Estrelinho de forma denotativa.
- Gigito foi convocado pelo exército para ser guia de cegos na guerra.
- Gigito descrevia o mundo para Estrelinho de forma conotativa.

**22. No período “O sempre lhe era pouco e o tudo insuficiente”, o pronome “LHE” exerce a função sintática de:**

- Objeto Direto
- Objeto Indireto
- Complemento Nominal
- Adjunto Adnominal
- Objeto Direto Preposicionado

**23. Na oração “A mão de Gigito conduziu o desvestido por tempos e idades”, o autor faz uso de um neologismo, assim como no decorrer de toda a obra em questão. Contudo, o neologismo só se torna possível pela utilização dos elementos mórficos naquilo que a gramática normativa pontua como Processo de Formação das Palavras. Levando em consideração apenas o recurso morfológico, qual Processo de Formação foi utilizado?**

- Derivação Sufixal
- Derivação Prefixal
- Derivação Regressiva
- Derivação Imprópria
- Derivação Parassintética

**24. No terceiro período do décimo terceiro parágrafo, temos:**

- Uma oração
- Duas orações
- Três orações
- Quatro orações
- Cinco orações

**25. No último parágrafo do fragmento do conto “— Agora, só agora, sou cego que não vê”, a oração subordinada presente classifica-se corretamente como:**

- Oração Subordinada Adjetiva Restritiva



- b) Oração Subordinada Adverbial Causal
- c) Oração Subordinada Substantiva Subjetiva
- d) Oração Subordinada Adverbial Explicativa
- e) Oração Subordinada Adjetiva Explicativa

**RACIOCÍNIO LÓGICO**

26. Os cinco filhos de Ana estavam discutindo a respeito da data de nascimento da mãe:

- Almir disse que foi em janeiro, dia 14, sexta-feira.
- Vanderlei disse que foi em janeiro, dia 14, sábado.
- Tiago disse que foi em fevereiro, dia 15, sábado.
- Sandro disse que foi em janeiro, dia 15, sexta-feira.
- Renato disse que foi em fevereiro, dia 15, sexta-feira.

Sabe-se que somente um dos filhos de Ana acertou corretamente sua data de nascimento e que os outros acertaram pelo menos um dos itens (dia, dia da semana e mês). Dessa forma, é correto afirmar que o filho de Ana que acertou a data de nascimento dela foi:

- a) Renato
- b) Sandro
- c) Tiago
- d) Vanderlei
- e) Almir

27. Considere a seguinte afirmativa: “Todo churrasqueiro gosta de picanha”. Em relação a essa proposição, é correto afirmar que:

- a) Algum churrasqueiro não gosta de picanha.
- b) Toda pessoa que gosta de picanha é churrasqueira.
- c) Alguma pessoa que não gosta de picanha é churrasqueira.
- d) Toda pessoa que não é churrasqueira, não gosta de picanha.
- e) Toda pessoa que não gosta de picanha, não é churrasqueira.

28. Em um grupo formado por 67 pessoas, verificou-se que 41 pessoas gostam de arroz, 29 gostam de feijão, 33 gostam de carne, 19 gostam de arroz e de feijão, 9 gostam apenas de arroz e de carne, 12 gostam de feijão e de carne e que 6 gostam de arroz, de feijão e de carne. O número de pessoas desse grupo, que não gosta de nenhum desses três tipos de alimentos é igual a:

- a) 4
- b) 5
- c) 6
- d) 8
- e) 10

29. Bruno escreveu, em seu caderno, várias sequências formadas por números múltiplos de 4, onde os valores que ocupavam as posições pares eram multiplicados por  $-1$ . Cada sequência foi somada e o resultado da soma anotado. A soma das três primeiras sequências escritas por Bruno foram as seguintes:

$$4 - 8 = -4$$

$$4 - 8 + 12 = 8$$

$$4 - 8 + 12 - 16 = -8$$

Considere que Bruno escreveu e somou tais sequências, em seu caderno, de modo a obter determinada sequência cuja soma foi 600. O número de termos dessa sequência é igual a:

- a) 149
- b) 150
- c) 298
- d) 299
- e) 300

30. Quatro torcedores, um do São Paulo, um do Cruzeiro, um do Vasco e um do Bahia, estão sentados ao redor de uma mesa quadrada, de modo que, dois a dois, fiquem frente a frente. Sabe-se que Alan é torcedor do Cruzeiro e que Bruno está sentado à direita de Alan. Sabe-se também que Caio está sentado à direita do torcedor do São Paulo. Sabe-se ainda que Daniel não é torcedor do Vasco e que está sentado à frente de Bruno. Dessa forma, é correto afirmar que:

- a) Bruno é torcedor do Bahia e Daniel é torcedor do São Paulo.
- b) Bruno é torcedor do São Paulo e Daniel é torcedor do Bahia.
- c) Caio é torcedor do Vasco e Daniel é torcedor do São Paulo.
- d) Caio é torcedor do Bahia e Daniel é torcedor do São Paulo.
- e) Bruno é torcedor do Vasco e Daniel é torcedor do Bahia.

**INFORMÁTICA**

31. Considerando o MS-Excel versão 2010, observando a figura abaixo, é correto afirmar que:

	A	B	C
1			
2			
3			
4			

- Somente 03 três linhas estão selecionadas.
- Somente uma célula está selecionada.
- 12 (doze) células estão selecionadas.
- Somente a coluna A até a linha 4 (quatro) está selecionada.
- Somente as colunas 1 (um), 2 (dois), 3 (três) e 4 (quatro) estão selecionadas.

32. Considerando o MS-Excel versão 2010, observando a figura abaixo, é incorreto afirmar que:

	A	B	C
1	12	6	=A1*B1
2	8	2	=A2/B2
3	5	14	=A3-B3
4	6	11	=A4+B4

- O resultado da fórmula =A1\*B1 é 72.
- O resultado da fórmula =A2/B2 é 4.
- O resultado da fórmula =A3-B3 é -9.
- O resultado da fórmula =A3-B3 é 9.
- O resultado da fórmula =A4+B4 é 17.

33. Digitando um texto no MS-Word versão 2010, necessito adicionar número nas páginas. Quanto a isso, é correto afirmar que:

- No menu Layout da Página, clico em número de página e seleciono onde desejo adicionar os números.
- No menu Inserir, clico em número de página e seleciono onde desejo adicionar os números.
- No menu Revisão, clico em número de página e seleciono onde desejo adicionar os números.
- No menu Referências, clico em número de página e seleciono onde desejo adicionar os números.
- No menu Exibição, clico em número de página e seleciono onde desejo adicionar os números.

34. A segurança da informação está diretamente relacionada com proteção de um conjunto de informações, no sentido de preservar o valor que possuem para um indivíduo ou uma organização. Atualmente, um dos aplicativos mais utilizados no mundo, o Whats app, teve uma alteração de confidencialidade muito importante na segurança das informações transmitidas e recebidas. Dentre as alternativas, assinale a que corretamente informa a alteração inserida no aplicativo Whats app.

- Antispam
- Antivirus
- Firewall
- Antispyware
- Criptografia

35. São todos os dispositivos que trabalham acoplados ao microcomputador para receber, transmitir, visualizar, ler, gravar ou armazenarem dados. São eles que permitem a comunicação do computador com o meio exterior, isto é, com os usuários e outras máquinas.

Esse texto descreve corretamente:

- Memória ram
- Memória virtual
- Software
- Periféricos
- Hardware

#### CONHECIMENTOS GERAIS

36. Hino do município de Telêmaco Borba/PR

Das virgens matas e campos verdejantes  
Servindo-se também o rio Tibagi,



Homens de ideais, espíritos vibrantes.

Constituíram as indústrias aqui.

Estrilho:

Salve! Salve! Telêmaco Borba

Terra querida e de grandes primores,

A nossa homenagem rendamos

À cidade dos trabalhadores.

Pois a cadência de enorme e real progresso

Um município mui grandioso fez nascer,

Marcando assim, verdadeiro sucesso

Faz, então o Paraná engrandecer.

**No que tange ao Hino do município, atribua V (verdadeiro) ou F (falso) às afirmativas e marque a alternativa correta.**

( ) Eloah Martins Quadrado é autora da letra do hino.

( ) Bento Mossurunga compôs a música do hino.

( ) Eloah Martins Quadrado foi nomeada primeira professora da Cidade Nova, atual Telêmaco Borba.

( ) Bento Mossurunga fundou a orquestra Estudantil e Concertos – Orquestra Sinfônica da Universidade, a Sociedade de Cultura Artístico Basílio Itiberê.

a) F, V, V, V.

b) V, F, V, V.

c) V, V, F, V.

d) V, V, F, F.

e) V, V, V, V.

**37. À luz da Lei nº 1883/2012, que dispões sobre o Estatuto dos Servidores Públicos da Administração Direta, Autárquica e Funcional do Município de Telêmaco Borba/PR, leia as alternativas e marque a correta.**

a) A apresentação para a posse ocorrerá no prazo de até trinta dias, contados do ato de nomeação.

b) A destituição do servidor da função gratificada dar-se-á por solicitação exclusiva dele mesmo.

c) O servidor ocupante exclusivamente de cargo em comissão será contribuinte do regime geral de previdência social.

d) A aprovação em concurso público gera o direito à nomeação, e será feita obedecida à ordem de classificação dos candidatos.

e) O exercício de função gratificada poderá ser de dedicação integral ou parcial, conforme necessidade da administração.

**Conforme a Lei nº 1.881, de 05 de abril de 2012, que dispõe sobre o Plano de Cargos, Carreiras e Vencimentos do quadro geral de servidores da Prefeitura Municipal de Telêmaco Borba/PR, regulamentada pelo Decreto nº 2269/2015, responda às próximas três questões.**

**38. Leia as assertivas e assinala a incorreta.**

a) Do resultado da avaliação de desempenho poderá ser interposto recurso à Comissão de Desenvolvimento Funcional no prazo de quinze dias a contar da publicação no Boletim Oficial do Município.

b) Não será concedida a progressão ou promoção ao servidor que estiver em licença para tratamento de saúde por um período superior a quarenta e cinco dias, no período de avaliação.

c) A alternância dos membros constituintes da Comissão de Desenvolvimento Funcional eleitos pelos servidores verificar-se-á a cada três anos de participação, observados, para substituição de seus participantes, o critério fixado no artigo anterior, não cabendo eleição sucessiva.

d) Caberá à Comissão de Desenvolvimento Funcional, no caso de divergência de vinte por cento entre a nota do avaliador e a do avaliado, solicitar nova avaliação à chefia.

e) Nos termos do disposto no art. 17 da Lei nº 1.881, de 05 de abril de 2012, para progredir, é necessário que o servidor satisfaça, dentre outros, o seguinte requisito: estar no efetivo exercício de seu cargo ou em função comissionada na sua área de atuação durante o interstício de dois anos.

**39. Assinale a alternativa que completa respectivamente as lacunas do texto a seguir:**

**A Comissão de Desenvolvimento Funcional será constituída por \_\_\_\_\_ membros, sendo \_\_\_\_\_ designados pelo Prefeito Municipal de Telêmaco Borba e os demais eleitos pelos servidores municipais dentre os estáveis, com a atribuição de coordenar os procedimentos relativos à avaliação periódica de desempenho e outras atribuições.**

a) três / sete

b) um / três

c) sete / três

d) três / cinco

e) dois / cinco



**40. A Avaliação de Desempenho será norteadada, dentre outros, pelo seguinte princípio: Amplitude - a avaliação deve incidir sobre todas as áreas de atuação do servidor, que compreendem:**

- 1. a formulação de políticas administrativas e sua aplicação para todos os setores da administração municipal;**
- 2. o desempenho do profissional dentro de suas funções pertinentes;**
- 3. a estrutura do órgão em que exerce a função;**
- 4. os resultados de eficiência dos serviços de cada setor ou órgão da administração municipal;**
- 5. a participação direta do avaliado, durante todo o processo avaliativo.**

**Diante dessa afirmação, somente não está correto o item:**

- a) 1
- b) 2
- c) 3
- d) 4
- e) 5

**RASCUNHO**



PREFEITURA DE TELÊMACO BORBA - ESTADO DO PARANÁ- EDITAL Nº 001-2016 - CONCURSO PÚBLICO

VESPERTINO – 29/05/2016 – NÍVEL SUPERIOR

1

PROVA OBJETIVA NÚMERO

CARGO: TMNS I - ENGENHARIA DE TRÂNSITO

Leia atentamente as INSTRUÇÕES:

1. Confira seus dados no cartão-resposta: nome, número de inscrição e o curso para o qual se inscreveu.
2. **MARQUE no seu cartão-resposta o número da sua prova** (não será corrigido o cartão-resposta que não tiver marcado o número da prova) e **Assine** seu cartão-resposta.
3. Aguarde a autorização do Fiscal para abrir o caderno de prova. Ao receber a ordem do fiscal, confira o caderno de prova com muita atenção. Nenhuma reclamação sobre o total de questões ou falha de impressão será aceita depois de iniciada a prova.
4. O cartão-resposta não será substituído, salvo se contiver erro de impressão.
5. Preencha toda a área do cartão-resposta correspondente à alternativa de sua escolha, com caneta esferográfica (tinta azul ou preta), sem ultrapassar as bordas. As marcações duplas, ou rasuradas, com corretivo, ou marcadas diferentemente do modelo estabelecido no cartão-resposta poderão ser anuladas.
6. Sua prova tem **40** questões, com **5** alternativas.
7. Cabe apenas ao candidato a interpretação das questões, **o fiscal** não poderá fazer nenhuma interferência.
8. A prova será realizada com duração máxima de **3 (três) horas**, incluído o tempo para a realização da Prova Objetiva de múltipla escolha e o preenchimento do cartão-resposta.
9. O candidato poderá retirar-se do local de realização das provas somente **1 (uma) hora** após o seu início, sem levar o caderno de prova.
10. O candidato poderá levar o caderno de provas, assim como anotação contendo transcrição do seu cartão-resposta, somente **1h30min** (uma hora e trinta minutos) após o início da realização da prova.
11. Ao terminar a prova, o candidato deverá entregar ao fiscal de sala o cartão-resposta preenchido e **ASSINADO**.
12. Os **3 (três)** candidatos, que terminarem a prova por último, deverão permanecer na sala, e só poderão sair juntos após o fechamento do envelope, contendo os cartões-resposta dos candidatos presentes e ausentes, e assinarem no lacre do referido envelope, atestando que este foi devidamente lacrado.
13. Durante todo o tempo em que permanecer no local onde está ocorrendo o concurso, o candidato deverá, manter o celular desligado e sem bateria, só sendo permitido ligar depois de ultrapassar o portão de saída do prédio.
14. Não será permitido ao candidato fumar na sala de provas, bem como nas dependências.
15. Depois de terminar a prova e entregar ao fiscal o cartão-resposta, preenchido e assinado, não será mais permitido ao candidato o uso do banheiro e bebedouro.

**BOA PROVA!**

**LÍNGUA PORTUGUESA****Texto para as próximas cinco questões:****“O cego Estrelinho”  
Mia Couto**

O cego Estrelinho era pessoa de nenhuma vez: sua história poderia ser contada e descontada não fosse seu guia, Gigitto Efraim. A mão de Gigitto conduziu o desvistado por tempos e idades. Aquela mão era repartidamente comum, extensão de um no outro, siamense. E assim era quase de nascença. Memória de Estrelinho tinha cinco dedos e eram os de Gigitto postos, em aperto, na sua própria mão.

O cego, curioso, queria saber de tudo. Ele não fazia cerimônia no viver. O sempre lhe era pouco e o tudo insuficiente. Dizia, deste modo:

— Tenho que viver já, senão esqueço-me.

Gigitto, porém, o que descrevia era o que não havia. O mundo que ele minuciava eram fantasias e rendilhados. A imaginação do guia era mais profícua que papadeira. O cego enchia a boca de águas:

— Que maravilha esse mundo. Me conte tudo, Gigitto!

A mão do guia era, afinal, o manuscrito da mentira. Gigitto Efraim estava como nunca esteve S. Tomé: via para não crer. O condutor falava pela ponta dos dedos. Desfolhava o universo, aberto em folhas. A ideia dele era tal que mesmo o cego, por vezes, acreditava ver. O outro lhe encorajava esses breves enganar:

— Desbengale-se, você está escolhendo a boa procedência!

Mentira: Estrelinho continuava sem ver uma palmeira à frente do nariz. Contudo, o cego não se conformava em suas escuras. Ele cumpria o ditado: não tinha perna e queria dar o pontapé. Só à noite, ele desalentava, sofrendo medos mais antigos que a humanidade. Entendia aquilo que, na raça humana, é menos primitivo: o animal.

— Na noite aflige não haver luz?

— Aflição é ter um pássaro branco esvoando dentro do sono.

Pássaro branco? No sono? Lugar de ave é nas alturas. Dizem até que Deus fez o céu para justificar os pássaros. Estrelinho disfarçava o medo dos vaticínios, subterfugindo:

— E agora, Gigitto? Agora, olhando assim para cima, estou face ao céu?

Que podia o outro responder? O céu do cego fica em toda a parte. Estrelinho perdia o pé era quando a noite chegava e seu mestre adormecia. Era como se um novo escuro nele se estreasse em nó cego. Devagaroso e sorrateiro ele aninhava sua mão na mão do guia. Só assim adormecia. A razão da concha é a timidez da amêijoia? Na manhã seguinte, o cego lhe confessava: se você morrer, tenho que morrer logo no imediato. Senão-me: como acerto o caminho para o céu?

Foi no mês de dezembro que levaram Gigitto. Lhe tiraram do mundo para pôr na guerra: obrigavam os serviços militares. O cego reclamou: que o moço inatingia a idade. E que o serviço que ele a si prestava era vital e vitalício. O guia chamou Estrelinho à parte e lhe tranquilizou:

— Não vai ficar sozinando por aí. Minha mana já mandei para ficar no meu lugar.

O cego estendeu o braço a querer tocar uma despedida. Mas o outro já não estava lá. Ou estava e se desviara, propositado? E sem água ida nem vinda, Estrelinho escutou o amigo se afastar, engolido, esponjoso, invisível. Pela primeira vez, Estrelinho se sentiu invalidado.

— Agora, só agora, sou cego que não vê.

(...)

**COUTO, Mia. Estórias abensonhadas. Rio de Janeiro: Nova Fronteira, 1996. (Pág 23 e 24).**

**01. Quanto à interpretação do fragmento do conto, podemos afirmar que:**

- Gigitto Efraim era o guia de Estrelinho há pouquíssimo tempo.
- Estrelinho era cego de nascença.
- Gigitto descrevia o mundo para Estrelinho de forma denotativa.
- Gigitto foi convocado pelo exército para ser guia de cegos na guerra.
- Gigitto descrevia o mundo para Estrelinho de forma conotativa.

**02. No período “O sempre lhe era pouco e o tudo insuficiente”, o pronome “LHE” exerce a função sintática de:**

- Objeto Direto
- Objeto Indireto
- Complemento Nominal
- Adjunto Adnominal
- Objeto Direto Preposicionado

**03. Na oração “A mão de Gigitto conduziu o desvistado por tempos e idades”, o autor faz uso de um neologismo, assim como no decorrer de toda a obra em questão. Contudo, o neologismo só se torna possível pela utilização dos elementos mórficos naquilo que a gramática normativa pontua como Processo de Formação das Palavras. Levando em consideração apenas o recurso morfológico, qual Processo de Formação foi utilizado?**

- Derivação Sufixal



- b) Derivação Prefixal
- c) Derivação Regressiva
- d) Derivação Imprópria
- e) Derivação Parassintética

**04. No terceiro período do décimo terceiro parágrafo, temos:**

- a) Uma oração
- b) Duas orações
- c) Três orações
- d) Quatro orações
- e) Cinco orações

**05. No último parágrafo do fragmento do conto “— Agora, só agora, sou cego que não vê”, a oração subordinada presente classifica-se corretamente como:**

- a) Oração Subordinada Adjetiva Restritiva
- b) Oração Subordinada Adverbial Causal
- c) Oração Subordinada Substantiva Subjetiva
- d) Oração Subordinada Adverbial Explicativa
- e) Oração Subordinada Adjetiva Explicativa

#### RACIOCÍNIO LÓGICO

**06. Os cinco filhos de Ana estavam discutindo a respeito da data de nascimento da mãe:**

- Almir disse que foi em janeiro, dia 14, sexta-feira.
- Vanderlei disse que foi em janeiro, dia 14, sábado.
- Tiago disse que foi em fevereiro, dia 15, sábado.
- Sandro disse que foi em janeiro, dia 15, sexta-feira.
- Renato disse que foi em fevereiro, dia 15, sexta-feira.

Sabe-se que somente um dos filhos de Ana acertou corretamente sua data de nascimento e que os outros acertaram pelo menos um dos itens (dia, dia da semana e mês). Dessa forma, é correto afirmar que o filho de Ana que acertou a data de nascimento dela foi:

- a) Renato
- b) Sandro
- c) Tiago
- d) Vanderlei
- e) Almir

**07. Considere a seguinte afirmativa: “Todo churrasqueiro gosta de picanha”. Em relação a essa proposição, é correto afirmar que:**

- a) Algum churrasqueiro não gosta de picanha.
- b) Toda pessoa que gosta de picanha é churrasqueira.
- c) Alguma pessoa que não gosta de picanha é churrasqueira.
- d) Toda pessoa que não é churrasqueira, não gosta de picanha.
- e) Toda pessoa que não gosta de picanha, não é churrasqueira.

**08. Em um grupo formado por 67 pessoas, verificou-se que 41 pessoas gostam de arroz, 29 gostam de feijão, 33 gostam de carne, 19 gostam de arroz e de feijão, 9 gostam apenas de arroz e de carne, 12 gostam de feijão e de carne e que 6 gostam de arroz, de feijão e de carne. O número de pessoas desse grupo, que não gosta de nenhum desses três tipos de alimentos é igual a:**

- a) 4
- b) 5
- c) 6
- d) 8
- e) 10

**09. Bruno escreveu, em seu caderno, várias sequências formadas por números múltiplos de 4, onde os valores que ocupavam as posições pares eram multiplicados por  $-1$ . Cada sequência foi somada e o resultado da soma anotado. A soma das três primeiras sequências escritas por Bruno foram as seguintes:**

$$4 - 8 = -4$$
$$4 - 8 + 12 = 8$$
$$4 - 8 + 12 - 16 = -8$$

Considere que Bruno escreveu e somou tais sequências, em seu caderno, de modo a obter determinada sequência cuja soma foi 600. O número de termos dessa sequência é igual a:

- a) 149
- b) 150
- c) 298

- d) 299  
e) 300

10. Quatro torcedores, um do São Paulo, um do Cruzeiro, um do Vasco e um do Bahia, estão sentados ao redor de uma mesa quadrada, de modo que, dois a dois, fiquem frente a frente. Sabe-se que Alan é torcedor do Cruzeiro e que Bruno está sentado à direita de Alan. Sabe-se também que Caio está sentado à direita do torcedor do São Paulo. Sabe-se ainda que Daniel não é torcedor do Vasco e que está sentado à frente de Bruno. Dessa forma, é correto afirmar que:

- a) Bruno é torcedor do Bahia e Daniel é torcedor do São Paulo.  
b) Bruno é torcedor do São Paulo e Daniel é torcedor do Bahia.  
c) Caio é torcedor do Vasco e Daniel é torcedor do São Paulo.  
d) Caio é torcedor do Bahia e Daniel é torcedor do São Paulo.  
e) Bruno é torcedor do Vasco e Daniel é torcedor do Bahia.

### INFORMÁTICA

11. Considerando o MS-Excel versão 2010, observando a figura abaixo, é correto afirmar que:

	A	B	C
1			
2			
3			
4			

- a) Somente 03 três linhas estão selecionadas.  
b) Somente uma célula está selecionada.  
c) 12 (doze) células estão selecionadas.  
d) Somente a coluna A até a linha 4 (quatro) está selecionada.  
e) Somente as colunas 1 (um), 2 (dois), 3 (três) e 4 (quatro) estão selecionadas.

12. Considerando o MS-Excel versão 2010, observando a figura abaixo, é incorreto afirmar que:

	A	B	C
1	12	6	=A1*B1
2	8	2	=A2/B2
3	5	14	=A3-B3
4	6	11	=A4+B4

- a) O resultado da fórmula =A1\*B1 é 72.  
b) O resultado da fórmula =A2/B2 é 4.  
c) O resultado da fórmula =A3-B3 é -9.  
d) O resultado da fórmula =A3-B3 é 9.  
e) O resultado da fórmula =A4+B4 é 17.

13. Digitando um texto no MS-Word versão 2010, necessito adicionar número nas páginas. Quanto a isso, é correto afirmar que:

- a) No menu Layout da Página, clico em número de página e seleciono onde desejo adicionar os números.  
b) No menu Inserir, clico em número de página e seleciono onde desejo adicionar os números.  
c) No menu Revisão, clico em número de página e seleciono onde desejo adicionar os números.  
d) No menu Referências, clico em número de página e seleciono onde desejo adicionar os números.  
e) No menu Exibição, clico em número de página e seleciono onde desejo adicionar os números.

14. A segurança da informação está diretamente relacionada com proteção de um conjunto de informações, no sentido de preservar o valor que possuem para um indivíduo ou uma organização. Atualmente, um dos aplicativos mais utilizados no mundo, o Whats app, teve uma alteração de confidencialidade muito importante na segurança das informações transmitidas e recebidas. Dentre as alternativas, assinale a que corretamente informa a alteração inserida no aplicativo Whats app.

- a) Antispam  
b) Antivirus  
c) Firewall  
d) Antispyware  
e) Criptografia



**15. São todos os dispositivos que trabalham acoplados ao microcomputador para receber, transmitir, visualizar, ler, gravar ou armazenarem dados. São eles que permitem a comunicação do computador com o meio exterior, isto é, com os usuários e outras máquinas.**

**Esse texto descreve corretamente:**

- a) Memória ram
- b) Memória virtual
- c) Software
- d) Periféricos
- e) Hardware

#### **CONHECIMENTOS GERAIS**

##### **16. Hino do município de Telêmaco Borba/PR**

Das virgens matas e campos verdejantes

Servindo-se também o rio Tibagi,

Homens de ideais, espíritos vibrantes.

Constituíram as indústrias aqui.

Estrilho:

Salve! Salve! Telêmaco Borba

Terra querida e de grandes primores,

A nossa homenagem rendamos

À cidade dos trabalhadores.

Pois a cadência de enorme e real progresso

Um município mui grandioso fez nascer,

Marcando assim, verdadeiro sucesso

Faz, então o Paraná engrandecer.

**No que tange ao Hino do município, atribua V (verdadeiro) ou F (falso) às afirmativas e marque a alternativa correta.**

Eloah Martins Quadrado é autora da letra do hino.

Bento Mossurunga compôs a música do hino.

Eloah Martins Quadrado foi nomeada primeira professora da Cidade Nova, atual Telêmaco Borba.

Bento Mossurunga fundou a orquestra Estudantil e Concertos – Orquestra Sinfônica da Universidade, a Sociedade de Cultura Artístico Basilio Itiberê.

a) F, V, V, V.

b) V, F, V, V.

c) V, V, F, V.

d) V, V, F, F.

e) V, V, V, V.

**17. À luz da Lei nº 1883/2012, que dispõe sobre o Estatuto dos Servidores Públicos da Administração Direta, Autárquica e Funcional do Município de Telêmaco Borba/PR, leia as alternativas e marque a correta.**

a) A apresentação para a posse ocorrerá no prazo de até trinta dias, contados do ato de nomeação.

b) A destituição do servidor da função gratificada dar-se-á por solicitação exclusiva dele mesmo.

c) O servidor ocupante exclusivamente de cargo em comissão será contribuinte do regime geral de previdência social.

d) A aprovação em concurso público gera o direito à nomeação, e será feita obedecida à ordem de classificação dos candidatos.

e) O exercício de função gratificada poderá ser de dedicação integral ou parcial, conforme necessidade da administração.

**Conforme a Lei nº 1.881, de 05 de abril de 2012, que dispõe sobre o Plano de Cargos, Carreiras e Vencimentos do quadro geral de servidores da Prefeitura Municipal de Telêmaco Borba/PR, regulamentada pelo Decreto nº 2269/2015, responda às próximas três questões.**

**18. Leia as assertivas e assinala a incorreta.**

a) Do resultado da avaliação de desempenho poderá ser interposto recurso à Comissão de Desenvolvimento Funcional no prazo de quinze dias a contar da publicação no Boletim Oficial do Município.

b) Não será concedida a progressão ou promoção ao servidor que estiver em licença para tratamento de saúde por um período superior a quarenta e cinco dias, no período de avaliação.

c) A alternância dos membros constituintes da Comissão de Desenvolvimento Funcional eleitos pelos servidores verificar-se-á a cada três anos de participação, observados, para substituição de seus participantes, o critério fixado no artigo anterior, não cabendo eleição sucessiva.

d) Caberá à Comissão de Desenvolvimento Funcional, no caso de divergência de vinte por cento entre a nota do avaliador e a do avaliado, solicitar nova avaliação à chefia.



e) Nos termos do disposto no art. 17 da Lei n° 1.881, de 05 de abril de 2012, para progredir, é necessário que o servidor satisfaça, dentre outros, o seguinte requisito: estar no efetivo exercício de seu cargo ou em função comissionada na sua área de atuação durante o interstício de dois anos.

**19. Assinale a alternativa que completa respectivamente as lacunas do texto a seguir:**

**A Comissão de Desenvolvimento Funcional será constituída por \_\_\_\_\_ membros, sendo \_\_\_\_\_ designados pelo Prefeito Municipal de Telêmaco Borba e os demais eleitos pelos servidores municipais dentre os estáveis, com a atribuição de coordenar os procedimentos relativos à avaliação periódica de desempenho e outras atribuições.**

- a) três / sete
- b) um / três
- c) sete / três
- d) três / cinco
- e) dois / cinco

**20. A Avaliação de Desempenho será norteadada, dentre outros, pelo seguinte princípio: Amplitude - a avaliação deve incidir sobre todas as áreas de atuação do servidor, que compreendem:**

- 1. a formulação de políticas administrativas e sua aplicação para todos os setores da administração municipal;**
- 2. o desempenho do profissional dentro de suas funções pertinentes;**
- 3. a estrutura do órgão em que exerce a função;**
- 4. os resultados de eficiência dos serviços de cada setor ou órgão da administração municipal;**
- 5. a participação direta do avaliado, durante todo o processo avaliativo.**

**Diante dessa afirmação, somente não está correto o item:**

- a) 1
- b) 2
- c) 3
- d) 4
- e) 5

#### **CONHECIMENTOS ESPECÍFICOS**

**21. No que diz respeito aos estudos de levantamentos de tráfego, marque a alternativa que apresenta o tipo de nomenclatura adotada para o conjunto composto de dois eixos consecutivos, com duas rodas em cada extremidade, cujos centros estão distantes de mais de 100 cm e menos de 200 cm, e ligados a um dispositivo de suspensão que distribui a carga igualmente entre os eixos (balancim):**

- a) Eixo simples de rodas simples
- b) Eixo simples de rodas duplas
- c) Eixo duplo especial
- d) Eixo tandem duplo
- e) Eixo tandem triplo

**22. Analise os itens a seguir, relacionados aos aspectos ligados às pesquisas de tráfego:**

**(I) as contagens volumétricas visam determinar a quantidade, o sentido e a composição do fluxo de veículos que passam por um ou vários pontos selecionados do sistema viário, numa determinada unidade de tempo;**

**(II) o peso parcial de um veículo é dado pelo o peso máximo que o veículo pode transmitir ao pavimento, constituído da soma da tara mais a lotação;**

**(III) as contagens manuais são realizadas por meio de videoteipes, onde, utiliza-se um procedimento de vídeo para determinar o volume de tráfego.**

**Com base nos itens descritos, é correto afirmar que:**

- a) Somente o item I está correto.
- b) Somente o item II está correto.
- c) Somente o item III está correto.
- d) Somente os itens I e II estão corretos.
- e) Somente os itens I e III estão corretos.

**23. Nos estudos realizados para o levantamento de tráfego, a variável que define o número de veículos por unidade de comprimento da via recebe o nome de:**

- a) Capacidade
- b) Densidade
- c) Lotação
- d) Velocidade de fluxo
- e) Volume médio de tráfego

**24. Quanto às normas de conduta imposta pelo Código de Trânsito Brasileiro (CTB), marque a alternativa que apresenta a velocidade limite a ser adotada para as vias do tipo arterial, onde não existir sinalização regulamentadora:**

- a) 30 km/h
- b) 40 km/h
- c) 50 km/h
- d) 60 km/h
- e) 80 km/h

**25. Dentre os tipos usuais de via, marque a alternativa que apresenta o tipo de via que é caracterizada por acessos especiais com trânsito livre, sem interseções em nível, sem acessibilidade direta aos lotes lindeiros e sem travessia de pedestres em nível:**

- a) Via de trânsito rápido
- b) Via coletora
- c) Via arterial
- d) Via local
- e) Via rural

**26. A estrutura de proteção aos pedestres executada sobre uma via de trânsito motorizado (geralmente uma avenida, via expressa ou rodovia com múltiplas faixas), que visa fornecer condições para separar fisicamente os fluxos de pedestres e veículos, e, eliminar os conflitos entre eles, é definida pelo nome de:**

- a) Viaduto
- b) Passarela
- c) Elevador
- d) Escada
- e) Ponte

**27. De acordo com o Código de Trânsito Brasileiro (CTB), marque a alternativa que apresenta o local destinado à imobilização de veículos por tempo superior ao necessário para embarque e desembarque de passageiros:**

- a) Parada
- b) Calçada
- c) Estacionamento
- d) Passeio público
- e) Operação de carga e descarga

**28. Nos estudos especiais de trânsito voltados para a proteção dos indivíduos, marque a alternativa que apresenta o significado da placa ilustrada a seguir:**



- a) Área escolar
- b) Trânsito de crianças
- c) Trânsito de pedestres
- d) Passagem sinalizada de pedestres
- e) Passagem sinalizada de escolares

**29. Analise os itens a seguir, relacionados à implantação de redes cicloviárias:**

**(I) a circulação de bicicletas deverá ocorrer nos bordos da pista, no mesmo sentido de circulação da via, com preferência sobre os veículos automotores;**

**(II) durante a manobra de mudança de direção, o condutor de veículos motorizados não deverá ceder passagem aos pedestres e ciclistas;**

**(III) Deixar de guardar a distância lateral de 80 centímetros ao ultrapassar uma bicicleta é considerada infração média com penalidade de multa.**

**Com base nos itens descritos, é correto afirmar que:**

- a) Somente o item I está correto.
- b) Somente o item II está correto.
- c) Somente o item III está correto.
- d) Somente os itens I e II estão corretos.
- e) Somente os itens I e III estão corretos.

**30. No que diz respeito a organização e implantação do transporte coletivo em uma determinada cidade, marque a alternativa que apresenta um exemplo de desvantagem associado a este tipo de transporte:**

- a) Facilita a mobilidade do trânsito dentro das cidades.
- b) Constitui uma forma sustentável de substituir o automóvel.
- c) Está sujeito à superlotação, principalmente nos horários de pico.
- d) Seu uso disseminado pode contribuir para a conservação das cidades.
- e) Pode ser uma alternativa para desafogar o trânsito das grandes cidades.

**31. No que concerne aos tipos de sinalizações verticais adotadas no trânsito, marque a alternativa que apresenta o tipo de sinalização que tem por finalidade transmitir aos usuários as condições, proibições, obrigações ou restrições no uso das vias urbanas e rurais, de modo que o seu desrespeito constitui infrações, previstas no Código de Trânsito Brasileiro (CTB):**

- a) Sinalização vertical de advertência
- b) Sinalização vertical de segurança
- c) Sinalização vertical de indicação
- d) Sinalização vertical de direcionamento
- e) Sinalização vertical de regulamentação

**32. Quanto às sinalizações verticais de advertências empregadas no trânsito, com exceção da placa que indica a presença de obras, marque a alternativa que apresenta a cor padrão adotada para o fundo das placas de advertências:**

- a) Vermelho
- b) Amarelo
- c) Marrom
- d) Verde
- e) Azul

**33. Marque a alternativa que apresenta o significado da placa de sinalização a seguir:**



- a) Curva acentuada à esquerda
- b) Curva acentuada à direita
- c) Pista sinuosa à esquerda
- d) Pista sinuosa à direita
- e) Curva em S à direita

**34. Dentre os pictogramas empregados nas placas destinadas aos atrativos turísticos, marque a alternativa que apresenta o pictograma que indica a presença de patrimônio natural:**

- a)
- b)
- c)
- d)
- e)

**35. No que diz respeito às sinalizações verticais de indicação, analise os itens a seguir:**

(I) as placas diagramas indicam antecipadamente ao condutor, através de representação gráfica da situação física existente, os movimentos a serem realizados para alcançar os destinos indicados;

(II) as placas de serviços auxiliares têm a função de educar o usuário da via quanto ao comportamento adequado e seguro no trânsito, através de mensagens que reforçam normas gerais de circulação e conduta;



**(III) as placas educativas indicam ao condutor a existência da polícia rodoviária, de posto de pesagem ou de fiscalização fazendária, e, identificam as suas instalações ou o acesso a elas.**

**Com base nos itens descritos, é correto afirmar que:**

- a) Somente o I está correto.
- b) Somente o II está correto.
- c) Somente o III está correto.
- d) Somente I e III estão corretos.
- e) Somente II e III estão corretos.

**36. Com relação aos padrões de cores empregados nas sinalizações horizontais de trânsito, marque a alternativa que apresenta um exemplo de situação em que a sinalização deve ser feita na cor vermelha:**

- a) Regulamentar faixas de travessias de pedestres
- b) Regulamentar linha de transposição e ultrapassagem
- c) Demarcar obstáculos transversais à pista (lombada)
- d) Demarcar linha de retenção
- e) Demarcar ciclovias ou ciclofaixas

**37. De acordo com as marcas longitudinais empregadas nas sinalizações horizontais de trânsito, marque a alternativa que apresenta o tipo de marca que separa os movimentos veiculares de sentidos opostos e indicam os trechos da via em que a ultrapassagem é permitida ou proibida:**

- a) Linha de bordo
- b) Linha de transbordo
- c) Linha de continuidade
- d) Linhas de divisão de fluxos opostos
- e) Linhas de divisão de fluxos de mesmo sentido

**38. Analise os itens a seguir, relacionados aos dispositivos redutores de velocidade:**

**(I) a lombada é um dispositivo de redução pontual de velocidade;**

**(II) as lombadas eletrônicas são utilizadas para punir os motoristas que ultrapassam a velocidade permitida em uma via;**

**(III) as lombadas eletrônicas possuem um menor custo de implantação e manutenção quando comparadas às lombadas convencionais.**

**Com base nos itens descritos, é correto afirmar que:**

- a) Somente o I está correto.
- b) Somente o II está correto.
- c) Somente o III está correto.
- d) Somente I e II estão corretos.
- e) Somente I e III estão corretos.

**39. Quanto às consequências da implantação da sinalização semafórica num determinado trânsito, marque a alternativa que não apresenta uma justificativa para a sua implantação:**

- a) Redução de atrasos
- b) Aumento da segurança viária
- c) Gastos desnecessários de recursos públicos
- d) Distribuição adequada dos tempos destinados aos veículos
- e) Controle do direito de passagem dos movimentos de veículos e pedestre

**40. Analise os itens a seguir, relacionados aos grupos focais empregados nos estudos de implantação de semáforos:**

**(I) os grupos focais de pedestres são compostos por focos laranja e azul, com os pictogramas respectivos, dispostos nesta ordem, de cima para baixo, na posição vertical;**

**(II) o grupo focal veicular direcional possui três indicações luminosas: vermelho com seta, amarelo com ou sem seta e verde com seta, dispostas nesta ordem, de cima para baixo quando vertical, e da esquerda para a direita quando horizontal;**

**(III) o grupo focal veicular de controle a um acesso específico é constituído somente pelo foco verde com seta.**

**Com base nos itens descritos, é correto afirmar que:**

- a) Somente o I está correto.
- b) Somente o II está correto.
- c) Somente o III está correto.
- d) Somente I e II estão corretos.
- e) Somente I e III estão corretos.



PREFEITURA DE TELÊMACO BORBA - ESTADO DO PARANÁ- EDITAL Nº 001-2016 - CONCURSO PÚBLICO

VESPERTINO – 29/05/2016 – NÍVEL SUPERIOR

2

PROVA OBJETIVA NÚMERO

**CARGO: TMNS I - ENGENHARIA DE TRÂNSITO**

Leia atentamente as INSTRUÇÕES:

1. Confira seus dados no cartão-resposta: nome, número de inscrição e o curso para o qual se inscreveu.
2. **MARQUE no seu cartão-resposta o número da sua prova** (não será corrigido o cartão-resposta que não tiver marcado o número da prova) e **Assine** seu cartão-resposta.
3. Aguarde a autorização do Fiscal para abrir o caderno de prova. Ao receber a ordem do fiscal, confira o caderno de prova com muita atenção. Nenhuma reclamação sobre o total de questões ou falha de impressão será aceita depois de iniciada a prova.
4. O cartão-resposta não será substituído, salvo se contiver erro de impressão.
5. Preencha toda a área do cartão-resposta correspondente à alternativa de sua escolha, com caneta esferográfica (tinta azul ou preta), sem ultrapassar as bordas. As marcações duplas, ou rasuradas, com corretivo, ou marcadas diferentemente do modelo estabelecido no cartão-resposta poderão ser anuladas.
6. Sua prova tem **40** questões, com **5** alternativas.
7. Cabe apenas ao candidato a interpretação das questões, **o fiscal** não poderá fazer nenhuma interferência.
8. A prova será realizada com duração máxima de **3 (três) horas**, incluído o tempo para a realização da Prova Objetiva de múltipla escolha e o preenchimento do cartão-resposta.
9. O candidato poderá retirar-se do local de realização das provas somente **1 (uma) hora** após o seu início, sem levar o caderno de prova.
10. O candidato poderá levar o caderno de provas, assim como anotação contendo transcrição do seu cartão-resposta, somente **1h30min** (uma hora e trinta minutos) após o início da realização da prova.
11. Ao terminar a prova, o candidato deverá entregar ao fiscal de sala o cartão-resposta preenchido e **ASSINADO**.
12. Os **3 (três)** candidatos, que terminarem a prova por último, deverão permanecer na sala, e só poderão sair juntos após o fechamento do envelope, contendo os cartões-resposta dos candidatos presentes e ausentes, e assinarem no lacre do referido envelope, atestando que este foi devidamente lacrado.
13. Durante todo o tempo em que permanecer no local onde está ocorrendo o concurso, o candidato deverá, manter o celular desligado e sem bateria, só sendo permitido ligar depois de ultrapassar o portão de saída do prédio.
14. Não será permitido ao candidato fumar na sala de provas, bem como nas dependências.
15. Depois de terminar a prova e entregar ao fiscal o cartão-resposta, preenchido e assinado, não será mais permitido ao candidato o uso do banheiro e bebedouro.

**BOA PROVA!**

**RACIOCÍNIO LÓGICO**

**01. Os cinco filhos de Ana estavam discutindo a respeito da data de nascimento da mãe:**

- Almir disse que foi em janeiro, dia 14, sexta-feira.
- Vanderlei disse que foi em janeiro, dia 14, sábado.
- Tiago disse que foi em fevereiro, dia 15, sábado.
- Sandro disse que foi em janeiro, dia 15, sexta-feira.
- Renato disse que foi em fevereiro, dia 15, sexta-feira.

**Sabe-se que somente um dos filhos de Ana acertou corretamente sua data de nascimento e que os outros acertaram pelo menos um dos itens (dia, dia da semana e mês). Dessa forma, é correto afirmar que o filho de Ana que acertou a data de nascimento dela foi:**

- a) Renato
- b) Sandro
- c) Tiago
- d) Vanderlei
- e) Almir

**02. Considere a seguinte afirmativa: “Todo churrasqueiro gosta de picanha”. Em relação a essa proposição, é correto afirmar que:**

- a) Algum churrasqueiro não gosta de picanha.
- b) Toda pessoa que gosta de picanha é churrasqueira.
- c) Alguma pessoa que não gosta de picanha é churrasqueira.
- d) Toda pessoa que não é churrasqueira, não gosta de picanha.
- e) Toda pessoa que não gosta de picanha, não é churrasqueira.

**03. Em um grupo formado por 67 pessoas, verificou-se que 41 pessoas gostam de arroz, 29 gostam de feijão, 33 gostam de carne, 19 gostam de arroz e de feijão, 9 gostam apenas de arroz e de carne, 12 gostam de feijão e de carne e que 6 gostam de arroz, de feijão e de carne. O número de pessoas desse grupo, que não gosta de nenhum desses três tipos de alimentos é igual a:**

- a) 4
- b) 5
- c) 6
- d) 8
- e) 10

**04. Bruno escreveu, em seu caderno, várias sequências formadas por números múltiplos de 4, onde os valores que ocupavam as posições pares eram multiplicados por  $-1$ . Cada sequência foi somada e o resultado da soma anotado. A soma das três primeiras sequências escritas por Bruno foram as seguintes:**

$$4 - 8 = -4$$

$$4 - 8 + 12 = 8$$

$$4 - 8 + 12 - 16 = -8$$

**Considere que Bruno escreveu e somou tais sequências, em seu caderno, de modo a obter determinada sequência cuja soma foi 600. O número de termos dessa sequência é igual a:**

- a) 149
- b) 150
- c) 298
- d) 299
- e) 300

**05. Quatro torcedores, um do São Paulo, um do Cruzeiro, um do Vasco e um do Bahia, estão sentados ao redor de uma mesa quadrada, de modo que, dois a dois, fiquem frente a frente. Sabe-se que Alan é torcedor do Cruzeiro e que Bruno está sentado à direita de Alan. Sabe-se também que Caio está sentado à direita do torcedor do São Paulo. Sabe-se ainda que Daniel não é torcedor do Vasco e que está sentado à frente de Bruno. Dessa forma, é correto afirmar que:**

- a) Bruno é torcedor do Bahia e Daniel é torcedor do São Paulo.
- b) Bruno é torcedor do São Paulo e Daniel é torcedor do Bahia.
- c) Caio é torcedor do Vasco e Daniel é torcedor do São Paulo.
- d) Caio é torcedor do Bahia e Daniel é torcedor do São Paulo.
- e) Bruno é torcedor do Vasco e Daniel é torcedor do Bahia.

**INFORMÁTICA**

06. Considerando o MS-Excel versão 2010, observando a figura abaixo, é correto afirmar que:

	A	B	C
1			
2			
3			
4			

- Somente 03 três linhas estão selecionadas.
- Somente uma célula está selecionada.
- 12 (doze) células estão selecionadas.
- Somente a coluna A até a linha 4 (quatro) está selecionada.
- Somente as colunas 1 (um), 2 (dois), 3 (três) e 4 (quatro) estão selecionadas.

07. Considerando o MS-Excel versão 2010, observando a figura abaixo, é incorreto afirmar que:

	A	B	C
1	12	6	=A1*B1
2	8	2	=A2/B2
3	5	14	=A3-B3
4	6	11	=A4+B4

- O resultado da fórmula =A1\*B1 é 72.
- O resultado da fórmula =A2/B2 é 4.
- O resultado da fórmula =A3-B3 é -9.
- O resultado da fórmula =A3-B3 é 9.
- O resultado da fórmula =A4+B4 é 17.

08. Digitando um texto no MS-Word versão 2010, necessito adicionar número nas páginas. Quanto a isso, é correto afirmar que:

- No menu Layout da Página, cliço em número de página e seleciono onde desejo adicionar os números.
- No menu Inserir, cliço em número de página e seleciono onde desejo adicionar os números.
- No menu Revisão, cliço em número de página e seleciono onde desejo adicionar os números.
- No menu Referências, cliço em número de página e seleciono onde desejo adicionar os números.
- No menu Exibição, cliço em número de página e seleciono onde desejo adicionar os números.

09. A segurança da informação está diretamente relacionada com proteção de um conjunto de informações, no sentido de preservar o valor que possuem para um indivíduo ou uma organização. Atualmente, um dos aplicativos mais utilizados no mundo, o Whats app, teve uma alteração de confidencialidade muito importante na segurança das informações transmitidas e recebidas. Dentre as alternativas, assinale a que corretamente informa a alteração inserida no aplicativo Whats app.

- Antispam
- Antivirus
- Firewall
- Antispyware
- Criptografia

10. São todos os dispositivos que trabalham acoplados ao microcomputador para receber, transmitir, visualizar, ler, gravar ou armazenarem dados. São eles que permitem a comunicação do computador com o meio exterior, isto é, com os usuários e outras máquinas.

Esse texto descreve corretamente:

- Memória ram
- Memória virtual
- Software
- Periféricos
- Hardware

**CONHECIMENTOS GERAIS**

11. Hino do município de Telêmaco Borba/PR

Das virgens matas e campos verdejantes  
 Servindo-se também o rio Tibagi,



Homens de ideais, espíritos vibrantes.  
Constituíram as indústrias aqui.

Estrilho:

Salve! Salve! Telêmaco Borba

Terra querida e de grandes primores,

A nossa homenagem rendamos

À cidade dos trabalhadores.

Pois a cadência de enorme e real progresso

Um município mui grandioso fez nascer,

Marcando assim, verdadeiro sucesso

Faz, então o Paraná engrandecer.

**No que tange ao Hino do município, atribua V (verdadeiro) ou F (falso) às afirmativas e marque a alternativa correta.**

( ) Eloah Martins Quadrado é autora da letra do hino.

( ) Bento Mossurunga compôs a música do hino.

( ) Eloah Martins Quadrado foi nomeada primeira professora da Cidade Nova, atual Telêmaco Borba.

( ) Bento Mossurunga fundou a orquestra Estudantil e Concertos – Orquestra Sinfônica da Universidade, a Sociedade de Cultura Artístico Basílio Itiberê.

a) F, V, V, V.

b) V, F, V, V.

c) V, V, F, V.

d) V, V, F, F.

e) V, V, V, V.

**12. À luz da Lei nº 1883/2012, que dispões sobre o Estatuto dos Servidores Públicos da Administração Direta, Autárquica e Funcional do Município de Telêmaco Borba/PR, leia as alternativas e marque a correta.**

a) A apresentação para a posse ocorrerá no prazo de até trinta dias, contados do ato de nomeação.

b) A destituição do servidor da função gratificada dar-se-á por solicitação exclusiva dele mesmo.

c) O servidor ocupante exclusivamente de cargo em comissão será contribuinte do regime geral de previdência social.

d) A aprovação em concurso público gera o direito à nomeação, e será feita obedecida à ordem de classificação dos candidatos.

e) O exercício de função gratificada poderá ser de dedicação integral ou parcial, conforme necessidade da administração.

**Conforme a Lei nº 1.881, de 05 de abril de 2012, que dispõe sobre o Plano de Cargos, Carreiras e Vencimentos do quadro geral de servidores da Prefeitura Municipal de Telêmaco Borba/PR, regulamentada pelo Decreto nº 2269/2015, responda às próximas três questões.**

**13. Leia as assertivas e assinala a incorreta.**

a) Do resultado da avaliação de desempenho poderá ser interposto recurso à Comissão de Desenvolvimento Funcional no prazo de quinze dias a contar da publicação no Boletim Oficial do Município.

b) Não será concedida a progressão ou promoção ao servidor que estiver em licença para tratamento de saúde por um período superior a quarenta e cinco dias, no período de avaliação.

c) A alternância dos membros constituintes da Comissão de Desenvolvimento Funcional eleitos pelos servidores verificar-se-á a cada três anos de participação, observados, para substituição de seus participantes, o critério fixado no artigo anterior, não cabendo eleição sucessiva.

d) Caberá à Comissão de Desenvolvimento Funcional, no caso de divergência de vinte por cento entre a nota do avaliador e a do avaliado, solicitar nova avaliação à chefia.

e) Nos termos do disposto no art. 17 da Lei nº 1.881, de 05 de abril de 2012, para progredir, é necessário que o servidor satisfaça, dentre outros, o seguinte requisito: estar no efetivo exercício de seu cargo ou em função comissionada na sua área de atuação durante o interstício de dois anos.

**14. Assinale a alternativa que completa respectivamente as lacunas do texto a seguir:**

**A Comissão de Desenvolvimento Funcional será constituída por \_\_\_\_\_ membros, sendo \_\_\_\_\_ designados pelo Prefeito Municipal de Telêmaco Borba e os demais eleitos pelos servidores municipais dentre os estáveis, com a atribuição de coordenar os procedimentos relativos à avaliação periódica de desempenho e outras atribuições.**

a) três / sete

b) um / três

c) sete / três

d) três / cinco

e) dois / cinco

**15. A Avaliação de Desempenho será norteadada, dentre outros, pelo seguinte princípio: Amplitude - a avaliação deve incidir sobre todas as áreas de atuação do servidor, que compreendem:**

- 1. a formulação de políticas administrativas e sua aplicação para todos os setores da administração municipal;**
- 2. o desempenho do profissional dentro de suas funções pertinentes;**
- 3. a estrutura do órgão em que exerce a função;**
- 4. os resultados de eficiência dos serviços de cada setor ou órgão da administração municipal;**
- 5. a participação direta do avaliado, durante todo o processo avaliativo.**

**Diante dessa afirmação, somente não está correto o item:**

- a) 1
- b) 2
- c) 3
- d) 4
- e) 5

### **CONHECIMENTOS ESPECÍFICOS**

**16. No que diz respeito aos estudos de levantamentos de tráfego, marque a alternativa que apresenta o tipo de nomenclatura adotada para o conjunto composto de dois eixos consecutivos, com duas rodas em cada extremidade, cujos centros estão distantes de mais de 100 cm e menos de 200 cm, e ligados a um dispositivo de suspensão que distribui a carga igualmente entre os eixos (balancim):**

- a) Eixo simples de rodas simples
- b) Eixo simples de rodas duplas
- c) Eixo duplo especial
- d) Eixo tandem duplo
- e) Eixo tandem triplo

**17. Analise os itens a seguir, relacionados aos aspectos ligados às pesquisas de tráfego:**

**(I) as contagens volumétricas visam determinar a quantidade, o sentido e a composição do fluxo de veículos que passam por um ou vários pontos selecionados do sistema viário, numa determinada unidade de tempo;**

**(II) o peso parcial de um veículo é dado pelo o peso máximo que o veículo pode transmitir ao pavimento, constituído da soma da tara mais a lotação;**

**(III) as contagens manuais são realizadas por meio de videoteipes, onde, utiliza-se um procedimento de vídeo para determinar o volume de tráfego.**

**Com base nos itens descritos, é correto afirmar que:**

- a) Somente o item I está correto.
- b) Somente o item II está correto.
- c) Somente o item III está correto.
- d) Somente os itens I e II estão corretos.
- e) Somente os itens I e III estão corretos.

**18. Nos estudos realizados para o levantamento de tráfego, a variável que define o número de veículos por unidade de comprimento da via recebe o nome de:**

- a) Capacidade
- b) Densidade
- c) Lotação
- d) Velocidade de fluxo
- e) Volume médio de tráfego

**19. Quanto às normas de conduta imposta pelo Código de Trânsito Brasileiro (CTB), marque a alternativa que apresenta a velocidade limite a ser adotada para as vias do tipo arterial, onde não existir sinalização regulamentadora:**

- a) 30 km/h
- b) 40 km/h
- c) 50 km/h
- d) 60 km/h
- e) 80 km/h

**20. Dentre os tipos usuais de via, marque a alternativa que apresenta o tipo de via que é caracterizada por acessos especiais com trânsito livre, sem interseções em nível, sem acessibilidade direta aos lotes lindeiros e sem travessia de pedestres em nível:**

- a) Via de trânsito rápido
- b) Via coletora
- c) Via arterial
- d) Via local



e) Via rural

**21. A estrutura de proteção aos pedestres executada sobre uma via de trânsito motorizado (geralmente uma avenida, via expressa ou rodovia com múltiplas faixas), que visa fornecer condições para separar fisicamente os fluxos de pedestres e veículos, e, eliminar os conflitos entre eles, é definida pelo nome de:**

- a) Viaduto
- b) Passarela
- c) Elevador
- d) Escada
- e) Ponte

**22. De acordo com o Código de Trânsito Brasileiro (CTB), marque a alternativa que apresenta o local destinado à imobilização de veículos por tempo superior ao necessário para embarque e desembarque de passageiros:**

- a) Parada
- b) Calçada
- c) Estacionamento
- d) Passeio público
- e) Operação de carga e descarga

**23. Nos estudos especiais de trânsito voltados para a proteção dos indivíduos, marque a alternativa que apresenta o significado da placa ilustrada a seguir:**



- a) Área escolar
- b) Trânsito de crianças
- c) Trânsito de pedestres
- d) Passagem sinalizada de pedestres
- e) Passagem sinalizada de escolares

**24. Analise os itens a seguir, relacionados à implantação de redes cicloviárias:**

**(I) a circulação de bicicletas deverá ocorrer nos bordos da pista, no mesmo sentido de circulação da via, com preferência sobre os veículos automotores;**

**(II) durante a manobra de mudança de direção, o condutor de veículos motorizados não deverá ceder passagem aos pedestres e ciclistas;**

**(III) Deixar de guardar a distância lateral de 80 centímetros ao ultrapassar uma bicicleta é considerada infração média com penalidade de multa.**

**Com base nos itens descritos, é correto afirmar que:**

- a) Somente o item I está correto.
- b) Somente o item II está correto.
- c) Somente o item III está correto.
- d) Somente os itens I e II estão corretos.
- e) Somente os itens I e III estão corretos.

**25. No que diz respeito a organização e implantação do transporte coletivo em uma determinada cidade, marque a alternativa que apresenta um exemplo de desvantagem associado a este tipo de transporte:**

- a) Facilita a mobilidade do trânsito dentro das cidades.
- b) Constitui uma forma sustentável de substituir o automóvel.
- c) Está sujeito à superlotação, principalmente nos horários de pico.
- d) Seu uso disseminado pode contribuir para a conservação das cidades.
- e) Pode ser uma alternativa para desafogar o trânsito das grandes cidades.

**26. No que concerne aos tipos de sinalizações verticais adotadas no trânsito, marque a alternativa que apresenta o tipo de sinalização que tem por finalidade transmitir aos usuários as condições, proibições, obrigações ou restrições no uso das vias urbanas e rurais, de modo que o seu desrespeito constitui infrações, previstas no Código de Trânsito Brasileiro (CTB):**

- a) Sinalização vertical de advertência
- b) Sinalização vertical de segurança
- c) Sinalização vertical de indicação
- d) Sinalização vertical de direcionamento
- e) Sinalização vertical de regulamentação

**27. Quanto às sinalizações verticais de advertências empregadas no trânsito, com exceção da placa que indica a presença de obras, marque a alternativa que apresenta a cor padrão adotada para o fundo das placas de advertências:**

- a) Vermelho
- b) Amarelo
- c) Marrom
- d) Verde
- e) Azul

**28. Marque a alternativa que apresenta o significado da placa de sinalização a seguir:**



- a) Curva acentuada à esquerda
- b) Curva acentuada à direita
- c) Pista sinuosa à esquerda
- d) Pista sinuosa à direita
- e) Curva em S à direita

**29. Dentre os pictogramas empregados nas placas destinadas aos atrativos turísticos, marque a alternativa que apresenta o pictograma que indica a presença de patrimônio natural:**



**30. No que diz respeito às sinalizações verticais de indicação, analise os itens a seguir:**

**(I) as placas diagramas indicam antecipadamente ao condutor, através de representação gráfica da situação física existente, os movimentos a serem realizados para alcançar os destinos indicados;**

**(II) as placas de serviços auxiliares têm a função de educar o usuário da via quanto ao comportamento adequado e seguro no trânsito, através de mensagens que reforçam normas gerais de circulação e conduta;**

**(III) as placas educativas indicam ao condutor a existência da polícia rodoviária, de posto de pesagem ou de fiscalização fazendária, e, identificam as suas instalações ou o acesso a elas.**

**Com base nos itens descritos, é correto afirmar que:**

- a) Somente o I está correto.
- b) Somente o II está correto.
- c) Somente o III está correto.
- d) Somente I e III estão corretos.
- e) Somente II e III estão corretos.

**31. Com relação aos padrões de cores empregados nas sinalizações horizontais de trânsito, marque a alternativa que apresenta um exemplo de situação em que a sinalização deve ser feita na cor vermelha:**

- a) Regulamentar faixas de travessias de pedestres
- b) Regulamentar linha de transposição e ultrapassagem
- c) Demarcar obstáculos transversais à pista (lombada)
- d) Demarcar linha de retenção
- e) Demarcar ciclovias ou ciclofaixas

**32. De acordo com as marcas longitudinais empregadas nas sinalizações horizontais de trânsito, marque a alternativa que apresenta o tipo de marca que separa os movimentos veiculares de sentidos opostos e indicam os trechos da via em que a ultrapassagem é permitida ou proibida:**

- Linha de bordo
- Linha de transbordo
- Linha de continuidade
- Linhas de divisão de fluxos opostos
- Linhas de divisão de fluxos de mesmo sentido

**33. Analise os itens a seguir, relacionados aos dispositivos redutores de velocidade:**

- (I) a lombada é um dispositivo de redução pontual de velocidade;**  
**(II) as lombadas eletrônicas são utilizadas para punir os motoristas que ultrapassam a velocidade permitida em uma via;**  
**(III) as lombadas eletrônicas possuem um menor custo de implantação e manutenção quando comparadas às lombadas convencionais.**

**Com base nos itens descritos, é correto afirmar que:**

- Somente o I está correto.
- Somente o II está correto.
- Somente o III está correto.
- Somente I e II estão corretos.
- Somente I e III estão corretos.

**34. Quanto às consequências da implantação da sinalização semafórica num determinado trânsito, marque a alternativa que não apresenta uma justifica para a sua implantação:**

- Redução de atrasos
- Aumento da segurança viária
- Gastos desnecessários de recursos públicos
- Distribuição adequada dos tempos destinados aos veículos
- Controle do direito de passagem dos movimentos de veículos e pedestre

**35. Analise os itens a seguir, relacionados aos grupos focais empregados nos estudos de implantação de semáforos:**

- (I) os grupos focais de pedestres são compostos por focos laranja e azul, com os pictogramas respectivos, dispostos nesta ordem, de cima para baixo, na posição vertical;**  
**(II) o grupo focal veicular direcional possui três indicações luminosas: vermelho com seta, amarelo com ou sem seta e verde com seta, dispostas nesta ordem, de cima para baixo quando vertical, e da esquerda para a direita quando horizontal;**  
**(III) o grupo focal veicular de controle a um acesso específico é constituído somente pelo foco verde com seta.**

**Com base nos itens descritos, é correto afirmar que:**

- Somente o I está correto.
- Somente o II está correto.
- Somente o III está correto.
- Somente I e II estão corretos.
- Somente I e III estão corretos.

## LÍNGUA PORTUGUESA

**Texto para as próximas cinco questões:**

### “O cego Estrelinho” Mia Couto

O cego Estrelinho era pessoa de nenhuma vez: sua história poderia ser contada e descontada não fosse seu guia, Gigito Efraim. A mão de Gigito conduziu o desvistado por tempos e idades. Aquela mão era repartidamente comum, extensão de um no outro, siamensal. E assim era quase de nascença. Memória de Estrelinho tinha cinco dedos e eram os de Gigito postos, em aperto, na sua própria mão.

O cego, curioso, queria saber de tudo. Ele não fazia cerimônia no viver. O sempre lhe era pouco e o tudo insuficiente. Dizia, deste modo:

— Tenho que viver já, senão esqueço-me.

Gigitinho, porém, o que descrevia era o que não havia. O mundo que ele minuciava eram fantasias e rendilhados. A imaginação do guia era mais profícua que papaeira. O cego enchia a boca de águas:

— Que maravilhação esse mundo. Me conte tudo, Gigito!

A mão do guia era, afinal, o manuscrito da mentira. Gigito Efraim estava como nunca esteve S. Tomé: via para não crer. O condutor falava pela ponta dos dedos. Desfolhava o universo, aberto em folhas. A ideiação dele era tal que mesmo o cego, por vezes, acreditava ver. O outro lhe encorajava esses breves enganos:

— Desbengale-se, você está escolhendo a boa procedência!



Mentira: Estrelinho continuava sem ver uma palmeira à frente do nariz. Contudo, o cego não se conformava em suas escurezas. Ele cumpria o ditado: não tinha perna e queria dar o pontapé. Só à noite, ele desalentava, sofrendo medos mais antigos que a humanidade. Entendia aquilo que, na raça humana, é menos primitivo: o animal.

— Na noite aflige não haver luz?

— Aflição é ter um pássaro branco esvoando dentro do sono.

Pássaro branco? No sono? Lugar de ave é nas alturas. Dizem até que Deus fez o céu para justificar os pássaros. Estrelinho disfarçava o medo dos vaticínios, subterfugindo:

— E agora, Gigitinho? Agora, olhando assim para cima, estou face ao céu?

Que podia o outro responder? O céu do cego fica em toda a parte. Estrelinho perdia o pé era quando a noite chegava e seu mestre adormecia. Era como se um novo escuro nele se estreasse em nó cego. Devagaroso e sorrateiro ele aninhava sua mão na mão do guia. Só assim adormecia. A razão da concha é a timidez da amêijoia? Na manhã seguinte, o cego lhe confessava: se você morrer, tenho que morrer logo no imediato. Senão-me: como acerto o caminho para o céu?

Foi no mês de dezembro que levaram Gigitinho. Lhe tiraram do mundo para pôr na guerra: obrigavam os serviços militares. O cego reclamou: que o moço inatingia a idade. E que o serviço que ele a si prestava era vital e vitalício. O guia chamou Estrelinho à parte e lhe tranquilizou:

— Não vai ficar sozinando por aí. Minha mana já mandei para ficar no meu lugar.

O cego estendeu o braço a querer tocar uma despedida. Mas o outro já não estava lá. Ou estava e se desviara, propositado? E sem água ida nem vinda, Estrelinho escutou o amigo se afastar, engolido, esponjínquo, invisível. Pela primeira vez, Estrelinho se sentiu invalidado.

— Agora, só agora, sou cego que não vê.

(...)

**COUTO, Mia. Estórias abensonhadas. Rio de Janeiro: Nova Fronteira, 1996. (Pág 23 e 24).**

**36. Quanto à interpretação do fragmento do conto, podemos afirmar que:**

- Gigito Efraim era o guia de Estrelinho há pouquíssimo tempo.
- Estrelinho era cego de nascença.
- Gigito descrevia o mundo para Estrelinho de forma denotativa.
- Gigito foi convocado pelo exército para ser guia de cegos na guerra.
- Gigito descrevia o mundo para Estrelinho de forma conotativa.

**37. No período “O sempre lhe era pouco e o tudo insuficiente”, o pronome “LHE” exerce a função sintática de:**

- Objeto Direto
- Objeto Indireto
- Complemento Nominal
- Adjunto Adnominal
- Objeto Direto Preposicionado

**38. Na oração “A mão de Gigito conduziu o desvestido por tempos e idades”, o autor faz uso de um neologismo, assim como no decorrer de toda a obra em questão. Contudo, o neologismo só se torna possível pela utilização dos elementos mórficos naquilo que a gramática normativa pontua como Processo de Formação das Palavras. Levando em consideração apenas o recurso morfológico, qual Processo de Formação foi utilizado?**

- Derivação Sufixal
- Derivação Prefixal
- Derivação Regressiva
- Derivação Imprópria
- Derivação Parassintética

**39. No terceiro período do décimo terceiro parágrafo, temos:**

- Uma oração
- Duas orações
- Três orações
- Quatro orações
- Cinco orações

**40. No último parágrafo do fragmento do conto “— Agora, só agora, sou cego que não vê”, a oração subordinada presente classifica-se corretamente como:**

- Oração Subordinada Adjetiva Restritiva
- Oração Subordinada Adverbial Causal
- Oração Subordinada Substantiva Subjetiva
- Oração Subordinada Adverbial Explicativa
- Oração Subordinada Adjetiva Explicativa



PREFEITURA DE TELÊMACO BORBA - ESTADO DO PARANÁ- EDITAL Nº 001-2016 - CONCURSO PÚBLICO

VESPERTINO – 29/05/2016 – NÍVEL SUPERIOR

PROVA OBJETIVA NÚMERO

**3**

**CARGO: TMNS I - ENGENHARIA DE TRÂNSITO**

**Leia atentamente as INSTRUÇÕES:**

1. Confira seus dados no cartão-resposta: nome, número de inscrição e o curso para o qual se inscreveu.
2. **MARQUE no seu cartão-resposta o número da sua prova** (não será corrigido o cartão-resposta que não tiver marcado o número da prova) e **Assine** seu cartão-resposta.
3. Aguarde a autorização do Fiscal para abrir o caderno de prova. Ao receber a ordem do fiscal, confira o caderno de prova com muita atenção. Nenhuma reclamação sobre o total de questões ou falha de impressão será aceita depois de iniciada a prova.
4. O cartão-resposta não será substituído, salvo se contiver erro de impressão.
5. Preencha toda a área do cartão-resposta correspondente à alternativa de sua escolha, com caneta esferográfica (tinta azul ou preta), sem ultrapassar as bordas. As marcações duplas, ou rasuradas, com corretivo, ou marcadas diferentemente do modelo estabelecido no cartão-resposta poderão ser anuladas.
6. Sua prova tem **40** questões, com **5** alternativas.
7. Cabe apenas ao candidato a interpretação das questões, **o fiscal** não poderá fazer nenhuma interferência.
8. A prova será realizada com duração máxima de **3 (três) horas**, incluído o tempo para a realização da Prova Objetiva de múltipla escolha e o preenchimento do cartão-resposta.
9. O candidato poderá retirar-se do local de realização das provas somente **1 (uma) hora** após o seu início, sem levar o caderno de prova.
10. O candidato poderá levar o caderno de provas, assim como anotação contendo transcrição do seu cartão-resposta, somente **1h30min** (uma hora e trinta minutos) após o início da realização da prova.
11. Ao terminar a prova, o candidato deverá entregar ao fiscal de sala o cartão-resposta preenchido e **ASSINADO**.
12. Os **3 (três)** candidatos, que terminarem a prova por último, deverão permanecer na sala, e só poderão sair juntos após o fechamento do envelope, contendo os cartões-resposta dos candidatos presentes e ausentes, e assinarem no lacre do referido envelope, atestando que este foi devidamente lacrado.
13. Durante todo o tempo em que permanecer no local onde está ocorrendo o concurso, o candidato deverá, manter o celular desligado e sem bateria, só sendo permitido ligar depois de ultrapassar o portão de saída do prédio.
14. Não será permitido ao candidato fumar na sala de provas, bem como nas dependências.
15. Depois de terminar a prova e entregar ao fiscal o cartão-resposta, preenchido e assinado, não será mais permitido ao candidato o uso do banheiro e bebedouro.

**BOA PROVA!**

**CONHECIMENTOS ESPECÍFICOS**

**01. No que diz respeito aos estudos de levantamentos de tráfego, marque a alternativa que apresenta o tipo de nomenclatura adotada para o conjunto composto de dois eixos consecutivos, com duas rodas em cada extremidade, cujos centros estão distantes de mais de 100 cm e menos de 200 cm, e ligados a um dispositivo de suspensão que distribui a carga igualmente entre os eixos (balancim):**

- a) Eixo simples de rodas simples
- b) Eixo simples de rodas duplas
- c) Eixo duplo especial
- d) Eixo tandem duplo
- e) Eixo tandem triplo

**02. Analise os itens a seguir, relacionados aos aspectos ligados às pesquisas de tráfego:**

**(I) as contagens volumétricas visam determinar a quantidade, o sentido e a composição do fluxo de veículos que passam por um ou vários pontos selecionados do sistema viário, numa determinada unidade de tempo;**

**(II) o peso parcial de um veículo é dado pelo o peso máximo que o veículo pode transmitir ao pavimento, constituído da soma da tara mais a lotação;**

**(III) as contagens manuais são realizadas por meio de videoteipes, onde, utiliza-se um procedimento de vídeo para determinar o volume de tráfego.**

**Com base nos itens descritos, é correto afirmar que:**

- a) Somente o item I está correto.
- b) Somente o item II está correto.
- c) Somente o item III está correto.
- d) Somente os itens I e II estão corretos.
- e) Somente os itens I e III estão corretos.

**03. Nos estudos realizados para o levantamento de tráfego, a variável que define o número de veículos por unidade de comprimento da via recebe o nome de:**

- a) Capacidade
- b) Densidade
- c) Lotação
- d) Velocidade de fluxo
- e) Volume médio de tráfego

**04. Quanto às normas de conduta imposta pelo Código de Trânsito Brasileiro (CTB), marque a alternativa que apresenta a velocidade limite a ser adotada para as vias do tipo arterial, onde não existir sinalização regulamentadora:**

- a) 30 km/h
- b) 40 km/h
- c) 50 km/h
- d) 60 km/h
- e) 80 km/h

**05. Dentre os tipos usuais de via, marque a alternativa que apresenta o tipo de via que é caracterizada por acessos especiais com trânsito livre, sem interseções em nível, sem acessibilidade direta aos lotes lindeiros e sem travessia de pedestres em nível:**

- a) Via de trânsito rápido
- b) Via coletora
- c) Via arterial
- d) Via local
- e) Via rural

**06. A estrutura de proteção aos pedestres executada sobre uma via de trânsito motorizado (geralmente uma avenida, via expressa ou rodovia com múltiplas faixas), que visa fornecer condições para separar fisicamente os fluxos de pedestres e veículos, e, eliminar os conflitos entre eles, é definida pelo nome de:**

- a) Viaduto
- b) Passarela
- c) Elevador
- d) Escada
- e) Ponte

**07. De acordo com o Código de Trânsito Brasileiro (CTB), marque a alternativa que apresenta o local destinado à imobilização de veículos por tempo superior ao necessário para embarque e desembarque de passageiros:**

- a) Parada



- b) Calçada
- c) Estacionamento
- d) Passeio público
- e) Operação de carga e descarga

**08. Nos estudos especiais de trânsito voltados para a proteção dos indivíduos, marque a alternativa que apresenta o significado da placa ilustrada a seguir:**



- a) Área escolar
- b) Trânsito de crianças
- c) Trânsito de pedestres
- d) Passagem sinalizada de pedestres
- e) Passagem sinalizada de escolares

**09. Analise os itens a seguir, relacionados à implantação de redes cicloviárias:**

**(I) a circulação de bicicletas deverá ocorrer nos bordos da pista, no mesmo sentido de circulação da via, com preferência sobre os veículos automotores;**

**(II) durante a manobra de mudança de direção, o condutor de veículos motorizados não deverá ceder passagem aos pedestres e ciclistas;**

**(III) Deixar de guardar a distância lateral de 80 centímetros ao ultrapassar uma bicicleta é considerada infração média com penalidade de multa.**

**Com base nos itens descritos, é correto afirmar que:**

- a) Somente o item I está correto.
- b) Somente o item II está correto.
- c) Somente o item III está correto.
- d) Somente os itens I e II estão corretos.
- e) Somente os itens I e III estão corretos.

**10. No que diz respeito a organização e implantação do transporte coletivo em uma determinada cidade, marque a alternativa que apresenta um exemplo de desvantagem associado a este tipo de transporte:**

- a) Facilita a mobilidade do trânsito dentro das cidades.
- b) Constitui uma forma sustentável de substituir o automóvel.
- c) Está sujeito à superlotação, principalmente nos horários de pico.
- d) Seu uso disseminado pode contribuir para a conservação das cidades.
- e) Pode ser uma alternativa para desafogar o trânsito das grandes cidades.

**11. No que concerne aos tipos de sinalizações verticais adotadas no trânsito, marque a alternativa que apresenta o tipo de sinalização que tem por finalidade transmitir aos usuários as condições, proibições, obrigações ou restrições no uso das vias urbanas e rurais, de modo que o seu desrespeito constitui infrações, previstas no Código de Trânsito Brasileiro (CTB):**

- a) Sinalização vertical de advertência
- b) Sinalização vertical de segurança
- c) Sinalização vertical de indicação
- d) Sinalização vertical de direcionamento
- e) Sinalização vertical de regulamentação

**12. Quanto às sinalizações verticais de advertências empregadas no trânsito, com exceção da placa que indica a presença de obras, marque a alternativa que apresenta a cor padrão adotada para o fundo das placas de advertências:**

- a) Vermelho
- b) Amarelo
- c) Marrom
- d) Verde
- e) Azul

**13. Marque a alternativa que apresenta o significado da placa de sinalização a seguir:**



- a) Curva acentuada à esquerda
- b) Curva acentuada à direita
- c) Pista sinuosa à esquerda
- d) Pista sinuosa à direita
- e) Curva em S à direita

14. Dentre os pictogramas empregados nas placas destinadas aos atrativos turísticos, marque a alternativa que apresenta o pictograma que indica a presença de patrimônio natural:

- a)
- b)
- c)
- d)
- e)

15. No que diz respeito às sinalizações verticais de indicação, analise os itens a seguir:

(I) as placas diagramas indicam antecipadamente ao condutor, através de representação gráfica da situação física existente, os movimentos a serem realizados para alcançar os destinos indicados;

(II) as placas de serviços auxiliares têm a função de educar o usuário da via quanto ao comportamento adequado e seguro no trânsito, através de mensagens que reforçam normas gerais de circulação e conduta;

(III) as placas educativas indicam ao condutor a existência da polícia rodoviária, de posto de pesagem ou de fiscalização fazendária, e, identificam as suas instalações ou o acesso a elas.

Com base nos itens descritos, é correto afirmar que:

- a) Somente o I está correto.
- b) Somente o II está correto.
- c) Somente o III está correto.
- d) Somente I e III estão corretos.
- e) Somente II e III estão corretos.

16. Com relação aos padrões de cores empregados nas sinalizações horizontais de trânsito, marque a alternativa que apresenta um exemplo de situação em que a sinalização deve ser feita na cor vermelha:

- a) Regulamentar faixas de travessias de pedestres
- b) Regulamentar linha de transposição e ultrapassagem
- c) Demarcar obstáculos transversais à pista (lombada)
- d) Demarcar linha de retenção
- e) Demarcar ciclovias ou ciclofaixas

17. De acordo com as marcas longitudinais empregadas nas sinalizações horizontais de trânsito, marque a alternativa que apresenta o tipo de marca que separa os movimentos veiculares de sentidos opostos e indicam os trechos da via em que a ultrapassagem é permitida ou proibida:

- a) Linha de bordo
- b) Linha de transbordo
- c) Linha de continuidade
- d) Linhas de divisão de fluxos opostos
- e) Linhas de divisão de fluxos de mesmo sentido

18. Analise os itens a seguir, relacionados aos dispositivos redutores de velocidade:

(I) a lombada é um dispositivo de redução pontual de velocidade;

(II) as lombadas eletrônicas são utilizadas para punir os motoristas que ultrapassam a velocidade permitida em uma via;

(III) as lombadas eletrônicas possuem um menor custo de implantação e manutenção quando comparadas às lombadas convencionais.

**Com base nos itens descritos, é correto afirmar que:**

- a) Somente o I está correto.
- b) Somente o II está correto.
- c) Somente o III está correto.
- d) Somente I e II estão corretos.
- e) Somente I e III estão corretos.

**19. Quanto às consequências da implantação da sinalização semafórica num determinado trânsito, marque a alternativa que não apresenta uma justifica para a sua implantação:**

- a) Redução de atrasos
- b) Aumento da segurança viária
- c) Gastos desnecessários de recursos públicos
- d) Distribuição adequada dos tempos destinados aos veículos
- e) Controle do direito de passagem dos movimentos de veículos e pedestre

**20. Analise os itens a seguir, relacionados aos grupos focais empregados nos estudos de implantação de semáforos:**

- (I) os grupos focais de pedestres são compostos por focos laranja e azul, com os pictogramas respectivos, dispostos nesta ordem, de cima para baixo, na posição vertical;
- (II) o grupo focal veicular direcional possui três indicações luminosas: vermelho com seta, amarelo com ou sem seta e verde com seta, dispostas nesta ordem, de cima para baixo quando vertical, e da esquerda para a direita quando horizontal;
- (III) o grupo focal veicular de controle a um acesso específico é constituído somente pelo foco verde com seta.

**Com base nos itens descritos, é correto afirmar que:**

- a) Somente o I está correto.
- b) Somente o II está correto.
- c) Somente o III está correto.
- d) Somente I e II estão corretos.
- e) Somente I e III estão corretos.

## LÍNGUA PORTUGUESA

**Texto para as próximas cinco questões:**

### “O cego Estrelinho” Mia Couto

O cego Estrelinho era pessoa de nenhuma vez: sua história poderia ser contada e descontada não fosse seu guia, Gigitto Efraim. A mão de Gigitto conduziu o desvistado por tempos e idades. Aquela mão era repartidamente comum, extensão de um no outro, siamensal. E assim era quase de nascença. Memória de Estrelinho tinha cinco dedos e eram os de Gigitto postos, em aperto, na sua própria mão.

O cego, curioso, queria saber de tudo. Ele não fazia cerimônia no viver. O sempre lhe era pouco e o tudo insuficiente. Dizia, deste modo:

— Tenho que viver já, senão esqueço-me.

Gigitto, porém, o que descrevia era o que não havia. O mundo que ele minuciava eram fantasias e rendilhados. A imaginação do guia era mais profícua que papadeira. O cego enchia a boca de águas:

— Que maravilhação esse mundo. Me conte tudo, Gigitto!

A mão do guia era, afinal, o manuscrito da mentira. Gigitto Efraim estava como nunca esteve S. Tomé: via para não crer. O condutor falava pela ponta dos dedos. Desfolhava o universo, aberto em folhas. A ideiação dele era tal que mesmo o cego, por vezes, acreditava ver. O outro lhe encorajava esses breves enganar:

— Desbengale-se, você está escolhendo a boa procedência!

Mentira: Estrelinho continuava sem ver uma palmeira à frente do nariz. Contudo, o cego não se conformava em suas escuras. Ele cumpria o ditado: não tinha perna e queria dar o pontapé. Só à noite, ele desalentava, sofrendo medos mais antigos que a humanidade. Entendia aquilo que, na raça humana, é menos primitivo: o animal.

— Na noite aflige não haver luz?

— Aflição é ter um pássaro branco esvoando dentro do sono.

Pássaro branco? No sono? Lugar de ave é nas alturas. Dizem até que Deus fez o céu para justificar os pássaros. Estrelinho disfarçava o medo dos vaticínios, subterfugindo:

— E agora, Gigitto? Agora, olhando assim para cima, estou face ao céu?

Que podia o outro responder? O céu do cego fica em toda a parte. Estrelinho perdia o pé era quando a noite chegava e seu mestre adormecia. Era como se um novo escuro nele se estreasse em nó cego. Devagaroso e sorrateiro ele aninhava sua mão na mão do guia. Só assim adormecia. A razão da concha é a timidez da amêijoia? Na manhã seguinte, o cego lhe confessava: se você morrer, tenho que morrer logo no imediato. Senão-me: como acerto o caminho para o céu?

Foi no mês de dezembro que levaram Gigitinho. Lhe tiraram do mundo para pôr na guerra: obrigavam os serviços militares. O cego reclamou: que o moço inatingia a idade. E que o serviço que ele a si prestava era vital e vitalício. O guia chamou Estrelinho à parte e lhe tranquilizou:

— Não vai ficar sozinando por aí. Minha mana já mandei para ficar no meu lugar.

O cego estendeu o braço a querer tocar uma despedida. Mas o outro já não estava lá. Ou estava e se desviara, propositado? E sem água ida nem vinda, Estrelinho escutou o amigo se afastar, engolido, esponginquo, invisível. Pela primeira vez, Estrelinho se sentiu invalidado.

— Agora, só agora, sou cego que não vê.

(...)

**COUTO, Mia. Estórias abensonhadas. Rio de Janeiro: Nova Fronteira, 1996. (Pág 23 e 24).**

**21. Quanto à interpretação do fragmento do conto, podemos afirmar que:**

- Gigito Efraim era o guia de Estrelinho há pouquíssimo tempo.
- Estrelinho era cego de nascença.
- Gigito descrevia o mundo para Estrelinho de forma denotativa.
- Gigito foi convocado pelo exército para ser guia de cegos na guerra.
- Gigito descrevia o mundo para Estrelinho de forma conotativa.

**22. No período “O sempre lhe era pouco e o tudo insuficiente”, o pronome “LHE” exerce a função sintática de:**

- Objeto Direto
- Objeto Indireto
- Complemento Nominal
- Adjunto Adnominal
- Objeto Direto Preposicionado

**23. Na oração “A mão de Gigito conduziu o desvestido por tempos e idades”, o autor faz uso de um neologismo, assim como no decorrer de toda a obra em questão. Contudo, o neologismo só se torna possível pela utilização dos elementos mórficos naquilo que a gramática normativa pontua como Processo de Formação das Palavras. Levando em consideração apenas o recurso morfológico, qual Processo de Formação foi utilizado?**

- Derivação Sufixal
- Derivação Prefixal
- Derivação Regressiva
- Derivação Imprópria
- Derivação Parassintética

**24. No terceiro período do décimo terceiro parágrafo, temos:**

- Uma oração
- Duas orações
- Três orações
- Quatro orações
- Cinco orações

**25. No último parágrafo do fragmento do conto “— Agora, só agora, sou cego que não vê”, a oração subordinada presente classifica-se corretamente como:**

- Oração Subordinada Adjetiva Restritiva
- Oração Subordinada Adverbial Causal
- Oração Subordinada Substantiva Subjetiva
- Oração Subordinada Adverbial Explicativa
- Oração Subordinada Adjetiva Explicativa

#### **RACIOCÍNIO LÓGICO**

**26. Os cinco filhos de Ana estavam discutindo a respeito da data de nascimento da mãe:**

- Almir disse que foi em janeiro, dia 14, sexta-feira.
- Vanderlei disse que foi em janeiro, dia 14, sábado.
- Tiago disse que foi em fevereiro, dia 15, sábado.
- Sandro disse que foi em janeiro, dia 15, sexta-feira.
- Renato disse que foi em fevereiro, dia 15, sexta-feira.

**Sabe-se que somente um dos filhos de Ana acertou corretamente sua data de nascimento e que os outros acertaram pelo menos um dos itens (dia, dia da semana e mês). Dessa forma, é correto afirmar que o filho de Ana que acertou a data de nascimento dela foi:**

- Renato
- Sandro
- Tiago

- d) Vanderlei  
e) Almir

**27. Considere a seguinte afirmativa: “Todo churrasqueiro gosta de picanha”. Em relação a essa proposição, é correto afirmar que:**

- a) Algum churrasqueiro não gosta de picanha.  
b) Toda pessoa que gosta de picanha é churrasqueira.  
c) Alguma pessoa que não gosta de picanha é churrasqueira.  
d) Toda pessoa que não é churrasqueira, não gosta de picanha.  
e) Toda pessoa que não gosta de picanha, não é churrasqueira.

**28. Em um grupo formado por 67 pessoas, verificou-se que 41 pessoas gostam de arroz, 29 gostam de feijão, 33 gostam de carne, 19 gostam de arroz e de feijão, 9 gostam apenas de arroz e de carne, 12 gostam de feijão e de carne e que 6 gostam de arroz, de feijão e de carne. O número de pessoas desse grupo, que não gosta de nenhum desses três tipos de alimentos é igual a:**

- a) 4  
b) 5  
c) 6  
d) 8  
e) 10

**29. Bruno escreveu, em seu caderno, várias sequências formadas por números múltiplos de 4, onde os valores que ocupavam as posições pares eram multiplicados por  $-1$ . Cada sequência foi somada e o resultado da soma anotado. A soma das três primeiras sequências escritas por Bruno foram as seguintes:**

$$4 - 8 = -4$$

$$4 - 8 + 12 = 8$$

$$4 - 8 + 12 - 16 = -8$$

**Considere que Bruno escreveu e somou tais sequências, em seu caderno, de modo a obter determinada sequência cuja soma foi 600. O número de termos dessa sequência é igual a:**

- a) 149  
b) 150  
c) 298  
d) 299  
e) 300

**30. Quatro torcedores, um do São Paulo, um do Cruzeiro, um do Vasco e um do Bahia, estão sentados ao redor de uma mesa quadrada, de modo que, dois a dois, fiquem frente a frente. Sabe-se que Alan é torcedor do Cruzeiro e que Bruno está sentado à direita de Alan. Sabe-se também que Caio está sentado à direita do torcedor do São Paulo. Sabe-se ainda que Daniel não é torcedor do Vasco e que está sentado à frente de Bruno. Dessa forma, é correto afirmar que:**

- a) Bruno é torcedor do Bahia e Daniel é torcedor do São Paulo.  
b) Bruno é torcedor do São Paulo e Daniel é torcedor do Bahia.  
c) Caio é torcedor do Vasco e Daniel é torcedor do São Paulo.  
d) Caio é torcedor do Bahia e Daniel é torcedor do São Paulo.  
e) Bruno é torcedor do Vasco e Daniel é torcedor do Bahia.

## INFORMÁTICA

**31. Considerando o MS-Excel versão 2010, observando a figura abaixo, é correto afirmar que:**

	A	B	C
1			
2			
3			
4			

- a) Somente 03 três linhas estão selecionadas.  
b) Somente uma célula está selecionada.  
c) 12 (doze) células estão selecionadas.  
d) Somente a coluna A até a linha 4 (quatro) está selecionada.  
e) Somente as colunas 1 (um), 2 (dois), 3 (três) e 4 (quatro) estão selecionadas.

**32. Considerando o MS-Excel versão 2010, observando a figura abaixo, é incorreto afirmar que:**

	A	B	C
1	12	6	=A1*B1
2	8	2	=A2/B2
3	5	14	=A3-B3
4	6	11	=A4+B4

- a) O resultado da fórmula =A1\*B1 é 72.  
 b) O resultado da fórmula =A2/B2 é 4.  
 c) O resultado da fórmula =A3-B3 é -9.  
 d) O resultado da fórmula =A3-B3 é 9.  
 e) O resultado da fórmula =A4+B4 é 17.

**33. Digitando um texto no MS-Word versão 2010, necessito adicionar número nas páginas. Quanto a isso, é correto afirmar que:**

- a) No menu Layout da Página, clico em número de página e seleciono onde desejo adicionar os números.  
 b) No menu Inserir, clico em número de página e seleciono onde desejo adicionar os números.  
 c) No menu Revisão, clico em número de página e seleciono onde desejo adicionar os números.  
 d) No menu Referências, clico em número de página e seleciono onde desejo adicionar os números.  
 e) No menu Exibição, clico em número de página e seleciono onde desejo adicionar os números.

**34. A segurança da informação está diretamente relacionada com proteção de um conjunto de informações, no sentido de preservar o valor que possuem para um indivíduo ou uma organização. Atualmente, um dos aplicativos mais utilizados no mundo, o Whats app, teve uma alteração de confidencialidade muito importante na segurança das informações transmitidas e recebidas. Dentre as alternativas, assinale a que corretamente informa a alteração inserida no aplicativo Whats app.**

- a) Antispam  
 b) Antivirus  
 c) Firewall  
 d) Antispyware  
 e) Criptografia

**35. São todos os dispositivos que trabalham acoplados ao microcomputador para receber, transmitir, visualizar, ler, gravar ou armazenarem dados. São eles que permitem a comunicação do computador com o meio exterior, isto é, com os usuários e outras máquinas.**

**Esse texto descreve corretamente:**

- a) Memória ram  
 b) Memória virtual  
 c) Software  
 d) Periféricos  
 e) Hardware

## CONHECIMENTOS GERAIS

**36. Hino do município de Telêmaco Borba/PR**

Das virgens matas e campos verdejantes  
 Servindo-se também o rio Tibagi,  
 Homens de ideais, espíritos vibrantes.  
 Constituíram as indústrias aqui.

Estribilho:

Salve! Salve! Telêmaco Borba  
 Terra querida e de grandes primores,  
 A nossa homenagem rendamos  
 À cidade dos trabalhadores.  
 Pois a cadência de enorme e real progresso  
 Um município mui grandioso fez nascer,  
 Marcando assim, verdadeiro sucesso  
 Faz, então o Paraná engrandecer.

**No que tange ao Hino do município, atribua V (verdadeiro) ou F (falso) às afirmativas e marque a alternativa correta.**

- ( ) Eloah Martins Quadrado é autora da letra do hino.  
 ( ) Bento Mossurunga compôs a música do hino.  
 ( ) Eloah Martins Quadrado foi nomeada primeira professora da Cidade Nova, atual Telêmaco Borba.





( ) Bento Mossurunga fundou a orquestra Estudantil e Concertos – Orquestra Sinfônica da Universidade, a Sociedade de Cultura Artístico Basílio Itiberê.

- a) F, V, V, V.
- b) V, F, V, V.
- c) V, V, F, V.
- d) V, V, F, F.
- e) V, V, V, V.

**37. À luz da Lei nº 1883/2012, que dispõe sobre o Estatuto dos Servidores Públicos da Administração Direta, Autárquica e Funcional do Município de Telêmaco Borba/PR, leia as alternativas e marque a correta.**

- a) A apresentação para a posse ocorrerá no prazo de até trinta dias, contados do ato de nomeação.
- b) A destituição do servidor da função gratificada dar-se-á por solicitação exclusiva dele mesmo.
- c) O servidor ocupante exclusivamente de cargo em comissão será contribuinte do regime geral de previdência social.
- d) A aprovação em concurso público gera o direito à nomeação, e será feita obedecida à ordem de classificação dos candidatos.
- e) O exercício de função gratificada poderá ser de dedicação integral ou parcial, conforme necessidade da administração.

**Conforme a Lei nº 1.881, de 05 de abril de 2012, que dispõe sobre o Plano de Cargos, Carreiras e Vencimentos do quadro geral de servidores da Prefeitura Municipal de Telêmaco Borba/PR, regulamentada pelo Decreto nº 2269/2015, responda às próximas três questões.**

**38. Leia as assertivas e assinala a incorreta.**

- a) Do resultado da avaliação de desempenho poderá ser interposto recurso à Comissão de Desenvolvimento Funcional no prazo de quinze dias a contar da publicação no Boletim Oficial do Município.
- b) Não será concedida a progressão ou promoção ao servidor que estiver em licença para tratamento de saúde por um período superior a quarenta e cinco dias, no período de avaliação.
- c) A alternância dos membros constituintes da Comissão de Desenvolvimento Funcional eleitos pelos servidores verificar-se-á a cada três anos de participação, observados, para substituição de seus participantes, o critério fixado no artigo anterior, não cabendo eleição sucessiva.
- d) Caberá à Comissão de Desenvolvimento Funcional, no caso de divergência de vinte por cento entre a nota do avaliador e a do avaliado, solicitar nova avaliação à chefia.
- e) Nos termos do disposto no art. 17 da Lei nº 1.881, de 05 de abril de 2012, para progredir, é necessário que o servidor satisfaça, dentre outros, o seguinte requisito: estar no efetivo exercício de seu cargo ou em função comissionada na sua área de atuação durante o interstício de dois anos.

**39. Assinale a alternativa que completa respectivamente as lacunas do texto a seguir:**

**A Comissão de Desenvolvimento Funcional será constituída por \_\_\_\_\_ membros, sendo \_\_\_\_\_ designados pelo Prefeito Municipal de Telêmaco Borba e os demais eleitos pelos servidores municipais dentre os estáveis, com a atribuição de coordenar os procedimentos relativos à avaliação periódica de desempenho e outras atribuições.**

- a) três / sete
- b) um / três
- c) sete / três
- d) três / cinco
- e) dois / cinco

**40. A Avaliação de Desempenho será norteadada, dentre outros, pelo seguinte princípio: Amplitude - a avaliação deve incidir sobre todas as áreas de atuação do servidor, que compreendem:**

1. a formulação de políticas administrativas e sua aplicação para todos os setores da administração municipal;
2. o desempenho do profissional dentro de suas funções pertinentes;
3. a estrutura do órgão em que exerce a função;
4. os resultados de eficiência dos serviços de cada setor ou órgão da administração municipal;
5. a participação direta do avaliado, durante todo o processo avaliativo.

**Diante dessa afirmação, somente não está correto o item:**

- a) 1
- b) 2
- c) 3
- d) 4
- e) 5



PREFEITURA DE TELÊMACO BORBA - ESTADO DO PARANÁ- EDITAL Nº 001-2016 - CONCURSO PÚBLICO

VESPERTINO – 29/05/2016 – NÍVEL SUPERIOR

1

PROVA OBJETIVA NÚMERO

**CARGO: TMNS I - ENGENHARIA SANITARISTA**

**Leia atentamente as INSTRUÇÕES:**

1. Confira seus dados no cartão-resposta: nome, número de inscrição e o curso para o qual se inscreveu.
2. **MARQUE no seu cartão-resposta o número da sua prova** (não será corrigido o cartão-resposta que não tiver marcado o número da prova) e **Assine** seu cartão-resposta.
3. Aguarde a autorização do Fiscal para abrir o caderno de prova. Ao receber a ordem do fiscal, confira o caderno de prova com muita atenção. Nenhuma reclamação sobre o total de questões ou falha de impressão será aceita depois de iniciada a prova.
4. O cartão-resposta não será substituído, salvo se contiver erro de impressão.
5. Preencha toda a área do cartão-resposta correspondente à alternativa de sua escolha, com caneta esferográfica (tinta azul ou preta), sem ultrapassar as bordas. As marcações duplas, ou rasuradas, com corretivo, ou marcadas diferentemente do modelo estabelecido no cartão-resposta poderão ser anuladas.
6. Sua prova tem **40** questões, com **5** alternativas.
7. Cabe apenas ao candidato a interpretação das questões, **o fiscal** não poderá fazer nenhuma interferência.
8. A prova será realizada com duração máxima de **3 (três) horas**, incluído o tempo para a realização da Prova Objetiva de múltipla escolha e o preenchimento do cartão-resposta.
9. O candidato poderá retirar-se do local de realização das provas somente **1 (uma) hora** após o seu início, sem levar o caderno de prova.
10. O candidato poderá levar o caderno de provas, assim como anotação contendo transcrição do seu cartão-resposta, somente **1h30min** (uma hora e trinta minutos) após o início da realização da prova.
11. Ao terminar a prova, o candidato deverá entregar ao fiscal de sala o cartão-resposta preenchido e **ASSINADO**.
12. Os **3 (três)** candidatos, que terminarem a prova por último, deverão permanecer na sala, e só poderão sair juntos após o fechamento do envelope, contendo os cartões-resposta dos candidatos presentes e ausentes, e assinarem no lacre do referido envelope, atestando que este foi devidamente lacrado.
13. Durante todo o tempo em que permanecer no local onde está ocorrendo o concurso, o candidato deverá, manter o celular desligado e sem bateria, só sendo permitido ligar depois de ultrapassar o portão de saída do prédio.
14. Não será permitido ao candidato fumar na sala de provas, bem como nas dependências.
15. Depois de terminar a prova e entregar ao fiscal o cartão-resposta, preenchido e assinado, não será mais permitido ao candidato o uso do banheiro e bebedouro.

**BOA PROVA!**

**LÍNGUA PORTUGUESA**

Texto para as próximas cinco questões:

**“O cego Estrelinho”  
Mia Couto**

O cego Estrelinho era pessoa de nenhuma vez: sua história poderia ser contada e descontada não fosse seu guia, Gigito Efraim. A mão de Gigito conduziu o desvistado por tempos e idades. Aquela mão era repartidamente comum, extensão de um no outro, siamensal. E assim era quase de nascença. Memória de Estrelinho tinha cinco dedos e eram os de Gigito postos, em aperto, na sua própria mão.

O cego, curioso, queria saber de tudo. Ele não fazia cerimônia no viver. O sempre lhe era pouco e o tudo insuficiente. Dizia, deste modo:

— Tenho que viver já, senão esqueço-me.

Gigitinho, porém, o que descrevia era o que não havia. O mundo que ele minuciava eram fantasias e rendilhados. A imaginação do guia era mais profícua que papaeira. O cego enchia a boca de águas:

— Que maravilhação esse mundo. Me conte tudo, Gigito!

A mão do guia era, afinal, o manuscrito da mentira. Gigito Efraim estava como nunca esteve S. Tomé: via para não crer. O condutor falava pela ponta dos dedos. Desfolhava o universo, aberto em folhas. A ideação dele era tal que mesmo o cego, por vezes, acreditava ver. O outro lhe encorajava esses breves enganar:

— Desbengale-se, você está escolhendo a boa procedência!

Mentira: Estrelinho continuava sem ver uma palmeira à frente do nariz. Contudo, o cego não se conformava em suas escurezas. Ele cumpria o ditado: não tinha perna e queria dar o pontapé. Só à noite, ele desalentava, sofrendo medos mais antigos que a humanidade. Entendia aquilo que, na raça humana, é menos primitivo: o animal.

— Na noite aflige não haver luz?

— Aflição é ter um pássaro branco esvoando dentro do sono.

Pássaro branco? No sono? Lugar de ave é nas alturas. Dizem até que Deus fez o céu para justificar os pássaros. Estrelinho disfarçava o medo dos vaticínios, subterfugindo:

— E agora, Gigitinho? Agora, olhando assim para cima, estou face ao céu?

Que podia o outro responder? O céu do cego fica em toda a parte. Estrelinho perdia o pé era quando a noite chegava e seu mestre adormecia. Era como se um novo escuro nele se estreasse em nó cego. Devagaroso e sorrateiro ele aninhava sua mão na mão do guia. Só assim adormecia. A razão da concha é a timidez da amêijoia? Na manhã seguinte, o cego lhe confessava: se você morrer, tenho que morrer logo no imediato. Senão-me: como acerto o caminho para o céu?

Foi no mês de dezembro que levaram Gigitinho. Lhe tiraram do mundo para pôr na guerra: obrigavam os serviços militares. O cego reclamou: que o moço inatingia a idade. E que o serviço que ele a si prestava era vital e vitalício. O guia chamou Estrelinho à parte e lhe tranquilizou:

— Não vai ficar sozinhandando por aí. Minha mana já mandei para ficar no meu lugar.

O cego estendeu o braço a querer tocar uma despedida. Mas o outro já não estava lá. Ou estava e se desviara, propositado? E sem água ida nem vinda, Estrelinho escutou o amigo se afastar, engolido, esponginquo, inevisível. Pela pimeira vez, Estrelinho se sentiu invalidado.

— Agora, só agora, sou cego que não vê.

(...)

**COUTO, Mia. Estórias abensonhadas. Rio de Janeiro: Nova Fronteira, 1996. (Pág 23 e 24).**

**01. Quanto à interpretação do fragmento do conto, podemos afirmar que:**

- a) Gigito Efraim era o guia de Estrelinho há pouquíssimo tempo.
- b) Estrelinho era cego de nascença.
- c) Gigito descrevia o mundo para Estrelinho de forma denotativa.
- d) Gigito foi convocado pelo exército para ser guia de cegos na guerra.
- e) Gigito descrevia o mundo para Estrelinho de forma conotativa.

**02. No período “O sempre lhe era pouco e o tudo insuficiente”, o pronome “LHE” exerce a função sintática de:**

- a) Objeto Direto
- b) Objeto Indireto
- c) Complemento Nominal
- d) Adjunto Adnominal
- e) Objeto Direto Preposicionado

**03. Na oração “A mão de Gigito conduziu o desvistado por tempos e idades”, o autor faz uso de um neologismo, assim como no decorrer de toda a obra em questão. Contudo, o neologismo só se torna possível pela utilização dos elementos mórficos naquilo que a gramática normativa pontua como Processo de Formação das Palavras. Levando em consideração apenas o recurso morfológico, qual Processo de Formação foi utilizado?**

- a) Derivação Sufixal

- b) Derivação Prefixal
- c) Derivação Regressiva
- d) Derivação Imprópria
- e) Derivação Parassintética

**04. No terceiro período do décimo terceiro parágrafo, temos:**

- a) Uma oração
- b) Duas orações
- c) Três orações
- d) Quatro orações
- e) Cinco orações

**05. No último parágrafo do fragmento do conto “— Agora, só agora, sou cego que não vê”, a oração subordinada presente classifica-se corretamente como:**

- a) Oração Subordinada Adjetiva Restritiva
- b) Oração Subordinada Adverbial Causal
- c) Oração Subordinada Substantiva Subjetiva
- d) Oração Subordinada Adverbial Explicativa
- e) Oração Subordinada Adjetiva Explicativa

#### **RACIOCÍNIO LÓGICO**

**06. Os cinco filhos de Ana estavam discutindo a respeito da data de nascimento da mãe:**

- Almir disse que foi em janeiro, dia 14, sexta-feira.
- Vanderlei disse que foi em janeiro, dia 14, sábado.
- Tiago disse que foi em fevereiro, dia 15, sábado.
- Sandro disse que foi em janeiro, dia 15, sexta-feira.
- Renato disse que foi em fevereiro, dia 15, sexta-feira.

**Sabe-se que somente um dos filhos de Ana acertou corretamente sua data de nascimento e que os outros acertaram pelo menos um dos itens (dia, dia da semana e mês). Dessa forma, é correto afirmar que o filho de Ana que acertou a data de nascimento dela foi:**

- a) Renato
- b) Sandro
- c) Tiago
- d) Vanderlei
- e) Almir

**07. Considere a seguinte afirmativa: “Todo churrasqueiro gosta de picanha”. Em relação a essa proposição, é correto afirmar que:**

- a) Algum churrasqueiro não gosta de picanha.
- b) Toda pessoa que gosta de picanha é churrasqueira.
- c) Alguma pessoa que não gosta de picanha é churrasqueira.
- d) Toda pessoa que não é churrasqueira, não gosta de picanha.
- e) Toda pessoa que não gosta de picanha, não é churrasqueira.

**08. Em um grupo formado por 67 pessoas, verificou-se que 41 pessoas gostam de arroz, 29 gostam de feijão, 33 gostam de carne, 19 gostam de arroz e de feijão, 9 gostam apenas de arroz e de carne, 12 gostam de feijão e de carne e que 6 gostam de arroz, de feijão e de carne. O número de pessoas desse grupo, que não gosta de nenhum desses três tipos de alimentos é igual a:**

- a) 4
- b) 5
- c) 6
- d) 8
- e) 10

**09. Bruno escreveu, em seu caderno, várias sequências formadas por números múltiplos de 4, onde os valores que ocupavam as posições pares eram multiplicados por  $-1$ . Cada sequência foi somada e o resultado da soma anotado. A soma das três primeiras sequências escritas por Bruno foram as seguintes:**

$$4 - 8 = -4$$
$$4 - 8 + 12 = 8$$
$$4 - 8 + 12 - 16 = -8$$

**Considere que Bruno escreveu e somou tais sequências, em seu caderno, de modo a obter determinada sequência cuja soma foi 600. O número de termos dessa sequência é igual a:**

- a) 149
- b) 150
- c) 298

- d) 299  
e) 300

10. Quatro torcedores, um do São Paulo, um do Cruzeiro, um do Vasco e um do Bahia, estão sentados ao redor de uma mesa quadrada, de modo que, dois a dois, fiquem frente a frente. Sabe-se que Alan é torcedor do Cruzeiro e que Bruno está sentado à direita de Alan. Sabe-se também que Caio está sentado à direita do torcedor do São Paulo. Sabe-se ainda que Daniel não é torcedor do Vasco e que está sentado à frente de Bruno. Dessa forma, é correto afirmar que:

- a) Bruno é torcedor do Bahia e Daniel é torcedor do São Paulo.  
b) Bruno é torcedor do São Paulo e Daniel é torcedor do Bahia.  
c) Caio é torcedor do Vasco e Daniel é torcedor do São Paulo.  
d) Caio é torcedor do Bahia e Daniel é torcedor do São Paulo.  
e) Bruno é torcedor do Vasco e Daniel é torcedor do Bahia.

### INFORMÁTICA

11. Considerando o MS-Excel versão 2010, observando a figura abaixo, é correto afirmar que:

	A	B	C
1			
2			
3			
4			

- a) Somente 03 três linhas estão selecionadas.  
b) Somente uma célula está selecionada.  
c) 12 (doze) células estão selecionadas.  
d) Somente a coluna A até a linha 4 (quatro) está selecionada.  
e) Somente as colunas 1 (um), 2 (dois), 3 (três) e 4 (quatro) estão selecionadas.

12. Considerando o MS-Excel versão 2010, observando a figura abaixo, é incorreto afirmar que:

	A	B	C
1	12	6	=A1*B1
2	8	2	=A2/B2
3	5	14	=A3-B3
4	6	11	=A4+B4

- a) O resultado da fórmula =A1\*B1 é 72.  
b) O resultado da fórmula =A2/B2 é 4.  
c) O resultado da fórmula =A3-B3 é -9.  
d) O resultado da fórmula =A3-B3 é 9.  
e) O resultado da fórmula =A4+B4 é 17.

13. Digitando um texto no MS-Word versão 2010, necessito adicionar número nas páginas. Quanto a isso, é correto afirmar que:

- a) No menu Layout da Página, clico em número de página e seleciono onde desejo adicionar os números.  
b) No menu Inserir, clico em número de página e seleciono onde desejo adicionar os números.  
c) No menu Revisão, clico em número de página e seleciono onde desejo adicionar os números.  
d) No menu Referências, clico em número de página e seleciono onde desejo adicionar os números.  
e) No menu Exibição, clico em número de página e seleciono onde desejo adicionar os números.

14. A segurança da informação está diretamente relacionada com proteção de um conjunto de informações, no sentido de preservar o valor que possuem para um indivíduo ou uma organização. Atualmente, um dos aplicativos mais utilizados no mundo, o Whats app, teve uma alteração de confidencialidade muito importante na segurança das informações transmitidas e recebidas. Dentre as alternativas, assinale a que corretamente informa a alteração inserida no aplicativo Whats app.

- a) Antispam  
b) Antivirus  
c) Firewall  
d) Antispyware  
e) Criptografia

**15. São todos os dispositivos que trabalham acoplados ao microcomputador para receber, transmitir, visualizar, ler, gravar ou armazenar dados. São eles que permitem a comunicação do computador com o meio exterior, isto é, com os usuários e outras máquinas.**

**Esse texto descreve corretamente:**

- a) Memória ram
- b) Memória virtual
- c) Software
- d) Periféricos
- e) Hardware

### CONHECIMENTOS GERAIS

#### 16. Hino do município de Telêmaco Borba/PR

Das virgens matas e campos verdejantes  
 Servindo-se também o rio Tibagi,  
 Homens de ideais, espíritos vibrantes.  
 Constituíram as indústrias aqui.

Estribilho:

Salve! Salve! Telêmaco Borba  
 Terra querida e de grandes primores,  
 A nossa homenagem rendamos  
 À cidade dos trabalhadores.  
 Pois a cadência de enorme e real progresso  
 Um município mui grandioso fez nascer,  
 Marcando assim, verdadeiro sucesso  
 Faz, então o Paraná engrandecer.

**No que tange ao Hino do município, atribua V (verdadeiro) ou F (falso) às afirmativas e marque a alternativa correta.**

- ( ) Eloah Martins Quadrado é autora da letra do hino.
- ( ) Bento Mossurunga compôs a música do hino.
- ( ) Eloah Martins Quadrado foi nomeada primeira professora da Cidade Nova, atual Telêmaco Borba.
- ( ) Bento Mossurunga fundou a orquestra Estudantil e Concertos – Orquestra Sinfônica da Universidade, a Sociedade de Cultura Artístico Basílio Itiberê.
- a) F, V, V, V.
- b) V, F, V, V.
- c) V, V, F, V.
- d) V, V, F, F.
- e) V, V, V, V.

**17. À luz da Lei nº 1883/2012, que dispõe sobre o Estatuto dos Servidores Públicos da Administração Direta, Autárquica e Funcional do Município de Telêmaco Borba/PR, leia as alternativas e marque a correta.**

- a) A apresentação para a posse ocorrerá no prazo de até trinta dias, contados do ato de nomeação.
- b) A destituição do servidor da função gratificada dar-se-á por solicitação exclusiva dele mesmo.
- c) O servidor ocupante exclusivamente de cargo em comissão será contribuinte do regime geral de previdência social.
- d) A aprovação em concurso público gera o direito à nomeação, e será feita obedecida à ordem de classificação dos candidatos.
- e) O exercício de função gratificada poderá ser de dedicação integral ou parcial, conforme necessidade da administração.

**Conforme a Lei nº 1.881, de 05 de abril de 2012, que dispõe sobre o Plano de Cargos, Carreiras e Vencimentos do quadro geral de servidores da Prefeitura Municipal de Telêmaco Borba/PR, regulamentada pelo Decreto nº 2269/2015, responda às próximas três questões.**

**18. Leia as assertivas e assinala a incorreta.**

- a) Do resultado da avaliação de desempenho poderá ser interposto recurso à Comissão de Desenvolvimento Funcional no prazo de quinze dias a contar da publicação no Boletim Oficial do Município.
- b) Não será concedida a progressão ou promoção ao servidor que estiver em licença para tratamento de saúde por um período superior a quarenta e cinco dias, no período de avaliação.
- c) A alternância dos membros constituintes da Comissão de Desenvolvimento Funcional eleitos pelos servidores verificar-se-á a cada três anos de participação, observados, para substituição de seus participantes, o critério fixado no artigo anterior, não cabendo eleição sucessiva.
- d) Caberá à Comissão de Desenvolvimento Funcional, no caso de divergência de vinte por cento entre a nota do avaliador e a do avaliado, solicitar nova avaliação à chefia.





e) Nos termos do disposto no art. 17 da Lei nº 1.881, de 05 de abril de 2012, para progredir, é necessário que o servidor satisfaça, dentre outros, o seguinte requisito: estar no efetivo exercício de seu cargo ou em função comissionada na sua área de atuação durante o interstício de dois anos.

**19. Assinale a alternativa que completa respectivamente as lacunas do texto a seguir:**

**A Comissão de Desenvolvimento Funcional será constituída por \_\_\_\_\_ membros, sendo \_\_\_\_\_ designados pelo Prefeito Municipal de Telêmaco Borba e os demais eleitos pelos servidores municipais dentre os estáveis, com a atribuição de coordenar os procedimentos relativos à avaliação periódica de desempenho e outras atribuições.**

- a) três / sete
- b) um / três
- c) sete / três
- d) três / cinco
- e) dois / cinco

**20. A Avaliação de Desempenho será norteadada, dentre outros, pelo seguinte princípio: Amplitude - a avaliação deve incidir sobre todas as áreas de atuação do servidor, que compreendem:**

- 1. a formulação de políticas administrativas e sua aplicação para todos os setores da administração municipal;**
- 2. o desempenho do profissional dentro de suas funções pertinentes;**
- 3. a estrutura do órgão em que exerce a função;**
- 4. os resultados de eficiência dos serviços de cada setor ou órgão da administração municipal;**
- 5. a participação direta do avaliado, durante todo o processo avaliativo.**

**Diante dessa afirmação, somente não está correto o item:**

- a) 1
- b) 2
- c) 3
- d) 4
- e) 5

#### **CONHECIMENTOS ESPECÍFICOS**

**21. Com relação aos projetos de obras civis voltados para o sistema público de abastecimento de água, marque a alternativa que apresenta o nome dado à unidade composta pelo conjunto de equipamentos e instalações utilizadas para a tomada de água em um manancial, com a finalidade de lançá-la no sistema de abastecimento:**

- a) Tratamento
- b) Distribuição
- c) Ramificação
- d) Reservação
- e) Captação

**22. Na execução de obras destinadas ao tratamento e disposição final de esgotos, quando a profundidade das tubulações se tornam demasiadamente acentuadas, devido à baixa declividade do terreno, torna-se necessário bombear o esgoto para um nível mais elevado por meio de um dispositivo denominado de:**

- a) Estação elevatória
- b) Estação de tratamento
- c) Ramal predial
- d) Poço de visita
- e) Interceptor tronco

**23. No que diz respeito aos materiais de construção civil, dentre os diversos tipos de cimento Portland, marque a alternativa que apresenta o tipo de cimento que possui em sua composição além do calcário, argila e gesso, a presença de uma adição de pozolana:**

- a) CP I
- b) CP II E
- c) CP II F
- d) CP II Z
- e) CP III

**24. No que concerne aos tipos usuais de aglomerantes empregados na construção civil, marque a alternativa que apresenta um exemplo de aglomerante aéreo obtido a partir de rochas que contêm em sua composição carbonatos de cálcio e/ou de magnésio:**

- a) Argila
- b) Cal
- c) Gesso

- d) Emulsão asfáltica  
e) Cimento Portland

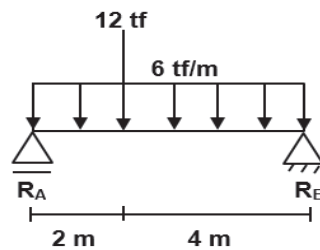
25. Nos estudos de mecânica dos solos, em virtude da necessidade de deposição de um material com características mais impermeáveis para a colocação no fundo de valas de aterros sanitários, marque a alternativa que apresenta o solo mais recomendado para esta finalidade:

- a) Pedregulho  
b) Areia  
c) Brita  
d) Silte  
e) Argila

26. Sabendo-se que uma amostra de solo úmida possui massa de 48 gramas e quando seca em estufa essa massa vai para 36 gramas, marque a alternativa que apresenta o teor de umidade desse solo:

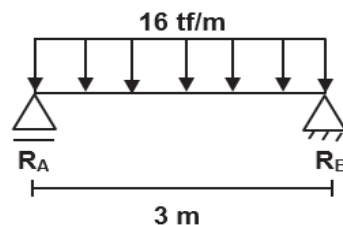
- a) 10,33%  
b) 15,66%  
c) 20,33%  
d) 25,66%  
e) 33,33%

27. Dada a estrutura isostática a seguir, marque a alternativa que apresenta os valores das reações  $R_A$  e  $R_B$ , respectivamente:



- a) 32 tf e 16 tf  
b) 30 tf e 18 tf  
c) 28 tf e 20 tf  
d) 26 tf e 22 tf  
e) 24 tf e 24 tf

28. A partir da viga isostática a seguir, marque a alternativa que apresenta o valor do momento fletor máximo:



- a) 18 tf.m  
b) 20 tf.m  
c) 22 tf.m  
d) 24 tf.m  
e) 26 tf.m

29. Com relação à segurança e higiene no trabalho, dentre os tipos de equipamentos utilizados para proteção individual, marque a alternativa que apresenta o equipamento destinado à proteção do braço e antebraço dos usuários que executam serviços de soldagem e/ou corte a quente:

- a) Mangote de raspa  
b) Perneira de raspa  
c) Luva de amianto  
d) Avental de PVC  
e) Máscara panorâmica

30. Analise os itens a seguir, relacionados aos critérios estabelecidos de higiene e segurança do trabalho num canteiro de obras, quanto ao transporte e movimentação de materiais por meio de elevadores:

- (I) os elevadores de materiais devem ser dotados de cobertura fixa, basculável e removível;  
(II) os elevadores de materiais não devem dispor de sistema de frenagem automática;

**(III) os elevadores de materiais devem contar com dispositivo de tração na subida e descida, de modo a impedir a descida da cabine em queda livre (banguela).**

**Com base nos itens descritos, é correto afirmar que:**

- a) Somente o I está correto.
- b) Somente o II está correto.
- c) Somente o III está correto.
- d) Somente I e II estão corretos.
- e) Somente I e III estão corretos.

**31. Nas análises realizadas quanto à resistência dos materiais, marque a alternativa que apresenta o tipo de esforço que tende a cisalhar um objeto sem a tendência de rotação ou curvatura:**

- a) Momento fletor
- b) Momento torsor
- c) Esforço cortante
- d) Esforço normal de tração
- e) Esforço normal de compressão

**32. Quanto à classificação adotada pelo Conselho Nacional de Meio Ambiente (CONAMA) com relação aos resíduos sólidos gerados pela construção civil, marque a alternativa que apresenta a classe de enquadramento para os resíduos reutilizáveis ou recicláveis como agregados:**

- a) Classe A
- b) Classe B
- c) Classe C
- d) Classe D
- e) Classe E

**33. Dentre as diversas características químicas avaliadas para os resíduos sólidos, marque a alternativa que apresenta a característica química que traduz a energia (na forma de calor) que dada massa de resíduo irá desprender ao ser submetida a um processo térmico, como, por exemplo, a incineração:**

- a) Proporção carbono/nitrogênio
- b) Potencial Hidrogeniônico
- c) Poder calorífico inferior
- d) Peso específico aparente
- e) Fator de compressividade

**34. No que diz respeito aos sistemas de abastecimento e tratamento de água, marque a alternativa que apresenta a etapa de tratamento responsável por eliminar os micro-organismos patogênicos presentes em uma água:**

- a) Fluoretação
- b) Desinfecção
- c) Dessalinização
- d) Correção de dureza
- e) Correção de acidez

**35. Analise os itens a seguir, relacionados aos sistemas de esgotamento sanitário:**

**(I) os sumidouros, também conhecidos como poços absorventes ou fossas absorventes, são escavações feitas no terreno para disposição final do efluente de tanque séptico, que se infiltram no solo pela área vertical (parede);**

**(II) as valas de infiltração são câmaras fechadas com a finalidade de deter os despejos domésticos, por um período de tempo estabelecido, de modo a permitir a decantação dos sólidos e retenção do material graxo contido nos esgotos transformando-se bioquimicamente, em substâncias e compostos mais simples e estáveis;**

**(III) os leitos de secagem são unidades de tratamento, geralmente em forma de tanques retangulares, projetados e construídos de modo a receber o lodo dos digestores, ou unidades de oxidação total, onde se processa a redução da umidade com a drenagem e evaporação da água liberada durante o período de secagem.**

**Com base nos itens descritos, é correto afirmar que:**

- a) Somente o I está correto.
- b) Somente o II está correto.
- c) Somente o III está correto.
- d) Somente I e III estão corretos.
- e) Somente II e III estão corretos.

**36. Com relação às características físicas, químicas e biológicas dos esgotos domésticos, marque a alternativa que apresenta um exemplo de característica química:**

- a) Odor
- b) Temperatura
- c) Matéria orgânica
- d) Variação de vazão
- e) Cor e turbidez

**37. Com relação aos esgotos domésticos, marque a alternativa que apresenta o parâmetro mais utilizado para se medir a quantidade de matéria orgânica presente no esgoto ou, em outras palavras, medir a quantidade de oxigênio necessário para estabilizar a matéria orgânica com a cooperação de bactérias aeróbias:**

- a) DQO
- b) DBO
- c) DFO
- d) DPO
- e) DTO

**38. Dentre os processos eficientes e econômicos de disposição do efluente líquido das fossas sépticas, marque a alternativa que apresenta o tipo de dispositivo formado por um leito de brita nº 4 ou nº 5, contido em um tanque de forma cilíndrica ou retangular, que pode ser com fundo falso para permitir o escoamento ascendente do efluente do tanque séptico ou sem fundo falso, mas totalmente cheio de britas:**

- a) Sumidouro
- b) Filtro anaeróbio
- c) Filtro de areia
- d) Vala de infiltração
- e) Fossa negra

**39. Analise os itens a seguir, relacionados aos tipos e sistemas de esgotos:**

**(I) no sistema de esgoto unitário, a coleta de águas pluviais, dos esgotos domésticos e dos despejos industriais é realizada em um único coletor;**

**(II) no sistema de esgoto do tipo separador absoluto, o esgoto doméstico e o industrial ficam completamente ligados com o esgoto pluvial;**

**(III) os esgotos domésticos incluem as águas contendo matéria fecal e as águas servidas, resultantes de banho e de lavagem de utensílios e roupas.**

**Com base nos itens descritos, é correto afirmar que:**

- a) Somente o I está correto.
- b) Somente o II está correto.
- c) Somente o III está correto.
- d) Somente I e III estão corretos.
- e) Somente II e III estão corretos.

**40. Quanto aos tipos de lagoas de estabilização empregadas no tratamento de esgotos, marque a alternativa que apresenta o tipo de lagoa cuja principal finalidade é a redução de coliformes fecais:**

- a) Lagoas de maturação
- b) Lagoas facultativas
- c) Lagoas anaeróbias
- d) Lagoas aeróbias
- e) Lagoas Imhoff

**RASCUNHO**



PREFEITURA DE TELÊMACO BORBA - ESTADO DO PARANÁ- EDITAL Nº 001-2016 - CONCURSO PÚBLICO

VESPERTINO – 29/05/2016 – NÍVEL SUPERIOR

2

PROVA OBJETIVA NÚMERO

**CARGO: TMNS I - ENGENHARIA SANITARISTA**

Leia atentamente as INSTRUÇÕES:

1. Confira seus dados no cartão-resposta: nome, número de inscrição e o curso para o qual se inscreveu.
2. **MARQUE no seu cartão-resposta o número da sua prova** (não será corrigido o cartão-resposta que não tiver marcado o número da prova) e **Assine** seu cartão-resposta.
3. Aguarde a autorização do Fiscal para abrir o caderno de prova. Ao receber a ordem do fiscal, confira o caderno de prova com muita atenção. Nenhuma reclamação sobre o total de questões ou falha de impressão será aceita depois de iniciada a prova.
4. O cartão-resposta não será substituído, salvo se contiver erro de impressão.
5. Preencha toda a área do cartão-resposta correspondente à alternativa de sua escolha, com caneta esferográfica (tinta azul ou preta), sem ultrapassar as bordas. As marcações duplas, ou rasuradas, com corretivo, ou marcadas diferentemente do modelo estabelecido no cartão-resposta poderão ser anuladas.
6. Sua prova tem **40** questões, com **5** alternativas.
7. Cabe apenas ao candidato a interpretação das questões, **o fiscal** não poderá fazer nenhuma interferência.
8. A prova será realizada com duração máxima de **3 (três) horas**, incluído o tempo para a realização da Prova Objetiva de múltipla escolha e o preenchimento do cartão-resposta.
9. O candidato poderá retirar-se do local de realização das provas somente **1 (uma) hora** após o seu início, sem levar o caderno de prova.
10. O candidato poderá levar o caderno de provas, assim como anotação contendo transcrição do seu cartão-resposta, somente **1h30min** (uma hora e trinta minutos) após o início da realização da prova.
11. Ao terminar a prova, o candidato deverá entregar ao fiscal de sala o cartão-resposta preenchido e **ASSINADO**.
12. Os **3 (três)** candidatos, que terminarem a prova por último, deverão permanecer na sala, e só poderão sair juntos após o fechamento do envelope, contendo os cartões-resposta dos candidatos presentes e ausentes, e assinarem no lacre do referido envelope, atestando que este foi devidamente lacrado.
13. Durante todo o tempo em que permanecer no local onde está ocorrendo o concurso, o candidato deverá, manter o celular desligado e sem bateria, só sendo permitido ligar depois de ultrapassar o portão de saída do prédio.
14. Não será permitido ao candidato fumar na sala de provas, bem como nas dependências.
15. Depois de terminar a prova e entregar ao fiscal o cartão-resposta, preenchido e assinado, não será mais permitido ao candidato o uso do banheiro e bebedouro.

**BOA PROVA!**

**RACIOCÍNIO LÓGICO**

**01. Os cinco filhos de Ana estavam discutindo a respeito da data de nascimento da mãe:**

- Almir disse que foi em janeiro, dia 14, sexta-feira.
- Vanderlei disse que foi em janeiro, dia 14, sábado.
- Tiago disse que foi em fevereiro, dia 15, sábado.
- Sandro disse que foi em janeiro, dia 15, sexta-feira.
- Renato disse que foi em fevereiro, dia 15, sexta-feira.

**Sabe-se que somente um dos filhos de Ana acertou corretamente sua data de nascimento e que os outros acertaram pelo menos um dos itens (dia, dia da semana e mês). Dessa forma, é correto afirmar que o filho de Ana que acertou a data de nascimento dela foi:**

- a) Renato
- b) Sandro
- c) Tiago
- d) Vanderlei
- e) Almir

**02. Considere a seguinte afirmativa: “Todo churrasqueiro gosta de picanha”. Em relação a essa proposição, é correto afirmar que:**

- a) Algum churrasqueiro não gosta de picanha.
- b) Toda pessoa que gosta de picanha é churrasqueira.
- c) Alguma pessoa que não gosta de picanha é churrasqueira.
- d) Toda pessoa que não é churrasqueira, não gosta de picanha.
- e) Toda pessoa que não gosta de picanha, não é churrasqueira.

**03. Em um grupo formado por 67 pessoas, verificou-se que 41 pessoas gostam de arroz, 29 gostam de feijão, 33 gostam de carne, 19 gostam de arroz e de feijão, 9 gostam apenas de arroz e de carne, 12 gostam de feijão e de carne e que 6 gostam de arroz, de feijão e de carne. O número de pessoas desse grupo, que não gosta de nenhum desses três tipos de alimentos é igual a:**

- a) 4
- b) 5
- c) 6
- d) 8
- e) 10

**04. Bruno escreveu, em seu caderno, várias sequências formadas por números múltiplos de 4, onde os valores que ocupavam as posições pares eram multiplicados por  $-1$ . Cada sequência foi somada e o resultado da soma anotado. A soma das três primeiras sequências escritas por Bruno foram as seguintes:**

$$4 - 8 = -4$$

$$4 - 8 + 12 = 8$$

$$4 - 8 + 12 - 16 = -8$$

**Considere que Bruno escreveu e somou tais sequências, em seu caderno, de modo a obter determinada sequência cuja soma foi 600. O número de termos dessa sequência é igual a:**

- a) 149
- b) 150
- c) 298
- d) 299
- e) 300

**05. Quatro torcedores, um do São Paulo, um do Cruzeiro, um do Vasco e um do Bahia, estão sentados ao redor de uma mesa quadrada, de modo que, dois a dois, fiquem frente a frente. Sabe-se que Alan é torcedor do Cruzeiro e que Bruno está sentado à direita de Alan. Sabe-se também que Caio está sentado à direita do torcedor do São Paulo. Sabe-se ainda que Daniel não é torcedor do Vasco e que está sentado à frente de Bruno. Dessa forma, é correto afirmar que:**

- a) Bruno é torcedor do Bahia e Daniel é torcedor do São Paulo.
- b) Bruno é torcedor do São Paulo e Daniel é torcedor do Bahia.
- c) Caio é torcedor do Vasco e Daniel é torcedor do São Paulo.
- d) Caio é torcedor do Bahia e Daniel é torcedor do São Paulo.
- e) Bruno é torcedor do Vasco e Daniel é torcedor do Bahia.



**INFORMÁTICA**

06. Considerando o MS-Excel versão 2010, observando a figura abaixo, é correto afirmar que:

	A	B	C
1			
2			
3			
4			

- Somente 03 três linhas estão selecionadas.
- Somente uma célula está selecionada.
- 12 (doze) células estão selecionadas.
- Somente a coluna A até a linha 4 (quatro) está selecionada.
- Somente as colunas 1 (um), 2 (dois), 3 (três) e 4 (quatro) estão selecionadas.

07. Considerando o MS-Excel versão 2010, observando a figura abaixo, é incorreto afirmar que:

	A	B	C
1	12	6	=A1*B1
2	8	2	=A2/B2
3	5	14	=A3-B3
4	6	11	=A4+B4

- O resultado da fórmula =A1\*B1 é 72.
- O resultado da fórmula =A2/B2 é 4.
- O resultado da fórmula =A3-B3 é -9.
- O resultado da fórmula =A3-B3 é 9.
- O resultado da fórmula =A4+B4 é 17.

08. Digitando um texto no MS-Word versão 2010, necessito adicionar número nas páginas. Quanto a isso, é correto afirmar que:

- No menu Layout da Página, clico em número de página e seleciono onde desejo adicionar os números.
- No menu Inserir, clico em número de página e seleciono onde desejo adicionar os números.
- No menu Revisão, clico em número de página e seleciono onde desejo adicionar os números.
- No menu Referências, clico em número de página e seleciono onde desejo adicionar os números.
- No menu Exibição, clico em número de página e seleciono onde desejo adicionar os números.

09. A segurança da informação está diretamente relacionada com proteção de um conjunto de informações, no sentido de preservar o valor que possuem para um indivíduo ou uma organização. Atualmente, um dos aplicativos mais utilizados no mundo, o Whats app, teve uma alteração de confidencialidade muito importante na segurança das informações transmitidas e recebidas. Dentre as alternativas, assinale a que corretamente informa a alteração inserida no aplicativo Whats app.

- Antispam
- Antivirus
- Firewall
- Antispyware
- Criptografia

10. São todos os dispositivos que trabalham acoplados ao microcomputador para receber, transmitir, visualizar, ler, gravar ou armazenarem dados. São eles que permitem a comunicação do computador com o meio exterior, isto é, com os usuários e outras máquinas.

Esse texto descreve corretamente:

- Memória ram
- Memória virtual
- Software
- Periféricos
- Hardware

**CONHECIMENTOS GERAIS**

11. Hino do município de Telêmaco Borba/PR

Das virgens matas e campos verdejantes  
 Servindo-se também o rio Tibagi,



Homens de ideais, espíritos vibrantes.  
Constituíram as indústrias aqui.

Estrilho:

Salve! Salve! Telêmaco Borba  
Terra querida e de grandes primores,  
A nossa homenagem rendamos  
À cidade dos trabalhadores.

Pois a cadência de enorme e real progresso  
Um município mui grandioso fez nascer,  
Marcando assim, verdadeiro sucesso  
Faz, então o Paraná engrandecer.

**No que tange ao Hino do município, atribua V (verdadeiro) ou F (falso) às afirmativas e marque a alternativa correta.**

( ) Eloah Martins Quadrado é autora da letra do hino.

( ) Bento Mossurunga compôs a música do hino.

( ) Eloah Martins Quadrado foi nomeada primeira professora da Cidade Nova, atual Telêmaco Borba.

( ) Bento Mossurunga fundou a orquestra Estudantil e Concertos – Orquestra Sinfônica da Universidade, a Sociedade de Cultura Artístico Basílio Itiberê.

a) F, V, V, V.

b) V, F, V, V.

c) V, V, F, V.

d) V, V, F, F.

e) V, V, V, V.

**12. À luz da Lei nº 1883/2012, que dispõe sobre o Estatuto dos Servidores Públicos da Administração Direta, Autárquica e Funcional do Município de Telêmaco Borba/PR, leia as alternativas e marque a correta.**

a) A apresentação para a posse ocorrerá no prazo de até trinta dias, contados do ato de nomeação.

b) A destituição do servidor da função gratificada dar-se-á por solicitação exclusiva dele mesmo.

c) O servidor ocupante exclusivamente de cargo em comissão será contribuinte do regime geral de previdência social.

d) A aprovação em concurso público gera o direito à nomeação, e será feita obedecida à ordem de classificação dos candidatos.

e) O exercício de função gratificada poderá ser de dedicação integral ou parcial, conforme necessidade da administração.

**Conforme a Lei nº 1.881, de 05 de abril de 2012, que dispõe sobre o Plano de Cargos, Carreiras e Vencimentos do quadro geral de servidores da Prefeitura Municipal de Telêmaco Borba/PR, regulamentada pelo Decreto nº 2269/2015, responda às próximas três questões.**

**13. Leia as assertivas e assinala a incorreta.**

a) Do resultado da avaliação de desempenho poderá ser interposto recurso à Comissão de Desenvolvimento Funcional no prazo de quinze dias a contar da publicação no Boletim Oficial do Município.

b) Não será concedida a progressão ou promoção ao servidor que estiver em licença para tratamento de saúde por um período superior a quarenta e cinco dias, no período de avaliação.

c) A alternância dos membros constituintes da Comissão de Desenvolvimento Funcional eleitos pelos servidores verificar-se-á a cada três anos de participação, observados, para substituição de seus participantes, o critério fixado no artigo anterior, não cabendo eleição sucessiva.

d) Caberá à Comissão de Desenvolvimento Funcional, no caso de divergência de vinte por cento entre a nota do avaliador e a do avaliado, solicitar nova avaliação à chefia.

e) Nos termos do disposto no art. 17 da Lei nº 1.881, de 05 de abril de 2012, para progredir, é necessário que o servidor satisfaça, dentre outros, o seguinte requisito: estar no efetivo exercício de seu cargo ou em função comissionada na sua área de atuação durante o interstício de dois anos.

**14. Assinale a alternativa que completa respectivamente as lacunas do texto a seguir:**

**A Comissão de Desenvolvimento Funcional será constituída por \_\_\_\_\_ membros, sendo \_\_\_\_\_ designados pelo Prefeito Municipal de Telêmaco Borba e os demais eleitos pelos servidores municipais dentre os estáveis, com a atribuição de coordenar os procedimentos relativos à avaliação periódica de desempenho e outras atribuições.**

a) três / sete

b) um / três

c) sete / três

d) três / cinco

e) dois / cinco

**15. A Avaliação de Desempenho será norteadada, dentre outros, pelo seguinte princípio: Amplitude - a avaliação deve incidir sobre todas as áreas de atuação do servidor, que compreendem:**

- 1. a formulação de políticas administrativas e sua aplicação para todos os setores da administração municipal;**
- 2. o desempenho do profissional dentro de suas funções pertinentes;**
- 3. a estrutura do órgão em que exerce a função;**
- 4. os resultados de eficiência dos serviços de cada setor ou órgão da administração municipal;**
- 5. a participação direta do avaliado, durante todo o processo avaliativo.**

**Diante dessa afirmação, somente não está correto o item:**

- a) 1
- b) 2
- c) 3
- d) 4
- e) 5

#### **CONHECIMENTOS ESPECÍFICOS**

**16. Com relação aos projetos de obras civis voltados para o sistema público de abastecimento de água, marque a alternativa que apresenta o nome dado à unidade composta pelo conjunto de equipamentos e instalações utilizadas para a tomada de água em um manancial, com a finalidade de lançá-la no sistema de abastecimento:**

- a) Tratamento
- b) Distribuição
- c) Ramificação
- d) Reservação
- e) Captação

**17. Na execução de obras destinadas ao tratamento e disposição final de esgotos, quando a profundidade das tubulações se tornam demasiadamente acentuadas, devido à baixa declividade do terreno, torna-se necessário bombear o esgoto para um nível mais elevado por meio de um dispositivo denominado de:**

- a) Estação elevatória
- b) Estação de tratamento
- c) Ramal predial
- d) Poço de visita
- e) Interceptor tronco

**18. No que diz respeito aos materiais de construção civil, dentre os diversos tipos de cimento Portland, marque a alternativa que apresenta o tipo de cimento que possui em sua composição além do calcário, argila e gesso, a presença de uma adição de pozolana:**

- a) CP I
- b) CP II E
- c) CP II F
- d) CP II Z
- e) CP III

**19. No que concerne aos tipos usuais de aglomerantes empregados na construção civil, marque a alternativa que apresenta um exemplo de aglomerante aéreo obtido a partir de rochas que contêm em sua composição carbonatos de cálcio e/ou de magnésio:**

- a) Argila
- b) Cal
- c) Gesso
- d) Emulsão asfáltica
- e) Cimento Portland

**20. Nos estudos de mecânica dos solos, em virtude da necessidade de deposição de um material com características mais impermeáveis para a colocação no fundo de valas de aterros sanitários, marque a alternativa que apresenta o solo mais recomendado para esta finalidade:**

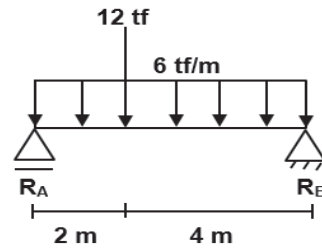
- a) Pedregulho
- b) Areia
- c) Brita
- d) Silte
- e) Argila

**21. Sabendo-se que uma amostra de solo úmida possui massa de 48 gramas e quando seca em estufa essa massa vai para 36 gramas, marque a alternativa que apresenta o teor de umidade desse solo:**

- a) 10,33%

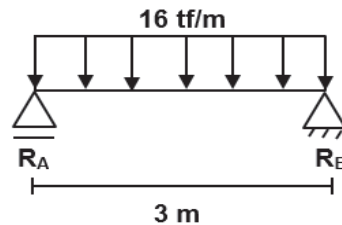
- b) 15,66%  
c) 20,33%  
d) 25,66%  
e) 33,33%

22. Dada a estrutura isostática a seguir, marque a alternativa que apresenta os valores das reações  $R_A$  e  $R_B$ , respectivamente:



- a) 32 tf e 16 tf  
b) 30 tf e 18 tf  
c) 28 tf e 20 tf  
d) 26 tf e 22 tf  
e) 24 tf e 24 tf

23. A partir da viga isostática a seguir, marque a alternativa que apresenta o valor do momento fletor máximo:



- a) 18 tf.m  
b) 20 tf.m  
c) 22 tf.m  
d) 24 tf.m  
e) 26 tf.m

24. Com relação à segurança e higiene no trabalho, dentre os tipos de equipamentos utilizados para proteção individual, marque a alternativa que apresenta o equipamento destinado à proteção do braço e antebraço dos usuários que executam serviços de soldagem e/ou corte a quente:

- a) Mangote de raspa  
b) Perneira de raspa  
c) Luva de amianto  
d) Avental de PVC  
e) Máscara panorâmica

25. Analise os itens a seguir, relacionados aos critérios estabelecidos de higiene e segurança do trabalho num canteiro de obras, quanto ao transporte e movimentação de materiais por meio de elevadores:

- (I) os elevadores de materiais devem ser dotados de cobertura fixa, basculável e removível;  
(II) os elevadores de materiais não devem dispor de sistema de frenagem automática;  
(III) os elevadores de materiais devem contar com dispositivo de tração na subida e descida, de modo a impedir a descida da cabine em queda livre (banguela).

Com base nos itens descritos, é correto afirmar que:

- a) Somente o I está correto.  
b) Somente o II está correto.  
c) Somente o III está correto.  
d) Somente I e II estão corretos.  
e) Somente I e III estão corretos.

26. Nas análises realizadas quanto à resistência dos materiais, marque a alternativa que apresenta o tipo de esforço que tende a cisalhar um objeto sem a tendência de rotação ou curvatura:

- a) Momento fletor  
b) Momento torsor  
c) Esforço cortante

- d) Esforço normal de tração
- e) Esforço normal de compressão

**27. Quanto à classificação adotada pelo Conselho Nacional de Meio Ambiente (CONAMA) com relação aos resíduos sólidos gerados pela construção civil, marque a alternativa que apresenta a classe de enquadramento para os resíduos reutilizáveis ou recicláveis como agregados:**

- a) Classe A
- b) Classe B
- c) Classe C
- d) Classe D
- e) Classe E

**28. Dentre as diversas características químicas avaliadas para os resíduos sólidos, marque a alternativa que apresenta a característica química que traduz a energia (na forma de calor) que dada massa de resíduo irá desprender ao ser submetida a um processo térmico, como, por exemplo, a incineração:**

- a) Proporção carbono/nitrogênio
- b) Potencial Hidrogeniônico
- c) Poder calorífico inferior
- d) Peso específico aparente
- e) Fator de compressividade

**29. No que diz respeito aos sistemas de abastecimento e tratamento de água, marque a alternativa que apresenta a etapa de tratamento responsável por eliminar os micro-organismos patogênicos presentes em uma água:**

- a) Fluoretação
- b) Desinfecção
- c) Dessalinização
- d) Correção de dureza
- e) Correção de acidez

**30. Analise os itens a seguir, relacionados aos sistemas de esgotamento sanitário:**

**(I) os sumidouros, também conhecidos como poços absorventes ou fossas absorventes, são escavações feitas no terreno para disposição final do efluente de tanque séptico, que se infiltram no solo pela área vertical (parede);**

**(II) as valas de infiltração são câmaras fechadas com a finalidade de deter os despejos domésticos, por um período de tempo estabelecido, de modo a permitir a decantação dos sólidos e retenção do material graxo contido nos esgotos transformando-se bioquimicamente, em substâncias e compostos mais simples e estáveis;**

**(III) os leitos de secagem são unidades de tratamento, geralmente em forma de tanques retangulares, projetados e construídos de modo a receber o lodo dos digestores, ou unidades de oxidação total, onde se processa a redução da umidade com a drenagem e evaporação da água liberada durante o período de secagem.**

**Com base nos itens descritos, é correto afirmar que:**

- a) Somente o I está correto.
- b) Somente o II está correto.
- c) Somente o III está correto.
- d) Somente I e III estão corretos.
- e) Somente II e III estão corretos.

**31. Com relação às características físicas, químicas e biológicas dos esgotos domésticos, marque a alternativa que apresenta um exemplo de característica química:**

- a) Odor
- b) Temperatura
- c) Matéria orgânica
- d) Variação de vazão
- e) Cor e turbidez

**32. Com relação aos esgotos domésticos, marque a alternativa que apresenta o parâmetro mais utilizado para se medir a quantidade de matéria orgânica presente no esgoto ou, em outras palavras, medir a quantidade de oxigênio necessário para estabilizar a matéria orgânica com a cooperação de bactérias aeróbias:**

- a) DQO
- b) DBO
- c) DFO
- d) DPO

e) DTO

**33. Dentre os processos eficientes e econômicos de disposição do efluente líquido das fossas sépticas, marque a alternativa que apresenta o tipo de dispositivo formado por um leito de brita nº 4 ou nº 5, contido em um tanque de forma cilíndrica ou retangular, que pode ser com fundo falso para permitir o escoamento ascendente do efluente do tanque séptico ou sem fundo falso, mas totalmente cheio de britas:**

- a) Sumidouro
- b) Filtro anaeróbio
- c) Filtro de areia
- d) Vala de infiltração
- e) Fossa negra

**34. Analise os itens a seguir, relacionados aos tipos e sistemas de esgotos:**

**(I) no sistema de esgoto unitário, a coleta de águas pluviais, dos esgotos domésticos e dos despejos industriais é realizada em um único coletor;**

**(II) no sistema de esgoto do tipo separador absoluto, o esgoto doméstico e o industrial ficam completamente ligados com o esgoto pluvial;**

**(III) os esgotos domésticos incluem as águas contendo matéria fecal e as águas servidas, resultantes de banho e de lavagem de utensílios e roupas.**

**Com base nos itens descritos, é correto afirmar que:**

- a) Somente o I está correto.
- b) Somente o II está correto.
- c) Somente o III está correto.
- d) Somente I e III estão corretos.
- e) Somente II e III estão corretos.

**35. Quanto aos tipos de lagoas de estabilização empregadas no tratamento de esgotos, marque a alternativa que apresenta o tipo de lagoa cuja principal finalidade é a redução de coliformes fecais:**

- a) Lagoas de maturação
- b) Lagoas facultativas
- c) Lagoas anaeróbias
- d) Lagoas aeróbias
- e) Lagoas Imhoff

## LÍNGUA PORTUGUESA

**Texto para as próximas cinco questões:**

### “O cego Estrelinho” Mia Couto

O cego Estrelinho era pessoa de nenhuma vez: sua história poderia ser contada e descontada não fosse seu guia, Gigitto Efraim. A mão de Gigitto conduziu o desvistado por tempos e idades. Aquela mão era repartidamente comum, extensão de um no outro, siamensal. E assim era quase de nascença. Memória de Estrelinho tinha cinco dedos e eram os de Gigitto postos, em aperto, na sua própria mão.

O cego, curioso, queria saber de tudo. Ele não fazia cerimônia no viver. O sempre lhe era pouco e o tudo insuficiente. Dizia, deste modo:

— Tenho que viver já, senão esqueço-me.

Gigitto, porém, o que descrevia era o que não havia. O mundo que ele minuciava eram fantasias e rendilhados. A imaginação do guia era mais profícua que papaeira. O cego enchia a boca de águas:

— Que maravilha esse mundo. Me conte tudo, Gigitto!

A mão do guia era, afinal, o manuscrito da mentira. Gigitto Efraim estava como nunca esteve S. Tomé: via para não crer. O condutor falava pela ponta dos dedos. Desfolhava o universo, aberto em folhas. A ideia dele era tal que mesmo o cego, por vezes, acreditava ver. O outro lhe encorajava esses breves enganar:

— Desbengale-se, você está escolhendo a boa procedência!

Mentira: Estrelinho continuava sem ver uma palmeira à frente do nariz. Contudo, o cego não se conformava em suas escuras. Ele cumpria o ditado: não tinha perna e queria dar o pontapé. Só à noite, ele desalentava, sofrendo medos mais antigos que a humanidade. Entendia aquilo que, na raça humana, é menos primitivo: o animal.

— Na noite aflige não haver luz?

— Aflição é ter um pássaro branco esvoando dentro do sono.

Pássaro branco? No sono? Lugar de ave é nas alturas. Dizem até que Deus fez o céu para justificar os pássaros. Estrelinho disfarçava o medo dos vaticínios, subterfugindo:

— E agora, Gigitto? Agora, olhando assim para cima, estou face ao céu?

Que podia o outro responder? O céu do cego fica em toda a parte. Estrelinho perdia o pé era quando a noite chegava e seu mestre adormecia. Era como se um novo escuro nele se estreasse em nó cego. Devagaroso e sorrateiro ele aninhava sua mão na mão do guia. Só assim adormecia. A razão da concha é a timidez da amêijoia?



Na manhã seguinte, o cego lhe confessava: se você morrer, tenho que morrer logo no imediato. Senão-me: como acerto o caminho para o céu?

Foi no mês de dezembro que levaram Gigitinho. Lhe tiraram do mundo para pôr na guerra: obrigavam os serviços militares. O cego reclamou: que o moço inatingia a idade. E que o serviço que ele a si prestava era vital e vitalício. O guia chamou Estrelinho à parte e lhe tranquilizou:

— Não vai ficar sozinhandando por aí. Minha mana já mandei para ficar no meu lugar.

O cego estendeu o braço a querer tocar uma despedida. Mas o outro já não estava lá. Ou estava e se desviara, propositado? E sem água ida nem vinda, Estrelinho escutou o amigo se afastar, engolido, esponginquo, inexistível. Pela primeira vez, Estrelinho se sentiu invalidado.

— Agora, só agora, sou cego que não vê.

(...)

**COUTO, Mia. Estórias abensonhadas. Rio de Janeiro: Nova Fronteira, 1996. (Pág 23 e 24).**

**36. Quanto à interpretação do fragmento do conto, podemos afirmar que:**

- Gigito Efraim era o guia de Estrelinho há pouquíssimo tempo.
- Estrelinho era cego de nascença.
- Gigito descrevia o mundo para Estrelinho de forma denotativa.
- Gigito foi convocado pelo exército para ser guia de cegos na guerra.
- Gigito descrevia o mundo para Estrelinho de forma conotativa.

**37. No período “O sempre lhe era pouco e o tudo insuficiente”, o pronome “LHE” exerce a função sintática de:**

- Objeto Direto
- Objeto Indireto
- Complemento Nominal
- Adjunto Adnominal
- Objeto Direto Preposicionado

**38. Na oração “A mão de Gigito conduziu o desvistado por tempos e idades”, o autor faz uso de um neologismo, assim como no decorrer de toda a obra em questão. Contudo, o neologismo só se torna possível pela utilização dos elementos mórficos naquilo que a gramática normativa pontua como Processo de Formação das Palavras. Levando em consideração apenas o recurso morfológico, qual Processo de Formação foi utilizado?**

- Derivação Sufixal
- Derivação Prefixal
- Derivação Regressiva
- Derivação Imprópria
- Derivação Parassintética

**39. No terceiro período do décimo terceiro parágrafo, temos:**

- Uma oração
- Duas orações
- Três orações
- Quatro orações
- Cinco orações

**40. No último parágrafo do fragmento do conto “— Agora, só agora, sou cego que não vê”, a oração subordinada presente classifica-se corretamente como:**

- Oração Subordinada Adjetiva Restritiva
- Oração Subordinada Adverbial Causal
- Oração Subordinada Substantiva Subjetiva
- Oração Subordinada Adverbial Explicativa
- Oração Subordinada Adjetiva Explicativa

**RASCUNHO**



PREFEITURA DE TELÊMACO BORBA - ESTADO DO PARANÁ- EDITAL Nº 001-2016 - CONCURSO PÚBLICO

VESPERTINO – 29/05/2016 – NÍVEL SUPERIOR

**3**

PROVA OBJETIVA NÚMERO

CARGO: TMNS I - ENGENHARIA SANITARISTA

Leia atentamente as INSTRUÇÕES:

1. Confira seus dados no cartão-resposta: nome, número de inscrição e o curso para o qual se inscreveu.
2. **MARQUE no seu cartão-resposta o número da sua prova** (não será corrigido o cartão-resposta que não tiver marcado o número da prova) e **Assine** seu cartão-resposta.
3. Aguarde a autorização do Fiscal para abrir o caderno de prova. Ao receber a ordem do fiscal, confira o caderno de prova com muita atenção. Nenhuma reclamação sobre o total de questões ou falha de impressão será aceita depois de iniciada a prova.
4. O cartão-resposta não será substituído, salvo se contiver erro de impressão.
5. Preencha toda a área do cartão-resposta correspondente à alternativa de sua escolha, com caneta esferográfica (tinta azul ou preta), sem ultrapassar as bordas. As marcações duplas, ou rasuradas, com corretivo, ou marcadas diferentemente do modelo estabelecido no cartão-resposta poderão ser anuladas.
6. Sua prova tem **40** questões, com **5** alternativas.
7. Cabe apenas ao candidato a interpretação das questões, **o fiscal** não poderá fazer nenhuma interferência.
8. A prova será realizada com duração máxima de **3 (três) horas**, incluído o tempo para a realização da Prova Objetiva de múltipla escolha e o preenchimento do cartão-resposta.
9. O candidato poderá retirar-se do local de realização das provas somente **1 (uma) hora** após o seu início, sem levar o caderno de prova.
10. O candidato poderá levar o caderno de provas, assim como anotação contendo transcrição do seu cartão-resposta, somente **1h30min** (uma hora e trinta minutos) após o início da realização da prova.
11. Ao terminar a prova, o candidato deverá entregar ao fiscal de sala o cartão-resposta preenchido e **ASSINADO**.
12. Os **3 (três)** candidatos, que terminarem a prova por último, deverão permanecer na sala, e só poderão sair juntos após o fechamento do envelope, contendo os cartões-resposta dos candidatos presentes e ausentes, e assinarem no lacre do referido envelope, atestando que este foi devidamente lacrado.
13. Durante todo o tempo em que permanecer no local onde está ocorrendo o concurso, o candidato deverá, manter o celular desligado e sem bateria, só sendo permitido ligar depois de ultrapassar o portão de saída do prédio.
14. Não será permitido ao candidato fumar na sala de provas, bem como nas dependências.
15. Depois de terminar a prova e entregar ao fiscal o cartão-resposta, preenchido e assinado, não será mais permitido ao candidato o uso do banheiro e bebedouro.

**BOA PROVA!**

**CONHECIMENTOS ESPECÍFICOS**

**01. Com relação aos projetos de obras civis voltados para o sistema público de abastecimento de água, marque a alternativa que apresenta o nome dado à unidade composta pelo conjunto de equipamentos e instalações utilizadas para a tomada de água em um manancial, com a finalidade de lançá-la no sistema de abastecimento:**

- a) Tratamento
- b) Distribuição
- c) Ramificação
- d) Reservação
- e) Captação

**02. Na execução de obras destinadas ao tratamento e disposição final de esgotos, quando a profundidade das tubulações se tornam demasiadamente acentuadas, devido à baixa declividade do terreno, torna-se necessário bombear o esgoto para um nível mais elevado por meio de um dispositivo denominado de:**

- a) Estação elevatória
- b) Estação de tratamento
- c) Ramal predial
- d) Poço de visita
- e) Interceptor tronco

**03. No que diz respeito aos materiais de construção civil, dentre os diversos tipos de cimento Portland, marque a alternativa que apresenta o tipo de cimento que possui em sua composição além do calcário, argila e gesso, a presença de uma adição de pozolana:**

- a) CP I
- b) CP II E
- c) CP II F
- d) CP II Z
- e) CP III

**04. No que concerne aos tipos usuais de aglomerantes empregados na construção civil, marque a alternativa que apresenta um exemplo de aglomerante aéreo obtido a partir de rochas que contêm em sua composição carbonatos de cálcio e/ou de magnésio:**

- a) Argila
- b) Cal
- c) Gesso
- d) Emulsão asfáltica
- e) Cimento Portland

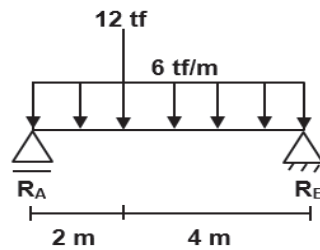
**05. Nos estudos de mecânica dos solos, em virtude da necessidade de deposição de um material com características mais impermeáveis para a colocação no fundo de valas de aterros sanitários, marque a alternativa que apresenta o solo mais recomendado para esta finalidade:**

- a) Pedregulho
- b) Areia
- c) Brita
- d) Silte
- e) Argila

**06. Sabendo-se que uma amostra de solo úmida possui massa de 48 gramas e quando seca em estufa essa massa vai para 36 gramas, marque a alternativa que apresenta o teor de umidade desse solo:**

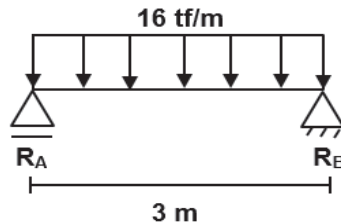
- a) 10,33%
- b) 15,66%
- c) 20,33%
- d) 25,66%
- e) 33,33%

**07. Dada a estrutura isostática a seguir, marque a alternativa que apresenta os valores das reações  $R_A$  e  $R_B$ , respectivamente:**



- a) 32 tf e 16 tf
- b) 30 tf e 18 tf
- c) 28 tf e 20 tf
- d) 26 tf e 22 tf
- e) 24 tf e 24 tf

08. A partir da viga isostática a seguir, marque a alternativa que apresenta o valor do momento fletor máximo:



- a) 18 tf.m
- b) 20 tf.m
- c) 22 tf.m
- d) 24 tf.m
- e) 26 tf.m

09. Com relação à segurança e higiene no trabalho, dentre os tipos de equipamentos utilizados para proteção individual, marque a alternativa que apresenta o equipamento destinado à proteção do braço e antebraço dos usuários que executam serviços de soldagem e/ou corte a quente:

- a) Mangote de raspa
- b) Perneira de raspa
- c) Luva de amianto
- d) Avental de PVC
- e) Máscara panorâmica

10. Analise os itens a seguir, relacionados aos critérios estabelecidos de higiene e segurança do trabalho num canteiro de obras, quanto ao transporte e movimentação de materiais por meio de elevadores:

- (I) os elevadores de materiais devem ser dotados de cobertura fixa, basculável e removível;
- (II) os elevadores de materiais não devem dispor de sistema de frenagem automática;
- (III) os elevadores de materiais devem contar com dispositivo de tração na subida e descida, de modo a impedir a descida da cabine em queda livre (banguela).

Com base nos itens descritos, é correto afirmar que:

- a) Somente o I está correto.
- b) Somente o II está correto.
- c) Somente o III está correto.
- d) Somente I e II estão corretos.
- e) Somente I e III estão corretos.

11. Nas análises realizadas quanto à resistência dos materiais, marque a alternativa que apresenta o tipo de esforço que tende a cisalhar um objeto sem a tendência de rotação ou curvatura:

- a) Momento fletor
- b) Momento torsor
- c) Esforço cortante
- d) Esforço normal de tração
- e) Esforço normal de compressão

12. Quanto à classificação adotada pelo Conselho Nacional de Meio Ambiente (CONAMA) com relação aos resíduos sólidos gerados pela construção civil, marque a alternativa que apresenta a classe de enquadramento para os resíduos reutilizáveis ou recicláveis como agregados:

- a) Classe A

- b) Classe B
- c) Classe C
- d) Classe D
- e) Classe E

**13. Dentre as diversas características químicas avaliadas para os resíduos sólidos, marque a alternativa que apresenta a característica química que traduz a energia (na forma de calor) que dada massa de resíduo irá desprender ao ser submetida a um processo térmico, como, por exemplo, a incineração:**

- a) Proporção carbono/nitrogênio
- b) Potencial Hidrogeniônico
- c) Poder calorífico inferior
- d) Peso específico aparente
- e) Fator de compressividade

**14. No que diz respeito aos sistemas de abastecimento e tratamento de água, marque a alternativa que apresenta a etapa de tratamento responsável por eliminar os micro-organismos patogênicos presentes em uma água:**

- a) Fluoretação
- b) Desinfecção
- c) Dessalinização
- d) Correção de dureza
- e) Correção de acidez

**15. Analise os itens a seguir, relacionados aos sistemas de esgotamento sanitário:**

**(I) os sumidouros, também conhecidos como poços absorventes ou fossas absorventes, são escavações feitas no terreno para disposição final do efluente de tanque séptico, que se infiltram no solo pela área vertical (parede);**

**(II) as valas de infiltração são câmaras fechadas com a finalidade de deter os despejos domésticos, por um período de tempo estabelecido, de modo a permitir a decantação dos sólidos e retenção do material graxo contido nos esgotos transformando-se bioquimicamente, em substâncias e compostos mais simples e estáveis;**

**(III) os leitos de secagem são unidades de tratamento, geralmente em forma de tanques retangulares, projetados e construídos de modo a receber o lodo dos digestores, ou unidades de oxidação total, onde se processa a redução da umidade com a drenagem e evaporação da água liberada durante o período de secagem.**

**Com base nos itens descritos, é correto afirmar que:**

- a) Somente o I está correto.
- b) Somente o II está correto.
- c) Somente o III está correto.
- d) Somente I e III estão corretos.
- e) Somente II e III estão corretos.

**16. Com relação às características físicas, químicas e biológicas dos esgotos domésticos, marque a alternativa que apresenta um exemplo de característica química:**

- a) Odor
- b) Temperatura
- c) Matéria orgânica
- d) Variação de vazão
- e) Cor e turbidez

**17. Com relação aos esgotos domésticos, marque a alternativa que apresenta o parâmetro mais utilizado para se medir a quantidade de matéria orgânica presente no esgoto ou, em outras palavras, medir a quantidade de oxigênio necessário para estabilizar a matéria orgânica com a cooperação de bactérias aeróbias:**

- a) DQO
- b) DBO
- c) DFO
- d) DPO
- e) DTO

**18. Dentre os processos eficientes e econômicos de disposição do efluente líquido das fossas sépticas, marque a alternativa que apresenta o tipo de dispositivo formado por um leito de brita nº 4 ou nº 5, contido em um tanque de forma cilíndrica ou retangular, que pode ser com fundo falso para permitir o escoamento ascendente do efluente do tanque séptico ou sem fundo falso, mas totalmente cheio de britas:**

- a) Sumidouro

- b) Filtro anaeróbio
- c) Filtro de areia
- d) Vala de infiltração
- e) Fossa negra

**19. Analise os itens a seguir, relacionados aos tipos e sistemas de esgotos:**

- (I) no sistema de esgoto unitário, a coleta de águas pluviais, dos esgotos domésticos e dos despejos industriais é realizada em um único coletor;**
- (II) no sistema de esgoto do tipo separador absoluto, o esgoto doméstico e o industrial ficam completamente ligados com o esgoto pluvial;**
- (III) os esgotos domésticos incluem as águas contendo matéria fecal e as águas servidas, resultantes de banho e de lavagem de utensílios e roupas.**

**Com base nos itens descritos, é correto afirmar que:**

- a) Somente o I está correto.
- b) Somente o II está correto.
- c) Somente o III está correto.
- d) Somente I e III estão corretos.
- e) Somente II e III estão corretos.

**20. Quanto aos tipos de lagoas de estabilização empregadas no tratamento de esgotos, marque a alternativa que apresenta o tipo de lagoa cuja principal finalidade é a redução de coliformes fecais:**

- a) Lagoas de maturação
- b) Lagoas facultativas
- c) Lagoas anaeróbias
- d) Lagoas aeróbias
- e) Lagoas Imhoff

## LÍNGUA PORTUGUESA

**Texto para as próximas cinco questões:**

### “O cego Estrelinho” Mia Couto

O cego Estrelinho era pessoa de nenhuma vez: sua história poderia ser contada e descontada não fosse seu guia, Gigitto Efraim. A mão de Gigitto conduziu o desvistado por tempos e idades. Aquela mão era repartidamente comum, extensão de um no outro, siamense. E assim era quase de nascença. Memória de Estrelinho tinha cinco dedos e eram os de Gigitto postos, em aperto, na sua própria mão.

O cego, curioso, queria saber de tudo. Ele não fazia cerimônia no viver. O sempre lhe era pouco e o tudo insuficiente. Dizia, deste modo:

— Tenho que viver já, senão esqueço-me.

Gigitto, porém, o que descrevia era o que não havia. O mundo que ele minuciava eram fantasias e rendilhados. A imaginação do guia era mais profícua que papadeira. O cego enchia a boca de águas:

— Que maravilha esse mundo. Me conte tudo, Gigitto!

A mão do guia era, afinal, o manuscrito da mentira. Gigitto Efraim estava como nunca esteve S. Tomé: via para não crer. O condutor falava pela ponta dos dedos. Desfolhava o universo, aberto em folhas. A ideia dele era tal que mesmo o cego, por vezes, acreditava ver. O outro lhe encorajava esses breves enganar:

— Desbengale-se, você está escolhendo a boa procedência!

Mentira: Estrelinho continuava sem ver uma palmeira à frente do nariz. Contudo, o cego não se conformava em suas escuras. Ele cumpria o ditado: não tinha perna e queria dar o pontapé. Só à noite, ele desalentava, sofrendo medos mais antigos que a humanidade. Entendia aquilo que, na raça humana, é menos primitivo: o animal.

— Na noite aflige não haver luz?

— Aflição é ter um pássaro branco esvoando dentro do sono.

Pássaro branco? No sono? Lugar de ave é nas alturas. Dizem até que Deus fez o céu para justificar os pássaros. Estrelinho disfarçava o medo dos vaticínios, subterfugindo:

— E agora, Gigitto? Agora, olhando assim para cima, estou face ao céu?

Que podia o outro responder? O céu do cego fica em toda a parte. Estrelinho perdia o pé era quando a noite chegava e seu mestre adormecia. Era como se um novo escuro nele se estreasse em nó cego. Devagaroso e sorrateiro ele aninhava sua mão na mão do guia. Só assim adormecia. A razão da concha é a timidez da amêijoia? Na manhã seguinte, o cego lhe confessava: se você morrer, tenho que morrer logo no imediato. Senão-me: como acerto o caminho para o céu?

Foi no mês de dezembro que levaram Gigitto. Lhe tiraram do mundo para pôr na guerra: obrigavam os serviços militares. O cego reclamou: que o moço inatingia a idade. E que o serviço que ele a si prestava era vital e vitalício. O guia chamou Estrelinho à parte e lhe tranquilizou:

— Não vai ficar sozinando por aí. Minha mana já mandei para ficar no meu lugar.



O cego estendeu o braço a querer tocar uma despedida. Mas o outro já não estava lá. Ou estava e se desviara, propositado? E sem água ida nem vinda, Estrelinho escutou o amigo se afastar, engolido, esponginquo, inevisível. Pela pimeira vez, Estrelinho se sentiu invalidado.

— Agora, só agora, sou cego que não vê.

(...)

**COUTO, Mia. Estórias abensonhadas. Rio de Janeiro: Nova Fronteira, 1996. (Pág 23 e 24).**

**21. Quanto à interpretação do fragmento do conto, podemos afirmar que:**

- Gigito Efraim era o guia de Estrelinho há pouquíssimo tempo.
- Estrelinho era cego de nascença.
- Gigito descrevia o mundo para Estrelinho de forma denotativa.
- Gigito foi convocado pelo exército para ser guia de cegos na guerra.
- Gigito descrevia o mundo para Estrelinho de forma conotativa.

**22. No período “O sempre lhe era pouco e o tudo insuficiente”, o pronome “LHE” exerce a função sintática de:**

- Objeto Direto
- Objeto Indireto
- Complemento Nominal
- Adjunto Adnominal
- Objeto Direto Preposicionado

**23. Na oração “A mão de Gigito conduziu o desvestido por tempos e idades”, o autor faz uso de um neologismo, assim como no decorrer de toda a obra em questão. Contudo, o neologismo só se torna possível pela utilização dos elementos mórficos naquilo que a gramática normativa pontua como Processo de Formação das Palavras. Levando em consideração apenas o recurso morfológico, qual Processo de Formação foi utilizado?**

- Derivação Sufixal
- Derivação Prefixal
- Derivação Regressiva
- Derivação Imprópria
- Derivação Parassintética

**24. No terceiro período do décimo terceiro parágrafo, temos:**

- Uma oração
- Duas orações
- Três orações
- Quatro orações
- Cinco orações

**25. No último parágrafo do fragmento do conto “— Agora, só agora, sou cego que não vê”, a oração subordinada presente classifica-se corretamente como:**

- Oração Subordinada Adjetiva Restritiva
- Oração Subordinada Adverbial Causal
- Oração Subordinada Substantiva Subjetiva
- Oração Subordinada Adverbial Explicativa
- Oração Subordinada Adjetiva Explicativa

#### **RACIOCÍNIO LÓGICO**

**26. Os cinco filhos de Ana estavam discutindo a respeito da data de nascimento da mãe:**

- Almir disse que foi em janeiro, dia 14, sexta-feira.
- Vanderlei disse que foi em janeiro, dia 14, sábado.
- Tiago disse que foi em fevereiro, dia 15, sábado.
- Sandro disse que foi em janeiro, dia 15, sexta-feira.
- Renato disse que foi em fevereiro, dia 15, sexta-feira.

**Sabe-se que somente um dos filhos de Ana acertou corretamente sua data de nascimento e que os outros acertaram pelo menos um dos itens (dia, dia da semana e mês). Dessa forma, é correto afirmar que o filho de Ana que acertou a data de nascimento dela foi:**

- Renato
- Sandro
- Tiago
- Vanderlei
- Almir

27. Considere a seguinte afirmativa: “Todo churrasqueiro gosta de picanha”. Em relação a essa proposição, é correto afirmar que:

- a) Algum churrasqueiro não gosta de picanha.
- b) Toda pessoa que gosta de picanha é churrasqueira.
- c) Alguma pessoa que não gosta de picanha é churrasqueira.
- d) Toda pessoa que não é churrasqueira, não gosta de picanha.
- e) Toda pessoa que não gosta de picanha, não é churrasqueira.

28. Em um grupo formado por 67 pessoas, verificou-se que 41 pessoas gostam de arroz, 29 gostam de feijão, 33 gostam de carne, 19 gostam de arroz e de feijão, 9 gostam apenas de arroz e de carne, 12 gostam de feijão e de carne e que 6 gostam de arroz, de feijão e de carne. O número de pessoas desse grupo, que não gosta de nenhum desses três tipos de alimentos é igual a:

- a) 4
- b) 5
- c) 6
- d) 8
- e) 10

29. Bruno escreveu, em seu caderno, várias sequências formadas por números múltiplos de 4, onde os valores que ocupavam as posições pares eram multiplicados por  $-1$ . Cada sequência foi somada e o resultado da soma anotado. A soma das três primeiras sequências escritas por Bruno foram as seguintes:

$$4 - 8 = -4$$

$$4 - 8 + 12 = 8$$

$$4 - 8 + 12 - 16 = -8$$

Considere que Bruno escreveu e somou tais sequências, em seu caderno, de modo a obter determinada sequência cuja soma foi 600. O número de termos dessa sequência é igual a:

- a) 149
- b) 150
- c) 298
- d) 299
- e) 300

30. Quatro torcedores, um do São Paulo, um do Cruzeiro, um do Vasco e um do Bahia, estão sentados ao redor de uma mesa quadrada, de modo que, dois a dois, fiquem frente a frente. Sabe-se que Alan é torcedor do Cruzeiro e que Bruno está sentado à direita de Alan. Sabe-se também que Caio está sentado à direita do torcedor do São Paulo. Sabe-se ainda que Daniel não é torcedor do Vasco e que está sentado à frente de Bruno. Dessa forma, é correto afirmar que:

- a) Bruno é torcedor do Bahia e Daniel é torcedor do São Paulo.
- b) Bruno é torcedor do São Paulo e Daniel é torcedor do Bahia.
- c) Caio é torcedor do Vasco e Daniel é torcedor do São Paulo.
- d) Caio é torcedor do Bahia e Daniel é torcedor do São Paulo.
- e) Bruno é torcedor do Vasco e Daniel é torcedor do Bahia.

### INFORMÁTICA

31. Considerando o MS-Excel versão 2010, observando a figura abaixo, é correto afirmar que:

	A	B	C
1			
2			
3			
4			

- a) Somente 03 três linhas estão selecionadas.
- b) Somente uma célula está selecionada.
- c) 12 (doze) células estão selecionadas.
- d) Somente a coluna A até a linha 4 (quatro) está selecionada.
- e) Somente as colunas 1 (um), 2 (dois), 3 (três) e 4 (quatro) estão selecionadas.

32. Considerando o MS-Excel versão 2010, observando a figura abaixo, é incorreto afirmar que:

	A	B	C
1	12	6	=A1*B1
2	8	2	=A2/B2
3	5	14	=A3-B3
4	6	11	=A4+B4

- a) O resultado da fórmula =A1\*B1 é 72.  
 b) O resultado da fórmula =A2/B2 é 4.  
 c) O resultado da fórmula =A3-B3 é -9.  
 d) O resultado da fórmula =A3-B3 é 9.  
 e) O resultado da fórmula =A4+B4 é 17.

33. Digitando um texto no MS-Word versão 2010, necessito adicionar número nas páginas. Quanto a isso, é correto afirmar que:

- a) No menu Layout da Página, clico em número de página e seleciono onde desejo adicionar os números.  
 b) No menu Inserir, clico em número de página e seleciono onde desejo adicionar os números.  
 c) No menu Revisão, clico em número de página e seleciono onde desejo adicionar os números.  
 d) No menu Referências, clico em número de página e seleciono onde desejo adicionar os números.  
 e) No menu Exibição, clico em número de página e seleciono onde desejo adicionar os números.

34. A segurança da informação está diretamente relacionada com proteção de um conjunto de informações, no sentido de preservar o valor que possuem para um indivíduo ou uma organização. Atualmente, um dos aplicativos mais utilizados no mundo, o Whats app, teve uma alteração de confidencialidade muito importante na segurança das informações transmitidas e recebidas. Dentre as alternativas, assinale a que corretamente informa a alteração inserida no aplicativo Whats app.

- a) Antispam  
 b) Antivirus  
 c) Firewall  
 d) Antispyware  
 e) Criptografia

35. São todos os dispositivos que trabalham acoplados ao microcomputador para receber, transmitir, visualizar, ler, gravar ou armazenarem dados. São eles que permitem a comunicação do computador com o meio exterior, isto é, com os usuários e outras máquinas.

Esse texto descreve corretamente:

- a) Memória ram  
 b) Memória virtual  
 c) Software  
 d) Periféricos  
 e) Hardware

#### CONHECIMENTOS GERAIS

36. Hino do município de Telêmaco Borba/PR

Das virgens matas e campos verdejantes

Servindo-se também o rio Tibagi,

Homens de ideais, espíritos vibrantes.

Constituíram as indústrias aqui.

Estribilho:

Salve! Salve! Telêmaco Borba

Terra querida e de grandes primores,

A nossa homenagem rendamos

À cidade dos trabalhadores.

Pois a cadência de enorme e real progresso

Um município mui grandioso fez nascer,

Marcando assim, verdadeiro sucesso

Faz, então o Paraná engrandecer.

No que tange ao Hino do município, atribua V (verdadeiro) ou F (falso) às afirmativas e marque a alternativa correta.

( ) Eloah Martins Quadrado é autora da letra do hino.

( ) Bento Mossurunga compôs a música do hino.

( ) Eloah Martins Quadrado foi nomeada primeira professora da Cidade Nova, atual Telêmaco Borba.

( ) Bento Mossurunga fundou a orquestra Estudantil e Concertos – Orquestra Sinfônica da Universidade, a Sociedade de Cultura Artístico Basilio Itiberê.



- a) F, V, V, V.
- b) V, F, V, V.
- c) V, V, F, V.
- d) V, V, F, F.
- e) V, V, V, V.

**37. À luz da Lei nº 1883/2012, que dispões sobre o Estatuto dos Servidores Públicos da Administração Direta, Autárquica e Funcional do Município de Telêmaco Borba/PR, leia as alternativas e marque a correta.**

- a) A apresentação para a posse ocorrerá no prazo de até trinta dias, contados do ato de nomeação.
- b) A destituição do servidor da função gratificada dar-se-á por solicitação exclusiva dele mesmo.
- c) O servidor ocupante exclusivamente de cargo em comissão será contribuinte do regime geral de previdência social.
- d) A aprovação em concurso público gera o direito à nomeação, e será feita obedecida à ordem de classificação dos candidatos.
- e) O exercício de função gratificada poderá ser de dedicação integral ou parcial, conforme necessidade da administração.

**Conforme a Lei nº 1.881, de 05 de abril de 2012, que dispõe sobre o Plano de Cargos, Carreiras e Vencimentos do quadro geral de servidores da Prefeitura Municipal de Telêmaco Borba/PR, regulamentada pelo Decreto nº 2269/2015, responda às próximas três questões.**

**38. Leia as assertivas e assinala a incorreta.**

- a) Do resultado da avaliação de desempenho poderá ser interposto recurso à Comissão de Desenvolvimento Funcional no prazo de quinze dias a contar da publicação no Boletim Oficial do Município.
- b) Não será concedida a progressão ou promoção ao servidor que estiver em licença para tratamento de saúde por um período superior a quarenta e cinco dias, no período de avaliação.
- c) A alternância dos membros constituintes da Comissão de Desenvolvimento Funcional eleitos pelos servidores verificar-se-á a cada três anos de participação, observados, para substituição de seus participantes, o critério fixado no artigo anterior, não cabendo eleição sucessiva.
- d) Caberá à Comissão de Desenvolvimento Funcional, no caso de divergência de vinte por cento entre a nota do avaliador e a do avaliado, solicitar nova avaliação à chefia.
- e) Nos termos do disposto no art. 17 da Lei nº 1.881, de 05 de abril de 2012, para progredir, é necessário que o servidor satisfaça, dentre outros, o seguinte requisito: estar no efetivo exercício de seu cargo ou em função comissionada na sua área de atuação durante o interstício de dois anos.

**39. Assinale a alternativa que completa respectivamente as lacunas do texto a seguir:**

**A Comissão de Desenvolvimento Funcional será constituída por \_\_\_\_\_ membros, sendo \_\_\_\_\_ designados pelo Prefeito Municipal de Telêmaco Borba e os demais eleitos pelos servidores municipais dentre os estáveis, com a atribuição de coordenar os procedimentos relativos à avaliação periódica de desempenho e outras atribuições.**

- a) três / sete
- b) um / três
- c) sete / três
- d) três / cinco
- e) dois / cinco

**40. A Avaliação de Desempenho será norteadada, dentre outros, pelo seguinte princípio: Amplitude - a avaliação deve incidir sobre todas as áreas de atuação do servidor, que compreendem:**

1. a formulação de políticas administrativas e sua aplicação para todos os setores da administração municipal;
2. o desempenho do profissional dentro de suas funções pertinentes;
3. a estrutura do órgão em que exerce a função;
4. os resultados de eficiência dos serviços de cada setor ou órgão da administração municipal;
5. a participação direta do avaliado, durante todo o processo avaliativo.

**Diante dessa afirmação, somente não está correto o item:**

- a) 1
- b) 2
- c) 3
- d) 4
- e) 5



PREFEITURA DE TELÊMACO BORBA - ESTADO DO PARANÁ- **EDITAL Nº 001-2016 - CONCURSO PÚBLICO**

**VESPERTINO – 29/05/2016 – NÍVEL SUPERIOR**

**1**

**PROVA OBJETIVA NÚMERO**

**CARGO: TMNS I - FARMÁCIA**

**Leia atentamente as INSTRUÇÕES:**

1. Confira seus dados no cartão-resposta: nome, número de inscrição e o curso para o qual se inscreveu.
2. **MARQUE no seu cartão-resposta o número da sua prova** (não será corrigido o cartão-resposta que não tiver marcado o número da prova) e **Assine** seu cartão-resposta.
3. Aguarde a autorização do Fiscal para abrir o caderno de prova. Ao receber a ordem do fiscal, confira o caderno de prova com muita atenção. Nenhuma reclamação sobre o total de questões ou falha de impressão será aceita depois de iniciada a prova.
4. O cartão-resposta não será substituído, salvo se contiver erro de impressão.
5. Preencha toda a área do cartão-resposta correspondente à alternativa de sua escolha, com caneta esferográfica (tinta azul ou preta), sem ultrapassar as bordas. As marcações duplas, ou rasuradas, com corretivo, ou marcadas diferentemente do modelo estabelecido no cartão-resposta poderão ser anuladas.
6. Sua prova tem **40** questões, com **5** alternativas.
7. Cabe apenas ao candidato a interpretação das questões, **o fiscal** não poderá fazer nenhuma interferência.
8. A prova será realizada com duração máxima de **3 (três) horas**, incluído o tempo para a realização da Prova Objetiva de múltipla escolha e o preenchimento do cartão-resposta.
9. O candidato poderá retirar-se do local de realização das provas somente **1 (uma) hora** após o seu início, sem levar o caderno de prova.
10. O candidato poderá levar o caderno de provas, assim como anotação contendo transcrição do seu cartão-resposta, somente **1h30min** (uma hora e trinta minutos) após o início da realização da prova.
11. Ao terminar a prova, o candidato deverá entregar ao fiscal de sala o cartão-resposta preenchido e **ASSINADO**.
12. Os **3 (três)** candidatos, que terminarem a prova por último, deverão permanecer na sala, e só poderão sair juntos após o fechamento do envelope, contendo os cartões-resposta dos candidatos presentes e ausentes, e assinarem no lacre do referido envelope, atestando que este foi devidamente lacrado.
13. Durante todo o tempo em que permanecer no local onde está ocorrendo o concurso, o candidato deverá, manter o celular desligado e sem bateria, só sendo permitido ligar depois de ultrapassar o portão de saída do prédio.
14. Não será permitido ao candidato fumar na sala de provas, bem como nas dependências.
15. Depois de terminar a prova e entregar ao fiscal o cartão-resposta, preenchido e assinado, não será mais permitido ao candidato o uso do banheiro e bebedouro.

**BOA PROVA!**

**LÍNGUA PORTUGUESA****Texto para as próximas cinco questões:****“O cego Estrelinho”  
Mia Couto**

O cego Estrelinho era pessoa de nenhuma vez: sua história poderia ser contada e descontada não fosse seu guia, Gigitto Efraim. A mão de Gigitto conduziu o desvistado por tempos e idades. Aquela mão era repartidamente comum, extensão de um no outro, siamense. E assim era quase de nascença. Memória de Estrelinho tinha cinco dedos e eram os de Gigitto postos, em aperto, na sua própria mão.

O cego, curioso, queria saber de tudo. Ele não fazia cerimônia no viver. O sempre lhe era pouco e o tudo insuficiente. Dizia, deste modo:

— Tenho que viver já, senão esqueço-me.

Gigitto, porém, o que descrevia era o que não havia. O mundo que ele minuciava eram fantasias e rendilhados. A imaginação do guia era mais profícua que papadeira. O cego enchia a boca de águas:

— Que maravilha esse mundo. Me conte tudo, Gigitto!

A mão do guia era, afinal, o manuscrito da mentira. Gigitto Efraim estava como nunca esteve S. Tomé: via para não crer. O condutor falava pela ponta dos dedos. Desfolhava o universo, aberto em folhas. A ideia dele era tal que mesmo o cego, por vezes, acreditava ver. O outro lhe encorajava esses breves enganos:

— Desbengale-se, você está escolhendo a boa procedência!

Mentira: Estrelinho continuava sem ver uma palmeira à frente do nariz. Contudo, o cego não se conformava em suas escurezas. Ele cumpria o ditado: não tinha perna e queria dar o pontapé. Só à noite, ele desalentava, sofrendo medos mais antigos que a humanidade. Entendia aquilo que, na raça humana, é menos primitivo: o animal.

— Na noite aflige não haver luz?

— Aflição é ter um pássaro branco esvoando dentro do sono.

Pássaro branco? No sono? Lugar de ave é nas alturas. Dizem até que Deus fez o céu para justificar os pássaros. Estrelinho disfarçava o medo dos vaticínios, subterfugindo:

— E agora, Gigitto? Agora, olhando assim para cima, estou face ao céu?

Que podia o outro responder? O céu do cego fica em toda a parte. Estrelinho perdia o pé era quando a noite chegava e seu mestre adormecia. Era como se um novo escuro nele se estreasse em nó cego. Devagaroso e sorrateiro ele aninhava sua mão na mão do guia. Só assim adormecia. A razão da concha é a timidez da amêijoia? Na manhã seguinte, o cego lhe confessava: se você morrer, tenho que morrer logo no imediato. Senão-me: como acerto o caminho para o céu?

Foi no mês de dezembro que levaram Gigitto. Lhe tiraram do mundo para pôr na guerra: obrigavam os serviços militares. O cego reclamou: que o moço inatingia a idade. E que o serviço que ele a si prestava era vital e vitalício. O guia chamou Estrelinho à parte e lhe tranquilizou:

— Não vai ficar sozinho por aí. Minha mana já mandei para ficar no meu lugar.

O cego estendeu o braço a querer tocar uma despedida. Mas o outro já não estava lá. Ou estava e se desviara, propositado? E sem água ida nem vinda, Estrelinho escutou o amigo se afastar, engolido, esponjínquo, invisível. Pela primeira vez, Estrelinho se sentiu invalidado.

— Agora, só agora, sou cego que não vê.

(...)

**COUTO, Mia. Estórias abensonhadas. Rio de Janeiro: Nova Fronteira, 1996. (Pág 23 e 24).**

**01. Quanto à interpretação do fragmento do conto, podemos afirmar que:**

- Gigitto Efraim era o guia de Estrelinho há pouquíssimo tempo.
- Estrelinho era cego de nascença.
- Gigitto descrevia o mundo para Estrelinho de forma denotativa.
- Gigitto foi convocado pelo exército para ser guia de cegos na guerra.
- Gigitto descrevia o mundo para Estrelinho de forma conotativa.

**02. No período “O sempre lhe era pouco e o tudo insuficiente”, o pronome “LHE” exerce a função sintática de:**

- Objeto Direto
- Objeto Indireto
- Complemento Nominal
- Adjunto Adnominal
- Objeto Direto Preposicionado

**03. Na oração “A mão de Gigitto conduziu o desvistado por tempos e idades”, o autor faz uso de um neologismo, assim como no decorrer de toda a obra em questão. Contudo, o neologismo só se torna possível pela utilização dos elementos mórficos naquilo que a gramática normativa pontua como Processo de Formação das Palavras. Levando em consideração apenas o recurso morfológico, qual Processo de Formação foi utilizado?**

- Derivação Sufixal



- b) Derivação Prefixal
- c) Derivação Regressiva
- d) Derivação Imprópria
- e) Derivação Parassintética

**04. No terceiro período do décimo terceiro parágrafo, temos:**

- a) Uma oração
- b) Duas orações
- c) Três orações
- d) Quatro orações
- e) Cinco orações

**05. No último parágrafo do fragmento do conto “— Agora, só agora, sou cego que não vê”, a oração subordinada presente classifica-se corretamente como:**

- a) Oração Subordinada Adjetiva Restritiva
- b) Oração Subordinada Adverbial Causal
- c) Oração Subordinada Substantiva Subjetiva
- d) Oração Subordinada Adverbial Explicativa
- e) Oração Subordinada Adjetiva Explicativa

#### **RACIOCÍNIO LÓGICO**

**06. Os cinco filhos de Ana estavam discutindo a respeito da data de nascimento da mãe:**

- Almir disse que foi em janeiro, dia 14, sexta-feira.
- Vanderlei disse que foi em janeiro, dia 14, sábado.
- Tiago disse que foi em fevereiro, dia 15, sábado.
- Sandro disse que foi em janeiro, dia 15, sexta-feira.
- Renato disse que foi em fevereiro, dia 15, sexta-feira.

**Sabe-se que somente um dos filhos de Ana acertou corretamente sua data de nascimento e que os outros acertaram pelo menos um dos itens (dia, dia da semana e mês). Dessa forma, é correto afirmar que o filho de Ana que acertou a data de nascimento dela foi:**

- a) Renato
- b) Sandro
- c) Tiago
- d) Vanderlei
- e) Almir

**07. Considere a seguinte afirmativa: “Todo churrasqueiro gosta de picanha”. Em relação a essa proposição, é correto afirmar que:**

- a) Algum churrasqueiro não gosta de picanha.
- b) Toda pessoa que gosta de picanha é churrasqueira.
- c) Alguma pessoa que não gosta de picanha é churrasqueira.
- d) Toda pessoa que não é churrasqueira, não gosta de picanha.
- e) Toda pessoa que não gosta de picanha, não é churrasqueira.

**08. Em um grupo formado por 67 pessoas, verificou-se que 41 pessoas gostam de arroz, 29 gostam de feijão, 33 gostam de carne, 19 gostam de arroz e de feijão, 9 gostam apenas de arroz e de carne, 12 gostam de feijão e de carne e que 6 gostam de arroz, de feijão e de carne. O número de pessoas desse grupo, que não gosta de nenhum desses três tipos de alimentos é igual a:**

- a) 4
- b) 5
- c) 6
- d) 8
- e) 10

**09. Bruno escreveu, em seu caderno, várias sequências formadas por números múltiplos de 4, onde os valores que ocupavam as posições pares eram multiplicados por  $-1$ . Cada sequência foi somada e o resultado da soma anotado. A soma das três primeiras sequências escritas por Bruno foram as seguintes:**

$$4 - 8 = -4$$

$$4 - 8 + 12 = 8$$

$$4 - 8 + 12 - 16 = -8$$

**Considere que Bruno escreveu e somou tais sequências, em seu caderno, de modo a obter determinada sequência cuja soma foi 600. O número de termos dessa sequência é igual a:**

- a) 149
- b) 150
- c) 298

- d) 299  
e) 300

10. Quatro torcedores, um do São Paulo, um do Cruzeiro, um do Vasco e um do Bahia, estão sentados ao redor de uma mesa quadrada, de modo que, dois a dois, fiquem frente a frente. Sabe-se que Alan é torcedor do Cruzeiro e que Bruno está sentado à direita de Alan. Sabe-se também que Caio está sentado à direita do torcedor do São Paulo. Sabe-se ainda que Daniel não é torcedor do Vasco e que está sentado à frente de Bruno. Dessa forma, é correto afirmar que:

- a) Bruno é torcedor do Bahia e Daniel é torcedor do São Paulo.  
b) Bruno é torcedor do São Paulo e Daniel é torcedor do Bahia.  
c) Caio é torcedor do Vasco e Daniel é torcedor do São Paulo.  
d) Caio é torcedor do Bahia e Daniel é torcedor do São Paulo.  
e) Bruno é torcedor do Vasco e Daniel é torcedor do Bahia.

### INFORMÁTICA

11. Considerando o MS-Excel versão 2010, observando a figura abaixo, é correto afirmar que:

	A	B	C
1			
2			
3			
4			

- a) Somente 03 três linhas estão selecionadas.  
b) Somente uma célula está selecionada.  
c) 12 (doze) células estão selecionadas.  
d) Somente a coluna A até a linha 4 (quatro) está selecionada.  
e) Somente as colunas 1 (um), 2 (dois), 3 (três) e 4 (quatro) estão selecionadas.

12. Considerando o MS-Excel versão 2010, observando a figura abaixo, é incorreto afirmar que:

	A	B	C
1	12	6	=A1*B1
2	8	2	=A2/B2
3	5	14	=A3-B3
4	6	11	=A4+B4

- a) O resultado da fórmula =A1\*B1 é 72.  
b) O resultado da fórmula =A2/B2 é 4.  
c) O resultado da fórmula =A3-B3 é -9.  
d) O resultado da fórmula =A3-B3 é 9.  
e) O resultado da fórmula =A4+B4 é 17.

13. Digitando um texto no MS-Word versão 2010, necessito adicionar número nas páginas. Quanto a isso, é correto afirmar que:

- a) No menu Layout da Página, clico em número de página e seleciono onde desejo adicionar os números.  
b) No menu Inserir, clico em número de página e seleciono onde desejo adicionar os números.  
c) No menu Revisão, clico em número de página e seleciono onde desejo adicionar os números.  
d) No menu Referências, clico em número de página e seleciono onde desejo adicionar os números.  
e) No menu Exibição, clico em número de página e seleciono onde desejo adicionar os números.

14. A segurança da informação está diretamente relacionada com proteção de um conjunto de informações, no sentido de preservar o valor que possuem para um indivíduo ou uma organização. Atualmente, um dos aplicativos mais utilizados no mundo, o Whats app, teve uma alteração de confidencialidade muito importante na segurança das informações transmitidas e recebidas. Dentre as alternativas, assinale a que corretamente informa a alteração inserida no aplicativo Whats app.

- a) Antispam  
b) Antivirus  
c) Firewall  
d) Antispyware  
e) Criptografia



**15. São todos os dispositivos que trabalham acoplados ao microcomputador para receber, transmitir, visualizar, ler, gravar ou armazenarem dados. São eles que permitem a comunicação do computador com o meio exterior, isto é, com os usuários e outras máquinas.**

**Esse texto descreve corretamente:**

- a) Memória ram
- b) Memória virtual
- c) Software
- d) Periféricos
- e) Hardware

### CONHECIMENTOS GERAIS

#### 16. Hino do município de Telêmaco Borba/PR

Das virgens matas e campos verdejantes

Servindo-se também o rio Tibagi,

Homens de ideais, espíritos vibrantes.

Constituíram as indústrias aqui.

Estrilho:

Salve! Salve! Telêmaco Borba

Terra querida e de grandes primores,

A nossa homenagem rendamos

À cidade dos trabalhadores.

Pois a cadência de enorme e real progresso

Um município mui grandioso fez nascer,

Marcando assim, verdadeiro sucesso

Faz, então o Paraná engrandecer.

**No que tange ao Hino do município, atribua V (verdadeiro) ou F (falso) às afirmativas e marque a alternativa correta.**

Eloah Martins Quadrado é autora da letra do hino.

Bento Mossurunga compôs a música do hino.

Eloah Martins Quadrado foi nomeada primeira professora da Cidade Nova, atual Telêmaco Borba.

Bento Mossurunga fundou a orquestra Estudantil e Concertos – Orquestra Sinfônica da Universidade, a Sociedade de Cultura Artístico Basílio Itiberê.

a) F, V, V, V.

b) V, F, V, V.

c) V, V, F, V.

d) V, V, F, F.

e) V, V, V, V.

#### 17. À luz da Lei nº 1883/2012, que dispõe sobre o Estatuto dos Servidores Públicos da Administração Direta, Autárquica e Funcional do Município de Telêmaco Borba/PR, leia as alternativas e marque a correta.

a) A apresentação para a posse ocorrerá no prazo de até trinta dias, contados do ato de nomeação.

b) A destituição do servidor da função gratificada dar-se-á por solicitação exclusiva dele mesmo.

c) O servidor ocupante exclusivamente de cargo em comissão será contribuinte do regime geral de previdência social.

d) A aprovação em concurso público gera o direito à nomeação, e será feita obedecida à ordem de classificação dos candidatos.

e) O exercício de função gratificada poderá ser de dedicação integral ou parcial, conforme necessidade da administração.

#### Conforme a Lei nº 1.881, de 05 de abril de 2012, que dispõe sobre o Plano de Cargos, Carreiras e Vencimentos do quadro geral de servidores da Prefeitura Municipal de Telêmaco Borba/PR, regulamentada pelo Decreto nº 2269/2015, responda às próximas três questões.

#### 18. Leia as assertivas e assinala a incorreta.

a) Do resultado da avaliação de desempenho poderá ser interposto recurso à Comissão de Desenvolvimento Funcional no prazo de quinze dias a contar da publicação no Boletim Oficial do Município.

b) Não será concedida a progressão ou promoção ao servidor que estiver em licença para tratamento de saúde por um período superior a quarenta e cinco dias, no período de avaliação.

c) A alternância dos membros constituintes da Comissão de Desenvolvimento Funcional eleitos pelos servidores verificar-se-á a cada três anos de participação, observados, para substituição de seus participantes, o critério fixado no artigo anterior, não cabendo eleição sucessiva.

d) Caberá à Comissão de Desenvolvimento Funcional, no caso de divergência de vinte por cento entre a nota do avaliador e a do avaliado, solicitar nova avaliação à chefia.



e) Nos termos do disposto no art. 17 da Lei n° 1.881, de 05 de abril de 2012, para progredir, é necessário que o servidor satisfaça, dentre outros, o seguinte requisito: estar no efetivo exercício de seu cargo ou em função comissionada na sua área de atuação durante o interstício de dois anos.

**19. Assinale a alternativa que completa respectivamente as lacunas do texto a seguir:**

**A Comissão de Desenvolvimento Funcional será constituída por \_\_\_\_\_ membros, sendo \_\_\_\_\_ designados pelo Prefeito Municipal de Telêmaco Borba e os demais eleitos pelos servidores municipais dentre os estáveis, com a atribuição de coordenar os procedimentos relativos à avaliação periódica de desempenho e outras atribuições.**

- a) três / sete
- b) um / três
- c) sete / três
- d) três / cinco
- e) dois / cinco

**20. A Avaliação de Desempenho será norteadada, dentre outros, pelo seguinte princípio: Amplitude - a avaliação deve incidir sobre todas as áreas de atuação do servidor, que compreendem:**

- 1. a formulação de políticas administrativas e sua aplicação para todos os setores da administração municipal;**
- 2. o desempenho do profissional dentro de suas funções pertinentes;**
- 3. a estrutura do órgão em que exerce a função;**
- 4. os resultados de eficiência dos serviços de cada setor ou órgão da administração municipal;**
- 5. a participação direta do avaliado, durante todo o processo avaliativo.**

**Diante dessa afirmação, somente não está correto o item:**

- a) 1
- b) 2
- c) 3
- d) 4
- e) 5

#### **CONHECIMENTOS ESPECÍFICOS**

**21. Sobre a Resolução da Diretoria Colegiada (RDC) n° 80, de 11 de maio de 2006, que estabelece o fracionamento de medicamentos, marque as afirmativas a seguir com V para as verdadeiras e F para as falsas e assinale a alternativa com a sequência correta de cima para baixo.**

- As farmácias e drogarias poderão fracionar medicamentos a partir de embalagens especialmente desenvolvidas para essa finalidade de modo que possam ser dispensados em quantidades individualizadas para atender às necessidades terapêuticas dos consumidores e usuários.**
- O fracionamento deve ser realizado sob a supervisão e responsabilidade do farmacêutico tecnicamente responsável pelo estabelecimento, observando-se as Boas Práticas para Fracionamento de Medicamentos.**
- No caso de empresas com filiais, é autorizada a captação de prescrições, o fracionamento e a dispensação em estabelecimentos diferentes.**
- O fracionamento se aplica aos medicamentos sujeitos ao controle especial, desde que sejam garantidas as características asseguradas no produto original registrado e observadas as condições técnicas e operacionais estabelecidas nesta resolução.**

- a) V, V, F e V.
- b) V, V, F e F.
- c) F, V, F e F.
- d) V, V, V e V.
- e) V, V, V e F.

**22. Sobre Portaria n.º 344, de 12 de maio de 1998, que aprova o Regulamento Técnico sobre substâncias e medicamentos sujeitos a controle especial, assinale a alternativa correta.**

- a) **O Balanço de Substâncias Psicoativas e Outras Substâncias Sujeitas a Controle Especial - BSPO, destina-se ao registro de vendas de medicamentos a base de substâncias constantes das listas "A1" e "A2" (entorpecentes), "A3", "B1" e "B2" (psicotrópicas), "C3" (imunossupressoras), "C4" (anti-retrovirais), "C5" (anabolizantes) e será remetido à Autoridade Sanitária pelo farmacêutico/químico responsável até o dia 15 (quinze) de cada mês.**
- b) **O Balanço de Substâncias Psicoativas e Outras Substâncias Sujeitas a Controle Especial - BSPO, deverá ser a cópia fiel e exata da movimentação das substâncias constantes das listas deste Regulamento Técnico e de suas atualizações. Sendo assim, a utilização de ajustes, utilizando o fator de correção, se faz necessária quando do preenchimento do BSPO.**
- c) **A Relação Mensal de Notificações de Receita "A" - RMNRA destina-se ao registro das Notificações de Receita "A" retidas em farmácias e drogarias quando da dispensação de medicamentos a base de substâncias constantes das listas "A1" e "A2" (entorpecentes) e "A3" (psicotrópicas) deste Regulamento Técnico e de suas atualizações, a qual será encaminhada junto com as respectivas notificações à Autoridade Sanitária, pelo farmacêutico responsável trimestralmente.**



d) O Balanço de Medicamentos Psicoativos e de outros Sujeitos a Controle Especial - BMPO, destina-se ao registro de vendas de medicamentos a base de substâncias constantes das listas "C3" (imunossupressoras) e "C4" (anti-retrovirais) deste Regulamento Técnico e de suas atualizações, por farmácias e drogarias, em 2 (duas) vias, e será remetido à Autoridade Sanitária pelo Farmacêutico Responsável trimestralmente.

e) O Balanço de Substâncias Psicoativas e Outras Substâncias Sujeitas a Controle Especial – BSPO será preenchido com a movimentação do estoque das substâncias constantes das listas "A1" e "A2" (entorpecentes), "A3", "B1" e "B2" (psicotrópicas), "C1" (outras substâncias sujeitas a controle especial), "C2" (retinóicas), "C3" (imunossupressoras), "C4" (anti-retrovirais), "C5" (anabolizantes) e "D1" (precursoras), deste Regulamento Técnico e de suas atualizações, em 3 (três) vias, e remetido à Autoridade Sanitária pelo farmacêutico/químico responsável trimestralmente.

**23. Sobre a Notificação de Receita, que autoriza a dispensação de medicamentos constantes no Regulamento Técnico sobre substâncias e medicamentos sujeitos a controle especial, Portaria n.º 344/98, assinale a alternativa incorreta.**

a) Preparações a base de Tramadol, misturadas a um ou mais componentes, em qualquer quantidade, ficam sujeitas a prescrição da Receita de Controle Especial, em 2 (duas) vias, acrescida da Notificação de Receita "A" de cor amarela.

b) Em caso de emergência, poderá ser aviada a receita de medicamentos sujeitos a Notificação de Receita em papel não oficial, devendo conter obrigatoriamente: o diagnóstico ou CID, a justificativa do caráter emergencial do atendimento, data, inscrição no Conselho Regional e assinatura devidamente identificada.

c) A Notificação de Receita não será exigida para pacientes internados nos estabelecimentos hospitalares, médico ou veterinário, oficiais ou particulares, porém a dispensação se fará mediante receita ou outro documento equivalente (prescrição diária de medicamento), subscrita em papel privativo do estabelecimento.

d) A Notificação de Receita "B", de cor azul, terá validade por um período de 30 (trinta) dias contados a partir de sua emissão e somente dentro da Unidade Federativa que concedeu a numeração e poderá conter no máximo 5 (cinco) ampolas e, para as demais formas farmacêuticas, a quantidade para o tratamento correspondente no máximo a 60 (sessenta) dias.

e) A Notificação de Receita "A" será válida por 30 (trinta) dias a contar da data de sua emissão em todo o Território Nacional, sendo necessário que seja acompanhada da receita médica com justificativa do uso, quando para aquisição em outra Unidade Federativa e a averiguação e visto da Autoridade Sanitária local dentro do prazo de 72 (setenta e duas) horas.

**24. Segundo o Código de Ética da Profissão Farmacêutica, Resolução n.º 417 de 29 de setembro de 2004, marque a alternativa incorreta:**

a) O farmacêutico, durante o tempo em que permanecer inscrito em um Conselho Regional de Farmácia, independente de estar ou não no exercício da profissão, deve contribuir para a promoção da saúde individual e coletiva, principalmente no campo da prevenção.

b) O profissional condenado por sentença criminal, definitivamente transitada em julgado, por crime praticado no uso do exercício da profissão, sofrerá as sanções disciplinares de advertência ou censura e multa de (um) salário-mínimo a 3 (três) salários-mínimos regionais apenas.

c) Além de evitar que o acúmulo de encargos prejudique a qualidade farmacêutica prestada, os farmacêuticos respondem pelos atos que praticarem ou pelos autorizados no exercício da profissão.

d) O Farmacêutico deve respeitar o direito de decisão do usuário sobre sua própria saúde e bem-estar, excetuando-se o usuário que, mediante o laudo médico ou determinação judicial, for considerado incapaz de discernir sobre opções de tratamento e/ou decidir sobre sua própria saúde e bem-estar.

e) A profissão farmacêutica, em qualquer circunstância ou de qualquer forma, não pode ser exercida exclusivamente com objetivo comercial, além de ser proibida a simultaneidade com a Medicina.

**25. "Compreende atitudes, valores éticos, comportamentos, habilidades, compromissos e co-responsabilidades na prevenção de doenças, promoção e recuperação da saúde, de forma integrada à equipe de saúde. É a interação direta do farmacêutico com o usuário, visando uma farmacoterapia racional e a obtenção de resultados definidos e mensuráveis, voltados para a melhoria da qualidade de vida. Esta interação também deve envolver as concepções dos seus sujeitos, respeitadas as suas especificidades bio-psico-sociais, sob a ótica da integralidade das ações de saúde".**

**Essa definição, de acordo com Proposta de Consenso Nacional de Atenção Farmacêutica – OPAS, refere-se à:**

- a) Assistência Farmacêutica
- b) Intervenção Farmacêutica
- c) Atenção Farmacêutica
- d) Farmacovigilância
- e) Dispensação

**26. O sistema imune é o mecanismo de defesa contra agentes infecciosos e outras substâncias estranhas presentes no ambiente, preservando a integridade do organismo.**

**Assinale a alternativa correta sobre o sistema imune.**



- a) Os antígenos são substâncias proteicas formadas a partir do contato do organismo com agentes infecciosos ou substâncias estranhas.
- b) A imunidade humoral relaciona-se as várias linhagens de linfócitos e macrófagos formados a partir de uma reação a um agente infeccioso.
- c) O contato com agentes infecciosos atenuados ou inativados induz os hospedeiros a produzir anticorpos e a ativar células T, mediadores característicos da imunidade passiva.
- d) A diferenciação da fase da doença, diagnóstico de doença congênita e a avaliação da imunidade específica naturalmente adquirida ou artificialmente induzida podem ser determinados pela pesquisa de anticorpos.
- e) A função principal dos anticorpos é proteger contra agentes infecciosos ou seus produtos através da ativação de antígenos e formação de células.

**27. Sobre a tipagem sanguínea, os antígenos e anticorpos eritrocitários, relacione a primeira coluna com a segunda.**

(1) Tipagem tipo O.	( ) Anticorpo anti-A e anti-B.
(2) Tipagem tipo A.	( ) Antígeno A e B.
(3) Tipagem tipo B.	( ) Anticorpo anti-A.
(4) Tipagem tipo AB.	( ) Antígeno A.

**Assinale a alternativa com a sequência correta, de cima para baixo, da segunda coluna.**

- a) 1, 4, 3 e 2.
- b) 1, 4, 2 e 3.
- c) 4, 1, 3 e 2.
- d) 4, 1, 2 e 3.
- e) 4, 2, 1 e 3.

**28. O *Staphylococcus aureus* é uma bactéria encontrada com relativa frequência na microbiota normal do corpo humano, porém é agente de uma gama de infecções.**

**Sobre as características utilizadas na identificação desta espécie, analise as afirmativas.**

**I – No exame microscópico com coloração de Gram, o *Staphylococcus aureus* apresenta-se na forma de cocos arranjados em cachos corados de roxo, cor característica de bactérias Gram negativas.**

**II – O *Staphylococcus aureus* produz uma coloração rósea/violeta característica ao redor das colônias no meio contendo DNA, pois produz DNase.**

**III – Nos testes de catalase, o resultado do *Staphylococcus aureus* é positivo, porém no crescimento em manitol, o resultado é negativo.**

**IV – O *Staphylococcus aureus* forma coágulo, pois produz coagulase livre que reage com o fator plasmático formando um complexo que atua sobre o fibrinogênio formando fibrina.**

**Sobre as afirmativas, assinale a alternativa correta.**

- a) Somente I e II estão corretas.
- b) Somente I, II e III estão corretas.
- c) Somente II e IV estão corretas.
- d) Somente II, III e IV estão corretas.
- e) Somente I, II e IV estão corretas.

**29. Sobre o gênero *Pseudomonas* e suas técnicas de identificação, é incorreto afirmar:**

- a) No exame microscópico com coloração de Gram, as *Pseudomonas* apresentam-se na forma de bacilos corados de roxo, devido ao corante fucsina, são classificadas como Gram positivas.
- b) São bacilos móveis e algumas cepas produzem pigmentos marrons e esverdeados em ágar Mueller Hinton, devido à produção de pigmentos hidrossolúveis como pioverdina e piocininas.
- c) As *Pseudomonas* possuem resultado positivo no teste de oxidase e crescimento em caldo NaCl a 42°C.
- d) São bacilos não fermentadores que possuem exigências simples para seu crescimento e, por isso, são encontrados em reservatórios úmidos, no ambiente hospitalar, em equipamentos respiratórios e até em desinfetantes.
- e) Podem causar bacteremias, endocardite, infecções pulmonares e urinárias, gastroenterites entre outras infecções.

**30. A asma pode ser definida como uma síndrome caracterizada pela obstrução reversível recorrente do fluxo de ar nas vias aéreas em resposta a vários estímulos. Sobre os medicamentos antiasmáticos, é correto afirmar:**

- a) O Formoterol, um antagonista dos receptores muscarínicos, relaxa a constrição brônquica provocada pela estimulação parassimpática promovida na asma alérgica.
- b) O Fenoterol é um agonista  $\beta_2$  – adrenérgico de ação longa que, além de relaxar a musculatura brônquica, inibe a liberação de mediadores dos mastócitos e dos monócitos responsáveis pela inflamação.



- c) A Beclometasona e a Budesonida são metilxantinas broncodilatadoras que inibem aspectos da fase tardia da asma alérgica.
- d) O Salbutamol, um antagonista  $\beta_2$  – adrenérgico, diminui a formação de componentes inflamatórios da asma crônica, relaxando a musculatura brônquica.
- e) O Ipratrópio é um agonista  $\beta_2$  – adrenérgico de ação curta, administrado por via inalatória, que dilata os brônquios através dos receptores adrenérgicos existentes no músculo liso.

**31. Assinale a alternativa que apresenta o nome de uma xantina com ação antiasmática broncodilatadora utilizada tanto via oral como intravenosa e que possui ação estimulante sobre o Sistema Nervoso Central e sobre a respiração.**

- a) Beclometasona
- b) Formoterol
- c) Aminofilina
- d) Montelucaste
- e) Cromoglicato

**32. Fármaco utilizado no tratamento das convulsões parciais e tonico-clônicas, para tratar a nevralgia do trigêmeo, condição excepcionalmente dolorosa e transtornos afetivos bipolares. A redução da excitabilidade elétrica das membranas celulares, principalmente por bloqueio dos canais de sódio, torna esse fármaco útil em pacientes epiléticos.**

**Assinale a alternativa com o nome do fármaco citado.**

- a) Amitriptilina
- b) Valproato de sódio
- c) Gabapentina
- d) Carbamazepina
- e) Baclofeno

**33. Um fármaco hipnótico produz torpor bem como facilita o início e a manutenção do estado de sono semelhante ao sono natural. E um fármaco sedativo reduz a atividade, modera a excitação e acalma. Sobre os fármacos hipnóticos e sedativos, marque a alternativa correta.**

- a) Os Barbitúricos, como Clonazepam e Bromazepam, são depressores não seletivos do Sistema Nervoso Central que produzem efeitos que vão da sedação e redução da ansiedade à inconsciência e morte por falência respiratória e cardiovascular.
- b) O Fenobarbital é um agonista parcial dos receptores de serotonina usado para tratar vários distúrbios de ansiedade, porém não causam sedação ou incoordenação motora.
- c) O Flumazenil é um agonista competitivo dos receptores do ácido gama-aminobutírico (GABA) utilizado para reverter o efeito da superdosagem dos Benzodiazepínicos.
- d) Um antagonista do receptor Benzodiazepínico como Zolpidem produz atividade depressora sobre o Sistema Nervoso Central, podendo ser utilizado em anestésias e como anticonvulsivante.
- e) Os benzodiazepínicos, como o Nitrazepam e Diazepam, potencializam a resposta ao ácido gama-aminobutírico (GABA) e seus principais efeitos são redução da ansiedade e agressividade, sedação e indução ao sono, amnésia anterógrada, anticonvulsivante, entre outros.

**34. Assinale a alternativa com o nome do medicamento que é um metabólito do antidepressivo Trazodona utilizado como analgésico para dor pós-operatória, um agonista fraco dos receptores opioides e inibidor fraco da captura de noradrenalina.**

- a) Amitriptilina
- b) Carbamazepina
- c) Tramadol
- d) Fentanila
- e) Mirtazapina

**35. Os antagonistas opioides têm indicação inequívoca no tratamento da toxicidade induzida pelos opioides, principalmente a depressão respiratória, no diagnóstico da dependência física e como agente terapêutico para tratamento dos usuários compulsivos de opioides.**

**Assinale a alternativa com um exemplo de medicamento antagonista opioide.**

- a) Naloxona
- b) Morfina
- c) Codeína
- d) Petidina
- e) Metadona

**36. Sobre os fármacos antagonistas dos canais de cálcio, analise as afirmativas.**

**I – O Verapamil, Ramipril e Enalapril são exemplos de medicamentos que bloqueiam os canais de cálcio, causando despolarização do músculo cardíaco e redução da contratilidade.**

**II – O Anlodipino e a Nifedipina são muito utilizados clinicamente na hipertensão arterial devido à ação antiarritmica e vasodilatadora.**

**III – O Diltiazem é um bloqueador dos canais de cálcio que, apesar de possuir posição intermediária quanto a sua seletividade entre o músculo cardíaco e o liso, é utilizado na prevenção da angina.**

**Sobre as afirmativas, é correto afirmar:**

- a) Somente a I está correta.
- b) Somente a III está correta.
- c) Somente I e II estão corretas.
- d) Somente I e III estão corretas.
- e) Somente II e III estão corretas.

**37. Os bloqueadores dos receptores da Angiotensina II inibem potentemente e de modo seletivo a maioria dos efeitos biológicos da Angiotensina II, tais como contração do músculo liso vascular, respostas pressoras rápidas e lentas, sede, liberação de vasopressina, secreção de aldosterona, aumento do tônus simpático, alterações nas funções renais entre outras.**

**Assinale a alternativa que contém dois exemplos de medicamentos bloqueadores dos receptores de Angiotensina II.**

- a) Losartana e Valsartana
- b) Losartana e Captopril
- c) Enalapril e Captopril
- d) Ramipril e Enalapril.
- e) Losartana e Propranolol

**38. O Diabetes Melito consiste em um grupo de distúrbios caracterizados por hiperglicemia, alteração do metabolismo dos lipídeos, carboidratos e proteínas. Além da insulino terapia, vários agentes hipoglicemiantes são utilizados no tratamento.**

**Sobre as Sulfonilureias, é correto afirmar.**

- a) A Metformina, um exemplo de Sulfonilureia, aumenta a sensibilidade à insulina nos tecidos periféricos, aumenta o transporte de glicose aos músculos e tecido adiposo e diminui a produção hepática de glicose.
- b) A Glibenclamida e a Glimepirida, exemplos de Sulfonilureias, são anti-hiperglicêmicas pois diminuem os níveis de glicose pela redução da produção hepática de glicose e aumento da ação da insulina no músculo e gordura.
- c) As Sulfonilureias estimulam a liberação da insulina pelas células beta do pâncreas e são utilizadas para controlar a hiperglicemia em pacientes com Diabetes Mellitus tipo 2.
- d) A Glicazida inibe a glicólise e estimula a gliconeogênese, a oxidação dos ácidos graxos e a produção de corpos cetônicos, sendo utilizada no controle de hiperglicemia.
- e) A glimepirida é um derivado da D-fenilalanina que estimula a secreção rápida de insulina, promovendo uma redução do aumento da glicemia pós-prandial nos pacientes com Diabetes tipo 2.

**39. Os antibióticos e os quimioterápicos interferem em diferentes atividades da célula bacteriana, causando a morte ou somente inibindo o seu crescimento.**

**Analise as seguintes afirmativas sobre os antibióticos e assinale a alternativa correta:**

**I - As Tetraciclina bloqueiam a síntese proteica porque, quando fixadas à subunidade 30S, impedem a fixação dos RNA transportadores ao ribossomo.**

**II - Os Aminoglicosídeos são ativos contra bactérias anaeróbicas estritas e quando utilizadas isoladamente contra estreptococos e enterococos.**

**III - A bacitracina impede a defosforilação do carreador lipídico que transfere a subunidade do peptidoglicano que está sendo formado, afetando a formação da membrana plasmática.**

**IV - O Ciprofloxacino e o Norfloxacino são antibióticos do grupo das Quinolonas que atuam no DNA-girase e topoisomerase IV bacterianas tanto Gram positivas como as negativas.**

- a) Somente I e II estão corretas.
- b) Somente II e III estão corretas.
- c) Somente II e IV estão corretas.
- d) Somente I e IV estão corretas.
- e) Somente I, III e IV estão corretas.

**40. Os antibióticos betalactâmicos são extremamente eficazes e amplamente utilizados em muitas infecções.**

**Sobre os antibióticos betalactâmicos, marque as afirmativas a seguir com V para as verdadeiras e F para as falsas e marque a alternativa com a sequência correta, de cima para baixo.**

**( ) Os Carbapenems foram desenvolvidos para tratamento de infecções por microrganismos Gram-negativos produtores de betalactamases resistentes às penicilinas e possuem espectro de atividade antimicrobiano muito amplo.**

**( ) As Cefalosporinas são antimicrobianos betalactâmicos que interferem na síntese de proteínas, pois fixam-se a subunidade 30S do ribossomo, impedindo a fixação do RNA transportador.**



- ( ) A Penicilina é um antibiótico  $\beta$ -lactâmico, tem ação bactericida que inibe a síntese da parede celular das bactérias em multiplicação.
- ( ) Um exemplo de antibiótico betalactâmico bactericida e bacteriostático que inibe a síntese de proteínas bacterianas ligando-se a subunidade 50S do ribossomo é o Aztreonam.
- ( ) As  $\beta$ -lactamases são enzimas dotadas da capacidade de hidrolisar o anel  $\beta$ -lactâmico, transformando os antibióticos correspondentes em produtos inativos.
- a) F, F, V, F e V.  
b) V, F, V, F e V.  
c) V, V, F, F e V.  
d) V, F, V, F e F.  
e) F, V, F, V e F.

**RASCUNHO**



PREFEITURA DE TELÊMACO BORBA - ESTADO DO PARANÁ- EDITAL Nº 001-2016 - CONCURSO PÚBLICO

VESPERTINO – 29/05/2016 – NÍVEL SUPERIOR

PROVA OBJETIVA NÚMERO

2

CARGO: TMNS I - FARMÁCIA

Leia atentamente as INSTRUÇÕES:

1. Confira seus dados no cartão-resposta: nome, número de inscrição e o curso para o qual se inscreveu.
2. **MARQUE no seu cartão-resposta o número da sua prova** (não será corrigido o cartão-resposta que não tiver marcado o número da prova) e **Assine** seu cartão-resposta.
3. Aguarde a autorização do Fiscal para abrir o caderno de prova. Ao receber a ordem do fiscal, confira o caderno de prova com muita atenção. Nenhuma reclamação sobre o total de questões ou falha de impressão será aceita depois de iniciada a prova.
4. O cartão-resposta não será substituído, salvo se contiver erro de impressão.
5. Preencha toda a área do cartão-resposta correspondente à alternativa de sua escolha, com caneta esferográfica (tinta azul ou preta), sem ultrapassar as bordas. As marcações duplas, ou rasuradas, com corretivo, ou marcadas diferentemente do modelo estabelecido no cartão-resposta poderão ser anuladas.
6. Sua prova tem **40** questões, com **5** alternativas.
7. Cabe apenas ao candidato a interpretação das questões, **o fiscal** não poderá fazer nenhuma interferência.
8. A prova será realizada com duração máxima de **3 (três) horas**, incluído o tempo para a realização da Prova Objetiva de múltipla escolha e o preenchimento do cartão-resposta.
9. O candidato poderá retirar-se do local de realização das provas somente **1 (uma) hora** após o seu início, sem levar o caderno de prova.
10. O candidato poderá levar o caderno de provas, assim como anotação contendo transcrição do seu cartão-resposta, somente **1h30min** (uma hora e trinta minutos) após o início da realização da prova.
11. Ao terminar a prova, o candidato deverá entregar ao fiscal de sala o cartão-resposta preenchido e **ASSINADO**.
12. Os **3 (três)** candidatos, que terminarem a prova por último, deverão permanecer na sala, e só poderão sair juntos após o fechamento do envelope, contendo os cartões-resposta dos candidatos presentes e ausentes, e assinarem no lacre do referido envelope, atestando que este foi devidamente lacrado.
13. Durante todo o tempo em que permanecer no local onde está ocorrendo o concurso, o candidato deverá, manter o celular desligado e sem bateria, só sendo permitido ligar depois de ultrapassar o portão de saída do prédio.
14. Não será permitido ao candidato fumar na sala de provas, bem como nas dependências.
15. Depois de terminar a prova e entregar ao fiscal o cartão-resposta, preenchido e assinado, não será mais permitido ao candidato o uso do banheiro e bebedouro.

**BOA PROVA!**

**RACIOCÍNIO LÓGICO**

**01. Os cinco filhos de Ana estavam discutindo a respeito da data de nascimento da mãe:**

- Almir disse que foi em janeiro, dia 14, sexta-feira.
- Vanderlei disse que foi em janeiro, dia 14, sábado.
- Tiago disse que foi em fevereiro, dia 15, sábado.
- Sandro disse que foi em janeiro, dia 15, sexta-feira.
- Renato disse que foi em fevereiro, dia 15, sexta-feira.

**Sabe-se que somente um dos filhos de Ana acertou corretamente sua data de nascimento e que os outros acertaram pelo menos um dos itens (dia, dia da semana e mês). Dessa forma, é correto afirmar que o filho de Ana que acertou a data de nascimento dela foi:**

- a) Renato
- b) Sandro
- c) Tiago
- d) Vanderlei
- e) Almir

**02. Considere a seguinte afirmativa: “Todo churrasqueiro gosta de picanha”. Em relação a essa proposição, é correto afirmar que:**

- a) Algum churrasqueiro não gosta de picanha.
- b) Toda pessoa que gosta de picanha é churrasqueira.
- c) Alguma pessoa que não gosta de picanha é churrasqueira.
- d) Toda pessoa que não é churrasqueira, não gosta de picanha.
- e) Toda pessoa que não gosta de picanha, não é churrasqueira.

**03. Em um grupo formado por 67 pessoas, verificou-se que 41 pessoas gostam de arroz, 29 gostam de feijão, 33 gostam de carne, 19 gostam de arroz e de feijão, 9 gostam apenas de arroz e de carne, 12 gostam de feijão e de carne e que 6 gostam de arroz, de feijão e de carne. O número de pessoas desse grupo, que não gosta de nenhum desses três tipos de alimentos é igual a:**

- a) 4
- b) 5
- c) 6
- d) 8
- e) 10

**04. Bruno escreveu, em seu caderno, várias sequências formadas por números múltiplos de 4, onde os valores que ocupavam as posições pares eram multiplicados por  $-1$ . Cada sequência foi somada e o resultado da soma anotado. A soma das três primeiras sequências escritas por Bruno foram as seguintes:**

$$4 - 8 = -4$$

$$4 - 8 + 12 = 8$$

$$4 - 8 + 12 - 16 = -8$$

**Considere que Bruno escreveu e somou tais sequências, em seu caderno, de modo a obter determinada sequência cuja soma foi 600. O número de termos dessa sequência é igual a:**

- a) 149
- b) 150
- c) 298
- d) 299
- e) 300

**05. Quatro torcedores, um do São Paulo, um do Cruzeiro, um do Vasco e um do Bahia, estão sentados ao redor de uma mesa quadrada, de modo que, dois a dois, fiquem frente a frente. Sabe-se que Alan é torcedor do Cruzeiro e que Bruno está sentado à direita de Alan. Sabe-se também que Caio está sentado à direita do torcedor do São Paulo. Sabe-se ainda que Daniel não é torcedor do Vasco e que está sentado à frente de Bruno. Dessa forma, é correto afirmar que:**

- a) Bruno é torcedor do Bahia e Daniel é torcedor do São Paulo.
- b) Bruno é torcedor do São Paulo e Daniel é torcedor do Bahia.
- c) Caio é torcedor do Vasco e Daniel é torcedor do São Paulo.
- d) Caio é torcedor do Bahia e Daniel é torcedor do São Paulo.
- e) Bruno é torcedor do Vasco e Daniel é torcedor do Bahia.

**INFORMÁTICA**

**06. Considerando o MS-Excel versão 2010, observando a figura abaixo, é correto afirmar que:**

	A	B	C
1			
2			
3			
4			

- a) Somente 03 três linhas estão selecionadas.  
 b) Somente uma célula está selecionada.  
 c) 12 (doze) células estão selecionadas.  
 d) Somente a coluna A até a linha 4 (quatro) está selecionada.  
 e) Somente as colunas 1 (um), 2 (dois), 3 (três) e 4 (quatro) estão selecionadas.

**07. Considerando o MS-Excel versão 2010, observando a figura abaixo, é incorreto afirmar que:**

	A	B	C
1	12	6	=A1*B1
2	8	2	=A2/B2
3	5	14	=A3-B3
4	6	11	=A4+B4

- a) O resultado da fórmula =A1\*B1 é 72.  
 b) O resultado da fórmula =A2/B2 é 4.  
 c) O resultado da fórmula =A3-B3 é -9.  
 d) O resultado da fórmula =A3-B3 é 9.  
 e) O resultado da fórmula =A4+B4 é 17.

**08. Digitando um texto no MS-Word versão 2010, necessito adicionar número nas páginas. Quanto a isso, é correto afirmar que:**

- a) No menu Layout da Página, clico em número de página e seleciono onde desejo adicionar os números.  
 b) No menu Inserir, clico em número de página e seleciono onde desejo adicionar os números.  
 c) No menu Revisão, clico em número de página e seleciono onde desejo adicionar os números.  
 d) No menu Referências, clico em número de página e seleciono onde desejo adicionar os números.  
 e) No menu Exibição, clico em número de página e seleciono onde desejo adicionar os números.

**09. A segurança da informação está diretamente relacionada com proteção de um conjunto de informações, no sentido de preservar o valor que possuem para um indivíduo ou uma organização. Atualmente, um dos aplicativos mais utilizados no mundo, o Whats app, teve uma alteração de confidencialidade muito importante na segurança das informações transmitidas e recebidas. Dentre as alternativas, assinale a que corretamente informa a alteração inserida no aplicativo Whats app.**

- a) Antispam  
 b) Antivirus  
 c) Firewall  
 d) Antispyware  
 e) Criptografia

**10. São todos os dispositivos que trabalham acoplados ao microcomputador para receber, transmitir, visualizar, ler, gravar ou armazenarem dados. São eles que permitem a comunicação do computador com o meio exterior, isto é, com os usuários e outras máquinas.**

**Esse texto descreve corretamente:**

- a) Memória ram  
 b) Memória virtual  
 c) Software  
 d) Periféricos  
 e) Hardware

## CONHECIMENTOS GERAIS

**11. Hino do município de Telêmaco Borba/PR**

Das virgens matas e campos verdejantes  
 Servindo-se também o rio Tibagi,  
 Homens de ideais, espíritos vibrantes.  
 Constituíram as indústrias aqui.





Estrilho:

Salve! Salve! Telêmaco Borba  
Terra querida e de grandes primores,  
A nossa homenagem rendamos  
À cidade dos trabalhadores.  
Pois a cadência de enorme e real progresso  
Um município mui grandioso fez nascer,  
Marcando assim, verdadeiro sucesso  
Faz, então o Paraná engrandecer.

**No que tange ao Hino do município, atribua V (verdadeiro) ou F (falso) às afirmativas e marque a alternativa correta.**

- ( ) Eloah Martins Quadrado é autora da letra do hino.  
( ) Bento Mossurunga compôs a música do hino.  
( ) Eloah Martins Quadrado foi nomeada primeira professora da Cidade Nova, atual Telêmaco Borba.  
( ) Bento Mossurunga fundou a orquestra Estudantil e Concertos – Orquestra Sinfônica da Universidade, a Sociedade de Cultura Artístico Basílio Itiberê.  
a) F, V, V, V.  
b) V, F, V, V.  
c) V, V, F, V.  
d) V, V, F, F.  
e) V, V, V, V.

**12. À luz da Lei nº 1883/2012, que dispões sobre o Estatuto dos Servidores Públicos da Administração Direta, Autárquica e Funcional do Município de Telêmaco Borba/PR, leia as alternativas e marque a correta.**

- a) A apresentação para a posse ocorrerá no prazo de até trinta dias, contados do ato de nomeação.  
b) A destituição do servidor da função gratificada dar-se-á por solicitação exclusiva dele mesmo.  
c) O servidor ocupante exclusivamente de cargo em comissão será contribuinte do regime geral de previdência social.  
d) A aprovação em concurso público gera o direito à nomeação, e será feita obedecida à ordem de classificação dos candidatos.  
e) O exercício de função gratificada poderá ser de dedicação integral ou parcial, conforme necessidade da administração.

**Conforme a Lei nº 1.881, de 05 de abril de 2012, que dispõe sobre o Plano de Cargos, Carreiras e Vencimentos do quadro geral de servidores da Prefeitura Municipal de Telêmaco Borba/PR, regulamentada pelo Decreto nº 2269/2015, responda às próximas três questões.**

**13. Leia as assertivas e assinala a incorreta.**

- a) Do resultado da avaliação de desempenho poderá ser interposto recurso à Comissão de Desenvolvimento Funcional no prazo de quinze dias a contar da publicação no Boletim Oficial do Município.  
b) Não será concedida a progressão ou promoção ao servidor que estiver em licença para tratamento de saúde por um período superior a quarenta e cinco dias, no período de avaliação.  
c) A alternância dos membros constituintes da Comissão de Desenvolvimento Funcional eleitos pelos servidores verificar-se-á a cada três anos de participação, observados, para substituição de seus participantes, o critério fixado no artigo anterior, não cabendo eleição sucessiva.  
d) Caberá à Comissão de Desenvolvimento Funcional, no caso de divergência de vinte por cento entre a nota do avaliador e a do avaliado, solicitar nova avaliação à chefia.  
e) Nos termos do disposto no art. 17 da Lei nº 1.881, de 05 de abril de 2012, para progredir, é necessário que o servidor satisfaça, dentre outros, o seguinte requisito: estar no efetivo exercício de seu cargo ou em função comissionada na sua área de atuação durante o interstício de dois anos.

**14. Assinale a alternativa que completa respectivamente as lacunas do texto a seguir:**

**A Comissão de Desenvolvimento Funcional será constituída por \_\_\_\_\_ membros, sendo \_\_\_\_\_ designados pelo Prefeito Municipal de Telêmaco Borba e os demais eleitos pelos servidores municipais dentre os estáveis, com a atribuição de coordenar os procedimentos relativos à avaliação periódica de desempenho e outras atribuições.**

- a) três / sete  
b) um / três  
c) sete / três  
d) três / cinco  
e) dois / cinco

**15. A Avaliação de Desempenho será norteadada, dentre outros, pelo seguinte princípio: Amplitude - a avaliação deve incidir sobre todas as áreas de atuação do servidor, que compreendem:**

1. a formulação de políticas administrativas e sua aplicação para todos os setores da administração municipal;
2. o desempenho do profissional dentro de suas funções pertinentes;
3. a estrutura do órgão em que exerce a função;
4. os resultados de eficiência dos serviços de cada setor ou órgão da administração municipal;
5. a participação direta do avaliado, durante todo o processo avaliativo.

Diante dessa afirmação, somente não está correto o item:

- a) 1
- b) 2
- c) 3
- d) 4
- e) 5

#### CONHECIMENTOS ESPECÍFICOS

16. Sobre a Resolução da Diretoria Colegiada (RDC) nº 80, de 11 de maio de 2006, que estabelece o fracionamento de medicamentos, marque as afirmativas a seguir com V para as verdadeiras e F para as falsas e assinale a alternativa com a sequência correta de cima para baixo.

( ) As farmácias e drogarias poderão fracionar medicamentos a partir de embalagens especialmente desenvolvidas para essa finalidade de modo que possam ser dispensados em quantidades individualizadas para atender às necessidades terapêuticas dos consumidores e usuários.

( ) O fracionamento deve ser realizado sob a supervisão e responsabilidade do farmacêutico tecnicamente responsável pelo estabelecimento, observando-se as Boas Práticas para Fracionamento de Medicamentos.

( ) No caso de empresas com filiais, é autorizada a captação de prescrições, o fracionamento e a dispensação em estabelecimentos diferentes.

( ) O fracionamento se aplica aos medicamentos sujeitos ao controle especial, desde que sejam garantidas as características asseguradas no produto original registrado e observadas as condições técnicas e operacionais estabelecidas nesta resolução.

- a) V, V, F e V.
- b) V, V, F e F.
- c) F, V, F e F.
- d) V, V, V e V.
- e) V, V, V e F.

17. Sobre Portaria n.º 344, de 12 de maio de 1998, que aprova o Regulamento Técnico sobre substâncias e medicamentos sujeitos a controle especial, assinale a alternativa correta.

a) O Balanço de Substâncias Psicoativas e Outras Substâncias Sujeitas a Controle Especial - BSPO, destina-se ao registro de vendas de medicamentos a base de substâncias constantes das listas "A1" e "A2" (entorpecentes), "A3", "B1" e "B2" (psicotrópicas), "C3" (imunossupressoras), "C4" (anti-retrovirais), "C5" (anabolizantes) e será remetido à Autoridade Sanitária pelo farmacêutico/químico responsável até o dia 15 (quinze) de cada mês.

b) O Balanço de Substâncias Psicoativas e Outras Substâncias Sujeitas a Controle Especial - BSPO, deverá ser a cópia fiel e exata da movimentação das substâncias constantes das listas deste Regulamento Técnico e de suas atualizações. Sendo assim, a utilização de ajustes, utilizando o fator de correção, se faz necessária quando do preenchimento do BSPO.

c) A Relação Mensal de Notificações de Receita "A" - RMNRA destina-se ao registro das Notificações de Receita "A" retidas em farmácias e drogarias quando da dispensação de medicamentos a base de substâncias constantes das listas "A1" e "A2" (entorpecentes) e "A3" (psicotrópicas) deste Regulamento Técnico e de suas atualizações, a qual será encaminhada junto com as respectivas notificações à Autoridade Sanitária, pelo farmacêutico responsável trimestralmente.

d) O Balanço de Medicamentos Psicoativos e de outros Sujeitos a Controle Especial - BMPO, destina-se ao registro de vendas de medicamentos a base de substâncias constantes das listas "C3" (imunossupressoras) e "C4" (anti-retrovirais) deste Regulamento Técnico e de suas atualizações, por farmácias e drogarias, em 2 (duas) vias, e será remetido à Autoridade Sanitária pelo Farmacêutico Responsável trimestralmente.

e) O Balanço de Substâncias Psicoativas e Outras Substâncias Sujeitas a Controle Especial - BSPO será preenchido com a movimentação do estoque das substâncias constantes das listas "A1" e "A2" (entorpecentes), "A3", "B1" e "B2" (psicotrópicas), "C1" (outras substâncias sujeitas a controle especial), "C2" (retinóicas), "C3" (imunossupressoras), "C4" (anti-retrovirais), "C5" (anabolizantes) e "D1" (precursoras), deste Regulamento Técnico e de suas atualizações, em 3 (três) vias, e remetido à Autoridade Sanitária pelo farmacêutico/químico responsável trimestralmente.

18. Sobre a Notificação de Receita, que autoriza a dispensação de medicamentos constantes no Regulamento Técnico sobre substâncias e medicamentos sujeitos a controle especial, Portaria n.º 344/98, assinale a alternativa incorreta.

a) Preparações a base de Tramadol, misturadas a um ou mais componentes, em qualquer quantidade, ficam sujeitas a prescrição da Receita de Controle Especial, em 2 (duas) vias, acrescida da Notificação de Receita "A" de cor amarela.



- b) Em caso de emergência, poderá ser aviada a receita de medicamentos sujeitos a Notificação de Receita em papel não oficial, devendo conter obrigatoriamente: o diagnóstico ou CID, a justificativa do caráter emergencial do atendimento, data, inscrição no Conselho Regional e assinatura devidamente identificada.
- c) A Notificação de Receita não será exigida para pacientes internados nos estabelecimentos hospitalares, médico ou veterinário, oficiais ou particulares, porém a dispensação se fará mediante receita ou outro documento equivalente (prescrição diária de medicamento), subscrita em papel privativo do estabelecimento.
- d) A Notificação de Receita "B", de cor azul, terá validade por um período de 30 (trinta) dias contados a partir de sua emissão e somente dentro da Unidade Federativa que concedeu a numeração e poderá conter no máximo 5 (cinco) ampolas e, para as demais formas farmacêuticas, a quantidade para o tratamento correspondente no máximo a 60 (sessenta) dias.
- e) A Notificação de Receita "A" será válida por 30 (trinta) dias a contar da data de sua emissão em todo o Território Nacional, sendo necessário que seja acompanhada da receita médica com justificativa do uso, quando para aquisição em outra Unidade Federativa e a averiguação e visto da Autoridade Sanitária local dentro do prazo de 72 (setenta e duas) horas.

**19. Segundo o Código de Ética da Profissão Farmacêutica, Resolução n° 417 de 29 de setembro de 2004, marque a alternativa incorreta:**

- a) O farmacêutico, durante o tempo em que permanecer inscrito em um Conselho Regional de Farmácia, independente de estar ou não no exercício da profissão, deve contribuir para a promoção da saúde individual e coletiva, principalmente no campo da prevenção.
- b) O profissional condenado por sentença criminal, definitivamente transitada em julgado, por crime praticado no uso do exercício da profissão, sofrerá as sanções disciplinares de advertência ou censura e multa de (um) salário-mínimo a 3 (três) salários-mínimos regionais apenas.
- c) Além de evitar que o acúmulo de encargos prejudique a qualidade farmacêutica prestada, os farmacêuticos respondem pelos atos que praticarem ou pelos autorizados no exercício da profissão.
- d) O Farmacêutico deve respeitar o direito de decisão do usuário sobre sua própria saúde e bem-estar, excetuando-se o usuário que, mediante o laudo médico ou determinação judicial, for considerado incapaz de discernir sobre opções de tratamento e/ou decidir sobre sua própria saúde e bem-estar.
- e) A profissão farmacêutica, em qualquer circunstância ou de qualquer forma, não pode ser exercida exclusivamente com objetivo comercial, além de ser proibida a simultaneidade com a Medicina.

**20. "Compreende atitudes, valores éticos, comportamentos, habilidades, compromissos e co-responsabilidades na prevenção de doenças, promoção e recuperação da saúde, de forma integrada à equipe de saúde. É a interação direta do farmacêutico com o usuário, visando uma farmacoterapia racional e a obtenção de resultados definidos e mensuráveis, voltados para a melhoria da qualidade de vida. Esta interação também deve envolver as concepções dos seus sujeitos, respeitadas as suas especificidades bio-psico-sociais, sob a ótica da integralidade das ações de saúde".**

**Essa definição, de acordo com Proposta de Consenso Nacional de Atenção Farmacêutica – OPAS, refere-se à:**

- a) Assistência Farmacêutica  
b) Intervenção Farmacêutica  
c) Atenção Farmacêutica  
d) Farmacovigilância  
e) Dispensação

**21. O sistema imune é o mecanismo de defesa contra agentes infecciosos e outras substâncias estranhas presentes no ambiente, preservando a integridade do organismo.**

**Assinale a alternativa correta sobre o sistema imune.**

- a) Os antígenos são substâncias proteicas formadas a partir do contato do organismo com agentes infecciosos ou substâncias estranhas.
- b) A imunidade humoral relaciona-se as várias linhagens de linfócitos e macrófagos formados a partir de uma reação a um agente infeccioso.
- c) O contato com agentes infecciosos atenuados ou inativados induz os hospedeiros a produzir anticorpos e a ativar células T, mediadores característicos da imunidade passiva.
- d) A diferenciação da fase da doença, diagnóstico de doença congênita e a avaliação da imunidade específica naturalmente adquirida ou artificialmente induzida podem ser determinados pela pesquisa de anticorpos.
- e) A função principal dos anticorpos é proteger contra agentes infecciosos ou seus produtos através da ativação de antígenos e formação de células.

**22. Sobre a tipagem sanguínea, os antígenos e anticorpos eritrocitários, relacione a primeira coluna com a segunda.**

(1) Tipagem tipo O.	( ) Anticorpo anti-A e anti-B.
(2) Tipagem tipo A.	( ) Antígeno A e B.
(3) Tipagem tipo B.	( ) Anticorpo anti-A.

(4) Tipagem tipo AB.

( ) Antígeno A.

Assinale a alternativa com a sequência correta, de cima para baixo, da segunda coluna.

- a) 1, 4, 3 e 2.
- b) 1, 4, 2 e 3.
- c) 4, 1, 3 e 2.
- d) 4, 1, 2 e 3.
- e) 4, 2, 1 e 3.

23. O *Staphylococcus aureus* é uma bactéria encontrada com relativa frequência na microbiota normal do corpo humano, porém é agente de uma gama de infecções.

Sobre as características utilizadas na identificação desta espécie, analise as afirmativas.

I – No exame microscópico com coloração de Gram, o *Staphylococcus aureus* apresenta-se na forma de cocos arranjados em cachos corados de roxo, cor característica de bactérias Gram negativas.

II – O *Staphylococcus aureus* produz uma coloração rósea/violeta característica ao redor das colônias no meio contendo DNA, pois produz DNase.

III – Nos testes de catalase, o resultado do *Staphylococcus aureus* é positivo, porém no crescimento em manitol, o resultado é negativo.

IV – O *Staphylococcus aureus* forma coágulo, pois produz coagulase livre que reage com o fator plasmático formando um complexo que atua sobre o fibrinogênio formando fibrina.

Sobre as afirmativas, assinale a alternativa correta.

- a) Somente I e II estão corretas.
- b) Somente I, II e III estão corretas.
- c) Somente II e IV estão corretas.
- d) Somente II, III e IV estão corretas.
- e) Somente I, II e IV estão corretas.

24. Sobre o gênero *Pseudomonas* e suas técnicas de identificação, é incorreto afirmar:

- a) No exame microscópico com coloração de Gram, as *Pseudomonas* apresentam-se na forma de bacilos corados de roxo, devido ao corante fucsina, são classificadas como Gram positivas.
- b) São bacilos móveis e algumas cepas produzem pigmentos marrons e esverdeados em ágar Mueller Hinton, devido à produção de pigmentos hidrossolúveis como pioverdina e piocininas.
- c) As *Pseudomonas* possuem resultado positivo no teste de oxidase e crescimento em caldo NaCl a 42°C.
- d) São bacilos não fermentadores que possuem exigências simples para seu crescimento e, por isso, são encontrados em reservatórios úmidos, no ambiente hospitalar, em equipamentos respiratórios e até em desinfetantes.
- e) Podem causar bacteremias, endocardite, infecções pulmonares e urinárias, gastroenterites entre outras infecções.

25. A asma pode ser definida como uma síndrome caracterizada pela obstrução reversível recorrente do fluxo de ar nas vias aéreas em resposta a vários estímulos. Sobre os medicamentos antiasmáticos, é correto afirmar:

- a) O Formoterol, um antagonista dos receptores muscarínicos, relaxa a constrição brônquica provocada pela estimulação parassimpática promovida na asma alérgica.
- b) O Fenoterol é um agonista  $\beta_2$  – adrenérgico de ação longa que, além de relaxar a musculatura brônquica, inibe a liberação de mediadores dos mastócitos e dos monócitos responsáveis pela inflamação.
- c) A Beclometasona e a Budesonida são metilxantinas broncodilatadoras que inibem aspectos da fase tardia da asma alérgica.
- d) O Salbutamol, um antagonista  $\beta_2$  – adrenérgico, diminui a formação de componentes inflamatórios da asma crônica, relaxando a musculatura brônquica.
- e) O Ipratrópio é um agonista  $\beta_2$  – adrenérgico de ação curta, administrado por via inalatória, que dilata os brônquios através dos receptores adrenérgicos existentes no músculo liso.

26. Assinale a alternativa que apresenta o nome de uma xantina com ação antiasmática broncodilatadora utilizada tanto via oral como intravenosa e que possui ação estimulante sobre o Sistema Nervoso Central e sobre a respiração.

- a) Beclometasona
- b) Formoterol
- c) Aminofilina
- d) Montelucaste
- e) Cromoglicato

27. Fármaco utilizado no tratamento das convulsões parciais e tonico-clônicas, para tratar a nevralgia do trigêmeo, condição excepcionalmente dolorosa e transtornos afetivos bipolares. A redução da

**excitabilidade elétrica das membranas celulares, principalmente por bloqueio dos canais de sódio, torna esse fármaco útil em pacientes epiléticos.**

**Assinale a alternativa com o nome do fármaco citado.**

- a) Amitriptilina
- b) Valproato de sódio
- c) Gabapentina
- d) Carbamazepina
- e) Baclofeno

**28. Um fármaco hipnótico produz torpor bem como facilita o início e a manutenção do estado de sono semelhante ao sono natural. E um fármaco sedativo reduz a atividade, modera a excitação e acalma. Sobre os fármacos hipnóticos e sedativos, marque a alternativa correta.**

- a) Os Barbitúricos, como Clonazepam e Bromazepam, são depressores não seletivos do Sistema Nervoso Central que produzem efeitos que vão da sedação e redução da ansiedade à inconsciência e morte por falência respiratória e cardiovascular.
- b) O Fenobarbital é um agonista parcial dos receptores de serotonina usado para tratar vários distúrbios de ansiedade, porém não causam sedação ou incoordenação motora.
- c) O Flumazenil é um agonista competitivo dos receptores do ácido gama-aminobutírico (GABA) utilizado para reverter o efeito da superdosagem dos Benzodiazepínicos.
- d) Um antagonista do receptor Benzodiazepínico como Zolpidem produz atividade depressora sobre o Sistema Nervoso Central, podendo ser utilizado em anestésias e como anticonvulsivante.
- e) Os benzodiazepínicos, como o Nitrazepam e Diazepam, potencializam a resposta ao ácido gama-aminobutírico (GABA) e seus principais efeitos são redução da ansiedade e agressividade, sedação e indução ao sono, amnésia anterógrada, anticonvulsivante, entre outros.

**29. Assinale a alternativa com o nome do medicamento que é um metabólito do antidepressivo Trazodona utilizado como analgésico para dor pós-operatória, um agonista fraco dos receptores opioides e inibidor fraco da captura de noradrenalina.**

- a) Amitriptilina
- b) Carbamazepina
- c) Tramadol
- d) Fentanila
- e) Mirtazapina

**30. Os antagonistas opioides têm indicação inequívoca no tratamento da toxicidade induzida pelos opioides, principalmente a depressão respiratória, no diagnóstico da dependência física e como agente terapêutico para tratamento dos usuários compulsivos de opioides.**

**Assinale a alternativa com um exemplo de medicamento antagonista opioide.**

- a) Naloxona
- b) Morfina
- c) Codeína
- d) Petidina
- e) Metadona

**31. Sobre os fármacos antagonistas dos canais de cálcio, analise as afirmativas.**

**I – O Verapamil, Ramipril e Enalapril são exemplos de medicamentos que bloqueiam os canais de cálcio, causando despolarização do músculo cardíaco e redução da contratilidade.**

**II – O Anlodipino e a Nifedipina são muito utilizados clinicamente na hipertensão arterial devido à ação antiarrítmica e vasodilatadora.**

**III – O Diltiazem é um bloqueador dos canais de cálcio que, apesar de possuir posição intermediária quanto a sua seletividade entre o músculo cardíaco e o liso, é utilizado na prevenção da angina.**

**Sobre as afirmativas, é correto afirmar:**

- a) Somente a I está correta.
- b) Somente a III está correta.
- c) Somente I e II estão corretas.
- d) Somente I e III estão corretas.
- e) Somente II e III estão corretas.

**32. Os bloqueadores dos receptores da Angiotensina II inibem potentemente e de modo seletivo a maioria dos efeitos biológicos da Angiotensina II, tais como contração do músculo liso vascular, respostas pressoras rápidas e lentas, sede, liberação de vasopressina, secreção de aldosterona, aumento do tônus simpático, alterações nas funções renais entre outras.**

**Assinale a alternativa que contém dois exemplos de medicamentos bloqueadores dos receptores de Angiotensina II.**

- a) Losartana e Valsartana



- b) Losartana e Captopril
- c) Enalapril e Captopril
- d) Ramipril e Enalapril.
- e) Losartana e Propranolol

**33. O Diabetes Melito consiste em um grupo de distúrbios caracterizados por hiperglicemia, alteração do metabolismo dos lipídeos, carboidratos e proteínas. Além da insulinoterapia, vários agentes hipoglicemiantes são utilizados no tratamento.**

**Sobre as Sulfonilureias, é correto afirmar.**

- a) A Metformina, um exemplo de Sulfonilureia, aumenta a sensibilidade à insulina nos tecidos periféricos, aumenta o transporte de glicose aos músculos e tecido adiposo e diminui a produção hepática de glicose.
- b) A Glibenclamida e a Glimepirida, exemplos de Sulfonilureias, são anti-hiperglicêmicas pois diminuem os níveis de glicose pela redução da produção hepática de glicose e aumento da ação da insulina no músculo e gordura.
- c) As Sulfonilureias estimulam a liberação da insulina pelas células beta do pâncreas e são utilizadas para controlar a hiperglicemia em pacientes com Diabetes Mellitus tipo 2.
- d) A Glicazida inibe a glicólise e estimula a gliconeogênese, a oxidação dos ácidos graxos e a produção de corpos cetônicos, sendo utilizada no controle de hiperglicemia.
- e) A glimepirida é um derivado da D-fenilalanina que estimula a secreção rápida de insulina, promovendo uma redução do aumento da glicemia pós-prandial nos pacientes com Diabetes tipo 2.

**34. Os antibióticos e os quimioterápicos interferem em diferentes atividades da célula bacteriana, causando a morte ou somente inibindo o seu crescimento.**

**Analise as seguintes afirmativas sobre os antibióticos e assinale a alternativa correta:**

**I - As Tetraciclina bloqueiam a síntese proteica porque, quando fixadas à subunidade 30S, impedem a fixação dos RNA transportadores ao ribossomo.**

**II - Os Aminoglicosídeos são ativos contra bactérias anaeróbicas estritas e quando utilizadas isoladamente contra estreptococos e enterococos.**

**III - A bacitracina impede a defosforilação do carreador lipídico que transfere a subunidade do peptidoglicano que está sendo formado, afetando a formação da membrana plasmática.**

**IV - O Ciprofloxacino e o Norfloxacin são antibióticos do grupo das Quinolonas que atuam no DNA-girase e topoisomerase IV bacterianas tanto Gram positivas como as negativas.**

- a) Somente I e II estão corretas.
- b) Somente II e III estão corretas.
- c) Somente II e IV estão corretas.
- d) Somente I e IV estão corretas.
- e) Somente I, III e IV estão corretas.

**35. Os antibióticos betalactâmicos são extremamente eficazes e amplamente utilizados em muitas infecções.**

**Sobre os antibióticos betalactâmicos, marque as afirmativas a seguir com V para as verdadeiras e F para as falsas e marque a alternativa com a sequência correta, de cima para baixo.**

**( ) Os Carbapenems foram desenvolvidos para tratamento de infecções por microrganismos Gram-negativos produtores de betalactamases resistentes às penicilinas e possuem espectro de atividade antimicrobiano muito amplo.**

**( ) As Cefalosporinas são antimicrobianos betalactâmicos que interferem na síntese de proteínas, pois fixam-se a subunidade 30S do ribossomo, impedindo a fixação do RNA transportador.**

**( ) A Penicilina é um antibiótico  $\beta$ -lactâmico, tem ação bactericida que inibe a síntese da parede celular das bactérias em multiplicação.**

**( ) Um exemplo de antibiótico betalactâmico bactericida e bacteriostático que inibe a síntese de proteínas bacterianas ligando-se a subunidade 50S do ribossomo é o Aztreonam.**

**( ) As  $\beta$ -lactamases são enzimas dotadas da capacidade de hidrolisar o anel  $\beta$ -lactâmico, transformando os antibióticos correspondentes em produtos inativos.**

- a) F, F, V, F e V.
- b) V, F, V, F e V.
- c) V, V, F, F e V.
- d) V, F, V, F e F.
- e) F, V, F, V e F.

## LÍNGUA PORTUGUESA

**Texto para as próximas cinco questões:**

### “O cego Estrelinho” Mia Couto

O cego Estrelinho era pessoa de nenhuma vez: sua história poderia ser contada e descontada não fosse seu guia, Gigito Efraim. A mão de Gigito conduziu o desvestado por tempos e idades. Aquela mão era



repartidamente comum, extensão de um no outro, siamensal. E assim era quase de nascença. Memória de Estrelinho tinha cinco dedos e eram os de Gigito postos, em aperto, na sua própria mão.

O cego, curioso, queria saber de tudo. Ele não fazia cerimônia no viver. O sempre lhe era pouco e o tudo insuficiente. Dizia, deste modo:

— Tenho que viver já, senão esqueço-me.

Gigitinho, porém, o que descrevia era o que não havia. O mundo que ele minuciava eram fantasias e rendilhados. A imaginação do guia era mais profícua que papaeira. O cego enchia a boca de águas:

— Que maravilhação esse mundo. Me conte tudo, Gigito!

A mão do guia era, afinal, o manuscrito da mentira. Gigito Efraim estava como nunca esteve S. Tomé: via para não crer. O condutor falava pela ponta dos dedos. Desfolhava o universo, aberto em folhas. A ideiação dele era tal que mesmo o cego, por vezes, acreditava ver. O outro lhe encorajava esses breves enganos:

— Desbengale-se, você está escolhendo a boa procedência!

Mentira: Estrelinho continuava sem ver uma palmeira à frente do nariz. Contudo, o cego não se conformava em suas escurezas. Ele cumpria o ditado: não tinha perna e queria dar o pontapé. Só à noite, ele desalentava, sofrendo medos mais antigos que a humanidade. Entendia aquilo que, na raça humana, é menos primitivo: o animal.

— Na noite aflige não haver luz?

— Aflição é ter um pássaro branco esvoando dentro do sono.

Pássaro branco? No sono? Lugar de ave é nas alturas. Dizem até que Deus fez o céu para justificar os pássaros. Estrelinho disfarçava o medo dos vaticínios, subterfugindo:

— E agora, Gigitinho? Agora, olhando assim para cima, estou face ao céu?

Que podia o outro responder? O céu do cego fica em toda a parte. Estrelinho perdia o pé era quando a noite chegava e seu mestre adormecia. Era como se um novo escuro nele se estreasse em nó cego. Devagaroso e sorrateiro ele aninhava sua mão na mão do guia. Só assim adormecia. A razão da concha é a timidez da amêijoia? Na manhã seguinte, o cego lhe confessava: se você morrer, tenho que morrer logo no imediato. Senão-me: como acerto o caminho para o céu?

Foi no mês de dezembro que levaram Gigitinho. Lhe tiraram do mundo para pôr na guerra: obrigavam os serviços militares. O cego reclamou: que o moço inatingia a idade. E que o serviço que ele a si prestava era vital e vitalício. O guia chamou Estrelinho à parte e lhe tranquilizou:

— Não vai ficar sozinando por aí. Minha mana já mandei para ficar no meu lugar.

O cego estendeu o braço a querer tocar uma despedida. Mas o outro já não estava lá. Ou estava e se desviara, propositado? E sem água ida nem vinda, Estrelinho escutou o amigo se afastar, engolido, esponginquo, inevisível. Pela pimeira vez, Estrelinho se sentiu invalidado.

— Agora, só agora, sou cego que não vê.

(...)

**COUTO, Mia. Estórias abensonhadas. Rio de Janeiro: Nova Fronteira, 1996. (Pág 23 e 24).**

**36. Quanto à interpretação do fragmento do conto, podemos afirmar que:**

- Gigito Efraim era o guia de Estrelinho há pouquíssimo tempo.
- Estrelinho era cego de nascença.
- Gigito descrevia o mundo para Estrelinho de forma denotativa.
- Gigito foi convocado pelo exército para ser guia de cegos na guerra.
- Gigito descrevia o mundo para Estrelinho de forma conotativa.

**37. No período “O sempre lhe era pouco e o tudo insuficiente”, o pronome “LHE” exerce a função sintática de:**

- Objeto Direto
- Objeto Indireto
- Complemento Nominal
- Adjunto Adnominal
- Objeto Direto Preposicionado

**38. Na oração “A mão de Gigito conduziu o desvistado por tempos e idades”, o autor faz uso de um neologismo, assim como no decorrer de toda a obra em questão. Contudo, o neologismo só se torna possível pela utilização dos elementos mórficos naquilo que a gramática normativa pontua como Processo de Formação das Palavras. Levando em consideração apenas o recurso morfológico, qual Processo de Formação foi utilizado?**

- Derivação Sufixal
- Derivação Prefixal
- Derivação Regressiva
- Derivação Imprópria
- Derivação Parassintética

**39. No terceiro período do décimo terceiro parágrafo, temos:**

- Uma oração



- b) Duas orações
- c) Três orações
- d) Quatro orações
- e) Cinco orações

**40. No último parágrafo do fragmento do conto “— Agora, só agora, sou cego que não vê”, a oração subordinada presente classifica-se corretamente como:**

- a) Oração Subordinada Adjetiva Restritiva
- b) Oração Subordinada Adverbial Causal
- c) Oração Subordinada Substantiva Subjetiva
- d) Oração Subordinada Adverbial Explicativa
- e) Oração Subordinada Adjetiva Explicativa

**RASCUNHO**



PREFEITURA DE TELÊMACO BORBA - ESTADO DO PARANÁ- **EDITAL Nº 001-2016 - CONCURSO PÚBLICO VESPERTINO – 29/05/2016 – NÍVEL SUPERIOR**

**3**

**PROVA OBJETIVA NÚMERO**

**CARGO: TMNS I - FARMÁCIA**

**Leia atentamente as INSTRUÇÕES:**

1. Confira seus dados no cartão-resposta: nome, número de inscrição e o curso para o qual se inscreveu.
2. **MARQUE no seu cartão-resposta o número da sua prova** (não será corrigido o cartão-resposta que não tiver marcado o número da prova) e **Assine** seu cartão-resposta.
3. Aguarde a autorização do Fiscal para abrir o caderno de prova. Ao receber a ordem do fiscal, confira o caderno de prova com muita atenção. Nenhuma reclamação sobre o total de questões ou falha de impressão será aceita depois de iniciada a prova.
4. O cartão-resposta não será substituído, salvo se contiver erro de impressão.
5. Preencha toda a área do cartão-resposta correspondente à alternativa de sua escolha, com caneta esferográfica (tinta azul ou preta), sem ultrapassar as bordas. As marcações duplas, ou rasuradas, com corretivo, ou marcadas diferentemente do modelo estabelecido no cartão-resposta poderão ser anuladas.
6. Sua prova tem **40** questões, com **5** alternativas.
7. Cabe apenas ao candidato a interpretação das questões, **o fiscal** não poderá fazer nenhuma interferência.
8. A prova será realizada com duração máxima de **3 (três) horas**, incluído o tempo para a realização da Prova Objetiva de múltipla escolha e o preenchimento do cartão-resposta.
9. O candidato poderá retirar-se do local de realização das provas somente **1 (uma) hora** após o seu início, sem levar o caderno de prova.
10. O candidato poderá levar o caderno de provas, assim como anotação contendo transcrição do seu cartão-resposta, somente **1h30min** (uma hora e trinta minutos) após o início da realização da prova.
11. Ao terminar a prova, o candidato deverá entregar ao fiscal de sala o cartão-resposta preenchido e **ASSINADO**.
12. Os **3 (três)** candidatos, que terminarem a prova por último, deverão permanecer na sala, e só poderão sair juntos após o fechamento do envelope, contendo os cartões-resposta dos candidatos presentes e ausentes, e assinarem no lacre do referido envelope, atestando que este foi devidamente lacrado.
13. Durante todo o tempo em que permanecer no local onde está ocorrendo o concurso, o candidato deverá, manter o celular desligado e sem bateria, só sendo permitido ligar depois de ultrapassar o portão de saída do prédio.
14. Não será permitido ao candidato fumar na sala de provas, bem como nas dependências.
15. Depois de terminar a prova e entregar ao fiscal o cartão-resposta, preenchido e assinado, não será mais permitido ao candidato o uso do banheiro e bebedouro.

**BOA PROVA!**

**CONHECIMENTOS ESPECÍFICOS**

**01. Sobre a Resolução da Diretoria Colegiada (RDC) nº 80, de 11 de maio de 2006, que estabelece o fracionamento de medicamentos, marque as afirmativas a seguir com V para as verdadeiras e F para as falsas e assinale a alternativa com a sequência correta de cima para baixo.**

**( ) As farmácias e drogarias poderão fracionar medicamentos a partir de embalagens especialmente desenvolvidas para essa finalidade de modo que possam ser dispensados em quantidades individualizadas para atender às necessidades terapêuticas dos consumidores e usuários.**

**( ) O fracionamento deve ser realizado sob a supervisão e responsabilidade do farmacêutico tecnicamente responsável pelo estabelecimento, observando-se as Boas Práticas para Fracionamento de Medicamentos.**

**( ) No caso de empresas com filiais, é autorizada a captação de prescrições, o fracionamento e a dispensação em estabelecimentos diferentes.**

**( ) O fracionamento se aplica aos medicamentos sujeitos ao controle especial, desde que sejam garantidas as características asseguradas no produto original registrado e observadas as condições técnicas e operacionais estabelecidas nesta resolução.**

a) V, V, F e V.

b) V, V, F e F.

c) F, V, F e F.

d) V, V, V e V.

e) V, V, V e F.

**02. Sobre Portaria n.º 344, de 12 de maio de 1998, que aprova o Regulamento Técnico sobre substâncias e medicamentos sujeitos a controle especial, assinale a alternativa correta.**

a) O Balanço de Substâncias Psicoativas e Outras Substâncias Sujeitas a Controle Especial - BSPO, destina-se ao registro de vendas de medicamentos a base de substâncias constantes das listas "A1" e "A2" (entorpecentes), "A3", "B1" e "B2" (psicotrópicas), "C3" (imunossupressoras), "C4" (anti-retrovirais), "C5" (anabolizantes) e será remetido à Autoridade Sanitária pelo farmacêutico/químico responsável até o dia 15 (quinze) de cada mês.

b) O Balanço de Substâncias Psicoativas e Outras Substâncias Sujeitas a Controle Especial - BSPO, deverá ser a cópia fiel e exata da movimentação das substâncias constantes das listas deste Regulamento Técnico e de suas atualizações. Sendo assim, a utilização de ajustes, utilizando o fator de correção, se faz necessária quando do preenchimento do BSPO.

c) A Relação Mensal de Notificações de Receita "A" - RMNRA destina-se ao registro das Notificações de Receita "A" retidas em farmácias e drogarias quando da dispensação de medicamentos a base de substâncias constantes das listas "A1" e "A2" (entorpecentes) e "A3" (psicotrópicas) deste Regulamento Técnico e de suas atualizações, a qual será encaminhada junto com as respectivas notificações à Autoridade Sanitária, pelo farmacêutico responsável trimestralmente.

d) O Balanço de Medicamentos Psicoativos e de outros Sujeitos a Controle Especial - BMPO, destina-se ao registro de vendas de medicamentos a base de substâncias constantes das listas "C3" (imunossupressoras) e "C4" (anti-retrovirais) deste Regulamento Técnico e de suas atualizações, por farmácias e drogarias, em 2 (duas) vias, e será remetido à Autoridade Sanitária pelo Farmacêutico Responsável trimestralmente.

e) O Balanço de Substâncias Psicoativas e Outras Substâncias Sujeitas a Controle Especial - BSPO será preenchido com a movimentação do estoque das substâncias constantes das listas "A1" e "A2" (entorpecentes), "A3", "B1" e "B2" (psicotrópicas), "C1" (outras substâncias sujeitas a controle especial), "C2" (retinóicas), "C3" (imunossupressoras), "C4" (anti-retrovirais), "C5" (anabolizantes) e "D1" (precursoras), deste Regulamento Técnico e de suas atualizações, em 3 (três) vias, e remetido à Autoridade Sanitária pelo farmacêutico/químico responsável trimestralmente.

**03. Sobre a Notificação de Receita, que autoriza a dispensação de medicamentos constantes no Regulamento Técnico sobre substâncias e medicamentos sujeitos a controle especial, Portaria n.º 344/98, assinale a alternativa incorreta.**

a) Preparações a base de Tramadol, misturadas a um ou mais componentes, em qualquer quantidade, ficam sujeitas a prescrição da Receita de Controle Especial, em 2 (duas) vias, acrescida da Notificação de Receita "A" de cor amarela.

b) Em caso de emergência, poderá ser aviada a receita de medicamentos sujeitos a Notificação de Receita em papel não oficial, devendo conter obrigatoriamente: o diagnóstico ou CID, a justificativa do caráter emergencial do atendimento, data, inscrição no Conselho Regional e assinatura devidamente identificada.

c) A Notificação de Receita não será exigida para pacientes internados nos estabelecimentos hospitalares, médico ou veterinário, oficiais ou particulares, porém a dispensação se fará mediante receita ou outro documento equivalente (prescrição diária de medicamento), subscrita em papel privativo do estabelecimento.

d) A Notificação de Receita "B", de cor azul, terá validade por um período de 30 (trinta) dias contados a partir de sua emissão e somente dentro da Unidade Federativa que concedeu a numeração e poderá conter no máximo 5 (cinco) ampolas e, para as demais formas farmacêuticas, a quantidade para o tratamento correspondente no máximo a 60 (sessenta) dias.

e) A Notificação de Receita "A" será válida por 30 (trinta) dias a contar da data de sua emissão em todo o Território Nacional, sendo necessário que seja acompanhada da receita médica com justificativa do uso, quando

para aquisição em outra Unidade Federativa e a averiguação e visto da Autoridade Sanitária local dentro do prazo de 72 (setenta e duas) horas.

**04. Segundo o Código de Ética da Profissão Farmacêutica, Resolução n° 417 de 29 de setembro de 2004, marque a alternativa incorreta:**

- O farmacêutico, durante o tempo em que permanecer inscrito em um Conselho Regional de Farmácia, independente de estar ou não no exercício da profissão, deve contribuir para a promoção da saúde individual e coletiva, principalmente no campo da prevenção.
- O profissional condenado por sentença criminal, definitivamente transitada em julgado, por crime praticado no uso do exercício da profissão, sofrerá as sanções disciplinares de advertência ou censura e multa de (um) salário-mínimo a 3 (três) salários-mínimos regionais apenas.
- Além de evitar que o acúmulo de encargos prejudique a qualidade farmacêutica prestada, os farmacêuticos respondem pelos atos que praticarem ou pelos autorizados no exercício da profissão.
- O Farmacêutico deve respeitar o direito de decisão do usuário sobre sua própria saúde e bem-estar, excetuando-se o usuário que, mediante o laudo médico ou determinação judicial, for considerado incapaz de discernir sobre opções de tratamento e/ou decidir sobre sua própria saúde e bem-estar.
- A profissão farmacêutica, em qualquer circunstância ou de qualquer forma, não pode ser exercida exclusivamente com objetivo comercial, além de ser proibida a simultaneidade com a Medicina.

**05. “Compreende atitudes, valores éticos, comportamentos, habilidades, compromissos e co-responsabilidades na prevenção de doenças, promoção e recuperação da saúde, de forma integrada à equipe de saúde. É a interação direta do farmacêutico com o usuário, visando uma farmacoterapia racional e a obtenção de resultados definidos e mensuráveis, voltados para a melhoria da qualidade de vida. Esta interação também deve envolver as concepções dos seus sujeitos, respeitadas as suas especificidades bio-psico-sociais, sob a ótica da integralidade das ações de saúde”.**

**Essa definição, de acordo com Proposta de Consenso Nacional de Atenção Farmacêutica – OPAS, refere-se à:**

- Assistência Farmacêutica
- Intervenção Farmacêutica
- Atenção Farmacêutica
- Farmacovigilância
- Dispensação

**06. O sistema imune é o mecanismo de defesa contra agentes infecciosos e outras substâncias estranhas presentes no ambiente, preservando a integridade do organismo.**

**Assinale a alternativa correta sobre o sistema imune.**

- Os antígenos são substâncias proteicas formadas a partir do contato do organismo com agentes infecciosos ou substâncias estranhas.
- A imunidade humoral relaciona-se as várias linhagens de linfócitos e macrófagos formados a partir de uma reação a um agente infeccioso.
- O contato com agentes infecciosos atenuados ou inativados induz os hospedeiros a produzir anticorpos e a ativar células T, mediadores característicos da imunidade passiva.
- A diferenciação da fase da doença, diagnóstico de doença congênita e a avaliação da imunidade específica naturalmente adquirida ou artificialmente induzida podem ser determinados pela pesquisa de anticorpos.
- A função principal dos anticorpos é proteger contra agentes infecciosos ou seus produtos através da ativação de antígenos e formação de células.

**07. Sobre a tipagem sanguínea, os antígenos e anticorpos eritrocitários, relacione a primeira coluna com a segunda.**

(1) Tipagem tipo O.	( ) Anticorpo anti-A e anti-B.
(2) Tipagem tipo A.	( ) Antígeno A e B.
(3) Tipagem tipo B.	( ) Anticorpo anti-A.
(4) Tipagem tipo AB.	( ) Antígeno A.

**Assinale a alternativa com a sequência correta, de cima para baixo, da segunda coluna.**

- 1, 4, 3 e 2.
- 1, 4, 2 e 3.
- 4, 1, 3 e 2.
- 4, 1, 2 e 3.
- 4, 2, 1 e 3.

**08. O *Staphylococcus aureus* é uma bactéria encontrada com relativa frequência na microbiota normal do corpo humano, porém é agente de uma gama de infecções.**

**Sobre as características utilizadas na identificação desta espécie, analise as afirmativas.**

**I – No exame microscópico com coloração de Gram, o *Staphylococcus aureus* apresenta-se na forma de cocos arranjados em cachos corados de roxo, cor característica de bactérias Gram negativas.**

**II – O *Staphylococcus aureus* produz uma coloração rósea/violeta característica ao redor das colônias no meio contendo DNA, pois produz DNase.**

**III – Nos testes de catalase, o resultado do *Staphylococcus aureus* é positivo, porém no crescimento em manitol, o resultado é negativo.**

**IV – O *Staphylococcus aureus* forma coágulo, pois produz coagulase livre que reage com o fator plasmático formando um complexo que atua sobre o fibrinogênio formando fibrina.**

**Sobre as afirmativas, assinale a alternativa correta.**

- a) Somente I e II estão corretas.
- b) Somente I, II e III estão corretas.
- c) Somente II e IV estão corretas.
- d) Somente II, III e IV estão corretas.
- e) Somente I, II e IV estão corretas.

**09. Sobre o gênero *Pseudomonas* e suas técnicas de identificação, é incorreto afirmar:**

- a) No exame microscópico com coloração de Gram, as *Pseudomonas* apresentam-se na forma de bacilos corados de roxo, devido ao corante fucsina, são classificadas como Gram positivas.
- b) São bacilos móveis e algumas cepas produzem pigmentos marrons e esverdeados em ágar Mueller Hinton, devido à produção de pigmentos hidrossolúveis como pioverdina e piocininas.
- c) As *Pseudomonas* possuem resultado positivo no teste de oxidase e crescimento em caldo NaCl a 42°C.
- d) São bacilos não fermentadores que possuem exigências simples para seu crescimento e, por isso, são encontrados em reservatórios úmidos, no ambiente hospitalar, em equipamentos respiratórios e até em desinfetantes.
- e) Podem causar bacteremias, endocardite, infecções pulmonares e urinárias, gastroenterites entre outras infecções.

**10. A asma pode ser definida como uma síndrome caracterizada pela obstrução reversível recorrente do fluxo de ar nas vias aéreas em resposta a vários estímulos. Sobre os medicamentos antiasmáticos, é correto afirmar:**

- a) O Formoterol, um antagonista dos receptores muscarínicos, relaxa a constrição brônquica provocada pela estimulação parassimpática promovida na asma alérgica.
- b) O Fenoterol é um agonista  $\beta_2$  – adrenérgico de ação longa que, além de relaxar a musculatura brônquica, inibe a liberação de mediadores dos mastócitos e dos monócitos responsáveis pela inflamação.
- c) A Beclometasona e a Budesonida são metilxantinas broncodilatadoras que inibem aspectos da fase tardia da asma alérgica.
- d) O Salbutamol, um antagonista  $\beta_2$  – adrenérgico, diminui a formação de componentes inflamatórios da asma crônica, relaxando a musculatura brônquica.
- e) O Ipratrópio é um agonista  $\beta_2$  – adrenérgico de ação curta, administrado por via inalatória, que dilata os brônquios através dos receptores adrenérgicos existentes no músculo liso.

**11. Assinale a alternativa que apresenta o nome de uma xantina com ação antiasmática broncodilatadora utilizada tanto via oral como intravenosa e que possui ação estimulante sobre o Sistema Nervoso Central e sobre a respiração.**

- a) Beclometasona
- b) Formoterol
- c) Aminofilina
- d) Montelucaste
- e) Cromoglicato

**12. Fármaco utilizado no tratamento das convulsões parciais e tonico-clônicas, para tratar a nevralgia do trigêmeo, condição excepcionalmente dolorosa e transtornos afetivos bipolares. A redução da excitabilidade elétrica das membranas celulares, principalmente por bloqueio dos canais de sódio, torna esse fármaco útil em pacientes epiléticos.**

**Assinale a alternativa com o nome do fármaco citado.**

- a) Amitriptilina
- b) Valproato de sódio
- c) Gabapentina
- d) Carbamazepina
- e) Baclofeno

**13. Um fármaco hipnótico produz torpor bem como facilita o início e a manutenção do estado de sono semelhante ao sono natural. E um fármaco sedativo reduz a atividade, modera a excitação e acalma. Sobre os fármacos hipnóticos e sedativos, marque a alternativa correta.**



- a) Os Barbitúricos, como Clonazepam e Bromazepam, são depressores não seletivos do Sistema Nervoso Central que produzem efeitos que vão da sedação e redução da ansiedade à inconsciência e morte por falência respiratória e cardiovascular.
- b) O Fenobarbital é um agonista parcial dos receptores de serotonina usado para tratar vários distúrbios de ansiedade, porém não causam sedação ou incoordenação motora.
- c) O Flumazenil é um agonista competitivo dos receptores do ácido gama-aminobutírico (GABA) utilizado para reverter o efeito da superdosagem dos Benzodiazepínicos.
- d) Um antagonista do receptor Benzodiazepínico como Zolpidem produz atividade depressora sobre o Sistema Nervoso Central, podendo ser utilizado em anestésias e como anticonvulsivante.
- e) Os benzodiazepínicos, como o Nitrazepam e Diazepam, potencializam a resposta ao ácido gama-aminobutírico (GABA) e seus principais efeitos são redução da ansiedade e agressividade, sedação e indução ao sono, amnésia anterógrada, anticonvulsivante, entre outros.

**14. Assinale a alternativa com o nome do medicamento que é um metabólito do antidepressivo Trazodona utilizado como analgésico para dor pós-operatória, um agonista fraco dos receptores opioides e inibidor fraco da captura de noradrenalina.**

- a) Amitriptilina  
b) Carbamazepina  
c) Tramadol  
d) Fentanila  
e) Mirtazapina

**15. Os antagonistas opioides têm indicação inequívoca no tratamento da toxicidade induzida pelos opioides, principalmente a depressão respiratória, no diagnóstico da dependência física e como agente terapêutico para tratamento dos usuários compulsivos de opioides.**

**Assinale a alternativa com um exemplo de medicamento antagonista opioide.**

- a) Naloxona  
b) Morfina  
c) Codeína  
d) Petidina  
e) Metadona

**16. Sobre os fármacos antagonistas dos canais de cálcio, analise as afirmativas.**

**I – O Verapamil, Ramipril e Enalapril são exemplos de medicamentos que bloqueiam os canais de cálcio, causando despolarização do músculo cardíaco e redução da contratilidade.**

**II – O Anlodipino e a Nifedipina são muito utilizados clinicamente na hipertensão arterial devido à ação antiarrítmica e vasodilatadora.**

**III – O Diltiazem é um bloqueador dos canais de cálcio que, apesar de possuir posição intermediária quanto a sua seletividade entre o músculo cardíaco e o liso, é utilizado na prevenção da angina.**

**Sobre as afirmativas, é correto afirmar:**

- a) Somente a I está correta.  
b) Somente a III está correta.  
c) Somente I e II estão corretas.  
d) Somente I e III estão corretas.  
e) Somente II e III estão corretas.

**17. Os bloqueadores dos receptores da Angiotensina II inibem potentemente e de modo seletivo a maioria dos efeitos biológicos da Angiotensina II, tais como contração do músculo liso vascular, respostas pressoras rápidas e lentas, sede, liberação de vasopressina, secreção de aldosterona, aumento do tônus simpático, alterações nas funções renais entre outras.**

**Assinale a alternativa que contém dois exemplos de medicamentos bloqueadores dos receptores de Angiotensina II.**

- a) Losartana e Valsartana  
b) Losartana e Captopril  
c) Enalapril e Captopril  
d) Ramipril e Enalapril.  
e) Losartana e Propranolol

**18. O Diabetes Melito consiste em um grupo de distúrbios caracterizados por hiperglicemia, alteração do metabolismo dos lipídeos, carboidratos e proteínas. Além da insulino terapia, vários agentes hipoglicemiantes são utilizados no tratamento.**

**Sobre as Sulfonilureias, é correto afirmar.**

- a) A Metformina, um exemplo de Sulfonilureia, aumenta a sensibilidade à insulina nos tecidos periféricos, aumenta o transporte de glicose aos músculos e tecido adiposo e diminui a produção hepática de glicose.

- b) A Glibenclamida e a Glimepirida, exemplos de Sulfonilureias, são anti-hiperglicêmicas pois diminuem os níveis de glicose pela redução da produção hepática de glicose e aumento da ação da insulina no músculo e gordura.
- c) As Sulfonilureias estimulam a liberação da insulina pelas células beta do pâncreas e são utilizadas para controlar a hiperglicemia em pacientes com Diabetes Mellitus tipo 2.
- d) A Glicazida inibe a glicólise e estimula a gliconeogênese, a oxidação dos ácidos graxos e a produção de corpos cetônicos, sendo utilizada no controle de hiperglicemia.
- e) A glimepirida é um derivado da D-fenilalanina que estimula a secreção rápida de insulina, promovendo uma redução do aumento da glicemia pós-prandial nos pacientes com Diabetes tipo 2.

**19. Os antibióticos e os quimioterápicos interferem em diferentes atividades da célula bacteriana, causando a morte ou somente inibindo o seu crescimento.**

**Analise as seguintes afirmativas sobre os antibióticos e assinale a alternativa correta:**

**I - As Tetraciclina bloqueiam a síntese proteica porque, quando fixadas à subunidade 30S, impedem a fixação dos RNA transportadores ao ribossomo.**

**II - Os Aminoglicosídeos são ativos contra bactérias anaeróbicas estritas e quando utilizadas isoladamente contra estreptococos e enterococos.**

**III - A bacitracina impede a defosforilação do carreador lipídico que transfere a subunidade do peptidoglicano que está sendo formado, afetando a formação da membrana plasmática.**

**IV - O Ciprofloxacino e o Norfloxacino são antibióticos do grupo das Quinolonas que atuam no DNA-girase e topoisomerase IV bacterianas tanto Gram positivas como as negativas.**

- a) Somente I e II estão corretas.  
 b) Somente II e III estão corretas.  
 c) Somente II e IV estão corretas.  
 d) Somente I e IV estão corretas.  
 e) Somente I, III e IV estão corretas.

**20. Os antibióticos betalactâmicos são extremamente eficazes e amplamente utilizados em muitas infecções.**

**Sobre os antibióticos betalactâmicos, marque as afirmativas a seguir com V para as verdadeiras e F para as falsas e marque a alternativa com a sequência correta, de cima para baixo.**

**( ) Os Carbapenems foram desenvolvidos para tratamento de infecções por microrganismos Gram-negativos produtores de betalactamases resistentes às penicilinas e possuem espectro de atividade antimicrobiano muito amplo.**

**( ) As Cefalosporinas são antimicrobianos betalactâmicos que interferem na síntese de proteínas, pois fixam-se a subunidade 30S do ribossomo, impedindo a fixação do RNA transportador.**

**( ) A Penicilina é um antibiótico  $\beta$ -lactâmico, tem ação bactericida que inibe a síntese da parede celular das bactérias em multiplicação.**

**( ) Um exemplo de antibiótico betalactâmico bactericida e bacteriostático que inibe a síntese de proteínas bacterianas ligando-se a subunidade 50S do ribossomo é o Aztreonam.**

**( ) As  $\beta$ -lactamases são enzimas dotadas da capacidade de hidrolisar o anel  $\beta$ -lactâmico, transformando os antibióticos correspondentes em produtos inativos.**

- a) F, F, V, F e V.  
 b) V, F, V, F e V.  
 c) V, V, F, F e V.  
 d) V, F, V, F e F.  
 e) F, V, F, V e F.

## LÍNGUA PORTUGUESA

**Texto para as próximas cinco questões:**

### “O cego Estrelinho” Mia Couto

O cego Estrelinho era pessoa de nenhuma vez: sua história poderia ser contada e descontada não fosse seu guia, Gigito Efraim. A mão de Gigito conduziu o desvistado por tempos e idades. Aquela mão era repartidamente comum, extensão de um no outro, siamensal. E assim era quase de nascença. Memória de Estrelinho tinha cinco dedos e eram os de Gigito postos, em aperto, na sua própria mão.

O cego, curioso, queria saber de tudo. Ele não fazia cerimônia no viver. O sempre lhe era pouco e o tudo insuficiente. Dizia, deste modo:

— Tenho que viver já, senão esqueço-me.

Gigitinho, porém, o que descrevia era o que não havia. O mundo que ele minuciava eram fantasias e rendilhados. A imaginação do guia era mais profícua que papaeira. O cego enchia a boca de águas:

— Que maravilhação esse mundo. Me conte tudo, Gigito!

A mão do guia era, afinal, o manuscrito da mentira. Gigito Efraim estava como nunca esteve S. Tomé: via para não crer. O condutor falava pela ponta dos dedos. Desfolhava o universo, aberto em folhas. A ideiação dele era tal que mesmo o cego, por vezes, acreditava ver. O outro lhe encorajava esses breves enganos:

— Desbengale-se, você está escolhendo a boa procedência!

Mentira: Estrelinho continuava sem ver uma palmeira à frente do nariz. Contudo, o cego não se conformava em suas escurezas. Ele cumpria o ditado: não tinha perna e queria dar o pontapé. Só à noite, ele desalentava, sofrendo medos mais antigos que a humanidade. Entendia aquilo que, na raça humana, é menos primitivo: o animal.

— Na noite aflige não haver luz?

— Aflição é ter um pássaro branco esvoando dentro do sono.

Pássaro branco? No sono? Lugar de ave é nas alturas. Dizem até que Deus fez o céu para justificar os pássaros. Estrelinho disfarçava o medo dos vaticínios, subterfugindo:

— E agora, Gigitinho? Agora, olhando assim para cima, estou face ao céu?

Que podia o outro responder? O céu do cego fica em toda a parte. Estrelinho perdia o pé era quando a noite chegava e seu mestre adormecia. Era como se um novo escuro nele se estreasse em nó cego. Devagaroso e sorrateiro ele aninhava sua mão na mão do guia. Só assim adormecia. A razão da concha é a timidez da amêijoia? Na manhã seguinte, o cego lhe confessava: se você morrer, tenho que morrer logo no imediato. Senão-me: como acerto o caminho para o céu?

Foi no mês de dezembro que levaram Gigitinho. Lhe tiraram do mundo para pôr na guerra: obrigavam os serviços militares. O cego reclamou: que o moço inatingia a idade. E que o serviço que ele a si prestava era vital e vitalício. O guia chamou Estrelinho à parte e lhe tranquilizou:

— Não vai ficar sozinando por aí. Minha mana já mandei para ficar no meu lugar.

O cego estendeu o braço a querer tocar uma despedida. Mas o outro já não estava lá. Ou estava e se desviara, propositado? E sem água ida nem vinda, Estrelinho escutou o amigo se afastar, engolido, esponjínquo, invisível. Pela primeira vez, Estrelinho se sentiu invalidado.

— Agora, só agora, sou cego que não vê.

(...)

**COUTO, Mia. Estórias abensonhadas. Rio de Janeiro: Nova Fronteira, 1996. (Pág 23 e 24).**

**21. Quanto à interpretação do fragmento do conto, podemos afirmar que:**

- Gigito Efraim era o guia de Estrelinho há pouquíssimo tempo.
- Estrelinho era cego de nascença.
- Gigito descrevia o mundo para Estrelinho de forma denotativa.
- Gigito foi convocado pelo exército para ser guia de cegos na guerra.
- Gigito descrevia o mundo para Estrelinho de forma conotativa.

**22. No período “O sempre lhe era pouco e o tudo insuficiente”, o pronome “LHE” exerce a função sintática de:**

- Objeto Direto
- Objeto Indireto
- Complemento Nominal
- Adjunto Adnominal
- Objeto Direto Preposicionado

**23. Na oração “A mão de Gigito conduziu o desvestido por tempos e idades”, o autor faz uso de um neologismo, assim como no decorrer de toda a obra em questão. Contudo, o neologismo só se torna possível pela utilização dos elementos mórficos naquilo que a gramática normativa pontua como Processo de Formação das Palavras. Levando em consideração apenas o recurso morfológico, qual Processo de Formação foi utilizado?**

- Derivação Sufixal
- Derivação Prefixal
- Derivação Regressiva
- Derivação Imprópria
- Derivação Parassintética

**24. No terceiro período do décimo terceiro parágrafo, temos:**

- Uma oração
- Duas orações
- Três orações
- Quatro orações
- Cinco orações

**25. No último parágrafo do fragmento do conto “— Agora, só agora, sou cego que não vê”, a oração subordinada presente classifica-se corretamente como:**

- Oração Subordinada Adjetiva Restritiva
- Oração Subordinada Adverbial Causal
- Oração Subordinada Substantiva Subjetiva
- Oração Subordinada Adverbial Explicativa

e) Oração Subordinada Adjetiva Explicativa

### RACIOCÍNIO LÓGICO

26. Os cinco filhos de Ana estavam discutindo a respeito da data de nascimento da mãe:

- Almir disse que foi em janeiro, dia 14, sexta-feira.
- Vanderlei disse que foi em janeiro, dia 14, sábado.
- Tiago disse que foi em fevereiro, dia 15, sábado.
- Sandro disse que foi em janeiro, dia 15, sexta-feira.
- Renato disse que foi em fevereiro, dia 15, sexta-feira.

Sabe-se que somente um dos filhos de Ana acertou corretamente sua data de nascimento e que os outros acertaram pelo menos um dos itens (dia, dia da semana e mês). Dessa forma, é correto afirmar que o filho de Ana que acertou a data de nascimento dela foi:

- a) Renato
- b) Sandro
- c) Tiago
- d) Vanderlei
- e) Almir

27. Considere a seguinte afirmativa: “Todo churrasqueiro gosta de picanha”. Em relação a essa proposição, é correto afirmar que:

- a) Algum churrasqueiro não gosta de picanha.
- b) Toda pessoa que gosta de picanha é churrasqueira.
- c) Alguma pessoa que não gosta de picanha é churrasqueira.
- d) Toda pessoa que não é churrasqueira, não gosta de picanha.
- e) Toda pessoa que não gosta de picanha, não é churrasqueira.

28. Em um grupo formado por 67 pessoas, verificou-se que 41 pessoas gostam de arroz, 29 gostam de feijão, 33 gostam de carne, 19 gostam de arroz e de feijão, 9 gostam apenas de arroz e de carne, 12 gostam de feijão e de carne e que 6 gostam de arroz, de feijão e de carne. O número de pessoas desse grupo, que não gosta de nenhum desses três tipos de alimentos é igual a:

- a) 4
- b) 5
- c) 6
- d) 8
- e) 10

29. Bruno escreveu, em seu caderno, várias sequências formadas por números múltiplos de 4, onde os valores que ocupavam as posições pares eram multiplicados por  $-1$ . Cada sequência foi somada e o resultado da soma anotado. A soma das três primeiras sequências escritas por Bruno foram as seguintes:

$$4 - 8 = -4$$
$$4 - 8 + 12 = 8$$
$$4 - 8 + 12 - 16 = -8$$

Considere que Bruno escreveu e somou tais sequências, em seu caderno, de modo a obter determinada sequência cuja soma foi 600. O número de termos dessa sequência é igual a:

- a) 149
- b) 150
- c) 298
- d) 299
- e) 300

30. Quatro torcedores, um do São Paulo, um do Cruzeiro, um do Vasco e um do Bahia, estão sentados ao redor de uma mesa quadrada, de modo que, dois a dois, fiquem frente a frente. Sabe-se que Alan é torcedor do Cruzeiro e que Bruno está sentado à direita de Alan. Sabe-se também que Caio está sentado à direita do torcedor do São Paulo. Sabe-se ainda que Daniel não é torcedor do Vasco e que está sentado à frente de Bruno. Dessa forma, é correto afirmar que:

- a) Bruno é torcedor do Bahia e Daniel é torcedor do São Paulo.
- b) Bruno é torcedor do São Paulo e Daniel é torcedor do Bahia.
- c) Caio é torcedor do Vasco e Daniel é torcedor do São Paulo.
- d) Caio é torcedor do Bahia e Daniel é torcedor do São Paulo.
- e) Bruno é torcedor do Vasco e Daniel é torcedor do Bahia.

### INFORMÁTICA

31. Considerando o MS-Excel versão 2010, observando a figura abaixo, é correto afirmar que:

	A	B	C
1			
2			
3			
4			

- a) Somente 03 três linhas estão selecionadas.  
 b) Somente uma célula está selecionada.  
 c) 12 (doze) células estão selecionadas.  
 d) Somente a coluna A até a linha 4 (quatro) está selecionada.  
 e) Somente as colunas 1 (um), 2 (dois), 3 (três) e 4 (quatro) estão selecionadas.

**32. Considerando o MS-Excel versão 2010, observando a figura abaixo, é incorreto afirmar que:**

	A	B	C
1	12	6	=A1*B1
2	8	2	=A2/B2
3	5	14	=A3-B3
4	6	11	=A4+B4

- a) O resultado da fórmula =A1\*B1 é 72.  
 b) O resultado da fórmula =A2/B2 é 4.  
 c) O resultado da fórmula =A3-B3 é -9.  
 d) O resultado da fórmula =A3-B3 é 9.  
 e) O resultado da fórmula =A4+B4 é 17.

**33. Digitando um texto no MS-Word versão 2010, necessito adicionar número nas páginas. Quanto a isso, é correto afirmar que:**

- a) No menu Layout da Página, clico em número de página e seleciono onde desejo adicionar os números.  
 b) No menu Inserir, clico em número de página e seleciono onde desejo adicionar os números.  
 c) No menu Revisão, clico em número de página e seleciono onde desejo adicionar os números.  
 d) No menu Referências, clico em número de página e seleciono onde desejo adicionar os números.  
 e) No menu Exibição, clico em número de página e seleciono onde desejo adicionar os números.

**34. A segurança da informação está diretamente relacionada com proteção de um conjunto de informações, no sentido de preservar o valor que possuem para um indivíduo ou uma organização. Atualmente, um dos aplicativos mais utilizados no mundo, o Whats app, teve uma alteração de confidencialidade muito importante na segurança das informações transmitidas e recebidas. Dentre as alternativas, assinale a que corretamente informa a alteração inserida no aplicativo Whats app.**

- a) Antispam  
 b) Antivirus  
 c) Firewall  
 d) Antispyware  
 e) Criptografia

**35. São todos os dispositivos que trabalham acoplados ao microcomputador para receber, transmitir, visualizar, ler, gravar ou armazenarem dados. São eles que permitem a comunicação do computador com o meio exterior, isto é, com os usuários e outras máquinas.**

**Esse texto descreve corretamente:**

- a) Memória ram  
 b) Memória virtual  
 c) Software  
 d) Periféricos  
 e) Hardware

## CONHECIMENTOS GERAIS

**36. Hino do município de Telêmaco Borba/PR**

Das virgens matas e campos verdejantes  
 Servindo-se também o rio Tibagi,  
 Homens de ideais, espíritos vibrantes.  
 Constituíram as indústrias aqui.


**Estrilho:**

Salve! Salve! Telêmaco Borba  
 Terra querida e de grandes primores,  
 A nossa homenagem rendamos  
 À cidade dos trabalhadores.  
 Pois a cadência de enorme e real progresso  
 Um município mui grandioso fez nascer,  
 Marcando assim, verdadeiro sucesso  
 Faz, então o Paraná engrandecer.

**No que tange ao Hino do município, atribua V (verdadeiro) ou F (falso) às afirmativas e marque a alternativa correta.**

- ( ) Eloah Martins Quadrado é autora da letra do hino.  
 ( ) Bento Mossurunga compôs a música do hino.  
 ( ) Eloah Martins Quadrado foi nomeada primeira professora da Cidade Nova, atual Telêmaco Borba.  
 ( ) Bento Mossurunga fundou a orquestra Estudantil e Concertos – Orquestra Sinfônica da Universidade, a Sociedade de Cultura Artístico Basílio Itiberê.  
 a) F, V, V, V.  
 b) V, F, V, V.  
 c) V, V, F, V.  
 d) V, V, F, F.  
 e) V, V, V, V.

**37. À luz da Lei nº 1883/2012, que dispõe sobre o Estatuto dos Servidores Públicos da Administração Direta, Autárquica e Funcional do Município de Telêmaco Borba/PR, leia as alternativas e marque a correta.**

- a) A apresentação para a posse ocorrerá no prazo de até trinta dias, contados do ato de nomeação.  
 b) A destituição do servidor da função gratificada dar-se-á por solicitação exclusiva dele mesmo.  
 c) O servidor ocupante exclusivamente de cargo em comissão será contribuinte do regime geral de previdência social.  
 d) A aprovação em concurso público gera o direito à nomeação, e será feita obedecida à ordem de classificação dos candidatos.  
 e) O exercício de função gratificada poderá ser de dedicação integral ou parcial, conforme necessidade da administração.

**Conforme a Lei nº 1.881, de 05 de abril de 2012, que dispõe sobre o Plano de Cargos, Carreiras e Vencimentos do quadro geral de servidores da Prefeitura Municipal de Telêmaco Borba/PR, regulamentada pelo Decreto nº 2269/2015, responda às próximas três questões.**

**38. Leia as assertivas e assinala a incorreta.**

- a) Do resultado da avaliação de desempenho poderá ser interposto recurso à Comissão de Desenvolvimento Funcional no prazo de quinze dias a contar da publicação no Boletim Oficial do Município.  
 b) Não será concedida a progressão ou promoção ao servidor que estiver em licença para tratamento de saúde por um período superior a quarenta e cinco dias, no período de avaliação.  
 c) A alternância dos membros constituintes da Comissão de Desenvolvimento Funcional eleitos pelos servidores verificar-se-á a cada três anos de participação, observados, para substituição de seus participantes, o critério fixado no artigo anterior, não cabendo eleição sucessiva.  
 d) Caberá à Comissão de Desenvolvimento Funcional, no caso de divergência de vinte por cento entre a nota do avaliador e a do avaliado, solicitar nova avaliação à chefia.  
 e) Nos termos do disposto no art. 17 da Lei nº 1.881, de 05 de abril de 2012, para progredir, é necessário que o servidor satisfaça, dentre outros, o seguinte requisito: estar no efetivo exercício de seu cargo ou em função comissionada na sua área de atuação durante o interstício de dois anos.

**39. Assinale a alternativa que completa respectivamente as lacunas do texto a seguir:**

**A Comissão de Desenvolvimento Funcional será constituída por \_\_\_\_\_ membros, sendo \_\_\_\_\_ designados pelo Prefeito Municipal de Telêmaco Borba e os demais eleitos pelos servidores municipais dentre os estáveis, com a atribuição de coordenar os procedimentos relativos à avaliação periódica de desempenho e outras atribuições.**

- a) três / sete  
 b) um / três  
 c) sete / três  
 d) três / cinco  
 e) dois / cinco

**40. A Avaliação de Desempenho será norteadada, dentre outros, pelo seguinte princípio: Amplitude - a avaliação deve incidir sobre todas as áreas de atuação do servidor, que compreendem:**





- 1. a formulação de políticas administrativas e sua aplicação para todos os setores da administração municipal;**
- 2. o desempenho do profissional dentro de suas funções pertinentes;**
- 3. a estrutura do órgão em que exerce a função;**
- 4. os resultados de eficiência dos serviços de cada setor ou órgão da administração municipal;**
- 5. a participação direta do avaliado, durante todo o processo avaliativo.**

**Diante dessa afirmação, somente não está correto o item:**

- a) 1
- b) 2
- c) 3
- d) 4
- e) 5

**RASCUNHO**



PREFEITURA DE TELÊMACO BORBA - ESTADO DO PARANÁ- **EDITAL Nº 001-2016 - CONCURSO PÚBLICO**

**VESPERTINO – 29/05/2016 – NÍVEL SUPERIOR**

**1**

**PROVA OBJETIVA NÚMERO**

**CARGO: TMNS I – FISIOTERAPIA**

**Leia atentamente as INSTRUÇÕES:**

1. Confira seus dados no cartão-resposta: nome, número de inscrição e o curso para o qual se inscreveu.
2. **MARQUE no seu cartão-resposta o número da sua prova** (não será corrigido o cartão-resposta que não tiver marcado o número da prova) e **Assine** seu cartão-resposta.
3. Aguarde a autorização do Fiscal para abrir o caderno de prova. Ao receber a ordem do fiscal, confira o caderno de prova com muita atenção. Nenhuma reclamação sobre o total de questões ou falha de impressão será aceita depois de iniciada a prova.
4. O cartão-resposta não será substituído, salvo se contiver erro de impressão.
5. Preencha toda a área do cartão-resposta correspondente à alternativa de sua escolha, com caneta esferográfica (tinta azul ou preta), sem ultrapassar as bordas. As marcações duplas, ou rasuradas, com corretivo, ou marcadas diferentemente do modelo estabelecido no cartão-resposta poderão ser anuladas.
6. Sua prova tem **40** questões, com **5** alternativas.
7. Cabe apenas ao candidato a interpretação das questões, **o fiscal** não poderá fazer nenhuma interferência.
8. A prova será realizada com duração máxima de **3 (três) horas**, incluído o tempo para a realização da Prova Objetiva de múltipla escolha e o preenchimento do cartão-resposta.
9. O candidato poderá retirar-se do local de realização das provas somente **1 (uma) hora** após o seu início, sem levar o caderno de prova.
10. O candidato poderá levar o caderno de provas, assim como anotação contendo transcrição do seu cartão-resposta, somente **1h30min** (uma hora e trinta minutos) após o início da realização da prova.
11. Ao terminar a prova, o candidato deverá entregar ao fiscal de sala o cartão-resposta preenchido e **ASSINADO**.
12. Os **3 (três)** candidatos, que terminarem a prova por último, deverão permanecer na sala, e só poderão sair juntos após o fechamento do envelope, contendo os cartões-resposta dos candidatos presentes e ausentes, e assinarem no lacre do referido envelope, atestando que este foi devidamente lacrado.
13. Durante todo o tempo em que permanecer no local onde está ocorrendo o concurso, o candidato deverá, manter o celular desligado e sem bateria, só sendo permitido ligar depois de ultrapassar o portão de saída do prédio.
14. Não será permitido ao candidato fumar na sala de provas, bem como nas dependências.
15. Depois de terminar a prova e entregar ao fiscal o cartão-resposta, preenchido e assinado, não será mais permitido ao candidato o uso do banheiro e bebedouro.

**BOA PROVA!**

**LÍNGUA PORTUGUESA****Texto para as próximas cinco questões:****“O cego Estrelinho”  
Mia Couto**

O cego Estrelinho era pessoa de nenhuma vez: sua história poderia ser contada e descontada não fosse seu guia, Gigito Efraim. A mão de Gigito conduziu o desvistado por tempos e idades. Aquela mão era repartidamente comum, extensão de um no outro, siamensal. E assim era quase de nascença. Memória de Estrelinho tinha cinco dedos e eram os de Gigito postos, em aperto, na sua própria mão.

O cego, curioso, queria saber de tudo. Ele não fazia cerimônia no viver. O sempre lhe era pouco e o tudo insuficiente. Dizia, deste modo:

— Tenho que viver já, senão esqueço-me.

Gigitinho, porém, o que descrevia era o que não havia. O mundo que ele minuciava eram fantasias e rendilhados. A imaginação do guia era mais profícua que papaeira. O cego enchia a boca de águas:

— Que maravilhação esse mundo. Me conte tudo, Gigito!

A mão do guia era, afinal, o manuscrito da mentira. Gigito Efraim estava como nunca esteve S. Tomé: via para não crer. O condutor falava pela ponta dos dedos. Desfolhava o universo, aberto em folhas. A ideiação dele era tal que mesmo o cego, por vezes, acreditava ver. O outro lhe encorajava esses breves enganar:

— Desbengale-se, você está escolhendo a boa procedência!

Mentira: Estrelinho continuava sem ver uma palmeira à frente do nariz. Contudo, o cego não se conformava em suas escurezas. Ele cumpria o ditado: não tinha perna e queria dar o pontapé. Só à noite, ele desalentava, sofrendo medos mais antigos que a humanidade. Entendia aquilo que, na raça humana, é menos primitivo: o animal.

— Na noite aflige não haver luz?

— Aflição é ter um pássaro branco esvoando dentro do sono.

Pássaro branco? No sono? Lugar de ave é nas alturas. Dizem até que Deus fez o céu para justificar os pássaros. Estrelinho disfarçava o medo dos vaticínios, subterfugindo:

— E agora, Gigitinho? Agora, olhando assim para cima, estou face ao céu?

Que podia o outro responder? O céu do cego fica em toda a parte. Estrelinho perdia o pé era quando a noite chegava e seu mestre adormecia. Era como se um novo escuro nele se estreasse em nó cego. Devagaroso e sorrateiro ele aninhava sua mão na mão do guia. Só assim adormecia. A razão da concha é a timidez da amêijoia? Na manhã seguinte, o cego lhe confessava: se você morrer, tenho que morrer logo no imediato. Senão-me: como acerto o caminho para o céu?

Foi no mês de dezembro que levaram Gigitinho. Lhe tiraram do mundo para pôr na guerra: obrigavam os serviços militares. O cego reclamou: que o moço inatingia a idade. E que o serviço que ele a si prestava era vital e vitalício. O guia chamou Estrelinho à parte e lhe tranquilizou:

— Não vai ficar sozinhandando por aí. Minha mana já mandei para ficar no meu lugar.

O cego estendeu o braço a querer tocar uma despedida. Mas o outro já não estava lá. Ou estava e se desviara, propositado? E sem água ida nem vinda, Estrelinho escutou o amigo se afastar, engolido, esponginquo, inevisível. Pela primeira vez, Estrelinho se sentiu invalidado.

— Agora, só agora, sou cego que não vê.

(...)

**COUTO, Mia. Estórias abensonhadas. Rio de Janeiro: Nova Fronteira, 1996. (Pág 23 e 24).**

**01. Quanto à interpretação do fragmento do conto, podemos afirmar que:**

- Gigito Efraim era o guia de Estrelinho há pouquíssimo tempo.
- Estrelinho era cego de nascença.
- Gigito descrevia o mundo para Estrelinho de forma denotativa.
- Gigito foi convocado pelo exército para ser guia de cegos na guerra.
- Gigito descrevia o mundo para Estrelinho de forma conotativa.

**02. No período “O sempre lhe era pouco e o tudo insuficiente”, o pronome “LHE” exerce a função sintática de:**

- Objeto Direto
- Objeto Indireto
- Complemento Nominal
- Adjunto Adnominal
- Objeto Direto Preposicionado

**03. Na oração “A mão de Gigito conduziu o desvistado por tempos e idades”, o autor faz uso de um neologismo, assim como no decorrer de toda a obra em questão. Contudo, o neologismo só se torna possível pela utilização dos elementos mórficos naquilo que a gramática normativa pontua como Processo de Formação das Palavras. Levando em consideração apenas o recurso morfológico, qual Processo de Formação foi utilizado?**

- Derivação Sufixal

- b) Derivação Prefixal
- c) Derivação Regressiva
- d) Derivação Imprópria
- e) Derivação Parassintética

**04. No terceiro período do décimo terceiro parágrafo, temos:**

- a) Uma oração
- b) Duas orações
- c) Três orações
- d) Quatro orações
- e) Cinco orações

**05. No último parágrafo do fragmento do conto “— Agora, só agora, sou cego que não vê”, a oração subordinada presente classifica-se corretamente como:**

- a) Oração Subordinada Adjetiva Restritiva
- b) Oração Subordinada Adverbial Causal
- c) Oração Subordinada Substantiva Subjetiva
- d) Oração Subordinada Adverbial Explicativa
- e) Oração Subordinada Adjetiva Explicativa

#### **RACIOCÍNIO LÓGICO**

**06. Os cinco filhos de Ana estavam discutindo a respeito da data de nascimento da mãe:**

- Almir disse que foi em janeiro, dia 14, sexta-feira.
- Vanderlei disse que foi em janeiro, dia 14, sábado.
- Tiago disse que foi em fevereiro, dia 15, sábado.
- Sandro disse que foi em janeiro, dia 15, sexta-feira.
- Renato disse que foi em fevereiro, dia 15, sexta-feira.

**Sabe-se que somente um dos filhos de Ana acertou corretamente sua data de nascimento e que os outros acertaram pelo menos um dos itens (dia, dia da semana e mês). Dessa forma, é correto afirmar que o filho de Ana que acertou a data de nascimento dela foi:**

- a) Renato
- b) Sandro
- c) Tiago
- d) Vanderlei
- e) Almir

**07. Considere a seguinte afirmativa: “Todo churrasqueiro gosta de picanha”. Em relação a essa proposição, é correto afirmar que:**

- a) Algum churrasqueiro não gosta de picanha.
- b) Toda pessoa que gosta de picanha é churrasqueira.
- c) Alguma pessoa que não gosta de picanha é churrasqueira.
- d) Toda pessoa que não é churrasqueira, não gosta de picanha.
- e) Toda pessoa que não gosta de picanha, não é churrasqueira.

**08. Em um grupo formado por 67 pessoas, verificou-se que 41 pessoas gostam de arroz, 29 gostam de feijão, 33 gostam de carne, 19 gostam de arroz e de feijão, 9 gostam apenas de arroz e de carne, 12 gostam de feijão e de carne e que 6 gostam de arroz, de feijão e de carne. O número de pessoas desse grupo, que não gosta de nenhum desses três tipos de alimentos é igual a:**

- a) 4
- b) 5
- c) 6
- d) 8
- e) 10

**09. Bruno escreveu, em seu caderno, várias sequências formadas por números múltiplos de 4, onde os valores que ocupavam as posições pares eram multiplicados por  $-1$ . Cada sequência foi somada e o resultado da soma anotado. A soma das três primeiras sequências escritas por Bruno foram as seguintes:**

$$4 - 8 = -4$$
$$4 - 8 + 12 = 8$$
$$4 - 8 + 12 - 16 = -8$$

**Considere que Bruno escreveu e somou tais sequências, em seu caderno, de modo a obter determinada sequência cuja soma foi 600. O número de termos dessa sequência é igual a:**

- a) 149
- b) 150
- c) 298

- d) 299  
e) 300

**10. Quatro torcedores, um do São Paulo, um do Cruzeiro, um do Vasco e um do Bahia, estão sentados ao redor de uma mesa quadrada, de modo que, dois a dois, fiquem frente a frente. Sabe-se que Alan é torcedor do Cruzeiro e que Bruno está sentado à direita de Alan. Sabe-se também que Caio está sentado à direita do torcedor do São Paulo. Sabe-se ainda que Daniel não é torcedor do Vasco e que está sentado à frente de Bruno. Dessa forma, é correto afirmar que:**

- a) Bruno é torcedor do Bahia e Daniel é torcedor do São Paulo.  
b) Bruno é torcedor do São Paulo e Daniel é torcedor do Bahia.  
c) Caio é torcedor do Vasco e Daniel é torcedor do São Paulo.  
d) Caio é torcedor do Bahia e Daniel é torcedor do São Paulo.  
e) Bruno é torcedor do Vasco e Daniel é torcedor do Bahia.

### INFORMÁTICA

**11. Considerando o MS-Excel versão 2010, observando a figura abaixo, é correto afirmar que:**

	A	B	C
1			
2			
3			
4			

- a) Somente 03 três linhas estão selecionadas.  
b) Somente uma célula está selecionada.  
c) 12 (doze) células estão selecionadas.  
d) Somente a coluna A até a linha 4 (quatro) está selecionada.  
e) Somente as colunas 1 (um), 2 (dois), 3 (três) e 4 (quatro) estão selecionadas.

**12. Considerando o MS-Excel versão 2010, observando a figura abaixo, é incorreto afirmar que:**

	A	B	C
1	12	6	=A1*B1
2	8	2	=A2/B2
3	5	14	=A3-B3
4	6	11	=A4+B4

- a) O resultado da fórmula =A1\*B1 é 72.  
b) O resultado da fórmula =A2/B2 é 4.  
c) O resultado da fórmula =A3-B3 é -9.  
d) O resultado da fórmula =A3-B3 é 9.  
e) O resultado da fórmula =A4+B4 é 17.

**13. Digitando um texto no MS-Word versão 2010, necessito adicionar número nas páginas. Quanto a isso, é correto afirmar que:**

- a) No menu Layout da Página, clico em número de página e seleciono onde desejo adicionar os números.  
b) No menu Inserir, clico em número de página e seleciono onde desejo adicionar os números.  
c) No menu Revisão, clico em número de página e seleciono onde desejo adicionar os números.  
d) No menu Referências, clico em número de página e seleciono onde desejo adicionar os números.  
e) No menu Exibição, clico em número de página e seleciono onde desejo adicionar os números.

**14. A segurança da informação está diretamente relacionada com proteção de um conjunto de informações, no sentido de preservar o valor que possuem para um indivíduo ou uma organização. Atualmente, um dos aplicativos mais utilizados no mundo, o Whats app, teve uma alteração de confidencialidade muito importante na segurança das informações transmitidas e recebidas. Dentre as alternativas, assinale a que corretamente informa a alteração inserida no aplicativo Whats app.**

- a) Antispam  
b) Antivirus  
c) Firewall  
d) Antispyware  
e) Criptografia

**15. São todos os dispositivos que trabalham acoplados ao microcomputador para receber, transmitir, visualizar, ler, gravar ou armazenar dados. São eles que permitem a comunicação do computador com o meio exterior, isto é, com os usuários e outras máquinas.**

**Esse texto descreve corretamente:**

- a) Memória ram
- b) Memória virtual
- c) Software
- d) Periféricos
- e) Hardware

### CONHECIMENTOS GERAIS

#### 16. Hino do município de Telêmaco Borba/PR

Das virgens matas e campos verdejantes  
 Servindo-se também o rio Tibagi,  
 Homens de ideais, espíritos vibrantes.  
 Constituíram as indústrias aqui.

Estrilho:

Salve! Salve! Telêmaco Borba  
 Terra querida e de grandes primores,  
 A nossa homenagem rendamos  
 À cidade dos trabalhadores.  
 Pois a cadência de enorme e real progresso  
 Um município mui grandioso fez nascer,  
 Marcando assim, verdadeiro sucesso  
 Faz, então o Paraná engrandecer.

**No que tange ao Hino do município, atribua V (verdadeiro) ou F (falso) às afirmativas e marque a alternativa correta.**

- ( ) Eloah Martins Quadrado é autora da letra do hino.
- ( ) Bento Mossurunga compôs a música do hino.
- ( ) Eloah Martins Quadrado foi nomeada primeira professora da Cidade Nova, atual Telêmaco Borba.
- ( ) Bento Mossurunga fundou a orquestra Estudantil e Concertos – Orquestra Sinfônica da Universidade, a Sociedade de Cultura Artístico Basílio Itiberê.
- a) F, V, V, V.
- b) V, F, V, V.
- c) V, V, F, V.
- d) V, V, F, F.
- e) V, V, V, V.

**17. À luz da Lei nº 1883/2012, que dispões sobre o Estatuto dos Servidores Públicos da Administração Direta, Autárquica e Funcional do Município de Telêmaco Borba/PR, leia as alternativas e marque a correta.**

- a) A apresentação para a posse ocorrerá no prazo de até trinta dias, contados do ato de nomeação.
- b) A destituição do servidor da função gratificada dar-se-á por solicitação exclusiva dele mesmo.
- c) O servidor ocupante exclusivamente de cargo em comissão será contribuinte do regime geral de previdência social.
- d) A aprovação em concurso público gera o direito à nomeação, e será feita obedecida à ordem de classificação dos candidatos.
- e) O exercício de função gratificada poderá ser de dedicação integral ou parcial, conforme necessidade da administração.

**Conforme a Lei nº 1.881, de 05 de abril de 2012, que dispõe sobre o Plano de Cargos, Carreiras e Vencimentos do quadro geral de servidores da Prefeitura Municipal de Telêmaco Borba/PR, regulamentada pelo Decreto nº 2269/2015, responda às próximas três questões.**

**18. Leia as assertivas e assinala a incorreta.**

- a) Do resultado da avaliação de desempenho poderá ser interposto recurso à Comissão de Desenvolvimento Funcional no prazo de quinze dias a contar da publicação no Boletim Oficial do Município.
- b) Não será concedida a progressão ou promoção ao servidor que estiver em licença para tratamento de saúde por um período superior a quarenta e cinco dias, no período de avaliação.
- c) A alternância dos membros constituintes da Comissão de Desenvolvimento Funcional eleitos pelos servidores verificar-se-á a cada três anos de participação, observados, para substituição de seus participantes, o critério fixado no artigo anterior, não cabendo eleição sucessiva.
- d) Caberá à Comissão de Desenvolvimento Funcional, no caso de divergência de vinte por cento entre a nota do avaliador e a do avaliado, solicitar nova avaliação à chefia.



e) Nos termos do disposto no art. 17 da Lei nº 1.881, de 05 de abril de 2012, para progredir, é necessário que o servidor satisfaça, dentre outros, o seguinte requisito: estar no efetivo exercício de seu cargo ou em função comissionada na sua área de atuação durante o interstício de dois anos.

**19. Assinale a alternativa que completa respectivamente as lacunas do texto a seguir:**

**A Comissão de Desenvolvimento Funcional será constituída por \_\_\_\_\_ membros, sendo \_\_\_\_\_ designados pelo Prefeito Municipal de Telêmaco Borba e os demais eleitos pelos servidores municipais dentre os estáveis, com a atribuição de coordenar os procedimentos relativos à avaliação periódica de desempenho e outras atribuições.**

- a) três / sete
- b) um / três
- c) sete / três
- d) três / cinco
- e) dois / cinco

**20. A Avaliação de Desempenho será norteadada, dentre outros, pelo seguinte princípio: Amplitude - a avaliação deve incidir sobre todas as áreas de atuação do servidor, que compreendem:**

- 1. a formulação de políticas administrativas e sua aplicação para todos os setores da administração municipal;**
- 2. o desempenho do profissional dentro de suas funções pertinentes;**
- 3. a estrutura do órgão em que exerce a função;**
- 4. os resultados de eficiência dos serviços de cada setor ou órgão da administração municipal;**
- 5. a participação direta do avaliado, durante todo o processo avaliativo.**

**Diante dessa afirmação, somente não está correto o item:**

- a) 1
- b) 2
- c) 3
- d) 4
- e) 5

### **CONHECIMENTOS ESPECÍFICOS**

**21. São características do tecido muscular, exceto:**

- a) Excitabilidade
- b) Contractibilidade
- c) Extensibilidade
- d) Elasticidade
- e) Motricidade

**22. Assinale a alternativa que não apresenta o nome de uma ação muscular:**

- a) Agonista
- b) Antagonista
- c) Sinergista
- d) Fixadores
- e) Distrofia

**23. Assinale a alternativa que aponta somente nomes de músculos do membro superior:**

- a) Supinador, ancôneo e pronador quadrado.
- b) Ancôneo, sartório e pectíneo.
- c) Sartório, supinador e pectíneo.
- d) Piriforme, ancôneo e palmar curto.
- e) Pronador quadrado, piriforme e sartório.

**24. Marque a alternativa que contém a correta definição de contração isotônica.**

- a) Músculo alonga, empurrando outra estrutura e produzindo um movimento.
- b) Músculo encurta, puxando outra estrutura e produzindo um movimento.
- c) Músculo alonga no limite máximo, porém o movimento é nulo.
- d) Há alongamento máximo do músculo, porém não produz movimento.
- e) Há encurtamento mínimo do músculo, porém não resulta em movimento.

**25. Marque a alternativa correta sobre o músculo trapézio:**

- a) Sua ação é elevação da escápula.
- b) Sua origem é no nível cervical e cranial no redondo maior.
- c) Sua inserção é caudal ao vértice da crista deltoide do úmero.
- d) Sua origem é na margem cranial próxima à margem distal da escápula.
- e) Sua ação é extensão, adução, rotação e abdução do ombro.

**26. Marque a alternativa que nomeia a ação do músculo redondo maior:**

- a) Extensão e rotação do cotovelo
- b) Flexão do punho
- c) Extensão do joelho
- d) Pronação do pé
- e) Elevação do úmero e flexão da articulação glenoumeral.

**27. Sobre o músculo pectíneo, é correto afirmar:**

- a) Sua inserção é no ramo inferior do fêmur.
- b) Sua origem é na cabeça da fíbula.
- c) Sua origem é na linha pectínea do púbis.
- d) Sua inserção é no corpo do púbis.
- e) Sua origem é no trocanter maior.

**28. O tecido conjuntivo se apresenta de muitas formas, as quais são caracterizadas pelos tipos de células que as compõem. Dentre elas, podemos citar os macrófagos, mastócitos, fibroblastos e adipócitos. Marque a alternativa que traz a correta definição de macrófagos:**

- a) Contém enzimas para síntese de triglicerídios, que são a principal reserva energética do organismo.
- b) É a célula mais abundante do tecido conjuntivo, sendo a principal célula formadora das fibras e da substância amorfa.
- c) São células originadas dos monócitos, que são células do sangue. Sua principal função está relacionada à fagocitose e pinocitose de elementos estranhos ao organismo e de células mortas.
- d) São células globulosas, com citoplasma repleto de grânulos basófilos, contendo diversas substâncias que atuam no desencadeamento do processo inflamatório.
- e) São responsáveis pela contratilidade do tecido muscular estriado.

**29. É contraindicada a aplicação de crioterapia quando há:**

- a) Hipersensibilidade ao frio e traumas leves.
- b) Condromalacia patelar e contraturas musculares.
- c) Doenças pulmonares e edemas articulares.
- d) Doença de Raynaud e artrite da anemia falciforme.
- e) Alterações cardíacas e gestantes em nenhuma hipótese.

**30. Quais são os efeitos mecânicos do ultrassom?**

- a) Trocas na permeabilidade das células e membranas tissulares.
- b) Aumento da tensão tissular com aumento do quadro algico no local.
- c) Diminuir a capacidade regenerativa dos tecidos.
- d) Diminuição da permeabilidade das membranas.
- e) Relaxamento muscular devido à ação de diminuir o estímulo tissulares.

**31. É contraindicação absoluta a utilização de ultrassom em caso de:**

- a) Distúrbios de coagulação, pirexia e tumores malignos.
- b) Acidose metabólica, HAS, infecção do trato urinário e dorsalgias.
- c) Alcalose, tumores benignos, HAS e diabetes melitus do tipo 2.
- d) Dorsalgias, HAS, gônadas, pirexia.
- e) Edema agudo de pulmão, contraturas, distúrbios de coagulação e alcalose respiratória.

**32. O músculo grande dorsal é innervado por:**

- a) Nervo subescapular
- b) Nervo axilar
- c) Nervo toracodorsal
- d) Nervo radial
- e) Nervo acessório

**33. A gota é uma doença causada pela deposição articular do cristal de monurato de sódio. Sobre a gota, é correto afirmar:**

- a) Ocorre entre os 15 e 20 anos, em pessoas do sexo feminino devido ao ciclo menstrual.
- b) Os depósitos na articulação geralmente não são inertes.
- c) Não tem ligação com hábitos alimentares.
- d) Acomete mais homens por não possuir a enzima aricase.
- e) Ocorre uma hiporuricemia.

**34. A avaliação do estado ácido-base, do organismo, na prática clínica é feita pela análise de parâmetros. Os principais são, exceto:**

- a) PH
- b) BE
- c) Leucócitos
- d) HCO<sub>3</sub>
- e) PCO<sub>2</sub>

**35. Em uma gasometria arterial com bicarbonato elevado, acima de 28 mM/ L, significa que há excesso de base presente no sangue. Quanto ao assunto, assinale a alternativa correta.**

- a) O excesso de base diminui o PH, configurando o quadro de acidose mista.
- b) O excesso de base estabiliza o PH, configurando acidose.
- c) O excesso de base diminui o PH e configura alcalose respiratória.
- d) O excesso de base eleva o PH, configurando o quadro de alcalose metabólica.
- e) O excesso de base aumenta o PH e configura uma acidose respiratória.

**36. Assinale a alternativa que apresenta corretamente os nomes dos músculos inspiratórios:**

- a) Reto abdominal e oblíquos.
- b) Diafragma e intercostais externos.
- c) Transversos e reto abdominal.
- d) Intercostais internos e transversos.
- e) Oblíquos e intercostais.

**37. Esta manobra (ou sinal) consiste no ato de “escalar” o próprio corpo, utilizando as mãos, a partir de uma posição agachada, devido à diminuição de força muscular, muito comum em pacientes portadores de distrofia muscular de duchene.**

**Tal afirmação refere-se ao:**

- a) Sinal de yocien
- b) Sinal de hawkins
- c) Sinal de jobe
- d) Sinal de neer
- e) Sinal de gowers

**38. As células de kupffer são macrófagos que recebem este nome unicamente em um órgão específico do corpo humano. Em qual órgão?**

- a) Fígado
- b) Coração
- c) Pulmão
- d) Pele
- e) Cérebro

**39. No que diz respeito à biomecânica da marcha normal, o termo que define o número de passos dados em uma unidade de tempo, normalmente expresso como passos por minuto, chama-se:**

- a) Passo
- b) Cadência
- c) Ciclo da marcha
- d) Trote
- e) Passada

**40. Trata-se de uma técnica de avaliação utilizada como diagnóstico funcional para mensurar objetivamente as amplitudes de movimento articular, que servirá como auxílio para o profissional traçar uma conduta. Tal afirmação corresponde à técnica conhecida como:**

- a) Crioterapia
- b) Goniometria
- c) Cinesioterapia
- d) Eletroterapia
- e) Fototerapia

**RASCUNHO**



PREFEITURA DE TELÊMACO BORBA - ESTADO DO PARANÁ- EDITAL Nº 001-2016 - CONCURSO PÚBLICO

VESPERTINO – 29/05/2016 – NÍVEL SUPERIOR

PROVA OBJETIVA NÚMERO

**2**

**CARGO: TMNS I - FISIOTERAPIA**

**Leia atentamente as INSTRUÇÕES:**

1. Confira seus dados no cartão-resposta: nome, número de inscrição e o curso para o qual se inscreveu.
2. **MARQUE no seu cartão-resposta o número da sua prova** (não será corrigido o cartão-resposta que não tiver marcado o número da prova) e **Assine** seu cartão-resposta.
3. Aguarde a autorização do Fiscal para abrir o caderno de prova. Ao receber a ordem do fiscal, confira o caderno de prova com muita atenção. Nenhuma reclamação sobre o total de questões ou falha de impressão será aceita depois de iniciada a prova.
4. O cartão-resposta não será substituído, salvo se contiver erro de impressão.
5. Preencha toda a área do cartão-resposta correspondente à alternativa de sua escolha, com caneta esferográfica (tinta azul ou preta), sem ultrapassar as bordas. As marcações duplas, ou rasuradas, com corretivo, ou marcadas diferentemente do modelo estabelecido no cartão-resposta poderão ser anuladas.
6. Sua prova tem **40** questões, com **5** alternativas.
7. Cabe apenas ao candidato a interpretação das questões, **o fiscal** não poderá fazer nenhuma interferência.
8. A prova será realizada com duração máxima de **3 (três) horas**, incluído o tempo para a realização da Prova Objetiva de múltipla escolha e o preenchimento do cartão-resposta.
9. O candidato poderá retirar-se do local de realização das provas somente **1 (uma) hora** após o seu início, sem levar o caderno de prova.
10. O candidato poderá levar o caderno de provas, assim como anotação contendo transcrição do seu cartão-resposta, somente **1h30min** (uma hora e trinta minutos) após o início da realização da prova.
11. Ao terminar a prova, o candidato deverá entregar ao fiscal de sala o cartão-resposta preenchido e **ASSINADO**.
12. Os **3 (três)** candidatos, que terminarem a prova por último, deverão permanecer na sala, e só poderão sair juntos após o fechamento do envelope, contendo os cartões-resposta dos candidatos presentes e ausentes, e assinarem no lacre do referido envelope, atestando que este foi devidamente lacrado.
13. Durante todo o tempo em que permanecer no local onde está ocorrendo o concurso, o candidato deverá, manter o celular desligado e sem bateria, só sendo permitido ligar depois de ultrapassar o portão de saída do prédio.
14. Não será permitido ao candidato fumar na sala de provas, bem como nas dependências.
15. Depois de terminar a prova e entregar ao fiscal o cartão-resposta, preenchido e assinado, não será mais permitido ao candidato o uso do banheiro e bebedouro.

**BOA PROVA!**

**RACIOCÍNIO LÓGICO**

**01. Os cinco filhos de Ana estavam discutindo a respeito da data de nascimento da mãe:**

- Almir disse que foi em janeiro, dia 14, sexta-feira.
- Vanderlei disse que foi em janeiro, dia 14, sábado.
- Tiago disse que foi em fevereiro, dia 15, sábado.
- Sandro disse que foi em janeiro, dia 15, sexta-feira.
- Renato disse que foi em fevereiro, dia 15, sexta-feira.

**Sabe-se que somente um dos filhos de Ana acertou corretamente sua data de nascimento e que os outros acertaram pelo menos um dos itens (dia, dia da semana e mês). Dessa forma, é correto afirmar que o filho de Ana que acertou a data de nascimento dela foi:**

- a) Renato
- b) Sandro
- c) Tiago
- d) Vanderlei
- e) Almir

**02. Considere a seguinte afirmativa: “Todo churrasqueiro gosta de picanha”. Em relação a essa proposição, é correto afirmar que:**

- a) Algum churrasqueiro não gosta de picanha.
- b) Toda pessoa que gosta de picanha é churrasqueira.
- c) Alguma pessoa que não gosta de picanha é churrasqueira.
- d) Toda pessoa que não é churrasqueira, não gosta de picanha.
- e) Toda pessoa que não gosta de picanha, não é churrasqueira.

**03. Em um grupo formado por 67 pessoas, verificou-se que 41 pessoas gostam de arroz, 29 gostam de feijão, 33 gostam de carne, 19 gostam de arroz e de feijão, 9 gostam apenas de arroz e de carne, 12 gostam de feijão e de carne e que 6 gostam de arroz, de feijão e de carne. O número de pessoas desse grupo, que não gosta de nenhum desses três tipos de alimentos é igual a:**

- a) 4
- b) 5
- c) 6
- d) 8
- e) 10

**04. Bruno escreveu, em seu caderno, várias sequências formadas por números múltiplos de 4, onde os valores que ocupavam as posições pares eram multiplicados por  $-1$ . Cada sequência foi somada e o resultado da soma anotado. A soma das três primeiras sequências escritas por Bruno foram as seguintes:**

$$4 - 8 = -4$$

$$4 - 8 + 12 = 8$$

$$4 - 8 + 12 - 16 = -8$$

**Considere que Bruno escreveu e somou tais sequências, em seu caderno, de modo a obter determinada sequência cuja soma foi 600. O número de termos dessa sequência é igual a:**

- a) 149
- b) 150
- c) 298
- d) 299
- e) 300

**05. Quatro torcedores, um do São Paulo, um do Cruzeiro, um do Vasco e um do Bahia, estão sentados ao redor de uma mesa quadrada, de modo que, dois a dois, fiquem frente a frente. Sabe-se que Alan é torcedor do Cruzeiro e que Bruno está sentado à direita de Alan. Sabe-se também que Caio está sentado à direita do torcedor do São Paulo. Sabe-se ainda que Daniel não é torcedor do Vasco e que está sentado à frente de Bruno. Dessa forma, é correto afirmar que:**

- a) Bruno é torcedor do Bahia e Daniel é torcedor do São Paulo.
- b) Bruno é torcedor do São Paulo e Daniel é torcedor do Bahia.
- c) Caio é torcedor do Vasco e Daniel é torcedor do São Paulo.
- d) Caio é torcedor do Bahia e Daniel é torcedor do São Paulo.
- e) Bruno é torcedor do Vasco e Daniel é torcedor do Bahia.

**INFORMÁTICA**

06. Considerando o MS-Excel versão 2010, observando a figura abaixo, é correto afirmar que:

	A	B	C
1			
2			
3			
4			

- Somente 03 três linhas estão selecionadas.
- Somente uma célula está selecionada.
- 12 (doze) células estão selecionadas.
- Somente a coluna A até a linha 4 (quatro) está selecionada.
- Somente as colunas 1 (um), 2 (dois), 3 (três) e 4 (quatro) estão selecionadas.

07. Considerando o MS-Excel versão 2010, observando a figura abaixo, é incorreto afirmar que:

	A	B	C
1	12	6	=A1*B1
2	8	2	=A2/B2
3	5	14	=A3-B3
4	6	11	=A4+B4

- O resultado da fórmula =A1\*B1 é 72.
- O resultado da fórmula =A2/B2 é 4.
- O resultado da fórmula =A3-B3 é -9.
- O resultado da fórmula =A3-B3 é 9.
- O resultado da fórmula =A4+B4 é 17.

08. Digitando um texto no MS-Word versão 2010, necessito adicionar número nas páginas. Quanto a isso, é correto afirmar que:

- No menu Layout da Página, cliço em número de página e seleciono onde desejo adicionar os números.
- No menu Inserir, cliço em número de página e seleciono onde desejo adicionar os números.
- No menu Revisão, cliço em número de página e seleciono onde desejo adicionar os números.
- No menu Referências, cliço em número de página e seleciono onde desejo adicionar os números.
- No menu Exibição, cliço em número de página e seleciono onde desejo adicionar os números.

09. A segurança da informação está diretamente relacionada com proteção de um conjunto de informações, no sentido de preservar o valor que possuem para um indivíduo ou uma organização. Atualmente, um dos aplicativos mais utilizados no mundo, o Whats app, teve uma alteração de confidencialidade muito importante na segurança das informações transmitidas e recebidas. Dentre as alternativas, assinale a que corretamente informa a alteração inserida no aplicativo Whats app.

- Antispam
- Antivirus
- Firewall
- Antispyware
- Criptografia

10. São todos os dispositivos que trabalham acoplados ao microcomputador para receber, transmitir, visualizar, ler, gravar ou armazenarem dados. São eles que permitem a comunicação do computador com o meio exterior, isto é, com os usuários e outras máquinas.

Esse texto descreve corretamente:

- Memória ram
- Memória virtual
- Software
- Periféricos
- Hardware

**CONHECIMENTOS GERAIS**

11. Hino do município de Telêmaco Borba/PR

Das virgens matas e campos verdejantes  
 Servindo-se também o rio Tibagi,





Homens de ideais, espíritos vibrantes.

Constituíram as indústrias aqui.

Estrilho:

Salve! Salve! Telêmaco Borba

Terra querida e de grandes primores,

A nossa homenagem rendamos

À cidade dos trabalhadores.

Pois a cadência de enorme e real progresso

Um município mui grandioso fez nascer,

Marcando assim, verdadeiro sucesso

Faz, então o Paraná engrandecer.

**No que tange ao Hino do município, atribua V (verdadeiro) ou F (falso) às afirmativas e marque a alternativa correta.**

( ) Eloah Martins Quadrado é autora da letra do hino.

( ) Bento Mossurunga compôs a música do hino.

( ) Eloah Martins Quadrado foi nomeada primeira professora da Cidade Nova, atual Telêmaco Borba.

( ) Bento Mossurunga fundou a orquestra Estudantil e Concertos – Orquestra Sinfônica da Universidade, a Sociedade de Cultura Artístico Basílio Itiberê.

a) F, V, V, V.

b) V, F, V, V.

c) V, V, F, V.

d) V, V, F, F.

e) V, V, V, V.

**12. À luz da Lei nº 1883/2012, que dispões sobre o Estatuto dos Servidores Públicos da Administração Direta, Autárquica e Funcional do Município de Telêmaco Borba/PR, leia as alternativas e marque a correta.**

a) A apresentação para a posse ocorrerá no prazo de até trinta dias, contados do ato de nomeação.

b) A destituição do servidor da função gratificada dar-se-á por solicitação exclusiva dele mesmo.

c) O servidor ocupante exclusivamente de cargo em comissão será contribuinte do regime geral de previdência social.

d) A aprovação em concurso público gera o direito à nomeação, e será feita obedecida à ordem de classificação dos candidatos.

e) O exercício de função gratificada poderá ser de dedicação integral ou parcial, conforme necessidade da administração.

**Conforme a Lei nº 1.881, de 05 de abril de 2012, que dispõe sobre o Plano de Cargos, Carreiras e Vencimentos do quadro geral de servidores da Prefeitura Municipal de Telêmaco Borba/PR, regulamentada pelo Decreto nº 2269/2015, responda às próximas três questões.**

**13. Leia as assertivas e assinala a incorreta.**

a) Do resultado da avaliação de desempenho poderá ser interposto recurso à Comissão de Desenvolvimento Funcional no prazo de quinze dias a contar da publicação no Boletim Oficial do Município.

b) Não será concedida a progressão ou promoção ao servidor que estiver em licença para tratamento de saúde por um período superior a quarenta e cinco dias, no período de avaliação.

c) A alternância dos membros constituintes da Comissão de Desenvolvimento Funcional eleitos pelos servidores verificar-se-á a cada três anos de participação, observados, para substituição de seus participantes, o critério fixado no artigo anterior, não cabendo eleição sucessiva.

d) Caberá à Comissão de Desenvolvimento Funcional, no caso de divergência de vinte por cento entre a nota do avaliador e a do avaliado, solicitar nova avaliação à chefia.

e) Nos termos do disposto no art. 17 da Lei nº 1.881, de 05 de abril de 2012, para progredir, é necessário que o servidor satisfaça, dentre outros, o seguinte requisito: estar no efetivo exercício de seu cargo ou em função comissionada na sua área de atuação durante o interstício de dois anos.

**14. Assinale a alternativa que completa respectivamente as lacunas do texto a seguir:**

**A Comissão de Desenvolvimento Funcional será constituída por \_\_\_\_\_ membros, sendo \_\_\_\_\_ designados pelo Prefeito Municipal de Telêmaco Borba e os demais eleitos pelos servidores municipais dentre os estáveis, com a atribuição de coordenar os procedimentos relativos à avaliação periódica de desempenho e outras atribuições.**

a) três / sete

b) um / três

c) sete / três

d) três / cinco

e) dois / cinco

**15. A Avaliação de Desempenho será norteadada, dentre outros, pelo seguinte princípio: Amplitude - a avaliação deve incidir sobre todas as áreas de atuação do servidor, que compreendem:**

- 1. a formulação de políticas administrativas e sua aplicação para todos os setores da administração municipal;**
- 2. o desempenho do profissional dentro de suas funções pertinentes;**
- 3. a estrutura do órgão em que exerce a função;**
- 4. os resultados de eficiência dos serviços de cada setor ou órgão da administração municipal;**
- 5. a participação direta do avaliado, durante todo o processo avaliativo.**

**Diante dessa afirmação, somente não está correto o item:**

- a) 1
- b) 2
- c) 3
- d) 4
- e) 5

### **CONHECIMENTOS ESPECÍFICOS**

**16. São características do tecido muscular, exceto:**

- a) Excitabilidade
- b) Contractibilidade
- c) Extensibilidade
- d) Elasticidade
- e) Motricidade

**17. Assinale a alternativa que não apresenta o nome de uma ação muscular:**

- a) Agonista
- b) Antagonista
- c) Sinergista
- d) Fixadores
- e) Distrofia

**18. Assinale a alternativa que aponta somente nomes de músculos do membro superior:**

- a) Supinador, ancônio e pronador quadrado.
- b) Ancônio, sartório e pectíneo.
- c) Sartório, supinador e pectíneo.
- d) Piriforme, ancônio e palmar curto.
- e) Pronador quadrado, piriforme e sartório.

**19. Marque a alternativa que contém a correta definição de contração isotônica.**

- a) Músculo alonga, empurrando outra estrutura e produzindo um movimento.
- b) Músculo encurta, puxando outra estrutura e produzindo um movimento.
- c) Músculo alonga no limite máximo, porém o movimento é nulo.
- d) Há alongamento máximo do músculo, porém não produz movimento.
- e) Há encurtamento mínimo do músculo, porém não resulta em movimento.

**20. Marque a alternativa correta sobre o músculo trapézio:**

- a) Sua ação é elevação da escápula.
- b) Sua origem é no nível cervical e cranial no redondo maior.
- c) Sua inserção é caudal ao vértice da crista deltoide do úmero.
- d) Sua origem é na margem cranial próxima à margem distal da escápula.
- e) Sua ação é extensão, adução, rotação e abdução do ombro.

**21. Marque a alternativa que nomeia a ação do músculo redondo maior:**

- a) Extensão e rotação do cotovelo
- b) Flexão do punho
- c) Extensão do joelho
- d) Pronação do pé
- e) Elevação do úmero e flexão da articulação glenoumeral.

**22. Sobre o músculo pectíneo, é correto afirmar:**

- a) Sua inserção é no ramo inferior do fêmur.
- b) Sua origem é na cabeça da fíbula.
- c) Sua origem é na linha pectínea do púbis.
- d) Sua inserção é no corpo do púbis.
- e) Sua origem é no trocanter maior.

**23. O tecido conjuntivo se apresenta de muitas formas, as quais são caracterizadas pelos tipos de células que as compõem. Dentre elas, podemos citar os macrófagos, mastócitos, fibroblastos e adipócitos. Marque a alternativa que traz a correta definição de macrófagos:**

- a) Contém enzimas para síntese de triglicerídios, que são a principal reserva energética do organismo.
- b) É a célula mais abundante do tecido conjuntivo, sendo a principal célula formadora das fibras e da substância amorfa.
- c) São células originadas dos monócitos, que são células do sangue. Sua principal função está relacionada à fagocitose e pinocitose de elementos estranhos ao organismo e de células mortas.
- d) São células globulosas, com citoplasma repleto de grânulos basófilos, contendo diversas substâncias que atuam no desencadeamento do processo inflamatório.
- e) São responsáveis pela contratilidade do tecido muscular estriado.

**24. É contraindicada a aplicação de crioterapia quando há:**

- a) Hipersensibilidade ao frio e traumas leves.
- b) Condromalacia patelar e contraturas musculares.
- c) Doenças pulmonares e edemas articulares.
- d) Doença de Raynaud e artrite da anemia falciforme.
- e) Alterações cardíacas e gestantes em nenhuma hipótese.

**25. Quais são os efeitos mecânicos do ultrassom?**

- a) Trocas na permeabilidade das células e membranas tissulares.
- b) Aumento da tensão tissular com aumento do quadro algico no local.
- c) Diminuir a capacidade regenerativa dos tecidos.
- d) Diminuição da permeabilidade das membranas.
- e) Relaxamento muscular devido à ação de diminuir o estímulo tissulares.

**26. É contraindicação absoluta a utilização de ultrassom em caso de:**

- a) Distúrbios de coagulação, pirexia e tumores malignos.
- b) Acidose metabólica, HAS, infecção do trato urinário e dorsalgias.
- c) Alcalose, tumores benignos, HAS e diabetes melitus do tipo 2.
- d) Dorsalgias, HAS, gônadas, pirexia.
- e) Edema agudo de pulmão, contraturas, distúrbios de coagulação e alcalose respiratória.

**27. O músculo grande dorsal é innervado por:**

- a) Nervo subescapular
- b) Nervo axilar
- c) Nervo toracodorsal
- d) Nervo radial
- e) Nervo acessório

**28. A gota é uma doença causada pela deposição articular do cristal de monurato de sódio. Sobre a gota, é correto afirmar:**

- a) Ocorre entre os 15 e 20 anos, em pessoas do sexo feminino devido ao ciclo menstrual.
- b) Os depósitos na articulação geralmente não são inertes.
- c) Não tem ligação com hábitos alimentares.
- d) Acomete mais homens por não possuir a enzima aricase.
- e) Ocorre uma hiporuricemia.

**29. A avaliação do estado ácido-base, do organismo, na prática clínica é feita pela análise de parâmetros. Os principais são, exceto:**

- a) PH
- b) BE
- c) Leucócitos
- d) HCO<sub>3</sub>
- e) PCO<sub>2</sub>

**30. Em uma gasometria arterial com bicarbonato elevado, acima de 28 mM/ L, significa que há excesso de base presente no sangue. Quanto ao assunto, assinale a alternativa correta.**

- a) O excesso de base diminui o PH, configurando o quadro de acidose mista.
- b) O excesso de base estabiliza o PH, configurando acidose.
- c) O excesso de base diminui o PH e configura alcalose respiratória.
- d) O excesso de base eleva o PH, configurando o quadro de alcalose metabólica.
- e) O excesso de base aumenta o PH e configura uma acidose respiratória.

**31. Assinale a alternativa que apresenta corretamente os nomes dos músculos inspiratórios:**

- a) Reto abdominal e oblíquos.
- b) Diafragma e intercostais externos.
- c) Transversos e reto abdominal.
- d) Intercostais internos e transversos.
- e) Oblíquos e intercostais.

**32. Esta manobra (ou sinal) consiste no ato de “escalar” o próprio corpo, utilizando as mãos, a partir de uma posição agachada, devido à diminuição de força muscular, muito comum em pacientes portadores de distrofia muscular de duchene.**

**Tal afirmação refere-se ao:**

- a) Sinal de yocien
- b) Sinal de hawkins
- c) Sinal de jobe
- d) Sinal de neer
- e) Sinal de gowers

**33. As células de kupffer são macrófagos que recebem este nome unicamente em um órgão específico do corpo humano. Em qual órgão?**

- a) Fígado
- b) Coração
- c) Pulmão
- d) Pele
- e) Cérebro

**34. No que diz respeito à biomecânica da marcha normal, o termo que define o número de passos dados em uma unidade de tempo, normalmente expresso como passos por minuto, chama-se:**

- a) Passo
- b) Cadência
- c) Ciclo da marcha
- d) Trote
- e) Passada

**35. Trata-se de uma técnica de avaliação utilizada como diagnóstico funcional para mensurar objetivamente as amplitudes de movimento articular, que servirá como auxílio para o profissional traçar uma conduta. Tal afirmação corresponde à técnica conhecida como:**

- a) Crioterapia
- b) Goniometria
- c) Cinesioterapia
- d) Eletroterapia
- e) Fototerapia

## LÍNGUA PORTUGUESA

**Texto para as próximas cinco questões:**

### “O cego Estrelinho” Mia Couto

O cego Estrelinho era pessoa de nenhuma vez: sua história poderia ser contada e descontada não fosse seu guia, Gigito Efraim. A mão de Gigito conduziu o desvistado por tempos e idades. Aquela mão era repartidamente comum, extensão de um no outro, siamensal. E assim era quase de nascença. Memória de Estrelinho tinha cinco dedos e eram os de Gigito postos, em aperto, na sua própria mão.

O cego, curioso, queria saber de tudo. Ele não fazia cerimônia no viver. O sempre lhe era pouco e o tudo insuficiente. Dizia, deste modo:

— Tenho que viver já, senão esqueço-me.

Gigitinho, porém, o que descrevia era o que não havia. O mundo que ele minuciava eram fantasias e rendilhados. A imaginação do guia era mais profícua que papaeira. O cego enchia a boca de águas:

— Que maravilhação esse mundo. Me conte tudo, Gigito!

A mão do guia era, afinal, o manuscrito da mentira. Gigito Efraim estava como nunca esteve S. Tomé: via para não crer. O condutor falava pela ponta dos dedos. Desfolhava o universo, aberto em folhas. A ideiação dele era tal que mesmo o cego, por vezes, acreditava ver. O outro lhe encorajava esses breves enganos:

— Desbengale-se, você está escolhendo a boa procedência!

Mentira: Estrelinho continuava sem ver uma palmeira à frente do nariz. Contudo, o cego não se conformava em suas escurezas. Ele cumpria o ditado: não tinha perna e queria dar o pontapé. Só à noite, ele desalentava, sofrendo medos mais antigos que a humanidade. Entendia aquilo que, na raça humana, é menos primitivo: o animal.

— Na noite aflige não haver luz?

— Aflição é ter um pássaro branco esvoando dentro do sono.

Pássaro branco? No sono? Lugar de ave é nas alturas. Dizem até que Deus fez o céu para justificar os pássaros. Estrelinho disfarçava o medo dos vaticínios, subterfugindo:

— E agora, Gigitinho? Agora, olhando assim para cima, estou face ao céu?

Que podia o outro responder? O céu do cego fica em toda a parte. Estrelinho perdia o pé era quando a noite chegava e seu mestre adormecia. Era como se um novo escuro nele se estreasse em nó cego. Devagaroso e sorrateiro ele aninhava sua mão na mão do guia. Só assim adormecia. A razão da concha é a timidez da amêijoa? Na manhã seguinte, o cego lhe confessava: se você morrer, tenho que morrer logo no imediato. Senão-me: como acerto o caminho para o céu?

Foi no mês de dezembro que levaram Gigitinho. Lhe tiraram do mundo para pôr na guerra: obrigavam os serviços militares. O cego reclamou: que o moço inatingia a idade. E que o serviço que ele a si prestava era vital e vitalício. O guia chamou Estrelinho à parte e lhe tranquilizou:

— Não vai ficar sozinho por aí. Minha mana já mandei para ficar no meu lugar.

O cego estendeu o braço a querer tocar uma despedida. Mas o outro já não estava lá. Ou estava e se desviara, propositado? E sem água ida nem vinda, Estrelinho escutou o amigo se afastar, engolido, esponjínquo, invisível. Pela primeira vez, Estrelinho se sentiu invalidado.

— Agora, só agora, sou cego que não vê.

(...)

**COUTO, Mia. Estórias abensonhadas. Rio de Janeiro: Nova Fronteira, 1996. (Pág 23 e 24).**

**36. Quanto à interpretação do fragmento do conto, podemos afirmar que:**

- Gigito Efraim era o guia de Estrelinho há pouquíssimo tempo.
- Estrelinho era cego de nascença.
- Gigito descrevia o mundo para Estrelinho de forma denotativa.
- Gigito foi convocado pelo exército para ser guia de cegos na guerra.
- Gigito descrevia o mundo para Estrelinho de forma conotativa.

**37. No período “O sempre lhe era pouco e o tudo insuficiente”, o pronome “LHE” exerce a função sintática de:**

- Objeto Direto
- Objeto Indireto
- Complemento Nominal
- Adjunto Adnominal
- Objeto Direto Preposicionado

**38. Na oração “A mão de Gigito conduziu o desvistado por tempos e idades”, o autor faz uso de um neologismo, assim como no decorrer de toda a obra em questão. Contudo, o neologismo só se torna possível pela utilização dos elementos mórficos naquilo que a gramática normativa pontua como Processo de Formação das Palavras. Levando em consideração apenas o recurso morfológico, qual Processo de Formação foi utilizado?**

- Derivação Sufixal
- Derivação Prefixal
- Derivação Regressiva
- Derivação Imprópria
- Derivação Parassintética

**39. No terceiro período do décimo terceiro parágrafo, temos:**

- Uma oração
- Duas orações
- Três orações
- Quatro orações
- Cinco orações

**40. No último parágrafo do fragmento do conto “— Agora, só agora, sou cego que não vê”, a oração subordinada presente classifica-se corretamente como:**

- Oração Subordinada Adjetiva Restritiva
- Oração Subordinada Adverbial Causal
- Oração Subordinada Substantiva Subjetiva
- Oração Subordinada Adverbial Explicativa
- Oração Subordinada Adjetiva Explicativa



PREFEITURA DE TELÊMACO BORBA - ESTADO DO PARANÁ- EDITAL Nº 001-2016 - CONCURSO PÚBLICO

VESPERTINO – 29/05/2016 – NÍVEL SUPERIOR

PROVA OBJETIVA NÚMERO

**3**

**CARGO: TMNS I - FISIOTERAPIA**

**Leia atentamente as INSTRUÇÕES:**

1. Confira seus dados no cartão-resposta: nome, número de inscrição e o curso para o qual se inscreveu.
2. **MARQUE no seu cartão-resposta o número da sua prova** (não será corrigido o cartão-resposta que não tiver marcado o número da prova) e **Assine** seu cartão-resposta.
3. Aguarde a autorização do Fiscal para abrir o caderno de prova. Ao receber a ordem do fiscal, confira o caderno de prova com muita atenção. Nenhuma reclamação sobre o total de questões ou falha de impressão será aceita depois de iniciada a prova.
4. O cartão-resposta não será substituído, salvo se contiver erro de impressão.
5. Preencha toda a área do cartão-resposta correspondente à alternativa de sua escolha, com caneta esferográfica (tinta azul ou preta), sem ultrapassar as bordas. As marcações duplas, ou rasuradas, com corretivo, ou marcadas diferentemente do modelo estabelecido no cartão-resposta poderão ser anuladas.
6. Sua prova tem **40** questões, com **5** alternativas.
7. Cabe apenas ao candidato a interpretação das questões, **o fiscal** não poderá fazer nenhuma interferência.
8. A prova será realizada com duração máxima de **3 (três) horas**, incluído o tempo para a realização da Prova Objetiva de múltipla escolha e o preenchimento do cartão-resposta.
9. O candidato poderá retirar-se do local de realização das provas somente **1 (uma) hora** após o seu início, sem levar o caderno de prova.
10. O candidato poderá levar o caderno de provas, assim como anotação contendo transcrição do seu cartão-resposta, somente **1h30min** (uma hora e trinta minutos) após o início da realização da prova.
11. Ao terminar a prova, o candidato deverá entregar ao fiscal de sala o cartão-resposta preenchido e **ASSINADO**.
12. Os **3 (três)** candidatos, que terminarem a prova por último, deverão permanecer na sala, e só poderão sair juntos após o fechamento do envelope, contendo os cartões-resposta dos candidatos presentes e ausentes, e assinarem no lacre do referido envelope, atestando que este foi devidamente lacrado.
13. Durante todo o tempo em que permanecer no local onde está ocorrendo o concurso, o candidato deverá, manter o celular desligado e sem bateria, só sendo permitido ligar depois de ultrapassar o portão de saída do prédio.
14. Não será permitido ao candidato fumar na sala de provas, bem como nas dependências.
15. Depois de terminar a prova e entregar ao fiscal o cartão-resposta, preenchido e assinado, não será mais permitido ao candidato o uso do banheiro e bebedouro.

**BOA PROVA!**



**CONHECIMENTOS ESPECÍFICOS****01. São características do tecido muscular, exceto:**

- a) Excitabilidade
- b) Contractibilidade
- c) Extensibilidade
- d) Elasticidade
- e) Motricidade

**02. Assinale a alternativa que não apresenta o nome de uma ação muscular:**

- a) Agonista
- b) Antagonista
- c) Sinergista
- d) Fixadores
- e) Distrofia

**03. Assinale a alternativa que aponta somente nomes de músculos do membro superior:**

- a) Supinador, ancôneo e pronador quadrado.
- b) Ancôneo, sartório e pectíneo.
- c) Sartório, supinador e pectíneo.
- d) Piriforme, ancôneo e palmar curto.
- e) Pronador quadrado, piriforme e sartório.

**04. Marque a alternativa que contém a correta definição de contração isotônica.**

- a) Músculo alonga, empurrando outra estrutura e produzindo um movimento.
- b) Músculo encurta, puxando outra estrutura e produzindo um movimento.
- c) Músculo alonga no limite máximo, porém o movimento é nulo.
- d) Há alongamento máximo do músculo, porém não produz movimento.
- e) Há encurtamento mínimo do músculo, porém não resulta em movimento.

**05. Marque a alternativa correta sobre o músculo trapézio:**

- a) Sua ação é elevação da escápula.
- b) Sua origem é no nível cervical e cranial no redondo maior.
- c) Sua inserção é caudal ao vértice da crista deltoide do úmero.
- d) Sua origem é na margem cranial próxima à margem distal da escápula.
- e) Sua ação é extensão, adução, rotação e abdução do ombro.

**06. Marque a alternativa que nomeia a ação do músculo redondo maior:**

- a) Extensão e rotação do cotovelo
- b) Flexão do punho
- c) Extensão do joelho
- d) Pronação do pé
- e) Elevação do úmero e flexão da articulação glenoumeral.

**07. Sobre o músculo pectíneo, é correto afirmar:**

- a) Sua inserção é no ramo inferior do fêmur.
- b) Sua origem é na cabeça da fíbula.
- c) Sua origem é na linha pectínea do púbis.
- d) Sua inserção é no corpo do púbis.
- e) Sua origem é no trocanter maior.

**08. O tecido conjuntivo se apresenta de muitas formas, as quais são caracterizadas pelos tipos de células que as compõem. Dentre elas, podemos citar os macrófagos, mastócitos, fibroblastos e adipócitos. Marque a alternativa que traz a correta definição de macrófagos:**

- a) Contém enzimas para síntese de triglicerídios, que são a principal reserva energética do organismo.
- b) É a célula mais abundante do tecido conjuntivo, sendo a principal célula formadora das fibras e da substância amorfa.
- c) São células originadas dos monócitos, que são células do sangue. Sua principal função está relacionada à fagocitose e pinocitose de elementos estranhos ao organismo e de células mortas.
- d) São células globulosas, com citoplasma repleto de grânulos basófilos, contendo diversas substâncias que atuam no desencadeamento do processo inflamatório.
- e) São responsáveis pela contratilidade do tecido muscular estriado.

**09. É contraindicada a aplicação de crioterapia quando há:**

- a) Hipersensibilidade ao frio e traumas leves.
- b) Condromalacia patelar e contraturas musculares.

- c) Doenças pulmonares e edemas articulares.
- d) Doença de Raynaud e artrite da anemia falciforme.
- e) Alterações cardíacas e gestantes em nenhuma hipótese.

**10. Quais são os efeitos mecânicos do ultrassom?**

- a) Trocas na permeabilidade das células e membranas tissulares.
- b) Aumento da tensão tissular com aumento do quadro algico no local.
- c) Diminuir a capacidade regenerativa dos tecidos.
- d) Diminuição da permeabilidade das membranas.
- e) Relaxamento muscular devido à ação de diminuir o estímulo tissulares.

**11. É contraindicação absoluta a utilização de ultrassom em caso de:**

- a) Distúrbios de coagulação, pirexia e tumores malignos.
- b) Acidose metabólica, HAS, infecção do trato urinário e dorsalgias.
- c) Alcalose, tumores benignos, HAS e diabetes melitus do tipo 2.
- d) Dorsalgias, HAS, gônadas, pirexia.
- e) Edema agudo de pulmão, contraturas, distúrbios de coagulação e alcalose respiratória.

**12. O músculo grande dorsal é innervado por:**

- a) Nervo subescapular
- b) Nervo axilar
- c) Nervo toracodorsal
- d) Nervo radial
- e) Nervo acessório

**13. A gota é uma doença causada pela deposição articular do cristal de monurato de sódio. Sobre a gota, é correto afirmar:**

- a) Ocorre entre os 15 e 20 anos, em pessoas do sexo feminino devido ao ciclo menstrual.
- b) Os depósitos na articulação geralmente não são inertes.
- c) Não tem ligação com hábitos alimentares.
- d) Acomete mais homens por não possuir a enzima aricase.
- e) Ocorre uma hiporuricemia.

**14. A avaliação do estado ácido-base, do organismo, na prática clínica é feita pela análise de parâmetros. Os principais são, exceto:**

- a) PH
- b) BE
- c) Leucócitos
- d) HCO<sub>3</sub>
- e) PCO<sub>2</sub>

**15. Em uma gasometria arterial com bicarbonato elevado, acima de 28 mM/ L, significa que há excesso de base presente no sangue. Quanto ao assunto, assinale a alternativa correta.**

- a) O excesso de base diminui o PH, configurando o quadro de acidose mista.
- b) O excesso de base estabiliza o PH, configurando acidose.
- c) O excesso de base diminui o PH e configura alcalose respiratória.
- d) O excesso de base eleva o PH, configurando o quadro de alcalose metabólica.
- e) O excesso de base aumenta o PH e configura uma acidose respiratória.

**16. Assinale a alternativa que apresenta corretamente os nomes dos músculos inspiratórios:**

- a) Reto abdominal e oblíquos.
- b) Diafragma e intercostais externos.
- c) Transversos e reto abdominal.
- d) Intercostais internos e transversos.
- e) Oblíquos e intercostais.

**17. Esta manobra (ou sinal) consiste no ato de “escalar” o próprio corpo, utilizando as mãos, a partir de uma posição agachada, devido à diminuição de força muscular, muito comum em pacientes portadores de distrofia muscular de duchene.****Tal afirmação refere-se ao:**

- a) Sinal de yocien
- b) Sinal de hawkins
- c) Sinal de jobe
- d) Sinal de neer
- e) Sinal de gowers

**18. As células de kupffer são macrófagos que recebem este nome unicamente em um órgão específico do corpo humano. Em qual órgão?**

- a) Fígado
- b) Coração
- c) Pulmão
- d) Pele
- e) Cérebro

**19. No que diz respeito à biomecânica da marcha normal, o termo que define o número de passos dados em uma unidade de tempo, normalmente expresso como passos por minuto, chama-se:**

- a) Passo
- b) Cadência
- c) Ciclo da marcha
- d) Trote
- e) Passada

**20. Trata-se de uma técnica de avaliação utilizada como diagnóstico funcional para mensurar objetivamente as amplitudes de movimento articular, que servirá como auxílio para o profissional traçar uma conduta. Tal afirmação corresponde à técnica conhecida como:**

- a) Crioterapia
- b) Goniometria
- c) Cinesioterapia
- d) Eletroterapia
- e) Fototerapia

## LÍNGUA PORTUGUESA

**Texto para as próximas cinco questões:**

### “O cego Estrelinho” Mia Couto

O cego Estrelinho era pessoa de nenhuma vez: sua história poderia ser contada e descontada não fosse seu guia, Gigitto Efraim. A mão de Gigitto conduziu o desvistado por tempos e idades. Aquela mão era repartidamente comum, extensão de um no outro, siamense. E assim era quase de nascença. Memória de Estrelinho tinha cinco dedos e eram os de Gigitto postos, em aperto, na sua própria mão.

O cego, curioso, queria saber de tudo. Ele não fazia cerimônia no viver. O sempre lhe era pouco e o tudo insuficiente. Dizia, deste modo:

— Tenho que viver já, senão esqueço-me.

Gigitto, porém, o que descrevia era o que não havia. O mundo que ele minuciava eram fantasias e rendilhados. A imaginação do guia era mais profícua que papaeira. O cego enchia a boca de águas:

— Que maravilhação esse mundo. Me conte tudo, Gigitto!

A mão do guia era, afinal, o manuscrito da mentira. Gigitto Efraim estava como nunca esteve S. Tomé: via para não crer. O condutor falava pela ponta dos dedos. Desfolhava o universo, aberto em folhas. A ideiação dele era tal que mesmo o cego, por vezes, acreditava ver. O outro lhe encorajava esses breves enganar:

— Desbengale-se, você está escolhendo a boa procedência!

Mentira: Estrelinho continuava sem ver uma palmeira à frente do nariz. Contudo, o cego não se conformava em suas escurezas. Ele cumpria o ditado: não tinha perna e queria dar o pontapé. Só à noite, ele desalentava, sofrendo medos mais antigos que a humanidade. Entendia aquilo que, na raça humana, é menos primitivo: o animal.

— Na noite aflige não haver luz?

— Aflição é ter um pássaro branco esvoando dentro do sono.

Pássaro branco? No sono? Lugar de ave é nas alturas. Dizem até que Deus fez o céu para justificar os pássaros. Estrelinho disfarçava o medo dos vaticínios, subterfugindo:

— E agora, Gigitto? Agora, olhando assim para cima, estou face ao céu?

Que podia o outro responder? O céu do cego fica em toda a parte. Estrelinho perdia o pé era quando a noite chegava e seu mestre adormecia. Era como se um novo escuro nele se estreasse em nó cego. Devagaroso e sorrateiro ele aninhava sua mão na mão do guia. Só assim adormecia. A razão da concha é a timidez da amêijoia? Na manhã seguinte, o cego lhe confessava: se você morrer, tenho que morrer logo no imediato. Senão-me: como acerto o caminho para o céu?

Foi no mês de dezembro que levaram Gigitto. Lhe tiraram do mundo para pôr na guerra: obrigavam os serviços militares. O cego reclamou: que o moço inatingia a idade. E que o serviço que ele a si prestava era vital e vitalício. O guia chamou Estrelinho à parte e lhe tranquilizou:

— Não vai ficar sozinando por aí. Minha mana já mandei para ficar no meu lugar.



O cego estendeu o braço a querer tocar uma despedida. Mas o outro já não estava lá. Ou estava e se desviara, propositado? E sem água ida nem vinda, Estrelinho escutou o amigo se afastar, engolido, esponjínquo, inevisível. Pela pimeira vez, Estrelinho se sentiu invalidado.

— Agora, só agora, sou cego que não vê.

(...)

**COUTO, Mia. Estórias abensonhadas. Rio de Janeiro: Nova Fronteira, 1996. (Pág 23 e 24).**

**21. Quanto à interpretação do fragmento do conto, podemos afirmar que:**

- Gigito Efraim era o guia de Estrelinho há pouquíssimo tempo.
- Estrelinho era cego de nascença.
- Gigito descrevia o mundo para Estrelinho de forma denotativa.
- Gigito foi convocado pelo exército para ser guia de cegos na guerra.
- Gigito descrevia o mundo para Estrelinho de forma conotativa.

**22. No período “O sempre lhe era pouco e o tudo insuficiente”, o pronome “LHE” exerce a função sintática de:**

- Objeto Direto
- Objeto Indireto
- Complemento Nominal
- Adjunto Adnominal
- Objeto Direto Preposicionado

**23. Na oração “A mão de Gigito conduziu o desvestido por tempos e idades”, o autor faz uso de um neologismo, assim como no decorrer de toda a obra em questão. Contudo, o neologismo só se torna possível pela utilização dos elementos mórficos naquilo que a gramática normativa pontua como Processo de Formação das Palavras. Levando em consideração apenas o recurso morfológico, qual Processo de Formação foi utilizado?**

- Derivação Sufixal
- Derivação Prefixal
- Derivação Regressiva
- Derivação Imprópria
- Derivação Parassintética

**24. No terceiro período do décimo terceiro parágrafo, temos:**

- Uma oração
- Duas orações
- Três orações
- Quatro orações
- Cinco orações

**25. No último parágrafo do fragmento do conto “— Agora, só agora, sou cego que não vê”, a oração subordinada presente classifica-se corretamente como:**

- Oração Subordinada Adjetiva Restritiva
- Oração Subordinada Adverbial Causal
- Oração Subordinada Substantiva Subjetiva
- Oração Subordinada Adverbial Explicativa
- Oração Subordinada Adjetiva Explicativa

#### **RACIOCÍNIO LÓGICO**

**26. Os cinco filhos de Ana estavam discutindo a respeito da data de nascimento da mãe:**

- Almir disse que foi em janeiro, dia 14, sexta-feira.
- Vanderlei disse que foi em janeiro, dia 14, sábado.
- Tiago disse que foi em fevereiro, dia 15, sábado.
- Sandro disse que foi em janeiro, dia 15, sexta-feira.
- Renato disse que foi em fevereiro, dia 15, sexta-feira.

**Sabe-se que somente um dos filhos de Ana acertou corretamente sua data de nascimento e que os outros acertaram pelo menos um dos itens (dia, dia da semana e mês). Dessa forma, é correto afirmar que o filho de Ana que acertou a data de nascimento dela foi:**

- Renato
- Sandro
- Tiago
- Vanderlei
- Almir

27. Considere a seguinte afirmativa: “Todo churrasqueiro gosta de picanha”. Em relação a essa proposição, é correto afirmar que:

- Algum churrasqueiro não gosta de picanha.
- Toda pessoa que gosta de picanha é churrasqueira.
- Alguma pessoa que não gosta de picanha é churrasqueira.
- Toda pessoa que não é churrasqueira, não gosta de picanha.
- Toda pessoa que não gosta de picanha, não é churrasqueira.

28. Em um grupo formado por 67 pessoas, verificou-se que 41 pessoas gostam de arroz, 29 gostam de feijão, 33 gostam de carne, 19 gostam de arroz e de feijão, 9 gostam apenas de arroz e de carne, 12 gostam de feijão e de carne e que 6 gostam de arroz, de feijão e de carne. O número de pessoas desse grupo, que não gosta de nenhum desses três tipos de alimentos é igual a:

- 4
- 5
- 6
- 8
- 10

29. Bruno escreveu, em seu caderno, várias sequências formadas por números múltiplos de 4, onde os valores que ocupavam as posições pares eram multiplicados por  $-1$ . Cada sequência foi somada e o resultado da soma anotado. A soma das três primeiras sequências escritas por Bruno foram as seguintes:

$$4 - 8 = -4$$

$$4 - 8 + 12 = 8$$

$$4 - 8 + 12 - 16 = -8$$

Considere que Bruno escreveu e somou tais sequências, em seu caderno, de modo a obter determinada sequência cuja soma foi 600. O número de termos dessa sequência é igual a:

- 149
- 150
- 298
- 299
- 300

30. Quatro torcedores, um do São Paulo, um do Cruzeiro, um do Vasco e um do Bahia, estão sentados ao redor de uma mesa quadrada, de modo que, dois a dois, fiquem frente a frente. Sabe-se que Alan é torcedor do Cruzeiro e que Bruno está sentado à direita de Alan. Sabe-se também que Caio está sentado à direita do torcedor do São Paulo. Sabe-se ainda que Daniel não é torcedor do Vasco e que está sentado à frente de Bruno. Dessa forma, é correto afirmar que:

- Bruno é torcedor do Bahia e Daniel é torcedor do São Paulo.
- Bruno é torcedor do São Paulo e Daniel é torcedor do Bahia.
- Caio é torcedor do Vasco e Daniel é torcedor do São Paulo.
- Caio é torcedor do Bahia e Daniel é torcedor do São Paulo.
- Bruno é torcedor do Vasco e Daniel é torcedor do Bahia.

### INFORMÁTICA

31. Considerando o MS-Excel versão 2010, observando a figura abaixo, é correto afirmar que:

	A	B	C
1			
2			
3			
4			

- Somente 03 três linhas estão selecionadas.
- Somente uma célula está selecionada.
- 12 (doze) células estão selecionadas.
- Somente a coluna A até a linha 4 (quatro) está selecionada.
- Somente as colunas 1 (um), 2 (dois), 3 (três) e 4 (quatro) estão selecionadas.

32. Considerando o MS-Excel versão 2010, observando a figura abaixo, é incorreto afirmar que:

	A	B	C
1	12	6	=A1*B1
2	8	2	=A2/B2
3	5	14	=A3-B3
4	6	11	=A4+B4

- a) O resultado da fórmula =A1\*B1 é 72.
- b) O resultado da fórmula =A2/B2 é 4.
- c) O resultado da fórmula =A3-B3 é -9.
- d) O resultado da fórmula =A3-B3 é 9.
- e) O resultado da fórmula =A4+B4 é 17.

**33. Digitando um texto no MS-Word versão 2010, necessito adicionar número nas páginas. Quanto a isso, é correto afirmar que:**

- a) No menu Layout da Página, clico em número de página e seleciono onde desejo adicionar os números.
- b) No menu Inserir, clico em número de página e seleciono onde desejo adicionar os números.
- c) No menu Revisão, clico em número de página e seleciono onde desejo adicionar os números.
- d) No menu Referências, clico em número de página e seleciono onde desejo adicionar os números.
- e) No menu Exibição, clico em número de página e seleciono onde desejo adicionar os números.

**34. A segurança da informação está diretamente relacionada com proteção de um conjunto de informações, no sentido de preservar o valor que possuem para um indivíduo ou uma organização. Atualmente, um dos aplicativos mais utilizados no mundo, o Whats app, teve uma alteração de confidencialidade muito importante na segurança das informações transmitidas e recebidas. Dentre as alternativas, assinale a que corretamente informa a alteração inserida no aplicativo Whats app.**

- a) Antispam
- b) Antivirus
- c) Firewall
- d) Antispyware
- e) Criptografia

**35. São todos os dispositivos que trabalham acoplados ao microcomputador para receber, transmitir, visualizar, ler, gravar ou armazenarem dados. São eles que permitem a comunicação do computador com o meio exterior, isto é, com os usuários e outras máquinas.**

**Esse texto descreve corretamente:**

- a) Memória ram
- b) Memória virtual
- c) Software
- d) Periféricos
- e) Hardware

## CONHECIMENTOS GERAIS

### 36. Hino do município de Telêmaco Borba/PR

Das virgens matas e campos verdejantes  
 Servindo-se também o rio Tibagi,  
 Homens de ideais, espíritos vibrantes.  
 Constituíram as indústrias aqui.  
 Estribilho:  
 Salve! Salve! Telêmaco Borba  
 Terra querida e de grandes primores,  
 A nossa homenagem rendamos  
 À cidade dos trabalhadores.  
 Pois a cadência de enorme e real progresso  
 Um município mui grandioso fez nascer,  
 Marcando assim, verdadeiro sucesso  
 Faz, então o Paraná engrandecer.

**No que tange ao Hino do município, atribua V (verdadeiro) ou F (falso) às afirmativas e marque a alternativa correta.**

- Eloah Martins Quadrado é autora da letra do hino.
- Bento Mossurunga compôs a música do hino.
- Eloah Martins Quadrado foi nomeada primeira professora da Cidade Nova, atual Telêmaco Borba.
- Bento Mossurunga fundou a orquestra Estudantil e Concertos – Orquestra Sinfônica da Universidade, a Sociedade de Cultura Artístico Basilio Itiberê.
- a) F, V, V, V.
- b) V, F, V, V.





- c) V, V, F, V.
- d) V, V, F, F.
- e) V, V, V, V.

**37. À luz da Lei nº 1883/2012, que dispões sobre o Estatuto dos Servidores Públicos da Administração Direta, Autárquica e Funcional do Município de Telêmaco Borba/PR, leia as alternativas e marque a correta.**

- a) A apresentação para a posse ocorrerá no prazo de até trinta dias, contados do ato de nomeação.
- b) A destituição do servidor da função gratificada dar-se-á por solicitação exclusiva dele mesmo.
- c) O servidor ocupante exclusivamente de cargo em comissão será contribuinte do regime geral de previdência social.
- d) A aprovação em concurso público gera o direito à nomeação, e será feita obedecida à ordem de classificação dos candidatos.
- e) O exercício de função gratificada poderá ser de dedicação integral ou parcial, conforme necessidade da administração.

**Conforme a Lei nº 1.881, de 05 de abril de 2012, que dispõe sobre o Plano de Cargos, Carreiras e Vencimentos do quadro geral de servidores da Prefeitura Municipal de Telêmaco Borba/PR, regulamentada pelo Decreto nº 2269/2015, responda às próximas três questões.**

**38. Leia as assertivas e assinala a incorreta.**

- a) Do resultado da avaliação de desempenho poderá ser interposto recurso à Comissão de Desenvolvimento Funcional no prazo de quinze dias a contar da publicação no Boletim Oficial do Município.
- b) Não será concedida a progressão ou promoção ao servidor que estiver em licença para tratamento de saúde por um período superior a quarenta e cinco dias, no período de avaliação.
- c) A alternância dos membros constituintes da Comissão de Desenvolvimento Funcional eleitos pelos servidores verificar-se-á a cada três anos de participação, observados, para substituição de seus participantes, o critério fixado no artigo anterior, não cabendo eleição sucessiva.
- d) Caberá à Comissão de Desenvolvimento Funcional, no caso de divergência de vinte por cento entre a nota do avaliador e a do avaliado, solicitar nova avaliação à chefia.
- e) Nos termos do disposto no art. 17 da Lei nº 1.881, de 05 de abril de 2012, para progredir, é necessário que o servidor satisfaça, dentre outros, o seguinte requisito: estar no efetivo exercício de seu cargo ou em função comissionada na sua área de atuação durante o interstício de dois anos.

**39. Assinale a alternativa que completa respectivamente as lacunas do texto a seguir:**

**A Comissão de Desenvolvimento Funcional será constituída por \_\_\_\_\_ membros, sendo \_\_\_\_\_ designados pelo Prefeito Municipal de Telêmaco Borba e os demais eleitos pelos servidores municipais dentre os estáveis, com a atribuição de coordenar os procedimentos relativos à avaliação periódica de desempenho e outras atribuições.**

- a) três / sete
- b) um / três
- c) sete / três
- d) três / cinco
- e) dois / cinco

**40. A Avaliação de Desempenho será norteadada, dentre outros, pelo seguinte princípio: Amplitude - a avaliação deve incidir sobre todas as áreas de atuação do servidor, que compreendem:**

- 1. a formulação de políticas administrativas e sua aplicação para todos os setores da administração municipal;**
- 2. o desempenho do profissional dentro de suas funções pertinentes;**
- 3. a estrutura do órgão em que exerce a função;**
- 4. os resultados de eficiência dos serviços de cada setor ou órgão da administração municipal;**
- 5. a participação direta do avaliado, durante todo o processo avaliativo.**

**Diante dessa afirmação, somente não está correto o item:**

- a) 1
- b) 2
- c) 3
- d) 4
- e) 5



PREFEITURA DE TELÊMACO BORBA - ESTADO DO PARANÁ- EDITAL Nº 001-2016 - CONCURSO PÚBLICO

VESPERTINO – 29/05/2016 – NÍVEL SUPERIOR

1

PROVA OBJETIVA NÚMERO

CARGO: TMNS I - GEOLOGIA

Leia atentamente as INSTRUÇÕES:

1. Confira seus dados no cartão-resposta: nome, número de inscrição e o curso para o qual se inscreveu.
2. **MARQUE no seu cartão-resposta o número da sua prova** (não será corrigido o cartão-resposta que não tiver marcado o número da prova) e **Assine** seu cartão-resposta.
3. Aguarde a autorização do Fiscal para abrir o caderno de prova. Ao receber a ordem do fiscal, confira o caderno de prova com muita atenção. Nenhuma reclamação sobre o total de questões ou falha de impressão será aceita depois de iniciada a prova.
4. O cartão-resposta não será substituído, salvo se contiver erro de impressão.
5. Preencha toda a área do cartão-resposta correspondente à alternativa de sua escolha, com caneta esferográfica (tinta azul ou preta), sem ultrapassar as bordas. As marcações duplas, ou rasuradas, com corretivo, ou marcadas diferentemente do modelo estabelecido no cartão-resposta poderão ser anuladas.
6. Sua prova tem **40** questões, com **5** alternativas.
7. Cabe apenas ao candidato a interpretação das questões, **o fiscal** não poderá fazer nenhuma interferência.
8. A prova será realizada com duração máxima de **3 (três) horas**, incluído o tempo para a realização da Prova Objetiva de múltipla escolha e o preenchimento do cartão-resposta.
9. O candidato poderá retirar-se do local de realização das provas somente **1 (uma) hora** após o seu início, sem levar o caderno de prova.
10. O candidato poderá levar o caderno de provas, assim como anotação contendo transcrição do seu cartão-resposta, somente **1h30min** (uma hora e trinta minutos) após o início da realização da prova.
11. Ao terminar a prova, o candidato deverá entregar ao fiscal de sala o cartão-resposta preenchido e **ASSINADO**.
12. Os **3 (três)** candidatos, que terminarem a prova por último, deverão permanecer na sala, e só poderão sair juntos após o fechamento do envelope, contendo os cartões-resposta dos candidatos presentes e ausentes, e assinarem no lacre do referido envelope, atestando que este foi devidamente lacrado.
13. Durante todo o tempo em que permanecer no local onde está ocorrendo o concurso, o candidato deverá, manter o celular desligado e sem bateria, só sendo permitido ligar depois de ultrapassar o portão de saída do prédio.
14. Não será permitido ao candidato fumar na sala de provas, bem como nas dependências.
15. Depois de terminar a prova e entregar ao fiscal o cartão-resposta, preenchido e assinado, não será mais permitido ao candidato o uso do banheiro e bebedouro.

**BOA PROVA!**

**LÍNGUA PORTUGUESA****Texto para as próximas cinco questões:****“O cego Estrelinho”  
Mia Couto**

O cego Estrelinho era pessoa de nenhuma vez: sua história poderia ser contada e descontada não fosse seu guia, Gigitto Efraim. A mão de Gigitto conduziu o desvistado por tempos e idades. Aquela mão era repartidamente comum, extensão de um no outro, siamensal. E assim era quase de nascença. Memória de Estrelinho tinha cinco dedos e eram os de Gigitto postos, em aperto, na sua própria mão.

O cego, curioso, queria saber de tudo. Ele não fazia cerimônia no viver. O sempre lhe era pouco e o tudo insuficiente. Dizia, deste modo:

— Tenho que viver já, senão esqueço-me.

Gigitto, porém, o que descrevia era o que não havia. O mundo que ele minuciava eram fantasias e rendilhados. A imaginação do guia era mais profícua que papaeira. O cego enchia a boca de águas:

— Que maravilhação esse mundo. Me conte tudo, Gigitto!

A mão do guia era, afinal, o manuscrito da mentira. Gigitto Efraim estava como nunca esteve S. Tomé: via para não crer. O condutor falava pela ponta dos dedos. Desfolhava o universo, aberto em folhas. A ideiação dele era tal que mesmo o cego, por vezes, acreditava ver. O outro lhe encorajava esses breves enganar:

— Desbengale-se, você está escolhendo a boa procedência!

Mentira: Estrelinho continuava sem ver uma palmeira à frente do nariz. Contudo, o cego não se conformava em suas escurezas. Ele cumpria o ditado: não tinha perna e queria dar o pontapé. Só à noite, ele desalentava, sofrendo medos mais antigos que a humanidade. Entendia aquilo que, na raça humana, é menos primitivo: o animal.

— Na noite aflige não haver luz?

— Aflição é ter um pássaro branco esvoando dentro do sono.

Pássaro branco? No sono? Lugar de ave é nas alturas. Dizem até que Deus fez o céu para justificar os pássaros. Estrelinho disfarçava o medo dos vaticínios, subterfugindo:

— E agora, Gigitto? Agora, olhando assim para cima, estou face ao céu?

Que podia o outro responder? O céu do cego fica em toda a parte. Estrelinho perdia o pé era quando a noite chegava e seu mestre adormecia. Era como se um novo escuro nele se estreasse em nó cego. Devagaroso e sorrateiro ele aninhava sua mão na mão do guia. Só assim adormecia. A razão da concha é a timidez da amêijoia? Na manhã seguinte, o cego lhe confessava: se você morrer, tenho que morrer logo no imediato. Senão-me: como acerto o caminho para o céu?

Foi no mês de dezembro que levaram Gigitto. Lhe tiraram do mundo para pôr na guerra: obrigavam os serviços militares. O cego reclamou: que o moço inatingia a idade. E que o serviço que ele a si prestava era vital e vitalício. O guia chamou Estrelinho à parte e lhe tranquilizou:

— Não vai ficar sozinando por aí. Minha mana já mandei para ficar no meu lugar.

O cego estendeu o braço a querer tocar uma despedida. Mas o outro já não estava lá. Ou estava e se desviara, propositado? E sem água ida nem vinda, Estrelinho escutou o amigo se afastar, engolido, esponginquo, inevisível. Pela primeira vez, Estrelinho se sentiu invalidado.

— Agora, só agora, sou cego que não vê.

(...)

**COUTO, Mia. Estórias abensonhadas. Rio de Janeiro: Nova Fronteira, 1996. (Pág 23 e 24).**

**01. Quanto à interpretação do fragmento do conto, podemos afirmar que:**

- Gigitto Efraim era o guia de Estrelinho há pouquíssimo tempo.
- Estrelinho era cego de nascença.
- Gigitto descrevia o mundo para Estrelinho de forma denotativa.
- Gigitto foi convocado pelo exército para ser guia de cegos na guerra.
- Gigitto descrevia o mundo para Estrelinho de forma conotativa.

**02. No período “O sempre lhe era pouco e o tudo insuficiente”, o pronome “LHE” exerce a função sintática de:**

- Objeto Direto
- Objeto Indireto
- Complemento Nominal
- Adjunto Adnominal
- Objeto Direto Preposicionado

**03. Na oração “A mão de Gigitto conduziu o desvistado por tempos e idades”, o autor faz uso de um neologismo, assim como no decorrer de toda a obra em questão. Contudo, o neologismo só se torna possível pela utilização dos elementos mórficos naquilo que a gramática normativa pontua como Processo de Formação das Palavras. Levando em consideração apenas o recurso morfológico, qual Processo de Formação foi utilizado?**

- Derivação Sufixal

- b) Derivação Prefixal
- c) Derivação Regressiva
- d) Derivação Imprópria
- e) Derivação Parassintética

**04. No terceiro período do décimo terceiro parágrafo, temos:**

- a) Uma oração
- b) Duas orações
- c) Três orações
- d) Quatro orações
- e) Cinco orações

**05. No último parágrafo do fragmento do conto “— Agora, só agora, sou cego que não vê”, a oração subordinada presente classifica-se corretamente como:**

- a) Oração Subordinada Adjetiva Restritiva
- b) Oração Subordinada Adverbial Causal
- c) Oração Subordinada Substantiva Subjetiva
- d) Oração Subordinada Adverbial Explicativa
- e) Oração Subordinada Adjetiva Explicativa

#### **RACIOCÍNIO LÓGICO**

**06. Os cinco filhos de Ana estavam discutindo a respeito da data de nascimento da mãe:**

- Almir disse que foi em janeiro, dia 14, sexta-feira.
- Vanderlei disse que foi em janeiro, dia 14, sábado.
- Tiago disse que foi em fevereiro, dia 15, sábado.
- Sandro disse que foi em janeiro, dia 15, sexta-feira.
- Renato disse que foi em fevereiro, dia 15, sexta-feira.

**Sabe-se que somente um dos filhos de Ana acertou corretamente sua data de nascimento e que os outros acertaram pelo menos um dos itens (dia, dia da semana e mês). Dessa forma, é correto afirmar que o filho de Ana que acertou a data de nascimento dela foi:**

- a) Renato
- b) Sandro
- c) Tiago
- d) Vanderlei
- e) Almir

**07. Considere a seguinte afirmativa: “Todo churrasqueiro gosta de picanha”. Em relação a essa proposição, é correto afirmar que:**

- a) Algum churrasqueiro não gosta de picanha.
- b) Toda pessoa que gosta de picanha é churrasqueira.
- c) Alguma pessoa que não gosta de picanha é churrasqueira.
- d) Toda pessoa que não é churrasqueira, não gosta de picanha.
- e) Toda pessoa que não gosta de picanha, não é churrasqueira.

**08. Em um grupo formado por 67 pessoas, verificou-se que 41 pessoas gostam de arroz, 29 gostam de feijão, 33 gostam de carne, 19 gostam de arroz e de feijão, 9 gostam apenas de arroz e de carne, 12 gostam de feijão e de carne e que 6 gostam de arroz, de feijão e de carne. O número de pessoas desse grupo, que não gosta de nenhum desses três tipos de alimentos é igual a:**

- a) 4
- b) 5
- c) 6
- d) 8
- e) 10

**09. Bruno escreveu, em seu caderno, várias sequências formadas por números múltiplos de 4, onde os valores que ocupavam as posições pares eram multiplicados por  $-1$ . Cada sequência foi somada e o resultado da soma anotado. A soma das três primeiras sequências escritas por Bruno foram as seguintes:**

$$4 - 8 = -4$$

$$4 - 8 + 12 = 8$$

$$4 - 8 + 12 - 16 = -8$$

**Considere que Bruno escreveu e somou tais sequências, em seu caderno, de modo a obter determinada sequência cuja soma foi 600. O número de termos dessa sequência é igual a:**

- a) 149
- b) 150
- c) 298

- d) 299  
e) 300

10. Quatro torcedores, um do São Paulo, um do Cruzeiro, um do Vasco e um do Bahia, estão sentados ao redor de uma mesa quadrada, de modo que, dois a dois, fiquem frente a frente. Sabe-se que Alan é torcedor do Cruzeiro e que Bruno está sentado à direita de Alan. Sabe-se também que Caio está sentado à direita do torcedor do São Paulo. Sabe-se ainda que Daniel não é torcedor do Vasco e que está sentado à frente de Bruno. Dessa forma, é correto afirmar que:

- a) Bruno é torcedor do Bahia e Daniel é torcedor do São Paulo.  
b) Bruno é torcedor do São Paulo e Daniel é torcedor do Bahia.  
c) Caio é torcedor do Vasco e Daniel é torcedor do São Paulo.  
d) Caio é torcedor do Bahia e Daniel é torcedor do São Paulo.  
e) Bruno é torcedor do Vasco e Daniel é torcedor do Bahia.

### INFORMÁTICA

11. Considerando o MS-Excel versão 2010, observando a figura abaixo, é correto afirmar que:

	A	B	C
1			
2			
3			
4			

- a) Somente 03 três linhas estão selecionadas.  
b) Somente uma célula está selecionada.  
c) 12 (doze) células estão selecionadas.  
d) Somente a coluna A até a linha 4 (quatro) está selecionada.  
e) Somente as colunas 1 (um), 2 (dois), 3 (três) e 4 (quatro) estão selecionadas.

12. Considerando o MS-Excel versão 2010, observando a figura abaixo, é incorreto afirmar que:

	A	B	C
1	12	6	=A1*B1
2	8	2	=A2/B2
3	5	14	=A3-B3
4	6	11	=A4+B4

- a) O resultado da fórmula =A1\*B1 é 72.  
b) O resultado da fórmula =A2/B2 é 4.  
c) O resultado da fórmula =A3-B3 é -9.  
d) O resultado da fórmula =A3-B3 é 9.  
e) O resultado da fórmula =A4+B4 é 17.

13. Digitando um texto no MS-Word versão 2010, necessito adicionar número nas páginas. Quanto a isso, é correto afirmar que:

- a) No menu Layout da Página, clico em número de página e seleciono onde desejo adicionar os números.  
b) No menu Inserir, clico em número de página e seleciono onde desejo adicionar os números.  
c) No menu Revisão, clico em número de página e seleciono onde desejo adicionar os números.  
d) No menu Referências, clico em número de página e seleciono onde desejo adicionar os números.  
e) No menu Exibição, clico em número de página e seleciono onde desejo adicionar os números.

14. A segurança da informação está diretamente relacionada com proteção de um conjunto de informações, no sentido de preservar o valor que possuem para um indivíduo ou uma organização. Atualmente, um dos aplicativos mais utilizados no mundo, o Whats app, teve uma alteração de confidencialidade muito importante na segurança das informações transmitidas e recebidas. Dentre as alternativas, assinale a que corretamente informa a alteração inserida no aplicativo Whats app.

- a) Antispam  
b) Antivirus  
c) Firewall  
d) Antispyware  
e) Criptografia



**15. São todos os dispositivos que trabalham acoplados ao microcomputador para receber, transmitir, visualizar, ler, gravar ou armazenarem dados. São eles que permitem a comunicação do computador com o meio exterior, isto é, com os usuários e outras máquinas.**

**Esse texto descreve corretamente:**

- a) Memória ram
- b) Memória virtual
- c) Software
- d) Periféricos
- e) Hardware

#### **CONHECIMENTOS GERAIS**

##### **16. Hino do município de Telêmaco Borba/PR**

Das virgens matas e campos verdejantes

Servindo-se também o rio Tibagi,

Homens de ideais, espíritos vibrantes.

Constituíram as indústrias aqui.

Estrilho:

Salve! Salve! Telêmaco Borba

Terra querida e de grandes primores,

A nossa homenagem rendamos

À cidade dos trabalhadores.

Pois a cadência de enorme e real progresso

Um município mui grandioso fez nascer,

Marcando assim, verdadeiro sucesso

Faz, então o Paraná engrandecer.

**No que tange ao Hino do município, atribua V (verdadeiro) ou F (falso) às afirmativas e marque a alternativa correta.**

Eloah Martins Quadrado é autora da letra do hino.

Bento Mossurunga compôs a música do hino.

Eloah Martins Quadrado foi nomeada primeira professora da Cidade Nova, atual Telêmaco Borba.

Bento Mossurunga fundou a orquestra Estudantil e Concertos – Orquestra Sinfônica da Universidade, a Sociedade de Cultura Artístico Basílio Itiberê.

a) F, V, V, V.

b) V, F, V, V.

c) V, V, F, V.

d) V, V, F, F.

e) V, V, V, V.

##### **17. À luz da Lei nº 1883/2012, que dispõe sobre o Estatuto dos Servidores Públicos da Administração Direta, Autárquica e Funcional do Município de Telêmaco Borba/PR, leia as alternativas e marque a correta.**

a) A apresentação para a posse ocorrerá no prazo de até trinta dias, contados do ato de nomeação.

b) A destituição do servidor da função gratificada dar-se-á por solicitação exclusiva dele mesmo.

c) O servidor ocupante exclusivamente de cargo em comissão será contribuinte do regime geral de previdência social.

d) A aprovação em concurso público gera o direito à nomeação, e será feita obedecida à ordem de classificação dos candidatos.

e) O exercício de função gratificada poderá ser de dedicação integral ou parcial, conforme necessidade da administração.

##### **Conforme a Lei nº 1.881, de 05 de abril de 2012, que dispõe sobre o Plano de Cargos, Carreiras e Vencimentos do quadro geral de servidores da Prefeitura Municipal de Telêmaco Borba/PR, regulamentada pelo Decreto nº 2269/2015, responda às próximas três questões.**

##### **18. Leia as assertivas e assinala a incorreta.**

a) Do resultado da avaliação de desempenho poderá ser interposto recurso à Comissão de Desenvolvimento Funcional no prazo de quinze dias a contar da publicação no Boletim Oficial do Município.

b) Não será concedida a progressão ou promoção ao servidor que estiver em licença para tratamento de saúde por um período superior a quarenta e cinco dias, no período de avaliação.

c) A alternância dos membros constituintes da Comissão de Desenvolvimento Funcional eleitos pelos servidores verificar-se-á a cada três anos de participação, observados, para substituição de seus participantes, o critério fixado no artigo anterior, não cabendo eleição sucessiva.

d) Caberá à Comissão de Desenvolvimento Funcional, no caso de divergência de vinte por cento entre a nota do avaliador e a do avaliado, solicitar nova avaliação à chefia.





e) Nos termos do disposto no art. 17 da Lei n° 1.881, de 05 de abril de 2012, para progredir, é necessário que o servidor satisfaça, dentre outros, o seguinte requisito: estar no efetivo exercício de seu cargo ou em função comissionada na sua área de atuação durante o interstício de dois anos.

**19. Assinale a alternativa que completa respectivamente as lacunas do texto a seguir:**

**A Comissão de Desenvolvimento Funcional será constituída por \_\_\_\_\_ membros, sendo \_\_\_\_\_ designados pelo Prefeito Municipal de Telêmaco Borba e os demais eleitos pelos servidores municipais dentre os estáveis, com a atribuição de coordenar os procedimentos relativos à avaliação periódica de desempenho e outras atribuições.**

- a) três / sete
- b) um / três
- c) sete / três
- d) três / cinco
- e) dois / cinco

**20. A Avaliação de Desempenho será norteadada, dentre outros, pelo seguinte princípio: Amplitude - a avaliação deve incidir sobre todas as áreas de atuação do servidor, que compreendem:**

- 1. a formulação de políticas administrativas e sua aplicação para todos os setores da administração municipal;**
- 2. o desempenho do profissional dentro de suas funções pertinentes;**
- 3. a estrutura do órgão em que exerce a função;**
- 4. os resultados de eficiência dos serviços de cada setor ou órgão da administração municipal;**
- 5. a participação direta do avaliado, durante todo o processo avaliativo.**

**Diante dessa afirmação, somente não está correto o item:**

- a) 1
- b) 2
- c) 3
- d) 4
- e) 5

#### **CONHECIMENTOS ESPECÍFICOS**

**21. O valor de peso específico do solo se dá em função dos constituintes mineralógicos dele. Qual dos valores abaixo representa um valor médio adotado comumente quando não se dispõe de análise de laboratório?**

- a) 3,10
- b) 5,17
- c) 4,95
- d) 2,01
- e) 2,65

**22. Um solo com as seguintes características: horizonte A constituído de matéria orgânica, coloração marrom escuro e com cerca de 35 cm de profundidade; horizonte B argiloso com profundidade superior a 1,0 m; horizonte C composto por fragmentos de rochas básicas. Pode ser classificado como:**

- a) ESPODOSSOLO FÉRRILUVICO Órtico dúbico.
- b) GLEISSOLO MELÂNICO Tb Eutrófico neofluvisólico.
- c) NEOSSOLO LITÓLICO Húmico típico.
- d) LATOSSOLO VERMELHO Distrófico.
- e) LUVISSOLO CRÔMICO Órtico.

**23. Qual das opções corresponde a um modelado de acumulação?**

- a) Pediplano Retocado
- b) Rampa de colúvio
- c) Pediplano Degradado
- d) Pedimento.
- e) Superfície de aplanamento

**24. O relevo cárstico é caracterizado por feições superficiais no terreno que resultam em importantes processos de dissolução, tanto por águas superficiais como subterrânea.**

**Assinale a alternativa correta sobre o relevo cárstico.**

- a) O epicarste abrange a zona vadosa e freática.
- b) O paracarste corresponde a feições identificadas em relevo cárstico relacionado a sistema de cavernas antigas.
- c) A uvala refere-se à feição de dolinas interligadas.
- d) O exocarste corresponde à porção externa do carste, em que não há rochas carbonáticas solúveis.
- e) O fluvio-carste é a condição em que os rios que compõem o carste possuem descarga pequena, de modo que eles se mantêm subterrâneos.

**25. Sobre o sistema geoquímico relacionado ao carbonato, pode-se afirmar que:**

- a) Em condições de pH baixo, o excesso de prótons mantém todos os carbonatos como ácido carbônico.
- b) Em pH intermediário, o íon dominante é o carbonato.
- c) Apenas 10% do íon carbonato está dissolvido sob a forma de bicarbonato, enquanto que 90% corresponde ao total de ácido carbônico e carbonato.
- d) A especiação do carbonato depende de uma série de fatores, entre os quais se destacam a temperatura e pressão.
- e) A água do mar, com pH entre 7,6 e 8,0, é amplamente dominado por íons de carbonato.

**26. O registro estratigráfico da Bacia do Paraná contempla seis supersequências na forma de pacotes rochosos, materializando cada um deles intervalos temporais com algumas dezenas de milhões de anos de duração e envelopados por superfícies de discordância de caráter inter-regional. Sobre essas supersequências, é correto afirmar que:**

- a) A Supersequência Paraná, Cambriana, é representada por um pacote caracterizado por uma notável heterogeneidade faciológica em toda sua grande área de ocorrência.
- b) A Supersequência Gondwana III materializa um ciclo transgressivo-regressivo completo, fruto da invasão e posterior saída do Panthalassa sobre o interior do Gondwana.
- c) A acumulação da Supersequência Gondwana II foi acompanhada de um progressivo fechamento da Bacia do Paraná às incursões marinhas provenientes de oeste.
- d) O ciclo sedimentar alcançou condições de máxima inundação no Artinskiano e encerra com sistemas deposicionais continentais à entrada do Triássico.
- e) As cinco primeiras supersequências são representadas por sucessões sedimentares que definem ciclos transgressivo-regressivos ligados a oscilações do nível relativo do mar no Paleozoico, ao passo que a sexta corresponde a pacotes de sedimentos continentais com rochas ígneas associadas.

**27. O magmatismo Mesozoico, representado pela Formação Serra Geral na Bacia do Paraná, constitui uma ampla província magmática que, no conjunto de todas as áreas por ela compreendidas, define a maior manifestação ígnea não-oceânica durante o Fanerozoico e uma importante contribuição à geração da crosta continental do planeta. Sobre essa unidade, assinale a alternativa correta:**

- a) A idade mais aceita como sendo o evento Serra Geral está entre 184 e 191 Ma.
- b) A abordagem geoquímica no estudo das rochas da unidade sugere que na porção sul da bacia dominam rochas enriquecidas em  $TiO_2$ , ao passo que na porção central e norte prevalecem as pobres neste constituinte.
- c) A Formação Serra Geral é caracterizada por rochas de natureza vulcânica que estão inseridas na Supersequência Paraná, da Bacia do Paraná.
- d) As rochas básicas e intermediárias representam 67% de todo volume magmático observado, enquanto que o restante é composto de rochas ácidas.
- e) O zoneamento vertical dos derrames de basalto consiste em: 1) base constituída por vidro e basalto com fraturas horizontais; 2) porção central de basalto denso com fraturamento vertical originado por resfriamento; e 3) topo composto por zona de fraturamento horizontal superposta por zona vesicular amidaloidal, que pode estar mineralizada por quartzo, calcita, zeólitas ou fluorita.

**28. Leia a seguinte definição: “..... são movimentos vertente abaixo muito lentos sob influência da gravidade, independentemente do seu mecanismo ou gênese, deve referir apenas o movimento imperceptível ou muito lento das vertentes, de caráter mais ou menos contínuo”.**

**Qual dos seguintes termos foi definido acima?**

- a) Rastejamento
- b) Solifluxão
- c) Queda de blocos
- d) Basculamento
- e) Escorregamento rotacional

**29. Sobre os limites de consistência do solo, assinale a alternativa correta:**

- a) O limite de contração corresponde à transição entre os estados sólido e semissólido de um solo qualquer.
- b) O limite de liquidez corresponde à transição entre os estados semissólido e líquido de um solo qualquer.
- c) O limite de plasticidade aumenta conforme aumente também o teor de umidade de uma amostra de solo.
- d) O solo possui comportamento líquido no intervalo de umidade entre o limite de liquidez e limite de contração.
- e) A resistência ao cisalhamento do solo é alta ao atingir o limite de contração do solo. Entretanto, quando este atinge o limite de liquidez, condição em que o solo encontra-se com baixa umidade, a resistência ao cisalhamento é baixa.

**30. Sobre os conceitos básicos relacionados à hidrogeologia, assinale a alternativa correta.**

- a) Aquicluda é uma formação geológica semipermeável, pois apresenta porosidade e permeabilidade relativamente baixas. São consideradas desprezíveis do ponto de vista de suprimento de água.

- b) A transmissividade (T) corresponde à quantidade de água que pode ser transmitida horizontalmente por unidade de largura do aquífero.
- c) A lei de Darcy deve ser aplicada quando o escoamento é laminar ou turbulento, o que é usual e cujo número de Reynolds (Re) é maior que 5 e menor que 60.
- d) Quando uma camada de solo/rocha tem a condutividade igual em todas as direções, o meio é chamado de anisotrópico.
- e) A lei de Darcy pressupõe uma distribuição anisotrópica, em que a condutividade hidráulica é independente da direção.

**31. Os métodos geofísicos fornecem medidas indiretas de investigação do subsolo. Sobre esses métodos, é correto afirmar que:**

- a) O conceito de condutividade elétrica é o mais importante no método geofísico elétrico – eletrorresistividade.
- b) A maioria dos métodos magnéticos baseia-se no fato de que as rochas e os minerais possuem diferentes condutividades elétricas.
- c) Os valores de suscetibilidade magnética para um mesmo grupo de rochas variam muito. Entretanto, de um modo geral, pode se considerar que sedimentos, xistos e ardósias possuem os valores mais baixos de suscetibilidades magnéticas.
- d) O mapa de isóclinas, muito utilizado para estudos com o método magnético, fornece linhas de igual inclinação magnética.
- e) As rochas com baixo teor de água são boas condutoras de água, o que é comprovado através do alto valor de eletrorresistividade.

**32. Sobre o coeficiente de permeabilidade de solos e rochas, é correto afirmar que:**

- a) Argilas não alteradas constituem rochas impermeáveis e, portanto, possuem altos valores do coeficiente de permeabilidade.
- b) Apesar de a permeabilidade ser um parâmetro muito útil em diversos estudos geológicos e hidrogeológicos, este parâmetro só pode ser obtido em ensaios de laboratórios específicos, o que por sua vez dificulta a sua obtenção.
- c) Valores de  $10^{-2}$  a  $10^{-3}$  do coeficiente de permeabilidade indicam rochas impermeáveis, tais como pedregulho limpo.
- d) A unidade mais usual adotada para o coeficiente de permeabilidade (K) é de área/tempo, como por exemplo  $\text{cm}^2/\text{s}$  e  $\text{m}^2/\text{dia}$ .
- e) O coeficiente de permeabilidade depende das características do fluido e varia inversamente ao coeficiente de viscosidade.

**33. Um solo do tipo NITOSSOLO BRUNO Distrófico típico apresenta qual das características apresentadas a seguir?**

- a) Horizonte B incipiente, ou seja, o horizonte B é inexpressivo ao longo do perfil de solo.
- b) Horizonte B com desenvolvimento estrutural do tipo prismas ou blocos e com a superfície dos agregados reluzentes, relacionadas à cerosidade ou superfícies de compressão.
- c) Excesso de matéria orgânica, certificado pelo caráter distrófico.
- d) São solos pouco evoluídos, conforme citado pelo caráter BRUNO.
- e) Tem o horizonte B classificado como textural, ou seja, horizonte pouco desenvolvido.

**34. O Sistema Aquífero Guarani (SAG) se estende pelos territórios brasileiro, argentino, paraguaio e uruguaio, representando um exemplo típico de aquífero transfronteiriço e de dimensões continentais. Assinale a alternativa correta sobre este aquífero:**

- a) O SAG é formado pelo conjunto de rochas arenosas das formações Cretáceas (Grupo Rosário do Sul e Formações Pirambóia e Botucatu no Brasil, e Buena Vista no Uruguai) e Trássicas (Formações Misiones no Paraguai e Tacuarembó na Argentina e no Uruguai) da Bacia Sedimentar do Paraná.
- b) A Formação Pirambóia é formada por arenitos finos, em parte siltsos, e localmente arenitos conglomeráticos rosados e amarelados, depositados em ambiente continental por sistemas eólicos com contribuição marinho.
- c) A Formação Botucatu é constituída essencialmente por arenitos conglomeráticos com estratificações cruzadas, planares ou acanaladas, de médio a grande porte, formadas em ambiente fluvial e eólico, com raras intercalações de arenitos com estratificação plano-paralela, depositados em ambiente marinho.
- d) A espessura do conjunto de formações que constitui o SAG chega a 400 metros, e seus depocentros, assinalados pela ocorrência de espessuras superiores a 500 metros, ocorrem ao longo de um eixo NNW-SSE, ortogonal aos rios Paraná e Uruguai, aproximadamente concordante com o eixo deposicional da Bacia do Paraná.
- e) As unidades estratigráficas que constituem o SAG encontram-se inseridas nas Supersequências Gondwana II (formações Santa Maria, e Pirambóia) e Gondwana III (Formação Botucatu), separadas por uma superfície de descontinuidade regional.

**35. Qual das alternativas abaixo corresponde à seguinte definição: – é uma dobra para cima, em que os dois flancos mergulham em direções opostas.**

- a) Dobra anticlinal
- b) Dobra isoclinal
- c) Dobra deitada
- d) Dobra sinforma
- e) Dobra neutra

**36. Atualmente são utilizados diversos métodos de classificação de maciços rochosos, determinados conforme a finalidade pretendida. Sobre a classificação de maciços rochosos, assinale a alternativa correta.**

- a) A classificação RSR (Rock Structure Rating) combina os efeitos dos tipos litológicos, estruturas e espaçamento, sem, entretanto, levar em consideração o fluxo da água.
- b) Um dos critérios adotados para classificação de maciços rochosos, segundo método de Bieniawski (1973), é o espaçamento das juntas.
- c) O valor obtido com ensaio de durabilidade a úmido equivalente a 37% permite classificar a amostra como muito baixo.
- d) Um valor de IQR equivalente a 32% indica que a rocha é de boa qualidade.
- e) O valor do IQR (índice de qualidade da rocha) corresponde à porcentagem obtida pela divisão da soma de todos os comprimentos de pedaços de testemunho de sondagem iguais ou maiores que 1 m, pelo comprimento total do furo.

**37. Qual dos seguintes solos possui maior vulnerabilidade a riscos geoambientais (processos erosivos e movimentos de massa)?**

- a) Neossolo lítólico
- b) Latossolo vermelho
- c) Latossolo roxo
- d) Espodossolo ferrihumilúvico
- e) Argissolo bruno-acinzentado

**38. Sobre as condições geoquímicas metamórficas, assinale a alternativa correta:**

- a) As reações de desidratação metamórfica causam a perda de água e também de compostos em solução. Portanto as rochas metamórficas são consideradas sistemas fechados, através dos quais grandes quantidades de água podem ter circulado.
- b) Na ausência de água ou CO<sub>2</sub> na fase dominante, prevalecem as condições de fácies xisto verde.
- c) Na faixa de temperatura em que ocorre o metamorfismo, o isótopo <sup>18</sup>O tende a se fracionar para a fase líquida, ao contrário do que ocorre em baixa temperatura.
- d) As rochas formadas em fácies granulito são comuns na base da crosta continental e são ricas em urânio e tório.
- e) As mudanças isotópicas importantes ocorrem em temperaturas acima de 500° C. Neste contexto torna-se disponível a água residual, a qual é essencial para permitir trocas de oxigênio.

**39. Qual das seguintes características um solo sáprico apresenta?**

- a) Contraste ou irregularidade no tamanho de partículas de areias.
- b) Usado para distinguir solos que apresentem valores de saturação por sódio (100 Na+/T) entre 6% e 15%, em algum ponto da seção de controle que defina a classe.
- c) Distribuição irregular (errática) do conteúdo de carbono orgânico em profundidade, não relacionada a processos pedogenéticos.
- d) Material orgânico constituído de fibras, facilmente identificáveis como de origem vegetal.
- e) Material orgânico em estágio avançado de decomposição.

**40. Assinale a alternativa correta quanto aos conceitos geomorfológicos.**

- a) Dale corresponde a uma depressão rasa, úmida, preenchida por materiais orgânicos e/ou minerais, associada a fenômenos de subsidência e/ou extravasamento do lençol freático, formado pelo direcionamento das águas de recarga que fluem para o vale.
- b) Recife é uma forma costeira abrupta esculpida por processos erosivos marinhos de alta energia.
- c) Morro testemunho corresponde a uma depressão alongada acompanhando a direção da charneira de uma anticlinal aplanada e escavada pela erosão seletiva.
- d) Dique marginal corresponde a uma passagem estreita causada pelo aprofundamento do talvegue de um rio em rochas resistentes à erosão, existentes em terrenos dobrados e falhados, geralmente discordante da estruturação regional.
- e) Delta é caracterizado como um depósito de material detrítico transportado por torrentes até a desembocadura em áreas de piemonte. Apresenta forma cônica, abrindo-se para jusante, sendo o eixo coincidente com a linha de maior competência da corrente.



PREFEITURA DE TELÊMACO BORBA - ESTADO DO PARANÁ- EDITAL Nº 001-2016 - CONCURSO PÚBLICO

VESPERTINO – 29/05/2016 – NÍVEL SUPERIOR

PROVA OBJETIVA NÚMERO

2

CARGO: TMNS I - GEOLOGIA

Leia atentamente as INSTRUÇÕES:

1. Confira seus dados no cartão-resposta: nome, número de inscrição e o curso para o qual se inscreveu.
2. **MARQUE no seu cartão-resposta o número da sua prova** (não será corrigido o cartão-resposta que não tiver marcado o número da prova) e **Assine** seu cartão-resposta.
3. Aguarde a autorização do Fiscal para abrir o caderno de prova. Ao receber a ordem do fiscal, confira o caderno de prova com muita atenção. Nenhuma reclamação sobre o total de questões ou falha de impressão será aceita depois de iniciada a prova.
4. O cartão-resposta não será substituído, salvo se contiver erro de impressão.
5. Preencha toda a área do cartão-resposta correspondente à alternativa de sua escolha, com caneta esferográfica (tinta azul ou preta), sem ultrapassar as bordas. As marcações duplas, ou rasuradas, com corretivo, ou marcadas diferentemente do modelo estabelecido no cartão-resposta poderão ser anuladas.
6. Sua prova tem **40** questões, com **5** alternativas.
7. Cabe apenas ao candidato a interpretação das questões, **o fiscal** não poderá fazer nenhuma interferência.
8. A prova será realizada com duração máxima de **3 (três) horas**, incluído o tempo para a realização da Prova Objetiva de múltipla escolha e o preenchimento do cartão-resposta.
9. O candidato poderá retirar-se do local de realização das provas somente **1 (uma) hora** após o seu início, sem levar o caderno de prova.
10. O candidato poderá levar o caderno de provas, assim como anotação contendo transcrição do seu cartão-resposta, somente **1h30min** (uma hora e trinta minutos) após o início da realização da prova.
11. Ao terminar a prova, o candidato deverá entregar ao fiscal de sala o cartão-resposta preenchido e **ASSINADO**.
12. Os **3 (três)** candidatos, que terminarem a prova por último, deverão permanecer na sala, e só poderão sair juntos após o fechamento do envelope, contendo os cartões-resposta dos candidatos presentes e ausentes, e assinarem no lacre do referido envelope, atestando que este foi devidamente lacrado.
13. Durante todo o tempo em que permanecer no local onde está ocorrendo o concurso, o candidato deverá, manter o celular desligado e sem bateria, só sendo permitido ligar depois de ultrapassar o portão de saída do prédio.
14. Não será permitido ao candidato fumar na sala de provas, bem como nas dependências.
15. Depois de terminar a prova e entregar ao fiscal o cartão-resposta, preenchido e assinado, não será mais permitido ao candidato o uso do banheiro e bebedouro.

**BOA PROVA!**

**RACIOCÍNIO LÓGICO**

**01. Os cinco filhos de Ana estavam discutindo a respeito da data de nascimento da mãe:**

- Almir disse que foi em janeiro, dia 14, sexta-feira.
- Vanderlei disse que foi em janeiro, dia 14, sábado.
- Tiago disse que foi em fevereiro, dia 15, sábado.
- Sandro disse que foi em janeiro, dia 15, sexta-feira.
- Renato disse que foi em fevereiro, dia 15, sexta-feira.

**Sabe-se que somente um dos filhos de Ana acertou corretamente sua data de nascimento e que os outros acertaram pelo menos um dos itens (dia, dia da semana e mês). Dessa forma, é correto afirmar que o filho de Ana que acertou a data de nascimento dela foi:**

- a) Renato
- b) Sandro
- c) Tiago
- d) Vanderlei
- e) Almir

**02. Considere a seguinte afirmativa: “Todo churrasqueiro gosta de picanha”. Em relação a essa proposição, é correto afirmar que:**

- a) Algum churrasqueiro não gosta de picanha.
- b) Toda pessoa que gosta de picanha é churrasqueira.
- c) Alguma pessoa que não gosta de picanha é churrasqueira.
- d) Toda pessoa que não é churrasqueira, não gosta de picanha.
- e) Toda pessoa que não gosta de picanha, não é churrasqueira.

**03. Em um grupo formado por 67 pessoas, verificou-se que 41 pessoas gostam de arroz, 29 gostam de feijão, 33 gostam de carne, 19 gostam de arroz e de feijão, 9 gostam apenas de arroz e de carne, 12 gostam de feijão e de carne e que 6 gostam de arroz, de feijão e de carne. O número de pessoas desse grupo, que não gosta de nenhum desses três tipos de alimentos é igual a:**

- a) 4
- b) 5
- c) 6
- d) 8
- e) 10

**04. Bruno escreveu, em seu caderno, várias sequências formadas por números múltiplos de 4, onde os valores que ocupavam as posições pares eram multiplicados por  $-1$ . Cada sequência foi somada e o resultado da soma anotado. A soma das três primeiras sequências escritas por Bruno foram as seguintes:**

$$4 - 8 = -4$$

$$4 - 8 + 12 = 8$$

$$4 - 8 + 12 - 16 = -8$$

**Considere que Bruno escreveu e somou tais sequências, em seu caderno, de modo a obter determinada sequência cuja soma foi 600. O número de termos dessa sequência é igual a:**

- a) 149
- b) 150
- c) 298
- d) 299
- e) 300

**05. Quatro torcedores, um do São Paulo, um do Cruzeiro, um do Vasco e um do Bahia, estão sentados ao redor de uma mesa quadrada, de modo que, dois a dois, fiquem frente a frente. Sabe-se que Alan é torcedor do Cruzeiro e que Bruno está sentado à direita de Alan. Sabe-se também que Caio está sentado à direita do torcedor do São Paulo. Sabe-se ainda que Daniel não é torcedor do Vasco e que está sentado à frente de Bruno. Dessa forma, é correto afirmar que:**

- a) Bruno é torcedor do Bahia e Daniel é torcedor do São Paulo.
- b) Bruno é torcedor do São Paulo e Daniel é torcedor do Bahia.
- c) Caio é torcedor do Vasco e Daniel é torcedor do São Paulo.
- d) Caio é torcedor do Bahia e Daniel é torcedor do São Paulo.
- e) Bruno é torcedor do Vasco e Daniel é torcedor do Bahia.



**INFORMÁTICA**

06. Considerando o MS-Excel versão 2010, observando a figura abaixo, é correto afirmar que:

	A	B	C
1			
2			
3			
4			

- Somente 03 três linhas estão selecionadas.
- Somente uma célula está selecionada.
- 12 (doze) células estão selecionadas.
- Somente a coluna A até a linha 4 (quatro) está selecionada.
- Somente as colunas 1 (um), 2 (dois), 3 (três) e 4 (quatro) estão selecionadas.

07. Considerando o MS-Excel versão 2010, observando a figura abaixo, é incorreto afirmar que:

	A	B	C
1	12	6	=A1*B1
2	8	2	=A2/B2
3	5	14	=A3-B3
4	6	11	=A4+B4

- O resultado da fórmula =A1\*B1 é 72.
- O resultado da fórmula =A2/B2 é 4.
- O resultado da fórmula =A3-B3 é -9.
- O resultado da fórmula =A3-B3 é 9.
- O resultado da fórmula =A4+B4 é 17.

08. Digitando um texto no MS-Word versão 2010, necessito adicionar número nas páginas. Quanto a isso, é correto afirmar que:

- No menu Layout da Página, clico em número de página e seleciono onde desejo adicionar os números.
- No menu Inserir, clico em número de página e seleciono onde desejo adicionar os números.
- No menu Revisão, clico em número de página e seleciono onde desejo adicionar os números.
- No menu Referências, clico em número de página e seleciono onde desejo adicionar os números.
- No menu Exibição, clico em número de página e seleciono onde desejo adicionar os números.

09. A segurança da informação está diretamente relacionada com proteção de um conjunto de informações, no sentido de preservar o valor que possuem para um indivíduo ou uma organização. Atualmente, um dos aplicativos mais utilizados no mundo, o Whats app, teve uma alteração de confidencialidade muito importante na segurança das informações transmitidas e recebidas. Dentre as alternativas, assinale a que corretamente informa a alteração inserida no aplicativo Whats app.

- Antispam
- Antivirus
- Firewall
- Antispyware
- Criptografia

10. São todos os dispositivos que trabalham acoplados ao microcomputador para receber, transmitir, visualizar, ler, gravar ou armazenarem dados. São eles que permitem a comunicação do computador com o meio exterior, isto é, com os usuários e outras máquinas.

Esse texto descreve corretamente:

- Memória ram
- Memória virtual
- Software
- Periféricos
- Hardware

**CONHECIMENTOS GERAIS**

11. Hino do município de Telêmaco Borba/PR

Das virgens matas e campos verdejantes  
Servindo-se também o rio Tibagi,



Homens de ideais, espíritos vibrantes.

Constituíram as indústrias aqui.

Estrilho:

Salve! Salve! Telêmaco Borba

Terra querida e de grandes primores,

A nossa homenagem rendamos

À cidade dos trabalhadores.

Pois a cadência de enorme e real progresso

Um município mui grandioso fez nascer,

Marcando assim, verdadeiro sucesso

Faz, então o Paraná engrandecer.

**No que tange ao Hino do município, atribua V (verdadeiro) ou F (falso) às afirmativas e marque a alternativa correta.**

( ) Eloah Martins Quadrado é autora da letra do hino.

( ) Bento Mossurunga compôs a música do hino.

( ) Eloah Martins Quadrado foi nomeada primeira professora da Cidade Nova, atual Telêmaco Borba.

( ) Bento Mossurunga fundou a orquestra Estudantil e Concertos – Orquestra Sinfônica da Universidade, a Sociedade de Cultura Artístico Basílio Itiberê.

a) F, V, V, V.

b) V, F, V, V.

c) V, V, F, V.

d) V, V, F, F.

e) V, V, V, V.

**12. À luz da Lei nº 1883/2012, que dispões sobre o Estatuto dos Servidores Públicos da Administração Direta, Autárquica e Funcional do Município de Telêmaco Borba/PR, leia as alternativas e marque a correta.**

a) A apresentação para a posse ocorrerá no prazo de até trinta dias, contados do ato de nomeação.

b) A destituição do servidor da função gratificada dar-se-á por solicitação exclusiva dele mesmo.

c) O servidor ocupante exclusivamente de cargo em comissão será contribuinte do regime geral de previdência social.

d) A aprovação em concurso público gera o direito à nomeação, e será feita obedecida à ordem de classificação dos candidatos.

e) O exercício de função gratificada poderá ser de dedicação integral ou parcial, conforme necessidade da administração.

**Conforme a Lei nº 1.881, de 05 de abril de 2012, que dispõe sobre o Plano de Cargos, Carreiras e Vencimentos do quadro geral de servidores da Prefeitura Municipal de Telêmaco Borba/PR, regulamentada pelo Decreto nº 2269/2015, responda às próximas três questões.**

**13. Leia as assertivas e assinala a incorreta.**

a) Do resultado da avaliação de desempenho poderá ser interposto recurso à Comissão de Desenvolvimento Funcional no prazo de quinze dias a contar da publicação no Boletim Oficial do Município.

b) Não será concedida a progressão ou promoção ao servidor que estiver em licença para tratamento de saúde por um período superior a quarenta e cinco dias, no período de avaliação.

c) A alternância dos membros constituintes da Comissão de Desenvolvimento Funcional eleitos pelos servidores verificar-se-á a cada três anos de participação, observados, para substituição de seus participantes, o critério fixado no artigo anterior, não cabendo eleição sucessiva.

d) Caberá à Comissão de Desenvolvimento Funcional, no caso de divergência de vinte por cento entre a nota do avaliador e a do avaliado, solicitar nova avaliação à chefia.

e) Nos termos do disposto no art. 17 da Lei nº 1.881, de 05 de abril de 2012, para progredir, é necessário que o servidor satisfaça, dentre outros, o seguinte requisito: estar no efetivo exercício de seu cargo ou em função comissionada na sua área de atuação durante o interstício de dois anos.

**14. Assinale a alternativa que completa respectivamente as lacunas do texto a seguir:**

**A Comissão de Desenvolvimento Funcional será constituída por \_\_\_\_\_ membros, sendo \_\_\_\_\_ designados pelo Prefeito Municipal de Telêmaco Borba e os demais eleitos pelos servidores municipais dentre os estáveis, com a atribuição de coordenar os procedimentos relativos à avaliação periódica de desempenho e outras atribuições.**

a) três / sete

b) um / três

c) sete / três

d) três / cinco

e) dois / cinco

**15. A Avaliação de Desempenho será norteadada, dentre outros, pelo seguinte princípio: Amplitude - a avaliação deve incidir sobre todas as áreas de atuação do servidor, que compreendem:**

- 1. a formulação de políticas administrativas e sua aplicação para todos os setores da administração municipal;**
- 2. o desempenho do profissional dentro de suas funções pertinentes;**
- 3. a estrutura do órgão em que exerce a função;**
- 4. os resultados de eficiência dos serviços de cada setor ou órgão da administração municipal;**
- 5. a participação direta do avaliado, durante todo o processo avaliativo.**

**Diante dessa afirmação, somente não está correto o item:**

- a) 1
- b) 2
- c) 3
- d) 4
- e) 5

### **CONHECIMENTOS ESPECÍFICOS**

**16. O valor de peso específico do solo se dá em função dos constituintes mineralógicos dele. Qual dos valores abaixo representa um valor médio adotado comumente quando não se dispõe de análise de laboratório?**

- a) 3,10
- b) 5,17
- c) 4,95
- d) 2,01
- e) 2,65

**17. Um solo com as seguintes características: horizonte A constituído de matéria orgânica, coloração marrom escuro e com cerca de 35 cm de profundidade; horizonte B argiloso com profundidade superior a 1,0 m; horizonte C composto por fragmentos de rochas básicas. Pode ser classificado como:**

- a) ESPODOSSOLO FÉRRILUVICO Órtico dúrico.
- b) GLEISSOLO MELÂNICO Tb Eutrófico neofluvissólico.
- c) NEOSSOLO LITÓLICO Húmico típico.
- d) LATOSSOLO VERMELHO Distrófico.
- e) LUVISSOLO CRÔMICO Órtico.

**18. Qual das opções corresponde a um modelado de acumulação?**

- a) Pediplano Retocado
- b) Rampa de colúvio
- c) Pediplano Degradado
- d) Pedimento.
- e) Superfície de aplanamento

**19. O relevo cárstico é caracterizado por feições superficiais no terreno que resultam em importantes processos de dissolução, tanto por águas superficiais como subterrânea.**

**Assinale a alternativa correta sobre o relevo cárstico.**

- a) O epicarste abrange a zona vadosa e freática.
- b) O paracarste corresponde a feições identificadas em relevo cárstico relacionado a sistema de cavernas antigas.
- c) A uvala refere-se à feição de dolinas interligadas.
- d) O exocarste corresponde à porção externa do carste, em que não há rochas carbonáticas solúveis.
- e) O fluvio-carste é a condição em que os rios que compõem o carste possuem descarga pequena, de modo que eles se mantêm subterrâneos.

**20. Sobre o sistema geoquímico relacionado ao carbonato, pode-se afirmar que:**

- a) Em condições de pH baixo, o excesso de prótons mantém todos os carbonatos como ácido carbônico.
- b) Em pH intermediário, o íon dominante é o carbonato.
- c) Apenas 10% do íon carbonato está dissolvido sob a forma de bicarbonato, enquanto que 90% corresponde ao total de ácido carbônico e carbonato.
- d) A especiação do carbonato depende de uma série de fatores, entre os quais se destacam a temperatura e pressão.
- e) A água do mar, com pH entre 7,6 e 8,0, é amplamente dominado por íons de carbonato.

**21. O registro estratigráfico da Bacia do Paraná contempla seis supersequências na forma de pacotes rochosos, materializando cada um deles intervalos temporais com algumas dezenas de milhões de anos de duração e envelopados por superfícies de discordância de caráter inter-regional. Sobre essas supersequências, é correto afirmar que:**



- a) A Supersequência Paraná, Cambriana, é representada por um pacote caracterizado por uma notável heterogeneidade faciológica em toda sua grande área de ocorrência.
- b) A Supersequência Gondwana III materializa um ciclo transgressivo-regressivo completo, fruto da invasão e posterior saída do Panthalassa sobre o interior do Gondwana.
- c) A acumulação da Supersequência Gondwana II foi acompanhada de um progressivo fechamento da Bacia do Paraná às incursões marinhas provenientes de oeste.
- d) O ciclo sedimentar alcançou condições de máxima inundaç o no Artinskiano e encerra com sistemas deposicionais continentais   entrada do Tri ssico.
- e) As cinco primeiras supersequ ncias s o representadas por sucess es sedimentares que definem ciclos transgressivo-regressivos ligados a oscila es do n vel relativo do mar no Paleozoico, ao passo que a sexta corresponde a pacotes de sedimentos continentais com rochas  gneas associadas.

**22. O magmatismo Mesozoico, representado pela Forma o Serra Geral na Bacia do Paran , constitui uma ampla prov ncia magm tica que, no conjunto de todas as  reas por ela compreendidas, define a maior manifesta o  nea n o-oce nica durante o Fanerozoico e uma importante contribui o   gera o da crosta continental do planeta. Sobre essa unidade, assinale a alternativa correta:**

- a) A idade mais aceita como sendo o evento Serra Geral est  entre 184 e 191 Ma.
- b) A abordagem geoqu mica no estudo das rochas da unidade sugere que na por o sul da bacia dominam rochas enriquecidas em  $TiO_2$ , ao passo que na por o central e norte prevalecem as pobres neste constituinte.
- c) A Forma o Serra Geral   caracterizada por rochas de natureza vulc nica que est o inseridas na Supersequ ncia Paran , da Bacia do Paran .
- d) As rochas b sicas e intermedi rias representam 67% de todo volume magm tico observado, enquanto que o restante   composto de rochas  cidas.
- e) O zoneamento vertical dos derrames de basalto consiste em: 1) base constitu da por vidro e basalto com fraturas horizontais; 2) por o central de basalto denso com fraturamento vertical originado por resfriamento; e 3) topo composto por zona de fraturamento horizontal superposta por zona vesicular amidaloidal, que pode estar mineralizada por quartzo, calcita, ze litas ou fluorita.

**23. Leia a seguinte defini o: “..... s o movimentos vertente abaixo muito lentos sob influ ncia da gravidade, independentemente do seu mecanismo ou g nese, deve referir apenas o movimento impercept vel ou muito lento das vertentes, de car ter mais ou menos cont nuo”.**

**Qual dos seguintes termos foi definido acima?**

- a) Rastejamento
- b) Soliflux o
- c) Queda de blocos
- d) Basculamento
- e) Escorregamento rotacional

**24. Sobre os limites de consist ncia do solo, assinale a alternativa correta:**

- a) O limite de contra o corresponde   transi o entre os estados s lido e semiss lido de um solo qualquer.
- b) O limite de liquidez corresponde   transi o entre os estados semiss lido e l quido de um solo qualquer.
- c) O limite de plasticidade aumenta conforme aumente tamb m o teor de umidade de uma amostra de solo.
- d) O solo possui comportamento l quido no intervalo de umidade entre o limite de liquidez e limite de contra o.
- e) A resist ncia ao cisalhamento do solo   alta ao atingir o limite de contra o do solo. Entretanto, quando este atinge o limite de liquidez, condi o em que o solo encontra-se com baixa umidade, a resist ncia ao cisalhamento   baixa.

**25. Sobre os conceitos b sicos relacionados   hidrogeologia, assinale a alternativa correta.**

- a) Aquiclude   uma forma o geol gica semiperme vel, pois apresenta porosidade e permeabilidade relativamente baixas. S o consideradas desprez veis do ponto de vista de suprimento de  gua.
- b) A transmissividade (T) corresponde   quantidade de  gua que pode ser transmitida horizontalmente por unidade de largura do aq fero.
- c) A lei de Darcy deve ser aplicada quando o escoamento   laminar ou turbulento, o que   usual e cujo n mero de Reynolds (Re)   maior que 5 e menor que 60.
- d) Quando uma camada de solo/rocha tem a condutividade igual em todas as dire es, o meio   chamado de anisotr pico.
- e) A lei de Darcy pressup e uma distribui o anisotr pica, em que a condutividade hidr ulica   independente da dire o.

**26. Os m todos geof sicos fornecem medidas indiretas de investiga o do subsolo. Sobre esses m todos,   correto afirmar que:**

- a) O conceito de condutividade el trico   o mais importante no m todo geof sico el trico – eletrorresistividade.
- b) A maioria dos m todos magn ticos baseia-se no fato de que as rochas e os minerais possuem diferentes condutividades el tricas.



- c) Os valores de suscetibilidade magnética para um mesmo grupo de rochas variam muito. Entretanto, de um modo geral, pode se considerar que sedimentos, xistos e ardósias possuem os valores mais baixos de suscetibilidades magnéticas.
- d) O mapa de isóclinas, muito utilizado para estudos com o método magnético, fornece linhas de igual inclinação magnética.
- e) As rochas com baixo teor de água são boas condutoras de água, o que é comprovado através do alto valor de eletrorresistividade.

**27. Sobre o coeficiente de permeabilidade de solos e rochas, é correto afirmar que:**

- a) Argilas não alteradas constituem rochas impermeáveis e, portanto, possuem altos valores do coeficiente de permeabilidade.
- b) Apesar de a permeabilidade ser um parâmetro muito útil em diversos estudos geológicos e hidrogeológicos, este parâmetro só pode ser obtido em ensaios de laboratórios específicos, o que por sua vez dificulta a sua obtenção.
- c) Valores de  $10^{-2}$  a  $10^{-3}$  do coeficiente de permeabilidade indicam rochas impermeáveis, tais como pedregulho limpo.
- d) A unidade mais usual adotada para o coeficiente de permeabilidade (K) é de área/tempo, como por exemplo  $\text{cm}^2/\text{s}$  e  $\text{m}^2/\text{dia}$ .
- e) O coeficiente de permeabilidade depende das características do fluido e varia inversamente ao coeficiente de viscosidade.

**28. Um solo do tipo NITOSSOLO BRUNO Distrófico típico apresenta qual das características apresentadas a seguir?**

- a) Horizonte B incipiente, ou seja, o horizonte B é inexpressivo ao longo do perfil de solo.
- b) Horizonte B com desenvolvimento estrutural do tipo prismas ou blocos e com a superfície dos agregados reluzentes, relacionadas à cerosidade ou superfícies de compressão.
- c) Excesso de matéria orgânica, certificado pelo caráter distrófico.
- d) São solos pouco evoluídos, conforme citado pelo caráter BRUNO.
- e) Tem o horizonte B classificado como textural, ou seja, horizonte pouco desenvolvido.

**29. O Sistema Aquífero Guarani (SAG) se estende pelos territórios brasileiro, argentino, paraguaio e uruguaio, representando um exemplo típico de aquífero transfronteiriço e de dimensões continentais. Assinale a alternativa correta sobre este aquífero:**

- a) O SAG é formado pelo conjunto de rochas arenosas das formações Cretáceas (Grupo Rosário do Sul e Formações Pirambóia e Botucatu no Brasil, e Buena Vista no Uruguai) e Trássicas (Formações Misiones no Paraguai e Tacuarembó na Argentina e no Uruguai) da Bacia Sedimentar do Paraná.
- b) A Formação Pirambóia é formada por arenitos finos, em parte siltosos, e localmente arenitos conglomeráticos rosados e amarelados, depositados em ambiente continental por sistemas eólicos com contribuição marinho.
- c) A Formação Botucatu é constituída essencialmente por arenitos conglomeráticos com estratificações cruzadas, planares ou acanaladas, de médio a grande porte, formadas em ambiente fluvial e eólico, com raras intercalações de arenitos com estratificação plano-paralela, depositados em ambiente marinho.
- d) A espessura do conjunto de formações que constitui o SAG chega a 400 metros, e seus depocentros, assinalados pela ocorrência de espessuras superiores a 500 metros, ocorrem ao longo de um eixo NNW-SSE, ortogonal aos rios Paraná e Uruguai, aproximadamente concordante com o eixo deposicional da Bacia do Paraná.
- e) As unidades estratigráficas que constituem o SAG encontram-se inseridas nas Supersequências Gondwana II (formações Santa Maria, e Pirambóia) e Gondwana III (Formação Botucatu), separadas por uma superfície de descontinuidade regional.

**30. Qual das alternativas abaixo corresponde à seguinte definição: – é uma dobra para cima, em que os dois flancos mergulham em direções opostas.**

- a) Dobra anticlinal
- b) Dobra isoclinal
- c) Dobra deitada
- d) Dobra sinforma
- e) Dobra neutra

**31. Atualmente são utilizados diversos métodos de classificação de maciços rochosos, determinados conforme a finalidade pretendida. Sobre a classificação de maciços rochosos, assinale a alternativa correta.**

- a) A classificação RSR (Rock Structure Rating) combina os efeitos dos tipos litológicos, estruturas e espaçamento, sem, entretanto, levar em consideração o fluxo da água.
- b) Um dos critérios adotados para classificação de maciços rochosos, segundo método de Bieniawski (1973), é o espaçamento das juntas.



- c) O valor obtido com ensaio de durabilidade a úmido equivalente a 37% permite classificar a amostra como muito baixo.
- d) Um valor de IQR equivalente a 32% indica que a rocha é de boa qualidade.
- e) O valor do IQR (índice de qualidade da rocha) corresponde à porcentagem obtida pela divisão da soma de todos os comprimentos de pedaços de testemunho de sondagem iguais ou maiores que 1 m, pelo comprimento total do furo.

**32. Qual dos seguintes solos possui maior vulnerabilidade a riscos geoambientais (processos erosivos e movimentos de massa)?**

- a) Neossolo litólico
- b) Latossolo vermelho
- c) Latossolo roxo
- d) Espodossolo ferrihumilúvico
- e) Argissolo bruno-acinzentado

**33. Sobre as condições geoquímicas metamórficas, assinale a alternativa correta:**

- a) As reações de desidratação metamórfica causam a perda de água e também de compostos em solução. Portanto as rochas metamórficas são consideradas sistemas fechados, através dos quais grandes quantidades de água podem ter circulado.
- b) Na ausência de água ou CO<sub>2</sub> na fase dominante, prevalecem as condições de fácies xisto verde.
- c) Na faixa de temperatura em que ocorre o metamorfismo, o isótopo <sup>18</sup>O tende a se fracionar para a fase líquida, ao contrário do que ocorre em baixa temperatura.
- d) As rochas formadas em fácies granulito são comuns na base da crosta continental e são ricas em urânio e tório.
- e) As mudanças isotópicas importantes ocorrem em temperaturas acima de 500° C. Neste contexto torna-se disponível a água residual, a qual é essencial para permitir trocas de oxigênio.

**34. Qual das seguintes características um solo sáprico apresenta?**

- a) Contraste ou irregularidade no tamanho de partículas de areias.
- b) Usado para distinguir solos que apresentem valores de saturação por sódio (100 Na+/T) entre 6% e 15%, em algum ponto da seção de controle que defina a classe.
- c) Distribuição irregular (errática) do conteúdo de carbono orgânico em profundidade, não relacionada a processos pedogenéticos.
- d) Material orgânico constituído de fibras, facilmente identificáveis como de origem vegetal.
- e) Material orgânico em estágio avançado de decomposição.

**35. Assinale a alternativa correta quanto aos conceitos geomorfológicos.**

- a) Dale corresponde a uma depressão rasa, úmida, preenchida por materiais orgânicos e/ou minerais, associada a fenômenos de subsidência e/ou extravasamento do lençol freático, formado pelo direcionamento das águas de recarga que fluem para o vale.
- b) Recife é uma forma costeira abrupta esculpida por processos erosivos marinhos de alta energia.
- c) Morro testemunho corresponde a uma depressão alongada acompanhando a direção da charneira de uma anticlinal aplanada e escavada pela erosão seletiva.
- d) Dique marginal corresponde a uma passagem estreita causada pelo aprofundamento do talvegue de um rio em rochas resistentes à erosão, existentes em terrenos dobrados e falhados, geralmente discordante da estruturação regional.
- e) Delta é caracterizado como um depósito de material detrítico transportado por torrentes até a desembocadura em áreas de piemonte. Apresenta forma cônica, abrindo-se para jusante, sendo o eixo coincidente com a linha de maior competência da corrente.

**LÍNGUA PORTUGUESA**

Texto para as próximas cinco questões:

**“O cego Estrelinho”  
Mia Couto**

O cego Estrelinho era pessoa de nenhuma vez: sua história poderia ser contada e descontada não fosse seu guia, Gigito Efraim. A mão de Gigito conduziu o desvistado por tempos e idades. Aquela mão era repartidamente comum, extensão de um no outro, siamense. E assim era quase de nascença. Memória de Estrelinho tinha cinco dedos e eram os de Gigito postos, em aperto, na sua própria mão.

O cego, curioso, queria saber de tudo. Ele não fazia cerimônia no viver. O sempre lhe era pouco e o tudo insuficiente. Dizia, deste modo:

— Tenho que viver já, senão esqueço-me.

Gigitinho, porém, o que descrevia era o que não havia. O mundo que ele minuciava eram fantasias e rendilhados. A imaginação do guia era mais profícua que papaeira. O cego enchia a boca de águas:

— Que maravilha esse mundo. Me conte tudo, Gigito!



A mão do guia era, afinal, o manuscrito da mentira. Gigito Efraim estava como nunca esteve S. Tomé: via para não crer. O condutor falava pela ponta dos dedos. Desfolhava o universo, aberto em folhas. A ideia dele era tal que mesmo o cego, por vezes, acreditava ver. O outro lhe encorajava esses breves enganos:

— Desbengale-se, você está escolhendo a boa procedência!

Mentira: Estrelinho continuava sem ver uma palmeira à frente do nariz. Contudo, o cego não se conformava em suas escurezas. Ele cumpria o ditado: não tinha perna e queria dar o pontapé. Só à noite, ele desalentava, sofrendo medos mais antigos que a humanidade. Entendia aquilo que, na raça humana, é menos primitivo: o animal.

— Na noite aflige não haver luz?

— Aflição é ter um pássaro branco esvoando dentro do sono.

Pássaro branco? No sono? Lugar de ave é nas alturas. Dizem até que Deus fez o céu para justificar os pássaros. Estrelinho disfarçava o medo dos vaticínios, subterfugindo:

— E agora, Gigitinho? Agora, olhando assim para cima, estou face ao céu?

Que podia o outro responder? O céu do cego fica em toda a parte. Estrelinho perdia o pé era quando a noite chegava e seu mestre adormecia. Era como se um novo escuro nele se estresse em nó cego. Devagaroso e sorrateiro ele aninhava sua mão na mão do guia. Só assim adormecia. A razão da concha é a timidez da amêijoia? Na manhã seguinte, o cego lhe confessava: se você morrer, tenho que morrer logo no imediato. Senão-me: como acerto o caminho para o céu?

Foi no mês de dezembro que levaram Gigitinho. Lhe tiraram do mundo para pôr na guerra: obrigavam os serviços militares. O cego reclamou: que o moço inatingia a idade. E que o serviço que ele a si prestava era vital e vitalício. O guia chamou Estrelinho à parte e lhe tranquilizou:

— Não vai ficar sozinando por aí. Minha mana já mandei para ficar no meu lugar.

O cego estendeu o braço a querer tocar uma despedida. Mas o outro já não estava lá. Ou estava e se desviara, propositado? E sem água ida nem vinda, Estrelinho escutou o amigo se afastar, engolido, esponjínquo, invisível. Pela primeira vez, Estrelinho se sentiu invalidado.

— Agora, só agora, sou cego que não vê.

(...)

**COUTO, Mia. Estórias abensonhadas. Rio de Janeiro: Nova Fronteira, 1996. (Pág 23 e 24).**

**36. Quanto à interpretação do fragmento do conto, podemos afirmar que:**

- Gigito Efraim era o guia de Estrelinho há pouquíssimo tempo.
- Estrelinho era cego de nascença.
- Gigito descrevia o mundo para Estrelinho de forma denotativa.
- Gigito foi convocado pelo exército para ser guia de cegos na guerra.
- Gigito descrevia o mundo para Estrelinho de forma conotativa.

**37. No período “O sempre lhe era pouco e o tudo insuficiente”, o pronome “LHE” exerce a função sintática de:**

- Objeto Direto
- Objeto Indireto
- Complemento Nominal
- Adjunto Adnominal
- Objeto Direto Preposicionado

**38. Na oração “A mão de Gigito conduziu o desvistado por tempos e idades”, o autor faz uso de um neologismo, assim como no decorrer de toda a obra em questão. Contudo, o neologismo só se torna possível pela utilização dos elementos mórficos naquilo que a gramática normativa pontua como Processo de Formação das Palavras. Levando em consideração apenas o recurso morfológico, qual Processo de Formação foi utilizado?**

- Derivação Sufixal
- Derivação Prefixal
- Derivação Regressiva
- Derivação Imprópria
- Derivação Parassintética

**39. No terceiro período do décimo terceiro parágrafo, temos:**

- Uma oração
- Duas orações
- Três orações
- Quatro orações
- Cinco orações

**40. No último parágrafo do fragmento do conto “— Agora, só agora, sou cego que não vê”, a oração subordinada presente classifica-se corretamente como:**

- Oração Subordinada Adjetiva Restritiva



PREFEITURA DE TELÊMACO BORBA - ESTADO DO PARANÁ- EDITAL Nº 001-2016 - CONCURSO PÚBLICO

VESPERTINO – 29/05/2016 – NÍVEL SUPERIOR

PROVA OBJETIVA NÚMERO

**3**

**CARGO: TMNS I - GEOLOGIA**

**Leia atentamente as INSTRUÇÕES:**

1. Confira seus dados no cartão-resposta: nome, número de inscrição e o curso para o qual se inscreveu.
2. **MARQUE no seu cartão-resposta o número da sua prova** (não será corrigido o cartão-resposta que não tiver marcado o número da prova) e **Assine** seu cartão-resposta.
3. Aguarde a autorização do Fiscal para abrir o caderno de prova. Ao receber a ordem do fiscal, confira o caderno de prova com muita atenção. Nenhuma reclamação sobre o total de questões ou falha de impressão será aceita depois de iniciada a prova.
4. O cartão-resposta não será substituído, salvo se contiver erro de impressão.
5. Preencha toda a área do cartão-resposta correspondente à alternativa de sua escolha, com caneta esferográfica (tinta azul ou preta), sem ultrapassar as bordas. As marcações duplas, ou rasuradas, com corretivo, ou marcadas diferentemente do modelo estabelecido no cartão-resposta poderão ser anuladas.
6. Sua prova tem **40** questões, com **5** alternativas.
7. Cabe apenas ao candidato a interpretação das questões, **o fiscal** não poderá fazer nenhuma interferência.
8. A prova será realizada com duração máxima de **3 (três) horas**, incluído o tempo para a realização da Prova Objetiva de múltipla escolha e o preenchimento do cartão-resposta.
9. O candidato poderá retirar-se do local de realização das provas somente **1 (uma) hora** após o seu início, sem levar o caderno de prova.
10. O candidato poderá levar o caderno de provas, assim como anotação contendo transcrição do seu cartão-resposta, somente **1h30min** (uma hora e trinta minutos) após o início da realização da prova.
11. Ao terminar a prova, o candidato deverá entregar ao fiscal de sala o cartão-resposta preenchido e **ASSINADO**.
12. Os **3 (três)** candidatos, que terminarem a prova por último, deverão permanecer na sala, e só poderão sair juntos após o fechamento do envelope, contendo os cartões-resposta dos candidatos presentes e ausentes, e assinarem no lacre do referido envelope, atestando que este foi devidamente lacrado.
13. Durante todo o tempo em que permanecer no local onde está ocorrendo o concurso, o candidato deverá, manter o celular desligado e sem bateria, só sendo permitido ligar depois de ultrapassar o portão de saída do prédio.
14. Não será permitido ao candidato fumar na sala de provas, bem como nas dependências.
15. Depois de terminar a prova e entregar ao fiscal o cartão-resposta, preenchido e assinado, não será mais permitido ao candidato o uso do banheiro e bebedouro.

**BOA PROVA!**

**CONHECIMENTOS ESPECÍFICOS**

**01. O valor de peso específico do solo se dá em função dos constituintes mineralógicos dele. Qual dos valores abaixo representa um valor médio adotado comumente quando não se dispõe de análise de laboratório?**

- a) 3,10
- b) 5,17
- c) 4,95
- d) 2,01
- e) 2,65

**02. Um solo com as seguintes características: horizonte A constituído de matéria orgânica, coloração marrom escuro e com cerca de 35 cm de profundidade; horizonte B argiloso com profundidade superior a 1,0 m; horizonte C composto por fragmentos de rochas básicas. Pode ser classificado como:**

- a) ESPODOSSOLO FÉRRILUVICO Órtico dúrico.
- b) GLEISSOLO MELÂNICO Tb Eutrófico neofluvisólico.
- c) NEOSSOLO LITÓLICO Húmico típico.
- d) LATOSSOLO VERMELHO Distrófico.
- e) LUVISSOLO CRÔMICO Órtico.

**03. Qual das opções corresponde a um modelado de acumulação?**

- a) Pediplano Retocado
- b) Rampa de colúvio
- c) Pediplano Degradado
- d) Pedimento.
- e) Superfície de aplanamento

**04. O relevo cárstico é caracterizado por feições superficiais no terreno que resultam em importantes processos de dissolução, tanto por águas superficiais como subterrânea.**

**Assinale a alternativa correta sobre o relevo cárstico.**

- a) O epicarste abrange a zona vadosa e freática.
- b) O paracarste corresponde a feições identificadas em relevo cárstico relacionado a sistema de cavernas antigas.
- c) A uvala refere-se à feição de dolinas interligadas.
- d) O exocarste corresponde à porção externa do carste, em que não há rochas carbonáticas solúveis.
- e) O fluviocarste é a condição em que os rios que compõem o carste possuem descarga pequena, de modo que eles se mantêm subterrâneos.

**05. Sobre o sistema geoquímico relacionado ao carbonato, pode-se afirmar que:**

- a) Em condições de pH baixo, o excesso de prótons mantém todos os carbonatos como ácido carbônico.
- b) Em pH intermediário, o íon dominante é o carbonato.
- c) Apenas 10% do íon carbonato está dissolvido sob a forma de bicarbonato, enquanto que 90% corresponde ao total de ácido carbônico e carbonato.
- d) A especiação do carbonato depende de uma série de fatores, entre os quais se destacam a temperatura e pressão.
- e) A água do mar, com pH entre 7,6 e 8,0, é amplamente dominado por íons de carbonato.

**06. O registro estratigráfico da Bacia do Paraná contempla seis supersequências na forma de pacotes rochosos, materializando cada um deles intervalos temporais com algumas dezenas de milhões de anos de duração e envelopados por superfícies de discordância de caráter inter-regional. Sobre essas supersequências, é correto afirmar que:**

- a) A Supersequência Paraná, Cambriana, é representada por um pacote caracterizado por uma notável heterogeneidade faciológica em toda sua grande área de ocorrência.
- b) A Supersequência Gondwana III materializa um ciclo transgressivo-regressivo completo, fruto da invasão e posterior saída do Panthalassa sobre o interior do Gondwana.
- c) A acumulação da Supersequência Gondwana II foi acompanhada de um progressivo fechamento da Bacia do Paraná às incursões marinhas provenientes de oeste.
- d) O ciclo sedimentar alcançou condições de máxima inundação no Artinskiano e encerra com sistemas deposicionais continentais à entrada do Triássico.
- e) As cinco primeiras supersequências são representadas por sucessões sedimentares que definem ciclos transgressivo-regressivos ligados a oscilações do nível relativo do mar no Paleozoico, ao passo que a sexta corresponde a pacotes de sedimentos continentais com rochas ígneas associadas.

**07. O magmatismo Mesozoico, representado pela Formação Serra Geral na Bacia do Paraná, constitui uma ampla província magmática que, no conjunto de todas as áreas por ela compreendidas, define a maior**

**manifestação ígnea não-oceânica durante o Fanerozoico e uma importante contribuição à geração da crosta continental do planeta. Sobre essa unidade, assinale a alternativa correta:**

- a) A idade mais aceita como sendo o evento Serra Geral está entre 184 e 191 Ma.
- b) A abordagem geoquímica no estudo das rochas da unidade sugere que na porção sul da bacia dominam rochas enriquecidas em  $TiO_2$ , ao passo que na porção central e norte prevalecem as pobres neste constituinte.
- c) A Formação Serra Geral é caracterizada por rochas de natureza vulcânica que estão inseridas na Supersequência Paraná, da Bacia do Paraná.
- d) As rochas básicas e intermediárias representam 67% de todo volume magmático observado, enquanto que o restante é composto de rochas ácidas.
- e) O zoneamento vertical dos derrames de basalto consiste em: 1) base constituída por vidro e basalto com fraturas horizontais; 2) porção central de basalto denso com fraturamento vertical originado por resfriamento; e 3) topo composto por zona de fraturamento horizontal superposta por zona vesicular amidaloidal, que pode estar mineralizada por quartzo, calcita, zeólitas ou fluorita.

**08. Leia a seguinte definição: “..... são movimentos vertente abaixo muito lentos sob influência da gravidade, independentemente do seu mecanismo ou gênese, deve referir apenas o movimento imperceptível ou muito lento das vertentes, de caráter mais ou menos contínuo”.**

**Qual dos seguintes termos foi definido acima?**

- a) Rastejamento
- b) Solifluxão
- c) Queda de blocos
- d) Basculamento
- e) Escorregamento rotacional

**09. Sobre os limites de consistência do solo, assinale a alternativa correta:**

- a) O limite de contração corresponde à transição entre os estados sólido e semissólido de um solo qualquer.
- b) O limite de liquidez corresponde à transição entre os estados semissólido e líquido de um solo qualquer.
- c) O limite de plasticidade aumenta conforme aumente também o teor de umidade de uma amostra de solo.
- d) O solo possui comportamento líquido no intervalo de umidade entre o limite de liquidez e limite de contração.
- e) A resistência ao cisalhamento do solo é alta ao atingir o limite de contração do solo. Entretanto, quando este atinge o limite de liquidez, condição em que o solo encontra-se com baixa umidade, a resistência ao cisalhamento é baixa.

**10. Sobre os conceitos básicos relacionados à hidrogeologia, assinale a alternativa correta.**

- a) Aquicluda é uma formação geológica semipermeável, pois apresenta porosidade e permeabilidade relativamente baixas. São consideradas desprezíveis do ponto de vista de suprimento de água.
- b) A transmissividade (T) corresponde à quantidade de água que pode ser transmitida horizontalmente por unidade de largura do aquífero.
- c) A lei de Darcy deve ser aplicada quando o escoamento é laminar ou turbulento, o que é usual e cujo número de Reynolds (Re) é maior que 5 e menor que 60.
- d) Quando uma camada de solo/rocha tem a condutividade igual em todas as direções, o meio é chamado de anisotrópico.
- e) A lei de Darcy pressupõe uma distribuição anisotrópica, em que a condutividade hidráulica é independente da direção.

**11. Os métodos geofísicos fornecem medidas indiretas de investigação do subsolo. Sobre esses métodos, é correto afirmar que:**

- a) O conceito de condutividade elétrica é o mais importante no método geofísico elétrico – eletrorresistividade.
- b) A maioria dos métodos magnéticos baseia-se no fato de que as rochas e os minerais possuem diferentes condutividades elétricas.
- c) Os valores de suscetibilidade magnética para um mesmo grupo de rochas variam muito. Entretanto, de um modo geral, pode se considerar que sedimentos, xistos e ardósias possuem os valores mais baixos de suscetibilidades magnéticas.
- d) O mapa de isóclinas, muito utilizado para estudos com o método magnético, fornece linhas de igual inclinação magnética.
- e) As rochas com baixo teor de água são boas condutoras de água, o que é comprovado através do alto valor de eletrorresistividade.

**12. Sobre o coeficiente de permeabilidade de solos e rochas, é correto afirmar que:**

- a) Argilas não alteradas constituem rochas impermeáveis e, portanto, possuem altos valores do coeficiente de permeabilidade.
- b) Apesar de a permeabilidade ser um parâmetro muito útil em diversos estudos geológicos e hidrogeológicos, este parâmetro só pode ser obtido em ensaios de laboratórios específicos, o que por sua vez dificulta a sua obtenção.

- c) Valores de  $10^{-2}$  a  $10^{-3}$  do coeficiente de permeabilidade indicam rochas impermeáveis, tais como pedregulho limpo.
- d) A unidade mais usual adotada para o coeficiente de permeabilidade (K) é de área/tempo, como por exemplo  $\text{cm}^2/\text{s}$  e  $\text{m}^2/\text{dia}$ .
- e) O coeficiente de permeabilidade depende das características do fluido e varia inversamente ao coeficiente de viscosidade.

**13. Um solo do tipo NITOSSOLO BRUNO Distrófico típico apresenta qual das características apresentadas a seguir?**

- a) Horizonte B incipiente, ou seja, o horizonte B é inexpressivo ao longo do perfil de solo.
- b) Horizonte B com desenvolvimento estrutural do tipo prismas ou blocos e com a superfície dos agregados reluzentes, relacionadas à cerosidade ou superfícies de compressão.
- c) Excesso de matéria orgânica, certificado pelo caráter distrófico.
- d) São solos pouco evoluídos, conforme citado pelo caráter BRUNO.
- e) Tem o horizonte B classificado como textural, ou seja, horizonte pouco desenvolvido.

**14. O Sistema Aquífero Guarani (SAG) se estende pelos territórios brasileiro, argentino, paraguaio e uruguaio, representando um exemplo típico de aquífero transfronteiriço e de dimensões continentais. Assinale a alternativa correta sobre este aquífero:**

- a) O SAG é formado pelo conjunto de rochas arenosas das formações Cretáceas (Grupo Rosário do Sul e Formações Pirambóia e Botucatu no Brasil, e Buena Vista no Uruguai) e Trássicas (Formações Misiones no Paraguai e Tacuarembó na Argentina e no Uruguai) da Bacia Sedimentar do Paraná.
- b) A Formação Pirambóia é formada por arenitos finos, em parte siltsos, e localmente arenitos conglomeráticos rosados e amarelados, depositados em ambiente continental por sistemas eólicos com contribuição marinho.
- c) A Formação Botucatu é constituída essencialmente por arenitos conglomeráticos com estratificações cruzadas, planares ou acanaladas, de médio a grande porte, formadas em ambiente fluvial e eólico, com raras intercalações de arenitos com estratificação plano-paralela, depositados em ambiente marinho.
- d) A espessura do conjunto de formações que constitui o SAG chega a 400 metros, e seus depocentros, assinalados pela ocorrência de espessuras superiores a 500 metros, ocorrem ao longo de um eixo NNW-SSE, ortogonal aos rios Paraná e Uruguai, aproximadamente concordante com o eixo deposicional da Bacia do Paraná.
- e) As unidades estratigráficas que constituem o SAG encontram-se inseridas nas Supersequências Gondwana II (formações Santa Maria, e Pirambóia) e Gondwana III (Formação Botucatu), separadas por uma superfície de descontinuidade regional.

**15. Qual das alternativas abaixo corresponde à seguinte definição: – é uma dobra para cima, em que os dois flancos mergulham em direções opostas.**

- a) Dobra anticlinal
- b) Dobra isoclinal
- c) Dobra deitada
- d) Dobra sinforma
- e) Dobra neutra

**16. Atualmente são utilizados diversos métodos de classificação de maciços rochosos, determinados conforme a finalidade pretendida. Sobre a classificação de maciços rochosos, assinale a alternativa correta.**

- a) A classificação RSR (Rock Structure Rating) combina os efeitos dos tipos litológicos, estruturas e espaçamento, sem, entretanto, levar em consideração o fluxo da água.
- b) Um dos critérios adotados para classificação de maciços rochosos, segundo método de Bieniawski (1973), é o espaçamento das juntas.
- c) O valor obtido com ensaio de durabilidade a úmido equivalente a 37% permite classificar a amostra como muito baixo.
- d) Um valor de IQR equivalente a 32% indica que a rocha é de boa qualidade.
- e) O valor do IQR (índice de qualidade da rocha) corresponde à porcentagem obtida pela divisão da soma de todos os comprimentos de pedaços de testemunho de sondagem iguais ou maiores que 1 m, pelo comprimento total do furo.

**17. Qual dos seguintes solos possui maior vulnerabilidade a riscos geoambientais (processos erosivos e movimentos de massa)?**

- a) Neossolo litólico
- b) Latossolo vermelho
- c) Latossolo roxo
- d) Espodossolo ferrihumilúvico
- e) Argissolo bruno-acinzentado



**18. Sobre as condições geoquímicas metamórficas, assinale a alternativa correta:**

- a) As reações de desidratação metamórfica causam a perda de água e também de compostos em solução. Portanto as rochas metamórficas são consideradas sistemas fechados, através dos quais grandes quantidades de água podem ter circulado.
- b) Na ausência de água ou CO<sub>2</sub> na fase dominante, prevalecem as condições de fácies xisto verde.
- c) Na faixa de temperatura em que ocorre o metamorfismo, o isótopo <sup>18</sup>O tende a se fracionar para a fase líquida, ao contrário do que ocorre em baixa temperatura.
- d) As rochas formadas em fácies granulito são comuns na base da crosta continental e são ricas em urânio e tório.
- e) As mudanças isotópicas importantes ocorrem em temperaturas acima de 500° C. Neste contexto torna-se disponível a água residual, a qual é essencial para permitir trocas de oxigênio.

**19. Qual das seguintes características um solo sáprico apresenta?**

- a) Contraste ou irregularidade no tamanho de partículas de areias.
- b) Usado para distinguir solos que apresentem valores de saturação por sódio (100 Na+/T) entre 6% e 15%, em algum ponto da seção de controle que defina a classe.
- c) Distribuição irregular (errática) do conteúdo de carbono orgânico em profundidade, não relacionada a processos pedogenéticos.
- d) Material orgânico constituído de fibras, facilmente identificáveis como de origem vegetal.
- e) Material orgânico em estágio avançado de decomposição.

**20. Assinale a alternativa correta quanto aos conceitos geomorfológicos.**

- a) Dale corresponde a uma depressão rasa, úmida, preenchida por materiais orgânicos e/ou minerais, associada a fenômenos de subsidência e/ou extravasamento do lençol freático, formado pelo direcionamento das águas de recarga que fluem para o vale.
- b) Recife é uma forma costeira abrupta esculpida por processos erosivos marinhos de alta energia.
- c) Morro testemunho corresponde a uma depressão alongada acompanhando a direção da charneira de uma anticlinal aplanada e escavada pela erosão seletiva.
- d) Dique marginal corresponde a uma passagem estreita causada pelo aprofundamento do talvegue de um rio em rochas resistentes à erosão, existentes em terrenos dobrados e falhados, geralmente discordante da estruturação regional.
- e) Delta é caracterizado como um depósito de material detrítico transportado por torrentes até a desembocadura em áreas de piemonte. Apresenta forma cônica, abrindo-se para jusante, sendo o eixo coincidente com a linha de maior competência da corrente.

**LÍNGUA PORTUGUESA**
**Texto para as próximas cinco questões:**

**“O cego Estrelinho”  
Mia Couto**

O cego Estrelinho era pessoa de nenhuma vez: sua história poderia ser contada e descontada não fosse seu guia, Gigito Efraim. A mão de Gigito conduziu o desvistado por tempos e idades. Aquela mão era repartidamente comum, extensão de um no outro, siamensal. E assim era quase de nascença. Memória de Estrelinho tinha cinco dedos e eram os de Gigito postos, em aperto, na sua própria mão.

O cego, curioso, queria saber de tudo. Ele não fazia cerimônia no viver. O sempre lhe era pouco e o tudo insuficiente. Dizia, deste modo:

— Tenho que viver já, senão esqueço-me.

Gigitinho, porém, o que descrevia era o que não havia. O mundo que ele minuciava eram fantasias e rendilhados. A imaginação do guia era mais profícua que papaeira. O cego enchia a boca de águas:

— Que maravilhação esse mundo. Me conte tudo, Gigito!

A mão do guia era, afinal, o manuscrito da mentira. Gigito Efraim estava como nunca esteve S. Tomé: via para não crer. O condutor falava pela ponta dos dedos. Desfolhava o universo, aberto em folhas. A ideiação dele era tal que mesmo o cego, por vezes, acreditava ver. O outro lhe encorajava esses breves enganar:

— Desbengale-se, você está escolhendo a boa procedência!

Mentira: Estrelinho continuava sem ver uma palmeira à frente do nariz. Contudo, o cego não se conformava em suas escurezas. Ele cumpria o ditado: não tinha perna e queria dar o pontapé. Só à noite, ele desalentava, sofrendo medos mais antigos que a humanidade. Entendia aquilo que, na raça humana, é menos primitivo: o animal.

— Na noite aflige não haver luz?

— Aflição é ter um pássaro branco esvoando dentro do sono.

Pássaro branco? No sono? Lugar de ave é nas alturas. Dizem até que Deus fez o céu para justificar os pássaros. Estrelinho disfarçava o medo dos vaticínios, subterfugindo:

— E agora, Gigitinho? Agora, olhando assim para cima, estou face ao céu?

Que podia o outro responder? O céu do cego fica em toda a parte. Estrelinho perdia o pé era quando a noite chegava e seu mestre adormecia. Era como se um novo escuro nele se estresse em nó cego. Devagaroso e



sorrateiro ele aninhava sua mão na mão do guia. Só assim adormecia. A razão da concha é a timidez da amêijoia? Na manhã seguinte, o cego lhe confessava: se você morrer, tenho que morrer logo no imediato. Senão-me: como acerto o caminho para o céu?

Foi no mês de dezembro que levaram Gigitinho. Lhe tiraram do mundo para pôr na guerra: obrigavam os serviços militares. O cego reclamou: que o moço inatingia a idade. E que o serviço que ele a si prestava era vital e vitalício. O guia chamou Estrelinho à parte e lhe tranquilizou:

— Não vai ficar sozinando por aí. Minha mana já mandei para ficar no meu lugar.

O cego estendeu o braço a querer tocar uma despedida. Mas o outro já não estava lá. Ou estava e se desviara, propositado? E sem água ida nem vinda, Estrelinho escutou o amigo se afastar, engolido, esponginho, invisível. Pela primeira vez, Estrelinho se sentiu invalidado.

— Agora, só agora, sou cego que não vê.

(...)

**COUTO, Mia. Estórias abensonhadas. Rio de Janeiro: Nova Fronteira, 1996. (Pág 23 e 24).**

**21. Quanto à interpretação do fragmento do conto, podemos afirmar que:**

- Gigito Efraim era o guia de Estrelinho há pouquíssimo tempo.
- Estrelinho era cego de nascença.
- Gigito descrevia o mundo para Estrelinho de forma denotativa.
- Gigito foi convocado pelo exército para ser guia de cegos na guerra.
- Gigito descrevia o mundo para Estrelinho de forma conotativa.

**22. No período “O sempre lhe era pouco e o tudo insuficiente”, o pronome “LHE” exerce a função sintática de:**

- Objeto Direto
- Objeto Indireto
- Complemento Nominal
- Adjunto Adnominal
- Objeto Direto Preposicionado

**23. Na oração “A mão de Gigito conduziu o desvestido por tempos e idades”, o autor faz uso de um neologismo, assim como no decorrer de toda a obra em questão. Contudo, o neologismo só se torna possível pela utilização dos elementos mórficos naquilo que a gramática normativa pontua como Processo de Formação das Palavras. Levando em consideração apenas o recurso morfológico, qual Processo de Formação foi utilizado?**

- Derivação Sufixal
- Derivação Prefixal
- Derivação Regressiva
- Derivação Imprópria
- Derivação Parassintética

**24. No terceiro período do décimo terceiro parágrafo, temos:**

- Uma oração
- Duas orações
- Três orações
- Quatro orações
- Cinco orações

**25. No último parágrafo do fragmento do conto “— Agora, só agora, sou cego que não vê”, a oração subordinada presente classifica-se corretamente como:**

- Oração Subordinada Adjetiva Restritiva
- Oração Subordinada Adverbial Causal
- Oração Subordinada Substantiva Subjetiva
- Oração Subordinada Adverbial Explicativa
- Oração Subordinada Adjetiva Explicativa

#### **RACIOCÍNIO LÓGICO**

**26. Os cinco filhos de Ana estavam discutindo a respeito da data de nascimento da mãe:**

- Almir disse que foi em janeiro, dia 14, sexta-feira.
- Vanderlei disse que foi em janeiro, dia 14, sábado.
- Tiago disse que foi em fevereiro, dia 15, sábado.
- Sandro disse que foi em janeiro, dia 15, sexta-feira.
- Renato disse que foi em fevereiro, dia 15, sexta-feira.

**Sabe-se que somente um dos filhos de Ana acertou corretamente sua data de nascimento e que os outros acertaram pelo menos um dos itens (dia, dia da semana e mês). Dessa forma, é correto afirmar que o filho de Ana que acertou a data de nascimento dela foi:**

- a) Renato
- b) Sandro
- c) Tiago
- d) Vanderlei
- e) Almir

27. Considere a seguinte afirmativa: “Todo churrasqueiro gosta de picanha”. Em relação a essa proposição, é correto afirmar que:

- a) Algum churrasqueiro não gosta de picanha.
- b) Toda pessoa que gosta de picanha é churrasqueira.
- c) Alguma pessoa que não gosta de picanha é churrasqueira.
- d) Toda pessoa que não é churrasqueira, não gosta de picanha.
- e) Toda pessoa que não gosta de picanha, não é churrasqueira.

28. Em um grupo formado por 67 pessoas, verificou-se que 41 pessoas gostam de arroz, 29 gostam de feijão, 33 gostam de carne, 19 gostam de arroz e de feijão, 9 gostam apenas de arroz e de carne, 12 gostam de feijão e de carne e que 6 gostam de arroz, de feijão e de carne. O número de pessoas desse grupo, que não gosta de nenhum desses três tipos de alimentos é igual a:

- a) 4
- b) 5
- c) 6
- d) 8
- e) 10

29. Bruno escreveu, em seu caderno, várias sequências formadas por números múltiplos de 4, onde os valores que ocupavam as posições pares eram multiplicados por  $-1$ . Cada sequência foi somada e o resultado da soma anotado. A soma das três primeiras sequências escritas por Bruno foram as seguintes:

$$4 - 8 = -4$$

$$4 - 8 + 12 = 8$$

$$4 - 8 + 12 - 16 = -8$$

Considere que Bruno escreveu e somou tais sequências, em seu caderno, de modo a obter determinada sequência cuja soma foi 600. O número de termos dessa sequência é igual a:

- a) 149
- b) 150
- c) 298
- d) 299
- e) 300

30. Quatro torcedores, um do São Paulo, um do Cruzeiro, um do Vasco e um do Bahia, estão sentados ao redor de uma mesa quadrada, de modo que, dois a dois, fiquem frente a frente. Sabe-se que Alan é torcedor do Cruzeiro e que Bruno está sentado à direita de Alan. Sabe-se também que Caio está sentado à direita do torcedor do São Paulo. Sabe-se ainda que Daniel não é torcedor do Vasco e que está sentado à frente de Bruno. Dessa forma, é correto afirmar que:

- a) Bruno é torcedor do Bahia e Daniel é torcedor do São Paulo.
- b) Bruno é torcedor do São Paulo e Daniel é torcedor do Bahia.
- c) Caio é torcedor do Vasco e Daniel é torcedor do São Paulo.
- d) Caio é torcedor do Bahia e Daniel é torcedor do São Paulo.
- e) Bruno é torcedor do Vasco e Daniel é torcedor do Bahia.

#### INFORMÁTICA

31. Considerando o MS-Excel versão 2010, observando a figura abaixo, é correto afirmar que:

	A	B	C
1			
2			
3			
4			

- a) Somente 03 três linhas estão selecionadas.
- b) Somente uma célula está selecionada.
- c) 12 (doze) células estão selecionadas.
- d) Somente a coluna A até a linha 4 (quatro) está selecionada.
- e) Somente as colunas 1 (um), 2 (dois), 3 (três) e 4 (quatro) estão selecionadas.

32. Considerando o MS-Excel versão 2010, observando a figura abaixo, é incorreto afirmar que:

	A	B	C
1	12	6	=A1*B1
2	8	2	=A2/B2
3	5	14	=A3-B3
4	6	11	=A4+B4

- O resultado da fórmula =A1\*B1 é 72.
- O resultado da fórmula =A2/B2 é 4.
- O resultado da fórmula =A3-B3 é -9.
- O resultado da fórmula =A3-B3 é 9.
- O resultado da fórmula =A4+B4 é 17.

33. Digitando um texto no MS-Word versão 2010, necessito adicionar número nas páginas. Quanto a isso, é correto afirmar que:

- No menu Layout da Página, clico em número de página e seleciono onde desejo adicionar os números.
- No menu Inserir, clico em número de página e seleciono onde desejo adicionar os números.
- No menu Revisão, clico em número de página e seleciono onde desejo adicionar os números.
- No menu Referências, clico em número de página e seleciono onde desejo adicionar os números.
- No menu Exibição, clico em número de página e seleciono onde desejo adicionar os números.

34. A segurança da informação está diretamente relacionada com proteção de um conjunto de informações, no sentido de preservar o valor que possuem para um indivíduo ou uma organização. Atualmente, um dos aplicativos mais utilizados no mundo, o Whats app, teve uma alteração de confidencialidade muito importante na segurança das informações transmitidas e recebidas. Dentre as alternativas, assinale a que corretamente informa a alteração inserida no aplicativo Whats app.

- Antispam
- Antivirus
- Firewall
- Antispyware
- Criptografia

35. São todos os dispositivos que trabalham acoplados ao microcomputador para receber, transmitir, visualizar, ler, gravar ou armazenar dados. São eles que permitem a comunicação do computador com o meio exterior, isto é, com os usuários e outras máquinas.

Esse texto descreve corretamente:

- Memória ram
- Memória virtual
- Software
- Periféricos
- Hardware

## CONHECIMENTOS GERAIS

36. Hino do município de Telêmaco Borba/PR

Das virgens matas e campos verdejantes  
 Servindo-se também o rio Tibagi,  
 Homens de ideais, espíritos vibrantes.  
 Constituíram as indústrias aqui.  
 Estribilho:  
 Salve! Salve! Telêmaco Borba  
 Terra querida e de grandes primores,  
 A nossa homenagem rendamos  
 À cidade dos trabalhadores.  
 Pois a cadência de enorme e real progresso  
 Um município mui grandioso fez nascer,  
 Marcando assim, verdadeiro sucesso  
 Faz, então o Paraná engrandecer.

No que tange ao Hino do município, atribua V (verdadeiro) ou F (falso) às afirmativas e marque a alternativa correta.

- Eloah Martins Quadrado é autora da letra do hino.
- Bento Mossurunga compôs a música do hino.



- ( ) Eloah Martins Quadrado foi nomeada primeira professora da Cidade Nova, atual Telêmaco Borba.  
 ( ) Bento Mossurunga fundou a orquestra Estudantil e Concertos – Orquestra Sinfônica da Universidade, a Sociedade de Cultura Artístico Basílio Itiberê.
- a) F, V, V, V.  
 b) V, F, V, V.  
 c) V, V, F, V.  
 d) V, V, F, F.  
 e) V, V, V, V.

**37. À luz da Lei nº 1883/2012, que dispões sobre o Estatuto dos Servidores Públicos da Administração Direta, Autárquica e Funcional do Município de Telêmaco Borba/PR, leia as alternativas e marque a correta.**

- a) A apresentação para a posse ocorrerá no prazo de até trinta dias, contados do ato de nomeação.  
 b) A destituição do servidor da função gratificada dar-se-á por solicitação exclusiva dele mesmo.  
 c) O servidor ocupante exclusivamente de cargo em comissão será contribuinte do regime geral de previdência social.  
 d) A aprovação em concurso público gera o direito à nomeação, e será feita obedecida à ordem de classificação dos candidatos.  
 e) O exercício de função gratificada poderá ser de dedicação integral ou parcial, conforme necessidade da administração.

**Conforme a Lei nº 1.881, de 05 de abril de 2012, que dispõe sobre o Plano de Cargos, Carreiras e Vencimentos do quadro geral de servidores da Prefeitura Municipal de Telêmaco Borba/PR, regulamentada pelo Decreto nº 2269/2015, responda às próximas três questões.**

**38. Leia as assertivas e assinala a incorreta.**

- a) Do resultado da avaliação de desempenho poderá ser interposto recurso à Comissão de Desenvolvimento Funcional no prazo de quinze dias a contar da publicação no Boletim Oficial do Município.  
 b) Não será concedida a progressão ou promoção ao servidor que estiver em licença para tratamento de saúde por um período superior a quarenta e cinco dias, no período de avaliação.  
 c) A alternância dos membros constituintes da Comissão de Desenvolvimento Funcional eleitos pelos servidores verificar-se-á a cada três anos de participação, observados, para substituição de seus participantes, o critério fixado no artigo anterior, não cabendo eleição sucessiva.  
 d) Caberá à Comissão de Desenvolvimento Funcional, no caso de divergência de vinte por cento entre a nota do avaliador e a do avaliado, solicitar nova avaliação à chefia.  
 e) Nos termos do disposto no art. 17 da Lei nº 1.881, de 05 de abril de 2012, para progredir, é necessário que o servidor satisfaça, dentre outros, o seguinte requisito: estar no efetivo exercício de seu cargo ou em função comissionada na sua área de atuação durante o interstício de dois anos.

**39. Assinale a alternativa que completa respectivamente as lacunas do texto a seguir:**

**A Comissão de Desenvolvimento Funcional será constituída por \_\_\_\_\_ membros, sendo \_\_\_\_\_ designados pelo Prefeito Municipal de Telêmaco Borba e os demais eleitos pelos servidores municipais dentre os estáveis, com a atribuição de coordenar os procedimentos relativos à avaliação periódica de desempenho e outras atribuições.**

- a) três / sete  
 b) um / três  
 c) sete / três  
 d) três / cinco  
 e) dois / cinco

**40. A Avaliação de Desempenho será norteadada, dentre outros, pelo seguinte princípio: Amplitude - a avaliação deve incidir sobre todas as áreas de atuação do servidor, que compreendem:**

- 1. a formulação de políticas administrativas e sua aplicação para todos os setores da administração municipal;**
- 2. o desempenho do profissional dentro de suas funções pertinentes;**
- 3. a estrutura do órgão em que exerce a função;**
- 4. os resultados de eficiência dos serviços de cada setor ou órgão da administração municipal;**
- 5. a participação direta do avaliado, durante todo o processo avaliativo.**

**Diante dessa afirmação, somente não está correto o item:**

- a) 1  
 b) 2  
 c) 3  
 d) 4  
 e) 5



PREFEITURA DE TELÊMACO BORBA - ESTADO DO PARANÁ- EDITAL Nº 001-2016 - CONCURSO PÚBLICO

VESPERTINO – 29/05/2016 – NÍVEL SUPERIOR

PROVA OBJETIVA NÚMERO

1

CARGO: TMNS I - JORNALISMO

Leia atentamente as INSTRUÇÕES:

1. Confira seus dados no cartão-resposta: nome, número de inscrição e o curso para o qual se inscreveu.
2. **MARQUE no seu cartão-resposta o número da sua prova** (não será corrigido o cartão-resposta que não tiver marcado o número da prova) e **Assine** seu cartão-resposta.
3. Aguarde a autorização do Fiscal para abrir o caderno de prova. Ao receber a ordem do fiscal, confira o caderno de prova com muita atenção. Nenhuma reclamação sobre o total de questões ou falha de impressão será aceita depois de iniciada a prova.
4. O cartão-resposta não será substituído, salvo se contiver erro de impressão.
5. Preencha toda a área do cartão-resposta correspondente à alternativa de sua escolha, com caneta esferográfica (tinta azul ou preta), sem ultrapassar as bordas. As marcações duplas, ou rasuradas, com corretivo, ou marcadas diferentemente do modelo estabelecido no cartão-resposta poderão ser anuladas.
6. Sua prova tem **40** questões, com **5** alternativas.
7. Cabe apenas ao candidato a interpretação das questões, **o fiscal** não poderá fazer nenhuma interferência.
8. A prova será realizada com duração máxima de **3 (três) horas**, incluído o tempo para a realização da Prova Objetiva de múltipla escolha e o preenchimento do cartão-resposta.
9. O candidato poderá retirar-se do local de realização das provas somente **1 (uma) hora** após o seu início, sem levar o caderno de prova.
10. O candidato poderá levar o caderno de provas, assim como anotação contendo transcrição do seu cartão-resposta, somente **1h30min** (uma hora e trinta minutos) após o início da realização da prova.
11. Ao terminar a prova, o candidato deverá entregar ao fiscal de sala o cartão-resposta preenchido e **ASSINADO**.
12. Os **3 (três)** candidatos, que terminarem a prova por último, deverão permanecer na sala, e só poderão sair juntos após o fechamento do envelope, contendo os cartões-resposta dos candidatos presentes e ausentes, e assinarem no lacre do referido envelope, atestando que este foi devidamente lacrado.
13. Durante todo o tempo em que permanecer no local onde está ocorrendo o concurso, o candidato deverá, manter o celular desligado e sem bateria, só sendo permitido ligar depois de ultrapassar o portão de saída do prédio.
14. Não será permitido ao candidato fumar na sala de provas, bem como nas dependências.
15. Depois de terminar a prova e entregar ao fiscal o cartão-resposta, preenchido e assinado, não será mais permitido ao candidato o uso do banheiro e bebedouro.

**BOA PROVA!**

**LÍNGUA PORTUGUESA****Texto para as próximas cinco questões:****“O cego Estrelinho”  
Mia Couto**

O cego Estrelinho era pessoa de nenhuma vez: sua história poderia ser contada e descontada não fosse seu guia, Gigitto Efraim. A mão de Gigitto conduziu o desvistado por tempos e idades. Aquela mão era repartidamente comum, extensão de um no outro, siamensal. E assim era quase de nascença. Memória de Estrelinho tinha cinco dedos e eram os de Gigitto postos, em aperto, na sua própria mão.

O cego, curioso, queria saber de tudo. Ele não fazia cerimônia no viver. O sempre lhe era pouco e o tudo insuficiente. Dizia, deste modo:

— Tenho que viver já, senão esqueço-me.

Gigitto, porém, o que descrevia era o que não havia. O mundo que ele minuciava eram fantasias e rendilhados. A imaginação do guia era mais profícua que papadeira. O cego enchia a boca de águas:

— Que maravilhação esse mundo. Me conte tudo, Gigitto!

A mão do guia era, afinal, o manuscrito da mentira. Gigitto Efraim estava como nunca esteve S. Tomé: via para não crer. O condutor falava pela ponta dos dedos. Desfolhava o universo, aberto em folhas. A ideiação dele era tal que mesmo o cego, por vezes, acreditava ver. O outro lhe encorajava esses breves enganar:

— Desbengale-se, você está escolhendo a boa procedência!

Mentira: Estrelinho continuava sem ver uma palmeira à frente do nariz. Contudo, o cego não se conformava em suas escurezas. Ele cumpria o ditado: não tinha perna e queria dar o pontapé. Só à noite, ele desalentava, sofrendo medos mais antigos que a humanidade. Entendia aquilo que, na raça humana, é menos primitivo: o animal.

— Na noite aflige não haver luz?

— Aflição é ter um pássaro branco esvoando dentro do sono.

Pássaro branco? No sono? Lugar de ave é nas alturas. Dizem até que Deus fez o céu para justificar os pássaros. Estrelinho disfarçava o medo dos vaticínios, subterfugindo:

— E agora, Gigitto? Agora, olhando assim para cima, estou face ao céu?

Que podia o outro responder? O céu do cego fica em toda a parte. Estrelinho perdia o pé era quando a noite chegava e seu mestre adormecia. Era como se um novo escuro nele se estreasse em nó cego. Devagaroso e sorrateiro ele aninhava sua mão na mão do guia. Só assim adormecia. A razão da concha é a timidez da amêijoia? Na manhã seguinte, o cego lhe confessava: se você morrer, tenho que morrer logo no imediato. Senão-me: como acerto o caminho para o céu?

Foi no mês de dezembro que levaram Gigitto. Lhe tiraram do mundo para pôr na guerra: obrigavam os serviços militares. O cego reclamou: que o moço inatingia a idade. E que o serviço que ele a si prestava era vital e vitalício. O guia chamou Estrelinho à parte e lhe tranquilizou:

— Não vai ficar sozinhandando por aí. Minha mana já mandei para ficar no meu lugar.

O cego estendeu o braço a querer tocar uma despedida. Mas o outro já não estava lá. Ou estava e se desviara, propositado? E sem água ida nem vinda, Estrelinho escutou o amigo se afastar, engolido, esponginquo, invisível. Pela primeira vez, Estrelinho se sentiu invalidado.

— Agora, só agora, sou cego que não vê.

(...)

**COUTO, Mia. Estórias abensonhadas. Rio de Janeiro: Nova Fronteira, 1996. (Pág 23 e 24).**

**01. Quanto à interpretação do fragmento do conto, podemos afirmar que:**

- Gigitto Efraim era o guia de Estrelinho há pouquíssimo tempo.
- Estrelinho era cego de nascença.
- Gigitto descrevia o mundo para Estrelinho de forma denotativa.
- Gigitto foi convocado pelo exército para ser guia de cegos na guerra.
- Gigitto descrevia o mundo para Estrelinho de forma conotativa.

**02. No período “O sempre lhe era pouco e o tudo insuficiente”, o pronome “LHE” exerce a função sintática de:**

- Objeto Direto
- Objeto Indireto
- Complemento Nominal
- Adjunto Adnominal
- Objeto Direto Preposicionado

**03. Na oração “A mão de Gigitto conduziu o desvistado por tempos e idades”, o autor faz uso de um neologismo, assim como no decorrer de toda a obra em questão. Contudo, o neologismo só se torna possível pela utilização dos elementos mórficos naquilo que a gramática normativa pontua como Processo de Formação das Palavras. Levando em consideração apenas o recurso morfológico, qual Processo de Formação foi utilizado?**

- Derivação Sufixal



- b) Derivação Prefixal
- c) Derivação Regressiva
- d) Derivação Imprópria
- e) Derivação Parassintética

**04. No terceiro período do décimo terceiro parágrafo, temos:**

- a) Uma oração
- b) Duas orações
- c) Três orações
- d) Quatro orações
- e) Cinco orações

**05. No último parágrafo do fragmento do conto “— Agora, só agora, sou cego que não vê”, a oração subordinada presente classifica-se corretamente como:**

- a) Oração Subordinada Adjetiva Restritiva
- b) Oração Subordinada Adverbial Causal
- c) Oração Subordinada Substantiva Subjetiva
- d) Oração Subordinada Adverbial Explicativa
- e) Oração Subordinada Adjetiva Explicativa

#### **RACIOCÍNIO LÓGICO**

**06. Os cinco filhos de Ana estavam discutindo a respeito da data de nascimento da mãe:**

- Almir disse que foi em janeiro, dia 14, sexta-feira.
- Vanderlei disse que foi em janeiro, dia 14, sábado.
- Tiago disse que foi em fevereiro, dia 15, sábado.
- Sandro disse que foi em janeiro, dia 15, sexta-feira.
- Renato disse que foi em fevereiro, dia 15, sexta-feira.

**Sabe-se que somente um dos filhos de Ana acertou corretamente sua data de nascimento e que os outros acertaram pelo menos um dos itens (dia, dia da semana e mês). Dessa forma, é correto afirmar que o filho de Ana que acertou a data de nascimento dela foi:**

- a) Renato
- b) Sandro
- c) Tiago
- d) Vanderlei
- e) Almir

**07. Considere a seguinte afirmativa: “Todo churrasqueiro gosta de picanha”. Em relação a essa proposição, é correto afirmar que:**

- a) Algum churrasqueiro não gosta de picanha.
- b) Toda pessoa que gosta de picanha é churrasqueira.
- c) Alguma pessoa que não gosta de picanha é churrasqueira.
- d) Toda pessoa que não é churrasqueira, não gosta de picanha.
- e) Toda pessoa que não gosta de picanha, não é churrasqueira.

**08. Em um grupo formado por 67 pessoas, verificou-se que 41 pessoas gostam de arroz, 29 gostam de feijão, 33 gostam de carne, 19 gostam de arroz e de feijão, 9 gostam apenas de arroz e de carne, 12 gostam de feijão e de carne e que 6 gostam de arroz, de feijão e de carne. O número de pessoas desse grupo, que não gosta de nenhum desses três tipos de alimentos é igual a:**

- a) 4
- b) 5
- c) 6
- d) 8
- e) 10

**09. Bruno escreveu, em seu caderno, várias sequências formadas por números múltiplos de 4, onde os valores que ocupavam as posições pares eram multiplicados por  $-1$ . Cada sequência foi somada e o resultado da soma anotado. A soma das três primeiras sequências escritas por Bruno foram as seguintes:**

$$4 - 8 = -4$$
$$4 - 8 + 12 = 8$$
$$4 - 8 + 12 - 16 = -8$$

**Considere que Bruno escreveu e somou tais sequências, em seu caderno, de modo a obter determinada sequência cuja soma foi 600. O número de termos dessa sequência é igual a:**

- a) 149
- b) 150
- c) 298

- d) 299  
e) 300

**10. Quatro torcedores, um do São Paulo, um do Cruzeiro, um do Vasco e um do Bahia, estão sentados ao redor de uma mesa quadrada, de modo que, dois a dois, fiquem frente a frente. Sabe-se que Alan é torcedor do Cruzeiro e que Bruno está sentado à direita de Alan. Sabe-se também que Caio está sentado à direita do torcedor do São Paulo. Sabe-se ainda que Daniel não é torcedor do Vasco e que está sentado à frente de Bruno. Dessa forma, é correto afirmar que:**

- a) Bruno é torcedor do Bahia e Daniel é torcedor do São Paulo.  
b) Bruno é torcedor do São Paulo e Daniel é torcedor do Bahia.  
c) Caio é torcedor do Vasco e Daniel é torcedor do São Paulo.  
d) Caio é torcedor do Bahia e Daniel é torcedor do São Paulo.  
e) Bruno é torcedor do Vasco e Daniel é torcedor do Bahia.

### INFORMÁTICA

**11. Considerando o MS-Excel versão 2010, observando a figura abaixo, é correto afirmar que:**

	A	B	C
1			
2			
3			
4			

- a) Somente 03 três linhas estão selecionadas.  
b) Somente uma célula está selecionada.  
c) 12 (doze) células estão selecionadas.  
d) Somente a coluna A até a linha 4 (quatro) está selecionada.  
e) Somente as colunas 1 (um), 2 (dois), 3 (três) e 4 (quatro) estão selecionadas.

**12. Considerando o MS-Excel versão 2010, observando a figura abaixo, é incorreto afirmar que:**

	A	B	C
1	12	6	=A1*B1
2	8	2	=A2/B2
3	5	14	=A3-B3
4	6	11	=A4+B4

- a) O resultado da fórmula =A1\*B1 é 72.  
b) O resultado da fórmula =A2/B2 é 4.  
c) O resultado da fórmula =A3-B3 é -9.  
d) O resultado da fórmula =A3-B3 é 9.  
e) O resultado da fórmula =A4+B4 é 17.

**13. Digitando um texto no MS-Word versão 2010, necessito adicionar número nas páginas. Quanto a isso, é correto afirmar que:**

- a) No menu Layout da Página, clico em número de página e seleciono onde desejo adicionar os números.  
b) No menu Inserir, clico em número de página e seleciono onde desejo adicionar os números.  
c) No menu Revisão, clico em número de página e seleciono onde desejo adicionar os números.  
d) No menu Referências, clico em número de página e seleciono onde desejo adicionar os números.  
e) No menu Exibição, clico em número de página e seleciono onde desejo adicionar os números.

**14. A segurança da informação está diretamente relacionada com proteção de um conjunto de informações, no sentido de preservar o valor que possuem para um indivíduo ou uma organização. Atualmente, um dos aplicativos mais utilizados no mundo, o Whats app, teve uma alteração de confidencialidade muito importante na segurança das informações transmitidas e recebidas. Dentre as alternativas, assinale a que corretamente informa a alteração inserida no aplicativo Whats app.**

- a) Antispam  
b) Antivirus  
c) Firewall  
d) Antispyware  
e) Criptografia



**15. São todos os dispositivos que trabalham acoplados ao microcomputador para receber, transmitir, visualizar, ler, gravar ou armazenarem dados. São eles que permitem a comunicação do computador com o meio exterior, isto é, com os usuários e outras máquinas.**

**Esse texto descreve corretamente:**

- a) Memória ram
- b) Memória virtual
- c) Software
- d) Periféricos
- e) Hardware

### CONHECIMENTOS GERAIS

#### 16. Hino do município de Telêmaco Borba/PR

Das virgens matas e campos verdejantes  
 Servindo-se também o rio Tibagi,  
 Homens de ideais, espíritos vibrantes.  
 Constituíram as indústrias aqui.

Estrilho:

Salve! Salve! Telêmaco Borba  
 Terra querida e de grandes primores,  
 A nossa homenagem rendamos  
 À cidade dos trabalhadores.  
 Pois a cadência de enorme e real progresso  
 Um município mui grandioso fez nascer,  
 Marcando assim, verdadeiro sucesso  
 Faz, então o Paraná engrandecer.

**No que tange ao Hino do município, atribua V (verdadeiro) ou F (falso) às afirmativas e marque a alternativa correta.**

- Eloah Martins Quadrado é autora da letra do hino.
- Bento Mossurunga compôs a música do hino.
- Eloah Martins Quadrado foi nomeada primeira professora da Cidade Nova, atual Telêmaco Borba.
- Bento Mossurunga fundou a orquestra Estudantil e Concertos – Orquestra Sinfônica da Universidade, a Sociedade de Cultura Artístico Basílio Itiberê.
- a) F, V, V, V.
- b) V, F, V, V.
- c) V, V, F, V.
- d) V, V, F, F.
- e) V, V, V, V.

**17. À luz da Lei nº 1883/2012, que dispões sobre o Estatuto dos Servidores Públicos da Administração Direta, Autárquica e Funcional do Município de Telêmaco Borba/PR, leia as alternativas e marque a correta.**

- a) A apresentação para a posse ocorrerá no prazo de até trinta dias, contados do ato de nomeação.
- b) A destituição do servidor da função gratificada dar-se-á por solicitação exclusiva dele mesmo.
- c) O servidor ocupante exclusivamente de cargo em comissão será contribuinte do regime geral de previdência social.
- d) A aprovação em concurso público gera o direito à nomeação, e será feita obedecida à ordem de classificação dos candidatos.
- e) O exercício de função gratificada poderá ser de dedicação integral ou parcial, conforme necessidade da administração.

**Conforme a Lei nº 1.881, de 05 de abril de 2012, que dispõe sobre o Plano de Cargos, Carreiras e Vencimentos do quadro geral de servidores da Prefeitura Municipal de Telêmaco Borba/PR, regulamentada pelo Decreto nº 2269/2015, responda às próximas três questões.**

**18. Leia as assertivas e assinala a incorreta.**

- a) Do resultado da avaliação de desempenho poderá ser interposto recurso à Comissão de Desenvolvimento Funcional no prazo de quinze dias a contar da publicação no Boletim Oficial do Município.
- b) Não será concedida a progressão ou promoção ao servidor que estiver em licença para tratamento de saúde por um período superior a quarenta e cinco dias, no período de avaliação.
- c) A alternância dos membros constituintes da Comissão de Desenvolvimento Funcional eleitos pelos servidores verificar-se-á a cada três anos de participação, observados, para substituição de seus participantes, o critério fixado no artigo anterior, não cabendo eleição sucessiva.
- d) Caberá à Comissão de Desenvolvimento Funcional, no caso de divergência de vinte por cento entre a nota do avaliador e a do avaliado, solicitar nova avaliação à chefia.



e) Nos termos do disposto no art. 17 da Lei n° 1.881, de 05 de abril de 2012, para progredir, é necessário que o servidor satisfaça, dentre outros, o seguinte requisito: estar no efetivo exercício de seu cargo ou em função comissionada na sua área de atuação durante o interstício de dois anos.

**19. Assinale a alternativa que completa respectivamente as lacunas do texto a seguir:**

**A Comissão de Desenvolvimento Funcional será constituída por \_\_\_\_\_ membros, sendo \_\_\_\_\_ designados pelo Prefeito Municipal de Telêmaco Borba e os demais eleitos pelos servidores municipais dentre os estáveis, com a atribuição de coordenar os procedimentos relativos à avaliação periódica de desempenho e outras atribuições.**

- a) três / sete
- b) um / três
- c) sete / três
- d) três / cinco
- e) dois / cinco

**20. A Avaliação de Desempenho será norteadada, dentre outros, pelo seguinte princípio: Amplitude - a avaliação deve incidir sobre todas as áreas de atuação do servidor, que compreendem:**

1. a formulação de políticas administrativas e sua aplicação para todos os setores da administração municipal;
2. o desempenho do profissional dentro de suas funções pertinentes;
3. a estrutura do órgão em que exerce a função;
4. os resultados de eficiência dos serviços de cada setor ou órgão da administração municipal;
5. a participação direta do avaliado, durante todo o processo avaliativo.

**Diante dessa afirmação, somente não está correto o item:**

- a) 1
- b) 2
- c) 3
- d) 4
- e) 5

## CONHECIMENTOS ESPECÍFICOS

**21. Leia os trechos a seguir:**

**I - “Os holandeses, dominando a área mais rica da colônia, no século XVII, introduziram no Brasil alguns elementos característicos da atividade burguesa, de que foram pioneiros. Não a imprensa, porém. Apesar de lhe terem dado singular desenvolvimento, na área metropolitana, na proporção do avanço de sua burguesia, não se empenharam em trazer ao seu novo domínio americano a arte tipográfica”.**

**II - “Quando surgiram as iniciativas isoladas, no século XVIII, o papel das autoridades coloniais foi importante. Elas não decorreram, assim, de imposição social, mas de esforços isolados. Nem estes, entretanto, permitiu a metrópole que surgissem, liquidando-os no nascedouro”.**

**III - “Antônio Isidoro da Fonseca, antigo opressor em Lisboa, transferiu-se à colônia, trazendo na bagagem o material tipográfico com que montou no Rio pequena oficina. Chegou a pô-la em atividade, pois imprimiu alguns trabalhos, entre os quais se destaca a *Relação da Entrada* do bispo Antônio Desterro, redigida por Luís Antônio Rosado da Cunha, com dezessete páginas de texto”.**

**IV - “O nome de Antonio Isidoro da Fonseca tem o interesse de fixar as dificuldades, mais do que as realizações da imprensa, na colônia. Coube-lhe, de qualquer maneira, a prioridade: a *Relação da Entrada* foi o primeiro folheto impresso no Brasil.”**

**Sobre a abordagem apresentada nos trechos acima, é correto afirmar:**

- a) As dificuldades encontradas para firmar o conceito de imprensa no período colonial se devem à diferença de idioma entre o holandês e o português, vigentes no Nordeste do Brasil.
- b) O fato de a primeira publicação impressa ter sido feita para um bispo no período colonial evidencia a ligação estreita que a imprensa e a Igreja mantêm até os dias de hoje.
- c) O fato de a *Relação de Entrada* ter sido publicada mostra que a Corte de Portugal não agia para impedir que publicações fossem feitas, apenas advertia os governadores submetidos à ordem do Reino a não fazê-lo.
- d) O fato de haver escravos no período colonial reforçava a facilidade de instalar a imprensa no Brasil por causa da força de trabalho sem custos.
- e) A imprensa surgiu apenas com permissão e iniciativa oficiais de Portugal com a chegada da Corte de D. João ao Brasil, por meio de ato real expedido em maio de 1808.

**22. Observe o seguinte trecho: “Se a categoria do tempo encontra formas ou flexões próprias em todas as línguas, o mesmo não acontece com a de aspecto, que parece exercer papel subsidiário: raras são as que dispõem de flexões próprias para esta função. No entanto, a maneira de ser do processo verbal é tão importante quanto o próprio tempo. [...] Aquelas línguas que, como o português, não dispõem, no quadro da sua conjugação verbal, de formas exclusivas para indicar o aspecto, ou as têm em número insignificante, servem-se de construções subsidiárias, como as chamadas perífrases ou locuções verbais, quando não de certos utensílios gramaticais adequados”. Agora, leia o título do texto publicado no jornal**

O Estado de S. Paulo, de 13 de maio de 2016: “Guarda presidencial deixa de hastear bandeira com brasão da República em frente ao Alvorada”. A perífrase contida no título é classificada como de:

- Iteração
- Cessação
- Incoação
- Volição
- Conação

23. Analise os trechos: “[...] a Retórica tem sido colocada à prova pelos mesmos princípios que a norteiam internamente e que fazem com que ela reflorça sempre: aceitação da mudança, o respeito à alteridade e a consideração da língua como lugar de confronto das subjetividades. Partindo-se do princípio de que a argumentatividade está presente em toda e qualquer atividade discursiva, tem-se também como básico o fato de que argumentar significa considerar o outro como capaz de reagir e de interagir diante das propostas e teses que lhe são apresentadas. [...] Não se pode também deixar de considerar que cada época faz a leitura dos fatos de acordo com o seu próprio modo de pensar, uma vez que eles comportam além daquilo que é dado, a maneira de os interpretar e de os comunicar”. Sobre os estudos que envolvem a Retórica, é incorreto afirmar que:

- O respeito à divergência e à capacidade de reação do outro diante de atividade discursiva manteve a credibilidade da Retórica, inclusive na aceitação de raciocínios de toda ordem, mesmo os enganosos e ou só aparentemente corretos, em nome do confronto de subjetividades.
- À atitude de descrença nos efeitos da Retórica segue-se a convicção de que é no mundo da opinião, da doxa que são tecidas as relações sociais, políticas e econômicas, uma vez que é a esta que se tem acesso e não ao que se chamaria “mundo da verdade”.
- Existe a dialética entre verdade e aparência de verdade, ou seja, o verossímil, podendo-se falar mais propriamente em representação da verdade, que emerge do senso comum e que se corporifica nos discursos.
- A concepção de “discurso convincente”, aquele que consegue fazer o público sentir-se identificado com o seu produtor e a sua proposta, é entendido como parte dos estudos sobre Retórica.
- Considera-se a Retórica o domínio dos conhecimentos prováveis e não das certezas e das evidências, os quais caberiam os raciocínios científicos e lógicos.

24. Observe as considerações sobre reportagem: “A habilidade maior consiste em saber elaborar frases, parágrafos, saber a melhor sequência para eles (como o cineasta que edita seus fotogramas e cenas); o melhor arranjo (harmonia, melodia e ritmo); e a capacidade, sobretudo de fazer com que as palavras circulem a estabelecer empatia com o leitor”. “Há relação de interesse jornalístico e abrangência de público para uma informação. Quanto maior o interesse jornalístico, maior a abrangência do público que a informação possa destinar. Já a comunidade envolvida na especialidade será motivada não tanto pelo aspecto jornalístico de uma informação, mas por suas implicações puramente técnicas”. Com base nas considerações sobre reportagem, analise as afirmações a seguir:

I – A informação jornalística é o espaço privilegiado da reportagem especializada. Uma peculiaridade dela é destinar-se a públicos mais ou menos heterogêneos.

II – Quanto maior for a observação dos detalhes e das anotações, depoimentos, etc, maiores serão as chances de escrever um texto vago sobre o fato, em que só o aspecto jornalístico de uma informação será levado em conta.

III – Material jornalístico caracteriza-se, em tese, por sua atualidade, universalidade, periodicidade (durabilidade limitada) e difusão, mas o que mais o identifica é a estruturação retórica em torno de pontos de interesse jornalístico.

Está correto o que se afirma em:

- I, II e III.
- I e II, somente.
- II e III, somente.
- I e III, somente.
- III, somente.

25. Ao receber uma denúncia sobre transgressão ao Código de Ética dos Jornalistas Brasileiros, cabe a quem tomar as medidas de apuração e apreciação?

- Comitê Brasileiro de Telecomunicações
- Comissão de Ética do Ministério do Trabalho
- Comissão de Ética do Sindicato dos Jornalistas
- Conselho Nacional de Imprensa
- Associação Brasileira de Imprensa

26. Observe os trechos a seguir: “A teoria da imprensa que se supõe ser mais antiga, a teoria autoritária, data do século XVI. Surgiu da filosofia estatal do absolutismo. Encomendou-se o reconhecimento da ‘verdade’ a um pequeno grupo de ‘sábios’ que poderia exercer a liderança – enfoque de cima para baixo. A imprensa teve que promover a política do governo e servir ao Estado. [...] À medida que cresceram as



liberdades políticas, religiosas e econômicas, com o advento do Iluminismo, também aumentaram as exigências de uma nova autopropetuação da imprensa. Nasceu a teoria liberal, que chegou ao auge durante o século XIX. As pessoas eram consideradas seres racionais, capazes de distinguir entre a verdade e a mentira. [...] A teoria liberal deixou de reconhecer problemas como a liberdade interna da imprensa e os processos de concentração da imprensa. [...] A dupla função dos meios de comunicação da empresa privada, a de produzir utilidades e servir aos seus anunciantes versus a de servir ao público, foi cumprida inicialmente só de um lado”. As necessidades de revisão do papel da imprensa, conforme apresentado nos trechos, formulam as bases da teoria da responsabilidade social, em que a imprensa livre tem atos socialmente responsáveis. Dos postulados sobre a responsabilidade social da imprensa, o incorreto é:

- A imprensa deve servir ao sistema político, fazendo com que, em geral, a informação e a consideração dos assuntos públicos sejam acessíveis.
- A imprensa deve informar ao público para que este possa adotar uma ação autodeterminada.
- A imprensa deve proteger os direitos do indivíduo como vigilante do governo.
- A imprensa deve proporcionar entretenimento.
- A imprensa deve servir ao sistema econômico de modo a não depender de interesses políticos e influências especiais.

**27. Leia as afirmações sobre Jornalismo Digital:**

**I – Usar a técnica da pirâmide invertida na web é incentivar o webjornalismo a adoção de uma arquitetura noticiosa aberta e de livre navegação.**

**II – Nas edições online o espaço é tendencialmente infinito. Podem fazer-se cortes por razões estilísticas, mas não por questões espaciais.**

**III – Apresenta o texto com novos horizontes de leitura com elementos multimídia e pequenos textos, numa proposta de interpolação de informação.**

**IV – No Jornalismo Digital, a quantidade (e variedade) de informação disponibilizada é a variável de referência, com a notícia a se desenvolver de um nível com menos informação para sucessivos níveis de informação mais aprofundados e variados sobre o tema em análise.**

**Estão corretas apenas as afirmações:**

- I e III.
- II e IV.
- I e IV.
- II e III.
- III e IV.

**28. Leia os trechos a seguir: “Os órgãos informativos dos fatos do dia, ao selecionar os assuntos que serão ‘notícia’ mediante sua divulgação pelos meios de comunicação de massa, se concentram em eventos de curta duração que tenham alguma relação com um círculo determinado de receptores, noutras palavras, realizam a seleção de notícias baseados em uma orientação local ou etnocêntrica de fatos que não se encontram longe no passado, preferivelmente os fatos do dia. [...] É mais provável que a imprensa ponha em destaque um desastre natural de pouca duração do que ‘desastres’ sociais prolongados. [...] A negligência dos contextos socioestruturais ou dos complexos motivos de ação, no entanto, deve-se principalmente ao fato de que repórteres simplesmente não têm tempo para revelar tais fenômenos. Mais ainda, a ‘objetividade’ da informação, argumento empregado para proteger-se de possíveis críticas, tem que ser assegurada de outra maneira, como citar fontes ‘confiáveis’ de informação. Ao mesmo tempo, os preconceitos ou a visão de mundo do repórter penetram na informação, o que significa que certos fenômenos não são questionados, mas considerados culturalmente imutáveis”. Sobre a abordagem apresentada, é correto afirmar:**

- A questão dos valores informativos dos fatos tem a ver com a linha editorial básica do veículo, a qual se compartilha e se tem afinidade, indo de encontro à visão de mundo do repórter.
- A questão dos valores informativos dos fatos tem a ver com objetividade, e a decisão de quanto se é ou não objetiva uma informação é resultado de uma negociação política feita pelos grupos interessados em sua publicação.
- A questão dos valores informativos dos fatos baseia-se na suposição de que a ocupação de determinado posto no sistema social influi nas escolhas, nas ideologias e nos motivos de o fato ser notícia.
- A questão dos valores informativos dos fatos abordada remete ao papel desempenhado por redatores jornalísticos em selecionar as notícias com base nas suposições intuitivas dos jornalistas com referência àquilo que interessa a um determinado público.
- A questão dos valores informativos dos fatos de que a imprensa é um canal de comunicação através do qual se articulam os protestos sociais e se podem difundir as perspectivas contrastantes.

**29. Leia o trecho do texto publicado na revista Veja SP, de 21 de abril de 2016: “O país inteiro se solidarizou com as lágrimas de Ana Carolina Oliveira. Em março de 2008, sua filha, Isabella Nardoni, então com 5 anos, foi assassinada pelo pai, Alexandre Nardoni, e pela madrasta, Anna Carolina Jatobá. No dia da tragédia, antes de ser arremessada pela janela do 6º andar do Edifício London, na Vila Guilherme, na Zona**

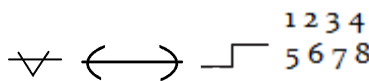


Norte, a menina sofreu muito nas mãos dos adultos que deveriam estar cuidando dela. Apanhou com uma chave tetra, foi asfixiada e, quando estava inconsciente, atirada com vida de uma altura de 20 metros.[...]Em busca de alívio, recorreu às sessões de terapia, três vezes por semana. Sua mãe, Rosa Oliveira, esteve ao seu lado o tempo todo e foi fundamental na superação do drama. Até hoje tem sido assim. “Com o tempo, aprendemos a nos acostumar com a dor. Alguns dias, no entanto, são mais difíceis que outros”, afirma a avó de Isabella. Na última segunda (18), a criança teria completado 14 anos. Nessa data, Rosa pegou a filha e dirigiu até o Litoral Norte, onde tem uma casa de praia, para que as duas pudessem descansar admirando o mar. “Não comparo dores, por isso não me fiz de coitada achando que os meus problemas eram maiores do que os dos outros”, diz Ana Carolina. “Lutei para voltar a ser feliz, pois essa é a imagem que a minha filha tinha de mim.” O marco da reconstrução de sua vida veio na forma de uma explosão de alegria dentro de um lugar inusitado: um banheiro público. Com vontade de ser mãe novamente, no ano passado ela deixou de tomar anticoncepcional. Seu marido, o administrador Vinicius Francomano, 29 anos, havia baixado no iPhone um aplicativo para saber os dias em que a mulher estaria fértil. O sonho de ter um filho era comum. Poucas semanas depois das tentativas, o sinal de alerta acendeu, com o atraso da menstruação. Sem avisar Vinicius, Ana Carolina aproveitou o horário de almoço do trabalho — administradora, ela atua no setor de câmbio de uma instituição financeira — e foi ao Shopping Eldorado. Comprou um teste de farmácia e dirigiu-se a um dos toaletes do centro de compras. O exame deu positivo. A vontade era berrar de contentamento, mas segurou a emoção na hora. “No auge dos problemas, eu achava que jamais iria me casar vestida de noiva e ter filho. A vida dá muitas voltas”.

**Sobre o texto apresentado, é correto afirmar que:**

- Trata-se de jornalismo interpretativo no formato perfil, no qual foi retratada a nova vida da mãe de uma menina que foi assassinada em 2008.
- Trata-se de jornalismo opinativo no formato análise, no qual foi avaliada positivamente a nova situação de vida da personagem.
- Trata-se de jornalismo interpretativo no formato cronologia, pois estabelece a ordem dos acontecimentos da vida da mãe desde a morte da filha até hoje.
- Trata-se de jornalismo interpretativo no formato enquete, pois apresenta dados sobre uso de aplicativos para uma marca de telefone, retratando um resultado de pesquisa.
- Trata-se de jornalismo literário avançado, pois houve a valorização da capacidade de observar a realidade com outros olhos por parte do jornalista.

**30. O significado, respectivamente, dos sinais de revisão a seguir é:**



- Unir palavra à seguinte; evitar canal; transpor período ou linha; contar palavras.
- Sequência de hifens; trocar letra empastelada; passar para página anterior; inverter palavras.
- Uniformizar espaços; diminuir entrelinha; novo parágrafo; ordenar palavras.
- Alinhar com as demais linhas; novo parágrafo; espaço levantado; sincronizar palavras.
- Unir à palavra anterior; evitar repetição no fim da linha; suprimir; acrescentar palavras.

**31. Da classe dos substantivos, os coletivos são palavras que representam o conjunto de seres ou objetos da mesma espécie. São coletivos de viajantes, de cantores, de alho, de porcos e de camelos, respectivamente:**

- Concílio; multidão; feixe; matilha; rebanho.
- Tripulação; repertório; réstia; manada, cardume.
- Congregação; coro; molho; alcateia; manada.
- Elenco; banda; feixe; rebanho; cáfila.
- Caravana; coro; réstia; vara; cáfila.

**32. Leia o trecho a seguir: “Conotação implica, portanto, em relação à coisa designada, um estado de espírito, um julgamento, um certo grau de afetividade, que variam conforme a experiência, o temperamento, a sensibilidade, a cultura e os hábitos do falante ou ouvinte, do autor ou leitor. Conotação é, assim, uma espécie de emanção semântica, possível graças à faculdade de associação de ideias inerente ao espírito humano, faculdade que nos permite relacionar coisas análogas ou assemelhadas”.**

**Com base na argumentação apresentada, qual dos títulos de matérias publicadas utiliza conotação:**

- “Micaele será os olhos de Dunga no Brasil” – O Estado de S. Paulo, 15 de maio de 2016.
- “Palmeiras mostra leveza e goleia na estreia” – O Estado de S. Paulo, 15 de maio de 2016.
- “Jogos do Rio vão tirar times de suas casas” – O Estado de S. Paulo, 15 de maio de 2016.
- “Falta de recursos deixa 46% da frota da Marinha parada” – O Estado de S. Paulo, 15 de maio de 2016.
- “Em 6 anos, Brasil perde quase uma Argentina de consumo” – O Estado de S. Paulo, 15 de maio de 2016.

**33. Leia o trecho a seguir: “Com o propósito de orientar o receptor, [...] esse jornalismo leva [...] a informação que ele necessita de imediato ou pode necessitar em algum momento. [...] se manifesta nos meios de comunicação de diversas formas e em todos os suportes midiáticos. [...] se traduz [...] na criação de seções especiais dedicadas a cobrir preocupações e necessidades práticas do dia a dia do**

cidadão; as seções especiais incorporam informação da atualidade sobre numerosas questões consideradas de interesse geral”. Conforme a noção apresentada, as imagens a seguir são classificadas como jornalismo de gênero:

## SP-São Paulo

### Mega Sena

CONCURSO 1818

Data: 14/05/2016

Fonte: Caixa Econômica Federal

\*Próximo concurso: 18/05/2016

#### RESULTADO

#### SORTEIO

02.06.10.15.53.56

Hoje

16/05/2016



máx.  
26°  
min.  
18°

Úmidade relativa  
83%

Sol com aumento de nuvens e pancadas de chuva à tarde. Noite chuvosa.

Terça-Feira

17/05/2016



máx.  
21°  
min.  
16°

Úmidade relativa  
98%

Chuvoso de manhã. Aberturas de sol à tarde e pancadas de chuva que vão até a noite.

Quarta-Feira

18/05/2016



máx.  
21°  
min.  
15°

Úmidade relativa  
100%

Sol com muitas nuvens durante o dia. Períodos de nublado, com chuva a qualquer hora.

- Diversional
- Interpretativo
- Informativo
- Utilitário
- Opinativo

34. De acordo com a regulamentação do Código Brasileiro de Telecomunicações, são classificadas como fins das telecomunicações as atividades, exceto:

- Correios
- Boletins meteorológicos
- Radioamador
- Música funcional
- Sinais horários

35. Leia o trecho a seguir: “De fato, para se decidir em que medida um discurso visa persuadir e como o faz, há que levar em conta as características fundamentais da situação em que ele se dá e as relações de intersubjetividade dos interlocutores. Os efeitos perseguidos pelos discursos persuasivos são produtos não de um simples ato ilocutório, como também de elementos extraídos da força ilocucionária da situação. Cabe ainda lembrar que o ato de informar não existe em estado puro e serve antes a convencer e persuadir do que por si próprio”. No dia 15 de maio de 2016, a seção Internacional do jornal O Estado de S. Paulo publicou os seguintes títulos nos textos: “Retórica de Trump faz latinos baterem recorde de registro eleitoral nos EUA”; “Reação a tom ofensivo deve influir nas urnas - Durante campanha, Trump chegou a dizer que México envia ‘estupradores’ aos EUA”; “A América Latina deve se preocupar com Trump?”. Com base no trecho e nas manchetes, o fenômeno observado é conhecido como:

- Jornalismo de precisão
- Jornalismo de desenvolvimento intelectual
- Pragmática do jornalismo
- Intencionalidade da comunicação
- Notícia como discurso

36. Leia o trecho a seguir: “O ambiente do país, na época em que surgiram e se multiplicaram [...] explica, de forma nítida a fisionomia áspera assumida pela pequena imprensa, comprovando como suas características derivavam diretamente das condições do meio. Estatística da fase regencial assinalava que, na Corte, apenas entre 7 de abril e 30 de maio de 1831, haviam sido presos por desordem e pancadaria 108 homens livres e 50 escravos; foram apreendidas armas a 102 pessoas; ocorreram 8 assassinios; apareceram 5 cadáveres; registraram-se 27 ferimentos graves e 25 leves. [...] Moreira de Azevedo compreendeu ‘a aparição desses periódicos veementes, insultosos, lembrando represálias, excitando o patriotismo e tratando de aumentar o ardor, a luta dos partidos, luta que mui breve devia trazer grande mudança à política do país’. A publicação descrita no trecho é:

- Pasquim
- Imprensa proletária
- Imprensa praieira
- Imprensa colonial
- Imprensa burguesa

37. Em diagramação, diz-se que a linha que fica sozinha num último parágrafo de uma página quando o restante do parágrafo passou à próxima página é chamada de:

- a) Linha viúva
- b) Linha fina
- c) Linha solta
- d) Linha grave
- e) Linha órfã

**38. Na perspectiva de critérios de noticiabilidade para seleção do fato a ser apurado, sob o aspecto de contexto para publicação da notícia, são levados em conta, exceto:**

- a) Disponibilidade
- b) Personalização
- c) Concorrência
- d) Notabilidade
- e) Conflitos e controvérsias

**39. Leia as afirmações a seguir sobre comunicação institucional:**

**I – As publicações organizacionais se propõem a combater o desconhecimento a respeito da empresa e promover a integração entre os públicos ligados a ela.**

**II – Internamente, as publicações fortalecem o espírito de competitividade e reforçam os objetivos que devem ser alcançados pelos colaboradores.**

**III – As publicações internas são, sobretudo, um meio de comunicação destinado a assegurar um fluxo satisfatório entre a direção e os funcionários.**

**IV – As publicações internas são comparáveis a manuais de instrução da empresa, pois o assunto não varia.**

**Estão erradas as afirmações:**

- a) I e II, apenas.
- b) II e III, apenas.
- c) III e IV, apenas.
- d) II e IV, apenas.
- e) I e IV, apenas.

**40. Leia o trecho a seguir: “As publicações empresariais, enquanto veículos jornalísticos, portanto, conduzindo a notícia, devem ter periodicidade, isto é, devem aparecer em intervalos sucessivos e regulares. Precisam investir-se de fatos da atualidade, que formam o presente da empresa (o presente na empresa não é o presente no jornalismo diário). Para assumir seu atributo de universalidade, as publicações podem, em princípio, apresentar informações sobre quaisquer áreas ou programas de interesse da empresa e de seus públicos. Por último, necessitam chegar ao público ao qual se destinam, devendo, para isso, ser difundidas”. Sobre publicações empresariais, é correto afirmar:**

- a) Relatório não é indicado como canal impresso a ser explorado como publicação empresarial porque tem linguagem altamente técnica.
- b) Folhas soltas são um tipo de publicação com linguagem técnica de alta complexidade, reduzido número de páginas e de utilização imediata, com texto apoiando imagem, contraindicado para âmbito institucional.
- c) Revista é o veículo com grande apoio da imagem visual e maior número de páginas, linguagem média e possibilidade de veiculação de matérias informativas (avisos), opinativas (artigos assinados e crônicas, editoriais), com a vantagem de atender públicos diferentes.
- d) Circulares são variantes de relatórios e, assim como essas publicações, utilizam linguagem técnica e estatística e não são indicadas como publicação para comunicação institucional.
- e) Folders são de linguagem fácil, tamanho pequeno e muitos recursos gráficos, mas não é recomendado para publicação de textos jornalísticos por falta de espaço.

**RASCUNHO**



PREFEITURA DE TELÊMACO BORBA - ESTADO DO PARANÁ- EDITAL Nº 001-2016 - CONCURSO PÚBLICO

VESPERTINO – 29/05/2016 – NÍVEL SUPERIOR

PROVA OBJETIVA NÚMERO

**2**

**CARGO: TMNS I – JORNALISMO**

**Leia atentamente as INSTRUÇÕES:**

1. Confira seus dados no cartão-resposta: nome, número de inscrição e o curso para o qual se inscreveu.
2. **MARQUE no seu cartão-resposta o número da sua prova** (não será corrigido o cartão-resposta que não tiver marcado o número da prova) e **Assine** seu cartão-resposta.
3. Aguarde a autorização do Fiscal para abrir o caderno de prova. Ao receber a ordem do fiscal, confira o caderno de prova com muita atenção. Nenhuma reclamação sobre o total de questões ou falha de impressão será aceita depois de iniciada a prova.
4. O cartão-resposta não será substituído, salvo se contiver erro de impressão.
5. Preencha toda a área do cartão-resposta correspondente à alternativa de sua escolha, com caneta esferográfica (tinta azul ou preta), sem ultrapassar as bordas. As marcações duplas, ou rasuradas, com corretivo, ou marcadas diferentemente do modelo estabelecido no cartão-resposta poderão ser anuladas.
6. Sua prova tem **40** questões, com **5** alternativas.
7. Cabe apenas ao candidato a interpretação das questões, **o fiscal** não poderá fazer nenhuma interferência.
8. A prova será realizada com duração máxima de **3 (três) horas**, incluído o tempo para a realização da Prova Objetiva de múltipla escolha e o preenchimento do cartão-resposta.
9. O candidato poderá retirar-se do local de realização das provas somente **1 (uma) hora** após o seu início, sem levar o caderno de prova.
10. O candidato poderá levar o caderno de provas, assim como anotação contendo transcrição do seu cartão-resposta, somente **1h30min** (uma hora e trinta minutos) após o início da realização da prova.
11. Ao terminar a prova, o candidato deverá entregar ao fiscal de sala o cartão-resposta preenchido e **ASSINADO**.
12. Os **3 (três)** candidatos, que terminarem a prova por último, deverão permanecer na sala, e só poderão sair juntos após o fechamento do envelope, contendo os cartões-resposta dos candidatos presentes e ausentes, e assinarem no lacre do referido envelope, atestando que este foi devidamente lacrado.
13. Durante todo o tempo em que permanecer no local onde está ocorrendo o concurso, o candidato deverá, manter o celular desligado e sem bateria, só sendo permitido ligar depois de ultrapassar o portão de saída do prédio.
14. Não será permitido ao candidato fumar na sala de provas, bem como nas dependências.
15. Depois de terminar a prova e entregar ao fiscal o cartão-resposta, preenchido e assinado, não será mais permitido ao candidato o uso do banheiro e bebedouro.

**BOA PROVA!**

**RACIOCÍNIO LÓGICO**

**01. Os cinco filhos de Ana estavam discutindo a respeito da data de nascimento da mãe:**

- Almir disse que foi em janeiro, dia 14, sexta-feira.
- Vanderlei disse que foi em janeiro, dia 14, sábado.
- Tiago disse que foi em fevereiro, dia 15, sábado.
- Sandro disse que foi em janeiro, dia 15, sexta-feira.
- Renato disse que foi em fevereiro, dia 15, sexta-feira.

**Sabe-se que somente um dos filhos de Ana acertou corretamente sua data de nascimento e que os outros acertaram pelo menos um dos itens (dia, dia da semana e mês). Dessa forma, é correto afirmar que o filho de Ana que acertou a data de nascimento dela foi:**

- a) Renato
- b) Sandro
- c) Tiago
- d) Vanderlei
- e) Almir

**02. Considere a seguinte afirmativa: “Todo churrasqueiro gosta de picanha”. Em relação a essa proposição, é correto afirmar que:**

- a) Algum churrasqueiro não gosta de picanha.
- b) Toda pessoa que gosta de picanha é churrasqueira.
- c) Alguma pessoa que não gosta de picanha é churrasqueira.
- d) Toda pessoa que não é churrasqueira, não gosta de picanha.
- e) Toda pessoa que não gosta de picanha, não é churrasqueira.

**03. Em um grupo formado por 67 pessoas, verificou-se que 41 pessoas gostam de arroz, 29 gostam de feijão, 33 gostam de carne, 19 gostam de arroz e de feijão, 9 gostam apenas de arroz e de carne, 12 gostam de feijão e de carne e que 6 gostam de arroz, de feijão e de carne. O número de pessoas desse grupo, que não gosta de nenhum desses três tipos de alimentos é igual a:**

- a) 4
- b) 5
- c) 6
- d) 8
- e) 10

**04. Bruno escreveu, em seu caderno, várias sequências formadas por números múltiplos de 4, onde os valores que ocupavam as posições pares eram multiplicados por  $-1$ . Cada sequência foi somada e o resultado da soma anotado. A soma das três primeiras sequências escritas por Bruno foram as seguintes:**

$$4 - 8 = -4$$

$$4 - 8 + 12 = 8$$

$$4 - 8 + 12 - 16 = -8$$

**Considere que Bruno escreveu e somou tais sequências, em seu caderno, de modo a obter determinada sequência cuja soma foi 600. O número de termos dessa sequência é igual a:**

- a) 149
- b) 150
- c) 298
- d) 299
- e) 300

**05. Quatro torcedores, um do São Paulo, um do Cruzeiro, um do Vasco e um do Bahia, estão sentados ao redor de uma mesa quadrada, de modo que, dois a dois, fiquem frente a frente. Sabe-se que Alan é torcedor do Cruzeiro e que Bruno está sentado à direita de Alan. Sabe-se também que Caio está sentado à direita do torcedor do São Paulo. Sabe-se ainda que Daniel não é torcedor do Vasco e que está sentado à frente de Bruno. Dessa forma, é correto afirmar que:**

- a) Bruno é torcedor do Bahia e Daniel é torcedor do São Paulo.
- b) Bruno é torcedor do São Paulo e Daniel é torcedor do Bahia.
- c) Caio é torcedor do Vasco e Daniel é torcedor do São Paulo.
- d) Caio é torcedor do Bahia e Daniel é torcedor do São Paulo.
- e) Bruno é torcedor do Vasco e Daniel é torcedor do Bahia.

**INFORMÁTICA**

06. Considerando o MS-Excel versão 2010, observando a figura abaixo, é correto afirmar que:

	A	B	C
1			
2			
3			
4			

- Somente 03 três linhas estão selecionadas.
- Somente uma célula está selecionada.
- 12 (doze) células estão selecionadas.
- Somente a coluna A até a linha 4 (quatro) está selecionada.
- Somente as colunas 1 (um), 2 (dois), 3 (três) e 4 (quatro) estão selecionadas.

07. Considerando o MS-Excel versão 2010, observando a figura abaixo, é incorreto afirmar que:

	A	B	C
1	12	6	=A1*B1
2	8	2	=A2/B2
3	5	14	=A3-B3
4	6	11	=A4+B4

- O resultado da fórmula =A1\*B1 é 72.
- O resultado da fórmula =A2/B2 é 4.
- O resultado da fórmula =A3-B3 é -9.
- O resultado da fórmula =A3-B3 é 9.
- O resultado da fórmula =A4+B4 é 17.

08. Digitando um texto no MS-Word versão 2010, necessito adicionar número nas páginas. Quanto a isso, é correto afirmar que:

- No menu Layout da Página, clico em número de página e seleciono onde desejo adicionar os números.
- No menu Inserir, clico em número de página e seleciono onde desejo adicionar os números.
- No menu Revisão, clico em número de página e seleciono onde desejo adicionar os números.
- No menu Referências, clico em número de página e seleciono onde desejo adicionar os números.
- No menu Exibição, clico em número de página e seleciono onde desejo adicionar os números.

09. A segurança da informação está diretamente relacionada com proteção de um conjunto de informações, no sentido de preservar o valor que possuem para um indivíduo ou uma organização. Atualmente, um dos aplicativos mais utilizados no mundo, o Whats app, teve uma alteração de confidencialidade muito importante na segurança das informações transmitidas e recebidas. Dentre as alternativas, assinale a que corretamente informa a alteração inserida no aplicativo Whats app.

- Antispam
- Antivirus
- Firewall
- Antispyware
- Criptografia

10. São todos os dispositivos que trabalham acoplados ao microcomputador para receber, transmitir, visualizar, ler, gravar ou armazenarem dados. São eles que permitem a comunicação do computador com o meio exterior, isto é, com os usuários e outras máquinas.

Esse texto descreve corretamente:

- Memória ram
- Memória virtual
- Software
- Periféricos
- Hardware

**CONHECIMENTOS GERAIS**

11. Hino do município de Telêmaco Borba/PR

Das virgens matas e campos verdejantes  
 Servindo-se também o rio Tibagi,





Homens de ideais, espíritos vibrantes.

Constituíram as indústrias aqui.

Estrilho:

Salve! Salve! Telêmaco Borba

Terra querida e de grandes primores,

A nossa homenagem rendamos

À cidade dos trabalhadores.

Pois a cadência de enorme e real progresso

Um município mui grandioso fez nascer,

Marcando assim, verdadeiro sucesso

Faz, então o Paraná engrandecer.

**No que tange ao Hino do município, atribua V (verdadeiro) ou F (falso) às afirmativas e marque a alternativa correta.**

Eloah Martins Quadrado é autora da letra do hino.

Bento Mossurunga compôs a música do hino.

Eloah Martins Quadrado foi nomeada primeira professora da Cidade Nova, atual Telêmaco Borba.

Bento Mossurunga fundou a orquestra Estudantil e Concertos – Orquestra Sinfônica da Universidade, a Sociedade de Cultura Artístico Basílio Itiberê.

a) F, V, V, V.

b) V, F, V, V.

c) V, V, F, V.

d) V, V, F, F.

e) V, V, V, V.

**12. À luz da Lei nº 1883/2012, que dispões sobre o Estatuto dos Servidores Públicos da Administração Direta, Autárquica e Funcional do Município de Telêmaco Borba/PR, leia as alternativas e marque a correta.**

a) A apresentação para a posse ocorrerá no prazo de até trinta dias, contados do ato de nomeação.

b) A destituição do servidor da função gratificada dar-se-á por solicitação exclusiva dele mesmo.

c) O servidor ocupante exclusivamente de cargo em comissão será contribuinte do regime geral de previdência social.

d) A aprovação em concurso público gera o direito à nomeação, e será feita obedecida à ordem de classificação dos candidatos.

e) O exercício de função gratificada poderá ser de dedicação integral ou parcial, conforme necessidade da administração.

**Conforme a Lei nº 1.881, de 05 de abril de 2012, que dispõe sobre o Plano de Cargos, Carreiras e Vencimentos do quadro geral de servidores da Prefeitura Municipal de Telêmaco Borba/PR, regulamentada pelo Decreto nº 2269/2015, responda às próximas três questões.**

**13. Leia as assertivas e assinala a incorreta.**

a) Do resultado da avaliação de desempenho poderá ser interposto recurso à Comissão de Desenvolvimento Funcional no prazo de quinze dias a contar da publicação no Boletim Oficial do Município.

b) Não será concedida a progressão ou promoção ao servidor que estiver em licença para tratamento de saúde por um período superior a quarenta e cinco dias, no período de avaliação.

c) A alternância dos membros constituintes da Comissão de Desenvolvimento Funcional eleitos pelos servidores verificar-se-á a cada três anos de participação, observados, para substituição de seus participantes, o critério fixado no artigo anterior, não cabendo eleição sucessiva.

d) Caberá à Comissão de Desenvolvimento Funcional, no caso de divergência de vinte por cento entre a nota do avaliador e a do avaliado, solicitar nova avaliação à chefia.

e) Nos termos do disposto no art. 17 da Lei nº 1.881, de 05 de abril de 2012, para progredir, é necessário que o servidor satisfaça, dentre outros, o seguinte requisito: estar no efetivo exercício de seu cargo ou em função comissionada na sua área de atuação durante o interstício de dois anos.

**14. Assinale a alternativa que completa respectivamente as lacunas do texto a seguir:**

**A Comissão de Desenvolvimento Funcional será constituída por \_\_\_\_\_ membros, sendo \_\_\_\_\_ designados pelo Prefeito Municipal de Telêmaco Borba e os demais eleitos pelos servidores municipais dentre os estáveis, com a atribuição de coordenar os procedimentos relativos à avaliação periódica de desempenho e outras atribuições.**

a) três / sete

b) um / três

c) sete / três

d) três / cinco

e) dois / cinco

15. A Avaliação de Desempenho será norteada, dentre outros, pelo seguinte princípio: Amplitude - a avaliação deve incidir sobre todas as áreas de atuação do servidor, que compreendem:

1. a formulação de políticas administrativas e sua aplicação para todos os setores da administração municipal;
2. o desempenho do profissional dentro de suas funções pertinentes;
3. a estrutura do órgão em que exerce a função;
4. os resultados de eficiência dos serviços de cada setor ou órgão da administração municipal;
5. a participação direta do avaliado, durante todo o processo avaliativo.

Diante dessa afirmação, somente não está correto o item:

- a) 1
- b) 2
- c) 3
- d) 4
- e) 5

### CONHECIMENTOS ESPECÍFICOS

16. Leia os trechos a seguir:

I - “Os holandeses, dominando a área mais rica da colônia, no século XVII, introduziram no Brasil alguns elementos característicos da atividade burguesa, de que foram pioneiros. Não a imprensa, porém. Apesar de lhe terem dado singular desenvolvimento, na área metropolitana, na proporção do avanço de sua burguesia, não se empenharam em trazer ao seu novo domínio americano a arte tipográfica”.

II - “Quando surgiram as iniciativas isoladas, no século XVIII, o papel das autoridades coloniais foi importante. Elas não decorreram, assim, de imposição social, mas de esforços isolados. Nem estes, entretanto, permitiu a metrópole que surgissem, liquidando-os no nascedouro”.

III - “Antônio Isidoro da Fonseca, antigo opressor em Lisboa, transferiu-se à colônia, trazendo na bagagem o material tipográfico com que montou no Rio pequena oficina. Chegou a pô-la em atividade, pois imprimiu alguns trabalhos, entre os quais se destaca a *Relação da Entrada* do bispo Antônio Desterro, redigida por Luís Antônio Rosado da Cunha, com dezessete páginas de texto”.

IV - “O nome de Antonio Isidoro da Fonseca tem o interesse de fixar as dificuldades, mais do que as realizações da imprensa, na colônia. Coube-lhe, de qualquer maneira, a prioridade: a *Relação da Entrada* foi o primeiro folheto impresso no Brasil.”

Sobre a abordagem apresentada nos trechos acima, é correto afirmar:

- a) As dificuldades encontradas para firmar o conceito de imprensa no período colonial se devem à diferença de idioma entre o holandês e o português, vigentes no Nordeste do Brasil.
- b) O fato de a primeira publicação impressa ter sido feita para um bispo no período colonial evidencia a ligação estreita que a imprensa e a Igreja mantêm até os dias de hoje.
- c) O fato de a *Relação de Entrada* ter sido publicada mostra que a Corte de Portugal não agia para impedir que publicações fossem feitas, apenas advertia os governadores submetidos à ordem do Reino a não fazê-lo.
- d) O fato de haver escravos no período colonial reforçava a facilidade de instalar a imprensa no Brasil por causa da força de trabalho sem custos.
- e) A imprensa surgiu apenas com permissão e iniciativa oficiais de Portugal com a chegada da Corte de D. João ao Brasil, por meio de ato real expedido em maio de 1808.

17. Observe o seguinte trecho: “Se a categoria do tempo encontra formas ou flexões próprias em todas as línguas, o mesmo não acontece com a de aspecto, que parece exercer papel subsidiário: raras são as que dispõem de flexões próprias para esta função. No entanto, a maneira de ser do processo verbal é tão importante quanto o próprio tempo. [...] Aquelas línguas que, como o português, não dispõem, no quadro da sua conjugação verbal, de formas exclusivas para indicar o aspecto, ou as têm em número insignificante, servem-se de construções subsidiárias, como as chamadas perífrases ou locuções verbais, quando não de certos utensílios gramaticais adequados”. Agora, leia o título do texto publicado no jornal O Estado de S. Paulo, de 13 de maio de 2016: “Guarda presidencial deixa de hastear bandeira com brasão da República em frente ao Alvorada”. A perífrase contida no título é classificada como de:

- a) Iteração
- b) Cessação
- c) Incoação
- d) Volição
- e) Conação

18. Analise os trechos: “[...] a Retórica tem sido colocada à prova pelos mesmos princípios que a norteiam internamente e que fazem com que ela refloraça sempre: aceitação da mudança, o respeito à alteridade e a consideração da língua como lugar de confronto das subjetividades. Partindo-se do princípio de que a argumentatividade está presente em toda e qualquer atividade discursiva, tem-se também como básico o fato de que argumentar significa considerar o outro como capaz de reagir e de interagir diante das propostas e teses que lhe são apresentadas. [...] Não se pode também deixar de considerar que cada época faz a leitura dos fatos de acordo com o seu próprio modo de pensar, uma vez que eles comportam

além daquilo que é dado, a maneira de os interpretar e de os comunicar”. Sobre os estudos que envolvem a Retórica, é incorreto afirmar que:

- O respeito à divergência e à capacidade de reação do outro diante de atividade discursiva manteve a credibilidade da Retórica, inclusive na aceitação de raciocínios de toda ordem, mesmo os enganosos e ou só aparentemente corretos, em nome do confronto de subjetividades.
- À atitude de descrença nos efeitos da Retórica segue-se a convicção de que é no mundo da opinião, da doxa que são tecidas as relações sociais, políticas e econômicas, uma vez que é a esta que se tem acesso e não ao que se chamaria “mundo da verdade”.
- Existe a dialética entre verdade e aparência de verdade, ou seja, o verossímil, podendo-se falar mais propriamente em representação da verdade, que emerge do senso comum e que se corporifica nos discursos.
- A concepção de “discurso convincente”, aquele que consegue fazer o público sentir-se identificado com o seu produtor e a sua proposta, é entendido como parte dos estudos sobre Retórica.
- Considera-se a Retórica o domínio dos conhecimentos prováveis e não das certezas e das evidências, os quais caberiam os raciocínios científicos e lógicos.

**19. Observe as considerações sobre reportagem: “A habilidade maior consiste em saber elaborar frases, parágrafos, saber a melhor sequência para eles (como o cineasta que edita seus fotogramas e cenas); o melhor arranjo (harmonia, melodia e ritmo); e a capacidade, sobretudo de fazer com que as palavras circulem a estabelecer empatia com o leitor”. “Há relação de interesse jornalístico e abrangência de público para uma informação. Quanto maior o interesse jornalístico, maior a abrangência do público que a informação possa destinar. Já a comunidade envolvida na especialidade será motivada não tanto pelo aspecto jornalístico de uma informação, mas por suas implicações puramente técnicas”. Com base nas considerações sobre reportagem, analise as afirmações a seguir:**

**I – A informação jornalística é o espaço privilegiado da reportagem especializada. Uma peculiaridade dela é destinar-se a públicos mais ou menos heterogêneos.**

**II – Quanto maior for a observação dos detalhes e das anotações, depoimentos, etc, maiores serão as chances de escrever um texto vago sobre o fato, em que só o aspecto jornalístico de uma informação será levado em conta.**

**III – Material jornalístico caracteriza-se, em tese, por sua atualidade, universalidade, periodicidade (durabilidade limitada) e difusão, mas o que mais o identifica é a estruturação retórica em torno de pontos de interesse jornalístico.**

**Está correto o que se afirma em:**

- I, II e III.
- I e II, somente.
- II e III, somente.
- I e III, somente.
- III, somente.

**20. Ao receber uma denúncia sobre transgressão ao Código de Ética dos Jornalistas Brasileiros, cabe a quem tomar as medidas de apuração e apreciação?**

- Comitê Brasileiro de Telecomunicações
- Comissão de Ética do Ministério do Trabalho
- Comissão de Ética do Sindicato dos Jornalistas
- Conselho Nacional de Imprensa
- Associação Brasileira de Imprensa

**21. Observe os trechos a seguir: “A teoria da imprensa que se supõe ser mais antiga, a teoria autoritária, data do século XVI. Surgiu da filosofia estatal do absolutismo. Encomendou-se o reconhecimento da ‘verdade’ a um pequeno grupo de ‘sábios’ que poderia exercer a liderança – enfoque de cima para baixo. A imprensa teve que promover a política do governo e servir ao Estado. [...] À medida que cresceram as liberdades políticas, religiosas e econômicas, com o advento do Iluminismo, também aumentaram as exigências de uma nova autopropetuação da imprensa. Nasceu a teoria liberal, que chegou ao auge durante o século XIX. As pessoas eram consideradas seres racionais, capazes de distinguir entre a verdade e a mentira. [...] A teoria liberal deixou de reconhecer problemas como a liberdade interna da imprensa e os processos de concentração da imprensa. [...] A dupla função dos meios de comunicação da empresa privada, a de produzir utilidades e servir aos seus anunciantes versus a de servir ao público, foi cumprida inicialmente só de um lado”. As necessidades de revisão do papel da imprensa, conforme apresentado nos trechos, formulam as bases da teoria da responsabilidade social, em que a imprensa livre tem atos socialmente responsáveis. Dos postulados sobre a responsabilidade social da imprensa, o incorreto é:**

- A imprensa deve servir ao sistema político, fazendo com que, em geral, a informação e a consideração dos assuntos públicos sejam acessíveis.
- A imprensa deve informar ao público para que este possa adotar uma ação autodeterminada.
- A imprensa deve proteger os direitos do indivíduo como vigilante do governo.
- A imprensa deve proporcionar entretenimento.

e) A imprensa deve servir ao sistema econômico de modo a não depender de interesses políticos e influências especiais.

**22. Leia as afirmações sobre Jornalismo Digital:**

**I – Usar a técnica da pirâmide invertida na web é incentivar o webjornalismo a adoção de uma arquitetura noticiosa aberta e de livre navegação.**

**II – Nas edições online o espaço é tendencialmente infinito. Podem fazer-se cortes por razões estilísticas, mas não por questões espaciais.**

**III – Apresenta o texto com novos horizontes de leitura com elementos multimídia e pequenos textos, numa proposta de interpolação de informação.**

**IV – No Jornalismo Digital, a quantidade (e variedade) de informação disponibilizada é a variável de referência, com a notícia a se desenvolver de um nível com menos informação para sucessivos níveis de informação mais aprofundados e variados sobre o tema em análise.**

**Estão corretas apenas as afirmações:**

- a) I e III.
- b) II e IV.
- c) I e IV.
- d) II e III.
- e) III e IV.

**23. Leia os trechos a seguir: “Os órgãos informativos dos fatos do dia, ao selecionar os assuntos que serão ‘notícia’ mediante sua divulgação pelos meios de comunicação de massa, se concentram em eventos de curta duração que tenham alguma relação com um círculo determinado de receptores, noutras palavras, realizam a seleção de notícias baseados em uma orientação local ou etnocêntrica de fatos que não se encontram longe no passado, preferivelmente os fatos do dia. [...] É mais provável que a imprensa ponha em destaque um desastre natural de pouca duração do que ‘desastres’ sociais prolongados. [...] A negligência dos contextos socioestruturais ou dos complexos motivos de ação, no entanto, deve-se principalmente ao fato de que repórteres simplesmente não têm tempo para revelar tais fenômenos. Mais ainda, a ‘objetividade’ da informação, argumento empregado para proteger-se de possíveis críticas, tem que ser assegurada de outra maneira, como citar fontes ‘confiáveis’ de informação. Ao mesmo tempo, os preconceitos ou a visão de mundo do repórter penetram na informação, o que significa que certos fenômenos não são questionados, mas considerados culturalmente imutáveis”. Sobre a abordagem apresentada, é correto afirmar:**

- a) A questão dos valores informativos dos fatos tem a ver com a linha editorial básica do veículo, a qual se compartilha e se tem afinidade, indo de encontro à visão de mundo do repórter.
- b) A questão dos valores informativos dos fatos tem a ver com objetividade, e a decisão de quanto se é ou não objetiva uma informação é resultado de uma negociação política feita pelos grupos interessados em sua publicação.
- c) A questão dos valores informativos dos fatos baseia-se na suposição de que a ocupação de determinado posto no sistema social influi nas escolhas, nas ideologias e nos motivos de o fato ser notícia.
- d) A questão dos valores informativos dos fatos abordada remete ao papel desempenhado por redatores jornalísticos em selecionar as notícias com base nas suposições intuitivas dos jornalistas com referência àquilo que interessa a um determinado público.
- e) A questão dos valores informativos dos fatos de que a imprensa é um canal de comunicação através do qual se articulam os protestos sociais e se podem difundir as perspectivas contrastantes.

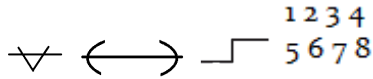
**24. Leia o trecho do texto publicado na revista Veja SP, de 21 de abril de 2016: “O país inteiro se solidarizou com as lágrimas de Ana Carolina Oliveira. Em março de 2008, sua filha, Isabella Nardoni, então com 5 anos, foi assassinada pelo pai, Alexandre Nardoni, e pela madrasta, Anna Carolina Jatobá. No dia da tragédia, antes de ser arremessada pela janela do 6º andar do Edifício London, na Vila Guilherme, na Zona Norte, a menina sofreu muito nas mãos dos adultos que deveriam estar cuidando dela. Apanhou com uma chave tetra, foi asfixiada e, quando estava inconsciente, atirada com vida de uma altura de 20 metros.[...]Em busca de alívio, recorreu às sessões de terapia, três vezes por semana. Sua mãe, Rosa Oliveira, esteve ao seu lado o tempo todo e foi fundamental na superação do drama. Até hoje tem sido assim. “Com o tempo, aprendemos a nos acostumar com a dor. Alguns dias, no entanto, são mais difíceis que outros”, afirma a avó de Isabella. Na última segunda (18), a criança teria completado 14 anos. Nessa data, Rosa pegou a filha e dirigiu até o Litoral Norte, onde tem uma casa de praia, para que as duas pudessem descansar admirando o mar. “Não comparo dores, por isso não me fiz de coitada achando que os meus problemas eram maiores do que os dos outros”, diz Ana Carolina. “Lutei para voltar a ser feliz, pois essa é a imagem que a minha filha tinha de mim.” O marco da reconstrução de sua vida veio na forma de uma explosão de alegria dentro de um lugar inusitado: um banheiro público. Com vontade de ser mãe novamente, no ano passado ela deixou de tomar anticoncepcional. Seu marido, o administrador Vinicius Francomano, 29 anos, havia baixado no iPhone um aplicativo para saber os dias em que a mulher estaria fértil. O sonho de ter um filho era comum. Poucas semanas depois das tentativas, o sinal de alerta acendeu, com o atraso da menstruação. Sem avisar Vinicius, Ana Carolina aproveitou o horário de almoço**

do trabalho — administradora, ela atua no setor de câmbio de uma instituição financeira — e foi ao Shopping Eldorado. Comprou um teste de farmácia e dirigiu-se a um dos toaletes do centro de compras. O exame deu positivo. A vontade era berrar de contentamento, mas segurou a emoção na hora. “No auge dos problemas, eu achava que jamais iria me casar vestida de noiva e ter filho. A vida dá muitas voltas”.

Sobre o texto apresentado, é correto afirmar que:

- Trata-se de jornalismo interpretativo no formato perfil, no qual foi retratada a nova vida da mãe de uma menina que foi assassinada em 2008.
- Trata-se de jornalismo opinativo no formato análise, no qual foi avaliada positivamente a nova situação de vida da personagem.
- Trata-se de jornalismo interpretativo no formato cronologia, pois estabelece a ordem dos acontecimentos da vida da mãe desde a morte da filha até hoje.
- Trata-se de jornalismo interpretativo no formato enquete, pois apresenta dados sobre uso de aplicativos para uma marca de telefone, retratando um resultado de pesquisa.
- Trata-se de jornalismo literário avançado, pois houve a valorização da capacidade de observar a realidade com outros olhos por parte do jornalista.

25. O significado, respectivamente, dos sinais de revisão a seguir é:



- Unir palavra à seguinte; evitar canal; transpor período ou linha; contar palavras.
- Sequência de hífen; trocar letra empastelada; passar para página anterior; inverter palavras.
- Uniformizar espaços; diminuir entrelinha; novo parágrafo; ordenar palavras.
- Alinhar com as demais linhas; novo parágrafo; espaço levantado; sincronizar palavras.
- Unir à palavra anterior; evitar repetição no fim da linha; suprimir; acrescentar palavras.

26. Da classe dos substantivos, os coletivos são palavras que representam o conjunto de seres ou objetos da mesma espécie. São coletivos de viajantes, de cantores, de alho, de porcos e de camelos, respectivamente:

- Concílio; multidão; feixe; matilha; rebanho.
- Tripulação; repertório; réstia; manada, cardume.
- Congregação; coro; molho; alcateia; manada.
- Elenco; banda; feixe; rebanho; cáfila.
- Caravana; coro; réstia; vara; cáfila.

27. Leia o trecho a seguir: “Conotação implica, portanto, em relação à coisa designada, um estado de espírito, um julgamento, um certo grau de afetividade, que variam conforme a experiência, o temperamento, a sensibilidade, a cultura e os hábitos do falante ou ouvinte, do autor ou leitor. Conotação é, assim, uma espécie de emanção semântica, possível graças à faculdade de associação de ideias inerente ao espírito humano, faculdade que nos permite relacionar coisas análogas ou assemelhadas”. Com base na argumentação apresentada, qual dos títulos de matérias publicadas utiliza conotação:

- “Micaele será os olhos de Dunga no Brasil” – O Estado de S. Paulo, 15 de maio de 2016.
- “Palmeiras mostra leveza e goleia na estreia” – O Estado de S. Paulo, 15 de maio de 2016.
- “Jogos do Rio vão tirar times de suas casas” – O Estado de S. Paulo, 15 de maio de 2016.
- “Falta de recursos deixa 46% da frota da Marinha parada” – O Estado de S. Paulo, 15 de maio de 2016.
- “Em 6 anos, Brasil perde quase uma Argentina de consumo” – O Estado de S. Paulo, 15 de maio de 2016.

28. Leia o trecho a seguir: “Com o propósito de orientar o receptor, [...] esse jornalismo leva [...] a informação que ele necessita de imediato ou pode necessitar em algum momento. [...] se manifesta nos meios de comunicação de diversas formas e em todos os suportes midiáticos. [...] se traduz [...] na criação de seções especiais dedicadas a cobrir preocupações e necessidades práticas do dia a dia do cidadão; as seções especiais incorporam informação da atualidade sobre numerosas questões consideradas de interesse geral”. Conforme a noção apresentada, as imagens a seguir são classificadas como jornalismo de gênero:



## SP-São Paulo

### Mega Sena

CONCURSO 1818

Data: 14/05/2016

Fonte: Caixa Econômica Federal

\*Próximo concurso: 18/05/2016

#### RESULTADO

#### SORTEIO

02.06.10.15.53.56

Hoje  
16/05/2016



máx.  
26°  
min.  
18°

Úmidade relativa  
83%

Sol com aumento de nuvens e pancadas de chuva à tarde. Noite chuvosa.

Terça-Feira  
17/05/2016



máx.  
21°  
min.  
16°

Úmidade relativa  
98%

Chuvoso de manhã. Aberturas de sol à tarde e pancadas de chuva que vão até a noite.

Quarta-Feira  
18/05/2016



máx.  
21°  
min.  
15°

Úmidade relativa  
100%

Sol com muitas nuvens durante o dia. Períodos de nublado, com chuva a qualquer hora.

- a) Diversional
- b) Interpretativo
- c) Informativo
- d) Utilitário
- e) Opinativo

29. De acordo com a regulamentação do Código Brasileiro de Telecomunicações, são classificadas como fins das telecomunicações as atividades, exceto:

- a) Correios
- b) Boletins meteorológicos
- c) Radioamador
- d) Música funcional
- e) Sinais horários

30. Leia o trecho a seguir: “De fato, para se decidir em que medida um discurso visa persuadir e como o faz, há que levar em conta as características fundamentais da situação em que ele se dá e as relações de intersubjetividade dos interlocutores. Os efeitos perseguidos pelos discursos persuasivos são produtos não de um simples ato ilocutório, como também de elementos extraídos da força ilocucionária da situação. Cabe ainda lembrar que o ato de informar não existe em estado puro e serve antes a convencer e persuadir do que por si próprio”. No dia 15 de maio de 2016, a seção Internacional do jornal O Estado de S. Paulo publicou os seguintes títulos nos textos: “Retórica de Trump faz latinos baterem recorde de registro eleitoral nos EUA”; “Reação a tom ofensivo deve influir nas urnas - Durante campanha, Trump chegou a dizer que México envia ‘estupradores’ aos EUA”; “A América Latina deve se preocupar com Trump?”. Com base no trecho e nas manchetes, o fenômeno observado é conhecido como:

- a) Jornalismo de precisão
- b) Jornalismo de desenvolvimento intelectual
- c) Pragmática do jornalismo
- d) Intencionalidade da comunicação
- e) Notícia como discurso

31. Leia o trecho a seguir: “O ambiente do país, na época em que surgiram e se multiplicaram [...] explica, de forma nítida a fisionomia áspera assumida pela pequena imprensa, comprovando como suas características derivavam diretamente das condições do meio. Estatística da fase regencial assinalava que, na Corte, apenas entre 7 de abril e 30 de maio de 1831, haviam sido presos por desordem e pancadaria 108 homens livres e 50 escravos; foram apreendidas armas a 102 pessoas; ocorreram 8 assassinios; apareceram 5 cadáveres; registraram-se 27 ferimentos graves e 25 leves. [...] Moreira de Azevedo compreendeu ‘a aparição desses periódicos veementes, insultosos, lembrando represálias, excitando o patriotismo e tratando de aumentar o ardor, a luta dos partidos, luta que mui breve devia trazer grande mudança à política do país’. A publicação descrita no trecho é:

- a) Pasquim
- b) Imprensa proletária
- c) Imprensa praieira
- d) Imprensa colonial
- e) Imprensa burguesa

32. Em diagramação, diz-se que a linha que fica sozinha num último parágrafo de uma página quando o restante do parágrafo passou à próxima página é chamada de:



- a) Linha viúva
- b) Linha fina
- c) Linha solta
- d) Linha grave
- e) Linha órfã

**33. Na perspectiva de critérios de noticiabilidade para seleção do fato a ser apurado, sob o aspecto de contexto para publicação da notícia, são levados em conta, exceto:**

- a) Disponibilidade
- b) Personalização
- c) Concorrência
- d) Notabilidade
- e) Conflitos e controvérsias

**34. Leia as afirmações a seguir sobre comunicação institucional:**

**I – As publicações organizacionais se propõem a combater o desconhecimento a respeito da empresa e promover a integração entre os públicos ligados a ela.**

**II – Internamente, as publicações fortalecem o espírito de competitividade e reforçam os objetivos que devem ser alcançados pelos colaboradores.**

**III – As publicações internas são, sobretudo, um meio de comunicação destinado a assegurar um fluxo satisfatório entre a direção e os funcionários.**

**IV – As publicações internas são comparáveis a manuais de instrução da empresa, pois o assunto não varia.**

**Estão erradas as afirmações:**

- a) I e II, apenas.
- b) II e III, apenas.
- c) III e IV, apenas.
- d) II e IV, apenas.
- e) I e IV, apenas.

**35. Leia o trecho a seguir: “As publicações empresariais, enquanto veículos jornalísticos, portanto, conduzindo a notícia, devem ter periodicidade, isto é, devem aparecer em intervalos sucessivos e regulares. Precisam investir-se de fatos da atualidade, que formam o presente da empresa (o presente na empresa não é o presente no jornalismo diário). Para assumir seu atributo de universalidade, as publicações podem, em princípio, apresentar informações sobre quaisquer áreas ou programas de interesse da empresa e de seus públicos. Por último, necessitam chegar ao público ao qual se destinam, devendo, para isso, ser difundidas”. Sobre publicações empresariais, é correto afirmar:**

- a) Relatório não é indicado como canal impresso a ser explorado como publicação empresarial porque tem linguagem altamente técnica.
- b) Folhas soltas são um tipo de publicação com linguagem técnica de alta complexidade, reduzido número de páginas e de utilização imediata, com texto apoiando imagem, contraindicado para âmbito institucional.
- c) Revista é o veículo com grande apoio da imagem visual e maior número de páginas, linguagem média e possibilidade de veiculação de matérias informativas (avisos), opinativas (artigos assinados e crônicas, editoriais), com a vantagem de atender públicos diferentes.
- d) Circulares são variantes de relatórios e, assim como essas publicações, utilizam linguagem técnica e estatística e não são indicadas como publicação para comunicação institucional.
- e) Folders são de linguagem fácil, tamanho pequeno e muitos recursos gráficos, mas não é recomendado para publicação de textos jornalísticos por falta de espaço.

## LÍNGUA PORTUGUESA

**Texto para as próximas cinco questões:**

### “O cego Estrelinho” Mia Couto

O cego Estrelinho era pessoa de nenhuma vez: sua história poderia ser contada e descontada não fosse seu guia, Gigito Efraim. A mão de Gigito conduziu o desvistado por tempos e idades. Aquela mão era repartidamente comum, extensão de um no outro, siamensal. E assim era quase de nascença. Memória de Estrelinho tinha cinco dedos e eram os de Gigito postos, em aperto, na sua própria mão.

O cego, curioso, queria saber de tudo. Ele não fazia cerimônia no viver. O sempre lhe era pouco e o tudo insuficiente. Dizia, deste modo:

— Tenho que viver já, senão esqueço-me.

Gigitinho, porém, o que descrevia era o que não havia. O mundo que ele minuciava eram fantasias e rendilhados. A imaginação do guia era mais profícua que papaeira. O cego enchia a boca de águas:

— Que maravilhação esse mundo. Me conte tudo, Gigito!

A mão do guia era, afinal, o manuscrito da mentira. Gigito Efraim estava como nunca esteve S. Tomé: via para não crer. O condutor falava pela ponta dos dedos. Desfolhava o universo, aberto em folhas. A ideia dele era tal que mesmo o cego, por vezes, acreditava ver. O outro lhe encorajava esses breves enganos:

— Desbengale-se, você está escolhendo a boa procedência!

Mentira: Estrelinho continuava sem ver uma palmeira à frente do nariz. Contudo, o cego não se conformava em suas escurezas. Ele cumpria o ditado: não tinha perna e queria dar o pontapé. Só à noite, ele desalentava, sofrendo medos mais antigos que a humanidade. Entendia aquilo que, na raça humana, é menos primitivo: o animal.

— Na noite aflige não haver luz?

— Aflição é ter um pássaro branco esvoando dentro do sono.

Pássaro branco? No sono? Lugar de ave é nas alturas. Dizem até que Deus fez o céu para justificar os pássaros. Estrelinho disfarçava o medo dos vaticínios, subterfugindo:

— E agora, Gigitinho? Agora, olhando assim para cima, estou face ao céu?

Que podia o outro responder? O céu do cego fica em toda a parte. Estrelinho perdia o pé era quando a noite chegava e seu mestre adormecia. Era como se um novo escuro nele se estresse em nó cego. Devagaroso e sorrateiro ele aninhava sua mão na mão do guia. Só assim adormecia. A razão da concha é a timidez da amêijoia? Na manhã seguinte, o cego lhe confessava: se você morrer, tenho que morrer logo no imediato. Senão-me: como acerto o caminho para o céu?

Foi no mês de dezembro que levaram Gigitinho. Lhe tiraram do mundo para pôr na guerra: obrigavam os serviços militares. O cego reclamou: que o moço inatingia a idade. E que o serviço que ele a si prestava era vital e vitalício. O guia chamou Estrelinho à parte e lhe tranquilizou:

— Não vai ficar sozinando por aí. Minha mana já mandei para ficar no meu lugar.

O cego estendeu o braço a querer tocar uma despedida. Mas o outro já não estava lá. Ou estava e se desviara, propositado? E sem água ida nem vinda, Estrelinho escutou o amigo se afastar, engolido, esponjínquo, invisível. Pela primeira vez, Estrelinho se sentiu invalidado.

— Agora, só agora, sou cego que não vê.

(...)

**COUTO, Mia. Estórias abensonhadas. Rio de Janeiro: Nova Fronteira, 1996. (Pág 23 e 24).**

**36. Quanto à interpretação do fragmento do conto, podemos afirmar que:**

- Gigito Efraim era o guia de Estrelinho há pouquíssimo tempo.
- Estrelinho era cego de nascença.
- Gigito descrevia o mundo para Estrelinho de forma denotativa.
- Gigito foi convocado pelo exército para ser guia de cegos na guerra.
- Gigito descrevia o mundo para Estrelinho de forma conotativa.

**37. No período “O sempre lhe era pouco e o tudo insuficiente”, o pronome “LHE” exerce a função sintática de:**

- Objeto Direto
- Objeto Indireto
- Complemento Nominal
- Adjunto Adnominal
- Objeto Direto Preposicionado

**38. Na oração “A mão de Gigito conduziu o desvistado por tempos e idades”, o autor faz uso de um neologismo, assim como no decorrer de toda a obra em questão. Contudo, o neologismo só se torna possível pela utilização dos elementos mórficos naquilo que a gramática normativa pontua como Processo de Formação das Palavras. Levando em consideração apenas o recurso morfológico, qual Processo de Formação foi utilizado?**

- Derivação Sufixal
- Derivação Prefixal
- Derivação Regressiva
- Derivação Imprópria
- Derivação Parassintética

**39. No terceiro período do décimo terceiro parágrafo, temos:**

- Uma oração
- Duas orações
- Três orações
- Quatro orações
- Cinco orações

**40. No último parágrafo do fragmento do conto “— Agora, só agora, sou cego que não vê”, a oração subordinada presente classifica-se corretamente como:**

- Oração Subordinada Adjetiva Restritiva



- b) Oração Subordinada Adverbial Causal
- c) Oração Subordinada Substantiva Subjetiva
- d) Oração Subordinada Adverbial Explicativa
- e) Oração Subordinada Adjetiva Explicativa

**RASCUNHO**



PREFEITURA DE TELÊMACO BORBA - ESTADO DO PARANÁ- EDITAL Nº 001-2016 - CONCURSO PÚBLICO

VESPERTINO – 29/05/2016 – NÍVEL SUPERIOR

**3**

PROVA OBJETIVA NÚMERO

**CARGO: TMNS I - JORNALISMO**

**Leia atentamente as INSTRUÇÕES:**

1. Confira seus dados no cartão-resposta: nome, número de inscrição e o curso para o qual se inscreveu.
2. **MARQUE no seu cartão-resposta o número da sua prova** (não será corrigido o cartão-resposta que não tiver marcado o número da prova) e **Assine** seu cartão-resposta.
3. Aguarde a autorização do Fiscal para abrir o caderno de prova. Ao receber a ordem do fiscal, confira o caderno de prova com muita atenção. Nenhuma reclamação sobre o total de questões ou falha de impressão será aceita depois de iniciada a prova.
4. O cartão-resposta não será substituído, salvo se contiver erro de impressão.
5. Preencha toda a área do cartão-resposta correspondente à alternativa de sua escolha, com caneta esferográfica (tinta azul ou preta), sem ultrapassar as bordas. As marcações duplas, ou rasuradas, com corretivo, ou marcadas diferentemente do modelo estabelecido no cartão-resposta poderão ser anuladas.
6. Sua prova tem **40** questões, com **5** alternativas.
7. Cabe apenas ao candidato a interpretação das questões, **o fiscal** não poderá fazer nenhuma interferência.
8. A prova será realizada com duração máxima de **3 (três) horas**, incluído o tempo para a realização da Prova Objetiva de múltipla escolha e o preenchimento do cartão-resposta.
9. O candidato poderá retirar-se do local de realização das provas somente **1 (uma) hora** após o seu início, sem levar o caderno de prova.
10. O candidato poderá levar o caderno de provas, assim como anotação contendo transcrição do seu cartão-resposta, somente **1h30min** (uma hora e trinta minutos) após o início da realização da prova.
11. Ao terminar a prova, o candidato deverá entregar ao fiscal de sala o cartão-resposta preenchido e **ASSINADO**.
12. Os **3 (três)** candidatos, que terminarem a prova por último, deverão permanecer na sala, e só poderão sair juntos após o fechamento do envelope, contendo os cartões-resposta dos candidatos presentes e ausentes, e assinarem no lacre do referido envelope, atestando que este foi devidamente lacrado.
13. Durante todo o tempo em que permanecer no local onde está ocorrendo o concurso, o candidato deverá, manter o celular desligado e sem bateria, só sendo permitido ligar depois de ultrapassar o portão de saída do prédio.
14. Não será permitido ao candidato fumar na sala de provas, bem como nas dependências.
15. Depois de terminar a prova e entregar ao fiscal o cartão-resposta, preenchido e assinado, não será mais permitido ao candidato o uso do banheiro e bebedouro.

**BOA PROVA!**

**CONHECIMENTOS ESPECÍFICOS****01. Leia os trechos a seguir:**

I - “Os holandeses, dominando a área mais rica da colônia, no século XVII, introduziram no Brasil alguns elementos característicos da atividade burguesa, de que foram pioneiros. Não a imprensa, porém. Apesar de lhe terem dado singular desenvolvimento, na área metropolitana, na proporção do avanço de sua burguesia, não se empenharam em trazer ao seu novo domínio americano a arte tipográfica”.

II - “Quando surgiram as iniciativas isoladas, no século XVIII, o papel das autoridades coloniais foi importante. Elas não decorreram, assim, de imposição social, mas de esforços isolados. Nem estes, entretanto, permitiu a metrópole que surgissem, liquidando-os no nascedouro”.

III - “Antônio Isidoro da Fonseca, antigo opressor em Lisboa, transferiu-se à colônia, trazendo na bagagem o material tipográfico com que montou no Rio pequena oficina. Chegou a pô-la em atividade, pois imprimiu alguns trabalhos, entre os quais se destaca a *Relação da Entrada* do bispo Antônio Desterro, redigida por Luís Antônio Rosado da Cunha, com dezessete páginas de texto”.

IV – “O nome de Antonio Isidoro da Fonseca tem o interesse de fixar as dificuldades, mais do que as realizações da imprensa, na colônia. Coube-lhe, de qualquer maneira, a prioridade: a *Relação da Entrada* foi o primeiro folheto impresso no Brasil.”

**Sobre a abordagem apresentada nos trechos acima, é correto afirmar:**

- As dificuldades encontradas para firmar o conceito de imprensa no período colonial se devem à diferença de idioma entre o holandês e o português, vigentes no Nordeste do Brasil.
- O fato de a primeira publicação impressa ter sido feita para um bispo no período colonial evidencia a ligação estreita que a imprensa e a Igreja mantêm até os dias de hoje.
- O fato de a *Relação de Entrada* ter sido publicada mostra que a Corte de Portugal não agia para impedir que publicações fossem feitas, apenas advertia os governadores submetidos à ordem do Reino a não fazê-lo.
- O fato de haver escravos no período colonial reforçava a facilidade de instalar a imprensa no Brasil por causa da força de trabalho sem custos.
- A imprensa surgiu apenas com permissão e iniciativa oficiais de Portugal com a chegada da Corte de D. João ao Brasil, por meio de ato real expedido em maio de 1808.

**02. Observe o seguinte trecho: “Se a categoria do tempo encontra formas ou flexões próprias em todas as línguas, o mesmo não acontece com a de aspecto, que parece exercer papel subsidiário: raras são as que dispõem de flexões próprias para esta função. No entanto, a maneira de ser do processo verbal é tão importante quanto o próprio tempo. [...] Aquelas línguas que, como o português, não dispõem, no quadro da sua conjugação verbal, de formas exclusivas para indicar o aspecto, ou as têm em número insignificante, servem-se de construções subsidiárias, como as chamadas perífrases ou locuções verbais, quando não de certos utensílios gramaticais adequados”. Agora, leia o título do texto publicado no jornal O Estado de S. Paulo, de 13 de maio de 2016: “Guarda presidencial deixa de hastear bandeira com brasão da República em frente ao Alvorada”. A perífrase contida no título é classificada como de:**

- Iteração
- Cessação
- Incoação
- Volição
- Conação

**03. Analise os trechos: “[...] a Retórica tem sido colocada à prova pelos mesmos princípios que a norteiam internamente e que fazem com que ela refloraça sempre: aceitação da mudança, o respeito à alteridade e a consideração da língua como lugar de confronto das subjetividades. Partindo-se do princípio de que a argumentatividade está presente em toda e qualquer atividade discursiva, tem-se também como básico o fato de que argumentar significa considerar o outro como capaz de reagir e de interagir diante das propostas e teses que lhe são apresentadas. [...] Não se pode também deixar de considerar que cada época faz a leitura dos fatos de acordo com o seu próprio modo de pensar, uma vez que eles comportam além daquilo que é dado, a maneira de os interpretar e de os comunicar”. Sobre os estudos que envolvem a Retórica, é incorreto afirmar que:**

- O respeito à divergência e à capacidade de reação do outro diante de atividade discursiva manteve a credibilidade da Retórica, inclusive na aceitação de raciocínios de toda ordem, mesmo os enganosos e ou só aparentemente corretos, em nome do confronto de subjetividades.
- À atitude de descrença nos efeitos da Retórica segue-se a convicção de que é no mundo da opinião, da doxa que são tecidas as relações sociais, políticas e econômicas, uma vez que é a esta que se tem acesso e não ao que se chamaria “mundo da verdade”.
- Existe a dialética entre verdade e aparência de verdade, ou seja, o verossímil, podendo-se falar mais propriamente em representação da verdade, que emerge do senso comum e que se corporifica nos discursos.
- A concepção de “discurso convincente”, aquele que consegue fazer o público sentir-se identificado com o seu produtor e a sua proposta, é entendido como parte dos estudos sobre Retórica.
- Considera-se a Retórica o domínio dos conhecimentos prováveis e não das certezas e das evidências, os quais caberiam os raciocínios científicos e lógicos.

**04. Observe as considerações sobre reportagem: “A habilidade maior consiste em saber elaborar frases, parágrafos, saber a melhor sequência para eles (como o cineasta que edita seus fotogramas e cenas); o melhor arranjo (harmonia, melodia e ritmo); e a capacidade, sobretudo de fazer com que as palavras circulem a estabelecer empatia com o leitor”. “Há relação de interesse jornalístico e abrangência de público para uma informação. Quanto maior o interesse jornalístico, maior a abrangência do público que a informação possa destinar. Já a comunidade envolvida na especialidade será motivada não tanto pelo aspecto jornalístico de uma informação, mas por suas implicações puramente técnicas”. Com base nas considerações sobre reportagem, analise as afirmações a seguir:**

**I – A informação jornalística é o espaço privilegiado da reportagem especializada. Uma peculiaridade dela é destinar-se a públicos mais ou menos heterogêneos.**

**II – Quanto maior for a observação dos detalhes e das anotações, depoimentos, etc, maiores serão as chances de escrever um texto vago sobre o fato, em que só o aspecto jornalístico de uma informação será levado em conta.**

**III – Material jornalístico caracteriza-se, em tese, por sua atualidade, universalidade, periodicidade (durabilidade limitada) e difusão, mas o que mais o identifica é a estruturação retórica em torno de pontos de interesse jornalístico.**

**Está correto o que se afirma em:**

- a) I, II e III.
- b) I e II, somente.
- c) II e III, somente.
- d) I e III, somente.
- e) III, somente.

**05. Ao receber uma denúncia sobre transgressão ao Código de Ética dos Jornalistas Brasileiros, cabe a quem tomar as medidas de apuração e apreciação?**

- a) Comitê Brasileiro de Telecomunicações
- b) Comissão de Ética do Ministério do Trabalho
- c) Comissão de Ética do Sindicato dos Jornalistas
- d) Conselho Nacional de Imprensa
- e) Associação Brasileira de Imprensa

**06. Observe os trechos a seguir: “A teoria da imprensa que se supõe ser mais antiga, a teoria autoritária, data do século XVI. Surgiu da filosofia estatal do absolutismo. Encomendou-se o reconhecimento da ‘verdade’ a um pequeno grupo de ‘sábios’ que poderia exercer a liderança – enfoque de cima para baixo. A imprensa teve que promover a política do governo e servir ao Estado. [...] À medida que cresceram as liberdades políticas, religiosas e econômicas, com o advento do Iluminismo, também aumentaram as exigências de uma nova autopropetuação da imprensa. Nasceu a teoria liberal, que chegou ao auge durante o século XIX. As pessoas eram consideradas seres racionais, capazes de distinguir entre a verdade e a mentira. [...] A teoria liberal deixou de reconhecer problemas como a liberdade interna da imprensa e os processos de concentração da imprensa. [...] A dupla função dos meios de comunicação da empresa privada, a de produzir utilidades e servir aos seus anunciantes versus a de servir ao público, foi cumprida inicialmente só de um lado”. As necessidades de revisão do papel da imprensa, conforme apresentado nos trechos, formulam as bases da teoria da responsabilidade social, em que a imprensa livre tem atos socialmente responsáveis. Dos postulados sobre a responsabilidade social da imprensa, o incorreto é:**

- a) A imprensa deve servir ao sistema político, fazendo com que, em geral, a informação e a consideração dos assuntos públicos sejam acessíveis.
- b) A imprensa deve informar ao público para que este possa adotar uma ação autodeterminada.
- c) A imprensa deve proteger os direitos do indivíduo como vigilante do governo.
- d) A imprensa deve proporcionar entretenimento.
- e) A imprensa deve servir ao sistema econômico de modo a não depender de interesses políticos e influências especiais.

**07. Leia as afirmações sobre Jornalismo Digital:**

**I – Usar a técnica da pirâmide invertida na web é incentivar o webjornalismo a adoção de uma arquitetura noticiosa aberta e de livre navegação.**

**II – Nas edições online o espaço é tendencialmente infinito. Podem fazer-se cortes por razões estilísticas, mas não por questões espaciais.**

**III – Apresenta o texto com novos horizontes de leitura com elementos multimídia e pequenos textos, numa proposta de interpolação de informação.**

**IV – No Jornalismo Digital, a quantidade (e variedade) de informação disponibilizada é a variável de referência, com a notícia a se desenvolver de um nível com menos informação para sucessivos níveis de informação mais aprofundados e variados sobre o tema em análise.**

**Estão corretas apenas as afirmações:**

- a) I e III.





- b) II e IV.
- c) I e IV.
- d) II e III.
- e) III e IV.

**08. Leia os trechos a seguir: “Os órgãos informativos dos fatos do dia, ao selecionar os assuntos que serão ‘notícia’ mediante sua divulgação pelos meios de comunicação de massa, se concentram em eventos de curta duração que tenham alguma relação com um círculo determinado de receptores, noutras palavras, realizam a seleção de notícias baseados em uma orientação local ou etnocêntrica de fatos que não se encontram longe no passado, preferivelmente os fatos do dia. [...] É mais provável que a imprensa ponha em destaque um desastre natural de pouca duração do que ‘desastres’ sociais prolongados. [...] A negligência dos contextos socioestruturais ou dos complexos motivos de ação, no entanto, deve-se principalmente ao fato de que repórteres simplesmente não têm tempo para revelar tais fenômenos. Mais ainda, a ‘objetividade’ da informação, argumento empregado para proteger-se de possíveis críticas, tem que ser assegurada de outra maneira, como citar fontes ‘confiáveis’ de informação. Ao mesmo tempo, os preconceitos ou a visão de mundo do repórter penetram na informação, o que significa que certos fenômenos não são questionados, mas considerados culturalmente imutáveis”. Sobre a abordagem apresentada, é correto afirmar:**


- a) A questão dos valores informativos dos fatos tem a ver com a linha editorial básica do veículo, a qual se compartilha e se tem afinidade, indo de encontro à visão de mundo do repórter.
- b) A questão dos valores informativos dos fatos tem a ver com objetividade, e a decisão de quanto se é ou não objetiva uma informação é resultado de uma negociação política feita pelos grupos interessados em sua publicação.
- c) A questão dos valores informativos dos fatos baseia-se na suposição de que a ocupação de determinado posto no sistema social influi nas escolhas, nas ideologias e nos motivos de o fato ser notícia.
- d) A questão dos valores informativos dos fatos abordada remete ao papel desempenhado por redatores jornalísticos em selecionar as notícias com base nas suposições intuitivas dos jornalistas com referência àquilo que interessa a um determinado público.
- e) A questão dos valores informativos dos fatos de que a imprensa é um canal de comunicação através do qual se articulam os protestos sociais e se podem difundir as perspectivas contrastantes.

**09. Leia o trecho do texto publicado na revista Veja SP, de 21 de abril de 2016: “O país inteiro se solidarizou com as lágrimas de Ana Carolina Oliveira. Em março de 2008, sua filha, Isabella Nardoni, então com 5 anos, foi assassinada pelo pai, Alexandre Nardoni, e pela madrasta, Anna Carolina Jatobá. No dia da tragédia, antes de ser arremessada pela janela do 6º andar do Edifício London, na Vila Guilherme, na Zona Norte, a menina sofreu muito nas mãos dos adultos que deveriam estar cuidando dela. Apanhou com uma chave tetra, foi asfixiada e, quando estava inconsciente, atirada com vida de uma altura de 20 metros.[...]Em busca de alívio, recorreu às sessões de terapia, três vezes por semana. Sua mãe, Rosa Oliveira, esteve ao seu lado o tempo todo e foi fundamental na superação do drama. Até hoje tem sido assim. “Com o tempo, aprendemos a nos acostumar com a dor. Alguns dias, no entanto, são mais difíceis que outros”, afirma a avó de Isabella. Na última segunda (18), a criança teria completado 14 anos. Nessa data, Rosa pegou a filha e dirigiu até o Litoral Norte, onde tem uma casa de praia, para que as duas pudessem descansar admirando o mar. “Não comparo dores, por isso não me fiz de coitada achando que os meus problemas eram maiores do que os dos outros”, diz Ana Carolina. “Lutei para voltar a ser feliz, pois essa é a imagem que a minha filha tinha de mim.” O marco da reconstrução de sua vida veio na forma de uma explosão de alegria dentro de um lugar inusitado: um banheiro público. Com vontade de ser mãe novamente, no ano passado ela deixou de tomar anticoncepcional. Seu marido, o administrador Vinicius Francomano, 29 anos, havia baixado no iPhone um aplicativo para saber os dias em que a mulher estaria fértil. O sonho de ter um filho era comum. Poucas semanas depois das tentativas, o sinal de alerta acendeu, com o atraso da menstruação. Sem avisar Vinicius, Ana Carolina aproveitou o horário de almoço do trabalho — administradora, ela atua no setor de câmbio de uma instituição financeira — e foi ao Shopping Eldorado. Comprou um teste de farmácia e dirigiu-se a um dos toaletes do centro de compras. O exame deu positivo. A vontade era berrar de contentamento, mas seguiu a emoção na hora. “No auge dos problemas, eu achava que jamais iria me casar vestida de noiva e ter filho. A vida dá muitas voltas”. Sobre o texto apresentado, é correto afirmar que:**

- a) Trata-se de jornalismo interpretativo no formato perfil, no qual foi retratada a nova vida da mãe de uma menina que foi assassinada em 2008.
- b) Trata-se de jornalismo opinativo no formato análise, no qual foi avaliada positivamente a nova situação de vida da personagem.
- c) Trata-se de jornalismo interpretativo no formato cronologia, pois estabelece a ordem dos acontecimentos da vida da mãe desde a morte da filha até hoje.
- d) Trata-se de jornalismo interpretativo no formato enquete, pois apresenta dados sobre uso de aplicativos para uma marca de telefone, retratando um resultado de pesquisa.
- e) Trata-se de jornalismo literário avançado, pois houve a valorização da capacidade de observar a realidade com outros olhos por parte do jornalista.

1 2 3 4  
5 6 7 8

10. O significado, respectivamente, dos sinais de revisão a seguir é:



- Unir palavra à seguinte; evitar canal; transpor período ou linha; contar palavras.
- Sequência de hífen; trocar letra empastelada; passar para página anterior; inverter palavras.
- Uniformizar espaços; diminuir entrelinha; novo parágrafo; ordenar palavras.
- Alinhar com as demais linhas; novo parágrafo; espaço levantado; sincronizar palavras.
- Unir à palavra anterior; evitar repetição no fim da linha; suprimir; acrescentar palavras.

11. Da classe dos substantivos, os coletivos são palavras que representam o conjunto de seres ou objetos da mesma espécie. São coletivos de viajantes, de cantores, de alho, de porcos e de camelos, respectivamente:

- Concílio; multidão; feixe; matilha; rebanho.
- Tripulação; repertório; réstia; manada, cardume.
- Congregação; coro; molho; alcateia; manada.
- Elenco; banda; feixe; rebanho; cáfila.
- Caravana; coro; réstia; vara; cáfila.

12. Leia o trecho a seguir: “Conotação implica, portanto, em relação à coisa designada, um estado de espírito, um julgamento, um certo grau de afetividade, que variam conforme a experiência, o temperamento, a sensibilidade, a cultura e os hábitos do falante ou ouvinte, do autor ou leitor. Conotação é, assim, uma espécie de emanção semântica, possível graças à faculdade de associação de ideias inerente ao espírito humano, faculdade que nos permite relacionar coisas análogas ou assemelhadas”.

Com base na argumentação apresentada, qual dos títulos de matérias publicadas utiliza conotação:

- “Micaele será os olhos de Dunga no Brasil” – O Estado de S. Paulo, 15 de maio de 2016.
- “Palmeiras mostra leveza e goleia na estreia” – O Estado de S. Paulo, 15 de maio de 2016.
- “Jogos do Rio vão tirar times de suas casas” – O Estado de S. Paulo, 15 de maio de 2016.
- “Falta de recursos deixa 46% da frota da Marinha parada” – O Estado de S. Paulo, 15 de maio de 2016.
- “Em 6 anos, Brasil perde quase uma Argentina de consumo” – O Estado de S. Paulo, 15 de maio de 2016.

13. Leia o trecho a seguir: “Com o propósito de orientar o receptor, [...] esse jornalismo leva [...] a informação que ele necessita de imediato ou pode necessitar em algum momento. [...] se manifesta nos meios de comunicação de diversas formas e em todos os suportes midiáticos. [...] se traduz [...] na criação de seções especiais dedicadas a cobrir preocupações e necessidades práticas do dia a dia do cidadão; as seções especiais incorporam informação da atualidade sobre numerosas questões consideradas de interesse geral”. Conforme a noção apresentada, as imagens a seguir são classificadas como jornalismo de gênero:

## SP-São Paulo

### Mega Sena

CONCURSO 1818

Data: 14/05/2016

Fonte: Caixa Econômica Federal

\*Próximo concurso: 18/05/2016

#### RESULTADO

#### SORTEIO

02.06.10.15.53.56

Hoje

16/05/2016



máx.  
26°  
min.  
18°

Úmidade relativa  
83%

Sol com aumento de nuvens e pancadas de chuva à tarde. Noite chuvosa.

Terça-Feira

17/05/2016



máx.  
21°  
min.  
16°

Úmidade relativa  
98%

Chuvoso de manhã. Aberturas de sol à tarde e pancadas de chuva que vão até a noite.

Quarta-Feira

18/05/2016



máx.  
21°  
min.  
15°

Úmidade relativa  
100%

Sol com muitas nuvens durante o dia. Períodos de nublado, com chuva a qualquer hora.

- Diversional
- Interpretativo
- Informativo
- Utilitário
- Opinativo

14. De acordo com a regulamentação do Código Brasileiro de Telecomunicações, são classificadas como fins das telecomunicações as atividades, exceto:

- Correios
- Boletins meteorológicos



- c) Radioamador
- d) Música funcional
- e) Sinais horários

15. Leia o trecho a seguir: “De fato, para se decidir em que medida um discurso visa persuadir e como o faz, há que levar em conta as características fundamentais da situação em que ele se dá e as relações de intersubjetividade dos interlocutores. Os efeitos perseguidos pelos discursos persuasivos são produtos não de um simples ato ilocutório, como também de elementos extraídos da força ilocucionária da situação. Cabe ainda lembrar que o ato de informar não existe em estado puro e serve antes a convencer e persuadir do que por si próprio”. No dia 15 de maio de 2016, a seção Internacional do jornal O Estado de S. Paulo publicou os seguintes títulos nos textos: “Retórica de Trump faz latinos baterem recorde de registro eleitoral nos EUA”; “Reação a tom ofensivo deve influir nas urnas - Durante campanha, Trump chegou a dizer que México envia ‘estupradores’ aos EUA”; “A América Latina deve se preocupar com Trump?”. Com base no trecho e nas manchetes, o fenômeno observado é conhecido como:

- a) Jornalismo de precisão
- b) Jornalismo de desenvolvimento intelectual
- c) Pragmática do jornalismo
- d) Intencionalidade da comunicação
- e) Notícia como discurso

16. Leia o trecho a seguir: “O ambiente do país, na época em que surgiram e se multiplicaram [...] explica, de forma nítida a fisionomia áspera assumida pela pequena imprensa, comprovando como suas características derivavam diretamente das condições do meio. Estatística da fase regencial assinalava que, na Corte, apenas entre 7 de abril e 30 de maio de 1831, haviam sido presos por desordem e pancadaria 108 homens livres e 50 escravos; foram apreendidas armas a 102 pessoas; ocorreram 8 assassinios; apareceram 5 cadáveres; registraram-se 27 ferimentos graves e 25 leves. [...] Moreira de Azevedo compreendeu ‘a aparição desses periódicos veementes, insultosos, lembrando represálias, excitando o patriotismo e tratando de aumentar o ardor, a luta dos partidos, luta que mui breve devia trazer grande mudança à política do país’. A publicação descrita no trecho é:

- a) Pasquim
- b) Imprensa proletária
- c) Imprensa praieira
- d) Imprensa colonial
- e) Imprensa burguesa

17. Em diagramação, diz-se que a linha que fica sozinha num último parágrafo de uma página quando o restante do parágrafo passou à próxima página é chamada de:

- a) Linha viúva
- b) Linha fina
- c) Linha solta
- d) Linha grave
- e) Linha órfã

18. Na perspectiva de critérios de noticiabilidade para seleção do fato a ser apurado, sob o aspecto de contexto para publicação da notícia, são levados em conta, exceto:

- a) Disponibilidade
- b) Personalização
- c) Concorrência
- d) Notabilidade
- e) Conflitos e controvérsias

19. Leia as afirmações a seguir sobre comunicação institucional:

I – As publicações organizacionais se propõem a combater o desconhecimento a respeito da empresa e promover a integração entre os públicos ligados a ela.

II – Internamente, as publicações fortalecem o espírito de competitividade e reforçam os objetivos que devem ser alcançados pelos colaboradores.

III – As publicações internas são, sobretudo, um meio de comunicação destinado a assegurar um fluxo satisfatório entre a direção e os funcionários.

IV – As publicações internas são comparáveis a manuais de instrução da empresa, pois o assunto não varia.

Estão erradas as afirmações:

- a) I e II, apenas.
- b) II e III, apenas.
- c) III e IV, apenas.
- d) II e IV, apenas.

e) I e IV, apenas.

**20. Leia o trecho a seguir: “As publicações empresariais, enquanto veículos jornalísticos, portanto, conduzindo a notícia, devem ter periodicidade, isto é, devem aparecer em intervalos sucessivos e regulares. Precisam investir-se de fatos da atualidade, que formam o presente da empresa (o presente na empresa não é o presente no jornalismo diário). Para assumir seu atributo de universalidade, as publicações podem, em princípio, apresentar informações sobre quaisquer áreas ou programas de interesse da empresa e de seus públicos. Por último, necessitam chegar ao público ao qual se destinam, devendo, para isso, ser difundidas”. Sobre publicações empresariais, é correto afirmar:**

- Relatório não é indicado como canal impresso a ser explorado como publicação empresarial porque tem linguagem altamente técnica.
- Folhas soltas são um tipo de publicação com linguagem técnica de alta complexidade, reduzido número de páginas e de utilização imediata, com texto apoiando imagem, contraindicado para âmbito institucional.
- Revista é o veículo com grande apoio da imagem visual e maior número de páginas, linguagem média e possibilidade de veiculação de matérias informativas (avisos), opinativas (artigos assinados e crônicas, editoriais), com a vantagem de atender públicos diferentes.
- Circulares são variantes de relatórios e, assim como essas publicações, utilizam linguagem técnica e estatística e não são indicadas como publicação para comunicação institucional.
- Folders são de linguagem fácil, tamanho pequeno e muitos recursos gráficos, mas não é recomendado para publicação de textos jornalísticos por falta de espaço.

## LÍNGUA PORTUGUESA

Texto para as próximas cinco questões:

### “O cego Estrelinho” Mia Couto

O cego Estrelinho era pessoa de nenhuma vez: sua história poderia ser contada e descontada não fosse seu guia, Gigito Efraim. A mão de Gigito conduziu o desvistado por tempos e idades. Aquela mão era repartidamente comum, extensão de um no outro, siamensal. E assim era quase de nascença. Memória de Estrelinho tinha cinco dedos e eram os de Gigito postos, em aperto, na sua própria mão.

O cego, curioso, queria saber de tudo. Ele não fazia cerimônia no viver. O sempre lhe era pouco e o tudo insuficiente. Dizia, deste modo:

— Tenho que viver já, senão esqueço-me.

Gigitinho, porém, o que descrevia era o que não havia. O mundo que ele minuciava eram fantasias e rendilhados. A imaginação do guia era mais profícua que papaeira. O cego enchia a boca de águas:

— Que maravilhação esse mundo. Me conte tudo, Gigito!

A mão do guia era, afinal, o manuscrito da mentira. Gigito Efraim estava como nunca esteve S. Tomé: via para não crer. O condutor falava pela ponta dos dedos. Desfolhava o universo, aberto em folhas. A ideiação dele era tal que mesmo o cego, por vezes, acreditava ver. O outro lhe encorajava esses breves enganos:

— Desbengale-se, você está escolhendo a boa procedência!

Mentira: Estrelinho continuava sem ver uma palmeira à frente do nariz. Contudo, o cego não se conformava em suas escurezas. Ele cumpria o ditado: não tinha perna e queria dar o pontapé. Só à noite, ele desalentava, sofrendo medos mais antigos que a humanidade. Entendia aquilo que, na raça humana, é menos primitivo: o animal.

— Na noite aflige não haver luz?

— Aflição é ter um pássaro branco esvoando dentro do sono.

Pássaro branco? No sono? Lugar de ave é nas alturas. Dizem até que Deus fez o céu para justificar os pássaros. Estrelinho disfarçava o medo dos vaticínios, subterfugindo:

— E agora, Gigitinho? Agora, olhando assim para cima, estou face ao céu?

Que podia o outro responder? O céu do cego fica em toda a parte. Estrelinho perdia o pé era quando a noite chegava e seu mestre adormecia. Era como se um novo escuro nele se estresse em nó cego. Devagaroso e sorrateiro ele aninhava sua mão na mão do guia. Só assim adormecia. A razão da concha é a timidez da amêijoia? Na manhã seguinte, o cego lhe confessava: se você morrer, tenho que morrer logo no imediato. Senão-me: como acerto o caminho para o céu?

Foi no mês de dezembro que levaram Gigitinho. Lhe tiraram do mundo para pôr na guerra: obrigavam os serviços militares. O cego reclamou: que o moço inatingia a idade. E que o serviço que ele a si prestava era vital e vitalício. O guia chamou Estrelinho à parte e lhe tranquilizou:

— Não vai ficar sozinho por aí. Minha mana já mandei para ficar no meu lugar.

O cego estendeu o braço a querer tocar uma despedida. Mas o outro já não estava lá. Ou estava e se desviara, propositado? E sem água ida nem vinda, Estrelinho escutou o amigo se afastar, engolido, esponginquo, invisível. Pela primeira vez, Estrelinho se sentiu invalidado.

— Agora, só agora, sou cego que não vê.

(...)

**COUTO, Mia. Estórias abensonhadas. Rio de Janeiro: Nova Fronteira, 1996. (Pág 23 e 24).**

**21. Quanto à interpretação do fragmento do conto, podemos afirmar que:**

- a) Gigito Efraim era o guia de Estrelinho há pouquíssimo tempo.
- b) Estrelinho era cego de nascença.
- c) Gigito descrevia o mundo para Estrelinho de forma denotativa.
- d) Gigito foi convocado pelo exército para ser guia de cegos na guerra.
- e) Gigito descrevia o mundo para Estrelinho de forma conotativa.

**22. No período “O sempre lhe era pouco e o tudo insuficiente”, o pronome “LHE” exerce a função sintática de:**

- a) Objeto Direto
- b) Objeto Indireto
- c) Complemento Nominal
- d) Adjunto Adnominal
- e) Objeto Direto Preposicionado

**23. Na oração “A mão de Gigito conduziu o desvestido por tempos e idades”, o autor faz uso de um neologismo, assim como no decorrer de toda a obra em questão. Contudo, o neologismo só se torna possível pela utilização dos elementos mórficos naquilo que a gramática normativa pontua como Processo de Formação das Palavras. Levando em consideração apenas o recurso morfológico, qual Processo de Formação foi utilizado?**

- a) Derivação Sufixal
- b) Derivação Prefixal
- c) Derivação Regressiva
- d) Derivação Imprópria
- e) Derivação Parassintética

**24. No terceiro período do décimo terceiro parágrafo, temos:**

- a) Uma oração
- b) Duas orações
- c) Três orações
- d) Quatro orações
- e) Cinco orações

**25. No último parágrafo do fragmento do conto “— Agora, só agora, sou cego que não vê”, a oração subordinada presente classifica-se corretamente como:**

- a) Oração Subordinada Adjetiva Restritiva
- b) Oração Subordinada Adverbial Causal
- c) Oração Subordinada Substantiva Subjetiva
- d) Oração Subordinada Adverbial Explicativa
- e) Oração Subordinada Adjetiva Explicativa

#### **RACIOCÍNIO LÓGICO**

**26. Os cinco filhos de Ana estavam discutindo a respeito da data de nascimento da mãe:**

- Almir disse que foi em janeiro, dia 14, sexta-feira.
- Vanderlei disse que foi em janeiro, dia 14, sábado.
- Tiago disse que foi em fevereiro, dia 15, sábado.
- Sandro disse que foi em janeiro, dia 15, sexta-feira.
- Renato disse que foi em fevereiro, dia 15, sexta-feira.

**Sabe-se que somente um dos filhos de Ana acertou corretamente sua data de nascimento e que os outros acertaram pelo menos um dos itens (dia, dia da semana e mês). Dessa forma, é correto afirmar que o filho de Ana que acertou a data de nascimento dela foi:**

- a) Renato
- b) Sandro
- c) Tiago
- d) Vanderlei
- e) Almir

**27. Considere a seguinte afirmativa: “Todo churrasqueiro gosta de picanha”. Em relação a essa proposição, é correto afirmar que:**

- a) Algum churrasqueiro não gosta de picanha.
- b) Toda pessoa que gosta de picanha é churrasqueira.
- c) Alguma pessoa que não gosta de picanha é churrasqueira.
- d) Toda pessoa que não é churrasqueira, não gosta de picanha.
- e) Toda pessoa que não gosta de picanha, não é churrasqueira.





28. Em um grupo formado por 67 pessoas, verificou-se que 41 pessoas gostam de arroz, 29 gostam de feijão, 33 gostam de carne, 19 gostam de arroz e de feijão, 9 gostam apenas de arroz e de carne, 12 gostam de feijão e de carne e que 6 gostam de arroz, de feijão e de carne. O número de pessoas desse grupo, que não gosta de nenhum desses três tipos de alimentos é igual a:

- a) 4
- b) 5
- c) 6
- d) 8
- e) 10

29. Bruno escreveu, em seu caderno, várias sequências formadas por números múltiplos de 4, onde os valores que ocupavam as posições pares eram multiplicados por  $-1$ . Cada sequência foi somada e o resultado da soma anotado. A soma das três primeiras sequências escritas por Bruno foram as seguintes:

$$4 - 8 = -4$$

$$4 - 8 + 12 = 8$$

$$4 - 8 + 12 - 16 = -8$$

Considere que Bruno escreveu e somou tais sequências, em seu caderno, de modo a obter determinada sequência cuja soma foi 600. O número de termos dessa sequência é igual a:

- a) 149
- b) 150
- c) 298
- d) 299
- e) 300

30. Quatro torcedores, um do São Paulo, um do Cruzeiro, um do Vasco e um do Bahia, estão sentados ao redor de uma mesa quadrada, de modo que, dois a dois, fiquem frente a frente. Sabe-se que Alan é torcedor do Cruzeiro e que Bruno está sentado à direita de Alan. Sabe-se também que Caio está sentado à direita do torcedor do São Paulo. Sabe-se ainda que Daniel não é torcedor do Vasco e que está sentado à frente de Bruno. Dessa forma, é correto afirmar que:

- a) Bruno é torcedor do Bahia e Daniel é torcedor do São Paulo.
- b) Bruno é torcedor do São Paulo e Daniel é torcedor do Bahia.
- c) Caio é torcedor do Vasco e Daniel é torcedor do São Paulo.
- d) Caio é torcedor do Bahia e Daniel é torcedor do São Paulo.
- e) Bruno é torcedor do Vasco e Daniel é torcedor do Bahia.

## INFORMÁTICA

31. Considerando o MS-Excel versão 2010, observando a figura abaixo, é correto afirmar que:

	A	B	C
1			
2			
3			
4			

- a) Somente 03 três linhas estão selecionadas.
- b) Somente uma célula está selecionada.
- c) 12 (doze) células estão selecionadas.
- d) Somente a coluna A até a linha 4 (quatro) está selecionada.
- e) Somente as colunas 1 (um), 2 (dois), 3 (três) e 4 (quatro) estão selecionadas.

32. Considerando o MS-Excel versão 2010, observando a figura abaixo, é incorreto afirmar que:

	A	B	C
1	12	6	=A1*B1
2	8	2	=A2/B2
3	5	14	=A3-B3
4	6	11	=A4+B4

- a) O resultado da fórmula =A1\*B1 é 72.
- b) O resultado da fórmula =A2/B2 é 4.
- c) O resultado da fórmula =A3-B3 é -9.
- d) O resultado da fórmula =A3-B3 é 9.
- e) O resultado da fórmula =A4+B4 é 17.





**33. Digitando um texto no MS-Word versão 2010, necessito adicionar número nas páginas. Quanto a isso, é correto afirmar que:**

- a) No menu Layout da Página, clico em número de página e seleciono onde desejo adicionar os números.
- b) No menu Inserir, clico em número de página e seleciono onde desejo adicionar os números.
- c) No menu Revisão, clico em número de página e seleciono onde desejo adicionar os números.
- d) No menu Referências, clico em número de página e seleciono onde desejo adicionar os números.
- e) No menu Exibição, clico em número de página e seleciono onde desejo adicionar os números.

**34. A segurança da informação está diretamente relacionada com proteção de um conjunto de informações, no sentido de preservar o valor que possuem para um indivíduo ou uma organização. Atualmente, um dos aplicativos mais utilizados no mundo, o Whats app, teve uma alteração de confidencialidade muito importante na segurança das informações transmitidas e recebidas. Dentre as alternativas, assinale a que corretamente informa a alteração inserida no aplicativo Whats app.**

- a) Antispam
- b) Antivirus
- c) Firewall
- d) Antispyware
- e) Criptografia

**35. São todos os dispositivos que trabalham acoplados ao microcomputador para receber, transmitir, visualizar, ler, gravar ou armazenarem dados. São eles que permitem a comunicação do computador com o meio exterior, isto é, com os usuários e outras máquinas.**

**Esse texto descreve corretamente:**

- a) Memória ram
- b) Memória virtual
- c) Software
- d) Periféricos
- e) Hardware

#### CONHECIMENTOS GERAIS

**36. Hino do município de Telêmaco Borba/PR**

Das virgens matas e campos verdejantes

Servindo-se também o rio Tibagi,

Homens de ideais, espíritos vibrantes.

Constituíram as indústrias aqui.

Estrilho:

Salve! Salve! Telêmaco Borba

Terra querida e de grandes primores,

A nossa homenagem rendamos

À cidade dos trabalhadores.

Pois a cadência de enorme e real progresso

Um município mui grandioso fez nascer,

Marcando assim, verdadeiro sucesso

Faz, então o Paraná engrandecer.

**No que tange ao Hino do município, atribua V (verdadeiro) ou F (falso) às afirmativas e marque a alternativa correta.**

Eloah Martins Quadrado é autora da letra do hino.

Bento Mossurunga compôs a música do hino.

Eloah Martins Quadrado foi nomeada primeira professora da Cidade Nova, atual Telêmaco Borba.

Bento Mossurunga fundou a orquestra Estudantil e Concertos – Orquestra Sinfônica da Universidade, a Sociedade de Cultura Artístico Basilio Itiberê.

a) F, V, V, V.

b) V, F, V, V.

c) V, V, F, V.

d) V, V, F, F.

e) V, V, V, V.

**37. À luz da Lei nº 1883/2012, que dispões sobre o Estatuto dos Servidores Públicos da Administração Direta, Autárquica e Funcional do Município de Telêmaco Borba/PR, leia as alternativas e marque a correta.**

a) A apresentação para a posse ocorrerá no prazo de até trinta dias, contados do ato de nomeação.

b) A destituição do servidor da função gratificada dar-se-á por solicitação exclusiva dele mesmo.



- c) O servidor ocupante exclusivamente de cargo em comissão será contribuinte do regime geral de previdência social.
- d) A aprovação em concurso público gera o direito à nomeação, e será feita obedecida à ordem de classificação dos candidatos.
- e) O exercício de função gratificada poderá ser de dedicação integral ou parcial, conforme necessidade da administração.

**Conforme a Lei nº 1.881, de 05 de abril de 2012, que dispõe sobre o Plano de Cargos, Carreiras e Vencimentos do quadro geral de servidores da Prefeitura Municipal de Telêmaco Borba/PR, regulamentada pelo Decreto nº 2269/2015, responda às próximas três questões.**

**38. Leia as assertivas e assinala a incorreta.**

- a) Do resultado da avaliação de desempenho poderá ser interposto recurso à Comissão de Desenvolvimento Funcional no prazo de quinze dias a contar da publicação no Boletim Oficial do Município.
- b) Não será concedida a progressão ou promoção ao servidor que estiver em licença para tratamento de saúde por um período superior a quarenta e cinco dias, no período de avaliação.
- c) A alternância dos membros constituintes da Comissão de Desenvolvimento Funcional eleitos pelos servidores verificar-se-á a cada três anos de participação, observados, para substituição de seus participantes, o critério fixado no artigo anterior, não cabendo eleição sucessiva.
- d) Caberá à Comissão de Desenvolvimento Funcional, no caso de divergência de vinte por cento entre a nota do avaliador e a do avaliado, solicitar nova avaliação à chefia.
- e) Nos termos do disposto no art. 17 da Lei nº 1.881, de 05 de abril de 2012, para progredir, é necessário que o servidor satisfaça, dentre outros, o seguinte requisito: estar no efetivo exercício de seu cargo ou em função comissionada na sua área de atuação durante o interstício de dois anos.

**39. Assinale a alternativa que completa respectivamente as lacunas do texto a seguir:**

**A Comissão de Desenvolvimento Funcional será constituída por \_\_\_\_\_ membros, sendo \_\_\_\_\_ designados pelo Prefeito Municipal de Telêmaco Borba e os demais eleitos pelos servidores municipais dentre os estáveis, com a atribuição de coordenar os procedimentos relativos à avaliação periódica de desempenho e outras atribuições.**

- a) três / sete
- b) um / três
- c) sete / três
- d) três / cinco
- e) dois / cinco

**40. A Avaliação de Desempenho será norteadada, dentre outros, pelo seguinte princípio: Amplitude - a avaliação deve incidir sobre todas as áreas de atuação do servidor, que compreendem:**

- 1. a formulação de políticas administrativas e sua aplicação para todos os setores da administração municipal;**
- 2. o desempenho do profissional dentro de suas funções pertinentes;**
- 3. a estrutura do órgão em que exerce a função;**
- 4. os resultados de eficiência dos serviços de cada setor ou órgão da administração municipal;**
- 5. a participação direta do avaliado, durante todo o processo avaliativo.**

**Diante dessa afirmação, somente não está correto o item:**

- a) 1
- b) 2
- c) 3
- d) 4
- e) 5

**RASCUNHO**



PREFEITURA DE TELÊMACO BORBA - ESTADO DO PARANÁ- EDITAL Nº 001-2016 - CONCURSO PÚBLICO

VESPERTINO – 29/05/2016 – NÍVEL SUPERIOR

PROVA OBJETIVA NÚMERO

1

CARGO: TMNS I - NUTRIÇÃO

Leia atentamente as INSTRUÇÕES:

1. Confira seus dados no cartão-resposta: nome, número de inscrição e o curso para o qual se inscreveu.
2. **MARQUE no seu cartão-resposta o número da sua prova** (não será corrigido o cartão-resposta que não tiver marcado o número da prova) e **Assine** seu cartão-resposta.
3. Aguarde a autorização do Fiscal para abrir o caderno de prova. Ao receber a ordem do fiscal, confira o caderno de prova com muita atenção. Nenhuma reclamação sobre o total de questões ou falha de impressão será aceita depois de iniciada a prova.
4. O cartão-resposta não será substituído, salvo se contiver erro de impressão.
5. Preencha toda a área do cartão-resposta correspondente à alternativa de sua escolha, com caneta esferográfica (tinta azul ou preta), sem ultrapassar as bordas. As marcações duplas, ou rasuradas, com corretivo, ou marcadas diferentemente do modelo estabelecido no cartão-resposta poderão ser anuladas.
6. Sua prova tem **40** questões, com **5** alternativas.
7. Cabe apenas ao candidato a interpretação das questões, **o fiscal** não poderá fazer nenhuma interferência.
8. A prova será realizada com duração máxima de **3 (três) horas**, incluído o tempo para a realização da Prova Objetiva de múltipla escolha e o preenchimento do cartão-resposta.
9. O candidato poderá retirar-se do local de realização das provas somente **1 (uma) hora** após o seu início, sem levar o caderno de prova.
10. O candidato poderá levar o caderno de provas, assim como anotação contendo transcrição do seu cartão-resposta, somente **1h30min** (uma hora e trinta minutos) após o início da realização da prova.
11. Ao terminar a prova, o candidato deverá entregar ao fiscal de sala o cartão-resposta preenchido e **ASSINADO**.
12. Os **3 (três)** candidatos, que terminarem a prova por último, deverão permanecer na sala, e só poderão sair juntos após o fechamento do envelope, contendo os cartões-resposta dos candidatos presentes e ausentes, e assinarem no lacre do referido envelope, atestando que este foi devidamente lacrado.
13. Durante todo o tempo em que permanecer no local onde está ocorrendo o concurso, o candidato deverá, manter o celular desligado e sem bateria, só sendo permitido ligar depois de ultrapassar o portão de saída do prédio.
14. Não será permitido ao candidato fumar na sala de provas, bem como nas dependências.
15. Depois de terminar a prova e entregar ao fiscal o cartão-resposta, preenchido e assinado, não será mais permitido ao candidato o uso do banheiro e bebedouro.

**BOA PROVA!**

**LÍNGUA PORTUGUESA****Texto para as próximas cinco questões:****“O cego Estrelinho”  
Mia Couto**

O cego Estrelinho era pessoa de nenhuma vez: sua história poderia ser contada e descontada não fosse seu guia, Gigitto Efraim. A mão de Gigitto conduziu o desvistado por tempos e idades. Aquela mão era repartidamente comum, extensão de um no outro, siamensal. E assim era quase de nascença. Memória de Estrelinho tinha cinco dedos e eram os de Gigitto postos, em aperto, na sua própria mão.

O cego, curioso, queria saber de tudo. Ele não fazia cerimônia no viver. O sempre lhe era pouco e o tudo insuficiente. Dizia, deste modo:

— Tenho que viver já, senão esqueço-me.

Gigitinho, porém, o que descrevia era o que não havia. O mundo que ele minuciava eram fantasias e rendilhados. A imaginação do guia era mais profícua que papadeira. O cego enchia a boca de águas:

— Que maravilhação esse mundo. Me conte tudo, Gigitto!

A mão do guia era, afinal, o manuscrito da mentira. Gigitto Efraim estava como nunca esteve S. Tomé: via para não crer. O condutor falava pela ponta dos dedos. Desfolhava o universo, aberto em folhas. A ideiação dele era tal que mesmo o cego, por vezes, acreditava ver. O outro lhe encorajava esses breves enganar:

— Desbengale-se, você está escolhendo a boa procedência!

Mentira: Estrelinho continuava sem ver uma palmeira à frente do nariz. Contudo, o cego não se conformava em suas escurezas. Ele cumpria o ditado: não tinha perna e queria dar o pontapé. Só à noite, ele desalentava, sofrendo medos mais antigos que a humanidade. Entendia aquilo que, na raça humana, é menos primitivo: o animal.

— Na noite aflige não haver luz?

— Aflição é ter um pássaro branco esvoando dentro do sono.

Pássaro branco? No sono? Lugar de ave é nas alturas. Dizem até que Deus fez o céu para justificar os pássaros. Estrelinho disfarçava o medo dos vaticínios, subterfugindo:

— E agora, Gigitinho? Agora, olhando assim para cima, estou face ao céu?

Que podia o outro responder? O céu do cego fica em toda a parte. Estrelinho perdia o pé era quando a noite chegava e seu mestre adormecia. Era como se um novo escuro nele se estreasse em nó cego. Devagaroso e sorrateiro ele aninhava sua mão na mão do guia. Só assim adormecia. A razão da concha é a timidez da amêijoia? Na manhã seguinte, o cego lhe confessava: se você morrer, tenho que morrer logo no imediato. Senão-me: como acerto o caminho para o céu?

Foi no mês de dezembro que levaram Gigitinho. Lhe tiraram do mundo para pôr na guerra: obrigavam os serviços militares. O cego reclamou: que o moço inatingia a idade. E que o serviço que ele a si prestava era vital e vitalício. O guia chamou Estrelinho à parte e lhe tranquilizou:

— Não vai ficar sozinando por aí. Minha mana já mandei para ficar no meu lugar.

O cego estendeu o braço a querer tocar uma despedida. Mas o outro já não estava lá. Ou estava e se desviara, propositado? E sem água ida nem vinda, Estrelinho escutou o amigo se afastar, engolido, esponginquo, inevisível. Pela primeira vez, Estrelinho se sentiu invalidado.

— Agora, só agora, sou cego que não vê.

(...)

**COUTO, Mia. Estórias abensonhadas. Rio de Janeiro: Nova Fronteira, 1996. (Pág 23 e 24).**

**01. Quanto à interpretação do fragmento do conto, podemos afirmar que:**

- Gigitto Efraim era o guia de Estrelinho há pouquíssimo tempo.
- Estrelinho era cego de nascença.
- Gigitto descrevia o mundo para Estrelinho de forma denotativa.
- Gigitto foi convocado pelo exército para ser guia de cegos na guerra.
- Gigitto descrevia o mundo para Estrelinho de forma conotativa.

**02. No período “O sempre lhe era pouco e o tudo insuficiente”, o pronome “LHE” exerce a função sintática de:**

- Objeto Direto
- Objeto Indireto
- Complemento Nominal
- Adjunto Adnominal
- Objeto Direto Preposicionado

**03. Na oração “A mão de Gigitto conduziu o desvistado por tempos e idades”, o autor faz uso de um neologismo, assim como no decorrer de toda a obra em questão. Contudo, o neologismo só se torna possível pela utilização dos elementos mórficos naquilo que a gramática normativa pontua como Processo de Formação das Palavras. Levando em consideração apenas o recurso morfológico, qual Processo de Formação foi utilizado?**

- Derivação Sufixal

- b) Derivação Prefixal
- c) Derivação Regressiva
- d) Derivação Imprópria
- e) Derivação Parassintética

**04. No terceiro período do décimo terceiro parágrafo, temos:**

- a) Uma oração
- b) Duas orações
- c) Três orações
- d) Quatro orações
- e) Cinco orações

**05. No último parágrafo do fragmento do conto “— Agora, só agora, sou cego que não vê”, a oração subordinada presente classifica-se corretamente como:**

- a) Oração Subordinada Adjetiva Restritiva
- b) Oração Subordinada Adverbial Causal
- c) Oração Subordinada Substantiva Subjetiva
- d) Oração Subordinada Adverbial Explicativa
- e) Oração Subordinada Adjetiva Explicativa

#### **RACIOCÍNIO LÓGICO**

**06. Os cinco filhos de Ana estavam discutindo a respeito da data de nascimento da mãe:**

- Almir disse que foi em janeiro, dia 14, sexta-feira.
- Vanderlei disse que foi em janeiro, dia 14, sábado.
- Tiago disse que foi em fevereiro, dia 15, sábado.
- Sandro disse que foi em janeiro, dia 15, sexta-feira.
- Renato disse que foi em fevereiro, dia 15, sexta-feira.

**Sabe-se que somente um dos filhos de Ana acertou corretamente sua data de nascimento e que os outros acertaram pelo menos um dos itens (dia, dia da semana e mês). Dessa forma, é correto afirmar que o filho de Ana que acertou a data de nascimento dela foi:**

- a) Renato
- b) Sandro
- c) Tiago
- d) Vanderlei
- e) Almir

**07. Considere a seguinte afirmativa: “Todo churrasqueiro gosta de picanha”. Em relação a essa proposição, é correto afirmar que:**

- a) Algum churrasqueiro não gosta de picanha.
- b) Toda pessoa que gosta de picanha é churrasqueira.
- c) Alguma pessoa que não gosta de picanha é churrasqueira.
- d) Toda pessoa que não é churrasqueira, não gosta de picanha.
- e) Toda pessoa que não gosta de picanha, não é churrasqueira.

**08. Em um grupo formado por 67 pessoas, verificou-se que 41 pessoas gostam de arroz, 29 gostam de feijão, 33 gostam de carne, 19 gostam de arroz e de feijão, 9 gostam apenas de arroz e de carne, 12 gostam de feijão e de carne e que 6 gostam de arroz, de feijão e de carne. O número de pessoas desse grupo, que não gosta de nenhum desses três tipos de alimentos é igual a:**

- a) 4
- b) 5
- c) 6
- d) 8
- e) 10

**09. Bruno escreveu, em seu caderno, várias sequências formadas por números múltiplos de 4, onde os valores que ocupavam as posições pares eram multiplicados por  $-1$ . Cada sequência foi somada e o resultado da soma anotado. A soma das três primeiras sequências escritas por Bruno foram as seguintes:**

$$4 - 8 = -4$$
$$4 - 8 + 12 = 8$$
$$4 - 8 + 12 - 16 = -8$$

**Considere que Bruno escreveu e somou tais sequências, em seu caderno, de modo a obter determinada sequência cuja soma foi 600. O número de termos dessa sequência é igual a:**

- a) 149
- b) 150
- c) 298

- d) 299  
e) 300

10. Quatro torcedores, um do São Paulo, um do Cruzeiro, um do Vasco e um do Bahia, estão sentados ao redor de uma mesa quadrada, de modo que, dois a dois, fiquem frente a frente. Sabe-se que Alan é torcedor do Cruzeiro e que Bruno está sentado à direita de Alan. Sabe-se também que Caio está sentado à direita do torcedor do São Paulo. Sabe-se ainda que Daniel não é torcedor do Vasco e que está sentado à frente de Bruno. Dessa forma, é correto afirmar que:

- a) Bruno é torcedor do Bahia e Daniel é torcedor do São Paulo.  
b) Bruno é torcedor do São Paulo e Daniel é torcedor do Bahia.  
c) Caio é torcedor do Vasco e Daniel é torcedor do São Paulo.  
d) Caio é torcedor do Bahia e Daniel é torcedor do São Paulo.  
e) Bruno é torcedor do Vasco e Daniel é torcedor do Bahia.

### INFORMÁTICA

11. Considerando o MS-Excel versão 2010, observando a figura abaixo, é correto afirmar que:

	A	B	C
1			
2			
3			
4			

- a) Somente 03 três linhas estão selecionadas.  
b) Somente uma célula está selecionada.  
c) 12 (doze) células estão selecionadas.  
d) Somente a coluna A até a linha 4 (quatro) está selecionada.  
e) Somente as colunas 1 (um), 2 (dois), 3 (três) e 4 (quatro) estão selecionadas.

12. Considerando o MS-Excel versão 2010, observando a figura abaixo, é incorreto afirmar que:

	A	B	C
1	12	6	=A1*B1
2	8	2	=A2/B2
3	5	14	=A3-B3
4	6	11	=A4+B4

- a) O resultado da fórmula =A1\*B1 é 72.  
b) O resultado da fórmula =A2/B2 é 4.  
c) O resultado da fórmula =A3-B3 é -9.  
d) O resultado da fórmula =A3-B3 é 9.  
e) O resultado da fórmula =A4+B4 é 17.

13. Digitando um texto no MS-Word versão 2010, necessito adicionar número nas páginas. Quanto a isso, é correto afirmar que:

- a) No menu Layout da Página, clico em número de página e seleciono onde desejo adicionar os números.  
b) No menu Inserir, clico em número de página e seleciono onde desejo adicionar os números.  
c) No menu Revisão, clico em número de página e seleciono onde desejo adicionar os números.  
d) No menu Referências, clico em número de página e seleciono onde desejo adicionar os números.  
e) No menu Exibição, clico em número de página e seleciono onde desejo adicionar os números.

14. A segurança da informação está diretamente relacionada com proteção de um conjunto de informações, no sentido de preservar o valor que possuem para um indivíduo ou uma organização. Atualmente, um dos aplicativos mais utilizados no mundo, o Whats app, teve uma alteração de confidencialidade muito importante na segurança das informações transmitidas e recebidas. Dentre as alternativas, assinale a que corretamente informa a alteração inserida no aplicativo Whats app.

- a) Antispam  
b) Antivirus  
c) Firewall  
d) Antispyware  
e) Criptografia





**15. São todos os dispositivos que trabalham acoplados ao microcomputador para receber, transmitir, visualizar, ler, gravar ou armazenarem dados. São eles que permitem a comunicação do computador com o meio exterior, isto é, com os usuários e outras máquinas.**

**Esse texto descreve corretamente:**

- a) Memória ram
- b) Memória virtual
- c) Software
- d) Periféricos
- e) Hardware

### CONHECIMENTOS GERAIS

#### 16. Hino do município de Telêmaco Borba/PR

Das virgens matas e campos verdejantes

Servindo-se também o rio Tibagi,

Homens de ideais, espíritos vibrantes.

Constituíram as indústrias aqui.

Estrilho:

Salve! Salve! Telêmaco Borba

Terra querida e de grandes primores,

A nossa homenagem rendamos

À cidade dos trabalhadores.

Pois a cadência de enorme e real progresso

Um município mui grandioso fez nascer,

Marcando assim, verdadeiro sucesso

Faz, então o Paraná engrandecer.

**No que tange ao Hino do município, atribua V (verdadeiro) ou F (falso) às afirmativas e marque a alternativa correta.**

Eloah Martins Quadrado é autora da letra do hino.

Bento Mossurunga compôs a música do hino.

Eloah Martins Quadrado foi nomeada primeira professora da Cidade Nova, atual Telêmaco Borba.

Bento Mossurunga fundou a orquestra Estudantil e Concertos – Orquestra Sinfônica da Universidade, a Sociedade de Cultura Artístico Basílio Itiberê.

a) F, V, V, V.

b) V, F, V, V.

c) V, V, F, V.

d) V, V, F, F.

e) V, V, V, V.

**17. À luz da Lei nº 1883/2012, que dispões sobre o Estatuto dos Servidores Públicos da Administração Direta, Autárquica e Funcional do Município de Telêmaco Borba/PR, leia as alternativas e marque a correta.**

a) A apresentação para a posse ocorrerá no prazo de até trinta dias, contados do ato de nomeação.

b) A destituição do servidor da função gratificada dar-se-á por solicitação exclusiva dele mesmo.

c) O servidor ocupante exclusivamente de cargo em comissão será contribuinte do regime geral de previdência social.

d) A aprovação em concurso público gera o direito à nomeação, e será feita obedecida à ordem de classificação dos candidatos.

e) O exercício de função gratificada poderá ser de dedicação integral ou parcial, conforme necessidade da administração.

**Conforme a Lei nº 1.881, de 05 de abril de 2012, que dispõe sobre o Plano de Cargos, Carreiras e Vencimentos do quadro geral de servidores da Prefeitura Municipal de Telêmaco Borba/PR, regulamentada pelo Decreto nº 2269/2015, responda às próximas três questões.**

**18. Leia as assertivas e assinala a incorreta.**

a) Do resultado da avaliação de desempenho poderá ser interposto recurso à Comissão de Desenvolvimento Funcional no prazo de quinze dias a contar da publicação no Boletim Oficial do Município.

b) Não será concedida a progressão ou promoção ao servidor que estiver em licença para tratamento de saúde por um período superior a quarenta e cinco dias, no período de avaliação.

c) A alternância dos membros constituintes da Comissão de Desenvolvimento Funcional eleitos pelos servidores verificar-se-á a cada três anos de participação, observados, para substituição de seus participantes, o critério fixado no artigo anterior, não cabendo eleição sucessiva.

d) Caberá à Comissão de Desenvolvimento Funcional, no caso de divergência de vinte por cento entre a nota do avaliador e a do avaliado, solicitar nova avaliação à chefia.



e) Nos termos do disposto no art. 17 da Lei n° 1.881, de 05 de abril de 2012, para progredir, é necessário que o servidor satisfaça, dentre outros, o seguinte requisito: estar no efetivo exercício de seu cargo ou em função comissionada na sua área de atuação durante o interstício de dois anos.

**19. Assinale a alternativa que completa respectivamente as lacunas do texto a seguir:**

**A Comissão de Desenvolvimento Funcional será constituída por \_\_\_\_\_ membros, sendo \_\_\_\_\_ designados pelo Prefeito Municipal de Telêmaco Borba e os demais eleitos pelos servidores municipais dentre os estáveis, com a atribuição de coordenar os procedimentos relativos à avaliação periódica de desempenho e outras atribuições.**

- a) três / sete
- b) um / três
- c) sete / três
- d) três / cinco
- e) dois / cinco

**20. A Avaliação de Desempenho será norteadada, dentre outros, pelo seguinte princípio: Amplitude - a avaliação deve incidir sobre todas as áreas de atuação do servidor, que compreendem:**

- 1. a formulação de políticas administrativas e sua aplicação para todos os setores da administração municipal;**
- 2. o desempenho do profissional dentro de suas funções pertinentes;**
- 3. a estrutura do órgão em que exerce a função;**
- 4. os resultados de eficiência dos serviços de cada setor ou órgão da administração municipal;**
- 5. a participação direta do avaliado, durante todo o processo avaliativo.**

**Diante dessa afirmação, somente não está correto o item:**

- a) 1
- b) 2
- c) 3
- d) 4
- e) 5

#### **CONHECIMENTOS ESPECÍFICOS**

**21. Sobre a regulação do catabolismo proteico, analise as afirmativas a seguir e assinale a alternativa correta:**

**I - A taxa de catabolismo de aminoácidos é aumentada quando a ingestão proteica excede a necessidade do organismo.**

**II- Todo aminoácido consumido acima da necessidade imediata é oxidado e o nitrogênio é armazenado.**

**III- A regulação do metabolismo de proteínas também permite o catabolismo seletivo de proteínas “não vitais” para o organismo durante o jejum, disponibilizando, desse modo, aminoácido para gliconeogênese.**

**IV- Dentre as proteínas que podem ser consideradas “menos vitais”, inclui-se aproximadamente metade da massa muscular corporal.**

- a) Apenas I, III e IV estão corretas.
- b) Apenas a II está correta.
- c) Apenas I e IV estão corretas.
- d) Apenas a III está correta.
- e) Apenas a IV está incorreta.

**22. São fases do processo de absorção dos lipídios:**

**I- Emulsificação**

**II- Hidrólise do lipídio alimentar no lúmen intestinal.**

**III - Absorção dos produtos hidrolisados pelos enterócitos.**

**IV- Ressíntese e o empacotamento da gordura nas lipoproteínas nos enterócitos.**

**V - Secreção de lipoproteínas na circulação.**

**Estão corretas:**

- a) I, III e V, apenas.
- b) II, III e V, apenas.
- c) I, III, IV e V, apenas.
- d) II, IV e V, apenas.
- e) I, II, III, IV e V.

**23. Entre os íons que exercem papel importante na manutenção da pressão osmótica e do equilíbrio hídrico e acidobásico do organismo, estão:**

- a) Magnésio – fosfato – sulfato
- b) Sódio – cloro – potássio
- c) Cloreto de potássio – fosfato – sulfato
- d) Cloreto – bicarbonato – sódio

e) Cloro – fosfato – magnésio

**24. Indique o micronutriente cuja deficiência normalmente é caracterizada pela presença de anorexia, alterações no paladar com ingestão reduzida de alimentos, favorece o retardo no crescimento e na maturação sexual e esquelética, a disfunção imune, a alopecia e as alterações cognitivas:**

- a) Ferro
- b) Cálcio
- c) Iodo
- d) Zinco
- e) Selênio

**25. No que diz respeito a alterações metabólicas encontradas em pacientes com caquexia reumatoide, examine os itens a seguir e assinale a alternativa correta:**

- 1) Intolerância à glicose
- 2) Diminuição da lipogênese
- 3) Hiperlipidemia
- 4) Aumento do catabolismo da musculatura esquelética

- a) Apenas o item 1 está correto.
- b) Apenas o item 2 está correto.
- c) Apenas o item 3 está correto.
- d) Apenas o item 4 está correto.
- e) Os itens 1, 2, 3 e 4 estão corretos.

**26. Marque V se verdadeira ou F se falsa para as seguintes afirmativas e assinale a alternativa correta:**

Para reaquecer carnes ou pratos à base de carnes, estes deverão ficar a uma temperatura de 70°C, no mínimo 2 minutos.

Armazenamento adequado do alimento após a cocção, protege da recontaminação, e a refrigeração da multiplicação bacteriana.

A cocção adequada, no estágio final da preparação dos alimentos, não pode eliminar a contaminação inicial.

Para maior segurança no reaquecimento, o centro do alimento deve atingir 74°C. Em seguida o alimento deve ser consumido ou mantido em estufa a 60°C, no máximo 30 minutos.

- a) F – V – V – F.
- b) V – F – V – F.
- c) F – V – V – V.
- d) V – V – F – V.
- e) V – V – V – V.

**27. Quanto às doenças alimentares, relacione a Coluna 2 com a Coluna 1 e assinale a alternativa que apresenta a relação correta:**

**Coluna 1**

- 1- Doenças Nutricionais
- 2- Doenças por Sensibilidade Específica
- 3- Doença Emotivo-Sensoriais e Simbólicas
- 4- Doenças por Perigos Transmitidos por Alimentos

**Coluna 2**

Doenças consequentes à incompatibilidade pessoal a certos alimentos, devido à sensibilidade, alergias, má digestão etc.

Doenças decorrentes da ingestão inadequada de nutrientes na alimentação. Doenças, carências ou que envolvam o não cumprimento de uma dieta equilibrada.

Doenças consequentes à ingestão de perigos biológicos, químico ou físicos presentes os alimentos.

Doenças consequentes à estímulos inadequados ou repugnância às condições sensoriais dos alimentos decorrentes da presença de perigos ou não.

- a) 1 – 2 – 3 – 4
- b) 2 – 1 – 4 – 3
- c) 1 – 3 – 2 – 4
- d) 4 – 3 – 2 – 1
- e) 2 – 1 – 3 – 4

**28. Sobre a coleta de amostra, podemos afirmar, exceto:**

- a) Utilizar saco plástico para congelamento, desinfetado ou esterilizado, de tamanho, no mínimo, de 300ml.
- b) Utilizar frasco de vidro de 200ml do tipo pote Arjek (tampa de metal) ou pote LN (tampa de plástico fervível).
- c) Não utilizar desinfetantes químicos (álcool, iodo, cloro, etc.).
- d) Coletar, no mínimo 100gramas úteis do material.



e) Fechar imediatamente o frasco ou o saco plástico, e armazenar em congelamento a  $-10^{\circ}\text{C}$  ou menos, no máximo 72 horas, ou em refrigeração com temperatura não superior a  $4^{\circ}\text{C}$ , no máximo, 72 horas.

**29. Correlacione os indicadores da Coluna 1 com os itens da Coluna 2 e assinale a alternativa correta.**

**Coluna 1**

**1- Indicadores Sanitários**

**2- Indicadores Higiênicos**

**Coluna 2**

- ( ) Contagem de coliformes fecais
- ( ) Contagem de coliformes totais
- ( ) Presença de Salmonella sp
- ( ) Contagem padrão em placas de bolores e leveduras
- ( ) Contagem de Bacillus cereus

- a) 1 – 2 – 2 – 1 – 2
- b) 1 – 1 – 1 – 2 – 1
- c) 2 – 1 – 2 – 1 – 1
- d) 2 – 1 – 1 – 1 – 2
- e) 1 – 2 – 1 – 2 – 1

**30. Quanto aos fatores que influem na proliferação dos agentes patógenos em alimentos, analise os itens a seguir e assinale a alternativa correta.**

**I- Pessoas infectadas**

**II- Descongelamento inadequado**

**III- Aditivos intencionais**

**IV- Alimentos de fonte insalubre**

- a) Apenas o item I está correto.
- b) Apenas o item II está correto.
- c) Apenas o item III está correto.
- d) Apenas o item IV está correto.
- e) Os itens I, II, III e IV estão corretos.

**31. \_\_\_\_\_ é o procedimento que elimina ou reduz os micro-organismos patogênicos até níveis suportáveis, sem risco à saúde.**

**Qual é o termo utilizado para ambientes ou vegetais que preenche corretamente a lacuna?**

- a) Lavagem
- b) Antissepsia
- c) Sanificação
- d) Assepsia
- e) Limpeza

**32. Quanto a quesitos que são importantes para serem observados durante a inspeção de uma UAN, analise os itens seguintes e assinale a alternativa correta:**

**I) Controle de saúde dos funcionários**

**II) Controle de água para consumo**

**III) Higiene e descarte de lixo**

**IV) Estrutura do estabelecimento**

- a) Apenas o item I está correto.
- b) Apenas o item II está correto.
- c) Apenas o item III está correto.
- d) Apenas o item IV está correto.
- e) Os itens I, II, III e IV estão corretos.

**33. São conhecimentos e condições importantes para aplicação do sistema APPCC:**

**1- Microbiologia de alimentos**

**2- Avaliação dos laudos de análises microbiológicas e físico-químicas**

**3- Condições para o monitoramento**

**4- Procedimentos para avaliação de surtos**

**5- Técnica dietética e controle microbiológico**

**Estão corretos os itens:**

- a) 1, 2, 3, 4 e 5.
- b) 2, 3, 4 e 5, apenas.
- c) 2, 3 e 4, apenas.
- d) 3 e 4, apenas.
- e) 1 e 4, apenas.

34. Sobre o planejamento do cardápio hospitalar, considere V para as afirmativas verdadeiras, F para as falsas, e assinale a alternativa correta.

- ( ) Deve ter atendimento *coletivo* por uma equipe formada por profissionais de diferentes disciplinas, de acordo com a prescrição médica e nutricional.  
 ( ) Deve verificar com o paciente internado quais são os alimentos de sua preferência; e, com o médico e nutricionista, quais são os alimentos permitidos na dieta.  
 ( ) O cardápio deve ser composto por alimentos variados e deve permitir flexibilidade, apresentando mais de uma opção de escolha.  
 ( ) O cardápio deve ser elaborado por uma equipe de profissionais capacitados, sendo o trabalho do *chef* de cozinha compartilhado com o nutricionista.

- a) F – V – V – V  
 b) V – V – V – F  
 c) V – V – V – V  
 d) F – V – F – F  
 e) V – F – V – F

35. Assinale a alternativa que corresponde aos seguintes tipos de cortes profissionais, respectivamente, da esquerda para a direita.



- a) *Julienne* – *alumette*– *chiffonade*  
 b) *Brunoise*– *gaufrettes*– *royalle*  
 c) *Oblique*– *rondelle*– *olivette*  
 d) *Parisienne*– *noisette*– *julienne*  
 e) *Batônnet*– *julienne* – *pont-neuf*

36. No planejamento de um cardápio para uma refeição principal de um restaurante institucional, indique a ordem que deverá ser seguida:

- a) Prato principal – prato-base – entrada – guarnição – sobremesa.  
 b) Guarnição – sobremesa – entrada – prato principal – complemento.  
 c) Entrada – guarnição – complemento – prato-base – sobremesa.  
 d) Entrada – prato principal – guarnição – prato-base – sobremesa.  
 e) Complemento – sobremesa – prato principal – guarnição.

37. Sobre o índice glicêmico (IG) dos alimentos, é correto afirmar:

- a) A composição química dos alimentos e também sua forma de apresentação **não** influenciam no IG.  
 b) Alimentos amassados, triturados, liquefeitos, ralados, cozidos excessivamente, têm perdas de fibras, o que facilita e aumenta a absorção de glicose, aumentando o IG.  
 c) O teor das fibras dos alimentos (principalmente as solúveis) contribui para o **aumento** da absorção de glicose, e assim menor IG.  
 d) São considerados alimentos de **alto índice** glicêmico aqueles com valores entre 60 e 85.  
 e) São exemplos de alimentos com baixo IG: aveia, tapioca e melancia.

38. Correlacione as propriedades nutracêuticas aos seus alimentos e assinale a alternativa correta.

- A** - Alho  
**B** - Berinjela  
**C** - Cenoura  
**D** - Acelga  
 ( ) antidepressivo, analgésico, hipocolesterolêmico, estimula o sistema imune.  
 ( ) analgésico, anticoagulante, antialérgico, anti-inflamatório, antioxidante, antibiótico.  
 ( ) antialérgico, anti-inflamatório, anestésico, antioxidante, vasodilatador e hipocolesterolêmico.  
 ( ) anticoagulante, antialérgico, anti-inflamatório, diurético.

- a) A – B – C – D  
 b) C – A – D – B  
 c) A – B – D – C  
 d) D – C – B – A  
 e) B – A – C – D



**39. Quanto à recomendação dietética para pacientes litíasicos, analise os itens seguintes e assinale a alternativa correta.**

**I- Dieta individualizada de acordo com o distúrbio metabólico e hábito alimentar.**

**II- Evitar a restrição de cálcio.**

**III- Evitar a ingestão de proteína animal e evitar alimentos ricos em purinas.**

**IV- Suplementos de vitamina C devem ser usados com cautela.**

- a) Apenas o item I está correto.
- b) Apenas o item II está correto.
- c) Apenas o item III está correto.
- d) Apenas o item IV está correto.
- e) Os itens I, II, III e IV estão corretos.

**40. Assinale qual é a classificação nutricional de um adulto com o Índice de Massa Corporal (IMC) de 25 a 29,9.**

- a) Eutrofia
- b) Pré-obeso
- c) Magreza grau I
- d) Obesidade grau II
- e) Obesidade grau III

**RASCUNHO**





PREFEITURA DE TELÊMACO BORBA - ESTADO DO PARANÁ- **EDITAL Nº 001-2016 - CONCURSO PÚBLICO VESPERTINO – 29/05/2016 – NÍVEL SUPERIOR**

**2**

**PROVA OBJETIVA NÚMERO**

**CARGO: TMNS I - NUTRIÇÃO**

**Leia atentamente as INSTRUÇÕES:**

1. Confira seus dados no cartão-resposta: nome, número de inscrição e o curso para o qual se inscreveu.
2. **MARQUE no seu cartão-resposta o número da sua prova** (não será corrigido o cartão-resposta que não tiver marcado o número da prova) e **Assine** seu cartão-resposta.
3. Aguarde a autorização do Fiscal para abrir o caderno de prova. Ao receber a ordem do fiscal, confira o caderno de prova com muita atenção. Nenhuma reclamação sobre o total de questões ou falha de impressão será aceita depois de iniciada a prova.
4. O cartão-resposta não será substituído, salvo se contiver erro de impressão.
5. Preencha toda a área do cartão-resposta correspondente à alternativa de sua escolha, com caneta esferográfica (tinta azul ou preta), sem ultrapassar as bordas. As marcações duplas, ou rasuradas, com corretivo, ou marcadas diferentemente do modelo estabelecido no cartão-resposta poderão ser anuladas.
6. Sua prova tem **40** questões, com **5** alternativas.
7. Cabe apenas ao candidato a interpretação das questões, **o fiscal** não poderá fazer nenhuma interferência.
8. A prova será realizada com duração máxima de **3 (três) horas**, incluído o tempo para a realização da Prova Objetiva de múltipla escolha e o preenchimento do cartão-resposta.
9. O candidato poderá retirar-se do local de realização das provas somente **1 (uma) hora** após o seu início, sem levar o caderno de prova.
10. O candidato poderá levar o caderno de provas, assim como anotação contendo transcrição do seu cartão-resposta, somente **1h30min** (uma hora e trinta minutos) após o início da realização da prova.
11. Ao terminar a prova, o candidato deverá entregar ao fiscal de sala o cartão-resposta preenchido e **ASSINADO**.
12. Os **3 (três)** candidatos, que terminarem a prova por último, deverão permanecer na sala, e só poderão sair juntos após o fechamento do envelope, contendo os cartões-resposta dos candidatos presentes e ausentes, e assinarem no lacre do referido envelope, atestando que este foi devidamente lacrado.
13. Durante todo o tempo em que permanecer no local onde está ocorrendo o concurso, o candidato deverá, manter o celular desligado e sem bateria, só sendo permitido ligar depois de ultrapassar o portão de saída do prédio.
14. Não será permitido ao candidato fumar na sala de provas, bem como nas dependências.
15. Depois de terminar a prova e entregar ao fiscal o cartão-resposta, preenchido e assinado, não será mais permitido ao candidato o uso do banheiro e bebedouro.

**BOA PROVA!**

**RACIOCÍNIO LÓGICO**

**01. Os cinco filhos de Ana estavam discutindo a respeito da data de nascimento da mãe:**

- Almir disse que foi em janeiro, dia 14, sexta-feira.
- Vanderlei disse que foi em janeiro, dia 14, sábado.
- Tiago disse que foi em fevereiro, dia 15, sábado.
- Sandro disse que foi em janeiro, dia 15, sexta-feira.
- Renato disse que foi em fevereiro, dia 15, sexta-feira.

**Sabe-se que somente um dos filhos de Ana acertou corretamente sua data de nascimento e que os outros acertaram pelo menos um dos itens (dia, dia da semana e mês). Dessa forma, é correto afirmar que o filho de Ana que acertou a data de nascimento dela foi:**

- a) Renato
- b) Sandro
- c) Tiago
- d) Vanderlei
- e) Almir

**02. Considere a seguinte afirmativa: “Todo churrasqueiro gosta de picanha”. Em relação a essa proposição, é correto afirmar que:**

- a) Algum churrasqueiro não gosta de picanha.
- b) Toda pessoa que gosta de picanha é churrasqueira.
- c) Alguma pessoa que não gosta de picanha é churrasqueira.
- d) Toda pessoa que não é churrasqueira, não gosta de picanha.
- e) Toda pessoa que não gosta de picanha, não é churrasqueira.

**03. Em um grupo formado por 67 pessoas, verificou-se que 41 pessoas gostam de arroz, 29 gostam de feijão, 33 gostam de carne, 19 gostam de arroz e de feijão, 9 gostam apenas de arroz e de carne, 12 gostam de feijão e de carne e que 6 gostam de arroz, de feijão e de carne. O número de pessoas desse grupo, que não gosta de nenhum desses três tipos de alimentos é igual a:**

- a) 4
- b) 5
- c) 6
- d) 8
- e) 10

**04. Bruno escreveu, em seu caderno, várias sequências formadas por números múltiplos de 4, onde os valores que ocupavam as posições pares eram multiplicados por  $-1$ . Cada sequência foi somada e o resultado da soma anotado. A soma das três primeiras sequências escritas por Bruno foram as seguintes:**

$$4 - 8 = -4$$
$$4 - 8 + 12 = 8$$
$$4 - 8 + 12 - 16 = -8$$

**Considere que Bruno escreveu e somou tais sequências, em seu caderno, de modo a obter determinada sequência cuja soma foi 600. O número de termos dessa sequência é igual a:**

- a) 149
- b) 150
- c) 298
- d) 299
- e) 300

**05. Quatro torcedores, um do São Paulo, um do Cruzeiro, um do Vasco e um do Bahia, estão sentados ao redor de uma mesa quadrada, de modo que, dois a dois, fiquem frente a frente. Sabe-se que Alan é torcedor do Cruzeiro e que Bruno está sentado à direita de Alan. Sabe-se também que Caio está sentado à direita do torcedor do São Paulo. Sabe-se ainda que Daniel não é torcedor do Vasco e que está sentado à frente de Bruno. Dessa forma, é correto afirmar que:**

- a) Bruno é torcedor do Bahia e Daniel é torcedor do São Paulo.
- b) Bruno é torcedor do São Paulo e Daniel é torcedor do Bahia.
- c) Caio é torcedor do Vasco e Daniel é torcedor do São Paulo.
- d) Caio é torcedor do Bahia e Daniel é torcedor do São Paulo.
- e) Bruno é torcedor do Vasco e Daniel é torcedor do Bahia.

**INFORMÁTICA**

**06. Considerando o MS-Excel versão 2010, observando a figura abaixo, é correto afirmar que:**

	A	B	C
1			
2			
3			
4			

- a) Somente 03 três linhas estão selecionadas.  
 b) Somente uma célula está selecionada.  
 c) 12 (doze) células estão selecionadas.  
 d) Somente a coluna A até a linha 4 (quatro) está selecionada.  
 e) Somente as colunas 1 (um), 2 (dois), 3 (três) e 4 (quatro) estão selecionadas.

**07. Considerando o MS-Excel versão 2010, observando a figura abaixo, é incorreto afirmar que:**

	A	B	C
1	12	6	=A1*B1
2	8	2	=A2/B2
3	5	14	=A3-B3
4	6	11	=A4+B4

- a) O resultado da fórmula =A1\*B1 é 72.  
 b) O resultado da fórmula =A2/B2 é 4.  
 c) O resultado da fórmula =A3-B3 é -9.  
 d) O resultado da fórmula =A3-B3 é 9.  
 e) O resultado da fórmula =A4+B4 é 17.

**08. Digitando um texto no MS-Word versão 2010, necessito adicionar número nas páginas. Quanto a isso, é correto afirmar que:**

- a) No menu Layout da Página, clico em número de página e seleciono onde desejo adicionar os números.  
 b) No menu Inserir, clico em número de página e seleciono onde desejo adicionar os números.  
 c) No menu Revisão, clico em número de página e seleciono onde desejo adicionar os números.  
 d) No menu Referências, clico em número de página e seleciono onde desejo adicionar os números.  
 e) No menu Exibição, clico em número de página e seleciono onde desejo adicionar os números.

**09. A segurança da informação está diretamente relacionada com proteção de um conjunto de informações, no sentido de preservar o valor que possuem para um indivíduo ou uma organização. Atualmente, um dos aplicativos mais utilizados no mundo, o Whats app, teve uma alteração de confidencialidade muito importante na segurança das informações transmitidas e recebidas. Dentre as alternativas, assinale a que corretamente informa a alteração inserida no aplicativo Whats app.**

- a) Antispam  
 b) Antivirus  
 c) Firewall  
 d) Antispyware  
 e) Criptografia

**10. São todos os dispositivos que trabalham acoplados ao microcomputador para receber, transmitir, visualizar, ler, gravar ou armazenarem dados. São eles que permitem a comunicação do computador com o meio exterior, isto é, com os usuários e outras máquinas.**

**Esse texto descreve corretamente:**

- a) Memória ram  
 b) Memória virtual  
 c) Software  
 d) Periféricos  
 e) Hardware

## CONHECIMENTOS GERAIS

**11. Hino do município de Telêmaco Borba/PR**

Das virgens matas e campos verdejantes  
 Servindo-se também o rio Tibagi,  
 Homens de ideais, espíritos vibrantes.  
 Constituíram as indústrias aqui.



Estrilho:

Salve! Salve! Telêmaco Borba  
Terra querida e de grandes primores,  
A nossa homenagem rendamos  
À cidade dos trabalhadores.  
Pois a cadência de enorme e real progresso  
Um município mui grandioso fez nascer,  
Marcando assim, verdadeiro sucesso  
Faz, então o Paraná engrandecer.

**No que tange ao Hino do município, atribua V (verdadeiro) ou F (falso) às afirmativas e marque a alternativa correta.**

- ( ) Eloah Martins Quadrado é autora da letra do hino.  
( ) Bento Mossurunga compôs a música do hino.  
( ) Eloah Martins Quadrado foi nomeada primeira professora da Cidade Nova, atual Telêmaco Borba.  
( ) Bento Mossurunga fundou a orquestra Estudantil e Concertos – Orquestra Sinfônica da Universidade, a Sociedade de Cultura Artístico Basílio Itiberê.  
a) F, V, V, V.  
b) V, F, V, V.  
c) V, V, F, V.  
d) V, V, F, F.  
e) V, V, V, V.

**12. À luz da Lei nº 1883/2012, que dispões sobre o Estatuto dos Servidores Públicos da Administração Direta, Autárquica e Funcional do Município de Telêmaco Borba/PR, leia as alternativas e marque a correta.**

- a) A apresentação para a posse ocorrerá no prazo de até trinta dias, contados do ato de nomeação.  
b) A destituição do servidor da função gratificada dar-se-á por solicitação exclusiva dele mesmo.  
c) O servidor ocupante exclusivamente de cargo em comissão será contribuinte do regime geral de previdência social.  
d) A aprovação em concurso público gera o direito à nomeação, e será feita obedecida à ordem de classificação dos candidatos.  
e) O exercício de função gratificada poderá ser de dedicação integral ou parcial, conforme necessidade da administração.

**Conforme a Lei nº 1.881, de 05 de abril de 2012, que dispõe sobre o Plano de Cargos, Carreiras e Vencimentos do quadro geral de servidores da Prefeitura Municipal de Telêmaco Borba/PR, regulamentada pelo Decreto nº 2269/2015, responda às próximas três questões.**

**13. Leia as assertivas e assinala a incorreta.**

- a) Do resultado da avaliação de desempenho poderá ser interposto recurso à Comissão de Desenvolvimento Funcional no prazo de quinze dias a contar da publicação no Boletim Oficial do Município.  
b) Não será concedida a progressão ou promoção ao servidor que estiver em licença para tratamento de saúde por um período superior a quarenta e cinco dias, no período de avaliação.  
c) A alternância dos membros constituintes da Comissão de Desenvolvimento Funcional eleitos pelos servidores verificar-se-á a cada três anos de participação, observados, para substituição de seus participantes, o critério fixado no artigo anterior, não cabendo eleição sucessiva.  
d) Caberá à Comissão de Desenvolvimento Funcional, no caso de divergência de vinte por cento entre a nota do avaliador e a do avaliado, solicitar nova avaliação à chefia.  
e) Nos termos do disposto no art. 17 da Lei nº 1.881, de 05 de abril de 2012, para progredir, é necessário que o servidor satisfaça, dentre outros, o seguinte requisito: estar no efetivo exercício de seu cargo ou em função comissionada na sua área de atuação durante o interstício de dois anos.

**14. Assinale a alternativa que completa respectivamente as lacunas do texto a seguir:**

**A Comissão de Desenvolvimento Funcional será constituída por \_\_\_\_\_ membros, sendo \_\_\_\_\_ designados pelo Prefeito Municipal de Telêmaco Borba e os demais eleitos pelos servidores municipais dentre os estáveis, com a atribuição de coordenar os procedimentos relativos à avaliação periódica de desempenho e outras atribuições.**

- a) três / sete  
b) um / três  
c) sete / três  
d) três / cinco  
e) dois / cinco

**15. A Avaliação de Desempenho será norteadada, dentre outros, pelo seguinte princípio: Amplitude - a avaliação deve incidir sobre todas as áreas de atuação do servidor, que compreendem:**

1. a formulação de políticas administrativas e sua aplicação para todos os setores da administração municipal;
2. o desempenho do profissional dentro de suas funções pertinentes;
3. a estrutura do órgão em que exerce a função;
4. os resultados de eficiência dos serviços de cada setor ou órgão da administração municipal;
5. a participação direta do avaliado, durante todo o processo avaliativo.

Diante dessa afirmação, somente não está correto o item:

- a) 1
- b) 2
- c) 3
- d) 4
- e) 5

### CONHECIMENTOS ESPECÍFICOS

16. Sobre a regulação do catabolismo proteico, analise as afirmativas a seguir e assinale a alternativa correta:

I - A taxa de catabolismo de aminoácidos é aumentada quando a ingestão proteica excede a necessidade do organismo.

II- Todo aminoácido consumido acima da necessidade imediata é oxidado e o nitrogênio é armazenado.

III- A regulação do metabolismo de proteínas também permite o catabolismo seletivo de proteínas “não vitais” para o organismo durante o jejum, disponibilizando, desse modo, aminoácido para gliconeogênese.

IV- Dentre as proteínas que podem ser consideradas “menos vitais”, inclui-se aproximadamente metade da massa muscular corporal.

- a) Apenas I, III e IV estão corretas.
- b) Apenas a II está correta.
- c) Apenas I e IV estão corretas.
- d) Apenas a III está correta.
- e) Apenas a IV está incorreta.

17. São fases do processo de absorção dos lipídios:

I- Emulsificação

II- Hidrólise do lipídio alimentar no lúmen intestinal.

III - Absorção dos produtos hidrolisados pelos enterócitos.

IV- Ressíntese e o empacotamento da gordura nas lipoproteínas nos enterócitos.

V - Secreção de lipoproteínas na circulação.

Estão corretas:

- a) I, III e V, apenas.
- b) II, III e V, apenas.
- c) I, III, IV e V, apenas.
- d) II, IV e V, apenas.
- e) I, II, III, IV e V.

18. Entre os íons que exercem papel importante na manutenção da pressão osmótica e do equilíbrio hídrico e acidobásico do organismo, estão:

- a) Magnésio – fosfato – sulfato
- b) Sódio – cloro – potássio
- c) Cloreto de potássio – fosfato – sulfato
- d) Cloreto – bicarbonato – sódio
- e) Cloro – fosfato – magnésio

19. Indique o micronutriente cuja deficiência normalmente é caracterizada pela presença de anorexia, alterações no paladar com ingestão reduzida de alimentos, favorece o retardo no crescimento e na maturação sexual e esquelética, a disfunção imune, a alopecia e as alterações cognitivas:

- a) Ferro
- b) Cálcio
- c) Iodo
- d) Zinco
- e) Selênio

20. No que diz respeito a alterações metabólicas encontradas em pacientes com caquexia reumatoide, examine os itens a seguir e assinale a alternativa correta:

- 1) Intolerância à glicose
- 2) Diminuição da lipogênese
- 3) Hiperlipidemia
- 4) Aumento do catabolismo da musculatura esquelética

- a) Apenas o item 1 está correto.  
 b) Apenas o item 2 está correto.  
 c) Apenas o item 3 está correto.  
 d) Apenas o item 4 está correto.  
 e) Os itens 1, 2, 3 e 4 estão corretos.

**21. Marque V se verdadeira ou F se falsa para as seguintes afirmativas e assinale a alternativa correta:**

- Para reaquecer carnes ou pratos à base de carnes, estes deverão ficar a uma temperatura de 70°C, no mínimo 2 minutos.  
 Armazenamento adequado do alimento após a cocção, protege da recontaminação, e a refrigeração da multiplicação bacteriana.  
 A cocção adequada, no estágio final da preparação dos alimentos, não pode eliminar a contaminação inicial.  
 Para maior segurança no reaquecimento, o centro do alimento deve atingir 74°C. Em seguida o alimento deve ser consumido ou mantido em estufa a 60°C, no máximo 30 minutos.
- a) F – V – V – F.  
 b) V – F – V – F.  
 c) F – V – V – V.  
 d) V – V – F – V.  
 e) V – V – V – V.

**22. Quanto às doenças alimentares, relacione a Coluna 2 com a Coluna 1 e assinale a alternativa que apresenta a relação correta:**

- Coluna 1**  
 1- Doenças Nutricionais  
 2- Doenças por Sensibilidade Específica  
 3- Doença Emotivo-Sensoriais e Simbólicas  
 4- Doenças por Perigos Transmitidos por Alimentos
- Coluna 2**  
 Doenças consequentes à incompatibilidade pessoal a certos alimentos, devido à sensibilidade, alergias, má digestão etc.  
 Doenças decorrentes da ingestão inadequada de nutrientes na alimentação. Doenças, carências ou que envolvam o não cumprimento de uma dieta equilibrada.  
 Doenças consequentes à ingestão de perigos biológicos, químico ou físicos presentes os alimentos.  
 Doenças consequentes à estímulos inadequados ou repugnância às condições sensoriais dos alimentos decorrentes da presença de perigos ou não.
- a) 1 – 2 – 3 – 4  
 b) 2 – 1 – 4 – 3  
 c) 1 – 3 – 2 – 4  
 d) 4 – 3 – 2 – 1  
 e) 2 – 1 – 3 – 4

**23. Sobre a coleta de amostra, podemos afirmar, exceto:**

- a) Utilizar saco plástico para congelamento, desinfetado ou esterilizado, de tamanho, no mínimo, de 300ml.  
 b) Utilizar frasco de vidro de 200ml do tipo pote Arjek (tampa de metal) ou pote LN (tampa de plástico fervível).  
 c) Não utilizar desinfetantes químicos (álcool, iodo, cloro, etc.).  
 d) Coletar, no mínimo 100gramas úteis do material.  
 e) Fechar imediatamente o frasco ou o saco plástico, e armazenar em congelamento a -10°C ou menos, no máximo 72horas, ou em refrigeração com temperatura não superior a 4°C, no máximo, 72horas.

**24. Correlacione os indicadores da Coluna 1 com os itens da Coluna 2 e assinale a alternativa correta.**

- Coluna 1**  
 1- Indicadores Sanitários  
 2- Indicadores Higiênicos
- Coluna 2**  
 Contagem de coliformes fecais  
 Contagem de coliformes totais  
 Presença de Salmonella sp  
 Contagem padrão em placas de bolores e leveduras  
 Contagem de Bacillus cereus
- a) 1 – 2 – 2 – 1 – 2  
 b) 1 – 1 – 1 – 2 – 1  
 c) 2 – 1 – 2 – 1 – 1  
 d) 2 – 1 – 1 – 1 – 2  
 e) 1 – 2 – 1 – 2 – 1





25. Quanto aos fatores que influem na proliferação dos agentes patógenos em alimentos, analise os itens a seguir e assinale a alternativa correta.

I- Pessoas infectadas

II- Descongelamento inadequado

III- Aditivos intencionais

IV- Alimentos de fonte insalubre

- a) Apenas o item I está correto.
- b) Apenas o item II está correto.
- c) Apenas o item III está correto.
- d) Apenas o item IV está correto.
- e) Os itens I, II, III e IV estão corretos.

26. \_\_\_\_\_ é o procedimento que elimina ou reduz os micro-organismos patogênicos até níveis suportáveis, sem risco à saúde.

Qual é o termo utilizado para ambientes ou vegetais que preenche corretamente a lacuna?

- a) Lavagem
- b) Antissepsia
- c) Sanificação
- d) Assepsia
- e) Limpeza

27. Quanto a quesitos que são importantes para serem observados durante a inspeção de uma UAN, analise os itens seguintes e assinale a alternativa correta:

I) Controle de saúde dos funcionários

II) Controle de água para consumo

III) Higiene e descarte de lixo

IV) Estrutura do estabelecimento

- a) Apenas o item I está correto.
- b) Apenas o item II está correto.
- c) Apenas o item III está correto.
- d) Apenas o item IV está correto.
- e) Os itens I, II, III e IV estão corretos.

28. São conhecimentos e condições importantes para aplicação do sistema APPCC:

1- Microbiologia de alimentos

2- Avaliação dos laudos de análises microbiológicas e físico-químicas

3- Condições para o monitoramento

4- Procedimentos para avaliação de surtos

5- Técnica dietética e controle microbiológico

Estão corretos os itens:

- a) 1, 2, 3, 4 e 5.
- b) 2, 3, 4 e 5, apenas.
- c) 2, 3 e 4, apenas.
- d) 3 e 4, apenas.
- e) 1 e 4, apenas.

29. Sobre o planejamento do cardápio hospitalar, considere V para as afirmativas verdadeiras, F para as falsas, e assinale a alternativa correta.

( ) Deve ter atendimento *coletivo* por uma equipe formada por profissionais de diferentes disciplinas, de acordo com a prescrição médica e nutricional.

( ) Deve verificar com o paciente internado quais são os alimentos de sua preferência; e, com o médico e nutricionista, quais são os alimentos permitidos na dieta.

( ) O cardápio deve ser composto por alimentos variados e deve permitir flexibilidade, apresentando mais de uma opção de escolha.

( ) O cardápio deve ser elaborado por uma equipe de profissionais capacitados, sendo o trabalho do *chef* de cozinha compartilhado com o nutricionista.

- a) F – V – V – V
- b) V – V – V – F
- c) V – V – V – V
- d) F – V – F – F
- e) V – F – V – F

30. Assinale a alternativa que corresponde aos seguintes tipos de cortes profissionais, respectivamente, da esquerda para a direita.



- a) *Julienne – alumette– chiffonade*
- b) *Brunoise– gaufrettes– royale*
- c) *Oblique– rondelle– olivette*
- d) *Parisienne– noisette– julienne*
- e) *Batônnet– julienne – pont-neuf*

**31. No planejamento de um cardápio para uma refeição principal de um restaurante institucional, indique a ordem que deverá ser seguida:**

- a) Prato principal – prato-base – entrada – guarnição – sobremesa.
- b) Guarnição – sobremesa – entrada – prato principal – complemento.
- c) Entrada – guarnição – complemento – prato-base – sobremesa.
- d) Entrada – prato principal – guarnição – prato-base – sobremesa.
- e) Complemento – sobremesa – prato principal – guarnição.

**32. Sobre o índice glicêmico (IG) dos alimentos, é correto afirmar:**

- a) A composição química dos alimentos e também sua forma de apresentação **não** influenciam no IG.
- b) Alimentos amassados, triturados, liquefeitos, ralados, cozidos excessivamente, têm perdas de fibras, o que facilita e aumenta a absorção de glicose, aumentando o IG.
- c) O teor das fibras dos alimentos (principalmente as solúveis) contribui para o **aumento** da absorção de glicose, e assim menor IG.
- d) São considerados alimentos de **alto índice** glicêmico aqueles com valores entre 60 e 85.
- e) São exemplos de alimentos com baixo IG: aveia, tapioca e melancia.

**33. Correlacione as propriedades nutracêuticas aos seus alimentos e assinale a alternativa correta.**

- A - Alho**
- B - Berinjela**
- C - Cenoura**
- D - Acelga**
- ( ) antidepressivo, analgésico, hipocolesterolêmico, estimula o sistema imune.
- ( ) analgésico, anticoagulante, antialérgico, anti-inflamatório, antioxidante, antibiótico.
- ( ) antialérgico, anti-inflamatório, anestésico, antioxidante, vasodilatador e hipocolesterolêmico.
- ( ) anticoagulante, antialérgico, anti-inflamatório, diurético.

- a) A – B – C – D
- b) C – A – D – B
- c) A – B – D – C
- d) D – C – B – A
- e) B – A – C – D

**34. Quanto à recomendação dietética para pacientes litíasicos, analise os itens seguintes e assinale a alternativa correta.**

- I- Dieta individualizada de acordo com o distúrbio metabólico e hábito alimentar.**
- II- Evitar a restrição de cálcio.**
- III- Evitar a ingestão de proteína animal e evitar alimentos ricos em purinas.**
- IV- Suplementos de vitamina C devem ser usados com cautela.**

- a) Apenas o item I está correto.
- b) Apenas o item II está correto.
- c) Apenas o item III está correto.
- d) Apenas o item IV está correto.
- e) Os itens I, II, III e IV estão corretos.

**35. Assinale qual é a classificação nutricional de um adulto com o Índice de Massa Corporal (IMC) de 25 a 29,9.**

- a) Eutrofia

- b) Pré-obeso
- c) Magreza grau I
- d) Obesidade grau II
- e) Obesidade grau III

## LÍNGUA PORTUGUESA

Texto para as próximas cinco questões:

### “O cego Estrelinho” Mia Couto

O cego Estrelinho era pessoa de nenhuma vez: sua história poderia ser contada e descontada não fosse seu guia, Gigitto Efraim. A mão de Gigitto conduziu o desvistado por tempos e idades. Aquela mão era repartidamente comum, extensão de um no outro, siamense. E assim era quase de nascença. Memória de Estrelinho tinha cinco dedos e eram os de Gigitto postos, em aperto, na sua própria mão.

O cego, curioso, queria saber de tudo. Ele não fazia cerimônia no viver. O sempre lhe era pouco e o tudo insuficiente. Dizia, deste modo:

— Tenho que viver já, senão esqueço-me.

Gigitto, porém, o que descrevia era o que não havia. O mundo que ele minuciava eram fantasias e rendilhados. A imaginação do guia era mais profícua que papadeira. O cego enchia a boca de águas:

— Que maravilha esse mundo. Me conte tudo, Gigitto!

A mão do guia era, afinal, o manuscrito da mentira. Gigitto Efraim estava como nunca esteve S. Tomé: via para não crer. O condutor falava pela ponta dos dedos. Desfolhava o universo, aberto em folhas. A ideiação dele era tal que mesmo o cego, por vezes, acreditava ver. O outro lhe encorajava esses breves enganos:

— Desbengale-se, você está escolhendo a boa procedência!

Mentira: Estrelinho continuava sem ver uma palmeira à frente do nariz. Contudo, o cego não se conformava em suas escurezas. Ele cumpria o ditado: não tinha perna e queria dar o pontapé. Só à noite, ele desalentava, sofrendo medos mais antigos que a humanidade. Entendia aquilo que, na raça humana, é menos primitivo: o animal.

— Na noite aflige não haver luz?

— Aflição é ter um pássaro branco esvoando dentro do sono.

Pássaro branco? No sono? Lugar de ave é nas alturas. Dizem até que Deus fez o céu para justificar os pássaros. Estrelinho disfarçava o medo dos vaticínios, subterfugindo:

— E agora, Gigitto? Agora, olhando assim para cima, estou face ao céu?

Que podia o outro responder? O céu do cego fica em toda a parte. Estrelinho perdia o pé era quando a noite chegava e seu mestre adormecia. Era como se um novo escuro nele se estreasse em nó cego. Devagaroso e sorrateiro ele aninhava sua mão na mão do guia. Só assim adormecia. A razão da concha é a timidez da amêijoia? Na manhã seguinte, o cego lhe confessava: se você morrer, tenho que morrer logo no imediato. Senão-me: como acerto o caminho para o céu?

Foi no mês de dezembro que levaram Gigitto. Lhe tiraram do mundo para pôr na guerra: obrigavam os serviços militares. O cego reclamou: que o moço inatingia a idade. E que o serviço que ele a si prestava era vital e vitalício. O guia chamou Estrelinho à parte e lhe tranquilizou:

— Não vai ficar sozinando por aí. Minha mana já mandei para ficar no meu lugar.

O cego estendeu o braço a querer tocar uma despedida. Mas o outro já não estava lá. Ou estava e se desviara, propositado? E sem água ida nem vinda, Estrelinho escutou o amigo se afastar, engolido, esponjínquo, invisível. Pela primeira vez, Estrelinho se sentiu invalidado.

— Agora, só agora, sou cego que não vê.

(...)

**COUTO, Mia. Estórias abensonhadas. Rio de Janeiro: Nova Fronteira, 1996. (Pág 23 e 24).**

**36. Quanto à interpretação do fragmento do conto, podemos afirmar que:**

- a) Gigitto Efraim era o guia de Estrelinho há pouquíssimo tempo.
- b) Estrelinho era cego de nascença.
- c) Gigitto descrevia o mundo para Estrelinho de forma denotativa.
- d) Gigitto foi convocado pelo exército para ser guia de cegos na guerra.
- e) Gigitto descrevia o mundo para Estrelinho de forma conotativa.

**37. No período “O sempre lhe era pouco e o tudo insuficiente”, o pronome “LHE” exerce a função sintática de:**

- a) Objeto Direto
- b) Objeto Indireto
- c) Complemento Nominal
- d) Adjunto Adnominal
- e) Objeto Direto Preposicionado



**38. Na oração “A mão de Gigito conduziu o desvistado por tempos e idades”, o autor faz uso de um neologismo, assim como no decorrer de toda a obra em questão. Contudo, o neologismo só se torna possível pela utilização dos elementos mórficos naquilo que a gramática normativa pontua como Processo de Formação das Palavras. Levando em consideração apenas o recurso morfológico, qual Processo de Formação foi utilizado?**

- a) Derivação Sufixal
- b) Derivação Prefixal
- c) Derivação Regressiva
- d) Derivação Imprópria
- e) Derivação Parassintética

**39. No terceiro período do décimo terceiro parágrafo, temos:**

- a) Uma oração
- b) Duas orações
- c) Três orações
- d) Quatro orações
- e) Cinco orações

**40. No último parágrafo do fragmento do conto “— Agora, só agora, sou cego que não vê”, a oração subordinada presente classifica-se corretamente como:**

- a) Oração Subordinada Adjetiva Restritiva
- b) Oração Subordinada Adverbial Causal
- c) Oração Subordinada Substantiva Subjetiva
- d) Oração Subordinada Adverbial Explicativa
- e) Oração Subordinada Adjetiva Explicativa

**RASCUNHO**



PREFEITURA DE TELÊMACO BORBA - ESTADO DO PARANÁ- **EDITAL Nº 001-2016 - CONCURSO PÚBLICO VESPERTINO – 29/05/2016 – NÍVEL SUPERIOR**

**3**

**PROVA OBJETIVA NÚMERO**

**CARGO: TMNS I - NUTRIÇÃO**

**Leia atentamente as INSTRUÇÕES:**

1. Confira seus dados no cartão-resposta: nome, número de inscrição e o curso para o qual se inscreveu.
2. **MARQUE no seu cartão-resposta o número da sua prova** (não será corrigido o cartão-resposta que não tiver marcado o número da prova) e **Assine** seu cartão-resposta.
3. Aguarde a autorização do Fiscal para abrir o caderno de prova. Ao receber a ordem do fiscal, confira o caderno de prova com muita atenção. Nenhuma reclamação sobre o total de questões ou falha de impressão será aceita depois de iniciada a prova.
4. O cartão-resposta não será substituído, salvo se contiver erro de impressão.
5. Preencha toda a área do cartão-resposta correspondente à alternativa de sua escolha, com caneta esferográfica (tinta azul ou preta), sem ultrapassar as bordas. As marcações duplas, ou rasuradas, com corretivo, ou marcadas diferentemente do modelo estabelecido no cartão-resposta poderão ser anuladas.
6. Sua prova tem **40** questões, com **5** alternativas.
7. Cabe apenas ao candidato a interpretação das questões, **o fiscal** não poderá fazer nenhuma interferência.
8. A prova será realizada com duração máxima de **3 (três) horas**, incluído o tempo para a realização da Prova Objetiva de múltipla escolha e o preenchimento do cartão-resposta.
9. O candidato poderá retirar-se do local de realização das provas somente **1 (uma) hora** após o seu início, sem levar o caderno de prova.
10. O candidato poderá levar o caderno de provas, assim como anotação contendo transcrição do seu cartão-resposta, somente **1h30min** (uma hora e trinta minutos) após o início da realização da prova.
11. Ao terminar a prova, o candidato deverá entregar ao fiscal de sala o cartão-resposta preenchido e **ASSINADO**.
12. Os **3 (três)** candidatos, que terminarem a prova por último, deverão permanecer na sala, e só poderão sair juntos após o fechamento do envelope, contendo os cartões-resposta dos candidatos presentes e ausentes, e assinarem no lacre do referido envelope, atestando que este foi devidamente lacrado.
13. Durante todo o tempo em que permanecer no local onde está ocorrendo o concurso, o candidato deverá, manter o celular desligado e sem bateria, só sendo permitido ligar depois de ultrapassar o portão de saída do prédio.
14. Não será permitido ao candidato fumar na sala de provas, bem como nas dependências.
15. Depois de terminar a prova e entregar ao fiscal o cartão-resposta, preenchido e assinado, não será mais permitido ao candidato o uso do banheiro e bebedouro.

**BOA PROVA!**

**CONHECIMENTOS ESPECÍFICOS**

**01. Sobre a regulação do catabolismo proteico, analise as afirmativas a seguir e assinale a alternativa correta:**

**I - A taxa de catabolismo de aminoácidos é aumentada quando a ingestão proteica excede a necessidade do organismo.**

**II- Todo aminoácido consumido acima da necessidade imediata é oxidado e o nitrogênio é armazenado.**

**III- A regulação do metabolismo de proteínas também permite o catabolismo seletivo de proteínas “não vitais” para o organismo durante o jejum, disponibilizando, desse modo, aminoácido para gliconeogênese.**

**IV- Dentre as proteínas que podem ser consideradas “menos vitais”, inclui-se aproximadamente metade da massa muscular corporal.**

- a) Apenas I, III e IV estão corretas.
- b) Apenas a II está correta.
- c) Apenas I e IV estão corretas.
- d) Apenas a III está correta.
- e) Apenas a IV está incorreta.

**02. São fases do processo de absorção dos lipídios:**

**I- Emulsificação**

**II- Hidrólise do lipídio alimentar no lúmen intestinal.**

**III - Absorção dos produtos hidrolisados pelos enterócitos.**

**IV- Ressíntese e o empacotamento da gordura nas lipoproteínas nos enterócitos.**

**V - Secreção de lipoproteínas na circulação.**

**Estão corretas:**

- a) I, III e V, apenas.
- b) II, III e V, apenas.
- c) I, III, IV e V, apenas.
- d) II, IV e V, apenas.
- e) I, II, III, IV e V.

**03. Entre os íons que exercem papel importante na manutenção da pressão osmótica e do equilíbrio hídrico e acidobásico do organismo, estão:**

- a) Magnésio – fosfato – sulfato
- b) Sódio – cloro – potássio
- c) Cloreto de potássio – fosfato – sulfato
- d) Cloreto – bicarbonato – sódio
- e) Cloro – fosfato – magnésio

**04. Indique o micronutriente cuja deficiência normalmente é caracterizada pela presença de anorexia, alterações no paladar com ingestão reduzida de alimentos, favorece o retardo no crescimento e na maturação sexual e esquelética, a disfunção imune, a alopecia e as alterações cognitivas:**

- a) Ferro
- b) Cálcio
- c) Iodo
- d) Zinco
- e) Selênio

**05. No que diz respeito a alterações metabólicas encontradas em pacientes com caquexia reumatoide, examine os itens a seguir e assinale a alternativa correta:**

- 1) Intolerância à glicose**
- 2) Diminuição da lipogênese**
- 3) Hiperlipidemia**
- 4) Aumento do catabolismo da musculatura esquelética**

- a) Apenas o item 1 está correto.
- b) Apenas o item 2 está correto.
- c) Apenas o item 3 está correto.
- d) Apenas o item 4 está correto.
- e) Os itens 1, 2, 3 e 4 estão corretos.

**06. Marque V se verdadeira ou F se falsa para as seguintes afirmativas e assinale a alternativa correta:**

**( ) Para reaquecer carnes ou pratos à base de carnes, estes deverão ficar a uma temperatura de 70°C, no mínimo 2 minutos.**

**( ) Armazenamento adequado do alimento após a cocção, protege da recontaminação, e a refrigeração da multiplicação bacteriana.**

**( ) A cocção adequada, no estágio final da preparação dos alimentos, não pode eliminar a contaminação inicial.**



( ) Para maior segurança no reaquecimento, o centro do alimento deve atingir 74°C. Em seguida o alimento deve ser consumido ou mantido em estufa a 60°C, no máximo 30 minutos.

- a) F – V – V – F.
- b) V – F – V – F.
- c) F – V – V – V.
- d) V – V – F – V.
- e) V – V – V – V.

**07. Quanto às doenças alimentares, relacione a Coluna 2 com a Coluna 1 e assinale a alternativa que apresenta a relação correta:**

**Coluna 1**

- 1- Doenças Nutricionais
- 2- Doenças por Sensibilidade Específica
- 3- Doença Emotivo-Sensoriais e Simbólicas
- 4- Doenças por Perigos Transmitidos por Alimentos

**Coluna 2**

( ) Doenças consequentes à incompatibilidade pessoal a certos alimentos, devido à sensibilidade, alergias, má digestão etc.

( ) Doenças decorrentes da ingestão inadequada de nutrientes na alimentação. Doenças, carências ou que envolvam o não cumprimento de uma dieta equilibrada.

( ) Doenças consequentes à ingestão de perigos biológicos, químico ou físicos presentes os alimentos.

( ) Doenças consequentes à estímulos inadequados ou repugnância às condições sensoriais dos alimentos decorrentes da presença de perigos ou não.

- a) 1 – 2 – 3 – 4
- b) 2 – 1 – 4 – 3
- c) 1 – 3 – 2 – 4
- d) 4 – 3 – 2 – 1
- e) 2 – 1 – 3 – 4

**08. Sobre a coleta de amostra, podemos afirmar, exceto:**

- a) Utilizar saco plástico para congelamento, desinfetado ou esterilizado, de tamanho, no mínimo, de 300ml.
- b) Utilizar frasco de vidro de 200ml do tipo pote Arjek (tampa de metal) ou pote LN (tampa de plástico fervível).
- c) Não utilizar desinfetantes químicos (álcool, iodo, cloro, etc.).
- d) Coletar, no mínimo 100gramas úteis do material.
- e) Fechar imediatamente o frasco ou o saco plástico, e armazenar em congelamento a -10°C ou menos, no máximo 72horas, ou em refrigeração com temperatura não superior a 4°C, no máximo, 72horas.

**09. Correlacione os indicadores da Coluna 1 com os itens da Coluna 2 e assinale a alternativa correta.**

**Coluna 1**

- 1- Indicadores Sanitários
- 2- Indicadores Higiênicos

**Coluna 2**

- ( ) Contagem de coliformes fecais
- ( ) Contagem de coliformes totais
- ( ) Presença de Salmonella sp
- ( ) Contagem padrão em placas de bolores e leveduras
- ( ) Contagem de Bacillus cereus

- a) 1 – 2 – 2 – 1 – 2
- b) 1 – 1 – 1 – 2 – 1
- c) 2 – 1 – 2 – 1 – 1
- d) 2 – 1 – 1 – 1 – 2
- e) 1 – 2 – 1 – 2 – 1

**10. Quanto aos fatores que influem na proliferação dos agentes patógenos em alimentos, analise os itens a seguir e assinale a alternativa correta.**

**I- Pessoas infectadas**

**II- Descongelamento inadequado**

**III- Aditivos intencionais**

**IV- Alimentos de fonte insalubre**

- a) Apenas o item I está correto.
- b) Apenas o item II está correto.
- c) Apenas o item III está correto.
- d) Apenas o item IV está correto.
- e) Os itens I, II, III e IV estão corretos.

11. \_\_\_\_\_ é o procedimento que elimina ou reduz os micro-organismos patogênicos até níveis suportáveis, sem risco à saúde.

Qual é o termo utilizado para ambientes ou vegetais que preenche corretamente a lacuna?

- a) Lavagem
- b) Antissepsia
- c) Sanificação
- d) Assepsia
- e) Limpeza

12. Quanto a quesitos que são importantes para serem observados durante a inspeção de uma UAN, analise os itens seguintes e assinale a alternativa correta:

I) Controle de saúde dos funcionários

II) Controle de água para consumo

III) Higiene e descarte de lixo

IV) Estrutura do estabelecimento

- a) Apenas o item I está correto.
- b) Apenas o item II está correto.
- c) Apenas o item III está correto.
- d) Apenas o item IV está correto.
- e) Os itens I, II, III e IV estão corretos.

13. São conhecimentos e condições importantes para aplicação do sistema APPCC:

1- Microbiologia de alimentos

2- Avaliação dos laudos de análises microbiológicas e físico-químicas

3- Condições para o monitoramento

4- Procedimentos para avaliação de surtos

5- Técnica dietética e controle microbiológico

Estão corretos os itens:

- a) 1, 2, 3, 4 e 5.
- b) 2, 3, 4 e 5, apenas.
- c) 2, 3 e 4, apenas.
- d) 3 e 4, apenas.
- e) 1 e 4, apenas.

14. Sobre o planejamento do cardápio hospitalar, considere V para as afirmativas verdadeiras, F para as falsas, e assinale a alternativa correta.

( ) Deve ter atendimento *coletivo* por uma equipe formada por profissionais de diferentes disciplinas, de acordo com a prescrição médica e nutricional.

( ) Deve verificar com o paciente internado quais são os alimentos de sua preferência; e, com o médico e nutricionista, quais são os alimentos permitidos na dieta.

( ) O cardápio deve ser composto por alimentos variados e deve permitir flexibilidade, apresentando mais de uma opção de escolha.

( ) O cardápio deve ser elaborado por uma equipe de profissionais capacitados, sendo o trabalho do *chef* de cozinha compartilhado com o nutricionista.

- a) F – V – V – V
- b) V – V – V – F
- c) V – V – V – V
- d) F – V – F – F
- e) V – F – V – F

15. Assinale a alternativa que corresponde aos seguintes tipos de cortes profissionais, respectivamente, da esquerda para a direita.



- a) *Julienne* – *alumette*– *chiffonade*
- b) *Brunoise*– *gaufrettes*– *royalle*
- c) *Oblique*– *rondelle*– *olivette*

- d) *Parisienne– noisette– julienne*  
 e) *Batônnnet– julienne – pont-neuf*

**16. No planejamento de um cardápio para uma refeição principal de um restaurante institucional, indique a ordem que deverá ser seguida:**

- a) Prato principal – prato-base – entrada – guarnição – sobremesa.  
 b) Guarnição – sobremesa – entrada – prato principal – complemento.  
 c) Entrada – guarnição – complemento – prato-base – sobremesa.  
 d) Entrada – prato principal – guarnição – prato-base – sobremesa.  
 e) Complemento – sobremesa – prato principal – guarnição.

**17. Sobre o índice glicêmico (IG) dos alimentos, é correto afirmar:**

- a) A composição química dos alimentos e também sua forma de apresentação **não** influenciam no IG.  
 b) Alimentos amassados, triturados, liquefeitos, ralados, cozidos excessivamente, têm perdas de fibras, o que facilita e aumenta a absorção de glicose, aumentando o IG.  
 c) O teor das fibras dos alimentos (principalmente as solúveis) contribui para o **aumento** da absorção de glicose, e assim menor IG.  
 d) São considerados alimentos de **alto índice** glicêmico aqueles com valores entre 60 e 85.  
 e) São exemplos de alimentos com baixo IG: aveia, tapioca e melancia.

**18. Correlacione as propriedades nutracêuticas aos seus alimentos e assinale a alternativa correta.**

- A - Alho**  
**B - Berinjela**  
**C - Cenoura**  
**D - Acelga**
- ( ) antidepressivo, analgésico, hipocolesterolêmico, estimula o sistema imune.  
 ( ) analgésico, anticoagulante, antialérgico, anti-inflamatório, antioxidante, antibiótico.  
 ( ) antialérgico, anti-inflamatório, anestésico, antioxidante, vasodilatador e hipocolesterolêmico.  
 ( ) anticoagulante, antialérgico, anti-inflamatório, diurético.

- a) A – B – C – D  
 b) C – A – D – B  
 c) A – B – D – C  
 d) D – C – B – A  
 e) B – A – C – D

**19. Quanto à recomendação dietética para pacientes litíasicos, analise os itens seguintes e assinale a alternativa correta.**

**I- Dieta individualizada de acordo com o distúrbio metabólico e hábito alimentar.**

**II- Evitar a restrição de cálcio.**

**III- Evitar a ingestão de proteína animal e evitar alimentos ricos em purinas.**

**IV- Suplementos de vitamina C devem ser usados com cautela.**

- a) Apenas o item I está correto.  
 b) Apenas o item II está correto.  
 c) Apenas o item III está correto.  
 d) Apenas o item IV está correto.  
 e) Os itens I, II, III e IV estão corretos.

**20. Assinale qual é a classificação nutricional de um adulto com o Índice de Massa Corporal (IMC) de 25 a 29,9.**

- a) Eutrofia  
 b) Pré-obeso  
 c) Magreza grau I  
 d) Obesidade grau II  
 e) Obesidade grau III

## LÍNGUA PORTUGUESA

Texto para as próximas cinco questões:

### “O cego Estrelinho” Mia Couto

O cego Estrelinho era pessoa de nenhuma vez: sua história poderia ser contada e descontada não fosse seu guia, Gigito Efraim. A mão de Gigito conduziu o desvistado por tempos e idades. Aquela mão era repartidamente comum, extensão de um no outro, siamensal. E assim era quase de nascença. Memória de Estrelinho tinha cinco dedos e eram os de Gigito postos, em aperto, na sua própria mão.

O cego, curioso, queria saber de tudo. Ele não fazia cerimônia no viver. O sempre lhe era pouco e o tudo insuficiente. Dizia, deste modo:

— Tenho que viver já, senão esqueço-me.

Gigitinho, porém, o que descrevia era o que não havia. O mundo que ele minuciava eram fantasias e rendilhados. A imaginação do guia era mais profícua que papaeira. O cego enchia a boca de águas:

— Que maravilhação esse mundo. Me conte tudo, Gigito!

A mão do guia era, afinal, o manuscrito da mentira. Gigito Efraim estava como nunca esteve S. Tomé: via para não crer. O condutor falava pela ponta dos dedos. Desfolhava o universo, aberto em folhas. A ideiação dele era tal que mesmo o cego, por vezes, acreditava ver. O outro lhe encorajava esses breves enganos:

— Desbengale-se, você está escolhendo a boa procedência!

Mentira: Estrelinho continuava sem ver uma palmeira à frente do nariz. Contudo, o cego não se conformava em suas escurezas. Ele cumpria o ditado: não tinha perna e queria dar o pontapé. Só à noite, ele desalentava, sofrendo medos mais antigos que a humanidade. Entendia aquilo que, na raça humana, é menos primitivo: o animal.

— Na noite aflige não haver luz?

— Aflição é ter um pássaro branco esvoando dentro do sono.

Pássaro branco? No sono? Lugar de ave é nas alturas. Dizem até que Deus fez o céu para justificar os pássaros. Estrelinho disfarçava o medo dos vaticínios, subterfugindo:

— E agora, Gigitinho? Agora, olhando assim para cima, estou face ao céu?

Que podia o outro responder? O céu do cego fica em toda a parte. Estrelinho perdia o pé era quando a noite chegava e seu mestre adormecia. Era como se um novo escuro nele se estreasse em nó cego. Devagaroso e sorrateiro ele aninhava sua mão na mão do guia. Só assim adormecia. A razão da concha é a timidez da amêijoia? Na manhã seguinte, o cego lhe confessava: se você morrer, tenho que morrer logo no imediato. Senão-me: como acerto o caminho para o céu?

Foi no mês de dezembro que levaram Gigitinho. Lhe tiraram do mundo para pôr na guerra: obrigavam os serviços militares. O cego reclamou: que o moço inatingia a idade. E que o serviço que ele a si prestava era vital e vitalício. O guia chamou Estrelinho à parte e lhe tranquilizou:

— Não vai ficar sozinando por aí. Minha mana já mandei para ficar no meu lugar.

O cego estendeu o braço a querer tocar uma despedida. Mas o outro já não estava lá. Ou estava e se desviara, propositado? E sem água ida nem vinda, Estrelinho escutou o amigo se afastar, engolido, esponginquo, invisível. Pela primeira vez, Estrelinho se sentiu invalidado.

— Agora, só agora, sou cego que não vê.

(...)

**COUTO, Mia. Estórias abensonhadas. Rio de Janeiro: Nova Fronteira, 1996. (Pág 23 e 24).**

**21. Quanto à interpretação do fragmento do conto, podemos afirmar que:**

- Gigito Efraim era o guia de Estrelinho há pouquíssimo tempo.
- Estrelinho era cego de nascença.
- Gigito descrevia o mundo para Estrelinho de forma denotativa.
- Gigito foi convocado pelo exército para ser guia de cegos na guerra.
- Gigito descrevia o mundo para Estrelinho de forma conotativa.

**22. No período “O sempre lhe era pouco e o tudo insuficiente”, o pronome “LHE” exerce a função sintática de:**

- Objeto Direto
- Objeto Indireto
- Complemento Nominal
- Adjunto Adnominal
- Objeto Direto Preposicionado

**23. Na oração “A mão de Gigito conduziu o desvistado por tempos e idades”, o autor faz uso de um neologismo, assim como no decorrer de toda a obra em questão. Contudo, o neologismo só se torna possível pela utilização dos elementos mórficos naquilo que a gramática normativa pontua como Processo de Formação das Palavras. Levando em consideração apenas o recurso morfológico, qual Processo de Formação foi utilizado?**

- Derivação Sufixal
- Derivação Prefixal
- Derivação Regressiva
- Derivação Imprópria
- Derivação Parassintética

**24. No terceiro período do décimo terceiro parágrafo, temos:**

- Uma oração
- Duas orações
- Três orações

- d) Quatro orações  
e) Cinco orações

**25. No último parágrafo do fragmento do conto “— Agora, só agora, sou cego que não vê”, a oração subordinada presente classifica-se corretamente como:**

- a) Oração Subordinada Adjetiva Restritiva  
b) Oração Subordinada Adverbial Causal  
c) Oração Subordinada Substantiva Subjetiva  
d) Oração Subordinada Adverbial Explicativa  
e) Oração Subordinada Adjetiva Explicativa

### RACIOCÍNIO LÓGICO

**26. Os cinco filhos de Ana estavam discutindo a respeito da data de nascimento da mãe:**

- Almir disse que foi em janeiro, dia 14, sexta-feira.
- Vanderlei disse que foi em janeiro, dia 14, sábado.
- Tiago disse que foi em fevereiro, dia 15, sábado.
- Sandro disse que foi em janeiro, dia 15, sexta-feira.
- Renato disse que foi em fevereiro, dia 15, sexta-feira.

Sabe-se que somente um dos filhos de Ana acertou corretamente sua data de nascimento e que os outros acertaram pelo menos um dos itens (dia, dia da semana e mês). Dessa forma, é correto afirmar que o filho de Ana que acertou a data de nascimento dela foi:

- a) Renato  
b) Sandro  
c) Tiago  
d) Vanderlei  
e) Almir

**27. Considere a seguinte afirmativa: “Todo churrasqueiro gosta de picanha”. Em relação a essa proposição, é correto afirmar que:**

- a) Algum churrasqueiro não gosta de picanha.  
b) Toda pessoa que gosta de picanha é churrasqueira.  
c) Alguma pessoa que não gosta de picanha é churrasqueira.  
d) Toda pessoa que não é churrasqueira, não gosta de picanha.  
e) Toda pessoa que não gosta de picanha, não é churrasqueira.

**28. Em um grupo formado por 67 pessoas, verificou-se que 41 pessoas gostam de arroz, 29 gostam de feijão, 33 gostam de carne, 19 gostam de arroz e de feijão, 9 gostam apenas de arroz e de carne, 12 gostam de feijão e de carne e que 6 gostam de arroz, de feijão e de carne. O número de pessoas desse grupo, que não gosta de nenhum desses três tipos de alimentos é igual a:**

- a) 4  
b) 5  
c) 6  
d) 8  
e) 10

**29. Bruno escreveu, em seu caderno, várias sequências formadas por números múltiplos de 4, onde os valores que ocupavam as posições pares eram multiplicados por  $-1$ . Cada sequência foi somada e o resultado da soma anotado. A soma das três primeiras sequências escritas por Bruno foram as seguintes:**

$$4 - 8 = -4$$

$$4 - 8 + 12 = 8$$

$$4 - 8 + 12 - 16 = -8$$

Considere que Bruno escreveu e somou tais sequências, em seu caderno, de modo a obter determinada sequência cuja soma foi 600. O número de termos dessa sequência é igual a:

- a) 149  
b) 150  
c) 298  
d) 299  
e) 300

**30. Quatro torcedores, um do São Paulo, um do Cruzeiro, um do Vasco e um do Bahia, estão sentados ao redor de uma mesa quadrada, de modo que, dois a dois, fiquem frente a frente. Sabe-se que Alan é torcedor do Cruzeiro e que Bruno está sentado à direita de Alan. Sabe-se também que Caio está sentado à direita do torcedor do São Paulo. Sabe-se ainda que Daniel não é torcedor do Vasco e que está sentado à frente de Bruno. Dessa forma, é correto afirmar que:**

- a) Bruno é torcedor do Bahia e Daniel é torcedor do São Paulo.

- b) Bruno é torcedor do São Paulo e Daniel é torcedor do Bahia.  
 c) Caio é torcedor do Vasco e Daniel é torcedor do São Paulo.  
 d) Caio é torcedor do Bahia e Daniel é torcedor do São Paulo.  
 e) Bruno é torcedor do Vasco e Daniel é torcedor do Bahia.

**INFORMÁTICA**

**31. Considerando o MS-Excel versão 2010, observando a figura abaixo, é correto afirmar que:**

	A	B	C
1			
2			
3			
4			

- a) Somente 03 três linhas estão selecionadas.  
 b) Somente uma célula está selecionada.  
 c) 12 (doze) células estão selecionadas.  
 d) Somente a coluna A até a linha 4 (quatro) está selecionada.  
 e) Somente as colunas 1 (um), 2 (dois), 3 (três) e 4 (quatro) estão selecionadas.

**32. Considerando o MS-Excel versão 2010, observando a figura abaixo, é incorreto afirmar que:**

	A	B	C
1	12	6	=A1*B1
2	8	2	=A2/B2
3	5	14	=A3-B3
4	6	11	=A4+B4

- a) O resultado da fórmula =A1\*B1 é 72.  
 b) O resultado da fórmula =A2/B2 é 4.  
 c) O resultado da fórmula =A3-B3 é -9.  
 d) O resultado da fórmula =A3-B3 é 9.  
 e) O resultado da fórmula =A4+B4 é 17.

**33. Digitando um texto no MS-Word versão 2010, necessito adicionar número nas páginas. Quanto a isso, é correto afirmar que:**

- a) No menu Layout da Página, clico em número de página e seleciono onde desejo adicionar os números.  
 b) No menu Inserir, clico em número de página e seleciono onde desejo adicionar os números.  
 c) No menu Revisão, clico em número de página e seleciono onde desejo adicionar os números.  
 d) No menu Referências, clico em número de página e seleciono onde desejo adicionar os números.  
 e) No menu Exibição, clico em número de página e seleciono onde desejo adicionar os números.

**34. A segurança da informação está diretamente relacionada com proteção de um conjunto de informações, no sentido de preservar o valor que possuem para um indivíduo ou uma organização. Atualmente, um dos aplicativos mais utilizados no mundo, o Whats app, teve uma alteração de confidencialidade muito importante na segurança das informações transmitidas e recebidas. Dentre as alternativas, assinale a que corretamente informa a alteração inserida no aplicativo Whats app.**

- a) Antispam  
 b) Antivirus  
 c) Firewall  
 d) Antispyware  
 e) Criptografia

**35. São todos os dispositivos que trabalham acoplados ao microcomputador para receber, transmitir, visualizar, ler, gravar ou armazenarem dados. São eles que permitem a comunicação do computador com o meio exterior, isto é, com os usuários e outras máquinas.**

**Esse texto descreve corretamente:**

- a) Memória ram  
 b) Memória virtual  
 c) Software  
 d) Periféricos  
 e) Hardware



**CONHECIMENTOS GERAIS****36. Hino do município de Telêmaco Borba/PR**

Das virgens matas e campos verdejantes  
 Servindo-se também o rio Tibagi,  
 Homens de ideais, espíritos vibrantes.  
 Constituíram as indústrias aqui.

Estribilho:

Salve! Salve! Telêmaco Borba  
 Terra querida e de grandes primores,  
 A nossa homenagem rendamos  
 À cidade dos trabalhadores.  
 Pois a cadência de enorme e real progresso  
 Um município mui grandioso fez nascer,  
 Marcando assim, verdadeiro sucesso  
 Faz, então o Paraná engrandecer.

**No que tange ao Hino do município, atribua V (verdadeiro) ou F (falso) às afirmativas e marque a alternativa correta.**

- ( ) Eloah Martins Quadrado é autora da letra do hino.  
 ( ) Bento Mossurunga compôs a música do hino.  
 ( ) Eloah Martins Quadrado foi nomeada primeira professora da Cidade Nova, atual Telêmaco Borba.  
 ( ) Bento Mossurunga fundou a orquestra Estudantil e Concertos – Orquestra Sinfônica da Universidade, a Sociedade de Cultura Artístico Basílio Itiberê.  
 a) F, V, V, V.  
 b) V, F, V, V.  
 c) V, V, F, V.  
 d) V, V, F, F.  
 e) V, V, V, V.

**37. À luz da Lei nº 1883/2012, que dispõe sobre o Estatuto dos Servidores Públicos da Administração Direta, Autárquica e Funcional do Município de Telêmaco Borba/PR, leia as alternativas e marque a correta.**

- a) A apresentação para a posse ocorrerá no prazo de até trinta dias, contados do ato de nomeação.  
 b) A destituição do servidor da função gratificada dar-se-á por solicitação exclusiva dele mesmo.  
 c) O servidor ocupante exclusivamente de cargo em comissão será contribuinte do regime geral de previdência social.  
 d) A aprovação em concurso público gera o direito à nomeação, e será feita obedecida à ordem de classificação dos candidatos.  
 e) O exercício de função gratificada poderá ser de dedicação integral ou parcial, conforme necessidade da administração.

**Conforme a Lei nº 1.881, de 05 de abril de 2012, que dispõe sobre o Plano de Cargos, Carreiras e Vencimentos do quadro geral de servidores da Prefeitura Municipal de Telêmaco Borba/PR, regulamentada pelo Decreto nº 2269/2015, responda às próximas três questões.**

**38. Leia as assertivas e assinala a incorreta.**

- a) Do resultado da avaliação de desempenho poderá ser interposto recurso à Comissão de Desenvolvimento Funcional no prazo de quinze dias a contar da publicação no Boletim Oficial do Município.  
 b) Não será concedida a progressão ou promoção ao servidor que estiver em licença para tratamento de saúde por um período superior a quarenta e cinco dias, no período de avaliação.  
 c) A alternância dos membros constituintes da Comissão de Desenvolvimento Funcional eleitos pelos servidores verificar-se-á a cada três anos de participação, observados, para substituição de seus participantes, o critério fixado no artigo anterior, não cabendo eleição sucessiva.  
 d) Caberá à Comissão de Desenvolvimento Funcional, no caso de divergência de vinte por cento entre a nota do avaliador e a do avaliado, solicitar nova avaliação à chefia.  
 e) Nos termos do disposto no art. 17 da Lei nº 1.881, de 05 de abril de 2012, para progredir, é necessário que o servidor satisfaça, dentre outros, o seguinte requisito: estar no efetivo exercício de seu cargo ou em função comissionada na sua área de atuação durante o interstício de dois anos.

**39. Assinale a alternativa que completa respectivamente as lacunas do texto a seguir:**

**A Comissão de Desenvolvimento Funcional será constituída por \_\_\_\_\_ membros, sendo \_\_\_\_\_ designados pelo Prefeito Municipal de Telêmaco Borba e os demais eleitos pelos servidores municipais dentre os estáveis, com a atribuição de coordenar os procedimentos relativos à avaliação periódica de desempenho e outras atribuições.**

- a) três / sete



- b) um / três
- c) sete / três
- d) três / cinco
- e) dois / cinco

**40. A Avaliação de Desempenho será norteada, dentre outros, pelo seguinte princípio: Amplitude - a avaliação deve incidir sobre todas as áreas de atuação do servidor, que compreendem:**

- 1. a formulação de políticas administrativas e sua aplicação para todos os setores da administração municipal;**
- 2. o desempenho do profissional dentro de suas funções pertinentes;**
- 3. a estrutura do órgão em que exerce a função;**
- 4. os resultados de eficiência dos serviços de cada setor ou órgão da administração municipal;**
- 5. a participação direta do avaliado, durante todo o processo avaliativo.**

**Diante dessa afirmação, somente não está correto o item:**

- a) 1
- b) 2
- c) 3
- d) 4
- e) 5

**RASCUNHO**



PREFEITURA DE TELÊMACO BORBA - ESTADO DO PARANÁ- EDITAL Nº 001-2016 - CONCURSO PÚBLICO

VESPERTINO – 29/05/2016 – NÍVEL SUPERIOR

PROVA OBJETIVA NÚMERO

1

CARGO: TMNS I - ODONTOLOGIA

Leia atentamente as INSTRUÇÕES:

1. Confira seus dados no cartão-resposta: nome, número de inscrição e o curso para o qual se inscreveu.
2. **MARQUE no seu cartão-resposta o número da sua prova** (não será corrigido o cartão-resposta que não tiver marcado o número da prova) e **Assine** seu cartão-resposta.
3. Aguarde a autorização do Fiscal para abrir o caderno de prova. Ao receber a ordem do fiscal, confira o caderno de prova com muita atenção. Nenhuma reclamação sobre o total de questões ou falha de impressão será aceita depois de iniciada a prova.
4. O cartão-resposta não será substituído, salvo se contiver erro de impressão.
5. Preencha toda a área do cartão-resposta correspondente à alternativa de sua escolha, com caneta esferográfica (tinta azul ou preta), sem ultrapassar as bordas. As marcações duplas, ou rasuradas, com corretivo, ou marcadas diferentemente do modelo estabelecido no cartão-resposta poderão ser anuladas.
6. Sua prova tem **40** questões, com **5** alternativas.
7. Cabe apenas ao candidato a interpretação das questões, **o fiscal** não poderá fazer nenhuma interferência.
8. A prova será realizada com duração máxima de **3 (três) horas**, incluído o tempo para a realização da Prova Objetiva de múltipla escolha e o preenchimento do cartão-resposta.
9. O candidato poderá retirar-se do local de realização das provas somente **1 (uma) hora** após o seu início, sem levar o caderno de prova.
10. O candidato poderá levar o caderno de provas, assim como anotação contendo transcrição do seu cartão-resposta, somente **1h30min** (uma hora e trinta minutos) após o início da realização da prova.
11. Ao terminar a prova, o candidato deverá entregar ao fiscal de sala o cartão-resposta preenchido e **ASSINADO**.
12. Os **3 (três)** candidatos, que terminarem a prova por último, deverão permanecer na sala, e só poderão sair juntos após o fechamento do envelope, contendo os cartões-resposta dos candidatos presentes e ausentes, e assinarem no lacre do referido envelope, atestando que este foi devidamente lacrado.
13. Durante todo o tempo em que permanecer no local onde está ocorrendo o concurso, o candidato deverá, manter o celular desligado e sem bateria, só sendo permitido ligar depois de ultrapassar o portão de saída do prédio.
14. Não será permitido ao candidato fumar na sala de provas, bem como nas dependências.
15. Depois de terminar a prova e entregar ao fiscal o cartão-resposta, preenchido e assinado, não será mais permitido ao candidato o uso do banheiro e bebedouro.

**BOA PROVA!**

**LÍNGUA PORTUGUESA**

Texto para as próximas cinco questões:

**“O cego Estrelinho”  
Mia Couto**

O cego Estrelinho era pessoa de nenhuma vez: sua história poderia ser contada e descontada não fosse seu guia, Gigito Efraim. A mão de Gigito conduziu o desvistado por tempos e idades. Aquela mão era repartidamente comum, extensão de um no outro, siamensal. E assim era quase de nascença. Memória de Estrelinho tinha cinco dedos e eram os de Gigito postos, em aperto, na sua própria mão.

O cego, curioso, queria saber de tudo. Ele não fazia cerimônia no viver. O sempre lhe era pouco e o tudo insuficiente. Dizia, deste modo:

— Tenho que viver já, senão esqueço-me.

Gigitinho, porém, o que descrevia era o que não havia. O mundo que ele minuciava eram fantasias e rendilhados. A imaginação do guia era mais profícua que papaeira. O cego enchia a boca de águas:

— Que maravilhação esse mundo. Me conte tudo, Gigito!

A mão do guia era, afinal, o manuscrito da mentira. Gigito Efraim estava como nunca esteve S. Tomé: via para não crer. O condutor falava pela ponta dos dedos. Desfolhava o universo, aberto em folhas. A ideação dele era tal que mesmo o cego, por vezes, acreditava ver. O outro lhe encorajava esses breves enganar:

— Desbengale-se, você está escolhendo a boa procedência!

Mentira: Estrelinho continuava sem ver uma palmeira à frente do nariz. Contudo, o cego não se conformava em suas escurezas. Ele cumpria o ditado: não tinha perna e queria dar o pontapé. Só à noite, ele desalentava, sofrendo medos mais antigos que a humanidade. Entendia aquilo que, na raça humana, é menos primitivo: o animal.

— Na noite aflige não haver luz?

— Aflição é ter um pássaro branco esvoando dentro do sono.

Pássaro branco? No sono? Lugar de ave é nas alturas. Dizem até que Deus fez o céu para justificar os pássaros. Estrelinho disfarçava o medo dos vaticínios, subterfugindo:

— E agora, Gigitinho? Agora, olhando assim para cima, estou face ao céu?

Que podia o outro responder? O céu do cego fica em toda a parte. Estrelinho perdia o pé era quando a noite chegava e seu mestre adormecia. Era como se um novo escuro nele se estreasse em nó cego. Devagaroso e sorrateiro ele aninhava sua mão na mão do guia. Só assim adormecia. A razão da concha é a timidez da amêijoia? Na manhã seguinte, o cego lhe confessava: se você morrer, tenho que morrer logo no imediato. Senão-me: como acerto o caminho para o céu?

Foi no mês de dezembro que levaram Gigitinho. Lhe tiraram do mundo para pôr na guerra: obrigavam os serviços militares. O cego reclamou: que o moço inatingia a idade. E que o serviço que ele a si prestava era vital e vitalício. O guia chamou Estrelinho à parte e lhe tranquilizou:

— Não vai ficar sozinhandando por aí. Minha mana já mandei para ficar no meu lugar.

O cego estendeu o braço a querer tocar uma despedida. Mas o outro já não estava lá. Ou estava e se desviara, propositado? E sem água ida nem vinda, Estrelinho escutou o amigo se afastar, engolido, esponginquo, inevisível. Pela pimeira vez, Estrelinho se sentiu invalidado.

— Agora, só agora, sou cego que não vê.

(...)

**COUTO, Mia. Estórias abensonhadas. Rio de Janeiro: Nova Fronteira, 1996. (Pág 23 e 24).**

**01. Quanto à interpretação do fragmento do conto, podemos afirmar que:**

- Gigito Efraim era o guia de Estrelinho há pouquíssimo tempo.
- Estrelinho era cego de nascença.
- Gigito descrevia o mundo para Estrelinho de forma denotativa.
- Gigito foi convocado pelo exército para ser guia de cegos na guerra.
- Gigito descrevia o mundo para Estrelinho de forma conotativa.

**02. No período “O sempre lhe era pouco e o tudo insuficiente”, o pronome “LHE” exerce a função sintática de:**

- Objeto Direto
- Objeto Indireto
- Complemento Nominal
- Adjunto Adnominal
- Objeto Direto Preposicionado

**03. Na oração “A mão de Gigito conduziu o desvistado por tempos e idades”, o autor faz uso de um neologismo, assim como no decorrer de toda a obra em questão. Contudo, o neologismo só se torna possível pela utilização dos elementos mórficos naquilo que a gramática normativa pontua como Processo de Formação das Palavras. Levando em consideração apenas o recurso morfológico, qual Processo de Formação foi utilizado?**

- Derivação Sufixal

- b) Derivação Prefixal
- c) Derivação Regressiva
- d) Derivação Imprópria
- e) Derivação Parassintética

**04. No terceiro período do décimo terceiro parágrafo, temos:**

- a) Uma oração
- b) Duas orações
- c) Três orações
- d) Quatro orações
- e) Cinco orações

**05. No último parágrafo do fragmento do conto “— Agora, só agora, sou cego que não vê”, a oração subordinada presente classifica-se corretamente como:**

- a) Oração Subordinada Adjetiva Restritiva
- b) Oração Subordinada Adverbial Causal
- c) Oração Subordinada Substantiva Subjetiva
- d) Oração Subordinada Adverbial Explicativa
- e) Oração Subordinada Adjetiva Explicativa

#### **RACIOCÍNIO LÓGICO**

**06. Os cinco filhos de Ana estavam discutindo a respeito da data de nascimento da mãe:**

- Almir disse que foi em janeiro, dia 14, sexta-feira.
- Vanderlei disse que foi em janeiro, dia 14, sábado.
- Tiago disse que foi em fevereiro, dia 15, sábado.
- Sandro disse que foi em janeiro, dia 15, sexta-feira.
- Renato disse que foi em fevereiro, dia 15, sexta-feira.

Sabe-se que somente um dos filhos de Ana acertou corretamente sua data de nascimento e que os outros acertaram pelo menos um dos itens (dia, dia da semana e mês). Dessa forma, é correto afirmar que o filho de Ana que acertou a data de nascimento dela foi:

- a) Renato
- b) Sandro
- c) Tiago
- d) Vanderlei
- e) Almir

**07. Considere a seguinte afirmativa: “Todo churrasqueiro gosta de picanha”. Em relação a essa proposição, é correto afirmar que:**

- a) Algum churrasqueiro não gosta de picanha.
- b) Toda pessoa que gosta de picanha é churrasqueira.
- c) Alguma pessoa que não gosta de picanha é churrasqueira.
- d) Toda pessoa que não é churrasqueira, não gosta de picanha.
- e) Toda pessoa que não gosta de picanha, não é churrasqueira.

**08. Em um grupo formado por 67 pessoas, verificou-se que 41 pessoas gostam de arroz, 29 gostam de feijão, 33 gostam de carne, 19 gostam de arroz e de feijão, 9 gostam apenas de arroz e de carne, 12 gostam de feijão e de carne e que 6 gostam de arroz, de feijão e de carne. O número de pessoas desse grupo, que não gosta de nenhum desses três tipos de alimentos é igual a:**

- a) 4
- b) 5
- c) 6
- d) 8
- e) 10

**09. Bruno escreveu, em seu caderno, várias sequências formadas por números múltiplos de 4, onde os valores que ocupavam as posições pares eram multiplicados por  $-1$ . Cada sequência foi somada e o resultado da soma anotado. A soma das três primeiras sequências escritas por Bruno foram as seguintes:**

$$4 - 8 = -4$$

$$4 - 8 + 12 = 8$$

$$4 - 8 + 12 - 16 = -8$$

Considere que Bruno escreveu e somou tais sequências, em seu caderno, de modo a obter determinada sequência cuja soma foi 600. O número de termos dessa sequência é igual a:

- a) 149
- b) 150
- c) 298

- d) 299  
e) 300

10. Quatro torcedores, um do São Paulo, um do Cruzeiro, um do Vasco e um do Bahia, estão sentados ao redor de uma mesa quadrada, de modo que, dois a dois, fiquem frente a frente. Sabe-se que Alan é torcedor do Cruzeiro e que Bruno está sentado à direita de Alan. Sabe-se também que Caio está sentado à direita do torcedor do São Paulo. Sabe-se ainda que Daniel não é torcedor do Vasco e que está sentado à frente de Bruno. Dessa forma, é correto afirmar que:

- a) Bruno é torcedor do Bahia e Daniel é torcedor do São Paulo.  
b) Bruno é torcedor do São Paulo e Daniel é torcedor do Bahia.  
c) Caio é torcedor do Vasco e Daniel é torcedor do São Paulo.  
d) Caio é torcedor do Bahia e Daniel é torcedor do São Paulo.  
e) Bruno é torcedor do Vasco e Daniel é torcedor do Bahia.

### INFORMÁTICA

11. Considerando o MS-Excel versão 2010, observando a figura abaixo, é correto afirmar que:

	A	B	C
1			
2			
3			
4			

- a) Somente 03 três linhas estão selecionadas.  
b) Somente uma célula está selecionada.  
c) 12 (doze) células estão selecionadas.  
d) Somente a coluna A até a linha 4 (quatro) está selecionada.  
e) Somente as colunas 1 (um), 2 (dois), 3 (três) e 4 (quatro) estão selecionadas.

12. Considerando o MS-Excel versão 2010, observando a figura abaixo, é incorreto afirmar que:

	A	B	C
1	12	6	=A1*B1
2	8	2	=A2/B2
3	5	14	=A3-B3
4	6	11	=A4+B4

- a) O resultado da fórmula =A1\*B1 é 72.  
b) O resultado da fórmula =A2/B2 é 4.  
c) O resultado da fórmula =A3-B3 é -9.  
d) O resultado da fórmula =A3-B3 é 9.  
e) O resultado da fórmula =A4+B4 é 17.

13. Digitando um texto no MS-Word versão 2010, necessito adicionar número nas páginas. Quanto a isso, é correto afirmar que:

- a) No menu Layout da Página, cliço em número de página e seleciono onde desejo adicionar os números.  
b) No menu Inserir, cliço em número de página e seleciono onde desejo adicionar os números.  
c) No menu Revisão, cliço em número de página e seleciono onde desejo adicionar os números.  
d) No menu Referências, cliço em número de página e seleciono onde desejo adicionar os números.  
e) No menu Exibição, cliço em número de página e seleciono onde desejo adicionar os números.

14. A segurança da informação está diretamente relacionada com proteção de um conjunto de informações, no sentido de preservar o valor que possuem para um indivíduo ou uma organização. Atualmente, um dos aplicativos mais utilizados no mundo, o Whats app, teve uma alteração de confidencialidade muito importante na segurança das informações transmitidas e recebidas. Dentre as alternativas, assinale a que corretamente informa a alteração inserida no aplicativo Whats app.

- a) Antispam  
b) Antivirus  
c) Firewall  
d) Antispyware  
e) Criptografia



**15. São todos os dispositivos que trabalham acoplados ao microcomputador para receber, transmitir, visualizar, ler, gravar ou armazenarem dados. São eles que permitem a comunicação do computador com o meio exterior, isto é, com os usuários e outras máquinas.**

**Esse texto descreve corretamente:**

- a) Memória ram
- b) Memória virtual
- c) Software
- d) Periféricos
- e) Hardware

#### **CONHECIMENTOS GERAIS**

##### **16. Hino do município de Telêmaco Borba/PR**

Das virgens matas e campos verdejantes  
 Servindo-se também o rio Tibagi,  
 Homens de ideais, espíritos vibrantes.  
 Constituíram as indústrias aqui.

Estribilho:

Salve! Salve! Telêmaco Borba  
 Terra querida e de grandes primores,  
 A nossa homenagem rendamos  
 À cidade dos trabalhadores.  
 Pois a cadência de enorme e real progresso  
 Um município mui grandioso fez nascer,  
 Marcando assim, verdadeiro sucesso  
 Faz, então o Paraná engrandecer.

**No que tange ao Hino do município, atribua V (verdadeiro) ou F (falso) às afirmativas e marque a alternativa correta.**

- ( ) Eloah Martins Quadrado é autora da letra do hino.
  - ( ) Bento Mossurunga compôs a música do hino.
  - ( ) Eloah Martins Quadrado foi nomeada primeira professora da Cidade Nova, atual Telêmaco Borba.
  - ( ) Bento Mossurunga fundou a orquestra Estudantil e Concertos – Orquestra Sinfônica da Universidade, a Sociedade de Cultura Artístico Basilio Itiberê.
- a) F, V, V, V.
  - b) V, F, V, V.
  - c) V, V, F, V.
  - d) V, V, F, F.
  - e) V, V, V, V.

**17. À luz da Lei nº 1883/2012, que dispões sobre o Estatuto dos Servidores Públicos da Administração Direta, Autárquica e Funcional do Município de Telêmaco Borba/PR, leia as alternativas e marque a correta.**

- a) A apresentação para a posse ocorrerá no prazo de até trinta dias, contados do ato de nomeação.
- b) A destituição do servidor da função gratificada dar-se-á por solicitação exclusiva dele mesmo.
- c) O servidor ocupante exclusivamente de cargo em comissão será contribuinte do regime geral de previdência social.
- d) A aprovação em concurso público gera o direito à nomeação, e será feita obedecida à ordem de classificação dos candidatos.
- e) O exercício de função gratificada poderá ser de dedicação integral ou parcial, conforme necessidade da administração.

**Conforme a Lei nº 1.881, de 05 de abril de 2012, que dispõe sobre o Plano de Cargos, Carreiras e Vencimentos do quadro geral de servidores da Prefeitura Municipal de Telêmaco Borba/PR, regulamentada pelo Decreto nº 2269/2015, responda às próximas três questões.**

**18. Leia as assertivas e assinala a incorreta.**

- a) Do resultado da avaliação de desempenho poderá ser interposto recurso à Comissão de Desenvolvimento Funcional no prazo de quinze dias a contar da publicação no Boletim Oficial do Município.
- b) Não será concedida a progressão ou promoção ao servidor que estiver em licença para tratamento de saúde por um período superior a quarenta e cinco dias, no período de avaliação.
- c) A alternância dos membros constituintes da Comissão de Desenvolvimento Funcional eleitos pelos servidores verificar-se-á a cada três anos de participação, observados, para substituição de seus participantes, o critério fixado no artigo anterior, não cabendo eleição sucessiva.



- d) Caberá à Comissão de Desenvolvimento Funcional, no caso de divergência de vinte por cento entre a nota do avaliador e a do avaliado, solicitar nova avaliação à chefia.
- e) Nos termos do disposto no art. 17 da Lei nº 1.881, de 05 de abril de 2012, para progredir, é necessário que o servidor satisfaça, dentre outros, o seguinte requisito: estar no efetivo exercício de seu cargo ou em função comissionada na sua área de atuação durante o interstício de dois anos.

**19. Assinale a alternativa que completa respectivamente as lacunas do texto a seguir:**

**A Comissão de Desenvolvimento Funcional será constituída por \_\_\_\_\_ membros, sendo \_\_\_\_\_ designados pelo Prefeito Municipal de Telêmaco Borba e os demais eleitos pelos servidores municipais dentre os estáveis, com a atribuição de coordenar os procedimentos relativos à avaliação periódica de desempenho e outras atribuições.**

- a) três / sete
- b) um / três
- c) sete / três
- d) três / cinco
- e) dois / cinco

**20. A Avaliação de Desempenho será norteadada, dentre outros, pelo seguinte princípio: Amplitude - a avaliação deve incidir sobre todas as áreas de atuação do servidor, que compreendem:**

- 1. a formulação de políticas administrativas e sua aplicação para todos os setores da administração municipal;**
- 2. o desempenho do profissional dentro de suas funções pertinentes;**
- 3. a estrutura do órgão em que exerce a função;**
- 4. os resultados de eficiência dos serviços de cada setor ou órgão da administração municipal;**
- 5. a participação direta do avaliado, durante todo o processo avaliativo.**

**Diante dessa afirmação, somente não está correto o item:**

- a) 1
- b) 2
- c) 3
- d) 4
- e) 5

**CONHECIMENTOS ESPECÍFICOS**

**21. “Uma coisa é por ideias arranjadas, outra é lidar com um país de pessoas, de carne e sangue, de mil-e-tantas misérias... Tanta gente – dá susto de saber – e nenhum se sossega: todos nascendo, crescendo, se casando, querendo colocação de emprego, comida, saúde, riqueza...” (trecho de “Grande Sertão: Veredas”, João Guimarães Rosa). De maneira simples e verdadeira, o escritor mineiro traz um retrato, ainda atual, do nosso país, peculiar por sua extensão geográfica e pela diversidade cultural de seu povo. Os modelos de saúde precisaram se reajustar com o passar do tempo para conseguirem cumprir o proposto de garantir saúde a todos. Nesse sentido, a educação em saúde se destaca como estratégia fundamental para o progresso. Sobre esse assunto, analise as afirmativas e assinale a alternativa correta:**

**I. Para se realizar atividade educativa, é imprescindível inicialmente ter compreensão dos determinantes sociais da comunidade.**

**II. Na educação em saúde, busca-se encorajar e fortalecer a autonomia do usuário, oferecendo recursos para alteração de hábitos e conservação de sua saúde.**

**III. A premissa da educação em saúde é garantir ao usuário uma postura passiva, em que ele recebe todas as ferramentas para melhora do seu processo saúde-doença.**

**IV. A técnica de tratamento restaurador atraumático (ART) é indicada em programas de educação em saúde bucal.**

- a) Apenas I, II e III estão corretas.
- b) Apenas I, III e IV estão corretas.
- c) Apenas I, II e IV estão corretas.
- d) Apenas I e II estão corretas.
- e) Todas estão corretas.

**22. O traumatismo dentoalveolar é uma emergência rotineira na odontopediatria, o trauma pode afetar a dentição decídua e/ou permanente e também gerar comprometimentos de autoestima e qualidade de vida da criança. Quanto às asserções que envolvem esse tema, assinale a alternativa incorreta.**

- a) A má oclusão de classe II divisão 1 é fator predisponente de trauma dentário.
- b) Os dentes anteriores superiores são os mais habitualmente afetados.
- c) Quando lesões tiverem histórico incongruente deve-se investigar possibilidade de abuso infantil.
- d) A sobressaliência de 3-6 mm, comparada a valores menores, reduz a incidência de trauma na dentição decídua.
- e) Presença de hematoma sublingual é sinal patognomônico de fratura na mandíbula em região de sínfise ou canino.

**23. A Política Nacional de Saúde Bucal tem como uma de suas premissas a promoção e proteção à saúde, incluindo o uso de fluoretos. Sua utilização estratégica já está concebida como tecnologia de intervenção em saúde pública e denota um conceito amplo que integra a odontologia às demais práticas de saúde coletiva. Sobre essa temática, assinale a alternativa correta após analisar as seguintes afirmativas:**

**I. Os produtos usualmente empregados no Brasil para fluoretação das águas de abastecimento público são o fluorsilicato de sódio e o ácido fluossilícico.**

**II. No Paraná a maioria dos municípios possuem águas fluoretadas, exceto em pequenos sistemas e a área rural. O teor ideal de flúor no abastecimento do Estado está entre 0,6 a 0,8 ppm, considerando-se 0,7 ppm de flúor por litro o teor ótimo.**

**III. O uso dos cimentos de ionômero de vidro na clínica diária apresenta a vantagem desse material liberar flúor constantemente, ajudando no controle da cárie.**

- a) Apenas I e III estão corretas.
- b) Apenas II e III estão corretas.
- c) Apenas I e II estão corretas.
- d) Apenas a III está correta.
- e) Todas as afirmativas estão corretas.

**24. O Tratamento Restaurador Atraumático (ART) é recomendado na saúde bucal coletiva, especialmente por sua efetividade no controle da doença cárie, por isso sua execução e indicação devem ser muito bem administradas pelo cirurgião-dentista. Sobre o ART, assinale a alternativa correta.**

- a) Para garantir o sucesso do tratamento deve-se remover toda a dentina afeta.
- b) Recomenda-se nessa técnica a utilização de cimento de ionômero de vidro de alta viscosidade.
- c) A técnica não é indicada para crianças abaixo dos 6 anos.
- d) A técnica de ART não deve ser preferida se houver disponibilidade de equipo e alta rotação.
- e) Após redução do índice de cárie do paciente com ART, deve-se substituir as restaurações por outro material definitivo.

**25. De acordo com a publicação da Rede de Saúde Bucal, ano de 2016, da Secretaria de Estado da Saúde do Paraná, o câncer bucal permanece com poucas melhoras nos indicadores epidemiológicos ao longo do tempo. Para melhorar esse perfil, são necessárias políticas públicas e o maior envolvimento dos profissionais de saúde, visando o diagnóstico precoce e o maior sucesso nos tratamentos. Sobre esse assunto, assinale a alternativa incorreta.**

- a) Como estratégia rápida de rastreamento de lesões bucais, pode-se utilizar o ácido acético a 1% e o azul de toluidina 1%.
- b) Eritroplasias e Leucoplasias, embora não indiquem um diagnóstico definitivo, são reconhecidas por serem lesões cancerizáveis que merecem atenção do dentista.
- c) As leucoplasias são de ocorrência mais comum na boca e apresentam potencial de cancerização superior as eritroplasias.
- d) Pacientes com alterações nutricionais graves e imunodeprimidos apresentam perfil de risco para câncer bucal.
- e) O autoexame da boca é uma estratégia de educação em saúde que deve ser orientada e encorajada pelo dentista.

**26. O pré-natal odontológico consiste na educação e assistência à saúde bucal da gestante e aconselhamento para o futuro bebê, cabendo aos profissionais de saúde desmistificar receios que possam existir de realizar consultas ou procedimentos durante esse período. A respeito da atenção e cuidados que cercam o atendimento a esse público, assinale a alternativa incorreta.**

- a) Durante a gestação, o aumento dos níveis circulantes de estrógeno e progesterona provoca uma maior vascularização do periodonto, podendo ocorrer alterações nesses tecidos.
- b) A prescrição de anti-inflamatórios não esteroides e ácido acetilsalicílico deve ser evitada por suas tendências de provocarem hemorragia na mãe e no feto, inércia uterina, entre outras reações.
- c) O vasoconstritor felipressina, presente em anestésico local odontológico, apresenta semelhança estrutural com a ocitocina, podendo provocar contração uterina.
- d) Em caso de necessidade de tratamento de infecções orais com antibióticos durante a gestação, a primeira escolha é a penicilina.
- e) A metemoglobinemia é uma condição grave para a gestante, que pode ser provocada por doses baixas do anestésico mepivacaína.

**27. A Articulação Temporomandibular (ATM) é uma articulação bilateral, interligada pela mandíbula e com uma relação de interdependência com a oclusão dos dentes, o que a torna peculiar e funcionalmente complexa. Sobre esse assunto, analise os itens a seguir e marque a alternativa correta.**

**I. As faces articulares temporal e condilar são recobertas por cartilagem hialina.**

**II. A cápsula articular que circunda a ATM é ricamente vascularizada e com inervação sensitiva.**

**III. Os ligamentos normalmente não atuam de maneira ativa no funcionamento da ATM, participam como conectores-guia, permitindo ou restringindo determinados movimentos.**

**IV. Em pacientes que manifestam “apertamento” dental, o côndilo é intruído na fossa mandibular e os tecidos intra-articulares sofrem remodelações acentuadas.**

- a) Apenas I e III estão corretos.
- b) Apenas I, II e III estão corretos.
- c) Apenas I, III e IV estão corretos.
- d) Apenas II, III e IV estão corretos.
- e) Todos os itens estão corretos.

**28. Na odontologia, a análise da capacidade tampão e conteúdo microbiológico da saliva é utilizada para avaliação do risco de cárie, entretanto, seu uso para diagnóstico de doenças bucais, sistêmicas e condição geral do paciente tem se mostrado cada vez mais viável e eficiente. Sobre a questão proposta, assinale a alternativa incorreta.**

- a) A análise salivar é utilizada para diagnóstico de doenças que afetem a função das glândulas salivares e composição da saliva, como a síndrome de Sjögren, fibrose cística, cirrose alcoólica, entre outras.
- b) O fluxo e composição salivar podem ser alterados por consumo de medicamentos, álcool, tabagismo e ritmo circadiano.
- c) O uso da saliva para triagem ou diagnóstico do câncer oral não é possível pela ausência de biomarcador potencial para essa patologia em fluido salivar.
- d) O teste de Snyder utiliza a saliva para investigação da atividade de cárie e se baseia no ritmo de formação de ácido.
- e) A contagem de lactobacilos na saliva pode se relacionar diretamente com a atividade de cárie no dente.

**29. Os conhecimentos científicos e conceitos sobre o entendimento e diagnóstico da cárie dental, assim como da saúde geral das pessoas, sofrem constantes evoluções, exigindo que os profissionais estejam sempre atualizados. Sobre a cariologia, assinale a alternativa incorreta.**

- a) O nível crítico de pH do biofilme é cerca de 5,5, sendo que, abaixo desse valor há indução da desmineralização do esmalte.
- b) Os hormônios da tireoide atuam na criação da matriz dentinária, de modo que pacientes com hipertireoidismo possuem dentes com déficit de calcificação e propensos à cárie.
- c) O envolvimento dos elementos: dente, microrganismos e glicídios é condição *sine qua non* para gerar a cárie dental.
- d) O cálcio e o fósforo são importantes para formar os cristais de hidroxiapatita, que são precipitados nas matrizes proteicas formando o esmalte e a dentina.
- e) O flúor conserva-se no esmalte na forma de fluorapatita e tem importante papel no controle da cárie.

**30. Durante a realização de cirurgia dental no consultório, podem surgir situações de urgência/emergências médica ou odontológicas que exigirão uma conduta precisa e imediata do cirurgião-dentista. Sendo assim, analise as afirmativas seguintes e aponte a alternativa correta.**

**I. Reações alérgicas podem acontecer relacionadas principalmente a anestésicos locais do tipo éster, devido à formação do ácido para-aminobenzoico (PABA).**

**II. Em caso onde se observa lipotímia, deve-se posicionar o paciente em posição supina ou pressionar a cabeça em direção as pernas na posição sentado, para restabelecer o fluxo sanguíneo e oxigenação do cérebro.**

**III. A hiperventilação pode ocorrer em paciente com alto nível de ansiedade, observa-se taquipneia, tontura, formigamento das extremidades e alcalose.**

**IV. A síncope vasovagal é a causa mais comum de perda de consciência, geralmente o paciente se queixa de sensação de calor, náusea e palpitações, havendo queda da pressão sanguínea.**

- a) Apenas II, III e IV estão corretas.
- b) Apenas I, II e IV estão corretas.
- c) Apenas I, II e III estão corretas.
- d) Apenas II e IV estão corretas.
- e) Todas as afirmativas estão corretas.

**31. A lesão ao nervo facial, ou seus ramos, geralmente produz paralisia de alguns ou de todos os músculos da face do lado afetado. Sobre os conceitos que envolvem esse assunto, assinale a alternativa incorreta.**

- a) A Paralisia de Bell normalmente é idiopática e o paciente apresenta uma perda abrupta do controle muscular de um dos lados da face.
- b) A causa traumática mais comum de paralisia facial é por inflamação do nervo, como ocorre na doença de Lyme, Herpes zoster e Otite.
- c) Tumores envolvendo a glândula parótida frequentemente causam paralisia facial.
- d) O deslocamento da comissura ocorre pela contração contralateral dos músculos sem oposição, resultando no escape de alimentos e saliva.
- e) No caso de paralisia do nervo facial não se observa alteração de paladar.

**32. Considerando-se que a epidemiologia tem o objetivo precípua de delinear as frequências, distribuições, padrões e tendências de ocorrer doenças e agravos de saúde em uma população, é de suma importância que o profissional da área mantenha-se atualizado sobre questões concernentes ao assunto para adequar os planejamentos dos programas e serviços de saúde. Sendo assim, analise os itens seguintes e aponte a alternativa correta:**

**I. CPO-D é uma medida internacional para avaliar a situação de saúde bucal, retratando a quantidade de dentes permanentes cariados não tratados, perdidos/extraídos por cárie e restaurados/obturados por sequela de cárie.**

**II. Para aferir as condições periodontais da população adulta e idosa, os índices mais usados são o CPI (Índice Periodontal Comunitário) e o PIP (Perda de Inserção Periodontal).**

**III. A classificação denominada Índice de Dean é a recomendada pela OMS (Organização Mundial da Saúde) para estudos de oclusão dentária em populações.**

**IV. Incidência é o número total de casos em uma população no determinado tempo, enquanto a prevalência se refere aos casos novos de uma população no determinado tempo.**

**V. Os fatores de risco contemplam os aspectos sociais que envolvem uma população sem considerar os aspectos biológicos.**

- a) Apenas I e II estão corretos.
- b) Apenas I, II e III estão corretos.
- c) Apenas II, III e IV estão corretos.
- d) Apenas I, IV e V estão corretos.
- e) Todos os itens estão corretos.

**33. A prevenção na saúde ocorre quando se interfere no curso natural de uma doença, impondo barreiras ao seu progresso, nas diversas etapas do ciclo evolutivo. Assinale a alternativa correta sobre os níveis de prevenção e suas aplicações na rotina da odontologia.**

- a) A reabilitação é o primeiro nível de prevenção, gerando condições biológicas para que o indivíduo restabeleça seu nível de saúde, como nos casos de confecção de próteses para edêntulos.
- b) A limitação do dano é o último nível de prevenção, para amparar possíveis falhas nos níveis anteriores e evitar um mal maior, como em casos de tratamentos endodônticos.
- c) A promoção da saúde visa criar condições que favoreçam os indivíduos a resistir ao ataque de uma doença, por exemplo, garantindo qualidade nutricional.
- d) O diagnóstico precoce é o nível desempenhado na atenção terciária, hospitalar, pois se refere a métodos de detecção de doenças epidemiológicas graves e com alta taxa de mortalidade.
- e) A proteção específica refere-se à qualidade de individualização do atendimento de acordo com o perfil do paciente como, por exemplo, dentística operatória para paciente com cárie.

**34. Sobre a prevenção, diagnóstico, etiologias e tratamento das alterações patológicas da polpa dentária e região periapical, assinale a alternativa incorreta.**

- a) Os corticosteroides devem ser evitados como medicação intracanal por serem imunossupressores.
- b) O preparo biomecânico visa eliminar o conteúdo do sistema de canais radiculares, atribuindo-lhes uma conformação cônica.
- c) São características da pulpíte aguda irreversível: dor espontânea, pulsátil, intensa e de longa duração.
- d) A sobreobturação do canal radicular pode gerar periapicopatia traumática.
- e) O trióxido mineral agregado é utilizado como material retro-obturador em cirurgias parendodônticas.

**35. O exame radiográfico é um recurso frequentemente utilizado pelo cirurgião-dentista para auxiliar no diagnóstico de lesões, direcionar procedimentos e acompanhar tratamentos. Sobre o assunto, assinale a alternativa incorreta.**

- a) Método de Clark é indicado para localização vestibulo-palatal de estruturas, e realiza-se duas radiografias periapicais da mesma região com modificação em uma delas do ângulo horizontal de incidência.
- b) Em ordem decrescente de radiopacidade das estruturas na radiografia, observa-se respectivamente: tecido ósseo, esmalte, dentina, tecidos moles e cartilagem.
- c) Na técnica de Le Master utiliza-se um rolete de algodão para melhorar o paralelismo entre o dente e o filme e evitar a superposição da área dos ápices de molares superiores pelo processo zigomático.
- d) A tomada radiográfica de Waters pode ser usada para avaliar alterações do terço médio da face.
- e) A sialografia está indicada como auxiliar na detecção de cálculos radiopacos em glândula salivar.

**36. Pacientes com doenças renais necessitam de cuidados específicos durante o atendimento odontológico, devido a suas alterações decorrentes da falência renal, vários comprometimentos bucais podem ser observados. Sobre o assunto, é incorreto afirmar:**

- a) Em paciente com insuficiência renal que realiza tratamento, as cirurgias orais eletivas podem ser agendadas no dia posterior à diálise, pois a heparina metabolizada melhora o estado fisiológico do paciente.
- b) O cirurgião-dentista deve evitar o monitoramento da pressão sanguínea no mesmo braço onde esteja localizada a fístula arteriovenosa (shunt) do paciente.





- c) Os fármacos nefrotóxicos, como os anti-inflamatórios não-esteroidais, devem ser evitados em casos de comprometimento renal mais grave.
- d) Pacientes com doença renal em estágios avançados podem apresentar acidose salivar, devido aos altos níveis de ureia sérica.
- e) A ciclosporina A, normalmente administrada após transplante renal, pode causar hiperplasia gengival.

**37. A alimentação balanceada é importante para a saúde dos indivíduos, inclusive no que se refere à saúde bucal, sendo que sua escassez pode provocar problemas dentários e sistêmicos que prejudicarão a qualidade de vida. Sobre a influência das vitaminas na área da odontologia, analise os itens e marque a alternativa correta:**

- I. Avitaminose D provoca o raquitismo dental e predispõe o dente à cárie.**
- II. A vitamina A opera nos ameloblastos, auxiliando a estruturação do esmalte.**
- III. Avitaminose B<sub>6</sub> provoca insuficiência na produção de matrizes proteicas em dentina e esmalte.**
- IV. A vitamina E atua na formação dos cementoblastos e tecidos periodontais.**

- a) Apenas II e III estão corretos.
- b) Apenas I, II e IV estão corretos.
- c) Apenas I, II e III estão corretos.
- d) Apenas I, III e IV estão corretos.
- e) Todos os itens estão corretos.

**38. Sobre as particularidades que envolvem os anestésicos locais, assinale a alternativa incorreta.**

- a) A Lidocaína 2% com adrenalina 1:100.000 é um anestésico do tipo amida, tem início de ação de 3-5 min e seu efeito dura cerca de 1h na anestesia pulpar e entre 3-5h nos tecidos moles.
- b) Manejo cuidadoso dos pacientes que fazem uso de antidepressivos tricíclicos, devido à possibilidade de interação medicamentosa com vasoconstritores, gerando efeitos colaterais no sistema cardiovascular.
- c) Uso cauteloso de vasoconstritores em pacientes que usam drogas antipsicóticas como haloperidol.
- d) Na aplicação da anestesia local, deve-se sempre realizar a aspiração antes de injetá-la, para evitar o seu depósito intravascular.
- e) A paralisia transitória do nervo alveolar inferior pode ocorrer pela aplicação de anestésico local na cápsula da glândula parótida, que está situada no limite posterior do ramo mandibular.

**39. Assinale a alternativa que corresponde aos respectivos nervos cranianos referenciados nos itens a seguir:**

- I. Inerva os músculos da mímica, sensação gustativa dos 2/3 anteriores da língua, palato duro e mole, entre outras regiões.**
- II. Função motora, inerva os músculos da língua e outros músculos.**
- III. Garante a sensibilidade da polpa dos dentes da mandíbula, papilas interdentais, periodonto e tecido ósseo vizinho aos dentes.**
- IV. Sensação gustativa do 1/3 posterior da língua, função secretomotora da glândula parótida e outros músculos.**
- V. Inerva os músculos masseter, temporal, pterigoide medial e lateral, entre outras estruturas.**

- a) Facial, Glossofaríngeo, Alveolar Inferior, Hipoglosso e Trigêmeo.
- b) Trigêmeo, Hipoglosso, Alveolar Inferior, Glossofaríngeo e Vago.
- c) Facial, Mandibular, Alveolar Inferior, Glossofaríngeo e Trigêmeo.
- d) Facial, Hipoglosso, Alveolar Inferior, Glossofaríngeo e Trigêmeo.
- e) Facial, Mandibular, Alveolar Inferior, Hipoglosso e Trigêmeo.

**40. Compreender a etiologia e classificação das doenças periodontais é importante para determinar o diagnóstico e plano de tratamento mais adequado. Sendo assim, assinale a alternativa incorreta.**

- a) A gengivite induzida por placa bacteriana pode ocorrer em periodonto sem perda de inserção ou em um periodonto que previamente perdeu inserção, mas está estável e sem progresso.
- b) Medicamentos bloqueadores de canais de cálcio, imunossuppressores e anticonvulsivantes são caracterizados por induzir hiperplasia gengival.
- c) Gengiva com aspectos clínicos modificados como, sangramento, intumescência e aspecto brilhante pode ser associada à deficiência de vitamina C.
- d) A periodontite crônica é frequentemente associada com cálculo subgengival.
- e) A periodontite crônica generalizada ocorre quando se tem o envolvimento de mais de 50% de sítios.

**RASCUNHO**





PREFEITURA DE TELÊMACO BORBA - ESTADO DO PARANÁ- **EDITAL Nº 001-2016 - CONCURSO PÚBLICO VESPERTINO – 29/05/2016 – NÍVEL SUPERIOR**

**2**

**PROVA OBJETIVA NÚMERO**

**CARGO: TMNS I - ODONTOLOGIA**

**Leia atentamente as INSTRUÇÕES:**

1. Confira seus dados no cartão-resposta: nome, número de inscrição e o curso para o qual se inscreveu.
2. **MARQUE no seu cartão-resposta o número da sua prova** (não será corrigido o cartão-resposta que não tiver marcado o número da prova) e **Assine** seu cartão-resposta.
3. Aguarde a autorização do Fiscal para abrir o caderno de prova. Ao receber a ordem do fiscal, confira o caderno de prova com muita atenção. Nenhuma reclamação sobre o total de questões ou falha de impressão será aceita depois de iniciada a prova.
4. O cartão-resposta não será substituído, salvo se contiver erro de impressão.
5. Preencha toda a área do cartão-resposta correspondente à alternativa de sua escolha, com caneta esferográfica (tinta azul ou preta), sem ultrapassar as bordas. As marcações duplas, ou rasuradas, com corretivo, ou marcadas diferentemente do modelo estabelecido no cartão-resposta poderão ser anuladas.
6. Sua prova tem **40** questões, com **5** alternativas.
7. Cabe apenas ao candidato a interpretação das questões, **o fiscal** não poderá fazer nenhuma interferência.
8. A prova será realizada com duração máxima de **3 (três) horas**, incluído o tempo para a realização da Prova Objetiva de múltipla escolha e o preenchimento do cartão-resposta.
9. O candidato poderá retirar-se do local de realização das provas somente **1 (uma) hora** após o seu início, sem levar o caderno de prova.
10. O candidato poderá levar o caderno de provas, assim como anotação contendo transcrição do seu cartão-resposta, somente **1h30min** (uma hora e trinta minutos) após o início da realização da prova.
11. Ao terminar a prova, o candidato deverá entregar ao fiscal de sala o cartão-resposta preenchido e **ASSINADO**.
12. Os **3 (três)** candidatos, que terminarem a prova por último, deverão permanecer na sala, e só poderão sair juntos após o fechamento do envelope, contendo os cartões-resposta dos candidatos presentes e ausentes, e assinarem no lacre do referido envelope, atestando que este foi devidamente lacrado.
13. Durante todo o tempo em que permanecer no local onde está ocorrendo o concurso, o candidato deverá, manter o celular desligado e sem bateria, só sendo permitido ligar depois de ultrapassar o portão de saída do prédio.
14. Não será permitido ao candidato fumar na sala de provas, bem como nas dependências.
15. Depois de terminar a prova e entregar ao fiscal o cartão-resposta, preenchido e assinado, não será mais permitido ao candidato o uso do banheiro e bebedouro.

**BOA PROVA!**

**RACIOCÍNIO LÓGICO**

01. Os cinco filhos de Ana estavam discutindo a respeito da data de nascimento da mãe:

- Almir disse que foi em janeiro, dia 14, sexta-feira.
- Vanderlei disse que foi em janeiro, dia 14, sábado.
- Tiago disse que foi em fevereiro, dia 15, sábado.
- Sandro disse que foi em janeiro, dia 15, sexta-feira.
- Renato disse que foi em fevereiro, dia 15, sexta-feira.

Sabe-se que somente um dos filhos de Ana acertou corretamente sua data de nascimento e que os outros acertaram pelo menos um dos itens (dia, dia da semana e mês). Dessa forma, é correto afirmar que o filho de Ana que acertou a data de nascimento dela foi:

- a) Renato
- b) Sandro
- c) Tiago
- d) Vanderlei
- e) Almir

02. Considere a seguinte afirmativa: “Todo churrasqueiro gosta de picanha”. Em relação a essa proposição, é correto afirmar que:

- a) Algum churrasqueiro não gosta de picanha.
- b) Toda pessoa que gosta de picanha é churrasqueira.
- c) Alguma pessoa que não gosta de picanha é churrasqueira.
- d) Toda pessoa que não é churrasqueira, não gosta de picanha.
- e) Toda pessoa que não gosta de picanha, não é churrasqueira.

03. Em um grupo formado por 67 pessoas, verificou-se que 41 pessoas gostam de arroz, 29 gostam de feijão, 33 gostam de carne, 19 gostam de arroz e de feijão, 9 gostam apenas de arroz e de carne, 12 gostam de feijão e de carne e que 6 gostam de arroz, de feijão e de carne. O número de pessoas desse grupo, que não gosta de nenhum desses três tipos de alimentos é igual a:

- a) 4
- b) 5
- c) 6
- d) 8
- e) 10

04. Bruno escreveu, em seu caderno, várias sequências formadas por números múltiplos de 4, onde os valores que ocupavam as posições pares eram multiplicados por  $-1$ . Cada sequência foi somada e o resultado da soma anotado. A soma das três primeiras sequências escritas por Bruno foram as seguintes:

$$4 - 8 = -4$$

$$4 - 8 + 12 = 8$$

$$4 - 8 + 12 - 16 = -8$$

Considere que Bruno escreveu e somou tais sequências, em seu caderno, de modo a obter determinada sequência cuja soma foi 600. O número de termos dessa sequência é igual a:

- a) 149
- b) 150
- c) 298
- d) 299
- e) 300

05. Quatro torcedores, um do São Paulo, um do Cruzeiro, um do Vasco e um do Bahia, estão sentados ao redor de uma mesa quadrada, de modo que, dois a dois, fiquem frente a frente. Sabe-se que Alan é torcedor do Cruzeiro e que Bruno está sentado à direita de Alan. Sabe-se também que Caio está sentado à direita do torcedor do São Paulo. Sabe-se ainda que Daniel não é torcedor do Vasco e que está sentado à frente de Bruno. Dessa forma, é correto afirmar que:

- a) Bruno é torcedor do Bahia e Daniel é torcedor do São Paulo.
- b) Bruno é torcedor do São Paulo e Daniel é torcedor do Bahia.
- c) Caio é torcedor do Vasco e Daniel é torcedor do São Paulo.
- d) Caio é torcedor do Bahia e Daniel é torcedor do São Paulo.
- e) Bruno é torcedor do Vasco e Daniel é torcedor do Bahia.

**INFORMÁTICA**

06. Considerando o MS-Excel versão 2010, observando a figura abaixo, é correto afirmar que:

	A	B	C
1			
2			
3			
4			

- a) Somente 03 três linhas estão selecionadas.  
 b) Somente uma célula está selecionada.  
 c) 12 (doze) células estão selecionadas.  
 d) Somente a coluna A até a linha 4 (quatro) está selecionada.  
 e) Somente as colunas 1 (um), 2 (dois), 3 (três) e 4 (quatro) estão selecionadas.

**07. Considerando o MS-Excel versão 2010, observando a figura abaixo, é incorreto afirmar que:**

	A	B	C
1	12	6	=A1*B1
2	8	2	=A2/B2
3	5	14	=A3-B3
4	6	11	=A4+B4

- a) O resultado da fórmula =A1\*B1 é 72.  
 b) O resultado da fórmula =A2/B2 é 4.  
 c) O resultado da fórmula =A3-B3 é -9.  
 d) O resultado da fórmula =A3-B3 é 9.  
 e) O resultado da fórmula =A4+B4 é 17.

**08. Digitando um texto no MS-Word versão 2010, necessito adicionar número nas páginas. Quanto a isso, é correto afirmar que:**

- a) No menu Layout da Página, clico em número de página e seleciono onde desejo adicionar os números.  
 b) No menu Inserir, clico em número de página e seleciono onde desejo adicionar os números.  
 c) No menu Revisão, clico em número de página e seleciono onde desejo adicionar os números.  
 d) No menu Referências, clico em número de página e seleciono onde desejo adicionar os números.  
 e) No menu Exibição, clico em número de página e seleciono onde desejo adicionar os números.

**09. A segurança da informação está diretamente relacionada com proteção de um conjunto de informações, no sentido de preservar o valor que possuem para um indivíduo ou uma organização. Atualmente, um dos aplicativos mais utilizados no mundo, o Whats app, teve uma alteração de confidencialidade muito importante na segurança das informações transmitidas e recebidas. Dentre as alternativas, assinale a que corretamente informa a alteração inserida no aplicativo Whats app.**

- a) Antispam  
 b) Antivirus  
 c) Firewall  
 d) Antispyware  
 e) Criptografia

**10. São todos os dispositivos que trabalham acoplados ao microcomputador para receber, transmitir, visualizar, ler, gravar ou armazenarem dados. São eles que permitem a comunicação do computador com o meio exterior, isto é, com os usuários e outras máquinas.**

**Esse texto descreve corretamente:**

- a) Memória ram  
 b) Memória virtual  
 c) Software  
 d) Periféricos  
 e) Hardware

## CONHECIMENTOS GERAIS

**11. Hino do município de Telêmaco Borba/PR**

Das virgens matas e campos verdejantes  
 Servindo-se também o rio Tibagi,  
 Homens de ideais, espíritos vibrantes.  
 Constituíram as indústrias aqui.

Estrilho:

Salve! Salve! Telêmaco Borba  
 Terra querida e de grandes primores,



A nossa homenagem rendamos  
À cidade dos trabalhadores.  
Pois a cadência de enorme e real progresso  
Um município mui grandioso fez nascer,  
Marcando assim, verdadeiro sucesso  
Faz, então o Paraná engrandecer.

**No que tange ao Hino do município, atribua V (verdadeiro) ou F (falso) às afirmativas e marque a alternativa correta.**

- ( ) Eloah Martins Quadrado é autora da letra do hino.  
 ( ) Bento Mossurunga compôs a música do hino.  
 ( ) Eloah Martins Quadrado foi nomeada primeira professora da Cidade Nova, atual Telêmaco Borba.  
 ( ) Bento Mossurunga fundou a orquestra Estudantil e Concertos – Orquestra Sinfônica da Universidade, a Sociedade de Cultura Artístico Basilio Itiberê.
- a) F, V, V, V.  
 b) V, F, V, V.  
 c) V, V, F, V.  
 d) V, V, F, F.  
 e) V, V, V, V.

**12. À luz da Lei nº 1883/2012, que dispõe sobre o Estatuto dos Servidores Públicos da Administração Direta, Autárquica e Funcional do Município de Telêmaco Borba/PR, leia as alternativas e marque a correta.**

- a) A apresentação para a posse ocorrerá no prazo de até trinta dias, contados do ato de nomeação.  
 b) A destituição do servidor da função gratificada dar-se-á por solicitação exclusiva dele mesmo.  
 c) O servidor ocupante exclusivamente de cargo em comissão será contribuinte do regime geral de previdência social.  
 d) A aprovação em concurso público gera o direito à nomeação, e será feita obedecida à ordem de classificação dos candidatos.  
 e) O exercício de função gratificada poderá ser de dedicação integral ou parcial, conforme necessidade da administração.

**Conforme a Lei nº 1.881, de 05 de abril de 2012, que dispõe sobre o Plano de Cargos, Carreiras e Vencimentos do quadro geral de servidores da Prefeitura Municipal de Telêmaco Borba/PR, regulamentada pelo Decreto nº 2269/2015, responda às próximas três questões.**

**13. Leia as assertivas e assinala a incorreta.**

- a) Do resultado da avaliação de desempenho poderá ser interposto recurso à Comissão de Desenvolvimento Funcional no prazo de quinze dias a contar da publicação no Boletim Oficial do Município.  
 b) Não será concedida a progressão ou promoção ao servidor que estiver em licença para tratamento de saúde por um período superior a quarenta e cinco dias, no período de avaliação.  
 c) A alternância dos membros constituintes da Comissão de Desenvolvimento Funcional eleitos pelos servidores verificar-se-á a cada três anos de participação, observados, para substituição de seus participantes, o critério fixado no artigo anterior, não cabendo eleição sucessiva.  
 d) Caberá à Comissão de Desenvolvimento Funcional, no caso de divergência de vinte por cento entre a nota do avaliador e a do avaliado, solicitar nova avaliação à chefia.  
 e) Nos termos do disposto no art. 17 da Lei nº 1.881, de 05 de abril de 2012, para progredir, é necessário que o servidor satisfaça, dentre outros, o seguinte requisito: estar no efetivo exercício de seu cargo ou em função comissionada na sua área de atuação durante o interstício de dois anos.

**14. Assinale a alternativa que completa respectivamente as lacunas do texto a seguir:**

**A Comissão de Desenvolvimento Funcional será constituída por \_\_\_\_\_ membros, sendo \_\_\_\_\_ designados pelo Prefeito Municipal de Telêmaco Borba e os demais eleitos pelos servidores municipais dentre os estáveis, com a atribuição de coordenar os procedimentos relativos à avaliação periódica de desempenho e outras atribuições.**

- a) três / sete  
 b) um / três  
 c) sete / três  
 d) três / cinco  
 e) dois / cinco

**15. A Avaliação de Desempenho será norteadada, dentre outros, pelo seguinte princípio: Amplitude - a avaliação deve incidir sobre todas as áreas de atuação do servidor, que compreendem:**

1. a formulação de políticas administrativas e sua aplicação para todos os setores da administração municipal;
2. o desempenho do profissional dentro de suas funções pertinentes;

3. a estrutura do órgão em que exerce a função;
4. os resultados de eficiência dos serviços de cada setor ou órgão da administração municipal;
5. a participação direta do avaliado, durante todo o processo avaliativo.

Diante dessa afirmação, somente não está correto o item:

- a) 1
- b) 2
- c) 3
- d) 4
- e) 5

### CONHECIMENTOS ESPECÍFICOS

16. “Uma coisa é por ideias arranjadas, outra é lidar com um país de pessoas, de carne e sangue, de mil-e-tantas misérias... Tanta gente – dá susto de saber – e nenhum se sossega: todos nascendo, crescendo, se casando, querendo colocação de emprego, comida, saúde, riqueza...” (trecho de “Grande Sertão: Veredas”, João Guimarães Rosa). De maneira simples e verdadeira, o escritor mineiro traz um retrato, ainda atual, do nosso país, peculiar por sua extensão geográfica e pela diversidade cultural de seu povo. Os modelos de saúde precisaram se reajustar com o passar do tempo para conseguirem cumprir o proposto de garantir saúde a todos. Nesse sentido, a educação em saúde se destaca como estratégia fundamental para o progresso. Sobre esse assunto, analise as afirmativas e assinale a alternativa correta:

I. Para se realizar atividade educativa, é imprescindível inicialmente ter compreensão dos determinantes sociais da comunidade.

II. Na educação em saúde, busca-se encorajar e fortalecer a autonomia do usuário, oferecendo recursos para alteração de hábitos e conservação de sua saúde.

III. A premissa da educação em saúde é garantir ao usuário uma postura passiva, em que ele recebe todas as ferramentas para melhora do seu processo saúde-doença.

IV. A técnica de tratamento restaurador atraumático (ART) é indicada em programas de educação em saúde bucal.

- a) Apenas I, II e III estão corretas.
- b) Apenas I, III e IV estão corretas.
- c) Apenas I, II e IV estão corretas.
- d) Apenas I e II estão corretas.
- e) Todas estão corretas.

17. O traumatismo dentoalveolar é uma emergência rotineira na odontopediatria, o trauma pode afetar a dentição decídua e/ou permanente e também gerar comprometimentos de autoestima e qualidade de vida da criança. Quanto às asserções que envolvem esse tema, assinale a alternativa incorreta.

- a) A má oclusão de classe II divisão 1 é fator predisponente de trauma dentário.
- b) Os dentes anteriores superiores são os mais habitualmente afetados.
- c) Quando lesões tiverem histórico incongruente deve-se investigar possibilidade de abuso infantil.
- d) A sobressaliência de 3-6 mm, comparada a valores menores, reduz a incidência de trauma na dentição decídua.
- e) Presença de hematoma sublingual é sinal patognomônico de fratura na mandíbula em região de sínfise ou canino.

18. A Política Nacional de Saúde Bucal tem como uma de suas premissas a promoção e proteção à saúde, incluindo o uso de fluoretos. Sua utilização estratégica já está concebida como tecnologia de intervenção em saúde pública e denota um conceito amplo que integra a odontologia às demais práticas de saúde coletiva. Sobre essa temática, assinale a alternativa correta após analisar as seguintes afirmativas:

I. Os produtos usualmente empregados no Brasil para fluoretação das águas de abastecimento público são o fluorsilicato de sódio e o ácido fluossilícico.

II. No Paraná a maioria dos municípios possuem águas fluoretadas, exceto em pequenos sistemas e a área rural. O teor ideal de flúor no abastecimento do Estado está entre 0,6 a 0,8 ppm, considerando-se 0,7 ppm de flúor por litro o teor ótimo.

III. O uso dos cimentos de ionômero de vidro na clínica diária apresenta a vantagem desse material liberar flúor constantemente, ajudando no controle da cárie.

- a) Apenas I e III estão corretas.
- b) Apenas II e III estão corretas.
- c) Apenas I e II estão corretas.
- d) Apenas a III está correta.
- e) Todas as afirmativas estão corretas.

19. O Tratamento Restaurador Atraumático (ART) é recomendado na saúde bucal coletiva, especialmente por sua efetividade no controle da doença cárie, por isso sua execução e indicação devem ser muito bem administradas pelo cirurgião-dentista. Sobre o ART, assinale a alternativa correta.

- a) Para garantir o sucesso do tratamento deve-se remover toda a dentina afeta.

- b) Recomenda-se nessa técnica a utilização de cimento de ionômero de vidro de alta viscosidade.
- c) A técnica não é indicada para crianças abaixo dos 6 anos.
- d) A técnica de ART não deve ser preferida se houver disponibilidade de equipo e alta rotação.
- e) Após redução do índice de cárie do paciente com ART, deve-se substituir as restaurações por outro material definitivo.

**20. De acordo com a publicação da Rede de Saúde Bucal, ano de 2016, da Secretaria de Estado da Saúde do Paraná, o câncer bucal permanece com poucas melhoras nos indicadores epidemiológicos ao longo do tempo. Para melhorar esse perfil, são necessárias políticas públicas e o maior envolvimento dos profissionais de saúde, visando o diagnóstico precoce e o maior sucesso nos tratamentos. Sobre esse assunto, assinale a alternativa incorreta.**

- a) Como estratégia rápida de rastreamento de lesões bucais, pode-se utilizar o ácido acético a 1% e o azul de toluidina 1%.
- b) Eritroplasias e Leucoplasias, embora não indiquem um diagnóstico definitivo, são reconhecidas por serem lesões cancerizáveis que merecem atenção do dentista.
- c) As leucoplasias são de ocorrência mais comum na boca e apresentam potencial de cancerização superior as eritroplasias.
- d) Pacientes com alterações nutricionais graves e imunodeprimidos apresentam perfil de risco para câncer bucal.
- e) O autoexame da boca é uma estratégia de educação em saúde que deve ser orientada e encorajada pelo dentista.

**21. O pré-natal odontológico consiste na educação e assistência à saúde bucal da gestante e aconselhamento para o futuro bebê, cabendo aos profissionais de saúde desmistificar receios que possam existir de realizar consultas ou procedimentos durante esse período. A respeito da atenção e cuidados que cercam o atendimento a esse público, assinale a alternativa incorreta.**

- a) Durante a gestação, o aumento dos níveis circulantes de estrógeno e progesterona provoca uma maior vascularização do periodonto, podendo ocorrer alterações nesses tecidos.
- b) A prescrição de anti-inflamatórios não esteroides e ácido acetilsalicílico deve ser evitada por suas tendências de provocarem hemorragia na mãe e no feto, inércia uterina, entre outras reações.
- c) O vasoconstritor felipressina, presente em anestésico local odontológico, apresenta semelhança estrutural com a ocitocina, podendo provocar contração uterina.
- d) Em caso de necessidade de tratamento de infecções orais com antibióticos durante a gestação, a primeira escolha é a penicilina.
- e) A metemoglobinemia é uma condição grave para a gestante, que pode ser provocada por doses baixas do anestésico mepivacaína.

**22. A Articulação Temporomandibular (ATM) é uma articulação bilateral, interligada pela mandíbula e com uma relação de interdependência com a oclusão dos dentes, o que a torna peculiar e funcionalmente complexa. Sobre esse assunto, analise os itens a seguir e marque a alternativa correta.**

**I. As faces articulares temporal e condilar são recobertas por cartilagem hialina.**

**II. A cápsula articular que circunda a ATM é ricamente vascularizada e com inervação sensitiva.**

**III. Os ligamentos normalmente não atuam de maneira ativa no funcionamento da ATM, participam como conectores-guia, permitindo ou restringindo determinados movimentos.**

**IV. Em pacientes que manifestam “apertamento” dental, o côndilo é intruído na fossa mandibular e os tecidos intra-articulares sofrem remodelações acentuadas.**

- a) Apenas I e III estão corretos.
- b) Apenas I, II e III estão corretos.
- c) Apenas I, III e IV estão corretos.
- d) Apenas II, III e IV estão corretos.
- e) Todos os itens estão corretos.

**23. Na odontologia, a análise da capacidade tampão e conteúdo microbiológico da saliva é utilizada para avaliação do risco de cárie, entretanto, seu uso para diagnóstico de doenças bucais, sistêmicas e condição geral do paciente tem se mostrado cada vez mais viável e eficiente. Sobre a questão proposta, assinale a alternativa incorreta.**

- a) A análise salivar é utilizada para diagnóstico de doenças que afetem a função das glândulas salivares e composição da saliva, como a síndrome de Sjögren, fibrose cística, cirrose alcoólica, entre outras.
- b) O fluxo e composição salivar podem ser alterados por consumo de medicamentos, álcool, tabagismo e ritmo circadiano.
- c) O uso da saliva para triagem ou diagnóstico do câncer oral não é possível pela ausência de biomarcador potencial para essa patologia em fluido salivar.
- d) O teste de Snyder utiliza a saliva para investigação da atividade de cárie e se baseia no ritmo de formação de ácido.
- e) A contagem de lactobacilos na saliva pode se relacionar diretamente com a atividade de cárie no dente.



**24. Os conhecimentos científicos e conceitos sobre o entendimento e diagnóstico da cárie dental, assim como da saúde geral das pessoas, sofrem constantes evoluções, exigindo que os profissionais estejam sempre atualizados. Sobre a cariologia, assinale a alternativa incorreta.**

- a) O nível crítico de pH do biofilme é cerca de 5,5, sendo que, abaixo desse valor há indução da desmineralização do esmalte.
- b) Os hormônios da tireoide atuam na criação da matriz dentinária, de modo que pacientes com hipertireoidismo possuem dentes com déficit de calcificação e propensos à cárie.
- c) O envolvimento dos elementos: dente, microrganismos e glicídios é condição *sine qua non* para gerar a cárie dental.
- d) O cálcio e o fósforo são importantes para formar os cristais de hidroxiapatita, que são precipitados nas matrizes proteicas formando o esmalte e a dentina.
- e) O flúor conserva-se no esmalte na forma de fluorapatita e tem importante papel no controle da cárie.

**25. Durante a realização de cirurgia dental no consultório, podem surgir situações de urgência/emergências médica ou odontológicas que exigirão uma conduta precisa e imediata do cirurgião-dentista. Sendo assim, analise as afirmativas seguintes e aponte a alternativa correta.**

**I. Reações alérgicas podem acontecer relacionadas principalmente a anestésicos locais do tipo éster, devido à formação do ácido para-aminobenzoico (PABA).**

**II. Em caso onde se observa lipotimia, deve-se posicionar o paciente em posição supina ou pressionar a cabeça em direção as pernas na posição sentado, para restabelecer o fluxo sanguíneo e oxigenação do cérebro.**

**III. A hiperventilação pode ocorrer em paciente com alto nível de ansiedade, observa-se taquipneia, tontura, formigamento das extremidades e alcalose.**

**IV. A síncope vasovagal é a causa mais comum de perda de consciência, geralmente o paciente se queixa de sensação de calor, náusea e palpitações, havendo queda da pressão sanguínea.**

- a) Apenas II, III e IV estão corretas.
- b) Apenas I, II e IV estão corretas.
- c) Apenas I, II e III estão corretas.
- d) Apenas II e IV estão corretas.
- e) Todas as afirmativas estão corretas.

**26. A lesão ao nervo facial, ou seus ramos, geralmente produz paralisia de alguns ou de todos os músculos da face do lado afetado. Sobre os conceitos que envolvem esse assunto, assinale a alternativa incorreta.**

- a) A Paralisia de Bell normalmente é idiopática e o paciente apresenta uma perda abrupta do controle muscular de um dos lados da face.
- b) A causa atraumática mais comum de paralisia facial é por inflamação do nervo, como ocorre na doença de Lyme, Herpes zoster e Otite.
- c) Tumores envolvendo a glândula parótida frequentemente causam paralisia facial.
- d) O deslocamento da comissura ocorre pela contração contralateral dos músculos sem oposição, resultando no escape de alimentos e saliva.
- e) No caso de paralisia do nervo facial não se observa alteração de paladar.

**27. Considerando-se que a epidemiologia tem o objetivo precípuo de delinear as frequências, distribuições, padrões e tendências de ocorrer doenças e agravos de saúde em uma população, é de suma importância que o profissional da área mantenha-se atualizado sobre questões concernentes ao assunto para adequar os planejamentos dos programas e serviços de saúde. Sendo assim, analise os itens seguintes e aponte a alternativa correta:**

**I. CPO-D é uma medida internacional para avaliar a situação de saúde bucal, retratando a quantidade de dentes permanentes cariados não tratados, perdidos/extraídos por cárie e restaurados/obturados por sequela de cárie.**

**II. Para aferir as condições periodontais da população adulta e idosa, os índices mais usados são o CPI (Índice Periodontal Comunitário) e o PIP (Perda de Inserção Periodontal).**

**III. A classificação denominada Índice de Dean é a recomendada pela OMS (Organização Mundial da Saúde) para estudos de oclusão dentária em populações.**

**IV. Incidência é o número total de casos em uma população no determinado tempo, enquanto a prevalência se refere aos casos novos de uma população no determinado tempo.**

**V. Os fatores de risco contemplam os aspectos sociais que envolvem uma população sem considerar os aspectos biológicos.**

- a) Apenas I e II estão corretos.
- b) Apenas I, II e III estão corretos.
- c) Apenas II, III e IV estão corretos.
- d) Apenas I, IV e V estão corretos.
- e) Todos os itens estão corretos.

**28. A prevenção na saúde ocorre quando se interfere no curso natural de uma doença, impondo barreiras ao seu progresso, nas diversas etapas do ciclo evolutivo. Assinale a alternativa correta sobre os níveis de prevenção e suas aplicações na rotina da odontologia.**

- a) A reabilitação é o primeiro nível de prevenção, gerando condições biológicas para que o indivíduo restabeleça seu nível de saúde, como nos casos de confecção de próteses para edêntulos.
- b) A limitação do dano é o último nível de prevenção, para amparar possíveis falhas nos níveis anteriores e evitar um mal maior, como em casos de tratamentos endodônticos.
- c) A promoção da saúde visa criar condições que favoreçam os indivíduos a resistir ao ataque de uma doença, por exemplo, garantindo qualidade nutricional.
- d) O diagnóstico precoce é o nível desempenhado na atenção terciária, hospitalar, pois se refere a métodos de detecção de doenças epidemiológicas graves e com alta taxa de mortalidade.
- e) A proteção específica refere-se à qualidade de individualização do atendimento de acordo com o perfil do paciente como, por exemplo, dentística operatória para paciente com cárie.

**29. Sobre a prevenção, diagnóstico, etiologias e tratamento das alterações patológicas da polpa dentária e região periapical, assinale a alternativa incorreta.**

- a) Os corticosteroides devem ser evitados como medicação intracanal por serem imunossupressores.
- b) O preparo biomecânico visa eliminar o conteúdo do sistema de canais radiculares, atribuindo-lhes uma conformação cônica.
- c) São características da pulpite aguda irreversível: dor espontânea, pulsátil, intensa e de longa duração.
- d) A sobreobturação do canal radicular pode gerar periapicopatia traumática.
- e) O trióxido mineral agregado é utilizado como material retro-obturador em cirurgias parendodônticas.

**30. O exame radiográfico é um recurso frequentemente utilizado pelo cirurgião-dentista para auxiliar no diagnóstico de lesões, direcionar procedimentos e acompanhar tratamentos. Sobre o assunto, assinale a alternativa incorreta.**

- a) Método de Clark é indicado para localização vestibulo-palatal de estruturas, e realiza-se duas radiografias periapicais da mesma região com modificação em uma delas do ângulo horizontal de incidência.
- b) Em ordem decrescente de radiopacidade das estruturas na radiografia, observa-se respectivamente: tecido ósseo, esmalte, dentina, tecidos moles e cartilagem.
- c) Na técnica de Le Master utiliza-se um rolete de algodão para melhorar o paralelismo entre o dente e o filme e evitar a superposição da área dos ápices de molares superiores pelo processo zigomático.
- d) A tomada radiográfica de Waters pode ser usada para avaliar alterações do terço médio da face.
- e) A sialografia está indicada como auxiliar na detecção de cálculos radiopacos em glândula salivar.

**31. Pacientes com doenças renais necessitam de cuidados específicos durante o atendimento odontológico, devido a suas alterações decorrentes da falência renal, vários comprometimentos bucais podem ser observados. Sobre o assunto, é incorreto afirmar:**

- a) Em paciente com insuficiência renal que realiza tratamento, as cirurgias orais eletivas podem ser agendadas no dia posterior à diálise, pois a heparina metabolizada melhora o estado fisiológico do paciente.
- b) O cirurgião-dentista deve evitar o monitoramento da pressão sanguínea no mesmo braço onde esteja localizada a fístula arteriovenosa (shunt) do paciente.
- c) Os fármacos nefrotóxicos, como os anti-inflamatórios não-esteroidais, devem ser evitados em casos de comprometimento renal mais grave.
- d) Pacientes com doença renal em estágios avançados podem apresentar acidose salivar, devido aos altos níveis de ureia sérica.
- e) A ciclosporina A, normalmente administrada após transplante renal, pode causar hiperplasia gengival.

**32. A alimentação balanceada é importante para a saúde dos indivíduos, inclusive no que se refere à saúde bucal, sendo que sua escassez pode provocar problemas dentários e sistêmicos que prejudicarão a qualidade de vida. Sobre a influência das vitaminas na área da odontologia, analise os itens e marque a alternativa correta:**

**I. Avitaminose D provoca o raquitismo dental e predispõe o dente à cárie.**

**II. A vitamina A opera nos ameloblastos, auxiliando a estruturação do esmalte.**

**III. Avitaminose B<sub>6</sub> provoca insuficiência na produção de matrizes proteicas em dentina e esmalte.**

**IV. A vitamina E atua na formação dos cementoblastos e tecidos periodontais.**

- a) Apenas II e III estão corretos.
- b) Apenas I, II e IV estão corretos.
- c) Apenas I, II e III estão corretos.
- d) Apenas I, III e IV estão corretos.
- e) Todos os itens estão corretos.

**33. Sobre as particularidades que envolvem os anestésicos locais, assinale a alternativa incorreta.**

- a) A Lidocaína 2% com adrenalina 1:100.000 é um anestésico do tipo amida, tem início de ação de 3-5 min e seu efeito dura cerca de 1h na anestesia pulpar e entre 3-5h nos tecidos moles.

- b) Manejo cuidadoso dos pacientes que fazem uso de antidepressivos tricíclicos, devido à possibilidade de interação medicamentosa com vasoconstritores, gerando efeitos colaterais no sistema cardiovascular.
- c) Uso cauteloso de vasoconstritores em pacientes que usam drogas antipsicóticas como haloperidol.
- d) Na aplicação da anestesia local, deve-se sempre realizar a aspiração antes de injetá-la, para evitar o seu depósito intravascular.
- e) A paralisia transitória do nervo alveolar inferior pode ocorrer pela aplicação de anestésico local na cápsula da glândula parótida, que está situada no limite posterior do ramo mandibular.

**34. Assinale a alternativa que corresponde aos respectivos nervos cranianos referenciados nos itens a seguir:**

**I. Inerva os músculos da mímica, sensação gustativa dos 2/3 anteriores da língua, palato duro e mole, entre outras regiões.**

**II. Função motora, inerva os músculos da língua e outros músculos.**

**III. Garante a sensibilidade da polpa dos dentes da mandíbula, papilas interdentes, periodonto e tecido ósseo vizinho aos dentes.**

**IV. Sensação gustativa do 1/3 posterior da língua, função secretomotora da glândula parótida e outros músculos.**

**V. Inerva os músculos masseter, temporal, pterigoide medial e lateral, entre outras estruturas.**

- a) Facial, Glossofaríngeo, Alveolar Inferior, Hipoglosso e Trigêmeo.
- b) Trigêmeo, Hipoglosso, Alveolar Inferior, Glossofaríngeo e Vago.
- c) Facial, Mandibular, Alveolar Inferior, Glossofaríngeo e Trigêmeo.
- d) Facial, Hipoglosso, Alveolar Inferior, Glossofaríngeo e Trigêmeo.
- e) Facial, Mandibular, Alveolar Inferior, Hipoglosso e Trigêmeo.

**35. Compreender a etiologia e classificação das doenças periodontais é importante para determinar o diagnóstico e plano de tratamento mais adequado. Sendo assim, assinale a alternativa incorreta.**

- a) A gengivite induzida por placa bacteriana pode ocorrer em periodonto sem perda de inserção ou em um periodonto que previamente perdeu inserção, mas está estável e sem progresso.
- b) Medicamentos bloqueadores de canais de cálcio, imunossupressores e anticonvulsivantes são caracterizados por induzir hiperplasia gengival.
- c) Gengiva com aspectos clínicos modificados como, sangramento, intumescência e aspecto brilhante pode ser associada à deficiência de vitamina C.
- d) A periodontite crônica é frequentemente associada com cálculo subgengival.
- e) A periodontite crônica generalizada ocorre quando se tem o envolvimento de mais de 50% de sítios.

## LÍNGUA PORTUGUESA

Texto para as próximas cinco questões:

### “O cego Estrelinho” Mia Couto

O cego Estrelinho era pessoa de nenhuma vez: sua história poderia ser contada e descontada não fosse seu guia, Gigito Efraim. A mão de Gigito conduziu o desvistado por tempos e idades. Aquela mão era repartidamente comum, extensão de um no outro, siamense. E assim era quase de nascença. Memória de Estrelinho tinha cinco dedos e eram os de Gigito postos, em aperto, na sua própria mão.

O cego, curioso, queria saber de tudo. Ele não fazia cerimônia no viver. O sempre lhe era pouco e o tudo insuficiente. Dizia, deste modo:

— Tenho que viver já, senão esqueço-me.

Gigitinho, porém, o que descrevia era o que não havia. O mundo que ele minuciava eram fantasias e rendilhados. A imaginação do guia era mais profícua que papaeira. O cego enchia a boca de águas:

— Que maravilha esse mundo. Me conte tudo, Gigito!

A mão do guia era, afinal, o manuscrito da mentira. Gigito Efraim estava como nunca esteve S. Tomé: via para não crer. O condutor falava pela ponta dos dedos. Desfolhava o universo, aberto em folhas. A ideia dele era tal que mesmo o cego, por vezes, acreditava ver. O outro lhe encorajava esses breves enganos:

— Desbengale-se, você está escolhendo a boa procedência!

Mentira: Estrelinho continuava sem ver uma palmeira à frente do nariz. Contudo, o cego não se conformava em suas escurezas. Ele cumpria o ditado: não tinha perna e queria dar o pontapé. Só à noite, ele desalentava, sofrendo medos mais antigos que a humanidade. Entendia aquilo que, na raça humana, é menos primitivo: o animal.

— Na noite aflige não haver luz?

— Aflição é ter um pássaro branco esvoando dentro do sono.

Pássaro branco? No sono? Lugar de ave é nas alturas. Dizem até que Deus fez o céu para justificar os pássaros. Estrelinho disfarçava o medo dos vaticínios, subterfugindo:

— E agora, Gigitinho? Agora, olhando assim para cima, estou face ao céu?

Que podia o outro responder? O céu do cego fica em toda a parte. Estrelinho perdia o pé era quando a noite chegava e seu mestre adormecia. Era como se um novo escuro nele se estresse em nó cego. Devagaroso e

sorrateiro ele aninhava sua mão na mão do guia. Só assim adormecia. A razão da concha é a timidez da amêijoia? Na manhã seguinte, o cego lhe confessava: se você morrer, tenho que morrer logo no imediato. Senão-me: como acerto o caminho para o céu?

Foi no mês de dezembro que levaram Gigitinho. Lhe tiraram do mundo para pôr na guerra: obrigavam os serviços militares. O cego reclamou: que o moço inatingia a idade. E que o serviço que ele a si prestava era vital e vitalício. O guia chamou Estrelinho à parte e lhe tranquilizou:

— Não vai ficar sozinhandando por aí. Minha mana já mandei para ficar no meu lugar.

O cego estendeu o braço a querer tocar uma despedida. Mas o outro já não estava lá. Ou estava e se desviara, propositado? E sem água ida nem vinda, Estrelinho escutou o amigo se afastar, engolido, esponjínquo, inevisível. Pela pimeira vez, Estrelinho se sentiu invalidado.

— Agora, só agora, sou cego que não vê.

(...)

**COUTO, Mia. Estórias abensonhadas. Rio de Janeiro: Nova Fronteira, 1996. (Pág 23 e 24).**

**36. Quanto à interpretação do fragmento do conto, podemos afirmar que:**

- Gigito Efraim era o guia de Estrelinho há pouquíssimo tempo.
- Estrelinho era cego de nascença.
- Gigito descrevia o mundo para Estrelinho de forma denotativa.
- Gigito foi convocado pelo exército para ser guia de cegos na guerra.
- Gigito descrevia o mundo para Estrelinho de forma conotativa.

**37. No período “O sempre lhe era pouco e o tudo insuficiente”, o pronome “LHE” exerce a função sintática de:**

- Objeto Direto
- Objeto Indireto
- Complemento Nominal
- Adjunto Adnominal
- Objeto Direto Preposicionado

**38. Na oração “A mão de Gigito conduziu o desvistado por tempos e idades”, o autor faz uso de um neologismo, assim como no decorrer de toda a obra em questão. Contudo, o neologismo só se torna possível pela utilização dos elementos mórficos naquilo que a gramática normativa pontua como Processo de Formação das Palavras. Levando em consideração apenas o recurso morfológico, qual Processo de Formação foi utilizado?**

- Derivação Sufixal
- Derivação Prefixal
- Derivação Regressiva
- Derivação Imprópria
- Derivação Parassintética

**39. No terceiro período do décimo terceiro parágrafo, temos:**

- Uma oração
- Dois orações
- Três orações
- Quatro orações
- Cinco orações

**40. No último parágrafo do fragmento do conto “— Agora, só agora, sou cego que não vê”, a oração subordinada presente classifica-se corretamente como:**

- Oração Subordinada Adjetiva Restritiva
- Oração Subordinada Adverbial Causal
- Oração Subordinada Substantiva Subjetiva
- Oração Subordinada Adverbial Explicativa
- Oração Subordinada Adjetiva Explicativa

**RASCUNHO**



PREFEITURA DE TELÊMACO BORBA - ESTADO DO PARANÁ- **EDITAL Nº 001-2016 - CONCURSO PÚBLICO VESPERTINO – 29/05/2016 – NÍVEL SUPERIOR**

**3**

**PROVA OBJETIVA NÚMERO**

**CARGO: TMNS I - ODONTOLOGIA**

**Leia atentamente as INSTRUÇÕES:**

1. Confira seus dados no cartão-resposta: nome, número de inscrição e o curso para o qual se inscreveu.
2. **MARQUE no seu cartão-resposta o número da sua prova** (não será corrigido o cartão-resposta que não tiver marcado o número da prova) e **Assine** seu cartão-resposta.
3. Aguarde a autorização do Fiscal para abrir o caderno de prova. Ao receber a ordem do fiscal, confira o caderno de prova com muita atenção. Nenhuma reclamação sobre o total de questões ou falha de impressão será aceita depois de iniciada a prova.
4. O cartão-resposta não será substituído, salvo se contiver erro de impressão.
5. Preencha toda a área do cartão-resposta correspondente à alternativa de sua escolha, com caneta esferográfica (tinta azul ou preta), sem ultrapassar as bordas. As marcações duplas, ou rasuradas, com corretivo, ou marcadas diferentemente do modelo estabelecido no cartão-resposta poderão ser anuladas.
6. Sua prova tem **40** questões, com **5** alternativas.
7. Cabe apenas ao candidato a interpretação das questões, **o fiscal** não poderá fazer nenhuma interferência.
8. A prova será realizada com duração máxima de **3 (três) horas**, incluído o tempo para a realização da Prova Objetiva de múltipla escolha e o preenchimento do cartão-resposta.
9. O candidato poderá retirar-se do local de realização das provas somente **1 (uma) hora** após o seu início, sem levar o caderno de prova.
10. O candidato poderá levar o caderno de provas, assim como anotação contendo transcrição do seu cartão-resposta, somente **1h30min** (uma hora e trinta minutos) após o início da realização da prova.
11. Ao terminar a prova, o candidato deverá entregar ao fiscal de sala o cartão-resposta preenchido e **ASSINADO**.
12. Os **3 (três)** candidatos, que terminarem a prova por último, deverão permanecer na sala, e só poderão sair juntos após o fechamento do envelope, contendo os cartões-resposta dos candidatos presentes e ausentes, e assinarem no lacre do referido envelope, atestando que este foi devidamente lacrado.
13. Durante todo o tempo em que permanecer no local onde está ocorrendo o concurso, o candidato deverá, manter o celular desligado e sem bateria, só sendo permitido ligar depois de ultrapassar o portão de saída do prédio.
14. Não será permitido ao candidato fumar na sala de provas, bem como nas dependências.
15. Depois de terminar a prova e entregar ao fiscal o cartão-resposta, preenchido e assinado, não será mais permitido ao candidato o uso do banheiro e bebedouro.

**BOA PROVA!**



**CONHECIMENTOS ESPECÍFICOS**

**01. “Uma coisa é por ideias arranjadas, outra é lidar com um país de pessoas, de carne e sangue, de mil-e-tantas misérias... Tanta gente – dá susto de saber – e nenhum se sossega: todos nascendo, crescendo, se casando, querendo colocação de emprego, comida, saúde, riqueza...” (trecho de “Grande Sertão: Veredas”, João Guimarães Rosa). De maneira simples e verdadeira, o escritor mineiro traz um retrato, ainda atual, do nosso país, peculiar por sua extensão geográfica e pela diversidade cultural de seu povo. Os modelos de saúde precisaram se reajustar com o passar do tempo para conseguirem cumprir o proposto de garantir saúde a todos. Nesse sentido, a educação em saúde se destaca como estratégia fundamental para o progresso. Sobre esse assunto, analise as afirmativas e assinale a alternativa correta:**

**I. Para se realizar atividade educativa, é imprescindível inicialmente ter compreensão dos determinantes sociais da comunidade.**

**II. Na educação em saúde, busca-se encorajar e fortalecer a autonomia do usuário, oferecendo recursos para alteração de hábitos e conservação de sua saúde.**

**III. A premissa da educação em saúde é garantir ao usuário uma postura passiva, em que ele recebe todas as ferramentas para melhora do seu processo saúde-doença.**

**IV. A técnica de tratamento restaurador atraumático (ART) é indicada em programas de educação em saúde bucal.**

- a) Apenas I, II e III estão corretas.
- b) Apenas I, III e IV estão corretas.
- c) Apenas I, II e IV estão corretas.
- d) Apenas I e II estão corretas.
- e) Todas estão corretas.

**02. O traumatismo dentoalveolar é uma emergência rotineira na odontopediatria, o trauma pode afetar a dentição decídua e/ou permanente e também gerar comprometimentos de autoestima e qualidade de vida da criança. Quanto às asserções que envolvem esse tema, assinale a alternativa incorreta.**

- a) A má oclusão de classe II divisão 1 é fator predisponente de trauma dentário.
- b) Os dentes anteriores superiores são os mais habitualmente afetados.
- c) Quando lesões tiverem histórico incongruente deve-se investigar possibilidade de abuso infantil.
- d) A sobressaliência de 3-6 mm, comparada a valores menores, reduz a incidência de trauma na dentição decídua.
- e) Presença de hematoma sublingual é sinal patognomônico de fratura na mandíbula em região de sínfise ou canino.

**03. A Política Nacional de Saúde Bucal tem como uma de suas premissas a promoção e proteção à saúde, incluindo o uso de fluoretos. Sua utilização estratégica já está concebida como tecnologia de intervenção em saúde pública e denota um conceito amplo que integra a odontologia às demais práticas de saúde coletiva. Sobre essa temática, assinale a alternativa correta após analisar as seguintes afirmativas:**

**I. Os produtos usualmente empregados no Brasil para fluoretação das águas de abastecimento público são o fluossilicato de sódio e o ácido fluossilícico.**

**II. No Paraná a maioria dos municípios possuem águas fluoretadas, exceto em pequenos sistemas e a área rural. O teor ideal de flúor no abastecimento do Estado está entre 0,6 a 0,8 ppm, considerando-se 0,7 ppm de flúor por litro o teor ótimo.**

**III. O uso dos cimentos de ionômero de vidro na clínica diária apresenta a vantagem desse material liberar flúor constantemente, ajudando no controle da cárie.**

- a) Apenas I e III estão corretas.
- b) Apenas II e III estão corretas.
- c) Apenas I e II estão corretas.
- d) Apenas a III está correta.
- e) Todas as afirmativas estão corretas.

**04. O Tratamento Restaurador Atraumático (ART) é recomendado na saúde bucal coletiva, especialmente por sua efetividade no controle da doença cárie, por isso sua execução e indicação devem ser muito bem administradas pelo cirurgião-dentista. Sobre o ART, assinale a alternativa correta.**

- a) Para garantir o sucesso do tratamento deve-se remover toda a dentina afeta.
- b) Recomenda-se nessa técnica a utilização de cimento de ionômero de vidro de alta viscosidade.
- c) A técnica não é indicada para crianças abaixo dos 6 anos.
- d) A técnica de ART não deve ser preferida se houver disponibilidade de equipo e alta rotação.
- e) Após redução do índice de cárie do paciente com ART, deve-se substituir as restaurações por outro material definitivo.

**05. De acordo com a publicação da Rede de Saúde Bucal, ano de 2016, da Secretaria de Estado da Saúde do Paraná, o câncer bucal permanece com poucas melhoras nos indicadores epidemiológicos ao longo do tempo. Para melhorar esse perfil, são necessárias políticas públicas e o maior envolvimento dos**



**profissionais de saúde, visando o diagnóstico precoce e o maior sucesso nos tratamentos. Sobre esse assunto, assinale a alternativa incorreta.**

- a) Como estratégia rápida de rastreamento de lesões bucais, pode-se utilizar o ácido acético a 1% e o azul de toluidina 1%.
- b) Eritroplasias e Leucoplasias, embora não indiquem um diagnóstico definitivo, são reconhecidas por serem lesões cancerizáveis que merecem atenção do dentista.
- c) As leucoplasias são de ocorrência mais comum na boca e apresentam potencial de cancerização superior as eritroplasias.
- d) Pacientes com alterações nutricionais graves e imunodeprimidos apresentam perfil de risco para câncer bucal.
- e) O autoexame da boca é uma estratégia de educação em saúde que deve ser orientada e encorajada pelo dentista.

**06. O pré-natal odontológico consiste na educação e assistência à saúde bucal da gestante e aconselhamento para o futuro bebê, cabendo aos profissionais de saúde desmistificar receios que possam existir de realizar consultas ou procedimentos durante esse período. A respeito da atenção e cuidados que cercam o atendimento a esse público, assinale a alternativa incorreta.**

- a) Durante a gestação, o aumento dos níveis circulantes de estrógeno e progesterona provoca uma maior vascularização do periodonto, podendo ocorrer alterações nesses tecidos.
- b) A prescrição de anti-inflamatórios não esteroides e ácido acetilsalicílico deve ser evitada por suas tendências de provocarem hemorragia na mãe e no feto, inércia uterina, entre outras reações.
- c) O vasoconstritor felipressina, presente em anestésico local odontológico, apresenta semelhança estrutural com a ocitocina, podendo provocar contração uterina.
- d) Em caso de necessidade de tratamento de infecções orais com antibióticos durante a gestação, a primeira escolha é a penicilina.
- e) A metemoglobinemia é uma condição grave para a gestante, que pode ser provocada por doses baixas do anestésico mepivacaína.

**07. A Articulação Temporomandibular (ATM) é uma articulação bilateral, interligada pela mandíbula e com uma relação de interdependência com a oclusão dos dentes, o que a torna peculiar e funcionalmente complexa. Sobre esse assunto, analise os itens a seguir e marque a alternativa correta.**

- I. As faces articulares temporal e condilar são recobertas por cartilagem hialina.
- II. A cápsula articular que circunda a ATM é ricamente vascularizada e com inervação sensitiva.
- III. Os ligamentos normalmente não atuam de maneira ativa no funcionamento da ATM, participam como conectores-guia, permitindo ou restringindo determinados movimentos.
- IV. Em pacientes que manifestam “apertamento” dental, o côndilo é intruído na fossa mandibular e os tecidos intra-articulares sofrem remodelações acentuadas.

- a) Apenas I e III estão corretos.
- b) Apenas I, II e III estão corretos.
- c) Apenas I, III e IV estão corretos.
- d) Apenas II, III e IV estão corretos.
- e) Todos os itens estão corretos.

**08. Na odontologia, a análise da capacidade tampão e conteúdo microbiológico da saliva é utilizada para avaliação do risco de cárie, entretanto, seu uso para diagnóstico de doenças bucais, sistêmicas e condição geral do paciente tem se mostrado cada vez mais viável e eficiente. Sobre a questão proposta, assinale a alternativa incorreta.**

- a) A análise salivar é utilizada para diagnóstico de doenças que afetem a função das glândulas salivares e composição da saliva, como a síndrome de Sjögren, fibrose cística, cirrose alcoólica, entre outras.
- b) O fluxo e composição salivar podem ser alterados por consumo de medicamentos, álcool, tabagismo e ritmo circadiano.
- c) O uso da saliva para triagem ou diagnóstico do câncer oral não é possível pela ausência de biomarcador potencial para essa patologia em fluido salivar.
- d) O teste de Snyder utiliza a saliva para investigação da atividade de cárie e se baseia no ritmo de formação de ácido.
- e) A contagem de lactobacilos na saliva pode se relacionar diretamente com a atividade de cárie no dente.

**09. Os conhecimentos científicos e conceitos sobre o entendimento e diagnóstico da cárie dental, assim como da saúde geral das pessoas, sofrem constantes evoluções, exigindo que os profissionais estejam sempre atualizados. Sobre a cariologia, assinale a alternativa incorreta.**

- a) O nível crítico de pH do biofilme é cerca de 5,5, sendo que, abaixo desse valor há indução da desmineralização do esmalte.
- b) Os hormônios da tireoide atuam na criação da matriz dentinária, de modo que pacientes com hipertireoidismo possuem dentes com déficit de calcificação e propensos à cárie.
- c) O envolvimento dos elementos: dente, microrganismos e glicídios é condição *sine qua non* para gerar a cárie dental.

d) O cálcio e o fósforo são importantes para formar os cristais de hidroxiapatita, que são precipitados nas matrizes proteicas formando o esmalte e a dentina.

e) O flúor conserva-se no esmalte na forma de fluorapatita e tem importante papel no controle da cárie.

**10. Durante a realização de cirurgia dental no consultório, podem surgir situações de urgência/emergências médica ou odontológicas que exigirão uma conduta precisa e imediata do cirurgião-dentista. Sendo assim, analise as afirmativas seguintes e aponte a alternativa correta.**

**I. Reações alérgicas podem acontecer relacionadas principalmente a anestésicos locais do tipo éster, devido à formação do ácido para-aminobenzoico (PABA).**

**II. Em caso onde se observa lipotímia, deve-se posicionar o paciente em posição supina ou pressionar a cabeça em direção as pernas na posição sentado, para restabelecer o fluxo sanguíneo e oxigenação do cérebro.**

**III. A hiperventilação pode ocorrer em paciente com alto nível de ansiedade, observa-se taquipneia, tontura, formigamento das extremidades e alcalose.**

**IV. A síncope vasovagal é a causa mais comum de perda de consciência, geralmente o paciente se queixa de sensação de calor, náusea e palpitações, havendo queda da pressão sanguínea.**

a) Apenas II, III e IV estão corretas.

b) Apenas I, II e IV estão corretas.

c) Apenas I, II e III estão corretas.

d) Apenas II e IV estão corretas.

e) Todas as afirmativas estão corretas.

**11. A lesão ao nervo facial, ou seus ramos, geralmente produz paralisia de alguns ou de todos os músculos da face do lado afetado. Sobre os conceitos que envolvem esse assunto, assinale a alternativa incorreta.**

a) A Paralisia de Bell normalmente é idiopática e o paciente apresenta uma perda abrupta do controle muscular de um dos lados da face.

b) A causa traumática mais comum de paralisia facial é por inflamação do nervo, como ocorre na doença de Lyme, Herpes zoster e Otite.

c) Tumores envolvendo a glândula parótida frequentemente causam paralisia facial.

d) O deslocamento da comissura ocorre pela contração contralateral dos músculos sem oposição, resultando no escape de alimentos e saliva.

e) No caso de paralisia do nervo facial não se observa alteração de paladar.

**12. Considerando-se que a epidemiologia tem o objetivo precípuo de delinear as frequências, distribuições, padrões e tendências de ocorrer doenças e agravos de saúde em uma população, é de suma importância que o profissional da área mantenha-se atualizado sobre questões concernentes ao assunto para adequar os planejamentos dos programas e serviços de saúde. Sendo assim, analise os itens seguintes e aponte a alternativa correta:**

**I. CPO-D é uma medida internacional para avaliar a situação de saúde bucal, retratando a quantidade de dentes permanentes cariados não tratados, perdidos/extraídos por cárie e restaurados/obturados por sequela de cárie.**

**II. Para aferir as condições periodontais da população adulta e idosa, os índices mais usados são o CPI (Índice Periodontal Comunitário) e o PIP (Perda de Inserção Periodontal).**

**III. A classificação denominada Índice de Dean é a recomendada pela OMS (Organização Mundial da Saúde) para estudos de oclusão dentária em populações.**

**IV. Incidência é o número total de casos em uma população no determinado tempo, enquanto a prevalência se refere aos casos novos de uma população no determinado tempo.**

**V. Os fatores de risco contemplam os aspectos sociais que envolvem uma população sem considerar os aspectos biológicos.**

a) Apenas I e II estão corretos.

b) Apenas I, II e III estão corretos.

c) Apenas II, III e IV estão corretos.

d) Apenas I, IV e V estão corretos.

e) Todos os itens estão corretos.

**13. A prevenção na saúde ocorre quando se interfere no curso natural de uma doença, impondo barreiras ao seu progresso, nas diversas etapas do ciclo evolutivo. Assinale a alternativa correta sobre os níveis de prevenção e suas aplicações na rotina da odontologia.**

a) A reabilitação é o primeiro nível de prevenção, gerando condições biológicas para que o indivíduo restabeleça seu nível de saúde, como nos casos de confecção de próteses para edêntulos.

b) A limitação do dano é o último nível de prevenção, para amparar possíveis falhas nos níveis anteriores e evitar um mal maior, como em casos de tratamentos endodônticos.

c) A promoção da saúde visa criar condições que favoreçam os indivíduos a resistir ao ataque de uma doença, por exemplo, garantindo qualidade nutricional.



- d) O diagnóstico precoce é o nível desempenhado na atenção terciária, hospitalar, pois se refere a métodos de detecção de doenças epidemiológicas graves e com alta taxa de mortalidade.
- e) A proteção específica refere-se à qualidade de individualização do atendimento de acordo com o perfil do paciente como, por exemplo, dentística operatória para paciente com cárie.

**14. Sobre a prevenção, diagnóstico, etiologias e tratamento das alterações patológicas da polpa dentária e região periapical, assinale a alternativa incorreta.**

- a) Os corticosteroides devem ser evitados como medicação intracanal por serem imunossupressores.
- b) O preparo biomecânico visa eliminar o conteúdo do sistema de canais radiculares, atribuindo-lhes uma conformação cônica.
- c) São características da pulpite aguda irreversível: dor espontânea, pulsátil, intensa e de longa duração.
- d) A sobreobturação do canal radicular pode gerar periapicopatia traumática.
- e) O trióxido mineral agregado é utilizado como material retro-obturador em cirurgias parendodônticas.

**15. O exame radiográfico é um recurso frequentemente utilizado pelo cirurgião-dentista para auxiliar no diagnóstico de lesões, direcionar procedimentos e acompanhar tratamentos. Sobre o assunto, assinale a alternativa incorreta.**

- a) Método de Clark é indicado para localização vestibulo-palatal de estruturas, e realiza-se duas radiografias periapicais da mesma região com modificação em uma delas do ângulo horizontal de incidência.
- b) Em ordem decrescente de radiopacidade das estruturas na radiografia, observa-se respectivamente: tecido ósseo, esmalte, dentina, tecidos moles e cartilagem.
- c) Na técnica de Le Master utiliza-se um rolete de algodão para melhorar o paralelismo entre o dente e o filme e evitar a superposição da área dos ápices de molares superiores pelo processo zigomático.
- d) A tomada radiográfica de Waters pode ser usada para avaliar alterações do terço médio da face.
- e) A sialografia está indicada como auxiliar na detecção de cálculos radiopacos em glândula salivar.

**16. Pacientes com doenças renais necessitam de cuidados específicos durante o atendimento odontológico, devido a suas alterações decorrentes da falência renal, vários comprometimentos bucais podem ser observados. Sobre o assunto, é incorreto afirmar:**

- a) Em paciente com insuficiência renal que realiza tratamento, as cirurgias orais eletivas podem ser agendadas no dia posterior à diálise, pois a heparina metabolizada melhora o estado fisiológico do paciente.
- b) O cirurgião-dentista deve evitar o monitoramento da pressão sanguínea no mesmo braço onde esteja localizada a fístula arteriovenosa (shunt) do paciente.
- c) Os fármacos nefrotóxicos, como os anti-inflamatórios não-esteroidais, devem ser evitados em casos de comprometimento renal mais grave.
- d) Pacientes com doença renal em estágios avançados podem apresentar acidose salivar, devido aos altos níveis de ureia sérica.
- e) A ciclosporina A, normalmente administrada após transplante renal, pode causar hiperplasia gengival.

**17. A alimentação balanceada é importante para a saúde dos indivíduos, inclusive no que se refere à saúde bucal, sendo que sua escassez pode provocar problemas dentários e sistêmicos que prejudicarão a qualidade de vida. Sobre a influência das vitaminas na área da odontologia, analise os itens e marque a alternativa correta:**

- I. Avitaminose D provoca o raquitismo dental e predispõe o dente à cárie.**
- II. A vitamina A opera nos ameloblastos, auxiliando a estruturação do esmalte.**
- III. Avitaminose B<sub>6</sub> provoca insuficiência na produção de matrizes proteicas em dentina e esmalte.**
- IV. A vitamina E atua na formação dos cementoblastos e tecidos periodontais.**

- a) Apenas II e III estão corretos.
- b) Apenas I, II e IV estão corretos.
- c) Apenas I, II e III estão corretos.
- d) Apenas I, III e IV estão corretos.
- e) Todos os itens estão corretos.

**18. Sobre as particularidades que envolvem os anestésicos locais, assinale a alternativa incorreta.**

- a) A Lidocaína 2% com adrenalina 1:100.000 é um anestésico do tipo amida, tem início de ação de 3-5 mim e seu efeito dura cerca de 1h na anestesia pulpar e entre 3-5h nos tecidos moles.
- b) Manejo cuidadoso dos pacientes que fazem uso de antidepressivos tricíclicos, devido à possibilidade de interação medicamentosa com vasoconstritores, gerando efeitos colaterais no sistema cardiovascular.
- c) Uso cauteloso de vasoconstritores em pacientes que usam drogas antipsicóticas como haloperidol.
- d) Na aplicação da anestesia local, deve-se sempre realizar a aspiração antes de injetá-la, para evitar o seu depósito intravascular.
- e) A paralisia transitória do nervo alveolar inferior pode ocorrer pela aplicação de anestésico local na cápsula da glândula parótida, que está situada no limite posterior do ramo mandibular.

**19. Assinale a alternativa que corresponde aos respectivos nervos cranianos referenciados nos itens a seguir:**

**I. Inerva os músculos da mímica, sensação gustativa dos 2/3 anteriores da língua, palato duro e mole, entre outras regiões.**

**II. Função motora, inerva os músculos da língua e outros músculos.**

**III. Garante a sensibilidade da polpa dos dentes da mandíbula, papilas interdentes, periodonto e tecido ósseo vizinho aos dentes.**

**IV. Sensação gustativa do 1/3 posterior da língua, função secretomotora da glândula parótida e outros músculos.**

**V. Inerva os músculos masseter, temporal, pterigoide medial e lateral, entre outras estruturas.**

- a) Facial, Glossofaríngeo, Alveolar Inferior, Hipoglosso e Trigêmeo.
- b) Trigêmeo, Hipoglosso, Alveolar Inferior, Glossofaríngeo e Vago.
- c) Facial, Mandibular, Alveolar Inferior, Glossofaríngeo e Trigêmeo.
- d) Facial, Hipoglosso, Alveolar Inferior, Glossofaríngeo e Trigêmeo.
- e) Facial, Mandibular, Alveolar Inferior, Hipoglosso e Trigêmeo.

**20. Compreender a etiologia e classificação das doenças periodontais é importante para determinar o diagnóstico e plano de tratamento mais adequado. Sendo assim, assinale a alternativa incorreta.**

- a) A gengivite induzida por placa bacteriana pode ocorrer em periodonto sem perda de inserção ou em um periodonto que previamente perdeu inserção, mas está estável e sem progresso.
- b) Medicamentos bloqueadores de canais de cálcio, imunossupressores e anticonvulsivantes são caracterizados por induzir hiperplasia gengival.
- c) Gengiva com aspectos clínicos modificados como, sangramento, intumescência e aspecto brilhante pode ser associada à deficiência de vitamina C.
- d) A periodontite crônica é frequentemente associada com cálculo subgengival.
- e) A periodontite crônica generalizada ocorre quando se tem o envolvimento de mais de 50% de sítios.

## LÍNGUA PORTUGUESA

**Texto para as próximas cinco questões:**

### “O cego Estrelinho” Mia Couto

O cego Estrelinho era pessoa de nenhuma vez: sua história poderia ser contada e descontada não fosse seu guia, Gigito Efraim. A mão de Gigito conduziu o desvistado por tempos e idades. Aquela mão era repartidamente comum, extensão de um no outro, siamensal. E assim era quase de nascença. Memória de Estrelinho tinha cinco dedos e eram os de Gigito postos, em aperto, na sua própria mão.

O cego, curioso, queria saber de tudo. Ele não fazia cerimônia no viver. O sempre lhe era pouco e o tudo insuficiente. Dizia, deste modo:

— Tenho que viver já, senão esqueço-me.

Gigitinho, porém, o que descrevia era o que não havia. O mundo que ele minuciava eram fantasias e rendilhados. A imaginação do guia era mais profícua que papaeira. O cego enchia a boca de águas:

— Que maravilhação esse mundo. Me conte tudo, Gigito!

A mão do guia era, afinal, o manuscrito da mentira. Gigito Efraim estava como nunca esteve S. Tomé: via para não crer. O condutor falava pela ponta dos dedos. Desfolhava o universo, aberto em folhas. A ideiação dele era tal que mesmo o cego, por vezes, acreditava ver. O outro lhe encorajava esses breves enganar:

— Desbengale-se, você está escolhendo a boa procedência!

Mentira: Estrelinho continuava sem ver uma palmeira à frente do nariz. Contudo, o cego não se conformava em suas escurezas. Ele cumpria o ditado: não tinha perna e queria dar o pontapé. Só à noite, ele desalentava, sofrendo medos mais antigos que a humanidade. Entendia aquilo que, na raça humana, é menos primitivo: o animal.

— Na noite aflige não haver luz?

— Aflição é ter um pássaro branco esvoando dentro do sono.

Pássaro branco? No sono? Lugar de ave é nas alturas. Dizem até que Deus fez o céu para justificar os pássaros. Estrelinho disfarçava o medo dos vaticínios, subterfugindo:

— E agora, Gigitinho? Agora, olhando assim para cima, estou face ao céu?

Que podia o outro responder? O céu do cego fica em toda a parte. Estrelinho perdia o pé era quando a noite chegava e seu mestre adormecia. Era como se um novo escuro nele se estreasse em nó cego. Devagaroso e sorrateiro ele aninhava sua mão na mão do guia. Só assim adormecia. A razão da concha é a timidez da amêijoia? Na manhã seguinte, o cego lhe confessava: se você morrer, tenho que morrer logo no imediato. Senão-me: como acerto o caminho para o céu?

Foi no mês de dezembro que levaram Gigitinho. Lhe tiraram do mundo para pôr na guerra: obrigavam os serviços militares. O cego reclamou: que o moço inatingia a idade. E que o serviço que ele a si prestava era vital e vitalício. O guia chamou Estrelinho à parte e lhe tranquilizou:

— Não vai ficar sozinando por aí. Minha mana já mandei para ficar no meu lugar.



O cego estendeu o braço a querer tocar uma despedida. Mas o outro já não estava lá. Ou estava e se desviara, propositado? E sem água ida nem vinda, Estrelinho escutou o amigo se afastar, engolido, esponginquo, inevisível. Pela pimeira vez, Estrelinho se sentiu invalidado.

— Agora, só agora, sou cego que não vê.

(...)

**COUTO, Mia. Estórias abensonhadas. Rio de Janeiro: Nova Fronteira, 1996. (Pág 23 e 24).**

**21. Quanto à interpretação do fragmento do conto, podemos afirmar que:**

- Gigito Efraim era o guia de Estrelinho há pouquíssimo tempo.
- Estrelinho era cego de nascença.
- Gigito descrevia o mundo para Estrelinho de forma denotativa.
- Gigito foi convocado pelo exército para ser guia de cegos na guerra.
- Gigito descrevia o mundo para Estrelinho de forma conotativa.

**22. No período “O sempre lhe era pouco e o tudo insuficiente”, o pronome “LHE” exerce a função sintática de:**

- Objeto Direto
- Objeto Indireto
- Complemento Nominal
- Adjunto Adnominal
- Objeto Direto Preposicionado

**23. Na oração “A mão de Gigito conduziu o desvestido por tempos e idades”, o autor faz uso de um neologismo, assim como no decorrer de toda a obra em questão. Contudo, o neologismo só se torna possível pela utilização dos elementos mórficos naquilo que a gramática normativa pontua como Processo de Formação das Palavras. Levando em consideração apenas o recurso morfológico, qual Processo de Formação foi utilizado?**

- Derivação Sufixal
- Derivação Prefixal
- Derivação Regressiva
- Derivação Imprópria
- Derivação Parassintética

**24. No terceiro período do décimo terceiro parágrafo, temos:**

- Uma oração
- Duas orações
- Três orações
- Quatro orações
- Cinco orações

**25. No último parágrafo do fragmento do conto “— Agora, só agora, sou cego que não vê”, a oração subordinada presente classifica-se corretamente como:**

- Oração Subordinada Adjetiva Restritiva
- Oração Subordinada Adverbial Causal
- Oração Subordinada Substantiva Subjetiva
- Oração Subordinada Adverbial Explicativa
- Oração Subordinada Adjetiva Explicativa

#### **RACIOCÍNIO LÓGICO**

**26. Os cinco filhos de Ana estavam discutindo a respeito da data de nascimento da mãe:**

- Almir disse que foi em janeiro, dia 14, sexta-feira.
- Vanderlei disse que foi em janeiro, dia 14, sábado.
- Tiago disse que foi em fevereiro, dia 15, sábado.
- Sandro disse que foi em janeiro, dia 15, sexta-feira.
- Renato disse que foi em fevereiro, dia 15, sexta-feira.

**Sabe-se que somente um dos filhos de Ana acertou corretamente sua data de nascimento e que os outros acertaram pelo menos um dos itens (dia, dia da semana e mês). Dessa forma, é correto afirmar que o filho de Ana que acertou a data de nascimento dela foi:**

- Renato
- Sandro
- Tiago
- Vanderlei
- Almir



27. Considere a seguinte afirmativa: “Todo churrasqueiro gosta de picanha”. Em relação a essa proposição, é correto afirmar que:

- Algum churrasqueiro não gosta de picanha.
- Toda pessoa que gosta de picanha é churrasqueira.
- Alguma pessoa que não gosta de picanha é churrasqueira.
- Toda pessoa que não é churrasqueira, não gosta de picanha.
- Toda pessoa que não gosta de picanha, não é churrasqueira.

28. Em um grupo formado por 67 pessoas, verificou-se que 41 pessoas gostam de arroz, 29 gostam de feijão, 33 gostam de carne, 19 gostam de arroz e de feijão, 9 gostam apenas de arroz e de carne, 12 gostam de feijão e de carne e que 6 gostam de arroz, de feijão e de carne. O número de pessoas desse grupo, que não gosta de nenhum desses três tipos de alimentos é igual a:

- 4
- 5
- 6
- 8
- 10

29. Bruno escreveu, em seu caderno, várias sequências formadas por números múltiplos de 4, onde os valores que ocupavam as posições pares eram multiplicados por  $-1$ . Cada sequência foi somada e o resultado da soma anotado. A soma das três primeiras sequências escritas por Bruno foram as seguintes:

$$4 - 8 = -4$$

$$4 - 8 + 12 = 8$$

$$4 - 8 + 12 - 16 = -8$$

Considere que Bruno escreveu e somou tais sequências, em seu caderno, de modo a obter determinada sequência cuja soma foi 600. O número de termos dessa sequência é igual a:

- 149
- 150
- 298
- 299
- 300

30. Quatro torcedores, um do São Paulo, um do Cruzeiro, um do Vasco e um do Bahia, estão sentados ao redor de uma mesa quadrada, de modo que, dois a dois, fiquem frente a frente. Sabe-se que Alan é torcedor do Cruzeiro e que Bruno está sentado à direita de Alan. Sabe-se também que Caio está sentado à direita do torcedor do São Paulo. Sabe-se ainda que Daniel não é torcedor do Vasco e que está sentado à frente de Bruno. Dessa forma, é correto afirmar que:

- Bruno é torcedor do Bahia e Daniel é torcedor do São Paulo.
- Bruno é torcedor do São Paulo e Daniel é torcedor do Bahia.
- Caio é torcedor do Vasco e Daniel é torcedor do São Paulo.
- Caio é torcedor do Bahia e Daniel é torcedor do São Paulo.
- Bruno é torcedor do Vasco e Daniel é torcedor do Bahia.

## INFORMÁTICA

31. Considerando o MS-Excel versão 2010, observando a figura abaixo, é correto afirmar que:

	A	B	C
1			
2			
3			
4			

- Somente 03 três linhas estão selecionadas.
- Somente uma célula está selecionada.
- 12 (doze) células estão selecionadas.
- Somente a coluna A até a linha 4 (quatro) está selecionada.
- Somente as colunas 1 (um), 2 (dois), 3 (três) e 4 (quatro) estão selecionadas.

32. Considerando o MS-Excel versão 2010, observando a figura abaixo, é incorreto afirmar que:

	A	B	C
1	12	6	=A1*B1
2	8	2	=A2/B2
3	5	14	=A3-B3
4	6	11	=A4+B4



- a) O resultado da fórmula =A1\*B1 é 72.  
 b) O resultado da fórmula =A2/B2 é 4.  
 c) O resultado da fórmula =A3-B3 é -9.  
 d) O resultado da fórmula =A3-B3 é 9.  
 e) O resultado da fórmula =A4+B4 é 17.

**33. Digitando um texto no MS-Word versão 2010, necessito adicionar número nas páginas. Quanto a isso, é correto afirmar que:**

- a) No menu Layout da Página, clico em número de página e seleciono onde desejo adicionar os números.  
 b) No menu Inserir, clico em número de página e seleciono onde desejo adicionar os números.  
 c) No menu Revisão, clico em número de página e seleciono onde desejo adicionar os números.  
 d) No menu Referências, clico em número de página e seleciono onde desejo adicionar os números.  
 e) No menu Exibição, clico em número de página e seleciono onde desejo adicionar os números.

**34. A segurança da informação está diretamente relacionada com proteção de um conjunto de informações, no sentido de preservar o valor que possuem para um indivíduo ou uma organização. Atualmente, um dos aplicativos mais utilizados no mundo, o Whats app, teve uma alteração de confidencialidade muito importante na segurança das informações transmitidas e recebidas. Dentre as alternativas, assinale a que corretamente informa a alteração inserida no aplicativo Whats app.**

- a) Antispam  
 b) Antivirus  
 c) Firewall  
 d) Antispyware  
 e) Criptografia

**35. São todos os dispositivos que trabalham acoplados ao microcomputador para receber, transmitir, visualizar, ler, gravar ou armazenarem dados. São eles que permitem a comunicação do computador com o meio exterior, isto é, com os usuários e outras máquinas.**

**Esse texto descreve corretamente:**

- a) Memória ram  
 b) Memória virtual  
 c) Software  
 d) Periféricos  
 e) Hardware

## CONHECIMENTOS GERAIS

### 36. Hino do município de Telêmaco Borba/PR

Das virgens matas e campos verdejantes  
 Servindo-se também o rio Tibagi,  
 Homens de ideais, espíritos vibrantes.  
 Constituíram as indústrias aqui.

Estribilho:

Salve! Salve! Telêmaco Borba  
 Terra querida e de grandes primores,  
 A nossa homenagem rendamos  
 À cidade dos trabalhadores.

Pois a cadência de enorme e real progresso  
 Um município mui grandioso fez nascer,  
 Marcando assim, verdadeiro sucesso  
 Faz, então o Paraná engrandecer.

**No que tange ao Hino do município, atribua V (verdadeiro) ou F (falso) às afirmativas e marque a alternativa correta.**

- ( ) Eloah Martins Quadrado é autora da letra do hino.  
 ( ) Bento Mossurunga compôs a música do hino.  
 ( ) Eloah Martins Quadrado foi nomeada primeira professora da Cidade Nova, atual Telêmaco Borba.  
 ( ) Bento Mossurunga fundou a orquestra Estudantil e Concertos – Orquestra Sinfônica da Universidade, a Sociedade de Cultura Artístico Basílio Itiberê.

- a) F, V, V, V.  
 b) V, F, V, V.  
 c) V, V, F, V.



- d) V, V, F, F.  
e) V, V, V, V.

**37. À luz da Lei nº 1883/2012, que dispõe sobre o Estatuto dos Servidores Públicos da Administração Direta, Autárquica e Funcional do Município de Telêmaco Borba/PR, leia as alternativas e marque a correta.**

- a) A apresentação para a posse ocorrerá no prazo de até trinta dias, contados do ato de nomeação.  
b) A destituição do servidor da função gratificada dar-se-á por solicitação exclusiva dele mesmo.  
c) O servidor ocupante exclusivamente de cargo em comissão será contribuinte do regime geral de previdência social.  
d) A aprovação em concurso público gera o direito à nomeação, e será feita obedecida à ordem de classificação dos candidatos.  
e) O exercício de função gratificada poderá ser de dedicação integral ou parcial, conforme necessidade da administração.

**Conforme a Lei nº 1.881, de 05 de abril de 2012, que dispõe sobre o Plano de Cargos, Carreiras e Vencimentos do quadro geral de servidores da Prefeitura Municipal de Telêmaco Borba/PR, regulamentada pelo Decreto nº 2269/2015, responda às próximas três questões.**

**38. Leia as assertivas e assinala a incorreta.**

- a) Do resultado da avaliação de desempenho poderá ser interposto recurso à Comissão de Desenvolvimento Funcional no prazo de quinze dias a contar da publicação no Boletim Oficial do Município.  
b) Não será concedida a progressão ou promoção ao servidor que estiver em licença para tratamento de saúde por um período superior a quarenta e cinco dias, no período de avaliação.  
c) A alternância dos membros constituintes da Comissão de Desenvolvimento Funcional eleitos pelos servidores verificar-se-á a cada três anos de participação, observados, para substituição de seus participantes, o critério fixado no artigo anterior, não cabendo eleição sucessiva.  
d) Caberá à Comissão de Desenvolvimento Funcional, no caso de divergência de vinte por cento entre a nota do avaliador e a do avaliado, solicitar nova avaliação à chefia.  
e) Nos termos do disposto no art. 17 da Lei nº 1.881, de 05 de abril de 2012, para progredir, é necessário que o servidor satisfaça, dentre outros, o seguinte requisito: estar no efetivo exercício de seu cargo ou em função comissionada na sua área de atuação durante o interstício de dois anos.

**39. Assinale a alternativa que completa respectivamente as lacunas do texto a seguir:**

**A Comissão de Desenvolvimento Funcional será constituída por \_\_\_\_\_ membros, sendo \_\_\_\_\_ designados pelo Prefeito Municipal de Telêmaco Borba e os demais eleitos pelos servidores municipais dentre os estáveis, com a atribuição de coordenar os procedimentos relativos à avaliação periódica de desempenho e outras atribuições.**

- a) três / sete  
b) um / três  
c) sete / três  
d) três / cinco  
e) dois / cinco

**40. A Avaliação de Desempenho será norteadada, dentre outros, pelo seguinte princípio: Amplitude - a avaliação deve incidir sobre todas as áreas de atuação do servidor, que compreendem:**

1. a formulação de políticas administrativas e sua aplicação para todos os setores da administração municipal;
2. o desempenho do profissional dentro de suas funções pertinentes;
3. a estrutura do órgão em que exerce a função;
4. os resultados de eficiência dos serviços de cada setor ou órgão da administração municipal;
5. a participação direta do avaliado, durante todo o processo avaliativo.

**Diante dessa afirmação, somente não está correto o item:**

- a) 1  
b) 2  
c) 3  
d) 4  
e) 5

**RASCUNHO**



PREFEITURA DE TELÊMACO BORBA - ESTADO DO PARANÁ- **EDITAL Nº 001-2016 - CONCURSO PÚBLICO**

**VESPERTINO – 29/05/2016 – NÍVEL SUPERIOR**

**1**

**PROVA OBJETIVA NÚMERO**

**CARGO: TMNS I - PEDAGOGIA**

**Leia atentamente as INSTRUÇÕES:**

1. Confira seus dados no cartão-resposta: nome, número de inscrição e o curso para o qual se inscreveu.
2. **MARQUE no seu cartão-resposta o número da sua prova** (não será corrigido o cartão-resposta que não tiver marcado o número da prova) e **Assine** seu cartão-resposta.
3. Aguarde a autorização do Fiscal para abrir o caderno de prova. Ao receber a ordem do fiscal, confira o caderno de prova com muita atenção. Nenhuma reclamação sobre o total de questões ou falha de impressão será aceita depois de iniciada a prova.
4. O cartão-resposta não será substituído, salvo se contiver erro de impressão.
5. Preencha toda a área do cartão-resposta correspondente à alternativa de sua escolha, com caneta esferográfica (tinta azul ou preta), sem ultrapassar as bordas. As marcações duplas, ou rasuradas, com corretivo, ou marcadas diferentemente do modelo estabelecido no cartão-resposta poderão ser anuladas.
6. Sua prova tem **40** questões, com **5** alternativas.
7. Cabe apenas ao candidato a interpretação das questões, **o fiscal** não poderá fazer nenhuma interferência.
8. A prova será realizada com duração máxima de **3 (três) horas**, incluído o tempo para a realização da Prova Objetiva de múltipla escolha e o preenchimento do cartão-resposta.
9. O candidato poderá retirar-se do local de realização das provas somente **1 (uma) hora** após o seu início, sem levar o caderno de prova.
10. O candidato poderá levar o caderno de provas, assim como anotação contendo transcrição do seu cartão-resposta, somente **1h30min** (uma hora e trinta minutos) após o início da realização da prova.
11. Ao terminar a prova, o candidato deverá entregar ao fiscal de sala o cartão-resposta preenchido e **ASSINADO**.
12. Os **3 (três)** candidatos, que terminarem a prova por último, deverão permanecer na sala, e só poderão sair juntos após o fechamento do envelope, contendo os cartões-resposta dos candidatos presentes e ausentes, e assinarem no lacre do referido envelope, atestando que este foi devidamente lacrado.
13. Durante todo o tempo em que permanecer no local onde está ocorrendo o concurso, o candidato deverá, manter o celular desligado e sem bateria, só sendo permitido ligar depois de ultrapassar o portão de saída do prédio.
14. Não será permitido ao candidato fumar na sala de provas, bem como nas dependências.
15. Depois de terminar a prova e entregar ao fiscal o cartão-resposta, preenchido e assinado, não será mais permitido ao candidato o uso do banheiro e bebedouro.

**BOA PROVA!**

**LÍNGUA PORTUGUESA****Texto para as próximas cinco questões:****“O cego Estrelinho”  
Mia Couto**

O cego Estrelinho era pessoa de nenhuma vez: sua história poderia ser contada e descontada não fosse seu guia, Gigitto Efraim. A mão de Gigitto conduziu o desvistado por tempos e idades. Aquela mão era repartidamente comum, extensão de um no outro, siamensal. E assim era quase de nascença. Memória de Estrelinho tinha cinco dedos e eram os de Gigitto postos, em aperto, na sua própria mão.

O cego, curioso, queria saber de tudo. Ele não fazia cerimônia no viver. O sempre lhe era pouco e o tudo insuficiente. Dizia, deste modo:

— Tenho que viver já, senão esqueço-me.

Gigitto, porém, o que descrevia era o que não havia. O mundo que ele minuciava eram fantasias e rendilhados. A imaginação do guia era mais profícua que papaeira. O cego enchia a boca de águas:

— Que maravilhação esse mundo. Me conte tudo, Gigitto!

A mão do guia era, afinal, o manuscrito da mentira. Gigitto Efraim estava como nunca esteve S. Tomé: via para não crer. O condutor falava pela ponta dos dedos. Desfolhava o universo, aberto em folhas. A ideiação dele era tal que mesmo o cego, por vezes, acreditava ver. O outro lhe encorajava esses breves enganos:

— Desbengale-se, você está escolhendo a boa procedência!

Mentira: Estrelinho continuava sem ver uma palmeira à frente do nariz. Contudo, o cego não se conformava em suas escurezas. Ele cumpria o ditado: não tinha perna e queria dar o pontapé. Só à noite, ele desalentava, sofrendo medos mais antigos que a humanidade. Entendia aquilo que, na raça humana, é menos primitivo: o animal.

— Na noite aflige não haver luz?

— Aflição é ter um pássaro branco esvoando dentro do sono.

Pássaro branco? No sono? Lugar de ave é nas alturas. Dizem até que Deus fez o céu para justificar os pássaros. Estrelinho disfarçava o medo dos vaticínios, subterfugindo:

— E agora, Gigitto? Agora, olhando assim para cima, estou face ao céu?

Que podia o outro responder? O céu do cego fica em toda a parte. Estrelinho perdia o pé era quando a noite chegava e seu mestre adormecia. Era como se um novo escuro nele se estreasse em nó cego. Devagaroso e sorrateiro ele aninhava sua mão na mão do guia. Só assim adormecia. A razão da concha é a timidez da amêijoia? Na manhã seguinte, o cego lhe confessava: se você morrer, tenho que morrer logo no imediato. Senão-me: como acerto o caminho para o céu?

Foi no mês de dezembro que levaram Gigitto. Lhe tiraram do mundo para pôr na guerra: obrigavam os serviços militares. O cego reclamou: que o moço inatingia a idade. E que o serviço que ele a si prestava era vital e vitalício. O guia chamou Estrelinho à parte e lhe tranquilizou:

— Não vai ficar sozinando por aí. Minha mana já mandei para ficar no meu lugar.

O cego estendeu o braço a querer tocar uma despedida. Mas o outro já não estava lá. Ou estava e se desviara, propositado? E sem água ida nem vinda, Estrelinho escutou o amigo se afastar, engolido, esponginquo, invisível. Pela primeira vez, Estrelinho se sentiu invalidado.

— Agora, só agora, sou cego que não vê.

(...)

**COUTO, Mia. Estórias abensonhadas. Rio de Janeiro: Nova Fronteira, 1996. (Pág 23 e 24).**

**01. Quanto à interpretação do fragmento do conto, podemos afirmar que:**

- Gigitto Efraim era o guia de Estrelinho há pouquíssimo tempo.
- Estrelinho era cego de nascença.
- Gigitto descrevia o mundo para Estrelinho de forma denotativa.
- Gigitto foi convocado pelo exército para ser guia de cegos na guerra.
- Gigitto descrevia o mundo para Estrelinho de forma conotativa.

**02. No período “O sempre lhe era pouco e o tudo insuficiente”, o pronome “LHE” exerce a função sintática de:**

- Objeto Direto
- Objeto Indireto
- Complemento Nominal
- Adjunto Adnominal
- Objeto Direto Preposicionado

**03. Na oração “A mão de Gigitto conduziu o desvistado por tempos e idades”, o autor faz uso de um neologismo, assim como no decorrer de toda a obra em questão. Contudo, o neologismo só se torna possível pela utilização dos elementos mórficos naquilo que a gramática normativa pontua como Processo de Formação das Palavras. Levando em consideração apenas o recurso morfológico, qual Processo de Formação foi utilizado?**

- Derivação Sufixal

- b) Derivação Prefixal
- c) Derivação Regressiva
- d) Derivação Imprópria
- e) Derivação Parassintética

**04. No terceiro período do décimo terceiro parágrafo, temos:**

- a) Uma oração
- b) Duas orações
- c) Três orações
- d) Quatro orações
- e) Cinco orações

**05. No último parágrafo do fragmento do conto “— Agora, só agora, sou cego que não vê”, a oração subordinada presente classifica-se corretamente como:**

- a) Oração Subordinada Adjetiva Restritiva
- b) Oração Subordinada Adverbial Causal
- c) Oração Subordinada Substantiva Subjetiva
- d) Oração Subordinada Adverbial Explicativa
- e) Oração Subordinada Adjetiva Explicativa

#### **RACIOCÍNIO LÓGICO**

**06. Os cinco filhos de Ana estavam discutindo a respeito da data de nascimento da mãe:**

- Almir disse que foi em janeiro, dia 14, sexta-feira.
- Vanderlei disse que foi em janeiro, dia 14, sábado.
- Tiago disse que foi em fevereiro, dia 15, sábado.
- Sandro disse que foi em janeiro, dia 15, sexta-feira.
- Renato disse que foi em fevereiro, dia 15, sexta-feira.

**Sabe-se que somente um dos filhos de Ana acertou corretamente sua data de nascimento e que os outros acertaram pelo menos um dos itens (dia, dia da semana e mês). Dessa forma, é correto afirmar que o filho de Ana que acertou a data de nascimento dela foi:**

- a) Renato
- b) Sandro
- c) Tiago
- d) Vanderlei
- e) Almir

**07. Considere a seguinte afirmativa: “Todo churrasqueiro gosta de picanha”. Em relação a essa proposição, é correto afirmar que:**

- a) Algum churrasqueiro não gosta de picanha.
- b) Toda pessoa que gosta de picanha é churrasqueira.
- c) Alguma pessoa que não gosta de picanha é churrasqueira.
- d) Toda pessoa que não é churrasqueira, não gosta de picanha.
- e) Toda pessoa que não gosta de picanha, não é churrasqueira.

**08. Em um grupo formado por 67 pessoas, verificou-se que 41 pessoas gostam de arroz, 29 gostam de feijão, 33 gostam de carne, 19 gostam de arroz e de feijão, 9 gostam apenas de arroz e de carne, 12 gostam de feijão e de carne e que 6 gostam de arroz, de feijão e de carne. O número de pessoas desse grupo, que não gosta de nenhum desses três tipos de alimentos é igual a:**

- a) 4
- b) 5
- c) 6
- d) 8
- e) 10

**09. Bruno escreveu, em seu caderno, várias sequências formadas por números múltiplos de 4, onde os valores que ocupavam as posições pares eram multiplicados por  $-1$ . Cada sequência foi somada e o resultado da soma anotado. A soma das três primeiras sequências escritas por Bruno foram as seguintes:**

$$4 - 8 = -4$$
$$4 - 8 + 12 = 8$$
$$4 - 8 + 12 - 16 = -8$$

**Considere que Bruno escreveu e somou tais sequências, em seu caderno, de modo a obter determinada sequência cuja soma foi 600. O número de termos dessa sequência é igual a:**

- a) 149
- b) 150
- c) 298

- d) 299  
e) 300

**10. Quatro torcedores, um do São Paulo, um do Cruzeiro, um do Vasco e um do Bahia, estão sentados ao redor de uma mesa quadrada, de modo que, dois a dois, fiquem frente a frente. Sabe-se que Alan é torcedor do Cruzeiro e que Bruno está sentado à direita de Alan. Sabe-se também que Caio está sentado à direita do torcedor do São Paulo. Sabe-se ainda que Daniel não é torcedor do Vasco e que está sentado à frente de Bruno. Dessa forma, é correto afirmar que:**

- a) Bruno é torcedor do Bahia e Daniel é torcedor do São Paulo.  
b) Bruno é torcedor do São Paulo e Daniel é torcedor do Bahia.  
c) Caio é torcedor do Vasco e Daniel é torcedor do São Paulo.  
d) Caio é torcedor do Bahia e Daniel é torcedor do São Paulo.  
e) Bruno é torcedor do Vasco e Daniel é torcedor do Bahia.

## INFORMÁTICA

**11. Considerando o MS-Excel versão 2010, observando a figura abaixo, é correto afirmar que:**

	A	B	C
1			
2			
3			
4			

- a) Somente 03 três linhas estão selecionadas.  
b) Somente uma célula está selecionada.  
c) 12 (doze) células estão selecionadas.  
d) Somente a coluna A até a linha 4 (quatro) está selecionada.  
e) Somente as colunas 1 (um), 2 (dois), 3 (três) e 4 (quatro) estão selecionadas.

**12. Considerando o MS-Excel versão 2010, observando a figura abaixo, é incorreto afirmar que:**

	A	B	C
1	12	6	=A1*B1
2	8	2	=A2/B2
3	5	14	=A3-B3
4	6	11	=A4+B4

- a) O resultado da fórmula =A1\*B1 é 72.  
b) O resultado da fórmula =A2/B2 é 4.  
c) O resultado da fórmula =A3-B3 é -9.  
d) O resultado da fórmula =A3-B3 é 9.  
e) O resultado da fórmula =A4+B4 é 17.

**13. Digitando um texto no MS-Word versão 2010, necessito adicionar número nas páginas. Quanto a isso, é correto afirmar que:**

- a) No menu Layout da Página, clico em número de página e seleciono onde desejo adicionar os números.  
b) No menu Inserir, clico em número de página e seleciono onde desejo adicionar os números.  
c) No menu Revisão, clico em número de página e seleciono onde desejo adicionar os números.  
d) No menu Referências, clico em número de página e seleciono onde desejo adicionar os números.  
e) No menu Exibição, clico em número de página e seleciono onde desejo adicionar os números.

**14. A segurança da informação está diretamente relacionada com proteção de um conjunto de informações, no sentido de preservar o valor que possuem para um indivíduo ou uma organização. Atualmente, um dos aplicativos mais utilizados no mundo, o Whats app, teve uma alteração de confidencialidade muito importante na segurança das informações transmitidas e recebidas. Dentre as alternativas, assinale a que corretamente informa a alteração inserida no aplicativo Whats app.**

- a) Antispam  
b) Antivirus  
c) Firewall  
d) Antispyware  
e) Criptografia



**15. São todos os dispositivos que trabalham acoplados ao microcomputador para receber, transmitir, visualizar, ler, gravar ou armazenarem dados. São eles que permitem a comunicação do computador com o meio exterior, isto é, com os usuários e outras máquinas.**

**Esse texto descreve corretamente:**

- a) Memória ram
- b) Memória virtual
- c) Software
- d) Periféricos
- e) Hardware

### CONHECIMENTOS GERAIS

#### 16. Hino do município de Telêmaco Borba/PR

Das virgens matas e campos verdejantes

Servindo-se também o rio Tibagi,

Homens de ideais, espíritos vibrantes.

Constituíram as indústrias aqui.

Estrilho:

Salve! Salve! Telêmaco Borba

Terra querida e de grandes primores,

A nossa homenagem rendamos

À cidade dos trabalhadores.

Pois a cadência de enorme e real progresso

Um município mui grandioso fez nascer,

Marcando assim, verdadeiro sucesso

Faz, então o Paraná engrandecer.

**No que tange ao Hino do município, atribua V (verdadeiro) ou F (falso) às afirmativas e marque a alternativa correta.**

Eloah Martins Quadrado é autora da letra do hino.

Bento Mossurunga compôs a música do hino.

Eloah Martins Quadrado foi nomeada primeira professora da Cidade Nova, atual Telêmaco Borba.

Bento Mossurunga fundou a orquestra Estudantil e Concertos – Orquestra Sinfônica da Universidade, a Sociedade de Cultura Artístico Basílio Itiberê.

a) F, V, V, V.

b) V, F, V, V.

c) V, V, F, V.

d) V, V, F, F.

e) V, V, V, V.

**17. À luz da Lei nº 1883/2012, que dispõe sobre o Estatuto dos Servidores Públicos da Administração Direta, Autárquica e Funcional do Município de Telêmaco Borba/PR, leia as alternativas e marque a correta.**

a) A apresentação para a posse ocorrerá no prazo de até trinta dias, contados do ato de nomeação.

b) A destituição do servidor da função gratificada dar-se-á por solicitação exclusiva dele mesmo.

c) O servidor ocupante exclusivamente de cargo em comissão será contribuinte do regime geral de previdência social.

d) A aprovação em concurso público gera o direito à nomeação, e será feita obedecida à ordem de classificação dos candidatos.

e) O exercício de função gratificada poderá ser de dedicação integral ou parcial, conforme necessidade da administração.

**Conforme a Lei nº 1.881, de 05 de abril de 2012, que dispõe sobre o Plano de Cargos, Carreiras e Vencimentos do quadro geral de servidores da Prefeitura Municipal de Telêmaco Borba/PR, regulamentada pelo Decreto nº 2269/2015, responda às próximas três questões.**

**18. Leia as assertivas e assinala a incorreta.**

a) Do resultado da avaliação de desempenho poderá ser interposto recurso à Comissão de Desenvolvimento Funcional no prazo de quinze dias a contar da publicação no Boletim Oficial do Município.

b) Não será concedida a progressão ou promoção ao servidor que estiver em licença para tratamento de saúde por um período superior a quarenta e cinco dias, no período de avaliação.

c) A alternância dos membros constituintes da Comissão de Desenvolvimento Funcional eleitos pelos servidores verificar-se-á a cada três anos de participação, observados, para substituição de seus participantes, o critério fixado no artigo anterior, não cabendo eleição sucessiva.

d) Caberá à Comissão de Desenvolvimento Funcional, no caso de divergência de vinte por cento entre a nota do avaliador e a do avaliado, solicitar nova avaliação à chefia.



e) Nos termos do disposto no art. 17 da Lei nº 1.881, de 05 de abril de 2012, para progredir, é necessário que o servidor satisfaça, dentre outros, o seguinte requisito: estar no efetivo exercício de seu cargo ou em função comissionada na sua área de atuação durante o interstício de dois anos.

**19. Assinale a alternativa que completa respectivamente as lacunas do texto a seguir:**

**A Comissão de Desenvolvimento Funcional será constituída por \_\_\_\_\_ membros, sendo \_\_\_\_\_ designados pelo Prefeito Municipal de Telêmaco Borba e os demais eleitos pelos servidores municipais dentre os estáveis, com a atribuição de coordenar os procedimentos relativos à avaliação periódica de desempenho e outras atribuições.**

- a) três / sete
- b) um / três
- c) sete / três
- d) três / cinco
- e) dois / cinco

**20. A Avaliação de Desempenho será norteadada, dentre outros, pelo seguinte princípio: Amplitude - a avaliação deve incidir sobre todas as áreas de atuação do servidor, que compreendem:**

- 1. a formulação de políticas administrativas e sua aplicação para todos os setores da administração municipal;**
- 2. o desempenho do profissional dentro de suas funções pertinentes;**
- 3. a estrutura do órgão em que exerce a função;**
- 4. os resultados de eficiência dos serviços de cada setor ou órgão da administração municipal;**
- 5. a participação direta do avaliado, durante todo o processo avaliativo.**

**Diante dessa afirmação, somente não está correto o item:**

- a) 1
- b) 2
- c) 3
- d) 4
- e) 5

#### **CONHECIMENTOS ESPECÍFICOS**

**21. À luz dos artigos 82, 83, 84, 85 e 86 da Lei nº 9.394, de 20 de dezembro de 1996, que estabelece as diretrizes e base da educação nacional, analise as alternativas e assinale a incorreta.**

- a) Os sistemas de ensino estabelecerão as normas de realização de estágio em sua jurisdição, observada a lei federal sobre a matéria.
- b) O ensino militar é regulado em lei específica, admitida a equivalência de estudos, de acordo com as normas fixadas pelos sistemas de ensino.
- c) Os discentes da educação superior poderão ser aproveitados em tarefas de ensino e pesquisa pelas respectivas instituições, exercendo funções de monitoria, de acordo com seu rendimento e seu plano de estudos.
- d) Qualquer cidadão habilitado com a titulação própria poderá exigir a abertura de concurso público de provas e títulos para cargo de docente de instituição pública de ensino que estiver sendo ocupado por professor não concursado, por mais de quatro anos, ressalvados os direitos assegurados pelos arts. 41 da Constituição Federal e 19 do Ato das Disposições Constitucionais Transitórias.
- e) As instituições de educação superior constituídas como universidades integrar-se-ão, também, na sua condição de instituições de pesquisa, ao Sistema Nacional de Ciência e Tecnologia, nos termos da legislação específica.

**22. Leia o texto a seguir e marque a alternativa que apresenta a afirmação correta.**

**A Lei nº 12.796, de 4 de abril de 2013, alterou a Lei nº 9.394, de 20 de dezembro de 1996, que estabelece as diretrizes e bases da educação nacional, para dispor sobre a formação dos profissionais da educação, e passou a vigorar com as seguintes alterações, dentre outras:**

- 1. A União prestará assistência pedagógica aos Estados, ao Distrito Federal e aos Municípios na elaboração de concursos públicos para provimento de cargos dos profissionais da educação.**
- 2. O poder público adotará, como alternativa obrigatória, a ampliação do atendimento aos educandos com deficiência, transtornos globais do desenvolvimento e altas habilidades ou superdotação na própria rede pública regular de ensino.**
- 3. O Ministério da Educação poderá estabelecer nota mínima em exame nacional aplicado aos concluintes do ensino médio como pré-requisito para o ingresso em cursos de graduação para formação de docentes, ouvido os Conselhos Estaduais de Educação.**
- 4. É dever dos pais ou responsáveis efetuar a matrícula das crianças na educação básica a partir dos quatro anos de idade.**

- a) É verdadeiro apenas o item 1.
- b) É verdadeiro apenas o item 3.
- c) É verdadeiro apenas o item 4.
- d) São verdadeiros apenas os itens 2 e 3.
- e) São verdadeiros os itens 1, 2, 3 e 4.

23. Atribua V (verdadeira) ou F (falsa) às seguintes assertivas e assinale a alternativa que as relaciona corretamente.

( ) Diretrizes Curriculares Nacionais Gerais para a Educação Básica por objetivos: sistematizar os princípios e diretrizes gerais da Educação Básica contidos na Constituição, na LDB e demais dispositivos legais, traduzindo-os em orientações que contribuam para assegurar a formação básica comum nacional, tendo como foco os sujeitos que dão vida ao currículo e à escola; estimular a reflexão crítica e propositiva que deve subsidiar a formulação, execução e avaliação do projeto político-pedagógico da escola de Educação Básica; orientar os cursos de formação inicial e continuada de profissionais – docentes, técnicos, funcionários – da Educação Básica, os sistemas educativos dos diferentes entes federados e as escolas que os integram, indistintamente da rede a que pertençam.

( ) As Diretrizes Curriculares Nacionais Gerais para a Educação Básica visam estabelecer bases comuns nacionais para a Educação Infantil, o Ensino Fundamental e o Ensino Médio, bem como para as modalidades com que podem se apresentar, a partir das quais os sistemas federal, estaduais, distrital e municipais, por suas competências próprias e complementares, formularão as suas orientações assegurando a integração curricular das três etapas sequentes desse nível da escolarização, essencialmente para compor um todo orgânico.

( ) As Diretrizes Curriculares Nacionais Gerais para a Educação Básica devem presidir as demais diretrizes curriculares específicas para as etapas e modalidades, contemplando o conceito de Educação Básica, princípios de organicidade, sequencialidade e articulação, relação entre as etapas e modalidades: articulação, integração e transição.

- a) F, V, V.
- b) V, F, V.
- c) V, V, F.
- d) F, F, V.
- e) V, V, V.

24. Podemos afirmar que, com base nas Diretrizes para o atendimento de educação escolar de crianças, adolescentes e jovens em situação de itinerância, não é correta a alternativa:

a) Os sistemas de ensino, por meio de seus estabelecimentos públicos ou privados de Educação Básica, deverão assegurar a matrícula de estudante em situação de itinerância sem a imposição de qualquer forma de embaraço, preconceito e/ou qualquer forma de discriminação, pois se trata de direito fundamental, mediante transferência.

b) As crianças, adolescentes e jovens em situação de itinerância deverão ter garantido o direito à matrícula em escola pública, gratuita, com qualidade social e que garanta a liberdade de consciência e de crença.

c) A instituição de ensino deverá realizar avaliação diagnóstica do desenvolvimento e da aprendizagem dos estudantes em situação de itinerância, mediante acompanhamento e supervisão adequados às suas necessidades de aprendizagem.

d) São considerados crianças, adolescentes e jovens em situação de itinerância aquelas pertencentes a grupos sociais que vivem em tal condição por motivos culturais, políticos, econômicos, de saúde, tais como ciganos, indígenas, povos nômades, trabalhadores itinerantes, acampados, circenses, artistas e/ou trabalhadores de parques de diversão, de teatro mambembe, dentre outros.

e) Caso o estudante itinerante não disponha, no ato da matrícula, de certificado, memorial e/ou relatório da instituição de educação anterior, este deverá ser inserido no grupamento correspondente aos seus pares de idade, mediante diagnóstico de suas necessidades de aprendizagem, realizado pela instituição de ensino que o recebe.

25. Leia os itens sobre as Diretrizes Curriculares Nacionais para a Educação Escolar Quilombola e marque a alternativa correta.

(i) O conceito de quilombo incorpora também as comunidades quilombolas que ocupam áreas urbanas, ultrapassando a ideia de que essas se restringem ao meio rural.

(ii) Entendidas como comunidades tradicionais, a construção da identidade e as diferentes formas de organização e luta (seja ela política, seja ela cotidiana) fazem parte da noção de pertencimento e laços grupais construídos pelos quilombolas.

(iii) A Política Nacional de Desenvolvimento Sustentável dos Povos Tradicionais, juntamente com a Convenção 169 da OIT, é documento importante e orientador das Diretrizes Curriculares Nacionais para a Educação Escolar Quilombola.

- a) É correto apenas o item (i).
- b) É correto apenas o item (ii).
- c) É correto apenas o item (iii).
- d) São corretos apenas os itens (ii) e (iii).
- e) São corretos os itens (i), (ii) e (iii).

26. O art. 8º da Resolução nº 1, de 17 de junho de 2004, estabelece que os sistemas de ensino promoverão ampla divulgação do Parecer CNE/CP 003/2004 e dessa Resolução, em atividades periódicas, com a participação das redes das escolas públicas e privadas, de exposição, avaliação e divulgação dos êxitos e

**dificuldades do ensino e aprendizagens de História e Cultura Afro-Brasileira e Africana e da Educação das Relações Étnico-Raciais. Os resultados obtidos com as atividades mencionadas no caput deste artigo serão comunicados de forma detalhada a quais dos seguintes órgãos, para que estes encaminhem providências, que forem requeridas?**

- I - ao Ministério da Educação;**
- II - à Secretaria Especial de Promoção da Igualdade Racial;**
- III- ao Conselho Nacional de Educação;**
- IV - aos respectivos Conselhos Estaduais e Municipais de Educação;**
- V - ao Conselho de Direitos Humanos.**

- a) I e II, somente.
- b) I, II e III, somente.
- c) III, IV e V, somente.
- d) I, II, III e IV, somente.
- e) I, II, III, IV e V.

**27. Assinale a alternativa que completa corretamente a lacuna do texto a seguir.**

**Conforme o § 1º do art. 22 da Resolução nº 2, de 15 de junho de 2012, que estabelece as Diretrizes Curriculares Nacionais para a Educação Ambiental, \_\_\_\_\_, propiciar às instituições educacionais meios para o estabelecimento de diálogo e parceria com a comunidade, visando à produção de conhecimentos sobre condições e alternativas socioambientais locais e regionais e à intervenção para a qualificação da vida e da convivência saudável.**

- a) os Sistemas de Ensino devem
- b) o Ministério de Educação deve
- c) os Conselhos Municipais de Educação devem
- d) a Associação de Pais e Mestres deve
- e) o Conselho Nacional de Educação deve

**28. Em conformidade com o disposto na Resolução nº 2, de 30 de janeiro 2012, que define as Diretrizes Curriculares Nacionais para o Ensino Médio, atribua C (certo) ou E (errado) aos itens e aponte a alternativa correta.**

**( ) O Ensino Médio é um direito social de cada pessoa, e dever do Estado na sua oferta pública e gratuita a todos.**

**( ) As unidades escolares que ministram esta etapa da Educação Básica devem estruturar seus projetos político-pedagógicos considerando as finalidades previstas na Lei de Diretrizes e Bases da Educação Nacional.**

**( ) O Ensino Médio em todas as suas formas de oferta e organização, baseia-se, dentre outros, em indissociabilidade entre educação e prática social, considerando-se a historicidade dos conhecimentos e dos sujeitos do processo educativo, bem como entre teoria e prática no processo de ensino-aprendizagem.**

**( ) A organização curricular do Ensino Médio tem uma base nacional comum e uma parte diversificada que devem constituir blocos distintos de modo a garantir tanto conhecimentos e saberes comuns necessários a todos os estudantes, quanto uma formação que considere a diversidade e as características locais e especificidades regionais.**

- a) C, C, C, C.
- b) C, C, C, E.
- c) E, C, C, C.
- d) C, E, C, C.
- e) C, C, E, C.

**29. À luz do art. 3º da Resolução nº 4, de 2 de outubro de 2009, que institui Diretrizes Operacionais para o Atendimento Educacional Especializado na Educação Básica, modalidade Educação Especial, marque a alternativa correta.**

- a) A Educação Especial se realiza em todos os níveis, etapas e modalidades de ensino, tendo o AEE como parte integrante do processo educacional.
- b) A Educação Especial se realiza nos níveis fundamental e médio de ensino, tendo o AEE como parte integrante do processo educacional.
- c) A Educação Especial se restringe à educação infantil e ao ensino fundamental, e nas etapas e modalidades de ensino, tendo o AEE como parte integrante do processo educacional.
- d) A Educação Especial se restringe ao ensino fundamental e superior, tendo o AEE como parte integrante do processo educacional.
- e) A Educação Especial não se realiza na modalidade de educação de jovens e adultos.

**30. A articulação entre a Educação Profissional Técnica de nível médio e o Ensino Médio se dará das seguintes formas:**

- I. integrada, no mesmo estabelecimento de ensino, contando com matrícula única para cada aluno;**

**II. concomitante, no mesmo estabelecimento de ensino ou em instituições de ensino distintas, aproveitando as oportunidades educacionais disponíveis, ou mediante convênio de intercomplementaridade;**

**III. subsequente, oferecida somente a quem já tenha concluído o Ensino Médio;**

**IV. nas modalidades presencial e a distância.**

**Conforme a Resolução nº 1, de 3 de fevereiro de 2005, que atualiza as Diretrizes Curriculares Nacionais definidas pelo Conselho Nacional de Educação para o Ensino Médio e para a Educação Profissional Técnica de nível médio, são verdadeiros apenas os itens:**

- a) I, III e IV.
- b) I e IV.
- c) I, II e III.
- d) I, II e IV.
- e) II, III e IV.

**31. As relações que os homens estabelecem entre si para produzir a cultura se dão em diversos níveis que não se excluem, mas se complementam e se interpenetram. Distinguímos isso em:**

- a) Relações de trabalho, políticas e culturais.
- b) Relações religiosas, amorosas e civis.
- c) Relações sexuais, fraternas e interiores.
- d) Relações exteriores, medíocres e efêmeras.
- e) Relações afadigadas, hiper-realistas e antissociais.

**32. O termo formação tem a ideia de instrução, criação, desenvolvimento, evolução. Para tal, um bom educador deve:**

- a) Identificar o que está correto ou errado na escola e cobrar os encarregados por isso.
- b) Mobilizar a comunidade escolar para reivindicar da direção a melhoria da qualidade educacional.
- c) Aprender, reaprender, trocar experiências, potencializar e aprimorar a prática docente o tempo todo.
- d) O professor deve ser apenas um instrumento onde os conceitos são transmitidos.
- e) Orientar o aluno na busca da sua individualidade social.

**33. A gestão pedagógica nada mais é do que a organização e o planejamento do sistema educacional. O gestor tem que ser o canal para os educadores estabelecerem a aprendizagem promovendo a educação como um todo, observando o currículo escolar, a metodologia de ensino e incentivando eventuais mudanças quando necessárias.**

**Nesse sentido, analise as seguintes afirmações a respeito de um bom gestor:**

**I- Tem que ser transparente e coerente nas ações;**

**II- Tem que ter credibilidade na comunidade, ser conhecedor da realidade da escola;**

**III- Precisa ter pré-disposição para o trabalho coletivo, ser articulador, mediador e líder;**

**IV- Não deve ter espírito solidário e ético, nem firmeza e propósito para realização das ações.**

**Assinale a alternativa correta:**

- a) Apenas I e II estão corretas.
- b) Apenas II e III estão corretas.
- c) Apenas I, III e IV estão corretas.
- d) Apenas I, II e III estão corretas.
- e) Apenas II, III e IV estão corretas.

**34. O Projeto Político-Pedagógico é uma reflexão do cotidiano escolar. Assim, ele precisa de um tempo razoável de reflexão/ação, com o intuito de se ter um mínimo necessário à consolidação de sua proposta.**

**Assinale a única alternativa incorreta sobre o que é contemplado num Projeto Político-Pedagógico:**

- a) Princípio de igualdade de condições para o acesso e permanência na escola.
- b) Propiciar uma qualidade educacional para todos.
- c) A escola tem que ser um organismo mais social e acolhedor; ter participação coletiva, reciprocidade e solidariedade.
- d) Os profissionais devem lutar para uma melhor qualidade do local de trabalho e direito de formação continuada de seus estudos.
- e) A avaliação escolar deve ser vista como um simples ato de aplicar provas.

**35. “Não se descarta que a indisciplina escolar, além de gerar vários problemas à escola, prejudica o meio social e a vida particular do indivíduo. A agressividade e a indisciplina nas crianças e adolescentes estão inseridas dentro e fora da sala de aula, sendo hoje, um grande desafio aos professores conviverem com tais situações.”**

**Com relação à indisciplina escolar, assinale a alternativa incorreta:**

- a) É um fenômeno típico da adolescência e está caracterizada pelo questionamento a valores impingidos do mundo adulto.
- b) Isto teria ocorrido pela cultura da comunidade escolar e do seu entorno.





- c) É uma manifestação de agressividade dirigida contra as figuras de autoridade, agressividade gerada, muitas vezes, pela desestruturação do ambiente familiar.
- d) Resulta de más influências a que as novas gerações foram expostas (o excesso de televisão, de internet, celular, drogas, etc).
- e) As crianças de hoje em dia não têm limites, não reconhecem a autoridade, não respeitam as regras, e a responsabilidade, por isso, é dos pais, que teriam se tornado muito permissivos.

**36. “O currículo é a organização do conhecimento escolar. É uma construção social do conhecimento pressupondo a sistematização dos meios que tal construção se efetive; a transmissão dos conhecimentos historicamente produzidos e as formas de assimilá-los, portanto, produção, transmissão e assimilação são processos que compõem uma metodologia de construção coletiva do conhecimento escolar, ou seja, o currículo propriamente dito.”**

**Reflita:**

- I- Um currículo nunca é estático, ele foi, continua e sempre será construído.**
- II- Cada disciplina é ensinada separadamente e as que são consideradas de maior importância em detrimento de outras recebem mais tempo para serem explanadas no contexto escolar.**
- III- A organização do currículo deve procurar viabilizar uma maior interdisciplinaridade, contextualização e transdisciplinaridade, assegurando a livre comunicação entre todas as áreas.**
- IV- O currículo nunca é um plano estruturado de aprendizagem centrado nos conteúdos ou nos alunos; nos objetivos previamente formulados, com vista a um dado resultado.**

**Assinale a alternativa que contém a afirmação correta:**

- a) Apenas as assertivas I, II e III estão corretas.
- b) Apenas as assertivas II e III estão corretas.
- c) Apenas as assertivas I, II e IV estão corretas.
- d) Apenas as assertivas II, III e IV estão corretas.
- e) Apenas as assertivas I, III e IV estão corretas.

**37. “O processo de ensino-aprendizagem no sistema educacional tradicional pode ser entendido através de três direções “professor, aluno e conteúdo”. As relações entre estes elementos implicam em ações didático-pedagógicas diferenciadas e influenciadas pelo contexto histórico e social ao qual os elementos estão inseridos.”**

**Sobre esse assunto, assinale a alternativa incorreta:**

- a) O elemento “aluno” refere-se ao aprendiz, aquele que aprende.
- b) O saber será o conteúdo, o que vai ser aprendido pelo aluno.
- c) O saber/contéudo deve variar segundo o aluno/aprendiz, seu desenvolvimento e habilidades.
- d) É muito importante o papel do mediador, de saber como apresentar o conteúdo para que ele faça sentido para o aprendiz.
- e) No processo de aprendizagem, o aluno nunca assume um lugar de importância, pois não é para ele as estratégias pedagógicas.

**38. Sem uma adequada formação, os professores não têm como colaborar de forma efetiva para o desenvolvimento de uma escolarização que supere o fracasso visível nos resultados das avaliações que mantém a aprendizagem dos alunos com médias insuficientes, nos altos índices de evasão e reprovação.**

**Assinale a alternativa correta, de acordo com as informações dadas pelo fragmento:**

- a) A formação de professores no Brasil não necessita de investimentos.
- b) Há necessidade de programas de formação continuada que visem proporcionar uma melhoria na formação dos professores.
- c) As políticas governamentais contemplam a carreira e a profissionalização dos professores nas condições desejáveis.
- d) A formação de professores nunca deve considerá-los como sujeitos da prática social e portadores de um papel político que os impeça de considerar suas práticas como neutras.
- e) O professor a ser formado não depende do contexto histórico-social em que se encontra, das relações sociais existentes, do posicionamento do sistema produtivo, para assim articular no seu fazer pedagógico, as dimensões do “o que ensinar”, do “como ensinar”, do “para que ensinar, do “para quem ensinar”.

**39. Leia o texto a seguir e assinale a alternativa correta.**

**A educação básica, nos níveis fundamental e médio, será organizada de acordo com a verificação do rendimento escolar, observando os seguintes critérios:**

- I- Avaliação contínua e cumulativa do desempenho do aluno com prevalência dos aspectos qualitativos sobre os quantitativos e dos resultados ao longo do período sobre os das eventuais provas finais.**
- II - Possibilidade de aceleração de estudo para alunos com atraso escolar.**
- III - Possibilidade de avanço nos cursos e nas séries mediante verificação do aprendizado.**
- IV- Aproveitamento de estudos concluídos com êxito.**
- V- Obrigatoriedade de estudos de recuperação, de preferência paralelos ao período letivo, para os casos de baixo rendimento escolar, a serem disciplinados pelas instituições de ensino em seus seguimentos.**





- a) Apenas os critérios I, II, III e V estão corretos.
- b) Apenas os critérios I, III, e IV estão corretos.
- c) Apenas os critérios III, IV e V estão corretos.
- d) Apenas os critérios II, IV e V estão corretos.
- e) Todos os critérios estão corretos.

**40. A educação em Direitos Humanos, com a finalidade de promover a educação para a mudança e a transformação social, fundamenta-se nos seguintes princípios:**

**I- Dignidade humana e desigualdade de direitos;**

**II- Reconhecimento e valorização das diferenças e das diversidades;**

**III- Transversalidade, vivência e globalidade;**

**IV- Sustentabilidade socioambiental.**

**São corretos apenas os itens:**

- a) I, II e III.
- b) I, III e IV.
- c) II, III e IV.
- d) I e IV.
- e) I e II.

**RASCUNHO**



PREFEITURA DE TELÊMACO BORBA - ESTADO DO PARANÁ- **EDITAL Nº 001-2016 - CONCURSO PÚBLICO**

**VESPERTINO – 29/05/2016 – NÍVEL SUPERIOR**

**2**

**PROVA OBJETIVA NÚMERO**

**CARGO: TMNS I - PEDAGOGIA**

**Leia atentamente as INSTRUÇÕES:**

1. Confira seus dados no cartão-resposta: nome, número de inscrição e o curso para o qual se inscreveu.
2. **MARQUE no seu cartão-resposta o número da sua prova** (não será corrigido o cartão-resposta que não tiver marcado o número da prova) e **Assine** seu cartão-resposta.
3. Aguarde a autorização do Fiscal para abrir o caderno de prova. Ao receber a ordem do fiscal, confira o caderno de prova com muita atenção. Nenhuma reclamação sobre o total de questões ou falha de impressão será aceita depois de iniciada a prova.
4. O cartão-resposta não será substituído, salvo se contiver erro de impressão.
5. Preencha toda a área do cartão-resposta correspondente à alternativa de sua escolha, com caneta esferográfica (tinta azul ou preta), sem ultrapassar as bordas. As marcações duplas, ou rasuradas, com corretivo, ou marcadas diferentemente do modelo estabelecido no cartão-resposta poderão ser anuladas.
6. Sua prova tem **40** questões, com **5** alternativas.
7. Cabe apenas ao candidato a interpretação das questões, **o fiscal** não poderá fazer nenhuma interferência.
8. A prova será realizada com duração máxima de **3 (três) horas**, incluído o tempo para a realização da Prova Objetiva de múltipla escolha e o preenchimento do cartão-resposta.
9. O candidato poderá retirar-se do local de realização das provas somente **1 (uma) hora** após o seu início, sem levar o caderno de prova.
10. O candidato poderá levar o caderno de provas, assim como anotação contendo transcrição do seu cartão-resposta, somente **1h30min** (uma hora e trinta minutos) após o início da realização da prova.
11. Ao terminar a prova, o candidato deverá entregar ao fiscal de sala o cartão-resposta preenchido e **ASSINADO**.
12. Os **3 (três)** candidatos, que terminarem a prova por último, deverão permanecer na sala, e só poderão sair juntos após o fechamento do envelope, contendo os cartões-resposta dos candidatos presentes e ausentes, e assinarem no lacre do referido envelope, atestando que este foi devidamente lacrado.
13. Durante todo o tempo em que permanecer no local onde está ocorrendo o concurso, o candidato deverá, manter o celular desligado e sem bateria, só sendo permitido ligar depois de ultrapassar o portão de saída do prédio.
14. Não será permitido ao candidato fumar na sala de provas, bem como nas dependências.
15. Depois de terminar a prova e entregar ao fiscal o cartão-resposta, preenchido e assinado, não será mais permitido ao candidato o uso do banheiro e bebedouro.

**BOA PROVA!**

**RACIOCÍNIO LÓGICO**

**01. Os cinco filhos de Ana estavam discutindo a respeito da data de nascimento da mãe:**

- Almir disse que foi em janeiro, dia 14, sexta-feira.
- Vanderlei disse que foi em janeiro, dia 14, sábado.
- Tiago disse que foi em fevereiro, dia 15, sábado.
- Sandro disse que foi em janeiro, dia 15, sexta-feira.
- Renato disse que foi em fevereiro, dia 15, sexta-feira.

**Sabe-se que somente um dos filhos de Ana acertou corretamente sua data de nascimento e que os outros acertaram pelo menos um dos itens (dia, dia da semana e mês). Dessa forma, é correto afirmar que o filho de Ana que acertou a data de nascimento dela foi:**

- a) Renato
- b) Sandro
- c) Tiago
- d) Vanderlei
- e) Almir

**02. Considere a seguinte afirmativa: “Todo churrasqueiro gosta de picanha”. Em relação a essa proposição, é correto afirmar que:**

- a) Algum churrasqueiro não gosta de picanha.
- b) Toda pessoa que gosta de picanha é churrasqueira.
- c) Alguma pessoa que não gosta de picanha é churrasqueira.
- d) Toda pessoa que não é churrasqueira, não gosta de picanha.
- e) Toda pessoa que não gosta de picanha, não é churrasqueira.

**03. Em um grupo formado por 67 pessoas, verificou-se que 41 pessoas gostam de arroz, 29 gostam de feijão, 33 gostam de carne, 19 gostam de arroz e de feijão, 9 gostam apenas de arroz e de carne, 12 gostam de feijão e de carne e que 6 gostam de arroz, de feijão e de carne. O número de pessoas desse grupo, que não gosta de nenhum desses três tipos de alimentos é igual a:**

- a) 4
- b) 5
- c) 6
- d) 8
- e) 10

**04. Bruno escreveu, em seu caderno, várias sequências formadas por números múltiplos de 4, onde os valores que ocupavam as posições pares eram multiplicados por  $-1$ . Cada sequência foi somada e o resultado da soma anotado. A soma das três primeiras sequências escritas por Bruno foram as seguintes:**

$$4 - 8 = -4$$
$$4 - 8 + 12 = 8$$
$$4 - 8 + 12 - 16 = -8$$

**Considere que Bruno escreveu e somou tais sequências, em seu caderno, de modo a obter determinada sequência cuja soma foi 600. O número de termos dessa sequência é igual a:**

- a) 149
- b) 150
- c) 298
- d) 299
- e) 300

**05. Quatro torcedores, um do São Paulo, um do Cruzeiro, um do Vasco e um do Bahia, estão sentados ao redor de uma mesa quadrada, de modo que, dois a dois, fiquem frente a frente. Sabe-se que Alan é torcedor do Cruzeiro e que Bruno está sentado à direita de Alan. Sabe-se também que Caio está sentado à direita do torcedor do São Paulo. Sabe-se ainda que Daniel não é torcedor do Vasco e que está sentado à frente de Bruno. Dessa forma, é correto afirmar que:**

- a) Bruno é torcedor do Bahia e Daniel é torcedor do São Paulo.
- b) Bruno é torcedor do São Paulo e Daniel é torcedor do Bahia.
- c) Caio é torcedor do Vasco e Daniel é torcedor do São Paulo.
- d) Caio é torcedor do Bahia e Daniel é torcedor do São Paulo.
- e) Bruno é torcedor do Vasco e Daniel é torcedor do Bahia.

**INFORMÁTICA**

06. Considerando o MS-Excel versão 2010, observando a figura abaixo, é correto afirmar que:

	A	B	C
1			
2			
3			
4			

- Somente 03 três linhas estão selecionadas.
- Somente uma célula está selecionada.
- 12 (doze) células estão selecionadas.
- Somente a coluna A até a linha 4 (quatro) está selecionada.
- Somente as colunas 1 (um), 2 (dois), 3 (três) e 4 (quatro) estão selecionadas.

07. Considerando o MS-Excel versão 2010, observando a figura abaixo, é incorreto afirmar que:

	A	B	C
1	12	6	=A1*B1
2	8	2	=A2/B2
3	5	14	=A3-B3
4	6	11	=A4+B4

- O resultado da fórmula =A1\*B1 é 72.
- O resultado da fórmula =A2/B2 é 4.
- O resultado da fórmula =A3-B3 é -9.
- O resultado da fórmula =A3-B3 é 9.
- O resultado da fórmula =A4+B4 é 17.

08. Digitando um texto no MS-Word versão 2010, necessito adicionar número nas páginas. Quanto a isso, é correto afirmar que:

- No menu Layout da Página, clico em número de página e seleciono onde desejo adicionar os números.
- No menu Inserir, clico em número de página e seleciono onde desejo adicionar os números.
- No menu Revisão, clico em número de página e seleciono onde desejo adicionar os números.
- No menu Referências, clico em número de página e seleciono onde desejo adicionar os números.
- No menu Exibição, clico em número de página e seleciono onde desejo adicionar os números.

09. A segurança da informação está diretamente relacionada com proteção de um conjunto de informações, no sentido de preservar o valor que possuem para um indivíduo ou uma organização. Atualmente, um dos aplicativos mais utilizados no mundo, o Whats app, teve uma alteração de confidencialidade muito importante na segurança das informações transmitidas e recebidas. Dentre as alternativas, assinale a que corretamente informa a alteração inserida no aplicativo Whats app.

- Antispam
- Antivirus
- Firewall
- Antispyware
- Criptografia

10. São todos os dispositivos que trabalham acoplados ao microcomputador para receber, transmitir, visualizar, ler, gravar ou armazenarem dados. São eles que permitem a comunicação do computador com o meio exterior, isto é, com os usuários e outras máquinas.

Esse texto descreve corretamente:

- Memória ram
- Memória virtual
- Software
- Periféricos
- Hardware

**CONHECIMENTOS GERAIS**

11. Hino do município de Telêmaco Borba/PR

Das virgens matas e campos verdejantes  
 Servindo-se também o rio Tibagi,



Homens de ideais, espíritos vibrantes.

Constituíram as indústrias aqui.

Estrilho:

Salve! Salve! Telêmaco Borba

Terra querida e de grandes primores,

A nossa homenagem rendamos

À cidade dos trabalhadores.

Pois a cadência de enorme e real progresso

Um município mui grandioso fez nascer,

Marcando assim, verdadeiro sucesso

Faz, então o Paraná engrandecer.

**No que tange ao Hino do município, atribua V (verdadeiro) ou F (falso) às afirmativas e marque a alternativa correta.**

( ) Eloah Martins Quadrado é autora da letra do hino.

( ) Bento Mossurunga compôs a música do hino.

( ) Eloah Martins Quadrado foi nomeada primeira professora da Cidade Nova, atual Telêmaco Borba.

( ) Bento Mossurunga fundou a orquestra Estudantil e Concertos – Orquestra Sinfônica da Universidade, a Sociedade de Cultura Artístico Basilio Itiberê.

a) F, V, V, V.

b) V, F, V, V.

c) V, V, F, V.

d) V, V, F, F.

e) V, V, V, V.

**12. À luz da Lei nº 1883/2012, que dispõe sobre o Estatuto dos Servidores Públicos da Administração Direta, Autárquica e Funcional do Município de Telêmaco Borba/PR, leia as alternativas e marque a correta.**

a) A apresentação para a posse ocorrerá no prazo de até trinta dias, contados do ato de nomeação.

b) A destituição do servidor da função gratificada dar-se-á por solicitação exclusiva dele mesmo.

c) O servidor ocupante exclusivamente de cargo em comissão será contribuinte do regime geral de previdência social.

d) A aprovação em concurso público gera o direito à nomeação, e será feita obedecida à ordem de classificação dos candidatos.

e) O exercício de função gratificada poderá ser de dedicação integral ou parcial, conforme necessidade da administração.

**Conforme a Lei nº 1.881, de 05 de abril de 2012, que dispõe sobre o Plano de Cargos, Carreiras e Vencimentos do quadro geral de servidores da Prefeitura Municipal de Telêmaco Borba/PR, regulamentada pelo Decreto nº 2269/2015, responda às próximas três questões.**

**13. Leia as assertivas e assinala a incorreta.**

a) Do resultado da avaliação de desempenho poderá ser interposto recurso à Comissão de Desenvolvimento Funcional no prazo de quinze dias a contar da publicação no Boletim Oficial do Município.

b) Não será concedida a progressão ou promoção ao servidor que estiver em licença para tratamento de saúde por um período superior a quarenta e cinco dias, no período de avaliação.

c) A alternância dos membros constituintes da Comissão de Desenvolvimento Funcional eleitos pelos servidores verificar-se-á a cada três anos de participação, observados, para substituição de seus participantes, o critério fixado no artigo anterior, não cabendo eleição sucessiva.

d) Caberá à Comissão de Desenvolvimento Funcional, no caso de divergência de vinte por cento entre a nota do avaliador e a do avaliado, solicitar nova avaliação à chefia.

e) Nos termos do disposto no art. 17 da Lei nº 1.881, de 05 de abril de 2012, para progredir, é necessário que o servidor satisfaça, dentre outros, o seguinte requisito: estar no efetivo exercício de seu cargo ou em função comissionada na sua área de atuação durante o interstício de dois anos.

**14. Assinale a alternativa que completa respectivamente as lacunas do texto a seguir:**

**A Comissão de Desenvolvimento Funcional será constituída por \_\_\_\_\_ membros, sendo \_\_\_\_\_ designados pelo Prefeito Municipal de Telêmaco Borba e os demais eleitos pelos servidores municipais dentre os estáveis, com a atribuição de coordenar os procedimentos relativos à avaliação periódica de desempenho e outras atribuições.**

a) três / sete

b) um / três

c) sete / três

d) três / cinco

e) dois / cinco

**15. A Avaliação de Desempenho será norteadada, dentre outros, pelo seguinte princípio: Amplitude - a avaliação deve incidir sobre todas as áreas de atuação do servidor, que compreendem:**

- 1. a formulação de políticas administrativas e sua aplicação para todos os setores da administração municipal;**
- 2. o desempenho do profissional dentro de suas funções pertinentes;**
- 3. a estrutura do órgão em que exerce a função;**
- 4. os resultados de eficiência dos serviços de cada setor ou órgão da administração municipal;**
- 5. a participação direta do avaliado, durante todo o processo avaliativo.**

**Diante dessa afirmação, somente não está correto o item:**

- a) 1
- b) 2
- c) 3
- d) 4
- e) 5

### **CONHECIMENTOS ESPECÍFICOS**

**16. À luz dos artigos 82, 83, 84, 85 e 86 da Lei nº 9.394, de 20 de dezembro de 1996, que estabelece as diretrizes e base da educação nacional, analise as alternativas e assinale a incorreta.**

- a) Os sistemas de ensino estabelecerão as normas de realização de estágio em sua jurisdição, observada a lei federal sobre a matéria.
- b) O ensino militar é regulado em lei específica, admitida a equivalência de estudos, de acordo com as normas fixadas pelos sistemas de ensino.
- c) Os discentes da educação superior poderão ser aproveitados em tarefas de ensino e pesquisa pelas respectivas instituições, exercendo funções de monitoria, de acordo com seu rendimento e seu plano de estudos.
- d) Qualquer cidadão habilitado com a titulação própria poderá exigir a abertura de concurso público de provas e títulos para cargo de docente de instituição pública de ensino que estiver sendo ocupado por professor não concursado, por mais de quatro anos, ressalvados os direitos assegurados pelos arts. 41 da Constituição Federal e 19 do Ato das Disposições Constitucionais Transitórias.
- e) As instituições de educação superior constituídas como universidades integrar-se-ão, também, na sua condição de instituições de pesquisa, ao Sistema Nacional de Ciência e Tecnologia, nos termos da legislação específica.

**17. Leia o texto a seguir e marque a alternativa que apresenta a afirmação correta.**

**A Lei nº 12.796, de 4 de abril de 2013, alterou a Lei nº 9.394, de 20 de dezembro de 1996, que estabelece as diretrizes e bases da educação nacional, para dispor sobre a formação dos profissionais da educação, e passou a vigorar com as seguintes alterações, dentre outras:**

- 1. A União prestará assistência pedagógica aos Estados, ao Distrito Federal e aos Municípios na elaboração de concursos públicos para provimento de cargos dos profissionais da educação.**
- 2. O poder público adotará, como alternativa obrigatória, a ampliação do atendimento aos educandos com deficiência, transtornos globais do desenvolvimento e altas habilidades ou superdotação na própria rede pública regular de ensino.**
- 3. O Ministério da Educação poderá estabelecer nota mínima em exame nacional aplicado aos concluintes do ensino médio como pré-requisito para o ingresso em cursos de graduação para formação de docentes, ouvido os Conselhos Estaduais de Educação.**
- 4. É dever dos pais ou responsáveis efetuar a matrícula das crianças na educação básica a partir dos quatro anos de idade.**

- a) É verdadeiro apenas o item 1.
- b) É verdadeiro apenas o item 3.
- c) É verdadeiro apenas o item 4.
- d) São verdadeiros apenas os itens 2 e 3.
- e) São verdadeiros os itens 1, 2, 3 e 4.

**18. Atribua V (verdadeira) ou F (falsa) às seguintes assertivas e assinale a alternativa que as relaciona corretamente.**

**( ) Diretrizes Curriculares Nacionais Gerais para a Educação Básica por objetivos: sistematizar os princípios e diretrizes gerais da Educação Básica contidos na Constituição, na LDB e demais dispositivos legais, traduzindo-os em orientações que contribuam para assegurar a formação básica comum nacional, tendo como foco os sujeitos que dão vida ao currículo e à escola; estimular a reflexão crítica e propositiva que deve subsidiar a formulação, execução e avaliação do projeto político-pedagógico da escola de Educação Básica; orientar os cursos de formação inicial e continuada de profissionais – docentes, técnicos, funcionários – da Educação Básica, os sistemas educativos dos diferentes entes federados e as escolas que os integram, indistintamente da rede a que pertençam.**

**( ) As Diretrizes Curriculares Nacionais Gerais para a Educação Básica visam estabelecer bases comuns nacionais para a Educação Infantil, o Ensino Fundamental e o Ensino Médio, bem como para as modalidades com que podem se apresentar, a partir das quais os sistemas federal, estaduais, distrital e municipais, por suas competências próprias e complementares, formularão as suas orientações**



assegurando a integração curricular das três etapas seguintes desse nível da escolarização, essencialmente para compor um todo orgânico.

( ) As Diretrizes Curriculares Nacionais Gerais para a Educação Básica devem presidir as demais diretrizes curriculares específicas para as etapas e modalidades, contemplando o conceito de Educação Básica, princípios de organicidade, sequencialidade e articulação, relação entre as etapas e modalidades: articulação, integração e transição.

- a) F, V, V.
- b) V, F, V.
- c) V, V, F.
- d) F, F, V.
- e) V, V, V.

**19. Podemos afirmar que, com base nas Diretrizes para o atendimento de educação escolar de crianças, adolescentes e jovens em situação de itinerância, não é correta a alternativa:**

- a) Os sistemas de ensino, por meio de seus estabelecimentos públicos ou privados de Educação Básica, deverão assegurar a matrícula de estudante em situação de itinerância sem a imposição de qualquer forma de embaraço, preconceito e/ou qualquer forma de discriminação, pois se trata de direito fundamental, mediante transferência.
- b) As crianças, adolescentes e jovens em situação de itinerância deverão ter garantido o direito à matrícula em escola pública, gratuita, com qualidade social e que garanta a liberdade de consciência e de crença.
- c) A instituição de ensino deverá realizar avaliação diagnóstica do desenvolvimento e da aprendizagem dos estudantes em situação de itinerância, mediante acompanhamento e supervisão adequados às suas necessidades de aprendizagem.
- d) São considerados crianças, adolescentes e jovens em situação de itinerância aquelas pertencentes a grupos sociais que vivem em tal condição por motivos culturais, políticos, econômicos, de saúde, tais como ciganos, indígenas, povos nômades, trabalhadores itinerantes, acampados, circenses, artistas e/ou trabalhadores de parques de diversão, de teatro mambembe, dentre outros.
- e) Caso o estudante itinerante não disponha, no ato da matrícula, de certificado, memorial e/ou relatório da instituição de educação anterior, este deverá ser inserido no grupamento correspondente aos seus pares de idade, mediante diagnóstico de suas necessidades de aprendizagem, realizado pela instituição de ensino que o recebe.

**20. Leia os itens sobre as Diretrizes Curriculares Nacionais para a Educação Escolar Quilombola e marque a alternativa correta.**

- (i) O conceito de quilombo incorpora também as comunidades quilombolas que ocupam áreas urbanas, ultrapassando a ideia de que essas se restringem ao meio rural.
  - (ii) Entendidas como comunidades tradicionais, a construção da identidade e as diferentes formas de organização e luta (seja ela política, seja ela cotidiana) fazem parte da noção de pertencimento e laços grupais construídos pelos quilombolas.
  - (iii) A Política Nacional de Desenvolvimento Sustentável dos Povos Tradicionais, juntamente com a Convenção 169 da OIT, é documento importante e orientador das Diretrizes Curriculares Nacionais para a Educação Escolar Quilombola.
- a) É correto apenas o item (i).
  - b) É correto apenas o item (ii).
  - c) É correto apenas o item (iii).
  - d) São corretos apenas os itens (ii) e (iii).
  - e) São corretos os itens (i), (ii) e (iii).

**21. O art. 8º da Resolução nº 1, de 17 de junho de 2004, estabelece que os sistemas de ensino promoverão ampla divulgação do Parecer CNE/CP 003/2004 e dessa Resolução, em atividades periódicas, com a participação das redes das escolas públicas e privadas, de exposição, avaliação e divulgação dos êxitos e dificuldades do ensino e aprendizagens de História e Cultura Afro-Brasileira e Africana e da Educação das Relações Étnico-Raciais. Os resultados obtidos com as atividades mencionadas no caput deste artigo serão comunicados de forma detalhada a quais dos seguintes órgãos, para que estes encaminhem providências, que forem requeridas?**

- I - ao Ministério da Educação;
- II - à Secretaria Especial de Promoção da Igualdade Racial;
- III - ao Conselho Nacional de Educação;
- IV - aos respectivos Conselhos Estaduais e Municipais de Educação;
- V - ao Conselho de Direitos Humanos.

- a) I e II, somente.
- b) I, II e III, somente.
- c) III, IV e V, somente.
- d) I, II, III e IV, somente.
- e) I, II, III, IV e V.



**22. Assinale a alternativa que completa corretamente a lacuna do texto a seguir.**

Conforme o § 1º do art. 22 da Resolução nº 2, de 15 de junho de 2012, que estabelece as Diretrizes Curriculares Nacionais para a Educação Ambiental, \_\_\_\_\_, propiciar às instituições educacionais meios para o estabelecimento de diálogo e parceria com a comunidade, visando à produção de conhecimentos sobre condições e alternativas socioambientais locais e regionais e à intervenção para a qualificação da vida e da convivência saudável.

- a) os Sistemas de Ensino devem
- b) o Ministério de Educação deve
- c) os Conselhos Municipais de Educação devem
- d) a Associação de Pais e Mestres deve
- e) o Conselho Nacional de Educação deve

**23. Em conformidade com o disposto na Resolução nº 2, de 30 de janeiro 2012, que define as Diretrizes Curriculares Nacionais para o Ensino Médio, atribua C (certo) ou E (errado) aos itens e aponte a alternativa correta.**

( ) O Ensino Médio é um direito social de cada pessoa, e dever do Estado na sua oferta pública e gratuita a todos.

( ) As unidades escolares que ministram esta etapa da Educação Básica devem estruturar seus projetos político-pedagógicos considerando as finalidades previstas na Lei de Diretrizes e Bases da Educação Nacional.

( ) O Ensino Médio em todas as suas formas de oferta e organização, baseia-se, dentre outros, em indissociabilidade entre educação e prática social, considerando-se a historicidade dos conhecimentos e dos sujeitos do processo educativo, bem como entre teoria e prática no processo de ensino-aprendizagem.

( ) A organização curricular do Ensino Médio tem uma base nacional comum e uma parte diversificada que devem constituir blocos distintos de modo a garantir tanto conhecimentos e saberes comuns necessários a todos os estudantes, quanto uma formação que considere a diversidade e as características locais e especificidades regionais.

- a) C, C, C, C.
- b) C, C, C, E.
- c) E, C, C, C.
- d) C, E, C, C.
- e) C, C, E, C.

**24. À luz do art. 3º da Resolução nº 4, de 2 de outubro de 2009, que institui Diretrizes Operacionais para o Atendimento Educacional Especializado na Educação Básica, modalidade Educação Especial, marque a alternativa correta.**

- a) A Educação Especial se realiza em todos os níveis, etapas e modalidades de ensino, tendo o AEE como parte integrante do processo educacional.
- b) A Educação Especial se realiza nos níveis fundamental e médio de ensino, tendo o AEE como parte integrante do processo educacional.
- c) A Educação Especial se restringe à educação infantil e ao ensino fundamental, e nas etapas e modalidades de ensino, tendo o AEE como parte integrante do processo educacional.
- d) A Educação Especial se restringe ao ensino fundamental e superior, tendo o AEE como parte integrante do processo educacional.
- e) A Educação Especial não se realiza na modalidade de educação de jovens e adultos.

**25. A articulação entre a Educação Profissional Técnica de nível médio e o Ensino Médio se dará das seguintes formas:**

- I. integrada, no mesmo estabelecimento de ensino, contando com matrícula única para cada aluno;
- II. concomitante, no mesmo estabelecimento de ensino ou em instituições de ensino distintas, aproveitando as oportunidades educacionais disponíveis, ou mediante convênio de intercomplementaridade;
- III. subsequente, oferecida somente a quem já tenha concluído o Ensino Médio;
- IV. nas modalidades presencial e a distância.

Conforme a Resolução nº 1, de 3 de fevereiro de 2005, que atualiza as Diretrizes Curriculares Nacionais definidas pelo Conselho Nacional de Educação para o Ensino Médio e para a Educação Profissional Técnica de nível médio, são verdadeiros apenas os itens:

- a) I, III e IV.
- b) I e IV.
- c) I, II e III.
- d) I, II e IV.
- e) II, III e IV.

**26. As relações que os homens estabelecem entre si para produzir a cultura se dão em diversos níveis que não se excluem, mas se complementam e se interpenetram. Distinguímos isso em:**

- a) Relações de trabalho, políticas e culturais.
- b) Relações religiosas, amorosas e civis.
- c) Relações sexuais, fraternas e interiores.
- d) Relações exteriores, medíocres e efêmeras.
- e) Relações afadigadas, hiper-realistas e antissociais.

**27. O termo formação tem a ideia de instrução, criação, desenvolvimento, evolução. Para tal, um bom educador deve:**

- a) Identificar o que está correto ou errado na escola e cobrar os encarregados por isso.
- b) Mobilizar a comunidade escolar para reivindicar da direção a melhoria da qualidade educacional.
- c) Aprender, reaprender, trocar experiências, potencializar e aprimorar a prática docente o tempo todo.
- d) O professor deve ser apenas um instrumento onde os conceitos são transmitidos.
- e) Orientar o aluno na busca da sua individualidade social.

**28. A gestão pedagógica nada mais é do que a organização e o planejamento do sistema educacional. O gestor tem que ser o canal para os educadores estabelecerem a aprendizagem promovendo a educação como um todo, observando o currículo escolar, a metodologia de ensino e incentivando eventuais mudanças quando necessárias.**

**Nesse sentido, analise as seguintes afirmações a respeito de um bom gestor:**

**I- Tem que ser transparente e coerente nas ações;**

**II- Tem que ter credibilidade na comunidade, ser conhecedor da realidade da escola;**

**III- Precisa ter pré-disposição para o trabalho coletivo, ser articulador, mediador e líder;**

**IV- Não deve ter espírito solidário e ético, nem firmeza e propósito para realização das ações.**

**Assinale a alternativa correta:**

- a) Apenas I e II estão corretas.
- b) Apenas II e III estão corretas.
- c) Apenas I, III e IV estão corretas.
- d) Apenas I, II e III estão corretas.
- e) Apenas II, III e IV estão corretas.

**29. O Projeto Político-Pedagógico é uma reflexão do cotidiano escolar. Assim, ele precisa de um tempo razoável de reflexão/ação, com o intuito de se ter um mínimo necessário à consolidação de sua proposta.**

**Assinale a única alternativa incorreta sobre o que é contemplado num Projeto Político-Pedagógico:**

- a) Princípio de igualdade de condições para o acesso e permanência na escola.
- b) Propiciar uma qualidade educacional para todos.
- c) A escola tem que ser um organismo mais social e acolhedor; ter participação coletiva, reciprocidade e solidariedade.
- d) Os profissionais devem lutar para uma melhor qualidade do local de trabalho e direito de formação continuada de seus estudos.
- e) A avaliação escolar deve ser vista como um simples ato de aplicar provas.

**30. “Não se descarta que a indisciplina escolar, além de gerar vários problemas à escola, prejudica o meio social e a vida particular do indivíduo. A agressividade e a indisciplina nas crianças e adolescentes estão inseridas dentro e fora da sala de aula, sendo hoje, um grande desafio aos professores conviverem com tais situações.”**

**Com relação à indisciplina escolar, assinale a alternativa incorreta:**

- a) É um fenômeno típico da adolescência e está caracterizada pelo questionamento a valores impingidos do mundo adulto.
- b) Isto teria ocorrido pela cultura da comunidade escolar e do seu entorno.
- c) É uma manifestação de agressividade dirigida contra as figuras de autoridade, agressividade gerada, muitas vezes, pela desestruturação do ambiente familiar.
- d) Resulta de más influências a que as novas gerações foram expostas (o excesso de televisão, de internet, celular, drogas, etc).
- e) As crianças de hoje em dia não têm limites, não reconhecem a autoridade, não respeitam as regras, e a responsabilidade, por isso, é dos pais, que teriam se tornado muito permissivos.

**31. “O currículo é a organização do conhecimento escolar. É uma construção social do conhecimento pressupondo a sistematização dos meios que tal construção se efetive; a transmissão dos conhecimentos historicamente produzidos e as formas de assimilá-los, portanto, produção, transmissão e assimilação são processos que compõem uma metodologia de construção coletiva do conhecimento escolar, ou seja, o currículo propriamente dito.”**

**Reflita:**

**I- Um currículo nunca é estático, ele foi, continua e sempre será construído.**

**II- Cada disciplina é ensinada separadamente e as que são consideradas de maior importância em detrimento de outras recebem mais tempo para serem explanadas no contexto escolar.**

**III- A organização do currículo deve procurar viabilizar uma maior interdisciplinaridade, contextualização e transdisciplinaridade, assegurando a livre comunicação entre todas as áreas.**

**IV- O currículo nunca é um plano estruturado de aprendizagem centrado nos conteúdos ou nos alunos; nos objetivos previamente formulados, com vista a um dado resultado.**

**Assinale a alternativa que contém a afirmação correta:**

- a) Apenas as assertivas I, II e III estão corretas.
- b) Apenas as assertivas II e III estão corretas.
- c) Apenas as assertivas I, II e IV estão corretas.
- d) Apenas as assertivas II, III e IV estão corretas.
- e) Apenas as assertivas I, III e IV estão corretas.

**32. “O processo de ensino-aprendizagem no sistema educacional tradicional pode ser entendido através de três direções “professor, aluno e conteúdo”. As relações entre estes elementos implicam em ações didático-pedagógicas diferenciadas e influenciadas pelo contexto histórico e social ao qual os elementos estão inseridos.”**

**Sobre esse assunto, assinale a alternativa incorreta:**

- a) O elemento “aluno” refere-se ao aprendiz, aquele que aprende.
- b) O saber será o conteúdo, o que vai ser aprendido pelo aluno.
- c) O saber/contéudo deve variar segundo o aluno/aprendiz, seu desenvolvimento e habilidades.
- d) É muito importante o papel do mediador, de saber como apresentar o conteúdo para que ele faça sentido para o aprendiz.
- e) No processo de aprendizagem, o aluno nunca assume um lugar de importância, pois não é para ele as estratégias pedagógicas.

**33. Sem uma adequada formação, os professores não têm como colaborar de forma efetiva para o desenvolvimento de uma escolarização que supere o fracasso visível nos resultados das avaliações que mantém a aprendizagem dos alunos com médias insuficientes, nos altos índices de evasão e reprovação.**

**Assinale a alternativa correta, de acordo com as informações dadas pelo fragmento:**

- a) A formação de professores no Brasil não necessita de investimentos.
- b) Há necessidade de programas de formação continuada que visem proporcionar uma melhoria na formação dos professores.
- c) As políticas governamentais contemplam a carreira e a profissionalização dos professores nas condições desejáveis.
- d) A formação de professores nunca deve considerá-los como sujeitos da prática social e portadores de um papel político que os impeça de considerar suas práticas como neutras.
- e) O professor a ser formado não depende do contexto histórico-social em que se encontra, das relações sociais existentes, do posicionamento do sistema produtivo, para assim articular no seu fazer pedagógico, as dimensões do “o que ensinar”, do “como ensinar”, do “para que ensinar”, do “para quem ensinar”.

**34. Leia o texto a seguir e assinale a alternativa correta.**

**A educação básica, nos níveis fundamental e médio, será organizada de acordo com a verificação do rendimento escolar, observando os seguintes critérios:**

**I- Avaliação contínua e cumulativa do desempenho do aluno com prevalência dos aspectos qualitativos sobre os quantitativos e dos resultados ao longo do período sobre os das eventuais provas finais.**

**II - Possibilidade de aceleração de estudo para alunos com atraso escolar.**

**III - Possibilidade de avanço nos cursos e nas séries mediante verificação do aprendizado.**

**IV- Aproveitamento de estudos concluídos com êxito.**

**V- Obrigatoriedade de estudos de recuperação, de preferência paralelos ao período letivo, para os casos de baixo rendimento escolar, a serem disciplinados pelas instituições de ensino em seus seguimentos.**

- a) Apenas os critérios I, II, III e V estão corretos.
- b) Apenas os critérios I, III, e IV estão corretos.
- c) Apenas os critérios III, IV e V estão corretos.
- d) Apenas os critérios II, IV e V estão corretos.
- e) Todos os critérios estão corretos.

**35. A educação em Direitos Humanos, com a finalidade de promover a educação para a mudança e a transformação social, fundamenta-se nos seguintes princípios:**

**I- Dignidade humana e desigualdade de direitos;**

**II- Reconhecimento e valorização das diferenças e das diversidades;**

**III- Transversalidade, vivência e globalidade;**

**IV- Sustentabilidade socioambiental.**

**São corretos apenas os itens:**

- a) I, II e III.



- b) I, III e IV.
- c) II, III e IV.
- d) I e IV.
- e) I e II.

## LÍNGUA PORTUGUESA

Texto para as próximas cinco questões:

### “O cego Estrelinho” Mia Couto

O cego Estrelinho era pessoa de nenhuma vez: sua história poderia ser contada e descontada não fosse seu guia, Gigitto Efraim. A mão de Gigitto conduziu o desvistado por tempos e idades. Aquela mão era repartidamente comum, extensão de um no outro, siamense. E assim era quase de nascença. Memória de Estrelinho tinha cinco dedos e eram os de Gigitto postos, em aperto, na sua própria mão.

O cego, curioso, queria saber de tudo. Ele não fazia cerimônia no viver. O sempre lhe era pouco e o tudo insuficiente. Dizia, deste modo:

— Tenho que viver já, senão esqueço-me.

Gigitto, porém, o que descrevia era o que não havia. O mundo que ele minuciava eram fantasias e rendilhados. A imaginação do guia era mais profícua que papadeira. O cego enchia a boca de águas:

— Que maravilha esse mundo. Me conte tudo, Gigitto!

A mão do guia era, afinal, o manuscrito da mentira. Gigitto Efraim estava como nunca esteve S. Tomé: via para não crer. O condutor falava pela ponta dos dedos. Desfolhava o universo, aberto em folhas. A ideiação dele era tal que mesmo o cego, por vezes, acreditava ver. O outro lhe encorajava esses breves enganar:

— Desbengale-se, você está escolhendo a boa procedência!

Mentira: Estrelinho continuava sem ver uma palmeira à frente do nariz. Contudo, o cego não se conformava em suas escuras. Ele cumpria o ditado: não tinha perna e queria dar o pontapé. Só à noite, ele desalentava, sofrendo medos mais antigos que a humanidade. Entendia aquilo que, na raça humana, é menos primitivo: o animal.

— Na noite aflige não haver luz?

— Aflição é ter um pássaro branco esvoando dentro do sono.

Pássaro branco? No sono? Lugar de ave é nas alturas. Dizem até que Deus fez o céu para justificar os pássaros. Estrelinho disfarçava o medo dos vaticínios, subterfugindo:

— E agora, Gigitto? Agora, olhando assim para cima, estou face ao céu?

Que podia o outro responder? O céu do cego fica em toda a parte. Estrelinho perdia o pé era quando a noite chegava e seu mestre adormecia. Era como se um novo escuro nele se estreasse em nó cego. Devagaroso e sorrateiro ele aninhava sua mão na mão do guia. Só assim adormecia. A razão da concha é a timidez da amêijoia? Na manhã seguinte, o cego lhe confessava: se você morrer, tenho que morrer logo no imediato. Senão-me: como acerto o caminho para o céu?

Foi no mês de dezembro que levaram Gigitto. Lhe tiraram do mundo para pôr na guerra: obrigavam os serviços militares. O cego reclamou: que o moço inatingia a idade. E que o serviço que ele a si prestava era vital e vitalício. O guia chamou Estrelinho à parte e lhe tranquilizou:

— Não vai ficar sozinando por aí. Minha mana já mandei para ficar no meu lugar.

O cego estendeu o braço a querer tocar uma despedida. Mas o outro já não estava lá. Ou estava e se desviara, propositado? E sem água ida nem vinda, Estrelinho escutou o amigo se afastar, engolido, esponjoso, invisível. Pela primeira vez, Estrelinho se sentiu invalidado.

— Agora, só agora, sou cego que não vê.

(...)

**COUTO, Mia. Estórias abensonhadas. Rio de Janeiro: Nova Fronteira, 1996. (Pág 23 e 24).**

**36. Quanto à interpretação do fragmento do conto, podemos afirmar que:**

- a) Gigitto Efraim era o guia de Estrelinho há pouquíssimo tempo.
- b) Estrelinho era cego de nascença.
- c) Gigitto descrevia o mundo para Estrelinho de forma denotativa.
- d) Gigitto foi convocado pelo exército para ser guia de cegos na guerra.
- e) Gigitto descrevia o mundo para Estrelinho de forma conotativa.

**37. No período “O sempre lhe era pouco e o tudo insuficiente”, o pronome “LHE” exerce a função sintática de:**

- a) Objeto Direto
- b) Objeto Indireto
- c) Complemento Nominal
- d) Adjunto Adnominal
- e) Objeto Direto Preposicionado



**38. Na oração “A mão de Gigito conduziu o desvestido por tempos e idades”, o autor faz uso de um neologismo, assim como no decorrer de toda a obra em questão. Contudo, o neologismo só se torna possível pela utilização dos elementos mórficos naquilo que a gramática normativa pontua como Processo de Formação das Palavras. Levando em consideração apenas o recurso morfológico, qual Processo de Formação foi utilizado?**

- a) Derivação Sufixal
- b) Derivação Prefixal
- c) Derivação Regressiva
- d) Derivação Imprópria
- e) Derivação Parassintética

**39. No terceiro período do décimo terceiro parágrafo, temos:**

- a) Uma oração
- b) Duas orações
- c) Três orações
- d) Quatro orações
- e) Cinco orações

**40. No último parágrafo do fragmento do conto “— Agora, só agora, sou cego que não vê”, a oração subordinada presente classifica-se corretamente como:**

- a) Oração Subordinada Adjetiva Restritiva
- b) Oração Subordinada Adverbial Causal
- c) Oração Subordinada Substantiva Subjetiva
- d) Oração Subordinada Adverbial Explicativa
- e) Oração Subordinada Adjetiva Explicativa

**RASCUNHO**





PREFEITURA DE TELÊMACO BORBA - ESTADO DO PARANÁ- EDITAL Nº 001-2016 - CONCURSO PÚBLICO

VESPERTINO – 29/05/2016 – NÍVEL SUPERIOR

PROVA OBJETIVA NÚMERO

3

CARGO: TMNS I - PEDAGOGIA

Leia atentamente as INSTRUÇÕES:

1. Confira seus dados no cartão-resposta: nome, número de inscrição e o curso para o qual se inscreveu.
2. **MARQUE no seu cartão-resposta o número da sua prova** (não será corrigido o cartão-resposta que não tiver marcado o número da prova) e **Assine** seu cartão-resposta.
3. Aguarde a autorização do Fiscal para abrir o caderno de prova. Ao receber a ordem do fiscal, confira o caderno de prova com muita atenção. Nenhuma reclamação sobre o total de questões ou falha de impressão será aceita depois de iniciada a prova.
4. O cartão-resposta não será substituído, salvo se contiver erro de impressão.
5. Preencha toda a área do cartão-resposta correspondente à alternativa de sua escolha, com caneta esferográfica (tinta azul ou preta), sem ultrapassar as bordas. As marcações duplas, ou rasuradas, com corretivo, ou marcadas diferentemente do modelo estabelecido no cartão-resposta poderão ser anuladas.
6. Sua prova tem **40** questões, com **5** alternativas.
7. Cabe apenas ao candidato a interpretação das questões, **o fiscal** não poderá fazer nenhuma interferência.
8. A prova será realizada com duração máxima de **3 (três) horas**, incluído o tempo para a realização da Prova Objetiva de múltipla escolha e o preenchimento do cartão-resposta.
9. O candidato poderá retirar-se do local de realização das provas somente **1 (uma) hora** após o seu início, sem levar o caderno de prova.
10. O candidato poderá levar o caderno de provas, assim como anotação contendo transcrição do seu cartão-resposta, somente **1h30min** (uma hora e trinta minutos) após o início da realização da prova.
11. Ao terminar a prova, o candidato deverá entregar ao fiscal de sala o cartão-resposta preenchido e **ASSINADO**.
12. Os **3 (três)** candidatos, que terminarem a prova por último, deverão permanecer na sala, e só poderão sair juntos após o fechamento do envelope, contendo os cartões-resposta dos candidatos presentes e ausentes, e assinarem no lacre do referido envelope, atestando que este foi devidamente lacrado.
13. Durante todo o tempo em que permanecer no local onde está ocorrendo o concurso, o candidato deverá, manter o celular desligado e sem bateria, só sendo permitido ligar depois de ultrapassar o portão de saída do prédio.
14. Não será permitido ao candidato fumar na sala de provas, bem como nas dependências.
15. Depois de terminar a prova e entregar ao fiscal o cartão-resposta, preenchido e assinado, não será mais permitido ao candidato o uso do banheiro e bebedouro.

**BOA PROVA!**



## CONHECIMENTOS ESPECÍFICOS

**01. À luz dos artigos 82, 83, 84, 85 e 86 da Lei nº 9.394, de 20 de dezembro de 1996, que estabelece as diretrizes e base da educação nacional, analise as alternativas e assinale a incorreta.**

- Os sistemas de ensino estabelecerão as normas de realização de estágio em sua jurisdição, observada a lei federal sobre a matéria.
- O ensino militar é regulado em lei específica, admitida a equivalência de estudos, de acordo com as normas fixadas pelos sistemas de ensino.
- Os discentes da educação superior poderão ser aproveitados em tarefas de ensino e pesquisa pelas respectivas instituições, exercendo funções de monitoria, de acordo com seu rendimento e seu plano de estudos.
- Qualquer cidadão habilitado com a titulação própria poderá exigir a abertura de concurso público de provas e títulos para cargo de docente de instituição pública de ensino que estiver sendo ocupado por professor não concursado, por mais de quatro anos, ressalvados os direitos assegurados pelos arts. 41 da Constituição Federal e 19 do Ato das Disposições Constitucionais Transitórias.
- As instituições de educação superior constituídas como universidades integrar-se-ão, também, na sua condição de instituições de pesquisa, ao Sistema Nacional de Ciência e Tecnologia, nos termos da legislação específica.

**02. Leia o texto a seguir e marque a alternativa que apresenta a afirmação correta.**

A Lei nº 12.796, de 4 de abril de 2013, alterou a Lei nº 9.394, de 20 de dezembro de 1996, que estabelece as diretrizes e bases da educação nacional, para dispor sobre a formação dos profissionais da educação, e passou a vigorar com as seguintes alterações, dentre outras:

- A União prestará assistência pedagógica aos Estados, ao Distrito Federal e aos Municípios na elaboração de concursos públicos para provimento de cargos dos profissionais da educação.
- O poder público adotará, como alternativa obrigatória, a ampliação do atendimento aos educandos com deficiência, transtornos globais do desenvolvimento e altas habilidades ou superdotação na própria rede pública regular de ensino.
- O Ministério da Educação poderá estabelecer nota mínima em exame nacional aplicado aos concluintes do ensino médio como pré-requisito para o ingresso em cursos de graduação para formação de docentes, ouvido os Conselhos Estaduais de Educação.
- É dever dos pais ou responsáveis efetuar a matrícula das crianças na educação básica a partir dos quatro anos de idade.

- É verdadeiro apenas o item 1.
- É verdadeiro apenas o item 3.
- É verdadeiro apenas o item 4.
- São verdadeiros apenas os itens 2 e 3.
- São verdadeiros os itens 1, 2, 3 e 4.

**03. Atribua V (verdadeira) ou F (falsa) às seguintes assertivas e assinale a alternativa que as relaciona corretamente.**

( ) Diretrizes Curriculares Nacionais Gerais para a Educação Básica por objetivos: sistematizar os princípios e diretrizes gerais da Educação Básica contidos na Constituição, na LDB e demais dispositivos legais, traduzindo-os em orientações que contribuam para assegurar a formação básica comum nacional, tendo como foco os sujeitos que dão vida ao currículo e à escola; estimular a reflexão crítica e propositiva que deve subsidiar a formulação, execução e avaliação do projeto político-pedagógico da escola de Educação Básica; orientar os cursos de formação inicial e continuada de profissionais – docentes, técnicos, funcionários – da Educação Básica, os sistemas educativos dos diferentes entes federados e as escolas que os integram, indistintamente da rede a que pertençam.

( ) As Diretrizes Curriculares Nacionais Gerais para a Educação Básica visam estabelecer bases comuns nacionais para a Educação Infantil, o Ensino Fundamental e o Ensino Médio, bem como para as modalidades com que podem se apresentar, a partir das quais os sistemas federal, estaduais, distrital e municipais, por suas competências próprias e complementares, formularão as suas orientações assegurando a integração curricular das três etapas sequentes desse nível da escolarização, essencialmente para compor um todo orgânico.

( ) As Diretrizes Curriculares Nacionais Gerais para a Educação Básica devem presidir as demais diretrizes curriculares específicas para as etapas e modalidades, contemplando o conceito de Educação Básica, princípios de organicidade, sequencialidade e articulação, relação entre as etapas e modalidades: articulação, integração e transição.

- F, V, V.
- V, F, V.
- V, V, F.
- F, F, V.
- V, V, V.



**04. Podemos afirmar que, com base nas Diretrizes para o atendimento de educação escolar de crianças, adolescentes e jovens em situação de itinerância, não é correta a alternativa:**

- a) Os sistemas de ensino, por meio de seus estabelecimentos públicos ou privados de Educação Básica, deverão assegurar a matrícula de estudante em situação de itinerância sem a imposição de qualquer forma de embaraço, preconceito e/ou qualquer forma de discriminação, pois se trata de direito fundamental, mediante transferência.
- b) As crianças, adolescentes e jovens em situação de itinerância deverão ter garantido o direito à matrícula em escola pública, gratuita, com qualidade social e que garanta a liberdade de consciência e de crença.
- c) A instituição de ensino deverá realizar avaliação diagnóstica do desenvolvimento e da aprendizagem dos estudantes em situação de itinerância, mediante acompanhamento e supervisão adequados às suas necessidades de aprendizagem.
- d) São considerados crianças, adolescentes e jovens em situação de itinerância aquelas pertencentes a grupos sociais que vivem em tal condição por motivos culturais, políticos, econômicos, de saúde, tais como ciganos, indígenas, povos nômades, trabalhadores itinerantes, acampados, circenses, artistas e/ou trabalhadores de parques de diversão, de teatro mambembe, dentre outros.
- e) Caso o estudante itinerante não disponha, no ato da matrícula, de certificado, memorial e/ou relatório da instituição de educação anterior, este deverá ser inserido no grupamento correspondente aos seus pares de idade, mediante diagnóstico de suas necessidades de aprendizagem, realizado pela instituição de ensino que o recebe.

**05. Leia os itens sobre as Diretrizes Curriculares Nacionais para a Educação Escolar Quilombola e marque a alternativa correta.**

- (i) O conceito de quilombo incorpora também as comunidades quilombolas que ocupam áreas urbanas, ultrapassando a ideia de que essas se restringem ao meio rural.
  - (ii) Entendidas como comunidades tradicionais, a construção da identidade e as diferentes formas de organização e luta (seja ela política, seja ela cotidiana) fazem parte da noção de pertencimento e laços grupais construídos pelos quilombolas.
  - (iii) A Política Nacional de Desenvolvimento Sustentável dos Povos Tradicionais, juntamente com a Convenção 169 da OIT, é documento importante e orientador das Diretrizes Curriculares Nacionais para a Educação Escolar Quilombola.
- a) É correto apenas o item (i).
  - b) É correto apenas o item (ii).
  - c) É correto apenas o item (iii).
  - d) São corretos apenas os itens (ii) e (iii).
  - e) São corretos os itens (i), (ii) e (iii).

**06. O art. 8º da Resolução nº 1, de 17 de junho de 2004, estabelece que os sistemas de ensino promoverão ampla divulgação do Parecer CNE/CP 003/2004 e dessa Resolução, em atividades periódicas, com a participação das redes das escolas públicas e privadas, de exposição, avaliação e divulgação dos êxitos e dificuldades do ensino e aprendizagens de História e Cultura Afro-Brasileira e Africana e da Educação das Relações Étnico-Raciais. Os resultados obtidos com as atividades mencionadas no caput deste artigo serão comunicados de forma detalhada a quais dos seguintes órgãos, para que estes encaminhem providências, que forem requeridas?**

- I - ao Ministério da Educação;
- II - à Secretaria Especial de Promoção da Igualdade Racial;
- III - ao Conselho Nacional de Educação;
- IV - aos respectivos Conselhos Estaduais e Municipais de Educação;
- V - ao Conselho de Direitos Humanos.

- a) I e II, somente.
- b) I, II e III, somente.
- c) III, IV e V, somente.
- d) I, II, III e IV, somente.
- e) I, II, III, IV e V.

**07. Assinale a alternativa que completa corretamente a lacuna do texto a seguir.**

Conforme o § 1º do art. 22 da Resolução nº 2, de 15 de junho de 2012, que estabelece as Diretrizes Curriculares Nacionais para a Educação Ambiental, \_\_\_\_\_ propiciar às instituições educacionais meios para o estabelecimento de diálogo e parceria com a comunidade, visando à produção de conhecimentos sobre condições e alternativas socioambientais locais e regionais e à intervenção para a qualificação da vida e da convivência saudável.

- a) os Sistemas de Ensino devem
- b) o Ministério de Educação deve
- c) os Conselhos Municipais de Educação devem
- d) a Associação de Pais e Mestres deve
- e) o Conselho Nacional de Educação deve

**08. Em conformidade com o disposto na Resolução nº 2, de 30 de janeiro 2012, que define as Diretrizes Curriculares Nacionais para o Ensino Médio, atribua C (certo) ou E (errado) aos itens e aponte a alternativa correta.**

( ) O Ensino Médio é um direito social de cada pessoa, e dever do Estado na sua oferta pública e gratuita a todos.

( ) As unidades escolares que ministram esta etapa da Educação Básica devem estruturar seus projetos político-pedagógicos considerando as finalidades previstas na Lei de Diretrizes e Bases da Educação Nacional.

( ) O Ensino Médio em todas as suas formas de oferta e organização, baseia-se, dentre outros, em indissociabilidade entre educação e prática social, considerando-se a historicidade dos conhecimentos e dos sujeitos do processo educativo, bem como entre teoria e prática no processo de ensino-aprendizagem.

( ) A organização curricular do Ensino Médio tem uma base nacional comum e uma parte diversificada que devem constituir blocos distintos de modo a garantir tanto conhecimentos e saberes comuns necessários a todos os estudantes, quanto uma formação que considere a diversidade e as características locais e especificidades regionais.

- a) C, C, C, C.
- b) C, C, C, E.
- c) E, C, C, C.
- d) C, E, C, C.
- e) C, C, E, C.

**09. À luz do art. 3º da Resolução nº 4, de 2 de outubro de 2009, que institui Diretrizes Operacionais para o Atendimento Educacional Especializado na Educação Básica, modalidade Educação Especial, marque a alternativa correta.**

a) A Educação Especial se realiza em todos os níveis, etapas e modalidades de ensino, tendo o AEE como parte integrante do processo educacional.

b) A Educação Especial se realiza nos níveis fundamental e médio de ensino, tendo o AEE como parte integrante do processo educacional.

c) A Educação Especial se restringe à educação infantil e ao ensino fundamental, e nas etapas e modalidades de ensino, tendo o AEE como parte integrante do processo educacional.

d) A Educação Especial se restringe ao ensino fundamental e superior, tendo o AEE como parte integrante do processo educacional.

e) A Educação Especial não se realiza na modalidade de educação de jovens e adultos.

**10. A articulação entre a Educação Profissional Técnica de nível médio e o Ensino Médio se dará das seguintes formas:**

**I. integrada, no mesmo estabelecimento de ensino, contando com matrícula única para cada aluno;**

**II. concomitante, no mesmo estabelecimento de ensino ou em instituições de ensino distintas, aproveitando as oportunidades educacionais disponíveis, ou mediante convênio de intercomplementaridade;**

**III. subsequente, oferecida somente a quem já tenha concluído o Ensino Médio;**

**IV. nas modalidades presencial e a distância.**

**Conforme a Resolução nº 1, de 3 de fevereiro de 2005, que atualiza as Diretrizes Curriculares Nacionais definidas pelo Conselho Nacional de Educação para o Ensino Médio e para a Educação Profissional Técnica de nível médio, são verdadeiros apenas os itens:**

- a) I, III e IV.
- b) I e IV.
- c) I, II e III.
- d) I, II e IV.
- e) II, III e IV.

**11. As relações que os homens estabelecem entre si para produzir a cultura se dão em diversos níveis que não se excluem, mas se complementam e se interpenetram. Distinguimos isso em:**

- a) Relações de trabalho, políticas e culturais.
- b) Relações religiosas, amorosas e civis.
- c) Relações sexuais, fraternas e interiores.
- d) Relações exteriores, medíocres e efêmeras.
- e) Relações afadigadas, hiper-realistas e antissociais.

**12. O termo formação tem a ideia de instrução, criação, desenvolvimento, evolução. Para tal, um bom educador deve:**

- a) Identificar o que está correto ou errado na escola e cobrar os encarregados por isso.
- b) Mobilizar a comunidade escolar para reivindicar da direção a melhoria da qualidade educacional.
- c) Aprender, reaprender, trocar experiências, potencializar e aprimorar a prática docente o tempo todo.

- d) O professor deve ser apenas um instrumento onde os conceitos são transmitidos.  
e) Orientar o aluno na busca da sua individualidade social.

**13. A gestão pedagógica nada mais é do que a organização e o planejamento do sistema educacional. O gestor tem que ser o canal para os educadores estabelecerem a aprendizagem promovendo a educação como um todo, observando o currículo escolar, a metodologia de ensino e incentivando eventuais mudanças quando necessárias.**

**Nesse sentido, analise as seguintes afirmações a respeito de um bom gestor:**

**I- Tem que ser transparente e coerente nas ações;**

**II- Tem que ter credibilidade na comunidade, ser conhecedor da realidade da escola;**

**III- Precisa ter pré-disposição para o trabalho coletivo, ser articulador, mediador e líder;**

**IV- Não deve ter espírito solidário e ético, nem firmeza e propósito para realização das ações.**

**Assinale a alternativa correta:**

- a) Apenas I e II estão corretas.  
b) Apenas II e III estão corretas.  
c) Apenas I, III e IV estão corretas.  
d) Apenas I, II e III estão corretas.  
e) Apenas II, III e IV estão corretas.

**14. O Projeto Político-Pedagógico é uma reflexão do cotidiano escolar. Assim, ele precisa de um tempo razoável de reflexão/ação, com o intuito de se ter um mínimo necessário à consolidação de sua proposta.**

**Assinale a única alternativa incorreta sobre o que é contemplado num Projeto Político-Pedagógico:**

- a) Princípio de igualdade de condições para o acesso e permanência na escola.  
b) Propiciar uma qualidade educacional para todos.  
c) A escola tem que ser um organismo mais social e acolhedor; ter participação coletiva, reciprocidade e solidariedade.  
d) Os profissionais devem lutar para uma melhor qualidade do local de trabalho e direito de formação continuada de seus estudos.  
e) A avaliação escolar deve ser vista como um simples ato de aplicar provas.

**15. “Não se descarta que a indisciplina escolar, além de gerar vários problemas à escola, prejudica o meio social e a vida particular do indivíduo. A agressividade e a indisciplina nas crianças e adolescentes estão inseridas dentro e fora da sala de aula, sendo hoje, um grande desafio aos professores conviverem com tais situações.”**

**Com relação à indisciplina escolar, assinale a alternativa incorreta:**

- a) É um fenômeno típico da adolescência e está caracterizada pelo questionamento a valores impingidos do mundo adulto.  
b) Isto teria ocorrido pela cultura da comunidade escolar e do seu entorno.  
c) É uma manifestação de agressividade dirigida contra as figuras de autoridade, agressividade gerada, muitas vezes, pela desestruturação do ambiente familiar.  
d) Resulta de más influências a que as novas gerações foram expostas (o excesso de televisão, de internet, celular, drogas, etc).  
e) As crianças de hoje em dia não têm limites, não reconhecem a autoridade, não respeitam as regras, e a responsabilidade, por isso, é dos pais, que teriam se tornado muito permissivos.

**16. “O currículo é a organização do conhecimento escolar. É uma construção social do conhecimento pressupondo a sistematização dos meios que tal construção se efetive; a transmissão dos conhecimentos historicamente produzidos e as formas de assimilá-los, portanto, produção, transmissão e assimilação são processos que compõem uma metodologia de construção coletiva do conhecimento escolar, ou seja, o currículo propriamente dito.”**

**Refleta:**

**I- Um currículo nunca é estático, ele foi, continua e sempre será construído.**

**II- Cada disciplina é ensinada separadamente e as que são consideradas de maior importância em detrimento de outras recebem mais tempo para serem explanadas no contexto escolar.**

**III- A organização do currículo deve procurar viabilizar uma maior interdisciplinaridade, contextualização e transdisciplinaridade, assegurando a livre comunicação entre todas as áreas.**

**IV- O currículo nunca é um plano estruturado de aprendizagem centrado nos conteúdos ou nos alunos; nos objetivos previamente formulados, com vista a um dado resultado.**

**Assinale a alternativa que contém a afirmação correta:**

- a) Apenas as assertivas I, II e III estão corretas.  
b) Apenas as assertivas II e III estão corretas.  
c) Apenas as assertivas I, II e IV estão corretas.  
d) Apenas as assertivas II, III e IV estão corretas.  
e) Apenas as assertivas I, III e IV estão corretas.



**17. “O processo de ensino-aprendizagem no sistema educacional tradicional pode ser entendido através de três direções “professor, aluno e conteúdo”. As relações entre estes elementos implicam em ações didático-pedagógicas diferenciadas e influenciadas pelo contexto histórico e social ao qual os elementos estão inseridos.”**

**Sobre esse assunto, assinale a alternativa incorreta:**

- a) O elemento “aluno” refere-se ao aprendiz, aquele que aprende.
- b) O saber será o conteúdo, o que vai ser aprendido pelo aluno.
- c) O saber/contéudo deve variar segundo o aluno/aprendiz, seu desenvolvimento e habilidades.
- d) É muito importante o papel do mediador, de saber como apresentar o conteúdo para que ele faça sentido para o aprendiz.
- e) No processo de aprendizagem, o aluno nunca assume um lugar de importância, pois não é para ele as estratégias pedagógicas.

**18. Sem uma adequada formação, os professores não têm como colaborar de forma efetiva para o desenvolvimento de uma escolarização que supere o fracasso visível nos resultados das avaliações que mantêm a aprendizagem dos alunos com médias insuficientes, nos altos índices de evasão e reprovação.**

**Assinale a alternativa correta, de acordo com as informações dadas pelo fragmento:**

- a) A formação de professores no Brasil não necessita de investimentos.
- b) Há necessidade de programas de formação continuada que visem proporcionar uma melhoria na formação dos professores.
- c) As políticas governamentais contemplam a carreira e a profissionalização dos professores nas condições desejáveis.
- d) A formação de professores nunca deve considerá-los como sujeitos da prática social e portadores de um papel político que os impeça de considerar suas práticas como neutras.
- e) O professor a ser formado não depende do contexto histórico-social em que se encontra, das relações sociais existentes, do posicionamento do sistema produtivo, para assim articular no seu fazer pedagógico, as dimensões do “o que ensinar”, do “como ensinar”, do “para que ensinar, do “para quem ensinar”.

**19. Leia o texto a seguir e assinale a alternativa correta.**

**A educação básica, nos níveis fundamental e médio, será organizada de acordo com a verificação do rendimento escolar, observando os seguintes critérios:**

**I- Avaliação contínua e cumulativa do desempenho do aluno com prevalência dos aspectos qualitativos sobre os quantitativos e dos resultados ao longo do período sobre os das eventuais provas finais.**

**II - Possibilidade de aceleração de estudo para alunos com atraso escolar.**

**III - Possibilidade de avanço nos cursos e nas séries mediante verificação do aprendizado.**

**IV- Aproveitamento de estudos concluídos com êxito.**

**V- Obrigatoriedade de estudos de recuperação, de preferência paralelos ao período letivo, para os casos de baixo rendimento escolar, a serem disciplinados pelas instituições de ensino em seus seguimentos.**

- a) Apenas os critérios I, II, III e V estão corretos.
- b) Apenas os critérios I, III, e IV estão corretos.
- c) Apenas os critérios III, IV e V estão corretos.
- d) Apenas os critérios II, IV e V estão corretos.
- e) Todos os critérios estão corretos.

**20. A educação em Direitos Humanos, com a finalidade de promover a educação para a mudança e a transformação social, fundamenta-se nos seguintes princípios:**

**I- Dignidade humana e desigualdade de direitos;**

**II- Reconhecimento e valorização das diferenças e das diversidades;**

**III- Transversalidade, vivência e globalidade;**

**IV- Sustentabilidade socioambiental.**

**São corretos apenas os itens:**

- a) I, II e III.
- b) I, III e IV.
- c) II, III e IV.
- d) I e IV.
- e) I e II.

## LÍNGUA PORTUGUESA

**Texto para as próximas cinco questões:**

**“O cego Estrelinho”  
Mia Couto**

O cego Estrelinho era pessoa de nenhuma vez: sua história poderia ser contada e descontada não fosse seu guia, Gigito Efraim. A mão de Gigito conduziu o desvistado por tempos e idades. Aquela mão era



repartidamente comum, extensão de um no outro, siamensal. E assim era quase de nascença. Memória de Estrelinho tinha cinco dedos e eram os de Gigitto postos, em aperto, na sua própria mão.

O cego, curioso, queria saber de tudo. Ele não fazia cerimônia no viver. O sempre lhe era pouco e o tudo insuficiente. Dizia, deste modo:

— Tenho que viver já, senão esqueço-me.

Gigitinho, porém, o que descrevia era o que não havia. O mundo que ele minuciava eram fantasias e rendilhados. A imaginação do guia era mais profícua que papaeira. O cego enchia a boca de águas:

— Que maravilhação esse mundo. Me conte tudo, Gigitto!

A mão do guia era, afinal, o manuscrito da mentira. Gigitto Efraim estava como nunca esteve S. Tomé: via para não crer. O condutor falava pela ponta dos dedos. Desfolhava o universo, aberto em folhas. A ideiação dele era tal que mesmo o cego, por vezes, acreditava ver. O outro lhe encorajava esses breves enganos:

— Desbengale-se, você está escolhendo a boa procedência!

Mentira: Estrelinho continuava sem ver uma palmeira à frente do nariz. Contudo, o cego não se conformava em suas escurezas. Ele cumpria o ditado: não tinha perna e queria dar o pontapé. Só à noite, ele desalentava, sofrendo medos mais antigos que a humanidade. Entendia aquilo que, na raça humana, é menos primitivo: o animal.

— Na noite aflige não haver luz?

— Aflição é ter um pássaro branco esvoando dentro do sono.

Pássaro branco? No sono? Lugar de ave é nas alturas. Dizem até que Deus fez o céu para justificar os pássaros. Estrelinho disfarçava o medo dos vaticínios, subterfugindo:

— E agora, Gigitinho? Agora, olhando assim para cima, estou face ao céu?

Que podia o outro responder? O céu do cego fica em toda a parte. Estrelinho perdia o pé era quando a noite chegava e seu mestre adormecia. Era como se um novo escuro nele se estreasse em nó cego. Devagaroso e sorrateiro ele aninhava sua mão na mão do guia. Só assim adormecia. A razão da concha é a timidez da amêijoa? Na manhã seguinte, o cego lhe confessava: se você morrer, tenho que morrer logo no imediato. Senão-me: como acerto o caminho para o céu?

Foi no mês de dezembro que levaram Gigitinho. Lhe tiraram do mundo para pôr na guerra: obrigavam os serviços militares. O cego reclamou: que o moço inatingia a idade. E que o serviço que ele a si prestava era vital e vitalício. O guia chamou Estrelinho à parte e lhe tranquilizou:

— Não vai ficar sozinhandando por aí. Minha mana já mandei para ficar no meu lugar.

O cego estendeu o braço a querer tocar uma despedida. Mas o outro já não estava lá. Ou estava e se desviara, propositado? E sem água ida nem vinda, Estrelinho escutou o amigo se afastar, engolido, esponginquo, invisível. Pela primeira vez, Estrelinho se sentiu invalidado.

— Agora, só agora, sou cego que não vê.

(...)

**COUTO, Mia. Estórias abensonhadas. Rio de Janeiro: Nova Fronteira, 1996. (Pág 23 e 24).**

**21. Quanto à interpretação do fragmento do conto, podemos afirmar que:**

- Gigitto Efraim era o guia de Estrelinho há pouquíssimo tempo.
- Estrelinho era cego de nascença.
- Gigitto descrevia o mundo para Estrelinho de forma denotativa.
- Gigitto foi convocado pelo exército para ser guia de cegos na guerra.
- Gigitto descrevia o mundo para Estrelinho de forma conotativa.

**22. No período “O sempre lhe era pouco e o tudo insuficiente”, o pronome “LHE” exerce a função sintática de:**

- Objeto Direto
- Objeto Indireto
- Complemento Nominal
- Adjunto Adnominal
- Objeto Direto Preposicionado

**23. Na oração “A mão de Gigitto conduziu o desvistado por tempos e idades”, o autor faz uso de um neologismo, assim como no decorrer de toda a obra em questão. Contudo, o neologismo só se torna possível pela utilização dos elementos mórficos naquilo que a gramática normativa pontua como Processo de Formação das Palavras. Levando em consideração apenas o recurso morfológico, qual Processo de Formação foi utilizado?**

- Derivação Sufixal
- Derivação Prefixal
- Derivação Regressiva
- Derivação Imprópria
- Derivação Parassintética

**24. No terceiro período do décimo terceiro parágrafo, temos:**

- Uma oração

- b) Duas orações
- c) Três orações
- d) Quatro orações
- e) Cinco orações

**25. No último parágrafo do fragmento do conto “— Agora, só agora, sou cego que não vê”, a oração subordinada presente classifica-se corretamente como:**

- a) Oração Subordinada Adjetiva Restritiva
- b) Oração Subordinada Adverbial Causal
- c) Oração Subordinada Substantiva Subjetiva
- d) Oração Subordinada Adverbial Explicativa
- e) Oração Subordinada Adjetiva Explicativa

### **RACIOCÍNIO LÓGICO**

**26. Os cinco filhos de Ana estavam discutindo a respeito da data de nascimento da mãe:**

- Almir disse que foi em janeiro, dia 14, sexta-feira.
- Vanderlei disse que foi em janeiro, dia 14, sábado.
- Tiago disse que foi em fevereiro, dia 15, sábado.
- Sandro disse que foi em janeiro, dia 15, sexta-feira.
- Renato disse que foi em fevereiro, dia 15, sexta-feira.

**Sabe-se que somente um dos filhos de Ana acertou corretamente sua data de nascimento e que os outros acertaram pelo menos um dos itens (dia, dia da semana e mês). Dessa forma, é correto afirmar que o filho de Ana que acertou a data de nascimento dela foi:**

- a) Renato
- b) Sandro
- c) Tiago
- d) Vanderlei
- e) Almir

**27. Considere a seguinte afirmativa: “Todo churrasqueiro gosta de picanha”. Em relação a essa proposição, é correto afirmar que:**

- a) Algum churrasqueiro não gosta de picanha.
- b) Toda pessoa que gosta de picanha é churrasqueira.
- c) Alguma pessoa que não gosta de picanha é churrasqueira.
- d) Toda pessoa que não é churrasqueira, não gosta de picanha.
- e) Toda pessoa que não gosta de picanha, não é churrasqueira.

**28. Em um grupo formado por 67 pessoas, verificou-se que 41 pessoas gostam de arroz, 29 gostam de feijão, 33 gostam de carne, 19 gostam de arroz e de feijão, 9 gostam apenas de arroz e de carne, 12 gostam de feijão e de carne e que 6 gostam de arroz, de feijão e de carne. O número de pessoas desse grupo, que não gosta de nenhum desses três tipos de alimentos é igual a:**

- a) 4
- b) 5
- c) 6
- d) 8
- e) 10

**29. Bruno escreveu, em seu caderno, várias sequências formadas por números múltiplos de 4, onde os valores que ocupavam as posições pares eram multiplicados por  $-1$ . Cada sequência foi somada e o resultado da soma anotado. A soma das três primeiras sequências escritas por Bruno foram as seguintes:**

$$4 - 8 = -4$$
$$4 - 8 + 12 = 8$$
$$4 - 8 + 12 - 16 = -8$$

**Considere que Bruno escreveu e somou tais sequências, em seu caderno, de modo a obter determinada sequência cuja soma foi 600. O número de termos dessa sequência é igual a:**

- a) 149
- b) 150
- c) 298
- d) 299
- e) 300

**30. Quatro torcedores, um do São Paulo, um do Cruzeiro, um do Vasco e um do Bahia, estão sentados ao redor de uma mesa quadrada, de modo que, dois a dois, fiquem frente a frente. Sabe-se que Alan é torcedor do Cruzeiro e que Bruno está sentado à direita de Alan. Sabe-se também que Caio está sentado à**

**direita do torcedor do São Paulo. Sabe-se ainda que Daniel não é torcedor do Vasco e que está sentado à frente de Bruno. Dessa forma, é correto afirmar que:**

- Bruno é torcedor do Bahia e Daniel é torcedor do São Paulo.
- Bruno é torcedor do São Paulo e Daniel é torcedor do Bahia.
- Caio é torcedor do Vasco e Daniel é torcedor do São Paulo.
- Caio é torcedor do Bahia e Daniel é torcedor do São Paulo.
- Bruno é torcedor do Vasco e Daniel é torcedor do Bahia.

## INFORMÁTICA

**31. Considerando o MS-Excel versão 2010, observando a figura abaixo, é correto afirmar que:**

	A	B	C
1			
2			
3			
4			

- Somente 03 três linhas estão selecionadas.
- Somente uma célula está selecionada.
- 12 (doze) células estão selecionadas.
- Somente a coluna A até a linha 4 (quatro) está selecionada.
- Somente as colunas 1 (um), 2 (dois), 3 (três) e 4 (quatro) estão selecionadas.

**32. Considerando o MS-Excel versão 2010, observando a figura abaixo, é incorreto afirmar que:**

	A	B	C
1	12	6	=A1*B1
2	8	2	=A2/B2
3	5	14	=A3-B3
4	6	11	=A4+B4

- O resultado da fórmula =A1\*B1 é 72.
- O resultado da fórmula =A2/B2 é 4.
- O resultado da fórmula =A3-B3 é -9.
- O resultado da fórmula =A3-B3 é 9.
- O resultado da fórmula =A4+B4 é 17.

**33. Digitando um texto no MS-Word versão 2010, necessito adicionar número nas páginas. Quanto a isso, é correto afirmar que:**

- No menu Layout da Página, clico em número de página e seleciono onde desejo adicionar os números.
- No menu Inserir, clico em número de página e seleciono onde desejo adicionar os números.
- No menu Revisão, clico em número de página e seleciono onde desejo adicionar os números.
- No menu Referências, clico em número de página e seleciono onde desejo adicionar os números.
- No menu Exibição, clico em número de página e seleciono onde desejo adicionar os números.

**34. A segurança da informação está diretamente relacionada com proteção de um conjunto de informações, no sentido de preservar o valor que possuem para um indivíduo ou uma organização. Atualmente, um dos aplicativos mais utilizados no mundo, o Whats app, teve uma alteração de confidencialidade muito importante na segurança das informações transmitidas e recebidas. Dentre as alternativas, assinale a que corretamente informa a alteração inserida no aplicativo Whats app.**

- Antispam
- Antivirus
- Firewall
- Antispyware
- Criptografia

**35. São todos os dispositivos que trabalham acoplados ao microcomputador para receber, transmitir, visualizar, ler, gravar ou armazenarem dados. São eles que permitem a comunicação do computador com o meio exterior, isto é, com os usuários e outras máquinas.**

**Esse texto descreve corretamente:**

- Memória ram
- Memória virtual
- Software



- d) Periféricos  
e) Hardware

## CONHECIMENTOS GERAIS

### 36. Hino do município de Telêmaco Borba/PR

Das virgens matas e campos verdejantes

Servindo-se também o rio Tibagi,

Homens de ideais, espíritos vibrantes.

Constituíram as indústrias aqui.

Estrilho:

Salve! Salve! Telêmaco Borba

Terra querida e de grandes primores,

A nossa homenagem rendamos

À cidade dos trabalhadores.

Pois a cadência de enorme e real progresso

Um município mui grandioso fez nascer,

Marcando assim, verdadeiro sucesso

Faz, então o Paraná engrandecer.

**No que tange ao Hino do município, atribua V (verdadeiro) ou F (falso) às afirmativas e marque a alternativa correta.**

Eloah Martins Quadrado é autora da letra do hino.

Bento Mossurunga compôs a música do hino.

Eloah Martins Quadrado foi nomeada primeira professora da Cidade Nova, atual Telêmaco Borba.

Bento Mossurunga fundou a orquestra Estudantil e Concertos – Orquestra Sinfônica da Universidade, a Sociedade de Cultura Artístico Basílio Itiberê.

a) F, V, V, V.

b) V, F, V, V.

c) V, V, F, V.

d) V, V, F, F.

e) V, V, V, V.

**37. À luz da Lei nº 1883/2012, que dispões sobre o Estatuto dos Servidores Públicos da Administração Direta, Autárquica e Funcional do Município de Telêmaco Borba/PR, leia as alternativas e marque a correta.**

a) A apresentação para a posse ocorrerá no prazo de até trinta dias, contados do ato de nomeação.

b) A destituição do servidor da função gratificada dar-se-á por solicitação exclusiva dele mesmo.

c) O servidor ocupante exclusivamente de cargo em comissão será contribuinte do regime geral de previdência social.

d) A aprovação em concurso público gera o direito à nomeação, e será feita obedecida à ordem de classificação dos candidatos.

e) O exercício de função gratificada poderá ser de dedicação integral ou parcial, conforme necessidade da administração.

**Conforme a Lei nº 1.881, de 05 de abril de 2012, que dispõe sobre o Plano de Cargos, Carreiras e Vencimentos do quadro geral de servidores da Prefeitura Municipal de Telêmaco Borba/PR, regulamentada pelo Decreto nº 2269/2015, responda às próximas três questões.**

**38. Leia as assertivas e assinala a incorreta.**

a) Do resultado da avaliação de desempenho poderá ser interposto recurso à Comissão de Desenvolvimento Funcional no prazo de quinze dias a contar da publicação no Boletim Oficial do Município.

b) Não será concedida a progressão ou promoção ao servidor que estiver em licença para tratamento de saúde por um período superior a quarenta e cinco dias, no período de avaliação.

c) A alternância dos membros constituintes da Comissão de Desenvolvimento Funcional eleitos pelos servidores verificar-se-á a cada três anos de participação, observados, para substituição de seus participantes, o critério fixado no artigo anterior, não cabendo eleição sucessiva.

d) Caberá à Comissão de Desenvolvimento Funcional, no caso de divergência de vinte por cento entre a nota do avaliador e a do avaliado, solicitar nova avaliação à chefia.

e) Nos termos do disposto no art. 17 da Lei nº 1.881, de 05 de abril de 2012, para progredir, é necessário que o servidor satisfaça, dentre outros, o seguinte requisito: estar no efetivo exercício de seu cargo ou em função comissionada na sua área de atuação durante o interstício de dois anos.

**39. Assinale a alternativa que completa respectivamente as lacunas do texto a seguir:**

**A Comissão de Desenvolvimento Funcional será constituída por \_\_\_\_\_ membros, sendo \_\_\_\_\_ designados pelo Prefeito Municipal de Telêmaco Borba e os demais eleitos pelos servidores municipais**



**dentre os estáveis, com a atribuição de coordenar os procedimentos relativos à avaliação periódica de desempenho e outras atribuições.**

- a) três / sete
- b) um / três
- c) sete / três
- d) três / cinco
- e) dois / cinco

**40. A Avaliação de Desempenho será norteadada, dentre outros, pelo seguinte princípio: Amplitude - a avaliação deve incidir sobre todas as áreas de atuação do servidor, que compreendem:**

- 1. a formulação de políticas administrativas e sua aplicação para todos os setores da administração municipal;**
- 2. o desempenho do profissional dentro de suas funções pertinentes;**
- 3. a estrutura do órgão em que exerce a função;**
- 4. os resultados de eficiência dos serviços de cada setor ou órgão da administração municipal;**
- 5. a participação direta do avaliado, durante todo o processo avaliativo.**

**Diante dessa afirmação, somente não está correto o item:**

- a) 1
- b) 2
- c) 3
- d) 4
- e) 5

**RASCUNHO**



PREFEITURA DE TELÊMACO BORBA - ESTADO DO PARANÁ- EDITAL Nº 001-2016 - CONCURSO PÚBLICO

VESPERTINO – 29/05/2016 – NÍVEL SUPERIOR

1

PROVA OBJETIVA NÚMERO

CARGO: TMNS I – PSICOPEDAGOGIA

Leia atentamente as INSTRUÇÕES:

1. Confira seus dados no cartão-resposta: nome, número de inscrição e o curso para o qual se inscreveu.
2. **MARQUE no seu cartão-resposta o número da sua prova** (não será corrigido o cartão-resposta que não tiver marcado o número da prova) e **Assine** seu cartão-resposta.
3. Aguarde a autorização do Fiscal para abrir o caderno de prova. Ao receber a ordem do fiscal, confira o caderno de prova com muita atenção. Nenhuma reclamação sobre o total de questões ou falha de impressão será aceita depois de iniciada a prova.
4. O cartão-resposta não será substituído, salvo se contiver erro de impressão.
5. Preencha toda a área do cartão-resposta correspondente à alternativa de sua escolha, com caneta esferográfica (tinta azul ou preta), sem ultrapassar as bordas. As marcações duplas, ou rasuradas, com corretivo, ou marcadas diferentemente do modelo estabelecido no cartão-resposta poderão ser anuladas.
6. Sua prova tem **40** questões, com **5** alternativas.
7. Cabe apenas ao candidato a interpretação das questões, **o fiscal** não poderá fazer nenhuma interferência.
8. A prova será realizada com duração máxima de **3 (três) horas**, incluído o tempo para a realização da Prova Objetiva de múltipla escolha e o preenchimento do cartão-resposta.
9. O candidato poderá retirar-se do local de realização das provas somente **1 (uma) hora** após o seu início, sem levar o caderno de prova.
10. O candidato poderá levar o caderno de provas, assim como anotação contendo transcrição do seu cartão-resposta, somente **1h30min** (uma hora e trinta minutos) após o início da realização da prova.
11. Ao terminar a prova, o candidato deverá entregar ao fiscal de sala o cartão-resposta preenchido e **ASSINADO**.
12. Os **3 (três)** candidatos, que terminarem a prova por último, deverão permanecer na sala, e só poderão sair juntos após o fechamento do envelope, contendo os cartões-resposta dos candidatos presentes e ausentes, e assinarem no lacre do referido envelope, atestando que este foi devidamente lacrado.
13. Durante todo o tempo em que permanecer no local onde está ocorrendo o concurso, o candidato deverá, manter o celular desligado e sem bateria, só sendo permitido ligar depois de ultrapassar o portão de saída do prédio.
14. Não será permitido ao candidato fumar na sala de provas, bem como nas dependências.
15. Depois de terminar a prova e entregar ao fiscal o cartão-resposta, preenchido e assinado, não será mais permitido ao candidato o uso do banheiro e bebedouro.

**BOA PROVA!**



**LÍNGUA PORTUGUESA**

Texto para as próximas cinco questões:

**“O cego Estrelinho”  
Mia Couto**

O cego Estrelinho era pessoa de nenhuma vez: sua história poderia ser contada e descontada não fosse seu guia, Gigitto Efraim. A mão de Gigitto conduziu o desvistado por tempos e idades. Aquela mão era repartidamente comum, extensão de um no outro, siamensal. E assim era quase de nascença. Memória de Estrelinho tinha cinco dedos e eram os de Gigitto postos, em aperto, na sua própria mão.

O cego, curioso, queria saber de tudo. Ele não fazia cerimônia no viver. O sempre lhe era pouco e o tudo insuficiente. Dizia, deste modo:

— Tenho que viver já, senão esqueço-me.

Gigitto, porém, o que descrevia era o que não havia. O mundo que ele minuciava eram fantasias e rendilhados. A imaginação do guia era mais profícua que papaeira. O cego enchia a boca de águas:

— Que maravilhação esse mundo. Me conte tudo, Gigitto!

A mão do guia era, afinal, o manuscrito da mentira. Gigitto Efraim estava como nunca esteve S. Tomé: via para não crer. O condutor falava pela ponta dos dedos. Desfolhava o universo, aberto em folhas. A ideiação dele era tal que mesmo o cego, por vezes, acreditava ver. O outro lhe encorajava esses breves enganar:

— Desbengale-se, você está escolhendo a boa procedência!

Mentira: Estrelinho continuava sem ver uma palmeira à frente do nariz. Contudo, o cego não se conformava em suas escurezas. Ele cumpria o ditado: não tinha perna e queria dar o pontapé. Só à noite, ele desalentava, sofrendo medos mais antigos que a humanidade. Entendia aquilo que, na raça humana, é menos primitivo: o animal.

— Na noite aflige não haver luz?

— Aflição é ter um pássaro branco esvoando dentro do sono.

Pássaro branco? No sono? Lugar de ave é nas alturas. Dizem até que Deus fez o céu para justificar os pássaros. Estrelinho disfarçava o medo dos vaticínios, subterfugindo:

— E agora, Gigitto? Agora, olhando assim para cima, estou face ao céu?

Que podia o outro responder? O céu do cego fica em toda a parte. Estrelinho perdia o pé era quando a noite chegava e seu mestre adormecia. Era como se um novo escuro nele se estreasse em nó cego. Devagaroso e sorrateiro ele ainhava sua mão na mão do guia. Só assim adormecia. A razão da concha é a timidez da amêijoia? Na manhã seguinte, o cego lhe confessava: se você morrer, tenho que morrer logo no imediato. Senão-me: como acerto o caminho para o céu?

Foi no mês de dezembro que levaram Gigitto. Lhe tiraram do mundo para pôr na guerra: obrigavam os serviços militares. O cego reclamou: que o moço inatingia a idade. E que o serviço que ele a si prestava era vital e vitalício. O guia chamou Estrelinho à parte e lhe tranquilizou:

— Não vai ficar sozinando por aí. Minha mana já mandei para ficar no meu lugar.

O cego estendeu o braço a querer tocar uma despedida. Mas o outro já não estava lá. Ou estava e se desviara, propositado? E sem água ida nem vinda, Estrelinho escutou o amigo se afastar, engolido, esponginguico, invisível. Pela primeira vez, Estrelinho se sentiu invalidado.

— Agora, só agora, sou cego que não vê.

(...)

**COUTO, Mia. Estórias abensonhadas. Rio de Janeiro: Nova Fronteira, 1996. (Pág 23 e 24).**

**01. Quanto à interpretação do fragmento do conto, podemos afirmar que:**

- Gigitto Efraim era o guia de Estrelinho há pouquíssimo tempo.
- Estrelinho era cego de nascença.
- Gigitto descrevia o mundo para Estrelinho de forma denotativa.
- Gigitto foi convocado pelo exército para ser guia de cegos na guerra.
- Gigitto descrevia o mundo para Estrelinho de forma conotativa.

**02. No período “O sempre lhe era pouco e o tudo insuficiente”, o pronome “LHE” exerce a função sintática de:**

- Objeto Direto
- Objeto Indireto
- Complemento Nominal
- Adjunto Adnominal
- Objeto Direto Preposicionado

**03. Na oração “A mão de Gigitto conduziu o desvistado por tempos e idades”, o autor faz uso de um neologismo, assim como no decorrer de toda a obra em questão. Contudo, o neologismo só se torna possível pela utilização dos elementos mórficos naquilo que a gramática normativa pontua como Processo de Formação das Palavras. Levando em consideração apenas o recurso morfológico, qual Processo de Formação foi utilizado?**

- Derivação Sufixal

- b) Derivação Prefixal
- c) Derivação Regressiva
- d) Derivação Imprópria
- e) Derivação Parassintética

**04. No terceiro período do décimo terceiro parágrafo, temos:**

- a) Uma oração
- b) Duas orações
- c) Três orações
- d) Quatro orações
- e) Cinco orações

**05. No último parágrafo do fragmento do conto “— Agora, só agora, sou cego que não vê”, a oração subordinada presente classifica-se corretamente como:**

- a) Oração Subordinada Adjetiva Restritiva
- b) Oração Subordinada Adverbial Causal
- c) Oração Subordinada Substantiva Subjetiva
- d) Oração Subordinada Adverbial Explicativa
- e) Oração Subordinada Adjetiva Explicativa

#### **RACIOCÍNIO LÓGICO**

**06. Os cinco filhos de Ana estavam discutindo a respeito da data de nascimento da mãe:**

- Almir disse que foi em janeiro, dia 14, sexta-feira.
- Vanderlei disse que foi em janeiro, dia 14, sábado.
- Tiago disse que foi em fevereiro, dia 15, sábado.
- Sandro disse que foi em janeiro, dia 15, sexta-feira.
- Renato disse que foi em fevereiro, dia 15, sexta-feira.

**Sabe-se que somente um dos filhos de Ana acertou corretamente sua data de nascimento e que os outros acertaram pelo menos um dos itens (dia, dia da semana e mês). Dessa forma, é correto afirmar que o filho de Ana que acertou a data de nascimento dela foi:**

- a) Renato
- b) Sandro
- c) Tiago
- d) Vanderlei
- e) Almir

**07. Considere a seguinte afirmativa: “Todo churrasqueiro gosta de picanha”. Em relação a essa proposição, é correto afirmar que:**

- a) Algum churrasqueiro não gosta de picanha.
- b) Toda pessoa que gosta de picanha é churrasqueira.
- c) Alguma pessoa que não gosta de picanha é churrasqueira.
- d) Toda pessoa que não é churrasqueira, não gosta de picanha.
- e) Toda pessoa que não gosta de picanha, não é churrasqueira.

**08. Em um grupo formado por 67 pessoas, verificou-se que 41 pessoas gostam de arroz, 29 gostam de feijão, 33 gostam de carne, 19 gostam de arroz e de feijão, 9 gostam apenas de arroz e de carne, 12 gostam de feijão e de carne e que 6 gostam de arroz, de feijão e de carne. O número de pessoas desse grupo, que não gosta de nenhum desses três tipos de alimentos é igual a:**

- a) 4
- b) 5
- c) 6
- d) 8
- e) 10

**09. Bruno escreveu, em seu caderno, várias sequências formadas por números múltiplos de 4, onde os valores que ocupavam as posições pares eram multiplicados por  $-1$ . Cada sequência foi somada e o resultado da soma anotado. A soma das três primeiras sequências escritas por Bruno foram as seguintes:**

$$4 - 8 = -4$$

$$4 - 8 + 12 = 8$$

$$4 - 8 + 12 - 16 = -8$$

**Considere que Bruno escreveu e somou tais sequências, em seu caderno, de modo a obter determinada sequência cuja soma foi 600. O número de termos dessa sequência é igual a:**

- a) 149
- b) 150
- c) 298

- d) 299  
e) 300

**10. Quatro torcedores, um do São Paulo, um do Cruzeiro, um do Vasco e um do Bahia, estão sentados ao redor de uma mesa quadrada, de modo que, dois a dois, fiquem frente a frente. Sabe-se que Alan é torcedor do Cruzeiro e que Bruno está sentado à direita de Alan. Sabe-se também que Caio está sentado à direita do torcedor do São Paulo. Sabe-se ainda que Daniel não é torcedor do Vasco e que está sentado à frente de Bruno. Dessa forma, é correto afirmar que:**

- a) Bruno é torcedor do Bahia e Daniel é torcedor do São Paulo.  
b) Bruno é torcedor do São Paulo e Daniel é torcedor do Bahia.  
c) Caio é torcedor do Vasco e Daniel é torcedor do São Paulo.  
d) Caio é torcedor do Bahia e Daniel é torcedor do São Paulo.  
e) Bruno é torcedor do Vasco e Daniel é torcedor do Bahia.

### INFORMÁTICA

**11. Considerando o MS-Excel versão 2010, observando a figura abaixo, é correto afirmar que:**

	A	B	C
1			
2			
3			
4			

- a) Somente 03 três linhas estão selecionadas.  
b) Somente uma célula está selecionada.  
c) 12 (doze) células estão selecionadas.  
d) Somente a coluna A até a linha 4 (quatro) está selecionada.  
e) Somente as colunas 1 (um), 2 (dois), 3 (três) e 4 (quatro) estão selecionadas.

**12. Considerando o MS-Excel versão 2010, observando a figura abaixo, é incorreto afirmar que:**

	A	B	C
1	12	6	=A1*B1
2	8	2	=A2/B2
3	5	14	=A3-B3
4	6	11	=A4+B4

- a) O resultado da fórmula =A1\*B1 é 72.  
b) O resultado da fórmula =A2/B2 é 4.  
c) O resultado da fórmula =A3-B3 é -9.  
d) O resultado da fórmula =A3-B3 é 9.  
e) O resultado da fórmula =A4+B4 é 17.

**13. Digitando um texto no MS-Word versão 2010, necessito adicionar número nas páginas. Quanto a isso, é correto afirmar que:**

- a) No menu Layout da Página, clico em número de página e seleciono onde desejo adicionar os números.  
b) No menu Inserir, clico em número de página e seleciono onde desejo adicionar os números.  
c) No menu Revisão, clico em número de página e seleciono onde desejo adicionar os números.  
d) No menu Referências, clico em número de página e seleciono onde desejo adicionar os números.  
e) No menu Exibição, clico em número de página e seleciono onde desejo adicionar os números.

**14. A segurança da informação está diretamente relacionada com proteção de um conjunto de informações, no sentido de preservar o valor que possuem para um indivíduo ou uma organização. Atualmente, um dos aplicativos mais utilizados no mundo, o Whats app, teve uma alteração de confidencialidade muito importante na segurança das informações transmitidas e recebidas. Dentre as alternativas, assinale a que corretamente informa a alteração inserida no aplicativo Whats app.**

- a) Antispam  
b) Antivirus  
c) Firewall  
d) Antispyware  
e) Criptografia



**15. São todos os dispositivos que trabalham acoplados ao microcomputador para receber, transmitir, visualizar, ler, gravar ou armazenarem dados. São eles que permitem a comunicação do computador com o meio exterior, isto é, com os usuários e outras máquinas.**

**Esse texto descreve corretamente:**

- a) Memória ram
- b) Memória virtual
- c) Software
- d) Periféricos
- e) Hardware

#### **CONHECIMENTOS GERAIS**

##### **16. Hino do município de Telêmaco Borba/PR**

Das virgens matas e campos verdejantes  
Servindo-se também o rio Tibagi,  
Homens de ideais, espíritos vibrantes.  
Constituíram as indústrias aqui.

**Estribilho:**

Salve! Salve! Telêmaco Borba  
Terra querida e de grandes primores,  
A nossa homenagem rendamos  
À cidade dos trabalhadores.  
Pois a cadência de enorme e real progresso  
Um município mui grandioso fez nascer,  
Marcando assim, verdadeiro sucesso  
Faz, então o Paraná engrandecer.

**No que tange ao Hino do município, atribua V (verdadeiro) ou F (falso) às afirmativas e marque a alternativa correta.**

- ( ) Eloah Martins Quadrado é autora da letra do hino.
- ( ) Bento Mossurunga compôs a música do hino.
- ( ) Eloah Martins Quadrado foi nomeada primeira professora da Cidade Nova, atual Telêmaco Borba.
- ( ) Bento Mossurunga fundou a orquestra Estudantil e Concertos – Orquestra Sinfônica da Universidade, a Sociedade de Cultura Artístico Basilio Itiberê.

- a) F, V, V, V.
- b) V, F, V, V.
- c) V, V, F, V.
- d) V, V, F, F.
- e) V, V, V, V.

**17. À luz da Lei nº 1883/2012, que dispõe sobre o Estatuto dos Servidores Públicos da Administração Direta, Autárquica e Funcional do Município de Telêmaco Borba/PR, leia as alternativas e marque a correta.**

- a) A apresentação para a posse ocorrerá no prazo de até trinta dias, contados do ato de nomeação.
- b) A destituição do servidor da função gratificada dar-se-á por solicitação exclusiva dele mesmo.
- c) O servidor ocupante exclusivamente de cargo em comissão será contribuinte do regime geral de previdência social.
- d) A aprovação em concurso público gera o direito à nomeação, e será feita obedecida à ordem de classificação dos candidatos.
- e) O exercício de função gratificada poderá ser de dedicação integral ou parcial, conforme necessidade da administração.

**Conforme a Lei nº 1.881, de 05 de abril de 2012, que dispõe sobre o Plano de Cargos, Carreiras e Vencimentos do quadro geral de servidores da Prefeitura Municipal de Telêmaco Borba/PR, regulamentada pelo Decreto nº 2269/2015, responda às próximas três questões.**

**18. Leia as assertivas e assinala a incorreta.**

- a) Do resultado da avaliação de desempenho poderá ser interposto recurso à Comissão de Desenvolvimento Funcional no prazo de quinze dias a contar da publicação no Boletim Oficial do Município.
- b) Não será concedida a progressão ou promoção ao servidor que estiver em licença para tratamento de saúde por um período superior a quarenta e cinco dias, no período de avaliação.
- c) A alternância dos membros constituintes da Comissão de Desenvolvimento Funcional eleitos pelos servidores verificar-se-á a cada três anos de participação, observados, para substituição de seus participantes, o critério fixado no artigo anterior, não cabendo eleição sucessiva.
- d) Caberá à Comissão de Desenvolvimento Funcional, no caso de divergência de vinte por cento entre a nota do avaliador e a do avaliado, solicitar nova avaliação à chefia.



e) Nos termos do disposto no art. 17 da Lei n° 1.881, de 05 de abril de 2012, para progredir, é necessário que o servidor satisfaça, dentre outros, o seguinte requisito: estar no efetivo exercício de seu cargo ou em função comissionada na sua área de atuação durante o interstício de dois anos.

**19. Assinale a alternativa que completa respectivamente as lacunas do texto a seguir:**

**A Comissão de Desenvolvimento Funcional será constituída por \_\_\_\_\_ membros, sendo \_\_\_\_\_ designados pelo Prefeito Municipal de Telêmaco Borba e os demais eleitos pelos servidores municipais dentre os estáveis, com a atribuição de coordenar os procedimentos relativos à avaliação periódica de desempenho e outras atribuições.**

- a) três / sete
- b) um / três
- c) sete / três
- d) três / cinco
- e) dois / cinco

**20. A Avaliação de Desempenho será norteadada, dentre outros, pelo seguinte princípio: Amplitude - a avaliação deve incidir sobre todas as áreas de atuação do servidor, que compreendem:**

- 1. a formulação de políticas administrativas e sua aplicação para todos os setores da administração municipal;**
- 2. o desempenho do profissional dentro de suas funções pertinentes;**
- 3. a estrutura do órgão em que exerce a função;**
- 4. os resultados de eficiência dos serviços de cada setor ou órgão da administração municipal;**
- 5. a participação direta do avaliado, durante todo o processo avaliativo.**

**Diante dessa afirmação, somente não está correto o item:**

- a) 1
- b) 2
- c) 3
- d) 4
- e) 5

## **CONHECIMENTOS ESPECÍFICOS**

**21. Considere as afirmativas:**

**I- A partir da década de 80, a Psicopedagogia tem se estruturado como corpo de conhecimentos e se transformado em campo de estudos multidisciplinares.**

**II- A partir da década de 60, a categoria profissional dos psicopedagogos começa a expandir-se e a organizar-se buscando inicialmente as causas do fracasso escolar através da sondagem de aspectos do desenvolvimento físico e psicológico do aprendiz.**

**III- Johnson & Myklebust (1987, USA.) contribuíram para os estudos psicopedagógicos com importantes pesquisas no Institute for Language Disorders. Estas pesquisas enfatizavam os conceitos de Disfunção Cerebral Mínima (DCM) e os Distúrbios de aprendizagem (afasias, disgrafias, discalculias, dislexias).**

**IV- Na década de 60, os psicólogos já não se prendem à concepção organicista e linear de sentido patológico. Neste período, os indivíduos não são encarados do ponto de vista de dificuldades escolares ou como portadores de disfunções psiconeurológicas, mentais e/ou psicológicas.**

**É correto apenas o que se afirma em:**

- a) II, III e IV.
- b) I
- c) I e III.
- d) III e IV.
- e) I, II e III.

**22. Entre os vários estudiosos que contribuíram para os avanços na investigação da aprendizagem está Emilia Ferreiro, que avaliou trabalhadores em processos de alfabetização. Sobre ela, é incorreto considerar que:**

- a) É uma psicóloga e pedagoga argentina radicada no México.
- b) Ao discordar das ideias piagetianas, criou um modelo de alfabetização baseado na psicologia comportamental.
- c) Considera que muitos dos erros frequentemente cometidos na produção oral e escrita são hipóteses que a criança elabora na construção do próprio conhecimento.
- d) Suas ideias contribuem para que as escolas possam rever sua atuação frente aos alunos, procurando avaliá-los não em termos de respostas "boas e más", mas pelo processo que os leva a tais respostas.
- e) Suas investigações com trabalhadores em processos de alfabetização são o primeiro conjunto de dados da concepção de adultos não alfabetizados sobre o sistema de escrita.

**23. Leia e avalie os itens:**

**I- O modelo sócio-interacionista como concepção de aprendizagem foi criado por Erik Erikson.**

II- Entre os autores que tratam da aprendizagem, Vygotsky apresentou o conceito de zona de desenvolvimento proximal que relativiza os métodos de diagnóstico dos problemas de aprendizagem.

III- Jorge Visca concebe a aprendizagem como uma construção intrapsíquica, com continuidade genética e diferenças evolutivas, resultantes das pré-condições energético-estruturais do sujeito e das circunstâncias do meio.

IV- Para a psicóloga Sara Pain, a aprendizagem tem três funções: uma função socializadora, uma função repressiva e uma função transformadora.

**Assinale a alternativa correta.**

- a) Todos os itens são verdadeiros.
- b) Apenas os itens II, III e IV são verdadeiros.
- c) Somente os itens I e IV são verdadeiros.
- d) Apenas os itens II e III são verdadeiros.
- e) Apenas os itens I e II são verdadeiros.

**24. Sobre os estados patológicos da aprendizagem apresentados por Visca, considere os itens e assinale a alternativa correta.**

**I- O estado patogênico caracteriza os sintomas.**

**II- O estado semiológico caracteriza as estruturas e os mecanismos intrapsíquicos que provocam e mantêm os sintomas.**

**III- No nível do estado semiológico, incluem-se duas dimensões: a das aprendizagens assistemáticas, produzidas sem a intervenção das instituições educativas, e a das aprendizagens sistemáticas, produzidas no contato institucional.**

**IV- Os sintomas devem ser entendidos como produtos emergentes de uma pluricausalidade estruturada gestalticamente.**

- a) Os itens III e IV são os únicos verdadeiros.
- b) O item I é o único verdadeiro.
- c) O item II é o único verdadeiro.
- d) Apenas os itens I e IV são verdadeiros.
- e) Apenas os itens II e III são verdadeiros.

**25. Entre os 3 e 12 anos aproximadamente, as crianças superam o intenso período de construção de si mesmas e vão continuar a desenvolver-se em todos os domínios, antes de enfrentar as turbulências da adolescência. Sobre a evolução das capacidades psicomotoras e a lateralização no desenvolvimento psicomotor, pode-se afirmar que:**

**I- As idades apresentadas como pontos de referência são sempre aproximadas e não servem para estabelecer a distinção entre a normalidade e o que está fora das normas.**

**II- No domínio psicomotor, a progressão das aquisições depende da progressão da mielinização das ligações neuromotoras.**

**III- No domínio psicomotor, a exemplo do que ocorre em outros domínios, a variabilidade interindividual é forte.**

**IV- O avanço da criança deve ser avaliado em relação a si mesma e não tanto em relação às outras crianças da mesma idade.**

**São corretas:**

- a) Todas as afirmativas.
- b) As afirmativas I e IV, somente.
- c) As afirmativas II e III, somente.
- d) As afirmativas III e IV, somente.
- e) As afirmativas I, III e IV, somente.

**26. Leia o texto de Isilda C. Palangana (Desenvolvimento e aprendizagem em Piaget e Vygotsky, 2001):**

***“De acordo com a concepção psicogenética, ao agir sobre os objetos, o sujeito não apenas extrai características intrínsecas aos mesmos como também acresce algo ao real na medida em que ele pode combinar e efetuar deduções a partir dessas características abstraídas. Este fato pode ser verificado em dois tipos básicos de ação ou experiência com os objetos: a experiência física e a experiência lógico-matemática”.***

**Assinale a alternativa incorreta:**

- a) Considerando-se Piaget, a experiência física consiste, com efeito em agir sobre os objetos de maneira a descobrir as propriedades que ainda são abstratas nesses objetos como tais: por exemplo, sopesar um corpo a fim de avaliar seu peso.
- b) A concepção psicogenética partilha da ideia que as experiências vividas não desempenham o principal papel na construção das estruturas cognitivas, dado que essas experiências não existem na consciência do sujeito, mas sim no seu comportamento operatório.
- c) Vygotsky denomina de “abstração empírica ou simples” a ação sobre os objetos na busca de conhecer singularidades não concretas.



- d) A experiência lógico-matemática consiste em agir sobre os objetos, mas de forma a descobrir propriedades que estão pelo contrário, abstratas das ações mesmas: do sujeito, de tal forma que, num certo nível de abstração, a experiência sobre os objetos se torna inútil e a coordenação das ações basta para engendrar uma manipulação operatória simplesmente simbólica e procedendo assim de maneira puramente dedutiva.
- e) Ao agir sobre os objetos, o sujeito estabelece ou constrói novas relações. Estas ações, na teoria psicogenética, são chamadas de “abstração reflexiva ou construtiva”.

**27. Avalie os itens sobre o desenvolvimento, considerando-se do nascimento ao ingresso na escola:**

**I- O crescimento é um fenômeno regular por não apresentar grande vitalidade e porque as diferentes partes do corpo se desenvolvem no mesmo ritmo.**

**II- Existem dois períodos importantes: o que vai do nascimento até cerca de 3 anos e o que precede e acompanha a puberdade. O crescimento ósseo aqui é um fenômeno simples, uma vez que suas características são invariáveis quer se trate de ossos compridos ou de ossos achatados, ou do crânio.**

**III- Com 3 anos o cérebro atinge 63% de seu volume na idade adulta.**

**IV- Tendo aumentado lentamente durante o primeiro ano, o volume do crânio aumenta em seguida: assim, a cabeça que representa metade do embrião passa a ser apenas 1/5 de um adulto.**

**É incorreto o que se afirma em:**

- a) I, II e IV, apenas.
- b) I, III e IV, apenas.
- c) Todos os itens.
- d) II, III e IV, apenas.
- e) III e IV, apenas.

**28. Considere os itens sobre distúrbios de aprendizagem:**

**I- Distúrbio associado à lateralização.**

**II- Distúrbio vinculado à maturidade neuromotora que pode ser encontrado nas crianças mais avançadas do ponto de vista escolar ou que apresentam um pequeno retardo no plano motor.**

**III- Dificuldade de leitura que se manifesta por confusões ou inversões de letras ou de fonemas.**

**IV- Dificuldades de grafia.**

**A que correspondem sucessivamente os itens?**

- a) Disortografia (I e II), Dislexia (III) e gagueira clônica (IV).
- b) Dislexia (I e), Disgrafia (II), Disortografia (III) e Gagueira (IV).
- c) Gagueira (I), Disortografia (II e III) e Dislexia (IV).
- d) Gagueira (I), Disgrafia (II), Dislexia (III) e Disortografia (IV).
- e) Dislexia (I), Gagueira tônica (II e III) e Dislexia (IV)

**29. Sobre o desenvolvimento do código linguístico nas crianças, é incorreto afirmar que:**

- a) O vocabulário enriquece-se de modo restrito por substantivos e pronomes, não havendo ainda espaço para verbos e adjetivos.
- b) A utilização correta dos diferentes elementos da frase instala-se de modo progressivo.
- c) Os artigos indefinidos devem estar de acordo em gênero e número com as palavras que os acompanham (aproximadamente entre 3 e 4 anos).
- d) Os pronomes pessoais mais fáceis de adquirir remetem às condições do diálogo – mim, eu, você, te... – e são seguidos por outros pronomes, no singular e no plural, entre 2 e 4 anos.
- e) As preposições e advérbios que são adquiridos, muitas vezes, em primeiro lugar, estão relacionados com a posse ou o benefício, por volta dos dois anos (a, de, para...); com o lugar, por volta de 3-4 anos (inicialmente, de maneira elementar – dentro, em cima – e, em seguida, perto de, sobre...); e com o tempo, por volta dos 4-5 anos (hoje, amanhã, agora...)

**30. A qual dos autores se vincula a concepção de que o processo de aprendizagem não se trata de uma sucessão linear de etapas que o aluno deve passar, mas sim como um processo que leva em conta o modo como os seres humanos vão desenvolvendo os seus conhecimentos do mundo, implicando uma visão mais ampla do fenômeno no qual o meio cultural tem um papel fundamental.**

- a) Wallon
- b) Erikson
- c) Freud
- d) Vygotsky
- e) Ferreiro

**31. As relações que os homens estabelecem entre si para produzir a cultura se dão em diversos níveis que não se excluem, mas se complementam e se interpenetram. Distinguímos isso em:**

- a) Relações de trabalho, políticas e culturais.
- b) Relações religiosas, amorosas e civis.
- c) Relações sexuais, fraternas e interiores.
- d) Relações exteriores, medíocres e efêmeras.



e) Relações afadigadas, hiper-realistas e antissociais.

**32. O termo formação tem a ideia de instrução, criação, desenvolvimento, evolução. Para tal, um bom educador deve:**

- a) Identificar o que está correto ou errado na escola e cobrar os encarregados por isso.
- b) Mobilizar a comunidade escolar para reivindicar da direção a melhoria da qualidade educacional.
- c) Aprender, reaprender, trocar experiências, potencializar e aprimorar a prática docente o tempo todo.
- d) O professor deve ser apenas um instrumento onde os conceitos são transmitidos.
- e) Orientar o aluno na busca da sua individualidade social.

**33. A gestão pedagógica nada mais é do que a organização e o planejamento do sistema educacional. O gestor tem que ser o canal para os educadores estabelecerem a aprendizagem promovendo a educação como um todo, observando o currículo escolar, a metodologia de ensino e incentivando eventuais mudanças quando necessárias.**

**Nesse sentido, analise as seguintes afirmações a respeito de um bom gestor:**

**I- Tem que ser transparente e coerente nas ações;**

**II- Tem que ter credibilidade na comunidade, ser conhecedor da realidade da escola;**

**III- Precisa ter pré-disposição para o trabalho coletivo, ser articulador, mediador e líder;**

**IV- Não deve ter espírito solidário e ético, nem firmeza e propósito para realização das ações.**

**Assinale a alternativa correta:**

- a) Apenas I e II estão corretas.
- b) Apenas II e III estão corretas.
- c) Apenas I, III e IV estão corretas.
- d) Apenas I, II e III estão corretas.
- e) Apenas II, III e IV estão corretas.

**34. O Projeto Político-Pedagógico é uma reflexão do cotidiano escolar. Assim, ele precisa de um tempo razoável de reflexão/ação, com o intuito de se ter um mínimo necessário à consolidação de sua proposta.**

**Assinale a única alternativa incorreta sobre o que é contemplado num Projeto Político-Pedagógico:**

- a) Princípio de igualdade de condições para o acesso e permanência na escola.
- b) Propiciar uma qualidade educacional para todos.
- c) A escola tem que ser um organismo mais social e acolhedor; ter participação coletiva, reciprocidade e solidariedade.
- d) Os profissionais devem lutar para uma melhor qualidade do local de trabalho e direito de formação continuada de seus estudos.
- e) A avaliação escolar deve ser vista como um simples ato de aplicar provas.

**35. “Não se descarta que a indisciplina escolar, além de gerar vários problemas à escola, prejudica o meio social e a vida particular do indivíduo. A agressividade e a indisciplina nas crianças e adolescentes estão inseridas dentro e fora da sala de aula, sendo hoje, um grande desafio aos professores conviverem com tais situações.”**

**Com relação à indisciplina escolar, assinale a alternativa incorreta:**

- a) É um fenômeno típico da adolescência e está caracterizada pelo questionamento a valores impingidos do mundo adulto.
- b) Isto teria ocorrido pela cultura da comunidade escolar e do seu entorno.
- c) É uma manifestação de agressividade dirigida contra as figuras de autoridade, agressividade gerada, muitas vezes, pela desestruturação do ambiente familiar.
- d) Resulta de más influências a que as novas gerações foram expostas (o excesso de televisão, de internet, celular, drogas, etc).
- e) As crianças de hoje em dia não têm limites, não reconhecem a autoridade, não respeitam as regras, e a responsabilidade, por isso, é dos pais, que teriam se tornado muito permissivos.

**36. “O currículo é a organização do conhecimento escolar. É uma construção social do conhecimento pressupondo a sistematização dos meios que tal construção se efetive; a transmissão dos conhecimentos historicamente produzidos e as formas de assimilá-los, portanto, produção, transmissão e assimilação são processos que compõem uma metodologia de construção coletiva do conhecimento escolar, ou seja, o currículo propriamente dito.”**

**Reflita:**

**I- Um currículo nunca é estático, ele foi, continua e sempre será construído.**

**II- Cada disciplina é ensinada separadamente e as que são consideradas de maior importância em detrimento de outras recebem mais tempo para serem explanadas no contexto escolar.**

**III- A organização do currículo deve procurar viabilizar uma maior interdisciplinaridade, contextualização e transdisciplinaridade, assegurando a livre comunicação entre todas as áreas.**

**IV- O currículo nunca é um plano estruturado de aprendizagem centrado nos conteúdos ou nos alunos; nos objetivos previamente formulados, com vista a um dado resultado.**

**Assinale a alternativa que contém a afirmação correta:**

- a) Apenas as assertivas I, II e III estão corretas.
- b) Apenas as assertivas II e III estão corretas.
- c) Apenas as assertivas I, II e IV estão corretas.
- d) Apenas as assertivas II, III e IV estão corretas.
- e) Apenas as assertivas I, III e IV estão corretas.

**37. “O processo de ensino-aprendizagem no sistema educacional tradicional pode ser entendido através de três direções “professor, aluno e conteúdo”. As relações entre estes elementos implicam em ações didático-pedagógicas diferenciadas e influenciadas pelo contexto histórico e social ao qual os elementos estão inseridos.”**

**Sobre esse assunto, assinale a alternativa incorreta:**

- a) O elemento “aluno” refere-se ao aprendiz, aquele que aprende.
- b) O saber será o conteúdo, o que vai ser aprendido pelo aluno.
- c) O saber/contéudo deve variar segundo o aluno/aprendiz, seu desenvolvimento e habilidades.
- d) É muito importante o papel do mediador, de saber como apresentar o conteúdo para que ele faça sentido para o aprendiz.
- e) No processo de aprendizagem, o aluno nunca assume um lugar de importância, pois não é para ele as estratégias pedagógicas.

**38. Sem uma adequada formação, os professores não têm como colaborar de forma efetiva para o desenvolvimento de uma escolarização que supere o fracasso visível nos resultados das avaliações que mantém a aprendizagem dos alunos com médias insuficientes, nos altos índices de evasão e reprovação.**

**Assinale a alternativa correta, de acordo com as informações dadas pelo fragmento:**

- a) A formação de professores no Brasil não necessita de investimentos.
- b) Há necessidade de programas de formação continuada que visem proporcionar uma melhoria na formação dos professores.
- c) As políticas governamentais contemplam a carreira e a profissionalização dos professores nas condições desejáveis.
- d) A formação de professores nunca deve considerá-los como sujeitos da prática social e portadores de um papel político que os impeça de considerar suas práticas como neutras.
- e) O professor a ser formado não depende do contexto histórico-social em que se encontra, das relações sociais existentes, do posicionamento do sistema produtivo, para assim articular no seu fazer pedagógico, as dimensões do “o que ensinar”, do “como ensinar”, do “para que ensinar, do “para quem ensinar”.

**39. Leia o texto a seguir e assinale a alternativa correta.**

**A educação básica, nos níveis fundamental e médio, será organizada de acordo com a verificação do rendimento escolar, observando os seguintes critérios:**

**I- Avaliação contínua e cumulativa do desempenho do aluno com prevalência dos aspectos qualitativos sobre os quantitativos e dos resultados ao longo do período sobre os das eventuais provas finais.**

**II - Possibilidade de aceleração de estudo para alunos com atraso escolar.**

**III - Possibilidade de avanço nos cursos e nas séries mediante verificação do aprendizado.**

**IV- Aproveitamento de estudos concluídos com êxito.**

**V- Obrigatoriedade de estudos de recuperação, de preferência paralelos ao período letivo, para os casos de baixo rendimento escolar, a serem disciplinados pelas instituições de ensino em seus seguimentos.**

- a) Apenas os critérios I, II, III e V estão corretos.
- b) Apenas os critérios I, III, e IV estão corretos.
- c) Apenas os critérios III, IV e V estão corretos.
- d) Apenas os critérios II, IV e V estão corretos.
- e) Todos os critérios estão corretos.

**40. A educação em Direitos Humanos, com a finalidade de promover a educação para a mudança e a transformação social, fundamenta-se nos seguintes princípios:**

**I- Dignidade humana e desigualdade de direitos;**

**II- Reconhecimento e valorização das diferenças e das diversidades;**

**III- Transversalidade, vivência e globalidade;**

**IV- Sustentabilidade socioambiental.**

**São corretos apenas os itens:**

- a) I, II e III.
- b) I, III e IV.
- c) II, III e IV.
- d) I e IV.
- e) I e II.



PREFEITURA DE TELÊMACO BORBA - ESTADO DO PARANÁ- EDITAL Nº 001-2016 - CONCURSO PÚBLICO

VESPERTINO – 29/05/2016 – NÍVEL SUPERIOR

PROVA OBJETIVA NÚMERO

**2**

**CARGO: TMNS I - PSICOPEDAGOGIA**

Leia atentamente as **INSTRUÇÕES**:

1. Confira seus dados no cartão-resposta: nome, número de inscrição e o curso para o qual se inscreveu.
2. **MARQUE no seu cartão-resposta o número da sua prova** (não será corrigido o cartão-resposta que não tiver marcado o número da prova) e **Assine** seu cartão-resposta.
3. Aguarde a autorização do Fiscal para abrir o caderno de prova. Ao receber a ordem do fiscal, confira o caderno de prova com muita atenção. Nenhuma reclamação sobre o total de questões ou falha de impressão será aceita depois de iniciada a prova.
4. O cartão-resposta não será substituído, salvo se contiver erro de impressão.
5. Preencha toda a área do cartão-resposta correspondente à alternativa de sua escolha, com caneta esferográfica (tinta azul ou preta), sem ultrapassar as bordas. As marcações duplas, ou rasuradas, com corretivo, ou marcadas diferentemente do modelo estabelecido no cartão-resposta poderão ser anuladas.
6. Sua prova tem **40** questões, com **5** alternativas.
7. Cabe apenas ao candidato a interpretação das questões, **o fiscal** não poderá fazer nenhuma interferência.
8. A prova será realizada com duração máxima de **3 (três) horas**, incluído o tempo para a realização da Prova Objetiva de múltipla escolha e o preenchimento do cartão-resposta.
9. O candidato poderá retirar-se do local de realização das provas somente **1 (uma) hora** após o seu início, sem levar o caderno de prova.
10. O candidato poderá levar o caderno de provas, assim como anotação contendo transcrição do seu cartão-resposta, somente **1h30min** (uma hora e trinta minutos) após o início da realização da prova.
11. Ao terminar a prova, o candidato deverá entregar ao fiscal de sala o cartão-resposta preenchido e **ASSINADO**.
12. Os **3 (três)** candidatos, que terminarem a prova por último, deverão permanecer na sala, e só poderão sair juntos após o fechamento do envelope, contendo os cartões-resposta dos candidatos presentes e ausentes, e assinarem no lacre do referido envelope, atestando que este foi devidamente lacrado.
13. Durante todo o tempo em que permanecer no local onde está ocorrendo o concurso, o candidato deverá, manter o celular desligado e sem bateria, só sendo permitido ligar depois de ultrapassar o portão de saída do prédio.
14. Não será permitido ao candidato fumar na sala de provas, bem como nas dependências.
15. Depois de terminar a prova e entregar ao fiscal o cartão-resposta, preenchido e assinado, não será mais permitido ao candidato o uso do banheiro e bebedouro.

**BOA PROVA!**

**RACIOCÍNIO LÓGICO**

01. Os cinco filhos de Ana estavam discutindo a respeito da data de nascimento da mãe:

- Almir disse que foi em janeiro, dia 14, sexta-feira.
- Vanderlei disse que foi em janeiro, dia 14, sábado.
- Tiago disse que foi em fevereiro, dia 15, sábado.
- Sandro disse que foi em janeiro, dia 15, sexta-feira.
- Renato disse que foi em fevereiro, dia 15, sexta-feira.

Sabe-se que somente um dos filhos de Ana acertou corretamente sua data de nascimento e que os outros acertaram pelo menos um dos itens (dia, dia da semana e mês). Dessa forma, é correto afirmar que o filho de Ana que acertou a data de nascimento dela foi:

- a) Renato
- b) Sandro
- c) Tiago
- d) Vanderlei
- e) Almir

02. Considere a seguinte afirmativa: “Todo churrasqueiro gosta de picanha”. Em relação a essa proposição, é correto afirmar que:

- a) Algum churrasqueiro não gosta de picanha.
- b) Toda pessoa que gosta de picanha é churrasqueira.
- c) Alguma pessoa que não gosta de picanha é churrasqueira.
- d) Toda pessoa que não é churrasqueira, não gosta de picanha.
- e) Toda pessoa que não gosta de picanha, não é churrasqueira.

03. Em um grupo formado por 67 pessoas, verificou-se que 41 pessoas gostam de arroz, 29 gostam de feijão, 33 gostam de carne, 19 gostam de arroz e de feijão, 9 gostam apenas de arroz e de carne, 12 gostam de feijão e de carne e que 6 gostam de arroz, de feijão e de carne. O número de pessoas desse grupo, que não gosta de nenhum desses três tipos de alimentos é igual a:

- a) 4
- b) 5
- c) 6
- d) 8
- e) 10

04. Bruno escreveu, em seu caderno, várias sequências formadas por números múltiplos de 4, onde os valores que ocupavam as posições pares eram multiplicados por  $-1$ . Cada sequência foi somada e o resultado da soma anotado. A soma das três primeiras sequências escritas por Bruno foram as seguintes:

$$4 - 8 = -4$$

$$4 - 8 + 12 = 8$$

$$4 - 8 + 12 - 16 = -8$$

Considere que Bruno escreveu e somou tais sequências, em seu caderno, de modo a obter determinada sequência cuja soma foi 600. O número de termos dessa sequência é igual a:

- a) 149
- b) 150
- c) 298
- d) 299
- e) 300

05. Quatro torcedores, um do São Paulo, um do Cruzeiro, um do Vasco e um do Bahia, estão sentados ao redor de uma mesa quadrada, de modo que, dois a dois, fiquem frente a frente. Sabe-se que Alan é torcedor do Cruzeiro e que Bruno está sentado à direita de Alan. Sabe-se também que Caio está sentado à direita do torcedor do São Paulo. Sabe-se ainda que Daniel não é torcedor do Vasco e que está sentado à frente de Bruno. Dessa forma, é correto afirmar que:

- a) Bruno é torcedor do Bahia e Daniel é torcedor do São Paulo.
- b) Bruno é torcedor do São Paulo e Daniel é torcedor do Bahia.
- c) Caio é torcedor do Vasco e Daniel é torcedor do São Paulo.
- d) Caio é torcedor do Bahia e Daniel é torcedor do São Paulo.
- e) Bruno é torcedor do Vasco e Daniel é torcedor do Bahia.

**INFORMÁTICA**

06. Considerando o MS-Excel versão 2010, observando a figura abaixo, é correto afirmar que:

	A	B	C
1			
2			
3			
4			

- Somente 03 três linhas estão selecionadas.
- Somente uma célula está selecionada.
- 12 (doze) células estão selecionadas.
- Somente a coluna A até a linha 4 (quatro) está selecionada.
- Somente as colunas 1 (um), 2 (dois), 3 (três) e 4 (quatro) estão selecionadas.

07. Considerando o MS-Excel versão 2010, observando a figura abaixo, é incorreto afirmar que:

	A	B	C
1	12	6	=A1*B1
2	8	2	=A2/B2
3	5	14	=A3-B3
4	6	11	=A4+B4

- O resultado da fórmula =A1\*B1 é 72.
- O resultado da fórmula =A2/B2 é 4.
- O resultado da fórmula =A3-B3 é -9.
- O resultado da fórmula =A3-B3 é 9.
- O resultado da fórmula =A4+B4 é 17.

08. Digitando um texto no MS-Word versão 2010, necessito adicionar número nas páginas. Quanto a isso, é correto afirmar que:

- No menu Layout da Página, clico em número de página e seleciono onde desejo adicionar os números.
- No menu Inserir, clico em número de página e seleciono onde desejo adicionar os números.
- No menu Revisão, clico em número de página e seleciono onde desejo adicionar os números.
- No menu Referências, clico em número de página e seleciono onde desejo adicionar os números.
- No menu Exibição, clico em número de página e seleciono onde desejo adicionar os números.

09. A segurança da informação está diretamente relacionada com proteção de um conjunto de informações, no sentido de preservar o valor que possuem para um indivíduo ou uma organização. Atualmente, um dos aplicativos mais utilizados no mundo, o Whats app, teve uma alteração de confidencialidade muito importante na segurança das informações transmitidas e recebidas. Dentre as alternativas, assinale a que corretamente informa a alteração inserida no aplicativo Whats app.

- Antispam
- Antivirus
- Firewall
- Antispyware
- Criptografia

10. São todos os dispositivos que trabalham acoplados ao microcomputador para receber, transmitir, visualizar, ler, gravar ou armazenarem dados. São eles que permitem a comunicação do computador com o meio exterior, isto é, com os usuários e outras máquinas.

Esse texto descreve corretamente:

- Memória ram
- Memória virtual
- Software
- Periféricos
- Hardware

**CONHECIMENTOS GERAIS**

11. Hino do município de Telêmaco Borba/PR

Das virgens matas e campos verdejantes  
 Servindo-se também o rio Tibagi,



Homens de ideais, espíritos vibrantes.

Constituíram as indústrias aqui.

Estrilho:

Salve! Salve! Telêmaco Borba

Terra querida e de grandes primores,

A nossa homenagem rendamos

À cidade dos trabalhadores.

Pois a cadência de enorme e real progresso

Um município mui grandioso fez nascer,

Marcando assim, verdadeiro sucesso

Faz, então o Paraná engrandecer.

**No que tange ao Hino do município, atribua V (verdadeiro) ou F (falso) às afirmativas e marque a alternativa correta.**

Eloah Martins Quadrado é autora da letra do hino.

Bento Mossurunga compôs a música do hino.

Eloah Martins Quadrado foi nomeada primeira professora da Cidade Nova, atual Telêmaco Borba.

Bento Mossurunga fundou a orquestra Estudantil e Concertos – Orquestra Sinfônica da Universidade, a Sociedade de Cultura Artístico Basilio Itiberê.

a) F, V, V, V.

b) V, F, V, V.

c) V, V, F, V.

d) V, V, F, F.

e) V, V, V, V.

**12. À luz da Lei nº 1883/2012, que dispõe sobre o Estatuto dos Servidores Públicos da Administração Direta, Autárquica e Funcional do Município de Telêmaco Borba/PR, leia as alternativas e marque a correta.**

a) A apresentação para a posse ocorrerá no prazo de até trinta dias, contados do ato de nomeação.

b) A destituição do servidor da função gratificada dar-se-á por solicitação exclusiva dele mesmo.

c) O servidor ocupante exclusivamente de cargo em comissão será contribuinte do regime geral de previdência social.

d) A aprovação em concurso público gera o direito à nomeação, e será feita obedecida à ordem de classificação dos candidatos.

e) O exercício de função gratificada poderá ser de dedicação integral ou parcial, conforme necessidade da administração.

**Conforme a Lei nº 1.881, de 05 de abril de 2012, que dispõe sobre o Plano de Cargos, Carreiras e Vencimentos do quadro geral de servidores da Prefeitura Municipal de Telêmaco Borba/PR, regulamentada pelo Decreto nº 2269/2015, responda às próximas três questões.**

**13. Leia as assertivas e assinala a incorreta.**

a) Do resultado da avaliação de desempenho poderá ser interposto recurso à Comissão de Desenvolvimento Funcional no prazo de quinze dias a contar da publicação no Boletim Oficial do Município.

b) Não será concedida a progressão ou promoção ao servidor que estiver em licença para tratamento de saúde por um período superior a quarenta e cinco dias, no período de avaliação.

c) A alternância dos membros constituintes da Comissão de Desenvolvimento Funcional eleitos pelos servidores verificar-se-á a cada três anos de participação, observados, para substituição de seus participantes, o critério fixado no artigo anterior, não cabendo eleição sucessiva.

d) Caberá à Comissão de Desenvolvimento Funcional, no caso de divergência de vinte por cento entre a nota do avaliador e a do avaliado, solicitar nova avaliação à chefia.

e) Nos termos do disposto no art. 17 da Lei nº 1.881, de 05 de abril de 2012, para progredir, é necessário que o servidor satisfaça, dentre outros, o seguinte requisito: estar no efetivo exercício de seu cargo ou em função comissionada na sua área de atuação durante o interstício de dois anos.

**14. Assinale a alternativa que completa respectivamente as lacunas do texto a seguir:**

**A Comissão de Desenvolvimento Funcional será constituída por \_\_\_\_\_ membros, sendo \_\_\_\_\_ designados pelo Prefeito Municipal de Telêmaco Borba e os demais eleitos pelos servidores municipais dentre os estáveis, com a atribuição de coordenar os procedimentos relativos à avaliação periódica de desempenho e outras atribuições.**

a) três / sete

b) um / três

c) sete / três

d) três / cinco

e) dois / cinco

**15. A Avaliação de Desempenho será norteadada, dentre outros, pelo seguinte princípio: Amplitude - a avaliação deve incidir sobre todas as áreas de atuação do servidor, que compreendem:**

- 1. a formulação de políticas administrativas e sua aplicação para todos os setores da administração municipal;**
- 2. o desempenho do profissional dentro de suas funções pertinentes;**
- 3. a estrutura do órgão em que exerce a função;**
- 4. os resultados de eficiência dos serviços de cada setor ou órgão da administração municipal;**
- 5. a participação direta do avaliado, durante todo o processo avaliativo.**

**Diante dessa afirmação, somente não está correto o item:**

- a) 1
- b) 2
- c) 3
- d) 4
- e) 5

## **CONHECIMENTOS ESPECÍFICOS**

**16. Considere as afirmativas:**

**I- A partir da década de 80, a Psicopedagogia tem se estruturado como corpo de conhecimentos e se transformado em campo de estudos multidisciplinares.**

**II- A partir da década de 60, a categoria profissional dos psicopedagogos começa a expandir-se e a organizar-se buscando inicialmente as causas do fracasso escolar através da sondagem de aspectos do desenvolvimento físico e psicológico do aprendiz.**

**III- Johnson & Myklebust (1987, USA.) contribuíram para os estudos psicopedagógicos com importantes pesquisas no Institute for Language Disorders. Estas pesquisas enfatizavam os conceitos de Disfunção Cerebral Mínima (DCM) e os Distúrbios de aprendizagem (afasias, disgrafias, discalculias, dislexias).**

**IV- Na década de 60, os psicólogos já não se prendem à concepção organicista e linear de sentido patologizante. Neste período, os indivíduos não são encarados do ponto de vista de dificuldades escolares ou como portadores de disfunções psiconeurológicas, mentais e/ou psicológicas.**

**É correto apenas o que se afirma em:**

- a) II, III e IV.
- b) I
- c) I e III.
- d) III e IV.
- e) I, II e III.

**17. Entre os vários estudiosos que contribuíram para os avanços na investigação da aprendizagem está Emilia Ferreiro, que avaliou trabalhadores em processos de alfabetização. Sobre ela, é incorreto considerar que:**

- a) É uma psicóloga e pedagoga argentina radicada no México.
- b) Ao discordar das ideias piagetianas, criou um modelo de alfabetização baseado na psicologia comportamental.
- c) Considera que muitos dos erros frequentemente cometidos na produção oral e escrita são hipóteses que a criança elabora na construção do próprio conhecimento.
- d) Suas ideias contribuem para que as escolas possam rever sua atuação frente aos alunos, procurando avaliá-los não em termos de respostas “boas e más”, mas pelo processo que os leva a tais respostas.
- e) Suas investigações com trabalhadores em processos de alfabetização são o primeiro conjunto de dados da concepção de adultos não alfabetizados sobre o sistema de escrita.

**18. Leia e avalie os itens:**

**I- O modelo sócio-interacionista como concepção de aprendizagem foi criado por Erik Erikson.**

**II- Entre os autores que tratam da aprendizagem, Vygotsky apresentou o conceito de zona de desenvolvimento proximal que relativiza os métodos de diagnóstico dos problemas de aprendizagem.**

**III- Jorge Visca concebe a aprendizagem como uma construção intrapsíquica, com continuidade genética e diferenças evolutivas, resultantes das pré-condições energético-estruturais do sujeito e das circunstâncias do meio.**

**IV- Para a psicóloga Sara Pain, a aprendizagem tem três funções: uma função socializadora, uma função repressiva e uma função transformadora.**

**Assinale a alternativa correta.**

- a) Todos os itens são verdadeiros.
- b) Apenas os itens II, III e IV são verdadeiros.
- c) Somente os itens I e IV são verdadeiros.
- d) Apenas os itens II e III são verdadeiros.
- e) Apenas os itens I e II são verdadeiros.

**19. Sobre os estados patológicos da aprendizagem apresentados por Visca, considere os itens e assinale a alternativa correta.**

**I- O estado patogênico caracteriza os sintomas.**

**II- O estado semiológico caracteriza as estruturas e os mecanismos intrapsíquicos que provocam e mantêm os sintomas.**

**III- No nível do estado semiológico, incluem-se duas dimensões: a das aprendizagens assistemáticas, produzidas sem a intervenção das instituições educativas, e a das aprendizagens sistemáticas, produzidas no contato institucional.**

**IV- Os sintomas devem ser entendidos como produtos emergentes de uma pluricausalidade estruturada gestalticamente.**

- a) Os itens III e IV são os únicos verdadeiros.
- b) O item I é o único verdadeiro.
- c) O item II é o único verdadeiro.
- d) Apenas os itens I e IV são verdadeiros.
- e) Apenas os itens II e III são verdadeiros.

**20. Entre os 3 e 12 anos aproximadamente, as crianças superam o intenso período de construção de si mesmas e vão continuar a desenvolver-se em todos os domínios, antes de enfrentar as turbulências da adolescência. Sobre a evolução das capacidades psicomotoras e a lateralização no desenvolvimento psicomotor, pode-se afirmar que:**

**I- As idades apresentadas como pontos de referência são sempre aproximadas e não servem para estabelecer a distinção entre a normalidade e o que está fora das normas.**

**II- No domínio psicomotor, a progressão das aquisições depende da progressão da mielinização das ligações neuromotoras.**

**III- No domínio psicomotor, a exemplo do que ocorre em outros domínios, a variabilidade interindividual é forte.**

**IV- O avanço da criança deve ser avaliado em relação a si mesma e não tanto em relação às outras crianças da mesma idade.**

**São corretas:**

- a) Todas as afirmativas.
- b) As afirmativas I e IV, somente.
- c) As afirmativas II e III, somente.
- d) As afirmativas III e IV, somente.
- e) As afirmativas I, III e IV, somente.

**21. Leia o texto de Isilda C. Palangana (Desenvolvimento e aprendizagem em Piaget e Vygotsky, 2001):**

***“De acordo com a concepção psicogenética, ao agir sobre os objetos, o sujeito não apenas extrai características intrínsecas aos mesmos como também acresce algo ao real na medida em que ele pode combinar e efetuar deduções a partir dessas características abstraídas. Este fato pode ser verificado em dois tipos básicos de ação ou experiência com os objetos: a experiência física e a experiência lógico-matemática”.***

**Assinale a alternativa incorreta:**

- a) Considerando-se Piaget, a experiência física consiste, com efeito em agir sobre os objetos de maneira a descobrir as propriedades que ainda são abstratas nesses objetos como tais: por exemplo, sopesar um corpo a fim de avaliar seu peso.
- b) A concepção psicogenética partilha da ideia que as experiências vividas não desempenham o principal papel na construção das estruturas cognitivas, dado que essas experiências não existem na consciência do sujeito, mas sim no seu comportamento operatório.
- c) Vygotsky denomina de “abstração empírica ou simples” a ação sobre os objetos na busca de conhecer singularidades não concretas.
- d) A experiência lógico-matemática consiste em agir sobre os objetos, mas de forma a descobrir propriedades que estão pelo contrário, abstratas das ações mesmas: do sujeito, de tal forma que, num certo nível de abstração, a experiência sobre os objetos se torna inútil e a coordenação das ações basta para engendrar uma manipulação operatória simplesmente simbólica e procedendo assim de maneira puramente dedutiva.
- e) Ao agir sobre os objetos, o sujeito estabelece ou constrói novas relações. Estas ações, na teoria psicogenética, são chamadas de “abstração reflexiva ou construtiva”.

**22. Avalie os itens sobre o desenvolvimento, considerando-se do nascimento ao ingresso na escola:**

**I- O crescimento é um fenômeno regular por não apresentar grande vitalidade e porque as diferentes partes do corpo se desenvolvem no mesmo ritmo.**

**II- Existem dois períodos importantes: o que vai do nascimento até cerca de 3 anos e o que precede e acompanha a puberdade. O crescimento ósseo aqui é um fenômeno simples, uma vez que suas características são invariáveis quer se trate de ossos compridos ou de ossos achatados, ou do crânio.**

**III- Com 3 anos o cérebro atinge 63% de seu volume na idade adulta.**

**IV- Tendo aumentado lentamente durante o primeiro ano, o volume do crânio aumenta em seguida: assim, a cabeça que representa metade do embrião passa a ser apenas 1/5 de um adulto.**

**É incorreto o que se afirma em:**

- a) I, II e IV, apenas.
- b) I, III e IV, apenas.
- c) Todos os itens.
- d) II, III e IV, apenas.
- e) III e IV, apenas.

**23. Considere os itens sobre distúrbios de aprendizagem:**

**I- Distúrbio associado à lateralização.**

**II- Distúrbio vinculado à maturidade neuromotora que pode ser encontrado nas crianças mais avançadas do ponto de vista escolar ou que apresentam um pequeno retardo no plano motor.**

**III- Dificuldade de leitura que se manifesta por confusões ou inversões de letras ou de fonemas.**

**IV- Dificuldades de grafia.**

**A que correspondem sucessivamente os itens?**

- a) Disortografia (I e II), Dislexia (III) e gagueira clônica (IV).
- b) Dislexia (I e), Disgrafia (II), Disortografia (III) e Gagueira (IV).
- c) Gagueira (I), Disortografia (II e III) e Dislexia (IV).
- d) Gagueira (I), Disgrafia (II), Dislexia (III) e Disortografia (IV).
- e) Dislexia (I), Gagueira tônica (II e III) e Dislexia (IV)

**24. Sobre o desenvolvimento do código linguístico nas crianças, é incorreto afirmar que:**

- a) O vocabulário enriquece-se de modo restrito por substantivos e pronomes, não havendo ainda espaço para verbos e adjetivos.
- b) A utilização correta dos diferentes elementos da frase instala-se de modo progressivo.
- c) Os artigos indefinidos devem estar de acordo em gênero e número com as palavras que os acompanham (aproximadamente entre 3 e 4 anos).
- d) Os pronomes pessoais mais fáceis de adquirir remetem às condições do diálogo – mim, eu, você, te... – e são seguidos por outros pronomes, no singular e no plural, entre 2 e 4 anos.
- e) As preposições e advérbios que são adquiridos, muitas vezes, em primeiro lugar, estão relacionados com a posse ou o benefício, por volta dos dois anos (a, de, para...); com o lugar, por volta de 3-4 anos (inicialmente, de maneira elementar – dentro, em cima – e, em seguida, perto de, sobre...); e com o tempo, por volta dos 4-5 anos (hoje, amanhã, agora...)

**25. A qual dos autores se vincula a concepção de que o processo de aprendizagem não se trata de uma sucessão linear de etapas que o aluno deve passar, mas sim como um processo que leva em conta o modo como os seres humanos vão desenvolvendo os seus conhecimentos do mundo, implicando uma visão mais ampla do fenômeno no qual o meio cultural tem um papel fundamental.**

- a) Wallon
- b) Erikson
- c) Freud
- d) Vygotsky
- e) Ferreiro

**26. As relações que os homens estabelecem entre si para produzir a cultura se dão em diversos níveis que não se excluem, mas se complementam e se interpenetram. Distinguimos isso em:**

- a) Relações de trabalho, políticas e culturais.
- b) Relações religiosas, amorosas e civis.
- c) Relações sexuais, fraternas e interiores.
- d) Relações exteriores, medíocres e efêmeras.
- e) Relações afadigadas, hiper-realistas e antissociais.

**27. O termo formação tem a ideia de instrução, criação, desenvolvimento, evolução. Para tal, um bom educador deve:**

- a) Identificar o que está correto ou errado na escola e cobrar os encarregados por isso.
- b) Mobilizar a comunidade escolar para reivindicar da direção a melhoria da qualidade educacional.
- c) Aprender, reaprender, trocar experiências, potencializar e aprimorar a prática docente o tempo todo.
- d) O professor deve ser apenas um instrumento onde os conceitos são transmitidos.
- e) Orientar o aluno na busca da sua individualidade social.

**28. A gestão pedagógica nada mais é do que a organização e o planejamento do sistema educacional. O gestor tem que ser o canal para os educadores estabelecerem a aprendizagem promovendo a educação como um todo, observando o currículo escolar, a metodologia de ensino e incentivando eventuais mudanças quando necessárias.**

Nesse sentido, analise as seguintes afirmações a respeito de um bom gestor:

I- Tem que ser transparente e coerente nas ações;

II- Tem que ter credibilidade na comunidade, ser conhecedor da realidade da escola;

III- Precisa ter pré-disposição para o trabalho coletivo, ser articulador, mediador e líder;

IV- Não deve ter espírito solidário e ético, nem firmeza e propósito para realização das ações.

**Assinale a alternativa correta:**

- a) Apenas I e II estão corretas.
- b) Apenas II e III estão corretas.
- c) Apenas I, III e IV estão corretas.
- d) Apenas I, II e III estão corretas.
- e) Apenas II, III e IV estão corretas.

**29. O Projeto Político-Pedagógico é uma reflexão do cotidiano escolar. Assim, ele precisa de um tempo razoável de reflexão/ação, com o intuito de se ter um mínimo necessário à consolidação de sua proposta.**

**Assinale a única alternativa incorreta sobre o que é contemplado num Projeto Político-Pedagógico:**

- a) Princípio de igualdade de condições para o acesso e permanência na escola.
- b) Propiciar uma qualidade educacional para todos.
- c) A escola tem que ser um organismo mais social e acolhedor; ter participação coletiva, reciprocidade e solidariedade.
- d) Os profissionais devem lutar para uma melhor qualidade do local de trabalho e direito de formação continuada de seus estudos.
- e) A avaliação escolar deve ser vista como um simples ato de aplicar provas.

**30. “Não se descarta que a indisciplina escolar, além de gerar vários problemas à escola, prejudica o meio social e a vida particular do indivíduo. A agressividade e a indisciplina nas crianças e adolescentes estão inseridas dentro e fora da sala de aula, sendo hoje, um grande desafio aos professores conviverem com tais situações.”**

**Com relação à indisciplina escolar, assinale a alternativa incorreta:**

- a) É um fenômeno típico da adolescência e está caracterizada pelo questionamento a valores impingidos do mundo adulto.
- b) Isto teria ocorrido pela cultura da comunidade escolar e do seu entorno.
- c) É uma manifestação de agressividade dirigida contra as figuras de autoridade, agressividade gerada, muitas vezes, pela desestruturação do ambiente familiar.
- d) Resulta de más influências a que as novas gerações foram expostas (o excesso de televisão, de internet, celular, drogas, etc).
- e) As crianças de hoje em dia não têm limites, não reconhecem a autoridade, não respeitam as regras, e a responsabilidade, por isso, é dos pais, que teriam se tornado muito permissivos.

**31. “O currículo é a organização do conhecimento escolar. É uma construção social do conhecimento pressupondo a sistematização dos meios que tal construção se efetive; a transmissão dos conhecimentos historicamente produzidos e as formas de assimilá-los, portanto, produção, transmissão e assimilação são processos que compõem uma metodologia de construção coletiva do conhecimento escolar, ou seja, o currículo propriamente dito.”**

**Reflita:**

I- Um currículo nunca é estático, ele foi, continua e sempre será construído.

II- Cada disciplina é ensinada separadamente e as que são consideradas de maior importância em detrimento de outras recebem mais tempo para serem explanadas no contexto escolar.

III- A organização do currículo deve procurar viabilizar uma maior interdisciplinaridade, contextualização e transdisciplinaridade, assegurando a livre comunicação entre todas as áreas.

IV- O currículo nunca é um plano estruturado de aprendizagem centrado nos conteúdos ou nos alunos; nos objetivos previamente formulados, com vista a um dado resultado.

**Assinale a alternativa que contém a afirmação correta:**

- a) Apenas as assertivas I, II e III estão corretas.
- b) Apenas as assertivas II e III estão corretas.
- c) Apenas as assertivas I, II e IV estão corretas.
- d) Apenas as assertivas II, III e IV estão corretas.
- e) Apenas as assertivas I, III e IV estão corretas.

**32. “O processo de ensino-aprendizagem no sistema educacional tradicional pode ser entendido através de três direções “professor, aluno e conteúdo”. As relações entre estes elementos implicam em ações didático-pedagógicas diferenciadas e influenciadas pelo contexto histórico e social ao qual os elementos estão inseridos.”**

**Sobre esse assunto, assinale a alternativa incorreta:**

- a) O elemento “aluno” refere-se ao aprendiz, aquele que aprende.
- b) O saber será o conteúdo, o que vai ser aprendido pelo aluno.



- c) O saber/conteúdo deve variar segundo o aluno/aprendiz, seu desenvolvimento e habilidades.  
 d) É muito importante o papel do mediador, de saber como apresentar o conteúdo para que ele faça sentido para o aprendiz.  
 e) No processo de aprendizagem, o aluno nunca assume um lugar de importância, pois não é para ele as estratégias pedagógicas.

**33. Sem uma adequada formação, os professores não têm como colaborar de forma efetiva para o desenvolvimento de uma escolarização que supere o fracasso visível nos resultados das avaliações que mantém a aprendizagem dos alunos com médias insuficientes, nos altos índices de evasão e reprovação.**

**Assinale a alternativa correta, de acordo com as informações dadas pelo fragmento:**

- a) A formação de professores no Brasil não necessita de investimentos.  
 b) Há necessidade de programas de formação continuada que visem proporcionar uma melhoria na formação dos professores.  
 c) As políticas governamentais contemplam a carreira e a profissionalização dos professores nas condições desejáveis.  
 d) A formação de professores nunca deve considerá-los como sujeitos da prática social e portadores de um papel político que os impeça de considerar suas práticas como neutras.  
 e) O professor a ser formado não depende do contexto histórico-social em que se encontra, das relações sociais existentes, do posicionamento do sistema produtivo, para assim articular no seu fazer pedagógico, as dimensões do “o que ensinar”, do “como ensinar”, do “para que ensinar”, do “para quem ensinar”.

**34. Leia o texto a seguir e assinale a alternativa correta.**

**A educação básica, nos níveis fundamental e médio, será organizada de acordo com a verificação do rendimento escolar, observando os seguintes critérios:**

**I- Avaliação contínua e cumulativa do desempenho do aluno com prevalência dos aspectos qualitativos sobre os quantitativos e dos resultados ao longo do período sobre os das eventuais provas finais.**

**II - Possibilidade de aceleração de estudo para alunos com atraso escolar.**

**III - Possibilidade de avanço nos cursos e nas séries mediante verificação do aprendizado.**

**IV- Aproveitamento de estudos concluídos com êxito.**

**V- Obrigatoriedade de estudos de recuperação, de preferência paralelos ao período letivo, para os casos de baixo rendimento escolar, a serem disciplinados pelas instituições de ensino em seus seguimentos.**

- a) Apenas os critérios I, II, III e V estão corretos.  
 b) Apenas os critérios I, III, e IV estão corretos.  
 c) Apenas os critérios III, IV e V estão corretos.  
 d) Apenas os critérios II, IV e V estão corretos.  
 e) Todos os critérios estão corretos.

**35. A educação em Direitos Humanos, com a finalidade de promover a educação para a mudança e a transformação social, fundamenta-se nos seguintes princípios:**

**I- Dignidade humana e desigualdade de direitos;**

**II- Reconhecimento e valorização das diferenças e das diversidades;**

**III- Transversalidade, vivência e globalidade;**

**IV- Sustentabilidade socioambiental.**

**São corretos apenas os itens:**

- a) I, II e III.  
 b) I, III e IV.  
 c) II, III e IV.  
 d) I e IV.  
 e) I e II.

## LÍNGUA PORTUGUESA

**Texto para as próximas cinco questões:**

### “O cego Estrelinho” Mia Couto

O cego Estrelinho era pessoa de nenhuma vez: sua história poderia ser contada e descontada não fosse seu guia, Gigito Efraim. A mão de Gigito conduziu o desvistado por tempos e idades. Aquela mão era repartidamente comum, extensão de um no outro, siamensal. E assim era quase de nascença. Memória de Estrelinho tinha cinco dedos e eram os de Gigito postos, em aperto, na sua própria mão.

O cego, curioso, queria saber de tudo. Ele não fazia cerimônia no viver. O sempre lhe era pouco e o tudo insuficiente. Dizia, deste modo:

— Tenho que viver já, senão esqueço-me.

Gigitinho, porém, o que descrevia era o que não havia. O mundo que ele minuciava eram fantasias e rendilhados. A imaginação do guia era mais profícua que papaeira. O cego enchia a boca de águas:

— Que maravilhação esse mundo. Me conte tudo, Gigito!



A mão do guia era, afinal, o manuscrito da mentira. Gigito Efraim estava como nunca esteve S. Tomé: via para não crer. O condutor falava pela ponta dos dedos. Desfolhava o universo, aberto em folhas. A ideação dele era tal que mesmo o cego, por vezes, acreditava ver. O outro lhe encorajava esses breves enganos:

— Desbengale-se, você está escolhendo a boa procedência!

Mentira: Estrelinho continuava sem ver uma palmeira à frente do nariz. Contudo, o cego não se conformava em suas escurezas. Ele cumpria o ditado: não tinha perna e queria dar o pontapé. Só à noite, ele desalentava, sofrendo medos mais antigos que a humanidade. Entendia aquilo que, na raça humana, é menos primitivo: o animal.

— Na noite aflige não haver luz?

— Aflição é ter um pássaro branco esvoando dentro do sono.

Pássaro branco? No sono? Lugar de ave é nas alturas. Dizem até que Deus fez o céu para justificar os pássaros. Estrelinho disfarçava o medo dos vaticínios, subterfugindo:

— E agora, Gigitinho? Agora, olhando assim para cima, estou face ao céu?

Que podia o outro responder? O céu do cego fica em toda a parte. Estrelinho perdia o pé era quando a noite chegava e seu mestre adormecia. Era como se um novo escuro nele se estreasse em nó cego. Devagaroso e sorrateiro ele aninhava sua mão na mão do guia. Só assim adormecia. A razão da concha é a timidez da amêijoia? Na manhã seguinte, o cego lhe confessava: se você morrer, tenho que morrer logo no imediato. Senão-me: como acerto o caminho para o céu?

Foi no mês de dezembro que levaram Gigitinho. Lhe tiraram do mundo para pôr na guerra: obrigavam os serviços militares. O cego reclamou: que o moço inatingia a idade. E que o serviço que ele a si prestava era vital e vitalício. O guia chamou Estrelinho à parte e lhe tranquilizou:

— Não vai ficar sozinhandando por aí. Minha mana já mandei para ficar no meu lugar.

O cego estendeu o braço a querer tocar uma despedida. Mas o outro já não estava lá. Ou estava e se desviara, propositado? E sem água ida nem vinda, Estrelinho escutou o amigo se afastar, engolido, esponjínquo, invisível. Pela primeira vez, Estrelinho se sentiu invalidado.

— Agora, só agora, sou cego que não vê.

(...)

**COUTO, Mia. Estórias abensonhadas. Rio de Janeiro: Nova Fronteira, 1996. (Pág 23 e 24).**

**36. Quanto à interpretação do fragmento do conto, podemos afirmar que:**

- Gigito Efraim era o guia de Estrelinho há pouquíssimo tempo.
- Estrelinho era cego de nascença.
- Gigito descrevia o mundo para Estrelinho de forma denotativa.
- Gigito foi convocado pelo exército para ser guia de cegos na guerra.
- Gigito descrevia o mundo para Estrelinho de forma conotativa.

**37. No período “O sempre lhe era pouco e o tudo insuficiente”, o pronome “LHE” exerce a função sintática de:**

- Objeto Direto
- Objeto Indireto
- Complemento Nominal
- Adjunto Adnominal
- Objeto Direto Preposicionado

**38. Na oração “A mão de Gigito conduziu o desvestido por tempos e idades”, o autor faz uso de um neologismo, assim como no decorrer de toda a obra em questão. Contudo, o neologismo só se torna possível pela utilização dos elementos mórficos naquilo que a gramática normativa pontua como Processo de Formação das Palavras. Levando em consideração apenas o recurso morfológico, qual Processo de Formação foi utilizado?**

- Derivação Sufixal
- Derivação Prefixal
- Derivação Regressiva
- Derivação Imprópria
- Derivação Parassintética

**39. No terceiro período do décimo terceiro parágrafo, temos:**

- Uma oração
- Dois orações
- Três orações
- Quatro orações
- Cinco orações

**40. No último parágrafo do fragmento do conto “— Agora, só agora, sou cego que não vê”, a oração subordinada presente classifica-se corretamente como:**

- Oração Subordinada Adjetiva Restritiva



- b) Oração Subordinada Adverbial Causal
- c) Oração Subordinada Substantiva Subjetiva
- d) Oração Subordinada Adverbial Explicativa
- e) Oração Subordinada Adjetiva Explicativa

**RASCUNHO**



PREFEITURA DE TELÊMACO BORBA - ESTADO DO PARANÁ- EDITAL Nº 001-2016 - CONCURSO PÚBLICO

VESPERTINO – 29/05/2016 – NÍVEL SUPERIOR

PROVA OBJETIVA NÚMERO

**3**

**CARGO: TMNS I – PSICOPEDAGOGIA**

**Leia atentamente as INSTRUÇÕES:**

1. Confira seus dados no cartão-resposta: nome, número de inscrição e o curso para o qual se inscreveu.
  2. **MARQUE no seu cartão-resposta o número da sua prova** (não será corrigido o cartão-resposta que não tiver marcado o número da prova) e **Assine** seu cartão-resposta.
  3. Aguarde a autorização do Fiscal para abrir o caderno de prova. Ao receber a ordem do fiscal, confira o caderno de prova com muita atenção. Nenhuma reclamação sobre o total de questões ou falha de impressão será aceita depois de iniciada a prova.
  4. O cartão-resposta não será substituído, salvo se contiver erro de impressão.
  5. Preencha toda a área do cartão-resposta correspondente à alternativa de sua escolha, com caneta esferográfica (tinta azul ou preta), sem ultrapassar as bordas. As marcações duplas, ou rasuradas, com corretivo, ou marcadas diferentemente do modelo estabelecido no cartão-resposta poderão ser anuladas.
  6. Sua prova tem **40** questões, com **5** alternativas.
  7. Cabe apenas ao candidato a interpretação das questões, **o fiscal** não poderá fazer nenhuma interferência.
  8. A prova será realizada com duração máxima de **3 (três) horas**, incluído o tempo para a realização da Prova Objetiva de múltipla escolha e o preenchimento do cartão-resposta.
  9. O candidato poderá retirar-se do local de realização das provas somente **1 (uma) hora** após o seu início, sem levar o caderno de prova.
  10. O candidato poderá levar o caderno de provas, assim como anotação contendo transcrição do seu cartão-resposta, somente **1h30min** (uma hora e trinta minutos) após o início da realização da prova.
  11. Ao terminar a prova, o candidato deverá entregar ao fiscal de sala o cartão-resposta preenchido e **ASSINADO**.
  12. Os **3 (três)** candidatos, que terminarem a prova por último, deverão permanecer na sala, e só poderão sair juntos após o fechamento do envelope, contendo os cartões-resposta dos candidatos presentes e ausentes, e assinarem no lacre do referido envelope, atestando que este foi devidamente lacrado.
  13. Durante todo o tempo em que permanecer no local onde está ocorrendo o concurso, o candidato deverá, manter o celular desligado e sem bateria, só sendo permitido ligar depois de ultrapassar o portão de saída do prédio.
  14. Não será permitido ao candidato fumar na sala de provas, bem como nas dependências.
  15. Depois de terminar a prova e entregar ao fiscal o cartão-resposta, preenchido e assinado, não será mais permitido ao candidato o uso do banheiro e bebedouro.
- BOA PROVA!**

**CONHECIMENTOS ESPECÍFICOS****01. Considere as afirmativas:**

I- A partir da década de 80, a Psicopedagogia tem se estruturado como corpo de conhecimentos e se transformado em campo de estudos multidisciplinares.

II- A partir da década de 60, a categoria profissional dos psicopedagogos começa a expandir-se e a organizar-se buscando inicialmente as causas do fracasso escolar através da sondagem de aspectos do desenvolvimento físico e psicológico do aprendiz.

III- Johnson & Myklebust (1987, USA.) contribuíram para os estudos psicopedagógicos com importantes pesquisas no Institute for Language Disorders. Estas pesquisas enfatizavam os conceitos de Disfunção Cerebral Mínima (DCM) e os Distúrbios de aprendizagem (afasias, disgrafias, discalculias, dislexias).

IV- Na década de 60, os psicólogos já não se prendem à concepção organicista e linear de sentido patologizante. Neste período, os indivíduos não são encarados do ponto de vista de dificuldades escolares ou como portadores de disfunções psiconeurológicas, mentais e/ou psicológicas.

É correto apenas o que se afirma em:

- a) II, III e IV.
- b) I
- c) I e III.
- d) III e IV.
- e) I, II e III.

**02. Entre os vários estudiosos que contribuíram para os avanços na investigação da aprendizagem está Emilia Ferreiro, que avaliou trabalhadores em processos de alfabetização. Sobre ela, é incorreto considerar que:**

a) É uma psicóloga e pedagoga argentina radicada no México.

b) Ao discordar das ideias piagetianas, criou um modelo de alfabetização baseado na psicologia comportamental.

c) Considera que muitos dos erros frequentemente cometidos na produção oral e escrita são hipóteses que a criança elabora na construção do próprio conhecimento.

d) Suas ideias contribuem para que as escolas possam rever sua atuação frente aos alunos, procurando avaliá-los não em termos de respostas “boas e más”, mas pelo processo que os leva a tais respostas.

e) Suas investigações com trabalhadores em processos de alfabetização são o primeiro conjunto de dados da concepção de adultos não alfabetizados sobre o sistema de escrita.

**03. Leia e avalie os itens:**

I- O modelo sócio-interacionista como concepção de aprendizagem foi criado por Erik Erikson.

II- Entre os autores que tratam da aprendizagem, Vygotsky apresentou o conceito de zona de desenvolvimento proximal que relativiza os métodos de diagnóstico dos problemas de aprendizagem.

III- Jorge Visca concebe a aprendizagem como uma construção intrapsíquica, com continuidade genética e diferenças evolutivas, resultantes das pré-condições energético-estruturais do sujeito e das circunstâncias do meio.

IV- Para a psicóloga Sara Pain, a aprendizagem tem três funções: uma função socializadora, uma função repressiva e uma função transformadora.

Assinale a alternativa correta.

- a) Todos os itens são verdadeiros.
- b) Apenas os itens II, III e IV são verdadeiros.
- c) Somente os itens I e IV são verdadeiros.
- d) Apenas os itens II e III são verdadeiros.
- e) Apenas os itens I e II são verdadeiros.

**04. Sobre os estados patológicos da aprendizagem apresentados por Visca, considere os itens e assinale a alternativa correta.**

I- O estado patogênico caracteriza os sintomas.

II- O estado semiológico caracteriza as estruturas e os mecanismos intrapsíquicos que provocam e mantêm os sintomas.

III- No nível do estado semiológico, incluem-se duas dimensões: a das aprendizagens assistemáticas, produzidas sem a intervenção das instituições educativas, e a das aprendizagens sistemáticas, produzidas no contato institucional.

IV- Os sintomas devem ser entendidos como produtos emergentes de uma pluricausalidade estruturada gestalticamente.

- a) Os itens III e IV são os únicos verdadeiros.
- b) O item I é o único verdadeiro.
- c) O item II é o único verdadeiro.
- d) Apenas os itens I e IV são verdadeiros.
- e) Apenas os itens II e III são verdadeiros.

**05. Entre os 3 e 12 anos aproximadamente, as crianças superam o intenso período de construção de si mesmas e vão continuar a desenvolver-se em todos os domínios, antes de enfrentar as turbulências da adolescência. Sobre a evolução das capacidades psicomotoras e a lateralização no desenvolvimento psicomotor, pode-se afirmar que:**

**I- As idades apresentadas como pontos de referência são sempre aproximadas e não servem para estabelecer a distinção entre a normalidade e o que está fora das normas.**

**II- No domínio psicomotor, a progressão das aquisições depende da progressão da mielinização das ligações neuromotoras.**

**III- No domínio psicomotor, a exemplo do que ocorre em outros domínios, a variabilidade interindividual é forte.**

**IV- O avanço da criança deve ser avaliado em relação a si mesma e não tanto em relação às outras crianças da mesma idade.**

**São corretas:**

- a) Todas as afirmativas.
- b) As afirmativas I e IV, somente.
- c) As afirmativas II e III, somente.
- d) As afirmativas III e IV, somente.
- e) As afirmativas I, III e IV, somente.

**06. Leia o texto de Isilda C. Palangana (Desenvolvimento e aprendizagem em Piaget e Vygotsky, 2001):**

***“De acordo com a concepção psicogenética, ao agir sobre os objetos, o sujeito não apenas extrai características intrínsecas aos mesmos como também acresce algo ao real na medida em que ele pode combinar e efetuar deduções a partir dessas características abstraídas. Este fato pode ser verificado em dois tipos básicos de ação ou experiência com os objetos: a experiência física e a experiência lógico-matemática”.***

**Assinale a alternativa incorreta:**

- a) Considerando-se Piaget, a experiência física consiste, com efeito em agir sobre os objetos de maneira a descobrir as propriedades que ainda são abstratas nesses objetos como tais: por exemplo, sopesar um corpo a fim de avaliar seu peso.
- b) A concepção psicogenética partilha da ideia que as experiências vividas não desempenham o principal papel na construção das estruturas cognitivas, dado que essas experiências não existem na consciência do sujeito, mas sim no seu comportamento operatório.
- c) Vygotsky denomina de “abstração empírica ou simples” a ação sobre os objetos na busca de conhecer singularidades não concretas.
- d) A experiência lógico-matemática consiste em agir sobre os objetos, mas de forma a descobrir propriedades que estão pelo contrário, abstratas das ações mesmas: do sujeito, de tal forma que, num certo nível de abstração, a experiência sobre os objetos se torna inútil e a coordenação das ações basta para engendrar uma manipulação operatória simplesmente simbólica e procedendo assim de maneira puramente dedutiva.
- e) Ao agir sobre os objetos, o sujeito estabelece ou constrói novas relações. Estas ações, na teoria psicogenética, são chamadas de “abstração reflexiva ou construtiva”.

**07. Avalie os itens sobre o desenvolvimento, considerando-se do nascimento ao ingresso na escola:**

**I- O crescimento é um fenômeno regular por não apresentar grande vitalidade e porque as diferentes partes do corpo se desenvolvem no mesmo ritmo.**

**II- Existem dois períodos importantes: o que vai do nascimento até cerca de 3 anos e o que precede e acompanha a puberdade. O crescimento ósseo aqui é um fenômeno simples, uma vez que suas características são invariáveis quer se trate de ossos compridos ou de ossos achatados, ou do crânio.**

**III- Com 3 anos o cérebro atinge 63% de seu volume na idade adulta.**

**IV- Tendo aumentado lentamente durante o primeiro ano, o volume do crânio aumenta em seguida: assim, a cabeça que representa metade do embrião passa a ser apenas 1/5 de um adulto.**

**É incorreto o que se afirma em:**

- a) I, II e IV, apenas.
- b) I, III e IV, apenas.
- c) Todos os itens.
- d) II, III e IV, apenas.
- e) III e IV, apenas.

**08. Considere os itens sobre distúrbios de aprendizagem:**

**I- Distúrbio associado à lateralização.**

**II- Distúrbio vinculado à maturidade neuromotora que pode ser encontrado nas crianças mais avançadas do ponto de vista escolar ou que apresentam um pequeno retardo no plano motor.**

**III- Dificuldade de leitura que se manifesta por confusões ou inversões de letras ou de fonemas.**

**IV- Dificuldades de grafia.**

**A que correspondem sucessivamente os itens?**

- a) Disortografia (I e II), Dislexia (III) e gagueira clônica (IV).

- b) Dislexia (I e), Disgrafia (II), Disortografia (III) e Gagueira (IV).
- c) Gagueira (I), Disortografia (II e III) e Dislexia (IV).
- d) Gagueira (I), Disgrafia (II), Dislexia (III) e Disortografia (IV).
- e) Dislexia (I), Gagueira tônica (II e III) e Dislexia (IV)

**09. Sobre o desenvolvimento do código linguístico nas crianças, é incorreto afirmar que:**

- a) O vocabulário enriquece-se de modo restrito por substantivos e pronomes, não havendo ainda espaço para verbos e adjetivos.
- b) A utilização correta dos diferentes elementos da frase instala-se de modo progressivo.
- c) Os artigos indefinidos devem estar de acordo em gênero e número com as palavras que os acompanham (aproximadamente entre 3 e 4 anos).
- d) Os pronomes pessoais mais fáceis de adquirir remetem às condições do diálogo – mim, eu, você, te... – e são seguidos por outros pronomes, no singular e no plural, entre 2 e 4 anos.
- e) As preposições e advérbios que são adquiridos, muitas vezes, em primeiro lugar, estão relacionados com a posse ou o benefício, por volta dos dois anos (a, de, para...); com o lugar, por volta de 3-4 anos (inicialmente, de maneira elementar – dentro, em cima – e, em seguida, perto de, sobre...); e com o tempo, por volta dos 4-5 anos (hoje, amanhã, agora...)

**10. A qual dos autores se vincula a concepção de que o processo de aprendizagem não se trata de uma sucessão linear de etapas que o aluno deve passar, mas sim como um processo que leva em conta o modo como os seres humanos vão desenvolvendo os seus conhecimentos do mundo, implicando uma visão mais ampla do fenômeno no qual o meio cultural tem um papel fundamental.**

- a) Wallon
- b) Erikson
- c) Freud
- d) Vygotsky
- e) Ferreiro

**11. As relações que os homens estabelecem entre si para produzir a cultura se dão em diversos níveis que não se excluem, mas se complementam e se interpenetram. Distinguímos isso em:**

- a) Relações de trabalho, políticas e culturais.
- b) Relações religiosas, amorosas e civis.
- c) Relações sexuais, fraternas e interiores.
- d) Relações exteriores, medíocres e efêmeras.
- e) Relações afadigadas, hiper-realistas e antissociais.

**12. O termo formação tem a ideia de instrução, criação, desenvolvimento, evolução. Para tal, um bom educador deve:**

- a) Identificar o que está correto ou errado na escola e cobrar os encarregados por isso.
- b) Mobilizar a comunidade escolar para reivindicar da direção a melhoria da qualidade educacional.
- c) Aprender, reaprender, trocar experiências, potencializar e aprimorar a prática docente o tempo todo.
- d) O professor deve ser apenas um instrumento onde os conceitos são transmitidos.
- e) Orientar o aluno na busca da sua individualidade social.

**13. A gestão pedagógica nada mais é do que a organização e o planejamento do sistema educacional. O gestor tem que ser o canal para os educadores estabelecerem a aprendizagem promovendo a educação como um todo, observando o currículo escolar, a metodologia de ensino e incentivando eventuais mudanças quando necessárias.**

**Nesse sentido, analise as seguintes afirmações a respeito de um bom gestor:**

**I- Tem que ser transparente e coerente nas ações;**

**II- Tem que ter credibilidade na comunidade, ser conhecedor da realidade da escola;**

**III- Precisa ter pré-disposição para o trabalho coletivo, ser articulador, mediador e líder;**

**IV- Não deve ter espírito solidário e ético, nem firmeza e propósito para realização das ações.**

**Assinale a alternativa correta:**

- a) Apenas I e II estão corretas.
- b) Apenas II e III estão corretas.
- c) Apenas I, III e IV estão corretas.
- d) Apenas I, II e III estão corretas.
- e) Apenas II, III e IV estão corretas.

**14. O Projeto Político-Pedagógico é uma reflexão do cotidiano escolar. Assim, ele precisa de um tempo razoável de reflexão/ação, com o intuito de se ter um mínimo necessário à consolidação de sua proposta.**

**Assinale a única alternativa incorreta sobre o que é contemplado num Projeto Político-Pedagógico:**

- a) Princípio de igualdade de condições para o acesso e permanência na escola.
- b) Propiciar uma qualidade educacional para todos.





- c) A escola tem que ser um organismo mais social e acolhedor; ter participação coletiva, reciprocidade e solidariedade.
- d) Os profissionais devem lutar para uma melhor qualidade do local de trabalho e direito de formação continuada de seus estudos.
- e) A avaliação escolar deve ser vista como um simples ato de aplicar provas.

**15. “Não se descarta que a indisciplina escolar, além de gerar vários problemas à escola, prejudica o meio social e a vida particular do indivíduo. A agressividade e a indisciplina nas crianças e adolescentes estão inseridas dentro e fora da sala de aula, sendo hoje, um grande desafio aos professores conviverem com tais situações.”**

**Com relação à indisciplina escolar, assinale a alternativa incorreta:**

- a) É um fenômeno típico da adolescência e está caracterizada pelo questionamento a valores impingidos do mundo adulto.
- b) Isto teria ocorrido pela cultura da comunidade escolar e do seu entorno.
- c) É uma manifestação de agressividade dirigida contra as figuras de autoridade, agressividade gerada, muitas vezes, pela desestruturação do ambiente familiar.
- d) Resulta de más influências a que as novas gerações foram expostas (o excesso de televisão, de internet, celular, drogas, etc).
- e) As crianças de hoje em dia não têm limites, não reconhecem a autoridade, não respeitam as regras, e a responsabilidade, por isso, é dos pais, que teriam se tornado muito permissivos.

**16. “O currículo é a organização do conhecimento escolar. É uma construção social do conhecimento pressupondo a sistematização dos meios que tal construção se efetive; a transmissão dos conhecimentos historicamente produzidos e as formas de assimilá-los, portanto, produção, transmissão e assimilação são processos que compõem uma metodologia de construção coletiva do conhecimento escolar, ou seja, o currículo propriamente dito.”**

**Reflita:**

**I- Um currículo nunca é estático, ele foi, continua e sempre será construído.**

**II- Cada disciplina é ensinada separadamente e as que são consideradas de maior importância em detrimento de outras recebem mais tempo para serem explanadas no contexto escolar.**

**III- A organização do currículo deve procurar viabilizar uma maior interdisciplinaridade, contextualização e transdisciplinaridade, assegurando a livre comunicação entre todas as áreas.**

**IV- O currículo nunca é um plano estruturado de aprendizagem centrado nos conteúdos ou nos alunos; nos objetivos previamente formulados, com vista a um dado resultado.**

**Assinale a alternativa que contém a afirmação correta:**

- a) Apenas as assertivas I, II e III estão corretas.
- b) Apenas as assertivas II e III estão corretas.
- c) Apenas as assertivas I, II e IV estão corretas.
- d) Apenas as assertivas II, III e IV estão corretas.
- e) Apenas as assertivas I, III e IV estão corretas.

**17. “O processo de ensino-aprendizagem no sistema educacional tradicional pode ser entendido através de três direções “professor, aluno e conteúdo”. As relações entre estes elementos implicam em ações didático-pedagógicas diferenciadas e influenciadas pelo contexto histórico e social ao qual os elementos estão inseridos.”**

**Sobre esse assunto, assinale a alternativa incorreta:**

- a) O elemento “aluno” refere-se ao aprendiz, aquele que aprende.
- b) O saber será o conteúdo, o que vai ser aprendido pelo aluno.
- c) O saber/contéudo deve variar segundo o aluno/aprendiz, seu desenvolvimento e habilidades.
- d) É muito importante o papel do mediador, de saber como apresentar o conteúdo para que ele faça sentido para o aprendiz.
- e) No processo de aprendizagem, o aluno nunca assume um lugar de importância, pois não é para ele as estratégias pedagógicas.

**18. Sem uma adequada formação, os professores não têm como colaborar de forma efetiva para o desenvolvimento de uma escolarização que supere o fracasso visível nos resultados das avaliações que mantém a aprendizagem dos alunos com médias insuficientes, nos altos índices de evasão e reprovação.**

**Assinale a alternativa correta, de acordo com as informações dadas pelo fragmento:**

- a) A formação de professores no Brasil não necessita de investimentos.
- b) Há necessidade de programas de formação continuada que visem proporcionar uma melhoria na formação dos professores.
- c) As políticas governamentais contemplam a carreira e a profissionalização dos professores nas condições desejáveis.
- d) A formação de professores nunca deve considerá-los como sujeitos da prática social e portadores de um papel político que os impeça de considerar suas práticas como neutras.

e) O professor a ser formado não depende do contexto histórico-social em que se encontra, das relações sociais existentes, do posicionamento do sistema produtivo, para assim articular no seu fazer pedagógico, as dimensões do “o que ensinar”, do “como ensinar”, do “para que ensinar, do “para quem ensinar”.

**19. Leia o texto a seguir e assinale a alternativa correta.**

**A educação básica, nos níveis fundamental e médio, será organizada de acordo com a verificação do rendimento escolar, observando os seguintes critérios:**

**I- Avaliação contínua e cumulativa do desempenho do aluno com prevalência dos aspectos qualitativos sobre os quantitativos e dos resultados ao longo do período sobre os das eventuais provas finais.**

**II - Possibilidade de aceleração de estudo para alunos com atraso escolar.**

**III - Possibilidade de avanço nos cursos e nas séries mediante verificação do aprendizado.**

**IV- Aproveitamento de estudos concluídos com êxito.**

**V- Obrigatoriedade de estudos de recuperação, de preferência paralelos ao período letivo, para os casos de baixo rendimento escolar, a serem disciplinados pelas instituições de ensino em seus seguimentos.**

a) Apenas os critérios I, II, III e V estão corretos.

b) Apenas os critérios I, III, e IV estão corretos.

c) Apenas os critérios III, IV e V estão corretos.

d) Apenas os critérios II, IV e V estão corretos.

e) Todos os critérios estão corretos.

**20. A educação em Direitos Humanos, com a finalidade de promover a educação para a mudança e a transformação social, fundamenta-se nos seguintes princípios:**

**I- Dignidade humana e desigualdade de direitos;**

**II- Reconhecimento e valorização das diferenças e das diversidades;**

**III- Transversalidade, vivência e globalidade;**

**IV- Sustentabilidade socioambiental.**

**São corretos apenas os itens:**

a) I, II e III.

b) I, III e IV.

c) II, III e IV.

d) I e IV.

e) I e II.

## LÍNGUA PORTUGUESA

**Texto para as próximas cinco questões:**

### “O cego Estrelinho” Mia Couto

O cego Estrelinho era pessoa de nenhuma vez: sua história poderia ser contada e descontada não fosse seu guia, Gigito Efraim. A mão de Gigito conduziu o desvistado por tempos e idades. Aquela mão era repartidamente comum, extensão de um no outro, siamensal. E assim era quase de nascença. Memória de Estrelinho tinha cinco dedos e eram os de Gigito postos, em aperto, na sua própria mão.

O cego, curioso, queria saber de tudo. Ele não fazia cerimônia no viver. O sempre lhe era pouco e o tudo insuficiente. Dizia, deste modo:

— Tenho que viver já, senão esqueço-me.

Gigitinho, porém, o que descrevia era o que não havia. O mundo que ele minuciava eram fantasias e rendilhados. A imaginação do guia era mais profícua que papaeira. O cego enchia a boca de águas:

— Que maravilhação esse mundo. Me conte tudo, Gigito!

A mão do guia era, afinal, o manuscrito da mentira. Gigito Efraim estava como nunca esteve S. Tomé: via para não crer. O condutor falava pela ponta dos dedos. Desfolhava o universo, aberto em folhas. A ideação dele era tal que mesmo o cego, por vezes, acreditava ver. O outro lhe encorajava esses breves enganar:

— Desbengale-se, você está escolhendo a boa procedência!

Mentira: Estrelinho continuava sem ver uma palmeira à frente do nariz. Contudo, o cego não se conformava em suas escurezas. Ele cumpria o ditado: não tinha perna e queria dar o pontapé. Só à noite, ele desalentava, sofrendo medos mais antigos que a humanidade. Entendia aquilo que, na raça humana, é menos primitivo: o animal.

— Na noite aflige não haver luz?

— Aflição é ter um pássaro branco esvoando dentro do sono.

Pássaro branco? No sono? Lugar de ave é nas alturas. Dizem até que Deus fez o céu para justificar os pássaros. Estrelinho disfarçava o medo dos vaticínios, subterfugindo:

— E agora, Gigitinho? Agora, olhando assim para cima, estou face ao céu?

Que podia o outro responder? O céu do cego fica em toda a parte. Estrelinho perdia o pé era quando a noite chegava e seu mestre adormecia. Era como se um novo escuro nele se estreasse em nó cego. Devagaroso e sorrateiro ele aninhava sua mão na mão do guia. Só assim adormecia. A razão da concha é a timidez da amêijoia?

Na manhã seguinte, o cego lhe confessava: se você morrer, tenho que morrer logo no imediato. Senão-me: como acerto o caminho para o céu?

Foi no mês de dezembro que levaram Gigitinho. Lhe tiraram do mundo para pôr na guerra: obrigavam os serviços militares. O cego reclamou: que o moço inatingia a idade. E que o serviço que ele a si prestava era vital e vitalício. O guia chamou Estrelinho à parte e lhe tranquilizou:

— Não vai ficar sozinando por aí. Minha mana já mandei para ficar no meu lugar.

O cego estendeu o braço a querer tocar uma despedida. Mas o outro já não estava lá. Ou estava e se desviara, propositado? E sem água ida nem vinda, Estrelinho escutou o amigo se afastar, engolido, esponjínquo, invisível. Pela primeira vez, Estrelinho se sentiu invalidado.

— Agora, só agora, sou cego que não vê.

(...)

**COUTO, Mia. Estórias abensonhadas. Rio de Janeiro: Nova Fronteira, 1996. (Pág 23 e 24).**

**21. Quanto à interpretação do fragmento do conto, podemos afirmar que:**

- Gigito Efraim era o guia de Estrelinho há pouquíssimo tempo.
- Estrelinho era cego de nascença.
- Gigito descrevia o mundo para Estrelinho de forma denotativa.
- Gigito foi convocado pelo exército para ser guia de cegos na guerra.
- Gigito descrevia o mundo para Estrelinho de forma conotativa.

**22. No período “O sempre lhe era pouco e o tudo insuficiente”, o pronome “LHE” exerce a função sintática de:**

- Objeto Direto
- Objeto Indireto
- Complemento Nominal
- Adjunto Adnominal
- Objeto Direto Preposicionado

**23. Na oração “A mão de Gigito conduziu o desvistado por tempos e idades”, o autor faz uso de um neologismo, assim como no decorrer de toda a obra em questão. Contudo, o neologismo só se torna possível pela utilização dos elementos mórficos naquilo que a gramática normativa pontua como Processo de Formação das Palavras. Levando em consideração apenas o recurso morfológico, qual Processo de Formação foi utilizado?**

- Derivação Sufixal
- Derivação Prefixal
- Derivação Regressiva
- Derivação Imprópria
- Derivação Parassintética

**24. No terceiro período do décimo terceiro parágrafo, temos:**

- Uma oração
- Duas orações
- Três orações
- Quatro orações
- Cinco orações

**25. No último parágrafo do fragmento do conto “— Agora, só agora, sou cego que não vê”, a oração subordinada presente classifica-se corretamente como:**

- Oração Subordinada Adjetiva Restritiva
- Oração Subordinada Adverbial Causal
- Oração Subordinada Substantiva Subjetiva
- Oração Subordinada Adverbial Explicativa
- Oração Subordinada Adjetiva Explicativa

#### **RACIOCÍNIO LÓGICO**

**26. Os cinco filhos de Ana estavam discutindo a respeito da data de nascimento da mãe:**

- Almir disse que foi em janeiro, dia 14, sexta-feira.
- Vanderlei disse que foi em janeiro, dia 14, sábado.
- Tiago disse que foi em fevereiro, dia 15, sábado.
- Sandro disse que foi em janeiro, dia 15, sexta-feira.
- Renato disse que foi em fevereiro, dia 15, sexta-feira.

Sabe-se que somente um dos filhos de Ana acertou corretamente sua data de nascimento e que os outros acertaram pelo menos um dos itens (dia, dia da semana e mês). Dessa forma, é correto afirmar que o filho de Ana que acertou a data de nascimento dela foi:

- Renato

- b) Sandro
- c) Tiago
- d) Vanderlei
- e) Almir

**27. Considere a seguinte afirmativa: “Todo churrasqueiro gosta de picanha”. Em relação a essa proposição, é correto afirmar que:**

- a) Algum churrasqueiro não gosta de picanha.
- b) Toda pessoa que gosta de picanha é churrasqueira.
- c) Alguma pessoa que não gosta de picanha é churrasqueira.
- d) Toda pessoa que não é churrasqueira, não gosta de picanha.
- e) Toda pessoa que não gosta de picanha, não é churrasqueira.

**28. Em um grupo formado por 67 pessoas, verificou-se que 41 pessoas gostam de arroz, 29 gostam de feijão, 33 gostam de carne, 19 gostam de arroz e de feijão, 9 gostam apenas de arroz e de carne, 12 gostam de feijão e de carne e que 6 gostam de arroz, de feijão e de carne. O número de pessoas desse grupo, que não gosta de nenhum desses três tipos de alimentos é igual a:**

- a) 4
- b) 5
- c) 6
- d) 8
- e) 10

**29. Bruno escreveu, em seu caderno, várias sequências formadas por números múltiplos de 4, onde os valores que ocupavam as posições pares eram multiplicados por  $-1$ . Cada sequência foi somada e o resultado da soma anotado. A soma das três primeiras sequências escritas por Bruno foram as seguintes:**

$$4 - 8 = -4$$

$$4 - 8 + 12 = 8$$

$$4 - 8 + 12 - 16 = -8$$

**Considere que Bruno escreveu e somou tais sequências, em seu caderno, de modo a obter determinada sequência cuja soma foi 600. O número de termos dessa sequência é igual a:**

- a) 149
- b) 150
- c) 298
- d) 299
- e) 300

**30. Quatro torcedores, um do São Paulo, um do Cruzeiro, um do Vasco e um do Bahia, estão sentados ao redor de uma mesa quadrada, de modo que, dois a dois, fiquem frente a frente. Sabe-se que Alan é torcedor do Cruzeiro e que Bruno está sentado à direita de Alan. Sabe-se também que Caio está sentado à direita do torcedor do São Paulo. Sabe-se ainda que Daniel não é torcedor do Vasco e que está sentado à frente de Bruno. Dessa forma, é correto afirmar que:**

- a) Bruno é torcedor do Bahia e Daniel é torcedor do São Paulo.
- b) Bruno é torcedor do São Paulo e Daniel é torcedor do Bahia.
- c) Caio é torcedor do Vasco e Daniel é torcedor do São Paulo.
- d) Caio é torcedor do Bahia e Daniel é torcedor do São Paulo.
- e) Bruno é torcedor do Vasco e Daniel é torcedor do Bahia.

## INFORMÁTICA

**31. Considerando o MS-Excel versão 2010, observando a figura abaixo, é correto afirmar que:**

	A	B	C
1			
2			
3			
4			

- a) Somente 03 três linhas estão selecionadas.
- b) Somente uma célula está selecionada.
- c) 12 (doze) células estão selecionadas.
- d) Somente a coluna A até a linha 4 (quatro) está selecionada.
- e) Somente as colunas 1 (um), 2 (dois), 3 (três) e 4 (quatro) estão selecionadas.

**32. Considerando o MS-Excel versão 2010, observando a figura abaixo, é incorreto afirmar que:**

	A	B	C
1	12	6	=A1*B1
2	8	2	=A2/B2
3	5	14	=A3-B3
4	6	11	=A4+B4

- a) O resultado da fórmula =A1\*B1 é 72.  
 b) O resultado da fórmula =A2/B2 é 4.  
 c) O resultado da fórmula =A3-B3 é -9.  
 d) O resultado da fórmula =A3-B3 é 9.  
 e) O resultado da fórmula =A4+B4 é 17.

**33. Digitando um texto no MS-Word versão 2010, necessito adicionar número nas páginas. Quanto a isso, é correto afirmar que:**

- a) No menu Layout da Página, clico em número de página e seleciono onde desejo adicionar os números.  
 b) No menu Inserir, clico em número de página e seleciono onde desejo adicionar os números.  
 c) No menu Revisão, clico em número de página e seleciono onde desejo adicionar os números.  
 d) No menu Referências, clico em número de página e seleciono onde desejo adicionar os números.  
 e) No menu Exibição, clico em número de página e seleciono onde desejo adicionar os números.

**34. A segurança da informação está diretamente relacionada com proteção de um conjunto de informações, no sentido de preservar o valor que possuem para um indivíduo ou uma organização. Atualmente, um dos aplicativos mais utilizados no mundo, o Whats app, teve uma alteração de confidencialidade muito importante na segurança das informações transmitidas e recebidas. Dentre as alternativas, assinale a que corretamente informa a alteração inserida no aplicativo Whats app.**

- a) Antispam  
 b) Antivirus  
 c) Firewall  
 d) Antispyware  
 e) Criptografia

**35. São todos os dispositivos que trabalham acoplados ao microcomputador para receber, transmitir, visualizar, ler, gravar ou armazenarem dados. São eles que permitem a comunicação do computador com o meio exterior, isto é, com os usuários e outras máquinas.**

**Esse texto descreve corretamente:**

- a) Memória ram  
 b) Memória virtual  
 c) Software  
 d) Periféricos  
 e) Hardware

## CONHECIMENTOS GERAIS

**36. Hino do município de Telêmaco Borba/PR**

Das virgens matas e campos verdejantes  
 Servindo-se também o rio Tibagi,  
 Homens de ideais, espíritos vibrantes.  
 Constituíram as indústrias aqui.

Estrilho:

Salve! Salve! Telêmaco Borba  
 Terra querida e de grandes primores,  
 A nossa homenagem rendamos  
 À cidade dos trabalhadores.  
 Pois a cadência de enorme e real progresso  
 Um município mui grandioso fez nascer,  
 Marcando assim, verdadeiro sucesso  
 Faz, então o Paraná engrandecer.

**No que tange ao Hino do município, atribua V (verdadeiro) ou F (falso) às afirmativas e marque a alternativa correta.**

- ( ) Eloah Martins Quadrado é autora da letra do hino.  
 ( ) Bento Mossurunga compôs a música do hino.  
 ( ) Eloah Martins Quadrado foi nomeada primeira professora da Cidade Nova, atual Telêmaco Borba.



( ) Bento Mossurunga fundou a orquestra Estudantil e Concertos – Orquestra Sinfônica da Universidade, a Sociedade de Cultura Artístico Basilio Itiberê.

- a) F, V, V, V.
- b) V, F, V, V.
- c) V, V, F, V.
- d) V, V, F, F.
- e) V, V, V, V.

**37. À luz da Lei nº 1883/2012, que dispõe sobre o Estatuto dos Servidores Públicos da Administração Direta, Autárquica e Funcional do Município de Telêmaco Borba/PR, leia as alternativas e marque a correta.**

- a) A apresentação para a posse ocorrerá no prazo de até trinta dias, contados do ato de nomeação.
- b) A destituição do servidor da função gratificada dar-se-á por solicitação exclusiva dele mesmo.
- c) O servidor ocupante exclusivamente de cargo em comissão será contribuinte do regime geral de previdência social.
- d) A aprovação em concurso público gera o direito à nomeação, e será feita obedecida à ordem de classificação dos candidatos.
- e) O exercício de função gratificada poderá ser de dedicação integral ou parcial, conforme necessidade da administração.

**Conforme a Lei nº 1.881, de 05 de abril de 2012, que dispõe sobre o Plano de Cargos, Carreiras e Vencimentos do quadro geral de servidores da Prefeitura Municipal de Telêmaco Borba/PR, regulamentada pelo Decreto nº 2269/2015, responda às próximas três questões.**

**38. Leia as assertivas e assinala a incorreta.**

- a) Do resultado da avaliação de desempenho poderá ser interposto recurso à Comissão de Desenvolvimento Funcional no prazo de quinze dias a contar da publicação no Boletim Oficial do Município.
- b) Não será concedida a progressão ou promoção ao servidor que estiver em licença para tratamento de saúde por um período superior a quarenta e cinco dias, no período de avaliação.
- c) A alternância dos membros constituintes da Comissão de Desenvolvimento Funcional eleitos pelos servidores verificar-se-á a cada três anos de participação, observados, para substituição de seus participantes, o critério fixado no artigo anterior, não cabendo eleição sucessiva.
- d) Caberá à Comissão de Desenvolvimento Funcional, no caso de divergência de vinte por cento entre a nota do avaliador e a do avaliado, solicitar nova avaliação à chefia.
- e) Nos termos do disposto no art. 17 da Lei nº 1.881, de 05 de abril de 2012, para progredir, é necessário que o servidor satisfaça, dentre outros, o seguinte requisito: estar no efetivo exercício de seu cargo ou em função comissionada na sua área de atuação durante o interstício de dois anos.

**39. Assinale a alternativa que completa respectivamente as lacunas do texto a seguir:**

**A Comissão de Desenvolvimento Funcional será constituída por \_\_\_\_\_ membros, sendo \_\_\_\_\_ designados pelo Prefeito Municipal de Telêmaco Borba e os demais eleitos pelos servidores municipais dentre os estáveis, com a atribuição de coordenar os procedimentos relativos à avaliação periódica de desempenho e outras atribuições.**

- a) três / sete
- b) um / três
- c) sete / três
- d) três / cinco
- e) dois / cinco

**40. A Avaliação de Desempenho será norteadada, dentre outros, pelo seguinte princípio: Amplitude - a avaliação deve incidir sobre todas as áreas de atuação do servidor, que compreendem:**

1. a formulação de políticas administrativas e sua aplicação para todos os setores da administração municipal;
2. o desempenho do profissional dentro de suas funções pertinentes;
3. a estrutura do órgão em que exerce a função;
4. os resultados de eficiência dos serviços de cada setor ou órgão da administração municipal;
5. a participação direta do avaliado, durante todo o processo avaliativo.

**Diante dessa afirmação, somente não está correto o item:**

- a) 1
- b) 2
- c) 3
- d) 4
- e) 5





PREFEITURA DE TELÊMACO BORBA - ESTADO DO PARANÁ- **EDITAL Nº 001-2016 - CONCURSO PÚBLICO**

**VESPERTINO – 29/05/2016 – NÍVEL SUPERIOR**

**1**

**PROVA OBJETIVA NÚMERO**

**CARGO: TMNS I - TERAPIA OCUPACIONAL**

**Leia atentamente as INSTRUÇÕES:**

1. Confira seus dados no cartão-resposta: nome, número de inscrição e o curso para o qual se inscreveu.
2. **MARQUE no seu cartão-resposta o número da sua prova** (não será corrigido o cartão-resposta que não tiver marcado o número da prova) e **Assine** seu cartão-resposta.
3. Aguarde a autorização do Fiscal para abrir o caderno de prova. Ao receber a ordem do fiscal, confira o caderno de prova com muita atenção. Nenhuma reclamação sobre o total de questões ou falha de impressão será aceita depois de iniciada a prova.
4. O cartão-resposta não será substituído, salvo se contiver erro de impressão.
5. Preencha toda a área do cartão-resposta correspondente à alternativa de sua escolha, com caneta esferográfica (tinta azul ou preta), sem ultrapassar as bordas. As marcações duplas, ou rasuradas, com corretivo, ou marcadas diferentemente do modelo estabelecido no cartão-resposta poderão ser anuladas.
6. Sua prova tem **40** questões, com **5** alternativas.
7. Cabe apenas ao candidato a interpretação das questões, **o fiscal** não poderá fazer nenhuma interferência.
8. A prova será realizada com duração máxima de **3 (três) horas**, incluído o tempo para a realização da Prova Objetiva de múltipla escolha e o preenchimento do cartão-resposta.
9. O candidato poderá retirar-se do local de realização das provas somente **1 (uma) hora** após o seu início, sem levar o caderno de prova.
10. O candidato poderá levar o caderno de provas, assim como anotação contendo transcrição do seu cartão-resposta, somente **1h30min** (uma hora e trinta minutos) após o início da realização da prova.
11. Ao terminar a prova, o candidato deverá entregar ao fiscal de sala o cartão-resposta preenchido e **ASSINADO**.
12. Os **3 (três)** candidatos, que terminarem a prova por último, deverão permanecer na sala, e só poderão sair juntos após o fechamento do envelope, contendo os cartões-resposta dos candidatos presentes e ausentes, e assinarem no lacre do referido envelope, atestando que este foi devidamente lacrado.
13. Durante todo o tempo em que permanecer no local onde está ocorrendo o concurso, o candidato deverá, manter o celular desligado e sem bateria, só sendo permitido ligar depois de ultrapassar o portão de saída do prédio.
14. Não será permitido ao candidato fumar na sala de provas, bem como nas dependências.
15. Depois de terminar a prova e entregar ao fiscal o cartão-resposta, preenchido e assinado, não será mais permitido ao candidato o uso do banheiro e bebedouro.

**BOA PROVA!**

**LÍNGUA PORTUGUESA**

Texto para as próximas cinco questões:

**“O cego Estrelinho”  
Mia Couto**

O cego Estrelinho era pessoa de nenhuma vez: sua história poderia ser contada e descontada não fosse seu guia, Gigitto Efraim. A mão de Gigitto conduziu o desvistado por tempos e idades. Aquela mão era repartidamente comum, extensão de um no outro, siamensal. E assim era quase de nascença. Memória de Estrelinho tinha cinco dedos e eram os de Gigitto postos, em aperto, na sua própria mão.

O cego, curioso, queria saber de tudo. Ele não fazia cerimônia no viver. O sempre lhe era pouco e o tudo insuficiente. Dizia, deste modo:

— Tenho que viver já, senão esqueço-me.

Gigitinho, porém, o que descrevia era o que não havia. O mundo que ele minuciava eram fantasias e rendilhados. A imaginação do guia era mais profícua que papaeira. O cego enchia a boca de águas:

— Que maravilhação esse mundo. Me conte tudo, Gigitto!

A mão do guia era, afinal, o manuscrito da mentira. Gigitto Efraim estava como nunca esteve S. Tomé: via para não crer. O condutor falava pela ponta dos dedos. Desfolhava o universo, aberto em folhas. A ideiação dele era tal que mesmo o cego, por vezes, acreditava ver. O outro lhe encorajava esses breves enganos:

— Desbengale-se, você está escolhendo a boa procedência!

Mentira: Estrelinho continuava sem ver uma palmeira à frente do nariz. Contudo, o cego não se conformava em suas escurezas. Ele cumpria o ditado: não tinha perna e queria dar o pontapé. Só à noite, ele desalentava, sofrendo medos mais antigos que a humanidade. Entendia aquilo que, na raça humana, é menos primitivo: o animal.

— Na noite aflige não haver luz?

— Aflição é ter um pássaro branco esvoando dentro do sono.

Pássaro branco? No sono? Lugar de ave é nas alturas. Dizem até que Deus fez o céu para justificar os pássaros. Estrelinho disfarçava o medo dos vaticínios, subterfugindo:

— E agora, Gigitinho? Agora, olhando assim para cima, estou face ao céu?

Que podia o outro responder? O céu do cego fica em toda a parte. Estrelinho perdia o pé era quando a noite chegava e seu mestre adormecia. Era como se um novo escuro nele se estreasse em nó cego. Devagaroso e sorrateiro ele aninhava sua mão na mão do guia. Só assim adormecia. A razão da concha é a timidez da amêijoa? Na manhã seguinte, o cego lhe confessava: se você morrer, tenho que morrer logo no imediato. Senão-me: como acerto o caminho para o céu?

Foi no mês de dezembro que levaram Gigitinho. Lhe tiraram do mundo para pôr na guerra: obrigavam os serviços militares. O cego reclamou: que o moço inatingia a idade. E que o serviço que ele a si prestava era vital e vitalício. O guia chamou Estrelinho à parte e lhe tranquilizou:

— Não vai ficar sozinhandando por aí. Minha mana já mandei para ficar no meu lugar.

O cego estendeu o braço a querer tocar uma despedida. Mas o outro já não estava lá. Ou estava e se desviara, propositado? E sem água ida nem vinda, Estrelinho escutou o amigo se afastar, engolido, esponginquo, invisível. Pela primeira vez, Estrelinho se sentiu invalidado.

— Agora, só agora, sou cego que não vê.

(...)

**COUTO, Mia. Estórias abensonhadas. Rio de Janeiro: Nova Fronteira, 1996. (Pág 23 e 24).**

**01. Quanto à interpretação do fragmento do conto, podemos afirmar que:**

- Gigitto Efraim era o guia de Estrelinho há pouquíssimo tempo.
- Estrelinho era cego de nascença.
- Gigitto descrevia o mundo para Estrelinho de forma denotativa.
- Gigitto foi convocado pelo exército para ser guia de cegos na guerra.
- Gigitto descrevia o mundo para Estrelinho de forma conotativa.

**02. No período “O sempre lhe era pouco e o tudo insuficiente”, o pronome “LHE” exerce a função sintática de:**

- Objeto Direto
- Objeto Indireto
- Complemento Nominal
- Adjunto Adnominal
- Objeto Direto Preposicionado

**03. Na oração “A mão de Gigitto conduziu o desvistado por tempos e idades”, o autor faz uso de um neologismo, assim como no decorrer de toda a obra em questão. Contudo, o neologismo só se torna possível pela utilização dos elementos mórficos naquilo que a gramática normativa pontua como Processo de Formação das Palavras. Levando em consideração apenas o recurso morfológico, qual Processo de Formação foi utilizado?**

- Derivação Sufixal

- b) Derivação Prefixal
- c) Derivação Regressiva
- d) Derivação Imprópria
- e) Derivação Parassintética

**04. No terceiro período do décimo terceiro parágrafo, temos:**

- a) Uma oração
- b) Duas orações
- c) Três orações
- d) Quatro orações
- e) Cinco orações

**05. No último parágrafo do fragmento do conto “— Agora, só agora, sou cego que não vê”, a oração subordinada presente classifica-se corretamente como:**

- a) Oração Subordinada Adjetiva Restritiva
- b) Oração Subordinada Adverbial Causal
- c) Oração Subordinada Substantiva Subjetiva
- d) Oração Subordinada Adverbial Explicativa
- e) Oração Subordinada Adjetiva Explicativa

#### **RACIOCÍNIO LÓGICO**

**06. Os cinco filhos de Ana estavam discutindo a respeito da data de nascimento da mãe:**

- Almir disse que foi em janeiro, dia 14, sexta-feira.
- Vanderlei disse que foi em janeiro, dia 14, sábado.
- Tiago disse que foi em fevereiro, dia 15, sábado.
- Sandro disse que foi em janeiro, dia 15, sexta-feira.
- Renato disse que foi em fevereiro, dia 15, sexta-feira.

**Sabe-se que somente um dos filhos de Ana acertou corretamente sua data de nascimento e que os outros acertaram pelo menos um dos itens (dia, dia da semana e mês). Dessa forma, é correto afirmar que o filho de Ana que acertou a data de nascimento dela foi:**

- a) Renato
- b) Sandro
- c) Tiago
- d) Vanderlei
- e) Almir

**07. Considere a seguinte afirmativa: “Todo churrasqueiro gosta de picanha”. Em relação a essa proposição, é correto afirmar que:**

- a) Algum churrasqueiro não gosta de picanha.
- b) Toda pessoa que gosta de picanha é churrasqueira.
- c) Alguma pessoa que não gosta de picanha é churrasqueira.
- d) Toda pessoa que não é churrasqueira, não gosta de picanha.
- e) Toda pessoa que não gosta de picanha, não é churrasqueira.

**08. Em um grupo formado por 67 pessoas, verificou-se que 41 pessoas gostam de arroz, 29 gostam de feijão, 33 gostam de carne, 19 gostam de arroz e de feijão, 9 gostam apenas de arroz e de carne, 12 gostam de feijão e de carne e que 6 gostam de arroz, de feijão e de carne. O número de pessoas desse grupo, que não gosta de nenhum desses três tipos de alimentos é igual a:**

- a) 4
- b) 5
- c) 6
- d) 8
- e) 10

**09. Bruno escreveu, em seu caderno, várias sequências formadas por números múltiplos de 4, onde os valores que ocupavam as posições pares eram multiplicados por  $-1$ . Cada sequência foi somada e o resultado da soma anotado. A soma das três primeiras sequências escritas por Bruno foram as seguintes:**

$$4 - 8 = -4$$
$$4 - 8 + 12 = 8$$
$$4 - 8 + 12 - 16 = -8$$

**Considere que Bruno escreveu e somou tais sequências, em seu caderno, de modo a obter determinada sequência cuja soma foi 600. O número de termos dessa sequência é igual a:**

- a) 149
- b) 150
- c) 298

- d) 299  
e) 300

10. Quatro torcedores, um do São Paulo, um do Cruzeiro, um do Vasco e um do Bahia, estão sentados ao redor de uma mesa quadrada, de modo que, dois a dois, fiquem frente a frente. Sabe-se que Alan é torcedor do Cruzeiro e que Bruno está sentado à direita de Alan. Sabe-se também que Caio está sentado à direita do torcedor do São Paulo. Sabe-se ainda que Daniel não é torcedor do Vasco e que está sentado à frente de Bruno. Dessa forma, é correto afirmar que:

- a) Bruno é torcedor do Bahia e Daniel é torcedor do São Paulo.  
b) Bruno é torcedor do São Paulo e Daniel é torcedor do Bahia.  
c) Caio é torcedor do Vasco e Daniel é torcedor do São Paulo.  
d) Caio é torcedor do Bahia e Daniel é torcedor do São Paulo.  
e) Bruno é torcedor do Vasco e Daniel é torcedor do Bahia.

### INFORMÁTICA

11. Considerando o MS-Excel versão 2010, observando a figura abaixo, é correto afirmar que:

	A	B	C
1			
2			
3			
4			

- a) Somente 03 três linhas estão selecionadas.  
b) Somente uma célula está selecionada.  
c) 12 (doze) células estão selecionadas.  
d) Somente a coluna A até a linha 4 (quatro) está selecionada.  
e) Somente as colunas 1 (um), 2 (dois), 3 (três) e 4 (quatro) estão selecionadas.

12. Considerando o MS-Excel versão 2010, observando a figura abaixo, é incorreto afirmar que:

	A	B	C
1	12	6	=A1*B1
2	8	2	=A2/B2
3	5	14	=A3-B3
4	6	11	=A4+B4

- a) O resultado da fórmula =A1\*B1 é 72.  
b) O resultado da fórmula =A2/B2 é 4.  
c) O resultado da fórmula =A3-B3 é -9.  
d) O resultado da fórmula =A3-B3 é 9.  
e) O resultado da fórmula =A4+B4 é 17.

13. Digitando um texto no MS-Word versão 2010, necessito adicionar número nas páginas. Quanto a isso, é correto afirmar que:

- a) No menu Layout da Página, clico em número de página e seleciono onde desejo adicionar os números.  
b) No menu Inserir, clico em número de página e seleciono onde desejo adicionar os números.  
c) No menu Revisão, clico em número de página e seleciono onde desejo adicionar os números.  
d) No menu Referências, clico em número de página e seleciono onde desejo adicionar os números.  
e) No menu Exibição, clico em número de página e seleciono onde desejo adicionar os números.

14. A segurança da informação está diretamente relacionada com proteção de um conjunto de informações, no sentido de preservar o valor que possuem para um indivíduo ou uma organização. Atualmente, um dos aplicativos mais utilizados no mundo, o Whats app, teve uma alteração de confidencialidade muito importante na segurança das informações transmitidas e recebidas. Dentre as alternativas, assinale a que corretamente informa a alteração inserida no aplicativo Whats app.

- a) Antispam  
b) Antivirus  
c) Firewall  
d) Antispyware  
e) Criptografia

**15. São todos os dispositivos que trabalham acoplados ao microcomputador para receber, transmitir, visualizar, ler, gravar ou armazenar dados. São eles que permitem a comunicação do computador com o meio exterior, isto é, com os usuários e outras máquinas.**

**Esse texto descreve corretamente:**

- a) Memória ram
- b) Memória virtual
- c) Software
- d) Periféricos
- e) Hardware

#### **CONHECIMENTOS GERAIS**

##### **16. Hino do município de Telêmaco Borba/PR**

Das virgens matas e campos verdejantes

Servindo-se também o rio Tibagi,

Homens de ideais, espíritos vibrantes.

Constituíram as indústrias aqui.

Estribilho:

Salve! Salve! Telêmaco Borba

Terra querida e de grandes primores,

A nossa homenagem rendamos

À cidade dos trabalhadores.

Pois a cadência de enorme e real progresso

Um município mui grandioso fez nascer,

Marcando assim, verdadeiro sucesso

Faz, então o Paraná engrandecer.

**No que tange ao Hino do município, atribua V (verdadeiro) ou F (falso) às afirmativas e marque a alternativa correta.**

Eloah Martins Quadrado é autora da letra do hino.

Bento Mossurunga compôs a música do hino.

Eloah Martins Quadrado foi nomeada primeira professora da Cidade Nova, atual Telêmaco Borba.

Bento Mossurunga fundou a orquestra Estudantil e Concertos – Orquestra Sinfônica da Universidade, a Sociedade de Cultura Artístico Basilio Itiberê.

a) F, V, V, V.

b) V, F, V, V.

c) V, V, F, V.

d) V, V, F, F.

e) V, V, V, V.

**17. À luz da Lei nº 1883/2012, que dispões sobre o Estatuto dos Servidores Públicos da Administração Direta, Autárquica e Funcional do Município de Telêmaco Borba/PR, leia as alternativas e marque a correta.**

a) A apresentação para a posse ocorrerá no prazo de até trinta dias, contados do ato de nomeação.

b) A destituição do servidor da função gratificada dar-se-á por solicitação exclusiva dele mesmo.

c) O servidor ocupante exclusivamente de cargo em comissão será contribuinte do regime geral de previdência social.

d) A aprovação em concurso público gera o direito à nomeação, e será feita obedecida à ordem de classificação dos candidatos.

e) O exercício de função gratificada poderá ser de dedicação integral ou parcial, conforme necessidade da administração.

**Conforme a Lei nº 1.881, de 05 de abril de 2012, que dispõe sobre o Plano de Cargos, Carreiras e Vencimentos do quadro geral de servidores da Prefeitura Municipal de Telêmaco Borba/PR, regulamentada pelo Decreto nº 2269/2015, responda às próximas três questões.**

**18. Leia as assertivas e assinala a incorreta.**

a) Do resultado da avaliação de desempenho poderá ser interposto recurso à Comissão de Desenvolvimento Funcional no prazo de quinze dias a contar da publicação no Boletim Oficial do Município.

b) Não será concedida a progressão ou promoção ao servidor que estiver em licença para tratamento de saúde por um período superior a quarenta e cinco dias, no período de avaliação.

c) A alternância dos membros constituintes da Comissão de Desenvolvimento Funcional eleitos pelos servidores verificar-se-á a cada três anos de participação, observados, para substituição de seus participantes, o critério fixado no artigo anterior, não cabendo eleição sucessiva.

d) Caberá à Comissão de Desenvolvimento Funcional, no caso de divergência de vinte por cento entre a nota do avaliador e a do avaliado, solicitar nova avaliação à chefia.

e) Nos termos do disposto no art. 17 da Lei n° 1.881, de 05 de abril de 2012, para progredir, é necessário que o servidor satisfaça, dentre outros, o seguinte requisito: estar no efetivo exercício de seu cargo ou em função comissionada na sua área de atuação durante o interstício de dois anos.

**19. Assinale a alternativa que completa respectivamente as lacunas do texto a seguir:**

**A Comissão de Desenvolvimento Funcional será constituída por \_\_\_\_\_ membros, sendo \_\_\_\_\_ designados pelo Prefeito Municipal de Telêmaco Borba e os demais eleitos pelos servidores municipais dentre os estáveis, com a atribuição de coordenar os procedimentos relativos à avaliação periódica de desempenho e outras atribuições.**

- a) três / sete
- b) um / três
- c) sete / três
- d) três / cinco
- e) dois / cinco

**20. A Avaliação de Desempenho será norteadada, dentre outros, pelo seguinte princípio: Amplitude - a avaliação deve incidir sobre todas as áreas de atuação do servidor, que compreendem:**

**1. a formulação de políticas administrativas e sua aplicação para todos os setores da administração municipal;**

**2. o desempenho do profissional dentro de suas funções pertinentes;**

**3. a estrutura do órgão em que exerce a função;**

**4. os resultados de eficiência dos serviços de cada setor ou órgão da administração municipal;**

**5. a participação direta do avaliado, durante todo o processo avaliativo.**

**Diante dessa afirmação, somente não está correto o item:**

- a) 1
- b) 2
- c) 3
- d) 4
- e) 5

### **CONHECIMENTOS ESPECÍFICOS**

**21. O sistema nervoso é formado pelo:**

- a) Encéfalo, medula espinal, órgãos dos sentidos, nervos.
- b) Encéfalo, músculos estriados, nervos, coração.
- c) Músculos estriados, nervos, coração, linfa.
- d) Nervos, ossos, vasos sanguíneos, linfonodos.
- e) Encéfalo, coração, nervos, linfonodos.

**22. Em relação à coluna vertebral, é incorreto afirmar que:**

- a) Estende-se do crânio até a pelve.
- b) A coluna vertebral consiste de uma série de ossos chamados vértebras.
- c) As vértebras estão sobrepostas em forma de uma coluna, então o termo coluna vertebral.
- d) A coluna vertebral desempenha apenas uma função importante.
- e) As vértebras são denominadas de acordo com suas localizações no corpo.

**23. É formada pelas estruturas ósseas e equilíbrio muscular que permite a concavidade da mão para apreensão de diversos objetivos. Essa definição refere-se a:**

- a) Arcos da mão
- b) Cotovelo
- c) Punho
- d) Dedo
- e) Dorso

**24. Assinale a alternativa correta sobre o tipo de movimento articular e sua definição.**

- a) Flexão: é o movimento no qual há o aumento do ângulo entre os ossos de uma articulação.
- b) Dorsiflexão: é o movimento no qual a mão é inclinada para baixo, em direção à perna.
- c) Adução: é o movimento em direção ao plano mediano do corpo.
- d) Extensão: é o movimento no qual há a diminuição do ângulo entre os ossos de uma articulação.
- e) Supinação: é a rotação do pé, para baixo e para cima.

**25. Quais são os nervos periféricos da mão?**

- a) Radial, Mediano e Psiforme.
- b) Radial, Ulnar e Mediano.
- c) Mediano, longitudinal, Oblíquo.
- d) Dorsal, Mediano e Safeno.



e) Mediano, Proximal e Distal

**26. É o deslocamento de um osso de sua articulação, com rompimento de ligamentos, tendões e cápsula articular. Este tipo de alteração do sistema esquelético e articular é conhecido como:**

- a) Luxação
- b) Osteomalacia
- c) Entorse
- d) Bursite
- e) Artrite

**27. Em relação ao quadro de referência e abordagem em Terapia Ocupacional, assinale a alternativa em que o quadro de referência primário não condiz com a abordagem.**

- a) Fisiológico – Biomecânica
- b) Psiquiatria – Trabalho Grupal
- c) Humanismo – Centrado no Cliente
- d) Fisiológico – Atividade da Vida Diária
- e) Humanismo – Compensatório

**28. Assinale a alternativa incorreta acerca da intervenção do Terapeuta Ocupacional na proposta de prevenção de distúrbio musculoesquelético relacionado ao trabalho.**

- a) Verificar e intervir na repetição do movimento.
- b) Verificar e intervir no uso excessivo da mão.
- c) Orientar sobre evitar o posicionamento estático prolongado.
- d) Verificar e intervir vibração da mão durante a atividade de trabalho.
- e) Verificar e intervir na postura adequada.

**29. Alguns músculos são denominados pelos locais de fixação, tanto na origem como na inserção. O músculo esternocleidomastóideo, por exemplo, tem sua origem no:**

- a) Esterno e na Patela
- b) Rádio e na Ulna
- c) Esterno e na Clavícula
- d) Rádio e na escápula
- e) Sacro e na Fíbula

**30. Quando uma pessoa não reconhece figuras desenhadas na mão, isso é denominado de:**

- a) Morfognosia
- b) Dermolexia
- c) Hilognosia
- d) Grafestesia
- e) Cromolexia

**31. Qual é a alternativa incorreta acerca da intervenção da Terapia Ocupacional na Paralisia Cerebral?**

- a) O Terapeuta Ocupacional tem um papel importante junto à criança com paralisia cerebral, por fornecer condições para o estabelecimento e efetivação de programas de tratamento que visam à facilitação do movimento.
- b) O Terapeuta Ocupacional favorece as experiências e aprendizado sensorio-motores, estimulando aspectos cognitivos, auxiliando na adaptação e execução das atividades da vida diária.
- c) É importante que o Terapeuta Ocupacional conheça o contexto em que a criança esteja inserida, a condição econômica, social e emocional da família.
- d) O Terapeuta Ocupacional tem como objetivo incentivar o brincar e o lazer, tornando a criança o agente em seu processo de desenvolvimento.
- e) O trabalho do Terapeuta Ocupacional com criança com paralisia cerebral é caracterizado pela busca de soluções apenas para os aspectos motores.

**32. Qual é o músculo que não tem função no movimento do ombro e do braço?**

- a) Trapézio
- b) Serrátil anterior
- c) Manguito rotador
- d) Deltoide
- e) Iliopsoas

**33. Quem regula e coordena a atividade muscular voluntária, auxilia na manutenção do equilíbrio e do tônus muscular?**

- a) Cerebelo
- b) Ponte
- c) Tálamo

- d) Bulbo
- e) Mesencéfalo

**34. Qual é a doença que se caracteriza por uma grave desestruturação psíquica, em que a pessoa perde a capacidade de integrar suas emoções e sentimentos com seus pensamentos, podendo apresentar delírios, percepções falsas do ambiente e comportamento que revelam a perda do juízo crítico?**

- a) Acidente Vascular Cerebral
- b) Encefalopatia Crônica progressiva
- c) Esquizofrenia
- d) Síndrome de Rett
- e) Burnout

**35. Em relação à atuação da Terapia Ocupacional junto ao idoso, não é correto afirmar que:**

- a) O Terapeuta Ocupacional promove a saúde, restaura a capacidade funcional do idoso.
- b) O Terapeuta Ocupacional avalia o idoso na disfunção específica, levando em consideração a queixa principal que o paciente traz, correlacionando-a à totalidade de suas relações com o cotidiano.
- c) O Terapeuta Ocupacional seleciona e aplica métodos, técnicas e recursos apropriados ao tratamento, e adequados à realidade socioeconômica e cultural do paciente.
- d) O Terapeuta Ocupacional cria condições e/ou situações que dificultam o desencadeamento do processo terapêutico.
- e) O Terapeuta Ocupacional facilita a aprendizagem de funções essenciais do idoso, desenvolve habilidades adaptativas visando auxiliar o idoso a atingir o grau máximo possível de autonomia.

**36. É uma doença degenerativa do encéfalo que ocorre geralmente em pessoas idosas, é caracterizada pela perda progressiva da memória e prejuízo da função intelectual. Essa doença é denominada:**

- a) Acidente Vascular Cerebral
- b) Paralisia Cerebral
- c) Fenilcetonúria
- d) Alzheimer
- e) Epilepsia

**37. Quando o paciente é encaminhado para o Terapeuta Ocupacional com alteração de imagem corporal, medo de aumentar o peso e, principalmente, tornar-se gordo, esse paciente está apresentando características de:**

- a) Esquizofrenia
- b) Catatonia
- c) Depressão
- d) Anorexia
- e) Psicose

**38. Quais são os recursos que podem ser utilizados pelo Terapeuta Ocupacional com crianças que apresentam problemas neurológicos?**

- a) Bola do tipo Bobath, chocalho, balanço sensorial, turbilhão e TENS.
- b) Bola do tipo Bobath, chocalho, balanço sensorial, texturas diversas e turbilhão.
- c) Bolas sensoriais, texturas macias, gelatina, areia, aparelho TENS e FES.
- d) Rolos, bolas, texturas diversas, turbilhão e balanço sensorial.
- e) Bolas sensoriais, texturas macias, rolos de vários tamanhos e balanço sensorial.

**39. Qual é a órtese que não apresenta partes móveis e mantém a articulação em uma posição?**

- a) Estática
- b) Articular
- c) Dinâmica
- d) Drop-out
- e) Estática inversa

**40. Qual das seguintes abordagens não é indicada para criança?**

- a) Bobath
- b) Integração Sensorial
- c) Estimulação Sensorial
- d) Facilitação Neuromuscular proprioceptiva
- e) Katz



PREFEITURA DE TELÊMACO BORBA - ESTADO DO PARANÁ- EDITAL Nº 001-2016 - CONCURSO PÚBLICO

VESPERTINO – 29/05/2016 – NÍVEL SUPERIOR

PROVA OBJETIVA NÚMERO

2

**CARGO: TMNS I - TERAPIA OCUPACIONAL**

**Leia atentamente as INSTRUÇÕES:**

1. Confira seus dados no cartão-resposta: nome, número de inscrição e o curso para o qual se inscreveu.
2. **MARQUE no seu cartão-resposta o número da sua prova** (não será corrigido o cartão-resposta que não tiver marcado o número da prova) e **Assine** seu cartão-resposta.
3. Aguarde a autorização do Fiscal para abrir o caderno de prova. Ao receber a ordem do fiscal, confira o caderno de prova com muita atenção. Nenhuma reclamação sobre o total de questões ou falha de impressão será aceita depois de iniciada a prova.
4. O cartão-resposta não será substituído, salvo se contiver erro de impressão.
5. Preencha toda a área do cartão-resposta correspondente à alternativa de sua escolha, com caneta esferográfica (tinta azul ou preta), sem ultrapassar as bordas. As marcações duplas, ou rasuradas, com corretivo, ou marcadas diferentemente do modelo estabelecido no cartão-resposta poderão ser anuladas.
6. Sua prova tem **40** questões, com **5** alternativas.
7. Cabe apenas ao candidato a interpretação das questões, **o fiscal** não poderá fazer nenhuma interferência.
8. A prova será realizada com duração máxima de **3 (três) horas**, incluído o tempo para a realização da Prova Objetiva de múltipla escolha e o preenchimento do cartão-resposta.
9. O candidato poderá retirar-se do local de realização das provas somente **1 (uma) hora** após o seu início, sem levar o caderno de prova.
10. O candidato poderá levar o caderno de provas, assim como anotação contendo transcrição do seu cartão-resposta, somente **1h30min** (uma hora e trinta minutos) após o início da realização da prova.
11. Ao terminar a prova, o candidato deverá entregar ao fiscal de sala o cartão-resposta preenchido e **ASSINADO**.
12. Os **3 (três)** candidatos, que terminarem a prova por último, deverão permanecer na sala, e só poderão sair juntos após o fechamento do envelope, contendo os cartões-resposta dos candidatos presentes e ausentes, e assinarem no lacre do referido envelope, atestando que este foi devidamente lacrado.
13. Durante todo o tempo em que permanecer no local onde está ocorrendo o concurso, o candidato deverá, manter o celular desligado e sem bateria, só sendo permitido ligar depois de ultrapassar o portão de saída do prédio.
14. Não será permitido ao candidato fumar na sala de provas, bem como nas dependências.
15. Depois de terminar a prova e entregar ao fiscal o cartão-resposta, preenchido e assinado, não será mais permitido ao candidato o uso do banheiro e bebedouro.

**BOA PROVA!**

**RACIOCÍNIO LÓGICO**

**01. Os cinco filhos de Ana estavam discutindo a respeito da data de nascimento da mãe:**

- Almir disse que foi em janeiro, dia 14, sexta-feira.
- Vanderlei disse que foi em janeiro, dia 14, sábado.
- Tiago disse que foi em fevereiro, dia 15, sábado.
- Sandro disse que foi em janeiro, dia 15, sexta-feira.
- Renato disse que foi em fevereiro, dia 15, sexta-feira.

Sabe-se que somente um dos filhos de Ana acertou corretamente sua data de nascimento e que os outros acertaram pelo menos um dos itens (dia, dia da semana e mês). Dessa forma, é correto afirmar que o filho de Ana que acertou a data de nascimento dela foi:

- a) Renato
- b) Sandro
- c) Tiago
- d) Vanderlei
- e) Almir

**02. Considere a seguinte afirmativa: “Todo churrasqueiro gosta de picanha”. Em relação a essa proposição, é correto afirmar que:**

- a) Algum churrasqueiro não gosta de picanha.
- b) Toda pessoa que gosta de picanha é churrasqueira.
- c) Alguma pessoa que não gosta de picanha é churrasqueira.
- d) Toda pessoa que não é churrasqueira, não gosta de picanha.
- e) Toda pessoa que não gosta de picanha, não é churrasqueira.

**03. Em um grupo formado por 67 pessoas, verificou-se que 41 pessoas gostam de arroz, 29 gostam de feijão, 33 gostam de carne, 19 gostam de arroz e de feijão, 9 gostam apenas de arroz e de carne, 12 gostam de feijão e de carne e que 6 gostam de arroz, de feijão e de carne. O número de pessoas desse grupo, que não gosta de nenhum desses três tipos de alimentos é igual a:**

- a) 4
- b) 5
- c) 6
- d) 8
- e) 10

**04. Bruno escreveu, em seu caderno, várias sequências formadas por números múltiplos de 4, onde os valores que ocupavam as posições pares eram multiplicados por  $-1$ . Cada sequência foi somada e o resultado da soma anotado. A soma das três primeiras sequências escritas por Bruno foram as seguintes:**

$$4 - 8 = -4$$
$$4 - 8 + 12 = 8$$
$$4 - 8 + 12 - 16 = -8$$

Considere que Bruno escreveu e somou tais sequências, em seu caderno, de modo a obter determinada sequência cuja soma foi 600. O número de termos dessa sequência é igual a:

- a) 149
- b) 150
- c) 298
- d) 299
- e) 300

**05. Quatro torcedores, um do São Paulo, um do Cruzeiro, um do Vasco e um do Bahia, estão sentados ao redor de uma mesa quadrada, de modo que, dois a dois, fiquem frente a frente. Sabe-se que Alan é torcedor do Cruzeiro e que Bruno está sentado à direita de Alan. Sabe-se também que Caio está sentado à direita do torcedor do São Paulo. Sabe-se ainda que Daniel não é torcedor do Vasco e que está sentado à frente de Bruno. Dessa forma, é correto afirmar que:**

- a) Bruno é torcedor do Bahia e Daniel é torcedor do São Paulo.
- b) Bruno é torcedor do São Paulo e Daniel é torcedor do Bahia.
- c) Caio é torcedor do Vasco e Daniel é torcedor do São Paulo.
- d) Caio é torcedor do Bahia e Daniel é torcedor do São Paulo.
- e) Bruno é torcedor do Vasco e Daniel é torcedor do Bahia.

**INFORMÁTICA**

06. Considerando o MS-Excel versão 2010, observando a figura abaixo, é correto afirmar que:

	A	B	C
1			
2			
3			
4			

- Somente 03 três linhas estão selecionadas.
- Somente uma célula está selecionada.
- 12 (doze) células estão selecionadas.
- Somente a coluna A até a linha 4 (quatro) está selecionada.
- Somente as colunas 1 (um), 2 (dois), 3 (três) e 4 (quatro) estão selecionadas.

07. Considerando o MS-Excel versão 2010, observando a figura abaixo, é incorreto afirmar que:

	A	B	C
1	12	6	=A1*B1
2	8	2	=A2/B2
3	5	14	=A3-B3
4	6	11	=A4+B4

- O resultado da fórmula =A1\*B1 é 72.
- O resultado da fórmula =A2/B2 é 4.
- O resultado da fórmula =A3-B3 é -9.
- O resultado da fórmula =A3-B3 é 9.
- O resultado da fórmula =A4+B4 é 17.

08. Digitando um texto no MS-Word versão 2010, necessito adicionar número nas páginas. Quanto a isso, é correto afirmar que:

- No menu Layout da Página, clico em número de página e seleciono onde desejo adicionar os números.
- No menu Inserir, clico em número de página e seleciono onde desejo adicionar os números.
- No menu Revisão, clico em número de página e seleciono onde desejo adicionar os números.
- No menu Referências, clico em número de página e seleciono onde desejo adicionar os números.
- No menu Exibição, clico em número de página e seleciono onde desejo adicionar os números.

09. A segurança da informação está diretamente relacionada com proteção de um conjunto de informações, no sentido de preservar o valor que possuem para um indivíduo ou uma organização. Atualmente, um dos aplicativos mais utilizados no mundo, o Whats app, teve uma alteração de confidencialidade muito importante na segurança das informações transmitidas e recebidas. Dentre as alternativas, assinale a que corretamente informa a alteração inserida no aplicativo Whats app.

- Antispam
- Antivirus
- Firewall
- Antispyware
- Criptografia

10. São todos os dispositivos que trabalham acoplados ao microcomputador para receber, transmitir, visualizar, ler, gravar ou armazenarem dados. São eles que permitem a comunicação do computador com o meio exterior, isto é, com os usuários e outras máquinas.

Esse texto descreve corretamente:

- Memória ram
- Memória virtual
- Software
- Periféricos
- Hardware

**CONHECIMENTOS GERAIS**

11. Hino do município de Telêmaco Borba/PR

Das virgens matas e campos verdejantes  
 Servindo-se também o rio Tibagi,



Homens de ideais, espíritos vibrantes.  
 Constituíram as indústrias aqui.

Estribilho:

Salve! Salve! Telêmaco Borba  
 Terra querida e de grandes primores,  
 A nossa homenagem rendamos  
 À cidade dos trabalhadores.  
 Pois a cadência de enorme e real progresso  
 Um município mui grandioso fez nascer,  
 Marcando assim, verdadeiro sucesso  
 Faz, então o Paraná engrandecer.

**No que tange ao Hino do município, atribua V (verdadeiro) ou F (falso) às afirmativas e marque a alternativa correta.**

- ( ) Eloah Martins Quadrado é autora da letra do hino.  
 ( ) Bento Mossurunga compôs a música do hino.  
 ( ) Eloah Martins Quadrado foi nomeada primeira professora da Cidade Nova, atual Telêmaco Borba.  
 ( ) Bento Mossurunga fundou a orquestra Estudantil e Concertos – Orquestra Sinfônica da Universidade, a Sociedade de Cultura Artístico Basilio Itiberê.
- a) F, V, V, V.  
 b) V, F, V, V.  
 c) V, V, F, V.  
 d) V, V, F, F.  
 e) V, V, V, V.

**12. À luz da Lei nº 1883/2012, que dispõe sobre o Estatuto dos Servidores Públicos da Administração Direta, Autárquica e Funcional do Município de Telêmaco Borba/PR, leia as alternativas e marque a correta.**

- a) A apresentação para a posse ocorrerá no prazo de até trinta dias, contados do ato de nomeação.  
 b) A destituição do servidor da função gratificada dar-se-á por solicitação exclusiva dele mesmo.  
 c) O servidor ocupante exclusivamente de cargo em comissão será contribuinte do regime geral de previdência social.  
 d) A aprovação em concurso público gera o direito à nomeação, e será feita obedecida à ordem de classificação dos candidatos.  
 e) O exercício de função gratificada poderá ser de dedicação integral ou parcial, conforme necessidade da administração.

**Conforme a Lei nº 1.881, de 05 de abril de 2012, que dispõe sobre o Plano de Cargos, Carreiras e Vencimentos do quadro geral de servidores da Prefeitura Municipal de Telêmaco Borba/PR, regulamentada pelo Decreto nº 2269/2015, responda às próximas três questões.**

**13. Leia as assertivas e assinala a incorreta.**

- a) Do resultado da avaliação de desempenho poderá ser interposto recurso à Comissão de Desenvolvimento Funcional no prazo de quinze dias a contar da publicação no Boletim Oficial do Município.  
 b) Não será concedida a progressão ou promoção ao servidor que estiver em licença para tratamento de saúde por um período superior a quarenta e cinco dias, no período de avaliação.  
 c) A alternância dos membros constituintes da Comissão de Desenvolvimento Funcional eleitos pelos servidores verificar-se-á a cada três anos de participação, observados, para substituição de seus participantes, o critério fixado no artigo anterior, não cabendo eleição sucessiva.  
 d) Caberá à Comissão de Desenvolvimento Funcional, no caso de divergência de vinte por cento entre a nota do avaliador e a do avaliado, solicitar nova avaliação à chefia.  
 e) Nos termos do disposto no art. 17 da Lei nº 1.881, de 05 de abril de 2012, para progredir, é necessário que o servidor satisfaça, dentre outros, o seguinte requisito: estar no efetivo exercício de seu cargo ou em função comissionada na sua área de atuação durante o interstício de dois anos.

**14. Assinale a alternativa que completa respectivamente as lacunas do texto a seguir:**

**A Comissão de Desenvolvimento Funcional será constituída por \_\_\_\_\_ membros, sendo \_\_\_\_\_ designados pelo Prefeito Municipal de Telêmaco Borba e os demais eleitos pelos servidores municipais dentre os estáveis, com a atribuição de coordenar os procedimentos relativos à avaliação periódica de desempenho e outras atribuições.**

- a) três / sete  
 b) um / três  
 c) sete / três  
 d) três / cinco  
 e) dois / cinco



**15. A Avaliação de Desempenho será norteadada, dentre outros, pelo seguinte princípio: Amplitude - a avaliação deve incidir sobre todas as áreas de atuação do servidor, que compreendem:**

- 1. a formulação de políticas administrativas e sua aplicação para todos os setores da administração municipal;**
- 2. o desempenho do profissional dentro de suas funções pertinentes;**
- 3. a estrutura do órgão em que exerce a função;**
- 4. os resultados de eficiência dos serviços de cada setor ou órgão da administração municipal;**
- 5. a participação direta do avaliado, durante todo o processo avaliativo.**

**Diante dessa afirmação, somente não está correto o item:**

- a) 1
- b) 2
- c) 3
- d) 4
- e) 5

### **CONHECIMENTOS ESPECÍFICOS**

**16. O sistema nervoso é formado pelo:**

- a) Encéfalo, medula espinal, órgãos dos sentidos, nervos.
- b) Encéfalo, músculos estriados, nervos, coração.
- c) Músculos estriados, nervos, coração, linfa.
- d) Nervos, ossos, vasos sanguíneos, linfonodos.
- e) Encéfalo, coração, nervos, linfonodos.

**17. Em relação à coluna vertebral, é incorreto afirmar que:**

- a) Estende-se do crânio até a pelve.
- b) A coluna vertebral consiste de uma série de ossos chamados vértebras.
- c) As vértebras estão sobrepostas em forma de uma coluna, então o termo coluna vertebral.
- d) A coluna vertebral desempenha apenas uma função importante.
- e) As vértebras são denominadas de acordo com suas localizações no corpo.

**18. É formada pelas estruturas ósseas e equilíbrio muscular que permite a concavidade da mão para apreensão de diversos objetivos. Essa definição refere-se a:**

- a) Arcos da mão
- b) Cotovelo
- c) Punho
- d) Dedo
- e) Dorso

**19. Assinale a alternativa correta sobre o tipo de movimento articular e sua definição.**

- a) Flexão: é o movimento no qual há o aumento do ângulo entre os ossos de uma articulação.
- b) Dorsiflexão: é o movimento no qual a mão é inclinada para baixo, em direção à perna.
- c) Adução: é o movimento em direção ao plano mediano do corpo.
- d) Extensão: é o movimento no qual há a diminuição do ângulo entre os ossos de uma articulação.
- e) Supinação: é a rotação do pé, para baixo e para cima.

**20. Quais são os nervos periféricos da mão?**

- a) Radial, Mediano e Psiforme.
- b) Radial, Ulnar e Mediano.
- c) Mediano, longitudinal, Oblíquo.
- d) Dorsal, Mediano e Safeno.
- e) Mediano, Proximal e Distal

**21. É o deslocamento de um osso de sua articulação, com rompimento de ligamentos, tendões e cápsula articular. Este tipo de alteração do sistema esquelético e articular é conhecido como:**

- a) Luxação
- b) Osteomalacia
- c) Entorse
- d) Bursite
- e) Artrite

**22. Em relação ao quadro de referência e abordagem em Terapia Ocupacional, assinale a alternativa em que o quadro de referência primário não condiz com a abordagem.**

- a) Fisiológico – Biomecânica
- b) Psiquiatria – Trabalho Grupal
- c) Humanismo – Centrado no Cliente

- d) Fisiológico – Atividade da Vida Diária
- e) Humanismo – Compensatório

**23. Assinale a alternativa incorreta acerca da intervenção do Terapeuta Ocupacional na proposta de prevenção de distúrbio musculoesquelético relacionado ao trabalho.**

- a) Verificar e intervir na repetição do movimento.
- b) Verificar e intervir no uso excessivo da mão.
- c) Orientar sobre evitar o posicionamento estático prolongado.
- d) Verificar e intervir vibração da mão durante a atividade de trabalho.
- e) Verificar e intervir na postura adequada.

**24. Alguns músculos são denominados pelos locais de fixação, tanto na origem como na inserção. O músculo esternocleidomastóideo, por exemplo, tem sua origem no:**

- a) Esterno e na Patela
- b) Rádio e na Ulna
- c) Esterno e na Clavícula
- d) Rádio e na escápula
- e) Sacro e na Fíbula

**25. Quando uma pessoa não reconhece figuras desenhadas na mão, isso é denominado de:**

- a) Morfognosia
- b) Dermolexia
- c) Hilognosia
- d) Grafestesia
- e) Cromolexia

**26. Qual é a alternativa incorreta acerca da intervenção da Terapia Ocupacional na Paralisia Cerebral?**

- a) O Terapeuta Ocupacional tem um papel importante junto à criança com paralisia cerebral, por fornecer condições para o estabelecimento e efetivação de programas de tratamento que visam à facilitação do movimento.
- b) O Terapeuta Ocupacional favorece as experiências e aprendizado sensorio-motores, estimulando aspectos cognitivos, auxiliando na adaptação e execução das atividades da vida diária.
- c) É importante que o Terapeuta Ocupacional conheça o contexto em que a criança esteja inserida, a condição econômica, social e emocional da família.
- d) O Terapeuta Ocupacional tem como objetivo incentivar o brincar e o lazer, tornando a criança o agente em seu processo de desenvolvimento.
- e) O trabalho do Terapeuta Ocupacional com criança com paralisia cerebral é caracterizado pela busca de soluções apenas para os aspectos motores.

**27. Qual é o músculo que não tem função no movimento do ombro e do braço?**

- a) Trapézio
- b) Serrátil anterior
- c) Manguito rotador
- d) Deltoide
- e) Iliopsoas

**28. Quem regula e coordena a atividade muscular voluntária, auxilia na manutenção do equilíbrio e do tônus muscular?**

- a) Cerebelo
- b) Ponte
- c) Tálamo
- d) Bulbo
- e) Mesencéfalo

**29. Qual é a doença que se caracteriza por uma grave desestruturação psíquica, em que a pessoa perde a capacidade de integrar suas emoções e sentimentos com seus pensamentos, podendo apresentar delírios, percepções falsas do ambiente e comportamento que revelam a perda do juízo crítico?**

- a) Acidente Vascular Cerebral
- b) Encefalopatia Crônica progressiva
- c) Esquizofrenia
- d) Síndrome de Rett
- e) Burnout

**30. Em relação à atuação da Terapia Ocupacional junto ao idoso, não é correto afirmar que:**

- a) O Terapeuta Ocupacional promove a saúde, restaura a capacidade funcional do idoso.



- b) O Terapeuta Ocupacional avalia o idoso na disfunção específica, levando em consideração a queixa principal que o paciente traz, correlacionando-a à totalidade de suas relações com o cotidiano.
- c) O Terapeuta Ocupacional seleciona e aplica métodos, técnicas e recursos apropriados ao tratamento, e adequados à realidade socioeconômica e cultural do paciente.
- d) O Terapeuta Ocupacional cria condições e/ou situações que dificultam o desencadeamento do processo terapêutico.
- e) O Terapeuta Ocupacional facilita a aprendizagem de funções essenciais do idoso, desenvolve habilidades adaptativas visando auxiliar o idoso a atingir o grau máximo possível de autonomia.

**31. É uma doença degenerativa do encéfalo que ocorre geralmente em pessoas idosas, é caracterizada pela perda progressiva da memória e prejuízo da função intelectual. Essa doença é denominada:**

- a) Acidente Vascular Cerebral
- b) Paralisia Cerebral
- c) Fenilcetonúria
- d) Alzheimer
- e) Epilepsia

**32. Quando o paciente é encaminhado para o Terapeuta Ocupacional com alteração de imagem corporal, medo de aumentar o peso e, principalmente, tornar-se gordo, esse paciente está apresentando características de:**

- a) Esquizofrenia
- b) Catatonia
- c) Depressão
- d) Anorexia
- e) Psicose

**33. Quais são os recursos que podem ser utilizados pelo Terapeuta Ocupacional com crianças que apresentam problemas neurológicos?**

- a) Bola do tipo Bobath, chocalho, balanço sensorial, turbilhão e TENS.
- b) Bola do tipo Bobath, chocalho, balanço sensorial, texturas diversas e turbilhão.
- c) Bolas sensoriais, texturas macias, gelatina, areia, aparelho TENS e FES.
- d) Rolos, bolas, texturas diversas, turbilhão e balanço sensorial.
- e) Bolas sensoriais, texturas macias, rolos de vários tamanhos e balanço sensorial.

**34. Qual é a órtese que não apresenta partes móveis e mantém a articulação em uma posição?**

- a) Estática
- b) Articular
- c) Dinâmica
- d) Drop-out
- e) Estática inversa

**35. Qual das seguintes abordagens não é indicada para criança?**

- a) Bobath
- b) Integração Sensorial
- c) Estimulação Sensorial
- d) Facilitação Neuromuscular proprioceptiva
- e) Katz

## LÍNGUA PORTUGUESA

Texto para as próximas cinco questões:

### “O cego Estrelinho” Mia Couto

O cego Estrelinho era pessoa de nenhuma vez: sua história poderia ser contada e descontada não fosse seu guia, Gigito Efraim. A mão de Gigito conduziu o desvistado por tempos e idades. Aquela mão era repartidamente comum, extensão de um no outro, siamensal. E assim era quase de nascença. Memória de Estrelinho tinha cinco dedos e eram os de Gigito postos, em aperto, na sua própria mão.

O cego, curioso, queria saber de tudo. Ele não fazia cerimónia no viver. O sempre lhe era pouco e o tudo insuficiente. Dizia, deste modo:

— Tenho que viver já, senão esqueço-me.

Gigitinho, porém, o que descrevia era o que não havia. O mundo que ele minuciava eram fantasias e rendilhados. A imaginação do guia era mais profícua que papaeira. O cego enchia a boca de águas:

— Que maravilhação esse mundo. Me conte tudo, Gigito!



A mão do guia era, afinal, o manuscrito da mentira. Gigito Efraim estava como nunca esteve S. Tomé: via para não crer. O condutor falava pela ponta dos dedos. Desfolhava o universo, aberto em folhas. A ideação dele era tal que mesmo o cego, por vezes, acreditava ver. O outro lhe encorajava esses breves enganos:

— Desbengale-se, você está escolhendo a boa procedência!

Mentira: Estrelinho continuava sem ver uma palmeira à frente do nariz. Contudo, o cego não se conformava em suas escurezas. Ele cumpria o ditado: não tinha perna e queria dar o pontapé. Só à noite, ele desalentava, sofrendo medos mais antigos que a humanidade. Entendia aquilo que, na raça humana, é menos primitivo: o animal.

— Na noite aflige não haver luz?

— Aflição é ter um pássaro branco esvoando dentro do sono.

Pássaro branco? No sono? Lugar de ave é nas alturas. Dizem até que Deus fez o céu para justificar os pássaros. Estrelinho disfarçava o medo dos vaticínios, subterfugindo:

— E agora, Gigitinho? Agora, olhando assim para cima, estou face ao céu?

Que podia o outro responder? O céu do cego fica em toda a parte. Estrelinho perdia o pé era quando a noite chegava e seu mestre adormecia. Era como se um novo escuro nele se estreasse em nó cego. Devagaroso e sorrateiro ele aninhava sua mão na mão do guia. Só assim adormecia. A razão da concha é a timidez da amêijoia? Na manhã seguinte, o cego lhe confessava: se você morrer, tenho que morrer logo no imediato. Senão-me: como acerto o caminho para o céu?

Foi no mês de dezembro que levaram Gigitinho. Lhe tiraram do mundo para pôr na guerra: obrigavam os serviços militares. O cego reclamou: que o moço inatingia a idade. E que o serviço que ele a si prestava era vital e vitalício. O guia chamou Estrelinho à parte e lhe tranquilizou:

— Não vai ficar sozinhandando por aí. Minha mana já mandei para ficar no meu lugar.

O cego estendeu o braço a querer tocar uma despedida. Mas o outro já não estava lá. Ou estava e se desviara, propositado? E sem água ida nem vinda, Estrelinho escutou o amigo se afastar, engolido, esponjinho, invisível. Pela primeira vez, Estrelinho se sentiu invalidado.

— Agora, só agora, sou cego que não vê.

(...)

**COUTO, Mia. Estórias abensonhadas. Rio de Janeiro: Nova Fronteira, 1996. (Pág 23 e 24).**

**36. Quanto à interpretação do fragmento do conto, podemos afirmar que:**

- Gigito Efraim era o guia de Estrelinho há pouquíssimo tempo.
- Estrelinho era cego de nascença.
- Gigito descrevia o mundo para Estrelinho de forma denotativa.
- Gigito foi convocado pelo exército para ser guia de cegos na guerra.
- Gigito descrevia o mundo para Estrelinho de forma conotativa.

**37. No período “O sempre lhe era pouco e o tudo insuficiente”, o pronome “LHE” exerce a função sintática de:**

- Objeto Direto
- Objeto Indireto
- Complemento Nominal
- Adjunto Adnominal
- Objeto Direto Preposicionado

**38. Na oração “A mão de Gigito conduziu o desvestido por tempos e idades”, o autor faz uso de um neologismo, assim como no decorrer de toda a obra em questão. Contudo, o neologismo só se torna possível pela utilização dos elementos mórficos naquilo que a gramática normativa pontua como Processo de Formação das Palavras. Levando em consideração apenas o recurso morfológico, qual Processo de Formação foi utilizado?**

- Derivação Sufixal
- Derivação Prefixal
- Derivação Regressiva
- Derivação Imprópria
- Derivação Parassintética

**39. No terceiro período do décimo terceiro parágrafo, temos:**

- Uma oração
- Dois orações
- Três orações
- Quatro orações
- Cinco orações

**40. No último parágrafo do fragmento do conto “— Agora, só agora, sou cego que não vê”, a oração subordinada presente classifica-se corretamente como:**

- Oração Subordinada Adjetiva Restritiva



- b) Oração Subordinada Adverbial Causal
- c) Oração Subordinada Substantiva Subjetiva
- d) Oração Subordinada Adverbial Explicativa
- e) Oração Subordinada Adjetiva Explicativa

**RASCUNHO**



PREFEITURA DE TELÊMACO BORBA - ESTADO DO PARANÁ- EDITAL Nº 001-2016 - CONCURSO PÚBLICO

VESPERTINO – 29/05/2016 – NÍVEL SUPERIOR

PROVA OBJETIVA NÚMERO

**3**

**CARGO: TMNS I - TERAPIA OCUPACIONAL**

**Leia atentamente as INSTRUÇÕES:**

1. Confira seus dados no cartão-resposta: nome, número de inscrição e o curso para o qual se inscreveu.
2. **MARQUE no seu cartão-resposta o número da sua prova** (não será corrigido o cartão-resposta que não tiver marcado o número da prova) e **Assine** seu cartão-resposta.
3. Aguarde a autorização do Fiscal para abrir o caderno de prova. Ao receber a ordem do fiscal, confira o caderno de prova com muita atenção. Nenhuma reclamação sobre o total de questões ou falha de impressão será aceita depois de iniciada a prova.
4. O cartão-resposta não será substituído, salvo se contiver erro de impressão.
5. Preencha toda a área do cartão-resposta correspondente à alternativa de sua escolha, com caneta esferográfica (tinta azul ou preta), sem ultrapassar as bordas. As marcações duplas, ou rasuradas, com corretivo, ou marcadas diferentemente do modelo estabelecido no cartão-resposta poderão ser anuladas.
6. Sua prova tem **40** questões, com **5** alternativas.
7. Cabe apenas ao candidato a interpretação das questões, **o fiscal** não poderá fazer nenhuma interferência.
8. A prova será realizada com duração máxima de **3 (três) horas**, incluído o tempo para a realização da Prova Objetiva de múltipla escolha e o preenchimento do cartão-resposta.
9. O candidato poderá retirar-se do local de realização das provas somente **1 (uma) hora** após o seu início, sem levar o caderno de prova.
10. O candidato poderá levar o caderno de provas, assim como anotação contendo transcrição do seu cartão-resposta, somente **1h30min** (uma hora e trinta minutos) após o início da realização da prova.
11. Ao terminar a prova, o candidato deverá entregar ao fiscal de sala o cartão-resposta preenchido e **ASSINADO**.
12. Os **3 (três)** candidatos, que terminarem a prova por último, deverão permanecer na sala, e só poderão sair juntos após o fechamento do envelope, contendo os cartões-resposta dos candidatos presentes e ausentes, e assinarem no lacre do referido envelope, atestando que este foi devidamente lacrado.
13. Durante todo o tempo em que permanecer no local onde está ocorrendo o concurso, o candidato deverá, manter o celular desligado e sem bateria, só sendo permitido ligar depois de ultrapassar o portão de saída do prédio.
14. Não será permitido ao candidato fumar na sala de provas, bem como nas dependências.
15. Depois de terminar a prova e entregar ao fiscal o cartão-resposta, preenchido e assinado, não será mais permitido ao candidato o uso do banheiro e bebedouro.

**BOA PROVA!**



**CONHECIMENTOS ESPECÍFICOS****01. O sistema nervoso é formado pelo:**

- a) Encéfalo, medula espinal, órgãos dos sentidos, nervos.
- b) Encéfalo, músculos estriados, nervos, coração.
- c) Músculos estriados, nervos, coração, linfa.
- d) Nervos, ossos, vasos sanguíneos, linfonodos.
- e) Encéfalo, coração, nervos, linfonodos.

**02. Em relação à coluna vertebral, é incorreto afirmar que:**

- a) Estende-se do crânio até a pelve.
- b) A coluna vertebral consiste de uma série de ossos chamados vértebras.
- c) As vértebras estão sobrepostas em forma de uma coluna, então o termo coluna vertebral.
- d) A coluna vertebral desempenha apenas uma função importante.
- e) As vértebras são denominadas de acordo com suas localizações no corpo.

**03. É formada pelas estruturas ósseas e equilíbrio muscular que permite a concavidade da mão para apreensão de diversos objetivos. Essa definição refere-se a:**

- a) Arcos da mão
- b) Cotovelo
- c) Punho
- d) Dedo
- e) Dorso

**04. Assinale a alternativa correta sobre o tipo de movimento articular e sua definição.**

- a) Flexão: é o movimento no qual há o aumento do ângulo entre os ossos de uma articulação.
- b) Dorsiflexão: é o movimento no qual a mão é inclinada para baixo, em direção à perna.
- c) Adução: é o movimento em direção ao plano mediano do corpo.
- d) Extensão: é o movimento no qual há a diminuição do ângulo entre os ossos de uma articulação.
- e) Supinação: é a rotação do pé, para baixo e para cima.

**05. Quais são os nervos periféricos da mão?**

- a) Radial, Mediano e Psiforme.
- b) Radial, Ulnar e Mediano.
- c) Mediano, longitudinal, Oblíquo.
- d) Dorsal, Mediano e Safeno.
- e) Mediano, Proximal e Distal

**06. É o deslocamento de um osso de sua articulação, com rompimento de ligamentos, tendões e cápsula articular. Este tipo de alteração do sistema esquelético e articular é conhecido como:**

- a) Luxação
- b) Osteomalacia
- c) Entorse
- d) Bursite
- e) Artrite

**07. Em relação ao quadro de referência e abordagem em Terapia Ocupacional, assinale a alternativa em que o quadro de referência primário não condiz com a abordagem.**

- a) Fisiológico – Biomecânica
- b) Psiquiatria – Trabalho Grupal
- c) Humanismo – Centrado no Cliente
- d) Fisiológico – Atividade da Vida Diária
- e) Humanismo – Compensatório

**08. Assinale a alternativa incorreta acerca da intervenção do Terapeuta Ocupacional na proposta de prevenção de distúrbio musculoesquelético relacionado ao trabalho.**

- a) Verificar e intervir na repetição do movimento.
- b) Verificar e intervir no uso excessivo da mão.
- c) Orientar sobre evitar o posicionamento estático prolongado.
- d) Verificar e intervir vibração da mão durante a atividade de trabalho.
- e) Verificar e intervir na postura adequada.

**09. Alguns músculos são denominados pelos locais de fixação, tanto na origem como na inserção. O músculo esternocleidomastóideo, por exemplo, tem sua origem no:**

- a) Esterno e na Patela
- b) Rádio e na Ulna

- c) Esterno e na Clavícula
- d) Rádio e na escápula
- e) Sacro e na Fíbula

**10. Quando uma pessoa não reconhece figuras desenhadas na mão, isso é denominado de:**

- a) Morfognosia
- b) Dermolexia
- c) Hilognosia
- d) Grafestesia
- e) Cromolexia

**11. Qual é a alternativa incorreta acerca da intervenção da Terapia Ocupacional na Paralisia Cerebral?**

- a) O Terapeuta Ocupacional tem um papel importante junto à criança com paralisia cerebral, por fornecer condições para o estabelecimento e efetivação de programas de tratamento que visam à facilitação do movimento.
- b) O Terapeuta Ocupacional favorece as experiências e aprendizado sensório-motores, estimulando aspectos cognitivos, auxiliando na adaptação e execução das atividades da vida diária.
- c) É importante que o Terapeuta Ocupacional conheça o contexto em que a criança esteja inserida, a condição econômica, social e emocional da família.
- d) O Terapeuta Ocupacional tem como objetivo incentivar o brincar e o lazer, tornando a criança o agente em seu processo de desenvolvimento.
- e) O trabalho do Terapeuta Ocupacional com criança com paralisia cerebral é caracterizado pela busca de soluções apenas para os aspectos motores.

**12. Qual é o músculo que não tem função no movimento do ombro e do braço?**

- a) Trapézio
- b) Serrátil anterior
- c) Manguito rotador
- d) Deltoide
- e) Iliopsoas

**13. Quem regula e coordena a atividade muscular voluntária, auxilia na manutenção do equilíbrio e do tônus muscular?**

- a) Cerebelo
- b) Ponte
- c) Tálamo
- d) Bulbo
- e) Mesencéfalo

**14. Qual é a doença que se caracteriza por uma grave desestruturação psíquica, em que a pessoa perde a capacidade de integrar suas emoções e sentimentos com seus pensamentos, podendo apresentar delírios, percepções falsas do ambiente e comportamento que revelam a perda do juízo crítico?**

- a) Acidente Vascular Cerebral
- b) Encefalopatia Crônica progressiva
- c) Esquizofrenia
- d) Síndrome de Rett
- e) Burnout

**15. Em relação à atuação da Terapia Ocupacional junto ao idoso, não é correto afirmar que:**

- a) O Terapeuta Ocupacional promove a saúde, restaura a capacidade funcional do idoso.
- b) O Terapeuta Ocupacional avalia o idoso na disfunção específica, levando em consideração a queixa principal que o paciente traz, correlacionando-a à totalidade de suas relações com o cotidiano.
- c) O Terapeuta Ocupacional seleciona e aplica métodos, técnicas e recursos apropriados ao tratamento, e adequados à realidade socioeconômica e cultural do paciente.
- d) O Terapeuta Ocupacional cria condições e/ou situações que dificultam o desencadeamento do processo terapêutico.
- e) O Terapeuta Ocupacional facilita a aprendizagem de funções essenciais do idoso, desenvolve habilidades adaptativas visando auxiliar o idoso a atingir o grau máximo possível de autonomia.

**16. É uma doença degenerativa do encéfalo que ocorre geralmente em pessoas idosas, é caracterizada pela perda progressiva da memória e prejuízo da função intelectual. Essa doença é denominada:**

- a) Acidente Vascular Cerebral
- b) Paralisia Cerebral
- c) Fenilcetonúria
- d) Alzheimer
- e) Epilepsia

**17. Quando o paciente é encaminhado para o Terapeuta Ocupacional com alteração de imagem corporal, medo de aumentar o peso e, principalmente, tornar-se gordo, esse paciente está apresentando características de:**

- a) Esquizofrenia
- b) Catatonia
- c) Depressão
- d) Anorexia
- e) Psicose

**18. Quais são os recursos que podem ser utilizados pelo Terapeuta Ocupacional com crianças que apresentam problemas neurológicos?**

- a) Bola do tipo Bobath, chocalho, balanço sensorial, turbilhão e TENS.
- b) Bola do tipo Bobath, chocalho, balanço sensorial, texturas diversas e turbilhão.
- c) Bolas sensoriais, texturas macias, gelatina, areia, aparelho TENS e FES.
- d) Rolos, bolas, texturas diversas, turbilhão e balanço sensorial.
- e) Bolas sensoriais, texturas macias, rolos de vários tamanhos e balanço sensorial.

**19. Qual é a órtese que não apresenta partes móveis e mantém a articulação em uma posição?**

- a) Estática
- b) Articular
- c) Dinâmica
- d) Drop-out
- e) Estática inversa

**20. Qual das seguintes abordagens não é indicada para criança?**

- a) Bobath
- b) Integração Sensorial
- c) Estimulação Sensorial
- d) Facilitação Neuromuscular proprioceptiva
- e) Katz

## LÍNGUA PORTUGUESA

**Texto para as próximas cinco questões:**

### “O cego Estrelinho” Mia Couto

O cego Estrelinho era pessoa de nenhuma vez: sua história poderia ser contada e descontada não fosse seu guia, Gigito Efraim. A mão de Gigito conduziu o desvistado por tempos e idades. Aquela mão era repartidamente comum, extensão de um no outro, siamensal. E assim era quase de nascença. Memória de Estrelinho tinha cinco dedos e eram os de Gigito postos, em aperto, na sua própria mão.

O cego, curioso, queria saber de tudo. Ele não fazia cerimônia no viver. O sempre lhe era pouco e o tudo insuficiente. Dizia, deste modo:

— Tenho que viver já, senão esqueço-me.

Gigitinho, porém, o que descrevia era o que não havia. O mundo que ele minuciava eram fantasias e rendilhados. A imaginação do guia era mais profícua que papaeira. O cego enchia a boca de águas:

— Que maravilha esse mundo. Me conte tudo, Gigito!

A mão do guia era, afinal, o manuscrito da mentira. Gigito Efraim estava como nunca esteve S. Tomé: via para não crer. O condutor falava pela ponta dos dedos. Desfolhava o universo, aberto em folhas. A ideiação dele era tal que mesmo o cego, por vezes, acreditava ver. O outro lhe encorajava esses breves enganar:

— Desbengale-se, você está escolhendo a boa procedência!

Mentira: Estrelinho continuava sem ver uma palmeira à frente do nariz. Contudo, o cego não se conformava em suas escurezas. Ele cumpria o ditado: não tinha perna e queria dar o pontapé. Só à noite, ele desalentava, sofrendo medos mais antigos que a humanidade. Entendia aquilo que, na raça humana, é menos primitivo: o animal.

— Na noite aflige não haver luz?

— Aflição é ter um pássaro branco esvoando dentro do sono.

Pássaro branco? No sono? Lugar de ave é nas alturas. Dizem até que Deus fez o céu para justificar os pássaros. Estrelinho disfarçava o medo dos vaticínios, subterfugindo:

— E agora, Gigitinho? Agora, olhando assim para cima, estou face ao céu?

Que podia o outro responder? O céu do cego fica em toda a parte. Estrelinho perdia o pé era quando a noite chegava e seu mestre adormecia. Era como se um novo escuro nele se estreasse em nó cego. Devagaroso e sorrateiro ele ainhava sua mão na mão do guia. Só assim adormecia. A razão da concha é a timidez da amêijoia? Na manhã seguinte, o cego lhe confessava: se você morrer, tenho que morrer logo no imediato. Senão-me: como acerto o caminho para o céu?

Foi no mês de dezembro que levaram Gigitinho. Lhe tiraram do mundo para pôr na guerra: obrigavam os serviços militares. O cego reclamou: que o moço inatingia a idade. E que o serviço que ele a si prestava era vital e vitalício. O guia chamou Estrelinho à parte e lhe tranquilizou:

— Não vai ficar sozinando por aí. Minha mana já mandei para ficar no meu lugar.

O cego estendeu o braço a querer tocar uma despedida. Mas o outro já não estava lá. Ou estava e se desviara, propositado? E sem água ida nem vinda, Estrelinho escutou o amigo se afastar, engolido, esponjínquo, inevisível. Pela pimeira vez, Estrelinho se sentiu invalidado.

— Agora, só agora, sou cego que não vê.

(...)

**COUTO, Mia. Estórias abensonhadas. Rio de Janeiro: Nova Fronteira, 1996. (Pág 23 e 24).**

**21. Quanto à interpretação do fragmento do conto, podemos afirmar que:**

- Gigito Efraim era o guia de Estrelinho há pouquíssimo tempo.
- Estrelinho era cego de nascença.
- Gigito descrevia o mundo para Estrelinho de forma denotativa.
- Gigito foi convocado pelo exército para ser guia de cegos na guerra.
- Gigito descrevia o mundo para Estrelinho de forma conotativa.

**22. No período “O sempre lhe era pouco e o tudo insuficiente”, o pronome “LHE” exerce a função sintática de:**

- Objeto Direto
- Objeto Indireto
- Complemento Nominal
- Adjunto Adnominal
- Objeto Direto Preposicionado

**23. Na oração “A mão de Gigito conduziu o desvestido por tempos e idades”, o autor faz uso de um neologismo, assim como no decorrer de toda a obra em questão. Contudo, o neologismo só se torna possível pela utilização dos elementos mórficos naquilo que a gramática normativa pontua como Processo de Formação das Palavras. Levando em consideração apenas o recurso morfológico, qual Processo de Formação foi utilizado?**

- Derivação Sufixal
- Derivação Prefixal
- Derivação Regressiva
- Derivação Imprópria
- Derivação Parassintética

**24. No terceiro período do décimo terceiro parágrafo, temos:**

- Uma oração
- Duas orações
- Três orações
- Quatro orações
- Cinco orações

**25. No último parágrafo do fragmento do conto “— Agora, só agora, sou cego que não vê”, a oração subordinada presente classifica-se corretamente como:**

- Oração Subordinada Adjetiva Restritiva
- Oração Subordinada Adverbial Causal
- Oração Subordinada Substantiva Subjetiva
- Oração Subordinada Adverbial Explicativa
- Oração Subordinada Adjetiva Explicativa

### RACIOCÍNIO LÓGICO

**26. Os cinco filhos de Ana estavam discutindo a respeito da data de nascimento da mãe:**

- Almir disse que foi em janeiro, dia 14, sexta-feira.
- Vanderlei disse que foi em janeiro, dia 14, sábado.
- Tiago disse que foi em fevereiro, dia 15, sábado.
- Sandro disse que foi em janeiro, dia 15, sexta-feira.
- Renato disse que foi em fevereiro, dia 15, sexta-feira.

Sabe-se que somente um dos filhos de Ana acertou corretamente sua data de nascimento e que os outros acertaram pelo menos um dos itens (dia, dia da semana e mês). Dessa forma, é correto afirmar que o filho de Ana que acertou a data de nascimento dela foi:

- Renato
- Sandro
- Tiago

- d) Vanderlei  
e) Almir

**27. Considere a seguinte afirmativa: “Todo churrasqueiro gosta de picanha”. Em relação a essa proposição, é correto afirmar que:**

- a) Algum churrasqueiro não gosta de picanha.  
b) Toda pessoa que gosta de picanha é churrasqueira.  
c) Alguma pessoa que não gosta de picanha é churrasqueira.  
d) Toda pessoa que não é churrasqueira, não gosta de picanha.  
e) Toda pessoa que não gosta de picanha, não é churrasqueira.

**28. Em um grupo formado por 67 pessoas, verificou-se que 41 pessoas gostam de arroz, 29 gostam de feijão, 33 gostam de carne, 19 gostam de arroz e de feijão, 9 gostam apenas de arroz e de carne, 12 gostam de feijão e de carne e que 6 gostam de arroz, de feijão e de carne. O número de pessoas desse grupo, que não gosta de nenhum desses três tipos de alimentos é igual a:**

- a) 4  
b) 5  
c) 6  
d) 8  
e) 10

**29. Bruno escreveu, em seu caderno, várias sequências formadas por números múltiplos de 4, onde os valores que ocupavam as posições pares eram multiplicados por  $-1$ . Cada sequência foi somada e o resultado da soma anotado. A soma das três primeiras sequências escritas por Bruno foram as seguintes:**

$$4 - 8 = -4$$

$$4 - 8 + 12 = 8$$

$$4 - 8 + 12 - 16 = -8$$

**Considere que Bruno escreveu e somou tais sequências, em seu caderno, de modo a obter determinada sequência cuja soma foi 600. O número de termos dessa sequência é igual a:**

- a) 149  
b) 150  
c) 298  
d) 299  
e) 300

**30. Quatro torcedores, um do São Paulo, um do Cruzeiro, um do Vasco e um do Bahia, estão sentados ao redor de uma mesa quadrada, de modo que, dois a dois, fiquem frente a frente. Sabe-se que Alan é torcedor do Cruzeiro e que Bruno está sentado à direita de Alan. Sabe-se também que Caio está sentado à direita do torcedor do São Paulo. Sabe-se ainda que Daniel não é torcedor do Vasco e que está sentado à frente de Bruno. Dessa forma, é correto afirmar que:**

- a) Bruno é torcedor do Bahia e Daniel é torcedor do São Paulo.  
b) Bruno é torcedor do São Paulo e Daniel é torcedor do Bahia.  
c) Caio é torcedor do Vasco e Daniel é torcedor do São Paulo.  
d) Caio é torcedor do Bahia e Daniel é torcedor do São Paulo.  
e) Bruno é torcedor do Vasco e Daniel é torcedor do Bahia.

### INFORMÁTICA

**31. Considerando o MS-Excel versão 2010, observando a figura abaixo, é correto afirmar que:**

	A	B	C
1			
2			
3			
4			

- a) Somente 03 três linhas estão selecionadas.  
b) Somente uma célula está selecionada.  
c) 12 (doze) células estão selecionadas.  
d) Somente a coluna A até a linha 4 (quatro) está selecionada.  
e) Somente as colunas 1 (um), 2 (dois), 3 (três) e 4 (quatro) estão selecionadas.

**32. Considerando o MS-Excel versão 2010, observando a figura abaixo, é incorreto afirmar que:**



	A	B	C
1	12	6	=A1*B1
2	8	2	=A2/B2
3	5	14	=A3-B3
4	6	11	=A4+B4

- a) O resultado da fórmula =A1\*B1 é 72.  
 b) O resultado da fórmula =A2/B2 é 4.  
 c) O resultado da fórmula =A3-B3 é -9.  
 d) O resultado da fórmula =A3-B3 é 9.  
 e) O resultado da fórmula =A4+B4 é 17.

**33. Digitando um texto no MS-Word versão 2010, necessito adicionar número nas páginas. Quanto a isso, é correto afirmar que:**

- a) No menu Layout da Página, clico em número de página e seleciono onde desejo adicionar os números.  
 b) No menu Inserir, clico em número de página e seleciono onde desejo adicionar os números.  
 c) No menu Revisão, clico em número de página e seleciono onde desejo adicionar os números.  
 d) No menu Referências, clico em número de página e seleciono onde desejo adicionar os números.  
 e) No menu Exibição, clico em número de página e seleciono onde desejo adicionar os números.

**34. A segurança da informação está diretamente relacionada com proteção de um conjunto de informações, no sentido de preservar o valor que possuem para um indivíduo ou uma organização. Atualmente, um dos aplicativos mais utilizados no mundo, o Whats app, teve uma alteração de confidencialidade muito importante na segurança das informações transmitidas e recebidas. Dentre as alternativas, assinale a que corretamente informa a alteração inserida no aplicativo Whats app.**

- a) Antispam  
 b) Antivirus  
 c) Firewall  
 d) Antispyware  
 e) Criptografia

**35. São todos os dispositivos que trabalham acoplados ao microcomputador para receber, transmitir, visualizar, ler, gravar ou armazenarem dados. São eles que permitem a comunicação do computador com o meio exterior, isto é, com os usuários e outras máquinas.**

**Esse texto descreve corretamente:**

- a) Memória ram  
 b) Memória virtual  
 c) Software  
 d) Periféricos  
 e) Hardware

## CONHECIMENTOS GERAIS

**36. Hino do município de Telêmaco Borba/PR**

Das virgens matas e campos verdejantes  
 Servindo-se também o rio Tibagi,  
 Homens de ideais, espíritos vibrantes.  
 Constituíram as indústrias aqui.

Estrilho:

Salve! Salve! Telêmaco Borba  
 Terra querida e de grandes primores,  
 A nossa homenagem rendamos  
 À cidade dos trabalhadores.  
 Pois a cadência de enorme e real progresso  
 Um município mui grandioso fez nascer,  
 Marcando assim, verdadeiro sucesso  
 Faz, então o Paraná engrandecer.

**No que tange ao Hino do município, atribua V (verdadeiro) ou F (falso) às afirmativas e marque a alternativa correta.**

- ( ) Eloah Martins Quadrado é autora da letra do hino.  
 ( ) Bento Mossurunga compôs a música do hino.  
 ( ) Eloah Martins Quadrado foi nomeada primeira professora da Cidade Nova, atual Telêmaco Borba.



( ) **Bento Mossurunga fundou a orquestra Estudantil e Concertos – Orquestra Sinfônica da Universidade, a Sociedade de Cultura Artístico Basilio Itiberê.**

- a) F, V, V, V.
- b) V, F, V, V.
- c) V, V, F, V.
- d) V, V, F, F.
- e) V, V, V, V.

**37. À luz da Lei nº 1883/2012, que dispões sobre o Estatuto dos Servidores Públicos da Administração Direta, Autárquica e Funcional do Município de Telêmaco Borba/PR, leia as alternativas e marque a correta.**

- a) A apresentação para a posse ocorrerá no prazo de até trinta dias, contados do ato de nomeação.
- b) A destituição do servidor da função gratificada dar-se-á por solicitação exclusiva dele mesmo.
- c) O servidor ocupante exclusivamente de cargo em comissão será contribuinte do regime geral de previdência social.
- d) A aprovação em concurso público gera o direito à nomeação, e será feita obedecida à ordem de classificação dos candidatos.
- e) O exercício de função gratificada poderá ser de dedicação integral ou parcial, conforme necessidade da administração.

**Conforme a Lei nº 1.881, de 05 de abril de 2012, que dispõe sobre o Plano de Cargos, Carreiras e Vencimentos do quadro geral de servidores da Prefeitura Municipal de Telêmaco Borba/PR, regulamentada pelo Decreto nº 2269/2015, responda às próximas três questões.**

**38. Leia as assertivas e assinala a incorreta.**

- a) Do resultado da avaliação de desempenho poderá ser interposto recurso à Comissão de Desenvolvimento Funcional no prazo de quinze dias a contar da publicação no Boletim Oficial do Município.
- b) Não será concedida a progressão ou promoção ao servidor que estiver em licença para tratamento de saúde por um período superior a quarenta e cinco dias, no período de avaliação.
- c) A alternância dos membros constituintes da Comissão de Desenvolvimento Funcional eleitos pelos servidores verificar-se-á a cada três anos de participação, observados, para substituição de seus participantes, o critério fixado no artigo anterior, não cabendo eleição sucessiva.
- d) Caberá à Comissão de Desenvolvimento Funcional, no caso de divergência de vinte por cento entre a nota do avaliador e a do avaliado, solicitar nova avaliação à chefia.
- e) Nos termos do disposto no art. 17 da Lei nº 1.881, de 05 de abril de 2012, para progredir, é necessário que o servidor satisfaça, dentre outros, o seguinte requisito: estar no efetivo exercício de seu cargo ou em função comissionada na sua área de atuação durante o interstício de dois anos.

**39. Assinale a alternativa que completa respectivamente as lacunas do texto a seguir:**

**A Comissão de Desenvolvimento Funcional será constituída por \_\_\_\_\_ membros, sendo \_\_\_\_\_ designados pelo Prefeito Municipal de Telêmaco Borba e os demais eleitos pelos servidores municipais dentre os estáveis, com a atribuição de coordenar os procedimentos relativos à avaliação periódica de desempenho e outras atribuições.**

- a) três / sete
- b) um / três
- c) sete / três
- d) três / cinco
- e) dois / cinco

**40. A Avaliação de Desempenho será norteadada, dentre outros, pelo seguinte princípio: Amplitude - a avaliação deve incidir sobre todas as áreas de atuação do servidor, que compreendem:**

- 1. a formulação de políticas administrativas e sua aplicação para todos os setores da administração municipal;**
- 2. o desempenho do profissional dentro de suas funções pertinentes;**
- 3. a estrutura do órgão em que exerce a função;**
- 4. os resultados de eficiência dos serviços de cada setor ou órgão da administração municipal;**
- 5. a participação direta do avaliado, durante todo o processo avaliativo.**

**Diante dessa afirmação, somente não está correto o item:**

- a) 1
- b) 2
- c) 3
- d) 4
- e) 5



PREFEITURA DE TELÊMACO BORBA - ESTADO DO PARANÁ- EDITAL Nº 001-2016 - CONCURSO PÚBLICO

VESPERTINO – 29/05/2016 – NÍVEL SUPERIOR

**1**

PROVA OBJETIVA NÚMERO

**CARGOS: TMNS I - MEDICINA - ATENÇÃO BÁSICA SAÚDE  
TMNS I - MEDICINA - INTERVENCIÓNISTA**

**Leia atentamente as INSTRUÇÕES:**

1. Confira seus dados no cartão-resposta: nome, número de inscrição e o curso para o qual se inscreveu.
2. **MARQUE no seu cartão-resposta o número da sua prova** (não será corrigido o cartão-resposta que não tiver marcado o número da prova) e **Assine** seu cartão-resposta.
3. Aguarde a autorização do Fiscal para abrir o caderno de prova. Ao receber a ordem do fiscal, confira o caderno de prova com muita atenção. Nenhuma reclamação sobre o total de questões ou falha de impressão será aceita depois de iniciada a prova.
4. O cartão-resposta não será substituído, salvo se contiver erro de impressão.
5. Preencha toda a área do cartão-resposta correspondente à alternativa de sua escolha, com caneta esferográfica (tinta azul ou preta), sem ultrapassar as bordas. As marcações duplas, ou rasuradas, com corretivo, ou marcadas diferentemente do modelo estabelecido no cartão-resposta poderão ser anuladas.
6. Sua prova tem **40** questões, com **5** alternativas.
7. Cabe apenas ao candidato a interpretação das questões, **o fiscal** não poderá fazer nenhuma interferência.
8. A prova será realizada com duração máxima de **3 (três) horas**, incluído o tempo para a realização da Prova Objetiva de múltipla escolha e o preenchimento do cartão-resposta.
9. O candidato poderá retirar-se do local de realização das provas somente **1 (uma) hora** após o seu início, sem levar o caderno de prova.
10. O candidato poderá levar o caderno de provas, assim como anotação contendo transcrição do seu cartão-resposta, somente **1h30min** (uma hora e trinta minutos) após o início da realização da prova.
11. Ao terminar a prova, o candidato deverá entregar ao fiscal de sala o cartão-resposta preenchido e **ASSINADO**.
12. Os **3 (três)** candidatos, que terminarem a prova por último, deverão permanecer na sala, e só poderão sair juntos após o fechamento do envelope, contendo os cartões-resposta dos candidatos presentes e ausentes, e assinarem no lacre do referido envelope, atestando que este foi devidamente lacrado.
13. Durante todo o tempo em que permanecer no local onde está ocorrendo o concurso, o candidato deverá, manter o celular desligado e sem bateria, só sendo permitido ligar depois de ultrapassar o portão de saída do prédio.
14. Não será permitido ao candidato fumar na sala de provas, bem como nas dependências.
15. Depois de terminar a prova e entregar ao fiscal o cartão-resposta, preenchido e assinado, não será mais permitido ao candidato o uso do banheiro e bebedouro.

**BOA PROVA!****LÍNGUA PORTUGUESA**

Texto para as próximas cinco questões:

**“O cego Estrelinho”  
Mia Couto**

O cego Estrelinho era pessoa de nenhuma vez: sua história poderia ser contada e descontada não fosse seu guia, Gigitto Efraim. A mão de Gigitto conduziu o desvistado por tempos e idades. Aquela mão era repartidamente comum, extensão de um no outro, siamensal. E assim era quase de nascença. Memória de Estrelinho tinha cinco dedos e eram os de Gigitto postos, em aperto, na sua própria mão.

O cego, curioso, queria saber de tudo. Ele não fazia cerimônia no viver. O sempre lhe era pouco e o tudo insuficiente. Dizia, deste modo:

— Tenho que viver já, senão esqueço-me.

Gigitinho, porém, o que descrevia era o que não havia. O mundo que ele minuciava eram fantasias e rendilhados. A imaginação do guia era mais profícua que papaeira. O cego enchia a boca de águas:

— Que maravilhação esse mundo. Me conte tudo, Gigitto!

A mão do guia era, afinal, o manuscrito da mentira. Gigitto Efraim estava como nunca esteve S. Tomé: via para não crer. O condutor falava pela ponta dos dedos. Desfolhava o universo, aberto em folhas. A ideiação dele era tal que mesmo o cego, por vezes, acreditava ver. O outro lhe encorajava esses breves enganos:

— Desbengale-se, você está escolhendo a boa procedência!

Mentira: Estrelinho continuava sem ver uma palmeira à frente do nariz. Contudo, o cego não se conformava em suas escurezas. Ele cumpria o ditado: não tinha perna e queria dar o pontapé. Só à noite, ele desalentava, sofrendo medos mais antigos que a humanidade. Entendia aquilo que, na raça humana, é menos primitivo: o animal.

— Na noite aflige não haver luz?

— Aflição é ter um pássaro branco esvoando dentro do sono.

Pássaro branco? No sono? Lugar de ave é nas alturas. Dizem até que Deus fez o céu para justificar os pássaros. Estrelinho disfarçava o medo dos vaticínios, subterfugindo:

— E agora, Gigitinho? Agora, olhando assim para cima, estou face ao céu?

Que podia o outro responder? O céu do cego fica em toda a parte. Estrelinho perdia o pé era quando a noite chegava e seu mestre adormecia. Era como se um novo escuro nele se estreasse em nó cego. Devagaroso e sorrateiro ele aninhava sua mão na mão do guia. Só assim adormecia. A razão da concha é a timidez da amêijoia? Na manhã seguinte, o cego lhe confessava: se você morrer, tenho que morrer logo no imediato. Senão-me: como acerto o caminho para o céu?

Foi no mês de dezembro que levaram Gigitinho. Lhe tiraram do mundo para pôr na guerra: obrigavam os serviços militares. O cego reclamou: que o moço inatingia a idade. E que o serviço que ele a si prestava era vital e vitalício. O guia chamou Estrelinho à parte e lhe tranquilizou:

— Não vai ficar sozinho por aí. Minha mana já mandei para ficar no meu lugar.

O cego estendeu o braço a querer tocar uma despedida. Mas o outro já não estava lá. Ou estava e se desviara, propositado? E sem água ida nem vinda, Estrelinho escutou o amigo se afastar, engolido, esponginquo, invisível. Pela primeira vez, Estrelinho se sentiu invalidado.

— Agora, só agora, sou cego que não vê.

(...)

**COUTO, Mia. Estórias abensonhadas. Rio de Janeiro: Nova Fronteira, 1996. (Pág 23 e 24).**

**01. Quanto à interpretação do fragmento do conto, podemos afirmar que:**

- a) Gigitto Efraim era o guia de Estrelinho há pouquíssimo tempo.
- b) Estrelinho era cego de nascença.
- c) Gigitto descrevia o mundo para Estrelinho de forma denotativa.
- d) Gigitto foi convocado pelo exército para ser guia de cegos na guerra.
- e) Gigitto descrevia o mundo para Estrelinho de forma conotativa.

**02. No período “O sempre lhe era pouco e o tudo insuficiente”, o pronome “LHE” exerce a função sintática de:**

- a) Objeto Direto
- b) Objeto Indireto
- c) Complemento Nominal
- d) Adjunto Adnominal
- e) Objeto Direto Preposicionado

**03. Na oração “A mão de Gigitto conduziu o desvistado por tempos e idades”, o autor faz uso de um neologismo, assim como no decorrer de toda a obra em questão. Contudo, o neologismo só se torna**

**possível pela utilização dos elementos mórficos naquilo que a gramática normativa pontua como Processo de Formação das Palavras. Levando em consideração apenas o recurso morfológico, qual Processo de Formação foi utilizado?**

- Derivação Sufixal
- Derivação Prefixal
- Derivação Regressiva
- Derivação Imprópria
- Derivação Parassintética

**04. No terceiro período do décimo terceiro parágrafo, temos:**

- Uma oração
- Duas orações
- Três orações
- Quatro orações
- Cinco orações

**05. No último parágrafo do fragmento do conto “— Agora, só agora, sou cego que não vê”, a oração subordinada presente classifica-se corretamente como:**

- Oração Subordinada Adjetiva Restritiva
- Oração Subordinada Adverbial Causal
- Oração Subordinada Substantiva Subjetiva
- Oração Subordinada Adverbial Explicativa
- Oração Subordinada Adjetiva Explicativa

#### **RACIOCÍNIO LÓGICO**

**06. Os cinco filhos de Ana estavam discutindo a respeito da data de nascimento da mãe:**

- Almir disse que foi em janeiro, dia 14, sexta-feira.
- Vanderlei disse que foi em janeiro, dia 14, sábado.
- Tiago disse que foi em fevereiro, dia 15, sábado.
- Sandro disse que foi em janeiro, dia 15, sexta-feira.
- Renato disse que foi em fevereiro, dia 15, sexta-feira.

**Sabe-se que somente um dos filhos de Ana acertou corretamente sua data de nascimento e que os outros acertaram pelo menos um dos itens (dia, dia da semana e mês). Dessa forma, é correto afirmar que o filho de Ana que acertou a data de nascimento dela foi:**

- Renato
- Sandro
- Tiago
- Vanderlei
- Almir

**07. Considere a seguinte afirmativa: “Todo churrasqueiro gosta de picanha”. Em relação a essa proposição, é correto afirmar que:**

- Algum churrasqueiro não gosta de picanha.
- Toda pessoa que gosta de picanha é churrasqueira.
- Alguma pessoa que não gosta de picanha é churrasqueira.
- Toda pessoa que não é churrasqueira, não gosta de picanha.
- Toda pessoa que não gosta de picanha, não é churrasqueira.

**08. Em um grupo formado por 67 pessoas, verificou-se que 41 pessoas gostam de arroz, 29 gostam de feijão, 33 gostam de carne, 19 gostam de arroz e de feijão, 9 gostam apenas de arroz e de carne, 12 gostam de feijão e de carne e que 6 gostam de arroz, de feijão e de carne. O número de pessoas desse grupo, que não gosta de nenhum desses três tipos de alimentos é igual a:**

- 4
- 5
- 6
- 8
- 10

**09. Bruno escreveu, em seu caderno, várias sequências formadas por números múltiplos de 4, onde os valores que ocupavam as posições pares eram multiplicados por -1. Cada sequência foi somada e o resultado da soma anotado. A soma das três primeiras sequências escritas por Bruno foram as seguintes:**

$$4 - 8 = -4$$

$$4 - 8 + 12 = 8$$

$$4 - 8 + 12 - 16 = -8$$

Considere que Bruno escreveu e somou tais sequências, em seu caderno, de modo a obter determinada sequência cuja soma foi 600. O número de termos dessa sequência é igual a:

- a) 149
- b) 150
- c) 298
- d) 299
- e) 300

10. Quatro torcedores, um do São Paulo, um do Cruzeiro, um do Vasco e um do Bahia, estão sentados ao redor de uma mesa quadrada, de modo que, dois a dois, fiquem frente a frente. Sabe-se que Alan é torcedor do Cruzeiro e que Bruno está sentado à direita de Alan. Sabe-se também que Caio está sentado à direita do torcedor do São Paulo. Sabe-se ainda que Daniel não é torcedor do Vasco e que está sentado à frente de Bruno. Dessa forma, é correto afirmar que:

- a) Bruno é torcedor do Bahia e Daniel é torcedor do São Paulo.
- b) Bruno é torcedor do São Paulo e Daniel é torcedor do Bahia.
- c) Caio é torcedor do Vasco e Daniel é torcedor do São Paulo.
- d) Caio é torcedor do Bahia e Daniel é torcedor do São Paulo.
- e) Bruno é torcedor do Vasco e Daniel é torcedor do Bahia.

### INFORMÁTICA

11. Considerando o MS-Excel versão 2010, observando a figura abaixo, é correto afirmar que:

	A	B	C
1			
2			
3			
4			

- a) Somente 03 três linhas estão selecionadas.
- b) Somente uma célula está selecionada.
- c) 12 (doze) células estão selecionadas.
- d) Somente a coluna A até a linha 4 (quatro) está selecionada.
- e) Somente as colunas 1 (um), 2 (dois), 3 (três) e 4 (quatro) estão selecionadas.

12. Considerando o MS-Excel versão 2010, observando a figura abaixo, é incorreto afirmar que:

	A	B	C
1	12	6	=A1*B1
2	8	2	=A2/B2
3	5	14	=A3-B3
4	6	11	=A4+B4

- a) O resultado da fórmula =A1\*B1 é 72.
- b) O resultado da fórmula =A2/B2 é 4.
- c) O resultado da fórmula =A3-B3 é -9.
- d) O resultado da fórmula =A3-B3 é 9.
- e) O resultado da fórmula =A4+B4 é 17.

13. Digitando um texto no MS-Word versão 2010, necessito adicionar número nas páginas. Quanto a isso, é correto afirmar que:

- a) No menu Layout da Página, clico em número de página e seleciono onde desejo adicionar os números.
- b) No menu Inserir, clico em número de página e seleciono onde desejo adicionar os números.
- c) No menu Revisão, clico em número de página e seleciono onde desejo adicionar os números.
- d) No menu Referências, clico em número de página e seleciono onde desejo adicionar os números.
- e) No menu Exibição, clico em número de página e seleciono onde desejo adicionar os números.

14. A segurança da informação está diretamente relacionada com proteção de um conjunto de informações, no sentido de preservar o valor que possuem para um indivíduo ou uma organização. Atualmente, um dos aplicativos mais utilizados no mundo, o Whats app, teve uma alteração de confidencialidade muito importante na segurança das informações transmitidas e recebidas. Dentre as alternativas, assinale a que corretamente informa a alteração inserida no aplicativo Whats app.

- a) Antispam
- b) Antivirus



- c) Firewall
- d) Antispyware
- e) Criptografia

**15. São todos os dispositivos que trabalham acoplados ao microcomputador para receber, transmitir, visualizar, ler, gravar ou armazenarem dados. São eles que permitem a comunicação do computador com o meio exterior, isto é, com os usuários e outras máquinas.**

**Esse texto descreve corretamente:**

- a) Memória ram
- b) Memória virtual
- c) Software
- d) Periféricos
- e) Hardware

## CONHECIMENTOS GERAIS

### 16. Hino do município de Telêmaco Borba/PR

Das virgens matas e campos verdejantes

Servindo-se também o rio Tibagi,

Homens de ideais, espíritos vibrantes.

Constituíram as indústrias aqui.

Estrilho:

Salve! Salve! Telêmaco Borba

Terra querida e de grandes primores,

A nossa homenagem rendamos

À cidade dos trabalhadores.

Pois a cadência de enorme e real progresso

Um município mui grandioso fez nascer,

Marcando assim, verdadeiro sucesso

Faz, então o Paraná engrandecer.

**No que tange ao Hino do município, atribua V (verdadeiro) ou F (falso) às afirmativas e marque a alternativa correta.**

( ) Eloah Martins Quadrado é autora da letra do hino.

( ) Bento Mossurunga compôs a música do hino.

( ) Eloah Martins Quadrado foi nomeada primeira professora da Cidade Nova, atual Telêmaco Borba.

( ) Bento Mossurunga fundou a orquestra Estudantil e Concertos – Orquestra Sinfônica da Universidade, a Sociedade de Cultura Artístico Basílio Itiberê.

a) F, V, V, V.

b) V, F, V, V.

c) V, V, F, V.

d) V, V, F, F.

e) V, V, V, V.

**17. À luz da Lei nº 1883/2012, que dispões sobre o Estatuto dos Servidores Públicos da Administração Direta, Autárquica e Funcional do Município de Telêmaco Borba/PR, leia as alternativas e marque a correta.**

a) A apresentação para a posse ocorrerá no prazo de até trinta dias, contados do ato de nomeação.

b) A destituição do servidor da função gratificada dar-se-á por solicitação exclusiva dele mesmo.

c) O servidor ocupante exclusivamente de cargo em comissão será contribuinte do regime geral de previdência social.

d) A aprovação em concurso público gera o direito à nomeação, e será feita obedecida à ordem de classificação dos candidatos.

e) O exercício de função gratificada poderá ser de dedicação integral ou parcial, conforme necessidade da administração.

**Conforme a Lei nº 1.881, de 05 de abril de 2012, que dispõe sobre o Plano de Cargos, Carreiras e Vencimentos do quadro geral de servidores da Prefeitura Municipal de Telêmaco Borba/PR, regulamentada pelo Decreto nº 2269/2015, responda às próximas três questões.**

**18. Leia as assertivas e assinala a incorreta.**

a) Do resultado da avaliação de desempenho poderá ser interposto recurso à Comissão de Desenvolvimento Funcional no prazo de quinze dias a contar da publicação no Boletim Oficial do Município.

b) Não será concedida a progressão ou promoção ao servidor que estiver em licença para tratamento de saúde por um período superior a quarenta e cinco dias, no período de avaliação.





- c) A alternância dos membros constituintes da Comissão de Desenvolvimento Funcional eleitos pelos servidores verificar-se-á a cada três anos de participação, observados, para substituição de seus participantes, o critério fixado no artigo anterior, não cabendo eleição sucessiva.
- d) Caberá à Comissão de Desenvolvimento Funcional, no caso de divergência de vinte por cento entre a nota do avaliador e a do avaliado, solicitar nova avaliação à chefia.
- e) Nos termos do disposto no art. 17 da Lei n° 1.881, de 05 de abril de 2012, para progredir, é necessário que o servidor satisfaça, dentre outros, o seguinte requisito: estar no efetivo exercício de seu cargo ou em função comissionada na sua área de atuação durante o interstício de dois anos.

**19. Assinale a alternativa que completa respectivamente as lacunas do texto a seguir:**

**A Comissão de Desenvolvimento Funcional será constituída por \_\_\_\_\_ membros, sendo \_\_\_\_\_ designados pelo Prefeito Municipal de Telêmaco Borba e os demais eleitos pelos servidores municipais dentre os estáveis, com a atribuição de coordenar os procedimentos relativos à avaliação periódica de desempenho e outras atribuições.**

- a) três / sete  
b) um / três  
c) sete / três  
d) três / cinco  
e) dois / cinco

**20. A Avaliação de Desempenho será norteadada, dentre outros, pelo seguinte princípio: Amplitude - a avaliação deve incidir sobre todas as áreas de atuação do servidor, que compreendem:**

1. a formulação de políticas administrativas e sua aplicação para todos os setores da administração municipal;
2. o desempenho do profissional dentro de suas funções pertinentes;
3. a estrutura do órgão em que exerce a função;
4. os resultados de eficiência dos serviços de cada setor ou órgão da administração municipal;
5. a participação direta do avaliado, durante todo o processo avaliativo.

**Diante dessa afirmação, somente não está correto o item:**

- a) 1  
b) 2  
c) 3  
d) 4  
e) 5

#### **CONHECIMENTOS ESPECÍFICOS**

**21. Assinale a alternativa que apresenta a portaria que institui a Rede de Atenção Psicossocial para pessoas com sofrimento ou transtorno mental e com necessidades decorrentes do uso de crack, álcool e outras drogas, no âmbito do Sistema Único de Saúde:**

- a) Portaria N° 1.498, de 19 de julho de 2013  
b) Portaria N° 793, de 24 de abril de 2012  
c) Portaria N° 2.395, de 11 de outubro de 2011  
d) Portaria N° 3.099, de 23 de dezembro de 2011  
e) Portaria N° 1.459, de 24 de junho de 2011

**22. Analise as afirmativas seguintes e assinale a alternativa que contém o resultado final da soma da(s) afirmativa(s) correta(s):**

- 01 – Toda lesão no sistema nervoso central promove atrofia cortical, progredindo para demência.  
02 – Delirium tremens com instabilidade autonômica e hiperatividade simpática associa-se, geralmente, a mortalidade de 5 a 10% dos pacientes.  
04 – A classe de medicamento de primeira escolha para pacientes com delirium tremens são os Inibidores da Recapitação da Serotonina como a Amitriptilina.  
08 – O etilismo pode desenvolver a encefalopatia de Wernicke.  
16 – Os benzodiazepínicos tem ação no sistema de ácido gama-amino-butirico, da mesma forma que o álcool no cérebro humano.

- a) 06  
b) 07  
c) 09  
d) 19  
e) 26

**23. Leia as assertivas e assinale a alternativa correta.**

**I – A insuficiência cardíaca congestiva é uma síndrome clínica sempre causada por alguma doença cardíaca subjacente, mais comumente miocardiopatia isquêmica resultante de aterosclerose e/ou hipertensão arterial.**

**II – A Doxorrubicina é uma droga amplamente utilizada e que causa efeitos cardiotoxicos com dose cumulativa superior a 450mg/m<sup>2</sup> de superfície corporal.**

**III – Os inibidores da ECA e os BRA associados a betabloqueadores e antagonistas de aldosterona podem diminuir a mortalidade, e aliviam imediatamente os sintomas congestivos.**

**IV – A insuficiência cardíaca crônica é uma doença progressiva com alta mortalidade, e a classe funcional do paciente geralmente não é um guia ao tratamento.**

- a) Apenas I e II estão corretas.
- b) Apenas I e III estão corretas.
- c) Todas estão corretas.
- d) Apenas II e III estão corretas.
- e) Apenas a IV está errada.

**Leia o seguinte caso para responder às próximas três questões.**

**Mulher de 28 anos vai ao consultório queixando-se de dor em joelho direito e hálux contra-lateral, com 10 dias de evolução e que não respondeu ao uso de analgésicos simples. Refere febrícula ao término do dia associada à mialgia inespecífica, além de disúria e corrimento vaginal branco leitoso amarelo esverdeado e prurido ocular bilateral; há 45 dias foi tratada para LUES com esquema adequado preconizado pelo Ministério da Saúde. Ao exame, apresenta-se afebril, e ambos os olhos estão injetados e fotossensíveis; o joelho direito e a primeira articulação metatarsofalangiana esquerda apresentam-se edemaciados e dolorosos com discreta hiperemia.**

**24. Com base no caso, pode-se afirmar que a paciente apresenta uma tríade. Assinale a assertiva que contém o epônimo dessa tríade.**

- a) Virchow
- b) Reiter
- c) Beck
- d) Charcot
- e) Whipple

**25. Essa paciente possui fator de risco para desenvolver qual patologia ginecológica a médio prazo, se não for tratada corretamente?**

- a) Doença de Paget
- b) Doença de Berger
- c) Síndrome de Fitz-Hugh-Curtis
- d) Endometriose
- e) Síndrome dos ovários policísticos

**26. Sobre esse caso, analise as afirmativas e assinale a alternativa correta.**

**I – O principal diagnóstico diferencial para esse caso é a gonorreia.**

**II – Essa paciente possivelmente é HLA-B27 negativa.**

**III – Ela pode ser tratada com Azitromicina 1g no D1 e D7 associada com Ceftriaxona 250mg Intramuscular no D1 possui maior índice de cura em relação ao uso de Ceftriaxona 250mg Intramuscular no D1 com doxiciclina 100mg via oral de 12/12 horas por 14 dias.**

**IV – O provável agente etiológico do caso é a *Chlamydia trachomatis*.**

- a) Apenas a I está correta.
- b) Apenas I e II estão corretas.
- c) Apenas II e III estão erradas.
- d) Apenas I e III estão corretas.
- e) Apenas a II está errada.

**27. Assinale a alternativa em que se faz a correlação incorreta.**

- a) Agência Nacional de Saúde Suplementar – responsável pela regularização e fiscalização dos planos de saúde no país.
- b) Anvisa – responsável pela fiscalização in loco de estabelecimento de saúde em cada município e a sua correta regularização.
- c) Vigilância Epidemiológica – entidade responsável por organizar os dados de agravos em saúde e auxiliar a gestão a realizar estratégias de atenção a saúde.
- d) Anvisa – responsável pela deliberação de novas drogas no mercado brasileiro.
- e) Vigilância sanitária – responsável pela fiscalização das condições de manipulação de alimentos para os consumidores finais.

**28. Os Centros de Atenção Psicossocial são instituições destinadas a acolher os pacientes com transtornos mentais e estimular sua integração social e familiar, além de outras funções. Para que isso ocorra, necessitam de um número mínimo de membros na equipe.**

Assinale a alternativa que contém a relação correta entre o tipo de CAPS e sua equipe mínima, conforme a determinação do Ministério da Saúde:

Tipo de CAPS	Equipe Mínima
I – CAPS I	A – 2 psiquiatras; 1 enfermeiro com formação em nível superior; 5 profissionais de nível superior de outras categorias profissionais; 8 profissionais de nível médio.
II – CAPS II	B – 1 médico psiquiatra, ou neurologista ou pediatra com formação em saúde mental; 1 enfermeiro; 4 profissionais de nível superior dentre psicólogo, assistente social, terapeuta ocupacional, fonoaudiólogo, pedagogo ou outro profissional necessário ao projeto terapêutico; 5 profissionais de nível médio.
III – CAPS III	C – 1 médico psiquiatra ou com formação em saúde mental; 1 enfermeiro, 3 profissionais de nível superior de outras categorias profissionais; 4 profissionais de nível médio.
IV – CAPSi	D – 1 psiquiatra; 1 enfermeiro com formação em saúde mental; 1 médico clínico responsável pela triagem, avaliação e acompanhamento das intercorrências clínicas; 4 profissionais de nível superior necessário ao projeto terapêutico; 6 profissionais de nível médio.
V – CAPSad	E – 1 psiquiatra; 1 enfermeiro com formação em saúde mental; 4 profissionais de nível superior de outras categorias profissionais; 6 profissionais de nível médio.

- a) I-E; II-C; III-A; IV-B; V-D.
- b) I-E; II-C; III-A; IV-D; V-B.
- c) I-C; II-B; III-A; IV-E; V-D.
- d) I-C; II-E; III-A; IV-B; V-D.
- e) I-E; II-D; III-A; IV-B; V-C.

29. Analise os seguintes itens a respeito de diarreia crônica e assinale a alternativa correta.

I – Diarreias tipo secretória podem ser desencadeadas por cólera, tumor de tireoide medular e uso de laxantes estimulantes exógenos, por exemplo.

II – Amiloidose pode promover esteatorreia, da mesma forma que a Doença de Whipple.

III – São exemplos de dismotilidade promotora de diarreia crônica: hipertireoidismo, síndrome do intestino irritável e Espru tropical.

IV – Pacientes portadores do Vírus da Imunodeficiência Adquirida podem ter, como sintoma inicial, diarreia crônica.

- a) Todos estão corretos.
- b) Apenas o item IV está incorreto.
- c) Apenas o item III está correto.
- d) Apenas o item III está incorreto.
- e) Apenas o item II está incorreto.

30. Assinale a assertiva que apresenta a portaria que publica a proposta de Projeto de Resolução “Boas Práticas para Organização e Funcionamento de Serviços de Urgência e Emergência”.

- a) Portaria N° 30, de 12 de fevereiro de 2014
- b) Portaria N° 354, de 10 de março de 2014
- c) Portaria N° 825, de 25 de abril de 2016
- d) Portaria N° 2.712, de 12 de novembro de 2013
- e) Portaria N° 2.528, de 19 de outubro de 2006

31. Referente à lombalgia, analise os itens seguintes e assinale a alternativa correta.

I – Segundo o trabalho de Deyo, publicado no New England Journal of Medicine em 2001, observou-se que a etiologia prevalente para lombalgia é de estiramento ou entorse lombar.

II – Menos de 1% da população adulta economicamente ativa sofre de dorsalgia.

III – São sinais e sintomas de alarme na lombalgia: dor iniciada antes dos 20 e após os 50 anos, febre, perda ponderal, dor intensa noturna ou piora da dor em posição supina, incontinência fecal e/ou urinária, história de neoplasia, anestesia em sela, redução da força em membros inferiores e imunossupressão.

- a) Apenas os itens I e III estão corretos.
- b) Apenas os itens II e III estão corretos.
- c) Apenas os itens II e III estão incorretos.
- d) Os itens I, II e III estão corretos.
- e) Apenas os itens I e III estão incorretos.

**32. A respeito dos Critérios de Ranson, assinale a alternativa que contém a sequência correta da classificação de V (verdadeiro) e F (falso) para os itens a serem considerados na admissão de paciente com quadro de pancreatite aguda.**

- ( ) – Idade  $\leq$  54 anos
- ( ) – Leucócitos  $>$  16.000/mm<sup>3</sup>
- ( ) – Glicemia  $>$  200 mg/dl
- ( ) – Desidrogenase láctica sérica  $>$  350 UI/L
- ( ) – AST  $<$  250 UI/L
- a) V - V - V - V - V.
- b) F - V - V - V - F.
- c) F - F - V - V - V.
- d) F - V - F - V - F.
- e) V - F - V - F - V.

**33. Assinale a alternativa com a correlação correta das causas de hipertensão secundária.**

**I – Doenças Renais**

**II – Doença endócrina**

**III – Outras doenças**

- ( ) Doses altas de estrogênio
- ( ) Glomerulonefrite
- ( ) Doença do rim policístico
- ( ) Hipertireoidismo
- ( ) Aterosclerose
- ( ) Hipercalcemia
- ( ) Apneia do sono obstrutiva

- a) I; I; III; II; I; III; II.
- b) II; III; I; II; I; III; I.
- c) III; I; I; II; I; III; III.
- d) II; I; I; II; I; III; II.
- e) II; III; II; I; I; II; III.

**34. Assinale a alternativa incorreta a respeito das orientações aos indivíduos residentes no Brasil, com idade igual ou superior a cinco anos, que viajarão a países com recomendação de vacina para Poliomielite a visitantes, contidas no Programa Nacional de Imunização, publicado no ano 2016.**

- a) Sem comprovação vacinal: administrar duas doses de Vacina Oral Poliomielite(VOP), com intervalo de 90 dias entre elas.
- b) Sem comprovação vacinal: administrar três doses da VOP, com intervalo de 60 dias entre elas, mínimo 30 dias.
- c) Com esquema incompleto: completar o esquema com a VOP.
- d) Gestantes e imunodeprimidos e/ou seus contatos devem receber esquema com Vacina Inativada Poliomielite (VIP).
- e) Para aqueles indivíduos que receberam três doses ou mais de VOP ou VIP, caso a última dose tenha sido administrada há mais de 12 meses, garantir antes da viagem uma única dose de reforço com VOP ou VIP.

**35. Assinale a alternativa que contém o antimicrobiano contraindicado à gestante no segundo trimestre de gestação com quadro de infecção urinária, sem história de reação alérgica a medicamentos anteriormente:**

- a) Sulfametoxazol e Timetropina
- b) Cefalotina
- c) Nitrofurantoína
- d) Ciprofloxacino
- e) Amoxicilina

**Utilize o texto seguinte para responder às próximas duas questões.**

**Homem de 54 anos, administrador de empresas, tabagista com carga tabágica de 150 maço-ano, vem ao ambulatório de clínica médica com história de tosse há 3 meses, inicialmente seca, que evoluiu nos últimos 45 dias para produtiva com raias hemática. Informa perda de 12 kg no período. Nega febre, porém relata progressiva inapetência e dispneia. Ao exame apresenta-se hipocorado +/4, hidratado, normotenso, IMC 19 kg/m<sup>2</sup>, ausculta cardíaca normal, ausculta pulmonar com murmúrio diminuído em ápice de hemitórax direito, a percussão apresenta submaciça em base de hemitórax esquerdo. Como o paciente se apresentava com ECOG 0, foi solicitado tomografia e broncoscopia. Na broncoscopia, evidenciou-se massa obterativa em brônquio fonte do lobo superior direito cuja biópsia traz carcinoma epidermoide indiferenciado. Tomografia de tórax traz massa de 6 cm em lobo superior direito com comprometimento do brônquio fonte do lobo superior direito, massa de 4 cm em lobo médio direito e presença de massa de 2 e 3 cm em pulmão esquerdo de característica secundária com comprometimento de pleura parietal em**

**língua e lobo superior com discreto derrame pleural à esquerda. Presença de linfonodomegalia hilar de 3cm à direita, linfonodomegalia paraórtico de 2,8cm e subcarinal de 3cm.**

**36. Assinale a alternativa que apresenta o estágio TNM correto, conforme a American Joint Committee on Câncer (AJCC).**

- a) T1 N1 M0
- b) T2a N2 M1
- c) T3 N1 M0
- d) T3 N2 M1b
- e) T4 N2 M1a

**37. Assinale a alternativa que apresenta o estágio desse paciente conforme a AJCC.**

- a) IV
- b) III B
- c) III A
- d) II B
- e) IIA

**38. Assinale a alternativa correta, que contém todos os critérios diagnósticos para dispepsia funcional, de acordo com III Consenso Roma.**

- a) Queixa dispépticas durante os últimos 5 meses, a partir de pelo menos 12 meses antes. A presença de dois ou mais dos seguintes sintomas: plenitude pós-prandial, saciedade precoce, epigastralgia, queima epigástrica. Ausência de lesões estruturais observada na endoscopia digestiva alta, que possam justificar os sintomas.
- b) Queixa dispépticas durante os últimos 2 meses, a partir de pelo menos 18 meses antes. A presença de apenas um dos seguintes sintomas: plenitude pós-prandial, saciedade precoce, epigastralgia, queima epigástrica. Ausência de lesões estruturais observada na endoscopia digestiva alta, que possam justificar os sintomas.
- c) Queixa dispépticas durante os últimos 3 meses, a partir de pelo menos 6 meses antes. A presença de apenas um dos seguintes sintomas: plenitude pós-prandial, saciedade precoce, epigastralgia, queima epigástrica. Presença de lesões estruturais observada na endoscopia digestiva alta, que possam justificar os sintomas.
- d) Queixa dispépticas durante os últimos 3 meses, a partir de pelo menos 6 meses antes. A presença de um ou mais dos seguintes sintomas: plenitude pós-prandial, saciedade precoce, epigastralgia, queima epigástrica. Ausência de lesões estruturais observada na endoscopia digestiva alta, que possam justificar os sintomas.
- e) Queixa dispépticas durante os últimos 4 meses, a partir de pelo menos 6 meses antes. A presença de um ou mais dos seguintes sintomas: plenitude pós-prandial, saciedade precoce, epigastralgia, queima epigástrica. Presença de lesões estruturais observada na endoscopia digestiva alta, que possam justificar os sintomas.

**39. Helicobacter pylori é o principal agente encontrado nas endoscopias digestivas altas em pacientes com dispepsia disfuncional. A sua erradicação previne qual tipo de neoplasia?**

- a) Carcinoma Neuroendócrino Gástrico
- b) Linfoma MALT
- c) GIST gástrico
- d) Adenocarcinoma gástrico
- e) Tumor de Krukenberg

**40. Assinale a alternativa incorreta quanto aos critérios definidores da Síndrome da Imunodeficiência Adquirida, pelo Centers for Disease Control and Precention (CDC), em pacientes acima de 13 anos, e aplicada pelo Ministério da Saúde (MS).**

- a) Citomegalovirose hepática
- b) Candidose de esôfago, traqueia, brônquios ou pulmões
- c) Citomegalovirose ocular
- d) Criptococose cerebral
- e) Toxoplasmose cerebral

**RASCUNHO**



PREFEITURA DE TELÊMACO BORBA - ESTADO DO PARANÁ- EDITAL Nº 001-2016 - CONCURSO PÚBLICO

VESPERTINO – 29/05/2016 – NÍVEL SUPERIOR

PROVA OBJETIVA NÚMERO

**2**

**CARGO:TMNS I - MEDICINA - ATENÇÃO BÁSICA SAÚDE**

**TMNS I - MEDICINA - INTERVENCIONISTA**

Leia atentamente as INSTRUÇÕES:

1. Confira seus dados no cartão-resposta: nome, número de inscrição e o curso para o qual se inscreveu.
2. **MARQUE no seu cartão-resposta o número da sua prova** (não será corrigido o cartão-resposta que não tiver marcado o número da prova) e **Assine** seu cartão-resposta.
3. Aguarde a autorização do Fiscal para abrir o caderno de prova. Ao receber a ordem do fiscal, confira o caderno de prova com muita atenção. Nenhuma reclamação sobre o total de questões ou falha de impressão será aceita depois de iniciada a prova.
4. O cartão-resposta não será substituído, salvo se contiver erro de impressão.
5. Preencha toda a área do cartão-resposta correspondente à alternativa de sua escolha, com caneta esferográfica (tinta azul ou preta), sem ultrapassar as bordas. As marcações duplas, ou rasuradas, com corretivo, ou marcadas diferentemente do modelo estabelecido no cartão-resposta poderão ser anuladas.
6. Sua prova tem **40** questões, com **5** alternativas.
7. Cabe apenas ao candidato a interpretação das questões, **o fiscal** não poderá fazer nenhuma interferência.
8. A prova será realizada com duração máxima de **3 (três) horas**, incluído o tempo para a realização da Prova Objetiva de múltipla escolha e o preenchimento do cartão-resposta.
9. O candidato poderá retirar-se do local de realização das provas somente **1 (uma) hora** após o seu início, sem levar o caderno de prova.
10. O candidato poderá levar o caderno de provas, assim como anotação contendo transcrição do seu cartão-resposta, somente **1h30min** (uma hora e trinta minutos) após o início da realização da prova.
11. Ao terminar a prova, o candidato deverá entregar ao fiscal de sala o cartão-resposta preenchido e **ASSINADO**.
12. Os **3 (três)** candidatos, que terminarem a prova por último, deverão permanecer na sala, e só poderão sair juntos após o fechamento do envelope, contendo os cartões-resposta dos candidatos presentes e ausentes, e assinarem no lacre do referido envelope, atestando que este foi devidamente lacrado.
13. Durante todo o tempo em que permanecer no local onde está ocorrendo o concurso, o candidato deverá, manter o celular desligado e sem bateria, só sendo permitido ligar depois de ultrapassar o portão de saída do prédio.
14. Não será permitido ao candidato fumar na sala de provas, bem como nas dependências.
15. Depois de terminar a prova e entregar ao fiscal o cartão-resposta, preenchido e assinado, não será mais permitido ao candidato o uso do banheiro e bebedouro.

**BOA PROVA!**



**RACIOCÍNIO LÓGICO**

**01. Os cinco filhos de Ana estavam discutindo a respeito da data de nascimento da mãe:**

- Almir disse que foi em janeiro, dia 14, sexta-feira.
- Vanderlei disse que foi em janeiro, dia 14, sábado.
- Tiago disse que foi em fevereiro, dia 15, sábado.
- Sandro disse que foi em janeiro, dia 15, sexta-feira.
- Renato disse que foi em fevereiro, dia 15, sexta-feira.

**Sabe-se que somente um dos filhos de Ana acertou corretamente sua data de nascimento e que os outros acertaram pelo menos um dos itens (dia, dia da semana e mês). Dessa forma, é correto afirmar que o filho de Ana que acertou a data de nascimento dela foi:**

- a) Renato
- b) Sandro
- c) Tiago
- d) Vanderlei
- e) Almir

**02. Considere a seguinte afirmativa: “Todo churrasqueiro gosta de picanha”. Em relação a essa proposição, é correto afirmar que:**

- a) Algum churrasqueiro não gosta de picanha.
- b) Toda pessoa que gosta de picanha é churrasqueira.
- c) Alguma pessoa que não gosta de picanha é churrasqueira.
- d) Toda pessoa que não é churrasqueira, não gosta de picanha.
- e) Toda pessoa que não gosta de picanha, não é churrasqueira.

**03. Em um grupo formado por 67 pessoas, verificou-se que 41 pessoas gostam de arroz, 29 gostam de feijão, 33 gostam de carne, 19 gostam de arroz e de feijão, 9 gostam apenas de arroz e de carne, 12 gostam de feijão e de carne e que 6 gostam de arroz, de feijão e de carne. O número de pessoas desse grupo, que não gosta de nenhum desses três tipos de alimentos é igual a:**

- a) 4
- b) 5
- c) 6
- d) 8
- e) 10

**04. Bruno escreveu, em seu caderno, várias sequências formadas por números múltiplos de 4, onde os valores que ocupavam as posições pares eram multiplicados por  $-1$ . Cada sequência foi somada e o resultado da soma anotado. A soma das três primeiras sequências escritas por Bruno foram as seguintes:**

$$4 - 8 = -4$$
$$4 - 8 + 12 = 8$$
$$4 - 8 + 12 - 16 = -8$$

**Considere que Bruno escreveu e somou tais sequências, em seu caderno, de modo a obter determinada sequência cuja soma foi 600. O número de termos dessa sequência é igual a:**

- a) 149
- b) 150
- c) 298
- d) 299
- e) 300

**05. Quatro torcedores, um do São Paulo, um do Cruzeiro, um do Vasco e um do Bahia, estão sentados ao redor de uma mesa quadrada, de modo que, dois a dois, fiquem frente a frente. Sabe-se que Alan é torcedor do Cruzeiro e que Bruno está sentado à direita de Alan. Sabe-se também que Caio está sentado à direita do torcedor do São Paulo. Sabe-se ainda que Daniel não é torcedor do Vasco e que está sentado à frente de Bruno. Dessa forma, é correto afirmar que:**

- a) Bruno é torcedor do Bahia e Daniel é torcedor do São Paulo.
- b) Bruno é torcedor do São Paulo e Daniel é torcedor do Bahia.
- c) Caio é torcedor do Vasco e Daniel é torcedor do São Paulo.
- d) Caio é torcedor do Bahia e Daniel é torcedor do São Paulo.
- e) Bruno é torcedor do Vasco e Daniel é torcedor do Bahia.

**INFORMÁTICA**

06. Considerando o MS-Excel versão 2010, observando a figura abaixo, é correto afirmar que:

	A	B	C
1			
2			
3			
4			

- Somente 03 três linhas estão selecionadas.
- Somente uma célula está selecionada.
- 12 (doze) células estão selecionadas.
- Somente a coluna A até a linha 4 (quatro) está selecionada.
- Somente as colunas 1 (um), 2 (dois), 3 (três) e 4 (quatro) estão selecionadas.

07. Considerando o MS-Excel versão 2010, observando a figura abaixo, é incorreto afirmar que:

	A	B	C
1	12	6	=A1*B1
2	8	2	=A2/B2
3	5	14	=A3-B3
4	6	11	=A4+B4

- O resultado da fórmula =A1\*B1 é 72.
- O resultado da fórmula =A2/B2 é 4.
- O resultado da fórmula =A3-B3 é -9.
- O resultado da fórmula =A3-B3 é 9.
- O resultado da fórmula =A4+B4 é 17.

08. Digitando um texto no MS-Word versão 2010, necessito adicionar número nas páginas. Quanto a isso, é correto afirmar que:

- No menu Layout da Página, clico em número de página e seleciono onde desejo adicionar os números.
- No menu Inserir, clico em número de página e seleciono onde desejo adicionar os números.
- No menu Revisão, clico em número de página e seleciono onde desejo adicionar os números.
- No menu Referências, clico em número de página e seleciono onde desejo adicionar os números.
- No menu Exibição, clico em número de página e seleciono onde desejo adicionar os números.

09. A segurança da informação está diretamente relacionada com proteção de um conjunto de informações, no sentido de preservar o valor que possuem para um indivíduo ou uma organização. Atualmente, um dos aplicativos mais utilizados no mundo, o Whats app, teve uma alteração de confidencialidade muito importante na segurança das informações transmitidas e recebidas. Dentre as alternativas, assinale a que corretamente informa a alteração inserida no aplicativo Whats app.

- Antispam
- Antivirus
- Firewall
- Antispyware
- Criptografia

10. São todos os dispositivos que trabalham acoplados ao microcomputador para receber, transmitir, visualizar, ler, gravar ou armazenarem dados. São eles que permitem a comunicação do computador com o meio exterior, isto é, com os usuários e outras máquinas.

Esse texto descreve corretamente:

- Memória ram
- Memória virtual
- Software
- Periféricos
- Hardware

**CONHECIMENTOS GERAIS**

11. Hino do município de Telêmaco Borba/PR

Das virgens matas e campos verdejantes  
Servindo-se também o rio Tibagi,



Homens de ideais, espíritos vibrantes.

Constituíram as indústrias aqui.

Estrilho:

Salve! Salve! Telêmaco Borba

Terra querida e de grandes primores,

A nossa homenagem rendamos

À cidade dos trabalhadores.

Pois a cadência de enorme e real progresso

Um município mui grandioso fez nascer,

Marcando assim, verdadeiro sucesso

Faz, então o Paraná engrandecer.

**No que tange ao Hino do município, atribua V (verdadeiro) ou F (falso) às afirmativas e marque a alternativa correta.**

( ) Eloah Martins Quadrado é autora da letra do hino.

( ) Bento Mossurunga compôs a música do hino.

( ) Eloah Martins Quadrado foi nomeada primeira professora da Cidade Nova, atual Telêmaco Borba.

( ) Bento Mossurunga fundou a orquestra Estudantil e Concertos – Orquestra Sinfônica da Universidade, a Sociedade de Cultura Artístico Basilio Itiberê.

a) F, V, V, V.

b) V, F, V, V.

c) V, V, F, V.

d) V, V, F, F.

e) V, V, V, V.

**12. À luz da Lei nº 1883/2012, que dispões sobre o Estatuto dos Servidores Públicos da Administração Direta, Autárquica e Funcional do Município de Telêmaco Borba/PR, leia as alternativas e marque a correta.**

a) A apresentação para a posse ocorrerá no prazo de até trinta dias, contados do ato de nomeação.

b) A destituição do servidor da função gratificada dar-se-á por solicitação exclusiva dele mesmo.

c) O servidor ocupante exclusivamente de cargo em comissão será contribuinte do regime geral de previdência social.

d) A aprovação em concurso público gera o direito à nomeação, e será feita obedecida à ordem de classificação dos candidatos.

e) O exercício de função gratificada poderá ser de dedicação integral ou parcial, conforme necessidade da administração.

**Conforme a Lei nº 1.881, de 05 de abril de 2012, que dispõe sobre o Plano de Cargos, Carreiras e Vencimentos do quadro geral de servidores da Prefeitura Municipal de Telêmaco Borba/PR, regulamentada pelo Decreto nº 2269/2015, responda às próximas três questões.**

**13. Leia as assertivas e assinala a incorreta.**

a) Do resultado da avaliação de desempenho poderá ser interposto recurso à Comissão de Desenvolvimento Funcional no prazo de quinze dias a contar da publicação no Boletim Oficial do Município.

b) Não será concedida a progressão ou promoção ao servidor que estiver em licença para tratamento de saúde por um período superior a quarenta e cinco dias, no período de avaliação.

c) A alternância dos membros constituintes da Comissão de Desenvolvimento Funcional eleitos pelos servidores verificar-se-á a cada três anos de participação, observados, para substituição de seus participantes, o critério fixado no artigo anterior, não cabendo eleição sucessiva.

d) Caberá à Comissão de Desenvolvimento Funcional, no caso de divergência de vinte por cento entre a nota do avaliador e a do avaliado, solicitar nova avaliação à chefia.

e) Nos termos do disposto no art. 17 da Lei nº 1.881, de 05 de abril de 2012, para progredir, é necessário que o servidor satisfaça, dentre outros, o seguinte requisito: estar no efetivo exercício de seu cargo ou em função comissionada na sua área de atuação durante o interstício de dois anos.

**14. Assinale a alternativa que completa respectivamente as lacunas do texto a seguir:**

**A Comissão de Desenvolvimento Funcional será constituída por \_\_\_\_\_ membros, sendo \_\_\_\_\_ designados pelo Prefeito Municipal de Telêmaco Borba e os demais eleitos pelos servidores municipais dentre os estáveis, com a atribuição de coordenar os procedimentos relativos à avaliação periódica de desempenho e outras atribuições.**

a) três / sete

b) um / três

c) sete / três

d) três / cinco

e) dois / cinco

**15. A Avaliação de Desempenho será norteadada, dentre outros, pelo seguinte princípio: Amplitude - a avaliação deve incidir sobre todas as áreas de atuação do servidor, que compreendem:**

- 1. a formulação de políticas administrativas e sua aplicação para todos os setores da administração municipal;**
- 2. o desempenho do profissional dentro de suas funções pertinentes;**
- 3. a estrutura do órgão em que exerce a função;**
- 4. os resultados de eficiência dos serviços de cada setor ou órgão da administração municipal;**
- 5. a participação direta do avaliado, durante todo o processo avaliativo.**

**Diante dessa afirmação, somente não está correto o item:**

- a) 1
- b) 2
- c) 3
- d) 4
- e) 5

### **CONHECIMENTOS ESPECÍFICOS**

**16. Assinale a alternativa que apresenta a portaria que institui a Rede de Atenção Psicossocial para pessoas com sofrimento ou transtorno mental e com necessidades decorrentes do uso de crack, álcool e outras drogas, no âmbito do Sistema Único de Saúde:**

- a) Portaria N° 1.498, de 19 de julho de 2013
- b) Portaria N° 793, de 24 de abril de 2012
- c) Portaria N° 2.395, de 11 de outubro de 2011
- d) Portaria N° 3.099, de 23 de dezembro de 2011
- e) Portaria N° 1.459, de 24 de junho de 2011

**17. Analise as afirmativas seguintes e assinale a alternativa que contém o resultado final da soma da(s) afirmativa(s) correta(s):**

**01 – Toda lesão no sistema nervoso central promove atrofia cortical, progredindo para demência.**

**02 – Delirium tremens com instabilidade autonômica e hiperatividade simpática associa-se, geralmente, a mortalidade de 5 a 10% dos pacientes.**

**04 – A classe de medicamento de primeira escolha para pacientes com delirium tremens são os Inibidores da Recapitação da Serotonina como a Amitriptilina.**

**08 – O etilismo pode desenvolver a encefalopatia de Wernicke.**

**16 – Os benzodiazepínicos tem ação no sistema de ácido gama-amino-butirico, da mesma forma que o álcool no cérebro humano.**

- a) 06
- b) 07
- c) 09
- d) 19
- e) 26

**18. Leia as assertivas e assinale a alternativa correta.**

**I – A insuficiência cardíaca congestiva é uma síndrome clínica sempre causada por alguma doença cardíaca subjacente, mais comumente miocardiopatia isquêmica resultante de aterosclerose e/ou hipertensão arterial.**

**II – A Doxorrubicina é uma droga amplamente utilizada e que causa efeitos cardiotoxicos com dose cumulativa superior a 450mg/m<sup>2</sup> de superfície corporal.**

**III – Os inibidores da ECA e os BRA associados a betabloqueadores e antagonistas de aldosterona podem diminuir a mortalidade, e aliviam imediatamente os sintomas congestivos.**

**IV – A insuficiência cardíaca crônica é uma doença progressiva com alta mortalidade, e a classe funcional do paciente geralmente não é um guia ao tratamento.**

- a) Apenas I e II estão corretas.
- b) Apenas I e III estão corretas.
- c) Todas estão corretas.
- d) Apenas II e III estão corretas.
- e) Apenas a IV está errada.

**Leia o seguinte caso para responder às próximas três questões.**

**Mulher de 28 anos vai ao consultório queixando-se de dor em joelho direito e hálux contra-lateral, com 10 dias de evolução e que não respondeu ao uso de analgésicos simples. Refere febrícula ao término do dia associada à mialgia inespecífica, além de disúria e corrimento vaginal branco leitoso amarelo esverdeado e prurido ocular bilateral; há 45 dias foi tratada para LUES com esquema adequado preconizado pelo Ministério da Saúde. Ao exame, apresenta-se afebril, e ambos os olhos estão injetados e fotossensíveis; o**

joelho direito e a primeira articulação metatarsofalangiana esquerda apresentam-se edemaciados e dolorosos com discreta hiperemia.

**19. Com base no caso, pode-se afirmar que a paciente apresenta uma tríade. Assinale a assertiva que contém o epônimo dessa tríade.**

- a) Virchow
- b) Reiter
- c) Beck
- d) Charcot
- e) Whipple

**20. Essa paciente possui fator de risco para desenvolver qual patologia ginecológica a médio prazo, se não for tratada corretamente?**

- a) Doença de Paget
- b) Doença de Berger
- c) Síndrome de Fitz-Hugh-Curtis
- d) Endometriose
- e) Síndrome dos ovários policísticos

**21. Sobre esse caso, analise as afirmativas e assinale a alternativa correta.**

**I – O principal diagnóstico diferencial para esse caso é a gonorreia.**

**II – Essa paciente possivelmente é HLA-B27 negativa.**

**III – Ela pode ser tratada com Azitromicina 1g no D1 e D7 associada com Ceftriaxona 250mg Intramuscular no D1 possui maior índice de cura em relação ao uso de Ceftriaxone 250mg Intramuscular no D1 com doxiciclina 100mg via oral de 12/12 horas por 14 dias.**

**IV – O provável agente etiológico do caso é a *Chlamydia trachomatis*.**

- a) Apenas a I está correta.
- b) Apenas I e II estão corretas.
- c) Apenas II e III estão erradas.
- d) Apenas I e III estão corretas.
- e) Apenas a II está errada.

**22. Assinale a alternativa em que se faz a correlação incorreta.**

- a) Agência Nacional de Saúde Suplementar – responsável pela regularização e fiscalização dos planos de saúde no país.
- b) Anvisa – responsável pela fiscalização in loco de estabelecimento de saúde em cada município e a sua correta regularização.
- c) Vigilância Epidemiológica – entidade responsável por organizar os dados de agravos em saúde e auxiliar a gestão a realizar estratégias de atenção a saúde.
- d) Anvisa – responsável pela deliberação de novas drogas no mercado brasileiro.
- e) Vigilância sanitária – responsável pela fiscalização das condições de manipulação de alimentos para os consumidores finais.

**23. Os Centros de Atenção Psicossocial são instituições destinadas a acolher os pacientes com transtornos mentais e estimular sua integração social e familiar, além de outras funções. Para que isso ocorra, necessitam de um número mínimo de membros na equipe.**

**Assinale a alternativa que contém a relação correta entre o tipo de CAPS e sua equipe mínima, conforme a determinação do Ministério da Saúde:**

Tipo de CAPS	Equipe Mínima
I – CAPS I	A – 2 psiquiatras; 1 enfermeiro com formação em nível superior; 5 profissionais de nível superior de outras categorias profissionais; 8 profissionais de nível médio.
II – CAPS II	B – 1 médico psiquiatra, ou neurologista ou pediatra com formação em saúde mental; 1 enfermeiro; 4 profissionais de nível superior dentre psicólogo, assistente social, terapeuta ocupacional, fonoaudiólogo, pedagogo ou outro profissional necessário ao projeto terapêutico; 5 profissionais de nível médio.
III – CAPS III	C – 1 médico psiquiatra ou com formação em saúde mental; 1 enfermeiro, 3 profissionais de nível superior de outras categorias profissionais; 4 profissionais de nível médio.
IV – CAPSi	D – 1 psiquiatra; 1 enfermeiro com formação em saúde mental; 1 médico clínico responsável pela triagem, avaliação e acompanhamento das intercorrências clínicas; 4 profissionais de nível superior necessário ao projeto terapêutico; 6 profissionais de nível médio.

V - CAPSad

E – 1 psiquiatra; 1 enfermeiro com formação em saúde mental; 4 profissionais de nível superior de outras categorias profissionais; 6 profissionais de nível médio.

- a) I-E; II-C; III-A; IV-B; V-D.
- b) I-E; II-C; III-A; IV-D; V-B.
- c) I-C; II-B; III-A; IV-E; V-D.
- d) I-C; II-E; III-A; IV-B; V-D.
- e) I-E; II-D; III-A; IV-B; V-C.

24. Analise os seguintes itens a respeito de diarreia crônica e assinale a alternativa correta.

I – Diarreias tipo secretória podem ser desencadeadas por cólera, tumor de tireoide medular e uso de laxantes estimulantes exógenos, por exemplo.

II – Amiloidose pode promover esteatorreia, da mesma forma que a Doença de Whipple.

III – São exemplos de dismotilidade promotora de diarreia crônica: hipertireoidismo, síndrome do intestino irritável e Espru tropical.

IV – Pacientes portadores do Vírus da Imunodeficiência Adquirida podem ter, como sintoma inicial, diarreia crônica.

- a) Todos estão corretos.
- b) Apenas o item IV está incorreto.
- c) Apenas o item III está correto.
- d) Apenas o item III está incorreto.
- e) Apenas o item II está incorreto.

25. Assinale a assertiva que apresenta a portaria que publica a proposta de Projeto de Resolução “Boas Práticas para Organização e Funcionamento de Serviços de Urgência e Emergência”.

- a) Portaria N° 30, de 12 de fevereiro de 2014
- b) Portaria N° 354, de 10 de março de 2014
- c) Portaria N° 825, de 25 de abril de 2016
- d) Portaria N° 2.712, de 12 de novembro de 2013
- e) Portaria N° 2.528, de 19 de outubro de 2006

26. Referente à lombalgia, analise os itens seguintes e assinale a alternativa correta.

I – Segundo o trabalho de Deyo, publicado no New England Journal of Medicine em 2001, observou-se que a etiologia prevalente para lombalgia é de estiramento ou entorse lombar.

II – Menos de 1% da população adulta economicamente ativa sofre de dorsalgia.

III – São sinais e sintomas de alarme na lombalgia: dor iniciada antes dos 20 e após os 50 anos, febre, perda ponderal, dor intensa noturna ou piora da dor em posição supina, incontinência fecal e/ou urinária, história de neoplasia, anestesia em sela, redução da força em membros inferiores e imunossupressão.

- a) Apenas os itens I e III estão corretos.
- b) Apenas os itens II e III estão corretos.
- c) Apenas os itens II e III estão incorretos.
- d) Os itens I, II e III estão corretos.
- e) Apenas os itens I e III estão incorretos.

27. A respeito dos Critérios de Ranson, assinale a alternativa que contém a sequência correta da classificação de V (verdadeiro) e F (falso) para os itens a serem considerados na admissão de paciente com quadro de pancreatite aguda.

- ( ) – Idade  $\leq$  54 anos
- ( ) – Leucócitos  $>$  16.000/mm<sup>3</sup>
- ( ) – Glicemia  $>$  200 mg/dl
- ( ) – Desidrogenase láctica sérica  $>$  350 UI/L
- ( ) – AST  $<$  250 UI/L
- a) V - V - V - V - V.
- b) F - V - V - V - F.
- c) F - F - V - V - V.
- d) F - V - F - V - F.
- e) V - F - V - F - V.

28. Assinale a alternativa com a correlação correta das causas de hipertensão secundária.

I – Doenças Renais

II – Doença endócrina

III – Outras doenças

- ( ) Doses altas de estrogênio
- ( ) Glomerulonefrite
- ( ) Doença do rim policístico



- ( ) Hipertireoidismo  
( ) Aterosclerose  
( ) Hipercalcemia  
( ) Apneia do sono obstrutiva  
a) I; I; III; II; I; III; II.  
b) II; III; I; II; I; III; I.  
c) III; I; I; II; I; III; III.  
d) II; I; I; II; I; III; II.  
e) II; III; II; I; I; II; III.

**29. Assinale a alternativa incorreta a respeito das orientações aos indivíduos residentes no Brasil, com idade igual ou superior a cinco anos, que viajarão a países com recomendação de vacina para Poliomielite a visitantes, contidas no Programa Nacional de Imunização, publicado no ano 2016.**

- a) Sem comprovação vacinal: administrar duas doses de Vacina Oral Poliomielite (VOP), com intervalo de 90 dias entre elas.  
b) Sem comprovação vacinal: administrar três doses da VOP, com intervalo de 60 dias entre elas, mínimo 30 dias.  
c) Com esquema incompleto: completar o esquema com a VOP.  
d) Gestantes e imunodeprimidos e/ou seus contatos devem receber esquema com Vacina Inativada Poliomielite (VIP).  
e) Para aqueles indivíduos que receberam três doses ou mais de VOP ou VIP, caso a última dose tenha sido administrada há mais de 12 meses, garantir antes da viagem uma única dose de reforço com VOP ou VIP.

**30. Assinale a alternativa que contém o antimicrobiano contraindicado à gestante no segundo trimestre de gestação com quadro de infecção urinária, sem história de reação alérgica a medicamentos anteriormente:**

- a) Sulfametoxazol e Timetropina  
b) Cefalotina  
c) Nitrofurantoína  
d) Ciprofloxacino  
e) Amoxicilina

**Utilize o texto seguinte para responder às próximas duas questões.**

**Homem de 54 anos, administrador de empresas, tabagista com carga tabágica de 150 maço-ano, vem ao ambulatório de clínica médica com história de tosse há 3 meses, inicialmente seca, que evoluiu nos últimos 45 dias para produtiva com raias hemática. Informa perda de 12 kg no período. Nega febre, porém relata progressiva inapetência e dispneia. Ao exame apresenta-se hipocorado +/4, hidratado, normotenso, IIMC 19 kg/m<sup>2</sup>, ausculta cardíaca normal, ausculta pulmonar com murmúrio diminuído em ápice de hemitórax direito, a percussão apresenta submaciça em base de hemitórax esquerdo. Como o paciente se apresentava com ECOG 0, foi solicitado tomografia e broncoscopia. Na broncoscopia, evidenciou-se massa obstrutiva em brônquio fonte do lobo superior direito cuja biópsia traz carcinoma epidermoide indiferenciado. Tomografia de tórax traz massa de 6 cm em lobo superior direito com comprometimento do brônquio fonte do lobo superior direito, massa de 4 cm em lobo médio direito e presença de massa de 2 e 3 cm em pulmão esquerdo de característica secundária com comprometimento de pleura parietal em língula e lobo superior com discreto derrame pleural à esquerda. Presença de linfonodomegalia hilar de 3cm à direita, linfonodomegalia paraórtico de 2,8cm e subcarinal de 3cm.**

**31. Assinale a alternativa que apresenta o estágio TNM correto, conforme a American Joint Committee on Câncer (AJCC).**

- a) T1 N1 M0  
b) T2a N2 M1  
c) T3 N1 M0  
d) T3 N2 M1b  
e) T4 N2 M1a

**32. Assinale a alternativa que apresenta o estágio desse paciente conforme a AJCC.**

- a) IV  
b) III B  
c) III A  
d) II B  
e) IIA

**33. Assinale a alternativa correta, que contém todos os critérios diagnósticos para dispepsia funcional, de acordo com III Consenso Roma.**

- a) Queixa dispépticas durante os últimos 5 meses, a partir de pelo menos 12 meses antes. A presença de dois ou mais dos seguintes sintomas: plenitude pós-prandial, saciedade precoce, epigastralgia, queima epigástrica. Ausência de lesões estruturais observada na endoscopia digestiva alta, que possam justificar os sintomas.
- b) Queixa dispépticas durante os últimos 2 meses, a partir de pelo menos 18 meses antes. A presença de apenas um dos seguintes sintomas: plenitude pós-prandial, saciedade precoce, epigastralgia, queima epigástrica. Ausência de lesões estruturais observada na endoscopia digestiva alta, que possam justificar os sintomas.
- c) Queixa dispépticas durante os últimos 3 meses, a partir de pelo menos 6 meses antes. A presença de apenas um dos seguintes sintomas: plenitude pós-prandial, saciedade precoce, epigastralgia, queima epigástrica. Presença de lesões estruturais observada na endoscopia digestiva alta, que possam justificar os sintomas.
- d) Queixa dispépticas durante os últimos 3 meses, a partir de pelo menos 6 meses antes. A presença de um ou mais dos seguintes sintomas: plenitude pós-prandial, saciedade precoce, epigastralgia, queima epigástrica. Ausência de lesões estruturais observada na endoscopia digestiva alta, que possam justificar os sintomas.
- e) Queixa dispépticas durante os últimos 4 meses, a partir de pelo menos 6 meses antes. A presença de um ou mais dos seguintes sintomas: plenitude pós-prandial, saciedade precoce, epigastralgia, queima epigástrica. Presença de lesões estruturais observada na endoscopia digestiva alta, que possam justificar os sintomas.

**34. Helicobacter pylori é o principal agente encontrado nas endoscopias digestivas altas em pacientes com dispepsia disfuncional. A sua erradicação previne qual tipo de neoplasia?**

- a) Carcinoma Neuroendócrino Gástrico  
b) Linfoma MALT  
c) GIST gástrico  
d) Adenocarcinoma gástrico  
e) Tumor de Krukenberg

**35. Assinale a alternativa incorreta quanto aos critérios definidores da Síndrome da Imunodeficiência Adquirida, pelo Centers for Disease Control and Prevention (CDC), em pacientes acima de 13 anos, e aplicada pelo Ministério da Saúde (MS).**

- a) Citomegalovirose hepática  
b) Candidose de esôfago, traqueia, brônquios ou pulmões  
c) Citomegalovirose ocular  
d) Criptococose cerebral  
e) Toxoplasmose cerebral

**LÍNGUA PORTUGUESA**

**Texto para as próximas cinco questões:**

**“O cego Estrelinho”  
Mia Couto**

O cego Estrelinho era pessoa de nenhuma vez: sua história poderia ser contada e descontada não fosse seu guia, Gigito Efraim. A mão de Gigito conduziu o desvistado por tempos e idades. Aquela mão era repartidamente comum, extensão de um no outro, siamensal. E assim era quase de nascença. Memória de Estrelinho tinha cinco dedos e eram os de Gigito postos, em aperto, na sua própria mão.

O cego, curioso, queria saber de tudo. Ele não fazia cerimônia no viver. O sempre lhe era pouco e o tudo insuficiente. Dizia, deste modo:

— Tenho que viver já, senão esqueço-me.

Gigitinho, porém, o que descrevia era o que não havia. O mundo que ele minuciava eram fantasias e rendilhados. A imaginação do guia era mais profícua que papaeira. O cego enchia a boca de águas:

— Que maravilhação esse mundo. Me conte tudo, Gigito!

A mão do guia era, afinal, o manuscrito da mentira. Gigito Efraim estava como nunca esteve S. Tomé: via para não crer. O condutor falava pela ponta dos dedos. Desfolhava o universo, aberto em folhas. A ideiação dele era tal que mesmo o cego, por vezes, acreditava ver. O outro lhe encorajava esses breves enganos:

— Desbengale-se, você está escolhendo a boa procedência!

Mentira: Estrelinho continuava sem ver uma palmeira à frente do nariz. Contudo, o cego não se conformava em suas escurezas. Ele cumpria o ditado: não tinha perna e queria dar o pontapé. Só à noite, ele desalentava, sofrendo medos mais antigos que a humanidade. Entendia aquilo que, na raça humana, é menos primitivo: o animal.

— Na noite aflige não haver luz?

— Aflição é ter um pássaro branco esvoando dentro do sono.

Pássaro branco? No sono? Lugar de ave é nas alturas. Dizem até que Deus fez o céu para justificar os pássaros. Estrelinho disfarçava o medo dos vaticínios, subterfugindo:

— E agora, Gigitinho? Agora, olhando assim para cima, estou face ao céu?

Que podia o outro responder? O céu do cego fica em toda a parte. Estrelinho perdia o pé era quando a noite chegava e seu mestre adormecia. Era como se um novo escuro nele se estresse em nó cego. Devagaroso e sorrateiro ele aninhava sua mão na mão do guia. Só assim adormecia. A razão da concha é a timidez da amêijoia?

Na manhã seguinte, o cego lhe confessava: se você morrer, tenho que morrer logo no imediato. Senão-me: como acerto o caminho para o céu?

Foi no mês de dezembro que levaram Gigitinho. Lhe tiraram do mundo para pôr na guerra: obrigavam os serviços militares. O cego reclamou: que o moço inatingia a idade. E que o serviço que ele a si prestava era vital e vitalício. O guia chamou Estrelinho à parte e lhe tranquilizou:

— Não vai ficar sozinho por aí. Minha mana já mandei para ficar no meu lugar.

O cego estendeu o braço a querer tocar uma despedida. Mas o outro já não estava lá. Ou estava e se desviara, propositado? E sem água ida nem vinda, Estrelinho escutou o amigo se afastar, engolido, esponjínquo, invisível. Pela primeira vez, Estrelinho se sentiu invalidado.

— Agora, só agora, sou cego que não vê.

(...)

**COUTO, Mia. Estórias abensonhadas. Rio de Janeiro: Nova Fronteira, 1996. (Pág 23 e 24).**

**36. Quanto à interpretação do fragmento do conto, podemos afirmar que:**

- Gigito Efraim era o guia de Estrelinho há pouquíssimo tempo.
- Estrelinho era cego de nascença.
- Gigito descrevia o mundo para Estrelinho de forma denotativa.
- Gigito foi convocado pelo exército para ser guia de cegos na guerra.
- Gigito descrevia o mundo para Estrelinho de forma conotativa.

**37. No período “O sempre lhe era pouco e o tudo insuficiente”, o pronome “LHE” exerce a função sintática de:**

- Objeto Direto
- Objeto Indireto
- Complemento Nominal
- Adjunto Adnominal
- Objeto Direto Preposicionado

**38. Na oração “A mão de Gigito conduziu o desvestido por tempos e idades”, o autor faz uso de um neologismo, assim como no decorrer de toda a obra em questão. Contudo, o neologismo só se torna possível pela utilização dos elementos mórficos naquilo que a gramática normativa pontua como Processo de Formação das Palavras. Levando em consideração apenas o recurso morfológico, qual Processo de Formação foi utilizado?**

- Derivação Sufixal
- Derivação Prefixal
- Derivação Regressiva
- Derivação Imprópria
- Derivação Parassintética

**39. No terceiro período do décimo terceiro parágrafo, temos:**

- Uma oração
- Dois orações
- Três orações
- Quatro orações
- Cinco orações

**40. No último parágrafo do fragmento do conto “— Agora, só agora, sou cego que não vê”, a oração subordinada presente classifica-se corretamente como:**

- Oração Subordinada Adjetiva Restritiva
- Oração Subordinada Adverbial Causal
- Oração Subordinada Substantiva Subjetiva
- Oração Subordinada Adverbial Explicativa
- Oração Subordinada Adjetiva Explicativa

**RASCUNHO**



PREFEITURA DE TELÊMACO BORBA - ESTADO DO PARANÁ- EDITAL Nº 001-2016 - CONCURSO PÚBLICO

VESPERTINO – 29/05/2016 – NÍVEL SUPERIOR

PROVA OBJETIVA NÚMERO

**3**

**CARGOS: TMNS I - MEDICINA - ATENÇÃO BÁSICA SAÚDE**  
**TMNS I - MEDICINA - INTERVENCIONISTA**

**Leia atentamente as INSTRUÇÕES:**

1. Confira seus dados no cartão-resposta: nome, número de inscrição e o curso para o qual se inscreveu.
2. **MARQUE no seu cartão-resposta o número da sua prova** (não será corrigido o cartão-resposta que não tiver marcado o número da prova) e **Assine** seu cartão-resposta.
3. Aguarde a autorização do Fiscal para abrir o caderno de prova. Ao receber a ordem do fiscal, confira o caderno de prova com muita atenção. Nenhuma reclamação sobre o total de questões ou falha de impressão será aceita depois de iniciada a prova.
4. O cartão-resposta não será substituído, salvo se contiver erro de impressão.
5. Preencha toda a área do cartão-resposta correspondente à alternativa de sua escolha, com caneta esferográfica (tinta azul ou preta), sem ultrapassar as bordas. As marcações duplas, ou rasuradas, com corretivo, ou marcadas diferentemente do modelo estabelecido no cartão-resposta poderão ser anuladas.
6. Sua prova tem **40** questões, com **5** alternativas.
7. Cabe apenas ao candidato a interpretação das questões, **o fiscal** não poderá fazer nenhuma interferência.
8. A prova será realizada com duração máxima de **3 (três) horas**, incluído o tempo para a realização da Prova Objetiva de múltipla escolha e o preenchimento do cartão-resposta.
9. O candidato poderá retirar-se do local de realização das provas somente **1 (uma) hora** após o seu início, sem levar o caderno de prova.
10. O candidato poderá levar o caderno de provas, assim como anotação contendo transcrição do seu cartão-resposta, somente **1h30min** (uma hora e trinta minutos) após o início da realização da prova.
11. Ao terminar a prova, o candidato deverá entregar ao fiscal de sala o cartão-resposta preenchido e **ASSINADO**.
12. Os **3 (três)** candidatos, que terminarem a prova por último, deverão permanecer na sala, e só poderão sair juntos após o fechamento do envelope, contendo os cartões-resposta dos candidatos presentes e ausentes, e assinarem no lacre do referido envelope, atestando que este foi devidamente lacrado.
13. Durante todo o tempo em que permanecer no local onde está ocorrendo o concurso, o candidato deverá, manter o celular desligado e sem bateria, só sendo permitido ligar depois de ultrapassar o portão de saída do prédio.
14. Não será permitido ao candidato fumar na sala de provas, bem como nas dependências.
15. Depois de terminar a prova e entregar ao fiscal o cartão-resposta, preenchido e assinado, não será mais permitido ao candidato o uso do banheiro e bebedouro.

**BOA PROVA!**

**CONHECIMENTOS ESPECÍFICOS**

**01. Assinale a alternativa que apresenta a portaria que institui a Rede de Atenção Psicossocial para pessoas com sofrimento ou transtorno mental e com necessidades decorrentes do uso de crack, álcool e outras drogas, no âmbito do Sistema Único de Saúde:**

- a) Portaria N° 1.498, de 19 de julho de 2013
- b) Portaria N° 793, de 24 de abril de 2012
- c) Portaria N° 2.395, de 11 de outubro de 2011
- d) Portaria N° 3.099, de 23 de dezembro de 2011
- e) Portaria N° 1.459, de 24 de junho de 2011

**02. Analise as afirmativas seguintes e assinale a alternativa que contém o resultado final da soma da(s) afirmativa(s) correta(s):**

- 01 – Toda lesão no sistema nervoso central promove atrofia cortical, progredindo para demência.**
- 02 – Delirium tremens com instabilidade autonômica e hiperatividade simpática associa-se, geralmente, a mortalidade de 5 a 10% dos pacientes.**
- 04 – A classe de medicamento de primeira escolha para pacientes com delirium tremens são os Inibidores da Recapitação da Serotonina como a Amitriptilina.**
- 08 – O etilismo pode desenvolver a encefalopatia de Wernicke.**
- 16 – Os benzodiazepínicos tem ação no sistema de ácido gama-amino-butirico, da mesma forma que o álcool no cérebro humano.**

- a) 06
- b) 07
- c) 09
- d) 19
- e) 26

**03. Leia as assertivas e assinale a alternativa correta.**

**I – A insuficiência cardíaca congestiva é uma síndrome clínica sempre causada por alguma doença cardíaca subjacente, mais comumente miocardiopatia isquêmica resultante de aterosclerose e/ou hipertensão arterial.**

**II – A Doxorrubicina é uma droga amplamente utilizada e que causa efeitos cardiotoxicos com dose cumulativa superior a 450mg/m<sup>2</sup> de superfície corporal.**

**III – Os inibidores da ECA e os BRA associados a betabloqueadores e antagonistas de aldosterona podem diminuir a mortalidade, e aliviam imediatamente os sintomas congestivos.**

**IV – A insuficiência cardíaca crônica é uma doença progressiva com alta mortalidade, e a classe funcional do paciente geralmente não é um guia ao tratamento.**

- a) Apenas I e II estão corretas.
- b) Apenas I e III estão corretas.
- c) Todas estão corretas.
- d) Apenas II e III estão corretas.
- e) Apenas a IV está errada.

**Leia o seguinte caso para responder às próximas três questões.**

**Mulher de 28 anos vai ao consultório queixando-se de dor em joelho direito e hálux contra-lateral, com 10 dias de evolução e que não respondeu ao uso de analgésicos simples. Refere febrícula ao término do dia associada à mialgia inespecífica, além de disúria e corrimento vaginal branco leitoso amarelo esverdeado e prurido ocular bilateral; há 45 dias foi tratada para LUES com esquema adequado preconizado pelo Ministério da Saúde. Ao exame, apresenta-se afebril, e ambos os olhos estão injetados e fotossensíveis; o joelho direito e a primeira articulação metatarsofalangiana esquerda apresentam-se edemaciados e dolorosos com discreta hiperemia.**

**04. Com base no caso, pode-se afirmar que a paciente apresenta uma tríade. Assinale a assertiva que contém o epônimo dessa tríade.**

- a) Virchow
- b) Reiter
- c) Beck
- d) Charcot
- e) Whipple

**05. Essa paciente possui fator de risco para desenvolver qual patologia ginecológica a médio prazo, se não for tratada corretamente?**

- a) Doença de Paget
- b) Doença de Berger
- c) Síndrome de Fitz-Hugh-Curtis

- d) Endometriose  
 e) Síndrome dos ovários policísticos

**06. Sobre esse caso, analise as afirmativas e assinale a alternativa correta.**

**I – O principal diagnóstico diferencial para esse caso é a gonorreia.**

**II – Essa paciente possivelmente é HLA-B27 negativa.**

**III – Ela pode ser tratada com Azitromicina 1g no D1 e D7 associada com Ceftriaxona 250mg Intramuscular no D1 possui maior índice de cura em relação ao uso de Ceftriaxone 250mg Intramuscular no D1 com doxiciclina 100mg via oral de 12/12 horas por 14 dias.**

**IV – O provável agente etiológico do caso é a *Chlamydia trachomatis*.**

- a) Apenas a I está correta.  
 b) Apenas I e II estão corretas.  
 c) Apenas II e III estão erradas.  
 d) Apenas I e III estão corretas.  
 e) Apenas a II está errada.

**07. Assinale a alternativa em que se faz a correlação incorreta.**

- a) Agência Nacional de Saúde Suplementar – responsável pela regularização e fiscalização dos planos de saúde no país.  
 b) Anvisa – responsável pela fiscalização in loco de estabelecimento de saúde em cada município e a sua correta regularização.  
 c) Vigilância Epidemiológica – entidade responsável por organizar os dados de agravos em saúde e auxiliar a gestão a realizar estratégias de atenção a saúde.  
 d) Anvisa – responsável pela deliberação de novas drogas no mercado brasileiro.  
 e) Vigilância sanitária – responsável pela fiscalização das condições de manipulação de alimentos para os consumidores finais.

**08. Os Centros de Atenção Psicossocial são instituições destinadas a acolher os pacientes com transtornos mentais e estimular sua integração social e familiar, além de outras funções. Para que isso ocorra, necessitam de um número mínimo de membros na equipe.**

**Assinale a alternativa que contém a relação correta entre o tipo de CAPS e sua equipe mínima, conforme a determinação do Ministério da Saúde:**

Tipo de CAPS	Equipe Mínima
I – CAPS I	<b>A – 2 psiquiatras; 1 enfermeiro com formação em nível superior; 5 profissionais de nível superior de outras categorias profissionais; 8 profissionais de nível médio.</b>
II – CAPS II	<b>B – 1 médico psiquiatra, ou neurologista ou pediatra com formação em saúde mental; 1 enfermeiro; 4 profissionais de nível superior dentre psicólogo, assistente social, terapeuta ocupacional, fonoaudiólogo, pedagogo ou outro profissional necessário ao projeto terapêutico; 5 profissionais de nível médio.</b>
III – CAPS III	<b>C – 1 médico psiquiatra ou com formação em saúde mental; 1 enfermeiro, 3 profissionais de nível superior de outras categorias profissionais; 4 profissionais de nível médio.</b>
IV – CAPSi	<b>D – 1 psiquiatra; 1 enfermeiro com formação em saúde mental; 1 médico clínico responsável pela triagem, avaliação e acompanhamento das intercorrências clínicas; 4 profissionais de nível superior necessário ao projeto terapêutico; 6 profissionais de nível médio.</b>
V - CAPSad	<b>E – 1 psiquiatra; 1 enfermeiro com formação em saúde mental; 4 profissionais de nível superior de outras categorias profissionais; 6 profissionais de nível médio.</b>

- a) I-E; II-C; III-A; IV-B; V-D.  
 b) I-E; II-C; III-A; IV-D; V-B.  
 c) I-C; II-B; III-A; IV-E; V-D.  
 d) I-C; II-E; III-A; IV-B; V-D.  
 e) I-E; II-D; III-A; IV-B; V-C.

**09. Analise os seguintes itens a respeito de diarreia crônica e assinale a alternativa correta.**

**I – Diarreias tipo secretória podem ser desencadeadas por cólera, tumor de tireoide medular e uso de laxantes estimulantes exógenos, por exemplo.**

**II – Amiloidose pode promover esteatorreia, da mesma forma que a Doença de Whipple.**

**III – São exemplos de dismotilidade promotora de diarreia crônica: hipertireoidismo, síndrome do intestino irritável e Espru tropical.**



**IV – Pacientes portadores do Vírus da Imunodeficiência Adquirida podem ter, como sintoma inicial, diarreia crônica.**

- a) Todos estão corretos.
- b) Apenas o item IV está incorreto.
- c) Apenas o item III está correto.
- d) Apenas o item III está incorreto.
- e) Apenas o item II está incorreto.

**10. Assinale a assertiva que apresenta a portaria que publica a proposta de Projeto de Resolução “Boas Práticas para Organização e Funcionamento de Serviços de Urgência e Emergência”.**

- a) Portaria N° 30, de 12 de fevereiro de 2014
- b) Portaria N° 354, de 10 de março de 2014
- c) Portaria N° 825, de 25 de abril de 2016
- d) Portaria N° 2.712, de 12 de novembro de 2013
- e) Portaria N° 2.528, de 19 de outubro de 2006

**11. Referente à lombalgia, analise os itens seguintes e assinale a alternativa correta.**

**I – Segundo o trabalho de Deyo, publicado no New England Journal of Medicine em 2001, observou-se que a etiologia prevalente para lombalgia é de estiramento ou entorse lombar.**

**II – Menos de 1% da população adulta economicamente ativa sofre de dorsalgia.**

**III – São sinais e sintomas de alarme na lombalgia: dor iniciada antes dos 20 e após os 50 anos, febre, perda ponderal, dor intensa noturna ou piora da dor em posição supina, incontinência fecal e/ou urinária, história de neoplasia, anestesia em sela, redução da força em membros inferiores e imunossupressão.**

- a) Apenas os itens I e III estão corretos.
- b) Apenas os itens II e III estão corretos.
- c) Apenas os itens II e III estão incorretos.
- d) Os itens I, II e III estão corretos.
- e) Apenas os itens I e III estão incorretos.

**12. A respeito dos Critérios de Ranson, assinale a alternativa que contém a sequência correta da classificação de V (verdadeiro) e F (falso) para os itens a serem considerados na admissão de paciente com quadro de pancreatite aguda.**

- ( ) – Idade  $\leq$  54 anos
- ( ) – Leucócitos  $>$  16.000/mm<sup>3</sup>
- ( ) – Glicemia  $>$  200 mg/dl
- ( ) – Desidrogenase láctica sérica  $>$  350 UI/L
- ( ) – AST  $<$  250 UI/L
- a) V - V - V - V - V.
- b) F - V - V - V - F.
- c) F - F - V - V - V.
- d) F - V - F - V - F.
- e) V - F - V - F - V.

**13. Assinale a alternativa com a correlação correta das causas de hipertensão secundária.**

**I – Doenças Renais**

**II – Doença endócrina**

**III – Outras doenças**

- ( ) Doses altas de estrogênio
- ( ) Glomerulonefrite
- ( ) Doença do rim policístico
- ( ) Hipertireoidismo
- ( ) Aterosclerose
- ( ) Hipercalemia
- ( ) Apneia do sono obstrutiva

- a) I; I; III; II; I; III; II.
- b) II; III; I; II; I; III; I.
- c) III; I; II; I; III; III.
- d) II; I; I; II; I; III; II.
- e) II; III; II; I; I; II; III.

**14. Assinale a alternativa incorreta a respeito das orientações aos indivíduos residentes no Brasil, com idade igual ou superior a cinco anos, que viajarão a países com recomendação de vacina para Poliomielite a visitantes, contidas no Programa Nacional de Imunização, publicado no ano 2016.**

- a) Sem comprovação vacinal: administrar duas doses de Vacina Oral Poliomielite(VOP), com intervalo de 90 dias entre elas.



- b) Sem comprovação vacinal: administrar três doses da VOP, com intervalo de 60 dias entre elas, mínimo 30 dias.
- c) Com esquema incompleto: completar o esquema com a VOP.
- d) Gestantes e imunodeprimidos e/ou seus contatos devem receber esquema com Vacina Inativada Poliomielite (VIP).
- e) Para aqueles indivíduos que receberam três doses ou mais de VOP ou VIP, caso a última dose tenha sido administrada há mais de 12 meses, garantir antes da viagem uma única dose de reforço com VOP ou VIP.

**15. Assinale a alternativa que contém o antimicrobiano contraindicado à gestante no segundo trimestre de gestação com quadro de infecção urinária, sem história de reação alérgica a medicamentos anteriormente:**

- a) Sulfametoxazol e Timetropina
- b) Cefalotina
- c) Nitrofurantoína
- d) Ciprofloxacino
- e) Amoxicilina

**Utilize o texto seguinte para responder às próximas duas questões.**

**Homem de 54 anos, administrador de empresas, tabagista com carga tabágica de 150 maço-ano, vem ao ambulatório de clínica médica com história de tosse há 3 meses, inicialmente seca, que evoluiu nos últimos 45 dias para produtiva com raias hemática. Informa perda de 12 kg no período. Nega febre, porém relata progressiva inapetência e dispneia. Ao exame apresenta-se hipocorado +/4, hidratado, normotenso, IMC 19 kg/m<sup>2</sup>, ausculta cardíaca normal, ausculta pulmonar com murmúrio diminuído em ápice de hemitórax direito, a percussão apresenta submaciça em base de hemitórax esquerdo. Como o paciente se apresentava com ECOG 0, foi solicitado tomografia e broncoscopia. Na broncoscopia, evidenciou-se massa obstrutiva em brônquio fonte do lobo superior direito cuja biópsia traz carcinoma epidermoide indiferenciado. Tomografia de tórax traz massa de 6 cm em lobo superior direito com comprometimento do brônquio fonte do lobo superior direito, massa de 4 cm em lobo médio direito e presença de massa de 2 e 3 cm em pulmão esquerdo de característica secundária com comprometimento de pleura parietal em língula e lobo superior com discreto derrame pleural à esquerda. Presença de linfonodomegalia hilar de 3cm à direita, linfonodomegalia paraórtico de 2,8cm e subcarinal de 3cm.**

**16. Assinale a alternativa que apresenta o estágio TNM correto, conforme a American Joint Committee on Câncer (AJCC).**

- a) T1 N1 M0
- b) T2a N2 M1
- c) T3 N1 M0
- d) T3 N2 M1b
- e) T4 N2 M1a

**17. Assinale a alternativa que apresenta o estágio desse paciente conforme a AJCC.**

- a) IV
- b) III B
- c) III A
- d) II B
- e) IIA

**18. Assinale a alternativa correta, que contém todos os critérios diagnósticos para dispepsia funcional, de acordo com III Consenso Roma.**

- a) Queixa dispépticas durante os últimos 5 meses, a partir de pelo menos 12 meses antes. A presença de dois ou mais dos seguintes sintomas: plenitude pós-prandial, saciedade precoce, epigastralgia, queima epigástrica. Ausência de lesões estruturais observada na endoscopia digestiva alta, que possam justificar os sintomas.
- b) Queixa dispépticas durante os últimos 2 meses, a partir de pelo menos 18 meses antes. A presença de apenas um dos seguintes sintomas: plenitude pós-prandial, saciedade precoce, epigastralgia, queima epigástrica. Ausência de lesões estruturais observada na endoscopia digestiva alta, que possam justificar os sintomas.
- c) Queixa dispépticas durante os últimos 3 meses, a partir de pelo menos 6 meses antes. A presença de apenas um dos seguintes sintomas: plenitude pós-prandial, saciedade precoce, epigastralgia, queima epigástrica. Presença de lesões estruturais observada na endoscopia digestiva alta, que possam justificar os sintomas.
- d) Queixa dispépticas durante os últimos 3 meses, a partir de pelo menos 6 meses antes. A presença de um ou mais dos seguintes sintomas: plenitude pós-prandial, saciedade precoce, epigastralgia, queima epigástrica. Ausência de lesões estruturais observada na endoscopia digestiva alta, que possam justificar os sintomas.
- e) Queixa dispépticas durante os últimos 4 meses, a partir de pelo menos 6 meses antes. A presença de um ou mais dos seguintes sintomas: plenitude pós-prandial, saciedade precoce, epigastralgia, queima epigástrica. Presença de lesões estruturais observada na endoscopia digestiva alta, que possam justificar os sintomas.

**19. *Helicobacter pylori* é o principal agente encontrado nas endoscopias digestivas altas em pacientes com dispepsia disfuncional. A sua erradicação previne qual tipo de neoplasia?**

- a) Carcinoma Neuroendócrino Gástrico
- b) Linfoma MALT
- c) GIST gástrico
- d) Adenocarcinoma gástrico
- e) Tumor de Krukenberg

**20. Assinale a alternativa incorreta quanto aos critérios definidores da Síndrome da Imunodeficiência Adquirida, pelo Centers for Disease Control and Precention (CDC), em pacientes acima de 13 anos, e aplicada pelo Ministério da Saúde (MS).**

- a) Citomegalovirose hepática
- b) Candidose de esôfago, traqueia, brônquios ou pulmões
- c) Citomegalovirose ocular
- d) Criptococose cerebral
- e) Toxoplasmose cerebral

## LÍNGUA PORTUGUESA

Texto para as próximas cinco questões:

### “O cego Estrelinho” Mia Couto

O cego Estrelinho era pessoa de nenhuma vez: sua história poderia ser contada e descontada não fosse seu guia, Gigito Efraim. A mão de Gigito conduziu o desvistado por tempos e idades. Aquela mão era repartidamente comum, extensão de um no outro, siamensal. E assim era quase de nascença. Memória de Estrelinho tinha cinco dedos e eram os de Gigito postos, em aperto, na sua própria mão.

O cego, curioso, queria saber de tudo. Ele não fazia cerimônia no viver. O sempre lhe era pouco e o tudo insuficiente. Dizia, deste modo:

— Tenho que viver já, senão esqueço-me.

Gigitinho, porém, o que descrevia era o que não havia. O mundo que ele minuciava eram fantasias e rendilhados. A imaginação do guia era mais profícua que papaeira. O cego enchia a boca de águas:

— Que maravilhação esse mundo. Me conte tudo, Gigito!

A mão do guia era, afinal, o manuscrito da mentira. Gigito Efraim estava como nunca esteve S. Tomé: via para não crer. O condutor falava pela ponta dos dedos. Desfolhava o universo, aberto em folhas. A ideiação dele era tal que mesmo o cego, por vezes, acreditava ver. O outro lhe encorajava esses breves enganos:

— Desbengale-se, você está escolhendo a boa procedência!

Mentira: Estrelinho continuava sem ver uma palmeira à frente do nariz. Contudo, o cego não se conformava em suas escurezas. Ele cumpria o ditado: não tinha perna e queria dar o pontapé. Só à noite, ele desalentava, sofrendo medos mais antigos que a humanidade. Entendia aquilo que, na raça humana, é menos primitivo: o animal.

— Na noite aflige não haver luz?

— Aflição é ter um pássaro branco esvoando dentro do sono.

Pássaro branco? No sono? Lugar de ave é nas alturas. Dizem até que Deus fez o céu para justificar os pássaros. Estrelinho disfarçava o medo dos vaticínios, subterfugindo:

— E agora, Gigitinho? Agora, olhando assim para cima, estou face ao céu?

Que podia o outro responder? O céu do cego fica em toda a parte. Estrelinho perdia o pé era quando a noite chegava e seu mestre adormecia. Era como se um novo escuro nele se estreasse em nó cego. Devagaroso e sorrateiro ele aninhava sua mão na mão do guia. Só assim adormecia. A razão da concha é a timidez da amêijoia? Na manhã seguinte, o cego lhe confessava: se você morrer, tenho que morrer logo no imediato. Senão-me: como acerto o caminho para o céu?

Foi no mês de dezembro que levaram Gigitinho. Lhe tiraram do mundo para pôr na guerra: obrigavam os serviços militares. O cego reclamou: que o moço inatingia a idade. E que o serviço que ele a si prestava era vital e vitalício. O guia chamou Estrelinho à parte e lhe tranquilizou:

— Não vai ficar sozinhandando por aí. Minha mana já mandei para ficar no meu lugar.

O cego estendeu o braço a querer tocar uma despedida. Mas o outro já não estava lá. Ou estava e se desviara, propositado? E sem água ida nem vinda, Estrelinho escutou o amigo se afastar, engolido, esponjínquo, invisível. Pela pimeira vez, Estrelinho se sentiu invalidado.

— Agora, só agora, sou cego que não vê.

(...)

**COUTO, Mia. Estórias abensonhadas. Rio de Janeiro: Nova Fronteira, 1996. (Pág 23 e 24).**

**21. Quanto à interpretação do fragmento do conto, podemos afirmar que:**

- a) Gigito Efraim era o guia de Estrelinho há pouquíssimo tempo.
- b) Estrelinho era cego de nascença.
- c) Gigito descrevia o mundo para Estrelinho de forma denotativa.



- d) Gigito foi convocado pelo exército para ser guia de cegos na guerra.  
e) Gigito descrevia o mundo para Estrelinho de forma conotativa.

**22. No período “O sempre lhe era pouco e o tudo insuficiente”, o pronome “LHE” exerce a função sintática de:**

- a) Objeto Direto  
b) Objeto Indireto  
c) Complemento Nominal  
d) Adjunto Adnominal  
e) Objeto Direto Preposicionado

**23. Na oração “A mão de Gigito conduziu o desvistado por tempos e idades”, o autor faz uso de um neologismo, assim como no decorrer de toda a obra em questão. Contudo, o neologismo só se torna possível pela utilização dos elementos mórficos naquilo que a gramática normativa pontua como Processo de Formação das Palavras. Levando em consideração apenas o recurso morfológico, qual Processo de Formação foi utilizado?**

- a) Derivação Sufixal  
b) Derivação Prefixal  
c) Derivação Regressiva  
d) Derivação Imprópria  
e) Derivação Parassintética

**24. No terceiro período do décimo terceiro parágrafo, temos:**

- a) Uma oração  
b) Duas orações  
c) Três orações  
d) Quatro orações  
e) Cinco orações

**25. No último parágrafo do fragmento do conto “— Agora, só agora, sou cego que não vê”, a oração subordinada presente classifica-se corretamente como:**

- a) Oração Subordinada Adjetiva Restritiva  
b) Oração Subordinada Adverbial Causal  
c) Oração Subordinada Substantiva Subjetiva  
d) Oração Subordinada Adverbial Explicativa  
e) Oração Subordinada Adjetiva Explicativa

### RACIOCÍNIO LÓGICO

**26. Os cinco filhos de Ana estavam discutindo a respeito da data de nascimento da mãe:**

- Almir disse que foi em janeiro, dia 14, sexta-feira.
- Vanderlei disse que foi em janeiro, dia 14, sábado.
- Tiago disse que foi em fevereiro, dia 15, sábado.
- Sandro disse que foi em janeiro, dia 15, sexta-feira.
- Renato disse que foi em fevereiro, dia 15, sexta-feira.

**Sabe-se que somente um dos filhos de Ana acertou corretamente sua data de nascimento e que os outros acertaram pelo menos um dos itens (dia, dia da semana e mês). Dessa forma, é correto afirmar que o filho de Ana que acertou a data de nascimento dela foi:**

- a) Renato  
b) Sandro  
c) Tiago  
d) Vanderlei  
e) Almir

**27. Considere a seguinte afirmativa: “Todo churrasqueiro gosta de picanha”. Em relação a essa proposição, é correto afirmar que:**

- a) Algum churrasqueiro não gosta de picanha.  
b) Toda pessoa que gosta de picanha é churrasqueira.  
c) Alguma pessoa que não gosta de picanha é churrasqueira.  
d) Toda pessoa que não é churrasqueira, não gosta de picanha.  
e) Toda pessoa que não gosta de picanha, não é churrasqueira.

**28. Em um grupo formado por 67 pessoas, verificou-se que 41 pessoas gostam de arroz, 29 gostam de feijão, 33 gostam de carne, 19 gostam de arroz e de feijão, 9 gostam apenas de arroz e de carne, 12 gostam de feijão e de carne e que 6 gostam de arroz, de feijão e de carne. O número de pessoas desse grupo, que não gosta de nenhum desses três tipos de alimentos é igual a:**

- a) 4
- b) 5
- c) 6
- d) 8
- e) 10

29. Bruno escreveu, em seu caderno, várias seqüências formadas por números múltiplos de 4, onde os valores que ocupavam as posições pares eram multiplicados por  $-1$ . Cada seqüência foi somada e o resultado da soma anotado. A soma das três primeiras seqüências escritas por Bruno foram as seguintes:

$$4 - 8 = -4$$

$$4 - 8 + 12 = 8$$

$$4 - 8 + 12 - 16 = -8$$

Considere que Bruno escreveu e somou tais seqüências, em seu caderno, de modo a obter determinada seqüência cuja soma foi 600. O número de termos dessa seqüência é igual a:

- a) 149
- b) 150
- c) 298
- d) 299
- e) 300

30. Quatro torcedores, um do São Paulo, um do Cruzeiro, um do Vasco e um do Bahia, estão sentados ao redor de uma mesa quadrada, de modo que, dois a dois, fiquem frente a frente. Sabe-se que Alan é torcedor do Cruzeiro e que Bruno está sentado à direita de Alan. Sabe-se também que Caio está sentado à direita do torcedor do São Paulo. Sabe-se ainda que Daniel não é torcedor do Vasco e que está sentado à frente de Bruno. Dessa forma, é correto afirmar que:

- a) Bruno é torcedor do Bahia e Daniel é torcedor do São Paulo.
- b) Bruno é torcedor do São Paulo e Daniel é torcedor do Bahia.
- c) Caio é torcedor do Vasco e Daniel é torcedor do São Paulo.
- d) Caio é torcedor do Bahia e Daniel é torcedor do São Paulo.
- e) Bruno é torcedor do Vasco e Daniel é torcedor do Bahia.

#### INFORMÁTICA

31. Considerando o MS-Excel versão 2010, observando a figura abaixo, é correto afirmar que:

	A	B	C
1			
2			
3			
4			

- a) Somente 03 três linhas estão selecionadas.
- b) Somente uma célula está selecionada.
- c) 12 (doze) células estão selecionadas.
- d) Somente a coluna A até a linha 4 (quatro) está selecionada.
- e) Somente as colunas 1 (um), 2 (dois), 3 (três) e 4 (quatro) estão selecionadas.

32. Considerando o MS-Excel versão 2010, observando a figura abaixo, é incorreto afirmar que:

	A	B	C
1	12	6	=A1*B1
2	8	2	=A2/B2
3	5	14	=A3-B3
4	6	11	=A4+B4

- a) O resultado da fórmula =A1\*B1 é 72.
- b) O resultado da fórmula =A2/B2 é 4.
- c) O resultado da fórmula =A3-B3 é -9.
- d) O resultado da fórmula =A3-B3 é 9.
- e) O resultado da fórmula =A4+B4 é 17.

33. Digitando um texto no MS-Word versão 2010, necessito adicionar número nas páginas. Quanto a isso, é correto afirmar que:

- a) No menu Layout da Página, clico em número de página e seleciono onde desejo adicionar os números.

- b) No menu Inserir, clico em número de página e seleciono onde desejo adicionar os números.  
 c) No menu Revisão, clico em número de página e seleciono onde desejo adicionar os números.  
 d) No menu Referências, clico em número de página e seleciono onde desejo adicionar os números.  
 e) No menu Exibição, clico em número de página e seleciono onde desejo adicionar os números.

**34. A segurança da informação está diretamente relacionada com proteção de um conjunto de informações, no sentido de preservar o valor que possuem para um indivíduo ou uma organização. Atualmente, um dos aplicativos mais utilizados no mundo, o Whats app, teve uma alteração de confidencialidade muito importante na segurança das informações transmitidas e recebidas. Dentre as alternativas, assinale a que corretamente informa a alteração inserida no aplicativo Whats app.**

- a) Antispam  
 b) Antivírus  
 c) Firewall  
 d) Antispyware  
 e) Criptografia

**35. São todos os dispositivos que trabalham acoplados ao microcomputador para receber, transmitir, visualizar, ler, gravar ou armazenarem dados. São eles que permitem a comunicação do computador com o meio exterior, isto é, com os usuários e outras máquinas.**

**Esse texto descreve corretamente:**

- a) Memória ram  
 b) Memória virtual  
 c) Software  
 d) Periféricos  
 e) Hardware

#### CONHECIMENTOS GERAIS

##### 36. Hino do município de Telêmaco Borba/PR

Das virgens matas e campos verdejantes

Servindo-se também o rio Tibagi,

Homens de ideais, espíritos vibrantes.

Constituíram as indústrias aqui.

Estrilho:

Salve! Salve! Telêmaco Borba

Terra querida e de grandes primores,

A nossa homenagem rendamos

À cidade dos trabalhadores.

Pois a cadência de enorme e real progresso

Um município mui grandioso fez nascer,

Marcando assim, verdadeiro sucesso

Faz, então o Paraná engrandecer.

**No que tange ao Hino do município, atribua V (verdadeiro) ou F (falso) às afirmativas e marque a alternativa correta.**

( ) Eloah Martins Quadrado é autora da letra do hino.

( ) Bento Mossurunga compôs a música do hino.

( ) Eloah Martins Quadrado foi nomeada primeira professora da Cidade Nova, atual Telêmaco Borba.

( ) Bento Mossurunga fundou a orquestra Estudantil e Concertos – Orquestra Sinfônica da Universidade, a Sociedade de Cultura Artístico Basilio Itiberê.

a) F, V, V, V.

b) V, F, V, V.

c) V, V, F, V.

d) V, V, F, F.

e) V, V, V, V.

**37. À luz da Lei nº 1883/2012, que dispões sobre o Estatuto dos Servidores Públicos da Administração Direta, Autárquica e Funcional do Município de Telêmaco Borba/PR, leia as alternativas e marque a correta.**

a) A apresentação para a posse ocorrerá no prazo de até trinta dias, contados do ato de nomeação.

b) A destituição do servidor da função gratificada dar-se-á por solicitação exclusiva dele mesmo.

c) O servidor ocupante exclusivamente de cargo em comissão será contribuinte do regime geral de previdência social.

d) A aprovação em concurso público gera o direito à nomeação, e será feita obedecida à ordem de classificação dos candidatos.





e) O exercício de função gratificada poderá ser de dedicação integral ou parcial, conforme necessidade da administração.

**Conforme a Lei nº 1.881, de 05 de abril de 2012, que dispõe sobre o Plano de Cargos, Carreiras e Vencimentos do quadro geral de servidores da Prefeitura Municipal de Telêmaco Borba/PR, regulamentada pelo Decreto nº 2269/2015, responda às próximas três questões.**

**38. Leia as assertivas e assinala a incorreta.**

- a) Do resultado da avaliação de desempenho poderá ser interposto recurso à Comissão de Desenvolvimento Funcional no prazo de quinze dias a contar da publicação no Boletim Oficial do Município.
- b) Não será concedida a progressão ou promoção ao servidor que estiver em licença para tratamento de saúde por um período superior a quarenta e cinco dias, no período de avaliação.
- c) A alternância dos membros constituintes da Comissão de Desenvolvimento Funcional eleitos pelos servidores verificar-se-á a cada três anos de participação, observados, para substituição de seus participantes, o critério fixado no artigo anterior, não cabendo eleição sucessiva.
- d) Caberá à Comissão de Desenvolvimento Funcional, no caso de divergência de vinte por cento entre a nota do avaliador e a do avaliado, solicitar nova avaliação à chefia.
- e) Nos termos do disposto no art. 17 da Lei nº 1.881, de 05 de abril de 2012, para progredir, é necessário que o servidor satisfaça, dentre outros, o seguinte requisito: estar no efetivo exercício de seu cargo ou em função comissionada na sua área de atuação durante o interstício de dois anos.

**39. Assinale a alternativa que completa respectivamente as lacunas do texto a seguir:**

**A Comissão de Desenvolvimento Funcional será constituída por \_\_\_\_\_ membros, sendo \_\_\_\_\_ designados pelo Prefeito Municipal de Telêmaco Borba e os demais eleitos pelos servidores municipais dentre os estáveis, com a atribuição de coordenar os procedimentos relativos à avaliação periódica de desempenho e outras atribuições.**

- a) três / sete
- b) um / três
- c) sete / três
- d) três / cinco
- e) dois / cinco

**40. A Avaliação de Desempenho será norteadada, dentre outros, pelo seguinte princípio: Amplitude - a avaliação deve incidir sobre todas as áreas de atuação do servidor, que compreendem:**

- 1. a formulação de políticas administrativas e sua aplicação para todos os setores da administração municipal;**
- 2. o desempenho do profissional dentro de suas funções pertinentes;**
- 3. a estrutura do órgão em que exerce a função;**
- 4. os resultados de eficiência dos serviços de cada setor ou órgão da administração municipal;**
- 5. a participação direta do avaliado, durante todo o processo avaliativo.**

**Diante dessa afirmação, somente não está correto o item:**

- a) 1
- b) 2
- c) 3
- d) 4
- e) 5

**RASCUNHO**



PREFEITURA DE TELÊMACO BORBA - ESTADO DO PARANÁ- EDITAL Nº 001-2016 - CONCURSO PÚBLICO

VESPERTINO – 29/05/2016 – NÍVEL SUPERIOR

**1**

PROVA OBJETIVA NÚMERO

**CARGO: TMNS I - MEDICINA - AUDITORIA**

Leia atentamente as **INSTRUÇÕES**:

1. Confira seus dados no cartão-resposta: nome, número de inscrição e o curso para o qual se inscreveu.
2. **MARQUE no seu cartão-resposta o número da sua prova** (não será corrigido o cartão-resposta que não tiver marcado o número da prova) e **Assine** seu cartão-resposta.
3. Aguarde a autorização do Fiscal para abrir o caderno de prova. Ao receber a ordem do fiscal, confira o caderno de prova com muita atenção. Nenhuma reclamação sobre o total de questões ou falha de impressão será aceita depois de iniciada a prova.
4. O cartão-resposta não será substituído, salvo se contiver erro de impressão.
5. Preencha toda a área do cartão-resposta correspondente à alternativa de sua escolha, com caneta esferográfica (tinta azul ou preta), sem ultrapassar as bordas. As marcações duplas, ou rasuradas, com corretivo, ou marcadas diferentemente do modelo estabelecido no cartão-resposta poderão ser anuladas.
6. Sua prova tem **40** questões, com **5** alternativas.
7. Cabe apenas ao candidato a interpretação das questões, **o fiscal** não poderá fazer nenhuma interferência.
8. A prova será realizada com duração máxima de **3 (três) horas**, incluído o tempo para a realização da Prova Objetiva de múltipla escolha e o preenchimento do cartão-resposta.
9. O candidato poderá retirar-se do local de realização das provas somente **1 (uma) hora** após o seu início, sem levar o caderno de prova.
10. O candidato poderá levar o caderno de provas, assim como anotação contendo transcrição do seu cartão-resposta, somente **1h30min** (uma hora e trinta minutos) após o início da realização da prova.
11. Ao terminar a prova, o candidato deverá entregar ao fiscal de sala o cartão-resposta preenchido e **ASSINADO**.
12. Os **3 (três)** candidatos, que terminarem a prova por último, deverão permanecer na sala, e só poderão sair juntos após o fechamento do envelope, contendo os cartões-resposta dos candidatos presentes e ausentes, e assinarem no lacre do referido envelope, atestando que este foi devidamente lacrado.
13. Durante todo o tempo em que permanecer no local onde está ocorrendo o concurso, o candidato deverá, manter o celular desligado e sem bateria, só sendo permitido ligar depois de ultrapassar o portão de saída do prédio.
14. Não será permitido ao candidato fumar na sala de provas, bem como nas dependências.
15. Depois de terminar a prova e entregar ao fiscal o cartão-resposta, preenchido e assinado, não será mais permitido ao candidato o uso do banheiro e bebedouro.

**BOA PROVA!**

**LÍNGUA PORTUGUESA****Texto para as próximas cinco questões:****“O cego Estrelinho”  
Mia Couto**

O cego Estrelinho era pessoa de nenhuma vez: sua história poderia ser contada e descontada não fosse seu guia, Gigitto Efraim. A mão de Gigitto conduziu o desvistado por tempos e idades. Aquela mão era repartidamente comum, extensão de um no outro, siamensal. E assim era quase de nascença. Memória de Estrelinho tinha cinco dedos e eram os de Gigitto postos, em aperto, na sua própria mão.

O cego, curioso, queria saber de tudo. Ele não fazia cerimônia no viver. O sempre lhe era pouco e o tudo insuficiente. Dizia, deste modo:

— Tenho que viver já, senão esqueço-me.

Gigitto, porém, o que descrevia era o que não havia. O mundo que ele minuciava eram fantasias e rendilhados. A imaginação do guia era mais profícua que papadeira. O cego enchia a boca de águas:

— Que maravilhação esse mundo. Me conte tudo, Gigitto!

A mão do guia era, afinal, o manuscrito da mentira. Gigitto Efraim estava como nunca esteve S. Tomé: via para não crer. O condutor falava pela ponta dos dedos. Desfolhava o universo, aberto em folhas. A ideação dele era tal que mesmo o cego, por vezes, acreditava ver. O outro lhe encorajava esses breves enganar:

— Desbengale-se, você está escolhendo a boa procedência!

Mentira: Estrelinho continuava sem ver uma palmeira à frente do nariz. Contudo, o cego não se conformava em suas escurezas. Ele cumpria o ditado: não tinha perna e queria dar o pontapé. Só à noite, ele desalentava, sofrendo medos mais antigos que a humanidade. Entendia aquilo que, na raça humana, é menos primitivo: o animal.

— Na noite aflige não haver luz?

— Aflição é ter um pássaro branco esvoando dentro do sono.

Pássaro branco? No sono? Lugar de ave é nas alturas. Dizem até que Deus fez o céu para justificar os pássaros. Estrelinho disfarçava o medo dos vaticínios, subterfugindo:

— E agora, Gigitto? Agora, olhando assim para cima, estou face ao céu?

Que podia o outro responder? O céu do cego fica em toda a parte. Estrelinho perdia o pé era quando a noite chegava e seu mestre adormecia. Era como se um novo escuro nele se estreasse em nó cego. Devagaroso e sorrateiro ele aninhava sua mão na mão do guia. Só assim adormecia. A razão da concha é a timidez da amêijoia? Na manhã seguinte, o cego lhe confessava: se você morrer, tenho que morrer logo no imediato. Senão-me: como acerto o caminho para o céu?

Foi no mês de dezembro que levaram Gigitto. Lhe tiraram do mundo para pôr na guerra: obrigavam os serviços militares. O cego reclamou: que o moço inatingia a idade. E que o serviço que ele a si prestava era vital e vitalício. O guia chamou Estrelinho à parte e lhe tranquilizou:

— Não vai ficar sozinando por aí. Minha mana já mandei para ficar no meu lugar.

O cego estendeu o braço a querer tocar uma despedida. Mas o outro já não estava lá. Ou estava e se desviara, propositado? E sem água ida nem vinda, Estrelinho escutou o amigo se afastar, engolido, esponginquo, invisível. Pela primeira vez, Estrelinho se sentiu invalidado.

— Agora, só agora, sou cego que não vê.

(...)

**COUTO, Mia. Estórias abensonhadas. Rio de Janeiro: Nova Fronteira, 1996. (Pág 23 e 24).**

**01. Quanto à interpretação do fragmento do conto, podemos afirmar que:**

- Gigitto Efraim era o guia de Estrelinho há pouquíssimo tempo.
- Estrelinho era cego de nascença.
- Gigitto descrevia o mundo para Estrelinho de forma denotativa.
- Gigitto foi convocado pelo exército para ser guia de cegos na guerra.
- Gigitto descrevia o mundo para Estrelinho de forma conotativa.

**02. No período “O sempre lhe era pouco e o tudo insuficiente”, o pronome “LHE” exerce a função sintática de:**

- Objeto Direto
- Objeto Indireto
- Complemento Nominal
- Adjunto Adnominal
- Objeto Direto Preposicionado

**03. Na oração “A mão de Gigitto conduziu o desvistado por tempos e idades”, o autor faz uso de um neologismo, assim como no decorrer de toda a obra em questão. Contudo, o neologismo só se torna possível pela utilização dos elementos mórficos naquilo que a gramática normativa pontua como Processo de Formação das Palavras. Levando em consideração apenas o recurso morfológico, qual Processo de Formação foi utilizado?**

- Derivação Sufixal

- b) Derivação Prefixal
- c) Derivação Regressiva
- d) Derivação Imprópria
- e) Derivação Parassintética

**04. No terceiro período do décimo terceiro parágrafo, temos:**

- a) Uma oração
- b) Duas orações
- c) Três orações
- d) Quatro orações
- e) Cinco orações

**05. No último parágrafo do fragmento do conto “— Agora, só agora, sou cego que não vê”, a oração subordinada presente classifica-se corretamente como:**

- a) Oração Subordinada Adjetiva Restritiva
- b) Oração Subordinada Adverbial Causal
- c) Oração Subordinada Substantiva Subjetiva
- d) Oração Subordinada Adverbial Explicativa
- e) Oração Subordinada Adjetiva Explicativa

#### **RACIOCÍNIO LÓGICO**

**06. Os cinco filhos de Ana estavam discutindo a respeito da data de nascimento da mãe:**

- Almir disse que foi em janeiro, dia 14, sexta-feira.
- Vanderlei disse que foi em janeiro, dia 14, sábado.
- Tiago disse que foi em fevereiro, dia 15, sábado.
- Sandro disse que foi em janeiro, dia 15, sexta-feira.
- Renato disse que foi em fevereiro, dia 15, sexta-feira.

**Sabe-se que somente um dos filhos de Ana acertou corretamente sua data de nascimento e que os outros acertaram pelo menos um dos itens (dia, dia da semana e mês). Dessa forma, é correto afirmar que o filho de Ana que acertou a data de nascimento dela foi:**

- a) Renato
- b) Sandro
- c) Tiago
- d) Vanderlei
- e) Almir

**07. Considere a seguinte afirmativa: “Todo churrasqueiro gosta de picanha”. Em relação a essa proposição, é correto afirmar que:**

- a) Algum churrasqueiro não gosta de picanha.
- b) Toda pessoa que gosta de picanha é churrasqueira.
- c) Alguma pessoa que não gosta de picanha é churrasqueira.
- d) Toda pessoa que não é churrasqueira, não gosta de picanha.
- e) Toda pessoa que não gosta de picanha, não é churrasqueira.

**08. Em um grupo formado por 67 pessoas, verificou-se que 41 pessoas gostam de arroz, 29 gostam de feijão, 33 gostam de carne, 19 gostam de arroz e de feijão, 9 gostam apenas de arroz e de carne, 12 gostam de feijão e de carne e que 6 gostam de arroz, de feijão e de carne. O número de pessoas desse grupo, que não gosta de nenhum desses três tipos de alimentos é igual a:**

- a) 4
- b) 5
- c) 6
- d) 8
- e) 10

**09. Bruno escreveu, em seu caderno, várias sequências formadas por números múltiplos de 4, onde os valores que ocupavam as posições pares eram multiplicados por -1. Cada sequência foi somada e o resultado da soma anotado. A soma das três primeiras sequências escritas por Bruno foram as seguintes:**

$$4 - 8 = -4$$

$$4 - 8 + 12 = 8$$

$$4 - 8 + 12 - 16 = -8$$

**Considere que Bruno escreveu e somou tais sequências, em seu caderno, de modo a obter determinada sequência cuja soma foi 600. O número de termos dessa sequência é igual a:**

- a) 149
- b) 150
- c) 298

- d) 299  
e) 300

**10. Quatro torcedores, um do São Paulo, um do Cruzeiro, um do Vasco e um do Bahia, estão sentados ao redor de uma mesa quadrada, de modo que, dois a dois, fiquem frente a frente. Sabe-se que Alan é torcedor do Cruzeiro e que Bruno está sentado à direita de Alan. Sabe-se também que Caio está sentado à direita do torcedor do São Paulo. Sabe-se ainda que Daniel não é torcedor do Vasco e que está sentado à frente de Bruno. Dessa forma, é correto afirmar que:**

- a) Bruno é torcedor do Bahia e Daniel é torcedor do São Paulo.  
b) Bruno é torcedor do São Paulo e Daniel é torcedor do Bahia.  
c) Caio é torcedor do Vasco e Daniel é torcedor do São Paulo.  
d) Caio é torcedor do Bahia e Daniel é torcedor do São Paulo.  
e) Bruno é torcedor do Vasco e Daniel é torcedor do Bahia.

### INFORMÁTICA

**11. Considerando o MS-Excel versão 2010, observando a figura abaixo, é correto afirmar que:**

	A	B	C
1			
2			
3			
4			

- a) Somente 03 três linhas estão selecionadas.  
b) Somente uma célula está selecionada.  
c) 12 (doze) células estão selecionadas.  
d) Somente a coluna A até a linha 4 (quatro) está selecionada.  
e) Somente as colunas 1 (um), 2 (dois), 3 (três) e 4 (quatro) estão selecionadas.

**12. Considerando o MS-Excel versão 2010, observando a figura abaixo, é incorreto afirmar que:**

	A	B	C
1	12	6	=A1*B1
2	8	2	=A2/B2
3	5	14	=A3-B3
4	6	11	=A4+B4

- a) O resultado da fórmula =A1\*B1 é 72.  
b) O resultado da fórmula =A2/B2 é 4.  
c) O resultado da fórmula =A3-B3 é -9.  
d) O resultado da fórmula =A3-B3 é 9.  
e) O resultado da fórmula =A4+B4 é 17.

**13. Digitando um texto no MS-Word versão 2010, necessito adicionar número nas páginas. Quanto a isso, é correto afirmar que:**

- a) No menu Layout da Página, clico em número de página e seleciono onde desejo adicionar os números.  
b) No menu Inserir, clico em número de página e seleciono onde desejo adicionar os números.  
c) No menu Revisão, clico em número de página e seleciono onde desejo adicionar os números.  
d) No menu Referências, clico em número de página e seleciono onde desejo adicionar os números.  
e) No menu Exibição, clico em número de página e seleciono onde desejo adicionar os números.

**14. A segurança da informação está diretamente relacionada com proteção de um conjunto de informações, no sentido de preservar o valor que possuem para um indivíduo ou uma organização. Atualmente, um dos aplicativos mais utilizados no mundo, o Whats app, teve uma alteração de confidencialidade muito importante na segurança das informações transmitidas e recebidas. Dentre as alternativas, assinale a que corretamente informa a alteração inserida no aplicativo Whats app.**

- a) Antispam  
b) Antivirus  
c) Firewall  
d) Antispyware  
e) Criptografia



**15. São todos os dispositivos que trabalham acoplados ao microcomputador para receber, transmitir, visualizar, ler, gravar ou armazenarem dados. São eles que permitem a comunicação do computador com o meio exterior, isto é, com os usuários e outras máquinas.**

**Esse texto descreve corretamente:**

- a) Memória ram
- b) Memória virtual
- c) Software
- d) Periféricos
- e) Hardware

### CONHECIMENTOS GERAIS

#### 16. Hino do município de Telêmaco Borba/PR

Das virgens matas e campos verdejantes  
 Servindo-se também o rio Tibagi,  
 Homens de ideais, espíritos vibrantes.  
 Constituíram as indústrias aqui.

Estrilho:

Salve! Salve! Telêmaco Borba  
 Terra querida e de grandes primores,  
 A nossa homenagem rendamos  
 À cidade dos trabalhadores.  
 Pois a cadência de enorme e real progresso  
 Um município mui grandioso fez nascer,  
 Marcando assim, verdadeiro sucesso  
 Faz, então o Paraná engrandecer.

**No que tange ao Hino do município, atribua V (verdadeiro) ou F (falso) às afirmativas e marque a alternativa correta.**

- ( ) Eloah Martins Quadrado é autora da letra do hino.
- ( ) Bento Mossurunga compôs a música do hino.
- ( ) Eloah Martins Quadrado foi nomeada primeira professora da Cidade Nova, atual Telêmaco Borba.
- ( ) Bento Mossurunga fundou a orquestra Estudantil e Concertos – Orquestra Sinfônica da Universidade, a Sociedade de Cultura Artístico Basílio Itiberê.

- a) F, V, V, V.
- b) V, F, V, V.
- c) V, V, F, V.
- d) V, V, F, F.
- e) V, V, V, V.

**17. À luz da Lei nº 1883/2012, que dispõe sobre o Estatuto dos Servidores Públicos da Administração Direta, Autárquica e Funcional do Município de Telêmaco Borba/PR, leia as alternativas e marque a correta.**

- a) A apresentação para a posse ocorrerá no prazo de até trinta dias, contados do ato de nomeação.
- b) A destituição do servidor da função gratificada dar-se-á por solicitação exclusiva dele mesmo.
- c) O servidor ocupante exclusivamente de cargo em comissão será contribuinte do regime geral de previdência social.
- d) A aprovação em concurso público gera o direito à nomeação, e será feita obedecida à ordem de classificação dos candidatos.
- e) O exercício de função gratificada poderá ser de dedicação integral ou parcial, conforme necessidade da administração.

**Conforme a Lei nº 1.881, de 05 de abril de 2012, que dispõe sobre o Plano de Cargos, Carreiras e Vencimentos do quadro geral de servidores da Prefeitura Municipal de Telêmaco Borba/PR, regulamentada pelo Decreto nº 2269/2015, responda às próximas três questões.**

**18. Leia as assertivas e assinala a incorreta.**

- a) Do resultado da avaliação de desempenho poderá ser interposto recurso à Comissão de Desenvolvimento Funcional no prazo de quinze dias a contar da publicação no Boletim Oficial do Município.
- b) Não será concedida a progressão ou promoção ao servidor que estiver em licença para tratamento de saúde por um período superior a quarenta e cinco dias, no período de avaliação.
- c) A alternância dos membros constituintes da Comissão de Desenvolvimento Funcional eleitos pelos servidores verificar-se-á a cada três anos de participação, observados, para substituição de seus participantes, o critério fixado no artigo anterior, não cabendo eleição sucessiva.
- d) Caberá à Comissão de Desenvolvimento Funcional, no caso de divergência de vinte por cento entre a nota do avaliador e a do avaliado, solicitar nova avaliação à chefia.





e) Nos termos do disposto no art. 17 da Lei n° 1.881, de 05 de abril de 2012, para progredir, é necessário que o servidor satisfaça, dentre outros, o seguinte requisito: estar no efetivo exercício de seu cargo ou em função comissionada na sua área de atuação durante o interstício de dois anos.

**19. Assinale a alternativa que completa respectivamente as lacunas do texto a seguir:**

**A Comissão de Desenvolvimento Funcional será constituída por \_\_\_\_\_ membros, sendo \_\_\_\_\_ designados pelo Prefeito Municipal de Telêmaco Borba e os demais eleitos pelos servidores municipais dentre os estáveis, com a atribuição de coordenar os procedimentos relativos à avaliação periódica de desempenho e outras atribuições.**

- a) três / sete
- b) um / três
- c) sete / três
- d) três / cinco
- e) dois / cinco

**20. A Avaliação de Desempenho será norteadada, dentre outros, pelo seguinte princípio: Amplitude - a avaliação deve incidir sobre todas as áreas de atuação do servidor, que compreendem:**

- 1. a formulação de políticas administrativas e sua aplicação para todos os setores da administração municipal;**
- 2. o desempenho do profissional dentro de suas funções pertinentes;**
- 3. a estrutura do órgão em que exerce a função;**
- 4. os resultados de eficiência dos serviços de cada setor ou órgão da administração municipal;**
- 5. a participação direta do avaliado, durante todo o processo avaliativo.**

**Diante dessa afirmação, somente não está correto o item:**

- a) 1
- b) 2
- c) 3
- d) 4
- e) 5

#### **CONHECIMENTOS ESPECÍFICOS**

**21. Assinale a alternativa que apresenta a portaria que institui a Rede de Atenção Psicossocial para pessoas com sofrimento ou transtorno mental e com necessidades decorrentes do uso de crack, álcool e outras drogas, no âmbito do Sistema Único de Saúde:**

- a) Portaria N° 1.498, de 19 de julho de 2013
- b) Portaria N° 793, de 24 de abril de 2012
- c) Portaria N° 2.395, de 11 de outubro de 2011
- d) Portaria N° 3.099, de 23 de dezembro de 2011
- e) Portaria N° 1.459, de 24 de junho de 2011

**22. Analise as afirmativas seguintes e assinale a alternativa que contém o resultado final da soma da(s) afirmativa(s) correta(s):**

- 01 – Toda lesão no sistema nervoso central promove atrofia cortical, progredindo para demência.**
- 02 – Delirium tremens com instabilidade autonômica e hiperatividade simpática associa-se, geralmente, a mortalidade de 5 a 10% dos pacientes.**
- 04 – A classe de medicamento de primeira escolha para pacientes com delirium tremens são os Inibidores da Recapitação da Serotonina como a Amitriptilina.**
- 08 – O etilismo pode desenvolver a encefalopatia de Wernicke.**
- 16 – Os benzodiazepínicos tem ação no sistema de ácido gama-amino-butirico, da mesma forma que o álcool no cérebro humano.**

- a) 06
- b) 07
- c) 09
- d) 19
- e) 26

**23. Leia as assertivas e assinale a alternativa correta.**

**I – A insuficiência cardíaca congestiva é uma síndrome clínica sempre causada por alguma doença cardíaca subjacente, mais comumente miocardiopatia isquêmica resultante de aterosclerose e/ou hipertensão arterial.**

**II – A Doxorubicina é uma droga amplamente utilizada e que causa efeitos cardiotóxicos com dose cumulativa superior a 450mg/m<sup>2</sup> de superfície corporal.**

**III – Os inibidores da ECA e os BRA associados a betabloqueadores e antagonistas de aldosterona podem diminuir a mortalidade, e aliviam imediatamente os sintomas congestivos.**

**IV – A insuficiência cardíaca crônica é uma doença progressiva com alta mortalidade, e a classe funcional do paciente geralmente não é um guia ao tratamento.**

- a) Apenas I e II estão corretas.
- b) Apenas I e III estão corretas.
- c) Todas estão corretas.
- d) Apenas II e III estão corretas.
- e) Apenas a IV está errada.

**Leia o seguinte caso para responder às próximas três questões.**

**Mulher de 28 anos vai ao consultório queixando-se de dor em joelho direito e hálux contra-lateral, com 10 dias de evolução e que não respondeu ao uso de analgésicos simples. Refere febrícula ao término do dia associada à mialgia inespecífica, além de disúria e corrimento vaginal branco leitoso amarelo esverdeado e prurido ocular bilateral; há 45 dias foi tratada para LUES com esquema adequado preconizado pelo Ministério da Saúde. Ao exame, apresenta-se afebril, e ambos os olhos estão injetados e fotossensíveis; o joelho direito e a primeira articulação metatarsofalangiana esquerda apresentam-se edemaciados e dolorosos com discreta hiperemia.**

**24. Com base no caso, pode-se afirmar que a paciente apresenta uma tríade. Assinale a assertiva que contém o epônimo dessa tríade.**

- a) Virchow
- b) Reiter
- c) Beck
- d) Charcot
- e) Whipple

**25. Essa paciente possui fator de risco para desenvolver qual patologia ginecológica a médio prazo, se não for tratada corretamente?**

- a) Doença de Paget
- b) Doença de Berger
- c) Síndrome de Fitz-Hugh-Curtis
- d) Endometriose
- e) Síndrome dos ovários policísticos

**26. Sobre esse caso, analise as afirmativas e assinale a alternativa correta.**

**I – O principal diagnóstico diferencial para esse caso é a gonorreia.**

**II – Essa paciente possivelmente é HLA-B27 negativa.**

**III – Ela pode ser tratada com Azitromicina 1g no D1 e D7 associada com Ceftriaxona 250mg Intramuscular no D1 possui maior índice de cura em relação ao uso de Ceftriaxone 250mg Intramuscular no D1 com doxiciclina 100mg via oral de 12/12 horas por 14 dias.**

**IV – O provável agente etiológico do caso é a *Chlamydia trachomatis*.**

- a) Apenas a I está correta.
- b) Apenas I e II estão corretas.
- c) Apenas II e III estão erradas.
- d) Apenas I e III estão corretas.
- e) Apenas a II está errada.

**27. Assinale a alternativa em que se faz a correlação incorreta.**

- a) Agência Nacional de Saúde Suplementar – responsável pela regularização e fiscalização dos planos de saúde no país.
- b) Anvisa – responsável pela fiscalização in loco de estabelecimento de saúde em cada município e a sua correta regularização.
- c) Vigilância Epidemiológica – entidade responsável por organizar os dados de agravos em saúde e auxiliar a gestão a realizar estratégias de atenção a saúde.
- d) Anvisa – responsável pela deliberação de novas drogas no mercado brasileiro.
- e) Vigilância sanitária – responsável pela fiscalização das condições de manipulação de alimentos para os consumidores finais.

**28. Os Centros de Atenção Psicossocial são instituições destinadas a acolher os pacientes com transtornos mentais e estimular sua integração social e familiar, além de outras funções. Para que isso ocorra, necessitam de um número mínimo de membros na equipe.**

**Assinale a alternativa que contém a relação correta entre o tipo de CAPS e sua equipe mínima, conforme a determinação do Ministério da Saúde:**

Tipo de CAPS	Equipe Mínima
--------------	---------------

I – CAPS I	A – 2 psiquiatras; 1 enfermeiro com formação em nível superior; 5 profissionais de nível superior de outras categorias profissionais; 8 profissionais de nível médio.
II – CAPS II	B – 1 médico psiquiatra, ou neurologista ou pediatra com formação em saúde mental; 1 enfermeiro; 4 profissionais de nível superior dentre psicólogo, assistente social, terapeuta ocupacional, fonoaudiólogo, pedagogo ou outro profissional necessário ao projeto terapêutico; 5 profissionais de nível médio.
III – CAPS III	C – 1 médico psiquiatra ou com formação em saúde mental; 1 enfermeiro, 3 profissionais de nível superior de outras categorias profissionais; 4 profissionais de nível médio.
IV – CAPSi	D – 1 psiquiatra; 1 enfermeiro com formação em saúde mental; 1 médico clínico responsável pela triagem, avaliação e acompanhamento das intercorrências clínicas; 4 profissionais de nível superior necessário ao projeto terapêutico; 6 profissionais de nível médio.
V - CAPSad	E – 1 psiquiatra; 1 enfermeiro com formação em saúde mental; 4 profissionais de nível superior de outras categorias profissionais; 6 profissionais de nível médio.

- a) I-E; II-C; III-A; IV-B; V-D.  
b) I-E; II-C; III-A; IV-D; V-B.  
c) I-C; II-B; III-A; IV-E; V-D.  
d) I-C; II-E; III-A; IV-B; V-D.  
e) I-E; II-D; III-A; IV-B; V-C.

**29. Analise os seguintes itens a respeito de diarreia crônica e assinale a alternativa correta.**

**I – Diarreias tipo secretória podem ser desencadeadas por cólera, tumor de tireoide medular e uso de laxantes estimulantes exógenos, por exemplo.**

**II – Amiloidose pode promover esteatorreia, da mesma forma que a Doença de Whipple.**

**III – São exemplos de dismotilidade promotora de diarreia crônica: hipertireoidismo, síndrome do intestino irritável e Espru tropical.**

**IV – Pacientes portadores do Vírus da Imunodeficiência Adquirida podem ter, como sintoma inicial, diarreia crônica.**

- a) Todos estão corretos.  
b) Apenas o item IV está incorreto.  
c) Apenas o item III está correto.  
d) Apenas o item III está incorreto.  
e) Apenas o item II está incorreto.

**30. Assinale a assertiva que apresenta a portaria que publica a proposta de Projeto de Resolução “Boas Práticas para Organização e Funcionamento de Serviços de Urgência e Emergência”.**

- a) Portaria N° 30, de 12 de fevereiro de 2014  
b) Portaria N° 354, de 10 de março de 2014  
c) Portaria N° 825, de 25 de abril de 2016  
d) Portaria N° 2.712, de 12 de novembro de 2013  
e) Portaria N° 2.528, de 19 de outubro de 2006

**31. Referente à lombalgia, analise os itens seguintes e assinale a alternativa correta.**

**I – Segundo o trabalho de Deyo, publicado no New England Journal of Medicine em 2001, observou-se que a etiologia prevalente para lombalgia é de estiramento ou entorse lombar.**

**II – Menos de 1% da população adulta economicamente ativa sofre de dorsalgia.**

**III – São sinais e sintomas de alarme na lombalgia: dor iniciada antes dos 20 e após os 50 anos, febre, perda ponderal, dor intensa noturna ou piora da dor em posição supina, incontinência fecal e/ou urinária, história de neoplasia, anestesia em sela, redução da força em membros inferiores e imunossupressão.**

- a) Apenas os itens I e III estão corretos.  
b) Apenas os itens II e III estão corretos.  
c) Apenas os itens II e III estão incorretos.  
d) Os itens I, II e III estão corretos.  
e) Apenas os itens I e III estão incorretos.

**32. A respeito dos Critérios de Ranson, assinale a alternativa que contém a sequência correta da classificação de V (verdadeiro) e F (falso) para os itens a serem considerados na admissão de paciente com quadro de pancreatite aguda.**

- ( ) – Idade ≤ 54 anos  
( ) – Leucócitos > 16.000/mm<sup>3</sup>  
( ) – Glicemia > 200 mg/dl  
( ) – Desidrogenase láctica sérica > 350 UI/L

( ) – AST < 250 UI/L

- a) V - V - V - V - V.
- b) F - V - V - V - F.
- c) F - F - V - V - V.
- d) F - V - F - V - F.
- e) V - F - V - F - V.

**33. Assinale a alternativa com a correlação correta das causas de hipertensão secundária.**

**I – Doenças Renais**

**II – Doença endócrina**

**III – Outras doenças**

- ( ) Doses altas de estrogênio
- ( ) Glomerulonefrite
- ( ) Doença do rim policístico
- ( ) Hipertireoidismo
- ( ) Aterosclerose
- ( ) Hipercalcemia
- ( ) Apneia do sono obstrutiva

- a) I; I; III; II; I; III; II.
- b) II; III; I; II; I; III; I.
- c) III; I; I; II; I; III; III.
- d) II; I; I; II; I; III; II.
- e) II; III; II; I; I; II; III.

**34. Assinale a alternativa incorreta a respeito das orientações aos indivíduos residentes no Brasil, com idade igual ou superior a cinco anos, que viajarão a países com recomendação de vacina para Poliomielite a visitantes, contidas no Programa Nacional de Imunização, publicado no ano 2016.**

- a) Sem comprovação vacinal: administrar duas doses de Vacina Oral Poliomielite(VOP), com intervalo de 90 dias entre elas.
- b) Sem comprovação vacinal: administrar três doses da VOP, com intervalo de 60 dias entre elas, mínimo 30 dias.
- c) Com esquema incompleto: completar o esquema com a VOP.
- d) Gestantes e imunodeprimidos e/ou seus contatos devem receber esquema com Vacina Inativada Poliomielite (VIP).
- e) Para aqueles indivíduos que receberam três doses ou mais de VOP ou VIP, caso a última dose tenha sido administrada há mais de 12 meses, garantir antes da viagem uma única dose de reforço com VOP ou VIP.

**35. Assinale a alternativa que contém o antimicrobiano contraindicado à gestante no segundo trimestre de gestação com quadro de infecção urinária, sem história de reação alérgica a medicamentos anteriormente:**

- a) Sulfametoxazol e Timetropina
- b) Cefalotina
- c) Nitrofurantoína
- d) Ciprofloxacino
- e) Amoxicilina

**36. Para a realização de uma boa auditoria, o processo de planejamento é fundamental para o bom andamento do processo. Sobre a fase de planejamento de uma auditoria em saúde, assinale a alternativa incorreta:**

- a) Para a elaboração de um adequado programa de trabalho de auditoria, deve-se determinar precisamente os objetivos do exame analítico e/ou operativo, ou seja, a identificação completa sobre o que se deseja obter com a auditoria.
- b) A técnica 5 W + 1 H + show me, refere-se às palavras em inglês What, Where, Why, When, Who, How e show me, que permitirá o auditor buscar as evidências objetivas de conformidades às especificações.
- c) A técnica 5 W + 1 H + show me serve para a busca de respostas fechadas em uma auditoria.
- d) O auditor, no exercício de suas funções, terá livre acesso a todas as dependências do órgão ou entidade auditada, assim como à documentação e papéis considerados indispensáveis ao cumprimento de suas atribuições.
- e) Deve estar presente toda a equipe de auditoria e a direção (gerentes), coordenadores da área/unidade que irá ser auditada. Deve ser breve (máximo 30'), objetiva, servindo para esclarecer dúvidas de ambas as partes e presidida pelo Coordenador da equipe, com registro dos presentes.

**37. Os auditores são responsáveis não só perante a administração da organização a que prestam serviço, mas também perante aos usuários dela. Os que atuam nesta área, por sua vez, devem conduzir-se de modo a justificar a confiança individual e institucional que lhes foi depositada.**

**Sobre as atitudes do auditor, assinale a alternativa incorreta:**

- a) Durante o seu trabalho, o auditor está obrigado a intervir nos casos onde há conflitos de interesse que possam influenciar a absoluta isenção de seu julgamento, devendo impor seus preceitos respeitando as normas da auditoria.
- b) Durante o desenvolvimento de seu trabalho, o auditor deverá possuir o domínio do julgamento profissional, pautando-se, exclusiva e livremente a seu critério, no planejamento dos seus exames, na seleção e aplicação de procedimentos técnicos e testes de auditoria, na definição de suas conclusões e na elaboração dos seus relatórios e pareceres.
- c) Na execução de suas atividades, o auditor se apoiará em atos e evidências que permitam o convencimento razoável da realidade ou a veracidade dos fatos, documentos ou situações examinadas, permitindo a emissão de opinião com bases consistentes.
- d) O auditor deverá ter conhecimento técnico específico e das diversas áreas relacionadas com as atividades auditadas.
- e) O auditor deverá ter capacidade profissional, atualizando-se quanto ao avanço das normas, procedimentos e técnicas aplicáveis.

**38. A análise dos relatórios de saída do Sistema de Informações Ambulatoriais (SIA/SUS) se reveste de suma importância para um melhor conhecimento da rede ambulatorial. O grupo é constituído pelos documentos obrigatórios de consulta, pois retratam o perfil da atividade, serviço ou unidade ambulatorial. Sobre o relatório de síntese da produção ambulatorial, assinale a alternativa correta:**

- a) Esse relatório fornece, por unidade, a relação dos procedimentos realizados no mês e de até um ano anterior ao mês do processamento.
- b) A análise desse relatório permite identificar erros de preenchimento, desatualização do cadastro, cobranças indevidas e distorções na programação.
- c) Esse relatório fornece, por unidade, a relação dos procedimentos realizados no mês e de até seis meses anteriores ao mês do processamento.
- d) A análise deste relatório fornece todas as Apac processadas do mesmo paciente, por competência, num determinado período.
- e) Esse relatório fornece, por unidade, a relação dos procedimentos realizados no mês e de até dois meses anteriores ao mês do processamento.

**39. A poliomielite é uma doença viral causada pelo gênero enterovírus, da família Picornaviridae, conhecido como poliovírus, e subdivide-se em três sorotipos (1, 2 e 3). Acomete crianças abaixo de cinco anos de idade e causa paralisia irreversível dos membros inferiores.**

**Referente à mudança do calendário nacional de vacinação para o ano de 2016, assinale a alternativa que indique o novo esquema posológico da vacina contra essa doença.**

- a) Houve substituição da segunda dose que era administrada por vacina oral de poliomielite (VOP) por vacina inativada de poliomielite (VIP).
- b) Não Houve substituição da primeira dose que continua sendo administrada por vacina oral de poliomielite (VOP).
- c) Houve substituição da primeira dose que era administrada por vacina inativada de poliomielite (VIP) por vacina oral de poliomielite.
- d) Houve substituição da terceira dose que era administrada por vacina oral de poliomielite (VOP) por vacina inativada de poliomielite (VIP).
- e) Houve substituição da terceira dose que era administrada por vacina inativada de poliomielite (VIP) por vacina oral de poliomielite (VOP).

**40. De acordo com o calendário de vacinação de 2016, houve alteração da faixa etária para administração de uma vacina de 12 meses para 15 meses de idade. Esta conduta teve como justificativa reduzir o número de vacinas administradas em uma mesma visita ao serviço de saúde, reduzindo assim o desconforto decorrente de várias administrações.**

**Assinale a alternativa que indique a que vacina esse texto está se referindo:**

- a) Vacina contra HPV
- b) Vacina pneumocócica 10 valente
- c) Vacina tríplice viral
- d) Vacina da Hepatite B
- e) Vacina da Hepatite A



PREFEITURA DE TELÊMACO BORBA - ESTADO DO PARANÁ- EDITAL Nº 001-2016 - CONCURSO PÚBLICO

VESPERTINO – 29/05/2016 – NÍVEL SUPERIOR

PROVA OBJETIVA NÚMERO

**2**

**CARGO: TMNS I - MEDICINA - AUDITORIA**

Leia atentamente as INSTRUÇÕES:

1. Confira seus dados no cartão-resposta: nome, número de inscrição e o curso para o qual se inscreveu.
2. **MARQUE no seu cartão-resposta o número da sua prova** (não será corrigido o cartão-resposta que não tiver marcado o número da prova) e **Assine** seu cartão-resposta.
3. Aguarde a autorização do Fiscal para abrir o caderno de prova. Ao receber a ordem do fiscal, confira o caderno de prova com muita atenção. Nenhuma reclamação sobre o total de questões ou falha de impressão será aceita depois de iniciada a prova.
4. O cartão-resposta não será substituído, salvo se contiver erro de impressão.
5. Preencha toda a área do cartão-resposta correspondente à alternativa de sua escolha, com caneta esferográfica (tinta azul ou preta), sem ultrapassar as bordas. As marcações duplas, ou rasuradas, com corretivo, ou marcadas diferentemente do modelo estabelecido no cartão-resposta poderão ser anuladas.
6. Sua prova tem **40** questões, com **5** alternativas.
7. Cabe apenas ao candidato a interpretação das questões, **o fiscal** não poderá fazer nenhuma interferência.
8. A prova será realizada com duração máxima de **3 (três) horas**, incluído o tempo para a realização da Prova Objetiva de múltipla escolha e o preenchimento do cartão-resposta.
9. O candidato poderá retirar-se do local de realização das provas somente **1 (uma) hora** após o seu início, sem levar o caderno de prova.
10. O candidato poderá levar o caderno de provas, assim como anotação contendo transcrição do seu cartão-resposta, somente **1h30min** (uma hora e trinta minutos) após o início da realização da prova.
11. Ao terminar a prova, o candidato deverá entregar ao fiscal de sala o cartão-resposta preenchido e **ASSINADO**.
12. Os **3 (três)** candidatos, que terminarem a prova por último, deverão permanecer na sala, e só poderão sair juntos após o fechamento do envelope, contendo os cartões-resposta dos candidatos presentes e ausentes, e assinarem no lacre do referido envelope, atestando que este foi devidamente lacrado.
13. Durante todo o tempo em que permanecer no local onde está ocorrendo o concurso, o candidato deverá, manter o celular desligado e sem bateria, só sendo permitido ligar depois de ultrapassar o portão de saída do prédio.
14. Não será permitido ao candidato fumar na sala de provas, bem como nas dependências.
15. Depois de terminar a prova e entregar ao fiscal o cartão-resposta, preenchido e assinado, não será mais permitido ao candidato o uso do banheiro e bebedouro.

**BOA PROVA!**



**RACIOCÍNIO LÓGICO**

**01. Os cinco filhos de Ana estavam discutindo a respeito da data de nascimento da mãe:**

- Almir disse que foi em janeiro, dia 14, sexta-feira.
- Vanderlei disse que foi em janeiro, dia 14, sábado.
- Tiago disse que foi em fevereiro, dia 15, sábado.
- Sandro disse que foi em janeiro, dia 15, sexta-feira.
- Renato disse que foi em fevereiro, dia 15, sexta-feira.

**Sabe-se que somente um dos filhos de Ana acertou corretamente sua data de nascimento e que os outros acertaram pelo menos um dos itens (dia, dia da semana e mês). Dessa forma, é correto afirmar que o filho de Ana que acertou a data de nascimento dela foi:**

- a) Renato
- b) Sandro
- c) Tiago
- d) Vanderlei
- e) Almir

**02. Considere a seguinte afirmativa: “Todo churrasqueiro gosta de picanha”. Em relação a essa proposição, é correto afirmar que:**

- a) Algum churrasqueiro não gosta de picanha.
- b) Toda pessoa que gosta de picanha é churrasqueira.
- c) Alguma pessoa que não gosta de picanha é churrasqueira.
- d) Toda pessoa que não é churrasqueira, não gosta de picanha.
- e) Toda pessoa que não gosta de picanha, não é churrasqueira.

**03. Em um grupo formado por 67 pessoas, verificou-se que 41 pessoas gostam de arroz, 29 gostam de feijão, 33 gostam de carne, 19 gostam de arroz e de feijão, 9 gostam apenas de arroz e de carne, 12 gostam de feijão e de carne e que 6 gostam de arroz, de feijão e de carne. O número de pessoas desse grupo, que não gosta de nenhum desses três tipos de alimentos é igual a:**

- a) 4
- b) 5
- c) 6
- d) 8
- e) 10

**04. Bruno escreveu, em seu caderno, várias sequências formadas por números múltiplos de 4, onde os valores que ocupavam as posições pares eram multiplicados por  $-1$ . Cada sequência foi somada e o resultado da soma anotado. A soma das três primeiras sequências escritas por Bruno foram as seguintes:**

$$4 - 8 = -4$$

$$4 - 8 + 12 = 8$$

$$4 - 8 + 12 - 16 = -8$$

**Considere que Bruno escreveu e somou tais sequências, em seu caderno, de modo a obter determinada sequência cuja soma foi 600. O número de termos dessa sequência é igual a:**

- a) 149
- b) 150
- c) 298
- d) 299
- e) 300

**05. Quatro torcedores, um do São Paulo, um do Cruzeiro, um do Vasco e um do Bahia, estão sentados ao redor de uma mesa quadrada, de modo que, dois a dois, fiquem frente a frente. Sabe-se que Alan é torcedor do Cruzeiro e que Bruno está sentado à direita de Alan. Sabe-se também que Caio está sentado à direita do torcedor do São Paulo. Sabe-se ainda que Daniel não é torcedor do Vasco e que está sentado à frente de Bruno. Dessa forma, é correto afirmar que:**

- a) Bruno é torcedor do Bahia e Daniel é torcedor do São Paulo.
- b) Bruno é torcedor do São Paulo e Daniel é torcedor do Bahia.
- c) Caio é torcedor do Vasco e Daniel é torcedor do São Paulo.
- d) Caio é torcedor do Bahia e Daniel é torcedor do São Paulo.
- e) Bruno é torcedor do Vasco e Daniel é torcedor do Bahia.

**INFORMÁTICA**

06. Considerando o MS-Excel versão 2010, observando a figura abaixo, é correto afirmar que:

	A	B	C
1			
2			
3			
4			

- Somente 03 três linhas estão selecionadas.
- Somente uma célula está selecionada.
- 12 (doze) células estão selecionadas.
- Somente a coluna A até a linha 4 (quatro) está selecionada.
- Somente as colunas 1 (um), 2 (dois), 3 (três) e 4 (quatro) estão selecionadas.

07. Considerando o MS-Excel versão 2010, observando a figura abaixo, é incorreto afirmar que:

	A	B	C
1	12	6	=A1*B1
2	8	2	=A2/B2
3	5	14	=A3-B3
4	6	11	=A4+B4

- O resultado da fórmula =A1\*B1 é 72.
- O resultado da fórmula =A2/B2 é 4.
- O resultado da fórmula =A3-B3 é -9.
- O resultado da fórmula =A3-B3 é 9.
- O resultado da fórmula =A4+B4 é 17.

08. Digitando um texto no MS-Word versão 2010, necessito adicionar número nas páginas. Quanto a isso, é correto afirmar que:

- No menu Layout da Página, clico em número de página e seleciono onde desejo adicionar os números.
- No menu Inserir, clico em número de página e seleciono onde desejo adicionar os números.
- No menu Revisão, clico em número de página e seleciono onde desejo adicionar os números.
- No menu Referências, clico em número de página e seleciono onde desejo adicionar os números.
- No menu Exibição, clico em número de página e seleciono onde desejo adicionar os números.

09. A segurança da informação está diretamente relacionada com proteção de um conjunto de informações, no sentido de preservar o valor que possuem para um indivíduo ou uma organização. Atualmente, um dos aplicativos mais utilizados no mundo, o Whats app, teve uma alteração de confidencialidade muito importante na segurança das informações transmitidas e recebidas. Dentre as alternativas, assinale a que corretamente informa a alteração inserida no aplicativo Whats app.

- Antispam
- Antivirus
- Firewall
- Antispyware
- Criptografia

10. São todos os dispositivos que trabalham acoplados ao microcomputador para receber, transmitir, visualizar, ler, gravar ou armazenarem dados. São eles que permitem a comunicação do computador com o meio exterior, isto é, com os usuários e outras máquinas.

Esse texto descreve corretamente:

- Memória ram
- Memória virtual
- Software
- Periféricos
- Hardware

**CONHECIMENTOS GERAIS**

11. Hino do município de Telêmaco Borba/PR

Das virgens matas e campos verdejantes  
Servindo-se também o rio Tibagi,



Homens de ideais, espíritos vibrantes.

Constituíram as indústrias aqui.

Estrilho:

Salve! Salve! Telêmaco Borba

Terra querida e de grandes primores,

A nossa homenagem rendamos

À cidade dos trabalhadores.

Pois a cadência de enorme e real progresso

Um município mui grandioso fez nascer,

Marcando assim, verdadeiro sucesso

Faz, então o Paraná engrandecer.

**No que tange ao Hino do município, atribua V (verdadeiro) ou F (falso) às afirmativas e marque a alternativa correta.**

( ) Eloah Martins Quadrado é autora da letra do hino.

( ) Bento Mossurunga compôs a música do hino.

( ) Eloah Martins Quadrado foi nomeada primeira professora da Cidade Nova, atual Telêmaco Borba.

( ) Bento Mossurunga fundou a orquestra Estudantil e Concertos – Orquestra Sinfônica da Universidade, a Sociedade de Cultura Artístico Basílio Itiberê.

a) F, V, V, V.

b) V, F, V, V.

c) V, V, F, V.

d) V, V, F, F.

e) V, V, V, V.

**12. À luz da Lei nº 1883/2012, que dispõe sobre o Estatuto dos Servidores Públicos da Administração Direta, Autárquica e Funcional do Município de Telêmaco Borba/PR, leia as alternativas e marque a correta.**

a) A apresentação para a posse ocorrerá no prazo de até trinta dias, contados do ato de nomeação.

b) A destituição do servidor da função gratificada dar-se-á por solicitação exclusiva dele mesmo.

c) O servidor ocupante exclusivamente de cargo em comissão será contribuinte do regime geral de previdência social.

d) A aprovação em concurso público gera o direito à nomeação, e será feita obedecida à ordem de classificação dos candidatos.

e) O exercício de função gratificada poderá ser de dedicação integral ou parcial, conforme necessidade da administração.

**Conforme a Lei nº 1.881, de 05 de abril de 2012, que dispõe sobre o Plano de Cargos, Carreiras e Vencimentos do quadro geral de servidores da Prefeitura Municipal de Telêmaco Borba/PR, regulamentada pelo Decreto nº 2269/2015, responda às próximas três questões.**

**13. Leia as assertivas e assinala a incorreta.**

a) Do resultado da avaliação de desempenho poderá ser interposto recurso à Comissão de Desenvolvimento Funcional no prazo de quinze dias a contar da publicação no Boletim Oficial do Município.

b) Não será concedida a progressão ou promoção ao servidor que estiver em licença para tratamento de saúde por um período superior a quarenta e cinco dias, no período de avaliação.

c) A alternância dos membros constituintes da Comissão de Desenvolvimento Funcional eleitos pelos servidores verificar-se-á a cada três anos de participação, observados, para substituição de seus participantes, o critério fixado no artigo anterior, não cabendo eleição sucessiva.

d) Caberá à Comissão de Desenvolvimento Funcional, no caso de divergência de vinte por cento entre a nota do avaliador e a do avaliado, solicitar nova avaliação à chefia.

e) Nos termos do disposto no art. 17 da Lei nº 1.881, de 05 de abril de 2012, para progredir, é necessário que o servidor satisfaça, dentre outros, o seguinte requisito: estar no efetivo exercício de seu cargo ou em função comissionada na sua área de atuação durante o interstício de dois anos.

**14. Assinale a alternativa que completa respectivamente as lacunas do texto a seguir:**

**A Comissão de Desenvolvimento Funcional será constituída por \_\_\_\_\_ membros, sendo \_\_\_\_\_ designados pelo Prefeito Municipal de Telêmaco Borba e os demais eleitos pelos servidores municipais dentre os estáveis, com a atribuição de coordenar os procedimentos relativos à avaliação periódica de desempenho e outras atribuições.**

a) três / sete

b) um / três

c) sete / três

d) três / cinco

e) dois / cinco



**15. A Avaliação de Desempenho será norteadada, dentre outros, pelo seguinte princípio: Amplitude - a avaliação deve incidir sobre todas as áreas de atuação do servidor, que compreendem:**

- 1. a formulação de políticas administrativas e sua aplicação para todos os setores da administração municipal;**
- 2. o desempenho do profissional dentro de suas funções pertinentes;**
- 3. a estrutura do órgão em que exerce a função;**
- 4. os resultados de eficiência dos serviços de cada setor ou órgão da administração municipal;**
- 5. a participação direta do avaliado, durante todo o processo avaliativo.**

**Diante dessa afirmação, somente não está correto o item:**

- a) 1
- b) 2
- c) 3
- d) 4
- e) 5

#### **CONHECIMENTOS ESPECÍFICOS**

**16. Assinale a alternativa que apresenta a portaria que institui a Rede de Atenção Psicossocial para pessoas com sofrimento ou transtorno mental e com necessidades decorrentes do uso de crack, álcool e outras drogas, no âmbito do Sistema Único de Saúde:**

- a) Portaria N° 1.498, de 19 de julho de 2013
- b) Portaria N° 793, de 24 de abril de 2012
- c) Portaria N° 2.395, de 11 de outubro de 2011
- d) Portaria N° 3.099, de 23 de dezembro de 2011
- e) Portaria N° 1.459, de 24 de junho de 2011

**17. Analise as afirmativas seguintes e assinale a alternativa que contém o resultado final da soma da(s) afirmativa(s) correta(s):**

**01 – Toda lesão no sistema nervoso central promove atrofia cortical, progredindo para demência.**

**02 – Delirium tremens com instabilidade autonômica e hiperatividade simpática associa-se, geralmente, a mortalidade de 5 a 10% dos pacientes.**

**04 – A classe de medicamento de primeira escolha para pacientes com delirium tremens são os Inibidores da Recapitação da Serotonina como a Amitriptilina.**

**08 – O etilismo pode desenvolver a encefalopatia de Wernicke.**

**16 – Os benzodiazepínicos tem ação no sistema de ácido gama-amino-butirico, da mesma forma que o álcool no cérebro humano.**

- a) 06
- b) 07
- c) 09
- d) 19
- e) 26

**18. Leia as assertivas e assinale a alternativa correta.**

**I – A insuficiência cardíaca congestiva é uma síndrome clínica sempre causada por alguma doença cardíaca subjacente, mais comumente miocardiopatia isquêmica resultante de aterosclerose e/ou hipertensão arterial.**

**II – A Doxorubicina é uma droga amplamente utilizada e que causa efeitos cardiotoxícos com dose cumulativa superior a 450mg/m<sup>2</sup> de superfície corporal.**

**III – Os inibidores da ECA e os BRA associados a betabloqueadores e antagonistas de aldosterona podem diminuir a mortalidade, e aliviam imediatamente os sintomas congestivos.**

**IV – A insuficiência cardíaca crônica é uma doença progressiva com alta mortalidade, e a classe funcional do paciente geralmente não é um guia ao tratamento.**

- a) Apenas I e II estão corretas.
- b) Apenas I e III estão corretas.
- c) Todas estão corretas.
- d) Apenas II e III estão corretas.
- e) Apenas a IV está errada.

**Leia o seguinte caso para responder às próximas três questões.**

**Mulher de 28 anos vai ao consultório queixando-se de dor em joelho direito e hálux contra-lateral, com 10 dias de evolução e que não respondeu ao uso de analgésicos simples. Refere febrícula ao término do dia associada à mialgia inespecífica, além de disúria e corrimento vaginal branco leitoso amarelo esverdeado e prurido ocular bilateral; há 45 dias foi tratada para LUES com esquema adequado preconizado pelo Ministério da Saúde. Ao exame, apresenta-se afebril, e ambos os olhos estão injetados e fotossensíveis; o**



joelho direito e a primeira articulação metatarsofalangiana esquerda apresentam-se edemaciados e dolorosos com discreta hiperemia.

**19. Com base no caso, pode-se afirmar que a paciente apresenta uma tríade. Assinale a assertiva que contém o epônimo dessa tríade.**

- a) Virchow
- b) Reiter
- c) Beck
- d) Charcot
- e) Whipple

**20. Essa paciente possui fator de risco para desenvolver qual patologia ginecológica a médio prazo, se não for tratada corretamente?**

- a) Doença de Paget
- b) Doença de Berger
- c) Síndrome de Fitz-Hugh-Curtis
- d) Endometriose
- e) Síndrome dos ovários policísticos

**21. Sobre esse caso, analise as afirmativas e assinale a alternativa correta.**

**I – O principal diagnóstico diferencial para esse caso é a gonorreia.**

**II – Essa paciente possivelmente é HLA-B27 negativa.**

**III – Ela pode ser tratada com Azitromicina 1g no D1 e D7 associada com Ceftriaxona 250mg Intramuscular no D1 possui maior índice de cura em relação ao uso de Ceftriaxone 250mg Intramuscular no D1 com doxiciclina 100mg via oral de 12/12 horas por 14 dias.**

**IV – O provável agente etiológico do caso é a *Chlamydia trachomatis*.**

- a) Apenas a I está correta.
- b) Apenas I e II estão corretas.
- c) Apenas II e III estão erradas.
- d) Apenas I e III estão corretas.
- e) Apenas a II está errada.

**22. Assinale a alternativa em que se faz a correlação incorreta.**

- a) Agência Nacional de Saúde Suplementar – responsável pela regularização e fiscalização dos planos de saúde no país.
- b) Anvisa – responsável pela fiscalização in loco de estabelecimento de saúde em cada município e a sua correta regularização.
- c) Vigilância Epidemiológica – entidade responsável por organizar os dados de agravos em saúde e auxiliar a gestão a realizar estratégias de atenção a saúde.
- d) Anvisa – responsável pela deliberação de novas drogas no mercado brasileiro.
- e) Vigilância sanitária – responsável pela fiscalização das condições de manipulação de alimentos para os consumidores finais.

**23. Os Centros de Atenção Psicossocial são instituições destinadas a acolher os pacientes com transtornos mentais e estimular sua integração social e familiar, além de outras funções. Para que isso ocorra, necessitam de um número mínimo de membros na equipe.**

**Assinale a alternativa que contém a relação correta entre o tipo de CAPS e sua equipe mínima, conforme a determinação do Ministério da Saúde:**

Tipo de CAPS	Equipe Mínima
I – CAPS I	A – 2 psiquiatras; 1 enfermeiro com formação em nível superior; 5 profissionais de nível superior de outras categorias profissionais; 8 profissionais de nível médio.
II – CAPS II	B – 1 médico psiquiatra, ou neurologista ou pediatra com formação em saúde mental; 1 enfermeiro; 4 profissionais de nível superior dentre psicólogo, assistente social, terapeuta ocupacional, fonoaudiólogo, pedagogo ou outro profissional necessário ao projeto terapêutico; 5 profissionais de nível médio.
III – CAPS III	C – 1 médico psiquiatra ou com formação em saúde mental; 1 enfermeiro, 3 profissionais de nível superior de outras categorias profissionais; 4 profissionais de nível médio.
IV – CAPSi	D – 1 psiquiatra; 1 enfermeiro com formação em saúde mental; 1 médico clínico responsável pela triagem, avaliação e acompanhamento das intercorrências clínicas; 4 profissionais de nível superior necessário ao projeto terapêutico; 6 profissionais de nível médio.

V - CAPSad

E – 1 psiquiatra; 1 enfermeiro com formação em saúde mental; 4 profissionais de nível superior de outras categorias profissionais; 6 profissionais de nível médio.

- a) I-E; II-C; III-A; IV-B; V-D.
- b) I-E; II-C; III-A; IV-D; V-B.
- c) I-C; II-B; III-A; IV-E; V-D.
- d) I-C; II-E; III-A; IV-B; V-D.
- e) I-E; II-D; III-A; IV-B; V-C.

**24. Analise os seguintes itens a respeito de diarreia crônica e assinale a alternativa correta.**

**I – Diarreias tipo secretória podem ser desencadeadas por cólera, tumor de tireoide medular e uso de laxantes estimulantes exógenos, por exemplo.**

**II – Amiloidose pode promover esteatorreia, da mesma forma que a Doença de Whipple.**

**III – São exemplos de dismotilidade promotora de diarreia crônica: hipertireoidismo, síndrome do intestino irritável e Espru tropical.**

**IV – Pacientes portadores do Vírus da Imunodeficiência Adquirida podem ter, como sintoma inicial, diarreia crônica.**

- a) Todos estão corretos.
- b) Apenas o item IV está incorreto.
- c) Apenas o item III está correto.
- d) Apenas o item III está incorreto.
- e) Apenas o item II está incorreto.

**25. Assinale a assertiva que apresenta a portaria que publica a proposta de Projeto de Resolução “Boas Práticas para Organização e Funcionamento de Serviços de Urgência e Emergência”.**

- a) Portaria N° 30, de 12 de fevereiro de 2014
- b) Portaria N° 354, de 10 de março de 2014
- c) Portaria N° 825, de 25 de abril de 2016
- d) Portaria N° 2.712, de 12 de novembro de 2013
- e) Portaria N° 2.528, de 19 de outubro de 2006

**26. Referente à lombalgia, analise os itens seguintes e assinale a alternativa correta.**

**I – Segundo o trabalho de Deyo, publicado no New England Journal of Medicine em 2001, observou-se que a etiologia prevalente para lombalgia é de estiramento ou entorse lombar.**

**II – Menos de 1% da população adulta economicamente ativa sofre de dorsalgia.**

**III – São sinais e sintomas de alarme na lombalgia: dor iniciada antes dos 20 e após os 50 anos, febre, perda ponderal, dor intensa noturna ou piora da dor em posição supina, incontinência fecal e/ou urinária, história de neoplasia, anestesia em sela, redução da força em membros inferiores e imunossupressão.**

- a) Apenas os itens I e III estão corretos.
- b) Apenas os itens II e III estão corretos.
- c) Apenas os itens II e III estão incorretos.
- d) Os itens I, II e III estão corretos.
- e) Apenas os itens I e III estão incorretos.

**27. A respeito dos Critérios de Ranson, assinale a alternativa que contém a sequência correta da classificação de V (verdadeiro) e F (falso) para os itens a serem considerados na admissão de paciente com quadro de pancreatite aguda.**

- ( ) – Idade ≤ 54 anos
- ( ) – Leucócitos > 16.000/mm<sup>3</sup>
- ( ) – Glicemia > 200 mg/dl
- ( ) – Desidrogenase láctica sérica > 350 UI/L
- ( ) – AST < 250 UI/L
- a) V - V - V - V - V.
- b) F - V - V - V - F.
- c) F - F - V - V - V.
- d) F - V - F - V - F.
- e) V - F - V - F - V.

**28. Assinale a alternativa com a correlação correta das causas de hipertensão secundária.**

**I – Doenças Renais**

**II – Doença endócrina**

**III – Outras doenças**

- ( ) Doses altas de estrogênio
- ( ) Glomerulonefrite
- ( ) Doença do rim policístico



- ( ) Hipertireoidismo
- ( ) Aterosclerose
- ( ) Hipercalcemia
- ( ) Apneia do sono obstrutiva
- a) I; I; III; II; I; III; II.
- b) II; III; I; II; I; III; I.
- c) III; I; I; II; I; III; III.
- d) II; I; I; II; I; III; II.
- e) II; III; II; I; I; II; III.

**29. Assinale a alternativa incorreta a respeito das orientações aos indivíduos residentes no Brasil, com idade igual ou superior a cinco anos, que viajarão a países com recomendação de vacina para Poliomielite a visitantes, contidas no Programa Nacional de Imunização, publicado no ano 2016.**

- a) Sem comprovação vacinal: administrar duas doses de Vacina Oral Poliomielite(VOP), com intervalo de 90 dias entre elas.
- b) Sem comprovação vacinal: administrar três doses da VOP, com intervalo de 60 dias entre elas, mínimo 30 dias.
- c) Com esquema incompleto: completar o esquema com a VOP.
- d) Gestantes e imunodeprimidos e/ou seus contatos devem receber esquema com Vacina Inativada Poliomielite (VIP).
- e) Para aqueles indivíduos que receberam três doses ou mais de VOP ou VIP, caso a última dose tenha sido administrada há mais de 12 meses, garantir antes da viagem uma única dose de reforço com VOP ou VIP.

**30. Assinale a alternativa que contém o antimicrobiano contraindicado à gestante no segundo trimestre de gestação com quadro de infecção urinária, sem história de reação alérgica a medicamentos anteriormente:**

- a) Sulfametoxazol e Timetropina
- b) Cefalotina
- c) Nitrofurantoína
- d) Ciprofloxacino
- e) Amoxicilina

**31. Para a realização de uma boa auditoria, o processo de planejamento é fundamental para o bom andamento do processo. Sobre a fase de planejamento de uma auditoria em saúde, assinale a alternativa incorreta:**

- a) Para a elaboração de um adequado programa de trabalho de auditoria, deve-se determinar precisamente os objetivos do exame analítico e/ou operativo, ou seja, a identificação completa sobre o que se deseja obter com a auditoria.
- b) A técnica 5 W + 1 H + show me, refere-se às palavras em inglês What, Where, Why, When, Who, How e show me, que permitirá o auditor buscar as evidências objetivas de conformidades às especificações.
- c) A técnica 5 W + 1 H + show me serve para a busca de respostas fechadas em uma auditoria.
- d) O auditor, no exercício de suas funções, terá livre acesso a todas as dependências do órgão ou entidade auditada, assim como à documentação e papéis considerados indispensáveis ao cumprimento de suas atribuições.
- e) Deve estar presente toda a equipe de auditoria e a direção (gerentes), coordenadores da área/unidade que irá ser auditada. Deve ser breve (máximo 30'), objetiva, servindo para esclarecer dúvidas de ambas as partes e presidida pelo Coordenador da equipe, com registro dos presentes.

**32. Os auditores são responsáveis não só perante a administração da organização a que prestam serviço, mas também perante aos usuários dela. Os que atuam nesta área, por sua vez, devem conduzir-se de modo a justificar a confiança individual e institucional que lhes foi depositada.**

**Sobre as atitudes do auditor, assinale a alternativa incorreta:**

- a) Durante o seu trabalho, o auditor está obrigado a intervir nos casos onde há conflitos de interesse que possam influenciar a absoluta isenção de seu julgamento, devendo impor seus preceitos respeitando as normas da auditoria.
- b) Durante o desenvolvimento de seu trabalho, o auditor deverá possuir o domínio do julgamento profissional, pautando-se, exclusiva e livremente a seu critério, no planejamento dos seus exames, na seleção e aplicação de procedimentos técnicos e testes de auditoria, na definição de suas conclusões e na elaboração dos seus relatórios e pareceres.
- c) Na execução de suas atividades, o auditor se apoiará em atos e evidências que permitam o convencimento razoável da realidade ou a veracidade dos fatos, documentos ou situações examinadas, permitindo a emissão de opinião com bases consistentes.
- d) O auditor deverá ter conhecimento técnico específico e das diversas áreas relacionadas com as atividades auditadas.
- e) O auditor deverá ter capacidade profissional, atualizando-se quanto ao avanço das normas, procedimentos e técnicas aplicáveis.

**33. A análise dos relatórios de saída do Sistema de Informações Ambulatoriais (SIA/SUS) se reveste de suma importância para um melhor conhecimento da rede ambulatorial. O grupo é constituído pelos documentos obrigatórios de consulta, pois retratam o perfil da atividade, serviço ou unidade ambulatorial.**

**Sobre o relatório de síntese da produção ambulatorial, assinale a alternativa correta:**

- a) Esse relatório fornece, por unidade, a relação dos procedimentos realizados no mês e de até um ano anterior ao mês do processamento.
- b) A análise desse relatório permite identificar erros de preenchimento, desatualização do cadastro, cobranças indevidas e distorções na programação.
- c) Esse relatório fornece, por unidade, a relação dos procedimentos realizados no mês e de até seis meses anteriores ao mês do processamento.
- d) A análise deste relatório fornece todas as Apac processadas do mesmo paciente, por competência, num determinado período.
- e) Esse relatório fornece, por unidade, a relação dos procedimentos realizados no mês e de até dois meses anteriores ao mês do processamento.

**34. A poliomielite é uma doença viral causada pelo gênero enterovírus, da família Picornaviridae, conhecido como poliovírus, e subdivide-se em três sorotipos (1, 2 e 3). Acomete crianças abaixo de cinco anos de idade e causa paralisia irreversível dos membros inferiores.**

**Referente à mudança do calendário nacional de vacinação para o ano de 2016, assinale a alternativa que indique o novo esquema posológico da vacina contra essa doença.**

- a) Houve substituição da segunda dose que era administrada por vacina oral de poliomielite (VOP) por vacina inativada de poliomielite (VIP).
- b) Não Houve substituição da primeira dose que continua sendo administrada por vacina oral de poliomielite (VOP).
- c) Houve substituição da primeira dose que era administrada por vacina inativada de poliomielite (VIP) por vacina oral de poliomielite.
- d) Houve substituição da terceira dose que era administrada por vacina oral de poliomielite (VOP) por vacina inativada de poliomielite (VIP).
- e) Houve substituição da terceira dose que era administrada por vacina inativada de poliomielite (VIP) por vacina oral de poliomielite (VOP).

**35. De acordo com o calendário de vacinação de 2016, houve alteração da faixa etária para administração de uma vacina de 12 meses para 15 meses de idade. Esta conduta teve como justificativa reduzir o número de vacinas administradas em uma mesma visita ao serviço de saúde, reduzindo assim o desconforto decorrente de várias administrações.**

**Assinale a alternativa que indique a que vacina esse texto está se referindo:**

- a) Vacina contra HPV
- b) Vacina pneumocócica 10 valente
- c) Vacina tríplice viral
- d) Vacina da Hepatite B
- e) Vacina da Hepatite A

## LÍNGUA PORTUGUESA

**Texto para as próximas cinco questões:**

### “O cego Estrelinho” Mia Couto

O cego Estrelinho era pessoa de nenhuma vez: sua história poderia ser contada e descontada não fosse seu guia, Gigitto Efraim. A mão de Gigitto conduziu o desvistado por tempos e idades. Aquela mão era repartidamente comum, extensão de um no outro, siamensal. E assim era quase de nascença. Memória de Estrelinho tinha cinco dedos e eram os de Gigitto postos, em aperto, na sua própria mão.

O cego, curioso, queria saber de tudo. Ele não fazia cerimônia no viver. O sempre lhe era pouco e o tudo insuficiente. Dizia, deste modo:

— Tenho que viver já, senão esqueço-me.

Gigitto, porém, o que descrevia era o que não havia. O mundo que ele minuciava eram fantasias e rendilhados. A imaginação do guia era mais profícua que papaeira. O cego enchia a boca de águas:

— Que maravilha esse mundo. Me conte tudo, Gigitto!

A mão do guia era, afinal, o manuscrito da mentira. Gigitto Efraim estava como nunca esteve S. Tomé: via para não crer. O condutor falava pela ponta dos dedos. Desfolhava o universo, aberto em folhas. A ideação dele era tal que mesmo o cego, por vezes, acreditava ver. O outro lhe encorajava esses breves enganar:

— Desbengale-se, você está escolhendo a boa procedência!

Mentira: Estrelinho continuava sem ver uma palmeira à frente do nariz. Contudo, o cego não se conformava em suas escuras. Ele cumpria o ditado: não tinha perna e queria dar o pontapé. Só à noite, ele desalentava, sofrendo medos mais antigos que a humanidade. Entendia aquilo que, na raça humana, é menos primitivo: o animal.

— Na noite aflige não haver luz?

— Aflição é ter um pássaro branco esvoando dentro do sono.

Pássaro branco? No sono? Lugar de ave é nas alturas. Dizem até que Deus fez o céu para justificar os pássaros. Estrelinho disfarçava o medo dos vaticínios, subterfugindo:

— E agora, Gigitinho? Agora, olhando assim para cima, estou face ao céu?

Que podia o outro responder? O céu do cego fica em toda a parte. Estrelinho perdia o pé era quando a noite chegava e seu mestre adormecia. Era como se um novo escuro nele se estreasse em nó cego. Devagaroso e sorrateiro ele aninhava sua mão na mão do guia. Só assim adormecia. A razão da concha é a timidez da amêijoia? Na manhã seguinte, o cego lhe confessava: se você morrer, tenho que morrer logo no imediato. Senão-me: como acerto o caminho para o céu?

Foi no mês de dezembro que levaram Gigitinho. Lhe tiraram do mundo para pôr na guerra: obrigavam os serviços militares. O cego reclamou: que o moço inatingia a idade. E que o serviço que ele a si prestava era vital e vitalício. O guia chamou Estrelinho à parte e lhe tranquilizou:

— Não vai ficar sozinando por aí. Minha mana já mandei para ficar no meu lugar.

O cego estendeu o braço a querer tocar uma despedida. Mas o outro já não estava lá. Ou estava e se desviara, propositado? E sem água ida nem vinda, Estrelinho escutou o amigo se afastar, engolido, esponginquo, invisível. Pela primeira vez, Estrelinho se sentiu invalidado.

— Agora, só agora, sou cego que não vê.

(...)

**COUTO, Mia. Estórias abensonhadas. Rio de Janeiro: Nova Fronteira, 1996. (Pág 23 e 24).**

**36. Quanto à interpretação do fragmento do conto, podemos afirmar que:**

- Gigito Efraim era o guia de Estrelinho há pouquíssimo tempo.
- Estrelinho era cego de nascença.
- Gigito descrevia o mundo para Estrelinho de forma denotativa.
- Gigito foi convocado pelo exército para ser guia de cegos na guerra.
- Gigito descrevia o mundo para Estrelinho de forma conotativa.

**37. No período “O sempre lhe era pouco e o tudo insuficiente”, o pronome “LHE” exerce a função sintática de:**

- Objeto Direto
- Objeto Indireto
- Complemento Nominal
- Adjunto Adnominal
- Objeto Direto Preposicionado

**38. Na oração “A mão de Gigito conduziu o desvistado por tempos e idades”, o autor faz uso de um neologismo, assim como no decorrer de toda a obra em questão. Contudo, o neologismo só se torna possível pela utilização dos elementos mórficos naquilo que a gramática normativa pontua como Processo de Formação das Palavras. Levando em consideração apenas o recurso morfológico, qual Processo de Formação foi utilizado?**

- Derivação Sufixal
- Derivação Prefixal
- Derivação Regressiva
- Derivação Imprópria
- Derivação Parassintética

**39. No terceiro período do décimo terceiro parágrafo, temos:**

- Uma oração
- Dois orações
- Três orações
- Quatro orações
- Cinco orações

**40. No último parágrafo do fragmento do conto “— Agora, só agora, sou cego que não vê”, a oração subordinada presente classifica-se corretamente como:**

- Oração Subordinada Adjetiva Restritiva
- Oração Subordinada Adverbial Causal
- Oração Subordinada Substantiva Subjetiva
- Oração Subordinada Adverbial Explicativa
- Oração Subordinada Adjetiva Explicativa



PREFEITURA DE TELÊMACO BORBA - ESTADO DO PARANÁ- EDITAL Nº 001-2016 - CONCURSO PÚBLICO

VESPERTINO – 29/05/2016 – NÍVEL SUPERIOR

PROVA OBJETIVA NÚMERO

**3**

**CARGO: TMNS I - MEDICINA - AUDITORIA**

Leia atentamente as INSTRUÇÕES:

1. Confira seus dados no cartão-resposta: nome, número de inscrição e o curso para o qual se inscreveu.
2. **MARQUE no seu cartão-resposta o número da sua prova** (não será corrigido o cartão-resposta que não tiver marcado o número da prova) e **Assine** seu cartão-resposta.
3. Aguarde a autorização do Fiscal para abrir o caderno de prova. Ao receber a ordem do fiscal, confira o caderno de prova com muita atenção. Nenhuma reclamação sobre o total de questões ou falha de impressão será aceita depois de iniciada a prova.
4. O cartão-resposta não será substituído, salvo se contiver erro de impressão.
5. Preencha toda a área do cartão-resposta correspondente à alternativa de sua escolha, com caneta esferográfica (tinta azul ou preta), sem ultrapassar as bordas. As marcações duplas, ou rasuradas, com corretivo, ou marcadas diferentemente do modelo estabelecido no cartão-resposta poderão ser anuladas.
6. Sua prova tem **40** questões, com **5** alternativas.
7. Cabe apenas ao candidato a interpretação das questões, **o fiscal** não poderá fazer nenhuma interferência.
8. A prova será realizada com duração máxima de **3 (três) horas**, incluído o tempo para a realização da Prova Objetiva de múltipla escolha e o preenchimento do cartão-resposta.
9. O candidato poderá retirar-se do local de realização das provas somente **1 (uma) hora** após o seu início, sem levar o caderno de prova.
10. O candidato poderá levar o caderno de provas, assim como anotação contendo transcrição do seu cartão-resposta, somente **1h30min** (uma hora e trinta minutos) após o início da realização da prova.
11. Ao terminar a prova, o candidato deverá entregar ao fiscal de sala o cartão-resposta preenchido e **ASSINADO**.
12. Os **3 (três)** candidatos, que terminarem a prova por último, deverão permanecer na sala, e só poderão sair juntos após o fechamento do envelope, contendo os cartões-resposta dos candidatos presentes e ausentes, e assinarem no lacre do referido envelope, atestando que este foi devidamente lacrado.
13. Durante todo o tempo em que permanecer no local onde está ocorrendo o concurso, o candidato deverá, manter o celular desligado e sem bateria, só sendo permitido ligar depois de ultrapassar o portão de saída do prédio.
14. Não será permitido ao candidato fumar na sala de provas, bem como nas dependências.
15. Depois de terminar a prova e entregar ao fiscal o cartão-resposta, preenchido e assinado, não será mais permitido ao candidato o uso do banheiro e bebedouro.

**BOA PROVA!**

**CONHECIMENTOS ESPECÍFICOS**

**01. Assinale a alternativa que apresenta a portaria que institui a Rede de Atenção Psicossocial para pessoas com sofrimento ou transtorno mental e com necessidades decorrentes do uso de crack, álcool e outras drogas, no âmbito do Sistema Único de Saúde:**

- a) Portaria N° 1.498, de 19 de julho de 2013
- b) Portaria N° 793, de 24 de abril de 2012
- c) Portaria N° 2.395, de 11 de outubro de 2011
- d) Portaria N° 3.099, de 23 de dezembro de 2011
- e) Portaria N° 1.459, de 24 de junho de 2011

**02. Analise as afirmativas seguintes e assinale a alternativa que contém o resultado final da soma da(s) afirmativa(s) correta(s):**

- 01 – Toda lesão no sistema nervoso central promove atrofia cortical, progredindo para demência.**
- 02 – Delirium tremens com instabilidade autonômica e hiperatividade simpática associa-se, geralmente, a mortalidade de 5 a 10% dos pacientes.**
- 04 – A classe de medicamento de primeira escolha para pacientes com delirium tremens são os Inibidores da Recapitação da Serotonina como a Amitriptilina.**
- 08 – O etilismo pode desenvolver a encefalopatia de Wernicke.**
- 16 – Os benzodiazepínicos tem ação no sistema de ácido gama-amino-butirico, da mesma forma que o álcool no cérebro humano.**

- a) 06
- b) 07
- c) 09
- d) 19
- e) 26

**03. Leia as assertivas e assinale a alternativa correta.**

**I – A insuficiência cardíaca congestiva é uma síndrome clínica sempre causada por alguma doença cardíaca subjacente, mais comumente miocardiopatia isquêmica resultante de aterosclerose e/ou hipertensão arterial.**

**II – A Doxorubicina é uma droga amplamente utilizada e que causa efeitos cardiotoxicos com dose cumulativa superior a 450mg/m<sup>2</sup> de superfície corporal.**

**III – Os inibidores da ECA e os BRA associados a betabloqueadores e antagonistas de aldosterona podem diminuir a mortalidade, e aliviam imediatamente os sintomas congestivos.**

**IV – A insuficiência cardíaca crônica é uma doença progressiva com alta mortalidade, e a classe funcional do paciente geralmente não é um guia ao tratamento.**

- a) Apenas I e II estão corretas.
- b) Apenas I e III estão corretas.
- c) Todas estão corretas.
- d) Apenas II e III estão corretas.
- e) Apenas a IV está errada.

**Leia o seguinte caso para responder às próximas três questões.**

**Mulher de 28 anos vai ao consultório queixando-se de dor em joelho direito e hálux contra-lateral, com 10 dias de evolução e que não respondeu ao uso de analgésicos simples. Refere febrícula ao término do dia associada à mialgia inespecífica, além de disúria e corrimento vaginal branco leitoso amarelo esverdeado e prurido ocular bilateral; há 45 dias foi tratada para LUES com esquema adequado preconizado pelo Ministério da Saúde. Ao exame, apresenta-se afebril, e ambos os olhos estão injetados e fotossensíveis; o joelho direito e a primeira articulação metatarsal-falangiana esquerda apresentam-se edemaciados e dolorosos com discreta hiperemia.**

**04. Com base no caso, pode-se afirmar que a paciente apresenta uma tríade. Assinale a assertiva que contém o epônimo dessa tríade.**

- a) Virchow
- b) Reiter
- c) Beck
- d) Charcot
- e) Whipple

**05. Essa paciente possui fator de risco para desenvolver qual patologia ginecológica a médio prazo, se não for tratada corretamente?**

- a) Doença de Paget
- b) Doença de Berger
- c) Síndrome de Fitz-Hugh-Curtis



- d) Endometriose  
 e) Síndrome dos ovários policísticos

**06. Sobre esse caso, analise as afirmativas e assinale a alternativa correta.**

**I – O principal diagnóstico diferencial para esse caso é a gonorreia.**

**II – Essa paciente possivelmente é HLA-B27 negativa.**

**III – Ela pode ser tratada com Azitromicina 1g no D1 e D7 associada com Ceftriaxona 250mg Intramuscular no D1 possui maior índice de cura em relação ao uso de Ceftriaxone 250mg Intramuscular no D1 com doxiciclina 100mg via oral de 12/12 horas por 14 dias.**

**IV – O provável agente etiológico do caso é a *Chlamydia trachomatis*.**

- a) Apenas a I está correta.  
 b) Apenas I e II estão corretas.  
 c) Apenas II e III estão erradas.  
 d) Apenas I e III estão corretas.  
 e) Apenas a II está errada.

**07. Assinale a alternativa em que se faz a correlação incorreta.**

a) Agência Nacional de Saúde Suplementar – responsável pela regularização e fiscalização dos planos de saúde no país.

b) Anvisa – responsável pela fiscalização in loco de estabelecimento de saúde em cada município e a sua correta regularização.

c) Vigilância Epidemiológica – entidade responsável por organizar os dados de agravos em saúde e auxiliar a gestão a realizar estratégias de atenção a saúde.

d) Anvisa – responsável pela deliberação de novas drogas no mercado brasileiro.

e) Vigilância sanitária – responsável pela fiscalização das condições de manipulação de alimentos para os consumidores finais.

**08. Os Centros de Atenção Psicossocial são instituições destinadas a acolher os pacientes com transtornos mentais e estimular sua integração social e familiar, além de outras funções. Para que isso ocorra, necessitam de um número mínimo de membros na equipe.**

**Assinale a alternativa que contém a relação correta entre o tipo de CAPS e sua equipe mínima, conforme a determinação do Ministério da Saúde:**

Tipo de CAPS	Equipe Mínima
I – CAPS I	<b>A – 2 psiquiatras; 1 enfermeiro com formação em nível superior; 5 profissionais de nível superior de outras categorias profissionais; 8 profissionais de nível médio.</b>
II – CAPS II	<b>B – 1 médico psiquiatra, ou neurologista ou pediatra com formação em saúde mental; 1 enfermeiro; 4 profissionais de nível superior dentre psicólogo, assistente social, terapeuta ocupacional, fonoaudiólogo, pedagogo ou outro profissional necessário ao projeto terapêutico; 5 profissionais de nível médio.</b>
III – CAPS III	<b>C – 1 médico psiquiatra ou com formação em saúde mental; 1 enfermeiro, 3 profissionais de nível superior de outras categorias profissionais; 4 profissionais de nível médio.</b>
IV – CAPSi	<b>D – 1 psiquiatra; 1 enfermeiro com formação em saúde mental; 1 médico clínico responsável pela triagem, avaliação e acompanhamento das intercorrências clínicas; 4 profissionais de nível superior necessário ao projeto terapêutico; 6 profissionais de nível médio.</b>
V - CAPSad	<b>E – 1 psiquiatra; 1 enfermeiro com formação em saúde mental; 4 profissionais de nível superior de outras categorias profissionais; 6 profissionais de nível médio.</b>

- a) I-E; II-C; III-A; IV-B; V-D.  
 b) I-E; II-C; III-A; IV-D; V-B.  
 c) I-C; II-B; III-A; IV-E; V-D.  
 d) I-C; II-E; III-A; IV-B; V-D.  
 e) I-E; II-D; III-A; IV-B; V-C.

**09. Analise os seguintes itens a respeito de diarreia crônica e assinale a alternativa correta.**

**I – Diarreias tipo secretória podem ser desencadeadas por cólera, tumor de tireoide medular e uso de laxantes estimulantes exógenos, por exemplo.**

**II – Amiloidose pode promover esteatorreia, da mesma forma que a Doença de Whipple.**

**III – São exemplos de dismotilidade promotora de diarreia crônica: hipertireoidismo, síndrome do intestino irritável e Espru tropical.**





**IV – Pacientes portadores do Vírus da Imunodeficiência Adquirida podem ter, como sintoma inicial, diarreia crônica.**

- a) Todos estão corretos.
- b) Apenas o item IV está incorreto.
- c) Apenas o item III está correto.
- d) Apenas o item III está incorreto.
- e) Apenas o item II está incorreto.

**10. Assinale a assertiva que apresenta a portaria que publica a proposta de Projeto de Resolução “Boas Práticas para Organização e Funcionamento de Serviços de Urgência e Emergência”.**

- a) Portaria N° 30, de 12 de fevereiro de 2014
- b) Portaria N° 354, de 10 de março de 2014
- c) Portaria N° 825, de 25 de abril de 2016
- d) Portaria N° 2.712, de 12 de novembro de 2013
- e) Portaria N° 2.528, de 19 de outubro de 2006

**11. Referente à lombalgia, analise os itens seguintes e assinale a alternativa correta.**

**I – Segundo o trabalho de Deyo, publicado no New England Journal of Medicine em 2001, observou-se que a etiologia prevalente para lombalgia é de estiramento ou entorse lombar.**

**II – Menos de 1% da população adulta economicamente ativa sofre de dorsalgia.**

**III – São sinais e sintomas de alarme na lombalgia: dor iniciada antes dos 20 e após os 50 anos, febre, perda ponderal, dor intensa noturna ou piora da dor em posição supina, incontinência fecal e/ou urinária, história de neoplasia, anestesia em sela, redução da força em membros inferiores e imunossupressão.**

- a) Apenas os itens I e III estão corretos.
- b) Apenas os itens II e III estão corretos.
- c) Apenas os itens II e III estão incorretos.
- d) Os itens I, II e III estão corretos.
- e) Apenas os itens I e III estão incorretos.

**12. A respeito dos Critérios de Ranson, assinale a alternativa que contém a sequência correta da classificação de V (verdadeiro) e F (falso) para os itens a serem considerados na admissão de paciente com quadro de pancreatite aguda.**

- ( ) – Idade  $\leq$  54 anos
- ( ) – Leucócitos  $>$  16.000/mm<sup>3</sup>
- ( ) – Glicemia  $>$  200 mg/dl
- ( ) – Desidrogenase láctica sérica  $>$  350 UI/L
- ( ) – AST  $<$  250 UI/L

- a) V - V - V - V - V.
- b) F - V - V - V - F.
- c) F - F - V - V - V.
- d) F - V - F - V - F.
- e) V - F - V - F - V.

**13. Assinale a alternativa com a correlação correta das causas de hipertensão secundária.**

**I – Doenças Renais**

**II – Doença endócrina**

**III – Outras doenças**

- ( ) Doses altas de estrogênio
- ( ) Glomerulonefrite
- ( ) Doença do rim policístico
- ( ) Hipertireoidismo
- ( ) Aterosclerose
- ( ) Hipercalemia
- ( ) Apneia do sono obstrutiva

- a) I; I; III; II; I; III; II.
- b) II; III; I; II; I; III; I.
- c) III; I; I; II; I; III; III.
- d) II; I; I; II; I; III; II.
- e) II; III; II; I; I; II; III.

**14. Assinale a alternativa incorreta a respeito das orientações aos indivíduos residentes no Brasil, com idade igual ou superior a cinco anos, que viajarão a países com recomendação de vacina para Poliomielite a visitantes, contidas no Programa Nacional de Imunização, publicado no ano 2016.**

- a) Sem comprovação vacinal: administrar duas doses de Vacina Oral Poliomielite(VOP), com intervalo de 90 dias entre elas.



- b) Sem comprovação vacinal: administrar três doses da VOP, com intervalo de 60 dias entre elas, mínimo 30 dias.
- c) Com esquema incompleto: completar o esquema com a VOP.
- d) Gestantes e imunodeprimidos e/ou seus contatos devem receber esquema com Vacina Inativada Poliomielite (VIP).
- e) Para aqueles indivíduos que receberam três doses ou mais de VOP ou VIP, caso a última dose tenha sido administrada há mais de 12 meses, garantir antes da viagem uma única dose de reforço com VOP ou VIP.

**15. Assinale a alternativa que contém o antimicrobiano contraindicado à gestante no segundo trimestre de gestação com quadro de infecção urinária, sem história de reação alérgica a medicamentos anteriormente:**

- a) Sulfametoxazol e Timetropina
- b) Cefalotina
- c) Nitrofurantoína
- d) Ciprofloxacino
- e) Amoxicilina

**16. Para a realização de uma boa auditoria, o processo de planejamento é fundamental para o bom andamento do processo. Sobre a fase de planejamento de uma auditoria em saúde, assinale a alternativa incorreta:**

- a) Para a elaboração de um adequado programa de trabalho de auditoria, deve-se determinar precisamente os objetivos do exame analítico e/ou operativo, ou seja, a identificação completa sobre o que se deseja obter com a auditoria.
- b) A técnica 5 W + 1 H + show me, refere-se às palavras em inglês What, Where, Why, When, Who, How e show me, que permitirá o auditor buscar as evidências objetivas de conformidades às especificações.
- c) A técnica 5 W + 1 H + show me serve para a busca de respostas fechadas em uma auditoria.
- d) O auditor, no exercício de suas funções, terá livre acesso a todas as dependências do órgão ou entidade auditada, assim como à documentação e papéis considerados indispensáveis ao cumprimento de suas atribuições.
- e) Deve estar presente toda a equipe de auditoria e a direção (gerentes), coordenadores da área/unidade que irá ser auditada. Deve ser breve (máximo 30'), objetiva, servindo para esclarecer dúvidas de ambas as partes e presidida pelo Coordenador da equipe, com registro dos presentes.

**17. Os auditores são responsáveis não só perante a administração da organização a que prestam serviço, mas também perante aos usuários dela. Os que atuam nesta área, por sua vez, devem conduzir-se de modo a justificar a confiança individual e institucional que lhes foi depositada.**

**Sobre as atitudes do auditor, assinale a alternativa incorreta:**

- a) Durante o seu trabalho, o auditor está obrigado a intervir nos casos onde há conflitos de interesse que possam influenciar a absoluta isenção de seu julgamento, devendo impor seus preceitos respeitando as normas da auditoria.
- b) Durante o desenvolvimento de seu trabalho, o auditor deverá possuir o domínio do julgamento profissional, pautando-se, exclusiva e livremente a seu critério, no planejamento dos seus exames, na seleção e aplicação de procedimentos técnicos e testes de auditoria, na definição de suas conclusões e na elaboração dos seus relatórios e pareceres.
- c) Na execução de suas atividades, o auditor se apoiará em atos e evidências que permitam o convencimento razoável da realidade ou a veracidade dos fatos, documentos ou situações examinadas, permitindo a emissão de opinião com bases consistentes.
- d) O auditor deverá ter conhecimento técnico específico e das diversas áreas relacionadas com as atividades auditadas.
- e) O auditor deverá ter capacidade profissional, atualizando-se quanto ao avanço das normas, procedimentos e técnicas aplicáveis.

**18. A análise dos relatórios de saída do Sistema de Informações Ambulatoriais (SIA/SUS) se reveste de suma importância para um melhor conhecimento da rede ambulatorial. O grupo é constituído pelos documentos obrigatórios de consulta, pois retratam o perfil da atividade, serviço ou unidade ambulatorial.**

**Sobre o relatório de síntese da produção ambulatorial, assinale a alternativa correta:**

- a) Esse relatório fornece, por unidade, a relação dos procedimentos realizados no mês e de até um ano anterior ao mês do processamento.
- b) A análise desse relatório permite identificar erros de preenchimento, desatualização do cadastro, cobranças indevidas e distorções na programação.
- c) Esse relatório fornece, por unidade, a relação dos procedimentos realizados no mês e de até seis meses anteriores ao mês do processamento.
- d) A análise deste relatório fornece todas as Apac processadas do mesmo paciente, por competência, num determinado período.
- e) Esse relatório fornece, por unidade, a relação dos procedimentos realizados no mês e de até dois meses anteriores ao mês do processamento.

**19. A poliomielite é uma doença viral causada pelo gênero enterovírus, da família Picornaviridae, conhecido como poliovírus, e subdivide-se em três sorotipos (1, 2 e 3). Acomete crianças abaixo de cinco anos de idade e causa paralisia irreversível dos membros inferiores.**

**Referente à mudança do calendário nacional de vacinação para o ano de 2016, assinale a alternativa que indique o novo esquema posológico da vacina contra essa doença.**

- a) Houve substituição da segunda dose que era administrada por vacina oral de poliomielite (VOP) por vacina inativada de poliomielite (VIP).
- b) Não Houve substituição da primeira dose que continua sendo administrada por vacina oral de poliomielite (VOP).
- c) Houve substituição da primeira dose que era administrada por vacina inativada de poliomielite (VIP) por vacina oral de poliomielite.
- d) Houve substituição da terceira dose que era administrada por vacina oral de poliomielite (VOP) por vacina inativada de poliomielite (VIP).
- e) Houve substituição da terceira dose que era administrada por vacina inativada de poliomielite (VIP) por vacina oral de poliomielite (VOP).

**20. De acordo com o calendário de vacinação de 2016, houve alteração da faixa etária para administração de uma vacina de 12 meses para 15 meses de idade. Esta conduta teve como justificativa reduzir o número de vacinas administradas em uma mesma visita ao serviço de saúde, reduzindo assim o desconforto decorrente de várias administrações.**

**Assinale a alternativa que indique a que vacina esse texto está se referindo:**

- a) Vacina contra HPV
- b) Vacina pneumocócica 10 valente
- c) Vacina tríplice viral
- d) Vacina da Hepatite B
- e) Vacina da Hepatite A

## LÍNGUA PORTUGUESA

**Texto para as próximas cinco questões:**

### “O cego Estrelinho” Mia Couto

O cego Estrelinho era pessoa de nenhuma vez: sua história poderia ser contada e descontada não fosse seu guia, Gigitto Efraim. A mão de Gigitto conduziu o desvistado por tempos e idades. Aquela mão era repartidamente comum, extensão de um no outro, siamense. E assim era quase de nascença. Memória de Estrelinho tinha cinco dedos e eram os de Gigitto postos, em aperto, na sua própria mão.

O cego, curioso, queria saber de tudo. Ele não fazia cerimônia no viver. O sempre lhe era pouco e o tudo insuficiente. Dizia, deste modo:

— Tenho que viver já, senão esqueço-me.

Gigitto, porém, o que descrevia era o que não havia. O mundo que ele minuciava eram fantasias e rendilhados. A imaginação do guia era mais profícua que papaeira. O cego enchia a boca de águas:

— Que maravilha esse mundo. Me conte tudo, Gigitto!

A mão do guia era, afinal, o manuscrito da mentira. Gigitto Efraim estava como nunca esteve S. Tomé: via para não crer. O condutor falava pela ponta dos dedos. Desfolhava o universo, aberto em folhas. A ideia dele era tal que mesmo o cego, por vezes, acreditava ver. O outro lhe encorajava esses breves enganos:

— Desbengale-se, você está escolhendo a boa procedência!

Mentira: Estrelinho continuava sem ver uma palmeira à frente do nariz. Contudo, o cego não se conformava em suas escurezas. Ele cumpria o ditado: não tinha perna e queria dar o pontapé. Só à noite, ele desalentava, sofrendo medos mais antigos que a humanidade. Entendia aquilo que, na raça humana, é menos primitivo: o animal.

— Na noite aflige não haver luz?

— Aflição é ter um pássaro branco esvoando dentro do sono.

Pássaro branco? No sono? Lugar de ave é nas alturas. Dizem até que Deus fez o céu para justificar os pássaros. Estrelinho disfarçava o medo dos vaticínios, subterfugindo:

— E agora, Gigitto? Agora, olhando assim para cima, estou face ao céu?

Que podia o outro responder? O céu do cego fica em toda a parte. Estrelinho perdia o pé era quando a noite chegava e seu mestre adormecia. Era como se um novo escuro nele se estresse em nó cego. Devagaroso e sorrateiro ele aninhava sua mão na mão do guia. Só assim adormecia. A razão da concha é a timidez da amêijoia? Na manhã seguinte, o cego lhe confessava: se você morrer, tenho que morrer logo no imediato. Senão-me: como acerto o caminho para o céu?

Foi no mês de dezembro que levaram Gigitto. Lhe tiraram do mundo para pôr na guerra: obrigavam os serviços militares. O cego reclamou: que o moço inatingia a idade. E que o serviço que ele a si prestava era vital e vitalício. O guia chamou Estrelinho à parte e lhe tranquilizou:

— Não vai ficar sozinando por aí. Minha mana já mandei para ficar no meu lugar.

O cego estendeu o braço a querer tocar uma despedida. Mas o outro já não estava lá. Ou estava e se desviara, propositado? E sem água ida nem vinda, Estrelinho escutou o amigo se afastar, engolido, esponginquo, inevisível. Pela pimeira vez, Estrelinho se sentiu invalidado.

— Agora, só agora, sou cego que não vê.

(...)

**COUTO, Mia. Estórias abensonhadas. Rio de Janeiro: Nova Fronteira, 1996. (Pág 23 e 24).**

**21. Quanto à interpretação do fragmento do conto, podemos afirmar que:**

- Gigito Efraim era o guia de Estrelinho há pouquíssimo tempo.
- Estrelinho era cego de nascença.
- Gigito descrevia o mundo para Estrelinho de forma denotativa.
- Gigito foi convocado pelo exército para ser guia de cegos na guerra.
- Gigito descrevia o mundo para Estrelinho de forma conotativa.

**22. No período “O sempre lhe era pouco e o tudo insuficiente”, o pronome “LHE” exerce a função sintática de:**

- Objeto Direto
- Objeto Indireto
- Complemento Nominal
- Adjunto Adnominal
- Objeto Direto Preposicionado

**23. Na oração “A mão de Gigito conduziu o desvestido por tempos e idades”, o autor faz uso de um neologismo, assim como no decorrer de toda a obra em questão. Contudo, o neologismo só se torna possível pela utilização dos elementos mórficos naquilo que a gramática normativa pontua como Processo de Formação das Palavras. Levando em consideração apenas o recurso morfológico, qual Processo de Formação foi utilizado?**

- Derivação Sufixal
- Derivação Prefixal
- Derivação Regressiva
- Derivação Imprópria
- Derivação Parassintética

**24. No terceiro período do décimo terceiro parágrafo, temos:**

- Uma oração
- Dois orações
- Três orações
- Quatro orações
- Cinco orações

**25. No último parágrafo do fragmento do conto “— Agora, só agora, sou cego que não vê”, a oração subordinada presente classifica-se corretamente como:**

- Oração Subordinada Adjetiva Restritiva
- Oração Subordinada Adverbial Causal
- Oração Subordinada Substantiva Subjetiva
- Oração Subordinada Adverbial Explicativa
- Oração Subordinada Adjetiva Explicativa

#### **RACIOCÍNIO LÓGICO**

**26. Os cinco filhos de Ana estavam discutindo a respeito da data de nascimento da mãe:**

- Almir disse que foi em janeiro, dia 14, sexta-feira.
- Vanderlei disse que foi em janeiro, dia 14, sábado.
- Tiago disse que foi em fevereiro, dia 15, sábado.
- Sandro disse que foi em janeiro, dia 15, sexta-feira.
- Renato disse que foi em fevereiro, dia 15, sexta-feira.

**Sabe-se que somente um dos filhos de Ana acertou corretamente sua data de nascimento e que os outros acertaram pelo menos um dos itens (dia, dia da semana e mês). Dessa forma, é correto afirmar que o filho de Ana que acertou a data de nascimento dela foi:**

- Renato
- Sandro
- Tiago
- Vanderlei
- Almir

27. Considere a seguinte afirmativa: “Todo churrasqueiro gosta de picanha”. Em relação a essa proposição, é correto afirmar que:

- a) Algum churrasqueiro não gosta de picanha.
- b) Toda pessoa que gosta de picanha é churrasqueira.
- c) Alguma pessoa que não gosta de picanha é churrasqueira.
- d) Toda pessoa que não é churrasqueira, não gosta de picanha.
- e) Toda pessoa que não gosta de picanha, não é churrasqueira.

28. Em um grupo formado por 67 pessoas, verificou-se que 41 pessoas gostam de arroz, 29 gostam de feijão, 33 gostam de carne, 19 gostam de arroz e de feijão, 9 gostam apenas de arroz e de carne, 12 gostam de feijão e de carne e que 6 gostam de arroz, de feijão e de carne. O número de pessoas desse grupo, que não gosta de nenhum desses três tipos de alimentos é igual a:

- a) 4
- b) 5
- c) 6
- d) 8
- e) 10

29. Bruno escreveu, em seu caderno, várias sequências formadas por números múltiplos de 4, onde os valores que ocupavam as posições pares eram multiplicados por  $-1$ . Cada sequência foi somada e o resultado da soma anotado. A soma das três primeiras sequências escritas por Bruno foram as seguintes:

$$4 - 8 = -4$$

$$4 - 8 + 12 = 8$$

$$4 - 8 + 12 - 16 = -8$$

Considere que Bruno escreveu e somou tais sequências, em seu caderno, de modo a obter determinada sequência cuja soma foi 600. O número de termos dessa sequência é igual a:

- a) 149
- b) 150
- c) 298
- d) 299
- e) 300

30. Quatro torcedores, um do São Paulo, um do Cruzeiro, um do Vasco e um do Bahia, estão sentados ao redor de uma mesa quadrada, de modo que, dois a dois, fiquem frente a frente. Sabe-se que Alan é torcedor do Cruzeiro e que Bruno está sentado à direita de Alan. Sabe-se também que Caio está sentado à direita do torcedor do São Paulo. Sabe-se ainda que Daniel não é torcedor do Vasco e que está sentado à frente de Bruno. Dessa forma, é correto afirmar que:

- a) Bruno é torcedor do Bahia e Daniel é torcedor do São Paulo.
- b) Bruno é torcedor do São Paulo e Daniel é torcedor do Bahia.
- c) Caio é torcedor do Vasco e Daniel é torcedor do São Paulo.
- d) Caio é torcedor do Bahia e Daniel é torcedor do São Paulo.
- e) Bruno é torcedor do Vasco e Daniel é torcedor do Bahia.

## INFORMÁTICA

31. Considerando o MS-Excel versão 2010, observando a figura abaixo, é correto afirmar que:

	A	B	C
1			
2			
3			
4			

- a) Somente 03 três linhas estão selecionadas.
- b) Somente uma célula está selecionada.
- c) 12 (doze) células estão selecionadas.
- d) Somente a coluna A até a linha 4 (quatro) está selecionada.
- e) Somente as colunas 1 (um), 2 (dois), 3 (três) e 4 (quatro) estão selecionadas.

32. Considerando o MS-Excel versão 2010, observando a figura abaixo, é incorreto afirmar que:

	A	B	C
1	12	6	=A1*B1
2	8	2	=A2/B2
3	5	14	=A3-B3
4	6	11	=A4+B4

- a) O resultado da fórmula =A1\*B1 é 72.
- b) O resultado da fórmula =A2/B2 é 4.
- c) O resultado da fórmula =A3-B3 é -9.
- d) O resultado da fórmula =A3-B3 é 9.
- e) O resultado da fórmula =A4+B4 é 17.

**33. Digitando um texto no MS-Word versão 2010, necessito adicionar número nas páginas. Quanto a isso, é correto afirmar que:**

- a) No menu Layout da Página, clico em número de página e seleciono onde desejo adicionar os números.
- b) No menu Inserir, clico em número de página e seleciono onde desejo adicionar os números.
- c) No menu Revisão, clico em número de página e seleciono onde desejo adicionar os números.
- d) No menu Referências, clico em número de página e seleciono onde desejo adicionar os números.
- e) No menu Exibição, clico em número de página e seleciono onde desejo adicionar os números.

**34. A segurança da informação está diretamente relacionada com proteção de um conjunto de informações, no sentido de preservar o valor que possuem para um indivíduo ou uma organização. Atualmente, um dos aplicativos mais utilizados no mundo, o Whats app, teve uma alteração de confidencialidade muito importante na segurança das informações transmitidas e recebidas. Dentre as alternativas, assinale a que corretamente informa a alteração inserida no aplicativo Whats app.**

- a) Antispam
- b) Antivirus
- c) Firewall
- d) Antispyware
- e) Criptografia

**35. São todos os dispositivos que trabalham acoplados ao microcomputador para receber, transmitir, visualizar, ler, gravar ou armazenarem dados. São eles que permitem a comunicação do computador com o meio exterior, isto é, com os usuários e outras máquinas.**

**Esse texto descreve corretamente:**

- a) Memória ram
- b) Memória virtual
- c) Software
- d) Periféricos
- e) Hardware

## CONHECIMENTOS GERAIS

### 36. Hino do município de Telêmaco Borba/PR

Das virgens matas e campos verdejantes  
 Servindo-se também o rio Tibagi,  
 Homens de ideais, espíritos vibrantes.  
 Constituíram as indústrias aqui.

Estrilho:

Salve! Salve! Telêmaco Borba  
 Terra querida e de grandes primores,  
 A nossa homenagem rendamos  
 À cidade dos trabalhadores.  
 Pois a cadência de enorme e real progresso  
 Um município mui grandioso fez nascer,  
 Marcando assim, verdadeiro sucesso  
 Faz, então o Paraná engrandecer.

**No que tange ao Hino do município, atribua V (verdadeiro) ou F (falso) às afirmativas e marque a alternativa correta.**

- ( ) Eloah Martins Quadrado é autora da letra do hino.
- ( ) Bento Mossurunga compôs a música do hino.
- ( ) Eloah Martins Quadrado foi nomeada primeira professora da Cidade Nova, atual Telêmaco Borba.
- ( ) Bento Mossurunga fundou a orquestra Estudantil e Concertos – Orquestra Sinfônica da Universidade, a Sociedade de Cultura Artístico Basílio Itiberê.

- a) F, V, V, V.
- b) V, F, V, V.
- c) V, V, F, V.



- d) V, V, F, F.
- e) V, V, V, V.

**37. À luz da Lei nº 1883/2012, que dispõe sobre o Estatuto dos Servidores Públicos da Administração Direta, Autárquica e Funcional do Município de Telêmaco Borba/PR, leia as alternativas e marque a correta.**

- a) A apresentação para a posse ocorrerá no prazo de até trinta dias, contados do ato de nomeação.
- b) A destituição do servidor da função gratificada dar-se-á por solicitação exclusiva dele mesmo.
- c) O servidor ocupante exclusivamente de cargo em comissão será contribuinte do regime geral de previdência social.
- d) A aprovação em concurso público gera o direito à nomeação, e será feita obedecida à ordem de classificação dos candidatos.
- e) O exercício de função gratificada poderá ser de dedicação integral ou parcial, conforme necessidade da administração.

**Conforme a Lei nº 1.881, de 05 de abril de 2012, que dispõe sobre o Plano de Cargos, Carreiras e Vencimentos do quadro geral de servidores da Prefeitura Municipal de Telêmaco Borba/PR, regulamentada pelo Decreto nº 2269/2015, responda às próximas três questões.**

**38. Leia as assertivas e assinala a incorreta.**

- a) Do resultado da avaliação de desempenho poderá ser interposto recurso à Comissão de Desenvolvimento Funcional no prazo de quinze dias a contar da publicação no Boletim Oficial do Município.
- b) Não será concedida a progressão ou promoção ao servidor que estiver em licença para tratamento de saúde por um período superior a quarenta e cinco dias, no período de avaliação.
- c) A alternância dos membros constituintes da Comissão de Desenvolvimento Funcional eleitos pelos servidores verificar-se-á a cada três anos de participação, observados, para substituição de seus participantes, o critério fixado no artigo anterior, não cabendo eleição sucessiva.
- d) Caberá à Comissão de Desenvolvimento Funcional, no caso de divergência de vinte por cento entre a nota do avaliador e a do avaliado, solicitar nova avaliação à chefia.
- e) Nos termos do disposto no art. 17 da Lei nº 1.881, de 05 de abril de 2012, para progredir, é necessário que o servidor satisfaça, dentre outros, o seguinte requisito: estar no efetivo exercício de seu cargo ou em função comissionada na sua área de atuação durante o interstício de dois anos.

**39. Assinale a alternativa que completa respectivamente as lacunas do texto a seguir:**

**A Comissão de Desenvolvimento Funcional será constituída por \_\_\_\_\_ membros, sendo \_\_\_\_\_ designados pelo Prefeito Municipal de Telêmaco Borba e os demais eleitos pelos servidores municipais dentre os estáveis, com a atribuição de coordenar os procedimentos relativos à avaliação periódica de desempenho e outras atribuições.**

- a) três / sete
- b) um / três
- c) sete / três
- d) três / cinco
- e) dois / cinco

**40. A Avaliação de Desempenho será norteadada, dentre outros, pelo seguinte princípio: Amplitude - a avaliação deve incidir sobre todas as áreas de atuação do servidor, que compreendem:**

1. a formulação de políticas administrativas e sua aplicação para todos os setores da administração municipal;
2. o desempenho do profissional dentro de suas funções pertinentes;
3. a estrutura do órgão em que exerce a função;
4. os resultados de eficiência dos serviços de cada setor ou órgão da administração municipal;
5. a participação direta do avaliado, durante todo o processo avaliativo.

**Diante dessa afirmação, somente não está correto o item:**

- a) 1
- b) 2
- c) 3
- d) 4
- e) 5



PREFEITURA DE TELÊMACO BORBA - ESTADO DO PARANÁ- **EDITAL Nº 001-2016 - CONCURSO PÚBLICO**

**VESPERTINO – 29/05/2016 – NÍVEL SUPERIOR**

**1**

**PROVA OBJETIVA NÚMERO**

**CARGO: TMNS I - MEDICINA - CARDIOLOGIA**

**Leia atentamente as INSTRUÇÕES:**

1. Confira seus dados no cartão-resposta: nome, número de inscrição e o curso para o qual se inscreveu.
2. **MARQUE no seu cartão-resposta o número da sua prova** (não será corrigido o cartão-resposta que não tiver marcado o número da prova) e **Assine** seu cartão-resposta.
3. Aguarde a autorização do Fiscal para abrir o caderno de prova. Ao receber a ordem do fiscal, confira o caderno de prova com muita atenção. Nenhuma reclamação sobre o total de questões ou falha de impressão será aceita depois de iniciada a prova.
4. O cartão-resposta não será substituído, salvo se contiver erro de impressão.
5. Preencha toda a área do cartão-resposta correspondente à alternativa de sua escolha, com caneta esferográfica (tinta azul ou preta), sem ultrapassar as bordas. As marcações duplas, ou rasuradas, com corretivo, ou marcadas diferentemente do modelo estabelecido no cartão-resposta poderão ser anuladas.
6. Sua prova tem **40** questões, com **5** alternativas.
7. Cabe apenas ao candidato a interpretação das questões, **o fiscal** não poderá fazer nenhuma interferência.
8. A prova será realizada com duração máxima de **3 (três) horas**, incluído o tempo para a realização da Prova Objetiva de múltipla escolha e o preenchimento do cartão-resposta.
9. O candidato poderá retirar-se do local de realização das provas somente **1 (uma) hora** após o seu início, sem levar o caderno de prova.
10. O candidato poderá levar o caderno de provas, assim como anotação contendo transcrição do seu cartão-resposta, somente **1h30min** (uma hora e trinta minutos) após o início da realização da prova.
11. Ao terminar a prova, o candidato deverá entregar ao fiscal de sala o cartão-resposta preenchido e **ASSINADO**.
12. Os **3 (três)** candidatos, que terminarem a prova por último, deverão permanecer na sala, e só poderão sair juntos após o fechamento do envelope, contendo os cartões-resposta dos candidatos presentes e ausentes, e assinarem no lacre do referido envelope, atestando que este foi devidamente lacrado.
13. Durante todo o tempo em que permanecer no local onde está ocorrendo o concurso, o candidato deverá, manter o celular desligado e sem bateria, só sendo permitido ligar depois de ultrapassar o portão de saída do prédio.
14. Não será permitido ao candidato fumar na sala de provas, bem como nas dependências.
15. Depois de terminar a prova e entregar ao fiscal o cartão-resposta, preenchido e assinado, não será mais permitido ao candidato o uso do banheiro e bebedouro.

**BOA PROVA!**

**LÍNGUA PORTUGUESA****Texto para as próximas cinco questões:****“O cego Estrelinho”  
Mia Couto**

O cego Estrelinho era pessoa de nenhuma vez: sua história poderia ser contada e descontada não fosse seu guia, Gigito Efraim. A mão de Gigito conduziu o desvistado por tempos e idades. Aquela mão era repartidamente comum, extensão de um no outro, siamensal. E assim era quase de nascença. Memória de Estrelinho tinha cinco dedos e eram os de Gigito postos, em aperto, na sua própria mão.

O cego, curioso, queria saber de tudo. Ele não fazia cerimônia no viver. O sempre lhe era pouco e o tudo insuficiente. Dizia, deste modo:

— Tenho que viver já, senão esqueço-me.

Gigitinho, porém, o que descrevia era o que não havia. O mundo que ele minuciava eram fantasias e rendilhados. A imaginação do guia era mais profícua que papaeira. O cego enchia a boca de águas:

— Que maravilhação esse mundo. Me conte tudo, Gigito!

A mão do guia era, afinal, o manuscrito da mentira. Gigito Efraim estava como nunca esteve S. Tomé: via para não crer. O condutor falava pela ponta dos dedos. Desfolhava o universo, aberto em folhas. A ideiação dele era tal que mesmo o cego, por vezes, acreditava ver. O outro lhe encorajava esses breves enganos:

— Desbengale-se, você está escolhendo a boa procedência!

Mentira: Estrelinho continuava sem ver uma palmeira à frente do nariz. Contudo, o cego não se conformava em suas escurezas. Ele cumpria o ditado: não tinha perna e queria dar o pontapé. Só à noite, ele desalentava, sofrendo medos mais antigos que a humanidade. Entendia aquilo que, na raça humana, é menos primitivo: o animal.

— Na noite aflige não haver luz?

— Aflição é ter um pássaro branco esvoando dentro do sono.

Pássaro branco? No sono? Lugar de ave é nas alturas. Dizem até que Deus fez o céu para justificar os pássaros. Estrelinho disfarçava o medo dos vaticínios, subterfugindo:

— E agora, Gigitinho? Agora, olhando assim para cima, estou face ao céu?

Que podia o outro responder? O céu do cego fica em toda a parte. Estrelinho perdia o pé era quando a noite chegava e seu mestre adormecia. Era como se um novo escuro nele se estreasse em nó cego. Devagaroso e sorrateiro ele aninhava sua mão na mão do guia. Só assim adormecia. A razão da concha é a timidez da amêijoa? Na manhã seguinte, o cego lhe confessava: se você morrer, tenho que morrer logo no imediato. Senão-me: como acerto o caminho para o céu?

Foi no mês de dezembro que levaram Gigitinho. Lhe tiraram do mundo para pôr na guerra: obrigavam os serviços militares. O cego reclamou: que o moço inatingia a idade. E que o serviço que ele a si prestava era vital e vitalício. O guia chamou Estrelinho à parte e lhe tranquilizou:

— Não vai ficar sozinhandando por aí. Minha mana já mandei para ficar no meu lugar.

O cego estendeu o braço a querer tocar uma despedida. Mas o outro já não estava lá. Ou estava e se desviara, propositado? E sem água ida nem vinda, Estrelinho escutou o amigo se afastar, engolido, esponginquo, invisível. Pela primeira vez, Estrelinho se sentiu invalidado.

— Agora, só agora, sou cego que não vê.

(...)

**COUTO, Mia. Estórias abensonhadas. Rio de Janeiro: Nova Fronteira, 1996. (Pág 23 e 24).**

**01. Quanto à interpretação do fragmento do conto, podemos afirmar que:**

- Gigito Efraim era o guia de Estrelinho há pouquíssimo tempo.
- Estrelinho era cego de nascença.
- Gigito descrevia o mundo para Estrelinho de forma denotativa.
- Gigito foi convocado pelo exército para ser guia de cegos na guerra.
- Gigito descrevia o mundo para Estrelinho de forma conotativa.

**02. No período “O sempre lhe era pouco e o tudo insuficiente”, o pronome “LHE” exerce a função sintática de:**

- Objeto Direto
- Objeto Indireto
- Complemento Nominal
- Adjunto Adnominal
- Objeto Direto Preposicionado

**03. Na oração “A mão de Gigito conduziu o desvistado por tempos e idades”, o autor faz uso de um neologismo, assim como no decorrer de toda a obra em questão. Contudo, o neologismo só se torna possível pela utilização dos elementos mórficos naquilo que a gramática normativa pontua como Processo de Formação das Palavras. Levando em consideração apenas o recurso morfológico, qual Processo de Formação foi utilizado?**

- Derivação Sufixal

- b) Derivação Prefixal
- c) Derivação Regressiva
- d) Derivação Imprópria
- e) Derivação Parassintética

**04. No terceiro período do décimo terceiro parágrafo, temos:**

- a) Uma oração
- b) Duas orações
- c) Três orações
- d) Quatro orações
- e) Cinco orações

**05. No último parágrafo do fragmento do conto “— Agora, só agora, sou cego que não vê”, a oração subordinada presente classifica-se corretamente como:**

- a) Oração Subordinada Adjetiva Restritiva
- b) Oração Subordinada Adverbial Causal
- c) Oração Subordinada Substantiva Subjetiva
- d) Oração Subordinada Adverbial Explicativa
- e) Oração Subordinada Adjetiva Explicativa

#### **RACIOCÍNIO LÓGICO**

**06. Os cinco filhos de Ana estavam discutindo a respeito da data de nascimento da mãe:**

- Almir disse que foi em janeiro, dia 14, sexta-feira.
- Vanderlei disse que foi em janeiro, dia 14, sábado.
- Tiago disse que foi em fevereiro, dia 15, sábado.
- Sandro disse que foi em janeiro, dia 15, sexta-feira.
- Renato disse que foi em fevereiro, dia 15, sexta-feira.

**Sabe-se que somente um dos filhos de Ana acertou corretamente sua data de nascimento e que os outros acertaram pelo menos um dos itens (dia, dia da semana e mês). Dessa forma, é correto afirmar que o filho de Ana que acertou a data de nascimento dela foi:**

- a) Renato
- b) Sandro
- c) Tiago
- d) Vanderlei
- e) Almir

**07. Considere a seguinte afirmativa: “Todo churrasqueiro gosta de picanha”. Em relação a essa proposição, é correto afirmar que:**

- a) Algum churrasqueiro não gosta de picanha.
- b) Toda pessoa que gosta de picanha é churrasqueira.
- c) Alguma pessoa que não gosta de picanha é churrasqueira.
- d) Toda pessoa que não é churrasqueira, não gosta de picanha.
- e) Toda pessoa que não gosta de picanha, não é churrasqueira.

**08. Em um grupo formado por 67 pessoas, verificou-se que 41 pessoas gostam de arroz, 29 gostam de feijão, 33 gostam de carne, 19 gostam de arroz e de feijão, 9 gostam apenas de arroz e de carne, 12 gostam de feijão e de carne e que 6 gostam de arroz, de feijão e de carne. O número de pessoas desse grupo, que não gosta de nenhum desses três tipos de alimentos é igual a:**

- a) 4
- b) 5
- c) 6
- d) 8
- e) 10

**09. Bruno escreveu, em seu caderno, várias sequências formadas por números múltiplos de 4, onde os valores que ocupavam as posições pares eram multiplicados por  $-1$ . Cada sequência foi somada e o resultado da soma anotado. A soma das três primeiras sequências escritas por Bruno foram as seguintes:**

$$4 - 8 = -4$$

$$4 - 8 + 12 = 8$$

$$4 - 8 + 12 - 16 = -8$$

**Considere que Bruno escreveu e somou tais sequências, em seu caderno, de modo a obter determinada sequência cuja soma foi 600. O número de termos dessa sequência é igual a:**

- a) 149
- b) 150
- c) 298

- d) 299  
e) 300

10. Quatro torcedores, um do São Paulo, um do Cruzeiro, um do Vasco e um do Bahia, estão sentados ao redor de uma mesa quadrada, de modo que, dois a dois, fiquem frente a frente. Sabe-se que Alan é torcedor do Cruzeiro e que Bruno está sentado à direita de Alan. Sabe-se também que Caio está sentado à direita do torcedor do São Paulo. Sabe-se ainda que Daniel não é torcedor do Vasco e que está sentado à frente de Bruno. Dessa forma, é correto afirmar que:

- a) Bruno é torcedor do Bahia e Daniel é torcedor do São Paulo.  
b) Bruno é torcedor do São Paulo e Daniel é torcedor do Bahia.  
c) Caio é torcedor do Vasco e Daniel é torcedor do São Paulo.  
d) Caio é torcedor do Bahia e Daniel é torcedor do São Paulo.  
e) Bruno é torcedor do Vasco e Daniel é torcedor do Bahia.

### INFORMÁTICA

11. Considerando o MS-Excel versão 2010, observando a figura abaixo, é correto afirmar que:

	A	B	C
1			
2			
3			
4			

- a) Somente 03 três linhas estão selecionadas.  
b) Somente uma célula está selecionada.  
c) 12 (doze) células estão selecionadas.  
d) Somente a coluna A até a linha 4 (quatro) está selecionada.  
e) Somente as colunas 1 (um), 2 (dois), 3 (três) e 4 (quatro) estão selecionadas.

12. Considerando o MS-Excel versão 2010, observando a figura abaixo, é incorreto afirmar que:

	A	B	C
1	12	6	=A1*B1
2	8	2	=A2/B2
3	5	14	=A3-B3
4	6	11	=A4+B4

- a) O resultado da fórmula =A1\*B1 é 72.  
b) O resultado da fórmula =A2/B2 é 4.  
c) O resultado da fórmula =A3-B3 é -9.  
d) O resultado da fórmula =A3-B3 é 9.  
e) O resultado da fórmula =A4+B4 é 17.

13. Digitando um texto no MS-Word versão 2010, necessito adicionar número nas páginas. Quanto a isso, é correto afirmar que:

- a) No menu Layout da Página, clico em número de página e seleciono onde desejo adicionar os números.  
b) No menu Inserir, clico em número de página e seleciono onde desejo adicionar os números.  
c) No menu Revisão, clico em número de página e seleciono onde desejo adicionar os números.  
d) No menu Referências, clico em número de página e seleciono onde desejo adicionar os números.  
e) No menu Exibição, clico em número de página e seleciono onde desejo adicionar os números.

14. A segurança da informação está diretamente relacionada com proteção de um conjunto de informações, no sentido de preservar o valor que possuem para um indivíduo ou uma organização. Atualmente, um dos aplicativos mais utilizados no mundo, o Whats app, teve uma alteração de confidencialidade muito importante na segurança das informações transmitidas e recebidas. Dentre as alternativas, assinale a que corretamente informa a alteração inserida no aplicativo Whats app.

- a) Antispam  
b) Antivirus  
c) Firewall  
d) Antispyware  
e) Criptografia



**15. São todos os dispositivos que trabalham acoplados ao microcomputador para receber, transmitir, visualizar, ler, gravar ou armazenarem dados. São eles que permitem a comunicação do computador com o meio exterior, isto é, com os usuários e outras máquinas.**

**Esse texto descreve corretamente:**

- a) Memória ram
- b) Memória virtual
- c) Software
- d) Periféricos
- e) Hardware

#### CONHECIMENTOS GERAIS

##### 16. Hino do município de Telêmaco Borba/PR

Das virgens matas e campos verdejantes  
Servindo-se também o rio Tibagi,  
Homens de ideais, espíritos vibrantes.  
Constituíram as indústrias aqui.

Estrilho:

Salve! Salve! Telêmaco Borba  
Terra querida e de grandes primores,  
A nossa homenagem rendamos  
À cidade dos trabalhadores.  
Pois a cadência de enorme e real progresso  
Um município mui grandioso fez nascer,  
Marcando assim, verdadeiro sucesso  
Faz, então o Paraná engrandecer.

**No que tange ao Hino do município, atribua V (verdadeiro) ou F (falso) às afirmativas e marque a alternativa correta.**

- ( ) Eloah Martins Quadrado é autora da letra do hino.
- ( ) Bento Mossurunga compôs a música do hino.
- ( ) Eloah Martins Quadrado foi nomeada primeira professora da Cidade Nova, atual Telêmaco Borba.
- ( ) Bento Mossurunga fundou a orquestra Estudantil e Concertos – Orquestra Sinfônica da Universidade, a Sociedade de Cultura Artístico Basílio Itiberê.

- a) F, V, V, V.
- b) V, F, V, V.
- c) V, V, F, V.
- d) V, V, F, F.
- e) V, V, V, V.

**17. À luz da Lei nº 1883/2012, que dispõe sobre o Estatuto dos Servidores Públicos da Administração Direta, Autárquica e Funcional do Município de Telêmaco Borba/PR, leia as alternativas e marque a correta.**

- a) A apresentação para a posse ocorrerá no prazo de até trinta dias, contados do ato de nomeação.
- b) A destituição do servidor da função gratificada dar-se-á por solicitação exclusiva dele mesmo.
- c) O servidor ocupante exclusivamente de cargo em comissão será contribuinte do regime geral de previdência social.
- d) A aprovação em concurso público gera o direito à nomeação, e será feita obedecida à ordem de classificação dos candidatos.
- e) O exercício de função gratificada poderá ser de dedicação integral ou parcial, conforme necessidade da administração.

**Conforme a Lei nº 1.881, de 05 de abril de 2012, que dispõe sobre o Plano de Cargos, Carreiras e Vencimentos do quadro geral de servidores da Prefeitura Municipal de Telêmaco Borba/PR, regulamentada pelo Decreto nº 2269/2015, responda às próximas três questões.**

**18. Leia as assertivas e assinala a incorreta.**

- a) Do resultado da avaliação de desempenho poderá ser interposto recurso à Comissão de Desenvolvimento Funcional no prazo de quinze dias a contar da publicação no Boletim Oficial do Município.
- b) Não será concedida a progressão ou promoção ao servidor que estiver em licença para tratamento de saúde por um período superior a quarenta e cinco dias, no período de avaliação.
- c) A alternância dos membros constituintes da Comissão de Desenvolvimento Funcional eleitos pelos servidores verificar-se-á a cada três anos de participação, observados, para substituição de seus participantes, o critério fixado no artigo anterior, não cabendo eleição sucessiva.
- d) Caberá à Comissão de Desenvolvimento Funcional, no caso de divergência de vinte por cento entre a nota do avaliador e a do avaliado, solicitar nova avaliação à chefia.





e) Nos termos do disposto no art. 17 da Lei n° 1.881, de 05 de abril de 2012, para progredir, é necessário que o servidor satisfaça, dentre outros, o seguinte requisito: estar no efetivo exercício de seu cargo ou em função comissionada na sua área de atuação durante o interstício de dois anos.

**19. Assinale a alternativa que completa respectivamente as lacunas do texto a seguir:**

**A Comissão de Desenvolvimento Funcional será constituída por \_\_\_\_\_ membros, sendo \_\_\_\_\_ designados pelo Prefeito Municipal de Telêmaco Borba e os demais eleitos pelos servidores municipais dentre os estáveis, com a atribuição de coordenar os procedimentos relativos à avaliação periódica de desempenho e outras atribuições.**

- a) três / sete
- b) um / três
- c) sete / três
- d) três / cinco
- e) dois / cinco

**20. A Avaliação de Desempenho será norteadada, dentre outros, pelo seguinte princípio: Amplitude - a avaliação deve incidir sobre todas as áreas de atuação do servidor, que compreendem:**

1. a formulação de políticas administrativas e sua aplicação para todos os setores da administração municipal;
2. o desempenho do profissional dentro de suas funções pertinentes;
3. a estrutura do órgão em que exerce a função;
4. os resultados de eficiência dos serviços de cada setor ou órgão da administração municipal;
5. a participação direta do avaliado, durante todo o processo avaliativo.

**Diante dessa afirmação, somente não está correto o item:**

- a) 1
- b) 2
- c) 3
- d) 4
- e) 5

#### **CONHECIMENTOS ESPECÍFICOS**

**21. Assinale a alternativa que apresenta a portaria que institui a Rede de Atenção Psicossocial para pessoas com sofrimento ou transtorno mental e com necessidades decorrentes do uso de crack, álcool e outras drogas, no âmbito do Sistema Único de Saúde:**

- a) Portaria N° 1.498, de 19 de julho de 2013
- b) Portaria N° 793, de 24 de abril de 2012
- c) Portaria N° 2.395, de 11 de outubro de 2011
- d) Portaria N° 3.099, de 23 de dezembro de 2011
- e) Portaria N° 1.459, de 24 de junho de 2011

**22. Analise as afirmativas seguintes e assinale a alternativa que contém o resultado final da soma da(s) afirmativa(s) correta(s):**

- 01 – Toda lesão no sistema nervoso central promove atrofia cortical, progredindo para demência.
- 02 – Delirium tremens com instabilidade autonômica e hiperatividade simpática associa-se, geralmente, a mortalidade de 5 a 10% dos pacientes.
- 04 – A classe de medicamento de primeira escolha para pacientes com delirium tremens são os Inibidores da Recapitação da Serotonina como a Amitriptilina.
- 08 – O etilismo pode desenvolver a encefalopatia de Wernicke.
- 16 – Os benzodiazepínicos tem ação no sistema de ácido gama-amino-butirico, da mesma forma que o álcool no cérebro humano.

- a) 06
- b) 07
- c) 09
- d) 19
- e) 26

**23. Leia as assertivas e assinale a alternativa correta.**

**I – A insuficiência cardíaca congestiva é uma síndrome clínica sempre causada por alguma doença cardíaca subjacente, mais comumente miocardiopatia isquêmica resultante de aterosclerose e/ou hipertensão arterial.**

**II – A Doxorubicina é uma droga amplamente utilizada e que causa efeitos cardiotóxicos com dose cumulativa superior a 450mg/m<sup>2</sup> de superfície corporal.**

**III – Os inibidores da ECA e os BRA associados a betabloqueadores e antagonistas de aldosterona podem diminuir a mortalidade, e aliviam imediatamente os sintomas congestivos.**

**IV – A insuficiência cardíaca crônica é uma doença progressiva com alta mortalidade, e a classe funcional do paciente geralmente não é um guia ao tratamento.**

- a) Apenas I e II estão corretas.
- b) Apenas I e III estão corretas.
- c) Todas estão corretas.
- d) Apenas II e III estão corretas.
- e) Apenas a IV está errada.

**Leia o seguinte caso para responder às próximas três questões.**

**Mulher de 28 anos vai ao consultório queixando-se de dor em joelho direito e hálux contra-lateral, com 10 dias de evolução e que não respondeu ao uso de analgésicos simples. Refere febrícula ao término do dia associada à mialgia inespecífica, além de disúria e corrimento vaginal branco leitoso amarelo esverdeado e prurido ocular bilateral; há 45 dias foi tratada para LUES com esquema adequado preconizado pelo Ministério da Saúde. Ao exame, apresenta-se afebril, e ambos os olhos estão injetados e fotossensíveis; o joelho direito e a primeira articulação metatarsofalangiana esquerda apresentam-se edemaciados e dolorosos com discreta hiperemia.**

**24. Com base no caso, pode-se afirmar que a paciente apresenta uma tríade. Assinale a assertiva que contém o epônimo dessa tríade.**

- a) Virchow
- b) Reiter
- c) Beck
- d) Charcot
- e) Whipple

**25. Essa paciente possui fator de risco para desenvolver qual patologia ginecológica a médio prazo, se não for tratada corretamente?**

- a) Doença de Paget
- b) Doença de Berger
- c) Síndrome de Fitz-Hugh-Curtis
- d) Endometriose
- e) Síndrome dos ovários policísticos

**26. Sobre esse caso, analise as afirmativas e assinale a alternativa correta.**

**I – O principal diagnóstico diferencial para esse caso é a gonorreia.**

**II – Essa paciente possivelmente é HLA-B27 negativa.**

**III – Ela pode ser tratada com Azitromicina 1g no D1 e D7 associada com Ceftriaxona 250mg Intramuscular no D1 possui maior índice de cura em relação ao uso de Ceftriaxone 250mg Intramuscular no D1 com doxiciclina 100mg via oral de 12/12 horas por 14 dias.**

**IV – O provável agente etiológico do caso é a *Chlamydia trachomatis*.**

- a) Apenas a I está correta.
- b) Apenas I e II estão corretas.
- c) Apenas II e III estão erradas.
- d) Apenas I e III estão corretas.
- e) Apenas a II está errada.

**27. Assinale a alternativa em que se faz a correlação incorreta.**

- a) Agência Nacional de Saúde Suplementar – responsável pela regularização e fiscalização dos planos de saúde no país.
- b) Anvisa – responsável pela fiscalização in loco de estabelecimento de saúde em cada município e a sua correta regularização.
- c) Vigilância Epidemiológica – entidade responsável por organizar os dados de agravos em saúde e auxiliar a gestão a realizar estratégias de atenção a saúde.
- d) Anvisa – responsável pela deliberação de novas drogas no mercado brasileiro.
- e) Vigilância sanitária – responsável pela fiscalização das condições de manipulação de alimentos para os consumidores finais.

**28. Os Centros de Atenção Psicossocial são instituições destinadas a acolher os pacientes com transtornos mentais e estimular sua integração social e familiar, além de outras funções. Para que isso ocorra, necessitam de um número mínimo de membros na equipe.**

**Assinale a alternativa que contém a relação correta entre o tipo de CAPS e sua equipe mínima, conforme a determinação do Ministério da Saúde:**

Tipo de CAPS	Equipe Mínima
--------------	---------------

I – CAPS I	A – 2 psiquiatras; 1 enfermeiro com formação em nível superior; 5 profissionais de nível superior de outras categorias profissionais; 8 profissionais de nível médio.
II – CAPS II	B – 1 médico psiquiatra, ou neurologista ou pediatra com formação em saúde mental; 1 enfermeiro; 4 profissionais de nível superior dentre psicólogo, assistente social, terapeuta ocupacional, fonoaudiólogo, pedagogo ou outro profissional necessário ao projeto terapêutico; 5 profissionais de nível médio.
III – CAPS III	C – 1 médico psiquiatra ou com formação em saúde mental; 1 enfermeiro, 3 profissionais de nível superior de outras categorias profissionais; 4 profissionais de nível médio.
IV – CAPSi	D – 1 psiquiatra; 1 enfermeiro com formação em saúde mental; 1 médico clínico responsável pela triagem, avaliação e acompanhamento das intercorrências clínicas; 4 profissionais de nível superior necessário ao projeto terapêutico; 6 profissionais de nível médio.
V - CAPSad	E – 1 psiquiatra; 1 enfermeiro com formação em saúde mental; 4 profissionais de nível superior de outras categorias profissionais; 6 profissionais de nível médio.

- a) I-E; II-C; III-A; IV-B; V-D.  
 b) I-E; II-C; III-A; IV-D; V-B.  
 c) I-C; II-B; III-A; IV-E; V-D.  
 d) I-C; II-E; III-A; IV-B; V-D.  
 e) I-E; II-D; III-A; IV-B; V-C.

**29. Analise os seguintes itens a respeito de diarreia crônica e assinale a alternativa correta.**

**I – Diarreias tipo secretória podem ser desencadeadas por cólera, tumor de tireoide medular e uso de laxantes estimulantes exógenos, por exemplo.**

**II – Amiloidose pode promover esteatorreia, da mesma forma que a Doença de Whipple.**

**III – São exemplos de dismotilidade promotora de diarreia crônica: hipertireoidismo, síndrome do intestino irritável e Espru tropical.**

**IV – Pacientes portadores do Vírus da Imunodeficiência Adquirida podem ter, como sintoma inicial, diarreia crônica.**

- a) Todos estão corretos.  
 b) Apenas o item IV está incorreto.  
 c) Apenas o item III está correto.  
 d) Apenas o item III está incorreto.  
 e) Apenas o item II está incorreto.

**30. Assinale a assertiva que apresenta a portaria que publica a proposta de Projeto de Resolução “Boas Práticas para Organização e Funcionamento de Serviços de Urgência e Emergência”.**

- a) Portaria N° 30, de 12 de fevereiro de 2014  
 b) Portaria N° 354, de 10 de março de 2014  
 c) Portaria N° 825, de 25 de abril de 2016  
 d) Portaria N° 2.712, de 12 de novembro de 2013  
 e) Portaria N° 2.528, de 19 de outubro de 2006

**31. Referente à lombalgia, analise os itens seguintes e assinale a alternativa correta.**

**I – Segundo o trabalho de Deyo, publicado no New England Journal of Medicine em 2001, observou-se que a etiologia prevalente para lombalgia é de estiramento ou entorse lombar.**

**II – Menos de 1% da população adulta economicamente ativa sofre de dorsalgia.**

**III – São sinais e sintomas de alarme na lombalgia: dor iniciada antes dos 20 e após os 50 anos, febre, perda ponderal, dor intensa noturna ou piora da dor em posição supina, incontinência fecal e/ou urinária, história de neoplasia, anestesia em sela, redução da força em membros inferiores e imunossupressão.**

- a) Apenas os itens I e III estão corretos.  
 b) Apenas os itens II e III estão corretos.  
 c) Apenas os itens II e III estão incorretos.  
 d) Os itens I, II e III estão corretos.  
 e) Apenas os itens I e III estão incorretos.

**32. A respeito dos Critérios de Ranson, assinale a alternativa que contém a sequência correta da classificação de V (verdadeiro) e F (falso) para os itens a serem considerados na admissão de paciente com quadro de pancreatite aguda.**

- ( ) – Idade  $\leq$  54 anos  
 ( ) – Leucócitos  $>$  16.000/mm<sup>3</sup>  
 ( ) – Glicemia  $>$  200 mg/dl  
 ( ) – Desidrogenase láctica sérica  $>$  350 UI/L

( ) – AST < 250 UI/L

- a) V - V - V - V - V.
- b) F - V - V - V - F.
- c) F - F - V - V - V.
- d) F - V - F - V - F.
- e) V - F - V - F - V.

**33. Assinale a alternativa com a correlação correta das causas de hipertensão secundária.**

**I – Doenças Renais**

**II – Doença endócrina**

**III – Outras doenças**

- ( ) Doses altas de estrogênio
- ( ) Glomerulonefrite
- ( ) Doença do rim policístico
- ( ) Hipertireoidismo
- ( ) Aterosclerose
- ( ) Hipercalcemia
- ( ) Apneia do sono obstrutiva

- a) I; I; III; II; I; III; II.
- b) II; III; I; II; I; III; I.
- c) III; I; I; II; I; III; III.
- d) II; I; I; II; I; III; II.
- e) II; III; II; I; I; II; III.

**34. Assinale a alternativa incorreta a respeito das orientações aos indivíduos residentes no Brasil, com idade igual ou superior a cinco anos, que viajarão a países com recomendação de vacina para Poliomielite a visitantes, contidas no Programa Nacional de Imunização, publicado no ano 2016.**

- a) Sem comprovação vacinal: administrar duas doses de Vacina Oral Poliomielite(VOP), com intervalo de 90 dias entre elas.
- b) Sem comprovação vacinal: administrar três doses da VOP, com intervalo de 60 dias entre elas, mínimo 30 dias.
- c) Com esquema incompleto: completar o esquema com a VOP.
- d) Gestantes e imunodeprimidos e/ou seus contatos devem receber esquema com Vacina Inativada Poliomielite (VIP).
- e) Para aqueles indivíduos que receberam três doses ou mais de VOP ou VIP, caso a última dose tenha sido administrada há mais de 12 meses, garantir antes da viagem uma única dose de reforço com VOP ou VIP.

**35. Assinale a alternativa que contém o antimicrobiano contraindicado à gestante no segundo trimestre de gestação com quadro de infecção urinária, sem história de reação alérgica a medicamentos anteriormente:**

- a) Sulfametoxazol e Timetropina
- b) Cefalotina
- c) Nitrofurantoína
- d) Ciprofloxacino
- e) Amoxicilina

**36. O bloqueio atrioventricular é uma prevalente e de alta mortalidade se não tratado adequadamente:**

**I – Bloqueio de primeiro grau caracteriza-se pela condução retardada ao nível do nó sinoatrial; intervalo PR superior a 0,3s.**

**II – Bloqueio de segundo grau divide-se em Mobitz I, Mobitz II e Mobitz III.**

**III – Para alguns pacientes com Mobitz II e bloqueio atrioventricular de terceiro grau infranodal é necessário o marca-passo permanente, desde que exista causa reversível para o tratamento como toxicidade com fármacos, Infarto Agudo do Miocárdio e Doença de Lyme, por exemplo.**

**Assinale a alternativa correta.**

- a) Apenas a afirmativa II está incorreta.
- b) Apenas a afirmativa II está correta.
- c) As afirmativas II e III estão corretas.
- d) As afirmativas I e II estão corretas.
- e) As afirmativas I e II estão incorretas.

**37. Analise as afirmativas seguintes e assinale a alternativa que contém o resultado final da soma da(s) afirmativa(s) correta(s):**

**01 – Cor pulmonale é uma moléstia resultante de uma doença pulmonar.**

**02 – São causas de Cor Pulmonale: Doença Pulmonar Obstrutiva crônica, Fibrose pulmonar, Apneia do Sono.**

**04 – O principal diagnóstico diferencial do Cor Pulmonale é estenose da válvula mitral.**

08 – O tratamento de escolha para *Cor Pulmonale* geralmente consiste na utilização de oxigênio suplementar, diuréticos de alça e digital.

16 – *Cor pulmonale* apresenta baixos índices de mortalidade.

32 – A Síndrome de Eisenmenger pode ser considerada como diagnóstico diferencial para *Cor Pulmonale*.

- a) 07
- b) 14
- c) 31
- d) 43
- e) 63

38. Assinale a alternativa que contém a ordem correta da fisiopatologia da aterosclerose:

I – Acúmulo de lipídeos extracelularmente e intracelular

II – Estabilização da placa

III – Acúmulo de lipoproteína

IV – Adesão plaquetária

V – Lesão endotelial

VI – Liberação de citocinas inflamatórias

VII – Adesão de monócitos ao endotélio

- a) V, II, I, III, IV, VII, VI
- b) V, III, VII, IV, VI, II, I
- c) V, I, II, VI, IV, III, VII
- d) I, II, III, IV, VI, V, VII
- e) V, IV, II, III, I, VI, VII

39. Referente à Hipertensão arterial sistêmica e a patogênese das complicações produzidas por ela, correlacione as colunas:

Coluna 1	Coluna 2
I – Aumento da pós- carga	A - Disfunção diastólica
II – Aterosclerose	B – Isquemia miocárdico
III – Enfraquecimento das paredes dos vasos	C – Acidente encefálico isquêmico
	D - Retinopatia
	E – Acidente encefálico hemorrágico
	F – Aneurisma e dissecação da aorta
	G – Insuficiência renal

- a) II – A; III – B; I+III – C; I+III – G; III – A; III – C; III - G.
- b) III – A; II+III – B; III – C; II+III – F; III – D; III – E; III - G.
- c) I – A; I+II – B; II – C; II+III – F; III – D; III – E; III - G.
- d) I – G; I+II – A; II – C; II+III – D; II – D; III – E; III - G.
- e) I – A, B e C; II – C; II+III – F; III – D; III – E; III - G.

40. Homem de 36 anos é levado ao serviço de emergência pelo SAMU após dor retroesternal intensa e súbita, que começou há 1 hora quando estava em casa ajudando sua esposa a lavar o quintal. Ele descreve a dor como penetrante, constante e sem relação com o movimento. Ela não aliviou após uso de nitrato sublingual. Previamente hígido. Não possui história familiar de cardiopatia. Portador de hipertensão há 2 anos e uso de enalapril 20mg ao dia. Nega tabagismo e etilismo. Pratica arte marcial e é instrutor há 10 anos. Ao exame físico, nota-se que é um homem longilíneo com extremidades longas, está confortável e com diaforese, está deitado na maca com os olhos fechados. Além disso, está afebril, frequência cardíaca de 118 bpm, PA 156 x 64 mmHg no MSD e 188x74 em MSE. Exame de cabeça e pescoço inalterado. A ausculta do tórax é normal e nota-se *pectus excavatum*. Encontra-se taquicárdico, com ritmo regular, e apresenta sopro diastólico precoce suave na borda esternal direita. A pulsação está saltada. Os exames abdominais e neurológicos são normais. Radiografia torácica com alargamento mediastinal.

Baseado nesse caso, assinale a alternativa que apresenta o melhor exame para confirmação diagnóstica e classificá-la, para determinar a conduta ideal.

- a) Eletrocardiograma
- b) Aortografia
- c) Cintilografia miocárdica
- d) Ecocardiográfica ao esforço
- e) Radiografia de tórax com contraste esofágico



RASCUNHO





PREFEITURA DE TELÊMACO BORBA - ESTADO DO PARANÁ- EDITAL Nº 001-2016 - CONCURSO PÚBLICO

VESPERTINO – 29/05/2016 – NÍVEL SUPERIOR

PROVA OBJETIVA NÚMERO

2

CARGO: TMNS I - MEDICINA - CARDIOLOGIA

Leia atentamente as INSTRUÇÕES:

1. Confira seus dados no cartão-resposta: nome, número de inscrição e o curso para o qual se inscreveu.
2. **MARQUE no seu cartão-resposta o número da sua prova** (não será corrigido o cartão-resposta que não tiver marcado o número da prova) e **Assine** seu cartão-resposta.
3. Aguarde a autorização do Fiscal para abrir o caderno de prova. Ao receber a ordem do fiscal, confira o caderno de prova com muita atenção. Nenhuma reclamação sobre o total de questões ou falha de impressão será aceita depois de iniciada a prova.
4. O cartão-resposta não será substituído, salvo se contiver erro de impressão.
5. Preencha toda a área do cartão-resposta correspondente à alternativa de sua escolha, com caneta esferográfica (tinta azul ou preta), sem ultrapassar as bordas. As marcações duplas, ou rasuradas, com corretivo, ou marcadas diferentemente do modelo estabelecido no cartão-resposta poderão ser anuladas.
6. Sua prova tem **40** questões, com **5** alternativas.
7. Cabe apenas ao candidato a interpretação das questões, **o fiscal** não poderá fazer nenhuma interferência.
8. A prova será realizada com duração máxima de **3 (três) horas**, incluído o tempo para a realização da Prova Objetiva de múltipla escolha e o preenchimento do cartão-resposta.
9. O candidato poderá retirar-se do local de realização das provas somente **1 (uma) hora** após o seu início, sem levar o caderno de prova.
10. O candidato poderá levar o caderno de provas, assim como anotação contendo transcrição do seu cartão-resposta, somente **1h30min** (uma hora e trinta minutos) após o início da realização da prova.
11. Ao terminar a prova, o candidato deverá entregar ao fiscal de sala o cartão-resposta preenchido e **ASSINADO**.
12. Os **3 (três)** candidatos, que terminarem a prova por último, deverão permanecer na sala, e só poderão sair juntos após o fechamento do envelope, contendo os cartões-resposta dos candidatos presentes e ausentes, e assinarem no lacre do referido envelope, atestando que este foi devidamente lacrado.
13. Durante todo o tempo em que permanecer no local onde está ocorrendo o concurso, o candidato deverá, manter o celular desligado e sem bateria, só sendo permitido ligar depois de ultrapassar o portão de saída do prédio.
14. Não será permitido ao candidato fumar na sala de provas, bem como nas dependências.
15. Depois de terminar a prova e entregar ao fiscal o cartão-resposta, preenchido e assinado, não será mais permitido ao candidato o uso do banheiro e bebedouro.

**BOA PROVA!**

**RACIOCÍNIO LÓGICO**

01. Os cinco filhos de Ana estavam discutindo a respeito da data de nascimento da mãe:

- Almir disse que foi em janeiro, dia 14, sexta-feira.
- Vanderlei disse que foi em janeiro, dia 14, sábado.
- Tiago disse que foi em fevereiro, dia 15, sábado.
- Sandro disse que foi em janeiro, dia 15, sexta-feira.
- Renato disse que foi em fevereiro, dia 15, sexta-feira.

Sabe-se que somente um dos filhos de Ana acertou corretamente sua data de nascimento e que os outros acertaram pelo menos um dos itens (dia, dia da semana e mês). Dessa forma, é correto afirmar que o filho de Ana que acertou a data de nascimento dela foi:

- a) Renato
- b) Sandro
- c) Tiago
- d) Vanderlei
- e) Almir

02. Considere a seguinte afirmativa: “Todo churrasqueiro gosta de picanha”. Em relação a essa proposição, é correto afirmar que:

- a) Algum churrasqueiro não gosta de picanha.
- b) Toda pessoa que gosta de picanha é churrasqueira.
- c) Alguma pessoa que não gosta de picanha é churrasqueira.
- d) Toda pessoa que não é churrasqueira, não gosta de picanha.
- e) Toda pessoa que não gosta de picanha, não é churrasqueira.

03. Em um grupo formado por 67 pessoas, verificou-se que 41 pessoas gostam de arroz, 29 gostam de feijão, 33 gostam de carne, 19 gostam de arroz e de feijão, 9 gostam apenas de arroz e de carne, 12 gostam de feijão e de carne e que 6 gostam de arroz, de feijão e de carne. O número de pessoas desse grupo, que não gosta de nenhum desses três tipos de alimentos é igual a:

- a) 4
- b) 5
- c) 6
- d) 8
- e) 10

04. Bruno escreveu, em seu caderno, várias sequências formadas por números múltiplos de 4, onde os valores que ocupavam as posições pares eram multiplicados por  $-1$ . Cada sequência foi somada e o resultado da soma anotado. A soma das três primeiras sequências escritas por Bruno foram as seguintes:

$$4 - 8 = -4$$
$$4 - 8 + 12 = 8$$
$$4 - 8 + 12 - 16 = -8$$

Considere que Bruno escreveu e somou tais sequências, em seu caderno, de modo a obter determinada sequência cuja soma foi 600. O número de termos dessa sequência é igual a:

- a) 149
- b) 150
- c) 298
- d) 299
- e) 300

05. Quatro torcedores, um do São Paulo, um do Cruzeiro, um do Vasco e um do Bahia, estão sentados ao redor de uma mesa quadrada, de modo que, dois a dois, fiquem frente a frente. Sabe-se que Alan é torcedor do Cruzeiro e que Bruno está sentado à direita de Alan. Sabe-se também que Caio está sentado à direita do torcedor do São Paulo. Sabe-se ainda que Daniel não é torcedor do Vasco e que está sentado à frente de Bruno. Dessa forma, é correto afirmar que:

- a) Bruno é torcedor do Bahia e Daniel é torcedor do São Paulo.
- b) Bruno é torcedor do São Paulo e Daniel é torcedor do Bahia.
- c) Caio é torcedor do Vasco e Daniel é torcedor do São Paulo.
- d) Caio é torcedor do Bahia e Daniel é torcedor do São Paulo.
- e) Bruno é torcedor do Vasco e Daniel é torcedor do Bahia.

**INFORMÁTICA**

06. Considerando o MS-Excel versão 2010, observando a figura abaixo, é correto afirmar que:

	A	B	C
1			
2			
3			
4			

- Somente 03 três linhas estão selecionadas.
- Somente uma célula está selecionada.
- 12 (doze) células estão selecionadas.
- Somente a coluna A até a linha 4 (quatro) está selecionada.
- Somente as colunas 1 (um), 2 (dois), 3 (três) e 4 (quatro) estão selecionadas.

07. Considerando o MS-Excel versão 2010, observando a figura abaixo, é incorreto afirmar que:

	A	B	C
1	12	6	=A1*B1
2	8	2	=A2/B2
3	5	14	=A3-B3
4	6	11	=A4+B4

- O resultado da fórmula =A1\*B1 é 72.
- O resultado da fórmula =A2/B2 é 4.
- O resultado da fórmula =A3-B3 é -9.
- O resultado da fórmula =A3-B3 é 9.
- O resultado da fórmula =A4+B4 é 17.

08. Digitando um texto no MS-Word versão 2010, necessito adicionar número nas páginas. Quanto a isso, é correto afirmar que:

- No menu Layout da Página, clico em número de página e seleciono onde desejo adicionar os números.
- No menu Inserir, clico em número de página e seleciono onde desejo adicionar os números.
- No menu Revisão, clico em número de página e seleciono onde desejo adicionar os números.
- No menu Referências, clico em número de página e seleciono onde desejo adicionar os números.
- No menu Exibição, clico em número de página e seleciono onde desejo adicionar os números.

09. A segurança da informação está diretamente relacionada com proteção de um conjunto de informações, no sentido de preservar o valor que possuem para um indivíduo ou uma organização. Atualmente, um dos aplicativos mais utilizados no mundo, o Whats app, teve uma alteração de confidencialidade muito importante na segurança das informações transmitidas e recebidas. Dentre as alternativas, assinale a que corretamente informa a alteração inserida no aplicativo Whats app.

- Antispam
- Antivirus
- Firewall
- Antispyware
- Criptografia

10. São todos os dispositivos que trabalham acoplados ao microcomputador para receber, transmitir, visualizar, ler, gravar ou armazenarem dados. São eles que permitem a comunicação do computador com o meio exterior, isto é, com os usuários e outras máquinas.

Esse texto descreve corretamente:

- Memória ram
- Memória virtual
- Software
- Periféricos
- Hardware

**CONHECIMENTOS GERAIS**

11. Hino do município de Telêmaco Borba/PR

Das virgens matas e campos verdejantes  
 Servindo-se também o rio Tibagi,



Homens de ideais, espíritos vibrantes.  
 Constituíram as indústrias aqui.  
 Estribilho:  
 Salve! Salve! Telêmaco Borba  
 Terra querida e de grandes primores,  
 A nossa homenagem rendamos  
 À cidade dos trabalhadores.  
 Pois a cadência de enorme e real progresso  
 Um município mui grandioso fez nascer,  
 Marcando assim, verdadeiro sucesso  
 Faz, então o Paraná engrandecer.

**No que tange ao Hino do município, atribua V (verdadeiro) ou F (falso) às afirmativas e marque a alternativa correta.**

- ( ) Eloah Martins Quadrado é autora da letra do hino.  
 ( ) Bento Mossurunga compôs a música do hino.  
 ( ) Eloah Martins Quadrado foi nomeada primeira professora da Cidade Nova, atual Telêmaco Borba.  
 ( ) Bento Mossurunga fundou a orquestra Estudantil e Concertos – Orquestra Sinfônica da Universidade, a Sociedade de Cultura Artístico Basílio Itiberê.  
 a) F, V, V, V.  
 b) V, F, V, V.  
 c) V, V, F, V.  
 d) V, V, F, F.  
 e) V, V, V, V.

**12. À luz da Lei nº 1883/2012, que dispões sobre o Estatuto dos Servidores Públicos da Administração Direta, Autárquica e Funcional do Município de Telêmaco Borba/PR, leia as alternativas e marque a correta.**

- a) A apresentação para a posse ocorrerá no prazo de até trinta dias, contados do ato de nomeação.  
 b) A destituição do servidor da função gratificada dar-se-á por solicitação exclusiva dele mesmo.  
 c) O servidor ocupante exclusivamente de cargo em comissão será contribuinte do regime geral de previdência social.  
 d) A aprovação em concurso público gera o direito à nomeação, e será feita obedecida à ordem de classificação dos candidatos.  
 e) O exercício de função gratificada poderá ser de dedicação integral ou parcial, conforme necessidade da administração.

**Conforme a Lei nº 1.881, de 05 de abril de 2012, que dispõe sobre o Plano de Cargos, Carreiras e Vencimentos do quadro geral de servidores da Prefeitura Municipal de Telêmaco Borba/PR, regulamentada pelo Decreto nº 2269/2015, responda às próximas três questões.**

**13. Leia as assertivas e assinala a incorreta.**

- a) Do resultado da avaliação de desempenho poderá ser interposto recurso à Comissão de Desenvolvimento Funcional no prazo de quinze dias a contar da publicação no Boletim Oficial do Município.  
 b) Não será concedida a progressão ou promoção ao servidor que estiver em licença para tratamento de saúde por um período superior a quarenta e cinco dias, no período de avaliação.  
 c) A alternância dos membros constituintes da Comissão de Desenvolvimento Funcional eleitos pelos servidores verificar-se-á a cada três anos de participação, observados, para substituição de seus participantes, o critério fixado no artigo anterior, não cabendo eleição sucessiva.  
 d) Caberá à Comissão de Desenvolvimento Funcional, no caso de divergência de vinte por cento entre a nota do avaliador e a do avaliado, solicitar nova avaliação à chefia.  
 e) Nos termos do disposto no art. 17 da Lei nº 1.881, de 05 de abril de 2012, para progredir, é necessário que o servidor satisfaça, dentre outros, o seguinte requisito: estar no efetivo exercício de seu cargo ou em função comissionada na sua área de atuação durante o interstício de dois anos.

**14. Assinale a alternativa que completa respectivamente as lacunas do texto a seguir:**

**A Comissão de Desenvolvimento Funcional será constituída por \_\_\_\_\_ membros, sendo \_\_\_\_\_ designados pelo Prefeito Municipal de Telêmaco Borba e os demais eleitos pelos servidores municipais dentre os estáveis, com a atribuição de coordenar os procedimentos relativos à avaliação periódica de desempenho e outras atribuições.**

- a) três / sete  
 b) um / três  
 c) sete / três  
 d) três / cinco  
 e) dois / cinco

15. A Avaliação de Desempenho será norteadada, dentre outros, pelo seguinte princípio: Amplitude - a avaliação deve incidir sobre todas as áreas de atuação do servidor, que compreendem:

1. a formulação de políticas administrativas e sua aplicação para todos os setores da administração municipal;
2. o desempenho do profissional dentro de suas funções pertinentes;
3. a estrutura do órgão em que exerce a função;
4. os resultados de eficiência dos serviços de cada setor ou órgão da administração municipal;
5. a participação direta do avaliado, durante todo o processo avaliativo.

Diante dessa afirmação, somente não está correto o item:

- a) 1
- b) 2
- c) 3
- d) 4
- e) 5

#### CONHECIMENTOS ESPECÍFICOS

16. Assinale a alternativa que apresenta a portaria que institui a Rede de Atenção Psicossocial para pessoas com sofrimento ou transtorno mental e com necessidades decorrentes do uso de crack, álcool e outras drogas, no âmbito do Sistema Único de Saúde:

- a) Portaria N° 1.498, de 19 de julho de 2013
- b) Portaria N° 793, de 24 de abril de 2012
- c) Portaria N° 2.395, de 11 de outubro de 2011
- d) Portaria N° 3.099, de 23 de dezembro de 2011
- e) Portaria N° 1.459, de 24 de junho de 2011

17. Analise as afirmativas seguintes e assinale a alternativa que contém o resultado final da soma da(s) afirmativa(s) correta(s):

01 – Toda lesão no sistema nervoso central promove atrofia cortical, progredindo para demência.

02 – Delirium tremens com instabilidade autonômica e hiperatividade simpática associa-se, geralmente, a mortalidade de 5 a 10% dos pacientes.

04 – A classe de medicamento de primeira escolha para pacientes com delirium tremens são os Inibidores da Recapitação da Serotonina como a Amitriptilina.

08 – O etilismo pode desenvolver a encefalopatia de Wernicke.

16 – Os benzodiazepínicos tem ação no sistema de ácido gama-amino-butirico, da mesma forma que o álcool no cérebro humano.

- a) 06
- b) 07
- c) 09
- d) 19
- e) 26

18. Leia as assertivas e assinale a alternativa correta.

I – A insuficiência cardíaca congestiva é uma síndrome clínica sempre causada por alguma doença cardíaca subjacente, mais comumente miocardiopatia isquêmica resultante de aterosclerose e/ou hipertensão arterial.

II – A Doxorubicina é uma droga amplamente utilizada e que causa efeitos cardiotoxicos com dose cumulativa superior a 450mg/m<sup>2</sup> de superfície corporal.

III – Os inibidores da ECA e os BRA associados a betabloqueadores e antagonistas de aldosterona podem diminuir a mortalidade, e aliviam imediatamente os sintomas congestivos.

IV – A insuficiência cardíaca crônica é uma doença progressiva com alta mortalidade, e a classe funcional do paciente geralmente não é um guia ao tratamento.

- a) Apenas I e II estão corretas.
- b) Apenas I e III estão corretas.
- c) Todas estão corretas.
- d) Apenas II e III estão corretas.
- e) Apenas a IV está errada.

Leia o seguinte caso para responder às próximas três questões.

Mulher de 28 anos vai ao consultório queixando-se de dor em joelho direito e hálux contra-lateral, com 10 dias de evolução e que não respondeu ao uso de analgésicos simples. Refere febrícula ao término do dia associada à mialgia inespecífica, além de disúria e corrimento vaginal branco leitoso amarelo esverdeado e prurido ocular bilateral; há 45 dias foi tratada para LUES com esquema adequado preconizado pelo Ministério da Saúde. Ao exame, apresenta-se afebril, e ambos os olhos estão injetados e fotossensíveis; o

joelho direito e a primeira articulação metatarsofalangiana esquerda apresentam-se edemaciados e dolorosos com discreta hiperemia.

**19. Com base no caso, pode-se afirmar que a paciente apresenta uma tríade. Assinale a assertiva que contém o epônimo dessa tríade.**

- a) Virchow
- b) Reiter
- c) Beck
- d) Charcot
- e) Whipple

**20. Essa paciente possui fator de risco para desenvolver qual patologia ginecológica a médio prazo, se não for tratada corretamente?**

- a) Doença de Paget
- b) Doença de Berger
- c) Síndrome de Fitz-Hugh-Curtis
- d) Endometriose
- e) Síndrome dos ovários policísticos

**21. Sobre esse caso, analise as afirmativas e assinale a alternativa correta.**

**I – O principal diagnóstico diferencial para esse caso é a gonorreia.**

**II – Essa paciente possivelmente é HLA-B27 negativa.**

**III – Ela pode ser tratada com Azitromicina 1g no D1 e D7 associada com Ceftriaxona 250mg Intramuscular no D1 possui maior índice de cura em relação ao uso de Ceftriaxone 250mg Intramuscular no D1 com doxiciclina 100mg via oral de 12/12 horas por 14 dias.**

**IV – O provável agente etiológico do caso é a *Chlamydia trachomatis*.**

- a) Apenas a I está correta.
- b) Apenas I e II estão corretas.
- c) Apenas II e III estão erradas.
- d) Apenas I e III estão corretas.
- e) Apenas a II está errada.

**22. Assinale a alternativa em que se faz a correlação incorreta.**

- a) Agência Nacional de Saúde Suplementar – responsável pela regularização e fiscalização dos planos de saúde no país.
- b) Anvisa – responsável pela fiscalização in loco de estabelecimento de saúde em cada município e a sua correta regularização.
- c) Vigilância Epidemiológica – entidade responsável por organizar os dados de agravos em saúde e auxiliar a gestão a realizar estratégias de atenção a saúde.
- d) Anvisa – responsável pela deliberação de novas drogas no mercado brasileiro.
- e) Vigilância sanitária – responsável pela fiscalização das condições de manipulação de alimentos para os consumidores finais.

**23. Os Centros de Atenção Psicossocial são instituições destinadas a acolher os pacientes com transtornos mentais e estimular sua integração social e familiar, além de outras funções. Para que isso ocorra, necessitam de um número mínimo de membros na equipe.**

**Assinale a alternativa que contém a relação correta entre o tipo de CAPS e sua equipe mínima, conforme a determinação do Ministério da Saúde:**

Tipo de CAPS	Equipe Mínima
I – CAPS I	<b>A – 2 psiquiatras; 1 enfermeiro com formação em nível superior; 5 profissionais de nível superior de outras categorias profissionais; 8 profissionais de nível médio.</b>
II – CAPS II	<b>B – 1 médico psiquiatra, ou neurologista ou pediatra com formação em saúde mental; 1 enfermeiro; 4 profissionais de nível superior dentre psicólogo, assistente social, terapeuta ocupacional, fonoaudiólogo, pedagogo ou outro profissional necessário ao projeto terapêutico; 5 profissionais de nível médio.</b>
III – CAPS III	<b>C – 1 médico psiquiatra ou com formação em saúde mental; 1 enfermeiro, 3 profissionais de nível superior de outras categorias profissionais; 4 profissionais de nível médio.</b>
IV – CAPSi	<b>D – 1 psiquiatra; 1 enfermeiro com formação em saúde mental; 1 médico clínico responsável pela triagem, avaliação e acompanhamento das intercorrências clínicas; 4 profissionais de nível superior necessário ao projeto terapêutico; 6 profissionais de nível médio.</b>



V - CAPSad

**E – 1 psiquiatra; 1 enfermeiro com formação em saúde mental; 4 profissionais de nível superior de outras categorias profissionais; 6 profissionais de nível médio.**

- a) I-E; II-C; III-A; IV-B; V-D.
- b) I-E; II-C; III-A; IV-D; V-B.
- c) I-C; II-B; III-A; IV-E; V-D.
- d) I-C; II-E; III-A; IV-B; V-D.
- e) I-E; II-D; III-A; IV-B; V-C.

**24. Analise os seguintes itens a respeito de diarreia crônica e assinale a alternativa correta.**

**I – Diarreias tipo secretória podem ser desencadeadas por cólera, tumor de tireoide medular e uso de laxantes estimulantes exógenos, por exemplo.**

**II – Amiloidose pode promover esteatorreia, da mesma forma que a Doença de Whipple.**

**III – São exemplos de dismotilidade promotora de diarreia crônica: hipertireoidismo, síndrome do intestino irritável e Espru tropical.**

**IV – Pacientes portadores do Vírus da Imunodeficiência Adquirida podem ter, como sintoma inicial, diarreia crônica.**

- a) Todos estão corretos.
- b) Apenas o item IV está incorreto.
- c) Apenas o item III está correto.
- d) Apenas o item III está incorreto.
- e) Apenas o item II está incorreto.

**25. Assinale a assertiva que apresenta a portaria que publica a proposta de Projeto de Resolução “Boas Práticas para Organização e Funcionamento de Serviços de Urgência e Emergência”.**

- a) Portaria N° 30, de 12 de fevereiro de 2014
- b) Portaria N° 354, de 10 de março de 2014
- c) Portaria N° 825, de 25 de abril de 2016
- d) Portaria N° 2.712, de 12 de novembro de 2013
- e) Portaria N° 2.528, de 19 de outubro de 2006

**26. Referente à lombalgia, analise os itens seguintes e assinale a alternativa correta.**

**I – Segundo o trabalho de Deyo, publicado no New England Journal of Medicine em 2001, observou-se que a etiologia prevalente para lombalgia é de estiramento ou entorse lombar.**

**II – Menos de 1% da população adulta economicamente ativa sofre de dorsalgia.**

**III – São sinais e sintomas de alarme na lombalgia: dor iniciada antes dos 20 e após os 50 anos, febre, perda ponderal, dor intensa noturna ou piora da dor em posição supina, incontinência fecal e/ou urinária, história de neoplasia, anestesia em sela, redução da força em membros inferiores e imunossupressão.**

- a) Apenas os itens I e III estão corretos.
- b) Apenas os itens II e III estão corretos.
- c) Apenas os itens II e III estão incorretos.
- d) Os itens I, II e III estão corretos.
- e) Apenas os itens I e III estão incorretos.

**27. A respeito dos Critérios de Ranson, assinale a alternativa que contém a sequência correta da classificação de V (verdadeiro) e F (falso) para os itens a serem considerados na admissão de paciente com quadro de pancreatite aguda.**

- ( ) – Idade  $\leq$  54 anos
- ( ) – Leucócitos  $>$  16.000/mm<sup>3</sup>
- ( ) – Glicemia  $>$  200 mg/dl
- ( ) – Desidrogenase láctica sérica  $>$  350 UI/L
- ( ) – AST  $<$  250 UI/L

- a) V - V - V - V - V.
- b) F - V - V - V - F.
- c) F - F - V - V - V.
- d) F - V - F - V - F.
- e) V - F - V - F - V.

**28. Assinale a alternativa com a correlação correta das causas de hipertensão secundária.**

**I – Doenças Renais**

**II – Doença endócrina**

**III – Outras doenças**

- ( ) Doses altas de estrogênio
- ( ) Glomerulonefrite
- ( ) Doença do rim policístico

- ( ) Hipertireoidismo  
 ( ) Aterosclerose  
 ( ) Hipercalcemia  
 ( ) Apneia do sono obstrutiva

- a) I; I; III; II; I; III; II.  
 b) II; III; I; II; I; III; I.  
 c) III; I; I; II; I; III; III.  
 d) II; I; I; II; I; III; II.  
 e) II; III; II; I; I; II; III.

**29. Assinale a alternativa incorreta a respeito das orientações aos indivíduos residentes no Brasil, com idade igual ou superior a cinco anos, que viajarão a países com recomendação de vacina para Poliomielite a visitantes, contidas no Programa Nacional de Imunização, publicado no ano 2016.**

- a) Sem comprovação vacinal: administrar duas doses de Vacina Oral Poliomielite(VOP), com intervalo de 90 dias entre elas.  
 b) Sem comprovação vacinal: administrar três doses da VOP, com intervalo de 60 dias entre elas, mínimo 30 dias.  
 c) Com esquema incompleto: completar o esquema com a VOP.  
 d) Gestantes e imunodeprimidos e/ou seus contatos devem receber esquema com Vacina Inativada Poliomielite (VIP).  
 e) Para aqueles indivíduos que receberam três doses ou mais de VOP ou VIP, caso a última dose tenha sido administrada há mais de 12 meses, garantir antes da viagem uma única dose de reforço com VOP ou VIP.

**30. Assinale a alternativa que contém o antimicrobiano contraindicado à gestante no segundo trimestre de gestação com quadro de infecção urinária, sem história de reação alérgica a medicamentos anteriormente:**

- a) Sulfametoxazol e Timetropina  
 b) Cefalotina  
 c) Nitrofurantoína  
 d) Ciprofloxacino  
 e) Amoxicilina

**31. O bloqueio atrioventricular é uma prevalente e de alta mortalidade se não tratado adequadamente:**

**I – Bloqueio de primeiro grau caracteriza-se pela condução retardada ao nível do nó sinoatrial; intervalo PR superior a 0,3s.**

**II – Bloqueio de segundo grau divide-se em Mobitz I, Mobitz II e Mobitz III.**

**III – Para alguns pacientes com Mobitz II e bloqueio atrioventricular de terceiro grau infranodal é necessário o marca-passo permanente, desde que exista causa reversível para o tratamento como toxicidade com fármacos, Infarto Agudo do Miocárdio e Doença de Lyme, por exemplo.**

**Assinale a alternativa correta.**

- a) Apenas a afirmativa II está incorreta.  
 b) Apenas a afirmativa II está correta.  
 c) As afirmativas II e III estão corretas.  
 d) As afirmativas I e II estão corretas.  
 e) As afirmativas I e II estão incorretas.

**32. Analise as afirmativas seguintes e assinale a alternativa que contém o resultado final da soma da(s) afirmativa(s) correta(s):**

**01 – Cor pulmonale é uma moléstia resultante de uma doença pulmonar.**

**02 – São causas de Cor Pulmonale: Doença Pulmonar Obstrutiva crônica, Fibrose pulmonar, Apneia do Sono.**

**04 – O principal diagnóstico diferencial do Cor Pulmonale é estenose da válvula mitral.**

**08 – O tratamento de escolha para Cor Pulmonale geralmente consiste na utilização de oxigênio suplementar, diuréticos de alça e digital.**

**16 – Cor pulmonale apresenta baixos índices de mortalidade.**

**32 – A Síndrome de Eisenmenger pode ser considerada como diagnóstico diferencial para Cor Pulmonale.**

- a) 07  
 b) 14  
 c) 31  
 d) 43  
 e) 63

**33. Assinale a alternativa que contém a ordem correta da fisiopatologia da aterosclerose:**

**I – Acúmulo de lipídeos extracelularmente e intracelular**

**II – Estabilização da placa**

**III – Acúmulo de lipoproteína**

**IV – Adesão plaquetária**

**V – Lesão endotelial****VI – Liberação de citocinas inflamatórias****VII – Adesão de monócitos ao endotélio**

- a) V, II, I, III, IV, VII, VI  
 b) V, III, VII, IV, VI, II, I  
 c) V, I, II, VI, IV, III, VII  
 d) I, II, III, IV, VI, V, VII  
 e) V, IV, II, III, I, VI, VII

**34. Referente à Hipertensão arterial sistêmica e a patogênese das complicações produzidas por ela, correlacione as colunas:**

Coluna 1	Coluna 2
I – Aumento da pós- carga	<b>A - Disfunção diastólica</b>
II – Aterosclerose	<b>B – Isquemia miocárdico</b>
III – Enfraquecimento das paredes dos vasos	<b>C – Acidente encefálico isquêmico</b>
	<b>D - Retinopatia</b>
	<b>E – Acidente encefálico hemorrágico</b>
	<b>F – Aneurisma e dissecação da aorta</b>
	<b>G – Insuficiência renal</b>

- a) II – A; III – B; I+III – C; I+III – G; III – A; III – C; III - G.  
 b) III – A; II+III – B; III – C; II+III – F; III – D; III – E; III - G.  
 c) I – A; I+II – B; II – C; II+III – F; III – D; III – E; III - G.  
 d) I – G; I+II – A; II – C; II+III – D; II – D; III – E; III - G.  
 e) I – A, B e C; II – C; II+III – F; III – D; III – E; III - G.

**35. Homem de 36 anos é levado ao serviço de emergência pelo SAMU após dor retroesternal intensa e súbita, que começou há 1 hora quando estava em casa ajudando sua esposa a lavar o quintal. Ele descreve a dor como penetrante, constante e sem relação com o movimento. Ela não aliviou após uso de nitrato sublingual. Previamente hígido. Não possui história familiar de cardiopatia. Portador de hipertensão há 2 anos e uso de enalapril 20mg ao dia. Nega tabagismo e etilismo. Pratica arte marcial e é instrutor há 10 anos. Ao exame físico, nota-se que é um homem longilíneo com extremidades longas, está confortável e com diaforese, está deitado na maca com os olhos fechados. Além disso, está afebril, frequência cardíaca de 118 bpm, PA 156 x 64 mmHg no MSD e 188x74 em MSE. Exame de cabeça e pescoço inalterado. A ausculta do tórax é normal e nota-se *pectus excavatum*. Encontra-se taquicárdico, com ritmo regular, e apresenta sopro diastólico precoce suave na borda esternal direita. A pulsação está saltada. Os exames abdominais e neurológicos são normais. Radiografia torácica com alargamento mediastinal.**

**Baseado nesse caso, assinale a alternativa que apresenta o melhor exame para confirmação diagnóstica e classificá-la, para determinar a conduta ideal.**

- a) Eletrocardiograma  
 b) Aortografia  
 c) Cintilografia miocárdica  
 d) Ecocardiográfica ao esforço  
 e) Radiografia de tórax com contraste esofágico

**LÍNGUA PORTUGUESA**

**Texto para as próximas cinco questões:**

**“O cego Estrelinho”  
Mia Couto**

O cego Estrelinho era pessoa de nenhuma vez: sua história poderia ser contada e descontada não fosse seu guia, Gigito Efraim. A mão de Gigito conduziu o desvestido por tempos e idades. Aquela mão era repartidamente comum, extensão de um no outro, siamensal. E assim era quase de nascença. Memória de Estrelinho tinha cinco dedos e eram os de Gigito postos, em aperto, na sua própria mão.

O cego, curioso, queria saber de tudo. Ele não fazia cerimônia no viver. O sempre lhe era pouco e o tudo insuficiente. Dizia, deste modo:

— Tenho que viver já, senão esqueço-me.

Gigitinho, porém, o que descrevia era o que não havia. O mundo que ele minuciava eram fantasias e rendilhados. A imaginação do guia era mais profícua que papadeira. O cego enchia a boca de águas:

— Que maravilha esse mundo. Me conte tudo, Gigito!

A mão do guia era, afinal, o manuscrito da mentira. Gigito Efraim estava como nunca esteve S. Tomé: via para não crer. O condutor falava pela ponta dos dedos. Desfolhava o universo, aberto em folhas. A ideia dele era tal que mesmo o cego, por vezes, acreditava ver. O outro lhe encorajava esses breves enganos:

— Desbengale-se, você está escolhendo a boa procedência!

Mentira: Estrelinho continuava sem ver uma palmeira à frente do nariz. Contudo, o cego não se conformava em suas escurezas. Ele cumpria o ditado: não tinha perna e queria dar o pontapé. Só à noite, ele desalentava, sofrendo medos mais antigos que a humanidade. Entendia aquilo que, na raça humana, é menos primitivo: o animal.

— Na noite aflige não haver luz?

— Aflição é ter um pássaro branco esvoando dentro do sono.

Pássaro branco? No sono? Lugar de ave é nas alturas. Dizem até que Deus fez o céu para justificar os pássaros. Estrelinho disfarçava o medo dos vaticínios, subterfugindo:

— E agora, Gigitinho? Agora, olhando assim para cima, estou face ao céu?

Que podia o outro responder? O céu do cego fica em toda a parte. Estrelinho perdia o pé era quando a noite chegava e seu mestre adormecia. Era como se um novo escuro nele se estreasse em nó cego. Devagaroso e sorrateiro ele aninhava sua mão na mão do guia. Só assim adormecia. A razão da concha é a timidez da amêijoia? Na manhã seguinte, o cego lhe confessava: se você morrer, tenho que morrer logo no imediato. Senão-me: como acerto o caminho para o céu?

Foi no mês de dezembro que levaram Gigitinho. Lhe tiraram do mundo para pôr na guerra: obrigavam os serviços militares. O cego reclamou: que o moço inatingia a idade. E que o serviço que ele a si prestava era vital e vitalício. O guia chamou Estrelinho à parte e lhe tranquilizou:

— Não vai ficar sozinando por aí. Minha mana já mandei para ficar no meu lugar.

O cego estendeu o braço a querer tocar uma despedida. Mas o outro já não estava lá. Ou estava e se desviara, propositado? E sem água ida nem vinda, Estrelinho escutou o amigo se afastar, engolido, esponjínquo, invisível. Pela primeira vez, Estrelinho se sentiu invalidado.

— Agora, só agora, sou cego que não vê.

(...)

**COUTO, Mia. Estórias abensonhadas. Rio de Janeiro: Nova Fronteira, 1996. (Pág 23 e 24).**

**36. Quanto à interpretação do fragmento do conto, podemos afirmar que:**

- Gigito Efraim era o guia de Estrelinho há pouquíssimo tempo.
- Estrelinho era cego de nascença.
- Gigito descrevia o mundo para Estrelinho de forma denotativa.
- Gigito foi convocado pelo exército para ser guia de cegos na guerra.
- Gigito descrevia o mundo para Estrelinho de forma conotativa.

**37. No período “O sempre lhe era pouco e o tudo insuficiente”, o pronome “LHE” exerce a função sintática de:**

- Objeto Direto
- Objeto Indireto
- Complemento Nominal
- Adjunto Adnominal
- Objeto Direto Preposicionado

**38. Na oração “A mão de Gigito conduziu o desvistado por tempos e idades”, o autor faz uso de um neologismo, assim como no decorrer de toda a obra em questão. Contudo, o neologismo só se torna possível pela utilização dos elementos mórficos naquilo que a gramática normativa pontua como Processo de Formação das Palavras. Levando em consideração apenas o recurso morfológico, qual Processo de Formação foi utilizado?**

- Derivação Sufixal
- Derivação Prefixal
- Derivação Regressiva
- Derivação Imprópria
- Derivação Parassintética

**39. No terceiro período do décimo terceiro parágrafo, temos:**

- Uma oração
- Duas orações
- Três orações
- Quatro orações
- Cinco orações

**40. No último parágrafo do fragmento do conto “— Agora, só agora, sou cego que não vê”, a oração subordinada presente classifica-se corretamente como:**

- Oração Subordinada Adjetiva Restritiva



PREFEITURA DE TELÊMACO BORBA - ESTADO DO PARANÁ- EDITAL Nº 001-2016 - CONCURSO PÚBLICO

VESPERTINO – 29/05/2016 – NÍVEL SUPERIOR

PROVA OBJETIVA NÚMERO

**3**

**CARGO: TMNS I - MEDICINA – CARDIOLOGIA**

Leia atentamente as **INSTRUÇÕES**:

1. Confira seus dados no cartão-resposta: nome, número de inscrição e o curso para o qual se inscreveu.
2. **MARQUE no seu cartão-resposta o número da sua prova** (não será corrigido o cartão-resposta que não tiver marcado o número da prova) e **Assine** seu cartão-resposta.
3. Aguarde a autorização do Fiscal para abrir o caderno de prova. Ao receber a ordem do fiscal, confira o caderno de prova com muita atenção. Nenhuma reclamação sobre o total de questões ou falha de impressão será aceita depois de iniciada a prova.
4. O cartão-resposta não será substituído, salvo se contiver erro de impressão.
5. Preencha toda a área do cartão-resposta correspondente à alternativa de sua escolha, com caneta esferográfica (tinta azul ou preta), sem ultrapassar as bordas. As marcações duplas, ou rasuradas, com corretivo, ou marcadas diferentemente do modelo estabelecido no cartão-resposta poderão ser anuladas.
6. Sua prova tem **40** questões, com **5** alternativas.
7. Cabe apenas ao candidato a interpretação das questões, **o fiscal** não poderá fazer nenhuma interferência.
8. A prova será realizada com duração máxima de **3 (três) horas**, incluído o tempo para a realização da Prova Objetiva de múltipla escolha e o preenchimento do cartão-resposta.
9. O candidato poderá retirar-se do local de realização das provas somente **1 (uma) hora** após o seu início, sem levar o caderno de prova.
10. O candidato poderá levar o caderno de provas, assim como anotação contendo transcrição do seu cartão-resposta, somente **1h30min** (uma hora e trinta minutos) após o início da realização da prova.
11. Ao terminar a prova, o candidato deverá entregar ao fiscal de sala o cartão-resposta preenchido e **ASSINADO**.
12. Os **3 (três)** candidatos, que terminarem a prova por último, deverão permanecer na sala, e só poderão sair juntos após o fechamento do envelope, contendo os cartões-resposta dos candidatos presentes e ausentes, e assinarem no lacre do referido envelope, atestando que este foi devidamente lacrado.
13. Durante todo o tempo em que permanecer no local onde está ocorrendo o concurso, o candidato deverá, manter o celular desligado e sem bateria, só sendo permitido ligar depois de ultrapassar o portão de saída do prédio.
14. Não será permitido ao candidato fumar na sala de provas, bem como nas dependências.
15. Depois de terminar a prova e entregar ao fiscal o cartão-resposta, preenchido e assinado, não será mais permitido ao candidato o uso do banheiro e bebedouro.

**BOA PROVA!**

**CONHECIMENTOS ESPECÍFICOS**

**01. Assinale a alternativa que apresenta a portaria que institui a Rede de Atenção Psicossocial para pessoas com sofrimento ou transtorno mental e com necessidades decorrentes do uso de crack, álcool e outras drogas, no âmbito do Sistema Único de Saúde:**

- a) Portaria N° 1.498, de 19 de julho de 2013
- b) Portaria N° 793, de 24 de abril de 2012
- c) Portaria N° 2.395, de 11 de outubro de 2011
- d) Portaria N° 3.099, de 23 de dezembro de 2011
- e) Portaria N° 1.459, de 24 de junho de 2011

**02. Analise as afirmativas seguintes e assinale a alternativa que contém o resultado final da soma da(s) afirmativa(s) correta(s):**

- 01 – Toda lesão no sistema nervoso central promove atrofia cortical, progredindo para demência.
- 02 – Delirium tremens com instabilidade autonômica e hiperatividade simpática associa-se, geralmente, a mortalidade de 5 a 10% dos pacientes.
- 04 – A classe de medicamento de primeira escolha para pacientes com delirium tremens são os Inibidores da Recapitação da Serotonina como a Amitriptilina.
- 08 – O etilismo pode desenvolver a encefalopatia de Wernicke.
- 16 – Os benzodiazepínicos tem ação no sistema de ácido gama-amino-butirico, da mesma forma que o álcool no cérebro humano.

- a) 06
- b) 07
- c) 09
- d) 19
- e) 26

**03. Leia as assertivas e assinale a alternativa correta.**

**I – A insuficiência cardíaca congestiva é uma síndrome clínica sempre causada por alguma doença cardíaca subjacente, mais comumente miocardiopatia isquêmica resultante de aterosclerose e/ou hipertensão arterial.**

**II – A Doxorubicina é uma droga amplamente utilizada e que causa efeitos cardiotoxicos com dose cumulativa superior a 450mg/m<sup>2</sup> de superfície corporal.**

**III – Os inibidores da ECA e os BRA associados a betabloqueadores e antagonistas de aldosterona podem diminuir a mortalidade, e aliviam imediatamente os sintomas congestivos.**

**IV – A insuficiência cardíaca crônica é uma doença progressiva com alta mortalidade, e a classe funcional do paciente geralmente não é um guia ao tratamento.**

- a) Apenas I e II estão corretas.
- b) Apenas I e III estão corretas.
- c) Todas estão corretas.
- d) Apenas II e III estão corretas.
- e) Apenas a IV está errada.

**Leia o seguinte caso para responder às próximas três questões.**

Mulher de 28 anos vai ao consultório queixando-se de dor em joelho direito e hálux contra-lateral, com 10 dias de evolução e que não respondeu ao uso de analgésicos simples. Refere febrícula ao término do dia associada à mialgia inespecífica, além de disúria e corrimento vaginal branco leitoso amarelo esverdeado e prurido ocular bilateral; há 45 dias foi tratada para LUES com esquema adequado preconizado pelo Ministério da Saúde. Ao exame, apresenta-se afebril, e ambos os olhos estão injetados e fotossensíveis; o joelho direito e a primeira articulação metatarsal-falangiana esquerda apresentam-se edemaciados e dolorosos com discreta hiperemia.

**04. Com base no caso, pode-se afirmar que a paciente apresenta uma tríade. Assinale a assertiva que contém o epônimo dessa tríade.**

- a) Virchow
- b) Reiter
- c) Beck
- d) Charcot
- e) Whipple

**05. Essa paciente possui fator de risco para desenvolver qual patologia ginecológica a médio prazo, se não for tratada corretamente?**

- a) Doença de Paget
- b) Doença de Berger
- c) Síndrome de Fitz-Hugh-Curtis



- d) Endometriose  
e) Síndrome dos ovários policísticos

**06. Sobre esse caso, analise as afirmativas e assinale a alternativa correta.**

**I – O principal diagnóstico diferencial para esse caso é a gonorreia.**

**II – Essa paciente possivelmente é HLA-B27 negativa.**

**III – Ela pode ser tratada com Azitromicina 1g no D1 e D7 associada com Ceftriaxona 250mg Intramuscular no D1 possui maior índice de cura em relação ao uso de Ceftriaxone 250mg Intramuscular no D1 com doxiciclina 100mg via oral de 12/12 horas por 14 dias.**

**IV – O provável agente etiológico do caso é a *Chlamydia trachomatis*.**

- a) Apenas a I está correta.  
b) Apenas I e II estão corretas.  
c) Apenas II e III estão erradas.  
d) Apenas I e III estão corretas.  
e) Apenas a II está errada.

**07. Assinale a alternativa em que se faz a correlação incorreta.**

a) Agência Nacional de Saúde Suplementar – responsável pela regularização e fiscalização dos planos de saúde no país.

b) Anvisa – responsável pela fiscalização in loco de estabelecimento de saúde em cada município e a sua correta regularização.

c) Vigilância Epidemiológica – entidade responsável por organizar os dados de agravos em saúde e auxiliar a gestão a realizar estratégias de atenção a saúde.

d) Anvisa – responsável pela deliberação de novas drogas no mercado brasileiro.

e) Vigilância sanitária – responsável pela fiscalização das condições de manipulação de alimentos para os consumidores finais.

**08. Os Centros de Atenção Psicossocial são instituições destinadas a acolher os pacientes com transtornos mentais e estimular sua integração social e familiar, além de outras funções. Para que isso ocorra, necessitam de um número mínimo de membros na equipe.**

**Assinale a alternativa que contém a relação correta entre o tipo de CAPS e sua equipe mínima, conforme a determinação do Ministério da Saúde:**

Tipo de CAPS	Equipe Mínima
I – CAPS I	<b>A – 2 psiquiatras; 1 enfermeiro com formação em nível superior; 5 profissionais de nível superior de outras categorias profissionais; 8 profissionais de nível médio.</b>
II – CAPS II	<b>B – 1 médico psiquiatra, ou neurologista ou pediatra com formação em saúde mental; 1 enfermeiro; 4 profissionais de nível superior dentre psicólogo, assistente social, terapeuta ocupacional, fonoaudiólogo, pedagogo ou outro profissional necessário ao projeto terapêutico; 5 profissionais de nível médio.</b>
III – CAPS III	<b>C – 1 médico psiquiatra ou com formação em saúde mental; 1 enfermeiro, 3 profissionais de nível superior de outras categorias profissionais; 4 profissionais de nível médio.</b>
IV – CAPSi	<b>D – 1 psiquiatra; 1 enfermeiro com formação em saúde mental; 1 médico clínico responsável pela triagem, avaliação e acompanhamento das intercorrências clínicas; 4 profissionais de nível superior necessário ao projeto terapêutico; 6 profissionais de nível médio.</b>
V - CAPSad	<b>E – 1 psiquiatra; 1 enfermeiro com formação em saúde mental; 4 profissionais de nível superior de outras categorias profissionais; 6 profissionais de nível médio.</b>

- a) I-E; II-C; III-A; IV-B; V-D.  
b) I-E; II-C; III-A; IV-D; V-B.  
c) I-C; II-B; III-A; IV-E; V-D.  
d) I-C; II-E; III-A; IV-B; V-D.  
e) I-E; II-D; III-A; IV-B; V-C.

**09. Analise os seguintes itens a respeito de diarreia crônica e assinale a alternativa correta.**

**I – Diarreias tipo secretória podem ser desencadeadas por cólera, tumor de tireoide medular e uso de laxantes estimulantes exógenos, por exemplo.**

**II – Amiloidose pode promover esteatorreia, da mesma forma que a Doença de Whipple.**

**III – São exemplos de dismotilidade promotora de diarreia crônica: hipertireoidismo, síndrome do intestino irritável e Espru tropical.**

**IV – Pacientes portadores do Vírus da Imunodeficiência Adquirida podem ter, como sintoma inicial, diarreia crônica.**

- a) Todos estão corretos.
- b) Apenas o item IV está incorreto.
- c) Apenas o item III está correto.
- d) Apenas o item III está incorreto.
- e) Apenas o item II está incorreto.

**10. Assinale a assertiva que apresenta a portaria que publica a proposta de Projeto de Resolução “Boas Práticas para Organização e Funcionamento de Serviços de Urgência e Emergência”.**

- a) Portaria N° 30, de 12 de fevereiro de 2014
- b) Portaria N° 354, de 10 de março de 2014
- c) Portaria N° 825, de 25 de abril de 2016
- d) Portaria N° 2.712, de 12 de novembro de 2013
- e) Portaria N° 2.528, de 19 de outubro de 2006

**11. Referente à lombalgia, analise os itens seguintes e assinale a alternativa correta.**

**I – Segundo o trabalho de Deyo, publicado no New England Journal of Medicine em 2001, observou-se que a etiologia prevalente para lombalgia é de estiramento ou entorse lombar.**

**II – Menos de 1% da população adulta economicamente ativa sofre de dorsalgia.**

**III – São sinais e sintomas de alarme na lombalgia: dor iniciada antes dos 20 e após os 50 anos, febre, perda ponderal, dor intensa noturna ou piora da dor em posição supina, incontinência fecal e/ou urinária, história de neoplasia, anestesia em sela, redução da força em membros inferiores e imunossupressão.**

- a) Apenas os itens I e III estão corretos.
- b) Apenas os itens II e III estão corretos.
- c) Apenas os itens II e III estão incorretos.
- d) Os itens I, II e III estão corretos.
- e) Apenas os itens I e III estão incorretos.

**12. A respeito dos Critérios de Ranson, assinale a alternativa que contém a sequência correta da classificação de V (verdadeiro) e F (falso) para os itens a serem considerados na admissão de paciente com quadro de pancreatite aguda.**

- ( ) – Idade  $\leq$  54 anos
- ( ) – Leucócitos  $>$  16.000/mm<sup>3</sup>
- ( ) – Glicemia  $>$  200 mg/dl
- ( ) – Desidrogenase láctica sérica  $>$  350 UI/L
- ( ) – AST  $<$  250 UI/L
- a) V - V - V - V - V.
- b) F - V - V - V - F.
- c) F - F - V - V - V.
- d) F - V - F - V - F.
- e) V - F - V - F - V.

**13. Assinale a alternativa com a correlação correta das causas de hipertensão secundária.**

**I – Doenças Renais**

**II – Doença endócrina**

**III – Outras doenças**

- ( ) Doses altas de estrogênio
- ( ) Glomerulonefrite
- ( ) Doença do rim policístico
- ( ) Hipertireoidismo
- ( ) Aterosclerose
- ( ) Hipercalcemia
- ( ) Apneia do sono obstrutiva

- a) I; I; III; II; I; III; II.
- b) II; III; I; II; I; III; I.
- c) III; I; I; II; I; III; III.
- d) II; I; I; II; I; III; II.
- e) II; III; II; I; I; II; III.

**14. Assinale a alternativa incorreta a respeito das orientações aos indivíduos residentes no Brasil, com idade igual ou superior a cinco anos, que viajarão a países com recomendação de vacina para Poliomielite a visitantes, contidas no Programa Nacional de Imunização, publicado no ano 2016.**

- a) Sem comprovação vacinal: administrar duas doses de Vacina Oral Poliomielite(VOP), com intervalo de 90 dias entre elas.

- b) Sem comprovação vacinal: administrar três doses da VOP, com intervalo de 60 dias entre elas, mínimo 30 dias.  
 c) Com esquema incompleto: completar o esquema com a VOP.  
 d) Gestantes e imunodeprimidos e/ou seus contatos devem receber esquema com Vacina Inativada Poliomielite (VIP).  
 e) Para aqueles indivíduos que receberam três doses ou mais de VOP ou VIP, caso a última dose tenha sido administrada há mais de 12 meses, garantir antes da viagem uma única dose de reforço com VOP ou VIP.

**15. Assinale a alternativa que contém o antimicrobiano contraindicado à gestante no segundo trimestre de gestação com quadro de infecção urinária, sem história de reação alérgica a medicamentos anteriormente:**

- a) Sulfametoxazol e Timetropina  
 b) Cefalotina  
 c) Nitrofurantoína  
 d) Ciprofloxacino  
 e) Amoxicilina

**16. O bloqueio atrioventricular é uma prevalente e de alta mortalidade se não tratado adequadamente:**

**I – Bloqueio de primeiro grau caracteriza-se pela condução retardada ao nível do nó sinoatrial; intervalo PR superior a 0,3s.**

**II – Bloqueio de segundo grau divide-se em Mobitz I, Mobitz II e Mobitz III.**

**III – Para alguns pacientes com Mobitz II e bloqueio atrioventricular de terceiro grau infranodal é necessário o marca-passo permanente, desde que exista causa reversível para o tratamento como toxicidade com fármacos, Infarto Agudo do Miocárdio e Doença de Lyme, por exemplo.**

**Assinale a alternativa correta.**

- a) Apenas a afirmativa II está incorreta.  
 b) Apenas a afirmativa II está correta.  
 c) As afirmativas II e III estão corretas.  
 d) As afirmativas I e II estão corretas.  
 e) As afirmativas I e II estão incorretas.

**17. Analise as afirmativas seguintes e assinale a alternativa que contém o resultado final da soma da(s) afirmativa(s) correta(s):**

**01 – Cor pulmonale é uma moléstia resultante de uma doença pulmonar.**

**02 – São causas de Cor Pulmonale: Doença Pulmonar Obstrutiva crônica, Fibrose pulmonar, Apneia do Sono.**

**04 – O principal diagnóstico diferencial do Cor Pulmonale é estenose da válvula mitral.**

**08 – O tratamento de escolha para Cor Pulmonale geralmente consiste na utilização de oxigênio suplementar, diuréticos de alça e digital.**

**16 – Cor pulmonale apresenta baixos índices de mortalidade.**

**32 – A Síndrome de Eisenmenger pode ser considerada como diagnóstico diferencial para Cor Pulmonale.**

- a) 07  
 b) 14  
 c) 31  
 d) 43  
 e) 63

**18. Assinale a alternativa que contém a ordem correta da fisiopatologia da aterosclerose:**

**I – Acúmulo de lipídeos extracelularmente e intracelular**

**II – Estabilização da placa**

**III – Acúmulo de lipoproteína**

**IV – Adesão plaquetária**

**V – Lesão endotelial**

**VI – Liberação de citocinas inflamatórias**

**VII – Adesão de monócitos ao endotélio**

- a) V, II, I, III, IV, VII, VI  
 b) V, III, VII, IV, VI, II, I  
 c) V, I, II, VI, IV, III, VII  
 d) I, II, III, IV, VI, V, VII  
 e) V, IV, II, III, I, VI, VII

**19. Referente à Hipertensão arterial sistêmica e a patogênese das complicações produzidas por ela, correlacione as colunas:**

Coluna 1

Coluna 2

I – Aumento da pós- carga

A - Disfunção diastólica



II – Aterosclerose	<b>B – Isquemia miocárdico</b>
III – Enfraquecimento das paredes dos vasos	<b>C – Acidente encefálico isquêmico</b>
	<b>D - Retinopatia</b>
	<b>E – Acidente encefálico hemorrágico</b>
	<b>F – Aneurisma e dissecação da aorta</b>
	<b>G – Insuficiência renal</b>

- a) II – A; III – B; I+III – C; I+III – G; III – A; III – C; III - G.  
 b) III – A; II+III – B; III – C; II+III – F; III – D; III – E; III - G.  
 c) I – A; I+II – B; II – C; II+III – F; III – D; III – E; III - G.  
 d) I – G; I+II – A; II – C; II+III – D; II – D; III – E; III - G.  
 e) I – A, B e C; II – C; II+III – F; III – D; III – E; III - G.

**20. Homem de 36 anos é levado ao serviço de emergência pelo SAMU após dor retroesternal intensa e súbita, que começou há 1 hora quando estava em casa ajudando sua esposa a lavar o quintal. Ele descreve a dor como penetrante, constante e sem relação com o movimento. Ela não aliviou após uso de nitrato sublingual. Previamente hígido. Não possui história familiar de cardiopatia. Portador de hipertensão há 2 anos e uso de enalapril 20mg ao dia. Nega tabagismo e etilismo. Pratica arte marcial e é instrutor há 10 anos. Ao exame físico, nota-se que é um homem longilíneo com extremidades longas, está confortável e com diaforese, está deitado na maca com os olhos fechados. Além disso, está afebril, frequência cardíaca de 118 bpm, PA 156 x 64 mmHg no MSD e 188x74 em MSE. Exame de cabeça e pescoço inalterado. A ausculta do tórax é normal e nota-se *pectus excavatum*. Encontra-se taquicárdico, com ritmo regular, e apresenta sopro diastólico precoce suave na borda esternal direita. A pulsação está saltada. Os exames abdominais e neurológicos são normais. Radiografia torácica com alargamento mediastinal.**

**Baseado nesse caso, assinale a alternativa que apresenta o melhor exame para confirmação diagnóstica e classifique-a, para determinar a conduta ideal.**

- a) Eletrocardiograma  
 b) Aortografia  
 c) Cintilografia miocárdica  
 d) Ecocardiográfica ao esforço  
 e) Radiografia de tórax com contraste esofágico

## LÍNGUA PORTUGUESA

**Texto para as próximas cinco questões:**

### “O cego Estrelinho” Mia Couto

O cego Estrelinho era pessoa de nenhuma vez: sua história poderia ser contada e descontada não fosse seu guia, Gigito Efraim. A mão de Gigito conduziu o desvistado por tempos e idades. Aquela mão era repartidamente comum, extensão de um no outro, siamensal. E assim era quase de nascença. Memória de Estrelinho tinha cinco dedos e eram os de Gigito postos, em aperto, na sua própria mão.

O cego, curioso, queria saber de tudo. Ele não fazia cerimônia no viver. O sempre lhe era pouco e o tudo insuficiente. Dizia, deste modo:

— Tenho que viver já, senão esqueço-me.

Gigitinho, porém, o que descrevia era o que não havia. O mundo que ele minuciava eram fantasias e rendilhados. A imaginação do guia era mais profícua que papaeira. O cego enchia a boca de águas:

— Que maravilhação esse mundo. Me conte tudo, Gigito!

A mão do guia era, afinal, o manuscrito da mentira. Gigito Efraim estava como nunca esteve S. Tomé: via para não crer. O condutor falava pela ponta dos dedos. Desfolhava o universo, aberto em folhas. A ideiação dele era tal que mesmo o cego, por vezes, acreditava ver. O outro lhe encorajava esses breves enganos:

— Desbengale-se, você está escolhendo a boa procedência!

Mentira: Estrelinho continuava sem ver uma palmeira à frente do nariz. Contudo, o cego não se conformava em suas escurezas. Ele cumpria o ditado: não tinha perna e queria dar o pontapé. Só à noite, ele desalentava, sofrendo medos mais antigos que a humanidade. Entendia aquilo que, na raça humana, é menos primitivo: o animal.

— Na noite aflige não haver luz?

— Aflição é ter um pássaro branco esvoando dentro do sono.

Pássaro branco? No sono? Lugar de ave é nas alturas. Dizem até que Deus fez o céu para justificar os pássaros. Estrelinho disfarçava o medo dos vaticínios, subterfugindo:

— E agora, Gigitinho? Agora, olhando assim para cima, estou face ao céu?

Que podia o outro responder? O céu do cego fica em toda a parte. Estrelinho perdia o pé era quando a noite chegava e seu mestre adormecia. Era como se um novo escuro nele se estresse em nó cego. Devagaroso e sorrateiro ele aninhava sua mão na mão do guia. Só assim adormecia. A razão da concha é a timidez da amêijoia?

Na manhã seguinte, o cego lhe confessava: se você morrer, tenho que morrer logo no imediato. Senão-me: como acerto o caminho para o céu?

Foi no mês de dezembro que levaram Gigitinho. Lhe tiraram do mundo para pôr na guerra: obrigavam os serviços militares. O cego reclamou: que o moço inatingia a idade. E que o serviço que ele a si prestava era vital e vitalício. O guia chamou Estrelinho à parte e lhe tranquilizou:

— Não vai ficar sozinando por aí. Minha mana já mandei para ficar no meu lugar.

O cego estendeu o braço a querer tocar uma despedida. Mas o outro já não estava lá. Ou estava e se desviara, propositado? E sem água ida nem vinda, Estrelinho escutou o amigo se afastar, engolido, esponjínquo, inevisível. Pela pimeira vez, Estrelinho se sentiu invalidado.

— Agora, só agora, sou cego que não vê.

(...)

**COUTO, Mia. Estórias abensonhadas. Rio de Janeiro: Nova Fronteira, 1996. (Pág 23 e 24).**

**21. Quanto à interpretação do fragmento do conto, podemos afirmar que:**

- Gigito Efraim era o guia de Estrelinho há pouquíssimo tempo.
- Estrelinho era cego de nascença.
- Gigito descrevia o mundo para Estrelinho de forma denotativa.
- Gigito foi convocado pelo exército para ser guia de cegos na guerra.
- Gigito descrevia o mundo para Estrelinho de forma conotativa.

**22. No período “O sempre lhe era pouco e o tudo insuficiente”, o pronome “LHE” exerce a função sintática de:**

- Objeto Direto
- Objeto Indireto
- Complemento Nominal
- Adjunto Adnominal
- Objeto Direto Preposicionado

**23. Na oração “A mão de Gigito conduziu o desvistado por tempos e idades”, o autor faz uso de um neologismo, assim como no decorrer de toda a obra em questão. Contudo, o neologismo só se torna possível pela utilização dos elementos mórficos naquilo que a gramática normativa pontua como Processo de Formação das Palavras. Levando em consideração apenas o recurso morfológico, qual Processo de Formação foi utilizado?**

- Derivação Sufixal
- Derivação Prefixal
- Derivação Regressiva
- Derivação Imprópria
- Derivação Parassintética

**24. No terceiro período do décimo terceiro parágrafo, temos:**

- Uma oração
- Duas orações
- Três orações
- Quatro orações
- Cinco orações

**25. No último parágrafo do fragmento do conto “— Agora, só agora, sou cego que não vê”, a oração subordinada presente classifica-se corretamente como:**

- Oração Subordinada Adjetiva Restritiva
- Oração Subordinada Adverbial Causal
- Oração Subordinada Substantiva Subjetiva
- Oração Subordinada Adverbial Explicativa
- Oração Subordinada Adjetiva Explicativa

### **RACIOCÍNIO LÓGICO**

**26. Os cinco filhos de Ana estavam discutindo a respeito da data de nascimento da mãe:**

- Almir disse que foi em janeiro, dia 14, sexta-feira.
- Vanderlei disse que foi em janeiro, dia 14, sábado.
- Tiago disse que foi em fevereiro, dia 15, sábado.
- Sandro disse que foi em janeiro, dia 15, sexta-feira.
- Renato disse que foi em fevereiro, dia 15, sexta-feira.

**Sabe-se que somente um dos filhos de Ana acertou corretamente sua data de nascimento e que os outros acertaram pelo menos um dos itens (dia, dia da semana e mês). Dessa forma, é correto afirmar que o filho de Ana que acertou a data de nascimento dela foi:**

- Renato

- b) Sandro
- c) Tiago
- d) Vanderlei
- e) Almir

**27. Considere a seguinte afirmativa: “Todo churrasqueiro gosta de picanha”. Em relação a essa proposição, é correto afirmar que:**

- a) Algum churrasqueiro não gosta de picanha.
- b) Toda pessoa que gosta de picanha é churrasqueira.
- c) Alguma pessoa que não gosta de picanha é churrasqueira.
- d) Toda pessoa que não é churrasqueira, não gosta de picanha.
- e) Toda pessoa que não gosta de picanha, não é churrasqueira.

**28. Em um grupo formado por 67 pessoas, verificou-se que 41 pessoas gostam de arroz, 29 gostam de feijão, 33 gostam de carne, 19 gostam de arroz e de feijão, 9 gostam apenas de arroz e de carne, 12 gostam de feijão e de carne e que 6 gostam de arroz, de feijão e de carne. O número de pessoas desse grupo, que não gosta de nenhum desses três tipos de alimentos é igual a:**

- a) 4
- b) 5
- c) 6
- d) 8
- e) 10

**29. Bruno escreveu, em seu caderno, várias sequências formadas por números múltiplos de 4, onde os valores que ocupavam as posições pares eram multiplicados por  $-1$ . Cada sequência foi somada e o resultado da soma anotado. A soma das três primeiras sequências escritas por Bruno foram as seguintes:**

$$4 - 8 = -4$$

$$4 - 8 + 12 = 8$$

$$4 - 8 + 12 - 16 = -8$$

**Considere que Bruno escreveu e somou tais sequências, em seu caderno, de modo a obter determinada sequência cuja soma foi 600. O número de termos dessa sequência é igual a:**

- a) 149
- b) 150
- c) 298
- d) 299
- e) 300

**30. Quatro torcedores, um do São Paulo, um do Cruzeiro, um do Vasco e um do Bahia, estão sentados ao redor de uma mesa quadrada, de modo que, dois a dois, fiquem frente a frente. Sabe-se que Alan é torcedor do Cruzeiro e que Bruno está sentado à direita de Alan. Sabe-se também que Caio está sentado à direita do torcedor do São Paulo. Sabe-se ainda que Daniel não é torcedor do Vasco e que está sentado à frente de Bruno. Dessa forma, é correto afirmar que:**

- a) Bruno é torcedor do Bahia e Daniel é torcedor do São Paulo.
- b) Bruno é torcedor do São Paulo e Daniel é torcedor do Bahia.
- c) Caio é torcedor do Vasco e Daniel é torcedor do São Paulo.
- d) Caio é torcedor do Bahia e Daniel é torcedor do São Paulo.
- e) Bruno é torcedor do Vasco e Daniel é torcedor do Bahia.

## INFORMÁTICA

**31. Considerando o MS-Excel versão 2010, observando a figura abaixo, é correto afirmar que:**

	A	B	C
1			
2			
3			
4			

- a) Somente 03 três linhas estão selecionadas.
- b) Somente uma célula está selecionada.
- c) 12 (doze) células estão selecionadas.
- d) Somente a coluna A até a linha 4 (quatro) está selecionada.
- e) Somente as colunas 1 (um), 2 (dois), 3 (três) e 4 (quatro) estão selecionadas.

**32. Considerando o MS-Excel versão 2010, observando a figura abaixo, é incorreto afirmar que:**



	A	B	C
1	12	6	=A1*B1
2	8	2	=A2/B2
3	5	14	=A3-B3
4	6	11	=A4+B4

- a) O resultado da fórmula =A1\*B1 é 72.  
 b) O resultado da fórmula =A2/B2 é 4.  
 c) O resultado da fórmula =A3-B3 é -9.  
 d) O resultado da fórmula =A3-B3 é 9.  
 e) O resultado da fórmula =A4+B4 é 17.

**33. Digitando um texto no MS-Word versão 2010, necessito adicionar número nas páginas. Quanto a isso, é correto afirmar que:**

- a) No menu Layout da Página, clico em número de página e seleciono onde desejo adicionar os números.  
 b) No menu Inserir, clico em número de página e seleciono onde desejo adicionar os números.  
 c) No menu Revisão, clico em número de página e seleciono onde desejo adicionar os números.  
 d) No menu Referências, clico em número de página e seleciono onde desejo adicionar os números.  
 e) No menu Exibição, clico em número de página e seleciono onde desejo adicionar os números.

**34. A segurança da informação está diretamente relacionada com proteção de um conjunto de informações, no sentido de preservar o valor que possuem para um indivíduo ou uma organização. Atualmente, um dos aplicativos mais utilizados no mundo, o Whats app, teve uma alteração de confidencialidade muito importante na segurança das informações transmitidas e recebidas. Dentre as alternativas, assinale a que corretamente informa a alteração inserida no aplicativo Whats app.**

- a) Antispam  
 b) Antivirus  
 c) Firewall  
 d) Antispyware  
 e) Criptografia

**35. São todos os dispositivos que trabalham acoplados ao microcomputador para receber, transmitir, visualizar, ler, gravar ou armazenarem dados. São eles que permitem a comunicação do computador com o meio exterior, isto é, com os usuários e outras máquinas.**

**Esse texto descreve corretamente:**

- a) Memória ram  
 b) Memória virtual  
 c) Software  
 d) Periféricos  
 e) Hardware

## CONHECIMENTOS GERAIS

**36. Hino do município de Telêmaco Borba/PR**

Das virgens matas e campos verdejantes  
 Servindo-se também o rio Tibagi,  
 Homens de ideais, espíritos vibrantes.  
 Constituíram as indústrias aqui.

Estrilho:

Salve! Salve! Telêmaco Borba  
 Terra querida e de grandes primores,  
 A nossa homenagem rendamos  
 À cidade dos trabalhadores.  
 Pois a cadência de enorme e real progresso  
 Um município mui grandioso fez nascer,  
 Marcando assim, verdadeiro sucesso  
 Faz, então o Paraná engrandecer.

**No que tange ao Hino do município, atribua V (verdadeiro) ou F (falso) às afirmativas e marque a alternativa correta.**

- ( ) Eloah Martins Quadrado é autora da letra do hino.  
 ( ) Bento Mossurunga compôs a música do hino.  
 ( ) Eloah Martins Quadrado foi nomeada primeira professora da Cidade Nova, atual Telêmaco Borba.

( ) **Bento Mossurunga fundou a orquestra Estudantil e Concertos – Orquestra Sinfônica da Universidade, a Sociedade de Cultura Artístico Basilio Itiberê.**

- a) F, V, V, V.
- b) V, F, V, V.
- c) V, V, F, V.
- d) V, V, F, F.
- e) V, V, V, V.

**37. À luz da Lei nº 1883/2012, que dispões sobre o Estatuto dos Servidores Públicos da Administração Direta, Autárquica e Funcional do Município de Telêmaco Borba/PR, leia as alternativas e marque a correta.**

- a) A apresentação para a posse ocorrerá no prazo de até trinta dias, contados do ato de nomeação.
- b) A destituição do servidor da função gratificada dar-se-á por solicitação exclusiva dele mesmo.
- c) O servidor ocupante exclusivamente de cargo em comissão será contribuinte do regime geral de previdência social.
- d) A aprovação em concurso público gera o direito à nomeação, e será feita obedecida à ordem de classificação dos candidatos.
- e) O exercício de função gratificada poderá ser de dedicação integral ou parcial, conforme necessidade da administração.

**Conforme a Lei nº 1.881, de 05 de abril de 2012, que dispõe sobre o Plano de Cargos, Carreiras e Vencimentos do quadro geral de servidores da Prefeitura Municipal de Telêmaco Borba/PR, regulamentada pelo Decreto nº 2269/2015, responda às próximas três questões.**

**38. Leia as assertivas e assinala a incorreta.**

- a) Do resultado da avaliação de desempenho poderá ser interposto recurso à Comissão de Desenvolvimento Funcional no prazo de quinze dias a contar da publicação no Boletim Oficial do Município.
- b) Não será concedida a progressão ou promoção ao servidor que estiver em licença para tratamento de saúde por um período superior a quarenta e cinco dias, no período de avaliação.
- c) A alternância dos membros constituintes da Comissão de Desenvolvimento Funcional eleitos pelos servidores verificar-se-á a cada três anos de participação, observados, para substituição de seus participantes, o critério fixado no artigo anterior, não cabendo eleição sucessiva.
- d) Caberá à Comissão de Desenvolvimento Funcional, no caso de divergência de vinte por cento entre a nota do avaliador e a do avaliado, solicitar nova avaliação à chefia.
- e) Nos termos do disposto no art. 17 da Lei nº 1.881, de 05 de abril de 2012, para progredir, é necessário que o servidor satisfaça, dentre outros, o seguinte requisito: estar no efetivo exercício de seu cargo ou em função comissionada na sua área de atuação durante o interstício de dois anos.

**39. Assinale a alternativa que completa respectivamente as lacunas do texto a seguir:**

**A Comissão de Desenvolvimento Funcional será constituída por \_\_\_\_\_ membros, sendo \_\_\_\_\_ designados pelo Prefeito Municipal de Telêmaco Borba e os demais eleitos pelos servidores municipais dentre os estáveis, com a atribuição de coordenar os procedimentos relativos à avaliação periódica de desempenho e outras atribuições.**

- a) três / sete
- b) um / três
- c) sete / três
- d) três / cinco
- e) dois / cinco

**40. A Avaliação de Desempenho será norteadada, dentre outros, pelo seguinte princípio: Amplitude - a avaliação deve incidir sobre todas as áreas de atuação do servidor, que compreendem:**

1. a formulação de políticas administrativas e sua aplicação para todos os setores da administração municipal;
2. o desempenho do profissional dentro de suas funções pertinentes;
3. a estrutura do órgão em que exerce a função;
4. os resultados de eficiência dos serviços de cada setor ou órgão da administração municipal;
5. a participação direta do avaliado, durante todo o processo avaliativo.

**Diante dessa afirmação, somente não está correto o item:**

- a) 1
- b) 2
- c) 3
- d) 4
- e) 5



PREFEITURA DE TELÊMACO BORBA - ESTADO DO PARANÁ- EDITAL Nº 001-2016 - CONCURSO PÚBLICO

VESPERTINO – 29/05/2016 – NÍVEL SUPERIOR

1

PROVA OBJETIVA NÚMERO

**CARGOS: TMNS I - MEDICINA – GINECOLOGIA  
TMNS I - MEDICINA - OBSTETRÍCIA**

Leia atentamente as INSTRUÇÕES:

1. Confira seus dados no cartão-resposta: nome, número de inscrição e o curso para o qual se inscreveu.
2. **MARQUE no seu cartão-resposta o número da sua prova** (não será corrigido o cartão-resposta que não tiver marcado o número da prova) e **Assine** seu cartão-resposta.
3. Aguarde a autorização do Fiscal para abrir o caderno de prova. Ao receber a ordem do fiscal, confira o caderno de prova com muita atenção. Nenhuma reclamação sobre o total de questões ou falha de impressão será aceita depois de iniciada a prova.
4. O cartão-resposta não será substituído, salvo se contiver erro de impressão.
5. Preencha toda a área do cartão-resposta correspondente à alternativa de sua escolha, com caneta esferográfica (tinta azul ou preta), sem ultrapassar as bordas. As marcações duplas, ou rasuradas, com corretivo, ou marcadas diferentemente do modelo estabelecido no cartão-resposta poderão ser anuladas.
6. Sua prova tem **40** questões, com **5** alternativas.
7. Cabe apenas ao candidato a interpretação das questões, **o fiscal** não poderá fazer nenhuma interferência.
8. A prova será realizada com duração máxima de **3 (três) horas**, incluído o tempo para a realização da Prova Objetiva de múltipla escolha e o preenchimento do cartão-resposta.
9. O candidato poderá retirar-se do local de realização das provas somente **1 (uma) hora** após o seu início, sem levar o caderno de prova.
10. O candidato poderá levar o caderno de provas, assim como anotação contendo transcrição do seu cartão-resposta, somente **1h30min** (uma hora e trinta minutos) após o início da realização da prova.
11. Ao terminar a prova, o candidato deverá entregar ao fiscal de sala o cartão-resposta preenchido e **ASSINADO**.
12. Os **3 (três)** candidatos, que terminarem a prova por último, deverão permanecer na sala, e só poderão sair juntos após o fechamento do envelope, contendo os cartões-resposta dos candidatos presentes e ausentes, e assinarem no lacre do referido envelope, atestando que este foi devidamente lacrado.
13. Durante todo o tempo em que permanecer no local onde está ocorrendo o concurso, o candidato deverá, manter o celular desligado e sem bateria, só sendo permitido ligar depois de ultrapassar o portão de saída do prédio.
14. Não será permitido ao candidato fumar na sala de provas, bem como nas dependências.
15. Depois de terminar a prova e entregar ao fiscal o cartão-resposta, preenchido e assinado, não será mais permitido ao candidato o uso do banheiro e bebedouro.

**BOA PROVA!****LÍNGUA PORTUGUESA****Texto para as próximas cinco questões:****“O cego Estrelinho”  
Mia Couto**

O cego Estrelinho era pessoa de nenhuma vez: sua história poderia ser contada e descontada não fosse seu guia, Gigitto Efraim. A mão de Gigitto conduziu o desvistado por tempos e idades. Aquela mão era repartidamente comum, extensão de um no outro, siamense. E assim era quase de nascença. Memória de Estrelinho tinha cinco dedos e eram os de Gigitto postos, em aperto, na sua própria mão.

O cego, curioso, queria saber de tudo. Ele não fazia cerimônia no viver. O sempre lhe era pouco e o tudo insuficiente. Dizia, deste modo:

— Tenho que viver já, senão esqueço-me.

Gigitto, porém, o que descrevia era o que não havia. O mundo que ele minuciava eram fantasias e rendilhados. A imaginação do guia era mais profícua que papaeira. O cego enchia a boca de águas:

— Que maravilhação esse mundo. Me conte tudo, Gigitto!

A mão do guia era, afinal, o manuscrito da mentira. Gigitto Efraim estava como nunca esteve S. Tomé: via para não crer. O condutor falava pela ponta dos dedos. Desfolhava o universo, aberto em folhas. A ideiação dele era tal que mesmo o cego, por vezes, acreditava ver. O outro lhe encorajava esses breves enganar:

— Desbengale-se, você está escolhendo a boa procedência!

Mentira: Estrelinho continuava sem ver uma palmeira à frente do nariz. Contudo, o cego não se conformava em suas escurezas. Ele cumpria o ditado: não tinha perna e queria dar o pontapé. Só à noite, ele desalentava, sofrendo medos mais antigos que a humanidade. Entendia aquilo que, na raça humana, é menos primitivo: o animal.

— Na noite aflige não haver luz?

— Aflição é ter um pássaro branco esvoando dentro do sono.

Pássaro branco? No sono? Lugar de ave é nas alturas. Dizem até que Deus fez o céu para justificar os pássaros. Estrelinho disfarçava o medo dos vaticínios, subterfugindo:

— E agora, Gigitto? Agora, olhando assim para cima, estou face ao céu?

Que podia o outro responder? O céu do cego fica em toda a parte. Estrelinho perdia o pé era quando a noite chegava e seu mestre adormecia. Era como se um novo escuro nele se estreasse em nó cego. Devagaroso e sorrateiro ele aninhava sua mão na mão do guia. Só assim adormecia. A razão da concha é a timidez da amêijoia? Na manhã seguinte, o cego lhe confessava: se você morrer, tenho que morrer logo no imediato. Senão-me: como acerto o caminho para o céu?

Foi no mês de dezembro que levaram Gigitto. Lhe tiraram do mundo para pôr na guerra: obrigavam os serviços militares. O cego reclamou: que o moço inatingia a idade. E que o serviço que ele a si prestava era vital e vitalício. O guia chamou Estrelinho à parte e lhe tranquilizou:

— Não vai ficar sozinando por aí. Minha mana já mandei para ficar no meu lugar.

O cego estendeu o braço a querer tocar uma despedida. Mas o outro já não estava lá. Ou estava e se desviara, propositado? E sem água ida nem vinda, Estrelinho escutou o amigo se afastar, engolido, esponjínquo, invisível. Pela primeira vez, Estrelinho se sentiu invalidado.

— Agora, só agora, sou cego que não vê.

(...)

**COUTO, Mia. Estórias abensonhadas. Rio de Janeiro: Nova Fronteira, 1996. (Pág 23 e 24).**

**01. Quanto à interpretação do fragmento do conto, podemos afirmar que:**

- Gigitto Efraim era o guia de Estrelinho há pouquíssimo tempo.
- Estrelinho era cego de nascença.
- Gigitto descrevia o mundo para Estrelinho de forma denotativa.
- Gigitto foi convocado pelo exército para ser guia de cegos na guerra.
- Gigitto descrevia o mundo para Estrelinho de forma conotativa.

**02. No período “O sempre lhe era pouco e o tudo insuficiente”, o pronome “LHE” exerce a função sintática de:**

- Objeto Direto
- Objeto Indireto
- Complemento Nominal
- Adjunto Adnominal
- Objeto Direto Preposicionado

**03. Na oração “A mão de Gigitto conduziu o desvistado por tempos e idades”, o autor faz uso de um neologismo, assim como no decorrer de toda a obra em questão. Contudo, o neologismo só se torna possível pela utilização dos elementos mórficos naquilo que a gramática normativa pontua como Processo**

**de Formação das Palavras. Levando em consideração apenas o recurso morfológico, qual Processo de Formação foi utilizado?**

- a) Derivação Sufixal
- b) Derivação Prefixal
- c) Derivação Regressiva
- d) Derivação Imprópria
- e) Derivação Parassintética

**04. No terceiro período do décimo terceiro parágrafo, temos:**

- a) Uma oração
- b) Duas orações
- c) Três orações
- d) Quatro orações
- e) Cinco orações

**05. No último parágrafo do fragmento do conto “— Agora, só agora, sou cego que não vê”, a oração subordinada presente classifica-se corretamente como:**

- a) Oração Subordinada Adjetiva Restritiva
- b) Oração Subordinada Adverbial Causal
- c) Oração Subordinada Substantiva Subjetiva
- d) Oração Subordinada Adverbial Explicativa
- e) Oração Subordinada Adjetiva Explicativa

#### **RACIOCÍNIO LÓGICO**

**06. Os cinco filhos de Ana estavam discutindo a respeito da data de nascimento da mãe:**

- Almir disse que foi em janeiro, dia 14, sexta-feira.
- Vanderlei disse que foi em janeiro, dia 14, sábado.
- Tiago disse que foi em fevereiro, dia 15, sábado.
- Sandro disse que foi em janeiro, dia 15, sexta-feira.
- Renato disse que foi em fevereiro, dia 15, sexta-feira.

**Sabe-se que somente um dos filhos de Ana acertou corretamente sua data de nascimento e que os outros acertaram pelo menos um dos itens (dia, dia da semana e mês). Dessa forma, é correto afirmar que o filho de Ana que acertou a data de nascimento dela foi:**

- a) Renato
- b) Sandro
- c) Tiago
- d) Vanderlei
- e) Almir

**07. Considere a seguinte afirmativa: “Todo churrasqueiro gosta de picanha”. Em relação a essa proposição, é correto afirmar que:**

- a) Algum churrasqueiro não gosta de picanha.
- b) Toda pessoa que gosta de picanha é churrasqueira.
- c) Alguma pessoa que não gosta de picanha é churrasqueira.
- d) Toda pessoa que não é churrasqueira, não gosta de picanha.
- e) Toda pessoa que não gosta de picanha, não é churrasqueira.

**08. Em um grupo formado por 67 pessoas, verificou-se que 41 pessoas gostam de arroz, 29 gostam de feijão, 33 gostam de carne, 19 gostam de arroz e de feijão, 9 gostam apenas de arroz e de carne, 12 gostam de feijão e de carne e que 6 gostam de arroz, de feijão e de carne. O número de pessoas desse grupo, que não gosta de nenhum desses três tipos de alimentos é igual a:**

- a) 4
- b) 5
- c) 6
- d) 8
- e) 10

**09. Bruno escreveu, em seu caderno, várias sequências formadas por números múltiplos de 4, onde os valores que ocupavam as posições pares eram multiplicados por  $-1$ . Cada sequência foi somada e o resultado da soma anotado. A soma das três primeiras sequências escritas por Bruno foram as seguintes:**

$$4 - 8 = -4$$

$$4 - 8 + 12 = 8$$

$$4 - 8 + 12 - 16 = -8$$

**Considere que Bruno escreveu e somou tais sequências, em seu caderno, de modo a obter determinada sequência cuja soma foi 600. O número de termos dessa sequência é igual a:**

- a) 149
- b) 150
- c) 298
- d) 299
- e) 300

10. Quatro torcedores, um do São Paulo, um do Cruzeiro, um do Vasco e um do Bahia, estão sentados ao redor de uma mesa quadrada, de modo que, dois a dois, fiquem frente a frente. Sabe-se que Alan é torcedor do Cruzeiro e que Bruno está sentado à direita de Alan. Sabe-se também que Caio está sentado à direita do torcedor do São Paulo. Sabe-se ainda que Daniel não é torcedor do Vasco e que está sentado à frente de Bruno. Dessa forma, é correto afirmar que:

- a) Bruno é torcedor do Bahia e Daniel é torcedor do São Paulo.
- b) Bruno é torcedor do São Paulo e Daniel é torcedor do Bahia.
- c) Caio é torcedor do Vasco e Daniel é torcedor do São Paulo.
- d) Caio é torcedor do Bahia e Daniel é torcedor do São Paulo.
- e) Bruno é torcedor do Vasco e Daniel é torcedor do Bahia.

### INFORMÁTICA

11. Considerando o MS-Excel versão 2010, observando a figura abaixo, é correto afirmar que:

	A	B	C
1			
2			
3			
4			

- a) Somente 03 três linhas estão selecionadas.
- b) Somente uma célula está selecionada.
- c) 12 (doze) células estão selecionadas.
- d) Somente a coluna A até a linha 4 (quatro) está selecionada.
- e) Somente as colunas 1 (um), 2 (dois), 3 (três) e 4 (quatro) estão selecionadas.

12. Considerando o MS-Excel versão 2010, observando a figura abaixo, é incorreto afirmar que:

	A	B	C
1	12	6	=A1*B1
2	8	2	=A2/B2
3	5	14	=A3-B3
4	6	11	=A4+B4

- a) O resultado da fórmula =A1\*B1 é 72.
- b) O resultado da fórmula =A2/B2 é 4.
- c) O resultado da fórmula =A3-B3 é -9.
- d) O resultado da fórmula =A3-B3 é 9.
- e) O resultado da fórmula =A4+B4 é 17.

13. Digitando um texto no MS-Word versão 2010, necessito adicionar número nas páginas. Quanto a isso, é correto afirmar que:

- a) No menu Layout da Página, clico em número de página e seleciono onde desejo adicionar os números.
- b) No menu Inserir, clico em número de página e seleciono onde desejo adicionar os números.
- c) No menu Revisão, clico em número de página e seleciono onde desejo adicionar os números.
- d) No menu Referências, clico em número de página e seleciono onde desejo adicionar os números.
- e) No menu Exibição, clico em número de página e seleciono onde desejo adicionar os números.

14. A segurança da informação está diretamente relacionada com proteção de um conjunto de informações, no sentido de preservar o valor que possuem para um indivíduo ou uma organização. Atualmente, um dos aplicativos mais utilizados no mundo, o Whats app, teve uma alteração de confidencialidade muito importante na segurança das informações transmitidas e recebidas. Dentre as alternativas, assinale a que corretamente informa a alteração inserida no aplicativo Whats app.

- a) Antispam
- b) Antivirus
- c) Firewall
- d) Antispyware



e) Criptografia

**15. São todos os dispositivos que trabalham acoplados ao microcomputador para receber, transmitir, visualizar, ler, gravar ou armazenarem dados. São eles que permitem a comunicação do computador com o meio exterior, isto é, com os usuários e outras máquinas.**

**Esse texto descreve corretamente:**

- a) Memória ram
- b) Memória virtual
- c) Software
- d) Periféricos
- e) Hardware

#### CONHECIMENTOS GERAIS

##### 16. Hino do município de Telêmaco Borba/PR

Das virgens matas e campos verdejantes

Servindo-se também o rio Tibagi,

Homens de ideais, espíritos vibrantes.

Constituíram as indústrias aqui.

Estrilho:

Salve! Salve! Telêmaco Borba

Terra querida e de grandes primores,

A nossa homenagem rendamos

À cidade dos trabalhadores.

Pois a cadência de enorme e real progresso

Um município mui grandioso fez nascer,

Marcando assim, verdadeiro sucesso

Faz, então o Paraná engrandecer.

**No que tange ao Hino do município, atribua V (verdadeiro) ou F (falso) às afirmativas e marque a alternativa correta.**

( ) Eloah Martins Quadrado é autora da letra do hino.

( ) Bento Mossurunga compôs a música do hino.

( ) Eloah Martins Quadrado foi nomeada primeira professora da Cidade Nova, atual Telêmaco Borba.

( ) Bento Mossurunga fundou a orquestra Estudantil e Concertos – Orquestra Sinfônica da Universidade, a Sociedade de Cultura Artístico Basilio Itiberê.

a) F, V, V, V.

b) V, F, V, V.

c) V, V, F, V.

d) V, V, F, F.

e) V, V, V, V.

**17. À luz da Lei nº 1883/2012, que dispõe sobre o Estatuto dos Servidores Públicos da Administração Direta, Autárquica e Funcional do Município de Telêmaco Borba/PR, leia as alternativas e marque a correta.**

a) A apresentação para a posse ocorrerá no prazo de até trinta dias, contados do ato de nomeação.

b) A destituição do servidor da função gratificada dar-se-á por solicitação exclusiva dele mesmo.

c) O servidor ocupante exclusivamente de cargo em comissão será contribuinte do regime geral de previdência social.

d) A aprovação em concurso público gera o direito à nomeação, e será feita obedecida à ordem de classificação dos candidatos.

e) O exercício de função gratificada poderá ser de dedicação integral ou parcial, conforme necessidade da administração.

**Conforme a Lei nº 1.881, de 05 de abril de 2012, que dispõe sobre o Plano de Cargos, Carreiras e Vencimentos do quadro geral de servidores da Prefeitura Municipal de Telêmaco Borba/PR, regulamentada pelo Decreto nº 2269/2015, responda às próximas três questões.**

**18. Leia as assertivas e assinala a incorreta.**

a) Do resultado da avaliação de desempenho poderá ser interposto recurso à Comissão de Desenvolvimento Funcional no prazo de quinze dias a contar da publicação no Boletim Oficial do Município.

b) Não será concedida a progressão ou promoção ao servidor que estiver em licença para tratamento de saúde por um período superior a quarenta e cinco dias, no período de avaliação.

c) A alternância dos membros constituintes da Comissão de Desenvolvimento Funcional eleitos pelos servidores verificar-se-á a cada três anos de participação, observados, para substituição de seus participantes, o critério fixado no artigo anterior, não cabendo eleição sucessiva.

- d) Caberá à Comissão de Desenvolvimento Funcional, no caso de divergência de vinte por cento entre a nota do avaliador e a do avaliado, solicitar nova avaliação à chefia.
- e) Nos termos do disposto no art. 17 da Lei n° 1.881, de 05 de abril de 2012, para progredir, é necessário que o servidor satisfaça, dentre outros, o seguinte requisito: estar no efetivo exercício de seu cargo ou em função comissionada na sua área de atuação durante o interstício de dois anos.

**19. Assinale a alternativa que completa respectivamente as lacunas do texto a seguir:**

**A Comissão de Desenvolvimento Funcional será constituída por \_\_\_\_\_ membros, sendo \_\_\_\_\_ designados pelo Prefeito Municipal de Telêmaco Borba e os demais eleitos pelos servidores municipais dentre os estáveis, com a atribuição de coordenar os procedimentos relativos à avaliação periódica de desempenho e outras atribuições.**

- a) três / sete
- b) um / três
- c) sete / três
- d) três / cinco
- e) dois / cinco

**20. A Avaliação de Desempenho será norteada, dentre outros, pelo seguinte princípio: Amplitude - a avaliação deve incidir sobre todas as áreas de atuação do servidor, que compreendem:**

- 1. a formulação de políticas administrativas e sua aplicação para todos os setores da administração municipal;**
- 2. o desempenho do profissional dentro de suas funções pertinentes;**
- 3. a estrutura do órgão em que exerce a função;**
- 4. os resultados de eficiência dos serviços de cada setor ou órgão da administração municipal;**
- 5. a participação direta do avaliado, durante todo o processo avaliativo.**

**Diante dessa afirmação, somente não está correto o item:**

- a) 1
- b) 2
- c) 3
- d) 4
- e) 5

#### **CONHECIMENTOS ESPECÍFICOS**

**21. Assinale a alternativa que apresenta a portaria que institui a Rede de Atenção Psicossocial para pessoas com sofrimento ou transtorno mental e com necessidades decorrentes do uso de crack, álcool e outras drogas, no âmbito do Sistema Único de Saúde:**

- a) Portaria N° 1.498, de 19 de julho de 2013
- b) Portaria N° 793, de 24 de abril de 2012
- c) Portaria N° 2.395, de 11 de outubro de 2011
- d) Portaria N° 3.099, de 23 de dezembro de 2011
- e) Portaria N° 1.459, de 24 de junho de 2011

**22. Analise as afirmativas seguintes e assinale a alternativa que contém o resultado final da soma da(s) afirmativa(s) correta(s):**

- 01 – Toda lesão no sistema nervoso central promove atrofia cortical, progredindo para demência.**
- 02 – Delirium tremens com instabilidade autonômica e hiperatividade simpática associa-se, geralmente, a mortalidade de 5 a 10% dos pacientes.**
- 04 – A classe de medicamento de primeira escolha para pacientes com delirium tremens são os Inibidores da Recapitação da Serotonina como a Amitriptilina.**
- 08 – O etilismo pode desenvolver a encefalopatia de Wernicke.**
- 16 – Os benzodiazepínicos tem ação no sistema de ácido gama-amino-butirico, da mesma forma que o álcool no cérebro humano.**

- a) 06
- b) 07
- c) 09
- d) 19
- e) 26

**23. Leia as assertivas e assinale a alternativa correta.**

**I – A insuficiência cardíaca congestiva é uma síndrome clínica sempre causada por alguma doença cardíaca subjacente, mais comumente miocardiopatia isquêmica resultante de aterosclerose e/ou hipertensão arterial.**

**II – A Doxorubicina é uma droga amplamente utilizada e que causa efeitos cardiotoxicos com dose cumulativa superior a 450mg/m<sup>2</sup> de superfície corporal.**

**III – Os inibidores da ECA e os BRA associados a betabloqueadores e antagonistas de aldosterona podem diminuir a mortalidade, e aliviam imediatamente os sintomas congestivos.**

**IV – A insuficiência cardíaca crônica é uma doença progressiva com alta mortalidade, e a classe funcional do paciente geralmente não é um guia ao tratamento.**

- a) Apenas I e II estão corretas.
- b) Apenas I e III estão corretas.
- c) Todas estão corretas.
- d) Apenas II e III estão corretas.
- e) Apenas a IV está errada.

**Leia o seguinte caso para responder às próximas três questões.**

**Mulher de 28 anos vai ao consultório queixando-se de dor em joelho direito e hálux contra-lateral, com 10 dias de evolução e que não respondeu ao uso de analgésicos simples. Refere febrícula ao término do dia associada à mialgia inespecífica, além de disúria e corrimento vaginal branco leitoso amarelo esverdeado e prurido ocular bilateral; há 45 dias foi tratada para LUES com esquema adequado preconizado pelo Ministério da Saúde. Ao exame, apresenta-se afebril, e ambos os olhos estão injetados e fotossensíveis; o joelho direito e a primeira articulação metatarsal-falangiana esquerda apresentam-se edemaciados e dolorosos com discreta hiperemia.**

**24. Com base no caso, pode-se afirmar que a paciente apresenta uma tríade. Assinale a assertiva que contém o epônimo dessa tríade.**

- a) Virchow
- b) Reiter
- c) Beck
- d) Charcot
- e) Whipple

**25. Essa paciente possui fator de risco para desenvolver qual patologia ginecológica a médio prazo, se não for tratada corretamente?**

- a) Doença de Paget
- b) Doença de Berger
- c) Síndrome de Fitz-Hugh-Curtis
- d) Endometriose
- e) Síndrome dos ovários policísticos

**26. Sobre esse caso, analise as afirmativas e assinale a alternativa correta.**

**I – O principal diagnóstico diferencial para esse caso é a gonorreia.**

**II – Essa paciente possivelmente é HLA-B27 negativa.**

**III – Ela pode ser tratada com Azitromicina 1g no D1 e D7 associada com Ceftriaxona 250mg Intramuscular no D1 possui maior índice de cura em relação ao uso de Ceftriaxona 250mg Intramuscular no D1 com doxiciclina 100mg via oral de 12/12 horas por 14 dias.**

**IV – O provável agente etiológico do caso é a *Chlamydia trachomatis*.**

- a) Apenas a I está correta.
- b) Apenas I e II estão corretas.
- c) Apenas II e III estão erradas.
- d) Apenas I e III estão corretas.
- e) Apenas a II está errada.

**27. Assinale a alternativa em que se faz a correlação incorreta.**

- a) Agência Nacional de Saúde Suplementar – responsável pela regularização e fiscalização dos planos de saúde no país.
- b) Anvisa – responsável pela fiscalização in loco de estabelecimento de saúde em cada município e a sua correta regularização.
- c) Vigilância Epidemiológica – entidade responsável por organizar os dados de agravos em saúde e auxiliar a gestão a realizar estratégias de atenção a saúde.
- d) Anvisa – responsável pela deliberação de novas drogas no mercado brasileiro.
- e) Vigilância sanitária – responsável pela fiscalização das condições de manipulação de alimentos para os consumidores finais.

**28. Os Centros de Atenção Psicossocial são instituições destinadas a acolher os pacientes com transtornos mentais e estimular sua integração social e familiar, além de outras funções. Para que isso ocorra, necessitam de um número mínimo de membros na equipe.**

**Assinale a alternativa que contém a relação correta entre o tipo de CAPS e sua equipe mínima, conforme a determinação do Ministério da Saúde:**

Tipo de CAPS	Equipe Mínima
I – CAPS I	<b>A – 2 psiquiatras; 1 enfermeiro com formação em nível superior; 5 profissionais de nível superior de outras categorias profissionais; 8 profissionais de nível médio.</b>
II – CAPS II	<b>B – 1 médico psiquiatra, ou neurologista ou pediatra com formação em saúde mental; 1 enfermeiro; 4 profissionais de nível superior dentre psicólogo, assistente social, terapeuta ocupacional, fonoaudiólogo, pedagogo ou outro profissional necessário ao projeto terapêutico; 5 profissionais de nível médio.</b>
III – CAPS III	<b>C – 1 médico psiquiatra ou com formação em saúde mental; 1 enfermeiro, 3 profissionais de nível superior de outras categorias profissionais; 4 profissionais de nível médio.</b>
IV – CAPSi	<b>D – 1 psiquiatra; 1 enfermeiro com formação em saúde mental; 1 médico clínico responsável pela triagem, avaliação e acompanhamento das intercorrências clínicas; 4 profissionais de nível superior necessário ao projeto terapêutico; 6 profissionais de nível médio.</b>
V - CAPSad	<b>E – 1 psiquiatra; 1 enfermeiro com formação em saúde mental; 4 profissionais de nível superior de outras categorias profissionais; 6 profissionais de nível médio.</b>

- a) I-E; II-C; III-A; IV-B; V-D.  
 b) I-E; II-C; III-A; IV-D; V-B.  
 c) I-C; II-B; III-A; IV-E; V-D.  
 d) I-C; II-E; III-A; IV-B; V-D.  
 e) I-E; II-D; III-A; IV-B; V-C.

**29. Analise os seguintes itens a respeito de diarreia crônica e assinale a alternativa correta.**

**I – Diarreias tipo secretória podem ser desencadeadas por cólera, tumor de tireoide medular e uso de laxantes estimulantes exógenos, por exemplo.**

**II – Amiloidose pode promover esteatorreia, da mesma forma que a Doença de Whipple.**

**III – São exemplos de dismotilidade promotora de diarreia crônica: hipertireoidismo, síndrome do intestino irritável e Espru tropical.**

**IV – Pacientes portadores do Vírus da Imunodeficiência Adquirida podem ter, como sintoma inicial, diarreia crônica.**

- a) Todos estão corretos.  
 b) Apenas o item IV está incorreto.  
 c) Apenas o item III está correto.  
 d) Apenas o item III está incorreto.  
 e) Apenas o item II está incorreto.

**30. Assinale a assertiva que apresenta a portaria que publica a proposta de Projeto de Resolução “Boas Práticas para Organização e Funcionamento de Serviços de Urgência e Emergência”.**

- a) Portaria N° 30, de 12 de fevereiro de 2014  
 b) Portaria N° 354, de 10 de março de 2014  
 c) Portaria N° 825, de 25 de abril de 2016  
 d) Portaria N° 2.712, de 12 de novembro de 2013  
 e) Portaria N° 2.528, de 19 de outubro de 2006

**31. Referente à lombalgia, analise os itens seguintes e assinale a alternativa correta.**

**I – Segundo o trabalho de Deyo, publicado no New England Journal of Medicine em 2001, observou-se que a etiologia prevalente para lombalgia é de estiramento ou entorse lombar.**

**II – Menos de 1% da população adulta economicamente ativa sofre de dorsalgia.**

**III – São sinais e sintomas de alarme na lombalgia: dor iniciada antes dos 20 e após os 50 anos, febre, perda ponderal, dor intensa noturna ou piora da dor em posição supina, incontinência fecal e/ou urinária, história de neoplasia, anestesia em sela, redução da força em membros inferiores e imunossupressão.**

- a) Apenas os itens I e III estão corretos.  
 b) Apenas os itens II e III estão corretos.  
 c) Apenas os itens II e III estão incorretos.  
 d) Os itens I, II e III estão corretos.  
 e) Apenas os itens I e III estão incorretos.

**32. A respeito dos Critérios de Ranson, assinale a alternativa que contém a sequência correta da classificação de V (verdadeiro) e F (falso) para os itens a serem considerados na admissão de paciente com quadro de pancreatite aguda.**

- ( ) – Idade ≤ 54 anos

- ( ) – Leucócitos > 16.000/mm<sup>3</sup>  
 ( ) – Glicemia > 200 mg/dl  
 ( ) – Desidrogenase láctica sérica > 350 UI/L  
 ( ) – AST < 250 UI/L  
 a) V - V - V - V - V.  
 b) F - V - V - V - F.  
 c) F - F - V - V - V.  
 d) F - V - F - V - F.  
 e) V - F - V - F - V.

**33. Assinale a alternativa com a correlação correta das causas de hipertensão secundária.**

**I – Doenças Renais**

**II – Doença endócrina**

**III – Outras doenças**

- ( ) Doses altas de estrogênio  
 ( ) Glomerulonefrite  
 ( ) Doença do rim policístico  
 ( ) Hipertireoidismo  
 ( ) Aterosclerose  
 ( ) Hipercalcemia  
 ( ) Apneia do sono obstrutiva  
 a) I; I; III; II; I; III; II.  
 b) II; III; I; II; I; III; I.  
 c) III; I; I; II; I; III; III.  
 d) II; I; I; II; I; III; II.  
 e) II; III; II; I; I; II; III.

**34. Assinale a alternativa incorreta a respeito das orientações aos indivíduos residentes no Brasil, com idade igual ou superior a cinco anos, que viajarão a países com recomendação de vacina para Poliomielite a visitantes, contidas no Programa Nacional de Imunização, publicado no ano 2016.**

- a) Sem comprovação vacinal: administrar duas doses de Vacina Oral Poliomielite(VOP), com intervalo de 90 dias entre elas.  
 b) Sem comprovação vacinal: administrar três doses da VOP, com intervalo de 60 dias entre elas, mínimo 30 dias.  
 c) Com esquema incompleto: completar o esquema com a VOP.  
 d) Gestantes e imunodeprimidos e/ou seus contatos devem receber esquema com Vacina Inativada Poliomielite (VIP).  
 e) Para aqueles indivíduos que receberam três doses ou mais de VOP ou VIP, caso a última dose tenha sido administrada há mais de 12 meses, garantir antes da viagem uma única dose de reforço com VOP ou VIP.

**35. Assinale a alternativa que contém o antimicrobiano contraindicado à gestante no segundo trimestre de gestação com quadro de infecção urinária, sem história de reação alérgica a medicamentos anteriormente:**

- a) Sulfametoxazol e Timetropina  
 b) Cefalotina  
 c) Nitrofurantoína  
 d) Ciprofloxacino  
 e) Amoxicilina

**36. Trata-se de uma doença comum que atinge a faixa de 20 aos 50 anos. Possui, como apresentação clínica, dor mamária cíclica, com o acme algíco a fase pré e perimenstrual. Ao exame, geralmente, apresenta massas múltiplas dolorosas, bilaterais. Geralmente, com flutuação rápida no tamanho da massa.**

**Assinale a alternativa que identifica a doença descrita:**

- a) Carcinoma Ductal Invasivo  
 b) Carcinossarcoma  
 c) Alteração fibrocística da mama  
 d) Angiossarcoma mamário  
 e) Tumor filoide maligno

**37. Diversos tumores ginecológicos apresentam implantes em diferentes locais de metástase.**

**Assinale a alternativa que identifica o sítio anatômico primário do Tumor de Krukenberg.**

- a) Mama  
 b) Ovário  
 c) Colo de útero  
 d) Tuba uterina  
 e) Endométrio

**38. A amenorreia é caracterizada por alteração do ciclo menstrual com a ausência de menstruação por mais de três meses em mulheres com menstruação prévia. Assinale a alternativa que não identifica a amenorreia causada por alteração anatômica do trato genital inferior feminino.**

- a) Síndrome de Turner
- b) Síndrome de Asherman
- c) Hímen imperfurado
- d) Síndrome de Sheehan
- e) Síndrome de Rokitansky-Kuster-Hauser-Mayer

**39. Assinale a alternativa que contém o valor da soma das assertivas corretas:**

**01 – Climatério é definido pela Organização mundial de saúde como período correspondente da vida da mulher, compreendido entre a metade da fase reprodutora até a senilidade.**

**02 – A pré-eclâmpsia leve é definida como pressão arterial acima de 140/90 mmHg sem proteinúria e com hemólise.**

**04 – Síndrome HELLP caracteriza-se por plaquetopenia, hemólise e aumento das transaminases hepáticas.**

**08 – Carcinoma de colo uterino, cervicite, miomatose uterina e doença de von Willebrand podem apresentar hemorragia vaginal.**

**16 – A tríade clássica para gestação ectópica é: gestação; sangramento uterino ou *spotting*; dor pélvica.**

**32 – A Ressonância Nuclear Magnética das mamas é bastante sensível e bastante específica para triagem de neoplasia de mamas.**

- a) 63
- b) 62
- c) 31
- d) 28
- e) 17

**40. Doenças trofoblásticas gestacionais (DTGs) compreendem um grupo heteróclito de doenças diminutas cuja gênese se encontra na proliferação atípica do epitélio trofoblástico placentário. A patogênese da DTG é impar, uma vez que as lesões da hospedeira são originárias dos tecidos resultantes da fertilização, e não de tecidos próprios. A respeito desse assunto, analise as seguintes afirmativas e assinale a alternativa correta.**

**I – O risco de nova gravidez molar, caso haja anterior, é de 1-2%, subindo para 15-20% se duas previamente.**

**II – As molas completas são geralmente diploides e há tecido fetal presente pela fertilização de um óvulo vazio.**

**III – O Estádio I consiste na persistência de beta-HCG elevado e doença confinada ao útero.**

**IV - Cerca de 95% das pacientes com mola hidatiforme que desenvolvem neoplasia são classificadas com risco baixo, podem ser manejadas por ginecologistas com experiência na doença.**

- a) Todas estão corretas.
- b) Apenas a I e II estão corretas.
- c) Apenas a I, II e IV estão corretas.
- d) Apenas I e II estão erradas.
- e) Apenas a II está errada.

**RASCUNHO**





PREFEITURA DE TELÊMACO BORBA - ESTADO DO PARANÁ- EDITAL Nº 001-2016 - CONCURSO PÚBLICO

VESPERTINO – 29/05/2016 – NÍVEL SUPERIOR

2

PROVA OBJETIVA NÚMERO

**CARGOS: TMNS I - MEDICINA – GINECOLOGIA**  
**TMNS I - MEDICINA – OBSTETRÍCIA**

Leia atentamente as INSTRUÇÕES:

1. Confira seus dados no cartão-resposta: nome, número de inscrição e o curso para o qual se inscreveu.
  2. **MARQUE no seu cartão-resposta o número da sua prova** (não será corrigido o cartão-resposta que não tiver marcado o número da prova) e **Assine** seu cartão-resposta.
  3. Aguarde a autorização do Fiscal para abrir o caderno de prova. Ao receber a ordem do fiscal, confira o caderno de prova com muita atenção. Nenhuma reclamação sobre o total de questões ou falha de impressão será aceita depois de iniciada a prova.
  4. O cartão-resposta não será substituído, salvo se contiver erro de impressão.
  5. Preencha toda a área do cartão-resposta correspondente à alternativa de sua escolha, com caneta esferográfica (tinta azul ou preta), sem ultrapassar as bordas. As marcações duplas, ou rasuradas, com corretivo, ou marcadas diferentemente do modelo estabelecido no cartão-resposta poderão ser anuladas.
  6. Sua prova tem **40** questões, com **5** alternativas.
  7. Cabe apenas ao candidato a interpretação das questões, **o fiscal** não poderá fazer nenhuma interferência.
  8. A prova será realizada com duração máxima de **3 (três) horas**, incluído o tempo para a realização da Prova Objetiva de múltipla escolha e o preenchimento do cartão-resposta.
  9. O candidato poderá retirar-se do local de realização das provas somente **1 (uma) hora** após o seu início, sem levar o caderno de prova.
  10. O candidato poderá levar o caderno de provas, assim como anotação contendo transcrição do seu cartão-resposta, somente **1h30min** (uma hora e trinta minutos) após o início da realização da prova.
  11. Ao terminar a prova, o candidato deverá entregar ao fiscal de sala o cartão-resposta preenchido e **ASSINADO**.
  12. Os **3 (três)** candidatos, que terminarem a prova por último, deverão permanecer na sala, e só poderão sair juntos após o fechamento do envelope, contendo os cartões-resposta dos candidatos presentes e ausentes, e assinarem no lacre do referido envelope, atestando que este foi devidamente lacrado.
  13. Durante todo o tempo em que permanecer no local onde está ocorrendo o concurso, o candidato deverá, manter o celular desligado e sem bateria, só sendo permitido ligar depois de ultrapassar o portão de saída do prédio.
  14. Não será permitido ao candidato fumar na sala de provas, bem como nas dependências.
  15. Depois de terminar a prova e entregar ao fiscal o cartão-resposta, preenchido e assinado, não será mais permitido ao candidato o uso do banheiro e bebedouro.
- BOA PROVA!**

**RACIOCÍNIO LÓGICO**

**01. Os cinco filhos de Ana estavam discutindo a respeito da data de nascimento da mãe:**

- Almir disse que foi em janeiro, dia 14, sexta-feira.
- Vanderlei disse que foi em janeiro, dia 14, sábado.
- Tiago disse que foi em fevereiro, dia 15, sábado.
- Sandro disse que foi em janeiro, dia 15, sexta-feira.
- Renato disse que foi em fevereiro, dia 15, sexta-feira.

Sabe-se que somente um dos filhos de Ana acertou corretamente sua data de nascimento e que os outros acertaram pelo menos um dos itens (dia, dia da semana e mês). Dessa forma, é correto afirmar que o filho de Ana que acertou a data de nascimento dela foi:

- a) Renato
- b) Sandro
- c) Tiago
- d) Vanderlei
- e) Almir

**02. Considere a seguinte afirmativa: “Todo churrasqueiro gosta de picanha”. Em relação a essa proposição, é correto afirmar que:**

- a) Algum churrasqueiro não gosta de picanha.
- b) Toda pessoa que gosta de picanha é churrasqueira.
- c) Alguma pessoa que não gosta de picanha é churrasqueira.
- d) Toda pessoa que não é churrasqueira, não gosta de picanha.
- e) Toda pessoa que não gosta de picanha, não é churrasqueira.

**03. Em um grupo formado por 67 pessoas, verificou-se que 41 pessoas gostam de arroz, 29 gostam de feijão, 33 gostam de carne, 19 gostam de arroz e de feijão, 9 gostam apenas de arroz e de carne, 12 gostam de feijão e de carne e que 6 gostam de arroz, de feijão e de carne. O número de pessoas desse grupo, que não gosta de nenhum desses três tipos de alimentos é igual a:**

- a) 4
- b) 5
- c) 6
- d) 8
- e) 10

**04. Bruno escreveu, em seu caderno, várias sequências formadas por números múltiplos de 4, onde os valores que ocupavam as posições pares eram multiplicados por  $-1$ . Cada sequência foi somada e o resultado da soma anotado. A soma das três primeiras sequências escritas por Bruno foram as seguintes:**

$$4 - 8 = -4$$
$$4 - 8 + 12 = 8$$
$$4 - 8 + 12 - 16 = -8$$

Considere que Bruno escreveu e somou tais sequências, em seu caderno, de modo a obter determinada sequência cuja soma foi 600. O número de termos dessa sequência é igual a:

- a) 149
- b) 150
- c) 298
- d) 299
- e) 300

**05. Quatro torcedores, um do São Paulo, um do Cruzeiro, um do Vasco e um do Bahia, estão sentados ao redor de uma mesa quadrada, de modo que, dois a dois, fiquem frente a frente. Sabe-se que Alan é torcedor do Cruzeiro e que Bruno está sentado à direita de Alan. Sabe-se também que Caio está sentado à direita do torcedor do São Paulo. Sabe-se ainda que Daniel não é torcedor do Vasco e que está sentado à frente de Bruno. Dessa forma, é correto afirmar que:**

- a) Bruno é torcedor do Bahia e Daniel é torcedor do São Paulo.
- b) Bruno é torcedor do São Paulo e Daniel é torcedor do Bahia.
- c) Caio é torcedor do Vasco e Daniel é torcedor do São Paulo.
- d) Caio é torcedor do Bahia e Daniel é torcedor do São Paulo.
- e) Bruno é torcedor do Vasco e Daniel é torcedor do Bahia.

**INFORMÁTICA**

06. Considerando o MS-Excel versão 2010, observando a figura abaixo, é correto afirmar que:

	A	B	C
1			
2			
3			
4			

- Somente 03 três linhas estão selecionadas.
- Somente uma célula está selecionada.
- 12 (doze) células estão selecionadas.
- Somente a coluna A até a linha 4 (quatro) está selecionada.
- Somente as colunas 1 (um), 2 (dois), 3 (três) e 4 (quatro) estão selecionadas.

07. Considerando o MS-Excel versão 2010, observando a figura abaixo, é incorreto afirmar que:

	A	B	C
1	12	6	=A1*B1
2	8	2	=A2/B2
3	5	14	=A3-B3
4	6	11	=A4+B4

- O resultado da fórmula =A1\*B1 é 72.
- O resultado da fórmula =A2/B2 é 4.
- O resultado da fórmula =A3-B3 é -9.
- O resultado da fórmula =A3-B3 é 9.
- O resultado da fórmula =A4+B4 é 17.

08. Digitando um texto no MS-Word versão 2010, necessito adicionar número nas páginas. Quanto a isso, é correto afirmar que:

- No menu Layout da Página, clico em número de página e seleciono onde desejo adicionar os números.
- No menu Inserir, clico em número de página e seleciono onde desejo adicionar os números.
- No menu Revisão, clico em número de página e seleciono onde desejo adicionar os números.
- No menu Referências, clico em número de página e seleciono onde desejo adicionar os números.
- No menu Exibição, clico em número de página e seleciono onde desejo adicionar os números.

09. A segurança da informação está diretamente relacionada com proteção de um conjunto de informações, no sentido de preservar o valor que possuem para um indivíduo ou uma organização. Atualmente, um dos aplicativos mais utilizados no mundo, o Whats app, teve uma alteração de confidencialidade muito importante na segurança das informações transmitidas e recebidas. Dentre as alternativas, assinale a que corretamente informa a alteração inserida no aplicativo Whats app.

- Antispam
- Antivirus
- Firewall
- Antispyware
- Criptografia

10. São todos os dispositivos que trabalham acoplados ao microcomputador para receber, transmitir, visualizar, ler, gravar ou armazenarem dados. São eles que permitem a comunicação do computador com o meio exterior, isto é, com os usuários e outras máquinas.

Esse texto descreve corretamente:

- Memória ram
- Memória virtual
- Software
- Periféricos
- Hardware

**CONHECIMENTOS GERAIS**

11. Hino do município de Telêmaco Borba/PR

Das virgens matas e campos verdejantes  
 Servindo-se também o rio Tibagi,



Homens de ideais, espíritos vibrantes.

Constituíram as indústrias aqui.

Estrilho:

Salve! Salve! Telêmaco Borba

Terra querida e de grandes primores,

A nossa homenagem rendamos

À cidade dos trabalhadores.

Pois a cadência de enorme e real progresso

Um município mui grandioso fez nascer,

Marcando assim, verdadeiro sucesso

Faz, então o Paraná engrandecer.

**No que tange ao Hino do município, atribua V (verdadeiro) ou F (falso) às afirmativas e marque a alternativa correta.**

( ) Eloah Martins Quadrado é autora da letra do hino.

( ) Bento Mossurunga compôs a música do hino.

( ) Eloah Martins Quadrado foi nomeada primeira professora da Cidade Nova, atual Telêmaco Borba.

( ) Bento Mossurunga fundou a orquestra Estudantil e Concertos – Orquestra Sinfônica da Universidade, a Sociedade de Cultura Artístico Basílio Itiberê.

a) F, V, V, V.

b) V, F, V, V.

c) V, V, F, V.

d) V, V, F, F.

e) V, V, V, V.

**12. À luz da Lei nº 1883/2012, que dispões sobre o Estatuto dos Servidores Públicos da Administração Direta, Autárquica e Funcional do Município de Telêmaco Borba/PR, leia as alternativas e marque a correta.**

a) A apresentação para a posse ocorrerá no prazo de até trinta dias, contados do ato de nomeação.

b) A destituição do servidor da função gratificada dar-se-á por solicitação exclusiva dele mesmo.

c) O servidor ocupante exclusivamente de cargo em comissão será contribuinte do regime geral de previdência social.

d) A aprovação em concurso público gera o direito à nomeação, e será feita obedecida à ordem de classificação dos candidatos.

e) O exercício de função gratificada poderá ser de dedicação integral ou parcial, conforme necessidade da administração.

**Conforme a Lei nº 1.881, de 05 de abril de 2012, que dispõe sobre o Plano de Cargos, Carreiras e Vencimentos do quadro geral de servidores da Prefeitura Municipal de Telêmaco Borba/PR, regulamentada pelo Decreto nº 2269/2015, responda às próximas três questões.**

**13. Leia as assertivas e assinala a incorreta.**

a) Do resultado da avaliação de desempenho poderá ser interposto recurso à Comissão de Desenvolvimento Funcional no prazo de quinze dias a contar da publicação no Boletim Oficial do Município.

b) Não será concedida a progressão ou promoção ao servidor que estiver em licença para tratamento de saúde por um período superior a quarenta e cinco dias, no período de avaliação.

c) A alternância dos membros constituintes da Comissão de Desenvolvimento Funcional eleitos pelos servidores verificar-se-á a cada três anos de participação, observados, para substituição de seus participantes, o critério fixado no artigo anterior, não cabendo eleição sucessiva.

d) Caberá à Comissão de Desenvolvimento Funcional, no caso de divergência de vinte por cento entre a nota do avaliador e a do avaliado, solicitar nova avaliação à chefia.

e) Nos termos do disposto no art. 17 da Lei nº 1.881, de 05 de abril de 2012, para progredir, é necessário que o servidor satisfaça, dentre outros, o seguinte requisito: estar no efetivo exercício de seu cargo ou em função comissionada na sua área de atuação durante o interstício de dois anos.

**14. Assinale a alternativa que completa respectivamente as lacunas do texto a seguir:**

**A Comissão de Desenvolvimento Funcional será constituída por \_\_\_\_\_ membros, sendo \_\_\_\_\_ designados pelo Prefeito Municipal de Telêmaco Borba e os demais eleitos pelos servidores municipais dentre os estáveis, com a atribuição de coordenar os procedimentos relativos à avaliação periódica de desempenho e outras atribuições.**

a) três / sete

b) um / três

c) sete / três

d) três / cinco

e) dois / cinco



15. A Avaliação de Desempenho será norteadada, dentre outros, pelo seguinte princípio: Amplitude - a avaliação deve incidir sobre todas as áreas de atuação do servidor, que compreendem:

1. a formulação de políticas administrativas e sua aplicação para todos os setores da administração municipal;
2. o desempenho do profissional dentro de suas funções pertinentes;
3. a estrutura do órgão em que exerce a função;
4. os resultados de eficiência dos serviços de cada setor ou órgão da administração municipal;
5. a participação direta do avaliado, durante todo o processo avaliativo.

Diante dessa afirmação, somente não está correto o item:

- a) 1
- b) 2
- c) 3
- d) 4
- e) 5

#### CONHECIMENTOS ESPECÍFICOS

16. Assinale a alternativa que apresenta a portaria que institui a Rede de Atenção Psicossocial para pessoas com sofrimento ou transtorno mental e com necessidades decorrentes do uso de crack, álcool e outras drogas, no âmbito do Sistema Único de Saúde:

- a) Portaria N° 1.498, de 19 de julho de 2013
- b) Portaria N° 793, de 24 de abril de 2012
- c) Portaria N° 2.395, de 11 de outubro de 2011
- d) Portaria N° 3.099, de 23 de dezembro de 2011
- e) Portaria N° 1.459, de 24 de junho de 2011

17. Analise as afirmativas seguintes e assinale a alternativa que contém o resultado final da soma da(s) afirmativa(s) correta(s):

01 – Toda lesão no sistema nervoso central promove atrofia cortical, progredindo para demência.

02 – Delirium tremens com instabilidade autonômica e hiperatividade simpática associa-se, geralmente, a mortalidade de 5 a 10% dos pacientes.

04 – A classe de medicamento de primeira escolha para pacientes com delirium tremens são os Inibidores da Recapitação da Serotonina como a Amitriptilina.

08 – O etilismo pode desenvolver a encefalopatia de Wernicke.

16 – Os benzodiazepínicos tem ação no sistema de ácido gama-amino-butírico, da mesma forma que o álcool no cérebro humano.

- a) 06
- b) 07
- c) 09
- d) 19
- e) 26

18. Leia as assertivas e assinale a alternativa correta.

I – A insuficiência cardíaca congestiva é uma síndrome clínica sempre causada por alguma doença cardíaca subjacente, mais comumente miocardiopatia isquêmica resultante de aterosclerose e/ou hipertensão arterial.

II – A Doxorubicina é uma droga amplamente utilizada e que causa efeitos cardiotoxícos com dose cumulativa superior a 450mg/m<sup>2</sup> de superfície corporal.

III – Os inibidores da ECA e os BRA associados a betabloqueadores e antagonistas de aldosterona podem diminuir a mortalidade, e aliviam imediatamente os sintomas congestivos.

IV – A insuficiência cardíaca crônica é uma doença progressiva com alta mortalidade, e a classe funcional do paciente geralmente não é um guia ao tratamento.

- a) Apenas I e II estão corretas.
- b) Apenas I e III estão corretas.
- c) Todas estão corretas.
- d) Apenas II e III estão corretas.
- e) Apenas a IV está errada.

Leia o seguinte caso para responder às próximas três questões.

Mulher de 28 anos vai ao consultório queixando-se de dor em joelho direito e hálux contra-lateral, com 10 dias de evolução e que não respondeu ao uso de analgésicos simples. Refere febrícula ao término do dia associada à mialgia inespecífica, além de disúria e corrimento vaginal branco leitoso amarelo esverdeado e prurido ocular bilateral; há 45 dias foi tratada para LUES com esquema adequado preconizado pelo Ministério da Saúde. Ao exame, apresenta-se afebril, e ambos os olhos estão injetados e fotossensíveis; o

joelho direito e a primeira articulação metatarsofalangiana esquerda apresentam-se edemaciados e dolorosos com discreta hiperemia.

**19. Com base no caso, pode-se afirmar que a paciente apresenta uma tríade. Assinale a assertiva que contém o epônimo dessa tríade.**

- a) Virchow
- b) Reiter
- c) Beck
- d) Charcot
- e) Whipple

**20. Essa paciente possui fator de risco para desenvolver qual patologia ginecológica a médio prazo, se não for tratada corretamente?**

- a) Doença de Paget
- b) Doença de Berger
- c) Síndrome de Fitz-Hugh-Curtis
- d) Endometriose
- e) Síndrome dos ovários policísticos

**21. Sobre esse caso, analise as afirmativas e assinale a alternativa correta.**

**I – O principal diagnóstico diferencial para esse caso é a gonorreia.**

**II – Essa paciente possivelmente é HLA-B27 negativa.**

**III – Ela pode ser tratada com Azitromicina 1g no D1 e D7 associada com Ceftriaxona 250mg Intramuscular no D1 possui maior índice de cura em relação ao uso de Ceftriaxone 250mg Intramuscular no D1 com doxiciclina 100mg via oral de 12/12 horas por 14 dias.**

**IV – O provável agente etiológico do caso é a *Chlamydia trachomatis*.**

- a) Apenas a I está correta.
- b) Apenas I e II estão corretas.
- c) Apenas II e III estão erradas.
- d) Apenas I e III estão corretas.
- e) Apenas a II está errada.

**22. Assinale a alternativa em que se faz a correlação incorreta.**

- a) Agência Nacional de Saúde Suplementar – responsável pela regularização e fiscalização dos planos de saúde no país.
- b) Anvisa – responsável pela fiscalização in loco de estabelecimento de saúde em cada município e a sua correta regularização.
- c) Vigilância Epidemiológica – entidade responsável por organizar os dados de agravos em saúde e auxiliar a gestão a realizar estratégias de atenção a saúde.
- d) Anvisa – responsável pela deliberação de novas drogas no mercado brasileiro.
- e) Vigilância sanitária – responsável pela fiscalização das condições de manipulação de alimentos para os consumidores finais.

**23. Os Centros de Atenção Psicossocial são instituições destinadas a acolher os pacientes com transtornos mentais e estimular sua integração social e familiar, além de outras funções. Para que isso ocorra, necessitam de um número mínimo de membros na equipe.**

**Assinale a alternativa que contém a relação correta entre o tipo de CAPS e sua equipe mínima, conforme a determinação do Ministério da Saúde:**

Tipo de CAPS	Equipe Mínima
I – CAPS I	A – 2 psiquiatras; 1 enfermeiro com formação em nível superior; 5 profissionais de nível superior de outras categorias profissionais; 8 profissionais de nível médio.
II – CAPS II	B – 1 médico psiquiatra, ou neurologista ou pediatra com formação em saúde mental; 1 enfermeiro; 4 profissionais de nível superior dentre psicólogo, assistente social, terapeuta ocupacional, fonoaudiólogo, pedagogo ou outro profissional necessário ao projeto terapêutico; 5 profissionais de nível médio.
III – CAPS III	C – 1 médico psiquiatra ou com formação em saúde mental; 1 enfermeiro, 3 profissionais de nível superior de outras categorias profissionais; 4 profissionais de nível médio.
IV – CAPSi	D – 1 psiquiatra; 1 enfermeiro com formação em saúde mental; 1 médico clínico responsável pela triagem, avaliação e acompanhamento das intercorrências clínicas; 4 profissionais de nível superior necessário ao projeto terapêutico; 6 profissionais de nível médio.



V - CAPSad

**E – 1 psiquiatra; 1 enfermeiro com formação em saúde mental; 4 profissionais de nível superior de outras categorias profissionais; 6 profissionais de nível médio.**

- a) I-E; II-C; III-A; IV-B; V-D.
- b) I-E; II-C; III-A; IV-D; V-B.
- c) I-C; II-B; III-A; IV-E; V-D.
- d) I-C; II-E; III-A; IV-B; V-D.
- e) I-E; II-D; III-A; IV-B; V-C.

**24. Analise os seguintes itens a respeito de diarreia crônica e assinale a alternativa correta.**

**I – Diarreias tipo secretória podem ser desencadeadas por cólera, tumor de tireoide medular e uso de laxantes estimulantes exógenos, por exemplo.**

**II – Amiloidose pode promover esteatorreia, da mesma forma que a Doença de Whipple.**

**III – São exemplos de dismotilidade promotora de diarreia crônica: hipertireoidismo, síndrome do intestino irritável e Espru tropical.**

**IV – Pacientes portadores do Vírus da Imunodeficiência Adquirida podem ter, como sintoma inicial, diarreia crônica.**

- a) Todos estão corretos.
- b) Apenas o item IV está incorreto.
- c) Apenas o item III está correto.
- d) Apenas o item III está incorreto.
- e) Apenas o item II está incorreto.

**25. Assinale a assertiva que apresenta a portaria que publica a proposta de Projeto de Resolução “Boas Práticas para Organização e Funcionamento de Serviços de Urgência e Emergência”.**

- a) Portaria N° 30, de 12 de fevereiro de 2014
- b) Portaria N° 354, de 10 de março de 2014
- c) Portaria N° 825, de 25 de abril de 2016
- d) Portaria N° 2.712, de 12 de novembro de 2013
- e) Portaria N° 2.528, de 19 de outubro de 2006

**26. Referente à lombalgia, analise os itens seguintes e assinale a alternativa correta.**

**I – Segundo o trabalho de Deyo, publicado no New England Journal of Medicine em 2001, observou-se que a etiologia prevalente para lombalgia é de estiramento ou entorse lombar.**

**II – Menos de 1% da população adulta economicamente ativa sofre de dorsalgia.**

**III – São sinais e sintomas de alarme na lombalgia: dor iniciada antes dos 20 e após os 50 anos, febre, perda ponderal, dor intensa noturna ou piora da dor em posição supina, incontinência fecal e/ou urinária, história de neoplasia, anestesia em sela, redução da força em membros inferiores e imunossupressão.**

- a) Apenas os itens I e III estão corretos.
- b) Apenas os itens II e III estão corretos.
- c) Apenas os itens II e III estão incorretos.
- d) Os itens I, II e III estão corretos.
- e) Apenas os itens I e III estão incorretos.

**27. A respeito dos Critérios de Ranson, assinale a alternativa que contém a sequência correta da classificação de V (verdadeiro) e F (falso) para os itens a serem considerados na admissão de paciente com quadro de pancreatite aguda.**

- ( ) – Idade  $\leq$  54 anos
- ( ) – Leucócitos  $>$  16.000/mm<sup>3</sup>
- ( ) – Glicemia  $>$  200 mg/dl
- ( ) – Desidrogenase láctica sérica  $>$  350 UI/L
- ( ) – AST  $<$  250 UI/L

- a) V - V - V - V - V.
- b) F - V - V - V - F.
- c) F - F - V - V - V.
- d) F - V - F - V - F.
- e) V - F - V - F - V.

**28. Assinale a alternativa com a correlação correta das causas de hipertensão secundária.**

**I – Doenças Renais**

**II – Doença endócrina**

**III – Outras doenças**

- ( ) Doses altas de estrogênio
- ( ) Glomerulonefrite
- ( ) Doença do rim policístico

- ( ) Hipertireoidismo
- ( ) Aterosclerose
- ( ) Hipercalcemia
- ( ) Apneia do sono obstrutiva

- a) I; I; III; II; I; III; II.
- b) II; III; I; II; I; III; I.
- c) III; I; I; II; I; III; III.
- d) II; I; I; II; I; III; II.
- e) II; III; II; I; I; II; III.

**29. Assinale a alternativa incorreta a respeito das orientações aos indivíduos residentes no Brasil, com idade igual ou superior a cinco anos, que viajarão a países com recomendação de vacina para Poliomielite a visitantes, contidas no Programa Nacional de Imunização, publicado no ano 2016.**

- a) Sem comprovação vacinal: administrar duas doses de Vacina Oral Poliomielite(VOP), com intervalo de 90 dias entre elas.
- b) Sem comprovação vacinal: administrar três doses da VOP, com intervalo de 60 dias entre elas, mínimo 30 dias.
- c) Com esquema incompleto: completar o esquema com a VOP.
- d) Gestantes e imunodeprimidos e/ou seus contatos devem receber esquema com Vacina Inativada Poliomielite (VIP).
- e) Para aqueles indivíduos que receberam três doses ou mais de VOP ou VIP, caso a última dose tenha sido administrada há mais de 12 meses, garantir antes da viagem uma única dose de reforço com VOP ou VIP.

**30. Assinale a alternativa que contém o antimicrobiano contraindicado à gestante no segundo trimestre de gestação com quadro de infecção urinária, sem história de reação alérgica a medicamentos anteriormente:**

- a) Sulfametoxazol e Timetropina
- b) Cefalotina
- c) Nitrofurantoína
- d) Ciprofloxacino
- e) Amoxicilina

**31. Trata-se de uma doença comum que atinge a faixa de 20 aos 50 anos. Possui, como apresentação clínica, dor mamária cíclica, com o acme algíco a fase pré e perimenstrual. Ao exame, geralmente, apresenta massas múltiplas dolorosas, bilaterais. Geralmente, com flutuação rápida no tamanho da massa.**

**Assinale a alternativa que identifica a doença descrita:**

- a) Carcinoma Ductal Invasivo
- b) Carcinossarcoma
- c) Alteração fibrocística da mama
- d) Angiossarcoma mamário
- e) Tumor filoide maligno

**32. Diversos tumores ginecológicos apresentam implantes em diferentes locais de metástase.**

**Assinale a alternativa que identifica o sítio anatômico primário do Tumor de Krukenberg.**

- a) Mama
- b) Ovário
- c) Colo de útero
- d) Tuba uterina
- e) Endométrio

**33. A amnorreia é caracterizada por alteração do ciclo menstrual com a ausência de menstruação por mais de três meses em mulheres com menstruação prévia. Assinale a alternativa que não identifica a amenorreia causada por alteração anatômica do trato genital inferior feminino.**

- a) Síndrome de Tunner
- b) Síndrome de Asherman
- c) Hímen imperfurado
- d) Síndrome de Sheehan
- e) Síndrome de Rokitansky-Kuster-Hauser-Mayer

**34. Assinale a alternativa que contém o valor da soma das assertivas corretas:**

**01 – Climatério é definido pela Organização mundial de saúde como período correspondente da vida da mulher, compreendido entre a metade da fase reprodutora até a senilidade.**

**02 – A pré-eclâmpsia leve é definida como pressão arterial acima de 140/90 mmHg sem proteinúria e com hemólise.**

**04 – Síndrome HELLP caracteriza-se por plaquetopenia, hemólise e aumento das transaminases hepáticas.**

**08 – Carcinoma de colo uterino, cervicite, miomatose uterina e doença de von Willebrand podem apresentar hemorragia vaginal.**

**16 – A tríade clássica para gestação ectópica é: gestação; sangramento uterino ou *spotting*; dor pélvica.**

**32 – A Ressonância Nuclear Magnética das mamas é bastante sensível e bastante específica para triagem de neoplasia de mamas.**

- a) 63
- b) 62
- c) 31
- d) 28
- e) 17

**35. Doenças trofoblásticas gestacionais (DTGs) compreendem um grupo heteróclito de doenças diminutas cuja gênese se encontra na proliferação atípica do epitélio trofoblástico placentário. A patogênese da DTG é impar, uma vez que as lesões da hospedeira são originárias dos tecidos resultantes da fertilização, e não de tecidos próprios. A respeito desse assunto, analise as seguintes afirmativas e assinale a alternativa correta.**

**I – O risco de nova gravidez molar, caso haja anterior, é de 1-2%, subindo para 15-20% se duas previamente.**

**II – As molas completas são geralmente diploides e há tecido fetal presente pela fertilização de um óvulo vazio.**

**III – O Estádio I consiste na persistência de beta-HCG elevado e doença confinada ao útero.**

**IV - Cerca de 95% das pacientes com mola hidatiforme que desenvolvem neoplasia são classificadas com risco baixo, podem ser manejadas por ginecologistas com experiência na doença.**

- a) Todas estão corretas.
- b) Apenas a I e II estão corretas.
- c) Apenas a I, II e IV estão corretas.
- d) Apenas I e II estão erradas.
- e) Apenas a II está errada.

## LÍNGUA PORTUGUESA

**Texto para as próximas cinco questões:**

### “O cego Estrelinho” Mia Couto

O cego Estrelinho era pessoa de nenhuma vez: sua história poderia ser contada e descontada não fosse seu guia, Gigitto Efraim. A mão de Gigitto conduziu o desvistado por tempos e idades. Aquela mão era repartidamente comum, extensão de um no outro, siamense. E assim era quase de nascença. Memória de Estrelinho tinha cinco dedos e eram os de Gigitto postos, em aperto, na sua própria mão.

O cego, curioso, queria saber de tudo. Ele não fazia cerimônia no viver. O sempre lhe era pouco e o tudo insuficiente. Dizia, deste modo:

— Tenho que viver já, senão esqueço-me.

Gigitto, porém, o que descrevia era o que não havia. O mundo que ele minuciava eram fantasias e rendilhados. A imaginação do guia era mais profícua que papaeira. O cego enchia a boca de águas:

— Que maravilhação esse mundo. Me conte tudo, Gigitto!

A mão do guia era, afinal, o manuscrito da mentira. Gigitto Efraim estava como nunca esteve S. Tomé: via para não crer. O condutor falava pela ponta dos dedos. Desfolhava o universo, aberto em folhas. A ideiação dele era tal que mesmo o cego, por vezes, acreditava ver. O outro lhe encorajava esses breves enganar:

— Desbengale-se, você está escolhendo a boa procedência!

Mentira: Estrelinho continuava sem ver uma palmeira à frente do nariz. Contudo, o cego não se conformava em suas escuras. Ele cumpria o ditado: não tinha perna e queria dar o pontapé. Só à noite, ele desalentava, sofrendo medos mais antigos que a humanidade. Entendia aquilo que, na raça humana, é menos primitivo: o animal.

— Na noite aflige não haver luz?

— Aflição é ter um pássaro branco esvoando dentro do sono.

Pássaro branco? No sono? Lugar de ave é nas alturas. Dizem até que Deus fez o céu para justificar os pássaros. Estrelinho disfarçava o medo dos vaticínios, subterfugindo:

— E agora, Gigitto? Agora, olhando assim para cima, estou face ao céu?

Que podia o outro responder? O céu do cego fica em toda a parte. Estrelinho perdia o pé era quando a noite chegava e seu mestre adormecia. Era como se um novo escuro nele se estreasse em nó cego. Devagaroso e sorrateiro ele ainhava sua mão na mão do guia. Só assim adormecia. A razão da concha é a timidez da amêijoia? Na manhã seguinte, o cego lhe confessava: se você morrer, tenho que morrer logo no imediato. Senão-me: como acerto o caminho para o céu?

Foi no mês de dezembro que levaram Gigitto. Lhe tiraram do mundo para pôr na guerra: obrigavam os serviços militares. O cego reclamou: que o moço inatingia a idade. E que o serviço que ele a si prestava era vital e vitalício. O guia chamou Estrelinho à parte e lhe tranqüilizou:

— Não vai ficar sozinando por aí. Minha mana já mandei para ficar no meu lugar.

O cego estendeu o braço a querer tocar uma despedida. Mas o outro já não estava lá. Ou estava e se desviara, propositado? E sem água ida nem vinda, Estrelinho escutou o amigo se afastar, engolido, esponginquo, inevisível. Pela pimeira vez, Estrelinho se sentiu invalidado.

— Agora, só agora, sou cego que não vê.

(...)

**COUTO, Mia. Estórias abensonhadas. Rio de Janeiro: Nova Fronteira, 1996. (Pág 23 e 24).**

**36. Quanto à interpretação do fragmento do conto, podemos afirmar que:**

- a) Gigito Efraim era o guia de Estrelinho há pouquíssimo tempo.
- b) Estrelinho era cego de nascença.
- c) Gigito descrevia o mundo para Estrelinho de forma denotativa.
- d) Gigito foi convocado pelo exército para ser guia de cegos na guerra.
- e) Gigito descrevia o mundo para Estrelinho de forma conotativa.

**37. No período “O sempre lhe era pouco e o tudo insuficiente”, o pronome “LHE” exerce a função sintática de:**

- a) Objeto Direto
- b) Objeto Indireto
- c) Complemento Nominal
- d) Adjunto Adnominal
- e) Objeto Direto Preposicionado

**38. Na oração “A mão de Gigito conduziu o desvistado por tempos e idades”, o autor faz uso de um neologismo, assim como no decorrer de toda a obra em questão. Contudo, o neologismo só se torna possível pela utilização dos elementos mórficos naquilo que a gramática normativa pontua como Processo de Formação das Palavras. Levando em consideração apenas o recurso morfológico, qual Processo de Formação foi utilizado?**

- a) Derivação Sufixal
- b) Derivação Prefixal
- c) Derivação Regressiva
- d) Derivação Imprópria
- e) Derivação Parassintética

**39. No terceiro período do décimo terceiro parágrafo, temos:**

- a) Uma oração
- b) Duas orações
- c) Três orações
- d) Quatro orações
- e) Cinco orações

**40. No último parágrafo do fragmento do conto “— Agora, só agora, sou cego que não vê”, a oração subordinada presente classifica-se corretamente como:**

- a) Oração Subordinada Adjetiva Restritiva
- b) Oração Subordinada Adverbial Causal
- c) Oração Subordinada Substantiva Subjetiva
- d) Oração Subordinada Adverbial Explicativa
- e) Oração Subordinada Adjetiva Explicativa

**RASCUNHO**



PREFEITURA DE TELÊMACO BORBA - ESTADO DO PARANÁ- EDITAL Nº 001-2016 - CONCURSO PÚBLICO

VESPERTINO – 29/05/2016 – NÍVEL SUPERIOR

PROVA OBJETIVA NÚMERO

**3**

**CARGOS: TMNS I - MEDICINA – GINECOLOGIA**

**TMNS I - MEDICINA - OBSTETRÍCIA**

Leia atentamente as **INSTRUÇÕES**:

1. Confira seus dados no cartão-resposta: nome, número de inscrição e o curso para o qual se inscreveu.
2. **MARQUE no seu cartão-resposta o número da sua prova** (não será corrigido o cartão-resposta que não tiver marcado o número da prova) e **Assine** seu cartão-resposta.
3. Aguarde a autorização do Fiscal para abrir o caderno de prova. Ao receber a ordem do fiscal, confira o caderno de prova com muita atenção. Nenhuma reclamação sobre o total de questões ou falha de impressão será aceita depois de iniciada a prova.
4. O cartão-resposta não será substituído, salvo se contiver erro de impressão.
5. Preencha toda a área do cartão-resposta correspondente à alternativa de sua escolha, com caneta esferográfica (tinta azul ou preta), sem ultrapassar as bordas. As marcações duplas, ou rasuradas, com corretivo, ou marcadas diferentemente do modelo estabelecido no cartão-resposta poderão ser anuladas.
6. Sua prova tem **40** questões, com **5** alternativas.
7. Cabe apenas ao candidato a interpretação das questões, **o fiscal** não poderá fazer nenhuma interferência.
8. A prova será realizada com duração máxima de **3 (três) horas**, incluído o tempo para a realização da Prova Objetiva de múltipla escolha e o preenchimento do cartão-resposta.
9. O candidato poderá retirar-se do local de realização das provas somente **1 (uma) hora** após o seu início, sem levar o caderno de prova.
10. O candidato poderá levar o caderno de provas, assim como anotação contendo transcrição do seu cartão-resposta, somente **1h30min** (uma hora e trinta minutos) após o início da realização da prova.
11. Ao terminar a prova, o candidato deverá entregar ao fiscal de sala o cartão-resposta preenchido e **ASSINADO**.
12. Os **3 (três)** candidatos, que terminarem a prova por último, deverão permanecer na sala, e só poderão sair juntos após o fechamento do envelope, contendo os cartões-resposta dos candidatos presentes e ausentes, e assinarem no lacre do referido envelope, atestando que este foi devidamente lacrado.
13. Durante todo o tempo em que permanecer no local onde está ocorrendo o concurso, o candidato deverá, manter o celular desligado e sem bateria, só sendo permitido ligar depois de ultrapassar o portão de saída do prédio.
14. Não será permitido ao candidato fumar na sala de provas, bem como nas dependências.
15. Depois de terminar a prova e entregar ao fiscal o cartão-resposta, preenchido e assinado, não será mais permitido ao candidato o uso do banheiro e bebedouro.

**BOA PROVA!**

**CONHECIMENTOS ESPECÍFICOS**

**01. Assinale a alternativa que apresenta a portaria que institui a Rede de Atenção Psicossocial para pessoas com sofrimento ou transtorno mental e com necessidades decorrentes do uso de crack, álcool e outras drogas, no âmbito do Sistema Único de Saúde:**

- a) Portaria N° 1.498, de 19 de julho de 2013
- b) Portaria N° 793, de 24 de abril de 2012
- c) Portaria N° 2.395, de 11 de outubro de 2011
- d) Portaria N° 3.099, de 23 de dezembro de 2011
- e) Portaria N° 1.459, de 24 de junho de 2011

**02. Analise as afirmativas seguintes e assinale a alternativa que contém o resultado final da soma da(s) afirmativa(s) correta(s):**

- 01 – Toda lesão no sistema nervoso central promove atrofia cortical, progredindo para demência.
- 02 – Delirium tremens com instabilidade autonômica e hiperatividade simpática associa-se, geralmente, a mortalidade de 5 a 10% dos pacientes.
- 04 – A classe de medicamento de primeira escolha para pacientes com delirium tremens são os Inibidores da Recapitação da Serotonina como a Amitriptilina.
- 08 – O utilismo pode desenvolver a encefalopatia de Wernicke.
- 16 – Os benzodiazepínicos tem ação no sistema de ácido gama-amino-butirico, da mesma forma que o álcool no cérebro humano.

- a) 06
- b) 07
- c) 09
- d) 19
- e) 26

**03. Leia as assertivas e assinale a alternativa correta.**

**I – A insuficiência cardíaca congestiva é uma síndrome clínica sempre causada por alguma doença cardíaca subjacente, mais comumente miocardiopatia isquêmica resultante de aterosclerose e/ou hipertensão arterial.**

**II – A Doxorubicina é uma droga amplamente utilizada e que causa efeitos cardiotoxicos com dose cumulativa superior a 450mg/m<sup>2</sup> de superfície corporal.**

**III – Os inibidores da ECA e os BRA associados a betabloqueadores e antagonistas de aldosterona podem diminuir a mortalidade, e aliviam imediatamente os sintomas congestivos.**

**IV – A insuficiência cardíaca crônica é uma doença progressiva com alta mortalidade, e a classe funcional do paciente geralmente não é um guia ao tratamento.**

- a) Apenas I e II estão corretas.
- b) Apenas I e III estão corretas.
- c) Todas estão corretas.
- d) Apenas II e III estão corretas.
- e) Apenas a IV está errada.

**Leia o seguinte caso para responder às próximas três questões.**

**Mulher de 28 anos vai ao consultório queixando-se de dor em joelho direito e hálux contra-lateral, com 10 dias de evolução e que não respondeu ao uso de analgésicos simples. Refere febrícula ao término do dia associada à mialgia inespecífica, além de disúria e corrimento vaginal branco leitoso amarelo esverdeado e prurido ocular bilateral; há 45 dias foi tratada para LUES com esquema adequado preconizado pelo Ministério da Saúde. Ao exame, apresenta-se afebril, e ambos os olhos estão injetados e fotossensíveis; o joelho direito e a primeira articulação metatarsofalangiana esquerda apresentam-se edemaciados e dolorosos com discreta hiperemia.**

**04. Com base no caso, pode-se afirmar que a paciente apresenta uma tríade. Assinale a assertiva que contém o epônimo dessa tríade.**

- a) Virchow
- b) Reiter
- c) Beck
- d) Charcot
- e) Whipple

**05. Essa paciente possui fator de risco para desenvolver qual patologia ginecológica a médio prazo, se não for tratada corretamente?**

- a) Doença de Paget
- b) Doença de Berger
- c) Síndrome de Fitz-Hugh-Curtis



- d) Endometriose  
 e) Síndrome dos ovários policísticos

**06. Sobre esse caso, analise as afirmativas e assinale a alternativa correta.**

**I – O principal diagnóstico diferencial para esse caso é a gonorreia.**

**II – Essa paciente possivelmente é HLA-B27 negativa.**

**III – Ela pode ser tratada com Azitromicina 1g no D1 e D7 associada com Ceftriaxona 250mg Intramuscular no D1 possui maior índice de cura em relação ao uso de Ceftriaxone 250mg Intramuscular no D1 com doxiciclina 100mg via oral de 12/12 horas por 14 dias.**

**IV – O provável agente etiológico do caso é a *Chlamydia trachomatis*.**

- a) Apenas a I está correta.  
 b) Apenas I e II estão corretas.  
 c) Apenas II e III estão erradas.  
 d) Apenas I e III estão corretas.  
 e) Apenas a II está errada.

**07. Assinale a alternativa em que se faz a correlação incorreta.**

- a) Agência Nacional de Saúde Suplementar – responsável pela regularização e fiscalização dos planos de saúde no país.  
 b) Anvisa – responsável pela fiscalização in loco de estabelecimento de saúde em cada município e a sua correta regularização.  
 c) Vigilância Epidemiológica – entidade responsável por organizar os dados de agravos em saúde e auxiliar a gestão a realizar estratégias de atenção a saúde.  
 d) Anvisa – responsável pela deliberação de novas drogas no mercado brasileiro.  
 e) Vigilância sanitária – responsável pela fiscalização das condições de manipulação de alimentos para os consumidores finais.

**08. Os Centros de Atenção Psicossocial são instituições destinadas a acolher os pacientes com transtornos mentais e estimular sua integração social e familiar, além de outras funções. Para que isso ocorra, necessitam de um número mínimo de membros na equipe.**

**Assinale a alternativa que contém a relação correta entre o tipo de CAPS e sua equipe mínima, conforme a determinação do Ministério da Saúde:**

Tipo de CAPS	Equipe Mínima
I – CAPS I	<b>A – 2 psiquiatras; 1 enfermeiro com formação em nível superior; 5 profissionais de nível superior de outras categorias profissionais; 8 profissionais de nível médio.</b>
II – CAPS II	<b>B – 1 médico psiquiatra, ou neurologista ou pediatra com formação em saúde mental; 1 enfermeiro; 4 profissionais de nível superior dentre psicólogo, assistente social, terapeuta ocupacional, fonoaudiólogo, pedagogo ou outro profissional necessário ao projeto terapêutico; 5 profissionais de nível médio.</b>
III – CAPS III	<b>C – 1 médico psiquiatra ou com formação em saúde mental; 1 enfermeiro, 3 profissionais de nível superior de outras categorias profissionais; 4 profissionais de nível médio.</b>
IV – CAPSi	<b>D – 1 psiquiatra; 1 enfermeiro com formação em saúde mental; 1 médico clínico responsável pela triagem, avaliação e acompanhamento das intercorrências clínicas; 4 profissionais de nível superior necessário ao projeto terapêutico; 6 profissionais de nível médio.</b>
V - CAPSad	<b>E – 1 psiquiatra; 1 enfermeiro com formação em saúde mental; 4 profissionais de nível superior de outras categorias profissionais; 6 profissionais de nível médio.</b>

- a) I-E; II-C; III-A; IV-B; V-D.  
 b) I-E; II-C; III-A; IV-D; V-B.  
 c) I-C; II-B; III-A; IV-E; V-D.  
 d) I-C; II-E; III-A; IV-B; V-D.  
 e) I-E; II-D; III-A; IV-B; V-C.

**09. Analise os seguintes itens a respeito de diarreia crônica e assinale a alternativa correta.**

**I – Diarreias tipo secretória podem ser desencadeadas por cólera, tumor de tireoide medular e uso de laxantes estimulantes exógenos, por exemplo.**

**II – Amiloidose pode promover esteatorreia, da mesma forma que a Doença de Whipple.**

**III – São exemplos de dismotilidade promotora de diarreia crônica: hipertireoidismo, síndrome do intestino irritável e Espru tropical.**

**IV – Pacientes portadores do Vírus da Imunodeficiência Adquirida podem ter, como sintoma inicial, diarreia crônica.**

- a) Todos estão corretos.
- b) Apenas o item IV está incorreto.
- c) Apenas o item III está correto.
- d) Apenas o item III está incorreto.
- e) Apenas o item II está incorreto.

**10. Assinale a assertiva que apresenta a portaria que publica a proposta de Projeto de Resolução “Boas Práticas para Organização e Funcionamento de Serviços de Urgência e Emergência”.**

- a) Portaria N° 30, de 12 de fevereiro de 2014
- b) Portaria N° 354, de 10 de março de 2014
- c) Portaria N° 825, de 25 de abril de 2016
- d) Portaria N° 2.712, de 12 de novembro de 2013
- e) Portaria N° 2.528, de 19 de outubro de 2006

**11. Referente à lombalgia, analise os itens seguintes e assinale a alternativa correta.**

**I – Segundo o trabalho de Deyo, publicado no New England Journal of Medicine em 2001, observou-se que a etiologia prevalente para lombalgia é de estiramento ou entorse lombar.**

**II – Menos de 1% da população adulta economicamente ativa sofre de dorsalgia.**

**III – São sinais e sintomas de alarme na lombalgia: dor iniciada antes dos 20 e após os 50 anos, febre, perda ponderal, dor intensa noturna ou piora da dor em posição supina, incontinência fecal e/ou urinária, história de neoplasia, anestesia em sela, redução da força em membros inferiores e imunossupressão.**

- a) Apenas os itens I e III estão corretos.
- b) Apenas os itens II e III estão corretos.
- c) Apenas os itens II e III estão incorretos.
- d) Os itens I, II e III estão corretos.
- e) Apenas os itens I e III estão incorretos.

**12. A respeito dos Critérios de Ranson, assinale a alternativa que contém a sequência correta da classificação de V (verdadeiro) e F (falso) para os itens a serem considerados na admissão de paciente com quadro de pancreatite aguda.**

- ( ) – Idade  $\leq$  54 anos
- ( ) – Leucócitos  $>$  16.000/mm<sup>3</sup>
- ( ) – Glicemia  $>$  200 mg/dl
- ( ) – Desidrogenase láctica sérica  $>$  350 UI/L
- ( ) – AST  $<$  250 UI/L
- a) V - V - V - V - V.
- b) F - V - V - V - F.
- c) F - F - V - V - V.
- d) F - V - F - V - F.
- e) V - F - V - F - V.

**13. Assinale a alternativa com a correlação correta das causas de hipertensão secundária.**

**I – Doenças Renais**

**II – Doença endócrina**

**III – Outras doenças**

- ( ) Doses altas de estrogênio
- ( ) Glomerulonefrite
- ( ) Doença do rim policístico
- ( ) Hipertireoidismo
- ( ) Aterosclerose
- ( ) Hipercalcemia
- ( ) Apneia do sono obstrutiva

- a) I; I; III; II; I; III; II.
- b) II; III; I; II; I; III; I.
- c) III; I; I; II; I; III; III.
- d) II; I; I; II; I; III; II.
- e) II; III; II; I; I; II; III.

**14. Assinale a alternativa incorreta a respeito das orientações aos indivíduos residentes no Brasil, com idade igual ou superior a cinco anos, que viajarão a países com recomendação de vacina para Poliomielite a visitantes, contidas no Programa Nacional de Imunização, publicado no ano 2016.**

- a) Sem comprovação vacinal: administrar duas doses de Vacina Oral Poliomielite(VOP), com intervalo de 90 dias entre elas.

- b) Sem comprovação vacinal: administrar três doses da VOP, com intervalo de 60 dias entre elas, mínimo 30 dias.
- c) Com esquema incompleto: completar o esquema com a VOP.
- d) Gestantes e imunodeprimidos e/ou seus contatos devem receber esquema com Vacina Inativada Poliomielite (VIP).
- e) Para aqueles indivíduos que receberam três doses ou mais de VOP ou VIP, caso a última dose tenha sido administrada há mais de 12 meses, garantir antes da viagem uma única dose de reforço com VOP ou VIP.

**15. Assinale a alternativa que contém o antimicrobiano contraindicado à gestante no segundo trimestre de gestação com quadro de infecção urinária, sem história de reação alérgica a medicamentos anteriormente:**

- a) Sulfametoxazol e Timetropina
- b) Cefalotina
- c) Nitrofurantoína
- d) Ciprofloxacino
- e) Amoxicilina

**16. Trata-se de uma doença comum que atinge a faixa de 20 aos 50 anos. Possui, como apresentação clínica, dor mamária cíclica, com o acme algíco a fase pré e perimenstrual. Ao exame, geralmente, apresenta massas múltiplas dolorosas, bilaterais. Geralmente, com flutuação rápida no tamanho da massa.**

**Assinale a alternativa que identifica a doença descrita:**

- a) Carcinoma Ductal Invasivo
- b) Carcinossarcoma
- c) Alteração fibrocística da mama
- d) Angiossarcoma mamário
- e) Tumor filóide maligno

**17. Diversos tumores ginecológicos apresentam implantes em diferentes locais de metástase.**

**Assinale a alternativa que identifica o sítio anatômico primário do Tumor de Krukenberg.**

- a) Mama
- b) Ovário
- c) Colo de útero
- d) Tuba uterina
- e) Endométrio

**18. A amnorreia é caracterizada por alteração do ciclo menstrual com a ausência de menstruação por mais de três meses em mulheres com menstruação prévia. Assinale a alternativa que não identifica a amenorreia causada por alteração anatômica do trato genital inferior feminino.**

- a) Síndrome de Turner
- b) Síndrome de Asherman
- c) Hímen imperfurado
- d) Síndrome de Sheehan
- e) Síndrome de Rokitansky-Kuster-Hauser-Mayer

**19. Assinale a alternativa que contém o valor da soma das assertivas corretas:**

**01 – Climatério é definido pela Organização mundial de saúde como período correspondente da vida da mulher, compreendido entre a metade da fase reprodutora até a senilidade.**

**02 – A pré-eclâmpsia leve é definida como pressão arterial acima de 140/90 mmHg sem proteinúria e com hemólise.**

**04 – Síndrome HELLP caracteriza-se por plaquetopenia, hemólise e aumento das transaminases hepáticas.**

**08 – Carcinoma de colo uterino, cervicite, miomatose uterina e doença de von Willebrand podem apresentar hemorragia vaginal.**

**16 – A tríade clássica para gestação ectópica é: gestação; sangramento uterino ou *spotting*; dor pélvica.**

**32 – A Ressonância Nuclear Magnética das mamas é bastante sensível e bastante específica para triagem de neoplasia de mamas.**

- a) 63
- b) 62
- c) 31
- d) 28
- e) 17

**20. Doenças trofoblásticas gestacionais (DTGs) compreendem um grupo heteróclito de doenças diminutas cuja gênese se encontra na proliferação atípica do epitélio trofoblástico placentário. A patogênese da DTG é impar, uma vez que as lesões da hospedeira são originárias dos tecidos resultantes da fertilização, e não de tecidos próprios. A respeito desse assunto, analise as seguintes afirmativas e assinale a alternativa correta.**

**I – O risco de nova gravidez molar, caso haja anterior, é de 1-2%, subindo para 15-20% se duas previamente.**

**II – As molas completas são geralmente diploides e há tecido fetal presente pela fertilização de um óvulo vazio.**

**III – O Estádio I consiste na persistência de beta-HCG elevado e doença confinada ao útero.**

**IV - Cerca de 95% das pacientes com mola hidatiforme que desenvolvem neoplasia são classificadas com risco baixo, podem ser manejadas por ginecologistas com experiência na doença.**

- a) Todas estão corretas.
- b) Apenas a I e II estão corretas.
- c) Apenas a I, II e IV estão corretas.
- d) Apenas I e II estão erradas.
- e) Apenas a II está errada.

## LÍNGUA PORTUGUESA

**Texto para as próximas cinco questões:**

### “O cego Estrelinho” Mia Couto

O cego Estrelinho era pessoa de nenhuma vez: sua história poderia ser contada e descontada não fosse seu guia, Gigito Efraim. A mão de Gigito conduziu o desvistado por tempos e idades. Aquela mão era repartidamente comum, extensão de um no outro, siamensal. E assim era quase de nascença. Memória de Estrelinho tinha cinco dedos e eram os de Gigito postos, em aperto, na sua própria mão.

O cego, curioso, queria saber de tudo. Ele não fazia cerimônia no viver. O sempre lhe era pouco e o tudo insuficiente. Dizia, deste modo:

— Tenho que viver já, senão esqueço-me.

Gigitinho, porém, o que descrevia era o que não havia. O mundo que ele minuciava eram fantasias e rendilhados. A imaginação do guia era mais profícua que papaeira. O cego enchia a boca de águas:

— Que maravilhação esse mundo. Me conte tudo, Gigito!

A mão do guia era, afinal, o manuscrito da mentira. Gigito Efraim estava como nunca esteve S. Tomé: via para não crer. O condutor falava pela ponta dos dedos. Desfolhava o universo, aberto em folhas. A ideiação dele era tal que mesmo o cego, por vezes, acreditava ver. O outro lhe encorajava esses breves enganos:

— Desbengale-se, você está escolhendo a boa procedência!

Mentira: Estrelinho continuava sem ver uma palmeira à frente do nariz. Contudo, o cego não se conformava em suas escurezas. Ele cumpria o ditado: não tinha perna e queria dar o pontapé. Só à noite, ele desalentava, sofrendo medos mais antigos que a humanidade. Entendia aquilo que, na raça humana, é menos primitivo: o animal.

— Na noite aflige não haver luz?

— Aflição é ter um pássaro branco esvoando dentro do sono.

Pássaro branco? No sono? Lugar de ave é nas alturas. Dizem até que Deus fez o céu para justificar os pássaros. Estrelinho disfarçava o medo dos vaticínios, subterfugindo:

— E agora, Gigitinho? Agora, olhando assim para cima, estou face ao céu?

Que podia o outro responder? O céu do cego fica em toda a parte. Estrelinho perdia o pé era quando a noite chegava e seu mestre adormecia. Era como se um novo escuro nele se estreasse em nó cego. Devagaroso e sorrateiro ele aninhava sua mão na mão do guia. Só assim adormecia. A razão da concha é a timidez da amêijoia? Na manhã seguinte, o cego lhe confessava: se você morrer, tenho que morrer logo no imediato. Senão-me: como acerto o caminho para o céu?

Foi no mês de dezembro que levaram Gigitinho. Lhe tiraram do mundo para pôr na guerra: obrigavam os serviços militares. O cego reclamou: que o moço inatingia a idade. E que o serviço que ele a si prestava era vital e vitalício. O guia chamou Estrelinho à parte e lhe tranquilizou:

— Não vai ficar sozinhandando por aí. Minha mana já mandei para ficar no meu lugar.

O cego estendeu o braço a querer tocar uma despedida. Mas o outro já não estava lá. Ou estava e se desviara, propositado? E sem água ida nem vinda, Estrelinho escutou o amigo se afastar, engolido, esponjínquo, invisível. Pela primeira vez, Estrelinho se sentiu invalidado.

— Agora, só agora, sou cego que não vê.

(...)

**COUTO, Mia. Estórias abensonhadas. Rio de Janeiro: Nova Fronteira, 1996. (Pág 23 e 24).**

**21. Quanto à interpretação do fragmento do conto, podemos afirmar que:**

- a) Gigito Efraim era o guia de Estrelinho há pouquíssimo tempo.
- b) Estrelinho era cego de nascença.
- c) Gigito descrevia o mundo para Estrelinho de forma denotativa.
- d) Gigito foi convocado pelo exército para ser guia de cegos na guerra.
- e) Gigito descrevia o mundo para Estrelinho de forma conotativa.

**22. No período “O sempre lhe era pouco e o tudo insuficiente”, o pronome “LHE” exerce a função sintática de:**

- a) Objeto Direto
- b) Objeto Indireto
- c) Complemento Nominal
- d) Adjunto Adnominal
- e) Objeto Direto Preposicionado

**23. Na oração “A mão de Gigito conduziu o desvistado por tempos e idades”, o autor faz uso de um neologismo, assim como no decorrer de toda a obra em questão. Contudo, o neologismo só se torna possível pela utilização dos elementos mórficos naquilo que a gramática normativa pontua como Processo de Formação das Palavras. Levando em consideração apenas o recurso morfológico, qual Processo de Formação foi utilizado?**

- a) Derivação Sufixal
- b) Derivação Prefixal
- c) Derivação Regressiva
- d) Derivação Imprópria
- e) Derivação Parassintética

**24. No terceiro período do décimo terceiro parágrafo, temos:**

- a) Uma oração
- b) Duas orações
- c) Três orações
- d) Quatro orações
- e) Cinco orações

**25. No último parágrafo do fragmento do conto “— Agora, só agora, sou cego que não vê”, a oração subordinada presente classifica-se corretamente como:**

- a) Oração Subordinada Adjetiva Restritiva
- b) Oração Subordinada Adverbial Causal
- c) Oração Subordinada Substantiva Subjetiva
- d) Oração Subordinada Adverbial Explicativa
- e) Oração Subordinada Adjetiva Explicativa

#### **RACIOCÍNIO LÓGICO**

**26. Os cinco filhos de Ana estavam discutindo a respeito da data de nascimento da mãe:**

- Almir disse que foi em janeiro, dia 14, sexta-feira.
- Vanderlei disse que foi em janeiro, dia 14, sábado.
- Tiago disse que foi em fevereiro, dia 15, sábado.
- Sandro disse que foi em janeiro, dia 15, sexta-feira.
- Renato disse que foi em fevereiro, dia 15, sexta-feira.

**Sabe-se que somente um dos filhos de Ana acertou corretamente sua data de nascimento e que os outros acertaram pelo menos um dos itens (dia, dia da semana e mês). Dessa forma, é correto afirmar que o filho de Ana que acertou a data de nascimento dela foi:**

- a) Renato
- b) Sandro
- c) Tiago
- d) Vanderlei
- e) Almir

**27. Considere a seguinte afirmativa: “Todo churrasqueiro gosta de picanha”. Em relação a essa proposição, é correto afirmar que:**

- a) Algum churrasqueiro não gosta de picanha.
- b) Toda pessoa que gosta de picanha é churrasqueira.
- c) Alguma pessoa que não gosta de picanha é churrasqueira.
- d) Toda pessoa que não é churrasqueira, não gosta de picanha.
- e) Toda pessoa que não gosta de picanha, não é churrasqueira.

**28. Em um grupo formado por 67 pessoas, verificou-se que 41 pessoas gostam de arroz, 29 gostam de feijão, 33 gostam de carne, 19 gostam de arroz e de feijão, 9 gostam apenas de arroz e de carne, 12 gostam de feijão e de carne e que 6 gostam de arroz, de feijão e de carne. O número de pessoas desse grupo, que não gosta de nenhum desses três tipos de alimentos é igual a:**

- a) 4
- b) 5
- c) 6

- d) 8  
e) 10

29. Bruno escreveu, em seu caderno, várias sequências formadas por números múltiplos de 4, onde os valores que ocupavam as posições pares eram multiplicados por  $-1$ . Cada sequência foi somada e o resultado da soma anotado. A soma das três primeiras sequências escritas por Bruno foram as seguintes:

$$4 - 8 = -4$$

$$4 - 8 + 12 = 8$$

$$4 - 8 + 12 - 16 = -8$$

Considere que Bruno escreveu e somou tais sequências, em seu caderno, de modo a obter determinada sequência cuja soma foi 600. O número de termos dessa sequência é igual a:

- a) 149  
b) 150  
c) 298  
d) 299  
e) 300

30. Quatro torcedores, um do São Paulo, um do Cruzeiro, um do Vasco e um do Bahia, estão sentados ao redor de uma mesa quadrada, de modo que, dois a dois, fiquem frente a frente. Sabe-se que Alan é torcedor do Cruzeiro e que Bruno está sentado à direita de Alan. Sabe-se também que Caio está sentado à direita do torcedor do São Paulo. Sabe-se ainda que Daniel não é torcedor do Vasco e que está sentado à frente de Bruno. Dessa forma, é correto afirmar que:

- a) Bruno é torcedor do Bahia e Daniel é torcedor do São Paulo.  
b) Bruno é torcedor do São Paulo e Daniel é torcedor do Bahia.  
c) Caio é torcedor do Vasco e Daniel é torcedor do São Paulo.  
d) Caio é torcedor do Bahia e Daniel é torcedor do São Paulo.  
e) Bruno é torcedor do Vasco e Daniel é torcedor do Bahia.

#### INFORMÁTICA

31. Considerando o MS-Excel versão 2010, observando a figura abaixo, é correto afirmar que:

	A	B	C
1			
2			
3			
4			

- a) Somente 03 três linhas estão selecionadas.  
b) Somente uma célula está selecionada.  
c) 12 (doze) células estão selecionadas.  
d) Somente a coluna A até a linha 4 (quatro) está selecionada.  
e) Somente as colunas 1 (um), 2 (dois), 3 (três) e 4 (quatro) estão selecionadas.

32. Considerando o MS-Excel versão 2010, observando a figura abaixo, é incorreto afirmar que:

	A	B	C
1	12	6	=A1*B1
2	8	2	=A2/B2
3	5	14	=A3-B3
4	6	11	=A4+B4

- a) O resultado da fórmula =A1\*B1 é 72.  
b) O resultado da fórmula =A2/B2 é 4.  
c) O resultado da fórmula =A3-B3 é -9.  
d) O resultado da fórmula =A3-B3 é 9.  
e) O resultado da fórmula =A4+B4 é 17.

33. Digitando um texto no MS-Word versão 2010, necessito adicionar número nas páginas. Quanto a isso, é correto afirmar que:

- a) No menu Layout da Página, cliço em número de página e seleciono onde desejo adicionar os números.  
b) No menu Inserir, cliço em número de página e seleciono onde desejo adicionar os números.  
c) No menu Revisão, cliço em número de página e seleciono onde desejo adicionar os números.  
d) No menu Referências, cliço em número de página e seleciono onde desejo adicionar os números.



e) No menu Exibição, clico em número de página e seleciono onde desejo adicionar os números.

**34. A segurança da informação está diretamente relacionada com proteção de um conjunto de informações, no sentido de preservar o valor que possuem para um indivíduo ou uma organização. Atualmente, um dos aplicativos mais utilizados no mundo, o Whats app, teve uma alteração de confidencialidade muito importante na segurança das informações transmitidas e recebidas. Dentre as alternativas, assinale a que corretamente informa a alteração inserida no aplicativo Whats app.**

- a) Antispam
- b) Antivirus
- c) Firewall
- d) Antispyware
- e) Criptografia

**35. São todos os dispositivos que trabalham acoplados ao microcomputador para receber, transmitir, visualizar, ler, gravar ou armazenarem dados. São eles que permitem a comunicação do computador com o meio exterior, isto é, com os usuários e outras máquinas.**

**Esse texto descreve corretamente:**

- a) Memória ram
- b) Memória virtual
- c) Software
- d) Periféricos
- e) Hardware

### CONHECIMENTOS GERAIS

#### 36. Hino do município de Telêmaco Borba/PR

Das virgens matas e campos verdejantes  
 Servindo-se também o rio Tibagi,  
 Homens de ideais, espíritos vibrantes.  
 Constituíram as indústrias aqui.

Estrilho:

Salve! Salve! Telêmaco Borba  
 Terra querida e de grandes primores,  
 A nossa homenagem rendamos  
 À cidade dos trabalhadores.  
 Pois a cadência de enorme e real progresso  
 Um município mui grandioso fez nascer,  
 Marcando assim, verdadeiro sucesso  
 Faz, então o Paraná engrandecer.

**No que tange ao Hino do município, atribua V (verdadeiro) ou F (falso) às afirmativas e marque a alternativa correta.**

- ( ) Eloah Martins Quadrado é autora da letra do hino.
- ( ) Bento Mossurunga compôs a música do hino.
- ( ) Eloah Martins Quadrado foi nomeada primeira professora da Cidade Nova, atual Telêmaco Borba.
- ( ) Bento Mossurunga fundou a orquestra Estudantil e Concertos – Orquestra Sinfônica da Universidade, a Sociedade de Cultura Artístico Basilio Itiberê.
- a) F, V, V, V.
- b) V, F, V, V.
- c) V, V, F, V.
- d) V, V, F, F.
- e) V, V, V, V.

**37. À luz da Lei nº 1883/2012, que dispões sobre o Estatuto dos Servidores Públicos da Administração Direta, Autárquica e Funcional do Município de Telêmaco Borba/PR, leia as alternativas e marque a correta.**

- a) A apresentação para a posse ocorrerá no prazo de até trinta dias, contados do ato de nomeação.
- b) A destituição do servidor da função gratificada dar-se-á por solicitação exclusiva dele mesmo.
- c) O servidor ocupante exclusivamente de cargo em comissão será contribuinte do regime geral de previdência social.
- d) A aprovação em concurso público gera o direito à nomeação, e será feita obedecida à ordem de classificação dos candidatos.
- e) O exercício de função gratificada poderá ser de dedicação integral ou parcial, conforme necessidade da administração.



Conforme a Lei n° 1.881, de 05 de abril de 2012, que dispõe sobre o Plano de Cargos, Carreiras e Vencimentos do quadro geral de servidores da Prefeitura Municipal de Telêmaco Borba/PR, regulamentada pelo Decreto n° 2269/2015, responda às próximas três questões.

**38. Leia as assertivas e assinala a incorreta.**

- a) Do resultado da avaliação de desempenho poderá ser interposto recurso à Comissão de Desenvolvimento Funcional no prazo de quinze dias a contar da publicação no Boletim Oficial do Município.
- b) Não será concedida a progressão ou promoção ao servidor que estiver em licença para tratamento de saúde por um período superior a quarenta e cinco dias, no período de avaliação.
- c) A alternância dos membros constituintes da Comissão de Desenvolvimento Funcional eleitos pelos servidores verificar-se-á a cada três anos de participação, observados, para substituição de seus participantes, o critério fixado no artigo anterior, não cabendo eleição sucessiva.
- d) Caberá à Comissão de Desenvolvimento Funcional, no caso de divergência de vinte por cento entre a nota do avaliador e a do avaliado, solicitar nova avaliação à chefia.
- e) Nos termos do disposto no art. 17 da Lei n° 1.881, de 05 de abril de 2012, para progredir, é necessário que o servidor satisfaça, dentre outros, o seguinte requisito: estar no efetivo exercício de seu cargo ou em função comissionada na sua área de atuação durante o interstício de dois anos.

**39. Assinale a alternativa que completa respectivamente as lacunas do texto a seguir:**

**A Comissão de Desenvolvimento Funcional será constituída por \_\_\_\_\_ membros, sendo \_\_\_\_\_ designados pelo Prefeito Municipal de Telêmaco Borba e os demais eleitos pelos servidores municipais dentre os estáveis, com a atribuição de coordenar os procedimentos relativos à avaliação periódica de desempenho e outras atribuições.**

- a) três / sete
- b) um / três
- c) sete / três
- d) três / cinco
- e) dois / cinco

**40. A Avaliação de Desempenho será norteadada, dentre outros, pelo seguinte princípio: Amplitude - a avaliação deve incidir sobre todas as áreas de atuação do servidor, que compreendem:**

- 1. a formulação de políticas administrativas e sua aplicação para todos os setores da administração municipal;**
- 2. o desempenho do profissional dentro de suas funções pertinentes;**
- 3. a estrutura do órgão em que exerce a função;**
- 4. os resultados de eficiência dos serviços de cada setor ou órgão da administração municipal;**
- 5. a participação direta do avaliado, durante todo o processo avaliativo.**

**Diante dessa afirmação, somente não está correto o item:**

- a) 1
- b) 2
- c) 3
- d) 4
- e) 5

**RASCUNHO**



PREFEITURA DE TELÊMACO BORBA - ESTADO DO PARANÁ- EDITAL Nº 001-2016 - CONCURSO PÚBLICO

VESPERTINO – 29/05/2016 – NÍVEL SUPERIOR

**1**

PROVA OBJETIVA NÚMERO

**CARGO: TMNS I - MEDICINA - ORTOPEDIA**

**Leia atentamente as INSTRUÇÕES:**

1. Confira seus dados no cartão-resposta: nome, número de inscrição e o curso para o qual se inscreveu.
2. **MARQUE no seu cartão-resposta o número da sua prova** (não será corrigido o cartão-resposta que não tiver marcado o número da prova) e **Assine** seu cartão-resposta.
3. Aguarde a autorização do Fiscal para abrir o caderno de prova. Ao receber a ordem do fiscal, confira o caderno de prova com muita atenção. Nenhuma reclamação sobre o total de questões ou falha de impressão será aceita depois de iniciada a prova.
4. O cartão-resposta não será substituído, salvo se contiver erro de impressão.
5. Preencha toda a área do cartão-resposta correspondente à alternativa de sua escolha, com caneta esferográfica (tinta azul ou preta), sem ultrapassar as bordas. As marcações duplas, ou rasuradas, com corretivo, ou marcadas diferentemente do modelo estabelecido no cartão-resposta poderão ser anuladas.
6. Sua prova tem **40** questões, com **5** alternativas.
7. Cabe apenas ao candidato a interpretação das questões, **o fiscal** não poderá fazer nenhuma interferência.
8. A prova será realizada com duração máxima de **3 (três) horas**, incluído o tempo para a realização da Prova Objetiva de múltipla escolha e o preenchimento do cartão-resposta.
9. O candidato poderá retirar-se do local de realização das provas somente **1 (uma) hora** após o seu início, sem levar o caderno de prova.
10. O candidato poderá levar o caderno de provas, assim como anotação contendo transcrição do seu cartão-resposta, somente **1h30min** (uma hora e trinta minutos) após o início da realização da prova.
11. Ao terminar a prova, o candidato deverá entregar ao fiscal de sala o cartão-resposta preenchido e **ASSINADO**.
12. Os **3 (três)** candidatos, que terminarem a prova por último, deverão permanecer na sala, e só poderão sair juntos após o fechamento do envelope, contendo os cartões-resposta dos candidatos presentes e ausentes, e assinarem no lacre do referido envelope, atestando que este foi devidamente lacrado.
13. Durante todo o tempo em que permanecer no local onde está ocorrendo o concurso, o candidato deverá, manter o celular desligado e sem bateria, só sendo permitido ligar depois de ultrapassar o portão de saída do prédio.
14. Não será permitido ao candidato fumar na sala de provas, bem como nas dependências.
15. Depois de terminar a prova e entregar ao fiscal o cartão-resposta, preenchido e assinado, não será mais permitido ao candidato o uso do banheiro e bebedouro.

**BOA PROVA!**

**LÍNGUA PORTUGUESA****Texto para as próximas cinco questões:****“O cego Estrelinho”  
Mia Couto**

O cego Estrelinho era pessoa de nenhuma vez: sua história poderia ser contada e descontada não fosse seu guia, Gigito Efraim. A mão de Gigito conduziu o desvistado por tempos e idades. Aquela mão era repartidamente comum, extensão de um no outro, siamensal. E assim era quase de nascença. Memória de Estrelinho tinha cinco dedos e eram os de Gigito postos, em aperto, na sua própria mão.

O cego, curioso, queria saber de tudo. Ele não fazia cerimônia no viver. O sempre lhe era pouco e o tudo insuficiente. Dizia, deste modo:

— Tenho que viver já, senão esqueço-me.

Gigitinho, porém, o que descrevia era o que não havia. O mundo que ele minuciava eram fantasias e rendilhados. A imaginação do guia era mais profícua que papadeira. O cego enchia a boca de águas:

— Que maravilhação esse mundo. Me conte tudo, Gigitito!

A mão do guia era, afinal, o manuscrito da mentira. Gigito Efraim estava como nunca esteve S. Tomé: via para não crer. O condutor falava pela ponta dos dedos. Desfolhava o universo, aberto em folhas. A ideiação dele era tal que mesmo o cego, por vezes, acreditava ver. O outro lhe encorajava esses breves enganos:

— Desbengale-se, você está escolhendo a boa procedência!

Mentira: Estrelinho continuava sem ver uma palmeira à frente do nariz. Contudo, o cego não se conformava em suas escurezas. Ele cumpria o ditado: não tinha perna e queria dar o pontapé. Só à noite, ele desalentava, sofrendo medos mais antigos que a humanidade. Entendia aquilo que, na raça humana, é menos primitivo: o animal.

— Na noite aflige não haver luz?

— Aflição é ter um pássaro branco esvoando dentro do sono.

Pássaro branco? No sono? Lugar de ave é nas alturas. Dizem até que Deus fez o céu para justificar os pássaros. Estrelinho disfarçava o medo dos vaticínios, subterfugindo:

— E agora, Gigitinho? Agora, olhando assim para cima, estou face ao céu?

Que podia o outro responder? O céu do cego fica em toda a parte. Estrelinho perdia o pé era quando a noite chegava e seu mestre adormecia. Era como se um novo escuro nele se estresse em nó cego. Devagaroso e sorrateiro ele aninhava sua mão na mão do guia. Só assim adormecia. A razão da concha é a timidez da amêijoia? Na manhã seguinte, o cego lhe confessava: se você morrer, tenho que morrer logo no imediato. Senão-me: como acerto o caminho para o céu?

Foi no mês de dezembro que levaram Gigitinho. Lhe tiraram do mundo para pôr na guerra: obrigavam os serviços militares. O cego reclamou: que o moço inatingia a idade. E que o serviço que ele a si prestava era vital e vitalício. O guia chamou Estrelinho à parte e lhe tranquilizou:

— Não vai ficar sozinando por aí. Minha mana já mandei para ficar no meu lugar.

O cego estendeu o braço a querer tocar uma despedida. Mas o outro já não estava lá. Ou estava e se desviara, propositado? E sem água ida nem vinda, Estrelinho escutou o amigo se afastar, engolido, esponjínquo, inevisível. Pela pimeira vez, Estrelinho se sentiu invalidado.

— Agora, só agora, sou cego que não vê.

(...)

**COUTO, Mia. Estórias abensonhadas. Rio de Janeiro: Nova Fronteira, 1996. (Pág 23 e 24).**

**01. Quanto à interpretação do fragmento do conto, podemos afirmar que:**

- Gigito Efraim era o guia de Estrelinho há pouquíssimo tempo.
- Estrelinho era cego de nascença.
- Gigito descrevia o mundo para Estrelinho de forma denotativa.
- Gigito foi convocado pelo exército para ser guia de cegos na guerra.
- Gigito descrevia o mundo para Estrelinho de forma conotativa.

**02. No período “O sempre lhe era pouco e o tudo insuficiente”, o pronome “LHE” exerce a função sintática de:**

- Objeto Direto
- Objeto Indireto
- Complemento Nominal
- Adjunto Adnominal
- Objeto Direto Preposicionado

**03. Na oração “A mão de Gigito conduziu o desvistado por tempos e idades”, o autor faz uso de um neologismo, assim como no decorrer de toda a obra em questão. Contudo, o neologismo só se torna possível pela utilização dos elementos mórficos naquilo que a gramática normativa pontua como Processo de Formação das Palavras. Levando em consideração apenas o recurso morfológico, qual Processo de Formação foi utilizado?**

- Derivação Sufixal

- b) Derivação Prefixal
- c) Derivação Regressiva
- d) Derivação Imprópria
- e) Derivação Parassintética

**04. No terceiro período do décimo terceiro parágrafo, temos:**

- a) Uma oração
- b) Duas orações
- c) Três orações
- d) Quatro orações
- e) Cinco orações

**05. No último parágrafo do fragmento do conto “— Agora, só agora, sou cego que não vê”, a oração subordinada presente classifica-se corretamente como:**

- a) Oração Subordinada Adjetiva Restritiva
- b) Oração Subordinada Adverbial Causal
- c) Oração Subordinada Substantiva Subjetiva
- d) Oração Subordinada Adverbial Explicativa
- e) Oração Subordinada Adjetiva Explicativa

#### **RACIOCÍNIO LÓGICO**

**06. Os cinco filhos de Ana estavam discutindo a respeito da data de nascimento da mãe:**

- Almir disse que foi em janeiro, dia 14, sexta-feira.
- Vanderlei disse que foi em janeiro, dia 14, sábado.
- Tiago disse que foi em fevereiro, dia 15, sábado.
- Sandro disse que foi em janeiro, dia 15, sexta-feira.
- Renato disse que foi em fevereiro, dia 15, sexta-feira.

**Sabe-se que somente um dos filhos de Ana acertou corretamente sua data de nascimento e que os outros acertaram pelo menos um dos itens (dia, dia da semana e mês). Dessa forma, é correto afirmar que o filho de Ana que acertou a data de nascimento dela foi:**

- a) Renato
- b) Sandro
- c) Tiago
- d) Vanderlei
- e) Almir

**07. Considere a seguinte afirmativa: “Todo churrasqueiro gosta de picanha”. Em relação a essa proposição, é correto afirmar que:**

- a) Algum churrasqueiro não gosta de picanha.
- b) Toda pessoa que gosta de picanha é churrasqueira.
- c) Alguma pessoa que não gosta de picanha é churrasqueira.
- d) Toda pessoa que não é churrasqueira, não gosta de picanha.
- e) Toda pessoa que não gosta de picanha, não é churrasqueira.

**08. Em um grupo formado por 67 pessoas, verificou-se que 41 pessoas gostam de arroz, 29 gostam de feijão, 33 gostam de carne, 19 gostam de arroz e de feijão, 9 gostam apenas de arroz e de carne, 12 gostam de feijão e de carne e que 6 gostam de arroz, de feijão e de carne. O número de pessoas desse grupo, que não gosta de nenhum desses três tipos de alimentos é igual a:**

- a) 4
- b) 5
- c) 6
- d) 8
- e) 10

**09. Bruno escreveu, em seu caderno, várias sequências formadas por números múltiplos de 4, onde os valores que ocupavam as posições pares eram multiplicados por -1. Cada sequência foi somada e o resultado da soma anotado. A soma das três primeiras sequências escritas por Bruno foram as seguintes:**

$$4 - 8 = -4$$

$$4 - 8 + 12 = 8$$

$$4 - 8 + 12 - 16 = -8$$

**Considere que Bruno escreveu e somou tais sequências, em seu caderno, de modo a obter determinada sequência cuja soma foi 600. O número de termos dessa sequência é igual a:**

- a) 149
- b) 150
- c) 298

- d) 299  
e) 300

**10. Quatro torcedores, um do São Paulo, um do Cruzeiro, um do Vasco e um do Bahia, estão sentados ao redor de uma mesa quadrada, de modo que, dois a dois, fiquem frente a frente. Sabe-se que Alan é torcedor do Cruzeiro e que Bruno está sentado à direita de Alan. Sabe-se também que Caio está sentado à direita do torcedor do São Paulo. Sabe-se ainda que Daniel não é torcedor do Vasco e que está sentado à frente de Bruno. Dessa forma, é correto afirmar que:**

- a) Bruno é torcedor do Bahia e Daniel é torcedor do São Paulo.  
b) Bruno é torcedor do São Paulo e Daniel é torcedor do Bahia.  
c) Caio é torcedor do Vasco e Daniel é torcedor do São Paulo.  
d) Caio é torcedor do Bahia e Daniel é torcedor do São Paulo.  
e) Bruno é torcedor do Vasco e Daniel é torcedor do Bahia.

### INFORMÁTICA

**11. Considerando o MS-Excel versão 2010, observando a figura abaixo, é correto afirmar que:**

	A	B	C
1			
2			
3			
4			

- a) Somente 03 três linhas estão selecionadas.  
b) Somente uma célula está selecionada.  
c) 12 (doze) células estão selecionadas.  
d) Somente a coluna A até a linha 4 (quatro) está selecionada.  
e) Somente as colunas 1 (um), 2 (dois), 3 (três) e 4 (quatro) estão selecionadas.

**12. Considerando o MS-Excel versão 2010, observando a figura abaixo, é incorreto afirmar que:**

	A	B	C
1	12	6	=A1*B1
2	8	2	=A2/B2
3	5	14	=A3-B3
4	6	11	=A4+B4

- a) O resultado da fórmula =A1\*B1 é 72.  
b) O resultado da fórmula =A2/B2 é 4.  
c) O resultado da fórmula =A3-B3 é -9.  
d) O resultado da fórmula =A3-B3 é 9.  
e) O resultado da fórmula =A4+B4 é 17.

**13. Digitando um texto no MS-Word versão 2010, necessito adicionar número nas páginas. Quanto a isso, é correto afirmar que:**

- a) No menu Layout da Página, clico em número de página e seleciono onde desejo adicionar os números.  
b) No menu Inserir, clico em número de página e seleciono onde desejo adicionar os números.  
c) No menu Revisão, clico em número de página e seleciono onde desejo adicionar os números.  
d) No menu Referências, clico em número de página e seleciono onde desejo adicionar os números.  
e) No menu Exibição, clico em número de página e seleciono onde desejo adicionar os números.

**14. A segurança da informação está diretamente relacionada com proteção de um conjunto de informações, no sentido de preservar o valor que possuem para um indivíduo ou uma organização. Atualmente, um dos aplicativos mais utilizados no mundo, o Whats app, teve uma alteração de confidencialidade muito importante na segurança das informações transmitidas e recebidas. Dentre as alternativas, assinale a que corretamente informa a alteração inserida no aplicativo Whats app.**

- a) Antispam  
b) Antivirus  
c) Firewall  
d) Antispyware  
e) Criptografia





**15. São todos os dispositivos que trabalham acoplados ao microcomputador para receber, transmitir, visualizar, ler, gravar ou armazenarem dados. São eles que permitem a comunicação do computador com o meio exterior, isto é, com os usuários e outras máquinas.**

**Esse texto descreve corretamente:**

- a) Memória ram
- b) Memória virtual
- c) Software
- d) Periféricos
- e) Hardware

#### **CONHECIMENTOS GERAIS**

##### **16. Hino do município de Telêmaco Borba/PR**

Das virgens matas e campos verdejantes  
Servindo-se também o rio Tibagi,  
Homens de ideais, espíritos vibrantes.  
Constituíram as indústrias aqui.

**Estribilho:**

Salve! Salve! Telêmaco Borba  
Terra querida e de grandes primores,  
A nossa homenagem rendamos  
À cidade dos trabalhadores.  
Pois a cadência de enorme e real progresso  
Um município mui grandioso fez nascer,  
Marcando assim, verdadeiro sucesso  
Faz, então o Paraná engrandecer.

**No que tange ao Hino do município, atribua V (verdadeiro) ou F (falso) às afirmativas e marque a alternativa correta.**

- ( ) Eloah Martins Quadrado é autora da letra do hino.
- ( ) Bento Mossurunga compôs a música do hino.
- ( ) Eloah Martins Quadrado foi nomeada primeira professora da Cidade Nova, atual Telêmaco Borba.
- ( ) Bento Mossurunga fundou a orquestra Estudantil e Concertos – Orquestra Sinfônica da Universidade, a Sociedade de Cultura Artístico Basilio Itiberê.

- a) F, V, V, V.
- b) V, F, V, V.
- c) V, V, F, V.
- d) V, V, F, F.
- e) V, V, V, V.

**17. À luz da Lei nº 1883/2012, que dispõe sobre o Estatuto dos Servidores Públicos da Administração Direta, Autárquica e Funcional do Município de Telêmaco Borba/PR, leia as alternativas e marque a correta.**

- a) A apresentação para a posse ocorrerá no prazo de até trinta dias, contados do ato de nomeação.
- b) A destituição do servidor da função gratificada dar-se-á por solicitação exclusiva dele mesmo.
- c) O servidor ocupante exclusivamente de cargo em comissão será contribuinte do regime geral de previdência social.
- d) A aprovação em concurso público gera o direito à nomeação, e será feita obedecida à ordem de classificação dos candidatos.
- e) O exercício de função gratificada poderá ser de dedicação integral ou parcial, conforme necessidade da administração.

**Conforme a Lei nº 1.881, de 05 de abril de 2012, que dispõe sobre o Plano de Cargos, Carreiras e Vencimentos do quadro geral de servidores da Prefeitura Municipal de Telêmaco Borba/PR, regulamentada pelo Decreto nº 2269/2015, responda às próximas três questões.**

**18. Leia as assertivas e assinala a incorreta.**

- a) Do resultado da avaliação de desempenho poderá ser interposto recurso à Comissão de Desenvolvimento Funcional no prazo de quinze dias a contar da publicação no Boletim Oficial do Município.
- b) Não será concedida a progressão ou promoção ao servidor que estiver em licença para tratamento de saúde por um período superior a quarenta e cinco dias, no período de avaliação.
- c) A alternância dos membros constituintes da Comissão de Desenvolvimento Funcional eleitos pelos servidores verificar-se-á a cada três anos de participação, observados, para substituição de seus participantes, o critério fixado no artigo anterior, não cabendo eleição sucessiva.
- d) Caberá à Comissão de Desenvolvimento Funcional, no caso de divergência de vinte por cento entre a nota do avaliador e a do avaliado, solicitar nova avaliação à chefia.

e) Nos termos do disposto no art. 17 da Lei n° 1.881, de 05 de abril de 2012, para progredir, é necessário que o servidor satisfaça, dentre outros, o seguinte requisito: estar no efetivo exercício de seu cargo ou em função comissionada na sua área de atuação durante o interstício de dois anos.

**19. Assinale a alternativa que completa respectivamente as lacunas do texto a seguir:**

**A Comissão de Desenvolvimento Funcional será constituída por \_\_\_\_\_ membros, sendo \_\_\_\_\_ designados pelo Prefeito Municipal de Telêmaco Borba e os demais eleitos pelos servidores municipais dentre os estáveis, com a atribuição de coordenar os procedimentos relativos à avaliação periódica de desempenho e outras atribuições.**

- a) três / sete
- b) um / três
- c) sete / três
- d) três / cinco
- e) dois / cinco

**20. A Avaliação de Desempenho será norteada, dentre outros, pelo seguinte princípio: Amplitude - a avaliação deve incidir sobre todas as áreas de atuação do servidor, que compreendem:**

- 1. a formulação de políticas administrativas e sua aplicação para todos os setores da administração municipal;**
- 2. o desempenho do profissional dentro de suas funções pertinentes;**
- 3. a estrutura do órgão em que exerce a função;**
- 4. os resultados de eficiência dos serviços de cada setor ou órgão da administração municipal;**
- 5. a participação direta do avaliado, durante todo o processo avaliativo.**

**Diante dessa afirmação, somente não está correto o item:**

- a) 1
- b) 2
- c) 3
- d) 4
- e) 5

#### **CONHECIMENTOS ESPECÍFICOS**

**21. Assinale a alternativa que apresenta a portaria que institui a Rede de Atenção Psicossocial para pessoas com sofrimento ou transtorno mental e com necessidades decorrentes do uso de crack, álcool e outras drogas, no âmbito do Sistema Único de Saúde:**

- a) Portaria N° 1.498, de 19 de julho de 2013
- b) Portaria N° 793, de 24 de abril de 2012
- c) Portaria N° 2.395, de 11 de outubro de 2011
- d) Portaria N° 3.099, de 23 de dezembro de 2011
- e) Portaria N° 1.459, de 24 de junho de 2011

**22. Analise as afirmativas seguintes e assinale a alternativa que contém o resultado final da soma da(s) afirmativa(s) correta(s):**

**01 – Toda lesão no sistema nervoso central promove atrofia cortical, progredindo para demência.**

**02 – Delirium tremens com instabilidade autonômica e hiperatividade simpática associa-se, geralmente, a mortalidade de 5 a 10% dos pacientes.**

**04 – A classe de medicamento de primeira escolha para pacientes com delirium tremens são os Inibidores da Recapitação da Serotonina como a Amitriptilina.**

**08 – O etilismo pode desenvolver a encefalopatia de Wernicke.**

**16 – Os benzodiazepínicos tem ação no sistema de ácido gama-amino-butirico, da mesma forma que o álcool no cérebro humano.**

- a) 06
- b) 07
- c) 09
- d) 19
- e) 26

**23. Leia as assertivas e assinale a alternativa correta.**

**I – A insuficiência cardíaca congestiva é uma síndrome clínica sempre causada por alguma doença cardíaca subjacente, mais comumente miocardiopatia isquêmica resultante de aterosclerose e/ou hipertensão arterial.**

**II – A Doxorubicina é uma droga amplamente utilizada e que causa efeitos cardiotoxícos com dose cumulativa superior a 450mg/m<sup>2</sup> de superfície corporal.**

**III – Os inibidores da ECA e os BRA associados a betabloqueadores e antagonistas de aldosterona podem diminuir a mortalidade, e aliviam imediatamente os sintomas congestivos.**

**IV – A insuficiência cardíaca crônica é uma doença progressiva com alta mortalidade, e a classe funcional do paciente geralmente não é um guia ao tratamento.**

- a) Apenas I e II estão corretas.
- b) Apenas I e III estão corretas.
- c) Todas estão corretas.
- d) Apenas II e III estão corretas.
- e) Apenas a IV está errada.

**Leia o seguinte caso para responder às próximas três questões.**

**Mulher de 28 anos vai ao consultório queixando-se de dor em joelho direito e hálux contra-lateral, com 10 dias de evolução e que não respondeu ao uso de analgésicos simples. Refere febrícula ao término do dia associada à mialgia inespecífica, além de disúria e corrimento vaginal branco leitoso amarelo esverdeado e prurido ocular bilateral; há 45 dias foi tratada para LUES com esquema adequado preconizado pelo Ministério da Saúde. Ao exame, apresenta-se afebril, e ambos os olhos estão injetados e fotossensíveis; o joelho direito e a primeira articulação metatarsofalangiana esquerda apresentam-se edemaciados e dolorosos com discreta hiperemia.**

**24. Com base no caso, pode-se afirmar que a paciente apresenta uma tríade. Assinale a assertiva que contém o epônimo dessa tríade.**

- a) Virchow
- b) Reiter
- c) Beck
- d) Charcot
- e) Whipple

**25. Essa paciente possui fator de risco para desenvolver qual patologia ginecológica a médio prazo, se não for tratada corretamente?**

- a) Doença de Paget
- b) Doença de Berger
- c) Síndrome de Fitz-Hugh-Curtis
- d) Endometriose
- e) Síndrome dos ovários policísticos

**26. Sobre esse caso, analise as afirmativas e assinale a alternativa correta.**

**I – O principal diagnóstico diferencial para esse caso é a gonorreia.**

**II – Essa paciente possivelmente é HLA-B27 negativa.**

**III – Ela pode ser tratada com Azitromicina 1g no D1 e D7 associada com Ceftriaxona 250mg Intramuscular no D1 possui maior índice de cura em relação ao uso de Ceftriaxone 250mg Intramuscular no D1 com doxiciclina 100mg via oral de 12/12 horas por 14 dias.**

**IV – O provável agente etiológico do caso é a *Chlamydia trachomatis*.**

- a) Apenas a I está correta.
- b) Apenas I e II estão corretas.
- c) Apenas II e III estão erradas.
- d) Apenas I e III estão corretas.
- e) Apenas a II está errada.

**27. Assinale a alternativa em que se faz a correlação incorreta.**

- a) Agência Nacional de Saúde Suplementar – responsável pela regularização e fiscalização dos planos de saúde no país.
- b) Anvisa – responsável pela fiscalização in loco de estabelecimento de saúde em cada município e a sua correta regularização.
- c) Vigilância Epidemiológica – entidade responsável por organizar os dados de agravos em saúde e auxiliar a gestão a realizar estratégias de atenção a saúde.
- d) Anvisa – responsável pela deliberação de novas drogas no mercado brasileiro.
- e) Vigilância sanitária – responsável pela fiscalização das condições de manipulação de alimentos para os consumidores finais.

**28. Os Centros de Atenção Psicossocial são instituições destinadas a acolher os pacientes com transtornos mentais e estimular sua integração social e familiar, além de outras funções. Para que isso ocorra, necessitam de um número mínimo de membros na equipe.**

**Assinale a alternativa que contém a relação correta entre o tipo de CAPS e sua equipe mínima, conforme a determinação do Ministério da Saúde:**

---

Tipo de CAPS	Equipe Mínima
--------------	---------------

---

I – CAPS I	A – 2 psiquiatras; 1 enfermeiro com formação em nível superior; 5 profissionais de nível superior de outras categorias profissionais; 8 profissionais de nível médio.
II – CAPS II	B – 1 médico psiquiatra, ou neurologista ou pediatra com formação em saúde mental; 1 enfermeiro; 4 profissionais de nível superior dentre psicólogo, assistente social, terapeuta ocupacional, fonoaudiólogo, pedagogo ou outro profissional necessário ao projeto terapêutico; 5 profissionais de nível médio.
III – CAPS III	C – 1 médico psiquiatra ou com formação em saúde mental; 1 enfermeiro, 3 profissionais de nível superior de outras categorias profissionais; 4 profissionais de nível médio.
IV – CAPSi	D – 1 psiquiatra; 1 enfermeiro com formação em saúde mental; 1 médico clínico responsável pela triagem, avaliação e acompanhamento das intercorrências clínicas; 4 profissionais de nível superior necessário ao projeto terapêutico; 6 profissionais de nível médio.
V - CAPSad	E – 1 psiquiatra; 1 enfermeiro com formação em saúde mental; 4 profissionais de nível superior de outras categorias profissionais; 6 profissionais de nível médio.

- a) I-E; II-C; III-A; IV-B; V-D.
- b) I-E; II-C; III-A; IV-D; V-B.
- c) I-C; II-B; III-A; IV-E; V-D.
- d) I-C; II-E; III-A; IV-B; V-D.
- e) I-E; II-D; III-A; IV-B; V-C.

29. Analise os seguintes itens a respeito de diarreia crônica e assinale a alternativa correta.

**I – Diarreias tipo secretória podem ser desencadeadas por cólera, tumor de tireoide medular e uso de laxantes estimulantes exógenos, por exemplo.**

**II – Amiloidose pode promover esteatorreia, da mesma forma que a Doença de Whipple.**

**III – São exemplos de dismotilidade promotora de diarreia crônica: hipertireoidismo, síndrome do intestino irritável e Espru tropical.**

**IV – Pacientes portadores do Vírus da Imunodeficiência Adquirida podem ter, como sintoma inicial, diarreia crônica.**

- a) Todos estão corretos.
- b) Apenas o item IV está incorreto.
- c) Apenas o item III está correto.
- d) Apenas o item III está incorreto.
- e) Apenas o item II está incorreto.

30. Assinale a assertiva que apresenta a portaria que publica a proposta de Projeto de Resolução “Boas Práticas para Organização e Funcionamento de Serviços de Urgência e Emergência”.

- a) Portaria Nº 30, de 12 de fevereiro de 2014
- b) Portaria Nº 354, de 10 de março de 2014
- c) Portaria Nº 825, de 25 de abril de 2016
- d) Portaria Nº 2.712, de 12 de novembro de 2013
- e) Portaria Nº 2.528, de 19 de outubro de 2006

31. Referente à lombalgia, analise os itens seguintes e assinale a alternativa correta.

**I – Segundo o trabalho de Deyo, publicado no New England Journal of Medicine em 2001, observou-se que a etiologia prevalente para lombalgia é de estiramento ou entorse lombar.**

**II – Menos de 1% da população adulta economicamente ativa sofre de dorsalgia.**

**III – São sinais e sintomas de alarme na lombalgia: dor iniciada antes dos 20 e após os 50 anos, febre, perda ponderal, dor intensa noturna ou piora da dor em posição supina, incontinência fecal e/ou urinária, história de neoplasia, anestesia em sela, redução da força em membros inferiores e imunossupressão.**

- a) Apenas os itens I e III estão corretos.
- b) Apenas os itens II e III estão corretos.
- c) Apenas os itens II e III estão incorretos.
- d) Os itens I, II e III estão corretos.
- e) Apenas os itens I e III estão incorretos.

32. A respeito dos Critérios de Ranson, assinale a alternativa que contém a sequência correta da classificação de V (verdadeiro) e F (falso) para os itens a serem considerados na admissão de paciente com quadro de pancreatite aguda.

- ( ) – Idade  $\leq$  54 anos
- ( ) – Leucócitos  $>$  16.000/mm<sup>3</sup>
- ( ) – Glicemia  $>$  200 mg/dl
- ( ) – Desidrogenase láctica sérica  $>$  350 UI/L

( ) – AST < 250 UI/L

- a) V - V - V - V - V.
- b) F - V - V - V - F.
- c) F - F - V - V - V.
- d) F - V - F - V - F.
- e) V - F - V - F - V.

**33. Assinale a alternativa com a correlação correta das causas de hipertensão secundária.**

**I – Doenças Renais**

**II – Doença endócrina**

**III – Outras doenças**

- ( ) Doses altas de estrogênio
- ( ) Glomerulonefrite
- ( ) Doença do rim policístico
- ( ) Hipertireoidismo
- ( ) Aterosclerose
- ( ) Hipercalemia
- ( ) Apneia do sono obstrutiva

- a) I; I; III; II; I; III; II.
- b) II; III; I; II; I; III; I.
- c) III; I; I; II; I; III; III.
- d) II; I; I; II; I; III; II.
- e) II; III; II; I; I; II; III.

**34. Assinale a alternativa incorreta a respeito das orientações aos indivíduos residentes no Brasil, com idade igual ou superior a cinco anos, que viajarão a países com recomendação de vacina para Poliomielite a visitantes, contidas no Programa Nacional de Imunização, publicado no ano 2016.**

- a) Sem comprovação vacinal: administrar duas doses de Vacina Oral Poliomielite(VOP), com intervalo de 90 dias entre elas.
- b) Sem comprovação vacinal: administrar três doses da VOP, com intervalo de 60 dias entre elas, mínimo 30 dias.
- c) Com esquema incompleto: completar o esquema com a VOP.
- d) Gestantes e imunodeprimidos e/ou seus contatos devem receber esquema com Vacina Inativada Poliomielite (VIP).
- e) Para aqueles indivíduos que receberam três doses ou mais de VOP ou VIP, caso a última dose tenha sido administrada há mais de 12 meses, garantir antes da viagem uma única dose de reforço com VOP ou VIP.

**35. Assinale a alternativa que contém o antimicrobiano contraindicado à gestante no segundo trimestre de gestação com quadro de infecção urinária, sem história de reação alérgica a medicamentos anteriormente:**

- a) Sulfametoxazol e Timetropina
- b) Cefalotina
- c) Nitrofurantoína
- d) Ciprofloxacino
- e) Amoxicilina

**36. A osteomielite é um processo infeccioso que envolve o osso e cavidade medular, geralmente causada por bactéria. A rota de entrada da bactéria no tecido ósseo é um fator importante no quadro clínico e no tratamento do paciente. Assinale a alternativa incorreta que relaciona a rota de entrada de microrganismos nos ossos.**

- a) O microrganismo pode infectar os ossos pela disseminação hematogênica.
- b) O microrganismo pode infectar os ossos pela disseminação liquórica.
- c) O microrganismo pode infectar os ossos pela inoculação externa como uma fratura aberta.
- d) O microrganismo pode infectar os ossos por um efeito pós-cirúrgico.
- e) O microrganismo pode infectar os ossos pela extensão de uma estrutura adjacente infectada.

**37. Tumores ósseos e lesões pseudotumorais não são raros. Muitos deles não são verdadeiramente tumores, mas hematomas ou displasias. No entanto, a OMS os enquadram como tumores por possuírem comportamentos e evolução semelhantes. O diagnóstico precoce é a chave para o bom resultado do tratamento.**

**Sobre o diagnóstico clínico dos tumores ósseos, assinale a alternativa incorreta:**

- a) O diagnóstico de tumor ósseo não costuma ser difícil. Porém, deve-se lembrar que lesões metabólicas e infecciosas podem ter um comportamento que mimetize um tumor ósseo.
- b) Os tumores benignos costumam acometer pacientes nas três primeiras décadas de vida ou aparecer como achado radiológico de uma lesão antiga. Em regra, sua tendência é para involução.
- c) Os tumores malignos surgem em qualquer idade.
- d) O linfoma de Ewing pode aparecer após 40 anos de idade.

e) O linfoma do osso aparece entre 20 a 50 anos de idade.

**38. Nas radiografias a seguir, observamos uma lesão geográfica, osteolítica, na base da falange proximal do dedo médio, pouco insuflante, com fratura sem desvio (A); Ossificação avançada em encondroma do úmero proximal (B). Fica evidente um tipo de tumor benigno caracterizado pela formação de cartilagem madura; este tipo de lesão é muito comum nos ossos tubulares das mãos e dos pés; geralmente o diagnóstico é um achado radiológico, engrossamento leve de dedo ou fratura patológica. Esse tipo de tumor também pode ser encontrado nos ossos longos, como fêmur e úmero, nos quais evolui para calcificação da lesão.**



(Fonte: HEBERT, S.; ALIMENA, L.J.M. et al.; Ortopedia exames e diagnóstico consulta rápida, editora Artmed, Porto Alegre, 2011)

**Analisando o texto e a radiografia, assinale a alternativa que indica o nome do tumor benigno relacionado:**

- a) Endocondroma
- b) Osteblastoma
- c) Linfoma do osso
- d) Condrossarcoma
- e) Fibrossarcoma

**39. Numa malformação congênita de coluna foram encontrados os seguintes achados clínicos: pescoço curto, implantação baixa dos cabelos e das orelhas, pterígio cervical e limitação do movimento. Isso ocorre devido à falha na segmentação normal dos somitos entre a quinta a oitava semana de gestação, caracterizada pela anquilose de dois corpos (mais comum C2-C3, ou C5-C4), ou até mesmo a fusão maciça de vários níveis.**

**De acordo com esse texto, assinale a alternativa que indica a doença de malformação congênita relacionada:**

- a) Deformidade de Sprengel
- b) Torcicolo muscular congênito
- c) Síndrome de Klippel-Feil
- d) Mielosquise
- e) Raquisquise

**40. Analise o seguinte texto:**

**“Em decúbito dorsal e membros inferiores estendidos, o paciente flexiona os joelhos e os quadris e, seguida, junta as plantas dos pés, realizando a abertura dos joelhos (abdução). Nesse teste, observam-se a presença de compensação lombopélvica, a ADM dos três eixos de movimento dos quadris e a habilidade (capacidade de executar) do paciente.”**

**Esse texto descreve um teste para avaliação física das disfunções do quadril para fins de reabilitação, cujo nome é:**

- a) Teste de supino-sentar
- b) Teste de rotação externa
- c) Teste de fabre
- d) Teste de extensão do quadril
- e) Teste de tríplice concordância





PREFEITURA DE TELÊMACO BORBA - ESTADO DO PARANÁ- **EDITAL Nº 001-2016 - CONCURSO PÚBLICO**

**VESPERTINO – 29/05/2016 – NÍVEL SUPERIOR**

**2**

**PROVA OBJETIVA NÚMERO**

**CARGO: TMNS I - MEDICINA – ORTOPEDIA**

**Leia atentamente as INSTRUÇÕES:**

1. Confira seus dados no cartão-resposta: nome, número de inscrição e o curso para o qual se inscreveu.
2. **MARQUE no seu cartão-resposta o número da sua prova** (não será corrigido o cartão-resposta que não tiver marcado o número da prova) e **Assine** seu cartão-resposta.
3. Aguarde a autorização do Fiscal para abrir o caderno de prova. Ao receber a ordem do fiscal, confira o caderno de prova com muita atenção. Nenhuma reclamação sobre o total de questões ou falha de impressão será aceita depois de iniciada a prova.
4. O cartão-resposta não será substituído, salvo se contiver erro de impressão.
5. Preencha toda a área do cartão-resposta correspondente à alternativa de sua escolha, com caneta esferográfica (tinta azul ou preta), sem ultrapassar as bordas. As marcações duplas, ou rasuradas, com corretivo, ou marcadas diferentemente do modelo estabelecido no cartão-resposta poderão ser anuladas.
6. Sua prova tem **40** questões, com **5** alternativas.
7. Cabe apenas ao candidato a interpretação das questões, **o fiscal** não poderá fazer nenhuma interferência.
8. A prova será realizada com duração máxima de **3 (três) horas**, incluído o tempo para a realização da Prova Objetiva de múltipla escolha e o preenchimento do cartão-resposta.
9. O candidato poderá retirar-se do local de realização das provas somente **1 (uma) hora** após o seu início, sem levar o caderno de prova.
10. O candidato poderá levar o caderno de provas, assim como anotação contendo transcrição do seu cartão-resposta, somente **1h30min** (uma hora e trinta minutos) após o início da realização da prova.
11. Ao terminar a prova, o candidato deverá entregar ao fiscal de sala o cartão-resposta preenchido e **ASSINADO**.
12. Os **3 (três)** candidatos, que terminarem a prova por último, deverão permanecer na sala, e só poderão sair juntos após o fechamento do envelope, contendo os cartões-resposta dos candidatos presentes e ausentes, e assinarem no lacre do referido envelope, atestando que este foi devidamente lacrado.
13. Durante todo o tempo em que permanecer no local onde está ocorrendo o concurso, o candidato deverá, manter o celular desligado e sem bateria, só sendo permitido ligar depois de ultrapassar o portão de saída do prédio.
14. Não será permitido ao candidato fumar na sala de provas, bem como nas dependências.
15. Depois de terminar a prova e entregar ao fiscal o cartão-resposta, preenchido e assinado, não será mais permitido ao candidato o uso do banheiro e bebedouro.

**BOA PROVA!**

**RACIOCÍNIO LÓGICO**

**01. Os cinco filhos de Ana estavam discutindo a respeito da data de nascimento da mãe:**

- Almir disse que foi em janeiro, dia 14, sexta-feira.
- Vanderlei disse que foi em janeiro, dia 14, sábado.
- Tiago disse que foi em fevereiro, dia 15, sábado.
- Sandro disse que foi em janeiro, dia 15, sexta-feira.
- Renato disse que foi em fevereiro, dia 15, sexta-feira.

**Sabe-se que somente um dos filhos de Ana acertou corretamente sua data de nascimento e que os outros acertaram pelo menos um dos itens (dia, dia da semana e mês). Dessa forma, é correto afirmar que o filho de Ana que acertou a data de nascimento dela foi:**

- a) Renato
- b) Sandro
- c) Tiago
- d) Vanderlei
- e) Almir

**02. Considere a seguinte afirmativa: “Todo churrasqueiro gosta de picanha”. Em relação a essa proposição, é correto afirmar que:**

- a) Algum churrasqueiro não gosta de picanha.
- b) Toda pessoa que gosta de picanha é churrasqueira.
- c) Alguma pessoa que não gosta de picanha é churrasqueira.
- d) Toda pessoa que não é churrasqueira, não gosta de picanha.
- e) Toda pessoa que não gosta de picanha, não é churrasqueira.

**03. Em um grupo formado por 67 pessoas, verificou-se que 41 pessoas gostam de arroz, 29 gostam de feijão, 33 gostam de carne, 19 gostam de arroz e de feijão, 9 gostam apenas de arroz e de carne, 12 gostam de feijão e de carne e que 6 gostam de arroz, de feijão e de carne. O número de pessoas desse grupo, que não gosta de nenhum desses três tipos de alimentos é igual a:**

- a) 4
- b) 5
- c) 6
- d) 8
- e) 10

**04. Bruno escreveu, em seu caderno, várias sequências formadas por números múltiplos de 4, onde os valores que ocupavam as posições pares eram multiplicados por -1. Cada sequência foi somada e o resultado da soma anotado. A soma das três primeiras sequências escritas por Bruno foram as seguintes:**

$$4 - 8 = -4$$

$$4 - 8 + 12 = 8$$

$$4 - 8 + 12 - 16 = -8$$

**Considere que Bruno escreveu e somou tais sequências, em seu caderno, de modo a obter determinada sequência cuja soma foi 600. O número de termos dessa sequência é igual a:**

- a) 149
- b) 150
- c) 298
- d) 299
- e) 300

**05. Quatro torcedores, um do São Paulo, um do Cruzeiro, um do Vasco e um do Bahia, estão sentados ao redor de uma mesa quadrada, de modo que, dois a dois, fiquem frente a frente. Sabe-se que Alan é torcedor do Cruzeiro e que Bruno está sentado à direita de Alan. Sabe-se também que Caio está sentado à direita do torcedor do São Paulo. Sabe-se ainda que Daniel não é torcedor do Vasco e que está sentado à frente de Bruno. Dessa forma, é correto afirmar que:**

- a) Bruno é torcedor do Bahia e Daniel é torcedor do São Paulo.
- b) Bruno é torcedor do São Paulo e Daniel é torcedor do Bahia.
- c) Caio é torcedor do Vasco e Daniel é torcedor do São Paulo.
- d) Caio é torcedor do Bahia e Daniel é torcedor do São Paulo.
- e) Bruno é torcedor do Vasco e Daniel é torcedor do Bahia.

**INFORMÁTICA**

06. Considerando o MS-Excel versão 2010, observando a figura abaixo, é correto afirmar que:

	A	B	C
1			
2			
3			
4			

- Somente 03 três linhas estão selecionadas.
- Somente uma célula está selecionada.
- 12 (doze) células estão selecionadas.
- Somente a coluna A até a linha 4 (quatro) está selecionada.
- Somente as colunas 1 (um), 2 (dois), 3 (três) e 4 (quatro) estão selecionadas.

07. Considerando o MS-Excel versão 2010, observando a figura abaixo, é incorreto afirmar que:

	A	B	C
1	12	6	=A1*B1
2	8	2	=A2/B2
3	5	14	=A3-B3
4	6	11	=A4+B4

- O resultado da fórmula =A1\*B1 é 72.
- O resultado da fórmula =A2/B2 é 4.
- O resultado da fórmula =A3-B3 é -9.
- O resultado da fórmula =A3-B3 é 9.
- O resultado da fórmula =A4+B4 é 17.

08. Digitando um texto no MS-Word versão 2010, necessito adicionar número nas páginas. Quanto a isso, é correto afirmar que:

- No menu Layout da Página, cliço em número de página e seleciono onde desejo adicionar os números.
- No menu Inserir, cliço em número de página e seleciono onde desejo adicionar os números.
- No menu Revisão, cliço em número de página e seleciono onde desejo adicionar os números.
- No menu Referências, cliço em número de página e seleciono onde desejo adicionar os números.
- No menu Exibição, cliço em número de página e seleciono onde desejo adicionar os números.

09. A segurança da informação está diretamente relacionada com proteção de um conjunto de informações, no sentido de preservar o valor que possuem para um indivíduo ou uma organização. Atualmente, um dos aplicativos mais utilizados no mundo, o Whats app, teve uma alteração de confidencialidade muito importante na segurança das informações transmitidas e recebidas. Dentre as alternativas, assinale a que corretamente informa a alteração inserida no aplicativo Whats app.

- Antispam
- Antivirus
- Firewall
- Antispyware
- Criptografia

10. São todos os dispositivos que trabalham acoplados ao microcomputador para receber, transmitir, visualizar, ler, gravar ou armazenarem dados. São eles que permitem a comunicação do computador com o meio exterior, isto é, com os usuários e outras máquinas.

Esse texto descreve corretamente:

- Memória ram
- Memória virtual
- Software
- Periféricos
- Hardware

**CONHECIMENTOS GERAIS**

11. Hino do município de Telêmaco Borba/PR

Das virgens matas e campos verdejantes  
 Servindo-se também o rio Tibagi,

Homens de ideais, espíritos vibrantes.

Constituíram as indústrias aqui.

Estrilho:

Salve! Salve! Telêmaco Borba

Terra querida e de grandes primores,

A nossa homenagem rendamos

À cidade dos trabalhadores.

Pois a cadência de enorme e real progresso

Um município mui grandioso fez nascer,

Marcando assim, verdadeiro sucesso

Faz, então o Paraná engrandecer.

**No que tange ao Hino do município, atribua V (verdadeiro) ou F (falso) às afirmativas e marque a alternativa correta.**

( ) Eloah Martins Quadrado é autora da letra do hino.

( ) Bento Mossurunga compôs a música do hino.

( ) Eloah Martins Quadrado foi nomeada primeira professora da Cidade Nova, atual Telêmaco Borba.

( ) Bento Mossurunga fundou a orquestra Estudantil e Concertos – Orquestra Sinfônica da Universidade, a Sociedade de Cultura Artístico Basilio Itiberê.

a) F, V, V, V.

b) V, F, V, V.

c) V, V, F, V.

d) V, V, F, F.

e) V, V, V, V.

**12. À luz da Lei nº 1883/2012, que dispões sobre o Estatuto dos Servidores Públicos da Administração Direta, Autárquica e Funcional do Município de Telêmaco Borba/PR, leia as alternativas e marque a correta.**

a) A apresentação para a posse ocorrerá no prazo de até trinta dias, contados do ato de nomeação.

b) A destituição do servidor da função gratificada dar-se-á por solicitação exclusiva dele mesmo.

c) O servidor ocupante exclusivamente de cargo em comissão será contribuinte do regime geral de previdência social.

d) A aprovação em concurso público gera o direito à nomeação, e será feita obedecida à ordem de classificação dos candidatos.

e) O exercício de função gratificada poderá ser de dedicação integral ou parcial, conforme necessidade da administração.

**Conforme a Lei nº 1.881, de 05 de abril de 2012, que dispõe sobre o Plano de Cargos, Carreiras e Vencimentos do quadro geral de servidores da Prefeitura Municipal de Telêmaco Borba/PR, regulamentada pelo Decreto nº 2269/2015, responda às próximas três questões.**

**13. Leia as assertivas e assinala a incorreta.**

a) Do resultado da avaliação de desempenho poderá ser interposto recurso à Comissão de Desenvolvimento Funcional no prazo de quinze dias a contar da publicação no Boletim Oficial do Município.

b) Não será concedida a progressão ou promoção ao servidor que estiver em licença para tratamento de saúde por um período superior a quarenta e cinco dias, no período de avaliação.

c) A alternância dos membros constituintes da Comissão de Desenvolvimento Funcional eleitos pelos servidores verificar-se-á a cada três anos de participação, observados, para substituição de seus participantes, o critério fixado no artigo anterior, não cabendo eleição sucessiva.

d) Caberá à Comissão de Desenvolvimento Funcional, no caso de divergência de vinte por cento entre a nota do avaliador e a do avaliado, solicitar nova avaliação à chefia.

e) Nos termos do disposto no art. 17 da Lei nº 1.881, de 05 de abril de 2012, para progredir, é necessário que o servidor satisfaça, dentre outros, o seguinte requisito: estar no efetivo exercício de seu cargo ou em função comissionada na sua área de atuação durante o interstício de dois anos.

**14. Assinale a alternativa que completa respectivamente as lacunas do texto a seguir:**

**A Comissão de Desenvolvimento Funcional será constituída por \_\_\_\_\_ membros, sendo \_\_\_\_\_ designados pelo Prefeito Municipal de Telêmaco Borba e os demais eleitos pelos servidores municipais dentre os estáveis, com a atribuição de coordenar os procedimentos relativos à avaliação periódica de desempenho e outras atribuições.**

a) três / sete

b) um / três

c) sete / três

d) três / cinco

e) dois / cinco

15. A Avaliação de Desempenho será norteadada, dentre outros, pelo seguinte princípio: Amplitude - a avaliação deve incidir sobre todas as áreas de atuação do servidor, que compreendem:

1. a formulação de políticas administrativas e sua aplicação para todos os setores da administração municipal;
2. o desempenho do profissional dentro de suas funções pertinentes;
3. a estrutura do órgão em que exerce a função;
4. os resultados de eficiência dos serviços de cada setor ou órgão da administração municipal;
5. a participação direta do avaliado, durante todo o processo avaliativo.

Diante dessa afirmação, somente não está correto o item:

- a) 1
- b) 2
- c) 3
- d) 4
- e) 5

### CONHECIMENTOS ESPECÍFICOS

16. Assinale a alternativa que apresenta a portaria que institui a Rede de Atenção Psicossocial para pessoas com sofrimento ou transtorno mental e com necessidades decorrentes do uso de crack, álcool e outras drogas, no âmbito do Sistema Único de Saúde:

- a) Portaria N° 1.498, de 19 de julho de 2013
- b) Portaria N° 793, de 24 de abril de 2012
- c) Portaria N° 2.395, de 11 de outubro de 2011
- d) Portaria N° 3.099, de 23 de dezembro de 2011
- e) Portaria N° 1.459, de 24 de junho de 2011

17. Analise as afirmativas seguintes e assinale a alternativa que contém o resultado final da soma da(s) afirmativa(s) correta(s):

01 – Toda lesão no sistema nervoso central promove atrofia cortical, progredindo para demência.

02 – Delirium tremens com instabilidade autonômica e hiperatividade simpática associa-se, geralmente, a mortalidade de 5 a 10% dos pacientes.

04 – A classe de medicamento de primeira escolha para pacientes com delirium tremens são os Inibidores da Recaptação da Serotonina como a Amitriptilina.

08 – O etilismo pode desenvolver a encefalopatia de Wernicke.

16 – Os benzodiazepínicos tem ação no sistema de ácido gama-amino-butirico, da mesma forma que o álcool no cérebro humano.

- a) 06
- b) 07
- c) 09
- d) 19
- e) 26

18. Leia as assertivas e assinale a alternativa correta.

I – A insuficiência cardíaca congestiva é uma síndrome clínica sempre causada por alguma doença cardíaca subjacente, mais comumente miocardiopatia isquêmica resultante de aterosclerose e/ou hipertensão arterial.

II – A Doxorubicina é uma droga amplamente utilizada e que causa efeitos cardiotoxicos com dose cumulativa superior a 450mg/m<sup>2</sup> de superfície corporal.

III – Os inibidores da ECA e os BRA associados a betabloqueadores e antagonistas de aldosterona podem diminuir a mortalidade, e aliviam imediatamente os sintomas congestivos.

IV – A insuficiência cardíaca crônica é uma doença progressiva com alta mortalidade, e a classe funcional do paciente geralmente não é um guia ao tratamento.

- a) Apenas I e II estão corretas.
- b) Apenas I e III estão corretas.
- c) Todas estão corretas.
- d) Apenas II e III estão corretas.
- e) Apenas a IV está errada.

Leia o seguinte caso para responder às próximas três questões.

Mulher de 28 anos vai ao consultório queixando-se de dor em joelho direito e hálux contra-lateral, com 10 dias de evolução e que não respondeu ao uso de analgésicos simples. Refere febrícula ao término do dia associada à mialgia inespecífica, além de disúria e corrimento vaginal branco leitoso amarelo esverdeado e prurido ocular bilateral; há 45 dias foi tratada para LUES com esquema adequado preconizado pelo Ministério da Saúde. Ao exame, apresenta-se afebril, e ambos os olhos estão injetados e fotossensíveis; o

joelho direito e a primeira articulação metatarsofalangiana esquerda apresentam-se edemaciados e dolorosos com discreta hiperemia.

**19. Com base no caso, pode-se afirmar que a paciente apresenta uma tríade. Assinale a assertiva que contém o epônimo dessa tríade.**

- a) Virchow
- b) Reiter
- c) Beck
- d) Charcot
- e) Whipple

**20. Essa paciente possui fator de risco para desenvolver qual patologia ginecológica a médio prazo, se não for tratada corretamente?**

- a) Doença de Paget
- b) Doença de Berger
- c) Síndrome de Fitz-Hugh-Curtis
- d) Endometriose
- e) Síndrome dos ovários policísticos

**21. Sobre esse caso, analise as afirmativas e assinale a alternativa correta.**

**I – O principal diagnóstico diferencial para esse caso é a gonorreia.**

**II – Essa paciente possivelmente é HLA-B27 negativa.**

**III – Ela pode ser tratada com Azitromicina 1g no D1 e D7 associada com Ceftriaxona 250mg Intramuscular no D1 possui maior índice de cura em relação ao uso de Ceftriaxone 250mg Intramuscular no D1 com doxiciclina 100mg via oral de 12/12 horas por 14 dias.**

**IV – O provável agente etiológico do caso é a *Chlamydia trachomatis*.**

- a) Apenas a I está correta.
- b) Apenas I e II estão corretas.
- c) Apenas II e III estão erradas.
- d) Apenas I e III estão corretas.
- e) Apenas a II está errada.

**22. Assinale a alternativa em que se faz a correlação incorreta.**

- a) Agência Nacional de Saúde Suplementar – responsável pela regularização e fiscalização dos planos de saúde no país.
- b) Anvisa – responsável pela fiscalização in loco de estabelecimento de saúde em cada município e a sua correta regularização.
- c) Vigilância Epidemiológica – entidade responsável por organizar os dados de agravos em saúde e auxiliar a gestão a realizar estratégias de atenção a saúde.
- d) Anvisa – responsável pela deliberação de novas drogas no mercado brasileiro.
- e) Vigilância sanitária – responsável pela fiscalização das condições de manipulação de alimentos para os consumidores finais.

**23. Os Centros de Atenção Psicossocial são instituições destinadas a acolher os pacientes com transtornos mentais e estimular sua integração social e familiar, além de outras funções. Para que isso ocorra, necessitam de um número mínimo de membros na equipe.**

**Assinale a alternativa que contém a relação correta entre o tipo de CAPS e sua equipe mínima, conforme a determinação do Ministério da Saúde:**

Tipo de CAPS	Equipe Mínima
I – CAPS I	A – 2 psiquiatras; 1 enfermeiro com formação em nível superior; 5 profissionais de nível superior de outras categorias profissionais; 8 profissionais de nível médio.
II – CAPS II	B – 1 médico psiquiatra, ou neurologista ou pediatra com formação em saúde mental; 1 enfermeiro; 4 profissionais de nível superior dentre psicólogo, assistente social, terapeuta ocupacional, fonoaudiólogo, pedagogo ou outro profissional necessário ao projeto terapêutico; 5 profissionais de nível médio.
III – CAPS III	C – 1 médico psiquiatra ou com formação em saúde mental; 1 enfermeiro, 3 profissionais de nível superior de outras categorias profissionais; 4 profissionais de nível médio.
IV – CAPSi	D – 1 psiquiatra; 1 enfermeiro com formação em saúde mental; 1 médico clínico responsável pela triagem, avaliação e acompanhamento das intercorrências clínicas; 4 profissionais de nível superior necessário ao projeto terapêutico; 6 profissionais de nível médio.



V - CAPSad

**E – 1 psiquiatra; 1 enfermeiro com formação em saúde mental; 4 profissionais de nível superior de outras categorias profissionais; 6 profissionais de nível médio.**

- a) I-E; II-C; III-A; IV-B; V-D.
- b) I-E; II-C; III-A; IV-D; V-B.
- c) I-C; II-B; III-A; IV-E; V-D.
- d) I-C; II-E; III-A; IV-B; V-D.
- e) I-E; II-D; III-A; IV-B; V-C.

**24. Analise os seguintes itens a respeito de diarreia crônica e assinale a alternativa correta.**

**I – Diarreias tipo secretória podem ser desencadeadas por cólera, tumor de tireoide medular e uso de laxantes estimulantes exógenos, por exemplo.**

**II – Amiloidose pode promover esteatorreia, da mesma forma que a Doença de Whipple.**

**III – São exemplos de dismotilidade promotora de diarreia crônica: hipertireoidismo, síndrome do intestino irritável e Espru tropical.**

**IV – Pacientes portadores do Vírus da Imunodeficiência Adquirida podem ter, como sintoma inicial, diarreia crônica.**

- a) Todos estão corretos.
- b) Apenas o item IV está incorreto.
- c) Apenas o item III está correto.
- d) Apenas o item III está incorreto.
- e) Apenas o item II está incorreto.

**25. Assinale a assertiva que apresenta a portaria que publica a proposta de Projeto de Resolução “Boas Práticas para Organização e Funcionamento de Serviços de Urgência e Emergência”.**

- a) Portaria N° 30, de 12 de fevereiro de 2014
- b) Portaria N° 354, de 10 de março de 2014
- c) Portaria N° 825, de 25 de abril de 2016
- d) Portaria N° 2.712, de 12 de novembro de 2013
- e) Portaria N° 2.528, de 19 de outubro de 2006

**26. Referente à lombalgia, analise os itens seguintes e assinale a alternativa correta.**

**I – Segundo o trabalho de Deyo, publicado no New England Journal of Medicine em 2001, observou-se que a etiologia prevalente para lombalgia é de estiramento ou entorse lombar.**

**II – Menos de 1% da população adulta economicamente ativa sofre de dorsalgia.**

**III – São sinais e sintomas de alarme na lombalgia: dor iniciada antes dos 20 e após os 50 anos, febre, perda ponderal, dor intensa noturna ou piora da dor em posição supina, incontinência fecal e/ou urinária, história de neoplasia, anestesia em sela, redução da força em membros inferiores e imunossupressão.**

- a) Apenas os itens I e III estão corretos.
- b) Apenas os itens II e III estão corretos.
- c) Apenas os itens II e III estão incorretos.
- d) Os itens I, II e III estão corretos.
- e) Apenas os itens I e III estão incorretos.

**27. A respeito dos Critérios de Ranson, assinale a alternativa que contém a sequência correta da classificação de V (verdadeiro) e F (falso) para os itens a serem considerados na admissão de paciente com quadro de pancreatite aguda.**

- ( ) – Idade  $\leq$  54 anos
- ( ) – Leucócitos  $>$  16.000/mm<sup>3</sup>
- ( ) – Glicemia  $>$  200 mg/dl
- ( ) – Desidrogenase láctica sérica  $>$  350 UI/L
- ( ) – AST  $<$  250 UI/L

- a) V - V - V - V - V.
- b) F - V - V - V - F.
- c) F - F - V - V - V.
- d) F - V - F - V - F.
- e) V - F - V - F - V.

**28. Assinale a alternativa com a correlação correta das causas de hipertensão secundária.**

**I – Doenças Renais**

**II – Doença endócrina**

**III – Outras doenças**

- ( ) Doses altas de estrogênio
- ( ) Glomerulonefrite
- ( ) Doença do rim policístico

- ( ) Hipertireoidismo  
( ) Aterosclerose  
( ) Hipercalcemia  
( ) Apneia do sono obstrutiva
- a) I; I; III; II; I; III; II.  
b) II; III; I; II; I; III; I.  
c) III; I; I; II; I; III; III.  
d) II; I; I; II; I; III; II.  
e) II; III; II; I; I; II; III.

**29. Assinale a alternativa incorreta a respeito das orientações aos indivíduos residentes no Brasil, com idade igual ou superior a cinco anos, que viajarão a países com recomendação de vacina para Poliomielite a visitantes, contidas no Programa Nacional de Imunização, publicado no ano 2016.**

- a) Sem comprovação vacinal: administrar duas doses de Vacina Oral Poliomielite (VOP), com intervalo de 90 dias entre elas.  
b) Sem comprovação vacinal: administrar três doses da VOP, com intervalo de 60 dias entre elas, mínimo 30 dias.  
c) Com esquema incompleto: completar o esquema com a VOP.  
d) Gestantes e imunodeprimidos e/ou seus contatos devem receber esquema com Vacina Inativada Poliomielite (VIP).  
e) Para aqueles indivíduos que receberam três doses ou mais de VOP ou VIP, caso a última dose tenha sido administrada há mais de 12 meses, garantir antes da viagem uma única dose de reforço com VOP ou VIP.

**30. Assinale a alternativa que contém o antimicrobiano contraindicado à gestante no segundo trimestre de gestação com quadro de infecção urinária, sem história de reação alérgica a medicamentos anteriormente:**

- a) Sulfametoxazol e Timetropina  
b) Cefalotina  
c) Nitrofurantoína  
d) Ciprofloxacino  
e) Amoxicilina

**31. A osteomielite é um processo infeccioso que envolve o osso e cavidade medular, geralmente causada por bactéria. A rota de entrada da bactéria no tecido ósseo é um fator importante no quadro clínico e no tratamento do paciente. Assinale a alternativa incorreta que relaciona a rota de entrada de microrganismos nos ossos.**

- a) O microrganismo pode infectar os ossos pela disseminação hematogênica.  
b) O microrganismo pode infectar os ossos pela disseminação liquórica.  
c) O microrganismo pode infectar os ossos pela inoculação externa como uma fratura aberta.  
d) O microrganismo pode infectar os ossos por um efeito pós-cirúrgico.  
e) O microrganismo pode infectar os ossos pela extensão de uma estrutura adjacente infectada.

**32. Tumores ósseos e lesões pseudotumorais não são raros. Muitos deles não são verdadeiramente tumores, mas hematomas ou displasias. No entanto, a OMS os enquadraram como tumores por possuírem comportamentos e evolução semelhantes. O diagnóstico precoce é a chave para o bom resultado do tratamento.**

**Sobre o diagnóstico clínico dos tumores ósseos, assinale a alternativa incorreta:**

- a) O diagnóstico de tumor ósseo não costuma ser difícil. Porém, deve-se lembrar que lesões metabólicas e infecciosas podem ter um comportamento que mimetize um tumor ósseo.  
b) Os tumores benignos costumam acometer pacientes nas três primeiras décadas de vida ou aparecer como achado radiológico de uma lesão antiga. Em regra, sua tendência é para involução.  
c) Os tumores malignos surgem em qualquer idade.  
d) O linfoma de Ewing pode aparecer após 40 anos de idade.  
e) O linfoma do osso aparece entre 20 a 50 anos de idade.

**33. Nas radiografias a seguir, observamos uma lesão geográfica, osteolítica, na base da falange proximal do dedo médio, pouco insuflante, com fratura sem desvio (A); Ossificação avançada em encondroma do úmero proximal (B). Fica evidente um tipo de tumor benigno caracterizado pela formação de cartilagem madura; este tipo de lesão é muito comum nos ossos tubulares das mãos e dos pés; geralmente o diagnóstico é um achado radiológico, engrossamento leve de dedo ou fratura patológica. Esse tipo de tumor também pode ser encontrado nos ossos longos, como fêmur e úmero, nos quais evolui para calcificação da lesão.**



(Fonte: HEBERT, S.; ALIMENA, L.J.M. et al.;  
Ortopedia exames e diagnóstico consulta  
rápida, editora Artmed, Porto Alegre, 2011)

**Analisando o texto e a radiografia, assinale a alternativa que indica o nome do tumor benigno relacionado:**

- a) Endocondroma
- b) Osteblastoma
- c) Linfoma do osso
- d) Condrossarcoma
- e) Fibrossarcoma

**34. Numa malformação congênita de coluna foram encontrados os seguintes achados clínicos: pescoço curto, implantação baixa dos cabelos e das orelhas, pterígio cervical e limitação do movimento. Isso ocorre devido à falha na segmentação normal dos somitos entre a quinta a oitava semana de gestação, caracterizada pela anquilose de dois corpos (mais comum C2-C3, ou C5-C4), ou até mesmo a fusão maciça de vários níveis.**

**De acordo com esse texto, assinale a alternativa que indica a doença de malformação congênita relacionada:**

- a) Deformidade de Sprengel
- b) Torcicolo muscular congênito
- c) Síndrome de Klippel-Feil
- d) Mielosquise
- e) Raquisquise

**35. Analise o seguinte texto:**

**“Em decúbito dorsal e membros inferiores estendidos, o paciente flexiona os joelhos e os quadris e, seguida, junta as plantas dos pés, realizando a abertura dos joelhos (abdução). Nesse teste, observam-se a presença de compensação lombopélvica, a ADM dos três eixos de movimento dos quadris e a habilidade (capacidade de executar) do paciente.”**

**Esse texto descreve um teste para avaliação física das disfunções do quadril para fins de reabilitação, cujo nome é:**

- a) Teste de supino-sentar
- b) Teste de rotação externa
- c) Teste de fabre
- d) Teste de extensão do quadril
- e) Teste de tríplice concordância

## LÍNGUA PORTUGUESA

**Texto para as próximas cinco questões:**

### “O cego Estrelinho” Mia Couto

O cego Estrelinho era pessoa de nenhuma vez: sua história poderia ser contada e descontada não fosse seu guia, Gigito Efraim. A mão de Gigito conduziu o desvistado por tempos e idades. Aquela mão era repartidamente comum, extensão de um no outro, siamensal. E assim era quase de nascença. Memória de Estrelinho tinha cinco dedos e eram os de Gigito postos, em aperto, na sua própria mão.

O cego, curioso, queria saber de tudo. Ele não fazia cerimónia no viver. O sempre lhe era pouco e o tudo insuficiente. Dizia, deste modo:

— Tenho que viver já, senão esqueço-me.



Gigitinho, porém, o que descrevia era o que não havia. O mundo que ele minuciava eram fantasias e rendilhados. A imaginação do guia era mais profícua que papaeira. O cego enchia a boca de águas:

— Que maravilhação esse mundo. Me conte tudo, Gigito!

A mão do guia era, afinal, o manuscrito da mentira. Gigito Efraim estava como nunca esteve S. Tomé: via para não crer. O condutor falava pela ponta dos dedos. Desfolhava o universo, aberto em folhas. A ideiação dele era tal que mesmo o cego, por vezes, acreditava ver. O outro lhe encorajava esses breves enganos:

— Desbengale-se, você está escolhendo a boa procedência!

Mentira: Estrelinho continuava sem ver uma palmeira à frente do nariz. Contudo, o cego não se conformava em suas escurezas. Ele cumpria o ditado: não tinha perna e queria dar o pontapé. Só à noite, ele desalentava, sofrendo medos mais antigos que a humanidade. Entendia aquilo que, na raça humana, é menos primitivo: o animal.

— Na noite aflige não haver luz?

— Aflição é ter um pássaro branco esvoando dentro do sono.

Pássaro branco? No sono? Lugar de ave é nas alturas. Dizem até que Deus fez o céu para justificar os pássaros. Estrelinho disfarçava o medo dos vaticínios, subterfugindo:

— E agora, Gigitinho? Agora, olhando assim para cima, estou face ao céu?

Que podia o outro responder? O céu do cego fica em toda a parte. Estrelinho perdia o pé era quando a noite chegava e seu mestre adormecia. Era como se um novo escuro nele se estreasse em nó cego. Devagaroso e sorrateiro ele aninhava sua mão na mão do guia. Só assim adormecia. A razão da concha é a timidez da amêijoa? Na manhã seguinte, o cego lhe confessava: se você morrer, tenho que morrer logo no imediato. Senão-me: como acerto o caminho para o céu?

Foi no mês de dezembro que levaram Gigitinho. Lhe tiraram do mundo para pôr na guerra: obrigavam os serviços militares. O cego reclamou: que o moço inatingia a idade. E que o serviço que ele a si prestava era vital e vitalício. O guia chamou Estrelinho à parte e lhe tranquilizou:

— Não vai ficar sozinando por aí. Minha mana já mandei para ficar no meu lugar.

O cego estendeu o braço a querer tocar uma despedida. Mas o outro já não estava lá. Ou estava e se desviara, propositado? E sem água ida nem vinda, Estrelinho escutou o amigo se afastar, engolido, esponjínquo, invisível. Pela pimeira vez, Estrelinho se sentiu invalidado.

— Agora, só agora, sou cego que não vê.

(...)

**COUTO, Mia. Estórias abensonhadas. Rio de Janeiro: Nova Fronteira, 1996. (Pág 23 e 24).**

**36. Quanto à interpretação do fragmento do conto, podemos afirmar que:**

- Gigito Efraim era o guia de Estrelinho há pouquíssimo tempo.
- Estrelinho era cego de nascença.
- Gigito descrevia o mundo para Estrelinho de forma denotativa.
- Gigito foi convocado pelo exército para ser guia de cegos na guerra.
- Gigito descrevia o mundo para Estrelinho de forma conotativa.

**37. No período “O sempre lhe era pouco e o tudo insuficiente”, o pronome “LHE” exerce a função sintática de:**

- Objeto Direto
- Objeto Indireto
- Complemento Nominal
- Adjunto Adnominal
- Objeto Direto Preposicionado

**38. Na oração “A mão de Gigito conduziu o desvistado por tempos e idades”, o autor faz uso de um neologismo, assim como no decorrer de toda a obra em questão. Contudo, o neologismo só se torna possível pela utilização dos elementos mórficos naquilo que a gramática normativa pontua como Processo de Formação das Palavras. Levando em consideração apenas o recurso morfológico, qual Processo de Formação foi utilizado?**

- Derivação Sufixal
- Derivação Prefixal
- Derivação Regressiva
- Derivação Imprópria
- Derivação Parassintética

**39. No terceiro período do décimo terceiro parágrafo, temos:**

- Uma oração
- Duas orações
- Três orações
- Quatro orações
- Cinco orações



PREFEITURA DE TELÊMACO BORBA - ESTADO DO PARANÁ- EDITAL Nº 001-2016 - CONCURSO PÚBLICO

VESPERTINO – 29/05/2016 – NÍVEL SUPERIOR

**3**

PROVA OBJETIVA NÚMERO

**CARGO: TMNS I - MEDICINA – ORTOPEDIA**

**Leia atentamente as INSTRUÇÕES:**

1. Confira seus dados no cartão-resposta: nome, número de inscrição e o curso para o qual se inscreveu.
2. **MARQUE no seu cartão-resposta o número da sua prova** (não será corrigido o cartão-resposta que não tiver marcado o número da prova) e **Assine** seu cartão-resposta.
3. Aguarde a autorização do Fiscal para abrir o caderno de prova. Ao receber a ordem do fiscal, confira o caderno de prova com muita atenção. Nenhuma reclamação sobre o total de questões ou falha de impressão será aceita depois de iniciada a prova.
4. O cartão-resposta não será substituído, salvo se contiver erro de impressão.
5. Preencha toda a área do cartão-resposta correspondente à alternativa de sua escolha, com caneta esferográfica (tinta azul ou preta), sem ultrapassar as bordas. As marcações duplas, ou rasuradas, com corretivo, ou marcadas diferentemente do modelo estabelecido no cartão-resposta poderão ser anuladas.
6. Sua prova tem **40** questões, com **5** alternativas.
7. Cabe apenas ao candidato a interpretação das questões, **o fiscal** não poderá fazer nenhuma interferência.
8. A prova será realizada com duração máxima de **3 (três) horas**, incluído o tempo para a realização da Prova Objetiva de múltipla escolha e o preenchimento do cartão-resposta.
9. O candidato poderá retirar-se do local de realização das provas somente **1 (uma) hora** após o seu início, sem levar o caderno de prova.
10. O candidato poderá levar o caderno de provas, assim como anotação contendo transcrição do seu cartão-resposta, somente **1h30min** (uma hora e trinta minutos) após o início da realização da prova.
11. Ao terminar a prova, o candidato deverá entregar ao fiscal de sala o cartão-resposta preenchido e **ASSINADO**.
12. Os **3 (três)** candidatos, que terminarem a prova por último, deverão permanecer na sala, e só poderão sair juntos após o fechamento do envelope, contendo os cartões-resposta dos candidatos presentes e ausentes, e assinarem no lacre do referido envelope, atestando que este foi devidamente lacrado.
13. Durante todo o tempo em que permanecer no local onde está ocorrendo o concurso, o candidato deverá, manter o celular desligado e sem bateria, só sendo permitido ligar depois de ultrapassar o portão de saída do prédio.
14. Não será permitido ao candidato fumar na sala de provas, bem como nas dependências.
15. Depois de terminar a prova e entregar ao fiscal o cartão-resposta, preenchido e assinado, não será mais permitido ao candidato o uso do banheiro e bebedouro.

**BOA PROVA!**

**CONHECIMENTOS ESPECÍFICOS**

**01. Assinale a alternativa que apresenta a portaria que institui a Rede de Atenção Psicossocial para pessoas com sofrimento ou transtorno mental e com necessidades decorrentes do uso de crack, álcool e outras drogas, no âmbito do Sistema Único de Saúde:**

- a) Portaria N° 1.498, de 19 de julho de 2013
- b) Portaria N° 793, de 24 de abril de 2012
- c) Portaria N° 2.395, de 11 de outubro de 2011
- d) Portaria N° 3.099, de 23 de dezembro de 2011
- e) Portaria N° 1.459, de 24 de junho de 2011

**02. Analise as afirmativas seguintes e assinale a alternativa que contém o resultado final da soma da(s) afirmativa(s) correta(s):**

- 01 – Toda lesão no sistema nervoso central promove atrofia cortical, progredindo para demência.**
- 02 – Delirium tremens com instabilidade autonômica e hiperatividade simpática associa-se, geralmente, a mortalidade de 5 a 10% dos pacientes.**
- 04 – A classe de medicamento de primeira escolha para pacientes com delirium tremens são os Inibidores da Recapitação da Serotonina como a Amitriptilina.**
- 08 – O etilismo pode desenvolver a encefalopatia de Wernicke.**
- 16 – Os benzodiazepínicos tem ação no sistema de ácido gama-amino-butirico, da mesma forma que o álcool no cérebro humano.**

- a) 06
- b) 07
- c) 09
- d) 19
- e) 26

**03. Leia as assertivas e assinale a alternativa correta.**

**I – A insuficiência cardíaca congestiva é uma síndrome clínica sempre causada por alguma doença cardíaca subjacente, mais comumente miocardiopatia isquêmica resultante de aterosclerose e/ou hipertensão arterial.**

**II – A Doxorrubicina é uma droga amplamente utilizada e que causa efeitos cardiotoxicos com dose cumulativa superior a 450mg/m<sup>2</sup> de superfície corporal.**

**III – Os inibidores da ECA e os BRA associados a betabloqueadores e antagonistas de aldosterona podem diminuir a mortalidade, e aliviam imediatamente os sintomas congestivos.**

**IV – A insuficiência cardíaca crônica é uma doença progressiva com alta mortalidade, e a classe funcional do paciente geralmente não é um guia ao tratamento.**

- a) Apenas I e II estão corretas.
- b) Apenas I e III estão corretas.
- c) Todas estão corretas.
- d) Apenas II e III estão corretas.
- e) Apenas a IV está errada.

**Leia o seguinte caso para responder às próximas três questões.**

**Mulher de 28 anos vai ao consultório queixando-se de dor em joelho direito e hálux contra-lateral, com 10 dias de evolução e que não respondeu ao uso de analgésicos simples. Refere febrícula ao término do dia associada à mialgia inespecífica, além de disúria e corrimento vaginal branco leitoso amarelo esverdeado e prurido ocular bilateral; há 45 dias foi tratada para LUES com esquema adequado preconizado pelo Ministério da Saúde. Ao exame, apresenta-se afebril, e ambos os olhos estão injetados e fotossensíveis; o joelho direito e a primeira articulação metatarsal-falangiana esquerda apresentam-se edemaciados e dolorosos com discreta hiperemia.**

**04. Com base no caso, pode-se afirmar que a paciente apresenta uma tríade. Assinale a assertiva que contém o epônimo dessa tríade.**

- a) Virchow
- b) Reiter
- c) Beck
- d) Charcot
- e) Whipple

**05. Essa paciente possui fator de risco para desenvolver qual patologia ginecológica a médio prazo, se não for tratada corretamente?**

- a) Doença de Paget
- b) Doença de Berger
- c) Síndrome de Fitz-Hugh-Curtis



- d) Endometriose  
 e) Síndrome dos ovários policísticos

**06. Sobre esse caso, analise as afirmativas e assinale a alternativa correta.**

**I – O principal diagnóstico diferencial para esse caso é a gonorreia.**

**II – Essa paciente possivelmente é HLA-B27 negativa.**

**III – Ela pode ser tratada com Azitromicina 1g no D1 e D7 associada com Ceftriaxona 250mg Intramuscular no D1 possui maior índice de cura em relação ao uso de Ceftriaxone 250mg Intramuscular no D1 com doxiciclina 100mg via oral de 12/12 horas por 14 dias.**

**IV – O provável agente etiológico do caso é a *Chlamydia trachomatis*.**

- a) Apenas a I está correta.  
 b) Apenas I e II estão corretas.  
 c) Apenas II e III estão erradas.  
 d) Apenas I e III estão corretas.  
 e) Apenas a II está errada.

**07. Assinale a alternativa em que se faz a correlação incorreta.**

a) Agência Nacional de Saúde Suplementar – responsável pela regularização e fiscalização dos planos de saúde no país.

b) Anvisa – responsável pela fiscalização in loco de estabelecimento de saúde em cada município e a sua correta regularização.

c) Vigilância Epidemiológica – entidade responsável por organizar os dados de agravos em saúde e auxiliar a gestão a realizar estratégias de atenção a saúde.

d) Anvisa – responsável pela deliberação de novas drogas no mercado brasileiro.

e) Vigilância sanitária – responsável pela fiscalização das condições de manipulação de alimentos para os consumidores finais.

**08. Os Centros de Atenção Psicossocial são instituições destinadas a acolher os pacientes com transtornos mentais e estimular sua integração social e familiar, além de outras funções. Para que isso ocorra, necessitam de um número mínimo de membros na equipe.**

**Assinale a alternativa que contém a relação correta entre o tipo de CAPS e sua equipe mínima, conforme a determinação do Ministério da Saúde:**

Tipo de CAPS	Equipe Mínima
I – CAPS I	<b>A – 2 psiquiatras; 1 enfermeiro com formação em nível superior; 5 profissionais de nível superior de outras categorias profissionais; 8 profissionais de nível médio.</b>
II – CAPS II	<b>B – 1 médico psiquiatra, ou neurologista ou pediatra com formação em saúde mental; 1 enfermeiro; 4 profissionais de nível superior dentre psicólogo, assistente social, terapeuta ocupacional, fonoaudiólogo, pedagogo ou outro profissional necessário ao projeto terapêutico; 5 profissionais de nível médio.</b>
III – CAPS III	<b>C – 1 médico psiquiatra ou com formação em saúde mental; 1 enfermeiro, 3 profissionais de nível superior de outras categorias profissionais; 4 profissionais de nível médio.</b>
IV – CAPSi	<b>D – 1 psiquiatra; 1 enfermeiro com formação em saúde mental; 1 médico clínico responsável pela triagem, avaliação e acompanhamento das intercorrências clínicas; 4 profissionais de nível superior necessário ao projeto terapêutico; 6 profissionais de nível médio.</b>
V - CAPSad	<b>E – 1 psiquiatra; 1 enfermeiro com formação em saúde mental; 4 profissionais de nível superior de outras categorias profissionais; 6 profissionais de nível médio.</b>

- a) I-E; II-C; III-A; IV-B; V-D.  
 b) I-E; II-C; III-A; IV-D; V-B.  
 c) I-C; II-B; III-A; IV-E; V-D.  
 d) I-C; II-E; III-A; IV-B; V-D.  
 e) I-E; II-D; III-A; IV-B; V-C.

**09. Analise os seguintes itens a respeito de diarreia crônica e assinale a alternativa correta.**

**I – Diarreias tipo secretória podem ser desencadeadas por cólera, tumor de tireoide medular e uso de laxantes estimulantes exógenos, por exemplo.**

**II – Amiloidose pode promover esteatorreia, da mesma forma que a Doença de Whipple.**

**III – São exemplos de dismotilidade promotora de diarreia crônica: hipertireoidismo, síndrome do intestino irritável e Espru tropical.**

**IV – Pacientes portadores do Vírus da Imunodeficiência Adquirida podem ter, como sintoma inicial, diarreia crônica.**

- a) Todos estão corretos.
- b) Apenas o item IV está incorreto.
- c) Apenas o item III está correto.
- d) Apenas o item III está incorreto.
- e) Apenas o item II está incorreto.

**10. Assinale a assertiva que apresenta a portaria que publica a proposta de Projeto de Resolução “Boas Práticas para Organização e Funcionamento de Serviços de Urgência e Emergência”.**

- a) Portaria N° 30, de 12 de fevereiro de 2014
- b) Portaria N° 354, de 10 de março de 2014
- c) Portaria N° 825, de 25 de abril de 2016
- d) Portaria N° 2.712, de 12 de novembro de 2013
- e) Portaria N° 2.528, de 19 de outubro de 2006

**11. Referente à lombalgia, analise os itens seguintes e assinale a alternativa correta.**

**I – Segundo o trabalho de Deyo, publicado no New England Journal of Medicine em 2001, observou-se que a etiologia prevalente para lombalgia é de estiramento ou entorse lombar.**

**II – Menos de 1% da população adulta economicamente ativa sofre de dorsalgia.**

**III – São sinais e sintomas de alarme na lombalgia: dor iniciada antes dos 20 e após os 50 anos, febre, perda ponderal, dor intensa noturna ou piora da dor em posição supina, incontinência fecal e/ou urinária, história de neoplasia, anestesia em sela, redução da força em membros inferiores e imunossupressão.**

- a) Apenas os itens I e III estão corretos.
- b) Apenas os itens II e III estão corretos.
- c) Apenas os itens II e III estão incorretos.
- d) Os itens I, II e III estão corretos.
- e) Apenas os itens I e III estão incorretos.

**12. A respeito dos Critérios de Ranson, assinale a alternativa que contém a sequência correta da classificação de V (verdadeiro) e F (falso) para os itens a serem considerados na admissão de paciente com quadro de pancreatite aguda.**

- ( ) – Idade  $\leq$  54 anos
- ( ) – Leucócitos  $>$  16.000/mm<sup>3</sup>
- ( ) – Glicemia  $>$  200 mg/dl
- ( ) – Desidrogenase láctica sérica  $>$  350 UI/L
- ( ) – AST  $<$  250 UI/L

- a) V - V - V - V - V.
- b) F - V - V - V - F.
- c) F - F - V - V - V.
- d) F - V - F - V - F.
- e) V - F - V - F - V.

**13. Assinale a alternativa com a correlação correta das causas de hipertensão secundária.**

**I – Doenças Renais**

**II – Doença endócrina**

**III – Outras doenças**

- ( ) Doses altas de estrogênio
- ( ) Glomerulonefrite
- ( ) Doença do rim policístico
- ( ) Hipertireoidismo
- ( ) Aterosclerose
- ( ) Hipercalemia
- ( ) Apneia do sono obstrutiva

- a) I; I; III; II; I; III; II.
- b) II; III; I; II; I; III; I.
- c) III; I; I; II; I; III; III.
- d) II; I; I; II; I; III; II.
- e) II; III; II; I; I; II; III.

**14. Assinale a alternativa incorreta a respeito das orientações aos indivíduos residentes no Brasil, com idade igual ou superior a cinco anos, que viajarão a países com recomendação de vacina para Poliomielite a visitantes, contidas no Programa Nacional de Imunização, publicado no ano 2016.**

- a) Sem comprovação vacinal: administrar duas doses de Vacina Oral Poliomielite(VOP), com intervalo de 90 dias entre elas.

- b) Sem comprovação vacinal: administrar três doses da VOP, com intervalo de 60 dias entre elas, mínimo 30 dias.
- c) Com esquema incompleto: completar o esquema com a VOP.
- d) Gestantes e imunodeprimidos e/ou seus contatos devem receber esquema com Vacina Inativada Poliomielite (VIP).
- e) Para aqueles indivíduos que receberam três doses ou mais de VOP ou VIP, caso a última dose tenha sido administrada há mais de 12 meses, garantir antes da viagem uma única dose de reforço com VOP ou VIP.

**15. Assinale a alternativa que contém o antimicrobiano contraindicado à gestante no segundo trimestre de gestação com quadro de infecção urinária, sem história de reação alérgica a medicamentos anteriormente:**

- a) Sulfametoxazol e Timetropina
- b) Cefalotina
- c) Nitrofurantoína
- d) Ciprofloxacino
- e) Amoxicilina

**16. A osteomielite é um processo infeccioso que envolve o osso e cavidade medular, geralmente causada por bactéria. A rota de entrada da bactéria no tecido ósseo é um fator importante no quadro clínico e no tratamento do paciente. Assinale a alternativa incorreta que relaciona a rota de entrada de microrganismos nos ossos.**

- a) O microrganismo pode infectar os ossos pela disseminação hematogênica.
- b) O microrganismo pode infectar os ossos pela disseminação liquórica.
- c) O microrganismo pode infectar os ossos pela inoculação externa como uma fratura aberta.
- d) O microrganismo pode infectar os ossos por um efeito pós-cirúrgico.
- e) O microrganismo pode infectar os ossos pela extensão de uma estrutura adjacente infectada.

**17. Tumores ósseos e lesões pseudotumorais não são raros. Muitos deles não são verdadeiramente tumores, mas hematomas ou displasias. No entanto, a OMS os enquadram como tumores por possuírem comportamentos e evolução semelhantes. O diagnóstico precoce é a chave para o bom resultado do tratamento.**

**Sobre o diagnóstico clínico dos tumores ósseos, assinale a alternativa incorreta:**

- a) O diagnóstico de tumor ósseo não costuma ser difícil. Porém, deve-se lembrar que lesões metabólicas e infecciosas podem ter um comportamento que mimetize um tumor ósseo.
- b) Os tumores benignos costumam acometer pacientes nas três primeiras décadas de vida ou aparecer como achado radiológico de uma lesão antiga. Em regra, sua tendência é para involução.
- c) Os tumores malignos surgem em qualquer idade.
- d) O linfoma de Ewing pode aparecer após 40 anos de idade.
- e) O linfoma do osso aparece entre 20 a 50 anos de idade.

**18. Nas radiografias a seguir, observamos uma lesão geográfica, osteolítica, na base da falange proximal do dedo médio, pouco insuflante, com fratura sem desvio (A); Ossificação avançada em encondroma do úmero proximal (B). Fica evidente um tipo de tumor benigno caracterizado pela formação de cartilagem madura; este tipo de lesão é muito comum nos ossos tubulares das mãos e dos pés; geralmente o diagnóstico é um achado radiológico, engrossamento leve de dedo ou fratura patológica. Esse tipo de tumor também pode ser encontrado nos ossos longos, como fêmur e úmero, nos quais evolui para calcificação da lesão.**



(Fonte: HEBERT, S.; ALIMENA, L.J.M. et al.; Ortopedia exames e diagnóstico consulta rápida, editora Artmed, Porto Alegre, 2011)

**Analisando o texto e a radiografia, assinale a alternativa que indica o nome do tumor benigno relacionado:**

- a) Endocondroma
- b) Osteoblastoma
- c) Linfoma do osso
- d) Condrossarcoma
- e) Fibrossarcoma

**19. Numa malformação congênita de coluna foram encontrados os seguintes achados clínicos: pescoço curto, implantação baixa dos cabelos e das orelhas, pterígio cervical e limitação do movimento. Isso ocorre devido à falha na segmentação normal dos somitos entre a quinta a oitava semana de gestação, caracterizada pela anquilose de dois corpos (mais comum C2-C3, ou C5-C4), ou até mesmo a fusão maciça de vários níveis.**

**De acordo com esse texto, assinale a alternativa que indica a doença de malformação congênita relacionada:**

- a) Deformidade de Sprengel
- b) Torcicolo muscular congênito
- c) Síndrome de Klippel-Feil
- d) Mielosquise
- e) Raquisquise

**20. Analise o seguinte texto:**

**“Em decúbito dorsal e membros inferiores estendidos, o paciente flexiona os joelhos e os quadris e, e seguida, junta as plantas dos pés, realizando a abertura dos joelhos (abdução). Nesse teste, observam-se a presença de compensação lombopélvica, a ADM dos três eixos de movimento dos quadris e a habilidade (capacidade de executar) do paciente.”**

**Esse texto descreve um teste para avaliação física das disfunções do quadril para fins de reabilitação, cujo nome é:**

- a) Teste de supino-sentar
- b) Teste de rotação externa
- c) Teste de fabre
- d) Teste de extensão do quadril
- e) Teste de tríplex concordância

## LÍNGUA PORTUGUESA

**Texto para as próximas cinco questões:**

### “O cego Estrelinho” Mia Couto

O cego Estrelinho era pessoa de nenhuma vez: sua história poderia ser contada e descontada não fosse seu guia, Gigito Efraim. A mão de Gigito conduziu o desvestido por tempos e idades. Aquela mão era repartidamente comum, extensão de um no outro, siamensal. E assim era quase de nascença. Memória de Estrelinho tinha cinco dedos e eram os de Gigito postos, em aperto, na sua própria mão.

O cego, curioso, queria saber de tudo. Ele não fazia cerimônia no viver. O sempre lhe era pouco e o tudo insuficiente. Dizia, deste modo:

— Tenho que viver já, senão esqueço-me.

Gigitinho, porém, o que descrevia era o que não havia. O mundo que ele minuciava eram fantasias e rendilhados. A imaginação do guia era mais profícua que papaeira. O cego enchia a boca de águas:

— Que maravilhação esse mundo. Me conte tudo, Gigito!

A mão do guia era, afinal, o manuscrito da mentira. Gigito Efraim estava como nunca esteve S. Tomé: via para não crer. O condutor falava pela ponta dos dedos. Desfolhava o universo, aberto em folhas. A ideiação dele era tal que mesmo o cego, por vezes, acreditava ver. O outro lhe encorajava esses breves enganos:

— Desbengale-se, você está escolhendo a boa procedência!

Mentira: Estrelinho continuava sem ver uma palmeira à frente do nariz. Contudo, o cego não se conformava em suas escurezas. Ele cumpria o ditado: não tinha perna e queria dar o pontapé. Só à noite, ele desalentava, sofrendo medos mais antigos que a humanidade. Entendia aquilo que, na raça humana, é menos primitivo: o animal.

— Na noite aflige não haver luz?

— Aflição é ter um pássaro branco esvoando dentro do sono.

Pássaro branco? No sono? Lugar de ave é nas alturas. Dizem até que Deus fez o céu para justificar os pássaros. Estrelinho disfarçava o medo dos vaticínios, subterfugindo:

— E agora, Gigitinho? Agora, olhando assim para cima, estou face ao céu?

Que podia o outro responder? O céu do cego fica em toda a parte. Estrelinho perdia o pé era quando a noite chegava e seu mestre adormecia. Era como se um novo escuro nele se estresse em nó cego. Devagaroso e sorrateiro ele aninhava sua mão na mão do guia. Só assim adormecia. A razão da concha é a timidez da amêijoia?

Na manhã seguinte, o cego lhe confessava: se você morrer, tenho que morrer logo no imediato. Senão-me: como acerto o caminho para o céu?

Foi no mês de dezembro que levaram Gigitinho. Lhe tiraram do mundo para pôr na guerra: obrigavam os serviços militares. O cego reclamou: que o moço inatingia a idade. E que o serviço que ele a si prestava era vital e vitalício. O guia chamou Estrelinho à parte e lhe tranquilizou:

— Não vai ficar sozinando por aí. Minha mana já mandei para ficar no meu lugar.

O cego estendeu o braço a querer tocar uma despedida. Mas o outro já não estava lá. Ou estava e se desviara, propositado? E sem água ida nem vinda, Estrelinho escutou o amigo se afastar, engolido, esponginquo, invisível. Pela primeira vez, Estrelinho se sentiu invalidado.

— Agora, só agora, sou cego que não vê.

(...)

**COUTO, Mia. Estórias abensonhadas. Rio de Janeiro: Nova Fronteira, 1996. (Pág 23 e 24).**

**21. Quanto à interpretação do fragmento do conto, podemos afirmar que:**

- Gigito Efraim era o guia de Estrelinho há pouquíssimo tempo.
- Estrelinho era cego de nascença.
- Gigito descrevia o mundo para Estrelinho de forma denotativa.
- Gigito foi convocado pelo exército para ser guia de cegos na guerra.
- Gigito descrevia o mundo para Estrelinho de forma conotativa.

**22. No período “O sempre lhe era pouco e o tudo insuficiente”, o pronome “LHE” exerce a função sintática de:**

- Objeto Direto
- Objeto Indireto
- Complemento Nominal
- Adjunto Adnominal
- Objeto Direto Preposicionado

**23. Na oração “A mão de Gigito conduziu o desvistado por tempos e idades”, o autor faz uso de um neologismo, assim como no decorrer de toda a obra em questão. Contudo, o neologismo só se torna possível pela utilização dos elementos mórficos naquilo que a gramática normativa pontua como Processo de Formação das Palavras. Levando em consideração apenas o recurso morfológico, qual Processo de Formação foi utilizado?**

- Derivação Sufixal
- Derivação Prefixal
- Derivação Regressiva
- Derivação Imprópria
- Derivação Parassintética

**24. No terceiro período do décimo terceiro parágrafo, temos:**

- Uma oração
- Duas orações
- Três orações
- Quatro orações
- Cinco orações

**25. No último parágrafo do fragmento do conto “— Agora, só agora, sou cego que não vê”, a oração subordinada presente classifica-se corretamente como:**

- Oração Subordinada Adjetiva Restritiva
- Oração Subordinada Adverbial Causal
- Oração Subordinada Substantiva Subjetiva
- Oração Subordinada Adverbial Explicativa
- Oração Subordinada Adjetiva Explicativa

#### **RACIOCÍNIO LÓGICO**

**26. Os cinco filhos de Ana estavam discutindo a respeito da data de nascimento da mãe:**

- Almir disse que foi em janeiro, dia 14, sexta-feira.
- Vanderlei disse que foi em janeiro, dia 14, sábado.
- Tiago disse que foi em fevereiro, dia 15, sábado.
- Sandro disse que foi em janeiro, dia 15, sexta-feira.
- Renato disse que foi em fevereiro, dia 15, sexta-feira.

**Sabe-se que somente um dos filhos de Ana acertou corretamente sua data de nascimento e que os outros acertaram pelo menos um dos itens (dia, dia da semana e mês). Dessa forma, é correto afirmar que o filho de Ana que acertou a data de nascimento dela foi:**

- Renato

- b) Sandro
- c) Tiago
- d) Vanderlei
- e) Almir

**27. Considere a seguinte afirmativa: “Todo churrasqueiro gosta de picanha”. Em relação a essa proposição, é correto afirmar que:**

- a) Algum churrasqueiro não gosta de picanha.
- b) Toda pessoa que gosta de picanha é churrasqueira.
- c) Alguma pessoa que não gosta de picanha é churrasqueira.
- d) Toda pessoa que não é churrasqueira, não gosta de picanha.
- e) Toda pessoa que não gosta de picanha, não é churrasqueira.

**28. Em um grupo formado por 67 pessoas, verificou-se que 41 pessoas gostam de arroz, 29 gostam de feijão, 33 gostam de carne, 19 gostam de arroz e de feijão, 9 gostam apenas de arroz e de carne, 12 gostam de feijão e de carne e que 6 gostam de arroz, de feijão e de carne. O número de pessoas desse grupo, que não gosta de nenhum desses três tipos de alimentos é igual a:**

- a) 4
- b) 5
- c) 6
- d) 8
- e) 10

**29. Bruno escreveu, em seu caderno, várias sequências formadas por números múltiplos de 4, onde os valores que ocupavam as posições pares eram multiplicados por  $-1$ . Cada sequência foi somada e o resultado da soma anotado. A soma das três primeiras sequências escritas por Bruno foram as seguintes:**

$$4 - 8 = -4$$

$$4 - 8 + 12 = 8$$

$$4 - 8 + 12 - 16 = -8$$

**Considere que Bruno escreveu e somou tais sequências, em seu caderno, de modo a obter determinada sequência cuja soma foi 600. O número de termos dessa sequência é igual a:**

- a) 149
- b) 150
- c) 298
- d) 299
- e) 300

**30. Quatro torcedores, um do São Paulo, um do Cruzeiro, um do Vasco e um do Bahia, estão sentados ao redor de uma mesa quadrada, de modo que, dois a dois, fiquem frente a frente. Sabe-se que Alan é torcedor do Cruzeiro e que Bruno está sentado à direita de Alan. Sabe-se também que Caio está sentado à direita do torcedor do São Paulo. Sabe-se ainda que Daniel não é torcedor do Vasco e que está sentado à frente de Bruno. Dessa forma, é correto afirmar que:**

- a) Bruno é torcedor do Bahia e Daniel é torcedor do São Paulo.
- b) Bruno é torcedor do São Paulo e Daniel é torcedor do Bahia.
- c) Caio é torcedor do Vasco e Daniel é torcedor do São Paulo.
- d) Caio é torcedor do Bahia e Daniel é torcedor do São Paulo.
- e) Bruno é torcedor do Vasco e Daniel é torcedor do Bahia.

## INFORMÁTICA

**31. Considerando o MS-Excel versão 2010, observando a figura abaixo, é correto afirmar que:**

	A	B	C
1			
2			
3			
4			

- a) Somente 03 três linhas estão selecionadas.
- b) Somente uma célula está selecionada.
- c) 12 (doze) células estão selecionadas.
- d) Somente a coluna A até a linha 4 (quatro) está selecionada.
- e) Somente as colunas 1 (um), 2 (dois), 3 (três) e 4 (quatro) estão selecionadas.

**32. Considerando o MS-Excel versão 2010, observando a figura abaixo, é incorreto afirmar que:**



	A	B	C
1	12	6	=A1*B1
2	8	2	=A2/B2
3	5	14	=A3-B3
4	6	11	=A4+B4

- a) O resultado da fórmula =A1\*B1 é 72.  
 b) O resultado da fórmula =A2/B2 é 4.  
 c) O resultado da fórmula =A3-B3 é -9.  
 d) O resultado da fórmula =A3-B3 é 9.  
 e) O resultado da fórmula =A4+B4 é 17.

**33. Digitando um texto no MS-Word versão 2010, necessito adicionar número nas páginas. Quanto a isso, é correto afirmar que:**

- a) No menu Layout da Página, clico em número de página e seleciono onde desejo adicionar os números.  
 b) No menu Inserir, clico em número de página e seleciono onde desejo adicionar os números.  
 c) No menu Revisão, clico em número de página e seleciono onde desejo adicionar os números.  
 d) No menu Referências, clico em número de página e seleciono onde desejo adicionar os números.  
 e) No menu Exibição, clico em número de página e seleciono onde desejo adicionar os números.

**34. A segurança da informação está diretamente relacionada com proteção de um conjunto de informações, no sentido de preservar o valor que possuem para um indivíduo ou uma organização. Atualmente, um dos aplicativos mais utilizados no mundo, o Whats app, teve uma alteração de confidencialidade muito importante na segurança das informações transmitidas e recebidas. Dentre as alternativas, assinale a que corretamente informa a alteração inserida no aplicativo Whats app.**

- a) Antispam  
 b) Antivirus  
 c) Firewall  
 d) Antispyware  
 e) Criptografia

**35. São todos os dispositivos que trabalham acoplados ao microcomputador para receber, transmitir, visualizar, ler, gravar ou armazenarem dados. São eles que permitem a comunicação do computador com o meio exterior, isto é, com os usuários e outras máquinas.**

**Esse texto descreve corretamente:**

- a) Memória ram  
 b) Memória virtual  
 c) Software  
 d) Periféricos  
 e) Hardware

## CONHECIMENTOS GERAIS

**36. Hino do município de Telêmaco Borba/PR**

Das virgens matas e campos verdejantes  
 Servindo-se também o rio Tibagi,  
 Homens de ideais, espíritos vibrantes.  
 Constituíram as indústrias aqui.

Estrilho:

Salve! Salve! Telêmaco Borba  
 Terra querida e de grandes primores,  
 A nossa homenagem rendamos  
 À cidade dos trabalhadores.

Pois a cadência de enorme e real progresso  
 Um município mui grandioso fez nascer,  
 Marcando assim, verdadeiro sucesso  
 Faz, então o Paraná engrandecer.

**No que tange ao Hino do município, atribua V (verdadeiro) ou F (falso) às afirmativas e marque a alternativa correta.**

- ( ) Eloah Martins Quadrado é autora da letra do hino.  
 ( ) Bento Mossurunga compôs a música do hino.  
 ( ) Eloah Martins Quadrado foi nomeada primeira professora da Cidade Nova, atual Telêmaco Borba.



( ) **Bento Mossurunga fundou a orquestra Estudantil e Concertos – Orquestra Sinfônica da Universidade, a Sociedade de Cultura Artístico Basilio Itiberê.**

- a) F, V, V, V.
- b) V, F, V, V.
- c) V, V, F, V.
- d) V, V, F, F.
- e) V, V, V, V.

**37. À luz da Lei nº 1883/2012, que dispõe sobre o Estatuto dos Servidores Públicos da Administração Direta, Autárquica e Funcional do Município de Telêmaco Borba/PR, leia as alternativas e marque a correta.**

- a) A apresentação para a posse ocorrerá no prazo de até trinta dias, contados do ato de nomeação.
- b) A destituição do servidor da função gratificada dar-se-á por solicitação exclusiva dele mesmo.
- c) O servidor ocupante exclusivamente de cargo em comissão será contribuinte do regime geral de previdência social.
- d) A aprovação em concurso público gera o direito à nomeação, e será feita obedecida à ordem de classificação dos candidatos.
- e) O exercício de função gratificada poderá ser de dedicação integral ou parcial, conforme necessidade da administração.

**Conforme a Lei nº 1.881, de 05 de abril de 2012, que dispõe sobre o Plano de Cargos, Carreiras e Vencimentos do quadro geral de servidores da Prefeitura Municipal de Telêmaco Borba/PR, regulamentada pelo Decreto nº 2269/2015, responda às próximas três questões.**

**38. Leia as assertivas e assinala a incorreta.**

- a) Do resultado da avaliação de desempenho poderá ser interposto recurso à Comissão de Desenvolvimento Funcional no prazo de quinze dias a contar da publicação no Boletim Oficial do Município.
- b) Não será concedida a progressão ou promoção ao servidor que estiver em licença para tratamento de saúde por um período superior a quarenta e cinco dias, no período de avaliação.
- c) A alternância dos membros constituintes da Comissão de Desenvolvimento Funcional eleitos pelos servidores verificar-se-á a cada três anos de participação, observados, para substituição de seus participantes, o critério fixado no artigo anterior, não cabendo eleição sucessiva.
- d) Caberá à Comissão de Desenvolvimento Funcional, no caso de divergência de vinte por cento entre a nota do avaliador e a do avaliado, solicitar nova avaliação à chefia.
- e) Nos termos do disposto no art. 17 da Lei nº 1.881, de 05 de abril de 2012, para progredir, é necessário que o servidor satisfaça, dentre outros, o seguinte requisito: estar no efetivo exercício de seu cargo ou em função comissionada na sua área de atuação durante o interstício de dois anos.

**39. Assinale a alternativa que completa respectivamente as lacunas do texto a seguir:**

**A Comissão de Desenvolvimento Funcional será constituída por \_\_\_\_\_ membros, sendo \_\_\_\_\_ designados pelo Prefeito Municipal de Telêmaco Borba e os demais eleitos pelos servidores municipais dentre os estáveis, com a atribuição de coordenar os procedimentos relativos à avaliação periódica de desempenho e outras atribuições.**

- a) três / sete
- b) um / três
- c) sete / três
- d) três / cinco
- e) dois / cinco

**40. A Avaliação de Desempenho será norteadada, dentre outros, pelo seguinte princípio: Amplitude - a avaliação deve incidir sobre todas as áreas de atuação do servidor, que compreendem:**

1. a formulação de políticas administrativas e sua aplicação para todos os setores da administração municipal;
2. o desempenho do profissional dentro de suas funções pertinentes;
3. a estrutura do órgão em que exerce a função;
4. os resultados de eficiência dos serviços de cada setor ou órgão da administração municipal;
5. a participação direta do avaliado, durante todo o processo avaliativo.

**Diante dessa afirmação, somente não está correto o item:**

- a) 1
- b) 2
- c) 3
- d) 4
- e) 5



PREFEITURA DE TELÊMACO BORBA - ESTADO DO PARANÁ- **EDITAL Nº 001-2016 - CONCURSO PÚBLICO**

**VESPERTINO – 29/05/2016 – NÍVEL SUPERIOR**

**1**

**PROVA OBJETIVA NÚMERO**

**CARGO: TMNS I - MEDICINA - OTORRINOLARINGOLOGIA**

**Leia atentamente as INSTRUÇÕES:**

1. Confira seus dados no cartão-resposta: nome, número de inscrição e o curso para o qual se inscreveu.
2. **MARQUE no seu cartão-resposta o número da sua prova** (não será corrigido o cartão-resposta que não tiver marcado o número da prova) e **Assine** seu cartão-resposta.
3. Aguarde a autorização do Fiscal para abrir o caderno de prova. Ao receber a ordem do fiscal, confira o caderno de prova com muita atenção. Nenhuma reclamação sobre o total de questões ou falha de impressão será aceita depois de iniciada a prova.
4. O cartão-resposta não será substituído, salvo se contiver erro de impressão.
5. Preencha toda a área do cartão-resposta correspondente à alternativa de sua escolha, com caneta esferográfica (tinta azul ou preta), sem ultrapassar as bordas. As marcações duplas, ou rasuradas, com corretivo, ou marcadas diferentemente do modelo estabelecido no cartão-resposta poderão ser anuladas.
6. Sua prova tem **40** questões, com **5** alternativas.
7. Cabe apenas ao candidato a interpretação das questões, **o fiscal** não poderá fazer nenhuma interferência.
8. A prova será realizada com duração máxima de **3 (três) horas**, incluído o tempo para a realização da Prova Objetiva de múltipla escolha e o preenchimento do cartão-resposta.
9. O candidato poderá retirar-se do local de realização das provas somente **1 (uma) hora** após o seu início, sem levar o caderno de prova.
10. O candidato poderá levar o caderno de provas, assim como anotação contendo transcrição do seu cartão-resposta, somente **1h30min** (uma hora e trinta minutos) após o início da realização da prova.
11. Ao terminar a prova, o candidato deverá entregar ao fiscal de sala o cartão-resposta preenchido e **ASSINADO**.
12. Os **3 (três)** candidatos, que terminarem a prova por último, deverão permanecer na sala, e só poderão sair juntos após o fechamento do envelope, contendo os cartões-resposta dos candidatos presentes e ausentes, e assinarem no lacre do referido envelope, atestando que este foi devidamente lacrado.
13. Durante todo o tempo em que permanecer no local onde está ocorrendo o concurso, o candidato deverá, manter o celular desligado e sem bateria, só sendo permitido ligar depois de ultrapassar o portão de saída do prédio.
14. Não será permitido ao candidato fumar na sala de provas, bem como nas dependências.
15. Depois de terminar a prova e entregar ao fiscal o cartão-resposta, preenchido e assinado, não será mais permitido ao candidato o uso do banheiro e bebedouro.

**BOA PROVA!**

**LÍNGUA PORTUGUESA**

Texto para as próximas cinco questões:

**“O cego Estrelinho”  
Mia Couto**

O cego Estrelinho era pessoa de nenhuma vez: sua história poderia ser contada e descontada não fosse seu guia, Gigito Efraim. A mão de Gigito conduziu o desvistado por tempos e idades. Aquela mão era repartidamente comum, extensão de um no outro, siamensal. E assim era quase de nascença. Memória de Estrelinho tinha cinco dedos e eram os de Gigito postos, em aperto, na sua própria mão.

O cego, curioso, queria saber de tudo. Ele não fazia cerimônia no viver. O sempre lhe era pouco e o tudo insuficiente. Dizia, deste modo:

— Tenho que viver já, senão esqueço-me.

Gigitinho, porém, o que descrevia era o que não havia. O mundo que ele minuciava eram fantasias e rendilhados. A imaginação do guia era mais profícua que papaeira. O cego enchia a boca de águas:

— Que maravilhação esse mundo. Me conte tudo, Gigito!

A mão do guia era, afinal, o manuscrito da mentira. Gigito Efraim estava como nunca esteve S. Tomé: via para não crer. O condutor falava pela ponta dos dedos. Desfolhava o universo, aberto em folhas. A ideiação dele era tal que mesmo o cego, por vezes, acreditava ver. O outro lhe encorajava esses breves enganos:

— Desbengale-se, você está escolhendo a boa procedência!

Mentira: Estrelinho continuava sem ver uma palmeira à frente do nariz. Contudo, o cego não se conformava em suas escurezas. Ele cumpria o ditado: não tinha perna e queria dar o pontapé. Só à noite, ele desalentava, sofrendo medos mais antigos que a humanidade. Entendia aquilo que, na raça humana, é menos primitivo: o animal.

— Na noite aflige não haver luz?

— Aflição é ter um pássaro branco esvoando dentro do sono.

Pássaro branco? No sono? Lugar de ave é nas alturas. Dizem até que Deus fez o céu para justificar os pássaros. Estrelinho disfarçava o medo dos vaticínios, subterfugindo:

— E agora, Gigitinho? Agora, olhando assim para cima, estou face ao céu?

Que podia o outro responder? O céu do cego fica em toda a parte. Estrelinho perdia o pé era quando a noite chegava e seu mestre adormecia. Era como se um novo escuro nele se estreasse em nó cego. Devagaroso e sorrateiro ele aninhava sua mão na mão do guia. Só assim adormecia. A razão da concha é a timidez da amêijoia? Na manhã seguinte, o cego lhe confessava: se você morrer, tenho que morrer logo no imediato. Senão-me: como acerto o caminho para o céu?

Foi no mês de dezembro que levaram Gigitinho. Lhe tiraram do mundo para pôr na guerra: obrigavam os serviços militares. O cego reclamou: que o moço inatingia a idade. E que o serviço que ele a si prestava era vital e vitalício. O guia chamou Estrelinho à parte e lhe tranquilizou:

— Não vai ficar sozinho por aí. Minha mana já mandei para ficar no meu lugar.

O cego estendeu o braço a querer tocar uma despedida. Mas o outro já não estava lá. Ou estava e se desviara, propositado? E sem água ida nem vinda, Estrelinho escutou o amigo se afastar, engolido, esponginquo, inexistível. Pela primeira vez, Estrelinho se sentiu invalidado.

— Agora, só agora, sou cego que não vê.

(...)

**COUTO, Mia. Estórias abensonhadas. Rio de Janeiro: Nova Fronteira, 1996. (Pág 23 e 24).**

**01. Quanto à interpretação do fragmento do conto, podemos afirmar que:**

- Gigito Efraim era o guia de Estrelinho há pouquíssimo tempo.
- Estrelinho era cego de nascença.
- Gigito descrevia o mundo para Estrelinho de forma denotativa.
- Gigito foi convocado pelo exército para ser guia de cegos na guerra.
- Gigito descrevia o mundo para Estrelinho de forma conotativa.

**02. No período “O sempre lhe era pouco e o tudo insuficiente”, o pronome “LHE” exerce a função sintática de:**

- Objeto Direto
- Objeto Indireto
- Complemento Nominal
- Adjunto Adnominal
- Objeto Direto Preposicionado

**03. Na oração “A mão de Gigito conduziu o desvistado por tempos e idades”, o autor faz uso de um neologismo, assim como no decorrer de toda a obra em questão. Contudo, o neologismo só se torna possível pela utilização dos elementos mórficos naquilo que a gramática normativa pontua como Processo de Formação das Palavras. Levando em consideração apenas o recurso morfológico, qual Processo de Formação foi utilizado?**

- Derivação Sufixal

- b) Derivação Prefixal
- c) Derivação Regressiva
- d) Derivação Imprópria
- e) Derivação Parassintética

**04. No terceiro período do décimo terceiro parágrafo, temos:**

- a) Uma oração
- b) Duas orações
- c) Três orações
- d) Quatro orações
- e) Cinco orações

**05. No último parágrafo do fragmento do conto “— Agora, só agora, sou cego que não vê”, a oração subordinada presente classifica-se corretamente como:**

- a) Oração Subordinada Adjetiva Restritiva
- b) Oração Subordinada Adverbial Causal
- c) Oração Subordinada Substantiva Subjetiva
- d) Oração Subordinada Adverbial Explicativa
- e) Oração Subordinada Adjetiva Explicativa

#### **RACIOCÍNIO LÓGICO**

**06. Os cinco filhos de Ana estavam discutindo a respeito da data de nascimento da mãe:**

- Almir disse que foi em janeiro, dia 14, sexta-feira.
- Vanderlei disse que foi em janeiro, dia 14, sábado.
- Tiago disse que foi em fevereiro, dia 15, sábado.
- Sandro disse que foi em janeiro, dia 15, sexta-feira.
- Renato disse que foi em fevereiro, dia 15, sexta-feira.

**Sabe-se que somente um dos filhos de Ana acertou corretamente sua data de nascimento e que os outros acertaram pelo menos um dos itens (dia, dia da semana e mês). Dessa forma, é correto afirmar que o filho de Ana que acertou a data de nascimento dela foi:**

- a) Renato
- b) Sandro
- c) Tiago
- d) Vanderlei
- e) Almir

**07. Considere a seguinte afirmativa: “Todo churrasqueiro gosta de picanha”. Em relação a essa proposição, é correto afirmar que:**

- a) Algum churrasqueiro não gosta de picanha.
- b) Toda pessoa que gosta de picanha é churrasqueira.
- c) Alguma pessoa que não gosta de picanha é churrasqueira.
- d) Toda pessoa que não é churrasqueira, não gosta de picanha.
- e) Toda pessoa que não gosta de picanha, não é churrasqueira.

**08. Em um grupo formado por 67 pessoas, verificou-se que 41 pessoas gostam de arroz, 29 gostam de feijão, 33 gostam de carne, 19 gostam de arroz e de feijão, 9 gostam apenas de arroz e de carne, 12 gostam de feijão e de carne e que 6 gostam de arroz, de feijão e de carne. O número de pessoas desse grupo, que não gosta de nenhum desses três tipos de alimentos é igual a:**

- a) 4
- b) 5
- c) 6
- d) 8
- e) 10

**09. Bruno escreveu, em seu caderno, várias sequências formadas por números múltiplos de 4, onde os valores que ocupavam as posições pares eram multiplicados por  $-1$ . Cada sequência foi somada e o resultado da soma anotado. A soma das três primeiras sequências escritas por Bruno foram as seguintes:**

$$4 - 8 = -4$$
$$4 - 8 + 12 = 8$$
$$4 - 8 + 12 - 16 = -8$$

**Considere que Bruno escreveu e somou tais sequências, em seu caderno, de modo a obter determinada sequência cuja soma foi 600. O número de termos dessa sequência é igual a:**

- a) 149
- b) 150
- c) 298

- d) 299  
e) 300

10. Quatro torcedores, um do São Paulo, um do Cruzeiro, um do Vasco e um do Bahia, estão sentados ao redor de uma mesa quadrada, de modo que, dois a dois, fiquem frente a frente. Sabe-se que Alan é torcedor do Cruzeiro e que Bruno está sentado à direita de Alan. Sabe-se também que Caio está sentado à direita do torcedor do São Paulo. Sabe-se ainda que Daniel não é torcedor do Vasco e que está sentado à frente de Bruno. Dessa forma, é correto afirmar que:

- a) Bruno é torcedor do Bahia e Daniel é torcedor do São Paulo.  
b) Bruno é torcedor do São Paulo e Daniel é torcedor do Bahia.  
c) Caio é torcedor do Vasco e Daniel é torcedor do São Paulo.  
d) Caio é torcedor do Bahia e Daniel é torcedor do São Paulo.  
e) Bruno é torcedor do Vasco e Daniel é torcedor do Bahia.

### INFORMÁTICA

11. Considerando o MS-Excel versão 2010, observando a figura abaixo, é correto afirmar que:

	A	B	C
1			
2			
3			
4			

- a) Somente 03 três linhas estão selecionadas.  
b) Somente uma célula está selecionada.  
c) 12 (doze) células estão selecionadas.  
d) Somente a coluna A até a linha 4 (quatro) está selecionada.  
e) Somente as colunas 1 (um), 2 (dois), 3 (três) e 4 (quatro) estão selecionadas.

12. Considerando o MS-Excel versão 2010, observando a figura abaixo, é incorreto afirmar que:

	A	B	C
1	12	6	=A1*B1
2	8	2	=A2/B2
3	5	14	=A3-B3
4	6	11	=A4+B4

- a) O resultado da fórmula =A1\*B1 é 72.  
b) O resultado da fórmula =A2/B2 é 4.  
c) O resultado da fórmula =A3-B3 é -9.  
d) O resultado da fórmula =A3-B3 é 9.  
e) O resultado da fórmula =A4+B4 é 17.

13. Digitando um texto no MS-Word versão 2010, necessito adicionar número nas páginas. Quanto a isso, é correto afirmar que:

- a) No menu Layout da Página, clico em número de página e seleciono onde desejo adicionar os números.  
b) No menu Inserir, clico em número de página e seleciono onde desejo adicionar os números.  
c) No menu Revisão, clico em número de página e seleciono onde desejo adicionar os números.  
d) No menu Referências, clico em número de página e seleciono onde desejo adicionar os números.  
e) No menu Exibição, clico em número de página e seleciono onde desejo adicionar os números.

14. A segurança da informação está diretamente relacionada com proteção de um conjunto de informações, no sentido de preservar o valor que possuem para um indivíduo ou uma organização. Atualmente, um dos aplicativos mais utilizados no mundo, o Whats app, teve uma alteração de confidencialidade muito importante na segurança das informações transmitidas e recebidas. Dentre as alternativas, assinale a que corretamente informa a alteração inserida no aplicativo Whats app.

- a) Antispam  
b) Antivirus  
c) Firewall  
d) Antispyware  
e) Criptografia



**15. São todos os dispositivos que trabalham acoplados ao microcomputador para receber, transmitir, visualizar, ler, gravar ou armazenarem dados. São eles que permitem a comunicação do computador com o meio exterior, isto é, com os usuários e outras máquinas.**

**Esse texto descreve corretamente:**

- a) Memória ram
- b) Memória virtual
- c) Software
- d) Periféricos
- e) Hardware

### CONHECIMENTOS GERAIS

#### 16. Hino do município de Telêmaco Borba/PR

Das virgens matas e campos verdejantes

Servindo-se também o rio Tibagi,

Homens de ideais, espíritos vibrantes.

Constituíram as indústrias aqui.

Estrilho:

Salve! Salve! Telêmaco Borba

Terra querida e de grandes primores,

A nossa homenagem rendamos

À cidade dos trabalhadores.

Pois a cadência de enorme e real progresso

Um município mui grandioso fez nascer,

Marcando assim, verdadeiro sucesso

Faz, então o Paraná engrandecer.

**No que tange ao Hino do município, atribua V (verdadeiro) ou F (falso) às afirmativas e marque a alternativa correta.**

Eloah Martins Quadrado é autora da letra do hino.

Bento Mossurunga compôs a música do hino.

Eloah Martins Quadrado foi nomeada primeira professora da Cidade Nova, atual Telêmaco Borba.

Bento Mossurunga fundou a orquestra Estudantil e Concertos – Orquestra Sinfônica da Universidade, a Sociedade de Cultura Artístico Basílio Itiberê.

- a) F, V, V, V.
- b) V, F, V, V.
- c) V, V, F, V.
- d) V, V, F, F.
- e) V, V, V, V.

**17. À luz da Lei nº 1883/2012, que dispões sobre o Estatuto dos Servidores Públicos da Administração Direta, Autárquica e Funcional do Município de Telêmaco Borba/PR, leia as alternativas e marque a correta.**

a) A apresentação para a posse ocorrerá no prazo de até trinta dias, contados do ato de nomeação.

b) A destituição do servidor da função gratificada dar-se-á por solicitação exclusiva dele mesmo.

c) O servidor ocupante exclusivamente de cargo em comissão será contribuinte do regime geral de previdência social.

d) A aprovação em concurso público gera o direito à nomeação, e será feita obedecida à ordem de classificação dos candidatos.

e) O exercício de função gratificada poderá ser de dedicação integral ou parcial, conforme necessidade da administração.

**Conforme a Lei nº 1.881, de 05 de abril de 2012, que dispõe sobre o Plano de Cargos, Carreiras e Vencimentos do quadro geral de servidores da Prefeitura Municipal de Telêmaco Borba/PR, regulamentada pelo Decreto nº 2269/2015, responda às próximas três questões.**

**18. Leia as assertivas e assinala a incorreta.**

a) Do resultado da avaliação de desempenho poderá ser interposto recurso à Comissão de Desenvolvimento Funcional no prazo de quinze dias a contar da publicação no Boletim Oficial do Município.

b) Não será concedida a progressão ou promoção ao servidor que estiver em licença para tratamento de saúde por um período superior a quarenta e cinco dias, no período de avaliação.

c) A alternância dos membros constituintes da Comissão de Desenvolvimento Funcional eleitos pelos servidores verificar-se-á a cada três anos de participação, observados, para substituição de seus participantes, o critério fixado no artigo anterior, não cabendo eleição sucessiva.

d) Caberá à Comissão de Desenvolvimento Funcional, no caso de divergência de vinte por cento entre a nota do avaliador e a do avaliado, solicitar nova avaliação à chefia.



e) Nos termos do disposto no art. 17 da Lei nº 1.881, de 05 de abril de 2012, para progredir, é necessário que o servidor satisfaça, dentre outros, o seguinte requisito: estar no efetivo exercício de seu cargo ou em função comissionada na sua área de atuação durante o interstício de dois anos.

**19. Assinale a alternativa que completa respectivamente as lacunas do texto a seguir:**

**A Comissão de Desenvolvimento Funcional será constituída por \_\_\_\_\_ membros, sendo \_\_\_\_\_ designados pelo Prefeito Municipal de Telêmaco Borba e os demais eleitos pelos servidores municipais dentre os estáveis, com a atribuição de coordenar os procedimentos relativos à avaliação periódica de desempenho e outras atribuições.**

- a) três / sete
- b) um / três
- c) sete / três
- d) três / cinco
- e) dois / cinco

**20. A Avaliação de Desempenho será norteada, dentre outros, pelo seguinte princípio: Amplitude - a avaliação deve incidir sobre todas as áreas de atuação do servidor, que compreendem:**

- 1. a formulação de políticas administrativas e sua aplicação para todos os setores da administração municipal;**
- 2. o desempenho do profissional dentro de suas funções pertinentes;**
- 3. a estrutura do órgão em que exerce a função;**
- 4. os resultados de eficiência dos serviços de cada setor ou órgão da administração municipal;**
- 5. a participação direta do avaliado, durante todo o processo avaliativo.**

**Diante dessa afirmação, somente não está correto o item:**

- a) 1
- b) 2
- c) 3
- d) 4
- e) 5

#### **CONHECIMENTOS ESPECÍFICOS**

**21. Assinale a alternativa que apresenta a portaria que institui a Rede de Atenção Psicossocial para pessoas com sofrimento ou transtorno mental e com necessidades decorrentes do uso de crack, álcool e outras drogas, no âmbito do Sistema Único de Saúde:**

- a) Portaria N° 1.498, de 19 de julho de 2013
- b) Portaria N° 793, de 24 de abril de 2012
- c) Portaria N° 2.395, de 11 de outubro de 2011
- d) Portaria N° 3.099, de 23 de dezembro de 2011
- e) Portaria N° 1.459, de 24 de junho de 2011

**22. Analise as afirmativas seguintes e assinale a alternativa que contém o resultado final da soma da(s) afirmativa(s) correta(s):**

**01 – Toda lesão no sistema nervoso central promove atrofia cortical, progredindo para demência.**

**02 – Delirium tremens com instabilidade autonômica e hiperatividade simpática associa-se, geralmente, a mortalidade de 5 a 10% dos pacientes.**

**04 – A classe de medicamento de primeira escolha para pacientes com delirium tremens são os Inibidores da Recapitação da Serotonina como a Amitriptilina.**

**08 – O etilismo pode desenvolver a encefalopatia de Wernicke.**

**16 – Os benzodiazepínicos tem ação no sistema de ácido gama-amino-butirico, da mesma forma que o álcool no cérebro humano.**

- a) 06
- b) 07
- c) 09
- d) 19
- e) 26

**23. Leia as assertivas e assinale a alternativa correta.**

**I – A insuficiência cardíaca congestiva é uma síndrome clínica sempre causada por alguma doença cardíaca subjacente, mais comumente miocardiopatia isquêmica resultante de aterosclerose e/ou hipertensão arterial.**

**II – A Doxorubicina é uma droga amplamente utilizada e que causa efeitos cardiotoxícos com dose cumulativa superior a 450mg/m<sup>2</sup> de superfície corporal.**

**III – Os inibidores da ECA e os BRA associados a betabloqueadores e antagonistas de aldosterona podem diminuir a mortalidade, e aliviam imediatamente os sintomas congestivos.**

**IV – A insuficiência cardíaca crônica é uma doença progressiva com alta mortalidade, e a classe funcional do paciente geralmente não é um guia ao tratamento.**

- a) Apenas I e II estão corretas.
- b) Apenas I e III estão corretas.
- c) Todas estão corretas.
- d) Apenas II e III estão corretas.
- e) Apenas a IV está errada.

**Leia o seguinte caso para responder às próximas três questões.**

**Mulher de 28 anos vai ao consultório queixando-se de dor em joelho direito e hálux contra-lateral, com 10 dias de evolução e que não respondeu ao uso de analgésicos simples. Refere febrícula ao término do dia associada à mialgia inespecífica, além de disúria e corrimento vaginal branco leitoso amarelo esverdeado e prurido ocular bilateral; há 45 dias foi tratada para LUES com esquema adequado preconizado pelo Ministério da Saúde. Ao exame, apresenta-se afebril, e ambos os olhos estão injetados e fotossensíveis; o joelho direito e a primeira articulação metatarsofalangiana esquerda apresentam-se edemaciados e dolorosos com discreta hiperemia.**

**24. Com base no caso, pode-se afirmar que a paciente apresenta uma tríade. Assinale a assertiva que contém o epônimo dessa tríade.**

- a) Virchow
- b) Reiter
- c) Beck
- d) Charcot
- e) Whipple

**25. Essa paciente possui fator de risco para desenvolver qual patologia ginecológica a médio prazo, se não for tratada corretamente?**

- a) Doença de Paget
- b) Doença de Berger
- c) Síndrome de Fitz-Hugh-Curtis
- d) Endometriose
- e) Síndrome dos ovários policísticos

**26. Sobre esse caso, analise as afirmativas e assinale a alternativa correta.**

**I – O principal diagnóstico diferencial para esse caso é a gonorreia.**

**II – Essa paciente possivelmente é HLA-B27 negativa.**

**III – Ela pode ser tratada com Azitromicina 1g no D1 e D7 associada com Ceftriaxona 250mg Intramuscular no D1 possui maior índice de cura em relação ao uso de Ceftriaxone 250mg Intramuscular no D1 com doxiciclina 100mg via oral de 12/12 horas por 14 dias.**

**IV – O provável agente etiológico do caso é a *Chlamydia trachomatis*.**

- a) Apenas a I está correta.
- b) Apenas I e II estão corretas.
- c) Apenas II e III estão erradas.
- d) Apenas I e III estão corretas.
- e) Apenas a II está errada.

**27. Assinale a alternativa em que se faz a correlação incorreta.**

- a) Agência Nacional de Saúde Suplementar – responsável pela regularização e fiscalização dos planos de saúde no país.
- b) Anvisa – responsável pela fiscalização in loco de estabelecimento de saúde em cada município e a sua correta regularização.
- c) Vigilância Epidemiológica – entidade responsável por organizar os dados de agravos em saúde e auxiliar a gestão a realizar estratégias de atenção a saúde.
- d) Anvisa – responsável pela deliberação de novas drogas no mercado brasileiro.
- e) Vigilância sanitária – responsável pela fiscalização das condições de manipulação de alimentos para os consumidores finais.

**28. Os Centros de Atenção Psicossocial são instituições destinadas a acolher os pacientes com transtornos mentais e estimular sua integração social e familiar, além de outras funções. Para que isso ocorra, necessitam de um número mínimo de membros na equipe.**

**Assinale a alternativa que contém a relação correta entre o tipo de CAPS e sua equipe mínima, conforme a determinação do Ministério da Saúde:**

---

Tipo de CAPS	Equipe Mínima
--------------	---------------

---

I – CAPS I	A – 2 psiquiatras; 1 enfermeiro com formação em nível superior; 5 profissionais de nível superior de outras categorias profissionais; 8 profissionais de nível médio.
II – CAPS II	B – 1 médico psiquiatra, ou neurologista ou pediatra com formação em saúde mental; 1 enfermeiro; 4 profissionais de nível superior dentre psicólogo, assistente social, terapeuta ocupacional, fonoaudiólogo, pedagogo ou outro profissional necessário ao projeto terapêutico; 5 profissionais de nível médio.
III – CAPS III	C – 1 médico psiquiatra ou com formação em saúde mental; 1 enfermeiro, 3 profissionais de nível superior de outras categorias profissionais; 4 profissionais de nível médio.
IV – CAPSi	D – 1 psiquiatra; 1 enfermeiro com formação em saúde mental; 1 médico clínico responsável pela triagem, avaliação e acompanhamento das intercorrências clínicas; 4 profissionais de nível superior necessário ao projeto terapêutico; 6 profissionais de nível médio.
V - CAPSad	E – 1 psiquiatra; 1 enfermeiro com formação em saúde mental; 4 profissionais de nível superior de outras categorias profissionais; 6 profissionais de nível médio.

- a) I-E; II-C; III-A; IV-B; V-D.  
 b) I-E; II-C; III-A; IV-D; V-B.  
 c) I-C; II-B; III-A; IV-E; V-D.  
 d) I-C; II-E; III-A; IV-B; V-D.  
 e) I-E; II-D; III-A; IV-B; V-C.

29. Analise os seguintes itens a respeito de diarreia crônica e assinale a alternativa correta.

**I – Diarreias tipo secretória podem ser desencadeadas por cólera, tumor de tireoide medular e uso de laxantes estimulantes exógenos, por exemplo.**

**II – Amiloidose pode promover esteatorreia, da mesma forma que a Doença de Whipple.**

**III – São exemplos de dismotilidade promotora de diarreia crônica: hipertireoidismo, síndrome do intestino irritável e Espru tropical.**

**IV – Pacientes portadores do Vírus da Imunodeficiência Adquirida podem ter, como sintoma inicial, diarreia crônica.**

- a) Todos estão corretos.  
 b) Apenas o item IV está incorreto.  
 c) Apenas o item III está correto.  
 d) Apenas o item III está incorreto.  
 e) Apenas o item II está incorreto.

30. Assinale a assertiva que apresenta a portaria que publica a proposta de Projeto de Resolução “Boas Práticas para Organização e Funcionamento de Serviços de Urgência e Emergência”.

- a) Portaria Nº 30, de 12 de fevereiro de 2014  
 b) Portaria Nº 354, de 10 de março de 2014  
 c) Portaria Nº 825, de 25 de abril de 2016  
 d) Portaria Nº 2.712, de 12 de novembro de 2013  
 e) Portaria Nº 2.528, de 19 de outubro de 2006

31. Referente à lombalgia, analise os itens seguintes e assinale a alternativa correta.

**I – Segundo o trabalho de Deyo, publicado no New England Journal of Medicine em 2001, observou-se que a etiologia prevalente para lombalgia é de estiramento ou entorse lombar.**

**II – Menos de 1% da população adulta economicamente ativa sofre de dorsalgia.**

**III – São sinais e sintomas de alarme na lombalgia: dor iniciada antes dos 20 e após os 50 anos, febre, perda ponderal, dor intensa noturna ou piora da dor em posição supina, incontinência fecal e/ou urinária, história de neoplasia, anestesia em sela, redução da força em membros inferiores e imunossupressão.**

- a) Apenas os itens I e III estão corretos.  
 b) Apenas os itens II e III estão corretos.  
 c) Apenas os itens II e III estão incorretos.  
 d) Os itens I, II e III estão corretos.  
 e) Apenas os itens I e III estão incorretos.

32. A respeito dos Critérios de Ranson, assinale a alternativa que contém a sequência correta da classificação de V (verdadeiro) e F (falso) para os itens a serem considerados na admissão de paciente com quadro de pancreatite aguda.

- ( ) – Idade ≤ 54 anos  
 ( ) – Leucócitos > 16.000/mm<sup>3</sup>  
 ( ) – Glicemia > 200 mg/dl  
 ( ) – Desidrogenase láctica sérica > 350 UI/L

( ) – AST < 250 UI/L

- a) V - V - V - V - V.
- b) F - V - V - V - F.
- c) F - F - V - V - V.
- d) F - V - F - V - F.
- e) V - F - V - F - V.

**33. Assinale a alternativa com a correlação correta das causas de hipertensão secundária.**

**I – Doenças Renais**

**II – Doença endócrina**

**III – Outras doenças**

- ( ) Doses altas de estrogênio
- ( ) Glomerulonefrite
- ( ) Doença do rim policístico
- ( ) Hipertireoidismo
- ( ) Aterosclerose
- ( ) Hipercalemia
- ( ) Apneia do sono obstrutiva

- a) I; I; III; II; I; III; II.
- b) II; III; I; II; I; III; I.
- c) III; I; I; II; I; III; III.
- d) II; I; I; II; I; III; II.
- e) II; III; II; I; I; II; III.

**34. Assinale a alternativa incorreta a respeito das orientações aos indivíduos residentes no Brasil, com idade igual ou superior a cinco anos, que viajarão a países com recomendação de vacina para Poliomielite a visitantes, contidas no Programa Nacional de Imunização, publicado no ano 2016.**

- a) Sem comprovação vacinal: administrar duas doses de Vacina Oral Poliomielite(VOP), com intervalo de 90 dias entre elas.
- b) Sem comprovação vacinal: administrar três doses da VOP, com intervalo de 60 dias entre elas, mínimo 30 dias.
- c) Com esquema incompleto: completar o esquema com a VOP.
- d) Gestantes e imunodeprimidos e/ou seus contatos devem receber esquema com Vacina Inativada Poliomielite (VIP).
- e) Para aqueles indivíduos que receberam três doses ou mais de VOP ou VIP, caso a última dose tenha sido administrada há mais de 12 meses, garantir antes da viagem uma única dose de reforço com VOP ou VIP.

**35. Assinale a alternativa que contém o antimicrobiano contraindicado à gestante no segundo trimestre de gestação com quadro de infecção urinária, sem história de reação alérgica a medicamentos anteriormente:**

- a) Sulfametoxazol e Timetropina
- b) Cefalotina
- c) Nitrofurantoína
- d) Ciprofloxacino
- e) Amoxicilina

**36. No início da fase imediata que ocorre na rinite alérgica, qual mediador inflamatório que não participa do processo alérgico?**

- a) IL-4
- b) IL-3
- c) Interferon-alfa
- d) Fator de necrose tumoral beta
- e) IL-13

**37. A epistaxe é um problema otorrinolaringológico comum e, na maioria das vezes, controlada clinicamente. Pode ocorrer em qualquer idade, porém é mais frequente em crianças entre 3 a 8 anos de idade, funcionalmente pode ser dividido em anterior ou posterior, sendo o sangramento mais intenso na região posterior ou superior do nariz. As causas da epistaxe podem ser locais ou sistêmicas, porém 10 % dos casos são desconhecidos.**

**Analizando esse texto, assinale a alternativa que não apresenta uma causa sistêmica da epistaxe.**

- a) Leucemia
- b) Doença de Rendu-Osler-Weber
- c) Hipertensão Arterial
- d) Uso de AINES
- e) Inflamações por infecções virais



**38. A apneia obstrutiva do sono é uma doença crônica, com alta taxa de morbidade e mortalidade, apresentando um cortejo sintomático polimorfo que vai desde ronco até a sonolência excessiva diurna, com graves repercussões gerais hemodinâmicas, neurológicas e comportamentais.**

**Sobre as alterações hemodinâmicas que a apneia obstrutiva do sono causa, assinale a alternativa incorreta:**

- a) Os períodos apneicos e a consequente hipóxia e hipercapnia podem determinar arritmias cardíacas.
- b) As apneias determinam um aumento tônico da atividade parassimpática, o que justifica a sonolência.
- c) Entre as variações neuroendócrinas, é observado intolerância à insulina.
- d) Entre as variações neuroendócrinas, é observado redução da atividade do sistema renina-angiotensina.
- e) Entre as variações neuroendócrinas, é observado redução da secreção do hormônio do crescimento.

**39. A fisiopatologia da rinossinusite está basicamente relacionada a três fatores locais: patência do óstio natural do seio; atividade mucociliar e qualidade das secreções nasais. A alteração destes fatores, seja de forma isolada ou combinada, traduz-se na quebra da homeostase nasossinusal, ocasionando a retenção de secreções no seio afetado, o que propicia um meio de cultura ideal para o crescimento bacteriano.**

**Analisando esse texto, assinale a alternativa que não se enquadra a fatores associados à obstrução ostial:**

- a) Alergia
- b) Fibrose cística
- c) Desvio septal
- d) Sondas
- e) Óxido nítrico

**40. Os poucos estudos publicados mostram que as bactérias responsáveis pela rinossinusites na população infantil são, em geral, similares àquelas vistas no adulto e são as mesmas causadoras da otite média.**

**Assinale a alternativa que indica um patógeno que não é comum nas rinossinusites crônicas:**

- a) *Treponema pallidum*
- b) *Streptococcus pneumoniae*
- c) *Moraxella catarrhalis*
- d) *Staphylococcus aureus*
- e) *Haemophilus influenzae*

**RASCUNHO**





PREFEITURA DE TELÊMACO BORBA - ESTADO DO PARANÁ- EDITAL Nº 001-2016 - CONCURSO PÚBLICO

VESPERTINO – 29/05/2016 – NÍVEL SUPERIOR

PROVA OBJETIVA NÚMERO

**2**

**CARGO: TMNS I - MEDICINA - OTORRINOLARINGOLOGIA**

**Leia atentamente as INSTRUÇÕES:**

1. Confira seus dados no cartão-resposta: nome, número de inscrição e o curso para o qual se inscreveu.
2. **MARQUE no seu cartão-resposta o número da sua prova** (não será corrigido o cartão-resposta que não tiver marcado o número da prova) e **Assine** seu cartão-resposta.
3. Aguarde a autorização do Fiscal para abrir o caderno de prova. Ao receber a ordem do fiscal, confira o caderno de prova com muita atenção. Nenhuma reclamação sobre o total de questões ou falha de impressão será aceita depois de iniciada a prova.
4. O cartão-resposta não será substituído, salvo se contiver erro de impressão.
5. Preencha toda a área do cartão-resposta correspondente à alternativa de sua escolha, com caneta esferográfica (tinta azul ou preta), sem ultrapassar as bordas. As marcações duplas, ou rasuradas, com corretivo, ou marcadas diferentemente do modelo estabelecido no cartão-resposta poderão ser anuladas.
6. Sua prova tem **40** questões, com **5** alternativas.
7. Cabe apenas ao candidato a interpretação das questões, **o fiscal** não poderá fazer nenhuma interferência.
8. A prova será realizada com duração máxima de **3 (três) horas**, incluído o tempo para a realização da Prova Objetiva de múltipla escolha e o preenchimento do cartão-resposta.
9. O candidato poderá retirar-se do local de realização das provas somente **1 (uma) hora** após o seu início, sem levar o caderno de prova.
10. O candidato poderá levar o caderno de provas, assim como anotação contendo transcrição do seu cartão-resposta, somente **1h30min** (uma hora e trinta minutos) após o início da realização da prova.
11. Ao terminar a prova, o candidato deverá entregar ao fiscal de sala o cartão-resposta preenchido e **ASSINADO**.
12. Os **3 (três)** candidatos, que terminarem a prova por último, deverão permanecer na sala, e só poderão sair juntos após o fechamento do envelope, contendo os cartões-resposta dos candidatos presentes e ausentes, e assinarem no lacre do referido envelope, atestando que este foi devidamente lacrado.
13. Durante todo o tempo em que permanecer no local onde está ocorrendo o concurso, o candidato deverá, manter o celular desligado e sem bateria, só sendo permitido ligar depois de ultrapassar o portão de saída do prédio.
14. Não será permitido ao candidato fumar na sala de provas, bem como nas dependências.
15. Depois de terminar a prova e entregar ao fiscal o cartão-resposta, preenchido e assinado, não será mais permitido ao candidato o uso do banheiro e bebedouro.

**BOA PROVA!**

**RACIOCÍNIO LÓGICO**

**01. Os cinco filhos de Ana estavam discutindo a respeito da data de nascimento da mãe:**

- Almir disse que foi em janeiro, dia 14, sexta-feira.
- Vanderlei disse que foi em janeiro, dia 14, sábado.
- Tiago disse que foi em fevereiro, dia 15, sábado.
- Sandro disse que foi em janeiro, dia 15, sexta-feira.
- Renato disse que foi em fevereiro, dia 15, sexta-feira.

**Sabe-se que somente um dos filhos de Ana acertou corretamente sua data de nascimento e que os outros acertaram pelo menos um dos itens (dia, dia da semana e mês). Dessa forma, é correto afirmar que o filho de Ana que acertou a data de nascimento dela foi:**

- a) Renato
- b) Sandro
- c) Tiago
- d) Vanderlei
- e) Almir

**02. Considere a seguinte afirmativa: “Todo churrasqueiro gosta de picanha”. Em relação a essa proposição, é correto afirmar que:**

- a) Algum churrasqueiro não gosta de picanha.
- b) Toda pessoa que gosta de picanha é churrasqueira.
- c) Alguma pessoa que não gosta de picanha é churrasqueira.
- d) Toda pessoa que não é churrasqueira, não gosta de picanha.
- e) Toda pessoa que não gosta de picanha, não é churrasqueira.

**03. Em um grupo formado por 67 pessoas, verificou-se que 41 pessoas gostam de arroz, 29 gostam de feijão, 33 gostam de carne, 19 gostam de arroz e de feijão, 9 gostam apenas de arroz e de carne, 12 gostam de feijão e de carne e que 6 gostam de arroz, de feijão e de carne. O número de pessoas desse grupo, que não gosta de nenhum desses três tipos de alimentos é igual a:**

- a) 4
- b) 5
- c) 6
- d) 8
- e) 10

**04. Bruno escreveu, em seu caderno, várias sequências formadas por números múltiplos de 4, onde os valores que ocupavam as posições pares eram multiplicados por  $-1$ . Cada sequência foi somada e o resultado da soma anotado. A soma das três primeiras sequências escritas por Bruno foram as seguintes:**

$$4 - 8 = -4$$

$$4 - 8 + 12 = 8$$

$$4 - 8 + 12 - 16 = -8$$

**Considere que Bruno escreveu e somou tais sequências, em seu caderno, de modo a obter determinada sequência cuja soma foi 600. O número de termos dessa sequência é igual a:**

- a) 149
- b) 150
- c) 298
- d) 299
- e) 300

**05. Quatro torcedores, um do São Paulo, um do Cruzeiro, um do Vasco e um do Bahia, estão sentados ao redor de uma mesa quadrada, de modo que, dois a dois, fiquem frente a frente. Sabe-se que Alan é torcedor do Cruzeiro e que Bruno está sentado à direita de Alan. Sabe-se também que Caio está sentado à direita do torcedor do São Paulo. Sabe-se ainda que Daniel não é torcedor do Vasco e que está sentado à frente de Bruno. Dessa forma, é correto afirmar que:**

- a) Bruno é torcedor do Bahia e Daniel é torcedor do São Paulo.
- b) Bruno é torcedor do São Paulo e Daniel é torcedor do Bahia.
- c) Caio é torcedor do Vasco e Daniel é torcedor do São Paulo.
- d) Caio é torcedor do Bahia e Daniel é torcedor do São Paulo.
- e) Bruno é torcedor do Vasco e Daniel é torcedor do Bahia.

**INFORMÁTICA**

06. Considerando o MS-Excel versão 2010, observando a figura abaixo, é correto afirmar que:

	A	B	C
1			
2			
3			
4			

- Somente 03 três linhas estão selecionadas.
- Somente uma célula está selecionada.
- 12 (doze) células estão selecionadas.
- Somente a coluna A até a linha 4 (quatro) está selecionada.
- Somente as colunas 1 (um), 2 (dois), 3 (três) e 4 (quatro) estão selecionadas.

07. Considerando o MS-Excel versão 2010, observando a figura abaixo, é incorreto afirmar que:

	A	B	C
1	12	6	=A1*B1
2	8	2	=A2/B2
3	5	14	=A3-B3
4	6	11	=A4+B4

- O resultado da fórmula =A1\*B1 é 72.
- O resultado da fórmula =A2/B2 é 4.
- O resultado da fórmula =A3-B3 é -9.
- O resultado da fórmula =A3-B3 é 9.
- O resultado da fórmula =A4+B4 é 17.

08. Digitando um texto no MS-Word versão 2010, necessito adicionar número nas páginas. Quanto a isso, é correto afirmar que:

- No menu Layout da Página, clico em número de página e seleciono onde desejo adicionar os números.
- No menu Inserir, clico em número de página e seleciono onde desejo adicionar os números.
- No menu Revisão, clico em número de página e seleciono onde desejo adicionar os números.
- No menu Referências, clico em número de página e seleciono onde desejo adicionar os números.
- No menu Exibição, clico em número de página e seleciono onde desejo adicionar os números.

09. A segurança da informação está diretamente relacionada com proteção de um conjunto de informações, no sentido de preservar o valor que possuem para um indivíduo ou uma organização. Atualmente, um dos aplicativos mais utilizados no mundo, o Whats app, teve uma alteração de confidencialidade muito importante na segurança das informações transmitidas e recebidas. Dentre as alternativas, assinale a que corretamente informa a alteração inserida no aplicativo Whats app.

- Antispam
- Antivirus
- Firewall
- Antispyware
- Criptografia

10. São todos os dispositivos que trabalham acoplados ao microcomputador para receber, transmitir, visualizar, ler, gravar ou armazenarem dados. São eles que permitem a comunicação do computador com o meio exterior, isto é, com os usuários e outras máquinas.

Esse texto descreve corretamente:

- Memória ram
- Memória virtual
- Software
- Periféricos
- Hardware

**CONHECIMENTOS GERAIS**

11. Hino do município de Telêmaco Borba/PR

Das virgens matas e campos verdejantes  
 Servindo-se também o rio Tibagi,



Homens de ideais, espíritos vibrantes.  
 Constituíram as indústrias aqui.  
 Estribilho:  
 Salve! Salve! Telêmaco Borba  
 Terra querida e de grandes primores,  
 A nossa homenagem rendamos  
 À cidade dos trabalhadores.  
 Pois a cadência de enorme e real progresso  
 Um município mui grandioso fez nascer,  
 Marcando assim, verdadeiro sucesso  
 Faz, então o Paraná engrandecer.

**No que tange ao Hino do município, atribua V (verdadeiro) ou F (falso) às afirmativas e marque a alternativa correta.**

- ( ) Eloah Martins Quadrado é autora da letra do hino.  
 ( ) Bento Mossurunga compôs a música do hino.  
 ( ) Eloah Martins Quadrado foi nomeada primeira professora da Cidade Nova, atual Telêmaco Borba.  
 ( ) Bento Mossurunga fundou a orquestra Estudantil e Concertos – Orquestra Sinfônica da Universidade, a Sociedade de Cultura Artístico Basílio Itiberê.  
 a) F, V, V, V.  
 b) V, F, V, V.  
 c) V, V, F, V.  
 d) V, V, F, F.  
 e) V, V, V, V.

**12. À luz da Lei nº 1883/2012, que dispões sobre o Estatuto dos Servidores Públicos da Administração Direta, Autárquica e Funcional do Município de Telêmaco Borba/PR, leia as alternativas e marque a correta.**

- a) A apresentação para a posse ocorrerá no prazo de até trinta dias, contados do ato de nomeação.  
 b) A destituição do servidor da função gratificada dar-se-á por solicitação exclusiva dele mesmo.  
 c) O servidor ocupante exclusivamente de cargo em comissão será contribuinte do regime geral de previdência social.  
 d) A aprovação em concurso público gera o direito à nomeação, e será feita obedecida à ordem de classificação dos candidatos.  
 e) O exercício de função gratificada poderá ser de dedicação integral ou parcial, conforme necessidade da administração.

**Conforme a Lei nº 1.881, de 05 de abril de 2012, que dispõe sobre o Plano de Cargos, Carreiras e Vencimentos do quadro geral de servidores da Prefeitura Municipal de Telêmaco Borba/PR, regulamentada pelo Decreto nº 2269/2015, responda às próximas três questões.**

**13. Leia as assertivas e assinala a incorreta.**

- a) Do resultado da avaliação de desempenho poderá ser interposto recurso à Comissão de Desenvolvimento Funcional no prazo de quinze dias a contar da publicação no Boletim Oficial do Município.  
 b) Não será concedida a progressão ou promoção ao servidor que estiver em licença para tratamento de saúde por um período superior a quarenta e cinco dias, no período de avaliação.  
 c) A alternância dos membros constituintes da Comissão de Desenvolvimento Funcional eleitos pelos servidores verificar-se-á a cada três anos de participação, observados, para substituição de seus participantes, o critério fixado no artigo anterior, não cabendo eleição sucessiva.  
 d) Caberá à Comissão de Desenvolvimento Funcional, no caso de divergência de vinte por cento entre a nota do avaliador e a do avaliado, solicitar nova avaliação à chefia.  
 e) Nos termos do disposto no art. 17 da Lei nº 1.881, de 05 de abril de 2012, para progredir, é necessário que o servidor satisfaça, dentre outros, o seguinte requisito: estar no efetivo exercício de seu cargo ou em função comissionada na sua área de atuação durante o interstício de dois anos.

**14. Assinale a alternativa que completa respectivamente as lacunas do texto a seguir:**

**A Comissão de Desenvolvimento Funcional será constituída por \_\_\_\_\_ membros, sendo \_\_\_\_\_ designados pelo Prefeito Municipal de Telêmaco Borba e os demais eleitos pelos servidores municipais dentre os estáveis, com a atribuição de coordenar os procedimentos relativos à avaliação periódica de desempenho e outras atribuições.**

- a) três / sete  
 b) um / três  
 c) sete / três  
 d) três / cinco  
 e) dois / cinco

**15. A Avaliação de Desempenho será norteadada, dentre outros, pelo seguinte princípio: Amplitude - a avaliação deve incidir sobre todas as áreas de atuação do servidor, que compreendem:**

- 1. a formulação de políticas administrativas e sua aplicação para todos os setores da administração municipal;**
- 2. o desempenho do profissional dentro de suas funções pertinentes;**
- 3. a estrutura do órgão em que exerce a função;**
- 4. os resultados de eficiência dos serviços de cada setor ou órgão da administração municipal;**
- 5. a participação direta do avaliado, durante todo o processo avaliativo.**

**Diante dessa afirmação, somente não está correto o item:**

- a) 1
- b) 2
- c) 3
- d) 4
- e) 5

### **CONHECIMENTOS ESPECÍFICOS**

**16. Assinale a alternativa que apresenta a portaria que institui a Rede de Atenção Psicossocial para pessoas com sofrimento ou transtorno mental e com necessidades decorrentes do uso de crack, álcool e outras drogas, no âmbito do Sistema Único de Saúde:**

- a) Portaria N° 1.498, de 19 de julho de 2013
- b) Portaria N° 793, de 24 de abril de 2012
- c) Portaria N° 2.395, de 11 de outubro de 2011
- d) Portaria N° 3.099, de 23 de dezembro de 2011
- e) Portaria N° 1.459, de 24 de junho de 2011

**17. Analise as afirmativas seguintes e assinale a alternativa que contém o resultado final da soma da(s) afirmativa(s) correta(s):**

**01 – Toda lesão no sistema nervoso central promove atrofia cortical, progredindo para demência.**

**02 – Delirium tremens com instabilidade autonômica e hiperatividade simpática associa-se, geralmente, a mortalidade de 5 a 10% dos pacientes.**

**04 – A classe de medicamento de primeira escolha para pacientes com delirium tremens são os Inibidores da Recaptação da Serotonina como a Amitriptilina.**

**08 – O etilismo pode desenvolver a encefalopatia de Wernicke.**

**16 – Os benzodiazepínicos tem ação no sistema de ácido gama-amino-butirico, da mesma forma que o álcool no cérebro humano.**

- a) 06
- b) 07
- c) 09
- d) 19
- e) 26

**18. Leia as assertivas e assinale a alternativa correta.**

**I – A insuficiência cardíaca congestiva é uma síndrome clínica sempre causada por alguma doença cardíaca subjacente, mais comumente miocardiopatia isquêmica resultante de aterosclerose e/ou hipertensão arterial.**

**II – A Doxorrubicina é uma droga amplamente utilizada e que causa efeitos cardiotoxicos com dose cumulativa superior a 450mg/m<sup>2</sup> de superfície corporal.**

**III – Os inibidores da ECA e os BRA associados a betabloqueadores e antagonistas de aldosterona podem diminuir a mortalidade, e aliviam imediatamente os sintomas congestivos.**

**IV – A insuficiência cardíaca crônica é uma doença progressiva com alta mortalidade, e a classe funcional do paciente geralmente não é um guia ao tratamento.**

- a) Apenas I e II estão corretas.
- b) Apenas I e III estão corretas.
- c) Todas estão corretas.
- d) Apenas II e III estão corretas.
- e) Apenas a IV está errada.

**Leia o seguinte caso para responder às próximas três questões.**

**Mulher de 28 anos vai ao consultório queixando-se de dor em joelho direito e hálux contra-lateral, com 10 dias de evolução e que não respondeu ao uso de analgésicos simples. Refere febrícula ao término do dia associada à mialgia inespecífica, além de disúria e corrimento vaginal branco leitoso amarelo esverdeado e prurido ocular bilateral; há 45 dias foi tratada para LUES com esquema adequado preconizado pelo Ministério da Saúde. Ao exame, apresenta-se afebril, e ambos os olhos estão injetados e fotossensíveis; o**

joelho direito e a primeira articulação metatarsofalangiana esquerda apresentam-se edemaciados e dolorosos com discreta hiperemia.

**19. Com base no caso, pode-se afirmar que a paciente apresenta uma tríade. Assinale a assertiva que contém o epônimo dessa tríade.**

- a) Virchow
- b) Reiter
- c) Beck
- d) Charcot
- e) Whipple

**20. Essa paciente possui fator de risco para desenvolver qual patologia ginecológica a médio prazo, se não for tratada corretamente?**

- a) Doença de Paget
- b) Doença de Berger
- c) Síndrome de Fitz-Hugh-Curtis
- d) Endometriose
- e) Síndrome dos ovários policísticos

**21. Sobre esse caso, analise as afirmativas e assinale a alternativa correta.**

**I – O principal diagnóstico diferencial para esse caso é a gonorreia.**

**II – Essa paciente possivelmente é HLA-B27 negativa.**

**III – Ela pode ser tratada com Azitromicina 1g no D1 e D7 associada com Ceftriaxona 250mg Intramuscular no D1 possui maior índice de cura em relação ao uso de Ceftriaxone 250mg Intramuscular no D1 com doxiciclina 100mg via oral de 12/12 horas por 14 dias.**

**IV – O provável agente etiológico do caso é a *Chlamydia trachomatis*.**

- a) Apenas a I está correta.
- b) Apenas I e II estão corretas.
- c) Apenas II e III estão erradas.
- d) Apenas I e III estão corretas.
- e) Apenas a II está errada.

**22. Assinale a alternativa em que se faz a correlação incorreta.**

- a) Agência Nacional de Saúde Suplementar – responsável pela regularização e fiscalização dos planos de saúde no país.
- b) Anvisa – responsável pela fiscalização in loco de estabelecimento de saúde em cada município e a sua correta regularização.
- c) Vigilância Epidemiológica – entidade responsável por organizar os dados de agravos em saúde e auxiliar a gestão a realizar estratégias de atenção a saúde.
- d) Anvisa – responsável pela deliberação de novas drogas no mercado brasileiro.
- e) Vigilância sanitária – responsável pela fiscalização das condições de manipulação de alimentos para os consumidores finais.

**23. Os Centros de Atenção Psicossocial são instituições destinadas a acolher os pacientes com transtornos mentais e estimular sua integração social e familiar, além de outras funções. Para que isso ocorra, necessitam de um número mínimo de membros na equipe.**

**Assinale a alternativa que contém a relação correta entre o tipo de CAPS e sua equipe mínima, conforme a determinação do Ministério da Saúde:**

Tipo de CAPS	Equipe Mínima
I – CAPS I	A – 2 psiquiatras; 1 enfermeiro com formação em nível superior; 5 profissionais de nível superior de outras categorias profissionais; 8 profissionais de nível médio.
II – CAPS II	B – 1 médico psiquiatra, ou neurologista ou pediatra com formação em saúde mental; 1 enfermeiro; 4 profissionais de nível superior dentre psicólogo, assistente social, terapeuta ocupacional, fonoaudiólogo, pedagogo ou outro profissional necessário ao projeto terapêutico; 5 profissionais de nível médio.
III – CAPS III	C – 1 médico psiquiatra ou com formação em saúde mental; 1 enfermeiro, 3 profissionais de nível superior de outras categorias profissionais; 4 profissionais de nível médio.
IV – CAPSi	D – 1 psiquiatra; 1 enfermeiro com formação em saúde mental; 1 médico clínico responsável pela triagem, avaliação e acompanhamento das intercorrências clínicas; 4 profissionais de nível superior necessário ao projeto terapêutico; 6 profissionais de nível médio.



V - CAPSad

**E – 1 psiquiatra; 1 enfermeiro com formação em saúde mental; 4 profissionais de nível superior de outras categorias profissionais; 6 profissionais de nível médio.**

- a) I-E; II-C; III-A; IV-B; V-D.
- b) I-E; II-C; III-A; IV-D; V-B.
- c) I-C; II-B; III-A; IV-E; V-D.
- d) I-C; II-E; III-A; IV-B; V-D.
- e) I-E; II-D; III-A; IV-B; V-C.

**24. Analise os seguintes itens a respeito de diarreia crônica e assinale a alternativa correta.**

**I – Diarreias tipo secretória podem ser desencadeadas por cólera, tumor de tireoide medular e uso de laxantes estimulantes exógenos, por exemplo.**

**II – Amiloidose pode promover esteatorreia, da mesma forma que a Doença de Whipple.**

**III – São exemplos de dismotilidade promotora de diarreia crônica: hipertireoidismo, síndrome do intestino irritável e Espru tropical.**

**IV – Pacientes portadores do Vírus da Imunodeficiência Adquirida podem ter, como sintoma inicial, diarreia crônica.**

- a) Todos estão corretos.
- b) Apenas o item IV está incorreto.
- c) Apenas o item III está correto.
- d) Apenas o item III está incorreto.
- e) Apenas o item II está incorreto.

**25. Assinale a assertiva que apresenta a portaria que publica a proposta de Projeto de Resolução “Boas Práticas para Organização e Funcionamento de Serviços de Urgência e Emergência”.**

- a) Portaria Nº 30, de 12 de fevereiro de 2014
- b) Portaria Nº 354, de 10 de março de 2014
- c) Portaria Nº 825, de 25 de abril de 2016
- d) Portaria Nº 2.712, de 12 de novembro de 2013
- e) Portaria Nº 2.528, de 19 de outubro de 2006

**26. Referente à lombalgia, analise os itens seguintes e assinale a alternativa correta.**

**I – Segundo o trabalho de Deyo, publicado no New England Journal of Medicine em 2001, observou-se que a etiologia prevalente para lombalgia é de estiramento ou entorse lombar.**

**II – Menos de 1% da população adulta economicamente ativa sofre de dorsalgia.**

**III – São sinais e sintomas de alarme na lombalgia: dor iniciada antes dos 20 e após os 50 anos, febre, perda ponderal, dor intensa noturna ou piora da dor em posição supina, incontinência fecal e/ou urinária, história de neoplasia, anestesia em sela, redução da força em membros inferiores e imunossupressão.**

- a) Apenas os itens I e III estão corretos.
- b) Apenas os itens II e III estão corretos.
- c) Apenas os itens II e III estão incorretos.
- d) Os itens I, II e III estão corretos.
- e) Apenas os itens I e III estão incorretos.

**27. A respeito dos Critérios de Ranson, assinale a alternativa que contém a sequência correta da classificação de V (verdadeiro) e F (falso) para os itens a serem considerados na admissão de paciente com quadro de pancreatite aguda.**

- ( ) – Idade  $\leq$  54 anos
- ( ) – Leucócitos  $>$  16.000/mm<sup>3</sup>
- ( ) – Glicemia  $>$  200 mg/dl
- ( ) – Desidrogenase láctica sérica  $>$  350 UI/L
- ( ) – AST  $<$  250 UI/L

- a) V - V - V - V - V.
- b) F - V - V - V - F.
- c) F - F - V - V - V.
- d) F - V - F - V - F.
- e) V - F - V - F - V.

**28. Assinale a alternativa com a correlação correta das causas de hipertensão secundária.**

**I – Doenças Renais**

**II – Doença endócrina**

**III – Outras doenças**

- ( ) Doses altas de estrogênio
- ( ) Glomerulonefrite
- ( ) Doença do rim policístico

- ( ) Hipertireoidismo  
( ) Aterosclerose  
( ) Hipercalcemia  
( ) Apneia do sono obstrutiva
- a) I; I; III; II; I; III; II.  
b) II; III; I; II; I; III; I.  
c) III; I; I; II; I; III; III.  
d) II; I; I; II; I; III; II.  
e) II; III; II; I; I; II; III.

**29. Assinale a alternativa incorreta a respeito das orientações aos indivíduos residentes no Brasil, com idade igual ou superior a cinco anos, que viajarão a países com recomendação de vacina para Poliomielite a visitantes, contidas no Programa Nacional de Imunização, publicado no ano 2016.**

- a) Sem comprovação vacinal: administrar duas doses de Vacina Oral Poliomielite(VOP), com intervalo de 90 dias entre elas.  
b) Sem comprovação vacinal: administrar três doses da VOP, com intervalo de 60 dias entre elas, mínimo 30 dias.  
c) Com esquema incompleto: completar o esquema com a VOP.  
d) Gestantes e imunodeprimidos e/ou seus contatos devem receber esquema com Vacina Inativada Poliomielite (VIP).  
e) Para aqueles indivíduos que receberam três doses ou mais de VOP ou VIP, caso a última dose tenha sido administrada há mais de 12 meses, garantir antes da viagem uma única dose de reforço com VOP ou VIP.

**30. Assinale a alternativa que contém o antimicrobiano contraindicado à gestante no segundo trimestre de gestação com quadro de infecção urinária, sem história de reação alérgica a medicamentos anteriormente:**

- a) Sulfametoxazol e Timetropina  
b) Cefalotina  
c) Nitrofurantoína  
d) Ciprofloxacino  
e) Amoxicilina

**31. No início da fase imediata que ocorre na rinite alérgica, qual mediador inflamatório que não participa do processo alérgico?**

- a) IL-4  
b) IL-3  
c) Interferon-alfa  
d) Fator de necrose tumoral beta  
e) IL-13

**32. A epistaxe é um problema otorrinolaringológico comum e, na maioria das vezes, controlada clinicamente. Pode ocorrer em qualquer idade, porém é mais frequente em crianças entre 3 a 8 anos de idade, funcionalmente pode ser dividido em anterior ou posterior, sendo o sangramento mais intenso na região posterior ou superior do nariz. As causas da epistaxe podem ser locais ou sistêmicas, porém 10 % dos casos são desconhecidos.**

**Analisando esse texto, assinale a alternativa que não apresenta uma causa sistêmica da epistaxe.**

- a) Leucemia  
b) Doença de Rendu-Osler-Weber  
c) Hipertensão Arterial  
d) Uso de AINES  
e) Inflamações por infecções virais

**33. A apneia obstrutiva do sono é uma doença crônica, com alta taxa de morbidade e mortalidade, apresentando um cortejo sintomático polimorfo que vai desde ronco até a sonolência excessiva diurna, com graves repercussões gerais hemodinâmicas, neurológicas e comportamentais.**

**Sobre as alterações hemodinâmicas que a apneia obstrutiva do sono causa, assinale a alternativa incorreta:**

- a) Os períodos apneicos e a conseqüente hipóxia e hipercapnia podem determinar arritmias cardíacas.  
b) As apneias determinam um aumento tônico da atividade parassimpática, o que justifica a sonolência.  
c) Entre as variações neuroendócrinas, é observado intolerância à insulina.  
d) Entre as variações neuroendócrinas, é observado redução da atividade do sistema renina-angiotensina.  
e) Entre as variações neuroendócrinas, é observado redução da secreção do hormônio do crescimento.

**34. A fisiopatologia da rinossinusite está basicamente relacionada a três fatores locais: patência do óstio natural do seio; atividade mucociliar e qualidade das secreções nasais. A alteração destes fatores, seja de forma isolada ou combinada, traduz-se na quebra da homeostase nasossinusal, ocasionando a retenção de secreções no seio afetado, o que propicia um meio de cultura ideal para o crescimento bacteriano.**

**Analisando esse texto, assinale a alternativa que não se enquadra a fatores associados à obstrução ostial:**

- a) Alergia
- b) Fibrose cística
- c) Desvio septal
- d) Sondas
- e) Óxido nítrico

**35. Os poucos estudos publicados mostram que as bactérias responsáveis pela rinossinusites na população infantil são, em geral, similares àquelas vistas no adulto e são as mesmas causadoras da otite média.**

**Assinale a alternativa que indica um patógeno que não é comum nas rinossinusites crônicas:**

- a) *Treponema pallidum*
- b) *Streptococcus pneumoniae*
- c) *Moraxella catarrhalis*
- d) *Staphylococcus aureus*
- e) *Haemophilus influenzae*

## LÍNGUA PORTUGUESA

**Texto para as próximas cinco questões:**

### “O cego Estrelinho” Mia Couto

O cego Estrelinho era pessoa de nenhuma vez: sua história poderia ser contada e descontada não fosse seu guia, Gigitto Efraim. A mão de Gigitto conduziu o desvistado por tempos e idades. Aquela mão era repartidamente comum, extensão de um no outro, siamense. E assim era quase de nascença. Memória de Estrelinho tinha cinco dedos e eram os de Gigitto postos, em aperto, na sua própria mão.

O cego, curioso, queria saber de tudo. Ele não fazia cerimônia no viver. O sempre lhe era pouco e o tudo insuficiente. Dizia, deste modo:

— Tenho que viver já, senão esqueço-me.

Gigitto, porém, o que descrevia era o que não havia. O mundo que ele minuciava eram fantasias e rendilhados. A imaginação do guia era mais profícua que papadeira. O cego enchia a boca de águas:

— Que maravilha esse mundo. Me conte tudo, Gigitto!

A mão do guia era, afinal, o manuscrito da mentira. Gigitto Efraim estava como nunca esteve S. Tomé: via para não crer. O condutor falava pela ponta dos dedos. Desfolhava o universo, aberto em folhas. A ideiação dele era tal que mesmo o cego, por vezes, acreditava ver. O outro lhe encorajava esses breves enganar:

— Desbengale-se, você está escolhendo a boa procedência!

Mentira: Estrelinho continuava sem ver uma palmeira à frente do nariz. Contudo, o cego não se conformava em suas escuras. Ele cumpria o ditado: não tinha perna e queria dar o pontapé. Só à noite, ele desalentava, sofrendo medos mais antigos que a humanidade. Entendia aquilo que, na raça humana, é menos primitivo: o animal.

— Na noite aflige não haver luz?

— Aflição é ter um pássaro branco esvoando dentro do sono.

Pássaro branco? No sono? Lugar de ave é nas alturas. Dizem até que Deus fez o céu para justificar os pássaros. Estrelinho disfarçava o medo dos vaticínios, subterfugindo:

— E agora, Gigitto? Agora, olhando assim para cima, estou face ao céu?

Que podia o outro responder? O céu do cego fica em toda a parte. Estrelinho perdia o pé era quando a noite chegava e seu mestre adormecia. Era como se um novo escuro nele se estreasse em nó cego. Devagaroso e sorrateiro ele aninhava sua mão na mão do guia. Só assim adormecia. A razão da concha é a timidez da amêijoia? Na manhã seguinte, o cego lhe confessava: se você morrer, tenho que morrer logo no imediato. Senão-me: como acerto o caminho para o céu?

Foi no mês de dezembro que levaram Gigitto. Lhe tiraram do mundo para pôr na guerra: obrigavam os serviços militares. O cego reclamou: que o moço inatingia a idade. E que o serviço que ele a si prestava era vital e vitalício. O guia chamou Estrelinho à parte e lhe tranquilizou:

— Não vai ficar sozinho por aí. Minha mana já mandei para ficar no meu lugar.

O cego estendeu o braço a querer tocar uma despedida. Mas o outro já não estava lá. Ou estava e se desviara, propositado? E sem água ida nem vinda, Estrelinho escutou o amigo se afastar, engolido, esponjínquo, invisível. Pela primeira vez, Estrelinho se sentiu invalidado.

— Agora, só agora, sou cego que não vê.

(...)

**COUTO, Mia. Estórias abensonhadas. Rio de Janeiro: Nova Fronteira, 1996. (Pág 23 e 24).**

**36. Quanto à interpretação do fragmento do conto, podemos afirmar que:**

- a) Gigitto Efraim era o guia de Estrelinho há pouquíssimo tempo.
- b) Estrelinho era cego de nascença.
- c) Gigitto descrevia o mundo para Estrelinho de forma denotativa.



- d) Gigito foi convocado pelo exército para ser guia de cegos na guerra.  
e) Gigito descrevia o mundo para Estrelinho de forma conotativa.

**37. No período “O sempre lhe era pouco e o tudo insuficiente”, o pronome “LHE” exerce a função sintática de:**

- a) Objeto Direto  
b) Objeto Indireto  
c) Complemento Nominal  
d) Adjunto Adnominal  
e) Objeto Direto Preposicionado

**38. Na oração “A mão de Gigito conduziu o desvestido por tempos e idades”, o autor faz uso de um neologismo, assim como no decorrer de toda a obra em questão. Contudo, o neologismo só se torna possível pela utilização dos elementos mórficos naquilo que a gramática normativa pontua como Processo de Formação das Palavras. Levando em consideração apenas o recurso morfológico, qual Processo de Formação foi utilizado?**

- a) Derivação Sufixal  
b) Derivação Prefixal  
c) Derivação Regressiva  
d) Derivação Imprópria  
e) Derivação Parassintética

**39. No terceiro período do décimo terceiro parágrafo, temos:**

- a) Uma oração  
b) Duas orações  
c) Três orações  
d) Quatro orações  
e) Cinco orações

**40. No último parágrafo do fragmento do conto “— Agora, só agora, sou cego que não vê”, a oração subordinada presente classifica-se corretamente como:**

- a) Oração Subordinada Adjetiva Restritiva  
b) Oração Subordinada Adverbial Causal  
c) Oração Subordinada Substantiva Subjetiva  
d) Oração Subordinada Adverbial Explicativa  
e) Oração Subordinada Adjetiva Explicativa

**RASCUNHO**



PREFEITURA DE TELÊMACO BORBA - ESTADO DO PARANÁ- EDITAL Nº 001-2016 - CONCURSO PÚBLICO

VESPERTINO – 29/05/2016 – NÍVEL SUPERIOR

**3**

PROVA OBJETIVA NÚMERO

CARGO: TMNS I - MEDICINA - OTORRINOLARINGOLOGIA

Leia atentamente as INSTRUÇÕES:

1. Confira seus dados no cartão-resposta: nome, número de inscrição e o curso para o qual se inscreveu.
  2. **MARQUE no seu cartão-resposta o número da sua prova** (não será corrigido o cartão-resposta que não tiver marcado o número da prova) e **Assine** seu cartão-resposta.
  3. Aguarde a autorização do Fiscal para abrir o caderno de prova. Ao receber a ordem do fiscal, confira o caderno de prova com muita atenção. Nenhuma reclamação sobre o total de questões ou falha de impressão será aceita depois de iniciada a prova.
  4. O cartão-resposta não será substituído, salvo se contiver erro de impressão.
  5. Preencha toda a área do cartão-resposta correspondente à alternativa de sua escolha, com caneta esferográfica (tinta azul ou preta), sem ultrapassar as bordas. As marcações duplas, ou rasuradas, com corretivo, ou marcadas diferentemente do modelo estabelecido no cartão-resposta poderão ser anuladas.
  6. Sua prova tem **40** questões, com **5** alternativas.
  7. Cabe apenas ao candidato a interpretação das questões, **o fiscal** não poderá fazer nenhuma interferência.
  8. A prova será realizada com duração máxima de **3 (três) horas**, incluído o tempo para a realização da Prova Objetiva de múltipla escolha e o preenchimento do cartão-resposta.
  9. O candidato poderá retirar-se do local de realização das provas somente **1 (uma) hora** após o seu início, sem levar o caderno de prova.
  10. O candidato poderá levar o caderno de provas, assim como anotação contendo transcrição do seu cartão-resposta, somente **1h30min** (uma hora e trinta minutos) após o início da realização da prova.
  11. Ao terminar a prova, o candidato deverá entregar ao fiscal de sala o cartão-resposta preenchido e **ASSINADO**.
  12. Os **3 (três)** candidatos, que terminarem a prova por último, deverão permanecer na sala, e só poderão sair juntos após o fechamento do envelope, contendo os cartões-resposta dos candidatos presentes e ausentes, e assinarem no lacre do referido envelope, atestando que este foi devidamente lacrado.
  13. Durante todo o tempo em que permanecer no local onde está ocorrendo o concurso, o candidato deverá, manter o celular desligado e sem bateria, só sendo permitido ligar depois de ultrapassar o portão de saída do prédio.
  14. Não será permitido ao candidato fumar na sala de provas, bem como nas dependências.
  15. Depois de terminar a prova e entregar ao fiscal o cartão-resposta, preenchido e assinado, não será mais permitido ao candidato o uso do banheiro e bebedouro.
- BOA PROVA!**

**CONHECIMENTOS ESPECÍFICOS**

**01. Assinale a alternativa que apresenta a portaria que institui a Rede de Atenção Psicossocial para pessoas com sofrimento ou transtorno mental e com necessidades decorrentes do uso de crack, álcool e outras drogas, no âmbito do Sistema Único de Saúde:**

- a) Portaria N° 1.498, de 19 de julho de 2013
- b) Portaria N° 793, de 24 de abril de 2012
- c) Portaria N° 2.395, de 11 de outubro de 2011
- d) Portaria N° 3.099, de 23 de dezembro de 2011
- e) Portaria N° 1.459, de 24 de junho de 2011

**02. Analise as afirmativas seguintes e assinale a alternativa que contém o resultado final da soma da(s) afirmativa(s) correta(s):**

- 01 – Toda lesão no sistema nervoso central promove atrofia cortical, progredindo para demência.
- 02 – Delirium tremens com instabilidade autonômica e hiperatividade simpática associa-se, geralmente, a mortalidade de 5 a 10% dos pacientes.
- 04 – A classe de medicamento de primeira escolha para pacientes com delirium tremens são os Inibidores da Recapitação da Serotonina como a Amitriptilina.
- 08 – O utilismo pode desenvolver a encefalopatia de Wernicke.
- 16 – Os benzodiazepínicos tem ação no sistema de ácido gama-amino-butirico, da mesma forma que o álcool no cérebro humano.

- a) 06
- b) 07
- c) 09
- d) 19
- e) 26

**03. Leia as assertivas e assinale a alternativa correta.**

**I – A insuficiência cardíaca congestiva é uma síndrome clínica sempre causada por alguma doença cardíaca subjacente, mais comumente miocardiopatia isquêmica resultante de aterosclerose e/ou hipertensão arterial.**

**II – A Doxorrubicina é uma droga amplamente utilizada e que causa efeitos cardiotoxicos com dose cumulativa superior a 450mg/m<sup>2</sup> de superfície corporal.**

**III – Os inibidores da ECA e os BRA associados a betabloqueadores e antagonistas de aldosterona podem diminuir a mortalidade, e aliviam imediatamente os sintomas congestivos.**

**IV – A insuficiência cardíaca crônica é uma doença progressiva com alta mortalidade, e a classe funcional do paciente geralmente não é um guia ao tratamento.**

- a) Apenas I e II estão corretas.
- b) Apenas I e III estão corretas.
- c) Todas estão corretas.
- d) Apenas II e III estão corretas.
- e) Apenas a IV está errada.

**Leia o seguinte caso para responder às próximas três questões.**

**Mulher de 28 anos vai ao consultório queixando-se de dor em joelho direito e hálux contra-lateral, com 10 dias de evolução e que não respondeu ao uso de analgésicos simples. Refere febrícula ao término do dia associada à mialgia inespecífica, além de disúria e corrimento vaginal branco leitoso amarelo esverdeado e prurido ocular bilateral; há 45 dias foi tratada para LUES com esquema adequado preconizado pelo Ministério da Saúde. Ao exame, apresenta-se afebril, e ambos os olhos estão injetados e fotossensíveis; o joelho direito e a primeira articulação metatarsal-falangiana esquerda apresentam-se edemaciados e dolorosos com discreta hiperemia.**

**04. Com base no caso, pode-se afirmar que a paciente apresenta uma tríade. Assinale a assertiva que contém o epônimo dessa tríade.**

- a) Virchow
- b) Reiter
- c) Beck
- d) Charcot
- e) Whipple

**05. Essa paciente possui fator de risco para desenvolver qual patologia ginecológica a médio prazo, se não for tratada corretamente?**

- a) Doença de Paget
- b) Doença de Berger
- c) Síndrome de Fitz-Hugh-Curtis



- d) Endometriose  
 e) Síndrome dos ovários policísticos

**06. Sobre esse caso, analise as afirmativas e assinale a alternativa correta.**

**I – O principal diagnóstico diferencial para esse caso é a gonorreia.**

**II – Essa paciente possivelmente é HLA-B27 negativa.**

**III – Ela pode ser tratada com Azitromicina 1g no D1 e D7 associada com Ceftriaxona 250mg Intramuscular no D1 possui maior índice de cura em relação ao uso de Ceftriaxone 250mg Intramuscular no D1 com doxiciclina 100mg via oral de 12/12 horas por 14 dias.**

**IV – O provável agente etiológico do caso é a *Chlamydia trachomatis*.**

- a) Apenas a I está correta.  
 b) Apenas I e II estão corretas.  
 c) Apenas II e III estão erradas.  
 d) Apenas I e III estão corretas.  
 e) Apenas a II está errada.

**07. Assinale a alternativa em que se faz a correlação incorreta.**

- a) Agência Nacional de Saúde Suplementar – responsável pela regularização e fiscalização dos planos de saúde no país.  
 b) Anvisa – responsável pela fiscalização in loco de estabelecimento de saúde em cada município e a sua correta regularização.  
 c) Vigilância Epidemiológica – entidade responsável por organizar os dados de agravos em saúde e auxiliar a gestão a realizar estratégias de atenção a saúde.  
 d) Anvisa – responsável pela deliberação de novas drogas no mercado brasileiro.  
 e) Vigilância sanitária – responsável pela fiscalização das condições de manipulação de alimentos para os consumidores finais.

**08. Os Centros de Atenção Psicossocial são instituições destinadas a acolher os pacientes com transtornos mentais e estimular sua integração social e familiar, além de outras funções. Para que isso ocorra, necessitam de um número mínimo de membros na equipe.**

**Assinale a alternativa que contém a relação correta entre o tipo de CAPS e sua equipe mínima, conforme a determinação do Ministério da Saúde:**

Tipo de CAPS	Equipe Mínima
I – CAPS I	<b>A – 2 psiquiatras; 1 enfermeiro com formação em nível superior; 5 profissionais de nível superior de outras categorias profissionais; 8 profissionais de nível médio.</b>
II – CAPS II	<b>B – 1 médico psiquiatra, ou neurologista ou pediatra com formação em saúde mental; 1 enfermeiro; 4 profissionais de nível superior dentre psicólogo, assistente social, terapeuta ocupacional, fonoaudiólogo, pedagogo ou outro profissional necessário ao projeto terapêutico; 5 profissionais de nível médio.</b>
III – CAPS III	<b>C – 1 médico psiquiatra ou com formação em saúde mental; 1 enfermeiro, 3 profissionais de nível superior de outras categorias profissionais; 4 profissionais de nível médio.</b>
IV – CAPSi	<b>D – 1 psiquiatra; 1 enfermeiro com formação em saúde mental; 1 médico clínico responsável pela triagem, avaliação e acompanhamento das intercorrências clínicas; 4 profissionais de nível superior necessário ao projeto terapêutico; 6 profissionais de nível médio.</b>
V - CAPSad	<b>E – 1 psiquiatra; 1 enfermeiro com formação em saúde mental; 4 profissionais de nível superior de outras categorias profissionais; 6 profissionais de nível médio.</b>

- a) I-E; II-C; III-A; IV-B; V-D.  
 b) I-E; II-C; III-A; IV-D; V-B.  
 c) I-C; II-B; III-A; IV-E; V-D.  
 d) I-C; II-E; III-A; IV-B; V-D.  
 e) I-E; II-D; III-A; IV-B; V-C.

**09. Analise os seguintes itens a respeito de diarreia crônica e assinale a alternativa correta.**

**I – Diarreias tipo secretória podem ser desencadeadas por cólera, tumor de tireoide medular e uso de laxantes estimulantes exógenos, por exemplo.**

**II – Amiloidose pode promover esteatorreia, da mesma forma que a Doença de Whipple.**

**III – São exemplos de dismotilidade promotora de diarreia crônica: hipertireoidismo, síndrome do intestino irritável e Espru tropical.**

**IV – Pacientes portadores do Vírus da Imunodeficiência Adquirida podem ter, como sintoma inicial, diarreia crônica.**

- a) Todos estão corretos.
- b) Apenas o item IV está incorreto.
- c) Apenas o item III está correto.
- d) Apenas o item III está incorreto.
- e) Apenas o item II está incorreto.

**10. Assinale a assertiva que apresenta a portaria que publica a proposta de Projeto de Resolução “Boas Práticas para Organização e Funcionamento de Serviços de Urgência e Emergência”.**

- a) Portaria N° 30, de 12 de fevereiro de 2014
- b) Portaria N° 354, de 10 de março de 2014
- c) Portaria N° 825, de 25 de abril de 2016
- d) Portaria N° 2.712, de 12 de novembro de 2013
- e) Portaria N° 2.528, de 19 de outubro de 2006

**11. Referente à lombalgia, analise os itens seguintes e assinale a alternativa correta.**

**I – Segundo o trabalho de Deyo, publicado no New England Journal of Medicine em 2001, observou-se que a etiologia prevalente para lombalgia é de estiramento ou entorse lombar.**

**II – Menos de 1% da população adulta economicamente ativa sofre de dorsalgia.**

**III – São sinais e sintomas de alarme na lombalgia: dor iniciada antes dos 20 e após os 50 anos, febre, perda ponderal, dor intensa noturna ou piora da dor em posição supina, incontinência fecal e/ou urinária, história de neoplasia, anestesia em sela, redução da força em membros inferiores e imunossupressão.**

- a) Apenas os itens I e III estão corretos.
- b) Apenas os itens II e III estão corretos.
- c) Apenas os itens II e III estão incorretos.
- d) Os itens I, II e III estão corretos.
- e) Apenas os itens I e III estão incorretos.

**12. A respeito dos Critérios de Ranson, assinale a alternativa que contém a sequência correta da classificação de V (verdadeiro) e F (falso) para os itens a serem considerados na admissão de paciente com quadro de pancreatite aguda.**

- ( ) – Idade  $\leq$  54 anos
- ( ) – Leucócitos  $>$  16.000/mm<sup>3</sup>
- ( ) – Glicemia  $>$  200 mg/dl
- ( ) – Desidrogenase láctica sérica  $>$  350 UI/L
- ( ) – AST  $<$  250 UI/L
- a) V - V - V - V - V.
- b) F - V - V - V - F.
- c) F - F - V - V - V.
- d) F - V - F - V - F.
- e) V - F - V - F - V.

**13. Assinale a alternativa com a correlação correta das causas de hipertensão secundária.**

**I – Doenças Renais**

**II – Doença endócrina**

**III – Outras doenças**

- ( ) Doses altas de estrogênio
- ( ) Glomerulonefrite
- ( ) Doença do rim policístico
- ( ) Hipertireoidismo
- ( ) Aterosclerose
- ( ) Hipercalcemia
- ( ) Apneia do sono obstrutiva

- a) I; I; III; II; I; III; II.
- b) II; III; I; II; I; III; I.
- c) III; I; I; II; I; III; III.
- d) II; I; I; II; I; III; II.
- e) II; III; II; I; I; II; III.

**14. Assinale a alternativa incorreta a respeito das orientações aos indivíduos residentes no Brasil, com idade igual ou superior a cinco anos, que viajarão a países com recomendação de vacina para Poliomielite a visitantes, contidas no Programa Nacional de Imunização, publicado no ano 2016.**

- a) Sem comprovação vacinal: administrar duas doses de Vacina Oral Poliomielite(VOP), com intervalo de 90 dias entre elas.

- b) Sem comprovação vacinal: administrar três doses da VOP, com intervalo de 60 dias entre elas, mínimo 30 dias.
- c) Com esquema incompleto: completar o esquema com a VOP.
- d) Gestantes e imunodeprimidos e/ou seus contatos devem receber esquema com Vacina Inativada Poliomielite (VIP).
- e) Para aqueles indivíduos que receberam três doses ou mais de VOP ou VIP, caso a última dose tenha sido administrada há mais de 12 meses, garantir antes da viagem uma única dose de reforço com VOP ou VIP.

**15. Assinale a alternativa que contém o antimicrobiano contraindicado à gestante no segundo trimestre de gestação com quadro de infecção urinária, sem história de reação alérgica a medicamentos anteriormente:**

- a) Sulfametoxazol e Timetropina
- b) Cefalotina
- c) Nitrofurantoína
- d) Ciprofloxacino
- e) Amoxicilina

**16. No início da fase imediata que ocorre na rinite alérgica, qual mediador inflamatório que não participa do processo alérgico?**

- a) IL-4
- b) IL-3
- c) Interferon-alfa
- d) Fator de necrose tumoral beta
- e) IL-13

**17. A epistaxe é um problema otorrinolaringológico comum e, na maioria das vezes, controlada clinicamente. Pode ocorrer em qualquer idade, porém é mais frequente em crianças entre 3 a 8 anos de idade, funcionalmente pode ser dividido em anterior ou posterior, sendo o sangramento mais intenso na região posterior ou superior do nariz. As causas da epistaxe podem ser locais ou sistêmicas, porém 10 % dos casos são desconhecidos.**

**Analisando esse texto, assinale a alternativa que não apresenta uma causa sistêmica da epistaxe.**

- a) Leucemia
- b) Doença de Rendu-Osler-Weber
- c) Hipertensão Arterial
- d) Uso de AINES
- e) Inflamações por infecções virais

**18. A apneia obstrutiva do sono é uma doença crônica, com alta taxa de morbidade e mortalidade, apresentando um cortejo sintomático polimorfo que vai desde ronco até a sonolência excessiva diurna, com graves repercussões gerais hemodinâmicas, neurológicas e comportamentais.**

**Sobre as alterações hemodinâmicas que a apneia obstrutiva do sono causa, assinale a alternativa incorreta:**

- a) Os períodos apneicos e a conseqüente hipóxia e hipercapnia podem determinar arritmias cardíacas.
- b) As apneias determinam um aumento tônico da atividade parassimpática, o que justifica a sonolência.
- c) Entre as variações neuroendócrinas, é observado intolerância à insulina.
- d) Entre as variações neuroendócrinas, é observado redução da atividade do sistema renina-angiotensina.
- e) Entre as variações neuroendócrinas, é observado redução da secreção do hormônio do crescimento.

**19. A fisiopatologia da rinossinusite está basicamente relacionada a três fatores locais: patência do óstio natural do seio; atividade mucociliar e qualidade das secreções nasais. A alteração destes fatores, seja de forma isolada ou combinada, traduz-se na quebra da homeostase nasossinusal, ocasionando a retenção de secreções no seio afetado, o que propicia um meio de cultura ideal para o crescimento bacteriano.**

**Analisando esse texto, assinale a alternativa que não se enquadra a fatores associados à obstrução ostial:**

- a) Alergia
- b) Fibrose cística
- c) Desvio septal
- d) Sondas
- e) Óxido nítrico

**20. Os poucos estudos publicados mostram que as bactérias responsáveis pela rinossinusites na população infantil são, em geral, similares àquelas vistas no adulto e são as mesmas causadoras da otite média.**

**Assinale a alternativa que indica um patógeno que não é comum nas rinossinusites crônicas:**

- a) *Treponema pallidum*
- b) *Streptococcus pneumoniae*
- c) *Moraxella catarrhalis*
- d) *Staphylococcus aureus*

e) *Haemophilus influenzae*

## LÍNGUA PORTUGUESA

Texto para as próximas cinco questões:

### “O cego Estrelinho” Mia Couto

O cego Estrelinho era pessoa de nenhuma vez: sua história poderia ser contada e descontada não fosse seu guia, Gigitto Efraim. A mão de Gigitto conduziu o desvistado por tempos e idades. Aquela mão era repartidamente comum, extensão de um no outro, siamense. E assim era quase de nascença. Memória de Estrelinho tinha cinco dedos e eram os de Gigitto postos, em aperto, na sua própria mão.

O cego, curioso, queria saber de tudo. Ele não fazia cerimônia no viver. O sempre lhe era pouco e o tudo insuficiente. Dizia, deste modo:

— Tenho que viver já, senão esqueço-me.

Gigitto, porém, o que descrevia era o que não havia. O mundo que ele minuciava eram fantasias e rendilhados. A imaginação do guia era mais profícua que papadeira. O cego enchia a boca de águas:

— Que maravilha esse mundo. Me conte tudo, Gigitto!

A mão do guia era, afinal, o manuscrito da mentira. Gigitto Efraim estava como nunca esteve S. Tomé: via para não crer. O condutor falava pela ponta dos dedos. Desfolhava o universo, aberto em folhas. A ideia dele era tal que mesmo o cego, por vezes, acreditava ver. O outro lhe encorajava esses breves enganar:

— Desbengale-se, você está escolhendo a boa procedência!

Mentira: Estrelinho continuava sem ver uma palmeira à frente do nariz. Contudo, o cego não se conformava em suas escuras. Ele cumpria o ditado: não tinha perna e queria dar o pontapé. Só à noite, ele desalentava, sofrendo medos mais antigos que a humanidade. Entendia aquilo que, na raça humana, é menos primitivo: o animal.

— Na noite aflige não haver luz?

— Aflição é ter um pássaro branco esvoando dentro do sono.

Pássaro branco? No sono? Lugar de ave é nas alturas. Dizem até que Deus fez o céu para justificar os pássaros. Estrelinho disfarçava o medo dos vaticínios, subterfugindo:

— E agora, Gigitto? Agora, olhando assim para cima, estou face ao céu?

Que podia o outro responder? O céu do cego fica em toda a parte. Estrelinho perdia o pé era quando a noite chegava e seu mestre adormecia. Era como se um novo escuro nele se estreasse em nó cego. Devagaroso e sorrateiro ele aninhava sua mão na mão do guia. Só assim adormecia. A razão da concha é a timidez da amêijoia? Na manhã seguinte, o cego lhe confessava: se você morrer, tenho que morrer logo no imediato. Senão-me: como acerto o caminho para o céu?

Foi no mês de dezembro que levaram Gigitto. Lhe tiraram do mundo para pôr na guerra: obrigavam os serviços militares. O cego reclamou: que o moço inatingia a idade. E que o serviço que ele a si prestava era vital e vitalício. O guia chamou Estrelinho à parte e lhe tranquilizou:

— Não vai ficar sozinando por aí. Minha mana já mandei para ficar no meu lugar.

O cego estendeu o braço a querer tocar uma despedida. Mas o outro já não estava lá. Ou estava e se desviara, propositado? E sem água ida nem vinda, Estrelinho escutou o amigo se afastar, engolido, esponjoso, invisível. Pela primeira vez, Estrelinho se sentiu invalidado.

— Agora, só agora, sou cego que não vê.

(...)

**COUTO, Mia. Estórias abensonhadas. Rio de Janeiro: Nova Fronteira, 1996. (Pág 23 e 24).**

**21. Quanto à interpretação do fragmento do conto, podemos afirmar que:**

- Gigitto Efraim era o guia de Estrelinho há pouquíssimo tempo.
- Estrelinho era cego de nascença.
- Gigitto descrevia o mundo para Estrelinho de forma denotativa.
- Gigitto foi convocado pelo exército para ser guia de cegos na guerra.
- Gigitto descrevia o mundo para Estrelinho de forma conotativa.

**22. No período “O sempre lhe era pouco e o tudo insuficiente”, o pronome “LHE” exerce a função sintática de:**

- Objeto Direto
- Objeto Indireto
- Complemento Nominal
- Adjunto Adnominal
- Objeto Direto Preposicionado

**23. Na oração “A mão de Gigitto conduziu o desvistado por tempos e idades”, o autor faz uso de um neologismo, assim como no decorrer de toda a obra em questão. Contudo, o neologismo só se torna possível pela utilização dos elementos mórficos naquilo que a gramática normativa pontua como Processo de Formação das Palavras. Levando em consideração apenas o recurso morfológico, qual Processo de Formação foi utilizado?**



- a) Derivação Sufixal
- b) Derivação Prefixal
- c) Derivação Regressiva
- d) Derivação Imprópria
- e) Derivação Parassintética

**24. No terceiro período do décimo terceiro parágrafo, temos:**

- a) Uma oração
- b) Duas orações
- c) Três orações
- d) Quatro orações
- e) Cinco orações

**25. No último parágrafo do fragmento do conto “— Agora, só agora, sou cego que não vê”, a oração subordinada presente classifica-se corretamente como:**

- a) Oração Subordinada Adjetiva Restritiva
- b) Oração Subordinada Adverbial Causal
- c) Oração Subordinada Substantiva Subjetiva
- d) Oração Subordinada Adverbial Explicativa
- e) Oração Subordinada Adjetiva Explicativa

### RACIOCÍNIO LÓGICO

**26. Os cinco filhos de Ana estavam discutindo a respeito da data de nascimento da mãe:**

- Almir disse que foi em janeiro, dia 14, sexta-feira.
- Vanderlei disse que foi em janeiro, dia 14, sábado.
- Tiago disse que foi em fevereiro, dia 15, sábado.
- Sandro disse que foi em janeiro, dia 15, sexta-feira.
- Renato disse que foi em fevereiro, dia 15, sexta-feira.

**Sabe-se que somente um dos filhos de Ana acertou corretamente sua data de nascimento e que os outros acertaram pelo menos um dos itens (dia, dia da semana e mês). Dessa forma, é correto afirmar que o filho de Ana que acertou a data de nascimento dela foi:**

- a) Renato
- b) Sandro
- c) Tiago
- d) Vanderlei
- e) Almir

**27. Considere a seguinte afirmativa: “Todo churrasqueiro gosta de picanha”. Em relação a essa proposição, é correto afirmar que:**

- a) Algum churrasqueiro não gosta de picanha.
- b) Toda pessoa que gosta de picanha é churrasqueira.
- c) Alguma pessoa que não gosta de picanha é churrasqueira.
- d) Toda pessoa que não é churrasqueira, não gosta de picanha.
- e) Toda pessoa que não gosta de picanha, não é churrasqueira.

**28. Em um grupo formado por 67 pessoas, verificou-se que 41 pessoas gostam de arroz, 29 gostam de feijão, 33 gostam de carne, 19 gostam de arroz e de feijão, 9 gostam apenas de arroz e de carne, 12 gostam de feijão e de carne e que 6 gostam de arroz, de feijão e de carne. O número de pessoas desse grupo, que não gosta de nenhum desses três tipos de alimentos é igual a:**

- a) 4
- b) 5
- c) 6
- d) 8
- e) 10

**29. Bruno escreveu, em seu caderno, várias sequências formadas por números múltiplos de 4, onde os valores que ocupavam as posições pares eram multiplicados por  $-1$ . Cada sequência foi somada e o resultado da soma anotado. A soma das três primeiras sequências escritas por Bruno foram as seguintes:**

$$4 - 8 = -4$$

$$4 - 8 + 12 = 8$$

$$4 - 8 + 12 - 16 = -8$$

**Considere que Bruno escreveu e somou tais sequências, em seu caderno, de modo a obter determinada sequência cuja soma foi 600. O número de termos dessa sequência é igual a:**

- a) 149
- b) 150

- c) 298  
d) 299  
e) 300

30. Quatro torcedores, um do São Paulo, um do Cruzeiro, um do Vasco e um do Bahia, estão sentados ao redor de uma mesa quadrada, de modo que, dois a dois, fiquem frente a frente. Sabe-se que Alan é torcedor do Cruzeiro e que Bruno está sentado à direita de Alan. Sabe-se também que Caio está sentado à direita do torcedor do São Paulo. Sabe-se ainda que Daniel não é torcedor do Vasco e que está sentado à frente de Bruno. Dessa forma, é correto afirmar que:

- a) Bruno é torcedor do Bahia e Daniel é torcedor do São Paulo.  
b) Bruno é torcedor do São Paulo e Daniel é torcedor do Bahia.  
c) Caio é torcedor do Vasco e Daniel é torcedor do São Paulo.  
d) Caio é torcedor do Bahia e Daniel é torcedor do São Paulo.  
e) Bruno é torcedor do Vasco e Daniel é torcedor do Bahia.

### INFORMÁTICA

31. Considerando o MS-Excel versão 2010, observando a figura abaixo, é correto afirmar que:

	A	B	C
1			
2			
3			
4			

- a) Somente 03 três linhas estão selecionadas.  
b) Somente uma célula está selecionada.  
c) 12 (doze) células estão selecionadas.  
d) Somente a coluna A até a linha 4 (quatro) está selecionada.  
e) Somente as colunas 1 (um), 2 (dois), 3 (três) e 4 (quatro) estão selecionadas.

32. Considerando o MS-Excel versão 2010, observando a figura abaixo, é incorreto afirmar que:

	A	B	C
1	12	6	=A1*B1
2	8	2	=A2/B2
3	5	14	=A3-B3
4	6	11	=A4+B4

- a) O resultado da fórmula =A1\*B1 é 72.  
b) O resultado da fórmula =A2/B2 é 4.  
c) O resultado da fórmula =A3-B3 é -9.  
d) O resultado da fórmula =A3-B3 é 9.  
e) O resultado da fórmula =A4+B4 é 17.

33. Digitando um texto no MS-Word versão 2010, necessito adicionar número nas páginas. Quanto a isso, é correto afirmar que:

- a) No menu Layout da Página, clico em número de página e seleciono onde desejo adicionar os números.  
b) No menu Inserir, clico em número de página e seleciono onde desejo adicionar os números.  
c) No menu Revisão, clico em número de página e seleciono onde desejo adicionar os números.  
d) No menu Referências, clico em número de página e seleciono onde desejo adicionar os números.  
e) No menu Exibição, clico em número de página e seleciono onde desejo adicionar os números.

34. A segurança da informação está diretamente relacionada com proteção de um conjunto de informações, no sentido de preservar o valor que possuem para um indivíduo ou uma organização. Atualmente, um dos aplicativos mais utilizados no mundo, o Whats app, teve uma alteração de confidencialidade muito importante na segurança das informações transmitidas e recebidas. Dentre as alternativas, assinale a que corretamente informa a alteração inserida no aplicativo Whats app.

- a) Antispam  
b) Antivirus  
c) Firewall  
d) Antispyware  
e) Criptografia





**35. São todos os dispositivos que trabalham acoplados ao microcomputador para receber, transmitir, visualizar, ler, gravar ou armazenarem dados. São eles que permitem a comunicação do computador com o meio exterior, isto é, com os usuários e outras máquinas.**

**Esse texto descreve corretamente:**

- a) Memória ram
- b) Memória virtual
- c) Software
- d) Periféricos
- e) Hardware

### CONHECIMENTOS GERAIS

#### 36. Hino do município de Telêmaco Borba/PR

Das virgens matas e campos verdejantes  
 Servindo-se também o rio Tibagi,  
 Homens de ideais, espíritos vibrantes.  
 Constituíram as indústrias aqui.

Estribilho:

Salve! Salve! Telêmaco Borba  
 Terra querida e de grandes primores,  
 A nossa homenagem rendamos  
 À cidade dos trabalhadores.  
 Pois a cadência de enorme e real progresso  
 Um município mui grandioso fez nascer,  
 Marcando assim, verdadeiro sucesso  
 Faz, então o Paraná engrandecer.

**No que tange ao Hino do município, atribua V (verdadeiro) ou F (falso) às afirmativas e marque a alternativa correta.**

- ( ) Eloah Martins Quadrado é autora da letra do hino.
- ( ) Bento Mossurunga compôs a música do hino.
- ( ) Eloah Martins Quadrado foi nomeada primeira professora da Cidade Nova, atual Telêmaco Borba.
- ( ) Bento Mossurunga fundou a orquestra Estudantil e Concertos – Orquestra Sinfônica da Universidade, a Sociedade de Cultura Artístico Basilio Itiberê.
- a) F, V, V, V.
- b) V, F, V, V.
- c) V, V, F, V.
- d) V, V, F, F.
- e) V, V, V, V.

**37. À luz da Lei nº 1883/2012, que dispõe sobre o Estatuto dos Servidores Públicos da Administração Direta, Autárquica e Funcional do Município de Telêmaco Borba/PR, leia as alternativas e marque a correta.**

- a) A apresentação para a posse ocorrerá no prazo de até trinta dias, contados do ato de nomeação.
- b) A destituição do servidor da função gratificada dar-se-á por solicitação exclusiva dele mesmo.
- c) O servidor ocupante exclusivamente de cargo em comissão será contribuinte do regime geral de previdência social.
- d) A aprovação em concurso público gera o direito à nomeação, e será feita obedecida à ordem de classificação dos candidatos.
- e) O exercício de função gratificada poderá ser de dedicação integral ou parcial, conforme necessidade da administração.

**Conforme a Lei nº 1.881, de 05 de abril de 2012, que dispõe sobre o Plano de Cargos, Carreiras e Vencimentos do quadro geral de servidores da Prefeitura Municipal de Telêmaco Borba/PR, regulamentada pelo Decreto nº 2269/2015, responda às próximas três questões.**

**38. Leia as assertivas e assinala a incorreta.**

- a) Do resultado da avaliação de desempenho poderá ser interposto recurso à Comissão de Desenvolvimento Funcional no prazo de quinze dias a contar da publicação no Boletim Oficial do Município.
- b) Não será concedida a progressão ou promoção ao servidor que estiver em licença para tratamento de saúde por um período superior a quarenta e cinco dias, no período de avaliação.
- c) A alternância dos membros constituintes da Comissão de Desenvolvimento Funcional eleitos pelos servidores verificar-se-á a cada três anos de participação, observados, para substituição de seus participantes, o critério fixado no artigo anterior, não cabendo eleição sucessiva.
- d) Caberá à Comissão de Desenvolvimento Funcional, no caso de divergência de vinte por cento entre a nota do avaliador e a do avaliado, solicitar nova avaliação à chefia.



e) Nos termos do disposto no art. 17 da Lei n° 1.881, de 05 de abril de 2012, para progredir, é necessário que o servidor satisfaça, dentre outros, o seguinte requisito: estar no efetivo exercício de seu cargo ou em função comissionada na sua área de atuação durante o interstício de dois anos.

**39. Assinale a alternativa que completa respectivamente as lacunas do texto a seguir:**

**A Comissão de Desenvolvimento Funcional será constituída por \_\_\_\_\_ membros, sendo \_\_\_\_\_ designados pelo Prefeito Municipal de Telêmaco Borba e os demais eleitos pelos servidores municipais dentre os estáveis, com a atribuição de coordenar os procedimentos relativos à avaliação periódica de desempenho e outras atribuições.**

- a) três / sete
- b) um / três
- c) sete / três
- d) três / cinco
- e) dois / cinco

**40. A Avaliação de Desempenho será norteadada, dentre outros, pelo seguinte princípio: Amplitude - a avaliação deve incidir sobre todas as áreas de atuação do servidor, que compreendem:**

- 1. a formulação de políticas administrativas e sua aplicação para todos os setores da administração municipal;**
- 2. o desempenho do profissional dentro de suas funções pertinentes;**
- 3. a estrutura do órgão em que exerce a função;**
- 4. os resultados de eficiência dos serviços de cada setor ou órgão da administração municipal;**
- 5. a participação direta do avaliado, durante todo o processo avaliativo.**

**Diante dessa afirmação, somente não está correto o item:**

- a) 1
- b) 2
- c) 3
- d) 4
- e) 5

**RASCUNHO**



PREFEITURA DE TELÊMACO BORBA - ESTADO DO PARANÁ- **EDITAL Nº 001-2016 - CONCURSO PÚBLICO**

**VESPERTINO – 29/05/2016 – NÍVEL SUPERIOR**

**1**

**PROVA OBJETIVA NÚMERO**

**CARGO: TMNS I - MEDICINA - PEDIATRIA**

**Leia atentamente as INSTRUÇÕES:**

1. Confira seus dados no cartão-resposta: nome, número de inscrição e o curso para o qual se inscreveu.
2. **MARQUE no seu cartão-resposta o número da sua prova** (não será corrigido o cartão-resposta que não tiver marcado o número da prova) e **Assine** seu cartão-resposta.
3. Aguarde a autorização do Fiscal para abrir o caderno de prova. Ao receber a ordem do fiscal, confira o caderno de prova com muita atenção. Nenhuma reclamação sobre o total de questões ou falha de impressão será aceita depois de iniciada a prova.
4. O cartão-resposta não será substituído, salvo se contiver erro de impressão.
5. Preencha toda a área do cartão-resposta correspondente à alternativa de sua escolha, com caneta esferográfica (tinta azul ou preta), sem ultrapassar as bordas. As marcações duplas, ou rasuradas, com corretivo, ou marcadas diferentemente do modelo estabelecido no cartão-resposta poderão ser anuladas.
6. Sua prova tem **40** questões, com **5** alternativas.
7. Cabe apenas ao candidato a interpretação das questões, **o fiscal** não poderá fazer nenhuma interferência.
8. A prova será realizada com duração máxima de **3 (três) horas**, incluído o tempo para a realização da Prova Objetiva de múltipla escolha e o preenchimento do cartão-resposta.
9. O candidato poderá retirar-se do local de realização das provas somente **1 (uma) hora** após o seu início, sem levar o caderno de prova.
10. O candidato poderá levar o caderno de provas, assim como anotação contendo transcrição do seu cartão-resposta, somente **1h30min** (uma hora e trinta minutos) após o início da realização da prova.
11. Ao terminar a prova, o candidato deverá entregar ao fiscal de sala o cartão-resposta preenchido e **ASSINADO**.
12. Os **3 (três)** candidatos, que terminarem a prova por último, deverão permanecer na sala, e só poderão sair juntos após o fechamento do envelope, contendo os cartões-resposta dos candidatos presentes e ausentes, e assinarem no lacre do referido envelope, atestando que este foi devidamente lacrado.
13. Durante todo o tempo em que permanecer no local onde está ocorrendo o concurso, o candidato deverá, manter o celular desligado e sem bateria, só sendo permitido ligar depois de ultrapassar o portão de saída do prédio.
14. Não será permitido ao candidato fumar na sala de provas, bem como nas dependências.
15. Depois de terminar a prova e entregar ao fiscal o cartão-resposta, preenchido e assinado, não será mais permitido ao candidato o uso do banheiro e bebedouro.

**BOA PROVA!**

**LÍNGUA PORTUGUESA**

Texto para as próximas cinco questões:

**“O cego Estrelinho”  
Mia Couto**

O cego Estrelinho era pessoa de nenhuma vez: sua história poderia ser contada e descontada não fosse seu guia, Gigito Efraim. A mão de Gigito conduziu o desvistado por tempos e idades. Aquela mão era repartidamente comum, extensão de um no outro, siamensal. E assim era quase de nascença. Memória de Estrelinho tinha cinco dedos e eram os de Gigito postos, em aperto, na sua própria mão.

O cego, curioso, queria saber de tudo. Ele não fazia cerimônia no viver. O sempre lhe era pouco e o tudo insuficiente. Dizia, deste modo:

— Tenho que viver já, senão esqueço-me.

Gigitinho, porém, o que descrevia era o que não havia. O mundo que ele minuciava eram fantasias e rendilhados. A imaginação do guia era mais profícua que papaeira. O cego enchia a boca de águas:

— Que maravilhação esse mundo. Me conte tudo, Gigitô!

A mão do guia era, afinal, o manuscrito da mentira. Gigito Efraim estava como nunca esteve S. Tomé: via para não crer. O condutor falava pela ponta dos dedos. Desfolhava o universo, aberto em folhas. A ideiação dele era tal que mesmo o cego, por vezes, acreditava ver. O outro lhe encorajava esses breves enganos:

— Desbengale-se, você está escolhendo a boa procedência!

Mentira: Estrelinho continuava sem ver uma palmeira à frente do nariz. Contudo, o cego não se conformava em suas escuras. Ele cumpria o ditado: não tinha perna e queria dar o pontapé. Só à noite, ele desalentava, sofrendo medos mais antigos que a humanidade. Entendia aquilo que, na raça humana, é menos primitivo: o animal.

— Na noite aflige não haver luz?

— Aflição é ter um pássaro branco esvoando dentro do sono.

Pássaro branco? No sono? Lugar de ave é nas alturas. Dizem até que Deus fez o céu para justificar os pássaros. Estrelinho disfarçava o medo dos vaticínios, subterfugindo:

— E agora, Gigitinho? Agora, olhando assim para cima, estou face ao céu?

Que podia o outro responder? O céu do cego fica em toda a parte. Estrelinho perdia o pé era quando a noite chegava e seu mestre adormecia. Era como se um novo escuro nele se estreasse em nó cego. Devagaroso e sorrateiro ele aninhava sua mão na mão do guia. Só assim adormecia. A razão da concha é a timidez da amêijoia? Na manhã seguinte, o cego lhe confessava: se você morrer, tenho que morrer logo no imediato. Senão-me: como acerto o caminho para o céu?

Foi no mês de dezembro que levaram Gigitinho. Lhe tiraram do mundo para pôr na guerra: obrigavam os serviços militares. O cego reclamou: que o moço inatingia a idade. E que o serviço que ele a si prestava era vital e vitalício. O guia chamou Estrelinho à parte e lhe tranquilizou:

— Não vai ficar sozinhandando por aí. Minha mana já mandei para ficar no meu lugar.

O cego estendeu o braço a querer tocar uma despedida. Mas o outro já não estava lá. Ou estava e se desviara, propositado? E sem água ida nem vinda, Estrelinho escutou o amigo se afastar, engolido, esponginguico, invisível. Pela primeira vez, Estrelinho se sentiu invalidado.

— Agora, só agora, sou cego que não vê.

(...)

**COUTO, Mia. Estórias abensonhadas. Rio de Janeiro: Nova Fronteira, 1996. (Pág 23 e 24).**

**01. Quanto à interpretação do fragmento do conto, podemos afirmar que:**

- Gigito Efraim era o guia de Estrelinho há pouquíssimo tempo.
- Estrelinho era cego de nascença.
- Gigito descrevia o mundo para Estrelinho de forma denotativa.
- Gigito foi convocado pelo exército para ser guia de cegos na guerra.
- Gigito descrevia o mundo para Estrelinho de forma conotativa.

**02. No período “O sempre lhe era pouco e o tudo insuficiente”, o pronome “LHE” exerce a função sintática de:**

- Objeto Direto
- Objeto Indireto
- Complemento Nominal
- Adjunto Adnominal
- Objeto Direto Preposicionado

**03. Na oração “A mão de Gigito conduziu o desvistado por tempos e idades”, o autor faz uso de um neologismo, assim como no decorrer de toda a obra em questão. Contudo, o neologismo só se torna possível pela utilização dos elementos mórficos naquilo que a gramática normativa pontua como Processo de Formação das Palavras. Levando em consideração apenas o recurso morfológico, qual Processo de Formação foi utilizado?**

- Derivação Sufixal

- b) Derivação Prefixal
- c) Derivação Regressiva
- d) Derivação Imprópria
- e) Derivação Parassintética

**04. No terceiro período do décimo terceiro parágrafo, temos:**

- a) Uma oração
- b) Duas orações
- c) Três orações
- d) Quatro orações
- e) Cinco orações

**05. No último parágrafo do fragmento do conto “— Agora, só agora, sou cego que não vê”, a oração subordinada presente classifica-se corretamente como:**

- a) Oração Subordinada Adjetiva Restritiva
- b) Oração Subordinada Adverbial Causal
- c) Oração Subordinada Substantiva Subjetiva
- d) Oração Subordinada Adverbial Explicativa
- e) Oração Subordinada Adjetiva Explicativa

#### **RACIOCÍNIO LÓGICO**

**06. Os cinco filhos de Ana estavam discutindo a respeito da data de nascimento da mãe:**

- Almir disse que foi em janeiro, dia 14, sexta-feira.
- Vanderlei disse que foi em janeiro, dia 14, sábado.
- Tiago disse que foi em fevereiro, dia 15, sábado.
- Sandro disse que foi em janeiro, dia 15, sexta-feira.
- Renato disse que foi em fevereiro, dia 15, sexta-feira.

**Sabe-se que somente um dos filhos de Ana acertou corretamente sua data de nascimento e que os outros acertaram pelo menos um dos itens (dia, dia da semana e mês). Dessa forma, é correto afirmar que o filho de Ana que acertou a data de nascimento dela foi:**

- a) Renato
- b) Sandro
- c) Tiago
- d) Vanderlei
- e) Almir

**07. Considere a seguinte afirmativa: “Todo churrasqueiro gosta de picanha”. Em relação a essa proposição, é correto afirmar que:**

- a) Algum churrasqueiro não gosta de picanha.
- b) Toda pessoa que gosta de picanha é churrasqueira.
- c) Alguma pessoa que não gosta de picanha é churrasqueira.
- d) Toda pessoa que não é churrasqueira, não gosta de picanha.
- e) Toda pessoa que não gosta de picanha, não é churrasqueira.

**08. Em um grupo formado por 67 pessoas, verificou-se que 41 pessoas gostam de arroz, 29 gostam de feijão, 33 gostam de carne, 19 gostam de arroz e de feijão, 9 gostam apenas de arroz e de carne, 12 gostam de feijão e de carne e que 6 gostam de arroz, de feijão e de carne. O número de pessoas desse grupo, que não gosta de nenhum desses três tipos de alimentos é igual a:**

- a) 4
- b) 5
- c) 6
- d) 8
- e) 10

**09. Bruno escreveu, em seu caderno, várias sequências formadas por números múltiplos de 4, onde os valores que ocupavam as posições pares eram multiplicados por  $-1$ . Cada sequência foi somada e o resultado da soma anotado. A soma das três primeiras sequências escritas por Bruno foram as seguintes:**

$$4 - 8 = -4$$
$$4 - 8 + 12 = 8$$
$$4 - 8 + 12 - 16 = -8$$

**Considere que Bruno escreveu e somou tais sequências, em seu caderno, de modo a obter determinada sequência cuja soma foi 600. O número de termos dessa sequência é igual a:**

- a) 149
- b) 150
- c) 298

- d) 299  
e) 300

**10. Quatro torcedores, um do São Paulo, um do Cruzeiro, um do Vasco e um do Bahia, estão sentados ao redor de uma mesa quadrada, de modo que, dois a dois, fiquem frente a frente. Sabe-se que Alan é torcedor do Cruzeiro e que Bruno está sentado à direita de Alan. Sabe-se também que Caio está sentado à direita do torcedor do São Paulo. Sabe-se ainda que Daniel não é torcedor do Vasco e que está sentado à frente de Bruno. Dessa forma, é correto afirmar que:**

- a) Bruno é torcedor do Bahia e Daniel é torcedor do São Paulo.  
b) Bruno é torcedor do São Paulo e Daniel é torcedor do Bahia.  
c) Caio é torcedor do Vasco e Daniel é torcedor do São Paulo.  
d) Caio é torcedor do Bahia e Daniel é torcedor do São Paulo.  
e) Bruno é torcedor do Vasco e Daniel é torcedor do Bahia.

### INFORMÁTICA

**11. Considerando o MS-Excel versão 2010, observando a figura abaixo, é correto afirmar que:**

	A	B	C
1			
2			
3			
4			

- a) Somente 03 três linhas estão selecionadas.  
b) Somente uma célula está selecionada.  
c) 12 (doze) células estão selecionadas.  
d) Somente a coluna A até a linha 4 (quatro) está selecionada.  
e) Somente as colunas 1 (um), 2 (dois), 3 (três) e 4 (quatro) estão selecionadas.

**12. Considerando o MS-Excel versão 2010, observando a figura abaixo, é incorreto afirmar que:**

	A	B	C
1	12	6	=A1*B1
2	8	2	=A2/B2
3	5	14	=A3-B3
4	6	11	=A4+B4

- a) O resultado da fórmula =A1\*B1 é 72.  
b) O resultado da fórmula =A2/B2 é 4.  
c) O resultado da fórmula =A3-B3 é -9.  
d) O resultado da fórmula =A3-B3 é 9.  
e) O resultado da fórmula =A4+B4 é 17.

**13. Digitando um texto no MS-Word versão 2010, necessito adicionar número nas páginas. Quanto a isso, é correto afirmar que:**

- a) No menu Layout da Página, clico em número de página e seleciono onde desejo adicionar os números.  
b) No menu Inserir, clico em número de página e seleciono onde desejo adicionar os números.  
c) No menu Revisão, clico em número de página e seleciono onde desejo adicionar os números.  
d) No menu Referências, clico em número de página e seleciono onde desejo adicionar os números.  
e) No menu Exibição, clico em número de página e seleciono onde desejo adicionar os números.

**14. A segurança da informação está diretamente relacionada com proteção de um conjunto de informações, no sentido de preservar o valor que possuem para um indivíduo ou uma organização. Atualmente, um dos aplicativos mais utilizados no mundo, o Whats app, teve uma alteração de confidencialidade muito importante na segurança das informações transmitidas e recebidas. Dentre as alternativas, assinale a que corretamente informa a alteração inserida no aplicativo Whats app.**

- a) Antispam  
b) Antivirus  
c) Firewall  
d) Antispyware  
e) Criptografia



**15. São todos os dispositivos que trabalham acoplados ao microcomputador para receber, transmitir, visualizar, ler, gravar ou armazenarem dados. São eles que permitem a comunicação do computador com o meio exterior, isto é, com os usuários e outras máquinas.**

**Esse texto descreve corretamente:**

- a) Memória ram
- b) Memória virtual
- c) Software
- d) Periféricos
- e) Hardware

### **CONHECIMENTOS GERAIS**

#### **16. Hino do município de Telêmaco Borba/PR**

Das virgens matas e campos verdejantes

Servindo-se também o rio Tibagi,

Homens de ideais, espíritos vibrantes.

Constituíram as indústrias aqui.

Estrilho:

Salve! Salve! Telêmaco Borba

Terra querida e de grandes primores,

A nossa homenagem rendamos

À cidade dos trabalhadores.

Pois a cadência de enorme e real progresso

Um município mui grandioso fez nascer,

Marcando assim, verdadeiro sucesso

Faz, então o Paraná engrandecer.

**No que tange ao Hino do município, atribua V (verdadeiro) ou F (falso) às afirmativas e marque a alternativa correta.**

Eloah Martins Quadrado é autora da letra do hino.

Bento Mossurunga compôs a música do hino.

Eloah Martins Quadrado foi nomeada primeira professora da Cidade Nova, atual Telêmaco Borba.

Bento Mossurunga fundou a orquestra Estudantil e Concertos – Orquestra Sinfônica da Universidade, a Sociedade de Cultura Artístico Basílio Itiberê.

- a) F, V, V, V.
- b) V, F, V, V.
- c) V, V, F, V.
- d) V, V, F, F.
- e) V, V, V, V.

**17. À luz da Lei nº 1883/2012, que dispões sobre o Estatuto dos Servidores Públicos da Administração Direta, Autárquica e Funcional do Município de Telêmaco Borba/PR, leia as alternativas e marque a correta.**

a) A apresentação para a posse ocorrerá no prazo de até trinta dias, contados do ato de nomeação.

b) A destituição do servidor da função gratificada dar-se-á por solicitação exclusiva dele mesmo.

c) O servidor ocupante exclusivamente de cargo em comissão será contribuinte do regime geral de previdência social.

d) A aprovação em concurso público gera o direito à nomeação, e será feita obedecida à ordem de classificação dos candidatos.

e) O exercício de função gratificada poderá ser de dedicação integral ou parcial, conforme necessidade da administração.

**Conforme a Lei nº 1.881, de 05 de abril de 2012, que dispõe sobre o Plano de Cargos, Carreiras e Vencimentos do quadro geral de servidores da Prefeitura Municipal de Telêmaco Borba/PR, regulamentada pelo Decreto nº 2269/2015, responda às próximas três questões.**

**18. Leia as assertivas e assinala a incorreta.**

a) Do resultado da avaliação de desempenho poderá ser interposto recurso à Comissão de Desenvolvimento Funcional no prazo de quinze dias a contar da publicação no Boletim Oficial do Município.

b) Não será concedida a progressão ou promoção ao servidor que estiver em licença para tratamento de saúde por um período superior a quarenta e cinco dias, no período de avaliação.

c) A alternância dos membros constituintes da Comissão de Desenvolvimento Funcional eleitos pelos servidores verificar-se-á a cada três anos de participação, observados, para substituição de seus participantes, o critério fixado no artigo anterior, não cabendo eleição sucessiva.

d) Caberá à Comissão de Desenvolvimento Funcional, no caso de divergência de vinte por cento entre a nota do avaliador e a do avaliado, solicitar nova avaliação à chefia.



e) Nos termos do disposto no art. 17 da Lei n° 1.881, de 05 de abril de 2012, para progredir, é necessário que o servidor satisfaça, dentre outros, o seguinte requisito: estar no efetivo exercício de seu cargo ou em função comissionada na sua área de atuação durante o interstício de dois anos.

**19. Assinale a alternativa que completa respectivamente as lacunas do texto a seguir:**

**A Comissão de Desenvolvimento Funcional será constituída por \_\_\_\_\_ membros, sendo \_\_\_\_\_ designados pelo Prefeito Municipal de Telêmaco Borba e os demais eleitos pelos servidores municipais dentre os estáveis, com a atribuição de coordenar os procedimentos relativos à avaliação periódica de desempenho e outras atribuições.**

- a) três / sete
- b) um / três
- c) sete / três
- d) três / cinco
- e) dois / cinco

**20. A Avaliação de Desempenho será norteadada, dentre outros, pelo seguinte princípio: Amplitude - a avaliação deve incidir sobre todas as áreas de atuação do servidor, que compreendem:**

- 1. a formulação de políticas administrativas e sua aplicação para todos os setores da administração municipal;**
- 2. o desempenho do profissional dentro de suas funções pertinentes;**
- 3. a estrutura do órgão em que exerce a função;**
- 4. os resultados de eficiência dos serviços de cada setor ou órgão da administração municipal;**
- 5. a participação direta do avaliado, durante todo o processo avaliativo.**

**Diante dessa afirmação, somente não está correto o item:**

- a) 1
- b) 2
- c) 3
- d) 4
- e) 5

#### **CONHECIMENTOS ESPECÍFICOS**

**21. Assinale a alternativa que apresenta a portaria que institui a Rede de Atenção Psicossocial para pessoas com sofrimento ou transtorno mental e com necessidades decorrentes do uso de crack, álcool e outras drogas, no âmbito do Sistema Único de Saúde:**

- a) Portaria N° 1.498, de 19 de julho de 2013
- b) Portaria N° 793, de 24 de abril de 2012
- c) Portaria N° 2.395, de 11 de outubro de 2011
- d) Portaria N° 3.099, de 23 de dezembro de 2011
- e) Portaria N° 1.459, de 24 de junho de 2011

**22. Analise as afirmativas seguintes e assinale a alternativa que contém o resultado final da soma da(s) afirmativa(s) correta(s):**

**01 – Toda lesão no sistema nervoso central promove atrofia cortical, progredindo para demência.**

**02 – Delirium tremens com instabilidade autonômica e hiperatividade simpática associa-se, geralmente, a mortalidade de 5 a 10% dos pacientes.**

**04 – A classe de medicamento de primeira escolha para pacientes com delirium tremens são os Inibidores da Recapitação da Serotonina como a Amitriptilina.**

**08 – O etilismo pode desenvolver a encefalopatia de Wernicke.**

**16 – Os benzodiazepínicos tem ação no sistema de ácido gama-amino-butirico, da mesma forma que o álcool no cérebro humano.**

- a) 06
- b) 07
- c) 09
- d) 19
- e) 26

**23. Leia as assertivas e assinale a alternativa correta.**

**I – A insuficiência cardíaca congestiva é uma síndrome clínica sempre causada por alguma doença cardíaca subjacente, mais comumente miocardiopatia isquêmica resultante de aterosclerose e/ou hipertensão arterial.**

**II – A Doxorubicina é uma droga amplamente utilizada e que causa efeitos cardiotoxicos com dose cumulativa superior a 450mg/m<sup>2</sup> de superfície corporal.**

**III – Os inibidores da ECA e os BRA associados a betabloqueadores e antagonistas de aldosterona podem diminuir a mortalidade, e aliviam imediatamente os sintomas congestivos.**

**IV – A insuficiência cardíaca crônica é uma doença progressiva com alta mortalidade, e a classe funcional do paciente geralmente não é um guia ao tratamento.**

- a) Apenas I e II estão corretas.
- b) Apenas I e III estão corretas.
- c) Todas estão corretas.
- d) Apenas II e III estão corretas.
- e) Apenas a IV está errada.

**Leia o seguinte caso para responder às próximas três questões.**

**Mulher de 28 anos vai ao consultório queixando-se de dor em joelho direito e hálux contra-lateral, com 10 dias de evolução e que não respondeu ao uso de analgésicos simples. Refere febrícula ao término do dia associada à mialgia inespecífica, além de disúria e corrimento vaginal branco leitoso amarelo esverdeado e prurido ocular bilateral; há 45 dias foi tratada para LUES com esquema adequado preconizado pelo Ministério da Saúde. Ao exame, apresenta-se afebril, e ambos os olhos estão injetados e fotossensíveis; o joelho direito e a primeira articulação metatarsofalangiana esquerda apresentam-se edemaciados e dolorosos com discreta hiperemia.**

**24. Com base no caso, pode-se afirmar que a paciente apresenta uma tríade. Assinale a assertiva que contém o epônimo dessa tríade.**

- a) Virchow
- b) Reiter
- c) Beck
- d) Charcot
- e) Whipple

**25. Essa paciente possui fator de risco para desenvolver qual patologia ginecológica a médio prazo, se não for tratada corretamente?**

- a) Doença de Paget
- b) Doença de Berger
- c) Síndrome de Fitz-Hugh-Curtis
- d) Endometriose
- e) Síndrome dos ovários policísticos

**26. Sobre esse caso, analise as afirmativas e assinale a alternativa correta.**

**I – O principal diagnóstico diferencial para esse caso é a gonorreia.**

**II – Essa paciente possivelmente é HLA-B27 negativa.**

**III – Ela pode ser tratada com Azitromicina 1g no D1 e D7 associada com Ceftriaxona 250mg Intramuscular no D1 possui maior índice de cura em relação ao uso de Ceftriaxone 250mg Intramuscular no D1 com doxiciclina 100mg via oral de 12/12 horas por 14 dias.**

**IV – O provável agente etiológico do caso é a *Chlamydia trachomatis*.**

- a) Apenas a I está correta.
- b) Apenas I e II estão corretas.
- c) Apenas II e III estão erradas.
- d) Apenas I e III estão corretas.
- e) Apenas a II está errada.

**27. Assinale a alternativa em que se faz a correlação incorreta.**

- a) Agência Nacional de Saúde Suplementar – responsável pela regularização e fiscalização dos planos de saúde no país.
- b) Anvisa – responsável pela fiscalização in loco de estabelecimento de saúde em cada município e a sua correta regularização.
- c) Vigilância Epidemiológica – entidade responsável por organizar os dados de agravos em saúde e auxiliar a gestão a realizar estratégias de atenção a saúde.
- d) Anvisa – responsável pela deliberação de novas drogas no mercado brasileiro.
- e) Vigilância sanitária – responsável pela fiscalização das condições de manipulação de alimentos para os consumidores finais.

**28. Os Centros de Atenção Psicossocial são instituições destinadas a acolher os pacientes com transtornos mentais e estimular sua integração social e familiar, além de outras funções. Para que isso ocorra, necessitam de um número mínimo de membros na equipe.**

**Assinale a alternativa que contém a relação correta entre o tipo de CAPS e sua equipe mínima, conforme a determinação do Ministério da Saúde:**

---

Tipo de CAPS	Equipe Mínima
--------------	---------------

---

I – CAPS I	A – 2 psiquiatras; 1 enfermeiro com formação em nível superior; 5 profissionais de nível superior de outras categorias profissionais; 8 profissionais de nível médio.
II – CAPS II	B – 1 médico psiquiatra, ou neurologista ou pediatra com formação em saúde mental; 1 enfermeiro; 4 profissionais de nível superior dentre psicólogo, assistente social, terapeuta ocupacional, fonoaudiólogo, pedagogo ou outro profissional necessário ao projeto terapêutico; 5 profissionais de nível médio.
III – CAPS III	C – 1 médico psiquiatra ou com formação em saúde mental; 1 enfermeiro, 3 profissionais de nível superior de outras categorias profissionais; 4 profissionais de nível médio.
IV – CAPSi	D – 1 psiquiatra; 1 enfermeiro com formação em saúde mental; 1 médico clínico responsável pela triagem, avaliação e acompanhamento das intercorrências clínicas; 4 profissionais de nível superior necessário ao projeto terapêutico; 6 profissionais de nível médio.
V - CAPSad	E – 1 psiquiatra; 1 enfermeiro com formação em saúde mental; 4 profissionais de nível superior de outras categorias profissionais; 6 profissionais de nível médio.

- a) I-E; II-C; III-A; IV-B; V-D.  
 b) I-E; II-C; III-A; IV-D; V-B.  
 c) I-C; II-B; III-A; IV-E; V-D.  
 d) I-C; II-E; III-A; IV-B; V-D.  
 e) I-E; II-D; III-A; IV-B; V-C.

**29. Analise os seguintes itens a respeito de diarreia crônica e assinale a alternativa correta.**

**I – Diarreias tipo secretória podem ser desencadeadas por cólera, tumor de tireoide medular e uso de laxantes estimulantes exógenos, por exemplo.**

**II – Amiloidose pode promover esteatorreia, da mesma forma que a Doença de Whipple.**

**III – São exemplos de dismotilidade promotora de diarreia crônica: hipertireoidismo, síndrome do intestino irritável e Espru tropical.**

**IV – Pacientes portadores do Vírus da Imunodeficiência Adquirida podem ter, como sintoma inicial, diarreia crônica.**

- a) Todos estão corretos.  
 b) Apenas o item IV está incorreto.  
 c) Apenas o item III está correto.  
 d) Apenas o item III está incorreto.  
 e) Apenas o item II está incorreto.

**30. Assinale a assertiva que apresenta a portaria que publica a proposta de Projeto de Resolução “Boas Práticas para Organização e Funcionamento de Serviços de Urgência e Emergência”.**

- a) Portaria N° 30, de 12 de fevereiro de 2014  
 b) Portaria N° 354, de 10 de março de 2014  
 c) Portaria N° 825, de 25 de abril de 2016  
 d) Portaria N° 2.712, de 12 de novembro de 2013  
 e) Portaria N° 2.528, de 19 de outubro de 2006

**31. Referente à lombalgia, analise os itens seguintes e assinale a alternativa correta.**

**I – Segundo o trabalho de Deyo, publicado no New England Journal of Medicine em 2001, observou-se que a etiologia prevalente para lombalgia é de estiramento ou entorse lombar.**

**II – Menos de 1% da população adulta economicamente ativa sofre de dorsalgia.**

**III – São sinais e sintomas de alarme na lombalgia: dor iniciada antes dos 20 e após os 50 anos, febre, perda ponderal, dor intensa noturna ou piora da dor em posição supina, incontinência fecal e/ou urinária, história de neoplasia, anestesia em sela, redução da força em membros inferiores e imunossupressão.**

- a) Apenas os itens I e III estão corretos.  
 b) Apenas os itens II e III estão corretos.  
 c) Apenas os itens II e III estão incorretos.  
 d) Os itens I, II e III estão corretos.  
 e) Apenas os itens I e III estão incorretos.

**32. A respeito dos Critérios de Ranson, assinale a alternativa que contém a sequência correta da classificação de V (verdadeiro) e F (falso) para os itens a serem considerados na admissão de paciente com quadro de pancreatite aguda.**

- ( ) – Idade ≤ 54 anos  
 ( ) – Leucócitos > 16.000/mm<sup>3</sup>  
 ( ) – Glicemia > 200 mg/dl  
 ( ) – Desidrogenase láctica sérica > 350 UI/L

( ) – AST < 250 UI/L

- a) V - V - V - V - V.
- b) F - V - V - V - F.
- c) F - F - V - V - V.
- d) F - V - F - V - F.
- e) V - F - V - F - V.

**33. Assinale a alternativa com a correlação correta das causas de hipertensão secundária.**

**I – Doenças Renais**

**II – Doença endócrina**

**III – Outras doenças**

( ) Doses altas de estrogênio

( ) Glomerulonefrite

( ) Doença do rim policístico

( ) Hipertireoidismo

( ) Aterosclerose

( ) Hipercalcemia

( ) Apneia do sono obstrutiva

a) I; I; III; II; I; III; II.

b) II; III; I; II; I; III; I.

c) III; I; I; II; I; III; III.

d) II; I; I; II; I; III; II.

e) II; III; II; I; I; II; III.

**34. Assinale a alternativa incorreta a respeito das orientações aos indivíduos residentes no Brasil, com idade igual ou superior a cinco anos, que viajarão a países com recomendação de vacina para Poliomielite a visitantes, contidas no Programa Nacional de Imunização, publicado no ano 2016.**

- a) Sem comprovação vacinal: administrar duas doses de Vacina Oral Poliomielite(VOP), com intervalo de 90 dias entre elas.
- b) Sem comprovação vacinal: administrar três doses da VOP, com intervalo de 60 dias entre elas, mínimo 30 dias.
- c) Com esquema incompleto: completar o esquema com a VOP.
- d) Gestantes e imunodeprimidos e/ou seus contatos devem receber esquema com Vacina Inativada Poliomielite (VIP).
- e) Para aqueles indivíduos que receberam três doses ou mais de VOP ou VIP, caso a última dose tenha sido administrada há mais de 12 meses, garantir antes da viagem uma única dose de reforço com VOP ou VIP.

**35. Assinale a alternativa que contém o antimicrobiano contraindicado à gestante no segundo trimestre de gestação com quadro de infecção urinária, sem história de reação alérgica a medicamentos anteriormente:**

- a) Sulfametoxazol e Timetropina
- b) Cefalotina
- c) Nitrofurantoína
- d) Ciprofloxacino
- e) Amoxicilina

**36. A poliomielite é uma doença viral causada pelo gênero enterovírus da família Picornaviridae, conhecido como poliovírus e subdivide-se em três sorotipos (1, 2 e 3), acomete crianças abaixo de cinco anos de idade e causa paralisia irreversível dos membros inferiores.**

**Qual a nova posologia da vacina de poliomielite preconizada no calendário de vacinação de 2016?**

- a) Doses aos 2, 4 e 6 meses de idade com VIP, seguindo de reforço de VOP a 15 meses e 4 anos.
- b) Doses aos 3, 6 e 9 meses de idade com VIP, seguindo de reforço de VOP a 15 meses e 3 anos.
- c) Doses aos 3 e 5 meses de VIP com reforço aos 12 meses da mesma vacina.
- d) Doses aos 2 e 4 meses de VIP com reforço aos 12 meses da mesma vacina.
- e) Doses aos 4, 8 e 10 meses de idade com VIP, seguindo de reforço de VOP a 15 meses e 3 anos.

**37. Epilepsia é um termo aplicado a um grupo de condições crônicas cuja principal manifestação clínica é a ocorrência de convulsões: ataque súbitos e, em geral, não provocados de fenômenos subjetivos experienciais, alteração da consciência, movimentos involuntários ou abalos musculares. Uma das síndromes mais comuns na infância acomete crianças de 4 a 13 anos de idade. As crises convulsivas ocorrem mais à noite, podendo eventualmente ocorrer ao dia com convulsões tipicamente focais que se expressam com contrações de um lado da face, parada da conversação, salivação excessiva e parestesia na face, na gengiva, na língua e na parte interna das bochechas.**

**Analisando esse texto, assinale a alternativa que indica o tipo de epilepsia relacionada:**

- a) Epilepsia parcial contínua
- b) Epilepsia mioclônica juvenil
- c) Epilepsia parcial benigna da infância com pontas centrais mesotemporais

- d) Epilepsia do lobo temporal
- e) Síndrome de Lennox-Gastaut

**38. Uma infecção causada por protozoário entérico que infecta cerca de 10 % da população mundial e tem maior incidência nas regiões pobres, principalmente em crianças e idosos que são considerados grupos de risco. Os trofozoítas causadores desta doença exercem a patogênese pela aderência sequencial a mucinas colônicas, ruptura da mucosa intestinal com enzimas proteolíticas e lise dependente de contato de células hospedeiras.**

**Analisando esse texto, assinale a alternativa que indica o protozoário causador dessa doença:**

- a) *Entamoeba coli*
- b) *Leishmania (L.) donovani*
- c) *Leishmania (L.) major*
- d) *Entamoeba histolytica*
- e) *Giardia lamblia*

**39. Uma doença febril aguda, causada por um vírus do gênero flavivírus pertencente à família *Flaviviridae*, sendo, hoje, a mais importante arbovirose que afeta o homem. Constitui-se em sério problema de saúde pública no mundo, especialmente nos países tropicais, onde as condições do meio ambiente favorecem o desenvolvimento e a proliferação do principal vetor. Apesar da principal forma de aquisição da doença ser através de vetores, atualmente na literatura, há relatos de transmissão vertical, o que, aliado ao aumento do número de casos na população, principalmente da forma não-clássica, torna-se um motivo a mais de preocupação para os profissionais de saúde.**

**Analisando esse texto, assinale a alternativa que indica o vetor causador da doença mencionada:**

- a) Mosquito *Lutzomyia longipalpis*
- b) Mosquito *Aedes aegypti*
- c) Mosquito do gênero *Culex*
- d) Besouros *Triatoma brasiliensis*
- e) Mosquito *Phlebotomus brevis*

**40. O Hemograma de uma criança de 3 anos forneceu os seguintes resultados atípicos: hemácias microcíticas e hipocrômicas analisadas nos esfregaços. E nos índices hematimétricos, os parâmetros VCM, HCM e CHCM estavam todos reduzidos. As manifestações clínicas apresentadas foram: fadiga, atrofia das papilas da língua e ulcerações ou fissuras no canto da boca, renite atrófica com secreção nasal de odor fétido e unhas quebradiças.**

**Analisando esse quadro clínico, assinale a alternativa que indica o melhor diagnóstico:**

- a) Leucemia mieloide aguda
- b) Anemia de doença crônica
- c) Talassemias
- d) Leucemia mieloide crônica
- e) Anemia ferropriva

**RASCUNHO**





PREFEITURA DE TELÊMACO BORBA - ESTADO DO PARANÁ- **EDITAL Nº 001-2016 - CONCURSO PÚBLICO**

**VESPERTINO – 29/05/2016 – NÍVEL SUPERIOR**

**2**

**PROVA OBJETIVA NÚMERO**

**CARGO: TMNS I - MEDICINA - PEDIATRIA**

**Leia atentamente as INSTRUÇÕES:**

1. Confira seus dados no cartão-resposta: nome, número de inscrição e o curso para o qual se inscreveu.
2. **MARQUE no seu cartão-resposta o número da sua prova** (não será corrigido o cartão-resposta que não tiver marcado o número da prova) e **Assine** seu cartão-resposta.
3. Aguarde a autorização do Fiscal para abrir o caderno de prova. Ao receber a ordem do fiscal, confira o caderno de prova com muita atenção. Nenhuma reclamação sobre o total de questões ou falha de impressão será aceita depois de iniciada a prova.
4. O cartão-resposta não será substituído, salvo se contiver erro de impressão.
5. Preencha toda a área do cartão-resposta correspondente à alternativa de sua escolha, com caneta esferográfica (tinta azul ou preta), sem ultrapassar as bordas. As marcações duplas, ou rasuradas, com corretivo, ou marcadas diferentemente do modelo estabelecido no cartão-resposta poderão ser anuladas.
6. Sua prova tem **40** questões, com **5** alternativas.
7. Cabe apenas ao candidato a interpretação das questões, **o fiscal** não poderá fazer nenhuma interferência.
8. A prova será realizada com duração máxima de **3 (três) horas**, incluído o tempo para a realização da Prova Objetiva de múltipla escolha e o preenchimento do cartão-resposta.
9. O candidato poderá retirar-se do local de realização das provas somente **1 (uma) hora** após o seu início, sem levar o caderno de prova.
10. O candidato poderá levar o caderno de provas, assim como anotação contendo transcrição do seu cartão-resposta, somente **1h30min** (uma hora e trinta minutos) após o início da realização da prova.
11. Ao terminar a prova, o candidato deverá entregar ao fiscal de sala o cartão-resposta preenchido e **ASSINADO**.
12. Os **3 (três)** candidatos, que terminarem a prova por último, deverão permanecer na sala, e só poderão sair juntos após o fechamento do envelope, contendo os cartões-resposta dos candidatos presentes e ausentes, e assinarem no lacre do referido envelope, atestando que este foi devidamente lacrado.
13. Durante todo o tempo em que permanecer no local onde está ocorrendo o concurso, o candidato deverá, manter o celular desligado e sem bateria, só sendo permitido ligar depois de ultrapassar o portão de saída do prédio.
14. Não será permitido ao candidato fumar na sala de provas, bem como nas dependências.
15. Depois de terminar a prova e entregar ao fiscal o cartão-resposta, preenchido e assinado, não será mais permitido ao candidato o uso do banheiro e bebedouro.

**BOA PROVA!**

**RACIOCÍNIO LÓGICO**

**01. Os cinco filhos de Ana estavam discutindo a respeito da data de nascimento da mãe:**

- Almir disse que foi em janeiro, dia 14, sexta-feira.
- Vanderlei disse que foi em janeiro, dia 14, sábado.
- Tiago disse que foi em fevereiro, dia 15, sábado.
- Sandro disse que foi em janeiro, dia 15, sexta-feira.
- Renato disse que foi em fevereiro, dia 15, sexta-feira.

**Sabe-se que somente um dos filhos de Ana acertou corretamente sua data de nascimento e que os outros acertaram pelo menos um dos itens (dia, dia da semana e mês). Dessa forma, é correto afirmar que o filho de Ana que acertou a data de nascimento dela foi:**

- a) Renato
- b) Sandro
- c) Tiago
- d) Vanderlei
- e) Almir

**02. Considere a seguinte afirmativa: “Todo churrasqueiro gosta de picanha”. Em relação a essa proposição, é correto afirmar que:**

- a) Algum churrasqueiro não gosta de picanha.
- b) Toda pessoa que gosta de picanha é churrasqueira.
- c) Alguma pessoa que não gosta de picanha é churrasqueira.
- d) Toda pessoa que não é churrasqueira, não gosta de picanha.
- e) Toda pessoa que não gosta de picanha, não é churrasqueira.

**03. Em um grupo formado por 67 pessoas, verificou-se que 41 pessoas gostam de arroz, 29 gostam de feijão, 33 gostam de carne, 19 gostam de arroz e de feijão, 9 gostam apenas de arroz e de carne, 12 gostam de feijão e de carne e que 6 gostam de arroz, de feijão e de carne. O número de pessoas desse grupo, que não gosta de nenhum desses três tipos de alimentos é igual a:**

- a) 4
- b) 5
- c) 6
- d) 8
- e) 10

**04. Bruno escreveu, em seu caderno, várias sequências formadas por números múltiplos de 4, onde os valores que ocupavam as posições pares eram multiplicados por  $-1$ . Cada sequência foi somada e o resultado da soma anotado. A soma das três primeiras sequências escritas por Bruno foram as seguintes:**

$$4 - 8 = -4$$

$$4 - 8 + 12 = 8$$

$$4 - 8 + 12 - 16 = -8$$

**Considere que Bruno escreveu e somou tais sequências, em seu caderno, de modo a obter determinada sequência cuja soma foi 600. O número de termos dessa sequência é igual a:**

- a) 149
- b) 150
- c) 298
- d) 299
- e) 300

**05. Quatro torcedores, um do São Paulo, um do Cruzeiro, um do Vasco e um do Bahia, estão sentados ao redor de uma mesa quadrada, de modo que, dois a dois, fiquem frente a frente. Sabe-se que Alan é torcedor do Cruzeiro e que Bruno está sentado à direita de Alan. Sabe-se também que Caio está sentado à direita do torcedor do São Paulo. Sabe-se ainda que Daniel não é torcedor do Vasco e que está sentado à frente de Bruno. Dessa forma, é correto afirmar que:**

- a) Bruno é torcedor do Bahia e Daniel é torcedor do São Paulo.
- b) Bruno é torcedor do São Paulo e Daniel é torcedor do Bahia.
- c) Caio é torcedor do Vasco e Daniel é torcedor do São Paulo.
- d) Caio é torcedor do Bahia e Daniel é torcedor do São Paulo.
- e) Bruno é torcedor do Vasco e Daniel é torcedor do Bahia.

**INFORMÁTICA**

06. Considerando o MS-Excel versão 2010, observando a figura abaixo, é correto afirmar que:

	A	B	C
1			
2			
3			
4			

- Somente 03 três linhas estão selecionadas.
- Somente uma célula está selecionada.
- 12 (doze) células estão selecionadas.
- Somente a coluna A até a linha 4 (quatro) está selecionada.
- Somente as colunas 1 (um), 2 (dois), 3 (três) e 4 (quatro) estão selecionadas.

07. Considerando o MS-Excel versão 2010, observando a figura abaixo, é incorreto afirmar que:

	A	B	C
1	12	6	=A1*B1
2	8	2	=A2/B2
3	5	14	=A3-B3
4	6	11	=A4+B4

- O resultado da fórmula =A1\*B1 é 72.
- O resultado da fórmula =A2/B2 é 4.
- O resultado da fórmula =A3-B3 é -9.
- O resultado da fórmula =A3-B3 é 9.
- O resultado da fórmula =A4+B4 é 17.

08. Digitando um texto no MS-Word versão 2010, necessito adicionar número nas páginas. Quanto a isso, é correto afirmar que:

- No menu Layout da Página, clico em número de página e seleciono onde desejo adicionar os números.
- No menu Inserir, clico em número de página e seleciono onde desejo adicionar os números.
- No menu Revisão, clico em número de página e seleciono onde desejo adicionar os números.
- No menu Referências, clico em número de página e seleciono onde desejo adicionar os números.
- No menu Exibição, clico em número de página e seleciono onde desejo adicionar os números.

09. A segurança da informação está diretamente relacionada com proteção de um conjunto de informações, no sentido de preservar o valor que possuem para um indivíduo ou uma organização. Atualmente, um dos aplicativos mais utilizados no mundo, o Whats app, teve uma alteração de confidencialidade muito importante na segurança das informações transmitidas e recebidas. Dentre as alternativas, assinale a que corretamente informa a alteração inserida no aplicativo Whats app.

- Antispam
- Antivirus
- Firewall
- Antispyware
- Criptografia

10. São todos os dispositivos que trabalham acoplados ao microcomputador para receber, transmitir, visualizar, ler, gravar ou armazenarem dados. São eles que permitem a comunicação do computador com o meio exterior, isto é, com os usuários e outras máquinas.

Esse texto descreve corretamente:

- Memória ram
- Memória virtual
- Software
- Periféricos
- Hardware

**CONHECIMENTOS GERAIS**

11. Hino do município de Telêmaco Borba/PR

Das virgens matas e campos verdejantes  
 Servindo-se também o rio Tibagi,

Homens de ideais, espíritos vibrantes.  
 Constituíram as indústrias aqui.

Estribilho:

Salve! Salve! Telêmaco Borba  
 Terra querida e de grandes primores,  
 A nossa homenagem rendamos  
 À cidade dos trabalhadores.  
 Pois a cadência de enorme e real progresso  
 Um município mui grandioso fez nascer,  
 Marcando assim, verdadeiro sucesso  
 Faz, então o Paraná engrandecer.

**No que tange ao Hino do município, atribua V (verdadeiro) ou F (falso) às afirmativas e marque a alternativa correta.**

- ( ) Eloah Martins Quadrado é autora da letra do hino.  
 ( ) Bento Mossurunga compôs a música do hino.  
 ( ) Eloah Martins Quadrado foi nomeada primeira professora da Cidade Nova, atual Telêmaco Borba.  
 ( ) Bento Mossurunga fundou a orquestra Estudantil e Concertos – Orquestra Sinfônica da Universidade, a Sociedade de Cultura Artístico Basilio Itiberê.

- a) F, V, V, V.  
 b) V, F, V, V.  
 c) V, V, F, V.  
 d) V, V, F, F.  
 e) V, V, V, V.

**12. À luz da Lei nº 1883/2012, que dispõe sobre o Estatuto dos Servidores Públicos da Administração Direta, Autárquica e Funcional do Município de Telêmaco Borba/PR, leia as alternativas e marque a correta.**

- a) A apresentação para a posse ocorrerá no prazo de até trinta dias, contados do ato de nomeação.  
 b) A destituição do servidor da função gratificada dar-se-á por solicitação exclusiva dele mesmo.  
 c) O servidor ocupante exclusivamente de cargo em comissão será contribuinte do regime geral de previdência social.  
 d) A aprovação em concurso público gera o direito à nomeação, e será feita obedecida à ordem de classificação dos candidatos.  
 e) O exercício de função gratificada poderá ser de dedicação integral ou parcial, conforme necessidade da administração.

**Conforme a Lei nº 1.881, de 05 de abril de 2012, que dispõe sobre o Plano de Cargos, Carreiras e Vencimentos do quadro geral de servidores da Prefeitura Municipal de Telêmaco Borba/PR, regulamentada pelo Decreto nº 2269/2015, responda às próximas três questões.**

**13. Leia as assertivas e assinala a incorreta.**

- a) Do resultado da avaliação de desempenho poderá ser interposto recurso à Comissão de Desenvolvimento Funcional no prazo de quinze dias a contar da publicação no Boletim Oficial do Município.  
 b) Não será concedida a progressão ou promoção ao servidor que estiver em licença para tratamento de saúde por um período superior a quarenta e cinco dias, no período de avaliação.  
 c) A alternância dos membros constituintes da Comissão de Desenvolvimento Funcional eleitos pelos servidores verificar-se-á a cada três anos de participação, observados, para substituição de seus participantes, o critério fixado no artigo anterior, não cabendo eleição sucessiva.  
 d) Caberá à Comissão de Desenvolvimento Funcional, no caso de divergência de vinte por cento entre a nota do avaliador e a do avaliado, solicitar nova avaliação à chefia.  
 e) Nos termos do disposto no art. 17 da Lei nº 1.881, de 05 de abril de 2012, para progredir, é necessário que o servidor satisfaça, dentre outros, o seguinte requisito: estar no efetivo exercício de seu cargo ou em função comissionada na sua área de atuação durante o interstício de dois anos.

**14. Assinale a alternativa que completa respectivamente as lacunas do texto a seguir:**

**A Comissão de Desenvolvimento Funcional será constituída por \_\_\_\_\_ membros, sendo \_\_\_\_\_ designados pelo Prefeito Municipal de Telêmaco Borba e os demais eleitos pelos servidores municipais dentre os estáveis, com a atribuição de coordenar os procedimentos relativos à avaliação periódica de desempenho e outras atribuições.**

- a) três / sete  
 b) um / três  
 c) sete / três  
 d) três / cinco  
 e) dois / cinco

**15. A Avaliação de Desempenho será norteadada, dentre outros, pelo seguinte princípio: Amplitude - a avaliação deve incidir sobre todas as áreas de atuação do servidor, que compreendem:**

- 1. a formulação de políticas administrativas e sua aplicação para todos os setores da administração municipal;**
- 2. o desempenho do profissional dentro de suas funções pertinentes;**
- 3. a estrutura do órgão em que exerce a função;**
- 4. os resultados de eficiência dos serviços de cada setor ou órgão da administração municipal;**
- 5. a participação direta do avaliado, durante todo o processo avaliativo.**

**Diante dessa afirmação, somente não está correto o item:**

- a) 1
- b) 2
- c) 3
- d) 4
- e) 5

#### **CONHECIMENTOS ESPECÍFICOS**

**16. Assinale a alternativa que apresenta a portaria que institui a Rede de Atenção Psicossocial para pessoas com sofrimento ou transtorno mental e com necessidades decorrentes do uso de crack, álcool e outras drogas, no âmbito do Sistema Único de Saúde:**

- a) Portaria N° 1.498, de 19 de julho de 2013
- b) Portaria N° 793, de 24 de abril de 2012
- c) Portaria N° 2.395, de 11 de outubro de 2011
- d) Portaria N° 3.099, de 23 de dezembro de 2011
- e) Portaria N° 1.459, de 24 de junho de 2011

**17. Analise as afirmativas seguintes e assinale a alternativa que contém o resultado final da soma da(s) afirmativa(s) correta(s):**

**01 – Toda lesão no sistema nervoso central promove atrofia cortical, progredindo para demência.**

**02 – Delirium tremens com instabilidade autonômica e hiperatividade simpática associa-se, geralmente, a mortalidade de 5 a 10% dos pacientes.**

**04 – A classe de medicamento de primeira escolha para pacientes com delirium tremens são os Inibidores da Recapitação da Serotonina como a Amitriptilina.**

**08 – O etilismo pode desenvolver a encefalopatia de Wernicke.**

**16 – Os benzodiazepínicos tem ação no sistema de ácido gama-amino-butirico, da mesma forma que o álcool no cérebro humano.**

- a) 06
- b) 07
- c) 09
- d) 19
- e) 26

**18. Leia as assertivas e assinale a alternativa correta.**

**I – A insuficiência cardíaca congestiva é uma síndrome clínica sempre causada por alguma doença cardíaca subjacente, mais comumente miocardiopatia isquêmica resultante de aterosclerose e/ou hipertensão arterial.**

**II – A Doxorubicina é uma droga amplamente utilizada e que causa efeitos cardiotoxícos com dose cumulativa superior a 450mg/m<sup>2</sup> de superfície corporal.**

**III – Os inibidores da ECA e os BRA associados a betabloqueadores e antagonistas de aldosterona podem diminuir a mortalidade, e aliviam imediatamente os sintomas congestivos.**

**IV – A insuficiência cardíaca crônica é uma doença progressiva com alta mortalidade, e a classe funcional do paciente geralmente não é um guia ao tratamento.**

- a) Apenas I e II estão corretas.
- b) Apenas I e III estão corretas.
- c) Todas estão corretas.
- d) Apenas II e III estão corretas.
- e) Apenas a IV está errada.

**Leia o seguinte caso para responder às próximas três questões.**

**Mulher de 28 anos vai ao consultório queixando-se de dor em joelho direito e hálux contra-lateral, com 10 dias de evolução e que não respondeu ao uso de analgésicos simples. Refere febrícula ao término do dia associada à mialgia inespecífica, além de disúria e corrimento vaginal branco leitoso amarelo esverdeado e prurido ocular bilateral; há 45 dias foi tratada para LUES com esquema adequado preconizado pelo Ministério da Saúde. Ao exame, apresenta-se afebril, e ambos os olhos estão injetados e fotossensíveis; o**

joelho direito e a primeira articulação metatarsofalangiana esquerda apresentam-se edemaciados e dolorosos com discreta hiperemia.

**19. Com base no caso, pode-se afirmar que a paciente apresenta uma tríade. Assinale a assertiva que contém o epônimo dessa tríade.**

- a) Virchow
- b) Reiter
- c) Beck
- d) Charcot
- e) Whipple

**20. Essa paciente possui fator de risco para desenvolver qual patologia ginecológica a médio prazo, se não for tratada corretamente?**

- a) Doença de Paget
- b) Doença de Berger
- c) Síndrome de Fitz-Hugh-Curtis
- d) Endometriose
- e) Síndrome dos ovários policísticos

**21. Sobre esse caso, analise as afirmativas e assinale a alternativa correta.**

**I – O principal diagnóstico diferencial para esse caso é a gonorreia.**

**II – Essa paciente possivelmente é HLA-B27 negativa.**

**III – Ela pode ser tratada com Azitromicina 1g no D1 e D7 associada com Ceftriaxona 250mg Intramuscular no D1 possui maior índice de cura em relação ao uso de Ceftriaxone 250mg Intramuscular no D1 com doxiciclina 100mg via oral de 12/12 horas por 14 dias.**

**IV – O provável agente etiológico do caso é a *Chlamydia trachomatis*.**

- a) Apenas a I está correta.
- b) Apenas I e II estão corretas.
- c) Apenas II e III estão erradas.
- d) Apenas I e III estão corretas.
- e) Apenas a II está errada.

**22. Assinale a alternativa em que se faz a correlação incorreta.**

- a) Agência Nacional de Saúde Suplementar – responsável pela regularização e fiscalização dos planos de saúde no país.
- b) Anvisa – responsável pela fiscalização in loco de estabelecimento de saúde em cada município e a sua correta regularização.
- c) Vigilância Epidemiológica – entidade responsável por organizar os dados de agravos em saúde e auxiliar a gestão a realizar estratégias de atenção a saúde.
- d) Anvisa – responsável pela deliberação de novas drogas no mercado brasileiro.
- e) Vigilância sanitária – responsável pela fiscalização das condições de manipulação de alimentos para os consumidores finais.

**23. Os Centros de Atenção Psicossocial são instituições destinadas a acolher os pacientes com transtornos mentais e estimular sua integração social e familiar, além de outras funções. Para que isso ocorra, necessitam de um número mínimo de membros na equipe.**

**Assinale a alternativa que contém a relação correta entre o tipo de CAPS e sua equipe mínima, conforme a determinação do Ministério da Saúde:**

Tipo de CAPS	Equipe Mínima
I – CAPS I	<b>A – 2 psiquiatras; 1 enfermeiro com formação em nível superior; 5 profissionais de nível superior de outras categorias profissionais; 8 profissionais de nível médio.</b>
II – CAPS II	<b>B – 1 médico psiquiatra, ou neurologista ou pediatra com formação em saúde mental; 1 enfermeiro; 4 profissionais de nível superior dentre psicólogo, assistente social, terapeuta ocupacional, fonoaudiólogo, pedagogo ou outro profissional necessário ao projeto terapêutico; 5 profissionais de nível médio.</b>
III – CAPS III	<b>C – 1 médico psiquiatra ou com formação em saúde mental; 1 enfermeiro, 3 profissionais de nível superior de outras categorias profissionais; 4 profissionais de nível médio.</b>
IV – CAPSi	<b>D – 1 psiquiatra; 1 enfermeiro com formação em saúde mental; 1 médico clínico responsável pela triagem, avaliação e acompanhamento das intercorrências clínicas; 4 profissionais de nível superior necessário ao projeto terapêutico; 6 profissionais de nível médio.</b>





V - CAPSad

E – 1 psiquiatra; 1 enfermeiro com formação em saúde mental; 4 profissionais de nível superior de outras categorias profissionais; 6 profissionais de nível médio.

- a) I-E; II-C; III-A; IV-B; V-D.
- b) I-E; II-C; III-A; IV-D; V-B.
- c) I-C; II-B; III-A; IV-E; V-D.
- d) I-C; II-E; III-A; IV-B; V-D.
- e) I-E; II-D; III-A; IV-B; V-C.

24. Analise os seguintes itens a respeito de diarreia crônica e assinale a alternativa correta.

**I – Diarreias tipo secretória podem ser desencadeadas por cólera, tumor de tireoide medular e uso de laxantes estimulantes exógenos, por exemplo.**

**II – Amiloidose pode promover esteatorreia, da mesma forma que a Doença de Whipple.**

**III – São exemplos de dismotilidade promotora de diarreia crônica: hipertireoidismo, síndrome do intestino irritável e Espru tropical.**

**IV – Pacientes portadores do Vírus da Imunodeficiência Adquirida podem ter, como sintoma inicial, diarreia crônica.**

- a) Todos estão corretos.
- b) Apenas o item IV está incorreto.
- c) Apenas o item III está correto.
- d) Apenas o item III está incorreto.
- e) Apenas o item II está incorreto.

25. Assinale a assertiva que apresenta a portaria que publica a proposta de Projeto de Resolução “Boas Práticas para Organização e Funcionamento de Serviços de Urgência e Emergência”.

- a) Portaria N° 30, de 12 de fevereiro de 2014
- b) Portaria N° 354, de 10 de março de 2014
- c) Portaria N° 825, de 25 de abril de 2016
- d) Portaria N° 2.712, de 12 de novembro de 2013
- e) Portaria N° 2.528, de 19 de outubro de 2006

26. Referente à lombalgia, analise os itens seguintes e assinale a alternativa correta.

**I – Segundo o trabalho de Deyo, publicado no New England Journal of Medicine em 2001, observou-se que a etiologia prevalente para lombalgia é de estiramento ou entorse lombar.**

**II – Menos de 1% da população adulta economicamente ativa sofre de dorsalgia.**

**III – São sinais e sintomas de alarme na lombalgia: dor iniciada antes dos 20 e após os 50 anos, febre, perda ponderal, dor intensa noturna ou piora da dor em posição supina, incontinência fecal e/ou urinária, história de neoplasia, anestesia em sela, redução da força em membros inferiores e imunossupressão.**

- a) Apenas os itens I e III estão corretos.
- b) Apenas os itens II e III estão corretos.
- c) Apenas os itens II e III estão incorretos.
- d) Os itens I, II e III estão corretos.
- e) Apenas os itens I e III estão incorretos.

27. A respeito dos Critérios de Ranson, assinale a alternativa que contém a sequência correta da classificação de V (verdadeiro) e F (falso) para os itens a serem considerados na admissão de paciente com quadro de pancreatite aguda.

- ( ) – Idade  $\leq$  54 anos
- ( ) – Leucócitos  $>$  16.000/mm<sup>3</sup>
- ( ) – Glicemia  $>$  200 mg/dl
- ( ) – Desidrogenase láctica sérica  $>$  350 UI/L
- ( ) – AST  $<$  250 UI/L

- a) V - V - V - V - V.
- b) F - V - V - V - F.
- c) F - F - V - V - V.
- d) F - V - F - V - F.
- e) V - F - V - F - V.

28. Assinale a alternativa com a correlação correta das causas de hipertensão secundária.

**I – Doenças Renais**

**II – Doença endócrina**

**III – Outras doenças**

- ( ) Doses altas de estrogênio
- ( ) Glomerulonefrite
- ( ) Doença do rim policístico

- ( ) Hipertireoidismo
- ( ) Aterosclerose
- ( ) Hipercalcemia
- ( ) Apneia do sono obstrutiva
- a) I; I; III; II; I; III; II.
- b) II; III; I; II; I; III; I.
- c) III; I; I; II; I; III; III.
- d) II; I; I; II; I; III; II.
- e) II; III; II; I; I; II; III.

**29. Assinale a alternativa incorreta a respeito das orientações aos indivíduos residentes no Brasil, com idade igual ou superior a cinco anos, que viajarão a países com recomendação de vacina para Poliomielite a visitantes, contidas no Programa Nacional de Imunização, publicado no ano 2016.**

- a) Sem comprovação vacinal: administrar duas doses de Vacina Oral Poliomielite(VOP), com intervalo de 90 dias entre elas.
- b) Sem comprovação vacinal: administrar três doses da VOP, com intervalo de 60 dias entre elas, mínimo 30 dias.
- c) Com esquema incompleto: completar o esquema com a VOP.
- d) Gestantes e imunodeprimidos e/ou seus contatos devem receber esquema com Vacina Inativada Poliomielite (VIP).
- e) Para aqueles indivíduos que receberam três doses ou mais de VOP ou VIP, caso a última dose tenha sido administrada há mais de 12 meses, garantir antes da viagem uma única dose de reforço com VOP ou VIP.

**30. Assinale a alternativa que contém o antimicrobiano contraindicado à gestante no segundo trimestre de gestação com quadro de infecção urinária, sem história de reação alérgica a medicamentos anteriormente:**

- a) Sulfametoxazol e Timetropina
- b) Cefalotina
- c) Nitrofurantoína
- d) Ciprofloxacino
- e) Amoxicilina

**31. A poliomielite é uma doença viral causada pelo gênero enterovírus da família Picornaviridae, conhecido como poliovírus e subdivide-se em três sorotipos (1, 2 e 3), acomete crianças abaixo de cinco anos de idade e causa paralisia irreversível dos membros inferiores.**

**Qual a nova posologia da vacina de poliomielite preconizada no calendário de vacinação de 2016?**

- a) Doses aos 2, 4 e 6 meses de idade com VIP, seguindo de reforço de VOP a 15 meses e 4 anos.
- b) Doses aos 3, 6 e 9 meses de idade com VIP, seguindo de reforço de VOP a 15 meses e 3 anos.
- c) Doses aos 3 e 5 meses de VIP com reforço aos 12 meses da mesma vacina.
- d) Doses aos 2 e 4 meses de VIP com reforço aos 12 meses da mesma vacina.
- e) Doses aos 4, 8 e 10 meses de idade com VIP, seguindo de reforço de VOP a 15 meses e 3 anos.

**32. Epilepsia é um termo aplicado a um grupo de condições crônicas cuja principal manifestação clínica é a ocorrência de convulsões: ataque súbitos e, em geral, não provocados de fenômenos subjetivos experienciais, alteração da consciência, movimentos involuntários ou abalos musculares. Uma das síndromes mais comuns na infância acomete crianças de 4 a 13 anos de idade. As crises convulsivas ocorrem mais à noite, podendo eventualmente ocorrer ao dia com convulsões tipicamente focais que se expressam com contrações de um lado da face, parada da conversação, salivação excessiva e parestesia na face, na gengiva, na língua e na parte interna das bochechas.**

**Analisando esse texto, assinale a alternativa que indica o tipo de epilepsia relacionada:**

- a) Epilepsia parcial contínua
- b) Epilepsia mioclônica juvenil
- c) Epilepsia parcial benigna da infância com pontas centrais mesotemporais
- d) Epilepsia do lobo temporal
- e) Síndrome de Lennox-Gastaut

**33. Uma infecção causada por protozoário entérico que infecta cerca de 10 % da população mundial e tem maior incidência nas regiões pobres, principalmente em crianças e idosos que são considerados grupos de risco. Os trofozoítas causadores desta doença exercem a patogênese pela aderência sequencial a mucinas colônicas, ruptura da mucosa intestinal com enzimas proteolíticas e lise dependente de contato de células hospedeiras.**

**Analisando esse texto, assinale a alternativa que indica o protozoário causador dessa doença:**

- a) *Entamoeba coli*
- b) *Leishmania (L.) donovani*
- c) *Leishmania (L.) major*
- d) *Entamoeba histolytica*
- e) *Giardia lamblia*

34. Uma doença febril aguda, causada por um vírus do gênero flavivírus pertencente à família *Flaviviridae*, sendo, hoje, a mais importante arbovirose que afeta o homem. Constitui-se em sério problema de saúde pública no mundo, especialmente nos países tropicais, onde as condições do meio ambiente favorecem o desenvolvimento e a proliferação do principal vetor. Apesar da principal forma de aquisição da doença ser através de vetores, atualmente na literatura, há relatos de transmissão vertical, o que, aliado ao aumento do número de casos na população, principalmente da forma não-clássica, torna-se um motivo a mais de preocupação para os profissionais de saúde.

Analizando esse texto, assinale a alternativa que indica o vetor causador da doença mencionada:

- a) Mosquito *Lutzomyia longipalpis*
- b) Mosquito *Aedes aegypti*
- c) Mosquito do gênero *Culex*
- d) Besouros *Triatoma brasiliensis*
- e) Mosquito *Phlebotomus brevis*

35. O Hemograma de uma criança de 3 anos forneceu os seguintes resultados atípicos: hemácias microcíticas e hipocrômicas analisadas nos esfregaços. E nos índices hematimétricos, os parâmetros VCM, HCM e CHCM estavam todos reduzidos. As manifestações clínicas apresentadas foram: fadiga, atrofia das papilas da língua e ulcerações ou fissuras no canto da boca, renite atrófica com secreção nasal de odor fétido e unhas quebradiças.

Analizando esse quadro clínico, assinale a alternativa que indica o melhor diagnóstico:

- a) Leucemia mieloide aguda
- b) Anemia de doença crônica
- c) Talassemias
- d) Leucemia mieloide crônica
- e) Anemia ferropriva

## LÍNGUA PORTUGUESA

Texto para as próximas cinco questões:

### “O cego Estrelinho” Mia Couto

O cego Estrelinho era pessoa de nenhuma vez: sua história poderia ser contada e descontada não fosse seu guia, Gigitto Efraim. A mão de Gigitto conduziu o desvistado por tempos e idades. Aquela mão era repartidamente comum, extensão de um no outro, siamensal. E assim era quase de nascença. Memória de Estrelinho tinha cinco dedos e eram os de Gigitto postos, em aperto, na sua própria mão.

O cego, curioso, queria saber de tudo. Ele não fazia cerimônia no viver. O sempre lhe era pouco e o tudo insuficiente. Dizia, deste modo:

— Tenho que viver já, senão esqueço-me.

Gigitto, porém, o que descrevia era o que não havia. O mundo que ele minuciava eram fantasias e rendilhados. A imaginação do guia era mais profícua que papaeira. O cego enchia a boca de águas:

— Que maravilhação esse mundo. Me conte tudo, Gigitto!

A mão do guia era, afinal, o manuscrito da mentira. Gigitto Efraim estava como nunca esteve S. Tomé: via para não crer. O condutor falava pela ponta dos dedos. Desfolhava o universo, aberto em folhas. A ideiação dele era tal que mesmo o cego, por vezes, acreditava ver. O outro lhe encorajava esses breves enganos:

— Desbengale-se, você está escolhendo a boa procedência!

Mentira: Estrelinho continuava sem ver uma palmeira à frente do nariz. Contudo, o cego não se conformava em suas escurezas. Ele cumpria o ditado: não tinha perna e queria dar o pontapé. Só à noite, ele desalentava, sofrendo medos mais antigos que a humanidade. Entendia aquilo que, na raça humana, é menos primitivo: o animal.

— Na noite aflige não haver luz?

— Aflição é ter um pássaro branco esvoando dentro do sono.

Pássaro branco? No sono? Lugar de ave é nas alturas. Dizem até que Deus fez o céu para justificar os pássaros. Estrelinho disfarçava o medo dos vaticínios, subterfugindo:

— E agora, Gigitto? Agora, olhando assim para cima, estou face ao céu?

Que podia o outro responder? O céu do cego fica em toda a parte. Estrelinho perdia o pé era quando a noite chegava e seu mestre adormecia. Era como se um novo escuro nele se estresse em nó cego. Devagaroso e sorrateiro ele aninhava sua mão na mão do guia. Só assim adormecia. A razão da concha é a timidez da amêijoia? Na manhã seguinte, o cego lhe confessava: se você morrer, tenho que morrer logo no imediato. Senão-me: como acerto o caminho para o céu?

Foi no mês de dezembro que levaram Gigitto. Lhe tiraram do mundo para pôr na guerra: obrigavam os serviços militares. O cego reclamou: que o moço inatingia a idade. E que o serviço que ele a si prestava era vital e vitalício. O guia chamou Estrelinho à parte e lhe tranquilizou:

— Não vai ficar sozinho por aí. Minha mana já mandei para ficar no meu lugar.



O cego estendeu o braço a querer tocar uma despedida. Mas o outro já não estava lá. Ou estava e se desviara, propositado? E sem água ida nem vinda, Estrelinho escutou o amigo se afastar, engolido, esponginquo, inevisível. Pela pimeira vez, Estrelinho se sentiu invalidado.

— Agora, só agora, sou cego que não vê.

(...)

**COUTO, Mia. Estórias abensonhadas. Rio de Janeiro: Nova Fronteira, 1996. (Pág 23 e 24).**

**36. Quanto à interpretação do fragmento do conto, podemos afirmar que:**

- a) Gigito Efraim era o guia de Estrelinho há pouquíssimo tempo.
- b) Estrelinho era cego de nascença.
- c) Gigito descrevia o mundo para Estrelinho de forma denotativa.
- d) Gigito foi convocado pelo exército para ser guia de cegos na guerra.
- e) Gigito descrevia o mundo para Estrelinho de forma conotativa.

**37. No período “O sempre lhe era pouco e o tudo insuficiente”, o pronome “LHE” exerce a função sintática de:**

- a) Objeto Direto
- b) Objeto Indireto
- c) Complemento Nominal
- d) Adjunto Adnominal
- e) Objeto Direto Preposicionado

**38. Na oração “A mão de Gigito conduziu o desvestido por tempos e idades”, o autor faz uso de um neologismo, assim como no decorrer de toda a obra em questão. Contudo, o neologismo só se torna possível pela utilização dos elementos mórficos naquilo que a gramática normativa pontua como Processo de Formação das Palavras. Levando em consideração apenas o recurso morfológico, qual Processo de Formação foi utilizado?**

- a) Derivação Sufixal
- b) Derivação Prefixal
- c) Derivação Regressiva
- d) Derivação Imprópria
- e) Derivação Parassintética

**39. No terceiro período do décimo terceiro parágrafo, temos:**

- a) Uma oração
- b) Duas orações
- c) Três orações
- d) Quatro orações
- e) Cinco orações

**40. No último parágrafo do fragmento do conto “— Agora, só agora, sou cego que não vê”, a oração subordinada presente classifica-se corretamente como:**

- a) Oração Subordinada Adjetiva Restritiva
- b) Oração Subordinada Adverbial Causal
- c) Oração Subordinada Substantiva Subjetiva
- d) Oração Subordinada Adverbial Explicativa
- e) Oração Subordinada Adjetiva Explicativa

**RASCUNHO**



PREFEITURA DE TELÊMACO BORBA - ESTADO DO PARANÁ- **EDITAL Nº 001-2016 - CONCURSO PÚBLICO**

**VESPERTINO – 29/05/2016 – NÍVEL SUPERIOR**

**3**

**PROVA OBJETIVA NÚMERO**

**CARGO: TMNS I - MEDICINA - PEDIATRIA**

**Leia atentamente as INSTRUÇÕES:**

1. Confira seus dados no cartão-resposta: nome, número de inscrição e o curso para o qual se inscreveu.
2. **MARQUE no seu cartão-resposta o número da sua prova** (não será corrigido o cartão-resposta que não tiver marcado o número da prova) e **Assine** seu cartão-resposta.
3. Aguarde a autorização do Fiscal para abrir o caderno de prova. Ao receber a ordem do fiscal, confira o caderno de prova com muita atenção. Nenhuma reclamação sobre o total de questões ou falha de impressão será aceita depois de iniciada a prova.
4. O cartão-resposta não será substituído, salvo se contiver erro de impressão.
5. Preencha toda a área do cartão-resposta correspondente à alternativa de sua escolha, com caneta esferográfica (tinta azul ou preta), sem ultrapassar as bordas. As marcações duplas, ou rasuradas, com corretivo, ou marcadas diferentemente do modelo estabelecido no cartão-resposta poderão ser anuladas.
6. Sua prova tem **40** questões, com **5** alternativas.
7. Cabe apenas ao candidato a interpretação das questões, **o fiscal** não poderá fazer nenhuma interferência.
8. A prova será realizada com duração máxima de **3 (três) horas**, incluído o tempo para a realização da Prova Objetiva de múltipla escolha e o preenchimento do cartão-resposta.
9. O candidato poderá retirar-se do local de realização das provas somente **1 (uma) hora** após o seu início, sem levar o caderno de prova.
10. O candidato poderá levar o caderno de provas, assim como anotação contendo transcrição do seu cartão-resposta, somente **1h30min** (uma hora e trinta minutos) após o início da realização da prova.
11. Ao terminar a prova, o candidato deverá entregar ao fiscal de sala o cartão-resposta preenchido e **ASSINADO**.
12. Os **3 (três)** candidatos, que terminarem a prova por último, deverão permanecer na sala, e só poderão sair juntos após o fechamento do envelope, contendo os cartões-resposta dos candidatos presentes e ausentes, e assinarem no lacre do referido envelope, atestando que este foi devidamente lacrado.
13. Durante todo o tempo em que permanecer no local onde está ocorrendo o concurso, o candidato deverá, manter o celular desligado e sem bateria, só sendo permitido ligar depois de ultrapassar o portão de saída do prédio.
14. Não será permitido ao candidato fumar na sala de provas, bem como nas dependências.
15. Depois de terminar a prova e entregar ao fiscal o cartão-resposta, preenchido e assinado, não será mais permitido ao candidato o uso do banheiro e bebedouro.

**BOA PROVA!**

**CONHECIMENTOS ESPECÍFICOS**

**01. Assinale a alternativa que apresenta a portaria que institui a Rede de Atenção Psicossocial para pessoas com sofrimento ou transtorno mental e com necessidades decorrentes do uso de crack, álcool e outras drogas, no âmbito do Sistema Único de Saúde:**

- a) Portaria N° 1.498, de 19 de julho de 2013
- b) Portaria N° 793, de 24 de abril de 2012
- c) Portaria N° 2.395, de 11 de outubro de 2011
- d) Portaria N° 3.099, de 23 de dezembro de 2011
- e) Portaria N° 1.459, de 24 de junho de 2011

**02. Analise as afirmativas seguintes e assinale a alternativa que contém o resultado final da soma da(s) afirmativa(s) correta(s):**

- 01 – Toda lesão no sistema nervoso central promove atrofia cortical, progredindo para demência.
- 02 – Delirium tremens com instabilidade autonômica e hiperatividade simpática associa-se, geralmente, a mortalidade de 5 a 10% dos pacientes.
- 04 – A classe de medicamento de primeira escolha para pacientes com delirium tremens são os Inibidores da Recapitação da Serotonina como a Amitriptilina.
- 08 – O utilismo pode desenvolver a encefalopatia de Wernicke.
- 16 – Os benzodiazepínicos tem ação no sistema de ácido gama-amino-butírico, da mesma forma que o álcool no cérebro humano.

- a) 06
- b) 07
- c) 09
- d) 19
- e) 26

**03. Leia as assertivas e assinale a alternativa correta.**

**I – A insuficiência cardíaca congestiva é uma síndrome clínica sempre causada por alguma doença cardíaca subjacente, mais comumente miocardiopatia isquêmica resultante de aterosclerose e/ou hipertensão arterial.**

**II – A Doxorubicina é uma droga amplamente utilizada e que causa efeitos cardiotoxicos com dose cumulativa superior a 450mg/m<sup>2</sup> de superfície corporal.**

**III – Os inibidores da ECA e os BRA associados a betabloqueadores e antagonistas de aldosterona podem diminuir a mortalidade, e aliviam imediatamente os sintomas congestivos.**

**IV – A insuficiência cardíaca crônica é uma doença progressiva com alta mortalidade, e a classe funcional do paciente geralmente não é um guia ao tratamento.**

- a) Apenas I e II estão corretas.
- b) Apenas I e III estão corretas.
- c) Todas estão corretas.
- d) Apenas II e III estão corretas.
- e) Apenas a IV está errada.

**Leia o seguinte caso para responder às próximas três questões.**

**Mulher de 28 anos vai ao consultório queixando-se de dor em joelho direito e hálux contra-lateral, com 10 dias de evolução e que não respondeu ao uso de analgésicos simples. Refere febrícula ao término do dia associada à mialgia inespecífica, além de disúria e corrimento vaginal branco leitoso amarelo esverdeado e prurido ocular bilateral; há 45 dias foi tratada para LUES com esquema adequado preconizado pelo Ministério da Saúde. Ao exame, apresenta-se afebril, e ambos os olhos estão injetados e fotossensíveis; o joelho direito e a primeira articulação metatarsal-falangiana esquerda apresentam-se edemaciados e dolorosos com discreta hiperemia.**

**04. Com base no caso, pode-se afirmar que a paciente apresenta uma tríade. Assinale a assertiva que contém o epônimo dessa tríade.**

- a) Virchow
- b) Reiter
- c) Beck
- d) Charcot
- e) Whipple

**05. Essa paciente possui fator de risco para desenvolver qual patologia ginecológica a médio prazo, se não for tratada corretamente?**

- a) Doença de Paget
- b) Doença de Berger
- c) Síndrome de Fitz-Hugh-Curtis



- d) Endometriose  
 e) Síndrome dos ovários policísticos

**06. Sobre esse caso, analise as afirmativas e assinale a alternativa correta.**

**I – O principal diagnóstico diferencial para esse caso é a gonorreia.**

**II – Essa paciente possivelmente é HLA-B27 negativa.**

**III – Ela pode ser tratada com Azitromicina 1g no D1 e D7 associada com Ceftriaxona 250mg Intramuscular no D1 possui maior índice de cura em relação ao uso de Ceftriaxone 250mg Intramuscular no D1 com doxiciclina 100mg via oral de 12/12 horas por 14 dias.**

**IV – O provável agente etiológico do caso é a *Chlamydia trachomatis*.**

- a) Apenas a I está correta.  
 b) Apenas I e II estão corretas.  
 c) Apenas II e III estão erradas.  
 d) Apenas I e III estão corretas.  
 e) Apenas a II está errada.

**07. Assinale a alternativa em que se faz a correlação incorreta.**

- a) Agência Nacional de Saúde Suplementar – responsável pela regularização e fiscalização dos planos de saúde no país.  
 b) Anvisa – responsável pela fiscalização in loco de estabelecimento de saúde em cada município e a sua correta regularização.  
 c) Vigilância Epidemiológica – entidade responsável por organizar os dados de agravos em saúde e auxiliar a gestão a realizar estratégias de atenção a saúde.  
 d) Anvisa – responsável pela deliberação de novas drogas no mercado brasileiro.  
 e) Vigilância sanitária – responsável pela fiscalização das condições de manipulação de alimentos para os consumidores finais.

**08. Os Centros de Atenção Psicossocial são instituições destinadas a acolher os pacientes com transtornos mentais e estimular sua integração social e familiar, além de outras funções. Para que isso ocorra, necessitam de um número mínimo de membros na equipe.**

**Assinale a alternativa que contém a relação correta entre o tipo de CAPS e sua equipe mínima, conforme a determinação do Ministério da Saúde:**

Tipo de CAPS	Equipe Mínima
I – CAPS I	<b>A – 2 psiquiatras; 1 enfermeiro com formação em nível superior; 5 profissionais de nível superior de outras categorias profissionais; 8 profissionais de nível médio.</b>
II – CAPS II	<b>B – 1 médico psiquiatra, ou neurologista ou pediatra com formação em saúde mental; 1 enfermeiro; 4 profissionais de nível superior dentre psicólogo, assistente social, terapeuta ocupacional, fonoaudiólogo, pedagogo ou outro profissional necessário ao projeto terapêutico; 5 profissionais de nível médio.</b>
III – CAPS III	<b>C – 1 médico psiquiatra ou com formação em saúde mental; 1 enfermeiro, 3 profissionais de nível superior de outras categorias profissionais; 4 profissionais de nível médio.</b>
IV – CAPSi	<b>D – 1 psiquiatra; 1 enfermeiro com formação em saúde mental; 1 médico clínico responsável pela triagem, avaliação e acompanhamento das intercorrências clínicas; 4 profissionais de nível superior necessário ao projeto terapêutico; 6 profissionais de nível médio.</b>
V - CAPSad	<b>E – 1 psiquiatra; 1 enfermeiro com formação em saúde mental; 4 profissionais de nível superior de outras categorias profissionais; 6 profissionais de nível médio.</b>

- a) I-E; II-C; III-A; IV-B; V-D.  
 b) I-E; II-C; III-A; IV-D; V-B.  
 c) I-C; II-B; III-A; IV-E; V-D.  
 d) I-C; II-E; III-A; IV-B; V-D.  
 e) I-E; II-D; III-A; IV-B; V-C.

**09. Analise os seguintes itens a respeito de diarreia crônica e assinale a alternativa correta.**

**I – Diarreias tipo secretória podem ser desencadeadas por cólera, tumor de tireoide medular e uso de laxantes estimulantes exógenos, por exemplo.**

**II – Amiloidose pode promover esteatorreia, da mesma forma que a Doença de Whipple.**

**III – São exemplos de dismotilidade promotora de diarreia crônica: hipertireoidismo, síndrome do intestino irritável e Espru tropical.**

**IV – Pacientes portadores do Vírus da Imunodeficiência Adquirida podem ter, como sintoma inicial, diarreia crônica.**

- a) Todos estão corretos.
- b) Apenas o item IV está incorreto.
- c) Apenas o item III está correto.
- d) Apenas o item III está incorreto.
- e) Apenas o item II está incorreto.

**10. Assinale a assertiva que apresenta a portaria que publica a proposta de Projeto de Resolução “Boas Práticas para Organização e Funcionamento de Serviços de Urgência e Emergência”.**

- a) Portaria N° 30, de 12 de fevereiro de 2014
- b) Portaria N° 354, de 10 de março de 2014
- c) Portaria N° 825, de 25 de abril de 2016
- d) Portaria N° 2.712, de 12 de novembro de 2013
- e) Portaria N° 2.528, de 19 de outubro de 2006

**11. Referente à lombalgia, analise os itens seguintes e assinale a alternativa correta.**

**I – Segundo o trabalho de Deyo, publicado no New England Journal of Medicine em 2001, observou-se que a etiologia prevalente para lombalgia é de estiramento ou entorse lombar.**

**II – Menos de 1% da população adulta economicamente ativa sofre de dorsalgia.**

**III – São sinais e sintomas de alarme na lombalgia: dor iniciada antes dos 20 e após os 50 anos, febre, perda ponderal, dor intensa noturna ou piora da dor em posição supina, incontinência fecal e/ou urinária, história de neoplasia, anestesia em sela, redução da força em membros inferiores e imunossupressão.**

- a) Apenas os itens I e III estão corretos.
- b) Apenas os itens II e III estão corretos.
- c) Apenas os itens II e III estão incorretos.
- d) Os itens I, II e III estão corretos.
- e) Apenas os itens I e III estão incorretos.

**12. A respeito dos Critérios de Ranson, assinale a alternativa que contém a sequência correta da classificação de V (verdadeiro) e F (falso) para os itens a serem considerados na admissão de paciente com quadro de pancreatite aguda.**

- ( ) – Idade  $\leq$  54 anos
- ( ) – Leucócitos  $>$  16.000/mm<sup>3</sup>
- ( ) – Glicemia  $>$  200 mg/dl
- ( ) – Desidrogenase láctica sérica  $>$  350 UI/L
- ( ) – AST  $<$  250 UI/L
- a) V - V - V - V - V.
- b) F - V - V - V - F.
- c) F - F - V - V - V.
- d) F - V - F - V - F.
- e) V - F - V - F - V.

**13. Assinale a alternativa com a correlação correta das causas de hipertensão secundária.**

**I – Doenças Renais**

**II – Doença endócrina**

**III – Outras doenças**

- ( ) Doses altas de estrogênio
- ( ) Glomerulonefrite
- ( ) Doença do rim policístico
- ( ) Hipertireoidismo
- ( ) Aterosclerose
- ( ) Hipercalcemia
- ( ) Apneia do sono obstrutiva

- a) I; I; III; II; I; III; II.
- b) II; III; I; II; I; III; I.
- c) III; I; I; II; I; III; III.
- d) II; I; I; II; I; III; II.
- e) II; III; II; I; I; II; III.

**14. Assinale a alternativa incorreta a respeito das orientações aos indivíduos residentes no Brasil, com idade igual ou superior a cinco anos, que viajarão a países com recomendação de vacina para Poliomielite a visitantes, contidas no Programa Nacional de Imunização, publicado no ano 2016.**

- a) Sem comprovação vacinal: administrar duas doses de Vacina Oral Poliomielite(VOP), com intervalo de 90 dias entre elas.

- b) Sem comprovação vacinal: administrar três doses da VOP, com intervalo de 60 dias entre elas, mínimo 30 dias.
- c) Com esquema incompleto: completar o esquema com a VOP.
- d) Gestantes e imunodeprimidos e/ou seus contatos devem receber esquema com Vacina Inativada Poliomielite (VIP).
- e) Para aqueles indivíduos que receberam três doses ou mais de VOP ou VIP, caso a última dose tenha sido administrada há mais de 12 meses, garantir antes da viagem uma única dose de reforço com VOP ou VIP.

**15. Assinale a alternativa que contém o antimicrobiano contraindicado à gestante no segundo trimestre de gestação com quadro de infecção urinária, sem história de reação alérgica a medicamentos anteriormente:**

- a) Sulfametoxazol e Timetropina
- b) Cefalotina
- c) Nitrofurantoína
- d) Ciprofloxacino
- e) Amoxicilina

**16. A poliomielite é uma doença viral causada pelo gênero enterovírus da família Picornaviridae, conhecido como poliovírus e subdivide-se em três sorotipos (1, 2 e 3), acomete crianças abaixo de cinco anos de idade e causa paralisia irreversível dos membros inferiores.**

**Qual a nova posologia da vacina de poliomielite preconizada no calendário de vacinação de 2016?**

- a) Doses aos 2, 4 e 6 meses de idade com VIP, seguindo de reforço de VOP a 15 meses e 4 anos.
- b) Doses aos 3, 6 e 9 meses de idade com VIP, seguindo de reforço de VOP a 15 meses e 3 anos.
- c) Doses aos 3 e 5 meses de VIP com reforço aos 12 meses da mesma vacina.
- d) Doses aos 2 e 4 meses de VIP com reforço aos 12 meses da mesma vacina.
- e) Doses aos 4, 8 e 10 meses de idade com VIP, seguindo de reforço de VOP a 15 meses e 3 anos.

**17. Epilepsia é um termo aplicado a um grupo de condições crônicas cuja principal manifestação clínica é a ocorrência de convulsões: ataque súbitos e, em geral, não provocados de fenômenos subjetivos experienciais, alteração da consciência, movimentos involuntários ou abalos musculares. Uma das síndromes mais comuns na infância acomete crianças de 4 a 13 anos de idade. As crises convulsivas ocorrem mais à noite, podendo eventualmente ocorrer ao dia com convulsões tipicamente focais que se expressam com contrações de um lado da face, parada da conversação, salivação excessiva e parestesia na face, na gengiva, na língua e na parte interna das bochechas.**

**Analisando esse texto, assinale a alternativa que indica o tipo de epilepsia relacionada:**

- a) Epilepsia parcial contínua
- b) Epilepsia mioclônica juvenil
- c) Epilepsia parcial benigna da infância com pontas centrais mesotemporais
- d) Epilepsia do lobo temporal
- e) Síndrome de Lennox-Gastaut

**18. Uma infecção causada por protozoário entérico que infecta cerca de 10 % da população mundial e tem maior incidência nas regiões pobres, principalmente em crianças e idosos que são considerados grupos de risco. Os trofozoítas causadores desta doença exercem a patogênese pela aderência sequencial a mucinas colônicas, ruptura da mucosa intestinal com enzimas proteolíticas e lise dependente de contato de células hospedeiras.**

**Analisando esse texto, assinale a alternativa que indica o protozoário causador dessa doença:**

- a) *Entamoeba coli*
- b) *Leishmania (L.) donovani*
- c) *Leishmania (L.) major*
- d) *Entamoeba histolytica*
- e) *Giardia lamblia*

**19. Uma doença febril aguda, causada por um vírus do gênero flavivírus pertencente à família *Flaviviridae*, sendo, hoje, a mais importante arbovirose que afeta o homem. Constitui-se em sério problema de saúde pública no mundo, especialmente nos países tropicais, onde as condições do meio ambiente favorecem o desenvolvimento e a proliferação do principal vetor. Apesar da principal forma de aquisição da doença ser através de vetores, atualmente na literatura, há relatos de transmissão vertical, o que, aliado ao aumento do número de casos na população, principalmente da forma não-clássica, torna-se um motivo a mais de preocupação para os profissionais de saúde.**

**Analisando esse texto, assinale a alternativa que indica o vetor causador da doença mencionada:**

- a) Mosquito *Lutzomyia longipalpis*
- b) Mosquito *Aedes aegypti*
- c) Mosquito do gênero *Culex*
- d) Besouros *Triatoma brasiliensis*
- e) Mosquito *Phlebotomus brevis*

20. O Hemograma de uma criança de 3 anos forneceu os seguintes resultados atípicos: hemácias microcíticas e hipocrômicas analisadas nos esfregaços. E nos índices hematimétricos, os parâmetros VCM, HCM e CHCM estavam todos reduzidos. As manifestações clínicas apresentadas foram: fadiga, atrofia das papilas da língua e ulcerações ou fissuras no canto da boca, renite atrófica com secreção nasal de odor fétido e unhas quebradiças.

Analizando esse quadro clínico, assinale a alternativa que indica o melhor diagnóstico:

- Leucemia mieloide aguda
- Anemia de doença crônica
- Talassemias
- Leucemia mieloide crônica
- Anemia ferropriva

## LÍNGUA PORTUGUESA

Texto para as próximas cinco questões:

### “O cego Estrelinho” Mia Couto

O cego Estrelinho era pessoa de nenhuma vez: sua história poderia ser contada e descontada não fosse seu guia, Gigitto Efraim. A mão de Gigitto conduziu o desvistado por tempos e idades. Aquela mão era repartidamente comum, extensão de um no outro, siamensal. E assim era quase de nascença. Memória de Estrelinho tinha cinco dedos e eram os de Gigitto postos, em aperto, na sua própria mão.

O cego, curioso, queria saber de tudo. Ele não fazia cerimônia no viver. O sempre lhe era pouco e o tudo insuficiente. Dizia, deste modo:

— Tenho que viver já, senão esqueço-me.

Gigitto, porém, o que descrevia era o que não havia. O mundo que ele minuciava eram fantasias e rendilhados. A imaginação do guia era mais profícua que papaeira. O cego enchia a boca de águas:

— Que maravilhação esse mundo. Me conte tudo, Gigitto!

A mão do guia era, afinal, o manuscrito da mentira. Gigitto Efraim estava como nunca esteve S. Tomé: via para não crer. O condutor falava pela ponta dos dedos. Desfolhava o universo, aberto em folhas. A ideiação dele era tal que mesmo o cego, por vezes, acreditava ver. O outro lhe encorajava esses breves enganar:

— Desbengale-se, você está escolhendo a boa procedência!

Mentira: Estrelinho continuava sem ver uma palmeira à frente do nariz. Contudo, o cego não se conformava em suas escurezas. Ele cumpria o ditado: não tinha perna e queria dar o pontapé. Só à noite, ele desalentava, sofrendo medos mais antigos que a humanidade. Entendia aquilo que, na raça humana, é menos primitivo: o animal.

— Na noite aflige não haver luz?

— Aflição é ter um pássaro branco esvoando dentro do sono.

Pássaro branco? No sono? Lugar de ave é nas alturas. Dizem até que Deus fez o céu para justificar os pássaros. Estrelinho disfarçava o medo dos vaticínios, subterfugindo:

— E agora, Gigitto? Agora, olhando assim para cima, estou face ao céu?

Que podia o outro responder? O céu do cego fica em toda a parte. Estrelinho perdia o pé era quando a noite chegava e seu mestre adormecia. Era como se um novo escuro nele se estreasse em nó cego. Devagaroso e sorrateiro ele aninhava sua mão na mão do guia. Só assim adormecia. A razão da concha é a timidez da amêijoia? Na manhã seguinte, o cego lhe confessava: se você morrer, tenho que morrer logo no imediato. Senão-me: como acerto o caminho para o céu?

Foi no mês de dezembro que levaram Gigitto. Lhe tiraram do mundo para pôr na guerra: obrigavam os serviços militares. O cego reclamou: que o moço inatingia a idade. E que o serviço que ele a si prestava era vital e vitalício. O guia chamou Estrelinho à parte e lhe tranquilizou:

— Não vai ficar sozinando por aí. Minha mana já mandei para ficar no meu lugar.

O cego estendeu o braço a querer tocar uma despedida. Mas o outro já não estava lá. Ou estava e se desviara, propositado? E sem água ida nem vinda, Estrelinho escutou o amigo se afastar, engolido, esponginquo, invisível. Pela primeira vez, Estrelinho se sentiu invalidado.

— Agora, só agora, sou cego que não vê.

(...)

**COUTO, Mia. Estórias abensonhadas. Rio de Janeiro: Nova Fronteira, 1996. (Pág 23 e 24).**

21. Quanto à interpretação do fragmento do conto, podemos afirmar que:

- Gigitto Efraim era o guia de Estrelinho há pouquíssimo tempo.
- Estrelinho era cego de nascença.
- Gigitto descrevia o mundo para Estrelinho de forma denotativa.
- Gigitto foi convocado pelo exército para ser guia de cegos na guerra.
- Gigitto descrevia o mundo para Estrelinho de forma conotativa.

22. No período “O sempre lhe era pouco e o tudo insuficiente”, o pronome “LHE” exerce a função sintática de:

- a) Objeto Direto
- b) Objeto Indireto
- c) Complemento Nominal
- d) Adjunto Adnominal
- e) Objeto Direto Preposicionado

**23. Na oração “A mão de Gigito conduziu o desvistado por tempos e idades”, o autor faz uso de um neologismo, assim como no decorrer de toda a obra em questão. Contudo, o neologismo só se torna possível pela utilização dos elementos mórficos naquilo que a gramática normativa pontua como Processo de Formação das Palavras. Levando em consideração apenas o recurso morfológico, qual Processo de Formação foi utilizado?**

- a) Derivação Sufixal
- b) Derivação Prefixal
- c) Derivação Regressiva
- d) Derivação Imprópria
- e) Derivação Parassintética

**24. No terceiro período do décimo terceiro parágrafo, temos:**

- a) Uma oração
- b) Duas orações
- c) Três orações
- d) Quatro orações
- e) Cinco orações

**25. No último parágrafo do fragmento do conto “— Agora, só agora, sou cego que não vê”, a oração subordinada presente classifica-se corretamente como:**

- a) Oração Subordinada Adjetiva Restritiva
- b) Oração Subordinada Adverbial Causal
- c) Oração Subordinada Substantiva Subjetiva
- d) Oração Subordinada Adverbial Explicativa
- e) Oração Subordinada Adjetiva Explicativa

#### **RACIOCÍNIO LÓGICO**

**26. Os cinco filhos de Ana estavam discutindo a respeito da data de nascimento da mãe:**

- Almir disse que foi em janeiro, dia 14, sexta-feira.
- Vanderlei disse que foi em janeiro, dia 14, sábado.
- Tiago disse que foi em fevereiro, dia 15, sábado.
- Sandro disse que foi em janeiro, dia 15, sexta-feira.
- Renato disse que foi em fevereiro, dia 15, sexta-feira.

**Sabe-se que somente um dos filhos de Ana acertou corretamente sua data de nascimento e que os outros acertaram pelo menos um dos itens (dia, dia da semana e mês). Dessa forma, é correto afirmar que o filho de Ana que acertou a data de nascimento dela foi:**

- a) Renato
- b) Sandro
- c) Tiago
- d) Vanderlei
- e) Almir

**27. Considere a seguinte afirmativa: “Todo churrasqueiro gosta de picanha”. Em relação a essa proposição, é correto afirmar que:**

- a) Algum churrasqueiro não gosta de picanha.
- b) Toda pessoa que gosta de picanha é churrasqueira.
- c) Alguma pessoa que não gosta de picanha é churrasqueira.
- d) Toda pessoa que não é churrasqueira, não gosta de picanha.
- e) Toda pessoa que não gosta de picanha, não é churrasqueira.

**28. Em um grupo formado por 67 pessoas, verificou-se que 41 pessoas gostam de arroz, 29 gostam de feijão, 33 gostam de carne, 19 gostam de arroz e de feijão, 9 gostam apenas de arroz e de carne, 12 gostam de feijão e de carne e que 6 gostam de arroz, de feijão e de carne. O número de pessoas desse grupo, que não gosta de nenhum desses três tipos de alimentos é igual a:**

- a) 4
- b) 5
- c) 6
- d) 8
- e) 10

29. Bruno escreveu, em seu caderno, várias sequências formadas por números múltiplos de 4, onde os valores que ocupavam as posições pares eram multiplicados por  $-1$ . Cada sequência foi somada e o resultado da soma anotado. A soma das três primeiras sequências escritas por Bruno foram as seguintes:

$$4 - 8 = -4$$

$$4 - 8 + 12 = 8$$

$$4 - 8 + 12 - 16 = -8$$

Considere que Bruno escreveu e somou tais sequências, em seu caderno, de modo a obter determinada sequência cuja soma foi 600. O número de termos dessa sequência é igual a:

- a) 149
- b) 150
- c) 298
- d) 299
- e) 300

30. Quatro torcedores, um do São Paulo, um do Cruzeiro, um do Vasco e um do Bahia, estão sentados ao redor de uma mesa quadrada, de modo que, dois a dois, fiquem frente a frente. Sabe-se que Alan é torcedor do Cruzeiro e que Bruno está sentado à direita de Alan. Sabe-se também que Caio está sentado à direita do torcedor do São Paulo. Sabe-se ainda que Daniel não é torcedor do Vasco e que está sentado à frente de Bruno. Dessa forma, é correto afirmar que:

- a) Bruno é torcedor do Bahia e Daniel é torcedor do São Paulo.
- b) Bruno é torcedor do São Paulo e Daniel é torcedor do Bahia.
- c) Caio é torcedor do Vasco e Daniel é torcedor do São Paulo.
- d) Caio é torcedor do Bahia e Daniel é torcedor do São Paulo.
- e) Bruno é torcedor do Vasco e Daniel é torcedor do Bahia.

#### INFORMÁTICA

31. Considerando o MS-Excel versão 2010, observando a figura abaixo, é correto afirmar que:

	A	B	C
1			
2			
3			
4			

- a) Somente 03 três linhas estão selecionadas.
- b) Somente uma célula está selecionada.
- c) 12 (doze) células estão selecionadas.
- d) Somente a coluna A até a linha 4 (quatro) está selecionada.
- e) Somente as colunas 1 (um), 2 (dois), 3 (três) e 4 (quatro) estão selecionadas.

32. Considerando o MS-Excel versão 2010, observando a figura abaixo, é incorreto afirmar que:

	A	B	C
1	12	6	=A1*B1
2	8	2	=A2/B2
3	5	14	=A3-B3
4	6	11	=A4+B4

- a) O resultado da fórmula =A1\*B1 é 72.
- b) O resultado da fórmula =A2/B2 é 4.
- c) O resultado da fórmula =A3-B3 é -9.
- d) O resultado da fórmula =A3-B3 é 9.
- e) O resultado da fórmula =A4+B4 é 17.

33. Digitando um texto no MS-Word versão 2010, necessito adicionar número nas páginas. Quanto a isso, é correto afirmar que:

- a) No menu Layout da Página, clico em número de página e seleciono onde desejo adicionar os números.
- b) No menu Inserir, clico em número de página e seleciono onde desejo adicionar os números.
- c) No menu Revisão, clico em número de página e seleciono onde desejo adicionar os números.
- d) No menu Referências, clico em número de página e seleciono onde desejo adicionar os números.
- e) No menu Exibição, clico em número de página e seleciono onde desejo adicionar os números.



**34. A segurança da informação está diretamente relacionada com proteção de um conjunto de informações, no sentido de preservar o valor que possuem para um indivíduo ou uma organização. Atualmente, um dos aplicativos mais utilizados no mundo, o Whats app, teve uma alteração de confidencialidade muito importante na segurança das informações transmitidas e recebidas. Dentre as alternativas, assinale a que corretamente informa a alteração inserida no aplicativo Whats app.**

- a) Antispam
- b) Antivirus
- c) Firewall
- d) Antispyware
- e) Criptografia

**35. São todos os dispositivos que trabalham acoplados ao microcomputador para receber, transmitir, visualizar, ler, gravar ou armazenarem dados. São eles que permitem a comunicação do computador com o meio exterior, isto é, com os usuários e outras máquinas.**

**Esse texto descreve corretamente:**

- a) Memória ram
- b) Memória virtual
- c) Software
- d) Periféricos
- e) Hardware

### CONHECIMENTOS GERAIS

#### 36. Hino do município de Telêmaco Borba/PR

Das virgens matas e campos verdejantes

Servindo-se também o rio Tibagi,

Homens de ideais, espíritos vibrantes.

Constituíram as indústrias aqui.

Estrilho:

Salve! Salve! Telêmaco Borba

Terra querida e de grandes primores,

A nossa homenagem rendamos

À cidade dos trabalhadores.

Pois a cadência de enorme e real progresso

Um município mui grandioso fez nascer,

Marcando assim, verdadeiro sucesso

Faz, então o Paraná engrandecer.

**No que tange ao Hino do município, atribua V (verdadeiro) ou F (falso) às afirmativas e marque a alternativa correta.**

( ) Eloah Martins Quadrado é autora da letra do hino.

( ) Bento Mossurunga compôs a música do hino.

( ) Eloah Martins Quadrado foi nomeada primeira professora da Cidade Nova, atual Telêmaco Borba.

( ) Bento Mossurunga fundou a orquestra Estudantil e Concertos – Orquestra Sinfônica da Universidade, a Sociedade de Cultura Artístico Basilio Itiberê.

a) F, V, V, V.

b) V, F, V, V.

c) V, V, F, V.

d) V, V, F, F.

e) V, V, V, V.

**37. À luz da Lei nº 1883/2012, que dispões sobre o Estatuto dos Servidores Públicos da Administração Direta, Autárquica e Funcional do Município de Telêmaco Borba/PR, leia as alternativas e marque a correta.**

a) A apresentação para a posse ocorrerá no prazo de até trinta dias, contados do ato de nomeação.

b) A destituição do servidor da função gratificada dar-se-á por solicitação exclusiva dele mesmo.

c) O servidor ocupante exclusivamente de cargo em comissão será contribuinte do regime geral de previdência social.

d) A aprovação em concurso público gera o direito à nomeação, e será feita obedecida à ordem de classificação dos candidatos.

e) O exercício de função gratificada poderá ser de dedicação integral ou parcial, conforme necessidade da administração.

**Conforme a Lei nº 1.881, de 05 de abril de 2012, que dispõe sobre o Plano de Cargos, Carreiras e Vencimentos do quadro geral de servidores da Prefeitura Municipal de Telêmaco Borba/PR, regulamentada pelo Decreto nº 2269/2015, responda às próximas três questões.**

**38. Leia as assertivas e assinala a incorreta.**

- a) Do resultado da avaliação de desempenho poderá ser interposto recurso à Comissão de Desenvolvimento Funcional no prazo de quinze dias a contar da publicação no Boletim Oficial do Município.
- b) Não será concedida a progressão ou promoção ao servidor que estiver em licença para tratamento de saúde por um período superior a quarenta e cinco dias, no período de avaliação.
- c) A alternância dos membros constituintes da Comissão de Desenvolvimento Funcional eleitos pelos servidores verificar-se-á a cada três anos de participação, observados, para substituição de seus participantes, o critério fixado no artigo anterior, não cabendo eleição sucessiva.
- d) Caberá à Comissão de Desenvolvimento Funcional, no caso de divergência de vinte por cento entre a nota do avaliador e a do avaliado, solicitar nova avaliação à chefia.
- e) Nos termos do disposto no art. 17 da Lei n° 1.881, de 05 de abril de 2012, para progredir, é necessário que o servidor satisfaça, dentre outros, o seguinte requisito: estar no efetivo exercício de seu cargo ou em função comissionada na sua área de atuação durante o interstício de dois anos.

**39. Assinale a alternativa que completa respectivamente as lacunas do texto a seguir:**

**A Comissão de Desenvolvimento Funcional será constituída por \_\_\_\_\_ membros, sendo \_\_\_\_\_ designados pelo Prefeito Municipal de Telêmaco Borba e os demais eleitos pelos servidores municipais dentre os estáveis, com a atribuição de coordenar os procedimentos relativos à avaliação periódica de desempenho e outras atribuições.**

- a) três / sete
- b) um / três
- c) sete / três
- d) três / cinco
- e) dois / cinco

**40. A Avaliação de Desempenho será norteadada, dentre outros, pelo seguinte princípio: Amplitude - a avaliação deve incidir sobre todas as áreas de atuação do servidor, que compreendem:**

- 1. a formulação de políticas administrativas e sua aplicação para todos os setores da administração municipal;**
- 2. o desempenho do profissional dentro de suas funções pertinentes;**
- 3. a estrutura do órgão em que exerce a função;**
- 4. os resultados de eficiência dos serviços de cada setor ou órgão da administração municipal;**
- 5. a participação direta do avaliado, durante todo o processo avaliativo.**

**Diante dessa afirmação, somente não está correto o item:**

- a) 1
- b) 2
- c) 3
- d) 4
- e) 5

**RASCUNHO**



PREFEITURA DE TELÊMACO BORBA - ESTADO DO PARANÁ- **EDITAL Nº 001-2016 - CONCURSO PÚBLICO**

**VESPERTINO – 29/05/2016 – NÍVEL SUPERIOR**

PROVA OBJETIVA NÚMERO

**1**

**CARGO: TMNS I – PSICOLOGIA**

**Leia atentamente as INSTRUÇÕES:**

1. Confira seus dados no cartão-resposta: nome, número de inscrição e o curso para o qual se inscreveu.
2. **MARQUE no seu cartão-resposta o número da sua prova** (não será corrigido o cartão-resposta que não tiver marcado o número da prova) e **Assine** seu cartão-resposta.
3. Aguarde a autorização do Fiscal para abrir o caderno de prova. Ao receber a ordem do fiscal, confira o caderno de prova com muita atenção. Nenhuma reclamação sobre o total de questões ou falha de impressão será aceita depois de iniciada a prova.
4. O cartão-resposta não será substituído, salvo se contiver erro de impressão.
5. Preencha toda a área do cartão-resposta correspondente à alternativa de sua escolha, com caneta esferográfica (tinta azul ou preta), sem ultrapassar as bordas. As marcações duplas, ou rasuradas, com corretivo, ou marcadas diferentemente do modelo estabelecido no cartão-resposta poderão ser anuladas.
6. Sua prova tem **40** questões, com **5** alternativas.
7. Cabe apenas ao candidato a interpretação das questões, **o fiscal** não poderá fazer nenhuma interferência.
8. A prova será realizada com duração máxima de **3 (três) horas**, incluído o tempo para a realização da Prova Objetiva de múltipla escolha e o preenchimento do cartão-resposta.
9. O candidato poderá retirar-se do local de realização das provas somente **1 (uma) hora** após o seu início, sem levar o caderno de prova.
10. O candidato poderá levar o caderno de provas, assim como anotação contendo transcrição do seu cartão-resposta, somente **1h30min** (uma hora e trinta minutos) após o início da realização da prova.
11. Ao terminar a prova, o candidato deverá entregar ao fiscal de sala o cartão-resposta preenchido e **ASSINADO**.
12. Os **3 (três)** candidatos, que terminarem a prova por último, deverão permanecer na sala, e só poderão sair juntos após o fechamento do envelope, contendo os cartões-resposta dos candidatos presentes e ausentes, e assinarem no lacre do referido envelope, atestando que este foi devidamente lacrado.
13. Durante todo o tempo em que permanecer no local onde está ocorrendo o concurso, o candidato deverá, manter o celular desligado e sem bateria, só sendo permitido ligar depois de ultrapassar o portão de saída do prédio.
14. Não será permitido ao candidato fumar na sala de provas, bem como nas dependências.
15. Depois de terminar a prova e entregar ao fiscal o cartão-resposta, preenchido e assinado, não será mais permitido ao candidato o uso do banheiro e bebedouro.

**BOA PROVA!**

**LÍNGUA PORTUGUESA**

Texto para as próximas cinco questões:

**“O cego Estrelinho”  
Mia Couto**

O cego Estrelinho era pessoa de nenhuma vez: sua história poderia ser contada e descontada não fosse seu guia, Gigito Efraim. A mão de Gigito conduziu o desvistado por tempos e idades. Aquela mão era repartidamente comum, extensão de um no outro, siamensal. E assim era quase de nascença. Memória de Estrelinho tinha cinco dedos e eram os de Gigito postos, em aperto, na sua própria mão.

O cego, curioso, queria saber de tudo. Ele não fazia cerimônia no viver. O sempre lhe era pouco e o tudo insuficiente. Dizia, deste modo:

— Tenho que viver já, senão esqueço-me.

Gigitinho, porém, o que descrevia era o que não havia. O mundo que ele minuciava eram fantasias e rendilhados. A imaginação do guia era mais profícua que papaeira. O cego enchia a boca de águas:

— Que maravilhação esse mundo. Me conte tudo, Gigito!

A mão do guia era, afinal, o manuscrito da mentira. Gigito Efraim estava como nunca esteve S. Tomé: via para não crer. O condutor falava pela ponta dos dedos. Desfolhava o universo, aberto em folhas. A ideiação dele era tal que mesmo o cego, por vezes, acreditava ver. O outro lhe encorajava esses breves enganos:

— Desbengale-se, você está escolhendo a boa procedência!

Mentira: Estrelinho continuava sem ver uma palmeira à frente do nariz. Contudo, o cego não se conformava em suas escurezas. Ele cumpria o ditado: não tinha perna e queria dar o pontapé. Só à noite, ele desalentava, sofrendo medos mais antigos que a humanidade. Entendia aquilo que, na raça humana, é menos primitivo: o animal.

— Na noite aflige não haver luz?

— Aflição é ter um pássaro branco esvoando dentro do sono.

Pássaro branco? No sono? Lugar de ave é nas alturas. Dizem até que Deus fez o céu para justificar os pássaros. Estrelinho disfarçava o medo dos vaticínios, subterfugindo:

— E agora, Gigitinho? Agora, olhando assim para cima, estou face ao céu?

Que podia o outro responder? O céu do cego fica em toda a parte. Estrelinho perdia o pé era quando a noite chegava e seu mestre adormecia. Era como se um novo escuro nele se estreasse em nó cego. Devagaroso e sorrateiro ele aninhava sua mão na mão do guia. Só assim adormecia. A razão da concha é a timidez da amêijoia? Na manhã seguinte, o cego lhe confessava: se você morrer, tenho que morrer logo no imediato. Senão-me: como acerto o caminho para o céu?

Foi no mês de dezembro que levaram Gigitinho. Lhe tiraram do mundo para pôr na guerra: obrigavam os serviços militares. O cego reclamou: que o moço inatingia a idade. E que o serviço que ele a si prestava era vital e vitalício. O guia chamou Estrelinho à parte e lhe tranquilizou:

— Não vai ficar sozinho por aí. Minha mana já mandei para ficar no meu lugar.

O cego estendeu o braço a querer tocar uma despedida. Mas o outro já não estava lá. Ou estava e se desviara, propositado? E sem água ida nem vinda, Estrelinho escutou o amigo se afastar, engolido, esponginquo, inexistível. Pela primeira vez, Estrelinho se sentiu invalidado.

— Agora, só agora, sou cego que não vê.

(...)

**COUTO, Mia. Estórias abensonhadas. Rio de Janeiro: Nova Fronteira, 1996. (Pág 23 e 24).**

**01. Quanto à interpretação do fragmento do conto, podemos afirmar que:**

- Gigito Efraim era o guia de Estrelinho há pouquíssimo tempo.
- Estrelinho era cego de nascença.
- Gigito descrevia o mundo para Estrelinho de forma denotativa.
- Gigito foi convocado pelo exército para ser guia de cegos na guerra.
- Gigito descrevia o mundo para Estrelinho de forma conotativa.

**02. No período “O sempre lhe era pouco e o tudo insuficiente”, o pronome “LHE” exerce a função sintática de:**

- Objeto Direto
- Objeto Indireto
- Complemento Nominal
- Adjunto Adnominal
- Objeto Direto Preposicionado

**03. Na oração “A mão de Gigito conduziu o desvistado por tempos e idades”, o autor faz uso de um neologismo, assim como no decorrer de toda a obra em questão. Contudo, o neologismo só se torna possível pela utilização dos elementos mórficos naquilo que a gramática normativa pontua como Processo de Formação das Palavras. Levando em consideração apenas o recurso morfológico, qual Processo de Formação foi utilizado?**

- Derivação Sufixal

- b) Derivação Prefixal
- c) Derivação Regressiva
- d) Derivação Imprópria
- e) Derivação Parassintética

**04. No terceiro período do décimo terceiro parágrafo, temos:**

- a) Uma oração
- b) Duas orações
- c) Três orações
- d) Quatro orações
- e) Cinco orações

**05. No último parágrafo do fragmento do conto “— Agora, só agora, sou cego que não vê”, a oração subordinada presente classifica-se corretamente como:**

- a) Oração Subordinada Adjetiva Restritiva
- b) Oração Subordinada Adverbial Causal
- c) Oração Subordinada Substantiva Subjetiva
- d) Oração Subordinada Adverbial Explicativa
- e) Oração Subordinada Adjetiva Explicativa

### **RACIOCÍNIO LÓGICO**

**06. Os cinco filhos de Ana estavam discutindo a respeito da data de nascimento da mãe:**

- Almir disse que foi em janeiro, dia 14, sexta-feira.
- Vanderlei disse que foi em janeiro, dia 14, sábado.
- Tiago disse que foi em fevereiro, dia 15, sábado.
- Sandro disse que foi em janeiro, dia 15, sexta-feira.
- Renato disse que foi em fevereiro, dia 15, sexta-feira.

**Sabe-se que somente um dos filhos de Ana acertou corretamente sua data de nascimento e que os outros acertaram pelo menos um dos itens (dia, dia da semana e mês). Dessa forma, é correto afirmar que o filho de Ana que acertou a data de nascimento dela foi:**

- a) Renato
- b) Sandro
- c) Tiago
- d) Vanderlei
- e) Almir

**07. Considere a seguinte afirmativa: “Todo churrasqueiro gosta de picanha”. Em relação a essa proposição, é correto afirmar que:**

- a) Algum churrasqueiro não gosta de picanha.
- b) Toda pessoa que gosta de picanha é churrasqueira.
- c) Alguma pessoa que não gosta de picanha é churrasqueira.
- d) Toda pessoa que não é churrasqueira, não gosta de picanha.
- e) Toda pessoa que não gosta de picanha, não é churrasqueira.

**08. Em um grupo formado por 67 pessoas, verificou-se que 41 pessoas gostam de arroz, 29 gostam de feijão, 33 gostam de carne, 19 gostam de arroz e de feijão, 9 gostam apenas de arroz e de carne, 12 gostam de feijão e de carne e que 6 gostam de arroz, de feijão e de carne. O número de pessoas desse grupo, que não gosta de nenhum desses três tipos de alimentos é igual a:**

- a) 4
- b) 5
- c) 6
- d) 8
- e) 10

**09. Bruno escreveu, em seu caderno, várias sequências formadas por números múltiplos de 4, onde os valores que ocupavam as posições pares eram multiplicados por -1. Cada sequência foi somada e o resultado da soma anotado. A soma das três primeiras sequências escritas por Bruno foram as seguintes:**

$$4 - 8 = -4$$
$$4 - 8 + 12 = 8$$
$$4 - 8 + 12 - 16 = -8$$

**Considere que Bruno escreveu e somou tais sequências, em seu caderno, de modo a obter determinada sequência cuja soma foi 600. O número de termos dessa sequência é igual a:**

- a) 149
- b) 150
- c) 298

- d) 299  
e) 300

**10. Quatro torcedores, um do São Paulo, um do Cruzeiro, um do Vasco e um do Bahia, estão sentados ao redor de uma mesa quadrada, de modo que, dois a dois, fiquem frente a frente. Sabe-se que Alan é torcedor do Cruzeiro e que Bruno está sentado à direita de Alan. Sabe-se também que Caio está sentado à direita do torcedor do São Paulo. Sabe-se ainda que Daniel não é torcedor do Vasco e que está sentado à frente de Bruno. Dessa forma, é correto afirmar que:**

- a) Bruno é torcedor do Bahia e Daniel é torcedor do São Paulo.  
b) Bruno é torcedor do São Paulo e Daniel é torcedor do Bahia.  
c) Caio é torcedor do Vasco e Daniel é torcedor do São Paulo.  
d) Caio é torcedor do Bahia e Daniel é torcedor do São Paulo.  
e) Bruno é torcedor do Vasco e Daniel é torcedor do Bahia.

### INFORMÁTICA

**11. Considerando o MS-Excel versão 2010, observando a figura abaixo, é correto afirmar que:**

	A	B	C
1			
2			
3			
4			

- a) Somente 03 três linhas estão selecionadas.  
b) Somente uma célula está selecionada.  
c) 12 (doze) células estão selecionadas.  
d) Somente a coluna A até a linha 4 (quatro) está selecionada.  
e) Somente as colunas 1 (um), 2 (dois), 3 (três) e 4 (quatro) estão selecionadas.

**12. Considerando o MS-Excel versão 2010, observando a figura abaixo, é incorreto afirmar que:**

	A	B	C
1	12	6	=A1*B1
2	8	2	=A2/B2
3	5	14	=A3-B3
4	6	11	=A4+B4

- a) O resultado da fórmula =A1\*B1 é 72.  
b) O resultado da fórmula =A2/B2 é 4.  
c) O resultado da fórmula =A3-B3 é -9.  
d) O resultado da fórmula =A3-B3 é 9.  
e) O resultado da fórmula =A4+B4 é 17.

**13. Digitando um texto no MS-Word versão 2010, necessito adicionar número nas páginas. Quanto a isso, é correto afirmar que:**

- a) No menu Layout da Página, clico em número de página e seleciono onde desejo adicionar os números.  
b) No menu Inserir, clico em número de página e seleciono onde desejo adicionar os números.  
c) No menu Revisão, clico em número de página e seleciono onde desejo adicionar os números.  
d) No menu Referências, clico em número de página e seleciono onde desejo adicionar os números.  
e) No menu Exibição, clico em número de página e seleciono onde desejo adicionar os números.

**14. A segurança da informação está diretamente relacionada com proteção de um conjunto de informações, no sentido de preservar o valor que possuem para um indivíduo ou uma organização. Atualmente, um dos aplicativos mais utilizados no mundo, o Whats app, teve uma alteração de confidencialidade muito importante na segurança das informações transmitidas e recebidas. Dentre as alternativas, assinale a que corretamente informa a alteração inserida no aplicativo Whats app.**

- a) Antispam  
b) Antivirus  
c) Firewall  
d) Antispyware  
e) Criptografia



**15. São todos os dispositivos que trabalham acoplados ao microcomputador para receber, transmitir, visualizar, ler, gravar ou armazenarem dados. São eles que permitem a comunicação do computador com o meio exterior, isto é, com os usuários e outras máquinas.**

**Esse texto descreve corretamente:**

- a) Memória ram
- b) Memória virtual
- c) Software
- d) Periféricos
- e) Hardware

### CONHECIMENTOS GERAIS

#### 16. Hino do município de Telêmaco Borba/PR

Das virgens matas e campos verdejantes

Servindo-se também o rio Tibagi,

Homens de ideais, espíritos vibrantes.

Constituíram as indústrias aqui.

Estrilho:

Salve! Salve! Telêmaco Borba

Terra querida e de grandes primores,

A nossa homenagem rendamos

À cidade dos trabalhadores.

Pois a cadência de enorme e real progresso

Um município mui grandioso fez nascer,

Marcando assim, verdadeiro sucesso

Faz, então o Paraná engrandecer.

**No que tange ao Hino do município, atribua V (verdadeiro) ou F (falso) às afirmativas e marque a alternativa correta.**

Eloah Martins Quadrado é autora da letra do hino.

Bento Mossurunga compôs a música do hino.

Eloah Martins Quadrado foi nomeada primeira professora da Cidade Nova, atual Telêmaco Borba.

Bento Mossurunga fundou a orquestra Estudantil e Concertos – Orquestra Sinfônica da Universidade, a Sociedade de Cultura Artístico Basílio Itiberê.

a) F, V, V, V.

b) V, F, V, V.

c) V, V, F, V.

d) V, V, F, F.

e) V, V, V, V.

**17. À luz da Lei nº 1883/2012, que dispões sobre o Estatuto dos Servidores Públicos da Administração Direta, Autárquica e Funcional do Município de Telêmaco Borba/PR, leia as alternativas e marque a correta.**

a) A apresentação para a posse ocorrerá no prazo de até trinta dias, contados do ato de nomeação.

b) A destituição do servidor da função gratificada dar-se-á por solicitação exclusiva dele mesmo.

c) O servidor ocupante exclusivamente de cargo em comissão será contribuinte do regime geral de previdência social.

d) A aprovação em concurso público gera o direito à nomeação, e será feita obedecida à ordem de classificação dos candidatos.

e) O exercício de função gratificada poderá ser de dedicação integral ou parcial, conforme necessidade da administração.

**Conforme a Lei nº 1.881, de 05 de abril de 2012, que dispõe sobre o Plano de Cargos, Carreiras e Vencimentos do quadro geral de servidores da Prefeitura Municipal de Telêmaco Borba/PR, regulamentada pelo Decreto nº 2269/2015, responda às próximas três questões.**

**18. Leia as assertivas e assinala a incorreta.**

a) Do resultado da avaliação de desempenho poderá ser interposto recurso à Comissão de Desenvolvimento Funcional no prazo de quinze dias a contar da publicação no Boletim Oficial do Município.

b) Não será concedida a progressão ou promoção ao servidor que estiver em licença para tratamento de saúde por um período superior a quarenta e cinco dias, no período de avaliação.

c) A alternância dos membros constituintes da Comissão de Desenvolvimento Funcional eleitos pelos servidores verificar-se-á a cada três anos de participação, observados, para substituição de seus participantes, o critério fixado no artigo anterior, não cabendo eleição sucessiva.

d) Caberá à Comissão de Desenvolvimento Funcional, no caso de divergência de vinte por cento entre a nota do avaliador e a do avaliado, solicitar nova avaliação à chefia.



e) Nos termos do disposto no art. 17 da Lei n° 1.881, de 05 de abril de 2012, para progredir, é necessário que o servidor satisfaça, dentre outros, o seguinte requisito: estar no efetivo exercício de seu cargo ou em função comissionada na sua área de atuação durante o interstício de dois anos.

**19. Assinale a alternativa que completa respectivamente as lacunas do texto a seguir:**

**A Comissão de Desenvolvimento Funcional será constituída por \_\_\_\_\_ membros, sendo \_\_\_\_\_ designados pelo Prefeito Municipal de Telêmaco Borba e os demais eleitos pelos servidores municipais dentre os estáveis, com a atribuição de coordenar os procedimentos relativos à avaliação periódica de desempenho e outras atribuições.**

- a) três / sete
- b) um / três
- c) sete / três
- d) três / cinco
- e) dois / cinco

**20. A Avaliação de Desempenho será norteadada, dentre outros, pelo seguinte princípio: Amplitude - a avaliação deve incidir sobre todas as áreas de atuação do servidor, que compreendem:**

- 1. a formulação de políticas administrativas e sua aplicação para todos os setores da administração municipal;**
- 2. o desempenho do profissional dentro de suas funções pertinentes;**
- 3. a estrutura do órgão em que exerce a função;**
- 4. os resultados de eficiência dos serviços de cada setor ou órgão da administração municipal;**
- 5. a participação direta do avaliado, durante todo o processo avaliativo.**

**Diante dessa afirmação, somente não está correto o item:**

- a) 1
- b) 2
- c) 3
- d) 4
- e) 5

#### **CONHECIMENTOS ESPECÍFICOS**

**21. Transformações significativas estão ocorrendo em todas as áreas do conhecimento. Esta dinâmica estrutural de potências humanas e máquinas geraram transformações significativas em todas as áreas do conhecimento. Entre estas transformações estão: (1) os avanços nas comunicações, viagens e comércio internacional que “encolheram” o mundo e aumentaram a interdependência global e (2) o fato de a composição étnica do mundo ocidental ter se tornado, cada vez mais, um mosaico de diversidades multiculturais. Em relação à psicologia, podemos dizer que psicólogos ocidentais, ao reconhecer a importância dos valores culturais, passaram a devotar mais atenção à cultura como determinante do comportamento. Podemos afirmar que:**

- a) O novo interesse pela cultura deve-se unicamente aos avanços nas comunicações, viagens e globalização no comércio.
- b) As duas correntes: avanços nas comunicações, viagens e comércio internacional e a diversidade na composição étnica do mundo ocidental, foram responsáveis pela mudança de atenção da psicologia em direção à cultura.
- c) Nenhuma das correntes contribuiu para a mudança de atenção da psicologia para a cultura. Mais importante do que os avanços nas comunicações, viagens e comércio internacional ou a composição étnica do mundo ocidental foi o caráter propedêutico da psicologia que a tornou uma ciência de experimentos sobre comportamento humano.
- d) O interesse pela cultura deve-se unicamente à variação da composição étnica do mundo ocidental.
- e) A diversidade na composição étnica do mundo social teve influência, mas, o mais importante foi a transformação da psicologia de ciência experimental em ciência psicodinâmica.

**22. Avalie os itens e assinale a alternativa correta:**

**I- A psicologia é o estudo científico do indivíduo e do seu comportamento que, embora possa ser de caráter social, não precisa necessariamente ser.**

**II- A teoria dos papéis é uma perspectiva teórica para entendimento das interações sociais.**

**III- A teoria do reforço parte da premissa de que o comportamento é governado por acontecimentos externos.**

**IV- A teoria da evolução localiza as raízes do comportamento em nossos genes e, portanto vincula intimamente, indivíduo, grupos e biologia.**

- a) Como estudo científico dos indivíduos, a psicologia não tem caráter social.
- b) A teoria dos papéis é conteúdo específico da psicologia experimental.
- c) As teorias dos papéis, do reforço e da evolução são perspectivas teóricas distintas, estudadas no âmbito da psicologia social.
- d) A teoria do reforço nada tem a ver com a psicologia social.
- e) A teoria da evolução não é conteúdo da psicologia, mas sim da biologia.

**23. Considere as afirmativas sobre a História da Psicologia:**

- I- A Psicologia evoluiu a partir da especulação filosófica para uma ciência comprometida com a pesquisa.**  
**II- Como uma perspectiva de serviços na saúde mental, o foco da psicologia na fisiologia teve suas origens no século XIX.**  
**III- A Psicologia se desenvolveu de um estudo da mente e do corpo para um estudo do comportamento; e a investigação da mente e do corpo voltou na psicologia moderna.**  
**IV- A evolução da Psicologia para um campo especializado tirou, na contemporaneidade, o seu caráter multifacetado.**

- a) Todas as afirmativas são corretas.  
b) Apenas as afirmativas I e II são corretas.  
c) Apenas as afirmativas II e III são corretas.  
d) Apenas as afirmativas I, II e III são corretas.  
e) Apenas a afirmativa IV é correta.

**24. As origens da ciência psicológica podem ser encontradas em importantes questões filosóficas. Uma delas, vinculada ao debate natureza-ambiente, envolve determinar a extensão em que a mente e o comportamento são predeterminados pela biologia ou são desenvolvidos e moldados pelo ambiente. Sobre isso, uma das alternativas abaixo é incorreta. Assinale-a:**

- a) Podemos afirmar que a esquizofrenia é um exemplo das influências variáveis da natureza e do ambiente.  
b) O debate natureza-ambiente não existia no início da história da psicologia.  
c) No transtorno bipolar, a pessoa apresenta alterações dramáticas de humor, sentindo-se extremamente triste (deprimida) e depois eufórica (maníaca). Também aqui encontramos influência das variáveis da natureza e do ambiente.  
d) Os cientistas psicológicos atualmente acreditam que muitos transtornos mentais resultam tanto da maneira pela qual o emaranhado de circuitos cerebrais é tecido (natureza) como da maneira pela qual a pessoa é tratada (ambiente).  
e) Pesquisas recentes indicam que algumas pessoas herdaram uma predisposição genética para desenvolver o transtorno de estresse pós-traumático (TEPT) e que o ambiente ativa a natureza.

**25. Considerando-se os processos mentais de informação e as operações do sistema nervoso, assinale a alternativa correta.**

- a) Os neurônios são unidades secundárias do sistema nervoso.  
b) Os dendritos não absorvem informações, e apenas servem de base estrutural para movimento dos axônios.  
c) O impulso nervoso que se propaga através do neurônio é de origem elétrica e resulta de alterações nas cargas elétricas das superfícies externa e interna da membrana celular. Na despolarização da membrana celular resulta um potencial de ação, que faz com que os canais de sódio se abram e permitam que íons de sódio entrem no neurônio.  
d) A despolarização da membrana celular não chega a avançar até o axônio, pois antes disso alcança os botões terminais.  
e) A probabilidade de um neurônio descarregar independe da integração neural dos sinais inibitórios e excitatórios recebidos nos dendritos.

**26. Entre as concepções da psicologia sobre a aprendizagem nas crianças, uma delas decorre das observações dos comportamentos de pessoas próximas como pais, amigos e professores. Sobre isso, considere as afirmativas:**

- I- As expressões faciais resultam de imitações que as crianças fazem pela observação. A imitação de gestos e outras ações continuam à medida que as crianças amadurecem.**  
**II- A imitação do comportamento observado geralmente é referida como modelação.**  
**III- A modelação só será efetiva se o observador for fisicamente capaz de imitar o comportamento.**  
**IV- Imitar um comportamento é, para a criança, um meio de aprendizagem observacional.**

**Assinale a alternativa correta:**

- a) Todas as afirmativas são corretas, exceto a I, pelo fato de que um recém-nascido com menos de um ano de idade não sorri por aprendizagem, ele apenas manifesta um ato reflexo.  
b) Todas as afirmativas são corretas.  
c) Todas as afirmativas são corretas, exceto a II, que refere a imitação do comportamento observado como modelagem ao invés de aprendizagem observacional.  
d) Todas as afirmativas são corretas, exceto a III que ao valorizar a capacidade física subestima a capacidade mental da criança.  
e) Apenas a afirmativa IV é correta, considerando-se como verdadeiros os argumentos para as afirmativas I, II e III descritos nas alternativas "a, c" e "d".

**27 Nas últimas décadas, a maioria dos psicólogos via a memória como uma forma de processamento da informação, em que os processos de memória ocorriam como num computador. O computador recebe informações por meio do teclado ou do modem, processa-a em software, armazena-a no disco rígido e**

**depois recupera a informação quando requisitado pelo usuário ou por outro programa através de um sistema de memória de três estágios, que envolve memória sensorial, memória de curto prazo e memória de longo prazo. Sobre esta temática, é incorreto considerar que:**

- a) O conceito inicial de memória de curto prazo (MCP) era o de que se tratava simplesmente de um tampão em que as informações verbais eram repetidas até serem armazenadas ou esquecidas.
- b) Recentemente a Psicologia vem dando importância a um modelo de sistema de memória operante desenvolvido pelo psicólogo britânico Alan Baddeley. Ele é composto de três partes, denominadas executiva central, alça fonológica e bloco de notas visuoespacial.
- c) Se a memória de curto prazo (MCP) não é um simples sistema de armazenamento, ela está muito longe de ser uma unidade processadora ativa.
- d) Pode-se afirmar que, como elemento dinâmico, a MCP lida com múltiplos tipos de informação como sons, imagens e ideias.
- e) A memória de trabalho é um sistema de processamento produtivo que mantém as informações “na linha” para que possam ser utilizadas para atividades, como solução de problemas, raciocínio e compreensão.

**28. Avalie os itens abaixo sobre como os fatores cognitivos, sociais e culturais influenciam a motivação, e assinale a alternativa correta:**

**I- As expectativas são representações mentais de futuros resultados.**

**II- Os incentivos são objetos internos, não impulsos externos que motivam comportamentos.**

**III- Uma das marcas registradas da infância é a curiosidade, um comportamento extrinsecamente motivado.**

**IV- A motivação intrínseca se refere ao valor ou prazer que está associado à atividade, mas não tem nenhum propósito ou objetivo biológico aparente.**

- a) São corretas apenas as afirmativas I, III e IV.
- b) É correta apenas a afirmativa I.
- c) São corretas apenas as afirmativas III e IV.
- d) São corretas apenas as afirmativas II e IV.
- e) Todas as afirmativas são corretas.

**29. Nas investigações a respeito de atitudes e comportamentos, a característica pessoal que parece ser importante na persuasão é chamada de:**

- a) Dissonância cognitiva
- b) Necessidade de cognição
- c) Atribuição pessoal
- d) Atribuição situacional
- e) Viés favorável ao self

**30. Em 1964, uma jovem chamada Kitty Genovese estava voltando do trabalho a pé para casa, em uma área relativamente segura da cidade de Nova York. Um assaltante a atacou selvagemmente e a espancou durante 30 minutos até ela morrer. Testemunharam o crime 38 pessoas observando-o de suas janelas. Ninguém interveio ou chamou a polícia. O acontecimento causou revolta pelo fato de as pessoas ficarem assistindo ao assassinato brutal sem interferir.**

**Sobre o caso considere as afirmativas abaixo;**

**I- Este acontecimento foi considerado sensacionalista e um erro de avaliação midiática pelos observadores da época, já que numa situação dessas as pesquisas comprovam que quanto mais pessoas disponíveis para ajudar é mais provável que o indivíduo seja ajudado.**

**II- Entre as concepções da Psicologia Social, está a ideia de que é menos provável para uma pessoa ajudar se houver outros espectadores em volta. Neste cenário, ocorre a difusão de responsabilidade em que as pessoas esperam que outras que também estão em volta ofereçam ajuda.**

**III- O evento é denominado de efeito de intervenção do espectador, onde as pessoas temem cometer erros sociais em uma situação ambígua.**

**IV- As pessoas tendem menos a ajudar quando não são identificáveis. Existe também uma troca de custo benefício que envolve quanto prejuízo as pessoas se arriscam a ter ao ajudar, ou que benefício elas teriam de esquecer se parassem para ajudar.**

**É correto afirmar que:**

- a) Todas as afirmativas são corretas.
- b) Apenas as afirmativas I, III e IV são corretas.
- c) Apenas as afirmativas II, III e IV são corretas.
- d) Apenas as afirmativas III e IV são corretas.
- e) Apenas as afirmativas II e IV são corretas.

**31. Pacientes psiquiátricos são avaliados por psicólogos e psiquiatras quanto à capacidade de situar-se quanto a si mesmo e quanto ao ambiente. Quando o indivíduo é examinado em sua capacidade de orientar-se em relação ao mundo, incluindo-se o espaço e o tempo, a avaliação diz respeito à:**

- a) Orientação autopsíquica, espacial e temporal.

- b) Orientação psicodinâmica, geográfica e temporal.
- c) Orientação situacional, espacial e temporal.
- d) Orientação alopsíquica, espacial e temporal.
- e) Orientação, autopsíquica e alopsíquica.

**32. Segundo a lenda grega, Narciso era um jovem para quem nada era mais agradável que ver sua própria imagem refletida sobre um lago. Admirava e amava ao extremo sua própria imagem; ao final, acabou cometendo o suicídio e transformou-se em uma flor que passou então a levar o seu nome. Freud denominou inicialmente de narcisismo ao tipo de escolha de objeto amoroso que ocorre na homossexualidade. O homossexual, nessa visão, amaria alguém igual a si mesmo. Posteriormente, o termo narcisismo passou a referir-se a um estágio do desenvolvimento psicosssexual da criança, no qual o indivíduo toma a si mesmo, ao seu Eu, como objeto de amor.**

**Avalie as assertivas quanto à concepção atual do narcisismo e assinale a alternativa correta:**

**I- Atualmente, o termo narcisismo refere-se de modo geral, ao direcionamento do amor do indivíduo para si próprio.**

**II- No estado de narcisismo, o Eu percebe o prazer como oriundo sempre de seu interior e o desprazer como proveniente do mundo externo.**

**III- O narcisismo apresenta a ilusão de autossuficiência, sentimento de poder, de grandiosidade, de desprezo pelo mundo exterior.**

**IV- O narcisismo é sempre um estado negativo e patológico.**

- a) São corretas todas as afirmativas.
- b) São corretas apenas as afirmativas I, II e III.
- c) São corretas apenas as afirmativas II e III.
- d) São corretas apenas as afirmativas I e IV.
- e) São corretas apenas as afirmativas II e IV.

**33. Considerando-se os aspectos gerais do retardo mental, assinale a alternativa incorreta.**

- a) O retardo mental leve apresenta um Quociente Intelectual - QI entre 35 e 49.
- b) O retardo mental moderado apresenta como melhor nível escolar alcançável a 2ª Série do Ensino Fundamental.
- c) O retardo mental grave apresenta um Quociente Intelectual - QI entre 20 e 34.
- d) O retardo mental profundo corresponde a uma idade mental de menos de 3 anos.
- e) O estado limítrofe não é considerado retardo mental e o Quociente Intelectual - QI situa-se entre 70 e 84.

**34. Teorias baseadas em modelos matemáticos vêm substituindo as técnicas tradicionais de equacionamento e análise de respostas em testes psicológicos. Dados são usados para calibrações em relação a um ou mais parâmetros e derivar estimativas de probabilidades da quantificação de habilidade, ou nível de traço, necessária para responder de uma certa maneira. Este é um modelo de traço latente.**

**A qual teoria se refere o texto?**

- a) Teoria do Equacionamento (TE)
- b) Teoria da Resposta o item (TRI)
- c) Teoria de Testagem Adaptativa (TTA)
- d) Teoria Clássica dos Testes (TCT)
- e) Teoria da Probabilidade (TP)

**35. Pesquisas e testes psicológicos usados com bases psicométricas trabalham com escalas. Identifique nas alternativas abaixo aquela em que os números adquirem a propriedade da aditividade, o que significa que eles podem ser somados, bem como subtraídos, multiplicados e divididos – e o resultado pode ser expresso como uma razão, com resultados significativos. Este tipo de escala tem um ponto-zero verdadeiro ou absoluto, que representa “nenhuma quantidade” do que está sendo medido.**

- a) Escala Nominal
- b) Escala Ordinal
- c) Escala intervalar
- d) Escala Multifatorial
- e) Escala de Razão

**36. Um grande número de estudiosos da agressão afirma que, apesar de o comportamento agressivo dos animais poder ser explicado por processos instintivos, em seres humanos não há como admitir que ele seja regulado por impulsos internos, mas, sim, aprendido com outros seres humanos. Na abordagem do comportamento agressivo aprendido, dois tipos de métodos de aprendizagem são destacados. Quais são eles?**

- a) Aprendizagem instrumental e aprendizagem situacional.
- b) Aprendizagem situacional e aprendizagem observacional.
- c) Aprendizagem instrumental e aprendizagem observacional.
- d) Aprendizagem contingencial e aprendizagem instrumental.
- e) Aprendizagem significativa e aprendizagem instrumental.



**37. Qual das alternativas é incorreta quanto ao conceito de cognição social?**

- a) Inferência produzida a partir de informações obtidas no ambiente social.
- b) Resposta de reação não aprendida diante de um estímulo não-condicionado que ocorre sem condicionamento prévio.
- c) Processo cognitivo, no qual somos influenciados por tendenciosidades e esquemas sociais.
- d) Modo como somos instigados por heurísticas
- e) Comportamento gerado por processamento de informações e julgamentos.

**38. Entre as diferentes abordagens psicológicas, uma delas serviu de base para o surgimento da Psicologia e apresenta duas ênfases específicas: a autoimagem na análise da personalidade e a maior importância da subjetividade sobre a realidade objetiva. Assinale-a dentre as alternativas:**

- a) Abordagem Humanista
- b) Abordagem Psicodinâmica
- c) Abordagem Comportamental
- d) Abordagem Gestáltica
- e) Abordagem Analítica

**39. Sobre o desenvolvimento humano, considere as afirmativas:**

I- Freud propôs que os fundamentos básicos da personalidade de um indivíduo são estabelecidos até a tenra idade de cinco anos.

II- O ponto forte da teoria piagetiana leva em conta a transição no desenvolvimento da personalidade. Ela mostra como novos desafios nas relações sociais estimulam o desenvolvimento da personalidade ao longo da vida, estabelecendo conexões entre experiências da primeira infância e aspectos dos estágios que caracterizam a personalidade adulta.

III- As evidências indicam que a inteligência geral é bastante estável durante a maior parte da vida adulta, com um pequeno declínio na média dos resultados em testes frequentemente observados após os 60 anos.

IV- Erikson dividiu o ciclo vital em oito estágios, cada um caracterizado por uma crise psicossocial, que envolve transições em relações sociais importantes.

**É correto afirmar-se que:**

- a) São corretas todas as afirmativas.
- b) São corretas apenas as afirmativas I, III e IV.
- c) São corretas apenas as afirmativas III e IV.
- d) São corretas apenas as afirmativas II e IV.
- e) São corretas apenas as afirmativas I e II.

**40. Nos estudos sobre cognição e inteligência, a resolução de problemas refere-se a esforços ativos para descobrir o que deve ser feito para alcançar um objetivo que não está prontamente disponível. Os problemas podem ser categorizados em relações entre as partes do problema, arranjo de partes de modo a satisfazer algum critério. A pessoa deve elaborar uma sequência de mudanças para atingir um objetivo específico. As três classes principais de problemas que podem compor esta categorização são:**

- a) Estrutura dedutiva, disposição e transformação.
- b) Estrutura indutiva, enquadramento e transformação.
- c) Estrutura dedutiva, disposição e circunscrição.
- d) Disposição, estrutura dedutiva e circunscrição.
- e) Estrutura indutiva, disposição e transformação.

**RASCUNHO**





PREFEITURA DE TELÊMACO BORBA - ESTADO DO PARANÁ- **EDITAL Nº 001-2016 - CONCURSO PÚBLICO**

**VESPERTINO – 29/05/2016 – NÍVEL SUPERIOR**

**PROVA OBJETIVA NÚMERO**

**2**

**CARGO: TMNS I – PSICOLOGIA**

**Leia atentamente as INSTRUÇÕES:**

1. Confira seus dados no cartão-resposta: nome, número de inscrição e o curso para o qual se inscreveu.
2. **MARQUE no seu cartão-resposta o número da sua prova** (não será corrigido o cartão-resposta que não tiver marcado o número da prova) e **Assine** seu cartão-resposta.
3. Aguarde a autorização do Fiscal para abrir o caderno de prova. Ao receber a ordem do fiscal, confira o caderno de prova com muita atenção. Nenhuma reclamação sobre o total de questões ou falha de impressão será aceita depois de iniciada a prova.
4. O cartão-resposta não será substituído, salvo se contiver erro de impressão.
5. Preencha toda a área do cartão-resposta correspondente à alternativa de sua escolha, com caneta esferográfica (tinta azul ou preta), sem ultrapassar as bordas. As marcações duplas, ou rasuradas, com corretivo, ou marcadas diferentemente do modelo estabelecido no cartão-resposta poderão ser anuladas.
6. Sua prova tem **40** questões, com **5** alternativas.
7. Cabe apenas ao candidato a interpretação das questões, **o fiscal** não poderá fazer nenhuma interferência.
8. A prova será realizada com duração máxima de **3 (três) horas**, incluído o tempo para a realização da Prova Objetiva de múltipla escolha e o preenchimento do cartão-resposta.
9. O candidato poderá retirar-se do local de realização das provas somente **1 (uma) hora** após o seu início, sem levar o caderno de prova.
10. O candidato poderá levar o caderno de provas, assim como anotação contendo transcrição do seu cartão-resposta, somente **1h30min** (uma hora e trinta minutos) após o início da realização da prova.
11. Ao terminar a prova, o candidato deverá entregar ao fiscal de sala o cartão-resposta preenchido e **ASSINADO**.
12. Os **3 (três)** candidatos, que terminarem a prova por último, deverão permanecer na sala, e só poderão sair juntos após o fechamento do envelope, contendo os cartões-resposta dos candidatos presentes e ausentes, e assinarem no lacre do referido envelope, atestando que este foi devidamente lacrado.
13. Durante todo o tempo em que permanecer no local onde está ocorrendo o concurso, o candidato deverá, manter o celular desligado e sem bateria, só sendo permitido ligar depois de ultrapassar o portão de saída do prédio.
14. Não será permitido ao candidato fumar na sala de provas, bem como nas dependências.
15. Depois de terminar a prova e entregar ao fiscal o cartão-resposta, preenchido e assinado, não será mais permitido ao candidato o uso do banheiro e bebedouro.

**BOA PROVA!**

**RACIOCÍNIO LÓGICO**

**01. Os cinco filhos de Ana estavam discutindo a respeito da data de nascimento da mãe:**

- Almir disse que foi em janeiro, dia 14, sexta-feira.
- Vanderlei disse que foi em janeiro, dia 14, sábado.
- Tiago disse que foi em fevereiro, dia 15, sábado.
- Sandro disse que foi em janeiro, dia 15, sexta-feira.
- Renato disse que foi em fevereiro, dia 15, sexta-feira.

Sabe-se que somente um dos filhos de Ana acertou corretamente sua data de nascimento e que os outros acertaram pelo menos um dos itens (dia, dia da semana e mês). Dessa forma, é correto afirmar que o filho de Ana que acertou a data de nascimento dela foi:

- a) Renato
- b) Sandro
- c) Tiago
- d) Vanderlei
- e) Almir

**02. Considere a seguinte afirmativa: “Todo churrasqueiro gosta de picanha”. Em relação a essa proposição, é correto afirmar que:**

- a) Algum churrasqueiro não gosta de picanha.
- b) Toda pessoa que gosta de picanha é churrasqueira.
- c) Alguma pessoa que não gosta de picanha é churrasqueira.
- d) Toda pessoa que não é churrasqueira, não gosta de picanha.
- e) Toda pessoa que não gosta de picanha, não é churrasqueira.

**03. Em um grupo formado por 67 pessoas, verificou-se que 41 pessoas gostam de arroz, 29 gostam de feijão, 33 gostam de carne, 19 gostam de arroz e de feijão, 9 gostam apenas de arroz e de carne, 12 gostam de feijão e de carne e que 6 gostam de arroz, de feijão e de carne. O número de pessoas desse grupo, que não gosta de nenhum desses três tipos de alimentos é igual a:**

- a) 4
- b) 5
- c) 6
- d) 8
- e) 10

**04. Bruno escreveu, em seu caderno, várias sequências formadas por números múltiplos de 4, onde os valores que ocupavam as posições pares eram multiplicados por  $-1$ . Cada sequência foi somada e o resultado da soma anotado. A soma das três primeiras sequências escritas por Bruno foram as seguintes:**

$$4 - 8 = -4$$
$$4 - 8 + 12 = 8$$
$$4 - 8 + 12 - 16 = -8$$

Considere que Bruno escreveu e somou tais sequências, em seu caderno, de modo a obter determinada sequência cuja soma foi 600. O número de termos dessa sequência é igual a:

- a) 149
- b) 150
- c) 298
- d) 299
- e) 300

**05. Quatro torcedores, um do São Paulo, um do Cruzeiro, um do Vasco e um do Bahia, estão sentados ao redor de uma mesa quadrada, de modo que, dois a dois, fiquem frente a frente. Sabe-se que Alan é torcedor do Cruzeiro e que Bruno está sentado à direita de Alan. Sabe-se também que Caio está sentado à direita do torcedor do São Paulo. Sabe-se ainda que Daniel não é torcedor do Vasco e que está sentado à frente de Bruno. Dessa forma, é correto afirmar que:**

- a) Bruno é torcedor do Bahia e Daniel é torcedor do São Paulo.
- b) Bruno é torcedor do São Paulo e Daniel é torcedor do Bahia.
- c) Caio é torcedor do Vasco e Daniel é torcedor do São Paulo.
- d) Caio é torcedor do Bahia e Daniel é torcedor do São Paulo.
- e) Bruno é torcedor do Vasco e Daniel é torcedor do Bahia.

**INFORMÁTICA**

06. Considerando o MS-Excel versão 2010, observando a figura abaixo, é correto afirmar que:

	A	B	C
1			
2			
3			
4			

- Somente 03 três linhas estão selecionadas.
- Somente uma célula está selecionada.
- 12 (doze) células estão selecionadas.
- Somente a coluna A até a linha 4 (quatro) está selecionada.
- Somente as colunas 1 (um), 2 (dois), 3 (três) e 4 (quatro) estão selecionadas.

07. Considerando o MS-Excel versão 2010, observando a figura abaixo, é incorreto afirmar que:

	A	B	C
1	12	6	=A1*B1
2	8	2	=A2/B2
3	5	14	=A3-B3
4	6	11	=A4+B4

- O resultado da fórmula =A1\*B1 é 72.
- O resultado da fórmula =A2/B2 é 4.
- O resultado da fórmula =A3-B3 é -9.
- O resultado da fórmula =A3-B3 é 9.
- O resultado da fórmula =A4+B4 é 17.

08. Digitando um texto no MS-Word versão 2010, necessito adicionar número nas páginas. Quanto a isso, é correto afirmar que:

- No menu Layout da Página, clico em número de página e seleciono onde desejo adicionar os números.
- No menu Inserir, clico em número de página e seleciono onde desejo adicionar os números.
- No menu Revisão, clico em número de página e seleciono onde desejo adicionar os números.
- No menu Referências, clico em número de página e seleciono onde desejo adicionar os números.
- No menu Exibição, clico em número de página e seleciono onde desejo adicionar os números.

09. A segurança da informação está diretamente relacionada com proteção de um conjunto de informações, no sentido de preservar o valor que possuem para um indivíduo ou uma organização. Atualmente, um dos aplicativos mais utilizados no mundo, o Whats app, teve uma alteração de confidencialidade muito importante na segurança das informações transmitidas e recebidas. Dentre as alternativas, assinale a que corretamente informa a alteração inserida no aplicativo Whats app.

- Antispam
- Antivirus
- Firewall
- Antispyware
- Criptografia

10. São todos os dispositivos que trabalham acoplados ao microcomputador para receber, transmitir, visualizar, ler, gravar ou armazenarem dados. São eles que permitem a comunicação do computador com o meio exterior, isto é, com os usuários e outras máquinas.

Esse texto descreve corretamente:

- Memória ram
- Memória virtual
- Software
- Periféricos
- Hardware

**CONHECIMENTOS GERAIS**

11. Hino do município de Telêmaco Borba/PR

Das virgens matas e campos verdejantes  
 Servindo-se também o rio Tibagi,

Homens de ideais, espíritos vibrantes.  
Constituíram as indústrias aqui.

Estrilho:

Salve! Salve! Telêmaco Borba  
Terra querida e de grandes primores,  
A nossa homenagem rendamos  
À cidade dos trabalhadores.

Pois a cadência de enorme e real progresso  
Um município mui grandioso fez nascer,  
Marcando assim, verdadeiro sucesso  
Faz, então o Paraná engrandecer.

**No que tange ao Hino do município, atribua V (verdadeiro) ou F (falso) às afirmativas e marque a alternativa correta.**

Eloah Martins Quadrado é autora da letra do hino.

Bento Mossurunga compôs a música do hino.

Eloah Martins Quadrado foi nomeada primeira professora da Cidade Nova, atual Telêmaco Borba.

Bento Mossurunga fundou a orquestra Estudantil e Concertos – Orquestra Sinfônica da Universidade, a Sociedade de Cultura Artístico Basílio Itiberê.

a) F, V, V, V.

b) V, F, V, V.

c) V, V, F, V.

d) V, V, F, F.

e) V, V, V, V.

**12. À luz da Lei nº 1883/2012, que dispões sobre o Estatuto dos Servidores Públicos da Administração Direta, Autárquica e Funcional do Município de Telêmaco Borba/PR, leia as alternativas e marque a correta.**

a) A apresentação para a posse ocorrerá no prazo de até trinta dias, contados do ato de nomeação.

b) A destituição do servidor da função gratificada dar-se-á por solicitação exclusiva dele mesmo.

c) O servidor ocupante exclusivamente de cargo em comissão será contribuinte do regime geral de previdência social.

d) A aprovação em concurso público gera o direito à nomeação, e será feita obedecida à ordem de classificação dos candidatos.

e) O exercício de função gratificada poderá ser de dedicação integral ou parcial, conforme necessidade da administração.

**Conforme a Lei nº 1.881, de 05 de abril de 2012, que dispõe sobre o Plano de Cargos, Carreiras e Vencimentos do quadro geral de servidores da Prefeitura Municipal de Telêmaco Borba/PR, regulamentada pelo Decreto nº 2269/2015, responda às próximas três questões.**

**13. Leia as assertivas e assinala a incorreta.**

a) Do resultado da avaliação de desempenho poderá ser interposto recurso à Comissão de Desenvolvimento Funcional no prazo de quinze dias a contar da publicação no Boletim Oficial do Município.

b) Não será concedida a progressão ou promoção ao servidor que estiver em licença para tratamento de saúde por um período superior a quarenta e cinco dias, no período de avaliação.

c) A alternância dos membros constituintes da Comissão de Desenvolvimento Funcional eleitos pelos servidores verificar-se-á a cada três anos de participação, observados, para substituição de seus participantes, o critério fixado no artigo anterior, não cabendo eleição sucessiva.

d) Caberá à Comissão de Desenvolvimento Funcional, no caso de divergência de vinte por cento entre a nota do avaliador e a do avaliado, solicitar nova avaliação à chefia.

e) Nos termos do disposto no art. 17 da Lei nº 1.881, de 05 de abril de 2012, para progredir, é necessário que o servidor satisfaça, dentre outros, o seguinte requisito: estar no efetivo exercício de seu cargo ou em função comissionada na sua área de atuação durante o interstício de dois anos.

**14. Assinale a alternativa que completa respectivamente as lacunas do texto a seguir:**

**A Comissão de Desenvolvimento Funcional será constituída por \_\_\_\_\_ membros, sendo \_\_\_\_\_ designados pelo Prefeito Municipal de Telêmaco Borba e os demais eleitos pelos servidores municipais dentre os estáveis, com a atribuição de coordenar os procedimentos relativos à avaliação periódica de desempenho e outras atribuições.**

a) três / sete

b) um / três

c) sete / três

d) três / cinco

e) dois / cinco

**15. A Avaliação de Desempenho será norteadada, dentre outros, pelo seguinte princípio: Amplitude - a avaliação deve incidir sobre todas as áreas de atuação do servidor, que compreendem:**

- 1. a formulação de políticas administrativas e sua aplicação para todos os setores da administração municipal;**
- 2. o desempenho do profissional dentro de suas funções pertinentes;**
- 3. a estrutura do órgão em que exerce a função;**
- 4. os resultados de eficiência dos serviços de cada setor ou órgão da administração municipal;**
- 5. a participação direta do avaliado, durante todo o processo avaliativo.**

**Diante dessa afirmação, somente não está correto o item:**

- a) 1
- b) 2
- c) 3
- d) 4
- e) 5

### **CONHECIMENTOS ESPECÍFICOS**

**16. Transformações significativas estão ocorrendo em todas as áreas do conhecimento. Esta dinâmica estrutural de potências humanas e máquinas geraram transformações significativas em todas as áreas do conhecimento. Entre estas transformações estão: (1) os avanços nas comunicações, viagens e comércio internacional que “encolheram” o mundo e aumentaram a interdependência global e (2) o fato de a composição étnica do mundo ocidental ter se tornado, cada vez mais, um mosaico de diversidades multiculturais. Em relação à psicologia, podemos dizer que psicólogos ocidentais, ao reconhecer a importância dos valores culturais, passaram a dedicar mais atenção à cultura como determinante do comportamento. Podemos afirmar que:**

- a) O novo interesse pela cultura deve-se unicamente aos avanços nas comunicações, viagens e globalização no comércio.
- b) As duas correntes: avanços nas comunicações, viagens e comércio internacional e a diversidade na composição étnica do mundo ocidental, foram responsáveis pela mudança de atenção da psicologia em direção à cultura.
- c) Nenhuma das correntes contribuiu para a mudança de atenção da psicologia para a cultura. Mais importante do que os avanços nas comunicações, viagens e comércio internacional ou a composição étnica do mundo ocidental foi o caráter propedêutico da psicologia que a tornou uma ciência de experimentos sobre comportamento humano.
- d) O interesse pela cultura deve-se unicamente à variação da composição étnica do mundo ocidental.
- e) A diversidade na composição étnica do mundo social teve influência, mas, o mais importante foi a transformação da psicologia de ciência experimental em ciência psicodinâmica.

**17. Avalie os itens e assinale a alternativa correta:**

**I- A psicologia é o estudo científico do indivíduo e do seu comportamento que, embora possa ser de caráter social, não precisa necessariamente ser.**

**II- A teoria dos papéis é uma perspectiva teórica para entendimento das interações sociais.**

**III- A teoria do reforço parte da premissa de que o comportamento é governado por acontecimentos externos.**

**IV- A teoria da evolução localiza as raízes do comportamento em nossos genes e, portanto vincula intimamente, indivíduo, grupos e biologia.**

- a) Como estudo científico dos indivíduos, a psicologia não tem caráter social.
- b) A teoria dos papéis é conteúdo específico da psicologia experimental.
- c) As teorias dos papéis, do reforço e da evolução são perspectivas teóricas distintas, estudadas no âmbito da psicologia social.
- d) A teoria do reforço nada tem a ver com a psicologia social.
- e) A teoria da evolução não é conteúdo da psicologia, mas sim da biologia.

**18. Considere as afirmativas sobre a História da Psicologia:**

**I- A Psicologia evoluiu a partir da especulação filosófica para uma ciência comprometida com a pesquisa.**

**II- Como uma perspectiva de serviços na saúde mental, o foco da psicologia na fisiologia teve suas origens no século XIX.**

**III- A Psicologia se desenvolveu de um estudo da mente e do corpo para um estudo do comportamento; e a investigação da mente e do corpo voltou na psicologia moderna.**

**IV- A evolução da Psicologia para um campo especializado tirou, na contemporaneidade, o seu caráter multifacetado.**

- a) Todas as afirmativas são corretas.
- b) Apenas as afirmativas I e II são corretas.
- c) Apenas as afirmativas II e III são corretas.
- d) Apenas as afirmativas I, II e III são corretas.
- e) Apenas a afirmativa IV é correta.

**19. As origens da ciência psicológica podem ser encontradas em importantes questões filosóficas. Uma delas, vinculada ao debate natureza-ambiente, envolve determinar a extensão em que a mente e o comportamento são predeterminados pela biologia ou são desenvolvidos e moldados pelo ambiente. Sobre isso, uma das alternativas abaixo é incorreta. Assinale-a:**

- a) Podemos afirmar que a esquizofrenia é um exemplo das influências variáveis da natureza e do ambiente.
- b) O debate natureza-ambiente não existia no início da história da psicologia.
- c) No transtorno bipolar, a pessoa apresenta alterações dramáticas de humor, sentindo-se extremamente triste (deprimida) e depois eufórica (maníaca). Também aqui encontramos influência das variáveis da natureza e do ambiente.
- d) Os cientistas psicológicos atualmente acreditam que muitos transtornos mentais resultam tanto da maneira pela qual o emaranhado de circuitos cerebrais é tecido (natureza) como da maneira pela qual a pessoa é tratada (ambiente).
- e) Pesquisas recentes indicam que algumas pessoas herdaram uma predisposição genética para desenvolver o transtorno de estresse pós-traumático (TEPT) e que o ambiente ativa a natureza.

**20. Considerando-se os processos mentais de informação e as operações do sistema nervoso, assinale a alternativa correta.**

- a) Os neurônios são unidades secundárias do sistema nervoso.
- b) Os dendritos não absorvem informações, e apenas servem de base estrutural para movimento dos axônios.
- c) O impulso nervoso que se propaga através do neurônio é de origem elétrica e resulta de alterações nas cargas elétricas das superfícies externa e interna da membrana celular. Na despolarização da membrana celular resulta um potencial de ação, que faz com que os canais de sódio se abram e permitam que íons de sódio entrem no neurônio.
- d) A despolarização da membrana celular não chega a avançar até o axônio, pois antes disso alcança os botões terminais.
- e) A probabilidade de um neurônio descarregar independe da integração neural dos sinais inibitórios e excitatórios recebidos nos dendritos.

**21. Entre as concepções da psicologia sobre a aprendizagem nas crianças, uma delas decorre das observações dos comportamentos de pessoas próximas como pais, amigos e professores. Sobre isso, considere as afirmativas:**

**I- As expressões faciais resultam de imitações que as crianças fazem pela observação. A imitação de gestos e outras ações continuam à medida que as crianças amadurecem.**

**II- A imitação do comportamento observado geralmente é referida como modelação.**

**III- A modelação só será efetiva se o observador for fisicamente capaz de imitar o comportamento.**

**IV- Imitar um comportamento é, para a criança, um meio de aprendizagem observacional.**

**Assinale a alternativa correta:**

- a) Todas as afirmativas são corretas, exceto a I, pelo fato de que um recém-nascido com menos de um ano de idade não sorri por aprendizagem, ele apenas manifesta um ato reflexo.
- b) Todas as afirmativas são corretas.
- c) Todas as afirmativas são corretas, exceto a II, que refere a imitação do comportamento observado como modelagem ao invés de aprendizagem observacional.
- d) Todas as afirmativas são corretas, exceto a III que ao valorizar a capacidade física subestima a capacidade mental da criança.
- e) Apenas a afirmativa IV é correta, considerando-se como verdadeiros os argumentos para as afirmativas I, II e III descritos nas alternativas "a, c" e "d".

**22. Nas últimas décadas, a maioria dos psicólogos via a memória como uma forma de processamento da informação, em que os processos de memória ocorriam como num computador. O computador recebe informações por meio do teclado ou do modem, processa-a em software, armazena-a no disco rígido e depois recupera a informação quando requisitado pelo usuário ou por outro programa através de uma sistema de memória de três estágios, que envolve memória sensorial, memória de curto prazo e memória de longo prazo. Sobre esta temática, é incorreto considerar que:**

- a) O conceito inicial de memória de curto prazo (MCP) era o de que se tratava simplesmente de um tampão em que as informações verbais eram repetidas até serem armazenadas ou esquecidas.
- b) Recentemente a Psicologia vem dando importância a um modelo de sistema de memória operante desenvolvido pelo psicólogo britânico Alan Baddeley. Ele é composto de três partes, denominadas executiva central, alça fonológica e bloco de notas visuoespacial.
- c) Se a memória de curto prazo (MCP) não é um simples sistema de armazenamento, ela está muito longe de ser uma unidade processadora ativa.
- d) Pode-se afirmar que, como elemento dinâmico, a MCP lida com múltiplos tipos de informação como sons, imagens e ideias.
- e) A memória de trabalho é um sistema de processamento produtivo que mantém as informações "na linha" para que possam ser utilizadas para atividades, como solução de problemas, raciocínio e compreensão.



**23. Avalie os itens abaixo sobre como os fatores cognitivos, sociais e culturais influenciam a motivação, e assinale a alternativa correta:**

**I- As expectativas são representações mentais de futuros resultados.**

**II- Os incentivos são objetos internos, não impulsos externos que motivam comportamentos.**

**III- Uma das marcas registradas da infância é a curiosidade, um comportamento extrinsecamente motivado.**

**IV- A motivação intrínseca se refere ao valor ou prazer que está associado à atividade, mas não tem nenhum propósito ou objetivo biológico aparente.**

- a) São corretas apenas as afirmativas I, III e IV.
- b) É correta apenas a afirmativa I.
- c) São corretas apenas as afirmativas III e IV.
- d) São corretas apenas as afirmativas II e IV.
- e) Todas as afirmativas são corretas.

**24. Nas investigações a respeito de atitudes e comportamentos, a característica pessoal que parece ser importante na persuasão é chamada de:**

- a) Dissonância cognitiva
- b) Necessidade de cognição
- c) Atribuição pessoal
- d) Atribuição situacional
- e) Viés favorável ao self

**25. Em 1964, uma jovem chamada Kitty Genovese estava voltando do trabalho a pé para casa, em uma área relativamente segura da cidade de Nova York. Um assaltante a atacou selvagemmente e a espancou durante 30 minutos até ela morrer. Testemunharam o crime 38 pessoas observando-o de suas janelas. Ninguém interveio ou chamou a polícia. O acontecimento causou revolta pelo fato de as pessoas ficarem assistindo ao assassinato brutal sem interferir.**

**Sobre o caso considere as afirmativas abaixo;**

**I- Este acontecimento foi considerado sensacionalista e um erro de avaliação midiática pelos observadores da época, já que numa situação dessas as pesquisas comprovam que quanto mais pessoas disponíveis para ajudar é mais provável que o indivíduo seja ajudado.**

**II- Entre as concepções da Psicologia Social, está a ideia de que é menos provável para uma pessoa ajudar se houver outros espectadores em volta. Neste cenário, ocorre a difusão de responsabilidade em que as pessoas esperam que outras que também estão em volta ofereçam ajuda.**

**III- O evento é denominado de efeito de intervenção do espectador, onde as pessoas temem cometer erros sociais em uma situação ambígua.**

**IV- As pessoas tendem menos a ajudar quando não são identificáveis. Existe também uma troca de custo benefício que envolve quanto prejuízo as pessoas se arriscam a ter ao ajudar, ou que benefício elas teriam de esquecer se parassem para ajudar.**

**É correto afirmar que:**

- a) Todas as afirmativas são corretas.
- b) Apenas as afirmativas I, III e IV são corretas.
- c) Apenas as afirmativas II, III e IV são corretas.
- d) Apenas as afirmativas III e IV são corretas.
- e) Apenas as afirmativas II e IV são corretas.

**26. Pacientes psiquiátricos são avaliados por psicólogos e psiquiatras quanto à capacidade de situar-se quanto a si mesmo e quanto ao ambiente. Quando o indivíduo é examinado em sua capacidade de orientar-se em relação ao mundo, incluindo-se o espaço e o tempo, a avaliação diz respeito à:**

- a) Orientação autopsíquica, espacial e temporal.
- b) Orientação psicodinâmica, geográfica e temporal.
- c) Orientação situacional, espacial e temporal.
- d) Orientação alopsíquica, espacial e temporal.
- e) Orientação, autopsíquica e alopsíquica.

**27. Segundo a lenda grega, Narciso era um jovem para quem nada era mais agradável que ver sua própria imagem refletida sobre um lago. Admirava e amava ao extremo sua própria imagem; ao final, acabou cometendo o suicídio e transformou-se em uma flor que passou então a levar o seu nome. Freud denominou inicialmente de narcisismo ao tipo de escolha de objeto amoroso que ocorre na homossexualidade. O homossexual, nessa visão, amaria alguém igual a si mesmo. Posteriormente, o termo narcisismo passou a referir-se a um estágio do desenvolvimento psicosssexual da criança, no qual o indivíduo toma a si mesmo, ao seu Eu, como objeto de amor.**

**Avalie as assertivas quanto à concepção atual do narcisismo e assinale a alternativa correta:**

**I- Atualmente, o termo narcisismo refere-se de modo geral, ao direcionamento do amor do indivíduo para si próprio.**

**II- No estado de narcisismo, o Eu percebe o prazer como oriundo sempre de seu interior e o desprazer como proveniente do mundo externo.**

**III- O narcisismo apresenta a ilusão de autossuficiência, sentimento de poder, de grandiosidade, de desprezo pelo mundo exterior.**

**IV- O narcisismo é sempre um estado negativo e patológico.**

- a) São corretas todas as afirmativas.
- b) São corretas apenas as afirmativas I, II e III.
- c) São corretas apenas as afirmativas II e III.
- d) São corretas apenas as afirmativas I e IV.
- e) São corretas apenas as afirmativas II e IV.

**28. Considerando-se os aspectos gerais do retardo mental, assinale a alternativa incorreta.**

- a) O retardo mental leve apresenta um Quociente Intelectual - QI entre 35 e 49.
- b) O retardo mental moderado apresenta como melhor nível escolar alcançável a 2ª Série do Ensino Fundamental.
- c) O retardo mental grave apresenta um Quociente Intelectual - QI entre 20 e 34.
- d) O retardo mental profundo corresponde a uma idade mental de menos de 3 anos.
- e) O estado limítrofe não é considerado retardo mental e o Quociente Intelectual - QI situa-se entre 70 e 84.

**29. Teorias baseadas em modelos matemáticos vêm substituindo as técnicas tradicionais de equacionamento e análise de respostas em testes psicológicos. Dados são usados para calibrações em relação a um ou mais parâmetros e derivar estimativas de probabilidades da quantificação de habilidade, ou nível de traço, necessária para responder de uma certa maneira. Este é um modelo de traço latente.**

**A qual teoria se refere o texto?**

- a) Teoria do Equacionamento (TE)
- b) Teoria da Resposta o item (TRI)
- c) Teoria de Testagem Adaptativa (TTA)
- d) Teoria Clássica dos Testes (TCT)
- e) Teoria da Probabilidade (TP)

**30. Pesquisas e testes psicológicos usados com bases psicométricas trabalham com escalas. Identifique nas alternativas abaixo aquela em que os números adquirem a propriedade da aditividade, o que significa que eles podem ser somados, bem como subtraídos, multiplicados e divididos – e o resultado pode ser expresso como uma razão, com resultados significativos. Este tipo de escala tem um ponto-zero verdadeiro ou absoluto, que representa “nenhuma quantidade” do que está sendo medido.**

- a) Escala Nominal
- b) Escala Ordinal
- c) Escala intervalar
- d) Escala Multifatorial
- e) Escala de Razão

**31. Um grande número de estudiosos da agressão afirma que, apesar de o comportamento agressivo dos animais poder ser explicado por processos instintivos, em seres humanos não há como admitir que ele seja regulado por impulsos internos, mas, sim, aprendido com outros seres humanos. Na abordagem do comportamento agressivo aprendido, dois tipos de métodos de aprendizagem são destacados. Quais são eles?**

- a) Aprendizagem instrumental e aprendizagem situacional.
- b) Aprendizagem situacional e aprendizagem observacional.
- c) Aprendizagem instrumental e aprendizagem observacional.
- d) Aprendizagem contingencial e aprendizagem instrumental.
- e) Aprendizagem significativa e aprendizagem instrumental.

**32. Qual das alternativas é incorreta quanto ao conceito de cognição social?**

- a) Inferência produzida a partir de informações obtidas no ambiente social.
- b) Resposta de reação não aprendida diante de um estímulo não-condicionado que ocorre sem condicionamento prévio.
- c) Processo cognitivo, no qual somos influenciados por tendências e esquemas sociais.
- d) Modo como somos instigados por heurísticas
- e) Comportamento gerado por processamento de informações e julgamentos.

**33. Entre as diferentes abordagens psicológicas, uma delas serviu de base para o surgimento da Psicologia e apresenta duas ênfases específicas: a autoimagem na análise da personalidade e a maior importância da subjetividade sobre a realidade objetiva. Assinale-a dentre as alternativas:**

- a) Abordagem Humanista
- b) Abordagem Psicodinâmica
- c) Abordagem Comportamental

- d) Abordagem Gestáltica  
e) Abordagem Analítica

**34. Sobre o desenvolvimento humano, considere as afirmativas:**

**I- Freud propôs que os fundamentos básicos da personalidade de um indivíduo são estabelecidos até a tenra idade de cinco anos.**

**II- O ponto forte da teoria piagetiana leva em conta a transição no desenvolvimento da personalidade. Ela mostra como novos desafios nas relações sociais estimulam o desenvolvimento da personalidade ao longo da vida, estabelecendo conexões entre experiências da primeira infância e aspectos dos estágios que caracterizam a personalidade adulta.**

**III- As evidências indicam que a inteligência geral é bastante estável durante a maior parte da vida adulta, com um pequeno declínio na média dos resultados em testes frequentemente observados após os 60 anos.**

**IV- Erikson dividiu o ciclo vital em oito estágios, cada um caracterizado por uma crise psicossocial, que envolve transições em relações sociais importantes.**

**É correto afirmar-se que:**

- a) São corretas todas as afirmativas.  
b) São corretas apenas as afirmativas I, III e IV.  
c) São corretas apenas as afirmativas III e IV.  
d) São corretas apenas as afirmativas II e IV.  
e) São corretas apenas as afirmativas I e II.

**35. Nos estudos sobre cognição e inteligência, a resolução de problemas refere-se a esforços ativos para descobrir o que deve ser feito para alcançar um objetivo que não está prontamente disponível. Os problemas podem ser categorizados em relações entre as partes do problema, arranjo de partes de modo a satisfazer algum critério. A pessoa deve elaborar uma sequência de mudanças para atingir um objetivo específico. As três classes principais de problemas que podem compor esta categorização são:**

- a) Estrutura dedutiva, disposição e transformação.  
b) Estrutura indutiva, enquadramento e transformação.  
c) Estrutura dedutiva, disposição e circunscrição.  
d) Disposição, estrutura dedutiva e circunscrição.  
e) Estrutura indutiva, disposição e transformação.

**LÍNGUA PORTUGUESA**

**Texto para as próximas cinco questões:**

**“O cego Estrelinho”  
Mia Couto**

O cego Estrelinho era pessoa de nenhuma vez: sua história poderia ser contada e descontada não fosse seu guia, Gigito Efraim. A mão de Gigito conduziu o desvestado por tempos e idades. Aquela mão era repartidamente comum, extensão de um no outro, siamensal. E assim era quase de nascença. Memória de Estrelinho tinha cinco dedos e eram os de Gigito postos, em aperto, na sua própria mão.

O cego, curioso, queria saber de tudo. Ele não fazia cerimônia no viver. O sempre lhe era pouco e o tudo insuficiente. Dizia, deste modo:

— Tenho que viver já, senão esqueço-me.

Gigitinho, porém, o que descrevia era o que não havia. O mundo que ele minuciava eram fantasias e rendilhados. A imaginação do guia era mais profícua que papaeira. O cego enchia a boca de águas:

— Que maravilhação esse mundo. Me conte tudo, Gigito!

A mão do guia era, afinal, o manuscrito da mentira. Gigito Efraim estava como nunca esteve S. Tomé: via para não crer. O condutor falava pela ponta dos dedos. Desfolhava o universo, aberto em folhas. A ideação dele era tal que mesmo o cego, por vezes, acreditava ver. O outro lhe encorajava esses breves enganar:

— Desbengale-se, você está escolhendo a boa procedência!

Mentira: Estrelinho continuava sem ver uma palmeira à frente do nariz. Contudo, o cego não se conformava em suas escurezas. Ele cumpria o ditado: não tinha perna e queria dar o pontapé. Só à noite, ele desalentava, sofrendo medos mais antigos que a humanidade. Entendia aquilo que, na raça humana, é menos primitivo: o animal.

— Na noite aflige não haver luz?

— Aflição é ter um pássaro branco esvoando dentro do sono.

Pássaro branco? No sono? Lugar de ave é nas alturas. Dizem até que Deus fez o céu para justificar os pássaros. Estrelinho disfarçava o medo dos vaticínios, subterfugindo:

— E agora, Gigitinho? Agora, olhando assim para cima, estou face ao céu?

Que podia o outro responder? O céu do cego fica em toda a parte. Estrelinho perdia o pé era quando a noite chegava e seu mestre adormecia. Era como se um novo escuro nele se estreasse em nó cego. Devagaroso e sorrateiro ele aninhava sua mão na mão do guia. Só assim adormecia. A razão da concha é a timidez da amêijoia?



Na manhã seguinte, o cego lhe confessava: se você morrer, tenho que morrer logo no imediato. Senão-me: como acerto o caminho para o céu?

Foi no mês de dezembro que levaram Gigitinho. Lhe tiraram do mundo para pôr na guerra: obrigavam os serviços militares. O cego reclamou: que o moço inatingia a idade. E que o serviço que ele a si prestava era vital e vitalício. O guia chamou Estrelinho à parte e lhe tranquilizou:

— Não vai ficar sozinando por aí. Minha mana já mandei para ficar no meu lugar.

O cego estendeu o braço a querer tocar uma despedida. Mas o outro já não estava lá. Ou estava e se desviara, propositado? E sem água ida nem vinda, Estrelinho escutou o amigo se afastar, engolido, esponjínquo, inevisível. Pela pimeira vez, Estrelinho se sentiu invalidado.

— Agora, só agora, sou cego que não vê.

(...)

**COUTO, Mia. Estórias abensonhadas. Rio de Janeiro: Nova Fronteira, 1996. (Pág 23 e 24).**

**36. Quanto à interpretação do fragmento do conto, podemos afirmar que:**

- Gigito Efraim era o guia de Estrelinho há pouquíssimo tempo.
- Estrelinho era cego de nascença.
- Gigito descrevia o mundo para Estrelinho de forma denotativa.
- Gigito foi convocado pelo exército para ser guia de cegos na guerra.
- Gigito descrevia o mundo para Estrelinho de forma conotativa.

**37. No período “O sempre lhe era pouco e o tudo insuficiente”, o pronome “LHE” exerce a função sintática de:**

- Objeto Direto
- Objeto Indireto
- Complemento Nominal
- Adjunto Adnominal
- Objeto Direto Preposicionado

**38. Na oração “A mão de Gigito conduziu o desvistado por tempos e idades”, o autor faz uso de um neologismo, assim como no decorrer de toda a obra em questão. Contudo, o neologismo só se torna possível pela utilização dos elementos mórficos naquilo que a gramática normativa pontua como Processo de Formação das Palavras. Levando em consideração apenas o recurso morfológico, qual Processo de Formação foi utilizado?**

- Derivação Sufixal
- Derivação Prefixal
- Derivação Regressiva
- Derivação Imprópria
- Derivação Parassintética

**39. No terceiro período do décimo terceiro parágrafo, temos:**

- Uma oração
- Duas orações
- Três orações
- Quatro orações
- Cinco orações

**40. No último parágrafo do fragmento do conto “— Agora, só agora, sou cego que não vê”, a oração subordinada presente classifica-se corretamente como:**

- Oração Subordinada Adjetiva Restritiva
- Oração Subordinada Adverbial Causal
- Oração Subordinada Substantiva Subjetiva
- Oração Subordinada Adverbial Explicativa
- Oração Subordinada Adjetiva Explicativa

**RASCUNHO**



PREFEITURA DE TELÊMACO BORBA - ESTADO DO PARANÁ- EDITAL Nº 001-2016 - CONCURSO PÚBLICO

VESPERTINO – 29/05/2016 – NÍVEL SUPERIOR

PROVA OBJETIVA NÚMERO

**3**

**CARGO: TMNS I – PSICOLOGIA**

Leia atentamente as **INSTRUÇÕES**:

1. Confira seus dados no cartão-resposta: nome, número de inscrição e o curso para o qual se inscreveu.
2. **MARQUE no seu cartão-resposta o número da sua prova** (não será corrigido o cartão-resposta que não tiver marcado o número da prova) e **Assine** seu cartão-resposta.
3. Aguarde a autorização do Fiscal para abrir o caderno de prova. Ao receber a ordem do fiscal, confira o caderno de prova com muita atenção. Nenhuma reclamação sobre o total de questões ou falha de impressão será aceita depois de iniciada a prova.
4. O cartão-resposta não será substituído, salvo se contiver erro de impressão.
5. Preencha toda a área do cartão-resposta correspondente à alternativa de sua escolha, com caneta esferográfica (tinta azul ou preta), sem ultrapassar as bordas. As marcações duplas, ou rasuradas, com corretivo, ou marcadas diferentemente do modelo estabelecido no cartão-resposta poderão ser anuladas.
6. Sua prova tem **40** questões, com **5** alternativas.
7. Cabe apenas ao candidato a interpretação das questões, **o fiscal** não poderá fazer nenhuma interferência.
8. A prova será realizada com duração máxima de **3 (três) horas**, incluído o tempo para a realização da Prova Objetiva de múltipla escolha e o preenchimento do cartão-resposta.
9. O candidato poderá retirar-se do local de realização das provas somente **1 (uma) hora** após o seu início, sem levar o caderno de prova.
10. O candidato poderá levar o caderno de provas, assim como anotação contendo transcrição do seu cartão-resposta, somente **1h30min** (uma hora e trinta minutos) após o início da realização da prova.
11. Ao terminar a prova, o candidato deverá entregar ao fiscal de sala o cartão-resposta preenchido e **ASSINADO**.
12. Os **3 (três)** candidatos, que terminarem a prova por último, deverão permanecer na sala, e só poderão sair juntos após o fechamento do envelope, contendo os cartões-resposta dos candidatos presentes e ausentes, e assinarem no lacre do referido envelope, atestando que este foi devidamente lacrado.
13. Durante todo o tempo em que permanecer no local onde está ocorrendo o concurso, o candidato deverá, manter o celular desligado e sem bateria, só sendo permitido ligar depois de ultrapassar o portão de saída do prédio.
14. Não será permitido ao candidato fumar na sala de provas, bem como nas dependências.
15. Depois de terminar a prova e entregar ao fiscal o cartão-resposta, preenchido e assinado, não será mais permitido ao candidato o uso do banheiro e bebedouro.

**BOA PROVA!**



**CONHECIMENTOS ESPECÍFICOS**

**01. Transformações significativas estão ocorrendo em todas as áreas do conhecimento. Esta dinâmica estrutural de potências humanas e máquinas geraram transformações significativas em todas as áreas do conhecimento. Entre estas transformações estão: (1) os avanços nas comunicações, viagens e comércio internacional que “encolheram” o mundo e aumentaram a interdependência global e (2) o fato de a composição étnica do mundo ocidental ter se tornado, cada vez mais, um mosaico de diversidades multiculturais. Em relação à psicologia, podemos dizer que psicólogos ocidentais, ao reconhecer a importância dos valores culturais, passaram a dedicar mais atenção à cultura como determinante do comportamento. Podemos afirmar que:**

- a) O novo interesse pela cultura deve-se unicamente aos avanços nas comunicações, viagens e globalização no comércio.
- b) As duas correntes: avanços nas comunicações, viagens e comércio internacional e a diversidade na composição étnica do mundo ocidental, foram responsáveis pela mudança de atenção da psicologia em direção à cultura.
- c) Nenhuma das correntes contribuiu para a mudança de atenção da psicologia para a cultura. Mais importante do que os avanços nas comunicações, viagens e comércio internacional ou a composição étnica do mundo ocidental foi o caráter propedêutico da psicologia que a tornou uma ciência de experimentos sobre comportamento humano.
- d) O interesse pela cultura deve-se unicamente à variação da composição étnica do mundo ocidental.
- e) A diversidade na composição étnica do mundo social teve influência, mas, o mais importante foi a transformação da psicologia de ciência experimental em ciência psicodinâmica.

**02. Avalie os itens e assinale a alternativa correta:**

**I- A psicologia é o estudo científico do indivíduo e do seu comportamento que, embora possa ser de caráter social, não precisa necessariamente ser.**

**II- A teoria dos papéis é uma perspectiva teórica para entendimento das interações sociais.**

**III- A teoria do reforço parte da premissa de que o comportamento é governado por acontecimentos externos.**

**IV- A teoria da evolução localiza as raízes do comportamento em nossos genes e, portanto vincula intimamente, indivíduo, grupos e biologia.**

- a) Como estudo científico dos indivíduos, a psicologia não tem caráter social.
- b) A teoria dos papéis é conteúdo específico da psicologia experimental.
- c) As teorias dos papéis, do reforço e da evolução são perspectivas teóricas distintas, estudadas no âmbito da psicologia social.
- d) A teoria do reforço nada tem a ver com a psicologia social.
- e) A teoria da evolução não é conteúdo da psicologia, mas sim da biologia.

**03. Considere as afirmativas sobre a História da Psicologia:**

**I- A Psicologia evoluiu a partir da especulação filosófica para uma ciência comprometida com a pesquisa.**

**II- Como uma perspectiva de serviços na saúde mental, o foco da psicologia na fisiologia teve suas origens no século XIX.**

**III- A Psicologia se desenvolveu de um estudo da mente e do corpo para um estudo do comportamento; e a investigação da mente e do corpo voltou na psicologia moderna.**

**IV- A evolução da Psicologia para um campo especializado tirou, na contemporaneidade, o seu caráter multifacetado.**

- a) Todas as afirmativas são corretas.
- b) Apenas as afirmativas I e II são corretas.
- c) Apenas as afirmativas II e III são corretas.
- d) Apenas as afirmativas I, II e III são corretas.
- e) Apenas a afirmativa IV é correta.

**04. As origens da ciência psicológica podem ser encontradas em importantes questões filosóficas. Uma delas, vinculada ao debate natureza-ambiente, envolve determinar a extensão em que a mente e o comportamento são predeterminados pela biologia ou são desenvolvidos e moldados pelo ambiente. Sobre isso, uma das alternativas abaixo é incorreta. Assinale-a:**

- a) Podemos afirmar que a esquizofrenia é um exemplo das influências variáveis da natureza e do ambiente.
- b) O debate natureza-ambiente não existia no início da história da psicologia.
- c) No transtorno bipolar, a pessoa apresenta alterações dramáticas de humor, sentindo-se extremamente triste (deprimida) e depois eufórica (maníaca). Também aqui encontramos influência das variáveis da natureza e do ambiente.
- d) Os cientistas psicológicos atualmente acreditam que muitos transtornos mentais resultam tanto da maneira pela qual o emaranhado de circuitos cerebrais é tecido (natureza) como da maneira pela qual a pessoa é tratada (ambiente).
- e) Pesquisas recentes indicam que algumas pessoas herdam uma predisposição genética para desenvolver o transtorno de estresse pós traumático (TEPT) e que o ambiente ativa a natureza.





**05. Considerando-se os processos mentais de informação e as operações do sistema nervoso, assinale a alternativa correta.**

- a) Os neurônios são unidades secundárias do sistema nervoso.
- b) Os dendritos não absorvem informações, e apenas servem de base estrutural para movimento dos axônios.
- c) O impulso nervoso que se propaga através do neurônio é de origem elétrica e resulta de alterações nas cargas elétricas das superfícies externa e interna da membrana celular. Na despolarização da membrana celular resulta um potencial de ação, que faz com que os canais de sódio se abram e permitam que íons de sódio entrem no neurônio.
- d) A despolarização da membrana celular não chega a avançar até o axônio, pois antes disso alcança os botões terminais.
- e) A probabilidade de um neurônio descarregar independe da integração neural dos sinais inibitórios e excitatórios recebidos nos dendritos.

**06. Entre as concepções da psicologia sobre a aprendizagem nas crianças, uma delas decorre das observações dos comportamentos de pessoas próximas como pais, amigos e professores. Sobre isso, considere as afirmativas:**

**I- As expressões faciais resultam de imitações que as crianças fazem pela observação. A imitação de gestos e outras ações continuam à medida que as crianças amadurecem.**

**II- A imitação do comportamento observado geralmente é referida como modelação.**

**III- A modelação só será efetiva se o observador for fisicamente capaz de imitar o comportamento.**

**IV- Imitar um comportamento é, para a criança, um meio de aprendizagem observacional.**

**Assinale a alternativa correta:**

- a) Todas as afirmativas são corretas, exceto a I, pelo fato de que um recém-nascido com menos de um ano de idade não sorri por aprendizagem, ele apenas manifesta um ato reflexo.
- b) Todas as afirmativas são corretas.
- c) Todas as afirmativas são corretas, exceto a II, que refere a imitação do comportamento observado como modelagem ao invés de aprendizagem observacional.
- d) Todas as afirmativas são corretas, exceto a III que ao valorizar a capacidade física subestima a capacidade mental da criança.
- e) Apenas a afirmativa IV é correta, considerando-se como verdadeiros os argumentos para as afirmativas I, II e III descritos nas alternativas "a, c" e "d".

**07 Nas últimas décadas, a maioria dos psicólogos via a memória como uma forma de processamento da informação, em que os processos de memória ocorriam como num computador. O computador recebe informações por meio do teclado ou do modem, processa-a em software, armazena-a no disco rígido e depois recupera a informação quando requisitado pelo usuário ou por outro programa através de uma sistema de memória de três estágios, que envolve memória sensorial, memória de curto prazo e memória de longo prazo. Sobre esta temática, é incorreto considerar que:**

- a) O conceito inicial de memória de curto prazo (MCP) era o de que se tratava simplesmente de um tampão em que as informações verbais eram repetidas até serem armazenadas ou esquecidas.
- b) Recentemente a Psicologia vem dando importância a um modelo de sistema de memória operante desenvolvido pelo psicólogo britânico Alan Baddeley. Ele é composto de três partes, denominadas executiva central, alça fonológica e bloco de notas visuoespacial.
- c) Se a memória de curto prazo (MCP) não é um simples sistema de armazenamento, ela está muito longe de ser uma unidade processadora ativa.
- d) Pode-se afirmar que, como elemento dinâmico, a MCP lida com múltiplos tipos de informação como sons, imagens e ideias.
- e) A memória de trabalho é um sistema de processamento produtivo que mantém as informações "na linha" para que possam ser utilizadas para atividades, como solução de problemas, raciocínio e compreensão.

**08. Avalie os itens abaixo sobre como os fatores cognitivos, sociais e culturais influenciam a motivação, e assinale a alternativa correta:**

**I- As expectativas são representações mentais de futuros resultados.**

**II- Os incentivos são objetos internos, não impulsos externos que motivam comportamentos.**

**III- Uma das marcas registradas da infância é a curiosidade, um comportamento extrinsecamente motivado.**

**IV- A motivação intrínseca se refere ao valor ou prazer que está associado à atividade, mas não tem nenhum propósito ou objetivo biológico aparente.**

- a) São corretas apenas as afirmativas I, III e IV.
- b) É correta apenas a afirmativa I.
- c) São corretas apenas as afirmativas III e IV.
- d) São corretas apenas as afirmativas II e IV.
- e) Todas as afirmativas são corretas.

**09. Nas investigações a respeito de atitudes e comportamentos, a característica pessoal que parece ser importante na persuasão é chamada de:**

- a) Dissonância cognitiva
- b) Necessidade de cognição
- c) Atribuição pessoal
- d) Atribuição situacional
- e) Viés favorável ao self

**10. Em 1964, uma jovem chamada Kitty Genovese estava voltando do trabalho a pé para casa, em uma área relativamente segura da cidade de Nova York. Um assaltante a atacou selvagememente e a espancou durante 30 minutos até ela morrer. Testemunharam o crime 38 pessoas observando-o de suas janelas. Ninguém interveio ou chamou a polícia. O acontecimento causou revolta pelo fato de as pessoas ficarem assistindo ao assassinato brutal sem interferir.**

**Sobre o caso considere as afirmativas abaixo;**

**I- Este acontecimento foi considerado sensacionalista e um erro de avaliação midiática pelos observadores da época, já que numa situação dessas as pesquisas comprovam que quanto mais pessoas disponíveis para ajudar é mais provável que o indivíduo seja ajudado.**

**II- Entre as concepções da Psicologia Social, está a ideia de que é menos provável para uma pessoa ajudar se houver outros espectadores em volta. Neste cenário, ocorre a difusão de responsabilidade em que as pessoas esperam que outras que também estão em volta ofereçam ajuda.**

**III- O evento é denominado de efeito de intervenção do espectador, onde as pessoas temem cometer erros sociais em uma situação ambígua.**

**IV- As pessoas tendem menos a ajudar quando não são identificáveis. Existe também uma troca de custo benefício que envolve quanto prejuízo as pessoas se arriscam a ter ao ajudar, ou que benefício elas teriam de esquecer se parassem para ajudar.**

**É correto afirmar que:**

- a) Todas as afirmativas são corretas.
- b) Apenas as afirmativas I, III e IV são corretas.
- c) Apenas as afirmativas II, III e IV são corretas.
- d) Apenas as afirmativas III e IV são corretas.
- e) Apenas as afirmativas II e IV são corretas.

**11. Pacientes psiquiátricos são avaliados por psicólogos e psiquiatras quanto à capacidade de situar-se quanto a si mesmo e quanto ao ambiente. Quando o indivíduo é examinado em sua capacidade de orientar-se em relação ao mundo, incluindo-se o espaço e o tempo, a avaliação diz respeito à:**

- a) Orientação autopsíquica, espacial e temporal.
- b) Orientação psicodinâmica, geográfica e temporal.
- c) Orientação situacional, espacial e temporal.
- d) Orientação alopsíquica, espacial e temporal.
- e) Orientação, autopsíquica e alopsíquica.

**12. Segundo a lenda grega, Narciso era um jovem para quem nada era mais agradável que ver sua própria imagem refletida sobre um lago. Admirava e amava ao extremo sua própria imagem; ao final, acabou cometendo o suicídio e transformou-se em uma flor que passou então a levar o seu nome. Freud denominou inicialmente de narcisismo ao tipo de escolha de objeto amoroso que ocorre na homossexualidade. O homossexual, nessa visão, amaria alguém igual a si mesmo. Posteriormente, o termo narcisismo passou a referir-se a um estágio do desenvolvimento psicosssexual da criança, no qual o indivíduo toma a si mesmo, ao seu Eu, como objeto de amor.**

**Avalie as assertivas quanto à concepção atual do narcisismo e assinale a alternativa correta:**

**I- Atualmente, o termo narcisismo refere-se de modo geral, ao direcionamento do amor do indivíduo para si próprio.**

**II- No estado de narcisismo, o Eu percebe o prazer como oriundo sempre de seu interior e o desprazer como proveniente do mundo externo.**

**III- O narcisismo apresenta a ilusão de autossuficiência, sentimento de poder, de grandiosidade, de desprezo pelo mundo exterior.**

**IV- O narcisismo é sempre um estado negativo e patológico.**

- a) São corretas todas as afirmativas.
- b) São corretas apenas as afirmativas I, II e III.
- c) São corretas apenas as afirmativas II e III.
- d) São corretas apenas as afirmativas I e IV.
- e) São corretas apenas as afirmativas II e IV.

**13. Considerando-se os aspectos gerais do retardo mental, assinale a alternativa incorreta.**

- a) O retardo mental leve apresenta um Quociente Intelectual - QI entre 35 e 49.
- b) O retardo mental moderado apresenta como melhor nível escolar alcançável a 2ª Série do Ensino Fundamental.

- c) O retardo mental grave apresenta um Quociente Intelectual - QI entre 20 e 34.  
d) O retardo mental profundo corresponde a uma idade mental de menos de 3 anos.  
e) O estado limítrofe não é considerado retardo mental e o Quociente Intelectual - QI situa-se entre 70 e 84.
- 14. Teorias baseadas em modelos matemáticos vêm substituindo as técnicas tradicionais de equacionamento e análise de respostas em testes psicológicos. Dados são usados para calibrações em relação a um ou mais parâmetros e derivar estimativas de probabilidades da quantificação de habilidade, ou nível de traço, necessária para responder de uma certa maneira. Este é um modelo de traço latente. A qual teoria se refere o texto?**
- a) Teoria do Equacionamento (TE)  
b) Teoria da Resposta o item (TRI)  
c) Teoria de Testagem Adaptativa (TTA)  
d) Teoria Clássica dos Testes (TCT)  
e) Teoria da Probabilidade (TP)
- 15. Pesquisas e testes psicológicos usados com bases psicométricas trabalham com escalas. Identifique nas alternativas abaixo aquela em que os números adquirem a propriedade da aditividade, o que significa que eles podem ser somados, bem como subtraídos, multiplicados e divididos – e o resultado pode ser expresso como uma razão, com resultados significativos. Este tipo de escala tem um ponto-zero verdadeiro ou absoluto, que representa “nenhuma quantidade” do que está sendo medido.**
- a) Escala Nominal  
b) Escala Ordinal  
c) Escala intervalar  
d) Escala Multifatorial  
e) Escala de Razão
- 16. Um grande número de estudiosos da agressão afirma que, apesar de o comportamento agressivo dos animais poder ser explicado por processos instintivos, em seres humanos não há como admitir que ele seja regulado por impulsos internos, mas, sim, aprendido com outros seres humanos. Na abordagem do comportamento agressivo aprendido, dois tipos de métodos de aprendizagem são destacados. Quais são eles?**
- a) Aprendizagem instrumental e aprendizagem situacional.  
b) Aprendizagem situacional e aprendizagem observacional.  
c) Aprendizagem instrumental e aprendizagem observacional.  
d) Aprendizagem contingencial e aprendizagem instrumental.  
e) Aprendizagem significativa e aprendizagem instrumental.
- 17. Qual das alternativas é incorreta quanto ao conceito de cognição social?**
- a) Inferência produzida a partir de informações obtidas no ambiente social.  
b) Resposta de reação não aprendida diante de um estímulo não-condicionado que ocorre sem condicionamento prévio.  
c) Processo cognitivo, no qual somos influenciados por tendenciosidades e esquemas sociais.  
d) Modo como somos instigados por heurísticas  
e) Comportamento gerado por processamento de informações e julgamentos.
- 18. Entre as diferentes abordagens psicológicas, uma delas serviu de base para o surgimento da Psicologia e apresenta duas ênfases específicas: a autoimagem na análise da personalidade e a maior importância da subjetividade sobre a realidade objetiva. Assinale-a dentre as alternativas:**
- a) Abordagem Humanista  
b) Abordagem Psicodinâmica  
c) Abordagem Comportamental  
d) Abordagem Gestáltica  
e) Abordagem Analítica
- 19. Sobre o desenvolvimento humano, considere as afirmativas:**
- I- Freud propôs que os fundamentos básicos da personalidade de um indivíduo são estabelecidos até a tenra idade de cinco anos.  
II- O ponto forte da teoria piagetiana leva em conta a transição no desenvolvimento da personalidade. Ela mostra como novos desafios nas relações sociais estimulam o desenvolvimento da personalidade ao longo da vida, estabelecendo conexões entre experiências da primeira infância e aspectos dos estágios que caracterizam a personalidade adulta.  
III- As evidências indicam que a inteligência geral é bastante estável durante a maior parte da vida adulta, com um pequeno declínio na média dos resultados em testes frequentemente observados após os 60 anos.

**IV- Erikson dividiu o ciclo vital em oito estágios, cada um caracterizado por uma crise psicossocial, que envolve transições em relações sociais importantes.**

**É correto afirmar-se que:**

- São corretas todas as afirmativas.
- São corretas apenas as afirmativas I, III e IV.
- São corretas apenas as afirmativas III e IV.
- São corretas apenas as afirmativas II e IV.
- São corretas apenas as afirmativas I e II.

**20. Nos estudos sobre cognição e inteligência, a resolução de problemas refere-se a esforços ativos para descobrir o que deve ser feito para alcançar um objetivo que não está prontamente disponível. Os problemas podem ser categorizados em relações entre as partes do problema, arranjo de partes de modo a satisfazer algum critério. A pessoa deve elaborar uma sequência de mudanças para atingir um objetivo específico. As três classes principais de problemas que podem compor esta categorização são:**

- Estrutura dedutiva, disposição e transformação.
- Estrutura indutiva, enquadramento e transformação.
- Estrutura dedutiva, disposição e circunscrição.
- Disposição, estrutura dedutiva e circunscrição.
- Estrutura indutiva, disposição e transformação.

## LÍNGUA PORTUGUESA

**Texto para as próximas cinco questões:**

### “O cego Estrelinho” Mia Couto

O cego Estrelinho era pessoa de nenhuma vez: sua história poderia ser contada e descontada não fosse seu guia, Gigito Efraim. A mão de Gigito conduziu o desvistado por tempos e idades. Aquela mão era repartidamente comum, extensão de um no outro, siamensal. E assim era quase de nascença. Memória de Estrelinho tinha cinco dedos e eram os de Gigito postos, em aperto, na sua própria mão.

O cego, curioso, queria saber de tudo. Ele não fazia cerimônia no viver. O sempre lhe era pouco e o tudo insuficiente. Dizia, deste modo:

— Tenho que viver já, senão esqueço-me.

Gigitinho, porém, o que descrevia era o que não havia. O mundo que ele minuciava eram fantasias e rendilhados. A imaginação do guia era mais profícua que papaeira. O cego enchia a boca de águas:

— Que maravilhação esse mundo. Me conte tudo, Gigito!

A mão do guia era, afinal, o manuscrito da mentira. Gigito Efraim estava como nunca esteve S. Tomé: via para não crer. O condutor falava pela ponta dos dedos. Desfolhava o universo, aberto em folhas. A ideiação dele era tal que mesmo o cego, por vezes, acreditava ver. O outro lhe encorajava esses breves enganos:

— Desbengale-se, você está escolhendo a boa procedência!

Mentira: Estrelinho continuava sem ver uma palmeira à frente do nariz. Contudo, o cego não se conformava em suas escurezas. Ele cumpria o ditado: não tinha perna e queria dar o pontapé. Só à noite, ele desalentava, sofrendo medos mais antigos que a humanidade. Entendia aquilo que, na raça humana, é menos primitivo: o animal.

— Na noite aflige não haver luz?

— Aflição é ter um pássaro branco esvoando dentro do sono.

Pássaro branco? No sono? Lugar de ave é nas alturas. Dizem até que Deus fez o céu para justificar os pássaros. Estrelinho disfarçava o medo dos vaticínios, subterfugindo:

— E agora, Gigitinho? Agora, olhando assim para cima, estou face ao céu?

Que podia o outro responder? O céu do cego fica em toda a parte. Estrelinho perdia o pé era quando a noite chegava e seu mestre adormecia. Era como se um novo escuro nele se estreasse em nó cego. Devagaroso e sorrateiro ele aninhava sua mão na mão do guia. Só assim adormecia. A razão da concha é a timidez da amêijoia? Na manhã seguinte, o cego lhe confessava: se você morrer, tenho que morrer logo no imediato. Senão-me: como acerto o caminho para o céu?

Foi no mês de dezembro que levaram Gigitinho. Lhe tiraram do mundo para pôr na guerra: obrigavam os serviços militares. O cego reclamou: que o moço inatingia a idade. E que o serviço que ele a si prestava era vital e vitalício. O guia chamou Estrelinho à parte e lhe tranquilizou:

— Não vai ficar sozinho por aí. Minha mana já mandei para ficar no meu lugar.

O cego estendeu o braço a querer tocar uma despedida. Mas o outro já não estava lá. Ou estava e se desviara, propositado? E sem água ida nem vinda, Estrelinho escutou o amigo se afastar, engolido, esponginquo, invisível. Pela primeira vez, Estrelinho se sentiu invalidado.

— Agora, só agora, sou cego que não vê.

(...)

**COUTO, Mia. Estórias abensonhadas. Rio de Janeiro: Nova Fronteira, 1996. (Pág 23 e 24).**

**21. Quanto à interpretação do fragmento do conto, podemos afirmar que:**

- a) Gigito Efraim era o guia de Estrelinho há pouquíssimo tempo.
- b) Estrelinho era cego de nascença.
- c) Gigito descrevia o mundo para Estrelinho de forma denotativa.
- d) Gigito foi convocado pelo exército para ser guia de cegos na guerra.
- e) Gigito descrevia o mundo para Estrelinho de forma conotativa.

**22. No período “O sempre lhe era pouco e o tudo insuficiente”, o pronome “LHE” exerce a função sintática de:**

- a) Objeto Direto
- b) Objeto Indireto
- c) Complemento Nominal
- d) Adjunto Adnominal
- e) Objeto Direto Preposicionado

**23. Na oração “A mão de Gigito conduziu o desvestido por tempos e idades”, o autor faz uso de um neologismo, assim como no decorrer de toda a obra em questão. Contudo, o neologismo só se torna possível pela utilização dos elementos mórficos naquilo que a gramática normativa pontua como Processo de Formação das Palavras. Levando em consideração apenas o recurso morfológico, qual Processo de Formação foi utilizado?**

- a) Derivação Sufixal
- b) Derivação Prefixal
- c) Derivação Regressiva
- d) Derivação Imprópria
- e) Derivação Parassintética

**24. No terceiro período do décimo terceiro parágrafo, temos:**

- a) Uma oração
- b) Duas orações
- c) Três orações
- d) Quatro orações
- e) Cinco orações

**25. No último parágrafo do fragmento do conto “— Agora, só agora, sou cego que não vê”, a oração subordinada presente classifica-se corretamente como:**

- a) Oração Subordinada Adjetiva Restritiva
- b) Oração Subordinada Adverbial Causal
- c) Oração Subordinada Substantiva Subjetiva
- d) Oração Subordinada Adverbial Explicativa
- e) Oração Subordinada Adjetiva Explicativa

### **RACIOCÍNIO LÓGICO**

**26. Os cinco filhos de Ana estavam discutindo a respeito da data de nascimento da mãe:**

- Almir disse que foi em janeiro, dia 14, sexta-feira.
- Vanderlei disse que foi em janeiro, dia 14, sábado.
- Tiago disse que foi em fevereiro, dia 15, sábado.
- Sandro disse que foi em janeiro, dia 15, sexta-feira.
- Renato disse que foi em fevereiro, dia 15, sexta-feira.

**Sabe-se que somente um dos filhos de Ana acertou corretamente sua data de nascimento e que os outros acertaram pelo menos um dos itens (dia, dia da semana e mês). Dessa forma, é correto afirmar que o filho de Ana que acertou a data de nascimento dela foi:**

- a) Renato
- b) Sandro
- c) Tiago
- d) Vanderlei
- e) Almir

**27. Considere a seguinte afirmativa: “Todo churrasqueiro gosta de picanha”. Em relação a essa proposição, é correto afirmar que:**

- a) Algum churrasqueiro não gosta de picanha.
- b) Toda pessoa que gosta de picanha é churrasqueira.
- c) Alguma pessoa que não gosta de picanha é churrasqueira.
- d) Toda pessoa que não é churrasqueira, não gosta de picanha.
- e) Toda pessoa que não gosta de picanha, não é churrasqueira.



28. Em um grupo formado por 67 pessoas, verificou-se que 41 pessoas gostam de arroz, 29 gostam de feijão, 33 gostam de carne, 19 gostam de arroz e de feijão, 9 gostam apenas de arroz e de carne, 12 gostam de feijão e de carne e que 6 gostam de arroz, de feijão e de carne. O número de pessoas desse grupo, que não gosta de nenhum desses três tipos de alimentos é igual a:

- a) 4
- b) 5
- c) 6
- d) 8
- e) 10

29. Bruno escreveu, em seu caderno, várias sequências formadas por números múltiplos de 4, onde os valores que ocupavam as posições pares eram multiplicados por  $-1$ . Cada sequência foi somada e o resultado da soma anotado. A soma das três primeiras sequências escritas por Bruno foram as seguintes:

$$4 - 8 = -4$$

$$4 - 8 + 12 = 8$$

$$4 - 8 + 12 - 16 = -8$$

Considere que Bruno escreveu e somou tais sequências, em seu caderno, de modo a obter determinada sequência cuja soma foi 600. O número de termos dessa sequência é igual a:

- a) 149
- b) 150
- c) 298
- d) 299
- e) 300

30. Quatro torcedores, um do São Paulo, um do Cruzeiro, um do Vasco e um do Bahia, estão sentados ao redor de uma mesa quadrada, de modo que, dois a dois, fiquem frente a frente. Sabe-se que Alan é torcedor do Cruzeiro e que Bruno está sentado à direita de Alan. Sabe-se também que Caio está sentado à direita do torcedor do São Paulo. Sabe-se ainda que Daniel não é torcedor do Vasco e que está sentado à frente de Bruno. Dessa forma, é correto afirmar que:

- a) Bruno é torcedor do Bahia e Daniel é torcedor do São Paulo.
- b) Bruno é torcedor do São Paulo e Daniel é torcedor do Bahia.
- c) Caio é torcedor do Vasco e Daniel é torcedor do São Paulo.
- d) Caio é torcedor do Bahia e Daniel é torcedor do São Paulo.
- e) Bruno é torcedor do Vasco e Daniel é torcedor do Bahia.

### INFORMÁTICA

31. Considerando o MS-Excel versão 2010, observando a figura abaixo, é correto afirmar que:

	A	B	C
1			
2			
3			
4			

- a) Somente 03 três linhas estão selecionadas.
- b) Somente uma célula está selecionada.
- c) 12 (doze) células estão selecionadas.
- d) Somente a coluna A até a linha 4 (quatro) está selecionada.
- e) Somente as colunas 1 (um), 2 (dois), 3 (três) e 4 (quatro) estão selecionadas.

32. Considerando o MS-Excel versão 2010, observando a figura abaixo, é incorreto afirmar que:

	A	B	C
1	12	6	=A1*B1
2	8	2	=A2/B2
3	5	14	=A3-B3
4	6	11	=A4+B4

- a) O resultado da fórmula =A1\*B1 é 72.
- b) O resultado da fórmula =A2/B2 é 4.
- c) O resultado da fórmula =A3-B3 é -9.
- d) O resultado da fórmula =A3-B3 é 9.
- e) O resultado da fórmula =A4+B4 é 17.





**33. Digitando um texto no MS-Word versão 2010, necessito adicionar número nas páginas. Quanto a isso, é correto afirmar que:**

- a) No menu Layout da Página, clico em número de página e seleciono onde desejo adicionar os números.
- b) No menu Inserir, clico em número de página e seleciono onde desejo adicionar os números.
- c) No menu Revisão, clico em número de página e seleciono onde desejo adicionar os números.
- d) No menu Referências, clico em número de página e seleciono onde desejo adicionar os números.
- e) No menu Exibição, clico em número de página e seleciono onde desejo adicionar os números.

**34. A segurança da informação está diretamente relacionada com proteção de um conjunto de informações, no sentido de preservar o valor que possuem para um indivíduo ou uma organização. Atualmente, um dos aplicativos mais utilizados no mundo, o Whats app, teve uma alteração de confidencialidade muito importante na segurança das informações transmitidas e recebidas. Dentre as alternativas, assinale a que corretamente informa a alteração inserida no aplicativo Whats app.**

- a) Antispam
- b) Antivirus
- c) Firewall
- d) Antispyware
- e) Criptografia

**35. São todos os dispositivos que trabalham acoplados ao microcomputador para receber, transmitir, visualizar, ler, gravar ou armazenarem dados. São eles que permitem a comunicação do computador com o meio exterior, isto é, com os usuários e outras máquinas.**

**Esse texto descreve corretamente:**

- a) Memória ram
- b) Memória virtual
- c) Software
- d) Periféricos
- e) Hardware

#### CONHECIMENTOS GERAIS

**36. Hino do município de Telêmaco Borba/PR**

Das virgens matas e campos verdejantes  
Servindo-se também o rio Tibagi,  
Homens de ideais, espíritos vibrantes.  
Constituíram as indústrias aqui.

Estrilho:

Salve! Salve! Telêmaco Borba

Terra querida e de grandes primores,

A nossa homenagem rendamos

À cidade dos trabalhadores.

Pois a cadência de enorme e real progresso

Um município mui grandioso fez nascer,

Marcando assim, verdadeiro sucesso

Faz, então o Paraná engrandecer.

**No que tange ao Hino do município, atribua V (verdadeiro) ou F (falso) às afirmativas e marque a alternativa correta.**

Eloah Martins Quadrado é autora da letra do hino.

Bento Mossurunga compôs a música do hino.

Eloah Martins Quadrado foi nomeada primeira professora da Cidade Nova, atual Telêmaco Borba.

Bento Mossurunga fundou a orquestra Estudantil e Concertos – Orquestra Sinfônica da Universidade, a Sociedade de Cultura Artístico Basilio Itiberê.

a) F, V, V, V.

b) V, F, V, V.

c) V, V, F, V.

d) V, V, F, F.

e) V, V, V, V.

**37. À luz da Lei nº 1883/2012, que dispões sobre o Estatuto dos Servidores Públicos da Administração Direta, Autárquica e Funcional do Município de Telêmaco Borba/PR, leia as alternativas e marque a correta.**

a) A apresentação para a posse ocorrerá no prazo de até trinta dias, contados do ato de nomeação.

b) A destituição do servidor da função gratificada dar-se-á por solicitação exclusiva dele mesmo.



- c) O servidor ocupante exclusivamente de cargo em comissão será contribuinte do regime geral de previdência social.
- d) A aprovação em concurso público gera o direito à nomeação, e será feita obedecida à ordem de classificação dos candidatos.
- e) O exercício de função gratificada poderá ser de dedicação integral ou parcial, conforme necessidade da administração.

**Conforme a Lei nº 1.881, de 05 de abril de 2012, que dispõe sobre o Plano de Cargos, Carreiras e Vencimentos do quadro geral de servidores da Prefeitura Municipal de Telêmaco Borba/PR, regulamentada pelo Decreto nº 2269/2015, responda às próximas três questões.**

**38. Leia as assertivas e assinala a incorreta.**

- a) Do resultado da avaliação de desempenho poderá ser interposto recurso à Comissão de Desenvolvimento Funcional no prazo de quinze dias a contar da publicação no Boletim Oficial do Município.
- b) Não será concedida a progressão ou promoção ao servidor que estiver em licença para tratamento de saúde por um período superior a quarenta e cinco dias, no período de avaliação.
- c) A alternância dos membros constituintes da Comissão de Desenvolvimento Funcional eleitos pelos servidores verificar-se-á a cada três anos de participação, observados, para substituição de seus participantes, o critério fixado no artigo anterior, não cabendo eleição sucessiva.
- d) Caberá à Comissão de Desenvolvimento Funcional, no caso de divergência de vinte por cento entre a nota do avaliador e a do avaliado, solicitar nova avaliação à chefia.
- e) Nos termos do disposto no art. 17 da Lei nº 1.881, de 05 de abril de 2012, para progredir, é necessário que o servidor satisfaça, dentre outros, o seguinte requisito: estar no efetivo exercício de seu cargo ou em função comissionada na sua área de atuação durante o interstício de dois anos.

**39. Assinale a alternativa que completa respectivamente as lacunas do texto a seguir:**

**A Comissão de Desenvolvimento Funcional será constituída por \_\_\_\_\_ membros, sendo \_\_\_\_\_ designados pelo Prefeito Municipal de Telêmaco Borba e os demais eleitos pelos servidores municipais dentre os estáveis, com a atribuição de coordenar os procedimentos relativos à avaliação periódica de desempenho e outras atribuições.**

- a) três / sete
- b) um / três
- c) sete / três
- d) três / cinco
- e) dois / cinco

**40. A Avaliação de Desempenho será norteadada, dentre outros, pelo seguinte princípio: Amplitude - a avaliação deve incidir sobre todas as áreas de atuação do servidor, que compreendem:**

- 1. a formulação de políticas administrativas e sua aplicação para todos os setores da administração municipal;**
- 2. o desempenho do profissional dentro de suas funções pertinentes;**
- 3. a estrutura do órgão em que exerce a função;**
- 4. os resultados de eficiência dos serviços de cada setor ou órgão da administração municipal;**
- 5. a participação direta do avaliado, durante todo o processo avaliativo.**

**Diante dessa afirmação, somente não está correto o item:**

- a) 1
- b) 2
- c) 3
- d) 4
- e) 5

**RASCUNHO**



PREFEITURA DE TELÊMACO BORBA - ESTADO DO PARANÁ- **EDITAL Nº 001-2016 - CONCURSO PÚBLICO**

**VESPERTINO – 29/05/2016 – NÍVEL SUPERIOR**

**1**

**PROVA OBJETIVA NÚMERO**

**CARGO: PROCURADOR DO MUNICÍPIO**

**Leia atentamente as INSTRUÇÕES:**

1. Confira seus dados no cartão-resposta: nome, número de inscrição e o curso para o qual se inscreveu.
2. **MARQUE no seu cartão-resposta o número da sua prova** (não será corrigido o cartão-resposta que não tiver marcado o número da prova) e **Assine** seu cartão-resposta.
3. Aguarde a autorização do Fiscal para abrir o caderno de prova. Ao receber a ordem do fiscal, confira o caderno de prova com muita atenção. Nenhuma reclamação sobre o total de questões ou falha de impressão será aceita depois de iniciada a prova.
4. O cartão-resposta não será substituído, salvo se contiver erro de impressão.
5. Preencha toda a área do cartão-resposta correspondente à alternativa de sua escolha, com caneta esferográfica (tinta azul ou preta), sem ultrapassar as bordas. As marcações duplas, ou rasuradas, com corretivo, ou marcadas diferentemente do modelo estabelecido no cartão-resposta poderão ser anuladas.
6. Sua prova tem **40** questões, com **5** alternativas.
7. Cabe apenas ao candidato a interpretação das questões, **o fiscal** não poderá fazer nenhuma interferência.
8. A prova será realizada com duração máxima de **3 (três) horas**, incluído o tempo para a realização da Prova Objetiva de múltipla escolha e o preenchimento do cartão-resposta.
9. O candidato poderá retirar-se do local de realização das provas somente **1 (uma) hora** após o seu início, sem levar o caderno de prova.
10. O candidato poderá levar o caderno de provas, assim como anotação contendo transcrição do seu cartão-resposta, somente **1h30min** (uma hora e trinta minutos) após o início da realização da prova.
11. Ao terminar a prova, o candidato deverá entregar ao fiscal de sala o cartão-resposta preenchido e **ASSINADO**.
12. Os **3 (três)** candidatos, que terminarem a prova por último, deverão permanecer na sala, e só poderão sair juntos após o fechamento do envelope, contendo os cartões-resposta dos candidatos presentes e ausentes, e assinarem no lacre do referido envelope, atestando que este foi devidamente lacrado.
13. Durante todo o tempo em que permanecer no local onde está ocorrendo o concurso, o candidato deverá, manter o celular desligado e sem bateria, só sendo permitido ligar depois de ultrapassar o portão de saída do prédio.
14. Não será permitido ao candidato fumar na sala de provas, bem como nas dependências.
15. Depois de terminar a prova e entregar ao fiscal o cartão-resposta, preenchido e assinado, não será mais permitido ao candidato o uso do banheiro e bebedouro.

**BOA PROVA!**

**LÍNGUA PORTUGUESA****Texto para as próximas cinco questões:****“O cego Estrelinho”  
Mia Couto**

O cego Estrelinho era pessoa de nenhuma vez: sua história poderia ser contada e descontada não fosse seu guia, Gigito Efraim. A mão de Gigito conduziu o desvistado por tempos e idades. Aquela mão era repartidamente comum, extensão de um no outro, siamensal. E assim era quase de nascença. Memória de Estrelinho tinha cinco dedos e eram os de Gigito postos, em aperto, na sua própria mão.

O cego, curioso, queria saber de tudo. Ele não fazia cerimônia no viver. O sempre lhe era pouco e o tudo insuficiente. Dizia, deste modo:

— Tenho que viver já, senão esqueço-me.

Gigitinho, porém, o que descrevia era o que não havia. O mundo que ele minuciava eram fantasias e rendilhados. A imaginação do guia era mais profícua que papadeira. O cego enchia a boca de águas:

— Que maravilhação esse mundo. Me conte tudo, Gigitito!

A mão do guia era, afinal, o manuscrito da mentira. Gigito Efraim estava como nunca esteve S. Tomé: via para não crer. O condutor falava pela ponta dos dedos. Desfolhava o universo, aberto em folhas. A ideiação dele era tal que mesmo o cego, por vezes, acreditava ver. O outro lhe encorajava esses breves enganar:

— Desbengale-se, você está escolhendo a boa procedência!

Mentira: Estrelinho continuava sem ver uma palmeira à frente do nariz. Contudo, o cego não se conformava em suas escurezas. Ele cumpria o ditado: não tinha perna e queria dar o pontapé. Só à noite, ele desalentava, sofrendo medos mais antigos que a humanidade. Entendia aquilo que, na raça humana, é menos primitivo: o animal.

— Na noite aflige não haver luz?

— Aflição é ter um pássaro branco esvoando dentro do sono.

Pássaro branco? No sono? Lugar de ave é nas alturas. Dizem até que Deus fez o céu para justificar os pássaros. Estrelinho disfarçava o medo dos vaticínios, subterfugindo:

— E agora, Gigitinho? Agora, olhando assim para cima, estou face ao céu?

Que podia o outro responder? O céu do cego fica em toda a parte. Estrelinho perdia o pé era quando a noite chegava e seu mestre adormecia. Era como se um novo escuro nele se estresse em nó cego. Devagaroso e sorrateiro ele aninhava sua mão na mão do guia. Só assim adormecia. A razão da concha é a timidez da amêijoia? Na manhã seguinte, o cego lhe confessava: se você morrer, tenho que morrer logo no imediato. Senão-me: como acerto o caminho para o céu?

Foi no mês de dezembro que levaram Gigitinho. Lhe tiraram do mundo para pôr na guerra: obrigavam os serviços militares. O cego reclamou: que o moço inatingia a idade. E que o serviço que ele a si prestava era vital e vitalício. O guia chamou Estrelinho à parte e lhe tranquilizou:

— Não vai ficar sozinando por aí. Minha mana já mandei para ficar no meu lugar.

O cego estendeu o braço a querer tocar uma despedida. Mas o outro já não estava lá. Ou estava e se desviara, propositado? E sem água ida nem vinda, Estrelinho escutou o amigo se afastar, engolido, esponjínquo, inevisível. Pela pimeira vez, Estrelinho se sentiu invalidado.

— Agora, só agora, sou cego que não vê.

(...)

**COUTO, Mia. Estórias abensonhadas. Rio de Janeiro: Nova Fronteira, 1996. (Pág 23 e 24).**

**01. Quanto à interpretação do fragmento do conto, podemos afirmar que:**

- Gigito Efraim era o guia de Estrelinho há pouquíssimo tempo.
- Estrelinho era cego de nascença.
- Gigito descrevia o mundo para Estrelinho de forma denotativa.
- Gigito foi convocado pelo exército para ser guia de cegos na guerra.
- Gigito descrevia o mundo para Estrelinho de forma conotativa.

**02. No período “O sempre lhe era pouco e o tudo insuficiente”, o pronome “LHE” exerce a função sintática de:**

- Objeto Direto
- Objeto Indireto
- Complemento Nominal
- Adjunto Adnominal
- Objeto Direto Preposicionado

**03. Na oração “A mão de Gigito conduziu o desvistado por tempos e idades”, o autor faz uso de um neologismo, assim como no decorrer de toda a obra em questão. Contudo, o neologismo só se torna possível pela utilização dos elementos mórficos naquilo que a gramática normativa pontua como Processo de Formação das Palavras. Levando em consideração apenas o recurso morfológico, qual Processo de Formação foi utilizado?**

- Derivação Sufixal

- b) Derivação Prefixal
- c) Derivação Regressiva
- d) Derivação Imprópria
- e) Derivação Parassintética

**04. No terceiro período do décimo terceiro parágrafo, temos:**

- a) Uma oração
- b) Duas orações
- c) Três orações
- d) Quatro orações
- e) Cinco orações

**05. No último parágrafo do fragmento do conto “— Agora, só agora, sou cego que não vê”, a oração subordinada presente classifica-se corretamente como:**

- a) Oração Subordinada Adjetiva Restritiva
- b) Oração Subordinada Adverbial Causal
- c) Oração Subordinada Substantiva Subjetiva
- d) Oração Subordinada Adverbial Explicativa
- e) Oração Subordinada Adjetiva Explicativa

#### **LEGISLAÇÃO MUNICIPAL**

**À luz do Código Tributário Municipal de Telêmaco Borba, responda às próximas duas questões.**

**06. O Capítulo V trata sobre as obrigações tributárias acessórias. Conforme o artigo 11, os contribuintes, ou quaisquer responsáveis por tributos, fiscalização, sujeitos ao lançamento, à fiscalização e à cobrança dos tributos devidos à Fazenda Municipal, ficam especialmente obrigados a:**

**10 - Apresentar declarações e guias, e a escriturar em livros próprios os fatos geradores de obrigação tributária, segundo as normas deste Código e dos regulamentos fiscais.**

**18 - Comunicar à Fazenda Municipal, dentro de 15 (quinze) dias, contados a partir da ocorrência, qualquer alteração capaz de gerar, modificar ou extinguir obrigações tributárias.**

**21 - Conservar e apresentar ao fisco, quando solicitado, qualquer documento que, de algum modo, se refira à operação ou situação que constituam fato gerador de obrigações tributárias, ou que sirvam como comprovante da veracidade dos dados consignados em guias e documentos fiscais.**

**25 - Prestar, sempre que solicitados pelas autoridades competentes, informações e esclarecimentos que, a juízo do fisco, se refiram a fato gerador de obrigação tributária.**

**Assinale a alternativa que contém a soma exata dos itens corretos.**

- a) 28
- b) 31
- c) 53
- d) 64
- e) 74

**07. Com a finalidade de obter elementos que lhe permitam verificar a exatidão das declarações apresentadas pelos contribuintes ou responsáveis, e de determinar, com precisão, a natureza e o montante dos créditos tributários, a Fazenda Municipal poderá:**

**I - exigir, a qualquer tempo, exibição de livros e comprovantes de atos e operações que possam constituir fato gerador de obrigações tributárias;**

**II - fazer inspeções nos locais e estabelecimentos onde se exerçam as atividades sujeitas a obrigações tributárias, ou nos bens ou serviços que constituam matéria tributável;**

**III - exigir informações escritas ou verbais;**

**IV - sugerir ao contribuinte para comparecer às repartições fiscais;**

**V - requisitar o auxílio da força pública ou requerer ordem judicial quando indispensável à realização de diligências, inclusive inspeções necessárias ao registro dos locais e estabelecimentos, assim como, dos objetos e livros dos contribuintes e responsáveis.**

**Com base no que foi exposto, assinale a alternativa correta:**

- a) Apenas o item III está incorreto.
- b) Apenas o item I está incorreto.
- c) Apenas os itens II e V estão corretos.
- d) Apenas os itens III e IV estão corretos.
- e) Apenas os itens I, II, III e V estão corretos.

**08. Baseando-se na Lei Orgânica do município de Telêmaco Borba, marque as afirmativas com C (certo) ou E (errado), e assinale a alternativa correta.**

( ) Ao Município compete privativamente, instituir e arrecadar tributos, de sua competência, bem como aplicar suas rendas, sem prejuízo da obrigatoriedade de prestar contas e publicar balancetes nos prazos fixados em Lei.

( ) É competência exclusiva do Município zelar pela guarda da Constituição, das Leis e das instituições democráticas, e conservar o patrimônio público.

( ) A cooperação do Município, com a União e o Estado, tendo em vista o equilíbrio do desenvolvimento do bem estar em âmbito nacional, se fará segundo normas a serem fixadas por Lei Complementar Federal.

( ) O patrimônio Público do Município é formado por bens públicos municipais de toda natureza e espécie que tenham qualquer interesse para a administração ou para sua população.

( ) São bens públicos, todas as coisas corpóreas ou incorpóreas, móveis e imóveis e semoventes, créditos, débitos, valores, direitos, ações e outros, que pertençam a qualquer título, ao Município.

- a) E – E – C – C – E
- b) E – C – E – E – C
- c) C – C – E – C – C
- d) C – E – C – C – C
- e) C – E – C – C – E

**09. De acordo com o art. 78 do Código de Posturas do município de Telêmaco Borba, analise o seguinte: Compete ao Poder Público Municipal, por meio de seus órgãos especializados, mediante portarias, leis e decretos, sem prejuízo do respeito as normas estaduais e federais vigentes, estabelecer as condições de higiene e funcionamento dos seguintes estabelecimentos:**

**I – Hotéis, pensões, restaurantes, cozinhas industriais, casas de lanches, cafés, padarias, confeitarias, ambulantes e estabelecimentos congêneres que manipulem, preparem ou comercializem produtos alimentícios.**

**II – Salões de barbeiros, cabeleireiros, manicuros, pedicuros e de podologia, de estética, de tatuagem e congêneres.**

**III – Abatedouros, frigoríficos, casas de carnes e peixarias.**

**IV – Estabelecimentos em geral que industrializem ou comercializem alimentos ou medicamentos.**

**V – Saunas, clubes e piscinas.**

**VI – Clínicas em geral inclusive veterinárias.**

**VII – Laboratórios.**

**VIII – Pet-shoppings e estabelecimentos que comercializam produtos para consumo animal e animais vivos.**

**Agora, assinale a alternativa correta.**

- a) Apenas os itens I, III e VI estão corretos.
- b) Apenas os itens II, IV, VII e VIII estão corretos.
- c) Apenas os itens I, II, VI e VII estão corretos.
- d) Apenas os itens I, II, III, IV, V, VI e VIII estão corretos.
- e) Todos os itens estão corretos.

**10. Conforme o Estatuto dos Servidores Públicos Municipais (Lei Municipal 1883/2012), artigo 122, ao servidor efetivo será concedido o adicional por tempo de serviço a razão de 5% (cinco por cento) do valor do respectivo vencimento do cargo efetivo, a cada \_\_\_\_\_ de serviço público efetivo prestado ao Município.**

**Qual alternativa preenche a lacuna de forma correta?**

- a) 3 (três) anos
- b) 4 (quatro) anos
- c) 5 (cinco) anos
- d) 6 (seis) anos
- e) 7 (sete) anos

## CONHECIMENTOS ESPECÍFICOS

**11. A Constituição da República Federativa do Brasil é classificada como:**

- a) Ortodoxa
- b) Outorgada
- c) Concisa
- d) Eclética
- e) Semirrígida

**12. Assinale a alternativa correta quanto ao sistema brasileiro de controle de constitucionalidade:**

- a) No Brasil, prevalece o entendimento de possibilidade de declaração de inconstitucionalidade de normas constitucionais originárias.
- b) O controle concentrado de constitucionalidade somente foi introduzido no Brasil com a promulgação da Constituição da República de 1988, existindo até então somente na modalidade de controle difuso de constitucionalidade.



- c) O Poder Constituinte decorrente, pelo princípio da simetria, ao ser exercido pelos Estados deve obediência e observância às normas da Constituição da República, inclusive no que tange ao Preâmbulo, que possui força normativa, em conformidade com o entendimento teórico majoritário e de acordo com o entendimento do Supremo Tribunal Federal.
- d) O sistema de controle de constitucionalidade brasileiro admite a inconstitucionalidade superveniente como efeito intertemporal constitucional.
- e) Os institutos da desconstitucionalização e repriminção não foram expressamente admitidos quando do advento da Constituição da República de 1988, não possuindo aplicabilidade no ordenamento jurídico brasileiro como efeito intertemporal constitucional.

**13. Segundo o censo do IBGE de 2010, o Município de Telêmaco Borba possui 69.872 habitantes. Assim, para a composição da Câmara Municipal, será observado o limite máximo de:**

- a) 15 (quinze) vereadores  
b) 17 (dezesete) vereadores  
c) 19 (dezenove) vereadores  
d) 21 (vinte e um) vereadores  
e) 23 (vinte e três) vereadores

**14. Ao sistema único de saúde compete, além de outras atribuições, nos termos da lei:**

**I. Controlar e fiscalizar procedimentos, produtos e substâncias de interesse para a saúde e participar da produção de medicamentos, equipamentos, imunobiológicos, hemoderivados e outros insumos.**

**II. Executar as ações de vigilância sanitária e epidemiológica, bem como as de saúde do trabalhador.**

**III. O ordenar a formação de recursos humanos na área de saúde, participar da formulação da política e da execução das ações de saneamento básico; e incrementar, em sua área de atuação, o desenvolvimento científico e tecnológico e a inovação.**

**IV. Fiscalizar e inspecionar alimentos, compreendido o controle de seu teor nutricional, bem como bebidas e águas para consumo humano.**

**V. Participar do controle e fiscalização da produção, transporte, guarda e utilização de substâncias e produtos psicoativos, tóxicos e radioativos e colaborar na proteção do meio ambiente, nele compreendido o do trabalho.**

**É correto o que se afirma em:**

- a) I, II e III, somente.  
b) II, IV e V, somente.  
c) II e IV, somente.  
d) II, III e IV, somente.  
e) I, II, III, IV e V.

**15. Analise as seguintes assertivas:**

**I. As políticas para a primeira infância serão articuladas com as instituições de formação profissional, visando à adequação dos cursos às características e necessidades das crianças e à formação de profissionais qualificados, para possibilitar a expansão com qualidade dos diversos serviços.**

**II. Os profissionais que atuam nos diferentes ambientes de execução das políticas e programas destinados à criança na primeira infância terão acesso garantido e prioritário à qualificação, sob a forma de especialização e atualização, em programas que contemplem, entre outros temas, a especificidade da primeira infância, a estratégia da intersetorialidade na promoção do desenvolvimento integral e a prevenção e a proteção contra toda forma de violência contra a criança.**

**III. As políticas públicas terão, necessariamente, componentes de monitoramento e coleta sistemática de dados, avaliação periódica dos elementos que constituem a oferta dos serviços à criança e divulgação dos seus resultados.**

**Está em conformidade com o disposto na Lei n° 13.257/2016:**

- a) I, II e III.  
b) I e II, somente.  
c) I e III, somente.  
d) II e III, somente.  
e) I, somente.

**16. Para os fins da Lei n° 13.019/2014, considera-se parceria:**

- a) Órgão criado pelo poder público para atuar como instância consultiva, na respectiva área de atuação, na formulação, implementação, acompanhamento, monitoramento e avaliação de políticas públicas.
- b) Conjunto de direitos, responsabilidades e obrigações decorrentes de relação jurídica estabelecida formalmente entre a administração pública e organizações da sociedade civil, em regime de mútua cooperação, para a consecução de finalidades de interesse público e recíproco, mediante a execução de atividade ou de projeto expressos em termos de colaboração, em termos de fomento ou em acordos de cooperação.

- c) Órgão colegiado destinado a processar e julgar chamamentos públicos, constituído por ato publicado em meio oficial de comunicação, assegurada a participação de pelo menos um servidor ocupante de cargo efetivo ou emprego permanente do quadro de pessoal da administração pública.
- d) Procedimento em que se analisa e se avalia a execução da parceria, pelo qual seja possível verificar o cumprimento do objeto da parceria e o alcance das metas e dos resultados previstos.
- e) Instrumento por meio do qual são formalizadas as parcerias estabelecidas pela administração pública com organizações da sociedade civil para a consecução de finalidades de interesse público e recíproco propostas pelas organizações da sociedade civil, que envolvam a transferência de recursos financeiros.

**17. Assinale a alternativa de acordo com a Lei Municipal de Telêmaco Borba n° 1.883/2012:**

- a) A nomeação precederá a convocação e será feita pela imprensa oficial, através de meio eletrônico ou jornal de grande circulação.
- b) Após a assinatura do termo de comparecimento, o candidato terá o prazo de 10 (dez) dias úteis para a apresentação da documentação exigida, na forma da lei e do edital de concurso, e da declaração se detém outro cargo, função ou emprego na Administração Pública, ou se percebe proventos de inatividade.
- c) As funções gratificadas destinam-se ao desempenho das atribuições de direção, chefia e assessoramento para as quais não se tenha criado cargo em comissão, especificadas na lei que instituir o plano de cargos e carreiras.
- d) Serão designados para o exercício de função gratificada servidores de cargo efetivo ou de cargo em comissão do Município.
- e) É vedada a designação de servidor em estágio probatório para o exercício de função gratificada.

**18. Assinale a alternativa em desacordo com a Lei Anticorrupção (n° 12.846/13):**

- a) Subsiste a responsabilidade da pessoa jurídica na hipótese de alteração contratual, transformação, incorporação, fusão ou cisão societária.
- b) As sociedades controladoras, controladas, coligadas ou, no âmbito do respectivo contrato, as consorciadas serão solidariamente responsáveis pela prática dos atos previstos na Lei, restringindo-se tal responsabilidade à obrigação de pagamento de multa e reparação integral do dano causado.
- c) A responsabilização da pessoa jurídica exclui a responsabilidade individual de seus dirigentes ou administradores ou de qualquer pessoa natural, autora, coautora ou partícipe do ato ilícito.
- d) A publicação extraordinária da decisão condenatória ocorrerá na forma de extrato de sentença, a expensas da pessoa jurídica, em meios de comunicação de grande circulação na área da prática da infração e de atuação da pessoa jurídica ou, na sua falta, em publicação de circulação nacional, bem como por meio de afixação de edital, pelo prazo mínimo de 30 (trinta) dias, no próprio estabelecimento ou no local de exercício da atividade, de modo visível ao público, e no sítio eletrônico na rede mundial de computadores.
- e) A personalidade jurídica poderá ser desconsiderada sempre que utilizada com abuso do direito para facilitar, encobrir ou dissimular a prática dos atos ilícitos previstos nesta Lei ou para provocar confusão patrimonial, sendo estendidos todos os efeitos das sanções aplicadas à pessoa jurídica aos seus administradores e sócios com poderes de administração, observados o contraditório e a ampla defesa.

**19. No caso de indeferimento de acesso a informações ou às razões da negativa do acesso, poderá o interessado interpor recurso contra a decisão no prazo de \_\_\_\_\_ dias a contar da sua ciência.**

**Assinale a alternativa que completa corretamente a lacuna acima em conformidade com o disposto na Lei n° 12.527/2011:**

- a) 90 (noventa)
- b) 60 (sessenta)
- c) 30 (trinta)
- d) 10 (dez)
- e) 05 (cinco)

**20. Sobre o direito de resposta ou retificação do ofendido em matéria divulgada, publicada ou transmitida por veículo de comunicação social (Lei n° 13.188/15), assinale a alternativa correta:**

- a) A retratação ou retificação espontânea, ainda que a elas sejam conferidos os mesmos destaque, publicidade, periodicidade e dimensão do agravo, impedem o exercício do direito de resposta pelo ofendido, prejudicando a ação de reparação por dano moral.
- b) Para os efeitos da Lei, considera-se matéria qualquer reportagem, nota ou notícia divulgada por veículo de comunicação social, independentemente do meio ou da plataforma de distribuição, publicação ou transmissão que utilize, cujo conteúdo atente, ainda que por equívoco de informação, contra a honra, a intimidade, a reputação, o conceito, o nome, a marca ou a imagem de pessoa física ou jurídica identificada ou passível de identificação.
- c) O direito de resposta ou retificação deve ser exercido no prazo prescricional de 30 (trinta) dias, contado da data de cada divulgação, publicação ou transmissão da matéria ofensiva, mediante correspondência com aviso de recebimento encaminhada diretamente ao veículo de comunicação social ou, inexistindo pessoa jurídica constituída, a quem por ele responda, independentemente de quem seja o responsável intelectual pelo agravo.
- d) O ajuizamento de ação cível ou penal contra o veículo de comunicação ou seu responsável com fundamento na divulgação, publicação ou transmissão ofensiva impede o exercício administrativo do direito de resposta ou retificação previsto nesta Lei.

e) O juiz poderá impor multa diária, a contar do trânsito em julgado, somente a pedido do autor, sendo vedado o arbitramento de ofício.

**21. Analise as seguintes assertivas:**

**I. O Imposto Sobre Serviços de Qualquer Natureza (ISSQN), de competência dos Municípios e do Distrito Federal, tem como fato gerador a prestação de serviços constantes da lista anexa à Lei Complementar n° 116/2003, ainda que esses não se constituam como atividade preponderante do prestador.**

**II. O imposto incide também sobre o serviço proveniente do exterior do País ou cuja prestação se tenha iniciado no exterior do País.**

**III. Ressalvadas as exceções expressas na lista anexa, os serviços nela mencionados não ficam sujeitos ao Imposto Sobre Operações Relativas à Circulação de Mercadorias e Prestações de Serviços de Transporte Interestadual e Intermunicipal e de Comunicação – ICMS, ainda que sua prestação envolva fornecimento de mercadorias.**

**IV. O ISSQN incide ainda sobre os serviços prestados mediante a utilização de bens e serviços públicos explorados economicamente mediante autorização, permissão ou concessão, com o pagamento de tarifa, preço ou pedágio pelo usuário final do serviço.**

**V. A incidência do imposto não depende da denominação dada ao serviço prestado.**

**Está em conformidade com o disposto na Lei Complementar n° 123/2006, o que se afirma em:**

- a) I, II, III, IV e V.
- b) II, III e IV, somente.
- c) I, IV e V, somente.
- d) II e V, somente.
- e) I, II e V, somente.

**22. Assinale a alternativa em desconformidade com a Lei sobre a cobrança judicial da dívida ativa da Fazenda Pública (Lei n° 6.830/80):**

a) Até a decisão de primeira instância, a Certidão de Dívida Ativa poderá ser emendada ou substituída, assegurada ao executado a devolução do prazo para embargos.

b) A Dívida Ativa regularmente inscrita goza da presunção de certeza e liquidez.

c) O executado ausente do País será citado por carta rogatória executória, com prazo de 60 (sessenta) dias para quitação do débito.

d) A garantia da execução, por meio de depósito em dinheiro, fiança bancária ou seguro garantia, produz os mesmos efeitos da penhora.

e) Se, antes da decisão de primeira instância, a inscrição de Dívida Ativa for, a qualquer título, cancelada, a execução fiscal será extinta, sem qualquer ônus para as partes.

**23. Analise as assertivas abaixo sobre a Lei 12.016/09, que disciplina o mandado de segurança individual e coletivo:**

**I. Equiparam-se às autoridades, para os efeitos desta Lei, os representantes ou órgãos de partidos políticos e os administradores de entidades autárquicas, bem como os dirigentes de pessoas jurídicas ou as pessoas naturais no exercício de atribuições do poder público, somente no que disser respeito a essas atribuições.**

**II. Não cabe mandado de segurança contra os atos de gestão comercial praticados pelos administradores de empresas públicas, de sociedade de economia mista e de concessionárias de serviço público.**

**III. O pedido de mandado de segurança poderá ser renovado dentro do prazo decadencial, se a decisão denegatória não lhe houver apreciado o mérito.**

**IV. Do indeferimento da inicial do mandado de segurança pelo juiz de primeiro grau caberá agravo e, quando a competência para o julgamento do mandado de segurança couber originariamente a um dos tribunais, do ato do relator caberão embargos para o órgão competente do tribunal que integre.**

**É correto o que se afirma em:**

- a) I, II, III e IV.
- b) I, II e III, somente.
- c) I, II e IV, somente.
- d) I, III e IV, somente.
- e) II e III, somente.

**24. Analise as seguintes assertivas:**

**I. São Receitas Correntes as receitas tributária, de contribuições, patrimonial, agropecuária, industrial, de serviços e outras e, ainda, as provenientes de recursos financeiros recebidos de outras pessoas de direito público ou privado, quando destinadas a atender despesas classificáveis em Despesas Correntes.**

**II. Classificam-se como investimentos as dotações para o planejamento e a execução de obras, inclusive as destinadas à aquisição de imóveis considerados necessários à realização destas últimas, bem como para os programas especiais de trabalho, aquisição de instalações, equipamentos e material permanente e constituição ou aumento do capital de empresas que não sejam de caráter comercial ou financeiro.**

**III. São Transferências de Capital as dotações para investimentos ou inversões financeiras que outras pessoas de direito público ou privado devam realizar, independentemente de contraprestação direta em bens ou serviços, constituindo essas transferências auxílios ou contribuições, segundo derivem diretamente da Lei de Orçamento ou de lei especialmente anterior, bem como as dotações para amortização da dívida pública.**

**Considerando-se o disposto na Lei n° 4.320/64, é correto o que se afirma em:**

- a) I, somente.
- b) II, somente.
- c) III somente.
- d) I e III, somente.
- e) I, II e III.

**25. Analise as seguintes assertivas:**

**I. O resultado do Banco Central do Brasil, apurado após a constituição ou reversão de reservas, constitui receita do Tesouro Nacional, e será transferido até o décimo dia útil subsequente à aprovação dos balanços semestrais.**

**II. O resultado negativo constituirá obrigação do Tesouro para com o Banco Central do Brasil e será consignado em dotação específica no orçamento.**

**III. O impacto e o custo fiscal das operações realizadas pelo Banco Central do Brasil serão demonstrados semestralmente, nos termos em que dispuser a lei de diretrizes orçamentárias da União.**

**IV. Os balanços semestrais do Banco Central do Brasil conterão notas explicativas sobre os custos da remuneração das disponibilidades do Tesouro Nacional e da manutenção das reservas cambiais e a rentabilidade de sua carteira de títulos, destacando os de emissão da União.**

**Tendo em vista o que dispõe a LC n° 101/2000, é correto o que se afirma em:**

- a) I, II, III e IV.
- b) I e II, somente.
- c) III e IV, somente.
- d) I, II e IV, somente.
- e) II, III e IV, somente.

**26. Assinale a alternativa que não se coaduna com as previsões constantes do Código de Processo Civil acerca da competência:**

- a) Dá-se a conexão entre 2 (duas) ou mais ações quando houver identidade quanto às partes e à causa de pedir, mas o pedido de uma, por ser mais amplo, abrange o das demais.
- b) Quando houver continência e a ação continente tiver sido proposta anteriormente, no processo relativo à ação contida será proferida sentença sem resolução de mérito, caso contrário, as ações serão necessariamente reunidas.
- c) A reunião das ações propostas em separado far-se-á no juízo prevento, onde serão decididas simultaneamente.
- d) O registro ou a distribuição da petição inicial torna prevento o juízo.
- e) Se o imóvel se achar situado em mais de um Estado, comarca, seção ou subseção judiciária, a competência territorial do juízo prevento estender-se-á sobre a totalidade do imóvel.

**27. Ambos os cônjuges serão necessariamente citados para a ação:**

**I. Que verse sobre direito real imobiliário, ainda que casados sob o regime de separação absoluta de bens.**

**II. Resultante de fato que diga respeito a ambos os cônjuges ou de ato praticado por eles.**

**III. Fundada em dívida contraída por um dos cônjuges a bem da família.**

**IV. Que tenha por objeto o reconhecimento, a constituição ou a extinção de ônus sobre imóvel de um ou de ambos os cônjuges.**

**V. Nas ações possessórias, a participação do cônjuge do autor ou do réu somente é indispensável nas hipóteses de comosse ou de ato por ambos praticado.**

**Tendo em vista o disposto no Código de Processo Civil, é correto o que se afirma em:**

- a) I, II, III, IV e V.
- b) II, III, IV e V, somente.
- c) III, IV e V, somente.
- d) II, III e V, somente.
- e) III e V, somente.

**28. Quando o valor da causa for irrisório ou inestimável, a multa por litigância de má fé poderá ser fixada em até \_\_\_\_\_ vezes o valor do salário-mínimo.**

**Assinale a alternativa que completa corretamente a lacuna acima, conforme disposição do Código de Processo Civil.**

- a) 3 (três)
- b) 5 (cinco)
- c) 10 (dez)
- d) 15 (quinze)

e) 20 (vinte)

**29. Assinale a alternativa correta, tendo em vista o disposto no Código de Processo Civil acerca da desconsideração da personalidade jurídica:**

- a) O incidente de desconsideração da personalidade jurídica será instaurado somente a pedido da parte.
- b) O incidente de desconsideração é cabível no cumprimento de sentença e na execução fundada em título executivo extrajudicial, sendo vedada a sua utilização na fase de conhecimento.
- c) Instaurado o incidente, o sócio ou a pessoa jurídica será citado para manifestar-se e requerer as provas cabíveis no prazo de 15 (quinze) dias.
- d) Se a decisão do incidente de desconsideração da personalidade jurídica for proferida pelo relator, cabe apelação.
- e) Acolhido o pedido de desconsideração, a alienação ou a oneração de bens, havida em fraude de execução, será eficaz em relação ao requerente.

**30. Há impedimento do juiz, sendo-lhe vedado exercer suas funções no processo:**

- a) Amigo íntimo ou inimigo de qualquer das partes ou de seus advogados.
- b) Que receber presentes de pessoas que tiverem interesse na causa antes ou depois de iniciado o processo, que aconselhar alguma das partes acerca do objeto da causa ou que subministrar meios para atender às despesas do litígio.
- c) Quando qualquer das partes for sua credora ou devedora, de seu cônjuge ou companheiro ou de parentes destes, em linha reta até o terceiro grau, inclusive.
- d) Interessado no julgamento do processo em favor de qualquer das partes.
- e) Quando for sócio ou membro de direção ou de administração de pessoa jurídica parte no processo.

**31. Analise as seguintes assertivas:**

**I. Considera-se empresário quem exerce profissionalmente atividade econômica organizada para a produção ou a circulação de bens ou de serviços.**

**II. Não se considera empresário quem exerce profissão intelectual, de natureza científica, literária ou artística, ainda com o concurso de auxiliares ou colaboradores, salvo se o exercício da profissão constituir elemento de empresa.**

**III. É obrigatória a inscrição do empresário no Registro Público de Empresas Mercantis da respectiva sede, antes do início de sua atividade.**

**Tendo em vista as disposições do Código Civil, é correto o que se afirma em:**

- a) I, somente.
- b) I e II, somente.
- c) I e III, somente.
- d) II e III, somente.
- e) I, II e III.

**32. Assinale a alternativa em desacordo com as disposições do Código Civil:**

- a) Faculta-se aos cônjuges contratar sociedade, entre si ou com terceiros, desde que não tenham casado no regime da comunhão universal de bens, ou no da separação obrigatória.
- b) O empresário casado pode, sem necessidade de outorga conjugal, qualquer que seja o regime de bens, alienar os imóveis que integrem o patrimônio da empresa ou gravá-los de ônus real.
- c) Além de no Registro Civil, serão arquivados e averbados, no Registro Público de Empresas Mercantis, os pactos e declarações antenupciais do empresário, o título de doação, herança, ou legado, de bens clausulados de incomunicabilidade ou inalienabilidade.
- d) A sentença que decretar ou homologar a separação judicial do empresário e o ato de reconciliação não podem ser opostos a terceiros, antes de arquivados e averbados no Registro Público de Empresas Mercantis.
- e) Se o representante ou assistente do incapaz for pessoa que, por disposição de lei, não puder exercer atividade de empresário, nomeará, com a aprovação do juiz, um ou mais gerentes, eximindo esta aprovação o representante ou assistente do menor ou do interdito da responsabilidade pelos atos dos gerentes nomeados.

**33. Analise as seguintes assertivas:**

**I. Independentemente de seu objeto, considera-se empresária a sociedade por ações; e, simples, a cooperativa.**

**II. A constituição da sociedade em conta de participação independe de qualquer formalidade e pode provar-se por todos os meios de direito.**

**III. Nos sessenta dias subsequentes à sua constituição, a sociedade deverá requerer a inscrição do contrato social no Registro Civil das Pessoas Jurídicas do local de sua sede.**

**Diante do que dispõe o Código Civil, é correto o que se afirma em:**

- a) I, somente.
- b) II, somente.
- c) I e II, somente.
- d) I, II e III.



e) III, somente.

**34. A decretação da falência ou o deferimento do processamento da recuperação judicial suspende o curso da prescrição e de todas as ações e execuções em face do devedor, inclusive aquelas dos credores particulares do sócio solidário, sendo que na recuperação judicial a suspensão, em hipóteses nenhuma, excederá o prazo de:**

- a) Um ano
- b) Cento e oitenta dias
- c) Noventa dias
- d) Dois anos
- e) Cinco anos

**35. Assinale a alternativa em desconformidade com o Código de Defesa do Consumidor:**

- a) Os produtos e serviços colocados no mercado de consumo não acarretarão riscos à saúde ou segurança dos consumidores, exceto os considerados normais e previsíveis em decorrência de sua natureza e fruição, obrigando-se os fornecedores, em qualquer hipótese, a dar as informações necessárias e adequadas a seu respeito.
- b) O fornecedor de produtos e serviços potencialmente nocivos ou perigosos à saúde ou segurança deverá informar, de maneira ostensiva e adequada, a respeito da sua nocividade ou periculosidade, sem prejuízo da adoção de outras medidas cabíveis em cada caso concreto.
- c) O fornecedor de produtos e serviços que, posteriormente à sua introdução no mercado de consumo, tiver conhecimento da periculosidade que apresentem, deverá comunicar o fato imediatamente às autoridades competentes e aos consumidores, mediante anúncios publicitários.
- d) Os anúncios publicitários a que se refere o parágrafo anterior serão veiculados na imprensa, rádio e televisão, às expensas da autoridade competente previamente comunicada.
- e) Sempre que tiverem conhecimento de periculosidade de produtos ou serviços à saúde ou segurança dos consumidores, a União, os Estados, o Distrito Federal e os Municípios deverão informá-los a respeito.

**36. Os fornecedores respondem solidariamente pelos vícios de quantidade do produto sempre que, respeitadas as variações decorrentes de sua natureza, seu conteúdo líquido for inferior às indicações constantes do recipiente, da embalagem, rotulagem ou de mensagem publicitária, podendo o consumidor exigir, alternativamente e à sua escolha:**

**I. O abatimento proporcional do preço.**

**II. Complementação do peso ou medida.**

**III. A substituição do produto por outro da mesma espécie, marca ou modelo, sem os aludidos vícios.**

**IV. A restituição imediata da quantia paga, monetariamente atualizada, sem prejuízo de eventuais perdas e danos.**

**É correto o que se afirma em:**

- a) I, II, III e IV.
- b) I, II e III, somente.
- c) II, III e IV, somente.
- d) III e IV, somente.
- e) I e II, somente.

**37. O direito de reclamar pelos vícios aparentes ou de fácil constatação caduca, a partir da entrega efetiva do produto ou do término da execução dos serviços, em:**

- a) Trinta dias, tratando-se de fornecimento de serviço e de produtos não duráveis; noventa dias, tratando-se de fornecimento de serviço e de produtos duráveis.
- b) Trinta dias, tratando-se de fornecimento de serviço e de produtos não duráveis; sessenta dias, tratando-se de fornecimento de serviço e de produtos duráveis.
- c) Trinta dias, tratando-se de fornecimento de serviço e de produtos não duráveis; trinta dias, tratando-se de fornecimento de serviço e de produtos duráveis.
- d) Sessenta dias, tratando-se de fornecimento de serviço e de produtos não duráveis; noventa dias, tratando-se de fornecimento de serviço e de produtos duráveis.
- e) Sessenta dias, tratando-se de fornecimento de serviço e de produtos não duráveis; sessenta dias, tratando-se de fornecimento de serviço e de produtos duráveis.

**38. Analise as seguintes assertivas:**

**I. É enganosa qualquer modalidade de informação ou comunicação de caráter publicitário inteira ou parcialmente falsa, ou, por qualquer outro modo, mesmo por omissão, capaz de induzir a erro o consumidor a respeito da natureza, características, qualidade, quantidade, propriedade, origem, preço e de quaisquer outros dados sobre produtos ou serviços.**

**II. É enganosa, por omissão, a publicidade que deixar de informar sobre dado essencial do produto ou serviço a ser colocado à disposição dos consumidores.**

**III. É abusiva, entre outras, a publicidade discriminatória de qualquer natureza, que incite à violência, explore o medo ou a superstição, se aproveite da deficiência de julgamento e da inexperiência da criança,**



**desrespeite valores ambientais, seja capaz de induzir o consumidor a se comportar de forma prejudicial ou perigosa à sua saúde ou segurança, ou que viole normas legais ou regulamentares de controle da publicidade.**

**Tendo em vista o que dispõe o Decreto n° 2.181/1997, é correto o que se afirma em:**

- a) I, II e III.
- b) I e II, somente.
- c) I e III, somente.
- d) II e III, somente.
- e) II, somente.

**39. Acerca das Comissões de Conciliação Prévia, assinale a alternativa em desacordo com o disposto na CLT:**

- a) As empresas e os sindicatos podem instituir Comissões de Conciliação Prévia, de composição paritária, com representante dos empregados e dos empregadores, com a atribuição de tentar conciliar os conflitos individuais do trabalho. Parágrafo único. As Comissões referidas no caput deste artigo poderão ser constituídas por grupos de empresas ou ter caráter intersindical.
- b) É vedada a dispensa dos representantes dos empregados membros da Comissão de Conciliação Prévia, titulares e suplentes, até um ano após o final do mandato, salvo se cometerem falta grave, nos termos da lei.
- c) O representante dos empregados desenvolverá seu trabalho normal na empresa afastando-se de suas atividades apenas quando convocado para atuar como conciliador, não se computando como tempo de trabalho efetivo o despendido nessa atividade.
- d) O termo de conciliação é título executivo extrajudicial e terá eficácia liberatória geral, exceto quanto às parcelas expressamente ressalvadas.
- e) As Comissões de Conciliação Prévia têm prazo de dez dias para a realização da sessão de tentativa de conciliação a partir da provocação do interessado.

**40. Das decisões definitivas ou terminativas das Varas e Juízos, no prazo de 8 (oito) dias, caberá:**

- a) Apelação
- b) Recurso Ordinário
- c) Agravo de instrumento
- d) Agravo de petição
- e) Recurso de Revista

**RASCUNHO**



PREFEITURA DE TELÊMACO BORBA - ESTADO DO PARANÁ- EDITAL Nº 001-2016 - CONCURSO PÚBLICO

VESPERTINO – 29/05/2016 – NÍVEL SUPERIOR

PROVA OBJETIVA NÚMERO

2

**CARGO: PROCURADOR DO MUNICÍPIO**

Leia atentamente as **INSTRUÇÕES**:

1. Confira seus dados no cartão-resposta: nome, número de inscrição e o curso para o qual se inscreveu.
2. **MARQUE no seu cartão-resposta o número da sua prova** (não será corrigido o cartão-resposta que não tiver marcado o número da prova) e **Assine** seu cartão-resposta.
3. Aguarde a autorização do Fiscal para abrir o caderno de prova. Ao receber a ordem do fiscal, confira o caderno de prova com muita atenção. Nenhuma reclamação sobre o total de questões ou falha de impressão será aceita depois de iniciada a prova.
4. O cartão-resposta não será substituído, salvo se contiver erro de impressão.
5. Preencha toda a área do cartão-resposta correspondente à alternativa de sua escolha, com caneta esferográfica (tinta azul ou preta), sem ultrapassar as bordas. As marcações duplas, ou rasuradas, com corretivo, ou marcadas diferentemente do modelo estabelecido no cartão-resposta poderão ser anuladas.
6. Sua prova tem **40** questões, com **5** alternativas.
7. Cabe apenas ao candidato a interpretação das questões, **o fiscal** não poderá fazer nenhuma interferência.
8. A prova será realizada com duração máxima de **3 (três) horas**, incluído o tempo para a realização da Prova Objetiva de múltipla escolha e o preenchimento do cartão-resposta.
9. O candidato poderá retirar-se do local de realização das provas somente **1 (uma) hora** após o seu início, sem levar o caderno de prova.
10. O candidato poderá levar o caderno de provas, assim como anotação contendo transcrição do seu cartão-resposta, somente **1h30min** (uma hora e trinta minutos) após o início da realização da prova.
11. Ao terminar a prova, o candidato deverá entregar ao fiscal de sala o cartão-resposta preenchido e **ASSINADO**.
12. Os **3 (três)** candidatos, que terminarem a prova por último, deverão permanecer na sala, e só poderão sair juntos após o fechamento do envelope, contendo os cartões-resposta dos candidatos presentes e ausentes, e assinarem no lacre do referido envelope, atestando que este foi devidamente lacrado.
13. Durante todo o tempo em que permanecer no local onde está ocorrendo o concurso, o candidato deverá, manter o celular desligado e sem bateria, só sendo permitido ligar depois de ultrapassar o portão de saída do prédio.
14. Não será permitido ao candidato fumar na sala de provas, bem como nas dependências.
15. Depois de terminar a prova e entregar ao fiscal o cartão-resposta, preenchido e assinado, não será mais permitido ao candidato o uso do banheiro e bebedouro.

**BOA PROVA!**

**LEGISLAÇÃO MUNICIPAL**

À luz do Código Tributário Municipal de Telêmaco Borba, responda às próximas duas questões.

**01. O Capítulo V trata sobre as obrigações tributárias acessórias. Conforme o artigo 11, os contribuintes, ou quaisquer responsáveis por tributos, fiscalização, sujeitos ao lançamento, à fiscalização e à cobrança dos tributos devidos à Fazenda Municipal, ficam especialmente obrigados a:**

**10 - Apresentar declarações e guias, e a escriturar em livros próprios os fatos geradores de obrigação tributária, segundo as normas deste Código e dos regulamentos fiscais.**

**18 - Comunicar à Fazenda Municipal, dentro de 15 (quinze) dias, contados a partir da ocorrência, qualquer alteração capaz de gerar, modificar ou extinguir obrigações tributárias.**

**21 - Conservar e apresentar ao fisco, quando solicitado, qualquer documento que, de algum modo, se refira à operação ou situação que constituam fato gerador de obrigações tributárias, ou que sirvam como comprovante da veracidade dos dados consignados em guias e documentos fiscais.**

**25 - Prestar, sempre que solicitados pelas autoridades competentes, informações e esclarecimentos que, a juízo do fisco, se refiram a fato gerador de obrigação tributária.**

**Assinale a alternativa que contém a soma exata dos itens corretos.**

- a) 28
- b) 31
- c) 53
- d) 64
- e) 74

**02. Com a finalidade de obter elementos que lhe permitam verificar a exatidão das declarações apresentadas pelos contribuintes ou responsáveis, e de determinar, com precisão, a natureza e o montante dos créditos tributários, a Fazenda Municipal poderá:**

**I - exigir, a qualquer tempo, exibição de livros e comprovantes de atos e operações que possam constituir fato gerador de obrigações tributárias;**

**II - fazer inspeções nos locais e estabelecimentos onde se exerçam as atividades sujeitas a obrigações tributárias, ou nos bens ou serviços que constituam matéria tributável;**

**III - exigir informações escritas ou verbais;**

**IV - sugerir ao contribuinte para comparecer às repartições fiscais;**

**V - requisitar o auxílio da força pública ou requerer ordem judicial quando indispensável à realização de diligências, inclusive inspeções necessárias ao registro dos locais e estabelecimentos, assim como, dos objetos e livros dos contribuintes e responsáveis.**

**Com base no que foi exposto, assinale a alternativa correta:**

- a) Apenas o item III está incorreto.
- b) Apenas o item I está incorreto.
- c) Apenas os itens II e V estão corretos.
- d) Apenas os itens III e IV estão corretos.
- e) Apenas os itens I, II, III e V estão corretos.

**03. Baseando-se na Lei Orgânica do município de Telêmaco Borba, marque as afirmativas com C (certo) ou E (errado), e assinale a alternativa correta.**

**( ) Ao Município compete privativamente, instituir e arrecadar tributos, de sua competência, bem como aplicar suas rendas, sem prejuízo da obrigatoriedade de prestar contas e publicar balancetes nos prazos fixados em Lei.**

**( ) É competência exclusiva do Município zelar pela guarda da Constituição, das Leis e das instituições democráticas, e conservar o patrimônio público.**

**( ) A cooperação do Município, com a União e o Estado, tendo em vista o equilíbrio do desenvolvimento do bem estar em âmbito nacional, se fará segundo normas a serem fixadas por Lei Complementar Federal.**

**( ) O patrimônio Público do Município é formado por bens públicos municipais de toda natureza e espécie que tenham qualquer interesse para a administração ou para sua população.**

**( ) São bens públicos, todas as coisas corpóreas ou incorpóreas, móveis e imóveis e semoventes, créditos, débitos, valores, direitos, ações e outros, que pertençam a qualquer título, ao Município.**

- a) E – E – C – C – E
- b) E – C – E – E – C
- c) C – C – E – C – C
- d) C – E – C – C – C
- e) C – E – C – C – E

**04. De acordo com o art. 78 do Código de Posturas do município de Telêmaco Borba, analise o seguinte:**

**Compete ao Poder Público Municipal, por meio de seus órgãos especializados, mediante portarias, leis e decretos, sem prejuízo do respeito as normas estaduais e federais vigentes, estabelecer as condições de higiene e funcionamento dos seguintes estabelecimentos:**

**I – Hotéis, pensões, restaurantes, cozinhas industriais, casas de lanches, cafés, padarias, confeitarias, ambulantes e estabelecimentos congêneres que manipulem, preparem ou comercializem produtos alimentícios.**

**II – Salões de barbeiros, cabeleireiros, manicuros, pedicuros e de podologia, de estética, de tatuagem e congêneres.**

**III – Abatedouros, frigoríficos, casas de carnes e peixarias.**

**IV – Estabelecimentos em geral que industrializem ou comercializem alimentos ou medicamentos.**

**V – Saunas, clubes e piscinas.**

**VI – Clínicas em geral inclusive veterinárias.**

**VII – Laboratórios.**

**VIII – Pet-shoppings e estabelecimentos que comercializam produtos para consumo animal e animais vivos.**

**Agora, assinale a alternativa correta.**

- a) Apenas os itens I, III e VI estão corretos.
- b) Apenas os itens II, IV, VII e VIII estão corretos.
- c) Apenas os itens I, II, VI e VII estão corretos.
- d) Apenas os itens I, II, III, IV, V, VI e VIII estão corretos.
- e) Todos os itens estão corretos.

**05. Conforme o Estatuto dos Servidores Públicos Municipais (Lei Municipal 1883/2012), artigo 122, ao servidor efetivo será concedido o adicional por tempo de serviço a razão de 5% (cinco por cento) do valor do respectivo vencimento do cargo efetivo, a cada \_\_\_\_\_ de serviço público efetivo prestado ao Município.**

**Qual alternativa preenche a lacuna de forma correta?**

- a) 3 (três) anos
- b) 4 (quatro) anos
- c) 5 (cinco) anos
- d) 6 (seis) anos
- e) 7 (sete) anos

## **CONHECIMENTOS ESPECÍFICOS**

**06. A Constituição da República Federativa do Brasil é classificada como:**

- a) Ortodoxa
- b) Outorgada
- c) Concisa
- d) Eclética
- e) Semirrígida

**07. Assinale a alternativa correta quanto ao sistema brasileiro de controle de constitucionalidade:**

- a) No Brasil, prevalece o entendimento de possibilidade de declaração de inconstitucionalidade de normas constitucionais originárias.
- b) O controle concentrado de constitucionalidade somente foi introduzido no Brasil com a promulgação da Constituição da República de 1988, existindo até então somente na modalidade de controle difuso de constitucionalidade.
- c) O Poder Constituinte decorrente, pelo princípio da simetria, ao ser exercido pelos Estados deve obediência e observância às normas da Constituição da República, inclusive no que tange ao Preâmbulo, que possui força normativa, em conformidade com o entendimento teórico majoritário e de acordo com o entendimento do Supremo Tribunal Federal.
- d) O sistema de controle de constitucionalidade brasileiro admite a inconstitucionalidade superveniente como efeito intertemporal constitucional.
- e) Os institutos da desconstitucionalização e repristinação não foram expressamente admitidos quando do advento da Constituição da República de 1988, não possuindo aplicabilidade no ordenamento jurídico brasileiro como efeito intertemporal constitucional.

**08. Segundo o censo do IBGE de 2010, o Município de Telêmaco Borba possui 69.872 habitantes. Assim, para a composição da Câmara Municipal, será observado o limite máximo de:**

- a) 15 (quinze) vereadores
- b) 17 (dezesete) vereadores
- c) 19 (dezenove) vereadores
- d) 21 (vinte e um) vereadores
- e) 23 (vinte e três) vereadores

**09. Ao sistema único de saúde compete, além de outras atribuições, nos termos da lei:**

- I. Controlar e fiscalizar procedimentos, produtos e substâncias de interesse para a saúde e participar da produção de medicamentos, equipamentos, imunobiológicos, hemoderivados e outros insumos.**
- II. Executar as ações de vigilância sanitária e epidemiológica, bem como as de saúde do trabalhador.**
- III. O ordenar a formação de recursos humanos na área de saúde, participar da formulação da política e da execução das ações de saneamento básico; e incrementar, em sua área de atuação, o desenvolvimento científico e tecnológico e a inovação.**
- IV. Fiscalizar e inspecionar alimentos, compreendido o controle de seu teor nutricional, bem como bebidas e águas para consumo humano.**
- V. Participar do controle e fiscalização da produção, transporte, guarda e utilização de substâncias e produtos psicoativos, tóxicos e radioativos e colaborar na proteção do meio ambiente, nele compreendido o do trabalho.**

**É correto o que se afirma em:**

- a) I, II e III, somente.
- b) II, IV e V, somente.
- c) II e IV, somente.
- d) II, III e IV, somente.
- e) I, II, III, IV e V.

**10. Analise as seguintes assertivas:**

**I. As políticas para a primeira infância serão articuladas com as instituições de formação profissional, visando à adequação dos cursos às características e necessidades das crianças e à formação de profissionais qualificados, para possibilitar a expansão com qualidade dos diversos serviços.**

**II. Os profissionais que atuam nos diferentes ambientes de execução das políticas e programas destinados à criança na primeira infância terão acesso garantido e prioritário à qualificação, sob a forma de especialização e atualização, em programas que contemplem, entre outros temas, a especificidade da primeira infância, a estratégia da intersectorialidade na promoção do desenvolvimento integral e a prevenção e a proteção contra toda forma de violência contra a criança.**

**III. As políticas públicas terão, necessariamente, componentes de monitoramento e coleta sistemática de dados, avaliação periódica dos elementos que constituem a oferta dos serviços à criança e divulgação dos seus resultados.**

**Está em conformidade com o disposto na Lei n° 13.257/2016:**

- a) I, II e III.
- b) I e II, somente.
- c) I e III, somente.
- d) II e III, somente.
- e) I, somente.

**11. Para os fins da Lei n° 13.019/2014, considera-se parceria:**

- a) Órgão criado pelo poder público para atuar como instância consultiva, na respectiva área de atuação, na formulação, implementação, acompanhamento, monitoramento e avaliação de políticas públicas.
- b) Conjunto de direitos, responsabilidades e obrigações decorrentes de relação jurídica estabelecida formalmente entre a administração pública e organizações da sociedade civil, em regime de mútua cooperação, para a consecução de finalidades de interesse público e recíproco, mediante a execução de atividade ou de projeto expressos em termos de colaboração, em termos de fomento ou em acordos de cooperação.
- c) Órgão colegiado destinado a processar e julgar chamamentos públicos, constituído por ato publicado em meio oficial de comunicação, assegurada a participação de pelo menos um servidor ocupante de cargo efetivo ou emprego permanente do quadro de pessoal da administração pública.
- d) Procedimento em que se analisa e se avalia a execução da parceria, pelo qual seja possível verificar o cumprimento do objeto da parceria e o alcance das metas e dos resultados previstos.
- e) Instrumento por meio do qual são formalizadas as parcerias estabelecidas pela administração pública com organizações da sociedade civil para a consecução de finalidades de interesse público e recíproco propostas pelas organizações da sociedade civil, que envolvam a transferência de recursos financeiros.

**12. Assinale a alternativa de acordo com a Lei Municipal de Telêmaco Borba n° 1.883/2012:**

- a) A nomeação precederá a convocação e será feita pela imprensa oficial, através de meio eletrônico ou jornal de grande circulação.
- b) Após a assinatura do termo de comparecimento, o candidato terá o prazo de 10 (dez) dias úteis para a apresentação da documentação exigida, na forma da lei e do edital de concurso, e da declaração se detém outro cargo, função ou emprego na Administração Pública, ou se percebe proventos de inatividade.
- c) As funções gratificadas destinam-se ao desempenho das atribuições de direção, chefia e assessoramento para as quais não se tenha criado cargo em comissão, especificadas na lei que instituir o plano de cargos e carreiras.
- d) Serão designados para o exercício de função gratificada servidores de cargo efetivo ou de cargo em comissão do Município.
- e) É vedada a designação de servidor em estágio probatório para o exercício de função gratificada.

**13. Assinale a alternativa em desacordo com a Lei Anticorrupção (n° 12.846/13):**

- a) Subsiste a responsabilidade da pessoa jurídica na hipótese de alteração contratual, transformação, incorporação, fusão ou cisão societária.
- b) As sociedades controladoras, controladas, coligadas ou, no âmbito do respectivo contrato, as consorciadas serão solidariamente responsáveis pela prática dos atos previstos na Lei, restringindo-se tal responsabilidade à obrigação de pagamento de multa e reparação integral do dano causado.
- c) A responsabilização da pessoa jurídica exclui a responsabilidade individual de seus dirigentes ou administradores ou de qualquer pessoa natural, autora, coautora ou partícipe do ato ilícito.
- d) A publicação extraordinária da decisão condenatória ocorrerá na forma de extrato de sentença, a expensas da pessoa jurídica, em meios de comunicação de grande circulação na área da prática da infração e de atuação da pessoa jurídica ou, na sua falta, em publicação de circulação nacional, bem como por meio de afixação de edital, pelo prazo mínimo de 30 (trinta) dias, no próprio estabelecimento ou no local de exercício da atividade, de modo visível ao público, e no sítio eletrônico na rede mundial de computadores.
- e) A personalidade jurídica poderá ser desconsiderada sempre que utilizada com abuso do direito para facilitar, encobrir ou dissimular a prática dos atos ilícitos previstos nesta Lei ou para provocar confusão patrimonial, sendo estendidos todos os efeitos das sanções aplicadas à pessoa jurídica aos seus administradores e sócios com poderes de administração, observados o contraditório e a ampla defesa.

**14. No caso de indeferimento de acesso a informações ou às razões da negativa do acesso, poderá o interessado interpor recurso contra a decisão no prazo de \_\_\_\_\_ dias a contar da sua ciência.**

**Assinale a alternativa que completa corretamente a lacuna acima em conformidade com o disposto na Lei n° 12.527/2011:**

- a) 90 (noventa)
- b) 60 (sessenta)
- c) 30 (trinta)
- d) 10 (dez)
- e) 05 (cinco)

**15. Sobre o direito de resposta ou retificação do ofendido em matéria divulgada, publicada ou transmitida por veículo de comunicação social (Lei n° 13.188/15), assinale a alternativa correta:**

- a) A retratação ou retificação espontânea, ainda que a elas sejam conferidos os mesmos destaque, publicidade, periodicidade e dimensão do agravo, impedem o exercício do direito de resposta pelo ofendido, prejudicando a ação de reparação por dano moral.
- b) Para os efeitos da Lei, considera-se matéria qualquer reportagem, nota ou notícia divulgada por veículo de comunicação social, independentemente do meio ou da plataforma de distribuição, publicação ou transmissão que utilize, cujo conteúdo atente, ainda que por equívoco de informação, contra a honra, a intimidade, a reputação, o conceito, o nome, a marca ou a imagem de pessoa física ou jurídica identificada ou passível de identificação.
- c) O direito de resposta ou retificação deve ser exercido no prazo prescricional de 30 (trinta) dias, contado da data de cada divulgação, publicação ou transmissão da matéria ofensiva, mediante correspondência com aviso de recebimento encaminhada diretamente ao veículo de comunicação social ou, inexistindo pessoa jurídica constituída, a quem por ele responda, independentemente de quem seja o responsável intelectual pelo agravo.
- d) O ajuizamento de ação cível ou penal contra o veículo de comunicação ou seu responsável com fundamento na divulgação, publicação ou transmissão ofensiva impede o exercício administrativo do direito de resposta ou retificação previsto nesta Lei.
- e) O juiz poderá impor multa diária, a contar do trânsito em julgado, somente a pedido do autor, sendo vedado o arbitramento de ofício.

**16. Analise as seguintes assertivas:**

**I. O Imposto Sobre Serviços de Qualquer Natureza (ISSQN), de competência dos Municípios e do Distrito Federal, tem como fato gerador a prestação de serviços constantes da lista anexa à Lei Complementar n° 116/2003, ainda que esses não se constituam como atividade preponderante do prestador.**

**II. O imposto incide também sobre o serviço proveniente do exterior do País ou cuja prestação se tenha iniciado no exterior do País.**

**III. Ressalvadas as exceções expressas na lista anexa, os serviços nela mencionados não ficam sujeitos ao Imposto Sobre Operações Relativas à Circulação de Mercadorias e Prestações de Serviços de Transporte Interestadual e Intermunicipal e de Comunicação – ICMS, ainda que sua prestação envolva fornecimento de mercadorias.**

**IV. O ISSQN incide ainda sobre os serviços prestados mediante a utilização de bens e serviços públicos explorados economicamente mediante autorização, permissão ou concessão, com o pagamento de tarifa, preço ou pedágio pelo usuário final do serviço.**

**V. A incidência do imposto não depende da denominação dada ao serviço prestado.**

**Está em conformidade com o disposto na Lei Complementar n° 123/2006, o que se afirma em:**

- a) I, II, III, IV e V.
- b) II, III e IV, somente.



- c) I, IV e V, somente.
- d) II e V, somente.
- e) I, II e V, somente.

**17. Assinale a alternativa em desconformidade com a Lei sobre a cobrança judicial da dívida ativa da Fazenda Pública (Lei n° 6.830/80):**

- a) Até a decisão de primeira instância, a Certidão de Dívida Ativa poderá ser emendada ou substituída, assegurada ao executado a devolução do prazo para embargos.
- b) A Dívida Ativa regularmente inscrita goza da presunção de certeza e liquidez.
- c) O executado ausente do País será citado por carta rogatória executória, com prazo de 60 (sessenta) dias para quitação do débito.
- d) A garantia da execução, por meio de depósito em dinheiro, fiança bancária ou seguro garantia, produz os mesmos efeitos da penhora.
- e) Se, antes da decisão de primeira instância, a inscrição de Dívida Ativa for, a qualquer título, cancelada, a execução fiscal será extinta, sem qualquer ônus para as partes.

**18. Analise as assertivas abaixo sobre a Lei 12.016/09, que disciplina o mandado de segurança individual e coletivo:**

**I. Equiparam-se às autoridades, para os efeitos desta Lei, os representantes ou órgãos de partidos políticos e os administradores de entidades autárquicas, bem como os dirigentes de pessoas jurídicas ou as pessoas naturais no exercício de atribuições do poder público, somente no que disser respeito a essas atribuições.**

**II. Não cabe mandado de segurança contra os atos de gestão comercial praticados pelos administradores de empresas públicas, de sociedade de economia mista e de concessionárias de serviço público.**

**III. O pedido de mandado de segurança poderá ser renovado dentro do prazo decadencial, se a decisão denegatória não lhe houver apreciado o mérito.**

**IV. Do indeferimento da inicial do mandado de segurança pelo juiz de primeiro grau caberá agravo e, quando a competência para o julgamento do mandado de segurança couber originariamente a um dos tribunais, do ato do relator caberão embargos para o órgão competente do tribunal que integre.**

**É correto o que se afirma em:**

- a) I, II, III e IV.
- b) I, II e III, somente.
- c) I, II e IV, somente.
- d) I, III e IV, somente.
- e) II e III, somente.

**19. Analise as seguintes assertivas:**

**I. São Receitas Correntes as receitas tributária, de contribuições, patrimonial, agropecuária, industrial, de serviços e outras e, ainda, as provenientes de recursos financeiros recebidos de outras pessoas de direito público ou privado, quando destinadas a atender despesas classificáveis em Despesas Correntes.**

**II. Classificam-se como investimentos as dotações para o planejamento e a execução de obras, inclusive as destinadas à aquisição de imóveis considerados necessários à realização destas últimas, bem como para os programas especiais de trabalho, aquisição de instalações, equipamentos e material permanente e constituição ou aumento do capital de empresas que não sejam de caráter comercial ou financeiro.**

**III. São Transferências de Capital as dotações para investimentos ou inversões financeiras que outras pessoas de direito público ou privado devam realizar, independentemente de contraprestação direta em bens ou serviços, constituindo essas transferências auxílios ou contribuições, segundo derivem diretamente da Lei de Orçamento ou de lei especialmente anterior, bem como as dotações para amortização da dívida pública.**

**Considerando-se o disposto na Lei n° 4.320/64, é correto o que se afirma em:**

- a) I, somente.
- b) II, somente.
- c) III somente.
- d) I e III, somente.
- e) I, II e III.

**20. Analise as seguintes assertivas:**

**I. O resultado do Banco Central do Brasil, apurado após a constituição ou reversão de reservas, constitui receita do Tesouro Nacional, e será transferido até o décimo dia útil subsequente à aprovação dos balanços semestrais.**

**II. O resultado negativo constituirá obrigação do Tesouro para com o Banco Central do Brasil e será consignado em dotação específica no orçamento.**

**III. O impacto e o custo fiscal das operações realizadas pelo Banco Central do Brasil serão demonstrados semestralmente, nos termos em que dispuser a lei de diretrizes orçamentárias da União.**



**IV. Os balanços semestrais do Banco Central do Brasil conterão notas explicativas sobre os custos da remuneração das disponibilidades do Tesouro Nacional e da manutenção das reservas cambiais e a rentabilidade de sua carteira de títulos, destacando os de emissão da União.**

**Tendo em vista o que dispõe a LC n° 101/2000, é correto o que se afirma em:**

- a) I, II, III e IV.
- b) I e II, somente.
- c) III e IV, somente.
- d) I, II e IV, somente.
- e) II, III e IV, somente.

**21. Assinale a alternativa que não se coaduna com as previsões constantes do Código de Processo Civil acerca da competência:**

- a) Dá-se a conexão entre 2 (duas) ou mais ações quando houver identidade quanto às partes e à causa de pedir, mas o pedido de uma, por ser mais amplo, abrange o das demais.
- b) Quando houver continência e a ação continente tiver sido proposta anteriormente, no processo relativo à ação contida será proferida sentença sem resolução de mérito, caso contrário, as ações serão necessariamente reunidas.
- c) A reunião das ações propostas em separado far-se-á no juízo prevento, onde serão decididas simultaneamente.
- d) O registro ou a distribuição da petição inicial torna prevento o juízo.
- e) Se o imóvel se achar situado em mais de um Estado, comarca, seção ou subseção judiciária, a competência territorial do juízo prevento estender-se-á sobre a totalidade do imóvel.

**22. Ambos os cônjuges serão necessariamente citados para a ação:**

- I. Que verse sobre direito real imobiliário, ainda que casados sob o regime de separação absoluta de bens.**
- II. Resultante de fato que diga respeito a ambos os cônjuges ou de ato praticado por eles.**
- III. Fundada em dívida contraída por um dos cônjuges a bem da família.**
- IV. Que tenha por objeto o reconhecimento, a constituição ou a extinção de ônus sobre imóvel de um ou de ambos os cônjuges.**
- V. Nas ações possessórias, a participação do cônjuge do autor ou do réu somente é indispensável nas hipóteses de comosse ou de ato por ambos praticado.**

**Tendo em vista o disposto no Código de Processo Civil, é correto o que se afirma em:**

- a) I, II, III, IV e V.
- b) II, III, IV e V, somente.
- c) III, IV e V, somente.
- d) II, III e V, somente.
- e) III e V, somente.

**23. Quando o valor da causa for irrisório ou inestimável, a multa por litigância de má fé poderá ser fixada em até \_\_\_\_\_ vezes o valor do salário-mínimo.**

**Assinale a alternativa que completa corretamente a lacuna acima, conforme disposição do Código de Processo Civil.**

- a) 3 (três)
- b) 5 (cinco)
- c) 10 (dez)
- d) 15 (quinze)
- e) 20 (vinte)

**24. Assinale a alternativa correta, tendo em vista o disposto no Código de Processo Civil acerca da desconsideração da personalidade jurídica:**

- a) O incidente de desconsideração da personalidade jurídica será instaurado somente a pedido da parte.
- b) O incidente de desconsideração é cabível no cumprimento de sentença e na execução fundada em título executivo extrajudicial, sendo vedada a sua utilização na fase de conhecimento.
- c) Instaurado o incidente, o sócio ou a pessoa jurídica será citado para manifestar-se e requerer as provas cabíveis no prazo de 15 (quinze) dias.
- d) Se a decisão do incidente de desconsideração da personalidade jurídica for proferida pelo relator, cabe apelação.
- e) Acolhido o pedido de desconsideração, a alienação ou a oneração de bens, havida em fraude de execução, será eficaz em relação ao requerente.

**25. Há impedimento do juiz, sendo-lhe vedado exercer suas funções no processo:**

- a) Amigo íntimo ou inimigo de qualquer das partes ou de seus advogados.
- b) Que receber presentes de pessoas que tiverem interesse na causa antes ou depois de iniciado o processo, que aconselhar alguma das partes acerca do objeto da causa ou que subministrar meios para atender às despesas do litígio.

- c) Quando qualquer das partes for sua credora ou devedora, de seu cônjuge ou companheiro ou de parentes destes, em linha reta até o terceiro grau, inclusive.
- d) Interessado no julgamento do processo em favor de qualquer das partes.
- e) Quando for sócio ou membro de direção ou de administração de pessoa jurídica parte no processo.

**26. Analise as seguintes assertivas:**

**I. Considera-se empresário quem exerce profissionalmente atividade econômica organizada para a produção ou a circulação de bens ou de serviços.**

**II. Não se considera empresário quem exerce profissão intelectual, de natureza científica, literária ou artística, ainda com o concurso de auxiliares ou colaboradores, salvo se o exercício da profissão constituir elemento de empresa.**

**III. É obrigatória a inscrição do empresário no Registro Público de Empresas Mercantis da respectiva sede, antes do início de sua atividade.**

**Tendo em vista as disposições do Código Civil, é correto o que se afirma em:**

- a) I, somente.
- b) I e II, somente.
- c) I e III, somente.
- d) II e III, somente.
- e) I, II e III.

**27. Assinale a alternativa em desacordo com as disposições do Código Civil:**

- a) Faculta-se aos cônjuges contratar sociedade, entre si ou com terceiros, desde que não tenham casado no regime da comunhão universal de bens, ou no da separação obrigatória.
- b) O empresário casado pode, sem necessidade de outorga conjugal, qualquer que seja o regime de bens, alienar os imóveis que integrem o patrimônio da empresa ou gravá-los de ônus real.
- c) Além de no Registro Civil, serão arquivados e averbados, no Registro Público de Empresas Mercantis, os pactos e declarações antenupciais do empresário, o título de doação, herança, ou legado, de bens clausulados de incomunicabilidade ou inalienabilidade.
- d) A sentença que decretar ou homologar a separação judicial do empresário e o ato de reconciliação não podem ser opostos a terceiros, antes de arquivados e averbados no Registro Público de Empresas Mercantis.
- e) Se o representante ou assistente do incapaz for pessoa que, por disposição de lei, não puder exercer atividade de empresário, nomeará, com a aprovação do juiz, um ou mais gerentes, eximindo esta aprovação o representante ou assistente do menor ou do interdito da responsabilidade pelos atos dos gerentes nomeados.

**28. Analise as seguintes assertivas:**

**I. Independentemente de seu objeto, considera-se empresária a sociedade por ações; e, simples, a cooperativa.**

**II. A constituição da sociedade em conta de participação independe de qualquer formalidade e pode provar-se por todos os meios de direito.**

**III. Nos sessenta dias subsequentes à sua constituição, a sociedade deverá requerer a inscrição do contrato social no Registro Civil das Pessoas Jurídicas do local de sua sede.**

**Diante do que dispõe o Código Civil, é correto o que se afirma em:**

- a) I, somente.
- b) II, somente.
- c) I e II, somente.
- d) I, II e III.
- e) III, somente.

**29. A decretação da falência ou o deferimento do processamento da recuperação judicial suspende o curso da prescrição e de todas as ações e execuções em face do devedor, inclusive aquelas dos credores particulares do sócio solidário, sendo que na recuperação judicial a suspensão, em hipóteses nenhuma, excederá o prazo de:**

- a) Um ano
- b) Cento e oitenta dias
- c) Noventa dias
- d) Dois anos
- e) Cinco anos

**30. Assinale a alternativa em desconformidade com o Código de Defesa do Consumidor:**

- a) Os produtos e serviços colocados no mercado de consumo não acarretarão riscos à saúde ou segurança dos consumidores, exceto os considerados normais e previsíveis em decorrência de sua natureza e fruição, obrigando-se os fornecedores, em qualquer hipótese, a dar as informações necessárias e adequadas a seu respeito.
- b) O fornecedor de produtos e serviços potencialmente nocivos ou perigosos à saúde ou segurança deverá informar, de maneira ostensiva e adequada, a respeito da sua nocividade ou periculosidade, sem prejuízo da adoção de outras medidas cabíveis em cada caso concreto.

- c) O fornecedor de produtos e serviços que, posteriormente à sua introdução no mercado de consumo, tiver conhecimento da periculosidade que apresentem, deverá comunicar o fato imediatamente às autoridades competentes e aos consumidores, mediante anúncios publicitários.
- d) Os anúncios publicitários a que se refere o parágrafo anterior serão veiculados na imprensa, rádio e televisão, às expensas da autoridade competente previamente comunicada.
- e) Sempre que tiverem conhecimento de periculosidade de produtos ou serviços à saúde ou segurança dos consumidores, a União, os Estados, o Distrito Federal e os Municípios deverão informá-los a respeito.

**31. Os fornecedores respondem solidariamente pelos vícios de quantidade do produto sempre que, respeitadas as variações decorrentes de sua natureza, seu conteúdo líquido for inferior às indicações constantes do recipiente, da embalagem, rotulagem ou de mensagem publicitária, podendo o consumidor exigir, alternativamente e à sua escolha:**

**I. O abatimento proporcional do preço.**

**II. Complementação do peso ou medida.**

**III. A substituição do produto por outro da mesma espécie, marca ou modelo, sem os aludidos vícios.**

**IV. A restituição imediata da quantia paga, monetariamente atualizada, sem prejuízo de eventuais perdas e danos.**

**É correto o que se afirma em:**

- a) I, II, III e IV.
- b) I, II e III, somente.
- c) II, III e IV, somente.
- d) III e IV, somente.
- e) I e II, somente.

**32. O direito de reclamar pelos vícios aparentes ou de fácil constatação caduca, a partir da entrega efetiva do produto ou do término da execução dos serviços, em:**

- a) Trinta dias, tratando-se de fornecimento de serviço e de produtos não duráveis; noventa dias, tratando-se de fornecimento de serviço e de produtos duráveis.
- b) Trinta dias, tratando-se de fornecimento de serviço e de produtos não duráveis; sessenta dias, tratando-se de fornecimento de serviço e de produtos duráveis.
- c) Trinta dias, tratando-se de fornecimento de serviço e de produtos não duráveis; trinta dias, tratando-se de fornecimento de serviço e de produtos duráveis.
- d) Sessenta dias, tratando-se de fornecimento de serviço e de produtos não duráveis; noventa dias, tratando-se de fornecimento de serviço e de produtos duráveis.
- e) Sessenta dias, tratando-se de fornecimento de serviço e de produtos não duráveis; sessenta dias, tratando-se de fornecimento de serviço e de produtos duráveis.

**33. Analise as seguintes assertivas:**

**I. É enganosa qualquer modalidade de informação ou comunicação de caráter publicitário inteira ou parcialmente falsa, ou, por qualquer outro modo, mesmo por omissão, capaz de induzir a erro o consumidor a respeito da natureza, características, qualidade, quantidade, propriedade, origem, preço e de quaisquer outros dados sobre produtos ou serviços.**

**II. É enganosa, por omissão, a publicidade que deixar de informar sobre dado essencial do produto ou serviço a ser colocado à disposição dos consumidores.**

**III. É abusiva, entre outras, a publicidade discriminatória de qualquer natureza, que incite à violência, explore o medo ou a superstição, se aproveite da deficiência de julgamento e da inexperiência da criança, desrespeite valores ambientais, seja capaz de induzir o consumidor a se comportar de forma prejudicial ou perigosa à sua saúde ou segurança, ou que viole normas legais ou regulamentares de controle da publicidade.**

**Tendo em vista o que dispõe o Decreto n° 2.181/1997, é correto o que se afirma em:**

- a) I, II e III.
- b) I e II, somente.
- c) I e III, somente.
- d) II e III, somente.
- e) II, somente.

**34. Acerca das Comissões de Conciliação Prévia, assinale a alternativa em desacordo com o disposto na CLT:**

- a) As empresas e os sindicatos podem instituir Comissões de Conciliação Prévia, de composição paritária, com representante dos empregados e dos empregadores, com a atribuição de tentar conciliar os conflitos individuais do trabalho. Parágrafo único. As Comissões referidas no caput deste artigo poderão ser constituídas por grupos de empresas ou ter caráter intersindical.
- b) É vedada a dispensa dos representantes dos empregados membros da Comissão de Conciliação Prévia, titulares e suplentes, até um ano após o final do mandato, salvo se cometerem falta grave, nos termos da lei.

- c) O representante dos empregados desenvolverá seu trabalho normal na empresa afastando-se de suas atividades apenas quando convocado para atuar como conciliador, não se computando como tempo de trabalho efetivo o despendido nessa atividade.
- d) O termo de conciliação é título executivo extrajudicial e terá eficácia liberatória geral, exceto quanto às parcelas expressamente ressalvadas.
- e) As Comissões de Conciliação Prévia têm prazo de dez dias para a realização da sessão de tentativa de conciliação a partir da provocação do interessado.

**35. Das decisões definitivas ou terminativas das Varas e Juízos, no prazo de 8 (oito) dias, caberá:**

- a) Apelação  
 b) Recurso Ordinário  
 c) Agravo de instrumento  
 d) Agravo de petição  
 e) Recurso de Revista

**LÍNGUA PORTUGUESA**

**Texto para as próximas cinco questões:**

**“O cego Estrelinho”  
 Mia Couto**

O cego Estrelinho era pessoa de nenhuma vez: sua história poderia ser contada e descontada não fosse seu guia, Gigito Efraim. A mão de Gigito conduziu o desvistado por tempos e idades. Aquela mão era repartidamente comum, extensão de um no outro, siamensal. E assim era quase de nascença. Memória de Estrelinho tinha cinco dedos e eram os de Gigito postos, em aperto, na sua própria mão.

O cego, curioso, queria saber de tudo. Ele não fazia cerimônia no viver. O sempre lhe era pouco e o tudo insuficiente. Dizia, deste modo:

— Tenho que viver já, senão esqueço-me.

Gigitinho, porém, o que descrevia era o que não havia. O mundo que ele minuciava eram fantasias e rendilhados. A imaginação do guia era mais profícua que papaeira. O cego enchia a boca de águas:

— Que maravilhação esse mundo. Me conte tudo, Gigito!

A mão do guia era, afinal, o manuscrito da mentira. Gigito Efraim estava como nunca esteve S. Tomé: via para não crer. O condutor falava pela ponta dos dedos. Desfolhava o universo, aberto em folhas. A ideiação dele era tal que mesmo o cego, por vezes, acreditava ver. O outro lhe encorajava esses breves enganos:

— Desbengale-se, você está escolhendo a boa procedência!

Mentira: Estrelinho continuava sem ver uma palmeira à frente do nariz. Contudo, o cego não se conformava em suas escurezas. Ele cumpria o ditado: não tinha perna e queria dar o pontapé. Só à noite, ele desalentava, sofrendo medos mais antigos que a humanidade. Entendia aquilo que, na raça humana, é menos primitivo: o animal.

— Na noite aflige não haver luz?

— Aflição é ter um pássaro branco esvoando dentro do sono.

Pássaro branco? No sono? Lugar de ave é nas alturas. Dizem até que Deus fez o céu para justificar os pássaros. Estrelinho disfarçava o medo dos vaticínios, subterfugindo:

— E agora, Gigitinho? Agora, olhando assim para cima, estou face ao céu?

Que podia o outro responder? O céu do cego fica em toda a parte. Estrelinho perdia o pé era quando a noite chegava e seu mestre adormecia. Era como se um novo escuro nele se estreasse em nó cego. Devagaroso e sorrateiro ele aninhava sua mão na mão do guia. Só assim adormecia. A razão da concha é a timidez da amêijoia? Na manhã seguinte, o cego lhe confessava: se você morrer, tenho que morrer logo no imediato. Senão-me: como acerto o caminho para o céu?

Foi no mês de dezembro que levaram Gigitinho. Lhe tiraram do mundo para pôr na guerra: obrigavam os serviços militares. O cego reclamou: que o moço inatingia a idade. E que o serviço que ele a si prestava era vital e vitalício. O guia chamou Estrelinho à parte e lhe tranquilizou:

— Não vai ficar sozinhandando por aí. Minha mana já mandei para ficar no meu lugar.

O cego estendeu o braço a querer tocar uma despedida. Mas o outro já não estava lá. Ou estava e se desviara, propositado? E sem água ida nem vinda, Estrelinho escutou o amigo se afastar, engolido, esponginquo, inevisível. Pela pimeira vez, Estrelinho se sentiu invalidado.

— Agora, só agora, sou cego que não vê.

(...)

**COUTO, Mia. Estórias abensonhadas. Rio de Janeiro: Nova Fronteira, 1996. (Pág 23 e 24).**

**36. Quanto à interpretação do fragmento do conto, podemos afirmar que:**

- a) Gigito Efraim era o guia de Estrelinho há pouquíssimo tempo.  
 b) Estrelinho era cego de nascença.  
 c) Gigito descrevia o mundo para Estrelinho de forma denotativa.  
 d) Gigito foi convocado pelo exército para ser guia de cegos na guerra.  
 e) Gigito descrevia o mundo para Estrelinho de forma conotativa.

**37. No período “O sempre lhe era pouco e o tudo insuficiente”, o pronome “LHE” exerce a função sintática de:**

- a) Objeto Direto
- b) Objeto Indireto
- c) Complemento Nominal
- d) Adjunto Adnominal
- e) Objeto Direto Preposicionado

**38. Na oração “A mão de Gigito conduziu o desvestido por tempos e idades”, o autor faz uso de um neologismo, assim como no decorrer de toda a obra em questão. Contudo, o neologismo só se torna possível pela utilização dos elementos mórficos naquilo que a gramática normativa pontua como Processo de Formação das Palavras. Levando em consideração apenas o recurso morfológico, qual Processo de Formação foi utilizado?**

- a) Derivação Sufixal
- b) Derivação Prefixal
- c) Derivação Regressiva
- d) Derivação Imprópria
- e) Derivação Parassintética

**39. No terceiro período do décimo terceiro parágrafo, temos:**

- a) Uma oração
- b) Duas orações
- c) Três orações
- d) Quatro orações
- e) Cinco orações

**40. No último parágrafo do fragmento do conto “— Agora, só agora, sou cego que não vê”, a oração subordinada presente classifica-se corretamente como:**

- a) Oração Subordinada Adjetiva Restritiva
- b) Oração Subordinada Adverbial Causal
- c) Oração Subordinada Substantiva Subjetiva
- d) Oração Subordinada Adverbial Explicativa
- e) Oração Subordinada Adjetiva Explicativa

**RASCUNHO**





PREFEITURA DE TELÊMACO BORBA - ESTADO DO PARANÁ- **EDITAL Nº 001-2016 - CONCURSO PÚBLICO**

**VESPERTINO – 29/05/2016 – NÍVEL SUPERIOR**

**PROVA OBJETIVA NÚMERO**

**3**

**CARGO: PROCURADOR DO MUNICÍPIO**

**Leia atentamente as INSTRUÇÕES:**

1. Confira seus dados no cartão-resposta: nome, número de inscrição e o curso para o qual se inscreveu.
2. **MARQUE no seu cartão-resposta o número da sua prova** (não será corrigido o cartão-resposta que não tiver marcado o número da prova) e **Assine** seu cartão-resposta.
3. Aguarde a autorização do Fiscal para abrir o caderno de prova. Ao receber a ordem do fiscal, confira o caderno de prova com muita atenção. Nenhuma reclamação sobre o total de questões ou falha de impressão será aceita depois de iniciada a prova.
4. O cartão-resposta não será substituído, salvo se contiver erro de impressão.
5. Preencha toda a área do cartão-resposta correspondente à alternativa de sua escolha, com caneta esferográfica (tinta azul ou preta), sem ultrapassar as bordas. As marcações duplas, ou rasuradas, com corretivo, ou marcadas diferentemente do modelo estabelecido no cartão-resposta poderão ser anuladas.
6. Sua prova tem **40** questões, com **5** alternativas.
7. Cabe apenas ao candidato a interpretação das questões, **o fiscal** não poderá fazer nenhuma interferência.
8. A prova será realizada com duração máxima de **3 (três) horas**, incluído o tempo para a realização da Prova Objetiva de múltipla escolha e o preenchimento do cartão-resposta.
9. O candidato poderá retirar-se do local de realização das provas somente **1 (uma) hora** após o seu início, sem levar o caderno de prova.
10. O candidato poderá levar o caderno de provas, assim como anotação contendo transcrição do seu cartão-resposta, somente **1h30min** (uma hora e trinta minutos) após o início da realização da prova.
11. Ao terminar a prova, o candidato deverá entregar ao fiscal de sala o cartão-resposta preenchido e **ASSINADO**.
12. Os **3 (três)** candidatos, que terminarem a prova por último, deverão permanecer na sala, e só poderão sair juntos após o fechamento do envelope, contendo os cartões-resposta dos candidatos presentes e ausentes, e assinarem no lacre do referido envelope, atestando que este foi devidamente lacrado.
13. Durante todo o tempo em que permanecer no local onde está ocorrendo o concurso, o candidato deverá, manter o celular desligado e sem bateria, só sendo permitido ligar depois de ultrapassar o portão de saída do prédio.
14. Não será permitido ao candidato fumar na sala de provas, bem como nas dependências.
15. Depois de terminar a prova e entregar ao fiscal o cartão-resposta, preenchido e assinado, não será mais permitido ao candidato o uso do banheiro e bebedouro.

**BOA PROVA!**

**CONHECIMENTOS ESPECÍFICOS**

**01. A Constituição da República Federativa do Brasil é classificada como:**

- a) Ortodoxa
- b) Outorgada
- c) Concisa
- d) Eclética
- e) Semirrígida

**02. Assinale a alternativa correta quanto ao sistema brasileiro de controle de constitucionalidade:**

- a) No Brasil, prevalece o entendimento de possibilidade de declaração de inconstitucionalidade de normas constitucionais originárias.
- b) O controle concentrado de constitucionalidade somente foi introduzido no Brasil com a promulgação da Constituição da República de 1988, existindo até então somente na modalidade de controle difuso de constitucionalidade.
- c) O Poder Constituinte decorrente, pelo princípio da simetria, ao ser exercido pelos Estados deve obediência e observância às normas da Constituição da República, inclusive no que tange ao Preâmbulo, que possui força normativa, em conformidade com o entendimento teórico majoritário e de acordo com o entendimento do Supremo Tribunal Federal.
- d) O sistema de controle de constitucionalidade brasileiro admite a inconstitucionalidade superveniente como efeito intertemporal constitucional.
- e) Os institutos da desconstitucionalização e repristinação não foram expressamente admitidos quando do advento da Constituição da República de 1988, não possuindo aplicabilidade no ordenamento jurídico brasileiro como efeito intertemporal constitucional.

**03. Segundo o censo do IBGE de 2010, o Município de Telêmaco Borba possui 69.872 habitantes. Assim, para a composição da Câmara Municipal, será observado o limite máximo de:**

- a) 15 (quinze) vereadores
- b) 17 (dezesete) vereadores
- c) 19 (dezenove) vereadores
- d) 21 (vinte e um) vereadores
- e) 23 (vinte e três) vereadores

**04. Ao sistema único de saúde compete, além de outras atribuições, nos termos da lei:**

- I. Controlar e fiscalizar procedimentos, produtos e substâncias de interesse para a saúde e participar da produção de medicamentos, equipamentos, imunobiológicos, hemoderivados e outros insumos.
- II. Executar as ações de vigilância sanitária e epidemiológica, bem como as de saúde do trabalhador.
- III. O ordenar a formação de recursos humanos na área de saúde, participar da formulação da política e da execução das ações de saneamento básico; e incrementar, em sua área de atuação, o desenvolvimento científico e tecnológico e a inovação.
- IV. Fiscalizar e inspecionar alimentos, compreendido o controle de seu teor nutricional, bem como bebidas e águas para consumo humano.
- V. Participar do controle e fiscalização da produção, transporte, guarda e utilização de substâncias e produtos psicoativos, tóxicos e radioativos e colaborar na proteção do meio ambiente, nele compreendido o do trabalho.

**É correto o que se afirma em:**

- a) I, II e III, somente.
- b) II, IV e V, somente.
- c) II e IV, somente.
- d) II, III e IV, somente.
- e) I, II, III, IV e V.

**05. Analise as seguintes assertivas:**

- I. As políticas para a primeira infância serão articuladas com as instituições de formação profissional, visando à adequação dos cursos às características e necessidades das crianças e à formação de profissionais qualificados, para possibilitar a expansão com qualidade dos diversos serviços.
- II. Os profissionais que atuam nos diferentes ambientes de execução das políticas e programas destinados à criança na primeira infância terão acesso garantido e prioritário à qualificação, sob a forma de especialização e atualização, em programas que contemplem, entre outros temas, a especificidade da primeira infância, a estratégia da intersectorialidade na promoção do desenvolvimento integral e a prevenção e a proteção contra toda forma de violência contra a criança.
- III. As políticas públicas terão, necessariamente, componentes de monitoramento e coleta sistemática de dados, avaliação periódica dos elementos que constituem a oferta dos serviços à criança e divulgação dos seus resultados.

**Está em conformidade com o disposto na Lei n° 13.257/2016:**

- a) I, II e III.



- b) I e II, somente.
- c) I e III, somente.
- d) II e III, somente.
- e) I, somente.

**06. Para os fins da Lei n° 13.019/2014, considera-se parceria:**

- a) Órgão criado pelo poder público para atuar como instância consultiva, na respectiva área de atuação, na formulação, implementação, acompanhamento, monitoramento e avaliação de políticas públicas.
- b) Conjunto de direitos, responsabilidades e obrigações decorrentes de relação jurídica estabelecida formalmente entre a administração pública e organizações da sociedade civil, em regime de mútua cooperação, para a consecução de finalidades de interesse público e recíproco, mediante a execução de atividade ou de projeto expressos em termos de colaboração, em termos de fomento ou em acordos de cooperação.
- c) Órgão colegiado destinado a processar e julgar chamamentos públicos, constituído por ato publicado em meio oficial de comunicação, assegurada a participação de pelo menos um servidor ocupante de cargo efetivo ou emprego permanente do quadro de pessoal da administração pública.
- d) Procedimento em que se analisa e se avalia a execução da parceria, pelo qual seja possível verificar o cumprimento do objeto da parceria e o alcance das metas e dos resultados previstos.
- e) Instrumento por meio do qual são formalizadas as parcerias estabelecidas pela administração pública com organizações da sociedade civil para a consecução de finalidades de interesse público e recíproco propostas pelas organizações da sociedade civil, que envolvam a transferência de recursos financeiros.

**07. Assinale a alternativa de acordo com a Lei Municipal de Telêmaco Borba n° 1.883/2012:**

- a) A nomeação precederá a convocação e será feita pela imprensa oficial, através de meio eletrônico ou jornal de grande circulação.
- b) Após a assinatura do termo de comparecimento, o candidato terá o prazo de 10 (dez) dias úteis para a apresentação da documentação exigida, na forma da lei e do edital de concurso, e da declaração se detém outro cargo, função ou emprego na Administração Pública, ou se percebe proventos de inatividade.
- c) As funções gratificadas destinam-se ao desempenho das atribuições de direção, chefia e assessoramento para as quais não se tenha criado cargo em comissão, especificadas na lei que instituir o plano de cargos e carreiras.
- d) Serão designados para o exercício de função gratificada servidores de cargo efetivo ou de cargo em comissão do Município.
- e) É vedada a designação de servidor em estágio probatório para o exercício de função gratificada.

**08. Assinale a alternativa em desacordo com a Lei Anticorrupção (n° 12.846/13):**

- a) Subsiste a responsabilidade da pessoa jurídica na hipótese de alteração contratual, transformação, incorporação, fusão ou cisão societária.
- b) As sociedades controladoras, controladas, coligadas ou, no âmbito do respectivo contrato, as consorciadas serão solidariamente responsáveis pela prática dos atos previstos na Lei, restringindo-se tal responsabilidade à obrigação de pagamento de multa e reparação integral do dano causado.
- c) A responsabilização da pessoa jurídica exclui a responsabilidade individual de seus dirigentes ou administradores ou de qualquer pessoa natural, autora, coautora ou partícipe do ato ilícito.
- d) A publicação extraordinária da decisão condenatória ocorrerá na forma de extrato de sentença, a expensas da pessoa jurídica, em meios de comunicação de grande circulação na área da prática da infração e de atuação da pessoa jurídica ou, na sua falta, em publicação de circulação nacional, bem como por meio de afixação de edital, pelo prazo mínimo de 30 (trinta) dias, no próprio estabelecimento ou no local de exercício da atividade, de modo visível ao público, e no sítio eletrônico na rede mundial de computadores.
- e) A personalidade jurídica poderá ser desconsiderada sempre que utilizada com abuso do direito para facilitar, encobrir ou dissimular a prática dos atos ilícitos previstos nesta Lei ou para provocar confusão patrimonial, sendo estendidos todos os efeitos das sanções aplicadas à pessoa jurídica aos seus administradores e sócios com poderes de administração, observados o contraditório e a ampla defesa.

**09. No caso de indeferimento de acesso a informações ou às razões da negativa do acesso, poderá o interessado interpor recurso contra a decisão no prazo de \_\_\_\_\_ dias a contar da sua ciência.**

**Assinale a alternativa que completa corretamente a lacuna acima em conformidade com o disposto na Lei n° 12.527/2011:**

- a) 90 (noventa)
- b) 60 (sessenta)
- c) 30 (trinta)
- d) 10 (dez)
- e) 05 (cinco)

**10. Sobre o direito de resposta ou retificação do ofendido em matéria divulgada, publicada ou transmitida por veículo de comunicação social (Lei n° 13.188/15), assinale a alternativa correta:**



- a) A retratação ou retificação espontânea, ainda que a elas sejam conferidos os mesmos destaque, publicidade, periodicidade e dimensão do agravo, impedem o exercício do direito de resposta pelo ofendido, prejudicando a ação de reparação por dano moral.
- b) Para os efeitos da Lei, considera-se matéria qualquer reportagem, nota ou notícia divulgada por veículo de comunicação social, independentemente do meio ou da plataforma de distribuição, publicação ou transmissão que utilize, cujo conteúdo atente, ainda que por equívoco de informação, contra a honra, a intimidade, a reputação, o conceito, o nome, a marca ou a imagem de pessoa física ou jurídica identificada ou passível de identificação.
- c) O direito de resposta ou retificação deve ser exercido no prazo prescricional de 30 (trinta) dias, contado da data de cada divulgação, publicação ou transmissão da matéria ofensiva, mediante correspondência com aviso de recebimento encaminhada diretamente ao veículo de comunicação social ou, inexistindo pessoa jurídica constituída, a quem por ele responda, independentemente de quem seja o responsável intelectual pelo agravo.
- d) O ajuizamento de ação cível ou penal contra o veículo de comunicação ou seu responsável com fundamento na divulgação, publicação ou transmissão ofensiva impede o exercício administrativo do direito de resposta ou retificação previsto nesta Lei.
- e) O juiz poderá impor multa diária, a contar do trânsito em julgado, somente a pedido do autor, sendo vedado o arbitramento de ofício.

**11. Analise as seguintes assertivas:**

**I. O Imposto Sobre Serviços de Qualquer Natureza (ISSQN), de competência dos Municípios e do Distrito Federal, tem como fato gerador a prestação de serviços constantes da lista anexa à Lei Complementar n° 116/2003, ainda que esses não se constituam como atividade preponderante do prestador.**

**II. O imposto incide também sobre o serviço proveniente do exterior do País ou cuja prestação se tenha iniciado no exterior do País.**

**III. Ressalvadas as exceções expressas na lista anexa, os serviços nela mencionados não ficam sujeitos ao Imposto Sobre Operações Relativas à Circulação de Mercadorias e Prestações de Serviços de Transporte Interestadual e Intermunicipal e de Comunicação – ICMS, ainda que sua prestação envolva fornecimento de mercadorias.**

**IV. O ISSQN incide ainda sobre os serviços prestados mediante a utilização de bens e serviços públicos explorados economicamente mediante autorização, permissão ou concessão, com o pagamento de tarifa, preço ou pedágio pelo usuário final do serviço.**

**V. A incidência do imposto não depende da denominação dada ao serviço prestado.**

**Está em conformidade com o disposto na Lei Complementar n° 123/2006, o que se afirma em:**

- a) I, II, III, IV e V.  
b) II, III e IV, somente.  
c) I, IV e V, somente.  
d) II e V, somente.  
e) I, II e V, somente.

**12. Assinale a alternativa em desconformidade com a Lei sobre a cobrança judicial da dívida ativa da Fazenda Pública (Lei n° 6.830/80):**

- a) Até a decisão de primeira instância, a Certidão de Dívida Ativa poderá ser emendada ou substituída, assegurada ao executado a devolução do prazo para embargos.
- b) A Dívida Ativa regularmente inscrita goza da presunção de certeza e liquidez.
- c) O executado ausente do País será citado por carta rogatória executória, com prazo de 60 (sessenta) dias para quitação do débito.
- d) A garantia da execução, por meio de depósito em dinheiro, fiança bancária ou seguro garantia, produz os mesmos efeitos da penhora.
- e) Se, antes da decisão de primeira instância, a inscrição de Dívida Ativa for, a qualquer título, cancelada, a execução fiscal será extinta, sem qualquer ônus para as partes.

**13. Analise as assertivas abaixo sobre a Lei 12.016/09, que disciplina o mandado de segurança individual e coletivo:**

**I. Equiparam-se às autoridades, para os efeitos desta Lei, os representantes ou órgãos de partidos políticos e os administradores de entidades autárquicas, bem como os dirigentes de pessoas jurídicas ou as pessoas naturais no exercício de atribuições do poder público, somente no que disser respeito a essas atribuições.**

**II. Não cabe mandado de segurança contra os atos de gestão comercial praticados pelos administradores de empresas públicas, de sociedade de economia mista e de concessionárias de serviço público.**

**III. O pedido de mandado de segurança poderá ser renovado dentro do prazo decadencial, se a decisão denegatória não lhe houver apreciado o mérito.**

**IV. Do indeferimento da inicial do mandado de segurança pelo juiz de primeiro grau caberá agravo e, quando a competência para o julgamento do mandado de segurança couber originariamente a um dos tribunais, do ato do relator caberão embargos para o órgão competente do tribunal que integre.**

**É correto o que se afirma em:**

- a) I, II, III e IV.

- b) I, II e III, somente.
- c) I, II e IV, somente.
- d) I, III e IV, somente.
- e) II e III, somente.

**14. Analise as seguintes assertivas:**

**I. São Receitas Correntes as receitas tributária, de contribuições, patrimonial, agropecuária, industrial, de serviços e outras e, ainda, as provenientes de recursos financeiros recebidos de outras pessoas de direito público ou privado, quando destinadas a atender despesas classificáveis em Despesas Correntes.**

**II. Classificam-se como investimentos as dotações para o planejamento e a execução de obras, inclusive as destinadas à aquisição de imóveis considerados necessários à realização destas últimas, bem como para os programas especiais de trabalho, aquisição de instalações, equipamentos e material permanente e constituição ou aumento do capital de empresas que não sejam de caráter comercial ou financeiro.**

**III. São Transferências de Capital as dotações para investimentos ou inversões financeiras que outras pessoas de direito público ou privado devam realizar, independentemente de contraprestação direta em bens ou serviços, constituindo essas transferências auxílios ou contribuições, segundo derivem diretamente da Lei de Orçamento ou de lei especialmente anterior, bem como as dotações para amortização da dívida pública.**

**Considerando-se o disposto na Lei n° 4.320/64, é correto o que se afirma em:**

- a) I, somente.
- b) II, somente.
- c) III somente.
- d) I e III, somente.
- e) I, II e III.

**15. Analise as seguintes assertivas:**

**I. O resultado do Banco Central do Brasil, apurado após a constituição ou reversão de reservas, constitui receita do Tesouro Nacional, e será transferido até o décimo dia útil subsequente à aprovação dos balanços semestrais.**

**II. O resultado negativo constituirá obrigação do Tesouro para com o Banco Central do Brasil e será consignado em dotação específica no orçamento.**

**III. O impacto e o custo fiscal das operações realizadas pelo Banco Central do Brasil serão demonstrados semestralmente, nos termos em que dispuser a lei de diretrizes orçamentárias da União.**

**IV. Os balanços semestrais do Banco Central do Brasil conterão notas explicativas sobre os custos da remuneração das disponibilidades do Tesouro Nacional e da manutenção das reservas cambiais e a rentabilidade de sua carteira de títulos, destacando os de emissão da União.**

**Tendo em vista o que dispõe a LC n° 101/2000, é correto o que se afirma em:**

- a) I, II, III e IV.
- b) I e II, somente.
- c) III e IV, somente.
- d) I, II e IV, somente.
- e) II, III e IV, somente.

**16. Assinale a alternativa que não se coaduna com as previsões constantes do Código de Processo Civil acerca da competência:**

- a) Dá-se a conexão entre 2 (duas) ou mais ações quando houver identidade quanto às partes e à causa de pedir, mas o pedido de uma, por ser mais amplo, abrange o das demais.
- b) Quando houver continência e a ação continente tiver sido proposta anteriormente, no processo relativo à ação contida será proferida sentença sem resolução de mérito, caso contrário, as ações serão necessariamente reunidas.
- c) A reunião das ações propostas em separado far-se-á no juízo prevento, onde serão decididas simultaneamente.
- d) O registro ou a distribuição da petição inicial torna prevento o juízo.
- e) Se o imóvel se achar situado em mais de um Estado, comarca, seção ou subseção judiciária, a competência territorial do juízo prevento estender-se-á sobre a totalidade do imóvel.

**17. Ambos os cônjuges serão necessariamente citados para a ação:**

**I. Que verse sobre direito real imobiliário, ainda que casados sob o regime de separação absoluta de bens.**

**II. Resultante de fato que diga respeito a ambos os cônjuges ou de ato praticado por eles.**

**III. Fundada em dívida contraída por um dos cônjuges a bem da família.**

**IV. Que tenha por objeto o reconhecimento, a constituição ou a extinção de ônus sobre imóvel de um ou de ambos os cônjuges.**

**V. Nas ações possessórias, a participação do cônjuge do autor ou do réu somente é indispensável nas hipóteses de composses ou de ato por ambos praticado.**

**Tendo em vista o disposto no Código de Processo Civil, é correto o que se afirma em:**

- a) I, II, III, IV e V.



- b) II, III, IV e V, somente.
- c) III, IV e V, somente.
- d) II, III e V, somente.
- e) III e V, somente.

**18. Quando o valor da causa for irrisório ou inestimável, a multa por litigância de má fé poderá ser fixada em até \_\_\_\_\_ vezes o valor do salário-mínimo.**

**Assinale a alternativa que completa corretamente a lacuna acima, conforme disposição do Código de Processo Civil.**

- a) 3 (três)
- b) 5 (cinco)
- c) 10 (dez)
- d) 15 (quinze)
- e) 20 (vinte)

**19. Assinale a alternativa correta, tendo em vista o disposto no Código de Processo Civil acerca da desconsideração da personalidade jurídica:**

- a) O incidente de desconsideração da personalidade jurídica será instaurado somente a pedido da parte.
- b) O incidente de desconsideração é cabível no cumprimento de sentença e na execução fundada em título executivo extrajudicial, sendo vedada a sua utilização na fase de conhecimento.
- c) Instaurado o incidente, o sócio ou a pessoa jurídica será citado para manifestar-se e requerer as provas cabíveis no prazo de 15 (quinze) dias.
- d) Se a decisão do incidente de desconsideração da personalidade jurídica for proferida pelo relator, cabe apelação.
- e) Acolhido o pedido de desconsideração, a alienação ou a oneração de bens, havida em fraude de execução, será eficaz em relação ao requerente.

**20. Há impedimento do juiz, sendo-lhe vedado exercer suas funções no processo:**

- a) Amigo íntimo ou inimigo de qualquer das partes ou de seus advogados.
- b) Que receber presentes de pessoas que tiverem interesse na causa antes ou depois de iniciado o processo, que aconselhar alguma das partes acerca do objeto da causa ou que subministrar meios para atender às despesas do litígio.
- c) Quando qualquer das partes for sua credora ou devedora, de seu cônjuge ou companheiro ou de parentes destes, em linha reta até o terceiro grau, inclusive.
- d) Interessado no julgamento do processo em favor de qualquer das partes.
- e) Quando for sócio ou membro de direção ou de administração de pessoa jurídica parte no processo.

**21. Analise as seguintes assertivas:**

**I. Considera-se empresário quem exerce profissionalmente atividade econômica organizada para a produção ou a circulação de bens ou de serviços.**

**II. Não se considera empresário quem exerce profissão intelectual, de natureza científica, literária ou artística, ainda com o concurso de auxiliares ou colaboradores, salvo se o exercício da profissão constituir elemento de empresa.**

**III. É obrigatória a inscrição do empresário no Registro Público de Empresas Mercantis da respectiva sede, antes do início de sua atividade.**

**Tendo em vista as disposições do Código Civil, é correto o que se afirma em:**

- a) I, somente.
- b) I e II, somente.
- c) I e III, somente.
- d) II e III, somente.
- e) I, II e III.

**22. Assinale a alternativa em desacordo com as disposições do Código Civil:**

- a) Faculta-se aos cônjuges contratar sociedade, entre si ou com terceiros, desde que não tenham casado no regime da comunhão universal de bens, ou no da separação obrigatória.
- b) O empresário casado pode, sem necessidade de outorga conjugal, qualquer que seja o regime de bens, alienar os imóveis que integrem o patrimônio da empresa ou gravá-los de ônus real.
- c) Além de no Registro Civil, serão arquivados e averbados, no Registro Público de Empresas Mercantis, os pactos e declarações antenupciais do empresário, o título de doação, herança, ou legado, de bens clausulados de incomunicabilidade ou inalienabilidade.
- d) A sentença que decretar ou homologar a separação judicial do empresário e o ato de reconciliação não podem ser opostos a terceiros, antes de arquivados e averbados no Registro Público de Empresas Mercantis.
- e) Se o representante ou assistente do incapaz for pessoa que, por disposição de lei, não puder exercer atividade de empresário, nomeará, com a aprovação do juiz, um ou mais gerentes, eximindo esta aprovação o representante ou assistente do menor ou do interdito da responsabilidade pelos atos dos gerentes nomeados.



**23. Analise as seguintes assertivas:**

**I. Independentemente de seu objeto, considera-se empresária a sociedade por ações; e, simples, a cooperativa.**

**II. A constituição da sociedade em conta de participação independe de qualquer formalidade e pode provar-se por todos os meios de direito.**

**III. Nos sessenta dias subsequentes à sua constituição, a sociedade deverá requerer a inscrição do contrato social no Registro Civil das Pessoas Jurídicas do local de sua sede.**

**Diante do que dispõe o Código Civil, é correto o que se afirma em:**

- a) I, somente.
- b) II, somente.
- c) I e II, somente.
- d) I, II e III.
- e) III, somente.

**24. A decretação da falência ou o deferimento do processamento da recuperação judicial suspende o curso da prescrição e de todas as ações e execuções em face do devedor, inclusive aquelas dos credores particulares do sócio solidário, sendo que na recuperação judicial a suspensão, em hipóteses nenhuma, excederá o prazo de:**

- a) Um ano
- b) Cento e oitenta dias
- c) Noventa dias
- d) Dois anos
- e) Cinco anos

**25. Assinale a alternativa em desconformidade com o Código de Defesa do Consumidor:**

a) Os produtos e serviços colocados no mercado de consumo não acarretarão riscos à saúde ou segurança dos consumidores, exceto os considerados normais e previsíveis em decorrência de sua natureza e fruição, obrigando-se os fornecedores, em qualquer hipótese, a dar as informações necessárias e adequadas a seu respeito.

b) O fornecedor de produtos e serviços potencialmente nocivos ou perigosos à saúde ou segurança deverá informar, de maneira ostensiva e adequada, a respeito da sua nocividade ou periculosidade, sem prejuízo da adoção de outras medidas cabíveis em cada caso concreto.

c) O fornecedor de produtos e serviços que, posteriormente à sua introdução no mercado de consumo, tiver conhecimento da periculosidade que apresentem, deverá comunicar o fato imediatamente às autoridades competentes e aos consumidores, mediante anúncios publicitários.

d) Os anúncios publicitários a que se refere o parágrafo anterior serão veiculados na imprensa, rádio e televisão, às expensas da autoridade competente previamente comunicada.

e) Sempre que tiverem conhecimento de periculosidade de produtos ou serviços à saúde ou segurança dos consumidores, a União, os Estados, o Distrito Federal e os Municípios deverão informá-los a respeito.

**26. Os fornecedores respondem solidariamente pelos vícios de quantidade do produto sempre que, respeitadas as variações decorrentes de sua natureza, seu conteúdo líquido for inferior às indicações constantes do recipiente, da embalagem, rotulagem ou de mensagem publicitária, podendo o consumidor exigir, alternativamente e à sua escolha:**

**I. O abatimento proporcional do preço.**

**II. Complementação do peso ou medida.**

**III. A substituição do produto por outro da mesma espécie, marca ou modelo, sem os aludidos vícios.**

**IV. A restituição imediata da quantia paga, monetariamente atualizada, sem prejuízo de eventuais perdas e danos.**

**É correto o que se afirma em:**

- a) I, II, III e IV.
- b) I, II e III, somente.
- c) II, III e IV, somente.
- d) III e IV, somente.
- e) I e II, somente.

**27. O direito de reclamar pelos vícios aparentes ou de fácil constatação caduca, a partir da entrega efetiva do produto ou do término da execução dos serviços, em:**

a) Trinta dias, tratando-se de fornecimento de serviço e de produtos não duráveis; noventa dias, tratando-se de fornecimento de serviço e de produtos duráveis.

b) Trinta dias, tratando-se de fornecimento de serviço e de produtos não duráveis; sessenta dias, tratando-se de fornecimento de serviço e de produtos duráveis.

c) Trinta dias, tratando-se de fornecimento de serviço e de produtos não duráveis; trinta dias, tratando-se de fornecimento de serviço e de produtos duráveis.



- d) Sessenta dias, tratando-se de fornecimento de serviço e de produtos não duráveis; noventa dias, tratando-se de fornecimento de serviço e de produtos duráveis.
- e) Sessenta dias, tratando-se de fornecimento de serviço e de produtos não duráveis; sessenta dias, tratando-se de fornecimento de serviço e de produtos duráveis.

**28. Analise as seguintes assertivas:**

- I. É enganosa qualquer modalidade de informação ou comunicação de caráter publicitário inteira ou parcialmente falsa, ou, por qualquer outro modo, mesmo por omissão, capaz de induzir a erro o consumidor a respeito da natureza, características, qualidade, quantidade, propriedade, origem, preço e de quaisquer outros dados sobre produtos ou serviços.**
- II. É enganosa, por omissão, a publicidade que deixar de informar sobre dado essencial do produto ou serviço a ser colocado à disposição dos consumidores.**
- III. É abusiva, entre outras, a publicidade discriminatória de qualquer natureza, que incite à violência, explore o medo ou a superstição, se aproveite da deficiência de julgamento e da inexperiência da criança, desrespeite valores ambientais, seja capaz de induzir o consumidor a se comportar de forma prejudicial ou perigosa à sua saúde ou segurança, ou que viole normas legais ou regulamentares de controle da publicidade.**

**Tendo em vista o que dispõe o Decreto n° 2.181/1997, é correto o que se afirma em:**

- a) I, II e III.
- b) I e II, somente.
- c) I e III, somente.
- d) II e III, somente.
- e) II, somente.

**29. Acerca das Comissões de Conciliação Prévia, assinale a alternativa em desacordo com o disposto na CLT:**

- a) As empresas e os sindicatos podem instituir Comissões de Conciliação Prévia, de composição paritária, com representante dos empregados e dos empregadores, com a atribuição de tentar conciliar os conflitos individuais do trabalho. Parágrafo único. As Comissões referidas no caput deste artigo poderão ser constituídas por grupos de empresas ou ter caráter intersindical.
- b) É vedada a dispensa dos representantes dos empregados membros da Comissão de Conciliação Prévia, titulares e suplentes, até um ano após o final do mandato, salvo se cometerem falta grave, nos termos da lei.
- c) O representante dos empregados desenvolverá seu trabalho normal na empresa afastando-se de suas atividades apenas quando convocado para atuar como conciliador, não se computando como tempo de trabalho efetivo o despendido nessa atividade.
- d) O termo de conciliação é título executivo extrajudicial e terá eficácia liberatória geral, exceto quanto às parcelas expressamente ressalvadas.
- e) As Comissões de Conciliação Prévia têm prazo de dez dias para a realização da sessão de tentativa de conciliação a partir da provocação do interessado.

**30. Das decisões definitivas ou terminativas das Varas e Juízos, no prazo de 8 (oito) dias, caberá:**

- a) Apelação
- b) Recurso Ordinário
- c) Agravo de instrumento
- d) Agravo de petição
- e) Recurso de Revista

**LÍNGUA PORTUGUESA**

**Texto para as próximas cinco questões:**

**“O cego Estrelinho”  
Mia Couto**

O cego Estrelinho era pessoa de nenhuma vez: sua história poderia ser contada e descontada não fosse seu guia, Gigito Efraim. A mão de Gigito conduziu o desvistado por tempos e idades. Aquela mão era repartidamente comum, extensão de um no outro, siamensal. E assim era quase de nascença. Memória de Estrelinho tinha cinco dedos e eram os de Gigito postos, em aperto, na sua própria mão.

O cego, curioso, queria saber de tudo. Ele não fazia cerimónia no viver. O sempre lhe era pouco e o tudo insuficiente. Dizia, deste modo:

— Tenho que viver já, senão esqueço-me.

Gigitinho, porém, o que descrevia era o que não havia. O mundo que ele minuciava eram fantasias e rendilhados. A imaginação do guia era mais profícua que papaeira. O cego enchia a boca de águas:

— Que maravilhação esse mundo. Me conte tudo, Gigito!

A mão do guia era, afinal, o manuscrito da mentira. Gigito Efraim estava como nunca esteve S. Tomé: via para não crer. O condutor falava pela ponta dos dedos. Desfolhava o universo, aberto em folhas. A ideiação dele era tal que mesmo o cego, por vezes, acreditava ver. O outro lhe encorajava esses breves enganos:

— Desbengale-se, você está escolhendo a boa procedência!

Mentira: Estrelinho continuava sem ver uma palmeira à frente do nariz. Contudo, o cego não se conformava em suas escurezas. Ele cumpria o ditado: não tinha perna e queria dar o pontapé. Só à noite, ele desalentava, sofrendo medos mais antigos que a humanidade. Entendia aquilo que, na raça humana, é menos primitivo: o animal.

— Na noite aflige não haver luz?

— Aflição é ter um pássaro branco esvoando dentro do sono.

Pássaro branco? No sono? Lugar de ave é nas alturas. Dizem até que Deus fez o céu para justificar os pássaros. Estrelinho disfarçava o medo dos vaticínios, subterfugindo:

— E agora, Gigitinho? Agora, olhando assim para cima, estou face ao céu?

Que podia o outro responder? O céu do cego fica em toda a parte. Estrelinho perdia o pé era quando a noite chegava e seu mestre adormecia. Era como se um novo escuro nele se estreasse em nó cego. Devagaroso e sorrateiro ele aninhava sua mão na mão do guia. Só assim adormecia. A razão da concha é a timidez da amêijoia? Na manhã seguinte, o cego lhe confessava: se você morrer, tenho que morrer logo no imediato. Senão-me: como acerto o caminho para o céu?

Foi no mês de dezembro que levaram Gigitinho. Lhe tiraram do mundo para pôr na guerra: obrigavam os serviços militares. O cego reclamou: que o moço inatingia a idade. E que o serviço que ele a si prestava era vital e vitalício. O guia chamou Estrelinho à parte e lhe tranquilizou:

— Não vai ficar sozinando por aí. Minha mana já mandei para ficar no meu lugar.

O cego estendeu o braço a querer tocar uma despedida. Mas o outro já não estava lá. Ou estava e se desviara, propositado? E sem água ida nem vinda, Estrelinho escutou o amigo se afastar, engolido, esponjínquo, invisível. Pela primeira vez, Estrelinho se sentiu invalidado.

— Agora, só agora, sou cego que não vê.

(...)

**COUTO, Mia. Estórias abensonhadas. Rio de Janeiro: Nova Fronteira, 1996. (Pág 23 e 24).**

**31. Quanto à interpretação do fragmento do conto, podemos afirmar que:**

- Gigito Efraim era o guia de Estrelinho há pouquíssimo tempo.
- Estrelinho era cego de nascença.
- Gigito descrevia o mundo para Estrelinho de forma denotativa.
- Gigito foi convocado pelo exército para ser guia de cegos na guerra.
- Gigito descrevia o mundo para Estrelinho de forma conotativa.

**32. No período “O sempre lhe era pouco e o tudo insuficiente”, o pronome “LHE” exerce a função sintática de:**

- Objeto Direto
- Objeto Indireto
- Complemento Nominal
- Adjunto Adnominal
- Objeto Direto Preposicionado

**33. Na oração “A mão de Gigito conduziu o desvistado por tempos e idades”, o autor faz uso de um neologismo, assim como no decorrer de toda a obra em questão. Contudo, o neologismo só se torna possível pela utilização dos elementos mórficos naquilo que a gramática normativa pontua como Processo de Formação das Palavras. Levando em consideração apenas o recurso morfológico, qual Processo de Formação foi utilizado?**

- Derivação Sufixal
- Derivação Prefixal
- Derivação Regressiva
- Derivação Imprópria
- Derivação Parassintética

**34. No terceiro período do décimo terceiro parágrafo, temos:**

- Uma oração
- Duas orações
- Três orações
- Quatro orações
- Cinco orações

**35. No último parágrafo do fragmento do conto “— Agora, só agora, sou cego que não vê”, a oração subordinada presente classifica-se corretamente como:**

- Oração Subordinada Adjetiva Restritiva
- Oração Subordinada Adverbial Causal
- Oração Subordinada Substantiva Subjetiva
- Oração Subordinada Adverbial Explicativa

e) Oração Subordinada Adjetiva Explicativa

### LEGISLAÇÃO MUNICIPAL

À luz do Código Tributário Municipal de Telêmaco Borba, responda às próximas duas questões.

**36. O Capítulo V trata sobre as obrigações tributárias acessórias. Conforme o artigo 11, os contribuintes, ou quaisquer responsáveis por tributos, fiscalização, sujeitos ao lançamento, à fiscalização e à cobrança dos tributos devidos à Fazenda Municipal, ficam especialmente obrigados a:**

**10 - Apresentar declarações e guias, e a escriturar em livros próprios os fatos geradores de obrigação tributária, segundo as normas deste Código e dos regulamentos fiscais.**

**18 - Comunicar à Fazenda Municipal, dentro de 15 (quinze) dias, contados a partir da ocorrência, qualquer alteração capaz de gerar, modificar ou extinguir obrigações tributárias.**

**21 - Conservar e apresentar ao fisco, quando solicitado, qualquer documento que, de algum modo, se refira à operação ou situação que constituam fato gerador de obrigações tributárias, ou que sirvam como comprovante da veracidade dos dados consignados em guias e documentos fiscais.**

**25 - Prestar, sempre que solicitados pelas autoridades competentes, informações e esclarecimentos que, a juízo do fisco, se refiram a fato gerador de obrigação tributária.**

**Assinale a alternativa que contém a soma exata dos itens corretos.**

- a) 28
- b) 31
- c) 53
- d) 64
- e) 74

**37. Com a finalidade de obter elementos que lhe permitam verificar a exatidão das declarações apresentadas pelos contribuintes ou responsáveis, e de determinar, com precisão, a natureza e o montante dos créditos tributários, a Fazenda Municipal poderá:**

**I - exigir, a qualquer tempo, exibição de livros e comprovantes de atos e operações que possam constituir fato gerador de obrigações tributárias;**

**II - fazer inspeções nos locais e estabelecimentos onde se exerçam as atividades sujeitas a obrigações tributárias, ou nos bens ou serviços que constituam matéria tributável;**

**III - exigir informações escritas ou verbais;**

**IV - sugerir ao contribuinte para comparecer às repartições fiscais;**

**V - requisitar o auxílio da força pública ou requerer ordem judicial quando indispensável à realização de diligências, inclusive inspeções necessárias ao registro dos locais e estabelecimentos, assim como, dos objetos e livros dos contribuintes e responsáveis.**

**Com base no que foi exposto, assinale a alternativa correta:**

- a) Apenas o item III está incorreto.
- b) Apenas o item I está incorreto.
- c) Apenas os itens II e V estão corretos.
- d) Apenas os itens III e IV estão corretos.
- e) Apenas os itens I, II, III e V estão corretos.

**38. Baseando-se na Lei Orgânica do município de Telêmaco Borba, marque as afirmativas com C (certo) ou E (errado), e assinale a alternativa correta.**

**( ) Ao Município compete privativamente, instituir e arrecadar tributos, de sua competência, bem como aplicar suas rendas, sem prejuízo da obrigatoriedade de prestar contas e publicar balancetes nos prazos fixados em Lei.**

**( ) É competência exclusiva do Município zelar pela guarda da Constituição, das Leis e das instituições democráticas, e conservar o patrimônio público.**

**( ) A cooperação do Município, com a União e o Estado, tendo em vista o equilíbrio do desenvolvimento do bem estar em âmbito nacional, se fará segundo normas a serem fixadas por Lei Complementar Federal.**

**( ) O patrimônio Público do Município é formado por bens públicos municipais de toda natureza e espécie que tenham qualquer interesse para a administração ou para sua população.**

**( ) São bens públicos, todas as coisas corpóreas ou incorpóreas, móveis e imóveis e semoventes, créditos, débitos, valores, direitos, ações e outros, que pertençam a qualquer título, ao Município.**

- a) E – E – C – C – E
- b) E – C – E – E – C
- c) C – C – E – C – C
- d) C – E – C – C – C
- e) C – E – C – C – E

**39. De acordo com o art. 78 do Código de Posturas do município de Telêmaco Borba, analise o seguinte:**



**Compete ao Poder Público Municipal, por meio de seus órgãos especializados, mediante portarias, leis e decretos, sem prejuízo do respeito as normas estaduais e federais vigentes, estabelecer as condições de higiene e funcionamento dos seguintes estabelecimentos:**

**I – Hotéis, pensões, restaurantes, cozinhas industriais, casas de lanches, cafés, padarias, confeitarias, ambulantes e estabelecimentos congêneres que manipulem, preparem ou comercializem produtos alimentícios.**

**II – Salões de barbeiros, cabeleireiros, manicuros, pedicuros e de podologia, de estética, de tatuagem e congêneres.**

**III – Abatedouros, frigoríficos, casas de carnes e peixarias.**

**IV – Estabelecimentos em geral que industrializem ou comercializem alimentos ou medicamentos.**

**V – Saunas, clubes e piscinas.**

**VI – Clínicas em geral inclusive veterinárias.**

**VII – Laboratórios.**

**VIII – Pet-shoppings e estabelecimentos que comercializam produtos para consumo animal e animais vivos.**

**Agora, assinale a alternativa correta.**

- a) Apenas os itens I, III e VI estão corretos.
- b) Apenas os itens II, IV, VII e VIII estão corretos.
- c) Apenas os itens I, II, VI e VII estão corretos.
- d) Apenas os itens I, II, III, IV, V, VI e VIII estão corretos.
- e) Todos os itens estão corretos.

**40. Conforme o Estatuto dos Servidores Públicos Municipais (Lei Municipal 1883/2012), artigo 122, ao servidor efetivo será concedido o adicional por tempo de serviço a razão de 5% (cinco por cento) do valor do respectivo vencimento do cargo efetivo, a cada \_\_\_\_\_ de serviço público efetivo prestado ao Município.**

**Qual alternativa preenche a lacuna de forma correta?**

- a) 3 (três) anos
- b) 4 (quatro) anos
- c) 5 (cinco) anos
- d) 6 (seis) anos
- e) 7 (sete) anos

**RASCUNHO**



# OUVIDORIA MUNICIPAL

PREFEITURA DE TÊLEMACO BORBA

0800 42 2030

SUGESTÃO

INFORMAÇÃO

CRÍTICAS

